

東北政委會編審委員會編

初小算術

第三冊



東北書店印行

算術課本 (初級第三冊)

目 錄

- 1、復習九十九以內加減法1—3
- 2、(=) 的寫法和讀法，九十九以內的橫式加減法4—7
- 3、橫式累加法8—9
- 4、(×) 的寫法和讀法，基數乘被乘數2345678910的乘法10—27
- 5、復習乘法28—33
- 6、(÷) 的寫法和讀法，基數除45以內沒有餘數的除法34—41
- 7、復習除法42
- 8、復習乘除法43—46
- 9、總練習47—49
- 10、玩算50

復習九十九以內加減法

$\begin{array}{r} 55 \\ + 4 \\ \hline \end{array}$	$\begin{array}{r} 62 \\ + 6 \\ \hline \end{array}$	$\begin{array}{r} 75 \\ + 2 \\ \hline \end{array}$	$\begin{array}{r} 90 \\ + 7 \\ \hline \end{array}$	$\begin{array}{r} 83 \\ + 3 \\ \hline \end{array}$
----------------------------------------------------	----------------------------------------------------	----------------------------------------------------	----------------------------------------------------	----------------------------------------------------

$\begin{array}{r} 49 \text{人} \\ + 3 \\ \hline \end{array}$	$\begin{array}{r} 55 \text{本} \\ + 9 \\ \hline \end{array}$	$\begin{array}{r} 63 \text{隻} \\ + 7 \\ \hline \end{array}$	$\begin{array}{r} 78 \text{個} \\ + 4 \\ \hline \end{array}$	$\begin{array}{r} 86 \text{把} \\ + 8 \\ \hline \end{array}$
-------------------------------------------------------------	-------------------------------------------------------------	-------------------------------------------------------------	-------------------------------------------------------------	-------------------------------------------------------------

$\begin{array}{r} 43 \\ + 14 \\ \hline \end{array}$	$\begin{array}{r} 35 \\ + 24 \\ \hline \end{array}$	$\begin{array}{r} 18 \\ + 36 \\ \hline \end{array}$	$\begin{array}{r} 58 \\ + 40 \\ \hline \end{array}$	$\begin{array}{r} 30 \\ + 56 \\ \hline \end{array}$
-----------------------------------------------------	-----------------------------------------------------	-----------------------------------------------------	-----------------------------------------------------	-----------------------------------------------------

$\begin{array}{r} 61 \text{條} \\ + 29 \\ \hline \end{array}$	$\begin{array}{r} 77 \text{粒} \\ + 16 \\ \hline \end{array}$	$\begin{array}{r} 45 \text{件} \\ + 38 \\ \hline \end{array}$	$\begin{array}{r} 18 \text{元} \\ + 57 \\ \hline \end{array}$	$\begin{array}{r} 69 \text{朵} \\ + 15 \\ \hline \end{array}$
--------------------------------------------------------------	--------------------------------------------------------------	--------------------------------------------------------------	--------------------------------------------------------------	--------------------------------------------------------------

$\begin{array}{r} 9 \text{隻} \\ + 9 \\ \hline \end{array}$	$\begin{array}{r} 8 \text{塊} \\ + 5 \\ \hline \end{array}$	$\begin{array}{r} 3 \text{頂} \\ 3 \\ + 3 \\ \hline \end{array}$	$\begin{array}{r} 6 \text{枚} \\ 6 \\ + 6 \\ \hline \end{array}$	$\begin{array}{r} 9 \text{元} \\ 5 \\ 7 \\ + 6 \\ \hline \end{array}$
------------------------------------------------------------	------------------------------------------------------------	-----------------------------------------------------------------	-----------------------------------------------------------------	----------------------------------------------------------------------

57	68	76	87	99
<u>- 5</u>	<u>- 8</u>	<u>- 3</u>	<u>- 6</u>	<u>- 5</u>


46件	53枝	95本	72粒	84元
<u>- 7</u>	<u>- 9</u>	<u>- 8</u>	<u>- 6</u>	<u>- 5</u>

94	56	76	88	90
<u>- 90</u>	<u>- 23</u>	<u>- 44</u>	<u>- 37</u>	<u>- 70</u>

89塊	73隻	45人	99枝	34條
<u>- 58</u>	<u>- 62</u>	<u>- 25</u>	<u>- 92</u>	<u>- 12</u>

92	30	67	85	76
<u>- 14</u>	<u>- 28</u>	<u>- 49</u>	<u>- 58</u>	<u>- 39</u>

87項	94元	56個	42把	95朵
<u>- 78</u>	<u>- 67</u>	<u>- 39</u>	<u>- 26</u>	<u>- 57</u>



- (1) 大球13個，小球16個，共有球幾個？
- (2) 大球12個，小球14個，小球比大球多幾個？
- (3) 現有29個，賣去3個，還有球幾個？
- (4) 哥哥拍球14下，妹妹拍球7下，哥哥比妹妹多拍球幾下？
- (5) 弟弟拍球三次，第一次拍6下，第二次拍4下，第三次拍9下，共拍球幾下？
- (6) 妹妹拍球四次，第一次拍3下，第二次拍5下，第三次拍4下，第四次拍5下，共拍球幾下？

(=)的寫法和讀法，九十九以內的橫式加減法

=	○ ○	+	○ ○	=	○ ○ ○ ○
	4		4		8

$4 + 3 = ?$ $6 + 2 = ?$

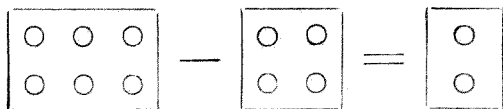
$42 + 5 = ?$ $65 + 4 = ?$

$21 + 11 = ?$ $57 + 22 = ?$

$34 + 22 = ?$ $73 + 12 = ?$

$88 + 10 = ?$ $30 + 50 = ?$

- (1) 46加33是多少？
- (2) 錢70元加20元是多少？
- (3) 大魚27條，小魚42條，共有幾條魚？
- (4) 買大魚一條用去流通券45元，買小魚一條用去流通券22元，共用去流通券幾元？



$$6 - 4 = 2$$

$6 - 2 = ?$

$9 - 3 = ?$

$47 - 7 = ?$

$38 - 6 = ?$

$53 - 21 = ?$

$16 - 13 = ?$

$80 - 60 = ?$

$69 - 55 = ?$

$25 - 14 = ?$

$99 - 89 = ?$

(1) 37減13是多少？

(2) 流通券45元減去22元是多少？

(3) 父親34歲，母親32歲，父親比母親大幾歲？

(4) 母親32歲，姐姐10歲，姐姐比母親小幾歲？

$$7 + 6 = ?$$

$$8 + 5 = ?$$

$$9 + 7 = ?$$

$$4 + 8 = ?$$

$$13 + 8 = ?$$

$$24 + 6 = ?$$

$$35 + 6 = ?$$

$$77 + 8 = ?$$

$$25 + 37 = ?$$

$$16 + 38 = ?$$

$$54 + 26 = ?$$

$$27 + 43 = ?$$

$$32 + 48 = ?$$

$$39 + 49 = ?$$

$$63 + 19 = ?$$

$$67 + 28 = ?$$

- (1) 紅花23朵，白花18朵，共有花幾朵？
- (2) 男學生24人，女學生17人，共有學生幾人？
- (3) 昨天寫字36個，今天寫字54個，共寫字幾個？
- (4) 昨天積錢39元，今天積錢44元，共積錢多少？

$10 - 7 = ?$

$13 - 6 = ?$

$36 - 9 = ?$

$23 - 8 = ?$

$22 - 5 = ?$

$43 - 4 = ?$

$55 - 7 = ?$

$74 - 7 = ?$

$34 - 26 = ?$

$36 - 18 = ?$

$62 - 54 = ?$

$43 - 27 = ?$

$42 - 38 = ?$

$94 - 39 = ?$


$63 - 19 = ?$

$67 - 28 = ?$

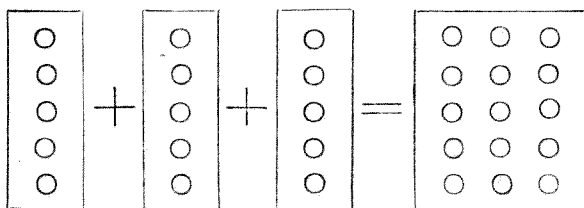
- (1) 錢80元，用去12元，還有錢幾元？
- (2) 蛋40個，吃去25個，還有蛋幾個？
- (3) 昨天寫字36個，今天寫字54個，今天比昨天多寫幾個？
- (4) 昨天積錢39元，今天積錢44元，昨天比今天少積幾元？

橫式累加法

初小算術



第三册



$$5 + 5 + 5 = 15$$

$$1 + 1 + 1 = ?$$

$$6 + 6 + 6 = ?$$

$$2 + 2 + 2 = ?$$

$$7 + 7 + 7 = ?$$

$$3 + 3 + 3 = ?$$

$$8 + 8 + 8 = ?$$

$$4 + 4 + 4 = ?$$

$$9 + 9 + 9 = ?$$

$$5 + 5 + 5 + 5 = ?$$

$$2 + 2 + 2 + 2 = ?$$

$$4 + 4 + 4 + 4 = ?$$

$$8 + 8 + 8 + 8 = ?$$

$$3 \text{ 朵} + 3 \text{ 朵} + 3 \text{ 朵} + 3 \text{ 朵} = ?$$

$$6 \text{ 元} + 6 \text{ 元} + 6 \text{ 元} + 6 \text{ 元} = ?$$

$$9 \text{ 個} + 9 \text{ 個} + 9 \text{ 個} + 9 \text{ 個} = ?$$

$$7 \text{ 人} + 7 \text{ 人} + 7 \text{ 人} + 7 \text{ 人} = ?$$

- (1) 8加8，再加8，共有多少？
- (2) 紅紙3張，綠紙3張，黃紙3張，共有紙幾張？
- (3) 哥哥吃饅頭2個，姐姐吃饅頭2個，妹妹吃饅頭2個，弟弟吃饅頭2個，共吃去饅頭幾個？
- (4) 石筆每枝價5元，現在哥哥買一枝，姐姐買一枝，妹妹買一枝，弟弟買一枝，共用錢幾元？

(\times)的寫法和讀法，基數乘被乘數

2.3.4.5.6.7.8.9.10的乘法

X	1	2	3	4
	◎	◎◎	◎◎ ◎◎	◎◎ ◎◎ ◎◎ ◎◎
	◎	◎◎	◎◎ ◎◎	◎◎ ◎◎ ◎◎ ◎◎
	2	4	6	8

$$2 \times 1 = ?$$

$$2 \times 2 = ?$$

$$2 \times 3 = ?$$

$$2 \times 4 = ?$$

$$2 \times 5 = ?$$

$$2 \times 6 = ?$$

$$2 \times 7 = ?$$

$$2 \times 8 = ?$$

$$2 \times 9 = ?$$

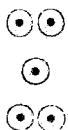
(1) 3個2是多少？

(2) 6個2是多少？

(3) 3對櫻桃有幾個？

(4) 一排有2人，4排有幾人？

5



10

6



12

7




14

8



16

9



18

$$2 \times () = 2$$

$$2 \times () = 4$$

$$2 \times () = 12$$

$$2 \times () = 6$$

$$2 \times () = 14$$

$$2 \times () = 8$$

$$2 \times () = 16$$

$$2 \times () = 10$$

$$2 \times () = 18$$

(1) 幾個2是10?

(2) 幾個2是14?

(3) 幾對櫻桃是8?

(4) 2個櫻桃是一對，幾對櫻桃是18個?



1	2	3	4
▲	▲ ▲	▲ ▲ ▲	▲ ▲ ▲ ▲
3	6	9	12

$$3 \times 1 = ?$$

$$3 \times 2 = ?$$

$$3 \times 3 = ?$$

$$3 \times 4 = ?$$

$$3 \times 5 = ?$$

$$3 \times 6 = ?$$

$$3 \times 7 = ?$$

$$3 \times 8 = ?$$

$$3 \times 9 = ?$$

- (1) 4個3是多少？
- (2) 7個3是多少？
- (3) 一隻青蛙有四隻腳，三隻青蛙有幾隻腳？
- (4) 一個三角板有3條邊，5個三角板，共有幾條邊？

5



15

6



18

7




21

8



24

9



27

$$3 \times () = 3$$

$$3 \times () = 6$$

$$3 \times () = 18$$

$$3 \times () = 9$$

$$3 \times () = 21$$

$$3 \times () = 12$$

$$3 \times () = 24$$

$$3 \times () = 15$$


$$3 \times () = 27$$

(1) 幾個3是6?

(2) 幾個3是27?

(3) 每天寫字3張，幾天寫滿18張?

(4) 每人有杏子3個，幾人有杏子24個?



1	2	3	4
✦	✦ ✦	✦ ✦ ✦	✦ ✦ ✦ ✦
4	8	12	16

$$4 \times 1 = ?$$

$$4 \times 2 = ?$$

$$4 \times 3 = ?$$

$$4 \times 4 = ?$$

$$4 \times 5 = ?$$

$$4 \times 6 = ?$$

$$4 \times 7 = ?$$

$$4 \times 8 = ?$$

$$4 \times 9 = ?$$


(1) 6個4是多少？

(2) 8個4是多少？

(3) 花每朵4瓣，5朵共有幾瓣？

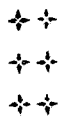
(4) 每人吃蘋果4個，9人共吃幾個？

5



20

6



24

7




28

8



32

9



36

$$4 \times () = 4$$

$$4 \times () = 8$$

$$4 \times () = 24$$

$$4 \times () = 12$$

$$4 \times () = 28$$

$$4 \times () = 16$$

$$4 \times () = 32$$

$$4 \times () = 20$$

$$4 \times () = 36$$

(1) 幾個4是16?

(2) 幾個4是28?

(3) 幾頭牛有8隻腳?

(4) 幾條豬有12隻腳?



1	2	3	4
★	★	★	★ ★
★	★	★ ★	★ ★
5	10	15	20

$$5 \times 1 = ?$$

$$5 \times 2 = ?$$

$$5 \times 3 = ?$$

$$5 \times 4 = ?$$

$$5 \times 5 = ?$$

$$5 \times 6 = ?$$

$$5 \times 7 = ?$$

$$5 \times 8 = ?$$

$$5 \times 9 = ?$$

- (1) 3個5是多少？
- (2) 5個5是多少？
- (3) 一隻手有5個指頭，二隻手有幾個指頭？
- (4) 一朵杏花有5瓣，4朵杏花有幾瓣？

5	6	7	8	9
★	★★	☆	★★	★★
★★	☆☆	☆☆	★★	★
★★	★★	☆☆	☆☆	★★
		★★	★★	☆☆
25	30	35	40	45

$$5 \times () = 5$$

$$5 \times () = 10 \qquad 5 \times () = 30$$

$$5 \times () = 15 \qquad 5 \times () = 35$$

$$5 \times () = 20 \qquad 5 \times () = 40$$

$$5 \times () = 25 \qquad 5 \times () = 45$$

- (1) 幾個5是30？
- (2) 幾個5是40？
- (3) 幾隻手有10個指頭？
- (4) 幾朵杏花有45瓣？



1	2	3	4
	▲	▲▲	▲▲▲
▲		▲▲	▲▲▲
	▲	▲▲	▲▲▲
6	12	18	24

$$6 \times 1 = ?$$

$$6 \times 2 = ?$$

$$6 \times 3 = ?$$

$$6 \times 4 = ?$$

$$6 \times 5 = ?$$

$$6 \times 6 = ?$$

$$6 \times 7 = ?$$

$$6 \times 8 = ?$$

$$6 \times 9 = ?$$

(1) 5個6是多少？

(2) 8個6是多少？

(3) 一星期上課6天，4星期共上課幾天？

(4) 一隻蜜蜂有6隻腳，3隻蜜蜂共有幾隻腳？

5	6	7	8	9
△△ △ △△	△△ △△ △△	△ △△ △△ △△	△△ △△ △△ △△	△ △△ △△ △△ △△
30	36	42	48	54

$$6 \times () = 6$$

$$6 \times () = 12$$

$$6 \times () = 36$$

$$6 \times () = 18$$

$$6 \times () = 42$$

$$6 \times () = 24$$

$$6 \times () = 48$$

$$6 \times () = 30$$

$$6 \times () = 54$$

(1) 幾個6是48？

(2) 幾個6是54？

(3) 一星期上課6天，幾星期共上課30天？

(4) 幾隻蜜蜂共有12隻腳？



1



7

2



14

3



21

4



28

$$7 \times 1 = ?$$

$$7 \times 2 = ?$$

$$7 \times 3 = ?$$

$$7 \times 4 = ?$$

$$7 \times 5 = ?$$

$$7 \times 6 = ?$$

$$7 \times 7 = ?$$

$$7 \times 8 = ?$$

$$7 \times 9 = ?$$

(1) 3個7是多少？

(2) 7個7是多少？

(3) 一星期有7天，5星期共有幾天？

(4) 6付7巧板共有幾塊？

5

6

7

8

9



35

42

49

56

63

$$7 \times () = 7$$

$$7 \times () = 14$$

$$7 \times () = 42$$

$$7 \times () = 21$$

$$7 \times () = 49$$

$$7 \times () = 28$$

$$7 \times () = 56$$

$$7 \times () = 35$$


$$7 \times () = 63$$

(1) 幾個7是14？

(2) 幾個7是63？

(3) 幾個星期共有28天？

(4) 一星期儲蓄7元，幾星期共儲56元？



1



8

2



16

3



24

4



32

$$8 \times 1 = ?$$

$$8 \times 2 = ?$$

$$8 \times 3 = ?$$

$$8 \times 4 = ?$$

$$8 \times 5 = ?$$

$$8 \times 6 = ?$$

$$8 \times 7 = ?$$

$$8 \times 8 = ?$$

$$8 \times 9 = ?$$

(1) 5個8是多少？

(2) 9個8是多少？

(3) 2個蜘蛛有幾隻腳？

(4) 1桌可坐8人，3桌可坐幾人？

5



40

6



48

7



56

8



64

9



72

$$8 \times () = 8$$

$$8 \times () = 16$$

$$8 \times () = 48$$

$$8 \times () = 24$$

$$8 \times () = 56$$

$$8 \times () = 32$$

$$8 \times () = 64$$

$$8 \times () = 40$$


$$8 \times () = 72$$

(1) 幾個8是32?

(2) 幾個8是48?

(3) 幾個蜘蛛有56隻腳?

(4) 一桌可坐8人，幾桌可坐64人?



1 2 3 4



9 18 27 36

$$9 \times 1 = ?$$

$$9 \times 2 = ?$$

$$9 \times 3 = ?$$

$$9 \times 4 = ?$$

$$9 \times 5 = ?$$

$$9 \times 6 = ?$$

$$9 \times 7 = ?$$

$$9 \times 8 = ?$$

$$9 \times 9 = ?$$

- (1) 3個9是多少？
- (2) 8個9是多少？
- (3) 一張紙有9格，5張紙共有幾格？
- (4) 一付九連環有9個圈，4付共有幾個圈？

5

6

7

8

9



45

54

63

72

81

$$9(\quad) = 9$$

$$9 \times (\quad) = 18$$

$$9 \times (\quad) = 54$$

$$9 \times (\quad) = 27$$

$$9 \times (\quad) = 63$$

$$9 \times (\quad) = 36$$

$$9 \times (\quad) = 72$$

$$9 \times (\quad) = 45$$

$$9 \times (\quad) = 81$$

(1) 幾個9是18？

(2) 幾個9是81？

(3) 一張紙上寫9個字，幾張紙上共寫54個字？

(4) 幾付九連環共有63個圈？

$$1 \times 1 = 1$$

$1 \times 2 = ?$

$1 \times 3 = ?$

$1 \times 4 = ?$

$1 \times 5 = ?$

$1 \times 6 = ?$

$1 \times 7 = ?$

$1 \times 8 = ?$

$1 \times 9 = ?$

$$1 \times (1) = 1$$

$1 \times () = 2$

$1 \times () = 6$

$1 \times () = 3$

$1 \times () = 7$

$1 \times () = 4$

$1 \times () = 8$

$1 \times () = 5$

$1 \times () = 9$

(1) 4個1是多少？

(2) 幾個1是7？

(3) 學校裏有6間教室，每間教室裏有一個教師，共有幾個教師？

(4) 每人捐錢1元，幾個人可湊成5元？

$$1 \times 0 = 0$$

$2 \times 0 = ?$

$3 \times 0 = ?$

$4 \times 0 = ?$

$5 \times 0 = ?$

$6 \times 0 = ?$

$7 \times 0 = ?$

$8 \times 0 = ?$

$9 \times 0 = ?$

$$0 \times 1 = 0$$

$0 \times 2 = ?$

$0 \times 3 = ?$

$0 \times 4 = ?$

$0 \times 5 = ?$

$0 \times 6 = ?$

$0 \times 7 = ?$

$0 \times 8 = ?$

$0 \times 9 = ?$

$$0 \times 0 = 0$$

- (1) 0乘4是多少？
- (2) 0的二倍是多少？
- (3) 6天沒有寫字，那末這6天內寫了多少字呢？
- (4) 獵人打鳥放了三槍都不中，那麼打着幾隻鳥呢？

復習乘法

$5 \text{ 隻} \times 7 = ?$

$8 \text{ 人} \times 2 = ?$

$2 \text{ 個} \times 8 = ?$

$4 \text{ 條} \times 3 = ?$

$4 \text{ 朵} \times 6 = ?$

$2 \text{ 元} \times 5 = ?$

$8 \text{ 粒} \times 9 = ?$

$5 \text{ 枚} \times 4 = ?$




- (1) 3條狗有幾隻腳？
- (2) 8個人有幾隻手？
- (3) 鉛筆每枝值錢5元，六枝值錢多少？
- (4) 2個8角風箏，有幾個角？

$$2 \text{塊} \times (\quad) = 16 \quad 4 \text{枚} \times (\quad) = 24$$

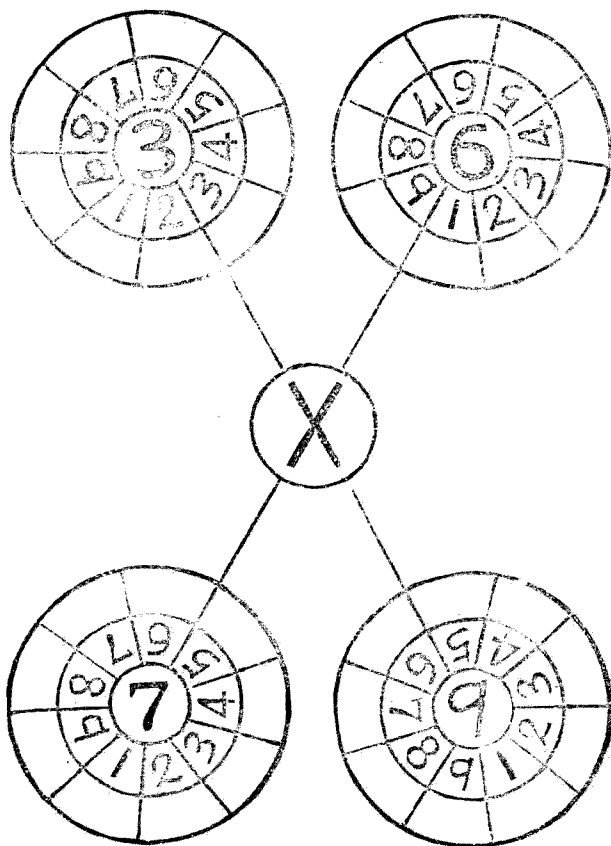
$$4 \text{隻} \times (\quad) = 36 \quad 5 \text{個} \times (\quad) = 10$$

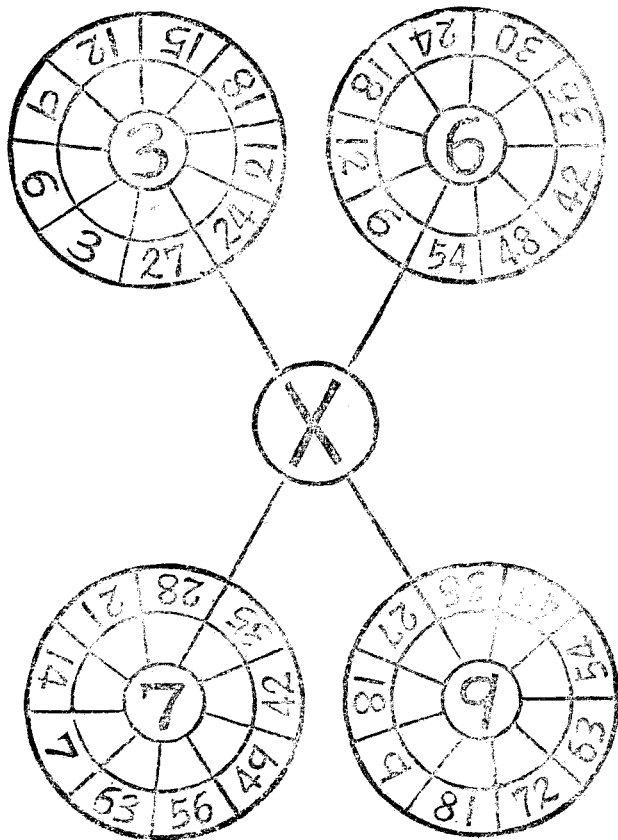
$$5 \text{枚} \times (\quad) = 25 \quad 8 \text{元} \times (\quad) = 24$$

$$8 \text{本} \times (\quad) = 32 \quad 2 \text{張} \times (\quad) = 14$$



- (1) 幾個5是25？
- (2) 幾個2是18？
- (3) 一隻桌子有4隻腳，幾隻桌子有16隻腳？
- (4) 每天積錢8元，幾天可以積錢56元？





$$6 = 1 \times (6)$$

$$24 = 3 \times (\quad)$$

$$27 = 9 \times (\quad)$$

$$16 = 8 \times (\quad)$$

$$16 = 4 \times (\quad)$$

$$45 = 5 \times (\quad)$$

$$18 = 2 \times (\quad)$$

$$42 = 6 \times (\quad)$$

$$35 = 7 \times (\quad)$$

$$0 = 0 \times (\quad)$$

$$0 = 1 \times (\quad)$$



- (1) 毛筆每枝值錢8元，愛民買毛筆3枝，應付錢幾元？
- (2) 『小朋友』每本值錢3元，愛國買『小朋友』2本，應付錢幾元？

填寫下面的乘法表

×	0	1	2	3	4	5	6	7	8	9
0										
1										
2										
3										
4										
5										
6										
7										
8										
9										

(\div)的寫法和讀法，基數除⁴⁵以內
沒有餘數的除法



$$4 \div 2 = 2$$

$$4 \div 2 = ?$$

$$4 \div 2 = ?$$

$$12 \div 2 = ?$$

$$6 \div 2 = ?$$

$$14 \div 2 = ?$$


$$8 \div 2 = ?$$

$$16 \div 2 = ?$$

$$10 \div 2 = ?$$

$$18 \div 2 = ?$$

- (1) 把10分做2份，每份是多少？
- (2) 8道算題寫做2行，一行是幾道？
- (3) 鉛筆12枝，分給兄弟二人，每人可得幾枝？



$$2 \div () = 2$$

$$4 \div () = 2 \quad 12 \div () = 2$$

$$6 \div () = 2 \quad 14 \div () = 2$$

$$8 \div () = 2 \quad 16 \div () = 2$$

$$10 \div () = 2 \quad 18 \div () = 2$$

- (1) 6裏面有幾個2？
- (2) 16裏面有幾個2？
- (3) 有10元錢，若一個人分2元，能分給幾個人？



3



$$9 \div 3 = 3$$



$$3 \div 3 = ?$$

$$6 \div 3 = ?$$

$$18 \div 3 = ?$$

$$9 \div 3 = ?$$

$$21 \div 3 = ?$$

$$12 \div 3 = ?$$

$$24 \div 3 = ?$$


$$15 \div 3 = ?$$

$$27 \div 3 = ?$$

(1) 把15分做3份，每份是多少？

(2) 9個梨，分給3個小孩，每人得幾個？

(3) 27架飛機，分成3隊，每隊有幾架？



$$3 \div () = 3$$

$$6 \div () = 3 \quad 18 \div () = 3$$

$$9 \div () = 3 \quad 21 \div () = 3$$

$$12 \div () = 3 \quad 24 \div () = 3$$

$$15 \div () = 3 \quad 27 \div () = 3$$

- (1) 18裏面有幾個3？
- (2) 21裏面有幾個3？
- (3) 12塊糖，每盒裝幾塊，能裝成3盒？

★



+

4

$$16 \div 4 = 4$$

$$4 \div 4 = ?$$

$$8 \div 4 = ?$$

$$24 \div 4 = ?$$

$$12 \div 4 = ?$$

$$28 \div 4 = ?$$

$$16 \div 4 = ?$$

$$32 \div 4 = ?$$

$$20 \div 4 = ?$$

$$36 \div 4 = ?$$

(1) 把16分做4份，每份是多少？

(2) 學生36人，排成4行，每行有幾人？

(3) 28個榛子，姐妹4人分吃，每人吃幾個？

☆☆☆☆

▲▲▲▲

▲▲▲▲

✦✦✦✦

$$4 \div () = 4$$

$$8 \div () = 4$$

$$24 \div () = 4$$

$$12 \div () = 4$$

$$28 \div () = 4$$

$$16 \div () = 4$$

$$32 \div () = 4$$

$$20 \div () = 4$$

$$36 \div () = 4$$

(1) 20裏面有幾個4？

(2) 32裏面有幾個4？

(3) 有12棵樹，一行種幾棵，能種
4行？



5

$$25 \div 5 = 5$$

$$5 \div 5 = ?$$

$$10 \div 5 = ? \quad 30 \div 5 = ?$$

$$15 \div 5 = ? \quad 35 \div 5 = ?$$

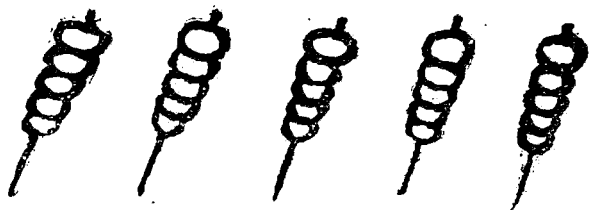
$$20 \div 5 = ? \quad 40 \div 5 = ?$$

$$25 \div 5 = ? \quad 45 \div 5 = ?$$

(1) 把20分做5份，每份是多少？

(2) 30元錢買了六本書，一本書值多少錢？

(3) 10本書分給5個學生，一個學生可分得幾本？



$$5 \div (\quad) = 5$$

$$10 \div (\quad) = 5 \quad 30 \div (\quad) = 5$$

$$15 \div (\quad) = 5 \quad 35 \div (\quad) = 5$$

$$20 \div (\quad) = 5 \quad 40 \div (\quad) = 5$$

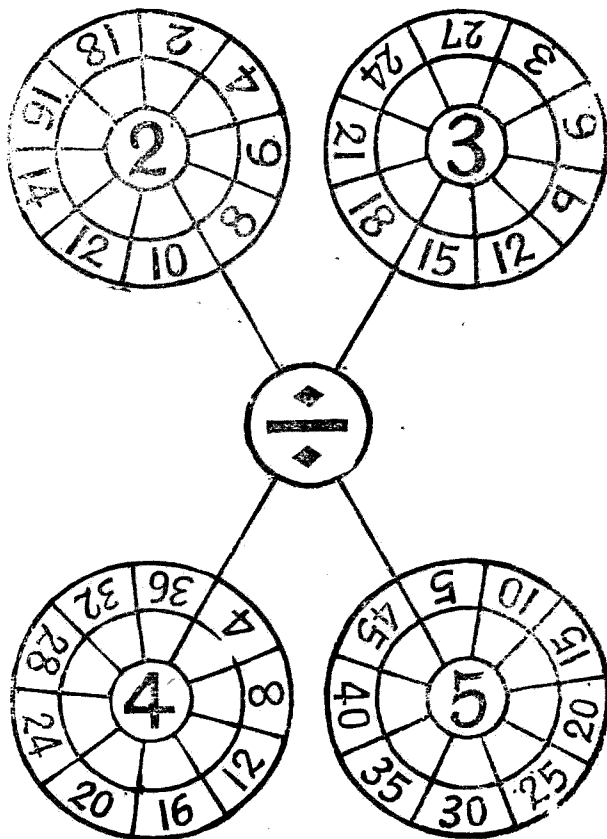
$$25 \div (\quad) = 5 \quad 45 \div (\quad) = 5$$

(1) 40裏面有幾個5？

(2) 15裏面有幾個5？

(3) 四十五個字，每頁寫幾個可寫
五頁？

復習除法



復習乘除法

$4 \times 8 = ?$

$7 \times 8 = ?$

$8 \times 6 = ?$

$1 \times 1 = ?$

$3 \times 2 = ?$

$1 \times 4 = ?$

$8 \times 9 = ?$

$0 \times 9 = ?$

$3 \times 4 = ?$

$0 \times 0 = ?$

$5 \text{人} \times 4 = ?$

$6 \text{架} \times 6 = ?$

$5 \text{隻} \times 7 = ?$

$6 \text{枚} \times 7 = ?$

$2 \text{個} \times 2 = ?$

$9 \text{枝} \times 3 = ?$

$2 \text{面} \times 5 = ?$

$9 \text{條} \times 5 = ?$

$4 \text{張} \times 3 = ?$

$7 \text{根} \times 2 = ?$

- (1) 每教室中掛着毛主席像1張，6個教室中共有幾張毛主席像？
- (2) 教室中每排坐8人，5排共有幾人？
- (3) 每天儲蓄3元，7天共儲蓄多少元？
- (4) 5個4邊形共有幾條邊？

$4 \times () = 16$

$6 \times () = 30$

$5 \times () = 40$

$5 \times () = 45$

$3 \times () = 15$

$9 \times () = 63$

$6 \times () = 12$

$7 \times () = 56$

$7 \times () = 49$

$4 \times () = 12$

$2 \text{本} \times () = 16 \text{本}$

$6 \text{塊} \times () = 48 \text{塊}$

$8 \text{元} \times () = 24 \text{元}$

$3 \text{匣} \times () = 21 \text{匣}$

$4 \text{天} \times () = 28 \text{天}$

$8 \text{尺} \times () = 72 \text{尺}$

$9 \text{粒} \times () = 36 \text{粒}$

$2 \text{里} \times () = 14 \text{里}$

$1 \text{碗} \times () = 8 \text{碗}$

$1 \text{排} \times () = 6 \text{排}$

(1) 7的幾倍是14？

(2) 5的幾倍是35？

(3) 每排有兵6人，幾排有兵24人？

(4) 幾匹馬有32條腿？

$15 \div 3 = ?$

$25 \div 5 = ?$

$12 \div 4 = ?$

$12 \div 3 = ?$

$10 \div 5 = ?$

$28 \div 4 = ?$

$36 \div 4 = ?$

$45 \div 5 = ?$

$24 \div 3 = ?$

$20 \div 4 = ?$

$18 \text{元} \div 3 = ?$

$24 \text{匹} \div 4 = ?$

$28 \text{尺} \div 4 = ?$

$35 \text{面} \div 5 = ?$

$27 \text{頂} \div 3 = ?$

$14 \text{本} \div 2 = ?$

$36 \text{片} \div 4 = ?$

$18 \text{件} \div 6 = ?$

$40 \text{枝} \div 5 = ?$

$21 \text{隻} \div 3 = ?$

(1) 4除8是多少？

(2) 5除30是多少？

(3) 糖20塊，分做5份，每份是多少？

(4) 梨子32個，分裝4盤，每盤有幾個？



- (1) 糖每塊2元，10元可買糖幾塊？
- (2) 假使有錢18元可買糖幾塊？
- (3) 糕每塊5元，20元可買幾塊？
- (4) 假使有45元可買幾塊？
- (5) 糕6塊，3人分，每人分幾塊？
- (6) 買餅8個，花24元，那麼1個多少錢？

總練習

$47 + 48 = ?$

$78 + 12 = ?$

$35 + 56 = ?$

$20 + 55 = ?$

$4 + 6 + 9 = ?$

$2 + 3 + 5 + 7 = ?$

(1) 樓上有15人，樓下有27人，樓上樓下共有幾人？

(2) 買筆用去4元，買紙用去5元，買墨用去8元，共用去幾元？

$72 - 19 = ?$

$43 - 25 = ?$

$67 - 28 = ?$

$51 - 42 = ?$

$96 - 17 = ?$

$84 - 16 = ?$

(1) 學校裏男生96人，女生88人，男生比女生多幾人？

(2) 饅頭30個，吃去17個，還剩幾個？

$2 \times 2 = ?$

$9 \times 9 = ?$

$9 \times 7 = ?$

$7 \times 4 = ?$

$4 \times 8 = ?$

$2 \times 6 = ?$

(1) 餅每盒6個，8盒共有幾個？

(2) 假使每個值錢2元，一盒共值多少錢？

$9 \div 3 = ?$

$24 \div 4 = ?$

$14 \div 2 = ?$

$27 \div 3 = ?$

$25 \div 5 = ?$

$30 \div 5 = ?$

(1) 父親把錢36元，分給4個孩子，每人可得錢幾元？

(2) 餅每個3元，假使每人把分得的錢去買，每人可買餅幾個？

$18 \text{ 粒} + 20 \text{ 粒} = ?$

$61 \text{ 隻} - 35 \text{ 隻} = ?$

$34 \text{ 元} + 46 \text{ 元} = ?$

$73 \text{ 枚} - 58 \text{ 枚} = ?$

$52 \text{ 面} + 39 \text{ 面} = ?$

$95 \text{ 個} - 77 \text{ 個} = ?$

(1) 大黑板46面，小黑板38面，共有幾面？

(2) 大黑板比小黑板多幾面？

$6 \text{ 朵} \times 5 = ?$

$28 \text{ 尺} \div 4 = ?$

$7 \text{ 天} \times 3 = ?$

$45 \text{ 元} \div 5 = ?$

$8 \text{ 件} \times 9 = ?$

$18 \text{ 塊} \div 2 = ?$

(1) 紙旗每面值錢3元，6面共值錢幾元？

(1) 假使有錢27元，可買幾面紙旗？

玩 算

初
小
算
術

第
三
冊

五
〇

$$7 \times 3 = (\quad) \cdots 2$$

$$7 \times 6 = (\quad) \cdots 4$$

$$7 \times 9 = (\quad) \cdots 6$$

$$1 - 1 = (\quad) \cdots 2 \quad 0$$

$$2 - 2 = (\quad) \cdots 4 \quad 0$$

$$3 - 3 = (\quad) \cdots 6 \quad 0$$

$$7 \times 2 = (\quad) \cdots 1$$

$$7 \times 5 = (\quad) \cdots 3$$

$$7 \times 8 = (\quad) \cdots 5$$

$$4 - 4 = (\quad) \cdots 1 \quad 0$$

$$5 - 5 = (\quad) \cdots 3 \quad 0$$

$$6 - 6 = (\quad) \cdots 5 \quad 0$$

$$7 \times 1 = (\quad) \cdots 7$$

$$7 \times 4 = (\quad) \cdots 2$$

$$7 \times 7 = (\quad) \cdots 4$$

$$7 - 7 = (\quad) \cdots 0$$

$$8 - 8 = (\quad) \cdots 2 \quad 0$$

$$9 - 9 = (\quad) \cdots 4 \quad 0$$

$$7 - 4 = ?$$

$$4 - 1 = ?$$

$$40 - 20 = ?$$

$$20 - 0 = ?$$

$$8 - 5 = ?$$

$$5 - 2 = ?$$

$$50 - 30 = ?$$

$$30 - 10 = ?$$

$$9 - 6 = ?$$

$$6 - 3 = ?$$

$$60 - 40 = ?$$

$$40 - 20 = ?$$



初小算術第三冊

1948.5.再版 哈.35000。

定價： 元