



كتاب تحرير اصول لاوقليدس

من تأليف خوجه

نصير الدين الطوسي







## وبه نشق ونستعين.

وبعد فان العلوم الرياضية التي هي واسطة عقد الحكمة النظرية تنقسم الى اربعة اقسام الهندسة والارثماتيقي والموسيقى والمجسطي وهو غايتها وكان كتاب الاصول الذي يقال له الاستقص لتحليل ساير العلوم الرياضية اليه في سالف الايام مرتبا علي خمس عشرة مقالة قال بعض ملوك اليونان الي حله فاستعصي عليه فاخذ يتنسم اخبار الكتاب من كل وارد من اهل العلم عليه فاشار بعضهم الي رجل في بلد الصور يقال له اقليدس انه مبرر في علمي الهندسة والحساب فطلبه الملك وامره بتهديب الكتاب وترتيبه فهذه به ورتبه علي ثلث عشرة مقالة واشتهر الكتاب باسمه وحذف المقالتين الاخيرتين لان مساييلها كانت من المقدمات التي يتوقف عليها براهين نسب المجسمات المذكورة في المقالة الثالثة عشر وكيفية رسم الاشكال المذكورة فيها بعضها في بعض وكانت كلها تستبين منا ومن غيرها ومن المقالات المقدمة عليها وكان الكتاب موضوعا لان يوضع فيه الاصول دون القروع اذ هي غير متناهية ولذلك عدت قضايا لم تتبين الا في هذا العلم من الاصول الموضوعه لما كانت ظاهرة البيان من مساييل الكتاب ثم نشا بعد زمان يعسقلان رجل يقال له انسقلاوس برر في العلوم الرياضية والحق المقالتين بالكتاب بعد تهذيبهما فصار الكتاب بهما خمس عشرة مقالة ثم نقل الي العربية مرتبا علي خمس عشرة مقالة واشتهر من النسخ المنقولة نسختان بين علما هذه الصناعة احديهما هي التي اصاحبها ثابت بن قرة الحراي والآخر هي التي نقلها واصاحبها حجاج بن مطر ثم اخذ في تهذيب الكتاب جماعة كثيرة من المتأخرين طلبا للايجاز والايضاح فحذف بعضهم دعاوي اشكال الكتاب وقنع بالمثال وبعضهم حذف بعض مساييله اعتقادا منه بانه معلوم من باقي الكتاب وبعضهم جمع اشكالا عدة في شكل واحد وبعضهم استخرج من القوة الي الفعل بعض ما امله اقليدس




اقلبدس مما يتوقف عليه براهين اشكال الكتاب اعتمادا علي اذهان من  
يحاول حله ومراعاة لطريقته في هذا الكتاب وبعضهم مع ذلك اشار  
الي عدد الاشكال المتقدمه مما يتوقف عليه براهين الاشكال المتاخره  
بالرقوم من حروف ايجاد فجعل بعضهم الحروف في متن الكتاب وبعضهم  
كتبها علي الحواشي و في اثنا السطور فلما تداوتها الايدي صحفت الحروف  
التي كانت في المتن وتركت التي كانت علي الحواشي و في اثنا السطور وكان  
الكتاب من الكتب المحتاجة الي التفسير والايضاح لبسهل بذلك علي  
الطلبه الانتفاع به ثم اني لما تأملت فيما حكته قوي عزمي علي ان ارتب  
الكتاب علي ثلث عشرة مقالة كما فعله اقلبدس واسلك فيه طريقة  
جامعة بين المتن والشرح واستخرج جميع ما هو بالقوة الي الفعل مما يتوقف  
عليه براهين اشكاله وافصل مقدماتها بعضها عن البعض علي ترتيب  
صناعي وانبه علي اختلاف وقوع كل شكل له اختلاف وقوع وعلي  
الاستبانة ان كانت وامر عنها مسائل المقالتين الاخرتين بالاشارة اليها  
واحيل علي كل شكل يقع مقدمة لبراهين بعض اشكال الكتاب  
بالكتابة لابلرقوم واذكر عدده فقط ان كانت المقدمة والنتيجة من مقالة  
واحدة وعدد المقالة مع ذلك ان كانتا من مقالتين وكرر شكلا واحدا  
مرارا كثيرة في مسئلة واحدة اذا وقع الاحتياج اليه ليكون الكتاب  
بذلك كاملا في نصابه وجامعا لمقاصد طلابه واسأل الله تعا في جميع ذلك  
العصمة عن العوايه في الروايه والصون عن طغيان العلم في الكتابه انه  
علي كل ذلك قدير وبالاجابة جدير وها انا شرعت فيما حكته

## المقالة الاولى في البعثة

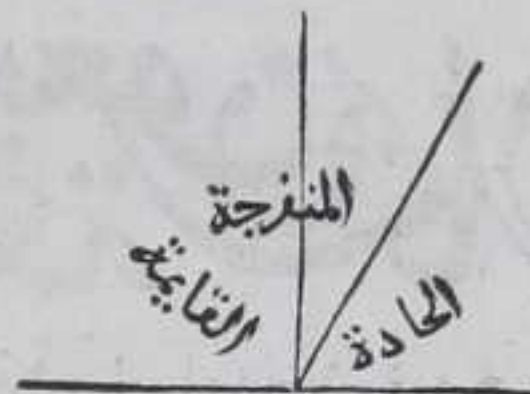
لكل علم موضوع ومباد ومسايل وموضوع كل علم ما يبحث فيه عن  
اعراضه الذاتية وهي المحولات التي يحق الشي لذاته او لجزوه او لما  
يساويه من المحولات الخارجه عنه والمبادي اما حدود موضوعاته او قضايا  
هي مقدمات براهين مسائله اما مبنيه في ذلك العلم من غير ان يستلزم الدور  
او في علم اخر ويقدم في او ايل الكتب مجردة عن البراهين وقد يقدم  
معها لاعلي انها من براهين ذلك العلم ويسمي مصادرات واصولا موضوعه  
واما مبنيه بذواتها ويسمي علوما متعارفه والمسائل هي قضايا يبرهن  
فيه علي اثبات محولاتها لموضوعاتها او سلبها عنها وموضوع هذا العلم  
الكم المتصل والمنفصل من حيث يعرض لجزياتهما بعضها الي بعض نسب  
واضافة واما الحدود والنقطة شي ما ذو وضع لا ينقسم في الخارج  
والمعني بالوضع كون الشي قابلا للاشارة اليه والحط عظم له



طول فقط والمتناهي منه انما ينتهي بالنقطة  $\odot$  والعظم كم من شأنه ان يشترك اجراوه في حد او حدود  $\odot$  والخط مستقيم ان كانت النقط التي تفرض عليه بعضها علي مقابلة البعض ومنحن ان لم يكن كذلك  $\odot$  والسطح او البسيط عظم له طول وعرض فقط وما كان منه متناهي انما ينتهي بالخط او النقطة  $\odot$  والسطح مستوي ان كانت الخطوط المستقيمة المفروضة او التي يمكن فرضها عليه كيف كان تكون بعضها علي مقابلة بعض  $\odot$  ومحدب او مقعر ان لم يكن كذلك ويشملها غير المستوي والزاوية المسطحة هي انفراج احد الخطين عن الاخر الكائنين في سطح المتصلين علي نقطة من غير ان يتحدا خطا واحدا وكل من الخطين المحيطين بها ان كان مستقيما فهي المستقيمة الخطين والافهي غير مستقيمة الخطين سواء كان الخطان المحيطان بها اتفقا محديها او مقعراهما في جهة او اختلفا او كان احدهما مستقيما والاخر منحنيا محددب المنحني مع المستقيم او مقعره  $\odot$  وهذه صورتها  $\odot$



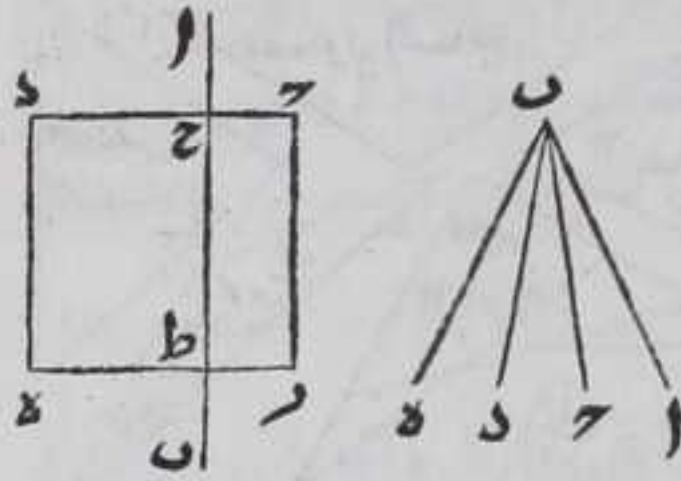
وإذا قام خط مستقيم علي خط مستقيم بحيث لا ميل له الي احد جانبيه فكل واحد من الزاويتين المتساويتين الحادثتين عن جنبه يسمى قائمة ويقال لهما قائمتان ويقال ان كل خط من الخطين عمود علي صاحبه  $\odot$  فان مال الخط الي احد جانبيه حدثت زاويتان مختلفتان تسمى التي في جهة الميل حادة والاخري منفرجة وهي اعظمهما وهذه صورتها



كل خطين مستقيمين كائنين في سطح مستويان اخرجنا في جهتهما الي غير النهايه فلا يخلوا اما ان لا يتلاقيا او يتلاقيا فالاولان يقال لهما المتوازيان والاخران يقال لهما المتسامتان وانه علي ان القسمه منحصرة في هذين القسمين ان شا الله تعالى  $\odot$  ثم الزاوية بحسب اوضاعها بعضها عند بعض ستة اقسام متقابلتان ومتبادلتان ومتلاقبتان ومتتالبتان والداخلتان في جهة ومتقاطعتان لبيكن سطح حدهر متوازي الاضلاع وقطع خط اب المستقيم ضلعي حدهر المتقابلين علي نقطتي ح ط فالمتقابلتان علي ثلثة انواع الاولي كزاويتي احد ح ط والثانية كزاويتي ح ط هـ والثالثة كزاويتي احد ح ط هـ ويسمي الاخرتين بالخارجيه والداخله والمتبادلتان هي كزاويتي ح ط هـ ط ح والمتلاقبتان هي كل زاويتين

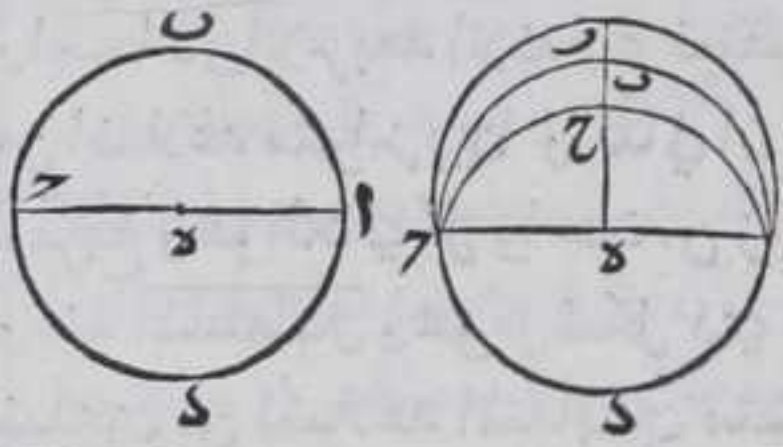


زاويتين يتلاقبان على نقطة فقط كزاويتي  $\widehat{A} \widehat{C} \widehat{D}$  والمتتالبتان



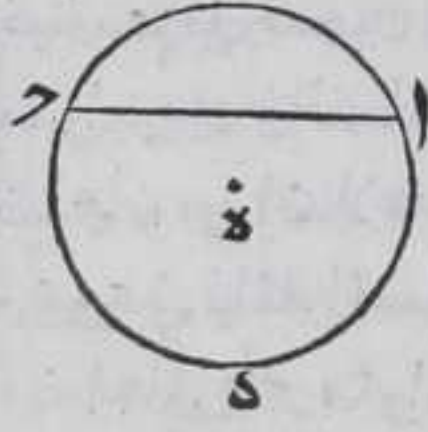
كزاويتي  $\widehat{D} \widehat{C} \widehat{P}$  و  $\widehat{D} \widehat{C} \widehat{A}$  والداخلتان في  
 جهة واحدة كزاويتي  $\widehat{D} \widehat{C} \widehat{P}$  و  $\widehat{D} \widehat{C} \widehat{A}$   
 والمتقاطعتان كزاويتي  $\widehat{A} \widehat{B} \widehat{C}$  و  $\widehat{D} \widehat{B} \widehat{E}$  وهذه  
 صورتها  $\odot$  وتسمى النهايات حدودا  
 والشكل ما احاط به حد او حدود  $\odot$   
 والدايرة سطح مستوي يحيط به خط واحد

يمكن ان يفرض في داخله نقطة جميع الخطوط المستقيمة الخارجة منها الى  
 المحيط متساوية فالخط يسمى محيطها والنقطة مركزها والخطوط المستقيمة  
 الخارجة منها الى المحيط انصاف اقطارها والخط المستقيم المار بالمركز  
 المنتهي في جهته الى المحيط قطرها وهو ينصفها و هي تحدث من ادراة  
 خط مستقيم محدود في سطح مستوي يعود الى وضعه الاول  $\odot$  واستبان  
 من هذا ان لنا ان نرسم على اية نقطة وبأي بعد دايرة  $\odot$  ولنضع لبيان  
 ذلك دايرة محيطها خط  $\widehat{A} \widehat{B}$  ومركزها نقطة  $\delta$  وقطرها  $\widehat{A} \widehat{D}$  فاقول ان

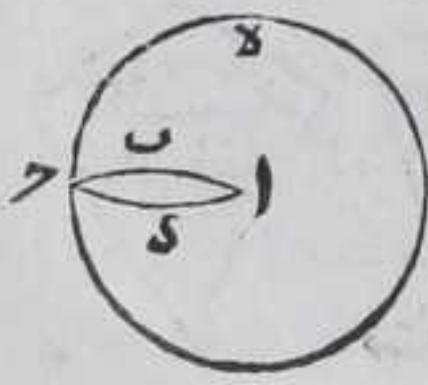


خط  $\widehat{A} \widehat{D}$  ينصف الدايرة لاننا اذا  
 ركنا شكل  $\widehat{A} \widehat{D}$  على شكل  $\widehat{A} \widehat{B}$  فان  
 خط  $\widehat{A} \widehat{D}$  ينطبق على خط  $\widehat{A} \widehat{B}$   
 والا يقع داخله او خارجه واياما  
 كان فانخرج خط  $\delta$  ر المستقيم

فبقطع الخطوط الثلاثة على نقط  $\widehat{C} \widehat{B}$  ر فيكون كل واحد من خطي  $\delta$  ر  
 $\widehat{C} \widehat{B}$  كخط  $\delta$  ب فيصير الجز مثل كله هذا خلف فقطر  $\widehat{A} \widehat{D}$  ينصف الدايرة  
 وذلك ما اردنا ان نبين  $\odot$  واستبان منه ان الزوايا الاربعة التي يحيط  
 بكل منها القطر ونصف المحيط متساوية  $\odot$  فنصف الدايرة شكل  
 مسطح يحيط به القطر ونصف المحيط  $\odot$  وكل خط مستقيم يقسم  
 الدايرة بقسمين يسمى وترا وما افرز من المحيط يسمى قوسا  $\odot$  فقطعه  
 الدايرة شكل يحيط به خط مستقيم وقوس افرزها الخط من المحيط  
 فالقطعه التي فيها المركز اعظمهما  $\odot$  ولقطع خط

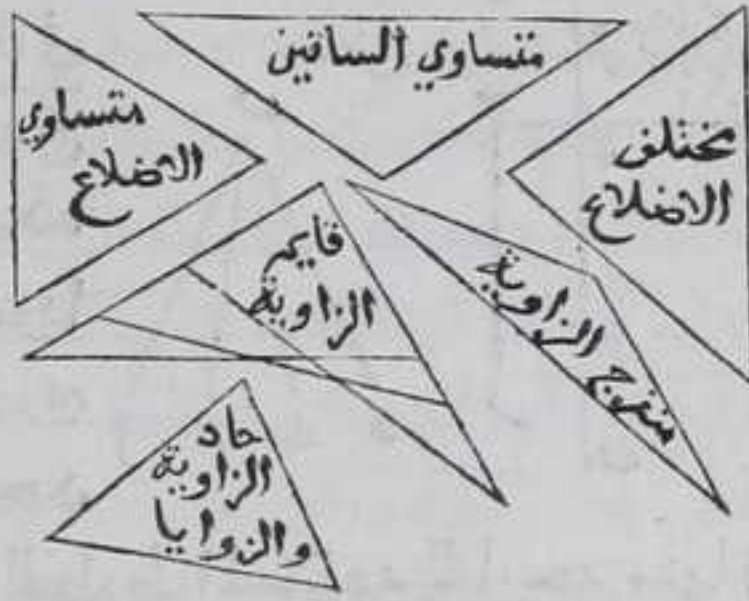


$\widehat{A} \widehat{B}$  المستقيم دايرة  $\widehat{A} \widehat{B} \widehat{C}$  فهو وتر لكل من قطعتي  $\widehat{A} \widehat{C}$   
 $\widehat{A} \widehat{B}$  و  $\widehat{A} \widehat{D}$  وهذه اعظمهما لان فيها نقطة  $\delta$  المركز  
 وكل واحد من خطي  $\widehat{A} \widehat{B}$  و  $\widehat{A} \widehat{D}$  اللذين افرزها  
 خط  $\widehat{A} \widehat{D}$  من المحيط يسمى قوسا ويقطع الدايرة ثلث  
 النصف والتي هي اكبر منه او اصغر منه  $\odot$  لا يحيط  
 خطان مستقيمان بسطح والا فليحيط خطا  $\widehat{A} \widehat{B}$   
 $\widehat{A} \widehat{D}$  بسطح  $\widehat{A} \widehat{B} \widehat{C}$  فنرسم على نقطة  $\delta$  وبعدها  $\widehat{A} \widehat{D}$   
 دايرة  $\widehat{C} \widehat{B}$  فيكونا زاويتا  $\widehat{A} \widehat{B} \widehat{C}$  و  $\widehat{A} \widehat{D} \widehat{C}$  متساويتان



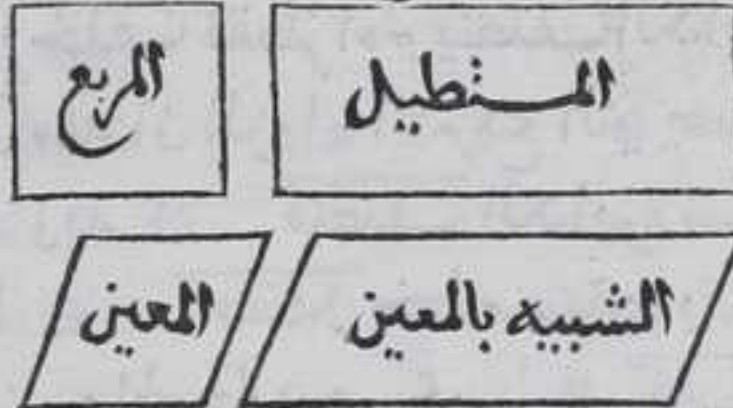


بالاستبانة فالجز يساوي كله هذا خلف وذلك ما اردنا ان نبين  
 واول الاشكال المستقيمة الخطوط  
 المثلث وهو ما يحيط به ثلثة خطوط  
 مستقيمة ثم ذو الاربعة الاضلاع  
 وهو الذي يحيط به اربعة خطوط  
 مستقيمة ثم ذو الاضلاع الخمسة  
 ويقال له الخمس ثم المسدس ثم السبع  
 وهلم جرا اما المثلث فينقسم الي



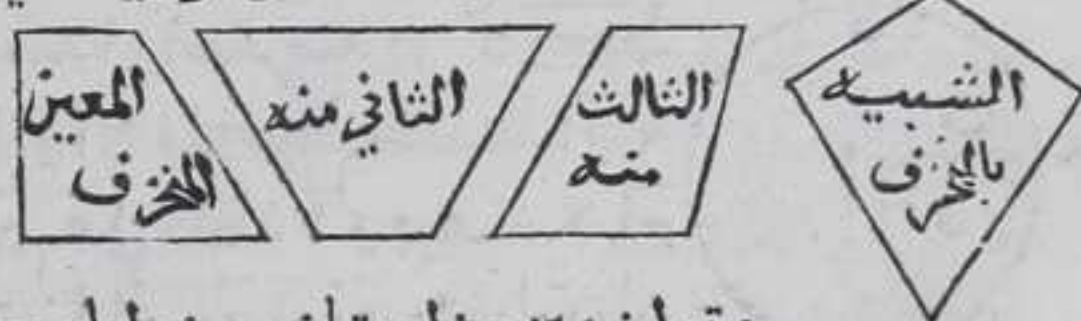
ستة اقسام بحسب الاضلاع والزوايا اما بحسب الاضلاع فان كانت  
 اضلاعه متساويه يسمى متساوي الاضلاع وان كان اثنان منها فقط  
 متساويين يسمى متساوي الساقين والاي يسمى مختلف الاضلاع  
 واما بحسب الزوايا يسمى قائم الزاوية ان كانت زاوية من زواياه  
 فقط قائمة ويسمى منفرجة الزاوية ان كانت زاوية من زواياه فقط  
 منفرجة ويسمى حاد الزوايا ان كانت كل واحدة من زواياه حادة  
 واما ذو الاربعة الاضلاع فينقسم الي قسمين احدهما ان كل متقابلين  
 من اضلاعه متوازيين والثاني ان لا يكون كذلك اما القسم الاول فانه  
 المربع وهو الذي كل واحد من زواياه قائمة وجميع اضلاعه متساوية  
 ومنه المستطيل وهو كل شكل ذي اربعة اضلاع كل من زواياه قائمة وكل  
 ضلعين من اضلاعه المتقابلين متساويان ومنه المعين وهو كل شكل  
 ذي اربعة اضلاع متساوية ولبيست زاوية من زواياه قائمة وكل متقابلين

من اضلاعه متساويان وكل من زواياه  
 المتقابلة متساوية ومنه الشبيه  
 بالمعين وهو كل شكل ذي اربعة  
 اضلاع كل متقابلين منها متساويان  
 ولبيست زاوية من زواياه قائمة



والمقابلتين منها متساويتان وهذه صورتها واما القسم الثاني  
 فينقسم الي قسمين احدهما ان يكون ضلعان من اضلاعه المتقابلين  
 متوازيين والضلعان الباقيان متلاقبان بالقوة والثاني ان لا يوجد  
 ضلعان من اضلاعه متوازيين اما الاول فهو المعين ويقال له المنحرف  
 وهو علي ثلثة اقسام احدها ان يكون ضلعان من اضلاعه متوازيين  
 وضلعان عبر متوازيين وزاويتان من زواياه قائمتان وزاوية منفرجة

والاخرى حادة  
 والثاني ان يكون  
 ضلعان من اضلاعه



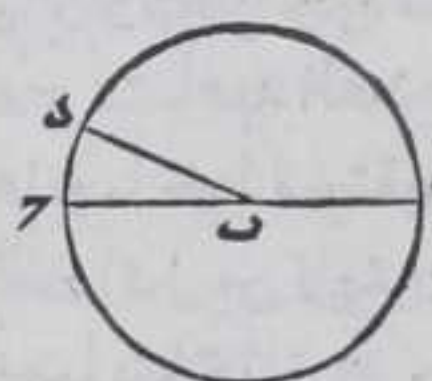
متوازيين وزاويتان من زواياه حادتان متساويتان  
 والباقيتان



والباقيتان منفرجتان متساويتان  $\text{٥}$  والثالث ان يكون ضلعان من اضلاعه متوازيين والباقيين غير متوازيين وزاويتان من زاويه منفرجتان مختلفتان والباقيتان حادتان مختلفتان وهذه صورتها  $\text{٦}$  واما الثاني فيسمى الشبيه بالمنحرف وهذه صورتها  $\text{٧}$

### الاصول الموضوعه

واما الاصول الموضوعه فقد تبين في العلم الالهي ان كل واحد من النقطة والخط المستقيم والمستدير والسطح المستوي والمستدير موجود لاستلزام وجود الكرة المتحركه اياها وهو محدد الجهات وجودها  $\text{٨}$  والفصل المشترك من كل خطين نقطة لانها نهاية كل منهما  $\text{٩}$  وبين كل سطحين خط لانها نهاية كل منهما  $\text{١٠}$  لنا ان نفرض علي كل خط وسطح كان نقطة لانه منتهي الاشارة الحسيه  $\text{١١}$  ولنا ان نصل بين كل نقطتين بخط مستقيم كان او غيره  $\text{١٢}$  كل نقطتين لنا ان نفرض بينهما نقطتا علي سمتهما ونفرض ان ينطبق علي احد النقطتين نقطة ونسيرها الي النقطة الاخرى بحيث تجتاز علي النقطة المفروضة عليهما مسامته اياها في جميع زمان حركتها الي ان تنتهي الي النقطة الاخرى فسير كل نقطة خط مستقيم لانه طول ولا عرض له والنقطة التي تفرض عليه بعضها علي مقابلة بعض  $\text{١٣}$  واستبان منه ان لنا ان نفرض خطا مارا باي نقطة تفرض ولا يمكن ان يتصل خطان مستقيمان بخط مستقيم في جهة واحدة من احدي نهايتيه كل منهما علي استقامته بحيث يكون كل واحد معه خطا مستقيما والا فليكن الخط المستقيم  $\text{آب}$

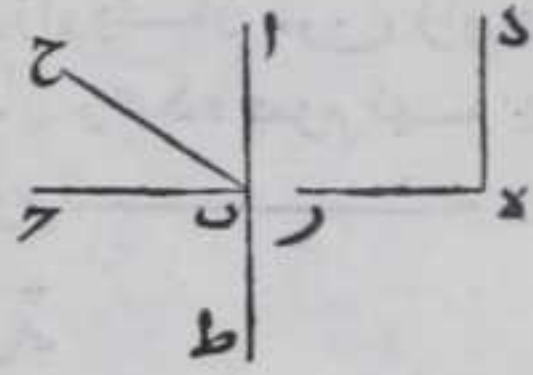


والمتصل به علي استقامته خط  $\text{ب د}$  ونرسم علي نقطة  $\text{ب}$  وببعد اقصر خط من الخطوط  $\text{آب ب د}$  دائرة  $\text{آ د}$  وكل واحد من خطي  $\text{آب ب د}$  خط مستقيم مار بمركز الدائرة منته في جهته الي المحيط وكل منهما قطر دائرة  $\text{آ د}$  فلدائرة واحدة

نصفان احدهما اعظم من الاخر هذا خلف وذلك ما اردنا ان نبين  $\text{١٤}$  لنا ان نخرج خطا مستقيما ذا نهاية علي استقامته الي اي حد شينا في جهته لانا لو فرضنا نقطة علي الخط كانت مع نقطة النهاية علي سمت واحد ثم نفرض نقطتا كم شينا علي سمت النقطتين المفروضتين ونفرض انطباق نقطة علي النقطة المفروضة اولا ونسيرها بحيث تجتاز علي النقطة المفروضة فسيرها خط مستقيم والخطوط المستقيمة والسطوح المستوية ينطبق كل علي مثله كل زاوية قائمة مستقيمة الخطين فهي متساوية لكل زاوية قائمة مستقيمة الخطين غيرها ليكن كل من زاويتي  $\text{آ ب د}$   $\text{د ه ر}$  قائمة ونفرض انطباق  $\text{د}$  علي نقطة  $\text{ب}$  بحيث ينطبق



خط دة علي خط آ ب فان انطبق خط دة علي خط ب ب فقد حث  
 الخمر والافليقع فيما بين خطي آ ب ب كخط  
 ب ح ونخرج آ ب علي استقامته في جهة ب الي  
 نقطة ط فلان خط ب ب المستقيم وقع علي خط  
 آ ب ط وزاوية آ ب ح قائمة فزاوية ح ب ط ايضا  
 قائمة اذ لا مبدل لخط ب ب الي احدي جهتي آ ط



ولان خط ب ح وقع علي خط آ ط وحدث عن احدي جانبيه زاوية  
 آ ب ح القائمة فلا مبدل له الي احد جهتي آ ط والا لكانت زاوية آ ب ح  
 حادة او منفرجة وهي قائمة هذا خلف فزاوية آ ب ح تساوي زاوية  
 ح ب ط لكن زاوية آ ب ح اصغر من زاوية آ ب ح فهي اصغر من زاوية ح ب ط  
 المساوية لزاوية آ ب ح فزاوية ح ب ط المساوية لزاوية آ ب ح اصغر من  
 زاوية ح ب ط فيصير كل الشئ اصغر من جزءه هذا خلف فالحكم ثابت  
 وذلك ما اردنا ان نبين  $\text{كل واحد من المقادير يزداد بازيد اجزائه}$   
 فلو كانت اجزاء مقدار واحد غير متناهية العدد وهي متساوية  
 المقدار فذلك المقدار غير متناه فلا شئ من المقادير المتناهية يمكن ان  
 ينقسم الي اقسام متساوية المقدار غير متناهية العدد فكل مقدارين  
 محدودين من جنس واحد مختلفين بالعظم والصغر فالعظيم اما مثل  
 الصغير ومثل فضلة هي اصغر من الصغير واما ضعف الصغير او ضعفه  
 مع فضلة هي اصغر من الصغير واما اضعاف الصغير او اضعافه مع  
 فضلة هي اصغر من الصغير وكل مقدارين محدودين مختلفين بالعظم  
 والصغر فالصغير يصير اعظم من العظيم بالتضعيف مرة بعد اخري  
 والا لا يمكن جود مقدار محدود ان ينقسم الي اجزاء متساوية المقدار  
 غير متناهية العدد وذلك محال لما مر  $\text{كل خطين مستقيمين وقع}$   
 $\text{عليهما خط مستقيم وصير الزاويتين الداخلتين في جهة واحدة من}$   
 $\text{الخط اقل من قائمتين فان الخطين اذا اخرجا في تلك الجهة الي غير النهاية}$   
 $\text{فهما يتلاقبان}$  وهذه القضية لبست من العلوم المتعارفة بل هي من  
 القضايا التي تحتاج الي اقامة البرهان علي صحتها ببعض مسايل الكتاب  
 من غير دور وقد استنبطت لا ثباتها برهاننا اذ كره في موضع يلحق  
 ايراده به ان شا الله تعالى

### العلوم المتعارفة

واما العلوم المتعارفة  $\text{الاشياء المساوية لشي واحد متساوية}$   
 واذا زيد علي المتساوية حصلت متساوية  $\text{واذا نقص من المتساوية}$   
 متساوية بقيت متساوية  $\text{واذا زيدت علي غير المتساوية او نقص}$   
 عنه المتساوية حصلت او بقيت غير متساوية  $\text{الاشياء التي هي اضعاف}$   
 بعدة

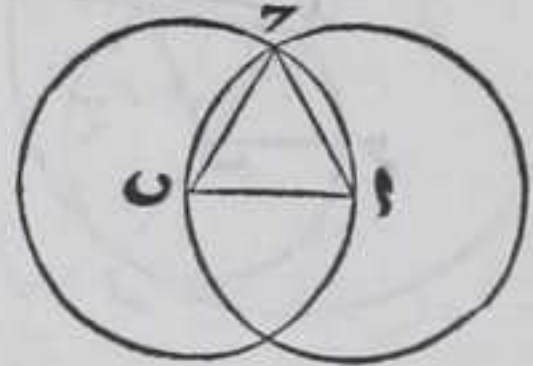


بعدة واحدة لشي بعينه او اجزاء له بعدة واحدة فهي متساوية  
والاشياء التي لا يتصل بعضها بالتطبيق علي بعض مع اتحاد احد  
اطرافها فهي متساوية  $\square$  والكل اعظم من جزءه  $\square$  الاشكال

لنا ان نعمل علي اي خط مستقيم محدود مفروض

مثلا متساوي الاضلاع

فليكن الخط  $AB$  فنرسم علي نقطة  $A$  وبعده  $AB$  دائرة  $ABC$  وعلي نقطة  
 $B$  وبعده  $BA$  دائرة  $ACD$  فليقطع محيط احد



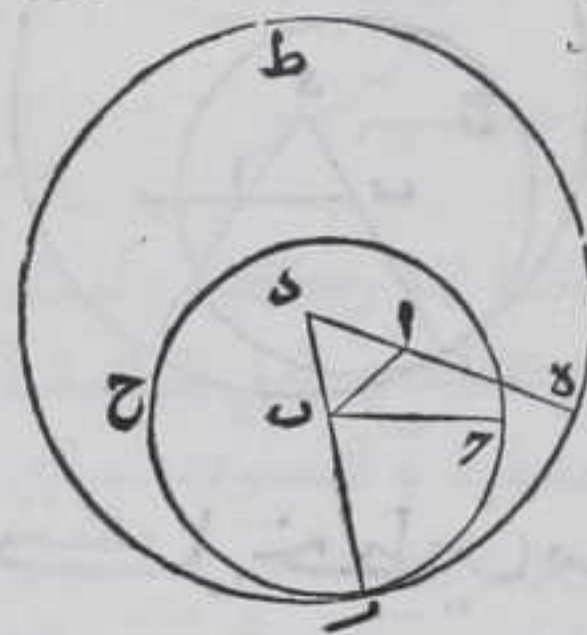
هما محيط الاخرى والالوقع مركز دائرة  $AC$   
مثلا علي محيطها او خارجا عنه هذا خلف  
فليكن الفصل المشترك نقطة  $E$  ونصل بينهما  
وبين كل واحد من نقطتي  $A$   $B$  بخط مستقيم

فاقول ان مثلث  $ABC$  متساوي الاضلاع برهانه فلان الخطوط  
المستقيمة الخارجة من المركز الي المحيط متساوية فخط  $AC$   $BC$  يساويان  
خط  $AB$  لان الاشياء المساوية لشي واحد متساوية فاضلاع مثلث  $ABC$   
متساوية وذلك ما اردنا ان نبين

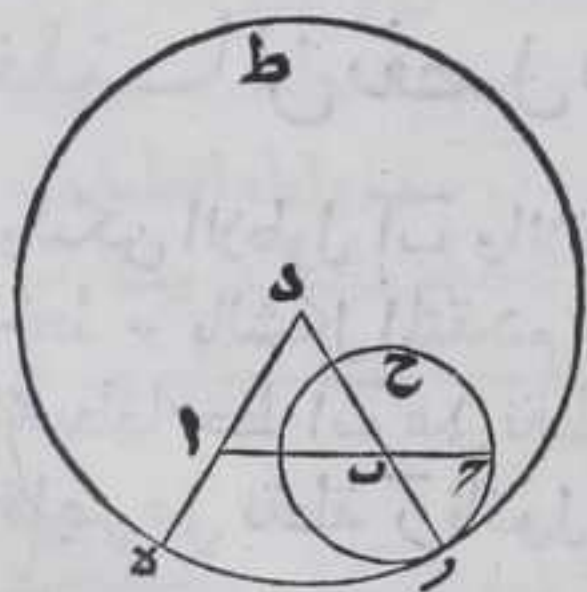
لنا ان نضيف الي اي نقطة مفروضة كانت خطا

مستقيما مساويا لخط مستقيم محدود من شرط

كونهما في سطح واحد

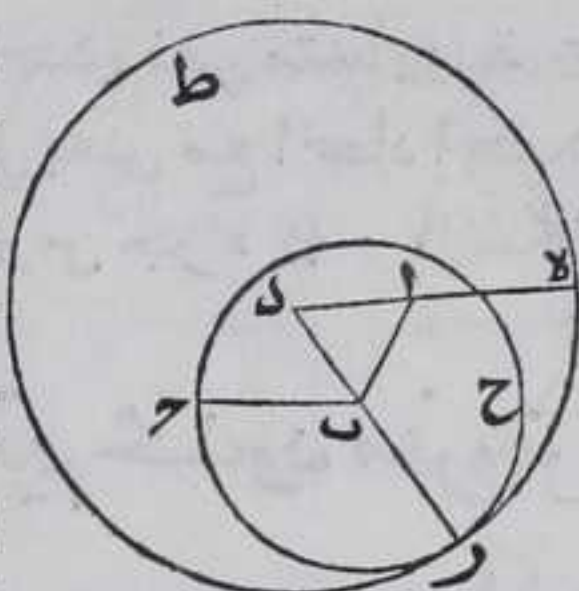


ليكن النقطة  $A$  والخط  $AB$  فنصل بين نقطتي  
 $A$   $B$  بخط مستقيم ونرسم عليه مثلثا  
متساوي الاضلاع وهو  $ABC$  بالشكل المتقدم  
ونخرج ضلعي  $DA$   $DB$  في جهتي  $A$   $B$  علي  
استقامتهما الي غير النهايه ونرسم علي  $B$   
وبعده  $BC$  دائرة  $BCD$  فليقطع لالمحاله  
ضلع  $DB$  الخارج علي نقطة  $E$  وليكن نقطة  $F$   
وضلع  $DC$  الخارج من نقطة  $R$  ونرسم علي  
نقطة  $D$  وبعده  $DR$  دائرة  $DRS$  فهي تقطع  
ضلع  $AD$  الخارج علي نقطة  $G$  وليكن النقطة  $H$   
فاقول ان خط  $AG$  يساوي  $BC$  برهانه

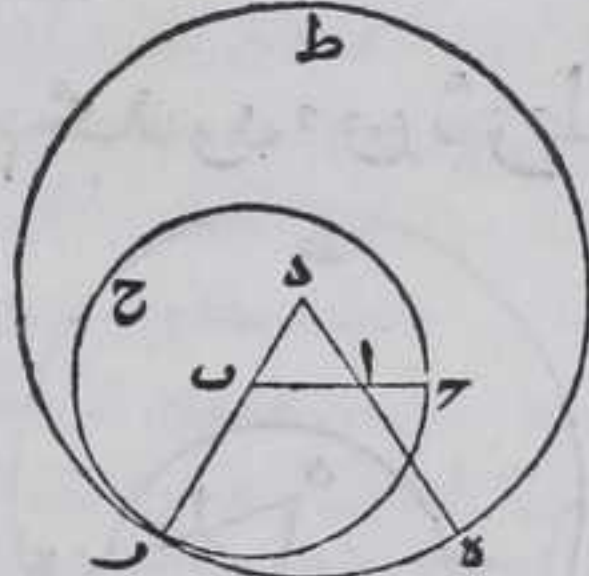
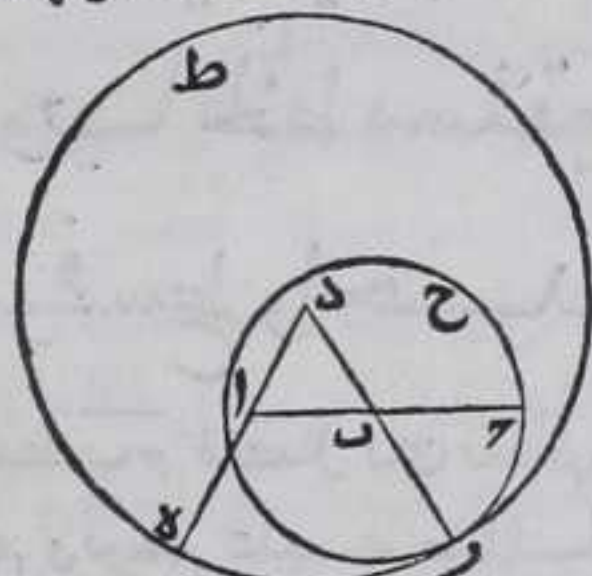
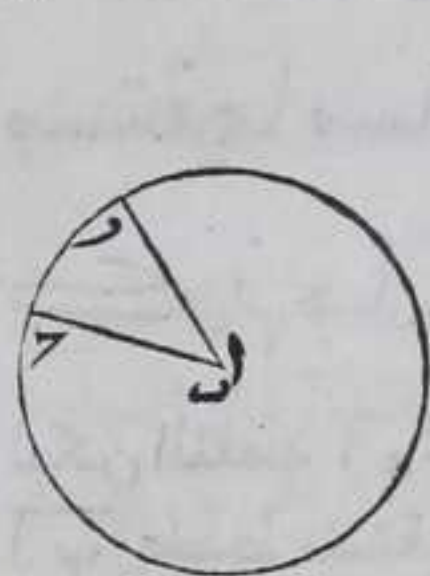
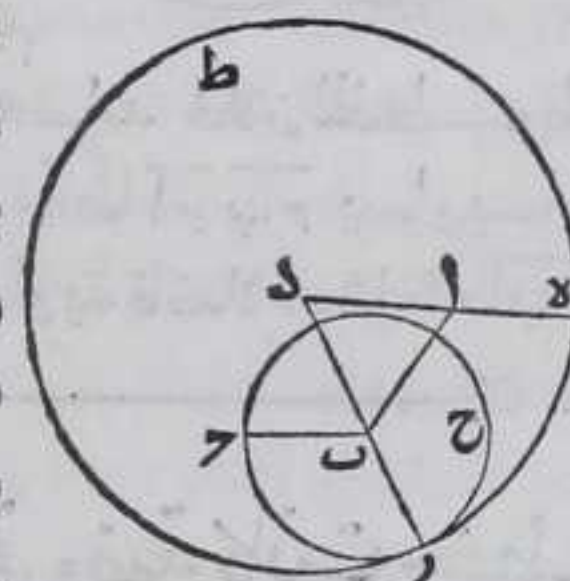
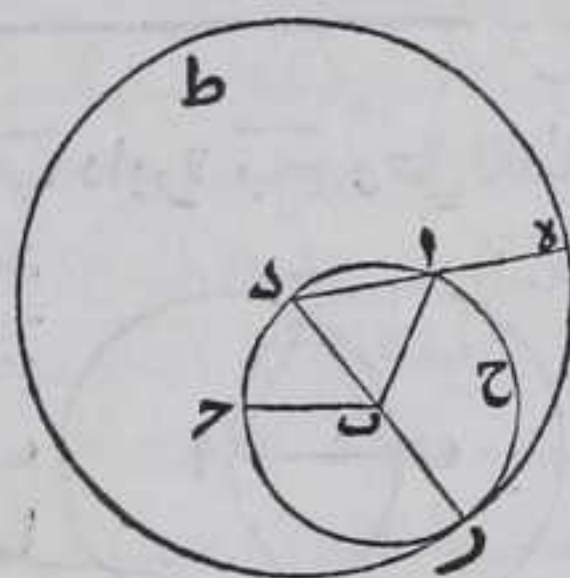




فلان ب مركز دائرة ح ح فخط ب ح كخط  
 ب ر ولان د مركز دائرة ر ه ط فخط ده كخط  
 در فاذا القينا منهما خطي د ا د ب المتساويين  
 كل من نظيره يبقي خط ا ه كخط ب ر وكان  
 ب ح كخط ب ر فخط ا ه كخط ب ح وذلك ما  
 اردنا ان نبين



ولهذا الشكل اختلاف وقوع فان نقطة آ اما  
 ان تقع مبانبه لب ح او غير مبانبه والمبانبه  
 اما غير مسامتة لب ح او مسامتة له وغير  
 المبانبه اما على الخط او على طرفه فعلي  
 تقديري الاول والثاني خط آ ب ان كان اصغر  
 من خط ب ح فمحيط الدائرة ح ح يحوي  
 نقطة آ كما مثلنا وان كان مساويا له فيمصر على  
 نقطة آ وان كان اعظم منه فيقطع خط آ ب  
 وعلى تقدير الثالث فلا يحتاج الي ان نصل  
 بين نقطتي آ ب بخط مستقيم والعمل  
 والبرهان في الكل واحد وعلى التقدير الرابع  
 نرسم على نقطة آ وبعدها ح دائرة ح ر ونصل  
 بين نقطتي آ ب و ر بخط مستقيم فهو مساو  
 لخط ب ح وهذه صورتها

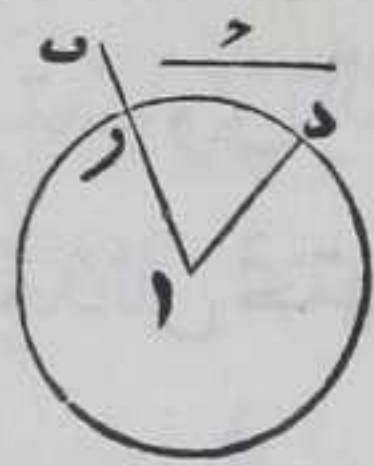


كل خطين مستقيمين مختلفين في الطول

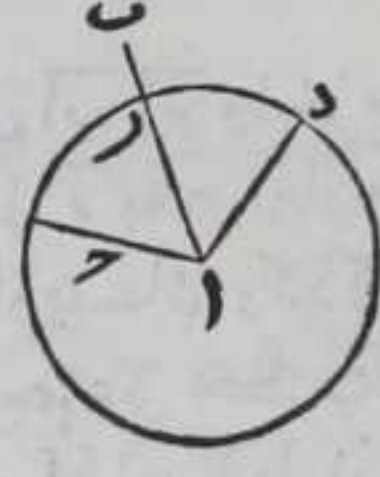
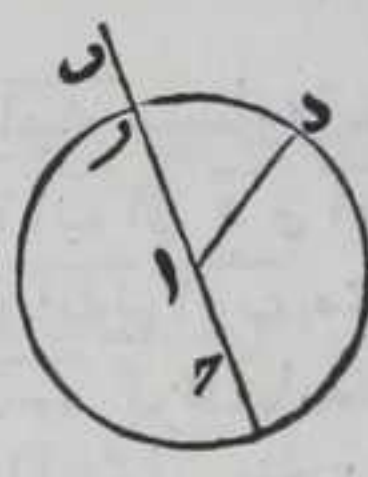
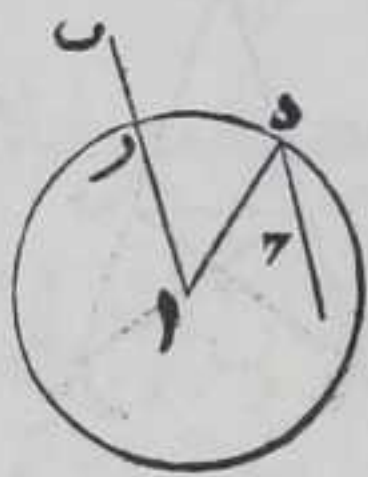
فلنا ان تفصل من اطولهما مثل اقصرهما

ولبكن الاطول آ ب والاقصر ح فنضيف الى نقطة آ خط آ د يساوي  
 خط ح بالشكل المتقدم ونرسم على نقطة آ وبعدها د دائرة د ر فبقطع  
 محيطها خط آ ب على نقطة ر لبكن نقطة ر فيمصر محيطها على خط آ ب  
 فليمر على نقطة ر فاقول ان خط آ ر كخط ح برهانه فلان آ مركز  
 دائرة



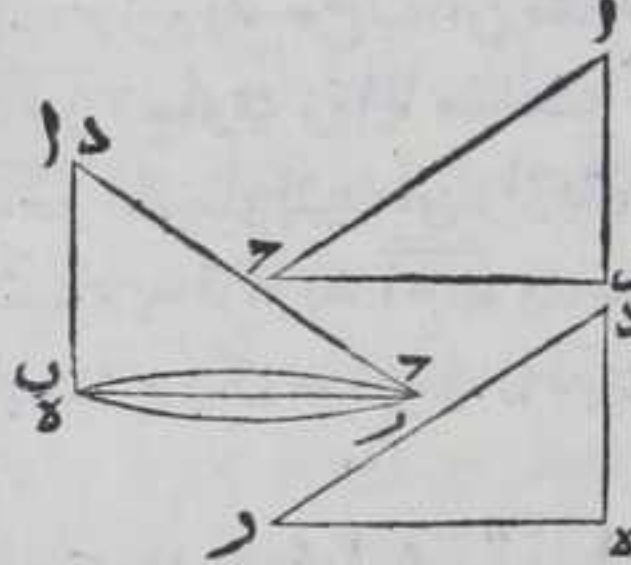


دايرة رد فخط آر كخط آد وكان خط ح كخط آد فخط  
 آر كخط ح وذلك ما اردنا ان نبين  
 ولهذا الشكل اختلاف وقوع لان من الجيران ينطبق  
 خط آد علي خط آب الا ان البرهان واحد  
 ولو ضوحه لم نورد له شكلا



كل مثلثين تساوي ضلعان وزاوية بينهما  
 ضلعين وزاوية بينهما من الاخرى كل لنظيره  
 فالضلعين الباقيين والزوايا الباقية المتناظرة

متساوية والمثلث كالمثلث



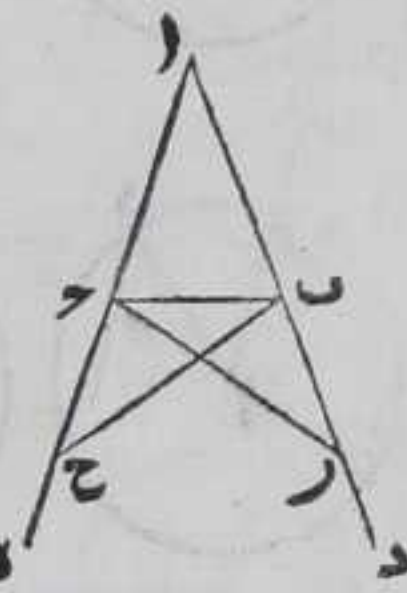
ولبكن ضلعا آب آح وزاوية باح من  
 مثلث آب ح يساوي ضلعي ده در و  
 زاوية هدر من مثلث ده ر كل لنظيره  
 فاقول ان ضلع باح كضلع ه ر وزاوية  
 آب ح كزاوية ده ر وزاوية آب ح كزاوية

ده ر ومثلث آب ح كمثلث ده ر برهانه فلانا اذا ركبنا مثلث  
 آب ح علي مثلث ده ر بحيث يماس بحيث يقع نقطة ب علي نقطة ه  
 و ضلع آب علي ضلع ده فبقع نقطة آ علي نقطة د لتساوي ضلعي  
 آب ده فبنطبق ضلع آح علي ضلع در لتساوي زاوية باح ه در و  
 تقع نقطة ح علي نقطة ر لتساوي آح در فبنطبق باح علي ه ر والا  
 لوقع داخل المثلث او خارجه وايا ما كان يلزم احاطة خطين  
 مستقيمين بسطح هذا خلف فاضلاع مثلث آب ح وزواياه انطبقت  
 علي اضلاع مثلث ده ر وزواياه كل علي نظيره فالحكم ثابت وذلك ما  
 اردنا ان نبين

كل زاويتين فوق القاعدة من كل مثلث



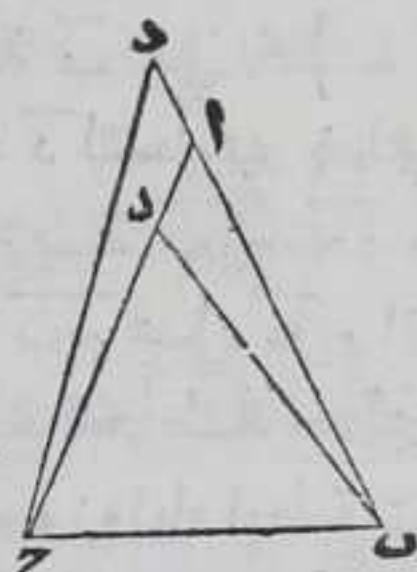
متساوي الساقين متساويتان وكذلك اللتان  
تحدثان تحتها ان اخرج الساقان علي استقامتهما  
في جهة القاعدة



فليكن المثلث  $ابج$  متساوي ساقين  $اب$   $اج$  واخرج  
في جهة القاعدة  $اب$  الي  $د$  و  $اج$  الي  $هـ$  بغير نهايه  
فاقول ان زاويتي  $ابج$   $اجب$  متساويتان وكذلك  
زاويتا  $جبد$   $بده$  برهانها نرسم علي خط  $بد$   
نقطة  $ر$  كيف ما اتفق ونفصل من  $اه$  خط  $ار$   
بالشكل الثالث ونصل  $بح$   $ج$   $ر$  بخطين مستقيمين فلان ضلعي  $ار$   $اج$   
من مثلث  $ارج$  يساويان ضلعي  $اح$   $اب$  من مثلث  $ابح$  كل لنظيره  
وزاوية  $باح$  مشتركة بين المثلثين فبالشكل الرابع قاعدة  $ج$   $ر$   $قاعدة$   
 $بح$  وزاوية  $ابح$  كزاوية  $اجر$  وزاوية  $ارح$  كزاوية  $احب$  فاذا القينا  
 $اب$   $اج$  المتساويين من  $ار$   $اح$  المتساويين يبق  $بر$  متساو  $لج$  ولان  
ضلعي  $رب$   $رح$  وزاوية  $برح$  من مثلث  $ربج$  يساوي ضلعي  $ج$   $ح$   
 $ج$   $ب$  وزاوية  $ج$   $ب$  من مثلث  $ج$   $ب$   $ح$  فبالشكل المتقدم زوايا مثلث  
 $بج$   $ج$   $ب$   $ح$  كل لنظيره فاذا القينا زاويتي  $ج$   $ب$   $ح$   
 $بج$   $ج$   $ب$   $ح$  المتساويتين من زاويتي  $ابح$   $اجر$  المتساويين يبق زاوية  $ابج$   
متساوية لزاوية  $اجب$  وكانت زاوية  $ج$   $ب$   $ر$  كزاوية  $بج$   $ج$   $ب$   $ح$  فالحكم  
ثابت وذلك ما اردنا ان نبين  $\square$  وهذا الشكل يلقب بالمأموني  $\square$

كل مثلث تساوت الزاويتان اللتان فوق

القاعدة منه فوترهما متساويان

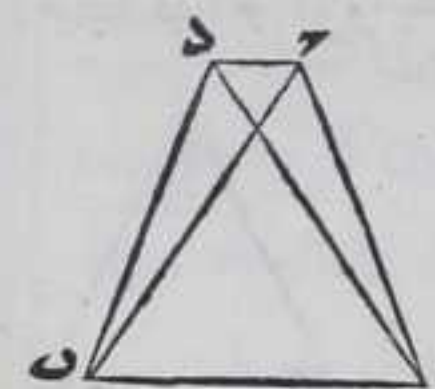


وليكّن زاويتا  $ابج$   $اجب$  متساويتين فاقول ان  
ضلع  $اب$  كضلع  $اج$  برهانها والا لكان احدهما  
اعظم من الاخر فليكن الاعظم  $اج$  نفصل منه  $دج$   
كضلع  $اب$  بالشكل الثالث ونصل  $دب$  بخط  
مستقيم فلان ضلع  $با$  من مثلث  $ابج$  كضلع  $دج$   
من مثلث  $دج$   $ب$  وضلع  $بج$  مشترك بينهما وزاوية  $ابج$  كزاوية  
 $دج$   $ب$  فبالشكل الرابع مثلث  $ابج$  يساوي مثلث  $دج$   $ب$  فالحكم  
جزءه هذا حلف فالحكم ثابت وذلك ما اردنا ان نبين  $\square$  واذا  
اخرجنا

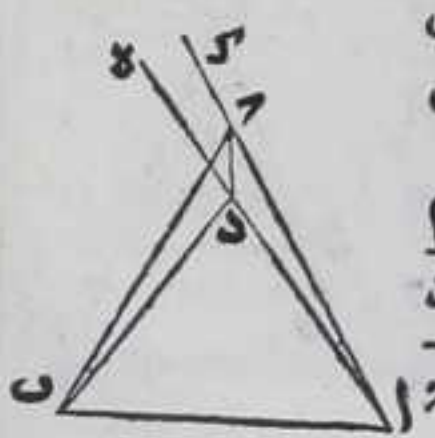
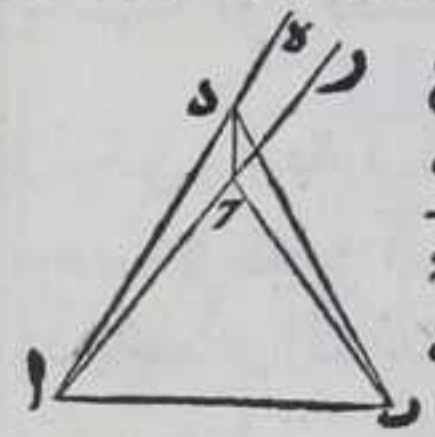


اخرجنا  $\overline{AB}$  علي استقامته في جهة  $\overline{A}$  الي غير النهاية وفصلنا منه  $\overline{BD}$   
 مساويا لخط  $\overline{AC}$  بالشكل الثالث ووصلنا بين نقطتي  $\overline{D}$   $\overline{C}$  بخط مستقيم  
 ينتظم عليه البرهان المذكور

كل خطين مستقيمين خرجا من طرف خط  
 مستقيم وتلاقيا علي نقطة في احدي جهتيه فلا  
 يمكن ان يخرج من تينك النقطتين خطان اخران  
 مستقيمان في تلك الجهة بعينها يساوي كل منهما  
 نظيره من الخطين الاولين ويتلاقيان علي غير  
 ملتقي الخطين الاولين



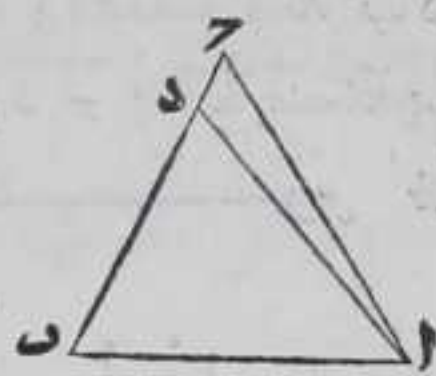
فلنخرج من نقطتي  $\overline{A}$   $\overline{B}$  علي خط  $\overline{AB}$  المستقيم خطا  
 $\overline{AC}$   $\overline{BD}$  المستقيمان الملتقيان علي نقطة  $\overline{C}$  وخرج من  $\overline{A}$   
 نقطتي  $\overline{A}$   $\overline{B}$  ايضا في جهة  $\overline{C}$  خطا  $\overline{AD}$   $\overline{BD}$  خطاي كخط  $\overline{AC}$  و  $\overline{BD}$  كخط  
 $\overline{BC}$  فاقول ان خطي  $\overline{AD}$   $\overline{BD}$  لا يمكن ان يلتقيا علي غير نقطة  $\overline{C}$  برهانه  
 فان امكن ذلك فيلتقيا علي نقطة  $\overline{D}$  ونصل بين  $\overline{D}$   $\overline{C}$  بخط مستقيم  
 فلتساوي ضلعي  $\overline{AC}$   $\overline{AD}$  تساوي زاوية  $\overline{DCA}$  التي هي اعظم من زاوية  $\overline{DCB}$   
 زاوية  $\overline{DCA}$  بالشكل الخامس فزاوية  $\overline{DCA}$  اعظم من زاوية  $\overline{DCB}$  وايضا  
 فلتساوي ضلعي  $\overline{BC}$   $\overline{BD}$  تساوي زاوية  $\overline{DCB}$  التي هي اصغر من زاوية  
 $\overline{DCA}$  زاوية  $\overline{DCB}$  بالشكل الخامس فزاوية  $\overline{DCB}$  اصغر من زاوية  $\overline{DCA}$   
 وهي اعظم منها هذا خلف فالحكم ثابت وذلك ما اردنا ان نبين



ولهذا الشكل اختلاف وقوع فان نقطة  $\overline{D}$  اما ان تقع  
 خارج مثلث  $\overline{ABC}$  ويقطع احد ضلعي  $\overline{DA}$   $\overline{DB}$  احد  
 ضلعي  $\overline{CA}$   $\overline{CB}$  او لا واما ان تقع داخل مثلث  $\overline{ABC}$   
 واما ان تقع علي احد ضلعي  $\overline{CA}$   $\overline{CB}$  اما الاول فقد  
 بينا استحالته واما الثاني فنخرج فيه خطي  $\overline{AD}$   $\overline{AC}$  علي  
 استقامتهما في جهة  $\overline{D}$  الي نقطتي  $\overline{C}$   $\overline{B}$  واما في الثالث  
 فالي نقطتي  $\overline{A}$   $\overline{C}$  ونصل بين نقطتي  $\overline{D}$   $\overline{C}$  بخط مستقيم  
 فلان في الثاني زاويتا  $\overline{BCD}$   $\overline{BDC}$  من مثلث  $\overline{BCD}$   
 متساويتان بالشكل الخامس وزاويتا  $\overline{DCA}$   $\overline{DCB}$



متساويتان بالشكل الخامس ايضا فيكون زاوية  $\overline{ر د}$   
 المساوية لزاوية  $\overline{د ح}$  التي هي اعظم من زاوية  $\overline{ب د ح}$   
 المساوية لزاوية  $\overline{ب ح د}$  اعظم من زاوية  $\overline{ب د ح}$  وهي  
 اصغر منها هذا خلف ومثله تبين الخلف في الثالث  
 واما الرابع فليقع نقطة  $\overline{د}$  علي خط  $\overline{ب ح}$  قبل

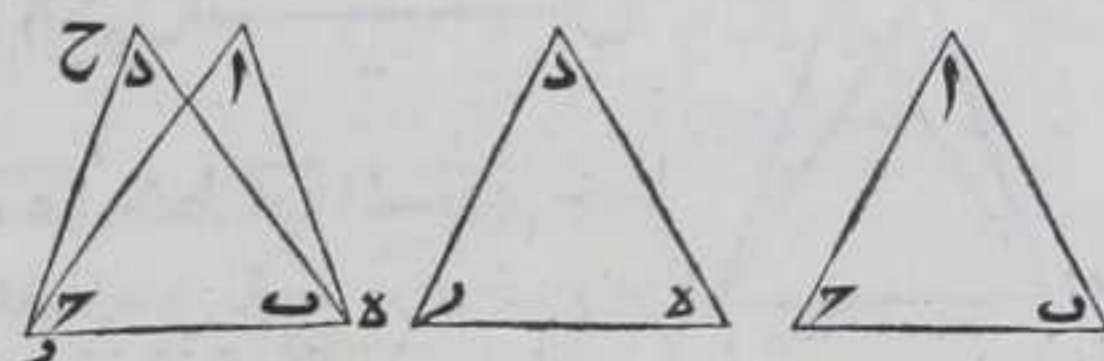


اخرجه او بعده فيكون احد الخطين المتساويين اعظم او اصغر من  
 الاخر هذا خلف  $\text{ح}$

كل مثلثين تساوت اضلاعهما المتناظرة  
 فهما متساويان وزواياها المتناظرة متساوية

ليكن اضلاع  $\overline{ا ب}$   $\overline{ا ح}$   $\overline{ب ح}$  من مثلث  $\overline{ا ب ح}$  تساوي اضلاع  $\overline{د ه}$   $\overline{د ر}$   $\overline{ه ر}$   
 من مثلث  $\overline{د ه ر}$  كل لنظيره فاقول ان المثلثين متساويان وان زوايا  $\overline{ا ب ح}$   
 $\overline{ا ب ح}$  كزوايا  $\overline{د ه ر}$   $\overline{د ه ر}$   $\overline{ه ر د}$  متساوية علي التناظر برهانه فلانا

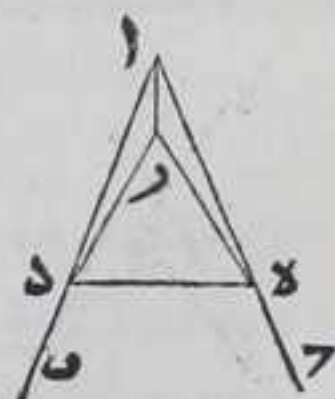
اذا ركبنا مثلث  $\overline{ا ب ح}$   
 علي مثلث  $\overline{د ه ر}$   
 بحيث ينطبق ضلع  
 $\overline{ب ح}$  علي ضلع  $\overline{ه ر}$   
 ونقطتا  $\overline{ب ح}$  علي



نقطتي  $\overline{ه ر}$  فلا بد وان يقع نقطة  $\overline{ا}$  علي نقطة  $\overline{د}$  والا فليقع علي نقطه  
 اخري كنقطة  $\overline{ح}$  مثلا فيلزم خروج خطي  $\overline{ه ر د}$   $\overline{ه ر ا}$  المستقيمين في جهة  $\overline{د}$   
 من نقطتي  $\overline{ه ر}$  مع خروج  $\overline{ح ه}$   $\overline{ح ر}$  المستقيمين من تنبك المساويين لهما  
 في تلك الجهة لعينها مع اختلاف المبني هذا خلف بالشكل المتقدم  
 فالحكم ثابت وذلك ما اردنا ان نبين  $\text{ط}$

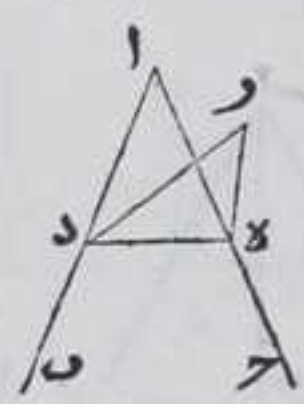
لنا ان نصف كل زاوية مستقيمة الخطين

وليكن زاوية  $\overline{ب ا ح}$  مستقيمة الخطين فاقول لنا ان ن نصفها برهانه  
 نرسم علي ضلع  $\overline{ا ب}$  نقطة  $\overline{ك}$  كيف اتفق وليكن  $\overline{د}$  ونفصل من ضلع  $\overline{ا ح}$   $\overline{ا ه}$   
 كاد بالشكل الثالث ونصل بين نقطتي  $\overline{د ه}$  بخط مستقيم ونرسم علي  $\overline{د ه}$   
 مثلث  $\overline{د ه ر}$  متساوي الاضلاع بالشكل الاول ونصل  
 بين نقطتي  $\overline{ا ر}$  بخط مستقيم فلان ضلعي  $\overline{ا ه ر}$  من  
 مثلث  $\overline{ا ه ر}$  يساويان ضلعي  $\overline{ا د ر}$  من مثلث  $\overline{ا د ر}$   
 وضلع  $\overline{ا ر}$  مشترك بينهما فزاويتا  $\overline{ا ه ر}$   $\overline{ا د ر}$  متساويتان  
 بالشكل المتقدم فالحكم ثابت وذلك ما اردنا ان نبين  
 ولهذا

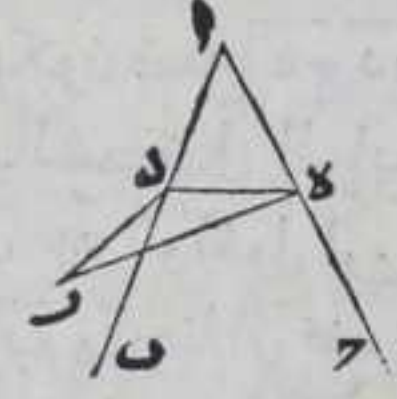
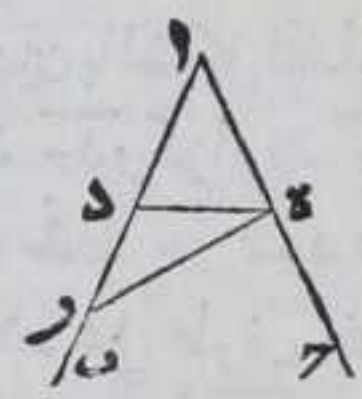
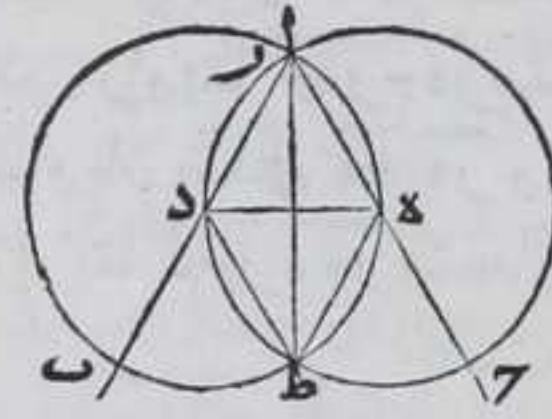
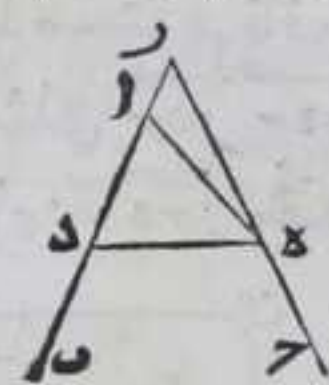
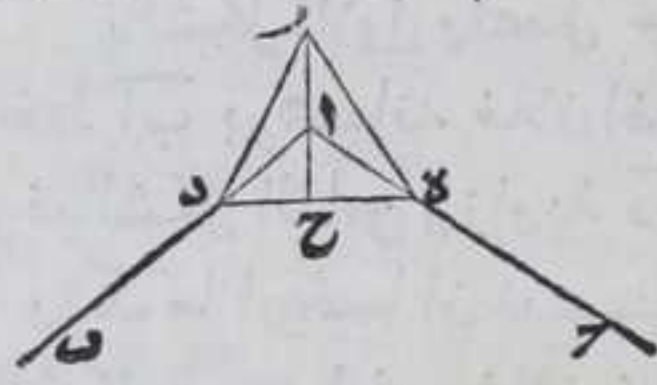
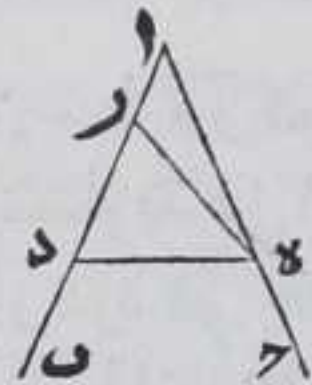




ولهذا الشكل اختلاف وقوع فان نقطة ر اما ان تقع في جهة مثلث اده  
 من حط ده او في مقابلها فعلي تقدير القسم الاول اما ان يقع نقطة ر  
 داخل مثلث اده او خارجه مع قطع احد ضلعي دره ر احد ضلعي  
 اد اه او مع انطباق احد ضلعي دره ر علي احد ضلعي اد اه او لا مع  
 قطعه احدهما واما ان يقع علي احد ضلعي اد اه او علي نقطة آ فعلي  
 الاول نصل بين نقطتي آ ر بخط مستقيم ونبين بمثل ما بينا تنصيف  
 زاوية باح و علي الثاني والثالث يلزم ان يكون احدي زاويتي رده  
 رده المتساويتين اعظم من احدي زاويتي اده اده المتساويتين والاخري  
 اصغر من الاخري هذا خلف و علي الرابع نصل بين نقطتي آ ر بخط  
 مستقيم ونخرجه علي استقامته الي ضلع ده فبنتهي اليه علي نقطة ح  
 ويبين بالشكل المتقدم ان زاويتي درا درا من مثلثي اد ر اه ر متساويان  
 ثم تبين بالشكل الرابع ان قاعدة ه ح من مثلث رحه كقاعدة ح د من  
 مثلث رح د ثم تبين بالشكل المتقدم زاوية داح من مثلث ادح كزاوية  
 هاح و علي الخامس تبين الخلف بمثل ما بينا في القسم الثاني و علي  
 السادس يكون نقطة ر علي تقاطع الدائرتين رسمنا لهما مثلث د ط ه  
 وليكن نقطة ط علي تقاطعهما الاخر ونصل بينهما وبين كل واحدة  
 من نقطة ر د ه بخط مستقيم ثم تبين بالشكل المتقدم ان زاوية درط  
 من مثلث درط كزاوية هرط من مثلث ر ط ه واما



علي تقدير القسم الثاني فاما ان يقع نقطة ر فيما بين  
 ضلعي اب اح او علي احدهما او خارجه عنهما والاول  
 بينا في الثاني والثالث تبين الخلف فبهما بمثل ما  
 بينا في القسم الثاني من القسم الاول وهذا صورتها

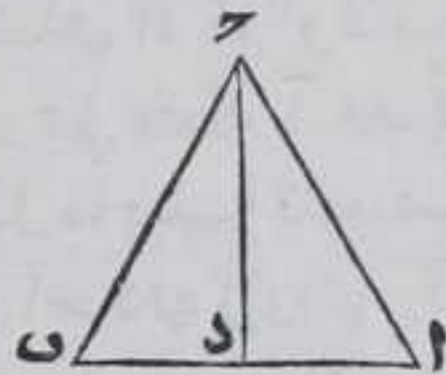


ي

كل خط مستقيم محدود مفروض لنا ان ننصفه  
 ليكن اب خط مستقيم محدود نرسم عليه مثلث اب ح متساوي



الاضلاع بالشكل الاول و نصف زاوية  $\overline{ا ب}$  بالشكل المتقدم بخط  $\overline{ر د}$  المستقيم ونخرجه الي ان ينتهي الي خط  $\overline{ا ب}$  فلينته علي نقطة  $\overline{د}$  فاقول ان خطي  $\overline{د ا}$  و  $\overline{د ب}$  متساويان برهانه فلان ضلعي  $\overline{ر ا}$  و  $\overline{ر ب}$  و زاوية  $\overline{ا ر د}$  من مثلث  $\overline{ا ر د}$  تساوي ضلعي  $\overline{ر ب}$  و  $\overline{ر د}$  و زاوية  $\overline{ب ر د}$  فبالشكل الرابع قاعدة  $\overline{ا د}$  كقاعدة  $\overline{د ب}$

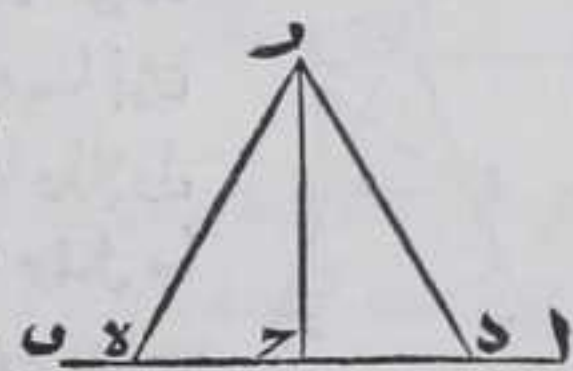


و ذلك ما اردنا ان نبين  
 واستبان منه ان متي نصفت زاوية مستقيمة  
 الخطين يحيط بها ضلعان متساويان من اي

مثلث فان الخط المنصف للزاوية ينصف قاعدتها و هي تتصف قاعدة  
 زاوية مستقيمة الخطين يحيط بها ضلعان متساويان و وصل بين نقطتي  
 الزاوية والقسمه بخط مستقيم فذلك الخط ينصف الزاوية

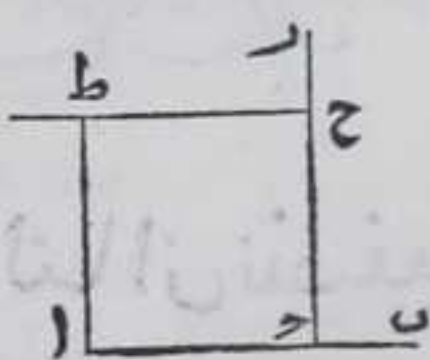
كل نقطة علي اي خط مستقيم مفروض غير  
 متناه في طرفيه او في احدها لنا ان نخرج  
 من تلك النقطة عمودا علي ذلك الخط

ليكن الخط  $\overline{ا ب}$  والنقطة  $\overline{ر}$  ونرسم علي خط  
 $\overline{ا ب}$  نقطة  $\overline{د}$  كيف اتفق ونفصل من خط  $\overline{ر ب}$   
 خط  $\overline{ر ه}$  مثل  $\overline{د ر}$  بالشكل الثالث ونرسم علي  
 خط  $\overline{د ه}$  مثلث  $\overline{د ر ه}$  متساوي الاضلاع



بالشكل الاول ونصل  $\overline{ر ه}$  بخط مستقيم فاقول  
 ان خط  $\overline{ر د}$  عمود علي خط  $\overline{ا ب}$  برهانه فلان اضلاع مثلثي  $\overline{د ر ه}$   
 متساوية علي التناظر فبالشكل الثامن و زاوية  $\overline{د ر ه}$  و زاوية  $\overline{ه ر د}$   
 $\overline{ر د ه}$  و ذلك ما اردنا ان نبين  
 ولنا ان نبين هذا الشكل بوجه اخر فلان ضلعي  $\overline{د ر ه}$  و  $\overline{د ر د}$  متساويان  
 يكون زاويتا  $\overline{د ر ه}$  و  $\overline{د ر د}$  متساويين بالشكل الخامس فيكون ضلعا  $\overline{د ر ه}$   
 و  $\overline{د ر د}$  متساويين ضلعي  $\overline{ه ر د}$  و  $\overline{ه ر د}$  و زاوية  $\overline{د ر ه}$  و زاوية  $\overline{ه ر د}$  متساويين  
 و زاويتا  $\overline{د ر ه}$  و  $\overline{د ر د}$  متساويتان فخط  $\overline{ر د}$  عمود علي  $\overline{ا ب}$  و اقول ان

كانت قاعدة علي طرفي خط  $\overline{ا ب}$  و اردنا ان نخرج  
 منها عمودا علي خط  $\overline{ا ب}$  من غير اخراج خط  $\overline{ا ب}$  في  
 جهة آ لنا ذلك فنخرج من نقطة علي خط  $\overline{ا ب}$   
 عمودا عليه كما مثلنا وليكن هو عمود  $\overline{ر د}$  ونخرج من  
 نقطة ما علي عمود  $\overline{ر د}$  عمودا عليه كما مثلنا وليكن  
 عمود



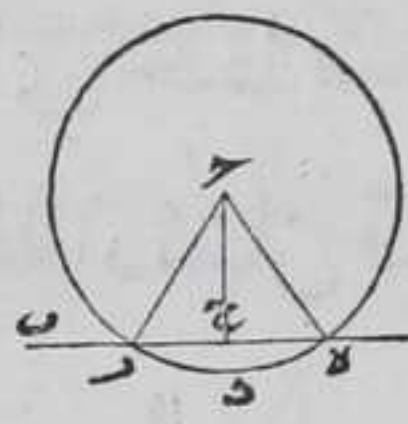


عمود ح ط ونخرجه علي استقامة في جهة ط الي غير النهايه ونفصل منه ح ط مساويا لخط ا ح بالشكل الثالث ونصل بين نقطتي آ ط بخط مستقيم فاقول ان زاوية ط ا ح قائمة والا لكانت حادة او منفرجة فان كانت حادة كان خطا ا ط ح موضوعان علي التقارب في جهة ح لان زاوية ا ح ر قائمة فيكون خط ا ح اعظم من عمود ح ط وهما متساويان هذا خلف وان كانت منفرجة وزاوية ا ح ر قائمة كان خطا ا ط ح موضوعان علي التباعد في جهة ح فيكون خط ا ح اصغر من عمود ح ط وهما متساويان هذا خلف فزاوية ط ا ح قائمة فاط عمود علي ا ب وهو المطلوب وهذه صورتها

ب

كل نقطة مفروضة علي سطح مفروض فيه خط مستقيم غير محدود في طرفيه ولا تكون النقطة علي الخط المفروض لنا ان نخرج من تلك النقطة

الي الخط عمودا

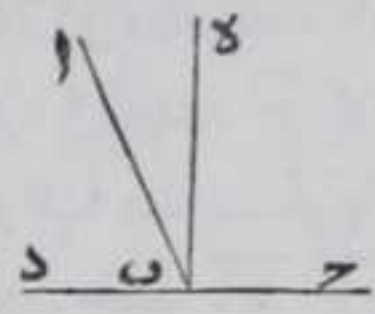


ليكن الخط ا ب والنقطة ح فرسم نقطة د في الجهة المقابلة لجهة ح من خط ا ب و نرسم علي ح وبعده ح د دائرة دره فيمحيبها علي نقطتي ر ه من خط ا ب ونصل بين ح وكل واحد من نقطتي ر ه بخط مستقيم وننصف خط ه ر علي نقطة ح ونصل بينها وبين نقطة ح بخط مستقيم فاقول ان خط ح عمود علي ه ر برهانه فلان اضلاع مثلث ه ح ر تساوي اضلاع مثلث ح ر ه كل لنظيره فبالشكل الثامن زواياها المتناظرة متساوية فزاوية ح ر ه كزاوية ح ر ه فخرج عمود علي خط ا ب وتبين بوجه ابسط فننصف زاوية ر ه ح بخط مستقيم بالشكل التاسع ونخرجه الي ان ينتهي الي خط ا ب بنقطة ح فنقول ان خط ح عمود علي ا ب برهانه فلان ضلعي ح ر ه ح و زاوية ه ح ر من مثلث ه ح ر يساوي ضلعي ح ر ه ح و زاوية ر ح ه ح من مثلث ر ح ه فبالشكل الرابع زواياها المتناظرة متساوية فزاوية ح ر ه كزاوية ح ر ه فخط ح عمود علي خط ا ب وذلك ما اردنا ان نبين

كل خط مستقيم وقع علي خط مستقيم فان



الزاويتين الحادتين عن جنبتي الخط الواقع  
قايمتان او مساويتان لقائمتين



فليقع خط  $\overline{AB}$  المستقيم على  $\overline{CD}$  المستقيم فليحدث  
زاويتي  $\overline{ABC}$   $\overline{ABD}$  فاقول انهما اما قايمتان او مساويتان  
لقائمتين برهانه فلان خط  $\overline{AB}$  اما ان يكون عمودا على خط  $\overline{CD}$  او لم  
يكن فان كان عمودا عليه كانت زاويتا  $\overline{ABC}$   $\overline{ABD}$  قائمتين وان لم يكن  
عمودا فيخرج من نقطة  $\overline{B}$  عمود  $\overline{BE}$  على خط  $\overline{CD}$  بالشكل الحادي عشر  
فتنقسم زاوية  $\overline{ABC}$  المنفرجة الي زاويتي  $\overline{CBE}$  القائمة وزاوية  $\overline{EBA}$   
الحادة فاذا اضفنا الحادة الي زاوية  $\overline{ABD}$  صارتا قائمة وزاوية  $\overline{EBA}$   
الباقية من زاوية  $\overline{ABC}$  قائمة فزاويتا  $\overline{ABD}$   $\overline{ABE}$  معا كقائمتين فالحكم  
ثابت وذلك ما اردنا ان نبين

د

كل خطين مستقيمين يتصلان عن جنبتي  
اي خط مستقيم بنقطة عليه وكانت الزاويتان  
الحادتان قائمتين او مساويتين لهما فكل من  
الخطين على استقامة الاخر



فليتصل بنقطة  $\overline{B}$  من خط  $\overline{AB}$  عن جنبته خطا  
خط  $\overline{BD}$  ويصير معه خطا مستقيما برهانه والا فليكن مع  $\overline{BE}$   
خطا مستقيما فزاويتا  $\overline{ABC}$   $\overline{ABD}$  اما قايمتان او مساويتان لهما بالشكل  
المتقدم وكانت زاويتا  $\overline{ABC}$   $\overline{ABD}$  قائمتين او مساويتين لهما فاذا القينا  
زاوية  $\overline{ABC}$  المشتركة بقيت  $\overline{ABE}$  كزاوية  $\overline{ABD}$  فالجزر مساو لكله  
هذا خلف فالحكم ثابت وذلك ما اردنا ان نبين ولهذا الشكل  
اختلاف وقوع فان خط  $\overline{BE}$  يمكن ان يقع بين خطي  $\overline{AB}$   $\overline{BD}$  او تحتهما

هـ

كل زاويتين متقابلتين من اربع زوايا الحادثة  
عن تقاطع كل خطين مستقيمين متساويان  
والزوايا



والزوايا الاربع الحادثة كاربع قوايم



فلبتقاطع خطا  $\overline{AB}$   $\overline{CD}$  علي نقطة  $\epsilon$  فاقول ان زاوية  $\overline{A\epsilon D}$  كزاوية  $\overline{C\epsilon B}$  المقابلة لها برهانه فلان كل واحدة من زاويتي  $\overline{A\epsilon D}$   $\overline{C\epsilon B}$  مع زاوية  $\overline{D\epsilon B}$  كقائمتين

بالشكل الحادي عشر فاذا القينا زاوية  $\overline{D\epsilon B}$  المشتركة تبقي زاوية  $\overline{A\epsilon D}$  مساوية لزاوية  $\overline{C\epsilon B}$  وبمثله تبين ان زاوية  $\overline{A\epsilon C}$  كزاوية  $\overline{D\epsilon B}$  المقابلة لها وقد ظهر مما ذكرنا ان الزوايا الاربع كاربع قوايم وذلك ما اردنا ان نبين وقد استبان من هذا ان الخطوط المتقاطعة لو كانت اكثر من اربع فان الزوايا الحادثة من تقاطع الجميع جمعها مساوية لاربع قوايم وان جميع الزوايا الحادثة من خروج ثلثة خطوط واكثر في سطح من اي نقطة كايه فبه تساوي اربع قوايم ولا يكون شي من السطح خارجا من تلك الزوايا التي تساوي اربع قوايم

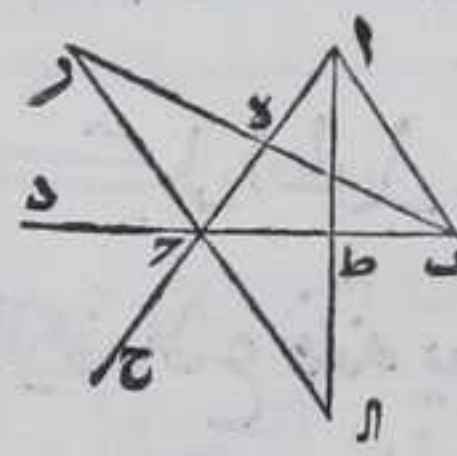
نو

كل واحدة من الزوايا الحادثة من اخراج اي

ضلع من اضلاع اي مثلث مستقيم الاضلاع علي

استقامته اعظم من كل واحدة من الزاويتين

الداخلتين المتقابلتين لها



ولنخرج ضلع  $\overline{بج}$  من اضلاع مثلث  $\overline{أبج}$  علي استقامته الي  $\overline{د}$  فاقول ان زاوية  $\overline{أدب}$  اعظم من كل واحدة من زاويتي  $\overline{أبج}$   $\overline{أجب}$  برهانه ننصف

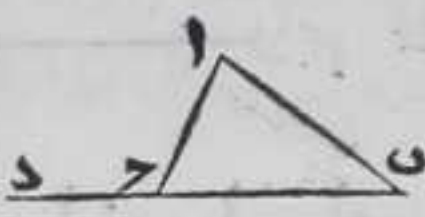
ضلع  $\overline{أج}$  علي نقطة  $\epsilon$  بالشكل العاشر ونصل بين نقطتي  $\overline{ب\epsilon}$   $\overline{ج\epsilon}$  بخط مستقيم ونخرج علي استقامته في جهة  $\epsilon$  الي غير النهاية ونفصل من خط  $\overline{ب\epsilon}$   $\overline{ز\epsilon}$  بالمثلث الثالث ونصل بين نقطتي  $\overline{ر\epsilon}$   $\overline{ج\epsilon}$  بخط مستقيم فلان زاويتي  $\overline{أدب}$   $\overline{رذج}$  متساويتان بالشكل المتقدم فضلعا  $\overline{رذ}$   $\overline{دز}$  وزاوية  $\overline{رذج}$  من مثلث  $\overline{رذج}$  تساوي ضلعي  $\overline{ب\epsilon}$   $\overline{ج\epsilon}$  وزاوية  $\overline{أدب}$  من مثلث  $\overline{أدب}$  فزاوية  $\overline{رذج}$  مساوية لزاوية  $\overline{أدب}$  بالشكل الرابع وزاوية  $\overline{أدب}$  اعظم من زاوية  $\overline{رذج}$  فهي اعظم من زاوية  $\overline{أبج}$  فاذا اخرج ضلع  $\overline{أج}$  الي نقطة  $\epsilon$  في جهة  $\epsilon$  يحدث زاوية  $\overline{حج\epsilon}$  وننصف ضلع  $\overline{بج}$  علي نقطة  $\tau$  بالشكل العاشر ونصل بين نقطتي  $\overline{أ\tau}$   $\overline{ب\tau}$  بخط مستقيم ونخرجه في جهة  $\tau$  الي غير النهاية ونفصل منه خط  $\overline{ط\tau}$  مثل  $\overline{أط}$



بالشكل الثالث ونصل بين نقطتي  $\overline{آح}$  بخط مستقيم وتبين بمثل ما  
بيننا ان زاوية  $\overline{طح}$  اكز زاوية  $\overline{آب}$  وزاوية  $\overline{بح}$  اعظم من زاوية  $\overline{طح}$   $\overline{آد}$   
المساوية لزاوية  $\overline{آب}$  فزاوية  $\overline{آد}$  المساوية لزاوية  $\overline{طح}$  بالشكل  
المتقدم اعظم من زاوية  $\overline{آب}$  وبمثل ما بينا تبين المطلوب اذا اخرجنا  
ضلعي  $\overline{آب}$   $\overline{آح}$  وذلك ما اردنا ان نبين  $\overline{آح}$  واستبان منه انه لا يمكن  
ان يوجد زاويتان متساويتان في جهة واحدة الحادثتان من خروج  
خطين مستقيمين من نقطة في سطح الى خط مستقيم في ذلك السطح  $\overline{آح}$

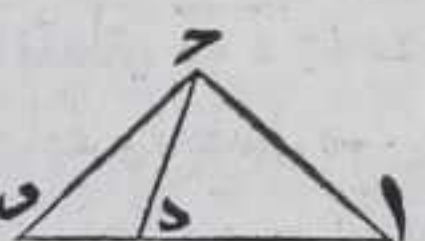
كل زاويتين من اي مثلث مستقيم الاضلاع  
اي زاويتين كانتا فانهما معا اقل من قائمتين

ولبكن مثلث  $\overline{آب}$  مستقيم الاضلاع فاقول ان كل  
واحدة من زاويتي  $\overline{آب}$   $\overline{آح}$  معا وزاويتي  $\overline{آب}$   $\overline{بأ}$   
 $\overline{بأ}$  معا وزاويتي  $\overline{بأ}$   $\overline{بأ}$  معا اقل من قائمتين  
برهانه نخرج ضلع  $\overline{بأ}$  الى  $\overline{د}$  في جهة  $\overline{بأ}$  فلان زاويتي  $\overline{آب}$   $\overline{آد}$   
متساويتان لقائمتين بالشكل الثالث عشر وزاوية  $\overline{آد}$  اعظم من كل  
واحدة من زاويتي  $\overline{بأ}$   $\overline{بأ}$  بالشكل المتقدم فكل من زاويتي  $\overline{بأ}$   $\overline{بأ}$   
 $\overline{آب}$  معا ومن زاويتي  $\overline{آب}$   $\overline{بأ}$  معا اقل من قائمتين وبمثل تبيين  
البواقي وذلك ما اردنا ان نبين  $\overline{آح}$



كل اطول ضلع من اضلاع اي مثلث مستقيم  
الاضلاع فانه يوتر الزاوية العظمي من زواياه

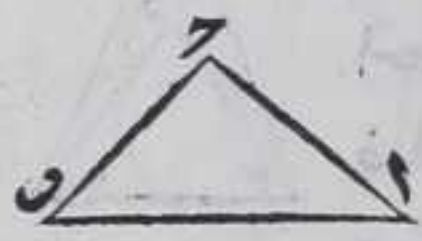
لبكن ضلع  $\overline{آب}$  من مثلث  $\overline{آب}$  المستقيم الاضلاع  
اطول من ضلع  $\overline{آح}$  فاقول ان زاوية  $\overline{آب}$  اعظم من  
زاوية  $\overline{آب}$  برهانه نفصل من ضلع  $\overline{آب}$   $\overline{آد}$   
يساوي ضلع  $\overline{آح}$  بالشكل الثالث ونصل  $\overline{دح}$  بخط مستقيم فلان زاوية  
 $\overline{آد}$  التي هي اصغر من زاوية  $\overline{آب}$  كزاوية  $\overline{آد}$  بالشكل الخامس وزاوية  
 $\overline{آد}$  اعظم من زاوية  $\overline{آب}$  بالشكل السادس عشر فزاوية  $\overline{آب}$  اعظم  
كثيرا من زاوية  $\overline{آب}$  وذلك ما اردنا ان نبين وبمثل تبيين لو كان الاعظم غيره



كل زاوية عظمي من زوايا كل مثلث مستقيم  
الاضلاع



الاضلاع فوترها الضلع الاطول من باقي اضلاعه



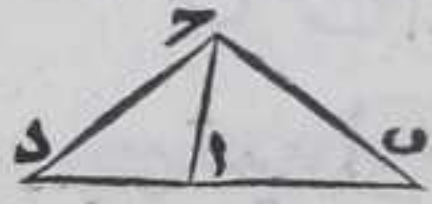
فليكن زاوية  $\overline{ا ب ج}$  اعظم من زوايا مثلث  $\overline{ا ب ج}$  المستقيم الاضلاع فاقول ان ضلع  $\overline{ا ب}$  اعظم اضلاعه برهانه والا لكان مساويا لضلع  $\overline{ا ج}$  مثلا فيكون

زاوية  $\overline{ب ا ج}$  كزاوية  $\overline{ا ب ج}$  بالشكل الخامس وهي اعظم منها هذا خلف او كان اصغر منه فيكون زاوية  $\overline{ا ب ج}$  اعظم من زاوية  $\overline{ا ب ج}$  بالشكل المتقدم وهي اصغر منها هذا خلف وبمثله يبين كونه اعظم البواقي فالحكم ثابت وذلك ما اردنا ان نبين

ك

كل ضلعين من اضلاع اي مثلث كان فهما

مع اطول من الثالث



ليكن المثلث  $\overline{ا ب ج}$  فاقول ان ضلعي  $\overline{ا ب}$   $\overline{ا ج}$  معا اعظم من  $\overline{ب ج}$  برهانه نخرج  $\overline{ب ا}$  في جهة  $\overline{ا}$  علي استقامته الي غير النهاية ونفصل منه  $\overline{ا د}$  كالر بالشكل الثالث ونصل بين نقطتي  $\overline{د ج}$  بخط مستقيم فلان  $\overline{ا د}$  يكون زاوية  $\overline{ا د ج}$  التي هي اصغر من زاوية  $\overline{ب ج د}$  كزاوية  $\overline{ا د ج}$  بالشكل الخامس فزاوية  $\overline{ب ج د}$  اعظم من زاوية  $\overline{ا د ج}$  فضلع  $\overline{ب د}$  المساوي لضلعي  $\overline{ا ب}$   $\overline{ا ج}$  اعظم من ضلع  $\overline{ب ج}$  وبمثله يبين البواقي وذلك ما اردنا ان نبين

ل

كل خطين مستقيمين خرجا من طرفي اي

ضلع من اضلاع اي مثلث مستقيم الاضلاع

والتقياد داخله فانهما معا اصغر من الضلعين

الباقيين معا والزاوية التي يحيط بها الخطان اعظم

من الزاوية التي يحيط بها الضلعان الباقيان



فلنخرج خطا  $\overline{ب د ج}$  من طرفي ضلع  $\overline{ب ج}$  من اضلاع مثلث  $\overline{ا ب ج}$  والتقياد علي نقطة  $\overline{د}$  داخله فاقول ان خطي  $\overline{ب د}$   $\overline{ا د ج}$  معا اصغر من  $\overline{ا ب ج}$  معا وان زاوية  $\overline{ب د ج}$  اعظم من زاوية  $\overline{ب ا ج}$  برهانه نخرج خط  $\overline{ب د}$



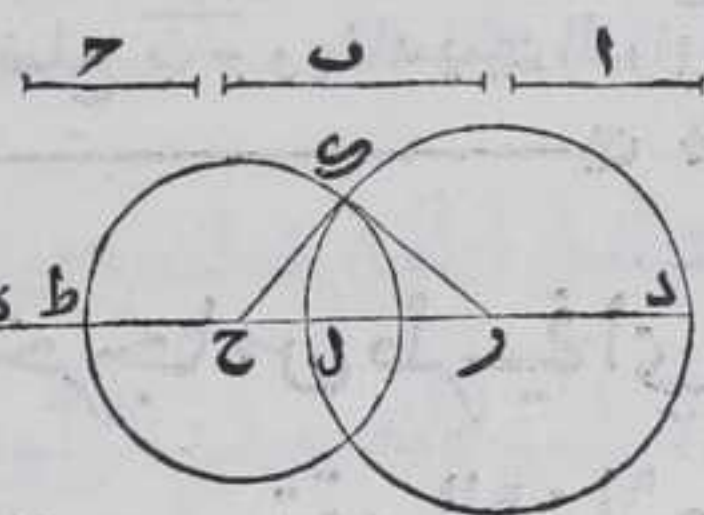
علي استقامته في جهة د فبنتهي الي ضلع آ علي  
نقطة بين نقطتي آ ح لانه لو انتهي الي نقطة اخري يلزم  
احاطه خطين مستقيمين بسطح وليكن نقطة ه فلان  
ضلعي آه أب معا اعظم من ب ه بالشكل المتقدم ونجعل ه ر  
مشتركا فضلعا أب آر معا اعظم من ه ب ه ر معا وضلعا



ه د ه ر معا اعظم من د ر بالشكل المتقدم ونجعل ب د مشتركا فضلعا  
ه ب ه ر معا اعظم من ضلعي د ب د ر معا فضلعا أب آر اعظم كثيرا  
من ضلعي د ب د ر معا وايضا فلان زاوية ب د ر الخارجة من مثلث  
ه د ر اعظم من زاوية د ه ر التي هي اعظم من زاوية ه أ ب بالسادس عشر  
فزاوية ب د ر اعظم كثيرا من زاوية ب آ ر وذلك ما اردنا ان نبين  
ب

لنا ان نرسم علي كل خط مستقيم غير متناه  
في جهتيه او جهة فقط مثلث مستقيم الاضلاع  
يساوي كل ضلع منها احد ثلثه خطوط  
متناهية مستقيمة مفروضه كل اثنين منها

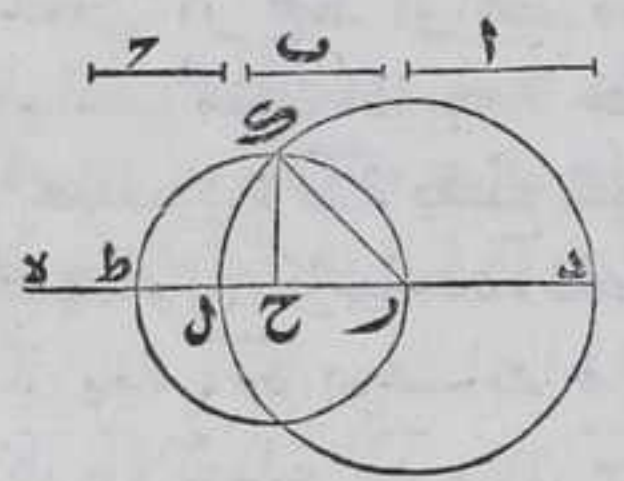
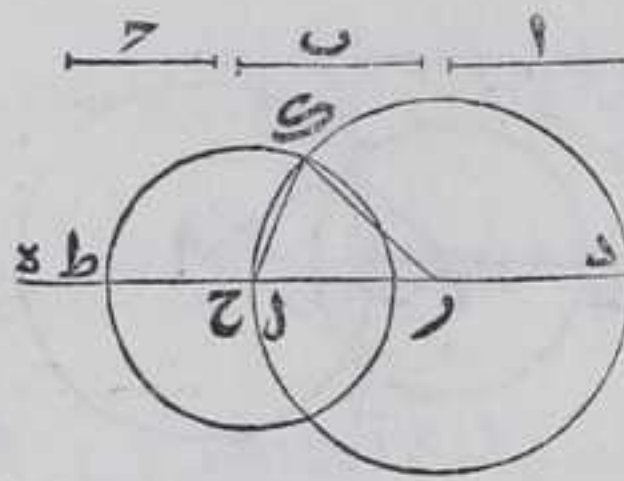
اعظم من الثالث



ليكن الخط المستقيم د ه والخطوط  
المفروضة آ ب ح فنصل من خط د ه  
د ر يساوي آ و ر ح يساوي ب و ح ط  
يساوي ح بالشكل الثالث ونجعل ر  
مركزا وندير ببعد د ر دائرة د آ فلا بد

وان يقطع محيطها خط د ه وليقطع علي نقطة ل ونجعل نقطة ح مركزا  
وندير ببعد ح ط دائرة ط ا فليقطع محيطها محيط دائرة د آ علي نقطة ا  
ونصل بينها وبين كل واحدة من نقطتي ر ح بخط مستقيم فاقول ان  
مثلث ا ر ح هو المطلوب برهانه فلان ر مركز دائرة ا د فخط ا ر  
خط د ر و ح ط آ كخط د ر فخط ا ر يساوي خط ا ف لان ح مركز دائرة  
ط ا فخط ا ح كخط ح ط و خط ح ر كخط ح ط فخط ا ح يساوي خط ح ر  
وكان ر ح مساويا لخط ب فالحكم ثابت وذلك ما اردنا ان نبين  
ولهذا الشكل اختلاف وقوع في بادي النظر بعضها ممكن الوجود وذلك  
لان نقطة ل اما ان يقع بين نقطتي ر ح او علي نقطة ح او بين ح ط او  
علي





علي نقطة او بين نقطتي ط ح اما الاول فاما ان يكون ح ط مساويا لـ ح او اقل منه او مساويا لـ ح د او اعظم منه او مساويا لـ ح ر او اصغر ح ر او اعظم منه او اقل من ح د فعلي الاول تكون دائرة ط د مماسه لدائرة د ل وعلي الثاني يقطع محيطها خط د ه بين نقطتي ح ل وعلي الثالث تماس محيط دائرة ط ل نقطة د وعلي الرابع يجاوزها فعلي المتبادير الاربعة لا يتقاطع الدائرتان لا تتفاء الشرط المذكور وهو كون كل من الخطين من الخطوط الثلاثة معا اطول من الثالث فلا

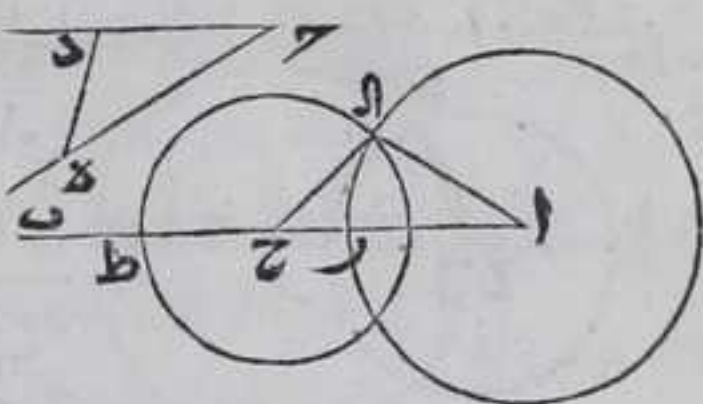
يمكن المثلث وعلي الخامس والسادس يكون المثلث متساوي الساقين وعلي تقديري السابع والثامن يكون المثلث مختلف الاضلاع واما الثاني فاما ان يكون خط ح ط مساويا لـ ح د او اعظم منه او مساويا لـ ح ر او اصغر منه او اعظم منه او اقل من ح د فعلي التقدير الاول تماس محيط دائرة ط ل نقطة د وعلي الثاني يجاوزها فلا يمكن رسم المثلث لا تتفاء الشرط المذكور وعلي الثالث يكون المثلث متساوي الاضلاع وهو علي تقديري الرابع والخامس ويكون المثلث متساوي الساقين واما الثالث فاما ان يكون ح ط مساويا لـ ح د او اعظم منه او مساويا لـ ح ر او اعظم بقدر ح ل او اقل منه او اقل من ح د او يكون اقل من ح ر فعلي تقدير الاول محيط دائرة ط ل تماس نقطة د وعلي الثاني يجاوزها وعلي تقدير الثالث والرابع يكون المثلث متساوي الساقين وعلي الخامس والسادس مختلف الاضلاع واما القسم الرابع والخامس فيمتنعان لا تتفاء الشرط المذكور

لنا ان نرسم علي اي نقطة من خط مستقيم مفروض غير متناه في جهتيه او في جهة زاوية مستقيمة الخطين كزاوية مفروضة مستقيمة الخطين

ليكن الخط المفروض ا ب والزاوية المفروضة ح فنرسم علي ضلعها نقطتي د ه كيف اتفقا ونصل بينهما بخط مستقيم ونفصل من خط ا ب خط ا ر كخط ح د وخط ا ح كخط ح ه وخط ح ط كخط د ه بالشكل الثالث ونرسم علي نقطة آ وبعدها ا دائرة ر ل وعلي نقطة ح وبعدها ح ط



دايرة ط آ فلا يقطع محيطها خط آ ب  
علي نقطة آ فيكون مماسه لدايرة ر آ  
ولا علي نقطة بين نقطتي ر ح ولا تحيط  
دايرة ر آ مماسه اياها ولا تحيط بها  
غير مماسه والا لكان في الاولين خط آ ح



كخطي آ ر ح ط او اعظم منهما وفي الاخيرين خط ح ط كخطي آ ر ح  
او اعظم منهما اذا جعلنا خطا واحدا والكل ممنوع بالشكل العشرين  
فحيط دايرة ط آ يقطع محيط دايرة ر آ فليقطع علي نقطة آ ونصل  
بينهما وبين كل واحد من نقطتي آ ح بخط مستقيم فاقول ان زاوية آ ح  
كزاوية ه ح د برهانه فلان نقطة آ مركز دايرة ر آ فالآ كآ ر وكان ح د  
كآ ر فالآ كضلع ح د ولان ح مركز دايرة ط آ فخط ح آ كخط ح ط وكان  
ضلع د ه كخط ح ط فضلع ح آ كضلع د ه وكان خط آ ح بالفرض كضلع  
ح د فبالشكل الثامن مثلثا آ ح د متساويان وزواياهما المتناظرة  
متساوية فزاوية آ ح كزاوية ح د فالحكم ثابت وذلك ما اردنا ان نبين  
ولهذا الشكل اختلاف وقوع فان نقطة ح يمكن ان تقطع بين نقطتي آ  
ر وحينئذ نقطه لا يمكن ان يقع بين نقطتي ح ر او علي نقطة ر و الا  
يلزم ان يكون احد اضلاع المثلث اعظم من الضلعين الباقيين او  
مساويا لهما فيصير دايرة ر آ محيطها بدائرة آ ط مماسة اياها او غير  
مماسه فتقع نقطة ط خارجة عنهما في جهة ر بحيث يكون خط ح ط  
اصغر من خطي آ د آ ح اذا جعلنا خطا واحدا ويمكن ان تقع نقطة ح  
علي نقطة ر وحينئذ خط ح ط لا جايز ان يكون مساويا لقطر دايرة  
آ ر او اعظم والا لزم ان يكون احد اضلاع مثلث مساويا للضلعين  
الباقيين او اعظم منهما فتصير دايرة ط آ مماسة لدايرة آ ر محيطها بها  
او محيطها بها غير مماسة اياها فلا يمكن رسم المثلث وقد بينا في الشكل  
العشرين ان ضلعي كل مثلث اعظم من الثالث فخط ح ط يكون اصغر  
من قطر دايرة آ ر فتقاطع دايرة ر آ ط آ ويتم العمل ويمكن ان يقع  
خارج نقطتي آ ر وحينئذ لا يمكن ان يكون خط ح ط مساويا لخط ح ر  
او اصغر منه ولا مساويا لخطي آ ح آ ر اذا جعلنا خطا واحدا او اعظم  
منهما والا يلزم بعض المحالات المذكورة

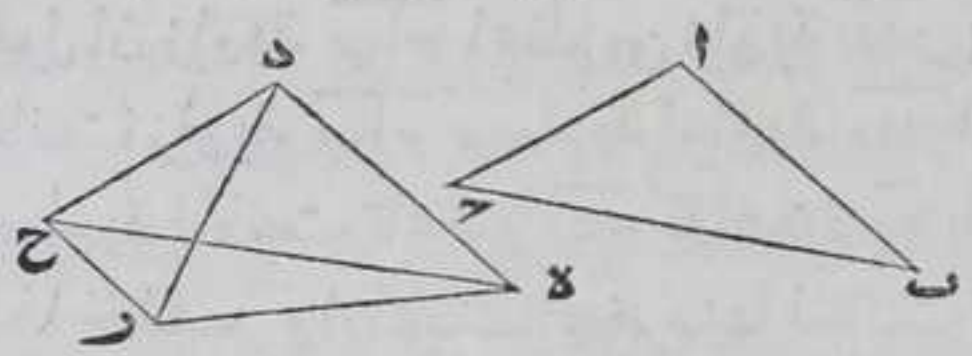
الـ

كل مثلث مستقيم الاضلاع يساوي ضلعان  
منه ضلعين من مثلث اخر مستقيم الاضلاع و  
كانت



كانت الزاوية التي يحيط بها الضلعان الاولان اعظم  
من الزاوية التي يحيط بها الضلعان الاخران  
فقاعدة العظمي اعظم من قاعدة الصغري

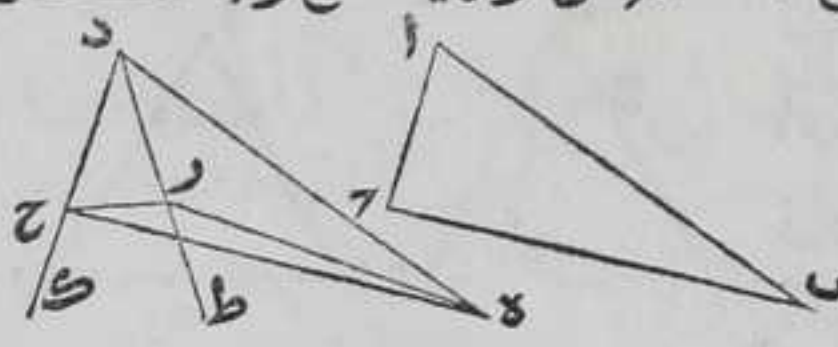
ليكن ضلعان  $AB$   $AC$  من مثلث  $ABC$  كضلعي  $DE$   $DR$  من مثلث  $DER$  و  
زاوية  $BAC$  اعظم من زاوية  $EDR$  فاقول ان قاعدة  $BC$  اعظم من قاعدة  
 $ER$  برهانه نعمل علي نقطة  $D$  من خط  $DE$  زاوية  $BAE$  كزاوية  $BAC$  بالشكل



المتقدم ونفصل  $DC$  كما  
بالشكل الثالث ونصل بين  
نقطتي  $E$   $C$  بخط مستقيم  
وكذلك بين نقطتي  $C$   $R$  بخط

مستقيم فلان ضلعي  $AB$   $AC$  وزاوية  $BAC$  تساوي ضلعي  $DE$   $DR$  وزاوية  
 $BAC$  كل لنظيره فقاعدة  $BC$  كقاعدة  $ED$  بالشكل الرابع ولان كل  
واحد من ضلعي  $DC$   $DR$  يساوي ضلع  $AC$  تكون زاوية  $DCR$  التي هي  
اعظم من زاوية  $EDR$  كزاوية  $EDR$  التي هي اصغر من زاوية  $EDC$  بالشكل  
الخامس فزاوية  $EDC$  اعظم من زاوية  $EDR$  فضلع  $EC$  اعظم من ضلع  
 $ER$  بالشكل التاسع عشر فقاعدة  $BC$  المساوية لضلع  $EC$  اعظم من  
قاعدة  $ER$  وذلك ما اردنا ان نبين

ولهذا الشكل اختلاف وقوع فان قاعدة  $BC$  اما ان تقع فوق قاعدة  
ره او تنطبق عليها او تقع تحتها اما الاول فقد بيناه واما الثاني  
فظاهر واما الثالث فنخرج ضلعي  $DE$   $DR$  علي استقامتهما في جهة  $R$  الي  
نقطتي  $T$   $A$  بغير نهاية ونصل بين نقطتي  $E$   $C$  بخط مستقيم فلان زاوية  
 $EDC$  التي هي اصغر من زاوية  $EDR$  اعظم من زاوية  $EDR$  بالشكل



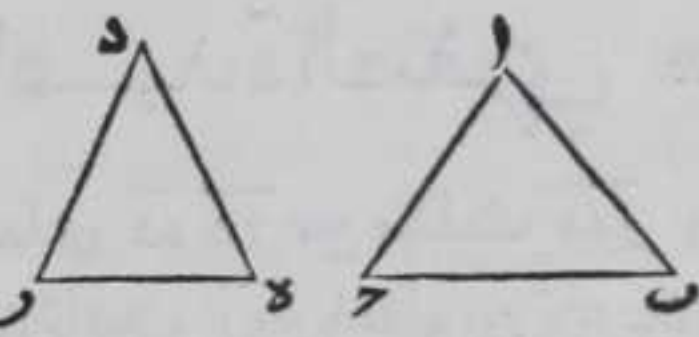
الخامس فقاعده  $BC$  المساوية  
لقاعدة  $EC$  اعظم من قاعدة  $ER$   
بالشكل التاسع عشر وهذه  
صورتها

كل مثلث مستقيم الاضلاع يساوي ضلعان  
منها ضلعين من مثلث اخر مستقيم الاضلاع و  
كانت قاعدة الزاوية التي يحيط بها الضلعان الاولان



اعظم من قاعدة الزاوية التي تحيط بها الضلعان  
الاخران فزاوية القاعدة العظمي اعظم من زاوية

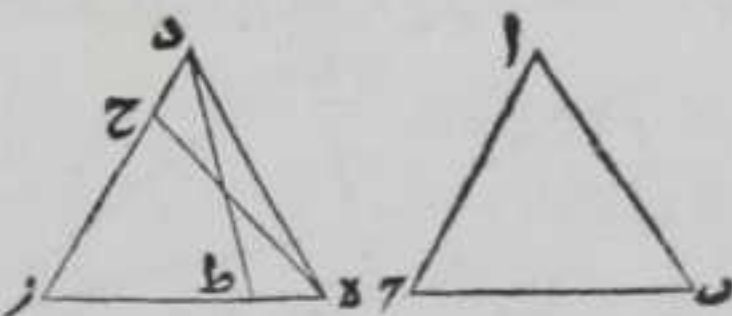
قاعدة الصغرى



ليكن ضلعا  $\overline{AB}$   $\overline{AC}$  من مثلث  $\overline{ABC}$   
المستقيم الاضلاع يساويان ضلعي  $\overline{DE}$   
 $\overline{DR}$  من مثلث  $\overline{DER}$  المستقيم الاضلاع وقاعدة  $\overline{BC}$  اعظم من قاعدة  $\overline{RE}$   
فاقول ان زاوية  $\overline{BAC}$  اعظم من زاوية  $\overline{DER}$  برهانه لانه لو لم يكن كذلك  
لكانت زاوية  $\overline{BAC}$  مساوية لزاوية  $\overline{DER}$  او اصغر منها فان كانت  
مساوية لكانت قاعدة  $\overline{BC}$  كقاعدة  $\overline{RE}$  بالشكل الرابع وهي اعظم منها  
هذا خلف وان كانت اصغر منها لكانت قاعدة  $\overline{RE}$  اعظم من قاعدة  
 $\overline{BC}$  بالشكل المتقدم وهي اصغر هذا خلف فالحكم ثابت وذلك ما اردنا  
ان نبين  $\text{ان}$

كل مثلث مستقيم الاضلاع يساوي زاويتان  
وضلع زاويتين وضلعا من مثلث اخر مستقيم  
الاضلاع فان الاضلاع والزوايا الباقية المتناظرة  
منهما متساوية وان الزاويتين الباقيتين  
المتناظرة منهما ايضا متساويتين والمثلث كالمثلث

ليكن زاويتا  $\overline{ABC}$   $\overline{ACB}$  من مثلث  
 $\overline{ABC}$  المستقيم الاضلاع يساويان  
زاويتا  $\overline{DRE}$   $\overline{DER}$  من مثلث  $\overline{DER}$   
المستقيم الاضلاع وضلع احدهما



كضلع من الاخر سواء كانا  $\overline{BC}$   $\overline{RE}$  الواقعان بين الزاويتين المذكورتين  
او كانا  $\overline{AB}$   $\overline{DR}$  او  $\overline{AC}$   $\overline{DE}$  فاقول ان الاضلاع الباقية المتناظرة منهما متساوية  
وكذلك الزاويتين والمثلث كالمثلث برهانه وليكن اول اضلع  $\overline{BC}$   
كضلع  $\overline{RE}$  فنركب مثلث  $\overline{ABC}$  على مثلث  $\overline{DER}$  بحيث تقع نقطة  $\overline{B}$   
على نقطة  $\overline{E}$  وضلع  $\overline{BC}$  على ضلع  $\overline{RE}$  فنقع نقطة  $\overline{C}$  على نقطة  $\overline{R}$   
لتساوي ضلعي  $\overline{BC}$   $\overline{RE}$  فنطبق ضلع  $\overline{AC}$  على ضلع  $\overline{DE}$  لتساوي زاويتي  
 $\overline{ABC}$   $\overline{DER}$



ا ب د ر ه فنقط آ اما منطبق علي نقطة د او لا فان انطبقت فبنتطبق  
 ضلع ا ب علي ضلع د ه ويثبت الحكم وان لم ينطبق فليمنطبق علي نقطة  
 بين نقطتي د ر ولتكن نقطة ح ونصل بين نقطتي ح ه بخط مستقيم  
 فلان ضلعي ح ر ر ه وزاوية ح ر ه من مثلث ه ر ح يساوي ضلعي ا ب  
 وزاوية ا ب ب من مثلث ا ب ب كل لنظيره فبالشكل الرابع يكون زاوية  
 ح ه ر كزاوية ا ب ب وكانت زاوية د ه ر كزاوية ا ب ب فيكون زاوية ح ه ر  
 كزاوية د ه ر فيكون جزء الشيء مثل كله هذا خلف ثم ليكن ضلع ا ب  
 كضلع د ر فنركب مثلث ا ب ج علي مثلث د ه ر بحيث ينطبق نقطة  
 ج علي ر وضلع ا ب علي ضلع د ر فتنتطبق نقطة ا علي نقطة د لتساوي  
 ضلعي ا ب د ر وضلع ا ب ج علي ضلع د ه ر لتساوي زاويتي ا ب د ر ه فاما  
 ان ينطبق ب علي نقطة ه او لا ينطبق فان انطبقت فليمنطبق ب ا علي  
 ضلع د ه ويحصل المطلوب وان لم ينطبق نقطة ب ا علي نقطة ه  
 فليمنطبق علي نقطة بين نقطتي ه ر وليكن نقطة ط ونصل بين نقطتي  
 د ط بخط مستقيم فلان ضلعي د ر ر ط وزاوية د ر ط من مثلث د ر ط  
 تساوي ضلعي ا ب ب وزاوية ا ب ب من مثلث ا ب ب كل لنظيره فتصير  
 زاوية د ط ر كزاوية ا ب ب بالشكل الرابع وكانت زاوية د ه ر كزاوية ا ب ب  
 فزاوية د ط ر الخارجة من مثلث د ه ط كزاوية د ه ط هذا خلف  
 بالشكل السادس عشر وكذلك تبين اذا كان ضلع ا ب كضلع د ه فالحكم  
 ثابت وذلك ما اردنا ان نبين

ولهذا الشكل اختلاف وقوع فان نقطة ح يمكن ان يقع بين نقطتي د  
 ر او خارجة عنهما في جهة د ونقطة ط يمكن ان تقع بين نقطتي ه ر  
 او خارجة عنهما في جهة ه والبيان في الكل واحدا

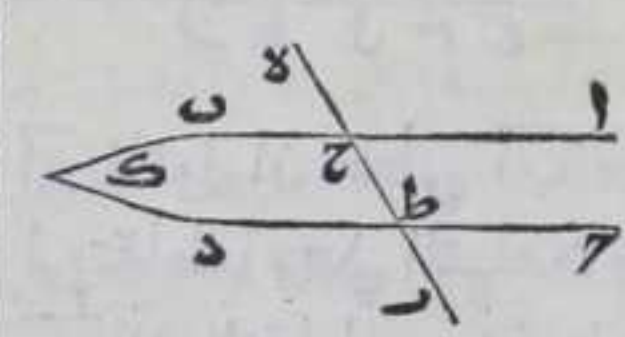
كل خطين مستقيمين وقع عليهما خط

مستقيم وكانت المتبادلتان من الزوايا الحادثة

متساويتين فهما متوازيان

ليكن ا ب د خطين مستقيمين وقع عليهما  
 خط ه ر المستقيم وقطعها علي نقطتي ح ط

وصير زاوية ا ح ط كزاوية د ط ح المتبادلتين فاقول ان خطي ا ب د  
 متوازيان برهانه والا فليلتقيا في احدي جهتهما وليكن الالتقاء  
 علي نقطة ا في جهة ب د فيكون زاوية ا ح ط الخارجة من مثلث ح ا ط  
 كزاوية ح ط ا الداخلة وهي اعظم منها بالشكل السادس عشر هذا





خلف وبمثله نبين امتناع الالتقاء في جهة  $\overline{آ}$  فالحكم ثابت و ذلك ما اردنا ان نبين

كل خطين مستقيمين وقع عليهما خط مستقيم وكانت الزاوية الخارجة من الزوايا الحادته كالدخلة المقابلة لها والزاويتان الداخلتان في جهة من الخط الواقع علي الخطين كقائمتين فهما متوازيان

فليكن خط  $\overline{هـ ر}$  المستقيم وقع علي خطي  $\overline{آ ب}$  و  $\overline{ح د}$  المستقيمين وقطعهما علي نقطتي  $\overline{ط ح}$  وكانت زاوية  $\overline{هـ ح ب}$  الخارجة كزاوية  $\overline{د ط ح}$  الداخلة وزاويتا  $\overline{ب ح ط}$  و  $\overline{د ط ح}$  كقائمتين فاقول ان خطي  $\overline{آ ب}$  و  $\overline{ح د}$  متوازيان برهانه فلان زاوية  $\overline{آ ح ط}$  كزاوية  $\overline{هـ ح ب}$  بالشكل الخامس عشر و زاوية  $\overline{د ط ح}$  كزاوية  $\overline{هـ ح ب}$  فزاويتا  $\overline{آ ح ط}$  و  $\overline{د ط ح}$  متساويتان فخطا  $\overline{آ ب}$  و  $\overline{ح د}$  متوازيان بالشكل المتقدم ولان زاوية  $\overline{ب ح ط}$  مع زاوية  $\overline{د ط ح}$  كقائمتين و زاوية  $\overline{ب ح ط}$  مع زاوية  $\overline{آ ح ط}$  كقائمتين بالشكل الثالث عشر فزاوية  $\overline{آ ح ط}$  كزاوية  $\overline{د ط ح}$  فبالشكل المتقدم  $\overline{آ ب}$  يوازي  $\overline{ح د}$  وذلك ما اردنا ان نبين

اقول وههنا ذكر موضع البرهان لان الموعود ببيانه في اول المقالة وهو مبني علي ثلث مقدمات وثلثة اشكال المقدمة الاولي كل خطين مستقيمين موضوعين في سطح مستوي خطي  $\overline{آ ب}$  و وقع عليهما خطوط

مستقيمة كخطوط  $\overline{هـ ر}$  و  $\overline{ح ط}$  ال  $\overline{م ن هـ س ع}$  كل واحد منها عمود علي خط  $\overline{ح د}$  وقاطع خط  $\overline{آ ب}$  علي زاويتي حادة ومنفرجة ويكون الزوايا الحواد كلها في جهة  $\overline{ب د}$  والمنفرجات في جهة

$\overline{آ ح}$  فاقول ان خطي  $\overline{آ ب}$  و  $\overline{ح د}$  موضوعان علي التقارب في جهة  $\overline{ب د}$  ما دام لم يتقاطعا وعلي التباعد في جهة  $\overline{آ ح}$  وتكون الاعمدة متصاغرة في جهة  $\overline{ب د}$  الي التقاطع و متعاضمة في جهة  $\overline{آ ح}$  ويكون عمود  $\overline{هـ ر}$  اعظم من عمود  $\overline{ح ط}$  وهو من عمود  $\overline{ال}$  وهو من عمود  $\overline{م ن هـ س ع}$  ويكون عمود  $\overline{س ع}$  اصغر من عمود  $\overline{م ن هـ س ع}$  وهو من عمود  $\overline{ال}$  الي اخره وايضا فان كان كل واحد من الخطوط المستقيمة الواقعة علي الخطين المستقيمين اعمدة علي احدهما وكانت متعاضمة ان اخذنا نعتبر بعضها الي بعض في احدي جهتي



جهتي الخطين ومصاغرة ان اخذنا نعتبر في الجهة الاخرى من جهتي  
 الخطين فان الخطين المستقيمين موضوعان على التباعد في جهة تعاضم  
 الاعمدة وعلى التقارب في الجهة الاخرى وهي جهة تصاغر الاعمدة الي ان  
 يتقاطع الخطان الماران كل واحد من الخطوط المستقيمة التي هي اعمدة على  
 احد الخطين قاطعا لذلك الخط على زوايا قائمة لا يكون لذلك الخط مبدل  
 الي الاعمدة ولا عنها فيكون كل واحد من الاعمدة قاطعا للخط الاخر من  
 الخطين المستقيمين على زاويتين احدهما حادة والاخرى منفرجة  
 ويكون جميع زوايا الحادة الي جهة تقارب الخطين وجميع زوايا المنفرجة الي  
 جهة تباعدهما ويكون لذلك الخط مبدل الي كل واحد من الاعمدة في جهة  
 التقارب ومبدل عن كل واحد منها في جهة التباعد وهاتان القصبتان  
 بديهيتهما استعمالهما بعض المهندسون من المتقدمين والمتأخرين على  
 انهما بديهيتهما  $\square$  والمقدمة الثانية كل خطين مستقيمين خارجا  
 من طرفي خط مستقيم في جهة واحدة عمودين عليه وكانا متساويين  
 ووصل بين طرفيهما بخط مستقيم فكل واحدة من الزاويتين الحادتين  
 من العمودين والخط المستقيم الواصل بين طرفيهما قائمة لبيكن الخط

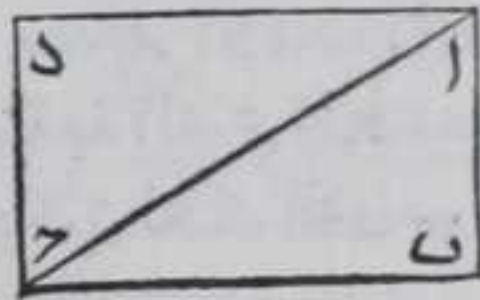


المستقيم  $\overline{اب}$  والعمودان المتساويان  $\overline{ا د}$  و  $\overline{ب د}$  و وصل  
 بين نقطتي  $\overline{د}$  طرفيهما بخط مستقيم فاقول ان كل  
 واحدة من زاويتي  $\overline{ا د ب}$  قائمة برهانه فلانه

لولا يكن زاوية  $\overline{ا د ب}$  قائمة لكانت اما حادة او منفرجة فان كانت حادة  
 كان خطا  $\overline{ا ب}$   $\overline{د د}$  موضوعين على التقارب في جهة  $\overline{د}$  فيكون عمود  $\overline{ا د}$  اعظم  
 من عمود  $\overline{ب د}$  بالمقدمة الاولى وهما متساويان هذا خلف وان كانت  
 منفرجة كان خطا  $\overline{ا ب}$   $\overline{د د}$  موضوعين على التباعد في جهة  $\overline{د}$  فيكون  
 عمود  $\overline{ا د}$  اصغر من عمود  $\overline{ب د}$  بالمقدمة الاولى وهما متساويان هذا خلف  
 فزاوية  $\overline{ا د ب}$  قائمة وبمثله تبين ان زاوية  $\overline{ب د د}$  قائمة  $\square$   
 واقول ايضا ان خط  $\overline{د د}$  يساوي خط  $\overline{ا ب}$  برهانه فلان  $\overline{د د}$  لولا يكن  
 $\overline{ا ب}$  لكان اصغر منه او اعظم فان كان اصغر يلزم ان يكون خطا  $\overline{ا ب}$   $\overline{د د}$   
 موضوعين على التقارب في جهة  $\overline{د}$  وعلى التباعد في جهة  $\overline{ب}$  فيكون زاوية  
 $\overline{ا ب د}$  او  $\overline{ب ا د}$  حادة وزاوية  $\overline{د ب د}$  او زاوية  $\overline{ا د ب}$  منفرجة بالقضية  
 الثانية من المقدمة الاولى وهما قائمتان هذا خلف وان كان  $\overline{د د}$  اعظم  
 من  $\overline{ا ب}$  كان خطا  $\overline{ا ب}$   $\overline{د د}$  موضوعين على التقارب في جهة  $\overline{ب}$  وعلى  
 التباعد في جهة  $\overline{د}$  فيكون زاوية  $\overline{د ب د}$  حادة او  $\overline{ا د ب}$  حادة وزاوية  $\overline{ا ب د}$   
 او  $\overline{ب ا د}$  منفرجة بالقضية الثانية من المقدمة الاولى وهما قائمتان هذا  
 خلف المقدمة الثالثة كل مثلث مستقيم الاضلاع فان زواياه  
 الثلث لكائمتين وليكن زاوية  $\overline{ا ب د}$  من مثلث  $\overline{ا ب د}$  قائمة فاقول ان  
 $\overline{ب ا د}$   $\overline{ب ا د}$  قائمة برهانه نخرج من نقطة  $\overline{د}$  عمود  $\overline{د د}$  على ضلع  $\overline{ب د}$

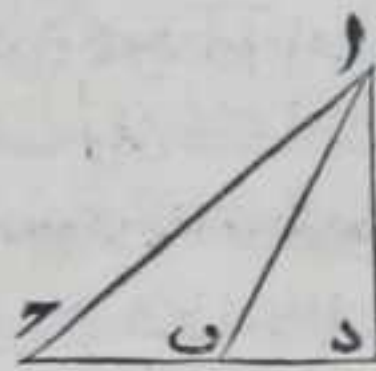


باستبانة الشكل المحادي عشر ونفصل منه  $\overline{د}$  يساوي  $\overline{اب}$  بالشكل الثالث ونصل بين نقطتي  $\overline{آ د}$  بخط مستقيم فخط  $\overline{آ د}$  كخط  $\overline{ب ح}$  وزاوية  $\overline{آ د ح}$  قائمة بالمقدمة الثانية فلان ضلعي  $\overline{اب}$   $\overline{ب ح}$  وزاوية  $\overline{اب ح}$  من مثلث  $\overline{اب ح}$  مساوية لضلعي  $\overline{آ د ح}$  وزاوية  $\overline{آ د ح}$  كل لنظيره فبالشكل الرابع زاوية  $\overline{آ د ح}$  كزاوية  $\overline{ب ا ح}$  وزاوية  $\overline{ب ح د}$  المساوية



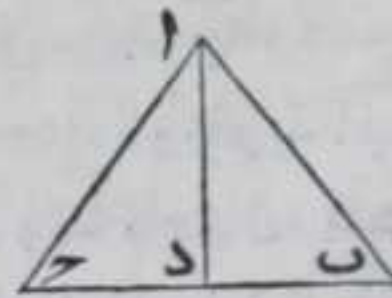
لزاويتي  $\overline{ب ا ح}$   $\overline{ب ح د}$  قائمة فزاويتنا  $\overline{ب ا ح}$   $\overline{ب ح د}$  كقائمة فالحكم ثابت وذلك ما اردنا ان نبين ثم ليكن زاوية منفرجة فاقول ان الزوايا الثلث من مثلث  $\overline{اب ح}$  كقائمتين برهانه فلان زاوية  $\overline{اب ح}$  منفرجة وزاويتي كل مثلث اقل من قائمتين بالشكل السابع عشر فزاوية  $\overline{ا ب ح}$  حادة واذا وقع خط مستقيم فالزاويتان المحاديتان كقائمتين بالشكل الثالث عشر وزاوية  $\overline{ا ب ح}$  حادة فالزاوية المجاورة لها منفرجة فاذا اخرجنا من نقطة  $\overline{آ}$  عمود  $\overline{آ د}$  علي ضلع  $\overline{ب ح}$  بالشكل الثاني عشر فلا يمكن ان يقع علي احدي نقطتي  $\overline{ب ح}$  والا لكانت زاوية  $\overline{اب ح}$  او زاوية  $\overline{ا ب ح}$  قائمة وليست ولا يمكن ان يقع بين نقطتي  $\overline{ب ح}$  او علي ضلع  $\overline{ب ح}$  بعد اخراجه في جهة  $\overline{ح}$  والا يلزم ان يكون زاويتنا مثلث وهما زاويتنا  $\overline{ا ب د}$  او زاويتنا احداهما  $\overline{ا ح د}$  المجاورة لزاوية  $\overline{ا ب ح}$  والثانية زاوية  $\overline{ا د ح}$  اعظم من قائمتين وهما اصغر منهما بالشكل السابع عشر فيقع علي ضلع  $\overline{ب ح}$  بعد اخراجه في جهة  $\overline{ب}$  فيكون كل واحد من مجموع زاويتي  $\overline{د ا ب}$

$\overline{ا ب د}$  و  $\overline{د ا ح}$   $\overline{ا ح د}$  كقائمة فاذا القينا زاوية  $\overline{د ا ب}$  المشتركة تبقي زاوية  $\overline{ا ب د}$  متساوية لزاويتي  $\overline{ب ا ح}$   $\overline{ا ح د}$  لكن زاويتي  $\overline{ا ب د}$   $\overline{ا ح د}$  كقائمتين بالشكل الثالث عشر فزاوية  $\overline{ا ب ح}$  مع زاويتي  $\overline{ب ا ح}$   $\overline{ا ح د}$  كقائمتين وذلك ما اردنا ان نبين ثم ليكن زوايا مثلث  $\overline{اب ح}$



كلها حواد فاقول ان زوايا المثلث كقائمتين برهانه نخرج من نقطة  $\overline{آ}$  عمود  $\overline{آ د}$  علي ضلع  $\overline{ب ح}$  بالشكل الثاني عشر فلا يقع علي احد نقطتي  $\overline{ب ح}$  والا لكانت القائمة حادة ولا علي  $\overline{ب ح}$  بعد اخراجه في احدي جهتيه والا لكانت زاويتنا مثلث اعظم من قائمتين وهما اما زاويتنا  $\overline{ا ب د}$  او زاويتنا  $\overline{ا ح د}$  وهي اصغر من قائمتين بالشكل السابع عشر فيقع بين نقطتي

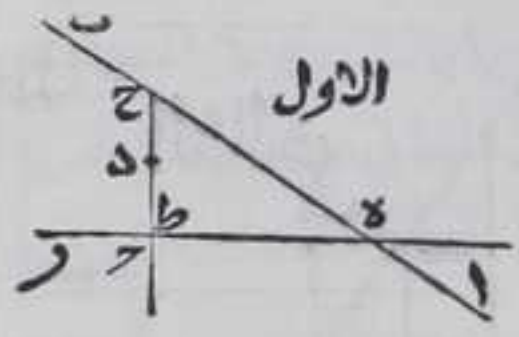
$\overline{ب ح}$  فيكون زاويتنا  $\overline{ا ب د}$   $\overline{ا ح د}$  كقائمة وزاويتنا  $\overline{ا ح د}$   $\overline{ا ب د}$  كقائمة ايضا بالشكل الاول من هذه المقدمة فيكون جميع زوايا مثلث  $\overline{اب ح}$  كقائمتين وذلك ما اردنا ان نبين واذا تقررت هذه المقدمات فنقول ليكن



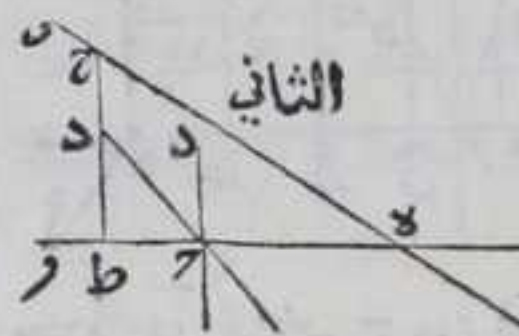
الخطان المستقيمان اللذان وقع عليهما خط مستقيم خطي  $\overline{اب ح}$  والخط الواقع عليهما خط  $\overline{د ح}$  قاطعا اياهما علي نقطتي  $\overline{د ح}$  ولتصير زاويتي



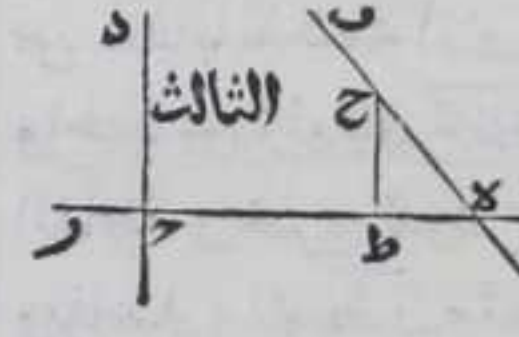
زاويتي ب ه د ح ه اقل من قائمتين فلا يخلو اما ان يكون احدهما قائمة  
والاخرى حادة او يكونا حادثين او احدهما منفرجة والاخرى حادة  
فان المخطين علي التقدير الثلاثة اذا اخرجنا علي  
استقامتهما في جهة ب د الي غير النهاية فانهما  
يتلاقبان برهانه اما الاول فليكن زاوية ب ه  
حادة وزاوية د ح ه قائمة ونرسم علي خط ب ه



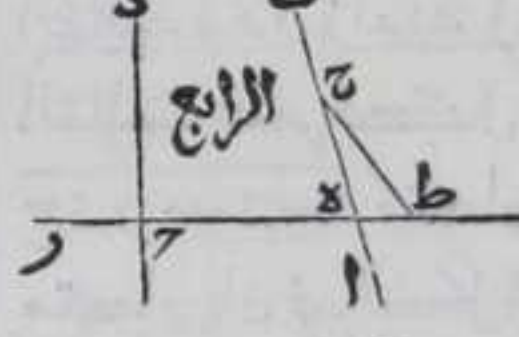
نقطة ح كيف ما وقعت ونخرج منها خط ح ط عمودا علي خط ه ر  
بالشكل الثاني عشر فهو اما ان ينطبق علي خط  
د ح او يقع علي نقطة بين نقطتي د ر او فيما  
بين نقطتي ه ر او علي نقطة خارجة عنهما في  
جهة ه والتقدير الرابع محال والا لزم ان يكون



زاويتا ح ط ه ح ه ط من مثلث ح ط ه اعظم من قائمتين لان زاوية ح ه ط  
منفرجة بالشكل الثالث هذا خلف ثم  
خط د ا اذا اخرج في جهة د علي استقامته  
يلقي خط ا ب علي التقدير الاول وذلك ظاهر  
وعلي التقدير الثاني لا يمكن ان يلقي خط د




عمود ح ط والا فليقع علي نقطة د فيكون زاويتان من المثلث الحادث  
هما د ح ط د ط ح كقائمتين وهما اقل منهما بالشكل  
السابع عشر هذا خلف ولا يمكن ان يلقي  
خط د ر والا يلزم احاطة خطين مستقيمين  
بسوط فهو يلقي خط ا ب وعلي التقدير الثالث



نضعف ه ط مرة بعد اخرى الي ان نصير اعظم من خط ه ر وهي خطوط  
ه ط ط ا ا ل ل م ونفصل من خط ب ح خطوطا  
كل واحد منها يساوي خط ه ح بالشكل  
الثالث وهي خطوط ح ن ه ن س س ع ويكون  
عدتها مع خط ه ح لعدة اقسام خط ه م  
ونخرج من نقطة ه عمود ه فه بالشكل الحادي  
عشر ونفصل منه ف ه مثل ح ط بالشكل



الثالث ونصل بين نقطتي ف ه ب بخط مستقيم  
فيكون كل من زاويتي ه ف ح ف ح ط قائمة وضلع  
ف ه كضلع ه ط بالمقدمة الثانية ونخرج من نقطة ن ه عمود ن ا علي ه ر  
بالشكل الثاني عشر ولان خطي ه ب ه ر موضوعان علي التباعدي في جهة  
ب يكون عمود ن ا اعظم من عمود ح ط بالمقدمة الاول فنفصل منه خط  
ا ق كعمود ح ط بالشكل الثالث ونصل بين نقطتي ح ق ب بخط مستقيم  
وكل من زاويتي ط ح ق ا ق ح قائمة وضلع ط ا كضلع ح ق بالمقدمة

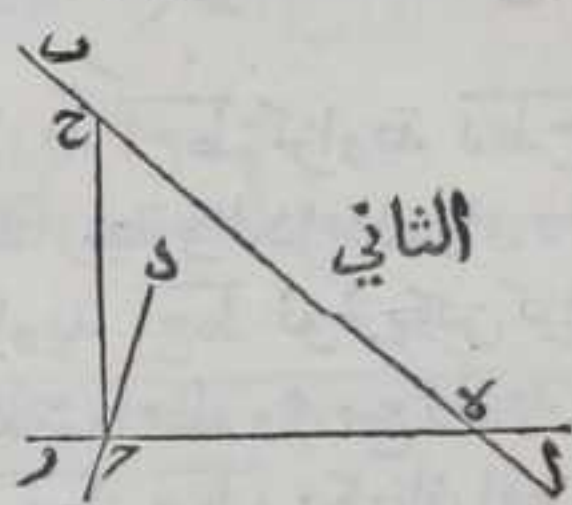






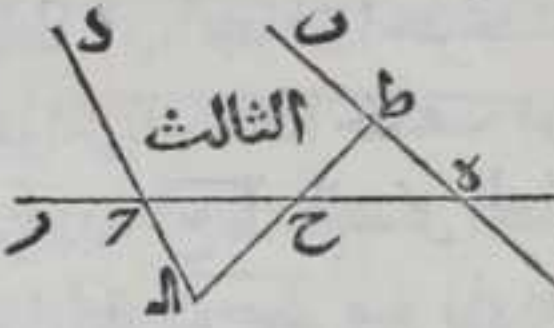


جهة د علي استقامته لا يمكن ان يلقي احد عمودي سـ ل عم و الا فليكن  
 علي نقطة د فيكون في مثلث د ح م او د ح ل زاويتان كقائمتين وهما زاويتا  
 د ل ح او د ح م او د ح ل وكل زاويتي مثلث اقل منهما بالشكل السابع  
 عشر هذا خلف فخط ح د يلقي خط ا ب واما الثاني وهو ان يكون  
 كل واحدة من زاويتي ب ه ح حادة فلان زاوية د ح ه حادة يكون  
 زاوية د ح ر منفرجة بالشكل الثالث عشر ونخرج من نقطة ح عمود  
 ح ر علي خط د ر في جهة د باستبانة الشكل الحادي عشر فيقع بين  
 ضلعي د ح ر فاذا اخرجناه في جهة ح علي استقامته يلقي خط ا ب  
 بالشكل المتقدم فليلقه علي نقطة ح فاذا اخرجنا خط د ح في جهة  
 د علي استقامته يلقي خط ا ب بين نقطتي ه



وذلك ظاهر لامتناع احاطة خطين  
 مستقيمين بسطح واما الثالث وهو ان يكون  
 زاوية ب ه ح حادة وزاوية د ح ه منفرجة  
 فلان زاويتي ب ه ح حادة اقل من قائمتين  
 وزاويتا د ح ه والمجاورة لهما معا كقائمتين

بالشكل الثالث عشر فزاوية ح المجاورة لزاوية د ح ه اعظم من زاوية  
 ب ه ح ونرسم علي خط د ح نقطة ح كيف ما وقعت ونخرج منها عمود  
 ح ط الي خط د ب بالشكل الثاني عشر فلا يقع علي نقطة ه وذلك ظاهر  
 ولا علي خط ا ه والا لكانت زاويتا مثلث



اعظم من قائمتين وقد بين في الشكل السابع  
 عشر انهما اقل منهما هذا خلف فليقع علي  
 نقطة ط ونخرج خط ط ح علي استقامته في

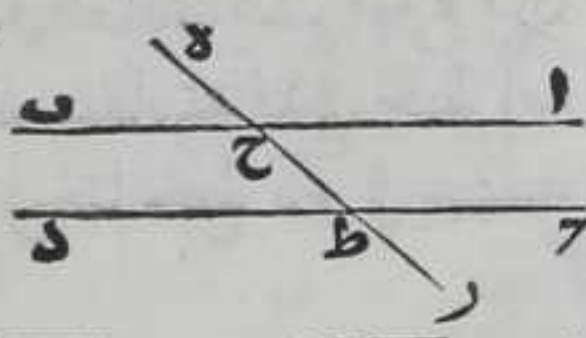
جهة ح الي ا فلان زاوية ح ط ه القائمة مع زاوية ه ح ط اقل من  
 قائمتين بالشكل السابع عشر وزاوية ه ح ط الحادة كزاوية ح ا ب بالشكل  
 الخامس عشر وزاوية ح المجاورة لزاوية د ح ه اقل من قائمة فكل واحدة  
 من زاويتي ح ا ب و ح المجاورة لزاوية د ح ه حادة فخط ح ا د ا اذا  
 اخرجنا في جهة ا يتلاقبان بالشكل الثاني من الشكل المتقدمين فليبتلعا  
 علي نقطة ا ولان زوايا كل مثلث مستقيم الاضلاع كقائمتين فزاويتي  
 ح ط ا ح ا متساويتان بالشكل الخامس عشر وزاوية ح ا ب اعظم من زاوية  
 ح ه ط فزاوية ه ط ح القائمة اعظم من زاوية ح ا ب لان الزوايا الثالث  
 كل مثلث مستقيم الاضلاع كقائمتين بالمقدمة الثالثة فهي حادة وزاوية  
 ب ط ا قائمة بالشكل الثالث عشر فاذا اخرجنا خط ا ب ح د في جهة ب د  
 فهما يتلاقبان بالشكل الاول من الشكلين في جهة واحدة من الخط الواقع  
 لقائمتين وذلك ما اردنا ان نبين ونعود الي تقرير مسائل الكتاب

الط



كل خط مستقيم وقع على خطين مستقيمين متوازيين فالمتبادلتان من الزوايا الحادثة متساويتان والخارجة كالداخلة المقابلة لها والداخلتان في

جهة من الخط كقائمتين



ليكن خط هـ المستقيم وقع على خطي ا ب ج د المتوازيين على نقطتي ح ط فاقول ان

زاوية ا ح ط كزاوية د ط ح المبادله لها وان زاوية هـ ح ب كزاوية ح ط د الخارجة والداخلة وان داخلة ب ح ط د ط ح كقائمتين برهانه فلان زاوية ا ح ط لو لم يكن كزاوية د ط ح لكانت اعظم منها او اصغر فان كانت اعظم وهي مع زاوية ب ح ط كقائمتين بالشكل الثالث عشر فزاويتنا ب ح ط ح ط د يكونان اقل من قائمتين فخطا ا ب ج د اذا اخرجنا في جهة د فانهما يتلاقبان بالقضبة التي برهنا عليها وهما متوازيين هذا خلف وان كانت زاوية ا ح ط اصغر من زاوية د ط ح فزاويتنا ح ط ح د ط ح معا كقائمتين بالشكل الثالث عشر فزاويتنا ح ط ح ا ح ط معا اقل قائمتين فخطا ا ب ج د ان اخرجنا في جهة ا فانهما يتلاقبان بالقضبة وهما متوازيان هذا خلف فزاويتنا ا ح ط ح ط د متساويتان وزاوية هـ ح ب كزاوية ا ح ط بالشكل الخامس عشر فزاويتنا هـ ح ب ح ط د متساويتان وزاوية ب ح ط مع زاوية ا ح ط كقائمتين بالشكل الثالث عشر فهي مع زاوية ح ط د كقائمتين فالحكم ثابت وذلك ما اردنا ان نبين  $\square$  واستبان منه ان كل خطين مستقيمين في سطح مستو اما متوازيان واما متسامتان لانه اذا وقع عليهما خط مستقيم فالزاويتان الحادثتان الداخلتان في جهة واحدة من الخط الواقع اما قائمتان او اقل منهما فعلى التقدير الاول هما متوازيان وعلى التقدير الثاني ملتقبان اذا اخرجنا في تلك الجهة فهما متسامتان وهذا ما وعدنا التنبه عليه  $\square$

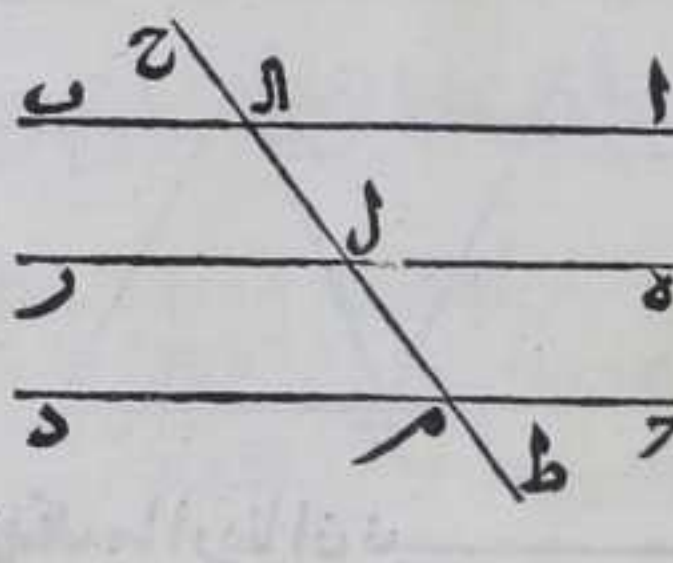
ل

جميع الخطوط الموازية لخط بعينه ولا يكون تلك

الخطوط على سمت واحد فهي متوازية

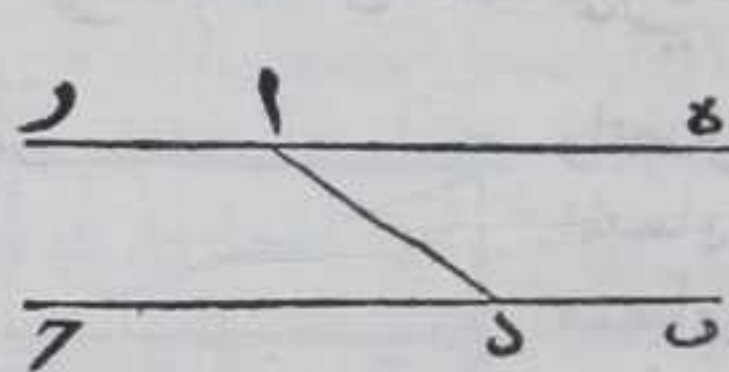
ليكن خطا ا ب ج د موازيين لخط هـ فاقول انهما متوازيان برهانه لنقطع خط ح ط المستقيم خطوط ا ب ج د على نقط ل م ن فلان زاوية





زاوية الـ كزاوية رلـ و زاوية دـ مـ لـ  
 كزاوية رلـ بالشكل المتقدم و زاوية الـ  
 دـ مـ متساويتان فخط ا ب يوازي خط  
 حـ دـ بالشكل السابع والعشرين وذلك  
 ما اردنا ان نبين  
 لا

لنا ان نخرج من اي نقطة في سطح خطا موازيا  
 لخط مستقيم مفروض في ذلك السطح مباين  
 للنقطة المفروضة

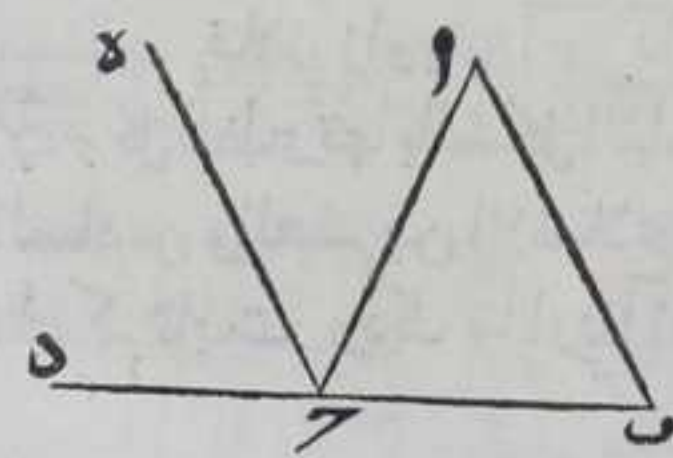


ليكن النقطة ا والنقط بـ جـ فاقول لنا  
 ان نخرج من نقطة ا خطا موازيا  
 لخط بـ جـ برهانه نرسم علي خط

بـ جـ نقطة كـ ف اتفق ونصل بينها وبين نقطة ا بخط مستقيم ونعمل  
 علي نقطة ا من خط ا د زاوية د ا ر كزاوية ا د ب بالشكل الثالث والعشرين  
 ونخرج ا ر في جهة ا علي استقامته الي حـ بـ شيئا فلينته الي هـ فلان زاوية  
 د ا ر كزاوية ا د ب فخط د ر موازي بـ جـ بالشكل السابع والعشرين  
 وذلك ما اردنا ان نبين

بـ

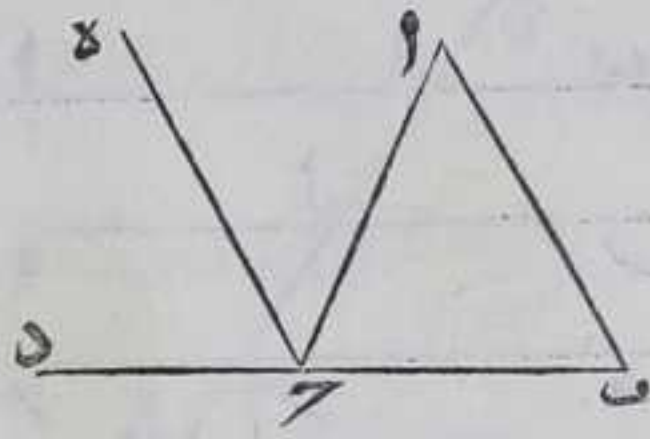
كل مثلث مستقيم الاضلاع اخرج من احدي  
 اضلاعه خط فالزاوية الخارجة تساوي مجموع  
 الزاويتين الداخلتين المقابلتين لها وان الزوايا  
 الثلث من اي مثلث مساوية لقايمتين



لنخرج ضلع بـ جـ من مثلث ا ب جـ الي  
 دـ علي استقامته فاقول ان زاوية ا حـ دـ  
 ك مجموع زاويتي ا ب جـ و ا جـ بـ وان هاتين  
 الزاويتين مع زاوية ا حـ بـ كقايمتين  
 برهانه نخرج من نقطة حـ خط حـ دـ  
 يوازي ا بـ بالشكل المتقدم فلان زاوية ا حـ دـ كزاوية ا حـ بـ و زاوية ا حـ دـ



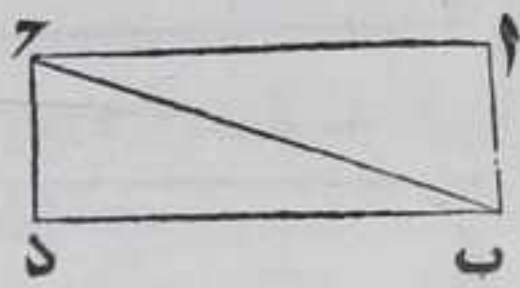
كزاوية  $\overline{أب\gamma}$  بالتاسع والعشرين فزاوية  
 $\overline{أ\gamma د}$  كزاويتي  $\overline{أب\gamma}$  و  $\overline{بأ\gamma}$  ولان زاويتي  
 $\overline{أ\gamma د}$  كزاويتين بالشكل الثالث عشر  
 فزاوية  $\overline{أ\gamma د}$  كزاويتي  $\overline{أب\gamma}$  و  $\overline{بأ\gamma}$  فهما  
 مع زاوية  $\overline{أ\gamma د}$  كزاويتين فالحكم ثابت



وذلك ما اردنا ان نبين

جميع الخطوط المستقيمة المتقابلة الواقعة بين  
 اطراف الخطوط المتوازية المتساوية ومتوازية

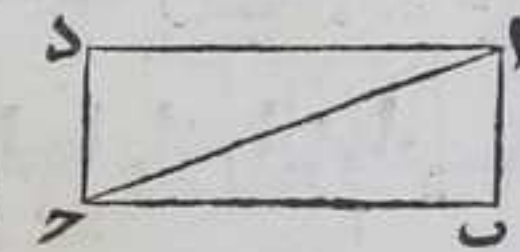
ولنصل بين اطراف خطي  $\overline{أب}$  و  $\overline{د\gamma}$  المتوازيين  
 المتساويين خطا  $\overline{أ\gamma د}$  فاقول انهما متوازيان  
 متساويان برهانه انا نصل بين نقطتي  $\overline{ب\gamma}$   
 بخط مستقيم فلان زاويتي  $\overline{أب\gamma}$  و  $\overline{ب\gamma د}$  من



مثلي  $\overline{بأ\gamma}$  و  $\overline{د\gamma ب}$  متساويتان بالشكل التاسع والعشرين لتوازي ضلعي  
 $\overline{أب}$  و  $\overline{د\gamma}$  وضلعا  $\overline{أ\gamma د}$  متساويان وضلع  $\overline{ب\gamma}$  مشترك بينهما فبالشكل  
 الرابع ضلع  $\overline{أ\gamma د}$  كضلع  $\overline{ب\gamma د}$  فزاوية  $\overline{أ\gamma د}$  كزاوية  $\overline{ب\gamma د}$  فبالشكل التاسع  
 والعشرين  $\overline{أ\gamma د}$  يوازي  $\overline{ب\gamma د}$  فالحكم ثابت وذلك ما اردنا ان نبين

كل ضلعين متقابلين والزائتين المتقابلتين  
 من اي السطوح المتوازية الاضلاع متساويان

واقطارها تنصفها



ليكن  $\overline{أب}$  و  $\overline{د\gamma}$  متوازي الاضلاع فاقول كلا من ضلعي  
 $\overline{أ\gamma د}$  و  $\overline{ب\gamma ح}$  المتقابلين متساويان وكلا من زاويتي  $\overline{بأ\gamma}$   
 $\overline{ب\gamma د}$  و  $\overline{ب\gamma ح}$  و  $\overline{ب\gamma د}$  متساويتين برهانه نصل  $\overline{أ\gamma ح}$  بخط  
 مستقيم فلان زاويتي  $\overline{أ\gamma د}$  و  $\overline{أ\gamma ح}$  متساويتان زاويتا  $\overline{أ\gamma د}$  و  $\overline{أ\gamma ح}$  من مثلث  
 $\overline{أ\gamma د}$  كل لنظيرتها بالشكل التاسع والعشرين وضلع  $\overline{أ\gamma ح}$  مشترك فبالشكل  
 السادس والعشرين الاضلاع والزوايا الباقية المناظرة منها متساوية  
 فالحكم ثابت وذلك ما اردنا ان نبين

جميع السطوح المتوازية الاضلاع الكائنة على







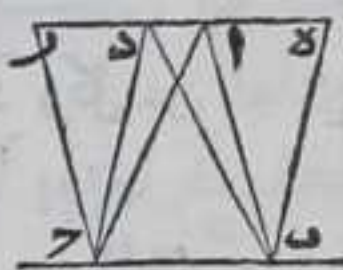
ولهذا الشكل اختلاف وقوع فان نقطة ه اما ان تقع بين نقطتي د ر او علي نقطة د او فيما بين نقطتي ا د هكذا والبيان كالاول والباقي ظاهر منه

لر

جميع المثلثات الكائنة علي قاعدة واحدة في جهة

واحدة وبين خطين متوازيين بعينها متساوية

ليكن مثلثا ا ب ح د ب ح علي قاعدة ب ح وبين خطي ا د ب ح المتوازيين فاقول انهما متساويان برهانه نخرج من نقطتي ب ح خط ب ه موازيا لخط ا ح وخط ح ر متوازيا لب د بالشكل الواحد والثلاثين



ونخرجهما في جهة ه ر علي استقامتهما ونخرج ا د علي استقامته في جهته الي نقطتي ه ر فلان زاوية ه ا ب مع الزاوية المجاورة لزاوية ا ب ح كقائمتين بالشكل التاسع والعشرين لموازية ا د ب ح فزاويتا ا ب ه باه اقل من قائمتين فخطا ا ه ب ه يتلاقبان فليبتقبا علي نقطه ه ومثله تبين التقاء ا د ح علي نقطة ر فسطحا ا ه ب ح د ب ح المتوازي الاضلاع متساويان بالشكل الخامس والثلاثين وهما منصفان بخطي ا ب ح د بالشكل الرابع والثلاثين فسطح ه ح ضعف مثلث ا ب ح وسطح ب ر ضعف مثلث د ح ب والسطحان متساويان فمثلثا ا ب ح د ب ح متساويان وذلك ما اردنا ان نبين

لح

جميع المثلثات الكائنة علي قواعد متساوية في جهة

واحدة وبين خطين متوازيين بعينها متساوية

ليكن مثلثا ا ب ح د ه ر علي قاعدتي ب ح ه ر من خط ب ر المتساويين وبين خطي ا د ب ر المتوازيين فاقول انهما متساويان برهانه نخرج من نقطتي ب ر في جهة ا د خط ب ح موازيا لصلع ا ح و ر ط



لصلع د ه بالشكل الواحد والثلاثين ونخرجهما علي استقامتهما ونخرج ا د علي استقامته في جهته الي نقطتي ح ط فلان زاوية ح ا ب مع زاوية المجاورة لزاوية ا ب ح كقائمتين بالشكل التاسع والعشرين فزاويتا ح ا ب ا ب ح اقل من قائمتين فخطا ب ح ا د يتلاقبان فليبتقبا علي



نقطة ح ومثله تبين ان خطي ا د ط ر اذا اخرجنا علي استقامتهما في جهة ط يتلاقبان فليبتقبا علي نقطة ط فسطحا ح ه ط المتوازي الاضلاع متساويان بالشكل

السادس

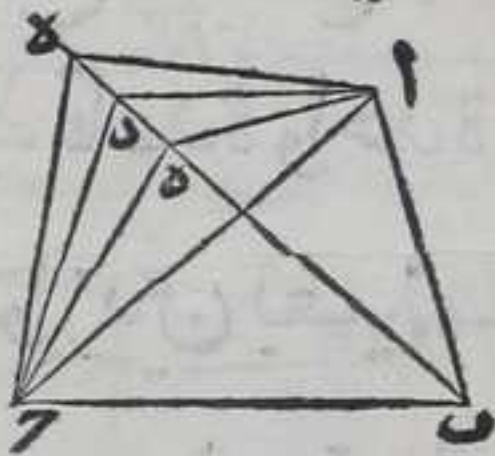




السادس والثلاثين وهما ضعفا مثلثي  $أب ح$  ده بالشكل الرابع والثلاثين فهما متساويان وذلك ما اردنا ان نبين ولهذا لشكل اختلاف وقوع فان نقطة  $هـ$  يمكن ان يقع بين نقطتي  $ح$   $ر$  او علي نقطة  $ح$  او بين نقطتي  $ب$   $ز$

وهكذا والاول ببناء والباقي ظاهر من  
ط

جميع المثلثات المتساوية الكائنة علي قاعدة واحدة في جهة واحدة كائنه بين خطين متوازيين بعينهما

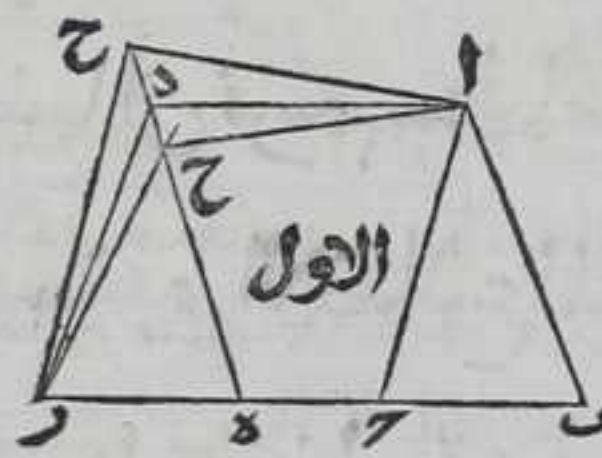


ليكن مثلثا  $أب ح$   $د ب ح$  الكائنان علي قاعدة  $ب ح$  في جهة  $أ د$  متساويين فاقول انهما بين خطين متوازيين بعينهما برهانه يصل بين نقطتي  $أ د$  بخط مستقيم فهو مواز لقاعدة  $ب ح$  والا لكان المتوازي لها خط  $أ هـ$  المنتهي

الي خط  $ب د$  لكون زاويتي  $أ ب د$   $هـ ب د$  من قائمتين اذ مجموع زاويتي  $هـ ب د$   $أ ب د$  كقائمتين بالشكل التاسع والعشرين فلينته علي نقطة  $هـ$  فنصل بين نقطتي  $ح$   $هـ$  بخط مستقيم فثلث  $ب ح هـ$  كمثلث  $أ ب ح$  بالشكل السابع والثلاثين وكان مثلث  $ب د ح$  مساويا لمثلث  $أ ب ح$  فثلث  $ب ح هـ$  يساوي مثلث  $د ب ح$  فالجزء مثل الكل وذلك ما اردنا ان نبين ولهذا الشكل اختلاف وقوع فان نقطة  $هـ$  اما ان تقع بين نقطتي  $ب د$  او خارجتهما في جهة  $د$  والبيان في الكل واحدا

جميع المثلثات المتساوية الكائنة علي قواعد

متساوية من خط بعينه في جهة واحدة فهي بين

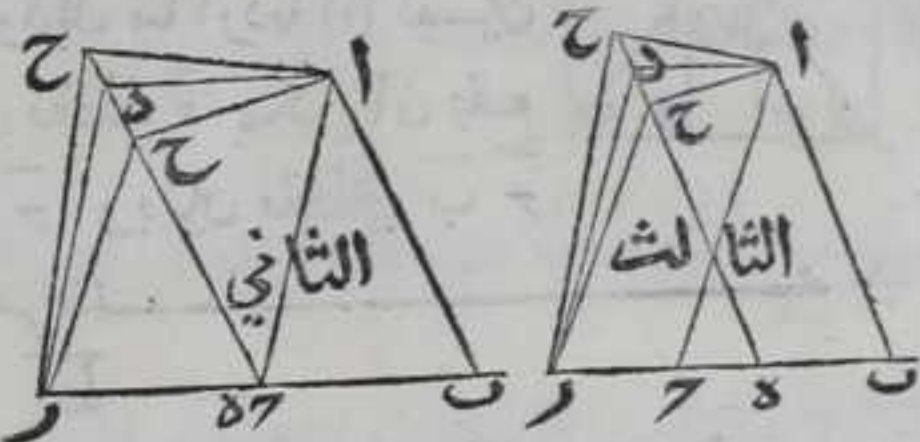


خطين متوازيين بعينهما

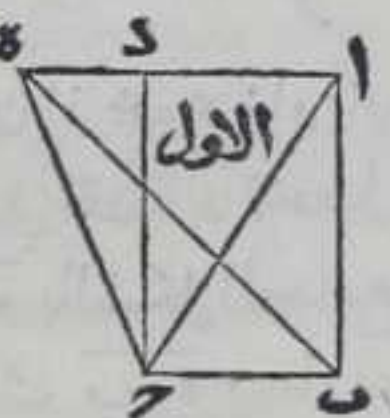
ليكن مثلثا  $أ ب ح$   $د ب ح$  علي قاعدتي  $ب ح$   $د ب ح$  برهانه يصل بين نقطتي  $أ د$  بخط مستقيم فاقول انهما بين خطين متوازيين انه مواز لخط  $ب ر$  والا لكان الموازي له خط  $أ ح$  المنتهي الي خط  $د هـ$  وعلي نقطة  $ح$  ونصل  $ح ر$  بخط مستقيم فثلث  $ب ح ر$  كمثلث  $أ ب ح$  بالشكل الثامن والثلاثين وكان مثلث  $د ب ح$  مساويا له فيكون مثلث  $ب ح ر$  كمثلث



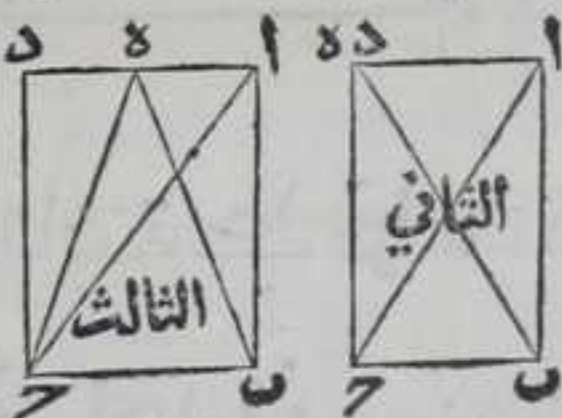
دور فجز الشيء يساوي كله هذا خلف فالحكم ثابت وذلك ما اردنا ان  
 نبين ولهذا الشكل اختلاف  
 وقوع فان نقطة ح اما ان يقع  
 بين نقطتي ع ر او خارجا  
 عنهما في جهة د مع وقوع  
 نقطة ه بين نقطتي ح ر او  
 علي نقطة ح او بين نقطتي ب ح هكذا والبيان في الكل واحد



جميع السطوح المتوازية الاضلاع والمثلثات الكائنة  
 على قاعدة واحدة في جهة واحدة وبين خطين  
 متوازيين بعينهما فان اي سطح هو ضعف اي  
 مثلث من تلك المثلثات



ليكن سطح ا ب د المتوازي الاضلاع ومثلث ه ب ح  
 على قاعدة ب ح وبين خطي ب ح ا د المتوازيين  
 فاقول ان سطح ا ح ضعف مثلث ب ح د برهانه  
 نصل بين نقطتي ا ح بخط مستقيم فنلثا ا ب ح ب ح د متساويان بالشكل  
 السابع والثلاثين و سطح ا ب د ضعف مثلث ا ب ح بالشكل الرابع  
 والثلاثين فهو ضعف مثلث ب ح د وذلك ما  
 اردنا ان نبين ولهذا الشكل اختلاف  
 وقوع فان نقطة ه اما ان تقع خارجا عن  
 نقطتي ا د او علي احدهما او فيما بينهما  
 هكذا والبيان في الكل واحد

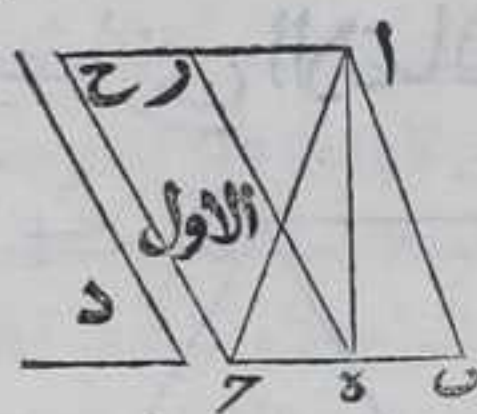


لنا ان نرسم سطح متوازي الاضلاع يساوي مثلث  
 مستقيم الاضلاع المفروض وتكون زاوية من زوايا  
 السطح كزاوية مفروضة مستقيم الخطين

ليكن المثلث ا ب ح والزاوية د فننصف ب ح علي نقطة ه بالشكل  
 العاشر ونصل بين نقطتي ا ه بخط مستقيم ونرسم علي نقطة ه من خط

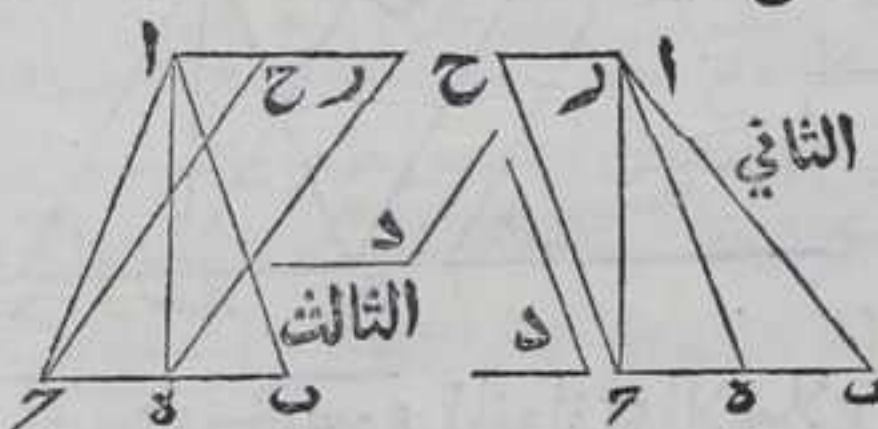


د زاوية د هـ كزاوية د المفروضة بالشكل الثالث والعشرين ونخرج  
من نقطة ح خط حـ جـ في جهة آ يوازي هـ ومن نقطة آ خط آ حـ في



جهة ح يوازي بـ بالشكل الواحد والثلاثين  
فلان زاوية حـ آ حـ مع الزاوية المجاورة لزاوية  
آ ب كقائمتين بالشكل التاسع والعشرين فزاويتنا  
حـ آ حـ اقل من قائمتين فخطي آ حـ حـ  
يتلاقبان اذا اخرجنا علي استقامتهما في جهة حـ

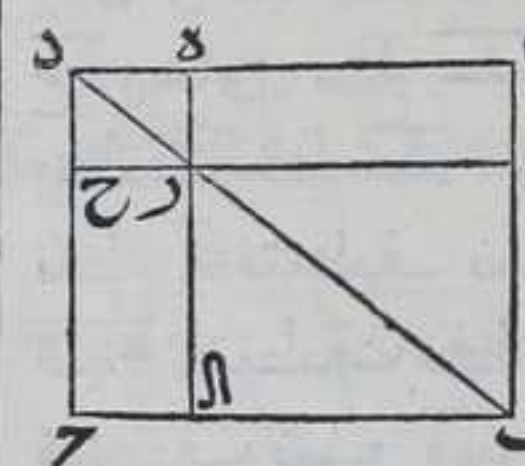
فليبتلأ قبا علي نقطة حـ ولنقطع خط آ حـ خط هـ ر علي نقطة ر لان زاويتي  
حـ آ هـ كقائمتين بالشكل التاسع والعشرين فاقول ان سطح هـ حـ كمثلث  
آ بـ برهانه فلان مثلثي آ بـ هـ آ متساويان بالشكل الثامن والثلاثين  
فثلث آ بـ ضعف مثلث آ هـ و سطح هـ حـ ضعف مثلث آ هـ بالشكل



المتقدم فسطح هـ حـ كمثلث آ بـ  
وزاوية ر هـ كزاوية د فالحكم الثاني  
ثابت وذلك ما اردنا ان نبين  
ولهذا الشكل اختلاف وقوع  
فان ضلع ر هـ اما ان يقع بين

ضلعي آ هـ او ينطبق علي ضلع آ هـ او يقطع آ بـ هكذا والبرهان  
في الكل واحـ د

كل سطحين متوازي الاضلاع يقعان في سطح  
متوازي الاضلاع عن جنبتى قطره يشاركانه في  
زاويتين ويتصلان علي نقطة من القطر فهما متساويان



ليكن سطحاً ا هـ ر ط حـ ر ا حـ المتوازي الاضلاع  
يقعان في سطح آ بـ جـ د المتوازي الاضلاع  
ويشاركانه في زاويتي بـ آ د بـ جـ ويتصلان علي  
نقطة ر من قطر بـ د فاقول انهما متساويان  
برهانه فلان مثلثي بـ آ د بـ جـ متساويان

وكذلك مثلثا بـ ط ر بـ ا ر ومثلثا د هـ ر جـ ر بالشكل الرابع والثلاثين  
فاذا القينا مثلثي د هـ ر بـ ط ر من مثلث بـ آ د ومثلثي بـ ا ر جـ ر من  
مثلث د جـ بـ يبقي سطح آ ر كسطح ر جـ وذلك ما اردنا ان نبين  
ويقال لسطحي آ ر ر جـ المتممان ولاي واحد منهما متمم

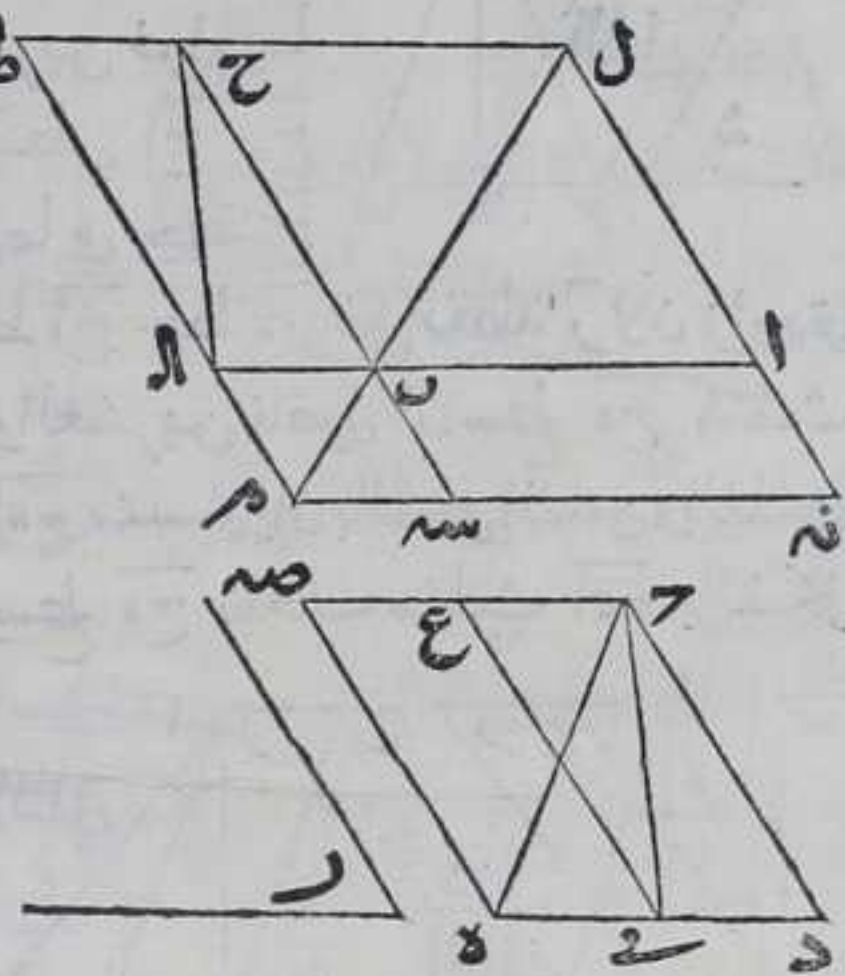
مد



لنا ان نرسم علي كل خط مستقيم محدود سطحاً متوازي الاضلاع يساوي مثلثاً مفروضاً واحدي

زوايا كزاوية مفروضة

ليكن الخط المفروض  $AB$  و المثلث المفروض  $ABC$  والزاوية المفروضة عليها نقطة  $P$  فاقول لنا ان نرسم علي خط  $AB$  سطحاً متوازي الاضلاع يساوي مثلث  $ABC$  ويساوي احدي زواياه زاوية  $P$  برهانه ننصف ضلع  $AB$  علي نقطة  $E$  ونصل  $CE$  بخط مستقيم ونرسم علي خط



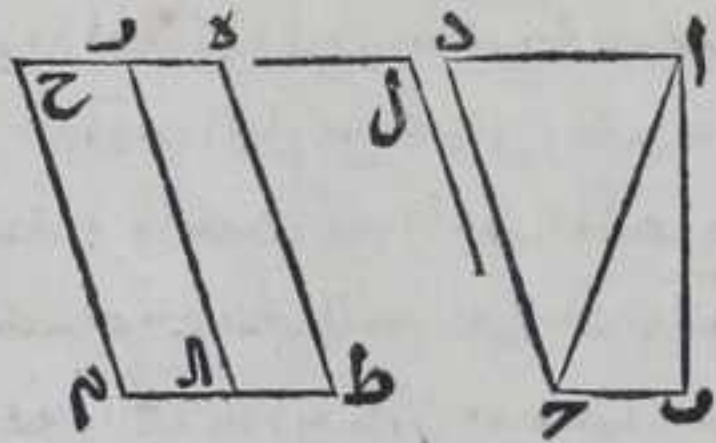
$CE$  سطحاً  $CE$  متوازي الاضلاع يساوي مثلث  $ABC$  وتكون زاوية  $CE$  منه كزاوية  $P$  بالشكل الثاني والاربعين ونخرج  $AB$  في جهة  $B$  علي استقامته الي غير النهاية ونرسم علي نقطة  $B$  من الخط المخرج زاوية  $ABC$  كزاوية  $CE$  بالشكل الثالث والعشرين ونفصل من  $B$  خطاً كخط  $CE$  وليكن  $BA$  ونفصل  $BA$  كخط  $CE$  بالشكل الثالث ونخرج من نقطتي  $C$  و  $A$  خطي  $CA$  و  $AP$  في جهة  $B$  من خط  $AB$  موازي لخطي  $BA$  و  $BC$  بالشكل الواحد والثلاثين فلانا اذا وصلنا بين نقطتي  $C$  و  $A$  بخط مستقيم كانت الزاوية المجاورة لزاوية  $C$  مع زاوية  $CA$  كقائمتين بالشكل التاسع والعشرين فزاويتنا  $CA$  و  $AP$  اقل من قائمتين فخطا  $CA$  و  $AP$  يتلاقيان فليبتلما علي نقطة  $P$  فسطح  $CA$  يساوي سطح  $CE$  ويبين ذلك بانطباق واحدتهما علي الاخر بحيث ينطبق خط  $CE$  علي خط  $BA$  ونقطة  $E$  علي نقطة  $B$  ونقطة  $C$  علي نقطة  $A$  فتطبق ضلع  $CE$  علي ضلع  $BA$  لتساوي زاويتي  $CE$  و  $BA$  فتطبق نقطة  $C$  علي نقطة  $A$  لتساوي خطي  $CE$  و  $BA$  فينطبق ضلع  $CA$  علي ضلع  $AP$  لتساوي زاويتي  $CA$  و  $AP$  فينطبق ضلع  $CE$  علي ضلع  $AP$  لان كل واحدة من زاويتي  $CE$  و  $AP$  ح  $BA$  و  $AP$  كقائمتين بالشكل التاسع والعشرين وزاوية  $CE$  كزاوية  $BA$  فتطبق نقطة  $C$  علي نقطة  $A$  لتساوي ضلعي  $CA$  و  $AP$  فينطبق ضلع  $CE$  علي ضلع  $AP$  والا يلزم خطين مستقيمين بسطح هذا خلف ونخرج خط  $CA$  في جهة  $C$  علي استقامته الي غير النهاية



النهاية ونفصل منه  $\overline{ح ل}$  يساوي  $\overline{أ ب}$  بالشكل الثالث ونصل بين نقطتي  $\overline{ل ب}$  بخط مستقيم ونصل بين نقطتي  $\overline{آ ل}$  بخط مستقيم فهو مواز لخط  $\overline{ا ط}$  بالشكل الثالث والثلاثين فزاويتنا  $\overline{ا ل ط}$   $\overline{ا ط ل}$  كقائمتين بالشكل التاسع والعشرين فزاويتنا  $\overline{ا ط ل}$   $\overline{ب ل ط}$  اقل من قائمتين فاذا اخرجنا خطي  $\overline{ل ب}$   $\overline{ا ط}$  الي جهة  $\overline{ب ا}$  فانهما يتلاقبان فليتلاقبا علي نقطة  $\overline{م}$  ونخرج منها خط  $\overline{م ن}$  موازيا لخط  $\overline{ل ط}$  بالشكل الواحد والثلاثين فلان زاوية المجاورة لزاوية  $\overline{م ل ط}$  مع زاوية  $\overline{ل م ن}$  كقائمتين بالشكل التاسع والعشرين فزاويتنا  $\overline{ا ل م}$   $\overline{ل م ن}$  اقل من قائمتين فاذا اخرجنا خطا  $\overline{ل م}$   $\overline{م ن}$  الي جهة  $\overline{ن ا}$  فهما يتلاقبان فليتلاقبا علي نقطة  $\overline{ن}$  ونخرج  $\overline{ب ح}$  الي جهة  $\overline{ب ع}$  علي استقامته الي ان ينتهي الي خط  $\overline{م ن}$  فلينته الي نقطة  $\overline{س}$  فلان  $\overline{م م م}$   $\overline{ا س م}$   $\overline{ح ا}$  بالشكل المتقدم وسط  $\overline{ع س}$   $\overline{ح ا}$  فتم  $\overline{ا س م}$   $\overline{ك س ط}$   $\overline{ع}$  وكان مثلث  $\overline{ح د ه}$  كسطح  $\overline{ع س}$  فتم  $\overline{ا س م}$  مثلث  $\overline{ح د ه}$  وزاوية  $\overline{ا ب س}$  من  $\overline{م م م}$   $\overline{ا س م}$  كزاوية  $\overline{ح ب ا}$  بالشكل الخامس عشر وكانت زاوية  $\overline{ر ك زاوية ح ب ا}$  فزاوية  $\overline{ا ب س}$  كزاوية  $\overline{ر ف ا}$  كالحكم ثابت وذلك ما اردنا ان نبين  $\text{☞}$  واستبان منه انه اذا كان سطح كثير الاضلاع المستقيم فان لنا ان نرسم علي خط مستقيم محدود سطحا متوازي الاضلاع يساويه وتكون احدي زواياه كزاوية مفروضة لان كثير الاضلاع اذا كان ذا اربعة اضلاع ينقسم الي مثلثين واذا كان ذا خمسة اضلاع فالي ثلث مثلثات وان كان ذا ستة اضلاع فالي اربعة مثلثات وعلي هذا النسق ينقص اعداد المثلثات عن اعداد الاضلاع بعددين ثم اقـول

٤٥

لنا ان نرسم علي كل خط مستقيم مفروض محدود سطحا تكون متوازي الاضلاع المستقيمة يساوي سطحا مفروضا مستقيما الاضلاع ويساوي احدي



زواياه زاوية مفروضة  $\text{☞}$

ليكن السطح المفروض  $\overline{ا ب ج د}$  والزاوية المفروضة  $\overline{ل}$  والخط المفروض  $\overline{ع ط}$  فاقول لنا ان نرسم

علي خط  $\overline{ع ط}$  سطحا متوازي الاضلاع يساوي سطح  $\overline{ا ب ج د}$  واحدي زواياه كزاوية  $\overline{ل}$  برهانه نصل بين نقطتي  $\overline{ا ح}$  بخط مستقيم ونرسم علي  $\overline{ع ط}$   $\overline{ا ر}$  المتوازي الاضلاع يساوي مثلث  $\overline{ا ب ج}$  وزاوية




ر ه ط منه كزاوية ل بالشكل المتقدم ونرسم علي ر ا المساوي لخط ه ط  
 بالشكل الرابع والثلاثين سطح ر ا م ح المتوازي الاضلاع مساويا لمثلث  
 ا ح د وزاوية ح ر ا منه كزاوية ر ه ط بالشكل المتقدم فلان زاويتي ر ه ط  
 ه ر ا كقائمتين بالشكل التاسع والعشرين وزاوية ح ر ا كزاوية ر ه ط  
 فزاويتا ه ر ا ح ر ا كقائمتين فخط ه م ح خط مستقيم بالشكل الرابع عشر  
 فزاوية ح ر ا كزاوية ر ا ط بالشكل التاسع والعشرين وبهذا الشكل  
 ايضا ح ر ا مع زاوية ر ا م كقائمتين فزاويتا ر ا ط ر ا م كقائمتين فخط  
 ط ا م خط مستقيم بالشكل الرابع عشر ولان سطح ه ا كمثلث ا ب ح فسطح  
 ه م كسطح ا ح وزاوية ح ه ط كزاوية ل وضلعا ه ط ح م موازيان ضلع  
 ر ا فهما متوازيان فالحكم ثابت وذلك ما اردنا ان نبين  
 وهذا الشكل لم يذكره المحاج في كتابه وقد وجد في نسخة ثابت  
 والحق انه لا يحتاج اليه بعد الشكل المتقدم وذلك لان طريقة اقليدس  
 في كتابه هذا انه اذا كان شكل او مقدمة شكل يستبين من الاشكال  
 المتقدمة لم يجعله شكلا من اشكال كتابه ولا نخرج المقدمة من القوة الي  
 الفعل بل لم يذكر شيئا منها اعتمادا علي اذهان من يحاول حل كتابه  
 هذا لانه يتكلم علي الاصول اذ هي مضبوطة والفروع لانهاية لها وانا  
 اسقطته ايضا من اصل الكتاب وجعلته استبانة من الشكل المتقدم  
 وان كنت ذكرته بالفعل لان طريقي في هذا الكتاب تقتضي ذلك

مو

لنا ان نعمل علي كل خط مستقيم محدود مربعاً

فليكن الخط ا ب فنخرج من نقطة آ عليه عمود ا ح  
 باستبانة الشكل الحادي عشر ونفصل منه خط ا ح  
 كخط ا ب بالشكل الثالث ونخرج من نقطتي ب ح في  
 جهة زاوية ح ا ب خطين موازيين لخطي ا ح ا ب  
 كل لنظيره بالشكل الواحد والثلاثين فهما يتلاقيان



لانا اذا وصلنا بين نقطتي ب ح بخط مستقيم كانت زاوية ح ر ب مع  
 الزاوية المجاورة لزاوية ا ب ح كقائمتين بالشكل التاسع والعشرين فزاويتا  
 ح ر ب د ب اقل من قائمتين فليلتقيا علي نقطة د فلان زاوية ح ا ب  
 قائمة فكل واحدة من زاويتا ا ب د ب ح قائمة بالشكل التاسع والعشرين  
 والاضلاع المتقابلة من سطح ا د متساوية بالشكل التاسع والثلاثين فالحكم  
 ثابت وذلك ما اردنا ان نبين

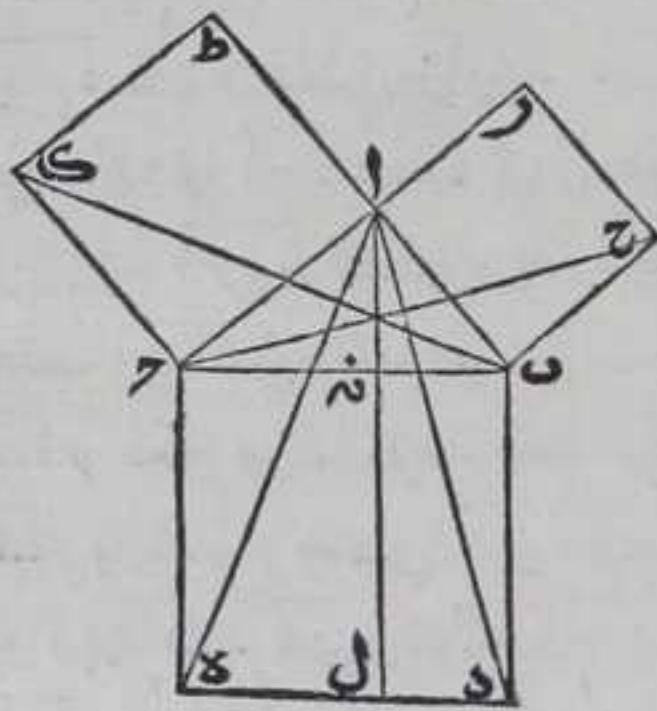
مز

كل مثلث قائم الزاوية فان مربع وترها يساوي

مجموع



مجموع مربعي الضلعين المحيطين بها

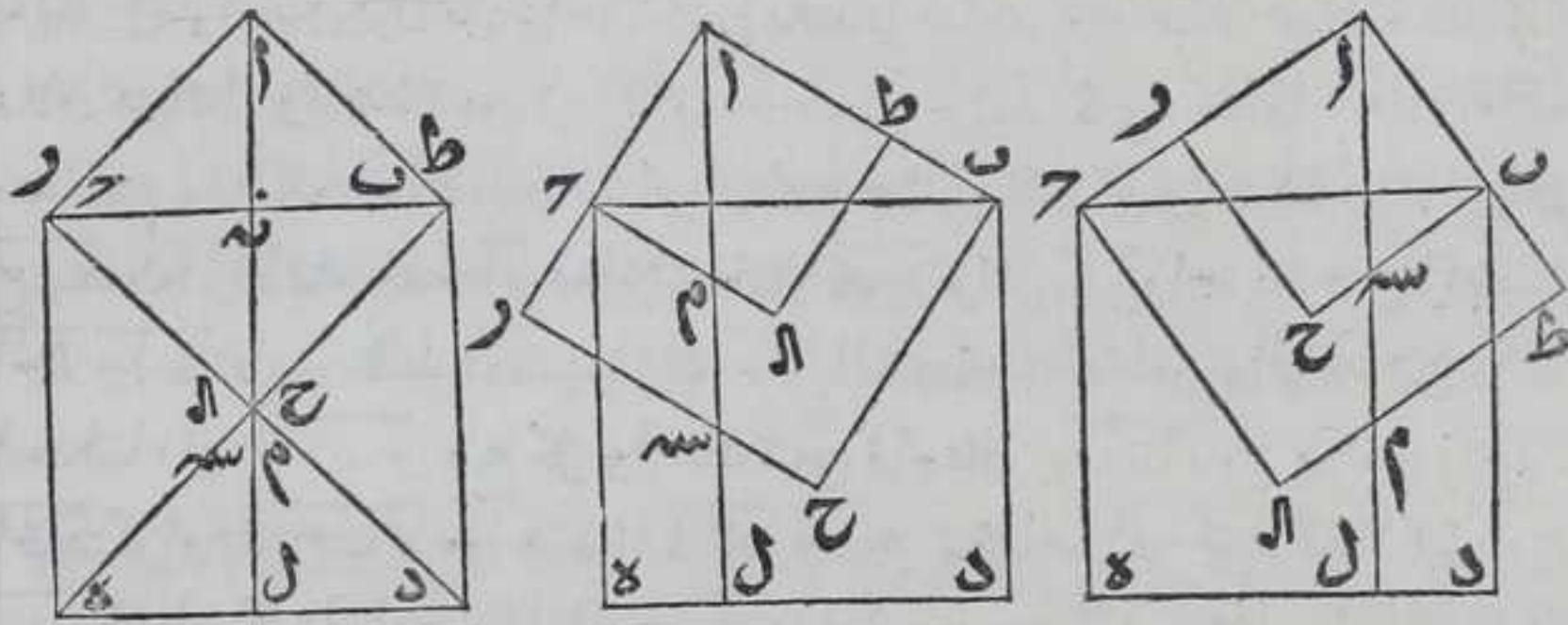


ليكن الزاوية  $\overline{ب\alpha\gamma}$  من مثلث  $\overline{اب\gamma}$  قائمة فاقول ان مربع  $\overline{ب\gamma}$  يساوي مجموع مربعي  $\overline{اب}$   $\overline{ا\gamma}$  برهانه نرسم علي اضلاع مثلث  $\overline{اب\gamma}$  مربعات  $\overline{بده}$   $\overline{ا\delta\lambda\tau}$   $\overline{اب\gamma}$  بالشكل المتقدم ونخرج من نقطة  $\alpha$  خط  $\alpha\lambda$  موازيا لخط  $\overline{ب\delta}$  بالشكل الواحد والثلاثين فلان زاويتي  $\overline{اب\alpha}$   $\overline{ب\alpha\lambda}$  كقائمتين بالشكل التاسع والعشرين وزاوية  $\overline{اب\delta}$  اعظم من قائمة فزاوية  $\overline{ب\alpha\lambda}$  اصغر منها

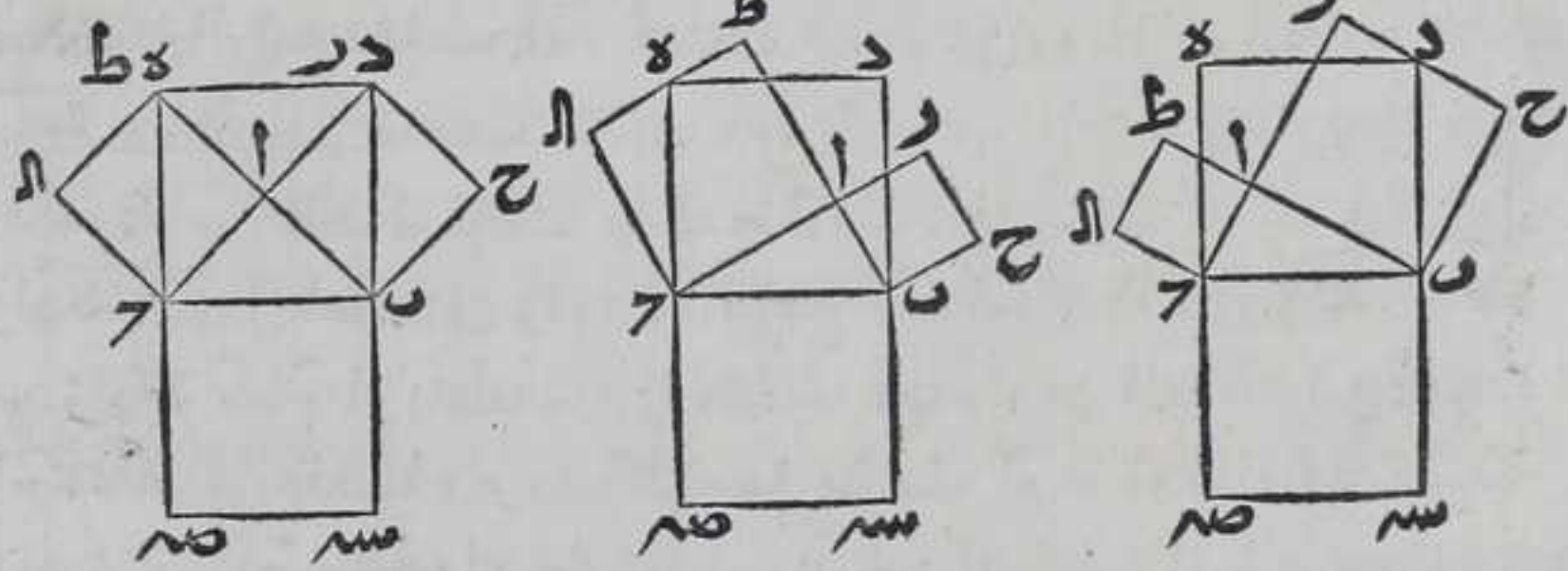
فخط  $\alpha\lambda$  يقطع خط  $\overline{ب\gamma}$  اذا اخرجناه علي استقامته في تلك الجهة الي غير النهاية فليقع خط  $\overline{ب\gamma}$  علي نقطة  $\tau$  ولينته الي خط  $\overline{د\epsilon}$  علي نقطه  $\lambda$  ونصل بين كل واحدة من نقطتي  $\alpha\delta$   $\alpha\epsilon$   $\overline{ب\alpha}$   $\overline{ب\lambda}$   $\overline{ب\tau}$  مستقيم فلان كل واحدة من زوايا  $\overline{ب\alpha\delta}$   $\overline{ب\alpha\epsilon}$  قائمة فخطا  $\overline{ا\delta}$   $\overline{ا\epsilon}$  مستقيم وكذلك  $\overline{اب}$   $\overline{ا\tau}$  بالشكل الرابع عشر ولان كل واحدة من زاويتي  $\overline{ب\alpha\delta}$   $\overline{ب\alpha\epsilon}$  قائمة فخط  $\overline{ا\delta}$   $\overline{ا\epsilon}$  يوازي خط  $\overline{ب\gamma}$  ولان كل واحدة من زاويتي  $\overline{ا\delta\alpha}$   $\overline{ا\epsilon\alpha}$  قائمة فخط  $\overline{ا\delta}$   $\overline{ا\epsilon}$  يوازي  $\overline{ا\gamma}$  بالشكل الثامن والعشرين واذا اخذنا زاوية  $\overline{اب\gamma}$  مع كل واحدة من زاويتي  $\overline{ب\delta\alpha}$   $\overline{ب\delta\epsilon}$  يكون زاوية  $\overline{اب\delta}$   $\overline{اب\epsilon}$   $\overline{ب\delta\alpha}$   $\overline{ب\delta\epsilon}$  من مثلثي  $\overline{اب\delta}$   $\overline{اب\epsilon}$  وضلعا  $\overline{اب}$   $\overline{ب\delta}$  كضلعي  $\overline{ب\delta\alpha}$   $\overline{ب\delta\epsilon}$  فبالشكل الرابع مثلث  $\overline{اب\delta}$   $\overline{اب\epsilon}$   $\overline{ب\delta\alpha}$   $\overline{ب\delta\epsilon}$  لكن سطح  $\overline{ب\alpha}$  المتوازي الاضلاع ضعف مثلث  $\overline{اب\delta}$  ومربع  $\overline{ا\gamma}$  ضعف مثلث  $\overline{ب\delta\alpha}$   $\overline{ب\delta\epsilon}$  بالشكل الواحد والاربعين فمربع  $\overline{اب}$  كسطح  $\overline{ب\alpha}$  ولان كل واحدة من زاويتي  $\overline{ب\delta\alpha}$   $\overline{ب\delta\epsilon}$  قائمة فناخذ زاوية  $\overline{ا\delta\alpha}$  مع كل واحدة منهما فتكون زاويتا  $\overline{ا\delta\alpha}$   $\overline{ا\epsilon\alpha}$  متساويتين والاضلاع المحيطة بهما متساوية علي التناظر فبالشكل الرابع مثلث  $\overline{ا\delta\alpha}$   $\overline{ا\epsilon\alpha}$   $\overline{ب\delta\alpha}$   $\overline{ب\delta\epsilon}$  لكن مربع  $\overline{ا\alpha}$  ضعف مثلث  $\overline{ا\delta\alpha}$   $\overline{ا\epsilon\alpha}$   $\overline{ب\delta\alpha}$   $\overline{ب\delta\epsilon}$  ضعف مثلث  $\overline{ا\delta\alpha}$   $\overline{ا\epsilon\alpha}$   $\overline{ب\delta\alpha}$   $\overline{ب\delta\epsilon}$  والشكل الواحد والاربعين فمربع  $\overline{ا\alpha}$  كسطح  $\overline{ا\alpha}$  فالحكم ثابت وذلك ما اردنا ان نبين  
ولهذا الشكل اختلاف وقوع فان مربع  $\overline{ب\delta}$  اما ان يقع في جهة القاعدة من زاوية  $\overline{ب\alpha\gamma}$  او ينطبق علي مثلث  $\overline{اب\gamma}$  وعلي التقديرين فربعا  $\overline{ا\gamma}$  اما ان يقع غير منطبقين علي مثلث  $\overline{اب\gamma}$  او منطبقين عليه او يقع مربع  $\overline{ا\gamma}$  منطبقا عليه ومربع  $\overline{ا\alpha}$  غير منطبق او بالعكس وهذه ثمانية اوجه اما الاول فقد بيناه وله ثلاثة اوضاع بحسب ضلعي  $\overline{اب}$   $\overline{ا\gamma}$  بالتساوي والصغر والكبر وذلك ظاهر واما الثاني فضلع  $\overline{ا\alpha}$  اما ان يكون مساويا لضلع  $\overline{ا\gamma}$  او اعظم او اصغر منه فنقطة  $\alpha$  اما ان ينطبق علي



نقطة  $\bar{c}$  او يقع خارجا عن نقطتي  $\bar{a}$   $\bar{c}$  او فيما بينهما وكذلك نقول في ضلعي  $\bar{a}\bar{b}$  ونقطة  $\bar{p}$  فنصل بين كل واحدة من نقطتي  $\bar{d}\bar{c}$   $\bar{e}\bar{a}$  بخط مستقيم في الصور الثلث فلان كل واحدة من زوايا  $\bar{a}\bar{b}\bar{c}$   $\bar{c}\bar{b}\bar{d}$   $\bar{d}\bar{c}\bar{e}$  زاوية قائمة فنلتي زاوية  $\bar{c}\bar{b}\bar{d}$  من زاويتي  $\bar{a}\bar{b}\bar{c}$   $\bar{c}\bar{b}\bar{d}$  وزاوية  $\bar{d}\bar{c}\bar{e}$  من زاويتي  $\bar{c}\bar{b}\bar{d}$   $\bar{d}\bar{c}\bar{e}$  في الصور الثلث تبقي زاوية  $\bar{a}\bar{b}\bar{c}$  كزاوية  $\bar{c}\bar{b}\bar{d}$  وزاوية  $\bar{d}\bar{c}\bar{e}$  كزاوية  $\bar{c}\bar{b}\bar{d}$  والاضلاع المحيطة بالاولين والاخرين متساوية علي التناظر فبالشكل الرابع كل من زاويتي  $\bar{c}\bar{b}\bar{d}$   $\bar{d}\bar{c}\bar{e}$  كزاوية  $\bar{a}\bar{b}\bar{c}$  فكل منهما قائمة فخط  $\bar{d}\bar{c}$  مستقيم وكذلك خط  $\bar{e}\bar{a}$  بالشكل الرابع عشر ولنقطع خطي  $\bar{d}\bar{c}$   $\bar{e}\bar{a}$  خط  $\bar{z}$  علي نقطتي  $\bar{m}$   $\bar{s}$  وضلوع  $\bar{a}\bar{b}$  يوازي خط  $\bar{d}\bar{r}$  وضلوع  $\bar{a}\bar{c}$  يوازي خط  $\bar{e}\bar{p}$  بالشكل الثامن والعشرين فبالشكل الخامس والثلاثين كل واحد من مربع  $\bar{a}\bar{b}\bar{c}\bar{d}$  ووسط  $\bar{b}\bar{d}$  يساوي سطح  $\bar{a}\bar{d}$  وكل من مربع  $\bar{a}\bar{b}\bar{c}\bar{d}$  ووسط  $\bar{c}\bar{d}$  يساوي سطح  $\bar{a}\bar{d}$  فربع  $\bar{a}\bar{b}\bar{c}\bar{d}$  مربعي  $\bar{a}\bar{b}$   $\bar{a}\bar{c}$  وهذه صورتها



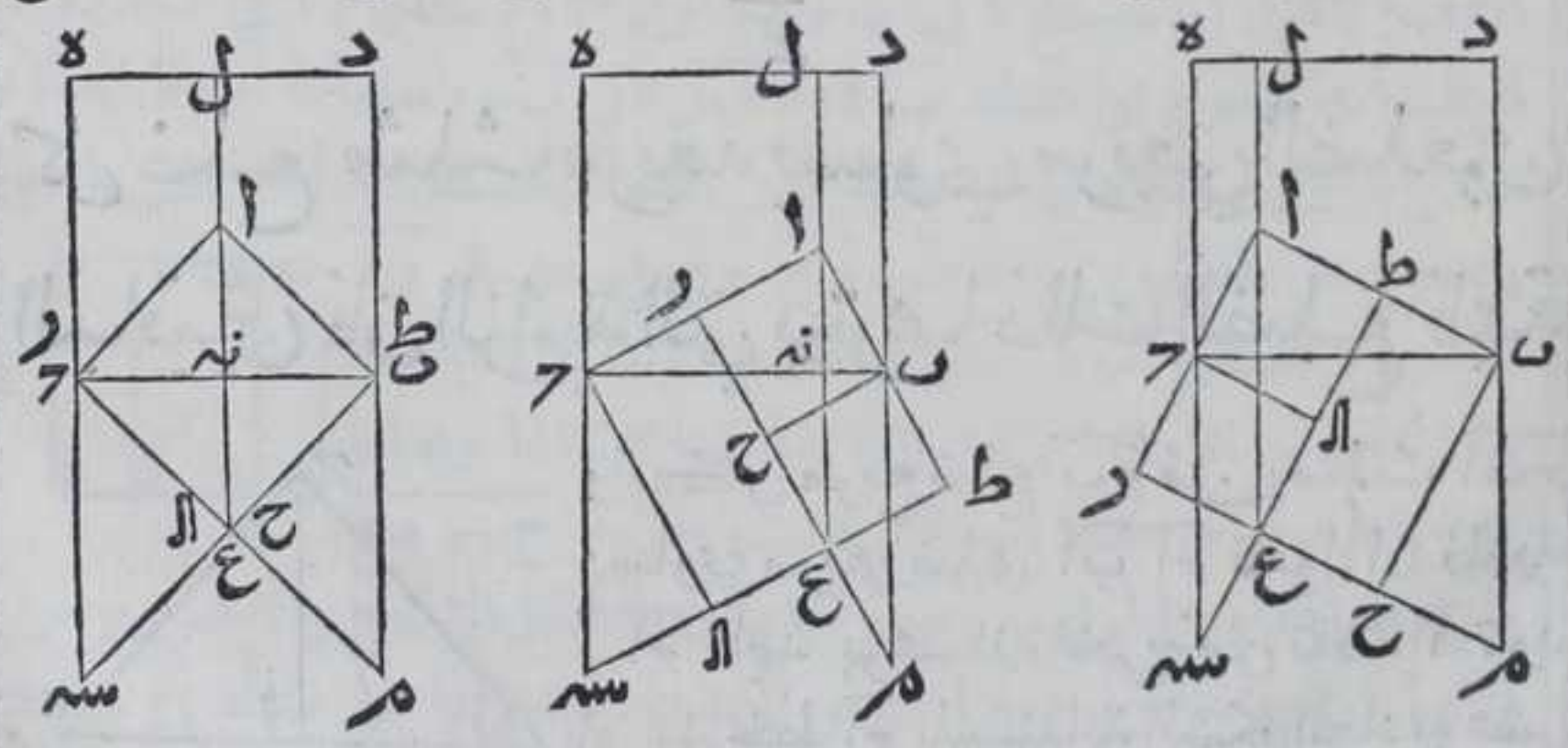
واما القسم الخامس يبين من القسم الاول لانا ان نعمل علي خط  $\bar{b}\bar{c}$  في جهة الاخري من جهته مربعاً مربعاً  $\bar{c}\bar{b}\bar{s}\bar{m}$  يكون مربع  $\bar{d}\bar{b}\bar{c}\bar{e}$  مساوي لمربع  $\bar{c}\bar{b}\bar{s}\bar{m}$  ومربعي  $\bar{a}\bar{b}\bar{c}\bar{d}$   $\bar{a}\bar{c}\bar{s}\bar{m}$  متساويين لمربع  $\bar{c}\bar{b}\bar{s}\bar{m}$  فربع  $\bar{d}\bar{b}\bar{c}\bar{e}$  يساوي مربعي  $\bar{a}\bar{b}\bar{c}\bar{d}$   $\bar{a}\bar{c}\bar{s}\bar{m}$  فالحكم ثابت



واما القسم السادس فنخرج ضلعي  $\bar{b}\bar{c}$   $\bar{d}\bar{e}$  في الصورة الاولى الي نقطتي  $\bar{m}$   $\bar{s}$  في جهة  $\bar{a}$  والي غير النهاية ونخرج ضلعي  $\bar{d}\bar{b}$   $\bar{e}\bar{c}$  الي نقطتي  $\bar{m}$   $\bar{s}$  فلان زاويتي  $\bar{c}\bar{b}\bar{m}$   $\bar{d}\bar{c}\bar{s}$  كزاويتي بالشكل الثالث عشر فزاويتي  $\bar{c}\bar{b}\bar{m}$

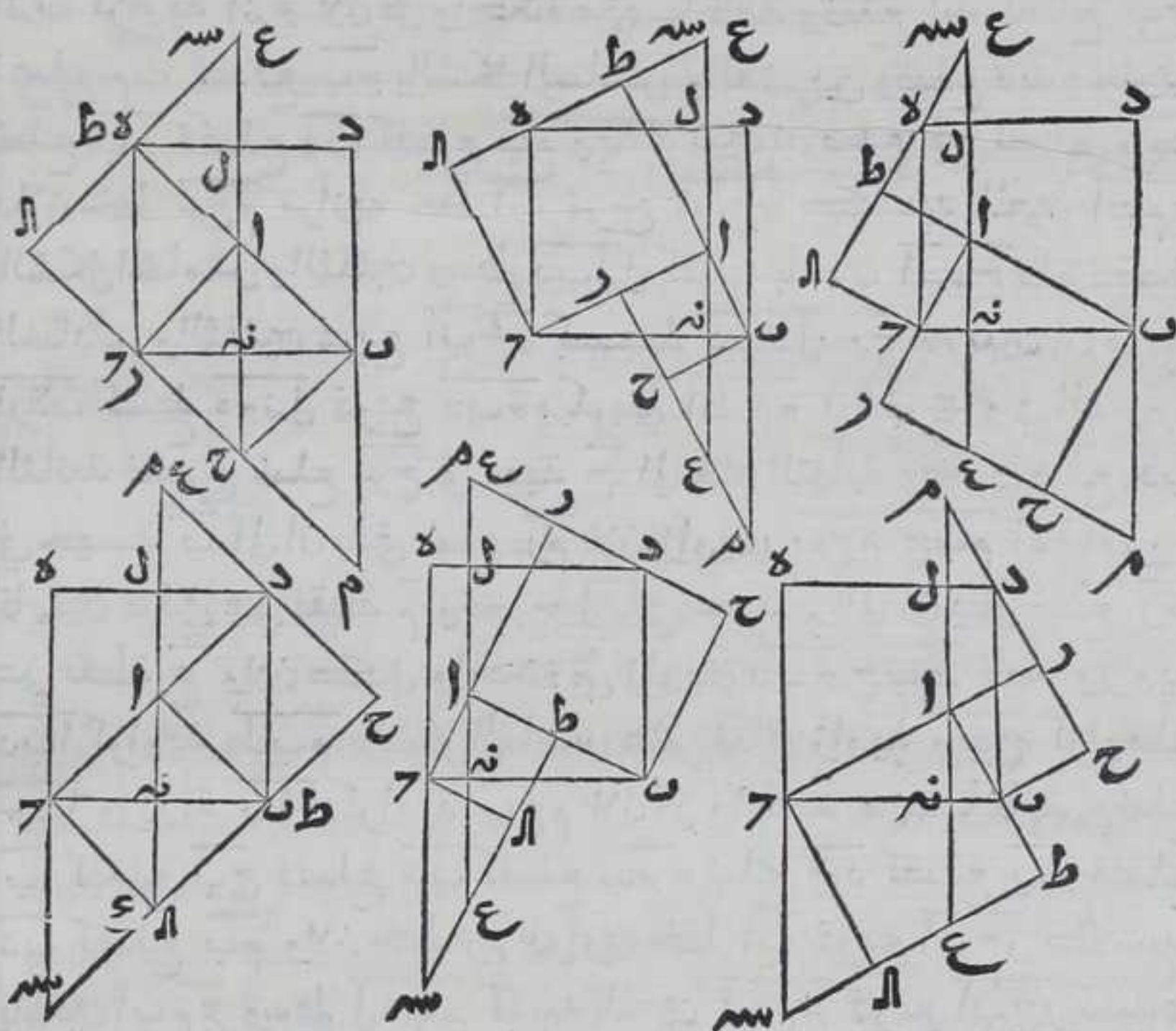


ح ب م ب ح اقل من قائمتين وزاويتي ب ح س ب س اقل ايضا من  
 قائمتين فخط د ب م يلقي خط ح م وخط د ح س خط ب س فبلقبان  
 علي نقطتي م س ونصل بين نقطتي ح ن ب خط مستقيم فلان زاويتي ا ح ب  
 ا ح ب متساويتين بالشكل الخامس وزاويتي ا ن ب ا ن ب متساويتين وفضلع  
 ا ن ب مشترك فضلع ب ن ب فضلع ن ب ح بالشكل السادس والعشرين فلان  
 ضلعي ب ن ب ن ح مساويين لضلعي ح ن ب ن ا كل لنظيره وخط ب ح كخط ح ا  
 فزاوية ب ن ح كزاوية ح ن ا بالشكل الثامن فكل من زاويتي ب ن ح ح ن ا  
 قائمة فخط ل ن ح خط مستقيم بالشكل الرابع عشر ولان كل واحدة من  
 زاويا ا ب ح ح ب م ا ح ب ح س قائمة فاذا اسقطنا زاويتي ح ب ح ب ح ا  
 تبقي زاوية م ب ح كزاوية ا ب ح وزاوية س ح ا كزاوية ا ح ب وزاوية  
 ا ن ب كزاوية ا ن ب لان كل واحدة منهما قائمة وفضلع ا ب فضلع ب ح  
 فضلع م ب فضلع ب ح بالشكل السادس والعشرين وفضلع د ب يساوي  
 فضلع ب ح فضلع د ب فضلع ب م وبمثله نيين ان فضلع د ح فضلع ح س  
 فلان خط ح م يوازي خط ا ب فربيع ا ب ح ح كشيبه بالمعين ا ب م ح  
 بالشكل الخامس والثلاثين وسط د ب ن ل كشيبه بالمعين ا ب م ح بالشكل  
 السادس والثلاثين فربيع ا ب ح ح كسطح د ب ن ل وبمثله نيين ان مربع  
 ا ر ا ب كسطح د ح ن ل فربيع د ب ح ح كسوي ا ط ح ح ا ر ا ب ح وفي الصورة  
 الثانية فنخرج فضلع م ح في جهة ح الي غير النهاية ونخرج فضلع د ب  
 في جهة ب الي ان يلقي فضلع م ح لان زاويتي ب ح م ح ب م اقل من  
 قائمتين فبلقي علي نقطة م ونخرج ل ن ب في جهة ن الي ان يلقي فضلع م ح  
 علي نقطة ع ولان كل واحدة من زاويتي د ب ح ب ط قائمة وزاوية  
 د ب ا كزاوية ط ب م بالشكل الخامس عشر فباقي زاوية م ب ح كزاوية  
 ح ب ا وزاوية ب ا ح كزاوية ب ح م لان كل واحدة منهما قائمة وفضلع  
 ب ا فضلع ب ح فضلع م ب فضلع ب ح وفضلع ب د فضلع ب ح فضلع  
 د ب فضلع ب م ولان خط م ح يوازي خط ا ب فربيع ا ب ح ح كشيبه  
 بالمعين ا ب م ح وسط ل د ب ن كشيبه بالمعين ا ب م ح فربيع ا ب ح ح كسطح





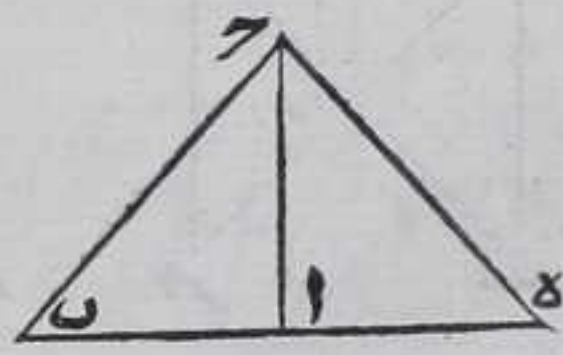
لِدَبْنَه وَنُخْرِجُ ضَلْعَ  $هـ$  فِي جِهَةِ  $ح$  إِلَى غَيْرِ النِّهَايَةِ وَنُخْرِجُ ضَلْعَ  $ط$  إِلَى أَنْ يَلْتَقِيَ ضَلْعَ  $هـ$  عَلَى نَقْطَةِ  $س$  فَلَا نَكِلُ وَاحِدَةً مِنْ زَاوِيَتَيْ  $أ$   $ب$   $س$  قَائِمَةً فَإِذَا اسْتَقَطْنَا مِنْهَا زَاوِيَةَ  $ب$   $أ$  تَبَقِيَ زَاوِيَةُ  $أ$   $ب$  كَزَاوِيَةِ  $أ$   $ح$   $س$  وَزَاوِيَةُ  $ب$   $أ$   $ح$  تَسَاوِي زَاوِيَةَ  $س$   $أ$   $ح$  لِأَنَّ كُلَّ وَاحِدَةٍ مِنْهُمَا قَائِمَةٌ وَضَلْعُ  $أ$   $ح$  كَضَلْعِ  $أ$   $ب$  فَضَلْعُ  $ب$   $أ$  كَضَلْعِ  $ح$   $س$  بِالشَّكْلِ السَّادِسِ وَالْعِشْرِينَ فَحِطَّ  $هـ$  كَحِطِّ  $ح$   $س$  فَرُبِعٌ  $أ$   $ط$   $أ$   $ح$  كَشَبِيهِ بِالْمَعْنَى  $أ$   $ع$   $س$   $ح$  بِالشَّكْلِ الْخَامِسِ وَالثَّلَاثِينَ وَسَطِحٌ لِنَدْوِهِ كَشَبِيهِ بِالْمَعْنَى  $أ$   $ع$   $س$   $ح$  بِالشَّكْلِ السَّادِسِ وَالثَّلَاثِينَ فَرُبِعٌ  $أ$   $ط$   $أ$   $ح$  كَسَطِحٌ لِنَدْوِهِ فَرُبِعٌ دَبْدَبَةٌ مَكْرَبِي  $أ$   $ب$   $ح$   $ر$   $أ$   $ط$   $أ$   $ح$  وَبِمِثْلِهِ نَبِيْنٌ فِي الصُّورَةِ الثَّلَاثَةِ فَالْحَكْمُ تَابِعٌ وَآمَّا الْقِسْمِ السَّابِعِ وَالثَّامِنِ فَبِتَبْيِينِ مِنَ الْخَامِسِ وَالسَّادِسِ وَهَذَا صُورُهَا



ح

كُلُّ ضَلْعٍ مِثْلُ مَرْبَعِهِ يَسَاوِي مَرْبَعِي الضَّلْعَيْنِ الْبَاقِيَيْنِ فَإِنَّ الزَّاوِيَةَ الَّتِي يُوْتَرُهَا ذَلِكَ الضَّلْعُ قَائِمَةٌ

وَلْيَكُنْ مَرْبَعُ ضَلْعِ  $ب$   $أ$  مِنْ مِثْلِ  $أ$   $ب$   $ح$  يَسَاوِي مَرْبَعِي ضَلْعِي  $أ$   $ب$   $ح$  فَاقُولُ أَنَّ زَاوِيَةَ  $ب$   $أ$   $ح$  قَائِمَةٌ بِرَهَانِهِ نَخْرِجُ مِنْ نَقْطَةِ  $أ$   $ع$  مَوْجُودِ  $أ$   $هـ$  عَلَى خَطِّ  $أ$   $ح$  بِاسْتِثْبَانَةِ الشَّكْلِ الْحَادِي عَشَرَ وَنَفْصَلُ





ونفصل منه آه كآب بالشكل الثالث فيكون مربعاً آه أب متساويين  
ونصل حه بخط مستقيم فربع حه كبريحي آه بالشكل المتقدم وكان  
مربع بـ كبريحي أب آه فربعا بـ حه متساويان فوتر بـ كـ كوتر حـ هـ  
فاضلاع مثلثي أبـ آهـ المتناظرة متساوية فثلث حـ أبـ كمثلث حـ آهـ  
وساير الزوايا كساير الزوايا المتناشرة بالشكل الثامن فزاوية بـ آهـ  
المساوية لزاوية حـ آهـ القائمة قائمة وذلك ما اردنا ان نبين تمت المقالة الاولى

# المقالة الثانية اربعة عشر شكلاً

## المصادر

المصادرات يسمي كل ضلعين يحيطان بزاوية من اي سطح متوازي الاضلاع  
القائم الزوايا المحيطان بذلك السطح ويسمي مجموع المقتمين مع احد  
السطحين المتوازي الاضلاع الكائنين علي قطر السطح المشاركون له بزاوية  
والمقتمين بضلعين العلم وانا اذا قلت سطح الخط في الخط اريد به سطحاً  
متوازي الاضلاع قائم الزوايا حاصل من احاطة الخطين بـ هـ

## الاشكال

١

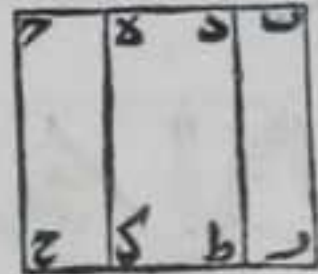
كل سطح قائم الزوايا يحيط به خطان مستقيمان  
فانه يساوي سطوح احد الخطين في جميع اقسام الاخر

ليكن احد الخطين آ والاخر بـ متسوما علي نقطتي دـ هـ كيف ما  
اتفق فاقول ان سطح آ في بـ يساوي مجموع سطوح آ في بد دـ هـ  
برهانه نخرج من نقطة بـ عمود بـ ر علي بـ باستبانة الشكل الحادي  
عشر من الاولي ونفصل منه خط بـ ر كخط آ بالشكل الثالث من الاولي

ونخرج من نقطتي رـ حـ خطي مـ حـ في جهة رـ  
موازيين لخطي بـ حـ بـ ر كل لنظيره بالشكل الواحد  
والثلاثين من الاولي فلا بد وان يتلاقيا لانا اذا وصلنا  
بين نقطتي رـ حـ بخط مستقيم كانت زاوية حـ رـ مـ  
الزاوية المجاورة لزاوية رـ حـ بـ كقائمتين بالشكل التاسع والعشرين من  
الاولي فزاويتا حـ رـ مـ رـ اقل من قائمتين فليبتلعا علي نقطة حـ ونخرج

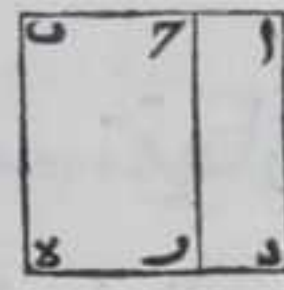


من نقطتي د ه خطي د ط ه في جهة ح ر علي استقامتها موازيين لخط  
 ب ر بالشكل الواحد والثلاثين من الاولي فيكونان متوازيين وموازيين  
 لخط ح ر بالشكل الثلاثين من الاولي الي ان ينتهيا الي خط ح ر ولينتهيا الي  
 نقطتي ط آ فلان زاوية ر ب ح قائمة وخطا ح ر ب موازيان  
 وخطوط ب ر د ط ه في جهة ح ر متوازية فكل من الزوايا التي عند نقط د ه  
 ط آ ح قائمة بالشكل التاسع والعشرين من الاولي  
 وكل من خطوط د ط ه آ ح ر يساوي عمود ب ر بالشكل  
 الرابع والثلاثين من الاولي فكل منها يساوي خط آ  
 فسطح ب ح المساوي لسطح ب ر في ب ح يساوي سطح آ  
 في ب ح وسطح ب ط الحاصل من سطح ب ر في ب د يساوي سطح آ في ب د  
 وسطح د آ الحاصل من سطح د ط في د ه يساوي سطح آ في د ه وسطح ه ح  
 الحاصل من سطح ه آ في ه ر يساوي آ في ه ر ومجموعها يساوي سطح ب ح  
 فسطح آ في ب ح يساوي مجموع سطوح آ في اقسام ب ح وذلك ما اردنا ان  
 نبين واستبان منه ان جميع سطوح كل واحد من اقسام احد الخطين  
 المحدودين في كل واحد من اقسام الخط الاخر يساوي سطح احد الخطين  
 في الاخر



كل خط مستقيم محدود مقسوم علي نقطة او  
 اكثر فان مربعه يساوي مجموع سطوحه في كل

واحد من قسميه او اقسامه

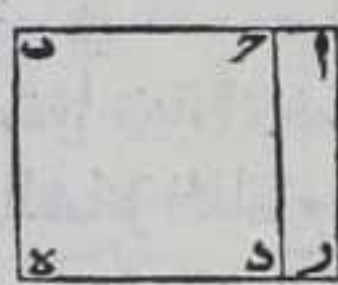


ليكن خط آ ب خطا مستقيما محدودا مقسوما علي نقطة  
 ح فاقول ان مربع آ ب يساوي مجموع سطحي آ ب في آ ح  
 ب ح برهانه نرسم علي خط آ ب مربع ا د ب بالشكل السادس  
 والاربعين من الاولي فكل من زواياه قائمة واضلاعه متساوية ومتوازية  
 ونخرج من نقطة ح خط ح ر في جهة د يوازي آ د بالشكل الواحد  
 والثلاثين من الاولي ونخرجه علي استقامته الي ان ينتهي الي خط د ه علي  
 نقطة ر فهو مواز لخط ب ه بالشكل الثلاثين من الاولي ولان كل من آ ب د ه  
 قد وقعا علي آ د ح ر ب ه المتوازية وكل من زوايا د ه ب آ قائمة فكل من  
 الزاويتين الواقعتين عند نقطة ر ونقطة ح قائمة بالشكل التاسع  
 والعشرين من الاولي فسطحا آ ر ب متوازيان الاضلاع قائم الزوايا  
 وسطح آ ر حاصل من سطح آ د المساوي لخط آ ب في آ ح وسطح ب ر حاصل  
 من سطح ب ه المساوي لخط آ ب في ب ح فسطحا آ ر ب المساويان لمربع  
 آ ه يساويان لمجموع سطحي آ ب في آ ح ب ح فالحكم ثابت وذلك ما اردنا  
 ان



ان نبيين وبمثله تبين لو كانت الاقسام اكثر من اثنين

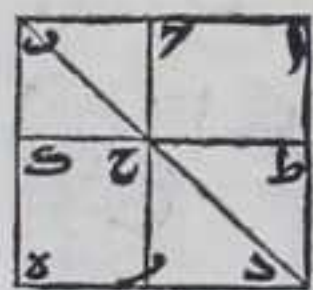
كل خط مستقيم محدود مقسوم علي نقطة فان  
سطحه في احد قسميه يساوي مربع ذلك القسم



وسطه في القسم الاخر منه

ليكن الخط  $\overline{AB}$  مقسوما علي نقطة  $\overline{C}$  فاقول ان سطح  
 $\overline{AC}$  في  $\overline{B}$  يساوي مربع  $\overline{BC}$  وسطح  $\overline{BC}$  في  $\overline{A}$   
برهانه نرسم علي  $\overline{B}$  مربع  $\overline{BDE}$  بالشكل السادس والاربعين من  
الاولي فاضلاعه المتقابلة متوازية وزواياه قوامم ونخرج من نقطة  $\overline{A}$  خط  
 $\overline{AE}$  موازيا لخط  $\overline{DE}$  بالشكل الواحد والثلاثين من الاولي فهو  
مواز لخط  $\overline{CD}$  بالشكل الثلاثين من الاولي ونخرج  $\overline{AD}$  في جهة  $\overline{E}$  علي  
استقامتهما الي ان يتلاقيا لانا اذا وصلنا بين نقطتي  $\overline{A}$   $\overline{E}$  بخط مستقيم  
كانت زاويتا  $\overline{BAE}$   $\overline{ADE}$  من قائمتين لكون زاوية  $\overline{BED}$  قائمة وخط  $\overline{AE}$   
مواز لخط  $\overline{DE}$  فيكون زاوية  $\overline{BAE}$  قائمة بالشكل التاسع والعشرين من  
الاولي فليتلاقبا علي نقطة  $\overline{F}$  فسطح  $\overline{AD}$  متوازي الاضلاع وقايم الزوايا  
ولان سطح  $\overline{AE}$  حاصل من سطح  $\overline{AB}$  في  $\overline{E}$  و  $\overline{BE}$  يساوي  $\overline{AE}$  فسطح  $\overline{AB}$   
في  $\overline{E}$  كسطح  $\overline{AE}$  وسطح  $\overline{AD}$  حاصل من سطح  $\overline{AC}$  في  $\overline{D}$  و  $\overline{CD}$  يساوي  $\overline{AD}$   
فسطح  $\overline{AC}$  في  $\overline{D}$  يساوي سطح  $\overline{AD}$  ومربع  $\overline{DE}$  هو مربع  $\overline{BE}$  فسطح  $\overline{AE}$   
يساوي مجموع مربع  $\overline{AD}$  وسطح  $\overline{AD}$  فسطح  $\overline{AB}$  في  $\overline{E}$  يساوي مربع  $\overline{BC}$   
وسطح  $\overline{AC}$  في  $\overline{D}$  وذلك ما اردنا ان نبين

كل خط مستقيم محدود مقسوم علي نقطة فان  
مربعه كجموع مربعي قسميه وضعف سطح احدها

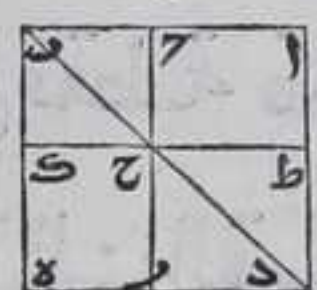


في الاخر

ليكن الخط  $\overline{AB}$  مقسوما علي نقطة  $\overline{C}$  فاقول ان مربع  
 $\overline{AB}$  كجموع مربعي  $\overline{AC}$   $\overline{BC}$  وضعف سطح  $\overline{AC}$  في  $\overline{B}$  برهانه  
نرسم علي خط  $\overline{AB}$  مربع  $\overline{ACDE}$  بالشكل السادس والاربعين من الاولي  
فاضلاعه متوازية ومتساوية وزواياه قوامم ونخرج قطر  $\overline{AD}$  ومن نقطة  
 $\overline{C}$  خط  $\overline{CF}$  موازيا لاضلع  $\overline{AD}$  بالشكل الواحد والثلاثين من الاولي وضع



بـ يوازي ضلع آد فخط حر يوازي بـ بالشكل الثلثين من الاولي فخط  
 حر يقطع القطر وينتهي الي ضلع ده اذا اخرجناه علي استقامته في جهة  
 هـ فليقطع علي نقطة حـ ولينته علي نقطة ر ونخرج من  
 نقطة حـ خط الحـ ط موازيا لضلع آب بالشكل  
 الواحد والثلثين من الاولي فهو مواز لضلع ده بالشكل  
 الثلثين من الاولي فاذا اخرجناه في جهته ينتهي الي



ضلعي آد بـ فلينته علي نقطتي آ ط ولان الاشكال الواقعه في مربع آه  
 متوازية الاضلاع وزوايا المربع قوايم فكل من زوايا تلك الاشكال قائمة  
 بالشكل التاسع والعشرين من الاولي ولان ضلعي آب آد متساويان فزاويتنا  
 آد بـ آد بـ متساويتان بالشكل الخامس من الاولي وزاوية حـ بـ كزاوية  
 آد حـ بالشكل التاسع والعشرين من الاولي فزاويتنا حـ بـ حـ بـ حـ  
 متساويتان فضلع حـ كضلع حـ بالشكل السادس من الاولي ولان  
 ضلع طـ آ يوازي ضلع آب فزاوية طـ حـ د كزاوية آد بـ بالشكل السادس  
 والعشرين من الاولي فزاويتنا طـ حـ د متساويتان فضلع طـ حـ  
 كضلع طـ د بالشكل السادس من الاولي والاضلاع المتقابلة من السطوح  
 المتوازية الاضلاع متساوية بالشكل الرابع والثلثين من الاولي فسطحا  
 طـ رـ آ مربعان ومتمم آح حاصل من سطح آح في حـ وحـ كخط بـ حـ  
 فتمم آح يساوي سطح آح في حـ ومتمم آح حـ متساويان بالشكل  
 الثالث والاربعين من الاولي فهما يساويان ضعف سطح آح في حـ وضلع  
 آح كضلع طـ حـ بالشكل الرابع والثلثين من الاولي فمربع آح كمربع طـ رـ  
 فربعا ضلعي آح حـ يساويان مربعي طـ رـ آ وهما مع متمم آح حـ  
 يساوي مربع آد فالحكم ثابت وذلك ما اردنا ان نبين  
 واستبان منه ان جميع السطوح المتوازية الاضلاع الكائنة علي اقطار  
 المربعات اذا كانت اضلاعها موازية لاضلاع المربعات النظر للنظيره  
 وان المربعات الكائنة في المربعات المشاركة لها في زاوية من زواياها انما  
 يقع علي اقطارها

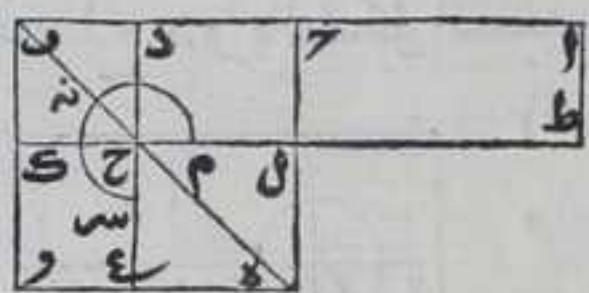
كل خط مستقيم محدود نصف وقسم بمختلفين  
 فسطح احد القسمين في القسم الاخر مع مربع الفصل  
 بين نصف الخط وتمام نصف الاخر يساوي مربع  
 نصف

ليكن



## الثانية

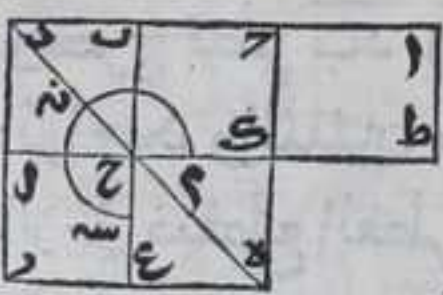
ليكن الخط  $AB$  منصفاً على  $C$  ومقسوماً على  $D$  فاقول ان سطح  $AD$  في  
 د ب مع مربع  $CD$  يساوي مربع  $BC$  برهانه نرسم على  $B$  مربع  
 $BE$  بالشكل السادس والاربعين من الاولي  
 ونخرج قطر  $BE$  ومن نقطة  $D$  خط  $DE$  في  
 جهة  $E$  موازياً لـ  $BC$  بالشكل الواحد  
 والثلاثين من الاولي فهو مواز لـ  $BC$



بالشكل الثلاثين من الاولي ونخرج الى ان يقطع القطر وينتهي الى ضلع  $DE$   
 فليقطع على نقطة  $H$  ولينته الى نقطة  $E$  ونخرج من نقطة  $H$  خط  $HL$   
 موازياً لـ  $AB$  بالشكل الواحد والثلاثين من الاولي فهو مواز لـ  $BC$   
 بالشكل الثلاثين من الاولي ونخرجه في جهته الى ان ينتهي الى ضلع  $BE$   
 على نقطة  $L$  ويقطع ضلع  $BE$  على نقطة  $L$  ونخرجه في تلك الجهة الى  
 غير النهاية ونفصل منه  $LP$  كخط  $AC$  بالشكل الثالث من الاولي ونصل  
 بين نقطتي  $A$  و  $P$  بخط مستقيم فهو مواز لـ  $BC$  بالشكل الثالث  
 والثلاثين من الاولي فكل من سطحي  $AD$  و  $AC$  مربع باستبانة الشكل المتقدم  
 ولان خط  $AC$  كخط  $BC$  فسطح  $AC$  كسطح  $BC$  بالشكل السادس والثلاثين  
 من الاولي ومتم  $CH$  كتم  $CH$  بالشكل الثالث والاربعين من الاولي باحد  
 مربع  $DE$  مشتركاً بينهما فسطح  $DE$  كسطح  $DE$  فسطح  $AD$  كسطح  $DE$  فاذا  
 اخذنا متم  $CH$  مشتركاً بين سطحي  $AD$  و  $AC$  كان سطح  $AD$  كسطح  $AC$  وسطح  
 $AC$  حاصل من سطح  $AD$  في  $DC$  وضلع  $DB$  كسطح  $AD$  في  $DC$  فسطح  $AD$  في  $DB$   
 كسطح  $AC$  وكان علم  $AD$  كسطح  $AC$  فسطح  $AD$  في  $DB$  كسطح  $AC$  في  $DB$  ولان  
 خط  $CD$  كخط  $AC$  بالشكل الرابع والثلاثين من الاولي فمربع  $CD$  يساوي  
 مربع  $AC$  وهو مع علم  $AD$  كسطح  $AC$  فسطح  $AD$  في  $DB$  مع مربع  $CD$   
 يساوي مربع  $BC$  وذلك ما اردنا ان نبين

و

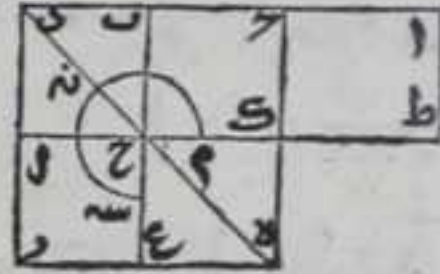
كل خط مستقيم محدود نصف وزيد عليه  
 خط اخر مستقيم محدود على استقامته فسطح الخط  
 مع الزيادة في الزيادة ومربع النصف معاً يساويان



مربع نصف الخط مع الزيادة  
 ليكن الخط  $AB$  منصفاً على  $C$  والمزيد عليه خط  
 $BC$  على استقامته فاقول ان سطح  $AD$  في  $DB$  مع مربع  
 $CD$  كسطح  $AC$  برهانه نرسم على  $B$  مربع  $BE$  بالشكل السادس



والاربعين من الاولي ونخرج قطر ده ونخرج من نقطة ب خط بع في  
 جهة ر موازيا لضع هـ بالشكل الواحد والثلاثين من الاولي فهو مواز  
 لضع در بالشكل الثلاثين من الاولي ونخرجه علي استقامته الي ان يقطع  
 القطر وينتهي الي ضلع هـ فليقطع علي نقطة ح  
 ولينته الي نقطة ع ونخرج من نقطة ح خط حل  
 موازيا لضع اب بالشكل الواحد والثلاثين من  
 الاولي فهو مواز لضع هـ بالشكل الثلاثين من الاولي  
 فبنتهي الي ضلع در ويقطع ضلع هـ فلينته الي نقطة ل وليقطع علي  
 نقطة ا ونخرجه علي استقامته في جهة ا الي غير النهاية ونفصل منه  
 الاط مساويا لخط ا ح بالشكل الثالث من الاولي ونصل بين نقطتي ا ط  
 بخط مستقيم فهو مواز لخط ا ح بالشكل الثالث والثلاثين من الاولي ولان  
 ا ح ب متساويان فسطح ا ا ك سطح ا ب بالشكل السادس والثلاثين من  
 الاولي ومتم ح ر مكم ح ح بالشكل الثالث والاربعين من الاولي فسطح  
 ا ا مكم ح ر وناخذ سطح د ا مشترك بين سطحي ا ح ر فيكون علم م ن د هـ  
 مساويا لسطح ا ل وكل من سطحي ب ل ا ح مربع باستبانة الشكل الرابع  
 فضع ب د كضلع د ل فسطح ا د في د ب يساوي سطح ا ل فعلم م ن د هـ  
 يساوي سطح ا د في د ب وضع ح ب كضلع ا ح بالشكل الرابع والثلاثين  
 من الاولي فربع ح ب يساوي مربع ا ح وهو مع علم م ن د هـ يساوي مربع  
 ح ر فسطح ا د في د ب مع مربع ح ب يساوي مربع ح د وذلك ما اردنا  
 ان نبين

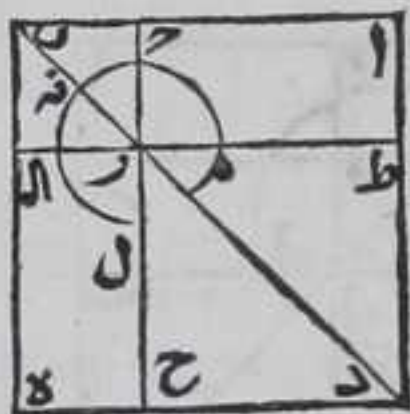


كل خط مستقيم محدود مقسوم علي نقطة فان  
 مربعه مع مربع احد قسميه يساوي ضعف  
 سطح الخط كله في ذلك القسم مع مربع القسم الاخر

ليكن الخط المستقيم ا ب مقسوما علي نقطة ح كيف اتفق فاقول ان  
 مربعي ا ب ب ح يساويان ضعف سطح ا ب في ب ح مع مربع ا ح برهانه  
 نرسم علي خط ا ب مربع ا د هـ بالشكل السادس والاربعين من الاولي  
 ونخرج قطر ب د ومن نقطة ح خط ح ح موازيا لضع ا د بالشكل  
 الواحد والثلاثين من الاولي فهو مواز لضع ب هـ بالشكل الثلاثين من  
 الاولي فليقطع القطر وينتهي الي ضلع د هـ فليقطع علي نقطة ر ولينته الي  
 نقطة ح ونخرج من نقطة ر خط ا ر ط يوازي ا ب بالشكل الواحد  
 والثلاثين من الاولي فهو مواز لضع د هـ بالشكل الثلاثين من الاولي فهو  
 ينتهي



ينتهي الي ضلعي  $AD$  به فلينتهي علي نقطتي  $ط$   $آ$  فكل من سطحي  $ط$   $ح$   $آ$  مربع باستبانة الشكل الرابع فلان مسمى  $آ$   $ر$   $ه$  متساويان بالشكل الثالث والاربعين من الاولي وناخذ مربع  $آ$   $ل$  مشتركا بينهما فيكون سطح  $آ$   $ك$  سطح  $آ$   $ه$  وسطح  $آ$   $ح$  حاصل من سطح  $آ$   $ب$  في  $ب$   $آ$  لكن  $ب$   $ح$  يساوي  $ب$   $آ$  لان سطح  $آ$   $ه$  مربع فسطح  $آ$   $ب$  في  $ب$   $ح$  كسطح  $آ$   $ه$  وكان سطح  $آ$   $ه$  كسطح  $آ$   $ك$  فضعف سطح  $آ$   $ب$  في  $ب$   $ح$  يساوي علم  $م$   $ن$   $س$  مع مربع  $آ$   $ه$  وطلع  $آ$   $ه$  يساوي ضلع  $ط$   $ر$  بالشكل الرابع والثلاثين من الاولي فمربع  $آ$   $ه$  يساوي مربع  $ط$   $ح$  فاذا اضفناه الي علم  $م$   $ن$   $س$  يحصل مربع  $آ$   $ه$  فمربع  $ط$   $ح$  اذا اضفناه الي علم  $م$   $ن$   $س$  ومربع  $آ$   $ه$  يحصل ضعف سطح  $آ$   $ب$  في  $ب$   $ح$  ومربع  $آ$   $ه$  اذا اضفناه اليها يحصل مربع  $آ$   $ه$   $آ$   $ك$  فضعف سطح  $آ$   $ب$  في  $ب$   $ح$  مع مربع  $آ$   $ه$  يساويان مربعي  $آ$   $ه$   $آ$   $ك$  فالحكم ثابت وذلك ما اردنا ان نبين



كل خط مستقيم محدود مقسوم علي نقطة ما فان سطحه في احد قسميه اربع مرات مع مربع قسمه الاخر يساوي مربع الخط كله اذا ازيد عليه خط اخر مستقيم علي استقامته مساويا للقسم الذي

ضرب الخط كله فيه



لكن الخط  $آ$   $ب$  مقسوما علي نقطة  $ح$  ونزيد عليه خط  $ب$   $د$  المستقيم علي استقامته مساويا لخط  $ب$   $ح$  فاقول ان سطح  $آ$   $ب$  في  $ب$   $د$  اربع مرات مع مربع  $آ$   $ه$  يساوي مربع  $آ$   $ه$  برهانه نرسم علي  $آ$   $ه$  مربع  $آ$   $ه$   $آ$   $ك$  بالشكل السادس

والاربعين من الاولي ونخرج قطر  $ده$  ومن نقطتي  $ح$   $ب$  خطي  $ح$   $ب$   $ط$  في جهة  $ه$  موازيين لخط  $آ$   $ه$  بالشكل الواحد والثلاثين من الاولي فهما متوازيان وموازيان لخط  $د$   $ر$  بالشكل الثلاثين من الاولي ونخرجهما علي استقامتهما في تلك الجهة الي ان ينتهيا الي خط  $ه$   $ر$  فلينتهيا الي نقطتي  $ح$   $ط$  فيقطعان القطر فليقطعاه علي نقطتي  $ل$   $آ$  ونخرج منهما خطي  $ع$   $س$   $ن$   $م$  في جهتهما موازيين لضع  $آ$   $ه$  بالشكل الواحد والثلاثين من الاولي



فهما متوازيان وموازيان لخط  $\overline{هـ ر}$  بالشكل الثلثين من الاولي فلينتهبا  
الي خطي  $\overline{اه}$   $\overline{در}$  علي نقط  $\overline{سه}$   $\overline{ع م}$   $\overline{نه}$  فيقطعان خطي  $\overline{ح ب}$   $\overline{ط و}$   
فليقطعاهما علي نقطتي  $\overline{قه}$   $\overline{صه}$  فباستبانة الشكل الرابع يكون  $\overline{سطوح}$   
 $\overline{سه ح}$   $\overline{فه ب}$   $\overline{ع د}$   $\overline{اه ع}$   $\overline{د ب}$   $\overline{كضلع د ع}$   $\overline{كضلع د ب}$

يساوي  $\overline{بال}$  جميع  $\overline{سطوح}$   $\overline{بنه}$   $\overline{د ا}$   $\overline{ع}$   
 $\overline{فه}$   $\overline{مربعات}$   $\overline{متساويات}$  ولان  $\overline{ب ح}$   $\overline{كخط}$   $\overline{بال}$   
فسطح  $\overline{اب}$  في  $\overline{ب ح}$  يساوي  $\overline{متم}$   $\overline{ال}$  ولان  
 $\overline{متم}$   $\overline{ال}$   $\overline{ر}$   $\overline{متساويان}$  بالشكل الثالث  
والاربعين من الاولي فهما معا يساويان  
ضعف سطح  $\overline{اب}$  في  $\overline{ب ح}$  ولان سطحي  $\overline{اه م ل}$   
 $\overline{متساويان}$  وكذلك  $\overline{ل ط}$   $\overline{صه}$  بالشكل السادس



والثلثين من الاولي ومتمما  $\overline{م ل}$   $\overline{ل ط}$   $\overline{متساويان}$  بالشكل الثالث والاربعين  
من الاولي فالسطوح الاربعة  $\overline{وي}$   $\overline{اه م ل ل ط صه}$   $\overline{متساويان}$  فاذا  
ضيف مربع  $\overline{فه}$  الي  $\overline{سطح م ل}$  حصل  $\overline{سطح م صه}$   $\overline{متساوي}$   $\overline{السطح ال}$   
بالشكل السادس والثلثين من الاولي واذا اضيف مربع  $\overline{بنه}$  الي  $\overline{سطح ل ط}$   
يكون الحاصل  $\overline{منها سطحا}$   $\overline{متساويان}$   $\overline{السطح ال}$  بالشكل السادس والثلثين  
من الاولي فعلم  $\overline{قشبت}$   $\overline{يساوي}$  اربعة امثال  $\overline{سطح ال}$   $\overline{المساوي}$   $\overline{لاربعة}$   
امثال  $\overline{سطح اب}$  في  $\overline{ب ح}$  وخط  $\overline{اح}$   $\overline{يساوي}$   $\overline{خط سل}$  بالشكل الرابع  
والثلثين من الاولي وسطح  $\overline{سه ح}$   $\overline{مربع سل}$   $\overline{مربع اح}$   $\overline{يساوي}$   $\overline{مربع}$   
 $\overline{سه ح}$   $\overline{وعلم قشبت}$   $\overline{مع مربع سه ح}$   $\overline{يساويان}$   $\overline{سطح ار اعني}$   $\overline{مربع اد}$   $\overline{وهما}$   
 $\overline{يساويان}$  اربعة امثال  $\overline{سطح اب}$  في  $\overline{ب ح}$   $\overline{مع مربع اح}$   $\overline{فاربعة}$  امثال  $\overline{سطح}$   
 $\overline{اب}$  في  $\overline{ب ح}$   $\overline{مع مربع اح}$   $\overline{يساويان}$   $\overline{مربع اد}$   $\overline{وذلك ما اردنا ان نبين}$

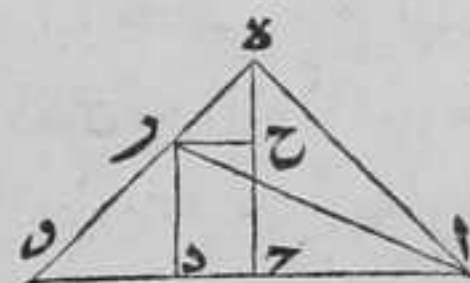
ط

كل خط مستقيم محدود نصف وقسم بمختلفين

فان مربعي قسميه كضعف مربع النصف مع

ضعف مربع الفصل بين النصف وكل واحد

من قسميه



ليكن الخط  $\overline{اب}$   $\overline{منصفا}$   $\overline{علي ح}$   $\overline{ومقسوما}$   $\overline{بمختلفين}$   
 $\overline{علي د}$   $\overline{فاقول ان مربعي اد دب}$   $\overline{معا كضعف مربع}$   
 $\overline{اح}$   $\overline{مع ضعف مربع د د}$   $\overline{برهانه}$   $\overline{نخرج من نقطة ح عمود هـ علي خط}$   
 $\overline{اب}$   $\overline{بالشكل الحادي عشر من الاولي ونفصل منه هـ هـ}$   $\overline{مثل اح}$   $\overline{بالشكل}$   
الثالث



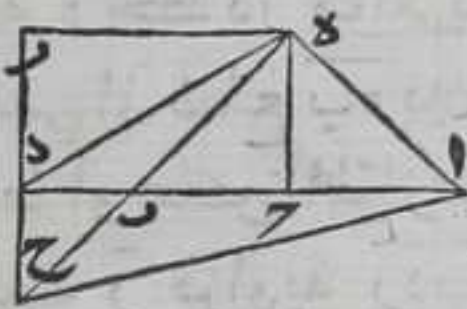
من الاولي ونصل بين كل من نقطتي آه بـ بخط مستقيم فلان كل واحد  
 من ضلعي آه حـ حـ متساويان فكل من زاويتي آه ا حـ حـ بـ حـ بـ  
 متساويتان بالشكل الخامس من الاولي وكل من زاويتي آه بـ حـ بـ حـ بـ قائمة  
 فكل من زوايا آه ا حـ حـ بـ حـ بـ حـ بـ حـ بـ قائمة  
 الاولي فزاوية آه بـ قائمة ونخرج من نقطة د في جهة هـ خط د ر موازيا  
 لخط حـ بـ بالشكل الواحد والثلاثين من الاولي فبنتهي الي ضلع بـ هـ بين  
 نقطتي بـ هـ والا يلزم احاطة خطين مستقيمين بسطح او كون الموازي  
 ملاقبا لما هو مواز له هذا خلف فلبنته علي نقطة ر فزاوية ر د بـ  
 كزاوية بـ حـ القائمة بالشكل التاسع والعشرين من الاولي فزاوية ر د بـ  
 قائمة وكانت زاوية حـ بـ هـ نصف قائمة فزاوية د ر بـ نصف قائمة بالشكل  
 الثاني والثلاثين من الاولي فضلع ر د كضلع د بـ بالشكل السادس من  
 الاولي فنفصل من حـ حـ مثل د ر بالشكل الثالث من الاولي ونصل بين  
 نقطتي ر حـ بخط مستقيم وكذلك بين نقطتي آ ر فخط ر حـ مساو وموازي  
 لخط حـ بـ بالشكل الثالث والثلاثين من الاولي ولان زاويتي حـ ر هـ حـ ر  
 كزاويتي حـ بـ حـ بـ بالشكل التاسع والعشرين من الاولي وزاوية حـ ر هـ حـ بـ  
 قائمة وزاوية حـ بـ هـ نصف قائمة فزاوية حـ ر هـ قائمة وزاوية حـ ر هـ نصف  
 قائمة وكانت زاوية حـ ر هـ نصف قائمة فضلع حـ ر كضلع حـ بـ بالشكل  
 السادس من الاولي ولان كل واحدة من زوايا آه ا حـ حـ بـ حـ بـ حـ بـ حـ بـ  
 قائمة ومربعا آه حـ حـ كربع آه بالشكل السابع والاربعين من الاولي وهما  
 ضعف مربع آه حـ لتساوي آه حـ ومربعا حـ ر كربع حـ ر بالشكل  
 السابع والاربعين من الاولي وهما ضعف مربع حـ ر المساوي لضعف  
 مربع حـ د لتساوي حـ ر حـ د ومربع آه حـ مساوي مربعي آه حـ بالشكل  
 السابع والاربعين من الاولي فضعف مربع آه حـ مع ضعف مربع حـ د  
 يساويان مربع آه حـ ومربعا آه د المساويان لمربعي آه د بـ يساويان  
 مربع آه حـ بالشكل السابع والاربعين من الاولي فمربعي آه حـ حـ بـ معا  
 يساويان ضعف مربعي آه حـ د معا وذلك ما اردنا ان نبين

2

كل خط مستقيم محدود نصف ويريد عليه خط  
 مستقيم علي استقامته فربع الخط مع الزيادة ومربع  
 الزيادة معا يساويان ضعف مربع النصف وضعف  
 مربع النصف مع الزيادة معا



ليكن الخط  $\overline{AB}$  منصفا علي  $\overline{C}$  ومزيد عليه  $\overline{BD}$  المستقيم علي استقامته  
 فاقول ان مربع  $\overline{AD}$  مع مربع  $\overline{BD}$  يساويان ضعف مربع  $\overline{AC}$  وضعف  
 مربع  $\overline{CD}$  معا برهانه نخرج من نقطة  $\overline{E}$  عمود  $\overline{CE}$  علي  $\overline{AC}$  بالشكل  
 الحادي عشر من الاولي ونفصل منه  $\overline{CE}$  كالـ الثالث من الاولي ونصل بين



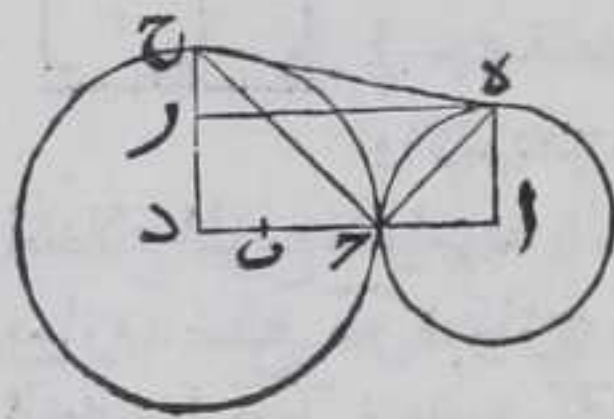
$\overline{E}$  وكل من نقطتي  $\overline{A}$   $\overline{B}$  بخط مستقيم ونخرج من  
 نقطتي  $\overline{D}$   $\overline{E}$  في جهتي  $\overline{D}$   $\overline{E}$  موازيا لخط  $\overline{CE}$   
 وخط  $\overline{DE}$  موازيا لخط  $\overline{AC}$  بالشكل الواحد و  
 الثلثين من الاولي فهما يتلاقيان لان زاوية  $\overline{DCE}$

قائمة فكل واحدة من زاويتي  $\overline{DCE}$   $\overline{DCE}$  قائمة بالشكل التاسع والعشرين  
 من الاولي فاذا وصلنا بين نقطتي  $\overline{D}$   $\overline{E}$  بخط مستقيم تكون زاويتا  $\overline{DCE}$   $\overline{DCE}$   
 اقل من قائمتين فليبتل قبا علي نقطة  $\overline{R}$  ولان زاوية  $\overline{DCE}$  قائمة فزاوية  $\overline{DCE}$   
 قائمة بالشكل التاسع والعشرين من الاولي فزاويتا  $\overline{DCE}$   $\overline{DCE}$  اقل من  
 قائمتين فاذا اخرجنا خطي  $\overline{DE}$   $\overline{DE}$  في جهة  $\overline{D}$  فليبتل قبا علي  
 نقطة  $\overline{H}$  ونصل بين نقطتي  $\overline{A}$   $\overline{H}$  بخط مستقيم ولان اضلاع  $\overline{AC}$   $\overline{CE}$   $\overline{CB}$   
 متساوية فكل من زاويتي  $\overline{ACE}$   $\overline{BCE}$  متساويتان بالشكل  
 الخامس والثلثين من الاولي ولان كلا من زاويتي  $\overline{ACE}$   $\overline{BCE}$  قائمة فكل من  
 زوايا  $\overline{CAE}$   $\overline{CBE}$   $\overline{CBE}$  نصف قائمة بالشكل الثاني والثلثين من الاولي  
 ان بين فبه ان جميع زوايا مثلث كقائمتين فزاوية  $\overline{AEB}$  قائمة ولان زاوية  
 $\overline{DCE}$  قائمة فزاوية  $\overline{DCE}$  قائمة بالشكل الثالث عشر من الاولي ولان زاوية  
 $\overline{DCE}$  نصف قائمة فزاوية  $\overline{DCE}$  المقابلة لها نصف قائمة بالشكل  
 الخامس والعشرين من الاولي ولان زاوية  $\overline{DCE}$  قائمة وزاوية  $\overline{DCE}$  نصف  
 قائمة فزاوية  $\overline{DCE}$  نصف قائمة وزاوية  $\overline{DCE}$  قائمة فزاوية  $\overline{DCE}$  نصف  
 قائمة بالشكل الثاني والثلثين من الاولي فضلعا  $\overline{DE}$   $\overline{DE}$  متساويان ولان  
 كل واحدة من زاويتي  $\overline{DCE}$   $\overline{DCE}$  ب  $\overline{DCE}$  نصف قائمة يكون ضلعا  $\overline{DCE}$   $\overline{DCE}$   
 متساويين بالشكل السادس من الاولي ولان  $\overline{DCE}$   $\overline{DCE}$  يساوي  $\overline{DCE}$  بالشكل  
 الرابع والثلثين من الاولي ومربع  $\overline{DCE}$  مربعي  $\overline{DCE}$   $\overline{DCE}$  بالشكل السابع  
 والاربعين من الاولي وهما ضعف مربع  $\overline{DCE}$  اعني ضعف مربع  $\overline{DCE}$  وبمثله  
 تبين ان مربع  $\overline{AD}$  ضعف مربع  $\overline{AC}$  فضعف مربع  $\overline{AC}$  مع ضعف مربع  
 $\overline{CD}$  مربع  $\overline{AD}$  ومربع  $\overline{AD}$   $\overline{AD}$  المساويان لمربعي  $\overline{AD}$   $\overline{AD}$  بالشكل  
 السابع والاربعين من الاولي فربعا  $\overline{AD}$   $\overline{AD}$  معا يساويان ضعف مربع  
 $\overline{AC}$  مع ضعف مربع  $\overline{CD}$  فالحكم ثابت وذلك ما اردنا ان نبين  
 وانا بينت هذا الشكل بمقدمات اقل مما في الاصل فاقول نخرج من  
 نقطتي  $\overline{A}$   $\overline{D}$  عمودي  $\overline{AE}$   $\overline{DE}$  علي  $\overline{AD}$  في جهة واحدة منه باستبانة الشكل  
 الحادي عشر من الاولي ونخرجهما علي استقامتهما في تلك الجهة وندير  
 علي نقطة  $\overline{A}$  وبعدها  $\overline{AC}$  دائرة  $\overline{CE}$  فبقطع محيطها عمود  $\overline{AE}$  فليقطع علي  
 نقطة



## الثانية

نقطة  $\bar{e}$  وندير على نقطة  $\bar{d}$  وببعد  $\bar{d}$  دائرة  $\bar{d}$  فحبطها تقطع عمود  $\bar{d}$  فليقطع على نقطة  $\bar{c}$  ونصل بينها وبين كل واحدة من نقطتي  $\bar{r}$   $\bar{e}$  بخط مستقيم ونصل بين نقطتي  $\bar{e}$   $\bar{r}$  بخط مستقيم ونفصل من  $\bar{c}$   $\bar{d}$   $\bar{r}$  مثل  $\bar{a}$  بالشكل الثالث من الاولي ونصل بين نقطتي  $\bar{e}$   $\bar{r}$  بخط مستقيم

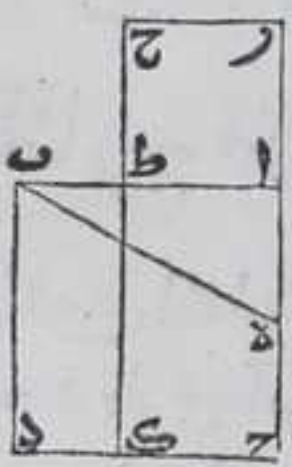


فلان زاويتي  $\bar{e}$   $\bar{a}$   $\bar{d}$  قائمتين فخطا  $\bar{a}$   $\bar{e}$   $\bar{d}$  متوازيان بالشكل الثامن والعشرين من الاولي فخطا  $\bar{e}$   $\bar{a}$   $\bar{d}$  متوازيان ومتساويان بالشكل الثالث والثلاثين من الاولي فلان  $\bar{d}$  مركز دائرة  $\bar{d}$  ف $\bar{d}$   $\bar{r}$  يساوي  $\bar{d}$   $\bar{c}$  وكان  $\bar{d}$   $\bar{r}$   $\bar{c}$  مساويا ل $\bar{b}$   $\bar{r}$   $\bar{c}$  يساوي  $\bar{b}$   $\bar{d}$  وكل واحدة من زاويتي  $\bar{d}$   $\bar{c}$   $\bar{r}$   $\bar{b}$  متساويتان بالشكل الخامس من الاولي وزاوية  $\bar{d}$   $\bar{c}$   $\bar{r}$  قائمة فكل من زاويتي  $\bar{d}$   $\bar{c}$   $\bar{r}$   $\bar{b}$  نصف قائمة بالشكل الثاني والثلاثين من الاولي وبمثلته تبين ان زاوية  $\bar{a}$   $\bar{e}$   $\bar{d}$  نصف قائمة وزاوية  $\bar{a}$   $\bar{c}$   $\bar{d}$  مع زاوية  $\bar{c}$   $\bar{d}$   $\bar{r}$  كقائمتين بالشكل الثالث عشر من الاولي فزاوية  $\bar{c}$   $\bar{d}$   $\bar{r}$  قائمة وزاوية  $\bar{c}$   $\bar{d}$   $\bar{r}$  كزاوية  $\bar{a}$   $\bar{e}$   $\bar{d}$  القائمة بالشكل التاسع والعشرين من الاولي فهي قائمة ولان كل واحدة من زوايا  $\bar{a}$   $\bar{e}$   $\bar{d}$   $\bar{c}$   $\bar{d}$   $\bar{r}$  قائمة فربعا  $\bar{a}$   $\bar{e}$   $\bar{d}$   $\bar{c}$  بالشكل السابع والاربعين من الاولي ومربعا  $\bar{a}$   $\bar{e}$   $\bar{d}$   $\bar{c}$  بالشكل السابع والاربعين من الاولي ومربعا  $\bar{d}$   $\bar{c}$   $\bar{r}$   $\bar{b}$  بالشكل السابع والاربعين من الاولي وهما ضعف مربع  $\bar{d}$   $\bar{c}$   $\bar{r}$   $\bar{b}$  فضعف مربع  $\bar{a}$   $\bar{e}$   $\bar{d}$   $\bar{c}$   $\bar{r}$   $\bar{b}$  وضعف مربع  $\bar{d}$   $\bar{c}$   $\bar{r}$   $\bar{b}$  وضعف مربع  $\bar{a}$   $\bar{e}$   $\bar{d}$   $\bar{c}$   $\bar{r}$   $\bar{b}$  وضعف مربع  $\bar{d}$   $\bar{c}$   $\bar{r}$   $\bar{b}$  معا اعني مربعي  $\bar{a}$   $\bar{e}$   $\bar{d}$   $\bar{c}$   $\bar{r}$   $\bar{b}$  معا يساويان مربع  $\bar{a}$   $\bar{e}$   $\bar{d}$   $\bar{c}$   $\bar{r}$   $\bar{b}$  بالشكل السابع والاربعين من الاولي فربعا  $\bar{a}$   $\bar{e}$   $\bar{d}$   $\bar{c}$   $\bar{r}$   $\bar{b}$  معا كضعف مربع  $\bar{a}$   $\bar{e}$   $\bar{d}$   $\bar{c}$   $\bar{r}$   $\bar{b}$  وذلك ما اردنا ان نبين

ب

كل خط مستقيم محدود لنا ان نقسمه قسمة

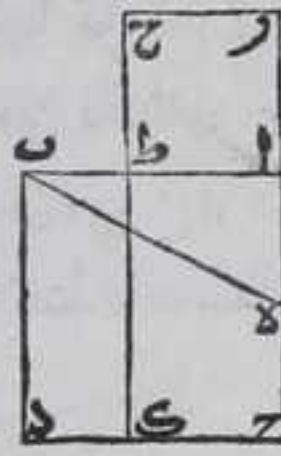
يكون سطحه في احد قسميه مربع قسمة الاخر



ليكن الخط  $\bar{a}$   $\bar{b}$  فنرسم عليه مربع  $\bar{a}$   $\bar{b}$  بالشكل السادس والاربعين من الاولي وننصف ضلع  $\bar{a}$   $\bar{b}$  على نقطة  $\bar{e}$  بالشكل العاشر من الاولي ونصل  $\bar{b}$   $\bar{e}$  بخط مستقيم فلان زاوية  $\bar{b}$   $\bar{e}$   $\bar{a}$  قائمة وهي مع زاوية  $\bar{a}$   $\bar{e}$   $\bar{b}$  اقل من قائمتين بالشكل السابع عشر من الاولي فضلع  $\bar{b}$   $\bar{e}$  من مثلث  $\bar{a}$   $\bar{e}$   $\bar{b}$  اعظم من ضلع  $\bar{a}$   $\bar{e}$   $\bar{b}$  بالشكل التاسع عشر من الاولي ونخرج  $\bar{d}$   $\bar{a}$  في جهة  $\bar{a}$  على استقامته الى غير النهاية ونفصل منه



هـ ر يساوي بـ بالشكل الثالث من الاولي فلان ضلعي  
 ا ب ا هـ معا اعظم من بـ بالشكل العشرين من الاولي وبـ  
 يساوي هـ فضلا ا ب ا هـ معا اعظم من هـ فاذا القينا  
 ا هـ المشترك يبقى ا ب اعظم من ا ر ونرسم علي خط ا ر  
 في جهة مربع ا د مربع ا ر ح ط بالشكل السادس  
 والاربعين من الاولي فنقطة ط يقع بين نقطتي ا ب فلان



اضلاع المربع متوازية بالشكل الخامس والاربعين من الاولي فضلع ح ط  
 يوازي ضلع ر ر فيوازي ضلع بـ بالشكل الثلثين من الاولي فاذا  
 اخرجنا ح ط في جهة ط علي استقامته ينتهي الي ضلع د د فلينته علي  
 نقطة ا فاقول ان سطح ا ب في ب ط مربع ا ط برهانه فلان خط ا ح  
 نصف علي هـ وزيد عليه ح ط ا ر المستقيم المتناهي علي استقامته يكون  
 سطح ح ر في ا ر مع مربع ا هـ مساوي مربع هـ بالشكل السادس لكن خط  
 بـ مساو لخط هـ فسطح ح ر في ا ر اعني سطح ح ر مع مربع ا هـ يساويان  
 مربع بـ ومربعي ا هـ ا ب معا يساويان مربع بـ بالشكل السابع  
 والاربعين من الاولي فسطح ح ر مع مربع ا هـ يساويان مربعي ا ب ا هـ معا  
 فاذا القينا مربع ا هـ المشترك بينهما بقي مربع ا ب مساويا لسطح ح ر فاذا  
 القينا سطح ا ا المشترك بين سطحي ح ر ح ب بقي مربع ا ح مساويا لسطح  
 ط د وهو حاصل من سطح بـ د المساوي لخط ا ب في ب ط فسطح ا ب في  
 ب ط يساوي مربع ا ح الذي هو مربع خط ا ط فالحكم ثابت وذلك  
 ما اردنا ان نبين

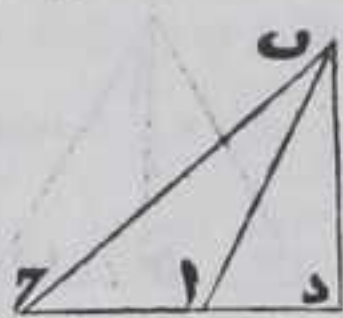
يب

كل مثلث منفرج الزاوية فان مربع الضلع  
 الذي يوترها اعظم من مربعي الضلعين المحيطين  
 بها بضعف سطح احدها فيما وقع منه بعد  
 اخراجه في جهة المنفرجة بينها وبين طرف العمود  
 الخارج من طرف الضلع الاخر علي الضلع الخارج

ليكن المثلث ا ب ح وزاوية ب ا ح من زواياه منفرجة ونخرج من  
 احد طرفي ا ب ا ح عمودا علي الاخر فليخرج من نقطة ب عمود ب د  
 علي ضلع ا ح بالشكل الثاني عشر من الاولي فلا يقع علي نقطة ا والا  
 لكانت القائمة كالمنفرجة ولا علي نقطة ح والا لكانت زاوية ب ح ا قائمة  
 و



وهي حادة لان زاويتي  $\overline{ب\alpha\gamma}$  و  $\overline{ب\alpha\delta}$  معا اقل من قائمتين بالشكل السابع عشر من الاولي وزاوية  $\overline{ب\alpha\gamma}$  منفرجة فزاوية  $\overline{ب\alpha\delta}$  حادة فالزاوية المجاورة لزاوية  $\overline{ب\alpha\delta}$  منفرجة بالشكل الثالث عشر

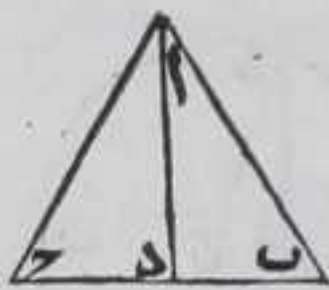


من الاولي ولا يقع فيما بين نقطتي  $\alpha$  و  $\gamma$  ولا خارجا عنهما في جهة  $\gamma$  والا يلزم ان يكون زاويتا مثلث اعظم من قائمتين وهما اقل منهما بالشكل السابع عشر

من الاولي فيقع علي ضلع  $\overline{\alpha\gamma}$  بعد اخراجه في جهة  $\alpha$  فاقول ان مربع  $\overline{ب\gamma}$  اعظم من مربعي  $\overline{\alpha\beta}$  و  $\overline{\alpha\delta}$  بضعف سطح  $\overline{\alpha\gamma}$  في  $\alpha$  برهانه فلان مربع  $\overline{ب\gamma}$  يساوي مربعي  $\overline{ب\delta}$  و  $\overline{د\gamma}$  بالشكل السابع والاربعين من الاولي ومربع  $\overline{\alpha\delta}$  مع ضعف سطح  $\overline{\alpha\gamma}$  في  $\alpha$  يساوي مربع  $\overline{د\gamma}$  بالشكل الرابع فمربع  $\overline{ب\gamma}$  يساوي مربعان  $\overline{ب\delta}$  و  $\overline{\alpha\delta}$  مع ضعف سطح  $\overline{\alpha\gamma}$  في  $\alpha$  لكن مربع  $\overline{\alpha\delta}$  يساوي مربعي  $\overline{ب\delta}$  و  $\overline{د\alpha}$  بالشكل السابع والاربعين من الاولي فمربع  $\overline{ب\gamma}$  يساوي مربعي  $\overline{\alpha\beta}$  و  $\overline{\alpha\delta}$  بضعف سطح  $\overline{\alpha\gamma}$  في  $\alpha$  فالحكم ثابت وذلك ما اردنا ان نبين

مربع كل ضلع يوتر الزاوية الحادة من اي مثلث كان اصغر من مربعي الضلعين المحيطين بها بضعف سطح احدها فيما يقع منه بين الزاوية الحادة والعمود الخارج من طرف الضلع الاخر عليه

ليكن المثلث  $\overline{\alpha\beta\gamma}$  والزاوية الحادة  $\overline{\alpha\beta\gamma}$  ونخرج من احد طرفي احد ضلعي  $\overline{\alpha\beta}$  عمودا علي الاخر فلنخرج من نقطة  $\alpha$  عمود  $\overline{\alpha\delta}$  علي ضلع  $\overline{ب\gamma}$  بالشكل الثاني عشر من الاولي فلا يقع علي احدي

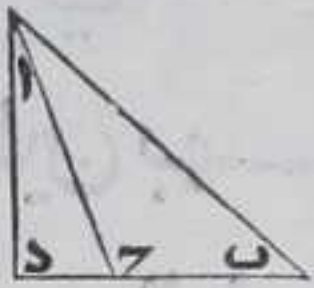
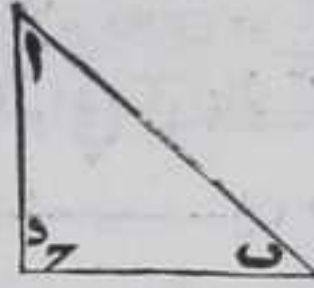
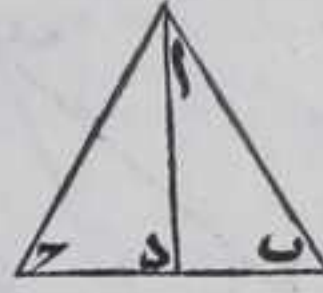


نقطتي  $\beta$  و  $\gamma$  ان كانت زاوية  $\overline{\alpha\beta\gamma}$  ايضا حادة لانه حينئذ تكون الحادة قائمة هذا خلف ولا خارجا عنها لان الزاوية المجاورة للحادة منفرجة بالشكل الثالث

عشر من الاولي فيلزم ان يكون زاويتا مثلث اعظم من قائمتين وهما اقل منهما بالشكل السابع عشر من الاولي فتقع فيما بين نقطتي  $\beta$  و  $\gamma$  وان كانت زاوية  $\overline{\alpha\beta\gamma}$  قائمة فعمود  $\overline{\alpha\delta}$  ينطبق علي ضلع  $\overline{\alpha\gamma}$  ونقطة  $\delta$  علي نقطة  $\gamma$  وان كانت منفرجة فالعمود يقع علي ضلع  $\overline{ب\gamma}$  بعد اخراجه في جهة  $\gamma$  بمثلث ما بيناه في الشكل المتقدم فاقول ان مربع  $\overline{\alpha\beta}$  اصغر من مربعي  $\overline{\alpha\delta}$  و  $\overline{\alpha\gamma}$  بضعف سطح  $\overline{ب\gamma}$  في  $\alpha$  برهانه اما القسم الاول فلان



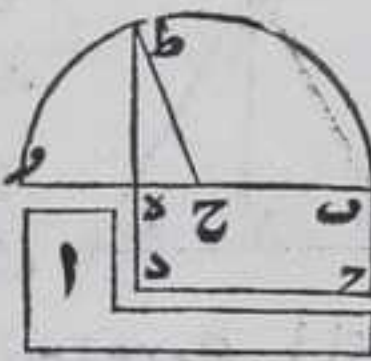
مربعي  $\overline{ب\gamma}$   $\overline{ب\delta}$  يساويان ضعف سطح  $\overline{ب\gamma}$  في  $\overline{ب\delta}$  مع مربع  $\overline{د\gamma}$  بالشكل السابع فاذا اخذنا مربع  $\overline{اد}$  مشترك يكون مربعات  $\overline{ب\delta}$   $\overline{ب\gamma}$   $\overline{د\delta}$  مساوية لضعف سطح  $\overline{ب\gamma}$  في  $\overline{ب\delta}$  مع مربعي  $\overline{د\gamma}$   $\overline{د\delta}$  لكن مربع  $\overline{اب}$  يساوي مربعي  $\overline{ب\delta}$   $\overline{ب\gamma}$  بالشكل السابع والاربعين من الاولي لكون زاوية  $\overline{ادب}$  قائمة فربعا  $\overline{اب}$   $\overline{ب\gamma}$  يساويان ضعف سطح  $\overline{ب\gamma}$  في  $\overline{ب\delta}$  مع مربعي  $\overline{د\gamma}$   $\overline{د\delta}$  لكن مربع  $\overline{ا\gamma}$  مربعي  $\overline{ا\delta}$   $\overline{ا\gamma}$  بالشكل السابع والاربعين من الاولي لان زاوية  $\overline{اد\gamma}$  قائمة فربعا  $\overline{اب}$   $\overline{ب\gamma}$  معا يساويان ضعف سطح  $\overline{ب\gamma}$  في  $\overline{ب\delta}$  مع مربع  $\overline{ا\gamma}$  فمجموع مربعي  $\overline{اب}$   $\overline{ب\gamma}$  اعظم من مربع  $\overline{ا\delta}$  بضعف سطح  $\overline{ب\gamma}$  في  $\overline{د\delta}$  فالحكم ثابت واما القسم الثاني فلان نقطة  $\overline{د}$  منطبقة على نقطة  $\overline{د}$  يكون سطح  $\overline{ب\gamma}$  في ضلع  $\overline{ب\delta}$  مربع  $\overline{ب\gamma}$   $\overline{ب\delta}$  وزاوية  $\overline{ا\delta\gamma}$  قائمة فيكون مربع  $\overline{اب}$  مربعي  $\overline{ا\delta}$   $\overline{ا\gamma}$  بالشكل السابع والاربعين من الاولي فيكون مربع  $\overline{ا\delta}$  اصغر من مربعي  $\overline{اب}$   $\overline{ب\gamma}$  بضعف سطح  $\overline{ب\gamma}$  في  $\overline{ب\delta}$  اعني ضعف مربع  $\overline{ب\gamma}$  واما القسم الثالث فلان مربع  $\overline{اب}$  المساوي لمربعي  $\overline{اد}$   $\overline{ب\delta}$  بالشكل السابع والاربعين من الاولي اعظم من مربعي  $\overline{ا\delta}$   $\overline{ب\gamma}$  بضعف سطح  $\overline{ب\gamma}$  في  $\overline{د\delta}$  بالشكل المتقدم لكون زاوية  $\overline{ا\delta\gamma}$  منفرجة ومربع  $\overline{ا\delta}$  مربعي  $\overline{اد}$   $\overline{د\gamma}$  بالشكل السابع والاربعين من الاولي فربعا  $\overline{اب}$   $\overline{ب\gamma}$  اصغر من مربعي  $\overline{اب}$   $\overline{ب\gamma}$  بضعف سطح  $\overline{د\gamma}$  في  $\overline{د\delta}$  مع  $\overline{ب\gamma}$  لكن سطح  $\overline{د\gamma}$  في  $\overline{د\delta}$  مع  $\overline{ب\gamma}$  كسطح  $\overline{ب\delta}$  في  $\overline{ب\gamma}$  بالشكل الثالث فربعا  $\overline{اب}$   $\overline{ب\gamma}$  اصغر من مربعي  $\overline{اب}$   $\overline{ب\gamma}$  بضعف سطح  $\overline{ب\gamma}$  في  $\overline{ب\delta}$  فالحكم ثابت وذلك ما اردنا ان نبين



كل شكل مفروض مستقيم الاضلاع لنا ان نرسم

مربعاً يساوياً

ليكن الشكل المفروض المستقيم الاضلاع شكل  $\overline{ا}$  فنرسم شكلاً متوازي الاضلاع قائم الزوايا يساوي شكل  $\overline{ا}$  باستبانة الشكل الرابع والاربعين من الاولي وهو شكل  $\overline{ب\gamma\delta}$  فان كان ضلع  $\overline{د\delta}$  كضلع  $\overline{ب\delta}$  وهما يساويان ضلعي  $\overline{ب\gamma}$   $\overline{د\delta}$  بالشكل الرابع والثلثين من الاولي فشكل  $\overline{ب\delta}$  مربع فقد رسمنا المربع والا فليكن احدهما اطول من الاخر وليكن ضلع  $\overline{ب\delta}$  اطولهما فنخرجه على استقامته في جهة  $\overline{د}$  الى غير النهاية ونفصل منه  $\overline{د\gamma}$  كضلع  $\overline{د\delta}$  بالشكل الثالث من الاولي وننصف  $\overline{ب\gamma}$  على نقطة  $\overline{ح}$  بالشكل العاشر من الاولي ونرسم





ونرسم علي  $\overline{ب}$  نصف دائرة  $\overline{ب\tau}$  ونخرج  $\overline{د\epsilon}$  علي استقامته الي ان ينتهي الي محبط  $\overline{ب\tau}$  فلينته الي نقطة  $\overline{\tau}$  ونصل  $\overline{ح\tau}$  بخط مستقيم فاقول ان  $\overline{ه\tau}$  ضلع مربع يساوي شكل  $\overline{آ}$  برهانه فلان  $\overline{ب}$  نصف علي نقطه  $\overline{ح}$  وقسم بمختلفين علي نقطة  $\overline{ه}$  فسطح  $\overline{ب\epsilon}$  في  $\overline{ه}$  مع مربع  $\overline{ح\epsilon}$  يساوي مربع  $\overline{ح\tau}$  بالشكل الخامس لكن  $\overline{ح}$  يساوي  $\overline{ح\tau}$  فسطح  $\overline{ب\epsilon}$  في  $\overline{ه}$  مع مربع  $\overline{ح\epsilon}$  يساوي مربع  $\overline{ح\tau}$  لكن زاويه  $\overline{د\epsilon\tau}$  قائمة فزاوية  $\overline{ب\epsilon\tau}$  المجاورة لها قائمة بالشكل الثالث عشر من الاولي فربعا  $\overline{ه\tau}$  يساوي ان مربع  $\overline{ح\tau}$  بالشكل السابع والاربعين من الاولي فسطح  $\overline{ب\epsilon}$  في  $\overline{ه}$  مع مربع  $\overline{ح\epsilon}$  يساوي ان مربعي  $\overline{ه\tau}$  فاذا القينا مربع  $\overline{ه\tau}$  المشترك يبقى مربع  $\overline{ه\tau}$  مساويا لسطح  $\overline{ب\epsilon}$  في  $\overline{ه}$  المساوي لهد فبكون مساويا لسطح  $\overline{ب\tau}$  وكان سطح  $\overline{آ}$  كسطح  $\overline{ب\tau}$  فربعا  $\overline{ه\tau}$  كسطح  $\overline{آ}$  فالحكم ثابت وذلك ما اردنا ان نبين وبهذا الشكل يخرج حدود الصم تمت المقالة الثانية والحمد لله بلان ه اية ه

## المقالة الثالثة في خمسة وثلاثين بابا

### الحدود

الدوائر المتساوية هي التي اقطارها وانصاف اقطارها متساوية كل خط مستقيم يلقي الدائرة ولا يقطعها وان اخرج في جهته فهو مماس لتلك الدائرة والدوائر المتماس هي المتلاقية الغير المتقاطعه ه بعد الوتر من المركز هو العمود الخارج من المركز الي الوتر الاوتار المتساوية الابعاد عن مركز الدائرة هي الاوتار التي تكون الاعمدة الخارجة من المركز اليها متساوية والاوتار التي هي ابعده من المركز هي التي اعمدها اطول وزاوية القطعة زاوية يحبط بها الوتر وقوس ذلك الوتر ويقال للوتر قاعدة القطعة والزاوية التي في القطعة هي التي يحبط بها خطان مستقيمان يخرجان من طرفي قاعدة القطعة وينتهيان الي نقطة ما علي قوس تلك القطعة كل خطين مستقيمين يخرجان من نقطة ما علي محيط دائرة وينتهيان الي طرفي قوس من محيطها فالزاوية التي يحبط بها ذلك الخطان يقال لها انها علي تلك القوس وقطاع الدائرة شكل يحبط به خطان مستقيمان يخرجان من مركزها وقوس ينفر من هما من محيط ذلك المركز والقطع المتشابهة هي التي تقبل زوايا متشابهة



الاشكال

١

كل دائرة مفروضة لنا ان نجد مركزها

لتكن الدائرة المفروضة دائرة  $AB$  ونفرض علي محيطها نقطتي  $C$  و  $D$  متباينتين ونصل بينهما بخط مستقيم وننصفه علي نقطة  $E$  بالشكل العاشر من الاولي ونخرج منها عمود  $AE$  علي خط  $CD$  بالشكل الحادي عشر من الاولي ونخرجه في جهته الي ان ينتهي الي المحيط فلينته الي نقطتي  $A$  و  $B$  وننصف خط  $AB$  علي نقطة  $H$  بالشكل العاشر من الاولي فاقول انها مركز دائرة  $AB$  برهانه فان لم تكن هي المركز لكانت نقطة اخري اما علي خط  $AB$  او علي سطح الدائرة فان كانت علي خط  $AB$  وليكن بين نقطتي  $A$  و  $H$  مثلا وهي نقطة  $R$  فيكون  $AR$  نصف  $AB$  وكان  $AH$  نصف  $AB$  فيكون  $AR$  يساوي  $AH$  فالجزء يساوي



كله هذا خلف وان كانت علي سطح الدائرة وليكن نقطة  $T$  فنصل بينها وبين كل واحد من نقط  $C$  و  $D$  بخط مستقيم فلان نقطة  $T$  مركز الدائرة  $DAB$  يكون خطا  $CT$  و  $DT$  متساويين وخط  $CE$  كخط  $DE$  وخط  $TE$  مشترك بين مثلثي  $CTE$  و  $DEE$  فالزوايا المتناظرة منها متساوية بالشكل الثامن من الاولي فزاوية  $CTE$  كزاوية  $DEE$  فزاوية  $DEE$  قائمة وكانت زاوية  $AED$  قائمة فيكون جزء الشيء مساويا لكله هذا خلف فالمركز هو نقطة  $H$  وذلك ما اردنا ان نبين  $\square$  واستبان منه كل وتر نصف وتر اخر من دائرة وقام عليه علي زوايا قائمة فانه يمر بالمركز  $\square$

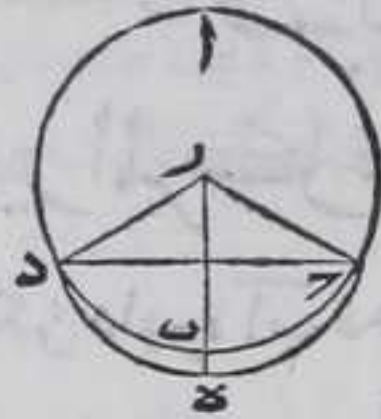
٢

كل خط مستقيم واصل بين نقطتين علي محيط اي دائرة كانت فانه واقع داخل تلك الدائرة

ليكن علي محيط دائرة  $AB$  نقطتا  $C$  و  $D$  ووصل بينهما بخط  $CD$  المستقيم فاقول انه يقع داخل دائرة  $AB$  برهانه فلانه لو لم يقع خط  $CD$  داخلها لوقع خارجها او علي محيطها اما الاول فنجد مركز الدائرة بالشكل المتقدم وليكن نقطة  $R$  ونرسم علي خط  $CD$  نقطة  $E$  كيف ما اتفق ونصل بين المركز وكل واحدة من نقط  $C$  و  $D$  بخط مستقيم فخط  $RE$  لا بد ان يقطع المحيط فليقطع علي نقطة  $B$  فلان زاويتي  $RE$  و  $DE$  متساويتان بالشكل



بالشكل الخامس من الاولي لتساوي سافي ر د وزاوية ر ه ح الخارجة  
من مثلث ر ه د اعظم من زاوية ر د ه بالشكل السادس عشر من الاولي



فيكون زاوية ر ه ح التي هي اعظم من زاوية ر د ه  
المساوية لزاوية د ر ه اعظم من زاوية ر ه د فيكون  
ر ح المساوي لخط ر ب اعظم من ضلع ر ه بالشكل  
التاسع عشر من الاولي فخط ر ب يكون اعظم من  
ضلع ر ه فيكون جزء الشيء اعظم من كله هذا  
خلف واما الثاني فيكون زاويتا ر د ب و ر ب



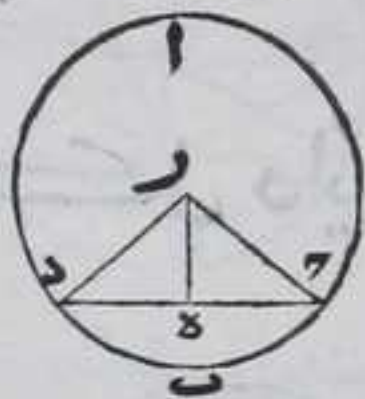
متساويتين بالشكل الخامس من الاولي ويكون زاوية  
ر ب د كزاوية ر ب ه بالشكل الخامس من الاولي فيكون  
مساوية لزاوية ر ب ه فيكون زاوية ر ب ح الخارجة  
من مثلث ر ه د مساوية لزاوية ز د ب وهي اعظم

منها بالشكل السادس عشر من الاولي هذا خلف فالحكم ثابت وذلك  
ما اردنا ان نبين

واستبان منه انه لا شيء من الخطوط المستقيمة يمكن ان ينطبق علي محيط  
دايرة وبالعكس

كل خط مستقيم خرج من مركز اي دايرة وانتهي  
إلى اي وتر كان فيها فان كان عمودا على الوتر فهو  
ينصفه وان كان ينصفه فهو عمود عليه

ليكن خط ر د وتر في دايرة ا ب و خرج من نقطة ر المركز لدايرة  
ا ب خط ر ه المستقيم وانتهي الى وتر د ه علي نقطة ه فاقول ان كان ر ه



عمودا علي وتر د ه فهو ينصف ر د وان كان ينصفه  
فهو عمود عليه برهانه نصل بين كل واحد من  
نقطتي ر د وبين المركز بخط مستقيم اما الاول  
فلان زاويتي ر ه د و ر ه ب مثلتي ر ه د متساويتان  
وكذلك زاويتا ر د ب و ر ب د

بالشكل الخامس من الاولي وضلع ر ه مشترك بين المثلثين فبالشكل السادس والعشرين  
من الاولي ضلع ر ه كضلع د ه واما الثاني فلان الاضلاع المتناظرة من  
مثلتي ر ه د و ر ه ب متساوية فزاوية ر ه د كزاوية ر ه ب بالشكل الثامن  
من الاولي فخط ر ه عمود علي وتر د ه وذلك ما اردنا ان نبين



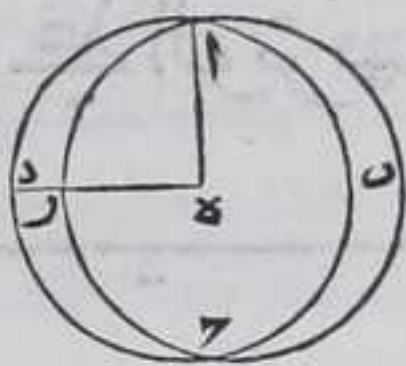
كل وترين في اي دايرة قطع احدها الاخر علي  
غير المركز فلا يمكن ان يتناصفا

لبيكن دايرة  $AB$  قد تقاطع فيها وتر  $CD$  علي نقطة  $H$  غير المركز  
فاقول لا يمكن ان يتناصفا برهانه فان امكن فليتناصفا  
علي نقطة  $H$  ونجد مركزها بالشكل الاول وهو  
نقطة  $T$  ونصل  $CT$  بخط مستقيم فلان  $TH$  نصف  
كل واحد من وترين  $CD$  و  $DE$  علي نقطة  $H$  يكون عمودا  
عليها بالشكل المتقدم فيكون كل واحد من زاويتي  
 $CTH$  قائمة فيكون جزء الشيء يساوي كله هذا خلف فالحكم  
ثابت وذلك ما اردنا ان نبين



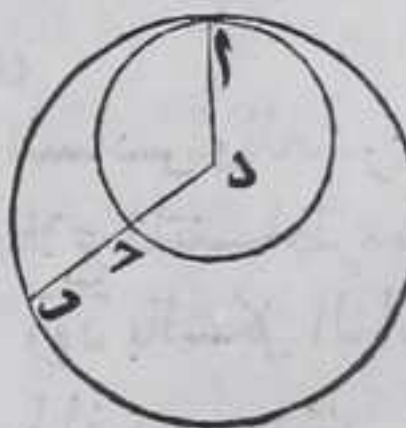
كل دايرتين متقاطعتين في سطح واحد فلا يمكن  
ان يكون مركزاهما واحدا

لبيكن دايرتا  $AB$  و  $CD$  قد تقاطعتا علي نقطتي  $A$  و  $C$  فاقول لا يمكن ان  
يكون مركزاهما واحدا برهانه فان امكن فليكن  
نقطة  $E$  مركزاهما فنصل بينهما وبين كل واحدة  
من نقطتي  $A$  و  $C$  بخط مستقيم خط  $DE$  يقطع قوس  
 $AC$  علي نقطة  $F$  وليكن نقطة  $R$  فلان  $E$  مركز دايرة  
 $AB$  يكون  $ER$  مساويا لخط  $AR$  ولان  $E$  مركز دايرة  
 $CD$  يكون  $DE$  مساويا ل  $CE$  فيكون  $ER$  مساويا  
لهذا خلف فالحكم ثابت وذلك ما اردنا ان نبين



كل دايرتين متماستين لا يمكن ان يكون  
مركزاهما واحدا

لبيكن دايرتا  $AB$  و  $CD$  متماستين علي نقطة  $A$  فاقول  
لا يمكن ان يكون مركزاهما واحدا في الوضع  
برهانه فان كان التماس من خارج فهو ظاهر انه لا  
يمكن ان يكون مركزاهما واحدا واما اذا كان من  
داخل





داخل فان امكن فليكن نقطة  $\bar{د}$  ونصل بينها وبين كل واحدة من  
نقطتي  $\bar{آب}$  بخط مستقيم  $\bar{دب}$  يقطع محيط دائرة  $\bar{آح}$  فليقطع علي  
نقطة  $\bar{ح}$  فلان كل واحد من خطي  $\bar{دب}$   $\bar{دح}$  يساوي  $\bar{دأ}$  فهما متساويان  
خط  $\bar{دح}$  يساوي  $\bar{دب}$  فالجزء يساوي كله هذا خلف بالحكم ثابت وذلك  
ما اردنا ان نبين

اطول الخطوط المستقيمة المختلفة الاوضاع الخارجة  
من اي نقطة مفروضة في اي دائرة غير مركزها  
في الوضع المنتهية الي محيطها هو المار بالمركز  
واقصرها الباقي منه والاقرب الي الاطول اطول من  
الابعد واي خط يفرض من احد جنبي الخط الاطول  
من الخطوط المستقيمة الخارجة من تلك النقطة  
الي المحيط فانه لا يوجد ما يساويه من الخطوط  
المستقيمة الخارجة منه الي المحيط في الجانب  
الاخر من الخط الاطول الا خط واحد فقط او خطوط

مستقيمة متحدة الوضع



ليكن في دائرة  $\bar{آب}$  نقطة  $\bar{ه}$  غير مركزها في  
الوضع ونجد مركزها بالشكل الاول وليكن  
نقطة  $\bar{ط}$  ونصل بينها وبين  $\bar{ه}$  بخط مستقيم ونخرجه  
في جهته علي استقامته الي ان ينتهي الي المحيط ولينته الي نقطتي  $\bar{ح}$   $\bar{د}$   
ونخرج من نقطة  $\bar{ه}$  الي المحيط خطوط  $\bar{هز}$   $\bar{هح}$   $\bar{هأ}$  المستقيمة ونصل بين  
نقطة  $\bar{ط}$  وبين كل واحدة من نقط  $\bar{ر}$   $\bar{ح}$   $\bar{آ}$  الكائنه علي المحيط بخط  
مستقيم فاقول ان اطول الخطوط الخارجة من نقطة  $\bar{ه}$  الي المحيط خط  $\bar{هز}$   
واقصرها خط  $\bar{هد}$  و  $\bar{هق}$  اطول من  $\bar{هح}$  وهو من  $\bar{هأ}$  واي خط يفرض من  
خطوط  $\bar{هز}$   $\bar{هح}$   $\bar{هأ}$  من جهة  $\bar{آ}$  من خط  $\bar{د}$  الا خط واحد ان خطوط



مستقيمة متحدة الوضع متساوية برهانه فلان ضلعي  $\overline{ط ر}$  معا  
 اعظم من ضلع  $\overline{ه ر}$  بالشكل العشرين من الاولي و  $\overline{ط ر}$  يساوي  $\overline{ط ح}$   
 ناخذ  $\overline{ط ه}$  مشتركا بينهما فخط  $\overline{ه ر}$  يساوي ضلعي  
 $\overline{ط ر}$  معا وهما اعظم من  $\overline{ه ر}$  فخط  $\overline{ه ر}$  اعظم من  
 خط  $\overline{ه ه}$  وبمثله تبين ان خط  $\overline{ه ر}$  اعظم من كل  
 واحد من خطي  $\overline{ح ه}$   $\overline{ا ه}$  ولان ضلعي  $\overline{ط ر}$   $\overline{ط ه}$   
 يساويان ضلعي  $\overline{ط ح}$   $\overline{ط ه}$  وزاوية  $\overline{ر ط ه}$  اعظم من  
 زاوية  $\overline{ح ط ه}$  فقاعدة  $\overline{ه ر}$  اعظم من قاعدة  $\overline{ح ه}$



بالشكل الرابع والعشرين من الاولي وبمثله تبين ان خط  $\overline{ح ه}$  اعظم من  
 خط  $\overline{ا ه}$  ولان ضلعي  $\overline{ط ه}$   $\overline{ا ه}$  معا اعظم من ضلع  $\overline{ط ا}$  المساوي لخط  $\overline{ط د}$   
 بالشكل العشرين من الاولي فاذا القينا  $\overline{ط ه}$  المشترك بين  $\overline{ط د}$  وخطي  
 $\overline{ط ه}$   $\overline{ا ه}$  يبقي  $\overline{ا ه}$  اعظم من  $\overline{ه د}$  وبمثله تبين ان كل واحد من خطي  $\overline{ه ر}$   $\overline{ه ح}$   
 اعظم من  $\overline{ه د}$  فخط  $\overline{ه ر}$  اعظم كثيرا من خط  $\overline{ه د}$  واي خط مستقيم نخرج  
 من نقطة  $\overline{ه}$  الي المحيط ولنرسم علي نقطة  $\overline{ط}$  من خط  $\overline{ه ط}$  زاوية  $\overline{ه ط ب}$   
 كزاوية  $\overline{ه ط ا}$  بالشكل الثالث والعشرين من الاولي ونخرج خط  $\overline{ط ب}$   
 علي استقامته الي جهة  $\overline{ب}$  الي ان ينتهي الي المحيط علي نقطة  $\overline{ب}$  ونصل  
 بين نقطتي  $\overline{ب ه}$  بخط مستقيم فضلعا  $\overline{ط ب}$   $\overline{ط ه}$  يساويان ضلعي  $\overline{ط ا}$   $\overline{ط ه}$   
 والزاوية التي بين الاولين يساوي الزاوية التي بين الاخرين فقاعدة  
 $\overline{ب ه}$  كقاعدة  $\overline{ا ه}$  بالشكل الرابع من الاولي ولا يمكن ان يكون خط  
 اخر مستقيم ما يخرج من  $\overline{ه}$  الي المحيط دايرة  $\overline{ا ب ر}$  في جهة  $\overline{ب ه}$  من خط  
 $\overline{ه د}$  مساويا لخط  $\overline{ه ا}$  ومباينا لخط  $\overline{ب ه}$  في الوضع والا فليكن خط  $\overline{ا ه}$   
 مساويا لخط  $\overline{ه ا}$  ونصل  $\overline{ط ا}$  بخط مستقيم فيكون اضلاع مثلثي  $\overline{ط ه ا}$   
 $\overline{ه ط ا}$  المتناظرة فيكون زاوية  $\overline{ا ط ه}$  كزاوية  $\overline{ا ط ا}$  بالشكل الثامن من الاولي  
 وكانت زاوية  $\overline{ب ط ه}$  كزاوية  $\overline{ا ط ه}$  بالشكل الثامن والثلاثين من الاولي  
 فزاوية  $\overline{ا ط ه}$  الكل يساوي زاوية  $\overline{ب ط ه}$  الذي هو جزء هذا خلف

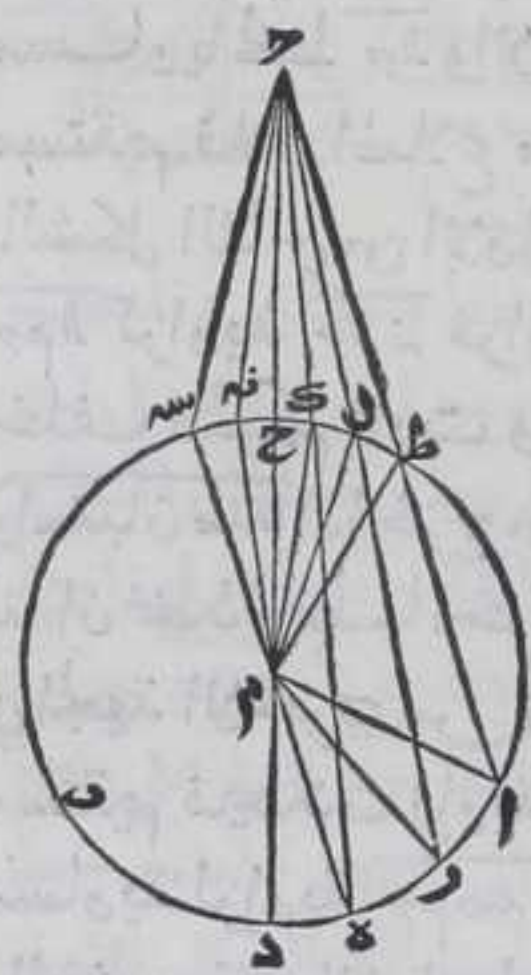
فالحكم ثابت وذلك ما اردنا ان نبين  
 واستبان منه ان الاوتار الخارجة من نقطة علي محيط اي دايرة كانت فان  
 اطولها المار بالمركز والاقرب الي الاطول من الابعاد وكل وتر منها الكاين  
 في احد جانبي الوتر الاطول لايساويه في الجانب الاخر من الوتر  
 الاطول الاوتر واحد او فوق واحد متحد الوضع

اطول جميع الخطوط المستقيمة المختلفة الازضاع  
 الخارجة من كل نقطة خارجة من اي دايرة

القاطعة



القاطع اياها هو المار بالمركز والاقراب اليه اطول  
 من الابعده عنه واقصر جميع المنتهيه اليها الغير  
 القاطعه هو الذي على مسامته المركز والاقراب  
 اليه اقصر من الابعده عنه واي خط يفرض منها في  
 احد جهتي المسامت للمركز لا يوجد لها هو مساوله  
 من الخطوط المستقيمة الخارجة من النقطة  
 الخارجة من الدائرة عن الجهة الاخرى من الخط  
 المسامت اياه قاطعه كانت الخط او منتهيه الاخط  
 واحد فقط او خطوط متحدة الوضوع

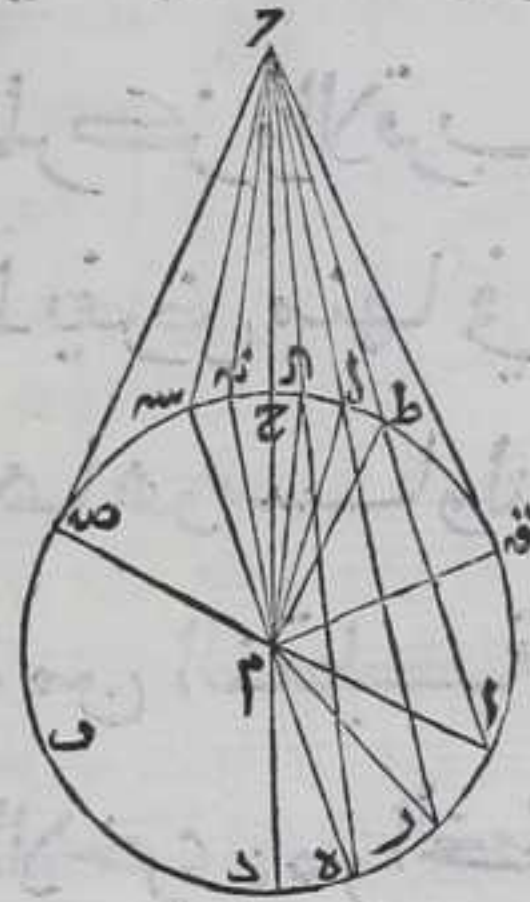


ليكن الدائرة  $أ ب$  والنقطة الخارجة عنها  $ح$   
 ونجد مركزها بالشكل الاول وليكن النقطة  $م$   
 ونصل بينها وبين نقطة  $ح$  بخط مستقيم  
 ونخرجه على استقامته في جهة  $م$  الى ان ينتهي  
 الى المحيط فلينته على نقطة  $د$  ولينقطع المحيط  
 الاذني على نقطة  $ح$  ونخرج من نقطة  $ح$   
 $ح ر$  المستقيمة في جهة الدائرة الى ان يقطع  
 محيطها الاذني على نقطة  $ل ط$  وينتهي الى  
 المحيط الاقصي على نقطة  $ر أ$  وليكن  
 الخطوط المستقيمة الخارجة من نقطة  $ح$   
 لمنتهية الى الدائرة غير قاطعة اياها خطوط

$ح ر$   $ح ل$   $ح ط$  فاقول ان خط  $ح د$  اطول القاطعة  $و ح$  الاقرب منه  
 اطول من  $ح ر$  وهو من  $ح أ$  وان خط  $ح ح$  اقصر من  $ح ل$  وهو من  $ح ل$  وهو  
 من  $ح ط$  برهانه نصل بين المركز وبين كل واحدة من نقطة  $ر أ$  بخط  
 مستقيم فلان  $ح م$   $م ح$  اعني  $ح د$  مع اطول من  $ح ر$  بالشكل العشرين من  
 الاولي فخط  $ح د$  اطول من خط  $ح ر$  وبمثله تبين ان خط  $ح د$  اطول من  $ل$   
 واحد من خطي  $ح ر$   $ح أ$  ولان ضلعي  $ح م$   $م ح$  كضلعي  $ح م$   $م ر$  كل



لنظيره وزاوية  $\Gamma$  من اعظم من زاوية  $\Delta$  من رفقاعدة  $\Gamma$  اطول من قاعدة  $\Delta$   $\Gamma$   
 بالشكل الرابع والعشرين من الاولي وبمثله تبين ان خط  $\Gamma$  اطول من خط  
 $\Delta$  ونصل بين المركزين كل واحد من نقط  $\Gamma$   $\Delta$  بخط مستقيم فلان  
 ضلعي  $\Gamma$   $\Delta$  اطول من  $\Gamma$   $\Delta$  بالشكل العشرين  
 من الاولي و  $\Gamma$   $\Delta$  يساوي  $\Gamma$   $\Delta$  ف  $\Gamma$   $\Delta$  اقصر من  
 $\Gamma$   $\Delta$  وبمثله تبين ان  $\Gamma$   $\Delta$  اقصر من كل واحد من  
 خطي  $\Gamma$   $\Delta$  ولان  $\Gamma$   $\Delta$  مع اقصر من  
 $\Gamma$   $\Delta$  معا بالشكل الواحد والعشرين من  
 الاولي و  $\Gamma$   $\Delta$  يساوي  $\Gamma$   $\Delta$  فخط  $\Gamma$   $\Delta$  اقصر من  
 $\Gamma$   $\Delta$  وبمثله تبين ان خط  $\Gamma$   $\Delta$  اقصر من  $\Gamma$   $\Delta$   
 ونرسم علي نقطة  $\Gamma$  من خط  $\Gamma$   $\Delta$  زاوية  $\Gamma$   $\Delta$   
 كزاوية  $\Gamma$   $\Delta$  بالشكل الثالث والعشرين من  
 الاولي ونخرج خط  $\Gamma$   $\Delta$  في جهة  $\Gamma$  ان ينتهي  
 الي المحيط علي نقطة  $\Gamma$  ونصل  $\Gamma$   $\Delta$  بخط



مستقيم فلان زاوية  $\Gamma$   $\Delta$  من اعظم من زاوية  $\Delta$   $\Gamma$  والاضلاع المحيطة بالزاويتين  
 المتناظرة متساوية فقاعدة  $\Gamma$   $\Delta$  كقاعدة  $\Delta$   $\Gamma$  بالشكل الرابع من الاولي  
 ولا يمكن ان تخرج من نقطة  $\Gamma$  خط اخر مستقيم ينتهي الي محيط الدائرة  
 ولا يقطعها في جهة  $\Gamma$  من خط  $\Gamma$   $\Delta$  ويباين وضعه وضع  $\Gamma$   $\Delta$  ويكون  
 مساويا لخط  $\Gamma$   $\Delta$  والا فيمكن خط  $\Gamma$   $\Delta$  كخط  $\Gamma$   $\Delta$  ونصل  $\Gamma$   $\Delta$  بخط  
 مستقيم فلان اضلاع مثلث  $\Gamma$   $\Delta$  كاضلاع مثلث  $\Delta$   $\Gamma$  المتناظرة  
 بالشكل الثامن من الاولي فزاوية  $\Gamma$   $\Delta$  من  $\Gamma$   $\Delta$  وكانت زاوية  
 $\Gamma$   $\Delta$  كزاوية  $\Gamma$   $\Delta$  من  $\Gamma$   $\Delta$  فجزء يساوي كله هذا  
 خلف الحكم ثابت وذلك ما اردنا ان نبين  
 واستبان منه اذا خرج من نقطة  $\Gamma$  خط يماس دائرة  $\Gamma$   $\Delta$  كخط  $\Gamma$   $\Delta$  مثلا  
 لنا ان نخذ خط اخر مستقيما ينتهي الي الدائرة مساويا لخط  $\Gamma$   $\Delta$   
 في الجهة الاخرى من خط  $\Gamma$   $\Delta$  وذلك بان نصل بين نقطتي  $\Gamma$   $\Delta$  بخط  
 مستقيم فيحدث زاوية  $\Gamma$   $\Delta$  ونرسم علي نقطة  $\Gamma$  من خط  $\Gamma$   $\Delta$  زاوية  
 مساوية لزاوية  $\Gamma$   $\Delta$  في الجهة الاخرى من خط  $\Gamma$   $\Delta$  بالشكل الثالث  
 والعشرين من الاولي ولينك في زاوية  $\Gamma$   $\Delta$  ولنخرج ضلع  $\Gamma$   $\Delta$  الي ان  
 ينتهي الي المحيط فلينته الي نقطة  $\Gamma$   $\Delta$  ونصل بينها وبين نقطة  $\Gamma$   $\Delta$  بخط  
 مستقيم فخط  $\Gamma$   $\Delta$  يساوي خط  $\Gamma$   $\Delta$  بالشكل الرابع من الاولي فاذا ركبنا  
 نصف دائرة  $\Gamma$   $\Delta$  علي نصف دائرة  $\Delta$   $\Gamma$  فينطبق قوس  $\Gamma$   $\Delta$  علي  
 قوس  $\Delta$   $\Gamma$  لما بيننا في صدر المقالة الاولي فينطبق نقطة  $\Gamma$   $\Delta$  علي نقطة  
 $\Gamma$   $\Delta$  والا لانطبقت علي نقطة بين نقطتي  $\Gamma$   $\Delta$  او خارجه عنهما في جهة  
 $\Gamma$   $\Delta$  فيكون  $\Gamma$   $\Delta$  اما اقصر من  $\Gamma$   $\Delta$  او اطول وكان مساويا له هذا خلف  
 فينطبق



فينطبق نقطة  $\bar{ص}$  على نقطة  $\bar{ق}$  وخط  $\bar{صه}$  على  $\bar{رق}$  والا لا حاطا بسطح مستو هذا خلف فاذا يخرج خط  $\bar{رق}$  في جهة  $\bar{ق}$  لا يقطع الدائرة لان  $\bar{صه}$  المنطبق على خط  $\bar{رق}$  اذا يخرج في تلك الجهة لا يقطعها لانه يماس الدائرة فخط  $\bar{رق}$  يماس دائرة  $\bar{اب}$  ولا يمكن ان يماسها خط اخر مستقيم يخرج من نقطة  $\bar{ق}$  على نقطة بين نقطتي  $\bar{صه}$  او خارجا عنهما لانه لو وجد مماسا فاذا خرج مع احد خطي  $\bar{صه}$   $\bar{رق}$  في جهة الدائرة فلا بد وان يحيط بسطح هذا خلف اذا الخط المماس للدائرة لا يقطعها او لا يلقي الدائرة وفرض انه يماسها هذا خلف فكل نقطة خارجة عن دائرة فلا يمكن ان يماسها من الخطوط المستقيمة الخارجة منها الى الدائرة الا خطان مستقيمان فقط احدهما من احد جانبي الخط المسامه لمركزها والاخر من الجانب الاخر من  $\bar{هـ}$

كل نقطة في اي دائرة خرج منها الى محيطها خطوط مستقيمة متساوية فوق اثنين فان النقطة



مركزه  $\bar{هـ}$

ليكن الدائرة  $\bar{هـ اب}$  والنقطة الكائنه فيها  $\bar{ق}$  والخطوط المستقيمة المتساوية الخارجة منها الى المحيط  $\bar{ق ب}$   $\bar{ق د}$   $\bar{ق هـ}$  فاقول ان نقطة  $\bar{ق}$  مركز دائرة  $\bar{اب}$  برهانه نصل بين نقطة  $\bar{د}$  وبين كل واحدة من نقطتي  $\bar{ب}$   $\bar{هـ}$  بخط مستقيم وننصف  $\bar{ب د}$  على نقطة  $\bar{ر}$  و  $\bar{د هـ}$  على نقطة  $\bar{ح}$  بالشكل العاشر من الاولي ونصل بين نقطة  $\bar{ق}$  وبين كل واحدة من نقطتي  $\bar{ر ح}$  بخط مستقيم فلان اضلاع مثلثي  $\bar{ب ق ر}$   $\bar{د ق ر}$  المتناظرة متساوية فبالشكل الثامن من الاولي زاوية  $\bar{ب ق ر}$  كزاوية  $\bar{د ق ر}$  ومثله تبين ان زاوية  $\bar{د ح ر}$  كزاوية  $\bar{هـ ح ر}$  من مثلثي  $\bar{د ح ر}$   $\bar{هـ ح ر}$  فخط  $\bar{ق ر}$  عمود على خط  $\bar{ب د}$  وخط  $\bar{ق ح}$  عمود على خط  $\bar{د هـ}$  فنخرج من خطي  $\bar{ق ر}$  في جهته الى ان ينتهي الى المحيط فلينته خط  $\bar{ق ر}$  الى نقطتي  $\bar{ا ط}$  وخط  $\bar{ق ح}$  الى نقطتي  $\bar{ا ل}$  فباستبانة الشكل الاولي كل من خطي  $\bar{ا ط}$   $\bar{ا ل}$  بالمركز فنقطة  $\bar{ق}$  الفصل المشترك بينهما مركز لدائرة  $\bar{اب}$  وذلك ما اردنا ان نبين  $\bar{اب}$

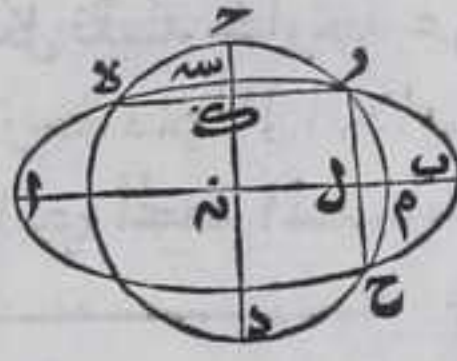
واورد ثابت بن قرة برهانا اخر لهذا الشكل في كتابه وحكي انه وجده في بعض النسخ اليونانية تركت ذكره لان برهان الكتاب البسط والبراهين على اشكال الكتاب كثيرة استنبطها المتقدمون والمتأخرون والالبق بالايراد من البراهين في كتاب الاصول ليس الا ما هو لا بسط  $\bar{ق}$



لا يمكن ان تقطع دائرة اخري علي اكثر من نقطتين  
سوا كانتا في سطح واحد او في سطرين متقاطعين

والا فليقطع دائرة  $AB$  دائرة  $CD$  علي نقطة  $E$   $RC$  فاقول ان هذا غير  
ممكنا برهانه نصل بين نقطة  $R$  وبين كل واحدة من نقطتي  $E$   $RC$  بخط

مستقيم وننصف  $RE$  علي نقطة  $L$  و  $RC$  علي  
نقطة  $M$  بالشكل العاشر من الاولي ونخرج من  
نقطة  $L$  علي  $RE$  عمود  $LN$  ومن نقطة  $M$  علي خط  
 $RC$  عمود  $MO$  بالشكل الحادي عشر من الاولي  
ونخرج كل منهما في جهته الي ان ينتهي الي المحيط



فليبتنه  $LN$  الي محيط دائرة  $CD$  علي نقطتي  $CD$  و  $LI$  محيط دائرة  $AB$   
علي نقطة  $S$  من قوس  $DR$  و  $LN$  الي محيط دائرة  $AB$  علي نقطتي  $AB$  و  $LI$   
محيط دائرة  $CD$  علي نقطة  $M$  من قوس  $RC$  فلانا اذا وصلنا بين نقطتي  
 $LI$  بخط مستقيم كانت كل واحدة من زاويتي  $LI$   $LI$   $LI$  اقل من قائمة  
لان كلا من زاويتي  $LI$   $LI$   $LI$  قائمة فمجموعهما اقل من قائمتين فخطا  
 $LI$   $LI$  يتلاقيان فليبتقيا علي نقطة  $N$  فلان  $RE$  وتر لكل واحد من  
قوسي  $RE$   $RE$  فباستبانة الشكل الاولي خط  $CD$  يمر بكل واحد من  
مركزي دائرتي  $AB$   $CD$  وبمثله تبين ان خط  $AB$  يمر بكل واحد من مركزي  
دائرتي  $AB$   $CD$  فالفصل المشترك بين خطي  $AB$   $CD$  الذي هو نقطة  $N$   
مركز لكل واحد من دائرتي  $AB$   $CD$  فيكون للدائرتين المتقاطعتين  
مركز واحد هذا غير ممكن بالشكل الخامس واما اذا كانت في السطرين  
المتقاطعين وذلك ظاهر انها لا يتقاطعان الا علي نقطتين فالحكم ثابت  
وذلك ما اردنا ان نبين  
وقد اوردنا ثابت بن قره برهانا اخر لهذا الشكل تركناه كما ذكرناه  
في اخر الشكل المتقدم

كل دائرتين متماستين احاطت احدهما

بالاخرى اولم يحيط فان الخط المستقيم المار بمركزيهما

يمر بنقطة التماس

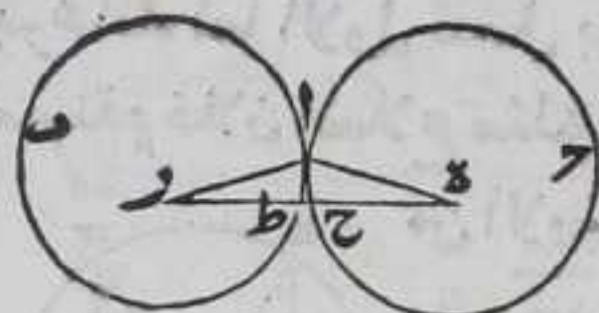
ليكن دائرة  $AB$  مماس دائرة  $AC$  علي نقطة  $A$  ومركز دائرة  $AB$   $O$  ومركز  
دائرة



دايرة آح ر وليكن دايرة آب هي المحيط فاقول ان الخط المستقيم الواصل بين نقطتي ر يمر بنقطة آ برهانه اما الاول فلانه لول يمر بنقطة آ لقطع خط ر بعد اخراجه في جهة ر محيط دايرة آح علي نقطة ح ومحيط آب علي نقطة ط ونصل بين نقطة آ وبين كل واحدة من نقطتي ر بخط مستقيم فلان خطي آرر المساويين لخط ر ح لكون



آر ر ح متساويين اعظم من ر آ بالشكل العشرين من الاولي وخط يساوي آه فخط ر ح المساوي لخطي آرر اعظم من خط ر ط فالجزء اعظم من كله هذا خلف واما برهان الثاني فلان آه آرر معا اعظم من ر بالشكل العشرين من الاولي



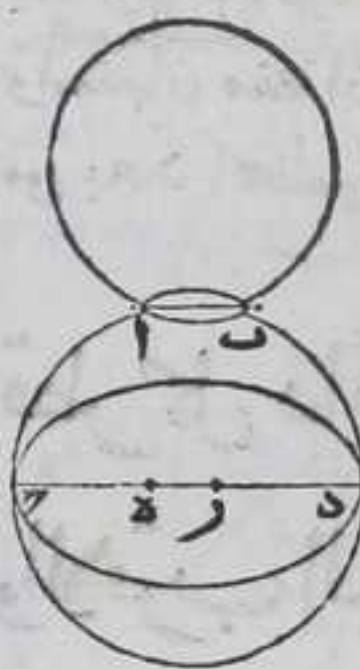
وخط آه يساوي ر ح وخط آر يساوي ر ط فخط ر ح ر ط معا اعظم من خط ر فالجزء اعظم من كله هذا خلف فالحكم ثابت وذلك ما اردنا ان نبين

يب

كل دايرتين وقع بينهما تماس من داخل او من

خارج فانه لا يكون علي نقطة واحدة فقط

ليكن دايرة آب تماس دايرة ج د فاقول ان تماسهما علي نقطة واحدة فقط برهانه فان امكن علي اكثر منها فليكن علي نقطتي ج د من داخل او علي



نقطتي آ ب من خارج اما الاول فلان دايرتي آ ب ج د متماستان يكون مركزاهما مختلفتي الوضع بالشكل السادس فاجدهما بالشكل الاول وليكونا نقطتي ر ونصل بينهما بخط ر المستقيم ونخرجه في جهته علي استقامته فيمر علي نقطتي د اعني موضع تماسها بالشكل المتقدم فلان ر مركز دايرة آ ب فه ر مثل ر د فه ر اطول من ر لان ر اطول منه ولان ر مركز دايرة ج د ف ر د مثل ر و كان ر اطول من ر فهو اطول من ر

فجزء الشيء اعظم من كله هذا خلف واما الثاني فلان كلا من نقطتي آ ب علي كل واحد من محيطي دايرتي آ ب ج د فالخط المستقيم الواصل بينهما يكون وتراني كل واحدة منهما بالشكل الثاني وكل وتر يكون في احديهما فهو خارج عن الاخرى فبكون خط آ ب داخلا في كل واحدة من دايرتي آ ب ج د وخرجا عنهما هذا خلف فالحكم ثابت وذلك ما اردنا ان نبين

ح



جميع الاوتار الواقعة في الدائرة الواحدة ان كانت  
متساوية كانت ابعادها عن مركزها وبالعكس

ليكن في دائرة  $AB$  وتر  $AD$  فنجد مركزها بالشكل الاول وليكن  
 $C$  ونخرج منه علي وتر  $DE$  وعمودي  $CF$  بالشكل الثاني عشر من  
الاولي فاقول ان  $AD$  مساوي لهر  $FE$  وعمود  $CF$  كعمود  $CF$  وبالعكس  
برهانه اما الاول نصل بين  $C$  وكل واحدة من نقط  $D$  و  $E$  بخط  
مستقيم فلان اضلاع مثلثي  $CD$  و  $CE$  المتناظرة متساوية فبالشكل الثامن  
من الاول زاوية  $CFD$  كزاوية  $CFE$  ولان  $CF$  نصف  
وتر  $DE$  و  $CF$  نصف وتر  $DE$  بالشكل الثالث ووتر  
 $AD$  و  $FE$  متساويان فضلا  $CF$  و  $CF$  وزاوية  $CFD$  من  
مثلث  $CFD$  يساوي ضلعي  $CF$  و  $CF$  وزاوية  $CFE$  من  
مثلث  $CFE$  فقاعدتاه  $CF$  كقاعدتاه  $CF$  بالشكل

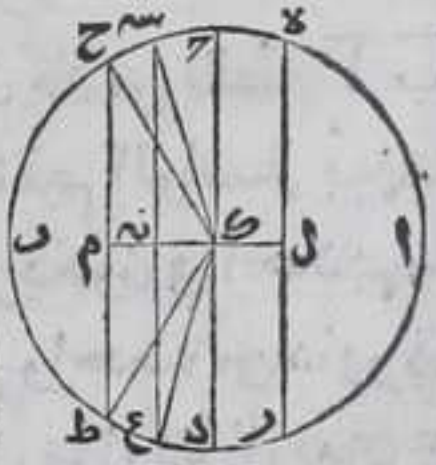


الرابع من الاول واما الثاني وهو بين ان عمودي  $CF$  ان كانا متساويين  
كان وتر  $AD$  كوتر  $FE$  فلان كلا من زاويتي  $CFD$  و  $CFE$  قائمة فربع  $CF$   
يساوي مربعي  $CF$  و  $CF$  وكذلك مربع  $CF$  المساوي لمربع  $CF$  يساوي  
مربعي  $CF$  و  $CF$  بالشكل السابع والاربعين من الاول فاذا استقطنا من مربع  
 $CF$  مربع  $CF$  ومن مربع  $CF$  مربع  $CF$  يكون الباقي من مربع  $CF$  هو  
مربع  $CF$  ومن مربع  $CF$  مربع  $CF$  فربع  $CF$  يساوي مربع  $CF$  و  $CF$   
يساوي  $CF$  و  $CF$  ضعفاهما متساويان وذلك ما اردنا ان نبين  
واستبان منه ان كل وتر في دائرة فان بعد اصغرها عن مركزها اعظم  
من بعد اعظمها

يد

قطر كل دائرة اطول الاوتار الواقعة فيها قطرها  
والاقرب اليه اطول من الابد من

ليكن خط  $AD$  قطر دائرة  $AB$  وتر  $DE$  اقرب اليه  
من وتر  $CF$  فاقول ان قطر  $AD$  اطول منهما وان  $DE$   
اطول من  $CF$  برهانه ننصف  $DE$  علي نقطة  $G$   
بالشكل العاشر من الاول وهي المركز ونخرج منها  
عمودي  $GH$  عمودي علي وتر  $DE$  بالشكل الثاني عشر  
من الاول ولان وتر  $DE$  اقرب الي المركز من وتر  $CF$  يكون عمود  $GH$  اطول  
من عمود  $CF$  باستبانة الشكل المتقدم فنصل من عمود  $GH$  الي  $CF$  مثل عمود  
ال بالشكل



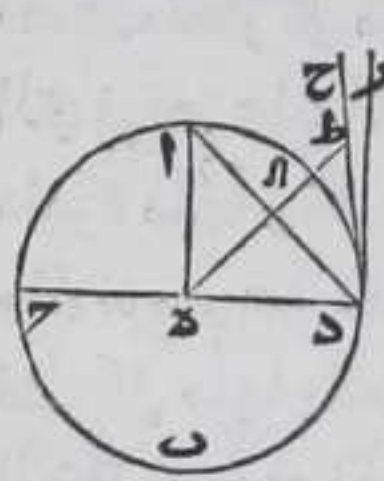


الـ بالشكل الثالث من الاولي ونخرج من نقطة نـ وتر سـ ع يوازي قطر  
 حـ د في جهته على الاستقامة الي ان ينتهي الي المحيط بالشكل الواحد  
 والثلاثين من الاولي فوتر سـ ع هـ متساويان بالشكل المتقدم ونصل  
 بين نقطة الـ وكل من نقط سـ ح ع ط بخط مستقيم فلان ضلعي السـ الع  
 معا عني حـ د اعظم من سـ ع بالشكل العشرين من الاولي فقطر حـ د اطول  
 من كل واحد من وتر سـ ع هـ ولان ضلعي السـ الع يساويان ضلعي  
 الحـ الط وزاوية سـ الع اعظم من زاوية حـ الط قوس سـ ع المساوي لهر  
 اطول من وتر حـ ط بالشكل الرابع والعشرين من الاولي فالحكم ثابت  
 وذلك ما اردنا ان نبين

يه

كل خط مستقيم خرج من طرف اي قطر دائرة  
 عمودا عليه فانه يقع خارج الدائرة ولا يقع بينه  
 وبين محيطها خط اخر مستقيم وكل زاوية حادة  
 مستقيمة الخطين فهي اصغر من زاوية نصف الدائرة  
 واعظم من الزاوية التي يحيط بها العمود والمحيط

ليكن دائرة ا بـ قطرها حـ د وقد خرج من نقطة د اعني طرفه عمود دـ ر  
 فاقول انه يقع خارج دائرة ا بـ ولا يقع بينه وبين محيط ا دـ خط اخر  
 مستقيم وكل زاوية حادة مستقيمة الخطين فهي اصغر من زاوية ا دـ

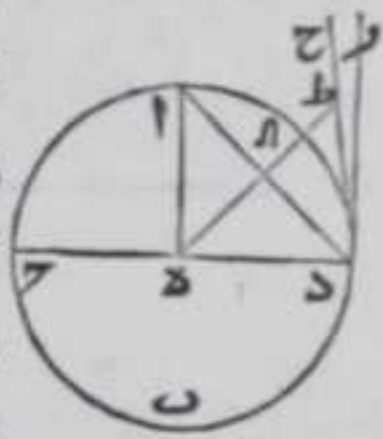


التي هي زاوية قطعة ا دـ حـ واعظم من الزاوية التي يحيط  
 بها العمود ومحيط ا دـ برهانها والا فليقع العمود داخل  
 دائرة ا بـ ونخرجه حتي يقطع المحيط وليقطعه علي  
 نقطة آ وننصف قطر حـ د علي نقطة هـ بالشكل العاشر  
 من الاولي فهي المركز ونصل بينها وبين نقطة آ بخط  
 مستقيم فلان ضلعي ا هـ دـ متساويان يكون زاويتا هـ دـ ا

هـ ا دـ متساويتين بالشكل الخامس من الاولي وزاوية هـ دـ ا قائمة فزاوية هـ ا دـ  
 قائمة فزاويتا مثلث يساويان قائمتين وهما اصغر منهما كما بين في الشكل  
 السابع عشر من الاولي هذا خلف فعمود دـ ر يقع خارج الدائرة وايضا  
 فليقع بينه وبين محيط ا دـ خط مستقيم ان امكن وليكن هو خط د حـ  
 فنخرج من نقطة هـ عليه عمود هـ ط بالشكل الثاني عشر من الاولي فلا يقع  
 علي نقطة دـ والا يلزم ان يكون جزء الشئ مساويا لكامله لانه حينئذ



تكون زاوية ح د ح التي هي المحادة قائمة هذا خلف ولا علي خط د ح بعد  
 اخراجه علي استقامته في جهة د لان الزاوية المجاورة لزاوية ح د ح  
 المحادة منفرجة بالشكل الثالث عشر من الاولي فبلزم ان يكون زاويتا  
 مثلث اعظم من قائمتين وهما اصغر منهما بما يبين في الشكل السابع عشر  
 من الاولي فبقع عمود ه ط علي خط د ح في جهة ح ولقطع المحيط علي  
 نقطة آ فزاوية ه د ط حادة لانها اصغر من زاوية ه د ر القائمة فبالشكل  
 الثامن عشر من الاولي يكون ضلع ه د اعني ه آ اعظم من  
 ه ط فبكون جزء الشيء اعظم من كله هذا خلف وايضا  
 فان زاوية ا د ه اعني زاوية القطعة لو لم يكن اعظم من  
 كل زاوية حادة مستقيمة الخطين لكانت اما مساوية  
 لها او اصغر منها فان كان الاول ينطبق خط مستقيم  
 علي قوس د آ وهو محال باستبانة الشكل الثاني وان كان  
 الثاني فبقع بين عمود د ر ومحيط آ د خط مستقيم لان الزاوية المحادة  
 المستقيمة الخطين قد فرضت انها اعظم من زاوية ا د ح اعني زاوية  
 القطعة وهي اصغر من زاوية ر د ح القائمة هذا خلف وايضا فان زاوية  
 ا د ر اصغر من اي زاوية حادة مستقيمة الخطين والا لكانت مساوية لها  
 فبصح انطباق الخط المستقيم علي محيط آ د علي تقدير التساوي وقد  
 بنا استحالته او يقع بين عمود ر د ومحيط آ د خط مستقيم علي تقدير  
 ان يكون اعظم وقد تبين استحالته ايضا بالحكم ثابت وذلك ما اردنا  
 ان نبين



واستبان منه ان كل خط مستقيم خرج من طرف قطري دايرة عمودا عليه  
 فانه يماس الدايرة وان لنا ان نرسم علي نقط غير متناهية تفرض علي  
 خط ه ح قبل اخراجه او بعد اخراجه في جهته ح دواير غير متناهية  
 نصف قطر كل منها بقدرها يقع من خط د ح وما يتصل به بين النقطة  
 التي نرسم عليها الدواير وبين نقطة د ويكون عمود د ر عمودا علي قطر كل  
 دايرة منها ومحيط كل دايرة منها يقع بين عمود د ر ومحيط دايرة آ د  
 وان نرسم علي نقط غير متناهية تفرض علي خط د ه دواير غير متناهية  
 قطر كل منها بقدرها يقع من خط د ه بين النقطة التي نرسم عليه  
 الدايرة وبين نقطة د ويكون عمود د ر عمودا علي قطر كل دايرة منها  
 ومحيط دايرة آ د يقع بين عمود د ر وبين كل واحد من محيط تلك الداير  
 يو

كل نقطة ودايرة هما في سطح واحد والنقطة  
 خارجة عن الدايرة فان لنا ان نخرج منها خطا

مستقيما



مستقيماً يماس تلك الدائرة



ليكن النقطة آ والدائرة ب ومركزها د فنصل بين نقطتي آ د بخط مستقيم فيقطع محيطها على نقطة ر ونرسم على نقطة د وببعد آ د دائرة اح ونخرج من نقطة ر طرف قطر در عمود مر ح عليه

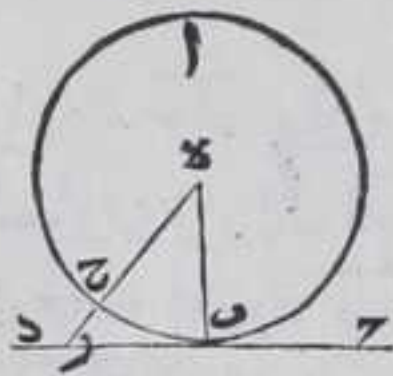
بالشكل الحادي عشر من الاولي ونخرج العمود على استقامته الى ان ينتهي الى محيط اح وليتجه على نقطة ح ونصل بين نقطتي د ح بخط مستقيم فيقطع محيط ب ح على نقطة ط ونصل بين نقطتي آ ط بخط مستقيم فاقول ان خط آ ط يماس دائرة ب برهانه فلان ضلعي دا دط من مثلث ادط يساويان ضلعي دح در من مثلث دح ر كل لنظيرة وزاوية د مشتركة بين كل واحد من الضلعين فبالشكل الرابع من الاولي زاوية اد د تساوي زاوية ح رد القايمه فزاوية اط د قايمه فخط اط عمود على قطر ط د فهو يماس دائرة ب باستبانة الشكل المتقدم فالحكم ثابت وذلك ما اردنا ان نبين

واستبان منه ان كل زاوية يحيط بها الخط المستقيم المماس للدائرة الخارج من نقطة خارجة عنها ونصف قطرها الواصل بين مركزها ونقطة التماس قائم

ير

كل خط مستقيم واصل بين مركزي دائرة يماسها خط مستقيم وبين نقطة التماس فهو عمود

على الخط المماس



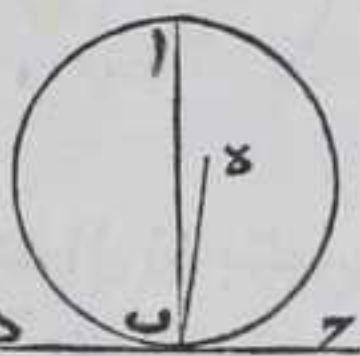
ليكن الدائرة اب ومركزها نقطة ه وخط ج د المستقيم يماسها على نقطة ب ووصل بين نقطتي ب ه بخط مستقيم فاقول ان خط ب ه عمود على خط ج د

برهانه فان لم يكن ه ب عمودا على ج د فليكن العمود عليه خط ه ر وليكن قد قطع محيط دائرة اب على نقطة ح فلان زاوية ه ر ب قايمه فزاوية ه ب ر حادة بالشكل السابع عشر من الاولي فضلع ب ه المساوي لخط ه ح اطول من ه ر بالشكل التاسع عشر من الاولي فخط ه ح اعظم من ه ر فالجزء اعظم من كله هذا خلف فالحكم ثابت وذلك ما اردنا ان نبين

ج




كل خط مستقيم يماس دائرة وخرج من نقطة التماس خط مستقيم عمودا على الخط المماس فهو يمر بمركز الدائرة ان اخرج فيها



ليكن خط  $\overline{CD}$  المستقيم يماس دائرة  $\overline{AB}$  على نقطته  $\overline{B}$  وخرج من نقطة  $\overline{B}$  خط  $\overline{AB}$  المستقيم عمودا على خط  $\overline{CD}$  في جهة الدائرة فاقول انه يمر بمركز دائرة  $\overline{AB}$  برهانه فلانه ان لم يمر بمركز الدائرة لم يكن نقطة اخرى وليكن مركز دائرة  $\overline{AB}$  نقطة  $\overline{E}$  فنصل بينها وبين نقطة  $\overline{B}$  بخط مستقيم فهو عمود على خط  $\overline{CD}$  بالشكل المتقدم فتكون زاوية  $\overline{EBC}$  مساوية لزاوية  $\overline{ABC}$  فجزء الشيء يساوي كله هذا خلف بالحكم ثابت وذلك ما اردنا ان نبين  $\overline{D}$

كل زاوية على مركز دائرة فهو ضعف الزاوية التي على محيطها ان كانتا على قوس واحدة من محيطها


ليكن زاوية  $\overline{BAD}$  على مركز دائرة  $\overline{AB}$  وزاوية  $\overline{BAC}$  على محيطها فاقول ان الزاوية المركزية ضعف المحيطية برهانه نصل بين  $\overline{A}$  و  $\overline{D}$  بخط مستقيم ونخرجه على استقامته في جهة  $\overline{D}$  الى ان ينتهي الى المحيط على نقطة  $\overline{E}$  فلان اضلاع  $\overline{DB}$  و  $\overline{DA}$  متساوية فكل من زاويتي  $\overline{ABD}$  و  $\overline{ADB}$  متساويتان بالشكل الخامس من الاولي فزاويتي  $\overline{BAD}$  و  $\overline{BAC}$  ضعف زاوية  $\overline{BAD}$  و زاويتي  $\overline{BAD}$  ضعف زاوية  $\overline{BAC}$  ولان زاوية  $\overline{BDE}$  تساوي زاويتي  $\overline{ABD}$  و زاوية  $\overline{BDE}$  تساوي زاويتي  $\overline{ADB}$  و  $\overline{BDE}$  من الثلثين من الاولي فزاوية  $\overline{BDE}$  ضعف زاوية  $\overline{BAC}$  وذلك ما اردنا ان نبين



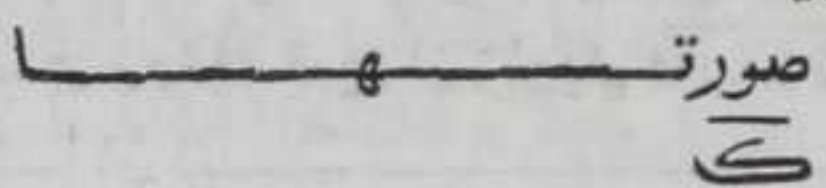
ولهذا الشكل اختلاف وقوع فان خط  $\overline{AE}$  يمكن ان يقع بين خطي  $\overline{BD}$  و  $\overline{DE}$  ويمكن ان ينطبق على احدها ويمكن ان يقع خارجا عنهما اما الاول فقد بيناه واما الثاني فلان ضلعي  $\overline{BD}$  و  $\overline{DA}$  متساويان يكون زاويتا  $\overline{BAD}$  و  $\overline{BAC}$  متساويتين فهما ضعف زاوية  $\overline{BAD}$  و زاوية  $\overline{BDE}$  الخارجة من مثلث  $\overline{ABD}$  تساوي زاويتي  $\overline{ABD}$  و  $\overline{ADB}$  بالشكل الثاني والثلثين من الاولي فهي ضعف زاوية  $\overline{BAC}$  واما الثالث فلان ضلعي  $\overline{BD}$  و  $\overline{DA}$  متساويان يكون زاويتي  $\overline{BAD}$  و  $\overline{BAC}$  متساويتين فهما ضعف زاوية  $\overline{BAD}$  و زاوية



وزاوية بده الخارجة تساوي زاويتي باد اب د بالشكل الثاني والثلاثين  
من الاولي فهي تساوي ضعف زاوية باد وايضا فلان ضلعي حد دا  
متساويان تكون زاويتا حد ا د متساويتين وهما ضعف زاوية حد ا د  
وزاوية حده الخارجة تساوي زاويتي ا د ح بالشكل الثاني والثلاثين



من الاولي فهو يساوي ضعف زاوية  
حد ا د وكانت زاوية بده تساوي  
ضعف زاوية باد فاذا استقننا  
من زاوية بده زاوية حده ومن  
زاوية باد زاوية حد ا د يبقي زاوية

ب د ح ضعف زاوية با ح وهذه صورتها 

جميع الزوايا الواقعة في قطعة واحدة من دائرة واحدة

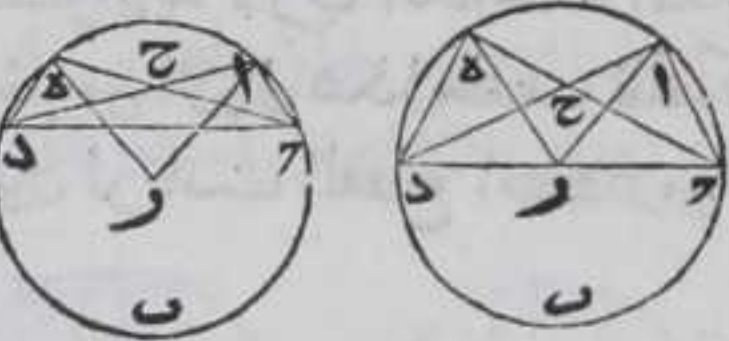
متساوية



لبيكن في قطعة ح ا د من دائرة ه ا ب زاويتا حد ا د ح د ه  
فاقول انهما متساويتان برهانه نجد مركز دائرة ا ب  
بالشكل الاولي ولبيكن ر ونصل ر ح و ر د بخطين

مستقيمين فزاوية ح ر د ضعف كل واحدة من زاويتي ح ا د ح د ه بالشكل  
المتقدم فهما متساويتان

ولهذا الشكل اختلاف وقوع فان قطعة ح ا د يمكن ان تكون اكثر من  
نصف دائرة ويمكن ان تكون اقل منه ويمكن ان تكون نصف دائرة  
اما الاول فقد بيناه واما الثاني فلا بد وان يقع التقاطع بين ضلعين من  
اضلاع زاويتي ح ا د ح د ه ويقع بين ضلعي ح د ا د علي نقطة ح ونصل  
بين كل واحدة من نقطتي ا ه وبين المركز بخط مستقيم فيكون زاوية ا ر ه  
ضعف كل واحدة من زاويتي ا ح ا د ه



بالشكل المتقدم فهما متساويتان  
وزاويتي ا ح ر د ح د المتقابلتان  
متساويتان بالشكل الخامس عشر من  
الاولي فيصير زاويتي ح ا د ح د ه

متساويتين بالشكل الثاني والثلاثين من الاولي اذ بين فيه ان جميع زوايا  
اي مثلث قائمتين واما الثالث فبين بمثل ما بيناه وهذه صورتها

كل ذي اربعة اضلاع يقع في دائرة فان كل



متقابلتين من زواياه معادلتان لقايمتين

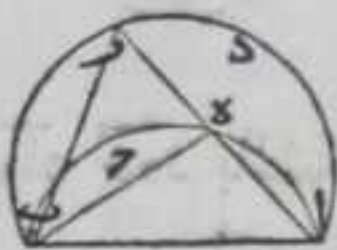
لبيكن في دائرة  $AB$  ذوا ربعة اضلاع  $AB$   $BC$   $CD$   $DA$  فاقول ان كل واحدة من زوايتي  $AB$   $AD$  ومن زوايتي  $DA$   $AB$  معادلتيان لقايمتين برهانه نصل  $AC$   $BD$  بخطين مستقيمين فبالشكل المتقدم زوايتنا  $DA$   $AB$  متساويتان وكذلك زوايتنا  $DA$   $AB$  فزاوية  $AB$  تساوي مجموع زوايتي  $DA$   $DC$  وزاوية  $AD$  مع زوايتي  $DA$   $DC$  معادلتيان لقايمتين بالشكل الثاني والثالثين من الاولي فزوايتنا  $AD$   $AB$  معادلتيان لقايمتين وبمثله تبين ان زوايتي  $DA$   $AB$  معادلتيان لقايمتين وذلك ما اردنا ان نبين



لا يمكن ان يقوم على خط واحد قطعتان متشابهتان في جهة واحدة من ذلك الخط ويكون احدهما اعظم من الاخر

اعظم من الاخر

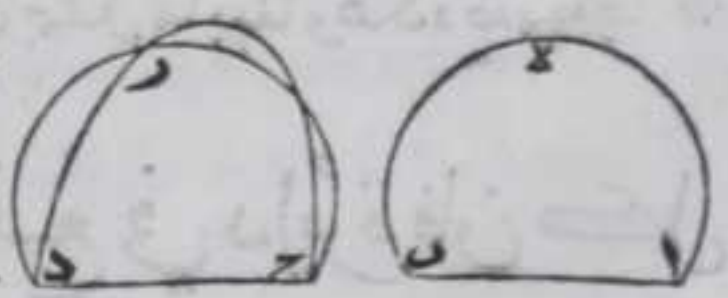
لبيكن قطعنا  $AB$   $AD$  قامتا على خط  $AB$  المستقيم من جهة واحدة منه وهما متشابهتان فاقول لا يمكن ان يكون احديهما اعظم من الاخر برهانه فان امكن فلتكن الاعظم قطعة  $AD$  فنرسم على قوس  $AB$  نقطة  $E$  ونصل بينها وبين نقطة  $A$  بخط مستقيم ونخرجها في جهة  $E$  على استقامته الي ان ينتهي الي قوس  $AD$  بنقطة  $R$  ونصل بين نقطة  $B$  وكل واحدة من نقطتي  $E$   $R$  بخط مستقيم فيكون زاوية  $AB$  الخارجة من مثلث  $ERB$  كزاوية  $AD$  الداخلة المقابلة لها وهي اعظم منها بالشكل السادس عشر من الاولي هذا خلف بالحكم ثابت وذلك ما اردنا ان نبين وبمثله تبين لو كانت القطع اكبر من تقع



جميع القطع المتشابهة الكاينه على خطوط مستقيمة

متساوية متساوية

لبيكن قطعنا  $AB$   $AD$   $CD$   $CA$  كائنتين على خطي  $AB$   $CD$  المستقيمين المتساويين فاقول انها متساويتان



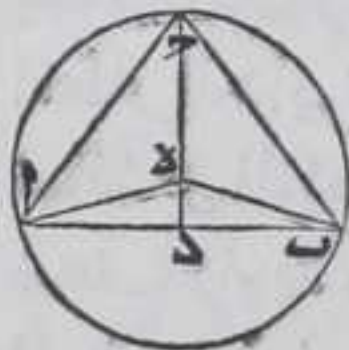


متساويتان برهانهم فركب قطعة  $ا ب$  علي قطعة  $ج ر د$  بحيث ينطبق  
 نقطة  $آ$  علي نقطة  $ج$  ونقطة  $ب$  علي نقطة  $د$  ويكون كل واحدة منهما  
 من القاعدة في جهة واحدة فلا يمكن ان يختلف قوسا  $ا ب ج ر د$  والا  
 فيختلفا ويلزم المحذور المذكور في الشكل المتقدم فينطبق قوس  $ا ب$   
 علي قوس  $ج ر د$  ويثبت الحكم وذلك ما اردنا ان نبين

لله

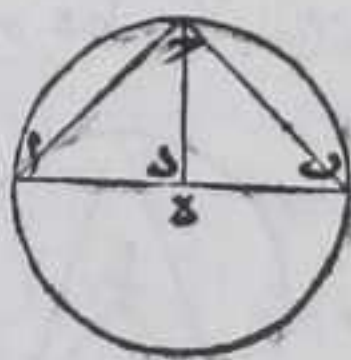
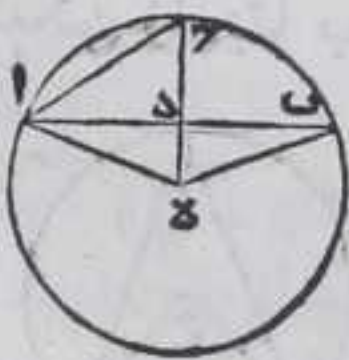
اي قطعة مفروضة من دائرة لنا ان نتمها دائرة

ليكن القطعة  $ا ب$  فننصف قاعدة  $ا ب$  علي نقطة  $د$  بالشكل العاشر من  
 الاولي ونخرج منها عمود  $د ح$  علي  $ا ب$  في جهة  $ج$  بالشكل الحادي عشر من  
 الاولي ونخرجه في تلك الجهة الي ان ينتهي الي قوس  $ا ب$   
 فلينته علي نقطة  $ج$  ونصل  $ا ج$  بخط مستقيم ونرسم علي  
 نقطة  $آ$  من خط  $ا ج$  زاوية  $ج آ د$  في جهة  $د$  كزاوية  $ا ج د$   
 بالشكل الثالث والعشرين من الاولي فلان زاوية  $ا ج د$   
 قائمة تكون زاوية  $د ج آ$  حادة بالشكل السابع عشر من



الاولي فزاويتا  $د ج آ$   $ا ج د$  المتساويتان اقل من قائمتين فاذا اخرجنا خطي  
 $ج د آ$  في جهة  $د$  علي استقامتهما يلتقيان فليلتقيا علي نقطة  $ه$  فلان  
 زاويتي  $د ج آ$   $ا ج د$  متساويتان يكون ضلعا  $د ج$   $د ه$  متساويين بالشكل  
 السادس من الاولي ونصل  $ب ه$  بخط مستقيم فلان خط  $ج د$  عمود علي خط  
 $ا ب$  فكل من زاويتي  $ب د ه$   $ا د ه$  قائمة بالشكل الثالث عشر من الاولي وضيع  
 $د ب$  كضيع  $د ا$  وضيع  $د ه$  مشترك بين مثلثي  $ب د ه$   $ا د ه$  فبالشكل الرابع  
 من الاولي قاعدة  $ب ه$  كقاعدة  $ا ه$  فحز المساوي لاه يساوي  $ب ه$  فخطوط  
 $ب ه ج د$   $ا ه$  متساوية فاذا جعلنا نقطة  $ه$  مركزا وادرننا عليه دائرة ببعد  
 $ه ا$  فيمر محيطها علي نقط  $ا ب$  بالشكل التاسع فالحكم ثابت وذلك ما  
 اردنا ان نبين

ولهذا الشكل اختلاف وقوع فان خط  $ا ه$  اما ان يقع خارجا عن خطي  
 $ا ب ج ر د$  وذلك اذا كانت القطعة اقل من نصف الدائرة واما ان ينطبق



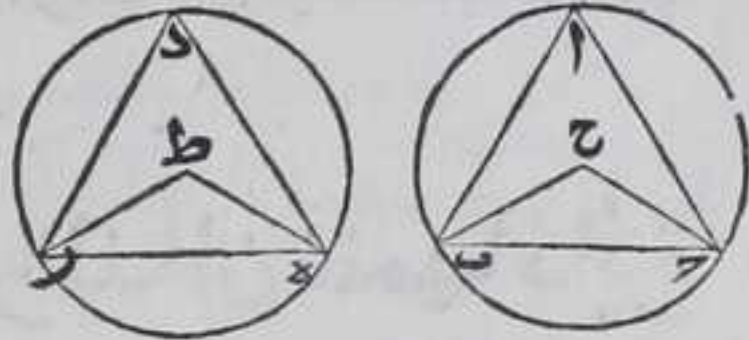
علي خط  $ا ب$  بحيث يقع نقطة  $ه$   
 علي نقطة  $د$  وذلك اذا كانت القطعة  
 نصف الدائرة واما ان يقع فيما  
 بين خطي  $ا ب ج ر د$  وذلك اذا كانت  
 اعظم من نصفها والاولي ببناه  
 والثاني والثالث يظهر ببانه مما ذكرناه وهذه صورها

لله



جميع الزوايا المتساوية الكائنة علي محيطات الدوائر  
المتساوية او علي مركزها فهي اما تقع علي قوسي  
متساوية من تلك الدوائر

ليكن زاويتا  $\angle \text{ب ح د}$  و  $\angle \text{ط ر ه}$   
المتساويتان علي مركز دائرتي  $\text{أ ب ج}$   
و  $\text{د ر ه}$  المتساويتين وزاويتا  $\text{ب ا ج}$  و  $\text{د ر ه}$

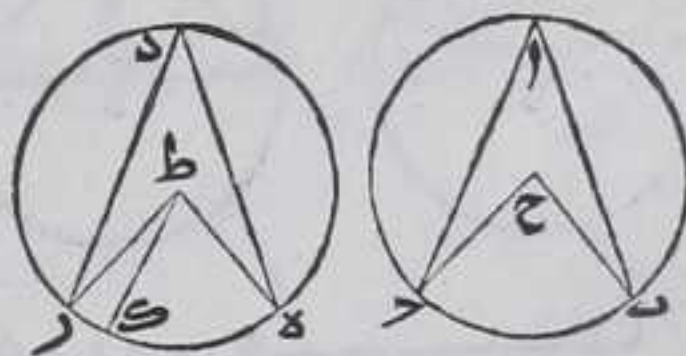


المتساويتان علي محيطهما فاقول ان قوسي  $\text{ب ج}$  و  $\text{د ر ه}$  متساويتان برهانه  
نصل  $\text{ب ج}$  و  $\text{د ر ه}$  بخطين مستقيمين فلان ضلعي  $\text{ب ح د}$  من مثلث  $\text{ب ح د}$   
يساويان ضلعي  $\text{ط ر ه}$  من مثلث  $\text{ط ر ه}$  كل لنظيره لانها انصاف  
اقطار الدائرتين المتساويتين وزاوية  $\text{ب ح د}$  يساوي زاوية  $\text{ط ر ه}$   
فبالشكل الرابع من الاولي قاعدة  $\text{ب ج}$  تساوي قاعدة  $\text{د ر ه}$  فزاوية  $\text{ب ح د}$   
ضعف زاوية  $\text{ب ا ج}$  وضعف اي زاوية تقع في قطعة  $\text{ب ا ج}$  وزاوية  $\text{ط ر ه}$   
المساوية لزاوية  $\text{ب ح د}$  ضعف زاوية  $\text{د ر ه}$  وضعف اي زاوية تقع في  
قطعة  $\text{د ر ه}$  بالشكل التاسع عشر فقطعتا  $\text{ب ا ج}$  و  $\text{د ر ه}$  متشابهتان وهما  
كائنتان علي قاعدتي متساويتين فهما متساويتان بالشكل الثالث  
والعشرين فاذا القيناهما من دائرتي  $\text{ب ا ج}$  و  $\text{د ر ه}$  كلا من نظيرتها يبقي قوس  
 $\text{ب ج}$  مساوية لقوس  $\text{د ر ه}$  وان فرضنا التساوي لزاويتي  $\text{ب ا ج}$  و  $\text{د ر ه}$  يلزم  
تساوي زاويتي  $\text{ب ح د}$  و  $\text{ط ر ه}$  لان كلا منهما ضعف كل واحدة من زاويتي  
 $\text{د ر ه}$  المتساويتين بالشكل العشرين ويتم المطلوب بمثل ما بينا وذلك  
ما اردنا ان نبين

جميع الزوايا الكائنة علي قوسي متساوية من دوائر  
متساوية مركزية كانت او محيطية فهي متساوية

ليكن زاويتا  $\angle \text{ب ح د}$  و  $\angle \text{ط ر ه}$  كائنتين علي قوسي  $\text{ب ج}$  و  $\text{د ر ه}$  المتساويتين من  
دائرتي  $\text{أ ب ج}$  و  $\text{د ر ه}$  المتساويتين فاقول

انهما متساويتان برهانه فان لم يكونا  
متساويتين لكانت احديهما اعظم  
من الاخرى ولتكن الاعظم زاوية  
 $\text{ط ر ه}$  فنرسم علي نقطة  $\text{ط}$  من خط  $\text{ط ر ه}$



زاوية  $\text{ط ر ه}$  كزاوية  $\text{ب ح د}$  بالشكل الثالث والعشرين من الاولي فقوس  
 $\text{ب ج}$  و  $\text{د ر ه}$  يساوي




٥٤ يساوي قوس  $\overline{ب ح}$  بالشكل المتقدم وكانت قوس  $\overline{د ر}$  كقوس  $\overline{ب ح}$  فقوس  $\overline{د ر}$  يساوي قوس  $\overline{د ر}$  فالجز يساوي كله هذا خلف فزاوية  $\overline{ب ح د}$  كزاوية  $\overline{د ط ر}$  وكل منهما ضعف المحيطين الكائنين علي قوسي  $\overline{ب ح د}$   $\overline{د ر}$  كل لنظيرته بالشكل التاسع عشر فزاويتها  $\overline{ب ا ح}$   $\overline{د ر}$  المحيطتان متساويتان وذلك ما اردنا ان نبين

جميع الاوتار المتساوية في الدوائر المتساوية تفصل

قوسا متساوية العظمي للعظمي والصغرى للصغرى

ليكن وترا  $\overline{ب ح د}$   $\overline{د ر}$  من دايرتي  $\overline{ا ب ح}$   $\overline{د ر}$  المتساويتين متساويتين فاقول ان كل واحدة من قوسي  $\overline{ب ح د}$   $\overline{د ر}$  يساوي نظيرتها من قوسي  $\overline{د ر}$   $\overline{ب ح د}$

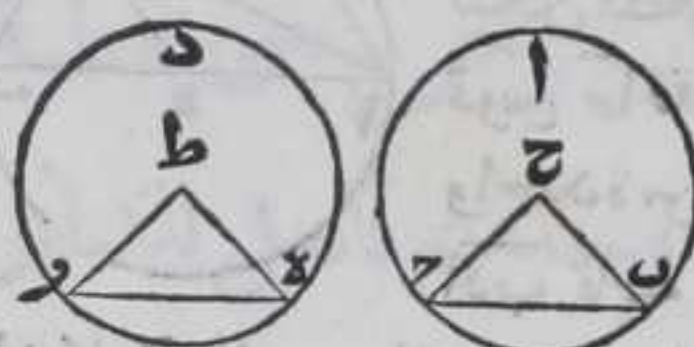


المفصلة بالوترين برهانه نجد مركز الدائرتين ولتكن نقطتي  $\overline{ح ط}$  بالشكل الاول نصل بين  $\overline{ح}$  وبين كل واحدة من نقطتي  $\overline{ب ح د}$   $\overline{د ر}$  بخط مستقيم وكذلك نصل بين  $\overline{ط}$  وبين كل واحدة من

نقطتي  $\overline{د ر}$   $\overline{ب ح د}$  بخط مستقيم فاضلاع مثلث  $\overline{ب ح د}$  كاضلاع مثلث  $\overline{د ط ر}$  المتناظرة فبالشكل الثامن من الاولي زاوية  $\overline{ب ح د}$  كزاوية  $\overline{د ط ر}$  فقوسا  $\overline{ب ح د}$   $\overline{د ر}$  متساويتان بالشكل الخامس والعشرين والتساوي الدائرتين يكون قوسا  $\overline{ب ا ح}$   $\overline{د ر}$  متساويتين وذلك ما اردنا ان نبين

جميع القوسي المتساوية من الدوائر المتساوية اوتارها

متساوية



ليكن قوسا  $\overline{ب ح د}$   $\overline{د ر}$  من دايرتي  $\overline{ا ب ح}$   $\overline{د ر}$  المتساويتين متساويتين فاقول ان وتر  $\overline{ب ح د}$   $\overline{د ر}$  كوتر  $\overline{د ر}$  برهانه نجد

مركز الدائرتين بالشكل الاول وليكونا نقطتي  $\overline{ح ط}$  ونصل بين نقطتي  $\overline{ح ط}$  وبين نقط  $\overline{ب ح د}$   $\overline{د ر}$  بخطوط مستقيمة فلان زاويتي  $\overline{ب ح د}$   $\overline{د ط ر}$  علي قوسي  $\overline{ب ح د}$   $\overline{د ر}$  المتساويتين من دايرتي  $\overline{ا ب ح}$   $\overline{د ر}$  المتساويتين فهما متساويتان بالشكل السادس والعشرين والاضلاع المتناظرة المحبطة هما متساوية فبالشكل الرابع من الاولي وترا  $\overline{ب ح د}$   $\overline{د ر}$  متساويتان وذلك ما اردنا ان نبين



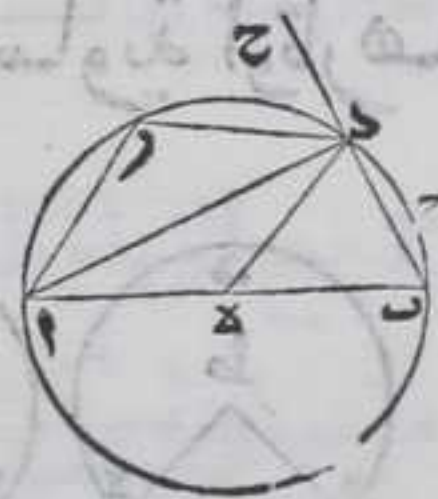
ط  
اي قوس مفروضة لنا ان ن نصفها



ليكن القوس  $\overline{BAC}$  وترها  $\overline{BC}$  فاقول لنا ان ن نصفها  
برهانها ن نصف  $\overline{BC}$  علي نقطة  $\overline{D}$  بالشكل العاشر  
من الاولي ونخرج منها عمود  $\overline{DA}$  علي وتر  $\overline{BC}$  بالشكل الحادي عشر من  
الاولي ونخرجه في جهة القوس الي ان ينتهي اليها فلينته علي نقطة  $\overline{A}$   
ونصل بينها وبين كل واحدة من نقطتي  $\overline{B}$   $\overline{C}$  بخط مستقيم فلان ضلعي  
 $\overline{DB}$   $\overline{DA}$  وزاوية  $\overline{ADB}$  تساوي ضلعي  $\overline{DC}$   $\overline{DA}$  وزاوية  $\overline{ADC}$  كل لنظيره  
فضلع  $\overline{AB}$  كضلع  $\overline{AC}$  بالشكل الرابع من الاولي فقوس  $\overline{AB}$  كقوس  $\overline{AC}$   
بالشكل السابع والعشرين وذلك ما اردنا ان نبين

كل زاوية مستقيمة الخطين تقع في قطعة قائمة  
ان كانت القطعة نصف دائرة وحادة ان كانت اعظم  
منه ومنفرجة ان كانت اصغر منه وزاوية القطعة  
منفرجة ان كانت اعظم من النصف وحادة ان لم  
تكن اعظم من النصف سواء كانت القطعة نصف

دائرة او اصغر منه



ليكن قطعة  $\overline{ACB}$  من دائرة  $\overline{AB}$  نصفها ونرسم علي  
قوس  $\overline{A}$  نقطة  $\overline{D}$  كيف ما اتفق ونصل بينها وبين كل  
واحدة من نقطتي  $\overline{A}$   $\overline{B}$  بخط مستقيم فاقول ان زاوية  
 $\overline{ADB}$  قائمة برهانها ن نصف قطر  $\overline{AB}$  علي نقطة  $\overline{E}$   
بالشكل العاشر من الاولي فهي المركز ونصل بين نقطتي  $\overline{D}$   $\overline{E}$  بخط مستقيم  
فخطوط  $\overline{DB}$   $\overline{DE}$   $\overline{DA}$  متساوية فلان  $\overline{DB}$  يساوي  $\overline{DE}$  تكون زاويتنا  $\overline{BDE}$   
 $\overline{DEA}$  متساويتين بالشكل الخامس من الاولي فهما ضعف زاوية  $\overline{BDE}$   
وبمثلها تبين ان زاويتي  $\overline{DEA}$   $\overline{EDA}$  متساويتان ومجموعهما ضعف زاوية  
 $\overline{DEA}$  فيكون جميع زاويا مثلث  $\overline{ADB}$  المعادل له لقائمتين بالشكل الثاني  
والثالثين من الاولي ضعف زاوية  $\overline{ADB}$  فهي قائمة وبمثلها تبين ان كل  
زاوية تقع في نصف دائرة قائمة واذا اخرجنا خط  $\overline{BD}$  في جهة  $\overline{D}$  علي  
استقامته



استقامته الي نقطة ح يكون زاوية ادح قائمة بالشكل الثالث عشر من  
 الاولي وايضا فلان كل زاويتي مثلث اقل من قائمتين بالشكل السابع  
 عشر من الاولي وزاوية ادب قائمة فزاوية ابد حادة وجميع الزوايا التي  
 تقع في قطعة واحدة متساوية بالشكل العشرين فالزاوية التي تقع في  
 قطعة اعظم من النصف هي حادة وايضا ان رسمنا علي قوس اد نقطة ر  
 كلف ما اتفق ونصل بينها وبين كل واحدة من نقطتي اد بخط مستقيم  
 حدث في دائرة ابد ذوا ربعة اضلاع ابد ر فبكون زاويتا ابد ارد  
 من زواياه معا متساويتان لقائمتين بالشكل الحادي والعشرين وزاوية  
 ابد حادة فزاوية ارد منفرجة وجميع الزوايا الواقعة في قطعة واحدة  
 متساوية بالشكل العشرين فالزاوية الواقعة في قطعة هي اصغر من نصف  
 دائرة منفرجة وايضا فلان زاوية ادب قائمة فزاوية ادح منفرجة  
 فزاوية القطعة التي هي اعظم من نصف دائرة منفرجة ولان زاوية ادح  
 قائمة فزاوية ادر التي هي زاوية قطعة ادر حادة فالزاوية التي هي زاوية  
 قطعة هي اقل من نصف الدائرة حادة فاذا اخرجنا عمودا من نقطة ب  
 علي قطر ا ب يقع خارج دائرة ا ب بالشكل الخامس عشر فبكون  
 زاوية ا ب ح حادة فالزاوية التي هي زاوية قطعة هي نصف دائرة حادة  
 وذلك ما اردنا ان نبد

واستبان منه ان محيط كل دائرة قسم بقسي كم كانت القسي فان الزوايا  
 المحيطية الواقعة في تلك الدائرة علي تلك القسي تساوي قائمتين فان  
 كانت الزوايا الواقعة علي تلك القسي مركزية فانها يساوي اربع قوائم  
 لما بين في الشكل التاسع عن ان الزاوية المركزية ضعف المحيطية  
 فاقسام محيط اي دائرة تقع قواعد لاربع قوائم مركزية ولقائمتين  
 المحيطيتين من الزوايا الواقعة فيها

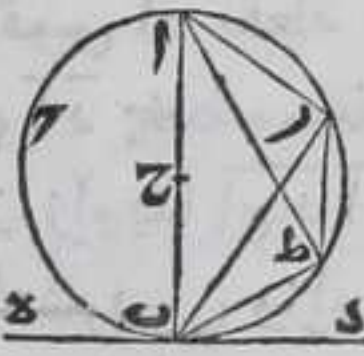
لا

كل خط مستقيم يماس دائرة وخرج من نقطة  
 التماس في جهة الدائرة خط مستقيم فاصل للدائرة  
 الي قطعتين فهما يقبلان زاويتين مساويتين  
 للزاويتين اللتين يحدثان عن جنبي الخط الفاصل  
 على التبع

لكن دائرة ا ب يماسها خط ده المستقيم علي نقطة ب وخرج منها

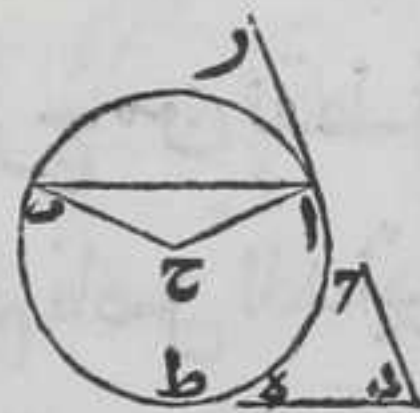


خط  $\overline{ب ر}$  المستقيم فاصلا لها الي  $\overline{ر ا ح ب}$  رطب فاقول ان قطعة  $\overline{ر ا ح ب}$  تقبل  
 زاوية تساوي زاوية  $\overline{ر ب د}$  وقطعة  $\overline{ر ط ب}$  تقبل زاوية تساوي زاوية  
 $\overline{ر ب ه}$  برهانها نجد مركزها بالشكل الاولي وليكن نقطة  $\overline{ح}$  ونصل  $\overline{ب ح}$   
 بخط مستقيم ونخرجه الي ان ينتهي الي المحيط ولينته  
 علي نقطة  $\overline{آ}$  ونصل بينها وبين نقطة  $\overline{ر}$  بخط مستقيم  
 فزاوية  $\overline{ا ر ب}$  قائمة بالشكل المتقدم وكل من زاويتي  
 $\overline{ا ب د}$   $\overline{ا ب ه}$  قائمة بالشكل السابع عشر وزاوية  $\overline{ر ب ا}$   
 تمام زاوية  $\overline{ر ا ب}$  من قائمة اذ زوايا كل مثلث كقائمتين  
 بالشكل الثاني والثلاثين من الاولي وهي بعينها تمام  
 زاوية  $\overline{ر ب د}$  من قائمة فزاوية  $\overline{ر ا ب}$  الواقعة في قطعة  $\overline{ر ا ح ب}$  تساوي  
 زاوية  $\overline{ر ب د}$  ونرسم علي قوس  $\overline{ر ط ب}$  نقطة  $\overline{ط}$  كيف اتفق ونصل  
 بينها وبين كل واحدة من نقطتي  $\overline{ر ب}$  بخط مستقيم فلان زاويتي  $\overline{ر ب د}$   
 $\overline{ر ب ه}$  كقائمتين بالشكل الثالث عشر من الاولي وزاويتي  $\overline{ر ط ب}$   $\overline{ر ا ب}$   
 المتقابلتين من ذي اربعة اضلاع  $\overline{ا ر ط ب}$  كقائمتين بالشكل الواحد  
 والعشرين وزاوية  $\overline{ر ا ب}$  كزاوية  $\overline{ر ب د}$  فزاوية  $\overline{ر ط ب}$  كزاوية  $\overline{ر ب ه}$   
 فالحكم ثابت وذلك ما اردنا ان نبين



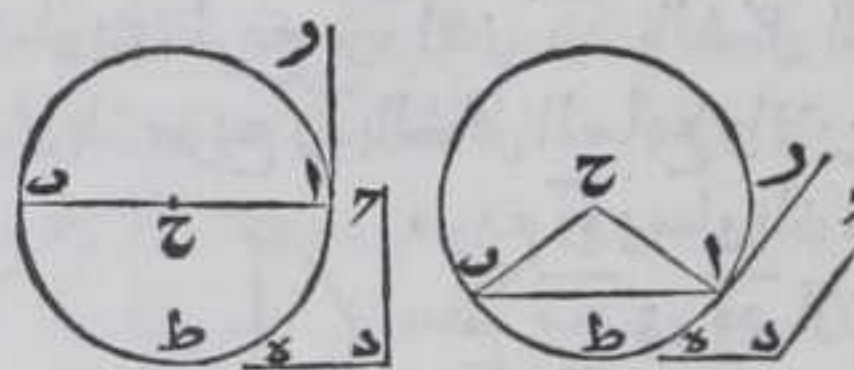
كل خط مستقيم محدود مفروض لنا ان نعمل  
 عليه قطعة دائرة تقبل زاوية تساوي زاوية مفروضة

ليكن الخط  $\overline{ا ب}$  والزاوية  $\overline{ح د ه}$  فنرسم علي نقطة  $\overline{آ}$  من خط  $\overline{ا ب}$  زاوية  
 $\overline{ر ا ب}$  تساوي زاوية  $\overline{ح د ه}$  بالشكل الثالث والعشرين من الاولي ونخرج من  
 نقطة  $\overline{آ}$  عمود  $\overline{ا ح}$  علي خط  $\overline{ا ر ب}$  باستبانة الشكل  
 الحادي عشر من الاولي ونعمل علي نقطة  $\overline{ب}$  من خط  
 $\overline{ا ب}$  زاوية كزاوية  $\overline{ب ا ح}$  بالشكل الثالث والعشرين  
 من الاولي ونخرج خطي  $\overline{ا ح}$   $\overline{ا ب}$  في جهة  $\overline{ح}$  الي ان  
 يلتقيا لان زاوية  $\overline{ح ا ب}$  التي هي فصل زاوية  $\overline{ب ا ر}$   
 علي قائمة اقل منها فزاويتي  $\overline{ا ب ح}$   $\overline{ا ح ب}$  اقل من  
 قائمتين فليلتقيا علي نقطة  $\overline{ح}$  فخط  $\overline{ا ح}$   $\overline{ا ب}$  متساويان بالشكل السادس  
 من الاولي فاذا جعلنا نقطة  $\overline{ح}$  مركزا وادونا عليها ببعد  $\overline{ا ح}$  دائرة  $\overline{ا ط ب}$   
 فمحيطها يمر علي نقطة  $\overline{ب}$  ولان  $\overline{ا ح}$  عمود علي  $\overline{ا ر}$  فهو يماس دائرة  $\overline{ا ط ب}$   
 علي نقطة  $\overline{آ}$  باستبانة الشكل الخامس عشر فقطعة  $\overline{ا ط ب}$  تقبل زاوية  
 كزاوية  $\overline{ر ا ب}$  المساوية لزاوية  $\overline{ح د ه}$  بالشكل المتقدم فالحكم ثابت  
 وذلك ما اردنا ان نبين



ولهذا





ولهذا الشكل اختلاف وقوع  
فان عمود  $\overline{AC}$  يقع بين ضلعي  $\overline{AB}$   
اذا كانت زاوية  $\overline{RAB}$   
منفرجة وخارجا عنهما ان  
كانت حادة وينطبق علي  
خط  $\overline{AB}$  ان كانت قائمة

فننصف خط  $\overline{AB}$  علي نقطة  $\overline{C}$  وندير ببعد  $\overline{C}$  دائرة  $\overline{AP}$  وهذه صورها

لنا ان نفصل من اي دائرة مفروضة قطعة تقبل

زاوية تساوي زاوية ما مفروضة



ليكن الدائرة  $\overline{AB}$  والزاوية  $\overline{D}$  فاقول لنا ان  
نفصل من دائرة  $\overline{AB}$  قطعة تقبل زاوية كزاوية  
 $\overline{D}$  برهانه نفرض نقطة  $\overline{P}$  خارج الدائرة

ونخرج منها خط  $\overline{PC}$  يماس الدائرة علي نقطة  $\overline{C}$  بالشكل السادس عشر  
ونرسم علي نقطة  $\overline{C}$  من خط  $\overline{PC}$  في جهة الدائرة زاوية كزاوية  $\overline{D}$   
بالشكل الثالث والعشرين من الاولي وهي زاوية  $\overline{PCB}$  ونخرج  $\overline{CB}$  علي  
استقامته الي ان يلقي المحيط علي نقطة  $\overline{B}$  فقطعة  $\overline{BC}$  تقبل زاوية  
تساوي زاوية  $\overline{BPC}$  المساوية لزاوية  $\overline{D}$  بالشكل الواحد والثلاثين  
فالحكم ثابت وذلك ما اردنا ان نبين

لد

كل وترين يتقاطعان في دائرة فان سطح احد

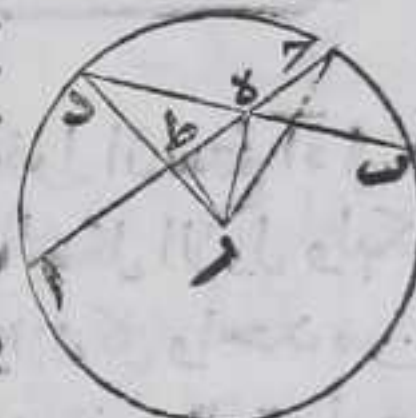
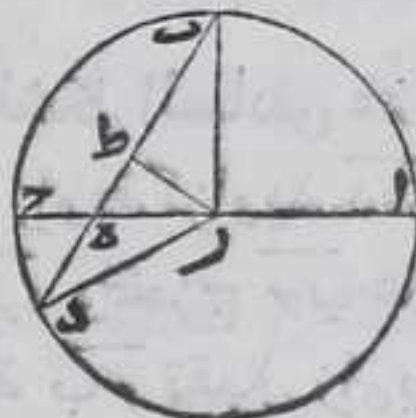
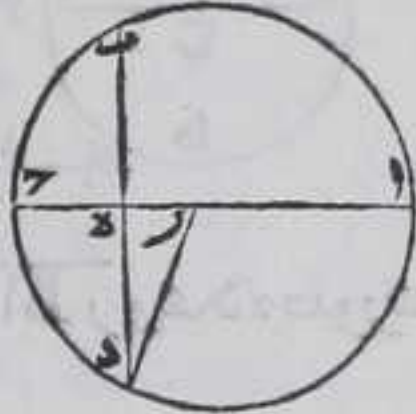
قسمي احد الوترين في قسمة الاخر منه كسطح احد

قسمي الوتر الاخر في قسمة الاخر منه

فليبتاطع وتر  $\overline{AC}$  علي نقطة  $\overline{E}$  في دائرة  $\overline{AB}$  فاقول ان سطح  $\overline{AE}$  في  $\overline{C}$   
كسطح  $\overline{BE}$  في  $\overline{D}$  برهانه فلنجد مركز الدائرة بالشكل الاول وليكن  
نقطة  $\overline{R}$  ونصل بينها وبين نقطة  $\overline{D}$  بخط مستقيم ولان كل واحد من  
الوترين اما ان يكون قطرا او احد هما فقط قطرا منصف للوتر او غير  
منصف له واما ان لا يكون شي منهما قطرا منصف احد هما الاخر او  
غير منصف فهذه خمسة اقسام اما الاول فلان انصاف القطر كل  
دائرة متساوية فسطوح بعضها في بعض متساوية واما الثاني فلان  $\overline{AC}$

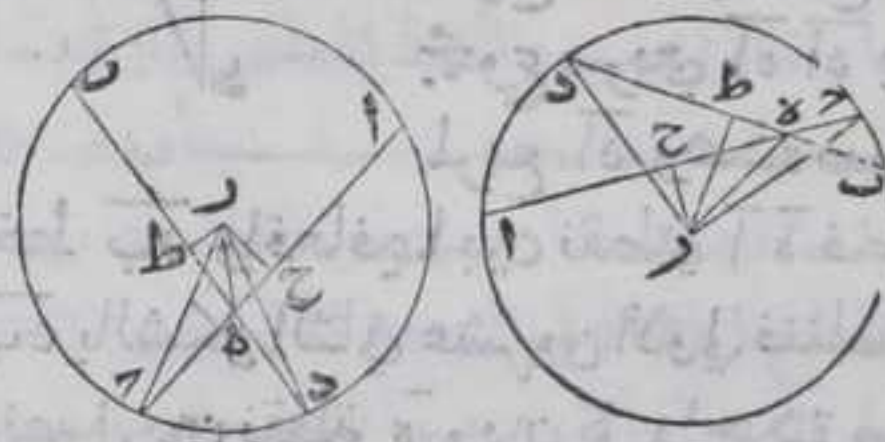


نصف علي  $\overline{ر}$  وقسم علي  $\overline{هـ}$  بمختلفين يكون سطح  $\overline{آه}$  في  $\overline{هـ}$  مع مربع  $\overline{ره}$  متساويين لمربع  $\overline{رح}$  اعني  $\overline{رد}$  بالشكل الخامس من الثانية ومربع  $\overline{ره}$   $\overline{هـد}$  يساويان مربع  $\overline{رد}$  بالشكل السابع والاربعين من الاولي فسطح  $\overline{آه}$  في  $\overline{هـ}$  مع مربع  $\overline{ره}$  يساويان مربعي  $\overline{ره}$   $\overline{هـد}$  لكن مربع  $\overline{هـد}$  يساوي سطح  $\overline{به}$  في  $\overline{هـد}$  لان قطر  $\overline{آح}$  منصف لوتر  $\overline{بد}$  علي نقطة  $\overline{هـ}$  لانه عمود عليه بالشكل الثالث فاذا القينا مربع  $\overline{ره}$  المشترك يبقي سطح  $\overline{آه}$  في  $\overline{هـ}$  مساويا لسطح  $\overline{به}$  في  $\overline{هـد}$  وهذا صورته واما الثالث فنخرج من نقطة  $\overline{ر}$  عمود  $\overline{رط}$  علي وتر  $\overline{بد}$  بالشكل الثاني عشر من الاولي فننصفه علي نقطة  $\overline{ط}$  بالشكل الثالث فلان وتر  $\overline{آح}$   $\overline{بد}$  نصف علي نقطتي  $\overline{رط}$  وقسما بمختلفين علي نقطة  $\overline{هـ}$  سطح  $\overline{آه}$  في  $\overline{هـ}$  مع مربع  $\overline{ره}$  كمربع  $\overline{رح}$  بل  $\overline{رد}$  وسط  $\overline{به}$  في  $\overline{هـد}$  مع مربع  $\overline{طه}$  كمربع  $\overline{طد}$  بالشكل الخامس من الثانية ونجعل مربع  $\overline{رط}$  مشتركا بين سطح  $\overline{به}$  في  $\overline{هـد}$  ومربع  $\overline{طه}$  وبين مربع  $\overline{طد}$  فيكون سطح  $\overline{به}$  في  $\overline{هـد}$  مع مربعي  $\overline{طه}$   $\overline{طد}$  يساوي مربعي  $\overline{طه}$   $\overline{طد}$  لكن مربع  $\overline{طه}$   $\overline{طد}$  يساويان مربع  $\overline{رد}$  ومربع  $\overline{طه}$   $\overline{طد}$  يساويان مربع  $\overline{ره}$  بالشكل السابع والاربعين من الاولي فسطح  $\overline{به}$  في  $\overline{هـد}$  مع مربع  $\overline{ره}$  يساويان مربع  $\overline{رد}$  وكان سطح  $\overline{آه}$  في  $\overline{هـ}$  مع مربع  $\overline{ره}$  يساويان مربع  $\overline{رد}$  فاذا القينا مربع  $\overline{ره}$  المشترك يبقي سطح  $\overline{آه}$  في  $\overline{هـ}$  يساوي سطح  $\overline{به}$  في  $\overline{هـد}$  وهذه صورته واما الرابع وهو ان لا يكون شي من الوترين قطرا ويكون احدهما وهو  $\overline{آح}$  ينصف  $\overline{بد}$  علي نقطة  $\overline{هـ}$  ونصل بين نقطة  $\overline{ر}$  وبين كل واحدة من نقطتي  $\overline{هـ}$   $\overline{د}$  بخط مستقيم ونخرج من نقطة  $\overline{ر}$  عمود  $\overline{رط}$  علي وتر  $\overline{آح}$  بالشكل الثاني عشر من الاولي فننصفه بالشكل الثالث ويكون خط  $\overline{ره}$  عمودا علي وتر  $\overline{بد}$  بالشكل الثالث لانه نصفه فسطح  $\overline{آه}$  في  $\overline{هـ}$  مع مربع  $\overline{طه}$  يساويان مربع  $\overline{طد}$  بالشكل الخامس من الثانية فننصف اليه مربع  $\overline{طه}$  فسطح  $\overline{آه}$  في  $\overline{هـ}$  مع مربعي  $\overline{طه}$   $\overline{طد}$  يساوي مربعي  $\overline{طه}$   $\overline{طد}$  لكن مربع  $\overline{طه}$   $\overline{طد}$  يساويان مربع  $\overline{رح}$  بل مربع  $\overline{رد}$  ومربع  $\overline{ره}$  يساوي مربعي  $\overline{طه}$   $\overline{طد}$  بالشكل السابع والاربعين من الاولي فسطح  $\overline{آه}$  في  $\overline{هـ}$  مع مربع  $\overline{ره}$  يساويان مربع  $\overline{رد}$  ومربع  $\overline{ره}$   $\overline{هـد}$  يساويان مربع  $\overline{رد}$  بالشكل السابع والاربعين من الاولي فاذا القينا مربع  $\overline{ره}$  المشترك يبقي سطح  $\overline{آه}$  في  $\overline{هـ}$  يساوي مربع  $\overline{هـد}$  المساوي لسطح  $\overline{به}$  في  $\overline{هـد}$  وهذا صورته واما الخامس وهو ان لا يكون شي من الوترين قطرا ولا ينصف احدهما الاخر فنخرج من نقطة  $\overline{ر}$  التي هي مركز دائرة  $\overline{آب}$  عمودي  $\overline{رح}$   $\overline{رط}$  علي





رط علي وتري آ بـ بالشكل الثاني عشر من الاولي ونصل بين نقطة مـ  
 وبين كل واحدة من نقط هـ د بخط مستقيم وكل واحد من عمودي مـ ح  
 رط اما ان يقع في احدي جهتي ره الاخري في الجهة الاخري منه او يقع  
 كلاهما في احدي جهتي ره فبعض لهذا القسم وضعان ولا يختلف  
 البرهان بذلك لان سطح آه في دـ مع مربع حـ يساويان مربع حـ و سطح  
 بـه في دـ مع مربع طـه يساويان مربع طـه بالشكل الخامس من  
 الثانية فاذا اضفنا مربع مـ ح تارة الي مربع حـ وتارة الي مجموع سطح آه  
 في دـ ومربع حـ واذا اضفنا مربع رط تارة الي مربع طـه وتارة الي  
 مجموع سطح بـه في دـ ومربع طـه



صاير مجموع مربعي مـ ح هـ  
 مساويا لمجموع سطح آه في دـ مع  
 مربعي مـ ح هـ وصاير مجموع  
 مربعي رط طـه مساويا لمجموع  
 سطح بـه في دـ مع مربعي رط

طـه ليكن مربع ره يساوي كل واحد من مجموع مربعي مـ ح هـ ومجموع  
 مربعي رط طـه ومربع رـه يساوي مربعي مـ ح هـ ومربع رـه يساوي  
 مربعي رط طـه بالشكل السابع والاربعين من الاولي فسطح آه في دـ  
 مع مربع ره يساويان مربع رـه بل مربع رـه و سطح بـه في دـ مع  
 مربع ره يساويان مربع رـه فاذا القينا مربع ره المشترك يبقي سطح آه  
 في دـ مساويا لسطح بـه في دـ وذلك ما اردنا ان نبين

كل خطين مستقيمين خرجا من نقطة خارجة

من دائرة احدهما قاطعا محيطها من الجانب الاقرب

ومنتهيا اليه من الجانب الابعد والاخر يماسه على

نقطة فسطح القاطع كله فيما وقع منه خارج الدائرة

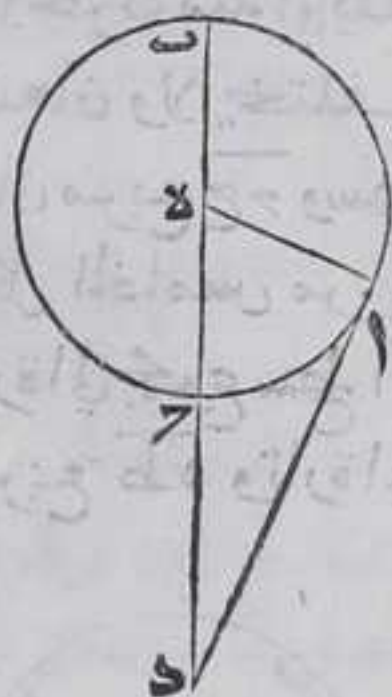
يساوي مربع المماس

ليكن الدائرة آ بـ والنقطة الخارجة دـ والخط القاطع د حـ وليكن  
 قد قطع محيطها في الجانب الاقرب علي نقطة حـ وانتهى اليه في الجانب  
 الابعد علي نقطة بـ والخط المماس د آ ونقطة المماس آ فاقول ان سطح  
 بـد في دـ يساوي مربع آد برهانه فلان خط د بـ اما ان يمر بالمركز او



فيما بينه وبين نقطة التماس او خارجا عنهما اما الاول فنجد المركز  
بالشكل الاول وليكن نقطة  $e$  فهو ينصف قطر  $ac$  ونصل  $ae$  بخط

مستقيم فلان زاوية  $ead$  قائمة باستبانة الشكل  
السادس عشر وخط  $ac$  منصف علي نقطة  $e$  ونزيد  
عليه خط  $de$  المستقيم علي استقامته فسطح  $bd$  في  
 $de$  مع مربع  $ed$  المساوي لـ  $ae$  يساويان مربع  $de$   
بالشكل السادس من الثانية ومربع  $de$  يساوي مربعي  
 $ad$   $ae$  بالشكل السابع والاربعين من الاولي فاذا القينا  
مربع  $ed$  من مجموع سطح  $bd$  في  $de$  ومربع  $ae$  من  
مجموع مربعي  $ad$   $ae$  يبقى سطح  $bd$  في  $de$  مساويا  
لمربع  $ad$  وهذه صورته واما الثاني وهو ان يكون



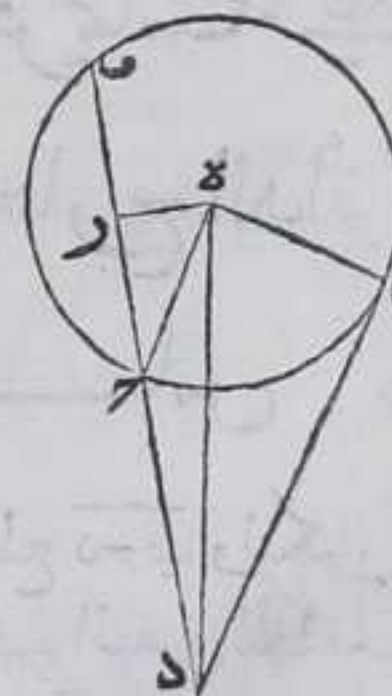
خط  $bd$  واقعا فيما بين نقطتي  $a$   $e$  فنخرج من نقطة  $e$  عمود  $er$  علي خط  
 $bd$  بالشكل الثاني عشر من الاولي فننصف وتر  $bd$  بالشكل الثالث  
ونصل بين نقطة  $e$  وبين كل واحدة من نقطتي  $a$   $r$  بخط مستقيم فلان

$br$  نصف ونزيد فيه خط  $rd$  المستقيم علي  
استقامته فسطح  $bd$  في  $rd$  مع مربع  $rd$  يساويان  
مربع  $rd$  ونضيف اليه مربع  $dr$  فسطح  $bd$  في  $rd$   
مع مربعي  $rd$   $re$  يساوي مربعي  $rd$   $re$  لكن مربع  
 $ed$  المساوي لمربع  $ae$  يساوي مربعي  $er$   $rd$  ومربع  
 $ed$  يساوي مجموع مربعي  $er$   $rd$  ومجموع مربعي  $ae$   $ad$   
بالشكل السابع والاربعين من الاولي فسطح  $bd$  في  $rd$   
مع مربع  $ae$  يساويان مربع  $ed$  ويساويان مربعي  
 $ad$   $ae$  المساويين لمربع  $ed$  فاذا القينا مربع  $ae$  مشترك



يبقى سطح  $bd$  في  $rd$  مساويا لمربع  $ad$  وهذه صورته واما الثالث وهو  
ان يكون خط  $bd$  خارجا عن نقطتي  $a$   $e$  فنخرج من نقطة  $e$  اليه عمود

$er$  بالشكل الثاني عشر من الاولي فننصف وتر  $bd$   
علي  $r$  بالشكل الثالث ونصل بين نقطة  $e$  وبين كل  
واحدة من نقطتي  $a$   $r$  بخط مستقيم فلان  $br$   
نصف علي  $r$  ونزيد فيه  $rd$  علي استقامته فسطح  
 $bd$  في  $rd$  مع مربع  $rd$  يساويان مربع  $rd$  بالشكل  
السابع من الثانية ونضيف اليه مربع  $dr$  فسطح  $bd$   
في  $rd$  مع مربعي  $rd$   $re$  يساوي مربعي  $rd$   $re$  لكن  
مربع  $ed$  المساوي لمربع  $ae$  يساوي مربعي  $er$   $rd$   
ومربع  $ed$  يساوي مربعي  $er$   $rd$  ويساوي مربعي  $ae$   $ad$



$ad$  بالشكل السابع والاربعين من الاولي فسطح  $bd$  في  $rd$  مع مربع  $ae$   
المساوي



المساوي لمربع آه يساويان مربع هـ المساوي لمربعي آه آد فسطح بـ د  
 في دح يساوي مربع آد وذلك ما اردنا ان نبين وهذه صورته    
 واستبان منه ان كل خط مستقيم من الخطوط المستقيمة الغير المتناهية  
 الخارجة من نقطة خارجة من اي دايرة كانت قاطعة محيطها من الجانب  
 الاقرب اليها ومنتبهة اليها من الجانب الابعد فان سطح جميع ذلك الخط  
 فيما وقع منه بين النقطة وبين الدايرة يساوي مربع خط مستقيم  
 يخرج من تلك النقطة وينتهي الي تلك الدايرة مماسا ايها    
 واستبان ايضا ان السطوح الغير متناهية الحاصلة من سطح تلك  
 الخطوط المذكورة فيما وقع منها بين النقطة وبين الدايرة يساوي  
 بعضها بعضا لان كل واحد منها يساوي مربع الخط المماس والاشياء  
 المساوية لشي واحد متساوية    
 واستبان ايضا ان كل خطين مستقيمين خارجين من نقطة خارجة  
 من اي دايرة كانت احدهما قاطع ايها على الوجه المذكور والاخر  
 منتبها اليه غير قاطع وكان سطح جميع القاطع فيما وقع منه بين  
 الدايرة وبين النقطة مساويا لمربع الخط المنته    
 فان الخط المنتهي يساوي الخط المستقيم الخارج من تلك النقطة المماس  
 للدايرة وكل خط مستقيم خارج من نقطة خارجة من اي دايرة كانت  
 ينتهيا اليها مساويا لخط المستقيم الخارج من تلك النقطة مماسا ايها  
 فانه يماس تلك الدايرة لانه اما منطبق على الخط المماس او غير منطبق  
 فان كان الاول فظاهر وان كان الثاني فيكون ايضا مماسا للدايرة باستبانة  
 الشكل الثامن وهو ان كل نقطة خارجة من اي دايرة فانه يمكن ان يخرج  
 منها خطين مستقيمين مماسان محيطها عن جنبي المار بالمركز ولا يمكن ان  
 يخرج منها خط ثالث يماس تلك الداي    
 واقبلدس لما لاحظ هذه المعاني لم يذكر الشكل الذي الحقه ثابت بن  
 قره في اخر هذه المقالة وان استعمله في الشكل العاشر من المقالة الرابعة اذ  
 عادت في هذا الكتاب انه يستعمل كثيرا من المقدمات ولم يذكر في الكتاب  
 اذا كانت معلومه مما تقدم من مسايله نفسها او بطريق الاستبانة  
 وهو 

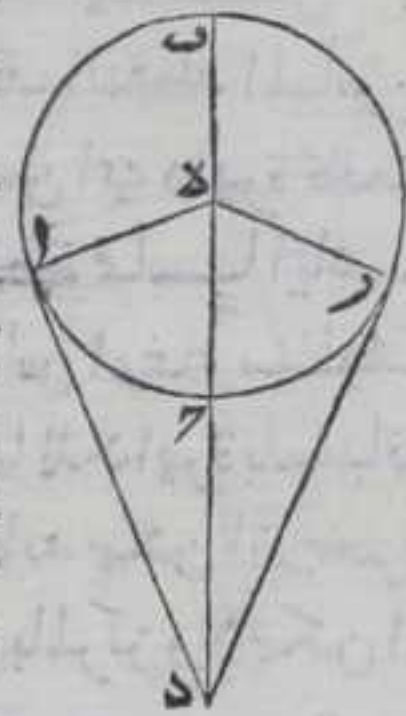
ان كل خطين مستقيمين خرجا من نقطة خارجة  
 من دايرة احدهما قاطعا ايها والاخر منتهيا اليها  
 غير قاطع وكان سطح جميع القاطع فيما هو خارج



منه عن الدائرة مساويا لمربع المنتهي فان الخط  
المنتهي يماس الدائرة

والثابت بن قره لما راي ان اقليدس استعمله في الشكل المذكور الحقه  
باخر هذه المقالة واللايق بالطريقه التي سلكها اقليدس في هذا الكتاب  
ان لا تفرد هذا الشكل بالذكر مع وجود هذه الاستبانات ولذلك الحجاج  
لم يذكره في نسخته لما لم يكن موجودا في النسخ اليونانية والسريانية  
القديمة ونحن اشرنا اليه بالاستبانة ليعلم انه ليس من اصل الكتاب وليس  
استعمل في الشكل العاشر من المقالة الرابعة ثم ان اذكر البرهان الذي  
ذكره الثابت

ليكن سطح خط  $ب د$  المستقيم الخارج من نقطة  $د$  الخارجة من دائرة  
 $ا ب ح$  في  $د$  منه مساويا لمربع خط  $ا د$  المستقيم الخارج من نقطة  $د$   
المنتهي الي دائرة  $ا ب ح$  علي نقطة  $ا$  فاقول ان خط  $ا د$  يماس دائرة  $ا ب ح$   
علي نقطة  $ا$  برهانه نخرج من نقطة  $د$  خط  $د ر$  المستقيم  
مماسا لدائرة  $ا ب ح$  علي نقطة  $ر$  بالشكل السادس  
عشر ونصل بين نقطة  $د$  مركز دائرة  $ا ب ح$  وبين كل  
واحدة من نقطتي  $ا ر$  بخط مستقيم فلان سطح  $ب د$  في  
 $د$  يساوي مربع  $ا د$  بالقرض ويساوي مربع  $د ر$   
المماس لما بينا في هذا الشكل الذي سبق بكون  $ا د$   
 $د ر$  متساويين وخط  $ا ه$   $د ر$  متساويان وخط  $د ه$   
مشترك بين مثلثي  $ا د ه$   $د ر ه$  فاضلاع المثلثين المتناظرة  
متساوية فزوايا  $ه$  المتناظرة ايضا متساوية بالشكل  
الثامن من الاولي فزاوية  $د ا ه$  تساوي زاوية  $د ر ه$  القائمة باستبانة الشكل  
السادس عشر فزاوية  $د ا ه$  قائمة فخط  $ا د$  يماس دائرة  $ا ب ح$  باستبانة  
الشكل الخامس عشر وهذه  $د$  ورتة



تمت المقالة الثالثة بعون الله

بسم الله الرحمن الرحيم  
الحمد لله الذي هدانا لهذا  
الذي كنا لنهتدي لولا  
هداه لولا اننا كنا  
من الخاسرين



# المقالة الرابعة فيهما ستة عشر شكلا

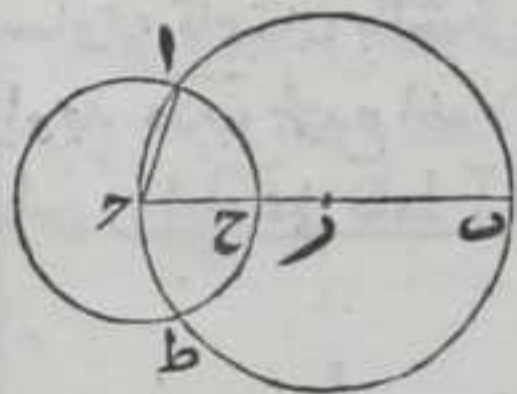
## الحدود

اذا كان محيط دائرة يماس جميع اضلاع شكل مضلع او جميع زواياه او جميع اضلاع شكل مضلع يماس جميع زوايا مضلع اخر يقال للمحيط منهما انه مرسوم علي المحاط والمحاط انه مرسوم في المحيط  $\text{ط}$

## الاشكال

كل دائرة مفروضة معلومة لنا ان نرسم فيها وتر ايساوي خطا مستقيما معلوما مفروضا ليس باطول من قطر  $\text{رها}$

ليكن الدائرة  $\text{أ ب ح}$  والخط المفروض  $\text{د ه}$  فنجد مركز الدائرة بالشكل الاول من الثالث وليكون نقطة  $\text{ر}$  ونرسم علي محيطها نقطة وليكن نقطة  $\text{ب}$  ونصل بينها وبين المركز بخط مستقيم ونخرجه في جهة  $\text{ر}$  الي ان ينتهي الي نقطة  $\text{ح}$  اعني محيط جانبها الاخر محيط  $\text{ب ح}$  قطرها فان كان الخط المفروض مساويا لخط  $\text{ب ح}$  فهو المطلوب والا تفصل منه خطا يساوي خط  $\text{د ه}$  بالشكل الثالث من الاول وليكن هو خط  $\text{ح ح}$  ونرسم علي نقطة  $\text{ح}$  وببعد  $\text{ح ح}$  دائرة  $\text{أ ح ط}$



فبقطع محيطها محيط دائرة  $\text{أ ب ح}$  علي نقطتي  $\text{أ ط}$  ونصل بين نقطتي  $\text{أ ح}$  بخط مستقيم فهو يقع داخل دائرة  $\text{أ ب ح}$  بالشكل الثاني من الثالثة فلان خط  $\text{أ ح}$  يساوي  $\text{ح ح}$  وكان  $\text{د ه}$  يساوي  $\text{ح ح}$  فخط  $\text{أ ح}$  يساوي  $\text{د ه}$  فالحكم ثابت وذلك ما اردنا ان نبين  $\text{ين}$

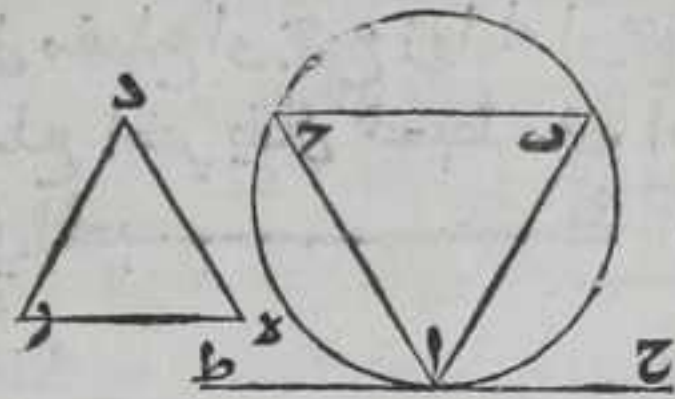
كل دائرة مفروضة معلومة لنا ان نرسم فيها مثلثا يساوي كل واحدة من زواياه لنظيرتها من



زوايا مثلث اخر مفروض معلوم

ليكن الدائرة  $AB\Gamma$  والمثلث  $DE\Gamma$  ونرسم خط  $ح ط$  المستقيم مماسا  
الدائرة  $AB\Gamma$  علي نقطة  $آ$  بالشكل السادس عشر من الثالثة ونرسم علي  
نقطة  $آ$  من خطي  $اح$   $اط$  زاويتي  $باح$   $حاط$  يساويان زاويتي  $دهر$   $دره$

بالشكل الثالث والعشرين من الاولي  
ولان الزاوية التي يحيط بها خط  $اح$   
وقوس  $اب$  اصغر من كل زاوية حادة  
مستقيمة الخطين وكذلك الزاوية التي  
يحيط بها خط  $اط$  وقوس  $اح$  بالشكل



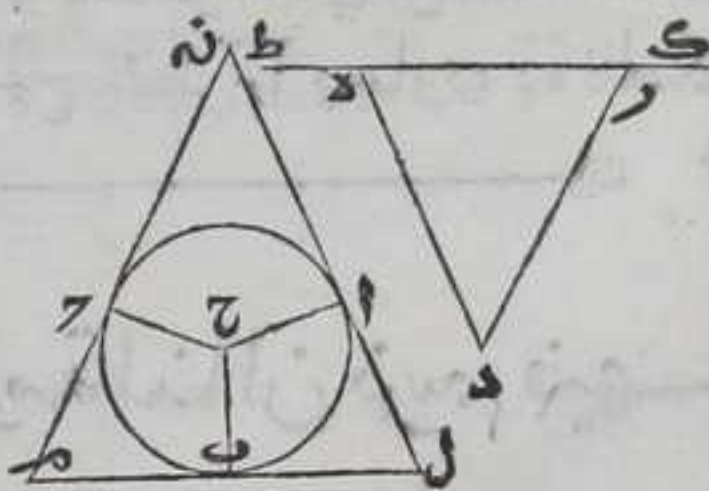
الحادي عشر من الثالث فكل من  
خطي  $اب$   $اح$  يقع داخل دائرة  $اب\Gamma$  فنخرجهما علي استقامتهما  
الي ان يلتقا محبط الدائرة علي نقطتي  $ب$   $ح$  ونصل بينهما بخط مستقيم  
فهو يقع داخل الدائرة بالشكل الثاني من الثالثة فاقول ان كل واحدة  
من زوايا مثلث  $اب\Gamma$  تساوي لنظيرتها من زوايا مثلث  $دهر$  برهانه  
فلان كل واحد من خطي  $اب$   $اح$  خرج من نقطة  $آ$  التي عليها وقع القوس  
بين خط  $ح ط$  ودائرة  $اب\Gamma$  قاطعا اياها فبالشكل الواحد والثلاثين من  
الثالثة تكون زاوية  $احب$  مساوية لزاوية  $باح$  المساوية لزاوية  $دهر$   
وزاوية  $ابح$  مساوية لزاوية  $حاط$  المساوية لزاوية  $دره$  فزاويتي  $ابح$   
 $احب$  يساويان زاويتي  $دهر$   $دره$  وجميع زوايا اي مثلث مستقيم الاضلاع  
يساوي قائمتين بالشكل الثاني والثلاثين من الاولي فزاوية  $باح$  تساوي  
زاوية  $هدب$  فجميع اضلاع مثلث  $اب\Gamma$  واقعة داخل الدائرة ومحيطها  
يماس زواياها علي نقط  $آ ب ح$  فالحكم ثابت وذلك ما اردنا ان نبين

كل دائرة مفروضة لنا ان نرسم عليها مثلثا

تساوي كل واحدة من زواياه لنظيرتها من زوايا

مثلث مفروض

ليكن الدائرة  $اب\Gamma$  والمثلث  $دهر$   
فاقول لنا ان نرسم علي دائرة  $اب\Gamma$  مثلثا  
تساوي كل واحدة من زواياه زاوية هي  
نظيرتها من زوايا مثلث  $دهر$  برهانه  
نخرج ضلع  $دهر$  من مثلث  $دهر$  علي استقامته في جهته الي نقطتي  $ط آ$   
ونجد

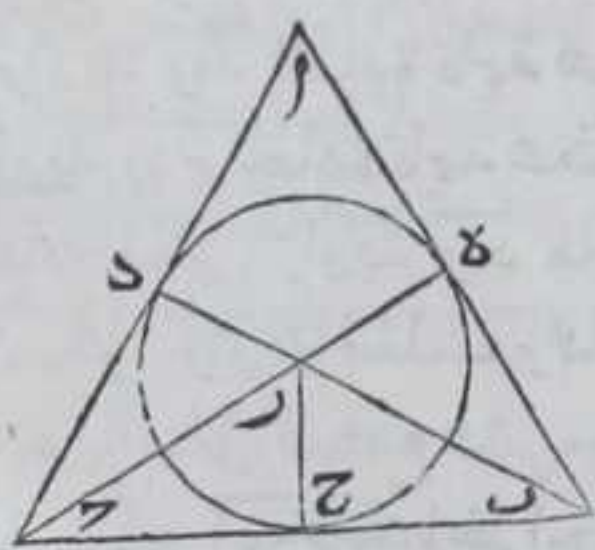




ونخذ مركز دايرة  $\overline{اب}$  بالشكل الاول من الثالثة وليكن نقطة  $\overline{ح}$  ونصل بينها وبين نقطة  $\overline{ب}$  من محيط دايرة  $\overline{اب}$  بخط مستقيم ونرسم علي نقطة  $\overline{ح}$  زاوية  $\overline{ب ح ا}$  مساوية لزاوية  $\overline{د ه ط}$  وزاوية  $\overline{ب ه د}$  مساوية لزاوية  $\overline{د ر ا}$  بالشكل الثالث والعشرين من الاولي ونخرج  $\overline{ح ا ح}$  علي استقامتهما الي ان ينتهيا الي المحيط فلينتهيا علي نقطتي  $\overline{ا}$  ونخرج من نقط  $\overline{ا ب}$  اعمدة  $\overline{ا ل ب م}$   $\overline{ح ن ه}$  علي انصاف اقطار  $\overline{ا ح ب ح}$   $\overline{ح ا ح}$  باستبانة الشكل الحادي عشر من الاولي فيكون كل من الاعمدة  $\overline{ا ب}$  دايرة  $\overline{ا ب}$  باستبانة الشكل الخامس عشر من الثالثة فاذا اخرجنا كل واحد منها علي استقامته في جهته يلقي الباقيين وذلك لانا اذا وصلنا اوتار  $\overline{ا ب ا}$   $\overline{ب ب}$  يكون كل زاويتين من الزوايا الحادته التين يحيط بهما احد الاوتار مع العمودين من الاعمدة اقل من قائمتين وليكن التقاء الاعمدة علي نقط  $\overline{م ر م}$   $\overline{ن ه}$  فحدث مثلث  $\overline{ن ل م}$  مرسوما علي دايرة  $\overline{ا ب}$  ولانا اذا وصلنا بين نقطتي  $\overline{ل ح}$  بخط مستقيم حدث مثلثا  $\overline{ا ل ح ب ل ح}$  وزوايا كل مثلث قائمتين بالشكل الثاني والثلاثين من الاولي وزاوية  $\overline{ح ا ل}$  من مثلث  $\overline{ا ل ح ب ل ح}$  قائمة فزاويتا  $\overline{ا ل ح}$   $\overline{ا ل ح}$  من مثلث  $\overline{ا ل ح ب ل ح}$  قائمة وزاوية  $\overline{ح ب ل}$  من مثلث  $\overline{ا ل ح ب ل ح}$  قائمة فزاويتا  $\overline{ب ح ل}$   $\overline{ب ح ل}$  منه قائمة فزاويتا  $\overline{ا ب ا}$   $\overline{ب ب}$  قائمتين وبمثلته تبين ان زاويتي  $\overline{ح ب ب}$   $\overline{ح ب ب}$  قائمتين لكن كل واحدة من زاويتي  $\overline{د ه ط}$   $\overline{د ر د}$   $\overline{د ر د}$   $\overline{د ر د}$  قائمتين بالشكل الثالث عشر من الاولي فزاوية  $\overline{د ه ط}$   $\overline{د ر د}$   $\overline{د ر د}$   $\overline{د ر د}$  قائمة وزاوية  $\overline{د ر د}$   $\overline{د ر د}$  قائمة فزاوية  $\overline{د ر د}$  القائمة من مثلث  $\overline{ن ل م}$  قائمة  $\overline{د ر د}$  قائمة فزاوية  $\overline{د ر د}$  قائمة فان زواياه الثلث قائمتين بالشكل الثاني والثلاثين من الاولي فالحكم ثابت وذلك ما اردنا ان نبين

كل مثلث مستقيم الاضلاع مفروض لنا ان

نرسم فيه دائرية

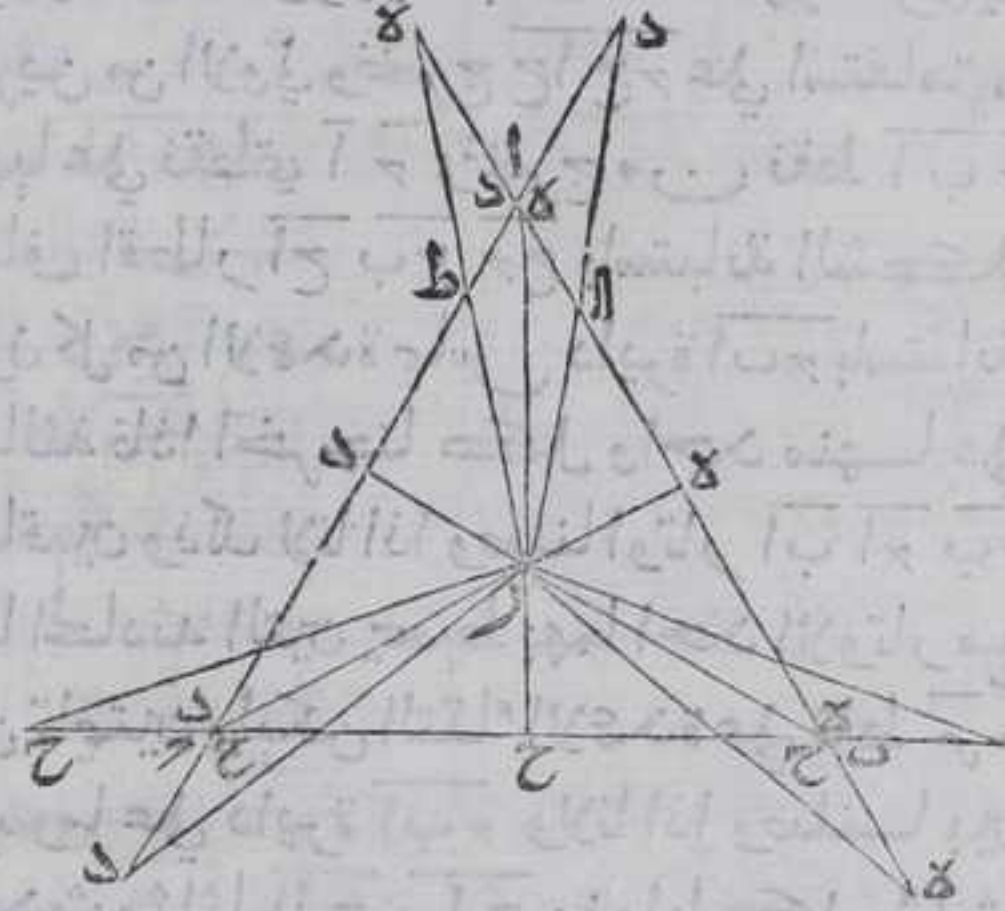


ليكن المثلث  $\overline{ا ب ج}$  فننصف كل واحدة من زاويتي  $\overline{ا ب ج}$   $\overline{ا ب ج}$  بخطي  $\overline{ب ر ج}$   $\overline{ج ر ب}$  بالشكل التاسع من الاولي فلان مجموع زاويتي  $\overline{ا ب ج}$   $\overline{ا ب ج}$  اقل من قائمتين بالشكل السابع عشر من الاولي فخطا  $\overline{ب ر ج}$   $\overline{ج ر ب}$  يلتقيان فليلتقيان علي نقطة  $\overline{د}$  داخل مثلث  $\overline{ا ب ج}$  والاي لزم احاطة خطين مستقيمين بسطح لوالتقيا خارج المثلث او علي احد ضلعي  $\overline{ا ب ج}$  هذا



خلف ويخرج منها عمود م ر ح علي ضلع ب ح فلا يقع علي احدي نقطتي  
ب ح ولا علي ضلاع ب ح بعد اخراجه في احدي جهتيه والا يلزم ان  
تكون الزاوية الحادة

كقائمة في الاول وان يكون  
في مثلث زاوية قائمة  
والاخري منفرجة في  
الثاني لان الزاوية المجاورة  
لزاوية ر ح ب منفرجة  
بالشكل الثالث عشر من  
الاولي هذا خلف لما تبين  
ان زوايا كل مثلث  
كقائمتين بالشكل الثاني  
والثلثون من الاول فبقع



عمود م ر ح علي ضلع ب ح فيما بين نقطتي ب ح ونخرج من نقطة م عمود  
ره علي ضلع ا ب فلا يقع علي نقطة ب ولا علي ضلع ا ب بعد اخراجه  
في جهة ب لما بينا ولا علي نقطة ا ولا علي ضلع ا ب بعد اخراجه في  
جهة ا لانه في الصورتين يلزم ان يكون عمود ره كعمود م ر ح بالشكل  
السادس والعشرين من الاول لانه حينئذ يكون كل واحدة من زاويتي  
م ر ح ب ر ه ب من مثلثي م ر ح ب ر ه ب قائمة ويكون زاويتا ح ب ر ه ب ر ه ب  
متساويتين وضلع ر ب مشترك بينهما وهو محال اما اذا كان عمود ره واقعا  
علي نقطة ا فنخرج من نقطة م عمود ر د علي ضلع ا ح فلا يقع علي نقطة  
ح ولا علي ضلع ا ح بعد اخراجه في جهة ح لما بينا ولا علي نقطة فيما  
بين نقطتي ا ح ولا علي نقطة ا ولا علي ضلع ا ح بعد اخراجه في جهة  
ا والالكان عمود ر د مساويا لعمود م ر ح في الصور الثالث لما بينا فيكون  
مساويا لعمود ره ففي الصورة الاولى يكون زاويتا ر د ه ر ه د متساويتين  
بالشكل الخامس من الاول وزاوية ر ه د التي هي اصغر من الزاوية المجاورة  
لزاوية ر ه ب القائمة حادة فيلزم ان يكون زاوية ر ه ب القائمة حادة  
وزاوية ر ه د الحادة قائمة هذا خلف وفي الصورة الثانية يلزم ان يكون  
زاوية ر د ح الحادة قائمة هذا خلف وفي الصورة الثالثة تكون زاوية ر ه ح  
حادة تكون زاوية ر ه د منفرجة بالشكل الثالث عشر من الاول فيلزم  
ان يكون زاويتا مثلث وهما زاويتا ر ه د ر ه اعظم من قائمتين وهما اصغر  
منهما بالشكل السابع عشر من الاول هذا خلف واما اذا كان عمود ره واقعا  
علي ضلع ا ب بعد اخراجه في جهة ا لا بد وان يقطع ضلع ا ح علي  
نقطة فليقطع علي نقطة ط فتكون زاوية ر ط ا الخارجة من مثلث  
ا ه ط اعظم من زاوية ا ه ط القائمة بالشكل السادس والعشرين من الاول  
فهى



فهي منفرجة فزاوية  $\overline{رط}$  حادة بالشكل الثالث عشر من الاولي فعمود  
 $\overline{رد}$  حنبذ اما ان يقع علي نقطة  $\overline{ح}$  او علي ضلع  $\overline{اح}$  بعد اخراجه في جهة  
 $\overline{ح}$  وذلك غير ممكن لما بينا او علي نقطة بين نقطتي  $\overline{ط}$   $\overline{ح}$  او علي نقطة  $\overline{ط}$   
 او علي نقطة  $\overline{آ}$  او علي ضلع  $\overline{اح}$  بعد اخراجه في جهة  $\overline{آ}$  في الصور الاربع  
 يكون عمود  $\overline{رد}$  مساويا لعمود  $\overline{رح}$  لما بينا فهو مساو لعمود  $\overline{ره}$  لان الزاوية  
 العظمي من كل مثلث يوترها الضلع الاطول بالشكل التاسع عشر من  
 الاولي يكون ضلع  $\overline{رط}$  في الصورة الاولي اعظم من عمود  $\overline{رد}$  فهو اعظم من  
 عمود  $\overline{ره}$  فيكون جزء مقدر  $\overline{را}$  اعظم منه هذا خلف وفي الصورة الثانية  
 يلزم ان يكون  $\overline{رط}$  مساويا لعمود  $\overline{رد}$  فيكون مساويا لعمود  $\overline{ره}$  فيكون  
 جزء مقدر  $\overline{را}$  مساويا له هذا خلف وفي الصورتين الثالثة والرابعة يكون  
 في مثلث  $\overline{رط}$  زاوية  $\overline{رط}$  قائمة وزاوية  $\overline{رطد}$  منفرجة فيلزم ان يكون  
 زاويتا مثلث اعظم من قائمتين وهما اصغر منهما بالشكل السابع عشر من  
 الاولي هذا خلف فعمود  $\overline{ره}$  انما يقع علي ضلع  $\overline{اب}$  فيما بين نقطتي  $\overline{آ}$   $\overline{ب}$   
 وحنبذ تبين ان عمود  $\overline{رد}$  انما يقع علي ضلع  $\overline{اح}$  فيما بين نقطتي  $\overline{آ}$   $\overline{ح}$  لانه  
 حنبذ لا يمكن ان يقع علي  $\overline{ح}$  ولا علي ضلع  $\overline{اح}$  بعد اخراجه في جهة  $\overline{ح}$   
 لما بينا ولا علي نقطة  $\overline{آ}$  والا لكان ضلعا  $\overline{رد}$   $\overline{ره}$  متساويين لانهما مساويان  
 ضلع  $\overline{رح}$  لما بينا فيكون زاويتا  $\overline{رد}$   $\overline{ره}$  متساويين بالشكل الخامس من  
 الاولي لكن زاوية  $\overline{رد}$  التي هي اصغر من الزاوية المجاورة لزاوية  $\overline{ردح}$   
 القائمة حادة فتكون زاوية  $\overline{ره}$  القائمة حادة هذا خلف ولا يمكن ان  
 يقع علي ضلع  $\overline{اح}$  بعد اخراجه في جهة  $\overline{آ}$  لانه حنبذ يقطع ضلع  $\overline{اب}$   
 فليقطع علي نقطة  $\overline{آ}$  فلان زاوية  $\overline{ره}$  قائمة فزاوية  $\overline{راه}$  تكون حادة  
 بالشكل السابع عشر من الاولي فيكون ضلع  $\overline{راه}$  اعظم من ضلع  $\overline{ره}$   
 المساوي لضلع  $\overline{رد}$  فيكون ضلع  $\overline{راه}$  جزء  $\overline{رد}$  واعظم منه هذا خلف  
 فاعمد  $\overline{رح}$   $\overline{ره}$  متساوية فاذا جعلنا نقطة  $\overline{ر}$  مركزا ورسمنا عليه  
 ببعد  $\overline{رح}$  مثلا دائرة  $\overline{هح}$  فان محيطها يمر علي نقطتي  $\overline{ه}$   $\overline{د}$  فاضلاع  
 مثلث  $\overline{ابح}$  محاس دائرية  $\overline{هح}$  باستبانة الشكل الخامس عشر من الثالثة  
 فالحكم ثابت وذلك ما اردنا ان نبين  
 واستبان منه ان كل خطين مستقيمين ينصفان زاويتين من اي زاويا  
 مثلث فانهما ان اخرجتا الي داخل المثلث يتلاقيان علي نقطة وتلك  
 النقطة مركز المثلث واي الاعمدة الخارجة منها الي اضلاع المثلث  
 متساوية

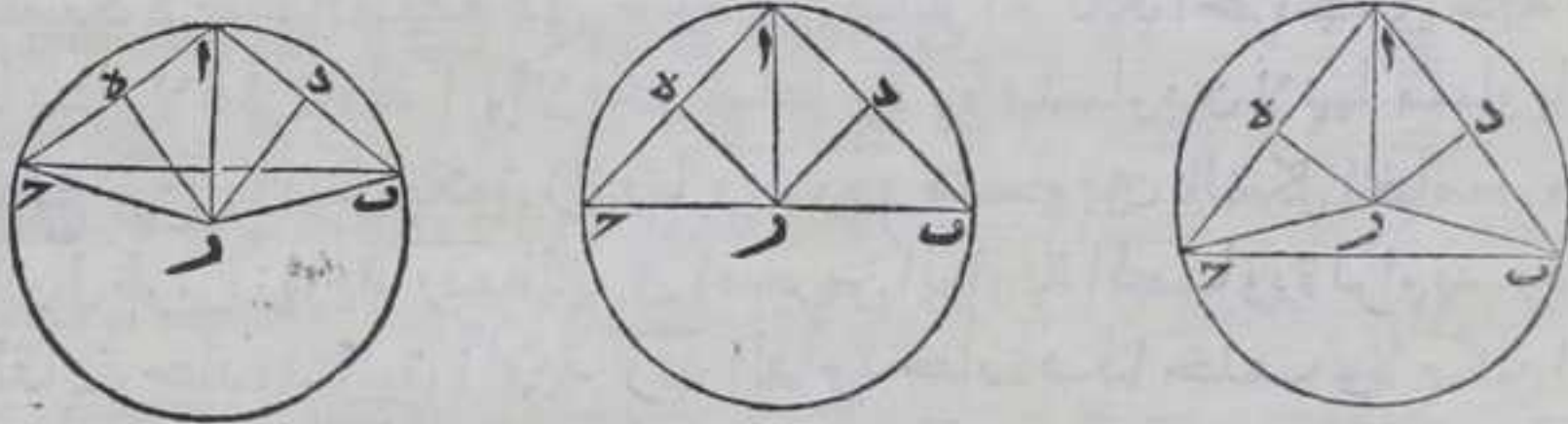
٥

كل مثلث مفروض مستقيم الاضلاع لنا ان



نرسم عليه دائرة

ليكن المثلث  $ABC$  فننصف ضلعي  $AB$   $AC$  علي نقطتي  $D$   $E$  بالشكل العاشر من الاولي ونخرج من نقطتي  $D$   $E$  عمودي  $DF$   $EG$  علي ضلعي  $AB$   $AC$  بالشكل الحادي عشر من الاولي فلانا اذا وصلنا بين نقطتي  $D$   $E$  بخط مستقيم كانت زاويتا  $DFE$   $EDG$  من قائمتين فاذا اخرج العمودان في جهة وتر  $BC$  يلتقيان فليلتقيا علي نقطة  $R$  ونصل  $BR$   $CR$   $AR$  بخطوط مستقيمة فلان زاوية  $BDR$  كزاوية  $ADR$  وضع  $BD$  كضلع  $AD$  وضع  $DR$  مشترك بين مثلثي  $BDR$   $ADR$  فبالشكل الرابع ضلع  $BR$  كضلع  $AR$  وبمثله تبين ان ضلع  $CR$  كضلع  $AR$  فاضلاع  $BR$   $CR$   $AR$  الثلاثة متساوية فاذا جعلنا نقطة  $R$  مركزا وادونا بعد احد الاضلاع دايرة فان محيطها يمر علي نقط  $B$   $C$   $A$  فاضلاع مثلث  $ABC$  يقع داخلها بالشكل الثاني من الثالثة فمحيطها يماس زوايا  $E$  علي نقط  $AB$   $AC$  فالحكم ثابت وذلك ما اردنا ان نبين



ولهذا الشكل اختلاف وقوع لمابين في الشكل الثلثين من الثالثة ان الزاوية المنفرجة انما تقع في قطعة هي اقل من النصف والقائمة في قطعة هي النصف والمحايدة في قطعة هي اعظم من النصف وزاوية  $BAC$  ان كانت منفرجة يقع مركز الدايرة خارج مثلث  $ABC$  وان كانت قائمة يقع علي ضلع  $BC$  وان كانت حادة يقع داخل مثلث  $ABC$  والبيان في الكل واحد

كل دايرة مفروضة لنا ان نرسم فيها مربعًا

ليكن الدايرة  $ABCD$  فنجد مركزها بالشكل الاول من الثالثة وليكن نقطة  $E$  ونصل بينها وبين نقطة علي محيطها ولتكن نقطة  $A$  بخط مستقيم ونخرجه علي استقامته الي ان ينتهي الي المحيط فلينته علي نقطة  $AC$  ونخرج من المركز علي قطر  $AD$  عمود  $EB$  بالشكل الحادي عشر من الاولي ونخرجه في جهته الي ان ينتهي الي المحيط فلينته علي نقطتي  $B$   $D$  ونصل بين نقط  $AB$   $BC$   $CD$   $DA$  بخطوط مستقيمة فهي تقع داخل دايرة  $ABCD$  بالشكل الثاني



الثاني من الثالثة فاقول ان شكل  $\overline{AB}$  مربع برهانه فلان ضلعي  $\overline{AB}$   
 $\overline{BA}$  متساويان فبالشكل الخامس من الاولي زوايا  $\overline{AB}$   $\overline{BA}$  متساويتان  
 ولان كل مثلث فان زواياه الثلث كقائمتين بالشكل الثاني والثلاثين من

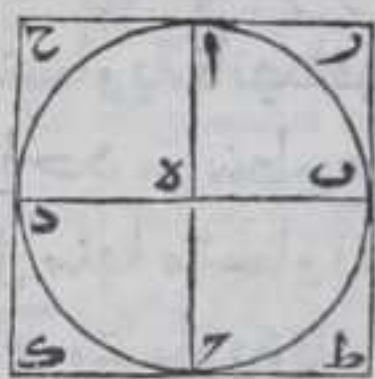


الاولي وزاوية  $\overline{AB}$  قائمة فكل واحدة من زاويتي  $\overline{AB}$   
 $\overline{BA}$  نصف قائمة وبمثلته تبين ان كل واحدة من زوايا  
 $\overline{AB}$   $\overline{BA}$   $\overline{BA}$   $\overline{AB}$   $\overline{BA}$   $\overline{AB}$   $\overline{BA}$   $\overline{AB}$   $\overline{BA}$   $\overline{BA}$   $\overline{AB}$   
 واحدة من زوايا  $\overline{AB}$   $\overline{BA}$   $\overline{BA}$   $\overline{AB}$  قائمة ولان  
 نقطة  $\overline{ه}$  مركز دايرة  $\overline{AB}$  فضلعا  $\overline{AB}$   $\overline{BA}$  وزاوية  
 $\overline{AB}$  من مثلث  $\overline{AB}$  تساوي ضلعي  $\overline{BA}$   $\overline{BA}$  وزاوية

$\overline{BA}$  من مثلث  $\overline{BA}$  كل لنظيره فبالشكل الرابع من الاولي يكون ضلع  
 $\overline{AB}$  كضلع  $\overline{BA}$  وبمثلته تبين ان كل واحد من ضلعي  $\overline{AB}$   $\overline{BA}$  يساوي ضلع  
 $\overline{BA}$  فاضلاع  $\overline{AB}$   $\overline{BA}$   $\overline{BA}$   $\overline{AB}$  متساوية فذو اربعة اضلاع  $\overline{AB}$   $\overline{BA}$  مربع  
 فمحيط دايرة  $\overline{AB}$  ملاق لزوايا المربع علي نقط  $\overline{AB}$   $\overline{BA}$  وغير قاطع  
 ضلعا من اضلاعه فالحكم ثابت وذلك ما اردنا ان نبين

### كل دايرة مفروضة لنا ان نرسم عليها مربعا

لتكن الدايرة  $\overline{AB}$  فنجد مركزها بالشكل الاول من الثالثة وليكن  
 نقطة  $\overline{ه}$  ونصل بين نقطة  $\overline{ب}$  علي محيطها وبين المركز بخط مستقيم  
 ونخرجه الي ان ينتهي الي محيطها ولينته علي نقطة  $\overline{د}$



ولنخرج من نقطة  $\overline{ه}$  عمودا علي قطر  $\overline{ب د}$  بالشكل  
 الحادي عشر من الاولي ونخرجه في جهته الي ان  
 ينتهي الي المحيط ولينته الي نقطتي  $\overline{آ}$   $\overline{ح}$  ونخرج من  
 نقط  $\overline{آ ب}$   $\overline{ح د}$  عمدة علي قطري  $\overline{آ ح}$   $\overline{ب د}$  فهي تماس  
 دايرة  $\overline{AB}$  باستبانة الشكل الخامس عشر من

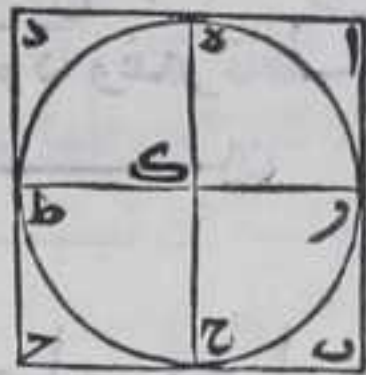
الثالثة ولانا اذا اخرجنا اوتار  $\overline{آ ب}$   $\overline{آ د}$   $\overline{ح ب}$  كانت كل من الزاويتين  
 اللتين يحيط بهما وتر منها وعمودان من الاعمدة المذكورة اقل من قائمتين  
 فاذا اخرجنا الاعمدة في الجهتين علي استقامتها فلا بد وان يتلاقي  
 بعضها بعضا فليبتلاقي علي نقط  $\overline{آ ح}$   $\overline{آ ط}$  فاقول ان شكل  $\overline{آ ب}$   $\overline{آ د}$  مربع  
 برهانه فلان كل واحدة من الزوايا التي عند نقط  $\overline{آ ب}$   $\overline{آ د}$  قائمة بالشكل  
 التاسع عشر من الثالثة وكل واحدة من الزوايا التي عند نقطة  $\overline{ه}$  قائمة  
 بالشكل الثالث عشر من الاولي فبالشكل الثامن والعشرين من الاولي  
 ضلعا  $\overline{آ ح}$   $\overline{آ ط}$  يوازيان قطر  $\overline{آ ح}$  فهما متوازيان بالشكل الثلثين من  
 الاولي وضلعا  $\overline{آ ح}$   $\overline{آ ط}$  يوازيان قطر  $\overline{ب د}$  فهما متوازيان فكل واحد من  
 سطوح  $\overline{آ ح}$   $\overline{آ ط}$   $\overline{آ ح}$   $\overline{آ ط}$   $\overline{آ ح}$   $\overline{آ ط}$   $\overline{آ ح}$   $\overline{آ ط}$  متوازي الاضلاع فبالشكل



الرابع والثلاثين من الاولي ضلعاً  $\overline{رط}$  ح  $\overline{ا}$  يساويان قطر  $\overline{ا ح}$  فهما متساويان  
وضلعاً  $\overline{مرح}$  ط  $\overline{ا}$  يساويان قطر  $\overline{ب د}$  فهما متساويان والقطران متساويان  
فاضلاع  $\overline{مرح}$  ح  $\overline{ا}$   $\overline{لط}$  ط  $\overline{ر}$  من شكل  $\overline{ر ا}$  متساوية ولان كل واحدة من  
الزوايا التي عند نقطة  $\overline{ه}$  قائمة فكل واحدة من الزوايا التي عند نقط  $\overline{ر ح}$   
 $\overline{ا ط}$  قائمة بالشكل الرابع والثلاثين من الاولي فذوا اربعة اضلاع  $\overline{ر ا}$  مربع  
فالحكم ثابت وذلك ما اردنا ان نبين

### كل مربع مفروض لنا ان نرسم فيه دائرة

ليكن المربع  $\overline{ا ب د ح}$  فننصف كل واحد من ضلعي  $\overline{ا ب}$   $\overline{ا د}$  علي نقطتي  $\overline{ر ه}$   
بالشكل العاشر من الاولي ونخرج من كل واحدة من نقطتي  $\overline{ر ه}$  عمودي  $\overline{ر ط}$   
 $\overline{ه ح}$  علي ضلعي  $\overline{ا ب}$   $\overline{ا د}$  بالشكل الحادي عشر من الاولي  
ولان كل واحدة من زوايا  $\overline{ط ر ا}$   $\overline{ط ر ب}$  ح  $\overline{ه ا}$  قائمة  
وكل واحدة من زوايا المربع ايضا قائمة فعمود  $\overline{ط ر}$   
يوازي كل واحد من ضلعي  $\overline{ا د}$   $\overline{ب ح}$  وعمود  $\overline{ه ح}$  يوازي  
كل واحد من ضلعي  $\overline{ا ب}$   $\overline{د ح}$  بالشكل الثامن والعشرين  
من الاولي فاذا اخرجنا العمودين الي داخل المربع علي



استقامتهما ينتهي عمود  $\overline{ر ط}$  الي ضلع  $\overline{د ح}$  فلينته الي نقطة  $\overline{ط}$  وعمود  $\overline{ه ح}$   
الي ضلع  $\overline{ب ح}$  فلينته الي نقطة  $\overline{ح}$  ولا بد ان يتقاطعا فليتقاطعا علي نقطة  
 $\overline{ا}$  فاقول انها مركز دائرة يحيط بها المربع برهانه ولان اضلاع مربع  $\overline{ا ب د ح}$   
متساوية فانصافها متساوية فخطوط  $\overline{ا ر ب ا ه د}$  متساوية وكل  
واحد من سطوح  $\overline{ا ا د ا د ا ب ا ب}$  متوازي الاضلاع فالاضلاع المتقابلة من  
كل منها متساوية بالشكل الرابع والثلاثين من الاولي فخطوط  $\overline{ا ر ا ه ا ط}$   
 $\overline{ا ح}$  متساوية فاذا جعلنا نقطة  $\overline{ا}$  مركزا ورسمنا عليه ببعد خط  $\overline{ا ر}$  دائرة  
فان محيطها يمر علي نقط  $\overline{ر ه ط ح}$  ولان كل واحدة من الزوايا التي عند  
نقطتي  $\overline{ر ه ط ح}$  قائمة واضلاع المربع متوازية فكل من الزوايا التي عند نقطتي  
 $\overline{ح ط}$  قائمة بالشكل التاسع والثلاثين من الاولي فاضلاع المربع تماس  
الدائرة علي نقط  $\overline{ط ه ر ح}$  باستبانة الشكل الخامس عشر من الثالثة  
فالحكم ثابت وذلك ما اردنا ان نبين

### كل مربع مفروض لنا ان نرسم عليه دائرة

ليكن المربع  $\overline{ا ب د ح}$  فنخرج منه قطري  $\overline{ا ب د}$  فلا بد ان يتقاطعا  
فليتقاطعا علي نقطة  $\overline{ه}$  فاقول انها مركز دائرة تحيط بمربع  $\overline{ا ب د ح}$  برهانه  
فلان ضلعي  $\overline{ا ب ا د}$  وزاوية  $\overline{ب ا د}$  من مثلث  $\overline{ا ب د}$  متساوية لضلعي  $\overline{ا ب}$   
 $\overline{ب د}$  وزاوية



بج زاوية ابج من مثلث ابج فبالشكل الرابع من الاولي قاعدة  
بد كقاعدة اح وزاوية ابد كزاوية باج ومثله تبين ان زاوية ابج



من مثلث ابج كزاوية دبج من مثلث بدج فكل  
من ضلعي اه ه يساوي ضلعي هب بالشكل السادس من  
الاولي فهما متساويان فكل منهما نصف قطر اح وكان  
قطر اح بد متساويين فضلا ب ه ده متساويان  
فاضلاع اه ب ه ه ده متساوية فاذا جعلنا نقطة ه

مركزا ورسمنا عليها ببعد اه مثلا دائرة فان محيطها يمر على نقط اب ج د  
فاضلاع مربع اب ج د واقعة داخل دائرة اب ج د بالشكل الثاني من  
الثالثة فالحكم ثابت وذلك ما اردنا ان نبين

وبين في اصلي الثابت والحجاج هذا الشكل بهذا الطريق فلان ضلع اب  
كضلع اد تكون زاويتا ابد ادب متساويتين بالشكل الخامس من  
الاولي وزاوية باد قائمة وكل مثلث زواياه الثلث كقائمتين بالشكل  
الثاني والثلاثين من الاولي فكل من زاويتي ابد ادب نصف قائمة ومثله  
تبين ان كل واحدة من زوايا باج احب ج بد بدج نصف قائمة فيكون  
ضلع ب ه كضلع ج ه وضلع اه كضلع ب ه وضلع ده كضلع اه بالشكل  
السادس من الاولي فليكون اضلاع اه ده ج ه ب ه الاربعة متساوية فاذا  
جعلنا نقطة ه مركزا وادرنا ببعد احدها دائرة فان محيطها يمر على نقط  
اب ج د

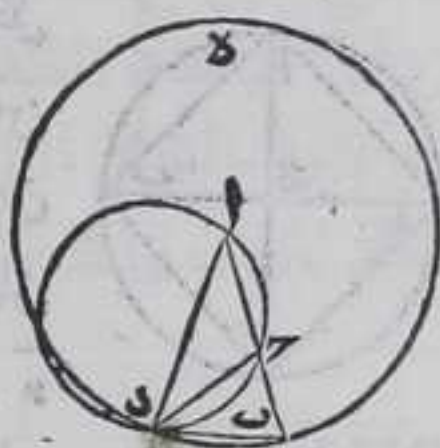
واستبان منه ان مربع نصف قطر الدائرة المحيطة بالمربع نصف مربع  
ضلع المربع لان اضلاع المثلثات الواقعة في مربع اب ج د متساوية على  
التناظر فبالشكل الثامن من الاولي زواياه المتناظرة متساوية فمربع ضلع  
ضعف مربع نصف قطر المحيط بالدائرة بالشكل السابع والاربعين من  
الاولي

لنا ان نعمل مثلثا متساوي الساقين كل واحدة  
من الزاويتين اللتين عند القاعدة ضعف الزاوية  
التي عند راسه

ليكن اب خطا مستقيما محذورا مفروضا فنقسمه على نقطة ج قسمة  
يكون سطح اب في ب ك مربع اح بالشكل الحادي عشر من الثانية ونرسم  
على نقطة ا وبعدها اب دائرة بده ونرسم فيها وتر بد يساوي خط  
اح بالشكل الاول ونصل اد فاقول ان مثلث اب د هو المطلوب برهانه  
نصل ج د بخط مستقيما ونرسم على مثلث اح د دائرة اح د بالشكل



الخامس فلان  $\overline{بأ}$  و  $\overline{بد}$  قد خرجا من نقطة  $\overline{ب}$  الخارجة عن دائرة  $\overline{أرد}$  و  $\overline{بأ}$  قاطع اياها  $\overline{بد}$  ومنته البها وسط  $\overline{أب}$  في  $\overline{ب}$  كربع  $\overline{بد}$  فخط  $\overline{بد}$  يماس دائرة  $\overline{أرد}$  باستبانة الشكل الخامس والثلاثين من الثالثة فخط  $\overline{رد}$  خارج من نقطة التماس قاطعا للدائرة الي قطعتي  $\overline{راد}$   $\overline{رد}$  فزاوية  $\overline{راد}$  كزاوية  $\overline{ردب}$  بالشكل الواحد والثلاثين من الثالثة وزاوية  $\overline{برد}$  كزاويتي  $\overline{راد}$   $\overline{ردا}$  بالشكل الثاني والثلاثين من الاولي فزاوية  $\overline{برد}$  كزاوية



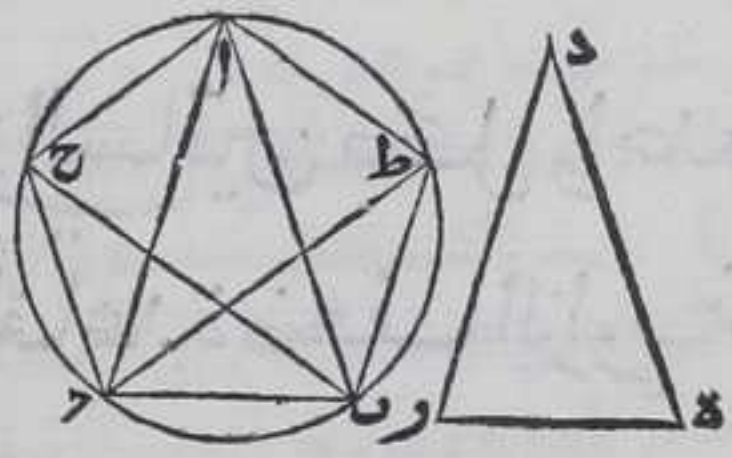
$\overline{أدب}$  لكون زاوية  $\overline{ردب}$  كزاوية  $\overline{راد}$  تكون زاوية  $\overline{أدب}$  كزاوية  $\overline{أدب}$  بالشكل الخامس من الاولي لكون ضلعي  $\overline{أب}$   $\overline{أد}$  متساويين وزاويتي  $\overline{درب}$   $\overline{دبأ}$  متساويتان فضلع  $\overline{دب}$  كضلع  $\overline{دب}$  بالشكل السادس من الاولي فضلعا  $\overline{راد}$   $\overline{ردا}$  متساويان فزاويتي  $\overline{راد}$   $\overline{ردا}$  متساويتان بالشكل الخامس من الاولي فزاوية  $\overline{راد}$  اعني زاوية  $\overline{ردب}$  مع زاوية  $\overline{ردا}$  ضعف زاوية  $\overline{راد}$  وهما اعني زاويتي  $\overline{راد}$   $\overline{ردا}$  كزاوية  $\overline{أدب}$  المساوية لزاوية  $\overline{أدب}$  فكل من زاويتي  $\overline{أدب}$   $\overline{أدب}$  ضعف زاوية  $\overline{بأد}$  فالحكم ثابت وذلك ما اردنا

ان نبي  
واستبان منه ان كل واحدة من زاويتي  $\overline{أدب}$   $\overline{أدب}$  المتساويتين من مثلث  $\overline{أدب}$  نجسا قائمتين لان كل واحدة منهما ضعف زاوية  $\overline{بأد}$  وزاويا كل مثلث كقائمتين لما تبين في الشكل الثاني والثلاثين من الاولي ويقال لهذا المثلث مثلث الخ

يا  
كل دائرة مفروضة لنا ان نرسم فيها خمسا


متساوي الاضلاع والزوايا

ليكن الدائرة  $\overline{أب}$  فنعمل مثلث الخمس بالشكل المتقدم وهو مثلث  $\overline{دور}$  وكل واحدة من زاويتي  $\overline{دور}$   $\overline{دور}$  ضعف زاوية  $\overline{دور}$  ونرسم في دائرة



$\overline{أب}$  مثلث  $\overline{أب}$  زواياه تساوي زوايا مثلث  $\overline{دور}$  بالشكل الثاني وتكون زاوية  $\overline{أب}$  منه تساوي زاوية  $\overline{د}$  من مثلث  $\overline{دور}$  وننصف كلا من زاويتي  $\overline{أب}$   $\overline{أب}$  بخطي  $\overline{بح}$   $\overline{رط}$  المستقيمين بالشكل التاسع من الاولي ونخرجهما الي ان يلقيا المحيط علي نقطتي  $\overline{ح}$   $\overline{ط}$  ونصل  $\overline{أح}$   $\overline{أط}$  بخطوط مستقيمة فاقول ان شكل  $\overline{أح}$   $\overline{رط}$   $\overline{أط}$   $\overline{أح}$  متساوي الاضلاع والزوايا برهانه فلان كلا من زاويتي  $\overline{أب}$   $\overline{أب}$  من مثلث  $\overline{أب}$  منصفه وكل

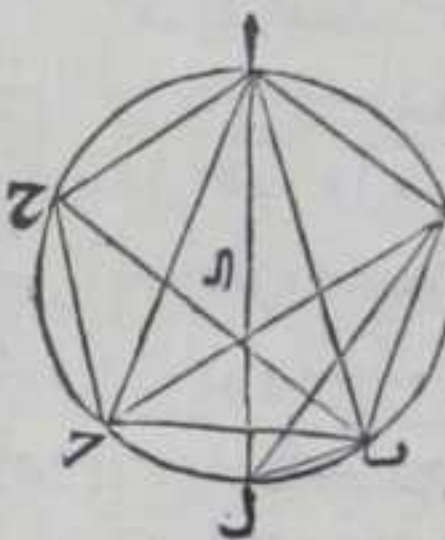




وكل منها ضعف زاوية  $\overline{با ح}$  فزاويا  
 $\overline{با ح}$   $\overline{اب ح}$   $\overline{ب ح ا}$   $\overline{ا ح ب}$   $\overline{ب ح ا}$  الخمس  
 متساوية فقسى  $\overline{ا ح}$   $\overline{ح ب}$   $\overline{ب ط}$   $\overline{ط ا}$   
 الخمس متساوية بالشكل الخامس  
 والعشرين من الثالثة فالخمس متساوي  
 الاضلاع وكل واحد من تلك الاوتار

واقع داخل دائرة  $\overline{ا ب}$  بالشكل الثاني من الثالثة وكل من زواياه انما يقع  
 على ثلث قسي من قسي الخمس المتساوية فزاويا الخمس متساوية بالشكل  
 السادس والعشرين من الثالثة وفيه  $\overline{ط ا ح}$   $\overline{ح ب ا}$   $\overline{ب ط ا}$   
 بالحكم ثابت وذلك ما اردنا ان نبين

واستبان منه ان مربع وتر زاوية الخمس مع مربع وتر المعشر يساويان  
 اربعة امثال مربع نصف قطر دائرة الخمس وذلك  
 لانا نجد مركز دائرة الخمس بالشكل الاول من



الثالثة وليكن نقطة  $\overline{ا}$  ونصل بينها وبين نقطة  $\overline{ط}$   
 $\overline{ا}$  بخط مستقيم ونخرجه على استقامته الى ان  
 ينتهي الى المحيط على نقطة  $\overline{ل}$  ونصل بينها وبين  
 نقطة  $\overline{ب}$  بخط مستقيم فتحصل زاوية  $\overline{ا ب ل}$  قائمة  
 بالشكل الثلاثين من الثالثة فربع  $\overline{ا ل}$  المساوي

لاربعة امثال مربع  $\overline{ا ل}$  بالشكل الرابع من الثانية يكون مساويا لمربعي  
 $\overline{ا ب}$  وتر زاوية الخمس ومربع  $\overline{ب ل}$  وتر المعشر بالشكل السابع والاربعين  
 من الاولى

واستبان منه ايضا ان زاوية الخمس المتساوي الاضلاع الواقع في الدائرة  
 تساوي قائمة وخمس قائمة لان اذا وصلنا بين نقطتي  $\overline{ط ل}$  بخط مستقيم  
 كانت زاوية  $\overline{ا ط ل}$  قائمة بالشكل الثلثين من الثالثة وزاوية  $\overline{ل ط ب}$  خمس  
 قائمة لان المحيط بازاء قائمتين باستبانة الشكل الثلثين من الثالثة فحوس  
 $\overline{ب ل}$  خمس نصف المحيط

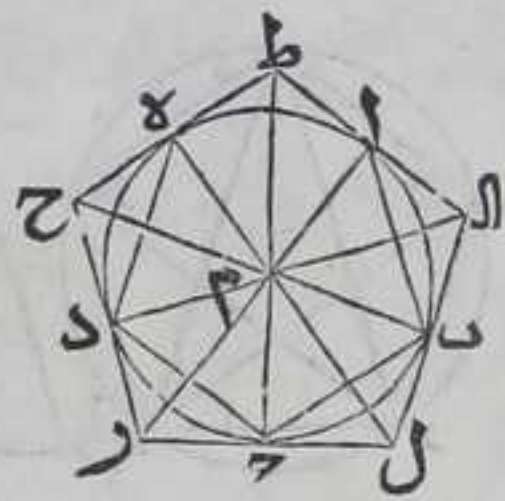
كل دائرة مفروضة لنا ان نرسم عليها خمسا

متساوي الاضلاع والزوايا

ليكن الدائرة  $\overline{ا ب}$  فنرسم فيها خمسا  $\overline{ا ب ج د ه}$  بالشكل المتقدم ونجد  
 مركزها بالشكل الاول من الثالثة وهو نقطة  $\overline{م}$  ونصل بينها وبين كل  
 واحدة من نقط  $\overline{ا ب ج د ه}$  بخط مستقيم فيحدث مثلثات  $\overline{ا م ب}$   $\overline{ب م ج}$   $\overline{ج م د}$   $\overline{د م ه}$   $\overline{ه م ا}$   
 $\overline{م ب}$   $\overline{م ج}$   $\overline{م د}$   $\overline{م ه}$   $\overline{م ا}$  فهي متساوية بالشكل الثامن من الاولى لتساوي اضلاعها



المتناظرة فجميع زوايا المثلثات التي عند نقطة م  
متساوية وهي زوايا امه دم دم ج م ب ب م ا  
ونخرج من كل واحدة من نقط ا ب ج د ه اعمدة  
علي انصاف اقطار دايرة ا ب ج د ه التي هي خطوط  
ام ه م دم ج م ب م باستبانة الشكل الحادي عشر  
من الاولي فالاعمدة تماس الدايرة باستبانة الشكل



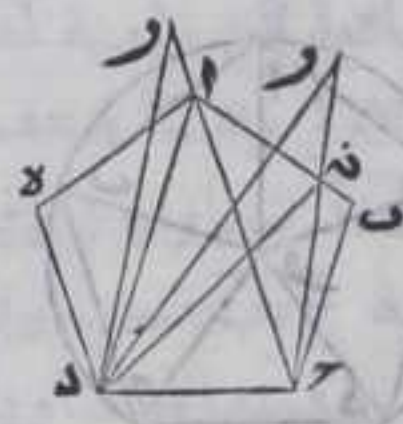
الخامس عشر من الثالثة ونخرجها في الجهتين الي ان يتلافي لان كل  
زاويتين محيط بها وترمخس مع عمودين هما اقل من قائمتين فليتلافي علي  
نقط ح ر ل ا ط فشكل ح ر ل ا ط مخمس متساوي الاضلاع والزوايا  
برهانه نصل بين نقطة م وبين كل واحدة من نقط ح ر ل ا ط بخط  
مستقيم فلان سطح م ر وما يتصل به الي المحيط فيما هو خارج منه من دايرة  
ا ب ج مكربع كل واحد من خطي ر د ر ج بالشكل الخامس والثلاثين من  
الثالثة فهما متساويان وبمثله تبين ان خط ح د مثل ه ح و ط ه مثل ط ا  
والا مثل ا ب و ل ب مثل ل ج ولان اضلاع كل واحد من مثلتي ج م ر  
دم ر المتناظرة متساوية فبالشكل الثامن من الاولي زاويتي ج م ر دم ر  
متساويتان وكذلك زاويتي ج م ر دم ر وكل من زاويتي ج م ر دم ر نصف  
زاوية ج م د فخط م نصف زاوية ج م د وبمثله تبين ان كل واحدة من  
الزاويتين اللتين عند نقط ح ر ل ا ط متساويتان وان خط ح م نصف  
زاوية دم ه وخط ط م نصف زاوية ام ه وخط ام نصف زاوية ام ب  
وخط ل م نصف ب م وهذه الزوايا الخمسة المنصفه ببنا انها متساوية  
فالزوايا العشر التي عند نقطة م متساوية ولان زاويتي ج م ر م ر م  
مثلث م ر ج يساويان زاويتي ل ج م ل م ر م من مثلث ل م ر م كل لنظيره  
وضلع ج م مشترك بين مثلتي م ر ج ل م ر م فهما متساويان بالشكل  
السادس والعشرين من الاولي فضلع ج ل كضلع ج ر وزاوية م ل ج  
كزاوية م ر ج وزاوية ب ل ج ضعف زاوية م ل ر وزاوية د ر ج ضعف  
زاوية م ر ج فزاويتي ب ل ج د ر ج متساويتان وبمثله تبين ان زوايا الثلاثة  
التي عند نقط ح ط ا متساوية ومتساوية لمساوية لزاويتي ب ل ج ح ر د وان  
خطوط ج ر ج ل د ر د ح ه ح ط ا ط ا ب ا ب ال العشرة متساوية  
فاضلاع ح ر ر ل ل ا ط ط ح الخمسة متساوية لان كلا منها ضعف احد  
الخطوط العشر المتساوية فالحكم ثابت وذلك ما اردنا ان نبين  
واستبان منه ان كل مخمس متساوي الاضلاع الواقع في دايرة ينقسم الي  
خمسة مثلثات متساويان الاضلاع النظاي

كل مخمس مفروض متساوي الاضلاع والزوايا لنا

ان نرسم



ان نرسم فيه دائرة



ليكن الخمس  $أب ح د هـ$  ولننصف زاويتي  $ب ح د$   $د ح هـ$   
 بالشكل التاسع من الاولي بخطي  $ح ر د$   $ر هـ$  فلهما يلتقيان  
 داخل الخمس والا فليكن الا لتقاء خارج الخمس  
 فلنخرج خط  $ح ر$  علي نقطة  $ن$  من خط  $أ ب$  او علي  
 نقطة  $ا$  ونصل خطي  $د ن$   $د ا$  فلان في مثلث  $ب ح ن$   
 ضلعي  $ب ح$   $ح ن$  وزاوية بينهما يساوي ضلعي  $د ح$   
 $ح ن$  وزاوية بينهما من مثلث  $د ح ن$  فبالشكل الرابع  
 من الاولي زاوية  $ح ن$   $ن$  المساوية لزاوية  $ح د هـ$  يساوي  
 زاوية  $ح د ن$  هذا خلف وايضا فلان ضلعي  $ب ح$   $ح ا$  وزاوية بينهما من  
 مثلث  $ب ح ا$  يساوي ضلعي  $د ح$   $ح ا$  وزاوية  $د ح ا$  بينهما من مثلث  $د ح ا$   
 فبالشكل الرابع من الاولي زاوية  $أ ب ح$  المساوية لزاوية  $ح د هـ$  تساوي  
 زاوية  $ح د ا$  هذا خلف وبمثله تبين ان خط  $د ر$  لا يمكن ان يخرج علي  
 نقطة بين نقطتي  $ا هـ$  او علي نقطة بين نقطتي  $د هـ$  وان خطي  $ح ر$   $د ر$  لا يمكن  
 التقائهما علي نقطة من احد ضلعي  $أ ب$   $ب ح$  فلا بد وان يلتقيان داخل  
 الخمس فليلتقيا علي نقطة  $ر$  ونخرج منها اعمدة علي كل واحد من اضلاع  
 الخمس بالشكل الثاني عشر من الاولي وهي خطوط  $ر ح$   $ر ط$   $ر ا$   $ر ل$   $ر م$  فاقول  
 انها متساوية برهانه نصل  $ر د$   $ر ا$   $ر ب$  بخطوط مستقيمة فلان ضلع  
 $ب ح$   $ح ر$  وزاوية  $ح$  التي بينهما من مثلث  $ب ح ر$  يساوي ضلعي  $د ح$   $ح ر$   
 وزاوية  $ح$  التي بينهما من مثلث  $د ح ر$  فبالشكل الرابع من الاولي قاعدة  
 $ب ر$  كقاعدة  $د ر$  وزاوية  $ح ب ر$  كزاوية  $ح د ر$  لكن زاوية  $ح د ر$  نصف  
 زاوية  $ح د هـ$  المساوية لزاوية  $ح ب ا$  فزاوية  $ح ب ر$  نصف زاوية  $ح ب ا$  و  
 بمثله تبين ان كل واحدة من زوايا الخمس الباقية منصفة بالخطوط  
 المستقيمة الخارجة من نقطة  $ر$  اليها ولان زاويتي  $ر ح$   $ر ح$  من مثلث  
 $ر ح$  يساويان زاويتي  $ر ح م$   $ر ح م$  من مثلث  $ر ح م$  لكل لنظيرتها وضيع  
 $ح ر$  مشترك بينهما فبالشكل السادس والعشرين من الاولي عمود  $ر م$  كعمود  
 $ر ح$  وبمثله تبين ان اعمدة  $ر ط$   $ر ا$   $ر ل$  متساوية ومساوية لعمودي  $ر م$   
 $ر ح$  فالاعمدة الخمسة متساوية فاذا جعلنا نقطة  $ر$  مركزا ورسمنا عليها  
 ببعد احد الاعمدة دائرة فحيطها يمر علي نقط  $ح$   $ط$   $ا$   $ل$   $م$  و اضلاع  
 الخمس عمود علي الاعمدة فهي تماس الدائرة باستبانة الشكل الخامس عشر  
 من الثالثة فالحكم ثابت وذلك ما اردنا ان نبين

كل خمس مفروض متساوي الاضلاع والزوايا



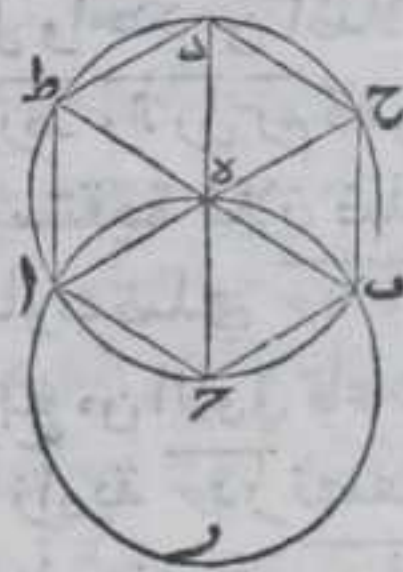
لنا ان نرسم عليه دائرة



ليكن الخمس  $أبجده$  فننصف كل واحدة من  
 زاويتي  $ح د$  بخطي  $ح ر د$  بالشكل التاسع من  
 الاولي فليلتقيا علي نقطة داخل الخمس يمثل ما  
 بين في الشكل المتقدم فليلتقيا علي نقطة  $ر$  فنصل  
 بينهما وبين كل واحدة من نقط  $أ ب$  بخط مستقيم فلان ضلعي  $ب ر$   $ح ر$   
 وزاوية  $ح$  بينهما من مثلث  $ر ب ح$  تساوي ضلعي  $د ر$  وزاوية  $ح$  بينهما  
 من مثلث  $ر د ح$  فبالشكل الرابع من الاولي قاعدة  $ب ر$  كقاعدة  $د ر$   
 بمثلته تميز ان خطوط  $أ ب ر$   $ح ر د$  متساوية فاذا رسمنا علي نقطة  $ر$   
 ببعد احد المخطوط دائرة فحيطها يمر علي نقط  $أ ب$   $ح د$  فالخمس ملاق  
 للدائرة بنقط زواياه واضلاعه واقعة داخل الدائرة بالشكل الثاني من  
 الثالثة فالدائرة المرسومة علي الخمس محيطه به وذلك ما اردنا ان نبين

كل دائرة مفروضه لنا ان نرسم فيها مسدسا

متساوي الاضلاع والزوايا



ليكن الدائرة  $أ ب$  ونجد مركزها بالشكل الاولي  
 من الثالثة وليكن نقطة  $هـ$  ونصل بينها وبين نقطة  
 $ح$  علي محيطها بخط مستقيم ونخرجه علي استقامته  
 في جهة المركز الي ان يلقي المحيط فليلقه علي نقطة  $د$   
 فخط  $ح د$  قطر لدائرة  $أ ب$  ونرسم علي نقطة  $ح$   
 وببعد  $ح د$  دائرة  $أ ب ر$  فيقطع محيطها محيط دائرة  $أ ب$  ويقع داخل  
 دائرة  $أ ب ر$  بالشكل الثاني من الثالثة فليقطع علي نقطتي  $أ ب$  ونصل بين  
 المركزين وبين كل واحدة منهما بخط مستقيم لما بينا في الشكل الاول من  
 الاولي ونخرجه علي استقامته الي ان ينتهي الي محيط دائرة  $أ ب$  ولينته  
 خط  $أ هـ$  علي نقطة  $ح$  وخط  $ب هـ$  علي نقطة  $ط$  ونصل  $أ ح$   $ب ح$   $ح د$   $د ط$   
 $ط أ$  بخطوط مستقيمة فيقع الاوتار داخل الدائرة بالشكل الثاني من  
 الثالثة فلان نقطتي  $ح هـ$  مركزان لدائرتي  $أ ب ر$   $أ ب ر$  المتساويتين  
 فانصاف اقطارهما متساوية فاضلاع مثلثي  $أ ح د$   $ب ح د$  متساوية فزواياها  
 المتناظرة وغير المتناظرة متساوية بالشكل الخامس والثامن من الاولي  
 فزاوية  $أ هـ$  مساوية لزاوية  $ح د ب$  فزاويتي  $ط هـ د$   $ح د هـ$  المقابلتان لها  
 متساويتان بالشكل الخامس عشر من الاولي فزوايا الاربع وهي زوايا  $أ هـ$   
 $ح د ب$   $ح د ط$  متساوية ولان زوايا كل واحد من مثلثي  $أ هـ$   $ب هـ$   
 متساوية



متساوية فكل زاويتين من اي مثلث منهما ضعف الباقية لكن زاوية اهد  
 تساوي زاويتي ااح اءا بالشكل الثاني والثلاثين من الاولي وهما ضعف  
 زاوية اءح فزاوية اهد ضعف زاوية اءح وزاوية طءد تساوي زاوية  
 اءح فزاوية اءط ايضا تساويها ولذلك تبين ان زاوية حءب تساوي  
 زاوية اءح فالزوايا الست التي عند نقطة ء متساوية فقسها متساوية  
 بالشكل الخامس والعشرين من الثالثة فواترها متساوية بالشكل الرابع  
 من الاولي لان الزوايا التي عند نقطة ء متساوية والاضلاع المحيطة بكل  
 واحدة منهما متساوية فاضلاع مسدس اءب ح د ط متساوية وكل  
 زاوية من زواياه علي اربع قسي متساوية من دائرة واحدة فزواياه  
 متساوية بالشكل السادس والعشرين من الثالثة فمحيط دائرة اءب  
 ملاق للمسدس علي نقط زواياه وغير قاطع اياه فالحكم ثابت وذلك ما  
 اردنا ان نبين

وتبين هذا الشكل في اصلي الثابت والحجاج بمثل ما اقول فلان كل واحد  
 من مثلثي اءح بءح متساوية الاضلاع فتكون زوايا كل واحد منهما  
 متساوية بالشكل الخامس من الاولي ولان زوايا كل مثلث قائمتين  
 بالشكل الثاني والثلاثين من الاولي فكل واحدة من زوايا مثلثي اءح بءح  
 ثلث قائمتين وزاويتا اءح اءد كقائمتين بالشكل الثالث عشر من الاولي  
 وزاوية دءط كزاوية بءح بالشكل الخامس عشر من الاولي فهي ثلث  
 قائمتين فتبقي زاوية اءط ثلث قائمتين وبمثلته تبين ان كل واحدة من  
 زاويتي اءح دءح ثلث قائمتين وانا استعملت في بيان هذا الشكل بعد  
 الاشتراك في البيان الشكل الثامن من الاولي والحكم الاول من الشكل  
 الثاني والثلاثين من الاولي وهم استعملوا بعد الاشتراك في البيان الشكل  
 الثالث عشر من الاولي والشكل الثاني والثلاثين من الاولي بحكميه فبياني  
 ابسط من بيانيهم

ويمكن ان ترسم علي دائرة مسدسا وفي المسدس وعلبه دائرة علي قباس  
 ما صر في المحس  
 واستبان منه ان نصف قطر كل دائرة يوتر محيطها ست مرات وان وتر  
 مسدسها يساوي نصف قطر هـ  
 واستبان منه ايضا ان كل دائرة ترسم علي نقطة من محيط دائرة ببعده  
 نصف قطرها فانها يقع من محيط كل واحدة منهما في الدائرة الاخرى  
 هو ثلث المحيط  
 واستبان ايضا ان زاوية المسدس المتساوي الاضلاع والزوايا قائمة  
 وثلث قائم

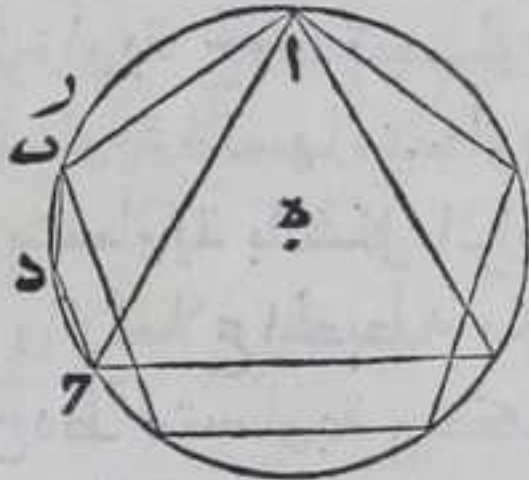
يو



كل دائرة مفروضة لنا ان نرسم فيها شكلاً ا خمسة

عشر ضلعاً متساوية

فلتكن الدائرة  $AB$  فنجد مركزها بالشكل الاول من الثالثة ولتكن نقطة  $e$  ونرسم علي نقطة  $r$  من محيطها وبعده  $r$  دائرة  $ac$  فنقطع دائرة  $AB$  لما بيننا في الشكل الاول من الاولي فلتقطع علي نقطتين بالشكل العاشر من الثالثة



ولتكن نقطتي  $ac$  فنصل بينهما بخط  $ac$  المستقيم فهو وتر ثلث دائرة  $AB$  باستبانة الشكل المتقدم ونرسم في دائرة  $AB$  نجسا متساوي الاضلاع والزوايا بالشكل الحادي عشر وليكن احد اضلاع خط  $AB$  فاذا توهمنا محيط دائرة  $AB$  مقسوماً بخمسة عشر قسماً متساوية انقسمت قوس  $AB$  بخمسة اقسام منها وقوس  $AB$  بثلاثة اقسام فيكون حصة قوس  $B$  قسماً فننصفها بالشكل التاسع والعشرين من الثالثة علي نقطة  $d$  ونصل وترتي  $bd$  فلورسمنا في الدائرة امثال وترتي  $bd$  متتالبة بالشكل الاول الي ان نعود الي المبدأ يقيم الشكل  $ac$  ولنا ان نرسم علي الدائرة هذا الشكل وفيه وعليه دائرة كما رسمنا في الخامس وذلك ما اردنا ان نبين

تمت المقالة الرابعة بعون الله وتوفيقه

## المقالة الخامسة عشر وشكلاً

تقدير احد المقدرات بالآخر وذلك لا يتناقض الا اذا كانا متجانسين هو اضافة احد هما الي الاخر في القدر فالنسبه اضافة واحد المقدرين المتجانسين الي الاخر في القدر فان قدره مرة واحدة فهي المساواة او مرات ولم يبق من الاخر فضلة فهي باعتبار المقدر الي المقدر جزء وبالعكس ضعف او اضعاف وان بقيت فضله وشكلنا بقدر بها وبكل فضله بعدها المقدر وكل فضله تلبيها فاما ان ينتهي الي فضله تستعرف بالتقدير ما يلبيها قبلها واما ان لا ينتهي فان انتهى فكل من المقدرين اضعاف لمقدرات بعينه فهو بقدرها ويقال لهما المشتركان وان لم ينته فهما متبايتان اي ليس احدهما بقدر الاخر ولا ثالث بقدرها

اما الاول



أما الأول فليكن  $\bar{د}$  قدر  $\bar{أ}$  وبقي منه  $\bar{أ}$  وهو قدر  $\bar{د}$   
 وبقي منه  $\bar{د}$  وهو قدر  $\bar{أ}$  وافناه فاقول ان  $\bar{د}$  بقدر كل  
 واحد من مقداري  $\bar{أ}$   $\bar{د}$  برهانه ان  $\bar{د}$  قدر  $\bar{أ}$  وهو قدر  
 $\bar{د}$  فخر بقدر  $\bar{د}$  وبقدر نفسه فخر بقدر  $\bar{د}$  فبقدر  $\bar{ب}$  الذي  
 قدره  $\bar{د}$  فخر بقدر  $\bar{ب}$  وكان قدر  $\bar{أ}$  فخر بقدر  $\bar{أ}$  وكان  
 قدر  $\bar{د}$  فهو بقدر مقداري  $\bar{د}$   $\bar{أ}$  وكل منهما اضعاف  
 لخر فخر اجزاء  $\bar{أ}$   $\bar{ب}$

وأما الثاني فلانها لو اشترك كانت الفضلات بالتقدير ينتهي الي فصله  
 تقدير التي يلها قبلها والمقدر خلافه هذا خلا  $\bar{ف}$   
 كل مقدارين يمكن ان تفصل بعضها علي بعض بالتضعيف فهما من  
 نوع واحد لانه يستلزم تقدير احدهما بالآخر او تقدير بعض من  
 احدهما بالآخر ويكون لكل منهما نسبة الي صاحبه باحد الوجوه الاربعة  
 وبالعكس فكل مقدارين متجانسين لاحدهما الي الاخر نسبة قطعاً علي  
 احد الوجوه الاربعة فان وقعت مثل تلك النسبة بعينها من غير تفاوت  
 اصلاً بين دينك المقدارين بعينهما او بين مقدار منهما ومقدار اخر  
 غيرهما او بين مقدارين آخرين غيرهما يقال لهذه المقادير بذلك الاعتبار  
 المتناسبة فالتناسب نسبة النسب ولكل نسبة حدان احدهما  
 المنسوب ويسمى مقدماً والآخر المنسوب اليه ويسمى تالياً فان جعل  
 التالي مقدماً في نسبة اخري والمقدم تالياً فيها بعينها فاقبل ما يقع فيه  
 التناسب حينئذ المقادير وان كانا اربعة مقادير في الحقيقة وهذه  
 انما يتاتي في النسب المتساوية والمتماثلة وان جعل التالي مقدماً ولم  
 يجعل المقدم تالياً لتاليه بل جعل تالياً لشي اخر فاقبل ما يقع فيه  
 التناسب ثلثة مقادير وان كانت اربعة في الحقيقة  $\bar{ق}$   
 وكل واحد من المقادير المتناسبة هي التي اذا اخذ للاول والثالث  
 منها اي اضعاف كانت من الاضعاف والغير المتناهيبة بعده واحده  
 وللثاني والرابع اي اضعاف كانت بعده واحده مما لانهايه له فان  
 اضعاف الاول اذا كانت زايده علي اضعاف الثاني كانت اضعاف الثالث  
 زايده علي اضعاف الرابع وان كانت مساوية كانت مساوية وان كانت  
 ناقصة عنه كانت ناقصة عنه اذا احدث الاضعاف علي الولا  $\bar{ه}$   
 ليكن نسبة  $\bar{أ}$  الي  $\bar{ب}$  كنسبة  $\bar{د}$  الي  $\bar{د}$  واحد لآخر اضعاف بعده ما وي  
 $\bar{ه}$  رولب  $\bar{د}$  اضعاف بعده ما وي  $\bar{ح}$   $\bar{ط}$  فاقول ان كان  $\bar{ه}$  زايده علي  $\bar{ح}$  كان  
 $\bar{ب}$  زايده علي  $\bar{ط}$  وان كان مساوياً كان مساوياً وان كان ناقصاً كان ناقصاً  
 برهانه فلان نسبة  $\bar{أ}$  الي  $\bar{ب}$  كنسبة  $\bar{د}$  الي  $\bar{د}$  فان كان  $\bar{أ}$  زايده علي  $\bar{ب}$  كان  
 $\bar{د}$  زايده علي  $\bar{د}$  وان كان مساوياً كان مساوياً وان كان ناقصاً كان ناقصاً  
 و  $\bar{ه}$  اضعاف لآخر بعده واحده فان كان  $\bar{ه}$  زايده علي  $\bar{ب}$  كان  $\bar{ه}$  زايده



علي د وان كان مساويا كان مساويا وان كان ناقصا كان ناقصا وح ط اضعاف لب د بعده واحده فان كان ه زائدا علي ح كان ر زائدا علي ط وان كان مساويا كان مساويا وان كان ناقصا كان ناقصا وذلك ما اردنا ان نبين  $\text{هـ}$  واذا كانت اربعة مقادير ولبست نسبة الاول الي الثاني كنسبه الثالث الي الرابع فليس يمكن اذا اخذ اي اضعاف للاول والثالث متساوية العدة وللثاني والرابع كذلك ان يكون اضعاف الاول لا يزيد علي اضعاف الثاني الا ويزيد اضعاف الثالث علي اضعاف الرابع ولا يساويه الا ويساويه ولا ينقص عنه الا



وينقص عنه  $\text{هـ}$  والّا فليكن نسبة آ الي ب لبست كنسبه ح الي د واخذ لآ اي اضعاف كانت متساوية العدة وهي ه ر ولب د اي اضعاف كانت متساوية العدة وهي ح ط فلان ه لا يزيد علي ح الا ويزيد ر علي ط ولا يساويه الا وينقص عنه الا وينقص عنه هها اضعاف متساوية لآ قالا يزيد علي ح الا ويزيد ح علي ط لا يساويه الا وينقص عنه الا وينقص عنه ح ط هها اضعاف متساوية لآ قادي ب د فالاي يزيد علي ب الا ويزيد ح علي د ولا يساويه الا وينقص عنه الا وينقص عنه وكان آ زايد علي ب وح غير زايد علي د او كان متساويا لب وح غير مساو لد او كان آ ناقصا عن ب وح غير ناقص عن د في الوضع هذا خلف فالحكم ثابت وذلك ما اردنا ان نبين  $\text{هـ}$

والشكل كالمقدم

فاستبان منه ومما يقدر انه اذا كانت اربعة مقادير من جنس واحد او الاول والثاني من جنس والثالث والرابع من جنس اخر وكان اي اضعاف اخذ الاول والثالث متساوية العدة مما لانهايه له واي اضعاف اخذ الثاني والرابع مما لانهايه له علي الولا كانت اضعاف الاول لا تزيد علي اضعاف الثاني الا وتزيد اضعاف الثالث علي اضعاف الرابع ولا تساوي الا وتساويه ولا وينقص عنها الا وينقص عنها نسبة الا الي الثاني كنسبة الثالث الي الرابع  $\text{ع}$  اذا كان اربعة مقادير وهي آ ب ح د من جنس واحد او الاول والثاني من جنس والثالث والرابع من جنس اخر وكان اي اضعاف اخذ للاول والثالث وهما آ ح متساوية العدة مما لانهايه له وهي ه ر واي اضعاف اخذ الثاني والرابع وهما ب د متساوية العدة مما لانهايه له وهي ح ط وكانت اضعاف الاول زائدة علي اضعاف الثاني واضعاف الثالث غير زائدة



زايدة علي اضعاف الرابع فاقول ان نسبة آ الي ب اعظم من نسبة ح الي د  
برهانها فلان ه اعظم من ج ورليس باعظم من ط فنسبة ه الي ح اعظم  
من نسبة ز الي ط وه رهما اضعاف متساوية العدة لقدرتي آ ح فنسبة  
آ الي ح اعظم من نسبة ح الي ط وح ط هما اضعاف متساوية العدة  
لقدرتي ب د فنسبة آ الي ب اعظم من نسبة ح الي د وذلك ما اردنا

ان نبي

كل مقادير متناسبه علي الولا كم كانت فان كانت ثلاثة كانت نسبة  
الاول الي الثالث كنسبته متناه بالتكبير وان كانت خمسة كانت مربعة  
وعلي هذا القياس بالغ ما بلغت وتكلم علي النسبة المولفة في صدر  
المقالة السادسة ان شاء الله تعالى فبظهر منه تكرر النسبة  
المقادير المتسعة في النسبة والنظيرة ان يقال فيها نسبة المقدم الي تاليه  
كنسبة مقدم اخر الي تاليه وهكذا بالغ ما بلغت ولا تصرفها مقدم  
تاليه وبالعكس

س

عكس النسبه هو ان تجعل التالي مقدا للمقدم والمتدم تاليه للتالي  
ابدال النسبة هو ان نضيف المقدم الي المقدم والتالي الي التالي  
تركيب النسبة هو ان تجعل المقدم والتالي معا مقدا للتالي بعينه  
تفصيل النسبة هو نسبة فصل المقدم علي التالي الي التالي  
قيست النسبة هو نسبة المقدم الي فضله علي التالي  
نسبة المساواة ان يكون صنفان من المقادير المتناسبة متساوية العدة كل  
اثنين كل اثنين من احدهما علي نسبة نظيرتهما من الاخر فتؤخذ  
الاطراف متناسبة علي نسق ما فهمما وتترك الاوساط  
المتناسبة المنتظمة منها ان يكون نسبة مقدم الي تاليه من صنف كنسبة  
مقدم الي تاليه من صنف اخر ونسبة الثاني من الصنف الاول الي شي  
اخر كنسبة تالي الصنف الاخر الي شي اخر  
والمتناسبة المضطربة منها ان يكون نسبة مقدم الي تاليه من صنف  
كنسبة مقدم الي تاليه من صنف اخر ونسبة التالي من الصنف الاول  
الي شي اخر كنسبة شي اخر الي المقدم من الصنف الاخر

## الاشكال

أ

اي مقادير كانت فان كان في الاول منها من اضعاف  
الثاني بقدرها في الثالث من اضعاف الرابع فان في  
جميع الاول والثالث من اضعاف الثاني والرابع



يقدر ما في احدهما من اضعاف صاحبه

<p>ا ب ج د هـ و ز ح ط د</p>	<p>ا ب ج د هـ و ز ح ط د</p>	<p>ا ب ج د هـ و ز ح ط د</p>
<p>ا ب ج د هـ و ز ح ط د</p>	<p>ا ب ج د هـ و ز ح ط د</p>	<p>ا ب ج د هـ و ز ح ط د</p>

اذا كانت مقادير في الاول منها من اضعاف الثاني

مثل ما في الثالث من اضعاف الرابع وفي الخامس

من اضعاف الثاني مثل ما في السادس من اضعاف

الرابع ففي مجموع الاول والخامس من اضعاف الثاني

مثل ما في مجموع الثالث والسادس من اضعاف الرابع

<p>ا ب ج د هـ و ز ح ط د</p>	<p>ا ب ج د هـ و ز ح ط د</p>	<p>ا ب ج د هـ و ز ح ط د</p>
<p>ا ب ج د هـ و ز ح ط د</p>	<p>ا ب ج د هـ و ز ح ط د</p>	<p>ا ب ج د هـ و ز ح ط د</p>

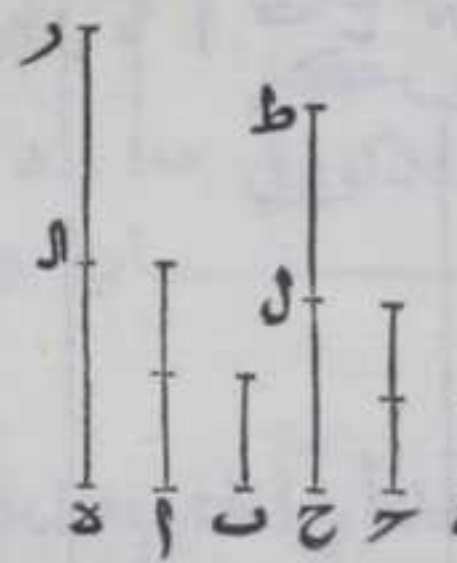
واستبان منه ان الحكم المذكور لا يقتصر على المقادير الستة بل لو كان في الاول والخامس والسابع والتاسع من اضعاف الاول مثل ما في الثالث والسادس والثامن والعاشر من اضعاف الرابع وعلي هذا النسب الي اي حد نريد فان البرهان ينتظم عليه

اذا كانت



اذا كانت اربعة مقادير في الاول منها من اضعاف  
 الثاني مثل ما في الثالث من اضعاف الرابع واخذ  
 للاول والثالث اضعاف كم كانت متساوية العدة فان  
 في اضعاف الاول من الثاني مثل ما في اضعاف

الثالث من الرابع مع



ليكن في الاول من اضعاف ب الثاني مثل ما في ح  
 الثالث من اضعاف د الرابع واخذ ل اضعافا  
 متساوية بعدة واحدة وفي ح ط فاقول ان في  
 د من اضعاف ب مثل ما في ح ط من اضعاف د د  
 برهانه نقسم د بقدر ا ب ك ا فكل واحد

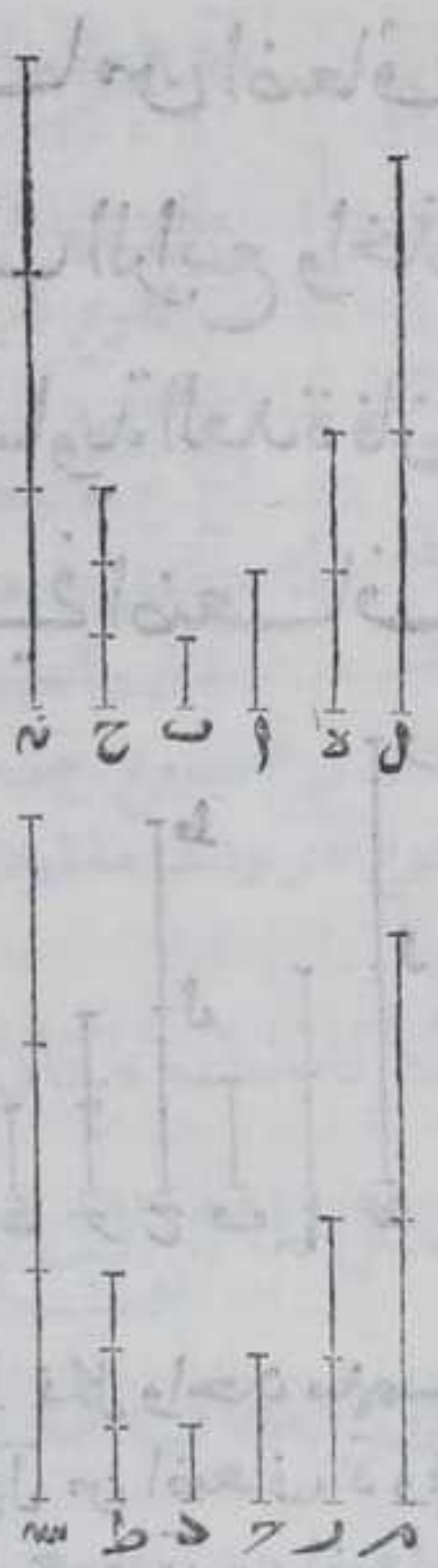
منهما يساوي ا ونقسم ح بقدر ح ل ط فكل واحد منهما  
 يساوي ح فلان في ا د من اضعاف ب مثل ما في ح ل من اضعاف د وفي  
 ل د من اضعاف ب مثل ما في ل ط من اضعاف د ففي جميع د من اضعاف  
 ب مثل ما في جميع ح ط من اضعاف د بالشكل الثاني وذلك ما  
 اردنا ان نبين

واستبان منه ان الحكم لا يقتصر على المقادير الستة لو كانت ثمانية او  
 عشرة او اثني عشر وعلى هذا النسق الى اي حد فان البرهان ينتظم  
 عليه

اذا كانت مقادير نسبة الاول منها الى الثاني كنسبة  
 الثالث الى الرابع واخذ للاول والثالث اضعاف  
 متساوية العدة كم كانت وللثاني والرابع اضعاف  
 متساوية العدة كم كانت فان نسبة اضعاف الاول الى  
 اضعاف الثاني كنسبة اضعاف الثالث الى اضعاف  
 الرابع مع



لتكن نسبة آ الاول الي ب الثاني كنسبة ح الثالث  
الي د الرابع واخذ لاح اضعاف كم كانت بعدة  
واحدة وهي ه رولب د اضعاف كم كانت بعدة  
واحدة وهي ح ط فاقول ان نسبة ه الي ح كنسبة ر  
الي ط برهانه ناخذ له راضعافا كم كانت بعدة  
واحدة وهي ل م و ح ط اضعافا كم كانت بعدة  
واحدة وهي ن ه في ل من اضعاف آ مثل ما في  
م من اضعاف ح وفي ن من اضعاف ب مثل ما في  
ه من اضعاف د بالشكل المتقدم ونسبة آ الي ب  
كنسبة ح الي د فل م اما مساويان لن ه معا  
او زائيدان عليهما او ناقصان عنهما لذلك فاي  
اضعاف اخذ له ر كم كانت بعدة واحدة واي  
اضعاف اخذ له ط كم كانت بعدة واحدة  
فاضعاف الاولين اما مساوية لاضعاف الاخرين  
او زائيدة عليهما واما ناقصة عنها مع فتحكم  
المصادرة نسبة ه الي ح كنسبة ر الي ط وذلك ما  
اردنا ان نبين



واستبان منه ان الحكم لا يقتصر علي اربعة مقادير  
متناسبة بل ينتظم البرهان ولو كانت المتناسبة ستة او ثمانية او عشرة  
وعلي هذا النسق الي اي حد اريد

اذا كان مقداران احدهما اضعاف الآخر بعدة  
ما ونقص منها مقداران احدهما اضعاف الاخر  
بتلك العدة النظير من النظير في الباقي من  
الاضعاف اضعاف الباقي من الاجزاء وبتلك العدة  
ايضا

ليكن اب اضعاف د بعدة ما ونقص منها ه ح واه اضعاف ح  
بتلك العدة فاقول ان ه ب اضعاف ل د بتلك العدة بعينها برهانه ناخذ  
ا ط اضعافا ل د بتلك العدة فلان في ه من اضعاف ح مثل ما في ا ط من  
اضعاف د في جميع ط ه من اضعاف ح مثل ما في ه من اضعاف ح  
بالشكل



بالشكل الاول وكان في  $\overline{AB}$  من اضعاف  $\overline{CD}$  مثل ما في  $\overline{AE}$  من  
 اضعاف  $\overline{CF}$  ف  $\overline{AB}$   $\overline{CD}$  متساويا فاذا القينا  $\overline{AE}$  المشترك بينهما  
 منهما يبقى  $\overline{AT}$  مساويا لـ  $\overline{DB}$  وكان في  $\overline{AT}$  من اضعاف  $\overline{CD}$  مثل  
 ما في  $\overline{AB}$  من اضعاف  $\overline{CD}$  ففي  $\overline{DB}$  من اضعاف  $\overline{CD}$  مثل ما في  
 $\overline{AB}$  من اضعاف  $\overline{CD}$  وذلك ما اردنا ان نبين  $\odot$   
 واستبان منه انه اذا نقص من المقدارين الباقيين او من  
 المتقوسين مقداران احدهما اضعاف الاخر بتلك العدة  
 النظير من النظير مرة بعد اخرى الي ما لانهاية له فان الباقي  
 في كل مرة فبهما اضعاف لنظيره بتلك العدة ويكون كل  
 واحد منهما لانهاية له فردا من افراد الدعوي المذكور في  
 اصل الكت  $\odot$

اذا كان مقداران كل منهما اضعاف المقدار آخر بعدة  
 واحدة ونقص من كل واحد منهما مقدار هو اضعاف  
 لذلك المقدار الآخر بعدة واحدة النظير للنظير  
 فالباقي من كل واحد من المقدارين اما مساو لذلك  
 المقدار الآخر واما اضعاف له بعدة واحدة النظير

للنظير  $\odot$   
 لـ  $\overline{AB}$  اضعاف له بعدة ما ورد اضعاف لـ  $\overline{CD}$  بتلك  
 العدة بعينها ونقص من  $\overline{AB}$  اضعافا له بعدة ما وتر من  
 $\overline{CD}$  اضعافان لـ  $\overline{CD}$  بتلك العدة بعينها فاقول ان  $\overline{CB}$   
 $\overline{CD}$  اما مساويان له واما اضعاف لهما بعدة واحدة  
 برهانه ناخذ  $\overline{AC}$  مساويا لـ  $\overline{AN}$  كان  $\overline{CB}$  مساويا له و اضعافا لـ بعدة  
 اضعاف  $\overline{CB}$  له فلان في  $\overline{AC}$  من اضعاف  $\overline{CD}$  مثل ما في  $\overline{CB}$  من اضعاف  
 $\overline{CD}$  اما مثل له او امثال له بعدة ما ورد  $\overline{AN}$  مثل لـ او امثال له بتلك  
 العدة بعينها فبالشكل الثاني عدة اضعاف  $\overline{AB}$  له لعدة اضعاف  $\overline{AT}$  لـ  
 وكان عدة اضعاف  $\overline{AB}$  له لعدة اضعاف  $\overline{CD}$  لـ  $\overline{AT}$   $\overline{CD}$  متساويان فاذا  
 القينا  $\overline{AT}$  المشترك بينهما يبقى  $\overline{TD}$  مثل لـ  $\overline{AC}$  و  $\overline{AN}$  مثل لـ  $\overline{AN}$  كان  
 $\overline{CB}$  مثل  $\overline{CD}$  و اضعاف لـ بعدة اضعاف  $\overline{CB}$  له ف  $\overline{CD}$  مثل لـ  $\overline{AN}$  كان



ح ب مثل ه او اضعاف لربعدة اضعاف ح ب له وذلك ما اردنا ان نبين

كل واحدة من نسب المقادير المتساوية الي مقدار واحد متساوية وكل وحدة من نسب مقدار واحد

الي اي المقادير المتساوية متساوية

ليكن آ ب متساويين فاقول ان نسبة آ الي ح كنسبة ب اليه ونسبة ح الي آ كنسبته الي ب برهانه ناخذ لآ ب اي اضعاف كانت متساوية العدة وهي د ه ولح اي اضعاف اتفقت بعدة ما وهي ر فان كان د يساوي



ر كان ه يساويه وان كان زايذا عليه كان ه زايذا عليه وان كان ناقصا عنه كان ه ناقصا عنه وبالعكس اي ان كان ر مساويا لد كان مساويا له وان كان زايذا علي د كان زايذا علي ه وان كان ناقصا عن د كان ناقصا عن ه وذلك انما كان كذلك لان اي اضعاف اخذت لآ ب تكون متساوية ان كانت بعدة واحدة فآ ب مقادير اذا اخذ لآ ب اضعاف باي عدة ولح اضعاف باي عدة فان كانت اضعاف آ زايذا علي اضعاف ح كانت اضعاف ب زايذا علي اضعاف ح وان كانت مساوية كانت مساوية وان كانت ناقصة كانت ناقصة فتحكم المصادرة نسبة آ الي ح كنسبة ب اليه ونسبة ح الي آ كنسبته الي ب بهذا البيان ايضا وذلك ما اردنا ان نبين

ح

كل مقدارين مختلفين فان نسبة الاعظم منهما

الي ثالث اعظم من نسبة اصغرها اليه ونسبة

الثالث الي اصغرها اعظم من نسبته الي اعظمها

ليكن آ ب ح مقدارين مختلفين وآ ب اعظمها ود مقدار ثالث فاقول ان نسبة آ الي د اعظم من نسبة ح اليه ونسبة د الي ح اعظم من نسبته الي آ برهانه نفصل من آ ب مثل ح بالشكل الثالث من الاولي وهو ب ه فمن قدرني آ ه ب الذي ليس باعظم من الاخر وليكن هو آ لا يخلوا اما ان يكون اعظم من د اوليس اعظم منه فان كان اعظم





اعظم منه ناخذ له اضعافا كم كانت وان لم يكن اعظم فنضعفه حتى يزيد  
 اضعافه علي د وليكن الاضعاف مرح ولناخذ لكل واحد من قدري  
 ه ب اضعافا بعدة ما في مرح من اضعاف اه وليكونا قدري ح ط ال  
 فهما متساويان لتساوي قدري ه ب فلان في مرح من اضعاف اه مثل  
 ما في ح ط اضعاف ه ب ففي ر ط من اضعاف اب مثل ما في مرح من  
 اضعاف اه بالشكل الاول فعدة اضعاف ر ط لقدر اب لعدة اضعاف  
 ال لقدر ح ولان كل واحد من قدري ه ب ا اما مساو لقدر اه او  
 اعظم منه فكل واحد من قدري ح ط ال اما مساو لقدر مرح او اعظم  
 منه فكل واحد من قدري ح ط ال اعظم من قدر د فليضعف د علي  
 الولا الي اول قدر نريد علي ال وليكن ه م ن ه فقدرة اما مساو  
 لقدر ال او اصغر منه بمقدار هو اصغر من د فاذا زيد علي ن ه مقدار  
 يساوي د صار ه فقدرة اعظم من ال واذا زدنا مرح الذي هو  
 اعظم من د علي ح ط المساوي لكل حصل ر ط فزط اعظم من ه  
 وال ليس باعظم من ه فنسبة اب الي د اعظم من نسبة ح اليه ولان  
 ه الذي هو اضعاف د علي الولا يزيد علي ال الذي هو اضعاف ح  
 علي الولا ولا يزيد علي ر ط الذي هو اضعاف اب فنسبة د الي ح اعظم  
 من نسبة د الي اب وذلك ما اردنا ان نبين

ط  
 كل واحد من المقادير التي نسبة كل واحد منها  
 الي مقدار واحد متساوية فهي متساوية وكل واحد  
 من المقادير التي نسبة مقدار واحد الي كل واحد منها  
 متساوية فهي متساوية

ليكن نسبة آ الي ح كنسبة ب اليه فاقول ان آ يساوي ب  
 برهانه لان آ لو لم يكن مساويا لب لكان اما اعظم منه او  
 اصغر فيكون نسبة آ الي ح اعظم من نسبة ب اليه او اصغر  
 بالشكل المتقدم وكانت نسبة آ الي ح كنسبة ب اليه هذا  
 خلف وان كانت نسبة ح الي آ كنسبته الي ب فآب متساويان والالكان  
 احدهما وليكن آ اعظم من ب او اصغر منه فيكون نسبة ح الي ب اعظم  
 من نسبته الي آ او اصغر بالشكل المتقدم وكانت نسبة ح الي ب كنسبته  
 الي آ هذا خلف فالحكم ثابت وذلك ما اردنا ان نبين



كل مقادير فان كانت نسبة مقدار منها الي ثالث اعظم من نسبتها اليه فهو اعظمها وان كانت نسبة الثالث الي احدها اعظم من نسبتها الي البواقي فهو


اصغرها

ليكن نسبة آ الي ح اعظم من نسبة ب اليه فاقول ان آ اعظم من ب برهانه والا لكان ب مساويا لآ او اصغر منه فيكون نسبة آ الي ح حينئذ كنسبة ب اليه بالشكل السابع او اصغر من نسبة ب اليه بالشكل الثامن هذا خلف لان المقدر خلافهما وايضا ليكن نسبة ح الي ب اعظم من نسبتها الي آ فب اصغر من آ والا لكان مساويا له او اعظم منه فيكون نسبة ح الي ب كنسبته الي آ بالشكل السابع او اصغر من نسبتها اليه بالشكل الثامن هذا خلف لان المقدم ايضا خلافهما فالحكم ثابت وذلك ما اردنا ان نبين

جميع النسب المساوية لنسبة واحدة فتلك النسب

متساوية

ليكن نسبة آ الي ب كنسبة ح الي د ونسبة ه الي ر كنسبة ز الي ط فاقول ان نسبة آ الي ب كنسبة ه الي ر برهانه فلانا اذا اخذنا لآ ح ه اي اضعاف اتفقت بعدة واحدة مما لا يتناهي ولتكن هي ح ط ا ولب د ر اي اضعاف اتفقت بعدة واحدة مما لا يتناهي ولتكن هي ل م ن ونسبة آ الي ب كنسبة ح الي د فان كان ح زاييدا علي ل كان ط زاييدا علي م وان كان مساويا له كان مساويا له وان كان ناقصا عنه كان ناقصا عنه ونسبة ه الي ر كنسبة ز الي ط فان كان ل زاييدا علي ن كان ط زاييدا علي م وان كان مساويا له كان مساويا له وان كان ناقصا عنه كان ناقصا عنه فان كان ل زاييدا علي ن كان ط زاييدا علي م وان كان مساويا له كان مساويا له وان كان ناقصا عنه كان ناقصا عنه وح ا اضعاف بعدة واحدة لتدري آ ه ول ن اضعاف بعدة واحدة لتدري






لقدرتي ب ر ق ا ب ه ر اربعة مقادير اي اضعاف اخذت للاول والثالث  
 بعدة واحدة وللثاني والرابع بالطريق المذكور فان كانت اضعاف  
 الاول زايدة علي اضعاف الثاني كانت اضعاف الثالث زايدة علي  
 اضعاف الرابع وان كانت مساوية كانت مساوية وان كانت ناقصة  
 كانت ناقصة فتحكم المصادرة نسبة آ الي ب كنسبة ه الي ر وذلك  
 ما اردنا ان نبين

يب

كل واحد من المقادير التي نسبة الاول منها الي  
 الثاني كنسبة الثالث الي الرابع ونسبة الثالث  
 الي الرابع اعظم من نسبة الخامس الي السادس  
 فنسبة الاول الي الثاني منها اعظم من نسبة

الخامس الي السادس




لتكن نسبة آ الي ب كنسبة ح سه الي د ونسبة  
 ح سه الي د اعظم من نسبة ه الي ر فاقول ان  
 نسبة آ الي ب اعظم من نسبة ه الي ر برهانه  
 فلان نسبة ح سه الي د اعظم من نسبة مقدار  
 هو اصغر من ح سه الي د بالشكل الثامن فلتكن  
 نسبة ع سه من ح سه الي د كنسبة ه الي ر  
 ونضعف ما ليس باعظم من جناخيه من  
 مقاديراي ح ع سه وليكن هو ح ع الي ان  
 يصير اعظم من د وليكن هو ح ف ونضعف  
 ع سه بتلك العدة وليكن هو ف ص فلان في

فح من اضعاف ح ع مثل ما في ف ص من اضعاف ع سه ففي ح ص من  
 اضعاف ح سه مثل ما في ف ص من اضعاف ع سه بالشكل الاول فلان في  
 ح ف اعني اضعاف ح ع اعظم من د و ف ص اضعاف لع سه بتلك العدة  
 وع سه اما اعظم من ح ع او مساولة ف ف ص اعظم من د فنضعف د  
 مرة بعد اخري الي ان يصير اعظم من ف ص اما بمقدار د او بما هو  
 اصغر من مقدرا د وهو مقدار الم ولناخذ لمقداره اضعافا بعدة ما  
 في ف ص من اضعاف ع سه والمقدار ر اضعافا بعدة ما في آ من اضعاف  
 د وهما ط ل فلان نسبة ع سه الي د كنسبة ه الي ر واخذ لكل واحد من



الاول والثالث اضعاف بعدة واحدة وهما فـصـ طـ والثاني والرابع  
 اضعاف بعدة واحدة وهما الـ لـ فان كان فـصـ اعظم من الـ كان طـ اعظم  
 من لـ وان كان مساويا كان مساويا وان كان ناقصا كان ناقصا لكن فـصـ  
 ليس بزايد علي الـ فـطـ ليس بزايد علي لـ ولان حـ فـ اعظم من دـ فـصـ  
 يكون اعظم من الـ وناخذ لمقدار اضعافا بعدة ما في حـصـ من اضعاف  
 حـصـ وهو مـ وناخذ لمقدار بـ اضعافا بعدة ما في الـ من اضعاف وهو نـ  
 ولان نسبة آ الي بـ كنسبة حـصـ الي دـ واخذ الاول والثالث منها  
 اضعاف بعدة واحدة وهما مـ حـصـ والثاني والرابع اضعاف بعدة واحدة  
 وهما نـ الـ فان كان مـ زائدا علي نـ كان حـصـ زائدا علي الـ وان كان  
 مساويا كان مساويا وان كان ناقصا كان ناقصا لكن حـصـ اعظم من الـ فـمـ  
 اعظم من نـ والا لكان مساويا له او اصغر منه فكان حـصـ مساويا لكـ  
 او اصغر منه وهو اعظم منه هذا خلف فـمـ اعظم من نـ فـبـ رـ اربعة  
 مقادير اخذ الاول والثالث منها وهما آـ اضعاف بعدة واحدة وهما  
 مـ طـ والثاني والرابع اضعاف بعدة واحدة وهما نـ لـ واضعاف الاول  
 زايد علي اضعاف الثاني واضعاف الثالث غير زايد علي اضعاف الرابع  
 فنسبة آ الي بـ اعظم من نسبة هـ الي رـ وذلك ما اردنا ان نبين

واستبان منه انه اذا كانت نسبة الاول  
 الي الثاني كنسبة الثالث الي الرابع  
 ونسبة الثالث الي الرابع اعظم من  
 نسبة الخامس الي السادس وكانت  
 نسبة الخامس الي السادس كنسبة  
 السابع الي الثامن فان نسبة الاول الي  
 الثاني اعظم من نسبة السابع الي الثامن  
 وليكن في مقالنا نسبة هـ الي مـ كنسبة  
 فـ الي رـ وليكن في شهـ من اضعاف فـ  
 مثل ما في اضعاف طـ من اضعاف هـ وفي  
 تـ من اضعاف رـ كما في لـ من اضعاف  
 رـ ونسبة هـ الي مـ كنسبة فـ الي رـ فان  
 كان طـ زائدا علي لـ كان شهـ زائدا علي




تـ وان كان مساويا كان مساويا وان كان ناقصا كان ناقصا لكن طـ غير  
 زايد علي لـ فشـ غير زايد علي تـ فـصـ فـ دـ ر اربعة مقادير اخذ  
 للاول والثالث منها وهما حـصـ فـ اضعاف متساوية العدة وهما حـصـ شهـ  
 واخذ للثاني والرابع وهما دـ ر اضعاف متساوية العدة وهما الـ تـ  
 واضعاف الاول وهي حـصـ زائدة علي اضعاف الثاني وهي الوـ واضعاف  
 الثالث وهي شهـ غير زائدة علي اضعاف رـ وهي تـ فنسبة حـصـ الي دـ  
 اعظم



اعظم من نسبة قه الي ر فنسبة آ الي ب اعظم من نسبة قه الي ر  
 وظهر منه ايضا انه اذا كانت نسبة مقادير وكانت نسبة الاول الي الثاني  
 اعظم من نسبة الثالث الي الرابع ونسبة الثالث الي الرابع كنسبة  
 الخامس الي السادس فان نسبة الاول الي الثاني اعظم من نسبة الخامس  
 الي السادس من ح

جميع المقادير المتناسبة ان يكون نسبة مقدم  
 واحد منها الي ثالثة كنسبة جميع مقدماتها الي

ثالثها



لتكن نسبة آ الي ب كنسبة ح الي د وكنسبة  
 ه الي ر فاقول ان نسبة آ الي ب كنسبة مجموع  
 آ ح ه الي مجموع ب د ر برهانه ناخذ لآ ح ه  
 اضعافا كم كانت بعدة واحدة وفيه ح ط آ  
 ولب د ر اضعافا كم كانت بعدة واحدة  
 وفي ل م ن ه ونسبة آ الي ب كنسبة ح الي د  
 وكنسبة ه الي ر فزيادة ح ط آ علي ل م ن  
 ونقصانها منها ومساواتها لها معا ولان في ح  
 من اضعاف آ مثل ما في ط من اضعاف ح  
 وفي آ من اضعاف ه وفي ل من اضعاف ب  
 مثل ما في م من اضعاف د وفي ن ه من اضعاف


رفني ح من اضعاف آ مثل ما في مجموع ح ط آ من اضعاف مجموع آ ح ه  
 وفي ل من اضعاف ب مثل ما في مجموع ل م ن ه من اضعاف مجموع ب د ر  
 بالشكل الاول فان ح زايد اعلي ل كان مجموع ح ط آ زايد اعلي مجموع ل  
 م ن ه وان كان ناقصا كان ناقصا وان كان مساويا كان مساويا فنسبة آ الي ب  
 كنسبة مجموع آ ح ه الي مجموع ب د ر وذلك ما اردنا ان نبين

يد

اذا كانت اربعة مقادير متناسبة فالاول ان كان  
 اعظم من الثالث كان الثاني اعظم من الرابع وان كان  
 مساويا كان مساويا وان كان اصغر كان اصغر

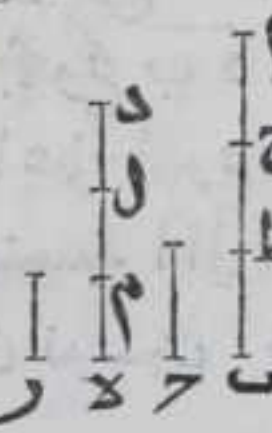


ليكن نسبة آ الي ب كنسبة ح الي د فاقول ان كان آ اعظم من ح كان ب اعظم من د وان كان آ مساويا لح كان ب مساويا لد وان كان آ اصغر من ح كان ب اصغر من د برهانه وليكون آ اعظم من ح فلان بالتقديم نسبة ح الي د كنسبة آ الي ب فنسبة آ الي ب اعظم من نسبة ح الي ب بالشكل الثامن فبالشكل الثاني عشر نسبة ح الي د اعظم من نسبه الي ب فبالشكل العاشر ب اعظم من د وان كان آ مساويا لح فب مساو لد لان نسبة آ الي د حينئذ تكون كنسبة ح الي د بالشكل السابع عشر وكانت نسبة آ الي ب كنسبة ح الي د فنسبة آ الي د كنسبه الي ب بالشكل الحادي عشر فب يساوي د بالشكل التاسع وان كان آ اصغر من ح فب اصغر من د لان نسبة آ الي ب كنسبة ح الي د ولان ح اعظم من آ يكون نسبة ح الي د اعظم من نسبة آ الي د بالشكل الثامن فبالشكل الثاني عشر نسبة آ الي ب اعظم من نسبة آ الي د فبالشكل العاشر ب اصغر من د وذلك ما اردنا ان نبين



كل واحدة من الاجزاء التي عدة اضعافها متساوية فان نسبة تلك الاجزاء بعضها الي بعض كنسبة اضعافها بعضها الي بعض على الولى

ليكن اب اضعاف ح بعدة ما وده اضعاف ر بتلك العدة فاقول ان نسبة ح الي ر كنسبة اب الي ده برهانه نقسم اب بقدر ح فلتكن اتسامه اح ح ط ب ونقسم ده بر وليكن اتسامه دل لم م ه فلان مقادير اح ح ط ب في الاربعة متساوية وكذا مقادير دل لم م ه في الاربعة متساوية فاذا اخذنا لمقادير ح ط ب اضعافا متساوية العدة كم كانت مما لا يتناهي ومقادير ر م ه اضعافا متساوية العدة كم كانت مما لا يتناهي فانه ان كانت اضعاف ح زائدة على اضعاف ر كانت اضعاف ط ب زائدة على اضعاف م ه وان كانت ناقصة كانت ناقصة وان كانت مساوية كانت مساوية فنسبة ح الي ر كنسبة ط ب الي م ه واذا اخذنا لمقادير اح ح ط ب اضعافا متساوية العدة كم كانت مما لا يتناهي ومقادير دل لم م ه اضعافا متساوية العدة كم كانت مما لا يتناهي فانه ان كانت اضعاف اح زائدة على اضعاف دل كانت اضعاف ح ط زائدة على اضعاف لم واضعاف ط ب زائدة على



على



علي اضعاف مـ وان كانت ناقصة كانت ناقصة وان كانت مساوية  
 كانت مساوية فنسبة آح الي دل كنسبة حط الي لم وكنسبة طب  
 الي مـ فبالشكل الثالث عشر نسبة جميع آب الي جميع ده كنسبة طب  
 الي مـ فبالشكل الحادي عشر نسبة ح الي ر كنسبة آب الي ده فالحكم  
 ثابت وذلك ما اردنا ان نبين

يو

اربعة مقادير متناسبة هي بعد الابدال متناسبة

ليكن نسبة آ الي ب كنسبة ح الي د فاقول بالابدال نسبة آ الي ح  
 كنسبة ب الي د برهانه ناخذ لآب اضعافا متساوية العدة كم  
 كانت العدة وهي ر ولح د اضعافا متساوية العدة كم



كانت العدة وهي ح ط فلان ر اضعاف لآب بعدة  
 واحدة فنسبة ح الي ر كنسبة آ الي ب بالشكل المتقدم

ونسبة ح الي د كنسبة آ الي ب فنسبة ح الي ر كنسبة ح  
 الي د بالشكل الحادي عشر ولان ح ط اضعاف لآب بعدة

واحدة فنسبة ح الي ط كنسبة ح الي د بالشكل المتقدم  
 وكانت نسبة ح الي ر كنسبة ح الي د فنسبة ح الي ر

كنسبة ح الي ط بالشكل الحادي عشر فان كان ر زايده  
 علي ح كان ر زايده علي ط وان كان مساويا له كان

مساويا له وان كان ناقصا عنه كان ناقصا عنه بالشكل الرابع  
 عشر فآب ح د اربعة مقادير اذا اخذ للاول والثالث

وهما آ ب اي اضعاف كانت بعدة واحدة ما لانهايه له  
 وللثاني والرابع اي اضعاف كانت ما لانهايه له بعدة

واحدة وهما ح د وكان لايزيد اضعاف آ علي اضعاف ح الا ويزيد  
 اضعاف ب علي اضعاف ح ولايساويه الا ويساويه ولا ينقص عنه الا

وينقص عنه فنسبة آ الي ح كنسبة ب الي د وذلك ما اردنا ان نبين  
 وينبغي ان تعلم ان الابدال انما تجري في المقادير التي من نوع واحد

جميع المقادير المتناسبة المركبة اذا فصلت كانت  
 ايضا متناسبة

ليكن نسبة آب الي ب كنسبة ح د الي د بالتركيب فاقول ان نسبة آه  
 الي هـ كنسبة ح ر الي ر بالتفصيل برهانه ناخذ لكل واحد من  
 مقادير آه ب ح ر د اضعافا بعدة واحدة كم كانت العدة وهي ح ط



ط ا لم م نه فلان في ح ط من اضعاف آه مثل ما في ط ا من اضعاف  
 ه ب وفي لم من اضعاف ح ر مثل ما في م نه من اضعاف رد في جميع ح ا  
 ل نه من اضعاف ا ب ح د مثل ما في ط ا م نه من اضعاف ه ب رد بالشكل  
 الاول واضعاف ط ا له ب كاضعاف م نه لرد فاضعاف ح ا ل ا ب كاضعاف  
 ل نه لرد وناخذ ايضا لمقداري ه ب رد اي اضعاف كانت بعدة واحدة  
 مما لا يتناهي وفي السه نع في ط ا الاول من اضعاف ه ب الثاني مثل ما



في م نه الثالث من اضعاف رد الرابع وفي السه  
 الخامس من اضعاف ه ب الثاني مثل ما في نع  
 السادس من اضعاف رد الرابع في جميع ط سه الاول  
 والخامس من اضعاف ه ب الثاني مثل ما في جميع م ع  
 الثالث والسادس من اضعاف رد الرابع بالشكل  
 الثاني وكان في ح ا من اضعاف ا ب مثل ما في ل نه من  
 اضعاف ح د ونسبة ا ب الي ه ب كنسبة ح د الي رد  
 فاب به ح د در اربعة مقادير متناسبة فاذا اخذت  
 للاول والثالث اضعاف بعدة واحدة كم كانت

العدة مما لانهاية له والثاني والرابع اضعاف بعدة واحدة كم كانت  
 العدة مما لانهاية له فان كانت اضعاف الاول زائدة علي اضعاف الثاني  
 كانت اضعاف الثالث زائدة علي اضعاف الرابع وان كانت مساوية  
 كانت مساوية وان كانت ناقصا كانت ناقصا فتكون زيادة ح ا ل نه علي  
 ط سه م ع ونقصانها عنهما ومساواتهما لهما معا فاذا القينا ط ا م نه المشترك  
 يكون ان كان ح ط زائدا علي السه كان لم زائدا علي نع وان كان ناقصا  
 كان ناقصا وان كان مساويا كان مساويا فاه ه ب ح ر رد اربعة مقادير اذا  
 اخذ للاول والثالث وهما آه ح ر اي اضعاف متساوية العدة مما لانهاية له  
 والثاني والرابع وهما ه ب رد اي اضعاف متساوية العدة مما لانهاية له  
 وكانت اضعاف الاول لا تزيد علي اضعاف الثاني الا وتزيد اضعاف  
 الثالث علي اضعاف الرابع ولا تساويه الا وتساويه ولا تنقص عنه الا  
 وتنقص عنه فنسبة آه الي ه ب كنسبة ح ر الي رد وذلك ما اردنا ان نبين

### كل المقادير المتناسبة المفصلة اذا ركبت

كانت متناسبة

ليكن نسبة ا ب الي ب ح كنسبة د ه الي ه ر فاقول بالتركيب نسبة ا ح الي  
 ح ب كنسبة د ر الي ر ه برهانها فلانه لو لم يكن كذلك لكانت نسبة ا ح  
 الي ح ب كنسبة د ر الي مقدار اعظم او اصغر من ه ر وليكن الي ما هو  
 اصغر



اصغر من  $\overline{هـ}$  وهو  $\overline{مرح}$  فيكون بالتفصيل والتقديم نسبة  $\overline{دح}$  الى  $\overline{ح}$   $\overline{ر}$  كنسبة  $\overline{اب}$  الى  $\overline{ب}$  بالشكل المتقدم وكانت نسبة  $\overline{ده}$  الى  $\overline{هـ}$  كنسبة  $\overline{اب}$  الى  $\overline{ب}$  فبالشكل الحادي عشر نسبة  $\overline{دح}$  الى  $\overline{ح}$  كنسبة  $\overline{ده}$  الى  $\overline{هـ}$  ولكن  $\overline{دح}$  اعظم من  $\overline{ده}$  ف $\overline{هـ}$  اعظم من  $\overline{هـ}$  بالشكل الرابع عشر فيكون جزء الشيء اعظم من كله هذا خلف فالحكم ثابت وذلك ما اردنا ان نبين  $\overline{ين}$  واستبان من هذا الشكل ومن الشكل المتقدم انه اذا كانت نسبة  $\overline{اح}$  الى  $\overline{ح}$  بالتركيب كنسبة  $\overline{در}$  الى  $\overline{ره}$  كانت بالقلب نسبة  $\overline{اح}$  الى  $\overline{اب}$  كنسبة  $\overline{در}$  الى  $\overline{ده}$  لان بالتفصيل نسبة  $\overline{اب}$  الى  $\overline{ب}$  كنسبة  $\overline{ده}$  الى  $\overline{هـ}$  فبالخلاف نسبة  $\overline{ح}$  الى  $\overline{با}$  كنسبة  $\overline{ره}$  الى  $\overline{هـ}$  فبالتركيب نسبة  $\overline{اح}$  الى  $\overline{اب}$  كنسبة  $\overline{در}$  الى  $\overline{ده}$   $\overline{يط}$

كل مقدارين متناسبين فصل منهما مقداران علي نسبتهمما النظير من النظير فالباقيان علي تلك

النسبة النظير من النظير  $\overline{ير}$

ليكن نسبة  $\overline{اب}$  الى  $\overline{جد}$  كنسبة  $\overline{اه}$  الى  $\overline{ح}$  وفصل من  $\overline{اب}$   $\overline{اه}$  ومن  $\overline{جد}$   $\overline{ح}$  فاقول ان نسبة  $\overline{هـ}$  الى  $\overline{د}$  كنسبة  $\overline{اب}$  الى  $\overline{جد}$  برهانه فلان نسبة  $\overline{اب}$  الى  $\overline{جد}$  كنسبة  $\overline{اه}$  الى  $\overline{ح}$  فبالابدال نسبة  $\overline{اب}$  الى  $\overline{اه}$  كنسبة  $\overline{جد}$  الى  $\overline{ح}$  بالشكل السادس عشر وبالتفصيل نسبة  $\overline{به}$  الى  $\overline{هـ}$  كنسبة  $\overline{در}$  الى  $\overline{رح}$  بالشكل السابع عشر وبالابدال نسبة  $\overline{به}$  الى  $\overline{د}$  كنسبة  $\overline{هـ}$  الى  $\overline{رح}$  بالشكل السادس عشر وكانت نسبة  $\overline{اب}$  الى  $\overline{جد}$  كنسبة  $\overline{اه}$  الى  $\overline{ح}$  فبالشكل الحادي عشر نسبة  $\overline{به}$  الى  $\overline{د}$  كنسبة  $\overline{اب}$  الى  $\overline{جد}$  وذلك ما اردنا ان نبين  $\overline{ين}$

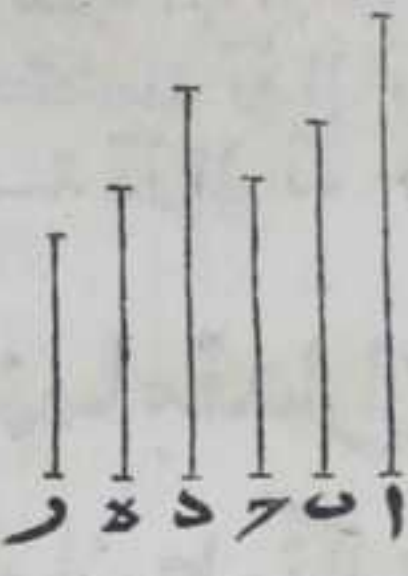
ك

كل صنفين من المقادير متساويي العدة كم كانت العدة وكل اثنين من صنف علي نسبة اثنين من الصنف الاخر وانتظمت النسبة في المساواة ان كان الاول من الصنف الاول اعظم من الاخر منه



كان الاول من الصنف الآخر اعظم من الآخر منه  
وان كان مساويا كان مساويا وان كان اصغر كان اصغر

ليكن  $\bar{A} \bar{B} \bar{C} \bar{D}$  ر صنفين من المقادير بعدة واحدة ونسبة  $\bar{A}$  الى  $\bar{B}$   
كنسبة  $\bar{D}$  الى  $\bar{E}$  ونسبة  $\bar{B}$  الى  $\bar{C}$  كنسبة  $\bar{E}$  الى  $\bar{F}$  فاقول ان كان  $\bar{A}$  اعظم  
من  $\bar{C}$  كان  $\bar{D}$  اعظم من  $\bar{F}$  وان كان  $\bar{A}$  مساويا لـ  $\bar{C}$  كان  $\bar{D}$  مساويا لـ  $\bar{F}$  وان  
كان  $\bar{A}$  اصغر من  $\bar{C}$  كان  $\bar{D}$  اصغر من  $\bar{F}$  برهانه فان كان  $\bar{A}$  اعظم من  $\bar{C}$  فلان  
نسبة  $\bar{D}$  الى  $\bar{E}$  كنسبة  $\bar{A}$  الى  $\bar{B}$  ونسبة  $\bar{A}$  الى  $\bar{B}$  اعظم  
من نسبة  $\bar{C}$  الى  $\bar{D}$  بالشكل الثامن فبالشكل الثاني  
عشر نسبة  $\bar{D}$  الى  $\bar{E}$  اعظم من نسبة  $\bar{C}$  الى  $\bar{D}$  ونسبة  
 $\bar{C}$  الى  $\bar{D}$  كنسبة  $\bar{R}$  الى  $\bar{S}$  فنسبة  $\bar{D}$  الى  $\bar{E}$  اعظم من  
نسبة  $\bar{R}$  الى  $\bar{S}$  باستبانة الشكل الثاني عشر فبالشكل  
العاشر  $\bar{D}$  اعظم من  $\bar{F}$  وان كان  $\bar{A}$  مساويا  
لـ  $\bar{C}$  فلان نسبة  $\bar{D}$  الى  $\bar{E}$  كنسبة  $\bar{A}$  الى  $\bar{B}$  و  $\bar{A}$  مساوي



$\bar{C}$  فنسبة  $\bar{C}$  الى  $\bar{B}$  كنسبة  $\bar{A}$  الى  $\bar{B}$  بالشكل السابع فبالشكل الحادي  
عشر نسبة  $\bar{D}$  الى  $\bar{E}$  كنسبة  $\bar{C}$  الى  $\bar{B}$  ونسبة  $\bar{R}$  الى  $\bar{S}$  كنسبة  $\bar{C}$  الى  $\bar{B}$   
بالخلاف فنسبة  $\bar{D}$  الى  $\bar{E}$  كنسبة  $\bar{R}$  الى  $\bar{S}$  بالشكل الحادي عشر فد  $\bar{A}$  مساوي  
لـ  $\bar{C}$  بالشكل التاسع وان كان  $\bar{A}$  اصغر من  $\bar{C}$  فلان بالخلاف نسبة  $\bar{E}$  الى  $\bar{D}$   
كنسبة  $\bar{B}$  الى  $\bar{A}$  ونسبة  $\bar{B}$  الى  $\bar{A}$  اعظم من نسبة  $\bar{B}$  الى  $\bar{C}$  بالشكل  
الثامن فبالشكل الثاني عشر نسبة  $\bar{E}$  الى  $\bar{D}$  اعظم من نسبة  $\bar{B}$  الى  $\bar{C}$  ونسبة  
 $\bar{B}$  الى  $\bar{C}$  كنسبة  $\bar{E}$  الى  $\bar{D}$  فنسبة  $\bar{E}$  الى  $\bar{D}$  اعظم من نسبة  $\bar{E}$  الى  $\bar{D}$  ر باستبانة  
الشكل الثاني عشر فبالشكل العاشر  $\bar{D}$  اصغر من  $\bar{F}$  فالحكم ثابت وذلك  
ما اردنا ان نبي

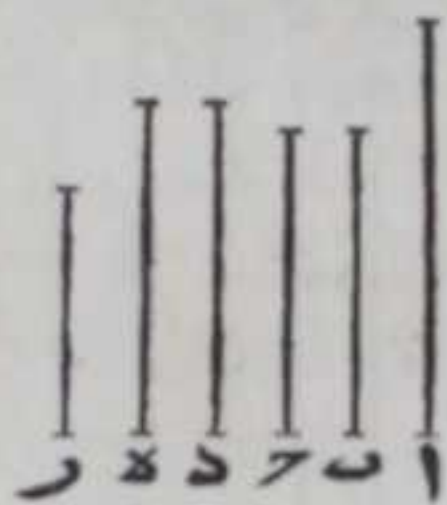
ان

كل اثنين من صنف علي نسبة اثنين من الصنف  
الآخر واضطربت النسبة في المساواة ان كان الاول  
من الصنف الاول اعظم من الآخر منه كان الاول  
من الصنف الآخر اعظم من الآخر منه وان كان  
مساويا كان مساويا وان كان اصغر كان اصغر

ليكن



ليكن  $\bar{a} \bar{b} \bar{c}$  و  $\bar{d} \bar{e}$  ر صنفين المقادير بعدة واحدة ونسبة  $\bar{a}$  الي  $\bar{b}$  كنسبة  $\bar{e}$  الي  $\bar{r}$  ونسبة  $\bar{b}$  الي  $\bar{c}$  كنسبة  $\bar{d}$  الي  $\bar{e}$  فاقول ان كان  $\bar{a}$  اعظم من  $\bar{c}$  كان  $\bar{d}$  اعظم من  $\bar{r}$  وان كان مساويا كان مساويا وان كان ناقصا كان ناقصا برهانه فلان نسبة  $\bar{e}$  الي  $\bar{r}$  كنسبة  $\bar{a}$  الي  $\bar{b}$  و  $\bar{a}$  اعظم من  $\bar{c}$  فنسبة  $\bar{a}$  الي  $\bar{b}$  اعظم من نسبة  $\bar{c}$  الي  $\bar{b}$  بالشكل الثامن فنسبة  $\bar{e}$  الي  $\bar{r}$  اعظم من نسبة  $\bar{c}$  الي  $\bar{b}$  بالشكل الثاني عشر وبالحلاف نسبة  $\bar{c}$  الي  $\bar{b}$  كنسبة  $\bar{e}$  الي  $\bar{d}$  فنسبة  $\bar{e}$  الي  $\bar{r}$  اعظم من نسبة  $\bar{e}$  الي  $\bar{d}$  باستبانة الشكل الثاني عشر ف  $\bar{d}$  اعظم من  $\bar{r}$  بالشكل العاشر وان كان  $\bar{a}$  مساويا ل  $\bar{c}$  فلان نسبة  $\bar{e}$  الي  $\bar{r}$  كنسبة  $\bar{a}$  الي  $\bar{b}$  و  $\bar{a}$  مساو ل  $\bar{c}$  فنسبة  $\bar{c}$  الي  $\bar{b}$



كنسبة  $\bar{a}$  الي  $\bar{b}$  بالشكل السابع فبالشكل الحادي عشر نسبة  $\bar{e}$  الي  $\bar{r}$  كنسبة  $\bar{c}$  الي  $\bar{b}$  وبالحلاف نسبة  $\bar{e}$  الي  $\bar{d}$  كنسبة  $\bar{c}$  الي  $\bar{b}$  فبالشكل الحادي عشر نسبة  $\bar{e}$  الي  $\bar{r}$  كنسبة  $\bar{e}$  الي  $\bar{d}$  ف  $\bar{d}$  مساو ل  $\bar{r}$  متساويان بالشكل التاسع وان كان  $\bar{a}$  اصغر من  $\bar{c}$  فبالحلاف نسبة  $\bar{e}$  الي  $\bar{d}$  كنسبة  $\bar{c}$  الي  $\bar{b}$  ونسبة  $\bar{c}$  الي  $\bar{b}$  اعظم من نسبة  $\bar{a}$  الي  $\bar{b}$  بالشكل الثامن فبالشكل الثاني عشر نسبة  $\bar{e}$  الي  $\bar{d}$  اعظم من نسبة  $\bar{a}$  الي  $\bar{b}$  ونسبة  $\bar{a}$  الي  $\bar{b}$  كنسبة  $\bar{e}$  الي  $\bar{r}$  فنسبة  $\bar{e}$  الي  $\bar{d}$  اعظم من نسبة  $\bar{e}$  الي  $\bar{r}$  باستبانة الشكل الثاني عشر ف  $\bar{d}$  اصغر من  $\bar{r}$  بالشكل العاشر وذلك ما اردنا ان نبين


ب

كل صنفين من المقادير متساويي العدة كم كانت العدة كل اثنين من صنف علي نسبة اثنين من صنف آخر وانتظمت النسبة في المساواة نسبة الاول من الصنف الاول الي الاخير منه كنسبة الاول الاخر الي الاخر منه

ليكن نسبة  $\bar{a}$  الي  $\bar{b}$  كنسبة  $\bar{d}$  الي  $\bar{e}$  ونسبة  $\bar{b}$  الي  $\bar{c}$  كنسبة  $\bar{e}$  الي  $\bar{r}$  فاقول ان نسبة  $\bar{a}$  الي  $\bar{c}$  كنسبة  $\bar{d}$  الي  $\bar{r}$  برهانه ناخذ ل  $\bar{d}$  ب  $\bar{e}$  ح  $\bar{r}$  اي اضعاف كانت بعدة واحدة وهي ح ل ط م ل  $\bar{e}$  فبالشكل الرابع نسبة ح الي ط كنسبة ل الي م ونسبة ط الي ل كنسبة م الي ن فح ط ل م ن صنفان من المقادير كل اثنين من صنف علي نسبة اثنين من صنف




اخر وانتظمت النسبة فبالشكل العشرين ان  
 كان ح زائدا على آ كان ل زائدا على ن وان  
 كان مساويا كان مساويا وان كان ناقصا كان ناقصا  
 فا ح د ر اربعة مقادير اخذ للاول والثالث  
 وهما آ د اضعاف متساوية العدة كم كانت مما  
 لانهاية له وهي ح ل والثاني والرابع وهما ح ر  
 اضعاف متساوية العدة كم كانت مما لانهاية  
 له وهي آ ن و اضعاف الاول ان كانت زائدة على  
 اضعاف الثاني كانت اضعاف الثالث زائدة  
 على اضعاف الرابع وان كانت مساوية كانت  
 مساوية وان كانت ناقصة كانت ناقصة فنسبة  
 آ الي ح كنسبة د الي ر وذلك ما اردنا ان نبين



ح

كل صنفين من المقادير متساويين العدة كم  
 كانت العدة كل اثنين من صنف علي نسبة اثنين  
 من صنف آخر واضطربت النسبة في المساواة  
 نسبة الاول من الصنف الاول الي الاخير منه  
 كنسبة الاول من الصنف الاخر الي الاخير منه

ليكن نسبة آ الي ب كنسبة ه الي ر ونسبة ب  
 الي ح كنسبة د الي ه فاقول ان نسبة آ الي ح  
 كنسبة د الي ر برهاننا ناخذ لمقدار آ ب د  
 اضعافا ما هي اضعاف كانت بعدة واحدة وهي  
 ح ط ل ولح ه ر اضعافا ما هي اضعاف كانت  
 بعدة واحدة وهي آ م ن فبالشكل الخامس  
 عشر نسبة ح الي ط كنسبة آ الي ب ونسبة ه  
 الي ر كنسبة آ الي ب فبالشكل الحادي عشر  
 نسبة ح الي ط كنسبة ه الي ر ونسبة م الي ن  
 كنسبة ه الي ر فبالشكل الحادي عشر نسبة  
 ح الي ط كنسبة م الي ن ولان ب د ح ه اربعة



مقادير



مقادير متناسبة واخذ الاول والثالث منها اضعاف بعدة واحدة وهي  
 ط ل وكذلك الثاني والرابع وهي ا م فبالشكل الرابع نسبة ط الى ا  
 كنسبة ل الى م وكانت نسبة ح الى ط كنسبة م الى ن فبالشكل  
 الحادي والعشرين ان كان ح زائدا على ا كان ل زائدا على ن وان كان  
 مساويا كان مساويا وان كان ناقصا كان ناقصا ف ا ح د ر اربعة مقادير اذا  
 اخذ للاول والثالث وهما ا د اضعاف متساوية العدة كم كانت وهي ح  
 ل والثاني والرابع وهما ح ر اضعاف متساوية العدة كم كانت وهي ا ن  
 فاضعاف الاول ان كانت زائدة على اضعاف الثاني كانت اضعاف الثالث  
 زائدة على اضعاف الرابع وان كانت مساوية كانت مساوية وان كانت  
 ناقصة كانت ناقصة فنسبة ا الى ح كنسبة د الى م  
 وان اخذنا لمقادير ا ب ح د ر اضعافا ما بعدة واحدة كانت نسبة ح  
 الى ط كنسبة م الى ن ونسبة ط الى ا كنسبة ل الى م بالشكل الرابع  
 ثم يتم البرهان بالشكل الواحد والعشرين كان البرهان اوسط والثابت  
 بن قره بينه في كتابه كما بيناه اولا وذلك ما اردنا ان نبين

المد

كل مقادير نسبة الاول منها الى الثاني كنسبة  
 الثالث الى الرابع ونسبة الخامس الى الثاني كنسبة  
 السادس الى الرابع فنسبة الاول والخامس معا الى  
 الثاني كنسبة الثالث والسادس معا الى الرابع

لكن نسبة ا ب الى ح كنسبة د ه الى م ونسبة ب ح الى ح كنسبة ه ط  
 الى ر فاقول ان نسبة ا ح الى ح كنسبة د ط الى ر برهانه  
 فلان نسبة ا ب الى ح كنسبة د ه الى م وبالمخلاف نسبة  
 ح الى ب ح كنسبة ر الى ه ط فبالشكل الثاني والعشرين  
 نسبة ا ب الى ب ح كنسبة د ه الى ه ط وبالتركيب نسبة  
 ا ح الى ب ح كنسبة د ط الى ه ط بالشكل الثاني عشر  
 ونسبة ب ح الى ح كنسبة ه ط الى م فبالشكل الثاني  
 والعشرين نسبة ا ح الى ح كنسبة د ط الى ر وذلك ما  
 اردنا ان نبين



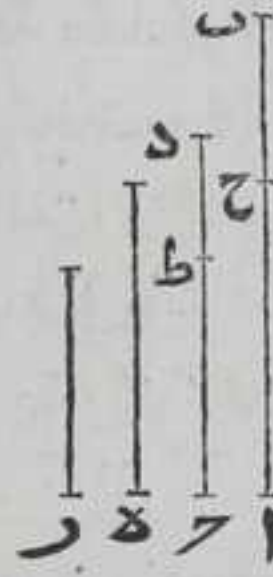
كه

كل اربعة مقادير متناسبة من نسبة الاول الى



الثاني كنسبة الثالث إلى الرابع والاول اعظمها  
والرابع اصغرهما فان الاول والرابع معاً اعظم من

الثاني والثالث معاً



ليكن نسبة  $\bar{ا}ب$  إلى  $\bar{ج}د$  كنسبة  $\bar{ه}ا$  إلى  $\bar{و}اب$  اعظمها  
ور اصغرهما فاقول ان  $\bar{ا}ب$  ر معاً اعظم من  $\bar{ج}د$  ه برهان  
نفصل من  $\bar{ا}ب$   $\bar{ا}ح$  مثل  $\bar{ه}$  ومن  $\bar{ج}د$   $\bar{ج}ط$  مثل  $\bar{ر}$  بالشكل  
الثالث من الاولي فلان نسبة  $\bar{ا}ب$  إلى  $\bar{ج}د$  كنسبة  $\bar{ه}ا$  إلى  $\bar{ر}$   
فاذا اخذ لمقداري  $\bar{ا}ب$   $\bar{ه}$  اي اضعاف اثنين متساوية  
العدة مما لا يتناهي ولمقداري  $\bar{ج}د$   $\bar{ر}$  اي اضعاف امكنت مما لا يتناهي  
متساوية العدة فان كانت اضعاف  $\bar{ا}ب$  زيادة علي اضعاف  $\bar{ج}د$  كانت  
اضعاف  $\bar{ه}ا$  زيادة علي اضعاف  $\bar{ر}$  وان كانت ناقصة كانت ناقصة وان  
كانت مساوية كانت مساوية و  $\bar{ا}ح$  يساوي  $\bar{ه}$  و  $\bar{ج}ط$  يساوي  $\bar{ر}$  فاي  
اضعاف اخذت لمقداري  $\bar{ا}ب$   $\bar{ا}ح$  متساوية العدة مما لا يتناهي ولمقداري  
 $\bar{ج}د$   $\bar{ج}ط$  اي اضعاف اثنين متساوية العدة مما لا يتناهي فان كانت  
اضعاف  $\bar{ا}ب$  زيادة علي اضعاف  $\bar{ج}د$  كانت اضعاف  $\bar{ا}ح$  زيادة علي  
اضعاف  $\bar{ج}ط$  وان كانت ناقصة كانت ناقصة وان كانت مساوية كانت  
مساوية فنسبة  $\bar{ا}ب$  إلى  $\bar{ج}د$  نسبة  $\bar{ا}ح$  إلى  $\bar{ج}ط$  فاذا نقصنا  $\bar{ا}ح$   $\bar{ج}ط$  من  
 $\bar{ا}ب$   $\bar{ج}د$  كانت نسبة  $\bar{ا}ب$  إلى  $\bar{ج}د$  كنسبة  $\bar{ح}ب$  إلى  $\bar{ط}د$  بالشكل التاسع  
عشر واذا بدلنا كانت نسبة  $\bar{ا}ب$  إلى  $\bar{ح}ب$  كنسبة  $\bar{ج}د$  إلى  $\bar{ط}د$  بالشكل  
السادس عشر لكن  $\bar{ا}ب$  اعظم من  $\bar{ج}د$  ف  $\bar{ح}ب$  اعظم من  $\bar{ط}د$  بالشكل الرابع  
عشر فاذا اضعفنا مجموع  $\bar{ا}ح$   $\bar{ج}ط$  تارة إلى  $\bar{ب}ح$  حصل مجموع  $\bar{ا}ب$   $\bar{ج}ط$  وتارة  
اخرى إلى  $\bar{ط}د$  حصل مجموع  $\bar{ا}ح$   $\bar{ج}د$  فيكون مجموع  $\bar{ا}ب$   $\bar{ج}ط$  اعظم من  
مجموع  $\bar{ا}ح$   $\bar{ج}د$  لكن مجموع  $\bar{ا}ب$   $\bar{ج}ط$  يساوي مجموع  $\bar{ا}ب$   $\bar{ر}$  ومجموع  $\bar{ا}ح$   $\bar{ج}د$   
يساوي مجموع  $\bar{ج}د$   $\bar{ق}ب$  ر معاً اعظم من  $\bar{ج}د$  معاً وذلك ما اردنا ان نبين

تمت المقالة الخامسة ولله الشكر على الاعانه





# بسم الله الرحمن الرحيم السادس اثنتان وثلاثون

صدر


السطوح المتشابهة هي السطوح التي زواياها متساوية والاضلاع المحيطة بتلك الزوايا على التناظر ايضا متناسبة  
السطوح المتكافئة الاضلاع هي السطوح التي يشتمل كل منها على مقدم وتال من حدود النسب  
ارتفاع الشكل هو العمود الخارج من نقطة زاوية في راسه على اضلاع هو قاعدته  
فان كانت كل واحدة من الزاويتين اللتين فوق القاعدة حادة فالعمود يقع بين ضلعي الزاوية وان كانت احداهما قائمة فالعمود على احد ضلعي الزاوية وان كانت منفرجة فالعمود يقع خارج من ضلعي الزاوية على القاعدة بعد اخراجه في جهة الزاوية المنفرجة  
الخط المقسوم على نسبة ذات وسط وطرفين هو الخط المقسوم بمختلفين تكون نسبة الخط كله الى اطول قسميه كنسبة اطول قسميه الى اصغرها  
النسبة هي الكمية الحاصلة من اضافة احد انواع الكم الى ما هو من نوعه وتضعيف الكمية بعضها ببعض اى ضرب بعضها في بعض امرين للاعداد والمقادير ايضا بعد ان يعرض مقدار من نوع ذلك المقدار الذي برا من تقديره  
فيكون نسبة ذلك المقدار المفروض الى المقادير التي من نوعه كنسبة الواحد الى الاعداد وسيبضح هذا المعنى في صدر المقالة العاشرة فتألف النسبة من نسبتين متفتقي النوع هو تحصيل نسبة تكون نسبة مقدارها الى احد النسبتين كنسبة مقدارها الى النسبة الاخرى الى الواحد وتجزيتها بنسبة لان النسبة مقدار وتضعيف مقدار وتجزيته باجزاء مقدار اخر ظاهري تحصيل نسبة تكون نسبة مقدارها الى الواحد كنسبة الجزء الى الجزء بها فحصل هذا المعنى امرين للنسبة اى قسمة نسبة على نسبة الا ان الحكم ارادوا ان يبرهنوا على ان نسبة اى مقدار الى مقدار اخر من نوعه مولفه من نسب غير متناهية وعلى عكس هذا المعنى اى يبرهنوا على ان النسبة المولفة من النسب الغير المتناهية في قوة نسبة بسببه لتكن ثلثه مقادير وهي  $A \bar{B} \bar{C}$  فاقول ان نسبة اى مقدار منها وتكن  $A$  الى مقدار اخر منها اى مقدار كان من الباقيين وليكن  $C$  مولفه من النسبتين الباقيتين نسبة  $A$  الى  $B$  ونسبة



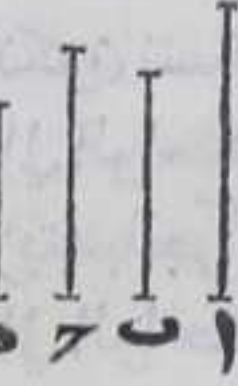
ب الي ح برهانه لتكن نسبة آ الي ب كنسبة د الي الواحد المقروض  
 من المقادير ليعرف تقدرها به ونسبة ب الي ح كنسبة ه  
 الي الواحد ونضعف د به اي نضرب د في ه فيحصل  
 ح فاقول ان نسبة آ الي ح كنسبة ر الي الواحد اي ان ر  
 هو قدر نسبة آ الي ح فلان نسبة آ الي ب كنسبة د الي  
 الواحد ولان ر حاصل من تضعف د به يكون نسبة ر  
 الي ه كنسبة د الي الواحد فبالشكل الحادي عشر من  
 الخامسة نسبة آ الي ب كنسبة ر الي ه ونسبة ب الي  
 ح كنسبة ه الي الواحد فبالمساواة المنتظمة نسبة آ الي ح  
 كنسبة ر الي الواحد بالشكل الثاني والعشرين من  
 الخامس وكذلك نقول في غيرها من مقادير آ ب ح وايضا  
 اي نسبة مولفة من نسب فكل نسبة تساويها فانها تكون



مولفة من نسب تساوي تلك النسب  
 ولتكن نسبة ح الي ط كنسبة آ الي ح فاقول ان نسبة ح  
 الي ط مولفة من نسبتين متساويتين لنسبتي آ الي ب وب  
 الي ح برهانه ولتكن نسبة آ الي ب كنسبة ح الي آ باستبانة  
 الشكل العاشر من هذه المقالة فبالخلاف نسبة ب الي آ كنسبة آ الي ح  
 ونسبة آ الي ح كنسبة ح الي ط فبالمساواة المنتظمة نسبة ب الي ح  
 كنسبة آ الي ط بالشكل الثاني والعشرين من الخامسة وكانت نسبة  
 آ الي ب كنسبة ح الي آ ونسبة ح الي ط مولفة من نسبة ح الي آ ومن  
 نسبة آ الي ط لما بيننا فنسبة ح الي ط مولفة من نسبتين مساويتين  
 لنسبتي آ الي ب وب الي ح وذلك ما اردنا ان نبيِّن



واذا فرضنا اربعة مقادير من نوع واحد كآ ب ح د فاقول ان نسبة آ الي  
 د مولفة من نسبة آ الي ب ومن نسبة ب الي ح ومن  
 نسبة ح الي د برهانه فلان نسبة آ الي د مولفة من  
 نسبة آ الي ح ومن نسبة ح الي د بمقادير وكانت نسبة  
 آ الي ح مولفة من نسبة آ الي ب ومن نسبة ب الي ح  
 فنسبة آ الي د مولفة من نسبة آ الي ب ومن نسبة ب  
 الي ح ومن نسبة ح الي د وهكذا الي ما لانهاية له والتجزية  
 عكس التضعيف ومثله تبين في الاعداد وفيهما لا يحتاج الي فرض  
 الواحد كما في المقادير لان كل قدر يستعمل علي الواحد وهو بعده



الاشكال

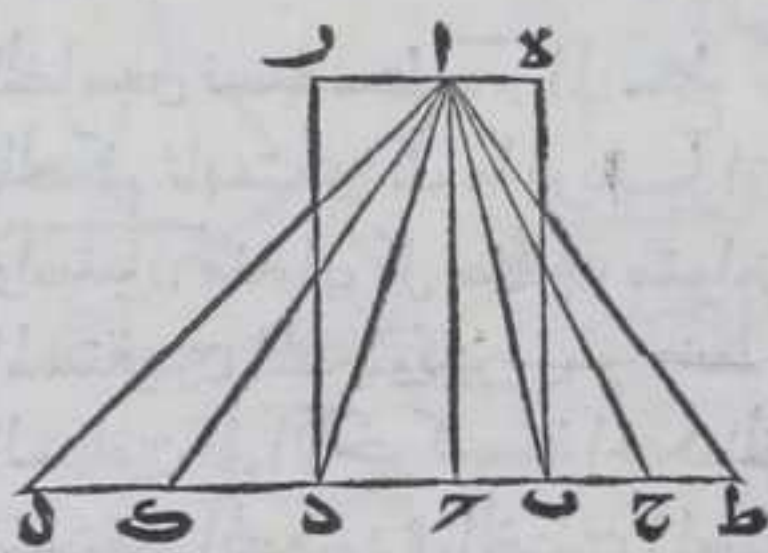
أ

جمع



جميع السطوح المتوازية الاضلاع والمثلثات اذا كانت ارتفاعاتها متساوية كانت نسب بعضها الي بعض كنسب قواعدها بعضها الي بعض علي الولا

ليكن سطحا  $هـ ز$   $ر$  المتوازي الاضلاع ومثلثا  $ا ب ج$   $ا د$  ارتفاعها واحدا فاقول ان نسبة سطح  $هـ ز$  الي سطح  $ج د$  او نسبة مثلث  $ا ب ج$  الي مثلث  $ا د$  كنسبة قاعدة  $ب ج$  الي قاعدة  $د$  برهانه نخرج خط  $ب د$  في جهته علي استقامته الي غير النهاية ونفصل من احدها امثال  $ب ج$  كم



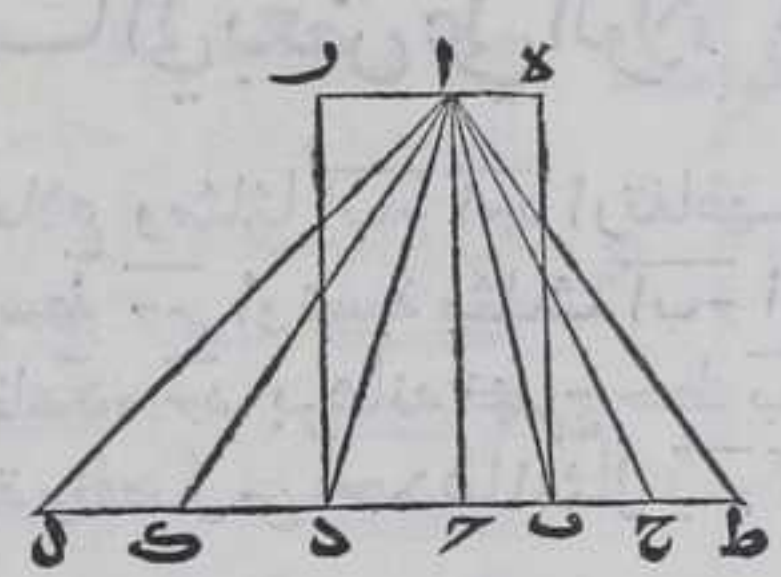
شينا وهي  $ب ج$   $ح ط$  ومن الاخر امثال  $ج د$  كم شينا وهي  $د ا$   $ا ل$  ونصل بين  $ا$  وبين كل واحدة من النقط الحادثة بخطوط  $ا ط$   $ا ح$   $ا ل$  المستقيمة فلان خطي  $هـ ر$   $ط ل$  متوازيان ومثلثات  $ا ط ح$   $ا ج ب$   $ا ب د$  فيها بينهما علي قواعدها متساوية فهي

متساوية وكذلك مثلثات  $ا ل ا د ا د$   $ا د ج$  متساوية بالشكل الثامن والثلاثين من الاولي فمثلثات  $ا ط ح$   $ا ج ب$   $ا ب د$  اعني مثلث  $ا ط ح$  ثلثة امثال  $ا ب ج$  وكذا قواعد  $ط ح$   $ج ب$   $ب د$  اعني قاعدة  $ط ح$  ثلثة امثال قاعدة  $ب ج$  ومثلثات  $ا ل ا د ا د$   $ا د ج$  اعني مثلث  $ا ل ا د$  ثلثة امثال مثلث  $ا د ج$  وقواعد  $ل ا$   $ا د$   $د ج$  اعني قاعدة  $ج ل$  ثلثة امثال قاعدة  $ج د$  فان كان مثلث  $ا ط ح$  زائدا علي مثلث  $ا ل ج$  كانت قاعدة  $ط ح$  زائدة علي قاعدة  $ل ج$  والا لكانت قاعدة  $ط ح$  مساوية لقاعدة  $ج ل$  او انقص منها فان كانت مساوية لها كان مثلث  $ا ط ح$  مساويا لمثلث  $ا ل ج$  بالشكل الثامن والثلاثين من الاولي وكان مثلث  $ا ل ج$  زائدا عليه هذا خلف وان كانت انقص منها فنصل من قاعدة  $ج ل$  ما يساوي  $ط ح$  بالشكل الثالث من الاولي ونصل بين  $ا$  وموضع القسمة بخط مستقيم فيكون مثلث الحادث مساويا لمثلث  $ا ط ح$  بالشكل الثامن والثلاثين من الاولي وكان مثلث  $ا ط ح$  اعظم من مثلث  $ا ل ج$  فيكون جزء الشيء اعظم من كله هذا خلف وان كان مساويا كانت مساوية وان كان ناقصا كانت ناقصة بمثل ما مر فمثلثا  $ا ب ج$   $ا د$  وقاعدتا  $ب ج$   $ج د$  اربعة مقادير اذا اخذ للاول والثالث وهما مثلث  $ا ب ج$  وقاعدة  $ب ج$  اي اضعاف كانت متساوية العدة وللثاني والرابع وهما مثلث  $ا د$  وقاعدة  $ج د$  اي اضعاف كانت متساوية العدة فان كانت اضعاف الاول زائدة علي اضعاف الثاني



كانت اضعاف الثالث زايدة على اضعاف الرابع وان كانت مساوية  
 كانت مساوية وان كانت ناقصة كانت ناقصة فنسبة مثلث  $\overline{AB}$  الي  
 مثلث  $\overline{ACD}$  كنسبة قاعدة  $\overline{BC}$  الي قاعدة  $\overline{CD}$  وسطح  $\overline{AC}$  ضعف مثلث  
 $\overline{ABC}$  وسطح  $\overline{ACD}$  ضعف مثلث  $\overline{ACD}$  بالشكل الواحد والرابعين من الاولي

ونسبة الاضعاف كنسبة الاجزا  
 بالشكل الخامس عشر من الخامس  
 فنسبة سطح  $\overline{AC}$  الي سطح  $\overline{ACD}$  كنسبة  
 مثلث  $\overline{ABC}$  الي مثلث  $\overline{ACD}$  وكانت  
 نسبة قاعدة  $\overline{BC}$  الي قاعدة  $\overline{CD}$   
 كنسبة مثلث  $\overline{ABC}$  الي مثلث  
 $\overline{ACD}$  فبالشكل الحادي عشر من



الخامس نسبة سطح  $\overline{AC}$  الي سطح  $\overline{ACD}$  كنسبة قاعدة  $\overline{BC}$  الي قاعدة  $\overline{CD}$   
 فالحكم ثابت وذلك ما اردنا ان نبين  
 واستبان منه ان كل سطرين متوازيين الاضلاع يحصلان من سطح الخطين  
 المستقيمين المحدودين في خط ثالث مستقيم محدود فان نسبة احد  
 السطرين الي الآخر كنسبة احد الخطين الي الآخر الي الولا وان سطح الخط  
 المستقيم المحدود في الخطين المستقيمين المحدودين المتساويين  
 متساويان وبالعكس

مثلا سطح  $\overline{AC}$  هو الحاصل من سطح  $\overline{AB}$  في  $\overline{BC}$  و  $\overline{BD}$  ضعف نصف  $\overline{BC}$   
 فاقول ان سطح  $\overline{AB}$  في  $\overline{BC}$  يساوي سطح  $\overline{BD}$  في  $\overline{BE}$  وذلك لان نسبة سطح  
 $\overline{DE}$  الي سطح  $\overline{AE}$  كنسبة  $\overline{BD}$  الي  $\overline{BA}$  ونسبة  $\overline{BC}$  الي  $\overline{BE}$  كنسبة  $\overline{BD}$  الي  
 $\overline{BE}$  فبالشكل الحادي عشر من الخامس نسبة سطح  $\overline{DE}$  الي سطح  $\overline{AE}$  كنسبة  
 $\overline{BC}$  الي  $\overline{BE}$  ونسبة سطح  $\overline{AC}$  الي سطح  $\overline{AE}$  كنسبة  $\overline{BC}$  الي  $\overline{BE}$  فبالشكل  
 الحادي عشر من الخامس نسبة سطح  $\overline{DE}$  الي  $\overline{AE}$  كنسبة سطح  $\overline{AC}$  الي سطح  
 $\overline{AE}$  فبالشكل التاسع من الخامس سطحا  $\overline{AC}$  متساويان

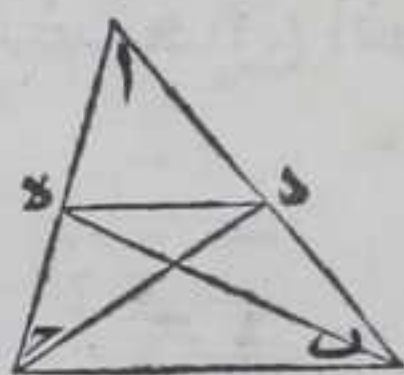
ومن هذا يتبين ان السطرين الحاصلين من  
 سطح الخط المستقيم وسطح نصف ذلك الخط  
 بعينه في خطين مختلفين اذا كانا متساويين  
 كان احد الخط المختلفين ضعف الخ  
 الآخر وهذه صورتها  
 وان سطح الخط في خط اخر يساوي سطح  
 ضعف ذلك الخط في نصف الخط المضروب فيه  
 مثل سطح  $\overline{AC}$  هو سطح  $\overline{AB}$  في  $\overline{BC}$  و  $\overline{BD}$  ضعف  $\overline{BC}$  ف  $\overline{AB}$

ب  
 كل



كل مثلث مستقيم الاضلاع خرج من نقطة  
علي ضلع من اضلاعه خط مستقيم الي ضلع اخر  
من الضلعين الباقيين فان كان الخط الخارج  
موازيا للضلع الباقي قد قسم الخط الضلعين علي  
نسبة واحدة وان قسمهما علي نسبة واحدة فالخط

موازي للضلع الباقي

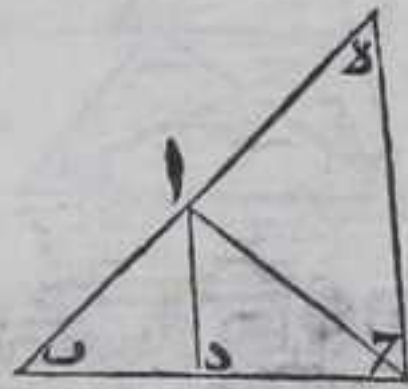


ليكن مثلث  $ا ب ج$  وخرج من نقطة  $د$  الكائبة علي  
ضلع  $ا ب$  خط  $د ه$  المستقيم الي نقطة  $ه$  علي ضلع  $ا ج$   
فاقول ان كان  $د ه$  موازيا للضلع  $ب ج$  كانت نسبة  $ب د$   
الي  $د ا$  كنسبة  $ج ه$  الي  $ه ا$  وان كانت نسبة  $ب د$  الي  $د ا$  كنسبة  $ج ه$  الي  $ه ا$   
فان خط  $د ه$  يوازي  $ب ج$  برهانه ليكن  $د ه$  يوازي  $ب ج$  فنصل  $د ج$  به  
بخطين مستقيمين فيكون مثلث  $د ه ب$  متساويين بالشكل السابع  
والثلثين من الاولي ونسبة  $ب د$  الي  $د ا$  كنسبة مثلث  $ب د ه$  الي مثلث  $د ا ه$   
بالشكل المتقدم لان العمود الخارج من نقطة  $ه$  الي ضلع  $ا ب$  ارتفاع  
المثلثين ونسبة مثلث  $د ه ج$  الي مثلث  $د ا ه$  كنسبة مثلث  $د ه ب$  الي  
مثلث  $د ا ه$  بالشكل السابع من الخامسة فبالشكل الحادي عشر من  
الخامسة نسبة  $ب د$  الي  $د ا$  كنسبة مثلث  $د ه ج$  الي مثلث  $د ا ه$  ونسبة  $ج ه$   
الي  $ه ا$  كنسبة مثلث  $د ه ج$  الي مثلث  $د ا ه$  بالشكل المتقدم لان العمود  
الخارج من نقطة  $د$  الي ضلع  $ا ج$  ارتفاع المثلثين فنسبة  $ب د$  الي  $د ا$   
كنسبة  $ج ه$  الي  $ه ا$  بالشكل الحادي عشر من الخامسة وليكن نسبة  $ب د$   
الي  $د ا$  كنسبة  $ج ه$  الي  $ه ا$  فلان نسبة مثلث  $ب د ه$  الي مثلث  $د ا ه$  كنسبة  
 $ب د$  الي  $د ا$  بالشكل المتقدم ونسبة  $ج ه$  الي  $ه ا$  كنسبة  $ب د$  الي  $د ا$  فبالشكل  
الحادي عشر من الخامسة نسبة مثلث  $ب د ه$  الي مثلث  $د ا ه$  كنسبة  $ج ه$   
الي  $ه ا$  ونسبة مثلث  $د ه ج$  الي مثلث  $د ا ه$  كنسبة  $ج ه$  الي  $ه ا$  بالشكل  
المتقدم فبالشكل الحادي عشر من الخامسة نسبة مثلث  $ب د ه$  الي مثلث  
 $د ا ه$  كنسبة مثلث  $د ه ج$  الي مثلث  $د ا ه$  فنسبة  $ب د$  الي  $د ا$  متساويان  
بالشكل التاسع من الخامسة فخط  $د ه$  يوازي ضلع  $ب ج$  بالشكل التاسع  
والثلثين من الاولي فالحكم ثابت وذلك ما اردنا ان نبين



كل خط مستقيم خرج من زاوية من زوايا اي  
مثلث مستقيم الاضلاع الي وترها فان نصفها كانت  
نسبة احد قسمي الوتر الي الاخر كنسبة احد  
الضلعين المحيطين بالزاوية الي الاخر وان كانت  
نسبة احد قسمي وتر الزاوية الي الاخر كنسبة احد  
الضلعين المحيطين بها الي الاخر فان الخـط

### المستقيم ينصفها



ليكن المثلث  $ا ب د$  وخرج من زاوية  $ب ا ح$  خط  $ا د$   
المستقيم وانتهى الي ضلع  $ب د$  علي نقطة  $د$  فاقول ان  
خط  $ا د$  ان نصف زاوية  $ب ا ح$  كانت نسبة  $ب د$  الي  
 $د ح$  كنسبة  $ب ا$  الي  $ا ح$  وان كانت نسبة  $ب د$  الي  $د ح$  كنسبة  $ب ا$  الي  $ا ح$   
كانت زاويتا  $ب ا د$   $ا د ح$  متساويتين يرهانه فليكن  $ا د$  نصف زاوية  
 $ب ا ح$  فخرج من نقطة  $د$  خط  $د ه$  في جهة  $ا$  موازيا لخط  $ا د$  بالشكل  
الواحد والثلاثين من الاولي وخرج  $ب ا$  في تلك الجهة فلان الزاوية  
المجاورة لزاوية  $ا د ح$  مع زاوية  $ا ح د$  كقائمتين بالشكل التاسع والعشرين  
من الاولي فزاوية  $ا ح د$  مع الزاوية المجاورة لزاوية  $ب ا د$  اقل من قائمتين  
فخط  $ب ا$   $د ه$  يلتقيان فليلتقيا علي نقطة  $ه$  فلان زاوية  $ا ح د$  كزاوية  
 $ب ا د$  بالشكل السابع والعشرين من الاولي وزاوية  $ا د ح$  كزاوية  $ب ا د$   
فزاوية  $ا ح د$  كزاوية  $ا د ح$  وزاوية  $ا ح د$  كزاوية  $ا د ح$  بالشكل التاسع  
والعشرين من الاولي فزاويتا  $ا ح د$   $ا د ح$  متساويتان فضع  $ا ح$  كضلع  
 $ا ه$  بالشكل السادس من الاولي ونسبة  $ب د$  الي  $د ح$  كنسبة  $ب ا$  الي  $ا ه$   
بالشكل المتقدم ونسبة ضلع  $ب ا$  الي  $ا ح$  كنسبته الي ضلع  $ا ه$  بالشكل  
السابع من الخامسة فبالشكل الحادي عشر من الخامسة نسبة  $ب د$  الي  $د ح$   
كنسبة  $ب ا$  الي  $ا ح$  وليكن نسبة  $ب د$  الي  $د ح$  كنسبة  $ب ا$  الي  $ا ح$  فخرج  
من نقطة  $د$  خط  $د ه$  موازيا لخط  $ا د$  بالشكل الواحد والثلاثين من  
الاولي فلان الزاوية المجاورة لزاوية  $د ا ح$  مع زاوية  $ا ح د$  كقائمتين بالشكل  
التاسع والعشرين من الاولي فزاوية  $ا ح د$  مع الزاوية المجاورة لزاوية  
 $ب ا د$  اقل من قائمتين فخط  $ب ا$   $د ه$  ان اخرج علي استقامتهما في جهة  $ا$   
يلتقيان

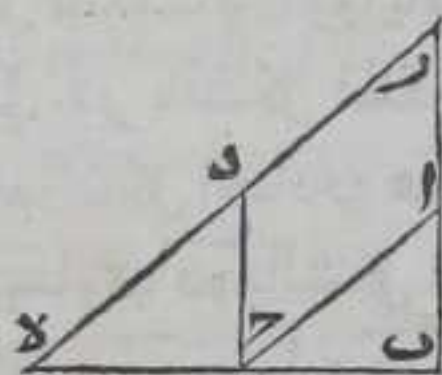


يلتقيان فليلتقيا علي نقطة ه فلان نسبة با الي اه كنسبة بد الي دح  
 بالشكل المتقدم وكانت نسبة با الي اح كنسبة بد الي دح فبالشكل  
 الحادي عشر من الخامسة نسبة با الي اه كنسبته الي اح فاح اه متساويان  
 بالشكل التاسع من الخامسة فزاوية اده تساوي زاوية اده بالشكل  
 الخامس من الاولي وزاوية باد تساوي زاوية بهد بالشكل التاسع  
 والعشرين من الاولي وكانت زاوية اده كزاوية بهد فزاوية باد  
 كزاوية اده وزاوية داح كزاوية اده بالشكل التاسع والعشرين من  
 الاولي فزاوية باد كزاوية داح فالحكم ثابت وذلك ما اردنا ان نبين

د

كل مثلثين تساوت زواياها المتناظرة فواتر

الزوايا المتناظرة منهما متناسبة



لتكن زاوية ب من مثلث ا ب ح تساوي زاوية  
 ح من مثلث د ح ه وزاوية ب ا ح زاوية د ه ه وزاوية  
 ا ح ب زاوية د ه ه فاقول ان نسبة ب ح الي ح ه كنسبة

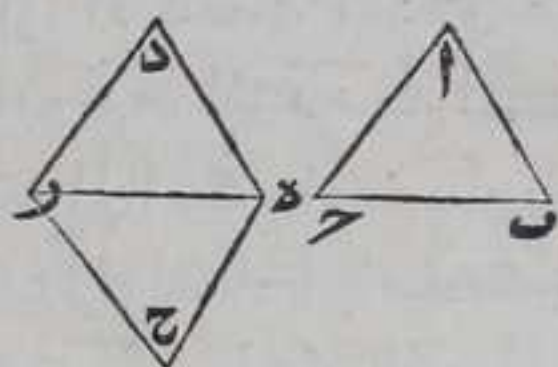
با الي د ح ونسبة ا ح الي د ه برهانه نجعل ضلع ب ح علي استقامة  
 ضلع ح ه بحيث يتحد نقطتا ح من مثلثي ا ب ح د ح ه فبصير ضلع ا ب  
 موازيا لضلع د ح وضلع ا ح لضلع د ه بالشكل الثامن والعشرين من  
 الاولي لتساوي كل من زاويتي ا ب ح د ح ه ولان زاوية ا ح ب  
 المساوية لزاوية د ه ه مع زاوية ا ب ح اقل من قائمتين بالشكل السابع  
 عشر من الاولي فزاويتنا ا ب ح د ه ه معا اقل من قائمتين فاذا اخرجنا ضلعي  
 ا ب د ه في جهتي ا د فانهما يلتقيان فليلتقيا علي نقطة ر فيحصل ذو  
 اربعة اضلاع ا ح د ر متوازي الاضلاع فضلع ا ح يساوي ضلع د ر  
 وضلع د ح يساوي ضلع ا ر من اضلاعه بالشكل الرابع والثلاثين من  
 الاولي فنسبة با الي د ح كنسبته الي ا ر بالشكل السابع من الخامسة  
 ونسبة ب ح الي ح ه كنسبة با الي ا ر بالشكل الثاني فبالشكل الحادي  
 عشر من الخامسة نسبة با الي د ح كنسبة ب ح الي ح ه ولان نسبة ا ح الي  
 د ه كنسبة ر د الي د ه بالشكل السابع من الخامسة ونسبة ب ح الي ح ه  
 كنسبة ر د الي د ه بالشكل الثاني فبالشكل الحادي عشر من الخامسة  
 نسبة ا ح الي د ه كنسبة ب ح الي ح ه فالحكم ثابت وذلك ما اردنا ان نبين

ه

كل مثلثين يناسب اضلاعهما النظائر فزواياها



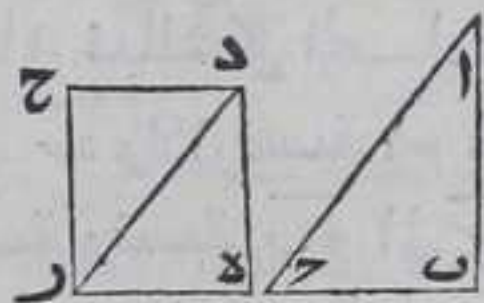
متساوية على التناظر



ليكن نسبة  $\overline{AB}$  من مثلث  $\overline{ABC}$  الى  $\overline{DE}$  من  
 مثلث  $\overline{DEF}$  كنسبة  $\overline{AC}$  الى  $\overline{DF}$  وكنسبة  $\overline{BC}$   
 الى  $\overline{EF}$  فاقول ان زاوية  $\overline{ABC}$  كزاوية  $\overline{DEF}$   
 زاوية  $\overline{ABC}$  كزاوية  $\overline{DEF}$  وزاوية  $\overline{BAC}$  كزاوية  $\overline{EDF}$  برهانه نعمل على  
 نقطتي  $\overline{D}$  من ضلع  $\overline{DE}$  زاويتي  $\overline{DEH}$  كزاويتي  $\overline{ABC}$  بالشكل  
 الثالث والعشرين من الاولي فلان زاويتي  $\overline{ABC}$   $\overline{HDE}$  المساويتين لزاويتي  
 $\overline{DEH}$   $\overline{ACD}$  من اقل من قائمتين بالشكل السابع عشر من الاولي فاذا اخرجنا  
 $\overline{DC}$   $\overline{HE}$  على استقامتهما في جهة  $\overline{CH}$  يلتقيان فليلتقيا على نقطتي  $\overline{H}$   $\overline{C}$  فزاوية  
 $\overline{BAC}$  تساوي زاوية  $\overline{HDE}$  بالشكل الثاني والثلاثين من الاولي ان بين فبه ان  
 كل مثلث فان زواياه الثلث كقائمتين فلان نسبة  $\overline{AB}$  الى  $\overline{DE}$  كنسبة  $\overline{BC}$   
 الى  $\overline{EF}$  بالشكل المتقدم وكانت نسبة  $\overline{AB}$  الى  $\overline{DE}$  كنسبة  $\overline{BC}$  الى  $\overline{EF}$   
 فبالشكل الحادي عشر من الخامسة نسبة  $\overline{AB}$  الى  $\overline{DE}$  كنسبة  $\overline{AC}$  الى  $\overline{DF}$   
 يساوي  $\overline{DE}$  بالشكل التاسع من الخامسة وبمثله تبين ان ضلع  $\overline{BC}$  يساوي  
 ضلع  $\overline{EF}$  وضلع  $\overline{DE}$  مشترك بين مثلثي  $\overline{DEH}$   $\overline{DEF}$  فبالشكل الثامن من  
 الاولي زاوية  $\overline{DEH}$  كزاوية  $\overline{DEF}$  وزاوية  $\overline{HDE}$  كزاوية  $\overline{EDF}$  وزاوية  $\overline{DEH}$   
 كزاوية  $\overline{ABC}$  بل زاوية  $\overline{HDE}$  كزاوية  $\overline{ABC}$  وزاوية  $\overline{HDE}$  كزاوية  
 $\overline{ABC}$  وزاوية  $\overline{HDE}$  كزاوية  $\overline{ABC}$  فزاوية  $\overline{ABC}$  كزاوية  $\overline{DEF}$  وزاوية  
 $\overline{BAC}$  كزاوية  $\overline{EDF}$  وزاوية  $\overline{BCA}$  كزاوية  $\overline{EFD}$  فالحكم ثابت وذلك ما  
 اردنا ان نبين

كل مثلثين تساوت زاويتان منهما وتناسب  
 الاضلاع المحيطة بهما فالزوايا الباقية منهما متساوية

على التناظر



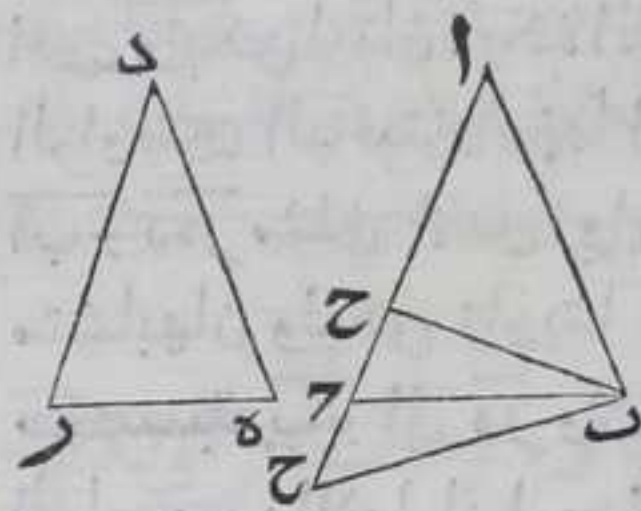
ليكن زاويتا  $\overline{ABC}$   $\overline{DEF}$  من مثلثي  $\overline{ABC}$   $\overline{DEF}$   
 متساويتين ونسبة  $\overline{AB}$  الى  $\overline{DE}$  كنسبة  $\overline{AC}$  الى  $\overline{DF}$   
 فاقول ان زاوية  $\overline{ABC}$  كزاوية  $\overline{DEF}$  وزاوية  $\overline{BAC}$  كزاوية  $\overline{EDF}$  برهانه  
 نرسم على نقطة  $\overline{D}$  من ضلع  $\overline{DE}$  زاوية  $\overline{DEH}$  كزاوية  $\overline{ABC}$  وعلى نقطة  
 $\overline{E}$  زاوية  $\overline{DEH}$  كزاوية  $\overline{ABC}$  بالشكل الثالث والعشرين من الاولي  
 ولان كل زاويتي مثلث اقل من قائمتين بالشكل السابع عشر من الاولي  
 فزاويتا  $\overline{DEH}$   $\overline{DEF}$  من قائمتين فاذا اخرج  $\overline{DC}$   $\overline{HE}$  في جهة  $\overline{CH}$  على  
 استقامتهما



استقامتهما فانهما يلتقيان فليلتقيا على نقطة ح ولان زوايا كل مثلث  
 كقائمتين بالشكل الثاني والثلاثين من الاولي فزاوية د ح ر كزاوية ا ب ح  
 فزاويا مثلث ا ب ح تساوي زوايا مثلث م د ح فبالشكل الرابع نسبة  
 ا ب الى د ح كنسبة ا ح الى د ر وكانت نسبة ا ب الى د ح كنسبة ا ح الى  
 د ر فبالشكل الرابع نسبة ا ب الى د ح كنسبة ا ح الى د م وكانت نسبة  
 ا ب الى د ح كنسبة ا ح الى د م فبالشكل الحادي عشر من الخامسة نسبة  
 ا ب الى د ح كنسبته الى د ح فبالشكل التاسع من الخامسة ضلع د ح كضلع  
 د ه وزاوية ح د ر تساوي زاوية ه د ر وضلع د ر مشترك بين مثلثي د ه ر  
 د م ح فثلثا د ه ر د م ح متساويان وسائر الزوايا كسائر الزوايا بالشكل  
 الرابع من الاولي فزاوية د ه ر كزاوية د ح ر وكانت زاوية ا ب ح كزاوية  
 د ح ر فزاوية ا ب ح كزاوية د ه ر وزاوية د ه ر كزاوية د م ح وكانت زاوية  
 ا ب ح مساوية لزاوية د م ح فزاوية ا ب ح كزاوية د م ح وذلك ما اردنا  
 ان نبين

كل مثلثين تساوت زاويتان منهما وتناسبت  
 الاضلاع المحيطة بزاويتين اخرتين منهما وكانت  
 كل واحدة من الزاويتين الباقيتين منهما اما اصغر  
 من قائمة او ليست باصغر من قائمة فان الزوايا الباقية

منهما متساوية على التناظر

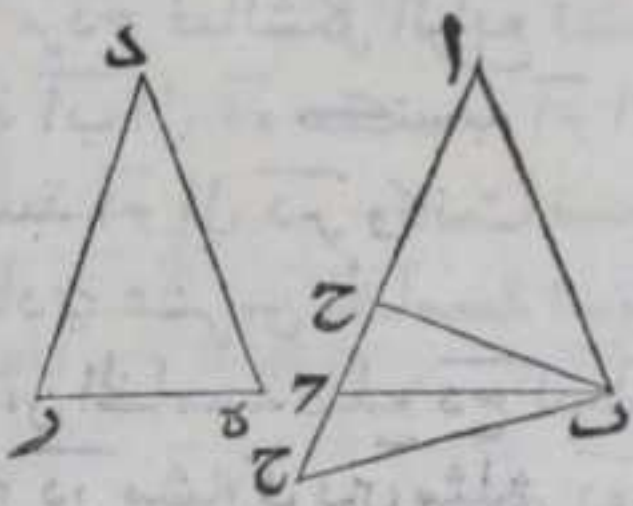


ليكن زاويتا با ح ه د ر من مثلثي ا ب ح  
 د ه ر متساويتين ونسبة ا ب الى د ح كنسبة  
 ب ح الى ه ر وكل واحدة من زاويتي ا ب ح  
 د ه ر اما اصغر من قائمة او ليست باصغر من

قائمة فاقول ان زاوية ا ب ح كزاوية د ه ر وزاوية ا ب ح كزاوية د ه ر  
 برهانه فلان زاوية ا ب ح ان لم تكن كزاوية د ه ر فاما ان تكون اصغر  
 منها او اعظم وعلى التقديرين نرسم على نقطة ب من ضلع ا ب زاوية  
 ا ب ح كزاوية د ه ر بالشكل الثالث والعشرين من الاولي فاذا اخرجنا  
 ضلع ب ح الى ضلع ا ح فلا بد وان ينتهي اليه فعلى التقدير الاول يقع  
 نقطة ح من ضلع ا ح بين نقطتي ا ح وعلى التقدير الثاني خرجا عنهما  
 في جهة ح ولان زوايا كل مثلث كقائمتين بالشكل الثاني والثلاثين من الاولي



تكون زاوية  $\overline{أ ب}$  كزاوية  $\overline{د ر ه}$  فبالشكل الرابع نسبة  $\overline{ب ح}$  الى  $\overline{د ه}$  كنسبة  $\overline{أ ب}$  الى  $\overline{د ه}$  وكانت نسبة  $\overline{ب ح}$  الى  $\overline{د ه}$  كنسبة  $\overline{أ ب}$  الى  $\overline{د ه}$  فبالشكل الخادي عشر من الخامسة نسبة  $\overline{ب ح}$  الى  $\overline{د ه}$  كنسبة  $\overline{ب ح}$  الى  $\overline{د ه}$  بعينه فب  $\overline{ب ح}$  متساويان بالشكل التاسع من الخامسة فزاوية  $\overline{ب ح}$  كزاوية  $\overline{ب ح}$  بالشكل الخامس من الاولي وكل واحدة من زاويتي  $\overline{أ ب}$   $\overline{د ر ه}$  اما قائمة او منفرجة او

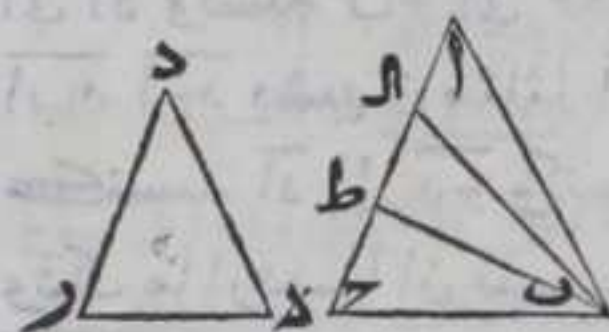


حادة فعلي التقدير الاول ان كانتا قائمتين او منفرجتين معا يلزم ان يكون زاويتا  $\overline{ب ح}$   $\overline{ب ح}$  قائمتين او اعظم منهما وهما اصغر من قائمتين بالشكل السابع عشر من الاولي هذا خلف وان كانت حادتين فيكون زاوية  $\overline{ب ح}$  حادة فتكون زاوية  $\overline{ب ح}$  منفرجة بالشكل الثالث عشر من الاولي وهي مساوية لزاوية  $\overline{د ر ه}$  الحادة هذا خلف وعلي التقدير الثاني كل واحدة من زاويتي  $\overline{أ ب}$   $\overline{د ر ه}$  اما قائمة او حادة او منفرجة فان كانتا قائمتين او حادتين يلزم ان يكون زاوية  $\overline{ب ح}$  قائمة او منفرجة بالشكل الثالث عشر من الاولي فتكون  $\overline{ب ح}$   $\overline{ب ح}$  كقائمتين او اعظم منهما وهما اصغر منهما بالشكل السابع عشر من الاولي وان كانتا منفرجتين تكون زاوية  $\overline{ب ح}$  حادة بالشكل الثالث عشر من الاولي فتكون زاوية  $\overline{ب ح}$  حادة فتكون زاوية  $\overline{د ر ه}$  حادة والتقدير انهما منفرجة هذا خلف فزاوية  $\overline{أ ب}$  كزاوية  $\overline{د ر ه}$  وكانت زاوية  $\overline{ب ح}$  مساوية لزاوية  $\overline{د ر ه}$  فزاوية  $\overline{أ ب}$  كزاوية  $\overline{د ر ه}$  بالشكل الثاني والثلاثين من الاولي فالحكم ثابت وذلك ما اردنا ان نبين

اقول وليكن لبيان فائدة القيد المذكور وهو قوله وكل واحدة من الزاويتين الباقيتين منهما اصغر من قائمة او ليست باصغر من قائمة مثلثا  $\overline{أ ب}$   $\overline{د ر ه}$  مثلثي متشابهين زواياهما واضلاعهما النظائريتين متساوية فهما متشابهان وليكن زاويتا  $\overline{أ ب}$   $\overline{د ر ه}$  راسهما فيكون نسبة  $\overline{أ ب}$  الى  $\overline{د ه}$  كنسبة  $\overline{ب ح}$  الى  $\overline{د ه}$  ولان زاوية  $\overline{أ ب}$  المساوية لزاوية  $\overline{أ ب}$  بالشكل الخامس من الاولي اقل من قائمة لان كل زاويتي مثلث اقل من قائمتين بالشكل السابع عشر من الاولي فهي حادة وهي ضعف زاوية  $\overline{ب ح}$  فهي ايضا حادة والا لكانت زاويتا  $\overline{أ ب}$   $\overline{ب ح}$  اعظم من قائمتين وهما اصغر منهما بالشكل السابع عشر من الاولي هذا خلف فالزاوية المجاورة لكل واحدة منهما منفرجة بالشكل الثالث عشر من الاولي فاذا اخرجنا من نقطة  $\overline{ب}$  عمود  $\overline{ب ط}$  علي ضلع  $\overline{أ ح}$  بالشكل الثاني عشر من الاولي فلا يقع علي احدي نقطتي  $\overline{أ ح}$  لان زاويتي  $\overline{أ ب}$   $\overline{ب ح}$  حادتين ولا خارجا عنهما والا يلزم ان يكون زاويتا مثلث اعظم من قائمتين والزاوية المجاورة لكل واحدة



واحدة من زاويتي  $\overline{ب\alpha\gamma}$   $\overline{ب\alpha\delta}$  منفرجة بالشكل الثالث عشر من الاولي  
وهما اصغر منهما بالشكل السابع عشر من الاولي هذا خلف فيقع فيما  
بين نقطتي  $\alpha\gamma$  ولان زوايا كل مثلث تساوي قائمتين بالشكل الثاني  
والثلثين من الاولي وزاوية  $\overline{ب\alpha\gamma}$  كزاوية  $\overline{ب\alpha\delta}$  وزاوية  $\overline{ب\gamma\alpha}$  اعظم  
من زاوية  $\overline{ب\alpha\delta}$  فزاوية  $\overline{ب\gamma\alpha}$  اصغر من زاوية  $\overline{ب\alpha\delta}$  فاذا ركبنا مثلث



$\overline{ب\gamma\alpha}$  علي مثلث  $\overline{ب\alpha\tau}$  بحيث ينطبق  
ضلع  $\overline{ب\gamma\alpha}$  علي نفسه فينطبق ضلع  $\overline{ب\gamma\alpha}$   
علي ضلع  $\overline{ب\alpha\tau}$  لتساوي زاويتي  $\overline{ب\gamma\alpha}$   $\overline{ب\alpha\tau}$   
فيقع ضلع  $\overline{ب\gamma\alpha}$  فيما بين ضلعي  $\overline{ب\alpha\tau}$   $\overline{ب\alpha\delta}$   
فيقع نقطة  $\gamma$  فيما بين نقطتي  $\alpha\tau$  و  $\alpha\delta$  وليقع علي

نقطة  $\alpha\delta$  فخط  $\overline{ب\alpha\tau}$  مساو لضلع  $\overline{ب\alpha\delta}$  فاذا وصلنا بين نقطتي  $\beta$   $\alpha$  بخط  
مستقيم حدث مثلث  $\overline{ب\alpha\tau}$  فيكون بالشكل الرابع من الاولي ضلع  $\overline{ب\alpha\tau}$   
كضلع  $\overline{ب\gamma\alpha}$  وزاوية  $\overline{ب\gamma\alpha}$  كزاوية  $\overline{ب\alpha\tau}$  فهي حادة فزاوية  $\overline{ب\alpha\delta}$   
المجاورة لها منفرجة بالشكل الثالث عشر من الاولي فهي اعظم من زاوية  
دره ولان نسبة  $\overline{ب\alpha\tau}$  الي  $\overline{ب\alpha\delta}$  كنسبة  $\overline{ب\gamma\alpha}$  الي  $\overline{ب\alpha\delta}$  فيكون زاوية  $\overline{ب\alpha\delta}$   
المنفرجة كزاوية دره الحادة هذا خلف وزاويتا  $\overline{ب\alpha\delta}$   $\overline{ب\alpha\tau}$  متساويتان  
ولان  $\overline{ب\alpha\tau}$   $\overline{ب\alpha\delta}$  متساويان فاي اضعاف اخذنا  $\overline{ب\alpha\tau}$   $\overline{ب\alpha\delta}$  متساوية العدة  
كم كانت العدة مما لا يتناهي ولهر ايضا كذلك فان كانت اضعاف  $\overline{ب\alpha\tau}$   
زايدة علي اضعاف  $\overline{ب\gamma\alpha}$  كانت اضعاف  $\overline{ب\gamma\alpha}$  زايدة علي اضعاف  $\overline{ب\alpha\tau}$  وان  
كانت مساوية لها كانت مساوية وان كانت ناقصة عنها كانت ناقصة  
فنسبة  $\overline{ب\alpha\tau}$  الي  $\overline{ب\alpha\delta}$  كنسبة  $\overline{ب\gamma\alpha}$  الي  $\overline{ب\alpha\delta}$  فيالشكل الحادي عشر من الخامسة  
فنسبة  $\overline{ب\alpha\tau}$  الي  $\overline{ب\alpha\delta}$  كنسبة  $\overline{ب\gamma\alpha}$  الي  $\overline{ب\alpha\delta}$  فلولو القيد المذكور لكانت زاوية  
 $\overline{ب\alpha\delta}$  المنفرجة كزاوية دره الحادة وكانا مثلثا  $\overline{ب\alpha\tau}$   $\overline{ب\alpha\delta}$  من مثلثات  
المتشابهة وليس الامر كذلك فقيد لاخراج امثال هذه المثلثات والله  
اعلم

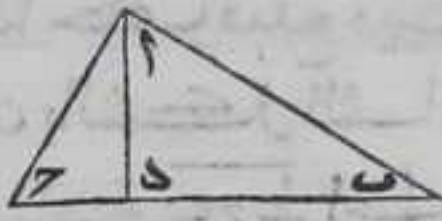
م

كل مثلث قائم الزاوية خرج من نقطة زاوية  
القائمة عمود الي وترها فان العمود يقسم المثلث الي  
مثلثين متشابهين للمثلث الاعظم ومتشابهين

ليكن المثلث  $\overline{ب\alpha\gamma}$  وزاوية  $\overline{ب\alpha\gamma}$  منه قائمة وخرج من نقطة  $\alpha$  عمود  $\overline{ب\alpha\gamma}$   
الي وتر  $\overline{ب\gamma\alpha}$  فحدث مثلثا  $\overline{ب\alpha\delta}$   $\overline{ب\alpha\gamma}$  فاقول انهما يشبهان مثلث  $\overline{ب\alpha\gamma}$   
ومتشابهان برهانه فلان زوايا كل مثلث كقائمتين بالشكل الثاني



والثلثين من الاولي وكل واحدة من زوايا  $\overline{ب ا ح}$   $\overline{ب د ا}$  قائمة و  $\overline{ا ب ح}$  مشتركة بين مثلث  $\overline{ا ب د}$  والمثلث الاعظم وزاوية  $\overline{ا ح د}$  مشتركة بين مثلث  $\overline{ا ح د}$  والمثلث الاعظم  
 فزاوية  $\overline{ب ا د}$  كزاوية  $\overline{ا ح د}$  وزاوية  $\overline{ح ا د}$  كزاوية  $\overline{ا ب د}$  فبالشكل الرابع نسبة  $\overline{ح ب}$  الي  $\overline{ب ا}$  كنسبة  $\overline{ا ب}$  الي  $\overline{ب د}$  وكنسبة  $\overline{ا ح}$  الي  $\overline{ا د}$  ونسبة  $\overline{ب ح}$  الي  $\overline{ح ا}$  كنسبة  $\overline{ا ح}$  الي  $\overline{ح د}$  وكنسبة  $\overline{ب ا}$  الي  $\overline{ا د}$  فثلثا  $\overline{ا ب د}$  يشبهان مثلثا  $\overline{ا ب ح}$  وبالشكل الرابع ايضا نسبة  $\overline{ب د}$  الي  $\overline{د ا}$  كنسبة  $\overline{ا د}$  الي  $\overline{د ح}$  وكنسبة  $\overline{ا ب}$  الي  $\overline{ا ح}$  فثلثا  $\overline{ا ب د}$   $\overline{ا ح د}$  متشابهان  
 وذلك ما اردنا ان نبين

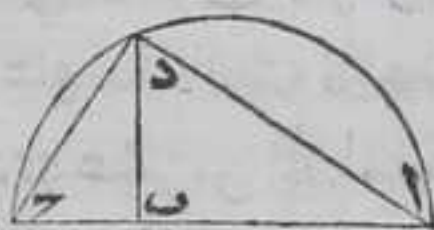


واستبان منه ان كل واحد من الضلعين المحيطين بالزاوية القائمة من المثلث الاعظم وسط في النسبة بين قاعدة العمود وبين القسم الذي يلي ذلك الضلع منها وان العمود وسط في النسبة بين قسمة القاعدة

ط

كل خطين مستقيمين محدودين مفروضين لنا  
 ان نجد خطا مستقيما وسطا في النسبة بينهما

ليكن الخطان  $\overline{ا ب}$   $\overline{ب ح}$  فاقول لنا ان نجد خطا مستقيما وسطا بينهما في النسبة برهانه ليكن خطا  $\overline{ا ب}$   $\overline{ب ح}$  متصلين بنقطة  $\overline{ب}$  احدهما علي استقامته الاخر فننصف خط  $\overline{ا ح}$  الحاصل من اتصاله احدهما بالشكل العاشر من الاولي ونرسم عليه نصف دائرة  $\overline{ا د ح}$  ونخرج من نقطة  $\overline{ب}$  عمود  $\overline{ب د}$  علي  $\overline{ا ح}$  بالشكل الحادي عشر من الاولي ونخرجه علي استقامته الي المحيط فينتهي اليه علي نقطة  $\overline{د}$  ونصل بينها وبين كل من نقطتي  $\overline{ا ح}$  بخط مستقيم فزاوية  $\overline{ا د ب}$  قائمة بالشكل الثلثين من الثالثة فعمود  $\overline{ب د}$  وسط في النسبة بين خطي  $\overline{ا ب}$   $\overline{ب ح}$  باستبانة الشكل المتقدم وذلك ما اردنا ان نبين



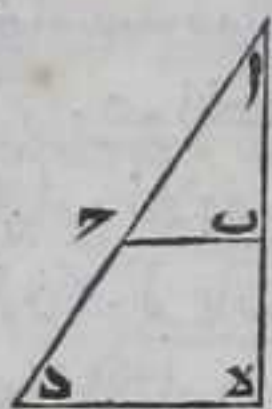
ز

كل خطين مستقيمين محدودين مفروضين  
 لنا ان نجد خطا ثالثا لهما في النسبة

ليكن الخطان  $\overline{ا ب}$   $\overline{ب ح}$  فان كانا متساويين نفرض في سطحهما نقطتين ونصل بينهما بخط مستقيم ونخرجه في احدي جهتيه الي غير النهاية ونفصل منه خطا كاحدهما بالشكل الثالث من الاولي فهو ثالثهما في النسبة لاننا اخذنا

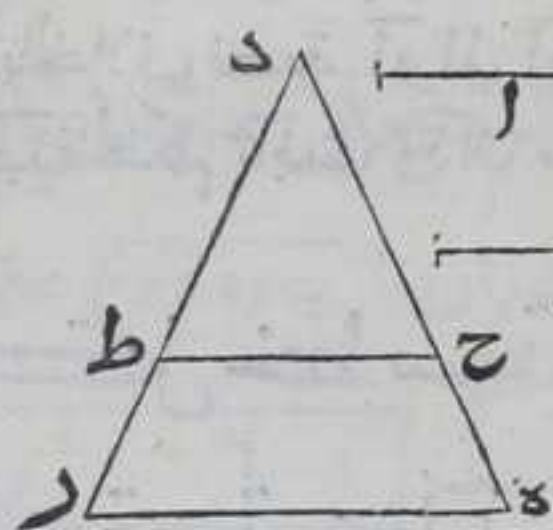


اخذنا لها اضعافا متساوية العدة كم كانت فان كانت اضعاف الاول  
 زايدة علي اضعاف الثاني كانت اضعاف الثالث الذي هو الثاني في  
 الوضع زايدة علي اضعاف الرابع الذي هو الثالث في  
 الوضع وان كانت ناقصة عنها كانت ناقصة وان كانت  
 مساوية لها كانت مساوية وان لم يكنا متساويين  
 فيتصل احدهما بالاخر بنقطة آ بحيث يحيطان بزواية  
 ما ولنخرج آ ب علي استقامته في جهة ب الي ما لانهاية



له ونفصل منه ب ه يساوي آ ح بالشكل الثالث من الاولي ونصل ب ح  
 بخط مستقيم ونخرج آ ح في جهة ح علي استقامته ونخرج من نقطة ه في  
 تلك الجهة ايضا خط ه د موازيا لخط ب ح بالشكل الواحد والثلاثين من  
 الاولي فهما يلتقيان فليلتقيا علي نقطة د وذلك لانا اذا وصلنا ح ه بخط  
 مستقيم يكون زاويتا ح ه د اقل من قائمتين لان زاوية ح ه د مع  
 الزاوية المجاورة لزاوية ه ح ب كقائمتين بالشكل التاسع والعشرين من  
 الاولي فلان نسبة آ ب الي آ ح كنسبة آ ب الي ب ه بالشكل السابع من  
 الخامسة وبالشكل الثاني نسبة آ ح الي ح د كنسبة آ ب الي ب ه فبالشكل  
 الحادي عشر من الخامسة نسبة آ ب الي آ ح كنسبة آ ح الي ح د فالحكم  
 ثابت وذلك ما اردنا ان نبين

واستبان منه انه لو كانت ثلاثة خطوط مستقيمة محدودة مفروضة  
 كخطوط آ ب ح لكان لنا ان نحدد خطا مستقيما رابعا لها في النسبة  
 فنخرج من نقطة د خطي د ه د ر في جهة واحدة الي غير النهاية محيطان  
 بزواية ما ونفصل من د ه د ح ه يساويان خطي آ ب ومن د ر د ط  
 مساويا لخط ح بالشكل الثالث من



الاولي ونصل ح ط بخط مستقيم  
 ونخرج من نقطة ه خط ه ر في جهة  
 ط موازيا لخط ح ط بالشكل الواحد  
 والثلاثين من الاولي فهو يلقي خط د ر  
 اذا اخرج ه ر في جهة ر لانا اذا وصلنا  
 ه ط بخط مستقيم يكون زاوية ط ه ر

مع الزاوية المجاورة لزاوية ه ط ح كقائمتين بالشكل التاسع والعشرين  
 من الاولي فزاويتا ط ه ر ر ط ه اقل من قائمتين فليقع علي نقطة ر فلان  
 آ يساوي د ح وب يساوي ح ه فاذا اخذنا لا ود ح اضعافا متساوية  
 العدة كم كانت ولب و ح ه اضعافا متساوية العدة كم كانت فان كانت  
 اضعاف آ زايدة علي اضعاف ب كانت اضعاف د ح زايدة علي اضعاف  
 ح ه وان كانت ناقصة كانت ناقصة وان كانت مساوية كانت مساوية  
 فنسبة آ الي ب كنسبة د ح الي ح ه ونسبة د ط الي ط ر كنسبة د ح الي ح ه



بالشكل الثاني فبالشكل الحادي عشر من الخامسة نسبة آ الي ب كنسبة  
 دط الي طر ونسبة ح الي طر كنسبة دط الي طر بالشكل السابع من  
 الخامسة فبالشكل الحادي عشر من الخامسة نسبة آ الي ب كنسبة ح الي  
 طر وهو المطلوب وهذه الاستبانة جعلها ثابت بن قره شكلا من اصل  
 الكتاب للايضاح ولم تكن هي شكلا منه في النسخ اليونانية والسريانية  
 ولذلك لم يات الحجاج به في نخته والالف بكتاب اقليدس وطريقه في  
 هذا الكتاب ان يكون من قبيل الاستبانة لا من اصل الكتاب اذ هو بالفروع  
 اليق وهذه صورته وانا اطنت في بيان الاستبانة للايضاح

يا

كل خط مستقيم محدود مفروض لنا ان نفصل

منه جزءا



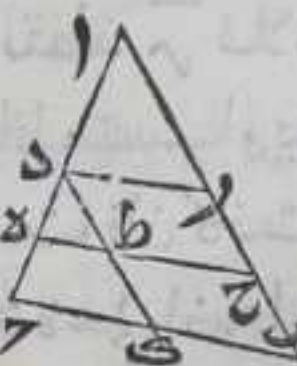
ليكن الخط آ ب والجزء الثالث فاقول لنا ان نفصل من آ ب  
 ثلاثة برهانه نرسم في سطح آ ب نقطة ح لاعلي استقامته  
 ونصل بين نقطتي آ ح بخط مستقيم ونخرجه علي  
 استقامته في جهة ح الي ما لانهاية له ونرسم علي خط آ ح نقطة د ونفصل  
 منه د ه ه يساويان خط آ د بالشكل الثالث من الاولي ونصل بين نقطتي  
 ح ب بخط مستقيم ونخرج من نقطة د خط د ر موازيا لخط ب ح بالشكل  
 الواحد والثلاثين من الاولي ونخرجه الي ان يلقي ضلع آ ب فليلق علي  
 نقطة ر فبالشكل الثاني نسبة ب ر الي ر آ كنسبة ح د الي د آ فبالتركيب  
 نسبة ب آ الي آ ر كنسبة ح آ الي آ د بالشكل الثامن عشر من الخامسة  
 وبالخلاف نسبة آ ر الي آ ب كنسبة آ د الي آ ح لكن آ د ثلث آ ح فآ ر ثلث  
 آ ب فالحكم ثابت وذلك ما اردنا ان نبين

يب

كل خط مستقيم محدود مفروض لنا ان نقسمه

كقسمه خط آخر مستقيم وتكون نسبة اقسامه

كنسبة اقسام الخط المقسوم



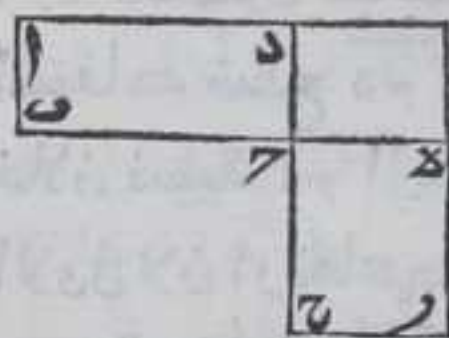
ليكن الخط المفروض آ ب والخط المقسوم بنقطتي د ه  
 خط آ ح فاقول لنا ان نقسم آ ب كقسمه آ ح وتكون نسبة  
 اقسام آ ب كنسبة اقسام آ ح برهانه فاجعل آ ب مع  
 آ ح محبطين زاوية ما ولنكن هي زاوية با ح ونصل ب ح بخط مستقيم  
 ونخرج



ونخرج من نقطتي د ه خطي د ر ه ح موازيين لخط ب ج ومن نقطة د  
خط د ا يوازي ا ب بالشكل الواحد والثلاثين من الاولي فخطا د ر ه ح  
متوازيان بالشكل الثلاثين من الاولي فلينته خطا د ر ه ح الي خط ا ب علي  
نقطتي ر ح ولقطع خط د ا خطي ه ح ب ج علي نقطتي ط ا فسطحا  
ب ط ط ر متوازييا الاضلاع فرح يساوي د ط و ب ح يساوي ط ا  
بالشكل الرابع والثلاثين من الاولي فلان نسبة ا ر الي ر ح كنسبة ا د الي  
د ه وايضا فلان ر ح يساوي د ط و ح ب يساوي ط ا فاذا اخذنا ل ر ح  
ح ب اضعافا متساوية العدة كم كانت ولد ط ا اضعافا متساوية  
العدة كم كانت فان كانت اضعاف ر ح زائدة علي اضعاف د ط كانت  
اضعاف ح ب زائدة علي اضعاف ط ا فان كانت مساوية لها كانت  
مساوية وان كانت ناقصة كانت ناقصة فنسبة ر ح الي ح ب كنسبة  
د ط الي ط ا وايضا فلان نسبة د ه الي ه ر كنسبة د ط الي ط ا بالشكل  
الثاني ونسبة ر ح الي ح ب كنسبة د ط الي ط ا فبالشكل الحادي عشر  
من الخامسة نسبة د ه الي ه ر كنسبة ر ح الي ح ب فالحكم ثابت وذلك ما  
ان نـ

كل سطحين متوازيين الاضلاع تساوت زاويتان  
منهما فان كانا متساويين كانت الاضلاع المحيطة  
بالزاويتين متناسبة علي التكافؤ وان كانت الاضلاع  
المحيطة بها متناسبة علي التكافؤ فالسطحان متساويان

ليكن سطحا ا ب ج د ر ه ح متوازيي الاضلاع وزاويتا ب ج د ه ح منهما  
متساويتان فاقول ان كان سطح ا ج ك سطح ج ر فان  
نسبة ب ج الي ج ه كنسبة ج ر الي ر د وان كانت  
نسبة ب ج الي ج ه كنسبة ج ر الي ر د فالسطحان  
متساويان برهانه فيتم سطح ه د بان نخرج خطي  
ر ا د علي استقامتهما فليتقيا لخروجهما علي اقل



من قائمتين لو وصلنا د ه بخط مستقيم فان كان السطحان متساويين فلان  
نسبة ب ج الي ج ه كنسبة سطح ب ه الي سطح د ه بالشكل الاول ونسبة سطح  
ج ه الي سطح ه د كنسبة سطح ا ج الي سطح د ه بالشكل السابع من الخامسة  
فبالشكل الحادي عشر من الخامسة نسبة ب ج الي ج ه كنسبة سطح ج ه الي  
سطح ه د ونسبة ج ر الي ر د كنسبة سطح ج ه الي سطح ه د فبالشكل

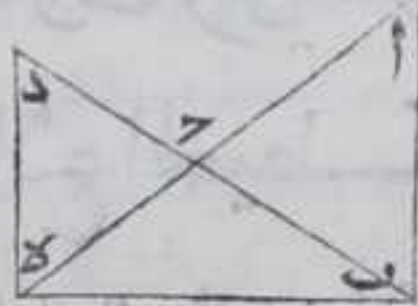


الحادي عشر من الخامسة نسبة  $\overline{ب\gamma}$  الى  $\overline{د\epsilon}$  كنسبة  $\overline{ح\delta}$  الى  $\overline{د\gamma}$  وان  
كانت نسبة  $\overline{ب\gamma}$  الى  $\overline{د\epsilon}$  كنسبة  $\overline{ح\delta}$  الى  $\overline{د\gamma}$  فلان نسبة  $\overline{ب\delta}$  الى  $\overline{د\gamma}$   
 $\overline{د\epsilon}$  كنسبة  $\overline{ب\gamma}$  الى  $\overline{د\epsilon}$  بالشكل الاول ونسبة  $\overline{ح\delta}$  الى  $\overline{د\gamma}$  كنسبة  $\overline{ب\delta}$  الى  
 $\overline{د\epsilon}$  فنسبة  $\overline{ب\delta}$  الى  $\overline{د\gamma}$  كنسبة  $\overline{ح\delta}$  الى  $\overline{د\gamma}$  بالشكل الحادي عشر  
من الخامسة ونسبة  $\overline{ب\delta}$  الى  $\overline{د\gamma}$  كنسبة  $\overline{ح\delta}$  الى  $\overline{د\gamma}$  فبالشكل  
الحادي عشر من الخامسة ايضا نسبة  $\overline{ب\delta}$  الى  $\overline{د\gamma}$  كنسبة  $\overline{د\epsilon}$  الى  $\overline{د\gamma}$   
 $\overline{ح\delta}$  الى  $\overline{د\gamma}$  فنسبة  $\overline{ب\delta}$  الى  $\overline{د\gamma}$  كنسبة  $\overline{ح\delta}$  الى  $\overline{د\gamma}$  بالشكل التاسع من الخامسة والحكم  
ثابت وذلك ما اردنا ان نبين

يد

كل مثلثين مستقيمي الاضلاع تساوت زاويتان  
منهما فان كانا متساويين كانت الاضلاع المحيطة  
بالزاويتين متناسبة علي التكافؤ وان كانت الاضلاع  
المحيطة بالزاويتين متناسبة علي التكافؤ فالمثلثان

متساويان



لتكن زاويتا  $\overline{ا\gamma}$  و  $\overline{ب\delta}$  من مثلثي  $\overline{ا\gamma}$  و  $\overline{ب\delta}$   
متساويين فاقول ان كان المثلثان متساويين كانت  
نسبة  $\overline{ا\gamma}$  الى  $\overline{ب\delta}$  كنسبة  $\overline{د\epsilon}$  الى  $\overline{ح\delta}$  وان كانت نسبة  $\overline{ا\gamma}$  الى  $\overline{ب\delta}$  كنسبة  
 $\overline{د\epsilon}$  الى  $\overline{ح\delta}$  فالمثلثان متساويان برهانه ليعن ضلع  $\overline{ا\gamma}$  علي استقامة  
 $\overline{ب\delta}$  فيكون كل واحدة من زاويتي  $\overline{ا\gamma}$  و  $\overline{ب\delta}$  و  $\overline{د\epsilon}$  و  $\overline{ح\delta}$  كزاويتين بالشكل  
الثالث عشر من الاولي وزاوية  $\overline{ا\gamma}$  كزاوية  $\overline{د\epsilon}$  بالفرض فزاويتا  $\overline{ا\gamma}$  و  
 $\overline{ب\delta}$  كزاويتين فبالشكل الرابع عشر من الاولي يكون ضلع  $\overline{ب\delta}$  علي  
استقامة ضلع  $\overline{د\epsilon}$  ونصل  $\overline{ب\epsilon}$  بخط مستقيم فان كان المثلثان متساويين  
فلان نسبة  $\overline{ا\gamma}$  الى  $\overline{ب\delta}$  كنسبة مثلث  $\overline{ا\gamma}$  الى مثلث  $\overline{ب\delta}$  بالشكل  
الاول لان ارتفاعهما واحد وهو العمود الخارج من نقطة  $\overline{ب}$  علي ضلع  $\overline{ا\epsilon}$   
ونسبة مثلث  $\overline{د\epsilon}$  الى مثلث  $\overline{ب\delta}$  كنسبة مثلث  $\overline{ا\gamma}$  الى مثلث  
 $\overline{ب\delta}$  بالشكل السابع من الخامسة فبالشكل الحادي عشر منها نسبة  $\overline{ا\gamma}$   
الى  $\overline{ب\delta}$  كنسبة مثلث  $\overline{د\epsilon}$  الى مثلث  $\overline{ب\delta}$  ونسبة  $\overline{د\epsilon}$  الى  $\overline{ح\delta}$  كنسبة  
مثلث  $\overline{د\epsilon}$  الى مثلث  $\overline{ب\delta}$  بالشكل الاول لان ارتفاعهما واحد وهو  
العمود الخارج من نقطة  $\overline{ا}$  الى ضلع  $\overline{ب\delta}$  فبالشكل الحادي عشر من  
الخامسة نسبة  $\overline{ا\gamma}$  الى  $\overline{ب\delta}$  كنسبة  $\overline{د\epsilon}$  الى  $\overline{ح\delta}$  وان كانت نسبة  $\overline{ا\gamma}$  الى

د كنسبة



د ه كنسبة د ح الي ح ب فلان نسبة مثلث ا ب ح الي مثلث ب ح د كنسبة  
 ا ح الي ح د بالشكل الاول ونسبة د ح الي ح ب كنسبة ا ح الي ح د فنسبة  
 مثلث ا ب ح الي مثلث ب ح د كنسبة د ح الي ح ب بالشكل الحادي عشر  
 من الخامسة ونسبة مثلث د ح د الي مثلث ب ح د كنسبة د ح الي ح ب  
 بالشكل الاول فنسبة مثلث ا ب ح الي مثلث ب ح د كنسبة مثلث د ح د  
 الي مثلث ب ح د بالشكل الحادي عشر من الخامسة ايضا فبالشكل التاسع  
 من الخامسة مثلث ا ب ح كمثلث د ح د وذلك ما اردنا ان نبين

يه

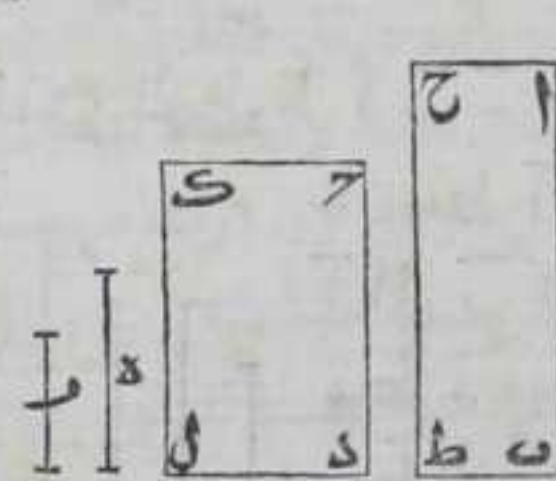
كل اربعة خطوط مستقيمة محدودة مفروضة

فان كانت متناسبة كان سطح الاول في الرابع كسطح

الثاني في الثالث وان كان سطح الاول في الرابع كسطح

الثاني في الثالث فانها متناسبة

لكن نسبة ا ب الي ح د كنسبة ا الي ح فاقول ان سطح ا ب في ح كسطح  
 ح د في ا وان كان سطح ا ب في ح كسطح ح د في ا كانت نسبة ا ب الي ح د  
 كنسبة ا الي ح برهانه نخرج من نقطتي ا ح عمودي ا ح ح ا علي



خطي ا ب ح د في جهة واحدة من خطي  
 ا ب ح د باستبانة الشكل الحادي عشر من  
 الاولي ونفصل من العمودين ا ح مثل ح د  
 مثل ح د بالشكل الثالث من الاولي ونخرج من  
 نقطة ح خط ح ط يوازي ا ب في جهة ب  
 ومن نقطة ب خط ب ط يوازي ا ح في جهة


ح ط بالشكل الواحد والثلاثين من الاولي فهما يتلاقبان لانا اذا وصلنا  
 ب ح بخط مستقيم كانت زاوية ح ب ط مع الزاوية المجاورة لزاوية  
 ب ح ا كقايمتين بالشكل التاسع والعشرين من الاولي فهي مع زاوية  
 ط ح ب اقل منهما فتم فلينته الي نقطة ط ويمثله نتم سطح ح د ل فلان  
 ح ط يساوي ا ح و ح د يساوي ح د و سطح الخط في احد الخطين المتساويين  
 كسطحه في المساوي الاخر باستبانة الشكل الاول فيكون سطح ا ط  
 يساوي سطح ا ب في ح و سطح ح ل يساوي سطح ح د في ا لان ح ا يساوي  
 ح د و ا ح يساوي ح د فاذا اخذ ح ل ا ح اضعافا متساوية العدة كم كانت  
 العدة ولاح اضعافا متساوية العدة كم كانت العدة فان كانت اضعاف  
 ح ا زائدة علي اضعاف ا ح كانت اضعاف ح د زائدة علي اضعاف ح ا وان



كانت مساوية لها كانت مساوية وان كانت ناقصة عنها كانت ناقصة  
 فنسبة  $\Gamma\Delta$  الى  $\Delta\text{ح}$  كنسبة  $\text{ه}$  الى  $\text{ر}$  وكانت نسبة  $\text{اب}$  الى  $\text{ج د}$  كنسبة  $\text{ه}$   
 الى  $\text{ر}$  فبالشكل الحادي عشر من الخامسة نسبة  $\text{اب}$  الى  $\text{ج د}$  كنسبة  $\text{ح د}$   
 الى  $\text{ح}$  فسطح  $\text{اط}$  كسطح  $\text{ج ل}$  بالشكل عشر لان زاويتي  $\text{ب ا ح}$   $\text{د ح ا}$  منهما  
 متساويتان وان كان سطح  $\text{اط}$  كسطح  $\text{ج ل}$  وزاويتي  $\text{ب ا ح}$   $\text{د ح ا}$  منهما  
 متساويتان فنسبة  $\text{اب}$  الى  $\text{ج د}$  كنسبة  $\text{ح ا}$  الى  $\text{ح}$  بالشكل الثالث عشر  
 وكانت نسبة  $\text{ه}$  الى  $\text{ر}$  كنسبة  $\text{ح ا}$  الى  $\text{ح}$  فبالشكل الحادي عشر من  
 الخامسة نسبة  $\text{اب}$  الى  $\text{ج د}$  كنسبة  $\text{ه}$  الى  $\text{ر}$  فالحكم ثابت وذلك ما اردنا  
 ان نمـ

كل ثلاثة خطوط مستقيمة محدودة مفروضة  
 فان كانت نسبة الاول الى الثاني كنسبة الثاني الى  
 الثالث كان سطح الاول في الثالث كمربع الثاني وان  
 كان سطح الاول في الثالث كمربع الثاني كانت نسبة  
 الاول الى الثاني كنسبة الثاني الى الثالث

ليكن الخطوط  $\text{آ ب}$   $\text{ح}$  فاقول ان كانت نسبة  $\text{آ}$  الى  $\text{ب}$  كنسبة  $\text{ب}$  الى  $\text{ح}$   
 فان سطح  $\text{آ في ح}$  كمربع  $\text{ب}$  وان كان  $\text{آ في ح}$  كمربع  $\text{ب}$  فنسبة  
 $\text{آ}$  الى  $\text{ب}$  كنسبة  $\text{ب}$  الى  $\text{ح}$  برهانه اما الاول فيكون  
 سطح  $\text{د في ب}$  كمربع  $\text{ب}$  باستبانة الشكل الاول فنرسم في  
 سطح الخطوط خطا مستقيما غير متناه ونفصل منه خط  $\text{د}$   
 كخط  $\text{ب}$  بالشكل الثالث من الاولي فلان نسبة  $\text{آ}$  الى  $\text{ب}$   
 كنسبة  $\text{ب}$  الى  $\text{ح}$  وب  $\text{د}$  متساويان فاذا اخذنا  $\text{لد}$  وب



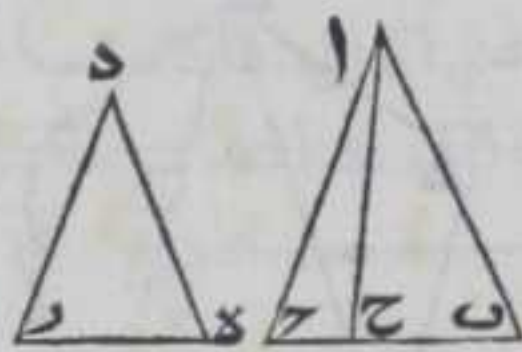
اضعانا متساوية العدة كم كانت العدة وحواري اضعاف كانت مما لا  
 يتناهي فان كانت اضعاف  $\text{د}$  زايدة علي اضعاف  $\text{ح}$  كانت اضعاف  $\text{ب}$   
 زايدة علي اضعاف  $\text{ح}$  وان كانت مساوية لها كانت مساوية وان كانت  
 ناقصة عنها كانت ناقصة فنسبة  $\text{د}$  الى  $\text{ح}$  كنسبة  $\text{ب}$  الى  $\text{ح}$  فنسبة  $\text{آ}$  الى  
 $\text{ب}$  كنسبة  $\text{د}$  الى  $\text{ح}$  بالشكل الحادي عشر من الخامسة فسطح  $\text{آ في ح}$  كسطح  
 $\text{ب في د}$  اعني مربع  $\text{ب}$  بالشكل المتقدم واما الثاني فليكن الضلع الاخر  
 من مربع  $\text{ب}$  خط  $\text{د}$  فيكون سطح  $\text{آ في ح}$  كسطح  $\text{ب في د}$  فنسبة  $\text{آ}$  الى  $\text{ب}$   
 كنسبة  $\text{د}$  الى  $\text{ح}$  بالشكل المتقدم وقلنا ان نسبة  $\text{ب}$  الى  $\text{ح}$  كنسبة  $\text{د}$  الى  $\text{ح}$   
 في القسم



في القسم الاول فبالشكل الحادي عشر من الخامسة نسبة آ الي ب كنسبة  
 ب الي ح فالحكم ثابت وذلك ما اردنا ان نبين  
 واستبان منه ان كل خط مقسوم علي نسبة ذات وسط وطرفين فان سطحه  
 في قسمه الاصغر كمربع قسمه الاعظم  
 ير

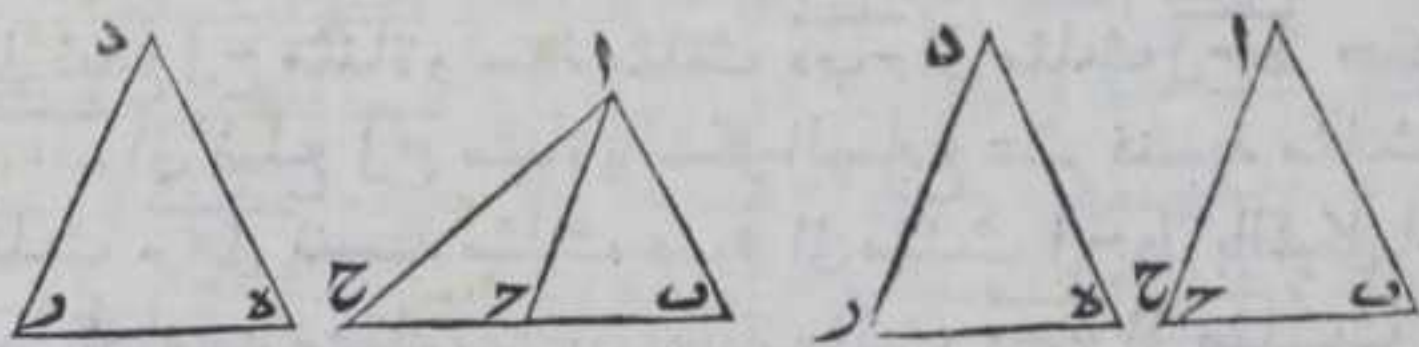
كل مثلثين متشابهين فان نسبة احدهما الي  
 الاخر كنسبة ضلع من اضلاعه الي نظيرة من

اضلاع المثلث الاخر مثناة



ليكن مثلثا ا ب ح د ه ر متشابهين فاقول ان  
 نسبة مثلث ا ب ح الي مثلث د ه ر كنسبة  
 ضلع من اضلاع مثلث ا ب ح الي نظيرة من

اضلاع مثلث د ه ر مثناة ولتكن نسبة ضلع ب ح الي ضلع د ر مثناة  
 برهانه نجد خطا ثالثا في النسبة لخطي ب ح د ر وهو خط ب ح بالشكل  
 العاشر ونصل بين نقطتي ا ح بخط مستقيم ولان نسبة ا ب الي د ه كنسبة  
 ب ح الي د ر ونسبة د ر الي ب ح كنسبة ب ح الي د ر فبالشكل الحادي  
 عشر من الخامسة نسبة ا ب الي د ه كنسبة د ر الي ب ح فبالشكل الرابع  
 عشر مثلث ا ب ح كمثلث د ه ر فنسبة مثلث ا ب ح الي مثلث د ه ر  
 كنسبته الي مثلث ا ب ح بالشكل السابع من الخامسة ونسبة ب ح الي  
 ب ح كنسبة مثلث ا ب ح الي مثلث ا ب ح بالشكل الاول لان ارتفاعهما  
 واحد فبالشكل الحادي عشر من الخامسة نسبة مثلث ا ب ح الي  
 مثلث د ه ر كنسبة ب ح الي ب ح ونسبة ب ح الي د ر مثناة كنسبة ب ح  
 الي ب ح فبالشكل الحادي عشر من الخامسة نسبة مثلث ا ب ح الي  
 مثلث د ه ر كنسبة ب ح الي د ر مثناة وذلك ما اردنا ان نبين  
 ولهذا الشكل اختلاف وقوع فان نقطة ح يمكن ان يقع علي نقطة د  
 او بين نقطتي ب ح او خارجا عنهما في جهة د والبيان في الشكل ظاهر  
 مما بينه



واستبان منه ان كل ثلاثة خطوط متناسبة فان نسبة الاول الي الثالث  
 كنسبة المثلث المعمول علي الاول الي المثلث المعمول علي الثاني ان كانا

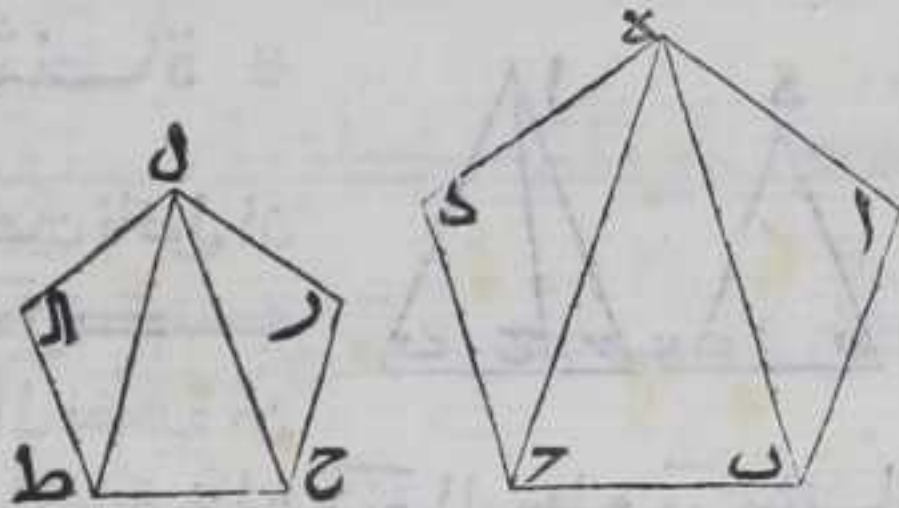


متشابهين وعلي وضع واحد ولك نسبة كذا السطوح المتوازية الاضلاع  
التي هي اضعاف المثلثين بعدة واحدة ان نسبة الاضعاف كنسبة الاجزاء

جميع السطوح الكثيرة الاضلاع المتشابهة تنقسم الي  
مثلثات متشابهات بعدة واحدة ونسب السطوح  
المتشابهة بعضها الي بعض كنسب اضلاعها

المتناظرة مثناة

ليكن سطح  $AB$  حده يشبه سطح  
مرحط  $AL$  فنصل بين نقطة  $هـ$   
وبين كل واحدة من نقطتي  $ب$   
 $ر$  ونصل بين نقطة  $ل$  وبين كل



واحدة من نقطتي  $ح$   $ط$  بخط مستقيم فاقول ان المثلثات التي يشتمل  
عليها سطح  $ا ح$  نسبة نظايرها المثلثات التي يشتمل عليها سطح  $ر ط$  وان  
نسبة سطح  $ا ح$  الي سطح  $ر ط$  كنسبة ضلع من اضلاع سطح  $ا ح$  الي نظيره  
من سطح  $ر ط$  مثناة وليكن كنسبة ضلع  $ب ر$  الي ضلع  $ح ط$  مثناة  
ومثلثات السطحين بعدة واحدة برهانه فلان نسبة  $ا ب$  الي  $مرح$   
كنسبة  $ا هـ$  الي  $ر ل$  وزاوية  $ب ا هـ$  كزاوية  $ح ر ل$  فبالشكل السادس زاوية  
 $ا ب هـ$  كزاوية  $مرح ل$  وزاوية  $ا هـ ب$  كزاوية  $ر ل ح$  فبالشكل الرابع تكون  
الاضلاع المتناظرة من مثلثي  $ا ب هـ$   $ح ر ل$  متناسبة فهما متشابهان ويمثله  
تبين ان مثلث  $د هـ ر$  شبيه مثلث  $ال ط$  وان زاوية  $د هـ ر$  كزاوية  $ال ط ل$   
وزاوية  $د هـ ر$  كزاوية  $ال ط$  وكانت الزاوية المتناظرة من سطحي  $ا ب ح د هـ$   
متساوية فزاوية  $د هـ ر$  كزاوية  $ل ح ط$  وزاوية  $د هـ ر$  كزاوية  $ل ط ح$   
وزاوية  $ب ح ر$  كزاوية  $ح ل ط$  فبالشكل الرابع يكون الاضلاع المتناظرة  
من مثلثي  $ب ح ر$   $ح ل ط$  متناسبة فمثلثات سطح  $ا ح$  يشبه نظايرها من  
مثلثات سطح  $ر ط$  ولان نسبة مثلث  $ا ب هـ$  الي مثلث  $مرح ل$  كنسبة ضلع  
 $ب هـ$  الي ضلع  $ل ح$  مثناة ونسبة مثلث  $د هـ ر$  الي مثلث  $ل ح ط$  كنسبة  
ضلع  $د هـ ب$  الي ضلع  $ل ح$  مثناة بالشكل السابع عشر فنسبة مثلث  $ا ب هـ$   
الي مثلث  $مرح ل$  كنسبة مثلث  $د هـ ر$  الي مثلث  $ل ح ط$  بالشكل الحادي  
عشر من الخامسة ويمثله تبين ان نسبة مثلث  $د هـ ر$  الي مثلث  $ل ح ط$   
كنسبة مثلث  $د هـ ر$  الي مثلث  $ل ط ا$  فنسبة سطح  $ا ح$  الي سطح  $ر ط$   
كنسبة مثلث  $د هـ ر$  الي مثلث  $ل ح ط$  بالشكل الثالث عشر من  
الخامسة



الخامسة ان بين فيه ان نسبة جميع المقدمات الي جميع توالبه كنسبة  
مقدم واحد الي تالبه ونسبة ضلع  $\overline{ب\gamma}$  الي ضلع  $\overline{ح\delta}$  مثناة كنسبة  
مثلث  $\overline{ه\beta\gamma}$  الي مثلث  $\overline{ل\gamma\delta}$  بالشكل المتقدم فبالشكل الحادي عشر  
من الخامسة نسبة سطح  $\overline{آ}$  الي سطح  $\overline{ر\delta}$  كنسبة ضلع  $\overline{ب\gamma}$  الي ضلع  $\overline{ح\delta}$   
مثناة وظاهر ان عدة مثلثات السطحين متساوية لان احد السطحين ان  
كان مربعا او مخرجا فيجت ان يكون الاخر مربعا او مخرجا والا يكون  
زواياه مخالفة لزوايا الاخر بالصغر والكبر فلا يكونا متشابهين فالحكم  
ثابت وذلك ما اردنا ان نبين

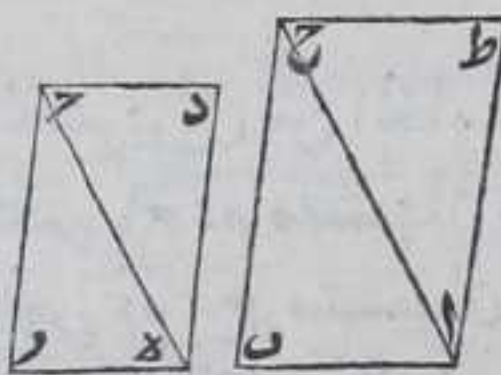
واستبان منه ان كل ثلاثة خطوط متناسبة فان نسبة الاول الي الثالث  
كنسبة السطح المعمول علي الاول الي السطح المعمول علي الثاني اذا كانا  
متشابهين وعمل عملا واحدا وكذلك نسبة المثلثات التي هي انصاف تلك  
السطوح

يط

كل سطح مفروض مستقيم الاضلاع لنا ان نعمل

علي اي خط مستقيم سطحا شبيها به

ليكن الخط  $\overline{آب}$  والسطح  $\overline{ر\delta}$  فاقول لنا ان نعمل علي خط  $\overline{آب}$  سطحا  
شبيها لسطح  $\overline{ر\delta}$  برهانه نصل بين نقطتي



$\overline{ر\delta}$  بخط مستقيم ونرسم علي نقطتي  $\overline{آب}$   
زاويتي  $\overline{بآح}$   $\overline{آب\gamma}$  كزاويتي  $\overline{ر\delta}$   $\overline{ر\delta}$  بالشكل  
الثالث والعشرين من الاولي ولان زاويتي  
 $\overline{ر\delta}$   $\overline{ر\delta}$  اقل من قائمتين بالشكل السابع عشر

من الاولي فزاويتنا  $\overline{بآح}$   $\overline{آب\gamma}$  المساويتان لهما اقل من قائمتين فاذا  
اخرجنا خطي  $\overline{آح}$   $\overline{ب\gamma}$  في جهة  $\overline{ح}$  فانهما يلتقيان فليلتقيا علي نقطة  $\overline{ح}$   
ولان زوايا كل مثلث كقائمتين بالشكل الثاني والثلاثين من الاولي فزاوية  
 $\overline{آب\gamma}$  كزاوية  $\overline{ر\delta}$  فزوايا مثلثي  $\overline{آب\gamma}$   $\overline{ر\delta}$  المتناظرة متساوية فبالشكل  
الرابع نسبة  $\overline{آب}$  الي  $\overline{ر\delta}$  كنسبة  $\overline{ب\gamma}$  الي  $\overline{ر\delta}$  ونسبة  $\overline{آح}$  الي  $\overline{ر\delta}$  ونرسم  
علي نقطتي  $\overline{آح}$  من خط  $\overline{آح}$  زاويتي  $\overline{حآط}$   $\overline{حآط}$  كزاويتي  $\overline{ر\delta}$   $\overline{ر\delta}$   
ونخرج خطي  $\overline{آط}$   $\overline{ح\delta}$  في جهة  $\overline{ط}$  علي استقامتهما فهما يلتقيان فليلتقيا  
علي نقطة  $\overline{ط}$  وتكون زوايا مثلثي  $\overline{آط}$   $\overline{ح\delta}$  المتناظرة متساوية كما بينا  
وتكون نسبة  $\overline{آط}$  الي  $\overline{ر\delta}$  كنسبة  $\overline{ط\gamma}$  الي  $\overline{ر\delta}$  وكنسبة  $\overline{آح}$  الي  $\overline{ر\delta}$  بمثل ما  
تقدم من مثلثي  $\overline{آب\gamma}$   $\overline{ر\delta}$  بعينه ولان زاويتي  $\overline{طآح}$   $\overline{بآح}$  كزاويتي  $\overline{ر\delta}$   $\overline{ر\delta}$   
 $\overline{ر\delta}$  وزاويتي  $\overline{حآط}$   $\overline{آب\gamma}$  كزاويتي  $\overline{ر\delta}$   $\overline{ر\delta}$  تكون زاوية  $\overline{طآب}$  كزاوية  
 $\overline{ر\delta}$  وزاوية  $\overline{ب\gamma\delta}$  كزاوية  $\overline{ر\delta}$  فزوايا سطحي  $\overline{ط\gamma}$   $\overline{ر\delta}$  المتناظرة

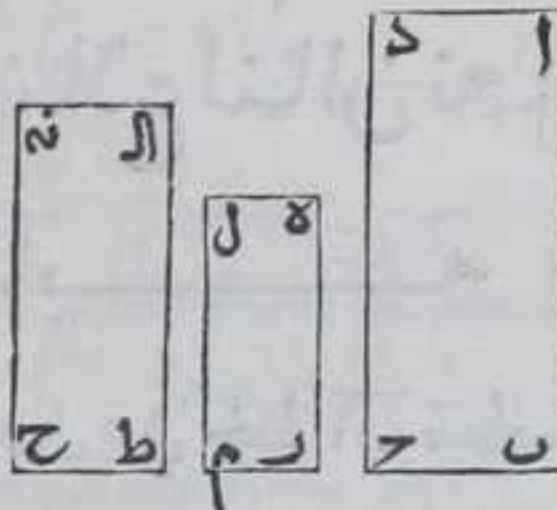


متساوية ولان نسبة  $\overline{ا\ط}$  الي  $\overline{د\ه}$  كنسبة  $\overline{ا\ح}$  الي  $\overline{ج\ه}$  ونسبة  $\overline{ط\ح}$  الي  $\overline{د\ه}$  كنسبة  $\overline{ا\ح}$  الي  $\overline{ج\ه}$  ونسبة  $\overline{ا\ب}$  الي  $\overline{د\ه}$  كنسبة  $\overline{ا\ح}$  الي  $\overline{د\ه}$  ونسبة  $\overline{ح\ب}$  الي  $\overline{د\ه}$  كنسبة  $\overline{ا\ح}$  الي  $\overline{ج\ه}$  بالشكل الرابع فبالشكل الحادي عشر من الخامسة نسبة  $\overline{ا\ط}$  الي  $\overline{د\ه}$  كنسبة  $\overline{ط\ح}$  الي  $\overline{د\ه}$  وكنسبة  $\overline{ا\ب}$  الي  $\overline{د\ه}$  وكنسبه  $\overline{ب\ح}$  الي  $\overline{د\ه}$  فسطح  $\overline{ط\ب}$  يشبه لسطح  $\overline{د\ه}$  فالحكم ثابت وذلك ما اردنا ان نبين  $\text{☞}$

جميع السطوح المستقيمة الاضلاع التي كل واحد منها يشبه سطحا واحدا بعينه فهي متشابهة  $\text{☞}$

ليكن سطحا  $\overline{ا\ب\ج\د}$   $\overline{ا\ط\ح\ه}$  يشبهان سطح  $\overline{د\ه\م}$  فاقول انهما متشبهان برهانه فلان سطحي  $\overline{ا\ب\ج}$   $\overline{ا\ط\ح}$  يشبهان سطح  $\overline{د\ه\م}$  فزواياهما تساوي زوايا

سطح  $\overline{د\ه\م}$  علي التناظر والاضلاع المحيطة بتلك الزوايا متناسبة علي التناظر فزوايا سطحي  $\overline{ا\ب\ج}$   $\overline{ا\ط\ح}$  متساوية علي التناظر فلان سطحي  $\overline{ا\ب\ج}$   $\overline{ا\ط\ح}$  متشبهان تكون نسبة  $\overline{ا\ب}$  الي  $\overline{د\ه}$  كنسبة  $\overline{ب\ج}$  الي  $\overline{د\ه}$  ولان سطحي  $\overline{ا\ب\ج}$   $\overline{ا\ط\ح}$  متشبهان تكون نسبة  $\overline{د\ه}$  الي  $\overline{ا\ط}$  كنسبة  $\overline{د\ه}$  الي  $\overline{ا\ط}$  فبالشكل الثاني



والعشرين من الخامسة نسبة  $\overline{ا\ب}$  الي  $\overline{ا\ط}$  كنسبة  $\overline{ب\ج}$  الي  $\overline{ط\ح}$  ولان سطحي  $\overline{ا\ب\ج}$   $\overline{ا\ط\ح}$  متشبهان تكون نسبة  $\overline{د\ه}$  الي  $\overline{ا\ط}$  كنسبة  $\overline{ب\ج}$  الي  $\overline{ط\ح}$  ولان سطحي  $\overline{د\ه\م}$   $\overline{ا\ط\ح}$  متشبهان تكون نسبة  $\overline{ا\ط}$  الي  $\overline{د\ه}$  كنسبة  $\overline{م\ه}$  الي  $\overline{ط\ح}$  فبالشكل الثاني والعشرين من الخامسة نسبة  $\overline{د\ه}$  الي  $\overline{ا\ط}$  كنسبة  $\overline{د\ه}$  الي  $\overline{ا\ط}$  وكانت نسبة  $\overline{ا\ب}$  الي  $\overline{ا\ط}$  كنسبة  $\overline{ب\ج}$  الي  $\overline{ط\ح}$  فبالشكل الحادي عشر من الخامسة نسبة  $\overline{ا\ب}$  الي  $\overline{ا\ط}$  كنسبة  $\overline{د\ه}$  الي  $\overline{ا\ط}$  وبعينه تبين في باقي الاضلاع وذلك ما اردنا ان نبين  $\text{☞}$

كل اربعة خطوط عملت عليها سطوح متشابهة كل اثنين اعني الاول والثاني والثالث والرابع عملا واحدا فان كانت الخطوط متناسبة كانت السطوح المعمولة عليها متناسبة وان كانت السطوح متناسبة

كانت









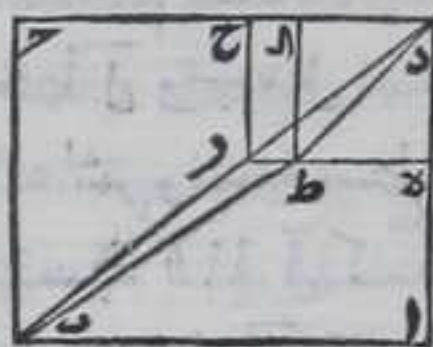


رد الى دح ونسبة اد الى در فاضلاع سطحي رح آح المتناظرة متناسبة ولان  
 ضلع مره يوازي ضلع اب وضلع اح يوازي ضلع ب ح فزاوية در ا  
 كزاوية داب وزاوية راد كزاوية اب ا وزاوية دح ا كزاوية دح ب  
 وزاوية داح كزاوية دب بالشكل التاسع والعشرين من الاولي وزاوية  
 اد ح مشتركة فسطح مر ح يشبه بسطح آح وبمثله تبين ان سطح ط ه يشبه  
 بسطح آح فسطحا مر ح ط ه متشابهان بالشكل العشرين فالحكم ثابت  
 وذلك ما اردنا ان نبين

الح

كل سطح متوازي الاضلاع فصل منه سطح  
 متوازي الاضلاع يشبهه ويشاركه في زاوية فهو

كايين على قطرة



ولكن سطح اب ح د متوازي الاضلاع وفصل منه  
 سطح ده ح متوازي الاضلاع يشبه سطح آح  
 ويشاركه في زاوية د فاقول ان سطح ده ح كايين

علي قطر سطح آح برهانه انا نصل در ب ر بخطين مستقيمين فخط ب ر  
 رد احدهما علي استقامة الآخر ويصير ان خطا واحدا مستقيما هو قطر  
 لسطح آح والا فليكن قطره خط آخر واصل بين نقطتي ب د وهو ب ط د  
 فلا بد وان يقطع احد ضلعي ه ر ح فليقطع ضلع ه ر علي نقطة ط  
 ونخرج منها خط ط ا في جهة ح يوازي ضلع ب ح فهو يوازي كل واحد  
 من ا د ح بالشكل الواحد والثلاثين من الاولي فخط ط ا يقطع د ح فليقطع  
 علي نقطة ا فسطح ه ا يشبه بسطح آح بالشكل المتقدم فنسبة رد الى د ا  
 كنسبة اد الى ده وكانت نسبة رد الى د ا كنسبة اد الى ده فبالشكل  
 الحادي عشر من الخامسة نسبة رد الى د ا كنسبة اد الى ده فبالشكل  
 دح بالشكل التاسع من الخامسة فالجزء يساوي كله هذا خلف فخط  
 ب ط د لا يمكن ان يقطع احد ضلعي ه ر ح فهو ينطبق علي خط ب ر  
 فالحكم ثابت وذلك ما اردنا ان نبين

الد

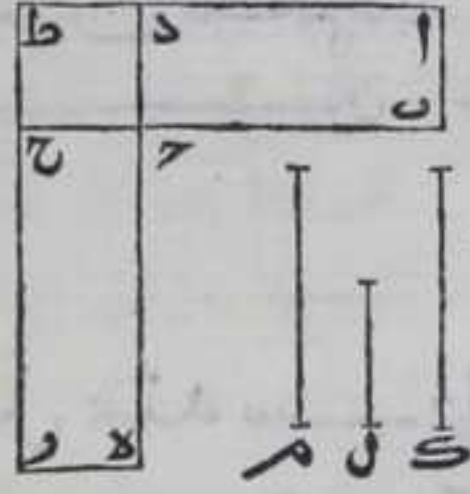
كل سطحين متوازيين الاضلاع يساوي زاويتان  
 منهما فان نسبة احدهما الي الآخر مولفة من نسبة



الاضلاع المحيطه بالزاويتين المتساويتين

ليكن سطحاً  $AB$   $CD$  متوازيي الاضلاع وزاوية  $B$   $CD$  كزاوية  $C$   $DE$  فاقول ان نسبة سطح  $AC$  الى  $DE$  مولفة من نسبة  $B$  الى  $E$  ومن نسبة  $CD$  الى  $DE$  برهانه نجعل  $B$  على استقامة  $CE$  فزاوية  $B$  مع زاوية  $C$

كقائمتين بالشكل الثالث عشر من الاولي وزاوية  $B$   $CD$  كزاوية  $C$   $DE$  فزاويتنا  $B$   $CD$  كقائمتين فبالشكل الرابع عشر من الاولي خط  $DE$  على استقامة خط  $CE$  ونخرج خطي  $AD$   $CE$  في جهة  $DE$  على استقامتهما فهما يلتقيان لانا اذا وصلنا  $DE$  بخط مستقيم كانت الزاوية المجاورة لزاوية



$AD$  مع الزاوية المجاورة لزاوية  $DE$  كقائمتين فهي مع الزاوية المجاورة لزاوية  $DE$  من قائمتين فليلتقيا على نقطة  $T$  وليكن  $AT$  خط مستقيم محدود ونجعل نسبة  $B$  الى  $CE$  كنسبة  $AT$  الى خط آخر وليكن خط  $L$  ونجعل نسبة  $DE$  الى  $CE$  كنسبة خط  $L$  الى خط  $M$  باستبانة الشكل العاشر ونسبة سطح  $AC$  الى سطح  $DE$  كنسبة  $B$  الى  $CE$  بالشكل الاول ونسبة  $AT$  الى  $L$  كنسبة  $B$  الى  $CE$  فبالشكل الحادي عشر من الخامسة نسبة سطح  $AC$  الى سطح  $DE$  كنسبة  $AT$  الى  $L$  ونسبة سطح  $AT$  الى سطح  $DE$  كنسبة  $DE$  الى  $CE$  بالشكل الاول ونسبة  $L$  الى  $M$  كنسبة  $DE$  الى  $CE$  فبالشكل الحادي عشر من الخامسة نسبة سطح  $AT$  الى سطح  $DE$  كنسبة  $AT$  الى  $L$  فبالشكل الثاني والعشرين من الخامسة نسبة سطح  $AC$  الى سطح  $DE$  كنسبة  $AT$  الى  $M$  ونسبة  $AT$  الى  $M$  مولفة من نسبة  $AT$  الى  $L$  اعني نسبة  $B$  الى  $CE$  ومن نسبة  $L$  الى  $M$  اعني نسبة  $DE$  الى  $CE$  فنسبة سطح  $AC$  الى سطح  $DE$  مولفة من نسبة  $B$  الى  $CE$  ومن نسبة  $DE$  الى  $CE$  ما بين في صدر المقالة فالحكم ثابت وذلك ما اردنا ان نبين

اله

كل سطحين مفروضين مستقي الاضلاع لئان  
نعمل سطحاً مستقي الاضلاع يشبه احدهما ويساوي

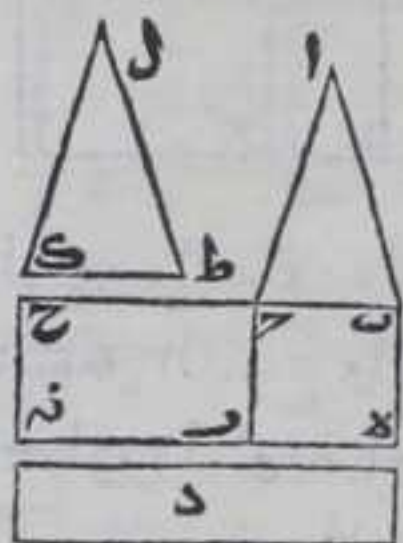
الاخر

ليكن احد السطحين المفروضين سطح  $AB$  والسطح الاخر  $DE$  فاقول لئان  
نعمل سطحاً يشبه سطح  $AB$  ويساوي سطح  $DE$  برهانه فنعمل على خط  
 $AB$  سطحاً متوازي الاضلاع يساوي سطح  $AB$  بالشكل الرابع والاربعين

من



من الاولي وهو سطح ب ح ر ه ونجعل علي خط ح ر سطحا متوازي الاضلاع  
يساوي سطح د وتكون زاوية ر ح ج منه يساوي زاوية ه ب ج بالشكل  
الرابع والاربعين من الاولي وهو سطح م ر ح فيحدث عرض ح ر فلان  
زاوية م ر ج مع زاوية ه ب ج كقائمتين بالشكل



التاسع والعشرين من الاولي فزاويتا ر ح ج م ر ج  
كقائمتين فخط ب ح علي استقامة خط ح ر بالشكل  
الرابع عشر من الاولي ولان زاوية ه م ر كزاوية  
م ر ح بالشكل التاسع والعشرين من الاولي وزاوية  
م ر ن مع زاوية م ر ح كقائمتين بالشكل التاسع  
والعشرين من الاولي فزاويتا ن ر ح ه ر ج كقائمتين

فخط ه ر ن خط مستقيم بالشكل الرابع عشر من الاولي فسطحا ب ر م ح  
هما بين خطي ب ح ه ن المتوازيين ونجد خطا مستقيما وسطا في النسبة  
بين خطي ب ح ر ه بالشكل التاسع وهو خط ط ا ونجعل عليه شكلا  
شبهها بسطح ا ب ج بالشكل العشرين وهو سطح ل ط ا ونسبة سطح ا ب ج الي  
سطح ل ط ا كنسبة ب ج الي ط ا مائة بالشكل الثاني عشر ونسبة ب ج الي  
ح ر كنسبة ب ج الي ط ا مائة بالشكل الحادي عشر من الخامسة نسبة  
سطح ا ب ج الي سطح ل ط ا كنسبة ب ج الي ح ر ونسبة سطح ب ر الي سطح  
م ر ح كنسبة ب ج الي ح ر فنسبة سطح ا ب ج الي سطح ل ط ا كنسبة سطح  
ب ر الي سطح م ر ح بالشكل الحادي عشر من الخامسة لكن سطح ا ب ج يساوي  
سطح ب ر فسطح ل ط ا يساوي سطح م ر ح بالشكل الرابع عشر من الخامسة  
وكان سطح د يساوي سطح م ر ح فسطح ل ط ا يساوي سطح د وكان سطح ل ط ا  
شبهها بسطح ا ب ج فالحكم ثابت وذلك ما اردنا ان نبين

الو

اعظم السطوح المتوازية الاضلاع التي يضاف الي اي

خط مستقيم محدود ينقص عن تمام الخط سطوحا

شبيهة بالسطح المتوازي الاضلاع المعول علي نصف

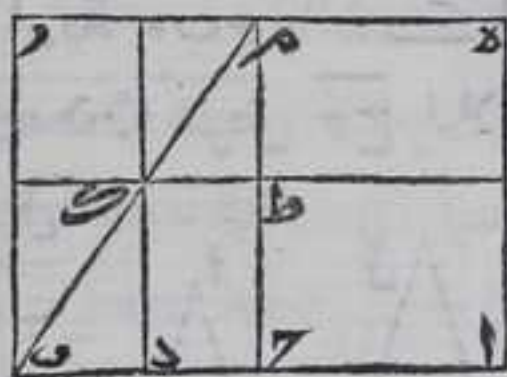
الخط الشبيه بالسطوح التي هي سطح النقصانات

ليكن ا ب خطا مستقيما محدودا فننصفه علي نقطة ج بالشكل العاشر من  
الاولي ونجعل خط ب ر المستقيم المحدود محيطا مع خط ا ب زاوية  
ونخرج من نقطة ج خط ح م مورياله بالشكل الواحد والثلاثين من الاولي  
ونفصل منه ح م مساويا لخط ب ر بالشكل الثالث من الاولي ونصل م ر



بخط مستقيم فهو مواز ومساو لخط  $\overline{ب\gamma}$  بالشكل الثالث والثلاثين من

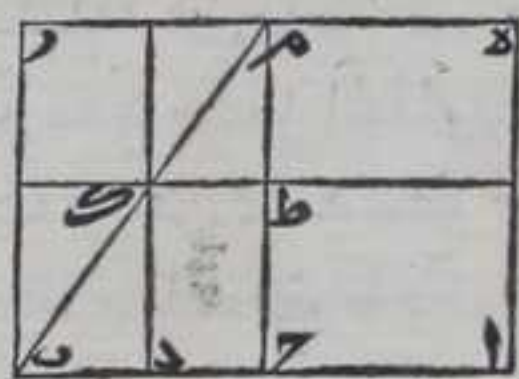
الاولي فسطح  $\overline{ب\gamma}$  من المتوازي الاضلاع ونخرج  
من نقطة  $\alpha$  خط  $\alpha\delta$  موازيا لخط  $\overline{ب\gamma}$  في جهة  $\overline{م}$   
بالشكل الواحد والثلاثين من الاول ونخرج  $\overline{رم}$   
في جهة  $\overline{م}$  علي استقامته فهو يلقي خط  $\alpha\delta$  لانا  
اذا وصلنا بين نقطتي  $\alpha$   $\overline{م}$  بخط مستقيم كانت



الزاوية المجاورة لزاوية  $\overline{ام}$  مع الزاوية المجاورة لزاوية  $\overline{م\alpha}$  كقائمتين  
بالشكل التاسع والعشرين من الاول فتكون زاوية  $\overline{ام}$  مع الزاوية  
المجاورة لزاوية  $\overline{ام}$  اقل من قائمتين فليلتقيا علي نقطة  $\delta$  ونخرج قطر  
 $\overline{ب\delta}$  ونضيف الي خط  $\overline{اب}$  سطحا متوازي الاضلاع نصف عن تمامه  
سطحا شبيها بسطح  $\overline{ب\delta}$  فنعين علي خط  $\overline{ب\delta}$  نقطة بين نقطتي  $\overline{ب}$   $\overline{د}$  ولتكن  
هي نقطة  $\delta$  ونخرج منها خط  $\overline{د\alpha}$  موازيا لخط  $\overline{ب\delta}$  بالشكل الواحد  
والثلاثين من الاول فهو يواز خط  $\overline{ب\delta}$  بالشكل الثلاثين من الاول فيقطع  
القطر علي نقطة فليقطع علي نقطة  $\alpha$  ونخرجه علي استقامته الي ان ينتهي  
الي خط  $\overline{م\delta}$  ونخرج من نقطة  $\alpha$  خط  $\overline{ا\delta}$  موازيا لخط  $\overline{اب}$  بالشكل  
الواحد والثلاثين من الاول فهو مواز لخط  $\overline{ب\delta}$  بالشكل الثلاثين من الاول  
ونخرجه علي استقامته في جهته الي غير النهاية فينتهي الي خطي  $\overline{ب\alpha}$   $\overline{ب\delta}$   
فليقطع خط  $\overline{ب\delta}$  فليقطع علي نقطة  $\tau$  فجميع سطوح  $\overline{ا\delta}$   $\overline{ط\delta}$   $\overline{ا\alpha}$   $\overline{ا\delta}$   
 $\overline{ب\alpha}$   $\overline{ا\delta}$  متوازية الاضلاع وسطح  $\overline{ب\alpha}$  شبيه بسطح  $\overline{ب\delta}$  بالشكل الثاني  
والعشرين فسطح  $\overline{ا\delta}$  هو السطح المتوازي الاضلاع المضاف الي خط  $\overline{اب}$   
ناقصا عن تمامه سطح  $\overline{ب\alpha}$  الشبيه بالسطح المعمول علي نصف الخط فلانا  
اذا اخذنا لضلي  $\overline{ا\delta}$   $\alpha\delta$  ضعفا كم كانت متساوية العدة ولضلي  $\overline{ب\delta}$   
 $\overline{ب\delta}$   $\delta\tau$  كانت متساوية العدة فان كانت اضعا  $\overline{ا\delta}$  زايدة علي  
اضعا  $\overline{ب\delta}$  كانت اضعا  $\alpha\delta$  زايدة علي اضعا  $\overline{ب\delta}$  وان كانت  
مساوية كانت مساوية وان كانت ناقصة كانت ناقصة لتساوي كل  
واحد من ضلي  $\overline{ا\delta}$   $\overline{ب\delta}$   $\alpha\delta$   $\delta\tau$  فنسبة  $\overline{ا\delta}$  الي  $\overline{ب\delta}$  كنسبة  $\alpha\delta$  الي  $\delta\tau$   
وبمثله تبين ان نسبة  $\overline{م\delta}$  الي  $\overline{م\alpha}$  كنسبة  $\alpha\delta$  الي  $\delta\tau$  فبالشكل الحادي عشر  
من الخامسة تكون نسبة  $\overline{م\delta}$  الي  $\overline{م\alpha}$  كنسبة  $\overline{ا\delta}$  الي  $\overline{ب\delta}$  وبمثله تبين ايضا  
ان نسبة  $\overline{ب\delta}$  الي  $\overline{ب\alpha}$  كنسبة  $\overline{ا\delta}$  الي  $\overline{ب\delta}$  والزوايا المتناظرة من سطحي  $\overline{ام}$   $\overline{ب\delta}$   
متساوية بالشكل التاسع والعشرين من الاول فسطح  $\overline{ام}$  شبيه بسطح  $\overline{ب\delta}$   
فهو شبيه بسطح  $\overline{ب\alpha}$  بالشكل العشرين فاقول ان سطح  $\overline{ام}$  اعظم من سطح  $\overline{ا\delta}$   
برهانه فلان ضلع  $\overline{م\delta}$  يساوي ضلع  $\overline{ا\delta}$  وضلع  $\overline{م\alpha}$  يساوي ضلع  $\overline{ب\delta}$   
بالشكل الرابع والثلاثين من الاول وضلعا  $\overline{ا\delta}$   $\overline{ب\delta}$  متساويان فضلعا  $\overline{م\delta}$   
 $\overline{م\alpha}$  متساويان فسطحا  $\overline{ط\delta}$   $\overline{ط\alpha}$  متساويان بالشكل السادس والثلاثين من  
الاولي فسطح  $\overline{ط\delta}$  اعظم من سطح  $\overline{ط\alpha}$  وسطح  $\overline{ا\delta}$  يساوي سطح  $\overline{ب\delta}$  بالشكل  
الثالث



الثالث والاربعين من الاولي فسطح  $\text{هـ ط}$  اعظم من سطح  $\text{ز}$  فاذا اضغنا سطح  $\text{ا ط}$  الي سطح  $\text{هـ ط}$  حصل سطح  $\text{ا م}$  واذا اضغناه الي سطح  $\text{ز}$  حصل سطح



السطح  $\text{ا م}$  اعظم من سطح  $\text{ا ز}$  فلو فرضنا بين نقطتي  $\text{ب}$   $\text{ج}$  علي خط  $\text{ب ج}$  نقطا غير متناهية واخر جذا من كل واحدة منها خطا موازيا لخط  $\text{ب م}$  فانه يقطع القطر وتخرج من نقطة التقاطع خط يوازي خط  $\text{ا ب}$  واخر جناه في

جهته الي ان ينتهي الي ضلعي  $\text{ا هـ}$   $\text{ب م}$  فانه يحدث سطوح متوازية الاضلاع غير متناهية مضافة الي خط  $\text{ا ب}$  ناقصا كل واحد منها عن خط  $\text{ا ب}$  سطحا شبيها بسطح  $\text{ب م}$  فيكون سطح  $\text{ا م}$  اعظم من كل واحد من تلك السطوح بالبيان المذكور فالحكم ثابت وذلك ما اردنا ان نبين

الر

كل خط مستقيم محدود مفروض معلوم لنا ان نضيف اليه سطحا متوازي الاضلاع مساويا لسطح معلوم مفروض مستقيم الاضلاع ينقص عن تمام الخط سطحا متوازي الاضلاع شبيها بسطح معلوم مفروض متوازي الاضلاع

ليكن الخط  $\text{ا ب}$  والسطح المستقيم الاضلاع سطح  $\text{ز}$  والسطح المتوازي الاضلاع سطح  $\text{د ر ف ا}$  فاقول لنا ان نضيف الي خط  $\text{ا ب}$  سطحا متوازي الاضلاع يساوي سطح  $\text{ز}$



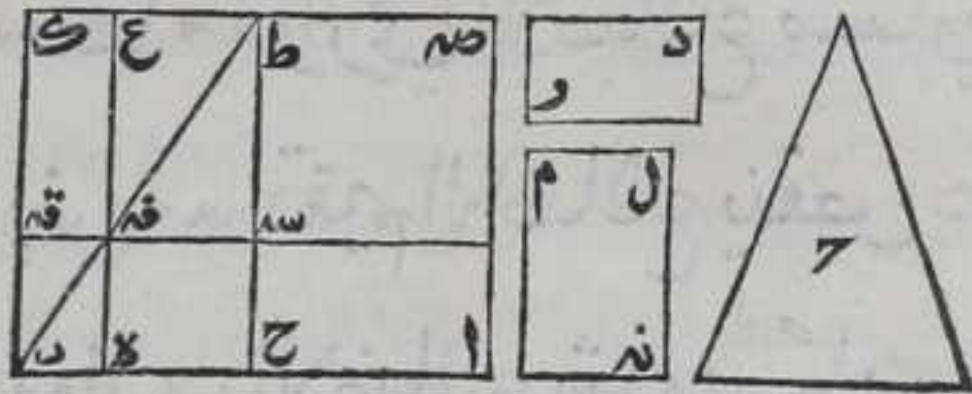
وينقص عن تمام خط  $\text{ا ب}$  سطحا متوازي الاضلاع شبيه سطح  $\text{د ر ف ا}$  برهانه نصف

خط  $\text{ا ب}$  علي نقطة  $\text{ح}$  بالشكل العاشر من الاولي ونعمل علي خط  $\text{ب ح}$  سطحا متوازي الاضلاع شبيها بسطح  $\text{د ر ف ا}$  بالشكل التاسع عشر وهو سطح  $\text{ب ح ط ا}$  ونخرج من نقطته  $\text{ا}$  خط  $\text{ا م}$  موازيا للخط  $\text{ح ط}$  بالشكل الواحد والثلاثين من الاولي ونخرج خط  $\text{ا ط}$  في جهة  $\text{ط}$  علي استقامته فهو يلقي خط  $\text{ا م}$  لانا اذا وصلنا خط  $\text{ا ط}$  المستقيم كانت الزاوية المجاورة لزاوية  $\text{ب ا ط}$



مع الزاوية المجاورة لزاوية  $\alpha$  كقائمتين بالشكل التاسع والعشرين من  
 الاولي فزاوية  $\alpha$  مع الزاوية المجاورة لزاوية  $\alpha$  اقل من قائمتين  
 فليقله علي نقطة  $\alpha$  فسطح  $\alpha$  المتوازي الاضلاع ان كان مساويا لسطح  
 $\alpha$  فقد حصل المطلوب لانا اضغنا الي خط  $\alpha$  ب سطح  $\alpha$  المتوازي الاضلاع  
 ينقص عن تمامه سطح  $\alpha$  الشبيه بسطح  $\alpha$  ويساوي سطح  $\alpha$  وان لم يكن  
 مساويا لسطح  $\alpha$  يكون اعظم منه لما بين في الشكل المتقدم فنعمل سطحا  
 مساويا يفصل سطح  $\alpha$  علي سطح  $\alpha$  وشبهها بسطح  $\alpha$  بالشكل الخامس  
 والعشرين وليكن هو سطح  $\alpha$  فلان سطحي  $\alpha$   $\alpha$  ندم يشبهان سطح  $\alpha$   
 فهما متشابهان بالشكل العشرين فسطح  $\alpha$  يشبه سطح  $\alpha$  فلتكن  
 زاوية  $\alpha$  منه تساوي زاوية  $\alpha$  وضع  $\alpha$  ندم نظير ضلع  $\alpha$  وضع  
 $\alpha$  نظير ضلع  $\alpha$  فلان نسبة  $\alpha$  الي  $\alpha$  كنسبة  $\alpha$  الي  $\alpha$  لم لا جازان  
 يكون  $\alpha$  مساويا لضلع  $\alpha$  او اصغر منه والا لكان ضلع  $\alpha$  كضلع  
 $\alpha$  او اصغر منه فيكون سطح  $\alpha$  كسطح  $\alpha$  ندم او اصغر منه وكان اعظم منه  
 لانه مساو لسطح  $\alpha$  بالشكل السادس والثلاثين من الاولي هذا خلف

فضلع  $\alpha$  اعظم  
 من ضلع  $\alpha$  فنحصل  
 من  $\alpha$  سطح  
 مساويا لضلع  $\alpha$   
 ومن ضلع  $\alpha$  سطح  
 مساويا لضلع  $\alpha$



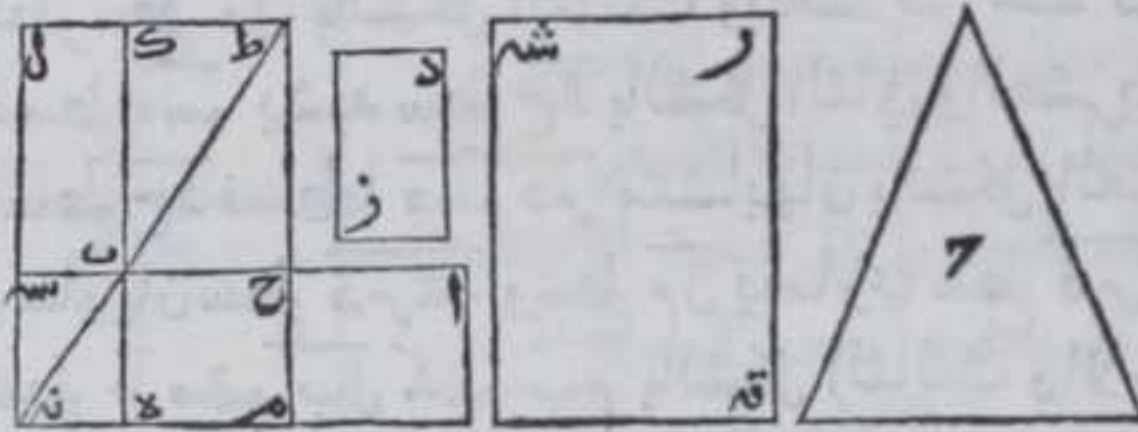
بالشكل الثالث من الاولي ونخرج من نقطة  $\alpha$  خط  $\alpha$  موازيا لضلع  
 $\alpha$  بالشكل الواحد والثلاثين من الاولي ونخرجه علي استقامته في  
 جهة  $\alpha$  الي ان ينتهي الي خط  $\alpha$  فلينته الي نقطة  $\alpha$  ونخرج من نقطة  $\alpha$   
 خط  $\alpha$  يوازي خط  $\alpha$  بالشكل الواحد والثلاثين من الاولي ونخرجه  
 في جهته الي ان ينتهي الي ضلع  $\alpha$  علي نقطة  $\alpha$  ويقطع ضلع  $\alpha$  ويخرج  
 علي ضلع  $\alpha$  علي نقطة  $\alpha$  فسطح  $\alpha$  متوازي الاضلاع لان ضلع  $\alpha$   
 يوازي  $\alpha$  بالشكل الثلثين من الاولي والاضلاع المتقابلة منه مساوية  
 بالشكل الرابع والثلاثين من الاولي فسطح  $\alpha$  يساوي سطح  $\alpha$  ونخرج  
 قطر  $\alpha$  فهو يمر علي نقطة  $\alpha$  بالشكل الثالث والعشرين لان سطح  $\alpha$   
 شبه سطح  $\alpha$  ولان ضلعي  $\alpha$   $\alpha$  متساويان فسطحا  $\alpha$   $\alpha$  متساويان  
 بالشكل السادس والثلاثين من الاولي وكان سطح  $\alpha$  كسطحي  $\alpha$  ندم فسطح  
 $\alpha$  كسطحي  $\alpha$  ندم لكن سطح  $\alpha$  مساو لسطح  $\alpha$  فعمل  $\alpha$   $\alpha$   
 يساوي سطح  $\alpha$  وسطح  $\alpha$   $\alpha$  متساويان بالشكل السادس والثلاثين  
 من الاولي وسطح  $\alpha$  يساوي سطح  $\alpha$  بالشكل الثالث والاربعين من  
 الاولي فسطح  $\alpha$  يساوي سطح  $\alpha$  وهو سطح متوازي الاضلاع ينقص عن  
 $\alpha$



أب سطح دة الشبيه لسطح ح بالمثل الثاني والعشرين وسطح دة شبيه لسطح ح أ فسطح دة شبيه بسطح دة فالحكم ثابت وذلك ما اردنا ان نبينه

كل خط مستقيم محدود مفروض لنا ان نضيف اليه سطحاً متوازي الاضلاع يساوي سطحاً مستقيماً الاضلاع مفروضاً يزيد على الخط المفروض سطحاً شبيهاً بسطح مفروض متوازي الاضلاع

ليكن الخط أب والسطح المستقيم الاضلاع سطح ح والسطح المتوازي الاضلاع سطح دة فاقول لنا ان نضيف الي خط أب سطحاً متوازي الاضلاع يساوي سطح ح ويزيد على خط أب سطحاً متوازي الاضلاع شبيهاً بسطح دة برهانه نضيف أب على نقطة ح بالشكل العاشر من الاولي ونعمل على ح ب سطح ب ح ط المتوازي الاضلاع يشبه سطح دة بالشكل التاسع عشر ونعمل على خط



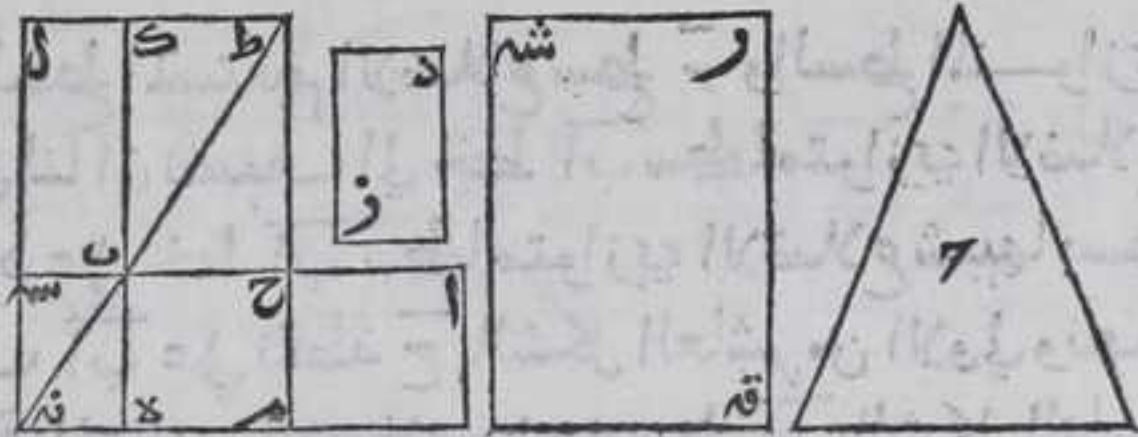
محدود مستقيم سطحاً متوازي الاضلاع يساوي سطح ب ح ط معاً باستبانة الشكل

الرابع والاربعين من الاولي وبالشكل الخامس والعشرين نرسم سطحاً متوازي الاضلاع يساوي السطح المعول على الخط المستقيم المحدود المذكور ويشبه سطح دة وهو سطح قه ر شه فهو يشبه سطح ح ا بالشكل العشرين ويساوي سطح ب ح ط معاً وليكن زاوية قه ر شه نظيرة زاوية ح ط ا وضلع قه ر نظير ح ط وضلع ر شه نظير ضلع ط ا فيكون نسبة قه ر ا ح ط كنسبة ر شه ا ح ط ا ووسط قه ر شه اعظم من سطح ح ا فكل من ضلعي قه ر ر شه اعظم من نظيره من سطح ح ا والا لكانا متساويين لهما او ناقصين عنهما او احدهما زائداً على نظيره والاخر ناقصاً فيلزم ان يكون سطح قه ر شه مساوياً لسطح ح ا او اصغر منه باطباق الاضلاع والزوايا المتناظرة بعضها على بعض او يكون احد ضلعي احد السطحين اعظم من نظيره من السطح الاخر واصغر منه بعينه هذا خلف فنخرج ح ط ط ا على استقامتهما في جهتي ح ا ونفصل من ط ح ط م مثل قه ر ومن ط ا ط ل مثل ر شه بالشكل الثالث من الاولي ونخرج من نقطة م



خط م نه يوازي ط ا وتخرجه في جهة م علي استقامته الي غير النهاية  
ومن نقطة ل خط ل نه يوازي م ط بالشكل الواحد والثلاثين من الاولي  
وتخرجه في جهة م علي استقامته ولانا اذا وصلنا م ل بخط مستقيم كانت  
زاوية نه م ل مع الزاوية المجاورة لزاوية م ل ط كقائمتين بالشكل التاسع  
والعشرين من الاولي فزاويتا نه م ل نه اقل من قائمتين فخط م نه ل نه  
يلتقيان فليلتقيا علي نقطة نه فسطح م ل كسطح قه شه بانطباق سطح قه شه  
علي سطح م ل بحيث ينطبق نقطة ر علي نقطة ط وضلع قه م ر شه  
علي ضلعي م ط ط ل وتخرج من ا خط يوازي ح م في جهة م بالشكل  
الواحد والثلاثين من الاولي وتخرجه علي استقامته فبنتهي الي خط نه م  
بمثل ما بينا اذا وصلنا ام بخط مستقيم وتخرج خطي ب ح ب ا علي  
استقامتهم ا في جهة

ب فلينته ح ب الي  
ضلع نه ل علي نقطة  
سه وب ا الي ضلع  
م نه علي نقطة ه  
فسطح ح ا كاين علي



قطر سطح م ل بالشكل الثالث والعشرين فخط نه ب ط قطر لسطح م ل  
فسطح ه سه يشبه سطح ح ا بالشكل الثاني والعشرين وكان سطح در شبيها  
بسطح ح ا فسطحا سه در متشابهان بالشكل العشرين وكان سطح ح ا ح  
يساويان سطح قه شه وسطح م ل يساوي سطح قه شه فعلم م نه ا يساوي  
سطح ح م م م ب ل كقيم ب م بالشكل الثالث والاربعين من الاولي وسطح  
ام كقيم ب م بالشكل السادس والثلاثين من الاولي فسطح انه كعلم م نه ا وكان  
سطح ح كعلم م نه ا فسطح انه المتوازي الاضلاع يساوي سطح ح ويزيد علي  
خط ا ب سطح ه سه الشبيه بسطح در فالحكم ثابت وذلك ما اردنا ان نبين  
ط

كل خط مستقيم محدود مفروض لنا ان نقسمه

علي نسبة ذات وسط وطرفين

ليكن الخط ا ب فاقول لنا ان نقسمه علي نسبة ذات  
وسط وطرفين برهانه نرسم علي ا ب مربع ا ب ج د  
بالشكل الخامس والاربعين من الاولي ونضيف الي  
خط ا د سطحا متوازي الاضلاع يساوي مربع ا ح و  
يزيد علي خط ا د سطحا متوازي الاضلاع يشبه  
مربعاً بالشكل المتقدم وليكن السطح المضاف سطح د ط والسطح المتوازي  
الاضلاع





الاضلاع الذي يزيد علي خط  $AD$  سطح  $AD$  سطح  $AD$  فنقطة  $C$  لا يمكن ان يقع علي نقطة  $B$  او خارجه عن خط  $AB$  والا يلزم ان يكون سطح  $AD$  ضعف مربع  $AC$  او اعظم من ضعفه هذا خلف فيقع بين نقطتي  $AB$  فيكون  $AD$  مربع  $AC$  لان مشابه المربع  $AD$  مربع  $AC$  فلان ضلع  $AD$  كضلع  $AC$  بالشكل الرابع والثلاثين من الاولي فضع  $AB$  كضلع  $AC$  وضلع  $AD$  كضلع  $AC$  سطح  $C$  فاذا اخذ للاول والثالث وهما  $AB$   $AD$  ح  $AD$  اضعاف متساوية العدة اي عدة كانت مما لا يتناهي والثاني والرابع وهما  $AC$   $AD$  ح  $AD$  اضعاف متساوية العدة اي عدة كانت مما لا يتناهي فان كانت اضعاف الاول زايدة علي اضعاف الثاني كانت اضعاف الثالث زايدة علي اضعاف الرابع وان كانت مساوية كانت مساوية وان كانت ناقصة كانت ناقصة فنسبة  $AB$  الي  $AC$  كنسبة  $AD$  الي  $C$  وايضا فلان سطح  $AD$  ح  $AD$  متوازي الاضلاع وزاويتا  $AC$   $AD$  ح  $AD$  متساويتان بالشكل الخامس عشر من الاولي فنسبة ضلع  $AC$  الي ضلع  $AD$  كنسبة  $AD$  الي  $C$  بالشكل الثالث عشر فبالشكل الحادي عشر من الخامسة نسبة  $AB$  الي  $AC$  كنسبة  $AD$  الي  $C$  فالحكم ثابت وذلك ما اردنا ان نبين

واستبان منه ومما تقدم ان جميع الخطوط المقسومة علي نسبة ذات وسط وطرفين مقسومة علي نسبة واحدة اي نسبة اي خط منها الي قسمه الاعظم كنسبة قسم الاعظم من كل واحد من تلك الخطوط الي قسمه الاصغر ونسبة كل واحد من تلك الخطوط الي قسمه الاعظم ونسبة تلك الخطوط الي بعضها بعض كنسبة اقسام بعضها الي بعض النظر من النظر فجميع ما يعرض لواحد منها يعرض لكل واحد من بواقي تلك الخطوط

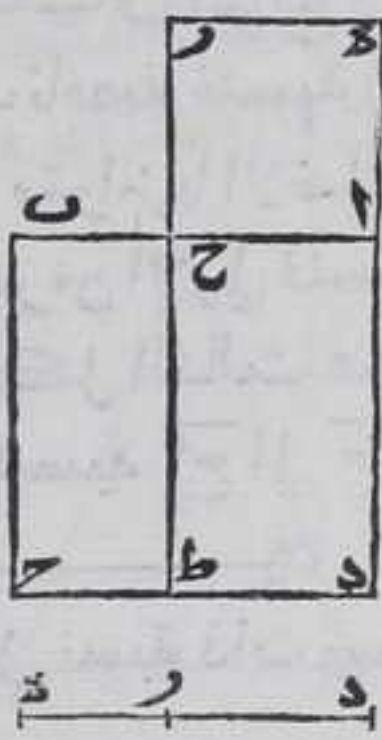


شـ

فليكن لبيان ذلك خط  $DE$  مقسوما علي نقطة  $C$  بنسبة ذات وسط وطرفين وقسمه الاعظم  $DE$  فيكون سطح  $AB$  في  $BC$  كمربع  $AC$  وسط  $DE$  في  $DE$  كمربع  $DE$  باستبانة الشكل السادس عشر فسطحا  $AB$  في  $BC$  و  $DE$  في  $DE$  مع مربعي  $AC$   $DE$  اربعة مقادير اذا اخذ للاول والثالث وهما سطح  $AB$  في  $BC$  و  $DE$  في  $DE$  ح  $DE$  اضعاف متساوية العدة اي عدة كانت مما لا يتناهي واخذ للثاني والرابع وهما مربع  $AC$   $DE$  ح  $DE$  اضعاف متساوية العدة اي عدة كانت مما لا يتناهي فان كانت اضعاف الاول زايدة علي اضعاف الثاني كانت اضعاف الثالث زايدة علي اضعاف الرابع وان كانت مساوية كانت مساوية وان كانت ناقصة كانت ناقصة فنسبة سطح  $AB$  في  $BC$  الي مربع  $AC$  كنسبة سطح  $DE$  في  $DE$  الي مربع  $DE$  ولان نسبة الاضعاف اذا كانت متساوية العدة كنسبة



الاجزاء بالشكل الخامسة عشر من الخامسة فتكون نسبة اربعة امثال  
 سطح  $\overline{AB}$  في  $\overline{B}$  ح الى مربع  $\overline{AC}$  كنسبة اربعة امثال سطح  $\overline{DE}$  في  $\overline{D}$  ر الى  
 مربع  $\overline{DR}$  فبالتركيب بالشكل السابع عشر من الخامسة نسبة اربعة امثال  
 امثال سطح  $\overline{AB}$  في  $\overline{B}$  ح مع مربع  $\overline{AC}$  الى مربع  $\overline{AC}$  كنسبة اربعة امثال  
 سطح  $\overline{DE}$  في  $\overline{D}$  ر مع مربع  $\overline{DR}$  الى مربع  $\overline{DR}$  لكن اربعة امثال سطح  $\overline{AB}$  في  
 $\overline{B}$  ح مع مربع  $\overline{AC}$  يساوي مربع  $\overline{AB}$  ح اذا اتصلا خطا واحدا  $\overline{AB}$   
 واربعة امثال سطح  $\overline{DE}$  في  $\overline{D}$  ر مع مربع  $\overline{DR}$  يساوي مربع  $\overline{DE}$  ح اذا  
 اتصلا خطا واحدا بالشكل الثامن من الثانية فنسبة مربع  $\overline{AB}$  ح اذا



اتصلا خطا واحدا الى مربع  $\overline{AC}$  كنسبة مربع  $\overline{DE}$   
 $\overline{D}$  ر اذا جعلنا خطا واحدا الى مربع  $\overline{DR}$  ثم نقول  
 نسبة خطي  $\overline{AB}$  ح اذا اتصلا خطا واحدا الى  
 خط  $\overline{AC}$  مثناة نسبة مربع  $\overline{AB}$  ح اذا اتصلا خطا  
 واحدا الى مربع  $\overline{AC}$  بالشكل الثامن عشر وكانت  
 نسبة مربع  $\overline{DE}$  ح اذا اتصلا خطا واحدا الى مربع  
 $\overline{DR}$  كنسبة مربع  $\overline{AB}$  ح اذا اتصلا خطا واحدا  
 الى مربع  $\overline{DR}$  فبالشكل الحادي عشر من الخامسة  
 نسبة خطي  $\overline{AB}$  ح اذا اتصلا خطا واحدا الى

خط  $\overline{AC}$  مثناة كنسبة مربع  $\overline{DE}$  ح اذا اتصلا خطا واحدا الى مربع  $\overline{DR}$   
 ونسبة خطي  $\overline{DE}$  ح اذا اتصلا خطا واحدا الى خط  $\overline{DR}$  مثناة كنسبة  
 مربع  $\overline{DE}$  ح اذا اتصلا خطا واحدا الى مربع  $\overline{DR}$  بالشكل الثامن عشر  
 فبالشكل الحادي عشر من الخامسة نسبة خطي  $\overline{AB}$  ح اذا اتصلا خطا  
 واحدا الى خط  $\overline{AC}$  مثناة كنسبة خطي  $\overline{DE}$  ح اذا اتصلا خطا واحدا  
 الى خط  $\overline{DR}$  مثناة فنسبة خطي  $\overline{AB}$  ح اذا اتصلا خطا واحدا الى  
 خط  $\overline{AC}$  كنسبة خطي  $\overline{DE}$  ح اذا اتصلا خطا واحدا الى خط  $\overline{DR}$   
 فبالتركيب بالشكل السابع عشر من الخامسة نسبة خطوط  $\overline{AB}$  ح  $\overline{AC}$   
 اذا اتصلت خطا واحدا الى خط  $\overline{AC}$  كنسبة خطوط  $\overline{DE}$  ح  $\overline{DR}$  اذا  
 اتصلت خطا واحدا الى خط  $\overline{DR}$  لكن خطوط  $\overline{AB}$  ح  $\overline{AC}$  ضعف  $\overline{AB}$   
 وخطوط  $\overline{DE}$  ح  $\overline{DR}$  ضعف  $\overline{DE}$  ونسبة الاضعف اذا كانت متساوية  
 كنسبة الاجزاء بالشكل الخامس عشر من الخامسة فنسبة  $\overline{AB}$  الى  $\overline{AC}$   
 كنسبة  $\overline{DE}$  الى  $\overline{DR}$  فبالابدال بالشكل السادس عشر من الخامسة  
 نسبة  $\overline{AC}$  الى  $\overline{DR}$  كنسبة  $\overline{AB}$  الى  $\overline{DE}$  فبالشكل التاسع عشر من الخامسة  
 نسبة  $\overline{B}$  ح الى  $\overline{D}$  ر كنسبة  $\overline{AB}$  الى  $\overline{DE}$  فبالشكل الحادي عشر من الخامسة  
 نسبة  $\overline{AC}$  الى  $\overline{DR}$  كنسبة  $\overline{AB}$  الى  $\overline{DE}$  فبالشكل الحادي عشر من الخامسة  
 نسبة  $\overline{AC}$  الى  $\overline{DR}$  كنسبة  $\overline{AB}$  الى  $\overline{DE}$

كل



كل مثلثين متشابهين احاطا ضلعان منهما  
زاوية وكانا موازيين لضلعين اخرين منهما  
النظيرين لهما في النسبة فان احدا لضلعين  
الباقيين منهما علي استقامة الضلع الاخر منهما

ليكن ضلعا  $\overline{ب\delta}$  من مثلثي  $\overline{ا\beta\delta}$  احاطا بزاوية  $\overline{ح\beta\delta}$  و  $\overline{ا\alpha\delta}$   
يوازي  $\overline{ب\delta}$  وكانت نسبة  $\overline{ا\alpha}$  الي  $\overline{ب\delta}$  كنسبة  $\overline{ب\delta}$  الي  $\overline{د\delta}$  فاقول ان ضلع  
 $\overline{ا\beta}$  علي استقامة ضلع  $\overline{ب\delta}$  برهانه فلان ضلع  $\overline{ا\alpha}$   
يوازي ضلع  $\overline{ب\delta}$  وضلع  $\overline{ب\delta}$  يوازي ضلع  $\overline{د\delta}$  فكل من  
زاويتي  $\overline{ا\alpha\delta}$  و  $\overline{ب\delta\delta}$  يساوي زاوية  $\overline{ح\beta\delta}$  بالشكل التاسع  
والعشرين من الاولي فهما متساويتان ونسبة  $\overline{ا\alpha}$  الي  $\overline{ب\delta}$   
كنسبة  $\overline{ب\delta}$  الي  $\overline{د\delta}$  فبالشكل السادس زاوية  $\overline{ح\alpha\beta}$

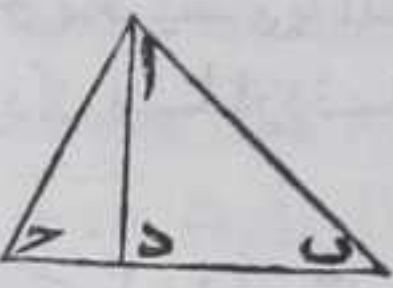


كزاوية  $\overline{د\beta\delta}$  وكانت زاوية  $\overline{ح\beta\delta}$  كزاوية  $\overline{ا\alpha\delta}$  فزاوية  $\overline{ح\beta\delta}$  كزاويتي  
 $\overline{ا\alpha\delta}$  و  $\overline{د\beta\delta}$  وهما مع زاوية  $\overline{ح\alpha\beta}$  كقائمتين بالشكل الثاني والثلاثين من  
الاولي فزاويتي  $\overline{ا\alpha\delta}$  و  $\overline{د\beta\delta}$  كقائمتين فضع  $\overline{ا\beta}$  علي استقامة ضلع  $\overline{ب\delta}$   
فضلع  $\overline{ا\beta}$  علي استقامة ضلع  $\overline{ب\delta}$  بالشكل الرابع عشر من الاولي فالحكم  
ثابت وذلك ما اردنا ان نبين

لا

كل مثلث مستقيم الاضلاع قائم الزاوية فان  
الشكل المستقيم الاضلاع المضاف الي وتر القايمه  
منه يساوي الشكلين المستقيمي الاضلاع المضافين  
الي الضلعين المحيطين بها اذا كانا شبيهين به

لتكن زاوية  $\overline{ب\alpha\delta}$  من مثلث  $\overline{ا\beta\delta}$  قائمه فاقول ان الشكل المستقيم  
الاضلاع المضاف الي ضلع  $\overline{ب\delta}$  يساوي الشكلين  
المستقيمي الاضلاع المضافين الي ضلعي  $\overline{ا\alpha}$  و  $\overline{ا\beta}$  معا  
اذا كانا شبيهين بالشكل المضاف الي  $\overline{ب\delta}$  برهانه  
فلان نسبة مربع  $\overline{ا\alpha}$  الي مربع  $\overline{ب\delta}$  كنسبة مربع  
 $\overline{ا\alpha}$  الي  $\overline{ب\delta}$  مثناة بالشكل الثامن عشر ونسبة الشكل المستقيم الاضلاع



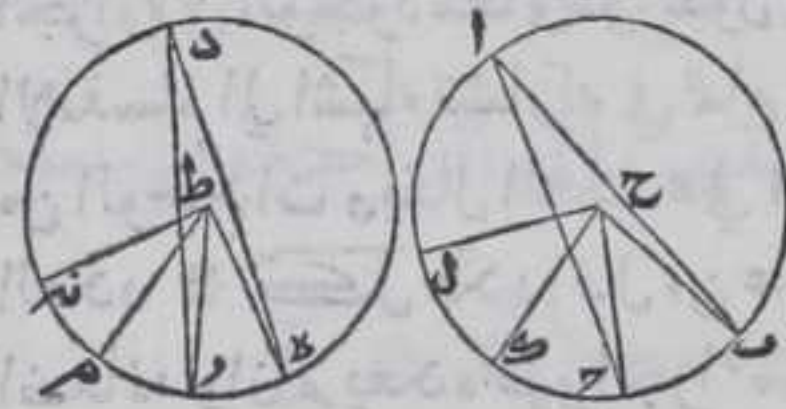






كانتا او محيطيين فان نسبة احديهما الى الاخرى  
كنسبة قوسهما على الـ **ولاء** \*

ليكن في دائرة  $AB$  المساوية لدائرة  $DE$  زاوية  $BAC$  على المركز  
وزاوية  $BAH$  على المحيط وفي الاخرى زاوية  $EDF$  على المركز وزاوية  
 $EDG$  على المحيط فاقول ان نسبة زاوية  $BAC$  الى زاوية  $EDF$  او نسبة  
زاوية  $BAH$  الى زاوية  $EDG$  كنسبة قوس  $BAC$  الى قوس  $EDF$  برهانه  
نفصل من محيط دائرة  $AB$  امثال قوس  $BAC$  كم شينا وليكن المفصول



قوسي  $AL$  ونفصل من محيط دائرة  
 $DE$  امثال قوس  $EDG$  كم شينا وليكن  
المفصول قوسي  $RM$  منه ونصل بين  
نقطة  $H$  وبين كل واحدة من  
نقطتي  $L$  و  $M$  وبين نقطة  $P$  وكل  
واحدة من نقطتي  $R$  و  $M$  بخط مستقيم

فكل من زاويتي  $LAC$  و  $EDG$  كنسبة  $BAC$  وكل من زاويتي  $HPM$  و  $EDG$   
كنسبة  $EDF$  بالمثل السادس والعشرين من الثالثة فعدة اضعاف  
زاوية  $BAC$  لزاوية  $BAC$  كعدة اضعاف قوس  $BAC$  لقوس  $BAC$  وكعدة  
اضعاف زاوية  $EDF$  لزاوية  $EDF$  كعدة اضعاف قوس  $EDF$  لقوس  
 $EDF$  فان كانت زاوية  $BAC$  اعظم من زاوية  $EDF$  كانت قوس  $BAC$   
اعظم من قوس  $EDF$  وان كانت مساوية كانت مساوية وان كانت ناقصة  
كانت ناقصة بقوة الشكل السادس والعشرين من الثالثة فظاهر ان  
زاويتي  $BAC$  و  $EDF$  وقوسي  $BAC$  و  $EDF$  اربعة مقادير اذا اخذ الاول  
والثالث اي اضعاف متساوية العدة وهما زاوية  $BAC$  وقوس  $BAC$   
والثالث والرابع اي اضعاف متساوية العدة وهما زاوية  $EDF$  وقوس  
 $EDF$  فان كانت اضعاف الاول زاوية على اضعاف الثاني كانت اضعاف  
الثالث زاوية على اضعاف الرابع وان كانت مساوية كانت مساوية  
وان كانت ناقصة كانت ناقصة فنسبة زاوية  $BAC$  الى زاوية  $EDF$   
كنسبة قوس  $BAC$  الى قوس  $EDF$  ولان زاوية  $BAC$  ضعف زاوية  $BAH$   
وزاوية  $EDF$  ضعف زاوية  $EDG$  بالشكل التاسع عشر من الثالثة ونسبة  
الاجزاء كنسبة الاضعاف بالشكل الخامس عشر من الخامسة فنسبة  
زاوية  $BAH$  الى زاوية  $EDG$  كنسبة زاوية  $BAC$  الى زاوية  $EDF$  وكانت  
نسبة قوس  $BAH$  الى قوس  $EDG$  كنسبة زاوية  $BAC$  الى زاوية  $EDF$   
فبالشكل الحادي عشر من الخامسة نسبة زاوية  $BAH$  الى زاوية  $EDG$   
كنسبة قوس  $BAH$  الى قوس  $EDG$  وذلك ما اردنا ان نبين \*

تمت المقالة السادسة والله المجد وشكره على ما ساعد



# المقالة السابعة وثلاثون

## المصادر

الكم عرض يقبل القسمة والاقسمة لذاته فان اشتركت اجزاء في حد  
 فهو الكم المتصل والا فهو المنفصل وهو اما قار الذات وهو الذي يحصل  
 اجزائه في الموجود معا وهو العدد وغير قار الذات وهو الذي لا يحصل  
 اجزائه في الوجود معا وهو القول  $\ominus$  الوحدة شيء به يمتنع الوجود عن  
 الانقسام الي اشياء تشاركه في تمام ذاتياته  $\ominus$  العدد هو الكمية المتالفة  
 من الوحدات ويقال العدد على الواحد من حيث هو واقع في مراتب  
 العدد  $\ominus$  كل عدد اقل من عدد آخر فان عدة فهو جزءه والمعدود  
 اضعافه وان لم يعده فهو اجزاء منه  $\ominus$  العدد الزوج كل عدد ينقسم  
 متساويين ويخالف الفرد بواحد  $\ominus$  والعدد الفرد كل عدد لا يمكن  
 ان ينقسم بمتساويين ويخالف الزوج بواحد  $\ominus$  زوج الزوج كل عدد  
 يعده عدد زوج مرات عدتها زوج  $\ominus$  وزوج الفرد كل عدد يعده عدد  
 فرد مرات عدتها زوج  $\ominus$  وفرد الفرد كل عدد يعده عدد فرد مرات  
 عدتها فرد  $\ominus$  العدد الاول كل عدد لا تعده غير الواحد  $\ominus$  والعدد  
 المركب كل عدد يعده عدد غير الواحد  $\ominus$  والاول عند عدد كل عددين  
 يعدها معا غير الواحد  $\ominus$  والعدد المركب عند عدد كل عددين  
 يعدها معا عدد غير الواحد  $\ominus$  والاعداد المشتركة كل عددين او اعداد  
 يعدها جميعا غير الواحد  $\ominus$  والاعداد المتناسبة كل عددين او اعداد  
 لا يعدها معا عدد غير الواحد  $\ominus$  الضرب هو ان يوجد احد  
 العددين بعدد احد العدد الاخر فيكون خصه الواحد من احد  
 المضروب في المضروب فيه بعينه والمجموع هو العدد الحاصل من الضرب  
 العدد  $\ominus$  العدد المربع هو العدد الحاصل من ضرب عدد في مثله  
 ويحيط به عددان متساويان  $\ominus$  العدد المكعب هو العدد المجموع من  
 ضرب عدد في مربعه ويحيط به ثلاثة اعداد متساوية  $\ominus$  العدد المسطح  
 هو العدد الحاصل من ضرب عدد في عدد ما ويحيط به عددان ويقال  
 للمضروب والمضروب فيه ضلعا المسطح  $\ominus$  العدد المجسم هو العدد الحاصل  
 من ضرب عدد في عدد مسطح ويحيط به ثلاثة اعداد هي اضلاع الجسم  $\ominus$   
 الاعداد المتناسبة هي الاعداد التي الاول منها مثل او اضعاف او اجزاء  
 من الثاني كالثالث من الرابع بعينه  $\ominus$  والاعداد المسطحة والمجسمة  
 المتشابهة هي الاعداد التي اضلاعها متناسبة  $\ominus$  العدد التام كل عدد  
 اجزاء متساوية  $\ominus$  الشكل



الشكل

آ

كل عددين مختلفين نقص مثل الاول او امثاله من الاكثر حتى بقي اقل من الاقل ثم نقص مثل الباقي او امثاله من الاقل حتى بقي اقل من الباقي الاول وهكذا دائما فلا ينتهيا في التناقص الي عدد بعد ما يليه قبله الي ان ينتهي الي الواحد فهما

متباينان

ليكن عددا  $\overline{AB}$   $\overline{CD}$  مختلفين و  $\overline{CD}$  اقلهما ونقص مثل  $\overline{CD}$  او امثاله من  $\overline{AB}$  الي ان يبقي  $\overline{AP}$  اقل من  $\overline{CD}$  ونقص مثل  $\overline{AP}$  او امثاله من  $\overline{CD}$  الي ان يبقي  $\overline{CQ}$  اقل من  $\overline{AP}$  ونقص مثل  $\overline{CQ}$  او امثاله من  $\overline{AP}$  الي ان يبقي  $\overline{AR}$  الواحد

فاقول ان عددي  $\overline{AB}$   $\overline{CD}$  متباينان برهانه فلانها لو لم يتباينا لعددها عدد غيرهما وليكن هو  $\overline{R}$  فلان  $\overline{R}$  يعد  $\overline{CD}$  وهو يعد  $\overline{B}$  فهو يعد  $\overline{B}$  وكان  $\overline{R}$  يعد  $\overline{AB}$  فهو يعد  $\overline{AP}$  وهو يعد  $\overline{CQ}$  فهو يعد  $\overline{CQ}$  وكان  $\overline{R}$  يعد  $\overline{CD}$  فهو يعد  $\overline{AP}$  وهو يعد  $\overline{CQ}$  وكان يعد  $\overline{AR}$  الواحد هذا خلف ف  $\overline{AB}$   $\overline{CD}$  متباينان وذلك ما اردنا ان نبين

ب

لنا ان نجد اكر عدد يعد عددين مشتركين

مفروضين مختلفين

فليكن العددان المشتركان  $\overline{AB}$   $\overline{CD}$  و  $\overline{CD}$  اقلهما فجد ان عد  $\overline{AB}$  و  $\overline{CD}$  يعد نفسه فهو اكر عدد يعد هما ان لا يعد  $\overline{CD}$  عدد اكر منه وان لم يعد  $\overline{CD}$  عدد  $\overline{AB}$  فاذا سلطنا نعد الاكر منهما بالاقل

فلا بد من الانتهاء الي عدد يعد الذي يليه قبله والا لكانا متباينين بالشكل المتقدم فلنعد  $\overline{CD}$   $\overline{BE}$  من  $\overline{AB}$  ويبقي  $\overline{AE}$  منه اقل من  $\overline{CD}$  و  $\overline{AE}$



يعد من  $\overline{ح د}$  ويبقى  $\overline{ح ر}$  اقل من  $\overline{آه}$  وهو يعد  $\overline{آه}$  فاقول ان  $\overline{ح ر}$  اقل عدد  
 يعد عددي  $\overline{آ ب}$   $\overline{ح د}$  برهانه اما ان  $\overline{ح ر}$  يعدها فلانه يعد  $\overline{آه}$  وهو  
 يعد  $\overline{د ر}$   $\overline{ح ر}$  يعد  $\overline{ح د}$  ويعد نفسه  $\overline{ح ر}$  يعد  $\overline{ح د}$  وهو يعد  $\overline{ب ه}$   $\overline{ح ر}$  يعد  
 $\overline{ب ه}$  وكان يعد  $\overline{آه}$   $\overline{ح ر}$  يعد  $\overline{آ ب}$  وكان يعد  $\overline{ح د}$   $\overline{ح ر}$  يعد  $\overline{آ ب}$  واما انه  
 اكبر عدد يعدها فلانه لو لم يكن الاكبر هو فليكن اكبر عدد يعدها هو  
 $\overline{ح ط}$  فلان  $\overline{ح ط}$  يعد  $\overline{ح د}$  الذي يعد  $\overline{ب ه}$   $\overline{ح ط}$  يعد  $\overline{ب ه}$  وكان يعد  $\overline{آ ب}$   
 $\overline{ح ط}$  يعد  $\overline{آه}$  وهو يعد  $\overline{د ر}$   $\overline{ح ط}$  يعد  $\overline{د ر}$  وكان يعد  $\overline{ح د}$   $\overline{ح ط}$  يعد  $\overline{ح ر}$   
 الاقل منه هذا خلف فالحكم ثابت وذلك ما اردنا ان نبين  $\text{☉}$   
 واستبان منه ان كل عدد يعد عددين مشتركين فهو يعد اكبر عدد  
 يعد  $\text{☉}$

لنا ان نجد اكبر عدد يعد اي اعداد مشتركة

مفروضة مختلفة  $\text{☉}$

ولیکن الاعداد المشتركة المفروضة مختلفة ولو كان  
 الاعداد المشتركة المفروضة  $\overline{آ ب ح}$  فنجد اكبر  
 عدد يعد عددي  $\overline{آ ب}$  بالشكل المتقدم وليكن هو عدد  $\overline{د}$  فاما ان  
 يعد عدد  $\overline{ح}$  او لا يعده فان عدده فهو اكبر يعد اعداد  $\overline{آ ب ح}$  والا لكان  
 اكبر عدد يعدها عدد  $\overline{ه}$  فـ  $\overline{آ ب}$  فيعد اكبر عدد يعدها باستبانة  
 الشكل المتقدم فعدد  $\overline{ه}$  الاكبر من عدد  $\overline{د}$  يعد  $\overline{د}$  هذا خلف فـ ان عد  
 $\overline{ح}$  فهو اكبر عدد يعد اعداد  $\overline{آ ب ح}$   $\text{☉}$  وان لم يعد عدد  $\overline{د}$  عدد  $\overline{ح}$  فيها  
 مشتركان لانه لا بد ان يعد عددا اما اعداد  $\overline{آ ب ح}$  لا اشتراكها فذلك  
 العدد يعد عددي  $\overline{آ ب}$  فيعد اكبر عدد يعدها باستبانة الشكل المتقدم  
 فيعد عدد  $\overline{د}$  فيعد عددي  $\overline{ح د}$  فنجد اكبر  
 عدد يعدها بالشكل المتقدم وليكن هو عدد  
 $\overline{ه}$  فـ لكونه يعد اكبر عدد يعد عددي  $\overline{آ ب}$   
 يعد  $\overline{آ ب}$  فيعد اعداد  $\overline{آ ب ح}$  فـ  $\overline{آ ب}$  اكبر عدد  
 يعدها والا فليكن اكبر عدد اعداد  $\overline{آ ب ح}$   
 عدد  $\overline{ر}$  فلان  $\overline{ر}$  يعد  $\overline{آ ب ح}$  يعد  $\overline{آ ب}$  فيعد  
 عدد  $\overline{د}$  باستبانة الشكل المتقدم ويعد عدد  
 $\overline{ح}$  فيعد عددي  $\overline{د ح}$  فيعد اكبر عدد يعد  
 بها باستبانة الشكل المتقدم فيعد عدد  $\overline{ه}$  الاقل منه هذا خلف فـ  
 اكبر عدد يعد اعداد  $\overline{آ ب ح}$  وذلك ما اردنا ان نبين  $\text{☉}$


كل



كل عددين مختلفين متناهيتي الاحاد فان

اقلهما جزء من اكبرها او اجزاء منه

فليكن العددان المختلفان عدد  $\overline{AB}$  و  $\overline{CD}$  و  $\overline{CD}$  اقلهما فاقول ان عدد  $\overline{CD}$  جزء او اجزاء من  $\overline{AB}$  برهانه فلان



عدد  $\overline{CD}$  او لم يعد فان عدده فهو جزء منه وان لم يعد فلا يخلوا اما

ان يكون  $\overline{AB}$  جزء متباينين او مشتركين فان كانا متباينين فكل واحد من احاد

$\overline{CD}$  يعد  $\overline{AB}$  بجمع  $\overline{CD}$  اجزاء من  $\overline{AB}$  وان كانا مشتركين فنجد اكبر عدد يعد

عددي  $\overline{AB}$  و  $\overline{CD}$  بالشكل المتقدم وليكن

هو عدد  $\overline{DE}$  فنقسم  $\overline{CD}$  بامثال  $\overline{DE}$  وليكن هي  $\overline{CH}$  و  $\overline{HD}$  فكل منها

يساوي  $\overline{DE}$  و  $\overline{DE}$  يعد  $\overline{AB}$  فكل واحد من اقسام  $\overline{CD}$  يعد  $\overline{AB}$  فكل واحد منها جزء من  $\overline{AB}$  بجمع  $\overline{CD}$  اجزاء من  $\overline{AB}$  وذلك ما اردنا ان نبين

و استبان منه ان اجزاء الشيء يجوز ان يكون مساويا له او اعظم كالستة واثنى عشر فان اجزاء الستة تساويها و اجزاء اثني عشر انزيد منه وان كل

عدد هو اقل من اي عددين متساويين فان جزءه من احدهما كجزءه من الاخر فيكون نسبتته الي احدهما كنسبته الي الاخر وكذلك ان كان

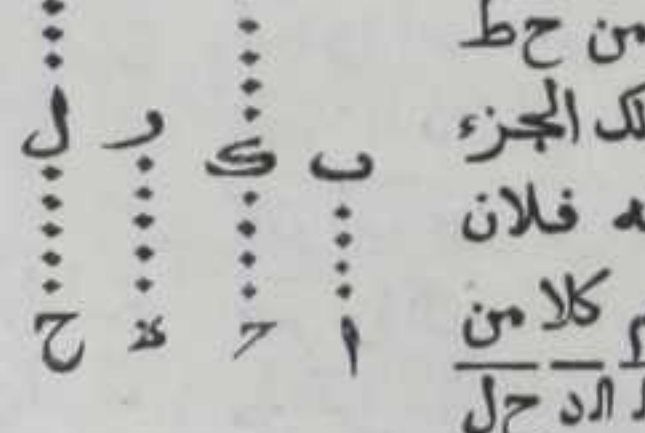
مساويا لهما او اعظم منهما لان اما مثل لكل منهما او امثال لكل منهما او امثلهما

امثال وجزء

كل عددين احدهما جزء من عدد والاخر ذلك

الجزء بعينه من عدد اخر فمجموع الاولين ذلك

الجزء بعينه من مجموع الاخرين



ليكن  $\overline{AB}$  جزء من  $\overline{CD}$  و  $\overline{DE}$  ذلك الجزء بعينه من  $\overline{CD}$  فاقول ان مجموع  $\overline{AB}$  و  $\overline{DE}$  من مجموع  $\overline{CD}$  ذلك الجزء الذي كان  $\overline{AB}$  او  $\overline{DE}$  من قريبه برهانه فلان

اضعاف  $\overline{CD}$  ل  $\overline{AB}$  كاضعاف  $\overline{CD}$  ل  $\overline{DE}$  فنقسم كلا من عددي  $\overline{CD}$  بامثال قريبه وليكن هي  $\overline{GH}$  و  $\overline{HI}$  فكل

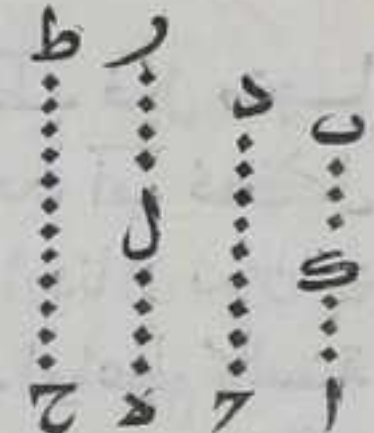
ل  $\overline{GH}$  فكل من اقسام  $\overline{CD}$  مثل  $\overline{AB}$  وكل من اقسام  $\overline{CD}$  مثل  $\overline{DE}$  فمجموع



حل مع مجموع اب هـ مع مجموع اد ل ط مع مجموع اب هـ مع  
والعده واحده ففي مجموع رد ط ح مع من امثال مجموع اب هـ مع  
مثل ما في رد او ح ط من امثال قريبه فجزءه اب هـ لود ح ط غير  
جزية اب لود وذلك ما اردنا ان نبين

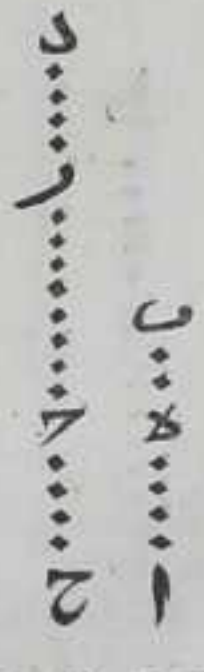
كل عددين احدهما اجزاء من عدد والاخر  
تلك الاجزاء بعينها من عدد اخر فالعددان معا  
تلك الاجزاء بعينها من العددين الاخرين معا

ليكن اب اجزاء من رد وهـ تلك الاجزاء بعينها من ح ط فاقول ان اب  
هـ مع تلك الاجزاء بعينها من رد ح ط معا برهانه  
نقسم اب باجزاء رد وهـ باجزاء ح ط وهي ال اب ال  
لر فعدة اجزاء اب لود كعدة اجزاء هـ لود ح ط فلان  
ال من رد الجزء الذي ال من ح ط فالهـ معا من رد  
ح ط معا كالهـ او ال من قريبه بالشكل المتقدم ولذلك  
تبين ان اب لر معا من رد ح ط معا مثل اب او لر  
من قريبه فاب هـ معا من رد ح ط معا الاجزاء التي كانت اب او هـ  
من قريبه وذلك ما اردنا ان نبين



اذا كان عددان احدهما جزء من الاخر ونقص منهما  
عددان احدهما ذلك الجزء بعينه من الاخر النظير  
من النظير والباقي من الجزء ذلك الجزء بعينه من

الباقي من الكل  
ليكن اب جزء من رد ونقص منهما اهـ حـ واـ حـ ذلك  
الجزء الذي كان اب من رد فاقول ان هـ ب من رد الجزء الذي  
كان اب من رد برهانه نجعل هـ ب جزء من ح د كاهـ من  
حـ وذلك نضعف هـ ب بعدة اضعاف رد ل اب فلان جزء اهـ  
من حل كجزء هـ ب من حـ فجزية اب من حـ كجزية اهـ من  
حـ بالشكل الخامس وكان اب جزءا من رد كجزء اهـ من حـ فحـ مثل  
رد فاذا





رد فاذا القينا المشترك يبقى رد مثل ح و كان هـ جزءا من ح كجزء  
اه من ح كجزء به من رد كجزء اه من ح و كان جزءا من ح كجزء  
اه من ح كجزء به من رد كجزء اب من ح وذلك ما اردنا ان نبين

كل عددين احدهما اجزاء من الاخر ونقص منهما  
عددان وكان المنقوص الاجزاء غير الاجزاء المنقوص  
من الكل فالباقي من الاجزاء غير تلك الاجزاء

من الباقي من الكل

ط  
د  
ب  
ر  
ن  
هـ  
ل  
م  
ح

ليكن اب اجزاء من ح ونقص اه من اب و ح من ح  
واه اجزاء من ح كاجزاء اب من ح فاقول ان به  
اجزاء من ح كاجزاء اب من ح برهانه ليكن حط  
عدد مثل عدد اب ونقسم حط بعدة اجزاء اب من  
ح وهي ح الط واه بعدة اجزاء من ح وهي ال له  
فلان ح ال جزء من ح كجزء ال من ح و ح اعظم من  
ح فح ال اعظم من ال وليكن ح م مثل ال فم ال جزء من ح كجزء ح م اعني  
ال من ح بالشكل المتقدم وبمثله تبين ان الط جزء من ح كجزء له من  
ح و ح اعظم من ح الط اعظم من له وليكن ط ن مثل له انه  
جزء من ح كجزء له من ح فح م ط ن المساوي لال له اجزاء من ح  
كاجزاء الم انه المساوي لهب من ح فاه اجزاء من ح كاجزاء به من  
ح وذلك ما اردنا ان نبين

ط

كل عددين احدهما جزء من عدد والاخر  
منهما ذلك الجزء بعينه من عدد آخر فاذا بدلنا  
كان الجزء من الجزء او الاجزاء التي يكون الكل

من الكل

ليكن اب جزءا من ح وهـ ذلك الجزء بعينه من ح فاقول ان اب من  
هـ الجزء او الاجزاء التي يكون ح من حط برهانه فلان في ح من







والثامن فنسبة  $\overline{هـ ب}$  الى  $\overline{ر د}$  كنسبة  $\overline{ا ب}$  الى  $\overline{ح د}$  وذلك ما اردنا ان نبين  
 واستبان منه ان  $\overline{ا هـ}$  من  $\overline{ح ر}$  الجزء او الاجزاء التي  $\overline{هـ ب}$  من  $\overline{ر د}$  فنسبة  $\overline{ا هـ}$  الى  
 $\overline{ح ر}$  كنسبة  $\overline{هـ ب}$  الى  $\overline{ر د}$

يب

كل اعداد متناسبة فنسبة مقدم الي تاليه

كنسبة جميع المقدمات الي جميع التوالي

لكن نسبة  $\overline{ا ب}$  الى  $\overline{ب ج}$  كنسبة  $\overline{ح د}$  الى  $\overline{د هـ}$  فاقول ان نسبة  
 مجموع  $\overline{ا ح}$  الى مجموع  $\overline{ب د}$  كنسبة  $\overline{ا ب}$  الى  $\overline{ب ج}$  برهانها فلان  
 $\overline{ا ب}$  من  $\overline{ب ج}$  او الاجزاء التي  $\overline{ح د}$  من  $\overline{د هـ}$  معا من  $\overline{ب د}$   
 الجزء او الاجزاء التي  $\overline{ا ب}$  بالشكل الخامس او  
 السادس فنسبة  $\overline{ا ح}$  معا الى  $\overline{ب د}$  معا كنسبة  $\overline{ا ب}$   
 وذلك ما اردنا ان نبين

ين

ب

كل اربعة اعداد متناسبة اذا ابدلت كانت

ايضا متناسبة

لكن نسبة  $\overline{ا ب}$  الى  $\overline{ب ج}$  كنسبة  $\overline{ح د}$  الى  $\overline{د هـ}$  فاقول اذا ابدلت  
 كانت نسبة  $\overline{ا ب}$  الى  $\overline{ب ج}$  كنسبة  $\overline{ب ج}$  الى  $\overline{ج د}$  برهانها فلان  $\overline{ا ب}$   
 من  $\overline{ب ج}$  او الاجزاء التي  $\overline{ح د}$  من  $\overline{د هـ}$  فاذا ابدلنا كان  $\overline{ا ب}$   
 $\overline{ح د}$  او الاجزاء التي يكون  $\overline{ب ج}$  من  $\overline{د هـ}$  بالشكل التاسع او العاشر فنسبة  
 $\overline{ا ب}$  الى  $\overline{ب ج}$  كنسبة  $\overline{ب ج}$  الى  $\overline{ج د}$  وذلك ما اردنا ان نبين  
 واستبان من هذه الاشكال الثلاثة المتقدمة ان كل اربعة اعداد متناسبة  
 بالتركيب فانها متناسبة بالتفصيل وبالعكس

س

لكن نسبة عدد  $\overline{ا ب}$  الى عدد  $\overline{ب ج}$  كنسبة عدد  $\overline{ح د}$  الى عدد  $\overline{د هـ}$   
 بالتركيب فبالابدال نسبة  $\overline{ا ب}$  الى  $\overline{ح د}$  كنسبة  $\overline{هـ ب}$  الى  $\overline{ر د}$   
 بالشكل المتقدم فباستبانة الشكل الحادي عشر نسبة  $\overline{ا هـ}$  الى  $\overline{ح ر}$   
 كنسبة  $\overline{هـ ب}$  الى  $\overline{ر د}$  فبالابدال نسبة  $\overline{ا هـ}$  الى  $\overline{هـ ب}$  كنسبة  $\overline{ح ر}$  الى  
 $\overline{ر د}$  بالتفصيل بالشكل المتقدم

وان كانت نسبة  $\overline{ا هـ}$  الى  $\overline{هـ ب}$  كنسبة  $\overline{ح ر}$  الى  $\overline{ر د}$  بالتفصيل  
 فبالابدال نسبة  $\overline{ا هـ}$  الى  $\overline{ح ر}$  كنسبة  $\overline{هـ ب}$  الى  $\overline{ر د}$  بالشكل المتقدم فبالشكل  
 الثاني عشر نسبة  $\overline{ا ب}$  الى  $\overline{ح د}$  كنسبة  $\overline{هـ ب}$  الى  $\overline{ر د}$  فبالابدال بالشكل  
 المتقدم نسبة  $\overline{ا ب}$  الى  $\overline{ب ج}$  كنسبة  $\overline{ح د}$  الى  $\overline{د هـ}$  بالتركيب







كل عددين ضرب كل منهما في الآخر فسطحا

هما متساويان




ليكن آ ضرب في ب حصل منه ج وب ضرب في آ حصل منه د فاقول ان عددي ج د متساويان

برهانه فلان آ ضرب في ب حصل منه ج فالواحد يعد ب بعدة ما يعد آ ج فبالابدال يعد الواحد آ بعدة ما يعد ب ج بالشكل المتقدم ولان ب ضرب في آ حصل منه د فب يعد د بعدة ما يعد الواحد آ وكان ب يعد ج بعدة ما يعد الواحد عدد آ فب يعد د و ج بعدة واحدة فهما عددان متساويان وذلك ما اردنا ان نبين

كل عددين ضرب كل واحد منهما في عدد

ثالث فنسبة احدها الي الاخر كنسبة المسطحين

على الولى




لنضرب كل من عددي ب ج في آ وليحصل منه د ه فاقول ان نسبة ب الي ج كنسبة د الي ه برهانه فلان ب ضرب في آ وحصل منه د فعدد ب يعد د بعدة ما يعد الواحد آ

ولان ج ضرب في آ وحصل منه ه فح يعد ه بعدة ما يعد الواحد آ فنسبة ب الي د كنسبة ج الي ه فبالابدال نسبة ب الي ج كنسبة د الي ه بالشكل الثالث عشر وذلك ما اردنا ان نبين

كل عدد ضرب في عددين فنسبتهما كنسبة

مسطحهما على الولى



لنضرب ج في آ ب وليحصل منه د ه فاقول ان نسبة آ الي ب كنسبة د الي ه برهانه فلان مسطح آ في ج كمسطح ج في آ وكذلك مسطح ب في ج

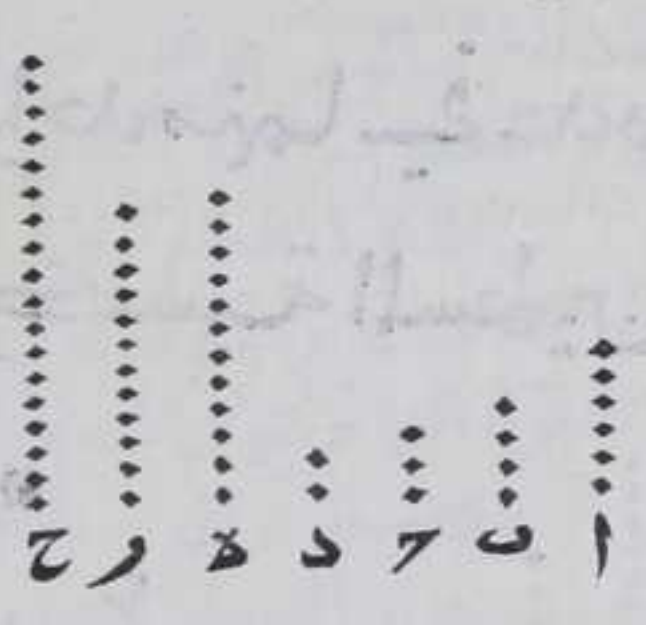
كمسطح ج في ب بالشكل السادس عشر فدهما مسطحا آ وب في ج فنسبة آ الي ب كنسبة د الي ه بالشكل المتقدم وذلك ما اردنا ان نبين



يط

كل اربعة اعداد متناسبة فسطح الاول في الرابع  
 كسطح الثاني في الثالث وان كان سطح الاول في  
 الرابع كسطح الثاني في الثالث فنسبة الاول الي  
 الثاني كنسبة الثالث الي الرابع

لتكن نسبة آ الاول الي ب الثاني كنسبة ح الثالث الي د الرابع فاقول ان  
 سطح آ في د الذي هو سطح ب في ح الذي هو ر وبالعكس برهانه  
 ليكن سطح آ في ح هو ح فلان آ ضرب  
 في د وحصل ح ه فنسبة ح الي ه كنسبة  
 ح الي د بالشكل المتقدم وكانت نسبة آ  
 الي ب كنسبة ح الي د فنسبة ح الي ه  
 كنسبة آ الي ب باستبانة الشكل الرابع  
 عشر ولان آ ب ضرب في ح وحصل ح ر  
 فنسبة ح الي ر كنسبة آ الي ب بالشكل



السابع عشر فنسبة ح الي ر كنسبته الي ه بالشكل الحادي عشر من  
 الخامس فسطح آ في د الذي هو ه يساوي ر الذي هو سطح ب في ح  
 وليكن ح سطح آ في د ولان ه ر متساويان فح اما جزء او اجزاء من ه  
 واما ضعف او اضعاف او ضعف وجزء او ضعف و اجزاء او اضعاف  
 و اجزاء او ضعف و اجزاء له او مساو له او مساو وجزء او اجزاء من ه فهو  
 من ر كذلك فنسبة ح الي ر كنسبته الي ه ولان آ ضرب في د وحصل  
 منه ح ه فنسبة ح الي د كنسبة ح الي ه بالشكل المتقدم وباستبانة الشكل  
 الرابع عشر نسبة ح الي د كنسبة ح الي ر ولان آ ب ضربا في ح وحصل  
 منه ح ر فنسبة آ الي ب كنسبة ح الي ر وكانت نسبة ح الي د كنسبة  
 ح الي ر فباستبانة الشكل الرابع عشر نسبة آ الي ب كنسبة ح الي د وذلك  
 ما اردنا ان نبين

ا

كل اقل عددين علي نسبة فهما يعدان جميع  
 الاعداد التي علي تلك النسبة عددا واحدا المقدم

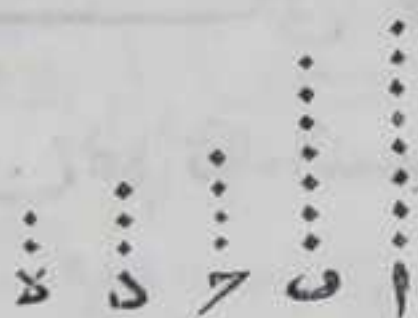
للمقدم








لو لم يكون اقل عددين علي نسبتها فليكن اقل  
 العددين علي نسبتها  $\bar{c}$  فهما يعدان  $\bar{a}$  ب بعدة  
 واحدة بالشكل العشرين فليعدا بعدة احاد  $\bar{e}$   
 فه  $\bar{c}$  يعد  $\bar{a}$  بعدة احاد  $\bar{c}$  وبمثله نبين ان  $\bar{e}$  يعد  $\bar{b}$   
 بعدة احاد  $\bar{d}$  ف**ا**ب مشتركان وكانا متباينين هذا



خلف فالحكم ثابت وذلك ما اردنا ان نبين

كل عدد يعد احد المتباينين فهو يباين الاخر

ليكن  $\bar{a}$  ب عددين متباينين  $\bar{c}$  و  $\bar{d}$  يعد  $\bar{a}$  فاقول ان  $\bar{c}$   
 يباين  $\bar{b}$  برهانه فلان  $\bar{c}$  لو لم يباين  $\bar{b}$  يشاركه  
 فليعدهما عدداً ليكن  $\bar{d}$  فلان  $\bar{d}$  يعد  $\bar{c}$  الذي يعد  
 $\bar{a}$  ف  $\bar{d}$  يعد  $\bar{a}$  وكان يعد  $\bar{b}$  ف**ا**ب متشاركان وكانا متباينين




هذا خلف فالحكم ثابت وذلك ما اردنا ان نبين

كل عددين يباينان عدداً فسطح احدهما في


الاخر يباينه ايضا

ليكن  $\bar{a}$  ب يباينان  $\bar{c}$  ومسطح  $\bar{a}$  في  $\bar{b}$  فاقول  
 ان  $\bar{d}$  يباين  $\bar{c}$  برهانه فلان  $\bar{d}$  لو لم يتباينا لتشاركا فليعدهما  $\bar{e}$   
 فليعد  $\bar{d}$  بر فسطح  $\bar{e}$  في  $\bar{c}$  وكان مسطح  $\bar{a}$  في  $\bar{b}$  فنسبة  $\bar{e}$  الي  $\bar{a}$  كنسبة  
 $\bar{b}$  الي  $\bar{c}$  بالشكل التاسع عشر وه  $\bar{c}$  يعد  $\bar{a}$  المباين فه يباين  $\bar{a}$  بالشكل  
 المتقدم فهما اقل عددين علي نسبتها بالشكل الثاني والعشرين فه يعد  
 $\bar{b}$  بالشكل العشرين وكان يعد  $\bar{c}$  ف**ب**  $\bar{c}$  مشتركان وكانا متباينين هذا  
 خلف ف**د** يباين  $\bar{c}$  وذلك ما اردنا ان نبين



كل عدد يباين عدداً فربعه يباينه

ليكن  $\bar{a}$  يباين  $\bar{b}$  و  $\bar{c}$  مربع  $\bar{a}$  فاقول ان  $\bar{c}$  يباين  $\bar{b}$   
 برهانه فليكن  $\bar{d}$  يساوي  $\bar{a}$  فلان  $\bar{d}$  يباين  $\bar{b}$  ومسطح  
 $\bar{d}$  في  $\bar{a}$  هو  $\bar{c}$  ف**د** يباين  $\bar{b}$  بالشكل المتقدم وذلك ما  
 اردنا ان نبين




هذا خلف فالحكم ثابت وذلك ما اردنا ان نبين

كل



كل عددين كل واحد منهما يباين عددين  
اخرين فسطح العددين الاولين يباين مسطح

العددين الاخرين \*




ليكن كل واحد من آ ب يباين كل واحد  
من ح د ومسطح آ بي ب هوه ومسطح ح دي د هوه  
فاقول ان ه يباين ر برهانه فلان كل  
واحد من آ ب يباين كل واحد من ح د و د ه

يباين كل واحد من ح د بالشكل الرابع والعشرين ولان ح د يباينان ه فر  
يباين ه بالشكل الرابع والعشرين وذلك ما اردنا ان نبين \*

كل عددين متباينين فربعاها متباينان وكذلك

مكعباها وما يتلوها من المراتب الي غير النهاية \*




ليكن آ يباين ب ومربع آ ح ومكعبه ه  
ومربع ب د ومكعبه ر فاقول ان ح يباين د  
وه يباين ر برهانه فلان آ يباين ب فح  
الذي هو مربع آ يباين ب بالشكل الخامس  
والعشرين وبهذا الشكل ايضا يباين كل

واحد من آ ح د ولان كل واحد من آ ح يباين كل واحد من ب د فسطح  
آ بي ح وهوه مباين مسطح ب دي د وهور بالشكل المتقدم وبمثله تبين  
فيما يتلو من المراتب وذلك ما اردنا ان نبين \*

كل عددين متباينين فمجموعهما بعد

التركيب يباين كل واحد منهما وان كان مجموعهما

يباين كل واحد منهما فهما متباينان \*



ليكن آ ب ح متباينين فاقول ان آ ح يباين كل  
واحد منهما برهانه فلان آ ح لولم يباين  
آ ب لكان مشاركا له فليبعدهما عدد وليكن د



فلان د يعدد اب آ فهو يعدد ب ب فاب ب مشتركان وكانا متباينين هذا  
 خلف وبمثله تبين ان آ يبدين ب وان كان  
 آ يبدين ب او اب فاب ب متباينان والا  
 لكانا مشتركين فد مثلا يعدد اب ب فبعدد آ  
 فآ يشارك ب اب وكان يبدينهما هذا خلف وبمثله تبين التشارك  
 وذلك ما اردنا ان نبين

الط

كل عدد مركب فلا بد وان يعدده عدد اول

ليكن آ عددا مركبا فاقول لا بد وان يعدده عدد اول برهانه فلان آ  
 عدد مركب فبعدة عدد وليكن هو ب فان كان ب عدد  
 اول فقد حصل المطلوب والا فليعد ب ب وب يعدد آ  
 يعدد آ فان كان ب اول فقد حصل المطلوب والا فليعد ب  
 عدد آخر وهكذا دائما فلا بد وان ينتهي الي عدد اول  
 يعدد آ والا يلزم ان يكون آ عدد امقروض متناهيا  
 الاحاد يعدده اعداد مشتركة غير متناهية كل واحد منها اعظم فايقلبه  
 فلا ينتهي حينئذ الي الواحد فيكون احاده غير متناهية وكانت  
 متناهية هذا خلف فالحكم ثابت وذلك ما اردنا ان نبين

الز

كل عدد فهو اما اول او يعدده عدد اول

ليكن آ عدد ما فاقول انه اول او يعدده عدد اول برهانه فلان  
 آ لا يحلوا اما ان يكون اول او ليس باول فان كان اول فقد حصل  
 احد الامرين وهو المطلوب وان لم يكن اول فلا بد وان يكون  
 مركب وكل عدد مركب يعدده اول بالشكل المتقدم فالحكم  
 ثابت وذلك ما اردنا ان نبين

اللا

كل عدد اول فهو مبين لكل عدد لا يعدده

ليكن آ عددا اول وهو لا يعدد ب فاقول ان آ يبدين ب  
 برهانه فلان آ لو لم يبدين ب لكن يشاركه فبعدة عدد  
 فآ يعدده عدد غير الواحد فهو مركب وكان اول هذا خلف  
 فالحكم ثابت وذلك ما اردنا ان نبين

لب

كل عدد



كل عدد اول يعد عددا مسطحا اي مسطح كان

فهو يعد احد ضلعي هـ

ليكن آ عدد اول ويعد عدد ب وهو مسطح و ضلعا هـ د  
 فاقول ان آ يعد اما ح او د برهانه فلان آ اما ان يعد ح  
 او لا يده فان يعد ح فقد حصل المطلوب وان لم يعد هـ فهو  
 يباينه بالشكل المتقدم فاح اقل عددين علي نسبتها  
 بالشكل الثاني والعشرين وليكن آ يعد ب يعد هـ احاد عدد  
 هـ فسطح آ في هـ هو ب وكان مسطح ح في د وهو ب فنسبة آ الي ح كنسبة  
 د الي هـ بالشكل التاسع عشر فآ يعد د بالشكل العشرين وذلك ما  
 اردنا ان نبين

كل اعداد مفروضة معلومة لنا ان نجد اقل

الاعداد علي نسبتها ا

ليكن الاعداد المفروضة المعلومة آ ب ح فاقول لنا ان نبين كيف نجد  
 اقل الاعداد علي نسبتها برهانه فان كان كل واحد منها اول عند  
 صاحبه او بعضه عند

بعض فهي اقل الاعداد  
 علي نسبتها والا فلتكن  
 اقل الاعداد علي نسبتها  
 هـ ر ح فليعد هـ ر عددي  
 آ ب عدد واحد علي ان

آ ب متباينان بالشكل العشرين فليعدا هـ ا ب بعدد هـ والواحد يعد هـ  
 بعدة ما يعد هـ آ و ر ب فن يعد كل واحد من عددي آ ب بالشكل  
 الخامس عشر هذا خلف وان لم يكن اول بعضه عند بعض فهي  
 مشتركة فنجد اكثر عدد يعدها بالشكل الثالث وليكن هـ د فليعد آ  
 به وب بر و ح فلان مسطح د في هـ ر ح هي آ ب فنسبة هـ الي ر كنسبة  
 آ الي ب ونسبة ر الي ح كنسبة ب الي هـ بالشكل الثامن عشر فهي اقل  
 اعداد علي نسب آ ب ح والا فلتكن اقل الاعداد علي نسبتها ط آل فهي  
 يعد آ ب ح عددا واحدا بالشكل العشرين فليعد هـ ا ب بعدة احاد عدد  
 م فالواحد يعد م بعدة ما يعد ط او آل و ل ح فبالابدال بالشكل  
 الخامس عشر يعد م آ بعدة احاد ط وب بعدة احاد آل و ح بعدة احاد




ل فسطح ط في م آ وكان سطح د في ه آ فنسبة ه الي ط كنسبة م الي د  
 بالشكل التاسع عشر لكن ه أكثر من ط بالفرض فم أكثر من د وم يعد كل  
 واحد من اعداد آ ب ح فهو يعد د باستبانة الشكل الثاني فالأكثر يعد  
 الأقل هذا خلف فه م ح أقل اعداد يعد آ ب ح وذلك ما اردنا ان نبين

لد

كل عددين مختلفين مفروضين لنا ان نجد  
 أقل عدد يعده العددان المختلفان

لبيكن العددان المختلفان آ ب واصغرهما آ فاقول لنا ان نجد أقل عدد  
 يعده آ وب برهانه وذلك لان آ لا يخلوا اما ان يعد ب او لا يعده فان



عد آ ب وب يعد نفسه فب أقل عدد يعده آ وب لان اي عدد يفرض  
 أقل من ب فب لا يعده وان لم يعد آ ب فلا يخلوا اما ان يكونا متباينين  
 او مشتركين فان كانا متباينين فنضرب آ في ب فليحصل منه ح فليعد ه  
 آ بما يعد الواحد ب فبالابدال بالشكل الخامس عشر يعد الواحد آ بما  
 يعد ب ح فكل من آ ب يعد ح فاقول ان ح أقل عدد يعده آ ب والا  
 فليكن أقل عدد يعده آ ب عدد د فليعد ه آ باحاده وب باحاده فد  
 مسطح آ في ه ومسطح ب في م فنسبة آ الي ب كنسبة م الي ه بالشكل  
 التاسع عشر لكن آ ب متباينان فهما أقل عددين علي نسبتهمما بالشكل  
 الثاني والعشرين فبعد ان كل عددين علي نسبتهمما بالشكل العشرين فآ  
 يعد م وب يعد ه وب ضرب في آ وم حصل منه ح د فنسبة آ الي م  
 كنسبة ح الي د بالشكل الثامن عشر لكن آ يعد م وب يعد د فالأكثر يعد  
 الأقل منه هذا خلف وان كانا مشتركين فنجد أقل عددين علي  
 نسبتهمما بالشكل المتقدم وليكن هما ه م وتكون نسبة ه الي م كنسبة آ الي  
 ب فسطح آ في م مسطح ب في ه بالشكل التاسع عشر وليكن ذلك المسطح ح  
 فإ يعده ب و ب به فاقول انه أقل عدد يعده آ ب والا فليكن أقل عدد  
 يعد آ ب هو د وليعد ه آ ح وب ب فسطح آ في ح وب في ط فنسبة  
 ط الي ح كنسبة آ الي ب بالشكل التاسع عشر وكانت نسبة ه الي م كنسبة  
 آ الي ب فنسبة ه الي م كنسبة ط الي ح باستبانة الشكل الرابع عشر لكن  
 ه م أقل












# المقالة الثامنة في عشرون كلاما

آ

كل اعداد متوالية على نسبة واحدة فان كان طرفاها متباينين فهي اقل الاعداد على تلك

النسبة



ليكن آ ب ح د على نسبة واحدة وآ د متباينان فاقول انها اقل الاعداد على نسبتها برهانه فلانه لو لم يكن هي اقل الاعداد على تلك النسبة

ليكن هـ ر ح ط اقل الاعداد على تلك النسبة وبعدها فنسبة آ الي ب كنسبة هـ الي ر ونسبة ب الي ح كنسبة ر الي ح ونسبة ح الي د كنسبة ح الي ط فبالمساواة نسبة آ الي د كنسبة هـ الي ط بالشكل الرابع عشر من السابعة وآ د متباينان فهما اقل الاعداد على نسبتها بالشكل الثاني والعشرين من السابعة فبعد ان كل عددين على نسبتها بالشكل العشرين منها فاكثر بعدة الاقل منه فالحكم ثابت وذلك ما اردنا ان نبين

ب

نريد ان نبين كيف نجد اقل اعداد متوالية على

نسبة كم كانت الاعداد

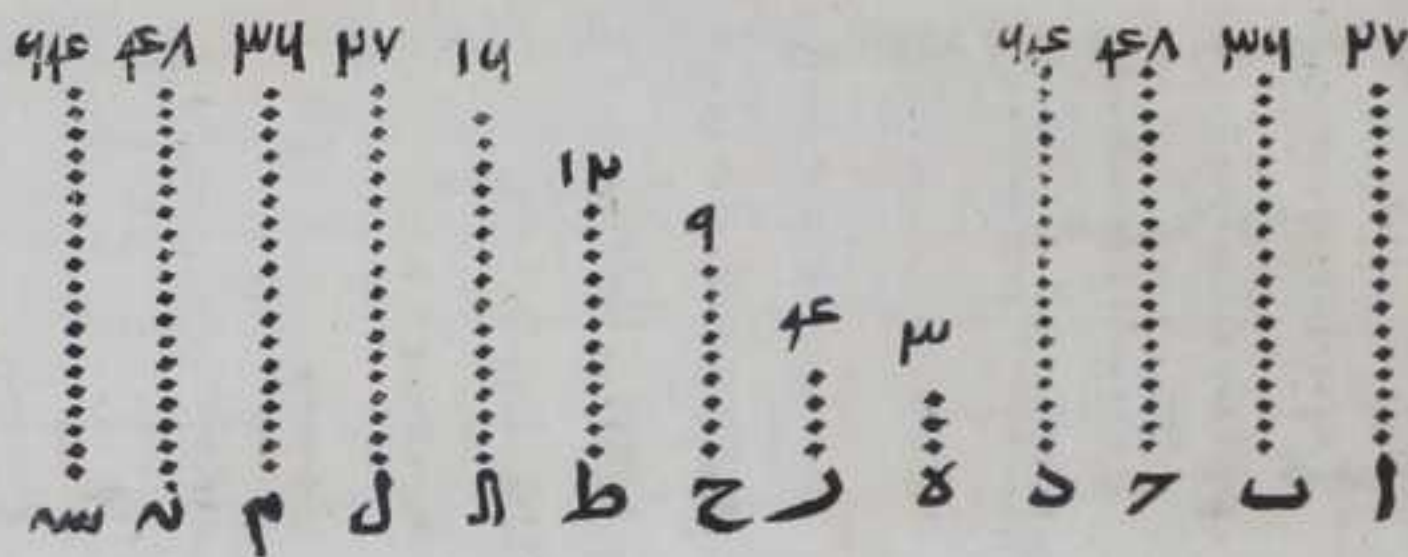
وليكن آ ب عددين متباينين فهما اقل العددين على نسبتها بالشكل الثاني والعشرين من السابعة ولتكن النسبة المفروضة هي نسبة آ الي ب وعدة الاعداد المطلوبة اربعا فليكن ح حاصل من ضرب آ في نفسه و د من ضرب ب في نفسه و هـ من ضرب آ في ب وليكن ر حاصل من ضرب آ في ح و و حاصل من ضرب ب في ح ط حاصلين من ضرب آ ب في د فيكون ح مربع آ و ر مكعبه و هـ مربع ب و و مكعبه فاقول ان اعداد ر ح ط هي اقل الاعداد على نسبة آ الي ب برهانه فلان كلام من آ ب








الجلتين على نسبة  $\bar{e}$  الي  $\bar{r}$  و اقل الاعداد على تلك النسبة فاد متباينان  
 وذلك ما اردنا ان نبين



نريد ان نبين كيف نجد اقل الاعداد على نسبة  
 اعداد مفروضة


لتكن الاعداد المفروضة على نسبة في اعداد  $\bar{a}$   $\bar{b}$   $\bar{c}$   $\bar{d}$   $\bar{e}$   $\bar{f}$   $\bar{g}$  وليكن كل واحد منها اقل عددين على نسبتها ولناخذ اقل عدد يعده  $\bar{b}$   $\bar{c}$  بالشكل الرابع والثلاثين من السابعة وليكن هو  $\bar{p}$  وليكن  $\bar{a}$  يعده  $\bar{h}$



بعده ما يعده  $\bar{b}$   $\bar{p}$  و  $\bar{a}$  بعدة ما يعده  $\bar{h}$  فاما  $\bar{e}$  يعده  $\bar{a}$  او لا اما الاول فنجعل  $\bar{r}$  يعده  $\bar{a}$  بعدة ما يعده  $\bar{a}$  فلان  $\bar{a}$  يعده  $\bar{h}$  بعدة ما يعده  $\bar{b}$  فنسبة  $\bar{a}$  الي  $\bar{b}$  كنسبة  $\bar{h}$  الي  $\bar{p}$  بالشكل السابع عشر من السابعة وكذلك نسبة  $\bar{c}$  الي  $\bar{d}$  كنسبة  $\bar{p}$  الي  $\bar{a}$  ونسبة  $\bar{e}$  الي  $\bar{r}$  كنسبة  $\bar{a}$  الي  $\bar{a}$  فاقول ان  $\bar{h}$   $\bar{p}$   $\bar{a}$   $\bar{a}$  اقل الاعداد على نسب  $\bar{a}$   $\bar{b}$   $\bar{c}$   $\bar{d}$   $\bar{e}$   $\bar{f}$   $\bar{g}$  والافليكن  $\bar{m}$   $\bar{n}$   $\bar{s}$  اقل الاعداد على تلك النسب فلان نسبة  $\bar{a}$  الي  $\bar{b}$  كنسبة  $\bar{m}$  الي  $\bar{n}$  وهما  $\bar{a}$   $\bar{b}$  اقل عددين على نسبتها فإيعدهم  $\bar{m}$  و  $\bar{n}$  بالشكل العشرين من السابعة ولذلك ايضا  $\bar{h}$  يعده  $\bar{n}$  فلان  $\bar{b}$   $\bar{c}$  يعده  $\bar{n}$   $\bar{p}$  الذي هو اقل يعده  $\bar{n}$   $\bar{p}$  بالشكل الخامس والثلاثين من السابعة فالأكثر يعده الاقل هذا خلف فالحكم ثابت وأما الثاني وهو ان  $\bar{e}$  لا يعده  $\bar{a}$  ولناخذ اقل عدد يعده  $\bar{e}$   $\bar{a}$  بالشكل الرابع والثلاثين من



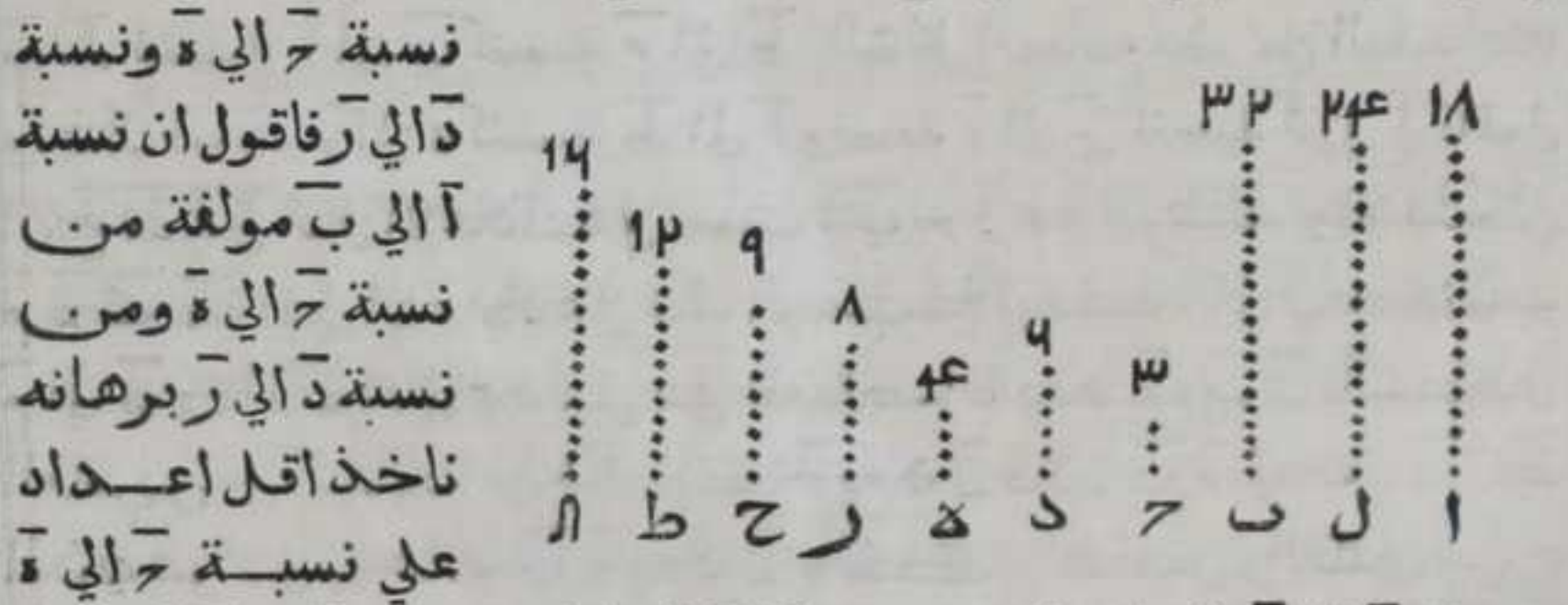
السابعة وليكن هـ و ل ونجعل ط يعد م و ح نة بعدة ما يعد ل آل و م  
يعد سة بعدة ما يعد ل فلان ط يعد م بعدة ما يعد ح نة فنسبة ح



الي ط كنسبة نة الي م بالشكل السابع عشر من السابعة ونسبة ح الي ط  
كنسبة آ الي ب فنسبة آ الي ب كنسبة نة الي م ولذلك ايضا نسبة ح  
الي د كنسبة م الي ل ولان ه يعد ل بعدة ما يعد رسة فنسبة ه الي م  
كنسبة ل الي سة بالشكل السابع عشر من السابعة فاذن الاعداد نة م  
ل سة علي نسبة الاعداد المفروضة آ الي ب و ح الي د وه الي م فاقول ان نة  
م ل سة هي اقل الاعداد علي النسب المفروضة والا فلتكن اقل الاعداد  
علي تلك النسب هي اعداد ع ص ه ق فلان نسبة ع الي ص كنسبة آ الي  
ب و آ ب اقل الاعداد علي نسبتهم فب يعد ص ولذلك ايضا ح يعد ص  
فب ح يعد ان ص فاقول يعد انه ب ح يعد ص لكن اقل من الاعداد  
الذي يعد انه ب ح هو ط فط يعد ص فالأكثر يعد الاقل هذا خلف  
فالحكم ثابت وذلك ما اردنا ان نبين

نسبة كل عدد مسطح الي عدد مسطح آخري مسطح  
كان مولفة من نسبتي اضلاعهم

ليكن آ ب عددين مسطحين وضلعا آ ح د وضلعا ب د ر والنسبتان هما




ونسبة د الي ر بالشكل المتقدم وهي ح ط آ ولتكن نسبة ح الي ط كنسبة  
ح الي د ونسبة ط الي آ كنسبة د الي م ونسبة ح الي ل مولفة من نسبة ح  
الي ط



الي ط ونسبة ط الي آ كما ندين في صدر المقالة السادسة لكن نسبة ح الي ط كنسبة ح الي ع ونسبة ط الي آ كنسبة د الي ر فنسبة ح الي آ مولفة من نسبة ح الي ع ومن نسبة د الي ر ونضرب د في ع فليكن المحاصل منه ل فليساوي حاصل ضرب ع في د بالشكل السادس عشر من السابعة في ع ضربا في د حصل منه آ فنسبة آ الي ل كنسبة ح الي ع بالشكل السابع عشر من السابعة ود ضربا في ع حصل منه ل فنسبة ل الي ب كنسبة د الي ر بالشكل المذكور فنسبة آ الي ل كنسبة ح الي ط ونسبة ل الي ب كنسبة ط الي آ باستبانة الشكل الرابع عشر من السابعة فبالمساواة نسبة آ الي ب كنسبة ح الي آ بالشكل الرابع عشر من السابعة ونسبة ح الي آ مولفة من نسبة ح الي د ومن نسبة د الي ر فنسبة آ الي ب مولفة من نسبة ح الي ع ومن نسبة د الي ر وذلك ما اردنا ان نبين

و  
كل اعداد متوالية علي نسبة واحدة كم كانت  
والاول منها لا يعد الثاني فليس منها عدد يعد

الاعداد منها بعدة



ليكن آ ب ح د ه اعداد متوالية علي نسبة واحدة وآ لا يعد ب فاقول ليس في هذه الاعداد عدد يعد عددا بعدة برهانه ولان نسبة كل عدد من هذه

الاعداد الي ما يليه كنسبة آ الي ب وآ لا يعد ب فليس منها عدد يعد العدد الذي يليه ولا يعد ايضا منها عدد عددا من الاعداد التي يعده في الرتبة لان ح ه اما متباينان او لافان كانا متباينين فلا يعد ح ه والا لكانا مشتركين هذا خلف وان كانا مشتركين فناخذ اقل الاعداد علي نسبة ح د ه بالشكل الثاني وهي ح ط فريباين ط بالشكل الثالث فلا يعد ر ط والا لكانا مشتركين وهما متباينان هذا خلف ونسبة ح الي ع كنسبة ر الي ط بالشكل الرابع عشر من السابعة و ر لا يعد ط في لا يعد ه فالحكم ثابت وذلك ما اردنا ان نبين

و  
كل اعداد متوالية علي نسبة واحدة كم كانت











في ح حصل منه ل فالواحد يعد ح بعدة ما يعد ل فنسبة الواحد  
 الى ح كنسبة ل الى ل فبالابدال  
 بالشكل الثالث عشر من  
 السابعة نسبة الواحد الى ل  
 كنسبة ح الى ل فح يعد ل  
 بعدة احاد ل وكان ل يعد ح  
 بعدة احاد ل فنسبة الواحد  
 الى ل كنسبة ل الى ح وكنسبة  
 ح الى ل فقد وقع بين الواحد  
 و ا اعداد متوالية علي نسبة  
 واحدة وعدتها عدة ما وقع  
 بين عددي آ ب وبمثله تبين  
 انه يقع بين الواحد وب  
 اعداد عدتها عدة ما وقع بين  
 عددي آ ب وصار الجيع متوالية علي نسبة واحدة فالحكم ثابت وذلك  
 ما اردنا ان نبين

	٩	٣٠	٤٤	١٩
الواحد	٩	٣٠	٤٤	١٩
ل	٩	٣٠	٤٤	١٩
ح	٩	٣٠	٤٤	١٩
ط	٩	٣٠	٤٤	١٩
ز	٩	٣٠	٤٤	١٩
د	٩	٣٠	٤٤	١٩
ب	٩	٣٠	٤٤	١٩

كل عددين يقع بين كل واحد منهما وبين  
 الواحد اعداد كم كانت وتصير معها متوالية علي  
 نسبة واحدة فانه يقع بينهما اعداد بتلك العدة  
 وتصير معها متوالية علي نسبة واحدة

ليكن العدادان آ ب  
 والواحد ل والواقع بين ل و  
 ح د وبينه وبين ب ه ر ونسبة  
 ل الى ح كنسبة ح الى د وكنسبة  
 د الى آ ونسبة ل الى ه كنسبة ه  
 الى م ونسبة م الى ب فاقول  
 انه يقع بين آ ب عددان  
 ويصيران معها متوالية علي  
 نسبة واحدة برهانه فلان  
 نسبة الواحد الى ح كنسبة ح  
 الى د والواحد

	٢٧	٣٤	٤٤٨	١٩	٤٤٤
الواحد	٢٧	٣٤	٤٤٨	١٩	٤٤٤
ل	٢٧	٣٤	٤٤٨	١٩	٤٤٤
ح	٢٧	٣٤	٤٤٨	١٩	٤٤٤
ط	٢٧	٣٤	٤٤٨	١٩	٤٤٤
ز	٢٧	٣٤	٤٤٨	١٩	٤٤٤
د	٢٧	٣٤	٤٤٨	١٩	٤٤٤
ب	٢٧	٣٤	٤٤٨	١٩	٤٤٤




الي د والواحد يعد بعدد اعدة احاد ضرب في نفسه هو د فد مربع  
 لان نسبة الواحد الي كنسبة د الي ا والواحد يعد بعدد اعدة احاد  
 فد يعد اعدة احاد ضرب في د هو ا وبمثله تبين ان مربع  
 ه وان الحاصل من ضرب ه في ه هو ب ونضرب في ه في ه فيحصل منه ح  
 ونضربهما في ح فيحصل منه ط ا وتبين بمثل ما مر في الشكل الثاني  
 ان نسبة ا الي ط كنسبة ط الي ا وكنسبة ا الي ب فالحكم ثابت وذلك ما  
 اردنا ان نبين

يا

بين كل مربعين عدد يتوالي الثلثة على نسبة  
 واحدة ونسبة المربع الي المربع كنسبة ضلع  
 احدهما الي ضلع آخر مثناة

ليكن ا ب مربعين وضلع ا وضلع ب د ونضرب في د فيحصل منه  
 ه فاقول ان نسبة ا الي ه كنسبة ه الي ب ونسبة ا الي ب كنسبة ا الي د  
 مثناة برهانه فلان الحاصل من  
 ضرب في د كالحاصل من ضرب د في  
 بالشكل السادس عشر من السابعة فلان  
 د ضربا في ح وحصل منه ا ه فنسبة ا  
 الي ه كنسبة ا الي د بالشكل السابع  
 عشر من السابعة وبمثله تبين ان نسبة ه



الي ب كنسبة ا الي د فنسبة ا الي ه كنسبة ه الي ب باستبانة الشكل الرابع  
 عشر من السابعة ونسبة ا الي د كنسبة ا الي ه فنسبة ا الي د مثناة  
 كنسبة ا الي ه مثناة ونسبة ا الي ب كنسبة ا الي ه مثناة فنسبة ا الي  
 ب كنسبة ا الي د مثناة باستبانة الشكل الرابع عشر من السابعة فالحكم  
 ثابت وذلك ما اردنا ان نبين

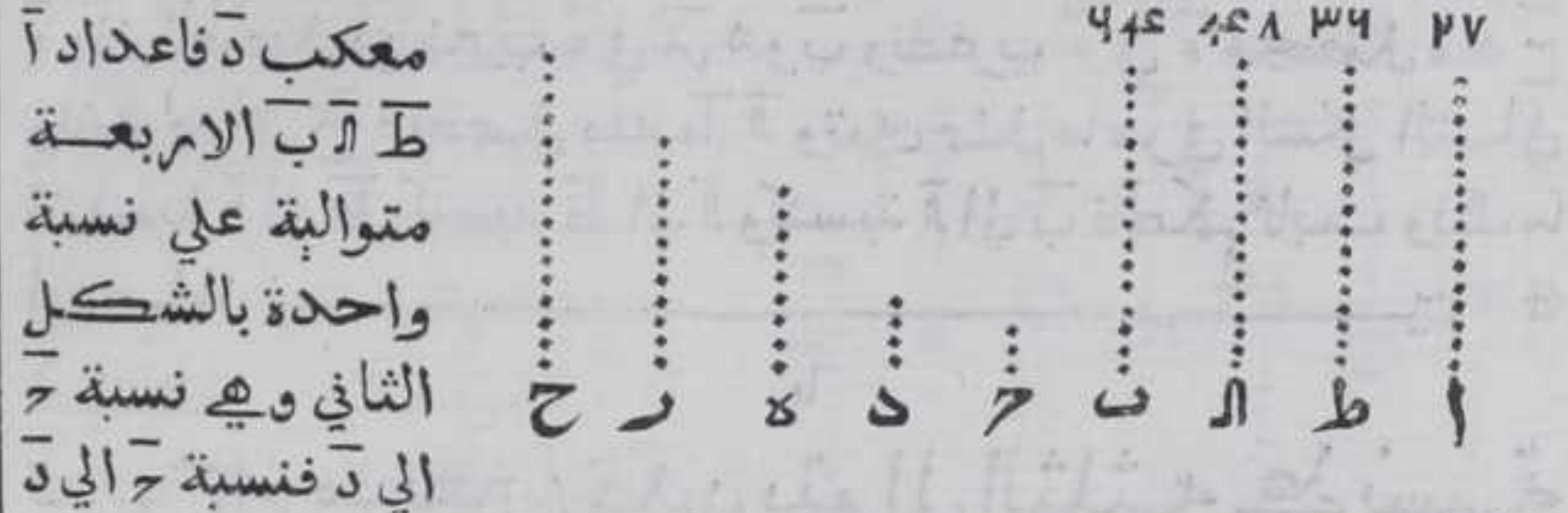
يب

بين كل مكعبين عددان يتوالي الاربعة على نسبة  
 واحدة ونسبة المكعب الي المكعب كنسبة ضلعه  
 الي ضلع آخر مثناة بالتكريب

ليكن المكعبان ا ب و ح ضلع ا و د ضلع ب فيحصل اقل ثلثة اعداد




علي نسبة ح الى د بالشكل الثاني وهي ه مربع فه مربع ح مربع د  
باستبانة الشكل الثاني ونضرب كل واحد من ح د في م فيحصل منه ط  
او مكعب ح وب



مثلثة كنسبة آ الي ط مثلثة ونسبة آ الي ب كنسبة آ الي ط مثلثة فنسبة  
آ الي ب كنسبة ح الي د مثلثة فالحكم ثابت وذلك ما اردنا ان نبين

كل اعداد متوالية علي نسبة واحدة فربعاتها  
متوالية علي نسبة واحدة وكذلك مكعباتها وما  
يتلوها من المراتب الغير المتناهية

ليكن آ ب ح متوالية علي نسبة واحدة ود مربع آ وه مربع ب وم  
مربع ح مكعب آ وط مكعب ب وآ مكعب ح فاقول ان نسبة د الي



ه كنسبة ه الي م وان نسبة ح الي ط كنسبة ط الي آ وكذلك ما يتلوها من  
المراتب برهانه ليكن ل حاصل من ضرب آ في ب وم حاصل من  
ضرب ب في ح ونه سه حاصل من ضرب آ ب في ل وع فه حاصل من ضرب ب ح  
في م فلان نسبة ب الي ح كنسبة آ الي ب وبالشكل الحادي عشر نسبة د الي  
ل كنسبة ل الي ه ونسبة ه الي م كنسبة م الي م وكل واحدة من نسبي د  
الي ل ول الي ه كنسبة آ الي ب فكل من نسبي د الي ل ول الي ه كنسبة ب  
الي ح فنسبة د الي ل كنسبة ه الي م ونسبة ل الي ه كنسبة م الي م فنسبة  
د الي ه




د الي ه كنسبة ه الي م بالشكل الرابع عشر من السابعة وايضا فلان ح ط  
 لا مكعبات لاعداد ا ب ج وقد ضرب ا ب في ل حصل منه نه سه وب ج  
 ضرب في م حصل منه ع ف بالشكل المتقدم نسبة ح الي نه ونه الي سه  
 وسه الي ط كنسبة ا الي ب ونسبة ط الي ع وع الي ف و ف الي ل كنسبة ب الي  
 ج فباستبانة الشكل الرابع عشر من السابعة كل واحدة من نسبة ح الي  
 نه ونه الي سه وسه الي ط كنسبة ب الي ج فهذه الاستبانة نسبة ح الي نه  
 كنسبة ط الي ع ونسبة نه الي سه كنسبة ع الي ف ونسبة سه الي ط  
 كنسبة ف الي ل فبالمساواة نسبة ح الي ط كنسبة ط الي ل بالشكل  
 الرابع عشر من السابعة وبمثله تبين ما وراء لك من المراتب فالحكم ثابت  
 وذلك ما اردنا ان نبين

يد

كل مربعين يعد احدهما الآخر فضع العاد يعد  
 ضلع المعدود وكل عدد يعد عددا فمربع العاد

يعد مربع المعدود



ليكن ا ب عددين مربعين و ضلع ا ج  
 و ضلع ب د فاقول ان عد ا ب عد ج د وان  
 عد ج د علي اهما عددان فيعد مربع ج  
 مربع د برهانه فنضرب ج في د فيحصل  
 منه ه فلان الحاصل من ضرب ج في د يساوي

الحاصل من ضرب د في ج بالشكل السادس عشر من السابعة و ج د ضربا  
 في ج حصل منه ا د وفي د حصل منه ه ب فنسبة ا الي ه كنسبة ج الي د  
 ونسبة ه الي ب كنسبة ج الي د بالشكل السابع عشر من السابعة فنسبة ا  
 الي ه كنسبة ه الي ب باستبانة الشكل الرابع عشر من السابعة و ا يعد ب ف ا  
 يعد ه بالشكل السابع ونسبة ج الي د كنسبة ا الي ه ف ج يعد د وايضا ان  
 ج يعد د و ا يعد ب وليكن ا مربع ج وب مربع د وه الحاصل من ضرب  
 ج في د فتبين بمثل ما بينا ان نسبة ا الي ه كنسبة ه الي ب ونسبة ج الي د  
 كنسبة ا الي ه و ج يعد د ف ا يعد ه ف لان عاد العاد يعد

معدوده وذلك ما اردنا ان نبين  
 واستبان منه انه اذا لم يعد عدد عددا لم يعد مربعه مربعه واذا لم  
 يعد مربع مربعه لم يعد ضلعه ضلعه

يه



كل مكعبين يعد أحدهما الآخر فضلع العاد يعد  
ضلع المعدود وكل عدد يعد عدداً فمكعب العاد

يعد مكعب المعدود

	١٩	٨	٤٤	٤٤	٢	٤٤	٣٢	١٩	٨
ليكن آ ب عددين مكعبين	⋮	⋮	⋮	⋮	⋮	⋮	⋮	⋮	⋮
وضلع آ ح وضلع ب د	⋮	⋮	⋮	⋮	⋮	⋮	⋮	⋮	⋮
فاقول ان عد آ ب يعد ح د	⋮	⋮	⋮	⋮	⋮	⋮	⋮	⋮	⋮
وان عد ح د علي اهما عددان	⋮	⋮	⋮	⋮	⋮	⋮	⋮	⋮	⋮
فبعد مكعب ح مكعب	⋮	⋮	⋮	⋮	⋮	⋮	⋮	⋮	⋮
د برهانه فنضرب ح في نفسه فيحصل منه ه ونضرب ح في د	⋮	⋮	⋮	⋮	⋮	⋮	⋮	⋮	⋮
فيحصل منه ح ونضرب د في نفسه فيحصل منه م ونضرب د في ح	⋮	⋮	⋮	⋮	⋮	⋮	⋮	⋮	⋮
فيحصل منه ط ال فظاهر ان ه ح ر متوالبة و آ ط ال ب متوالبة علي نسبة	⋮	⋮	⋮	⋮	⋮	⋮	⋮	⋮	⋮
ح الي د بالشكل السابع عشر وبالشكل الثامن عشر من السابعة وبالشكل	⋮	⋮	⋮	⋮	⋮	⋮	⋮	⋮	⋮
الثاني عشر من الثامنة ولان آ ط ال ب متوالبة علي نسبة واحدة ويعد	⋮	⋮	⋮	⋮	⋮	⋮	⋮	⋮	⋮
آ ب فآ يعد ط بالشكل السابع ونسبة آ الي ط كنسبة ح الي د فح يعد د	⋮	⋮	⋮	⋮	⋮	⋮	⋮	⋮	⋮
وايضا ان عد ح د فبعد آ ب وليكن آ مكعب ح وب مكعب د وه	⋮	⋮	⋮	⋮	⋮	⋮	⋮	⋮	⋮
الحاصل من ضرب ح في نفسه وح الحاصل من ضرب ح في د و م الحاصل	⋮	⋮	⋮	⋮	⋮	⋮	⋮	⋮	⋮
من ضرب د في نفسه وط ال الحاصلان من ضرب ح د في ح فتبين بمثل ما	⋮	⋮	⋮	⋮	⋮	⋮	⋮	⋮	⋮
بيننا ان آ ط ال ب متوالبة علي نسبة ح الي د وايضا ان ه ح ر متوالبة علي	⋮	⋮	⋮	⋮	⋮	⋮	⋮	⋮	⋮
نسبة ح الي د ولان ح يعد د ونسبة ح الي د كنسبة آ الي ط فآ يعد ط	⋮	⋮	⋮	⋮	⋮	⋮	⋮	⋮	⋮
وبهذا الدليل ط يعد آ و آ ب ولان آ يعد ط وط يعد آ فآ يعد آ لكن	⋮	⋮	⋮	⋮	⋮	⋮	⋮	⋮	⋮
آ يعد ب فآ يعد ب وذلك ما اردنا ان نبين	⋮	⋮	⋮	⋮	⋮	⋮	⋮	⋮	⋮
واستبان منه انه اذا لم يعد عدد عددا لم يعد مكعبه مكعبه واذا لم يعد	⋮	⋮	⋮	⋮	⋮	⋮	⋮	⋮	⋮
مكعب مكعبا لم يعد ضلعه ضلعه	⋮	⋮	⋮	⋮	⋮	⋮	⋮	⋮	⋮

كل عددين مسطحين متشابهين فانه يقع بينهما  
عدد ويتوالي الثلاثة علي نسبة واحدة ونسبة المسطح  
الي المسطح كنسبة ضلع من المنسوب الي نظيره من  
ضلي المنسوب اليه مثناة بالتكـ رير  
ليكن











وليكونا د ه فهما يعدان كل عددين علي نسبتها عدا واحدا بالشكل العشرين من السابعة فد يعد آ وه فليعدا باحاد م ويعدان ح ب ايضا عدا واحدا فليعدا بعدة احاد ح فلان د يعد آ باحاد م فنسبة الواحد الي م كنسبة د الي آ فضرب د في م هو آ بالشكل التاسع عشر من السابعة وبمثله تبين ان الحاصل من ضرب ه في ح هو ب فآب مسطمان ولان ه يعد ح باحاد م ود يعد ح باحاد م فنسبة الواحد الي م كنسبة ه الي ح ونسبة الواحد الي ح كنسبة د الي ح فضرب كل واحد من ه في م ود في ح هو ح بالشكل التاسع عشر من السابعة فهذا الشكل بعينه نسبة د الي ه كنسبة م الي ح فآب مسطمان متشابهان وذلك ما اردنا ان نبين

يط

كل عددين يقع بينهما عددان ويصير الاربعة متناسبة علي نسبة واحدة فهما مجسمان

متشابهان

٤٤ ٤٤ ٤٤ ٣ ٣ ٣ ١٩ ١٢ ٩ ٤٤٤ ٤٤٨ ٣٩ ٢٧

ا ح د ب ه ز ح ا ل ط م ن ه

ليكن آ ب عددين وقع بينهما عددان ح د وصارت الاربعة اليه علي نسبة واحدة فاقول ان آ ب مجسمان متشابهان برهانه فلان نسبة آ الي ح كنسبة د الي ه وكنسبة د الي ب فلنجد اقل ثلاثة اعداد علي نسبة آ الي ح ونسبة د الي ه وبالشكل الثالث والثلاثين من السابعة وليكن ه في ه م ح فه ح مسطمان متشابهان بالشكل المتقدم وليكن آل ضلعي ه وم نه ضلعي ح ونسبة آ الي م كنسبة ل الي نه ولان ه م ح يعد آ ح د ب عدا واحدا فليعد ه آ باحاد ط و ح ب باحاد سه ونسبة الواحد الي ط كنسبة ه الي آ فضرب ط في ه هو آ بالشكل التاسع عشر من السابعة فآ مجسم وبمثله تبين ان ب مجسم ولان ح عدد د باحاد ط و ب باحاد سه فنسبة الواحد الي ط كنسبة ح الي د فد هو الحاصل من ضرب ط في ح بالشكل التاسع عشر من السابعة وبمثله تبين ان ب هو الحاصل من ضرب













عدد ويصير الثلاثة متوالية علي نسبة واحدة  
 بالشكل الثامن وكل ثلاثة اعداد متوالية علي نسبة  
 واحدة وان لها مربع فثالثها مربع بالشكل  
 العشرين فب مربع وذلك ما اردنا ان نبين  
 واستبان منه ان كل عددين علي نسبة مربعين فهما  
 مسطغان متشابهان  
 لان تبين من هذا الشكل ان كل عددين علي نسبة  
 مربعين وليس احدهما مربعاً فهما مسطغان متشابهان لانا بينا في برهاننا  
 ان كل عددين علي نسبة مربعين فانه يقع بينهما عدد ويصير الثلاثة  
 متوالية علي نسبة وقد بين في الشكل الثامن عشر ان كل عددين يقع  
 بينهما عدد ويصير الثلاثة متوالية علي نسبة فهما مسطغان متشابهان  
 وكل مربعين فهما مسطغان متشابهان وكل عددين علي نسبة مربعين  
 فهما مسطغان متشابهان



### كل عددين علي نسبة مكعبين واحدهما

مكعب فالآخر مكعب

ليكن  $\gamma$  د مكعبين ونسبة آ الي ب كنسبة  $\gamma$  الي د  
 وآ مكعب فاقول ان ب ايضا مكعب برهانه  
 فلان  $\gamma$  د مكعبان فيقع بينهما عددان ويصير  
 الاربعة متوالية علي نسبة بالشكل الثاني عشر  
 فيقع بين آ ب عددان ويصير الاربعة متوالية



علي نسبة بالشكل الثامن وكل عددين يقع بينهما عددان ويصير الاربعة  
 متوالية علي نسبة واحدهما مكعب فالآخر مكعب بالشكل الواحد  
 والعشرين فب مكعب وذلك ما اردنا ان نبين  
 واستبان منه ان كل عددين علي نسبة مكعبين فهما مجسمان متشابهان  
 وذلك لانا بينا في برهان هذا الشكل ان كل عددين علي نسبة مكعبين  
 فانه يقع بينهما عددان ويصير الاربعة متوالية علي نسبة وقد بين في  
 الشكل التاسع عشر ان كل عددين يقع بينهما عددان ويتوالي الاربعة  
 علي نسبة فهما مجسمان متشابهان وكل مكعبين فهما مجسمان متشابهان  
 فكل عددين علي نسبة مكعبين فهما مجسمان متشابهان  
 اقول ان الشكلين اللذين ذكرناهما الاستبانة في هذا الشكل والشكل  
 الذي قبله جعلهما ثابت بن قره الشكل الرابع والعشرين والخامس  
 والعشرين

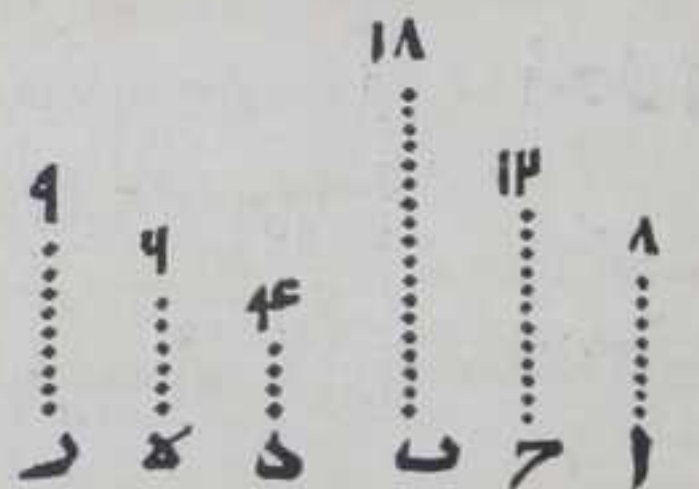


والعشرين من كتابه ولم يجعلها الحجاج شكلا من كتابه والايق بطريقه  
اقله سدس في كتابه هذا ان كل ما يعلم بطريق الاستبانة او من الاشكال  
المتقدمة لم يجعله شكلا من كتابه فلذلك لم يجعلها من اصل الكتاب

اد

كل مسطحين متشابهين فهما علي نسبة مربعين

ليكن  $\overline{AB}$  مسطحين متشابهين فاقول انهما علي نسبة مربعين برهانه  
فلان  $\overline{AB}$  مسطحان متشابهان يقع بينهما عدد ويتوالي الثلاثة علي نسبة



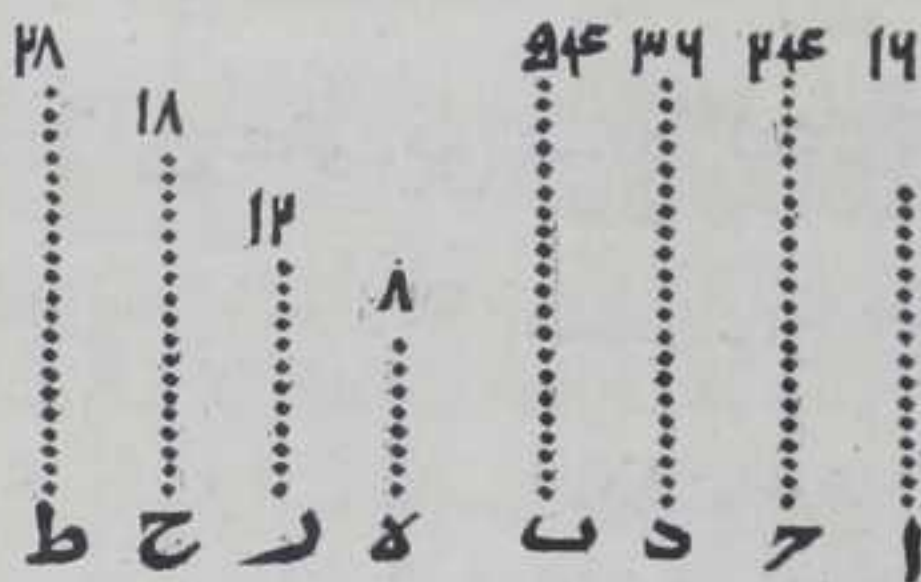
واحدة بالشكل السادس عشر وليكن  
ذلك العدد  $\gamma$  وناخذ اقل ثلاثة اعداد  
علي نسبة  $\overline{A\gamma}$   $\overline{B}$  بالشكل الثالث  
والثلاثين من السابعة وهي  $\delta$   $\epsilon$   $\zeta$  فكل  
من  $\delta$   $\epsilon$   $\zeta$  مربع باستبانة الشكل الثاني  
ونسبة  $\overline{A}$  الي  $\gamma$  كنسبة  $\delta$  الي  $\epsilon$  ونسبة  $\gamma$

الي  $\overline{B}$  كنسبة  $\delta$  الي  $\zeta$  فبالمساواة نسبة  $\overline{A}$  الي  $\overline{B}$  كنسبة  $\delta$  الي  $\zeta$  بالشكل  
الرابع عشر من السابعة فالحكم ثابت وذلك ما اردنا ان نبين

اه

كل مجسمين متشابهين فهما علي نسبة مكعبين

ليكن  $\overline{AB}$  مجسمين متشابهين فاقول انهما علي نسبة مكعبين برهانه



فلان  $\overline{AB}$  مجسمان متشابهان  
يقع بينهما عددان ويصير  
الكل متواليبة علي نسبة  
بالشكل السابع عشر  
وليكن هما  $\delta$   $\epsilon$  وناخذ اقل  
اعداد علي نسبة  $\overline{A}$   $\overline{B}$   
بالشكل الثالث والثلاثين

من السابعة وهي  $\delta$   $\epsilon$   $\zeta$   $\eta$   $\theta$  فكل مكعبان باستبانة الشكل الثاني فلان  
نسبة  $\overline{A}$  الي  $\delta$  كنسبة  $\epsilon$  الي  $\zeta$  ونسبة  $\gamma$  الي  $\delta$  كنسبة  $\eta$  الي  $\theta$  ونسبة  $\delta$  الي  
 $\overline{B}$  كنسبة  $\zeta$  الي  $\eta$  فبالمساواة بالشكل الرابع عشر نسبة  $\overline{A}$  الي  $\overline{B}$  كنسبة  $\delta$  الي  
 $\theta$  بالشكل الرابع عشر من السابعة فالحكم ثابت وذلك ما اردنا ان نبين

تمت المقالة الثامنة والحمد لله علي التوفيق



# المقالة الثالثة وثلاثون في أشكال


## الأشكال

أ

كل مسطحين متشابهين فان الحاصل من ضرب

احدهما في الآخر مربع

ليكن  $\bar{A}$   $\bar{B}$  مسطحين متشابهين وضرب  $\bar{A}$  في  $\bar{B}$  حصل منه  $\bar{C}$  فاقول ان  $\bar{C}$  مربع برهانه نضرب  $\bar{A}$  في نفسه فيحصل منه  $\bar{D}$  فلان  $\bar{A}$  ضرب في نفسه وفي  $\bar{B}$  حصل منه  $\bar{D}$  فنسبة  $\bar{A}$  الي  $\bar{B}$  كنسبة  $\bar{D}$  الي  $\bar{C}$  بالشكل الثامن عشر من السابعة و  $\bar{A}$   $\bar{B}$




مسطحان متشابهان فيقع بينهما عدد ويتوالي الثلاثة علي نسبة بالشكل السادس عشر من الثامنة فيقع بين  $\bar{D}$  عدد ويصير معها متوالية علي نسبة بالشكل الثامن من الثامنة وكل ثلثة اعداد يتوالية علي نسبة اولها مربع فالثالث مربع بالشكل العشرين من الثامنة ود مربع  $\bar{C}$  مربع وذلك ما اردنا ان نبين

ب

كل عددين مسطح احدهما في الآخر مربع فهما

مسطحان متشابهان

ليكن مسطح  $\bar{A}$  في  $\bar{B}$  وهو مربع فاقول ان عددي  $\bar{A}$   $\bar{B}$  مسطحان متشابهان برهانه نضرب  $\bar{A}$  في نفسه فيحصل منه  $\bar{D}$  مربعاً فلان  $\bar{A}$  ضرب في نفسه وفي  $\bar{B}$  حصل منه  $\bar{D}$  فنسبة  $\bar{A}$  الي  $\bar{B}$  كنسبة  $\bar{D}$  الي  $\bar{C}$  بالشكل الثامن عشر من السابعة



ود  $\bar{C}$  عددان مربعان وكل عددين علي نسبة مربعين فهما مسطحان متشابهان باستبانة الشكل الثاني والعشرين من الثامنة ف  $\bar{A}$   $\bar{B}$  عددان مسطحان متشابهان وذلك ما اردنا ان نبين

واستبان منه ان الحاصل من ضرب المربع في المربع مربع وان الحاصل من ضرب



ضرب عدد في عدد اذا كان مربعاً فالمضروب فيه مربع وان الحاصل من ضرب المربع في عدد اذا كان غير مربع فان المضروب فيه غير مربع وان الحاصل من ضرب مربع في غير مربع غير مربع


مربع كل مكعب مكعب



ليكن آ مكعباً وضرب في نفسه حصل منه ب فاقول ان ب مكعب برهانه ليكن ج ضلع آ ود مربع ج فنسبة الواحد الي ج كنسبة ج الي د و ضرب في د حصل منه آ

فنسبة ج الي آ كنسبة الواحد الي د وبالابدال بالشكل الثالث عشر من السابعة نسبة د الي آ كنسبة الواحد الي ج وكانت نسبة ج الي د كنسبة الواحد الي ج فباستبانة الشكل الرابع عشر من السابعة نسبة ج الي د كنسبة واحدة ولان آ ضرب في نفسه حصل منه ب فنسبة آ الي ب كنسبة الواحد الي آ فيقع بين آ وب عدداً وتصبح الاربعة متوالية علي نسبة بالشكل الثامن من الثامنة وكل اربعة اعداد متوالية علي نسبة اولها مربع فالرابع مربع بالشكل الواحد والعشرين من الثامنة فب مربع وذلك ما اردنا ان نبين

الحاصل من ضرب المكعب في المكعب



ليكن آ المكعب ضرب في ب المكعب فحصل ج فاقول ان ج مكعب برهانه نضرب آ في نفسه فحصل منه د فد مكعب بالشكل المتقدم فآ ضرب في نفسه وفي ب حصل منه د فنسبة آ الي ب كنسبة د الي ج بالشكل الثامن عشر من السابعة فد ج علي نسبة مكعبين ود منهما مكعب فمكعب بالشكل الثامن عشر من الثامنة وذلك ما اردنا ان نبين

كل عدد ضرب فيه مكعب فحصل منه مكعب فالمضروب فيه مكعب




ليكن  $\bar{A}$  مكعبا وضرب في  $\bar{B}$  فحصل  $\bar{C}$  مكعبا فاقول ان  $\bar{B}$  مكعب برهانه  
 نضرب  $\bar{A}$  في نفسه فيحصل منه  $\bar{D}$  مكعبا بالشكل  
 الثالث ونسبة  $\bar{A}$  الي  $\bar{B}$  كنسبة  $\bar{D}$  الي  $\bar{C}$  بالشكل  
 الثامن عشر من السابعة ف  $\bar{A}$  علي نسبة المكعبين  
 و  $\bar{A}$  مكعب ف  $\bar{B}$  مكعب بالشكل الثالث  
 والعشرين من الثامنة وذلك ما اردنا ان نبين  
 واستبان منه ان مسطح المكعب في غير المكعب  
 غير مكعب وان كل عدد ضرب فيه مكعب  
 وحصل غير المكعب فالمضروب فيه غير مكعب




**كل عدد ضرب في نفسه فحصل منه مكعب**  
 فهو مكعب

ليكن  $\bar{A}$  ضرب في نفسه فحصل منه  $\bar{B}$  مكعب فاقول  
 ان  $\bar{A}$  مكعب برهانه نضرب  $\bar{A}$  في  $\bar{B}$  فيحصل  $\bar{C}$   
 مكعب فلان  $\bar{A}$  ضرب في نفسه حصل  $\bar{B}$  و  $\bar{A}$  ضرب  
 في  $\bar{B}$  حصل  $\bar{C}$  فنسبة  $\bar{A}$  الي  $\bar{B}$  كنسبة  $\bar{B}$  الي  $\bar{C}$  بالشكل  
 الثامن عشر من السابعة ف  $\bar{A}$  علي نسبة مكعبين و  $\bar{B}$   
 مكعب ف  $\bar{A}$  مكعب بالشكل الثالث والعشرين من الثامنة وذلك ما اردنا  
 ان نبين



**كل عدد مركب ضرب في عدد آخر فالحاصل**  
 منه عدد مجسم

ليكن  $\bar{A}$  عددا مركبا وضرب في  $\bar{B}$  فحصل  $\bar{C}$   
 فاقول ان  $\bar{C}$  عدد مجسم برهانه فلان  $\bar{A}$   
 مركب فليعدد  $\bar{A}$  فليعدد  $\bar{D}$  باحاد  $\bar{E}$  ف  
 حاصل من ضرب  $\bar{D}$  في  $\bar{E}$  وضرب  $\bar{A}$  في  $\bar{B}$   
 وحصل  $\bar{C}$  ف  $\bar{C}$  مجسم وذلك ما اردنا ان نبين




**كل اعداد مبتدئية من الواحد متوالية علي نسبة**  
 واحدة



واحدة كم كانت فان ثالث الواحد منها مربع ثم ثالث  
الثالث مربع على الولا بالغا ما بلغ ورابع الواحد  
مكعب ثم رابع الرابع مكعب على الولا بالغا ما  
بلي وسابع الواحد مربع مكعب ثم سابع السابع  
على الولا بالغا ما بلغ مربع مكعب

ليكن  $\bar{a}$   $\bar{b}$   $\bar{c}$   $\bar{d}$   $\bar{e}$  اعداد متوالية على نسبة من الواحد فاقول ان  $\bar{b}$   
مربع وثالث وثالث ثالثة بالغا ما بلغ مربع ود مكعب ورابعة ورابع  
رابعة بالغا ما بلغ مكعب ور



مربع مكعب وسابعة وسابع  
سابعة بالغا ما بلغ مربع  
مكعب برهانه فلان نسبة  
الواحد الى  $\bar{a}$  كنسبة  $\bar{a}$  الى  $\bar{b}$   
فب مربع  $\bar{a}$  لان  $\bar{a}$  يعد  $\bar{b}$   
باحاد  $\bar{a}$  فالحاصل من ضرب  $\bar{a}$  في

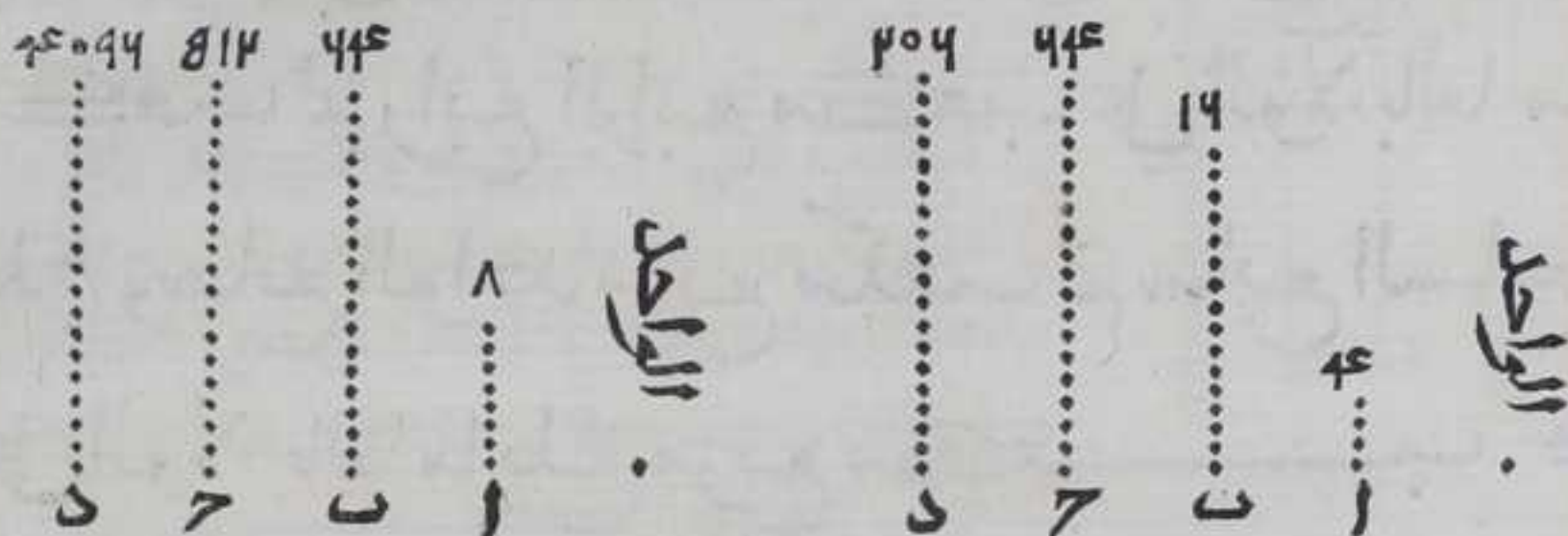
نفسه يكون بالمصادرة ولان نسبة الواحد الى  $\bar{b}$  كنسبة  $\bar{b}$  الى  $\bar{d}$  وكنسبة  
 $\bar{d}$  الى  $\bar{e}$  بالشكل الرابع عشر من السابعة فكل واحد من  $\bar{d}$  و  $\bar{e}$  مربع  
بالشكل العشرين من الثامنة ولو بيناه بالمصادرة لجاز وكان احسن ولان  
نسبة الواحد الى  $\bar{a}$  كنسبة  $\bar{b}$  الى  $\bar{c}$  فالحاصل من ضرب  $\bar{a}$  في  $\bar{c}$   
مكعب ونسبة الواحد الى  $\bar{c}$  كنسبة  $\bar{c}$  الى  $\bar{e}$  بالشكل الرابع عشر من  
السابعة و  $\bar{c}$  مكعب ف  $\bar{e}$  مكعب بالشكل العشرين من الثامنة فمربع  
مكعب معا وبمثله نبي ان سابع  $\bar{e}$  مربع معا وهكذا تبين فيهما بعد  
من المراتب وذلك ما اردنا ان نبين

ط

كل اعداد متوالية من الواحد على نسبة واحدة  
كم كانت الاعداد فان كان الذي يلي الواحد مربعاً  
فالكل مربع وان كان مكعباً فالكل مكعب



ليكن الاعداد المتوالية من الواحد علي نسبة  $\bar{a} \bar{b} \bar{c}$  فاقول ان كان  $\bar{a}$  مربعاً فكل واحد من  $\bar{b} \bar{c}$  مربع وان كان مكعباً فكل واحد من  $\bar{b} \bar{c}$  مكعب برهانه فان كان  $\bar{a}$  مربعاً وب  $\bar{c}$  ثالث الواحد فهو مربع بالشكل




المتقدم ونسبة  $\bar{a}$  الي  $\bar{b}$  كنسبة  $\bar{b}$  الي  $\bar{c}$  وب  $\bar{c}$  علي نسبة مربعين وب مربع في مربع بالشكل الثاني والعشرين من الثامنة وبمثله تبين ما بعده وان كان  $\bar{a}$  مكعباً فب  $\bar{c}$  مكعب لان نسبة الواحد الي  $\bar{a}$  كنسبة  $\bar{a}$  الي  $\bar{b}$  فب مربع  $\bar{a}$  باستبانة الشكل التاسع عشر من السابعة و  $\bar{a}$  مكعب فب  $\bar{b}$  مكعب بالشكل الثالث ولان نسبة  $\bar{a}$  الي  $\bar{b}$  كنسبة  $\bar{b}$  الي  $\bar{c}$  فب  $\bar{c}$  علي نسبة مكعبين وب  $\bar{c}$  مكعب في مكعب بالشكل الثالث والعشرين من الثامنة وهذا تبين فيما بعد فالحكم ثابت وذلك ما اردنا ان نبين  $\square$

كل اعداد متوالية من الواحد علي نسبة كم كانت الاعداد وكان الذي يلي الواحد غير مربع فليس منها عدد مربع الاثالث من الواحد وثالث الثالث علي الولا علي هذا النسق بالغ ما بلغت وان كان الذي يلي الواحد غير مكعب فليس منها عدد مكعب الا رابع الواحد ورابع الرابع علي الولا علي هذا النسق بالغ ما بلغت  $\square$

ليكن  $\bar{a} \bar{b} \bar{c} \bar{d}$  الاعداد المتوالية من الواحد علي نسبة واحدة و  $\bar{a}$  غير مربع فليس منها غير  $\bar{b} \bar{c}$  وان كان  $\bar{a}$  غير مكعب فليس منها غير  $\bar{c} \bar{d}$  مكعب علي هذا النسق لو كانت الاعداد المتوالية المبتدئية من الواحد



الواحد أكثر من هذه برهانه أما ان كل واحد من  $\bar{b}$   $\bar{d}$  مربع وكل واحد من  $\bar{c}$   $\bar{r}$  مكعب فبالشكل الثامن لذلك ما يتلوها من المراتب علي هذا النسق وأما ان غير  $\bar{b}$   $\bar{d}$  لا يجوز ان يكون مربعاً فلانه لو جاز له يكن  $\bar{c}$  مربعاً فلان نسبة  $\bar{a}$  الي  $\bar{b}$  كنسبة  $\bar{b}$  الي  $\bar{c}$  و  $\bar{b}$   $\bar{c}$  مربعان فأربع بالشكل الثاني والعشرين من الثامنة هذا خلف وبمثله تبين في الكل وأما ان غير  $\bar{c}$   $\bar{r}$  لا يجوز ان يكون مكعباً فلانه لو جاز له يكن  $\bar{r}$  مكعباً ونسبة  $\bar{a}$  الي  $\bar{c}$  كنسبة  $\bar{c}$  الي  $\bar{r}$  بالشكل الرابع عشر من السابعة و  $\bar{c}$   $\bar{r}$  مكعبان فنسبة  $\bar{a}$  الي  $\bar{c}$  كنسبة مكعبين و  $\bar{c}$   $\bar{r}$  مكعب فأربع بالشكل الثالث والعشرين من الثامنة هذا خلف وبمثله تبين في الكل فالحكم ثابت وذلك ما اردنا ان نبين




وذلك ما اردنا ان نبين

يا

كل اعداد متوالية من الواحد علي نسبة فان عدد الاقل منها يعد الاكثر منها بعدة احاد عدد منها

ليكن اعداد  $\bar{a}$   $\bar{b}$   $\bar{c}$   $\bar{d}$  متوالية من الواحد علي نسبة و  $\bar{c}$  يعد  $\bar{d}$  فاقول انه يعد  $\bar{d}$  بعدة احاد عدد منها



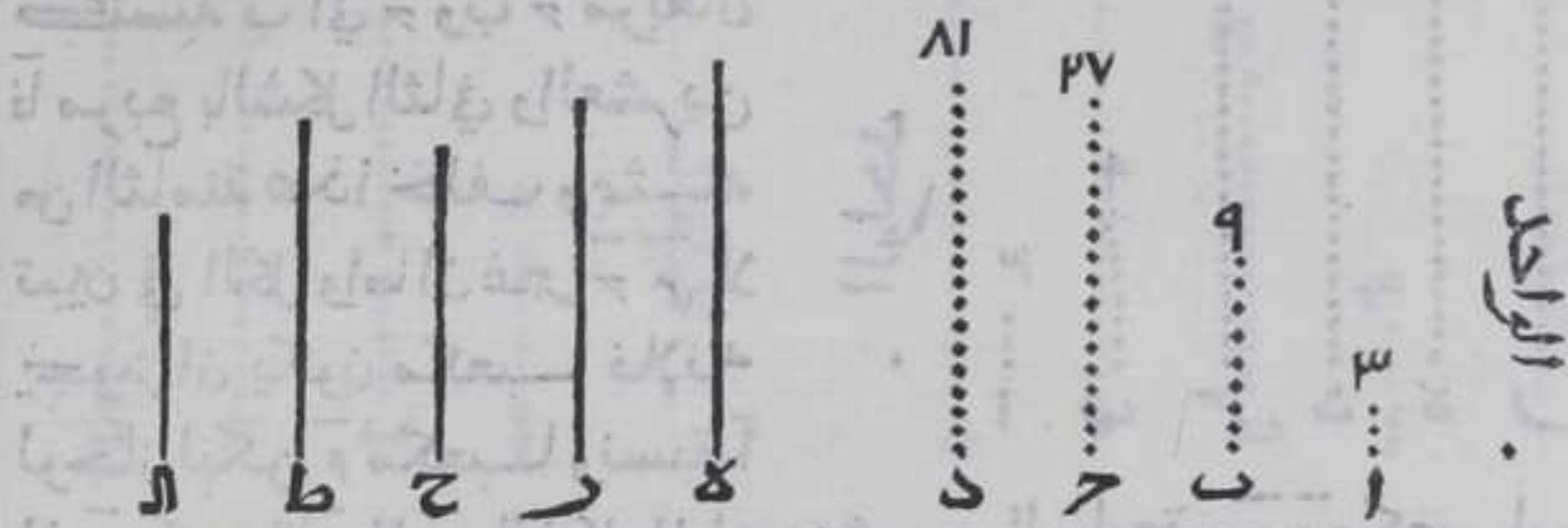
برهانه فلان نسبة الواحد الي  $\bar{b}$  كنسبة  $\bar{c}$  الي  $\bar{d}$  بالشكل الرابع عشر من السابعة والواحد يعد  $\bar{b}$  بعدة احاد  $\bar{b}$  ف  $\bar{c}$  يعد  $\bar{d}$  بعدة احاد  $\bar{b}$  وبمثله تبين في كل اقل عدد يعد الاكثر منها فالحكم ثابت وذلك ما اردنا ان نبين

يب

كل اعداد توالت من الواحد علي نسبة كم كانت الاعداد وكل عدد اول يعد الاخير منها فانه يعد العدد الذي يلي الواحد



ليكن  $\bar{a} \bar{b} \bar{c} \bar{d}$  متوالية من الواحد علي نسبة  $\bar{d}$  وه عدد اول يعد  $\bar{d}$  فاقول انه يعد  $\bar{a}$  برهانه لانه لو لم يعد  $\bar{a}$  فبكونان متباينين بالشكل الواحد والثلاثين من السابعة فهما اقل عددين علي نسبتهم بالشكل الثاني والعشرين من السابعة فبعد ان كل عددين علي نسبتهم اعدا واحدا




بالشكل العشرين من السابعة وليكن  $\bar{d}$  يعد  $\bar{d}$  بر فنسبة الواحد الي  $\bar{r}$  كنسبة  $\bar{e}$  الي  $\bar{d}$  فد هو الحاصل من ضرب  $\bar{r}$  في  $\bar{e}$  بالشكل التاسع عشر من السابعة ولان الواحد يعد  $\bar{a}$  بعدة ما يعد  $\bar{c}$  فنسبة الواحد الي  $\bar{a}$  كنسبة  $\bar{c}$  الي  $\bar{d}$  فالحاصل من ضرب  $\bar{a}$  في  $\bar{c}$  بالشكل التاسع عشر من السابعة فنسبة  $\bar{e}$  الي  $\bar{a}$  كنسبة  $\bar{c}$  الي  $\bar{r}$  بالشكل التاسع عشر من السابعة فه يعد  $\bar{c}$  بالشكل العشرين من السابعة ولبعده  $\bar{c}$  في  $\bar{c}$  وبمثله ما بينا تبين ان  $\bar{a}$  في  $\bar{b}$  ونسبة  $\bar{e}$  الي  $\bar{a}$  كنسبة  $\bar{b}$  الي  $\bar{c}$  فه يعد  $\bar{b}$  ولبعده بط  $\bar{e}$  في  $\bar{a}$  في مثله  $\bar{b}$  فنسبة  $\bar{e}$  الي  $\bar{a}$  كنسبة  $\bar{a}$  الي  $\bar{a}$  فه يعد  $\bar{a}$  وكان لا يعده هذا خلف فالحكم ثابت وذلك ما اردنا ان نبين

كل اعداد توالت علي نسبة مبتدأة من الواحد كم كانت وكان العدد الذي يلي الواحد منها اعداد اول فلا يعد العدد الاكثر منها عدد غير تلك الاعداد

ليكن الاعداد المتوالية من الواحد علي نسبة اعداد  $\bar{a} \bar{b} \bar{c} \bar{d}$  وال الذي يلي الواحد اول فاقول لا يعد  $\bar{d}$  غير اعداد  $\bar{a} \bar{b} \bar{c}$  برهانه والا فليعد  $\bar{d}$  عدد  $\bar{e}$  وهو غير  $\bar{a} \bar{b} \bar{c}$  فه لا يجوز ان يكون عددا اول والا فليعد  $\bar{a}$  بالشكل المتقدم واعداد اول هذا خلف فه عدد مركب وكل عدد مركب يعد عددا اول بالشكل التاسع والعشرين من السابعة وذلك الاول لا يمكن ان يكون غير عدد  $\bar{a}$  والا فليكن عدد  $\bar{a}$  ولا يعد  $\bar{d}$  فبعد  $\bar{a}$  بالشكل



بالشكل المتقدم هذا خلف فالعدد الاول الذي يعد عدده هو آ لا  
غير وبعده د بعدة احاد ر فنسبة الواحد الي ر كنسبة ه الي د فد  
مسطح ر في ه بالشكل التاسع عشر من السابعة فنسبة آ الي ر كنسبة ه  
الي ر بالشكل التاسع عشر من السابعة وآ يعد ه فر يعد ر ولان ه يعد د




بعدد ليس هو آ ب ر فر ليس هو آ ولا ب فهو غيرهما وليس ر اول والا  
لعدا الاول بالشكل المتقدم هذا خلف فهو مركب وكل مركب يعده  
عدد اول بالشكل التاسع والعشرين من السابعة وذلك الاول لا يمكن ان  
يكون غير آ والا لكان لا فك يعد ر فبعد آ بالشكل المتقدم هذا  
خلف فدك الاول هو آ لا غير فآ يعد ر وبعده ر ر ب ح فر في ح ر  
بالشكل التاسع عشر من السابعة لان نسبة الواحد الي ح كنسبة ر الي ر  
ولان نسبة الواحد الي آ كنسبة ب الي ر فح مسطح آ في ب بالشكل التاسع  
عشر من السابعة فنسبة آ الي ر كنسبة ح الي ب بالشكل التاسع عشر من  
السابعة وآ يعد ر ب وبعده ب وليس ح آ لان ر عد ر بعدد ليس هو آ  
ولا ب وليس ح عددا اول والا لعدا بالشكل المتقدم فهو مركب ولا  
يعد ح غير آ كما بينا فليعد ح ب بط فنسبة الواحد الي ط كنسبة ح الي  
ب فب مسطح ط في ح بالشكل التاسع عشر من السابعة ولان نسبة  
الواحد الي آ كنسبة آ الي ب فآ في نفسه هو ب باستبانة الشكل التاسع  
عشر من السابعة فنسبة آ الي ر كنسبة ط الي آ وآ يعد ح فط يعد آ وهو  
عدد اول هذا خلف فالحكم ثابت وذلك ما اردنا ان نبين  
يد

كل اعداد اوائل تفرض معلومة العدة فلا بد  
ان يوجد عدد اول لا يكون واحدا منها

ليكن الاعداد الاوائل المفروضة آ ب ر فاقول لنا ان نجد عددا اول غير  
هذه الثلاثة برهانها فلنجد اول عدد يعده اعداد آ ب ر بالشكل  
السادس والثلاثين من السابعة وليكن ده ونزيد عليه واحدا وهو ر  
فدر ان كان اول فقد وجدنا عددا اول غير آ ب ر وان لم يكن دتر عددا



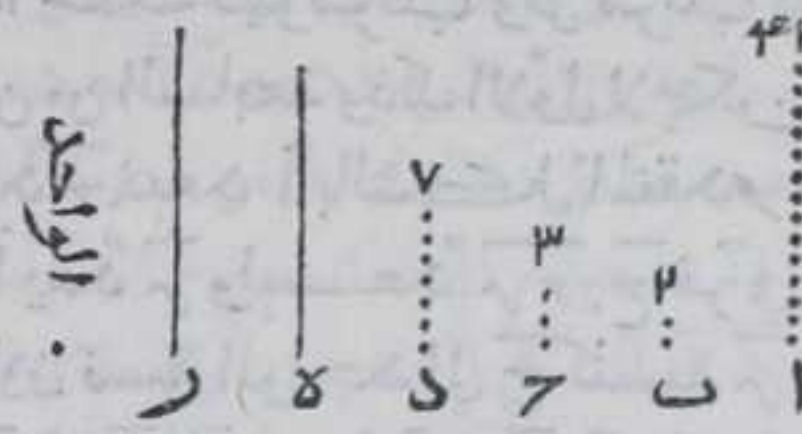
أول فبعده عدد أول بالشكل الثلثين من  
 السابعة وليكن الأول الذي يعد در هوح  
 وهو ليس واحدا من آ ب لان كل واحد  
 منها يعد ده فلو كان ح واحدا من آ ب  
 لكان يعد ده وكان يعد در فعده ح يعد  
 هـ هذا خلف فح عدد أول غير آ ب  
 فالحكم ثابت وذلك ما اردنا ان نبين



كل اقل عدد يعده اعداد او ايل مفروضة فلا  
 يمكن ان يعد ذلك العدد المعدود عدد اول غير

المفروضة

ليكن آ اقل عدد يعده اعداد  
 ب د الا و ايل فاقول لا يمكن  
 ان يعد آ عدد اول غير ب د  
 برهانه فان امكن فليعد



آ عدد اول غير ب د وليكن هو عدد هـ وليبعده بر فنسبة الواحد الي  
 هـ كنسبة هـ الي آ فمسطح هـ في هـ بالشكل التاسع عشر من السابعة واذا  
 عد الاول مسطحا اعداد اضلاعه بالشكل الثاني والثلاثين من السابعة وكل  
 واحد من ب د عد آ فبعده احد اضلاعه ولا يمكن ان يعد هـ لانه اول  
 فكل منها يعد هـ فتر اقل من آ فاقل عدد يعده ب د هو م اقل من  
 آ وكان هو هذا خلف فالحكم ثابت وذلك ما اردنا ان نبين


مجموع اي عددين من كل اقل ثلاثة اعداد توالت

علي نسبة واحدة يباين الثالث منها

ليكن آ ب ح اقل ثلاثة اعداد توالت علي نسبتها فاقول ان مجموع آ ب  
 يباين د ومجموع ب د يباين آ ومجموع آ د يباين ب برهانه نجد اقل  
 عددين علي نسبة آ ب ح بالشكل الثالث والثلاثين من السابعة وهما د هـ  
 هـ فهما متباينان بالشكل الواحد والعشرين من السابعة ونجد اقل  
 ثلاثة اعداد علي نسبة د هـ هـ بالشكل الثاني من الثامن فبكون طرفاها  
 متباينين ويكون اقل عدد علي نسبة آ ب ح باستبانة الشكل الرابع عشر  
 من



من السابعة فتكون هي  $\bar{A} \bar{B}$  بعينها فأربع  $\bar{D} \bar{E}$  ومربع  $\bar{E} \bar{F}$  وب  $\bar{C}$  مسطح  
 $\bar{D} \bar{E}$  في  $\bar{E} \bar{F}$  فلان  $\bar{D} \bar{E}$  يباين  $\bar{E} \bar{F}$  فكل منهما يباين  
 در بالشكل الثامن والعشرين من السابعة  
 ولان ضرب  $\bar{D} \bar{E}$  في  $\bar{D} \bar{E}$  هو تضعيف  $\bar{D} \bar{E}$  باحد  $\bar{D} \bar{E}$   
 واحاد  $\bar{D} \bar{E}$  هي احاد  $\bar{D} \bar{E}$  في ضرب  $\bar{D} \bar{E}$  في  $\bar{D} \bar{E}$  هو  
 تضعيف  $\bar{D} \bar{E}$  باحد  $\bar{D} \bar{E}$  وهو مربع  $\bar{D} \bar{E}$  اعني  $\bar{A} \bar{O}$   
 تضعيف  $\bar{D} \bar{E}$  باحد  $\bar{E} \bar{F}$  هو مسطح  $\bar{D} \bar{E}$  في  $\bar{E} \bar{F}$   
 اعني  $\bar{B}$  فالحاصل من ضرب  $\bar{D} \bar{E}$  في  $\bar{D} \bar{E}$  هو مجموع

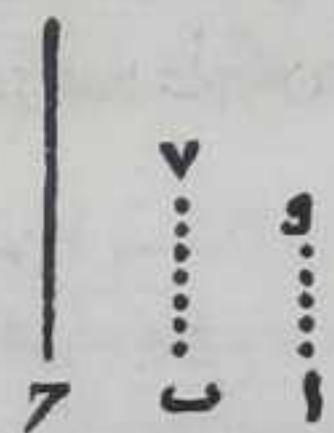


$\bar{A} \bar{B}$  فهو مباين لره بالشكل الرابع والعشرين من السابعة في مجموع  $\bar{A} \bar{B}$   
 يباين  $\bar{C}$  بالشكل الخامس والعشرين من السابعة لان مربع المباين  
 ومثله تبين ان الحاصل من ضرب  $\bar{E} \bar{F}$  في  $\bar{E} \bar{F}$  يساوي مجموع  $\bar{C} \bar{B}$  وهو يباين  
 $\bar{A} \bar{O}$  ولان  $\bar{D} \bar{E}$   $\bar{E} \bar{F}$  متباينان فدر يباين كل واحد منهما فباين مسطح احدهما  
 في الاخر اعني  $\bar{D} \bar{E}$  يباين  $\bar{B}$  بالشكل الرابع والعشرين من السابعة  
 فربع  $\bar{D} \bar{E}$  يباين  $\bar{B}$  بالشكل الخامس والعشرين من السابعة ومربع  $\bar{D} \bar{E}$   
 هو تضعيف  $\bar{D} \bar{E}$  باحاده اعني احاد  $\bar{D} \bar{E}$   $\bar{E} \bar{F}$  وتضعيف  $\bar{D} \bar{E}$  باحد  $\bar{D} \bar{E}$   
 يساوي مربع  $\bar{D} \bar{E}$  ومسطح  $\bar{D} \bar{E}$  في  $\bar{E} \bar{F}$  وتضعيف  $\bar{D} \bar{E}$  باحد  $\bar{E} \bar{F}$  يساوي  
 مربع  $\bar{E} \bar{F}$  ومسطح  $\bar{E} \bar{F}$  في  $\bar{D} \bar{E}$  فربع  $\bar{D} \bar{E}$  يساوي مجموع مربعي  $\bar{D} \bar{E}$   $\bar{E} \bar{F}$  اعني  
 مجموع  $\bar{A} \bar{C}$  وضعف مسطح  $\bar{D} \bar{E}$  في  $\bar{E} \bar{F}$  اعني ضعف  $\bar{B}$  وكان مربع  $\bar{D} \bar{E}$  يباين  
 $\bar{B}$  فأ  $\bar{C}$  مع ضعف  $\bar{B}$  يباين  $\bar{B}$  في الشكل الثامن والعشرين  $\bar{A} \bar{C}$  مع  $\bar{B}$   
 يباين  $\bar{B}$  في هذا الشكل بعينه  $\bar{A} \bar{C}$  معا يباين  $\bar{B}$  فالحكم ثابت وذلك ما  
 اردنا ان نبين

ير

كل عددين متباينين فلا ثالث لهما في النسبة

ليكن  $\bar{A}$  يباين  $\bar{B}$  فاقول ليس يمكن ان يكون نسبة  $\bar{A}$  الي  $\bar{B}$  كنسبة  $\bar{B}$  الي  
 عدد آخر برهانه فان امكن فلتكن نسبة  $\bar{A}$  الي  
 $\bar{B}$  كنسبة  $\bar{B}$  الي  $\bar{C}$  و  $\bar{A} \bar{B}$  اقل عددين علي نسبتهم  
 بالشكل الثاني والعشرين من السابعة فبعد ان كل  
 عددين علي نسبتهم بالشكل العشرين من السابعة  
 فأ يعد  $\bar{B}$  وهو يعد نفسه فأ  $\bar{B}$  ليسا متباينين هذا  
 خلف فالحكم ثابت وذلك ما اردنا ان نبين



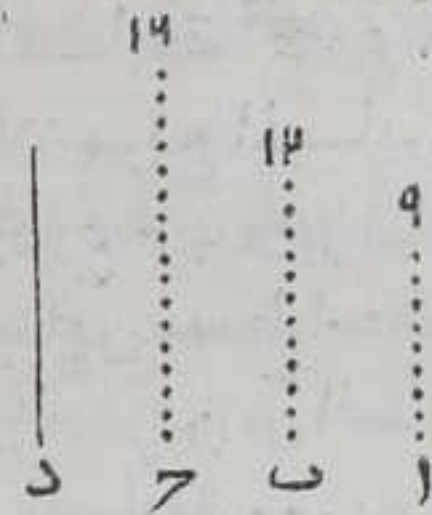
واستبان منه ان اذا اطلقنا اسم العدد علي الواحد فان كل عددين  
 احدهما واحد فان لهما ثالثا في النسبة

يح



كل اعداد متوالية علي نسبة كم كانت وتباين طرفاها فنسبة الاول الي الثاني لا يمكن ان تكون كنسبة الاخر منها الي عدد اخر غير ها

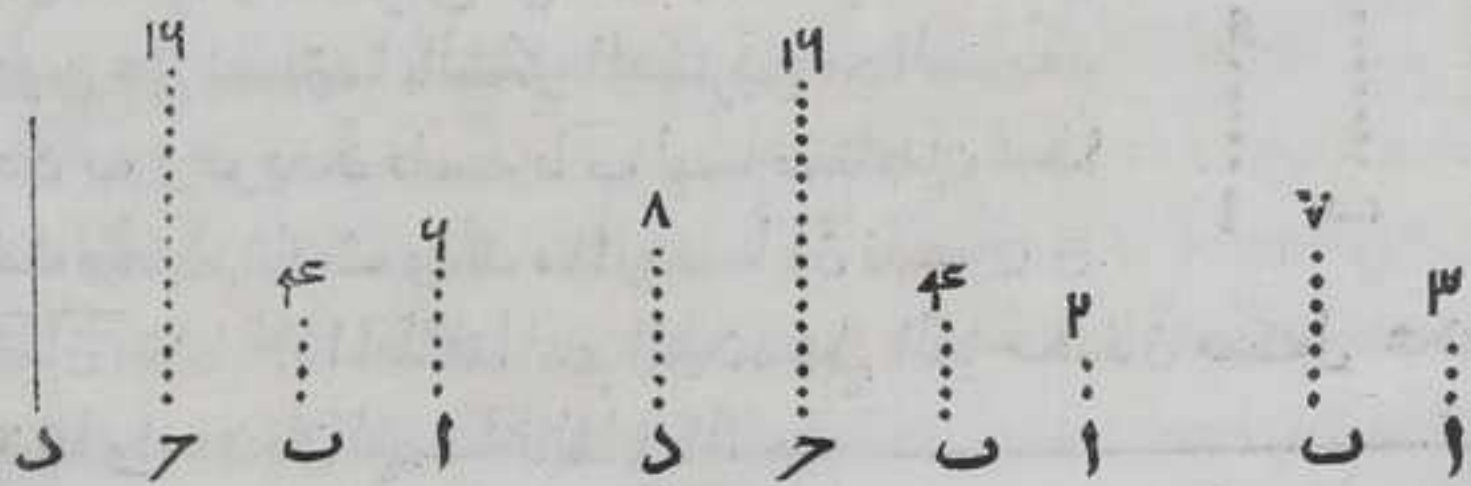
ليكن  $\bar{A}\bar{B}$  متوالية علي نسبة  $\bar{C}$  وآيباين  $\bar{C}$  فلا يمكن ان تكون نسبة  $\bar{A}$  الي  $\bar{B}$  كنسبة  $\bar{C}$  الي عدد آخر برهانه فان امكن فلتكن نسبة  $\bar{A}$  الي  $\bar{B}$  كنسبة  $\bar{C}$  الي  $\bar{D}$  فبالمساواة نسبة  $\bar{A}$  الي  $\bar{C}$  كنسبة  $\bar{B}$  الي  $\bar{D}$  بالشكل الرابع عشر من السابعة و  $\bar{A}$  اقل عددين علي نسبتها بالشكل الثاني والعشرين من السابعة فبعد ان كل عددين علي نسبتها بالشكل العشرين منهما ف  $\bar{A}$  يعد  $\bar{B}$  ونسبة  $\bar{A}$  الي  $\bar{B}$  كنسبة  $\bar{B}$  الي  $\bar{C}$  ف  $\bar{B}$  يعد  $\bar{C}$  وهو يعد نفسه ف  $\bar{C}$  متشاركان وكانا متباينين هذا خلف بالحكم ثابت وذلك ما اردنا ان نبين  $\bar{C}$  واستبان منه ان اذا اطلقنا اسم العدد علي الواحد ما كان اعداد متوالية علي نسبة كم كانت وكان احد طرفيها واحدا فان نسبة الاول منها الي الثاني كنسبة الاخر منها الي عدد اخر



يط

كل عددين مفروضين لنا ان نعلم انه هل يمكن ان يكون لهما ثالث في النسبة اولا يمكن

فليكن  $\bar{A}\bar{B}$  عددين مفروضين فان كانا متباينين فلا ثالث لهما في النسبة بالشكل السابع عشر وان لم يكونا متباينين فانا نضرب احدهما في نسبة  $\bar{B}$  وليكن  $\bar{C}$  فاقول ان  $\bar{A}$  ان عد  $\bar{C}$  فيمكن ان يكون




لعددي  $\bar{A}\bar{B}$  ثالث في النسبة والا فلا برهانه فان عد  $\bar{C}$  فليعد  $\bar{B}$  فنسبة



فنسبة الواحد الى د كنسبة آ الى ح هو مسطح د في آ وهو مربع ب  
 فنسبة آ الى ب كنسبة ب الى د باستبانة الشكل التاسع عشر من السابعة  
 وان لم يعد آ ح فلا ثالث لآ ب في النسبة والا فليكن د ثالثهما فالحاصل  
 من ضرب آ في د الذي هو مربع باستبانة الشكل التاسع عشر من  
 السابعة فنسبة الواحد الى د كنسبة آ الى ح والواحد يعد د فآ يعد ح  
 وكان لا يعد د هذا خلف فالحكم ثابت وذلك ما اردنا ان نبين  
 واستبان منه ان اذا اطلقنا اسم العدد على الواحد فكل عددين احدهما  
 واحد فان لهما ثالث في النسبة بالضرورة لان العدد الذي هو غير  
 الواحد منهما يعد عددا ما باحد نفسه فتكون نسبة الواحد اليه  
 كنسبة العدد العاد الى العدد المع

ك  
 كل ثلاثة اعداد مفروضة متوالية علي نسبة لنا  
 ان نعلم انه هل يمكن ان يكون لها رابع في  
 النسب  
 اولاً

ليكن آ ب ح ثلاثة اعداد متوالية علي نسبة فان كان آ يباين ح فلا يمكن  
 ان يوجد لها رابع في النسبة بالشكل الثامن عشر وان لم يكونا متباينين  
 فيمكن فنضرب ب في ح فيحصل د فان عد آ د فليعد به فنسبة  
 الواحد الى د كنسبة آ الى د فالحاصل من ضرب ه في آ هو د بالشكل التاسع



عشر من السابعة فنسبة آ الى ب كنسبة ح الى د بالشكل التاسع عشر من  
 السابعة وان لم يعد آ د فلا رابع لاعداد آ ب ح في النسبة والا فليكن  
 ه رابعا لها في النسبة فنسبة آ الى ب كنسبة ح الى د فسطح آ في ه كسطح ب  
 في الشكل التاسع عشر من السابعة فد مسطح آ في ه فنسبة الواحد  
 الى ه كنسبة آ الى د فآ يعد د وكان لا يعد ه هذا خلف فالحكم ثابت  
 وذلك ما اردنا ان نبين







كل عدد زوج فصل منه عدد زوج فالباقي زوج

ليكن  $\bar{a}b$  عددا زوجا وفصل  $\bar{b}$  من  $\bar{a}b$  وهو عدد زوج فاقول ان  $\bar{a}$  عدد زوج برهانه

فلانا اذا نقصنا نصف عدد  $\bar{b}$  الزوج من نصف  $\bar{a}b$  بقي  $\bar{a}$  فلا  $\bar{a}$  نصف فهو عدد زوج وذلك ما اردنا ان نبين  $\bar{a}$

كل عدد زوج فصل منه عدد فرد فالباقي

عدد فرد

ليكن  $\bar{a}b$  عددا زوجا وفصل منه  $\bar{b}$  فردا فاقول ان  $\bar{a}$  فرد برهانه فلان  $\bar{b}$  فرد تفصل منه واحدا وهو  $\bar{b}$  يبقي  $\bar{a}$  عددا زوجا فاد زوج بالشكل المتقدم فاذا نقصنا  $\bar{a}$  الواحد من  $\bar{a}$  الزوج يبقي  $\bar{a}$  عددا فردا وذلك ما اردنا ان نبين  $\bar{a}$

كل عدد فرد فصل منه عدد زوج فالباقي فرد

ليكن  $\bar{a}b$  فردا وفصل منه  $\bar{b}$  زوجا فاقول ان  $\bar{a}$  فرد برهانه

نزيد واحدا وهو  $\bar{b}$  علي  $\bar{a}$  صار  $\bar{a}$  زوجا و  $\bar{a}$  فردا فاد فرد بالشكل المتقدم وذلك ما اردنا ان نبين  $\bar{a}$

ك

كل عدد فرد فصل منه عدد فرد فالباقي زوج


ليكن  $\bar{a}b$  عددا فردا وفصل منه  $\bar{b}$  عدد فرد فاقول ان  $\bar{a}$  زوج برهانه تفصل من  $\bar{b}$   $\bar{b}$  واحدا فبصير كل واحد من  $\bar{a}$  عددا زوجا فاد زوج بالشكل الرابع والعشرين وذلك ما اردنا ان نبين  $\bar{a}$

ح



مسطح كل عدد فرد في اي عدد زوج عدد زوج


ليكن أعدادا فردا وب عدد زوجا ومسطح آ في ب  
 فاقول ان عدد زوج برهانه فلان في ح من امثال  
 عدد الفرد بعدة احاد ب الزوج في عدد زوج  
 بالشكل الثاني والعشرين وذلك ما اردنا ان نبين




ط

مسطح كل عدد فرد في اي عدد زوج عدد زوج فرد

ليكن مسطح آ في ب الفردين فاقول ان عدد  
 فرد برهانه فلان في ح من امثال الفرد بعدة  
 احاد الفرد يكون عدد فردا بالشكل الثالث  
 والعشرين وذلك ما اردنا ان تبين  
 واستبان من هذين الشكلين ان كل عدد فرد عد  
 عدد زوجا فانه انما يعده بعدة زوج وان كل عدد  
 فرد عد عدد فردا فانما يعده بعدة فرد



اما الاول فليكن أعدادا فردا عدد زوج فلا بد وان يعده بعدد  
 وليكن ذلك العدد هو ب فاقول انه  
 زوج لانه لو كان فردا لكان عدد



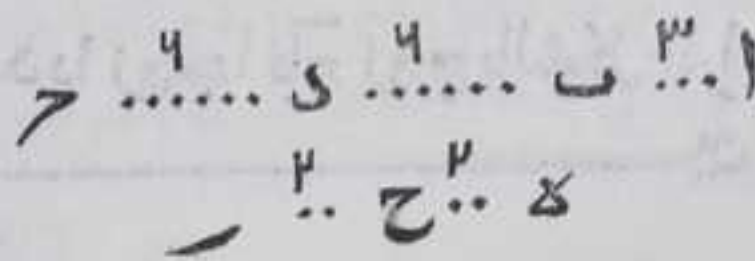
فردا بالشكل التاسع والعشرين لان  
 ح حينئذ حاصل من ضرب آ في ب  
 الفرد هذا خلف واما الثاني  
 فليكن أعدادا فردا عدد زوج  
 الفرد فلا بد وان يعده بعدد

وليكن ذلك هو ب فاقول انه فرد لانه لو كان زوجا لكان عدد زوجا  
 بالشكل الثامن والعشرين لان عدد ح حينئذ حاصل من ضرب آ في ب  
 الزوج هذا خلا

ل

كل عدد فرد عدد زوجا فهو انما يعد نصفه

ليكن ا ب عدد فردا وعد عدد ب  
 الزوج فاقول انه انما يعد نصف  
 ب برهانه فلان الفرد عدد  
 ب الزوج فهو انما يعده بعدد  
 زوج









كل عدد نصف فرد فهو زوج الفرد فقط

ليكن عدد  $\bar{a}b$  نصفه وهو  $\bar{a}c$  فردا فاقول ان  $\bar{a}b$  زوج الفرد فقط اما انه زوج الفرد فلان له نصف فردا  
 $\bar{a} \dots \dots \dots \bar{c} \dots \dots \dots \bar{b}$  واما انه لا يمكن ان يكون زوج الزوج لانه لو كان لكان نصفه زوجا وهو فرد هذا خلف بالحكم ثابت وذلك ما اردنا ان نبين  
 له

كل عدد لا يكون حاصل من تضعيف الاثنین

وله نصف ليس بفرد فهو زوج الزوج زوج الفرد

ليكن  $\bar{a}b$  عددا غير حاصل من تضعيف الاثنین ونصفه  $\bar{b}c$  وليس بفرد فاقول ان  $\bar{a}b$  زوج الزوج زوج  
 $\bar{a} \dots \dots \dots \bar{c} \dots \dots \dots \bar{b}$  الفرد برهانه فلان  $\bar{b}c$  الزوج هو نصف  $\bar{a}b$  فزوج الزوج زوج وهو زوج الفرد ايضا لان  $\bar{b}c$  ينقسم لانه زوج فلا ينتهي بالقسمة الي الواحد والا لكان  $\bar{a}b$  حاصل من تضعيف الاثنین هذا خلف فينتهي بالقسمة الي عدد فرد يعد  $\bar{b}c$  ويعد  $\bar{a}c$  ايضا المساوي لـ  $\bar{b}c$  فبعد  $\bar{a}b$  بالشكل الثامن والعشرين من السابعة فبعد ذلك المفرد عدد  $\bar{a}b$  مرات عدتها زوج باستبانة احد شكلي الثامن والعشرين والتاسع والعشرين فزوج الفرد وكان زوج الزوج فهو زوج الزوج زوج الفرد وذلك ما اردنا ان نبين  
 له

جميع الاعداد المتوالية علي نسبة كم كانت وفصل من

كل واحد من الثاني فبا لخير منها مثل الاول فان

نسبة الباقي من الثاني الي الاول كنسبة الباقي

من الاخير الي جميع الاعداد المتقدمة عليه اذا

جعلت عددا واحدا

ليكن نسبة  $\bar{a}b$  الي  $\bar{c}d$  كنسبة  $\bar{d}e$  الي  $\bar{c}f$  وكنسبة  $\bar{c}f$  الي  $\bar{g}h$  وفصل من  $\bar{c}d$  مثل  $\bar{a}b$  ومن  $\bar{g}h$  مثل  $\bar{d}e$  فاقول ان نسبة  $\bar{c}f$  الي  $\bar{a}b$  كنسبة



كنسبة ط م الي جميع مر ح د ا ب برهانه فلان ط نه اعظم من كل واحد  
 من الاعداد المتقدمة عليه فنفصل منه كنه مثل مر ح ولنه مثل د  
 فيكون نسبة ط ا الي نه ا كنسبة لنه الي نه ل وكنسبة لنه الي نه م فبالخلاف  
 نسبة ط نه الي نه ا كنسبة لنه الي نه ل وكنسبة لنه الي نه م فبالنفصل  
 نسبة ط ا الي لنه كنسبة ال الي لنه وكنسبة ل م الي م نه باستبانة الحادي  
 عشر والثاني عشر والثالث عشر من اشكال السابعة ونسبة مقدم الي  
 تاليه كنسبة جميع المقدمات الي  
 جميع التوالي بالشكل الثاني عشر  
 من السابعة فنسبة ل م الي م نه  
 كنسبه ط م الي جميع انه ل نه  
 م نه لكن جميع انه ل نه م نه مساو  
 ل جميع مر ح د ا ب ول م مساو  
 ل حه وم نه مساو ل ا ب ونسبة كل  
 واحد من العددين

المتساويين الي كل واحد من العددين المتساويين متساويين و  
 بيانه بالجزء والاجزاء سهل فنسبة ط م الي جميع مر ح د ا ب كنسبة حه  
 الي ا ب فالحكم ثابت وذلك ما اردنا ان نبين


لو

كل اعداد متوالية من الواحد علي نسبة الضعف  
 اذا جمعت مع الواحد وكان المجموع عددا اول كان  
 الحاصل من ضرب المجموع في آخر الاعداد  
 المتوالية عددا تاما

ليكن ا ب ح د اعدادا متوالية من الواحد علي نسبة الضعف وكان  
 مجموعها مع الواحد عددا اول وهو ه وضرب ه في د وكان الحاصل مر ح  
 فاقول ان مر ح عدد تام برهانه نضع ه ضعفه ثم ضعف ضعفه حتى  
 يحصل اعداد مع ه علي عدة ا ب ح د وليكن ه ا ط ل م فنسبة ا الي ب  
 كنسبة ه الي ا ط ونسبة ب الي ح كنسبة ا ط الي ل ونسبة ح الي د  
 كنسبة ل الي م فبالمساواة نسبة ا الي د كنسبة ه الي م بالشكل الرابع  
 عشر من السابعة والحاصل من ضرب ا في م كالحاصل من ضرب ه في د  
 بالشكل التاسع عشر من السابعة ليكن الحاصل من ضرب ه في د مر ح



فالحاصل من ضرب آ في م مرخ فلان آ اثنان فرخ ضعف م فاعداد الط  
 ل م مرخ متوالية علي نسبة الضعف فنحصل من كل واحد من الط مرخ  
 عددا يساوي ه وهما السته ع ح فنسبة ط سه الي ه كنسبة مرع الي مجموع م  
 ل الط ه بالشكل المتقدم لكن ط سه مثل ه فرع مثل مجموع م ل ط اله وه



يساوي مجموع آ ب ح د مع الواحد وع ح يساوي ه فرح يساوي مجموع آ  
 ب ح د ط ل م مع الواحد وكل واحد منها يعد مرخ وكل واحد منها  
 جزءه فرح يساوي اجزاءه وليس لرح جزء آخر غير هذه الاجزاء والا  
 لكان نه جزء مرخ غير هذه الاجزاء فليعد نه رح بف فنسبة الواحد  
 الي ق كنسبة نه الي مرخ فرح هو الحاصل من ضرب ق في نه بالشكل التاسع  
 عشر من السابعة وكان مرخ حاصل من ضرب ه في د فنسبة ه الي ق كنسبة  
 نه الي د بالشكل التاسع عشر من السابعة وف ليس عددا من اعداد آ ب  
 ح د وا الذي يلي الواحد اول فلا يعد نه عدد د بالشكل الثالث عشر فه  
 لا يعد ف وه عدد اول فهو يباين ف بالشكل الواحد والثلاثين من  
 السابعة فه ف يعدان كل عدد من علي نسبتها الاقل للاقل والاكثر  
 للاكثر بالشكل العشرين من السابعة فف يعد د فهو احد اعداد آ ب  
 ح د بالشكل الحادي عشر وليكن هو ب ولان نسبة ب الي د كنسبة ه الي ل  
 فالحاصل من ضرب ه في د كالحاصل من ضرب ب في ل بالشكل التاسع  
 عشر من السابعة لكن الحاصل من ضرب ه في د هو مرخ فالحاصل من  
 ضرب ب في ل هو مرخ وكان الحاصل من ضرب ق في نه هو مرخ فه  
 يساوي ل وكان نه غير هذه الاجزاء المذكورة هذا خلف فليس لرح  
 جزءا آخر غير هذه الاجزاء المذكورة فرح مساو لمجموع اجزاء ه فهو  
 عدد تام فالحكم ثابت وذلك ما اردنا ان نبين

تمت المقالة التاسع والحمد للمعين



# المقالة العشرة مائة وستة وستون

صدر اقسام الكم المتصل خمسة الخط والسطح والجسم التعليمي والمكان والزمان ويقال لها الاعظام فان نسب احد المتجانسين منها الى الآخر من جنسه او قدر احدهما بالآخر يقال له المقادير والمقادير المشتركة خطوط كانت او سطوحا او جساما وغيرها هي التي يمكن ان يقدرها مقدار واحد  $\text{١}$  وغير المشتركة اي المتباينة هي التي لا يمكن ان يقدرها مقدار واحد  $\text{٢}$  والاشتراك في المقادير يخالف الاشتراك في الاعداد فان الاعداد المشتركة هي التي يعدها عدد واحد لان يعدها الواحد وذلك لان الواحد في المقادير مقدار والواحد في الاعداد ليس بعدد  $\text{٣}$  والخط طول بالعقل ومربع بالقوة اي يمكن ان يحدث منه مربع  $\text{٤}$  الخط المشتركة في القوة هي التي يمكن ان يقدر مربعاتها سطح واحد  $\text{٥}$  والمتباينة في القوة هي الخطوط التي لا يمكن ان يقدر مربعاتها سطح واحد  $\text{٦}$  واذا وضع مقدار محدود خطا كان او سطحا او جسما او غيرها من المقادير لتقدير ساير المقادير التي من جنسه يصير بوحده منطقا وكل مقدار قدره او بجزئه او بجزء جزئه وقع عليه اسم العدد للتقديره ويصير بذلك منطقا  $\text{٧}$  فكل مقدار نسب الى المقادير الموضوع نسبة عدد الى عدد فهو منطوق وما نسب اليه من المقادير  $\text{٨}$  ولا تكون نسبه اليه نسبة عدد الى عدد فهو اصم اي لم يسمع كنسبه اليه اسم ينطق به بل ينطق بطريق الحدود لحدوثه وحدته خمسة ومثل ما يقال حدر خمسة ثلث حدر خمسة واربعين و حدر واحد وربع نصف حدر خمسة وان صدق علي المنسوب النصف والثلث وعلي المنسوب اليه الواحد فان ذلك يخرج عن حيز الاصم اذا لبس هذا بواسطة اضافة الى المقادير الموضوع الذي هذه الحدود بالنسبة اليه اصم  $\text{٩}$  فاذا وضع خط محدود لتقدير الخطوط به فهو منطوق  $\text{١٠}$  وكل خط قدر به او بجزئه او بجزء خرايه فهو منطوق ايضا  $\text{١١}$  وكل خط لا يمكن ان يقدره ولا بجزئه ولا بجزء جزئه فهو اصم  $\text{١٢}$  ومربع ذلك الخط الموضوع ايضا منطوق  $\text{١٣}$  وكل سطح يقدر به او بجزئه او بجزء جزئه فهو منطوق  $\text{١٤}$  وكل سطح لا يمكن ان يقدره ولا بجزئه ولا بجزء جزئه فهو اصم  $\text{١٥}$  ومكعب ذلك الخط الموضوع منطوق ايضا  $\text{١٦}$  وكل جسم يقدر به او بجزئه او بجزء جزئه فهو منطوق  $\text{١٧}$  وكل جسم لا يمكن ان يقدره ولا بجزئه ولا بجزء جزئه فهو اصم  $\text{١٨}$  ويتبين في هذه المقالة انه اذا وضع خط محدود




لتقدير الخطوط فانه يمكن ان يوجد خطوط غير متناهية مباينة له في  
الطول فقط وخطوط غير متناهية مباينة له في الطول والقوة معا  
وسنشر اليه فيما بعد ان شاء الله تعالى

الاشكال

آ

كل مقدارين فصل من اعظمهما اكبر من  
نصفه ومن الباقي اعظم من نصفه وهكذا على  
التوالي فيبقي من الاعظم مقدار اصغر من المقدم

الاصغر



ليكن  $\bar{ا ب}$  مقدارين اعظمهما  $\bar{ا ب}$  وفصل  
من  $\bar{ا ب}$  اعظم من نصفه ومن باقيه اعظم من  
نصفه باقيه وهكذا على التوالي فاقول انه  
يبقي من  $\bar{ا ب}$  مقدار اصغر من  $\bar{ب ح}$  بهانه  
نضعف  $\bar{ب ح}$  مرة بعد اخرى الي ان يصير

اضعافه اعظم من  $\bar{ا ب}$  وهو  $\bar{د ح}$  فكل واحد من اقسامه التي هي  $\bar{د ر}$   $\bar{ر ح}$   $\bar{ح م}$   $\bar{م ل}$   
يساوي  $\bar{ب ح}$  ونفصل من  $\bar{ا ب}$  اعظم من نصفه وهو  $\bar{ا ط}$  ومن  $\bar{ا ط}$  اعظم من  
نصفه وهو  $\bar{ا ح}$  وهكذا الي ان يصير عدة اقسامه  $\bar{ا ب}$  كعدة اقسام  $\bar{د ح}$   
وهي  $\bar{ب ط}$   $\bar{ط ا}$  ونضعف  $\bar{ا ح}$  بعدة اقسام  $\bar{د ح}$  وهو  $\bar{د س}$  واقسامه  $\bar{د ر}$   $\bar{ر س}$   
نم  $\bar{م ل}$  فلان كل واحد من اقسام  $\bar{د س}$  يساوي  $\bar{ا ط}$  اعظم من  $\bar{ا ح}$   
و  $\bar{ب ط}$  اعظم من  $\bar{ا ح}$  فسدل اصغر من  $\bar{ا ب}$  و  $\bar{ا ب}$  اصغر من  $\bar{د ح}$  فسدل اصغر  
من  $\bar{د ح}$  كثيرا ولان نسبة  $\bar{د ر}$  الي  $\bar{د ح}$  كنسبة  $\bar{د ر}$  الي  $\bar{د ح}$  بالشكل السابع  
من الخامسة وبهذا الشكل بعينه نسبة  $\bar{ر ح}$  الي  $\bar{د ح}$  كنسبة  $\bar{ر ح}$  الي  $\bar{د ح}$   
فبالشكل الحادي عشر من الخامسة نسبة  $\bar{د ر}$  الي  $\bar{د ح}$  كنسبة  $\bar{ر ح}$  الي  $\bar{د ح}$   
وبمثلها نبين ان نسبة  $\bar{ح م}$  الي  $\bar{د ح}$  كنسبة  $\bar{د ر}$  الي  $\bar{د ح}$  فبالشكل الثالث  
عشر من الخامسة نسبة  $\bar{د ر}$  الي  $\bar{د ح}$  كنسبة  $\bar{د ر}$  الي  $\bar{د ح}$  لكن  $\bar{د ح}$  اعظم من  
 $\bar{ب ح}$  ف  $\bar{د ر}$  اعظم من  $\bar{ب ح}$  و  $\bar{د ر}$  يساوي  $\bar{ب ح}$  و  $\bar{د ر}$  يساوي  $\bar{ا ح}$  اعظم من  
 $\bar{ا ح}$  فالحكم ثابت وذلك ما اردنا ان نبين

اقول انه قد يقع قولنا كل مقدارين محدودين مختلفين بالعظم والصغر  
اذا فصل من اعظمهما مقدار اعظم من نصفه ومن الباقي مقدار آخر  
اعظم من نصفه وهكذا دائما على الولا فانه يبقي من المقدم الا اعظم ما هو  
اصغر



اصغر من المقدار الاصغر مقدمة لبعض براهين علوم الهندسة وقد  
يكون تلك المصولات علي نسبة معينة كالنصف والثلث وقد لا يكون  
علي نسبة معينة اما الاول فخطين محدودين مختلفين بالعظم والصغر  
فانه اذا نقص من الاعظم جزء ما ومن الباقي ذلك الجزء بعينه وهكذا دايما  
فانه يبق من المقدار الاعظم اقل من الاول اما الثاني فنقل ما اذا عملنا في  
الدائرة مربعا فيكون هو اعظم من نصف الدائرة واذا عملنا فيها مثلثا  
يكون فصل المثلث علي المربع اعظم من نصف فصل الدائرة علي المربع  
واذا عملنا في الدائرة شكلا داسا عشرة قاعدة فيكون فصله علي المثلث  
اعظم من نصف فصل الدائرة علي المثلث واذا سلطنا هكذا في اشكال  
عدد اضلاعها زوج الزوج فانه يبق من الاعظم ما هو اصغر من الاصغر  
وقد تكون المصولات علي نسبة معينة في نفس الامر وقد لا تكون  
فحصل مما ذكرنا ان المصولات من المقدار الاعظم قد تكون علي نسبة  
معينة وقد لا تكون علي نسبة معينة بل تكون معبدة بتنوع من التقيد  
فلما لاحظ اقليدس هذا المعنى ارسل قولاشاملا للنوعين ليكون  
الدعوي كلبه فقال اذا فصل من اعظم المقدارين ما هو اعظم من نصفه  
و من الباقي اعظم من نصفه وهكذا دايما فانه يبق من الاعظم مقدار  
اصغر من الاصغر فقوله ما هو اعظم من نصفه ومن الباقي اعظم قد يمكن ان  
يكون علي نسبة معينة ويمكن ان يكون علي نسبة معينة والشيخ ابو علي  
بن القسم البصري لما راي ان اقليدس استعمل هذا الدعوي في الشكل  
الثاني والتاسع والعاشر والحادي عشر من المقالة الثانية من هذا  
الكتاب ظن ان هذا الدعوي جزئي اورد في الشكل الاول من المقالة  
العاشرة استعمله في الاشكال المذكورة وصنف رسالة ذكر فيها ان هذا  
الدعوي جزئي قال فيها واني لما تأملت ظهر لي ان هذا الحكم كلي علي  
اي نسبة كانت المفصول من المفصول منه اذا كانت النسبة محفوظة وان  
تقيد الدعوي بما هو اعظم من النصف ونحوه يجعل الدعوي جزئيا  
والشيخ احمد بن السري البغدادي قال هذا الدعوي كلي كما اشرنا اليه  
وعمل فيه رساله رد علي ابي علي فيها وهو حقا وانا ذكرت هذا القول  
لبنتبه المتعلم علي ان قول اقليدس كلي يشمل قول ابي علي بن الهيثم من  
غير عكس وعلي قول ابي علي بن الهيثم لا يتم البرهان علي الاشكال  
المذكورة في المقالة الثانية عشر فهو جزئي والله اعلم بالصواب

ب  
كل مقدارين مختلفين فصل من اعظمهما  
مرة بعد اخري مثل اصغرها حتى يبق منه اصغر



من الاصغر ثم انفصل من الباقي الاصغر من الاصغر  
 حتى يبقي اصغر من الاصغر الباقي ولم نزل نعمل  
 هكذا ولم ينتهيا الي مقدار يقدر الذي يليه قبله

فهما متباينان

ليكن  $\bar{a}$   $\bar{b}$   $\bar{c}$   $\bar{d}$  مقدارين مختلفين اعظمهما  $\bar{a}$   $\bar{b}$  وفصل من  
 اعظمهما مرة بعد اخرى مثل اصغرهما ولم نزل انفصل  
 هكذا ولم ينتهيا الي مقدار يقدر الذي قبله فهما  
 متباينان برهانه فلانه لو لم يتباينا لكانا مشتركين  
 فيقدرهما مقدار وليكن هو  $\bar{c}$  فنفصل  $\bar{c}$  من  $\bar{a}$  مرة  
 بعد اخرى حتى يبقي  $\bar{a}$  اقل من  $\bar{c}$  ونفصل منه  $\bar{a}$  مرة بعد اخرى حتى  
 يبقي  $\bar{b}$  اقل من  $\bar{a}$  ونفصل منه  $\bar{b}$  مرة بعد اخرى حتى يبقي  $\bar{a}$  اقل  
 من  $\bar{b}$  فلان  $\bar{b}$  اعظم من نصف  $\bar{a}$  و  $\bar{c}$  اعظم من نصف  $\bar{a}$  فيفصل  
 التفصيل الي مقدار هو اصغر من  $\bar{c}$  بالشكل المتقدم وليكن هو  $\bar{a}$  فلان  
 $\bar{c}$  يقدر  $\bar{c}$  وهو يقدر  $\bar{b}$   $\bar{c}$  يقدر  $\bar{b}$  وكان يقدر  $\bar{a}$   $\bar{c}$  يقدر  $\bar{a}$   
 وهو يقدر  $\bar{b}$   $\bar{c}$  يقدر  $\bar{b}$  وكان يقدر  $\bar{c}$   $\bar{c}$  يقدر  $\bar{c}$  وهو يقدر  
 $\bar{c}$   $\bar{c}$  يقدر  $\bar{c}$  وكان يقدر  $\bar{a}$   $\bar{c}$  يقدر  $\bar{a}$  وهو اصغر من  $\bar{c}$  هذا  
 خلف والحكم ثابت وذلك ما اردنا ان نبين



لنا ان نجد اعظم مقدار يقدر مقدارين مختلفين

مشتركين

فليكن المقداران  $\bar{a}$   $\bar{b}$   $\bar{c}$   $\bar{d}$  اعظمهما فان كان  $\bar{c}$  يقدر  
 $\bar{a}$  وهو يقدر نفسه فهو اعظم مقدر يقدرهما وان لم يكن  
 $\bar{c}$  يقدر  $\bar{a}$  فلنقدر  $\bar{b}$  منه وليبق  $\bar{a}$  منه اقل من  $\bar{c}$   
 ويقدر  $\bar{a}$   $\bar{c}$  من  $\bar{c}$  فلا بد من الانتهاء الي مقدار يقدر  
 الذي يليه قبله لاشترك المقدارين وليكن  $\bar{c}$  يقدر  $\bar{a}$  فاقول ان  $\bar{c}$   
 اعظم مقدار يقدر  $\bar{a}$   $\bar{b}$  برهانه اما انه يقدرهما فلان  $\bar{c}$  يقدر  
 $\bar{a}$  وهو يقدر  $\bar{b}$   $\bar{c}$  يقدر نفسه فيقدر  $\bar{c}$  وهو يقدر  $\bar{b}$   $\bar{c}$  يقدر  
 $\bar{b}$  وكان يقدر  $\bar{a}$   $\bar{c}$  يقدر كل واحد من مقداري  $\bar{a}$   $\bar{b}$  فهو اعظم  
 مقدار يقدرهما والا فليكن  $\bar{c}$  اعظم مقدار يقدرهما فهو يقدر  $\bar{c}$   
 الذي

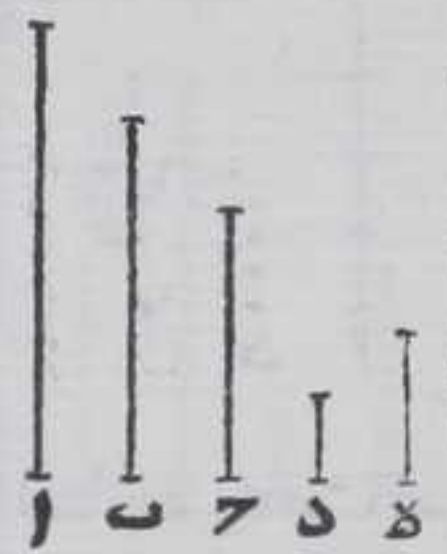





الذي يقدر بـ فـ يقدر بـ وكان يقدر آ ب فهو يقدر آه وهو يقدر  
 دـ فـ يقدر دـ وكان يقدر حـ فـ الاكبر يقدر حـ الذي هو اصغر منه  
 هذا خلف بالحكم ثابت وذلك ما اردنا ان نبين  
 واستبان منه ان كل مقدار يقدر مقدارين مشتركين فهو يقدر اعظم  
 مقدار يقدره

لنا ان نجد اعظم مقدار يقدر مقادير مشتركة

اكثر من اثنين



فنجده اعظم مقدار يقدر آ ب وليكن هو د بالشكل  
 المتقدم فان عد د فهو اعظم مقدار يقدر آ ب  
 والا فليكن اعظم مقدار يقدرها هـ فه يقدر آ ب  
 فبقدر اعظم مقدار يقدر آ ب وهو د فه يقدر د  
 وهو اعظم منه هذا خلف وان لم يعد د

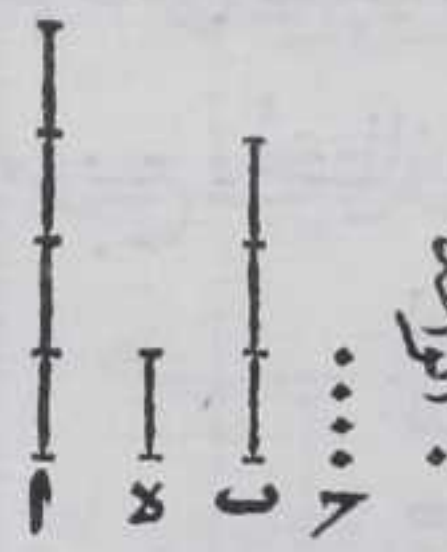


فنجده اعظم مقدار يقدر حـ د بالشكل المتقدم  
 وليكن هو هـ فلانه يقدر حـ ود ويقدر آ ب  
 فه يقدر آ ب فاقول هو اعظم مقدار يقدرها  
 والا فليكن اعظم مقدار يقدرها فبقدر  
 آ ب فبقدر اعظم مقدار يقدرها باستبانة

الشكل المتقدم فبقدر د وهو يقدر حـ فبقدر اعظم مقدار يقدر د  
 باستبانة الشكل المتقدم فبقدر د وهو اعظم منه هذا خلف فه اعظم  
 مقدار يقدر آ ب وذلك ما اردنا ان نبين

كل مقدارين مشتركين نسبة احدهما الى

الآخر كنسبة عدد الى عدد



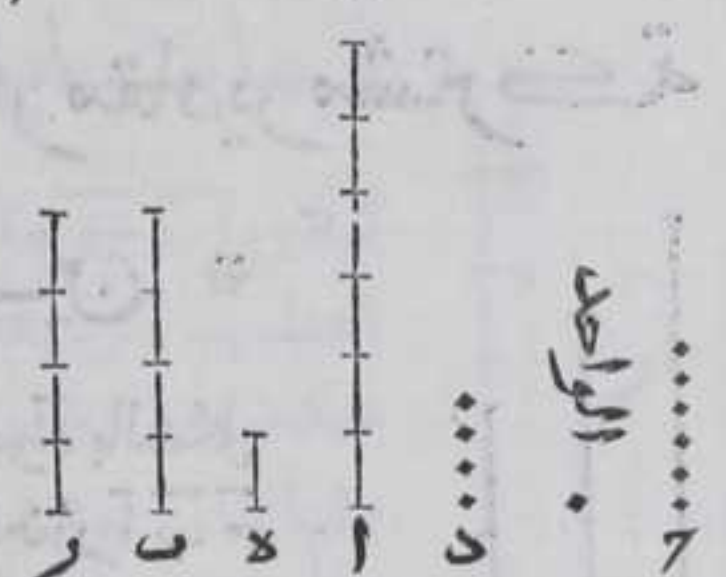
فليكن المقداران المشتركان آ ب ومقدارهما  
 فليقدر آ باحاد عدد حـ وب باحاد عدد د  
 فنسبة آ الى حـ كنسبة الواحد الى حـ وبالخلاف  
 نسبة آ الى د كنسبة حـ الى الواحد ونسبة هـ الى  
 ب كنسبة الواحد الى د فبالمساواة نسبة آ الى ب كنسبة حـ الى د بالشكل  
 الرابع عشر من السابعة وذلك ما اردنا ان نبين

و



كل مقدارين نسبة احدهما الى الآخر كنسبة  
عدد الى عدد فهما متشاركان

ليكن نسبة مقدار آ الى مقدار ب كنسبة عدد ح الى عدد د فاقول ان آ  
ب مشتركان برهانه نقسم آ بعدة احاد ح بالشكل الثالث عشر من  
السادسة وليكن احد اقسام آ ه  
فنسبته الى آ كنسبة الواحد الى ح  
وبالخلاف نسبة آ الى ه كنسبة ح الى  
الواحد ولناجد له اضعافا بعدة احاد  
د وليكن هو ر فنسبة ه الى ر كنسبة  
الواحد الى د فبالمساواة نسبة آ الى ح  
كنسبة ح الى د بالشكل الرابع عشر من  
السابعة وكانت نسبة آ الى ب كنسبة ح الى د فنسبة آ الى ب كنسبته الى ب  
باستقامة الشكل الرابع عشر من السابعة فب يساوي ر بالشكل السابع  
من الخامسة وكان آ مشاركا لـ ر فهو متشارك لب وذلك ما اردنا ان نبين



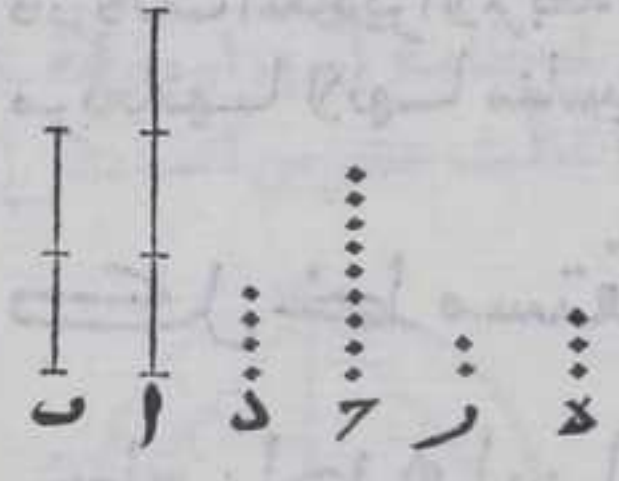
كل خطين مستقيمين هما ضلعا مربعين فان كانا  
مشاركين في الطول كانت نسبة مربعهما كنسبة  
عدددين مربعين وان كانت نسبة مربعهما كنسبة  
عدددين مربعين فالخطان مشتركان في الطول وان  
لم تكن نسبة مربعهما كنسبة عدد مربع الى عدد  
مربع فالخطان ليسا مشتركين في الطول

ليكن آ ب مشتركين في الطول فاقول ان نسبة مربعهما  
كنسبة عدددين مربعين وان كانت نسبة مربعهما  
كنسبة عدددين مربعين فهما مشتركان في الطول وان  
لم تكن نسبة مربعهما كنسبة عدددين مربعين فهما  
متباينان في الطول برهانه فلان آ ب مشتركين في  
الطول فنسبة احدهما الى الآخر كنسبة عدد الى عدد بالشكل الخامس  
وليكن





ولیکن العددان  $\bar{c}$   $\bar{d}$  فنسبة  $\bar{a}$  الي  $\bar{b}$  مثلثة كنسبة  $\bar{c}$  الي  $\bar{d}$  مثلثة ونسبة  
 مربع  $\bar{a}$  الي مربع  $\bar{b}$  كنسبة  $\bar{a}$  الي  $\bar{b}$  مثلثة بالشكل العاشر والتاسع عشر من  
 السادسة فنسبة مربع  $\bar{a}$  الي مربع  $\bar{b}$  كنسبة  $\bar{c}$  الي  $\bar{d}$  مثلثة بالشكل  
 الحادي عشر من الخامسة او باستبانة الشكل الرابع عشر من السابعة  
 ونسبة مربع  $\bar{c}$  الي مربع  $\bar{d}$  كنسبة  $\bar{c}$  الي  $\bar{d}$  مثلثة بالشكل الحادي عشر من  
 الثامنة فنسبة مربع  $\bar{a}$  الي مربع  $\bar{b}$  كنسبة مربع  $\bar{c}$  الي مربع  $\bar{d}$  بالشكل  
 الحادي عشر من الخامسة او باستبانة الشكل الرابع عشر من السابعة  $\text{ح}$   
 وايضا وليكن نسبة مربع  $\bar{a}$  الي مربع  $\bar{b}$  كنسبة عدد مربع  $\bar{a}$  الي عدد  
 مربع  $\bar{c}$  وهما  $\bar{c}$   $\bar{d}$  و  $\bar{c}$   $\bar{d}$  ونسبة  $\bar{e}$  الي  $\bar{r}$  مثلثة كنسبة  $\bar{c}$  الي  
 $\bar{d}$  بالشكل الحادي عشر من الثامنة فنسبة



مربع  $\bar{a}$  الي مربع  $\bar{b}$  كنسبة  $\bar{e}$  الي  $\bar{r}$  مثلثة  
 بالشكل الحادي عشر من الخامسة او  
 باستبانة الشكل الرابع عشر من السابعة  
 ونسبة  $\bar{a}$  الي  $\bar{b}$  مثلثة كنسبة مربع  $\bar{a}$  الي  
 مربع  $\bar{b}$  بالشكل العاشر والتاسع عشر من

السادسة وكانت نسبة  $\bar{e}$  الي  $\bar{r}$  مثلثة كنسبة مربع  $\bar{a}$  الي مربع  $\bar{b}$  فنسبة  $\bar{a}$   
 الي  $\bar{b}$  مثلثة كنسبة  $\bar{e}$  الي  $\bar{r}$  مثلثة بالشكل الحادي عشر من الخامسة او  
 باستبانة الشكل الرابع عشر من السابعة فنسبة  $\bar{a}$  الي  $\bar{b}$  كنسبة  $\bar{e}$  الي  $\bar{r}$  ف  
 يشرك  $\bar{b}$  بالشكل المتقدم وايضا ان لم تكن نسبة مربع  $\bar{a}$  الي مربع  $\bar{b}$   
 كنسبة عددين مربعين فايباين  $\bar{b}$  في الطول والا لكانا مشتركين في  
 الطول فتكون نسبة مربع  $\bar{a}$  الي مربع  $\bar{b}$  كنسبة عددين مربعين بالقسم  
 الاول من هذا الشكل والمفروض خلافة هذا خلف فالحكم ثابت وذلك  
 ما اردنا ان نبين  $\text{ح}$


واستبان منه ان كل خطين مشتركين في الطول فهما مشتركان في القوة وكل  
 خطين متباينين في القوة فهما متباينان في الطول ولا يجب العكس  $\text{ح}$

كل اربعة مقادير متناسبة فان كان الاول يشارك  
 الثاني كان الثالث يشارك الرابع وان كان يباينه  
 كان يباينه  $\text{ح}$

ليكن  $\bar{a}$   $\bar{b}$   $\bar{c}$   $\bar{d}$  اربعة مقادير نسبة  $\bar{a}$  الي  $\bar{b}$  كنسبة  $\bar{c}$  الي  $\bar{d}$  فاقول ان كان  
 $\bar{a}$  يشارك  $\bar{b}$  ف  $\bar{c}$  يشارك  $\bar{d}$  وان كان  $\bar{a}$  يباين  $\bar{b}$  ف  $\bar{c}$  يباين  $\bar{d}$  برهانه فان  
 كان  $\bar{a}$  يشارك  $\bar{b}$  يكون نسبة  $\bar{a}$  الي  $\bar{b}$  كنسبة عدد الي عدد بالشكل



الخامس ونسبة ح الى د كنسبة آ الى ب ونقسم كل واحد  
 من ح د بعدة احاد العددين اللذين علي نسبة آ الي ب  
 بالشكل الثالث والعشرين من السادس ونبين ان نسبة  
 ح الى د كنسبة العددين بمثل ما بينا في الشكل السادس  
 فح يشارك د بالشكل الخامس وان كان آ يباين ب فح  
 يباين د والا فيكونا مشتركين فتكون نسبة ح الى د  
 كنسبة عدد الي عدد بالشكل الخامس فيكون نسبة آ الي ب كنسبة  
 العددين فا يشارك ب وكان يباينه هذا خلف فالحكم ثابت وذلك ما  
 اردنا ان نبينه



فان كانت المقادير الاربعة خطوطا كان الحكم المذكور منسجبا علي  
 مربعاتها لانها مناسبة ايضا

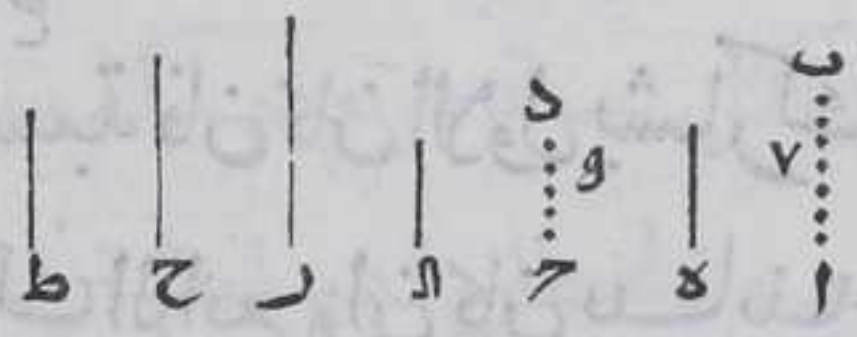
ط

كل خط مستقيم محدود مفروض لنا ان نجد  
 خطين احدهما يباينه في الطول فقط والاخر يباينه  
 في الطول والقوة

مقدمة اولي

كل عددين كل واحد منهما اول فلا يمكن ان يكون نسبتها كنسبة  
 عددين مربعين

فليكن اب ح د عددين كل منهما اول فاقول لا يمكن ان يكون نسبة اب الي  
 ح د كنسبة عدد مربع الي عدد مربع برهانه فان امكن فلتكن  
 نسبة اب الي ح د كنسبة عددين مربعين فيقع بينهما عدد وتوالت  
 الثلاثة علي نسبة بالشكل الثامن والحادي عشر الثامنة وليكن ذلك العدد  
 ه فيمكن ان يوجد اقل ثلاثة



اعداد علي نسبتها بالشكل  
 الثالث والثلاثين من السابعة  
 وليكن هي ح ط فطرافها  
 متباينان بالشكل الثالث من  
 الثامنة وكل متباينين فهما اقل عددين علي نسبتها بالشكل الثاني  
 والعشرين من السابعة فبعد ان كل عددين علي نسبتها بالشكل  
 العشرين من السابعة فليعد ط عددي اب ح د باحاد آ فنسبة  
 الواحد الي آ كنسبة ر الي ب وبالابدال نسبة الواحد الي ر كنسبة آ الي  
 اب وبمثله تبين ان نسبة آ الي ح د كنسبة الواحد الي ط وكل واحد من  
 العددين

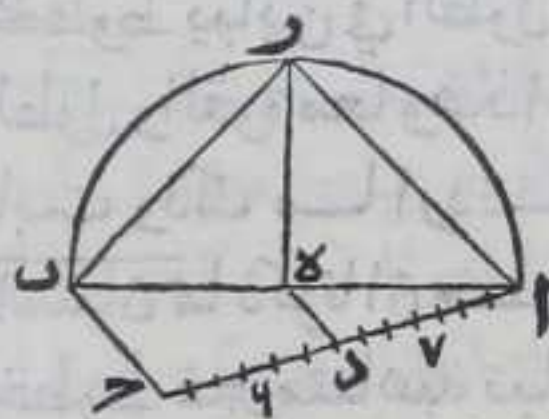


العدددين الاولين يعده عدد يغايرها هذا حلف فكل عدددين كل  
منهما اول فليست نسبتها كنسبة عدددين مربعين  
المقدمة الثانية

قد بين في الشكل الرابع عشر من التاسعة ان كل اعداد او ايل يفرض  
فلنا ان نجد عددا اول غيرها فلنا ان نجد اعدادا ويلى غير متناهية  
المقدمة الثالثة

لنا ان نجد خطين مستقيمين محدودين نسبة مربع احدهما الى الآخر  
كنسبة عدده الى ع

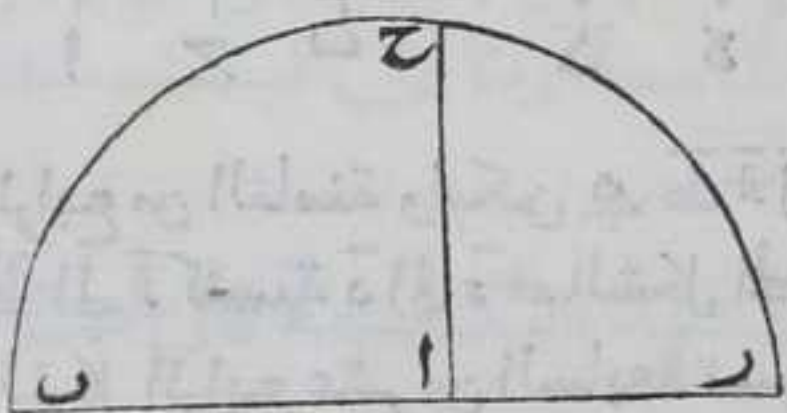
ليكن  $ا$   $ا$   $د$  عدددين كل منهما اول وينطبق احدهما على الآخر وعدد  
 $ا$   $ا$   $د$  ونجعل خط  $ا$   $ب$  المستقيم المحدود محيطا مع  $ا$   $د$  بزاوية كيف  
كانت الزاوية ونقسم  $ا$   $ب$  باقسام  $ا$   $ج$  بالشكل الثالث عشر من السادس  
ونصف  $ا$   $ب$  بالشكل العاشر من الاولي ونرسم



نصف دائرة  $ا$   $ب$  ونصل  $ب$   $د$  بخط مستقيم  
ونخرج من  $د$  خط  $د$   $ه$  يوازي خط  $ب$   $د$  بالشكل  
الواحد والثلاثين من الاولي فينتهي الى خط  
 $ا$   $ب$  فلينته على نقطة  $ه$  ونخرج منها عمود  $ه$   $ر$

على  $ا$   $ب$  بالشكل الحادي عشر من الاولي فلينته الى المحيط على نقطة  $ر$   
فنصل بينهما وبين نقطة  $ا$  بخط مستقيم ولان خط  $د$   $ه$  يوازي  $ب$   $د$   
فزاوية  $د$   $ه$   $ا$  من مثلث  $ا$   $ه$   $د$  يساويان زاويتي  $ب$   $د$   $ا$  من مثلث  $ا$   $ب$   $د$  بالشكل  
التاسع والعشرين من الاولي وزاوية  $ا$  مشتركة بين المثلثين فنسبة  $ا$   $ا$  الى  
 $ا$   $د$  كنسبة  $ب$   $ا$  الى  $ا$   $ه$  بالشكل الرابع من السادس لكن نسبة  $ا$   $ب$  الى  $ا$   $ر$   
كنسبة  $ا$   $ا$  الى  $ا$   $ه$  باستبانة الشكل الثامنة من السادس فنسبة مربع  $ا$   $ب$   
الى مربع  $ا$   $ر$  كنسبة عدد  $ا$  الى عدد  $ا$  باستبانة الشكل السابع عشر من  
السادس وبالشكل الحادي عشر من الخامسة او باستبانة الشكل الرابع  
عشر من السابع

ليكن الخط المستقيم المفروض المحدود خط  $ا$   $ب$  فاقول لنا ان نجد خطين  
مستقيمين محدودين احدهما يباينه في الطول فقط والاخر يباينه في  
الطول والقوة معا برهانه فلانا



بيننا في المقدمة الثالثة ان نسبة  
مربع  $ا$   $ب$  الى مربع  $ا$   $ر$  كنسبة عدد  
 $ا$  الى عدد  $ا$  وليست كنسبة  
عدددين مربعين بالمقدمة الاولي  
لان كل واحد من عددي  $ا$   $ا$  اول

فخط  $ا$   $ب$  يباين خط  $ا$   $ر$  في الطول بالشكل السابع ويشاركه في القوة  
بالشكل السادس لان نسبة مربع  $ا$   $ب$  الى مربع  $ا$   $ر$  كانت كنسبة عدد  $ا$



الي عدد آد وهذا هو احد الخطين المطلوبين ونجعل خط آر علي استقامة خط آب وليكن ايضا لهما علي نقطة آ ونصف مر ب بالشكل

العاشر من الاولي ونرسم علي مر ب

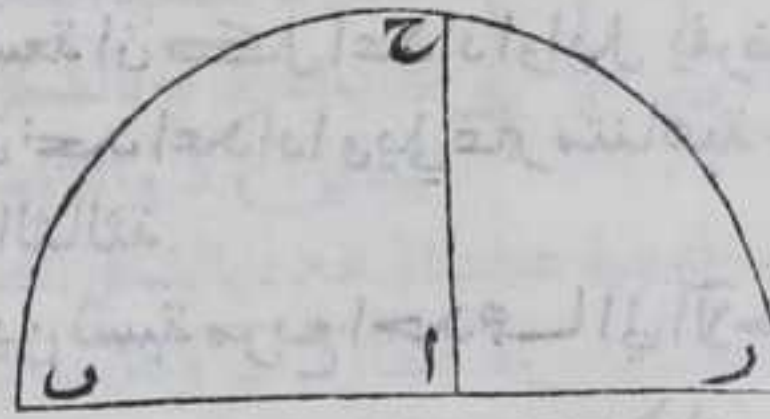
نصف دائرة ب ح مر ونخرج من

نقطة آ علي خط ب مر عمود آ ح

فلينته الي المحيط علي نقطة ح

ونصل ح مر ح ب بخطين مستقيمين

فلان نسبة با الي آ ح كنسبة ح آ الي



آر باستبانة الشكل الثامن من السادسة فنسبة مربع آب الي مربع آ ح

كنسبة آب الي آر باستبانة الشكل الثامن عشر من السادسة وآب يباين

آر فمربع آب يباين مربع آ ح بالشكل المتقدم وكل مباين في القوة من

الخطوط يباين في الطول فالشكل السابع فخط آ ح يباين خط آب في

الطول والقوة معا وهذا هو الخط الثاني من الخطين المطلوبين فالحكم

ثابت وذلك ما اردنا ان نبين

فاستبان مما ذكرنا ان خط مستقيم محدود مفروض يمكن ان يوجد له

خطوط غير متناهية تباينه في الطول فقط وخطوط غير متناهية تباينه

في الطول والقوة معا


### كل مقادير يشارك مقداراً واحداً فهي متشاركة

ليكن آ ب يشاركان فاقول انهما متشاركان برهانه فلان آ يشارك

فنسبة آ الي ح كنسبة عدد الي عدد بالشكل الخامس وليكن كنسبة عدد

د الي عدد ه وب يشارك فلتكن نسبة ح الي ب كنسبة عدد ر الي عدد

ح بمثل ما بينا ونجد اقل اعداد علي نسبتي عددي ده مر ح بالشكل



الرابع من الثامنة وليكن ه ط آل ونسبة آ الي ح كنسبة د الي ه ونسبة

ط الي آ كنسبة د الي ه فبالشكل الحادي عشر من الخامسة او باستبانة

الشكل الرابع عشر من السابعة نسبة آ الي ح كنسبة ط الي ل ومثله تبين ان

نسبة ح الي ب كنسبة آ الي ل فبالشكل الثاني والعشرين من الخامس او

الرابع عشر من السابعة نسبة آ الي ب كنسبة ط الي ل فبايشارك ب بالشكل

السادس وذلك ما اردنا ان نبين

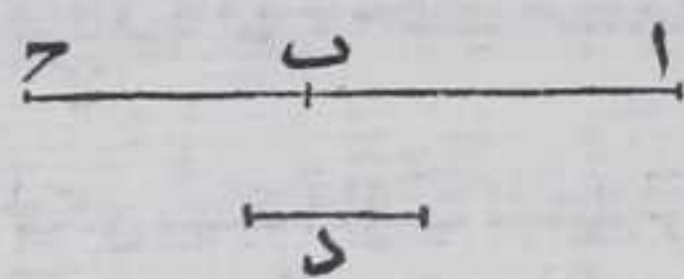
واستبان



واستبان منه ان المشارك للنظف منط ق

كل مقدارين فان كانا مشتركين كان مجموعهما  
بعد التركيب يشارك كلا منهما وان كان مجموعهما  
يشارك احدهما فهما متشاركان

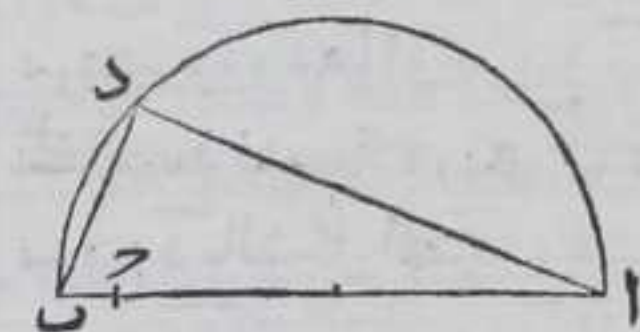
ليكن ا ب مقدارين مشتركين  
ويقدرهما د فد يقدرا مجموعهما وان  
كان د يقدر مجموعهما اذا جعلنا مقاديرا  
واحدا ويقدر احدهما فد يقدرا كل



واحد منهما فالحكم ثابت وذلك ما اردنا ان نبين  
واستبان منه ان ا ب اذا كانا متباينين كان المجموع يباين كل واحد  
منهما والا يشارك كل واحد منهما او احدهما فيكونا مشتركين وان كان  
المجموع يباين كل واحد منهما فهما متباينان والا لكانا مشتركين فيشارك  
المجموع كل واحد منهما هذا خ لف

مقدمة

كل خطين مستقيمين محدودين احدهما اعظم من الآخر فان الاعظم  
يقوي على الاصغر بقوة خط آخر مستقيم دود  
ليكن ا ب خطين مستقيمين محدودين وا ب اعظمهما فاقول ان ا ب  
يقوي على ا ج بقوة خط آخر مستقيم



محدد فننصف ا ب بالشكل العاشر من  
الاولي ونرسم عليه نصف دائرة ا د ب  
ونرسم فيه وتر ا د يساوي ا ج  
بالشكل الاول من الرابعة ونصل ب د بخط  
مستقيم فلان زاوية ا د ب قائمة بالشكل الثلثين من الثالثة فربع وتر ا ب  
يساوي مربعي وتر ا د بالشكل السابع والاربعين من الاول فربع  
ا ب يقوي على مربع ا ج مربع د ب وذلك ما اردنا ان نبين

يب

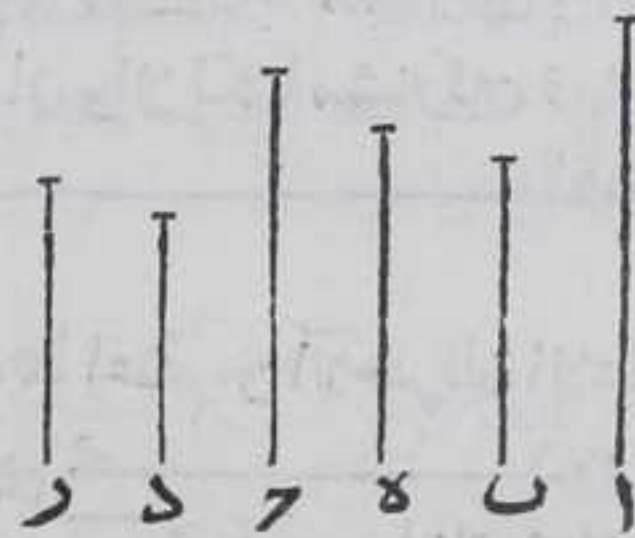
كل اربعة خطوط مستقيمة متناسبة فان كان  
الاول يقوي على الثاني بزيادة قوة خط مستقيم



يشارك الاول في الطول فالثالث يقوي على الرابع  
بقوة خط مستقيم يشارك الثالث في الطول وان  
كان الاول يقوي على الثاني بزيادة قوة خط مستقيم  
يباين الاول في الطول فالثالث يقوي على الرابع  
بزيادة قوة خط مستقيم يباين الثالث في الطول \*

لتكن نسبة آ الي ب كنسبة ح الي د و اعظم من ب و ح من د فا يقوي علي  
ب بقوة خط مستقيم بالمقدمة وليكن هوه وذلك ح يقوي علي د بقوة  
خط مستقيم بالمقدمة وليكن هو ح فاقول ان كان آ يشارك ه في الطول فح  
يشارك ح في الطول وان كان آ يباين ه في الطول فح يباين ح في الطول

برهانه فلان نسبة آ الي ب كنسبة  
ح الي د فنسبة آ الي ب مثناة كنسبة  
ح الي د مثناة ومربع ح كربعي د ر معا  
فنسبة مربعي د ر معا الي مربع ب  
كنسبة ح الي د مثناة باستبانة الشكل  
التاسع عشر من السادس فنسبة آ الي  
ب مثناة كنسبة مربعي ح ر معا الي




مربع ح بالشكل الحادي عشر من الخامسة ومربع آ كربعي ب ه فنسبة  
مربعي ب ه معا الي مربع ب كنسبة آ الي ب مثناة بالشكل التاسع عشر من  
الخامسة فنسبة مربعي ب ه معا الي مربع ب كنسبة مربعي د ر معا الي  
مربع د بالشكل الحادي عشر من الخامسة وبالتفصيل نسبة مربع ه الي  
مربع ب كنسبة مربع ر الي مربع د بالشكل السابع عشر من الخامسة  
وبالخلاص نسبة مربع ب الي مربع ه كنسبة مربع د الي مربع ر ونبيين  
بمثل ما بينا ان نسبة ب الي ه مثناة كنسبة د الي ر مثناة فنسبة ب الي ه  
كنسبة د الي ر وكانت نسبة آ الي ب كنسبة ح الي د فبالمساواة المنتظمة  
نسبة آ الي ه كنسبة ح الي ر بالشكل الثاني والعشرين من الخامسة فان  
كان آ يشارك ه في الطول فح يشارك ر في الطول وان كان آ يباين ه في  
الطول فح يباين ر في الطول بالشكل المتقدم فالحكم ثابت وذلك ما  
اردنا ان نبين

كل



كل خطين مستقيمين مختلفين اضيف الي  
اطولهما سطح يساوي ربع مربع الاقصر ينقص عن  
تمامه مربعا فالسطح المضاف ان قسم الاطول بقسمين  
مشتركين في الطول فالاطول يقوي علي الاقصر بزيادة  
قوة خط يشارك الاطول في الطول وان قوي الاطول  
علي الاقصر بزيادة قوة خط يشارك الاطول في  
الاطول فالسطح المضاف يقسم الاطول بقسمين

مشتركين في الطول



لكن الخطان آ وبـ وآ اقصرها  
واضيف الي بـ سطح بـ دـ في دـ  
المتوازي الاضلاع المساوي لربع

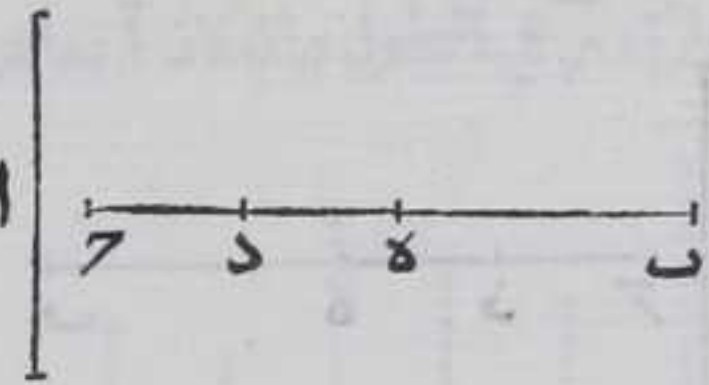
مربع آ بالشكل الثامن والعشرين من السادسة فاقول ان كان بـ دـ يشارك  
دـ فبـ يقوي علي آ بزيادة قوة خط يشارك بـ في الطول وان كان بـ دـ  
يقوي علي آ بزيادة قوة خط يشارك بـ في الطول فبـ دـ يشارك دـ في  
الطول برهانه فلان سطح بـ دـ في دـ يساوي ربع مربع آ المساوي  
لمربع نصف آ باستبانة الشكل التاسع عشر من السادسة وبـ دـ اطول من  
آ فبـ دـ اطول من نصف بـ فنفصل من بـ دـ مثل دـ بالشكل الثالث  
من الاولي فاربعة امثال لسطح بـ دـ في دـ المساوي لدـ كـ مربع ومع مربع  
بـ هـ يساوي مربع بـ بالشكل الثامن من الثانية فربع بـ دـ يساوي  
مربعي آ بـ معا فربع بـ دـ يقوي علي مربعي آ بقوة بـ هـ فبـ دـ ان شارك  
دـ في الطول فبـ دـ يشارك كل واحد من دـ هـ فبـ دـ يشارك دـ هـ فبـ دـ يشارك بـ هـ  
بالشكل الحادي عشر وان يشارك بـ دـ في الطول فبـ دـ يشارك دـ هـ  
يشارك دـ فبـ دـ يشارك دـ بالشكل العاشر فبـ دـ يشارك دـ بالشكل  
الحادي عشر فالحكم ثابت وذلك ما اردنا ان نبين

كل خطين مستقيمين مختلفين يضاف الي



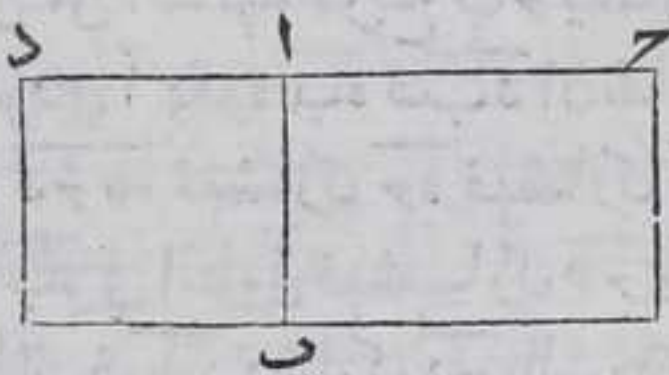
اطولهما سطح يساوي ربع مربع الاقصر ينقص عن  
 تمامه مربعا فالسطح المضاف ان قسم الخط الاطول  
 بمتباينين قوي الاطول على الاقصر بزيادة قوة خط  
 يباينه الاطول في الطول وان قوي الاطول على الاقصر  
 بزيادة قوة خط يباين الاطول في الطول فالسطح يقسم  
 الاطول بقسمين متباينين في الطول

ليكن  $\overline{AB}$  الخطين المستقيمين واقصرهما  $\overline{A}$  واضيف الي  $\overline{B}$  سطح  $\overline{BD}$  في  
 $\overline{D}$  يساوي ربع مربع  $\overline{AB}$  ينقص عن  
 تمام بمربع  $\overline{BD}$  بالشكل الثامن  
 والعشرين من السادسة فاقول ان  
 كان  $\overline{BD}$  يباين  $\overline{D}$  فب  $\overline{D}$  يقوي  
 على  $\overline{A}$  بقوة خط يباين  $\overline{B}$  في  
 الطول وان كان  $\overline{B}$  يقوي على  $\overline{A}$  بزيادة قوة خط يباين  $\overline{B}$  في الطول  
 فب  $\overline{D}$  يباين  $\overline{D}$  في الطول برهانه تبين بمثل ما بيننا في الشكل المتقدم  
 ان  $\overline{B}$  يقوي على  $\overline{A}$  بمربع  $\overline{B}$  فان تبين  $\overline{BD}$   $\overline{D}$  تبين  $\overline{B}$   $\overline{B}$  يباين  
 $\overline{BD}$   $\overline{D}$  واللاشراكه فيشارك  $\overline{B}$   $\overline{B}$  بالشكل المتقدم وهو يباينه هذا  
 خلف بالحكم ثابت وذلك ما اردنا ان نبين



كل سطح قائم الزوايا يحيط به خطان مستقيمان

منطقتان في الطول منطلق

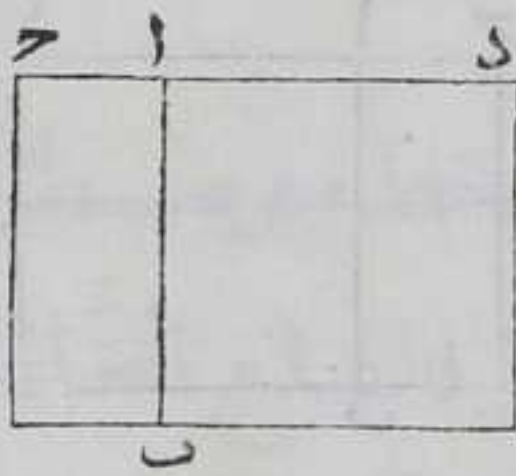


ليكن السطح  $\overline{B}$  والخطان  $\overline{AB}$   $\overline{AC}$   
 فنرسم على خط  $\overline{AB}$  مربع  $\overline{BD}$  بالشكل  
 السادس والاربعين من الاولي فلان  
 كل واحدة من الزاويتين اللتين عند نقطتي  $\overline{A}$   $\overline{B}$  قائمة فخط  $\overline{D}$  خط  
 واحد مستقيم وكذلك ما يقابله بالشكل الرابع عشر من الاولي وهما  
 متوازيان بالشكل السابع عشر من الاولي فنسبة سطح  $\overline{B}$  الى سطح  $\overline{BD}$   
 كنسبة خط  $\overline{AC}$  الى خط  $\overline{AD}$  بالشكل الاول من السادس واح يشارك  $\overline{AD}$   
 لانه



لانه يساوي خط  $\overline{AB}$  قسط  $\overline{B\Gamma}$  يشارك سطح  $\overline{BD}$  بالشكل الثامن و سطح  $\overline{BD}$  منطبق فسطح  $\overline{B\Gamma}$  منطبق وذلك ما اردنا ان نبين

كل سطح منطبق اضيف الى خط منطبق في الطول فالضلع الحادث منه ايضا منطبق في الطول



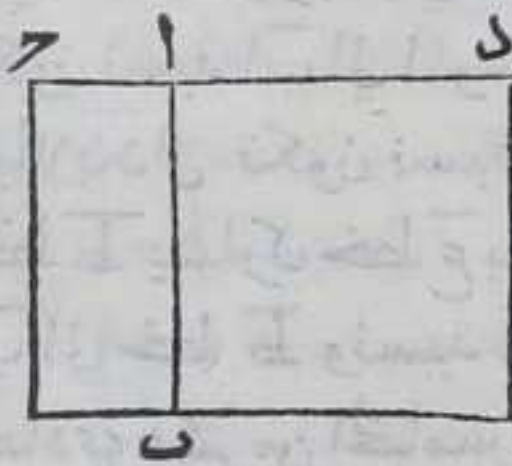
ليكن الخط المنطبق  $\overline{AB}$  والسطح المنطبق المضاف اليه  $\overline{B\Gamma}$  فاقول ان ضلع  $\overline{AC}$  منطبق في الطول برهانه نرسم علي  $\overline{AB}$  مربع  $\overline{BD}$  بالشكل السادس والاربعين من الاولي ولان كل واحد من الزوايا التي عند نقطتي  $\overline{A}$   $\overline{B}$  قائمة فكل من خطي  $\overline{CD}$  وما يقابله خط

مستقيم بالشكل الرابع عشر من الاولي فهما متوازيان بالشكل الرابع عشر من الاولي فنسبة سطح  $\overline{B\Gamma}$  الي سطح  $\overline{BD}$  كنسبة خط  $\overline{AC}$  الي خط  $\overline{AD}$  بالشكل الاول من السادس لكن سطح  $\overline{B\Gamma}$  يشارك سطح  $\overline{BD}$  لكونهما منطقتين ف  $\overline{AC}$  يشارك  $\overline{AD}$  في الطول بالشكل العاشر و  $\overline{AD}$  منطبق ف  $\overline{AC}$  منطبق وذلك ما اردنا ان نبين

ير

كل سطح قائم الزوايا يحيط به خطان مستقيمان منطقتان ومشتركان في القوة فقط اصم ويسمي الموسط والخط القوي عليه اصم ويسمي الخط الموسط

ليكن خط  $\overline{AB}$   $\overline{AC}$  منطقتين في القوة ومشتركين في القوة فقط والسطح الذي يحيطان به سطح  $\overline{B\Gamma}$  فاقول انه اصم برهانه



نرسم علي خط  $\overline{AB}$  مربع  $\overline{BD}$  بالشكل السادس والاربعين ولان كل واحد من الزوايا التي عند نقطتي  $\overline{A}$   $\overline{B}$  قائمة وكل من خطي  $\overline{AD}$  وما يقابله خط مستقيم بالشكل الرابع عشر من الاولي وهما متوازيان بالشكل السابع عشر من الاولي فنسبة سطح  $\overline{B\Gamma}$  الي

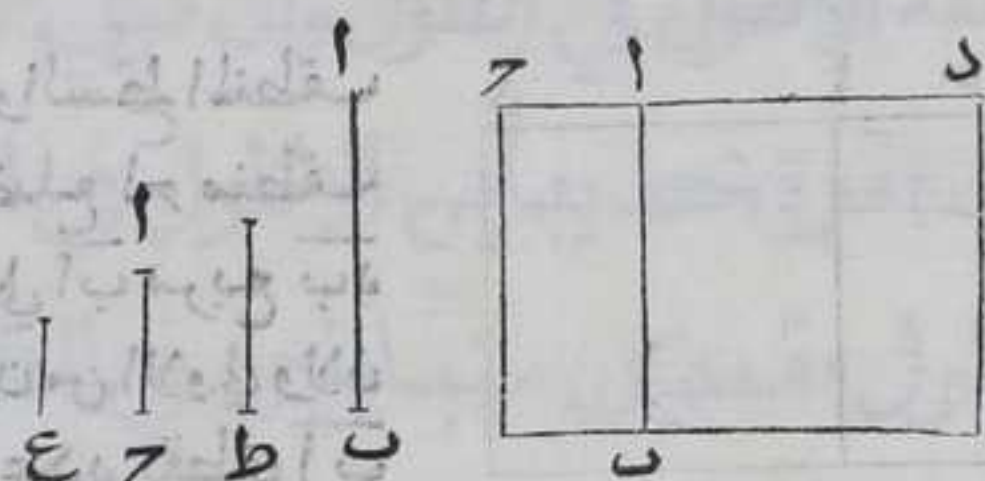
سطح  $\overline{BD}$  كنسبة  $\overline{AC}$  الي  $\overline{AD}$  بالشكل الاول من السادسة و  $\overline{AC}$  يباين  $\overline{AD}$  في الطول لان  $\overline{AD}$  يساوي  $\overline{AB}$  فسطح  $\overline{BD}$  يباين سطح  $\overline{B\Gamma}$  بالشكل الثامن و سطح



بـ د منطف فسطح بـ ح اصم وكل خط يقوي عليه اصم وانما يسمى السطح  
 بالسطح المتوسط والنخط بالنخط المتوسط لان السطح يقع وسطا في النسبة  
 بين مربعي ا ب ا ح والنخط يقع وسطا في النسبة بين خطي ا ب ا ح وذلك ما  
 اردنا ان نبين

اقول النخطوط المتوسطة قد يكون مشتركة في الطول والقوة وقد يكون  
 مشتركة في القوة فقط وقد يكون غير مشتركة في الطول والقوة معا  
 ولان خطي ا ب ا ح هما

كانا منطقتين في القوة  
 فقط جازان يكون  
 احدهما منطقتا في  
 الطول وليكن هو ا ب  
 فكل خط يقوي علي  
 سطح يحيط به خط ا ح



ورفع ا ب يشارك النخط الذي يقوي علي سطح بـ ح بالشكل السابع لان  
 نسبة مربعيها كنسبة الواحد الي الرابعة بالشكل الاول من السادسة  
 ونسبة الواحد الي الاربعة كنسبة عددين مربعين وكل خط يقوي علي  
 سطح يحيط به خط ا ح ونصف خط ا ب يشارك خطا قويا علي سطح  
 يحيط به خطا ا ب ا ح في القوة لان نسبة السطحين يكون كنسبة الواحد  
 الي الاثنين بالشكل الاول من السادسة ونسبة الواحد الي الاثنين كنسبة  
 عددين فالنخطان مشتركان في القوة بالشكل السادس ومتباينان في  
 الطول بالشكل السابع لان نسبة مربعيها كنسبة مربعين وانما سمي  
 سطح بـ ح متوسطا لانه وسط في النسبة بين مربعي ا ب ا ح يتبين ذلك  
 بالشكل الاول من السادسة وسمي النخط القوي علي سطح بـ ح متوسطا  
 لانه وسط في النسبة بين خطي ا ب ا ح بالشكل السادس عشر من  
 السادس

واستبان من هذا الشكل انه اذا خذ النخطوط ا ب ا ح الخط المتوسط وليكن  
 هو خط ط و رابعا في النسبة بالشكل الحادي عشر من السادسة بحيث  
 تكون نسبة ا ب الي المتوسط كنسبة ا ح الي الخط الرابع وليكن هو خط ع  
 فبالابدال تكون نسبة ا ب الي ا ح كنسبة خط ط الي ع و ا ب يشارك ا ح  
 فقط ط يشارك خط ع بالشكل الثامن وكانت نسبة خط ط الي ا ح كنسبة  
 ا ب الي خط ط ونسبة ا ح الي خط ع كنسبة ا ب الي خط ط فبالشكل  
 الحادي عشر من الخامس نسبة خط ط الي ا ح كنسبة ا ح الي خط ع فسطح  
 خط ط في خط ع مربع ا ح بالشكل السادس من السادسة فسطح خط  
 ط في خط ع منطف واذا جعلنا نسبة خط ط الي خط ا ب كنسبة خط

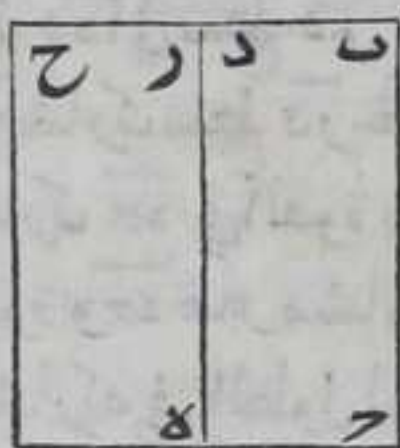
ا ح



أح الي خط ع بالشكل الحادي عشر من السادس وأب يشارك أح في القوة  
 فخط ط يشارك خط ع في القوة بالشكل الثامن فسطح أب في أح كسطح  
 خط ط في خط ع بالشكل الخامس عشر من السادسة فسطح خط ط في  
 خط ع موسط وهذه صورتها  
 وكل خط يقوي علي سطح قائم الزوايا يحيط به خط أب وخط منطف  
 في القوة فقط غير مشارك لخط أح في الطول فهو مباين لكل خط يقوي  
 علي سطح ب في القوة والطول بالشكل السابع لتباين مربعها  
 والسطوح الثلاثة موسطة

كل سطح يساوي مربع أي خط موسط إذا  
 أضيف الي خط منطف في الطول فالضلع الحادث  
 منه منطف في القوة فقط غير مشارك للخط

المنطف في الطول



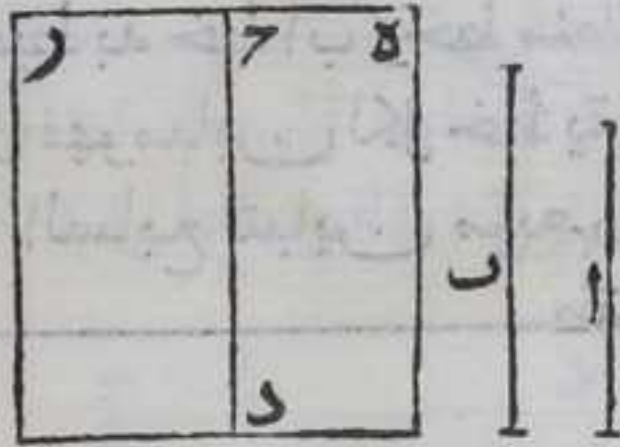
ليكن الخط الموسط آ والخط المنطف ب ح  
 ونضيف الي خط ب ح سطحاً متوازي  
 الاضلاع يساوي مربع آ بالشكل الخامس  
 والاربعين من الاول فهو ب د فاقول ان  
 ضلع ب د منطف في القوة فقط غير مشارك

لخط ب ح في الطول برهانه ولان خط آ موسط فلايد من سطح يحيط  
 به خطان منطفان في القوة مشتركان فيها فقط يساوي مربع آ الموسط  
 بالشكل المتقدم وليكن هو سطح ح ر ه فكل من سطح ح ر ه ح يساوي  
 مربع آ فهما متساويان وزاوية ح ر د كزاوية ح ر ه فنسبة ح ر الي ب ح  
 كنسبة ب ح الي ح ر علي التكافؤ بالشكل الرابع عشر من السادسة  
 وه يشارك ب ح في القوة فربع ب د يشارك مربع ح ر بالشكل الثامن  
 ومربع ح ر منطف فربع ب د منطف باستبانة الشكل العاشر وسطح  
 ح ر يباين مربع ح ر بالشكل المتقدم فسطح ح د المساوي لسطح ح ر يباين  
 مربع ح ر فربع ب د يباين سطح ح د لانه لو شاركه يشارك مربع ح ر  
 لسطح ح د بالشكل العاشر وهو يباينه هذا خلف ونسبة مربع ب ح الي  
 سطح ح د كنسبة ضلع ب ح الي ضلع ب د ومربع ب ح يباين سطح ح د فضلع  
 ب ح يباين ضلع ب د بالشكل الثامن فالحكم ثابت وذلك ما اردنا  
 ان نبين



كل خط يشترك الخط المتوسط في الطول او في القوة

فهو متوسط ط



ليكن خط آ متوسطا وخط ب يشاركة  
 اما في الطول او في القوة فاقول ان خط  
 ب متوسط برهانه ليكن ج د خطا  
 مستقيما محدودا منطفا في الطول  
 فيعمل عليه سطح د ه متوازي الاضلاع  
 زاوية د ه منه قائمة يساوي مربع آ بالشكل الخامس والاربعين من  
 الاولي فخط ه منطف في القوة يباين لخط ج د في الطول بالشكل المتقدم  
 ونعمل علي ج د ايضا سطح د ه متوازي الاضلاع زاوية د ه منه قائمة  
 يساوي مربع ب بالشكل المذكور فخط ه ح خط واحد مستقيم بالشكل  
 الرابع عشر من الاولي ولذلك ما يقابله لان كل واحدة من الزاويتين  
 اللتين عند نقطة د قائمة بالشكل التاسع والعشرين من الاولي فنسبة  
 سطح د ه الي سطح د ه كنسبة ه ا الي ح ر بالشكل الاول من السادسة وسطح  
 د ه يشترك سطح د ه فخط ه ح يشترك خط ح ر في الطول بالشكل الثامن فح  
 يشترك ه ح في القوة بالشكل السابع و ه منطف في القوة فح منطف في  
 القوة و ه غير مشارك ل ح د في الطول فح غير مشارك ل د في الطول لانه  
 لو شاركة في الطول لشاركة ه ح في الطول بالشكل العاشر وهو يباينه هذا  
 حلف فسطح د ه سطح قائم الزوايا يحيط خطا ج د ح المنطقتان في القوة  
 المشتركان فيهما فقط فهو متوسط بالشكل السابع عشر فخط ب متوسط

وذلك ما اردنا ان نبين  
 واستبان منه ان الخط الرابع في النسبة المذكور في استبانة الشكل الرابع  
 عشر متوسط ط

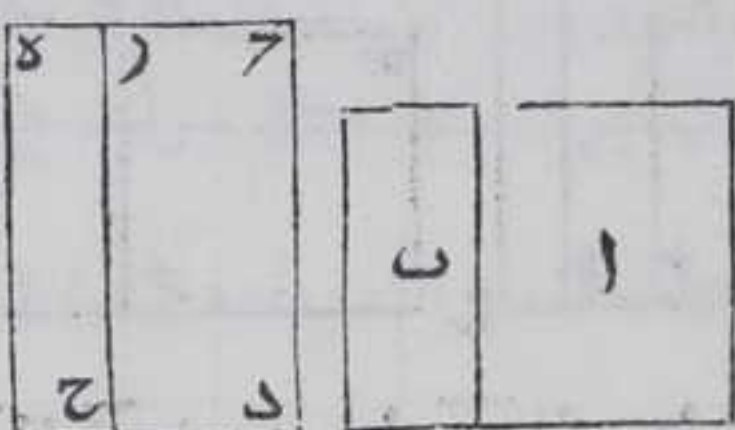
لانه يشترك المتوسط وقد تبين هاهنا ان لنا ان نجد خطين متوسطين  
 مشتركين في القوة يحيطان بسطح منطف وان نجد خطين متوسطين  
 يحيطان بمتوسط بالشكل الواحد والعشرين والثاني والعشرين اللذان  
 اتى فيهما ثابت بن قرة في نسخته ولم يذكرهما ابحاج ان لم يكونا موجودين  
 في النسخ القديمة ونحن لم نعددها من اشكال الكتاب انهما معلومان  
 باستبانة الشكل السابع والتاسع عشر

فضل اي سطح متوسط على اي سطح متوسط اصم

ليكن



ليكن سطح  $\overline{AB}$  المتوسط اعظم من سطح  $\overline{A}$  المتوسط بسطح  $\overline{B}$  فاقول ان سطح  $\overline{B}$



اصم برهانه فلان سطح  $\overline{B}$  لو لم يكن اصم لكان منطوقا فنضيف الي خط  $\overline{D}$  المنطق في الطول سطحا متوازي الاضلاع يساوي سطح  $\overline{AB}$  وهو  $\overline{D}$  وسطحا يساوي  $\overline{A}$  وهو سطح  $\overline{D}$  بالشكل الخامس والاربعين من الاولي وكل واحد

من ضلعي  $\overline{D}$  منطوق في القوة ومباين لخط  $\overline{D}$  في الطول بالشكل الثامن عشر فسطح  $\overline{D}$  لو كان منطوقا لكان عرض  $\overline{D}$  منطوقا في الطول بالشكل السادس عشر فبشارك  $\overline{D}$  فبباين  $\overline{D}$  والاشراك  $\overline{D}$  بالشكل العاشر وهو يباينه هذا خلف  $\overline{D}$  من  $\overline{D}$  منطوقان في القوة ومتباينان في الطول فسطح  $\overline{D}$  في  $\overline{D}$  القاييم الزوايا يباين مربعي  $\overline{D}$   $\overline{D}$  بالشكل الاول من السادسة والثامن من هذه المقالة فضعف سطح  $\overline{D}$  في  $\overline{D}$  يباين مربعي  $\overline{D}$   $\overline{D}$  فربع  $\overline{D}$  يباين مربعي  $\overline{D}$   $\overline{D}$  بالشكل الحادي عشر وهما منطوقان فربع  $\overline{D}$  اصم وهو منطوق هذا خلف فسطح  $\overline{D}$  اصم وذلك ما اردنا ان نبين

واقول ان خط  $\overline{D}$  ان كان مشاركا ل $\overline{D}$  كان  $\overline{D}$  مشاركا ل $\overline{D}$  بالشكل الحادي عشر فان شاركه كان مربعاهما متشاكين بالشكل الرابع ف $\overline{D}$  منطوق في القوة ومباين ل $\overline{D}$  في الطول والا يشاركه فيه فبشاركه  $\overline{D}$  بالشكل العاشر وهو يباينه هذا خلف فسطح  $\overline{D}$  متوسط بالشكل السابع عشر وان كان  $\overline{D}$  يباين  $\overline{D}$  فسطح  $\overline{D}$  في  $\overline{D}$  بل ضعفه يباين مربعهما المنطوقين بالشكل الاول من السادسة والثامن من هذه المقالة والسطوحان مع مربع  $\overline{D}$  يساوي مربعي  $\overline{D}$   $\overline{D}$  بالشكل السابع من الثانية فربعاهما المنطوقان يباين مربع  $\overline{D}$  فهو غير منطوق في الطول والقوة

كا

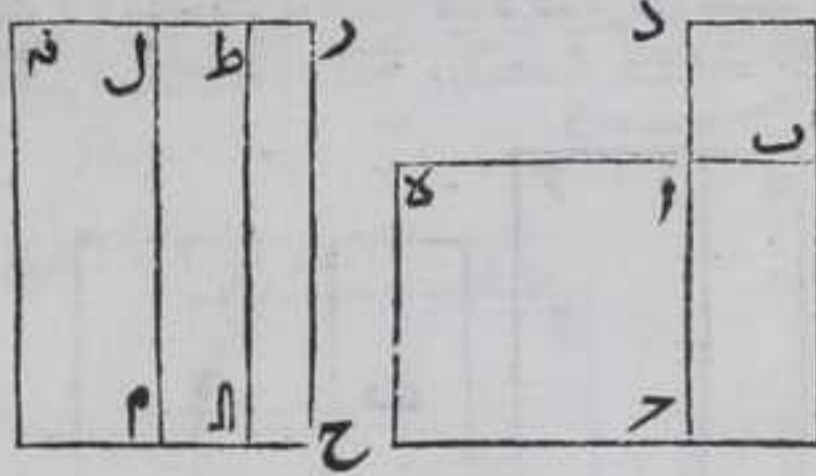
كل سطح قاييم الزوايا يحيط به خطان متوسطان

مشتركان في القوة فقط فهو اما منطوق واما متوسط

ليكن المتوسطان  $\overline{AB}$   $\overline{AC}$  مشتركان في القوة فقط والسطح  $\overline{B}$  قاييم الزوايا الذي يحيط به خطان  $\overline{AB}$   $\overline{AC}$  فاقول اما منطوق واما متوسط برهانه فرسم علي خطي  $\overline{AB}$   $\overline{AC}$  مربعي  $\overline{BD}$   $\overline{CE}$  بالشكل السادس والاربعين من الاولي فكل واحد من خطي  $\overline{AD}$   $\overline{AE}$  علي استقامة صاحبه بالشكل الرابع عشر من الاولي ولان كل واحد من خطي  $\overline{AD}$   $\overline{AE}$  متساويان فنسبة



اد الى آه كنسبة اب الى آه  
بالشكل السابع من الخامسة  
وبهذا الشكل ايضا نسبة اب  
الي آه كنسبة اب الى آه  
فبالشكل الحادي عشر من  
الخامسة نسبة اد الى آه كنسبة



اب الى آه ونسبه سطح بد الى سطح ب ح كنسبة اد الى آه بالشكل الاول من  
السادسة وكانت نسبة اب الى آه كنسبة اد الى آه فنسبة سطح بد الى  
ب ح كنسبة اب الى آه بالشكل الحادي عشر من الخامسة ونسبة سطح ب ح  
الي سطح ح ه كنسبة اب الى آه بالشكل الاول من السادسة فبالشكل  
الحادي عشر نسبة سطح بد الى سطح ب ح كنسبة سطح ب ح الى سطح ح ه  
فسطح ب ح وسط في النسبة بين سطحي ب د ه لان خطي اب آه مشتركين  
في القوة يكون سطح ب د ه مشاركا لسطح ح ه ويضيف سطوحا متوازية  
الاضلاع كسطوح ب د ه الى خط ح ه المستقيم المنطق بالشكل  
الخامس والاربعين من الاولي وهي سطوح ح ط ال م نه وسط ح ط كسطح  
ب د وسط كل كسطح ب ح وسط م نه كسطح ح ه ولان سطحي ب د ه  
موسطان بالشكل السابع عشر فيكون كل من عرضي ح ط ل نه منطقتي  
القوة غير مشاركا لخط ح ه بالشكل الثامن عشر ولان كل واحده من  
الزوايا التي عند نقط ط ل ال م قائمة وكل من خطي ح ط م خط مستقيم  
بالشكل الرابع عشر من الاولي فهما متوازيان بالشكل التاسع والعشرين  
من الاولي فنسبه سطح ح ط الى سطح ال كنسبة سطح ال الى سطح م نه ونسبة  
السطوح المذكورة كنسب قواعدهما بالشكل الاول من السادسة فنسبة  
ح ط الى ط ل كنسبة ط ل الى ل نه فط ل وسط في النسبة بين خطي ح ط ل نه  
وتكون ايضا نسبة ح ط الى ل نه كنسبة سطح ح ط الى م نه بالشكل الثالث  
والعشرين من الخامسة وسط ح ط مشاركا لسطح م نه فخط ح ط مشاركا  
لخط ل نه بالشكل الثامن ويكون سطح ح ط في ل نه مربع ط ل بالشكل السابع  
عشر من السابعة ولان نسبة سطح ح ط الى ل نه في ل نه الى مربع ل نه كنسبة ح ط الى  
ل نه بالشكل الاول من السادسة وح ط يشارك ل نه فالسطح يشارك مربع  
ل نه بالشكل الثامن ومربع ل نه منطقتي ح ط في ل نه المساوي لمربع  
ط ل منطقتي باسبانه الشكل العاشر فخط ط ل منطقتي في القوة فان كان  
منطقا في الطول ايضا فسطح ال منطقتي بالشكل الخامس عشر وان كان  
منطقا في القوة فقط فسطح ال موسط بالشكل السابع عشر فالحكم ثابت  
وذلك ما اردنا ان نبين

مقدمة

كل عدد فرد اول ينقص منه واحد ويزاد علي نصف باقيه فربع نصف  
باقيه



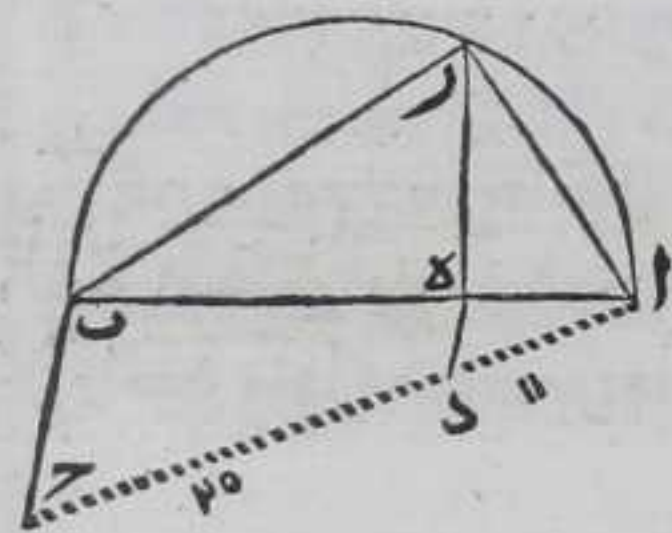
باقية مع الواحد ومربع نصف باقيه وحده عدد يفضل احد هما علي  
 الآخر بعدد غير مربع وهو العدد الفرد الاول الذي فرضناه اولاً  
 ليكن  $\overline{AB}$  عدداً اولاً وفصل منهما الواحد وهو  $\overline{AC}$  ونصف الباقي علي  
 $\overline{D}$  فمربع  $\overline{AD}$  يزيد علي مربع  $\overline{CD}$  بعدد  $\overline{AB}$  برهانه فلان مربع  $\overline{AD}$   
 يساوي مربعي  $\overline{AC}$  و  $\overline{CD}$  وضعف

العدد الحاصل من ضرب  $\overline{AC}$  في  $\overline{A}$  .....  $\overline{D}$  .....  $\overline{B}$   
 $\overline{CD}$  كما يبين في الشكل السادس

عشر من التاسعة ليكن مربع  $\overline{AC}$  هو الواحد نفسه والحاصل من ضرب  
 $\overline{AC}$  في  $\overline{CD}$  مرتين هو  $\overline{CD}$  فمربع  $\overline{AD}$  يفضل علي مربع  $\overline{CD}$  بعدد  $\overline{AB}$  الفرد  
 الاول وهو غير مربع فهذا طريق تحصيل عددين مربعين يفضل  
 احد هما علي الآخر بعدد غير مربع

لنا ان نجد خطين منطقيين في القوة مشتركين  
 فيها فقط يقوي الاطول على الاقصر بزيادة مربع  
 خط يشاركه في الطول

فليكن  $\overline{AC}$  عددين مربعين ونزيد  $\overline{AC}$  علي  $\overline{CD}$  بعدد  $\overline{AC}$  الغير المربع  
 وليكن  $\overline{AB}$  خطاً منطقياً في الطول وهو الخط الموضوع او ما يشاركه  
 ولنجعل  $\overline{AC}$  يحيطان بزواية  $\overline{BAC}$  وننصف  $\overline{AB}$  بالشكل العاشر من  
 الاولي ونصل  $\overline{BC}$  بخط مستقيم ونخرج من  $\overline{D}$  خطاً موازياً لخط  $\overline{BC}$

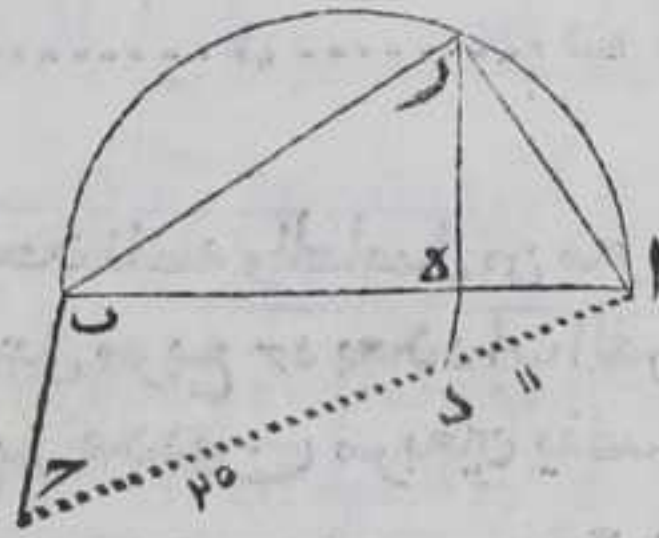


بالشكل الواحد والثلاثين من الاولي  
 فلينته الي  $\overline{AB}$  علي نقطة  $\overline{E}$  ونخرج منها  
 $\overline{ED}$  عمود علي  $\overline{AB}$  بالشكل الحادي عشر من  
 الاولي فلينته الي المحيط علي نقطة  $\overline{E}$   
 ونصل بينها وبين كل من نقطتي  $\overline{A}$  و  $\overline{B}$  بخط  
 مستقيم فلان زاويتي  $\overline{DE}$  من مثلث  $\overline{ADE}$   
 كزاويتي  $\overline{DE}$  من مثلث  $\overline{BDE}$  بالشكل

التاسع والعشرين من الاولي وزاوية  $\overline{A}$  مشتركة بين المثلثين فنسبة  $\overline{AC}$  الي  
 $\overline{AD}$  كنسبة  $\overline{AB}$  الي  $\overline{AE}$  بالشكل الرابع من السادسة ونسبة  $\overline{AB}$  الي  $\overline{AE}$  كنسبة  
 $\overline{AC}$  الي  $\overline{AD}$  باستبانة الشكل الثامن من السادسة فنسبة مربع  $\overline{AB}$  الي مربع  
 $\overline{AC}$  كنسبة  $\overline{AB}$  الي  $\overline{AE}$  باستبانة الشكل التاسع عشر من السادسة فنسبة  
 مربع  $\overline{AB}$  الي مربع  $\overline{AC}$  كنسبة  $\overline{AD}$  الي  $\overline{AE}$  بالشكل الحادي عشر من الخامسة  
 فخط  $\overline{AB}$  يباين خط  $\overline{AE}$  في الطول بالشكل السابع لان  $\overline{AD}$  عددان غير



مربعين ويشاركه في القوة بالشكل السادس لان نسبة مربعهما كنسبة  
 عددي  $\overline{ا ح}$  و  $\overline{ا ب}$  منطف في القوة فامر منطف في القوة باستبانة الشكل  
 العاشر ومثل ما بينا تبين ان نسبة مربع  $\overline{ا ب}$  الي مربع  $\overline{ا ر}$  كنسبة  $\overline{ا ب}$   
 الي  $\overline{ب د}$  بالقلب ونسبة  $\overline{ا ح}$  الي  $\overline{د ح}$  العددين المربعين كنسبة  $\overline{ا ب}$  الي  $\overline{ب د}$   
 فنسبة مربع  $\overline{ا ب}$  الي مربع  $\overline{ا ر}$  كنسبة  
 عدد  $\overline{ا ح}$  الي عدد  $\overline{د ح}$  العددين المربعين  
 بالشكل الحادي عشر من الخامسة فخط  
 $\overline{ا ب}$  يشارك خط  $\overline{ب ر}$  في الطول والقوة  
 بالشكل السابع وزاوية  $\overline{ا ب ر}$  قائمة  
 بالشكل الثلثين من المقالة الثالثة ومربع  
 $\overline{ا ب}$  كمربعي  $\overline{ا ر}$   $\overline{ب ر}$  بالشكل السابع  
 والامر بعين من الاولي فخط  $\overline{ا ب}$  يقوي علي خط  $\overline{ا ر}$  مربع خط يشاركه في  
 الطول وهو  $\overline{ب ر}$  مع ان خطي  $\overline{ا ب}$   $\overline{ا ر}$  منطقتان في القوة مشتركان فيها  
 فقط فالحكم ثابت وذلك ما اردنا ان نبين



مقدمة

كل عددين مربعين مجموعهما غير مربع اذا ضرب في عدد مربع كان  
 الحاصل عدداً مربعان مجموعهما غير مربع  
 ليكن  $\overline{ا ب}$   $\overline{ب ح}$  عددين مربعين و  $\overline{ا ح}$  المولف منهما غير مربع و  $\overline{د د}$  عدد  
 مربع فاقول ان الحاصل من ضرب  $\overline{ا ح}$  في  $\overline{د د}$  عدداً مربعان مجموعهما غير

مربع برهانه ليكن  $\overline{ا ح}$  هو  
 الحاصل من ضرب  $\overline{ا ب}$  في  $\overline{د د}$  و  $\overline{ب ح}$   
 هو الحاصل من ضرب  $\overline{ب د}$  في  $\overline{د د}$   
 ايضا فكل من  $\overline{د د}$   $\overline{ا ح}$  مربع

باستبانة الشكل الثاني من التاسعة  
 و  $\overline{ا ح}$  غير مربع لانه حاصل من ضرب  $\overline{ا ح}$  غير المربع في  $\overline{د د}$  المربع باستبانة  
 الشكل المذكور ايضا في هذا الطريق يمكن ان نجد اعداد غير متناهيه  
 كل واحد منها عدداً مربعان مجموعهما غير مربع وذلك ما اردنا ان نبين

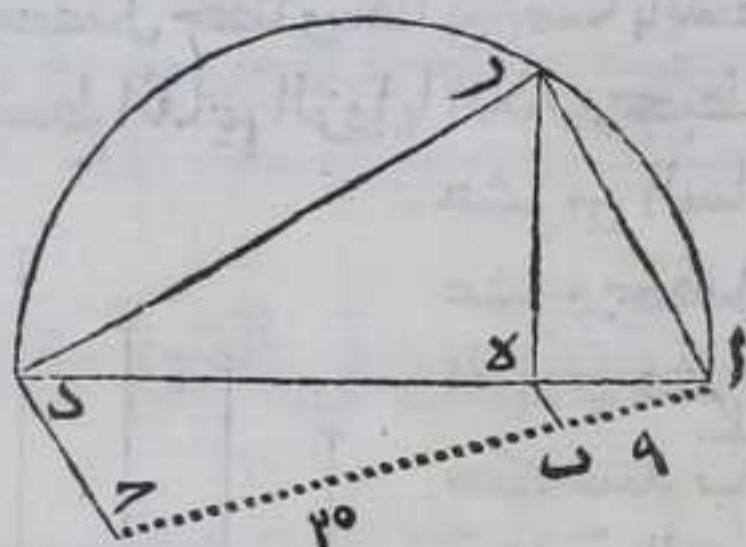
لنا ان نجد خطين منطقتين في القوة مشتركين  
 فيها فقط يقوي الاطول علي الاقصر بزيادة مربع خط  
 يباينه في الطول

ول

نجد



لنجد  $AB$   $BC$  عددين مربعين مجموعهما وهو  $AC$  غير مربع بالمقدمة



ولبكن خط  $AD$  المخط الموضوع او  
خطا يشاركه منطقا في الطول  
ونصفه بالشكل العاشر من الاولي  
ونرسم عليه نصف دائرة  $ABD$   
ونجعل  $AD$   $AC$  محطين بزواوية  $DAE$   
ونصل بين نقطتي  $D$   $E$  بخط مستقيم  
ونخرج من نقطة  $B$  خط  $BE$  موازيا


لخط  $DE$  بالشكل الواحد والثلاثين من الاولي فلينته الى خط  $AD$  علي نقطة  
 $F$  ونخرج منها عمود  $BF$  علي خط  $AD$  بالشكل الحادي عشر من الاولي فلينته  
الى المحيط علي نقطة  $G$  ونصل بينها وبين كل واحدة من نقطتي  $AD$  بخط  
مستقيم وزاويا  $B$   $F$  من مثلث  $ABF$   $BC$   $CF$  من مثلث  $BCF$   
بالشكل التاسع والعشرين من الاولي فنسبة  $AC$  الى  $B$  كنسبة  $AD$  الى  $AE$   
بالشكل الرابع من السادسة ونسبة  $AD$  الى  $AE$  كنسبة  $AB$  الى  $AE$  باستبانة  
الشكل الثامن من السادسة ونسبة مربع  $AD$  الى مربع  $AE$  كنسبة  $AD$  الى  
 $AE$  باستبانة الشكل التاسع عشر من السادسة فنسبة مربع  $AD$  الى مربع  
 $AE$  كنسبة عدد  $AC$  الى عدد  $AB$  بالشكل الحادي عشر من الخامسة فخط  $AD$   
يشارك خط  $AE$  في القوة فقط بالشكل السابع ولان زاوية  $ABE$  قائمة  
بالشكل الثلاثين من الثالثة فربع  $AD$  مربعي  $AE$   $BE$  بالشكل السابع  
والاربعين من الاولي فربع  $AD$  يقوي علي مربع  $AE$  بقوة خط  $BE$  ولان  
نسبة مربع  $AD$  الى مربع  $AE$  كنسبة  $AD$  الى  $AE$  باستبانة الشكل الثامن  
والثاسع عشر من السادسة وبالقلب نسبة  $AC$  الى  $AB$  كنسبة  $AD$  الى  $DE$   
فبالشكل الحادي عشر من الخامسة نسبة مربع  $AD$  الى مربع  $DE$  كنسبة  
عدد  $AC$  الى عدد  $BC$  وهما عددان غير مربعين فخط  $AD$  يشارك خط  $DE$   
في القوة ويباينه في الطول بالشكل السابع فخط  $AD$   $AE$  مشتركان في القوة  
فقط ويقوي  $AD$  علي  $AE$  بقوة خط  $DE$  الذي يباينه في الطول فالحكم  
ثابت وذلك ما اردنا ان نبين

الـ

لنا ان نجد خطين متوسطين مشتركين في القوة  
فقط يحيطان بمنطق يقوي الاطول على الاقصر  
منهما بزيادة مربع خط يشاركه في الطول  
يحصل خطين منطقيين في القوة مشتركين فيهما فقط يقوي الاطول علي




الاقصر بقوة خط يشاركه في الطول بالشكل الثاني والعشرين وليكونا  $\bar{A}\bar{B}$   
 ويحصل خطا وسطا بينهما بالشكل التاسع من السادسة وهو خط  $\bar{C}$   
 فالسطح القائم الزوايا الذي يحيط به خط  $\bar{A}\bar{B}$  مربع  $\bar{C}$  بالشكل السابع  
 عشر من السادسة فخط  $\bar{C}$  موصل بالشكل السابع  
 عشر ويحصل خطا رابعا لها في النسبة بالشكل  
 الحادي عشر من السادسة وهو  $\bar{D}$  فنسبة  $\bar{A}$  الي  $\bar{C}$   
 كنسبة  $\bar{B}$  الي  $\bar{D}$  وبالابدال نسبة  $\bar{A}$  الي  $\bar{B}$  كنسبة  
 $\bar{C}$  الي  $\bar{D}$  بالشكل السادس عشر من الخامسة و  
 يشارك  $\bar{B}$  في القوة فقط في يشارك  $\bar{D}$  في القوة فقط  
 بالشكل الثامن و  $\bar{C}$  موصل  $\bar{D}$  موصل بالشكل  
 التاسع عشر و  $\bar{A}$  يقوي علي  $\bar{B}$  بزيادة قوة خط يشاركه في الطول في يقوي  
 علي  $\bar{D}$  بزيادة قوة خط يشاركه في الطول بالشكل الثاني عشر وكانت نسبة  
 $\bar{C}$  الي  $\bar{B}$  كنسبة  $\bar{A}$  الي  $\bar{C}$  فنسبة  $\bar{C}$  الي  $\bar{B}$  كنسبة  $\bar{B}$  الي  $\bar{D}$  بالشكل الحادي  
 عشر من الخامسة فسطح  $\bar{C}$  في  $\bar{D}$  القائم الزوايا مربع  $\bar{B}$  المنطق بالشكل  
 السابع عشر من السادسة فالحكم ثابت وذلك ما اردنا ان نبين



لنا ان نجد خطين متوسطين مشتركين في القوة  
 فقط يحيطان بمنطق يقوي الاطول على الاقصر  
 بزيادة قوة خط يباينه في الطول

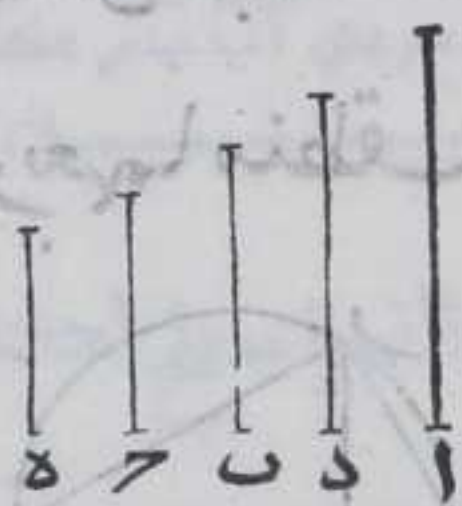
يحصل خطين منطقيين في القوة مشتركين فيهما فقط  
 يقوي الطول على الاقصر بزيادة قوة خط يباينه  
 في الطول بالشكل الثالث والعشرين وليكونا خطي  
 $\bar{A}\bar{B}$  ويحصل الوسط بينهما بالشكل التاسع من  
 السادسة وهو  $\bar{C}$  فالسطح القائم الزوايا الذي يحيط  
 به خط  $\bar{A}\bar{B}$  يساوي مربع  $\bar{C}$  بالشكل السادس عشر من السادسة فهو  
 موصل وليكن خط  $\bar{D}$  ربع خطوط  $\bar{A}\bar{B}$  في النسبة بالشكل الحادي عشر  
 من السادسة وبالابدال نسبة  $\bar{A}$  الي  $\bar{B}$  كنسبة  $\bar{C}$  الي  $\bar{D}$  بالشكل السادس  
 عشر من الخامسة و  $\bar{A}$  يشارك  $\bar{B}$  في القوة فقط في يشارك  $\bar{D}$  في القوة فقط  
 بالشكل التاسع عشر و  $\bar{C}$  موصل  $\bar{D}$  موصل بالشكل الثامن و  $\bar{A}$  يقوي علي  
 $\bar{B}$  بزيادة مربع خط يباينه في الطول بالشكل الحادي عشر من الخامسة  
 في يقوي علي  $\bar{D}$  بزيادة مربع خط يباينه في الطول بالشكل الثاني عشر  
 ونسبة  $\bar{B}$  الي  $\bar{D}$  كنسبة  $\bar{A}$  الي  $\bar{C}$  ونسبة  $\bar{C}$  الي  $\bar{B}$  كنسبة  $\bar{B}$  الي  $\bar{D}$  ونسبة  $\bar{C}$  الي  $\bar{B}$   
 كنسبة





كنسبة آ الي ح فنسبة ح الي ب كنسبة ب الي د بالشكل الثاني عشر  
فالسطح القائم الزوايا الذي يحيط به خطا ح د يساوي مربع ب  
المنطق فالحكم ثابت وذلك ما اردنا ان نبين

لنا ان نجد خطين متوسطين مشتركين في القوة فقط  
محيطان بموسط يقوي الاطول على الاقصر منهما  
بزيادة قوة خط يشاركه في الطول



فيحصل خطين مستقيمين منطقتين في القوة  
مشتركين فيها فقط يقوي الاطول على الاقصر  
بزيادة مربع خط يشاركه في الطول بالشكل  
الثاني والعشرين وهما آ ح ويحصل خطا مستقيما


يشارك ح او آ في القوة فقط بالشكل التاسع وهو ب ويحصل بين خطي آ ب  
خطا وسطا في النسبة بالشكل التاسع من السادسة وهو د فالسطح القائم  
الزوايا الذي يحيط به خطا آ ب كمربع د بالشكل السادس عشر من السادسة  
فد موسط بالشكل السابع عشر وليكن نسبة آ الي ح كنسبة د الي ه بالشكل  
الحادي عشر من السادسة ويقوي على ح بمربع خط يشاركه في الطول فد  
يقوي على ه بمربع خط يشاركه في الطول بالشكل الثاني عشر فه موسط  
بالشكل التاسع عشر وبالابدال نسبة ح الي ه كنسبة آ الي د بالشكل السادس  
عشر من الخامسة وكانت نسبة د الي ب كنسبة آ الي د بالشكل الحادي عشر  
من الخامسة نسبة د الي ب كنسبة ح الي ه فالسطح القائم الزوايا الذي يحيط  
به خطا ب ح الموسط بالشكل السابع عشر يساوي السطح القائم الزوايا  
الذي يحيط به د ه بالشكل الخامس عشر من السادسة فالحكم ثابت  
وذلك ما اردنا ان نبين

لنا ان نجد خطين متوسطين مشتركين في القوة  
فقط يقوي الاطول على الاقصر بزيادة مربع خط  
يشاركه في الطول

فيحصل خطوط آ ب ح المنطق في القوة المشتركة فيها فقط كما بينا في  
الشكل المتقدم ويحصل خط د وسطا بين آ ب وخط ه رابعا في النسبة

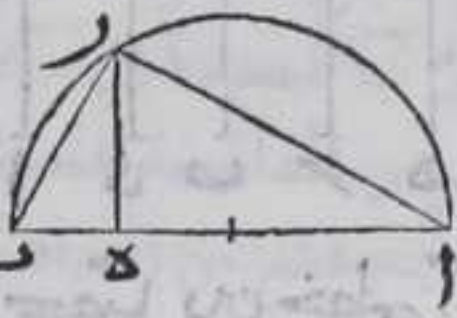


الخطوط  $آب$  ونعمل الجميع على ما بيننا في  
الشكل المتقدم والفرق بين الشكلين ان خط  $د$   
يقوي على خط  $هـ$  بقوة خط يشاركه في الطول في  
الشكل المتقدم وهاهنا  $د$  يقوي على  $هـ$  بمربع  
خط يباينه في الطول والبيان كالبيان والحولان  
كالحولان فالحكم ثابت وذلك ما اردنا ان نبين



لنا ان نجد خطين متباينين في القوة مجموع  
مربعهما منطوق وضعف سطح احدهما في الاخر

موسط



يحصل خطين مستقيمين منطوقين  
في القوة ومشتركين فيها فقط  
يقوي اطولهما على اقصرهما بزيادة مربع خط يباينه في الطول بالشكل  
الخامس والعشرين وليكونا  $آب$  و  $آب$  اطولهما وننصف  $آب$  بالشكل  
العاشر من الاولي ونرسم عليه نصف دائرة  $آرب$  وننصف  $آب$  سطحا  
كربع مربع  $ب$  ينقص عن تمامه مربع  $آب$  بالشكل الثامن والعشرين من  
السادسة فيقسم السطح المضاف للخط بقسمين متباينين بالشكل الرابع  
عشر ولنقسمه على نقطة  $هـ$  ونخرج منها عمود  $هـر$  على  $آب$  فلينته الى المحيط  
على نقطة  $ز$  ونصل  $آز$   $زب$  بخطين مستقيمين فاقول ان خطي  $آز$   $زب$   
متباينان في القوة ومجموع مربعهما منطوق وضعف سطح احدهما في  
الاخر موسط برهانها ولان مثلتي  $آهز$   $زب$  متشابهتان ويشبهان  
مثلتي  $آزب$  بالشكل الثامن من السادسة فنسبة  $آه$  الى  $هـر$  ونسبة  $هـر$  الى  
 $زب$  كنسبة  $آز$  الى  $زب$  فنسبة  $آه$  الى  $هـر$  كنسبة  $زب$  الى  $هـر$  بالشكل الحادي  
عشر من الخامسة ونسبة  $آز$  الى  $زب$  مثناة كنسبة  $آه$  الى  $هـر$  مثناة ونسبة  
 $آه$  الى  $هـر$  كنسبة  $آه$  الى  $هـر$  مثناة باستبانة الشكل التاسع عشر من  
السادسة فنسبة  $آز$  الى  $زب$  مثناة كنسبة  $آه$  الى  $هـر$  ونسبة مربع  $آز$  الى  
مربع  $زب$  كنسبة  $آز$  الى  $زب$  مثناة فنسبة مربع  $آز$  الى مربع  $زب$  كنسبة  
 $آه$  الى  $هـر$  بالشكل الحادي عشر من الخامسة واه يباين  $هـر$   $زب$  فمربع  $آز$   
يباين مربع  $زب$  بالشكل الثامن وننصف  $ب$  على  $د$  بالشكل العاشر من  
الاولي فمربع  $ب$  دربع مربع  $ب$  بالشكل الرابع من الثانية وسط  $آه$  في  $هـ$  كربع  
مربع  $ب$  وسط  $آه$  في  $هـ$  كربع  $هـر$  بالشكل السابع عشر من السادسة  
لان  $هـر$  وسط في النسبة بين  $آه$  و  $هـر$  بالشكل الثامن من السادسة فـ  
يساوي

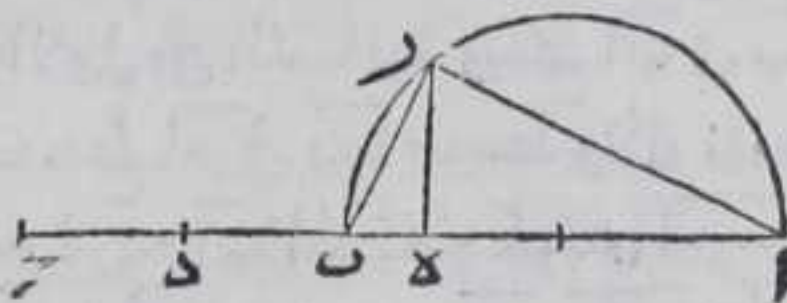






أر يباين مربع رب بالشكل الثامن ولان مربع ب ح المنصف علي د  
مربع ب د بالشكل الرابع من الثانية فسطح آه في ه ب كمربع ب د ولان عمود  
ره وسط في النسبة بين آه ه ب فسطح آه في ه ب يساوي مربع ره بالشكل  
الرابع عشر من السادسة فعمود ره يساوي خط ب د فنسبة رب الي ب د

كنسبته الي مرة بالشكل السابع  
من الخامسة ولان مثلثي آر ب  
ره ب متشابهان فنسبة آ ب الي آر  
كنسبة ب ر الي ره وكانت نسبة  
ب ر الي ب د كنسبة ب ر الي ره

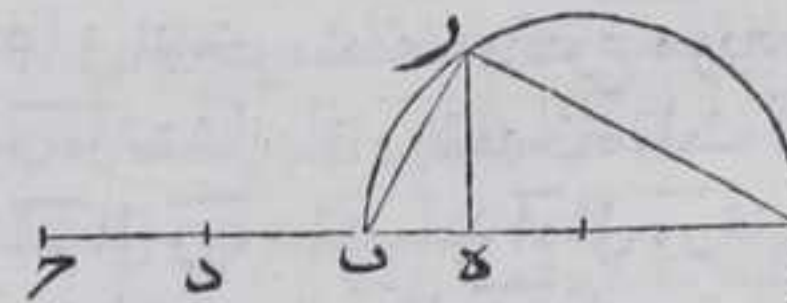


فنسبة آ ب الي آر كنسبة رب الي ب ه بالشكل الحادي عشر من الخامسة  
فسطح آ ب في ب د كسطح آر في رب بالشكل السادس عشر من السادسة  
ونسبة سطح آ ب في ب د الي سطح آ ب في ب ح كنسبة ب د الي ب ح بالشكل  
الاول من السادسة ورد نصف ب ح فسطح آ ب في ب د نصف سطح آ ب في  
ب ح المنطق فسطح آ ب في ب د منطق فسطح آر في رب منطق ولان  
زاوية آر ب قائمة بالشكل الثلثين من الثالثه فربع آ ب الموسط كجوع مربعي  
آ ب رب بالشكل السابع والاربعين من الاولي فربعا آر رب موسط  
فالحكم ثابت وذلك ما اردنا ان نبين

لنا ان نجد خطين متباينين في القوة ضعف سطح  
احدهما في الآخر موسط ومجوع مربعيهما موسط  
مباين لضعف سطح احدهما في الآخر

نحصل خطين موسطين مشتركين في القوة فقط يحيطان بموسط يقوي  
اطولهما علي اقصرهما بزيادة قوة خط يباينه في الطول بالشكل التاسع  
والعشرين وهما آ ب ب ح فننصف

كل واحد من خطي آ ب ب ح  
بالشكل العاشر من الاولي وليكن  
ب ح منصفا علي د فنرسم علي آ ب  
نصف دائرة آر ب ونضيف الي



خط آ ب سطحا يساوي لمربع ب ح ينقص عن تمامه مربع بالشكل الثامن  
والعشرين من السادسة فيقسم السطح المضاف الخط علي نقطة ه  
بمتباينين لان آ ب يقوي علي ب ح بمربع خط يباينه في الطول بالشكل  
الرابع عشر ونخرج من نقطة ه عمود ره علي آ ب بالشكل الحادي عشر من  
الاولي







مربعي  $\overline{AB}$  المشتركين منطف فمجموعهما المشارك لكل واحد منهما بالشكل الحادي عشر منطف باستبانة الشكل العاشر وكل واحد من سطحي  $\overline{AB}$  في  $\overline{B}$  المتشاركين مشارك لضعفه بالشكل الحادي عشر وكل من السطحين  $\overline{AB}$  في  $\overline{B}$  المتوسط بالشكل السابع عشر فضعفهما  $\overline{AB}$  في  $\overline{B}$  بالتاسع

عشر وسط  $\overline{AB}$  في  $\overline{B}$  يباين مربع  $\overline{B}$  بالشكل الثامن فمجموع مربعي  $\overline{AB}$  في  $\overline{B}$



المشارك  $\overline{B}$  بالشكل الحادي عشر يباين سطح  $\overline{AB}$  في  $\overline{B}$  والا لشاركه فيشارك مربع  $\overline{B}$  سطح  $\overline{AB}$  في  $\overline{B}$  بالشكل العاشر وهو يباينه هذا خلف فمجموع مربعي  $\overline{AB}$  في  $\overline{B}$  يباين سطح  $\overline{AB}$  في  $\overline{B}$  فيباين ضعف سطح  $\overline{AB}$  في  $\overline{B}$  المشارك لسطح  $\overline{AB}$  في  $\overline{B}$  بالشكل الحادي عشر والا لشاركه فيشارك سطح  $\overline{AB}$  في  $\overline{B}$  بالشكل العاشر وهو يباينه هذا خلف فمجموع مربعي  $\overline{AB}$  في  $\overline{B}$  المنطف يباين ضعف سطح  $\overline{AB}$  في  $\overline{B}$  المتوسط ومجموع المربعين مع ضعف سطح  $\overline{AB}$  في  $\overline{B}$  يساويان مربع  $\overline{AC}$  بالشكل الرابع من الثانية فربع  $\overline{AC}$  يباين مجموع مربعي  $\overline{AB}$  في  $\overline{B}$  المنطف باستبانة الشكل الحادي عشر فربع  $\overline{AC}$  اصم فاح القوي عليه اصم فالحكم ثابت وذلك ما اردنا ان نبين


لب

كل خط مستقيم مركب من خطين متوسطين مشتركين في القوة فقط وسطح احدهما في الآخر

منطف ويسمي ذا المتوسطين الاول

ليكن خط  $\overline{AC}$  مركبا من خطي  $\overline{AB}$  و  $\overline{BC}$  المتباينين المتوسطين المشتركين في القوة فقط وسطح  $\overline{AB}$  في  $\overline{B}$  منطف فاقول ان  $\overline{AC}$  اصم برهانه فلان

كل واحد من سطحي  $\overline{AB}$  في  $\overline{B}$  منطف فمجموعهما المشارك لكل واحد منهما بالشكل



الحادي عشر منطف باستبانة الشكل العاشر وكل واحد من مربعي  $\overline{AB}$  في  $\overline{B}$  المشارك لمجموعهما بالشكل الحادي عشر متوسط فمجموعهما  $\overline{AB}$  في  $\overline{B}$  بالتاسع عشر فضعف سطح  $\overline{AB}$  في  $\overline{B}$  المنطف يباين مجموع مربعي  $\overline{AB}$  في  $\overline{B}$  المتوسط فربع  $\overline{AC}$  المساوي لمجموع  $\overline{AB}$  في  $\overline{B}$  وضعف سطح  $\overline{AB}$  في  $\overline{B}$  بالشكل الرابع من الثانية يباين ضعف سطح  $\overline{AB}$  في  $\overline{B}$  المنطف باستبانة الشكل الحادي عشر فربع  $\overline{AC}$  اصم فاح القوي عليه اصم فالحكم ثابت وذلك ما اردنا ان نبين

لح


كل



كل خط مستقيم مركب من خطين مستقيمين  
موسطين مشتركين في القوة فقط وسطح احدهما في  
الآخر موسط فهو اصم ويسمي ذا الموسطين الثاني

ليكن خط  $آح$  المستقيم مركبا من خطي  $آب$  و  $بـ$  المستقيمين الموسطين  
المشتركين في القوة فقط وسطح  $آب$  في  $بـ$  موسط فاقول ان خط  $آح$  اصم  
برهانه ليكن خط  $ده$  المستقيم

المحدود منطوقا فنضيف اليه سطحا  
متوازي الاضلاع قائم الزوايا يساوي  
مربعي  $آب$  و  $بـ$  باستبانة الشكل  
الرابع والاربعين من الاولي وهو سطح  
 $دهج$  فلان كل واحد من مربعي  $آب$   
 $بـ$  المشتركين موسط في مجموعهما  
موسط بالشكل التاسع عشر فعرض



$دح$  منطوق في القوة مباين لخط  $ده$  في الطول بالشكل الثامن عشر فخط  $حـ$   
المساوي لخط  $ده$  المنطق بالشكل الرابع والثلاثين من الاولي منطوق  
ونضيف الي خط  $حـ$  المنطق سطح  $رط$  المتوازي الاضلاع القائم  
الزوايا المساوي لضعف سطح  $آب$  في  $بـ$  باستبانة الشكل الرابع  
والاربعين من الاولي فلان سطح  $رط$  موسط بمثل ما بيننا ان مجموع مربعي  
 $آب$  و  $بـ$  موسط فخط  $حط$  منطوق في القوة مباين لخط  $حـ$  في الطول  
بالشكل الثامن عشر ولان كل واحد من الزوايا التي عند نقطتي  $ح$  و  $قائمة$   
فكل واحد من خطي  $دط$  و  $رط$  خط مستقيم بالشكل الرابع عشر من الاولي  
وهما متوازيان بالشكل السابع والعشرين من الاولي وسطحا  $در$  و  $رط$   
متباينان لتباين خطي  $آب$  و  $بـ$  بمثل ما بيننا في الشكل المتقدم فنسبة  
سطح  $در$  الي سطح  $رط$  كنسبة  $دح$  الي  $حط$  بالشكل الاول من السادسة وسطح  
 $در$  يباين سطح  $رط$  فخط  $دح$  يباين خط  $حط$  بالشكل الثامن فخط  $دط$  ذو  
الاسمين فهو اصم بالشكل الثاني والثلاثين ونسبة مربع  $ده$  الي سطح  $هـط$   
كنسبة  $ده$  الي  $دط$  المتباينين بالشكل الاول من السادسة فربع  $ده$  المنطق  
يباين سطح  $هـط$  فسطح  $هـط$  اصم وخط  $آح$  يقوي علي سطح  $هـط$  بالشكل  
الرابع من الثانية فار اصم وذلك ما اردنا ان نبين

كل خط مستقيم مركب من خطين متباينين



في القوة مجموع مربعيها منطقتين وضعف سطح  
احدهما في الآخر متوسط اصم يسمى الاعظم

ليكن خط  $AC$  مركبا من خطي  $AB$  و  $BC$  المتباينين في القوة مجموع مربعي  
 $AB$  و  $BC$  منطقتين وضعف سطح احدهما في  
الآخر متوسط فاقول ان  $AC$  اصم برهانه  
فلان مجموع مربعي  $AB$  و  $BC$  منطقتين وضعف  
سطح  $AB$  في  $BC$  متوسط وهما متباينان ومربع  $AC$  يساويهما بالشكل  
الرابع من الثانية فربع  $AC$  يباين كل واحد منهما باستبانة الشكل  
الحادي عشر فباين مجموع مربعي  $AB$  و  $BC$  المنطقتين فربع  $AC$  اصم ف  $AC$  اصم  
وذلك ما اردنا ان نبين

كل خط مستقيم مركب من خطين متباينين  
في القوة مجموع مربعيها متوسط وضعف سطح احدهما  
في الآخر منطقتين اصم ويسمى القوي على منطقتين



وموسوط  $AC$   
ليكن خط  $AC$  المستقيم مركبا من خطي  $AB$   
و  $BC$  المتباينين في القوة مجموع مربعيها متوسط وضعف سطح  $AB$  في  $BC$   
منطقتين فاقول ان  $AC$  اصم برهانه فلان مجموع مربعي  $AB$  و  $BC$  متوسط  
وضعف سطح  $AB$  في  $BC$  منطقتين وهما متباينان فربع  $AC$  المساوي لهما  
بالشكل الرابع من الثانية يباين ضعف سطح  $AB$  في  $BC$  المنطقتين  
باستبانة الشكل الحادي عشر فهو اصم ف  $AC$  اصم وذلك ما اردنا ان نبين

كل خط مستقيم مركب من خطين متباينين  
في القوة مجموع مربعيها متوسط وضعف سطح احدهما  
في الآخر متوسط مباين للاول اصم ويسمى القوي

علي



علي المتوسطين

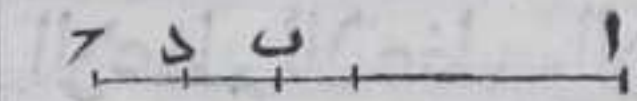


ليكن خط  $\overline{AC}$  المستقيم مركبا من خطي  $\overline{AB}$  المتباينين في القوة مجموع مربعي  $\overline{AB}$  و  $\overline{BC}$  وضعف سطح  $\overline{AB}$  في  $\overline{BC}$  موسىط مباين لمجموع المربعين فاقول ان  $\overline{AC}$  اصم برهانه ليكن خط  $\overline{DE}$  خط

مستقيما محدودا منطبقا ونضيف اليه سطح  $\overline{DE}$  المتوازي الاضلاع القائم الزوايا مساويا لمجموع مربعي  $\overline{AB}$  و  $\overline{BC}$  بالشكل الثامن عشر فخط  $\overline{DC}$  المساوي لخط  $\overline{DE}$  بالشكل الرابع والثلاثين من الاولي منطبق فعرض  $\overline{DC}$  منطبق في القوة مباين لخط  $\overline{DE}$  الطول ونضيف الي  $\overline{DC}$  المنطق سطحا متوازي الاضلاع القائم الزوايا مساويا لضعف سطح  $\overline{AB}$  في  $\overline{BC}$  باستبانة الشكل الرابع والاربعين من الاولي وهو  $\overline{DP}$  فخط  $\overline{CP}$  منطبق في القوة مباين لخط  $\overline{CR}$  بالشكل الثامن عشر فخط  $\overline{DP}$  و  $\overline{CR}$  مستقيمان بالشكل الرابع عشر من الاولي لان كل واحد من الزوايا التي عند نقطتي  $\overline{C}$  رقاية ومتوازيان بالشكل السابع والعشرين من الاولي ولان نسبة سطح  $\overline{DR}$  الي  $\overline{CP}$  كنسبة  $\overline{DC}$  الي  $\overline{CP}$  بالشكل الاول من السادسة والسطحان متباينان فخط  $\overline{DC}$  و  $\overline{CR}$  متباينان بالشكل الثامن فخط  $\overline{DP}$  و  $\overline{CR}$  الاسمين ومربع  $\overline{DE}$  منطبق ونسبته الي سطح  $\overline{EP}$  كنسبة  $\overline{DE}$  الي  $\overline{DP}$  بالشكل الاول من السادسة وهما متباينان فسطح  $\overline{EP}$  يباين مربع  $\overline{DE}$  المنطق بالشكل الثامن فهو اصم ومربع  $\overline{AC}$  يساوي سطح  $\overline{EP}$  بالشكل الرابع من المقالة الثانية فاصم وذلك ما اردنا ان نبين

مقدمة اولى

كل خط مستقيم محدود قسم بقسمين مختلفين مرة بعد اخرى وكان اعظم قسمي كل قسمه في احد جهتي الخط بعينه والاصغر في الجهة الاخرى في مجموع مربعي قسمي كل قسمه اعظم قسمية اعظم من اعظم قسمي قسمه اخري اعظم من مجموع مربعي قسمي القسم الاخرى



ليكن خط  $\overline{AC}$  قسم بقسمين مختلفين علي  $\overline{B}$  ثم علي  $\overline{D}$  و  $\overline{AB}$  و  $\overline{BC}$  اعظم قسمي القسمين في جهة  $\overline{A}$  من خط  $\overline{AC}$  فاقول

ان مجموع مربعي  $\overline{AD}$  و  $\overline{DC}$  اعظم من مجموع مربعي  $\overline{AB}$  و  $\overline{BC}$  برهانه فلان مربع  $\overline{AD}$


يساوي مربعي  $\overline{AB}$  و  $\overline{BD}$  وضعف سطح  $\overline{AB}$  في  $\overline{BD}$  بالشكل الرابع من الثانية ومربع  $\overline{BC}$  يساوي مربعي  $\overline{BD}$  و  $\overline{DC}$  وضعف سطح  $\overline{BD}$  في  $\overline{DC}$  بالشكل الرابع من الثانية فاذا القينا مربعات  $\overline{AB}$  و  $\overline{BC}$  المشتركة يبقضي ضعف



سطح  $AB$  في  $B$  اعظم من ضعف سطح  $BD$  في  $D$  فالحكم ثابت وذلك ما اردنا ان نبين

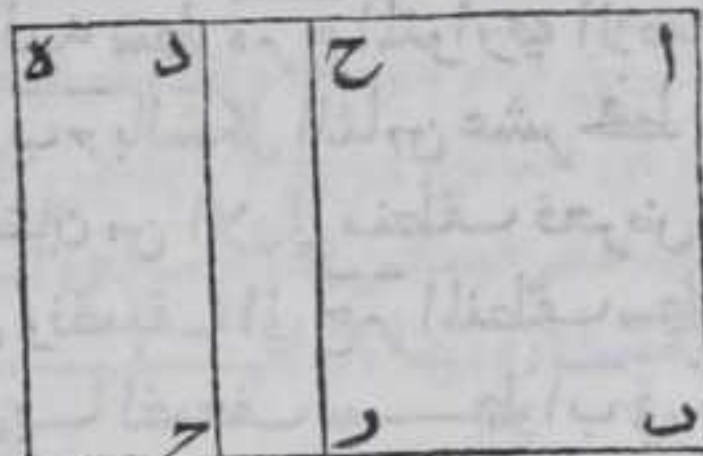
مقدمة ثانية

ليكن  $AB$  خطا مستقيما محدودا ونضيف اليه سطحا متوازي الاضلاع قائم الزوايا يساوي مربعي  $AD$  باستبانة الشكل الرابع والاربعين من الاولي وهو سطح  $BCD$  ونضيف



الي خط  $CD$  سطحا متوازي الاضلاع

القائم الزوايا يساوي ضعف سطح  $AD$  في  $D$  وهو سطح  $DE$  باستبانة



الشكل الرابع والاربعين من الاولي ونضيف الي خط  $AB$  سطحا متوازي

الاضلاع قائم الزوايا يساوي مجموع مربعي  $AB$  باستبانة الشكل

الرابع والاربعين من الاولي وهو سطح  $BCD$  فيكون اصغر من سطح  $BD$  بالمقدمة الاولي ونضيف الي خط

$BCD$  سطحا متوازي الاضلاع قائم الزوايا يساوي ضعف سطح  $AB$  في  $B$  باستبانة

الشكل المذكور وهو سطح  $DE$  فلان مربعي  $AD$  وضعف سطح  $AD$  في  $D$  يساويان مربع  $AC$  بالشكل الرابع من الثانية فيكون فضل مربعي  $AD$  في  $D$  علي مربعي  $AB$  في  $B$  يساوي فضل ضعف سطح  $AB$  في  $B$  علي ضعف

سطح  $AD$  في  $D$  وهو سطح  $DE$  وذلك ما اردنا ان نبين

كل خط مستقيم محدود قسم بذوي الاسمين علي

نقطة فانه لا يمكن ان يقسم ذلك الخط بذوي الاسمين

علي نقطة اخري اصلا الا علي نقطة واحدة فقط غير

الاولي يكون قسما الخط من القسمتين متساويين

الاعظم للاعظم والاصغر للاصغر

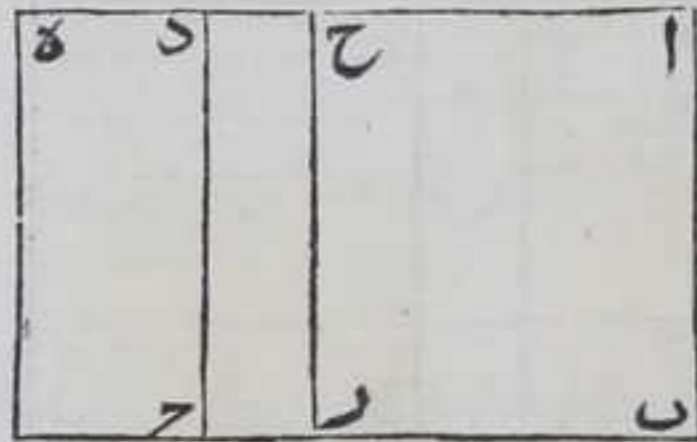

والا فلنقسم خط  $AC$  المستقيم المحدود علي نقطتي  $B$  وذوي الاسمين

يكون قسما  $AB$  في  $B$   $AD$  في  $D$  مخالفين بالاصغر والكبر فنضيف الي خط  $AB$

المستقيم المحدود المنطق سطحا متوازي الاضلاع القائم الزوايا يساوي مربعي



مربعي  $آد$  وهو سطح  $ب$   $د$  ونضيف الي خط  $د$   $س$  سطحاً متوازي  
 الاضلاع قائم الزوايا يساوي ضعف  
 سطح  $آد$  في  $د$  وهو سطح  $د$  ونضيف  
 الي خط  $آب$  سطحاً متوازي الاضلاع  
 قائم الزوايا يساوي مربعي  $آب$   $ب$   
 وهو سطح  $ب$   $ر$  فيكون اصغر من  
 سطح  $ب$   $د$  بالمقدمة الاولى ونضيف  
 الي خط  $ر$   $ح$  سطحاً متوازي الاضلاع  
 قائم الزوايا يساوي ضعف سطح  $آب$   
 في  $ب$  وهو سطح  $ر$   $ه$  كل ذلك باستبانة



الشكل الرابع والاربعين من الاولي فيكون سطح  $ر$   $د$  هو فضل مربعي  $آد$   $د$   
 علي مربعي  $آب$   $ب$  وهو بعينه فضل ضعف سطح  $آب$  في  $ب$  علي ضعف  
 سطح  $آد$  في  $د$  بالمقدمة الثانية لكن كل واحد من المربعات الاربعة  
 منطقت وكل واحد من ضعفي السطحين موسط وفضل المنطق علي  
 المنطق منطقت بالشكل الحادي عشر وباستبانة الشكل العاشر وفضل  
 الموسط علي الموسط اصم بالشكل العشرين فسطح  $ر$   $د$  منطقت واصم هذا  
 خلف بالحكم ثابت وذلك ما اردنا ان نبين

كل خط مستقيم محدود قسم بذوي الوسطين  
 الاول فلا يمكن ان يتقسم بذوي الوسطين علي نقطة  
 اصلا الا علي نقطة واحدة فقط قسم الخط من  
 القسمتين متساويان الاعظم للاعظم والاصغر

للاصغر

والا فلنقسم خط  $آ$   $ح$  علي نقطتي  $ب$   $د$  بذوي الوسطين الاول وقسما  $آب$   $ب$   $د$   
 مخالفان قسمي  $آد$   $د$  بالكبر والصغر فنضيف الي خط  $آب$  المستقيم  
 المحدود المنطق سطحاً متوازي الاضلاع القائم الزوايا يساوي مربعي  
 قسمي  $آد$   $د$  وهو سطح  $ب$   $د$  ونضيف الي خط  $د$   $س$  سطحاً متوازي الاضلاع  
 قائم الزوايا يساوي ضعف سطح  $آد$  في  $د$  وهو سطح  $د$  ونضيف الي خط  
 $آب$  سطحاً متوازي الاضلاع القائم الزوايا يساوي مربعي  $آب$   $ب$  وهو  
 سطح  $ب$   $ر$  ونضيف الي خط  $ر$   $ح$  سطحاً متوازي الاضلاع القائم الزوايا



يساوي ضعف سطح  $\overline{AB}$  في  $\overline{B\Gamma}$  وهو سطح  $\overline{DE}$  بالمقدمة الثانية كل ذلك  
 باستبانة الشكل الرابع والاربعين  
 من الاولي ففضل سطح  $\overline{AD}$  المتوسط علي  
 $\overline{AB}$  المتوسط وهو سطح  $\overline{DE}$  بالشكل  
 العشرين وفضل ضعف سطح  $\overline{AB}$  في  
 $\overline{B\Gamma}$  المنطف علي ضعف سطح  $\overline{AD}$  في  
 $\overline{D\Gamma}$  المنطف بالشكل الحادي  
 عشر وباستبانة الشكل العاشر  
 وهو سطح  $\overline{DE}$  فسطح  $\overline{DE}$  منطف واصل  
 معاهذا خلف الحكم ثابت وذلك

ا ب د ح

ا	د	ح	هـ
ب	ر	ز	

ما اردنا ان نبين

ط

كل خط مستقيم منقسم بذئ الوسطين الثاني  
 لا يمكن ان ينقسم بموسطيه الاعلي نقطة واحدة فقط  
 يكون قسما القسمتين متساويين الاعظم للاعظم

والاصغر للاصغر

ا	ل	ح	هـ
ب	م	ط	ز

ليكن  $\overline{AD}$  خطا مستقيما منقسما  
 بذئ الوسطين الثاني علي نقطة  $\overline{B}$   
 فاقول انه لا يمكن ان ينقسم علي  
 نقطة اخري بموسطية الثاني

يختلف قسما القسمتين بالكبر والاصغر الكبير للكبير والاصغر للصغير  
 برهانه والا فلنقسم كذلك علي نقطة  $\overline{D}$  فنضيف الي خط  $\overline{DE}$  المستقيم  
 المحدود المنطف سطحا متوازي الاضلاع قائم الزوايا يساوي مربعي  $\overline{AB}$   
 $\overline{B\Gamma}$  وهو سطح  $\overline{DE}$  وسطحا آخر كذلك يساوي ضعف سطح  $\overline{AB}$  في  $\overline{B\Gamma}$   
 وهو سطح  $\overline{DE}$  باستبانة الشكل الرابع والاربعين من الاولي فكل من عرضي  
 $\overline{DE}$  منطف في القوة مباين لهما في الطول بالشكل الثامن عشر ولان  
 زوايا التي عند نقطتي  $\overline{C}$   $\overline{D}$  قوايم فكل من خطي  $\overline{DE}$  وما يقابله خط  
 مستقيم بالشكل الرابع عشر من الاولي وهما متوازيان بالشكل السابع  
 والعشرين من الاولي ونسبة سطح  $\overline{DE}$  الي سطح  $\overline{DE}$  كنسبة خط  $\overline{DE}$  الي خط  
 $\overline{DE}$  بالشكل الاول من السادسة وسطحا  $\overline{DE}$   $\overline{DE}$  متباينان بمثل ما بينا في  
 الشكل الخامس والثلاثين فخطا  $\overline{DE}$   $\overline{DE}$  متباينان بالشكل الثامن وهما  
 منطقان




منطقان بالقوة فخط  $هـ$  ذو الاسمين بالشكل الثالث والثلاثين منقسما باسميه علي نقطة  $ح$  ونضيف الي خط  $هـ$  ايضا سطحا متوازي الاضلاع قائم الزوايا يساوي مربعي  $اد$  و  $دح$  وهو سطح  $هـ$  م  $ل$  وسطا اخر كذلك يساوي ضعف سطح  $اد$  في  $دح$  وهو سطح  $م$   $ل$  باستبانة الشكل الرابع والاربعين من الاولي وتبين بمثل ما بيننا ان خط  $هـ$  ذو الاسمين منقسما باسميه علي نقطة  $ل$  فذو الاسمين منقسم باسميه علي نقطتي  $ح$   $ل$  هذا خلف بالشكل التاسع والثلاثين فالحكم ثابت وذلك ما اردنا ان نبين  $\text{☞}$

لاشي من الخط الاعظم ينقسم بقسميه الا على نقطتين فقط يكون قسمي القسمتين متساويين  $\text{☞}$

ولكن  $آ$  خط اعظم منقسما بقسميه علي نقطة  $ب$  فاقول انه لا يمكن

ان ينقسم بقسميه علي غير نقطة  $ب$



يكون قسما مخالفتين لقسمي  $اب$

$ب$  بالصغر والكبر الاكبر للاكبر

والاصغر للاصغر فان امكن فلنقسم

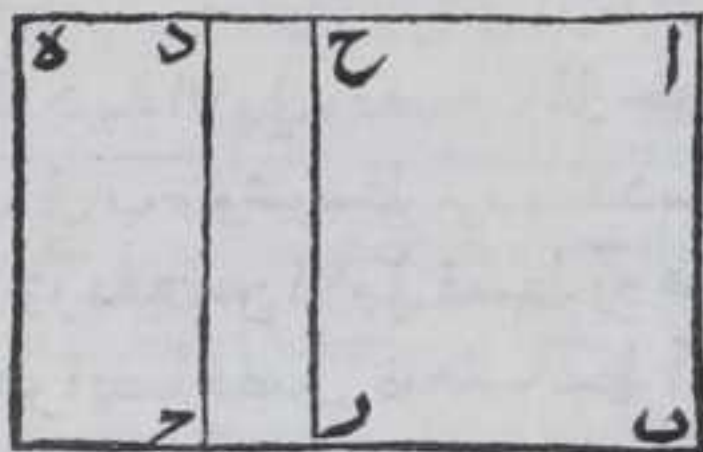
علي نقطة  $هـ$  بقسميه كذلك فنضيف

الي خط  $اب$  المستقيم المحدود

المنطق سطحا متوازي الاضلاع قائم

الزوايا يساوي مربعي  $ب$   $د$  و  $د$  و  $هـ$

سطحا  $ب$   $د$  ونضيف الي خط  $د$  كذلك



يساوي ضعف سطح  $اد$  في  $دح$  وهو سطح  $هـ$  ونضيف ايضا الي خط  $اب$

سطحا كذلك يساوي مربعي  $اب$  و  $ب$  و  $د$  وهو سطح  $ب$   $د$  فيكون اصغر من

سطح  $ب$   $د$  بالمقدمة الاولي ونضيف الي خط  $د$  سطحا كذلك يساوي

ضعف سطح  $اب$  في  $ب$  و  $د$  وهو سطح  $هـ$  بالمقدمة الثانية كل ذلك باستبانة

الشكل الرابع والاربعين من الاولي فيكون سطح  $د$  هو فضل مربعي  $اد$

$د$  علي مربعي  $اب$  و  $ب$  وهو بعينه فضل ضعف سطح  $اب$  في  $ب$  علي

ضعف سطح  $اد$  في  $د$  بالمقدمة الثانية لكن كل واحد من مجموع مربعي  $اد$

$د$  و  $اب$  و  $ب$   $د$  منطلق وفضل المنطق علي المنطق منطق بالشكل

الحادي عشر وباستبانة الشكل العاشر وكل من ضعفي سطح  $اد$  في  $د$  و  $اب$  في

$ب$   $د$  موصل الموصل علي الموصل اصم بالشكل العشرين فسطح  $د$

بعينه منطق وموسط هذا خلف فالحكم ثابت وذلك ما اردنا ان نبين  $\text{☞}$

ما



لاشي من الخط القوي على منطف وموسط ينقسم  
بقسميه الاعلى نقطتين فقط يكون قسما القسمتين

متساويين

ا ب د ح

ليكن  $\overline{AC}$  القوي على منطف  
وموسط منقسما بقسميه على  $\overline{B}$  فاقول  
انه لا يمكن ان ينقسم بقسميه على  
نقطة اخري يكون قسما مخالفين  
لقسمي  $\overline{AB}$  بالصغر والكبر  
الصغير للصغير والكبير للكبير والا  
فليتنقسم على نقطة  $\overline{D}$  كذلك فنضيف

ا	ح	د	هـ
ب	ر	ج	

الي خط  $\overline{AB}$  المستقيم المحدود المنطف سطحا متوازي الاضلاع قائم الزوايا  
يساوي مربعي  $\overline{AD}$  وهو سطح  $\overline{BD}$  ونضيف الي خط  $\overline{DC}$  سطحا كذلك  
يساوي ضعف سطح  $\overline{AD}$  في  $\overline{DC}$  وهو سطح  $\overline{CE}$  ونضيف الي خط  $\overline{AB}$  سطحا  
كذلك يساوي مربعي  $\overline{AB}$  وهو سطح  $\overline{BD}$  فيكون اقل من سطح  $\overline{BD}$   
بالمقدمة الاولي ونضيف الي خط  $\overline{BC}$  سطحا كذلك يساوي ضعف سطح  
 $\overline{AB}$  في  $\overline{BC}$  وهو سطح  $\overline{BE}$  بالمقدمة الثانية كل ذلك باستبانة الشكل الرابع  
والاربعين من الاولي فسطح  $\overline{DE}$  هو فضل مربعي  $\overline{AD}$  على مربعي  $\overline{AB}$  في  $\overline{BC}$   
وهو ايضا فضل ضعف سطح  $\overline{AB}$  في  $\overline{BC}$  على ضعف سطح  $\overline{AD}$  في  $\overline{DC}$  لكن  
فضل المربعين على المربعين فضل الموسط على الموسط فهو اصم بالشكل  
العشرين وفضل ضعف سطح  $\overline{AB}$  في  $\overline{BC}$  على ضعف سطح  $\overline{AD}$  في  $\overline{DC}$  فضل  
المنطف على المنطف فهو منطف بالشكل الحادي عشر واستبانة الشكل  
العاشر فسطح  $\overline{DE}$  بعينه منطف واصم هذا خلف فالحكم ثابت وذلك  
ما اردنا ان نبين

مب

لاشي من القوي على موسطين ينقسم بقسميه الاعلى  
نقطتين فقط يكون قسما القسمتين متساويين

فليكن  $\overline{AC}$  القوي على موسطين منقسما على نقطة  $\overline{B}$  بقسميه فاقول انه  
لا يمكن ان ينقسم بقسميه على غير نقطة  $\overline{B}$  يكون قسما مخالفين لقسمي  
 $\overline{AB}$  بالكبر والصغر فان امكن فليتنقسم على نقطة  $\overline{D}$  كذلك ونبين  
الخلف بمثل ما بينا في ذي الموسطين الثاني والشكل كالشكل وذلك ما  
اردنا







خطي  $\overline{ب ح}$   $\overline{ح د}$  ذو الاسمين الاول برهانه فلان نسبة مربع  $\overline{ب ل}$  الي  
 سطح  $\overline{ل ا}$  كنسبة  $\overline{ب ح}$  الي  $\overline{ح ا}$  بالشكل الاول من السادسة ولان مثلثي  $\overline{ب ه د}$

الهم متشابهان

بالشكل التاسع

والعشرين من

الاولي والشكل

الرابع من السادسة

فنسبه  $\overline{د ه}$  الي  $\overline{ه ر}$

كنسبة مربع  $\overline{ب ل}$

الي سطح  $\overline{ل ا}$  ونسبة

مربع  $\overline{ب ل}$  الي مربع  $\overline{ح د}$  كنسبته الي سطح  $\overline{ل ا}$  بالشكل السابع من الخامسة

فنسبه  $\overline{د ه}$  الي  $\overline{ه ر}$  كنسبة مربع  $\overline{ب ل}$  الي مربع  $\overline{ح د}$  بالشكل الحادي عشر من

الخامس فب  $\overline{ب ح}$   $\overline{ح د}$  منطقتان في القوة متباينان في الطول بالشكل السابع

ونسبة مربع  $\overline{ب ل}$  الي مربع  $\overline{ط ا}$  كنسبته الي سطح  $\overline{ب م}$  بالشكل السابع من

الخامسة ونسبة  $\overline{ب ح}$  الي  $\overline{ب ا}$  كنسبة مربع  $\overline{ب ل}$  الي سطح  $\overline{ب م}$  فبالشكل

الحادي عشر نسبة مربع  $\overline{ب ل}$  الي مربع  $\overline{ط ا}$  كنسبة  $\overline{ب ح}$  الي  $\overline{ب ا}$  وبالقلب

نسبة  $\overline{د ه}$  الي  $\overline{د ر}$  كنسبة  $\overline{ب ح}$  الي  $\overline{ب ا}$  فبالشكل الحادي عشر نسبة مربع

$\overline{ب ل}$  الي مربع  $\overline{ط ا}$  كنسبة عدد  $\overline{د ه}$  المربع الي عدد  $\overline{د ر}$  المربع فخط  $\overline{ب ح}$

يشارك ضلع  $\overline{ط ا}$  في الطول بالشكل السابع فخط  $\overline{ب ح}$  المستقيم مركب من

خطي  $\overline{ب ح}$   $\overline{ح د}$  المنطقتين في القوة فقط وخط  $\overline{ب ح}$  منطف في الطول

وقوي علي خط  $\overline{ح د}$  بمربع خط يشاركه في الطول وهو ضلع  $\overline{ط ا}$  فالحكم

ثابت وذلك ما اردنا ان نبين

بين

لنجدنا الاسمين الثاني

ليكن  $\overline{ا ح}$  خطا منطقتا في الطول ويشاركة خط  $\overline{ح د}$  في الطول فهو منطف

باستنبانه الشكل العاشر ونجد عددين مربعين ليس الفصل بينهما مربعا

بالمقدمة المذكورة قبل الشكل الثاني والعشرين وهما  $\overline{د ه}$   $\overline{د ر}$  والفصل

بينهما  $\overline{ر ه}$  ونجعل  $\overline{ح د}$  مع  $\overline{د ه}$  محيطا بزواية بحيث ينطبق نقطة  $\overline{ه}$  علي

نقطة  $\overline{ر}$  ونصل بين نقطتي  $\overline{ر ح}$  بخط مستقيم ونخرج من  $\overline{د}$  خط  $\overline{د م}$  موازيا

لخط  $\overline{ر ح}$  بالشكل الواحد والثلاثين من الاولي فلان زاويتي  $\overline{ح ر ه}$   $\overline{ر د م}$  اقل

من قائمتين بالشكل السابع عشر من الاولي وزاوية  $\overline{ه ر ح}$  كزاوية  $\overline{ه د م}$

بالشكل التاسع والعشرين من الاولي فخط  $\overline{ح د}$   $\overline{د م}$  اذا اخرجاهما علي

استقامتهما في جهة  $\overline{ح د}$  يتلاقبان فليتلاقبا علي نقطة  $\overline{م}$  ونرسم علي خط

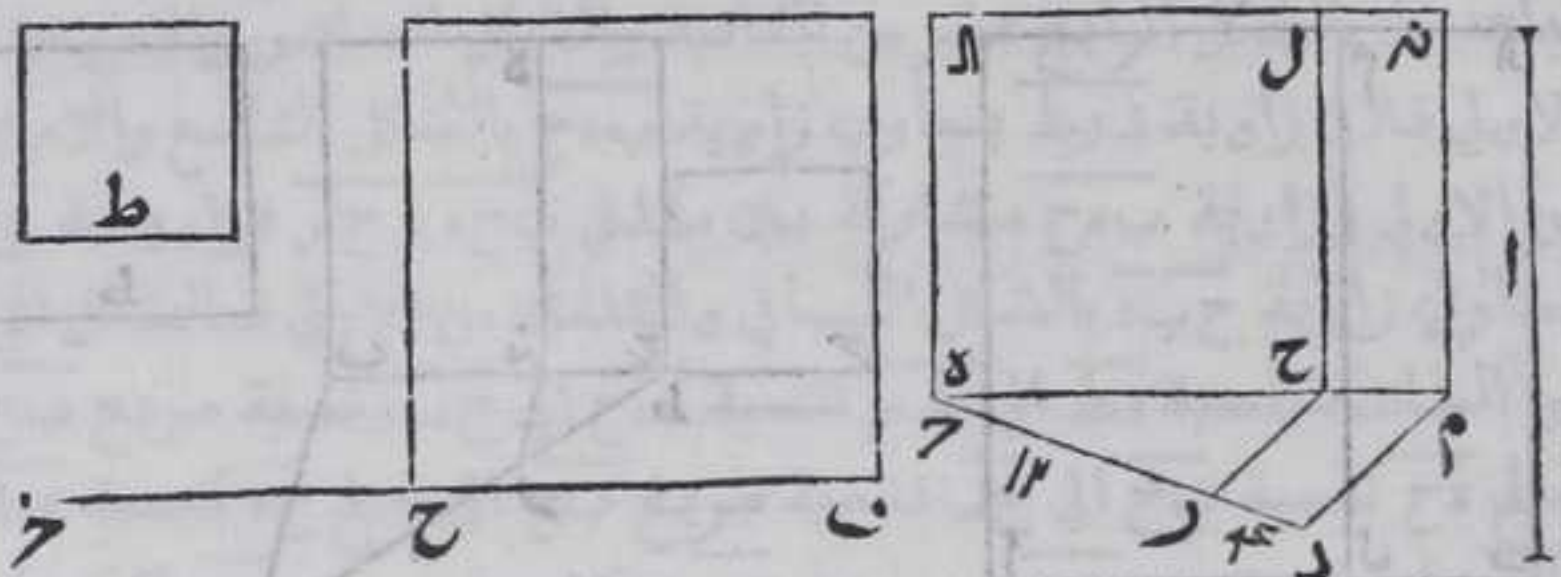
$\overline{ح د}$  مربع  $\overline{ح د}$  بالشكل السادس والاربعين من الاولي ونخرج من نقطة  $\overline{م}$

خط

خط



خط م نه موازيا لخط ح ل بالشكل الواحد والثلاثين من الاولي ونخرجه  
 علي استقامته في جهة نه وال في جهة ل علي استقامته فهما يتلاقيان  
 لان اذا وصلنا الم بخط مستقيم يكونا زاويتي ل الم نه الم اقل من قايمتين  
 لان كل واحد من زاويتي ال ال هم نه قايمة فليتلاقيا علي نقطة نه ونرسم



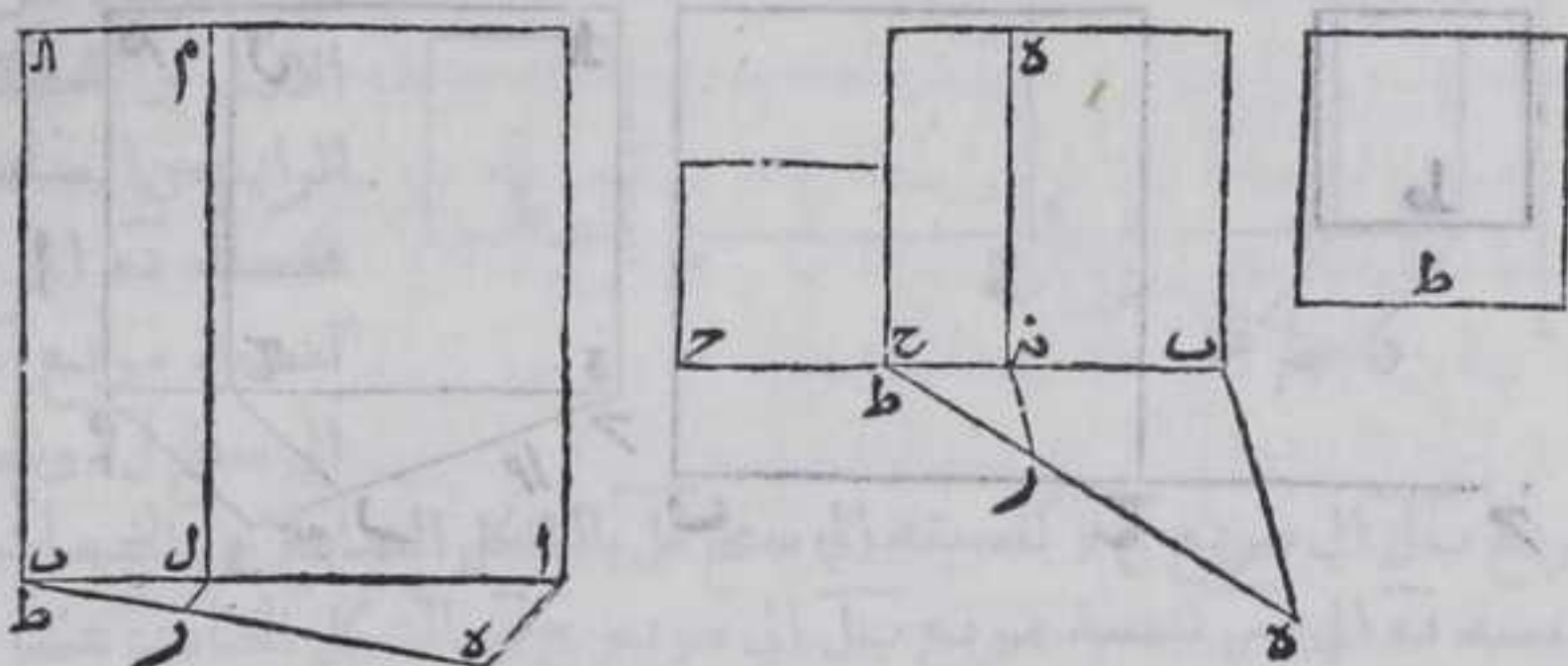
مربعا يساوي سطح م ال ضلعه ب ح ومربعا آخر يساوي سطح م ال ضلعه  
 ط بالشكل الرابع عشر من الثانية والشكل السادس والاربعين من الاولي  
 فلان زاويتي ح ح هـ من مثلث ح هـ ر يساويان زاويتي م د هـ من  
 مثلث دم هـ بالشكل التاسع والعشرين من الاولي وزاوية د هـ مشتركة  
 بين مثلثي ح هـ د فبالشكل الرابع من السادسة نسبة د هـ الي هـ ر كنسبة  
 م هـ الي ح ونسبة سطح م ال الي مربع ح ال كنسبة م هـ الي ح بالشكل الاول  
 من السادسة فبالشكل الحادي عشر من الخامسة نسبة د هـ الي هـ ر كنسبة  
 سطح م ال الي مربع ح ال ونسبة مربع ب ح الي مربع ح ال كنسبة سطح م ال الي  
 مربع ح ال بالشكل السابع من الخامسة فنسبة د هـ الي هـ ر كنسبة مربع ب ح  
 الي مربع ح ال بالشكل الحادي عشر من الخامسة فهما متباينان بالشكل  
 السابع ونسبة مربع ب ح الي مربع ط كنسبة سطح م ال الي مربع ط  
 بالشكل السابع من الخامسة وبالقلب نسبة د هـ الي هـ ر كنسبة سطح م ال الي  
 سطح م ال فبالشكل الحادي عشر من الخامسة نسبة مربع ب ح الي مربع ط  
 كنسبة د هـ الي هـ ر العددين المربعين فضلع ب ح يشارك ضلع ط في الطول  
 بالشكل السابع فخطا ب ح ح هـ منطقتان في القوة ومشاركان فهما فقط  
 وخط ب ح الاطول يقوي علي خط ح هـ الاقصر المنطق في الطول بنز زيادة  
 مربع خط يشاركه في الطول فقط فالخط المستقيم المركب من خطي ب ح  
 ح هـ ذو الاسمين الثاني والحكم ثابت وذلك ما اردنا ان نبين هـ

لن ان نجد الاسمين الثالث

ليكن اب خطا مستقيما منطقتا في الطول ونجد عددين مربعين ليس  
 الفصل بينهما مربعا بالمقدمة المذكورة قبل الشكل الثاني والعشرين



وهما  $هـ ط$  و  $هـ ر$  و  $ر ط$  هو الفضل بينهما وليس مربعاً وليكن  $ر ط$  عدداً اولاً  
 فلا يكون نسبته الى  $هـ ط$  ولا الى  $هـ ر$  كنسبة عددين مربعين والا لكان  
 العدد الاول مربعاً او مستطاباً بالشكل الثاني والعشرين من الثامنة هذا  
 خلف ونجعل خط  $أ ب$  مع عدد  $هـ ط$  محطاً بزواوية  $أ ط هـ$  بحيث

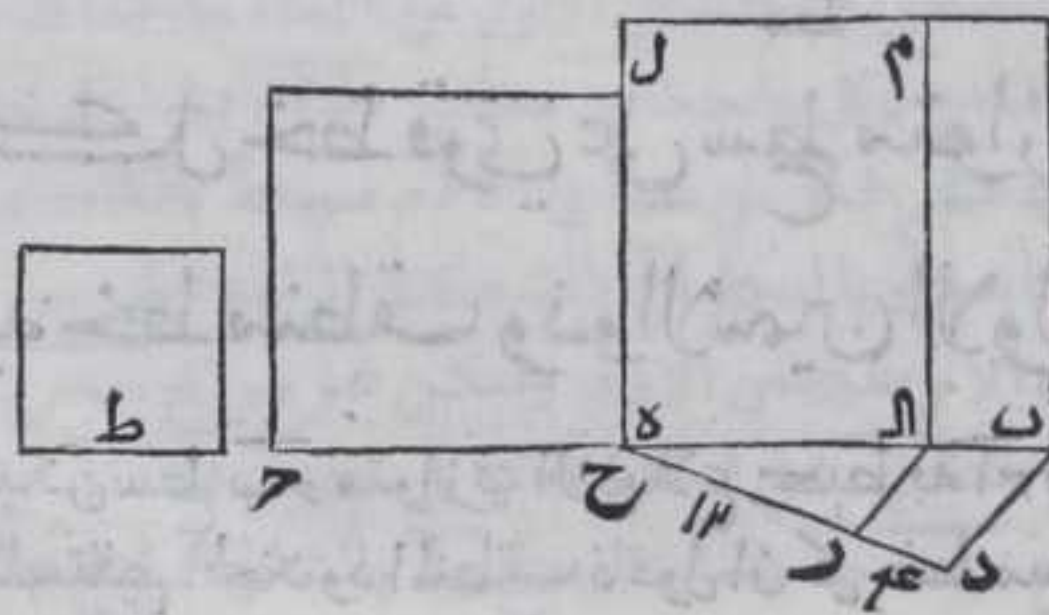


ينطبق نقطة  $ط$  على نقطة  $ب$  ونرسم على خط  $أ ب$  مربع  $أ ب$  بالشكل  
 السادس والاربعين من الاولي ونصل بين نقطتي  $أ هـ$  بخط مستقيم  
 ونخرج من نقطة  $ر$  خط  $ر ل$  موازياً للخط  $أ هـ$  بالشكل الواحد والثلاثين من  
 الاولي فلينته الى خط  $أ ب$  على نقطة  $ل$  ونخرج منها عمود  $ل م$  على  $أ ب$   
 بالشكل الحادي عشر من الاولي فلينته الى ضلع مربع  $أ ل$  على نقطة  $م$   
 فلان كل واحد من الزوايا التي عند نقط  $أ ل ب$  قائمة فكل من سطحي  $أ م$   
 $م ب$  متوازي الاضلاع بالشكل التاسع والعشرين من الاولي ولان زاوية  
 $ل ر ط$  كزاوية  $أ ط هـ$  بالشكل التاسع والعشرين من الاولي وزاوية  $أ ط هـ$   
 مشتركة بين مثلثي  $أ ط هـ ل ط ر$  فزاوية  $ط ل ر$  كزاوية  $هـ أ ط$  بالشكل الثاني  
 والثلاثين من الاولي فبالشكل الرابع من السادسة نسبة  $هـ ط$  الى  $ط ر$   
 كنسبة  $أ ط$  الى  $ط ل$  ونسبة مربع  $أ ل$  الى سطح  $ل أ$  كنسبة  $أ ط$  الى  $ط ل$   
 بالشكل الاول من السادسة فنسبة  $هـ ط$  الى  $ط ر$  كنسبة مربع  $أ ل$  الى سطح  
 $ل أ$  بالشكل الحادي عشر من الخامسة ونعمل مربعاً يساوي سطح  $ل أ$   
 بالشكل الرابع عشر من الثانية والشكل السادس والاربعين من الاولي  
 وليكن ضلعه  $ب ح$  فنسبة مربع  $أ ل$  الى مربع  $ب ح$  كنسبة مربع  $أ ل$  الى  
 سطح  $ل أ$  بالشكل السابع من الخامسة وكانت نسبة  $هـ ط$  الى  $ط ر$  كنسبة  
 مربع  $أ ل$  الى سطح  $ل أ$  فبالشكل الحادي عشر من الخامسة نسبة مربع  $أ ل$   
 الى مربع  $ب ح$  كنسبة  $هـ ط$  الى  $ط ر$  وهما ليسا عددين مربعين فخط  $ب ح$   
 يشارك خط  $أ ب$  في القوة ويباينه في الطول بالشكل السابع فخط  $ب ح$   
 منطبق في القوة فقط ونجعل  $ب ح$  ايضاً مع عدد  $هـ ط$  محطاً بزواوية  
 بحيث ينطبق نقطة  $ح$  على نقطة  $ط$  ونصل بين نقطتي  $هـ ب$  بخط مستقيم  
 ونخرج من نقطة  $ر$  خط  $ر ن$  موازياً للخط  $ب هـ$  بالشكل الواحد والثلاثين  
 من



من الاولي فينتهي الي ب ح علي نقطة نه ونخرج عنها عمود نه فليبتته الي ضلع  
 مربع ب ح علي ه بالشكل الحادي عشر من الاولي فسطحا ب ه ح متوازي  
 الاضلاع بالشكل السابع والعشرين من الاولي ونعمل مربع ايساوي  
 سطح ه ح وليكن ضلعه ح ونعمل مربع اخر يساوي سطح ب ه وليكن  
 ضلعه ط بالشكل الرابع عشر من الثانية والشكل السادس والاربعين من  
 الاولي فلان زاوية نه رط يساوي زاوية ب ه ح بالشكل التاسع والاربعين  
 من الاولي وزاوية ب ه ح مشتركة بين مثلثي ب ه ح نه ح فزاوية ح نه ر  
 يساوي زاوية ح ب ه بالشكل الثاني والثلاثين من الاولي فبالشكل الرابع  
 من السادسة نسبة ه ط الي ط ر كنسبة ب ح الي ح نه ونسبة مربع ب ح الي  
 سطح ه ح كنسبة ب ح الي ح نه فنسبة مربع ب ح الي سطح ه ح كنسبة ه ط الي  
 ط ر ونسبة مربع ب ح الي مربع ح ر كنسبة مربع ب ح الي سطح ه ح  
 بالشكل السابع من الخامسة فنسبة ه ط الي ط ر كنسبة مربع ب ح الي  
 مربع ح ر بالشكل الحادي عشر من الخامسة فب ح يشارك ح ر في القوة  
 ويباينه في الطول بالشكل السابع لان نسبة ه ط الي ط ر ليست كنسبة  
 عدد مربع الي عدد مربع وبالقلب نسبة ه ط الي ه ر كنسبة مربع ب ح  
 الي سطح ب ه ونسبة مربع ب ح الي مربع ط ر كنسبة مربع ب ح الي سطح  
 ب ه بالشكل السابع من الخامسة فنسبة ه ط الي ه ر كنسبة مربع ب ح الي  
 مربع ط ر بالشكل الحادي عشر من الخامسة وه ط ه ر عددان مربعان  
 فب ح يشارك ضلع ط ر في القوة والطول بالشكل السابع ولان نسبة  
 مربع ا ا الي مربع ب ح كنسبة ه ط الي ط ر ونسبة مربع ب ح الي مربع  
 ح ر كنسبة ه ط الي ط ر فبالشكل الثاني والعشرين من الخامسة نسبة  
 مربع ا ا الي مربع ح ر كنسبة عدد ه ط الي عدد ط ر وهما ليسا مربعين  
 فخط ا ب المنطق غير مشارك لخط ح ر في الطول بالشكل السابع ويشارك  
 في القوة فخط ح ر اصم فالخط المستقيم المركب من خطي ب ح ح ر ذو  
 الاسمين الثالث فالحكم ثابت وذلك ما اردنا ان نبين

لذا ان نجد ذا الاسمين الرابع



فجده عددان  
 مربعين ليس  
 مجموعهما مربعاً  
 بالمقدمة المذكورة  
 قبل الشكل  
 الثالث والعشرين  
 وهما در والفصل



بينهما ره فيكون نسبة ده الى در والي هـ ر ليست كنسبة عدد مربع الي  
عدد مربع والا لكانت كل واحد من ده ره مربعاً بالشكل الثاني  
والعشرين من الثانية وليس وليكن الخط المنطق آ ونبين بمثل ما بينا  
في ذي الاسمين الاول ان باح يكون قويا علي حـ بمربع خط يباينه في  
الطول وهو ط وذلك ما اردنا ان نبين

لذا ان نجد ذا الاسمين الخامس

فنعيد عددي ده در وتجد خطين اطولهما منطف في القوة فقط  
واصغرهما منطف في الطول والقوة معا ويقوي الاطول علي الاقصر



بزيادة مربع خط يباينه في الطول بمثل ما مر في ذي الاسمين الثاني  
والشكل كالشكل وذلك ما اردنا ان نبين

لذا ان نجد ذا الاسمين السادس

فنعيد عددي ده در وعدد هـ ط الذي ليست نسبته الي ده وهـ كنسبة  
عدد مربع الي عدد مربع كما بينه في الشكل التاسع والاربعين وتجد  
خطين كل منهما منطف في القوة فقط متباينان في الطول والاطول منها  
يقوي علي الاقصر بزيادة مربع خط يباينه في الطول بمثل ما مر في ذي  
الاسمين الثالث والشكل كالشكل وذلك ما اردنا ان نبين

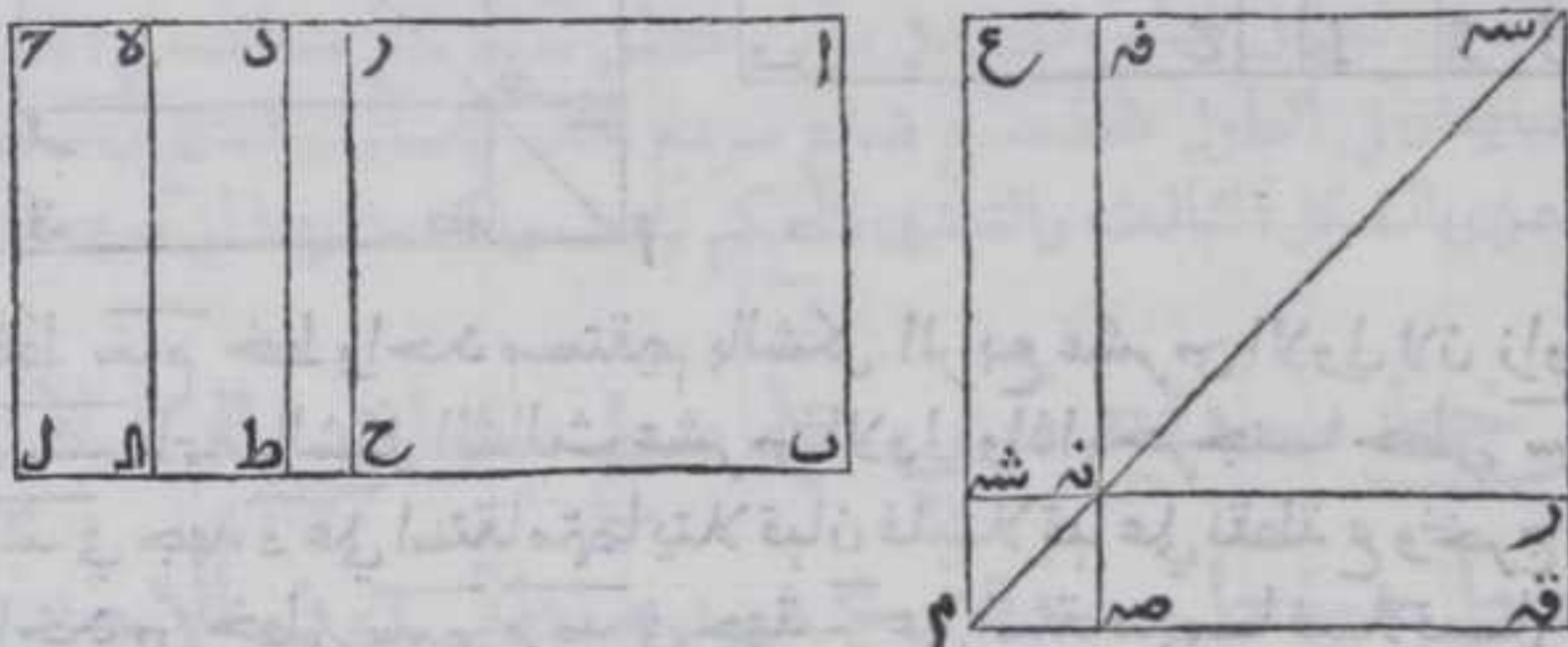
كل خط قوي علي سطح متوازي الاضلاع يحيط

به خط منطف وذو الاسمين الاول هو ذو الاسمين

ليكن سطح باح متوازي الاضلاع يحيط به ا ح ذو الاسمين الاول وخط اب  
المستقيم المحدود المنطف فاقول ان كل خط مستقيم قوي علي سطح باح  
فهو



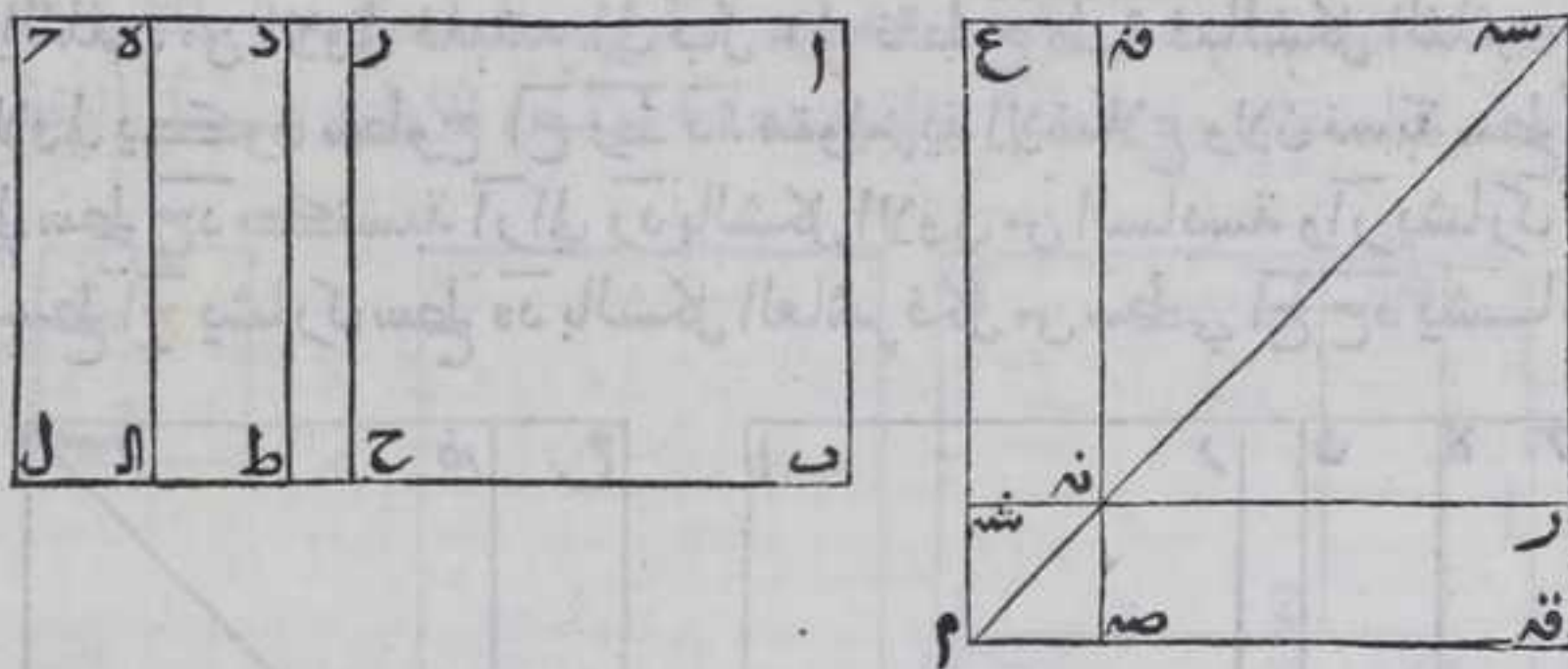
فهو ذو الاسمين برهانه لبيكن آح ذا الاسمين الاول منقسما باسميه علي  
 نقطة د واد اعظم اسميه فهو منطبق فسطح باد منطبق بالشكل الخامس  
 عشر ونصف دح علي نقطة ه بالشكل العاشر من الاولي فربع مربع دح  
 يساوي لمربع ده بالشكل الرابع من الثانية ونضيف الي اد سطحها يساوي  
 مربع ده ينقص عن تمامه مربعا بالشكل الثامن والعشرين من السادسة  
 فينقسم خط اد باضافة سطح اليه علي نقطة م فلان اد قوي علي خط دح  
 بمربع خط يشاركه في الطول فام يشارك رد بالشكل الثالث عشر ويخرج  
 من نقط ر د ه خطوط م ر ح د ط ه موازيه لخط اب بالشكل الواحد  
 والثلاثين من الاولي فلينته الي بل علي نقط ح ط ا فبالشكل الثلثين من  
 الاولي يكون سطوح اح رط دال متوازية الاضلاع ولان نسبة سطح اح  
 الي سطح ح د كنسبة ار الي رد بالشكل الاولي من السادسة وار يشارك رد  
 فسطح اح يشارك سطح ده بالشكل العاشر فكل من سطحي اح ح د يشارك



سطح اط المنطق بالشكل الحادي عشر فكل منهما منطبق باستبانة  
 الشكل العاشر ولان سطح ار في رد كمربع ده فنسبة ار الي ده كنسبة ده الي  
 رد بالشكل السادس عشر من السادسة ونسبة سطح اح الي سطح دال كنسبة  
 ار الي ده ونسبة سطح دال الي سطح رط كنسبة ده الي رد بالشكل الاولي من  
 السادسة فسطح دال وسط في النسبة بين سطحي اح ح د ولان سطح اط  
 متوازي الاضلاع يكون ضلع دط يساوي ضلع اب بالشكل الرابع  
 والثلاثين من الاولي و اب منطبق فدط منطبق في الطول ودح منطبق في  
 القوة فقط فسطح دل موصل بالشكل السابع عشر ولان نسبة سطح دال الي  
 سطح ار كنسبة ده الي ه المتشاركين بالشكل الاولي من السادسة فسطح دال  
 يشارك سطح ار بالشكل الثامن فكل واحد من سطحي دال ار يشارك سطح  
 دل الموصل بالشكل الحادي عشر فكل من سطحي دال ار موصل بالشكل  
 التاسع عشر ونرسم مربعا مساويا لسطح اح بالشكل الرابع عشر من  
 الثانية والشكل السادس والاربعين من الاولي وليكن هو مربع سمر نه فه  
 ونخرج قطر سمر نه ونخرج خط رنه علي استقامته في جهة نه الي غير  
 النهاية ونرسم عليه مربع نه شدم صه يساوي سطح رط بالشكل الرابع عشر



من الثانية والشكل السادس والاربعين من الاولي ولان زاويتي من نصه  
 ص نه شه كقايمتين بالشكل الثالث عشر من الاولي وزاوية ص نه شه قائمة  
 فزاوية ر نه ص قائمة وزاوية من نه ف قائمة فخط مستقيم بالشكل  
 الرابع عشر من الاولي ولان زاوية نه ص م قائمة من مثلث نه ص م و ضلع  
 نه ص كضلع ص م فزاويتا ص نه م ص م نه متساويتان بالشكل الخامس من  
 الاولي وكل مثلث زاوياها الثلث كقايمتين بالشكل الثاني والثلاثين من  
 الاولي فزاوية ص نه م نصف قائمة وكذلك زاوية نه ص م وبمثلته تبين ان كل  
 واحد من زاويا نه ص م نه ف نه ص م شه نه م شه م نه ر نه ص نه نصف قائمة



فخط س م خط واحد مستقيم بالشكل الرابع عشر من الاولي لان زاوية  
 نه شه قائمة بالشكل الثالث عشر من الاولي واذا اخرجنا خطي سه  
 م شه في جهة قه علي استقامتهما يتلاقيان فليبتلعا علي نقطة ع وتخرج كل  
 واحد من خطي سه م م ص في جهة م علي استقامتهما فليبتلعا  
 فليبتلعا علي نقطة قه ولان زاويتي ع سه م ع م سه متساويتان فضلعا  
 ع سه م متساويان بالشكل السادس من الاولي والاضلاع المتقابلة من  
 كل سطح متوازي الاضلاع متساوية بالشكل الرابع والثلاثين من الاولي  
 فكل واحد من ضلعي سه قه م يساوي نظيره من ضلعي سه ع م ولان كل  
 واحد من زاويتي ع سه قه م قائمة فكل واحد من زاويتي سه قه م  
 سه ع م قائمة بالشكل التاسع والعشرين من الاولي فسطح سه م مربع ولان  
 ضلع سه ع كضلع قه م وضلع سه قه كضلع سه ع م بالشكل الرابع والثلاثين  
 من الاولي فسطح سه قه كضلع سه م فربع سه قه يساوي مربع سه م ولان نسبة  
 سه قه الي سه ع كنسبة سه قه الي سه م فلهذا المسوي لسه قه الي سه م المسوي لسه ع الي سه م  
 السابع من الخامسة ونسبة سه قه الي سه م كنسبة مربع سه م الي سطح سه ع نه  
 بالشكل الاول من السادسة ونسبة سطح سه ع نه الي مربع سه م كنسبة سه قه الي سه م  
 نه ص بالشكل المذكور فسطح سه ع نه وسط في النسبة بين مربعي سه م نه م  
 وكان سطح سه م وسطا في النسبة بين سطحي سه م سه م المسويان لمربعي سه م نه م  
 نه م فنسبة سطح سه م الي سطح سه م نه م كنسبة سطح سه م الي سطح سه م نه م  
 ونسبة مربع سه م نه م الي مربع سه م نه م كنسبة سطح سه م الي سطح سه م نه م فبالشكل  
 الحادي

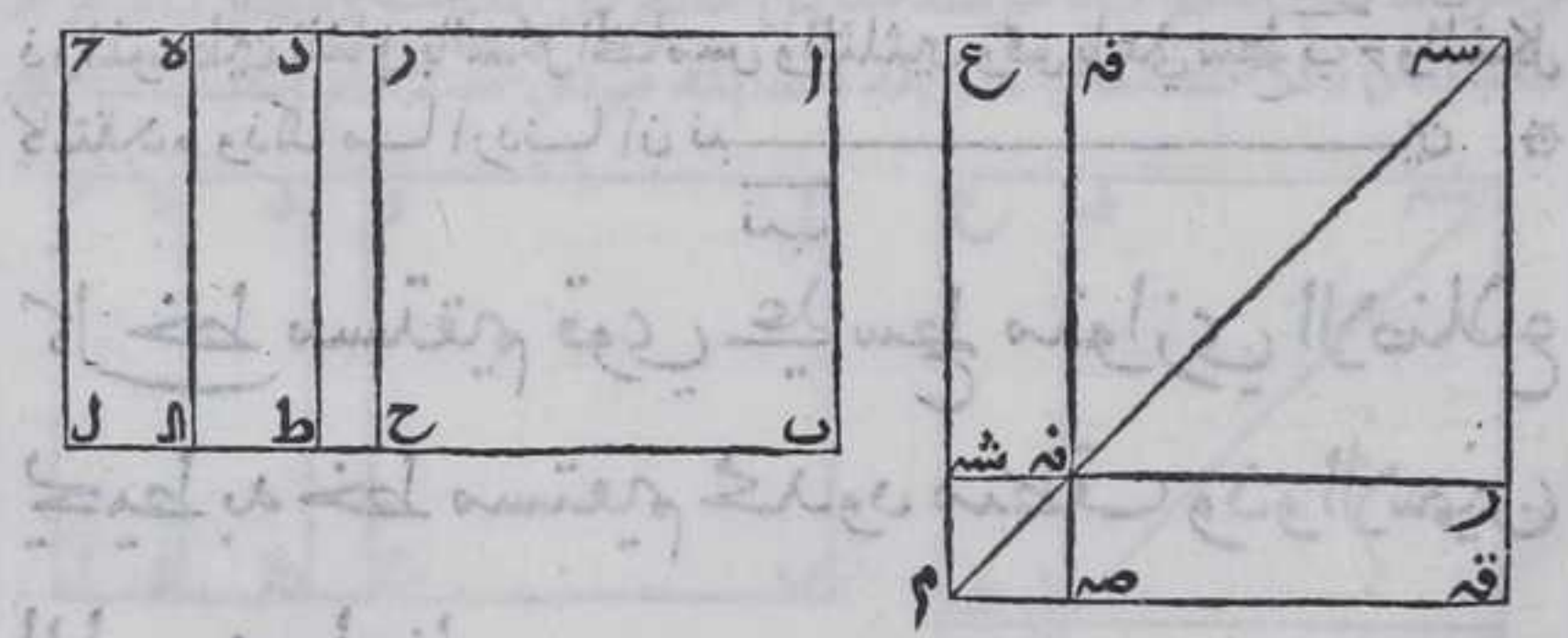


المحادي عشر من الخامسة نسبة سطح ب ر الى سطح د ا مثناة كنسبة مربع  
 س د الى مربع ن م ونسبة مربع س د الى سطح ع ن مثناة كنسبة مربع  
 س د الى مربع ن م فبالشكل المحادي عشر نسبة سطح ب ر الى سطح د ا  
 مثناة كنسبة مربع س د الى سطح ع ن مثناة فنسبة سطح ب ر الى سطح د ا  
 كنسبة مربع س د الى سطح ع ن ولان نسبة مربع س د الى سطح ع ن  
 كنسبة سطح ب ر الى سطح د ا ونسبة مربع س د الى سطح د ا كنسبة سطح  
 ب ر الى سطح د ا بالشكل السابع من الخامسة فنسبة مربع س د الى سطح  
 د ا كنسبة مربع س د الى سطح ن م بالشكل المحادي عشر من الخامسة فسطح  
 د ا يساوي سطح ن م بالشكل التاسع من الخامسة وسطح د ل ضعف  
 سطح د ا ومتما ن م ن م ضعف م م ن م بالشكل الثالث والامر تبين من  
 الاولي فتما ن م ن م يساويان سطح د ل ومربع س د ن م يساويان سطح  
 ب ر ر ط فربع س د م يساوي سطح ب ر ولان نسبة مربع س د الى سطح ن م  
 كنسبة خط س د الى فرع والمربع يباين سطح ن م فخط س د يباين  
 خط فرع بالشكل الثامن فكل من خطي س د فرع منطف في القوة  
 ومتباينان في الطول فخط س د ضلع مربع س د المساوي لسطح ب ر ذو  
 الاسمين بالشكل الثالث والثلاثين فالحكم ثابت وذلك ما اردنا ان نبين

كل خط مستقيم قوي على سطح متوازي الاضلاع  
 يحيط به خط مستقيم محدود منطف وذو الاسمين

الثاني هو ذو الوسطين الاول

لبيكن سطح ب ر المتوازي الاضلاع يحيط به اب المستقيم المحدود



المنطف وذو الاسمين الثاني فاقول ان خط مستقيم قوي على سطح ب ر هو  
 ذو الوسطين الاول ويكون ههنا سطح د ر منطفا وسطح ب د موسطا ونسلك  
 ما سلكتنا في الشكل المتقدم فيحصل مربعي س د ن م كل واحد منهما


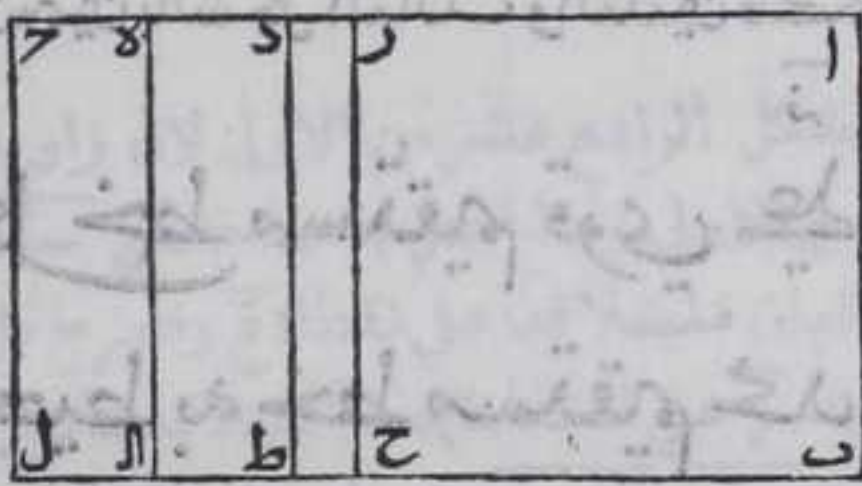


موسطا ويشتركان فيكون متمما نـ ع نـ هـ منطبقين فخط سـ عـ المركب من خطي سـ هـ فرع الموسطين المشتركين المتباينين في الطول الذي ضعف سطح احدهما في الآخر منطبق ذو الموسطين الاول بالشكل الرابع والثلاثين وقوي علي سطح بـ جـ والشكل كالمقدم وذلك ما اردنا ان نبين

كل خط مستقيم قوي علي سطح متوازي الاضلاع يحيط به خط مستقيم محدود منطبق وذو الاسمين

الثالث ذو الموسطين الثاني

ليكن السطح بـ جـ وذو الاسمين الثالث اـ جـ فسطح بـ دـ هنا موسط وكل من سطحي بـ جـ رـ طـ موسط مشترك لسطح بـ دـ المباين لسطح دـ لـ الموسط فيحصل بالطريقة التي سلكتناها مربعي سـ هـ نـ م الموسطين المشتركين المباينين لسطح نـ عـ الموسط فيكون خط سـ عـ مركبا من خطي سـ هـ فرع



الموسطين في القوة المشتركة فيها فقط المحيطان بموسط وهو سطح نـ عـ فهو ذو الموسطين الثاني بالشكل الخامس والثلاثين وقوي يا علي سطح بـ جـ والشكل كالمقدم وذلك ما اردنا ان نبين

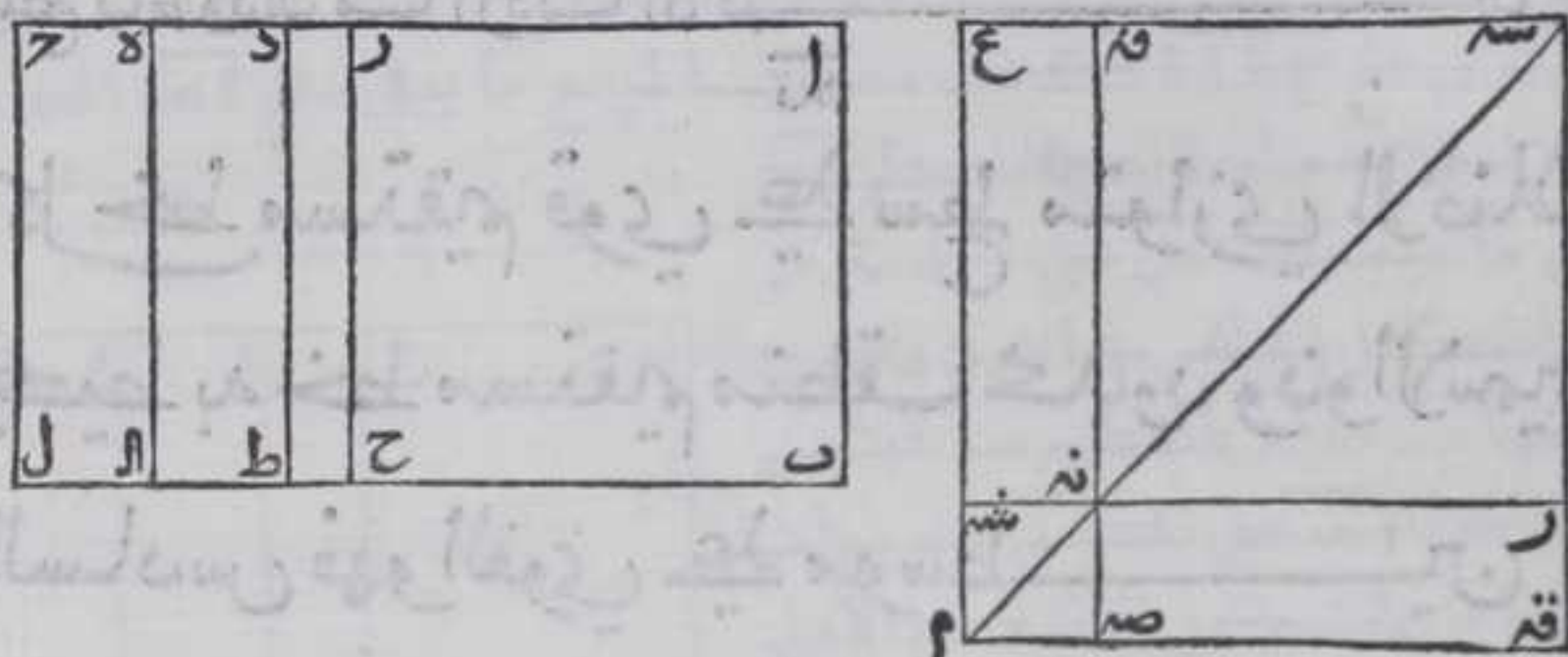
كل خط مستقيم قوي علي سطح متوازي الاضلاع يحيط به خط مستقيم محدود منطبق وذو الاسمين

الرابع هو اعظ

ليكن السطح بـ جـ والخط المستقيم المنطق اـ بـ وذو الاسمين الرابع اـ جـ منقسما علي دـ باسميه فاقول ان كل خط قوي علي سطح بـ جـ اعظم ولان سطح بـ دـ هنا



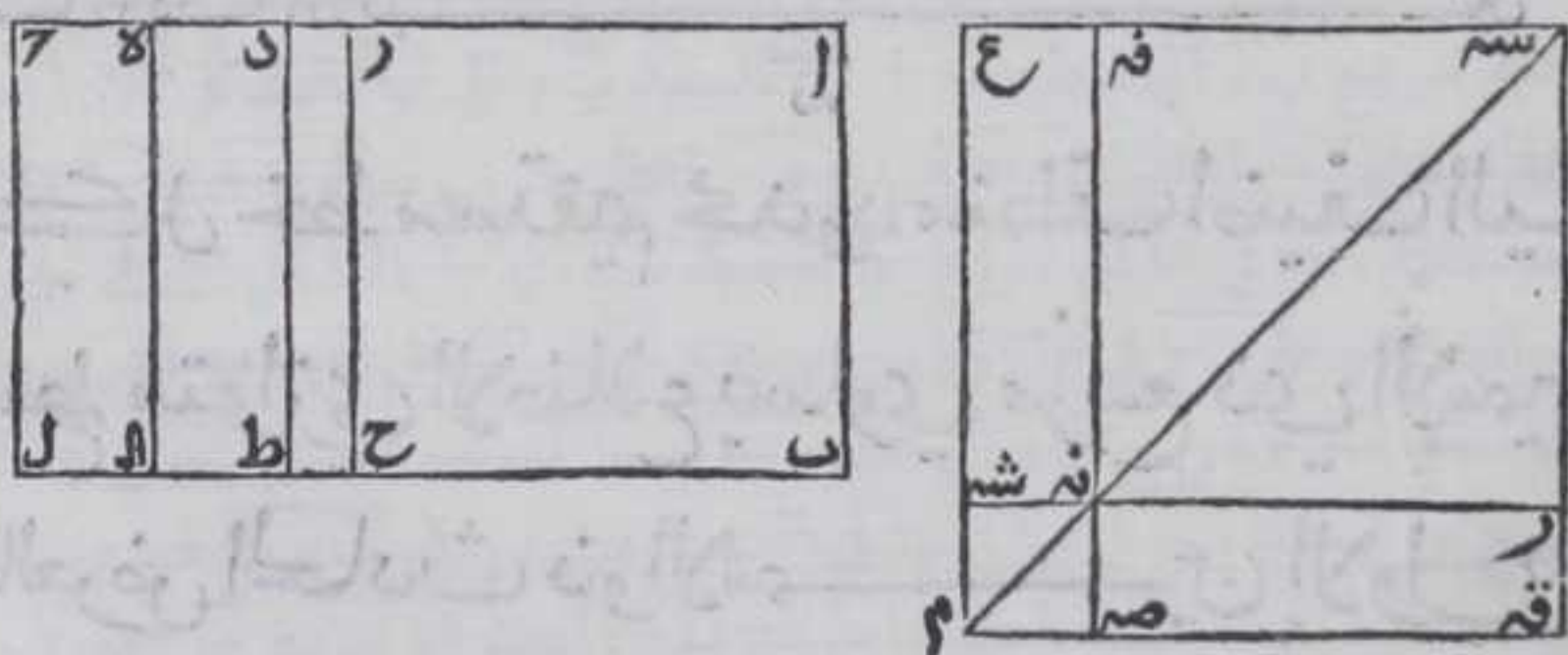
بـ د هنا منطف وسطا بـ ر ط متباينان وسط دل موسىط فاذا اسلكنا ما  
 سلكنا في الاشكال المتقدمة حصلنا مربعي سـ نـ مـ نـ متباينين مجموعهما  
 منطف ومتممي نـ عـ نـ قـ كل منهما موسىط ولذلك مجموعهما فيكون خط



سـ عـ مركبا من خطي سـ فـ نـ فرع المتباينين في القوة مجموع مربعهما منطف  
 وضعف سطح احدهما في الآخر موسىط اعظم بالشكل السادس والثلاثين  
 وقويا علي سطح بـ حـ وذلك ما اردنا ان نبين

كل خط مستقيم قوي علي سطح متوازي الاضلاع  
 محيطه خط مستقيم محدود منطف وذو الاسمين  
 الخامس هو القوي علي منطف وموسىط

ليكن السطح بـ حـ والخط ا ب وذو الاسمين الخامس ا ح منقسما باسميه علي  
 نقطة د فاقول ان كل خط مستقيم قوي علي سطح بـ ح قوي علي منطف  
 وموسىط فلان سطح بـ د موسىط مباين لسطح دل المنطف وسطا بـ ر ط  
 متباينان فاذا حصلنا بالطريقة السابقة مربعي سـ نـ مـ نـ المتباينين



مجموعهما موسىط ومتممي نـ عـ نـ قـ المنطقتين فيكون خط سـ عـ المركب من  
 خطي سـ فـ نـ فرع المتباينين في القوة مجموعهما موسىط ومتممي نـ عـ نـ قـ

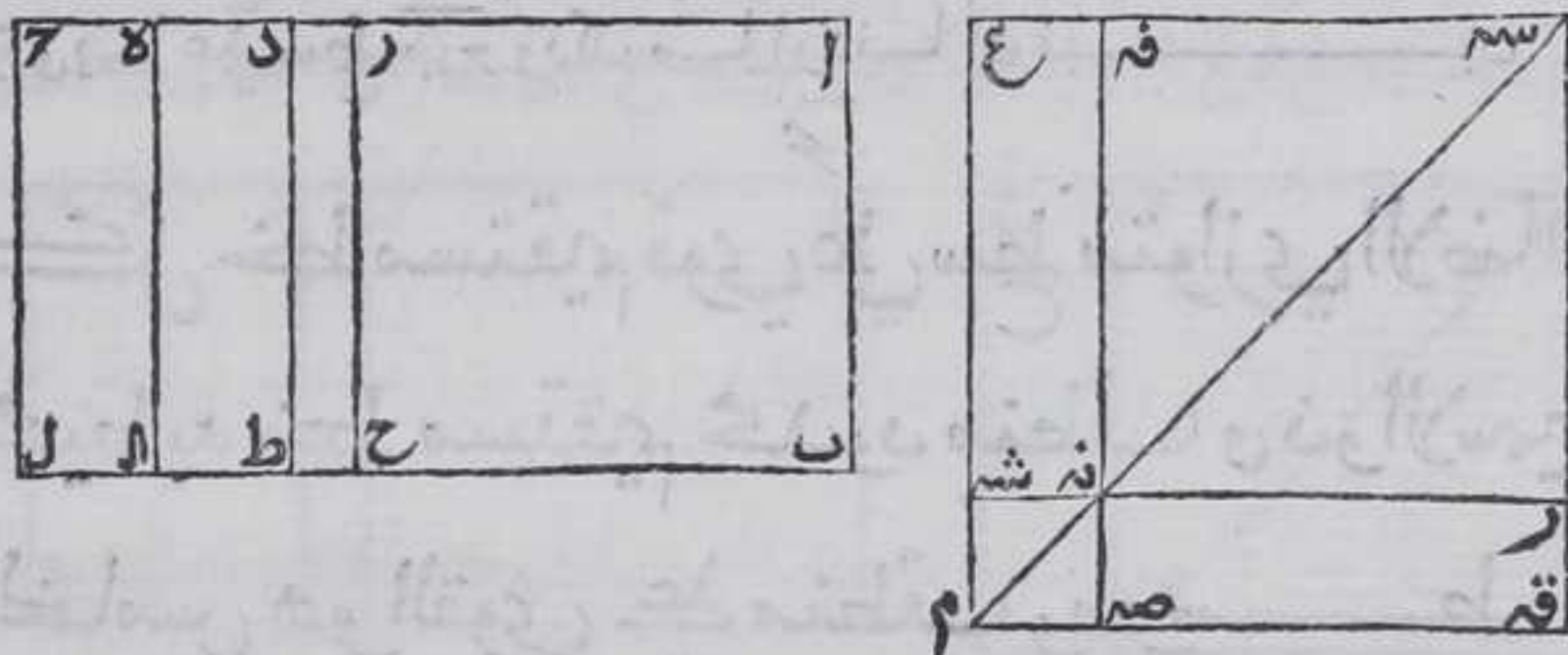


المنطقين فيكون خط  $\overline{سح}$  المركب من خطي  $\overline{سح}$  فرع المتباينين في القوة  
بمجموعهما  $\overline{موسط}$  وضعف  $\overline{سح}$  احد هما في الآخر وهو ممتما  $\overline{نح}$   $\overline{نق}$   
منطق قوي  $\overline{يا علي}$  منطق  $\overline{وموسط}$  بالشكل السابع والثلاثين وقوي  $\overline{يا علي}$   
سطح  $\overline{ب ح}$  وذلك ما اردنا ان نبين

ند

كل خط مستقيم قوي على سطح متوازي الاضلاع  
يحيط به خط مستقيم منطق محدود وذو الاسمين  
السادس فهو القوي على  $\overline{موسط}$  ————— ين

ليكن السطح  $\overline{ب ح}$  والخط المستقيم  $\overline{اب}$  وذو الاسمين السادس  $\overline{ا ح}$  فلان كل  
واحد من سطحي  $\overline{ب د}$   $\overline{دل}$   $\overline{موسط}$  وسطحي  $\overline{ب ر رط}$  متباينان فبالطريقة



المتقدمة مربعي  $\overline{سح}$   $\overline{نم}$   $\overline{موسطين}$  متباينين ومتممي  $\overline{نح}$   $\overline{نق}$   $\overline{موسطين}$   
متباينين للمربعين فيكون خط  $\overline{سح}$  مركبا من خطي  $\overline{سح}$  فرع المتباينين  
في القوة مجموع مربعي  $\overline{سح}$   $\overline{موسط}$  وكذلك ضعف  $\overline{سح}$  احد هما في الآخر هو  
القوي على  $\overline{موسطين}$  بالشكل الثامن والثلاثين والقوي على سطح  $\overline{ب ح}$  وذلك  
ما اردنا ان نبين


نه

كل خط مستقيم محدود منطق اضيف اليه  
سطح متوازي الاضلاع يساوي مربع ذي الاسمين  
فالعرض الحادث ذو الاسمين الاول

ليكن  $\overline{ده}$  خطا مستقيما محدودا منطقا وخط  $\overline{اب}$  ذا الاسمين المنقسم  
باسميه على نقطة  $\overline{ح}$  وقسمه الاطول  $\overline{ب ح}$  واطبقنا الي  $\overline{ده}$  سطح  $\overline{د ه}$  المتوازي  
الاضلاع



الاضلاع مساويا لمربع  $\overline{AB}$  بالشكل السادس والاربعين من الاولي فاقول ان عرض  $\overline{DE}$  ذوالاسمين الاول برهانه فلان مربع  $\overline{AB}$  مساو لمربعي  $\overline{BE}$  و  $\overline{EA}$  وضعف سطح  $\overline{BE}$  في  $\overline{CA}$  بالشكل الرابع من الثانية فسطح  $\overline{DE}$  يساويها فليكن سطح  $\overline{DE}$  ح المتوازي الاضلاع من سطح  $\overline{DE}$  مساويا لمربع  $\overline{BE}$  و سطح  $\overline{CA}$  كذلك مساويا لمربع  $\overline{BE}$  اي بقي سطح  $\overline{DE}$  المتوازي



الاضلاع مساويا لضعف سطح  $\overline{BE}$  في  $\overline{CA}$  وننصف  $\overline{AE}$  علي نقطة  $\overline{M}$  بالشكل العاشر من الاولي ونخرج منها  $\overline{MN}$  موازيا لخط  $\overline{RS}$  فبنتهي الي خط  $\overline{DE}$  علي نقطة  $\overline{N}$  فهو موازيا لخط  $\overline{AL}$  بالشكل الثلثين من الاولي فكل واحد من سطحي  $\overline{LM}$  و  $\overline{MS}$  متوازي الاضلاع فلان نسبة سطح

$\overline{LM}$  الي  $\overline{MS}$  كنسبة  $\overline{AM}$  الي  $\overline{ME}$  بالشكل الاول من السادسة و  $\overline{AM}$  يساوي  $\overline{ME}$  فسطح  $\overline{LM}$  يساوي سطح  $\overline{MS}$  فكل واحد منهما يساوي سطح  $\overline{BE}$  في  $\overline{CA}$  ولان الاضلاع المتقابلة من السطوح المتوازية الاضلاع متساوية بالشكل الرابع والثلثين من الاولي فكل من خطي  $\overline{CH}$  و  $\overline{AL}$  منطقت في الطول لان كل منهما يساوي  $\overline{DE}$  المنطق ولان كل واحد من سطحي  $\overline{LM}$  و  $\overline{MS}$  موسط ومشارك لسطح  $\overline{AS}$  ضعف كل منهما فسطح  $\overline{AS}$  موسط بالشكل التاسع عشر فعرض  $\overline{AE}$  منطقت في القوة غير مشاركت لخط  $\overline{AL}$  المنطق بالشكل الثامن عشر ولان نسبة سطح  $\overline{CH}$  المنطق الي سطح  $\overline{AL}$  المنطق كنسبة خط  $\overline{DC}$  الي خط  $\overline{AC}$  بالشكل الاول من السادسة وكل منطقتين متشاركتين من جنس واحد فسطح  $\overline{CH}$  يشارك سطح  $\overline{AL}$  لخط  $\overline{DC}$  يشارك خط  $\overline{AC}$  بالشكل الثامن فسطح  $\overline{AE}$  يشارك كل واحد من سطحي  $\overline{CH}$  و  $\overline{AL}$  بالشكل الحادي عشر والمشارك للمنطق منطقت باستبانة الشكل العاشر فسطح  $\overline{AE}$  منطقت فعرض  $\overline{DE}$  منطقت بالشكل السادس عشر ولان نسبة مربع  $\overline{BE}$  الي سطح  $\overline{BE}$  في  $\overline{CA}$  كنسبة  $\overline{BE}$  الي  $\overline{CA}$  بالشكل الاول من السادسة و  $\overline{BE}$  اعظم من  $\overline{CA}$  فمربع  $\overline{BE}$  اعظم من سطح  $\overline{BE}$  في  $\overline{CA}$  ولان نسبة سطح  $\overline{BE}$  في  $\overline{CA}$  الي مربع  $\overline{BE}$  كنسبة  $\overline{BE}$  الي  $\overline{CA}$  بالشكل الاول من السادسة فسطح  $\overline{BE}$  في  $\overline{CA}$  اعظم من مربع  $\overline{BE}$  فبالشكل الحادي عشر من الخامسة نسبة مربع  $\overline{BE}$  الي سطح  $\overline{BE}$  في  $\overline{CA}$  كنسبة سطح  $\overline{BE}$  في  $\overline{CA}$  الي مربع  $\overline{BE}$  فسطح  $\overline{BE}$  في  $\overline{CA}$  وسط في النسبة بين مربعي  $\overline{BE}$  و  $\overline{CA}$  فهذه اربعة مقادير متناسبة اعظمها مربع  $\overline{BE}$  واصغرها مربع  $\overline{CA}$  فمجموعهما اعظم من ضعف سطح  $\overline{BE}$  في  $\overline{CA}$  بالشكل الخامس والعشرين من الخامسة ونسبة سطح  $\overline{DE}$  الي سطح  $\overline{AS}$  كنسبة خط  $\overline{DA}$  الي خط  $\overline{AE}$  بالشكل الاول من



السادسة وسط  $\Delta$  اعظم من سطح  $\Delta$  فخط  $\Delta$  اعظم من خط  $\Delta$  ولان سطح  $\Delta$  في  $\Delta$  وسط في النسبة بين مربعي  $\Delta$   $\Delta$  يكون نسبة سطح  $\Delta$  الى سطح  $\Delta$  كنسبة سطح  $\Delta$  الى سطح  $\Delta$  ونسبة سطح  $\Delta$  الى سطح  $\Delta$  كنسبة

دح الى ام ونسبة سطح  $\Delta$  الى سطح  $\Delta$  كنسبة ام الى الح بالشكل الاول



من السادسة فخط  $\Delta$  وسط في النسبة بين خطي دح  $\Delta$  فسطح دح في ح  $\Delta$  مربع ام بالشكل الرابع من الثانية فاذا اضغنا مربع ام الى خط  $\Delta$  ناقصا عنه مربعا بالشكل

د	ح	ا	م	ر
هـ	ط	ل	ن	س

الثامن والعشرين من السادسة

فنقسم خط  $\Delta$  اعلي نقطة ح فلان دح يشارك ح  $\Delta$  فخط  $\Delta$  يقوي علي خط  $\Delta$  بمربع خط يشاركه في الطول بالشكل الثالث عشر ولان نسبة سطح  $\Delta$  الى سطح  $\Delta$  كنسبة  $\Delta$  الى  $\Delta$  بالشكل الاول من السادسة وسط  $\Delta$  يباين سطح  $\Delta$  فخط  $\Delta$  يباين خط  $\Delta$  بالشكل الثامن فخط  $\Delta$   $\Delta$  متباينان فخط  $\Delta$  مركب من خطي  $\Delta$   $\Delta$  المنطقين في القوة المتباينين في الطول و  $\Delta$  اعظمها منطقتي في الطول وقوي علي الاقصر بزيادة مربع خط يشاركه في الطول فهو ذو الاسمين الاول وذلك ما اردنا ان نبين

نو

كل سطح متوازي الاضلاع يساوي مربع ذي

الموسطين الاول اضيف الي خط مستقيم منطقتي

فالعرض الحادث ذو الاسمين الثاني

ليكن خط  $\Delta$  المنقسم علي ح الموسطين الاول وسط  $\Delta$  المساوي لمربع

اب المضاف الي خط  $\Delta$  المنطق

وليكن سطح  $\Delta$  الوسط يساوي



مربع  $\Delta$  وسط  $\Delta$  الموسطين

يساوي مربع  $\Delta$  وهما مشتركان

فيكون خطي دح  $\Delta$  مشتركين

ف  $\Delta$  منطقتي في القوة فقط وليكن

انه كسطح  $\Delta$  في  $\Delta$  المنطق فسطح

$\Delta$  منطقتي ايضا فعرض  $\Delta$

منطقتي ويكون نسبة دح الى ام كنسبة ام الى ح فاذا اضيف الي خط

$\Delta$  سطح

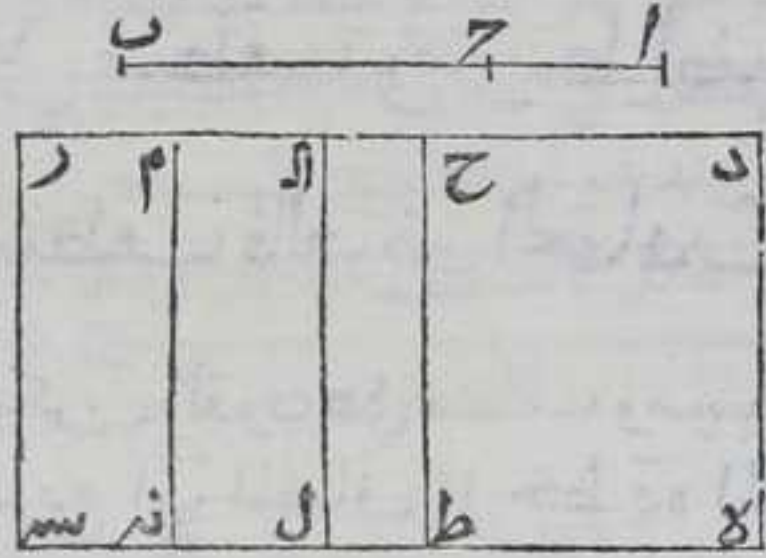
د	ح	ا	م	ر
هـ	ط	ل	ن	س



دال سطح كربع الـ الاقصر من خط دال ينقص عن تمامه مربعاً وهو مربع  
 الـ فنقسم دال على ح بمشتركين فدال يقوي على الـ مربع خط يشاركه  
 في الطول فدال المركب من خطي دال الـ المنطقيين في القوة المتباينين في  
 الطول والـ منطف في الطول والاطول يقوي على الاقصر بزيادة مربع  
 خط يشاركه في الطول هو ذوالاسمين الثاني والبراهين والحولات كما مر  
 والشكل كالشكل المتقدم وذلك ما اردنا ان نبين

كل سطح متوازي الاضلاع مساوي مربع ذي  
 الموسطين الثاني اضيف اليه خط منطف فالعرض  
 الحادث ذوالاسمين الثالث

ليكن خط ا ب ذوالموسطين الثاني و سطح هـ ر المضاف اليه المستقيم  
 المنطف لمربع ا ب وليكن سطح حـ ج لمربع بـ ج و سطح حـ ل لمربع جـ ا و سطح  
 الـ ك سطح بـ ج في جـ ا وكل من سطح حـ ج  
 حـ ل الـ موسط فسطح هـ ا موسط  
 و سطح الـ موسط فخطا دال الـ



منطقان في القوة فقط وخطي دح  
 حـ ا مشتركين فدال منطف في القوة  
 فاذا اضيف اليه خط دال سطح كربع  
 مربع الـ المساوي لمربع الـ ينقص  
 عن تمامه مربعاً فنقسم دال على

نقطة حـ بمشتركين فدال الاطول يقوي على الاقصر بزيادة مربع خط  
 يشاركه وهما متباينان فدال المركب من خطي دال الـ المنطقيين في القوة  
 فقط المتباينين في الطول والاطول يقوي على الاقصر بزيادة مربع خط  
 يشاركه هو ذوالاسمين الثالث والبراهين والحولات كما مر والشكل  
 كالشكل المتقدم وذلك ما اردنا ان نبين

كل سطح متوازي الاضلاع يساوي مربع الاعظم  
 اضيف اليه خط منطف فالعرض الحادث ذو  
 الاسمين الرابع







كل سطح متوازي الاضلاع يساوي مربع القوي علي موسطين اضيق الي خط مستقيم منطف فالعرض الحادث ذوالاسمين السادس

ليكن القوي علي موسطين اب المنقسم بقسمة علي ح وسط هـ المسوي لمربع اب مضافا الي ده المنطف



د	ح	ا	م	ر
هـ	ط	ل	ن	س

فعرض در ذوالاسمين السادس فلان سطح هـ مربع اب ليكن سطح حـ حـ مربع بـ حـ وسط جـ لـ مربع جـ اـ وهما متباينان لتباين خطي بـ حـ اـ في القوة وسط السـ موسط مباين لسطح هـ اـ خط اـ ر منطف في القوة فقط فاذا

اضيف الي دـ مربع ام المساوي لربع مربع در ينقص عن تمامه مربعا فنقسم دـ اـ علي حـ متباينين فدـ اـ يقوي علي اـ ر بمربع خط يباينه في الطول فدـ ر المركب من خطي دـ اـ ر المنطقين في القوة فقط المتباينين في الطول ودـ اـ القوي علي اـ ر بمربع خط يباينه هو ذوالاسمين السادس والبراهين كما تقدم وكذلك الحوالات والشكل كالشكل المتقدم وذلك ما اردنا ان نبين

كل خط مستقيم يشارك ذوالاسمين في الطول

فهو ذوالاسمين في مرتبته



ليكن اب ذوالاسمين منقسما علي ح باسمه وده يشاركه في الطول فاقول ان

ده ذوالاسمين في مرتبة اب برهانه ليكن نسبة اب الي بـ ح كنسبه ده الي هـ ر بالشكل الحادي عشر من السادسة فاذا بدلنا كانت نسبة اب الي ده كنسبة بـ ح الي هـ ر بالشكل السادس عشر من الخامسة فنسبة اـ ح الي دـ ر كنسبة اب الي ده بالشكل التاسع عشر من الخامسة وكانت نسبة بـ ح الي هـ ر كنسبة اب الي ده فبالشكل الحادي عشر من الخامسة نسبة اـ ح الي بـ ح كنسبة دـ ر الي رـ هـ لكن اب يشارك ده في الطول فـ اـ ح يشارك دـ ر فيه وبـ ح يشارك هـ ر فان كان اـ ح يباين بـ ح في الطول فدـ ر يباين رـ هـ في الطول بالشكل الثامن وان كان اـ ح يقوي علي بـ ح بمربع خط يشاركه في الطول



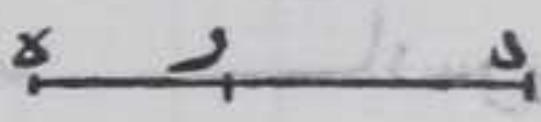
فدر يقوي علي ره بمربع خط يشاركه في الطول وان كان آح يقوي علي حـب  
بمربع خط يباينه في الطول فدر يقوي علي ره بمربع خط يباينه في

الطول بالشكل الثاني عشر فعلي التقدير



الاول ان كان آح او حـب منطفا في الطول

كان در آوره منطفا في الطول وان لم يكن



شي من آح حـب منطفا في الطول بل في

القوة فكل واحد من خطي در ره منطف في القوة فقط بالشكل الثامن  
فخط ده اما ذو الاسمين الاول او الثاني او الثالث وعلي التقدير الثاني ان  
كان آح او حـب منطفا في القوة فقط كان كل من در ره منطفا في القوة فقط  
بالشكل الثامن فده اما ذو الاسمين الرابع او الخامس او السادس وذلك ما  
اردنا ان نبين <sup>سب</sup>


كل خط يشارك ذا المتوسطين في الطول فهو ذو

المتوسطين في مرتبة <sup>هـ</sup>



ليكن آب ذا المتوسطين منقسما بموسطيه علي نقطة حـ وده يشاركه في  
الطول فاقول ان ده ذو المتوسطين في مرتبة آب ان كان اولافا ول وان كان  
ثانيا فتانبا برهانه ليكن نسبة ده الي ره كنسبة آح الي بـ بالشكل  
الحادي عشر من السادسة وبالابدال نسبة آب الي ده كنسبة بـ حـ الي هـ  
بالشكل السادس عشر من الخامسة كنسبة آح الي در كنسبة آب الي ده  
بالشكل التاسع عشر من الخامسة وآب يشارك ده فآح يشارك در وبـ  
يشارك هـ بالشكل الثامن وكانت نسبة بـ حـ الي هـ كنسبة آب الي ده  
فبالشكل الحادي عشر من الخامسة نسبة آح الي حـب كنسبة در الي ره  
فكل من خطي در ره موسط بالشكل التاسع عشر فآح ان كان يباين حـب  
فدر يباين ره بالشكل الثامن ونسبة مربع آب الي سطح آح في حـب كنسبة  
آح الي حـب بالشكل الاول من السادسة ونسبة در الي ره كنسبة آح الي حـب  
فنسبة مربع آح الي سطح آح في حـب كنسبة در الي ره بالشكل الحادي  
عشر من الخامسة ونسبة مربع در الي سطح در في ره كنسبة در الي ره  
فهذا الشكل بعينه نسبة مربع آح الي سطح آح في حـب كنسبة مربع در الي  
سطح در في ره وبالابدال نسبة مربع آح الي مربع در كنسبة سطح آح في  
حـب الي سطح در في ره بالشكل السادس عشر من الخامسة لكن مربع آح  
يشارك مربع در بالشكل السابع فسطح آح في حـب يشارك سطح در في ره  
بالشكل الثامن فان كان سطح آح في حـب منطف فسطح در في ره منطف  
باستبانة الشكل العاشر فده ذو المتوسطين الاول وان لم يكن سطح آح في حـب  
متطفا فسطح در في ره لم يكن منطفا بل موسطا بالشكل الثالث  
والعشرين



والعشرين فده ذوالموسطين الثاني وله وجه آخر لبيكن اذا الموسطين  
 الاول او الثاني وب يشاركه فاقول ان ب ذوالموسطين في مرتبته برهانه  
 لبيكن حد حطاً منطقاً ونضيف اليه سطحاً  
 متوازي الاضلاع قائم الزوايا كمربع آ  
 بالشكل الخامس والاربعين من الاولي  
 وهو سطح ده فالعرض الحادث وهو حه



اما ذو الاسمين الثاني او الثالث بالشكل السادس والخمسين والسابع  
 والخمسين ونضيف سطحاً متوازي الاضلاع قائم الزوايا كمربع ب الي خط  
 حد بالشكل المذكور وهو سطح در فكل واحد من الزوايا التي عند نقطتي  
 حد قائمة فكل من خطي هـ ر وما يقابله خط مستقيم بالشكل الرابع عشر

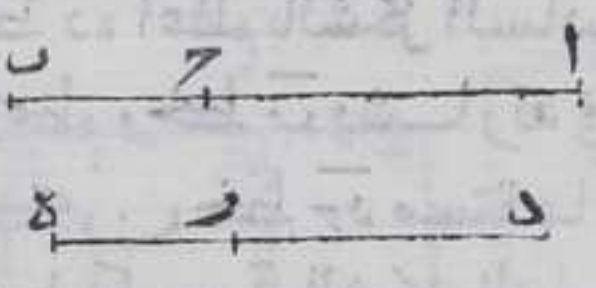


من الاولي فهما متوازيان  
 بالشكل السابع عشر من  
 الاولي ونسبة سطح در الي  
 سطح ده كنسبة حـ ر الي حـ هـ  
 بالشكل الاول من السادسة  
 والسطحان مشتركان فحـ ر  
 يشارك حـ هـ بالشكل الثامن  
 فحـ ر اما ذو الاسمين الثاني

او الثالث بالشكل المتقدم فالخط القوي عليه خط در ذو الموسطين الاول  
 او الثاني بالشكل الثاني والخمسين او الثالث والخمسين فب اما ذو  
 الموسطين الاول او الثاني وذلك ما اردنا ان نبين

كل خط يشارك الاعظم في الطول فهو اعظم

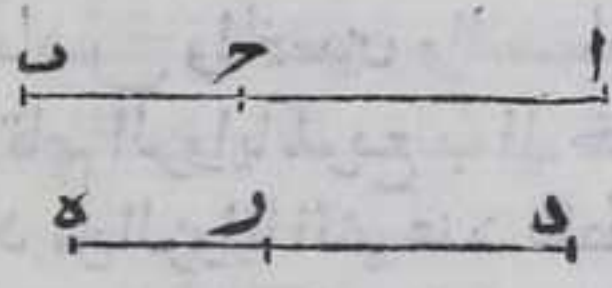
لبيكن خط آ ب منقسماً بقسميه علي ح وده يشاركه في الطول فاقول ان خط  
 ده الاعظم برهانه لبيكن نسبة ده الي در كنسبة اب الي ب بالشكل الحادي  
 عشر من الخامسة فيا لابدال نسبة آ ب الي  
 كنسبة ب ح الي هـ ر بالشكل السادس  
 عشر من الخامسة فنسبة آ ح الي در كنسبة  
 آ ب الي ده بالشكل التاسع عشر من



الخامسة وكانت نسبة ب ح الي در كنسبة آ ب الي ده فبالشكل الحادي عشر  
 نسبة ب ح الي هـ ر كنسبة آ ح الي در و آ ب يشارك ده فآ ح يشارك ده وب ح  
 يشارك هـ ر بالشكل الثامن فنسبة آ ح الي حـ ب مثناة كنسبة در الي رـ هـ مثناة  
 ونسبة مربع در الي مربع رـ هـ كنسبة در الي رـ هـ مثناة بالشكل التاسع عشر  
 من السادسة فنسبة مربع در الي مربع رـ هـ كنسبة آ ح الي حـ ب مثناة بالشكل




الحادي عشر من الخامسة ونسبة مربع  $\overline{آ}$  الى مربع  $\overline{ح}$  كنسبة  $\overline{آ}$  الى  $\overline{ح}$   $\overline{ب}$   $\overline{د}$   
 مثناة بالشكل التاسع عشر من السادسة فنسبة مربع  $\overline{د}$  الى مربع  $\overline{هـ}$   
 كنسبة مربع  $\overline{آ}$  الى مربع  $\overline{ح}$  بالشكل الحادي عشر من الخامسة  
 وبالتركيب نسبة مربعي  $\overline{د}$  و  $\overline{هـ}$  معا الى مربع  $\overline{هـ}$  كنسبة مربعي  $\overline{آ}$  و  $\overline{ح}$  معا  
 الى مربع  $\overline{ح}$  بالشكل الثامن عشر من الخامسة وبالابدال نسبة مربعي  $\overline{د}$   
 و  $\overline{هـ}$  معا الى مربعي  $\overline{آ}$  و  $\overline{ح}$  معا كنسبة مربع  $\overline{هـ}$  الى مربع  $\overline{ح}$  بالشكل




السادس عشر من الخامسة لكن مربع  $\overline{هـ}$   
 يشارك مربع  $\overline{ح}$  بالشكل السابع لان  
 $\overline{هـ}$  يشارك  $\overline{ح}$  فربعا  $\overline{د}$  و  $\overline{هـ}$  معا يشارك  
 مربعي  $\overline{آ}$  و  $\overline{ح}$  و مربعا  $\overline{آ}$  و  $\overline{ح}$  معا

منطق فربعا  $\overline{د}$  و  $\overline{هـ}$  معا منطق باستبانة الشكل العاشر ولان  $\overline{آ}$  يباين  
 $\overline{ح}$  في القوة فدريباين  $\overline{هـ}$  في القوة بالشكل الثامن ونسبة سطح  $\overline{آ}$  في  $\overline{ح}$   
 الى مربع  $\overline{ح}$  كنسبه  $\overline{آ}$  الى  $\overline{ح}$  ونسبة  $\overline{د}$  الى  $\overline{هـ}$  كنسبة  $\overline{آ}$  الى  $\overline{ح}$  فنسبة  
 سطح  $\overline{آ}$  في  $\overline{ح}$  الى مربع  $\overline{ح}$  كنسبة  $\overline{د}$  الى  $\overline{هـ}$  بالشكل الحادي عشر من  
 الخامسة ونسبة سطح  $\overline{د}$  في  $\overline{هـ}$  الى مربع  $\overline{هـ}$  كنسبة  $\overline{د}$  الى  $\overline{هـ}$  بالشكل الاول  
 من السادسة فنسبة سطح  $\overline{آ}$  في  $\overline{ح}$  الى مربع  $\overline{ح}$  كنسبة سطح  $\overline{د}$  في  $\overline{هـ}$  الى  
 مربع  $\overline{هـ}$  بالشكل الحادي عشر من الخامسة وبالابدال نسبة سطح  $\overline{آ}$  في  
 $\overline{ح}$  الى سطح  $\overline{د}$  في  $\overline{هـ}$  كنسبة مربع  $\overline{ح}$  الى مربع  $\overline{هـ}$  بالشكل السادس عشر



من الخامسة ومربع  $\overline{ح}$   
 يشارك مربع  $\overline{هـ}$  فسطح  $\overline{آ}$   
 في  $\overline{ح}$  يشارك سطح  $\overline{د}$  في  
 $\overline{هـ}$  بالشكل الثامن لكن سطح  
 $\overline{آ}$  في  $\overline{ح}$  موسط فسطح  $\overline{د}$   
 في  $\overline{هـ}$  موسط بالشكل التاسع  
 عشر فضعف سطح  $\overline{د}$  في  $\overline{هـ}$   
 موسط بالشكل المذكور ايضا



فقط  $\overline{د}$  اعظم بالشكل السادس والثلاثين وبوجه آخر ليكن خط  $\overline{آ}$  هو  
 الاعظم وخط  $\overline{ب}$  يشاركه في الطول فاقول ان خط  $\overline{ب}$  اعظم برهانه  
 ليكن خط  $\overline{ج}$  مستقيما ونرسم عليه سطحا متوازي الاضلاع قائم  
 الزوايا كمربع  $\overline{آ}$  بالشكل الخامس والاربعين من الاولي وهو سطح  $\overline{د}$  ونرسم  
 علي  $\overline{ج}$  سطحا متوازي الاضلاع قائم الزوايا كمربع  $\overline{ب}$  بالشكل المذكور فكل  
 واحده من الزوايا التي عند نقطتي  $\overline{ج}$  قائمة فخط  $\overline{د}$  وما يقابله خط  
 مستقيم بالشكل الرابع عشر من الاولي وهما متوازيان بالشكل السابع عشر  
 من الاولي فنسبه سطح  $\overline{د}$  الى سطح  $\overline{هـ}$  كنسبة  $\overline{آ}$  الى  $\overline{ح}$  بالشكل الاول من  
 السادسة لكن سطح  $\overline{د}$  يشارك سطح  $\overline{هـ}$  في  $\overline{ح}$  يشارك  $\overline{ح}$  بالشكل الثامن  
 وخط



وخط حـ ذو الاسمين الرابع بالشكل الستين فخط حـ ذو الاسمين الرابع  
بالشكل الثالث والستين فالخط القوي علي سطح دـ اعظم بالشكل الرابع  
والخمسين فخط بـ الاعظم وذلك ما اردنا ان نبين

كل خط يشارك الخط القوي علي منطف

وموسط في الطول هو الخط القوي علي منطف وموسط

ونسلك في برهانه بمثل ما سلك في الشكل المتقدم وذلك ما اردنا ان نبين

كل خط يشارك الخط القوي علي موسطين في

الطول قوي علي موسـ طين

ونسلك في برهانه مثل ما سلكنا في الشكل المتقدم والشكل كما تقدم

وذلك ما اردنا ان نبين

اعلم ان المشاركات الواقعة بين الخطوط المذكورة لو كانت في القوة فقط

لكانت الدعاوي المذكورة تتم بالبراهين المذكورة بعينه

كل خط قوي علي سطحين احدهما منطف والاخر

موسط فهو اما ذو الاسمين او ذو الموسطين الاول او

الاعظم او القوي علي منطف وموسـ ط

ليكن سطح ا ب منطقا و سطح حـ د موسطا فقول كل خط قوي علي مجموع

سطحي ا ب حـ د احد الخطوط

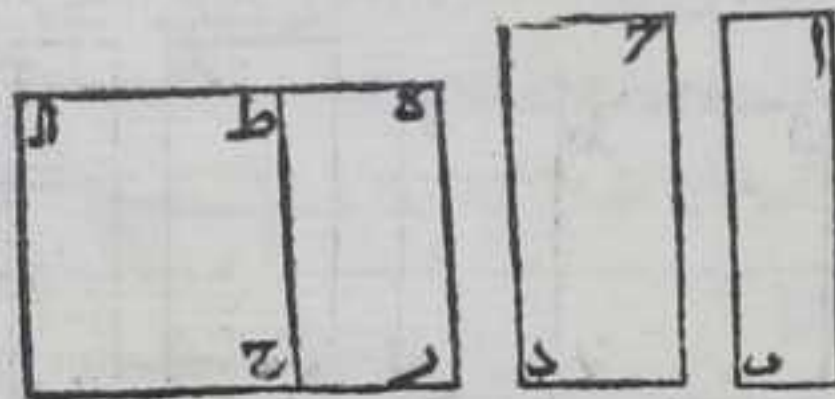
الاربعه برهانه ليكن دـ

خطا مستقيما منطقا ونرسم

عليه سطح ر ط المتوازي

الاضلاع القائم الزوايا ك سطح

ا ب وعلي خط حـ ط سطح



متوازي الاضلاع قائم الزوايا ك سطح حـ د وهو سطح حـ ا بالشكل الخامس

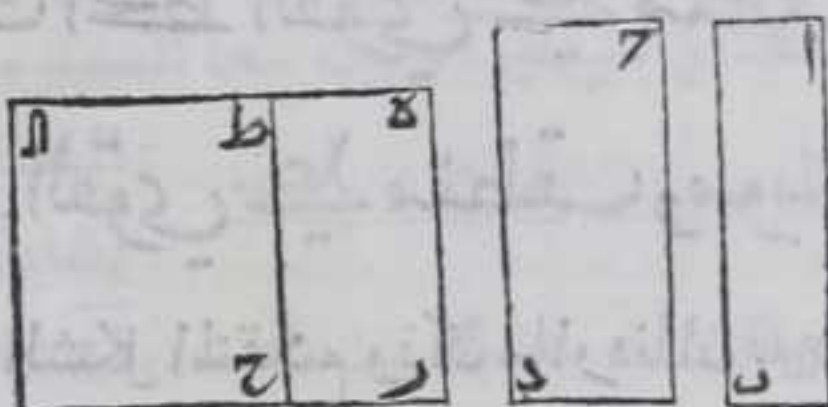
والاربعة من الاولي فكل واحده من الزوايا التي عند نقطة ط ح قائمة

من خطي د ا وما يقابله مستقيم بالشكل الرابع عشر من الاولي وهما



متوازيان بالشكل السابع والعشرين من الاولي فلان سطح مرط المضاف  
الي خط هـ ر منطقتي فضلع هـ ط منطقتي بالشكل السادس عشر وخط  
ط ح منطقتي لانه يساوي خط هـ ر المنطقتي بالشكل الرابع والثلاثين من  
الاولي فخط ط ا منطقتي في القوة ومباين لخط ط ح بالشكل الثامن عشر

فهـ ط ط ا متباينان في الطول  
والا لكان خط ط ا مشاركا لخط  
ط ح بالشكل العاشر وهو  
مباين له هذا خلف فخط هـ ط  
ان كان اطول من خط ط ا كان  
قويا علي ط ا بمربع خط



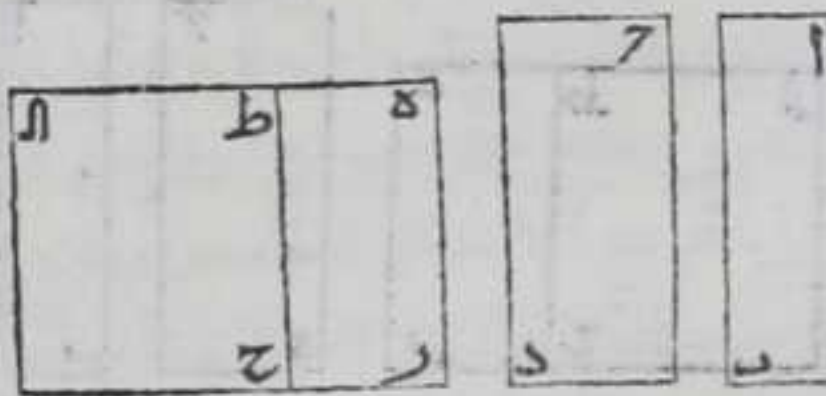
يشاركة في الطول فخط هـ ا ذو الاسمين الاول والخط القوي علي سطح مر ا ذو  
الاسمين بالشكل التاسع والاربعين ان كان هـ ط قويا علي ط ا بمربع خط  
يباينه فخط هـ ا ذو الاسمين الرابع فالخط القوي علي سطح مر ا الاعظم  
بالشكل الثاني والخمسين وان كان خط ط ا اعظم من ط هـ فان كان قويا علي  
ط هـ بمربع خط يشاركة فخط هـ ا ذو الاسمين الثاني فالخط القوي علي سطح  
مر ا ذو المتوسطين الاول بالشكل الخمسين وان كان قويا عليه بمربع خط  
يباينه فخط هـ ا ذو الاسمين الخامس فالخط القوي علي سطح مر ا هو الخط  
القوي علي منطقتي وموسط بالشكل الثالث والخمسين وذلك ما اردنا  
ان نبين

سز  
كل خط يقوي علي سطرين متوسطين متباينين

فهو اما ذو المتوسطين الثاني او القوي علي متوسطين

ليكن سطح ا ب ح د متوسطين متباينين فاقول ان كل خط قوي علي سطحي  
ا ب ح د معا فهو احد الخطين المذكورين برهانه فبالبيان المذكور

نرسم سطح مر ا مساويا لسطحي  
ا ب ح د فيكون كل من خطي  
ط هـ ط ا منطقتي في القوة فقط  
واحدهما يباين الاخر لتباين  
سطحي ر ط ح ا فان كان احد  
خطي ط ا ط هـ قويا علي الاخر



بمربع خط يشاركة فخط هـ ا ذو الاسمين الثالث والخط القوي علي سطح ر ا  
ذو المتوسطين الثاني بالشكل الحادي والخمسين وان كان قويا علي الاخر  
بمربع خط يباينه فخط هـ ا ذو الاسمين السادس فالخط القوي علي سطح ر ا  
القوي




القوي علي موسطين بالشكل الرابع والخمسين والشكل كالشكل المتقدم  
 وذلك ما اردنا ان نبين

مصادرة ثالثين

لاشي من الخطوط الست الصم ذا الاسم وما تبلوه موسطا ولا واحدا  
 من الخمسة الباقية من الست الصم اما الاول فلان مربع الموسط اذا  
 اضيف الي خط منطف في الطول كان العرض الحادث منطفا في القوة  
 فقط كما بين في الشكل الثامن عشر ولاشي من الخطوط الست اذا اضيف  
 مربعه الي خط منطف كان العرض الحادث منطفا في القوة فلاشي منها  
 موسط واما الثاني فلان مربع هذه الخطوط اذا اضيف الي خط منطف  
 كان العرض الحادث انواع ذي الاسمين كما تبين من الشكل الخامس والخمسين  
 الي الشكل الثالث والستين وهي مختلفة واختلاف اللوازم يدل علي  
 اختلاف الملزومات فالخطوط الست مختلفة وذلك ما اردنا ان نبين

كل خطين منطقين في القوة متباينين في  
 الطول وفصل اصغرهما من اعظمهما كان الباقي اصم

ويسمي المنفصل



لهكن خطا  $\overline{ا ب}$  منطقين في القوة متباينين  
 في الطول وفصل  $\overline{ا ب}$  اصغرهما من  $\overline{ا ح}$  فاقول ان  $\overline{ب ح}$  الباقي اصم ويسمي  
 المنفصل برهانه فلان كلا من مربعي  $\overline{ا ب}$  منطفا فهما متشاركان  
 في مجموعهما يشاركان كل واحد منهما بالشكل الحادي عشر فالمجموع منطف  
 باستبانة الشكل العاشر ومجموع المربعين كضعف سطح  $\overline{ا ح}$  في  $\overline{ا ب}$  مع مربع  
 $\overline{ب ح}$  بالشكل السابع من الثمانية وكل واحد من سطحي  $\overline{ا ح}$  في  $\overline{ا ب}$  موسط  
 فضعفه موسط بالشكل التاسع عشر فهو مباين لمجموع المربعين في مجموع  
 المربعين المنطقين يباين مربع  $\overline{ب ح}$  باستبانة الشكل الحادي عشر فربع  
 $\overline{ب ح}$  اصم فب  $\overline{ب ح}$  اصم وذلك ما اردنا ان نبين

سط

كل خطين موسطين مشتركين في القوة متباينين  
 في الطول وسطح احدهما في الآخر منطف اذا فصل



اصغرها من اعظمها كان الباقي اصم و يسمى

المنفصل المتوسط الاول

ليكن  $\overline{AC}$   $\overline{AB}$  بهذه الصفة فاقول اذا فصل  $\overline{AB}$  من  $\overline{AC}$  كان  $\overline{BC}$  الباقي اصم برهانه فلان مجموع مربعي  $\overline{AC}$   $\overline{AB}$  المتوسطين المشتركين مشارك لكل منهما بالشكل الحادي عشر فالمجموع متوسط بالشكل التاسع عشر وضعف سطح احدهما في الآخر المشارك لكل واحد منهما المنطق بالشكل الحادي عشر منطق فيكون مباينا لمجموع مربعيهما وضعف سطح  $\overline{AC}$  في  $\overline{AB}$  مع مربع  $\overline{BC}$  يساوي مجموع مربعي  $\overline{AC}$   $\overline{AB}$  بالشكل السابع من الثانية وضعف سطح احدهما في الآخر المنطق المباين لمجموع المربعين يباين مربع  $\overline{BC}$  باستبانة الشكل الحادي عشر فمربع  $\overline{BC}$  اصم فب  $\overline{BC}$  متوسط اذا فصل اصغرها من اعظمها كان الباقي اصم و يسمى منفصل المتوسط الثاني اصم وذلك ما اردنا ان نبين

كل خطين متوسطين مشتركين في القوة فقط

ضعف سطح احدهما في الآخر متوسط اذا فصل

اصغرها من اعظمها كان الباقي اصم و يسمى

منفصل المتوسط الثاني

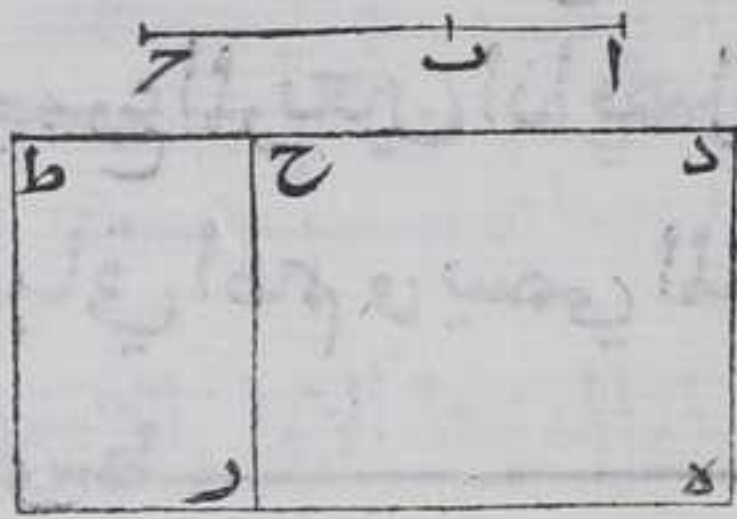
ط	ح	د
		د

ليكن خطا  $\overline{AC}$   $\overline{AB}$  بهذه الصفة فاقول اذا فصل  $\overline{AB}$  من  $\overline{AC}$  كان  $\overline{BC}$  الباقي اصم و يسمى منفصل المتوسط الثاني برهانه فلان مجموع مربع  $\overline{AC}$   $\overline{AB}$  المشارك لكل واحد منهما بالشكل

الحادي عشر متوسط بالشكل التاسع عشر ولان ضعف سطح احدهما في الآخر المشارك لكل واحد من سطحي احدهما في الآخر بالشكل الحادي عشر متوسط بالشكل التاسع عشر فكل واحد من مربعي  $\overline{AC}$   $\overline{AB}$  يباين سطح احدهما في الآخر بالشكل الاول من السادسة فمجموع المربعين يباين سطح احدهما في الآخر والاشاركة فيشارك كل من المربعين سطح احدهما في الآخر بالشكل العاشر وكانا متباينين هذا خلف ويمثله تبين ان مجموع المربعين يباين ضعف سطح احدهما في الآخر وليكن  $\overline{DE}$  خطا منطقا فرسم عليه



عليه سطح  $\text{هـ ط}$  المتوازي الاضلاع القائم الزوايا مربعي  $\text{ا ح ا ب}$  ونرسم عليه



ايضا سطح  $\text{هـ ح}$  المتوازي الاضلاع القائم الزوايا كضعف سطح احدهما في الاخر بالشكل الخامس والاربعين من الاولي فكل من خطي  $\text{د ط}$   $\text{د ح}$  منطبق في القوة بالشكل الثامن عشر ولان كل واحد من سطحي  $\text{هـ ط}$   $\text{هـ ح}$  متوازي الاضلاع فنسبة سطح  $\text{هـ ط}$  الي

سطح  $\text{هـ ح}$  المتباينين كنسبة  $\text{د ط}$  الي  $\text{د ح}$  بالشكل الاول من السادسة فخطا  $\text{د ط}$   $\text{د ح}$  متباينين بالشكل الثامن فخط  $\text{ح ط}$  منفصل بالشكل الثامن والستون فهو اصم فسطح  $\text{ر ط}$  اصم ولان مربعي  $\text{ا ح ا ب}$  معا كضعف سطح  $\text{ا ح}$  في  $\text{ا ب}$  مع مربع  $\text{ب ح}$  بالشكل السابع من الثانية فربع  $\text{ب ح}$  يساوي سطح  $\text{ر ط}$  الاصم فب  $\text{ح}$  اصم وذلك ما اردنا ان نبين

ع

كل خطين متباينين في القوة مجموع مربعيهما منطبق وضعف سطح احدهما في الاخر موسط اذا فصل اصغرها من اعظمها يسمى الباقي اصغره والبيان والشكل كما مر في المنفصل وذلك ما اردنا ان نبين

ب

كل خطين متباينين في القوة مجموع مربعيهما موسطين وضعف سطح احدهما في الاخر منطبق اذا فصل اصغرها من اعظمها كان الباقي اصم و يسمى المتصل بالمنطق يصير الكل موسط والبيان والشكل كما في المنفصل الموسط الاول وذلك ما اردنا ان نبين

ج

كل خطين متباينين في القوة مجموع مربعيهما



موسط وضعف سطح احدهما في الآخر موسط مبين  
لمجموع المربعين اذا فصل اصغرها من اعظمها كان  
الباقى اصم و يسمى المتصل بموسط يصير الكل

موسط

والبيان والشكل كما مر في المنفصل الموسط الثاني وذلك ما اردنا ان نبين

عد

لا يمكن ان يتصل بالمنفصل الا خط واحد فقط  
منطق في القوة مشاركا في القوة بعد اضافته الى

المنفصل للمجموع الحاصل فقط

ليكن اب المنفصل واتصل به بـ ح المنطق في القوة المشارك لاح في القوة  
فقط فاقول لا يمكن ان يتصل باب خط اخر منطق في القوة مشاركا  
للمجموع الحاصل منه ومن اب في القوة فقط برهانه والا فليتصل باب  
خط بـ د على الصفة المذكورة وليكن سطح هـ المتوازي الاضلاع كـ ر يـ

ا ح ب معا وهما اعظم من ضعف

سطح ا ح في ح ب بمربع اب بالشكل

السابع من الثانية فليكن سطح حـ هـ

من سطح هـ ر كضعف سطح ا ح في ح ب

فبقي سطح ح ط مربع اب ولان

مربعي ا د ب كضعف سطح ا د في

د ب مع مربع اب بالشكل السابع

من الثاني والمربعين اصغر من مربعي ا ح ب فليكن سطح ا ر من سطح هـ ر

مربعي ا د ب معا وسط ح ط مربع اب يبقي سطح ح ا كضعف سطح ا د في

د ب ولان كل واحد من مربعي ا د ب و ا ح ب منطق فكل واحد من

سطحي هـ ر ا ر مشاركا بمربع الخط الموضوع فهما مشتركان بالشكل العاشر


فسطح هـ ل الذي هو الفصل بين سطحي هـ ر ا ر فهما يشاركا كل واحد

منهما بالشكل الحادي عشر والمشارك للمنطق منطق باستبانة الشكل

العاشر فسطح هـ ل منطق وسط ا ح في ح ب الموسط يشاركا ضعفه فهو

موسط بالشكل التاسع عشر وبمثله تبين ان ضعف سطح ا د في د ب موسط

وفصل

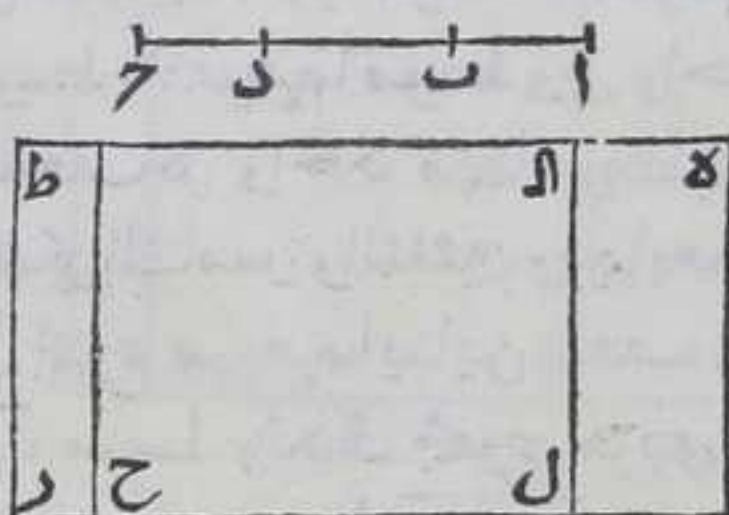




وفضل المتوسط علي المتوسط اصم بالشكل العشرين وسط  $\overline{ح}$  كضعف  
 سطح  $\overline{آ}$  في  $\overline{ح}$  وسط  $\overline{آح}$  كضعف سطح  $\overline{آد}$  في  $\overline{دب}$  فسطح  $\overline{دآ}$  هو كفضل  
 ضعف سطح  $\overline{آ}$  في  $\overline{ح}$  علي ضعف سطح  $\overline{آد}$  في  $\overline{دب}$  فهو اصم وكان منطق  
 هذا خلف فالحكم ثابت وذلك ما اردنا ان نبين

لا يمكن ان يتصل بالمنفصل المتوسط الاول الا خط  
 واحد مشارك المجموع الحاصل بعد اضافته الي  
 المنفصل في القوة فقط ويكون سطحه في المجموع

منطق



لبيكن  $\overline{آب}$  المنفصل المتوسط الاول  
 واتصل به  $\overline{ب}$  بالصفة المذكورة  
 فاقول لا يمكن ان يتصل  $\overline{بآ}$  الا  
 خط  $\overline{ب}$  بالصفة المذكورة برهانه  
 فان امكن غيره فليتصل  $\overline{بآ}$  ب


بالصفة المذكورة فلان كل واحد من مربعي  $\overline{آح}$   $\overline{ح}$  المشتركين متوسط  
 فمجموعهما المشارك لكل بالشكل الحادي عشر متوسط بالشكل التاسع عشر  
 وبمثله تبين ان مجموع مربعي  $\overline{آد}$   $\overline{دب}$  متوسط ولان سطح  $\overline{آ}$  في  $\overline{ح}$  المشارك  
 لضعفه بالشكل الحادي عشر منطق فضعفه منطق باستبانة الشكل  
 العاشر وليكن سطح  $\overline{د}$  المتوازي الاضلاع يساوي مربعي  $\overline{آ}$   $\overline{ح}$  وسط  
 $\overline{ح}$  منه كضعف سطح  $\overline{آ}$  في  $\overline{ح}$  يبقي سطح  $\overline{ح}$  كربع  $\overline{آب}$  بالشكل السابع  
 من الثانية ولان مربعي  $\overline{آد}$   $\overline{دب}$  اقل من مربعي  $\overline{آ}$   $\overline{ح}$  فليكن سطح  $\overline{آ}$  من  
 سطح  $\overline{د}$  كربعي  $\overline{آد}$   $\overline{دب}$  معا وكل واحد من المربعين متوسط وفضل المتوسط  
 علي المتوسط اصم بالشكل العشرين فسطح  $\overline{دآ}$  اصم ولان سطح  $\overline{دآ}$  فضل  
 ضعف سطح  $\overline{آ}$  في  $\overline{ح}$  علي ضعف سطح  $\overline{آد}$  في  $\overline{دب}$  المنطقيين فيكون منطقا  
 بالشكل الحادي عشر واستبانة الشكل العاشر وكان اصم هذا خلف  
 فالحكم ثابت وذلك ما اردنا ان نبين

لا يمكن ان يتصل بالمنفصل المتوسط الثاني الا خط  
 واحد يشارك المجموع الحاصل بعد اضافته الي




المنفصل في القوة فقط ويكون سطحه في المجموع

موسط ا



ليكن المنفصل الموسط الثاني  
خط اب واتصل به خط بج  
بالصفة المذكورة قول لا يمكن  
ان يتصل ل باب الا خط بج  
بالصفة المذكورة برهانه فان  
امكن ان يتصل باب خط غير

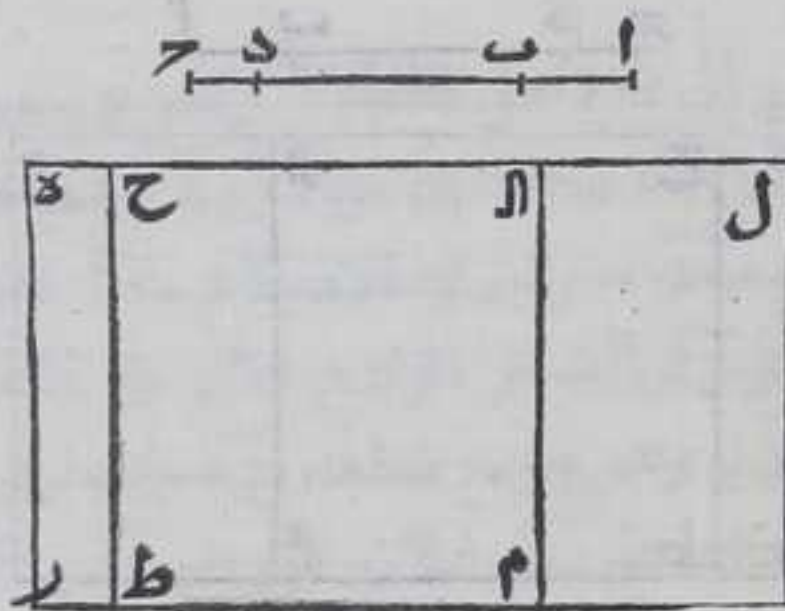


بج بالصفة المذكورة فليتصل به ب د بالصفة المذكورة فلان كل واحد  
من مربعي ا ب موسط فمجموعهما موسط وكل واحد من مربعي ا د ب د  
موسط فمجموعهما موسط وكل واحد من سطحي ا ب في ب د و ا د في ب د موسط  
فضعف كل واحد منهما موسط بمثل ما بيننا في الشكل المتقدم وقد بين في  
الشكل الخامس والثلاثين وفيما بعده ايضا ان كل خطين متباينين في الطول  
فان مجموع مربعهما يباين ضعف سطح احد هما في الاخر فمجموع مربعي ا ب  
ب د موسط وكذلك مجموع مربعي ا د ب د وضعف سطح ا ب في ب د موسط  
وكذلك ضعف سطح ا د في ب د ومجموع مربعي ا ب ب د يباين ضعف سطح ا ب في  
ب د ومجموع مربعي ا د ب د يباين ضعف سطح ا د في ب د فاذا تقرر هذا فليكن  
ه ر خطا مستقيما ونضيف اليه سطحا متوازي الاضلاع يساوي مربعي ا ب  
ب د فليكن سطح ل ر بالشكل الخامس والاربعين من الاولي وليكن سطح ل ط  
منه كضعف سطح ا ب في ب د يبق سطح ح ر كمربع ا ب بالشكل السابع من  
الثانية فخط ح ط يوازي خط ه ر بالشكل الثلاثين من الاولي فهما متساويان  
بالشكل الرابع والثلاثين من الاولي وه ر منطفق فخط منطفق وكل واحد من  
خطي ه ل ح ل منطفق في القوة غير مشارك لخط ه ر بالشكل الثامن عشر ولان  
نسبة سطح ر ل الي سطح ل ط كنسبة خط ه ل الي خط ل ح بالشكل الاول من  
السادسة وسطح ر ل يباين سطح ل ط فخط ه ل يباين خط ل ح بالشكل  
الثامن فخط ه ح منفصل بالشكل الثامن والستين وترسم علي خط ه ر  
سطحا متوازي الاضلاع يساوي مربعي ا د ب د ولان مربعي ا د ب د اصغر  
من مربعي ا ب ب د فليكن سطح ا م من سطح ر ل كمربعي ا د ب د وسطح ط ا  
كضعف سطح ا د في ب د بالشكل الخامس والاربعين من الاولي فيكون كل  
من خطي ه ا ح ا منطفقا في القوة غير مشارك لخط ه ر بالشكل الثامن عشر  
ولان نسبة سطح ه م الي م ح كنسبة ه ا الي ا ح بالشكل الاول من السادسة  
والسطحان متباينان فخط ه ا ا ح متباينان بالشكل الثامن فقد اتصل  
بخط ه ح المنفصل خطا ل ح ا م ا ل في مشارك ل ه في القوة فقط واما ا ح  
فمشارك



فيشارك الآ في القوة فقط وقد بينا استحالة ذلك بالشكل الرابع والسبعين  
فالحكم ثابت وذلك ما اردنا ان نبين

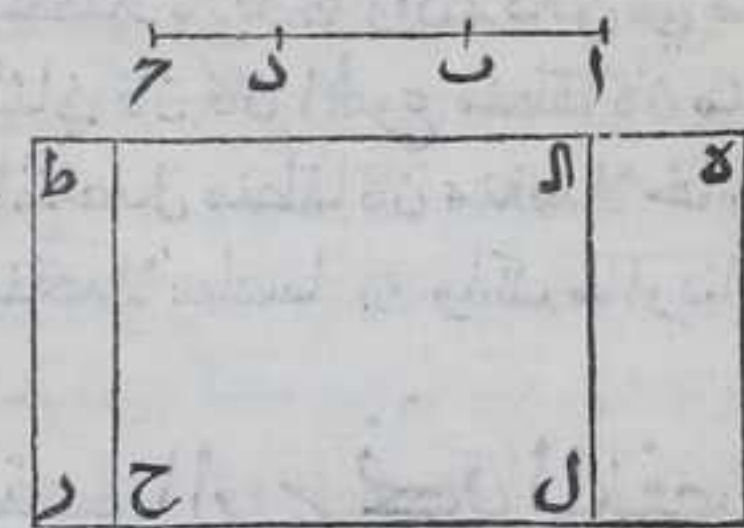
لا يمكن ان يتصل بالاصغر الا خط واحد يباين  
المجموع الحاصل بعد اتصاله بالاصغر في القوة و  
يكون سطحه في المجموع موسطا



ليكن  $AB$  الاصغر واتصل به  
 $BC$  وهو يباين  $AC$  في القوة  
و مجموع من مربعي  $AC$  و  $BC$  منطبق  
وسطح  $AC$  في  $BC$  موسط فاقول لا  
يمكن ان يتصل باب خط آخر  
بالصفة المذكورة والا فليتصل به  
خط  $DB$  كذلك وتبين استحالته  
بمثل ما بينا في الشكل السبعين و

الشكل كالشكل وذلك ما اردنا ان نبين

لا يمكن ان يتصل بالمتصل بمنطق يصير الكل موسطا  
الا خط واحد يباين المجموع الحاصل بعد اتصاله به  
في القوة ويكون مجموع مربعيهما موسطا وضعف سطح  
احدهما في الآخر منتقا



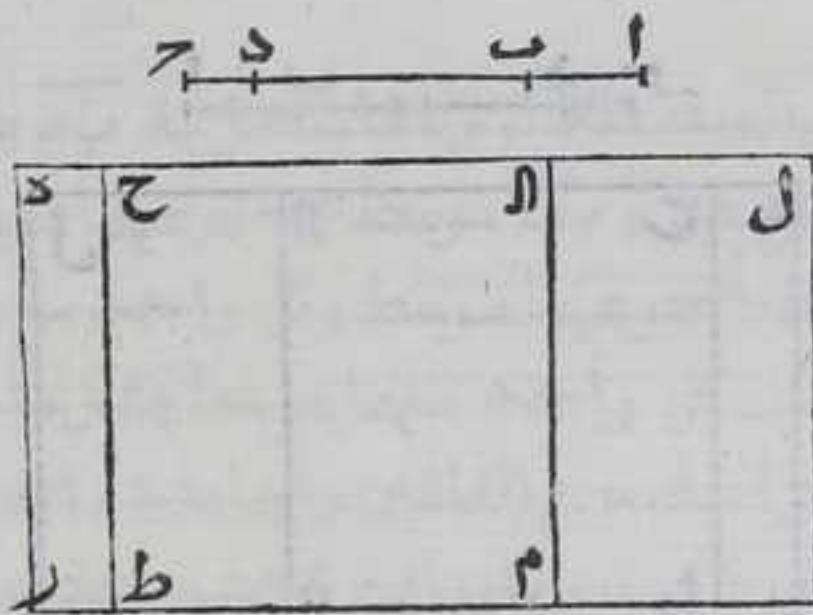
ليكن خط  $AB$  المتصل بمنطق  
يصير الكل موسطا واتصل به خط  
 $BC$  يباين  $AC$  في القوة و مجموع  
مربعي  $AC$  و  $BC$  موسط وسطح  $AC$  في  
 $BC$  منطبق فاقول لا يمكن ان

يتصل باء خط آخر بالصفة المذكورة والا فليتصل به خط  $BD$  بالصفة  
المذكورة وتبين استحالته بمثل ما بينا في الشكل الخامس والسبعين  
والشكل كالشكل فالحكم ثابت وذلك ما اردنا ان نبين



لا يمكن ان يتصل بالمتصل بالموسط يصير الكل موسطا  
 الا خط واحد يباين المجموع بعد اتصاله به في القوة  
 ويكون مجموع مربعيها موسطا وسط احدهما في الآخر  
 ايضا موسطا مباينا لمجموع المربعين

ليكن  $AB$  المتصل بالموسط يصير  
 الكل موسطا خط  $CB$  مباينا  
 في القوة لخط  $AC$  واتصل به  
 ومجموع مربعي  $AC$  و  $CB$  موسط  
 وسط  $AC$  في  $CB$  ايضا موسط  
 مباين لمجموع مربعي  $AC$  و  $CB$  فاقول  
 لا يمكن ان يتصل باب خط آخر  
 بالصفة المذكورة والا فليتصل به



خط  $DB$  بالصفة المذكورة وتبين استحالة مثل ما بيننا في الشكل الثاني  
 والسبعين والشكل كالشكل فالحكم ثابت وذلك ما اردنا ان نبين  
 مصدرة رابعة

كل خط اتصل بالمنفصل وكان منطقا في القوة مشارك للمجموع الحاصل منه  
 ومن المنفصل في القوة فقط فالمجموع اما ان يقوي علي ما اتصل به المنفصل  
 بمربع خط يشاركه في الطول او يباينه في الطول اما الاول فان كان المجموع  
 منطقا كان المنفصل منفصلا او لا  $\text{☉}$  وان كان المتصل بالمنفصل منطقا كان  
 منفصلا ثانيا  $\text{☉}$  وان لم يكن شي منهما منطقا كان منفصلا ثالثا  $\text{☉}$  واما  
 الثاني فان كان المجموع منطقا كان منفصلا رابعا  $\text{☉}$  وان كان المتصل  
 بالمنفصل منطقا كان منفصلا خامسا  $\text{☉}$  وان لم يكن شي منهما منطقا كان  
 منفصلا سادسا  $\text{☉}$  وذلك ما اردنا به بيان  $\text{☉}$

لن ان نجد المنفصل الاول

ليكن  $AC$  خط منطقا ويشاركه خط  $CB$  في الطول فيكون منطقا في الطول  
 باستبانة الشكل العاشر ونجد عددين مربعين ليس الغضل بينهما  
 مربعا بالمقدمة المذكورة قبل الشكل الرابع والعشرين وهما  $DE$  و  $DF$   
 والغضل

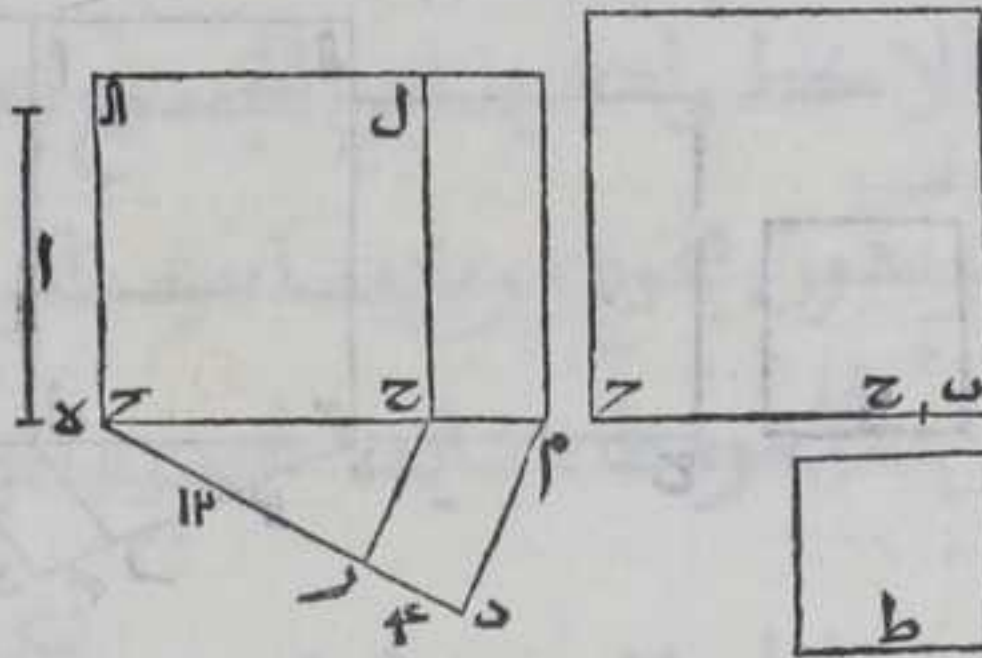






لبكي آ خطا منطقا ولبشاركه ح في الطول فهو منطق بالشكل العاشر  
ولنعد العددين المربعين اللذين هما د ح والغصل بينهما مرة ليس  
مربعا ولنجعل خط ح

مع عدده محيطا بزواية  
بحيث ينطبق نقطة ح  
علي نقطة ه ونصل بين  
نقطتي م ح بخط مستقيم  
ويخرج من نقطة د خط  
دم موازيا لخط م ح  
بالشكل الواحد



الثلاثين من الاولي فلان

زاويتي ح ر ح ر اقل من قائمتين بالشكل السابع عشر من الاولي وزاويتا  
ح ر م د م د متساويتان بالشكل التاسع والعشرين من الاولي فاذا اخرجنا  
خطي دم ح في جهة م علي استقامتهما فبتلاقبان فلبتلاقبا علي نقطة م  
ونرسم علي ح م مربع ح ا ل بالشكل السادس والاربعين من الاولي  
ونقم سطح م ل المتوازي الاضلاع فسطح م ل متوازي الاضلاع ونرسم  
مربع ب ح ك سطح م ل بالشكل الرابع عشر من الثانية والشكل السادس  
والاربعين من الاولي ونرسم بالشكلين المذكورين مربعا يساوي سطح  
م ل ضلعه ط فمربع ب ح يقوي علي مربع ح ر بمربع ط فلان زاويتي ح ر  
ح ر ك زاويتي ح م د م د بالشكل التاسع والعشرين من الاولي وزاوية  
ح ر مشتركة بين مثلثي ح ر م د فبالشكل الرابع من السادسة نسبة  
د ح ر كنسبة م د ا ل ح ونسبة سطح م ل ا ل ح كنسبة م د ا ل ح  
ح بالشكل الاول من السادسة فبالشكل الحادي عشر من الخامسة نسبة  
د ح ر كنسبة سطح م ل ا ل ح ونسبة مربع ح ا ونسبة مربع ب ح ا ل ح  
كنسبة سطح م ل ا ل ح ا ل ح بالشكل السابع من الخامسة فنسبة د ح ا ل ح  
كنسبة مربع ب ح ا ل ح ا ل ح بالشكل الحادي عشر من الخامسة فمربع  
ب ح يشارك مربع ح ا بالشكل السادس فخطا ب ح ح منطقتان في القوة  
ومتباينتان في الطول بالشكل السابع لان عددي د ح ر ليسا مربعين  
فبالقرب نسبة د ح ا ل ح كنسبة مربع ب ح ا ل ح مربع ط و د ح ا ل ح  
مربعان فب ح يشارك ط في الطول بالشكل السابع فب ح يقوي علي  
ح ر بمربع خط يشاركه في الطول فب ح ح خطان منطقتان في القوة  
ومتباينتان في الطول وح ر الاصغر منطق في الطول ففضل ب ح علي ح ر  
وهو ب ح المنفصل الثاني وذلك ما اردنا ان نبين

فب

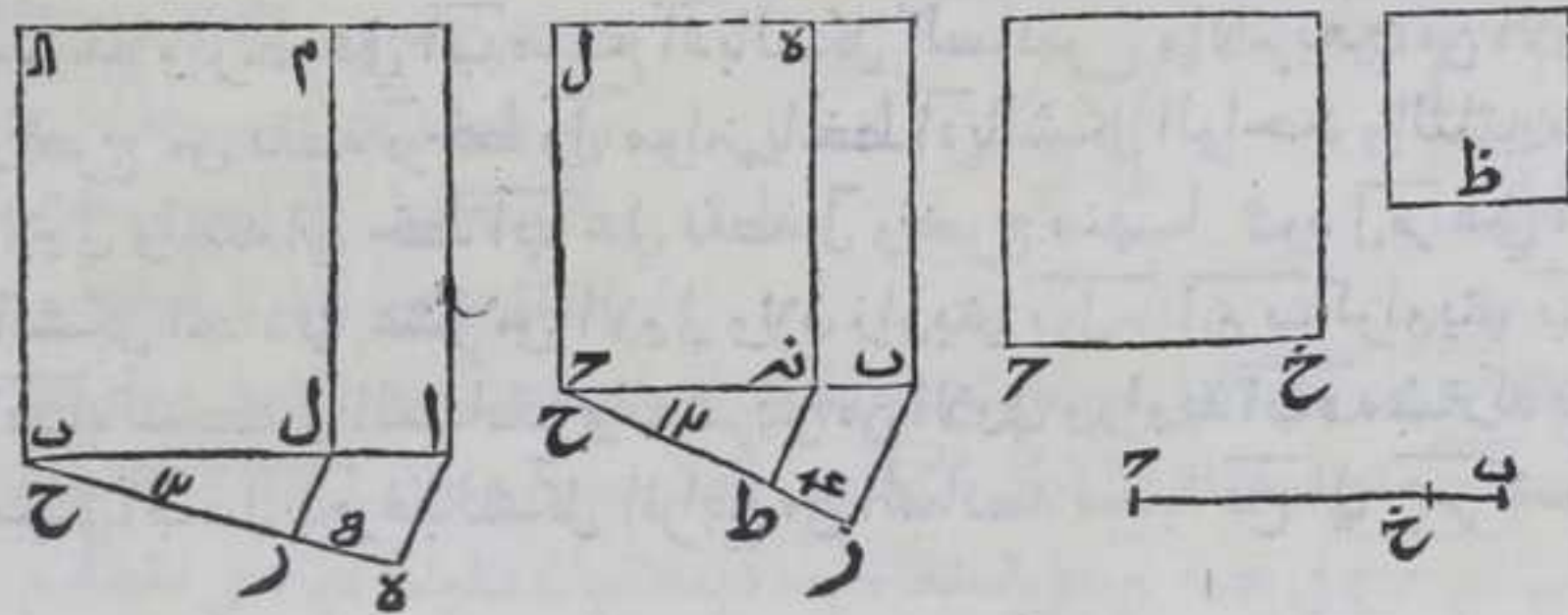
لنا







ظ كسطح به بالشكل الرابع عشر من الثانية والشكل السادس والاربعين من الاولي فلان زاويتي ح نه ط ح ط نه كزاويتي ح ب ر ح ب بالشكل التاسع والعشرين من الاولي وزاوية ب ح ر مشتركة بين مثلثي ب ح ر ح نه ط فبالشكل الرابع من السادسة نسبة م ر ح الي ح ط كنسبة ب ح ر الي ح نه ونسبة مربع بل الي سطح ل نه كنسبة ب ح ر الي ح نه بالشكل الاول من السادسة فنسبة م ر ح الي ح ط كنسبة مربع بل الي سطح ل نه بالشكل



الحادي عشر من الخامسة ولان نسبة مربع بل الي مربع خ ح كنسبته الي سطح ل نه بالشكل السابع من الخامسة فنسبة م ر ح الي ح ط كنسبة مربع بل الي مربع خ ح بالشكل الحادي عشر من الخامسة فضعنا ب ح خ ح منطقتان في القوة بالشكل السادس متباينتان في الطول بالشكل السابع ونسبة مربع بل الي مربع ظ كنسبته الي سطح ب د بالشكل السابع من الخامسة وبالقلب نسبة م ر ح الي م ر ط كنسبة مربع بل الي سطح ب هـ فبالشكل الحادي عشر نسبة مربع بل الي مربع ظ كنسبة م ر ح الي م ر ط فبـ ح يشارك ظ في الطول بالشكل السابع لان عددي م ر ح م ر ط مربعان ولان نسبة مربع ال ا الي مربع بل كنسبة هـ ح الي ح م ونسبة مربع بل الي مربع خ ح كنسبة م ر ح الي ح ط فبالشكل الثاني والعشرين من الخامسة نسبة مربع ال ا الي مربع خ ح كنسبة هـ ح الي ح ط فحـ ر يباين ب ح في الطول بالشكل السابع لكون عددي هـ ح ح ط ليست كنسبة عددين مربعين فخطا ب ح خ ح منطقتان في القوة متباينتان في الطول وليس واحد منهما منطقتا في الطول فاذا فصل من ب ح خ ح يبغي ب خ منفصلا ثالثا فالحكم ثابت وذلك ما اردنا ان نبين

فـ  
لنا ان نجد المنفصل الرابع  

$$\frac{4}{20} = \frac{1}{5}$$
 فنجد عددين مربعين وهما ٤ و ٢٠  
 مجموعها وهو ٢٤ غير مربع بالمقدمة التي  
 قبل



قبل الشكل الثالث والعشرين ونسلك به مثل ما سلكتنا في المنفصل الاول الا ان ب ح يقوي علي ح ب مربع ط وهو يباين ط في الطول لان نسبة مربعهما كنسبة عدد د ه الي عدد ه ر وهما غير مربعين والشكل كالشكل وذلك ما اردنا ان نبين

فد

لنا ان نجد المنفصل الخامس

فنعيد عددي درره اللذين مجموعهما غير مربع ونسلك مثل ما سلكتنا في المنفصل الثاني فيكون ب ح يقوي

علي ح ب مربع ط الذي يباينه لان د ..... ٩ ..... ر ..... ٢٥ ..... ه  
نسبة مربعي ب ح ط كنسبة عددي

د ه ر وهما غير مربعين والشكل كالشكل وذلك ما اردنا ان نبين

فه

لنا ان نجد المنفصل السادس

فنعيد عددي درره اللذين مجموعهما غير مربع ونسلك مثل ما سلكتنا في المنفصل الثالث بعينه والشكل كالشكل وذلك ما اردنا ان نبين

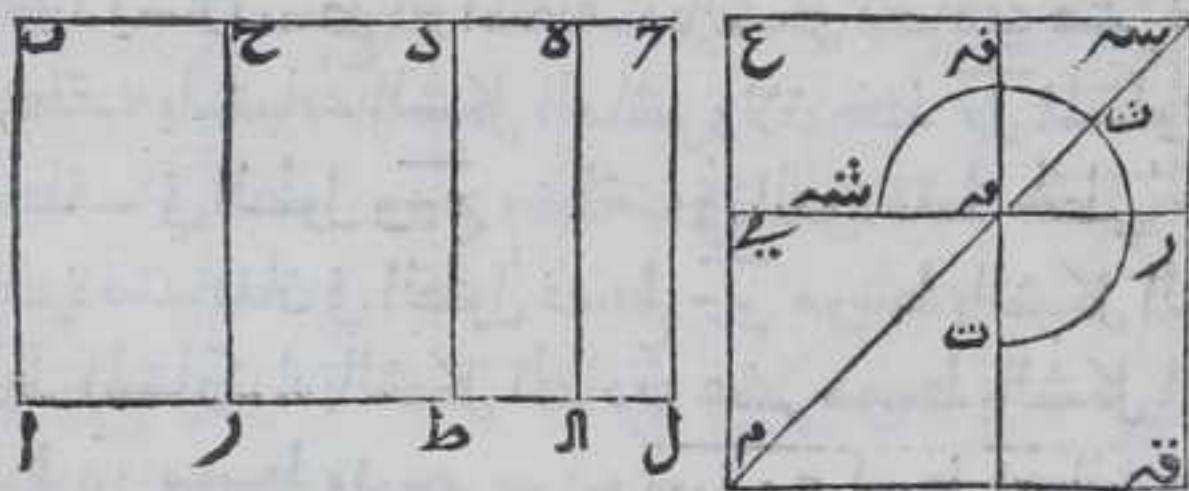
فـ

فو

كل خط يقوي علي سطح قائم الزوايا يحيط به خط

منطق ومنفصل اول منفصل

ليكن خط ا ب منطقا و ب ح منفصلا او لا واحاطا بسطح ا ب ح ر المتوازي

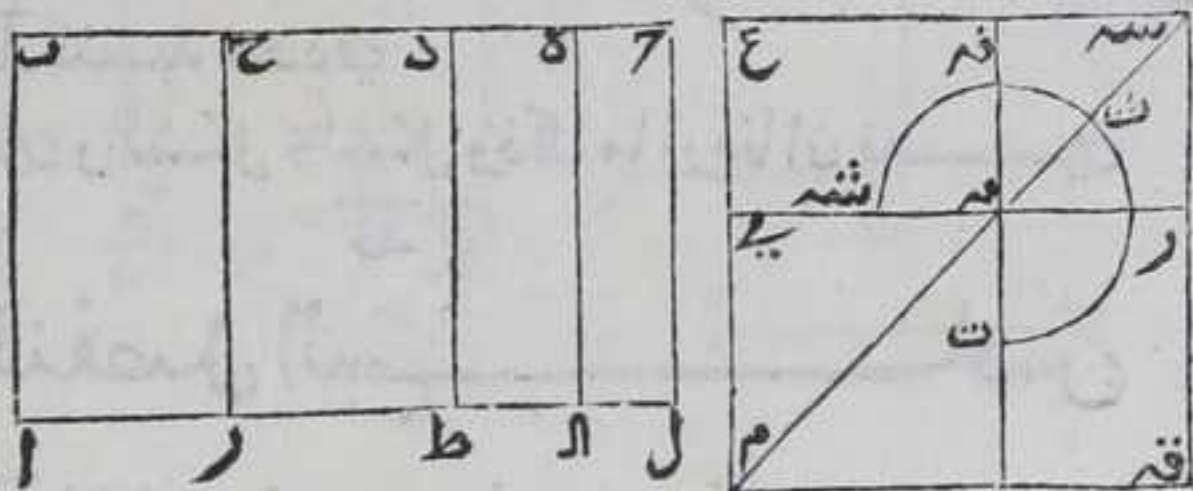


الاضلاع فاقول كل خط يقوي علي سطح ا ح فهو منفصل برهانه وليتصل بخط ب ح خط ح ح فيصير ا خطي

ب ح منطقي في القوة متباينين في الطول وخط ب ح منطقي في الطول قوي يا علي خط ح ب مربع خط يشاركه في الطول ونخرج ا ر علي استقامته في جهة ر الي غير النهاية ونفصل منه ا ل كخط ب ح بالشكل الثالث من



الاولي ونصل بين نقطتي  $\overline{ج\ د}$  بخط مستقيم فهو مواز ومساو لخط  $\overline{ا\ ب}$  بالشكل الثالث والثلاثين من الاولي فسطح  $\overline{ا\ ح}$  متوازي الاضلاع فهو منطوق بالشكل الخامس عشر وننصف  $\overline{ج\ د}$  علي نقطة  $\overline{د}$  بالشكل العاشر من الاولي فربيع  $\overline{د}$  كربع مربع  $\overline{ج\ ح}$  بالشكل الرابع من الثانية فاذا اضغنا ربع مربع  $\overline{ج\ ح}$  اعني مربع  $\overline{د}$  الي خط  $\overline{ب\ ج}$  ينقص عن تمامه مربعاً بالشكل الثاني عشر من السادسة فنقسم خط  $\overline{ب\ ج}$  بقسمين مشتركين بالشكل الثالث عشر لان خط  $\overline{ب\ ج}$  قوي علي  $\overline{ج\ ح}$  بمربع خط يشاركه فلنقسمه علي نقطة  $\overline{ه}$  فسطح  $\overline{ب\ ه}$  في  $\overline{ه}$  كربع  $\overline{د}$  فنسبة  $\overline{ب\ ه}$  الي  $\overline{د}$  كنسبة  $\overline{د}$  الي  $\overline{ه}$  بالشكل السادس عشر من السادسة وخط  $\overline{ب\ ه}$  اعظم من خط  $\overline{د}$  لان  $\overline{ب\ ج}$  اعظم من  $\overline{ج\ ح}$  فخط  $\overline{ب\ ه}$  اعظم من  $\overline{د}$  فنقطة  $\overline{ه}$  تقع بين نقطتي  $\overline{ج\ د}$  ونخرج من نقطتي  $\overline{ه\ د}$  خطي  $\overline{ه\ ل\ ط}$  موازيين لخط  $\overline{ا\ ب}$



بالشكل الواحد والثلاثين من الاولي فيقع من خط  $\overline{ا\ ل}$  علي نقطتي  $\overline{ا\ ط}$  فبالشكل الثلاثين سطوح  $\overline{ا\ ل}$   $\overline{ا\ ح}$   $\overline{ا\ ط}$   $\overline{ا\ ه}$  متوازية الاضلاع فنسبة سطح  $\overline{ا\ ه}$  الي سطح  $\overline{ا\ ط}$  كنسبة  $\overline{ب\ ه}$  الي  $\overline{د}$  بالشكل الاول من السادسة ونسبة  $\overline{د}$  الي  $\overline{ه}$  كنسبة  $\overline{ب\ ه}$  الي  $\overline{د}$  فبالشكل الحادي عشر نسبة سطح  $\overline{ا\ ه}$  الي سطح  $\overline{ا\ ط}$  كنسبة  $\overline{د}$  الي  $\overline{ه}$  ونسبة سطح  $\overline{ا\ ه}$  الي سطح  $\overline{ا\ ط}$  كنسبة  $\overline{د}$  الي  $\overline{ه}$  بالشكل الاول من السادسة فنسبة سطح  $\overline{ا\ ه}$  الي سطح  $\overline{ا\ ط}$  كنسبة  $\overline{د}$  الي  $\overline{ه}$  بالشكل الحادي عشر من الخامسة فسطح  $\overline{ا\ ه}$  متوسط بين سطحي  $\overline{ا\ ط}$   $\overline{ا\ ل}$  ولان نسبة سطح  $\overline{ا\ ه}$  الي سطح  $\overline{ا\ ل}$  كنسبة  $\overline{ب\ ه}$  الي  $\overline{د}$  بالشكل الاول من السادسة و  $\overline{ب\ ه}$  يشارك  $\overline{ه}$  فسطح  $\overline{ا\ ه}$  يشارك سطح  $\overline{ا\ ل}$  بالشكل الثامن فكل منهما يشارك سطح  $\overline{ا\ ح}$  المنطق بالشكل الحادي عشر فكل من سطحي  $\overline{ا\ ه}$   $\overline{ا\ ل}$  منطوق باستبانة الشكل العاشر ولان خط  $\overline{ج\ ل}$  المساوي لخط  $\overline{ا\ ب}$  المنطق منطوق في الطول و  $\overline{ج\ ح}$  منطوق في القوة فقط فخطي  $\overline{ج\ ل}$   $\overline{ج\ ح}$  منطوقان في القوة متباينان في الطول فسطح  $\overline{ج\ ل}$  متوسط بالشكل السابع عشر فسطح  $\overline{ج\ ل}$  المشارك له بالشكل الحادي عشر متوسط بالشكل التاسع عشر وكذلك سطح  $\overline{د\ ر}$  متوسط ونرسم مربع  $\overline{س\ ق\ م\ ع}$  كسطح  $\overline{ا\ ه}$  بالشكل الرابع عشر من الثانية والشكل السادس والاربعين من الاولي ونرسم مربع  $\overline{س\ م\ ر\ ن}$  كسطح  $\overline{ا\ ل}$  بالشكلين المذكورين بحيث يشارك مربع  $\overline{س\ م}$  برأوية  $\overline{ق\ س\ ع}$  فهو علي قطر  $\overline{س\ م}$  باستبانة الشكل الرابع من الثانية ونقسم سطحي  $\overline{ق\ م}$   $\overline{م\ ر}$  ونخرج من  $\overline{ن}$  علي استقامته في جهة  $\overline{ن}$  الي ان ينتهي الي ضلع  $\overline{م\ ع}$  علي نقطة  $\overline{ي}$  فسطح



ي فسطح ندم مربع باستبانة الشكل الرابع من الثانية ولان نسبة مربع  
 ع قه الي سطح قفه كنسبة ع سه الي سه ف بالشكل الاول من السادسة وقسه  
 يساوي ع سه ورسه يساوي سه فنسبة قسه الي سه كنسبة ع سه الي  
 سه ف بالشكل الحادي عشر نسبة مربع ع قه الي سطح قفه كنسبة قسه الي  
 سه ونسبة سطح قفه الي مربع سه كنسبة قسه الي سه ف بالشكل  
 الحادي عشر من الخامسة نسبة مربع قه الي سطح قفه كنسبة سطح قفه الي  
 مربع سه فسطح قفه متوسط بين مربعي قه سه المساويين لسطحي آه  
 دل وكان سطح حط متوسطا بين سطحي آه دل فسطح قفه كسطح حط وهو  
 موسط فسطح قفه موسط ومربع قه منطوق وهما متباينان فخط سه ع  
 يباين خط سه ف بالشكل الثامن وهما منطوقان في القوة لان مربعي قه  
 سه منطوقان فخط قه منفصل بالشكل السابعين ومتمما قه ندم  
 متساويان بالشكل الثالث والاربعين من الاولي فعلمت ثثسه مع مربع  
 سه ندم كسطح حل وكان سطحا آه دل اعني سطح آه كرمعي قه سه فربع ندم  
 كسطح آه وخطا قه ندمي متساويان بالشكل الرابع والثلاثين من الاولي  
 فربع قه يساوي مربع ندم المساوي لسطح آه فخط قه القوي علي سطح  
 آه منفصل وذلك ما اردنا ان نبين

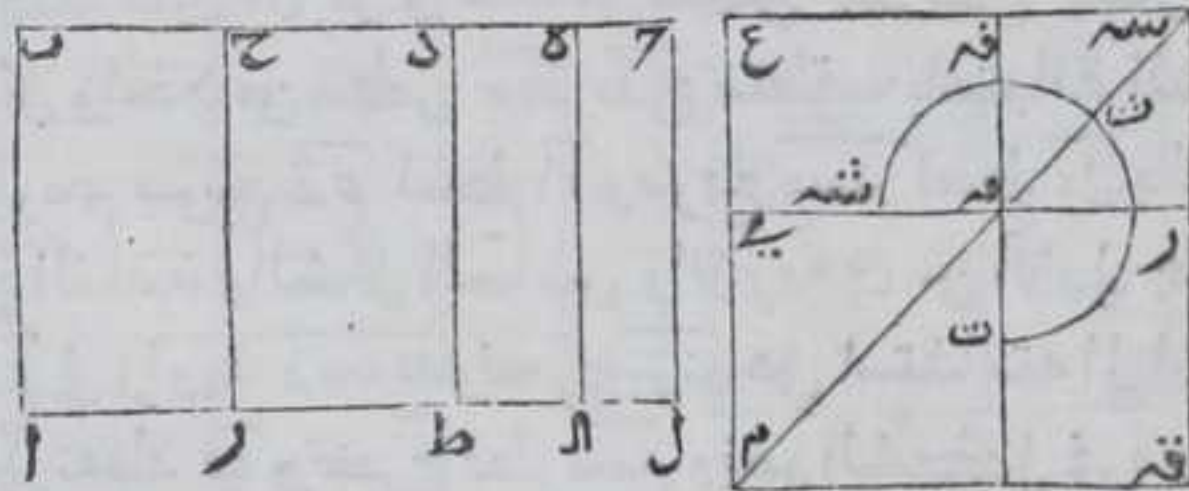
فز

كل خط قوي علي سطح قائم الزوايا يحيط به خط

منطق والمنفصل الثاني منفصل المتوسط الاول

ليكن سطح آه القائم الزوايا يحيط به خط آه المنطق وبه المنفصل  
 الثاني فاقول كل خط قوي علي سطح آه المنفصل المتوسط الاول برهانه  
 وليتصل بخط ب ح خط ح المنطق فيصيرا خطي ب ح ح منطوقين في

القوة متباينين  
 في الطول وخط  
 ب ح قوي علي  
 خط ح بمربع  
 خط يشارك في  
 الطول ونخرج  
 خط آر في جهة

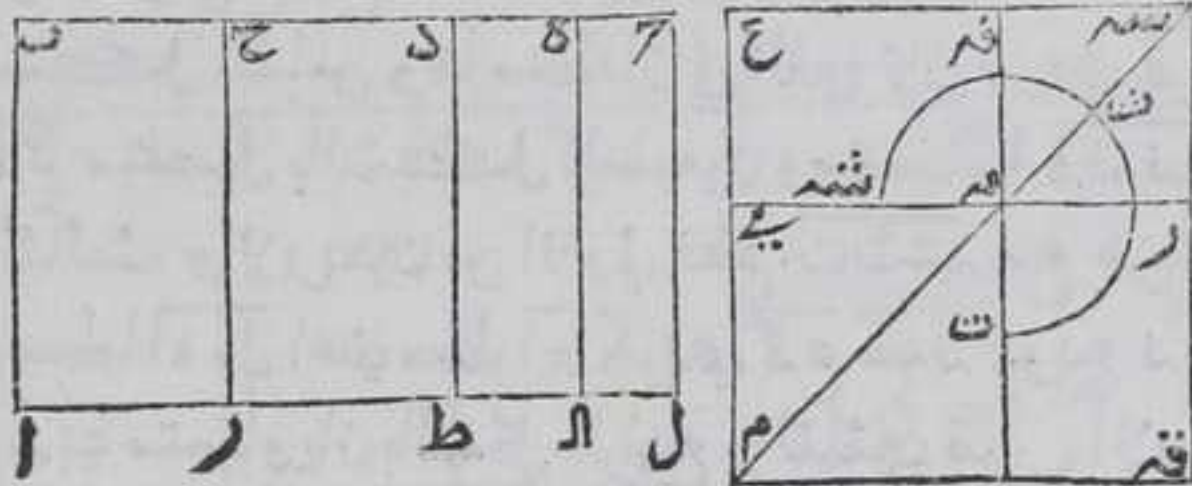


آه علي استقامته الي غير النهاية ونفصل منه آل يساوي ب ح بالشكل  
 الثالث من الاولي ونصل حل بخط مستقيم فهو مواز ومساو لخط آه  
 بالشكل الرابع والثلاثين من الاولي فخط حل منطق وننصف ح ع علي  
 نقطة د بالشكل العاشر من الاولي فلان ب ح يقوي علي ح بمربع خط



يشاركه في الطول فاذا اضعنا الي  $\overline{ب\gamma}$  سطحا متوازي الاضلاع كربع مربع  
 $\overline{ح\delta}$  اعني مربع  $\overline{د\delta}$  بالشكل الرابع من الثانية ينقض عن تمامه مربعا  
 بالشكل الثامن والعشرين من السادسة يقسم خط  $\overline{ب\gamma}$  بمشركين بالشكل  
 الثالث عشر فليقسمه علي نقطة  $\overline{هـ}$  فسطح  $\overline{ب\هـ}$  في  $\overline{هـ\gamma}$  كمربع  $\overline{د\delta}$  فنسبة  $\overline{ب\هـ}$   
 الي  $\overline{د\delta}$  كنسبة  $\overline{د\delta}$  الي  $\overline{هـ\gamma}$  بالشكل السادس عشر من السادسة ونخرج من  
 نقطتي  $\overline{هـ\delta}$  خطي  $\overline{هـ\alpha}$  و  $\overline{د\beta}$  متوازيين لخط  $\overline{اب}$  بالشكل الواحد والثلاثين  
 من الاولي فليبتدئه الي  $\overline{ال}$  علي نقطتي  $\overline{ا\alpha}$  و  $\overline{ط\beta}$   $\overline{ح\alpha}$   $\overline{هـ\delta}$  متوازيين  
 الاضلاع بالشكل الثلثين من الاولي ولان نسبة  $\overline{د\delta}$  الي  $\overline{هـ\gamma}$  كنسبة  $\overline{ب\هـ}$  الي

$\overline{د\delta}$  ونسبة سطح  
 $\overline{اه}$  الي سطح  $\overline{ط\delta}$   
 كنسبة  $\overline{ب\هـ}$  الي  $\overline{د\delta}$   
 بالشكل الاولي من  
 السادسة فنسبة  
 سطح  $\overline{اه}$  الي سطح  
 $\overline{ط\delta}$  كنسبة



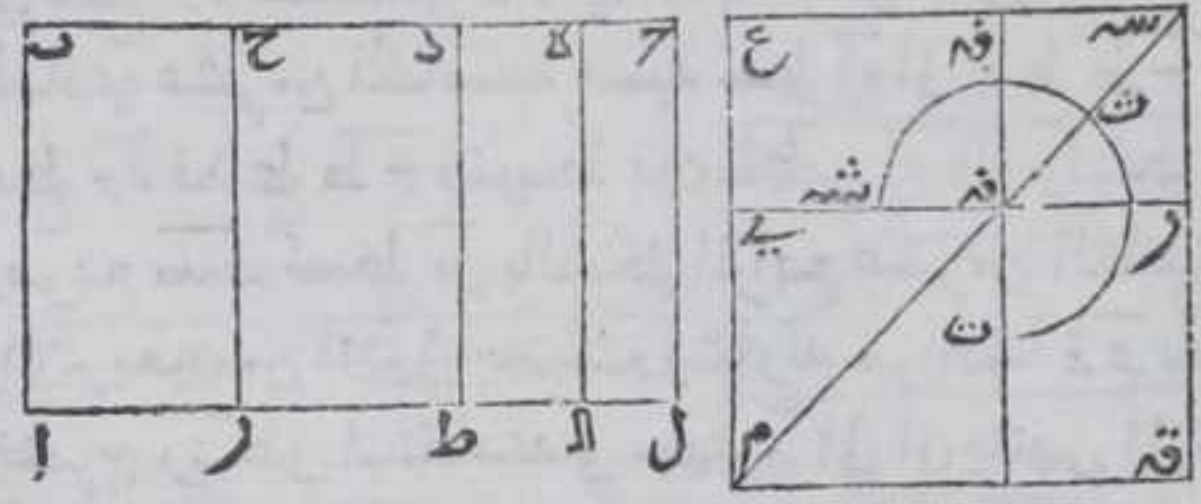
$\overline{د\delta}$  الي  $\overline{هـ\gamma}$  بالشكل الحادي عشر من الخامسة ونسبة سطح  $\overline{ط\delta}$  الي سطح  $\overline{د\alpha}$   
 كنسبة  $\overline{د\delta}$  الي  $\overline{هـ\gamma}$  بالشكل الاول من السادسة فنسبة سطح  $\overline{اه}$  الي سطح  $\overline{ط\delta}$   
 كنسبة سطح  $\overline{ط\delta}$  الي سطح  $\overline{د\alpha}$  بالشكل الحادي عشر من الخامسة فسطح  $\overline{ط\delta}$   
 متوسط بين سطحي  $\overline{اه}$  و  $\overline{د\alpha}$  ولان خطي  $\overline{ح\alpha}$  و  $\overline{د\beta}$  منطقتين فسطح  $\overline{د\delta}$  منطقتين  
 بالشكل الخامس عشر ولان نسبة سطح  $\overline{اه}$  الي  $\overline{د\alpha}$  كنسبة  $\overline{ب\هـ}$  الي  $\overline{هـ\gamma}$  بالشكل  
 الاول من السادسة و  $\overline{ب\هـ}$  و  $\overline{هـ\gamma}$  مشتركان فسطحا  $\overline{اه}$  و  $\overline{د\alpha}$  مشتركان بالشكل  
 الثامن فكل من سطحي  $\overline{اه}$  و  $\overline{د\alpha}$  يشارك سطح  $\overline{ح\alpha}$  بالشكل الحادي عشر وسطح  
 $\overline{ح\alpha}$  متوسط بالشكل السابع عشر يكون خطي  $\overline{اب}$  و  $\overline{ب\gamma}$  منطقتين في القوة  
 متباينين في الطول فكل من سطحي  $\overline{اه}$  و  $\overline{د\alpha}$  متوسط بالشكل التاسع عشر  
 وبمثلته تبين ان كل واحد من سطحي  $\overline{ط\delta}$  و  $\overline{ح\alpha}$  يشارك سطح  $\overline{د\delta}$  المنطق  
 فكل واحد من سطحي  $\overline{ط\delta}$  و  $\overline{ح\alpha}$  منطقتين باستبانة الشكل العشرين  
 ونرسم مربع  $\overline{ق\هـ}$  كسطح  $\overline{اه}$  ومربع  $\overline{س\هـ}$  كسطح  $\overline{هـ\delta}$  بالشكل الرابع عشر  
 من الثانية والشكل السادس والاربعين من الاولي بحيث يشارك مربع  
 $\overline{ق\هـ}$  في زاوية  $\overline{ق\هـ\delta}$  ونخرج  $\overline{مر}$  علي استقامته الي ان ينتهي الي ضلع  $\overline{ع\هـ}$   
 علي نقطة  $\overline{ي}$  ونخرج قطر  $\overline{سم}$  ونتم الشكل فربع  $\overline{س\هـ}$  علي قطر  $\overline{سم}$   
 وسطح  $\overline{نم}$  مربع باستبانة الشكل الرابع من الثانية ولان  $\overline{ق\هـ}$  و  $\overline{س\هـ}$  مربع  
 متساويان بالشكل الثالث والاربعين من الاولي فسطحا  $\overline{ق\هـ}$  و  $\overline{س\هـ}$   
 متساويان ولان نسبة مربع  $\overline{ق\هـ}$  الي سطح  $\overline{مر}$  كنسبته الي سطح  $\overline{ق\هـ}$  بالشكل  
 السابع من الخامسة ونسبة  $\overline{س\هـ}$  الي  $\overline{س\delta}$  كنسبة مربع  $\overline{ق\هـ}$  الي سطح  $\overline{ق\هـ}$   
 بالشكل الاول من السادسة فبالشكل الحادي عشر من الخامسة نسبة  
 مربع



مربع قـع الى سطح مـرـع كنسبة سـدـع الى سـدـف ونسبة سطح مـرـع الى مربع  
 سـدـن كنسبة سـدـع الى سـدـف فسطح مـرـع وسط في النسبة بين مربعي قـع  
 سـدـن المساويين لسطحي آهـل وكان سطح حـط وسطا في النسبة بينهما  
 فسطح مـرـع يساوي سطح حـط فعلم تـثـشـه مع مربع سـدـن يساويان سطح  
 حـر وكان مربعاً قـع سـدـن معاكس سطح آـح فاذا القينا منه سطح حـر ومن مربعي  
 قـع سـدـن علم تـثـشـه مع مربع سـدـن يبقى سطح آـح كمربع نـم ولان مربع  
 قـع موسط وسط قـف منطف فهما متباينان ونسبة مربع قـع الى سطح  
 قـف كنسبة سـدـع الى سـدـف بالشكل الاول من السادسة فسدع يباين سـدـف  
 بالشكل الثامن فخط سـدـع سـدـف موسطان لان مربعهما موسطان مشتركان  
 بالقوة فقط محيطان بمنطف فخط قـع منفصل الموسط الاول بالشكل  
 الواحد والسبعين ولان ضلع نـي كضلع قـع بالشكل الرابع والثلاثين  
 من الاولي فخط قـع قوي علي مربع نـم المساوي لسطح آـح فخط قـع  
 المنفصل الموسط الثاني قوي علي سطح آـح فالحكم ثابت وذلك ما اردنا  
 ان نـبـ

نـح  
 كل خط قوي علي سطح قائم الزوايا يحيط به خط  
 منطف ومنفصل ثالث منفصل الموسط الثاني

لبكن سطح آـح القائم الزوايا يحيط به خط آـب المنطف وبـح المنفصل  
 الثالث فاقول كل خط قوي علي سطح آـح منفصل الموسط الثاني برهانه  
 وليتصل بخط بـح خط حـح المنطف في القوة فقط مصدر الخطي بـح  
 حـح منطقتين في القوة متباينين في الطول وخط بـح قويا علي خط حـح



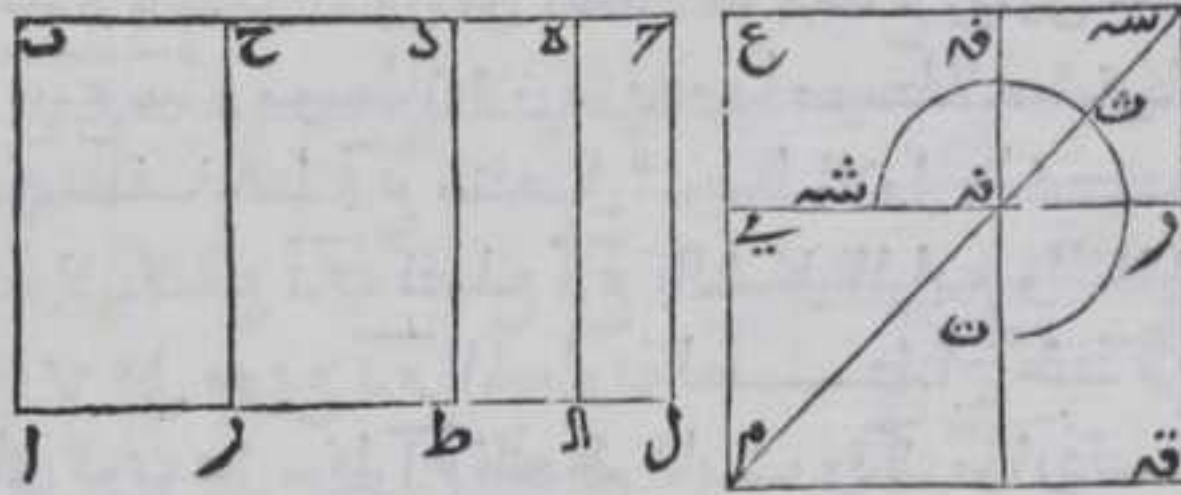
بمربع خط  
 يشاركه في الطول  
 ونخرج خط آـر  
 في جهة مـرـع علي  
 استقامته الي غير  
 النهاية ونفصل  
 منه آـل مساويا

لخط بـح بالشكل الثالث من الاولي ونصل حـل بخط مستقيم فهو مواز  
 ومساو لخط آـب بالشكل الرابع والثلاثين من الاولي فخط حـل منطف  
 وننصف حـح علي نقطة دـد بالشكل العاشر من الاولي فلان بـح يقوي علي  
 حـح بمربع خط يشاركه في الطول فاذا اضيف الي بـح سطحاً كمربع مربع  
 حـح المساوي لمربع حـد بالشكل الرابع من الثانية ينقص عن تمامه مربعاً



بالشكل الثامن والعشرين من السادسة يقسم خط  $\overline{ب\gamma}$  بمشتركين بالشكل الثالث عشر فليقسمه علي نقطة  $\delta$  فسطح  $\overline{ب\delta}$  في  $\delta$  مربع  $\overline{د\delta}$  فنسبة  $\overline{ب\delta}$  الي  $\overline{د\delta}$  كنسبة  $\overline{د\delta}$  الي  $\overline{د\delta}$  موازيين لخط  $\overline{أب}$  بالشكل الواحد والثلاثين من الاولي فلينتهبا الي  $\overline{آل}$  علي نقطتي  $\overline{آط}$  فسطوح  $\overline{ط\gamma}$   $\overline{ط\delta}$   $\overline{ط\delta}$  متوازيين الاضلاع بالشكل الثلاثين من الاولي ولان خطي  $\overline{ح\gamma}$   $\overline{ح\delta}$  منطقيين في القوة فقط وخطي  $\overline{آل}$   $\overline{آب}$  منطقيين فكل من سطحي  $\overline{ح\gamma}$   $\overline{ح\delta}$  موازيين بالمشكل

السابع عشر  
ولان نسبة سطح  
 $\overline{آه}$  الي سطح  $\overline{آل}$   
كنسبة  $\overline{ب\delta}$  الي  $\overline{د\delta}$   
المشتركين فسطحا  
 $\overline{آه}$   $\overline{آل}$  مشتركان  
بالشكل الثامن



فكل منهما يشارك سطح  $\overline{آح}$  المتوسط فكل منهما متوسط بالشكل التاسع عشر ويمثله تبين ان كل واحد من سطحي  $\overline{ط\gamma}$   $\overline{ط\delta}$  يشارك سطح  $\overline{ح\gamma}$  المتوسط فكل منهما متوسط وسط  $\overline{ط\gamma}$  المشارك لسطح  $\overline{ح\gamma}$  يباين سطح  $\overline{آح}$  والا يشاركه فبشارك سطحا  $\overline{آح}$   $\overline{آط}$  بالشكل العاشر وهما متباينان هذا خلف فسطح  $\overline{ط\gamma}$  يباين سطح  $\overline{آح}$  ويمثله تبين ان سطح  $\overline{آه}$  المشارك لسطح  $\overline{آح}$  يباين سطح  $\overline{ط\gamma}$  فكل من سطحي  $\overline{آه}$   $\overline{آل}$  يباين كل واحد من سطحي  $\overline{ط\gamma}$   $\overline{ط\delta}$  ولان نسبة  $\overline{د\delta}$  الي  $\overline{د\delta}$  كنسبة  $\overline{ب\delta}$  الي  $\overline{د\delta}$  ونسبة سطح  $\overline{آه}$  الي سطح  $\overline{ط\gamma}$  كنسبة  $\overline{ب\delta}$  الي  $\overline{د\delta}$  بالشكل الاول من السادسة فبالشكل الحادي عشر من الخامسة نسبة سطح  $\overline{آه}$  الي سطح  $\overline{ط\gamma}$  كنسبة  $\overline{د\delta}$  الي  $\overline{د\delta}$  ونسبة سطح  $\overline{ط\delta}$  الي سطح  $\overline{ط\gamma}$  كنسبة  $\overline{د\delta}$  الي  $\overline{د\delta}$  بالشكل الاول من السادسة فبالشكل الحادي عشر من الخامسة نسبة سطح  $\overline{آه}$  الي سطح  $\overline{ط\delta}$  كنسبة سطح  $\overline{ط\gamma}$  الي سطح  $\overline{ط\delta}$  فسطح  $\overline{آه}$  فسطح  $\overline{ط\delta}$  متوسط بين سطحي  $\overline{آه}$   $\overline{آل}$  ونرسم مربع  $\overline{ق\delta}$  كسطح  $\overline{آه}$  ومربع  $\overline{س\delta}$  كسطح  $\overline{آل}$  بالشكل الرابع عشر من الثانية والشكل السادس والاربعين من الاولي بحيث يشاركه مربع  $\overline{ق\delta}$   $\overline{س\delta}$  في زاوية  $\overline{ق\delta}$   $\overline{س\delta}$  ونخرج رنه علي استقامته في جهة  $\overline{ن\delta}$  الي ان ينتهي الي ضلع  $\overline{ع\delta}$  علي نقطة  $\overline{ي}$  ونخرج قطر  $\overline{س\delta}$  ويقم الشكل  $\overline{ق\delta}$   $\overline{س\delta}$  علي قطر  $\overline{س\delta}$  وسط  $\overline{ن\delta}$  مربع باستبانة الشكل الرابع من الثانية ولان  $\overline{ق\delta}$   $\overline{س\delta}$  متساويان بالشكل الثالث والاربعين من الاولي فسطحا  $\overline{ق\delta}$   $\overline{س\delta}$  متساويان فنسبة مربع  $\overline{ق\delta}$  الي سطح  $\overline{ق\delta}$  كنسبته الي سطح  $\overline{ق\delta}$  بالشكل السابع من الخامسة ونسبة  $\overline{س\delta}$  الي  $\overline{س\delta}$  كنسبة مربع  $\overline{ق\delta}$  الي سطح  $\overline{ق\delta}$  بالشكل الاول من السادسة فنسبة مربع  $\overline{ق\delta}$  الي سطح  $\overline{ق\delta}$  كنسبة  $\overline{س\delta}$  الي  $\overline{س\delta}$  بالشكل الحادي

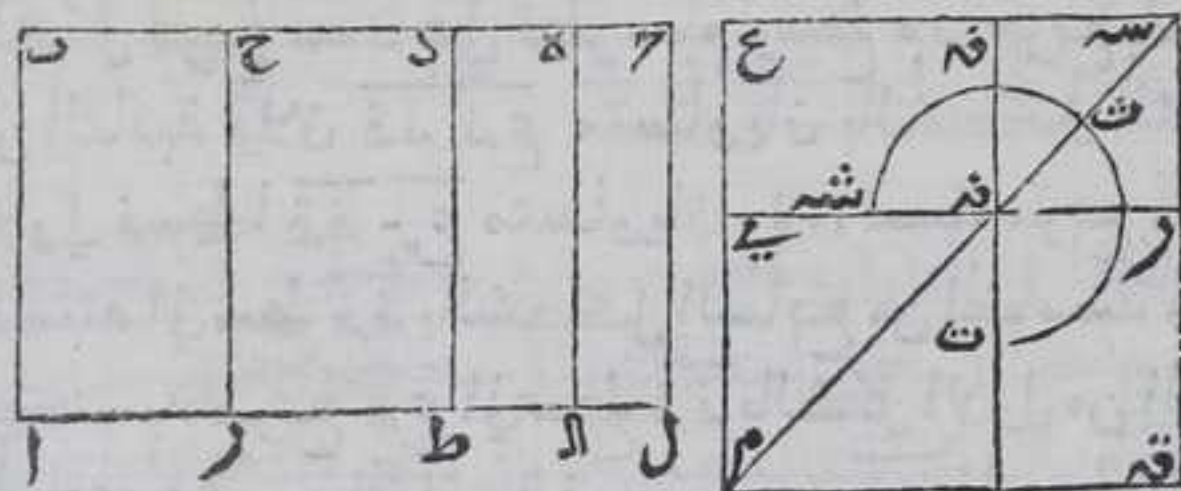


الحادي عشر من الخامسة ونسبة سطح مرع الى مربع سته كنسبة سده الى سده فبالشكل الحادي عشر من الخامسة نسبة مربع قه الى سطح مرع كنسبة سطح مرع الى مربع سته فسطح مرع متوسط بين مربعي قه سته المساويين لسطحي اه دل وكان سطح حط متوسطا بين سطحي اه دل فسطح مرع يساوي سطح حط فعلمت تشه مع مربع سته يساويان سطح حط وكان مربعاً قه سته معاً كسطح آح فاذا القينا حط من سطح آح وعلمت تشه مع مربع سته من مربعي قه سته يبقي سطح نه مساوياً بالسطح آح ولان نسبة مربع قه الى سطح آح المتباينين كنسبة سده الى سده بالشكل الاول من السادسة فسه ع يباين سده بالشكل الثامن فكل من سده ع سده فوسط لان مربعهما كذلك فخط قه المساوي لخط نه بالشكل الرابع والثلاثين من الاولي منفصل الوسط الثاني بالشكل السابعين وهو قوي علي مربع نه المساوي لسطح آح فخط قه قوي علي سطح آح وهو منفصل الوسط الثاني بالحكم ثابت وذلك ما اردنا ان نبين فط

كل خط قوي علي سطح قائم الزوايا يحيط به خط

منطق ومنفصل رابع هـ واصغر هـ

ليكن سطح آح القائم الزوايا يحيط به خط اب المنطق وب ح المنفصل الرابع فاقول ان كل خط قوي علي سطح آح اصغر برهانه وليتصل بخط ب ح خط ح مصيرا خطي ب ح منطقيين في القوي متباينين في الطول وخط ب ح منطقياً في الطول قويا علي خط ح بمربع خط يباينه في الطول ونخرج خط آر



في جهة ر علي استقامته الي غير النهاية ونفصل منه خط آل مساوياً لخط ب ح بالشكل

الثالث من الاولي ونصل بين نقطتي دل بخط مستقيم فهو مواز ومساو لخط اب بالشكل الرابع والثلاثين من الاولي فخط دل منطق وننصف ح علي نقطة د بالشكل العاشر من الاولي فلان ب ح قوي علي ح بمربع خط يباينه في الطول فاذا اضغنا الي ب ح سطحاً كربع مربع ح المساوي لمربع ح بالشكل الرابع من الثانية ينقص عن تمامه مربعاً بالشكل الثامن والعشرين من السادسة نقسم خط ب ح بمتباينين بالشكل الرابع عشر







منه سطح حر ومن مربعي قح سده علم ت تشه مع مربع سده يبقي سطح  
 اح كمربع نم ولان سطح اح منطقت فيجوع مربعي قح سده منطقت وكان  
 سطحاه دل متباينين فربعا قح سده المساويان لهما متباينان ولان رسه  
 يساوي سده فسقط شذع في سده يساوي سطح برع المساوي لسطح حرط  
 المتوسط لان سطح حر المتوسط ضعف سطح حرط فخطا سده سده متباينان  
 في القوة مجموع مربعهما منطقت وضعف سطح احدهما في الآخر متوسط  
 فخط قح اصغر بالشكل الثالث والسبعين ولان قح يساوي نه  
 بالشكل الرابع والثلاثين من الاولي وهو ضلع مربع نم المساوي لسطح اح  
 فخط قح قوي علي سطح اح فالحكم ثابت وذلك ما اردنا ان نبين

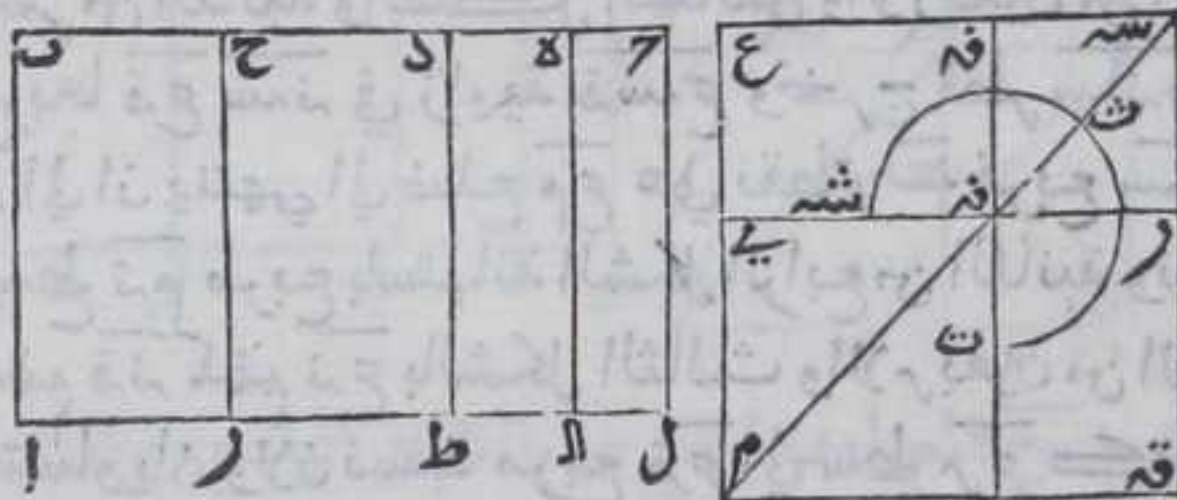
ص

كل خط قوي علي سطح متوازي الاضلاع يحيط

به خط منطقت ومنفصل خامس هو متصل

بمنطقت يصير الكل متوسطا

ليكن سطح اح المتوازي الاضلاع يحيط به خط اب المنطقت وبج  
 المنفصل الخامس فاقول ان كل خط قوي علي سطح اح متصل بمنطقت



يصير الكل  
 متوسطا برهانه  
 وليتصل بخط  
 بج خط حر  
 مصيرا خطي  
 بج حر منطقتين  
 في القوة متباينين

في الطول وخط حر منطقتا في الطول وخط ب ح قوي علي حر بمربع خط  
 يباينه في الطول ونخرج خط ار علي استقامته الي غير النهاية في جهة م  
 ونفصل منه ال كخط ب ح بالشكل الثالث من الاولي ونصل بين نقطتي ح  
 ل بخط مستقيم فهو مواز ومساو لخط اب بالشكل الرابع والثلاثين من  
 الاولي فخط ال منطقت فسقط حر منطقت بالشكل الخامس عشر وسقط  
 اح متوسط بالشكل السابع عشر وننصف ح ح علي نقطة د بالشكل العاشر  
 من الاولي فلان ب ح قوي علي ح ح بمربع خط يباينه في الطول فاذا اضفنا  
 الي ب ح سطحا كمربع مربع ح ح المساوي لمربع ح د بالشكل الرابع من  
 الثانية ينقص عن تمامه مربعا بالشكل الثامن والعشرين من السادسة  
 يقسم خط ب ح بمتباينين بالشكل الرابع عشر فلنقسمه علي نقطة ه فسقط







الاولي القوي علي مربع  $\overline{نم}$  المساوي لسطح  $\overline{اح}$  قوي علي سطح  $\overline{اح}$  ولان خطي  $\overline{سد}$   $\overline{سه}$  متباينان في القوة مجموع مربعيها متوسط وضعف سطح احدهما في الآخر منطف  $\overline{فح}$   $\overline{فد}$  متصل بمنطف يصير الكل متوسطا بالشكل الثاني والسبعين وهو قوي علي سطح  $\overline{اح}$  فالحكم ثابت وذلك ما اردنا ان نبين

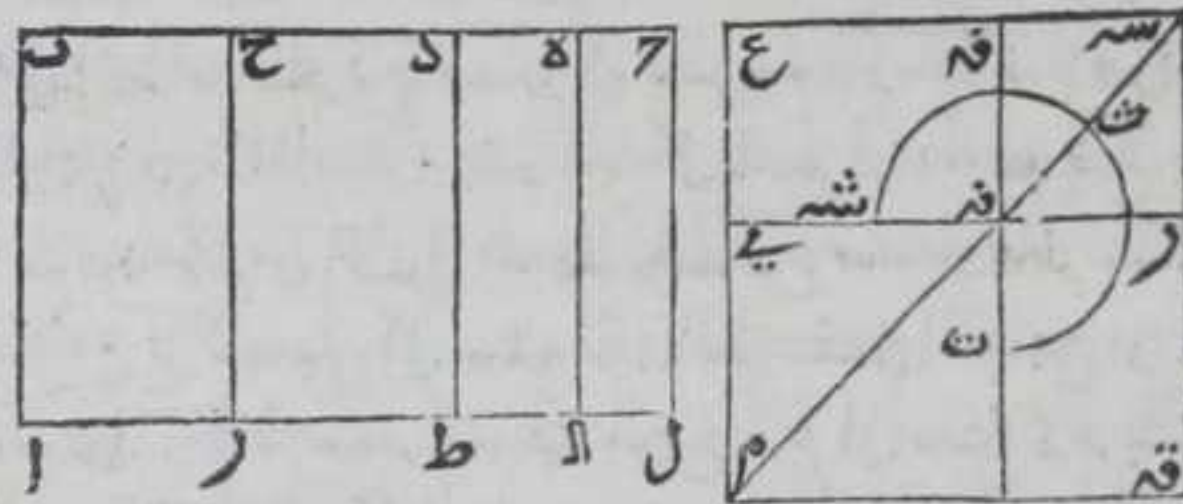
صا

كل خط قوي علي سطح متوازي الاضلاع يحيط

به خط منطف ومنفصل سادس هو متصل بمتوسط

يصير الكل متوسط

ليكن سطح  $\overline{اح}$  المتوازي الاضلاع يحيط به خط  $\overline{اب}$  المنطف و  $\overline{بج}$  المنفصل السادس فاقول ان كل خط قوي علي سطح  $\overline{اح}$  متصل بمتوسط يصير الكل متوسطا برهانه وليتصل بخط  $\overline{بج}$  خط  $\overline{جح}$  مصيرا خطي  $\overline{بج}$   $\overline{جح}$  منطقيين في القوة فقط متباينين في الطول وخط  $\overline{بج}$  قوي علي خط  $\overline{جح}$  بمربع خط



يبينه في الطول فننصف  $\overline{جح}$  علي نقطة  $\overline{د}$  بالشكل العاشر من الاولي فلو اضفنا الي خط

$\overline{بج}$  سطحا كربع مربع  $\overline{جح}$  المساوي لمربع  $\overline{جد}$  بالشكل الرابع من الثانية ينقص عن تمامه مربعا بالشكل الثامن والعشرين من السادسة فان السطح المضاف يقسم  $\overline{بج}$  بقسمين متباينين بالشكل الرابع عشر فليقسمه علي نقطة  $\overline{ه}$  فيكون سطح  $\overline{به}$  في  $\overline{جح}$  كربع  $\overline{جد}$  فنسبة  $\overline{به}$  الي  $\overline{جح}$  كنسبة  $\overline{جد}$  الي  $\overline{جح}$  بالشكل السادس عشر من السادسة ونخرج خطا  $\overline{آر}$  في جهة  $\overline{رع}$  علي استقامته الي غير النهاية ونفصل منه  $\overline{آل}$  كخط  $\overline{بج}$  بالشكل الثالث ونصل بين  $\overline{آل}$  بخط مستقيم فهو مساو ومواز لخط  $\overline{اب}$  بالشكل الرابع والثلاثين من الاولي فخط  $\overline{آل}$  منطف فكل من سطحي  $\overline{آر}$   $\overline{جح}$  متوسط بالشكل السابع عشر ونسبة سطح  $\overline{آر}$  الي سطح  $\overline{جح}$  كنسبة  $\overline{بج}$  الي  $\overline{جح}$  بالشكل الاول من السادسة وهما متباينان فسطحا  $\overline{آر}$   $\overline{جح}$  متباينان بالشكل الثامن ونخرج من نقطتي  $\overline{د}$   $\overline{ه}$  خطي  $\overline{دط}$   $\overline{هط}$  موازيين لخط  $\overline{اب}$  بالشكل الواحد والثلاثين من الاولي فكل من سطوح  $\overline{دط}$   $\overline{هط}$   $\overline{طح}$   $\overline{آه}$  متوازي الاضلاع



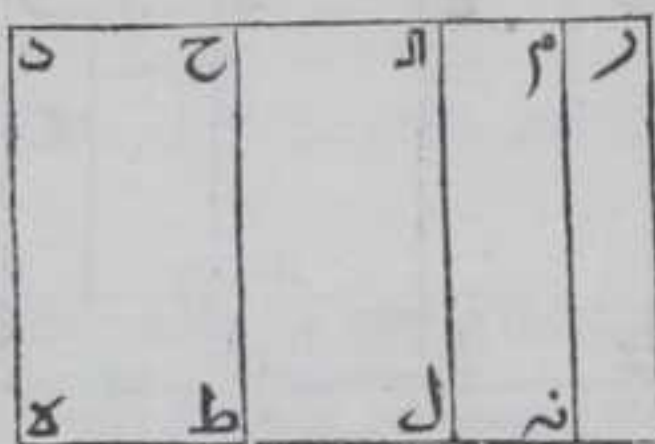




نم بالشكل الرابع والثلاثين من الاولي فخط فرع المتصل بالموسط يصير  
 الكل موسط قوي علي مربع نم المساوي لسطح اح فهو قوي علي سطح اح  
 فالحكم ثابت وذلك ما اردنا ان نبين ص ب

الضلع الثاني من كل سطح قائم الزوايا مضاف الي  
 خط محدود منطبق مساويا لمربع منفصل

منفصل اول




لكن خط اب منفصلا وضمنا سطحها  
 قائم الزوايا كمربع اب الي خط ده  
 المنطق المحدود باستبانة الشكل  
 الرابع والاربعين من الاولي وهو سطح  
 ده ط ح فاقول ان ضلع دح منفصل اول

برهانه لכן ب ح اتصل باب مصبرا خطي اح ح ب منطقيين في القوة  
 مشتركين فيها فقط فنضيف الي خط ده سطحا متوازي الاضلاع قائم  
 الزوايا كمربع اح باستبانة الشكل الرابع والاربعين من الاولي وهو سطح  
 دم فخط م نه منطبق لانه مساو لخط ده بالشكل الرابع والثلاثين من  
 الاولي ونضيف الي خط م نه سطحا متوازي الاضلاع قائم الزوايا كمربع  
 ب ح باستبانة الشكل الرابع والاربعين من الاولي وهو سطح نه ر ولان كل  
 واحده من الزوايا التي عند نقطتي م نه قائمة فكل من خطي دم نه  
 خط مستقيم بالشكل الرابع عشر من الاولي فنسبة سطح نه الي سطح نه ر  
 كنسبة دم الي م ر بالشكل الاول من السادسة وسطحا دنه نه ر مشتركان  
 فخطا دم م ر مشتركان بالشكل الثامن ولان سطحي دنه نه ر مشتركان فسطح  
 هر يشارك كلا منهما بالشكل الحادي عشر وكل منهما منطبق فسطح هر  
 منطبق باستبانة الشكل العاشر فخط دهر منطبق بالشكل السادس عشر  
 ولان مربعي اح ح ب يساويان ضعف سطح اح في ح ب مع مربع اب  
 بالشكل السابع من الثانية وسطح ه ح كمربع اب فسطح ط م كضعف سطح  
 اح في ح ب وسطح اح في ح ب موسط فضعه المشارك له بالشكل الحادي  
 عشر موسط بالشكل التاسع فسطح ط م موسط فخط م ح منطبق في  
 القوة بالشكل الثامن عشر ولان نسبة سطح ه ر الي سطح ر ط كنسبة دم الي  
 دح بالشكل الاول من السادسة والسطحا متباينان فخطا دهر م ح متباينان  
 بالشكل الثامن وننصف م ح علي نقطة ا بالشكل العاشر من الاولي ونخرج  
 منها ال مواز بالخط ح ط بالشكل الواحد والثلاثين من الاولي ونخرجه



علي استقامته في جهة هـ الي ان ينتهي الي خط هـ فلينته الي نقطة ل منه  
 فكل من سطحي حل ل ر متوازي الاضلاع بالشكل الثلثين من الاولي ولان  
 نسبة ح الي الر المساوي له كنسبة سطح حل الي سطح ل ر بالشكل الاول  
 من السادسة فسطح حل كسطح ل ر فلان نسبة مربع آح الي سطح آح في ح ب  
 كنسبة آح الي ح ب بالشكل الاول من السادسة وبهذا الشكل بعينه نسبة  
 سطح آح في ح ب الي مربع ب ح كنسبة آح الي ح ب فبالشكل الحادي عشر  
 من الخامسة نسبة مربع آح الي سطح آح في ح ب كنسبة سطح آح في ح ب الي



ر	م	ل	ح	د
نه	ل	ط	ك	

مربع ح ب فسطح آح في ح ب المساوي  
 لسطح ل ر وسط في النسبة بين مربعي  
 آح ح ب فسطح ل ر وسط في النسبة بين  
 سطحي د نه ر المساويين لمربعي آح ح ب  
 فنسبة د م الي الر كنسبة سطح د نه الي  
 سطح ل ر بالشكل الاول من السادسة  
 ونسبة سطح ل ر الي سطح ر نه كنسبة سطح  
 د نه الي سطح ل ر فبالشكل الحادي عشر

من الخامسة نسبة د م الي الر كنسبة سطح ل ر الي سطح ر نه ونسبة الر الي ر م  
 كنسبة سطح ل ر الي سطح ر نه بالشكل الاول من السادسة فبالشكل الحادي  
 عشر من الخامسة نسبة د م الي الر كنسبة الر الي م م فسطح د م في م م  
 كمربع الر بالشكل السادس عشر من السادسة فاذا اضفنا الي در سطحنا  
 متوازي الاضلاع كربع ح ر المساوي لمربع الر بالشكل الرابع من  
 الثانية ينقص عن تمامه مربعاً بالشكل الثامن والعشرين من السادسة  
 فيقسم السطح المضاف خط د ر علي نقطة م وخطا د م م م مشتركاً فخط  
 د ر المنطق يقوي علي خط ح ر المنطق في القوة فقط بمربع خط يشاركة  
 في الطول بالشكل الثالث عشر فخط د ح المنفصل الاول بالشكل الواحد  
 والسبعين فالحكم ثابت وذلك ما اردنا ان نبين

صح

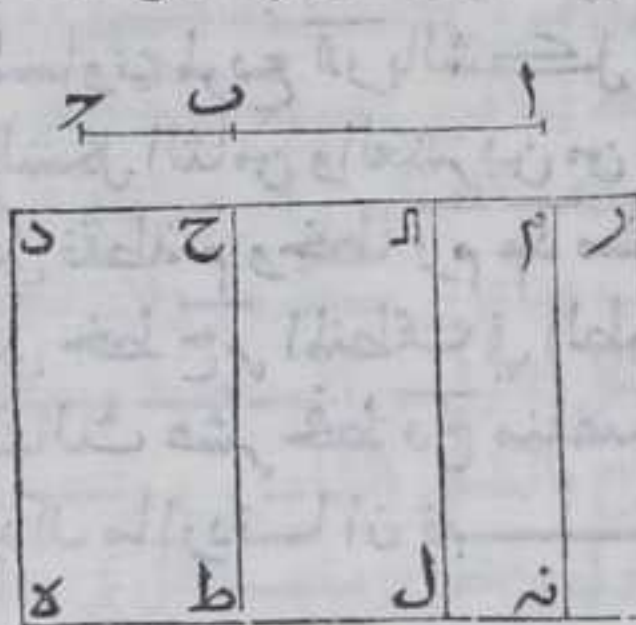
الضلع الثاني من كل سطح قايم الزوايا مضاف الي  
 خط محدود منطق مساويا لمربع المنفصل المتوسط

الاول منفصل ل ثان

ليكن خط آ ب منفصل المتوسط الاول واضيف سطح قايم الزوايا كمربع آ ب  
 الي خط د ه المنطق باستبانة الشكل الرابع والاربعين من الاولي  
 وهو سطح د ه ط ح فاقول ان ضلع د ح منفصل ثان برهانه ليكن ب ح  
 اتصل



اتصل باب مصيرا خطي آح رب موسطين مشتركين في القوة فقط  
 محبطين بمنطق فنضيف الي ده سطحا متوازي الاضلاع قائم الزوايا  
 مربع آح باستبانة الشكل الرابع والاربعين من الاولي وهو سطح دم حفظ  
 م نه مساو لخط ده بالشكل الرابع والثلاثين من الاولي فهو منطق



ونضيف اليه سطحا متوازي الاضلاع  
 قائم الزوايا مربع ب ح باستبانة الشكل  
 الرابع والاربعين من الاولي وهو سطح  
 نه ر ولان كل واحد من الزوايا التي عند  
 نقطتي م نه قائمة فكل من خطي دم نه  
 خط مستقيم بالشكل الرابع عشر من  
 الاولي فنسبة سطح ده الي سطح نه  
 كنسبة دم الي م بالشكل الاول من

السادسة و سطح ده يشارك سطح نه ر فخط دم يشارك خط م ر بالشكل  
 الثامن فكل من سطحي ده نه ر الموسطين يشارك سطح ه م بالشكل الحادي  
 عشر فهو موسط بالشكل التاسع عشر فخط دم منطق في القوة فقط  
 بالشكل الثامن عشر ولان مربعي آح رب يساويان ضعف سطح آح في رب  
 مع مربع آب بالشكل السابع من الثانية و سطح ه ح مربع آب فسطح ط ر  
 كضعف سطح آح في رب منطق فضعه المشارك له بالشكل الحادي  
 عشر منطق باستبانة الشكل العاشر فسطح ط ر منطق فخط ح ر منطق  
 في الطول بالشكل السادس عشر لان خط ط ح المساوي لخط ده المنطق  
 بالشكل الرابع والثلاثين منطق ولان نسبة سطح ط م ر الي سطح م ر ه كنسبة  
 خط ح ر الي خط ر د و سطح ط ر يباين سطح ر ه فخط ح ر يباين خط دم  
 بالشكل الثامن وتنصف خط ح ر علي نقطة آ بالشكل العاشر من الاولي  
 ونخرج منها ال في جهة خط ده علي استقامته موازيا لخط ح ط بالشكل  
 الواحد والثلاثين من الاولي ان ينتهي الي نقطة ل منه وكل من سطحي  
 ح ل ر متوازي الاضلاع بالشكل الثلاثين من الاولي ولان نسبة ح آ الي  
 آ ر المساوي له كنسبة سطح ح ل الي سطح ل م بالشكل الاول من السادسة  
 فسطح ح ل كسطح ل ر فلان نسبة مربع آح الي سطح آح في رب كنسبة آح  
 الي رب بالشكل الاول من السادسة وبهذا الشكل ايضا نسبة سطح آح في  
 رب الي مربع ب ح كنسبة آح الي رب فبالشكل الحادي عشر من الخامسة  
 نسبة مربع آح الي سطح آح في رب كنسبة سطح آح في رب الي مربع ب ح  
 فسطح آح في رب وسط في النسبة بين مربعي آح رب فسطح ل م وسط في  
 النسبة بين سطحي ده نه ر فنسبة دم الي م كنسبة ده الي سطح ل م  
 بالشكل الاول من السادسة ونسبة سطح ل ر الي سطح ر نه كنسبة سطح ده  
 الي سطح ل ر فبالشكل الحادي عشر من الخامسة نسبة دم الي آ ر كنسبة



سطح ل ر ا ي سطح ر ن و نسبة ا ر ا ي ر م كنسبة سطح ل ر ا ي سطح م ر ن بالشكل  
 الاول من السادسة فبالشكل الحادي عشر من الخامسة نسبة دم ا ي ا ر  
 كنسبة ا ر ا ي ر م فسطح دم في م ر مربع ا ر بالشكل السادس عشر من  
 السادسة فاذا اضفنا ا ي د ر سطحا متوازي الاضلاع كربع مربع ح ر  
 المساوي لمربع ا ر بالشكل الرابع من الثانية ينقص عن تمامه مربعا  
 بالشكل الثامن والعشرين من السادسة فيقسم السطح المضاف خط د ر  
 علي نقطة م وخطا ر م د مشتركان فخط د ر المنطق في القوة فقط قوي  
 علي خط ح ر المنطق في الطول بمربع خط يشاركه في الطول بالشكل  
 الثالث عشر فخط د ح منفصل ثان بالشكل السابعين فالحكم ثابت  
 وذلك ما اردنا ان نبين

صد

الضلع الثاني من كل سطح قائم الزوايا مضاف الى

خط محدود منطبق مساو لمربع المنفصل المتوسط

الثاني منفصل ثالث



ليكن خط ا ب منفصل المتوسط الثاني  
 واضيف سطح قائم الزوايا مربع ا ب الي  
 خط د ه المحدود المنطق باستبانة  
 الشكل الرابع والاربعين من الاولي  
 وهو سطح د ه ط ح فاقول ان ضلع ح ه  
 منفصل ثالث برهانه ليكن ب ح متصل باب مصيرا خطي ا ح ب  
 موسطين مشتركين في القوة فقط محيطين بموسط فنضيف الي د ه سطحا  
 متوازي الاضلاع قائم الزوايا مربع ا ح باستبانة الشكل الرابع  
 والاربعين من الاولي وهو سطح ه م فخط م ن مساو لخط د ه بالشكل الرابع  
 والاربعين من الاولي فهو منطبق ونضيف اليه سطحا متوازي الاضلاع  
 قائم الزوايا بمربع ب ح باستبانة الشكل الرابع والاربعين من الاولي وهو  
 سطح ن ر ولان كل واحد من الزوايا التي عند نقطتي م ن ه قائمة فكل من  
 خطي د ر ه ن خط مستقيم بالشكل الرابع عشر من الاولي فنسبة سطح د ن  
 الي سطح ن ر كنسبة دم ا ي م ر بالشكل الاول من السادسة وسطح د ن  
 يشارك سطح ن ر فخط دم يشارك خط م ر بالشكل الثامن فكل من سطحي  
 د ن ن ر الموسطين يشارك سطح ه م بالشكل الحادي عشر فهو موسط بالشكل  
 التاسع عشر فخط د ر منطبق في القوة بالشكل الثامن عشر ولان مربعي  
 ا ح ب يساويان ضعف سطح ا ح في ح ب مع مربع ا ب بالشكل التاسع  
 عشر



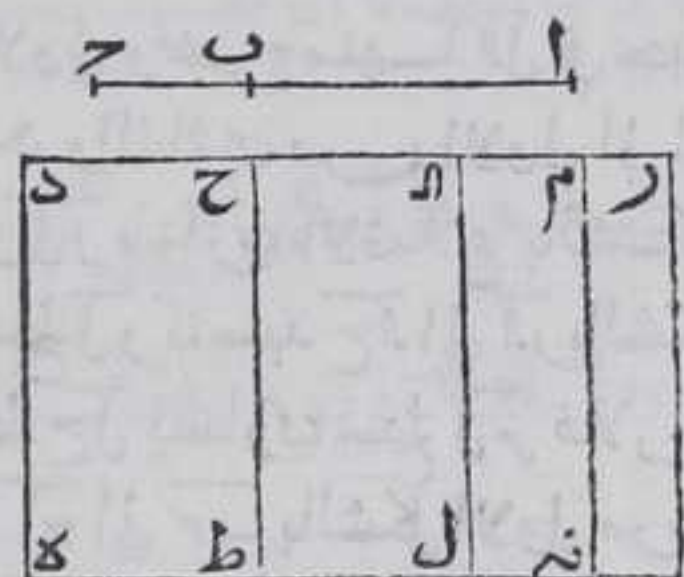
عشر من الثانية وسطح هـ ح مربع ا ب فسطح ط م كضعف سطح ا د في ح ب  
 وسطح ا د في ح ب موصل فضعف المشارك له بالشكل الحادي عشر موصل  
 بالشكل التاسع عشر فسطح ط م موصل ا ح م منطبق في القوة فقط  
 ولان نسبة سطح ا د في ح ب المشارك لضعفه ا ب مربع ب ح المشارك لسطح  
 هـ ر كنسبة ا د ا ب المنباين بالشكل الاول من السادسة فسطح ا د في  
 ح ب يباين مربع ح ب بالشكل الثامن فضعفه يباين مربع ب ح ايضا  
 والاشاركة فبشاركة سطح ا د في ح ب بالشكل العاشر وهو يباينه هذا  
 خلف وبمثله تبين ان ضعف سطح ا د في ح ب يباين سطح هـ ر ولان نسبة  
 سطح هـ ر ا ب سطح ر ط كنسبة د ر ا ب ح بالشكل الاول من السادسة وسطح  
 هـ ر يباين سطح ر ط فخط د ر يباين خط م ح بالشكل الثامن وتنصف  
 خط م ح علي نقطة ا ب بالشكل العاشر من الاول وتخرج منها ا ب في جهة  
 خط هـ ر موازي بالخط ح ط بالشكل الواحد والثلاثين من الاول ا ب ان  
 ينتهي اليه علي نقطة ل فكل من سطحي ح ل ر موازي الاضلاع بالشكل  
 الثلاثين من الاول ولان نسبة سطح ح ل ا ب سطح ل ر كنسبة ح ا ا ب بالشكل  
 الاول من السادسة وح ا ا ب ا ب وسطح ح ل ا ب ا ب ا ب ا ب ا ب ا ب ا ب ا ب  
 نسبة مربع ا د ا ب في ح ب كنسبة ا د ا ب بالشكل الاول من  
 السادسة وبهذا الشكل نسبة سطح ا د في ح ب ا ب كنسبة ا د  
 ا ب فبالشكل الحادي عشر من الخامسة نسبة مربع ا د ا ب في ح ب  
 ح ب كنسبة سطح ا د في ح ب ا ب في ح ب فسطح ا د في ح ب وسط في النسبة  
 بين مربعي ا د ح ب فسطح ل ر وسط في النسبة بين سطحي د هـ ر فنسبة  
 د م ا ب كنسبة سطح د هـ ر ا ب سطح ل ر بالشكل الاول من السادسة ونسبة  
 سطح ل ر ا ب سطح ر ن كنسبة سطح د هـ ر ا ب فبالشكل الحادي عشر من  
 الخامسة نسبة د م ا ب كنسبة سطح ل ر ا ب سطح ر ن ونسبة ا ب ا ب ح م  
 كنسبة سطح ل ر ا ب سطح ر ن بالشكل الاول من السادسة فبالشكل الحادي  
 عشر من الخامسة نسبة د م ا ب ا ب كنسبة ا ب ا ب ح م في م ر مربع  
 ا ب بالشكل السادس عشر من الخامسة فاذا اضفنا ا ب خط د ر سطحا قائم  
 الزوايا كربع مربع ح ر المساوي لمربع ا ب بالشكل الرابع من الثانية  
 ينقص عن تمامه مربعاً بالشكل الثامن والعشرين من السادسة فنقسم  
 السطح المضاف خط د ر علي نقطة م بقسمي د م م ر المشتركين فخط د م  
 المنطق في القوة فقط قوي علي خط ح م المنطق في القوة فقط المباين  
 لخط د ر في الطول بمربع خط يشاركة في الطول بالشكل الثالث عشر فخط  
 د ح المنفصل الثالث بالشكل الاول والسبعين فالحكم ثابت وذلك ما  
 اردنا ان نبين



الضلع الثاني كل سطح قائم الزوايا مضاف إلى خط  
محدود منطبق مساويا لمربع الاصغر منفصل رابع

ليكن خط  $AB$  الاصغر واضيف سطح قائم الزوايا  $AB$  الى خط  $DE$   
المحدود المنطق باستبانة الشكل الرابع والاربعين من الاولي وهو سطح  
 $DE$  ح فاقول ان ضلع  $DE$  ح منفصل رابع برهانه ليكن  $B$  ح اتصل ب  $A$   
مستترا خطي  $AC$  ح متباينين في القوة مجموع مربعهما منطقا وضعف  
سطح احدهما في الآخر موسطا فنضيف الى  $DE$  سطحا متوازي الاضلاع

قائم الزوايا  $AC$  بمربع  $AC$  باستبانة الشكل  
الرابع والاربعين من الاولي وهو سطح  
 $DE$  ح خط  $DE$  م نه مساو لخط  $DE$  بالشكل  
الرابع والثلاثين من الاولي فهو منطبق  
ونضيف اليه سطحا متوازي الاضلاع  
قائم الزوايا  $AC$  بمربع  $AC$  باستبانة الشكل  
الرابع والاربعين من الاولي وهو سطح  
نه ر ولان كل واحد من الزوايا التي



عند نقطتي  $M$  نه قائمة فكل من خطي  $DE$  نه خط مستقيم بالشكل الرابع  
عشر من الاولي فنسبة سطح  $DE$  الى سطح  $DE$  نه كنسبة  $DM$  الى  $M$  ر والسطحان  
متباينان فخط  $DM$  يباين خط  $M$  ر بالشكل الثامن وسطح  $DE$  ر منطبق فخط  
 $DE$  ر منطبق بالشكل السادس عشر ولان مربعي  $AC$  ح كضعف سطح  $AC$  في  
 $AC$  ح مع مربع  $AB$  بالشكل السابع من الثانية ومربع  $AB$  كسطح  $AC$  ح فسطح  
ر كضعف سطح  $AC$  في  $AC$  ح فهو موسط فخط  $AC$  ح منطبق في القوة فقط  
بالشكل الثامن عشر فدريباين  $AC$  ح ونصف خط  $AC$  ح بالشكل العاشر  
من الاولي على نقطة  $A$  ونخرج منها  $AL$  في جهة  $DE$  موازيا لخط  $AC$  ح  
بالشكل الواحد والثلاثين من الاولي الى ان ينتهي الى  $DE$  على نقطة  $L$  فسطح  
 $AL$  ر متوازي الاضلاع بالشكل الثلاثين من الاولي ولان نسبة سطح  $AL$  الى  
سطح  $AL$  ر كنسبة  $AL$  الى  $AL$  ر بالشكل الاول من السادسة و  $AL$  ر يساوي  $AL$  ر  
فسطح  $AL$  ر يساوي سطح  $AL$  ر فكل منهما يساوي سطح  $AC$  في  $AC$  ح ولان نسبة  
مربع  $AC$  الى سطح  $AC$  في  $AC$  ح كنسبة  $AC$  الى  $AC$  ح بالشكل الاول من السادسة  
ونسبة سطح  $AC$  في  $AC$  ح الى مربع  $AC$  ح كنسبة  $AC$  الى  $AC$  ح بالشكل المذكور  
فبالشكل الحادي عشر من الخامسة نسبة مربع  $AC$  الى سطح  $AC$  في  $AC$  ح  
كنسبته الى مربع  $AC$  ح فسطح  $AC$  في  $AC$  ح المساوي لسطح  $AL$  ر وسط في النسبة  
بين مربعي  $AC$  ح فسطح  $AL$  ر وسط في النسبة بين سطحي  $DE$  نه ر ولان  
نسبة  $DM$  الى  $AL$  ر كنسبة سطح  $DE$  الى سطح  $AL$  ر بالشكل الاول من السادسة  
ونسبة

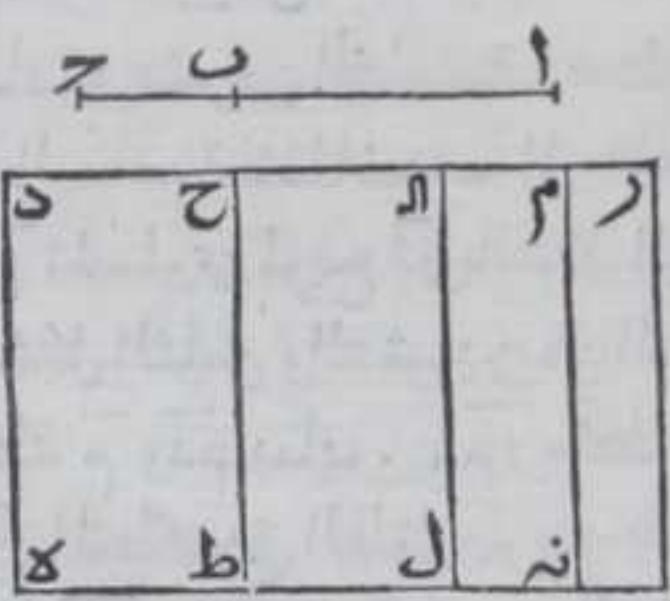


ونسبة سطح ل ر الى سطح ر ن كنسبة سطح د ن الى سطح ل ر فبالشكل الحادي عشر من الخامسة نسبة د م الى ا ر كنسبة سطح ل ر الى سطح ر ن ونسبة ا م الى ر م كنسبة سطح ل ر الى ر ن بالشكل الاول من السادسة فبالشكل الحادي عشر من الخامسة نسبة د م الى ا ر كنسبة ا ر الى ر م فسطح د م في م ر مربع ا ر بالشكل السادس عشر من السادسة فاذا اضغنا الى خط د ر سطحا قائم الزوايا كربع مربع م ر ح المساوي لمربع ا م بالشكل الرابع من الثانية ينقص عن تمامه مربع ا بالشكل الثامن والعشرين من السادسة فيقسم السطح المضاف خط د م على نقطة م ودم يباين م م فخط د م المنطق في الطول قوي على خط ح م المنطق في القوة نقطة م ربع خط يباينه بالشكل الرابع عشر فخط د ح المنفصل الرابع بالشكل الثاني والسبعين بالحكم ثابت وذلك ما اردنا ان نبين

صو

الضلع الباقي من كل سطح قائم الزوايا مضاف الى خط محدود منطق مساويا لمربع المتصل بمنطق يصير الكل موسطا منفصلا خامسا

لكن خط ا ب المتصل بمنطق يصير الكل موسطا واضيف سطح متوازي الاضلاع قائم الزوايا كربعه الى خط د ه المحدود المنطق باستبانة الشكل الرابع والاربعين من الاولي وهو سطح د ه ط ح فاقول ان ضلع د ح منفصل خامس برهانه لئلا يكون ب ح متصل باب مصيرا خطي ا ح ب متباينين في القوة مجموع مربعيهما موسطا وضعف سطح احداهما في الاخر منطقا فنضيف الى د ه سطحا متوازي الاضلاع قائم الزوايا كربع ا ح باستبانة الشكل الرابع والاربعين من الاولي وهو سطح د م فخط م ن مساو لخط د ه بالشكل الرابع والثلاثين من الاولي فهو منطق



ونضيف اليه سطحا متوازي الاضلاع قائم الزوايا كربع ب ح باستبانة الشكل الرابع والاربعين من الاولي وهو سطح ن م ر و لان كل واحد من الزوايا التي عند نقطتي م ن م قائمة فكل من خطي د ر د ن خط مستقيم بالشكل الرابع عشر من الاولي فنسبة سطح د ن الى سطح ن م كنسبة د م الى م ر بالشكل الاول من السادسة والسفحان متباينان فخط د م يباين م م



بالشكل الثامن وسط  $هـ$  وموسط  $ح$  في  $د$  منطف في القوة فقط بالشكل الثامن عشر ولان مربعي  $ا$   $ح$   $ب$  يساويان ضعف  $س$   $ط$   $ق$  في  $د$  مع مربع  $ا$   $ب$  بالشكل السابع من الثانية وسط  $هـ$   $ح$  يساوي مربع  $ا$   $ب$  فسطح  $م$   $ط$   $ق$  ضعف  $س$   $ط$   $ق$  في  $د$  وهو منطف  $ح$   $ط$   $ق$  منطف في الطول بالشكل السادس عشر  $ح$   $ط$   $ق$  متباينان وتنفص  $م$   $ح$  بالشكل

العاشر علي نقطة  $ا$  ونخرج منها  $ا$   $ل$

في جهة  $هـ$   $هـ$  موازيا لخط  $ح$   $ط$  بالشكل



الواحد والثلاثين من الاولي الي ان

ينتهي الي  $هـ$  علي نقطة  $ل$  فسطح  $ن$   $م$

متوازي الاضلاع بالشكل الثلاثين من

الاولي ولان نسبة  $س$   $ط$   $ق$   $ح$   $ل$  الي  $س$   $ط$   $ق$   $ل$   $م$

كنسبة  $ح$   $ا$  الي  $م$  بالشكل الاول من

السادسة و  $ح$   $ا$   $م$  متساويان فسطحا

ر	ا	ح	د
ن	ل	ط	ق

$ح$   $ل$   $م$  متساويان فكل منهما  $ك$   $س$   $ط$   $ق$  في  $د$  ولان نسبة مربع  $ا$   $ح$  الي

سطح  $ا$   $ح$  في  $د$  كنسبة  $ا$   $ح$  الي  $ب$  بالشكل الاول من السادسة ونسبة سطح

$ا$   $ح$  في  $د$  الي مربع  $ب$   $ح$  كنسبة  $ا$   $ح$  الي  $ب$  بالشكل المذكور فبالشكل

الحادي عشر من الخامسة نسبة مربع  $ا$   $ح$  الي سطح  $ا$   $ح$  في  $د$  كنسبته

الي مربع  $ب$   $ح$  فسطح  $ا$   $ح$  في  $د$  وسط في النسبة بين مربعي  $ا$   $ح$   $ب$  فسطح

$ل$   $م$  وسط في النسبة بين سطحي  $د$   $هـ$  ونسبة  $د$   $م$  الي  $ا$  كنسبة سطح  $د$   $هـ$

الي  $ل$   $م$  بالشكل الاول من السادسة ونسبة سطح  $ل$   $م$  الي سطح  $ر$   $م$  كنسبة سطح

$د$   $هـ$  الي سطح  $ل$   $م$  فبالشكل الحادي عشر من الخامسة نسبة  $د$   $م$  الي  $ا$   $م$

كنسبة سطح  $ل$   $م$  الي  $ر$   $م$  ونسبة  $ا$   $م$  الي  $ر$   $م$  كنسبة سطح  $ل$   $م$  الي سطح  $ر$   $م$

بالشكل الاول من السادسة فنسبة  $د$   $م$  الي  $ا$   $م$  كنسبته الي  $ر$   $م$  بالشكل

الحادي عشر من الخامسة فسطح  $د$   $م$  في  $م$   $ر$   $م$   $ب$  بالشكل السادس عشر

من السادسة فاذا اضيف الي  $ح$   $ط$   $ق$  متوازي الاضلاع كربع مربع

$م$   $ح$  المساوي لمربع  $ا$   $ب$  بالشكل الرابع من الثانية ينقص عن تمامه مربع

بالشكل الثامن والعشرين من السادسة فالسطح المضاف يقسم  $ح$   $ط$   $ق$  علي

نقطة  $م$  و  $د$   $م$   $ب$   $ا$   $ب$   $م$   $ر$   $ح$   $ط$   $ق$  في المنطف في القوة فقط قوي علي  $ح$   $ط$

$م$   $ح$  المنطف في الطول بمربع  $ح$   $ط$   $ق$  يباينه في الطول بالشكل الرابع عشر

فخط  $د$   $ح$  منفصل خامس بالشكل الثالث والسبعين فالحكم ثابت وذلك

ما اردنا ان نبين

ص

الضلع الثاني من كل سطح قايم الزوايا مضاف الي

خط







السادسة ونسبة سطح ل ر الي سطح ن ر كنسبة سطح د ن الي سطح ل ر بالشكل الاول من السادسة ونسبة سطح ل ر الي سطح ن ر كنسبة سطح د ن الي سطح ل ر فبالشكل الحادي عشر من الخامسة



نسبة د م الي ا ر كنسبة سطح ل ر الي

سطح ن ر ونسبة ا ر الي م م كنسبة سطح

ل ر الي سطح ن ر بالشكل الاول من

السادسة فبالشكل الحادي عشر من

الخامسة نسبة د م الي ا ر كنسبة ا ر

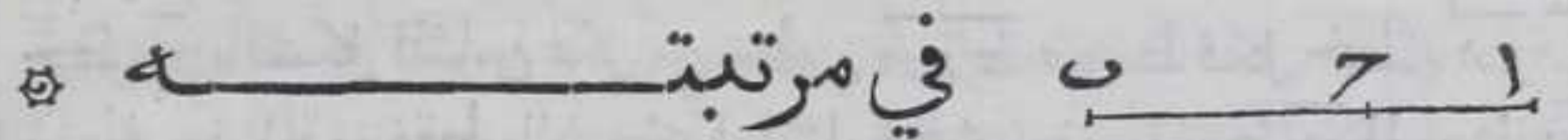
الي م م فسطح د م في م ر مربع ا ر

بالشكل السادس عشر من السادسة

د	ح	ا	م	ر
د	ط	ل	ن	ر

فاذا اضفنا الي خط د ر سطحاً متوازي الاضلاع كربع مربع م ر ح اعني مربع ا ر بالشكل الرابع من الثانية ينقص عن تمامه مربعاً بالشكل الثامن والعشرين من السادسة فالسطح المضاف يقسم خط د ر علي نقطة م ودم يباين م ر فخط د م المنطق في القوة فقط قوي علي خط م ر ح المنطق في القوة فقط المباين لخط د م مربع خط يباينه في الطول بالشكل الرابع عشر فخط د ح منفصل سادس بالشكل الرابع والسبعين فالحكم ثابت وذلك ما اردنا ان نبين

### كل خط يشارك الخط المنفصل فهو منفصل



ليكن ا ح المنفصل و د م يشاركه في الطول فاقول ان د ر منفصل في مرتبة ا ح برهانه

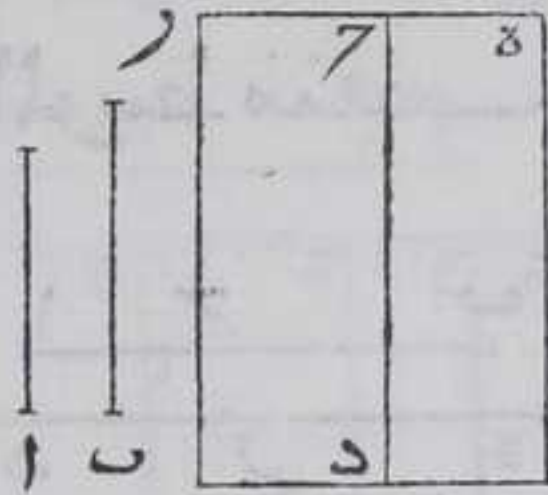
ليتصل با ح ب ح وعاد معه الي حاله قبل الانفصال لتكن نسبة ا ح الي د م كنسبة ح ب الي م ر بالشكل الحادي عشر من الخامسة و ا ح يشارك د م فب ح يشارك ر هـ بالشكل الثامن وبالابدال نسبة ا ح الي ح ب كنسبة د م الي ر هـ بالشكل السادس عشر من الخامسة وبالتركيب نسبة ا ب الي ب ح كنسبة د هـ الي هـ ر بالشكل الثامن عشر من الخامسة فان ا ب يباين ب ح ف د هـ يباين هـ م بالشكل الثامن وان كان ا ب يقوي علي ب ح بمربع خط يشاركه في الطول او يباينه ف د هـ يقوي علي م ر بمربع خط يشاركه في الطول او يباينه بالشكل الثالث عشر وبالابدال نسبة ا ب الي د هـ كنسبة ب ح الي ر هـ وب ح يشارك ر هـ ف ا ب يشارك د هـ بالشكل الثامن فان ا ب وب ح منطق في الطول او القوة ف د هـ و هـ ر منطق في الطول او القوة باستبانة الشكل العاشر ف ا ب اي منفصل من منفصلات الست ف د م ذلك المنفصل







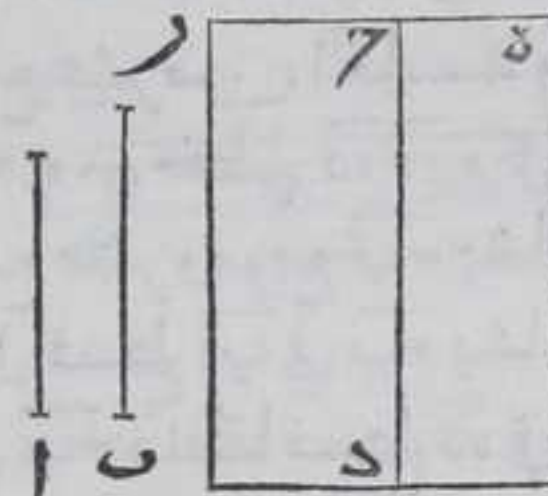
باستبانة الشكل الرابع والاربعين من الاولي فعرض  $\overline{هـ}$  منفصل رابع  
 بالشكل السابع والتسعين ولان نسبة كل  
 واحدة من الزوايا التي عند نقطتي  $\overline{هـ}$  قائمة  
 فكل من خطي  $\overline{هـ}$  وما يقابله خط مستقيم  
 فنسبة سطح  $\overline{هـ}$  الي  $\overline{د}$  كنسبة  $\overline{هـ}$  الي  $\overline{ح}$   
 بالشكل الاول من السادسة وسط  $\overline{هـ}$  يشارك  
 سطح  $\overline{د}$  بالشكل السابع فخط  $\overline{هـ}$  يشارك  
 خط  $\overline{ح}$  بالشكل الثامن و  $\overline{هـ}$  منفصل رابع  
 فخط  $\overline{ح}$  منفصل رابع بالشكل الثامن والتسعين والخط القوي علي سطح  
 $\overline{د}$  اعني  $\overline{ب}$  الاصغر بالشكل التاسع والثمنون وذلك ما اردنا ان نبين  $\square$   
 قا



كل خط يشارك المتصل بمنطق يصير الكل

موسطا متصل بمنطق يصير الكل موسطا  $\square$

ليكن  $\overline{ا}$  متصلا بمنطق يصير الكل موسطا ويشاركه  $\overline{ب}$  فاقول ان  $\overline{ب}$   
 متصل بمنطق يصير الكل موسطا برهانه نرسم علي خط  $\overline{د}$  المستقيم  
 المحدود المنطق سطحا متوازي الاضلاع قائم الزوايا  $\overline{ا}$  مربع  $\overline{ا}$  وفي سطح  $\overline{هـ}$   
 ونرسم علي  $\overline{هـ}$  ايضا سطحا متوازي الاضلاع قائم الزوايا  $\overline{ب}$  مربع  $\overline{ب}$   
 باستبانة الشكل الرابع والاربعين من الاولي  
 وهي سطح  $\overline{د}$  فعرض  $\overline{هـ}$  منفصل خامس  
 بالشكل السادس والتسعين ولان كل واحدة  
 من الزوايا التي عند نقطتي  $\overline{هـ}$  قائم فخط  
 $\overline{هـ}$  وما يقابله خط مستقيم بالشكل الرابع  
 عشر من الاولي فنسبة سطح  $\overline{هـ}$  الي سطح  $\overline{د}$   
 كنسبة  $\overline{هـ}$  الي  $\overline{ح}$  بالشكل الاول من السادسة  
 وسط  $\overline{هـ}$  يشارك سطح  $\overline{د}$  بالشكل السابع فخط  $\overline{هـ}$  يشارك خط  $\overline{ح}$   
 بالشكل الثامن فخط  $\overline{ح}$  منفصل خامس بالشكل الثامن والتسعين فخط  $\overline{ب}$   
 القوي علي سطح  $\overline{د}$  متصل بمنطق يصير الكل موسطا بالشكل التسعين  
 فالحكم ثابت وذلك ما اردنا ان نبين  $\square$   
 قبا

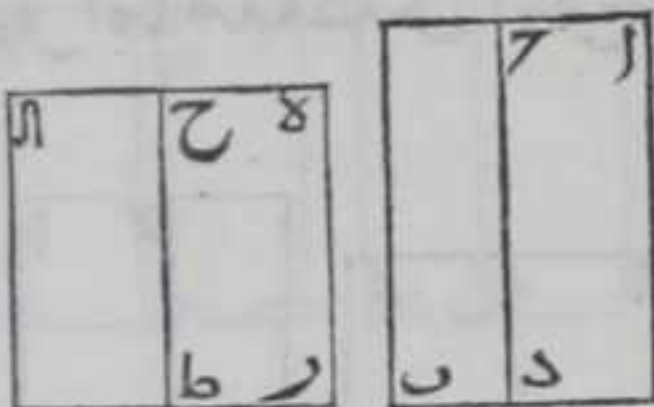


كل خط يشارك الخط المتصل بموسط يصير

الكل موسطا متصل بموسط يصير الكل موسطا  $\square$



ليكن خط  $\bar{A}$  المتصل بموسط يصير الكل موسطا وب  $\bar{B}$  يشاركه فاقول ان خط  $\bar{B}$  متصل بموسط يصير الكل موسطا برهانه نرسم علي خط  $\bar{C}$  المستقيم المحدود المنطق سطح  $\bar{D}$  المتوازي الاضلاع القائم الزوايا كمربع  $\bar{A}$  ونرسم علي  $\bar{C}$  ايضا سطح  $\bar{D}$  المتوازي الاضلاع القائم الزوايا

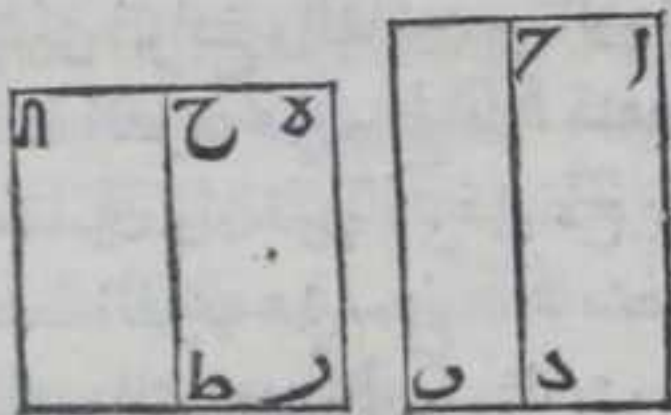


باستبانة الشكل الرابع والاربعين من الاولي فعرض  $\bar{C}$  منفصل سادس بالشكل السابع والتسعين ولان كل واحده من الزوايا التي عند نقطتي

$\bar{C}$  قائمة فكل من خطي  $\bar{C}$  وما يقابله خط مستقيم بالشكل الرابع عشر من الاولي ونسبة سطح  $\bar{D}$  الي سطح  $\bar{D}$  كنسبة  $\bar{C}$  الي  $\bar{C}$  بالشكل الاول من السادسة وسط  $\bar{D}$  يشارك سطح  $\bar{D}$  بالشكل السابع فخط  $\bar{C}$  يشارك خط  $\bar{C}$  بالشكل الثامن فخط  $\bar{C}$  منفصل سادس بالشكل الثامن والتسعين فخط  $\bar{B}$  القوي علي سطح  $\bar{D}$  متصل بموسط يصير الكل موسطا بالشكل الاول والتسعين فالحكم ثابت وذلك ما اردنا ان نبين

كل خط قوي علي فضل سطح منطوق علي موسط

اما منفصل واما اصغر



ليكن سطح  $\bar{A}$  منطوق وسط  $\bar{A}$  موسطا وسط  $\bar{B}$  فضل المنطوق علي الموسط فاقول ان كل خط قوي علي سطح  $\bar{B}$  اما منفصل واما اصغر

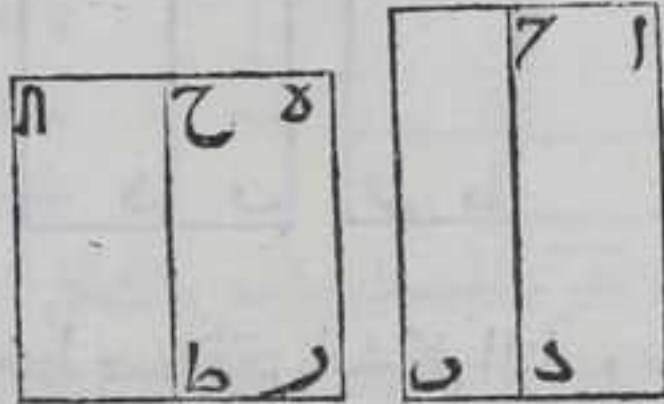
برهانه ليكن  $\bar{C}$  خطا مستقيما محدودا منطوقا ونرسم عليه سطح  $\bar{C}$  المتوازي الاضلاع كسطح  $\bar{A}$  وسط  $\bar{B}$  المتوازي الاضلاع كسطح  $\bar{A}$  باستبانة الشكل الرابع والاربعين من الاولي فخط  $\bar{C}$  منطوق بالشكل السادس عشر وخط  $\bar{C}$  منطوق في القوة فقط مباين لخط  $\bar{C}$  بالشكل الثامن عشر فخط  $\bar{C}$  متباينان فخط  $\bar{C}$  منفصل بالشكل  $\bar{C}$  فان قوي  $\bar{C}$  علي  $\bar{C}$  بمربع خط يشاركه في الطول فخط  $\bar{C}$  منفصل اول وان قوي عليه بمربع خط يباينه فهو منفصل رابع فالخط القوي علي سطح  $\bar{C}$  ان كان  $\bar{C}$  منفصلا اول منفصل بالشكل السادس والتسعين لان  $\bar{C}$  منطوق لانه يساوي  $\bar{C}$  بالشكل الرابع والثلاثين من الاولي وان كان  $\bar{C}$  منفصلا رابع فالخط القوي علي سطح  $\bar{C}$  اصغر بالشكل التاسع والثمانين وذلك ما اردنا ان نبين



قد

كل خط قوي على فصل سطح المتوسط على المنطق  
فهو اما منفصل المتوسط الاول واما متصل بمنطق

يصير الكل متوسطا



لبيكن سطح آ ب متوسطا و سطح آ د  
منطقا فسطح ح ب فصل المتوسط على  
المنطق فاقول كل خط قوي على سطح  
ح ب اما منفصل المتوسط الاول واما

متصل بمنطق يصير الكل متوسطا برهانه لبيكن خط ه ر مستقيما  
محدودا منطقا فنرسم عليه سطح ر ا المتوازي الاضلاع يساوي سطح آ ب  
وسطح ر ح المتوازي الاضلاع يساوي سطح آ د باستبانة الشكل الرابع  
والاربعين من الاولي فلان سطح ر ا متوسط فخط ه ا منطق في القوة مباين  
لخط ه ر المنطق بالشكل الثامن عشر ولان سطح ر ح منطق فخط ه ح  
منطق في الطول بالشكل السادس عشر فخطا ا ه ح متباينان فخط ا ه  
منفصل بالشكل السابعين وخط ح ط مساوي لخط ه ر المنطق منطق  
بالشكل الرابع والثلاثين من الاولي فان قوي ه ا على ح ب مربع خط يشاركه  
فالخط القوي على سطح ط ا منفصل المتوسط الاول بالشكل التاسع  
والثمانين وان قوي ه ا على ح ب مربع خط يباينه فح ا منفصل خامس  
والخط القوي على سطح ط ا متصل بمنطق يصير الكل متوسطا بالشكل  
الثاني والتسعين فالحكم ثابت وذلك ما اردنا ان نبين

قد

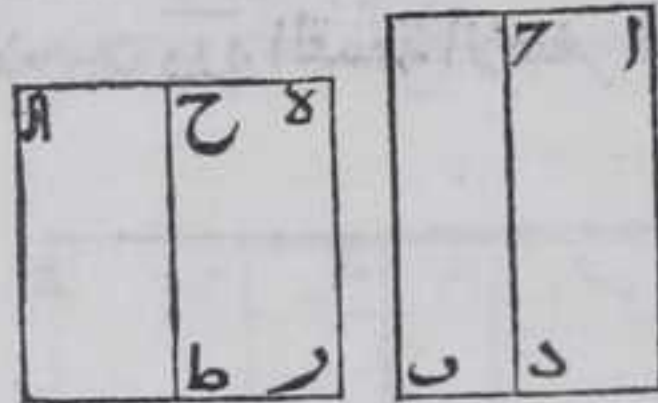
كل خط قوي على فصل سطح متوسط على سطح  
متوسط يباينه اما منفصل المتوسط الثاني واما

متصل بمتوسط يصير الكل متوسطا

لبيكن سطح آ ب آ د متوسطين متباينين فسطح ح ب فصل المتوسط على المتوسط  
يباينه فاقول ان كل خط قوي على سطح ح ب اما منفصل المتوسط الثاني واما  
متصل بمتوسط يصير الكل متوسطا برهانه فنرسم على خط ه ر المستقيم  
المحدود المنطق سطح ر ا كسطح آ ب وسطح ر ح كسطح آ د باستبانة الشكل  
الرابع والاربعين من الاولي فلان كلا من سطحي ر ا ر ح متوسطين يكون  
كل من



كل من خطي  $\overline{هـ ح}$  و  $\overline{هـ ا}$  منطقيين في القوة فقط بالشكل الثامن عشر ولان  
نسبة سطح  $\overline{هـ ا}$  الى سطح  $\overline{هـ ح}$  كنسبة  $\overline{هـ ا}$  الى  $\overline{هـ ح}$  بالشكل الاول من السادسة  
والسطحان متباينان فخطا  $\overline{هـ ا}$  و  $\overline{هـ ح}$



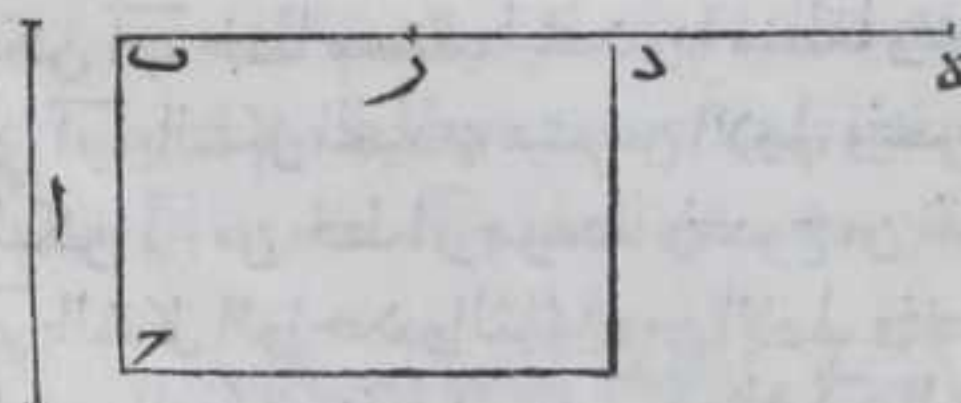
متباينان بالشكل الثامن فخط  $\overline{هـ ا}$   
منفصل بالشكل الثامن والستين فان  
قوي  $\overline{هـ ا}$  علي  $\overline{هـ ح}$  بمربع خط يشاركه  
فح  $\overline{هـ ا}$  منفصل ثالث وخط  $\overline{هـ ح}$   
منطق لانه يساوي خط  $\overline{هـ ا}$

المنطق بالشكل الرابع والثلاثين من الاولي فالخط القوي علي سطح  $\overline{ط ا}$   
منفصل المتوسط الثاني بالشكل الثامن والثمانين وان قوي بمربع خط  
يباينه فح  $\overline{هـ ا}$  منفصل سادس فالخط القوي علي سطح  $\overline{ط ا}$  متصل بموسط يصير  
الكل موسطا بالشكل الحادي والتسعين فالحكم ثابت وذلك ما اردنا  
ان نبين

مصادرة خامسة

فلان الاضلاع الثانية من السطوح المتوازية الاضلاع المضافة الي الخط  
المنطق المستقيم المحدود في الطول المساوية لمربعات الخطوط الست  
الصم التي اولها المنفصل هي انواع المنفصلات التي كل واحد منها اصم كما  
مر بيانه في ستة اشكال اولها الشكل الرابع والتسعين فكل واحد من انواع  
المنفصلات يخالف كل واحد من الخمسة الباقية بالحد والحقيقه  
والاضلاع الثانية من السطوح المتوازية الاضلاع المضافة الي الخط  
المستقيم المحدود المنطق المساوية لمربعات الخطوط الموسطة منطق في  
القوة فقط كما يباين في الشكل الثامن عشر ولاشي من المنفصلات بمنطق  
واختلاف اللوازم يدل علي اختلاف الملزومات فلاشي من الخطوط الست  
الصم التي اولها المنفصل وآخرها المتصل بموسط يصير الكل موسطا بخط  
آخر منها ولا بالخط الموسط  $\overline{ط}$

قو  
لاشي من المنفصل بذى الاسم  $\overline{ين}$

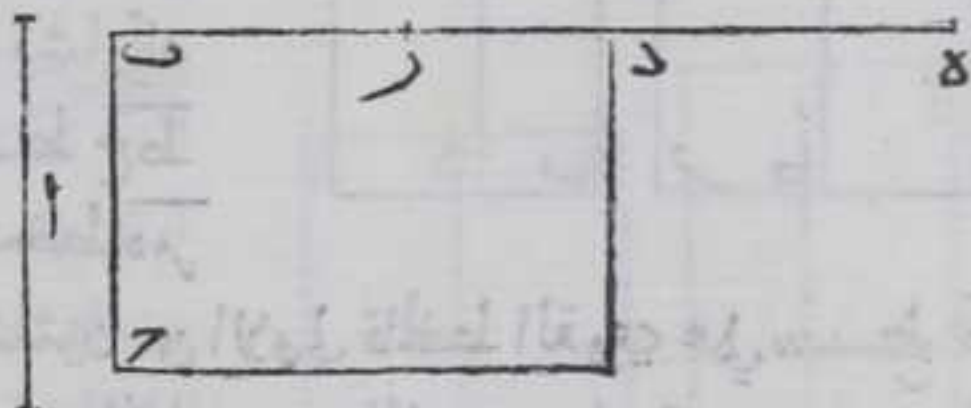


والا فليكن خط  $\overline{آ}$  بعينه  
ذا الاسمين والمنفصل معا  
وخط  $\overline{ب ح}$  خطا مستقيم  
محدودا منطقا في الطول  
ونرسم عليه  $\overline{س ط}$   
متوازي الاضلاع كمربع  $\overline{آ}$



باستبانة الشكل الرابع والاربعين من الاولي وهو سطح بـ جـ د فالضلع  
 الحادث وهو بـ د ذو الاسمين الاول بالشكل الخامس والخمسين والمنفصل  
 الاول بالشكل الثاني والتسعين وليكن بـ ر القسم الاعظم من قسمي ذي  
 الاسمين ورد القسمة الاصغر فهما منطقتا في القوة فقط وليتصل بخط بـ د  
 المنفصل الاول خط د هـ

معهد خطي حـ هـ د هـ الي  
 حالهما قبل الانفصال  
 فيكون خط بـ هـ منطقتا  
 في الطول ولذلك خط  
 بـ ر ويكون خط د هـ



منطقتا في القوة فقط فكل من خطي بـ هـ بـ ر يشارك الخط المنطق  
 المفروض في الطول فهما مشتركان بالشكل العاشر فقط د هـ يشارك خط بـ ر  
 المنطق بالشكل الحادي عشر فـ رـ منطقتا في الطول باستبانة الشكل  
 العاشر وكان كل واحد من خطي د ر د هـ منطقتا في القوة فقط فكل من خطي  
 د ر د هـ منفصل بالشكل الثامن والستين فيكون كل منهما اصم في القوة  
 والطول وكان كل منهما منطقتا في القوة فقط هذا خلف فالحكم ثابت  
 وذلك ما اردنا ان نبين

واستبان منه انه لا يمكن ان يكون احد انواع الخطوط الصم التي تتلو  
 المنفصل احد انواع الخطوط الصم التي تتلوا ذا الاسمين لان الاضلاع  
 الحادثه من السطوح المتوازية الاضلاع المضافة الي خط مستقيم محدود  
 منطقتا المساوية لمربعها ما يتلو المنفصل من الخطوط الصم هي ما يتلو  
 المنفصل الاول من الخطوط الصم والاضلاع الحادثه من السطوح  
 المتوازية الاضلاع المضافة الي خط مستقيم محدود منطقتا المساوية  
 لمربعات الخطوط الصم التي يتلوا ذا الاسمين هي ما يتلوا ذا الاسمين الاول  
 من الخطوط الصم

قر

كل خط متوسط يحصل منه خطوط صم غير  
 متناهية ليس ولا واحد منها من جنس ما قبله

ليكن ا ب خطا مستقيما محدودا منطقتا ونخرج من نقطة ا خط ا ر عمودا  
 علي ا ب بالشكل الحادي عشر من الاولي ونخرجه في جهة ر الي غير النهاية  
 وليكن ا ح من خط ا ر موسطا ونخرج من نقطة ب خط ب هـ موازيا لخط  
 ا ر بالشكل الواحد والثلاثين من الاولي ونخرجه علي استقامته في جهة هـ  
 الي غير النهاية ونفصل منه ب هـ مثل ا ح بالشكل الثالث من الاولي ونصل  
 ح هـ بخط



حـ بخط مستقيم فهو مواز ومساوٍ لخط ا ب بالشكل الثالث والثلاثين من  
الاولي تحـ منطبق في الطول فسطح ا هـ لا منطبق والا لكان ا حـ منطبقا  
بالشكل السادس عشر ولا متوسط والا لكان خط ا حـ منطبقا في القوة فقط  
بالشكل الثامن عشر وهو متوسط هذا خلف فسطح ا هـ اصم غير متوسط

ولنجـ خطا وسطا في


النسبة بين خطي ا حـ حـ

بالشكل التاسع من

السادسة وليكن هو خط

حـ دـ ونفصل حـ حـ مثل حـ دـ

بالشكل الثالث من الاول



ونصل بين نقطتي د حـ بخط مستقيم فسطح حـ حـ متوازي الاضلاع بالشكل  
الثالث والثلاثين من الاول ولان مربع حـ دـ يساوي سطح ا هـ بالشكل  
السادس عشر من السادس حـ حـ ليس متوسطا والا لكان سطح ا هـ متوسطا  
وكان خط ا حـ منطبقا في القوة فقط بالشكل الثامن عشر وهو متوسط هذا  
خلف وليس حـ دـ ايضا منطبقا والا لكان سطح ا هـ منطبقا فكان ا حـ منطبقا  
في الطول بالشكل السادس عشر وهو متوسط هذا خلف فسطح حـ دـ لا  
منطبق ولا متوسط وهو اصم ولا يشارك خط ا حـ والا لكان متوسطا بالشكل  
التاسع عشر وهو غير متوسط فخط ا حـ حـ متباينان وليس حـ دـ احد انواع  
ذي الاسمين ولا ما يتلوه من الخطوط الصم ولا احد انواع المنفصل وما  
يتلوه من الخطوط الصم والا لكان ا حـ اما ذو الاسمين واما ما يتلوه من  
الخطوط الصم واما احد انواع المنفصل واما ما يتلوه من الخطوط الصم  
وليكن د حـ وسطا في النسبة بين حـ دـ حـ بالشكل التاسع من السادسة  
فسطح حـ حـ مربع د حـ بالشكل السادس عشر من السادسة فسطح حـ حـ يباين  
ا حـ والا لكان متوسطا بالشكل التاسع عشر فيكون سطح حـ حـ متوسطا بالشكل  
التاسع عشر فيكون حـ دـ منطبقا فقط بالشكل الثامن عشر وهو اصم هذا  
خلف فسطح ا هـ ليس بمتوسط ولان نسبة سطح ا هـ الى سطح حـ دـ كنسبة ا حـ  
الى حـ دـ بالشكل الاول من السادسة وهما متباينان فسطحا ا هـ حـ متباينان  
بالشكل الثامن وهما مربعا حـ دـ حـ فهما متباينان بالشكل السابع وليس  
د حـ احد انواع ذي الاسمين او المنفصل او ما يتلوهما من الخطوط الصم  
والا لكان حـ دـ احد انواع المنفصل او ما يتلوهما او احد انواع ذي  
الاسمين وما يتلوه فيكون ا حـ احد انواع الخطوط الصم المذكورة وهو  
متوسط هذا خلف ويمثل ما ذكرنا نبيين تحصيل خطوط صم غير متناهية  
من خط ا ر ليس واحد منها من جنس وما قبله وذلك ما اردنا ان نبين

تمت المقالة العاشرة والحمد لله المساعد



# المقالة الحادية عشر في أصول الهندسة

## مصادر المقالة

الشكل الجسم كل ما له طول وعرض وسمك وينتهي بالسطوح وربما ينتهي بالنقطة  $\odot$  كل خط مستقيم قام على سطح مستوي يحيط مع كل خط مستقيم يخرج في ذلك السطح ملاقباله بزاوية قائمة فهو عمود على ذلك السطح  $\odot$  كل سطحين مستويين قام احدهما على الاخر وكان كل خطين يخرجان من اي نقطة نعرض على الفصل المشترك بينهما عمودا عليه احدهما يخرج في احد السطحين والاخر في السطح الاخر يحيطان بزاوية قائمة فان كل واحد من السطحين قائم على صاحبه  $\odot$  كل شكلين لا يتلاقبان وان اخرجا في جميع جهاتهما الى غير النهاية فهما متوازيان  $\odot$  كل سطحين مجسمين يلون السطوح المحيطة بهما بعدة واحدة وكان كل سطحين متناظرين من السطوح المحيطة بهما متشابهين فهما مجسمان متشابهان  $\odot$  وكل شكلين مجسمين متشابهين يلون كل سطحين متناظرين من السطوح المحيطة بهما متساويتين فهما مجسمان متشابهان متساويان  $\odot$  كل شكل مجسم يحيط به ثلث سطوح متوازية الاضلاع كل واحد منها ملاق للآخرين ومثلثان متشابهان سطحهما متوازيان يسمى بالمتسومر  $\odot$  الاسطوانة كل شكل مجسم يحيط به سطحان متوازيان وسطح او سطوح واصله بين السطحين المتوازيين  $\odot$  والاسطوانة المستديرة كل شكل مجسم يحيط به دائرتان متساويتان متوازيتان وسطح مستدير واصل بينهما  $\odot$  هي تحدث من دوران ذي اربعة اضلاع جميع زواياه قوائم اثبت احد اضلاعه الى ان يعود الى وضعه الاول فذلك الخط الثابت سهم الاسطوانة وكل واحد من الدائرتين قاعدتها والسهم ان كان قائما على سطح الدائرة فالاسطوانة قائمة والا فهي مائلة واذا قطعت الاسطوانة بسطح مستو يمر على سهمه حدث في الاسطوانة ذو الاربعة اضلاع وان كان الضلع الثابت مساويا لقطر قاعدتها فسمكها يساوي ثخنها وان كان اطول فسمكها اطول وان كان اقصر فاقصر ويعلم مما ذكرنا ان الاسطوانة المستديرة متساوية الثخن  $\odot$  شكل مجسم يحيط به سطح واحد مستدير يمكن ان يفرض في داخله نقطة تكون جميع الخطوط المستقيمة الخارجة من تلك النقطة الى السطح المحيطة متساوية فهو الكرة  $\odot$  ويسمى السطح المحيطة بها محيط الكرة  $\odot$  والخطوط انصاف اقطارها  $\odot$  والخارج منها في الجهتين الى المحيط قطرها  $\odot$  وهي تحدث من دوران نصف




نصف دائرة اثبت قطرها الي ان يعود الي وضعه الاول فكل قطر يتحرك الكرة عليه محور الكرة وكل واحد من النقطتين اللتين هما نهايتا المحور قطبها فالقطبان مع المحور ثابتة غير متحركة عند دوران الكرة كل شكل مجسم يرتفع من سطح يحيط به سطوح وينتهي الي نقطة مقابله لذلك السطح فهو المخروط والمخروط المستدير كل شكل مجسم يرتفع من دائرة وينتهي الي نقطة مقابله لتلك الدائرة ويسمى المخروط الصنوبري ومخروط الاستوانة المستديرة والمخروط المستدير يحدث من دوران مثلث قائم الزاوية اثبت احد ضلعيه المحيطين بالقيامه الي ان يعود المثلث الي وضعه الاول ويسمى الضلع الثابت سهم المخروط فان كان قائما علي قاعدة المخروط يسمى المخروط قائما والا فهو مائل واذا قطع المخروط بسطح مستو يمر علي سهم المخروط حدث فيه مثلث يقال له مثلث المخروط فالزاوية التي عند راس المخروط من زوايا المثلث الحادث قائمة ان كان الضلعان المحيطان بالزاوية القائمة من المثلث الذي حدث المخروط من ادارته متساويين ومنفرجة ان كان الضلع الثابت اصغر وحادة ان كان اطول الزاوية المجسمة كل جسم يحيط به سطح واحد منته عند نقطة واحدة او اكثر من زاويتين مسطحتين مجتمعته عند نقطة واحدة كلها في جهة واحدة من تلك النقطة ولا يكون زاويتان من تلك الزاوياتي في سطح واحد وقد بينا في صدر المقالة الاولي ان نخرج خطا مستقيما علي استقامته الي غير النهاية وان نرسم علي اي سطح نقطة وان لا يحيط خطان مستقيمان بسطح مستو فلنا ان نخرج اي سطح مستو الي غير النهاية وان يتوهم سطحا يمر باي نقطة وباي خط ولا يمكن ان يحيط سطحان مستويان بجسم مائل المثلثات بزاوية مجسمة ثلثة

الاشكال

١

لا يمكن ان يكون خط واحد مستقيم بعضه في

سطح مستو وبعضه في السمك



برهانه والا فليكن من خط  $AB$  الواحد

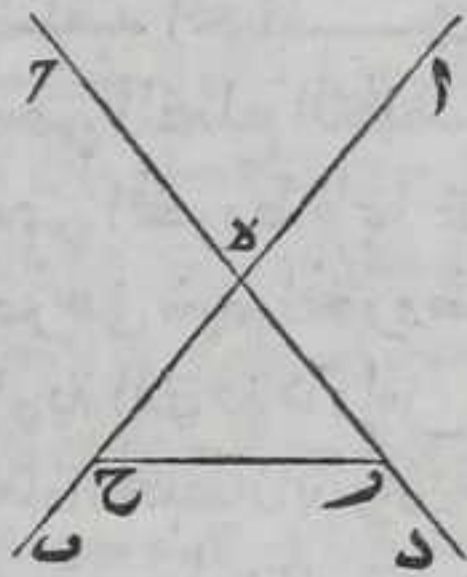
المستقيم بعضه وهو  $AB$  في سطح مستو وبعضه وهو  $BC$  في السمك ولنا ان نخرج اي خط مستقيم كايين في سطح علي استقامته في ذلك السطح فلنخرج خط  $AB$  علي استقامته فيه الي  $D$  فيكون خطا  $BCD$  خطين مستقيمين متصلين بخط  $AB$  علي استقامته وقد بينا استحالة في صدر



المقالة الاولى هذا خلف فالحكم ثابت وذلك ما اردنا ان نبين

كل خطين مستقيمين متقاطعين فهما في سطح واحد وكل مثلث فهو في سطح واحد

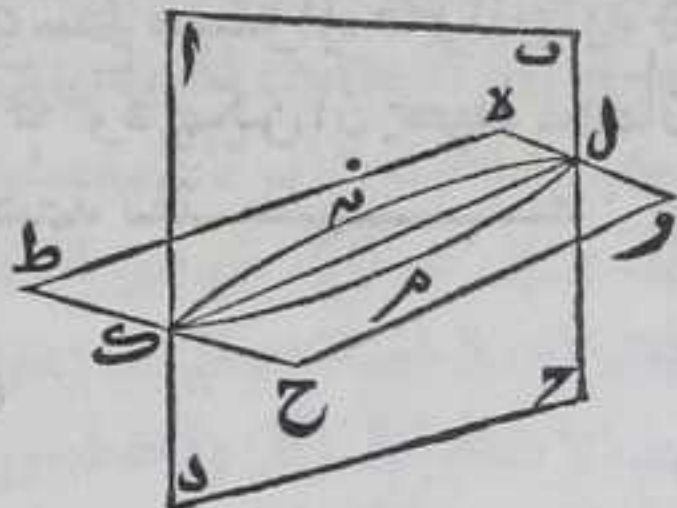
ليكن خطا  $AB$  و  $CD$  مستقيمين متقاطعين على نقطة  $E$  ونرسم على خطي  $DE$  و  $BE$  نقطتي  $ر$  و  $ح$  نحالفتي الوضع لنقطة  $E$  ونصل بينهما بخط مستقيم فاقول ان خطي  $AB$  و  $CD$  في سطح واحد وكذلك مثلث  $ر$  و  $ح$  برهانه لو لم يكن في سطح واحد لكان بعضه في السطح وبعضه في السمك فيكون بعض من كل واحد من خطي  $ر$  و  $ح$  و  $ر$  او من خطي  $ر$  و  $ح$  في السطح وبعضه في السمك هذا خلف بالشكل المتقدم وخطا  $AB$  و  $CD$  كايانان في سطح المثلث فلا يمكن ان يكون بعض من احدهما في ذلك السطح وبعضه الاخر في السمك بالشكل المتقدم فالحكم ثابت وذلك ما اردنا ان نبين



كل سطحين متقاطعين فان الفصل المشترك

بينهما خط واحد مستقيم

وليتقاطع سطحا  $AB$  و  $CD$  في  $ر$  و  $ح$  وليكن الفصل المشترك بين ضلعي  $AD$  و  $ر$  نقطة  $آ$  وبين ضلعي  $BC$  و  $ر$  نقطة  $ل$  فاقول ان الفصل المشترك بين سطحي  $آ$  و  $ح$  خط واحد مستقيم وهو خط  $آل$  برهانه والا فنصل بين نقطتي  $آ$  و  $ل$  بخط مستقيم في سطح  $آ$  وهو خط  $آم$  وبين نقطتي  $آ$  و  $ل$  في سطح  $ح$  بخط مستقيم وهو خط  $آن$  فخطا  $آم$  و  $آن$  خطان مستقيمان متصلان على نقطتي  $آ$  و  $ل$  ومتباعدان فيما بينهما فهما يحيطان بسطح هذا خلف فالحكم ثابت وذلك ما اردنا ان نبين



كل خط مستقيم قام على الفصل المشترك بين

خطين







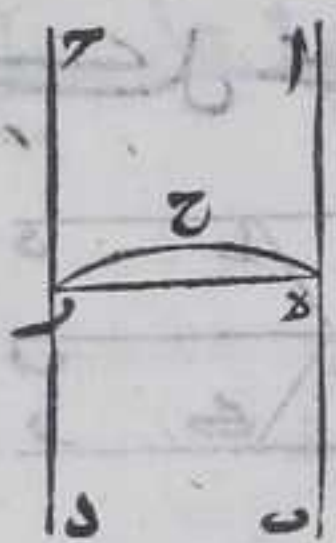




بالشكل الثامن والعشرين من الاولي وذلك ما اردنا ان نبين

كل خط مستقيم خرج من احد الخطين المتوازيين

الي الآخر كيف كان فهو في سطحهما

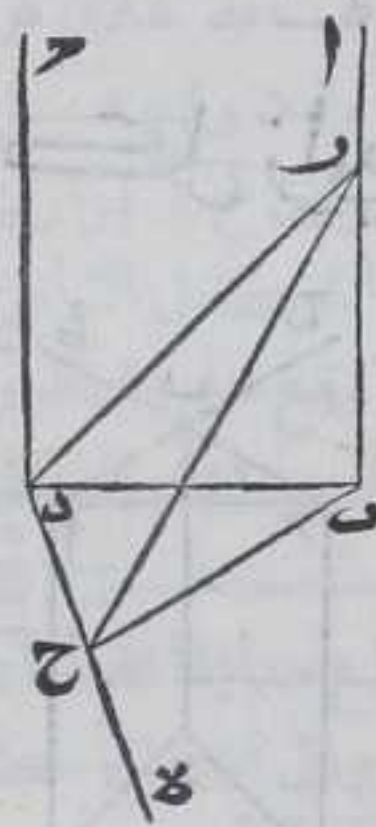


ليكن خطا  $AB$   $CD$  المتوازيين وخرج خط  $EF$  المستقيم من خط  $AB$  الي خط  $CD$  الموازي له فاقول انه في سطح خطي  $AB$   $CD$  برهانه فلان خط  $EF$  لو لم يكن في سطح خطي  $AB$   $CD$  لكان في سطح آخر فذلك السطح يقطع سطح خطي  $AB$   $CD$  لكون كل واحد من نقطتي  $E$   $F$  في كل

واحد من السطحين فالفصل المشترك بينهما خط مستقيم بالشكل الثالث وليكن هو خط  $EF$   $GH$   $IK$   $LM$  المستقيمين متحدين الاطراف متباعدين الاوساط فهما يحيطان بسطح هذا خلف فالحكم ثابت وذلك ما اردنا ان نبين

كل خطين متوازيين احدهما عمود على سطح

فالآخر عمود عليه ايضا



ليكن خطا  $AB$   $CD$  المتوازيين و  $AB$  عمود على سطح مفروض فاقول ان  $CD$  عمود على ذلك السطح ايضا برهانه نصل بين نقطتي  $B$   $D$  بخط مستقيم فهو في سطح خطي  $AB$   $CD$  المتوازيين بالشكل المتقدم وزاوية  $ABD$  قائمة فزاوية  $BCD$  قائمة بالشكل التاسع والعشرين من الاولي ونخرج من نقطة  $D$  عمود  $DE$  على  $BC$  في السطح المفروض بالشكل الحادي عشر من الاولي ونرسم على  $AB$  نقطة  $F$  كيف اتفق ونفصل من  $D$   $F$  مثل  $BF$  بالشكل

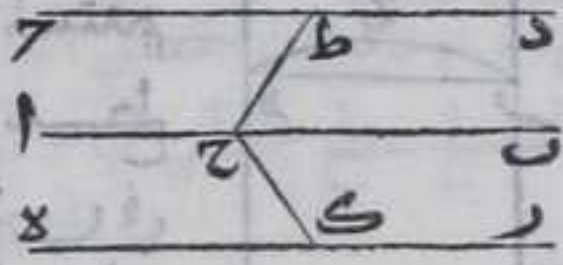
الثالث من الاولي ونصل بين نقطة  $F$  وكل واحدة من نقطتي  $D$   $C$  بخط مستقيم وكذلك بين نقطتي  $B$   $C$  ولان خطوط  $AB$   $CD$  في سطح واحد وخط  $BC$  في ذلك السطح بعينه بالشكل الثاني فخطوط  $AB$   $CD$   $BC$  في سطح واحد ولان ضلعي  $BF$   $BD$  والزاوية التي بينهما يساوي ضلعي  $DC$   $DB$  والزاوية التي بينهما كل نظيره فقاعدة  $DF$  تساوي قاعدة  $BC$  بالشكل الرابع من الاولي ولان اضلاع مثلثي  $DFB$   $BCD$  متساوية على التناظر فزاوية  $DFB$  القائمة تساوي زاوية  $BCD$  بالشكل الثامن فزاوية



ردح قائمة فخط ده عمود علي خط دح فهو عمود علي خط ده وكان عمودا علي  
 خط بد فحده عمود علي سطح خطي بد ده بالشكل الرابع وهو السطح  
 المفروض فالحكم ثابت وذلك ما اردنا ان نبين

كل خطين يوازيان خطا وليسا معه في سطح

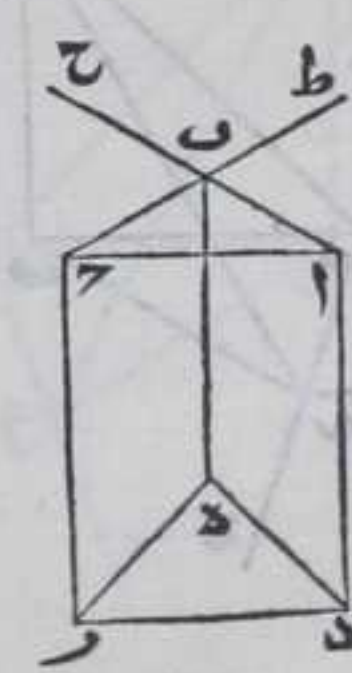
واحد فهما متوازيان



لبيكن خطا دح دهر يوازيان خط اب وليسا  
 معه في سطح واحد فاقول ان دح دهر متوازيان  
 برهانه نرسم علي خط اب نقطة كيف ما وقعت ونخرج منها عمودي  
 ح ط ح الي خطي دح دهر في سطحي اد ار بالشكل الثاني عشر من الاولي  
 ولان كل واحدة من زاويتي ح ط ح ح دح قائمة فكل واحدة من زاويتي  
 اح ط اح قائمة بالشكل التاسع والعشرين من الاولي فاب عمود علي كل  
 واحد من عمودي ح ط ح ح دح وقد وقع علي فصلهما المشترك فهو عمود علي  
 سطح العمودين بالشكل الرابع فكل من خطي دح دهر عمود علي ذلك السطح  
 بالشكل المتقدم فخط دح يوازي دهر بالشكل السابع وذلك ما اردنا ان تبين  
 وهذا الحكم يتعكس كلها بالبرهان المذكور

كل زاويتين اضلاعهما النظائر متوازية وليست

كلهما في سطح واحد فهما متساويتان

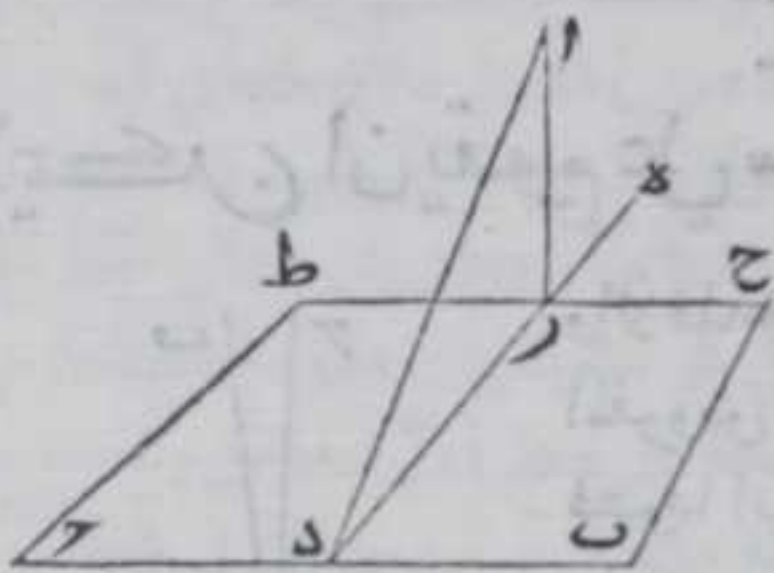


لبيكن ضلعاب ا ب ح من زاوية اب ح يوازيان ضلعي د ه  
 دهر من زاوية دهر كل لنظيره وليست الاضلاع كلها  
 في سطح واحد فاقول ان زاويتي اب ح دهر متساويتان  
 برهانه نجعل اب مساويا لد ه بالشكل الثالث من  
 الاولي ونصل خطوط اح دهر اد ح ر ب ه المستقيم فلان  
 اب د ه متوازيان ومتساويان وكذلك ب ح دهر فكل  
 من خطي اد ح يوازي ب ه ويساويه بالشكل الثالث والثلاثين من  
 الاولي فاد يوازي ح دهر بالشكل الثلثين من الاولي وهو يساويه فخط اح  
 يساوي دهر بالشكل الثالث والثلاثين من الاولي وليساوي اضلاع مثلثي  
 اب ح دهر المتناظره تساوي زاوية اب ح زاوية دهر بالشكل الثامن من  
 الاولي وذلك ما اردنا ان نبين  
 ولهذا الشكل اختلاف وقوع فان زاوية اب ح قد تكون علي وضع زاوية  
 دهر كما



دهر كما ذكرنا وقد لا تكون كزاوية ح ب ط فنخرج خطي ح ب ط ب في  
 جهة ب الي نقطتي آ ح ونبين ان زاوية ا ب ح المساوية لزاوية ح ب ط  
 بالشكل الخامس عشر من الاولي كزاوية د ه ر كما مر فيحصل المطلوب

لنا ان نخرج من نقطة في السمك عمودا على سطح



مفروض

ليكن نقطة آ في سمك سطح مفروض  
 فترسم في ذلك السطح خط ب ح  
 المستقيم ونفرض سطحاً يمر بالنقطة  
 وبالخط المرسم ونخرج من نقطة آ  
 عمود آ د في ذلك السطح على خط ب ح

بالشكل الثاني عشر من الاولي ونخرج من نقطة د علي ب ح عمود د ه في السطح  
 المفروض اولا بالشكل الحادي عشر من الاولي ولان خطي آ د ه في سطح  
 واحد بالشكل الثاني فنخرج من نقطة في سطح خطي د ه د ا الي خط د ه  
 عمود آ ر بالشكل الثاني عشر من الاولي ونخرج من نقطة ر في السطح  
 المفروض اولا خط ح ط موازيا لخط ب ح بالشكل الواحد والثلاثين من  
 الاولي فاقول ان خط آ ر عمود علي السطح المفروض اولا برهاننا فلان كل  
 واحد من خطي آ د ه عمود علي ب ح فهو عمود عليهما وقد وقع علي  
 فصلهما المشترك فهو عمود علي سطحهما بالشكل الرابع ولان ح ط يوازي  
 ب ح العمود علي سطح خطي آ د ه فخط عمود علي سطحهما بالشكل الثامن  
 فيكون عمودا علي آ ر فآ ر عمود عليه وكان عمود علي د ه وقد وقع علي نقطة ر  
 الفصل المشترك بين خطي د ه ح ط فخط آ ر عمود علي سطحهما اعني السطح  
 المفروض اولا بالشكل الرابع وذلك ما اردنا ان نبين  
 ولهذا الشكل اختلاف وقوع فان عمود آ ر يمكن ان يقع مباينا لخط آ د  
 وقد بيناه ويمكن ان ينطبق عليه وحينئذ لا يحتاج الي اخراج خط  
 ح ط موازيا ب ح فلان عمود آ ر حينئذ عمود علي خطي د ه ب ح وقد وقع  
 علي نقطة د فصلهما المشترك فهو عمود علي سطحهما بالشكل السابع وهو  
 السطح المفروض اولا

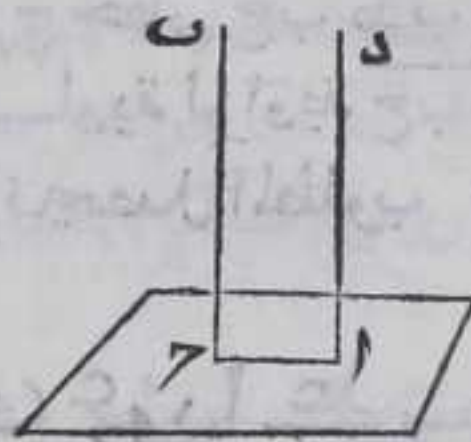
يب

لنا ان نخرج من نقطة علي سطح عمودا عليه

ليكن النقطة آ فنخرج من نقطة ب في السمك عمود ب ح علي السطح الذي  
 فيها نقطة آ بالشكل المتقدم فان وقع العمود علي نقطة آ فب ح عمود علي

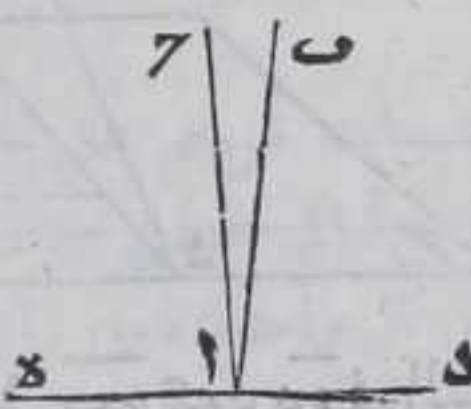


السطح والآن فنصل بين نقطتي آ ح بخط مستقيم  
فخطي آ ح ب في سطح واحد بالشكل الثاني  
فأخرج من نقطة آ في ذلك السطح خط آ د موازيا  
لب ح بالشكل الواحد والثلاثين من الاولي فاد  
عمود علي السطح المفروض بالشكل الثامن وذلك ما  
اردنا ان نبين



لا يمكن ان يقوم علي سطح واحد عمودان

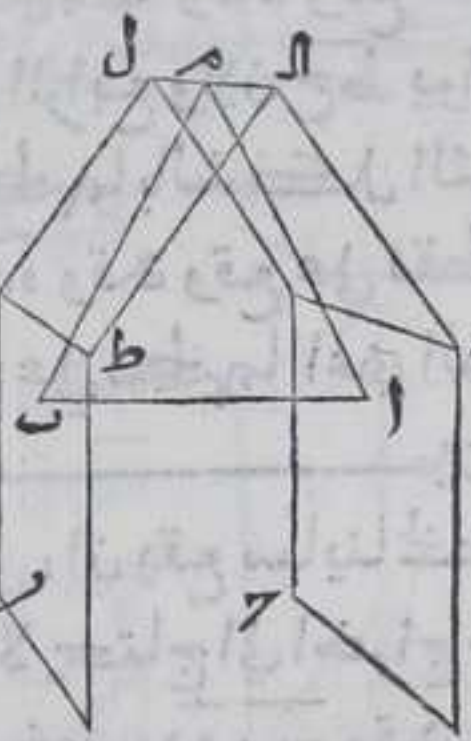
والا فلأخرج من نقطة آ الكائنة في السطح  
المفروض عمودا ب آ ح عليه بالشكل المتقدم  
فعمودا ب آ ح في سطح واحد بالشكل الثاني  
وليمكن الفصل المشترك بين سطحي المفروض  
والعمودين خط د آ ه بالشكل الثالث لكونهما



متلاقين فزاويتا ب آ د ح آ د لكونهما قائمتين متساويتين فجزء الشيء  
يساوي كله فالحكم ثابت وذلك ما اردنا ان نبين

كل سطحين خط واحد عمود عليهما فهما متوازيان

ليكن خط آ ب عمودا علي سطحي ح د ر ط فاقول  
انهما متوازيان والا فلينلقيا فيكون الفصل  
المشترك بينهما خطا مستقيما بالشكل الثالث  
وليمكن هو خط ال ل ونرسم عليه نقطة م كيف  
اتفق ونصل بينها وبين كل واحد من نقطتي  
آ ب بخط مستقيم فلان آ ب عمود علي السطحين  
فهو عمود علي كل واحد من خطي م آ م ب  
فزاويتا م آ ب م ب آ من مثلت آ م ب قائمتان  
وكل زاويتي مثلت اصغر من قائمتين بالشكل  
السابع عشر من الاولي هذا خلف فالسطحان

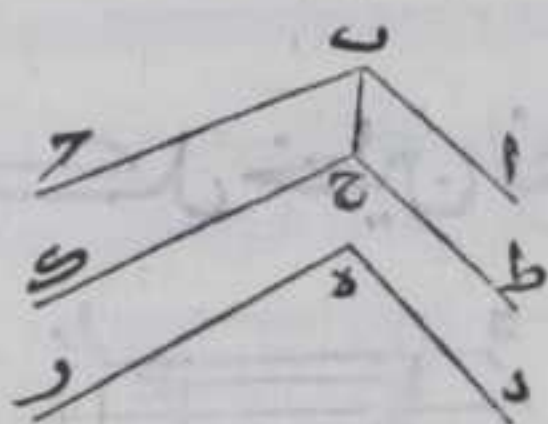


متوازيان وذلك ما اردنا ان نبين

كل سطحين يحيط باحدهما خطان يوازيان خطين  
يحيطان بالآخر والخطوط كلها غير كائنة في سطح  
واحد



واحد فالسطحان متوازيان

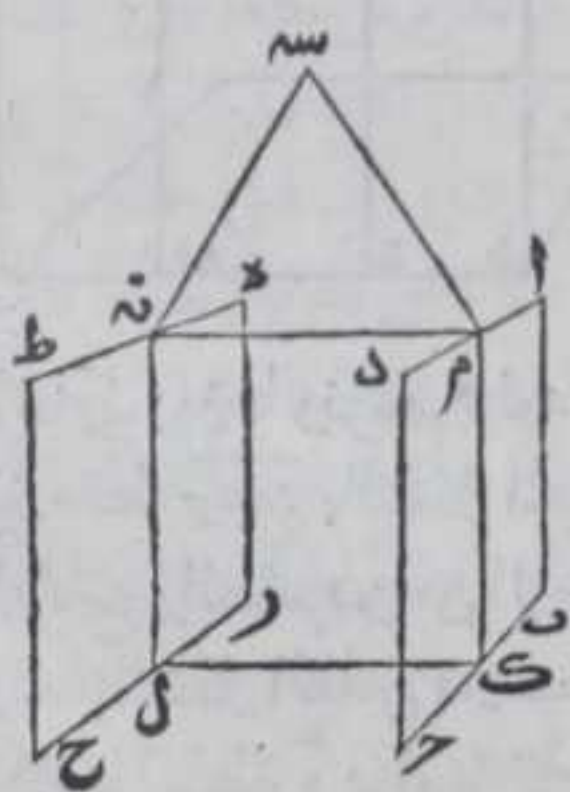


ليكن خط  $\overline{AB}$   $\parallel$   $\overline{DE}$  المحيطان بسطح  $\overline{AB}$   $\parallel$   $\overline{DE}$  يوازيان خطي  $\overline{AC}$   $\parallel$   $\overline{BD}$  المحيطان بسطح  $\overline{DE}$  والمخطوط الاربعة غير كائنه في سطح واحد

فاقول ان سطحي  $\overline{AB}$   $\parallel$   $\overline{DE}$  متوازيان فنخرج من نقطة  $\overline{B}$  عمود  $\overline{BC}$  علي سطح  $\overline{DE}$  بالشكل الحادي عشر ونخرج من نقطة  $\overline{C}$  خطي  $\overline{CA}$   $\parallel$   $\overline{BD}$  موازيين لخطي  $\overline{DE}$  والشكل الواحد والثلاثين من الاولي فلان خطي  $\overline{AB}$   $\parallel$   $\overline{DE}$  يوازيان خطي  $\overline{DE}$  وخطي  $\overline{BC}$   $\parallel$   $\overline{CA}$  يوازيان خط  $\overline{DE}$  ولبست المخطوط المذكورة كلها في سطح واحد فخطا  $\overline{BA}$   $\parallel$   $\overline{DE}$  يوازيان خطي  $\overline{CA}$   $\parallel$   $\overline{BD}$  بالشكل التاسع وقد وقع خط  $\overline{BC}$  علي كل متوازيين منها وكل من زاويتي  $\overline{B}$   $\parallel$   $\overline{C}$  قائمة لكون  $\overline{BC}$  عمودا علي سطح  $\overline{DE}$  فكل واحد من زاويتي  $\overline{B}$   $\parallel$   $\overline{C}$  قائمة بالشكل التاسع والعشرين من الاولي فخط  $\overline{BC}$  عمود علي كل من خطي  $\overline{BA}$   $\parallel$   $\overline{DE}$  وقد وقع علي فصلهما المشترك فهو عمود علي  $\overline{AB}$  بالشكل الرابع وكان عمودا علي سطح  $\overline{DE}$  فسطحا  $\overline{AB}$   $\parallel$   $\overline{DE}$  متوازيان بالشكل المتقدم وذلك ما اردنا ان نبين  
ولهذا الشكل اختلاف وقوع فان نقطة  $\overline{C}$  اما ان يقع علي نقطة  $\overline{E}$  او علي احد خطي  $\overline{DE}$  او داخل زاوية  $\overline{DE}$  او خارجها وينطبق احد خطي  $\overline{CA}$  علي احد خطي  $\overline{DE}$  او لا ينطبق والاول لا يحتاج الي اخراج خط  $\overline{CA}$  والاخير مذكور في الكتاب والوجه الباني مثل ما ذكرناه

كل سطح فصل لسطحين متوازيين ففصلاهما

المشتركان متوازيان

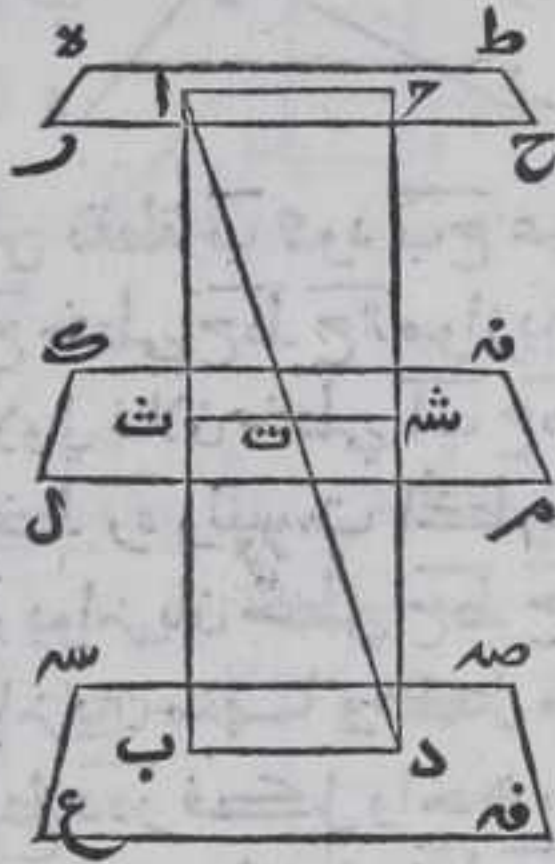


ليكن سطحا  $\overline{AB}$   $\parallel$   $\overline{DE}$  فصل سطح  $\overline{AC}$   $\parallel$   $\overline{BD}$  والفصل المشترك بين كل سطحين متقاطعين مستقيم بالشكل الثالث وليكن الفصل المشترك بينهما خطي  $\overline{AM}$   $\parallel$   $\overline{ND}$  فاقول انهما متوازيان والا فليتلاقيا وليكن الالتقاء علي نقطة  $\overline{M}$  فخط  $\overline{AM}$   $\parallel$   $\overline{ND}$  في سطح  $\overline{AB}$   $\parallel$   $\overline{DE}$  في سطح  $\overline{AC}$   $\parallel$   $\overline{BD}$  بالشكل الاول فالسطحان المتوازيان متلاقيان هذا خلف فالحكم ثابت وذلك ما اردنا ان نبين



كل خطين فصلتهما سطوح متوازنة فصلتهما

علي نسبة واحدة

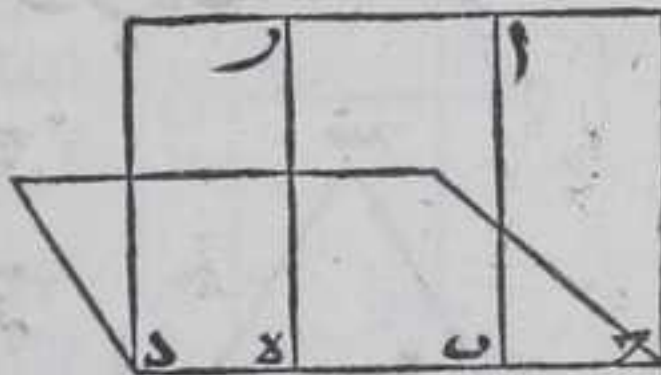


ليكن خطا اب ود فصلتهما سطوح ه ح ط  
المنه سه ع فسه المتوازية علي نقط ات ب  
ح شه د فاقول ان نسبة ات الي ت ب كنسبة  
ح شه الي شه د برهانه نصل بين كل  
واحدة من نقطتي ا ح ب د ا د بخط مستقيم  
فخط ا د يجتاز علي سطح ا م فليجتز علي نقطة  
ت فلان مثلث ا ح د فصل بسطحي ه ح ا م  
علي خطي ا ح ت شه ومثلث ا ب د بسطحي

ا م سه ف علي خطي ب د ت ت ح يوازي ت شه وب د يوازي ت ت  
بالشكل المتقدم فنسبة ح شه الي شه د كنسبة ات الي ت د ونسبة ات الي  
ت ب كنسبة ات الي ت د بالشكل الثاني من السادسة فنسبة ح شه الي شه د  
كنسبة ات الي ت ب بالشكل الحادي عشر من الخامسة وذلك ما اردنا  
ان نبين

كل خط عمود على سطح فكل سطح يفصل ذلك

السطح مارا بالعمود يفصله على قوايم



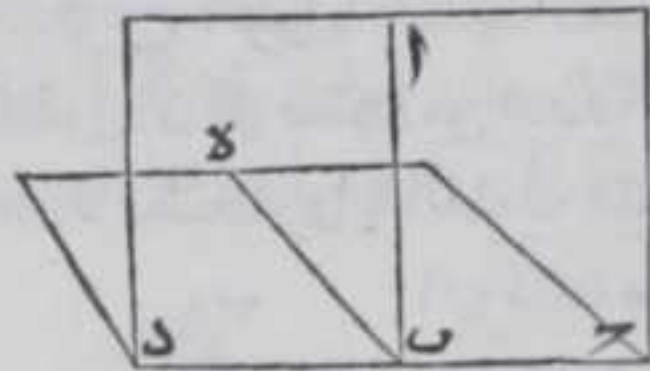
ليكن العمود خط ا ب علي السطح المفروض  
وفصله سطح ح ط ا ب فاقول انه  
يفصله علي قوايم فلان الفصل المشترك بين  
كل سطحين متفاصلين خط مستقيم  
بالشكل الثالث فليكن ح ب د هو الفصل

المشترك بينهما ونرسم عليه نقطة ه ونخرج منها في السطح الفاصل عمود ه ر  
علي خط ح ب د بالشكل الحادي عشر من الاولي فهو يوازي عمود ا ب بالشكل  
التاسع والعشرين من الاولي و ا ب عمود علي السطح المفروض فه ر عمود عليه  
ايضا بالشكل الثامن فيحيط عمود ه ر مع كل خط يخرج في السطح المفروض  
ملاقيا لنقطة ه بزواية قائمة وكذلك كل عمود يخرج في السطح الفاصل علي  
الفصل المشترك فالسطحان متفاصلان علي قوايم بالمصادره وذلك ما اردنا  
ان نبين

واقول



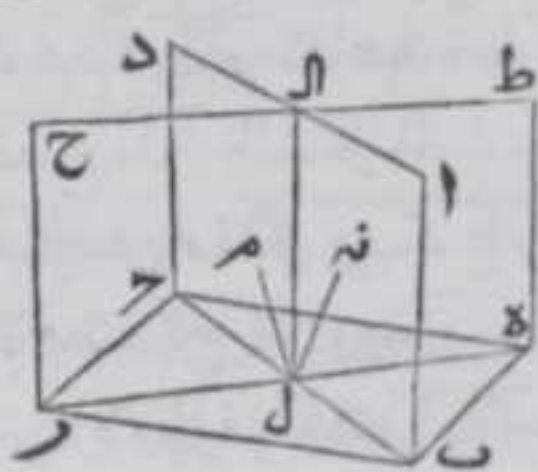
واقول كل عمود يخرج علي الفصل المشترك بين كل سطحين متفاصلين علي قوايم في احدهما وهو عمود علي الآخر  $\square$  لبيكن اب عمودا علي ج د



الفصل المشترك بين السطحين المفروضين وهو في احدهما ونخرج من نقطة ب علي ج د عمود ب ه في السطح الآخر المتفاصلين فاب عمود علي ب ه بالمصادرة وكان عمودا علي ج د فاب عمود علي كل واحد من خطي ب ه

ج د وقد وقع علي فصلهما المشترك فهو عمود علي السطح الآخر بالشكل الرابع وايضا ب ه عمود علي كل من خطي اب ج د وقد وقع علي فصلهما المشترك فب ه علي السطح الذي فيه عمود اب من السطحين المتفاصلين  $\square$  بط

كل سطحين متفاصلين يفصل كل منهما سطحا مفروضا علي قوايم فصلهما المشترك عمود علي السطح



المفروض  $\square$

لفصل كل واحد من سطحي اب ج د ه ر ح ط المتفاصلين سطحا مفروضا علي قوايم والفصل المشترك بين سطحي ا ج ه ح خط مستقيم بالشكل الثالث وليكن هو خط ال فاقول ان

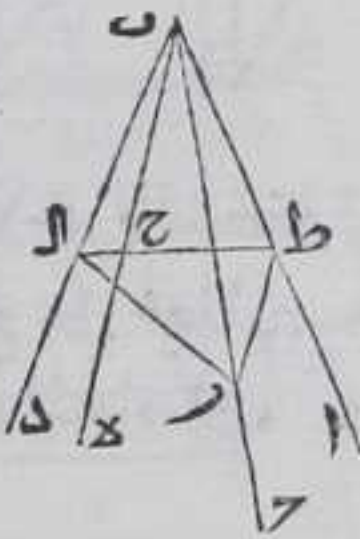
خط ال عمود علي السطح المفروض برهانه فلان الفصل المشترك بين سطحين متفاصلين خط مستقيم بالشكل الثالث فليكن الفصل المشترك بين سطحي ا ج والمفروض خط ب ل ج وبين سطحي ه ح والمفروض خط ه ل ر فخط ال لولم يكن عمود علي السطح المفروض فليخرج من نقطة ل الكائنة في السطح المفروض عمود ل م علي خط ه ر في سطح ه ح وعمود ل ن علي خط ب ج في سطح ا ج بالشكل الحادي عشر من الاولي فكل واحد من عمود ل م ل ن علي السطح المفروض بالشكل المتقدم بل وبالشكل الرابع فقد قام علي السطح المفروض عمودا ل م ل ن وقد خرجا من نقطة واحدة وقد بينا استحالة ذلك في الشكل الثالث عشر هذا خلف فالحكم ثابت وذلك ما اردنا ان نبين  $\square$

كل زاوية مجسمة يحيط بها ثلث زوايا مسطحة



فكل ثنتين منها معا اعظم من الثالثة

ليكن الزوايا الثلث المحيطة بالزاوية المجسمة زوايا  $\overline{ا ب د}$   $\overline{ا ب ح}$   $\overline{ا ب د}$  فاقول ان كل ثنتين من هذه الزوايا الثلث معا اعظم من الثالثة برهانه فان كانت الزوايا الثلث متساوية فالحكم ثابت لان كل مقدارين من اي ثلاثة مقادير متساوية اعظم من المقدم الثالث وان كانت مختلفة فليكن زاوية  $\overline{ا ب د}$  اعظمها فنرسم علي نقطة  $\overline{ب}$  من خط  $\overline{ا ب}$  زاوية  $\overline{ا ب ه}$  مساوية لزاوية  $\overline{ا ب ح}$  بالشكل الثالث والعشرين من الاولي ونرسم علي ضلعي  $\overline{ا ب}$   $\overline{ب د}$  نقطتي  $\overline{ا}$   $\overline{ط}$  كيف اتفقنا ونصل بينهما بخط مستقيم فيجتاز بنقطة  $\overline{ح}$  خط  $\overline{ب ه}$  فيفصل منه خط  $\overline{ب ح}$  ونفصل  $\overline{ب ر}$  من  $\overline{ب}$  مثل  $\overline{ب ح}$  بالشكل الثالث من الاولي ونصل بين نقطة  $\overline{ر}$  وبين كل واحدة من نقطتي  $\overline{ا}$   $\overline{ط}$  بخط مستقيم فلان زاويتي  $\overline{ا ب ر}$   $\overline{ب ر ط}$  من مثلثي  $\overline{ا ب ر}$   $\overline{ب ر ط}$  متساويتان وضيع  $\overline{ب ر}$  مثل ضلع  $\overline{ب ح}$  وضيع  $\overline{ب ط}$  مشترك فبالشكل الرابع من الاولي قاعدة  $\overline{ا ط}$  كقاعدة  $\overline{ا ح}$  وضيع  $\overline{ا ر}$  معا من مثلث  $\overline{ا ط ر}$  اعظم من ضلع  $\overline{ا}$  بالشكل العشرين من الاولي فبالاعظم من  $\overline{ا ح}$  وضيع  $\overline{ب ر}$  كضيع  $\overline{ب ح}$  من مثلثي  $\overline{ا ب ر}$   $\overline{ب ر ط}$  وضيع  $\overline{ب ا}$  وضيع  $\overline{ب ا}$  مشترك بينهما وقاعدة  $\overline{ا ر}$  اعظم من قاعدة  $\overline{ا ح}$  فزاوية  $\overline{ر ب ا}$  اعظم من زاوية  $\overline{ح ب ا}$  بالشكل الرابع والعشرين من الاولي فزاويتا  $\overline{ا ب د}$   $\overline{ا ب ح}$  معا اعظم من زاوية  $\overline{ا ب د}$  وكذلك تبين في البواني وذلك ما اردنا ان نبين

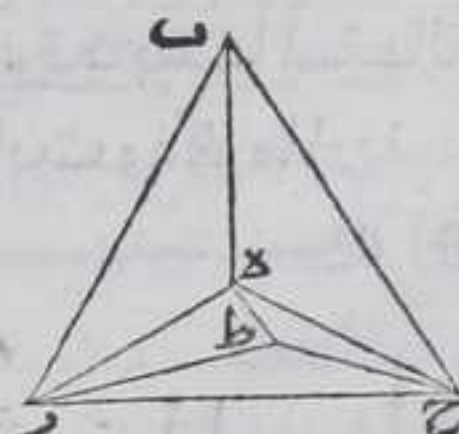


ك

كل زاوية مجسمة فان مجموع الزوايا المسطحة المحيطة

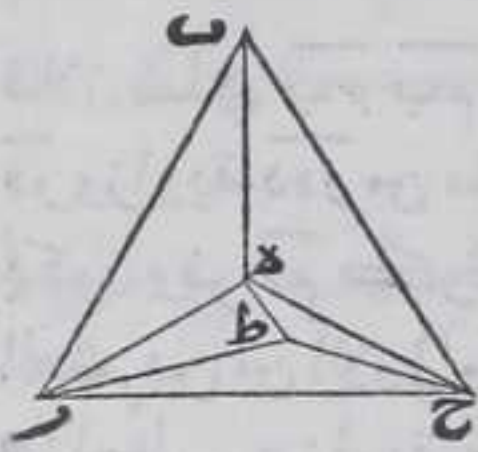
بها كم كانت فانها اصغر من اربع زوايا قوائم

ليكن الزوايا المسطحة المحيطة بزاوية  $\overline{ب}$  المجسمة هي زوايا  $\overline{ب ر ه}$   $\overline{ب ح د}$   $\overline{ب د ه}$  فاقول انها اصغر من اربع قوائم برهانه نصل بين نقطتي  $\overline{ر}$   $\overline{ح}$  بخطوط مستقيمة فهي كايئة في سطوح الزوايا المسطحة المحيطة بزاوية  $\overline{ب}$  المجسمة بالشكل الاول فيحدث من تلك الخطوط مثلث  $\overline{ر ح د}$  ونرسم فيه نقطة  $\overline{ط}$  كيف ما وقعت ونصل بينها وبين كل واحدة من نقطتي  $\overline{ر}$   $\overline{ح}$  بخط مستقيم فبالشكل المتقدم زاويتا  $\overline{ب ر ه}$   $\overline{ب ح د}$  معا اعظم من زاوية  $\overline{ب ر ه}$  المساوية لزاويتي  $\overline{ر ه ط}$   $\overline{ح ه ط}$  وزاويتا  $\overline{ب ر ح}$   $\overline{ب د ح}$  معا اعظم من زاوية  $\overline{ب ر ح}$





هـ مرح المساوية لزاويتي هـ رط ح رط و زاويتا ب ح ر ب ح معا اعظم من  
زاوية هـ ر ح المساوية لزاويتي مرح ط هـ ح ط ولان كل مثلث فان زاوياه  
الثلت كقائمتين بالشكل الثاني والثلاثين من الاولي فالزوايا التسع التي  
 يشتمل عليها مثلثات ب هـ ر ب هـ ح ب هـ ر ب هـ ح ب هـ ر ب هـ ح ب هـ ر ب هـ ح  
 التسع التي يشتمل عليها مثلثات ط هـ ر ط هـ ح ط هـ ر ط هـ ح ط هـ ر ط هـ ح  
 التي هي زاويا ب هـ ر ب هـ ح ب هـ ر ب هـ ح ب هـ ر ب هـ ح ب هـ ر ب هـ ح  
 من الزوايا التسع التي يشتمل عليها مثلثات ب هـ ر ب هـ ح  
ب هـ ر ب هـ ح ب هـ ر ب هـ ح ب هـ ر ب هـ ح ب هـ ر ب هـ ح ب هـ ر ب هـ ح  
 زاويا هـ ط ح هـ ط هـ ر ط ح رط هـ ر ط ح رط هـ ر ط ح رط هـ ر ط ح رط من  
 الزوايا التسع التي يشتمل عليها مثلثات ط هـ ر ط هـ ح  
ط هـ ر ط هـ ح ط هـ ر ط هـ ح ط هـ ر ط هـ ح ط هـ ر ط هـ ح ط هـ ر ط هـ ح  
 التي هي زاويا ب هـ ر ب هـ ح



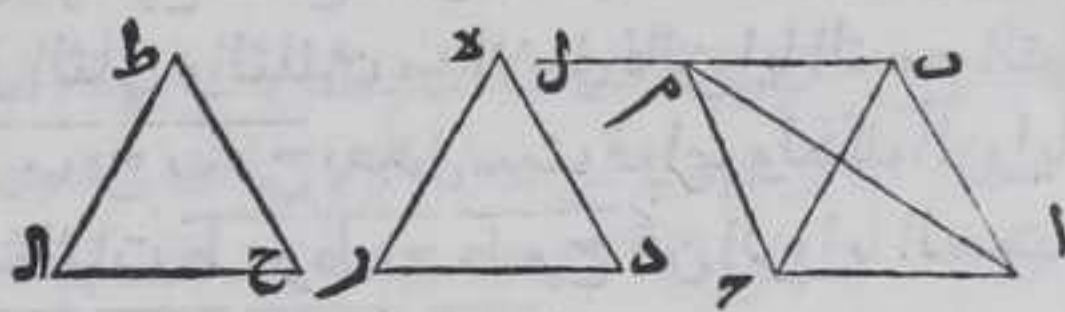
هـ ب ح ر ب ح الباقية من التسع الاولي اصغر من الزوايا الثلث التي هي  
زاويا هـ ط ر هـ ط ح ر ط ح رط ح الباقية من التسع الثانية التي هي كاربع  
قوائم باستبانة الشكل الخامس عشر من الاولي فالزوايا الثلث التي هي  
زاويا ب هـ ر ب هـ ح ب هـ ر ب هـ ح ب هـ ر ب هـ ح ب هـ ر ب هـ ح ب هـ ر ب هـ ح  
 واعلم انا لو لم نفرض نقطة ط ولا الخطوط الخارجة اليه لا يمكن البيان  
 وذلك لان الزوايا الست التي عند نقطة هـ ر ح من مثلثات ب هـ ر ب هـ ح  
ب هـ ر ب هـ ح لما كانت اعظم من الزوايا الثلث من مثلث هـ ر ح بالشكل المتقدم  
 المساوية لقائمتين بالشكل الثاني والثلاثين من الاولي يكون الزوايا الباقية  
 التي هي زاويا ب هـ ر ب هـ ح ب هـ ر ب هـ ح ب هـ ر ب هـ ح ب هـ ر ب هـ ح ب هـ ر ب هـ ح  
 الزوايا المسطحة المحيطة بالزاوية المجسمة اكثر من الثلث

كل ثلث زوايا مسطحة يكون مجموع كل ثنتين  
 منها اعظم من الثالثة وكانت الاضلاع المحيطة  
 بتلك الزوايا متساوية فلان لنا ان نرسم من اوتار  
 تلك الزوايا مثلث

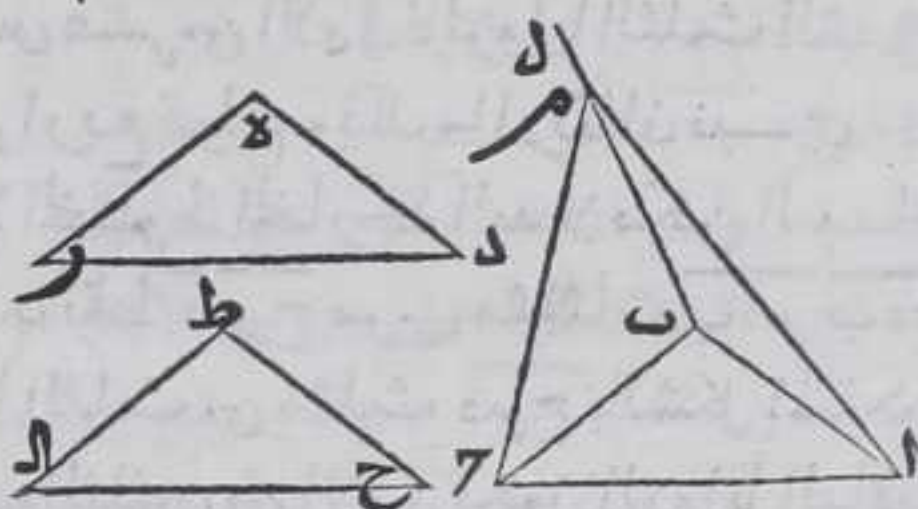
فليكن الزوايا الثلث التي اضلاعها متساوية هي زاويا ا ب ح د هـ ر ح ط  
 واوتارها خطوط ا ح د ر ح ا فاقول ان لنا ان نرسم مثلثات ثلث خطوط  
 متساوية لاوتار ا ح د ر ح ا ب ر هـ ا فلان الزوايا الثلث اما ان تكون  
 متساوية او ثنتان منها متساويتان فقط او كانت مختلفة اما ان كانت  
 الزوايا كلها متساوية فنرسم علي نقطة ب من ضلع ا ب زاوية ح ب ل كزاوية



دهـ بالشكل الثالث والعشرين من الاولي ونفصل من ضلع بـ ل بـ م مساويا لضلع بـ ح بالشكل الثالث من الاولي ونصل بين نقطة م وبين كل واحدة من نقطتي آ ح بخط مستقيم

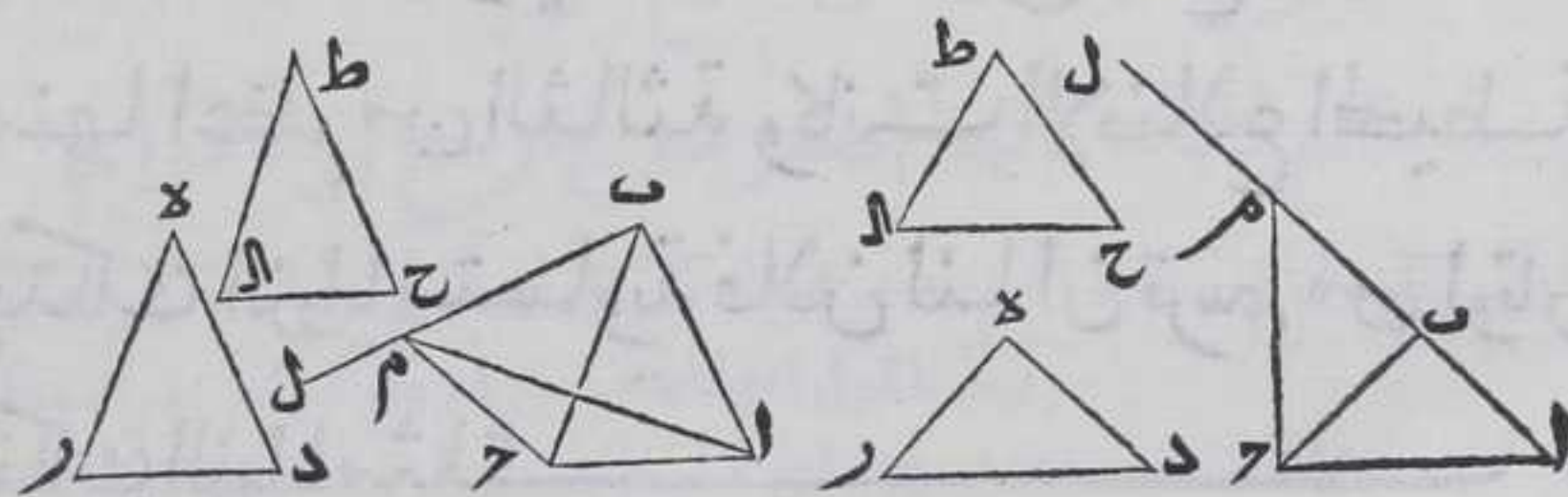


فلان ضلعي بـ ح بـ م وزاوية ح بـ م من مثلث ح بـ م مساوية لضلعي دهـ هـ وزاوية دهـ ر من مثلث دهـ ر كل لنظيره فبالشكل الرابع من الاولي يكون وتر ح م كوتر د ر ووتر آ ح م معا اعظم من وتر آ م بالشكل العشرين من الاولي ولان زاوية ا بـ م المساوية لزاويتي ا بـ ح دهـ المثلين هما اعظم من زاوية ح ط ا وضلعا ا بـ م كضلعي ح ط ا فبالشكل الرابع والعشرين من الاولي يكون وتر آ م اعظم من وتر ح ا وكان وتر آ ح م المساويان لوترتي آ ح د ر معا اعظم من وتر آ م فوتر آ ح د ر معا اعظم من وتر ح ا فيمكن ان نرسم

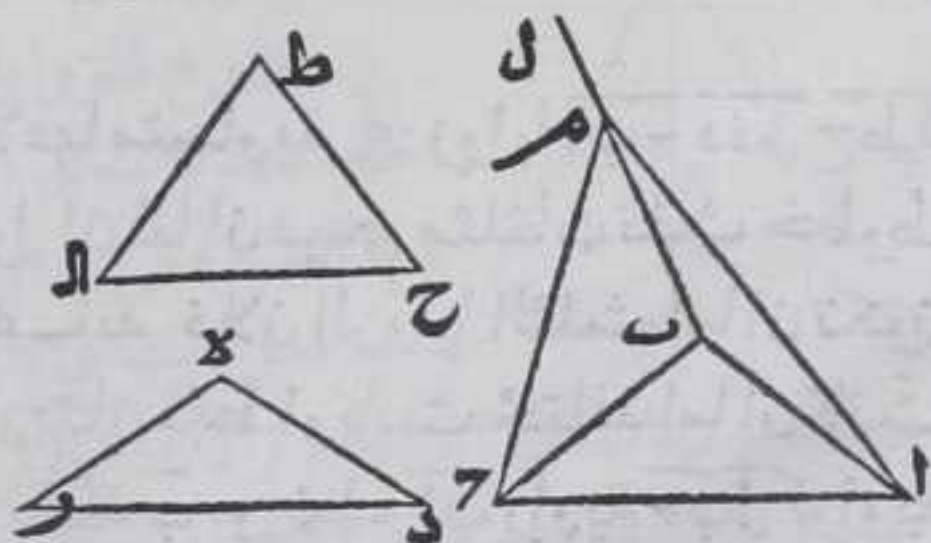


مثلاثا من ثلث خط ووط مساوية لاوتر آ ح د ر ح ا الثلاثة بالشكل الثاني والعشرين من الاولي

ولوتر آ م اختلاف وقوع فان كانت الزوايا كلها حواد يقع بين ضلعي ا بـ آ ح وان كانت منفرجات يقع خارجا من ضلعي ا بـ آ ح وهذه صورتا هـ هـ واما ان كانت ثنتان من الزوايا الثلث متساويتين فقط سوا كانتا حادتين او قائمتين او منفرجتين والباقية اما اصغر من كل واحدة منهما



او اعظم من كل منهما بشرط ان يكون اصغر منهما معا فنيبين المطلوب بمثل ما بيناه في الشكل المتقدم ويكون لوتر آ م اختلاف وقوع فانه يقع بين ضلعي ا بـ آ ح ان كانت المساويتان

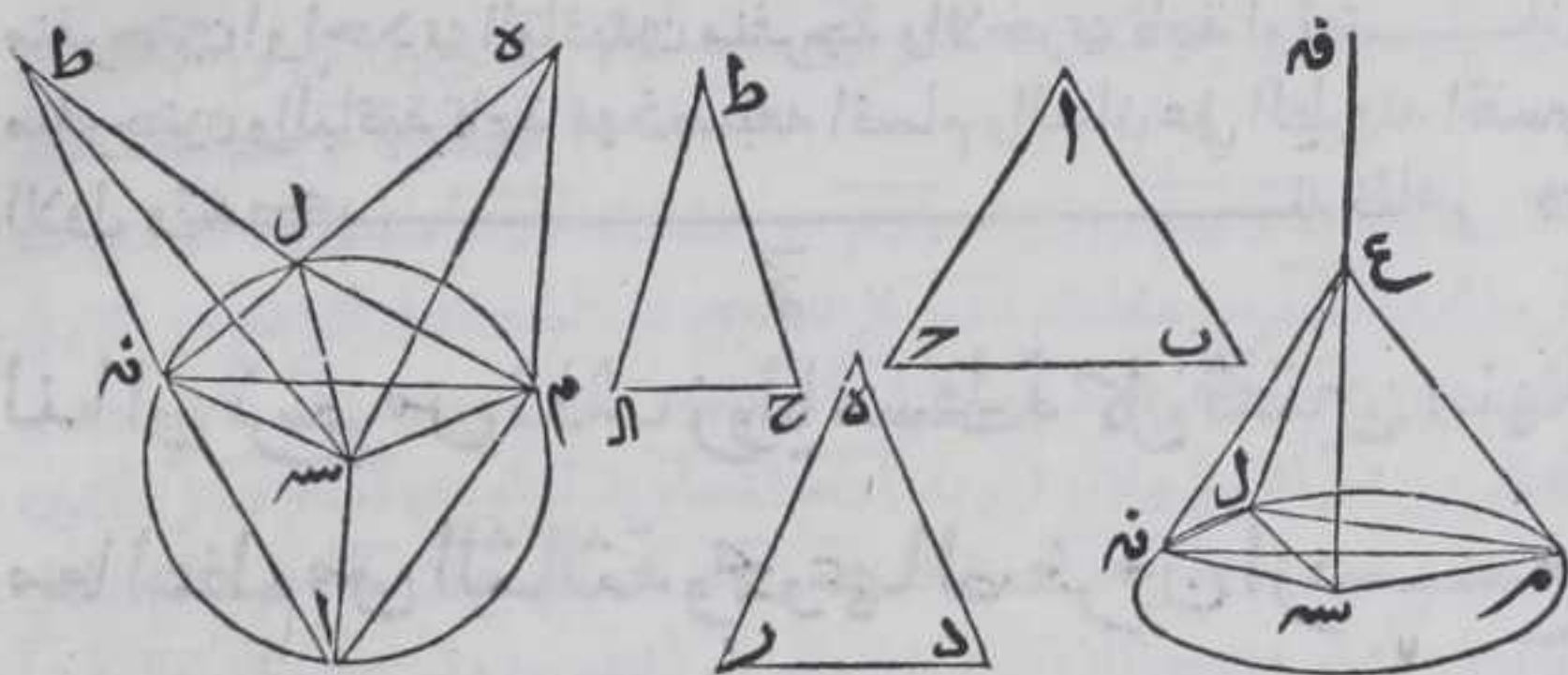








داخل المثلث ان كانت زواياه حواد او علي احد اضلاعه ان كانت  
واحدة من زواياه قائمة او خارجة عنه ان كانت منفرجة بالشكل  
الثلاثين من الثالثة ونصل بين نقطة  $س$  وكل واحدة من نقط  $ل م ن$  بخط  
مستقيم ويركب وتر  $ب ح$  علي ضلع  $م ن$  ودر علي  $م ل$  وح  $ل ن$  بحيث



ينطبق سطوح الزوايا المذكورة علي سطح دائرة  $ل م ن$  في خلاف جهة  
مركزها ونصل بينه وبين كل واحدة من نقط  $آ ط$  بخط مستقيم فكل  
واحد من اضلاع زوايا  $ب ا ح$  دهر  $ح ط$   $ا اعظم$  من نصف قطر دائرة  $ل م ن$   
والا لكان مساويا له او اصغر فان مساويا كانت زاوية  $م ا س$  تساوي  
زاوية  $م س ا$  وزاوية  $ن ا س$  تساوي زاوية  $ن س ا$  بالشكل الخامس من  
الاولي فزاوية  $م ا ن$  تساوي زاوية  $م س ن$  وبمثل هذا البيان تبين ان  
زاوية  $م ه ل$  تساوي زاوية  $م س ل$  وزاوية  $ل ط ن$  تساوي زاوية  $ل س ن$   
والزوايا الثلث التي عند المركز يعدل اربع قوائم باستبانة الشكل  
الخامس عشر من الاول فزوايا  $ب ا ح$  دهر  $ح ط$   $ا$  يعدل اربع قوائم  
والمفروض انها اقل منها هذا خلاف وان كان اصغر يلزم ان تكون زاوية  
 $م ا س$  اعظم من زاوية  $م س ا$  وزاوية  $ن ا س$  اعظم من زاوية  $ن س ا$  بالشكل  
الثامن عشر من الاول فزاوية  $م ا ن$  اعظم من زاوية  $م س ن$  ولذلك تبين ان  
زاوية  $م ه ل$  اعظم من زاوية  $م س ل$  وزاوية  $ل ط ن$  اعظم من زاوية  $ل س ن$   
فتكون زوايا  $ب ا ح$  دهر  $ح ط$   $ا$  اعظم من اربع قوائم وفرضت انها اقل  
منها هذا خلاف فكل من اضلاع زوايا  $ب ا ح$  دهر  $ح ط$   $ا$  اعظم من نصف  
قطر دائرة  $ل م ن$  فتخرج من مركز  $س$  علي سطح دايبرته عمود  $س ه$  بالشكل  
الثاني عشر ونفصل منه حدر تمام مربع نصف القطر من مربع احد  
الاضلاع المحيطة بزوايا  $ب ا ح$  دهر  $ح ط$   $ا$  وهو خط  $س ع$  ونصل بين  
نقطة  $ع$  وكل واحدة من نقط  $ل م ن$  بخط مستقيم فخطوط  $ل ع م ع ن ع$   
متساوية بالشكل السادس والاربعين من الاول لان كل واحدة من  
الزوايا التي يحيط بها احد انصاف الاقطار مع العمود قائمة وكل من  
خطوط  $ل ع م ع ن ع$  مساو لكل من اضلاع زوايا  $ب ا ح$  دهر  $ح ط$   $ا$  المتساوية  
فزوايا

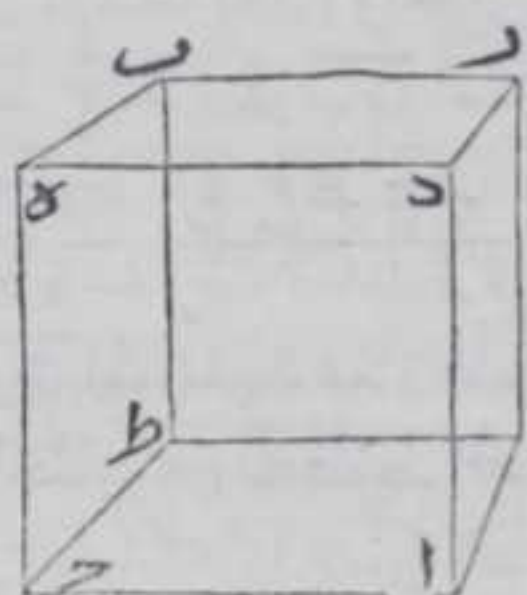


فزاويا م ع ن م ع ل ن ع ل تساوي زوايا ب ا ح د ه ر ح ط ا ل كل واحدة  
 لنظيرها بالشكل الثامن من الاولي فقد رسمنا بزواوية مجسمة من ثلث  
 زوايا مسطحة كل ثنتين منها اعظم من الباقية وبمجموعها اقل من اربع  
 قوايم وذلك ما اردنا ان نبين  $\text{☉}$  واستبان منه ان مجموع كل الزاويتين  
 المتجاورتين الكائنتين فوق قاعدتين من قواعد ثلث زوايا كل ثنتين  
 منها اعظم من الثالثة وبمجموعها اقل من اربع قوايم اعظم من كل واحدة  
 من زوايا مثلث معمول من القواعد المذكورة  $\text{☉}$

ك د

كل مجسم يحيط به سطوح متوازنة فان كل  
 سطحين متقابلين منها متساويان متوازنا الاضلاع

ليكن مجسم ا ب يحيط به سطوح ا ر ه ط ا ط ه ر ا ه ح ب و ا ر يوازي ه ط



وا ط ه ر و ا ه ح ب فكل متقابلين منها  
 متساويان ومتوازيان الاضلاع برهانه  
 فلان كل واحد من سطحي ا ه ح ب فصل  
 بسطحي ا ر ه ط و بسطحي ا ط ه ر فخط ح ر  
 يوازي ط ب و ر ب يوازي ح ط و ا ح د ه و ا د  
 ح ه بالشكل السادس عشر فكل منها متوازي  
 الاضلاع وبمثلته تبين في بواقي السطوح ولان  
 ح ر ح ط يوازيان ا ح ا د كل لنظيره ويحيطان

بزواوية م ر ح ط ح ا د وليست الاضلاع المحيطة بهما في سطح واحد فهما  
 متساويتان بالشكل العاشر و ضلع ح ط يساوي ضلع ا د و ح ر يوازي ا ح  
 بالشكل الرابع والثلاثين من الاولي فسطحا ا ه ح ب المتقابلان متساويان  
 وهكذا تبين تساوي ساير المتقابلين السطوح المحيطة بالمجسم وذلك ما  
 اردنا ان نبين  $\text{☉}$  واستبان منه ان كل متقابلين مما ذكرناه متشابهين  $\text{☉}$

ك ه

كل مجسم يحيط به سطوح متوازنة الاضلاع كل  
 متقابلين منها متوازيين فان كل سطح يفصله  
 موازيا لسطحين متقابلين منها فانه يفصله الى  
 مجسمين نسبة احدهما الى الاخر كنسبة قاعدتيهما











در در او علي نقطة من احدهما او خارجا عنهما وان كل هـ د عمودا علي خطي جـ د فلا يحتاج الي اخرج عمود والبيان في الكل ظاهر

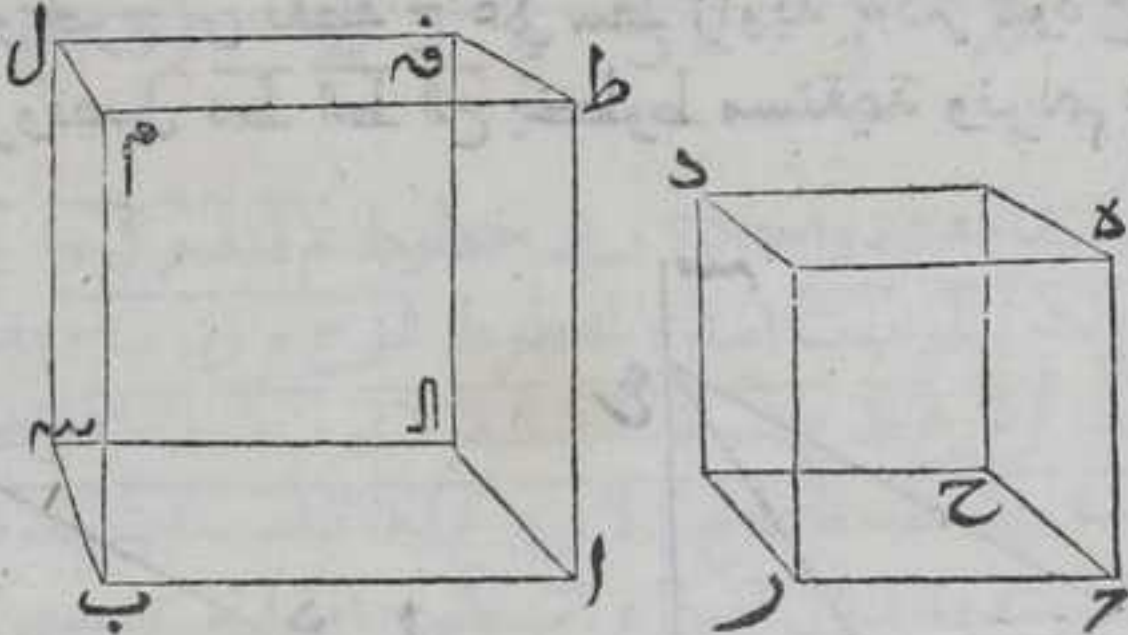
كر

لنا ان نعمل علي خط مفروض مجسما شبيها بمجسم

مفروض متوازي السطوح

فليكن الخط المفروض ا ب والمجسم المفروض مجسم جـ د فترسم علي نقطة ا من خط ا ب زاوية مجسمة كزاوية جـ ا المجسمة بالشكل المتقدم وليكن زاوية ط ا ب كزاوية هـ ر و زاوية ط ا ا كزاوية هـ جـ و زاوية ب ا ا كزاوية

ر جـ ولنجعل نسبة جـ ر الي ا ب كنسبة جـ حـ الي ا ا وكنسبة جـ هـ الي ا ط بالشكل الحادي عشر من السادس ونخرج من نقطة ا خطي ا فـ ا سـ



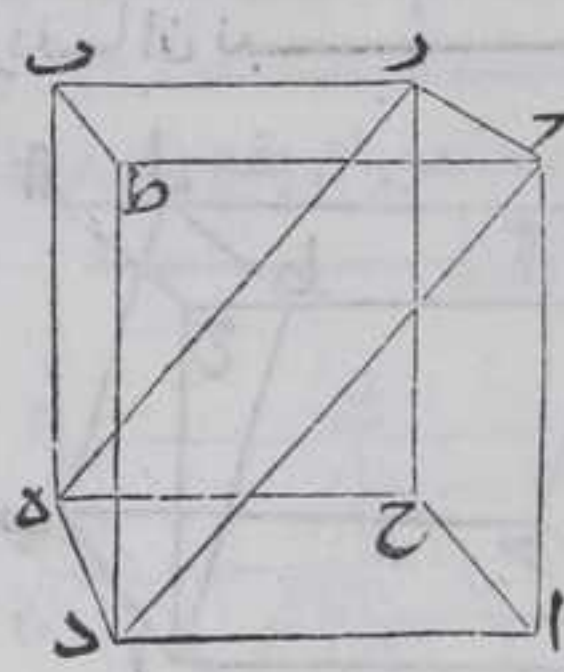
موازيين ومساويين لخطي ا ط ا ب بالشكل الواحد والثلاثين والثالث من الاولي ومن نقطتي ب سـ خطي ب م سـ موازيين ومساويين لخطي ا فـ ا ط بالشكلين المذكورين ونصل فـ ل ط م بخطين مستقيمين فهما موازيان ومساويان لخطي ب ا ا سـ ونصل فـ ط ل م ب سـ بخطوط مستقيمة فهما متوازية ومساوية لخط ا ا بالشكل الثالث والثلاثين من الاولي فالزوايا المتناظرة من السطوح المحيطة بمجسم ا ل متساوية بالشكل العاشر وكل سطحين متقابلين منها متوازية بالشكل الخامس عشر فمجسم ا ل شبيه بمجسم جـ د لان الزوايا المتناظرة من السطوح المحيطة بهما متساوية والخطوط المحيطة بها متناشبة علي التناظر وذلك ما اردنا ان نبين

كل مجسم متوازي السطوح المتوازية الاضلاع

يفصله سطح مارا بقطري سطحين متوازيين من السطوح المحيطة به فانه ينصفه الي منشورين



ليكن مجسم  $AB$  فصل سطح  $ح$  المار بقطر  $حده$  ر فاقول ان السطح الفاصل  
يفصله الى منشورين برهانه فلان سطوح  $اراه$   $اط$  يساوي السطوح

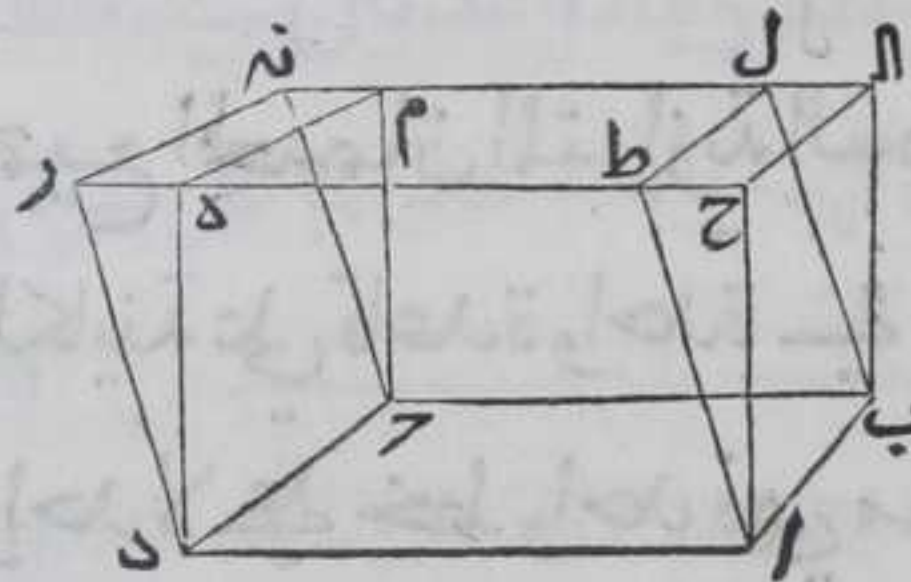


المقابلة لها بالشكل الرابع والعشرين وكلا  
من مثلثي  $احد$   $حطه$  ومثلثي  $حره$  ربه  
المتساويين بالشكل الرابع والثلاثين من  
الاولي يساويان نظيرتهما بالشكل الثامن  
من الاول وسطح  $ح$  مشترك بين منشوري  
 $حداح$   $حطب$  فهما متساويان وقد بان  
ان كل منشور يتم محسما متوازي السطوح  
المحيطه به المتوازية الاضلاع وذلك  
المنشور نصفه وذلك ما اردنا ان نبين

ين

ط

كل المجسمات المتوازية السطوح المتوازية الاضلاع  
الكائنة على قاعدة واحدة في جهة واحدة وعلى خط  
واحد وبارتفاع واحد فهي متساوية



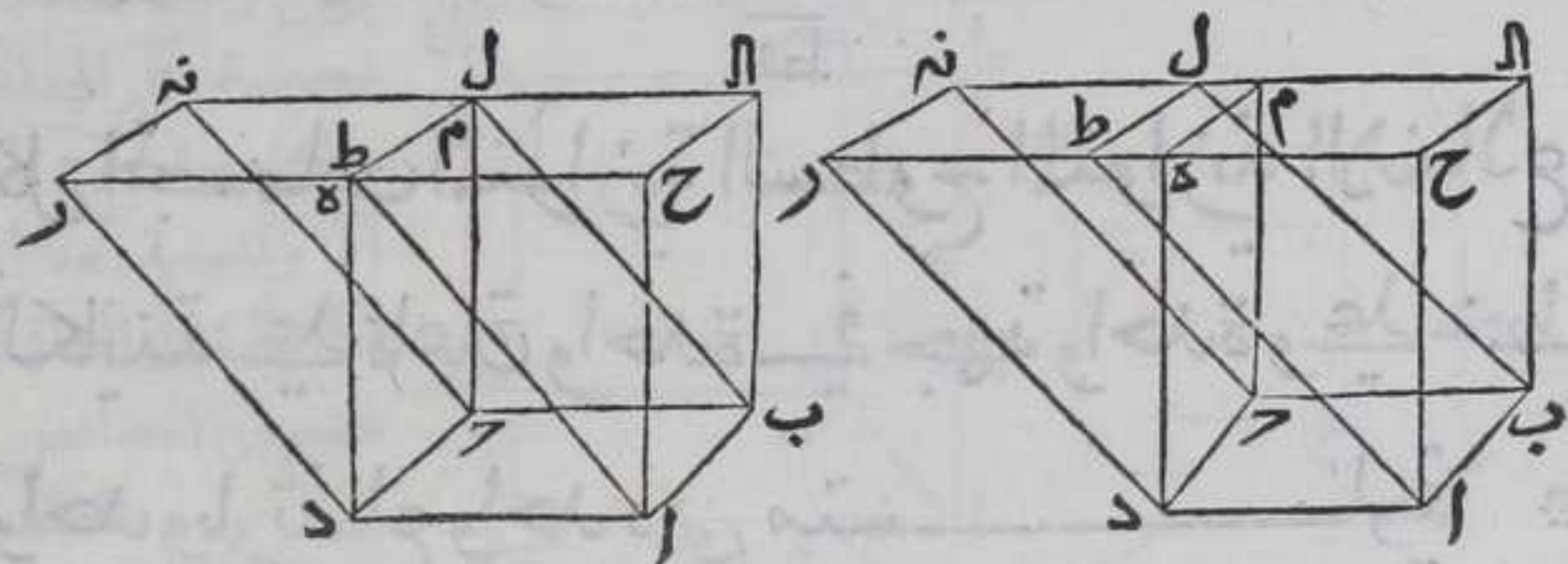
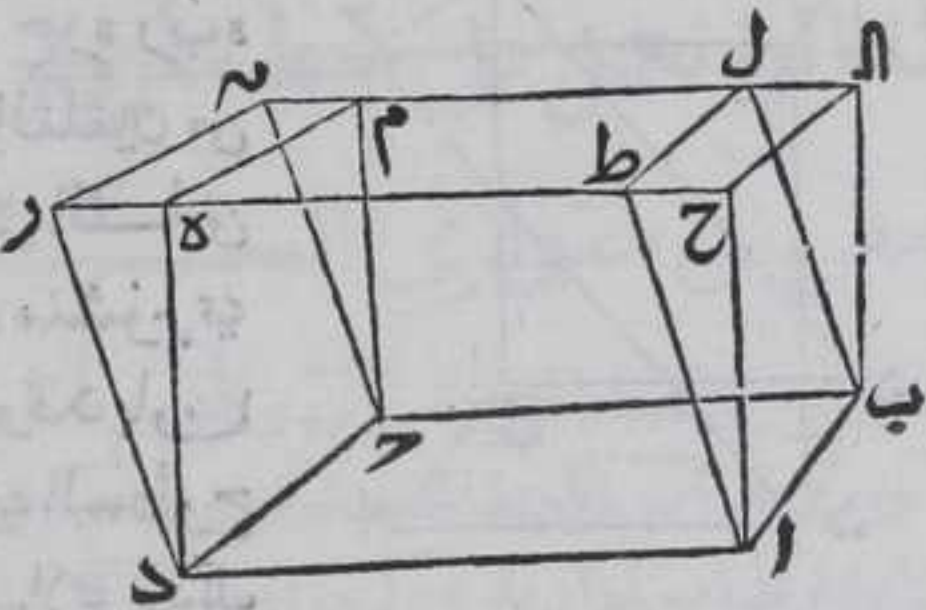
ليكن مجسما  $به$   $بم$  كائنين  
على قاعدة  $اب$   $حده$  فيما بين  
خطي  $حمر$   $انه$  وبارتفاع  
واحد فاقول انهما متساويان  
برهانه فلان كلا من خطي  
 $ح$   $ط$   $ر$  وخطي  $الم$   $ل$   $نه$   
يساويان خطي  $اد$   $بج$   
المتساويين بالشكل الرابع

والثلاثين من الاول فكل من خطي  $ح$   $ط$   $ر$   $الم$   $ل$   $نه$  متساويان فاذا القينا  
 $طه$   $ولم$  المشترك بين كل منهما يبقي  $حط$  مساويا لهر  $وال$   $لمن$  وخطوط  
 $اح$   $اط$   $وب$   $الوبل$  يساوي خطوط  $ده$   $در$   $جم$   $حنه$  كل لنظيره بالشكل  
الرابع والثلاثين من الاول فثلثا  $احط$   $البل$  يساويان مثلثي  $دهر$   $جمنه$   
بالشكل الثامن من الاول ولان سطحي  $حم$   $طنه$  يساويان سطح  $بد$  بالشكل  
الرابع والعشرين فهما متساويان فاذا القينا  $طم$   $منهما$  بقي  $حل$  مساويا  
لهن وسطحي  $بح$   $بب$  يساويان سطحي  $ح$   $ح$  كل لنظيره بالشكل  
الرابع والعشرين فالسطوح والمثلثات المحيطه بمنشور  $بط$  يساوي  
السطوح والمثلثات المحيطه بمنشور  $حمر$  على التناظر فهما متساويان



فاذا اضفنا منحرف  $\overline{ب ه}$  الي منشور  $\overline{ب ط}$  حصل مجسم  $\overline{ب ه}$  واذا اضفناه الي منشور  $\overline{ح ر}$  حصل مجسم  $\overline{ب م}$  فمجسما  $\overline{ب ه}$   $\overline{ب م}$  متساويان وذلك ما اردنا ان نبين

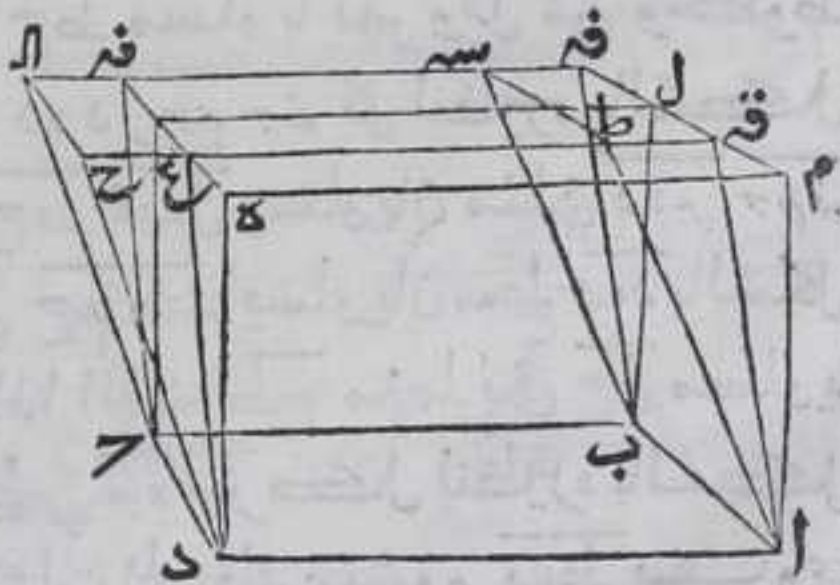
ولهذا الشكل اختلاف وقوع لان احد الاضلاع من احد السطحين المقابلين للقاعدة اما ان يقع بين الضلعين من السطح الاخر او خارجا عنهما او منطبقا علي احد  $\overline{ه م}$  وهذه صورتها



جميع الجسمان المتوازي السطوح المتوازية الاضلاع الكائنة علي قاعدة واحدة وفي جهة واحدة وبارتفاع واحد لا علي خط واحد فهي متساوية

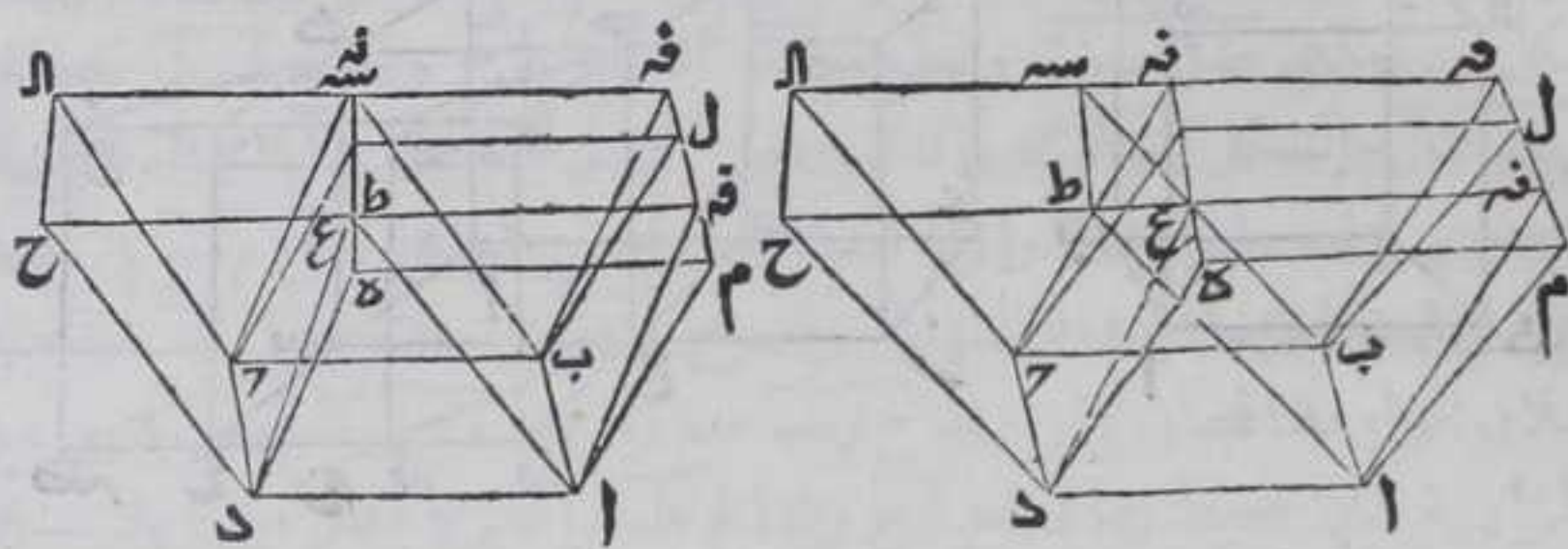
ليكن مجسما  $\overline{ب ه}$   $\overline{ب م}$  كائنين علي قاعدة  $\overline{ا ب}$  وارتفاع واحد لا علي خط واحد والسطوح المقابلة لقاعدة  $\overline{ا ب}$  من احدهما له ومن الاخر

سح فاقول انها متساويان برهانه نخرج السح  $\overline{ط ه م ل}$  علي استقامتهما في جهات  $\overline{س ه ط}$   $\overline{ل ع ا}$  الي نقط  $\overline{ق ه}$   $\overline{ق ن}$  فبتقاطع خط  $\overline{ا س م ل}$  فبتقاطع علي نقطتي  $\overline{ق ه}$  ونصل  $\overline{ا ق ب ق د ح ن}$  المستقيمة فيجدت مجسم سطحه المقابل لقاعده  $\overline{ا ب}$  سطح  $\overline{ا ق ب ق د ح ن}$  مجسم





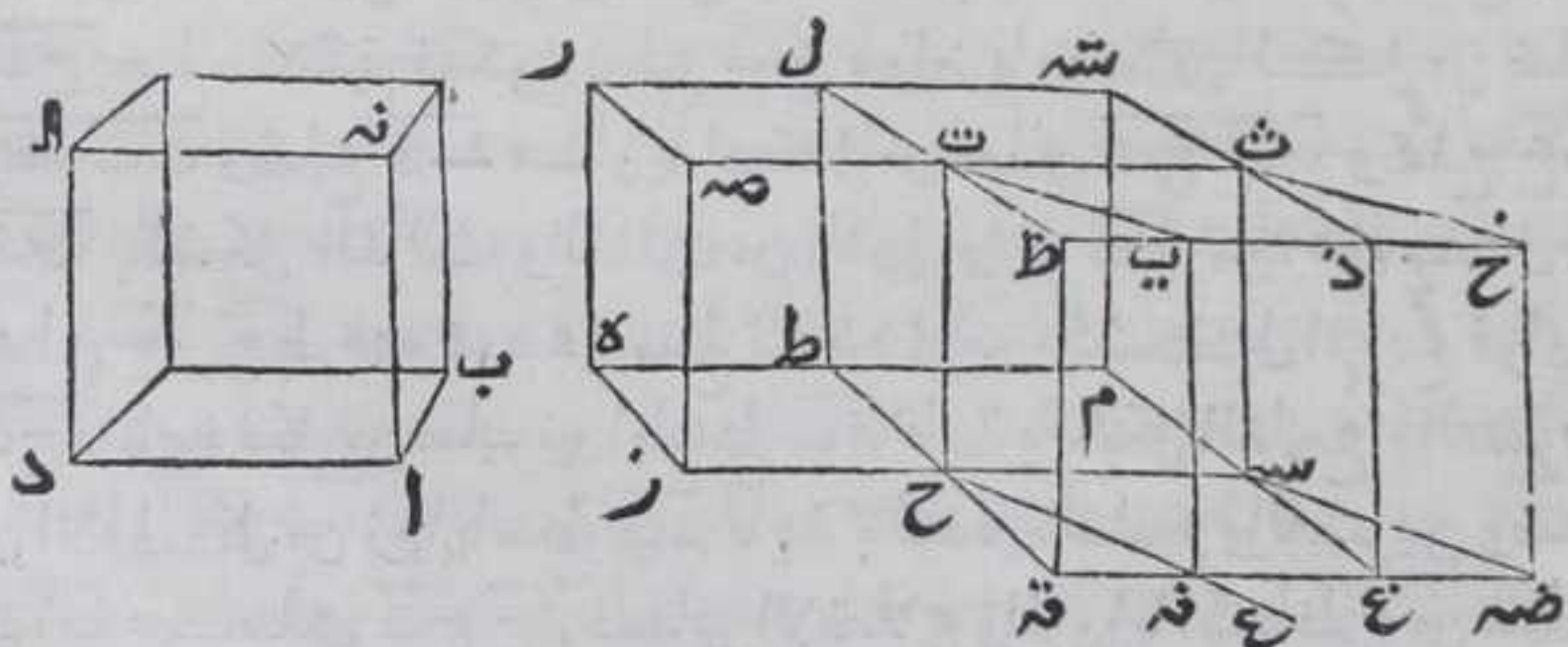
مجسم بـع فهو مع كل واحد من مجسمي بـه بـح علي قاعدة واحدة  
 وخط واحد فكل منهما يساويه بالشكل المتقدم فمجسمات بـه بـح  
 متساويان وذلك ما اردنا ان نبين  
 ولهذا الشكل اختلاف وقوع فان خط بـسـه يمكن ان يقع بين نقطتي  
 نـه او خارجا عنهما او علي احداهما فهذه صورة هـ



لا

كل مجسمين متوازي السطوح المتوازية الاضلاع  
 كائنين علي قاعدتين متساويتين وبارتفاع واحد  
 والخطوط المرتفعة من نقط زوايا القاعدتين الي نقط  
 زوايا السطحين المقابلين لهما واقعه عليهما علي قوايم  
 فهما متساويان

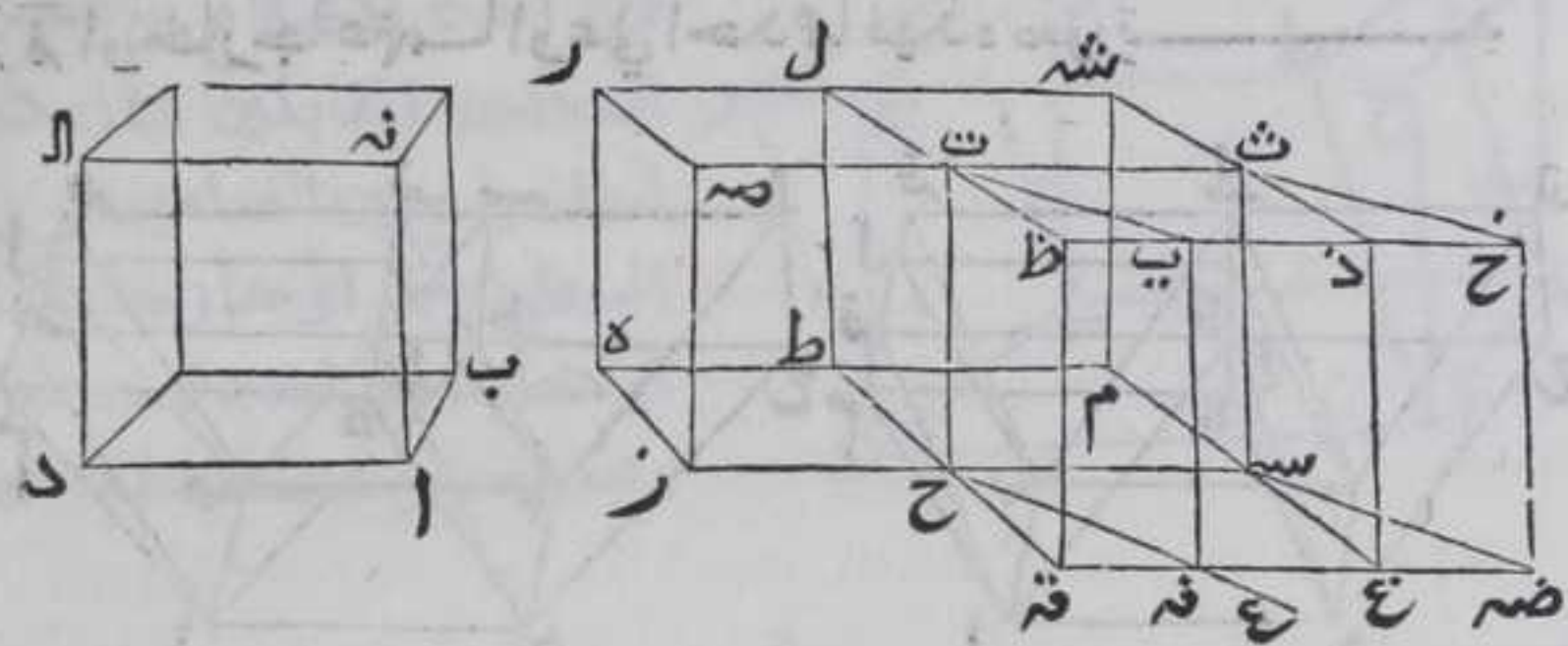
ليكن مجسما بـا زل كائنين علي قاعدتي ا ب ح د و ا ب ح د المتساويتين  
 وخطوط ا نـه ا د ط ل ح ت واقعه علي القاعدتين علي زوايا قوايم فاقول  
 انهما متساويان برهانه نخرج ضلع نـح في جهة ح علي استقامته الي



غير النهايه ونفصل حـسـه مساويا للضلع ا د بالشكل الثالث من الاولي



ونرسم علي نقطة ح من خط ح س زاوية س ح ع كزاوية ب ا د بالشكل الثالث والعشرين من الاولي ونفصل من ح ع ح ف مساويا لضلع ا ب بالشكل الثالث من الاولي ونخرج من نقطة س خط س د موازيا لضلع ح ع بالشكل الواحد والثلاثين من الاولي ونفصل منه س د مساويا



لضلع ح ف بالشكل الثالث من الاولي ونصل بين نقطتي ف د بخط مستقيم فضلع ف د كضلع ح س ويوزاويه بالشكل الثالث والثلاثين من الاولي فيكون زاوية ح ف د مساوية لزاوية ا ب ح وزاوية ح س د لزاوية ا د ح وزاوية س د ح لزاوية س ح ع والشكل التاسع والعشرين من الاولي فسطح ا ح كسطح ف س بالانطباق ونخرج ص د في جهة ت علي استقامته الي غير النهاية ونفصل ت ت مساويا لضلع ح س بالشكل الثالث من الاولي ونصل بين نقطتي س ت بخط مستقيم فهو مواز ومساو لضلع ت ح بالشكل الثالث والثلاثين من الاولي ولان زاوية ت ح ر قائمة فزاوية ت ح س قائمة بالشكل الثالث عشر من الاولي وكل واحد من زوايا سطح ح ت قائمة بالشكل التاسع والعشرين من الاولي فالاضلاع والزوايا المتناظرة من سطحي ا ح ت متساوية فهما متساويا بالانطباق ونخرج من نقطتي ت ت خطي ت ت ت موازيين لضلعي ح ف س د كل لنظيره بالشكل الواحد والثلاثين من الاولي فخطا ت ت ت موازيان بالشكل الثلاثين من الاولي ونفصل ت ت مساويا لضلع ح ف وت ح لضلع س د بالشكل الثالث من الاولي ونصل بين كل واحد من نقطتي ت ت ت ف د بخط مستقيم فيكون ضلع ت ت ت موازيا ومساويا لكل من ضلعي ف د ت ت وضلع ف د مساويا لكل من ضلعي ت ت ح خ وضلع خ د س ت بالشكل الثالث والثلاثين من الاولي ولان ت ح عمود علي كل من خطي ح ر ح ط فهو عمود علي سطح قاعده ف س بالشكل الرابع فزاوية ت ح ف قائمة فكل من ساير زوايا سطح ت ف قائمة بالشكل التاسع والعشرين من الاولي وكل من زوايا سطح ب ن قائمة بالشكل التاسع والعشرين وضلعا ا ب كضلعي ت ح ح ف فساير الاضلاع والزوايا المتناظرة من سطحي ب ن ت ف متساوية فسطح ب ن كسطح ت ف بالانطباق وكل سطحين متقابلين



متقابلين من السطوح المتوازية المتوازية الاضلاع المحيطة بالمجسم  
متساوية بالشكل الرابع والعشرين فالسطوح المحيطة بمجسم ق ت علي  
قاعدة السطوح المحيطة بمجسم ب ا فحسما ب ا ق ت متساويان وتخرج  
كل واحد من ضلعي ه ط ر ل علي استقامتهما في جهة ل ونفصل ل ش  
كضلع ت ت و ط م كضلع ح س بالشكل الثالث من الاولي ونصل  
م س م ش ش ت بخطوط مستقيمة فيكون ضلع م ش موازيا ومساويا  
لكل من ضلعي ط ل س ت وضلع م س كضلع ط ح وضلع ش ت كضلي  
م س ت بالشكل الثالث والثلاثين من الاولي فالسطوح المقابلة المحيطة  
بمجسم ح ش متوازي لتوازي اضلاعها وتخرج ضلعي ط ح م س في جهة  
ح علي استقامتهما الي غير النهاية وتخرج ف ض في جهته علي استقامته  
فلان الزاوية المجاورة لزاوية ح ف ض مع زاوية ف ح ز كقائمتين فهي مع  
الزاوية التي يحيط بها ضلع ف ح وضلع ط ح المخرج اقل من قائمتين  
فضلع ف ض يلاقي ضلع ط ح المخرج فلبلاقيه علي نقطة ق ويمثله تبين  
انه يلاقي ضلع م س المخرج فلبلاقيه علي نقطة غ وتخرج كل واحد من  
ضلعي ل ت ش ت علي استقامته في جهة ت الي غير النهاية وتخرج ضلع  
خ في جهته علي استقامته فلان الزاوية المجاورة لزاوية ت غ خ مع  
زاوية ت ت ص كقائمتين فهي مع الزاوية التي يحيط بها ت ت وضلع ل ت  
المخرج اقل منهما فضلع ت غ يلاقي ضلع ل ت المخرج فلبلاقيه علي نقطة  
ظ ويلاقي ضلع ش ت المخرج علي نقطة ذ ونصل بين كل واحدة من  
نقطتي ق ظ غ ذ بخط مستقيم فحسم ق ت كجسم ق ت بالشكل التاسع  
والعشرين فحسم ق ت كجسم ب ا ووسط ق س كسطح ق س بالشكل  
الخامس والثلاثين من الاولي فسطح ق س كسطح ب د وكان سطح ز ط  
كسطح ب د فسطح ق س كسطح ز ط فلان نسبة مجسم ز ل الي مجسم ح ش  
كنسبة قاعدة ز ط الي قاعدة ح م بالشكل الخامس والعشرين ونسبة  
قاعدة ق س الي قاعدة ح م كنسبة قاعدة ز ط الي قاعدة ح م بالشكل  
السابع من الخامسة فنسبة مجسم ز ل الي مجسم ح ش كنسبة قاعدة ق س  
الي قاعدة ح م بالشكل الحادي عشر من الخامسة ونسبة مجسم ق ت الي  
مجسم ح ش كنسبة قاعدة ق س الي قاعدة ح م بالشكل الخامس  
والعشرين فنسبة مجسم ز ل الي مجسم ح ش كنسبة مجسم ق ت الي مجسم  
ح ش بالشكل الحادي عشر من الخامسة فبالشكل التاسع من الخامسة  
مجسم ز ل كجسم ق ت وكان مجسم ب ا كجسم ق ت فمجسم ز ل كجسم ب ا  
وذلك ما اردنا ان نبين

والجسم ق ت مع مجسم ق ت اختلاف وقوع فان ضلع ت ت يمكن ان يقع  
بين نقطتي ق ظ ذ ويمكن ان يقع خارجهما ويمكن ان يقع علي نقطة ذ  
وتختار بها حسب ما ذكرناه في الشكل التاسع والعشرين

انواع



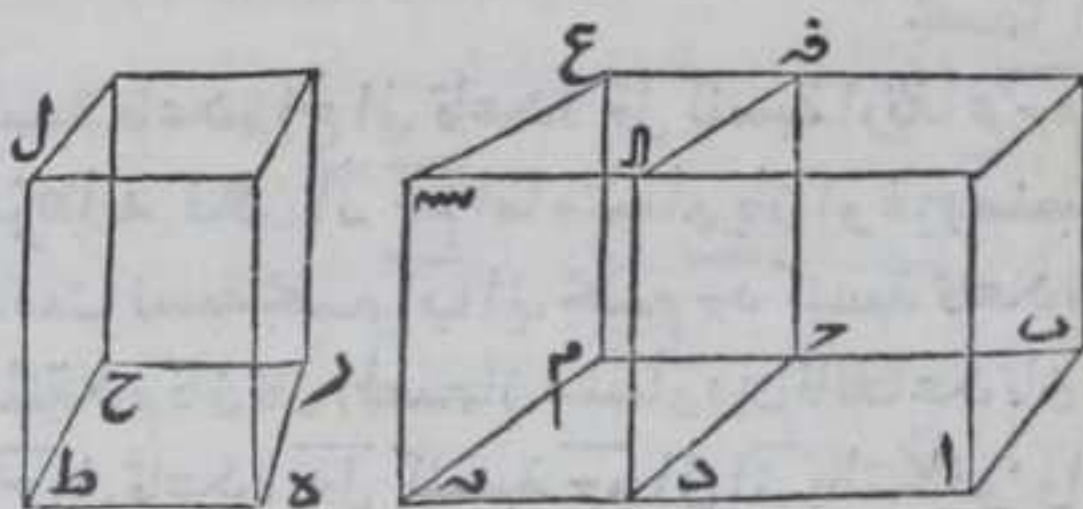




ولهذا الشكل اختلاف وقوع فان ضلع  $ب\bar{ع}$  يمكن ان يقع بين ضلعي  $ن\bar{م}$   
 الـ  $ق$  او ينطبق علي احدهما ويقع خارجهما ولذلك في ضلع  $ن\bar{ر}خ$   $\text{⊥}$

كل مجسمين متوازي السطوح المتوازية الاضلاع  
 متساوي الارتفاعين فان نسبة احدهما الي الآخر  
 كنسبة قاعدته الي قاعدة الآخر  $\text{⊥}$

ليكن مجسما  $ب\bar{ا}$   $ر\bar{ل}$  متوازي السطوح المتوازية الاضلاع علي قاعدتي  
 $ا\bar{ب}$   $د\bar{ج}$   $ه\bar{ز}$   $ط$  وبارتفاع واحد فاقول انهما متساويان فنعمل علي خط  
 $د\bar{ر}$   $س\bar{ط}$   $ق$  كقاعدة  $ر\bar{ط}$  بحيث يكون خطا  $د\bar{ن}$   $ج\bar{م}$  علي استقامة  
 خطي  $ا\bar{د}$   $ب\bar{ج}$  باستبانة الشكل الرابع والاربعين من الاولي ونخرج من  
 نقطتي  $م$   $ن$  خطي  $ن\bar{س}$   $م\bar{ع}$  موازيين لضلعي  $د\bar{ا}$   $ج\bar{ب}$  بالشكل الواحد  
 والثلاثين من الاولي ونفصل منهما  $ن\bar{س}$   $م\bar{ع}$  مساويين لضلعتي  $د\bar{ا}$   $ج\bar{ب}$   
 بالشكل الثالث من الاولي ونصل  $ا\bar{س}$   $ق\bar{ع}$  بخطين مستقيمين فيحصل



مجسم  $ج\bar{س}$  ارتفاعه  
 كارتفاع مجسم  $ب\bar{ا}$   
 وكان ارتفاع مجسم  
 $ر\bar{ل}$  كارتفاع مجسم  
 $ب\bar{ا}$  فارتفاع مجسم  
 $ج\bar{س}$  كارتفاع مجسم  
 $ر\bar{ل}$  فمجسما  $ج\bar{س}$

$ر\bar{ل}$  متوازي السطوح المتوازية الاضلاع وبارتفاع واحد فهما  
 متساويان باخذ شكلي الاحد والثلاثين والثاني والثلاثين ونسبة مجسم  
 $ب\bar{ا}$  الي مجسم  $ر\bar{ل}$  كنسبة مجسم  $ب\bar{ا}$  الي مجسم  $ج\bar{س}$  بالشكل السابع من  
 الخامسة ونسبة قاعدة  $ب\bar{د}$  الي قاعدة  $ج\bar{ن}$  كنسبة مجسم  $ب\bar{ا}$  الي مجسم  $ج\bar{س}$   
 بالشكل الخامس والعشرين فنسبة مجسم  $ب\bar{ا}$  الي مجسم  $ر\bar{ل}$  كنسبة قاعدة  
 $ب\bar{د}$  الي قاعدة  $ج\bar{ن}$  بالشكل الحادي عشر من الخامسة ونسبة قاعدة  $ب\bar{د}$  الي  
 قاعدة  $ر\bar{ط}$  كنسبة قاعدة  $ب\bar{د}$  الي قاعدة  $ج\bar{ن}$  بالشكل السابع من  
 الخامسة فنسبة مجسم  $ب\bar{ا}$  الي مجسم  $ر\bar{ل}$  كنسبة قاعدة  $ب\bar{د}$  الي قاعدة  
 $ر\bar{ط}$  بالشكل الحادي عشر من الخامسة وذلك ما اردنا ان نبين  $\text{⊥}$

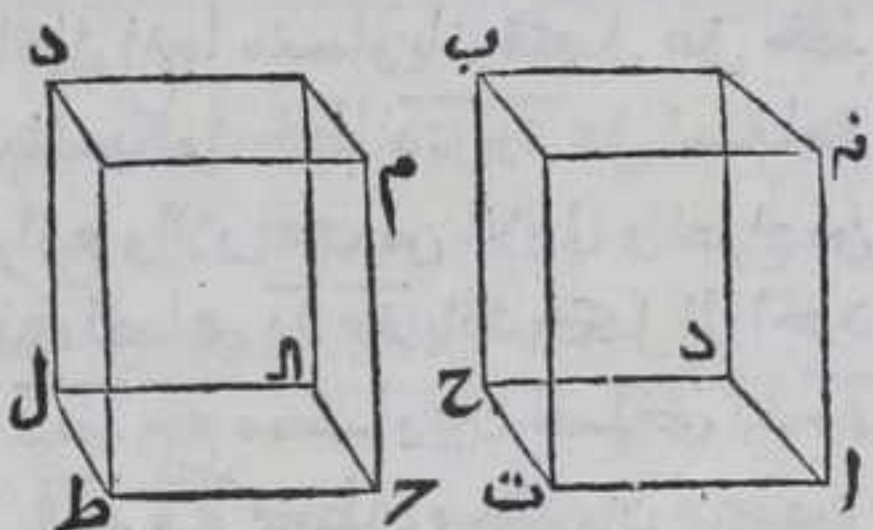
لد



كل مجسمين متوازي السطوح المتوازية الاضلاع  
خطوط سمكها المرتفعة من نقط زوايا قاعدتيهما  
اعمدة عليهما فان كان متساويين كانت قاعدتاها  
مكافيتين لارتفاعيهما في النسبة وان كانت  
قاعدتاها مكافيتين لارتفاعيهما في النسبة كانا

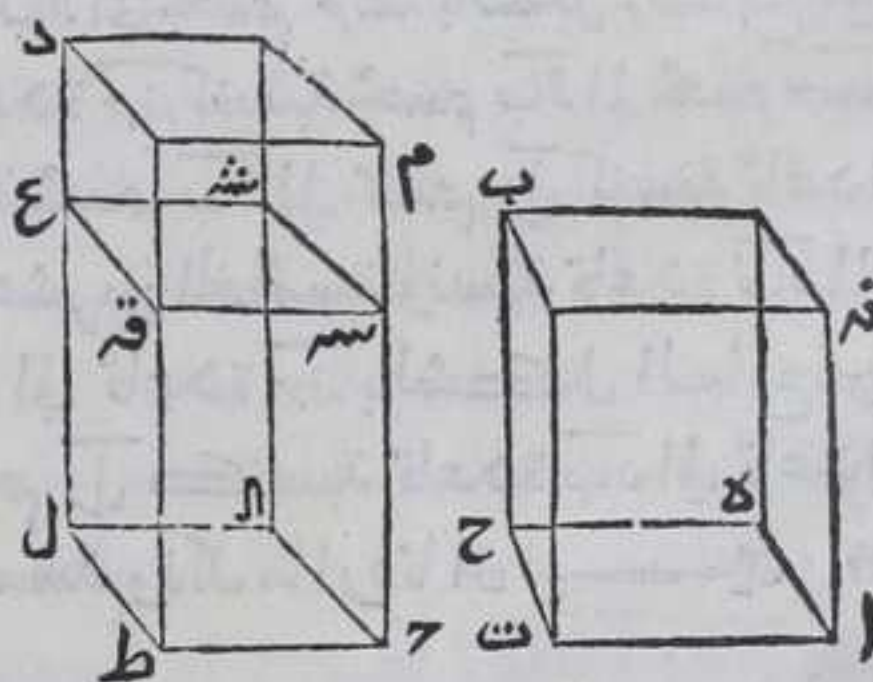
متساويين

ليكن مجسما  $\overline{AB}$   $\overline{CD}$  متوازيي  
السطوح المتوازية الاضلاع  
وقاعدتاها  $\overline{AC}$   $\overline{AD}$   $\overline{BC}$   $\overline{BD}$   
وارتفاعها  $\overline{AM}$   $\overline{AN}$  فاقول ان كان  
مجسما  $\overline{AB}$   $\overline{CD}$  متساويين كانت



نسبة قاعدة  $\overline{AC}$  الي قاعدة  $\overline{AD}$   $\overline{BC}$  كنسبة ارتفاع  $\overline{AM}$  الي ارتفاع  $\overline{AN}$  وبالعكس  
برهانه فلان  $\overline{AM}$   $\overline{AN}$  اما متساويان او غير متساويين فان كانا متساويين  
كانت نسبة مجسم  $\overline{AB}$  الي مجسم  $\overline{CD}$  كنسبة قاعدة  $\overline{AC}$  الي قاعدة  $\overline{AD}$   $\overline{BC}$   $\overline{BD}$   
المتقدم فان كان المجسمان متساويين فالقاعدتان متساويان فنسبة قاعدة  
 $\overline{AC}$  الي قاعدة  $\overline{AD}$   $\overline{BC}$  كنسبة  $\overline{AM}$  الي  $\overline{AN}$  بالتكافؤ وان كانت نسبة قاعدة  $\overline{AC}$   
الي قاعدة  $\overline{AD}$   $\overline{BC}$  كنسبة  $\overline{AM}$  الي  $\overline{AN}$  بالتكافؤ فالقاعدتان متساويتان  
لتساوي الارتفاعين ونسبة القاعدتين كنسبة المجسمين بالشكل المتقدم  
فالمجسمان متساويان  $\overline{AB}$   $\overline{CD}$  وان كان الارتفاعان مختلفين وليكن الاطول  $\overline{AM}$

فنفصل كل واحد من خطوط  
 $\overline{AM}$   $\overline{AN}$   $\overline{AC}$   $\overline{AD}$   $\overline{BC}$   $\overline{BD}$   
لنخط  $\overline{AN}$  بالشكل الثالث من  
الاولي ونصل بين نهاياتها  
بخطوط مستقيمة فيحصل  
مجسم  $\overline{AC}$  فاضلاعه الحادثة  
متوازية بالشكل الثالث  
والثلثين من الاولي فسطح  $\overline{AC}$   
يوازي  $\overline{AM}$   $\overline{AN}$   $\overline{AC}$   $\overline{AD}$   $\overline{BC}$   $\overline{BD}$



اضلاعهما فمجسم  $\overline{AC}$  متوازي السطوح المتوازية الاضلاع فمجسما  
 $\overline{AB}$   $\overline{CD}$







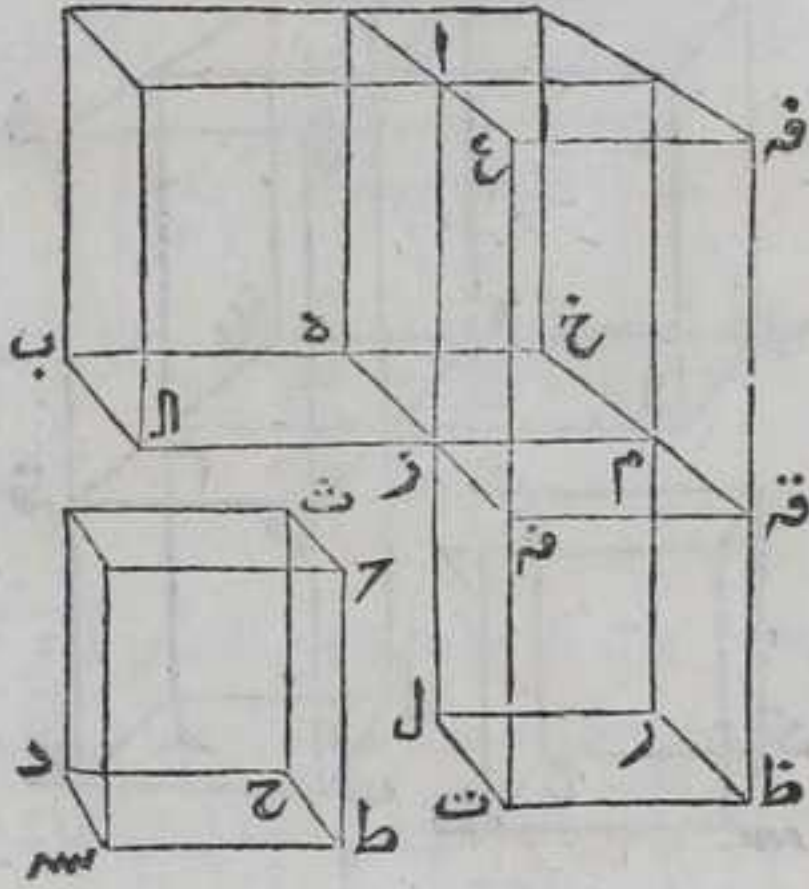








الخامسة وكانت نسبة مجسم  $\overline{AB}$  الى مجسم  $\overline{AX}$  كنسبة  $\overline{ZE}$  الى  $\overline{ZE}$  فبالشكل  
 الحادي عشر من الخامسة نسبة مجسم  $\overline{AB}$  الى مجسم  $\overline{AX}$  كنسبة مجسم  $\overline{AX}$   
 الى مجسم  $\overline{AQ}$  وبمثله تبين ان نسبة مجسم  $\overline{AQ}$  الى مجسم  $\overline{QZ}$  كنسبة  $\overline{ZE}$  الى  $\overline{ZE}$   
 وكانت نسبة مجسم  $\overline{AX}$  الى مجسم  $\overline{AQ}$  كنسبة  $\overline{ZE}$  الى  $\overline{ZE}$  فنسبة مجسم  $\overline{AX}$  الى  
 مجسم  $\overline{AQ}$  كنسبة مجسم  $\overline{AQ}$  الى  
 مجسم  $\overline{QZ}$  بالشكل الحادي عشر من  
 الخامسة فنسبة مجسم  $\overline{AB}$  الى  
 مجسم  $\overline{AX}$  كنسبة مجسم  $\overline{AX}$  الى  
 مجسم  $\overline{AQ}$  وكنسبة مجسم  $\overline{AQ}$  الى  
 مجسم  $\overline{QZ}$  فنسبة مجسم  $\overline{AB}$  الى  
 مجسم  $\overline{QZ}$  كنسبة مجسم  $\overline{AB}$  الى  
 مجسم  $\overline{AX}$  مثلثة بالتكرير لكن  
 نسبة مجسم  $\overline{AB}$  الى مجسم  $\overline{QZ}$   
 كنسبته الى مجسم  $\overline{QZ}$  بالشكل  
 السابع من الخامسة وكانت



نسبة مجسم  $\overline{AB}$  الى مجسم  $\overline{AX}$  مثلثة بالتكرير كنسبة مجسم  $\overline{AB}$  الى مجسم  
 $\overline{QZ}$  فنسبة مجسم  $\overline{AB}$  الى مجسم  $\overline{QZ}$  كنسبة مجسم  $\overline{AB}$  الى مجسم  $\overline{AX}$  مثلثة  
 بالتكرير ولان نسبة  $\overline{ZE}$  الى  $\overline{ZE}$  كنسبة مجسم  $\overline{AB}$  الى مجسم  $\overline{AX}$  فنسبة  $\overline{ZE}$   
 الى  $\overline{ZE}$  مثلثة بالتكرير كنسبة مجسم  $\overline{AB}$  الى مجسم  $\overline{AX}$  مثلثة بالتكرير  
 فنسبة مجسم  $\overline{AB}$  الى مجسم  $\overline{QZ}$  كنسبة  $\overline{ZE}$  الى  $\overline{ZE}$  مثلثة بالتكرير بالشكل  
 الحادي عشر من الخامسة لكن نسبة  $\overline{ZE}$  الى  $\overline{ZE}$  كنسبة  $\overline{ZE}$  الى  $\overline{ZE}$  بالشكل  
 الاول من السابعة فنسبة  $\overline{ZE}$  الى  $\overline{ZE}$  كنسبة  $\overline{ZE}$  الى  $\overline{ZE}$  بالشكل  
 مثلثة بالتكرير فنسبة مجسم  $\overline{AB}$  الى مجسم  $\overline{QZ}$  كنسبة  $\overline{ZE}$  الى  $\overline{ZE}$  مثلثة  
 بالتكرير بالشكل الحادي عشر من الخامسة ونسبة  $\overline{ZE}$  الى  $\overline{ZE}$  كنسبة  
 الزاوي  $\overline{PSE}$  وكنسبة  $\overline{ZE}$  الى  $\overline{ZE}$  فنسبة  $\overline{ZE}$  الى  $\overline{ZE}$  و $\overline{ZE}$  الى  $\overline{ZE}$  مثلثة  
 بالتكرير كنسبة  $\overline{ZE}$  الى  $\overline{ZE}$  مثلثة بالتكرير فبالشكل الحادي عشر من  
 الخامسة نسبة مجسم  $\overline{AB}$  الى مجسم  $\overline{QZ}$  كنسبة كل واحد من خطوط  $\overline{ZE}$   
 الى  $\overline{ZE}$  و $\overline{ZE}$  الى  $\overline{ZE}$  مثلثة بالتكرير فالحكم ثابت وذلك  
 ما اردنا ان نبين

لر

كل خطين قاما على نقطتي زاويتين مسطحتين  
 متساويتين في السمك واحاط احدهما مع ضلعي

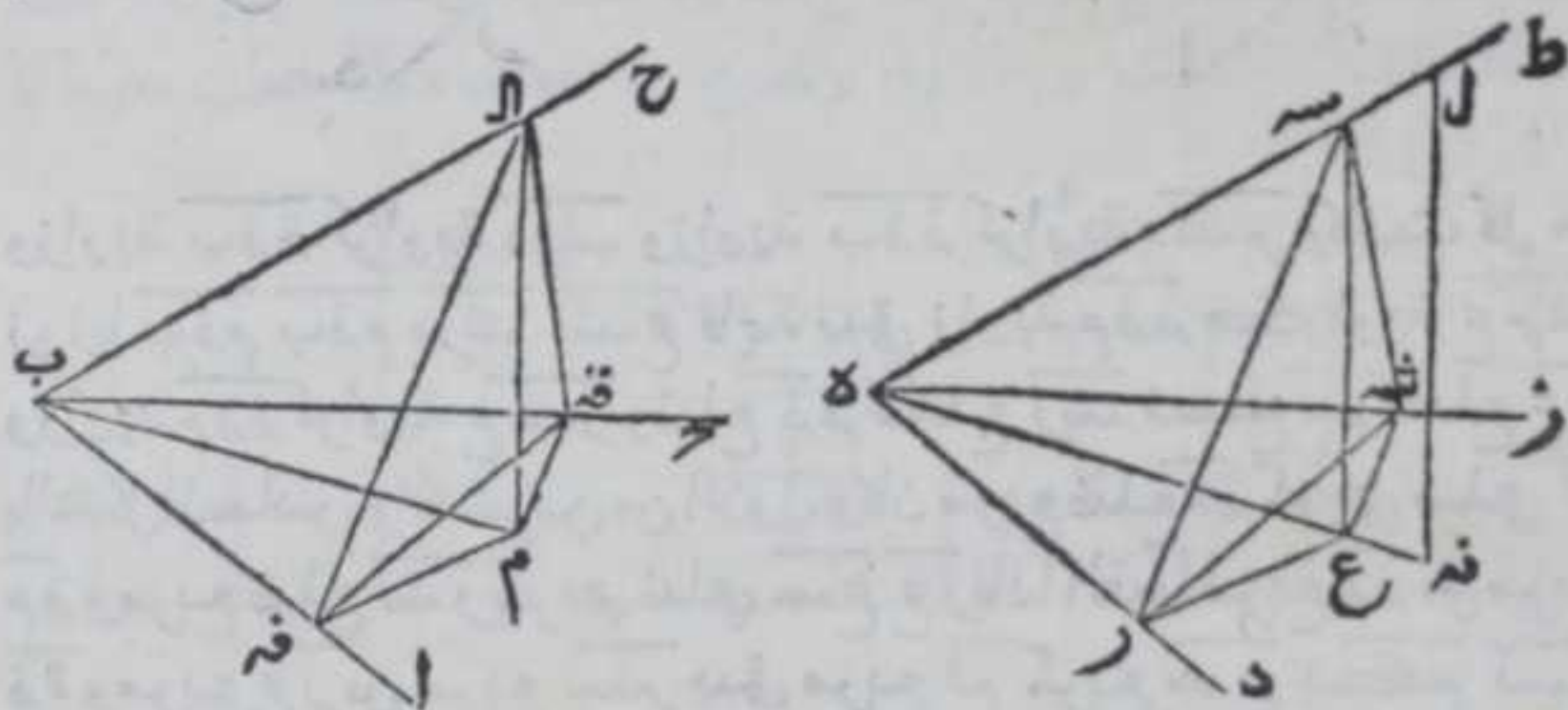
زاويتيه



زاويتيہ بزائوتین مساویتین للزائوتین اللتین بحیط  
بہا الخط الآخر مع ضلعي زاويتيہ كل لنظيرتها  
واخرج من نقطتين علي الخطین كيف ما وقعا  
عمودان علی سطحی الزائوتین ووصل بين نقطتي  
الزائوتین وبين مسقط العمودين بخطین فالزائوتان  
اللتان بحیط بها الخطان الحادثان والخطان الواقعان

في السمك متساويتان

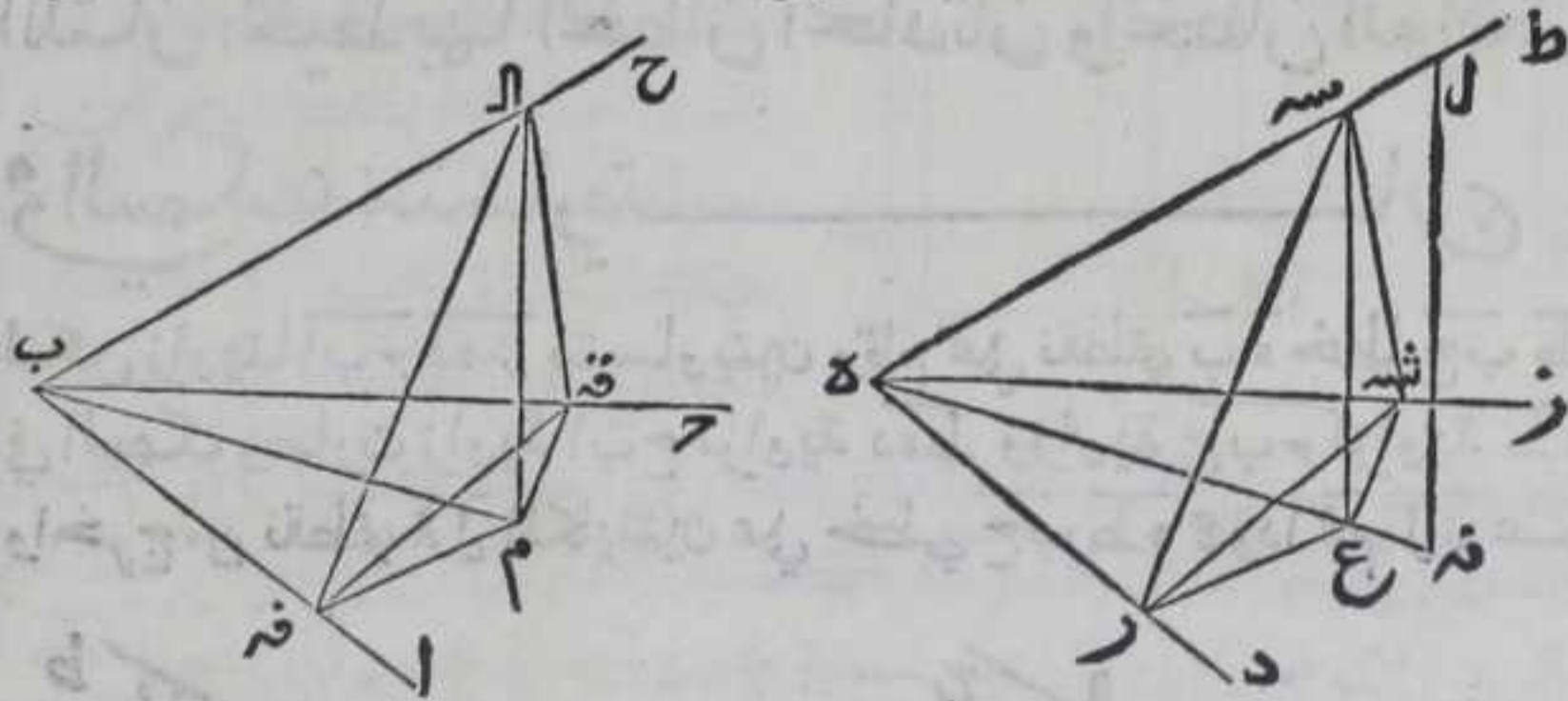
لتكن زاويتا  $أ ب ح$  و  $د ه ز$  متساويتين وقام علي نقطتي  $ب$  و  $ه$  خطا  $ح ب ط$  و  
في السمك وصارت زاوية  $أ ب ح$  كزاوية  $د ه ط$  وزاوية  $ح ب ز$  كزاوية  $ط ه ز$   
واخرج من نقطتي  $أ$  و  $د$  الكائنتين علي خطي  $ح ب ط$  عمودا  $ا م$  و  $ل ن$  علي



سطحي زاويتي  $أ ب ح$  و  $د ه ز$  ووصل  $ب م$  و  $ه ن$  بخطين مستقيمين فاقول ان زاوية  
 $ح ب م$  كزاوية  $ط ه ن$  برهانہ فان لم يكن له كخط  $أ ب$  تفصل من  
اعظهما وليكن هـ  $و ل$  هـ كخط  $أ ب$  بالشكل الثالث من الاولي ونخرج  
من نقطة  $س$  عمود  $س ع$  علي خط  $ه ن$  بالشكل الثاني عشر من الاولي فهو  
مواز لعمود  $ل ن$  بالشكل الثامن والعشرين من الاولي ولنه عمود علي سطح  
زاوية  $د ه ز$  ف  $س ع$  عمود عليه ايضا بالشكل الثامن ونخرج من نقطة  $م$   
عمودي  $م ق$  علي ضلعي  $أ ب$  و  $ح$  ومن نقطة  $ع$  عمودي  $ع ر$  علي  
ضلعي  $د ه$  و  $ز$  بالشكل الثاني عشر من الاولي ونصل  $ق د$  و  $ق ر$  و  $ق م$  و  $ق ن$   
 $س ه$  بخطوط مستقيمة فلان مربع  $أ ب م$  مربعي  $م ب م$  و  $م ب م$  مربعي  $م ب م$



مكربعي فب فم بالشكل السابع والاربعين من الاولي فربع با مكربعات  
 الم م ف فب لكن مربع الفه مكربعي الم م ف بالشكل السابع والاربعين من  
 الاولي فربع با مكربعي ب ف فم فبالشكل الثامن والاربعين من الاولي  
 زاوية ب ف فم قائمة وبمثله تبين ان مربع با مكربعي الفه ت ف وان مربع  
 هسه مكربعي سر ر ه ومكربعي س ه ه سه ولان زاويتي الفه ب ف و ضلع  
 اب من مثلث الفه كزاويتي سه ه ر و ضلع سه ه من مثلث سه ه ر  
 فضلع الفه كضلع سه ر و ضلع ب ف كضلع ه ر بالشكل السادس والعشرين  
 من الاولي وبمثله تبين ان ضلع الفه كضلع سه ه و ضلع ب ف كضلع ه ه  
 فضلعا ب ف ب ف وزاوية ف ب ف من مثلث ف ب ف كضلعي ه ر ه ه وزاوية  
 ه ه ه من مثلث ه ه ه فبالشكل الرابع من الاولي قاعدة ف ه كقاعدة ر ه ه



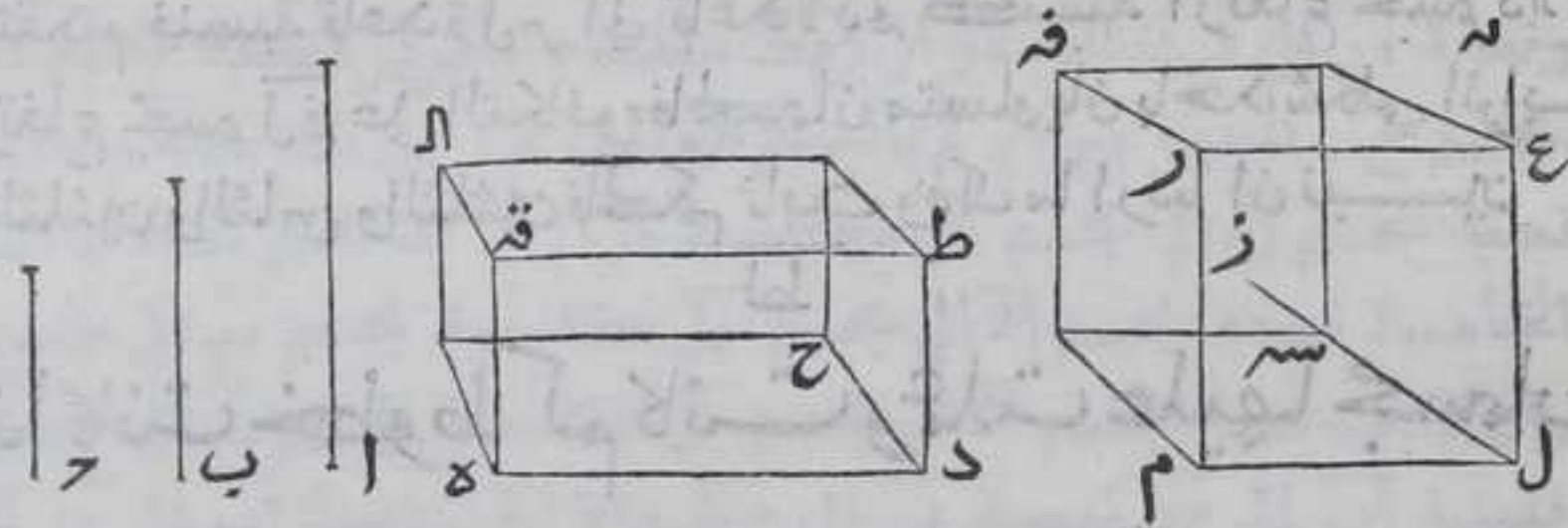
وزاوية ب ف فم كزاوية ه ر ه و زاوية ب ف فم كزاوية ه ه ه وكانت كل من  
 زوايا ب ف م ب ف م ه ر ه ه ه قائمة تبقي زاوية م ف فم كزاوية ع ر ه ه  
 وزاوية م ف فم كزاوية ع ه ر و ضلع ف ه كضلع ر ه ه فضلع م ف كضلع ع ر  
 بالشكل السادس والعشرين من الاولي وكان مربع ضلع الفه مكربعي ضلعي الم  
 م ف ومربع ضلع سه ر مكربعي ضلعي سه ع ع ر فاذا القينا مربع م ف من مربع  
 ف ه ومربع ع ر من مربع سه ر يبقئ مربع الم مكربع سه ع فكم كسه  
 وكان مربع ب م مكربعي ب ف م ف ومربع ه ع مكربعي ع ر ه ه فضلع ب م  
 كضلع ه ع فاضلاع مثلث اب م كاضلاع مثلث سه ه ع المتناظرة  
 فزاوية اب م كزاوية سه ه ع بالشكل الثامن من الاولي وان كان له كخط  
 اب فلا يحتاج الي اخراج عمود سه ع وتبين كما بينا وذلك ما اردنا ان نبين  
 ولهذا الشكل اختلاف وقوع فان العمود يمكن ان يقع على احد ضلعي  
 الزاويتين او على نقطتي ب ه فحينئذ لا يحتاج الي بيان واخراج شي من  
 المخطوط فيكون الخطان عمودين على سطحي الزاويتين بالشكل الرابع  
 فتكون الزوايا التي تحيط العمودان مع كل من الضلعين ومع اي خط  
 مستقيم يخرج من نقطتي ب ه في سطحي الزاويتين قوايم ويمكن ان يقع  
 خارج الزاويتين فيحتاج الي اخراج احد ضلعي الزاويتين او كليهما ثم  
 تبين



تعيين بمثل ما بينا ويمكن ان يقع بين ضلعي الزاويتين وبيناهما

كل مجسمين تحيط باحدهما سطوح متوازية كل ضلع من اضلاعها يساوي احد ثلثة خطوط متناسبه وبالاخر سطوح متوازية كل واحد من اضلاعها يساوي الخط الثاني من الثلثة الخطوط المتناسبة وتكون الزوايا المتناظرة من السطوح المحيطة بالمجسمين متساوية فانهما متساويتان

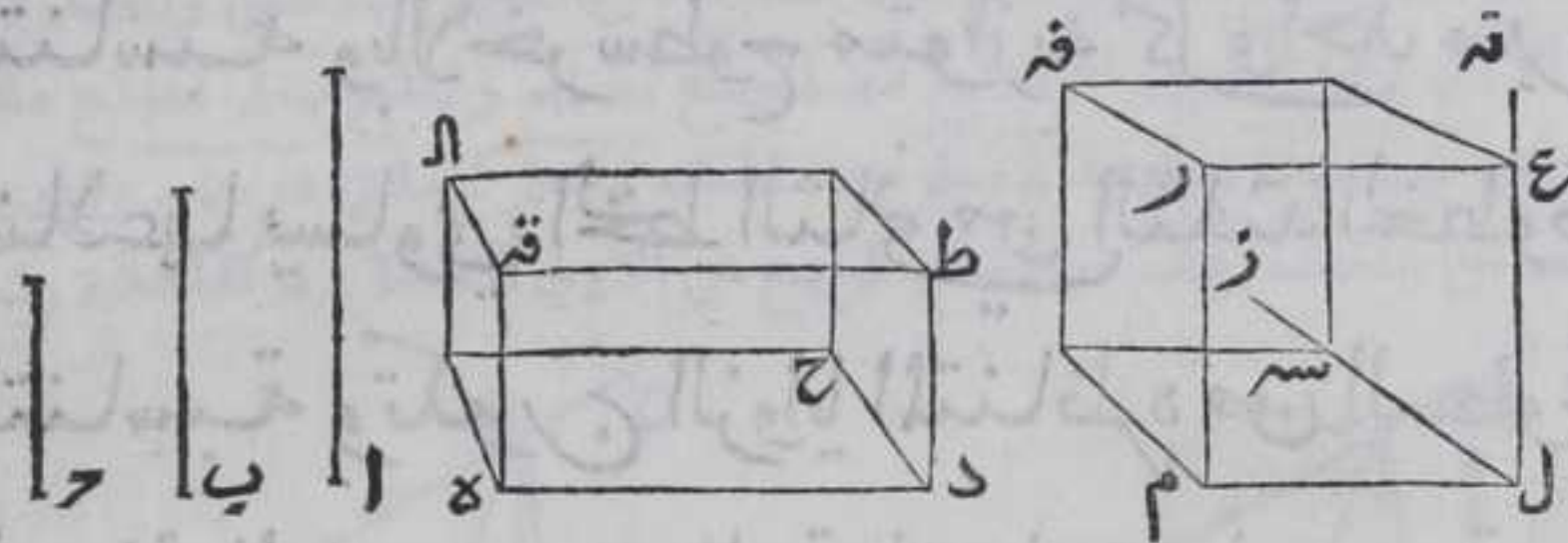
ليكن الخطوط المتناسبة  $آ ب$  -  $ح$  نسبة  $آ$  الي  $ب$  كنسبة  $ب$  الي  $ح$  وليكن خط  $د ه$  كخط  $آ$  ونرسم علي نقطة  $د$  منه زاوية مجسمة كيف اتفق وهي التي يحيط بها سطوح  $د ط$   $ح د ه$   $ح د ط$  ولنجعل  $ح د$  كخط  $ب$  و  $د ط$  كخط  $ح$  بالشكل الثالث من الاولي ونخرج من نقطتي  $ه ط$  خطي  $ه ق$   $ط ق$



متوازيين لخطي  $د ط$   $د ه$  بالشكل الواحد والثلاثين من الاولي فهما يتلاقبان لانا اذا وصلنا  $ه ط$  بخط مستقيم تكون زاويتنا  $د ه ط$   $د ط ه$  اقل من قائمتين بالشكل السابع عشر من الاولي وهما كزاويتي  $ق ط ه$   $ق ه ط$  بالشكل التاسع والعشرين من الاولي فليبتلقبا علي نقطة  $ق$  وبمثله نتمم مجسم  $د ل$  فتكون السطوح المحيطة به متوازية لتوازي اضلاعها ولنفصل من خط مستقيم خط  $ل م$  كخط  $ب$  بالشكل الثالث من الاولي ونرسم علي نقطة  $ل$  منه زاوية مجسمة كزاوية  $د$  بالشكل السادس والعشرين علي ان تكون زاوية  $م ل ز$  كزاوية  $د ح$  وزاوية  $ز ل ن$  كزاوية  $ح د ط$  وزاوية  $م ل ن$  كزاوية  $ه د ط$  ونفصل من  $ل ز$   $ل م$  ومن  $ل ن$   $ل ع$  مساويين لخط  $ب$  بالشكل الثالث من الاولي ونتمم مجسم  $ل ق$  علي قياس مجسم  $د ل$  ولان نسبة  $د ه$  الي  $ل م$  كنسبة



آ الي ب ونسبة آ الي ب كنسبة آ الي ل م بالشكل السابع من الخامسة  
 فبالشكل الحادي عشر من الخامسة نسبة ده الي ل م كنسبة آ الي ل ب  
 ونسبة ب الي ح كنسبة آ الي ب فبالشكل الحادي عشر من الخامسة نسبة  
 ح الي ل م كنسبة ب الي ح ونسبة ل ع الي د ط كنسبة ب الي د ط ونسبة  
 ب الي ح كنسبة ب الي د ط بالشكل السابع من الخامسة فبالشكل الحادي  
 عشر من الخامسة نسبة ل ع الي د ط كنسبة ب الي د ط فبهذا الشكل



بعينه نسبة ده الي ل م كنسبة ل ع الي د ط وزاوية م ل ع كزاوية ه د ط  
 فقاعدة د ق كقاعدة ل م بالشكل الرابع من السادسة والشكل الرابع  
 والثلاثين من الاولي بعد اخراج قطري م ع ط ه ولان مجسمي د ل ق ه  
 متوازيي السطوح المحيطة بهما لتوازي اضلاعها وضلعها د ح ل س ه  
 متساويان وجعلناهما سمكهما فيكون ارتفاعها بقدر واحد بالشكل  
 المتقدم فنسبة قاعدة ل م الي قاعدة د ق كنسبة ارتفاع مجسم د ل ق الي  
 ارتفاع مجسم ل ق ه علي التكافؤ فالمجسمان متساويان باحد شكلي الرابع  
 والثلاثين والثامن والثلاثين بالحكم ثابت وذلك ما اردنا ان نبين  
 ل ط

ان كانت خطوط كم كانت وعملت عليها مجسمات

متوازية الاضلاع متشابهة علي حلقه واحده فان

كانت الخطوط متناسبة كانت المجسمات متناسبة

وان كانت المجسمات متناسبة كانت الخطوط

متناسبة

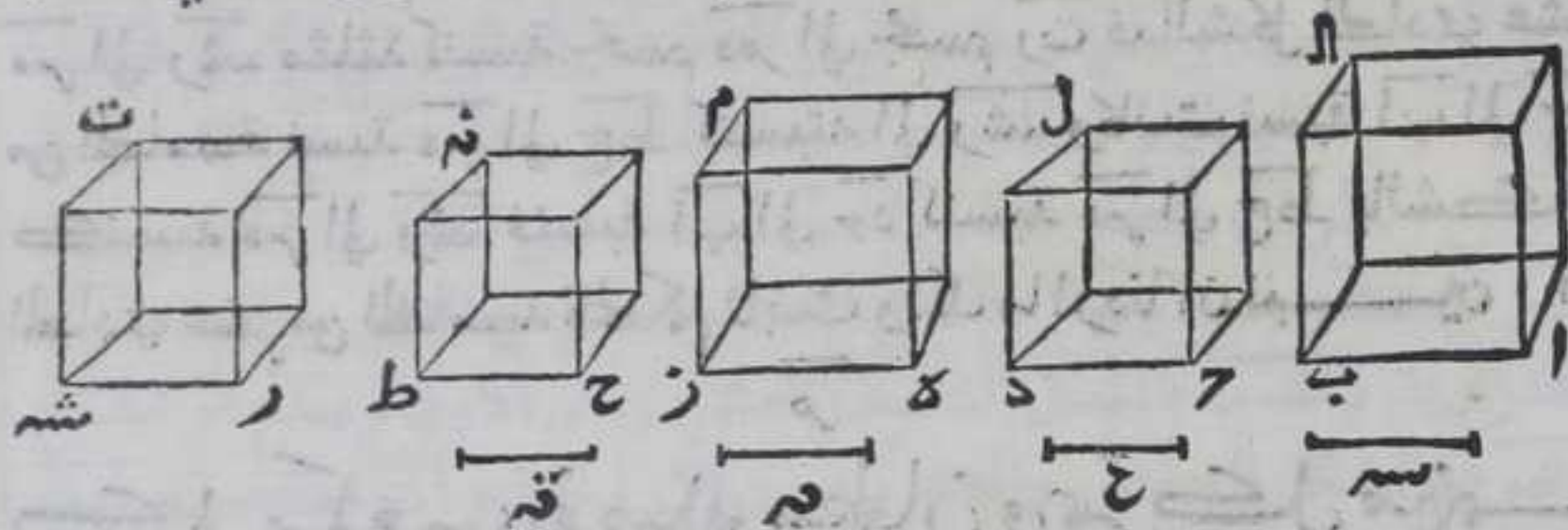
لتكن آ ب ح د ه ر ح ط اربعة خطوط وعملت عليها مجسمات آ ل ح ل م  
 ح ن متوازية السطوح المحيطة بها ومتشابهة كلها علي حلقه واحده  
 بالشكل السابع والعشرين فاقول ان كانت نسبة آ ب الي ح د كنسبة ه ر  
 الي ح ط



# الحادية عشر

٣٣ ٤

الي ح ط كانت نسبة مجسم آ الى مجسم حل كنسبة مجسم دل الى مجسم ح نه وبالعكس برهانها ولجد الخطي اب حد ثلثا ورابعي النسبة



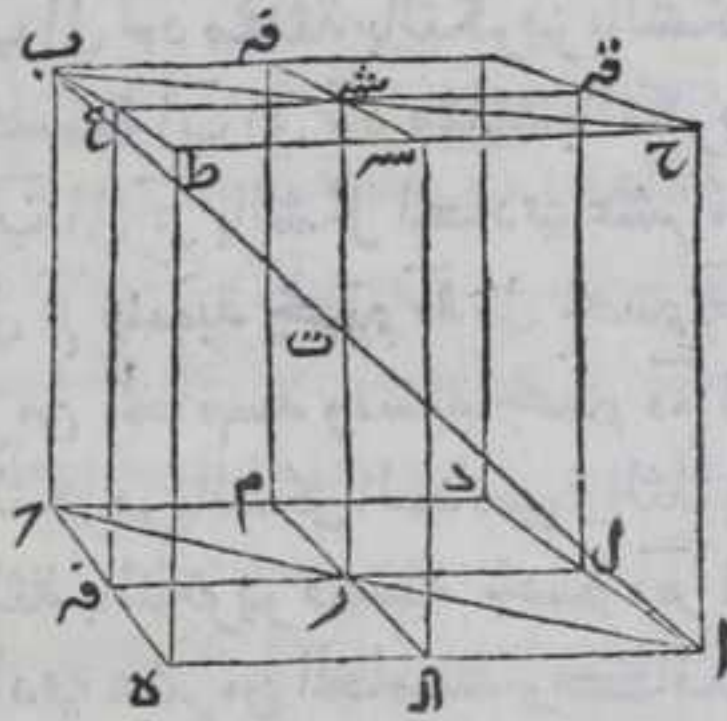
وهما س ع ولخطي ه ر ح ط كذلك وهما خطا قه بالشكل العاشر والحادي عشر من السادسة فنسبة اب الي حد كنسبة ر الي ح ط ونسبة حد الي س كنسبة ح ط الي ق ونسبة س الي ع كنسبة ق الي ر فبالمساوات المنتظمة نسبة اب الي ع كنسبة ر الي ق بالشكل الثالث والعشرين من الخامسة ونسبة مجسم آ الى مجسم حل كنسبة اب الي حد مثلثة بالتكرير بالشكل السادس والثلاثين ونسبة اب الي ع كنسبة اب الي حد مثلثة بالتكرير فنسبة مجسم آ الى مجسم حل كنسبة اب الي ع بالشكل الحادي عشر من الخامسة ونسبة ه ر الي ق كنسبة اب الي ع فنسبة مجسم آ الى مجسم حل كنسبة ه ر الي ق بالشكل الحادي عشر من الخامسة ونسبة ه ر الي ح ط مثلثة بالتكرير فنسبة مجسم ه ر الي مجسم ح نه كنسبة ه ر الي ق بالشكل الحادي عشر من الخامسة وكانت نسبة مجسم آ الى مجسم حل كنسبة ه ر الي ق فبالشكل الحادي عشر من الخامسة نسبة مجسم آ الى مجسم حل كنسبة مجسم ه ر الي مجسم ح نه وان كانت نسبة مجسم آ الى مجسم حل كنسبة مجسم ه ر الي مجسم ح نه فنسبة اب الي حد كنسبة ه ر الي ح ط والا لكان نسبة اب الي حد كنسبة ه ر الي ح ط ونعمل عليه مجسم رت شبيها بمجسم ح نه بالشكل السابع والعشرين فيكون شبيها بمجسم ه ر لان السطوح المحيطة بمجسم ه ر شبيهة بالسطوح المحيطة بمجسم ح نه النظير للنظير والسطوح المحيطة بمجسم رت شبيهة بالسطوح المحيطة بمجسم ح نه النظير للنظير فالسطوح المحيطة بمجسم ه ر شبيهة بالسطوح المحيطة بمجسم رت النظير للنظير بالشكل الثامن عشر من السادسة فمجسم رت شبيه بمجسم ه ر فنسبة مجسم ه ر الي مجسم رت كنسبة مجسم آ الى مجسم حل بما تقدم في هذا الشكل وكانت نسبة مجسم ه ر الي مجسم ح نه كنسبة مجسم آ الى مجسم حل فبالشكل الحادي عشر من الخامسة نسبة مجسم ه ر الي مجسم ح نه كنسبة الي مجسم رت ونسبة ه ر الي ح ط مثلثة كنسبة مجسم



دم الى مجسم حنه بالشكل السادس والثلاثين فنسبة هر الى ح ط مثلثة  
كنسبة مجسم هم الى مجسم رت بالشكل الحادي عشر من الخامسة ونسبة  
هر الى ر شه مثلثة كنسبة مجسم هم الى مجسم رت فبالشكل الحادي عشر  
من الخامسة نسبة هر الى ح ط كنسبته الى ر شه وكانت نسبة اب الى جد  
كنسبة هر الى ر شه فنسبة اب الى جد كنسبة هر الى ح ط بالشكل  
الحادي عشر من الخامسة فالحكم ثابت وذلك ما اردنا ان نبين

كل مكعب يفصله سطحان ويمر كل منهما  
بانصاف اضلاع سطحين متقابلين من السطوح  
المحيطة به فان الفصل المشترك بين السطحين وقطر

المكعب يتناصفان



ليكن المكعب اب والسطحان  
المتقابلان من السطوح المحيطة به  
سطحي ا ب ح و ق س ت  
فقط ا ل م ن ه ق ر ع وفصل  
المكعب بسطحي ا ل ع فبنقاطها علي  
نقطتي مر شه ونصل مر شه اب بخطين  
مستقيمين فاقول ان كل واحد من

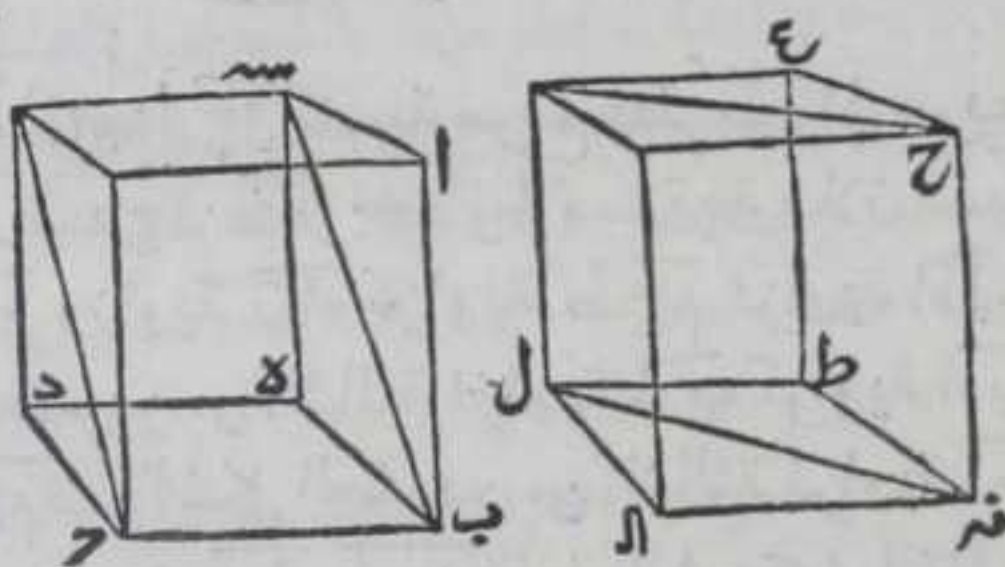
خطي اب ر شه ينصف الآخر علي نقطة وهي نقطة ت برهانه ليكن  
الفصل المشترك بين السطحين المتقاطعين والمتقابلين خطوط ا ل ر ن ه  
س ه ق ر ع وهي مستقيمة بالشكل الثالث ونصل ا ر ح ر ب شه س ح بخطوط  
مستقيمة فلان السطوح المحيطة بالمكعب متوازية الاضلاع فالاضلاع  
المتقابلة من كل سطح منها متساوية بالشكل الرابع والثلاثين من الاولي  
فانصافها ايضا متساوية فلان ا د يوازي ح ه فزاويتي ا ل ر ح ه  
المتقابلتان متساويتان بالشكل التاسع والعشرين من الاولي وضلعي ال  
ل ر كضلعي ح ه ن ه فزاوية ا ر ل كزاوية ح ر ن ه بالشكل الرابع من الاولي  
ولان زاويتي ا ر ن ه ا ر ل كزاويتي ا ر ل ح ر ن ه فتكون زاويتي ا ر ن ه  
كزاويتي ا ر ل ح ر ن ه معا فزاويتي ا ر ن ه كزاويتي ا ر ل ح ر ن ه  
احدهما علي استقامة الآخر بالشكل الرابع عشر من الاولي وبمثله تبين ان  
خطي ب شه ح شه احدهما علي استقامة الآخر وخطا ب ح ا ح يوازيان  
خط



خط  $هـ ط$  بالشكل الرابع والثلاثين من الاولي ولبيست المخطوط الثلاثة في  
 سطح واحد فخط  $ا ح ب$  متوازيان ومتساويان بالشكل التاسع فخطا  
 $ا ب ح$  متساويان ومتوازيان بالشكل الثالث والثلاثين من الاولي فخطا  
 $ا ب س$  متساويان وخطا  $ا ب ر ت$  كائنان في سطح  $ا ب ح$  بالشكل  
 السابع فقطر  $ا ب$  يقطع خط  $ر ت$  فليقطعه على نقطة  $ت$  فلان زاويتي  
 $ا ت ر$   $ب ت س$  متساويتان بالشكل الخامس عشر من الاولي وزاوية  $ا ر ت$   
 كزاوية  $ب س ت$  بالشكل التاسع والعشرين من الاولي وضيع  $ا ر ك$  ضلع  
 $ب س$  فبالشكل السادس والعشرين من الاولي ضلع  $ا ت$  كضلع  $ب ت$   
 وضيع  $ر ت$  كضلع  $ت س$  وذلك ما اردنا ان نبين

كل منشورين ارتفاعهما بقدر واحد وقاعدة  
 احدهما مثلث وقاعدة الآخر سطح متوازي الاضلاع  
 ضعف ذلك المثلث فهما متساويان

ليكن  $ا ب ج د هـ$  منشورا قاعدته سطح  $ج د هـ$  المتوازي الاضلاع و  $ح$  نه ال  $ط$   
 منشورا اخر قاعدته  
 مثلث نه ال  $و س ط$  و  $ج$   
 ضعف مثلث نه ال  
 وارتفاعهما بقدر واحد  
 فاقول ان المنشورين  
 متساويان برهانه نتم  
 بجسمي  $ا ب ج د هـ$  كما بينا



في الشكل السادس والثلاثين فلان متوازي الاضلاع  $ط ا ل$  ضعف مثلث  
 نه ال بالشكل الرابع والثلاثين من الاولي وكان سطح  $ب د$  ضعف مثلث  
 نه ال فقاعدتا  $ب د ط ا$  متساويتان فجسمي  $ا ب ج د هـ$  علي قاعدتين  
 متساويتين وبارتفاع واحد فهما متساويان بالشكل الواحد والثلاثين  
 والثاني والثلاثين والمنشوران نصفا الجسمين بالشكل الثامن والعشرين  
 فهما متساويان وذلك ما اردنا ان نبين

تمت المقالة الحادية عشر والحمد لله المساعد

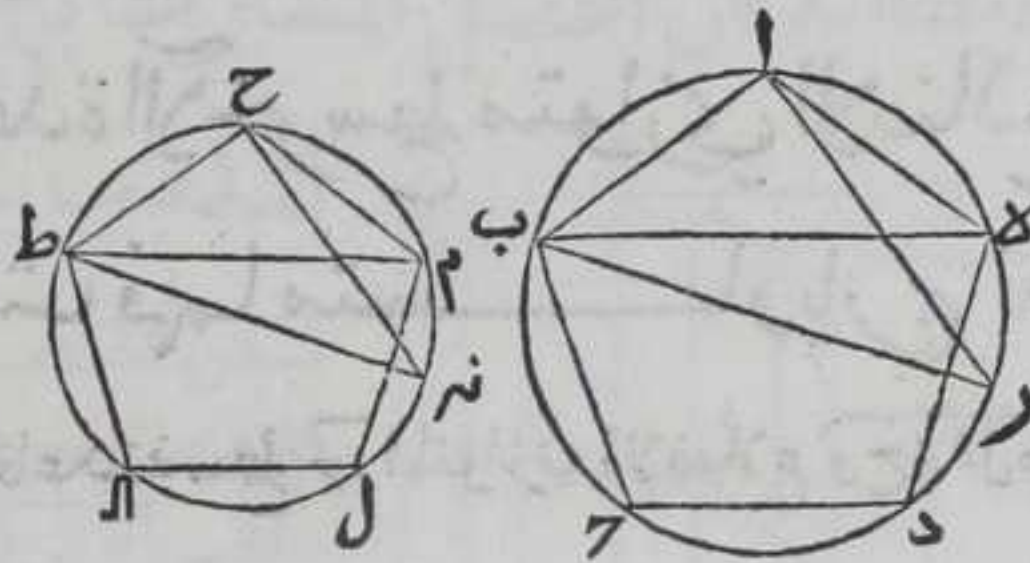


# المقالة الثانية عشر وهي كلاً

كل سطحين كثيري الاضلاع والزوايا المتشابهين  
الواقعين في دايرتين فان نسبة احد السطحين الى  
الآخر كنسبة مربع قطر دايرته الى مربع قطر

الدايرة الاخرى

ليكن سطحاً  $AB$  حده  
حط  $AM$  كثير الاضلاع  
والزوايا المتشابهان في  
دايرتين قطرهما  $BA$   
طنه فاقول ان نسبة سطح



اد الى سطح  $AD$  كنسبة مربع قطر  $BA$  الى مربع قطر  $AD$  برهانه نصل  
اربه  $CH$  نه  $PM$  بخطوط مستقيمة فلان نسبة  $AB$  الى  $AD$  كنسبة  $AE$  الى  
ح  $M$  وزاوية  $BAE$  كزاوية  $PMH$  فزاوية  $ABE$  كزاوية  $CHM$  بالشكل  
العشرين من الثالثة فزاوية  $ABE$  كزاوية  $AEH$  وزاوية  $CHM$  كزاوية  
ح  $M$  ط بالشكل العشرين من الثالثة فزاوية  $ABE$  كزاوية  $CHM$  وكل  
من زاويتي  $BAE$   $CHM$  قائمة بالشكل الثلثين من الثالثة فزاوية  $BAE$  مثلث  
اب  $R$  كزاوية  $CHM$  بالشكل الثاني والثلثين من الاولي فمثلث  $ABR$   
شبيه بمثلث  $CHM$  بالشكل الرابع من السادسة فنسبة  $BA$  الى  $AD$   
كنسبة  $AB$  الى  $AD$  فنسبة  $BA$  الى  $AD$  كنسبة  $AB$  الى  $AD$   
مثناة ونسبة سطح  $AD$  الى سطح  $AD$  كنسبة  $AB$  الى  $AD$  مثناة بالشكل التاسع  
عشر من السادسة فنسبة سطح  $AD$  الى سطح  $AD$  كنسبة  $BA$  الى  $AD$  مثناة  
بالشكل الحادي عشر من الخامسة ونسبة مربع  $BA$  الى مربع  $AD$  كنسبة  
 $BA$  الى  $AD$  مثناة بالشكل التاسع عشر من السادسة فبالشكل الحادي  
عشر من الخامسة نسبة سطح  $AD$  الى سطح  $AD$  كنسبة مربع  $BA$  الى مربع  
طنه قطري الدايرتين والحكم ثابت وذلك ما اردنا ان نبين

ب

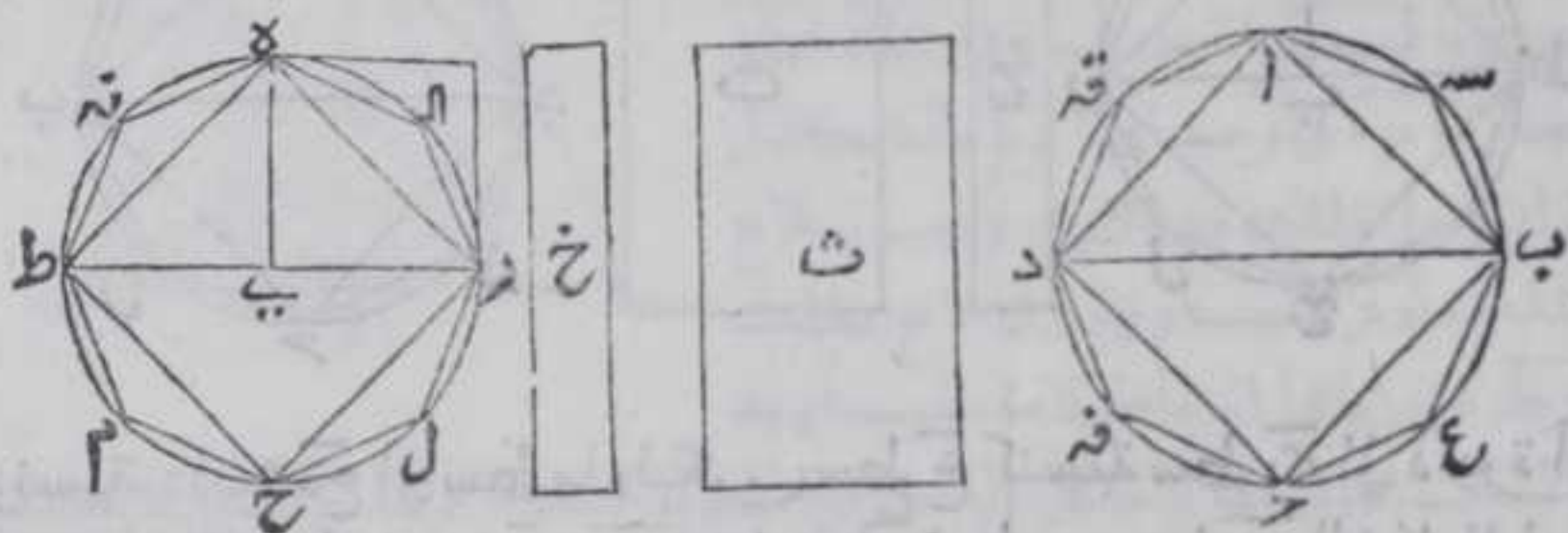
كل



كل دائرتين نسبة مربعي قطريهما كنسبتهما

النظير من الذي ظير

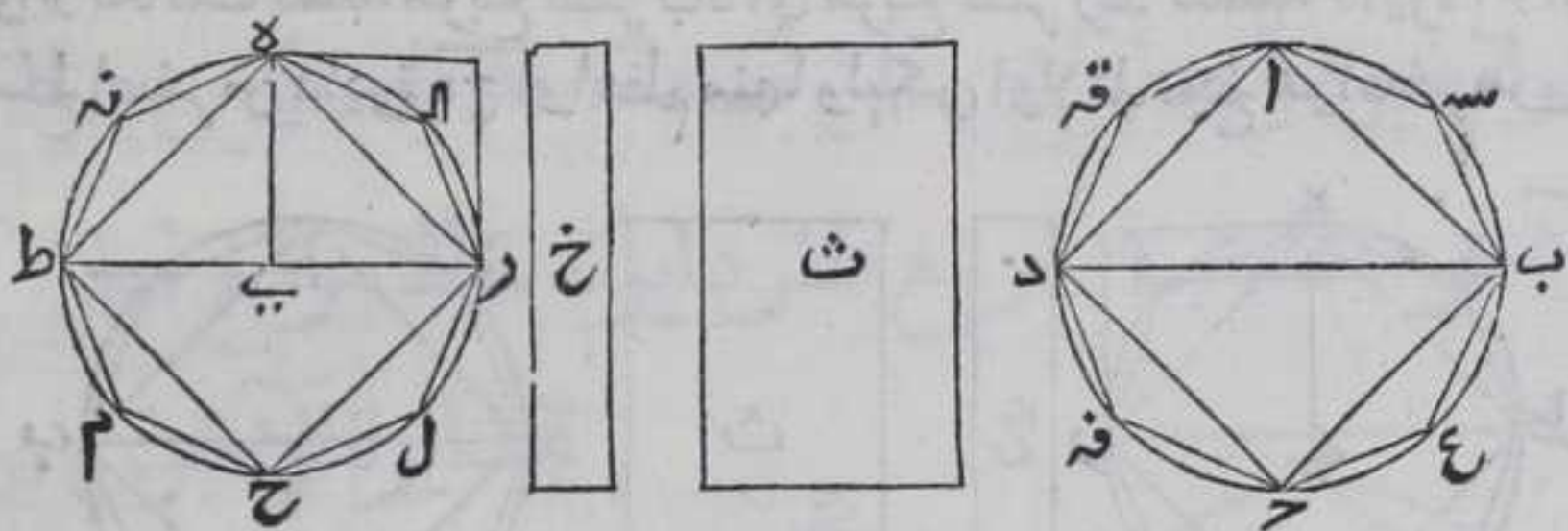
ليكن  $ب د$  قطر دائرة  $ا ب ج د$  و  $ر ط$  قطر دائرة  $ه ح ط$  فاقول ان نسبة مربع قطر  $ب د$  الي مربع قطر  $ر ط$  كنسبة دائرة  $ا ب ج د$  الي دائرة  $ه ح ط$  برهانه والا لكانت نسبة مربع قطر  $ب د$  الي مربع قطر  $ر ط$  كنسبة دائرة  $ا ب ج د$  الي سطح اصغر من دائرة  $ه ح ط$  او اعظم منها وليكن اولي  $ا$  الي سطح هو اصغر من



دائرة  $ه ح ط$  وليكن هو سطح  $ث$  وليكن سطح  $خ$  كفضل دائرة  $ه ح ط$  علي سطح  $ث$  ولنرسم في دائرة  $ه ح ط$  مربع  $ه ر ح ط$  بالشكل السادس من الرابعة فسطح  $ه ر ح ط$  اعظم من نصف دائرة  $ه ح ط$  فننصف قطر  $ر ط$  بالشكل العاشر من الاولي علي نقطة  $ز$  ونخرج من نقطتي  $ر$  و  $ز$  عمودي  $ر ه$  و  $ر ز$  علي قطر  $ر ط$  بالشكل الحادي عشر من الاولي ونفصل  $ر ه$  مثل  $ه د$  بالشكل الثالث من الاولي ونصل  $ه ه$  بخط مستقيم فخط  $ر ه$   $ه د$  متوازيان بالشكل الثامن والعشرين من الاولي وخط  $ه ه$  مواز لخط  $ر ز$  بالشكل الثالث والثلاثين من الاولي ومثلث  $ه ر ز$  الذي هو نصف سطح  $ه ح ط$  المتوازي الاضلاع بالشكل الرابع والثلاثين من الاولي الذي هو اعظم من رابع دائرة  $ه ر ح ط$  فشكل  $ه ر ح ط$  اعظم من نصف دائرة  $ه ح ط$  ثم فننصف قطع  $ه ر ح ط$   $ح ط$   $ط ه$  بالشكل التاسع والعشرين من الثالثة علي نقطتي  $ا ل م ن$  ونصل  $ا ل$   $ا م$   $ا ن$   $ل ح$   $م ح$   $ن ح$   $ط ن$   $ه ن$  بخطوط مستقيمة فثلثات  $ا ل ر$   $ا م ر$   $ا ن ر$   $ح م ط$   $ط ن ه$  اعظم من انصاف القطع الاربعة وهكذا نعمل الي ان يبقى من الدائرة ما هو اقل من سطح  $خ$  بالشكل الاول من العاشرة ولتكن هي القطع المذكورة فيكون سطح  $ا م$  الكثير الاضلاع اعظم من سطح  $ث$  ونعمل في دائرة  $ا ب ج د$  شكلا شبيها بشكل  $ا م$  كما عملنا وهو سطح  $ا س ب ج$  فهدية الكثير الاضلاع وكانت نسبة دائرة  $ا ب ج د$  الي سطح  $ث$  كنسبة مربع قطر  $ب د$  الي مربع قطر  $ر ط$  ونسبة كثير اضلاع  $ا س ب ج$  الي كثير اضلاع  $ا م$  كنسبة مربع قطر  $ب د$  الي مربع قطر  $ر ط$  بالشكل المتقدم فنسبة دائرة  $ا ب ج د$  الي سطح  $ث$  كنسبة سطح  $ا س ب ج$  الي سطح  $ا م$  بالشكل الحادي



عشر من الخامسة وبالإبدال نسبة دائرة آح إلى سطح سد ف كنسبة سطح ت  
إلى سطح ام الذي هو اعظم من سطح ت بالشكل السادس عشر من  
الخامسة لكن دائرة آح اعظم من سطح سد ف فسطح ت اعظم من سطح ام  
وهو اصغر منه هذا خلف ثم لتكن نسبة مربع قطر بد إلى مربع قطر  
رط كنسبة دائرة آح إلى سطح هو اعظم من دائرة هح وهو سطح ت  
فبالخلاف نسبة مربع رط إلى مربع بد كنسبة سطح ت إلى دائرة آح



ونسبة دائرة هح إلى سطح ما وليكن سطح خ كنسبة سطح ت إلى دائرة آح  
لكن سطح ت اعظم من دائرة هح فدائرة آح اعظم من سطح خ بالشكل الرابع  
عشر من الخامسة فبالشكل الحادي عشر من الخامسة نسبة مربع رط إلى  
مربع بد كنسبة دائرة آح إلى سطح خ فنذكر مثل ما دبرنا ونبين الخلف  
بمثل ما بيننا فلا يمكن ان تكون نسبة مربع بد إلى مربع رط كنسبة  
دائرة آح إلى سطح اصغر او اعظم من سطح دائرة هح فهي كنسبة دائرة آح  
إلى سطح مساو لدائرة هح ونسبة دائرة آح إلى دائرة هح كنسبتها إلى سطح  
مساو لدائرة هح بالشكل السابع من الخامسة فبالشكل الحادي عشر من  
الخامسة نسبة مربع بد إلى مربع رط كنسبة دائرة آح إلى دائرة هح  
وذلك ما اردنا ان نبين

كل مخروط مثلث القاعدة فلنا ان فصله

إلى مخروطين متساويين متشابهين يشبهان

المخروط الاعظم ومنشورين متساويين هما معا اعظم

من نصف المخروط الاعظم

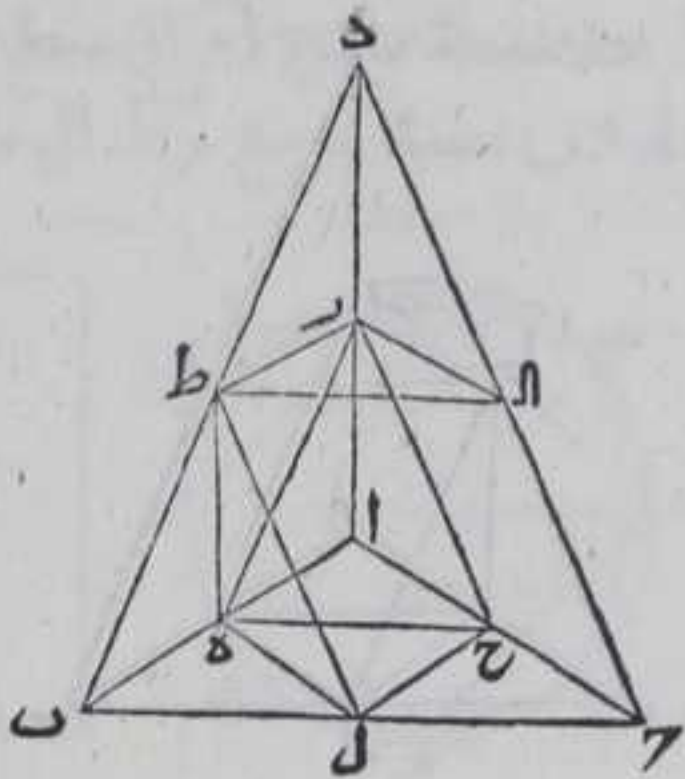
ليكن مخروط قاعدته مثلث آ ب ح وراسه نقطة د فاقول لنا ان فصله  
إلى مخروطين متساويين متشابهين يشبهان مخروط آ ب ح ومنشورين  
متساويين هما معا اعظم من نصف المخروط الاعظم برهانه ننصف  
كل







فزاياها المتناظرة متساوية فنسبة  $\overline{AB}$  الى  $\overline{MP}$  كنسبة  $\overline{BD}$  الى  $\overline{DP}$   
 وكنسبة  $\overline{AD}$  الى  $\overline{DR}$  بالشكل الرابع من السادسة فثلثا  $\overline{AB}$   $\overline{DR}$  متشابهان  
 وبمثلته تبين ان مثلثي  $\overline{DR}$   $\overline{AD}$  متشابهان وكذلك مثلثا  $\overline{DB}$   $\overline{DP}$   $\overline{DR}$   
 فالمثلثات المحيطة بمخروط  $\overline{AB}$   $\overline{DR}$  تشبه المثلثات المحيطة بمخروط  $\overline{AD}$   $\overline{DR}$   
 شبيهة بالمثلثات المحيطة بمخروط  $\overline{AB}$   $\overline{DR}$   
 فالمثلثات المحيطة بمخروط  $\overline{AB}$   $\overline{DR}$   
 شبيهة بالمثلثات المحيطة بمخروط  $\overline{AD}$   $\overline{DR}$   
 بالشكل الواحد والعشرين من  
 السادسة فمخروط  $\overline{AB}$   $\overline{DR}$   $\overline{AD}$   
 متشابهان ولان المنشور الذي يحيط به  
 مثلثا  $\overline{BP}$   $\overline{DR}$  وسطوح  $\overline{DP}$   $\overline{DR}$   
 $\overline{BP}$   $\overline{DR}$  المتوازية الاضلاع والمنشور الذي  
 يحيط به مثلثا  $\overline{DR}$   $\overline{DR}$  وسطوح  
 $\overline{DR}$   $\overline{DR}$  المتوازية الاضلاع



ارتفاعها واحد لان مثلث  $\overline{DR}$   $\overline{AD}$  يوازي مثلث  $\overline{AB}$   $\overline{DR}$  فالاعمدة النازلة  
 من اي نقطة من نقط  $\overline{DR}$   $\overline{AD}$  علي سطح مثلث  $\overline{AB}$   $\overline{DR}$  متساو وبعضها لبعض  
 وقاعدة احدهما وهو متوازي الاضلاع  $\overline{BP}$   $\overline{DR}$  ضعف قاعدة  $\overline{DR}$   $\overline{DR}$  لانا ان  
 وصلنا  $\overline{DR}$  بخط مستقيم كان سطح  $\overline{BP}$   $\overline{DR}$  ضعف مثلث  $\overline{DR}$   $\overline{DR}$  بالشكل الرابع  
 والثلاثين من الاولي وكان مثلثا  $\overline{DR}$   $\overline{DR}$  متساويين بالشكل السادس  
 والثلاثين من الاولي فالمنشوران متساويان بالشكل الحادي والاربعين من  
 الحادية عشر ولان ارتفاع مخروط  $\overline{DR}$   $\overline{DR}$  كارتفاع منشور  $\overline{DR}$   $\overline{DR}$   
 وقاعدتاها اعني مثلثي  $\overline{DR}$   $\overline{DR}$  متساويان بالشكل السادس والثلاثين  
 من الاولي وراس المخروط نقطة  $\overline{DR}$  وراس المنشور مثلث  $\overline{DR}$   $\overline{DR}$  فالمنشور  
 اعظم من مخروط  $\overline{DR}$   $\overline{DR}$  فالمنشوران معا اعظم من مخروطي  $\overline{DR}$   $\overline{DR}$   
 معا فالمنشوران معا اعظم من نصف مخروط  $\overline{AB}$   $\overline{DR}$  فالحكم ثابت وذلك  
 ما اردنا ان نبين

وقد استبان منه ان لنا ان نفصل كل مخروط من مخروطي  $\overline{DR}$   $\overline{DR}$   
 الي مخروطين متساويين متشابهين واي منشورين هما معا اعظم من  
 مخروطيهما وهكذا الي غير النهاية

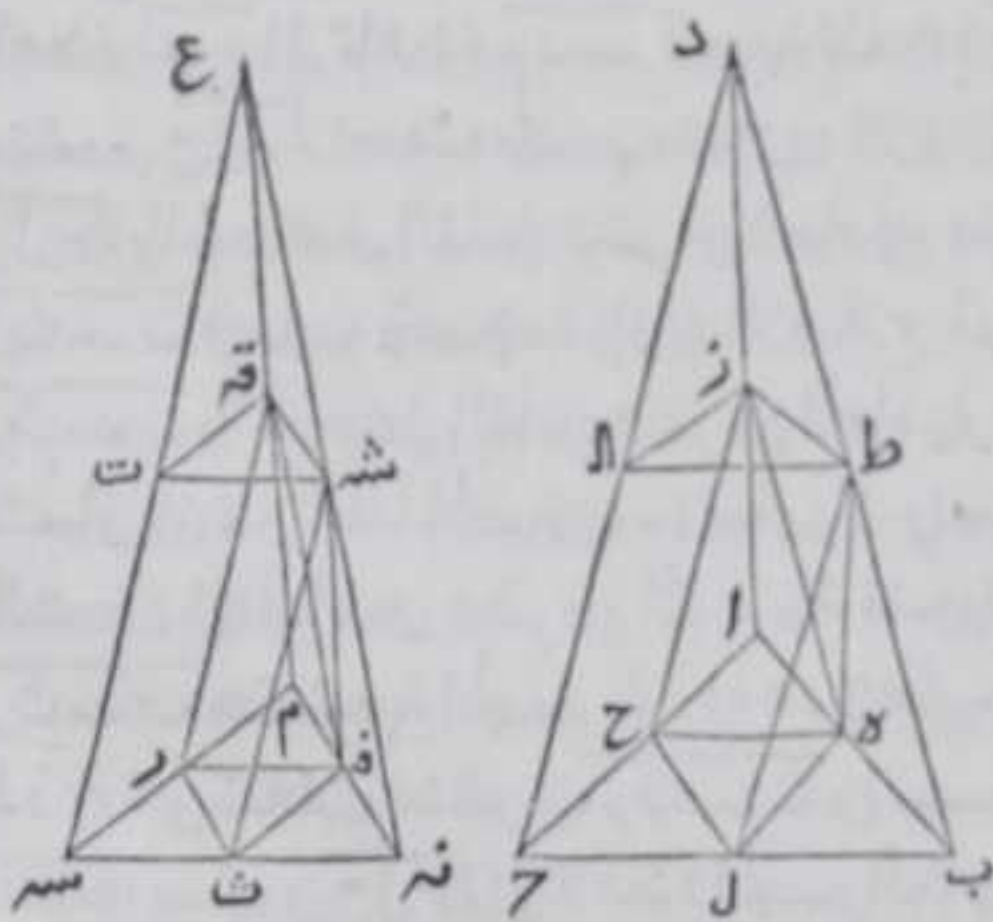
كل مخروطين مثلثي القاعدتين ارتفاعهما  
 بقدر واحد فصل كل منهما الي مخروطين متساويين

متشابهين



متشابهين يشبهانه والي منشورين متساويين هما  
 معاً اعظم من نصفه وفصل كل من المخروطين  
 الحادثين الي مخروطين متساويين متشابهين  
 فيشبهانه والي منشورين متساويين هما معاً اعظم  
 من نصف مخروطه وهكذا بالغاما بلغ بشرط ان  
 يكون عدد المناشير اليه يشتمل عليها احد  
 مخروطي الاعظم كعدد المناشير اليه يشتمل عليها  
 المخروط الآخر الاعظم فان نسبة قاعدة احد مخروطي  
 الاعظم الي قاعدة المخروط الآخر الاعظم كنسبة  
 جميع المناشير اليه يشتمل عليها المخروط الاول الي  
 جميع المناشير اليه يشتمل عليها المخروط الثاني

ليكن مخروطا ا ب ج د م ن س ع ارتفاعهما بقدر واحد وقاعدتهما مثلثا



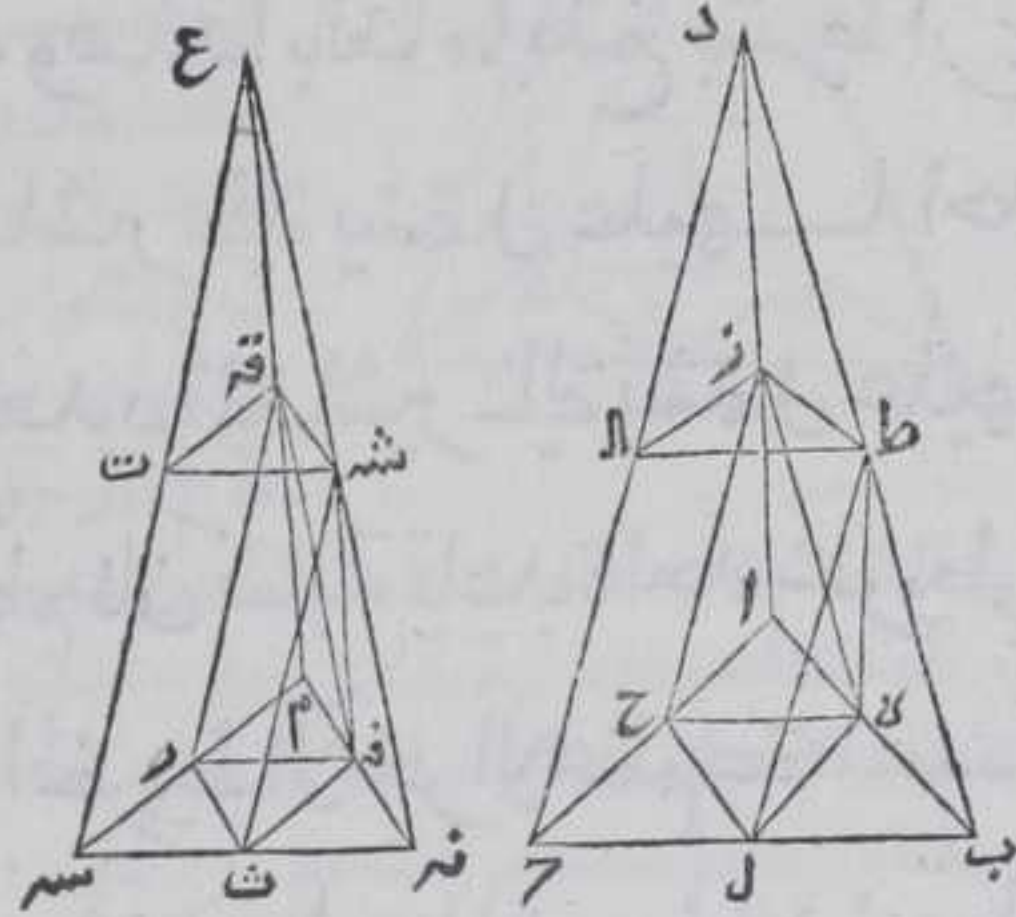
ا ب ج م ن س ع وفصل  
 مخروط ا ب ج د الي  
 مخروطي ا ح ج ط الازد  
 المتساويين المتشابهين  
 يشبهان مخروط ا ب ج د  
 والي منشوري ز ح ب ط  
 ز ج ل م متساويين وهما  
 معاً اعظم من نصف  
 مخروط ا ب ج د وفصل  
 كل من مخروطي ا ح ج ط  
 ط الازد الي مخروطين

ومنشورين كما ذكرناه وهكذا بالغاما بلغ وفصل مخروط م ن س ع الي



مخروطي مفرقة شت قع والي منشوري قمر ت شه قست ت هما معا اعظم من نصف مخروط م نه سع وكل من مخروطيه الي مخروطين ومنشورين كما ذكرناه وهكذا بالغاما بلغ بحيث يكون عدد المناشير التي يشتمل عليها مخروط اب حد كعدد المناشير التي يشتمل عليها مخروط م نه سع وبيان تفصيل المخروطين الي المخاريط والمناشير المتساوية بالشكل المتقدم فاقول ان نسبة قاعدة اب ح الي قاعدة م نه سع كنسبة جميع المناشير التي يشتمل عليها مخروط اب حد الي جميع المناشير التي يشتمل عليها مخروط م نه سع اذا كانت متساوية العدة برهان ذلك فلان

نسبة ب ح الي نه سع  
 كنسبة ل ح الي ت سه  
 بالشكل الخامس عشر  
 من الخامسة لان ب ح  
 ضعف ل ح كما ان نه سع  
 ضعف ت سه فنسبة  
 ل ح الي ت سه مثناة  
 كنسبة ب ح الي نه سع  
 مثناة ونسبة قاعدة  
 اب ح الي قاعدة م نه سع  
 كنسبة ب ح الي نه سع



مثناة بالشكل التاسع عشر من السادسة فبالترقيم نسبة قاعدة اب ح الي قاعدة م نه سع كنسبة ل ح الي ت سه مثناة بالشكل الحادي عشر من الخامسة ونسبة قاعدة ح ل ح الي قاعدة ر ت سه كنسبة ل ح الي ت سه مثناة بالشكل التاسع عشر من السادسة فبالشكل الحادي عشر من الخامسة نسبة قاعدة اب ح الي قاعدة م نه سع كنسبة قاعدة ح ل ح الي قاعدة ر ت سه ولان منشور ح ل ح نصف مجسم متوازي الاضلاع ارتفاعه كارتفاع منشور ح ل ح بالشكل الثامن عشر من الحادية عشر وبمثله نقول ان منشور ر ت سه نصف مجسم متوازي الاضلاع ارتفاعه كارتفاع منشور ر ت سه بالشكل الثامن عشر من الحادية عشر وارتفاعا المنشورين متساويان فارتفاعا الجسمين متساويان ونسبة الاجزاء كنسبة الاضعاف بالشكل الخامس عشر من الخامسة فنسبة منشور ح ل ح الي منشور ر ت سه كنسبة الجسم الذي هو ضعف منشور ح ل ح الي الجسم الذي هو ضعف منشور ر ت سه مثناة ونسبة قاعدة الجسم الذي هو ضعف منشور ح ل ح الي قاعدة الجسم الذي هو ضعف منشور ر ت سه كنسبة الجسم الي الجسم بالشكل الثالث والثلثين من الحادية عشر لان ارتفاعي الجسمين متساويان فبالشكل الحادي عشر من الخامسة نسبة منشور



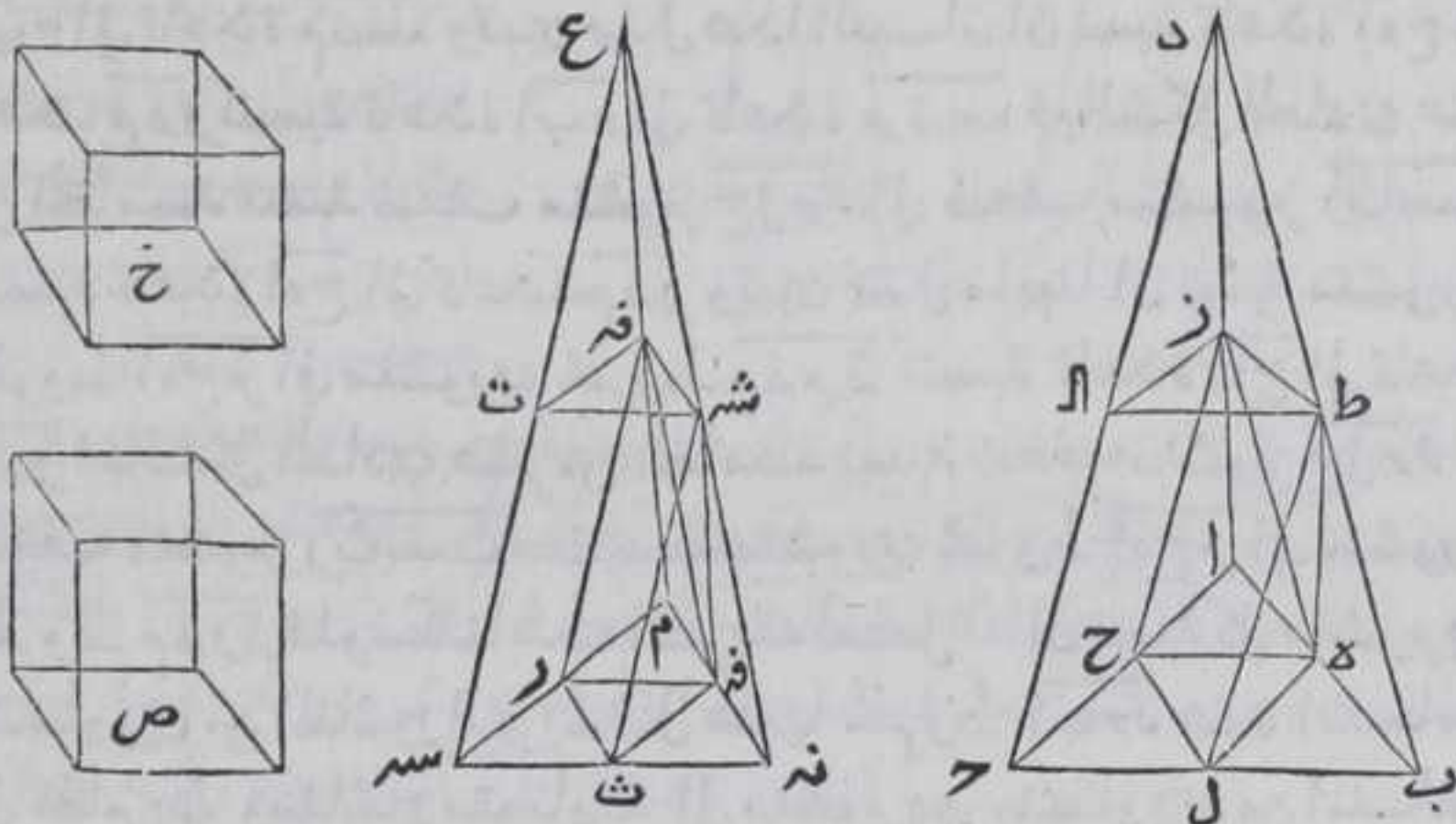
منشور حل  $\Gamma$  الى منشور  $\Gamma\theta$   $\theta$  سدت كنسبة قاعدة الجسم الذي هو  
 ضعف منشور حل  $\Gamma$  الى قاعدة الجسم الذي هو ضعف منشور  
 $\Gamma\theta$   $\theta$  سدت ونسبة قاعدة حل  $\Gamma$  الى قاعدة  $\Gamma\theta$   $\theta$  سدت كنسبة قاعدة الجسم  
 الذي هو ضعف منشور حل  $\Gamma$  الى قاعدة الجسم الذي هو ضعف  
 منشور  $\Gamma\theta$   $\theta$  سدت بالشكل الخامس عشر من الخامسة لان كلا من قاعدتي  
 حل  $\Gamma$   $\theta$  سدت نصف قاعدة احد الجسمين بالشكل الرابع والثلاثين من  
 الاولي فبالشكل الحادي عشر من الخامسة نسبة منشور حل  $\Gamma$  الى منشور  
 $\Gamma\theta$   $\theta$  سدت كنسبة قاعدة حل  $\Gamma$  الى قاعدة  $\Gamma\theta$   $\theta$  سدت وكانت نسبة قاعدة  
 ا ب  $\Gamma$  الى قاعدة م ن سد كنسبة قاعدة حل  $\Gamma$  الى قاعدة  $\Gamma\theta$   $\theta$  سدت فبالشكل  
 الحادي عشر من الخامسة نسبة منشور حل  $\Gamma$  الى منشور  $\Gamma\theta$   $\theta$  سدت  
 كنسبة قاعدة ا ب  $\Gamma$  الى قاعدة م ن سد ونسبة ضعف منشور حل  $\Gamma$  الى  
 ضعف منشور  $\Gamma\theta$   $\theta$  سدت كنسبة منشور حل  $\Gamma$  الى منشور  $\Gamma\theta$   $\theta$  سدت  
 بالشكل الخامس عشر من الخامسة فبالشكل الحادي عشر من الخامسة  
 نسبة ضعف منشور حل  $\Gamma$  الى ضعف منشور  $\Gamma\theta$   $\theta$  سدت كنسبة قاعدة  
 ا ب  $\Gamma$  الى قاعدة م ن سد وتبين بمثل هذا البيان ان نسبة قاعدة ا د ح الى  
 قاعدة م ن سد كنسبة قاعدة ا ب  $\Gamma$  الى قاعدة م ن سد فبالشكل الحادي عشر  
 من الخامسة نسبة ضعف منشور حل  $\Gamma$  الى ضعف منشور  $\Gamma\theta$   $\theta$  سدت  
 كنسبة قاعدة ا د ح الى قاعدة م ن سد وتبين بمثل ما بينا ان نسبة منشوري  
 مخروط ا د ح الى منشوري مخروط م ن سد كنسبة قاعدة ا د ح الى قاعدة  
 م ن سد فبالشكل الحادي عشر من الخامسة نسبة ضعف منشور حل  $\Gamma$  الى  
 ضعف منشور  $\Gamma\theta$   $\theta$  سدت كنسبة منشوري مخروط ا د ح الى منشوري  
 مخروط م ن سد فلو سلطنا هذه الطريقة لحصل لنا ان نسبة كل منشورين  
 متساويين من المناشير التي يشتمل عليها مخروط ا ب  $\Gamma$  عند انقسامه  
 الى مخاريط ومناشير متساوية الى منشورين متساويين من المناشير  
 التي يشتمل عليها مخروط م ن سد عند انقسامه الى مخاريط ومناشير  
 متساوية كنسبة ضعف منشور حل  $\Gamma$  الى ضعف منشور  $\Gamma\theta$   $\theta$  سدت  
 النظر من النظر ونسبة مقدم واحد الى تاليه كنسبة جميع المقدمات الى  
 جميع التوالي بالشكل الثالث عشر من الخامسة فنسبة جميع المناشير التي  
 يشتمل عليها مخروط ا ب  $\Gamma$  الى جميع المناشير التي يشتمل عليها مخروط  
 م ن سد عند انقسام مخروطي ا ب  $\Gamma$  م ن سد الى مخاريط ومناشير  
 غير متناهية العدد او متناهية العدد بشرط التساوي كنسبة ضعف  
 منشور حل  $\Gamma$  الى ضعف منشور  $\Gamma\theta$   $\theta$  سدت وكانت نسبة قاعدة ا ب  $\Gamma$  الى  
 قاعدة م ن سد كنسبة ضعف منشور حل  $\Gamma$  الى ضعف منشور  $\Gamma\theta$   $\theta$  سدت  
 فبالتقديم نسبة قاعدة ا ب  $\Gamma$  الى قاعدة م ن سد كنسبة جميع المناشير التي  
 يشتمل عليها مخروط ا ب  $\Gamma$  عند انقسامه الى مخاريط ومناشير متساوية



الي جميع المناشير التي يشتمل عليها مخروط م ن س ع عند انقسامه الي  
مخاريط ومناشير متساوية بشرط تساوي العدة فالحكم ثابت وذلك  
ما اردنا ان نبين

كل مخروطين مثلتي القاعدتين متساوي  
الارتفاعين فان نسبة احداهما الي الآخر كنسبة  
قاعدته الي قاعدة الآخر

ليكن مخروطا ا ب ج د م ن س ع قاعدتها مثلثا ا ب ج م ن س وارتفاعها  
بقدر واحد فاقول ان نسبة قاعدة ا ب ج الي قاعدة م ن س كنسبة  
مخروط ا ب ج د الي مخروط م ن س ع برهانه والا فلتكن نسبة قاعدة  
ا ب ج الي قاعدة م ن س كنسبة مخروط ا ب ج د الي مجسم ما اما اصغر من



مخروط م ن س ع واما اعظم منه فليكن اولا الي مجسم اصغر منه وليكن  
هو مجسم ص وتمامه من مخروط م ن س ع مجسم ح ونفصل من مخروط  
م ن س ع مخروطين متساويين ومتشابهين ومتشابهين لمخروط م ن س ع  
ومنشورين متساويين هما اعظم من نصف مخروط م ن س ع ونفصل من  
المخروطين المحادئين مخروطين متساويين ومتشابهين ويشبهان المخروطين  
الذين فصلنا منه ومنشورين متساويين هما اعظم من نصف المخروط  
الذي فصلنا منه وهكذا بالغ ما بلغ بالشكل الثالث فسبيل التفصيل  
الي ان يبقي مخروط م ن س ع مخروطان هما اصغر من مجسم ح بالشكل الاول  
من العاشرة وكان مخروط م ن س ع كجسمي ص ح فنشورا رس ث ت  
رث فة معا اعظم من مجسم ص ونفصل من مخروط ا ب ج د مخاريط  
ومناشير بالصفة المذكورة عدتها كعدة ما يشتمل عليها مخروط م ن س ع  
من



من المخاريط والمناشير بالشكل الثالث فليكن ما انفصل اليه مخروط  
 ث رفة  $AB$  من المخاريط والمناشير مخروطي  $ABC$  من زط  $AD$  ومنشوري  
 حلح  $AD$  من نسبة منشوري مخروط  $AB$  الى منشوري مخروط  
 $ABC$  كنسبة قاعدة  $AB$  الى قاعدة  $ABC$  من نسبة  $ABC$  بالشكل المتقدم وكانت  
 نسبة مخروط  $AB$  الى مجسم  $ABC$  كنسبة قاعدة  $AB$  الى قاعدة  $ABC$   
 فبالشكل الحادي عشر من الخامسة نسبة منشوري مخروط  $AB$  الى  
 منشوري مخروط  $ABC$  من نسبة  $ABC$  كنسبة مخروط  $AB$  الى مجسم  $ABC$  فبالابدال  
 نسبة منشوري مخروط  $AB$  الى مخروط  $ABC$  كنسبة منشوري مخروط  
 $ABC$  الى مجسم  $ABC$  بالشكل السادس عشر من الخامسة لكن منشورا  
 مخروط  $AB$  اصغر من مخروط  $ABC$  لانها جزء منشورا مخروط  
 $ABC$  اصغر من مجسم  $ABC$  وكانا اعظم هذا خلف . ثم لتكن نسبة  
 قاعدة  $AB$  الى قاعدة  $ABC$  من نسبة  $ABC$  كنسبة مخروط  $AB$  الى مجسم  $ABC$  ما هو اعظم  
 من مخروط  $ABC$  من نسبة  $ABC$  وليكن هو مجسم  $ABC$  فبالخلاف نسبة قاعدة  $ABC$   
 الى قاعدة  $AB$  كنسبة مجسم  $ABC$  الى مخروط  $ABC$  ونسبة مخروط  $ABC$  من نسبة  
 الى مجسم  $ABC$  ما وليكن هو مجسم  $ABC$  كنسبة مجسم  $ABC$  الى مخروط  $ABC$  لكن  
 مجسم  $ABC$  اعظم من مخروط  $ABC$  من نسبة  $ABC$  فخروط  $ABC$  اعظم من مجسم  $ABC$   
 بالشكل الرابع عشر من الخامسة فبالشكل الحادي عشر من الخامسة  
 قاعدة  $ABC$  من نسبة  $ABC$  الى قاعدة  $ABC$  كنسبة مخروط  $ABC$  الى مجسم  $ABC$   
 الذي هو اصغر من مخروط  $ABC$  فندير مثل ما دبرنا ونبين الخلف مثل  
 ما بيننا فلا يمكن ان تكون نسبة قاعدة  $ABC$  الى قاعدة  $ABC$  كنسبة  
 مخروط  $ABC$  الى مجسم اصغرا او اعظم من مخروط  $ABC$  من نسبة  $ABC$  كنسبة قاعدة  
 $ABC$  الى قاعدة  $ABC$  من نسبة  $ABC$  كنسبة مخروط  $ABC$  الى مجسم يساوي مخروط  
 $ABC$  من نسبة  $ABC$  كنسبة مخروط  $ABC$  الى مخروط  $ABC$  من نسبة  $ABC$  كنسبة  
 يساوي مخروط  $ABC$  من نسبة  $ABC$  بالشكل السابع من الخامسة فبالشكل الحادي  
 عشر من الخامسة نسبة قاعدة  $ABC$  الى قاعدة  $ABC$  من نسبة  $ABC$  كنسبة مخروط  
 $ABC$  الى مخروط  $ABC$  من نسبة  $ABC$  وذلك ما اردنا ان نبين

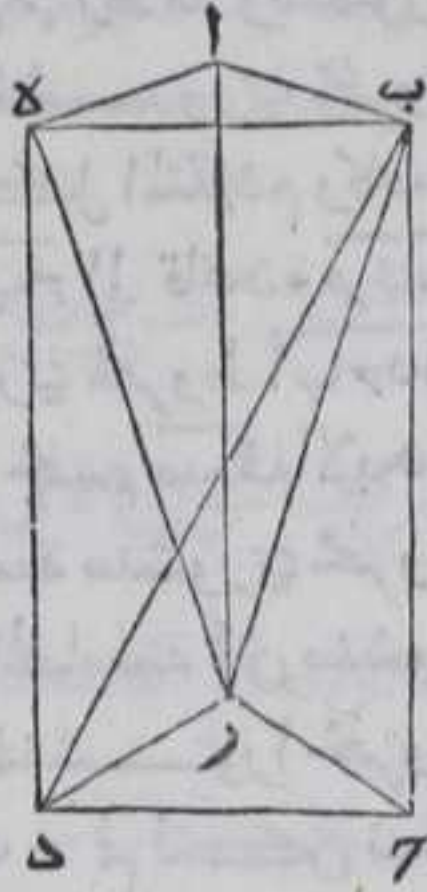
كل واحد من المناشير مثلثة القواعد يمكن  
 ان يفصل اليه ثلث مخاريط متساوية قاعدة

كل مثلث

ليكن منشور  $ABC$  قاعدته مثلث  $ABC$  فاقول انه يمكن ان يفصل  
 الى ثلاثة مخاريط متساوية قاعدة كل مثلث برهانه فصل  $BD$  ب  $ABC$



بخطوط مستقيمة فلان مثلثي  $ب ج د$  متساويان بالشكل الرابع  
والثلثين من الاولي لان  $س ط$   $ب ج د$  متوازي  
الاضلاع و  $م ح ر$   $ب ج د$   $ب ج د$  متساويان  
الارتفاعين فنسبة  $م ح ر$   $ب ج د$   $ب ج د$  الى  $م ح ر$   
 $ب ج د$  كنسبة قاعدة  $ب ج د$  الى قاعدة  $ب ج د$  بالشكل  
المتقدم لكن القاعدتان متساويتان ف  $م ح ر$   
 $ب ج د$   $ب ج د$   $ب ج د$   $ب ج د$   $ب ج د$   $ب ج د$   $ب ج د$   
قاعدة  $م ح ر$   $ب ج د$   $ب ج د$   $ب ج د$   $ب ج د$   $ب ج د$   
ر  $ب ج د$   $ب ج د$   $ب ج د$   $ب ج د$   $ب ج د$   $ب ج د$   
بالبيان المذكور فيكون  $م ح ر$   $ب ج د$   $ب ج د$   
ر  $ب ج د$   $ب ج د$   $ب ج د$   $ب ج د$   $ب ج د$   $ب ج د$

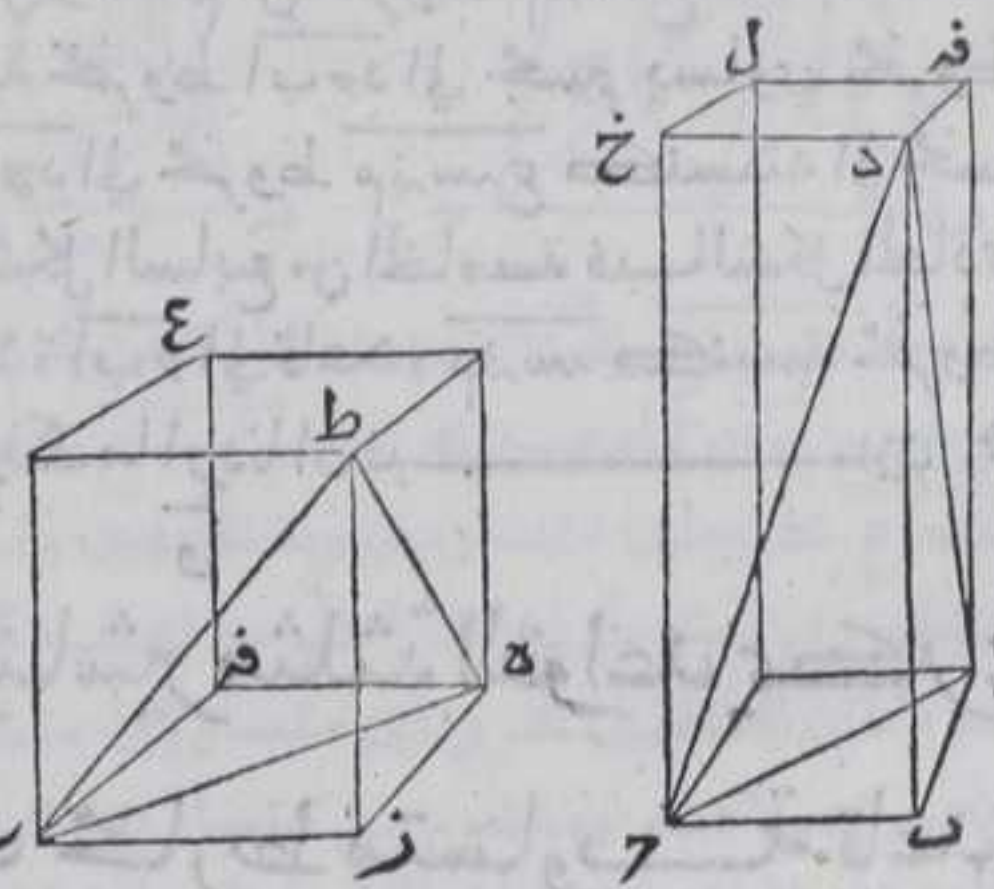


اردنا ان نبين  
وقد بان منه ان كل  $م ح ر$  مثلث القاعدة يتم منشورا مثلث  
القاعدة هو مثلث المنشور

كل  $م ح ر$   $ب ج د$   $ب ج د$   $ب ج د$   $ب ج د$   $ب ج د$   $ب ج د$   
متساويين كانت قاعدتها مكافئتين لارتفاعيهما  
وان كانت قاعدتها مكافئتين لارتفاعيهما فهما

متساويين

لتكن مثلثا  $ا ب ج$   $د ه ز$   
قاعدتي  $م ح ر$   $ب ج د$   
وه  $م ح ر$   $ب ج د$   $ب ج د$   $ب ج د$   
د  $ط$  فاقول ان  $م ح ر$   $ب ج د$   
متساويين فقاعدتها  
متكافئتين لارتفاعيهما  
برهانه تخرج من نقطتي  
ا  $ح$   $ط$   $ا م$   $م ح ر$   $ب ج د$



لخطي  $ب ج د$   $ا ب$  بالشكل الواحد والثلثين من الاولي فهما يتلاقهان لان  
زاويتي  $ب ا ح$   $ب ج ا$   $ب ج ا$   $ب ج ا$   $ب ج ا$   $ب ج ا$   $ب ج ا$   
وزاويتي  $ا ح م$   $ا ح م$   $ا ح م$   $ا ح م$   $ا ح م$   $ا ح م$   $ا ح م$   
خطوط  $ا ب م$   $ا م ب$   $ا م ب$   $ا م ب$   $ا م ب$   $ا م ب$   $ا م ب$

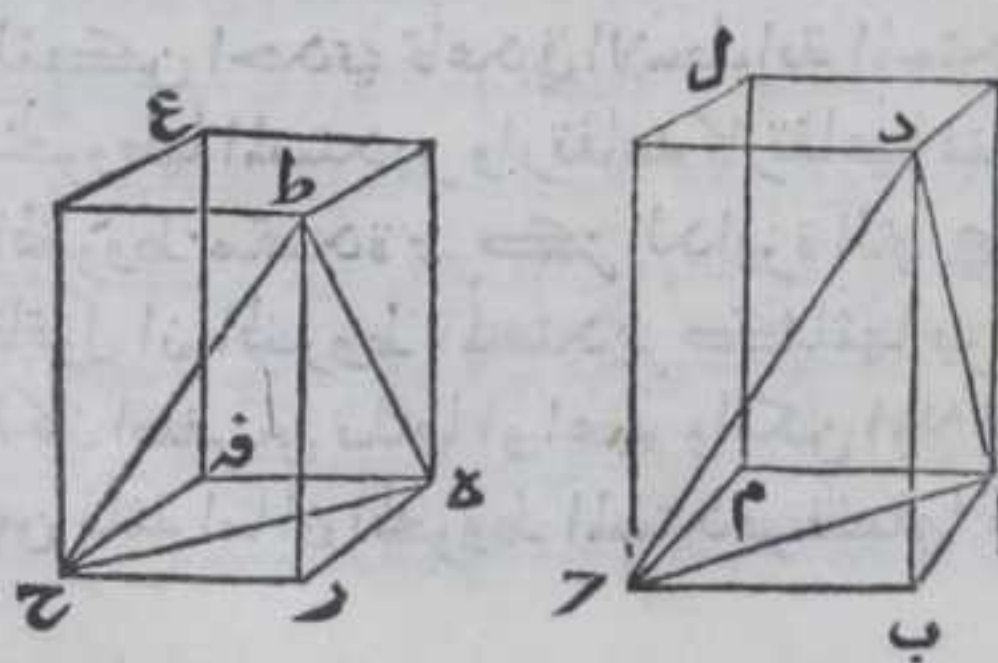
جسم



جسم بل متوازي السطوح لتوازي اضلاعها وبمثله نتم جسم زفرع  
 فكل من الجسمين ينقسم الي منشورين بالشكل الرابع والعشرين من  
 الحادية عشر وكل منشور ينقسم الي ثلث مثلثه القواعد بالشكل  
 المتقدم فحجم ب م ل ستة امثال مخروط ا ب د وحجم زفرع ستة امثال  
 مخروط ه ز ح ط والمخروطان متساويان فالجسمان متساويان وكل جسمين  
 متساويين فقاعدتاها متكافيتان لارتفاعيهما بالشكل الرابع او  
 الخامس والثلثين من الحادية عشر وارتفاع الجسمين والمخروطين  
 متساويين ونسبة الاجزاء كنسبة الاضلاع بالشكل الخامس عشر  
 من الخامسة فنسبة قاعدة ا ب ح الي قاعدة ه ز ح كنسبة قاعدة ب م الي  
 قاعدة ز فرع بالشكل الحادي عشر من الخامسة فقاعدتا مخروطي ا ب د  
 ه ز ح ط متكافيتان لارتفاعيهما . وان كانت قاعدتا المخروطين متكافيتين  
 لارتفاعيهما فهما متساويان نتم مجسمي المخروطين كما مر وهما مجسما ب م ل  
 زفرع وقاعدة ب م ضعف مثلث ا ب ح وقاعدة ز فرع مثلث ه ز ح  
 بالشكل الرابع والثلثين من الاولي وارتفاع المخروطين والجسمين  
 متساويان ونسبة الاجزاء كنسبة الاضلاع بالشكل الخامس عشر من  
 الخامسة فنسبة قاعدة ب م الي قاعدة ز فرع كنسبة ارتفاع مجسم زفرع  
 الي ارتفاع مجسم ب م ل بالشكل الحادي عشر من الخامسة فبالشكل  
 الرابع والثلثين او الخامس والثلثين من الحادية عشر مجسما ب ل ز فرع  
 متساويان ومجسم ب ل ستة امثال مخروط ا ب د ومجسم ز فرع ستة امثال  
 مخروط ه ز ح ط فالمخروطان متساويان وذلك ما اردنا ان نبين

ح

كل مخروطين متشابهين قاعدتاهما مثلثتان فان  
 نسبة احداهما الي الاخر كنسبة ضلع من اضلاع  
 السطوح المحيطة به الي نظيره من اضلاع السطوح  
 المحيطة بالاخر مثلثة بالتكرير

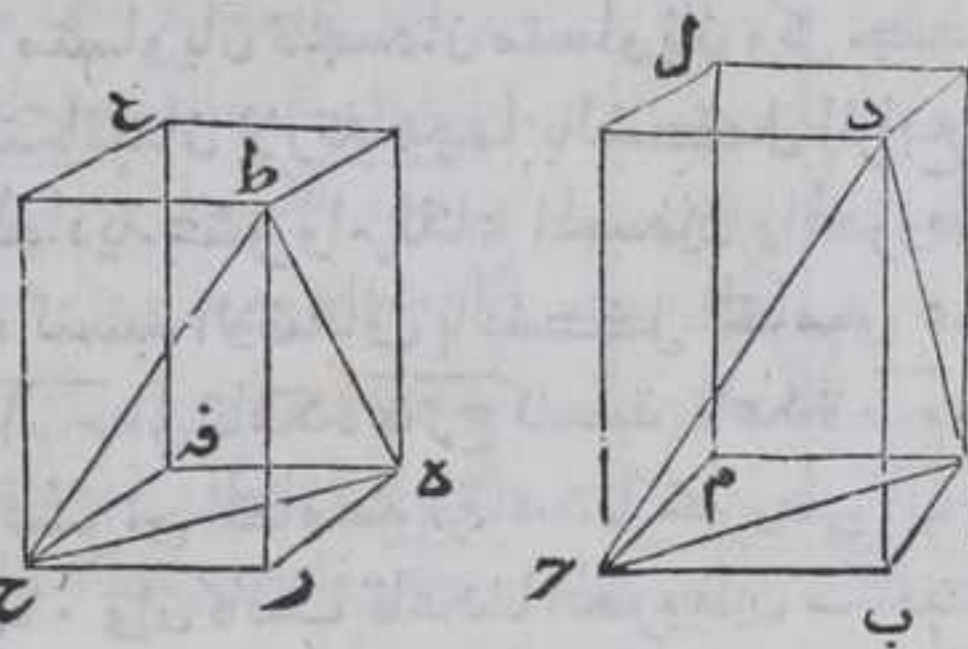


لتكن مخروطا ا ب د  
 ه ز ح ط فاقول ان نسبة  
 مخروط ا ب د الي مخروط  
 ه ز ح ط كنسبة ضلع من  
 اضلاع السطوح المحيطة  
 باحدهما الي ضلع من



اضلاع السطوح المحيطة بالآخر وليكن كنسبة ب ح الي مزح مثلثة  
 بالتكرير برهانه نتمم مجسمي ب م ل مزفرع كما مر في الشكل فتكون  
 السطوح المقابلة من كل واحد منهما متساوية والاضلاع المقابلة من تلك  
 السطوح متوازية بالشكل الرابع والعشرين من الحادية عشر فتكون  
 الزوايا المقابلة من تلك

السطوح متساوية بالشكل  
 العاشر من الحادية عشر  
 فبالشكل الواحد  
 والعشرين من السادسة  
 تكون السطوح المحيطة  
 بالمجسمين متشابهة فنسبة



ضلع ب ح الي ضلع مزح مثلثة بالتكرير كنسبة ب م ل الي مجسم ز فرع  
 بالشكل الحادي والثلاثين من الحادية عشر وقد نبين في الشكل الثامن  
 والعشرين من الحادية عشر ان كل مجسم متوازي السطوح ينصف  
 بمنشورين وفي الشكل السادس ببنا ان كل منشور مثلث القاعدة  
 ينقسم الي ثلاثة مخاريط متساوية مثلث القواعد مخروط ا ب ح د  
 سدس مجسم ب م ل ومخروط ه مزح ط سدس مجسم ز فرع ونسبة الاجزاء  
 كنسبة الاضعاف بالشكل الخامس عشر من الخامسة فنسبة مخروط  
 ا ب ح د الي مخروط ه مزح ط كنسبة مجسم ب م ل الي مجسم ز فرع بالشكل  
 الحادي عشر من الخامسة ونسبة مجسم ب م ل الي مجسم ز فرع كنسبة ب ح  
 الي مزح مثلثة بالتكرير بالشكل الثامن والعشرين من الحادية عشر  
 فبالشكل الحادي عشر من الخامسة نسبة مخروط ا ب ح د الي مخروط  
 ه مزح ط كنسبة ب ح الي مزح مثلثة بالتكرير وذلك ما اردنا ان نبين

والدائرة والاسطوانة المستديرة

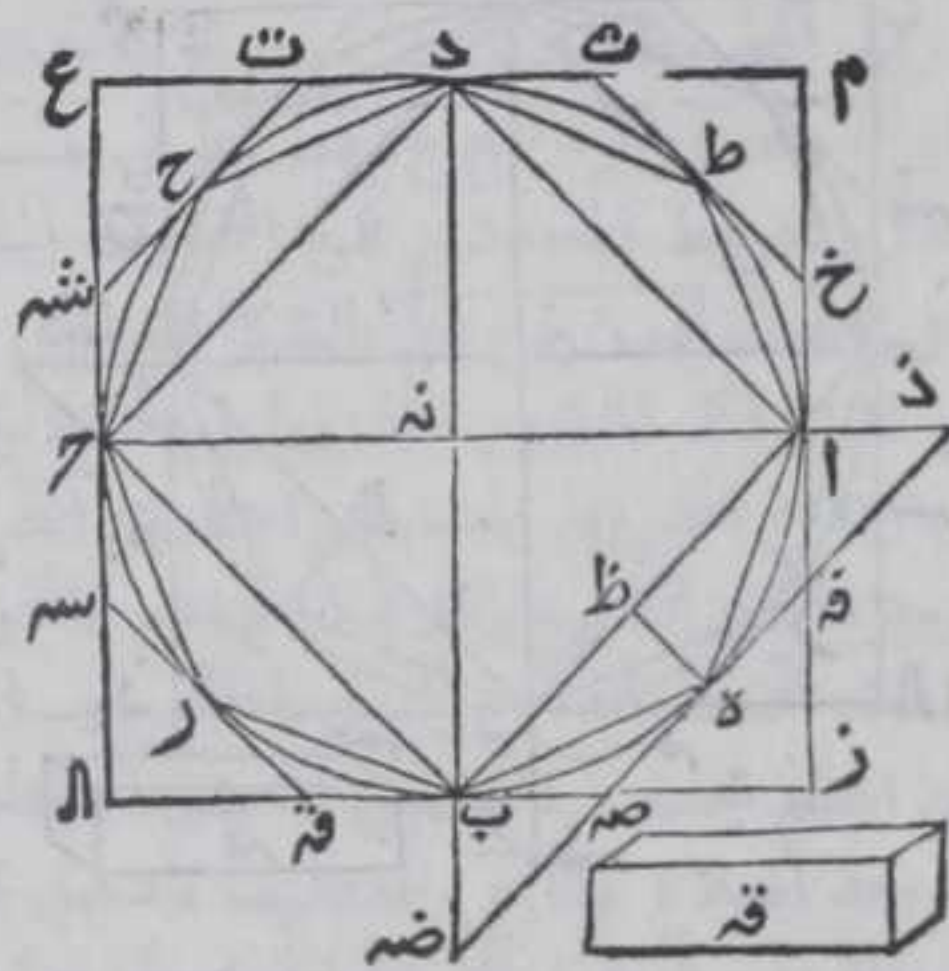
كل اسطوانة مستديرة فان مخروطها المستدير

ثلثها

لتكن احدي قاعدتي الاسطوانة المستديرة دائرة ا ب ح د وهي قاعدة  
 مخروطها المستدير وارتفاعه ك ارتفاعها فتكون النقطة التي بين راس  
 المخروط متحدة بمرکز الدائرة التي هي لقاعدة الاخرى للاسطوانة  
 فاقول ان المخروط المستدير كثلثها برهانه فلانه لم يكن كثلثها  
 لكان اصغر من ثلثها او اعظم وليكن اولا اصغرا فالاسطوانة تكون اعظم  
 من ثلثة اما ان المخروط المستدير فضلها عليه مجسم ق فثلثه امثال  
 المخروط



المخروط مع مجسم قه كالاسطوانة فليمر سطح مستوي بسهم الاسطوانة  
فيفصلها بقسمين وليكن الفصل المشترك بين السطح القاطع وقاعدتي  
الاسطوانة وسطها خطوط مستقيمة بالشكل الثالث من الحادية عشر  
فالمشترك بينه وبين القاعدتين قطرها علي كل منهما وهما متوازيان  
لتوازي القاعدتين فالمشترك بينه وبين الاسطوانة خطان مستقيمان  
بين نهايتي



القطرين ونرسم  
في قاعدتي  $\overline{آ ب د}$   
بالشكل الحادي  
من الرابعة وليكن  
القطر القاطع قطر  
 $\overline{آ ح}$  علي زوايا قائمة  
قطر  $\overline{ب د}$  وليربع  
التقاطع علي نقطة  
 $\overline{ن ه}$  ولنخرج من  
نقط  $\overline{آ ب ح د}$  في  
القاعدتين اعمدة  
 $\overline{آ ز}$   $\overline{ح د ع}$  علي  
اقطار  $\overline{آ ب د}$

بالشكل الحادي عشر من الاولي فتقع الاعمدة خارجة عن القاعدتين  
مما منه لهما بالشكل الخامس عشر من الثالثة فينتهي كل منهما الي  
عمودين منها فلينته  $\overline{آ ز}$  الي  $\overline{ب د ع}$  علي نقطتي  $\overline{ز ح}$  و  $\overline{ج د}$  الي  $\overline{ب د ع}$  علي  
نقطتي  $\overline{آ ح}$  لان كل واحدة من الزوايا التي يحيط بها احد الاعمدة مع  
احد الاضلاع  $\overline{آ ب د}$  اقل من قائمة فتكون الاضلاع المتقابلة من سطحي  
 $\overline{آ ح}$  المحيطين بالقاعدتين متوازية بالشكل الثامن والعشرين من الاولي  
فتكون متساوية بالشكل الرابع والثلاثين من الاولي ونصل بين كل  
واحدة من النقط الكائنة علي اضلاع احد سطحي  $\overline{آ ح}$  وبين النقط  
الكائنة علي اضلاع السطح الاخر منهما المتقاطر بخط مستقيم فتكون  
الخطوط الواصلة متوازية بالشكل الثالث والثلاثين من الاولي فيحدث  
مجسم علي قاعدة  $\overline{آ ح}$  متوازية السطوح المحيطة به لتوازي اضلاعها  
محيطا بالاسطوانة وعلي ارتفاعه واربعة مجسمات متوازية السطوح  
بارتفاع الاسطوانة وهي الكائنة علي قواعد  $\overline{ز ه}$   $\overline{آ ح}$   $\overline{ب د}$   $\overline{ع ه}$  وكل من  
المجسمات الاربعة منصف بالسطح المار  $\overline{آ ب ح د}$  الي منشوري  
بالشكل الثامن والعشرين من الحادية عشر فكل من منشورات  $\overline{آ ب ه}$   $\overline{آ د ه}$   
 $\overline{ب د ه}$   $\overline{ب ح ه}$  اعظم من نصف قطعة الاسطوانة التي ذلك المنشور فيها



وتنصف كل واحد من قسي  $اب$   $بج$   $جد$   $اد$  علي نقطة  $هـ$   $رخ$   $ط$  من القاعدتين بالشكل التاسع والعشرين من الثالثة ونصل اوتار  $اه$   $بب$   $رر$   $خخ$   $دط$   $اط$  فتقع الاوتار كلها داخل القاعدتين بالشكل الثاني من الثالثة وتخرج من كل واحدة من النقط المذكورة خطا موازيا

لاضلاع مربع

$اب$   $جد$  بالشكل

الواحد والثلاثين

من الاولي فينتهي

المخطوط الي اضلاع

سطحي  $الرح$  فلينته

الي نقط  $هـ$   $ص$   $ق$

$سه$   $شه$   $ت$   $ت$   $خ$

فيحدث سطحان

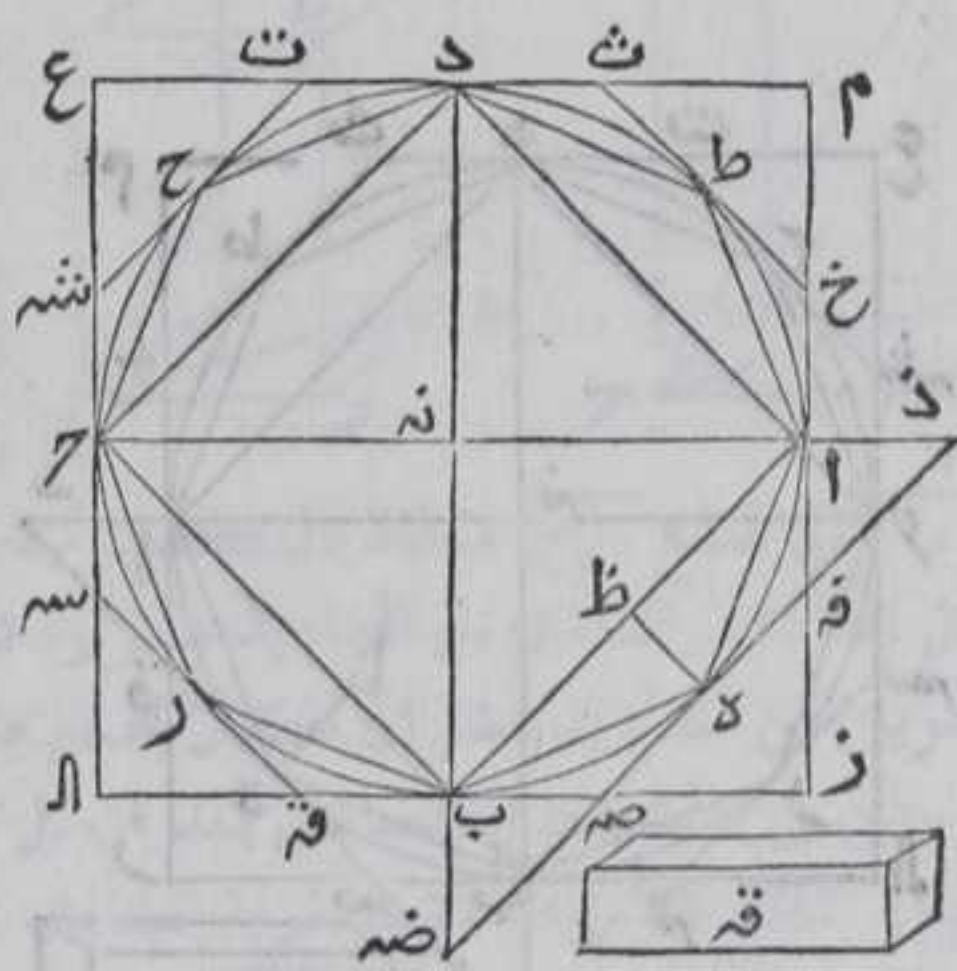
علي زوايا كل منها

نقطة من النقط

المذكورة وتخرج

من نقطة  $هـ$  عمود

$هـ$   $ظ$  علي وتر  $اب$



بالشكل الثاني عشر من الاولي وتخرج خط  $هـ$   $ص$  في جهته مع كل واحد من وتر  $اح$   $ب$   $د$  فينتهي اليهما لان كل واحدة من الزاويتين اللتين يحيط بواحدة منها وتر  $اد$   $اه$   $از$  بالاخري وتر  $اب$   $به$  وكل منهما اقل من قائمة فلينته الي نقطتي  $د$   $ص$  ونصل بين كل واحدة من نقطتي  $د$  ونقطتي  $ص$  بخط مستقيم فيحدث مجسم  $اض$  بارتفاع الاسطوانة مشتملا علي مجسمي  $دظ$   $صظ$  وكل منهما منصف للسطح المار علي وتر  $اه$   $ب$   $هـ$  الي منشورين متساويين بالشكل الثامن والعشرين من الحادية عشر ولان مجسم  $دظ$  اعظم من قطعة الاسطوانة الكائنة علي قطعة  $اه$  من قاعدتها فالمنشور الكائين علي مثلث  $بهظ$  اعظم من نصف قطعة الاسطوانة الكائنة علي قاعدة  $بهظ$  من قاعدتها فالمنشور الكائين علي مثلث  $ابه$  اعظم من نصف قطعة الاسطوانة الكائنة علي قطعة  $اه$  من قاعدتها وبمثله تبين ان المنشورات الكائنة علي مثلثات  $برر$   $رخ$   $دط$  اعظم من انصاف قطع الاسطوانة الكائنة علي قطع  $برر$   $رخ$   $دط$  من قاعدتها فلو سلطنا هذه الطريقة فانه سيبقي من الاسطوانة المستديرة بقايا هي اقل من مجسم  $ق$  بالشكل الاول من العاشرة وليكن الباقي من الاسطوانة هي القطع الكائنة علي قطع  $اه$   $ب$   $هـ$   $ر$   $ر$   $خ$   $د$   $ط$   $اط$  من قاعدتها فالمنشور الكائين علي قاعدة  $اه$   $ب$   $ر$   $ر$   $خ$   $د$   $ط$  بارتفاع الاسطوانة اعظم



## الثانية عشر

٣٨١

اعظم من ثلثة امثال المخروط المستدير فاذا وصلنا من نقطة نه راس  
 المخروط المستدير وبين كل واحدة من نقط آه ب ر ح د ط بخط  
 مستقيم يكون كل من تلك الخطوط كائنا في سطح المخروط المستدير  
 والا لكان داخلا فيه او خارجا عنه فنصل بين راس المخروط المستدير  
 وبين كل من تلك النقط بخط مستقيم في سطح المخروط المستدير فيلزم  
 حاطه خطين مستقيمين بسطح . هذا خلف فيجدت مخروط مضلع  
 علي قاعدة آه ب ر ح د ط بارتفاع المخروط المستدير ويكون داخلا  
 فيه لانا اذا وصلنا من راس المخروط المستدير وبين كل واحدة من  
 النقط التي تفرض علي اوتار آه به ب ر ر ح ح د د ط ط آ في سطح  
 المخروط المضلع يقع داخل المخروط المستدير لكن المخروط المضلع  
 ثلث المنشور الكاين علي قاعدة آه ب ر ح د ط بالشكل السادس وكان  
 المخروط المستدير اقل من ثلث ذلك المنشور فالمخروط المضلع الكاين  
 علي قاعدة آه ب ر ح د ط وبارتفاع المخروط المستدير اعظم من المخروط  
 المستدير فيلزم ان يكون جزء الشيء اعظم من كله هذا خلف فالمخروط  
 المستدير ليس باصغر من ثلث الاسطوانة . وليس باعظم منها والا  
 لكان اعظم من ثلثها فليكن اعظم مجسم ق فترسم في قاعدتي الاسطوانة  
 مربعي آ ب ج د وعلبها ذا اربعة اضلاع م ال ع ونجعلها قاعدتي مجسم  
 الق المتوازية السطوح المحبطة به وبارتفاع الاسطوانة محبطا بها بمثل  
 ما مر في القسم الاول ونصل بين نقطة نه راس المخروط المستدير وبين

كل واحدة من

نقط آ ب ل ح ع

د م بخط مستقيم

فيجدت ثمانية

مخاريط مثلثة

القواعد قواعدها

مثلثات آ ب نه آ ل

ب ج نه ب ح ل ح نه د

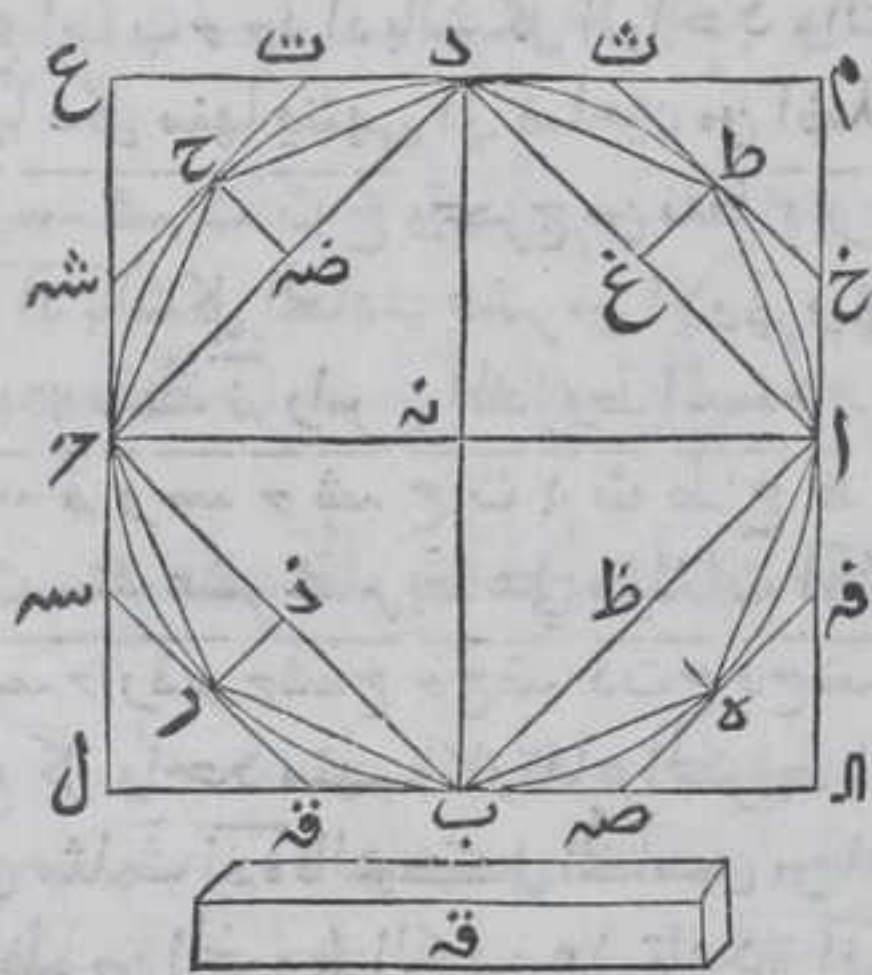
ح ع د انه د ام د كل

منها داخل

المخروط المستدير

بمثل ما مر في

القسم الاول فلان

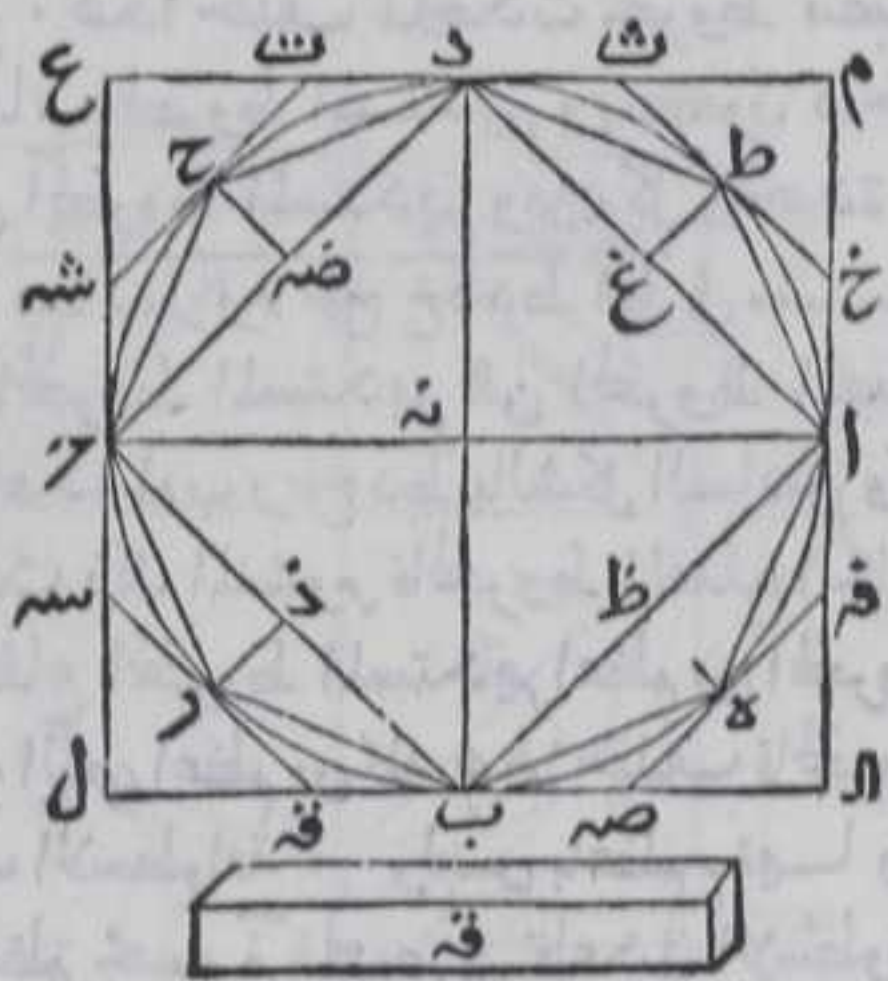


كلا من سطوح انه ل نه ع نه م نه متوازي الاضلاع مثلث آ ب ل  
 مثلث آ ب نه ومثلث ام د مثلث اد نه ومثلث ب ل ح مثلث ب ج نه  
 ومثلث ح ع د مثلث ح نه د بالشكل الرابع والثلثين من الاولي



فنسبة المخروط الكاين علي مثلث  $آب$  الي المخروط الكاين علي مثلث  $آب$  كنسبة مثلث  $آب$  الي مثلث  $آب$  بالشكل الخامس لكن المثلث كالمثلث فالمخروط مثل المخروط لكن مجموع مخروطي  $آب$   $آب$  معا اعظم من قطعة المخروط المستدير الكاين علي قطعة  $آب$  من قاعدة الاسطوانة لان

المحيط اعظم من المحيط فالمخروط المصاع الكاين علي مثلث  $آب$  اعظم من نصف قطعة المخروط المستدير الكاين علي قاعدة  $آب$  وبمثله تبين في المخاريط الكائنة علي قواعد  $ب$   $ج$   $د$   $هـ$   $و$   $ز$   $ح$   $ط$   $ق$   $ك$   $ل$  ثم ننصف كل واحدة من قسي  $آب$   $ب$   $ج$   $د$   $هـ$   $و$   $ز$   $ح$   $ط$   $ق$   $ك$   $ل$  من قاعدة الاسطوانة



علي نقطة  $هـ$   $ر$   $ح$   $ط$  بالشكل التاسع والعشرين من الثالثة ونصل اوتار  $اهـ$   $ب$   $ر$   $ر$   $ح$   $د$   $ط$   $ا$   $ط$  فيقع الشكل داخل القاعدة بالشكل الثامن من الثالثة ونخرج من نقطة  $هـ$   $ر$   $ح$   $ط$  سطوحا متوازية الاضلاع  $آب$   $ب$   $ج$   $د$   $هـ$   $و$   $ز$   $ح$   $ط$   $ق$   $ك$   $ل$  ونخرجها في جهتها فكل منها ينتهي الي ضلعين من اضلاع سطح  $آع$  فيحدث منهم  $ق$   $هـ$   $ق$   $س$   $هـ$   $ث$   $ش$   $ت$   $خ$  ونخرج من نقطة  $هـ$   $ر$   $ح$   $ط$  اعمدة علي اوتار  $آب$   $ب$   $ج$   $د$   $هـ$   $و$   $ز$   $ح$   $ط$   $ق$   $ك$   $ل$  بالشكل الحادي عشر من الاولي وفي اعمدة  $هـ$   $ظ$   $ر$   $ح$   $ض$   $ط$   $ع$  ونصل بين نقطة  $ن$   $هـ$  راس المخروط المستدير وبين كل واحدة من نقط  $ا$   $ف$   $هـ$   $ق$   $ر$   $س$   $هـ$   $ح$   $ش$   $ت$   $د$   $ث$   $ط$   $خ$   $ظ$   $ذ$   $ض$   $غ$  بخط مستقيم فيحدث ستة عشر مخاريط علي مثلثات  $اهـ$   $ظ$   $افهـ$   $ب$   $صهـ$   $بهـ$   $ض$   $ب$   $قر$   $ب$   $رد$   $رسهـ$   $ر$   $ذ$   $ر$   $ش$   $ح$   $ر$   $ح$   $ض$   $د$   $ت$   $ح$   $د$   $ح$   $ض$   $د$   $ت$   $ط$   $د$   $ط$   $غ$   $ا$   $ط$   $غ$  وارتفاع كل واحد منها كارتفاع المخروط المستدير ولان مثلث  $اهـ$   $ظ$  اعظم من مثلث  $افهـ$  فالشكل الخامس من المخروط الكاين علي قاعدة  $اهـ$   $ظ$  اعظم من المخروط الكاين علي قاعدة  $افهـ$  فنسبة المخروطين كنسبة القاعدتين وبمجموع المخروطين اعظم من قطعة المخروط المستدير الكائنة علي قطعة  $اهـ$   $ظ$  من قاعدة الاسطوانة فالمخروط المصاع الكاين علي قاعدة  $اهـ$   $ظ$  اعظم من نصف قطعة المخروط المستدير الكاين علي قاعدة  $اهـ$   $ظ$  من قاعدة الاسطوانة وايضا فلان المخروط الكاين علي قاعدة  $ب$   $هـ$   $ظ$



بـ هـ ظ اعظم من المخروط الكاين على قاعدة بـ صـ هـ فالمخروطان معا اعظم من قطعة المخروط المستدير الكاينة على قطعة بـ هـ ظ من قاعدة الاسطوانة وذلك لان المحيط اعظم من المحاط فالمخروط الكاين على مثلث اـ بـ وبارتفاع المخروط المستدير اعظم من نصف قطعة المخروط المستدير الكاين على قطعة اـ بـ و من قاعدة الاسطوانة وبمثله تبين في باقي المخروطات الكاينة على مثلثات بـ رـ جـ حـ دـ طـ اـ طـ دـ فلو سلطنا هذه الطريقة فانه سبقتي من المخروط المستدير بقايا هـ اصغر من مجسم قـ بالشكل الاول من العاشرة فليبق من المخروط المستدير القطع الكاينة على قطع اـ هـ بـ بـ رـ رـ جـ حـ دـ طـ اـ طـ من قاعدة الاسطوانة وهوت مثلث المنشور الكاين على قاعدة اـ هـ بـ بـ رـ رـ جـ حـ دـ طـ بالارتفاع الاسطوانة بالشكل السادس فهو اصغر من ثلث الاسطوانة وكان اعظم منه هذا خلف فالمخروط المستدير ليس باعظم من ثلث الاسطوانة وقد انه ليس باصغر من ثلثها وهو مساو لثلث الاسطوانة المستدير وبارتفاع المخروط المستدير وذلك ما اردنا ان نبين

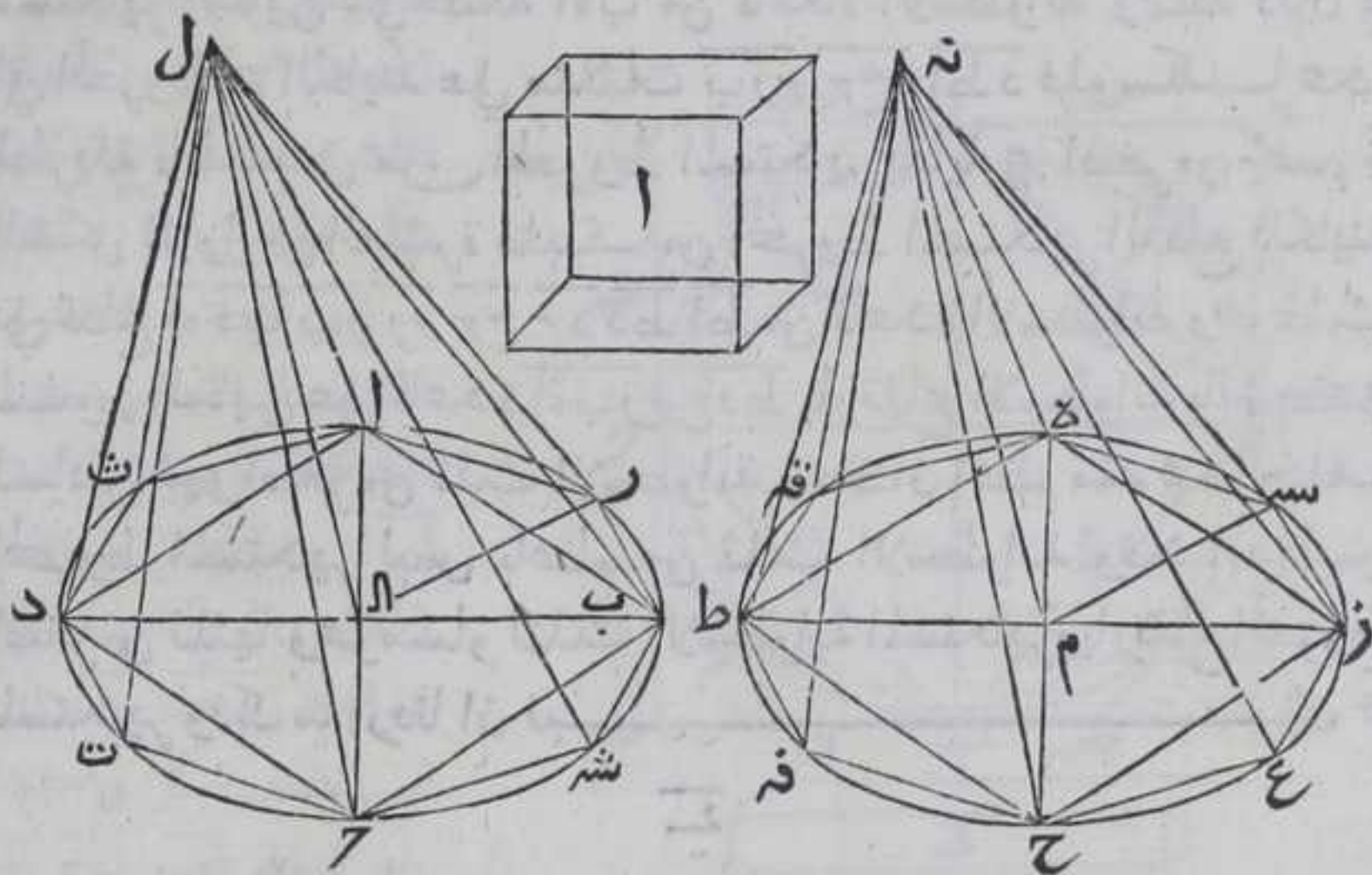
٢

كل مخروط واسطوانة مستديرة على دائرة واحدة في قاعدتها وسهها خط واحد يشبهان مخروطا واسطوانة مستديرين قاعدتهما دائرة واحدة وسهها خط واحد غير سهم الاولين فان نسبة المخروط الى المخروط والاسطوانة الى الاسطوانة كنسبة خط قاعدتها مثلثة بالتكرير

ليكن مخروطا واسطوانة مستديرين قاعدتهما دائرة اـ بـ حـ دـ وسههما اـ لـ يشبهان مخروطا واسطوانة قاعدتهما دائرة هـ زـ حـ طـ وسههما مـ نـ فاقول ان نسبة مخروط اـ بـ حـ دـ الى مخروط هـ زـ حـ طـ مـ نـ كنسبة قطر بـ دـ الى قطر زـ طـ مثلثة بالتكرير برهانه فان لم تكن النسبة كما ذكرنا فلتكن نسبة قطر بـ دـ الى خط زـ طـ مثلثة بالتكرير كنسبة مخروط اـ بـ حـ دـ الى مجسم اصغراو اكبر من مخروط هـ زـ حـ طـ مـ نـ وليكن اولاه الى مجسم اصغر منه وليكن مجسم اـ فترسم في دائرة هـ زـ حـ طـ مربع هـ زـ حـ طـ بالشكل



السادس من الرابعة ونصل بين نقطة نـ وبين كل واحدة من نقطـ حـ طـ بـ حـ بخط مستقيم فتكون الخطوط الواصلة في سطح المخروط المستدير لانا اذا وصلنا بين نقطتي مـ هـ مثلا بخط مستقيم حدث مثلث نـ مـ هـ فاذا اثبتنا ضلع مـ نـ وادرنّا المثلث الي ان عاد الي وضعه الاول فحظ نـ هـ



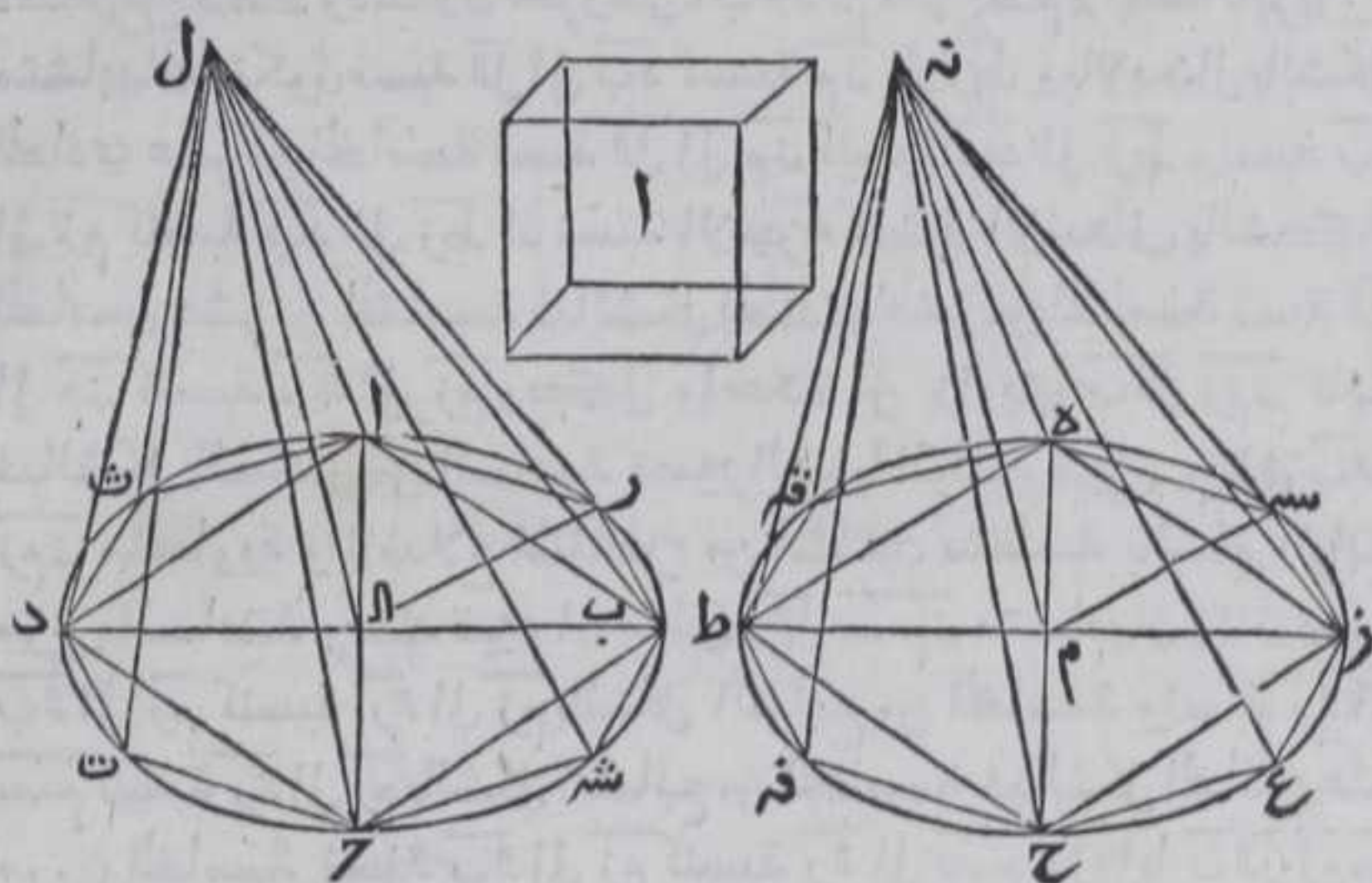
يلازم سطح المخروط بالمصاورة فينطبق علي جميع تلك الخطوط والا لزم احاطة خطين مستقيمين بسطح هذا خلف فيحدث مخروطان مضلعان علي قاعدتي هـ ز طـ مـ ارتفاع المخروط المستدير هما اعظم من نصف القطعة الكائنة من المخروط المستدير علي مربع هـ ز ح طـ لما بينا في الشكل المتقدم وننصف كل واحدة من قسي هـ ز مـ ح طـ هـ من محيط دايرة هـ ز ح طـ بالشكل التاسع والعشرين من الثلاثة علي نقطـ سـ عـ قـ فـ ونصل اوتار هـ سـ سـ ز مـ ع ح ح فـ فـ طـ قـ فـ فتكون واقعة في دايرة هـ ز ح طـ بالشكل الثاني من الثلاثة ونصل بين نقطة نـ وبين كل واحدة من نقطـ سـ عـ قـ فـ بخط مستقيم فتكون الخطوط كائنة في سطح المخروط المستدير لما بينا قبل فيحدث اربعة مخاريط مثلثات كائنة علي قطاع هـ سـ ز مـ ع ح ح فـ طـ قـ فـ ارتفاع المخروط المستدير وتكون كل واحدة منها اعظم من نصف قطعة المخروط المستدير الكائنة علي القطع المذكورة لما بينا في الشكل المتقدم فلو سلطنا هذه الطريقة فانه سببني من المخروط المستدير قطع اقل من مجسم آ بالشكل الاول من العاشرة ولتكن الباقية قطع المخروط المستدير كائنة علي قطع هـ سـ ز مـ ع ح ح فـ طـ قـ فـ فالمخروط المضلع الكائين علي قاعدة هـ سـ ز مـ ع ح ح فـ طـ قـ فـ ارتفاع المخروط المستدير اعظم من مجسم آ ولان كل خط مستقيم يصل بين راسي المخروط وبين اي نقطة تفرض علي الاوتار المذكورة يقع داخل المخروط المستدير يكون المخروط المضلع



المضلع كائنا في داخل المخروط المستدير في دائرة مزحط ونرسم في دائرة  
 ا ب ح د شكلا كثير الاضلاع شبيها بالشكل الكثير الاضلاع المرسوم في دائرة  
 مزحط وهو شكل ا ب ح د ت و عليه مخروط مضلع بارتفاع مخروط  
 ا ب ح د ال المستدير كما تقدم فهو شبه المخروط المضلع الكاين علي قاعدة  
 هـ م ن ح ف ط ق وذلك لان مخروطي ا ب ح د ال مزحط م مـ المستديرين  
 متشابهان فتكون نسبة ال ال ا ب د كنسبة مـ مـ الي ز ط وبالابدال بالشكل  
 الحادي عشر من الخامسة نسبة ال ال ا ب مـ كنسبة بـ د الي ز ط ونسبة بـ ال  
 الي مـ كنسبة بـ د الي ز ط اذ نسبة الاجزاء كنسبة الاضعاف بالشكل  
 الخامس عشر من الخامسة فبالشكل الحادي عشر من الخامسة نسبة ال  
 الي مـ كنسبة بـ ال الي مـ وكل واحدة من زاويتي بـ ال ز مـ قايمة  
 فبالشكل السادس من السادسة تصير الزوايا الباقية من مثلثي بـ ال  
 ز مـ متساوية والاضلاع المتناظرة من المثلثين متناسبة بالشكل الرابع  
 من السادسة وبمثله تبين ان مبغني ر ال س مـ متشابهان ولان نسبة  
 بـ ال الي مـ كنسبة ر ال الي مـ بالشكل السابع من الخامسة ونسبة ر ال الي  
 س مـ كنسبة ر ال الي مـ بالشكل السابع من الخامسة فبالشكل الحادي عشر  
 من الخامسة نسبة بـ ال الي مـ كنسبة ر ال الي س مـ وزوايا بـ ال ر ز مـ  
 متساويتان من مثلثي بـ ال ر ز مـ فالزوايا الباقية منهما متساوية بالشكل  
 السادس من السادسة فبالشكل الرابع من السادسة الاضلاع المتناظرة  
 متناسبة فهما متشابهان فنسبة بـ ر الي ز سـ كنسبة بـ ال الي مـ وكانت  
 نسبة كل واحد من بـ ال ر ال الي مـ كنسبة بـ ال الي مـ نظيره كنسبة بـ ال الي مـ  
 فبالشكل الحادي عشر من الخامسة نسبة بـ ر الي ز سـ كنسبة بـ ال الي مـ  
 ونسبة ر ال الي سـ مـ فثلثا بـ ال ر مـ متشابهان وبمثله تبين ان جميع  
 المثلثات المحيطة بخاريط المحبطة بسهمي ال مـ متشابهة كل لنظيره لكن  
 نسبة مخروط بـ ر ال الي مخروط ز سـ مـ كنسبة بـ ال الي مـ مـثلثة  
 بالتكرير بالشكل الثامن وكانت نسبة د بـ الي ز ط كنسبة بـ ال الي مـ مـ  
 فنسبة بـ د الي ز ط كنسبة بـ ال الي مـ فنسبة بـ د الي ز ط مـثلثة بالتكرير  
 كنسبة بـ ال الي مـ مـثلثة بالتكرير فنسبة مخروط بـ ر ال الي مخروط  
 ز سـ مـ كنسبة بـ د الي ز ط مـثلثة بالتكرير بالشكل الحادي عشر من  
 الخامسة ونسبة جميع المقدمات الي جميع التوالي كنسبة مقدم الي تالفة  
 بالشكل الثالث عشر من الخامسة فنسبة المخروط المضلع الكاين  
 علي قاعدة ا ب ح د ت الي المخروط المضلع الكاين علي قاعدة  
 هـ م ن ح ف ط ق كنسبة مخروط بـ ر ال الي مخروط ز سـ مـ وكانت  
 نسبة بـ د الي مـ مـثلثة بالتكرير كنسبة مخروط بـ ر ال الي مخروط  
 ز سـ مـ فبالشكل الحادي عشر من الخامسة نسبة المخروط المضلع  
 الكاين علي قاعدة ا ب ح د ت الي المخروط المضلع الكاين علي  
 قاعدة



قاعدة  $\overline{هسه}$  مزع  $\overline{ح ف ط ق ه}$  كنسبة  $\overline{ب د}$  الي  $\overline{ز ط}$  مثلثة بالتكرير وكانت  
نسبة  $\overline{مخروط اب}$   $\overline{جدال}$  المستدير الي  $\overline{مجسم ا}$  كنسبة  $\overline{ب د}$  الي  $\overline{ز ط}$  مثلثة  
بالتكرير فبالشكل الحادي عشر من الخامسة نسبة  $\overline{المخروط المضلع}$   
الكائن علي قاعدة  $\overline{ارسه}$   $\overline{ج د ث}$  الي  $\overline{المخروط المضلع}$  الكائن علي قاعدة



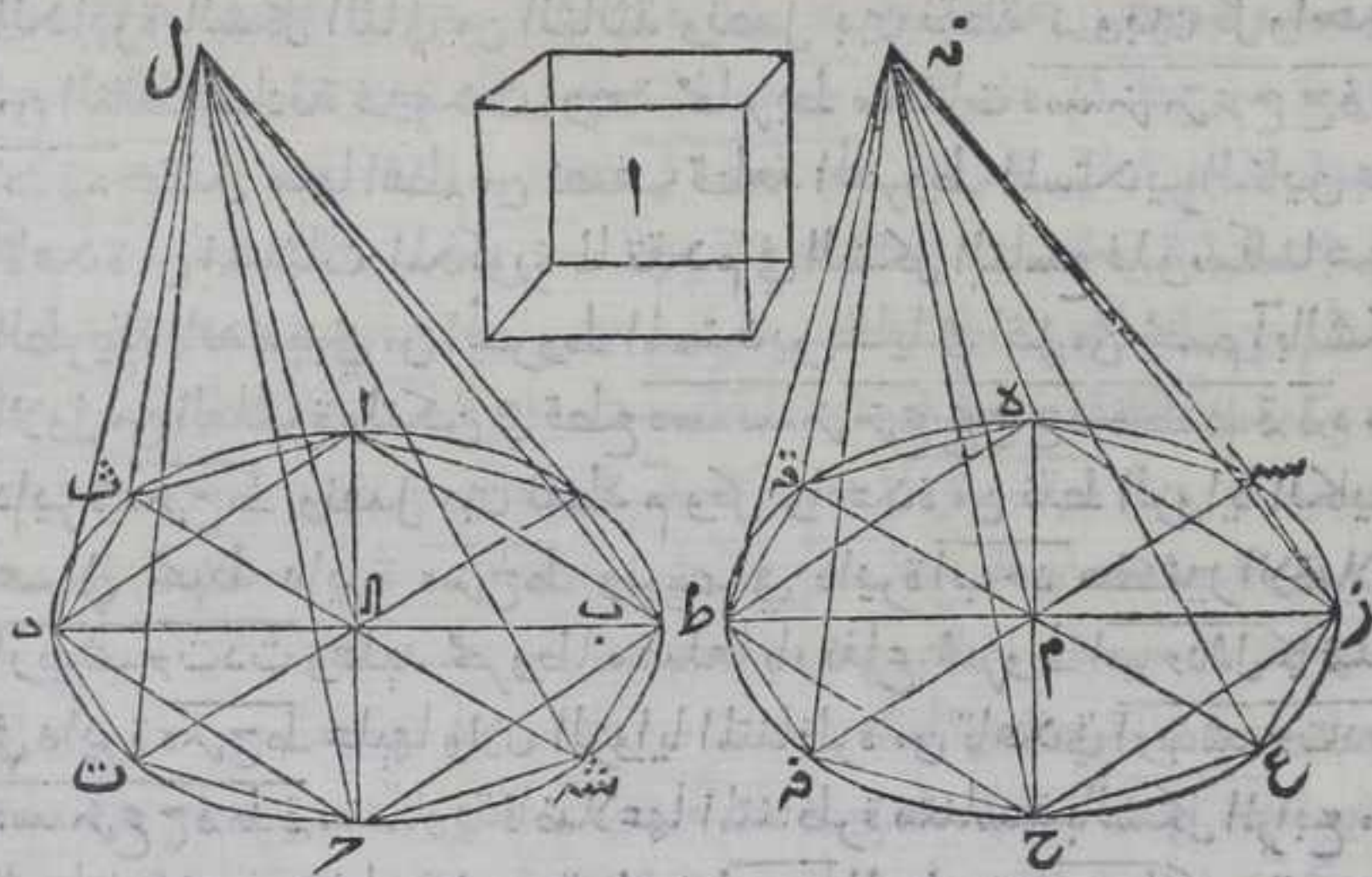
$\overline{هسه}$  مزع  $\overline{ح ف ط ق ه}$  كنسبة  $\overline{المخروط اب}$   $\overline{جدال}$  المستدير الي  $\overline{مجسم ا}$  لكن  
 $\overline{المخروط الكائن}$  علي قاعدة  $\overline{ارسه}$   $\overline{ج د ث}$  اصغر من  $\overline{مخروط اب}$   $\overline{جدال}$   
المستدير  $\overline{المخروط المضلع}$  الكائن علي قاعدة  $\overline{هسه}$  مزع  $\overline{ح ف ط ق ه}$  اصغر من  
 $\overline{مجسم ا}$  بالشكل الرابع عشر من الخامسة وكان اعظم منه هذا خلف  
فليست نسبة قطر  $\overline{ب د}$  الي قطر  $\overline{ز ط}$  مثلثة بالتكرير كنسبة  $\overline{مخروط}$   
 $\overline{اب}$   $\overline{جدال}$  الي  $\overline{مجسم اصغر}$  من  $\overline{مخروط هزح ط م ن}$  . ولا الي  $\overline{مجسم اعظم}$   
منه والا لكانت نسبة  $\overline{ب د}$  الي  $\overline{ز ط}$  مثلثة بالتكرير كنسبة  $\overline{مخروط}$   
 $\overline{اب}$   $\overline{جدال}$  الي  $\overline{مجسم اعظم}$  من  $\overline{مخروط هزح ط م ن}$  وليكن هو  $\overline{مجسم ا}$   
فبالخلاف والتقديم نسبة  $\overline{مجسم ا}$  الي  $\overline{مخروط اب}$   $\overline{جدال}$  كنسبة  $\overline{ز ط}$   
الي  $\overline{ب د}$  مثلثة بالتكرير وليتكن نسبة  $\overline{مخروط هزح ط م ن}$  الي  $\overline{مجسم ما}$   
كنسبة  $\overline{ز ط}$  الي  $\overline{ب د}$  مثلثة بالتكرير فبالشكل الحادي عشر من الخامسة  
نسبة  $\overline{مجسم ا}$  الي  $\overline{مخروط اب}$   $\overline{جدال}$  كنسبة  $\overline{مخروط هزح ط م ن}$  الي  $\overline{مجسم}$   
ما لكن  $\overline{مجسم ا}$  اعظم من  $\overline{مخروط هزح ط م ن}$  ف $\overline{مخروط اب}$   $\overline{جدال}$  اعظم من  
ذلك  $\overline{المجسم}$  بالشكل الرابع عشر من الخامسة فندير مثل ما دبرنا ونبين  
الخلف بمثل ما بينا فليست نسبة قطر  $\overline{ب د}$  الي قطر  $\overline{ز ط}$  مثلثة بالتكرير  
كنسبة  $\overline{مخروط اب}$   $\overline{جدال}$  الي  $\overline{مجسم اصغر}$  او اعظم من  $\overline{مخروط هزح ط م ن}$   
فهي كنسبة  $\overline{مخروط اب}$   $\overline{جدال}$  الي  $\overline{مجسم يساوي}$   $\overline{مخروط هزح ط م ن}$   
ونسبة  $\overline{مخروط اب}$   $\overline{جدال}$  الي  $\overline{مخروط هزح ط م ن}$  كنسبة  $\overline{مجسم يساوي}$   
 $\overline{مخروط هزح ط م ن}$  بالشكل الرابع من الخامسة مثلثة بالتكرير كنسبة  
 $\overline{مخروط}$



مخروط  $ابحد$  الى مخروط  $هزحط$  م نه بمثله تبين الحكم في الاسطوانتين  
الا انا نفصل الاسطوانة الى المنشوران او نقول ان نسبة الاجزاء كنسبة  
الاضعاف ونتمم البيان بالحكم ثابت وذلك ما اردنا ان تبين  
يا

نسبة مخروط واسطوانة مستديرة قاعدتهما دائرة  
واحدة وسهمهما واحد الى مخروط واسطوانة  
مستديرة قاعدتهما دائرة واحدة وسهمهما واحد كل  
الى نظيره وارتفاع الشكل واحد كنسبة قاعدة  
الاولين الى قاعدة الاخرين

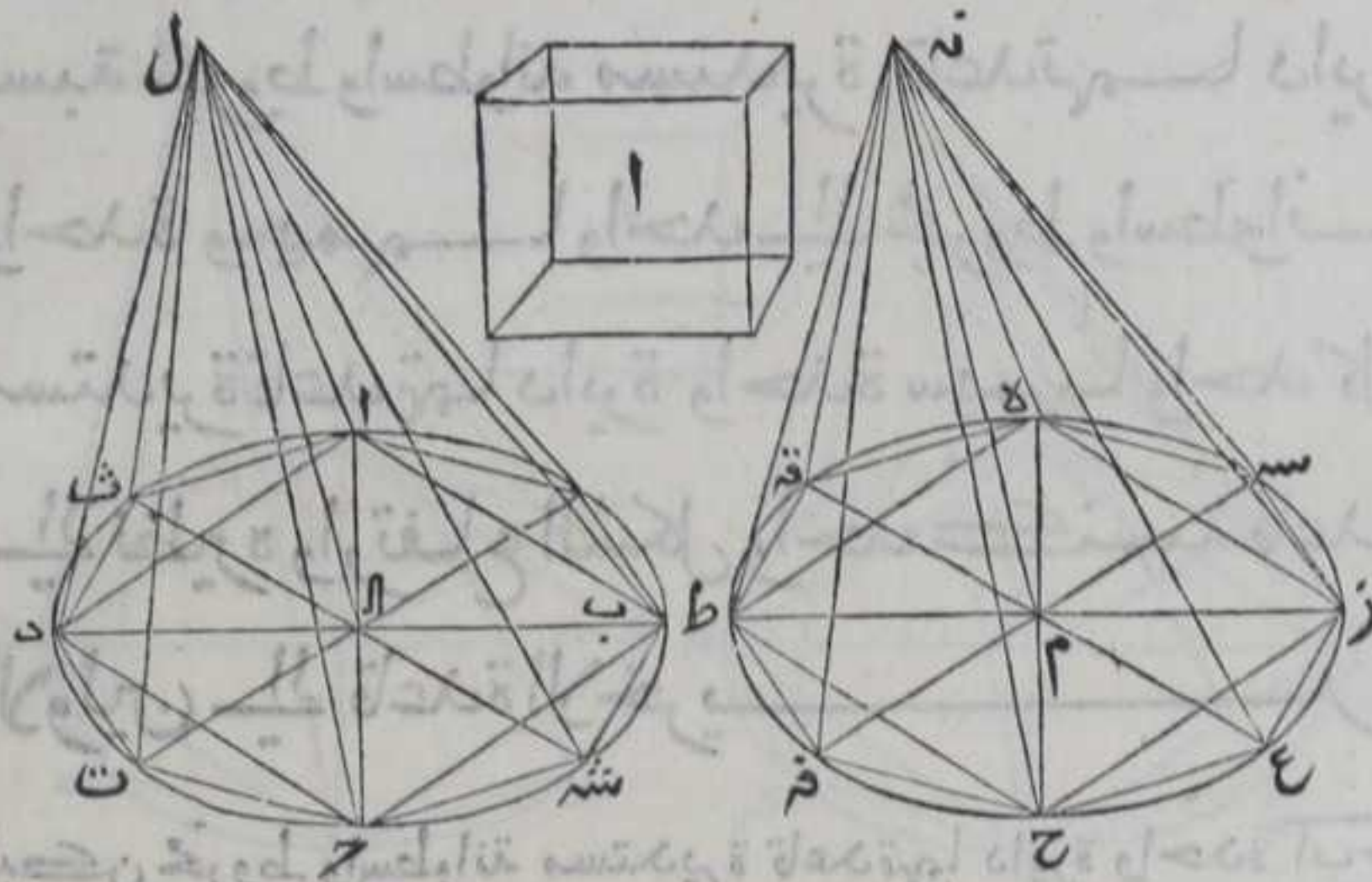
ليكن مخروط واسطوانة مستديرة قاعدتهما دائرة واحدة  $ابحد$   
وسهمهما  $ال$  ومخروط واسطوانة مستديرة قاعدتهما دائرة  $هزحط$   
وسهمهما  $م نه$  وارتفاع كل واحد منهما بقدر واحد فاقول ان نسبة  
مخروط  $ابحد$  واسطوانة مستديرة قاعدتهما  $ابحد$  الى مخروط



واسطوانة مستديرة قاعدتهما دائرة  $هزحط$  كنسبة دائرة  $ابحد$  الى  
دائرة  $هزحط$  كل لنظيره برهانه فان لم يكن النسبة كذلك لكانت  
نسبة دائرة  $ابحد$  الى دائرة  $هزحط$  كنسبة مخروط  $ابحد$  الى مجسم  
اصغر من مخروط  $هزحط$  او اعظم وليكن اولا الى مجسم اصغر وليكن  
مجسم



مجسم آ فرسم في دايرة هـ ز ح ط مربع هـ ز ح ط بالشكل السادس من  
الرابعة ونصل بين نقطة نـ وبين كل واحدة من نقط هـ ز ح ط بخط  
مستقيم فيحدث مخروطان مصلعان علي قاعدتي هـ ز ح ط وبارتفاع  
المخروط المستديرهما اعظم من نصف قطعة مخروط هـ ز ح ط من الكائنة



علي مربع هـ ز ح ط لما بينا في الشكل التاسع وننصف القسي التي اوتارها  
اضلاع مربع هـ ز ح ط علي نقط سـ عـ فـ قـ بالشكل التاسع والعشرين من  
الثالثة ونصل اوتار هـ سـ سـ زـ زـ حـ حـ قـ قـ طـ طـ قـ قـ فهي تقع داخل  
الدايرة بالشكل الثاني من الثالثة ونصل بين نقطة نـ وبين كل واحدة  
من النقط المحاذية فيحدث اربعة مخاريط مثلثات هـ سـ زـ زـ حـ حـ قـ قـ طـ  
طـ قـ قـ كل منها اعظم من نصف قطعة المخروط المستدير الكائنة علي  
قاعدة من المثلثات المذكورة لما تقدم في الشكل التاسع فلو سلطنا هذه  
الطريقة فانه سببتي من المخروط المستدير بقايا هي اقل من مجسم آ بالشكل  
الاول من العاشرة ولتكن هي قطع هـ سـ سـ زـ زـ حـ حـ قـ قـ طـ طـ قـ قـ من  
دايرة هـ ز ح ط ونصل بين نقطة مـ وكل واحدة من نقط الزوايا الكائنة  
علي محيط دايرة هـ ز ح ط ونرسم في دايرة ا ب ج د كثير الاضلاع  
ارب ش ح ت دث وعلبه مخروطا مصلعا بارتفاع مخروط ا ب ج د ال كما علمنا  
في دايرة هـ ز ح ط عليها ولان الزوايا المتناظرة من قاعدتي ارب ش ح ت دث  
هـ سـ زـ ح قـ فـ طـ قـ متساوية فاضلاعها المتناظرة متناسبة بالشكل الرابع من  
السادسة فهي متشابهة فنسبة دايرة ا ب ج د الي دايرة هـ ز ح ط كنسبة مربع  
قطر بـ دـ الي مربع قطر زـ طـ بالشكل الثاني ونسبة قاعدة ارب ش ح ت دث  
الي قاعدة هـ سـ زـ ح قـ فـ طـ قـ كنسبة مربع قطر بـ دـ الي مربع قطر زـ طـ  
بالشكل الاول فبالشكل الحادي عشر من الخامسة نسبة دايرة ا ب ج د الي  
دايرة هـ ز ح ط كنسبة قاعدة ارب ش ح ت دث الي قاعدة هـ سـ زـ ح قـ فـ طـ قـ  
كنسبة



كنسبة مربع قطر ب د ا لى مربع قطر ن ر ط بالشكل الاول فبالشكل الحادي عشر من الخامسة نسبة دايرة ا ب ج د ا لى دايرة ه ن ر ح ط كنسبة قاعدة ا ر ب ش ه ح ت د ث ا لى قاعدة ه س ن ر ع ح ف ط ق ونسبة مخروط ا ر ب ش ه ح ت د ث ا ل ا ل ا لى مخروط ه س ن ر ع ح ف ط ق م ن ه كنسبة قاعدة ا ر ب ش ه ح ت د ث ا لى قاعدة ه س ن ر ع ح ف ط ق بالشكل الثامن فبالشكل الحادي عشر من الخامسة نسبة دايرة ا ب ج د ا لى دايرة ه ن ر ح ط كنسبة مخروط ا ر ب س ه ح ت د ث ا ل ا لى مخروط ه س ن ر ع ح ف ط ق م ن ه وكانت نسبة مخروط ا ب ج د ا ل ا لى مجسم ا كنسبة دايرة ا ب ج د ا لى دايرة ه ن ر ح ط فبالشكل الحادي عشر من الخامسة نسبة مخروط ا ر ب س ه ح ت د ث ا ل ا لى مخروط ه س ن ر ع ح ف ط ق م ن ه كنسبة مخروط ا ب ج د ا ل ا لى مخروط ا ر ب س ه ح ت د ث ا ل ا لى مخروط ه س ن ر ع ح ف ط ق م ن ه ا لى مجسم ا و بالابدال نسبة مخروط ا ر ب ش ه ح ت د ث ا ل ا لى مخروط ا ب ج د ا ل ا لى كنسبة مخروط ه س ن ر ع ح ف ط ق م ن ه ا لى مجسم ا بالشكل الحادي عشر من الخامسة لكن مخروط ا ر ب ش ه ح ت د ث ا ل ا لى ما بيننا في التاسع بمخروط ه س ن ر ع ح ف ط ق م ن ه اصغر من مجسم ا وكان اعظم منه هذا خلف فلبست نسبة دايرة ا ب ج د ا لى دايرة ه ن ر ح ط كنسبة مخروط ا ب ج د ا ل ا لى مجسم ا اصغر من مخروط ه ن ر ح ط م ن ه و لا ا لى مجسم اعظم منه والا لكانت نسبة دايرة ا ب ج د ا لى دايرة ه ن ر ح ط كنسبة مخروط ا ب ج د ا ل ا لى مجسم اعظم من مخروط ه ن ر ح ط م ن ه وليكن هو مجسم ا فبالخلاف والتقديم نسبة مجسم ا ا لى مخروط ا ب ج د ا ل ا لى كنسبة دايرة ه ن ر ح ط ا لى دايرة ا ب ج د وليكن هو نسبة مخروط ه ن ر ح ط م ن ه ا لى مجسم ا كنسبة دايرة ه ن ر ح ط ا لى دايرة ا ب ج د فبالشكل الحادي عشر من الخامسة نسبة مجسم ا ا لى مخروط ا ب ج د ا ل ا لى كنسبة مخروط ه ن ر ح ط م ن ه ا لى مجسم ا لكن مجسم ا اعظم من مخروط ه ن ر ح ط م ن ه فمخروط ا ب ج د ا ل ا لى اعظم من ذلك المجسم بالشكل الرابع عشر من الخامسة فندبر مثل ما دبرنا ونبين الخلف بمثل ما بيننا فلبست دايرة ا ب ج د ا لى دايرة ه ن ر ح ط كنسبة مخروط ا ب ج د ا ل ا لى مجسم اصغر او اعظم من مخروط ه ن ر ح ط م ن ه لكن ا لى مجسم مساو لمخروط ه ن ر ح ط م ن ه ونسبة مخروط ا ب ج د ا ل ا لى مخروط ه ن ر ح ط م ن ه كنسبة ا لى مجسم مساو لمخروط ه ن ر ح ط م ن ه بالشكل السابع من الخامسة فبالشكل الحادي عشر من الخامسة نسبة دايرة ا ب ج د ا لى دايرة ه ن ر ح ط كنسبة مخروط ا ب ج د ا ل ا لى مخروط ه ن ر ح ط م ن ه وبمثله الحكم في الاسطوانة . او نقول نسبة الاجزاء كنسبة الاضعاف وذلك ما اردنا ان نبين

مقدمة

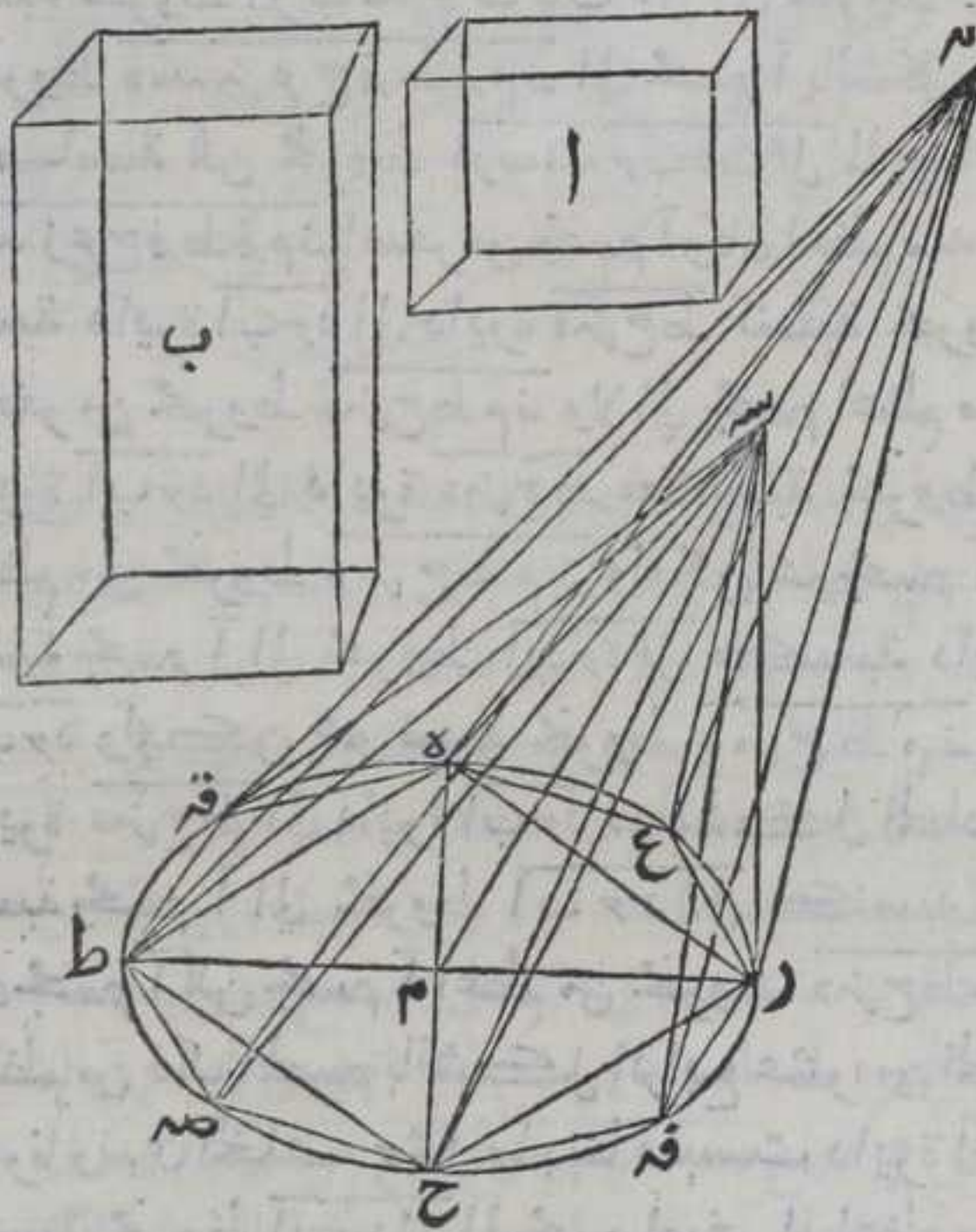
كل مخروطين مستديرين على دايرة واحدة في

جهة



جهة منها وسهم احدها اقصر من سهم الآخر فان  
نسبة المخروط الاعظم منهما الي المخروط الاصغر كنسبة  
سهم الاعظم الي سهم الاصغر

ليكن مخروط مستدير قاعدته دائرة هـ ر ح ط وسهم مـ نـ ومخروط آخر  
مستدير قاعدته تلك الدائرة بعينها وسهم مـ سـ فاقول ان نسبة مـ نـ الي  
مـ سـ كنسبة مخروط هـ ح مـ نـ الي مخروط هـ ح مـ سـ برهانه ان لم يكن نسبة مـ نـ  
الي مـ سـ كنسبة مخروط هـ ح مـ نـ الي مخروط هـ ح مـ سـ لكانت نسبة مخروط



هـ ح مـ نـ الي مجسم اصغر  
من مخروط هـ ح مـ سـ  
او اعظم منه فليكن  
اولا الي مجسم اصغر  
وذلك هو مجسم  
فلترسم في دائرة  
هـ ر ح ط مربع هـ ر ح ط  
بالشكل السادس  
من الرابعة ونصل  
بين كل واحدة من  
نقطتي نـ سـ وبين  
كل واحدة من نقط  
هـ ر ح ط بخط مستقيم  
فيحدث اربعة  
مخاريط علي مثلثات  
هـ م ر هـ م ط ر م ح ط م ح

كل واحد من تلك المخاريط اعظم من نصف القطعة الكائنة علي مربع  
دائرة هـ ر ح ط من مخروط هـ ح مـ سـ لما نيين في الشكل التاسع وننصف  
كل واحدة من القسي هـ ر م ح ط هـ ر م ح ط علي نقط ع قـ صـ قـ ونصل بين  
كل واحدة من نقط هـ ع ر قـ ح صـ ط قـ بخط مستقيم ونصل بين كل  
واحدة من نقطتي نـ سـ وبين كل واحدة من نقط هـ ع ر قـ ح صـ ط قـ  
بخط مستقيم فيحدث اربعة مخاريط علي قطع هـ ع ر ر قـ ح صـ ط قـ هـ  
كل واحد من تلك المخاريط اعظم من نصف القطعة من مخروط هـ ح مـ سـ  
الكائنة علي قاعدة ذلك المخروط المصنع من دائرة هـ ر ح ط لما بيننا في  
الشكل التاسع فلو سلطنا هذه الطريقة فانه سيبقي من مخروط هـ ح مـ سـ  
قطع



## الثانية عشر

٣٩١

قطع اصغر من مجسم  $\alpha$  بالشكل الاول من العاشرة لتكن  $\beta$  القطع الكائنة  
من مخروط  $\alpha$  ح م س  $\alpha$  علي قطع  $\alpha$  ع ر ر ف ح ص ط  $\alpha$  ق د من  
دايرة  $\alpha$  ح ط فيكون المخروط المصنع الكائين علي قاعدة  $\alpha$  ع ر ف ح ص ط  $\alpha$  ق  
وبارترفاع مخروط  $\alpha$  ح م س المستدير اعظم من مجسم  $\alpha$  ونصل بين نقطة  $\alpha$  س  
وبين كل واحدة من نقط  $\alpha$  ع ر ف ح ص ط  $\alpha$  ق فيحدث مخروط مصنع  
علي قاعدة  $\alpha$  ع ر ف ص ق وبارترفاع مخروط  $\alpha$  ح م ن فيكون المخروط المصنع  
الذي بارترفاع  $\alpha$  م ن كائنا في مخروط  $\alpha$  ح م ن في الشكل التاسع فلان  
نسبة المخروط المصنع الذي قاعدته مثلث  $\alpha$  م ح وراسه نقطة  $\alpha$  الي  
المخروط المصنع الذي قاعدته مثلث  $\alpha$  م ح وراسه نقطة  $\alpha$  كنسبة  
مثلث  $\alpha$  م ح الي مثلث  $\alpha$  م ح بالشكل الخامس لان ارتفاعهما  
متساويان ونسبة  $\alpha$  م ن الي  $\alpha$  م س كنسبة مثلث  $\alpha$  م ح الي مثلث  $\alpha$  م ح  
بالشكل الاول من السادسة لان ارتفاعهما متساويان وبمثلته تبين ان  
نسبة مخروط  $\alpha$  م ح الي مخروط  $\alpha$  م س كنسبة  $\alpha$  م ن الي  $\alpha$  م س ولذلك  
نسبة مخروط  $\alpha$  م ح الي مخروط  $\alpha$  م ح ونسبة مخروط  $\alpha$  م س كنسبة  
 $\alpha$  م ن الي  $\alpha$  م س ونسبة جميع المقدمات الي جميع التوالي كنسبة مقدم  
واحد الي تالفة بالشكل الثالث عشر من الخامسة فنسبة مخروط  
 $\alpha$  ع ر ف ح ص ط ق م ن المصنع الي مخروط  $\alpha$  ع ر ف ح ص ق م س المصنع كنسبة  
 $\alpha$  م ن الي  $\alpha$  م س وكانت نسبة مخروط  $\alpha$  ح م ن الي مجسم  $\alpha$  كنسبة  $\alpha$  م ن الي  $\alpha$  م س  
فبالشكل الحادي عشر من الخامسة نسبة مخروط  $\alpha$  ح م ن المصنع الي  
مخروط  $\alpha$  ح م س المصنع كنسبة مخروط  $\alpha$  ح م ن المستدير كنسبة مخروط  
 $\alpha$  ح م س المصنع الي مجسم  $\alpha$  لكن مخروط  $\alpha$  ح م ن المصنع اصغر من مجسم  
 $\alpha$  وكان اعظم منه هذا خلف فليست نسبة  $\alpha$  م ن الي  $\alpha$  م س كنسبة مخروط  
 $\alpha$  ح م ن المستدير الي مجسم اصغر من مخروط  $\alpha$  ح م س المستدير . ولا الي  
مجسم اعظم منه والا فليكن نسبة مخروط  $\alpha$  ح م ن المستدير الي مجسم  
اعظم من مخروط  $\alpha$  ح م س المستدير كنسبة  $\alpha$  م ن الي  $\alpha$  م س وليكن ذلك  
هو مجسم  $\alpha$  فبالاختلاف نسبة مجسم  $\alpha$  الي مخروط  $\alpha$  ح م ن كنسبة  $\alpha$  م ن الي  
 $\alpha$  م س وليكن نسبة مخروط  $\alpha$  ح م ن المستدير الي مجسم  $\alpha$  ما وليكن هو  
مجسم  $\beta$  كنسبة  $\alpha$  م ن الي  $\alpha$  م س فبالشكل الحادي عشر من الخامسة نسبة  
مجسم  $\alpha$  الي مخروط  $\alpha$  ح م ن المستدير كنسبة مخروط  $\alpha$  ح م س المستدير  
الي مجسم  $\beta$  لكن مجسم  $\alpha$  اعظم من مخروط  $\alpha$  ح م س المستدير فمخروط  
 $\alpha$  ح م س المستدير اعظم من مجسم  $\beta$  فندبركا دبرنا ونبين الخلف بمثل  
ما بينا فليست نسبة  $\alpha$  م ن الي  $\alpha$  م س كنسبة مخروط  $\alpha$  ح م ن الي مجسم  
اصغر من مخروط  $\alpha$  ح م س ولا الي مجسم اعظم منه فهي كنسبة  $\alpha$  م ن الي مجسم  
يساوي مخروط  $\alpha$  ح م س بالشكل السابع من الخامسة فبالشكل الحادي  
عشر من الخامسة نسبة  $\alpha$  م ن الي  $\alpha$  م س كنسبة مخروط  $\alpha$  ح م ن المستدير  
الي



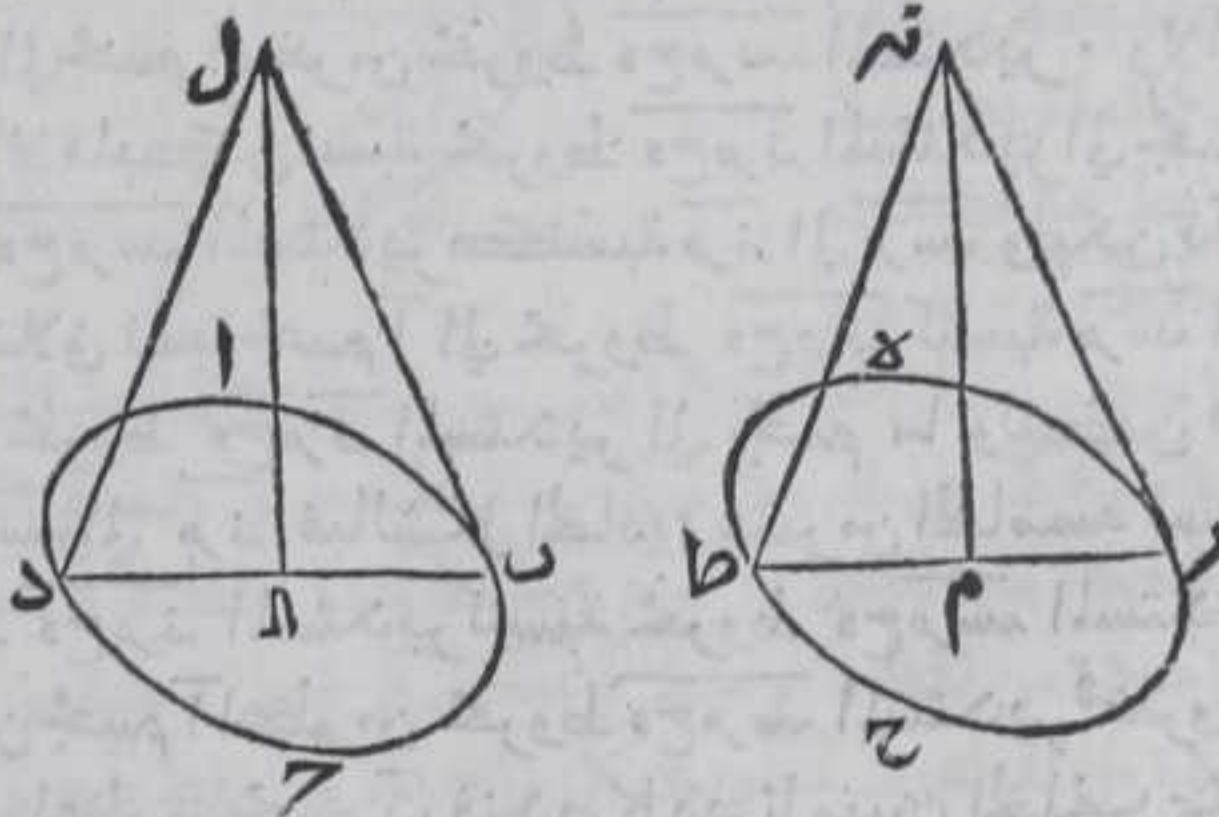
الي مخروط  $\overline{هـ ح م ر س ه}$  المستدير وبمثله نبين اذا كان بدل المخروطين اسطوانتان مستديرتان الا انا نبذل المخاريط بالمناشر او نبين بالشكل الخامس عشر من الخامسة فان نسبة الاجزاء كنسبة الارتفاع المتساوية العدة وذلك ما اردنا ان نبين

يب

كل مخروطين مستديرين واسطوانتين مستديرتين فان كانا متساويتين كانت قاعدتهما مكافيتين لارتفاعهما وان كانت قاعدتهما مكافيتين لارتفاعهما كانا متساويتين

لتكن قاعدة احد المخروطين او الاسطوانتين دائرة  $\overline{ا ب ج د}$  وسهمه  $\overline{ا ل}$  وقاعدة الاخر دائرة  $\overline{هـ ح ط م ن ه}$  وسهمه  $\overline{م ن ه}$  فاقول ان مخروط  $\overline{ا ب ج د ا ل}$  او اسطوانته ان كانا مساويا لمخروط  $\overline{هـ ح ط م ن ه}$  او اسطوانته كل لنظرة كانت نسبة قاعدة  $\overline{ا ب ج د ا ل}$  الى قاعدة  $\overline{هـ ح ط م ن ه}$  كنسبة ارتفاع  $\overline{م ن ه}$  الى ارتفاع  $\overline{ا ل}$  وبالعكس برهانه فلان مخروط  $\overline{ا ب ج د ا ل}$  ان كان مساويا لمخروط  $\overline{هـ ح ط م ن ه}$  فلا يخلو اما ان يكون ارتفاع  $\overline{ا ل}$  مساويا لارتفاع  $\overline{م ن ه}$  او لرفان كانا الارتفاعان متساويتين فنسبة المخروط الى المخروط حينئذ تكون لنسبة

القاعدة الى القاعدة النظير من النظير بالشكل المتقدم والمخروطان متساويان بالغرض فالقاعدتان متساويتان



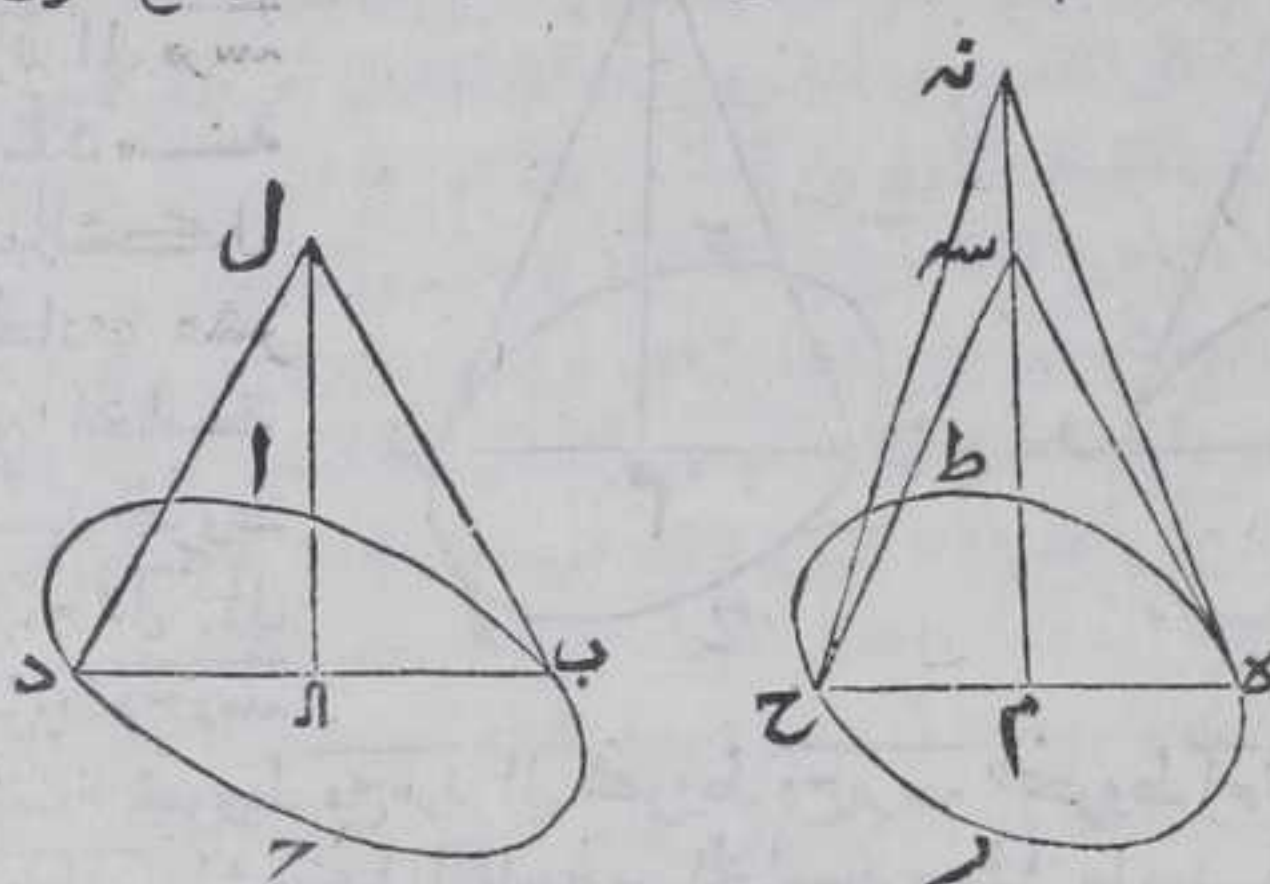
والارتفاعان متساويان بالغرض فنسبة قاعدة  $\overline{ا ب ج د ا ل}$  الى قاعدة  $\overline{هـ ح ط م ن ه}$  كنسبة ارتفاع  $\overline{م ن ه}$  الى ارتفاع  $\overline{ا ل}$  وبمثله تبين في الاسطوانتين ان كان ارتفاعهما متساويين . وان لم يكن ارتفاع  $\overline{ا ل}$  كارتفاع  $\overline{م ن ه}$  وليكن ارتفاع  $\overline{م ن ه}$  اعظم من ارتفاع  $\overline{ا ل}$  فنفصل من  $\overline{م ن ه}$  مساويا لارتفاع  $\overline{ا ل}$



## الثانية عشر

٣٩٣

ال بالشكل الثالث من الاولي ونصل بين نقطة ه مثلا وبين كل واحدة من نقطتي م س بخط مستقيم فيحدث مثلث ه م س زاوية ه م س منه قائمة منسبت ضلع م س وندير المثلث الي ان يعود الي وضعه الاول فيحدث مخروط ه م س المستدير مساويا ارتفاعه لارتفاع مخروط

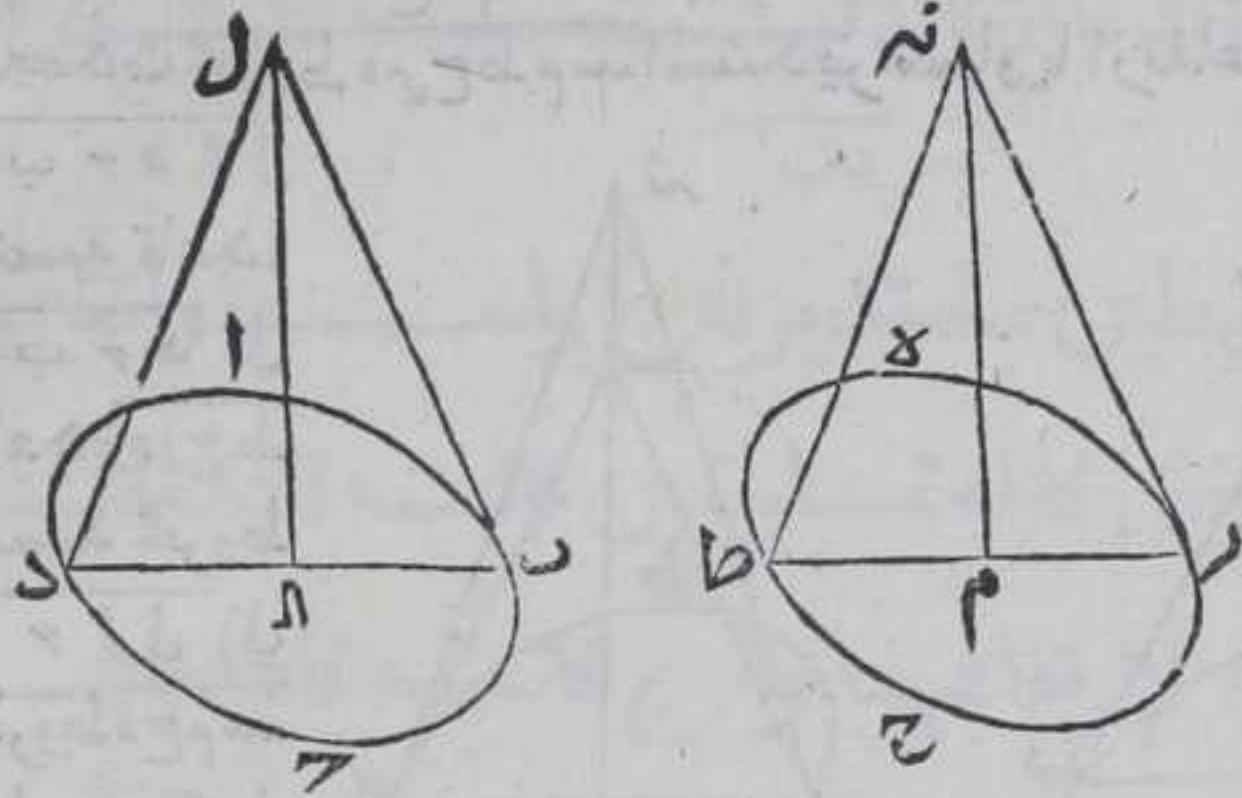


ا ب ح د ال  
فنسبة قاعدة  
ا ب ح د الي  
قاعدة ه م س  
كنسبة مخروط  
ا ل ال الي  
مخروط ه م س  
بالشكل  
المتقدم لان  
ارتفاعها

متساويان ونسبة مخروط ه م س الي مخروط ه م س كنسبة مخروط  
ا ح ل الي مخروط ه م س بالشكل السابع من الخامسة فبالشكل الحادي  
عشر من الخامسة نسبة قاعدة ا ب ح د الي قاعدة ه م س كنسبة مخروط  
ه م س الي مخروط ه م س ونسبة م ن الي م س كنسبة مخروط ه م س الي  
مخروط ه م س بالمقدمة فبالشكل الحادي عشر من الخامسة نسبة  
قاعدة ا ب ح د الي قاعدة ه م س كنسبة م ن الي م س ونسبة م ن الي ال  
كنسبته الي م س بالشكل السابع من الخامسة فبالشكل الحادي عشر من  
الخامسة نسبة قاعدة ا ب ح د الي قاعدة ه م س كنسبة م ن الي ال. واما  
العكس وهو ان يكون نسبة قاعدة ا ب ح د الي قاعدة ه م س كنسبة  
ارتفاع م ن الي ارتفاع ال فان كان الارتفاعان متساويين تكونا  
القاعدتان متساويتين ونسبة مخروط ا ح ل الي مخروط ه م س كنسبة  
قاعدة ا ب ح د الي قاعدة ه م س المتساويتين بالشكل المتقدم فالمخروطان  
متساويان وان لم تكن الارتفاعان متساويين وليكن م ن اعظمها فنفصل  
منه م س مساويا لارتفاع ال بالشكل الثالث من الاولي ونصل بين كل  
واحدة من نقطتي م س وبين نقطة ه بخط مستقيم فيحدث مثلث  
ه م س منسبت ضلع م س وندير المثلث الي ان يعود الي وضعه الاول  
فيحدث مخروط ه م س المستدير فنسبة مخروط ا ح ل الي مخروط  
ه م س كنسبة قاعدة ا ب ح د الي قاعدة ه م س بالشكل المتقدم لان  
ارتفاعها متساويان ونسبة م ن الي ال كنسبة قاعدة ا ب ح د الي قاعدة  
ه م س فبالشكل الحادي عشر من الخامسة نسبة مخروط ا ح ل الي مخروط  
ه م س كنسبة م ن الي ال ونسبة م ن الي م س كنسبته الي ال بالشكل  
السابع



السابع من الخامسة فبالشكل الحادي عشر من الخامسة نسبة مخروط  
 ا ح ا ل الي مخروط ه ح م س ك نسبة م ر ن الي م ر س ونسبة مخروط ه ح م ر ن

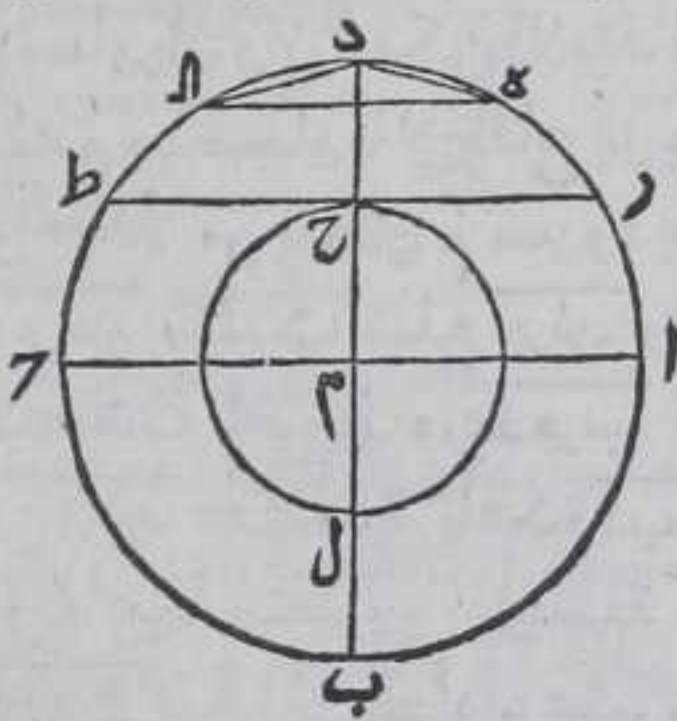


الي مخروط  
 ه ح م س ك نسبة  
 م ر ن الي م ر س  
 بالمقدمة  
 فبالشكل  
 الحادي عشر  
 من الخامسة  
 نسبة مخروط  
 ا ب ح ا ل الي  
 مخروط ه ح م س

كنسبة مخروط ه ح م ر ن الي مخروط ه ح م س فمخروط ا ح ا ل يساو مخروط  
 ه ح م ن فبالشكل التاسع من الخامسة ويمثل ما بيننا في الاسطوانتين  
 مستديرتين ونبدال المخاريط بالمناشير او نبيين بان نسبة الاجزاء كنسبة  
 الاضعاف بالشكل الخامس عشر من الخامسة وذلك ما اردنا ان نبين

كل دائرتين علي مركز واحد احديهما اعظم من  
 الآخر فان لنا ان نرسم في اعظمها شكلا كثير  
 الاضلاع لا يماس الدائرة الصغرى ولا يفصلها  
 الي قطعتين

ليكن دايرتا ا ب ح د ح ل علي مركز م ودائرة ا ب ح د اعظمها فاقول  
 لنا ان نرسم فيها شكلا كثير الاضلاع  
 لا يماس دائرة ح ل برهانه نصل بين  
 نقطتي ا م بخط مستقيم ونخرجه علي  
 استقامته في جهة م الي ان ينتهي الي  
 محيط ا ب ح د ولينته الي نقطة ح ونخرج  
 من نقطة م الي ا عمودا م بالشكل  
 الحادي عشر من الاولي ونخرجه في  
 جهته علي استقامته الي ان ينتهي الي  
 محيط الدائرة العظمي ولينته الي نقطتي ب د وليقطع محيط الدائرة  
 الصغرى





الصغري علي نقطتي ح ل وتخرج من نقطة ح علي قطر حل عمود مرح  
 بالشكل الحادي عشر من الاولي فهو يماس دايرة حل علي نقطة ح باستبانة  
 الشكل الخامس عشر من الثالثة وتخرجه في جهته الي ان ينتهي الي  
 محيط العظمي علي نقطتي ر ط ونصف قوسي اد ونصف احد نصفيه  
 وهكذا دايمًا بالشكل التاسع والعشرين من الثالثة الي ان يبقي قوس  
 اقل من قوسي رد بالشكل الاول من العاشرة ولتكن بي قوس ده وتخرج  
 من نقطة ه خط موازي بالخط ر ط بالشكل الواحد والثلاثين من الاولي  
 ولينقطع محيط دايرة اب رد علي نقطة ا فهو لا يماس دايرة حل ونصل ده  
 بخط مستقيم فهو يقع داخل دايرة اب رد بالشكل الثاني من الثالثة فخط  
 ده لا يماس دايرة حل بالطريق الاولي ولان قوس ده تقدر محيط اد فهي  
 بقدر محيط دايرة اب رد ونفصل محيط دايرة اب رد بامثال قوس ده  
 بان نرسم علي نقطة د وببعد ده دايرة وعلي نقطة ه وبذلك البعد ايضا  
 دايرة اخري وهكذا الي ان نتعرف جميع المحيط ونفصل اوتار تلك  
 القسي فتكون متساوية فقي تلك الاوتار متساوية بالشكل السابع  
 والعشرين من الثالثة فيكون قد رسمنا في دايرة اب رد شكلا كثيرا  
 الاضلاع لا يماس دايرة حل ضلع من اضلاعه وذلك ما اردنا ان نبين

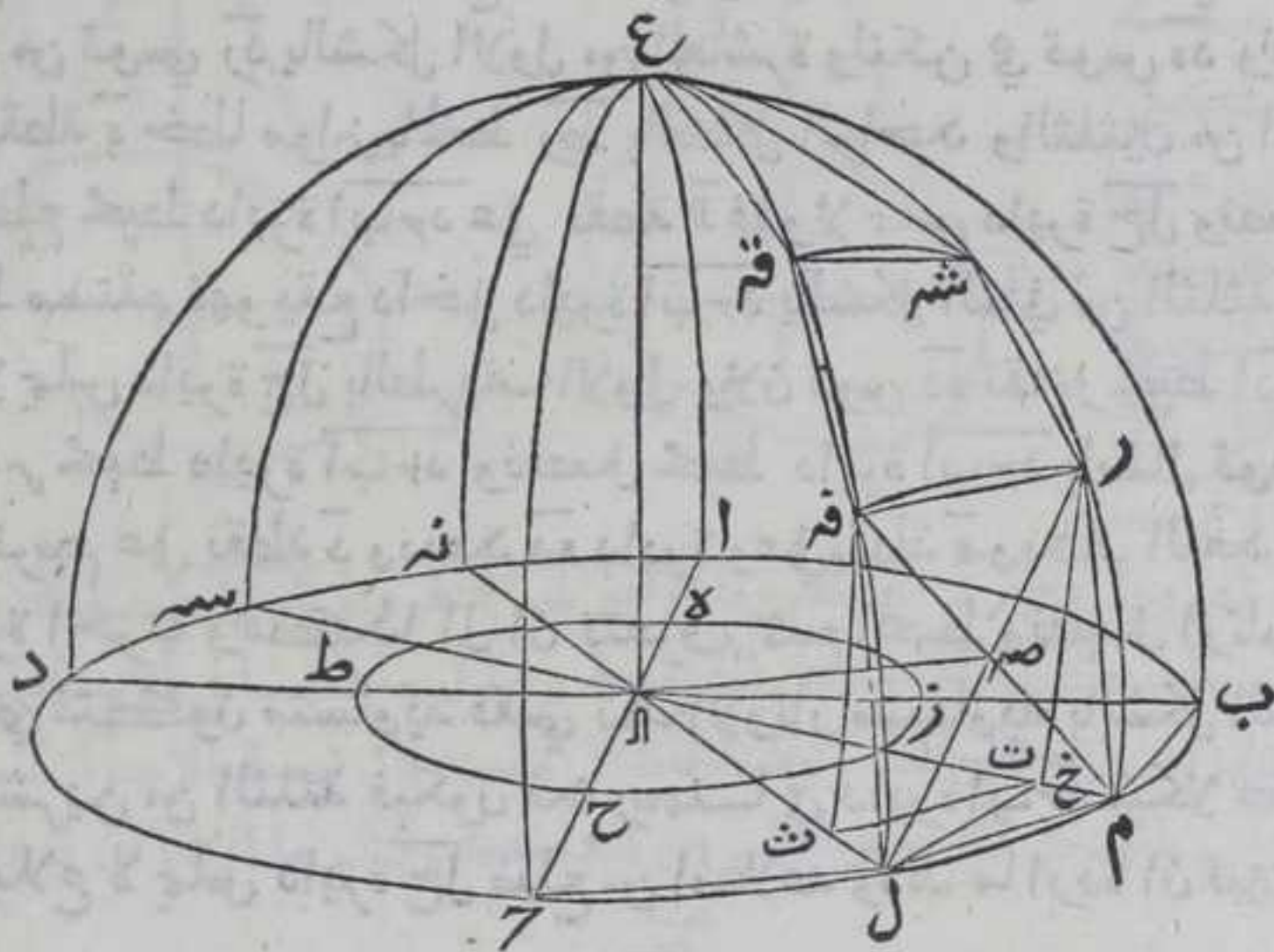
يد

كل كرتين عظمي وصغري علي مركز واحد في  
 الوضع فان لنا ان نرسم في العظمي مجسما كثير  
 القواعد لا يماس قواعد محيط الصغري ولا يفصله  
 الي قطعتين

ليكن كرتان علي مركز اول يفصلها سطح اب رد المستوي وليمر علي نقطة  
 ا فينصف كل واحدة منهما ونصل بين نقطتي ب ا بخط مستقيم وليمر  
 علي محيط الصغري علي نقطة ن وندير خط ب ز ا في سطح اب رد بحيث  
 يلزم نقطة ب محيط العظمي ونقطة ن محيط الصغري الي ان يعود الي  
 وضعه الاول فيحدث من مير نقطتي ب ن علي محيط الكرتين دايرة تا اب رد  
 ح ن ر ط وتخرج ب ا في جهة ا علي استقامته الي ان ينتهي الي محيط  
 العظمي علي نقطة د و الي محيط الصغري علي نقطة ط وتخرج من نقطة  
 ا علي قطر ب د عمود ا بالشكل الحادي عشر من الاولي وتخرجه في جهة  
 ا الي ان ينتهي الي محيط العظمي علي نقطة ح وعلي محيط الصغري علي  
 نقطة ح ونرسم في دايرة اب رد سطحا كثيرا الاضلاع لا يماس دايرة ح ر ط  
 ولا



ولا يفصلها الي قطعتين بالشكل المتقدم ونخرج من نقطة ك علي سطح  
دايرة ا ب ح د عمود ا ع بالشكل الحادي عشر من الحادية عشر ونخرجه في  
جهة ع الي ان ينتهي الي محبط العظمي فلبنته الي نقطة ع وليمر بسطحين  
مستويين ويفصلان محبط دايرة ا ب ح د علي نقطتي م ل فيحدث في الكرة



العظمي دايرة ا ب ح د م ع ل ع ن لما تقدم فكل منهما يقوم علي دايرة ا ب ح د  
علي زوايا قوايم وليكن الفصل المشترك بين دايرة ا ب ح د وبين دايرة  
م ع ل ع ن سطحاً كثير الاضلاع وليقسم كل من ارباع كل واحد منهما  
بثلاثة اقسام متساوية بالشكل المتقدم وفي قسي م ر ر ش ش ع ل ف ف ق  
ق ع م م ر ب ع م ع ل ع ونخرج من نقطة م في سطح دايرة م ع ل ع ن علي قطر  
م ل ع عمود م ر ت ومن نقطة ق في سطح دايرة ل ع ن علي قطر ل ن عمود ق ت  
بالشكل الثاني عشر من الاولي فيكون كل من العمودين عمودا علي سطح  
دايرة ا ب ح د باستبانة الشكل الثامن عشر من الحادية عشر ونصل بين  
نقطتي ت ت ب بخط مستقيم وكذلك بين نقطتي م ر ف ف عمودا م ر ت ق ت  
متوازيان بالشكل السادس من الحادية عشر ولان قسي م ر ل ف متساويان  
وهما من الدائرتين المتساويتين فضعفاهما متساويان فوتر الضعفين  
متساويان بالشكل الثامن والعشرين من الثالثة واث عمودان علي  
الوترين فكل واحد من العمودين ينصف احد الوترين بالشكل الثالث  
من الثالثة فعمود ر ت يساوي عمود ق ت فخطا ر ق ت ت الواصلان بين  
العمودين المتساويين المتوازيين متساويان بالشكل الثالث والثلاثين من  
الاولي فعمودا ا ت ا ت اللذان هما ابعاد الوترين المتساويين عن المركز  
متساويان بالشكل الثالث عشر من الثالثة فخطا م ت ل ت متساويان  
فنسبة ت ا الي ت م كنسبة ت ا الي ت ل بالشكل السابع من  
الخامسة





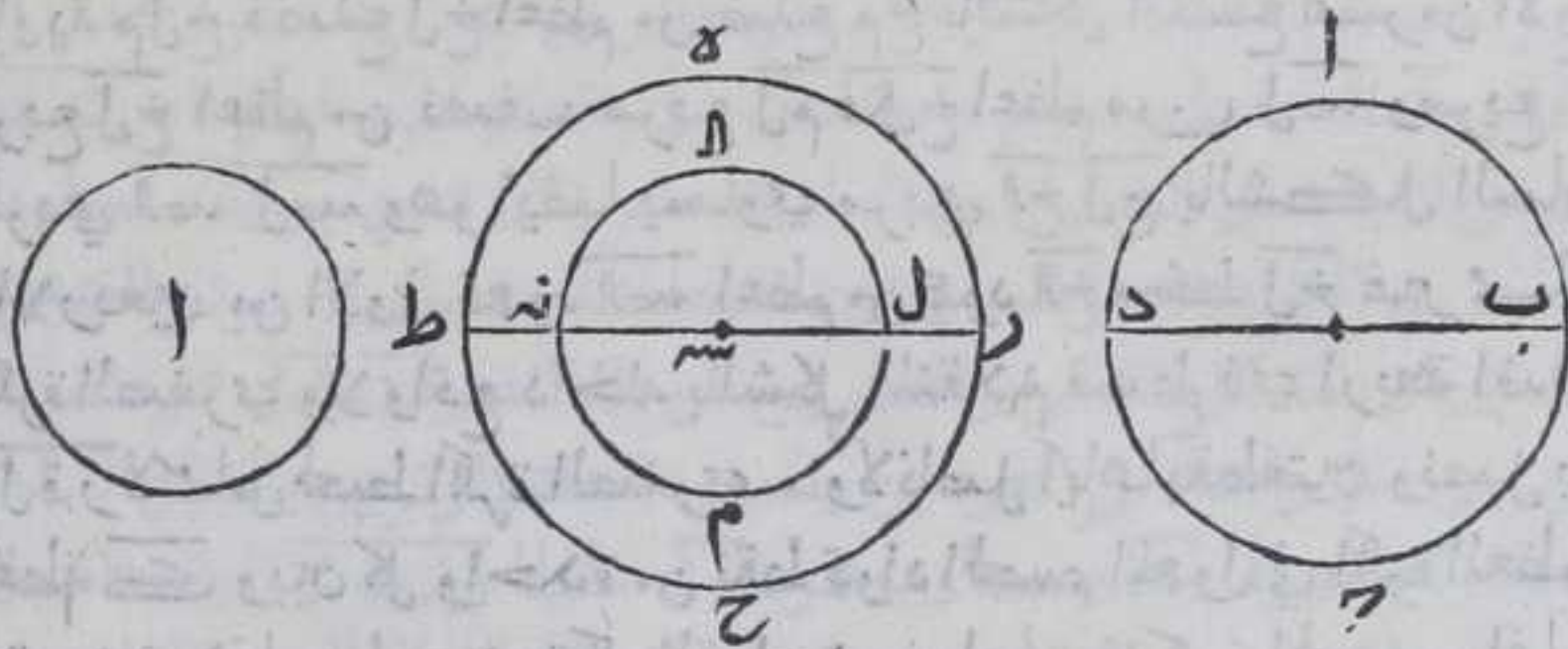


تلك المخاريط . ولان عدد القواعد في الجسمين متساويتين ونسبة  
 اضلاع قواعد احد الجسمين من الدواير الواقعة في كرتيه كنسبة  
 اضلاع قواعد الجسم الآخر النظير الي الدواير الواقعة في كرتيه وزوايا  
 السطوح المحيطة بتلك ايضا متساوية لانها تقع علي قسي متشابهة  
 فتكون المخاريط الواقعة في الجسمين متشابهة وقاعدة كل مخروط  
 من تلك المخاريط مثلث ضلعان من كل مثلث من تلك المثلثات  
 نصف قطر الكرة ونسبة كل مخروط مثلث القاعدة الي مخروط آخر  
 كذلك كنسبة ضلع من اضلاع قاعدته الي نظيره من اضلاع قاعدة  
 الآخر مثلثة بالتكرير بالشكل الثامن فنسبة مخروط احد الجسمين  
 الي مخروط نظيره من الجسم الآخر كنسبة نصف قطر كرتيه الي نصف  
 قطر كرة الجسم الآخر مثلثة بالتكرير ونسبة الاضلاع متساوية  
 العدة كنسبة الاجزاء بالشكل الخامس عشر من الخامسة فنسبة مخروط  
 من احد الجسمين الي مخروط آخر نظيره من الجسم الآخر كنسبة قطر  
 كرتيه الي كرة الجسم الآخر مثلثة بالتكرير ونسبة مقدم واحد الي تاليه  
 كنسبة جميع المقدمات الي جميع التوالي بالشكل الثالث عشر من الخامسة  
 فنسبة احد الجسمين الي الجسم الآخر كنسبة قطر كرتيه الي قطر كرة  
 الآخر مثلثة بالتكرير . وذلك ما اردنا ان نبين

يه

كل كرتين نسبة احديهما الي الاخرى كنسبة  
 قطرها الي قطر الكرة الاخرى مثلثة بالتكرير

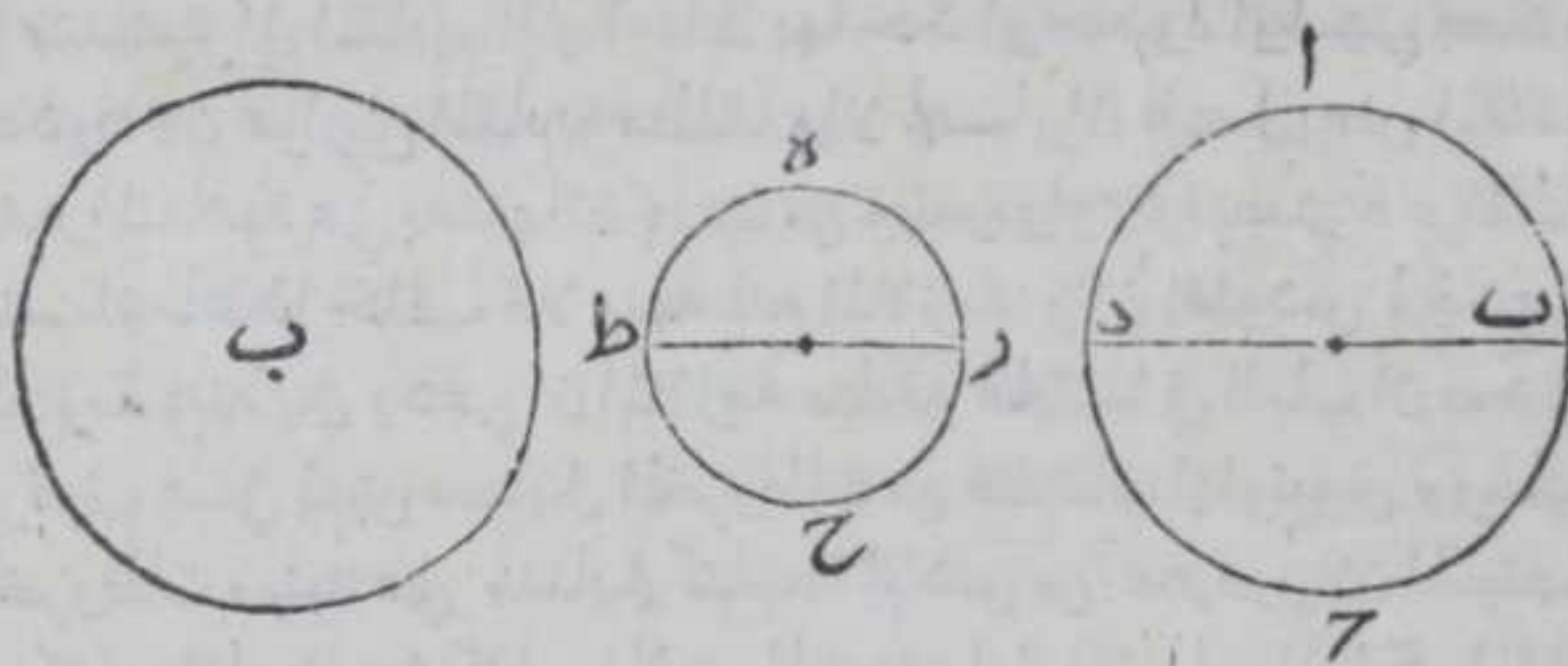
ليكن  $AB$  دائرة  $AC$  كرتين قطر احدهما  $BD$  وقطر الاخرى  $RT$  فاقول  
 ان نسبة كرة  $AB$  الي كرة  $AC$  كنسبة قطر  $BD$  الي قطر  $RT$  مثلثة



بالتكرير . برهانه فلانه لو لم تكون نسبة كرة  $AB$  الي كرة  $AC$  كنسبة  
 قطر  $BD$  الي قطر  $RT$  مثلثة بالتكرير لكانت نسبة كرة  $AB$  الي  
 الي كرة اخرى اصغر من كرة  $AC$  او اعظم منها كنسبة قطر  $BD$  الي قطر  
 $RT$



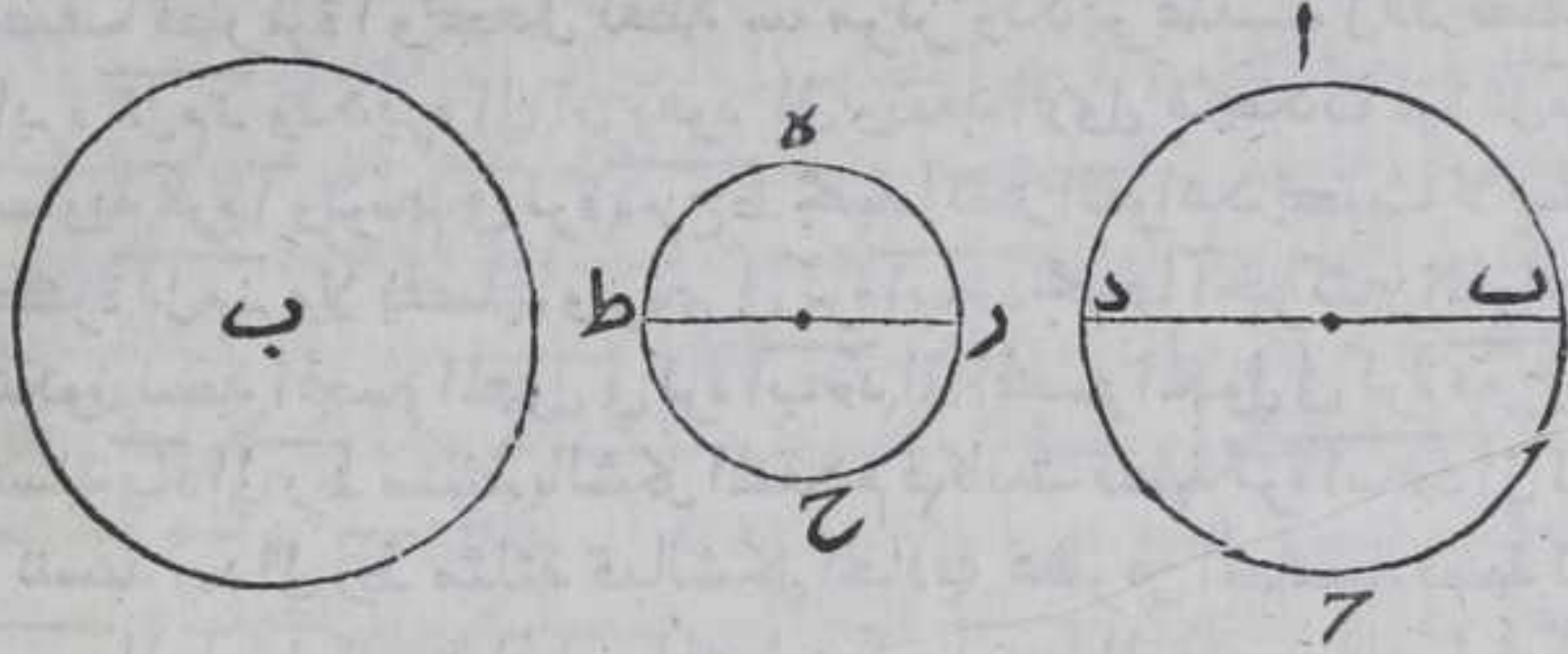
رط مثلثة بالتكرير وليكن اولا الي كرة اصغر من كرة همرح ط وليكن في  
 كرة آ وليكن نقطة سه مركز كرة همرح ط فنصل من سه لسه مساويا  
 لنصف قطر كرة آ ونجعل نقطة سه مركز وندير عليه لانه نصف  
 دائرة اللم نه ونديره الي ان يعود الي وضعه الاول فيحدث كرة اللم نه  
 مساوية لكرة آ ونرسم في كرة همرح ط مجسما كثير القواعد بحيث لا يمس  
 كرة اللم نه ولا يفصلها ونرسم في كرة اب حرد مجسما آخر كثير القواعد  
 فتكون نسبة المجسم المعول في كرة اب حرد الي المجسم المعول في كرة همرح ط  
 كنسبة ب د الي رط مثلثة بالشكل المتقدم فكانت نسبة كرة اب حرد الي كرة  
 آ كنسبة ب د الي رط مثلثة فبالشكل الحادي عشر من الخامسة نسبة كرة  
 اب حرد الي كرة آ كنسبة المجسم المعول في كرة اب حرد الي المجسم المعول في كرة  
 همرح ط فنسبة كرة اب حرد الي المجسم المعول في كرة اب حرد كنسبة كرة آ الي  
 المجسم المعول في كرة همرح ط بالشكل السادس عشر من الخامسة لكن كرة  
 اب حرد اعظم من المجسم المعول في كرة اب حرد فكرة آ اعظم من المجسم المعول  
 في كرة همرح ط هذا خلف لانه المجسم المعول في كرة همرح ط اعظم من  
 كرة اللم نه فهو اعظم من كرة آ ايضا فليست نسبة ب د الي رط مثلثة  
 كنسبة كرة اب حرد الي كرة اصغر من كرة همرح ط . ولا الي كرة اعظم من كرة  
 همرح ط والا فلتكن كنسبتها الي كرة اعظم من كرة همرح ط ولتكن في كرة ب  
 فبالخلاف نسبة رط الي ب د مثلثة كنسبة كرة ب الي كرة اب حرد وليكن



نسبة كرة همرح ط الي كرة آخري كنسبة رط الي ب د فبالشكل الحادي عشر  
 من الخامسة نسبة كرة ب الي كرة اب حرد كنسبة كرة همرح ط الي كرة ب لكن  
 كرة ب اعظم من كرة همرح ط فكرة اب حرد اعظم من كرة ب بالشكل الرابع من  
 الخامسة فندير مثل ما دبرنا ونبين الخلف بمثل ما بينا فنسبة كرة اب حرد  
 الي كرة همرح ط كنسبة قطر ب ر الي قطر رط مثلثة بالتكرير وذلك ما  
 اردنا ان نبين  
 وقد اورد علي قوله لو لم تكون نسبة كرة همرح ط كنسبة قطر ب د الي قطر  
 رط مثلثة لكانت نسبة كرة اب حرد الي كرة آخري اعظم من كرة همرح ط  
 كنسبة قطر ب د الي قطر رط مثلثة لكانت كنسبة كرة اب حرد الي كرة  
 آخري



اخرى اعظم من كرة  $\overline{مرحط}$  او اصغر منها ان الملازمة غير بينه بل  
الملازمة البينه ان يقال لو لم تكن نسبة الكرة الي الكرة كنسبة قطر  $\overline{ب د}$  الي



قطر  $\overline{ر ط}$  مثلثة لكانت نسبة كرة  $\overline{ا ب ج د}$  الي مجسم اصغر او اكبر من كرة  
 $\overline{مرحط}$  كما قال في نظائره لان النسبة من عوارض بالذات دون الاشكال فما  
لم يبرهن علي امكان وجود كرة تساوي اي مجسم يفرض لا تثبت الكم بهذا  
الوجه والبرهان علي امكان وجود ذلك مبني علي اصول ابلونبوس  
المذكور في المخروطات اقول قال اقليدس في صدر المقالة الخامسة النسبة  
اضافة ما في القدر بين مقدرين من جنس واحد وقال المقادير التي  
تقال ان بين بعضها وبعض النسبة هي التي قد يمكن اذا ضوعفت ان  
نفصل بعضها علي بعض فالنسبة من عوارض المقادير المتناهية من حيث  
هي متناهية الي المقادير التي احاط بها حد او حدود او اسهي بحد او  
حدود لان عوارض المقادير مطلقا والا لجار ان نفصل بعض المقادير  
الغير المتناهية علي بعضها ان كانت من جنس واحد فيصير غير المتناهي  
متناهي هذا خلف فلا وجه لمنع الملازمة ولان اقليدس لم يدع ان  
الملازمة بينه بل يدعي ان الملازمة صادقة غاية ما في الباب ان صدقها  
موقوف علي بعض مسايل المخروطات من كتاب ابلونبوس ورسائل  
المخروطات مبنيه علي مسايل كتاب اقليدس من غير دور لان المستعمل  
من كتاب اقليدس في كتاب المخروطات بين اول الكتاب الي اخر المقالة  
السادسة وشي يسبر من المقالة الحادية عشر

تمت المقالة الثانية عشر

ولله الحمد وحده علي ما وافق وساعد



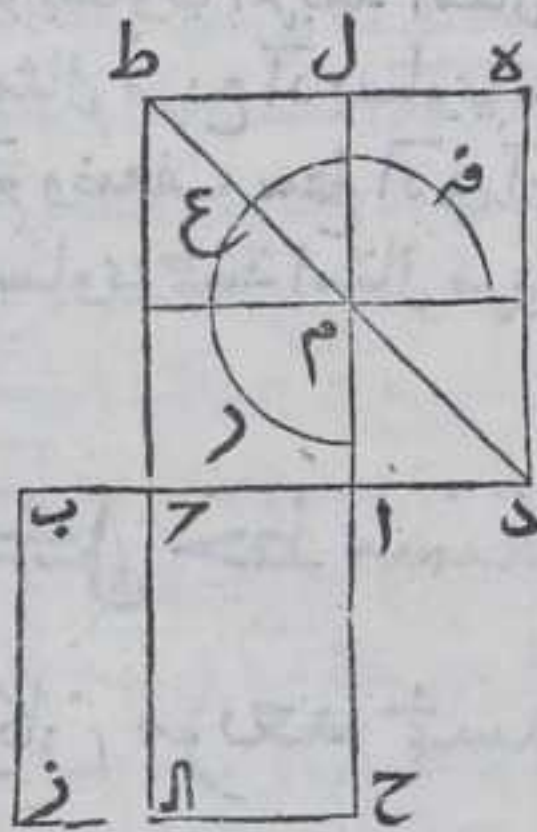


# المقالة الثالثة عشر وعشرون

كل خط مستقيم محدود قسم علي نسبة ذات  
وسط وطرفين وزيد علي قسمه الاطول خط يساوي  
نصف الخط كله علي استقامته فان مربع الخط  
الحادث منها يساوي خمسة امثال مربع نصف

الخط ط

ليكن الخط  $AB$  وقسم علي  $C$  علي نسبة ذات وسط وطرفين بالشكل  
التاسع والعشرين من السادسة وليكن قسمه الاطول  $AC$  ونزيد فيه علي  
استقامته خط  $AD$  مساويا لنصف خط  $AB$  فاقول ان مربع  $CD$  خمسة  
امثال مربع  $AD$  برهانه نرسم علي كل واحد من خطي  $AB$   $CD$  مربعاً

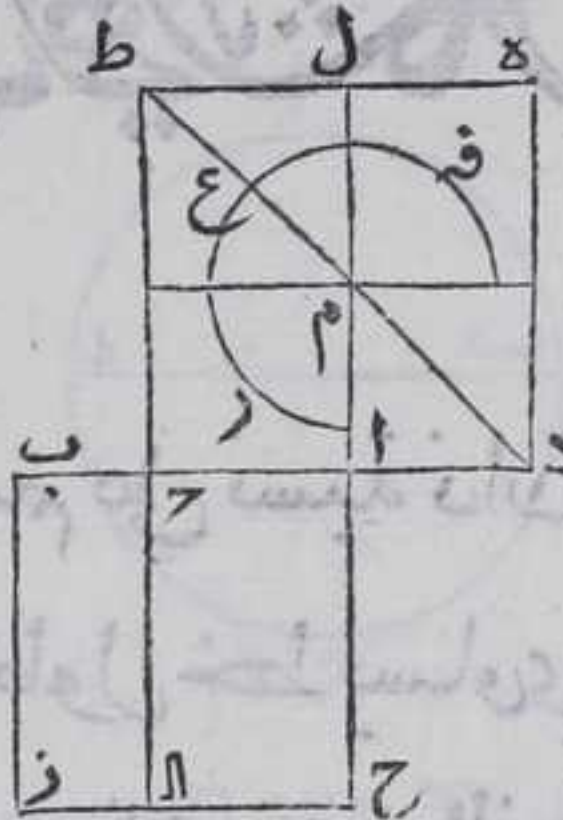


بالشكل التاسع والاربعين من الاولي وهما  
مربعاً  $AC$   $CD$  ونخرج كل واحد من خطي  
 $AC$   $CD$  علي استقامته اما  $AC$  ففي جهة  $A$   
واما  $CD$  ففي جهة  $C$  الي ان ينتهي  $AC$  الي  
ضلع  $DE$  علي نقطة  $L$  و  $CD$  الي ضلع  $CH$   
علي نقطة  $M$  ونخرج خط  $DM$  فيجتاز علي  
خط  $AL$  علي نقط  $N$  ونخرج خطاً موازياً  
لضع  $CD$  بالشكل الواحد والثلاثين من  
الاولي ونخرجه في جهته الي ان ينتهي الي  
ضلعي  $DE$   $CD$  علي نقطتي  $N$   $S$  فلان


سطحي  $ANL$  مربعاً باستبانة الشكل الرابع من الثامنة والاضلاع  
المتقابلة من السطوح المتوازية الاضلاع متساوية بالشكل الرابع  
والثلاثين من الاولي يكون  $AN$  يساوي  $AD$  و  $NS$  يساوي  $AC$  ولان سطح  
ان  $CD$  مربع فخط  $AC$  يساوي  $AB$  و  $AD$  يساوي  $AM$  لكن  $AB$  يساوي ضعف  
 $AD$  ف  $AC$  يساوي ضعف  $AM$  ونسبة سطح  $ANL$  الي  $AS$  كنسبة  $AC$  الي  $AM$   
بالشكل



بالشكل الاول من السادسة فسطح  $\overline{آ}$  يساوي ضعف سطح  $\overline{آس}$  فتما  
 هم  $\overline{ح}$  معا المتساويان بالشكل  
 الثالث والاربعين من الاولي يساويان  
 سطح  $\overline{آ}$  الوسط  $\overline{حز}$  وهو الحاصل من سطح  
 $\overline{ب}$  في  $\overline{ب}$  و  $\overline{آب}$  يساوي  $\overline{ب}$  فسطح  
 $\overline{حز}$  يساوي سطح  $\overline{آب}$  في  $\overline{ب}$  وهو مربع  
 $\overline{آ}$  المساوي لسطح  $\overline{مط}$  فعلم فرع  $\overline{ز}$  يساوي  
 مربع  $\overline{آز}$  وهو اربعة امثال مربع  $\overline{آد}$   
 فاذا اضفنا اليه مربع  $\overline{آه}$  حصل سطح  $\overline{حز}$   
 وهو مربع  $\overline{ح}$  خمسة امثال مربع  $\overline{آد}$   
 وذلك ما اردنا ان نبين



ونبين هذا الدعوي في شكل آخر بوجه آخر برهانه فلان  $\overline{آب}$  قسم علي  
 نسبة ذات وسط وطرفين وقسمه الاطول  $\overline{آ}$  يكون سطح  $\overline{آب}$  في  $\overline{ب}$  مربع  
 $\overline{آ}$  فاجعل  $\overline{آب}$  في  $\overline{آ}$  مشتركا فيكون سطح  $\overline{آب}$  في  $\overline{ب}$  وسط  $\overline{آب}$  في  $\overline{آ}$  معا  
 المساوي لمربع  $\overline{آب}$  بالشكل الثاني من الثانية مساويا لمربع  $\overline{آ}$  ووسط  $\overline{آب}$   
 في  $\overline{آ}$  لكن مربع  $\overline{آب}$  يساوي اربعة امثال  
 مربع  $\overline{آد}$  بحكم الشكل الرابع من الثانية لان  
 $\overline{آد}$  نصف  $\overline{آب}$  ووسط  $\overline{آب}$  في  $\overline{آ}$  يساوي ضعف  
 سطح  $\overline{آد}$  في  $\overline{آ}$  بالشكل الاول من السادسة فضعف سطح  $\overline{آد}$  في  $\overline{آ}$  مع مربع  
 $\overline{آ}$  يساوي اربعة امثال مربع  $\overline{آد}$  فاجعل مربع  $\overline{آد}$  مشتركا فتكون خمسة  
 امثال مربع  $\overline{آد}$  يساوي مربعي  $\overline{آد}$  وضعف سطح  $\overline{آد}$  في  $\overline{آ}$  لكن مربع  $\overline{آد}$   
 $\overline{آ}$  وضعف سطح  $\overline{آد}$  في  $\overline{آ}$  مربع  $\overline{حز}$  بالشكل الرابع من الثانية فمربع  $\overline{حز}$   
 يساوي خمسة امثال مربع  $\overline{آد}$  وذلك ما اردنا ان نبين

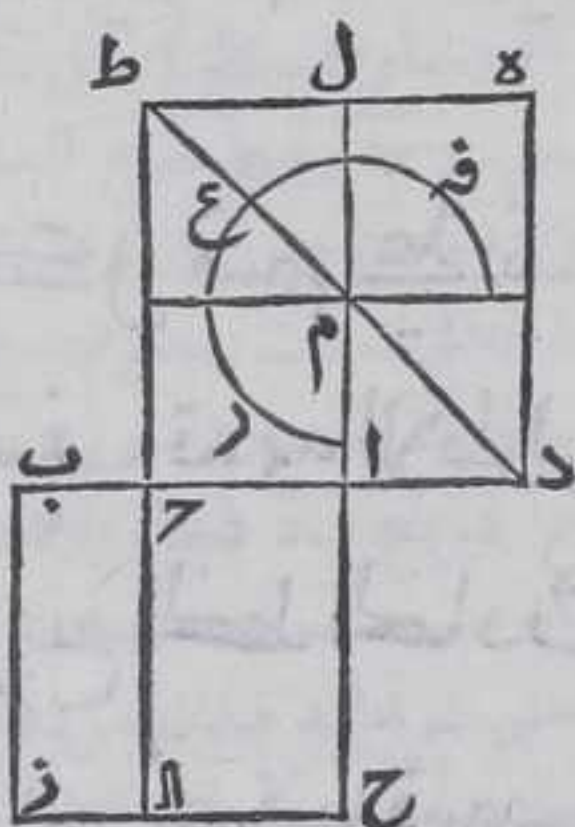


ب  
 كل خط مستقيم محدود قسم بقسمين مختلفين  
 وكان مربعه خمسة امثال مربع احد قسميه وزيد  
 في القسم الاخر منه خط مستقيم علي استقامته  
 وكان الخط الحاصل منهما ضعف القسم الاول  
 فالخط الحادث الذي هو ضعف القسم الاول  
 مقسوم



مقسوم على نسبة ذات وسط وطرفين وقسمه الاطول  
القسم الثاني من الخط المقسوم بمختلفين

ليكن الخط المقسوم بمختلفين على نقطة آ خط جد ومربعه خمسة  
امثال مربع اد وزيد في آ على استقامته خط ب ح المستقيم فصار اب  
ضعف اد فاقول ان اب مقسوم بنقطة ج على نسبة ذات وسط وطرفين  
وقسمه الاول آ ح برهانه نرسم على خطي جد اب مربعاً ج ه ا ب بالشكل



السابع والاربعين من الاولي ونخرج  
خطي آ ح ح ط على استقامتهما اما خط  
آ ح في جهة آ واما خط ح ط ففي جهة ج  
فلينته آ ح الي ضلع ه ط على نقطة ل وخط  
ح ط الي ح ز على نقطة ا ونخرج قطر ه ط  
فيجتاز على خط آل بنقطة م ونخرج منها  
خطا يوازي ضلع ج د بالشكل الواحد  
والثلاثين من الاولي ونخرجه في جهته الي  
ضلع د ه ج ا على نقطتي ن س فكل  
من سطحي دم م ط مربع باستبانة الشكل

الرابع من الثانية فاح يساوي اب واح يساوي ام فيكون آ ح ضعف ام  
ونسبة سطح آل الي سطح اسه كنسبة آ ح الي ام بالشكل الاول من السادسة  
واح ضعف ام فسطح آل ضعف سطح اسه ومنها هم ح م المتساويان بالشكل  
الثالث والاربعين من الاولي ضعف سطح اسه فسطح آل يساوي م م م م  
ح م وسطه انه مربع اد وسطه ج ه مربع خمسة امثال مربع اد فعلم فرع م  
اربعة امثال مربع اد ومربع اب اربعة امثال مربع اد بحكم الشكل  
الرابع من الثانية فربع از يساوي علم فرع ر فسطح ج ز يساوي مربع ل س  
وضلع آ ح يساوي م س بالشكل الرابع والثلاثين من الاولي فربع ا ح  
المساوي لمربع ل س يساوي سطح ج ز الحاصل من سطح با في ب ج و اب  
يساوي ب ز فسطح ج ز يساوي سطح اب في ب ج و سطح اب في ب ج يساوي  
مربع ب ج وسطه ا ح في ج ب بالشكل الثالث من الثانية فاح اعظم من ب ج  
فخط اب مقسوم على نقطة ج على نسبة ذات وسط وطرفين وقسمه الاطول  
آ ح فالحكم ثابت وذلك ما اردنا ان نبين  
وتبين هذا الدعوي في شكل آخر بوجه آخر برهانه فلان مربع ج د  
يساوي مربعي اد آ ح و ضعف سطح آ ح في اد بالشكل الرابع من الثانية وهو  
ايضا يساوي خمسة امثال مربع اد بالفرض فاذا القينا من مربع ج د مربع  
اد

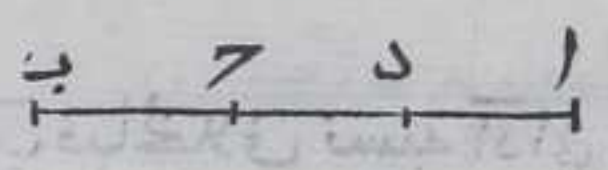






فقره سدح مل ل ط مربع باستبانة الشكل الرابع من الثانية ولان الاضلاع المتقابلة من السطوح المتوازية الاضلاع متساوية بالشكل الرابع والثلاثين من الاولي فخط اد يساوي كل واحد من خطي م ق سدل وخط د ر يساوي كل واحد من خطي ف ا ل ق واد يساوي د ر و ا د يساوي م ا فربع ا د يساوي مربع م ر ط ومربع د ر يساوي مربع ف ق واضلاع المربعات الكائنة في مربع م ط مساوية فربع م ط اربعة امثال مربع ف ق فربع ا د اربعة امثال مربع د ر وخط ه ع يساوي خط ن ع لانهما يساويان خطي ط ق ا ل ق المتساويين فسطح ط ع كسطح ا ع بالشكل السادس والثلاثين من الاولي ولان ا ب يساوي ب ه وسطح د ه حاصل ضرب ب د في ب ه فسطح د ه يساوي سطح ا ب في ب د ومربع ا د يساوي سطح ا ب في ب د فسطح د ه يساوي مربع ا د بل اربعة امثال مربع د ر وسطح ط ع كسطح ا ع وسطح ع ا كسطح ا د بالشكل الثالث والاربعين من الاولي لانهما متمان الاشياء المساوية بشي واحد متساوية فعلم ت ر ث يساوي سطح د ه بل مربع ا د بل اربعة امثال مربع د ر وسطح ف ق المساوي لمربع د ر اذا اضغناه الي علم ت ر ث حصل مربع د ع فربع ب د يساوي خمسة امثال مربع د ر فالحكم ثابت وذلك ما اردنا ان نبين

ونبين هذا الدعوي في شكل آخر بوجه آخر برهانه فلان مربع ا د المصنف علي نقطة د يساوي اربعة امثال مربع د ر بحكم الشكل الرابع من الثانية وسطح ا ب في ب د المساوي لمربع ا د يساوي مربع ب د وسطح ا د في ب د بالشكل الثالث من الثانية وسطح ا د في ب د يساوي ضعف سطح د ر في ب د بالشكل الاول من الثانية



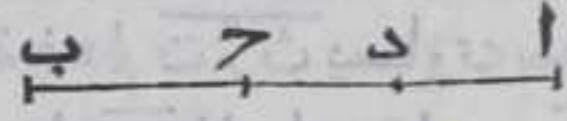
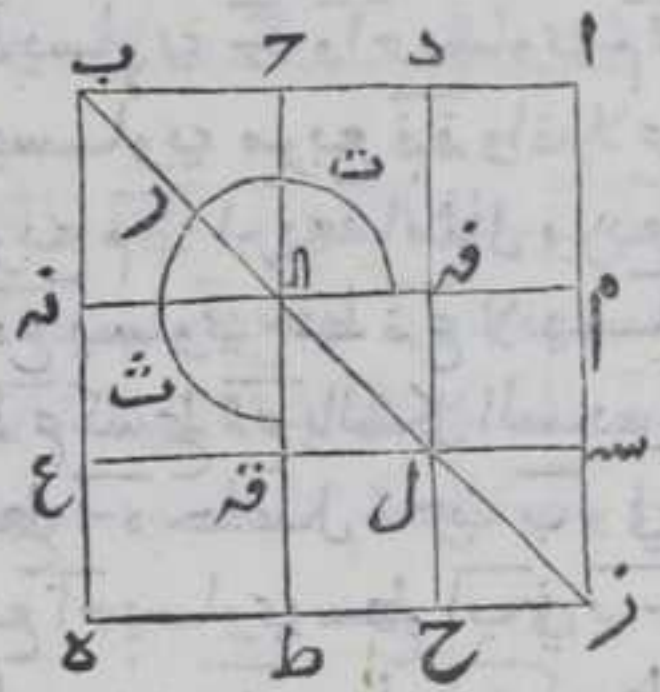
فضعف سطح د ر في ب د مع مربع ب د واد انزيد  
 يساوي اربعة امثال مربع د ر واد انزيد  
 علي ضعف سطح د ر في ب د مع مربع د ر يصير خمسة امثال مربع د ر مساويا لمربعي د ر ب وضعف سطح د ر في ب د ليكن مربع ب د يساوي مربعي د ر ب وضعف سطح د ر في ب د بالشكل الرابع من الثانية فربع ب د يساوي خمسة امثال مربع د ر فالحكم ثابت وذلك ما اردنا ان نبين

واستبان من هذين الشكلين عكسهما فنقول كل خط مربعه خمسة امثال مربع احد قسميه وزيد في ذلك القسم خط مستقيم ساويه علي استقامته كان الخط الحادات مقسوما علي نسبة ذات وسط وطرفين وقسمه الاصغر القسم الاخر من الخط وليكن مربع ب د خمسة امثال ربيع د ر وزيد علي استقامته ا د مساويا لخط د ر فاب مقسوم علي نسبة ذات وسط وطرفين وقسمه الاصغر ب د

اما



أما على الشكل الأول فلان مربع د ع خمسة امثال مربع ف رة فاذا القينا من  
 مربع د ع مربع ف رة يبقى علم ت رت مساويا لاربعة امثال د و سطح د ه  
 يساوي العلم وهو حاصل من سطح ب ه  
 اعني ان في ب د فسطح ا ب في ب د يساوي  
 اربعة امثال مربع د ف يساوي مربع  
 م ط المساوي لمربع ا د فسطح ا ب في ب د  
 يساوي مربع ا د و ب د اصغر من ا د  
 وأما على الشكل الثاني فلان ب د يساوي  
 خمسة امثال مربع د فاذا القينا منه  
 مربع د ف يبقى ضعف سطح د في ب د  
 مع مربع ب د اربعة امثال مربع د  
 لكن ضعف سطح د في ب د يساوي سطح  
 ا ب في ب د وهو مربع ب د يساوي سطح  
 ا ب في ب د فسطح ا ب في ب د يساوي  
 اربعة امثال مربع د اعني ا د فالحق كما ثابت

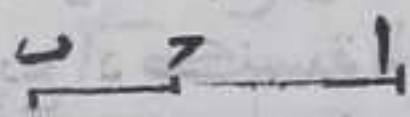


كل خط قسم على نسبة ذات وسط وطرفين وزيد  
 عليه مثل قسمه الاطول على استقامته كان الخط  
 الحاد مقسوما على نسبة ذات وسط وطرفين  
 وقسمه الاطول هو الخط ك

ليكن ا ب قسم بنقطة ج على نسبة ذات وسط وطرفين وزيد فيه ا د على  
 استقامته مساويا لخط ا ج الذي هو قسمه الاطول فاقول ان خط ب د  
 مقسوم على نسبة ذات وسط وطرفين وقسمه الاطول هو خط ا ب برهانه  
 فلان ا ج يساوي ا د تكون نسبة ا ب الى ا د كنسبة ا ب الى ا ج بالشكل السابع  
 من الخامسة ونسبة ا ج الى ب د كنسبة  
 ا ب الى ا ج في الشكل الحادي عشر من  
 الخامسة نسبة ا ب الى ا د كنسبة ا ج الى  
 ب د فبالخلاف نسبة ا د الى ا ب كنسبة ب د الى ا ج وبالتركيب بالشكل  
 السابع عشر من الخامسة نسبة د ب الى ب ا كنسبة ب ا الى ا ج ونسبة ب ا  
 الى ا د كنسبة ب ا الى ا ج بالشكل السابع من الخامسة فنسبة ب د الى ب ا  
 كنسبة ب ا الى ا ج ونسبة ب ا الى ا د كنسبة ب ا الى ا ج بالشكل السابع من  
 الخامسة




الخامسة فنسبة د ب الى ب ا كنسبة ب ا الى ا د بالشكل الحادي عشر من  
الخامسة فالحكم ثابت وذلك ما اردنا ان نبين  
واستبان منه انه اذا فصل اصغر قسمي خط قسم علي نسبة ذات وسط  
وطرفين من اعظم قسميه كان القسم الاعظم مقسوما علي نسبة ذات وسط  
وطرفين والمفصول قسمه الاعظم وذلك لانا اذا فصلنا من ا ب ا ح مساويا  
لخط ا د في هذه الصورة كان ا ب مقسوما علي نقطة ح علي نسبة ذات  
وسط وطرفين وقسمه الاطول ا ح لان نسبة



د ب الى ب ا كانت كنسبة ا ب الى ا د فتكون  
نسبة د ب الى ب ا كنسبة ب ا الى ا ح لان ا د  
يساوي ا ح فبال تفصيل تكون نسبة د ا الى ا ب كنسبة ب ح الى ح ا فبالخلاق  
نسبة ب ا الى ا ح المساوي لخط ا د كنسبة ا ح الى د ب

كل خط قسم علي نسبة ذات وسط وطرفين فان  
مربع الخط كله مع مربع اصغر قسميه يساويان  
ثلاثة امثال مربع الاعظ

ليكن الخط ا ب قسم علي نقطة ح علي نسبة ذات وسط وطرفين وقسمه  
الاصغر ب ح فاقول ان مربعي ا ب ب ح يساويان ثلاثة امثال مربع ا ح  
برهانه فلان مربع ا ب مع مربع ب ح يصاوي ضعف سطح ا ب في ب ح  
مع مربع ا ح بالشكل السابع من الثانية وسط  
ا ب في ب ح يساوي مربع ا ح فضعف سطح ا ب  
في ب ح يساوي مثلثة امثال مربع ا ح فالحكم  
ثابت وذلك ما اردنا ان نبين



كل خط منطبق قسم علي نسبة ذات وسط  
وطرفين فان كل واحد من قسميه منفصل

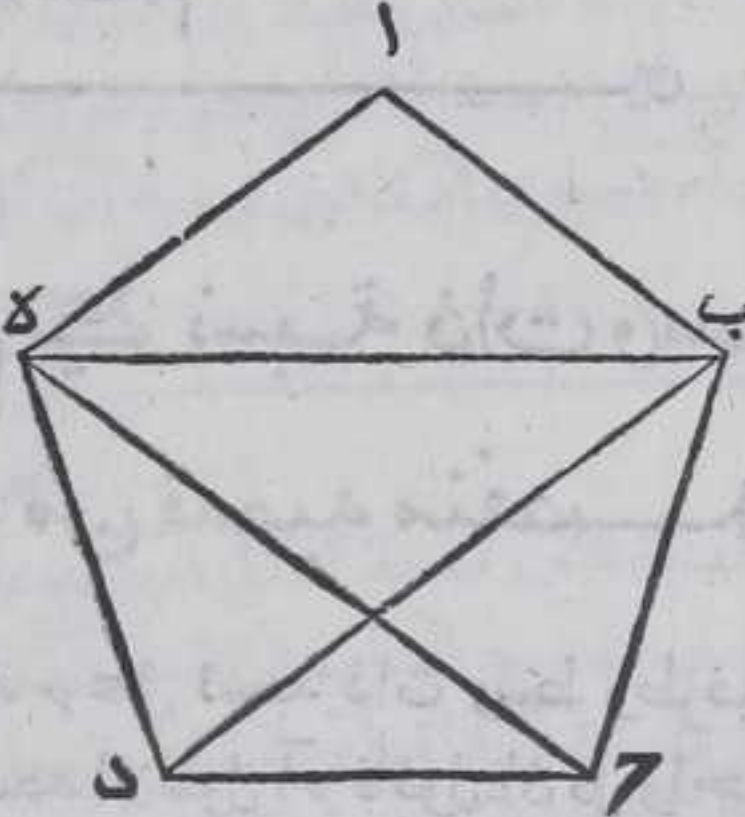
ليكن خطا منطبقا وليقسم علي نقطة ح علي نسبة ذات وسط وطرفين  
بالشكل التاسع من السادسة وليكن قسمه الاطول ا ح فاقول ان كل واحد  
من ا ح ب منفصل برهانه نزيد في خط ا ح خط ا د المستقيم علي  
استقامته



استقامته ونفصل منه  $\overline{AD}$  مثل نصف  $\overline{AB}$  بالشكل الثالث من الاولي  
 فربيع  $\overline{DA}$  خمسة امثال مربع  $\overline{DA}$   
 بالشكل الاول فتكون نسبة مربع  
 $\overline{DA}$  الي مربع  $\overline{AD}$  كنسبة الخمسة من  
 العدد الي الواحد فنسبتهما ان كانت كنسبة عددي ليست عدد من  
 المربعين لان الخمسة ليست بمربع فـ  $\overline{DA}$  يباين  $\overline{DA}$  في الطول يشاركه في القوة  
 بالشكل السابع من العاشرة فبالقلب نسبة مربع  $\overline{DA}$  الي فصل مربعه علي  
 مربع  $\overline{AD}$  كنسبة الخمسة الي المربع ولبسا عددين مربعين فـ  $\overline{DA}$  يقوي  
 علي  $\overline{AD}$  بمربع خط يباينه في الطول و  $\overline{AD}$  منطف في الطول  $\overline{AD}$  منفصل  
 خامس واذا اضفنا سطحين متوازيين الاضلاع الي خط  $\overline{AB}$  المنطف  
 مساويان لمربع  $\overline{AC}$  كان الضلع الثاني منه منفصل اول بالشكل الرابع  
 والتسعين من العاشرة وسطح  $\overline{AB}$  في  $\overline{B}$  مساويا لمربع  $\overline{AC}$  وهو مضاف الي  
 خط  $\overline{AB}$  والعرض الحادث هو  $\overline{BC}$  منفصل بالحكم ثابت وذلك ما اردنا  
 ان نبين

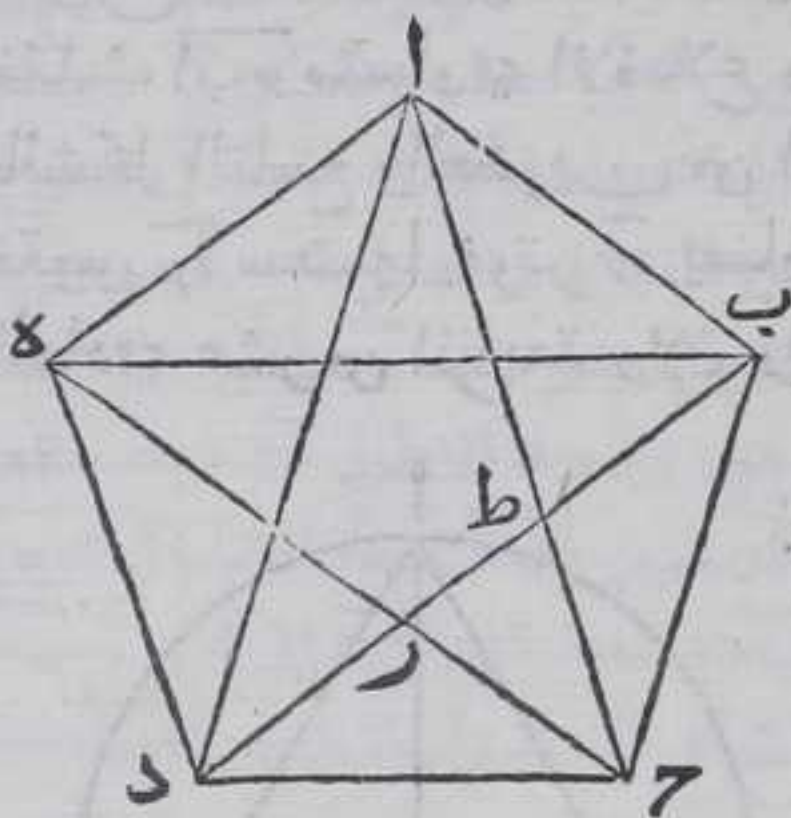
كل نجس متساوي الاضلاع تساوت ثلث زوايا  
 من زواياه متجاورة او غير متجاورة فجميع زواياه  
 متساوية

ليكن الخمس  $\overline{AB}$  حده وثلث زوايا من زواياه وهي زوايا  $\overline{BAE}$  ب  $\overline{BCD}$  حده  
 الغير المتجاورة متساوية فاقول ان جميع زواياه متساوية برهانه نصل  
 بين نقطة  $\overline{B}$  وبين كل واحد من نقطتي  $\overline{D}$   $\overline{E}$  بخط مستقيم فلان ضلعي  $\overline{BA}$   
 $\overline{AE}$  وزاوية  $\overline{BAE}$  من مثلث  $\overline{ABE}$  يساوي ضلعي  $\overline{BC}$   $\overline{CD}$  وزاوية  $\overline{BCD}$   
 وقاعدة  $\overline{BE}$  كقاعدة  $\overline{BD}$  وزاوية  
 $\overline{ABE}$  كزاوية  $\overline{CBD}$  بالشكل الرابع من  
 الاولي فزاوية  $\overline{BAE}$  كزاوية  $\overline{BCD}$   
 بالشكل الخامس من الاولي فزاوية  
 $\overline{BAE}$  كزاوية  $\overline{BCD}$  وايضا نصل بين  
 نقطتي  $\overline{D}$   $\overline{E}$  بخط مستقيم فلان ضلعي  
 $\overline{DE}$   $\overline{DE}$  وزاوية  $\overline{BDE}$  تساوي ضلعي  
 $\overline{DE}$   $\overline{DE}$  وزاوية  $\overline{BAE}$  فقاعدة  $\overline{BE}$   
 كقاعدة  $\overline{BD}$  فزاوية  $\overline{BAE}$  كزاوية  
 $\overline{BCD}$  بالشكل الخامس من الاولي  
 فزاوية





فزاوية  $\overline{اب}$  كزاوية  $\overline{بج}$  فزاويا الخمس كلها متساوية . ثم لتكن  
 الزوايا الثلث المتساوية هي زوايا  $\overline{بج}$   $\overline{جده}$   $\overline{اده}$  المتجاورة فاقول ان جميع  
 زوايا  $\overline{بج}$  متساوية فنصل بين نقطة  $\overline{ب}$  وبين كل واحدة من نقطتي  $\overline{د}$   
 بخط مستقيم ونصل بين نقطتي  $\overline{ج}$   $\overline{ه}$  بخط مستقيم فيقطع ضلع  $\overline{بج}$



فلينقطع ضلع  $\overline{بج}$  علي نقطة  $\overline{ر}$  فلان  
 ضلعي  $\overline{بج}$   $\overline{جده}$  وزاوية  $\overline{بج}$  من  
 مثلث  $\overline{بجده}$  يساويان ضلعي  $\overline{جده}$   $\overline{ده}$   
 وزاوية  $\overline{جده}$  من مثلث  $\overline{جده}$  فقاعدة  
 $\overline{بج}$  كقاعدة  $\overline{جده}$  وزاوية  $\overline{بج}$  كزاوية  
 $\overline{جده}$  وزاوية  $\overline{بج}$  كزاوية  $\overline{جده}$  بالشكل  
 الرابع من الاولي فضلع  $\overline{ج}$   $\overline{ر}$  كضلع  $\overline{د}$   
 بالشكل السادس من الاولي وكانت  
 قاعدتا  $\overline{بج}$   $\overline{جده}$  متساويتين فضلعا  
 $\overline{بج}$   $\overline{جده}$  متساويان فزاوية  $\overline{بج}$

كزاوية  $\overline{جده}$  بالشكل الخامس من الاولي وزاوية  $\overline{اب}$  كزاوية  $\overline{اه}$  بالشكل  
 الخامس من الاولي فزاوية  $\overline{اب}$  كزاوية  $\overline{اه}$  ونصل بين نقطة  $\overline{ا}$  وبين كل  
 واحدة من نقطتي  $\overline{ج}$   $\overline{ه}$  بخط مستقيم ونصل بين نقطتي  $\overline{ب}$   $\overline{د}$  بخط مستقيم  
 فيقطع  $\overline{ا}$   $\overline{ج}$  علي نقطة  $\overline{ط}$  فلان ضلعي  $\overline{اب}$   $\overline{بج}$  وزاوية  $\overline{اب}$   
 يساويان ضلعي  $\overline{بج}$   $\overline{جده}$  وزاوية  $\overline{بج}$  كقاعدة  $\overline{بج}$  كقاعدة  $\overline{جده}$  وزاوية  
 $\overline{بج}$  كزاوية  $\overline{بج}$   $\overline{جده}$  وزاوية  $\overline{بج}$  كزاوية  $\overline{بج}$   $\overline{جده}$  بالشكل الرابع من الاولي  
 فضلع  $\overline{بج}$  كضلع  $\overline{جده}$  وكانت قاعدتا  $\overline{بج}$   $\overline{جده}$  متساويتين فضلعا  $\overline{بج}$   
 $\overline{جده}$  متساويان فزاويا  $\overline{بج}$   $\overline{جده}$  متساويتان وزوايا  $\overline{اد}$   $\overline{اه}$  متساويتان  
 بالشكل الخامس من الاولي فزاوية  $\overline{بج}$  كزاوية  $\overline{جده}$  فالحكم ثابت وذلك  
 ما اردنا ان نبين

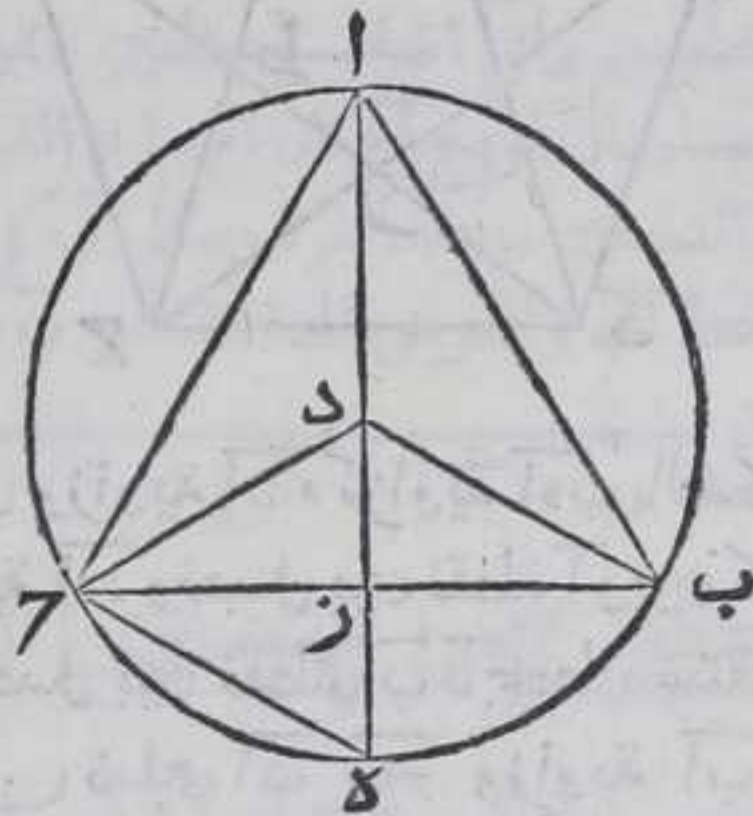
ح

كل دائرة نرسم فيها مثلث متساوي الاضلاع  
 فمربع ضلعه يساوي ثلثة امثال مربع نصف  
 قطره

لتكن دائرة  $\overline{اب}$  ونرسم فيها مثلث  $\overline{اب}$  متساوي الاضلاع باستبانة  
 الشكل السادس عشر من الرابعة ونجد مركزها بالشكل الاول  
 من الثالثة ولتكن نقطة  $\overline{د}$  ونصل بينهما وبين كل واحد من نقط  
 $\overline{ا}$   $\overline{ب}$



أ ب ح بخط مستقيم ونخرج خط آد علي استقامته الي ان ينتهي الي المحيط فليبتنه علي نقطة ه وليجتاز علي ضلع ب ح علي نقطة ز ونصل بين نقطتي ح ه بخط مستقيم فلان ضلعي آ ب آد يساويان ضلعا آ ح آد وقاعدة ب د كقاعدة ح ه كقوس ه ه بالشكل الثامن من الاولي زاوية ب آ د كزاوية ح آ د فقوس ب ه كقوس ح ه بالشكل الخامس والعشرين من الثالثة ولان مثلث آ ب ح متساوي الاضلاع وقسي الاوتار المتساوية متساوية بالشكل التاسع والعشرين من الثالثة فقوس ب ه ح ثلث الدائرة فقوس ح ه سدسها فوتر ح ه يساوي نصف قطر آد باستبانة الشكل الحادي عشر من الرابعة ولان زاوية آ ح ه الواقعة في نصف الدائرة قائمة بالشكل الثلثين من الثالثة



فربيع آ ه يساوي مربعي آ ح ح ه معا بالشكل السابع والاربعين من الاولي لكن مربع آ ه اربعة امثال مربع نصف القطر بحكم الشكل الرابع من الثانية فربعا آ ح ح ه معا يساويان اربعة امثال مربع آد نصف القطر لكن مربع ح ه كـ مربع آد فربيع آ ح ثلثة امثال مربع آد نصف القطر فالحكم ثابت وذلك ما اردنا ان نبين .

واستبان منه ان خمسة امثال مربع آ ح يساوي خمسة عشر مثلا نصف القطر وان العمود الخارج من احدي زوايا مثلث متساوي الاضلاع الواقع في اي دائرة عمود علي تلك الزاوية وان الواقع من العمود بين المركز وضلع المثلث المتساوي الاضلاع ربع القطر وكذلك تمامه من نصف القطر وذلك لان ضلع آ ب آ ح متساويان وكذلك زويتا ب آ ز ح آ ز وضلع آ ز مشترك بين مثلثي ب آ ز ح آ ز فزاويتا آ ز ب آ ز ح آ ز متساويتان بالشكل الثامن من الاولي وزاوية د ح ز قائمة فزاوية ح ز ه تمامها من القاميتين قائمة بالشكل الثالث عشر من الاولي فبالشكل السادس من الاولي قاعدة د ح كقاعدة ز ه . واستبان منه ايضا ان مربع اي ضلع من اضلاع مثلث متساوي الاضلاع الواقع في دائرة ثلثة ارباع مربع قطر تلك الدائرة لان مربع القطر اربعة امثال مربع نصف القطر بحكم الشكل الرابع من الثانية ومربع ضلع المثلث المتساوي الاضلاع الواقع في الدائرة ثلثة امثال مربع نصف قطر هـ

ط

كل خط حاصل من اتصال ضلع معشر من

دائرة



دايرة وضلع سدسها مقسوم علي نسبة ذات وسط

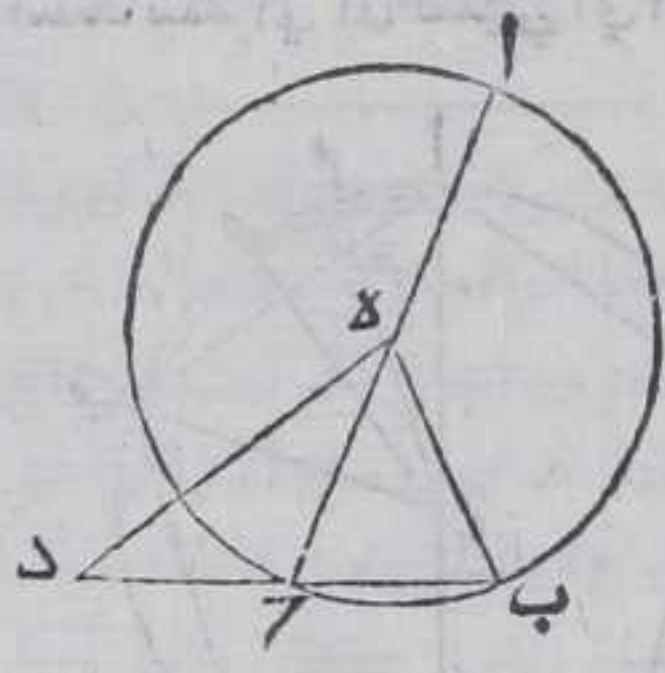
وطرفين وقسمه الاطول ضلع المسدس

ليكن ضلع معشر دايرة  $AB$  وتر  $B$  ونجد مركزها بالشكل الاول من الثالثة وهو نقطة  $E$  ونصل بينهما وبين كل واحد من نقطتي  $B$  بخط مستقيم ونخرج خط  $BE$  الي ان ينتهي الي المحيط فلينته الي نقطة  $A$  ونخرج وتر  $B$  علي استقامته في جهة  $A$  الي غير النهاية ونفصل منه  $BE$  مساويا لنصف قطر  $BE$  بالشكل الثالث من الاول وهو خط  $BE$  فاقول ان خط  $BE$  مقسوم علي نسبة ذات وسط وطرفين وقسمه الاطول  $BE$  برهانه

نصل بين نقطتي  $E$  و  $D$  بخط مستقيم فلان قوس  $AB$  خمسة امثال قوس  $B$  فقوس  $AB$  اربعة امثال قوس  $B$  ونسبة قوس  $AB$  الي قوس  $B$  كنسبة زاوية  $ABE$  الي زاوية  $B$  بالشكل الثاني والثالثين من السادسة فزاوية  $ABE$  اربعة امثال زاوية  $B$  ولان ضلعي  $BE$  و  $BE$  متساويان يكون زاويتا  $BE$  و  $BE$  متساويتين بالشكل الخامس من الاول فزاويتا  $BE$  و  $BE$  معا ضعف كل واحدة منهما وزاوية  $ABE$  تساوي زاويتي  $BE$  و  $BE$  معا بالشكل الثاني والثالثين من الاول فزاوية  $BE$  ضعف زاوية  $B$  ولان ضلعي  $BE$  و  $BE$

متساويان فزاويتا  $BE$  و  $BE$  متساويتان بالشكل الخامس من الاول فزاوية  $BE$  ضعف زاوية  $B$  وهي زاوية  $BE$  ايضا فزاويتا  $BE$  و  $BE$  متساويتان وزاوية  $BE$  و زاوية  $BE$  مشترك بين مثلثي  $BE$  و  $BE$  زاويتاهما المتناظرة متساوية فبالشكل الرابع من السادسة نسبة  $BE$  الي  $BE$  كنسبة  $BE$  الي  $BE$  ونسبة  $BE$  الي  $DE$  كنسبة  $BE$  الي  $BE$  بالشكل التاسع من الخامسة فبالشكل الحادي عشر من الخامسة نسبة  $BE$  الي  $BE$  كنسبة  $BE$  الي  $BE$  فبالقديم نسبة  $BE$  الي  $DE$  كنسبة  $BE$  الي  $BE$  ونسبة  $BE$  الي  $BE$  كنسبة  $BE$  الي  $BE$  فنسبة  $BE$  الي  $DE$  كنسبة  $BE$  الي  $BE$  فخط  $BE$  مقسوم علي نسبة ذات وسط وطرفين ولان زاوية  $BE$  اعظم من زاوية  $BE$  فضلع  $BE$  اعظم من ضلع  $BE$  و  $BE$  يساوي  $BE$  ف  $BE$  اعظم قسمي خط  $BE$  فالحكم ثابت وذلك ما اردنا ان نبين

واستبان منه ان وتر المعشر الواقع في اي دايرة اذا فصل من وتر سدسها كان وتر المسدس مقسوم علي نسبة ذات وسط وطرفين وقسمه الاطول





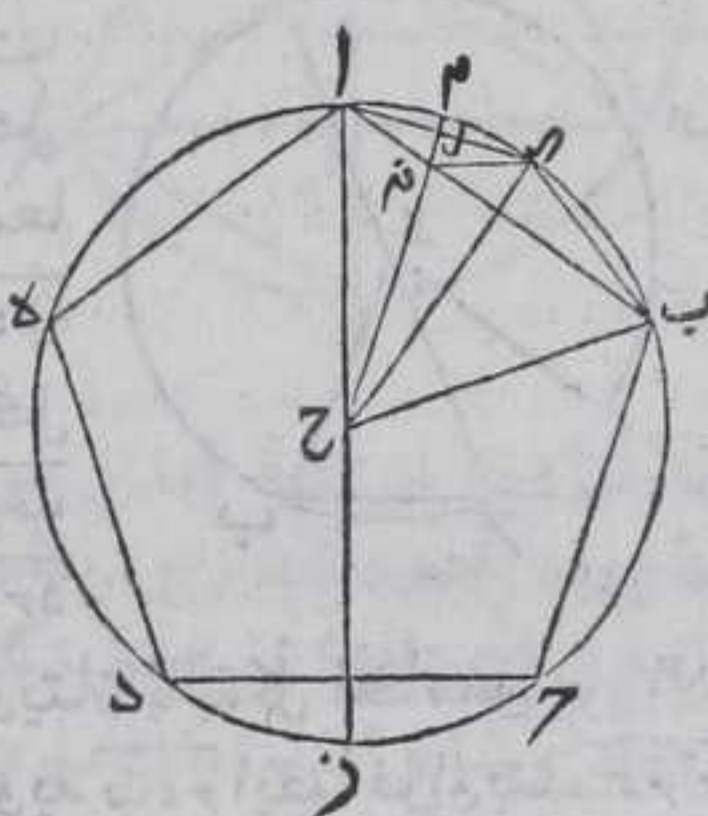
الاطول وتر المعشر لما بينا في استبانة الشكل السابع وهذا هو الشكل  
الاول من المقالة الخامسة عشر من اصلي الثابت والمخارج

2

كل ضلع مخمس متساوي الاضلاع الواقع في  
اي دائرة يقوي على ضلعي مسدسها ومعشرها  
اذا كان متساويي الاضلاع

فرسم في دائرة اب حده مخمس اب حده متساوي الاضلاع بالشكل  
السادس عشر من الرابعة ونجد مركزها بالشكل الاول من الثالثة ولتكن  
نقطة ح ونصل بينها وبين نقطتي اب بخط مستقيم ونخرج اح على  
استقامته الي ان تنتهي الي المحيط فلينته علي نقطة ز ونخرج من نقطة

ح عمود ح ط على ضلع اب بالشكل  
الثاني عشر من الاولي ونخرج عمود  
ح ط في جهة ط الي ان ينتهي الي  
المحيط فلينته علي نقطة ال فقوس  
ال ك قوس ب ال بالشكل التاسع  
والعشرين من الثالثة لان عمود ح ط  
نصف وتر اب بالشكل الثالث من  
الثالثة ونصل بين نقطة ال وكل  
واحدة من نقطتي اب بخط مستقيم  
ونخرج من نقطة ح عمود ح ل علي



ضلع ال بالشكل الثاني عشر من الاولي ونخرجه علي استقامته الي ان  
ينتهي الي المحيط فلينته الي نقطة م فليقطع ضلع اب فليقطع علي نقطة  
نم ونصل بين نقطتي الم بخط مستقيم فلان قوس اب ح ز ك قوس ا ه د ز  
وقوس اب ح ك قوس ا ه د فقوس ح ز ك قوس د ز لكن قوس ح ز د قوس ا ح ب  
فقوس ح ز قوس المعشر ولان اح يساوي ح ب وح ط عمود علي اب فزاوية  
اح ال ك زاوية الح ب بالشكل الثامن من الاولي فقوس ال ك قوس اب  
بالشكل السادس والعشرين من الثالثة فقوس اب ضعف قوس ب ال فخط  
ال ضلع المعشر وكذلك قوس ال ك ضعف قوس ام ولان قوس اب ضعف  
قوس ب ال وقوس ح د ك قوس اب فقوس ح د ضعف قوس ب ال وقوس ح د  
ضعف قوس ح ز فقوس ح ز ك قوس ب ال لكن قوس ب ال ضعف قوس  
ام لان ب ال يساوي ال ك فقوس ح ز ضعف قوس ام وقوس ح ب ضعف قوس  
ب ال



بالا لانهما متساويان فقوس زب كله ضعف قوس بم فزاوية زح ب  
 ضعف زاوية بح م بالشكل الثاني والثلاثين من الاولي او بالشكل  
 العشرين من الثالثة وزاوية زح ب ضعف ايضا زاوية ح اب لان زاوية  
 ح اب كزاوية اب ح فزاوية بح نه كزاوية ح اب وزاوية اب ح مشترك  
 بين مثلثي اب ح ب ح نه فزاوية اح ب كزاوية بن ح فبالشكل الرابع  
 من السادسة نسبة اب الي ب ح كنسبة ح ب الي بنه فسطح اب في بنه  
 مربع بح ولان ضلع ال كضلع ال ومشارك ضلع ل نه عمود علي ال  
 فقاعدة ال نه كقاعدة نه ا فزاوية ل ال نه كزاوية ل ال نه لكن زاوية ل ال نه  
 كزاوية ال بنه فزاوية ل ال نه كزاوية ال بنه وزاوية نه ال مشترك بين  
 مثلثي ال اب ال نه فزاوية ال اب الباقية كزاوية ال نه بالشكل الثاني والثلاثين  
 من الاولي فبالشكل الرابع من السادسة نسبة با الي ال كنسبة ال ال الي  
 انه فسطح با في انه مربع ال وسطح اب في بنه مربع بح فسطح اب في بنه  
 مع سطح با في انه بل مربع اب يساوي مربع بح ومربع ال معا لكن  
 اب ضلع الخمس و ب ح ضلع السادس وال ضلع المعشر فالحكم ثابت  
 وذلك ما اردنا ان نبين

واستبان منه ان العمود الخارج من مركزي دايرة الي وتر مجسها كهود  
 ح ط يساوي نصف وتر المسدس والمعشر معا الواقعين في تلك الدايرة  
 وهذا هو الشكل الاول من المقالة الرابعة عشر من اصلي الثابت والحجاج  
 وذلك لان ال اذا كان علي استقامته ح ال كان الخط الحاصل منهما معشرا علي  
 نسبة ذات وسط وطرفين وكان قسمه الاطول ح ال بالشكل المتقدم فاذا  
 فصلنا ح ق مساويا لوتر ال بالشكل الثالث من الاولي كان خط ح ط  
 معشرا علي وسط وطرفين وقسمه الاطول ح ق باستبانة الشكل المتقدم  
 فنقطة ق لا تقع علي نقطة ط والالكان سطح ح ال في ال ط مربع ح ق اعني  
 مربع عمود ح ط باستبانة الشكل السادس عشر من الخامسة فاذا اخرجنا  
 ح ال الي المحيط علي استقامته ينتهي الي نقطة د منه ونصل اد بخط مستقيم  
 فتكون زاوية د ال قايمة بالشكل الثلاثين من الثالثة فيكون سطح د ال الذي  
 هو ضعف ح ال في ال ط مربع ال المساوي لخط ح ق وكان سطح ح ال في ال ق  
 مربع ح ق هذا خلف فنقطة ق تقع بين نقطتي ح ط فيكون سطح د ال  
 الذي هو ضعف خط ح ال في ال ط كسطح ح ال في ال ق فيكون خط ال ق  
 باستبانة الشكل الاول من السادسة فخط ال ط كخط ط ق فيكون ضلعا  
 ال ط معا كخطي ح ق ق اعني عمود ح ط يساوي ضلعي وتر المسدس  
 والمعشر معا . او نقول بوجه آخر فلان مربع اح مربعي اط ح ط  
 ومربع ال مربعي اط ال بالشكل السابع والاربعين من الاولي واح اعظم  
 من ال فط الاصغر من ح ط فنحصل منه ما يساوي ال وهو ق ط بالشكل  
 الثالث من الاولي ونصل ا ق بخط مستقيم فتكون زاويتا ال ط ا ق ط  
 متساويتين



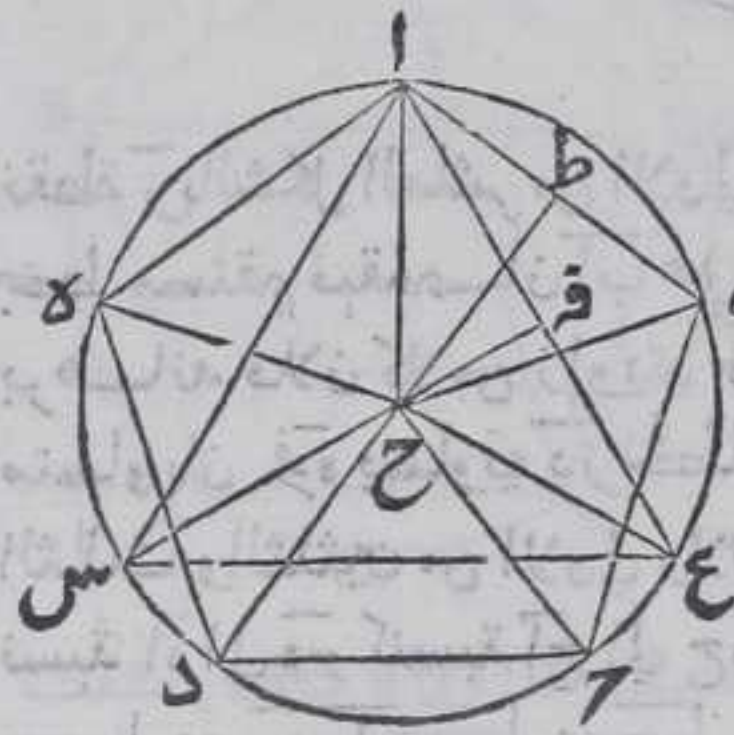




# الثالثة عشر

و اع

ضلع  $\overline{اع}$  عمود  $\overline{ح ق}$  بالشكل الثاني عشر من الاولي فسطح عمود  $\overline{ح ط}$  في  $\overline{اط}$  يساوي مثلث  $\overline{اب ح}$  وسطح عمود  $\overline{ح ق}$  في  $\overline{اق}$  يساوي مثلث  $\overline{اع ح}$  باستبانة الشكل الثالث عشر من الثانية فسطح عمود  $\overline{ح ط}$  في  $\overline{اب}$  يساوي ضعف مثلث  $\overline{اب ح}$  وسطح عمود  $\overline{ح ق}$  في  $\overline{اع}$  يساوي ضعف مثلث  $\overline{اع ح}$  فستون



مثلا مثلث  $\overline{اب ح}$  يساوي اثني عشر مثلا لخمس  $\overline{اب ح د ه}$  لان الخمس ينقسم الي خمس مثلثات متساويات فسطح عمود  $\overline{ح ط}$  في ضلع  $\overline{اب}$  ثلاثون مرة يساوي ستين مثلا لمثلث  $\overline{اب ح}$  وهي تساوي اثني عشر مثلا لخمس  $\overline{اب ح د ه}$  وستون مثلا لمثلث  $\overline{اع ح}$  يساوي عشرين مثلا لمثلث  $\overline{اع ح د ه}$  منقسم الي ثلاثة امثال مثلث  $\overline{اع ح}$  فسطح عمود  $\overline{ح ق}$  في  $\overline{اع}$  ثلاثون مرة يساوي ستين

مثلا لمثلث  $\overline{اع ح}$  وهي تساوي عشرين مثلا لمثلث  $\overline{اع ح د ه}$  ومن اول الاستبانة الي ههنا هو تقرير الشكل الرابع والخامس من المقالة الرابعة عشر من اصلي الثابت والحجاج ولان نسبة الاضعاف اذا كانت متساوية كنسبة الاجزاء بالشكل الخامس عشر من الخامسة تكون نسبة اثني عشر مثلا لخمس  $\overline{اب ح د ه}$  الي عشرين مثلا لمثلث  $\overline{اع ح د ه}$  كنسبة مثلث  $\overline{اب ح}$  الي مثلث  $\overline{اع ح}$

واستبانة رابعة وهي انه اذا كان مجسمان يحيط باحدهما اثنا عشر مجسما متساويات وبالاخر عشرون مثلثات متساويات وكانت الدائرة التي تحيط بالخمس مساوية للدائرة التي تحيط بالمثلث فان سطح ذي الاثني عشر قاعدة الي سطح ذي العشرين قاعدة كنسبة مثلث من المثلثات التي ينقسم اليها الخمس ذي الاثني عشر قاعدة الي مثلث من المثلثات التي ينقسم اليها مثلث ذي العشرين قاعدة بل تكون كنسبة مثلث  $\overline{د ا ل}$  الي خمس هذا علي التبدل

## مقدمة


كل خط مستقيم محدود لنا ان نقسمه

ثلاثة اقسام متساوية

ليكن الخط  $\overline{اب}$  فنخرج من نقطتي  $\overline{اب}$  عمودي  $\overline{ا ب د}$  علي خط  $\overline{اب}$  احدهما في



في جهة من خط  $\overline{AB}$  والآخري في جهة آخري منه بالشكل الحادي عشر  
من الاولي ونصف عمود  $\overline{AC}$  علي  
نقطة  $\overline{E}$  بالشكل العاشر من  
الاولي ونجعل عمود  $\overline{BD}$  مساويا  
لعمود  $\overline{AC}$  بالشكل الثالث من  
الاولي ونصف عمود  $\overline{BD}$  علي



نقطة  $\overline{Z}$  بالشكل العاشر من الاولي ونصل بين كل واحدة من نقطتي  $\overline{CD}$   $\overline{Z}$   
بخط مستقيم فيقسم  $\overline{AB}$  علي نقطتي  $\overline{H}$   $\overline{ط}$  بثلاثة اقسام متساوية .  
برهانها فلان كلا من زاويتي  $\overline{HAB}$   $\overline{ABD}$  المتقابلتان قائمتان وعمودا  $\overline{AC}$   $\overline{BD}$   
متساويان فزاوية  $\overline{HCA}$   $\overline{ZDB}$  متساويان ومتوازيان بالشكل  
الثالث والثلاثين من الاولي ولان قاعدتي  $\overline{CA}$   $\overline{DB}$  متوازيتان تكون  
نسبة  $\overline{AH}$   $\overline{HB}$  كنسبة  $\overline{CH}$   $\overline{HT}$  بالشكل الثاني من السادسة لكن  $\overline{AH}$   
يساوي  $\overline{HB}$  و  $\overline{CH}$  يساوي  $\overline{HT}$  وبمثلها نبين ان خط  $\overline{BT}$  يساوي خط  
 $\overline{AT}$  فخطوط  $\overline{AT}$   $\overline{CT}$   $\overline{BT}$  متساوية وان اردنا ان نقسم خط  $\overline{AB}$  باربعة  
اقسام متساوية فنقسم عمودا  $\overline{AC}$  بثلاثة اقسام متساوية ثم نقسم عمود  
 $\overline{BD}$  بثلاثة اقسام متساوية كما قسمنا  $\overline{AC}$  ونبين بمثل ما بينا انقسام خط  
 $\overline{AB}$  باربعة اقسام متساوية وان اردنا انقسام  $\overline{AB}$  بخمسة اقسام متساوية  
نقسم كل واحد من العمودين باربعة اقسام متساوية وسواي بعضها  
بعضا ثم نبين بمثل ما بينا الانقسام وعلي هذا القياس ان اردنا ان نقسمه  
بسته اقسام او اكثر وذلك ما اردنا ان نبين

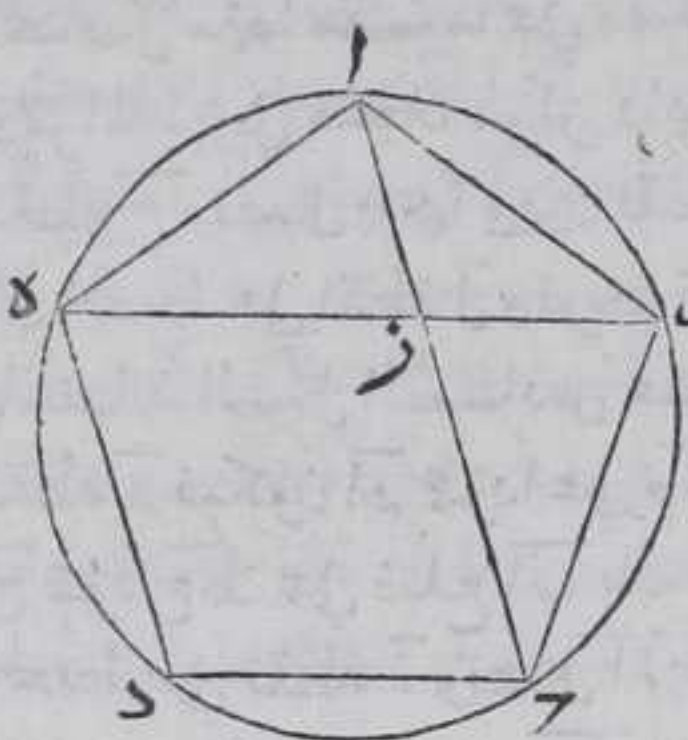
يا

كل منحنس متساوي الاضلاع يقع في دائرة فان  
اي وترين من اوتار زواياه يتقاطعان فانهما  
يتقاسمان علي نسبة ذات وسط وطرفين والقسم  
الاطول من كل منهما يساوي ضلع المنحنس

فترسم في دائرة  $\overline{ABC}$  منحنس  $\overline{ABC}$  بالشكل الحادي عشر من الرابعة  
ونخرج وترين  $\overline{BE}$   $\overline{AD}$  فيقع كل منهما في دائرة  $\overline{ABC}$  بالشكل الثاني من  
الثالثة فيتقاطعا فليبتقاطعا علي نقطة  $\overline{Z}$  فاقول ان كل واحد من وترين  $\overline{AD}$   
 $\overline{BE}$  مقسوم بنقطة  $\overline{Z}$  علي نسبة ذات وسط وطرفين والقسم الاطول من  
كل منهما يساوي ضلع منحنس  $\overline{ABC}$  برهانها فلان قوس  $\overline{AB}$  كقوس  $\overline{BC}$   
فزاوية



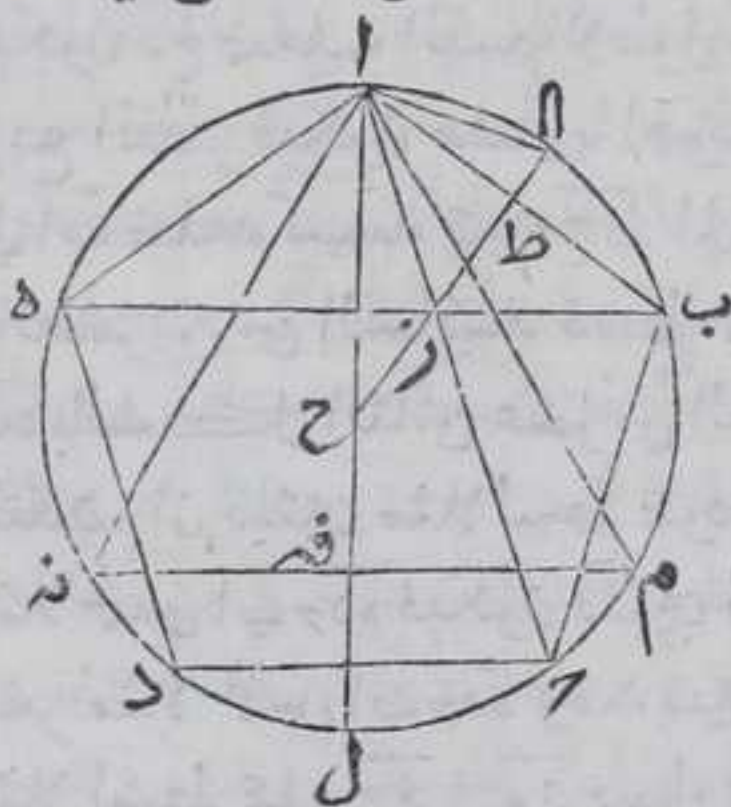
فزاوية  $\overline{باز}$  كزاوية  $\overline{اه}$  بالشكل الحادي والعشرين من السادسة وضع  
 $\overline{اب}$  كضلع  $\overline{اه}$  وزاوية  $\overline{ابه}$  كزاوية  $\overline{اهب}$  بالشكل الخامس من الاولي



فزاويتا  $\overline{ابز}$   $\overline{باز}$  متساويتان فهما  
 ضعف زاوية  $\overline{باز}$  وزاوية  $\overline{ازه}$  كزاويتي  
 $\overline{ابز}$   $\overline{باز}$  بالشكل الثاني والثلاثين من  
 الاولي فزاوية  $\overline{ازه}$  ضعف زاوية  $\overline{باز}$   
 وقوس  $\overline{سه}$  ضعف قوس  $\overline{بج}$  فزاوية  
 $\overline{راه}$  ضعف زاوية  $\overline{باز}$  لان نسبة  
 القوس الي القوس كنسبة الزاوية الي  
 الزاوية بالشكل الثاني والثلاثين من  
 السادسة فزاويتا  $\overline{راه}$   $\overline{زاه}$  متساويتان

فضلع  $\overline{زه}$  كضلع  $\overline{اه}$  بالشكل السادس من الاولي ولان زوايا كل مثلث  
 كقائمتين بالشكل الثاني والثلاثين من الاولي فزاوية  $\overline{باه}$  من مثلث  $\overline{ابه}$   
 كزاوية  $\overline{ازب}$  من مثلث  $\overline{ابز}$  فزوايا مثلثي  $\overline{ابه}$   $\overline{ابز}$  النظائير متساوية  
 ولان ضلع  $\overline{زه}$  كضلع  $\overline{اه}$  فاضلاع  $\overline{اه}$   $\overline{اب}$   $\overline{زه}$  متساوية فنسبة  $\overline{به}$  الي  $\overline{زه}$   
 كنسبة  $\overline{به}$  الي  $\overline{با}$  بالشكل التاسع من الخامسة وبالشكل الرابع من السادسة  
 نسبة  $\overline{اب}$  الي  $\overline{بز}$  كنسبة  $\overline{به}$  الي  $\overline{با}$  فبالشكل الحادي عشر من الخامسة  
 نسبة  $\overline{به}$  الي  $\overline{زه}$  كنسبة  $\overline{اب}$  الي  $\overline{بز}$  ونسبة  $\overline{زه}$  الي  $\overline{زب}$  كنسبة  $\overline{اب}$  الي  $\overline{بز}$   
 بالشكل التاسع من الخامسة فبالشكل الحادي عشر من الخامسة نسبة  
 $\overline{به}$  الي  $\overline{زه}$  كنسبة  $\overline{زب}$  فوتر  $\overline{به}$  انقسم بنقطة  $\overline{ز}$  علي نسبة ذات وسط  
 وطرفين وقسمه الاطول  $\overline{زه}$  مساويا لضلع  $\overline{بج}$  ضلع الخمس فالحكم ثابت  
 وذلك ما اردنا ان نبين

واستبان منه ان نسبة وتر زاوية الخمس المتساوي الاضلاع الواقع  
 في اي دائرة الي ضلع المثلث المتساوي الاضلاع الواقع في تلك



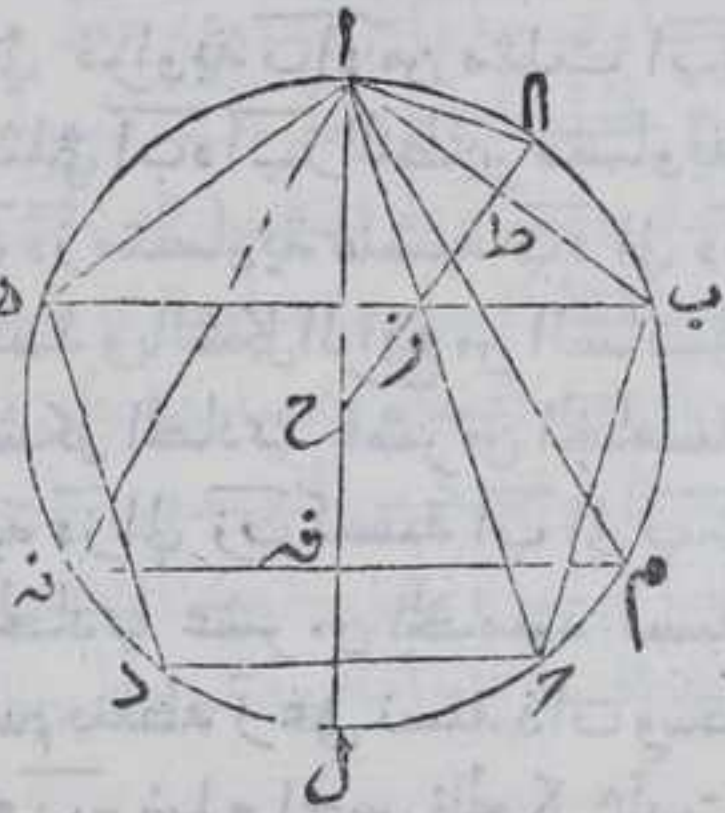
الدائرة او في دائرة تساويها كنسبة  
 اثني عشر مثلا لسطح الخمس الي عشرين  
 مثلا لسطح المثلث وهذا هو الشكل  
 السادس من المقالة الرابعة عشر من  
 اصلي الثابت والحجاج وانما يتم هذا  
 ابعده ما نذكر في استبانة الشكل  
 العشرين ان الخمس ذي الاثني عشر  
 ومثلث ذي العشرين اللذين  
 يقعان في كرة يحيط بهما دايرتان

متساويتان لانه قد بين في هذا الشكل ان وتر زاوية الخمس المتساوي  
 الاضلاع الواقع في اي دائرة اذا قسم علي نسبة ذات وسط وطرفين كان  
 قسمه



قسمه الاطول مساويا لصلع الخمس وتبين في الشكل السابع ان ضلعي  
 المسدس والمعشر اذا انصل احدهما علي استقامة الآخر كان الخط  
 الحاصل منهما مقسوما علي نسبة ذات وسط وطرفين ويكون قسمه الاطول  
 وتر المسدس فنجد مركز دايرة  $\overline{اب}$  بالشكل الاول من الثالثة وليكن  
 نقطة  $\overline{ح}$  ونصل بينها وبين نقطة  $\overline{ا}$  بخط مستقيم ونخرجه علي استقامته  
 الي المحيط علي نقطة  $\overline{ل}$  ونرسم قبهما مثلث  $\overline{امنه}$  المتساوي الاضلاع  
 باستبانة الشكل السادس عشر من الرابعة فضع  $\overline{م}$  نه يقطع القطر علي  
 نقطة  $\overline{ف}$  فيكون  $\overline{اف}$  عمودا علي  $\overline{منه}$  باستبانة الشكل الثامن ونخرج من نقطة  
 $\overline{ح}$  عمود  $\overline{حط}$  علي ضلع  $\overline{اب}$  بالشكل الثاني عشر من الاولي ونخرجه الي  
 المحيط علي نقطة  $\overline{ا}$  ونصل  $\overline{اا}$  بخط مستقيم فيقع في الدايرة بالشكل  
 الثاني من الثالثة فعمود  $\overline{حط}$  بنصف وتر  $\overline{اب}$  بالشكل الثالث من الثالثة

وقوس  $\overline{اب}$  بالشكل التاسع والعشرين  
 من الثالثة علي نقطة  $\overline{ا}$  فالضلع المعشر  
 وقد تبين في استبانة الشكل التاسع  
 والعشرين من السادسة ان جميع  
 الخطوط المقسومة علي نسبة ذات  
 وسط وطرفين المعشرة مقسومة علي  
 نسبة واحدة فتكون نسبة الخط الي  
 الخط كنسبة قسمه للاطول وللصغر  
 الي الاصغر علي الولاء فاذا قسم عمود  
 $\overline{حط}$  علي نسبة ذات وسط وطرفين



بالشكل التاسع والعشرين من السادسة كانت نسبة  $\overline{اا}$   $\overline{اا}$  اذا كان خطا  
 واحدا الي عمود  $\overline{حط}$  كنسبة  $\overline{اا}$  الي انقسم الاطول من عمود  $\overline{حط}$  لكن  $\overline{اا}$   $\overline{اا}$   
 اذا كان خطا واحدا كان ضعف عمود  $\overline{حط}$  باستبانة الشكل المتقدم  
 فيكون  $\overline{اا}$  ضعف القسم الاطول من عمود  $\overline{حط}$  فيكون القسم الاطول منه  
 ربع القطر فيكون مساويا لعمود  $\overline{حف}$  فتكون نسبة  $\overline{بب}$  وتر زاوية الخمس  
 الي  $\overline{اب}$  ضلعه كنسبة عمود  $\overline{حط}$  الي عمود  $\overline{حف}$  باستبانة الشكل التاسع  
 والعشرين من السادسة فسطح عمود  $\overline{حط}$  في ضلع  $\overline{اب}$  كسطح عمود  $\overline{حف}$  في  
 $\overline{بب}$  بالشكل الثامن عشر من السادسة وقد تبين في استبانة الشكل  
 المتقدم ان ثلثين مثلا لسطح عمود  $\overline{حط}$  في ضلع الخمس يساوي اثني عشر  
 مثلا لخمس  $\overline{اب}$  فده فيكون ثلثين مثلا لسطح عمود  $\overline{حف}$  في  $\overline{بب}$  يساوي اثني  
 عشر مثلا لخمس  $\overline{اب}$  فده وقد تبين في الشكل المتقدم ايضا ان ثلثين  
 مثلا لسطح عمود  $\overline{حف}$  في  $\overline{منه}$  يساوي عشرين مثلا لسطح مثلث  $\overline{امنه}$  وكل  
 خط ضرب في خطين فنسبة الخطين كنسبة السطحين الخارجين من ضرب  
 ذلك الخط في الخطين باستبانة الشكل الاول من السادسة فتكون نسبة  
 خط









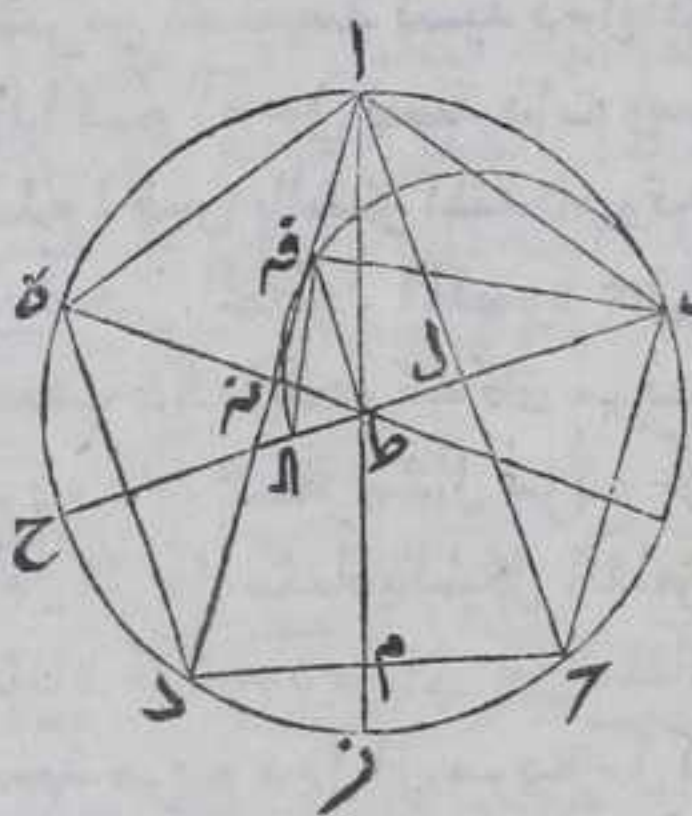


وعلي ح ذ ضلع المعشر معا بالشكل المتقدم وح صه يقوي علي آح آذ معا  
فنسبة به وتر زاوية الخمس المتساوي الاضلاع الواقع في تلك الدائرة  
كنسبة الخط القوي علي الخط المقسوم علي نسبة ذات وسط وطرفين  
وعلي قسمه الاعظم الي الخط القوي علي ذلك الخط المقسوم وعلي قسمه  
الاصغر معا ولو كان المثلث المتساوي الاضلاع الذي هو مثلث ام نه  
واقعا في دائرة تساوي دائرة اب ح لكانت النسبة بحالها فالطلب  
اصل

يب

ضلع كل خمس متساوي الاضلاع نرسم في اي  
دائرة قطرها منظره فانها اصغر

نرسم خمس اب ح د ه في دائرة اب ح د ه التي قطرها منظره فاقول ان كل  
واحد من اضلاع خمس اب ح د ه اصغر برهانها نجد مركز الدائرة  
بالشكل الاول من الثالثة ولتكن نقطة ط ونصل بينها وبين كل واحدة  
من نقطتي آ ب بخط مستقيم ونخرجهما علي استقامتهما الي المحيط فليبتنه  
اط الي ز وب ط الي ح ونصل بين



نقطتي آ ب بخط مستقيم فبقع في  
دائرة اب ح د بالشكل الثاني من الثالثة  
فبقع قطر ب ح علي نقطة ل ولان  
قوسي اب ب ح قوسي آ ه ه د فبكون  
قوسا ح د ز متساويين لان كل  
واحدة من قوسي اب ح ز آ ه د ز نصف  
دائرة وبمثلها تبين ان قوسي ه ح د ح  
متساويان فزاويتا ح ب ل ا ب ل  
متساويتان بالشكل السادس

والعشرين من الثالثة فضلعا اب ب ل والزاوية التي بينهما تساوي ضلعي  
ب ب ل والزاوية التي بينهما فبالشكل الرابع من الاولي زاوية ب ل ح  
كزاوية ال ب ب فكل منهما قائمة وكذلك كل من زاويتي ال ط ح ل ط بالشكل  
الثالث عشر من الاولي واذا وصلنا بين نقطة آ ه ط بخط مستقيم تبين  
بمثل ما بينا ان كل واحدة من الزوايا التي عند نقطة ن ه قائمة وننصف  
نصف قطر ط ح وننصف نصف بالشكل العاشر من الاولي وليكن هو  
ط ل و ط ل ربع ط ح فهو يساوي ربع آ ط فلان زاويتي ال ط ام ح من  
مثلي ال ط ام ح قائمتان وزاوية ل ا ط مشترك بينهما وزوايا كل مثلث  
كقائمتين







كنسبة لـ  $\alpha$  الى  $\alpha$  مثناة بالشكل الحادي عشر من الخامسة فنسبة الوسط  
 الي  $\alpha$  كنسبة لـ  $\alpha$  الى  $\alpha$  فلـ  $\alpha$  يساوي الوسط بالشكل التاسع من الخامسة  
 فخط  $\alpha$  وسط في النسبة بين خطي  $\beta$  و  $\alpha$  ونسبة مربع  $\beta$  الى مربع  
 لـ  $\alpha$  مثناة بالشكل الثامن عشر من السادسة ونسبة لـ  $\alpha$  الى  $\alpha$  مثناة كنسبة  
 $\beta$  الى  $\alpha$  مثناة فبالشكل الحادي عشر من الخامسة نسبة مربع  $\beta$  الى  
 الي مربع لـ  $\alpha$  كنسبة لـ  $\alpha$  الى  $\alpha$  بالشكل الحادي عشر من الخامسة لكن  
 مربع لـ  $\alpha$  خمسة امثال مربع  $\alpha$  فمربع  $\beta$  خمسة امثال مربع لـ  $\alpha$  فنسبة  
 مربع  $\beta$  الى مربع لـ  $\alpha$  كنسبة خمسة الى الواحد فنسبة مربع  $\beta$  الى  
 مربع لـ  $\alpha$  كنسبة غير مربعين فبالشكل التاسع من العاشرة خط  $\beta$   
 يشارك لـ  $\alpha$  في القوة ويباينه في الطول و  $\beta$  المنطق لانه يشاركه قطر  
 بـ  $\alpha$  المنطق باستبانة الشكل العاشر من العاشرة فلـ  $\alpha$  اصم فنصف  $\beta$   
 بالشكل العاشر من الاولي ونرسم عليه نصف دائرة بـ  $\alpha$  ونخرج من  
 نقطة  $\alpha$  عمود  $\alpha$  فـ  $\alpha$  بالشكل الحادي عشر من الاولي ونخرجه  
 علي استقامته الي ان ينتهي الي المحيط علي نقطة  $\alpha$  ونصل بينها وبين كل  
 من نقطتي  $\beta$  و  $\alpha$  بخط مستقيم فباستبانة الشكل الثامن من السادسة نسبة  
 مربع  $\beta$  الى مربع لـ  $\alpha$  كنسبة  $\beta$  الى  $\alpha$  ولان  $\alpha$  وسط في النسبة بين  
 $\beta$  و  $\alpha$  تكون نسبة مربع  $\beta$  الى مربع لـ  $\alpha$  كنسبة  $\beta$  الى  $\alpha$  فيكون  
 مربع لـ  $\alpha$  كمربع لـ  $\alpha$  بالشكل السابع من الخامسة فيكون لـ  $\alpha$  يساوي لـ  $\alpha$   
 فـ  $\alpha$  يقوي علي لـ  $\alpha$  اعني لـ  $\alpha$  بمربع خط  $\beta$  بالشكل السابع والاربعين  
 من الاولي وكانت نسبة  $\beta$  الى  $\alpha$  كنسبة الخمسة الى الواحد فبالقلب  
 نسبة  $\beta$  الى  $\alpha$  كنسبة الخمسة الى الاربعة وهما عددان غير مربعين  
 ونسبة مربع  $\beta$  الى مربع لـ  $\alpha$  كنسبة  $\beta$  الى  $\alpha$  فـ  $\beta$  يشارك  $\beta$   
 في القوة ويباينه في الطول بالشكل التاسع من العاشرة فـ  $\beta$  يقوي علي  
 لـ  $\alpha$  بمربع خط يباينه فـ  $\alpha$  المنفصل الرابع ومربع  $\alpha$  يساوي سطح بـ  $\alpha$   
 المنطق في  $\beta$  المنفصل الرابع فيكون  $\alpha$  ضلع الخمس المتساوي الاضلاع  
 الواقع في دائرة  $\alpha$  اصغر بالشكل الواحد والعشرين من العاشرة  
 فالحكم ثابت وذلك ما اردنا ان نبين

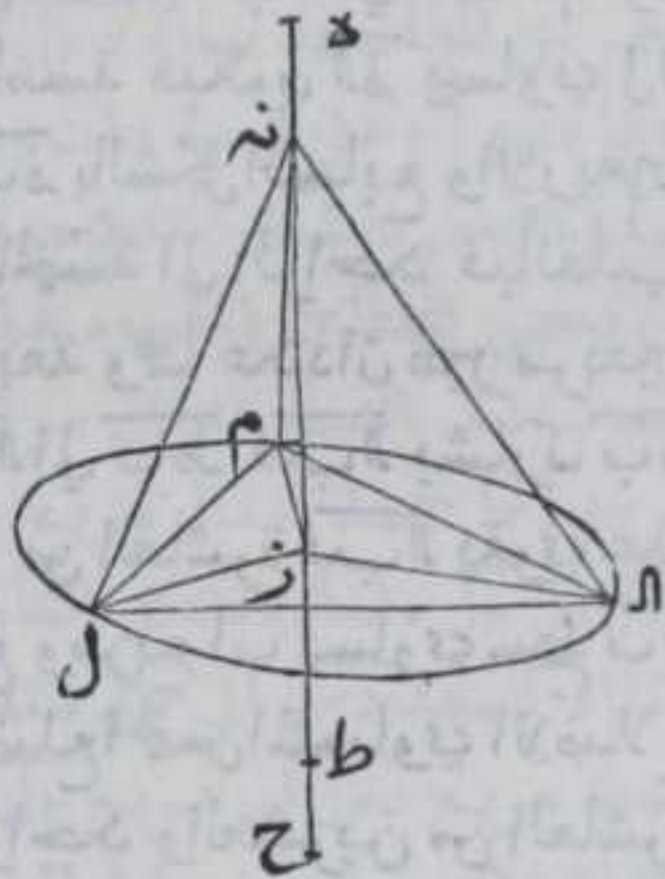
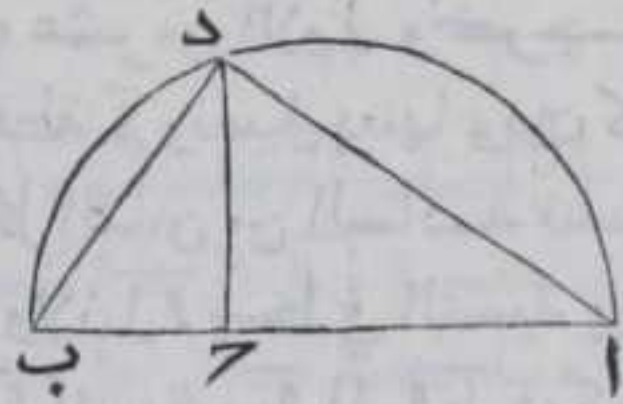
كل كرة مفروضة لنا ان نرسم فيها شكلا مجسما  
 به اربع مثلثات متساويات الاضلاع علي ارج  
 مربع قطر تلك الكرة متدل مربع ضلع من اضلاع

المثلثات



المثلثات المحيطة بالمخروط ومثل نصف مربعه  
ولنا ان نرسم ايضا في اي مخروط يحيط به مربع  
مثلثات متساويات الاضلاع شكلا مجسما ذاتماني  
قواعد مثلثات متساويات الاضلاع

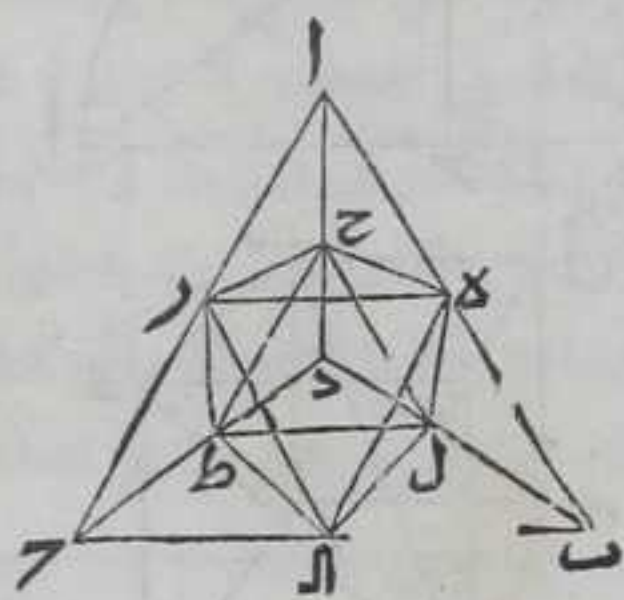
ليكن  $AB$  مساويا لقطر الكرة المفروضة فننصف  $AB$  بالشكل العاشر  
من الاولي ونرسم عليه نصف دائرة  $ADB$  ونقسم  $AB$  بثلاثة اقسام  
متساوية بالمقدمة المذكورة قبل الشكل الحادي عشر وليكن احد اقسامه  
 $BC$  ونخرج من نقطة  $C$  عمود  $CD$  على  $AB$  بالشكل الحادي عشر من الاولي  
ونخرجه الى ان ينتهي الى قوس  $ADB$  على  
نقطة  $D$  ونصل بين نقطة  $D$  وبين كل  
واحدة من نقطتي  $A$  و  $B$  بخط مستقيم ولان  
نسبة  $AB$  الى  $BC$  كنسبة مربع  $AB$  الى  
مربع  $BC$  باستبانة الشكل الثامن من  
السادسة ونسبة  $AB$  الى  $BD$  مثناة كنسبة  
مربع  $AB$  الى مربع  $BD$  بالشكل الثامن عشر  
من السادسة فبالشكل الحادي عشر من  
الخامسة  $AB$  الى  $BC$  كنسبة  $AB$  الى  $BD$   
مثناة ولان نسبة  $AD$  الى  $DC$  كنسبة  $AB$   
الى  $BD$  باستبانة الشكل الثامن من السادسة  
فنسبة  $AD$  الى  $DC$  مثناة كنسبة  $AB$  الى  $BC$   
ونسبة مربع  $AD$  الى مربع  $DC$  كنسبة  $AD$  الى  
الى  $DC$  مثناة بالشكل الثامن عشر من  
السادسة فبالشكل الحادي عشر من



الخامسة نسبة  $AB$  الى  $BC$  كنسبة مربع  $AD$  الى مربع  $DC$  لكن  $AB$  ثلاثة  
امثال  $BC$  فربع  $AD$  ثلاثة امثال مربع  $DC$  ونفرض نقطتي  $Z$  و  $A$  في سطح  
مستو ونصل بينهما بخط مستقيم ونخرجه في جهته الى غير النهاية  
ونفصل منه  $ZA$  مساويا لخط  $DC$  بالشكل الثالث من الاولي ونرسم على  
مركز  $Z$  وبعده  $ZA$  دائرة  $AM$  ونرسم فيها مثلث  $AM$  متساوي الاضلاع  
باستبانة الشكل السادس عشر من الرابعة ونصل بين نقطة  $Z$  وبين كل  
واحدة من نقطتي  $A$  و  $M$  ونخرج من نقطة  $Z$  على السطح المفروض عمود  $ZH$   
في السمك بالشكل الثاني عشر من الحادية عشر ونخرجه في جهته الى غير  
النهاية



النهاية ونفصل من زه زنه يساوي آح ومن مزح زط يساوي بـ جـ بالشكل الثالث من الاولي ونصل بين نقطة نه وبين كل واحدة من نقط الـ لـ م بخط مستقيم فيحدث مخروط مضلع تحيط به اربع مثلثات فاقول انها متساوية الاضلاع برهانه فلان الز يساوي جـ د وزنه يساوي آح وكل من زاويتي آح د نه زلا قائمة فبالشكل الرابع من الاولي تكون اضلاع مثلث الزنه مساويا لاضلاع مثلث آح د كل لنظيره ومثله تبين ان كل واحد من مثلثي م زنه ل زنه يساوي اضلاعهما اضلاع مثلث آح د كل لنظيره فكل واحد من اضلاع الـ لـ نه م نه يساوي ضلع آد لكن مربع آد ثلاثة امثال مربع جـ د فمربع كل واحد من اضلاع الـ لـ نه م نه يساوي ثلاثة امثال مربع الـ لـ م يساوي ثلاثة امثال مربع نصف قطر دائرة الـ لـ م اعني الز فالمثلثات المحيطة بمخروط الـ لـ م زنه متساويات الاضلاع واقول انه تحيط به كرة قطرها مساو لخط آ ب برهانه فلان زنه يساوي آح وزط يساوي بـ جـ فطنه يساوي آ ب فننصف نه ط بالشكل العاشر من الاولي ونرسم عليه نصف دائرة ولان كل واحد من انصاف اقطار الزل زم زعمود علي خط نه ط فاذا ثبتنا نه ط وادرنا نصف دائرة المرسومة الي ان تعود الي وضعها الاول فيمر محيط نصف الدائرة بكل واحدة من نقط الـ لـ م وحدثت كرة قطرها يساوي خط آ ب محيط بمخروط الـ لـ م ولان خط آ ب مثل خط آح ومثل نصفه ونسبة آ ب الي آح كنسبة مربع آ ب الي مربع آد باستبانة الشكل الثامن من السادسة فمربع آ ب مثل مربع آد ومثل نصفه بالشكل الحادي عشر من الخامسة لكن خط آ ب يساوي خط نه ط واد يساوي نه ط فمربع نه ط مثل مربع نه لـ ومثل نصفه ونه ط قطر الكرة المفروضة ونه لـ ضلع المخروط الـ لـ م زنه فمربع نه ط قطر الكرة المفروضة مثل مربع ضلع مخروط الـ لـ م زنه ومثل نصفه فالحكم ثابت . ثم ليكن المخروط الذي تحيط به اربع مثلثات متساويات الاضلاع مخروط آ ب جـ د فننصف كل واحد من اضلاع آ ب آح بـ جـ آد بـ د جـ د بالشكل العاشر من الاولي علي



نقط هـ زح ل ل ط ونصل خطوط هـ زه الـ لـ زح حـ حـ زح ل ل ط ط ح هـ ل ل ل ل ط ط حـ المستقيمة فلان زوايا باح باد جـ آد الثالث المحيطة بزوايا آ المجسمة متساوية بالشكل الثامن من الاولي لتساوي الاضلاع المحيطة بها وتساوي قواعدها ومثله تبين ان الزوايا المسطحة المحيطة بزوايا بـ جـ د المجسمة الثلث متساوية فقواعد حـ حـ زح

هـ ز الثلث متساوية بالشكل الرابع من الاولي لان اضلاع هـ آ ح آ ز متساوية





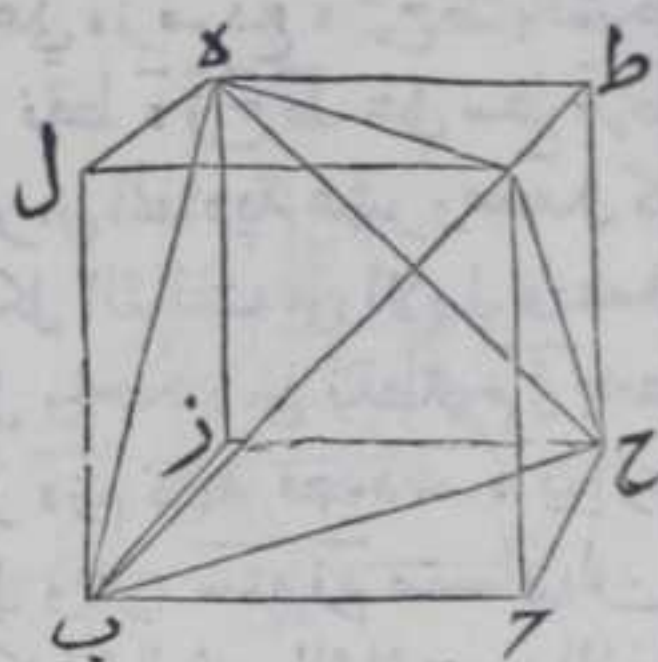


في جهته على استقامته الى غير النهاية ونفصل منه خط  $دز$  مساويا  
 لخط  $ب د$  بالشكل الثالث من الاولي ونرسم على  $دز$  مربع  $د ز ح ط$  بالشكل  
 التاسع والاربعين من الاولي ونخرج من نقطة  $د$  زح  $ط$  على سطح  $زط$   
 اعمدة  $دز$   $نه$   $ط ل$   $سه$  بالشكل الثاني عشر من الحادية عشر ونجعل كل  
 واحد من الاعمدة مساويا لصلع  $دز$  بالشكل الثالث من الاولي ونصل  
 بين كل واحدة من نقطتي  $سه$   $نه$  وبين كل واحدة من نقطتي  $م ل$  بخط  
 مستقيم فلان كل واحدة من زاويتي  $سه ز$   $نه ز$  قائمة فعمود  $سه$   $نه$  يوازي  
 عمود  $دز$  بالشكل الثامن والعشرين من الاولي وعمود  $سه$   $نه$   $ز$  متساويان  
 فصلع  $دز$  يوازي ويساوي ضلع  $سه م$  بالشكل الثالث والثلثين من الاولي  
 فزاويتي  $ز م سه$   $د سه م$  قائمتان بالشكل التاسع والعشرين من الاولي  
 فسطح  $د م$  مربع ومساو لمربع  $زط$  لتساوي اضلاعهما وزواياهما وبمثل  
 تبين ان كل واحد من سطح  $د ل$   $نه ح ل$  مربع ومساو لمربع  $زط$  ولان كل  
 واحدة من زاويتي  $سه م نه$   $د ز ح م$   $د ل ز ح ط$   $د ل سه ح ط$   $د ل سه م$   
 $ط ه ز$  متساويان بالشكل العاشر من الحادية عشر وكل من زوايا مربع  $زط$   
 قائمة فكل من زوايا سطح  $ل م$  قائمة فالسطوح المحيطة بمجسم  $ز ل$  مربعات  
 متساويات وكل متقابلتين منها متوازيتين بالشكل الرابع عشر من  
 الحادية عشر لان كل ضلع من اضلاعها عمود على سطحين متقابلتين منها  
 فمجسم  $ز ل$  مكعب . ونصل بين نقطة  $ح$  وبين كل واحدة من نقطتي  $د$   
 $سه$  بخط مستقيم فلان مربع  $سه ح$  يساوي مربعي  $سه د$   $ه ح$  بالشكل التاسع  
 والاربعين من الاولي واضلاع  $د ز ح سه$  متساوية فمربع  $سه ح$  يساوي  
 ثلاثة امثال مربع  $د ز$   $وه ز$  يساوي  $ب د$  فمربع  $سه ح$  يساوي ثلاثة امثال  
 مربع  $ب د$  ولان نسبة مربع  $اب$  الى مربع  $ب د$  كنسبة  $اب$  الى  $ب ح$  باستبانة  
 الشكل الثامن من السادسة وقطر  $اب$  ثلاثة امثال  $ب ح$  فمربع  $قطر اب$   
 ثلاثة امثال مربع  $ب د$  وكان مربع  $سه ح$  ثلاثة امثال مربع  $ب د$  فصلع  
 $سه ح$  يساوي قطر  $اب$  فاذا نصفنا  $سه ح$  بالشكل العاشر من الاولي ورسمنا  
 عليه نصف دائرة ولتبثنا  $سه ح$  وادرنا نصف الدائرة الى ان يعود الى  
 وضعه الاول من محيط نصف الدائرة المرسوم على ضلع  $سه ح$  بنقطة  $د$   
 لكون زاوية  $سه د ح$  قائمة والزوايا الواقعة في نصف الدائرة قائمة  
 بالشكل الثلثين من الثالثة ولذلك يمر بنقطة  $ز م نه ل ط$  وحدثت  
 كرة مساوية للكرة التي احاطت بالشكل الناري بل هي عينها لان  
 $سه ح$  من اقطار تلك الكرة فقد رسمنا في الكرة المحيطة بالشكل  
 الناري مكعبا مربع نصف قطرها ثلاثة امثال مربع ضلع المكعب  
 فالحكم ثابت

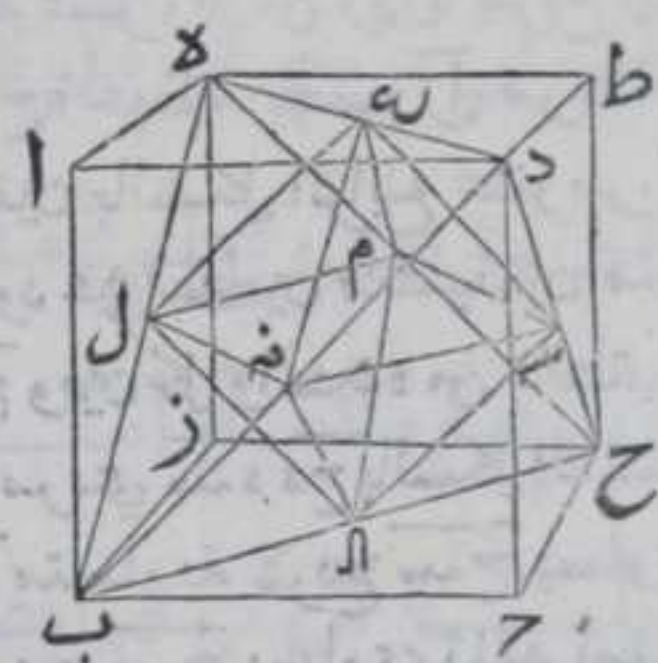
واما



وأما ان نعمل في مكعب شكلا ناريا فليكن المكعب مجسم بـ ط قاعدته  
 مربع ا ب ح د والمربع المقابل الي سطح  
 هـ ز ح ط فنصل خطوط ب ح ب هـ ح  
 ب د د هـ ح فيحدث شكل ناريا يحيط  
 به مثلثات ب هـ ح ب د هـ ح د ح  
 الاربعة واضلاعها اقطار المربعات  
 المحيطة بالمكعب وهي متساوية فيكون  
 المثلثات متساوية بالشكل الثامن  
 من الاول



وأما ان لنا ان نرسم في مكعب ذا ثمان قواعد مثلثات متساوية  
 الاضلاع فنقيد مكعب بـ ط ونرسم فيه شكلا ناريا يحيط به مثلثات  
 ب هـ ح ب د هـ ح د ح الاربعة كما بينا وننصف كل واحد من اضلاع  
 ب ح ب هـ ح ب د د هـ ح بالشكل العاشر من الاول علي نقط ل م ن هـ  
 س ونصل بين نقطة ل و بين واحدة  
 من نقط ل م ن هـ س بخط مستقيم وبين  
 نقطة ع و بين كل واحدة من نقط ل م ن  
 هـ س بخط مستقيم وبين نقطة م وكل  
 واحدة من نقط ل م ن هـ س بخط مستقيم  
 وبين نقطة س وبين نقطة ن بخط  
 مستقيم وبين نقطة ل وبين نقطة ن بخط  
 مستقيم فيحدث في مجسم ب ح د هـ ح الناريا



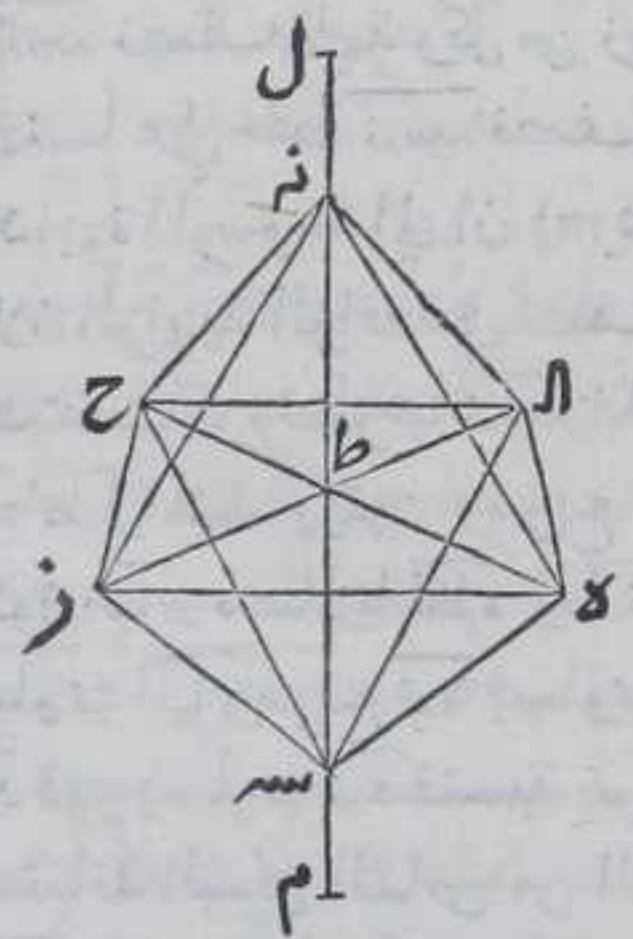
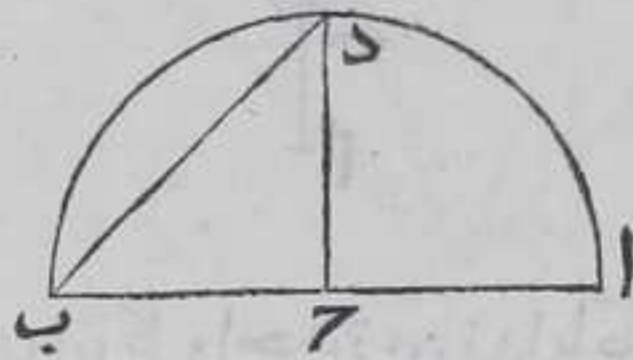
ذو ثماني قواعد بالشكل المتقدم فيكون قد رسمنا في مكعب بـ ط ذا  
 ثمان قواعد متساوية متساوية الاضلاع وذلك ما اردنا ان نبين  
 وهذا الشكل يلقب بالترابي باعتبار ان كرة التراب مولفة من اجسام  
 صغار جدا كل واحد منها مكعب  
 واستبان منه ان مربع قطر الكرة المعمول فيها يساوي ستة امثال مربع  
 نصف قطر دائرة محيط ثماني مربع من المربعات المحيطة بالمكعب لان  
 مربع ضلع المربع يساوي ضعف مربع نصف قطر دائرة يحيط  
 بالمربع باستبانة الشكل التاسع من الرابعة ومربع قطر الكرة ثلاثة امثال  
 مربع ضلع اي مربع من المربعات المحيطة بالمكعب كما تبين في هذا  
 الشكل فمربع قطر الكرة يساوي ستة امثال مربع نصف قطر دائرة  
 يحيط باي مربع من المربعات المحيطة بالمكعب

لنا ان نرسم في الكرة اليه احاطت بالشكل  
 الناريا



الناري وفي اي كرة مفروضة شكلا ذا ثمانية  
قواعد مثلثات متساويات متساويات الاضلاع  
يكون مربع قطر الكرة ضعف مربع احد اضلاع  
المثلثات المحيط بدي ثمان قواعد . وان نرسم  
مكعبا في اي شكل ذي ثمان قواعد مثلثات  
متساويات الاضلاع

فبعثد قطراب وننصفه علي نقطة ح بالشكل العاشر من الاولي ونرسم  
علي قطراب نصف دائرة ادب ونخرج عمود ح د الي ان ينتهي الي قوس  
ادب علي نقطة د ونصل ب د بخط مستقيم ونرسم في سطح مستوي نقطتي ه  
ز ونصل بينهما بخط مستقيم ونخرجه في جهته الي غير النهاية ونفصل  
منه ه ز مساويا لب ح بالشكل الثالث



من الاولي ونرسم عليه مربع ه ز ح ا  
بالشكل السادس والاربعين من الاولي  
وزاوية ه ز ح قائمة فكل من زاويتي ز ه  
ز ح ه نصف قائمة بالشكل الثاني  
والثلثين من الاولي ان يبين فيه ان كل  
مثلث فان زواياه كقائمتين وبمثله تبين  
ان كل واحد من زاويتي ه ز ا ه الزح ه ا  
ه ح ا ز ا ح نصف قائمة فخطوط  
ط ه ط ز ط ح ط ا متساوية بالشكل  
السادس من الاولي فالاضلاع المتناظرة  
من مثلثا ه ط ز ه ط ا ز ط ح ط ا  
متساوية فالزوايا المتناظرة منها  
متساوية بالشكل الثامن من الاولي  
فكل واحدة من زوايا ه ط ز ه ط ا ز ط ح  
ح ط ا قائمة ونخرج من نقطة ط عمود

ط ل علي سطح مربع ه ح بالشكل الثاني عشر من الحادية عشر ونخرجه في  
جهته علي استقامته الي غير النهاية ونفصل من ط ل ط م المخرجين  
ط ن ط س يساوي ه ط بالشكل الثالث من الاولي ونصل بين نقطتي ن ه  
س



سه وبين كل واحدة من نقطة مزح ال بخط مستقيم فيحدث شكل مجسم يحيط به ثماني مثلثات فاقول انها متساويات الاضلاع فلان كلا من ضلعي طنه طسه يساوي احد خطوط طه طزطح طه ال يساوي ضعف مربع احد خطوط طه طزطح طه ال ومربع هز يساوي مربعي طزطه

بالشكل التاسع والاربعين من الاولي

ومربع نه يساوي مربعي طنه طه

بالشكل التاسع والاربعين من

الاولي وكل من مربعي طنه طه

يساوي ضعف مربع طه فربعا هز

نه متساويان فهما متساويان وبمثله

تبين ان كل واحد من اضلاع نه ال نه ز

نه ح سه ال سه سه ز سه ح يساوي احد

اضلاع مربع مزح ال فاضلاع المثلثات

الثمان القواعد متساوية فتكون تلك

المثلثات متساوية بالشكل الثامن من

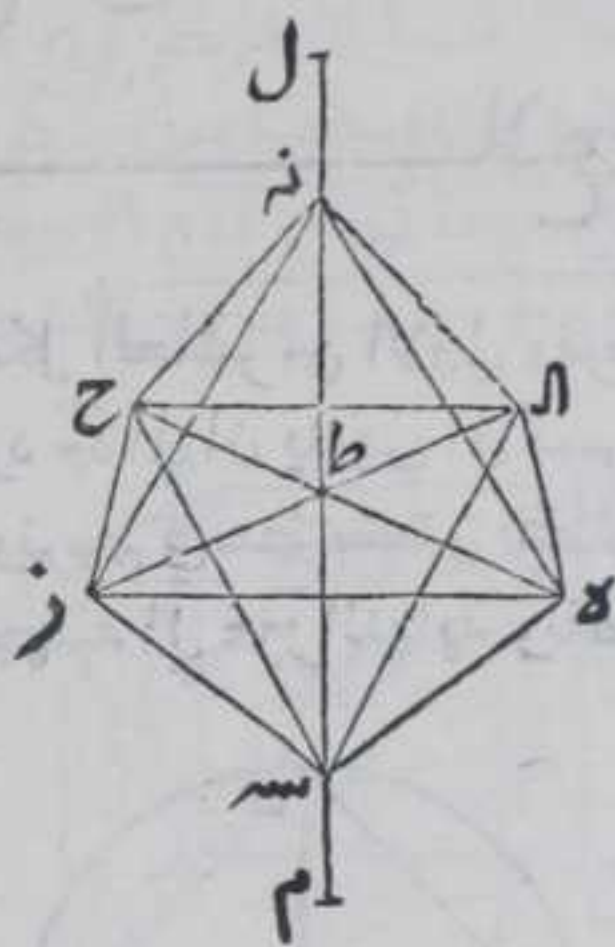
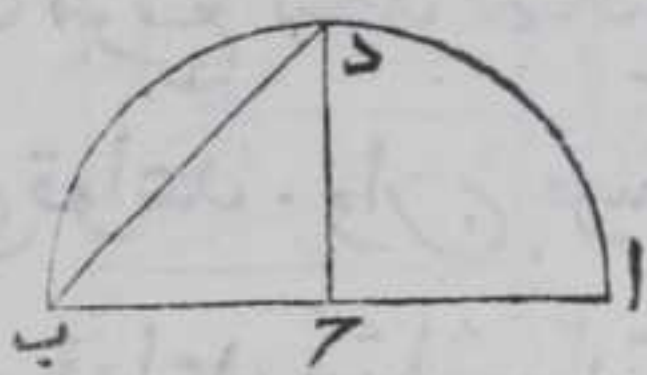
الاولي ولان ضلعي طه طنه متساويان

فزاويتان طه نه طنه متساويتان

وزاوية طه نه قايمة وزوايا كل مثلث

كقايمتين بالشكل الثاني والثلاثين من

الاولي فزاوية طه نه نصف قايمة وبمثله



تبين ان كل واحدة من زوايا طه سه طزنه طزسه طح نه طح سه طانه

طسه نصف قايمة وكل من زوايا نه سه نه سه نه زسه نه ح سه قايمة فاذا

رسمنا علي خط نه سه نصف دائرة واثبتنا خط نه سه وادرنا نصف

الدائرة المرسومة الي ان يعود الي وضعه الاول فان محيطه يمر بنقطة ال نه

ح لان الزاوية الواقعة في نصف الدائرة قايمة بالشكل الثلثين من الثالثة

وحدثت كرة قطرها نه سه فلان مربع هز المساوي لب ح مساوي لمربعي

طه طز المتساويتين ومربع بد يساوي مربعي ح د ح المتساويتين

يكون ب ح مساويا ل طه وطنه يساوي طه وطنه يساوي ب ح فنه سه

يساوي اب ومربع نه يساوي مربعي طنه طه فربعا نه يساوي مربع

ب د فهو يساوي نه فنسبة مربع نه سه الي مربع نه سه كنسبة نه سه الي نه ط

باستبانة الشكل الثامن من السادسة ليكن نه سه ضعف طنه فربعا

نه سه الذي قطر الكرة المفروضة ضعف مربع نه سه الذي ضلع احد

المثلثات المتساويات الاضلاع المحيطة بذئ ثماني قواعد فالحكم ثابت.

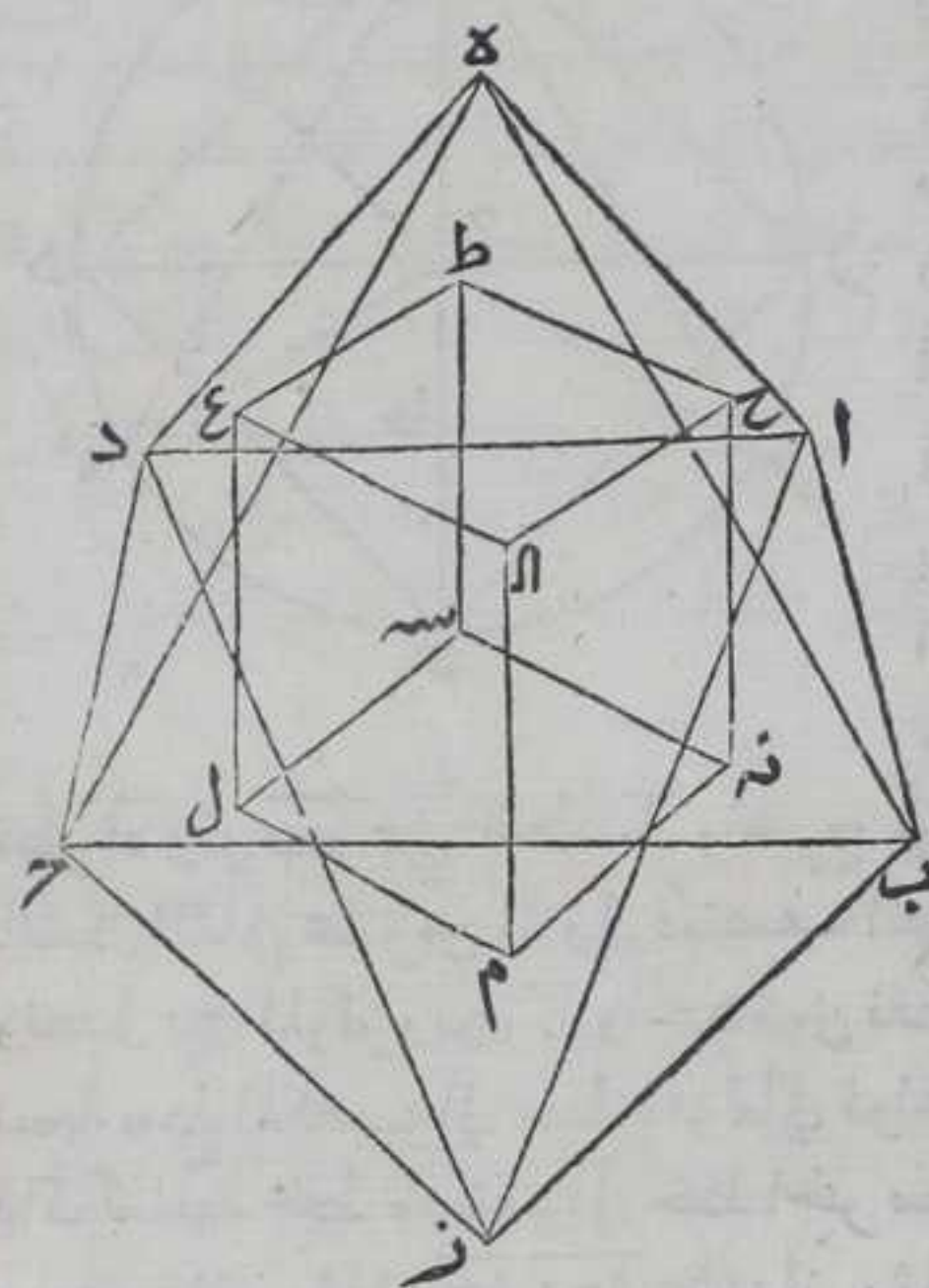
واما ان لنا ان نرسم في اي ذئ ثماني قواعد مثلثات متساويات

متساويات الاضلاع مكعبا فليكن مجسم اب ح د ه ز ا ثماني

قواعد



قواعد مثلثات متساويات الاضلاع ولنجد مراكز المثلثات المحيطة  
بالمجسم باستبانة الشكل الرابع من الرابعة وهي مثلثات  $أ ب ا د د ه ح$   
 $ح ب ح ز د ز ا ز ب ب ز ح$  ومراكزها  $ن ق ط ح ط ع ا ل م ن ه س$  ونصل  
خطوط  $ح ط ط ع ا ل م ن ه س$   $س ل ط س ع ل م ح ن$  المستقيمة  
فأقول أنا رسمنا ذي ثماني قواعد  $أ ب ح د ه ز م ك ع ب م ط$  برهانه فلان  
المثلثات المحيطة بذي ثماني قواعد مثلثات متساويات الاضلاع تكون



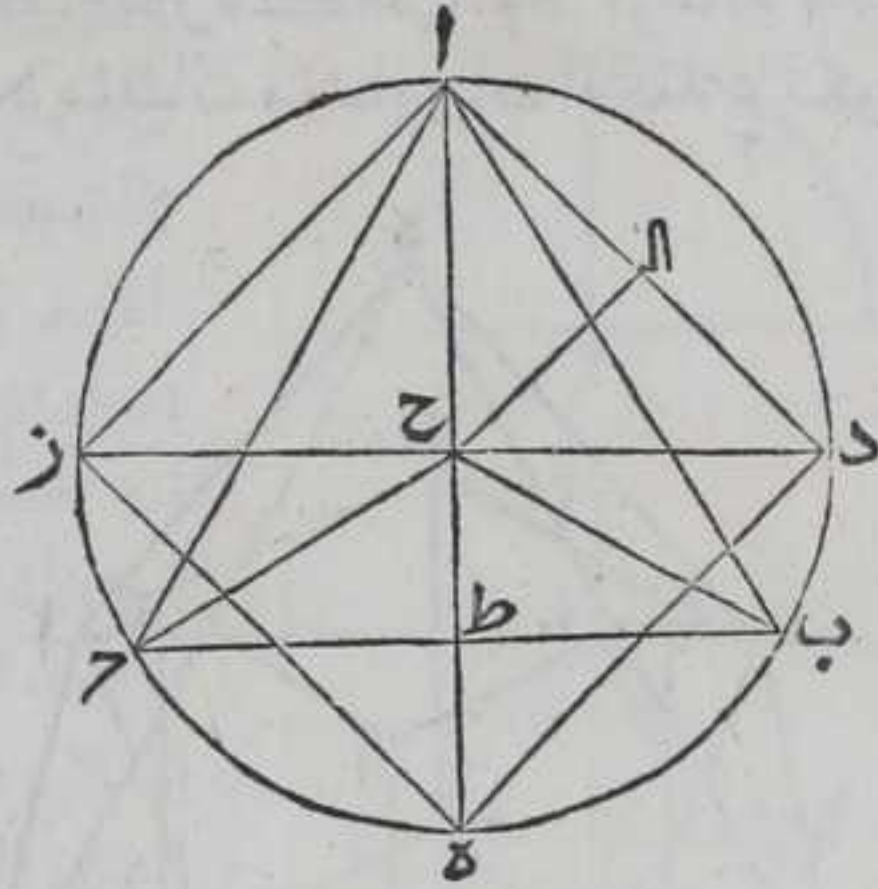
الاعمدة الخارجة من نقط  
زواياها الي اوتارها  
متساوية بالشكل السادس  
والاربعين من الاولي واقطار  
الواصلة بين كل واحدة من  
نقطتي  $ه ز ا ح ب د$  متساوية  
فتكون الزوايا التي بها  
سطوح تلك المثلثات  
متساوية فاذا اخرجنا من  
مراكز الزوايا اعمدة علي  
اضلاعها تكون متساوية  
باستبانة الشكل الرابع من  
الرابعة والزوايا الحادثة  
عند التقاء الاعمدة الخارجة  
من المراكز متساوية فالخطوط

المستقيمة الواصلة بين المراكز متساوية بالشكل الرابع من الاولي فتكون  
اضلاع مجسم  $ح ط ع ا ل م ن ه س$  متساوية ولان الخطوط المستقيمة الواصلة  
بين نقطة  $ه$  وبين مراكز  $ح ط ع ا ل$  وبين نقطة  $ز$  وبين مراكز  $ب د م ن ه س$   
متساوية والزوايا التي تحيط بها تلك الخطوط عند نقطتي  $ه ز$  ايضا  
متساوية فتكون اقطار المربعات متساوية بالشكل الرابع فبالشكل  
الثامن من الاولي تكون الزوايا المثلثات التي تحيط بها اضلاع المربعات  
واقطارها متساوية علي التناظر فتكون الاضلاع المتقابلة من المربعات  
متوازية فتكون زوايا تلك المربعات قوائم فمجسم  $ح ط ع ا ل م ن ه س$  من  
مكعب وذلك ما اردنا ان نـ

بين  
واستبان منه ان مربع قطر الكرة يساوي ستة امثال مربع نصف قطر  
دايرة تحيط باي مثلث من المثلثات بذي ثماني قواعد لانه قد تبين  
ان مربع قطر الكرة يساوي ضعف مربع اي ضلع من اضلاع المثلثات  
المحيطة بذي الثماني قواعد وقد تبين في الشكل الحادي عشر ان مربع  
ضلع اي مثلث متساوي الاضلاع يساوي ثلاثة امثال مربع نصف  
قطر



قطر دائرة تحيط بذلك المثلث فربع قطر الكرة يساوي ستة امثال مربع نصف قطر دائرة تحيط باي مثلث من المثلثات المحيطة بذوي الثماني قواعد . وقد تبين في الشكل المتقدم ان مربع قطر الكرة يساوي ستة امثال مربع نصف قطر دائرة تحيط باي مربع من المربعات المحيطة بالمكعب فان كان المكعب وذو

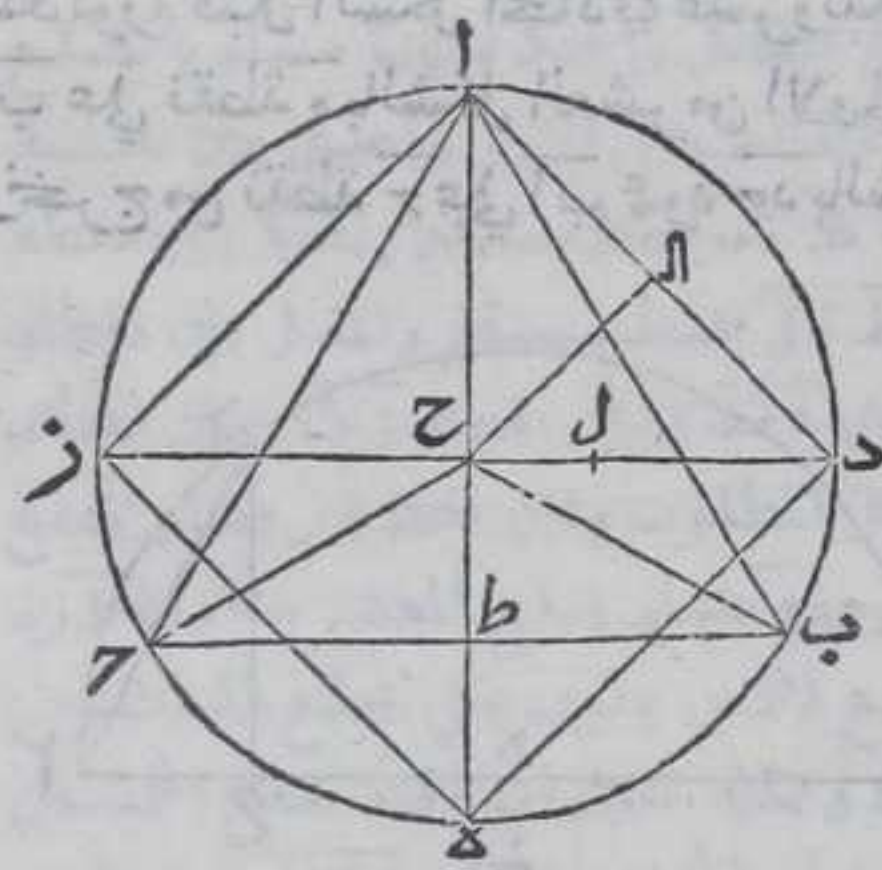


الثماني قواعد معمول لان في كرة واحدة تكون الدائرة المحيطة بمربع هذا وبمثل ذلك متساويتان ونرسم فيها مثلث ذي ثماني قواعد وهو مثلث ا ب ج ومربع المكعب الواقعين في كرتيها وهو مربع ا د ه ز بالشكل الثاني والسادس من الرابعة ونخرج ا ه ذ قطرين متقاطعين علي مركز ح ولنقطع

قطر ا ه وتر ب ج علي نقطة ط ونخرج من المركز ب ل وتر ا د عمود ح ا بالشكل الثاني عشر من الاولي فينصف العمود بالشكل الثالث من الثالثة ونصل بين المركز وبين كل واحدة من نقطتي ب ج بخط مستقيم فاقول ان نسبة سطح المكعب الي سطح ذي ثماني قواعد ونسبة مجسم هذا الي مجسم ذاك كنسبة خط مستقيم الي خط اخر مستقيم يقوي علي ثلاثة ارباع مربعه فلان مثلثي ا ح ا د ح ا يشبهان مثلث ا ح د بالشكل الثامن من السادسة فزاوية ا ح ا ل كزاوية ا د ح وزاويتا ا د ح ا ح متساويتان بالشكل الخامس من الاولي فزاويتا ا ح ا ح ا متساويتان فضلع ا ا كضلع ا ح بالشكل السادس من الاولي وكان مربع ا ح كمربعي ا ا ح بالشكل التاسع والاربعين من الاولي ومربع ح ط ربع مربع ح ه اعني ا ح بالشكل الرابع من الثانية فربع ا ح ضعف مربع ح ا وهو ضعف مربع ح ط فنسبة ا ح الي ح ا مثناة كنسبة مربع ا ح الي مربع ح ا بالشكل الثامن عشر من السادسة ونسبة مربع ح ا الي مربع ح ط كنسبة مربع ح ا الي مربع ا ح فبالشكل الحادي عشر من الخامسة نسبة ا ح الي ح ا مثناة كنسبة مربع ح ا الي ح ط ونسبة ا ح الي ح ط مثناة كنسبة مربع ح ا الي مربع ح ط بالشكل الثامن عشر من السادسة فبالشكل الحادي عشر من الخامسة نسبة ا ح الي ح ا مثناة كنسبة ح ا الي ح ط مثناة فنسبة ا ح الي ح ا كنسبة ح ا الي ح ط فسطح ح ط في ا ح كربع ح ا بالشكل الحادي عشر من السادسة اعني سطح ح ا في ا المساوي لضعف مثلث ا ح بالشكل الرابع



الرابع والثلاثين من الاولي اعني مثلث  $آح$  فسطح  $حط$  في قطراه مرتين  
 يساوي مربع  $آد$  فسطح  $حط$  في قطراه اعني عشرة مرة تساوي سطح  
 المكعب وسطح  $حط$  في  $حط$  يساوي ضعف مثلث  $حط$  بالشكل الرابع  
 والثلاثين من الاولي فسطح  $حط$  في ضلع  $ب$  اعني عشرة مرة تساوي  
 سطح ذي ثماني قواعد فنسبة سطح المكعب الي سطح ذي ثماني قواعد  
 كنسبة سطح قطراه في  $حط$  الي سطح ضلع  $ب$  في  $حط$  لكن نسبة سطح  
 قطراه في  $حط$  الي سطح ضلع  $ب$  في  $حط$  كنسبة قطراه الي ضلع  $ب$   
 بالشكل الاول من السادسة فبالشكل الحادي عشر من الخامسة نسبة  
 سطح المكعب الي سطح ذي ثماني قواعد كنسبة قطراه الي ضلع  $ب$   
 وبوجه آخر بالمقدمة المذكورة قبل الشكل الحادي عشر وليكن قسم  
 منها  $حل$  كنسبة  $آط$  الي  $آه$  فنسبة  $زح$  الي  $زآ$  كنسبة  $آط$  الي  $آه$  فسطح  $زح$   
 في قطراه  $كسطح$   $آط$  في  $زآ$  لكن سطح  $زح$  في قطراه يساوي ضعف مثلث  
 $آه$  ز اعني مربع  $آد$  ز باستبانة الشكل الثالث عشر من الثانية فسطح  $زح$



في قطراه ست مرات تساوي  
 سطح المكعب فسطح  $آط$  في  $زآ$   
 ست مرات تساوي سطح المكعب  
 لكن  $زآ$  مثلثا  $زح$  فسطح  $آط$  في  $زآ$   
 ستة مرات تساوي سطح  $آط$  في  
 $ب$  اربع مرات فسطح  $آط$  في  
 قطر  $دز$  يساوي سطح المكعب  
 لكن سطح  $آط$  في  $ب$  اربع مرات  
 تساوي سطح ذي ثماني قواعد  
 فنسبة سطح المكعب الي سطح ذي  
 ثماني قواعد كنسبة سطح  $آط$  في

قطر  $دز$  الي سطح  $آط$  في ضلع  $ب$  لكن نسبة قطر  $دز$  الي ضلع  $ب$  كنسبة  
 سطح  $آط$  في قطر  $دز$  الي سطح  $آط$  في ضلع  $ب$  بالشكل الاول من السادسة  
 فنسبة سطح المكعب الي سطح ذي ثماني قواعد كنسبة قطر  $دز$  الي ضلع  
 $ب$  بالشكل الحادي عشر من الخامسة  
 واستبان من الشكل الحادي عشر ان مربع ضلع اي مثلث متساوي  
 الاضلاع الواقع في دائرة ثلثة ارباع مربع قطر ما فنسبة قطر الدائرة  
 الي المثلث المتساوي الاضلاع الواقع فيها كنسبة خط الي الخط الذي  
 يقوي على ثلثة ارباع مربعه ونسبة السطح الجسم الواقع في كرة الي سطح  
 جسم اخر كان واقعا في تلك الكرة او في كرة اخر كنسبة الجسم الي الجسم  
 باستبانة الشكل الاخير من الثانية عشر فنسبة سطح المكعب الي سطح  
 ذي ثماني قواعد الواقعين في كرة ونسبة جسم هذا الي جسم ذاك كنسبة  
 خط

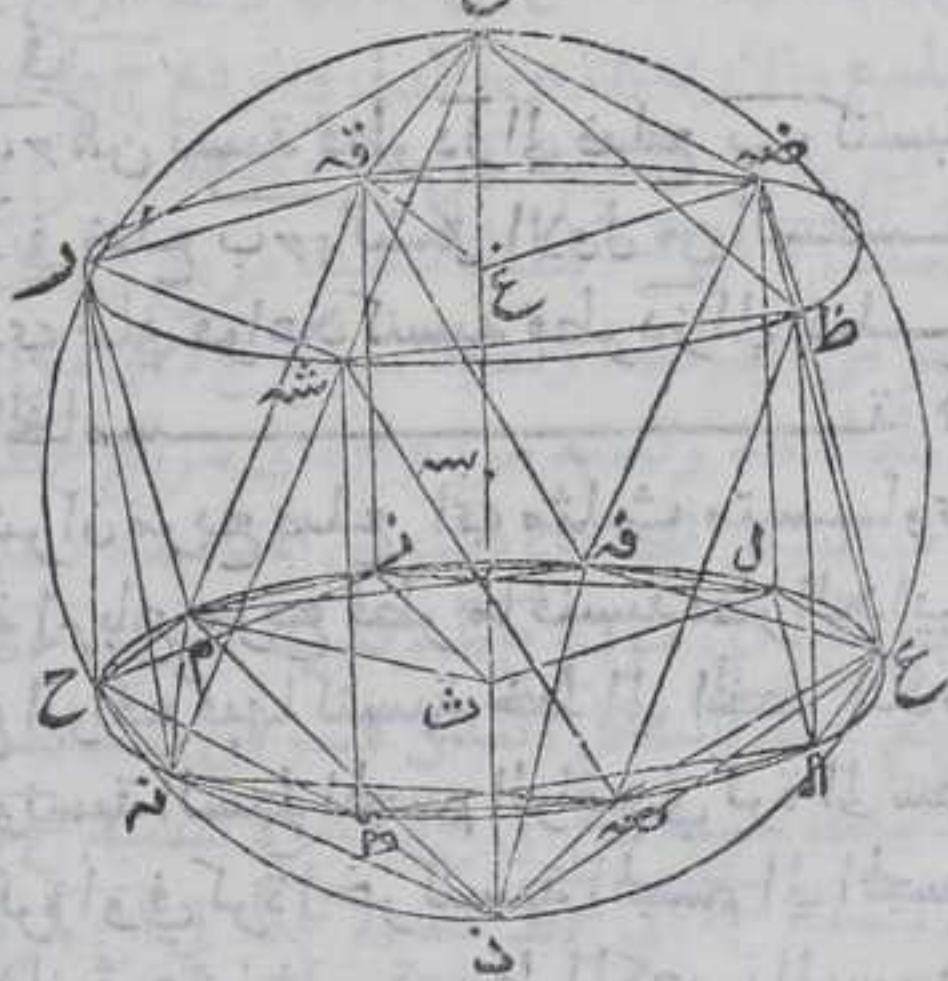
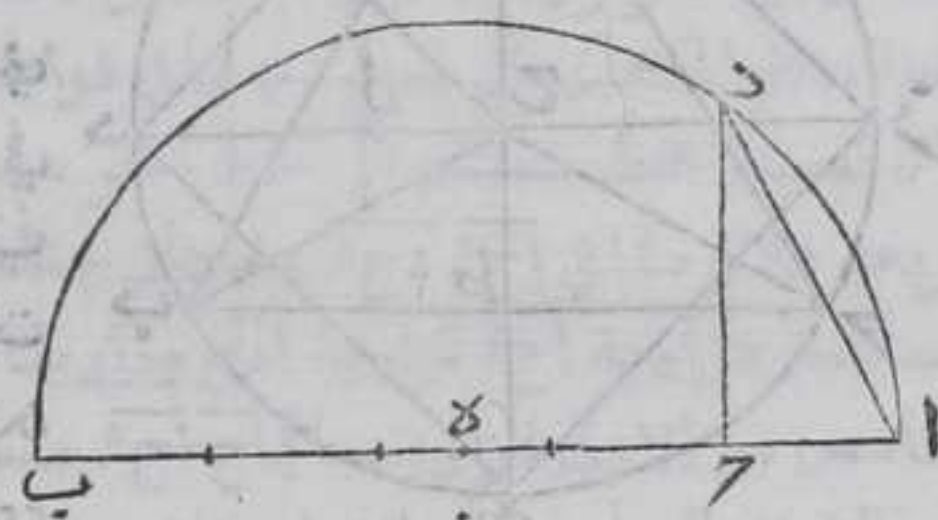


خط الي الخط الذي يقوي علي ثلاثة ارباع مربعه

لنا ان نرسم في الكرة التي رسمنا فيها الشكل  
الناري في اى كرة مفروضة مجسمها ذا عشرين  
قاعة مثلثات متساوييات الاضلاع متساويات  
ويكون ضلع كل واحدة من تلك المثلثات اصغر  
اذا كان قطر الكرة منطقة

ليكن  $AB$  قطر الكرة المفروضة فقسه بخمسة اقسام متساوية بالمقدمة  
المذكورة قبل الشكل الحادي عشر وليكن  $A$  احد اقسامه وننصف  
 $AB$  علي نقطة  $E$  بالشكل العشرين الاولي ونرسم عليه نصف دائرة  $ADB$   
ونخرج من نقطة  $E$  علي  $AB$  عمود  $ED$  بالشكل الحادي عشر من الاولي

ونخرجه الي ان ينتهي الي  
قوس  $ADB$  علي نقطة  $D$   
ونصل بين نقطتي  $D$   $A$  بخط  
مستقيم ونرسم في سطح  
مستو دائرة مزح  $ط$  ال  
نصف قطره يساوي خطا  
اد ونرسم في دائرة مزح  $ط$  ال  
مخمس مزح  $ط$  ال المساوي  
الاضلاع والزوايا بالشكل  
الحادي عشر من الرابعة  
وننصف كل واحدة من  
قسبي مزح  $ط$  ال  $ط$  ال ل  
علي نقطة  $م$   $ن$   $ص$   $ع$   $ف$   
بالشكل التاسع والعشرين  
من الثالثة ونصل او تار  
زم  $م$   $ح$   $ج$   $ن$   $ط$   $ص$   $ع$   
عل ل  $ف$   $ز$   $د$   $ت$   $ع$   $ن$   $ك$   
الاوتار في دائرة مزح  $ط$  ال  
بالشكل الثاني من الثالثة ونصل  $م$   $ن$   $ص$   $ع$   $ف$   $ز$   $د$   $ت$   $ع$   $ن$   $ك$  بخطوط مستقيمة  
فتقع





فتقع في دائرة مزحط الـ بالشكل الثاني من الثالثة ويحدث فيها خمس  
 من صغرة متساوي الاضلاع والزوايا وخط مزحط ضلع المعشر ونخرج  
 من كل واحدة من نقط زحط الـ عمود على سطح دائرة مزحط الـ بالشكل  
 الثاني عشر من الحادية عشر وهي اعمدة زحط رطشه الظلضه ويجعل  
 كل واحد من تلك الاعمدة مساويا لنصف قطر دائرة مزحط الـ بالشكل  
 الثالث من الاولي فالاعمدة كلها متوازية بالشكل الحادي عشر من الحادية  
 عشر ونصل قمر رشه شهظ شهظ شهظ خط مستقيمة فكل واحد من  
 هذه الخطوط متساوية متوازية لاحد اضلاع خمس مزحط الـ بالشكل  
 الثالث والثلاثين من الاولي خمس قمر رشه شهظ متساوي الاضلاع  
 والزوايا ونصل قمر رونه نرشه شهظ شهظ خط مستقيمة ونخرج من نقطة  
 مستقيمة ولنجد مركز دائرة مزحط الـ وهو نقطة ت ونخرج من نقطة  
 ت عمود تـ على سطح دائرة مزحط الـ بالشكل الثاني عشر من الحادية عشر  
 ونخرجه في جهته الي غير النهاية ونفصل منه تـ ع مساويا لنصف  
 قطر دائرة مزحط الـ ونفصل من عمود تـ الخ المخرج الي غير النهاية خطي  
 غـ خ تـ غير منطبقين على خط تـ غـ كل واحد منهما مساويا لصلع  
 المعشر من دائرة مزحط الـ بالشكل الثالث من الاولي ونصل بين نقطة  
 خ و بين كل واحدة من نقط قمر رشه شهظ خط مستقيم ونصل بين نقطة  
 ذ و بين كل واحدة من نقط مزحط الـ بخط مستقيم ونصل بين نقطتي  
 قـ غـ بخط مستقيم وكذلك بين نقطتي غـ شهظ وبين نقطتي زـ تـ وبين نقطتي  
 تـ م وبين نقطتي تـ ل ففقد ثم الشكل المطلوب ولان خط قمر يساوي ضلع  
 المسدس الواقع في دائرة مزحط الـ وزه يساوي ضلع المعشر وزاوية قمره  
 قائمة فخط قمره ضلع الخمس لان ضلع الخمس يقوي على ضلع المسدس  
 والمعشر الواقعين في دائرة واحدة وبمثله تبين ان قمره ضلع الخمس  
 الواقع في دائرة مزحط الـ وقمره ضلع الخمس فثلث قمره متساوي  
 الاضلاع وبمثله تبين ان كل واحد من مثلثات قمر رونه شهظ شهظ  
 خط مستقيم متساوي الاضلاع ولان قد بينا ان كل واحد من قمره قمره ضلع  
 الخمس وقمره ضلع الخمس فثلث قمره متساوي الاضلاع وبمثله تبين ان  
 كل واحد من مثلثات م رونه نرشه شهظ شهظ خط مستقيم متساوي الاضلاع  
 ولان كل واحد من خطي تـ غـ زحط عمود على سطح دائرة مزحط الـ فهما  
 متوازيان بالشكل السادس من الحادية عشر وهما متساويان فخطا قـ غـ  
 زـ تـ متساويان ومتوازيان وزط يساوي نصف قطر دائرة مزحط الـ  
 وهو ضلع المسدس باستبانة الشكل الخامس من الرابعة فخط قـ غـ ضلع  
 المسدس وقـ غـ ضلع المعشر وزاوية قـ غـ خ قائمة فخط قـ غـ ضلع الخمس  
 وبمثله تبين ان كل واحد من اضلاع خـ شهظ خط مستقيم متساوي ضلع  
 الخمس وكل واحد من اضلاع قـ شهظ خط مستقيم متساويا  
 لصلع



لضلع الخمس مثلثات قرضه  $ض$   $ظ$   $خ$   $ظ$   $ش$   $خ$   $ش$   $ر$   $ح$   $ر$   $ق$   $خ$  متساوية  
 الاضلاع كل ضلع منها يساوي ضلع الخمس الواقع في دائرة مزح ط ال  
 ولان خط  $ت$  م ضلع المسدس و  $ت$   $ذ$  ضلع المعشرو زاوية  $م$   $ت$   $ذ$  قائمة فخط  
 $م$   $ذ$  يساوي ضلع الخمس الواقع في دائرة مزح ط ال وبمثله تبين ان ضلع  
 $ن$   $ذ$  يساوي ضلع الخمس و  $م$   $ن$  ضلع الخمس مثلث  $م$   $ن$   $ذ$  متساوي الاضلاع  
 كل ضلع من اضلاعه يساوي ضلع الخمس الواقع في دائرة مزح ط ال  
 وبمثله تبين ان كل من مثلثات  $ن$   $ص$   $ذ$   $ص$   $ع$   $ذ$   $ع$   $ق$   $ذ$   $ق$   $م$   $ذ$  متساويات  
 الاضلاع وان كل ضلع من اضلاعها يساوي ضلع الخمس الواقع في دائرة  
 مزح ط ال فالمثلثات المذكورة تساوي بعضها لبعض فالمثلثات متساوية  
 فقد رسمنا مجسما ذا عشرين قاعدة مثلثات متساويات متساويات  
 الاضلاع كل ضلع من اضلاعها يساوي ضلع الخمس الواقع في دائرة  
 مزح ط ال . فاقول انه يحيط به كرة قطرها يساوي  $اب$  وذلك لان  $ث$   $غ$   
 يساوي ضلع المسدس الواقع في دائرة مزح ط ال لانه يساوي نصف  
 قطر  $ز$   $ت$   $و$   $غ$   $خ$  ضلع المعشرو فخط  $ت$   $خ$  مقسوم علي نسبة ذات وسط  
 وطرفين وقسمه الاعظم  $ت$   $غ$  فسطح  $ت$   $خ$  في  $خ$   $غ$  يساوي مربع  $ت$   $غ$   
 باستبانة الشكل السادس عشر من السادسة لكن  $ت$   $غ$  يساوي  $ت$   $م$  و  $غ$   $خ$   
 يساوي  $ت$   $ذ$  فسطح  $خ$   $ت$  في  $ت$   $ذ$  يساوي مربع  $ت$   $م$  فاذا رسمنا علي مركز  
 $س$   $ه$  وبعده  $س$   $ذ$  نصف دائرة وادرتنا مع ثبات خط  $خ$   $ذ$  الي ان يعود الي  
 وضعه الاول فان محيط يمر بنقطة  $م$  ويساير نقط  $ن$   $ص$   $ع$   $ق$   $ر$   $ش$   $ظ$   
 $ض$  بقوة الشكل التاسع من السادسة وحدث كرة فقد احاط بمجسم  
 ذي عشرين قاعدة مثلثات متساويات متساويات الاضلاع كرة  
 قطرها خط  $خ$   $ذ$  . فاقول انه يساوي  $اب$  قطر الكرة المفروضة وذلك لان  
 نسبة مربع  $اب$  الي مربع  $اد$  كنسبة  $اب$  الي  $اح$  باستبانة الشكل الثامن  
 من السادسة لكن  $اب$  خمسة امثال  $اح$  فربع  $اب$  خمسة امثال مربع  $اح$  ولان  
 $ت$   $خ$  قسم علي نقطة  $غ$  بنسبة ذات وسط وطرفين وقسمه الاطول  $ت$   $غ$   
 ونصف  $ت$   $غ$   $س$   $غ$  فيكون مربع  $س$   $غ$  خمسة امثال مربع  $س$   $خ$  بالشكل  
 الثالث فنسبة مربع  $س$   $خ$  الي مربع  $س$   $غ$  كنسبة  $س$   $خ$  الي  $س$   $غ$  مثناة  
 بالشكل الثامن عشر من السادسة و  $س$   $ذ$  يساوي  $س$   $خ$  و  $س$   $ت$  يساوي  
 $س$   $غ$  فخط  $س$   $ذ$  ضعف  $س$   $ت$  و  $ت$   $غ$  ضعف  $ت$   $س$  ونسبة الاضعاف كنسبة  
 الاجزاء اذا كانت الاضعاف متساوية العدة بالشكل الخامس من  
 الخامسة فنسبة  $خ$   $ذ$  الي  $ت$   $غ$  كنسبة  $س$   $خ$  الي  $س$   $غ$  فنسبة  $خ$   $ذ$  الي  $ت$   $غ$   
 مثناة كنسبة  $س$   $خ$  الي  $س$   $غ$  مثناة فبالشكل الحادي عشر من الخامسة  
 نسبة مربع  $س$   $خ$  الي مربع  $س$   $غ$  كنسبة  $خ$   $ذ$  الي  $ت$   $غ$  مثناة ونسبة مربع  
 $خ$   $ذ$  الي مربع  $ت$   $غ$  كنسبة  $خ$   $ذ$  الي  $ت$   $غ$  مثناة بالشكل الثامن عشر من  
 السادسة فبالشكل الحادي عشر من الخامسة نسبة مربع  $س$   $خ$  الي مربع  
 $س$   $غ$



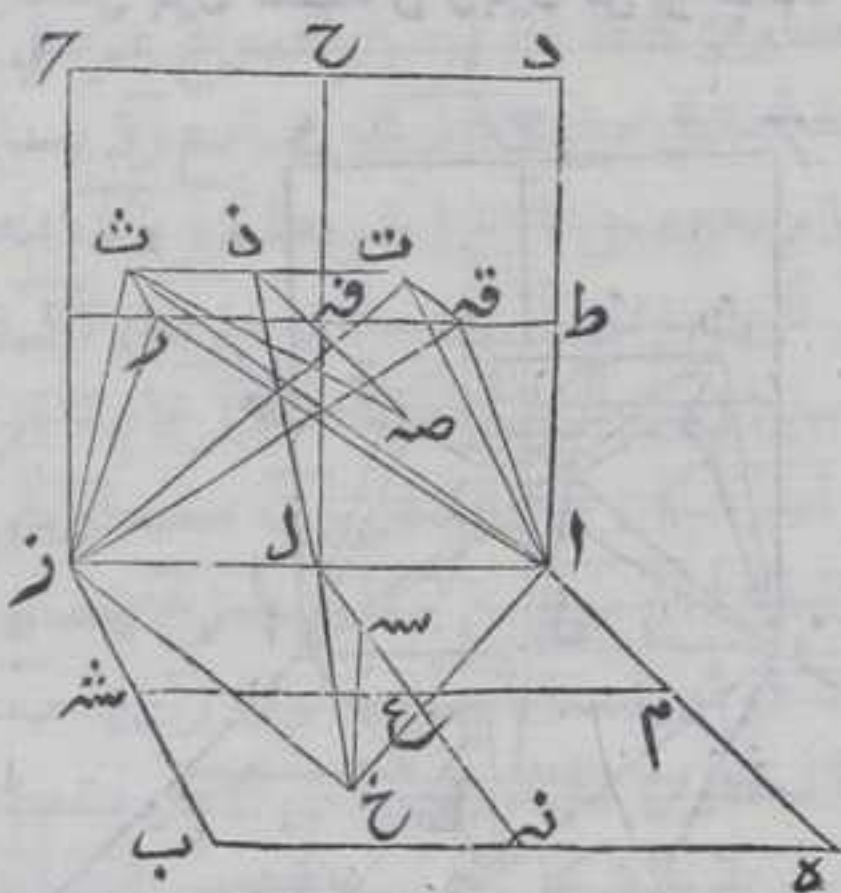








من الاولي وليكن نقط ط ح ال م نه سه علي مواضع التنصيف ونصل  
 بين كل واحدة من نقطتي ط الح ل م سه ل نه بخط مستقيم فليبتقاطع حل  
 ط ا علي نقطة فه وم سه ل نه علي نقطة ع ولان اضلاع المربعات متوازية  
 متساوية بالشكل الخامس والاربعين من الاولي فتكون ايضا فيها  
 متساوية متوازية فالخطوط المستقيمة الواقعة بين خطوط متوازية  
 متساوية متوازية متساوية بالشكل الثالث والثلاثين من الاولي  
 فيكون سطوح د ف ه ف ا ف ز ا ع ز د ع ب متساوية وكذلك اضلاعها  
 وتوازي اضلاع السطوح الواقعة منها في كل واحد من سطحي ا ح ا ب



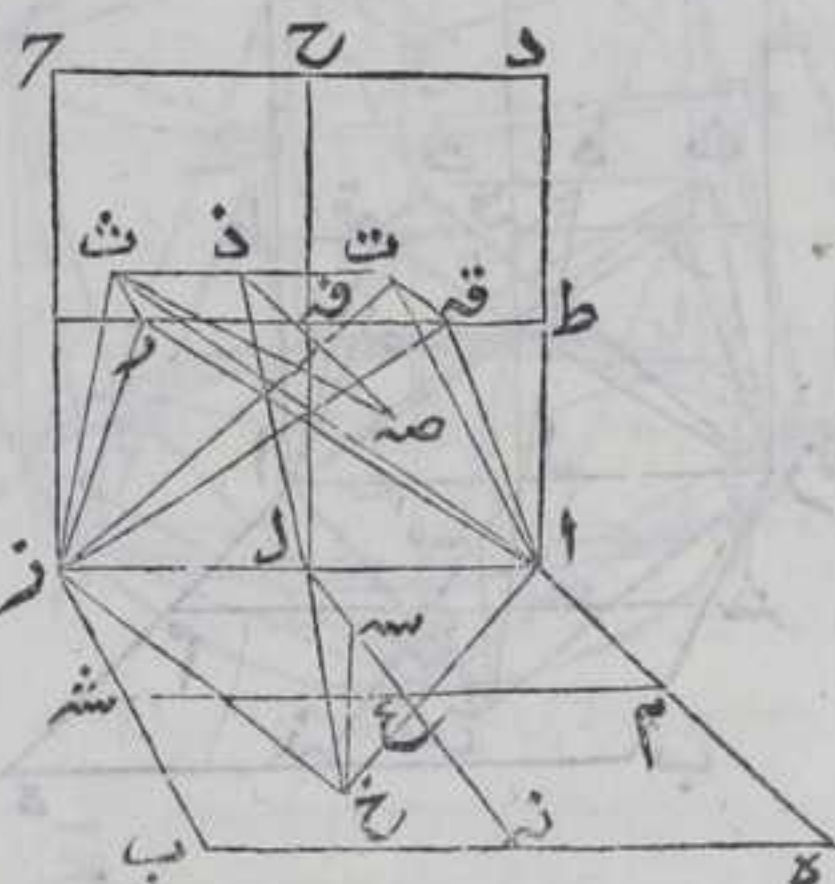
بعضها لبعض ولاضلاعها فيكون  
 كل واحدة من زوايا تلك السطوح  
 قائمة بالشكل التاسع والعشرين  
 من الاولي ولنقسم كل واحد من  
 اضلاع ط ف ه ل ع علي نسبة  
 ذات وسط وطرفين بالشكل التاسع  
 والعشرين من السادسة وليكن  
 قسم الاطول من ط ف ه ف ه ومن  
 ف ا ف ز ه من ل ع س ع ولان اضلاع  
 ط ف ه ل ع متساوية فيكون  
 اقسامها العظام مساوية

للعظام وانقصار للقصار باستبانة الشكل التاسع والعشرين من  
 السادسة فيكون خطوط ق ف ه ف ر س ع متساوية وكذلك ق ط ر ا س ل  
 ونخرج من نقط ق ف ه ر ا عمدة ق ت ق د ر ت علي سطح ا ح ومن نقطة س عمود  
 س خ علي سطح ا ب بالشكل الثاني عشر من الحادية عشرة ونجعل كل  
 واحد من الاعمدة مساويا لخط ق ف ه مثلا بالشكل الثالث من الاولي  
 ونصل بين نقطتي ت ت ت بخط مستقيم فلان عمودي ق ت ر ت متوازيان  
 بالشكل السادس من الحادية عشر وهما متساويان فضع ت ت ت يوازي  
 ق ر ويساويه بالشكل الثالث والثلاثين من الاولي فيكون سطح ت ر واقعا  
 علي سطح ا ح علي زوايا قوايم بالشكل الثالث عشر من الحادية عشرة  
 فيكون اعمدة ق ت ق د ر ت ر كائنة في سطح ت ر فخط ت د يساوي ت د لانهما  
 تساويان خطي ق ف ه ف ر المتساويين ونصل بين كل واحدة من نقطتي  
 ا ت ا ح ا ر ا ت ر ر ز ر خ بخطوط مستقيمة فلان مربعي ط ف ه ط ف  
 معا يساويان ثلثة امثال مربع ق ف ه بالشكل الخامس واط يساوي ط ف  
 فربع ا ق المساوي لمربعي ا ط ط ق معا بالشكل التاسع والاربعين من  
 الاولي يساوي ثلثة امثال مربع ق ف ه ولان ق ف ه يساوي ق ت وزاوية ا ق ت  
 قائمة فربع ا ت المساوي لمربعي ا ق ق ت بالشكل التاسع والاربعين من  
 الاولي



الاولي تساوي اربعة امثال مربع قفـه ومثله تبين ان مربع زت يساوي اربعة امثال مربع قفـه وهو يساوي قفـه فضلع ات يساوي ضلع ت فاذا وصلنا بين نقطة سـه وبين كل واحدة من نقطتي آـم بخط مستقيم فتبين بمثل ما بينا ان كل واحد من مربعي آخ مزخ يساوي اربعة امثال مربع سدع المساوي لخط قفـه فكل من آخ مزخ يساوي ضلع ات ولان ضلع ت ت منصف علي نقطة ذـه وكل واحد من خطي تـد ذت يساوي قفـه ومربع تـت اربعة امثال مربع تـد بحكم الشكل الرابع من المائبة يكون ضلع تـت يساوي ضلع ات فاضلاع ات تـت تـز مزخ الخمسة متساوية ونصل بين نقطة لـه وبين كل واحدة من نقطتي خـح بخط مستقيم وقد

استبان من الشكل التاسع والعشرين من السادسة ان الخطوط المقسومة علي نسبة ذات وسط وطرفين فان نسبة بعضها الي بعض كنسبة اقسامها العظمي الي العظمي والصغري الي الصغري وخط طـه قسم بنقطة قـه علي نسبة ذات وسط وطرفين وقسمه الاعظم قـه والا صغر قـط فتكون نسبة طـه الي قـه كنسبة قـه الي قـط وخط



له يساوي طـه وقـه يساوي سـخ ولـسـه يساوي قـط فنسبة لـه الي سـخ كنسبة قـه الي سـل ولـه يوازي سـخ وقـه يوازي سـل فبالشكل الثاني والثلاثين من السادسة ضلع ذـل علي استقامة ضلع لـخ فخط آـذ از المستقيمان المتقاطعان كائنان في سطح واحد بالشكل الثاني من الحادية عشرة وهو خمس اتـت مزخ واضلاع كائنة في ذلك السطح ولان ضلع طـه مقسوم بنقطة قـه علي نسبة ذات وسط وطرفين وخط قـه ر يساوي قـه قسمه الاطول فخط طـر مقسوم علي نسبة ذات وسط وطرفين بنقطة قـه وقسمه الاطول طـه بالشكل الرابع فبالشكل الخامس مربع طـه ر قـه ر معا يساويان ثلاثة امثال مربع طـه فاذا اضغنا اليها مربع اـط صار المجموع اربعة امثال مربع اـط فمربعات اـط طـر طـه الثلاثة مع مربع رت المساوي لخط قـه ر يساوي اربعة امثال اـط لكن مربع اـر يساوي مربعي اـط طـر بالشكل التاسع والاربعين من الاول فمربع اـر رت معا يساويان اربعة امثال مربع اـط لكن مربع ات يساوي مربعي اـر رت بالشكل التاسع والاربعين من الاول لكون زاوية اـر ت قائمة فمربع ات يساوي اربعة امثال مربع اـط واـط يساوي اـل ومربع اـز يساوي اربعة امثال مربع



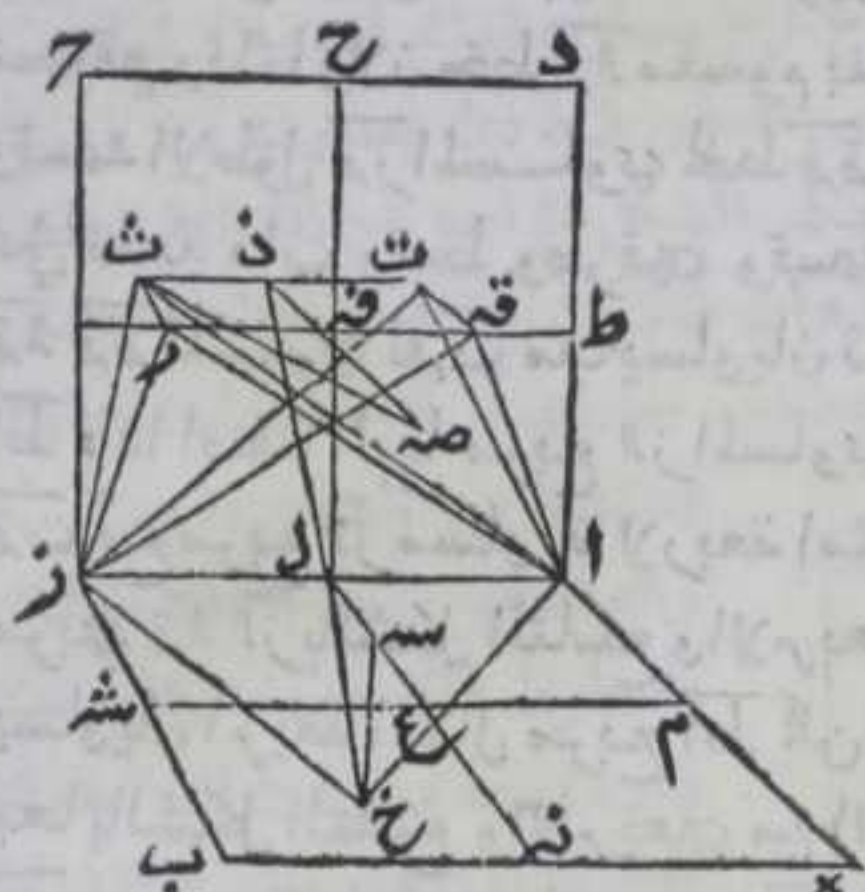
## الثالثة عشر

٤٤١

مربع  $\overline{آل}$  بحكم الشكل الرابع من الثانية لان  $\overline{آز}$  منصف علي نقطة  $\overline{ل}$   
 فربعا  $\overline{آز}$  متساويان فهما متساويان فاضلاع مثلث  $\overline{آخز}$  يساوي  
 اضلاع مثلث  $\overline{آتت}$  كل لنظيره فثلثا  $\overline{آز}$  متساويان وكذلك  
 زواياهما المتناظرة بالشكل الثامن من الاولي فزاوية  $\overline{آخز}$  يساوي زاوية  
 $\overline{آتت}$  ونحن اذا وصلنا بين نقطة  $\overline{ز}$  وبين كل واحدة من نقطتي  $\overline{ق}$  بخط  
 مستقيم وقلنا ولان خط  $\overline{قآ}$  مقسوم بنقطة  $\overline{ر}$  علي نسبة ذات وسط وطرفين  
 وقسمه الاطول  $\overline{قآ}$  المساوي لخط  $\overline{قز}$  فيكون خط  $\overline{قآ}$  مقسوما بنقطة  $\overline{ق}$   
 علي نسبة ذات وسط وطرفين وقسمه الاطول  $\overline{قآ}$  بالشكل الرابع فربعا  
 $\overline{قآ}$  فربعا  $\overline{قآ}$  المساوي لعمد  $\overline{قآ}$  يساويان ثلثة امثال مربع  $\overline{قآ}$  المساوي لخط  
 $\overline{آط}$  فاذا اضفنا اليها مربع  $\overline{آز}$  المساوي لخط  $\overline{آط}$  يصير مجموع مربعي  $\overline{قآ}$   
 $\overline{قز}$  مع مربع  $\overline{آز}$  مساوية لاربعة امثال مربع  $\overline{آط}$  لكن مربع  $\overline{قز}$  يساوي  
 مربعي  $\overline{قآ}$   $\overline{آز}$  بالشكل التاسع والاربعين من الاولي فربعا  $\overline{قز}$  مع  
 يساويان اربعة امثال مربع  $\overline{آط}$  لكن مربع  $\overline{قز}$  يساوي مربعي  $\overline{قز}$   $\overline{قز}$   
 معا بالشكل التاسع والاربعين من الاولي لكون زاوية  $\overline{قز}$  قائمة فربعا  
 $\overline{قز}$  يساوي اربعة امثال مربع  $\overline{آط}$  فكان مربع  $\overline{آز}$  متساويان  
 فيكون ضلعا  $\overline{آز}$   $\overline{آز}$  متساويان وضلعا  $\overline{آخ}$   $\overline{آخ}$  من مثلث  $\overline{آخز}$  يساويان  
 ضلعي  $\overline{آتت}$   $\overline{آتت}$  من مثلث  $\overline{آتت}$  فزاويتي  $\overline{آخز}$   $\overline{آتت}$  زاوية  $\overline{آتت}$   
 بالشكل الثامن من الاولي واذا تساوي ثلثة زوايا من مجس متساوي  
 الاضلاع كانت جميع زواياه متساوية بالشكل التاسع فمخس  $\overline{آتت}$   $\overline{آخز}$   
 متساوي الاضلاع والزوايا وهذا الخمس كايين علي خط احد اضلاع  
 المكعب ولكل مكعب اثنتا عشر ضلعا فاذا رسمنا بمثل ما مثلنا علي  
 كل ضلع من اضلاع المكعب يحصل مجسم يحيط به اثني عشر مجس  
 متساوي الاضلاع والزوايا . فاقول ان الكرة المفروضة تحيط بالمجسم  
 المذكور فتخرج ذرة في جهة  $\overline{ق}$  علي استقامته الي ان ينتهي الي السطح  
 المقابل لسطح  $\overline{آح}$  من السطوح المحيطة بالمكعب فالخط المخرج ينصف  
 قطر الكرة الذي هو قطر المكعب وقطر الكرة ينصفه ايضا بالشكل  
 الاربعين من الحادية عشرة فليتناصفا علي نقطة  $\overline{ص}$  فضلع  $\overline{قص}$  يساوي  
 ضلع  $\overline{لر}$  المساوي لنصف ضلع المكعب بالشكل الرابع والثلاثين من  
 الاولي فضلع  $\overline{قص}$  يساوي  $\overline{طق}$  و  $\overline{طق}$  مقسوما بنقطة  $\overline{ق}$  علي نسبة ذات  
 وسط وطرفين وقسمه الاطول  $\overline{قق}$  المساوي لخط  $\overline{قز}$  فخط  $\overline{طق}$  مقسوم علي  
 نسبة ذات وسط وطرفين وقسمه الاطول  $\overline{طق}$  بالشكل الرابع فربعا  $\overline{طق}$   
 $\overline{قز}$  معا ثلثة امثال مربع  $\overline{طق}$  بالشكل الخامس وقص  $\overline{قز}$   $\overline{قز}$  و  $\overline{قز}$   
 يساوي  $\overline{قز}$  فخط  $\overline{طق}$  يساوي خط  $\overline{قز}$  فربعا  $\overline{قز}$   $\overline{قز}$  معا يساويان  
 ثلثة امثال مربع  $\overline{قز}$  اي ثلثة امثال مربع نصف ضلع المكعب  
 ونصل  $\overline{قص}$  بخط مستقيم وخط  $\overline{قز}$  يساوي  $\overline{قز}$  وزاوية  $\overline{قز}$  قائمة  
 فربعا



مربع ث صه يساوي مربعي ت ذ صه بالشكل التاسع والاربعين من الاولي  
 وكان مربعاً صه ذ ف معاً مساوياً لثلاثة امثال مربع نصف ضلع المكعب  
 ومربع قطر الكرة الذي هو قطر المكعب يساوي ثلاثة امثال مربع  
 ضلع المكعب بالشكل الرابع عشر ونسبة الاضعاف كنسبة الاجزاء  
 بالشكل الخامس عشر من الخامسة



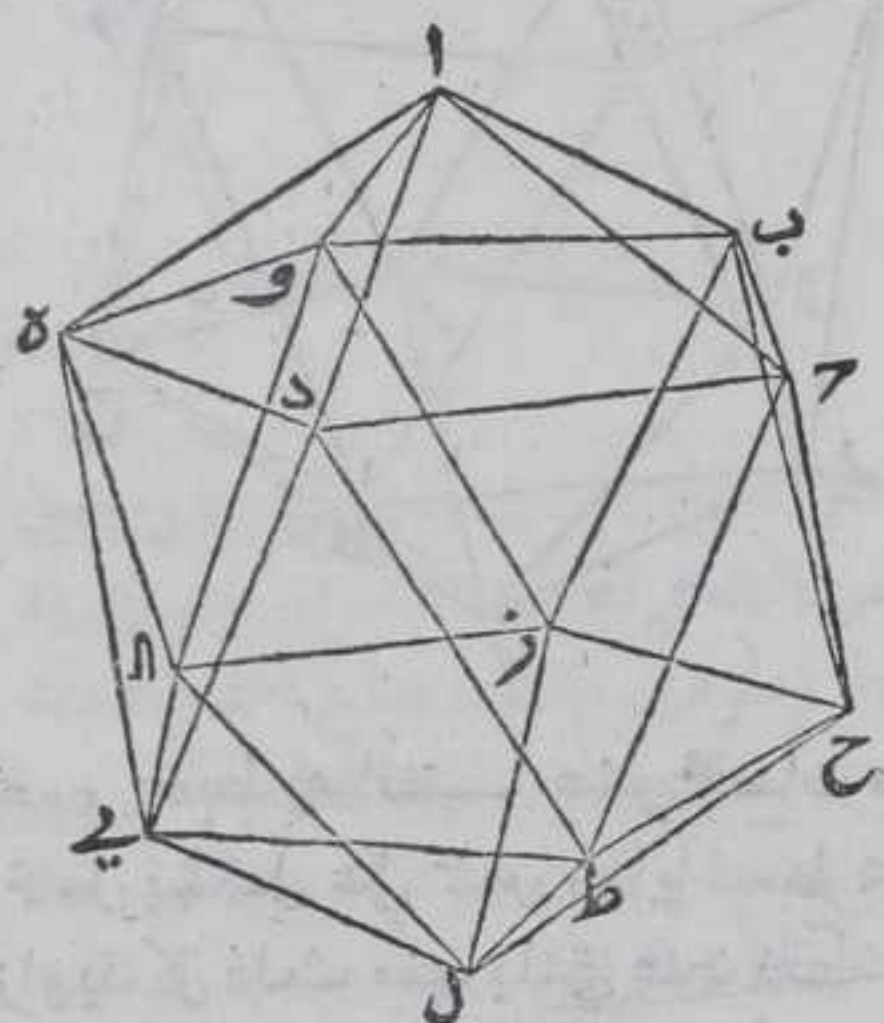
اذا كانت متساوية فمربع نصف  
 قطر الكرة لثلاثة امثال مربع نصف  
 ضلع المكعب وكان مربع ث صه  
 ثلاثة امثال مربع نصف ضلع  
 المكعب فخط ث صه يساوي  
 نصف قطر الكرة ويمثله تبين ان  
 المخطوط المستقيمة الواصلة بين  
 نقطة صه وبين النقط التي علي  
 زوايا الخمس كل منها يساوي  
 نصف قطر الكرة فاذا عملنا علي

قطر الكرة نصف دائرة واثبتناه وادرننا نصف الدائرة الي ان يعود الي  
 وضعه الاول فمحيط نصف الدائرة يلزم سطح الكرة ويمر علي نقط زوايا  
 الخمسات المحيطة بالمجسم المعول فتكون الكرة محيطة بذوي اثني عشر  
 قاعدة المجسمات فاقول ان ضلع الخمس منفصل وذلك لان مربع قطر  
 الكرة لثلاثة امثال مربع ضلع المكعب فنسبة مربع قطر الكرة الي مربع  
 ضلع المكعب كنسبة ثلاثة الي الواحد وهي كنسبة عددين مربعين وان  
 كانت كنسبة عدد الي عدد فبالشكل السابع من العاشرة ضلع المكعب  
 يشارك في القوة قطر الكرة المنطق وبباينه في الطول واذا كل واحد من  
 قطر الكرة وضلع المكعب وليكن هو ضلع ا ز علي نسبة ذات وسط  
 وطرفين بالشكل التاسع والعشرين من السادسة كانت نسبة القطر الي  
 ضلع المكعب كنسبة قسمي القطر الي قسمي ضلع المكعب الاعظم الي  
 الاعظم والاقصر الي الاقصر باستبانة الشكل التاسع والعشرين من  
 السادسة فنسبة قطر الكرة الي ضلع المكعب كنسبة قسم الاعظم من قطر  
 الكرة الي قسم الاعظم من ضلع المكعب لكن قطر الكرة يشارك ضلع المكعب  
 في القوة فالقسم الاعظم من ضلع المكعب يشارك قسم الاعظم من قطر  
 الكرة بالشكل الثاني عشر من العاشرة وقطر الكرة منطق وكل خط منطق  
 قسم علي نسبة ذات وسط وطرفين فكل قسم من قسمه منفصل بالشكل  
 التاسع فالقسم الاعظم من امر ضلع المكعب يشارك المنفصل في القوة  
 وازوتر زاوية اخ ز التي هي زاوية الخمس وكل وتر زاوية الخمس قسم علي  
 نسبة ذات وسط وطرفين فان قسمه الاعظم يساوي ضلع الخمس بالشكل  
 الرابع



الرابع عشر فضلع مجس ات ت زخ وليكن هو آخ يشارك المنفصل في القوة وكل خط يشارك المنفصل في الطول او في القوة فهو منفصل بالشكل المماثلة من العاشرة فاضلاع الخمسات المحيطة بذي اثني عشر قاعدة الخمسات منفصلات بالحكم تاب

واما ان لنا ان نرسم في اي مجسم ذي عشرين قاعدة مثلثات متساويات الاضلاع والزوايا ذا اثني عشر قاعدة مجسمات متساويات الاضلاع والزوايا فليكن ذو عشرين قاعدة مثلثات كل ا ب ح د ه و ز ح ط ل



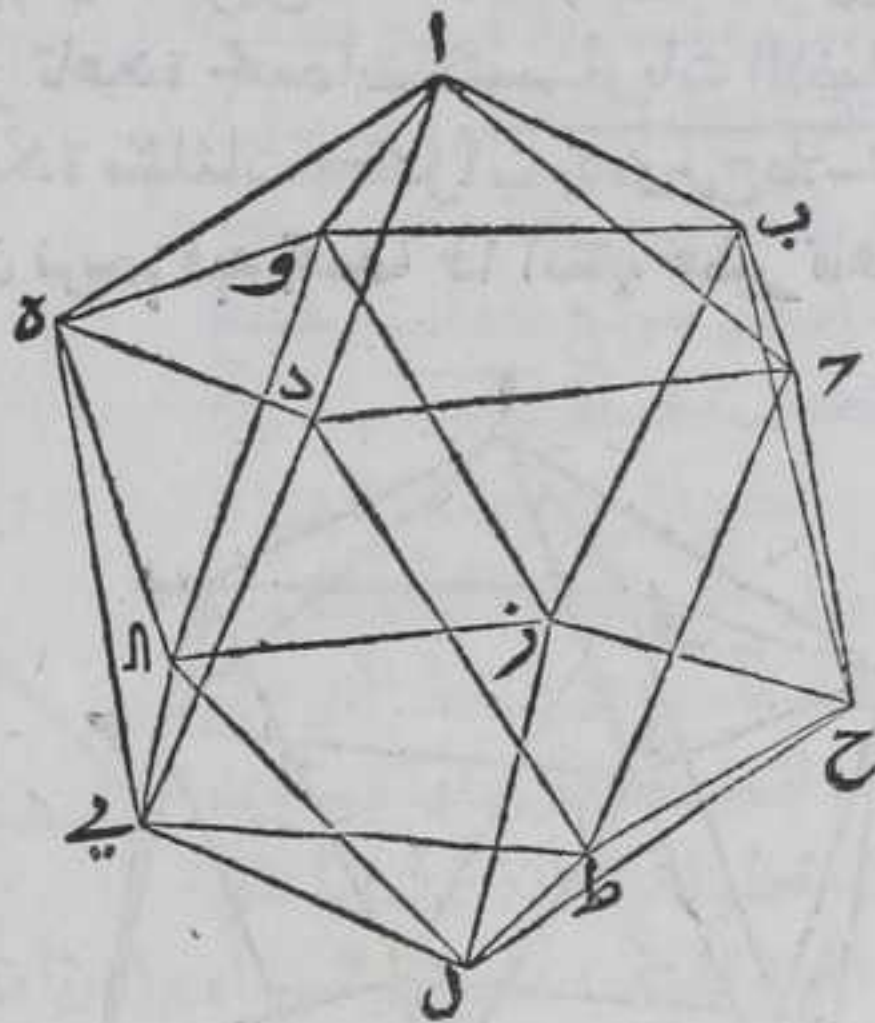
مخمسات برهانه فلان سطح ذي العشرين يشتمل علي عشرين مثلثات وكل مثلث علي ثلث زوايا فالسطح يشتمل علي ستين زاوية وكل خمسة من تلك الزوايا محيطة بزاوية مجسمة فالمجسم ذي العشرين يشتمل علي اثني عشر زاوية مجسمة وكل ضلعين من اضلاع الزوايا الخمسة المحيطة بالزاوية المجسمة يحيطان

بزاوية مجس من الخمسات المتساوية الاضلاع والزوايا التي كل زاوية من الزوايا المجسمة لذي العشرين قاعدة لواحد منها لمعني انه اذا وصل بين الزوايا المجسمة وبين زاوية من ثلث المجسمات بخط مستقيم واذحتي . . . . . الخمسات فسطحا كل مثلثين من مثلثات ذي العشرين يحيطان بزاوية مجسمة تلك الزوايا متساوية فتجد مركز كل واحد العشرين من مثلثات ذي العشرين باستبانة الشكل الرابع من الرابعة ونرسم علي كل واحد من تلك المراكز نقطة ع ونخرج من كل واحد من تلك المراكز ثلثة اعمدة علي اضلاع كل مثلث من مثلثات ذي العشرين بالشكل الحادي عشر من الاولي فتكون الاعمدة كلها متساوية باستبانة الشكل الرابع من الرابعة ونصل بين مركزي كل مثلثين متجاورين بخط مستقيم فلان الاعمدة متساوية بالشكل الرابع من الاولي فتحصل اثنتا عشر مجسمة متساويات الاضلاع واذا وصلنا بين نقط الزوايا المجسمة وبين جميع مراكز مثلثات ذي العشرين بخطوط مستقيمة حدث مائة وعشرين مثلثات في كل منها زاوية قائمة محيطة بها نصف ضلع من اضلاع مثلثات ذي العشرين وعمود تلك الاعمدة



الاعمدة المتساوية وجميع الاضلاع متساوية فبالشكل الرابع من الاولي  
تكون جميع الخطوط المستقيمة الواصلة متساوية التي هي اوتار لتلك  
الزوايا القوامم فاذا جعلنا نقط الزوايا الخمسة مراكز وادرنا بهعد  
الخطوط المستقيمة المتساوية دواير محيط كل منها علي مراكز المثلثات

فتقع اوتار كل واحد من  
المجسات في دايرته بالشكل  
الثاني من الثالثة وتكون  
جميع تلك الدواير متساوية  
فتكون جميع المفروضة من  
محيطانها باوتارها التي  
اضلاع المجسات متساوية  
بالشكل السابع والعشرين  
من الثالثة وكل زاوية من  
زوايا كل مجس علي ثلث من  
تلك القسي فتكون المجسات  
متساوية الزوايا فيحصل



مجسم يحيط به اثنتا عشر مجسات متساويات الاضلاع والزوايا وكل  
مجس يشتمل علي خمس زوايا فسطح هذا المجسم يشتمل علي عشرين  
زاوية كل ثلث منها يلتقي عند نقطة ع التي هي مركز من مراكز ذي  
العشرين فتحدث من اجتماعها زاوية مجسمة عند تلك النقطة فتكون  
الزوايا المجسمة التي يشتمل عليها سطح ذي الاثنتي عشر قاعدة عشرين  
زاوية فقد رسمنا في ذي العشرين ذا اثنتي عشر قاعدة مجسات  
متساوية الاضلاع والزوايا ولنا ان نرسم ايضا في ذي اثنتي عشر  
قاعدة مجسات ذا العشرين قاعدة مثلثات فثل ما ذكرنا وذلك ما اردنا  
ان نـ

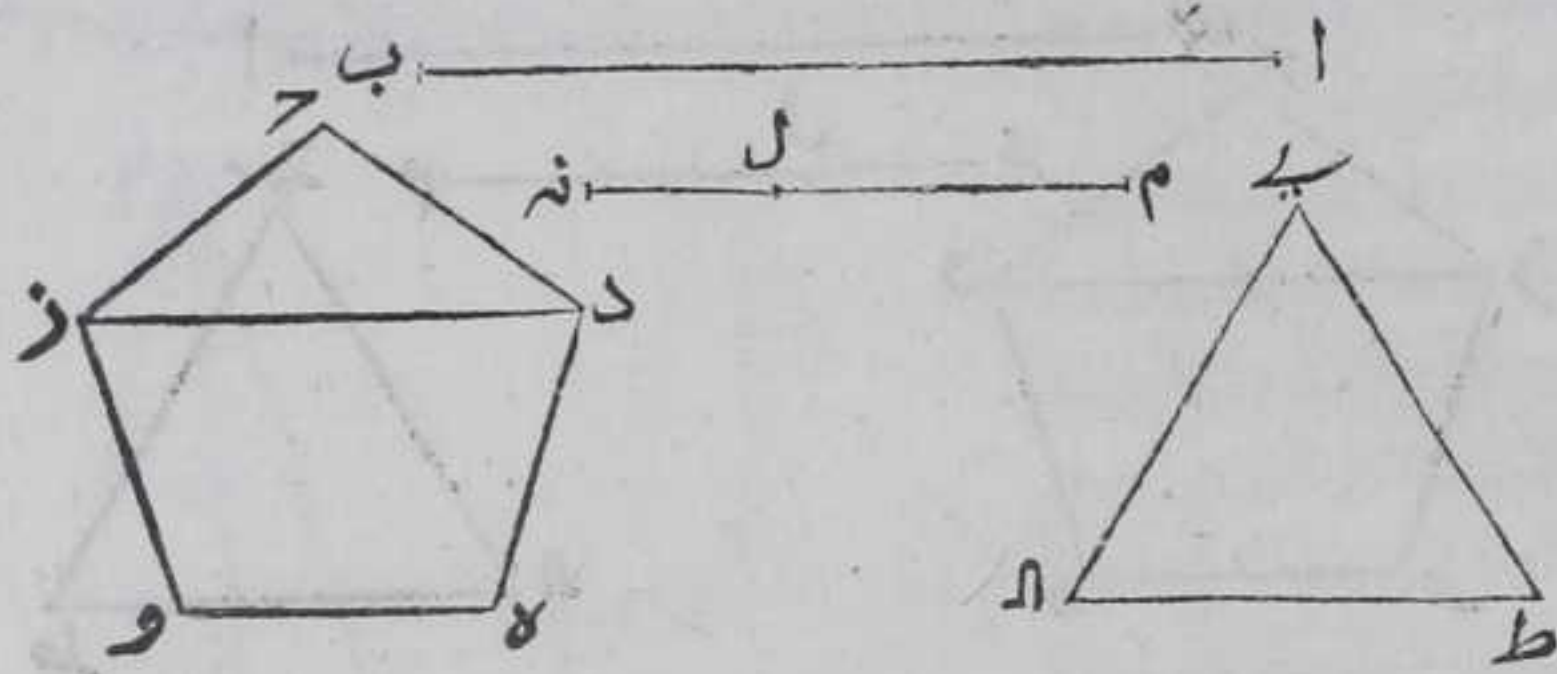
استبانة قد تبين في الشكل المتقدم ان مربع قطر الكرة وليكن هو خط  
اب المستقيم اعني قطر الكرة التي تحيط بذوي العشرين قاعدة وبذي  
الاثنتي عشر قاعدة معا خمسة امثال مربع نصف قطر دائرة ضلع  
مجسم يساوي ضلع مثلث ذي العشرين قاعدة وليكن هو خط م ن  
المستقيم ولكن مجس حده وز احد في قواعد ذي الاثنتي عشر قاعدة  
وان مثلث ع ط ا احد في قواعد ذي العشرين قاعدة وقد تبين ايضا  
في الشكل المتقدم ان ضلع مثلث ذي العشرين اعني ع ط ا مثلا يقوي  
علي ضلع المسدس والمعشر من دائرة ضلع ع ط يساوي ضلع مجس  
وقد تبين ان مربع اب قطر الكرة المذكورة يساوي ثلاثة امثال مربع  
ضلع المكعب الواقع فيها وقد تبين في هذا الشكل ان وتر زاوية  
مجس



## الثالثة عشر

وعم

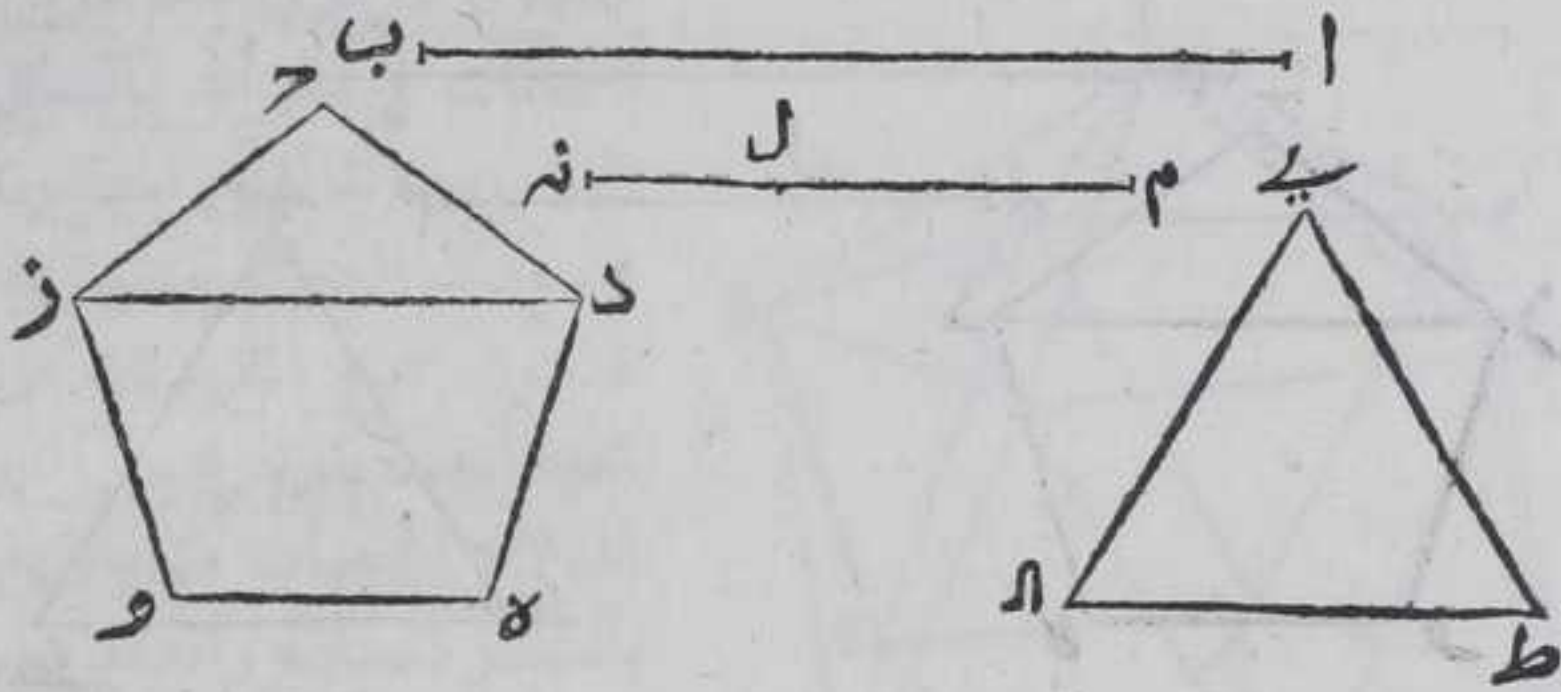
مخمس من مخمسات التي هي قواعد ذي الاثني عشر قاعدة هو ضلع المكعب الواقع في الكرة المذكورة فتكون ثلاثة امثال دز الذي هو وتر زاوية دحز من مخمس حده وتر يساوي خمسة امثال مربع م نه واستبان من الشكل الثاني عشر ان وتر المعشر اذا فصل من وتر المسدس كان وتر



المسدس مقسوما بنسبة الفصل علي نسبة ذات وسط وطرفين ويكون قسمه الاطول وتر المعشر واستبان من الشكل الحادي عشر ان وتر زاوية المخمس اذا قسم علي نسبة ذات وسط وطرفين كان ضلع المخمس قسمه الاطول وخط م نه نصف قطر دايرة ضلع مخمسها يساوي ضلع هط فهو يساوي ضلع مسدس تلك الدايرة بالشكل الخامس عشر من الرابعة فاذا قسمنا خط م نه علي نسبة ذات وسط وطرفين علي ان يكون قسمه الاطول م ل فيكون م ل ضلع معشر دايرة ضلع هط يساوي ضلع مخمسها بحكم الشكل السابع واذا قسمنا ضلع دز ايضا علي نسبة ذات وسط وطرفين بالشكل التاسع والعشرين من السادسة يكون ضلع ح د اطول قسمه باستبانة الشكل الحادي عشر وقد تبين في استبانة الشكل التاسع والعشرين من السادسة ان نسبة اقسام الخطوط المقسومة علي نسبة ذات وسط وطرفين الي نفس تلك الخطوط ونسب بعضها الي بعض النظير من النظير نسبة واحدة فنسبة ح د الي دز كنسبة م ل الي م نه فنسبة مربع ح د الي مربع دز كنسبة ح د الي دز مثناة بالشكل الثامن من السادسة ونسبة م ل الي م نه مثناة كنسبة ح د الي دز مثناة فبالشكل الحادي عشر من الخامسة نسبة مربع ح د الي مربع دز كنسبة م ل الي م نه مثناة ونسبة مربع م ل الي مربع م نه كنسبة م ل الي م نه مثناة بالشكل الثامن عشر من السادسة فنسبة مربع ح د الي مربع دز كنسبة مربع م ل الي مربع م نه بالشكل الحادي عشر من الخامسة فبالابدال نسبة مربع ح د الي مربع م ل كنسبة مربع دز الي مربع م نه بالشكل السادس عشر من الخامسة ونسبة الاضعاف اذا كانت متساوية العدة كنسبة اجزاها بالشكل الخامس عشر من الخامسة وكانت ثلاثة امثال مربع دز



دز يساوي خمسة امثال مربع م نه فثلثة امثال مربع د يساوي خمسة  
امثال مربع م ل فثلثة امثال مربع د مع ثلثة امثال مربع دز يساوي ان  
خمسة امثال م ل مع خمسة امثال مربع م نه لكن مربع ضلع ع ط يساوي  
مربعي م نه م ل معا فربعا دز معا يساوي ان خمسة امثال مربع ع ط

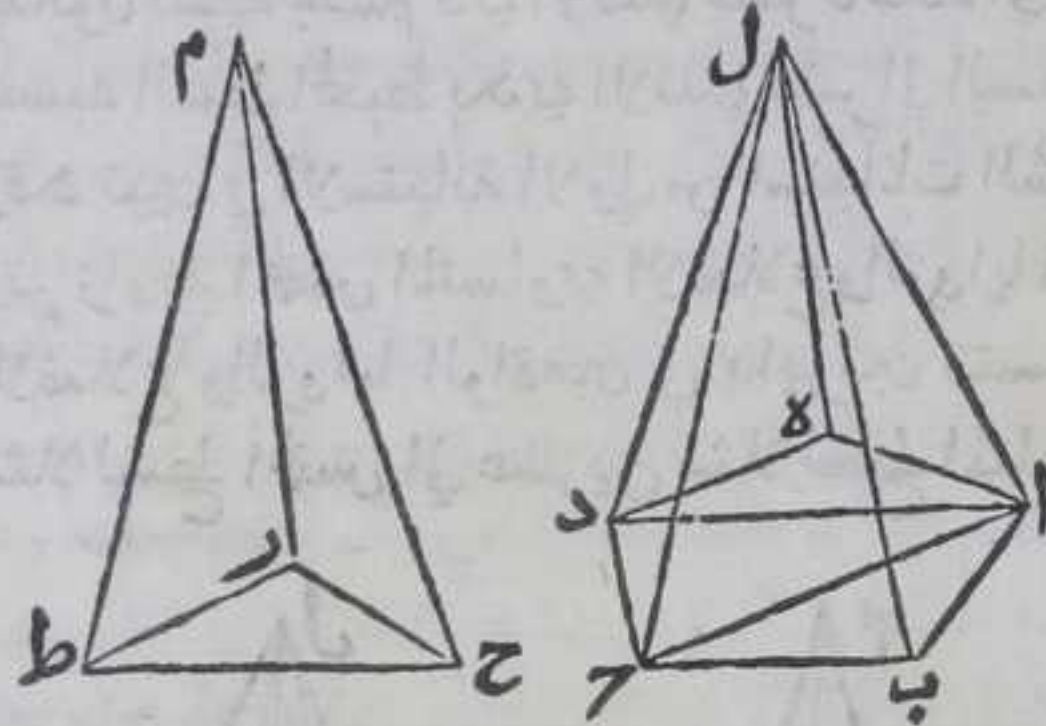


ومربع ضلع كل مثلث متساوي الاضلاع يساوي ثلثة امثال مربع  
نصف قطر دايرة يحيط به خمسة امثال مربع ضلع ع ط يساوي خمسة  
عشر مثالا لمربع نصف دايرة يحيط بمثلث ع ط ا ومربع ضلع الخمس  
مع مربع وتر زاوية يساوي ان خمسة امثال مربع نصف قطر دايرة  
تحيط بالخمس بالاستبانة الثانية من استبانات الشكل العاشر فثلثة  
امثال مربع ضلع الخمس مع ثلثة امثال مربع وتره المساوي ان خمسة  
امثال مربع ضلع ع ط يساوي ان خمسة عشر مثالا لمربع نصف قطر  
دايرة تحيط بالخمس فالدايرة التي تحيط بالخمس ذي الاثني عشر قاعدة  
تساوي الدايرة التي تحيط بمثلث ذي العشرين قاعدة وهذا هو  
الشكل الثالث من المقالة الرابعة عشر من اصلي الثابت والحجاج  
استبانة ثانية وهي ان نسبة خمس ذي الاثني عشر قاعدة الي مثلث  
ذي العشرين قاعدة الواقعين في كرة واحدة كنسبة ضلع المكعب  
الواقع في تلك الكرة الي ضلع ذي العشرين قاعدة الواقعة فيها لانه  
قد تبين في الاستبانة الاولى ان الدايرة التي تحيط بالخمس ذي الاثني  
عشر قاعدة تساوي الدايرة التي تحيط بمثلث ذي العشرين قاعدة  
فنخرج من مركز الكرة الي كل واحد من سطوح الدواير بالخمسات  
والمثلثات عمودا بالشكل الثاني عشر من الثانية عشر ونصل بين مركز  
الكرة وبين كل واحدة من زوايا المثلثات والخمسات بخط مستقيم ونصل  
بين مسقط الاعمدة وبين جميع زوايا المثلثات وهي ثلث زوايا من زوايا  
الخمسات بخطوط مستقيمة فلان الخطوط المستقيمة الواصلة بين مركز  
الكرة وبين زوايا المثلثات والخمسات متساوية لانها انصاف اقطار الكرة  
ومربع كل منها يساوي مربعي العمود وخط واحد من الخطوط الواصلة  
بين



بين مسقط العمود وزوايا المثلثات والخمسات بالشكل التاسع والاربعين من الاولي فاذا اسقطنا مربع من كل واحد من انصاف الاقطار تنقي مربعات الخطوط الواصلة بين مسقط الاعمدة وبين زوايا المثلثات والخمسات متساوية وتلك الخطوط متساوية فسقط الاعمدة مراكز الدوائر المحيطة بالخمسات والمثلثات متساوية وجميع الدوائر المحيطة بالمثلثات والخمسات متساوية فتكون انصاف اقطارها متساوية فالاعمدة

كلها متساوية فيحصل اثني عشر مخروطاً الخمسة القواعد متساوية الارتفاعات مساوية لمجسم ذي اثني عشر قاعدة خمسات ويحصل ايضا عشرون مخروطاً مثلث القواعد متساوية الارتفاعات

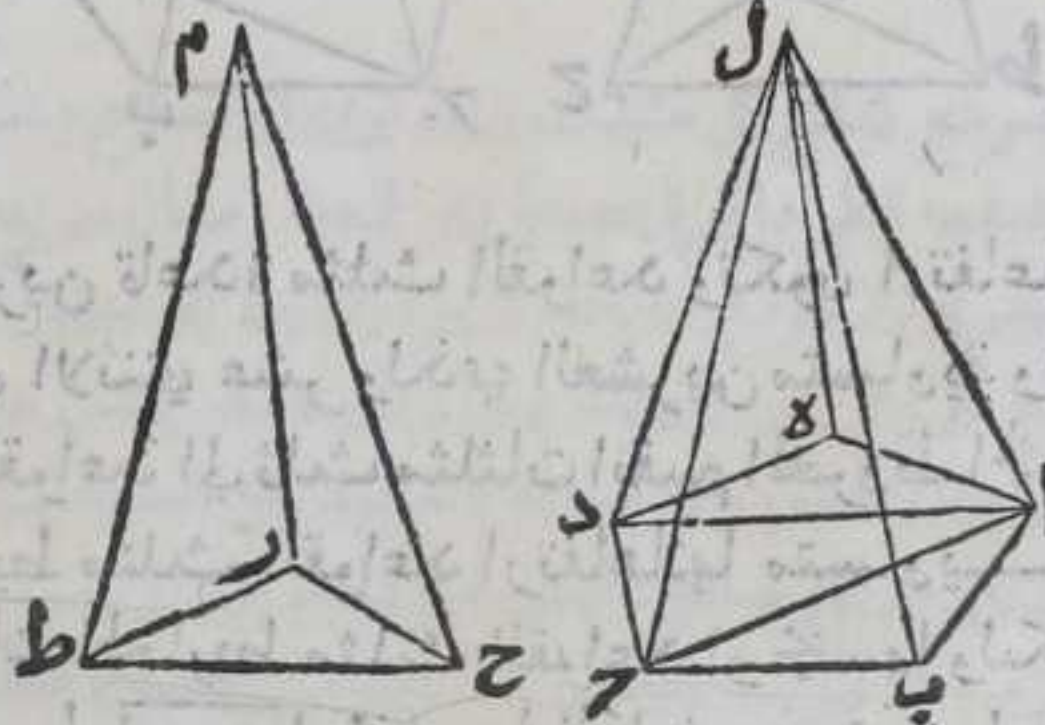


مساوية لمجسم ذي عشرين قاعدة مثلث القواعد وتكون ارتفاعات جميع المخاريط التي لذي الاثني عشر ولذي العشرين متساوية واذا قسمنا الخمسة من تلك القواعد الي ثلث مثلثات انقسم المخروط الخمسة القواعد الي ثلث مخاريط مثلث القواعد ارتفاعاتها متساوية ومساوية لباقي ارتفاعات المخاريط مثلث القواعد او الخمسة وليكن المخروط المنقسم هو مخروط  $أ ب د هـ ل$  مخاريط الحادثة هي مخروطات  $أ ب ج د هـ ل$   $أ د هـ ل$  وليكن مخروط  $م ح ط م$  من مخاريط مثلث القواعد فلان ارتفاعات الجميع متساوية تكون نسبة مخروط  $أ ب ج د هـ ل$  الاول الي مخروط  $م ح ط م$  الثاني كنسبة قاعدة  $أ ب ج د هـ ل$  الي قاعدة  $م ح ط م$  الرابع ونسبة مخروط  $أ د هـ ل$  الخامس الي مخروط  $م ح ط م$  الثاني كنسبة قاعدة  $أ د هـ ل$  الي قاعدة  $م ح ط م$  السادس الي قاعدة  $م ح ط م$  الرابع ونسبة مخروط  $أ د هـ ل$  الرابع الي مخروط  $م ح ط م$  الثاني كنسبة قاعدة  $أ د هـ ل$  الي قاعدة  $م ح ط م$  الثامن الي قاعدة  $م ح ط م$  الرابع بالشكل الخامس من الثانية عشر فبالشكل الرابع والعشرين من الخامسة نسبة مخروط  $أ ب ج د هـ ل$  المشتمل علي مخاريط الاول والخامس الي مخروط  $م ح ط م$  كنسبة قاعدة  $أ ب ج د هـ ل$  المشتمل علي قواعد الثالث والسادس والثامن الي قاعدة  $م ح ط م$  واذا اخذ للاول والثالث اضعاق متساوية العدة وتكون عدة الاضعاق اثني عشر فتكون اضعاق الاول مجسم ذي الاثني عشر قاعدة واضعاق الثالث السطح المحيط بمجسم ذي الاثني عشر قاعدة المشتمل علي اثني عشر قاعدة خمسات واخذ ايضا للثاني والرابع اضعاق متساوية العدة وليكن هو عدة الاضعاق



الاضعاف عشرين فتكون اضعاف الثاني مجسم ذي العشرين قاعدة  
 و اضعاف الرابع السطح المحيط بذي عشرين قاعدة المشتمل على عشرين  
 قاعدة مثلثات كانت نسبة اضعاف الاول وهي مجسم ذي الاثنتي عشر  
 قاعدة الى اضعاف الثاني وهي مجسم ذي العشرين قاعدة كنسبة اضعاف  
 الثالث وهي السطح المحيط بذي الاثنتي عشر قاعدة الى اضعاف الرابع  
 وهي السطح المحيط بذي عشرين قاعدة بالشكل الرابع من الخامسة  
 فتكون نسبة مجسم ذي الاثنتي عشر قاعدة الى مجسم ذي عشرين قاعدة  
 كنسبة السطح المحيط بذي الاثنتي عشر الى السطح المحيط بذي العشرين  
 وقد تبين في الاستبانة الاولى من استبانات الشكل الحادي عشر ان نسبة  
 وتر زاوية الخمس المتساوي الاضلاع والزوايا الى ضلع المثلث المتساوي  
 الاضلاع والزوايا الواقعين في دايرتين متساويتين كنسبة اثنتي عشر  
 مثلا لسطح الخمس الى عشرين مثلا لسطح المثلث وهي المساوي للسطح  
 المحيط بمجسم ذي

العشرين قاعدة فتكون  
 نسبة وتر زاوية الخمس  
 المتساوي الاضلاع من  
 الخمسات التي هي قواعد  
 مجسم ذي الاثنتي عشر  
 قاعدة الخمسات الى ضلع  
 المثلث المتساوي  
 الاضلاع من المثلثات



المحيطه بذي عشرين قاعدة مثلثات كنسبة السطح المحيط بمجسم ذي  
 الاثنتي عشر قاعدة الى السطح المحيط بمجسم ذي عشرين قاعدة وكانت  
 نسبة المجسم ذي الاثنتي عشر قاعدة الى مجسم ذي عشرين قاعدة كنسبة  
 السطح المحيط بالاول الى السطح المحيط بالثاني فبالشكل الحادي عشر من  
 الخامسة نسبة مجسم ذي الاثنتي عشر قاعدة الى مجسم ذي عشرين  
 قاعدة كنسبة وتر زاوية الخمس من الخمسات المحيطه بذي الاثنتي عشر  
 قاعدة الى ضلع مثلث من المثلثات المحيطه بذي عشرين قاعدة وقد  
 تبين في هذا الشكل ان خط آر الذي هو وتر زاوية الخمس من الخمسات  
 المحيطه بذي الاثنتي عشر قاعدة هو ضلع المكعب الواقع في الكرة  
 المحيطه بالمجسمات المذكورة فتكون نسبة مجسم ذي الاثنتي عشر قاعدة  
 الى مجسم ذي العشرين قاعدة الواقعين في كرة واحدة كنسبة ضلع  
 المكعب الواقع في تلك الكرة الى ضلع المثلث من المثلثات المحيطه بذي  
 عشرين قاعدة الواقعة في تلك الكرة ايضا فالحكم ثابت

استبانة



استبانة ثالثة قد تبين في استبانة الثانية من استبانات الشكل الحادي عشر ان نسبة كل خط يقوي علي اي خط مقسوم علي نسبة ذات وسط وطرفين وعلي قسمه الاعظم الي اي خط يقوي علي ذلك الخط بعينه وعلي قسمه الاصغر كنسبة وتر زاوية اي مجس متساوي الاضلاع واقع في اي دايرة الي ضلع اي مثلث متساوي الاضلاع الواقع في تلك الدايرة بعينها او في اي دايرة تساويها وقد تبين في هذا الشكل ان وتر زاوية اي مجس من المجسات التي هي قواعد مجس ذي اثني عشر قاعدة الواقع في كرة هو ضلع مكعب تلك الكرة وقد تبين في استبانة الاولي من هذا الشكل ان الدايرة التي تحيط بمجس ذي اثني عشر قاعدة يساوي للدايرة التي تحيط بمثلث ذي عشرين قاعدة كانا واقعين في كرة واحدة فتكون نسبة اي خط يقوي علي اي خط قسم علي نسبة ذات وسط وطرفين وعلي قسمه الاعظم الي اي خط يقوي علي ذلك الخط بعينه وعلي قسمه الاصغر كنسبة ضلع مكعب الكرة الي ضلع مثلث ذي عشرينها وقد تبين في استبانة الاولي والثانية من استبانات الشكل الحادي عشر ان نسبة سطح ذي الاثني عشر قاعدة الي سطح ذي عشرين قاعدة اذا كانا واقعين في كرة واحدة كنسبة ضلع مكعبها الي ضلع ذي عشرينها فتكون نسبة اي خط يقوي علي اي خط قسم علي نسبة ذات وسط وطرفين وعلي قسمه الاعظم الي اي خط يقوي علي ذلك الخط بعينه وعلي قسمه الاصغر كنسبة سطح ذي اثني عشر قاعدة الواقع في كرة الي سطح ذي عشرينها بالشكل الحادي عشر من الخامسة وقد تبين في استبانة الثانية من هذا الشكل ان نسبة مجس ذي اثني عشر قاعدة الي مجس ذي عشرين قاعدة اذا كانا واقعين في كرة كنسبة ضلع مكعبها الي ضلع ذي عشرينها فبالشكل الحادي عشر من الخامسة نسبة اي خط يقوي علي اي خط قسم علي نسبة ذات وسط وطرفين وعلي قسمه الاعظم الي اي خط يقوي علي ذلك الخط بعينه وعلي قسمه الاصغر كنسبة مجس ذي اثني عشر قاعدة الي مجس ذي عشرين قاعدة اذا كانا واقعين في كرة واحد

ج

زيدان نحصل اضلاع الاسكال الخمسة في شكل واحد ونعيس بعضها الي بعض

ليكن اب قطر الكرة التي فيها محيط بالمجسات الخمس ومثلثة بالمقدمة



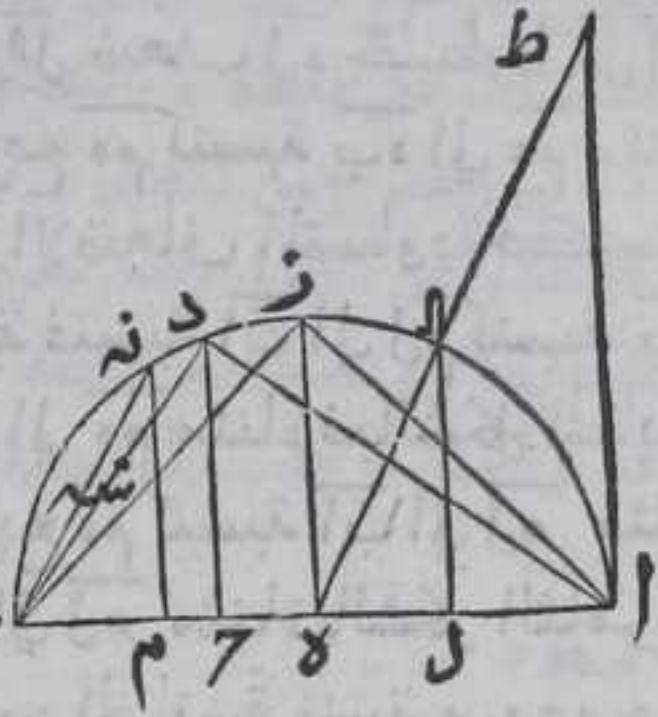




وعمودان علي وقري ال نم فبالشكل الثالث والثالث عشر من الثالثة  
 يكون ال م نه متساويين ولم ضعف له وال ضعف له فخطوط ال لم  
 م نه متساوية ولان نسبة مربع ب ه الي مربع ه م كنسبة ب ه الي ه م مثناة  
 بالشكل الثامن عشر من السادسة ونسبة الاضعاف المتساوية كنسبة  
 الاجزاء بالشكل الخامس عشر من الخامسة فنسبة اب الي لم كنسبة ب ه  
 الي ه م فنسبة اب الي لم مثناة كنسبة ب ه الي ه م مثناة فبالشكل الحادي  
 عشر من الخامسة نسبة مربع ب ه الي مربع ه م كنسبة اب الي لم مثناة  
 ونسبة مربع اب الي مربع لم كنسبة اب الي لم مثناة بالشكل الثامن  
 عشر من السادسة فبالشكل الحادي عشر من الخامسة نسبة مربع ب ه الي  
 مربع ه م كنسبة مربع اب الي مربع لم لكن مربع ب ه خمسة امثال مربع  
 ه م فمربع اب خمسة امثال مربع لم وكان قطر الكرة المفروضة خمسة امثال  
 مربع نصف قطر دايرة ضلع مخسها يساوي ضلع مثلث ذي العشرين  
 قاعدة لما تبين في الشكل التاسع عشر فخط لم بدل كل واحد من  
 خطوط ال لم م نه يساوي نصف قطر دايرة ضلع مخسها يساوي ضلع  
 مثلث ذي عشرين قاعدة وتبين فيه ايضا ان قطر الكرة مثل نصف  
 قطر دايرة ضلع مخسها كضلع مثلث ذي العشرين قاعدة مثل ضلعي  
 معشرها فكل واحد من خطي ال ب م ضلع معشر دايرة ضلع مخسها  
 كضلع مثلث ذي العشرين قاعدة ونصل ب نه بخط مستقيم فهو يقوي  
 علي م نه ب م بالشكل التاسع والاربعين من الاولي فب نه هو القوي علي  
 ضلع مسدس دايرة ذي العشرين قاعدة وعلي ضلع معشرها وكان  
 ضلع ذي العشرين قاعدة يقوي علي ضلع مسدس دايرة ضلع مخسها  
 كضلع مثلث ذي العشرين قاعدة وضلع معشرها فخط نه ب يساوي  
 ضلع ذي العشرين قاعدة فلان قوس ازد اعظم من الرابع وقوس بز  
 هو الرابع فوتر اد اعظم من وتر بز وهو اعظم من وتر ب د وهو اعظم من  
 وتر ب نه فضلع الناري اعظم من ضلع ذي ثمان قواعد وهو من ضلع  
 المكعب وهو من ضلع ذي العشرين قاعدة ونقسم ب د ضلع المكعب  
 علي نسبة ذات وسط وطرفين بالشكل التاسع والعشرين من السادسة  
 وليكن قسمه الاعظم خط ب س فب س يساوي ضلع ذي اثني عشر  
 قاعدة بالشكل المتقدم ولم ضلع مسدس دايرة ضلع مخسها كضلع  
 مثلث ذي العشرين قاعدة وال ضلع معشرها فخط ام مقسوم علي  
 نقطة ل علي نسبة ذات وسط وطرفين بالشكل الثاني عشر وقسمه  
 الاعظم م ل ولان مربع اب ثلاثة امثال مربع ب د فكانت مربع  
 ا ح تسعة امثال مربع ب ح فمربع ب د ثلاثة امثال مربع  
 ب ح واح ضعف ب ح فمربع ا ح اربعة امثال مربع ب ح بحكم الشكل  
 الرابع من الثانية فاح اعظم من ب د فام اعظم كثيرا من ب د وام مقسوم  
 بنقطة



بنقطة ل علي نسبة ذات وسط و طرفين  
 وب د مقسوم لذلك بنقطة س ه والقسم  
 الاعظم من ا م ل م ومن ب د ب س ه  
 فباستبانة الشكل التاسع والعشرين  
 من السادسة نسبة ا م الي ب د كنسبة  
 ل م الي ب س ه و ا م اعظم من ب د فل م  
 اعظم من ب س ه و ب ن اعظم من ل م  
 ب ف ب ن ضلع ذي العشرين قاعدة  
 اعظم من ب س ه ضلع ذي اثني عشر



قاعدة بالحكم ثابت وذلك ما اردنا ان نبين  
 تنبيه واستبانته قد تبين في الشكل الواحد والعشرين من الحادية عشر  
 ان الزوايا المسطحة المحيطة بزوايا مجسمة هي اقل من اربع قوائم وقد  
 ذكر في صدر المقالة الحادية عشر ان الزاويتين المسطحتين لا يحيطان  
 بزوايا مجسمة باقل ما يحيط بزوايا مجسمة ثلث زوايا مسطحة واكثره  
 لا تبلغ اربع قوائم فان كانت الزوايا المسطحة المحيطة بالزاوية المجسمة  
 من المثلثات المتساويات الاضلاع والزوايا فاقلها ثلث زوايا واكبرها  
 خمس زوايا لان خمس زوايا من المثلثات المتساوية الاضلاع والزوايا  
 تساوي ثلث قوائم وثلث قائمه وست زوايا منها تساوي اربع  
 قوائم فلان يمكن ان تقع في كرة واحدة مجسمات ذوات قواعد مسطحات  
 متساويات الاضلاع والزوايا كلها من جنس واحد غير المجسمات الخمسة  
 المذكورة برهانه فلان زوايا المثلثات المتساويات الاضلاع والزوايا  
 المحيطة بالزاوية المجسمة ان كانت ثلثة فالمجسم الواقع في الكرة المجسم  
 الناري الذي تحيط به مثلثات اربعة متساوية الاضلاع والزوايا  
 وان كانت لربع فالمجسم الواقع في الكرة ذو ثمانية قواعد مثلثات  
 متساويات الاضلاع والزوايا وان كانت خمسة فالمجسم الواقع في الكرة ذو  
 عشرين قاعدة مثلثات متساويات الاضلاع والزوايا ولا يمكن الزوايا  
 المحيطة بالزاوية المجسمة من المثلثات المتساوية الاضلاع اكثر من خمس  
 لما بينا . وان كانت الزوايا المحيطة بالزاوية المجسمة من المربعات  
 وكل زاوية منه قائمه فلا يمكن ان تكون اكبر من ثلث لان الاربع  
 منها اربع قوائم وذلك المجسم هو المكعب الواقع في الكرة وكل زاوية  
 من زوايا الخمس المتساوي الاضلاع والزوايا قائمه وثلث قائمه باستبانة  
 الشكل الحادي عشر من الرابعة فالزوايا المحيطة منه بالزاوية المجسمة  
 تكون اقل من الرابع فهي ثلث فذلك المجسم ذو اثني عشر قاعدة  
 مجسمة وكل زاوية من زوايا المسدس قائمه وثلث قائمه باستبانة الشكل  
 الخامس عشر من الرابعة فثلث زوايا منه تساوي اربع قوائم فلا يمكن  
 ان



ان تحيط بزواوية مجسمة ثلث زوايا من زوايا المسدس ولا مما  
 حاوئ المسدس من الاشكال الكثيرة الاضلاع المتساوية الاضلاع فما يمكن  
 وقوعه في الكرة المجسمات التي هي ذوات قواعد متساويات الاضلاع  
 والزوايا وتلك القواعد كلها من جنس واحد متحصري الخمسات الخمسة  
 المذكورة . واما اذا لم يشترط كون قواعد المجسمات من جنس واحد  
 فيجب ان لا يتجاوز زاويتان من جنس واحد والا لخرجت المجسمات  
 عن التشابه فلا يمكن وقوعها في كرة فيكون حينئذ عدد الزوايا  
 المحيطة بالزاوية المجسمة زوجا وهو اربعة لان لزاويتان لا يحيطان  
 بزواوية مجسمة والزوايا الستة وما فوقها اكثر من اربع قوائم فان كانت  
 الزوايا المحيطة بالزاوية المجسمة مولفة من المثلثات المتساويات الاضلاع  
 والزوايا والمربعات يكون الشكل ذا اربع عشر قاعدة ثمانية منها مثلثات  
 وستة مربعات وتاليفه ان نعمل مربعا وعلي كل ضلع منه مثلثا متساوي  
 الاضلاع والزوايا فتحدث علي كل زاوية من زوايا المربع زاوية من  
 احاطه ضلعي مثلثين شكلا فنتم تلك الزاوية مربعا فتحدث اربع  
 مربعات فيوصل زواياها المقابلة للزوايا الحادثة علي زوايا المربع بضلع  
 من الاضلاع الذي يعمل منها الاشكال فيحدث مربعا مقابلا للمربع الاول  
 واربع مثلثات اخر فيشتمل الكل علي ستة مربعات وثمانية مثلثات  
 متساوية الاضلاع والزوايا وتحدث في الشكل ثلثة مسدسات ما يقع  
 في اعظم الدوائر الواقعة في الكرة المعول فيها الجسم فيكون ضلع قواعد  
 المحيطة بذلك الشكل مساويا لضلع مسدس اعظم دائرة يقع في الكرة  
 المعول فيها الشكل فان كانت الزوايا المحيطة بالزاوية المجسمة مولفة من  
 مثلثات والخمسات كان الجسم ذا اثنين وثلثين قاعدة عشرين مثلثات  
 متساويات الاضلاع والزوايا واثنني عشر مخمسات متساويات الاضلاع  
 والزوايا وتاليفه بان نعمل مخمسا متساوي الاضلاع والزوايا وعلي كل  
 ضلع منه مثلثا متساوي الاضلاع والزوايا فتحدث علي كل زاوية من  
 زوايا الخمس زاوية من احاطه ضلعي مثلثين منها فيتم كل زاوية مجسما  
 ونتم الشكل علي هذا النسق فتحدث فيه خمسة معشرات كل منها  
 شكلا مما يقع في اعظم دوائر الكرة المعول فيها الشكل فضلع قاعدة هذا  
 الشكل يساوي ضلع معشر مما يقع في اعظم دوائر الكرة المعول فيها  
 الشكل فتصير المجسمات الممكنة الوقوع في الكرة سبعة واذ يسر الله لنا  
 اتمام ما قصدته من تحرير هذا الكتاب





هذه صورة امر بادشاه اسلام السلطان ابن السلطان

### السلطان مراد خان

مفاخر الامراء الكرام مراجع الكبراء الفخام اولو القدر والاحترام  
المختصين بمزيد عناية الملك العلام ممالك محروسه واقع اولان سنجاق  
بكلري وقبودانلردام عزهم ومفاخر القضاة والحكام بمعادن الفضائل  
والكلام ذكر اولنان يرلرده اولان قاضيلر زيد فضلهم توقيع رفيع همايون  
واصل اوليچاق معلوم اولانه ممالك محروسه تجارت ايدن افرنج  
تاجرلرندن دارندكان فرمان همايون برانتون واراسبولده بانديني  
نام بازاركانلر دركاه معلومه كلوب ولايت فرنكستاندن تجارت ايجون  
بعض متاع وعربي وفارسي وتوركي باصما بعض معتبر كتابلر ورساله لر  
كتوروب ممالك محروسه كنده و حاللرنده بيع وشرا ايدرلر ايكين  
بعض كسنه لر يولده وايزده واسكاه ومعتبر لرده قضوي يوكلرين يبقوب  
دنكلرين بوزوب ايجندن بكنند وكلري اقمشه وسايير امتعه قسه في اچه  
سوز و جزوي بها ايله جبرالوب وسزده عربي وفارسي كتابلر نبلر ديو  
تجارت ايجون كتوردوكلري جميع كتابلر في اللرنندن الوب بها سن  
ويرمبوب وكندولرك ووكبللرينك وادملرينك بيع وتجارتلرينه مانع  
اولد قلرين بلدروب من بعد امن وامان اوزره كلوب كيدوب كنده  
حاللرنده تجارت اتدوكلر نده در نرد دخل المبوب منت وچانا  
متاعلري المبوب ويوكلري بوزالمبوب منع اولتمف بابنده حكم همايونم  
طلب اتدوكلري اجلدن ببوردم كه حكم شريعه هرقنكر ك تحت  
حكومتنده داخل اولور لر ايسه يولده وايزده ومنازل ومراجلده  
واسكارلر ومعتبره كنده و حاللرنده امن وامان اوزره بيع وشرا وتجارت  
ايدرلر كن خارجدن بر فردي متاعلرينه دخل اتدرمبوب وصاحبك  
رضاسي اولدين جبرا برنسنه لرين واول مقوله كتابلرين غصب  
اتدرمبوب هر نه الورلر ايسه حسن رضالريله بيع ايدنلردن بتسام  
ذكر بها لريله الودروب اچه سوز وياكسوك بها ايله جزوبدن وكبلدن  
برنسنه لرين الدر مبوب من بعد مذكوران بازاركانلره ووكبللرينه  
وادملرينه شرع شريفه وعهدنامه همايونه مخالف اصلا وقطعا كسنه دخل  
وتجاوز اتدرمبه سز ممنوع اولمبوب عناد ومخالفت ايلينلري اسما  
لريله يازوب عرض ايلبه سز بو خصوص ايجون تكرار شكاييت  
اتدرمبه سز شويله بلسز وبعد اليوم بو حكم شريعي اللرنده ابقا  
ايدوب علامت شريفه اعتماد قلاسر  $\text{☞}$  تحريرا في اوائل ذي الح سنة  
ست وتسعين وتسمايه  $\text{☞}$  محروسه قسطنطينية  $\text{☞}$