

書科教驗實 本課會社

校學驗實區中市京南者編

入編主

晨恭蔣 悚清李

丞肖施 之澤史

冊三第級高



行發店書京南

實驗社會課本 教科書

編輯說明

1. 本書根據二十一年教育部修訂的小學社會課程標準編輯的，內容包括公民黨義，歷史，地理三種
2. 本書用心理的排列，逐個單元不必用論理式的歸類而自能互相聯絡。
3. 本書暫自中年級起每學期一冊，計八冊。
4. 本書曾經南京市中區各小學試用二年，內容逐年均有修訂。單元多寡及課文字數均有實驗根據訂成正確的標準。
5. 本書內遇有地方性材料，概以南京為例，教師可以活用。遇有時間性材料，間有插入，教師可以為教授時節的模範。
6. 本書另編教學法八冊，專供教師參攷。
7. 本書所用單元，係採納南京市立學校社會科實驗研究委員會意見。書內教材曾經南京市立中區實驗學校，督糧廳小學，夫子廟小學，昇平橋小學，砂珠巷小學，信府河小學，考棚小學，米行街小學等校試用，經南京市教育局實驗研究股審查。

第七冊目錄

1. 中日戰爭
2. 日俄戰爭
3. 武昌起義
4. 二次革命
5. 軍閥紛爭
6. 國民革命
7. 英法革命
8. 美國的獨立革命
9. 蘇俄的革命和中國的關係
10. 歐洲大戰和我國的關係
11. 工業革命和我國社會的關係
12. 我國的地勢
13. 我國的山脈
14. 我國的河流與湖泊
15. 我國的礦產
16. 我國的森林
17. 我國的漁業
18. 我國交通的事業
19. 我國的重要工業
20. 我國的行政(一)
21. 我國的行政(二)
22. 我國的行政(三)
23. 我國的行政(四)
24. 蒙古
25. 西藏

MG
G624.1
74

1

教科書
社會課本
(第七冊)

一 中日戰爭

問題： 1、我國的東方有個什麼國家？

2、牠在歷史上和我國有什麼關係？

3、中日兩國為什麼要開戰？

4、開戰的結果怎樣？

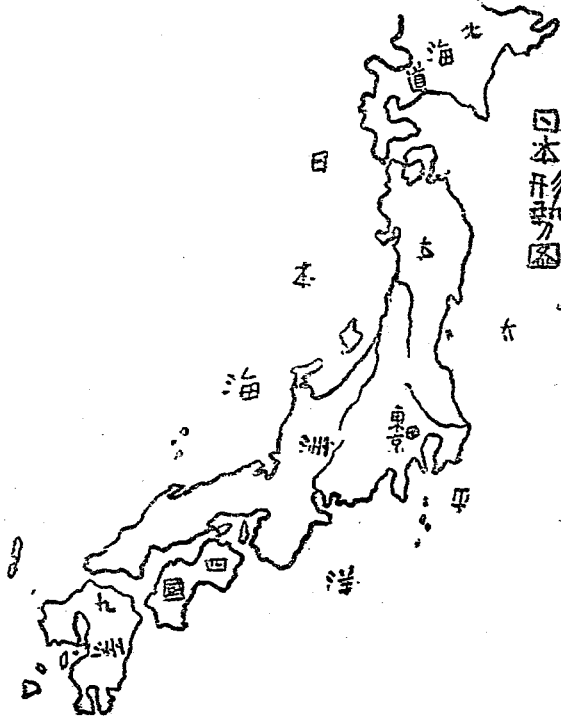
5、戰後的影響怎樣？

我國東方的日本，本來是我國的屬國，在



3 2285 1102 2

漢唐的時候，常常有派學生和僧人到長安來留學，所以日本的文化，和政治，都和我國有密切的



關係。但自從明治天皇維新以後，日本就努力歐化，國勢也慢慢的富強起來，一方面改革政治，一方面發揚軍國主義，到了清朝光緒的時候，就來奪取我國的朝鮮了。

朝鮮在我國東三省
的東南方，向來是
屬於我國的，而且歷
代來的關係，比較日
本還要密切。不料忘
恩負義的日本非但不



明治天皇

承認牠是中國人的子孫，而且硬說朝鮮是日本
的屬土，在光緒二十年，就派兵佔領朝鮮。我
國以朝鮮無故被奪，遂向日本提出嚴重交涉，
要求撤兵，日本非但不肯退兵，反攻擊我國駐
朝鮮的軍隊，於是中日的戰禍遂開。開戰以
後，我國的海陸兩軍，節節潰敗，黃海一戰，
我國的海軍，幾乎全軍覆沒。而陸軍方面，也
被日軍打得大敗，從朝鮮退到遼東，又從遼東
退到遼西，結果，我國的旅順大連都被日軍佔
據。我國的京城北京，也危險萬狀了。

我國既敗，沒有力量再和日本抵抗，只得派李鴻章到日本去求和，結果，就和日本訂了馬關條約，內容非常苛刻，重要的有左列的幾條：

- (一) 將澎湖羣島和台灣割讓於日本。
- (二) 中國承認朝鮮爲獨立。
- (三) 我國賠款二萬萬兩。
- (四) 日本和我國另訂不平等的通商條約。

作業：1、我國海陸軍爲什麼打不過日本？

2、旅順大連既然被日本奪去，後來何以

又還給我國？

3、日本本想併吞朝鮮，何以在訂和約時，反承認牠獨立？

二 日俄戰爭

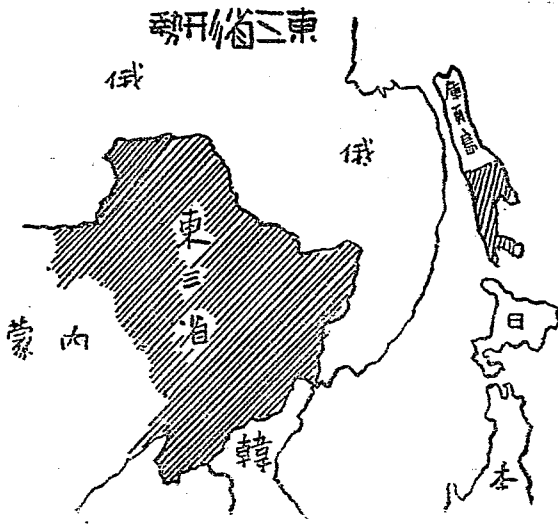
問題：1、日本勢力的擴張與俄國有什麼關係？

2、日俄戰爭的導火線是什麼？

3、日俄戰爭和中國有什麼關係？

4、日俄戰爭的結果和影響怎樣？

自從中日戰爭以後，日本在亞洲大陸上的勢力，一天一天的漲大。這時候中國剛剛被日本打敗，當然沒有力量再能抵抗，可是當時的列強，對於日本的野



心，就非常的妒忌，其中尤以俄國爲最甚。因爲東三省本來是俄人的勢力範圍，並且在朝鮮也有相當的勢力。自馬關條約訂立後，朝鮮固爲日本所獨佔，就是東三省也有被日本侵佔的危險，所以俄人對日本就很痛恨，處處嚴防，結果就發生日俄大戰的慘劇了。

中國是禍不單行的國家，中日戰爭後，接着有義和團的禍亂，因此也就引起了八國聯軍攻破北京的悲劇。這時候俄國就趁此機會將整個的東三省，完全用武力佔據。等到辛丑條約

訂定，俄人照條約上說起來，是應該撤兵的，可是俄國非但不肯撤兵，反而增兵，想永久佔領，所以日本馬上派兵和俄國開戰了。

日俄開戰的地方，是在我國的東三省。開戰以後，我國就宣布中立，讓他們去拚命，但是戰爭上一切損失，是什麼人負擔呢？當然是我國人民負擔！我們想，人家打仗損失要我們負擔，世界上有這種道理的吗？

日俄戰爭，差不多經過一年多的時期，戰事也比中日戰爭來得激烈，但是結果，俄國大

敗，日本大勝。後來由美國大總統羅斯福的調停，在朴資茅斯訂和約，這就是歷史上所說的朴資茅斯條約。牠的內容大概是：

1. 將庫頁島的南部割與日本。
2. 將東三省南部的勢力，轉讓于日本。
3. 俄國將旅順口大連灣轉租于日本。

作業：1、庫頁島在什麼地方？形勢怎樣？

2、東三省的南部讓于日本以後，對我國有什麼關係？

3、旅順大連既由日本還給我國，何以又

入俄人的手中？

4、俄國爲什麼打不過日本？

三 武昌起義

問題：1、武昌起義的原因怎樣？

2、武昌起義是什麼人努力的結果？

3、武昌起義對於中國的政治制度有什麼關係？

4、武昌起義的情形怎樣？

我國自中日戰爭和八國聯軍之後，國勢一

天弱似一天，外交上割地賠款，並且訂了許多不平等條約。內政上則慈禧太后專政，賄賂公行。當時一般愛國的志士，覺得不將滿清人驅逐，非但國家不能夠恢復富強，恐怕中華民族就要永久的消滅了。

所以到了光緒的時候，我國的革命導師孫中山先生，就起來



孫中山先生

提倡民族革命。在光緒二十一年，他在美國的檀香山，創立興中會，從事於實際上的革命運動。從此以後，革命運動，就連續不斷的發生，好像廣州第一次的起義，黃花崗七十二烈士的殉難，和徐錫麟的鎗殺恩銘，都是民族革命最顯著的例子。

到了宣統三年，武昌的革命，也就起來了。武昌是湖北省城，地勢非常險要，是一個軍事上必



宣統帝

爭的地方，所以革命發生以後，別的地方，就陸續的起來響應了。原來駐在武昌的軍隊，是用新法編練的，他們受了民族革命思想的宣傳，很有推翻滿人的決心。到了宣統三年八月，他們就推舉黎元洪爲都督，將清兵打敗，清吏趕走，轟動世界的革命，居然實現。

清庭聽到武昌起義，馬上派海陸軍進攻革命軍，在湖北打得很兇，可是沒有結果。同時，湖南江蘇浙江江西等省，也紛紛起來響應，那時革命軍已在南京組織臨時政府，舉孫中山

爲臨時大總統，實行民主政治，於是清宣統帝知道民心不能挽回，大勢已去，不得不于民國元年二月十二日，宣佈退位了。

作業：1、武昌起義的導火線是什麼？

2、清人不驅逐，何以中華民族有滅亡的危險？

3、什麼叫做民主政治？

4、民族革命和政治革命有什麼不同？

四 二次革命

問題：1、什麼叫做二次革命？

2、武昌起義以後，爲什麼還要發生

二次革命？

3、二次革命的結果怎樣？

南京政府成立以後，孫總統受了全國人民的付託，很努力政治方面的建設，并且根據參議院的議決，公佈中華民國約法，想穩固人民的權力。可是當時一般頭腦頑固的官僚，對於這種辦法，非常反對，所以孫總統就氣憤憤的辭職了。

孫總統辭職，繼位的人，是袁世凱。袁世凱本來是北洋的一個大軍閥，當武昌起義的時候，他知道清廷不能夠支持，就和革命軍暗通聲氣，所以一方面贊成共和，一方面勸清廷退位。到了革命成功，孫總統因辦事困難，遂推袁世凱自代。不料袁世凱做了大總統之後，就一天一天的專橫起來，並且對於革命的國民黨，非常仇視，所以便引起國民黨的



賣國的袁世凱

痛恨，因有二次革命的發生。

袁世凱既然仇視國民黨，所以對於國民黨的領袖，如孫中山宋教仁等，也很嫉妒。當時宋教仁是反對袁世凱最激烈的份子，忽在民國二年三月，被刺客擊斃於上海京滬火車站。這事發生後，全國大憤，紛紛痛罵袁世凱的殘暴，國民黨也努力進行討袁。

到了民國二年七月十二日，國民黨人李烈鈞在江西湖口起義，不久南京的黃興，上海的陳其美，也起兵響應，聲勢很盛，可是事出倉

猝，並且革命軍沒有密切的聯絡，所以結果，革命軍都被袁政府的軍隊打敗，於是轟動一時的二次革命，就無形的消滅了。

作業：

- 1、孫總統究竟爲什麼辭職？
- 2、中華民國約法的內容怎樣？
- 3、清帝的退位有沒有條件？

五 軍閥紛爭

問題：1、什麼是軍閥？

2、民國以來的軍閥，是由什麼人首

創的？

3、軍閥對國家有什麼害處？

4、軍閥紛爭的結果怎樣？

軍閥就是擁兵作惡的武人，所結成的一個團體，也是在民治國家裏的一條大害蟲。所以我們要使民權的發揚，非要打倒軍閥不可！我國軍閥的首創者，說是造成二次革命的袁世凱。自二次革命以後，袁氏的勢力大盛，將全國的軍隊，都收歸他一個人掌管，造成一個有系統的軍閥團體。袁氏死了以後，軍閥勢力更

擴大，但是因爲內部勢力的衝突，就分裂爲三個：一個是皖系，以段祺瑞爲領袖，一個是直系，以曹錕吳佩孚爲巨魁，第三個是奉系，奉張作霖爲首領。這三個巨大的軍閥，自民國八年起，一直到民國十四年止，連續發生三次大戰；第一次是皖直戰爭。因爲當時段祺瑞的部下，有一位名叫徐樹錚的，非常作惡，引起全國人民的痛恨，直系將領吳佩孚，趁此機會，就出兵攻皖系，結果，皖系失敗，直軍大勝。

第二次是奉直戰爭。直系戰勝皖系，勢力

擴大，奉系張作霖，心很不平，遂派兵進關，和直系開戰，結果直軍戰勝，奉軍敗退關外。第三次仍舊是奉直戰爭。張作霖自從被直軍戰敗，退到東三省以後，就臥薪嘗胆，圖謀報復，到民國十三年，再引兵入關，和直軍開戰，將直軍戰敗，雪去以前的恥辱。

以上所說的三個軍閥戰爭，是一些沒有意義的，他們都是爭私人的地盤，奪個人的權利，對於國家只有害而沒有利的。

作業：1、用什麼方法可以剷除軍閥？

- 2、我國受軍閥戰爭的影響怎樣？
- 3、段祺瑞的爲人怎樣？

六 國民革命

問題：1、爲什麼發生國民革命？

2、經過的情形怎樣？

3、結果和影響怎樣？

自從二次革命失敗，國民黨的勢力慢慢衰弱，沒有力量再和軍閥抗爭。不過自段祺瑞毀棄約法以後，孫中山先生眼見中國的危亡，遂

率領國民黨員南下護法，在廣州組織政府，和北方軍閥對抗，因此屢次發生南北的戰爭，但是因內部的不統一，總得不到結果。到了民國十四年，孫中山先生逝世，蔣介石等主持粵政，依




石介蔣令司總軍命革民國

照中山先生「以黨治國」和「以黨治軍」的精神，努力革命，首先平定內亂，於民國十五年建立

國民政府，實行出兵北伐。

未幾，湖南和湖北，發生戰事，湖南的唐生智，因兵力不足，派人到國民政府求救，國民政府就立刻派蔣介石做國民革命軍總司令，領兵北伐，在民國十五年的秋天，和北方吳佩孚的軍隊，大戰于湖南湖北，汀泗橋的血戰，在國民革命史上，是很有名的。後來吳軍潰敗，兩湖



國民政府

未幾，湖南和湖北，發生戰事，湖南的唐

平定，革命軍遂進攻江西江蘇安徽浙江福建等五省，將五省聯軍總司令孫傳芳趕走，于是中國東南的戰事，告一段落。

國民革命軍既統一東南，勢力很盛，本可乘勝北進，澈底剷除北方的軍閥，可是因寧漢分裂，蔣介石辭職，軍事無形停頓。到了十七年的夏天，蔣介石復職，再領兵北伐，并聯合馮玉祥和閻錫山的軍隊，連敗奉軍，山東河北兩省，先後克服，東北的張學良，也于十七年的冬天，通電服從國民政府，于是北伐始告成。

功。

作業：1、什麼叫做國民革命？和武昌起義有什

麼關係？

2、寧漢爲什麼分裂？

3、「以黨治國」和「以黨治軍」是什麼

意義？

七 英法革命

問題：1、英法兩國在什麼地方？

2、他們的國勢怎樣？

2、爲什麼發生革命？

4、革命的結果怎樣？

英法兩國，是歐洲很大的國家，并且立國很早，國勢也是很隆盛。照古代西洋史上說來，他們曾經聯合起來，幾乎成爲一個國家，後來因權利上發生衝突，就各自獨立了。

英國的發生革命，在世界上要算最早了。在十三世紀的時候，因爲國王約翰的暴橫，就引起人民的革命，結果約翰受人民的逼迫，允許公布大憲章了事。從此以後，英國的民權，

就一天一天的漲大。到了十七世紀時，英王高唱「王權神授」的說，來壓迫人民的自由，于是革命又起。在一六四九年，英王查理因反對革命，就被革命軍殺死了。後




約翰的簽字大憲章

英王

來經過數十年，英國又因國王詹姆斯的昏暴，繼續發生革命，這就是歷史上所說的一榮譽革命。因為這次革命沒有流血，所以說是很榮譽的。並且到了現在，英國就沒有再發生流血的革命。

法國的革命，是在十八世紀的下半葉。因了當時盧騷等革命學說的鼓吹，國王路易十六的昏懦，和貴族的橫暴，就發生空前的大革命。發生的時候，是在一七八九年七月十四日。許多的革命軍，像發狂似的，到處殘殺，

既然將路易十六殺死，復慘殺貴族幾千人。這
 是世界革命史上流血最多的一個革命呀！法
 國自從這次
 革命發生以
 後，連接的
 在一八三〇
 年和一八四
 八年，又發
 生兩次革命
 ，殺戮雖不



(下)殺被六十易路 (上)像檢盧

法

如第一次革命的慘酷，但是被殺的人，也是不少。不過法國的共和政治，從此就永久的確定了。

作業：1、英國是不是要算世界上第一個大國家？

2、什麼叫做大憲章？

3、「王權神授」是什麼意義？

八 美國的獨立革命

問題：1、美國在什麼地方？

2、美國是那種民族所組成的國家？

3、美國在什麼時候建國的？

4、爲什麼發生革命？

5、革命的結果怎樣？


美國又叫做合衆國，在北美洲的南部。建立國家，要比英法兩國來得遲。當十五世紀哥倫布發現美洲新大陸以來，歐洲人都紛紛到美洲求發財的機會。英國人民因了在本國信教的不自由，不得不向外遷移，所以到美洲來的特別多，而且所住的地方，都在北美洲的東南

部，因此美國人大部份都和英人同族的。

自從美國建立以來，人口慢慢的增加，工商業也一天一天的發達，可是美國的政治，是仍舊不能夠獨立，因為英國政府，對美國是以殖民地看待的，美國人一切的行動，都要受英國嚴厲的干涉，不能自由。美國人爲求得獨立自由起見，就于一七七六年發生革命了。

英政府得到美國人抵抗的消息，就派兵和美國開戰，美國人也于一七七六年七月四日，聯合十三洲的人民，發佈獨立宣言，誓死抵

抗，一面舉喬治華盛頓爲大元帥，抵禦英軍，一面派富蘭克林到法國去請求援助。法國和英國本來是不睦的，接了美國的請求，就借款給美國，并派軍人參加革命。美國既得了法國的實力援助，就和英軍血戰七八年之久，戰爭的初期，雖然不得勝



華 盛 頓

利，但是靠着華盛頓的忍苦耐勞，和指揮得宜，卒將英軍擊敗，達到獨立自由的目的。

作業：1、什麼叫做合衆國？

2、爲什麼美洲新大陸是發財的地方？

3、富蘭克林除做了革命工作以外，還有

做過何種價值的事業？

九 蘇俄的革命和中國的關係

問題：1、俄國在革命以前是個什麼國家？

2、爲什麼發生革命？

3、結果和影響怎樣？

4、和我國有什麼關係？

俄國自從彼得大帝維新以來，國勢雖然一天盛似一天，但是因了歷代來君主的專制，和大地主的壓迫平民，全國人民，非常痛苦。到了二十世紀的初年，國內就有革命的運動，一九〇五年的暴動，就是大革命的預兆，不過時機還沒有成熟，不得成功。

一九一四年，歐洲大戰發生，俄國因和英法兩國有協約關係，就參加戰爭。但是因了財

政困難，不得不向人民征收重稅，所以人民的負擔愈重，痛苦更深，而革命運動也愈演愈烈了。到一九一七年，剛剛歐戰頂猛烈的時候，

俄國的共產黨，推列寧做領袖，煽動了人民，起來革命，將專制政府推翻，將俄皇尼哥拉斯第



列 寧

二殺掉，結果，建立一個實行共產主義的蘇維埃政府。於是俄國的專制國家，也變做共產主義的國家了。

俄國這次革命，是帶有國際主義色彩的，因為俄國共產黨的革命計劃，非但想使俄國一國變為共產國家，而且想要煽動全世界的國家，都起共產革命。所以自從俄國革命成功後，世界各國的社會，都受牠的影響，起了騷擾，尤其是我們的中國，因為我國是以農立國的，情形很和俄國相同，因此有一部份受了俄

國革命思想的青年，都主張我國應該摹倣俄國革命的辦法，實行共產主義，來改革社會，實則這種主張是錯誤的，并且是危險的。我們要知道俄國的共產政策，已經失敗了，我們還可以不慎重嗎？

作業： 1、彼得大帝怎樣維新？

2、俄國的共產政策怎樣實施？結果怎樣？

3、共產主義爲什麼不適用我國社會？

十 歐洲大戰和我國的關係

問題：1、歐洲爲什麼發生大戰？

2、大戰的情形怎樣？

3、結果和影響怎樣？

4、和我國有什麼關係？

工業革命以後，歐洲各國對於各殖民地的經濟侵略，一天一天的激烈，勢力衝突也是一天厲害一天，并且各國因了競爭軍備的緣故，互相嫉妒，各結團體爭雄，所以在十九世紀的

末葉，歐洲就有二個危險的團體出現：一個是協約國，以英法俄三國爲主體，一個是同盟國，以德奧二國做領袖。他們結合的目的，是想壓迫他人，伸張勢力，所以大戰也就不能夠避免了。

一九一四年的秋天，奧國皇太子斐迭南，在巴爾干半島被塞爾維亞人所刺殺，奧國就趁此機會，出兵攻打塞國，俄國出打不平，助塞抗奧，於是英法德也各陸續的加入，扭住一團的混戰。大戰共經過五年的時間，規模的大，

和損失的重，是從古以來所沒有的。

戰爭的初期，是德奧勝利，後來美國威爾

遜總統主張加入協約國，也向德奧宣戰，英法諸國就轉敗為勝。同時德奧二國，都發生革命，不能再戰，只

得講和屈服。講和的地方，是在法國的巴黎，到會的國家很多，結果，訂立巴黎和約，德奧



遜爾威統總美

兩國很受嚴厲的處分。

我國在名義上，也是參加大戰的協約團體，實際上沒有出兵，本來沒有什麼直接的關係，不過受有日本的侵略，發生很大的糾紛，原來日本乘歐洲大戰的時候，就派兵在德國人手中，奪取我國青島，并向我國提出二十一條亡國條件，雖經我國的嚴重抗爭，但也沒有相當的結果。

作業： 1、塞爾維亞人爲什麼要刺殺斐迭南？

2、二十一條的內容怎樣？

3、巴黎和約的內容怎樣？

十一 工業革命和我國社會的關係

問題：1、什麼叫做工業革命？

2、爲什麼發生革命？

3、革命的情形怎樣？

4、結果和影響怎樣？

什麼叫做工業革命？簡單說起來，就是工業上發生大變動的意思。從前的工業大概都是手工業，因爲他們的範圍很小，所以又叫做家

庭工業。但自從十八世紀以來，科學一天一天的發達，英國又發生一羣實用的科學家，他們都能利用自然科學，創造工業上用的機器，並且英國出產煤鐵很多，所以製造貨物，不用手工而改用機器，因此工業上就發生很大的革命了。

我們知道用手工製貨物，數量不及機器所做的來得大，而且機器製物的速度，也比手工業來得快，所以工業的性質和方法，都起了很大變化。而社會的生活和制度，也發生很大的

變動了。工業革命的結果，最明顯的有三點：第一，社會上發生資本家和勞動者二個新階級；資本家利用機器工業，將經濟權集中少數人中，而勞動者，則受了經濟的壓迫，生活困難。第二，是發生了二種新的主義：一是資本主義，爲個人謀利益，不顧他人的痛苦，二是社會主義，反對個人的資本主義，而謀羣衆的幸福。第三，是資本帝國主義的侵略；因工業革命的結果，各國出產的物品太多，不得不向外推銷，所以各強國都用政治的力量，做經濟

的侵略。

我國是個工業不發達的國家，受外國資本主義的侵略很深，國內洋貨暢行，國貨滯阻，以致人民貧苦，國勢很弱，這是受工業革命最不好的影響，所以我們要挽回危局，非努力的提倡國貨，和振興工業不可！

作業： 1、什麼叫做實用的科學家？

2、煤鐵對於工業有什麼關係？

3、英國有什麼著名的科學家？

十二 我國的地勢

問題：1、我國的形勢怎樣？

2、有多少面積？

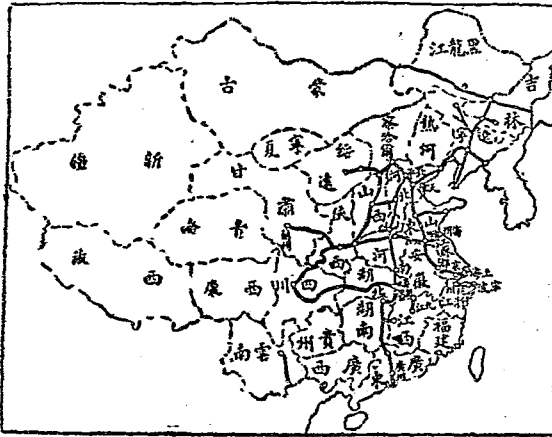
3、政治區域怎樣分法？

4、我國文化區域在什麼地方？

我國從前叫做華夏，歷代以來，名稱時常改換。自武昌起義後，定名中華民國。全國的面積，約有三千六百四十萬方里，算是世界第四大國。國內山脈河流很多，物產非常豐富。

民族以漢族為主，立國的久長，文化的高深，可算在世界各國中是第一了。

我國的位置，在亞洲的東南部，形狀好像一片秋海棠的葉子，地勢西北多山地，東南多平原。全國分爲江蘇浙江河北



我 國 的 地 圖

山東 福建 江西 廣東 廣西 雲南 貴州 四川 湖南 湖北
 陝西 甘肅 甯夏 青海 新疆 山西 河南 西康 察哈爾 熱
 河 綏遠 安徽 遼寧 吉林 黑龍江 等二十八行省，和
 西藏 蒙古 二個特別區域。這種分省的方法，是
 爲着國家行政上便利而分的，並沒有多大的意
 義。

我國文化區域，大概都在東南各省，因爲
 東南等省，出產豐富，人口繁密，氣候和暖，
 可算是全國精華所聚的地方，西北各省，氣候
 既然寒熱不常，人口也很稀少，所以文化不容

易發展。不過森林，鳥獸，礦產，都很豐富，假使我們能够注意開墾，將來中國的富強，對于西北也是很有希望的。

作業：1、什麼叫做政治區域？

2、什麼叫做文化區域？

3、我國的國名，歷代以來，怎樣改換？

4、畫中國形勢圖。

十三 我國的山脈

問題：1、那幾條是我國的重要山脈？

2、我國山脈的排列，有什麼特異的地方？

3、山脈和氣候有什麼關係？

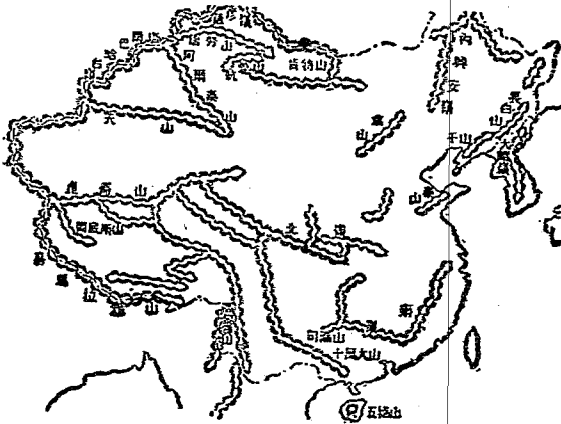
4、我國山脈，起源於什麼地方？

我國的山脈，大概都是東西橫列的，和美洲山脈南北直列的情形不同。所以我國南北的氣候，因了山脈的橫障，很不容易調和，有時隔了一條山脈，溫度的高下，就相差很遠。還有因了山脈的障礙，開發交通也就困難，文化的溝通，很不容易，這是我國地理的一個大缺

點！我國的山脈起源于帕米爾高原，分五支東走。

(一) 崑崙山脈。

崑崙山是我國山脈的主幹；北支是祁連山，向東北行爲陰山脈，至東三省爲內興安嶺和長白山。中支爲巴顏哈喇山，是



我國山脈圖

長江黃河的發源地，東行爲岷山秦嶺伏牛山。到安徽爲天柱山和張八嶺。南支爲唐古刺大山，東南行爲橫斷山脈，東行爲苗嶺，至兩廣湖南間爲五嶺。到浙江爲天台山。

(二)天山山脈。從帕米爾東行入新疆，頭段稱汗騰格里山高二萬二千尺。後段稱天山，分新疆爲南北兩路。


(三)阿爾泰山。在新疆北部的山脈稱阿爾泰山，此外另有二支；北支稱薩揚嶺和薩彥嶺，是中俄兩國的界山。正支走入俄境，叫外

興安嶺。

(四) 喜馬拉雅

山。喜馬拉雅山橫障在西藏的南部，最高峯叫額非爾士峯，高出海面二萬九千餘尺，算是世界最高的山峯。

(五) 岡底斯



額 非 爾 士 峯

山。岡底斯山也是在西藏的南部，和喜馬拉雅山平行。東向而爲雪山，再東行而併入于橫斷山脈。

作業：1、橫斷山脈盤結於那幾省？

2、外與安嶺從前是二國的界山，在什麼時候被人所侵奪？

3、作山脈統計表。

十四 我國的河流與湖泊

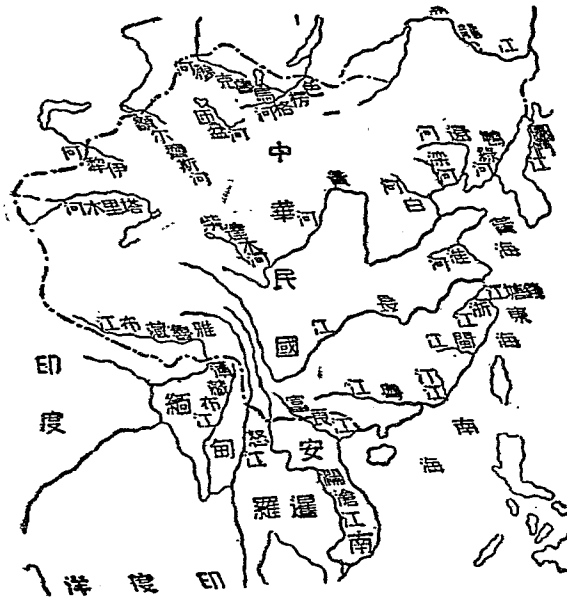
問題：1、那幾條是我國最大的河流？

- 2、那幾個是我國最大的湖泊？
- 3、河流對於文化有什麼關係？

我國的河流，也和山脈一樣，大多數也是橫流的，並且條數很多，現在擇幾條著名的說一說。

(甲)長江。長江又叫揚子江，長約八千八百餘里，算是東半球的第二大河。發源于青海的巴顏哈喇山，流過青海西康雲南四川湖南湖北江西安徽和江蘇等九省，而流入東海。兩旁支流很多，土地肥美，交通便利，所以物產

也很豐富，
 工商業發達，
 算是我國
 最有益的河
 流。
 (乙)黃
 河。黃河
 也是發源于
 青海的巴顏
 喀喇山，算

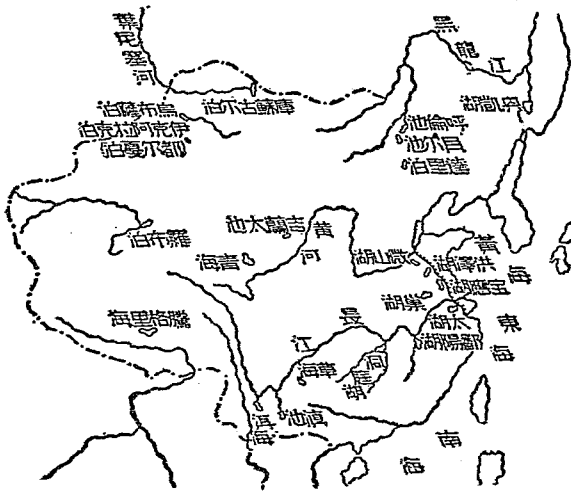


我國水道圖

是我國的第二大河，流過青海甘肅寧夏綏遠陝西山西河南河北和山東等九省，而流入渤海，兩旁支流也很多，可是因了上流水勢太急的緣故，時常洪水爲災。兩旁居民受災的不計其數，所以黃河是一條有害無益的河流。

(丙) 粵江。粵江又叫珠江，發源貴州的東南部。流到廣西，會合了鬱桂諸水，稱西江，入廣東再集東北兩江之水，南流入海。這一條江經過黔桂粵三省，水勢平穩，便于交通，是我國南方的良好河流。

除上說三條大河以外，還有江蘇安徽的淮冰，東北邊境的黑龍江，遼甯省的遼河，河北省的沽河，浙江省的錢塘江，福建省的閩江，中舊邊界的圖們江與



我國湖泊圖

鴨綠江，新疆的塔里木河和伊犁河，青海省的柴達木河，都是我國著名的河流。至于國內的湖泊，數目也很多，如湖南的洞庭湖，江西的鄱陽湖，蘇皖交界的洪澤湖，安徽的巢湖，江浙交界的太湖，吉林邊界的興凱湖，新疆的羅布泊等，都很著名。

作業：1、怎樣可以免除黃河的災難？

2、興凱湖有什麼出產？

3、伊犁河是不是我國所獨有的河流？

4、作河流統計表。

十五 我國的礦產

問題：1、礦產和工商業有什麼關係？

2、礦產和國家財政有什麼關係？

3、我國礦產以那幾種為最多？

4、開採礦產的情形怎樣？

自從工業革命發生以來，礦產和工商業，就發生了很密切的關係。無論在工廠方面或鐵路交通方面，都要有了煤鐵等礦之後才得發達。有人說：「現在的世界是煤鐵的世界」，

這句話真不錯。還有，現在世界國家的財政，也是靠着大量的金銀銅各礦，才得富足的，所以各國政府都努力于開採礦產，以求國富民足。

我國的礦產，埋藏在地下的很多，著名的有黑龍江蒙古和新疆的金礦，山西遼寧熱河察哈爾等省的煤礦，東三省河北省和湖北省的鐵礦，甘肅省和安徽省的銅礦等，其中尤以山西南部和遼甯撫順的煤礦，數量最大，是我國唯一的寶庫。據調查所得，山西南部的煤礦，性

質粹良，礦區很闊，如盡量開採出來，足以供給世界三千年之用。現在雖然已經開採，可是開採的方法不很好，沒有多大的效果。撫順的煤礦，礦也很闊大，並且煤層很厚，是東三省唯一的大煤礦，可惜開採權早已入于日本人的手中了。

此外，湖北大冶的鐵礦，質地很好，現在已經漢冶萍公司開採，成績頗好。可惜因借有日款的關係，主權已不完全。河北開灤的煤礦，開採的成績也不差，不過由中英合辦的開

礦務總局所經營的，利權不是我國所獨有的。我們知道礦產發展工業的要素，而且是國家生存的命脈，現在大半被外人所侵奪，這是多麼危險呀！

作業：1、我國的礦產權爲什麼被他人所侵奪？

2、用什麼方法可以挽救？

3、作我國礦產統計表。

十六 我國的森林

問題：1、森林有什麼用處？

2、我國有什麼森林？

3、我國森林被外人侵伐的情形怎樣？

4、應該怎樣開採森林？保護森林？

森林的普通用處有二；一是可以作木材，世界上的大部份的器具，都是木頭做的。二是調和氣候，減免水災，因為森林吸放水蒸氣的力量很大，而且木根能穩固泥土，不為雨水所沖走；所以森林對於人類是很有益的。

我國山脈很多，森林全國都有；尤以東三

省和新疆二處爲最有名。東三省的森林，可稱全國第一，好像黑龍江的興安嶺森林，吉林的長白山和窩集山森林，都有一「樹海」的名稱，往往人行其間，數百里不見天日，範圍的廣大，數量的豐富，就可想而知。可是自從被日本材木公



司伐木以來，樹木損失的很多，我們假使不設法保護，那末從前的一樹海」就恐怕要變成荒地了。

新疆的森林，大部在天山山脈一帶，各種樹木如樺，杉松，柏等大樹，高蔽雲天，都連結數百里，可稱我國西部的一樹海」了。其餘如廣西貴州湖南福建察哈爾綏遠等省，也有巨大的森林，可是人民向來不知愛護，隨便採伐，以致一天一天的衰敗，真是可惜！

到了現在我國也覺得培養森林，是一件重

要的事情，所以除了設法愛護以外，還有人造林的運動，如江蘇江西浙江山東山西廣西等省，都努力造林，成績以江西爲最好。近來國民政府規定孫中先生逝世紀念日（三月十二日）爲植樹節，就是提倡造林的意思。

作業：1、人造林有什麼益處？

2、怎樣可以拒絕外人侵害我國的森林？

3、森林何以能預防水患？

十七 我國的漁業

問題：1、漁業對於我國沿海人民的生計有

什麼關係？

2、我國主要的漁場是那幾處？

3、我國人民捕魚的方法怎樣？

4、我國漁權受外人侵略的情形怎樣？

我國的海岸線，有一萬五千多里的長，包有黃海東海南海三海的海權。漁場的面積，也有七十二萬方公里；這些地方，是很適合于各種魚類的繁殖。黃海東海渤海三處地方，固然

是天然的漁場，而國內大流如長江黑龍江松花江淮河等，大湖如太湖洪澤湖和興凱湖。也是魚類聚息的地方，所以我國的漁業，如果能够努力提倡，也不能說沒有振興的希望。

但是我國雖有了良好漁場，而每年的出產，不過二億萬元。又據民國十八年我國海關的報告，從日本美國南洋等處輸入的魚類，價值達二千六百萬兩之多，這種漁業衰敗的情形，約有左列兩個原因：

(甲)漁法的不良。我國漁人，老守古

法，對於捕捉，養殖，製造等種種方法，不加改良，因此魚類就慢慢的減少了。

(乙)受外人的侵略。我國漁場受外人侵略最厲害的，就是東洋的日本。日本人時常侵入我國漁場，任意濫捕，並于民國十七年組織亞細亞漁業會社，專門侵略我國的漁業，所以我國漁權，常受很大損失。

中山先生為挽回漁權和發展漁業起見，就提倡建設安東長塗等十五個漁業港。最近國民政府已公佈漁業條列，規定發展漁業的政策，

並在浙江福建江蘇等建立漁業學校，實行振興漁業和挽回利權的計劃。假使能够努力促進，則我國漁業的前途。或者可以有發達的希望。

作業：1、應該怎樣捕漁？

2、應該怎樣保護漁權？

3、應該怎樣促進我國漁業的發達？

十八 我國的交通事業

問題：1、交通事業和國家的盛衰有什麼關

係？

2、交通的種類有那幾種？

3、我國現在的交通事業怎樣？

4、我國交通應該怎樣改進？

我國是一個交通不發達的國家，種種交通工具，都不及他國的精良，但交通是發展工商業和文化一切事業的主要利器，我們實有努力開發的必要。近來世界交通器具名目很多，除普通道路和船舶橋樑以外，還有汽船，鐵路，飛機，汽車，電車，郵政，電報，電話等，各種名目，我國對於以上所列的各種交通器具，

現在雖然都已有了，但是不能夠發展。我國普通的道路到了現在，仍舊不很發達，各省道路，大概都是凹凸不平的。

我國船舶，從前大多數都用帆船，現在雖然多用汽船，但和外國比較起來仍舊很差。鐵路在我國也繼續的建設了許多主要的有平漢，隴海，津浦，北寧，平萬，包綏，滬杭，京滬，粵漢等各條鐵道，可惜東三省的中東和南滿鐵道，雲南邊境的滇越鐵道等，都由外人建築，損失我國的主權不少。飛機是空中交通的

器具，速力較鐵路還要快，我國現在雖有飛機，但是大多數都做軍用的，做普通交通用的很少。

至于汽車，電車，電報，電話等大概都用于通商要地，不過我國已造成了好幾條汽車路，所以汽車事業，已經和火車一樣的發達了。我國的遞投信件，向來是用驛站的，到了清朝末年，才有郵政的設立。及民國三年加入萬國郵政公會，到了現在，營業一天一天的發達，設立的已有一萬餘所，並且因為辦理得

法，營業很盛，在我國各種交通事業當中，可算是最有成績的了。

作業：1、電報電話是什麼人發明的，發明在什麼時候？

2、什麼叫做驛站？在什麼時候創造的？

十九 我國的重要工業

問題：1、我國現在的工業情形怎樣？

2、我國有什麼重要的工業？

3、我國工業為什麼不能夠發展？

4、應該怎樣促進。

我國地大物博，工業上的原料，可說是應有盡有。假使能夠利用科學，努力製造，工業也不難發達，可是因爲工人拘守老法，和缺乏資本的緣故，工業的衰敗，一落千丈，國內洋貨暢銷，國貨停滯，并且因了關稅值百抽五的限制，不能拒絕外貨入境，我國工業也就無法發展了。到了現在，名義上關稅已經自主，政府也有提倡實業的計劃，但是能不能使工業發達，還是要靠着全國人民的努力。

我國工業，以手工業爲主，好像陶器方面，有江西的景德鎮，湖南的醴陵，福建有白磁，浙江有青磁，江蘇有紫砂，都很著名。刺繡方面，湖南廣東江蘇等省最著名。雕刻方面，浙江湖南的竹細工，廣東的象牙細刻，雲南浙江的石細工最著名。其餘，如福建的漆器，浙江江蘇四川的綢緞，山東河南的綢絹，湖北河北的銅器，江西湖南四川廣東的夏布，山東的草帽綆，和河北甘肅寧夏新疆的毛氈，也是有名的。

我國的機械工業，到近來才發展，但是尙不能夠和外人競爭，因為外人在我國所建立工廠，資本充足，營業很容易發展，我國的工廠，資本薄弱，營業也因此不振了。我國的各種工業，以紡織、布、絲三種，比較發達，凡在通商口岸，都有工廠設立。其餘如上海廣州福州的造船廠，博山的玻璃廠，漢陽的鐵廠，唐山大冶廣州的水泥廠，上海的紙廠，九江福州漢口的茶廠，上海無錫南京的麵粉廠，和廣東江蘇四川的火柴廠等，也頗有名。

作業：1、爲什麼關稅受了限制，工業就不得發

達？

2、水泥廠有什麼功用？

3、作我國工業統計表。

二十 我國的行省(二)(粵江流域)

問題：1、什麼叫做粵江流域？

2、粵江流域的地勢怎樣？

3、粵江流域的出產怎樣？

4、粵江流域的人民生活怎樣？

5、粵江流域的工商業怎樣？

我國爲政治使行的便利，分設二十八行省。南部諸省，因爲受粵江的灌溉，而發現地理上的特殊情形，所以稱爲粵江流域。粵江流域的地勢，雖是山脈連結，但多平原，并且受了粵江水利的惠賜，出產富足，交通便利，所以爲我國南部的工業區域，也算是文化興盛的地方。粵江流域的物產，非常豐富。農產以米，茶，絲，蔗，菸草，落花生等爲主，各省都有大量的出產。其餘，如新會的柑，興化的

龍眼，瓊州的波羅蜜，福建的樟腦，廣江的肉桂等，都很有名。礦產各省都有；煤礦產于五嶺的南面，銀礦產于福建南部。森林因地在熱帶，出產尤多，如竹，杉，松樟，柏櫨等，連結成林。至于漁業也很興盛，如魚翅，海參，鰻魚，淡菜，沙魚蝦蟹等爲出品的大宗。

粵江流域圖



工業要算閩粵兩省爲最，如烤綢，夏布，建絨，漆器，鐵器，象牙，雕刻器等，在舊工業上得有盛名，而新工業上的廣貨，尤爲全國聞名。

粵江流域的人民，大概多活潑伶俐，善于做商，到外國去做僑民的也很多，所以無論國外國內的商業，都很發達。通商的要地以廣州爲第一要地，中山先生所主張建立的南方大港，就是這個地方。第二梧州是廣西最大的商埠，其餘如汕頭瓊州等地，也是商業興盛的地

方。可惜香港九龍已割于英，澳門被租于葡，非但商業上，受重大的損失，就是國防上也受他們重大的威迫了！

作業：1、香港九龍澳門在什麼時候，被英葡二

國所割租？爲何被割租？

2、南方大港爲什麼建在廣州？

3、畫粵江流域圖。

二十一 我國的行省(二)(長江流域)

問題：1、長江流域在什麼地方？

2、長江流域的形勢怎樣？

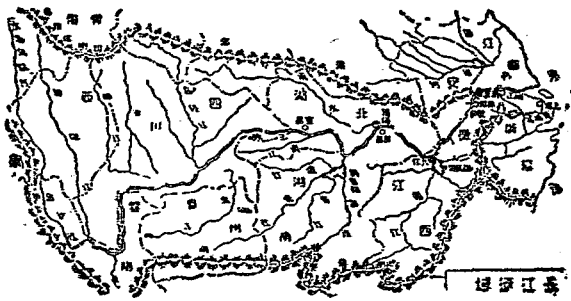
3、長江流域的出產怎樣？

4、長江流域工商業的情形怎樣？

長江流域在我國的中部，是我國精華所聚的地方，因受了長江水利的惠賜，物產豐富，工商業發達，并且氣候溫和，民性敦厚而精敏，文化興盛，是我國首善的區域。地勢方面雖然山脈不少，但是多廣大的平原。沿江名城商埠很多，如成都重慶宜昌武昌漢口九江安慶南京鎮江無錫蘇州上海等，在我國中部都佔很

重要的地位。

長江流域的物產，非常豐富，農產物以米，棉，絲，茶，麻，煙草等爲主，其中尤以米的出產，爲全國第一，湖南的長沙，安徽，蕪湖，江蘇的無錫，合稱爲中國三大米市。絲產于太湖流域一帶，茶則產于浙江江西安徽等省，麻多產于湖北



湖南江西等地。鑛產五金類都有，煤則產于除州長興萍鄉等處。森林多繁殖于南北兩嶺，漁業以浙江沿海爲最興盛。

大區域內的工業，可分新舊兩種，舊工業的著名者，有景德鎮的瓷器，宜興的陶器，湖州的縐紗，杭州的綢緞，南京的元緞，溫州的歐緞，蘇州的顧繡，長沙的湘繡，萬載瀏陽的夏布，徽州的墨，湖州的筆，紹興洋河的酒等十數種。新工業則以機器紡織，織布，縲絲，織綢，榨油，火柴等爲最盛。本區商業的繁

盛，稱全國第一，上海漢口兩處尤爲通商的樞紐，其餘如杭州蘇州常州無錫寧波等地，也是商業重地。

作業：1、中山先生所主張建立的東方大港，在

本區域什麼地方？

2、長江的水利怎樣？

3、上海繁榮的原因怎樣？

4、畫長江流域圖。

二十二 我國的行省(三)(黃河流域)

問題：1、黃河流域的地勢怎樣？有什麼特

點？

2、黃河流域的出產怎樣？

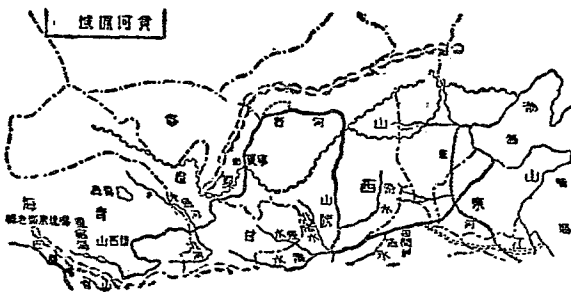
3、黃河流域的工商業怎樣？

4、黃河流域人民的生活怎樣？

黃河流域是我國古代文化發源的地方，歷代以來，做我國政治的中心地，所以名城很多，可是因了黃河時常氾濫的禍患，交通不便，通商大埠很少，雖然有了幾個，也是離開黃河很遠，和黃河本身好像沒有關係。流域以

內，地多黃沙，土性乾燥，又不肥美，不宜種稻，只宜于種種麥和高粱。

本區域內的人民，多有古代燕趙的遺風，性質剛強，樸實重信義，但有時偏于笨拙。做官吏生活的很多。到了近代，做商人的也慢慢的多了。本區域內農產物不很富足，只有麥、豆、



高粱、蔬果而已。至于礦產，那就蘊藏很富了，黃河南北，到處都有，山西的煤馳名全球，其他陝西甘肅二省的石油，熱河的金沙，也頗著名。森林以陝西甘肅二省爲最多。獸類出產很多，所以皮毛也成爲出產中重要的貨物，張家口多倫是皮類的貿易場。

本區域內的商業，都在河北山東兩省，大約可分三區，第一區在天津，是本區商業的中心，和外洋通商也很興盛，出口貨物以羊毛、駝毛、皮類爲主，進口以米，茶，綢，絲，

棉，布，棉紗，煤油，麵粉，糖，木料等爲大宗。第二區在青島是膠濟鐵路線的商業中心。第三區在烟台從前是山東的重要商埠，但自膠濟鐵路築成後，商業已一天一天的凋散了。

作業：1、黃河氾濫的原因怎樣？

2、黃河流域爲什麼宜於種麥？

3、畫黃河流域圖。

二十三 我國的行省(四)(黑龍江流域)

問題：1、黑龍江流域的形勢怎樣？

- 2、有什麼出產？
- 3、有什麼工商業？
- 4、人民的生活怎樣？

黑龍江也叫做烏龍江，發源于蒙古東部的肯特山，沿中俄邊界，曲折流入韃靼海峽，長約八千里是我國第三大河。本區域居東三省全部，受黑龍江松花江遼河三大川的灌溉，土地非常肥美，出產豐富，交通便利，故工商業也頗發達。人民多直魯移民。多從事農業，性樸實，安居樂業，可是近來受了日本的壓迫，生

遼東蠶絲，遼西的麻，阿城安東的甜菜，呼蘭河一帶的米都很著名。森林的繁密，在世界可稱第一，如長白山興安嶺等地，爲本區森林最多的地方。礦產蘊藏更多，如撫順的煤，鞍山的鐵，烟台的炭，黑龍江的金，都有大量的蘊藏，可惜大部份的礦權已被日本侵佔了。

本區域內商業，可分爲五區：第一區是大連。大連是一個不凍的良港，自日俄戰後，即轉租于日本。由日本努力經營的結果，貿易一天盛似一天了。第二是哈爾濱。哈爾濱扼中東

鐵路的中樞，是吉林省的最繁華的商埠。第三是安東。安東是中韓二國通商的重地，又是一個漁業港，而木材的貿易也很興盛。第四是延吉，商業因為僅限于圖們江一帶，所以不很繁盛。第五是營口。營口在遼河口的地方，因為河口淤塞的緣故，商業也不很發達。

作業：1、大連為什麼租於日本？

2、東三省大豆出產的情形怎樣？

3 畫東三省圖。

二十四 蒙古

問題：1、蒙古在我國的那一部？

2、蒙古的形勢怎樣？

3、蒙古的出產怎樣？


4、蒙古的政治怎樣？受什麼國家的侵略？

99

蒙古在我國的北部，是邊防的屏障。全部面積約四百八十八萬方里，人口六百餘萬人。自從清朝末年以來，受了旧俄二國的侵略，主

權損失很大。到了現在，蒙古大部份的地方，仍舊在蘇俄的勢力範圍以內。我國人忙于內戰，不設法外交，也不準備收回，再過幾年恐怕蒙古已不能爲我國所有了。

蒙古地多沙漠，不宜于種植；所以農



蒙古大戈壁

產物極少，人民多以畜牧爲生，居住不定，并且氣候的寒熱也不定，雨量很少，甚至終年無雨，生活非常困苦，所以人口很少。住民大概都是蒙古族，性愚笨，易受人欺，且常有虐殺漢人的舉動，并且受俄人的嗾使，屢次宣告獨立，雖經我國派人撫慰，總沒有結果。蒙古的山脈，以阿爾泰山爲主幹。河流以烏魯克木色楞格河鄂嫩次河三流爲最大。

蒙古物產，以畜牧爲主，馬，牛，羊，山羊，駱駝等都有，各種鳥類，也頗不少，皮毛

的出產，尤爲豐富。首
 昂叫做庫倫，爲蒙古政
 治中心地，人口約五
 萬，並且爲中俄通商的
 要埠。買賣城俄人叫牠
 做恰克圖，在庫倫的北
 方，是中俄邊界上的一
 個重鎮，出口以皮貨爲
 主，入口以茶絲布疋爲
 大宗。其餘如烏里雅蘇



沙漠的交通工具

市。科布多 賽爾烏蘇 三地，也是蒙古的著名城

作業：1、沙漠的氣候怎樣？

2、怎樣可以收回蒙古？

3、駱駝在沙漠中有什麼功用？

4、畫蒙古古圖。

二十五 西藏

問題：1、西藏在我國的那一部？

2、西藏的地勢怎樣？

3、西藏有什麼物產？人民的生活怎樣？

4、西藏的政治怎樣？受那一國人的侵略？

西藏在我國本部的西方，是世界第一高原地。面積約二百五十萬方里，人口三百七十餘萬，向來是西部屏障。自從清末以來，常受英人侵略的結果，形勢一天危似一天，主權的損失，也是不少，到了現在，藏人受英人的嚙使，屢次派兵入寇。最近又和西康發生戰爭，

雖經國民政府派員調解，但總沒有結果。

西藏山脈以喜馬拉雅和岡底斯二山為主

幹，河流以雅魯藏布江怒江印度河爲大。藏人迷信很深，信仰喇嘛教，以達賴班禪爲領袖，全藏的政治權，也都在他們的手中，人民分爲貴族僧侶平民三等，階級很



活生牧遊的人藏

嚴。住民多以遊牧爲生，居住不定。出產以牧畜爲主，如牛，馬，山羊，犛羊，羚羊，麝鹿等都有，農產物雖不豐足，但如穀豆麥蔬菜等，也有出產。森林繁殖，松樅柏榆等大樹都結連成林。礦產蘊藏的很多，以銀，銅，鉛，瑪瑙，琥珀等各礦爲最著。

前藏的首邑叫做拉薩，是唐朝吐蕃的故都，地在四山環繞的當中，風景很好，人口四五萬，不但是前藏商業的重地也是全藏政治宗教的中心。後藏的首邑叫做日喀則也叫扎什倫

布，人烟頗密，商業興盛，是後藏最繁富的地方。其他如江孜亞東聶拉木噶大克等，都是西藏的通商要地。

作業：

1、怎樣可以穩固西藏的主權？

2、政治和宗教是不是可以合一的？

3、畫西藏圖。

民國二十一年八月初版

小學六年級第一學期用

實驗教科書 社會課本 (第七册)

全八册 中級四册每册實價大洋壹角四分
高級四册每册實價大洋壹角四分

外埠酌加郵費

編輯人 南京市立中區實驗學校

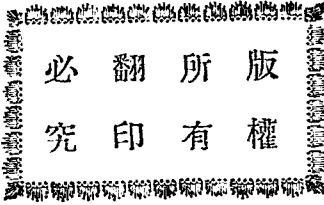
主編人 李清棟 蔣恭丞
史澤之 施肖丞

發行者 南京書店

總發行所 上海河南路一七五號
南京書店

特約經售處 開封龍文書莊

分售處 各埠各大書局



194c

BC
24.1