

# 本國地理測驗

(甲量表第二類)

楊國荃

我的姓名是.....我是(男或女).....學生  
我今年.....歲,在.....月.....日生的  
我在.....學校,第.....年級,第.....學期  
今天是中華民國.....年.....月.....日

## 例子:

- 1 產茶葉最多的省是: (1)奉天, (2)直隸, (3)四川, (4)福建.....( )
- 2 廣東的省會是: (1)江寧, (2)桂林, (3)梧州, (4)廣州.....( )
- 3 我國沿海的省有一叫做: (1)山西, (2)浙江, (3)廣西, (4)四川.....( )
- 4 我國最南的島是: (1)西沙島, (2)崇明島, (3)海南島, (4)舟山島.....( )
- 5 我國最大的鹹水湖是在: (1)青海, (2)四川, (3)西藏, (4)蒙古.....( )



(對.....) - (1/3 錯.....) =

## 本國地理測驗

- 1 我國的民族共有： (1)三種, (2)五種, (3)八種, (4)六種.....( )
- 2 產駱駝最多的地方是： (1)新疆,蒙古, (2)青島,西藏, (3)四川,貴州, (4)雲南,廣西.....( )
- 3 長城的東端有一關名曰： (1)潼關, (2)山海關, (3)仙霞關, (4)鎮南關.....( )
- 4 由上海乘船沿海來廣州要經過： (1)寧波,廈門,汕頭, (2)營口,北海,天津, (3)漢口,錢江,蕪湖, (4)梧州,瓊州,惠州.....( )
- 5 為什麼冬天日短夜長呢?因為： (1)離日遠, (2)日光少, (3)地球的地位變動, (4)地球的地位變動.....( )
- 6 我國各省的物產各有不同大概因為： (1)氣候和土地不同嗎, (2)河流多少嗎, (3)栽培法不同嗎, (4)居民多少嗎.....( )
- 7 一年是多少天： (1)455天, (2)320天, (3)650天, (4)365天.....( )
- 8 東三省的省名是： (1)山東,直隸,江蘇, (2)奉天,吉林,黑龍江, (3)廣東,廣西,湖南, (4)江西,浙江,福建.....( )
- 9 我國沿海的省是： (1)湖南,貴州,四川, (2)山東,江蘇,浙江, (3)江西,廣西,雲南, (4)新疆,河南,陝西.....( )
- 10 我國南方冬天為什麼不下雪?因為： (1)近海, (2)大山多, (3)近赤道, (4)河流多.....( )
- 11 人類居住最適宜的地方是： (1)南寒帶, (2)熱帶, (3)溫帶, (4)北寒帶.....( )
- 12 你乘汽船沿粵江兩岸所見最多的植物是哪一種： (1)棉, (2)稻, (3)豆, (4)麥.....( )
- 13 產材木最多的地方是： (1)外蒙古, (2)江蘇, (3)東三省, (4)新疆.....( )
- 14 我國山脈大都由那一方作起點： (1)東, (2)南, (3)西, (4)北.....( )
- 15 河南的省會是： (1)太原, (2)江寧, (3)開封, (4)長沙.....( )
- 16 由北京乘京綏火車到綏遠必經過： (1)察哈爾, (2)河南, (3)甘肅, (4)安徽.....( )
- 17 為什麼廣東人民好出外營商?因為： (1)近海, (2)物產少, (3)雨水多, (4)天氣不良.....( )
- 18 山谷中的泥土為什麼肥美?因為： (1)天氣好, (2)山水多, (3)肥料多淤積於此, (4)樹林多.....( )
- 19 那二種植物需用熱帶的天氣： (1)檳榔,樹膠, (2)麥,豆, (3)楊柳, (4)茶,棉.....( )
- 20 有晝夜是因為： (1)太陽動, (2)月動, (3)地球自動, (4)彗星動.....( )
- 21 古時建築長城來抵禦： (1)黎人, (2)苗人, (3)胡人, (4)日本人.....( )

對.....錯.....

- 22 長江流域的省其中有三省是： (1)直隸,山東,河南, (2)廣東,雲南,貴州,  
(3)四川,江蘇,湖北, (4)奉天,吉林,黑龍江.....( )
- 23 春夏秋冬四季是因爲： (1)地球動, (2)日動, (3)月動, (4)行星動.....( )
- 24 我國與朝鮮相通的鐵路是： (1)京奉鐵路, (2)安奉鐵路, (3)京漢鐵路,  
(4)粵漢鐵路.....( )
- 25 兩山之間必有大川是因爲什麼? (1)山嶺的水集合, (2)地勢低, (3)礦產多, (4)森林多.....( )
- 26 地球圍繞太陽轉是因爲： (1)電力, (2)熱力, (3)攝力, (4)光力.....( )
- 27 戈壁是一個： (1)大城, (2)大沙漠, (3)大港口, (4)大湖.....( )
- 28 庫倫成爲蒙古聖地的原故是因： (1)有活佛, (2)山景, (3)有沙漠, (4)人多.....( )
- 29 粵江的水系集那山間諸水而成： (1)天山, (2)崑崙山, (3)南嶺, (4)秦山.....( )
- 30 我國西北部爲什麼寒暑俱烈： (1)樹木多嗎, (2)山嶺多嗎, (3)得不着海風的調劑嗎,  
(4)地未開墾嗎.....( )
- 31 東三省日人所經營的鐵路有一條叫做： (1)南滿鐵路, (2)京奉鐵路,  
(3)京漢鐵路, (4)津浦鐵路.....( )
- 32 由漢口乘京漢火車到北京必經過： (1)陝西, (2)河南, (3)四川, (4)安徽.....( )
- 33 明朝古跡最多的地方是： (1)長沙, (2)寧波, (3)南京, (4)廣州.....( )
- 34 爲什麼沙漠居民甚少?因爲： (1)不能耕植, (2)樹木多, (3)大城少, (4)天氣熱.....( )
- 35 渤海沿岸的商埠是： (1)天津,秦皇島,營口, (2)威海衛,膠州灣,芝罘,  
(3)上海,吳淞,廈門, (4)寧波,汕頭,香港.....( )
- 36 我國東北方有那一國人居留最多： (1)日本, (2)俄國, (3)英國, (4)德國.....( )
- 37 你若開設織氈毯的工廠最好在那處： (1)河南, (2)福建, (3)直隸, (4)廣西.....( )
- 38 爲什麼我國南方的氣候比北方卑溼?因爲： (1)大湖多, (2)樹林多,  
(3)平原多, (4)近熱帶.....( )
- 39 爲什麼在冬天你身體的影兒比在夏天長呢?因爲： (1)天氣冷, (2)日光不甚猛烈,  
(3)地球位置變動, (4)你所穿的衣服多.....( )
- 40 有幾個大行星圍繞太陽轉： (1)十個, (2)八個, (3)五個, (4)七個.....( )
- 對.....錯.....

- 41 那一種河流叫做“內陸流域”： (1)流入海的, (2)停滯內地的,  
(3)多支流的, (4)無支流的.....( )
- 42 從北京乘京奉火車經過： (1)潼關, (2)嘉谷關, (3)山海關, (4)武勝關.....( )
- 43 地球叫什麼星： (1)恆星, (2)衛星, (3)行星, (4)慧星.....( )
- 44 我國的山脈由葱嶺起首的分爲幾大系： (1)兩大系, (2)五大系, (3)六大系,  
(4)四大系.....( )
- 45 那一個流域的地方產鐵最多： (1)遼河流域, (2)粵江流域,  
(3)長江流域, (4)黃河流域.....( )
- 46 發光發熱的是那一種星： (1)行星, (2)衛星, (3)慧星, (4)恆星.....( )
- 47 那一個圍繞地球轉： (1)慧星, (2)別的行星, (3)衛星, (4)太陽.....( )
- 48 秦皇島海口爲什麼常年不凍呢?因爲： (1)樹林多, (2)四圍有山,  
(3)洋海的溫流常流入, (4)近海邊.....( )
- 49 在長江流域米的輸出最多的地方是： (1)漢口, (2)江寧, (3)蕪湖, (4)鎮寧.....( )
- 50 我國的山脈橫列的是在那一方： (1)東南, (2)西南, (3)東北, (4)西北.....( )
- 51 我國的海岸線長約 (1)15000里, (2)56000里, (3)4650里, (4)6700里.....( )
- 52 塔里木河和伊犁河在那一省： (1)青海, (2)西藏, (3)新疆, (4)蒙古.....( )

對.....錯.....

# 本國地理測驗

(甲量表第二類)

楊國荃

我的姓名是.....我是(男或女).....學生  
我今年.....歲,在.....月.....日生的  
我在.....學校,第.....年級,第.....學期  
今天是中華民國.....年.....月.....日

## 例子:

- 1 產茶葉最多的省是: (1)奉天, (2)直隸, (3)四川, (4)福建.....( )
- 2 廣東的省會是: (1)江寧, (2)桂林, (3)梧州, (4)廣州.....( )
- 3 我國沿海的省有一叫做: (1)山西, (2)浙江, (3)廣西, (4)四川.....( )
- 4 我國最南的島是: (1)西沙島, (2)崇明島, (3)海南島, (4)舟山島.....( )
- 5 我國最大的鹹水湖是在: (1)青海, (2)四川, (3)西藏, (4)蒙古.....( )

(對.....) - (錯.....) =

## 本國地理測驗

- 1 我國的民族共有： (1)三種， (2)五種， (3)八種， (4)六種……………( )
- 2 產駱駝最多的地方是： (1)新疆,蒙古, (2)青海,西藏, (3)四川,貴州,  
(4)雲南,廣西……………( )
- 3 長城的東端有一關名叫： (1)潼關, (2)山海關, (3)仙霞關, (4)鎮南關……………( )
- 4 由上海乘船沿海來廣州要經過： (1)寧波,廈門,汕頭, (2)營口,北海,天津,  
(3)漢口,鎮江,燕湖, (4)梧州,瓊州,惠州……………( )
- 5 為什麼冬天日短夜長呢?因為： (1)離日遠, (2)日光少, (3)地球的地位變動,  
(4)日球中的地位變動……………( )
- 6 我國各省的物產各有不同大概因為： (1)氣候和土地不同嗎, (2)河流多少嗎,  
(3)栽培法不同嗎, (4)居民多少嗎……………( )
- 7 一年是多少天： (1)455天, (2)320天, (3)650天, (4)365天……………( )
- 8 東三省的省名是： (1)山東,直隸,江蘇, (2)奉天,吉林,黑龍江, (3)廣東,廣西,湖南,  
(4)江西,浙江,福建……………( )
- 9 我國沿海的省是： (1)湖南,貴州,四川, (2)山東,江蘇,浙江, (3)江西,廣西,雲南,  
(4)新疆,河南,陝西……………( )
- 10 我國南方冬天為什麼不下雪?因為： (1)近海, (2)大山多, (3)近赤道, (4)河流多……………( )
- 11 人類居住最適宜的地方是： (1)南寒帶, (2)熱帶, (3)溫帶, (4)北寒帶……………( )
- 12 你乘汽船沿粵江兩岸所見最多的植物是那一種： (1)棉, (2)稻, (3)豆, (4)麥……………( )
- 13 產材木最多的地方是： (1)外蒙古, (2)江蘇, (3)東三省, (4)新疆……………( )
- 14 我國山脈大都由那一方作起點： (1)東, (2)南, (3)西, (4)北……………( )
- 15 河南的省會是： (1)太原, (2)江寧, (3)開封, (4)長沙……………( )
- 16 由北京乘京綏火車到綏遠必經過： (1)察哈爾, (2)河南, (3)甘肅, (4)安徽……………( )
- 17 為什麼廣東人民好出外營商?因為： (1)近海, (2)物產少, (3)雨水多,  
(4)天氣不良……………( )
- 18 山谷中的泥土為什麼肥美?因為： (1)天氣好, (2)山水多, (3)肥料多淤積於此,  
(4)樹林多……………( )
- 19 那二種植物需用熱帶的天氣： (1)檳榔,樹膠, (2)麥,豆, (3)楊柳, (4)茶,棉……………( )
- 20 有晝夜是因爲： (1)太陽動, (2)月動, (3)地球自動, (4)慧星動……………( )
- 21 古時建築長城來抵禦： (1)黎人, (2)苗人, (3)胡人, (4)日本人……………( )

對……………錯……………

- 22 長江流域的省其中有三省是： (1)直隸,山東,河南, (2)廣東,雲南,貴州,  
(3)四川,江蘇,湖北, (4)奉天,吉林,黑龍江.....( )
- 23 春夏秋冬四季是因爲： (1)地球動, (2)日動, (3)月動, (4)行星動.....( )
- 24 我國與朝鮮相通的鐵路是： (1)京奉鐵路, (2)安奉鐵路, (3)京漢鐵路,  
(4)粵漢鐵路.....( )
- 25 兩山之間必有大川是因爲什麼? (1)山嶺的水集合, (2)地勢低, (3)礦產多, (4)森林多.....( )
- 26 地球圍繞太陽轉是因爲： (1)電力, (2)熱力, (3)攝力, (4)光力.....( )
- 27 戈壁是一個： (1)大城, (2)大沙漠, (3)大港口, (4)大湖.....( )
- 28 庫倫成爲蒙古聖地的原故是因： (1)有活佛, (2)山景, (3)有沙漠, (4)人多.....( )
- 29 粵江的水系集那山間諸水而成： (1)天山, (2)崑崙山, (3)南嶺, (4)泰山.....( )
- 30 我國西北部爲什麼寒暑俱烈： (1)樹木多嗎, (2)山嶺多嗎, (3)得不着海風的調劑嗎,  
(4)地未開墾嗎.....( )
- 31 東三省日人所經營的鐵路有一條叫做： (1)南滿鐵路, (2)京奉鐵路,  
(3)京漢鐵路, (4)津浦鐵路.....( )
- 32 由漢口乘京漢火車到北京必經過： (1)陝西, (2)河南, (3)四川, (4)安徽.....( )
- 33 明朝古跡最多的地方是： (1)長沙, (2)寧波, (3)南京, (4)廣州.....( )
- 34 爲什麼沙漠居民甚少?因爲： (1)不能耕植, (2)樹木多, (3)大城少, (4)天氣熱.....( )
- 35 渤海沿岸的商埠是： (1)天津,秦皇島,營口, (2)威海衛,膠州灣,芝罘,  
(3)上海,吳淞,廈門, (4)寧波,汕頭,香港.....( )
- 36 我國東北方有那一國人居留最多： (1)日本, (2)俄國, (3)英國, (4)德國.....( )
- 37 你若開設織氈毯的工廠最好在那處： (1)河南, (2)福建, (3)直隸, (4)廣西.....( )
- 38 爲什麼我國南方的氣候比北方卑溼?因爲： (1)大湖多, (2)樹林多,  
(3)平原多, (4)近熱帶.....( )
- 39 爲什麼在冬天你身體的影兒比在夏天長呢?因爲： (1)天氣冷, (2)日光不甚猛烈,  
(3)地球位置變動, (4)你所穿的衣服多.....( )
- 40 有幾個大行星圍繞太陽轉： (1)十個, (2)八個, (3)五個, (4)七個.....( )
- 對.....錯.....

- 41 那一種河流叫做“內陸流域”： (1)流入海的, (2)停滯內地的,  
(3)多支流的, (4)無支流的.....( )
- 42 從北京乘京奉火車經過: (1)瀟關, (2)嘉谷關, (3)山海關, (4)武勝關.....( )
- 43 地球叫什麼星: (1)恆星, (2)衛星, (3)行星, (4)慧星.....( )
- 44 我國的山脈由崑崙起首的分爲幾大系: (1)兩大系, (2)五大系, (3)六大系,  
(4)四大系.....( )
- 45 那一個流域的地方產磁最多: (1)遼河流域, (2)粵江流域,  
(3)長江流域, (4)黃河流域.....( )
- 46 發光發熱的是那一種星: (1)行星, (2)衛星, (3)慧星, (4)恆星.....( )
- 47 那一個圍繞地球轉: (1)慧星, (2)別的行星, (3)衛星, (4)太陽.....( )
- 48 秦皇島海口爲什麼常年不凍呢?因爲: (1)樹林多, (2)四圍有山,  
(3)洋海的溫流常流入, (4)近海邊.....( )
- 49 在長江流域米的輸出最多的地方是: (1)漢口, (2)江寧, (3)蕪湖, (4)懷寧.....( )
- 50 我國的山脈橫列的是在那一方: (1)東南, (2)西南, (3)東北, (4)西北.....( )
- 51 我國的海岸線長約 (1)15000里, (2)56000里, (3)4650里, (4)6700里.....( )
- 52 塔里木河和伊犁河在那一省: (1)青海, (2)西藏, (3)新疆, (4)蒙古.....( )

對.....錯.....



# 本國地理測驗

(甲量表第二類)

揚國荃

我的姓名是.....我是(男或女).....學生  
我今年.....歲,在.....月.....日生的  
我在.....學校,第.....年級,第.....學期  
今天是中華民國.....年.....月.....日



## 例子:

- 1 產茶葉最多的省是: (1)奉天, (2)直隸, (3)四川, (4)福建.....( )
- 2 廣東的省會是: (1)江寧, (2)桂林, (3)梧州, (4)廣州.....( )
- 3 我國沿海的省有一叫做: (1)山西, (2)浙江, (3)廣西, (4)四川.....( )
- 4 我國最南的島是: (1)西沙島, (2)崇明島, (3)海南島, (4)舟山島.....( )
- 5 我國最大的鹹水湖是在: (1)青海, (2)四川, (3)西藏, (4)蒙古.....( )



(對.....) - (1/3 錯.....) =

## 本國地理測驗

- 1 我國的民族共有： (1)三種, (2)五種, (3)八種, (4)六種.....( )
  - 2 產駱駝最多的地方是： (1)新疆,蒙古, (2)青海,西藏, (3)四川,貴州, (4)雲南,廣西.....( )
  - 3 長城的東端有一關名叫： (1)潼關, (2)山海關, (3)仙霞關, (4)鎮南關.....( )
  - 4 由上海乘船沿海來廣州要經過： (1)寧波,廈門,汕頭, (2)營口,北海,天津, (3)漢口,鎮江,蕪湖, (4)梧州,瓊州,惠州.....( )
  - 5 為什麼冬天日短夜長呢?因為： (1)離日遠, (2)日光少, (3)地球的地位變動, (4)地球的地位變動.....( )
  - 6 我國各省的物產各有不同大概因為： (1)氣候和土地不同嗎, (2)河流多少嗎, (3)栽培法不同嗎, (4)居民多少嗎.....( )
  - 7 一年是多少天： (1)455天, (2)320天, (3)650天, (4)365天.....( )
  - 8 東三省的省名是： (1)山東,直隸,江蘇, (2)奉天,吉林,黑龍江, (3)廣東,廣西,湖南, (4)江西,浙江,福建.....( )
  - 9 我國沿海的省是： (1)湖南,貴州,四川, (2)山東,江蘇,浙江, (3)江西,廣西,雲南, (4)新疆,河南,陝西.....( )
  - 10 我國南方冬天為什麼不下雪?因為： (1)近海, (2)大山多, (3)近赤道, (4)河流多.....( )
  - 11 人類居住最適宜的地方是： (1)南寒帶, (2)熱帶, (3)溫帶, (4)北寒帶.....( )
  - 12 你乘汽船沿粵江兩岸所見最多的植物是那一種： (1)棉, (2)稻 (3)豆, (4)麥.....( )
  - 13 產材木最多的地方是： (1)外蒙古, (2)江蘇, (3)東三省, (4)新疆.....( )
  - 14 我國山脈大都由那一方作起點： (1)東, (2)南, (3)西, (4)北.....( )
  - 15 河南的省會是： (1)太原, (2)江寧, (3)開封, (4)長沙.....( )
  - 16 由北京乘京綏火車到綏遠必經過： (1)察哈爾, (2)河南, (3)甘肅, (4)安徽.....( )
  - 17 為什麼廣東人民好出外營商?因為： (1)近海, (2)物產少, (3)雨水多, (4)天氣不良.....( )
  - 18 山谷中的泥土為什麼肥美?因為： (1)天氣好, (2)山水多, (3)肥料多淤積於此, (4)樹林多.....( )
  - 19 那二種植物需用熱帶的天氣： (1)橡膠,樹膠, (2)麥,豆, (3)楊柳, (4)茶,棉.....( )
  - 20 有晝夜是因為： (1)太陽動, (2)月動, (3)地球自動, (4)彗星動.....( )
  - 21 古時建築長城來抵禦： (1)黎人, (2)苗人, (3)胡人, (4)日本人.....( )
- 對.....錯.....

- 22 長江流域的省其中有三省是： (1)直隸,山東,河南, (2)廣東,雲南,貴州,  
(3)四川,江蘇,湖北, (4)奉天,吉林,黑龍江.....( )
- 23 春夏秋冬四季是因爲： (1)地球動, (2)日動, (3)月動, (4)行星動.....( )
- 24 我國與朝鮮相通的鐵路是： (1)京奉鐵路, (2)安奉鐵路, (3)京漢鐵路,  
(4)粵漢鐵路.....( )
- 25 兩山之間必有大川是因爲什麼? (1)山嶺的水集合, (2)地勢低, (3)礦產多, (4)森林多.....( )
- 26 地球圍繞太陽轉是因爲： (1)電力, (2)熱力, (3)攝力, (4)光力.....( )
- 27 戈壁是一個： (1)大城, (2)大沙漠, (3)大港口, (4)大湖.....( )
- 28 庫倫成爲蒙古聖地的原故是因： (1)有活佛, (2)山景, (3)有沙漠, (4)人多.....( )
- 29 粵江的水系集那山間諸水而成： (1)天山, (2)崑崙山, (3)南嶺, (4)泰山.....( )
- 30 我國西北部爲什麼寒暑俱烈： (1)樹木多嗎, (2)山嶺多嗎, (3)得不着海風的調劑嗎,  
(4)地未開墾嗎.....( )
- 31 東三省日人所經營的鐵路有一條叫做： (1)南滿鐵路, (2)京奉鐵路,  
(3)京漢鐵路, (4)津浦鐵路.....( )
- 32 由漢口乘京漢火車到北京必經過： (1)陝西, (2)河南, (3)四川, (4)安徽.....( )
- 33 明朝古蹟最多的地方是： (1)長沙, (2)寧波, (3)南京, (4)廣州.....( )
- 34 爲什麼沙漠居民甚少?因爲： (1)不能耕植, (2)樹木多, (3)大城少, (4)天氣熱.....( )
- 35 渤海沿岸的商埠是： (1)天津,秦皇島,營口, (2)威海衛,膠州灣,芝罘,  
(3)上海,吳淞,廈門, (4)寧波,汕頭,香港.....( )
- 36 我國東北方有那一國人居留最多： (1)日本, (2)俄國, (3)英國, (4)德國.....( )
- 37 你若開設織氈毯的工廠最好在那處： (1)河南, (2)福建, (3)直隸, (4)廣西.....( )
- 38 爲什麼我國南方的氣候比北方卑溼?因爲： (1)大湖多, (2)樹林多,  
(3)平原多, (4)近熱帶.....( )
- 39 爲什麼在冬天你身軀的影兒比在夏天長呢?因爲： (1)天氣冷, (2)日光不甚猛烈,  
(3)地球位置變動, (4)你所穿的衣服多.....( )
- 40 有幾個大行星圍繞太陽轉： (1)十個, (2)八個, (3)五個, (4)七個.....( )
- 對.....錯.....

- 41 那一種河流叫做“內陸流域”： (1)流入海的, (2)停滯內地的,  
(3)多支流的, (4)無支流的.....( )
- 42 從北京乘京奉火車經過: (1)潼關, (2)嘉谷關, (3)山海關, (4)武勝關.....( )
- 43 地球叫什麼星: (1)恆星, (2)衛星, (3)行星, (4)彗星.....( )
- 44 我國的山脈由葱嶺起首的分爲幾大系: (1)兩大系, (2)五大系, (3)六大系,  
(4)四大系.....( )
- 45 那一個流域的地方產綫最多: (1)遼河流域, (2)粵江流域,  
(3)長江流域, (4)黃河流域.....( )
- 46 發光發熱的是那一種星: (1)行星, (2)衛星, (3)彗星, (4)恆星.....( )
- 47 那一個圍繞地球轉: (1)彗星, (2)別的行星, (3)衛星, (4)太陽.....( )
- 48 秦皇島海口爲什麼常年不凍呢?因爲: (1)樹林多, (2)四圍有山,  
(3)洋海的溫流常流入, (4)近海邊.....( )
- 49 在長江流域米的輸出最多的地方是: (1)漢口, (2)江寧, (3)蕪湖, (4)懷寧.....( )
- 50 我國的山脈橫列的是在那一方: (1)東南, (2)西南, (3)東北, (4)西北.....( )
- 51 我國的海岸線長約 (1)15000里, (2)56000里, (3)4650里, (4)6700里.....( )
- 52 塔里木河和伊犁河在那一省: (1)青海, (2)西藏, (3)新疆, (4)蒙古.....( )

對.....錯.....

# 本國地理測驗

(甲量表第二類)

楊國荃

我的姓名是.....我是(男或女).....學生  
我今年.....歲,在.....月.....日生的  
我在.....學校,第.....年級,第.....學期  
今天是中華民國.....年.....月.....日



## 例子:

- 1 產茶葉最多的省是: (1)奉天, (2)直隸, (3)四川, (4)福建.....( )
- 2 廣東的省會是: (1)江寧, (2)桂林, (3)梧州, (4)廣州.....( )
- 3 我國沿海的省有一叫做: (1)山西, (2)浙江, (3)廣西, (4)四川.....( )
- 4 我國最南的島是: (1)西沙島, (2)崇明島, (3)海南島, (4)舟山島.....( )
- 5 我國最大的鹹水湖是在: (1)青海, (2)四川, (3)西藏, (4)蒙古.....( )



(對.....) - (1/3 錯.....) =

## 本國地理測驗

- 1 我國的民族共有： (1)三種, (2)五種, (3)八種, (4)六種.....( )
- 2 產駱駝最多的地方是： (1)新疆,蒙古, (2)青海,西藏, (3)四川,貴州, (4)雲南,廣西.....( )
- 3 長城的東端有一關名叫： (1)潼關, (2)山海關, (3)仙霞關, (4)鎮南關.....( )
- 4 由上海乘船沿海來廣州要經過： (1)寧波,廈門,汕頭, (2)營口,北海,天津, (3)漢口,鎮江,蕪湖, (4)梧州,瓊州,惠州.....( )
- 5 為什麼冬天日短夜長呢?因為： (1)離日遠, (2)日光少, (3)地球的地位變動, (4)地球的地位變動.....( )
- 6 我國各省的物產各有不同大概因為： (1)氣候和土地不同嗎, (2)河流多少嗎, (3)栽培法不同嗎, (4)居民多少嗎.....( )
- 7 一年是多少天： (1)455天, (2)320天, (3)650天, (4)365天.....( )
- 8 東三省的省名是： (1)山東,直隸,江蘇, (2)奉天,吉林,黑龍江, (3)廣東,廣西,湖南, (4)江西,浙江,福建.....( )
- 9 我國沿海的省是： (1)湖南,貴州,四川, (2)山東,江蘇,浙江, (3)江西,廣西,雲南, (4)新疆,河南,陝西.....( )
- 10 我國南方冬天為什麼不下雪?因為： (1)近海, (2)大山多, (3)近赤道, (4)河流多.....( )
- 11 人類居住最適宜的地方是： (1)南寒帶, (2)熱帶, (3)溫帶, (4)北寒帶.....( )
- 12 你乘汽船沿珠江兩岸所見最多的植物是那一種： (1)棉, (2)稻, (3)豆, (4)麥.....( )
- 13 產材木最多的地方是： (1)外蒙古, (2)江蘇, (3)東三省, (4)新疆.....( )
- 14 我國山脈大都由那一方作起點： (1)東, (2)南, (3)西, (4)北.....( )
- 15 河南的省會是： (1)太原, (2)江寧, (3)開封, (4)長沙.....( )
- 16 由北京乘京綏火車到綏遠必經過： (1)察哈爾, (2)河南, (3)甘肅, (4)安徽.....( )
- 17 為什麼廣東人民好出外營商?因為： (1)近海, (2)物產少, (3)雨水多, (4)天氣不良.....( )
- 18 山谷中的泥土為什麼肥美?因為： (1)天氣好, (2)山水多, (3)肥料多淤積於此, (4)樹林多.....( )
- 19 那兩種植物需用熱帶的天氣： (1)檳榔,樹膠, (2)麥,豆, (3)楊柳, (4)茶,棉.....( )
- 20 有晝夜是因為： (1)太陽動, (2)月動, (3)地球自動, (4)慧星動.....( )
- 21 古時建築長城來抵禦： (1)黎人, (2)苗人, (3)胡人, (4)日本人.....( )

對.....錯.....

- 22 長江流域的省其中有三省是： (1)直隸,山東,河南, (2)廣東,雲南,貴州,  
(3)四川,江蘇,湖北, (4)奉天,吉林,黑龍江.....( )
- 23 春夏秋冬四季是因爲： (1)地球動, (2)日動, (3)月動, (4)行星動.....( )
- 24 我國與朝鮮相通的鐵路是： (1)京奉鐵路, (2)安奉鐵路, (3)京漢鐵路,  
(4)粵漢鐵路.....( )
- 25 兩山之間必有大川是因爲什麼? (1)山嶺的水集合, (2)地勢低, (3)礦產多, (4)森林多.....( )
- 26 地球圍繞太陽轉是因爲： (1)電力, (2)熱力, (3)攝力, (4)光力.....( )
- 27 戈壁是一個： (1)大城, (2)大沙漠, (3)大港口, (4)大湖.....( )
- 28 庫倫成爲蒙古聖地的原故是因： (1)有活佛, (2)山景, (3)有沙漠, (4)人多.....( )
- 29 粵江的水系集那山間諸水而成： (1)天山, (2)崑崙山, (3)南嶺, (4)泰山.....( )
- 30 我國西北部爲什麼寒暑俱烈： (1)樹木多嗎, (2)山嶺多嗎, (3)得不着海風的調劑嗎,  
(4)地未開墾嗎.....( )
- 31 東三省日人所經營的鐵路有一條叫做： (1)南滿鐵路, (2)京奉鐵路,  
(3)京漢鐵路, (4)津浦鐵路.....( )
- 32 由漢口乘京漢火車到北京必經過： (1)陝西, (2)河南, (3)四川, (4)安徽.....( )
- 33 明朝古跡最多的地方是： (1)長沙, (2)寧波, (3)南京, (4)廣州.....( )
- 34 爲什麼沙漠居民甚少?因爲： (1)不能耕植, (2)樹木多, (3)大城少, (4)天氣熱.....( )
- 35 渤海沿岸的商埠是： (1)天津,秦皇島,營口, (2)威海衛,膠州灣,芝罘,  
(3)上海,吳淞,廈門, (4)寧波,汕頭,香港.....( )
- 36 我國東北方有那一國人居留最多： (1)日本, (2)俄國, (3)英國, (4)德國.....( )
- 37 你若開設織氈毯的工廠最好在那處： (1)河南, (2)福建, (3)直隸, (4)廣西.....( )
- 38 爲什麼我國南方的氣候比北方卑溼?因爲： (1)大湖多, (2)樹林多,  
(3)平原多, (4)近熱帶.....( )
- 39 爲什麼在冬天你身體的影兒比在夏天長呢?因爲： (1)天氣冷, (2)日光不甚猛烈,  
(3)地球位置變動, (4)你所穿的衣服多.....( )
- 40 有幾個大行星圍繞太陽轉： (1)十個, (2)八個, (3)五個, (4)七個.....( )

對.....錯.....

- 41 那一種河流叫做“內陸流域”： (1)流入海的, (2)停滯內地的,  
(3)多支流的, (4)無支流的.....( )
- 42 從北京乘京奉火車經過: (1)潼關, (2)嘉谷關, (3)山海關, (4)武勝關.....( )
- 43 地球叫什麼星: (1)恆星, (2)衛星, (3)行星, (4)慧星.....( )
- 44 我國的山脈由葱嶺起首的分爲幾大系: (1)兩大系, (2)五大系, (3)六大系,  
(4)四大系.....( )
- 45 那一個流域的地方產鐵最多: (1)遼河流域, (2)粵江流域,  
(3)長江流域, (4)黃河流域.....( )
- 46 發光發熱的是那一種星: (1)行星, (2)衛星, (3)慧星, (4)恆星.....( )
- 47 那一個圍繞地球轉: (1)慧星, (2)別的行星, (3)衛星, (4)太陽.....( )
- 48 秦皇島海口爲什麼常年不凍呢?因爲: (1)樹林多, (2)四圍有山,  
(3)洋海的溫流常流入, (4)近海邊.....( )
- 49 在長江流域米的輸出最多的地方是: (1)漢口, (2)江寧, (3)蕪湖, (4)懷寧.....( )
- 50 我國的山脈橫列的是在那一方: (1)東南, (2)西南, (3)東北, (4)西北.....( )
- 51 我國的海岸線長約 (1)15000里, (2)56000里, (3)4650里, (4)6700里.....( )
- 52 塔里木河和伊犁河在那一省: (1)青海, (2)西藏, (3)新疆, (4)蒙古.....( )

對.....錯.....

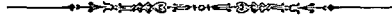


# 本國地理測驗

(甲量表第二類)

楊國基

我的姓名是.....我是(男或女).....學生  
我今年.....歲,在.....月.....日生的  
我在.....學校,第.....年級,第.....學期  
今天是中華民國.....年.....月.....日



## 例子:

- 1 產茶葉最多的省是: (1)奉天, (2)直隸, (3)四川, (4)福建.....( )
- 2 廣東的省會是: (1)江寧, (2)桂林, (3)梧州, (4)廣州.....( )
- 3 我國沿海的省有一叫做: (1)山西, (2)浙江, (3)廣西, (4)四川.....( )
- 4 我國最南的島是: (1)西沙島, (2)崇明島, (3)海南島, (4)舟山島.....( )
- 5 我國最大的鹹水湖是在: (1)青海, (2)四川, (3)西藏, (4)蒙古.....( )



(對.....) - (錯.....) =

# 本國地理測驗

- 1 我國的民族共有： (1)三種， (2)五種， (3)八種， (4)六種.....( )
- 2 產喀駝最多的地方是： (1)新疆,蒙古, (2)青海,西藏, (3)四川,貴州, (4)雲南,廣西.....( )
- 3 長城的東端有一關名叫： (1)潼關, (2)山海關, (3)仙霞關, (4)鎮南關.....( )
- 4 由上海乘船沿海來廣州要經過： (1)寧波,廈門,汕頭, (2)營口,北海,天津, (3)漢口,鎮江,蕪湖, (4)梧州,瓊州,惠州.....( )
- 5 為什麼冬天日短夜長呢?因為： (1)離日遠, (2)日光少, (3)地球的地位變動, (4)地球的地位變動.....( )
- 6 我國各省的物產各有不同大概因為： (1)氣候和土地不同嗎, (2)河流多少嗎, (3)栽培法不同嗎, (4)居民多少嗎.....( )
- 7 一年是多少天： (1)455天, (2)320天, (3)650天, (4)365天.....( )
- 8 東三省的省名是： (1)山東,直隸,江蘇, (2)奉天,吉林,黑龍江, (3)廣東,廣西,湖南, (4)江西,浙江,福建.....( )
- 9 我國沿海的省是： (1)湖南,貴州,四川, (2)山東,江蘇,浙江, (3)江西,廣西,雲南, (4)新疆,河南,陝西.....( )
- 10 我國南方冬天為什麼不下雪?因為： (1)近海, (2)大山多, (3)近赤道, (4)河流多.....( )
- 11 人類居住最適宜的地方是： (1)南寒帶, (2)熱帶, (3)溫帶, (4)北寒帶.....( )
- 12 你乘汽船沿粵江兩岸所見最多的植物是那一種： (1)棉, (2)稻, (3)豆, (4)麥.....( )
- 13 產材木最多的地方是： (1)外蒙古, (2)江蘇, (3)東三省, (4)新疆.....( )
- 14 我國山脈大都由那一方起點： (1)東, (2)南, (3)西, (4)北.....( )
- 15 河南的省會是： (1)太原, (2)江寧, (3)開封, (4)長沙.....( )
- 16 由北京乘京綏火車到綏遠必經過： (1)察哈爾, (2)河南, (3)甘肅, (4)安徽.....( )
- 17 為什麼廣東人民好出外營商?因為： (1)近海, (2)物產少, (3)雨水多, (4)天氣不良.....( )
- 18 山谷中的泥土為什麼肥美?因為： (1)天氣好, (2)山水多, (3)肥料多淤積於此, (4)樹林多.....( )
- 19 那二種植物需用熱帶的天氣： (1)檳榔,樹膠, (2)麥,豆, (3)楊柳, (4)茶,棉.....( )
- 20 有晝夜是因為： (1)太陽動, (2)月動, (3)地球自動, (4)慧星動.....( )
- 21 古時建築長城來抵禦： (1)黎人, (2)苗人, (3)胡人, (4)日本人.....( )

對.....錯.....

- 22 長江流域的省其中有三省是： (1)直隸,山東,河南, (2)廣東,雲南,貴州,  
(3)四川,江蘇,湖北, (4)奉天,吉林,黑龍江.....( )
- 23 春夏秋冬四季是因爲： (1)地球動, (2)日動, (3)月動, (4)行星動.....( )
- 24 我國與朝鮮相通的鐵路是： (1)京奉鐵路, (2)安奉鐵路, (3)京漢鐵路,  
(4)粵漢鐵路.....( )
- 25 兩山之間必有大川是因爲什麼? (1)山嶺的水集合, (2)地勢低, (3)礦產多, (4)森林多.....( )
- 26 地球圍繞太陽轉是因爲： (1)電力, (2)熱力, (3)攝力, (4)光力.....( )
- 27 戈壁是一個： (1)大城, (2)大沙漠, (3)大港口, (4)大湖.....( )
- 28 庫倫成爲蒙古聖地的原故是因： (1)有活佛, (2)山景, (3)有沙漠, (4)人多.....( )
- 29 粵江的水系集那山間諸水而成： (1)天山, (2)崑崙山, (3)南嶺, (4)泰山.....( )
- 30 我國西北部爲什麼寒暑俱烈： (1)樹木多嗎, (2)山嶺多嗎, (3)得不着海風的調劑嗎,  
(4)地未開墾嗎.....( )
- 31 東三省日人所經營的鐵路有一條叫做： (1)南滿鐵路, (2)京奉鐵路,  
(3)京漢鐵路, (4)津浦鐵路.....( )
- 32 由漢口乘京漢火車到北京必經過： (1)陝西, (2)河南, (3)四川, (4)安徽.....( )
- 33 明朝古跡最多的地方是： (1)長沙, (2)寧波, (3)南京, (4)廣州.....( )
- 34 爲什麼沙漠居民甚少?因爲： (1)不能耕植, (2)樹木多, (3)大城少, (4)天氣熱.....( )
- 35 渤海沿岸的商埠是： (1)天津,秦皇島,營口, (2)威海衛,膠州灣,芝罘,  
(3)上海,吳淞,廈門, (4)寧波,汕頭,香港.....( )
- 36 我國東北方有那一國人居留最多： (1)日本, (2)俄國, (3)英國, (4)德國.....( )
- 37 你若開設織氈毯的工廠最好在那處： (1)河南, (2)福建, (3)直隸, (4)廣西.....( )
- 38 爲什麼我國南方的氣候比北方卑溼?因爲： (1)大湖多, (2)樹林多,  
(3)平原多, (4)近熱帶.....( )
- 39 爲什麼在冬天你身體的影兒比在夏天長呢?因爲： (1)天氣冷, (2)日光不甚猛烈,  
(3)地球位置變動, (4)你所穿的衣服多.....( )
- 40 有幾個大行星圍繞太陽轉： (1)十個, (2)八個, (3)五個, (4)七個.....( )
- 對.....錯.....

- 41 那一種河流叫做“內陸流域”：  
 (1)流入海的， (2)停滯內地的，  
 (3)多支流的， (4)無支流的……………( )
- 42 從北京乘京奉火車經過：  
 (1)潼關， (2)嘉谷關， (3)山海關， (4)武勝關……………( )
- 43 地球叫什麼星：  
 (1)恆星， (2)衛星， (3)行星， (4)慧星……………( )
- 44 我國的山脈由蔥嶺起首的分爲幾大系：  
 (1)兩大系， (2)五大系， (3)六大系，  
 (4)四大系……………( )
- 45 那一個流域的地方產蠶最多：  
 (1)遼河流域， (2)粵江流域，  
 (3)長江流域， (4)黃河流域……………( )
- 46 發光發熱的是那一種星：  
 (1)行星， (2)衛星， (3)慧星， (4)恆星……………( )
- 47 那一個圍繞地球轉：  
 (1)慧星， (2)別的行星， (3)衛星， (4)太陽……………( )
- 48 秦皇島海口爲什麼常年不凍呢？因爲：  
 (1)樹林多， (2)四圍有山，  
 (3)洋海的溫流常流入， (4)近海邊……………( )
- 49 在長江流域米的輸出最多的地方是：  
 (1)漢口， (2)江寧， (3)蕪湖， (4)鎮江……………( )
- 50 我國的山脈橫列的是在那一方：  
 (1)東南， (2)西南， (3)東北， (4)西北……………( )
- 51 我國的海岸線長約 (1)15000里， (2)56000里， (3)4650里， (4)6700里……………( )
- 52 塔里木河和伊犁河在那一省：  
 (1)青海， (2)西藏， (3)新疆， (4)蒙古……………( )

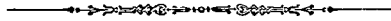
對……………錯……………

# 本國地理測驗

(甲量表第二類)

揚國荃

我的姓名是.....我是(男或女).....學生  
我今年.....歲,在.....月.....日生的  
我在.....學校,第.....年級,第.....學期  
今天是中華民國.....年.....月.....日



## 例子:

- 1 產茶葉最多的省是: (1)奉天, (2)直隸, (3)四川, (4)福建.....( )
- 2 廣東的省會是: (1)江寧, (2)桂林, (3)梧州, (4)廣州.....( )
- 3 我國沿海的省有一叫做: (1)山西, (2)浙江, (3)廣西, (4)四川.....( )
- 4 我國最南的島是: (1)西沙島, (2)崇明島, (3)海南島, (4)舟山島.....( )
- 5 我國最大的鹹水湖是在: (1)青海, (2)四川, (3)西藏, (4)蒙古.....( )



(對.....) - (錯.....) =

## 本國地理測驗

- 1 我國的民族共有： (1)三種, (2)五種, (3)八種, (4)六種.....( )
- 2 產駱駝最多的地方是： (1)新疆,蒙古, (2)青海,西藏, (3)四川,貴州, (4)雲南,廣西.....( )
- 3 長城的東端有一關名叫： (1)潼關, (2)山海關, (3)仙霞關, (4)鎮南關.....( )
- 4 由上海乘船沿海來廣州要經過： (1)寧波,廈門,汕頭, (2)營口,北海,天津, (3)漢口,錢江,蕪湖, (4)梧州,瓊州,惠州.....( )
- 5 為什麼冬天日短夜長呢?因為： (1)離日遠, (2)日光少, (3)地球的地位變動, (4)地球的地位變動.....( )
- 6 我國各省的物產各有不同大概因為： (1)氣候和土地不同嗎, (2)河流多少嗎, (3)栽培法不同嗎, (4)居民多少嗎.....( )
- 7 一年是多少天： (1)455天, (2)320天, (3)650天, (4)365天.....( )
- 8 東三省的省名是： (1)山東,直隸,江蘇, (2)奉天,吉林,黑龍江, (3)廣東,廣西,湖南, (4)江西,浙江,福建.....( )
- 9 我國沿海的省是： (1)湖南,貴州,四川, (2)山東,江蘇,浙江, (3)江西,廣西,雲南, (4)新疆,河南,陝西.....( )
- 10 我國南方冬天為什麼不下雪?因為： (1)近海, (2)大山多, (3)近赤道, (4)河流多.....( )
- 11 人類居住最適宜的地方是： (1)南寒帶, (2)熱帶, (3)溫帶, (4)北寒帶.....( )
- 12 你乘汽船沿粵江兩岸所見最多的植物是那一種： (1)棉, (2)稻, (3)豆, (4)麥.....( )
- 13 產材木最多的地方是： (1)外蒙古, (2)江蘇, (3)東三省, (4)新疆.....( )
- 14 我國山脈大都由那一方作起點： (1)東, (2)南, (3)西, (4)北.....( )
- 15 河南的省會是： (1)太原, (2)江寧, (3)開封, (4)長沙.....( )
- 16 由北京乘京綏火車到綏遠必經過： (1)察哈爾, (2)河南, (3)甘肅, (4)安徽.....( )
- 17 為什麼廣東人民好出外營商?因為： (1)近海, (2)物產少, (3)雨水多, (4)天氣不良.....( )
- 18 山谷中的泥土為什麼肥美?因為： (1)天氣好, (2)山水多, (3)肥料多淤積於此, (4)樹林多.....( )
- 19 那二種植物需用熱帶的天氣： (1)檳榔,樹膠, (2)麥,豆, (3)楊柳, (4)茶,棉.....( )
- 20 有晝夜是因為： (1)太陽動, (2)月動, (3)地球自動, (4)慧星動.....( )
- 21 古時建築長城來抵禦： (1)黎人, (2)苗人, (3)胡人, (4)日本人.....( )

對.....錯.....

- 22 長江流域的省其中有三省是： (1)直隸,山東,河南, (2)廣東,雲南,貴州,  
(3)四川,江蘇,湖北, (4)奉天,吉林,黑龍江.....( )
- 23 春夏秋冬四季是因爲： (1)地球動, (2)日動, (3)月動, (4)行星動.....( )
- 24 我國與朝鮮相通的鐵路是： (1)京奉鐵路, (2)安奉鐵路, (3)京漢鐵路,  
(4)粵漢鐵路.....( )
- 25 兩山之間必有大川是因爲什麼? (1)山嶺的水集合, (2)地勢低, (3)礦產多, (4)森林多.....( )
- 26 地球圍繞太陽轉是因爲： (1)電力, (2)熱力, (3)攝力, (4)光力.....( )
- 27 戈壁是一個： (1)大城, (2)大沙漠, (3)大港口, (4)大湖.....( )
- 28 庫倫成爲蒙古聖地的原故是因： (1)有活佛, (2)山景, (3)有沙漠, (4)人多.....( )
- 29 粵江的水系集那山間諸水而成： (1)天山, (2)崑崙山, (3)南嶺, (4)泰山.....( )
- 30 我國西北部爲什麼寒暑俱烈： (1)樹木多嗎, (2)山嶺多嗎, (3)得不着海風的調劑嗎,  
(4)地未開墾嗎.....( )
- 31 東三省日人所經營的鐵路有一條叫做： (1)南滿鐵路, (2)京奉鐵路,  
(3)京漢鐵路, (4)津浦鐵路.....( )
- 32 由漢口乘京漢火車到北京必經過： (1)陝西, (2)河南, (3)四川, (4)安徽.....( )
- 33 明朝古跡最多的地方是： (1)長沙, (2)寧波, (3)南京, (4)廣州.....( )
- 34 爲什麼沙漠居民甚少?因爲： (1)不能耕植, (2)樹木多, (3)大城少, (4)天氣熱.....( )
- 35 渤海沿岸的商埠是： (1)天津,秦皇島,營口, (2)威海衛,膠州灣,芝罘,  
(3)上海,吳淞,廈門, (4)寧波,汕頭,香港.....( )
- 36 我國東北方有那一國人居留最多： (1)日本, (2)俄國, (3)英國, (4)德國.....( )
- 37 你若開設織氈毯的工廠最好在那處： (1)河南, (2)福建, (3)直隸, (4)廣西.....( )
- 38 爲什麼我國南方的氣候比北方卑溼?因爲： (1)大湖多, (2)樹林多,  
(3)平原多, (4)近熱帶.....( )
- 39 爲什麼在冬天你身體的影兒比在夏天長呢?因爲： (1)天氣冷, (2)日光不甚猛烈,  
(3)地球位置變動, (4)你所穿的衣服多.....( )
- 40 有幾個大行星圍繞太陽轉： (1)十個, (2)八個, (3)五個, (4)七個.....( )

對.....錯.....

- 41 那一種河流叫做“內陸流域”： (1)流入海的, (2)停滯內地的,  
(3)多支流的, (4)無支流的.....( )
- 42 從北京乘京奉火車經過: (1)瀘關, (2)嘉谷關, (3)山海關, (4)武勝關.....( )
- 43 地球叫什麼星: (1)恆星, (2)衛星, (3)行星, (4)慧星.....( )
- 44 我國的山脈由葱嶺起首的分爲幾大系: (1)兩大系, (2)五大系, (3)六大系,  
(4)四大系.....( )
- 45 那一個流域的地方產鐵最多: (1)遼河流域, (2)粵江流域,  
(3)長江流域, (4)黃河流域.....( )
- 46 發光發熱的是那一種星: (1)行星, (2)衛星, (3)慧星, (4)恆星.....( )
- 47 那一個圍繞地球轉: (1)慧星, (2)別的行星, (3)衛星, (4)太陽.....( )
- 48 秦皇島海口爲什麼常年不凍呢?因爲: (1)樹林多, (2)四圍有山,  
(3)洋海的溫流常流入, (4)近海邊.....( )
- 49 在長江流域米的輸出最多的地方是: (1)漢口, (2)江寧, (3)蕪湖, (4)懷寧.....( )
- 50 我國的山脈橫列的是在那一方: (1)東南, (2)西南, (3)東北, (4)西北.....( )
- 51 我國的海岸線長約 (1)15000里, (2)56000里, (3)4650里, (4)6700里.....( )
- 52 塔里木河和伊犁河在那一省: (1)青海, (2)西藏, (3)新疆, (4)蒙古.....( )

對.....錯.....

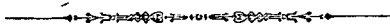


# 本國地理測驗

(甲量表第二類)

楊國荃

我的姓名是.....我是(男或女).....學生  
我今年.....歲,在.....月.....日生的  
我在.....學校,第.....年級,第.....學期  
今天是中華民國.....年.....月.....日



## 例子:

- 1 產茶葉最多的省是: (1)奉天, (2)直隸, (3)四川, (4)福建.....( )
- 2 廣東的省會是: (1)江寧, (2)桂林, (3)梧州, (4)廣州.....( )
- 3 我國沿海的省有一叫做: (1)山西, (2)浙江, (3)廣西, (4)四川.....( )
- 4 我國最南的島是: (1)西沙島, (2)崇明島, (3)海南島, (4)舟山島.....( )
- 5 我國最大的鹹水湖是在: (1)青海, (2)四川, (3)西藏, (4)蒙古.....( )



(對.....) → (✓); 錯..... =

## 本國地理測驗

- 1 我國的民族共有： (1)三種, (2)五種, (3)八種, (4)六種.....( )
- 2 產硝磺最多的地方是： (1)新疆,蒙古, (2)青海,西藏, (3)四川,貴州, (4)雲南,廣西.....( )
- 3 長城的東端有一關名叫： (1)潼關, (2)山海關, (3)仙霞關, (4)鎮南關.....( )
- 4 由上海乘船沿海來廣州要經過： (1)寧波,廈門,汕頭, (2)營口,北海,天津, (3)漢口,鎮江,蕪湖, (4)梧州,瓊州,惠州.....( )
- 5 為什麼冬天日短夜長呢?因為： (1)離日遠, (2)日光少, (3)地球的地位變動, (4)地球的地位變動.....( )
- 6 我國各省的物產各有不同大概因為： (1)氣候和土地不同嗎, (2)河流多少嗎, (3)栽培法不同嗎, (4)居民多少嗎.....( )
- 7 一年是多少天： (1)455天, (2)320天, (3)650天, (4)365天.....( )
- 8 東三省的省名是： (1)山東,直隸,江蘇, (2)奉天,吉林,黑龍江, (3)廣東,廣西,湖南, (4)江西,浙江,福建.....( )
- 9 我國沿海的省是： (1)湖南,貴州,四川, (2)山東,江蘇,浙江, (3)江西,廣西,雲南, (4)新疆,河南,陝西.....( )
- 10 我國南方冬天為什麼不下雪?因為： (1)近海, (2)大山多, (3)近赤道, (4)河流多.....( )
- 11 人類居住最適宜的地方是： (1)南寒帶, (2)熱帶, (3)溫帶, (4)北寒帶.....( )
- 12 你乘汽船沿粵江南岸所見最多的植物是哪一種： (1)棉, (2)稻, (3)豆, (4)麥.....( )
- 13 產材木最多的地方是： (1)外蒙古, (2)江蘇, (3)東三省, (4)新疆.....( )
- 14 我國山脈大都由那一方起點： (1)東, (2)南, (3)西, (4)北.....( )
- 15 河南的省會是： (1)太原, (2)江寧, (3)開封, (4)長沙.....( )
- 16 由北京乘京綏火車到綏遠必經過： (1)察哈爾, (2)河南, (3)甘肅, (4)安徽.....( )
- 17 為什麼廣東人民好出外營商?因為： (1)近海, (2)物產少, (3)雨水多, (4)天氣不良.....( )
- 18 山谷中的泥土為什麼肥美?因為： (1)天氣好, (2)山水多, (3)肥料多淤積於此, (4)樹林多.....( )
- 19 那二種植物需用熱帶的天氣： (1)檳榔,樹膠, (2)麥,豆, (3)檉柳, (4)茶,棉.....( )
- 20 有晝夜是因為： (1)太陽動, (2)月動, (3)地球自動, (4)彗星動.....( )
- 21 古時建築長城來抵禦： (1)黎人, (2)苗人, (3)胡人, (4)日本人.....( )

對.....錯.....

- 22 長江流域的省其中有三省是： (1)直隸,山東,河南, (2)廣東,雲南,貴州,  
(3)四川,江蘇,湖北, (4)奉天,吉林,黑龍江.....( )
- 23 春夏秋冬四季是因爲： (1)地球動, (2)日動, (3)月動, (4)行星動.....( )
- 24 我國與朝鮮相通的鐵路是： (1)京奉鐵路, (2)安奉鐵路, (3)京漢鐵路,  
(4)粵漢鐵路.....( )
- 25 兩山之間必有大川是因爲什麼? (1)山嶺的水集合, (2)地勢低, (3)礦產多, (4)森林多.....( )
- 26 地球圍繞太陽轉是因爲： (1)電力, (2)熱力, (3)攝力, (4)光力.....( )
- 27 戈壁是一個： (1)大城, (2)大沙漠, (3)大港口, (4)大湖.....( )
- 28 庫倫成爲蒙古聖地的原故是因： (1)有活佛, (2)山景, (3)有沙漠, (4)人多.....( )
- 29 粵江的水系集那山間諸水而成： (1)天山, (2)崑崙山, (3)南嶺, (4)泰山.....( )
- 30 我國西北部爲什麼寒暑俱烈： (1)樹木多嗎, (2)山嶺多嗎, (3)得不着海風的調劑嗎,  
(4)地未開墾嗎.....( )
- 31 東三省日人所經營的鐵路有一條叫做： (1)南滿鐵路, (2)京奉鐵路,  
(3)京漢鐵路, (4)津浦鐵路.....( )
- 32 由漢口乘京漢火車到北京必經過： (1)陝西, (2)河南, (3)四川, (4)安徽.....( )
- 33 明朝古跡最多的地方是： (1)長沙, (2)寧波, (3)南京, (4)廣州.....( )
- 34 爲什麼沙漠居民甚少?因爲： (1)不能耕植, (2)樹木多, (3)大城少, (4)天氣熱.....( )
- 35 渤海沿岸的商埠是： (1)天津,秦皇島,營口, (2)威海衛,膠州灣,芝罘,  
(3)上海,吳淞,廈門, (4)寧波,汕頭,香港.....( )
- 36 我國東北方有那一國人居留最多： (1)日本, (2)俄國, (3)英國, (4)德國.....( )
- 37 你若開設織氈毯的工廠最好在那處： (1)河南, (2)福建, (3)直隸, (4)廣西.....( )
- 38 爲什麼我國南方的氣候比北方卑溼?因爲： (1)大湖多, (2)樹林多,  
(3)平原多, (4)近熱帶.....( )
- 39 爲什麼在冬天你身體的影兒比在夏天長呢?因爲： (1)天氣冷, (2)日光不甚猛烈,  
(3)地球位置變動, (4)你所穿的衣服多.....( )
- 40 有幾個大行星圍繞太陽轉： (1)十個, (2)八個, (3)五個, (4)七個.....( )

對.....錯.....

- 41 那一種河流叫做“內陸流域”： (1)流入海的, (2)停滯內地的,  
(3)多支流的, (4)無支流的.....( )
- 42 從北京乘京奉火車經過: (1)潼關, (2)嘉谷關, (3)山海關, (4)武勝關.....( )
- 43 地球叫什麼星: (1)恆星, (2)衛星, (3)行星, (4)慧星.....( )
- 44 我國的山脈由葱嶺起首的分爲幾大系: (1)兩大系, (2)五大系, (3)六大系,  
(4)四大系.....( )
- 45 那一個流域的地方產鐵最多: (1)遼河流域, (2)粵江流域,  
(3)長江流域, (4)黃河流域.....( )
- 46 發光發熱的是那一種星: (1)行星, (2)衛星, (3)慧星, (4)恆星.....( )
- 47 那一個圍繞地球轉: (1)慧星, (2)別的行星, (3)衛星, (4)太陽.....( )
- 48 秦皇島海口爲什麼常年不凍呢?因爲: (1)樹林多, (2)四圍有山,  
(3)洋海的溫流常流入, (4)近海邊.....( )
- 49 在長江流域米的輸出最多的地方是: (1)漢口, (2)江寧, (3)蕪湖, (4)懷寧.....( )
- 50 我國的山脈橫列的是在那一方: (1)東南, (2)西南, (3)東北, (4)西北.....( )
- 51 我國的海岸線長約 (1)15000里, (2)56000里, (3)4650里, (4)6700里.....( )
- 52 塔里木河和伊犁河在那一省: (1)青海, (2)西藏, (3)新疆, (4)蒙古.....( )

對.....錯.....

# 本國地理測驗

(甲量表第二類)

楊國荃

我的姓名是.....我是(男或女).....學生  
我今年.....歲,在.....月.....日生的  
我在.....學校,第.....年級,第.....學期  
今天是中華民國.....年.....月.....日



## 例子:

- 1 產茶葉最多的省是: (1)奉天, (2)直隸, (3)四川, (4)福建.....( )
- 2 廣東的省會是: (1)江寧, (2)桂林, (3)梧州, (4)廣州.....( )
- 3 我國沿海的省有一叫做: (1)山西, (2)浙江, (3)廣西, (4)四川.....( )
- 4 我國最南的島是: (1)西沙島, (2)崇明島, (3)海南島, (4)舟山島.....( )
- 5 我國最大的鹹水湖是在: (1)青海, (2)四川, (3)西藏, (4)蒙古.....( )



(對.....) - (1/3 錯.....) =

# 本國地理測驗

- 1 我國的民族共有: (1)三種, (2)五種, (3)八種, (4)六種.....( )
- 2 產喀呢最多的地方是: (1)新疆,蒙古, (2)青海,西藏, (3)四川,貴州, (4)雲南,廣西.....( )
- 3 長城的東端有一關名叫: (1)潼關, (2)山海關, (3)仙霞關, (4)鎮南關.....( )
- 4 由上海乘船沿海來廣州要經過: (1)寧波,廈門,汕頭, (2)營口,北海,天津, (3)漢口,鎮江,蕪湖, (4)梧州,瓊州,惠州.....( )
- 5 為什麼冬天日短夜長呢?因為: (1)離日遠, (2)日光少, (3)地球的地位變動, (4)地球的地位變動.....( )
- 6 我國各省的物產各有不同大概因為: (1)氣候和土地不同嗎, (2)河流多少嗎, (3)栽培法不同嗎, (4)居民多少嗎.....( )
- 7 一年是多少天: (1)455天, (2)320天, (3)650天, (4)365天.....( )
- 8 東三省的省名是: (1)山東,直隸,江蘇, (2)奉天,吉林,黑龍江, (3)廣東,廣西,湖南, (4)江西,浙江,福建.....( )
- 9 我國沿海的省是: (1)湖南,貴州,四川, (2)山東,江蘇,浙江, (3)江西,廣西,雲南, (4)新疆,河南,陝西.....( )
- 10 我國南方冬天為什麼不下雪?因為: (1)近海, (2)大山多, (3)近赤道, (4)河流多.....( )
- 11 人類居住最適宜的地方是: (1)南寒帶, (2)熱帶, (3)溫帶, (4)北寒帶.....( )
- 12 你乘汽船沿粵江兩岸所見最多的植物是哪一種: (1)棉, (2)稻, (3)豆, (4)麥.....( )
- 13 產材木最多的地方是: (1)外蒙古, (2)江蘇, (3)東三省, (4)新疆.....( )
- 14 我國山脈大都由那一方作起點: (1)東, (2)南, (3)西, (4)北.....( )
- 15 河南的省會是: (1)太原, (2)江寧, (3)開封, (4)長沙.....( )
- 16 由北京乘京綏火車到綏遠必經過: (1)察哈爾, (2)河南, (3)甘肅, (4)安徽.....( )
- 17 為什麼廣東人民好出外營商?因為: (1)近海, (2)物產少, (3)雨水多, (4)天氣不良.....( )
- 18 山谷中的泥土為什麼肥美因為: (1)天氣好, (2)山水多, (3)肥料多淤積於此, (4)樹林多.....( )
- 19 那二種植物需用熱帶的天氣: (1)檳榔,樹膠, (2)麥,豆, (3)楊柳, (4)茶,棉.....( )
- 20 有晝夜是因為: (1)太陽動, (2)月動, (3)地球自動, (4)慧星動.....( )
- 21 古時建築長城來抵禦: (1)黎人, (2)苗人, (3)胡人, (4)日本人.....( )

對.....錯.....

- 22 長江流域的省其中有三省是： (1)直隸,山東,河南, (2)廣東,雲南,貴州,  
(3)四川,江蘇,湖北, (4)奉天,吉林,黑龍江.....( )
- 23 春夏秋冬四季是因爲： (1)地球動, (2)日動, (3)月動, (4)行星動.....( )
- 24 我國與朝鮮相通的鐵路是： (1)京奉鐵路, (2)安奉鐵路, (3)京漢鐵路,  
(4)粵漢鐵路.....( )
- 25 兩山之間必有大川是因爲什麼? (1)山嶺的水集合, (2)地勢低, (3)積雪多, (4)森林多.....( )
- 26 地球圍繞太陽轉是因爲： (1)電力, (2)熱力, (3)磁力, (4)光力.....( )
- 27 戈壁是一個： (1)大城, (2)大沙漠, (3)大港口, (4)大湖.....( )
- 28 庫倫成爲蒙古聖地的原故是因： (1)有活佛, (2)山景, (3)有沙漠, (4)人多.....( )
- 29 粵江的水系集那山間諸水而成： (1)天山, (2)崑崙山, (3)南嶺, (4)泰山.....( )
- 30 我國西北部爲什麼寒暑俱烈： (1)樹木多嗎, (2)山嶺多嗎, (3)得不着海風的調劑嗎,  
(4)地未開墾嗎.....( )
- 31 東三省日人所經營的鐵路有一條叫做： (1)南滿鐵路, (2)京奉鐵路,  
(3)京漢鐵路, (4)津浦鐵路.....( )
- 32 由漢口乘京漢火車到北京必經過： (1)陝西, (2)河南, (3)四川, (4)安徽.....( )
- 33 明朝古跡最多的地方是： (1)長沙, (2)寧波, (3)南京, (4)廣州.....( )
- 34 爲什麼沙漠居民甚少?因爲： (1)不能耕植, (2)樹木多, (3)大城少, (4)天氣熱.....( )
- 35 渤海沿岸的商埠是： (1)天津,秦皇島,營口, (2)威海衛,膠州灣,芝罘,  
(3)上海,吳淞,廈門, (4)寧波,汕頭,香港.....( )
- 36 我國東北方有那一國人居留最多： (1)日本, (2)俄國, (3)英國, (4)德國.....( )
- 37 你若開設織氈毯的工廠最好在那處： (1)河南, (2)福建, (3)直隸, (4)廣西.....( )
- 38 爲什麼我國南方的氣候比北方卑溼?因爲： (1)大湖多, (2)樹林多,  
(3)平原多, (4)近熱帶.....( )
- 39 爲什麼在冬天你身體的影兒比在夏天長呢?因爲： (1)天氣冷, (2)日光不甚猛烈,  
(3)地球位置變動, (4)你所穿的衣服多.....( )
- 40 有幾個大行星圍繞太陽轉： (1)十個, (2)八個, (3)五個, (4)七個.....( )

對.....錯.....

- 41 那一種河流叫做“內陸流域”： (1)流入海的, (2)停滯內地的,  
(3)多支流的, (4)無支流的.....( )
- 42 從北京乘京奉火車經過： (1)潼關, (2)嘉谷關, (3)山海關, (4)武勝關.....( )
- 43 地球叫什麼星： (1)恆星, (2)衛星, (3)行星, (4)慧星.....( )
- 44 我國的山脈由葱嶺起首的分為幾大系： (1)兩大系, (2)五大系, (3)六大系,  
(4)四大系.....( )
- 45 那一個流域的地方產鐵最多： (1)遼河流域, (2)粵江流域,  
(3)長江流域, (4)黃河流域.....( )
- 46 發光發熱的是那一種星： (1)行星, (2)衛星, (3)慧星, (4)恆星.....( )
- 47 那一個圍繞地球轉： (1)慧星, (2)別的行星, (3)衛星, (4)太陽.....( )
- 48 秦皇島海口為什麼常年不凍呢?因為： (1)樹林多, (2)四圍有山,  
(3)洋海的溫流常流入, (4)近海邊.....( )
- 49 在長江流域米的輸出最多的地方是： (1)漢口, (2)江寧, (3)蕪湖, (4)懷寧.....( )
- 50 我國的山脈橫列的是在那一方： (1)東南, (2)西南, (3)東北, (4)西北.....( )
- 51 我國的海岸線長約 (1)15000里, (2)56000里, (3)4650里, (4)6700里.....( )
- 52 塔里木河和伊魯河在那一省： (1)青海, (2)西藏, (3)新疆, (4)蒙古.....( )

對.....錯.....

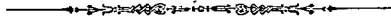


# 本國地理測驗

(甲量表第二類)

楊國基

我的姓名是.....我是(男或女).....學生  
我今年.....歲,在.....月.....日生的  
我在.....學校,第.....年級,第.....學期  
今天是中華民國.....年.....月.....日



## 例子:

- 1 產茶葉最多的省是: (1)奉天, (2)直隸, (3)四川, (4)福建.....( )
- 2 廣東的省會是: (1)江寧, (2)桂林, (3)梧州, (4)廣州.....( )
- 3 我國沿海的省有一叫做: (1)山西, (2)浙江, (3)廣西, (4)四川.....( )
- 4 我國最南的島是: (1)西沙島, (2)崇明島, (3)海南島, (4)舟山島.....( )
- 5 我國最大的鹹水湖是在: (1)青海, (2)四川, (3)西藏, (4)蒙古.....( )



(對.....) - (錯.....) =

## 本國地理測驗

- 1 我國的民族共有： (1)三種, (2)五種, (3)八種, (4)六種.....( )
- 2 產駱駝最多的地方是： (1)新疆,蒙古, (2)青海,西藏, (3)四川,貴州, (4)雲南,廣西.....( )
- 3 長城的東端有一關名叫： (1)渣關, (2)山海關, (3)仙霞關, (4)鎮南關.....( )
- 4 由上海乘船沿海來廣州要經過： (1)寧波,廈門,汕頭, (2)營口,北海,天津, (3)漢口,贛江,蕪湖, (4)梧州,瓊州,惠州.....( )
- 5 為什麼冬天日短夜長呢?因為： (1)離日遠, (2)日光少, (3)地球的地位變動, (4)日球的位置變動.....( )
- 6 我國各省的物產各有不同大概因為： (1)氣候和土地不同嗎, (2)河流多少嗎, (3)栽培法不同嗎, (4)居民多少嗎.....( )
- 7 一年是多少天： (1)455天, (2)320天, (3)650天, (4)365天.....( )
- 8 東三省的省名是： (1)山東,直隸,江蘇, (2)奉天,吉林,黑龍江, (3)廣東,廣西,湖南, (4)江西,浙江,福建.....( )
- 9 我國沿海的省是： (1)湖南,貴州,四川, (2)山東,江蘇,浙江, (3)江西,廣西,雲南, (4)新疆,河南,陝西.....( )
- 10 我國南方冬天為什麼不下雪?因為： (1)近海, (2)大山多, (3)近赤道, (4)河流多.....( )
- 11 人類居住最適宜的地方是： (1)南寒帶, (2)熱帶, (3)溫帶, (4)北寒帶.....( )
- 12 你乘汽船沿粵江兩岸所見最多的植物是哪一種： (1)棉, (2)稻, (3)豆, (4)麥.....( )
- 13 產材木最多的地方是： (1)外蒙古, (2)江蘇, (3)東三省, (4)新疆.....( )
- 14 我國山脈大都由那一方作起點： (1)東, (2)南, (3)西, (4)北.....( )
- 15 河南的省會是： (1)太原, (2)江寧, (3)開封, (4)長沙.....( )
- 16 由北京乘京綏火車到綏遠必經過： (1)察哈爾, (2)河南, (3)甘肅, (4)安徽.....( )
- 17 為什麼廣東人民好出外營商?因為： (1)近海, (2)物產少, (3)雨水多, (4)天氣不良.....( )
- 18 山谷中的泥土為什麼肥美?因為： (1)天氣好, (2)山水多, (3)肥料多淤積於此, (4)樹林多.....( )
- 19 那二種植物需用熱帶的天氣： (1)檳榔,樹膠, (2)麥,豆, (3)楊柳, (4)茶,棉.....( )
- 20 有晝夜是因為： (1)太陽動, (2)月動, (3)地球自動, (4)慧星動.....( )
- 21 古時建築長城來抵禦： (1)黎人, (2)苗人, (3)胡人, (4)日本人.....( )

對.....錯.....

- 22 長江流域的省其中有三省是： (1)直隸,山東,河南, (2)廣東,雲南,貴州,  
(3)四川,江蘇,湖北, (4)奉天,吉林,黑龍江.....( )
- 23 春夏秋冬四季是因爲： (1)地球動, (2)日動, (3)月動, (4)行星動.....( )
- 24 我國與朝鮮相通的鐵路是： (1)京奉鐵路, (2)安奉鐵路, (3)京漢鐵路,  
(4)粵漢鐵路.....( )
- 25 兩山之間必有大川是因爲什麼? (1)山嶺的水集合, (2)地勢低, (3)礦產多, (4)森林多.....( )
- 26 地球圍繞太陽轉是因爲： (1)電力, (2)熱力, (3)攝力, (4)光力.....( )
- 27 戈壁是一個： (1)大城, (2)大沙漠, (3)大港口, (4)大湖.....( )
- 28 庫倫成爲蒙古聖地的原故是因： (1)有活佛, (2)山景, (3)有沙漠, (4)人多.....( )
- 29 粵江的水系集那山間諸水而成： (1)天山, (2)崑崙山, (3)南嶺, (4)泰山.....( )
- 30 我國西北部爲什麼寒暑俱烈： (1)樹木多嗎, (2)山嶺多嗎, (3)得不着海風的調劑嗎,  
(4)地未開墾嗎.....( )
- 31 東三省日人所經營的鐵路有一條叫做： (1)南滿鐵路, (2)京奉鐵路,  
(3)京漢鐵路, (4)津浦鐵路.....( )
- 32 由漢口乘京漢火車到北京必經過： (1)陝西, (2)河南, (3)四川, (4)安徽.....( )
- 33 明朝古跡最多的地方是： (1)長沙, (2)寧波, (3)南京, (4)廣州.....( )
- 34 爲什麼沙漠居民甚少?因爲： (1)不能耕植, (2)樹木多, (3)大城少, (4)天氣熱.....( )
- 35 渤海沿岸的商埠是： (1)天津,秦皇島,營口, (2)威海衛,膠州灣,芝罘,  
(3)上海,吳淞,廈門, (4)寧波,汕頭,香港.....( )
- 36 我國東北方有那一國人居留最多： (1)日本, (2)俄國, (3)英國, (4)德國.....( )
- 37 你若開設織氈毯的工廠最好在那處： (1)河南, (2)福建, (3)直隸, (4)廣西.....( )
- 38 爲什麼我國南方的氣候比北方卑溼?因爲： (1)大湖多, (2)樹林多,  
(3)平原多, (4)近熱帶.....( )
- 39 爲什麼在冬天你身體的影兒比在夏天長呢?因爲： (1)天氣冷, (2)日光不甚猛烈,  
(3)地球位置變動, (4)你所穿的衣服多.....( )
- 40 有幾個大行星圍繞太陽轉： (1)十個, (2)八個, (3)五個, (4)七個.....( )

對.....錯.....

- 41 那一種河流叫做“內陸流域”： (1)流入海的, (2)停滯內地的,  
(3)多支流的, (4)無支流的.....( )
- 42 從北京乘京奉火車經過: (1)瀘關, (2)嘉谷關, (3)山海關, (4)武勝關.....( )
- 43 地球叫什麼星: (1)恆星, (2)衛星, (3)行星, (4)彗星.....( )
- 44 我國的山脈由崑崙起首的分爲幾大系: (1)兩大系, (2)五大系, (3)六大系,  
(4)四大系.....( )
- 45 那一個流域的地方產鹽最多: (1)遼河流域, (2)粵江流域,  
(3)長江流域, (4)黃河流域.....( )
- 46 發光發熱的是那一種星: (1)行星, (2)衛星, (3)彗星, (4)恆星.....( )
- 47 那一個圍繞地球轉: (1)彗星, (2)別的行星, (3)衛星, (4)太陽.....( )
- 48 秦皇島海口爲什麼常年不凍呢?因爲: (1)樹林多, (2)四圍有山,  
(3)洋海的溫流常流入, (4)近海邊.....( )
- 49 在長江流域米的輸出最多的地方是: (1)漢口, (2)江寧, (3)蕪湖, (4)懷寧.....( )
- 50 我國的山脈橫列的是在那一方: (1)東南, (2)西南, (3)東北, (4)西北.....( )
- 51 我國的海岸線長約 (1)15000里, (2)56000里, (3)4650里, (4)6700里.....( )
- 52 塔里木河和伊犁河在那一省: (1)青海, (2)西藏, (3)新疆, (4)蒙古.....( )

對.....錯.....

# 本國地理測驗

(甲量表第二類)


楊國荃

我的姓名是.....我是(男或女).....學生  
我今年.....歲,在.....月.....日生的  
我在.....學校,第.....年級,第.....學期  
今天是中華民國.....年.....月.....日



## 例子:

- 1 產茶葉最多的省是: (1)奉天, (2)直隸, (3)四川, (4)福建.....( )
- 2 廣東的省會是: (1)江寧, (2)桂林, (3)梧州, (4)廣州.....( )
- 3 我國沿海的省有一叫做: (1)山西, (2)浙江, (3)廣西, (4)四川.....( )
- 4 我國最南的島是: (1)西沙島, (2)崇明島, (3)海南島, (4)舟山島.....( )
- 5 我國最大的鹹水湖是在: (1)青海, (2)四川, (3)西藏, (4)蒙古.....( )



(對.....) - (錯.....) =

## 本國地理測驗

- 1 我國的民族共有： (1)三種, (2)五種, (3)八種, (4)六種.....( )
- 2 產駱駝最多的地方是： (1)新疆,蒙古, (2)青海,西藏, (3)四川,貴州, (4)雲南,廣西.....( )
- 3 長城的東端有一關名叫： (1)瀘關, (2)山海關, (3)仙霞關, (4)鎮南關.....( )
- 4 由上海乘船沿海來廣州要經過： (1)寧波,廈門,汕頭, (2)營口,北海,天津, (3)漢口,鎮江,蕪湖, (4)梧州,瓊州,惠州.....( )
- 5 為什麼冬天日短夜長呢?因為： (1)離日遠, (2)日光少, (3)地球的地位變動, (4)日球的位置變動.....( )
- 6 我國各省的物產各有不同大概因為： (1)氣候和土地不同嗎, (2)河流多少嗎, (3)栽培法不同嗎, (4)居民多少嗎.....( )
- 7 一年是多少天： (1)455天, (2)320天, (3)650天, (4)365天.....( )
- 8 東三省的省名是： (1)山東,直隸,江蘇, (2)奉天,吉林,黑龍江, (3)廣東,廣西,湖南, (4)江西,浙江,福建.....( )
- 9 我國沿海的省是： (1)湖南,貴州,四川, (2)山東,江蘇,浙江, (3)江西,廣西,雲南, (4)新疆,河南,陝西.....( )
- 10 我國南方冬天為什麼不下雪?因為： (1)近海, (2)大山多, (3)近赤道, (4)河流多.....( )
- 11 人類居住最適宜的地方是： (1)南寒帶, (2)熱帶, (3)溫帶, (4)北寒帶.....( )
- 12 你乘汽船沿粵江兩岸所見最多的植物是哪一種： (1)棉, (2)稻, (3)豆, (4)麥.....( )
- 13 產材木最多的地方是： (1)外蒙古, (2)江蘇, (3)東三省, (4)新疆.....( )
- 14 我國山脈大都由那一方向作起點： (1)東, (2)南, (3)西, (4)北.....( )
- 15 河南的省會是： (1)太原, (2)江寧, (3)開封, (4)長沙.....( )
- 16 由北京乘京綏火車到綏遠必經過： (1)察哈爾, (2)河南, (3)甘肅, (4)安徽.....( )
- 17 為什麼廣東人民好出外營商?因為： (1)近海, (2)物產少, (3)雨水多, (4)天氣不良.....( )
- 18 山谷中的泥土為什麼肥美?因為： (1)天氣好, (2)山水多, (3)肥料多淤積於此, (4)樹林多.....( )
- 19 那兩種植物需用熱帶的天氣： (1)檳榔,樹膠, (2)麥,豆, (3)楊柳, (4)茶,棉.....( )
- 20 有晝夜是因為： (1)太陽動, (2)月動, (3)地球自動, (4)慧星動.....( )
- 21 古時建築長城來抵禦： (1)黎人, (2)苗人, (3)胡人, (4)日本人.....( )

對.....錯.....

- 22 長江流域的省其中有三省是： (1)直隸,山東,河南, (2)廣東,雲南,貴州,  
(3)四川,江蘇,湖北, (4)奉天,吉林,黑龍江.....( )
- 23 春夏秋冬四季是因爲： (1)地球動, (2)日動, (3)月動, (4)行星動.....( )
- 24 我國與朝鮮相通的鐵路是： (1)京奉鐵路, (2)安奉鐵路, (3)京漢鐵路,  
(4)粵漢鐵路.....( )
- 25 兩山之間必有大川是因爲什麼? (1)山嶺的水集合, (2)地勢低, (3)礦產多, (4)森林多.....( )
- 26 地球圍繞太陽轉是因爲： (1)電力, (2)熱力, (3)攝力, (4)光力.....( )
- 27 戈壁是一個： (1)大城, (2)大沙漠, (3)大港口, (4)大湖.....( )
- 28 庫倫成爲蒙古聖地的原故是因： (1)有活佛, (2)山景, (3)有沙漠, (4)人多.....( )
- 29 粵江的水系集那山間諸水而成： (1)天山, (2)崑崙山, (3)南嶺, (4)泰山.....( )
- 30 我國西北部爲什麼寒暑俱烈： (1)樹木多嗎, (2)山嶺多嗎, (3)得不着海風的調劑嗎,  
(4)地未開墾嗎.....( )
- 31 東三省日人所經營的鐵路有一條叫做： (1)南滿鐵路, (2)京奉鐵路,  
(3)京漢鐵路, (4)津浦鐵路.....( )
- 32 由漢口乘京漢火車到北京必經過： (1)陝西, (2)河南, (3)四川, (4)安徽.....( )
- 33 明朝古跡最多的地方是： (1)長沙, (2)寧波, (3)南京, (4)廣州.....( )
- 34 爲什麼沙漠居民甚少?因爲： (1)不能耕植, (2)樹木多, (3)大城少, (4)天氣熱.....( )
- 35 渤海沿岸的商埠是： (1)天津,秦皇島,營口, (2)威海衛,膠州灣,芝罘,  
(3)上海,吳淞,廈門, (4)寧波,汕頭,香港.....( )
- 36 我國東北方有那一國人居留最多： (1)日本, (2)俄國, (3)英國, (4)德國.....( )
- 37 你若開設織氈毯的工廠最好在那處： (1)河南, (2)福建, (3)直隸, (4)廣西.....( )
- 38 爲什麼我國南方的氣候比北方卑溼?因爲： (1)大湖多, (2)樹林多,  
(3)平原多, (4)近熱帶.....( )
- 39 爲什麼在冬天你身體的影兒比在夏天長呢?因爲： (1)天氣冷, (2)日光不甚猛烈,  
(3)地球位置變動, (4)你所穿的衣服多.....( )
- 40 有幾個大行星圍繞太陽轉： (1)十個, (2)八個, (3)五個, (4)七個.....( )
- 對.....錯.....

- 41 那一種河流叫做“內陸流域”： (1)流入海的, (2)停滯內地的,  
(3)多支流的, (4)無支流的.....( )
- 42 從北京乘京奉火車經過： (1)瀘關, (2)嘉谷關, (3)山海關, (4)武勝關.....( )
- 43 地球叫什麼星： (1)恆星, (2)衛星, (3)行星, (4)慧星.....( )
- 44 我國的山脈由葱嶺起首的分為幾大系： (1)兩大系, (2)五大系, (3)六大系,  
(4)四大系.....( )
- 45 那一個流域的地方產煤最多： (1)遼河流域, (2)粵江流域,  
(3)長江流域, (4)黃河流域.....( )
- 46 發光發熱的是那一種星： (1)行星, (2)衛星, (3)慧星, (4)恆星.....( )
- 47 那一個圍繞地球轉： (1)慧星, (2)別的行星, (3)衛星, (4)太陽.....( )
- 48 秦皇島海口為什麼常年不凍呢?因為： (1)樹林多, (2)四圍有山,  
(3)洋海的溫流常流入, (4)近海邊.....( )
- 49 在長江流域米的輸出最多的地方是： (1)漢口, (2)江寧, (3)蕪湖, (4)懷寧.....( )
- 50 我國的山脈橫列的是在那一方： (1)東南, (2)西南, (3)東北, (4)西北.....( )
- 51 我國的海岸線長約 (1)15000里, (2)56000里, (3)4650里, (4)6700里.....( )
- 52 塔里木河和伊犁河在那一省： (1)青海, (2)西藏, (3)新疆, (4)蒙古.....( )

對.....錯.....



# 本國地理測驗

(甲卷表第二類)

揚國荃

我的姓名是.....我是(男或女).....學生  
我今年.....歲,在.....月.....日生的  
我在.....學校,第.....年級,第.....學期  
今天是中華民國.....年.....月.....日



## 例子:

- 1 產茶葉最多的省是: (1)奉天, (2)直隸, (3)四川, (4)福建..... ( )
- 2 廣東的省會是: (1)江寧, (2)桂林, (3)梧州, (4)廣州..... ( )
- 3 我國沿海的省有一叫做: (1)山西, (2)浙江, (3)廣西, (4)四川..... ( )
- 4 我國最南的島是: (1)西沙島, (2)崇明島, (3)海南島, (4)舟山島..... ( )
- 5 我國最大的鹹水湖是在: (1)青海, (2)四川, (3)西藏, (4)蒙古..... ( )



(對.....) - (1/3 錯.....) =

## 本國地理測驗

- 1 我國的民族共有: (1)三種, (2)五種, (3)八種, (4)六種.....( )
  - 2 產駱駝最多的地方是: (1)新疆,蒙古, (2)青海,西藏, (3)四川,貴州,  
(4)雲南,廣西.....( )
  - 3 長城的東端有一關名叫: (1)潼關, (2)山海關, (3)仙霞關, (4)鎮南關.....( )
  - 4 由上海乘船沿海來廣州要經過: (1)寧波,廈門,汕頭, (2)營口,北海,天津,  
(3)漢口,鎮江,蕪湖, (4)梧州,瓊州,惠州.....( )
  - 5 為什麼冬天日短夜長呢?因為: (1)離日遠, (2)日光少, (3)地球的地位變動,  
(4)地球的地位變動.....( )
  - 6 我國各省的物產各有不同大概因為: (1)氣候和土地不同嗎, (2)河流多少嗎,  
(3)栽培法不同嗎, (4)居民多少嗎.....( )
  - 7 一年是多少天: (1)455天, (2)320天, (3)650天, (4)365天.....( )
  - 8 東三省的省名是: (1)山東,直隸,江蘇, (2)奉天,吉林,黑龍江, (3)廣東,廣西,湖南,  
(4)江西,浙江,福建.....( )
  - 9 我國沿海的省是: (1)湖南,貴州,四川, (2)山東,江蘇,浙江, (3)江西,廣西,雲南,  
(4)新疆,河南,陝西.....( )
  - 10 我國南方冬天為什麼不下雪?因為: (1)近海, (2)大山多, (3)近赤道, (4)河流多.....( )
  - 11 人類居住最適宜的地方是: (1)南寒帶, (2)熱帶, (3)溫帶, (4)北寒帶.....( )
  - 12 你乘汽船沿粵江兩岸所見最多的植物是哪一種: (1)棉, (2)稻, (3)豆, (4)麥.....( )
  - 13 產材木最多的地方是: (1)外蒙古, (2)江蘇, (3)東三省, (4)新疆.....( )
  - 14 我國山脈大都由那一方作起點: (1)東, (2)南, (3)西, (4)北.....( )
  - 15 河南的省會是: (1)太原, (2)江寧, (3)開封, (4)長沙.....( )
  - 16 由北京乘京綏火車到綏遠必經過: (1)察哈爾, (2)河南, (3)甘肅, (4)安徽.....( )
  - 17 為什麼廣東人民好出外營商?因為: (1)近海, (2)物產少, (3)雨水多,  
(4)天氣不良.....( )
  - 18 山谷中的泥土為什麼肥美?因為: (1)天氣好, (2)山水多, (3)肥料多淤積於此,  
(4)樹林多.....( )
  - 19 那二種植物需用熱帶的天氣: (1)檳榔,樹膠, (2)麥,豆, (3)楊柳, (4)茶,棉.....( )
  - 20 有晝夜是因為: (1)太陽動, (2)月動, (3)地球自動, (4)彗星動.....( )
  - 21 古時建築長城來抵禦: (1)黎人, (2)苗人, (3)胡人, (4)日本人.....( )
- 對.....錯.....

- 22 長江流域的省其中有三省是： (1)直隸,山東,河南, (2)廣東,雲南,貴州,  
(3)四川,江蘇,湖北, (4)奉天,吉林,黑龍江.....( )
- 23 春夏秋冬四季是因爲： (1)地球動, (2)日動, (3)月動, (4)行星動.....( )
- 24 我國與朝鮮相通的鐵路是： (1)京奉鐵路, (2)安奉鐵路, (3)京漢鐵路,  
(4)粵漢鐵路.....( )
- 25 兩山之間必有大川是因爲什麼? (1)山嶺的水集合, (2)地勢低, (3)礦產多, (4)森林多.....( )
- 26 地球圍繞太陽轉是因爲： (1)電力, (2)熱力, (3)攝力, (4)光力.....( )
- 27 戈壁是一個： (1)大城, (2)大沙漠, (3)大港口, (4)大湖.....( )
- 28 庫倫成爲蒙古聖地的原故是因： (1)有活佛, (2)山景, (3)有沙漠, (4)人多.....( )
- 29 粵江的水系集那山間諸水而成： (1)天山, (2)崑崙山, (3)南嶺, (4)泰山.....( )
- 30 我國西北部爲什麼寒暑俱烈： (1)樹木多嗎, (2)山嶺多嗎, (3)得不着海風的調劑嗎,  
(4)地未開墾嗎.....( )
- 31 東三省日人所經營的鐵路有一條叫做： (1)南滿鐵路, (2)京奉鐵路,  
(3)京漢鐵路, (4)津浦鐵路.....( )
- 32 由漢口乘京漢火車到北京必經過： (1)陝西, (2)河南, (3)四川, (4)安徽.....( )
- 33 明朝古跡最多的地方是： (1)長沙, (2)寧波, (3)南京, (4)廣州.....( )
- 34 爲什麼沙漠居民甚少?因爲： (1)不能耕植, (2)樹木多 (3)大城少, (4)天氣熱.....( )
- 35 渤海沿岸的商埠是： (1)天津,秦皇島,營口, (2)威海衛,膠州灣,芝罘,  
(3)上海,吳淞,廈門, (4)寧波,汕頭,香港.....( )
- 36 我國東北方有那一國人居留最多： (1)日本, (2)俄國, (3)英國, (4)德國.....( )
- 37 你若開設織氈的工廠最好在那處： (1)河南, (2)福建, (3)直隸, (4)廣西.....( )
- 38 爲什麼我國南方的氣候比北方卑溼?因爲： (1)大湖多, (2)樹林多,  
(3)平原多, (4)近熱帶.....( )
- 39 爲什麼在冬天你身體的影兒比在夏天長呢?因爲： (1)天氣冷, (2)日光不甚猛烈,  
(3)地球位置變動, (4)你所穿的衣服多.....( )
- 40 有幾個大行星圍繞太陽轉： (1)十個, (2)八個, (3)五個, (4)七個.....( )

對.....錯.....

- 41 那一種河流叫做“內陸流域”： (1)流入海的, (2)停滯內地的,  
(3)多支流的, (4)無支流的.....( )
- 42 從北京乘京奉火車經過: (1)潼關, (2)嘉谷關, (3)山海關, (4)武勝關.....( )
- 43 地球叫什麼星: (1)恆星, (2)衛星, (3)行星, (4)慧星.....( )
- 44 我國的山脈由遼嶺起首的分為幾大系: (1)兩大系, (2)五大系, (3)六大系,  
(4)四大系.....( )
- 45 那一個流域的地方產蠶最多: (1)遼河流域, (2)粵江流域,  
(3)長江流域, (4)黃河流域.....( )
- 46 發光發熱的是那一種星: (1)行星, (2)衛星, (3)慧星, (4)恆星.....( )
- 47 那一個圍繞地球轉: (1)慧星, (2)別的行星, (3)衛星, (4)太陽.....( )
- 48 秦皇島海口為什麼常年不凍呢?因為: (1)樹林多, (2)四圍有山,  
(3)洋海的溫流常流入, (4)近海邊.....( )
- 49 在長江流域米的輸出最多的地方是: (1)漢口, (2)江寧, (3)蕪湖, (4)懷寧.....( )
- 50 我國的山脈橫列的是在那一方: (1)東南, (2)西南, (3)東北, (4)西北.....( )
- 51 我國的海岸線長約 (1)15000里, (2)56000里, (3)4650里, (4)6700里.....( )
- 52 塔里木河和伊犁河在那一省: (1)青海, (2)西藏, (3)新疆, (4)蒙古.....( )

對.....錯.....

# 本國地理測驗

(甲量表第二類)

楊國荃

我的姓名是.....我是(男或女).....學生  
我今年.....歲,在.....月.....日生的  
我在.....學校,第.....年級,第.....學期  
今天是中華民國.....年.....月.....日



## 例子:

- 1 產茶葉最多的省是: (1)奉天, (2)直隸, (3)四川, (4)福建.....( )
- 2 廣東的省會是: (1)江寧, (2)桂林, (3)梧州, (4)廣州.....( )
- 3 我國沿海的省有一叫做: (1)山西, (2)浙江, (3)廣西, (4)四川.....( )
- 4 我國最南的島是: (1)西沙島, (2)崇明島, (3)海南島, (4)舟山島.....( )
- 5 我國最大的鹹水湖是在: (1)青海, (2)四川, (3)西藏, (4)蒙古.....( )



(對.....) - (1/3 錯.....) =

# 本國地理測驗

- 1 我國的民族共有： (1)三種, (2)五種, (3)八種, (4)六種.....( )
- 2 產駱駝最多的地方是： (1)新疆,蒙古, (2)青海,西藏, (3)四川,貴州, (4)雲南,廣西.....( )
- 3 長城的東端有一關名叫： (1)潼關, (2)山海關, (3)仙霞關, (4)鎮南關.....( )
- 4 由上海乘船沿海來廣州要經過： (1)寧波,廈門,汕頭, (2)營口,北海,天津, (3)漢口,隸江,燕湖, (4)梧州,瓊州,惠州.....( )
- 5 為什麼冬天日短夜長呢?因為： (1)離日遠, (2)日光少, (3)地球的地位變動, (4)日球的位置變動.....( )
- 6 我國各省的物產各有不同大概因為： (1)氣候和土地不同嗎, (2)河流多少嗎, (3)栽培法不同嗎, (4)居民多少嗎.....( )
- 7 一年是多少天： (1)455天, (2)320天, (3)650天, (4)365天.....( )
- 8 東三省的省名是： (1)山東,直隸,江蘇, (2)奉天,吉林,黑龍江, (3)廣東,廣西,湖南, (4)江西,浙江,福建.....( )
- 9 我國沿海的省是： (1)湖南,貴州,四川, (2)山東,江蘇,浙江, (3)江西,廣西,雲南, (4)新疆,河南,陝西.....( )
- 10 我國南方冬天為什麼不下雪?因為： (1)近海, (2)大山多, (3)近赤道, (4)河流多.....( )
- 11 人類居住最適宜的地方是： (1)南寒帶, (2)熱帶, (3)溫帶, (4)北寒帶.....( )
- 12 你乘汽船沿粵江兩岸所見最多的植物是哪一種： (1)棉, (2)稻, (3)豆, (4)麥.....( )
- 13 產材木最多的地方是： (1)外蒙古, (2)江蘇, (3)東三省, (4)新疆.....( )
- 14 我國山脈大都由那一方向作起點： (1)東, (2)南, (3)西, (4)北.....( )
- 15 河南的省會是： (1)太原, (2)江寧, (3)開封, (4)長沙.....( )
- 16 由北京乘京綏火車到綏遠必經過： (1)察哈爾, (2)河南, (3)甘肅, (4)安徽.....( )
- 17 為什麼廣東人民好出外營商?因為： (1)近海, (2)物產少, (3)雨水多, (4)天氣不良.....( )
- 18 山谷中的泥土為什麼肥美?因為： (1)天氣好, (2)山水多, (3)肥料多淤積於此, (4)樹林多.....( )
- 19 那二種植物需用熱帶的天氣： (1)檳榔,樹膠, (2)麥,豆, (3)柑桔, (4)茶,棉.....( )
- 20 有晝夜是因為： (1)太陽動, (2)月動, (3)地球自動, (4)慧星動.....( )
- 21 古時建築長城來抵禦： (1)黎人, (2)苗人, (3)胡人, (4)日本人.....( )

對.....錯.....

- 22 長江流域的省其中有三省是： (1)直隸,山東,河南, (2)廣東,雲南,貴州,  
(3)四川,江蘇,湖北, (4)奉天,吉林,黑龍江.....( )
- 23 春夏秋冬四季是因爲： (1)地球動, (2)日動, (3)月動, (4)行星動.....( )
- 24 我國與朝鮮相通的鐵路是： (1)京奉鐵路, (2)安奉鐵路, (3)京漢鐵路,  
(4)粵漢鐵路.....( )
- 25 兩山之間必有大川是因爲什麼? (1)山嶺的水集合, (2)地勢低, (3)礦產多, (4)森林多.....( )
- 26 地球圍繞太陽轉是因爲： (1)電力, (2)熱力, (3)攝力, (4)光力.....( )
- 27 戈壁是一個： (1)大城, (2)大沙漠, (3)大港口, (4)大湖.....( )
- 28 庫倫成爲蒙古聖地的原故是因： (1)有活佛, (2)山景, (3)有沙漠, (4)人多.....( )
- 29 粵江的水系集那山間諸水而成： (1)天山, (2)崑崙山, (3)南嶺, (4)泰山.....( )
- 30 我國西北部爲什麼寒暑俱烈： (1)樹木多嗎, (2)山嶺多嗎, (3)得不着海風的調劑嗎,  
(4)地未開墾嗎.....( )
- 31 東三省日人所經營的鐵路有一條叫做： (1)南滿鐵路, (2)京奉鐵路,  
(3)京漢鐵路, (4)津浦鐵路.....( )
- 32 由漢口乘京漢火車到北京必經過： (1)陝西, (2)河南, (3)四川, (4)安徽.....( )
- 33 明朝古跡最多的地方是： (1)長沙, (2)寧波, (3)南京, (4)廣州.....( )
- 34 爲什麼沙漠居民甚少?因爲： (1)不能耕植, (2)樹木多, (3)大城少, (4)天氣熱.....( )
- 35 渤海沿岸的商埠是： (1)天津,秦皇島,營口, (2)威海衛,膠州灣,芝罘,  
(3)上海,吳淞,廈門, (4)寧波,汕頭,香港.....( )
- 36 我國東北方有那一國人居留最多： (1)日本, (2)俄國, (3)英國, (4)德國.....( )
- 37 你若開設織氈毯的工廠最好在那處： (1)河南, (2)福建, (3)直隸, (4)廣西.....( )
- 38 爲什麼我國南方的氣候比北方卑溼?因爲： (1)大湖多, (2)樹林多,  
(3)平原多, (4)近熱帶.....( )
- 39 爲什麼在冬天你身體的影兒比在夏天長呢?因爲： (1)天氣冷, (2)日光不甚猛烈,  
(3)地球位置變動, (4)你所穿的衣服多.....( )
- 40 有幾個大行星圍繞太陽轉： (1)十個, (2)八個, (3)五個, (4)七個.....( )
- 對.....錯.....

- 41 那一種河流叫做“內陸流域”： (1)流入海的, (2)停滯內地的,  
(3)多支流的, (4)無支流的.....( )
- 42 從北京乘京奉火車經過： (1)潼關, (2)嘉谷關, (3)山海關, (4)武勝關.....( )
- 43 地球叫什麼星： (1)恆星, (2)衛星, (3)行星, (4)慧星.....( )
- 44 我國的山脈由葱嶺起首的分爲幾大系： (1)兩大系, (2)五大系, (3)六大系,  
(4)四大系.....( )
- 45 那一個流域的地方產鐵最多： (1)遼河流域, (2)粵江流域,  
(3)長江流域, (4)黃河流域.....( )
- 46 發光發熱的是那一種星： (1)行星, (2)衛星, (3)慧星, (4)恆星.....( )
- 47 那一個圍繞地球轉： (1)慧星, (2)別的行星, (3)衛星, (4)太陽.....( )
- 48 秦皇島海口爲什麼常年不凍呢?因爲： (1)樹林多, (2)四圍有山,  
(3)洋海的溫流常流入, (4)近海邊.....( )
- 49 在長江流域米的輸出最多的地方是： (1)漢口, (2)江寧, (3)蕪湖, (4)懷寧.....( )
- 50 我國的山脈橫列的是在那一方： (1)東南, (2)西南, (3)東北, (4)西北.....( )
- 51 我國的海岸線長約 (1)15000里, (2)56000里, (3)4650里, (4)6700里.....( )
- 52 塔里木河和伊犁河在那一省： (1)青海, (2)西藏, (3)新疆, (4)蒙古.....( )

對.....錯.....



# 本國地理測驗

(甲量表第二類)

楊國荃

我的姓名是.....我是(男或女).....學生  
我今年.....歲,在.....月.....日生的  
我在.....學校,第.....年級,第.....學期  
今天是中華民國.....年.....月.....日

## 例子:

- 1 產茶葉最多的省是: (1)奉天, (2)直隸, (3)四川, (4)福建.....( )
- 2 廣東的省會是: (1)江寧, (2)桂林, (3)梧州, (4)廣州.....( )
- 3 我國沿海的省有一叫做: (1)山西, (2)浙江, (3)廣西, (4)四川.....( )
- 4 我國最南的島是: (1)西沙島, (2)崇明島, (3)海南島, (4)舟山島.....( )
- 5 我國最大的鹹水湖是在: (1)青海, (2)四川, (3)西藏, (4)蒙古.....( )

(對.....) - (1/3 錯.....) =

## 本國地理測驗

- 1 我國的民族共有： (1)三種, (2)五種, (3)八種, (4)六種.....( )
  - 2 產路蛇最多的地方是： (1)新疆,蒙古, (2)青海,西藏, (3)四川,貴州, (4)雲南,廣西.....( )
  - 3 長城的東端有一關名叫： (1)潼關, (2)山海關, (3)仙霞關, (4)鎮南關.....( )
  - 4 由上海乘船沿海來廣州要經過： (1)寧波,廈門,汕頭, (2)營口,北海,天津, (3)漢口,贛江,蕪湖, (4)梧州,瓊州,惠州.....( )
  - 5 爲什麼冬天日短夜長呢?因爲： (1)離日遠, (2)日光少, (3)地球的地位變動, (4)地球的地位變動.....( )
  - 6 我國各省的物產各有不同大概因爲： (1)氣候和土地不同嗎, (2)河流多少嗎, (3)栽培法不同嗎, (4)居民多少嗎.....( )
  - 7 一年是多少天： (1)455天, (2)320天, (3)650天, (4)365天.....( )
  - 8 東三省的省名是： (1)山東,直隸,江蘇, (2)奉天,吉林,黑龍江, (3)廣東,廣西,湖南, (4)江西,浙江,福建.....( )
  - 9 我國沿海的省是： (1)湖南,貴州,四川, (2)山東,江蘇,浙江, (3)江西,廣西,雲南, (4)新疆,河南,陝西.....( )
  - 10 我國南方冬天爲什麼不下雪?因爲： (1)近海, (2)大山多, (3)近赤道, (4)河流多.....( )
  - 11 人類居住最適宜的地方是： (1)南寒帶, (2)熱帶, (3)溫帶, (4)北寒帶.....( )
  - 12 你乘汽船沿粵江兩岸所見最多的植物是哪一種： (1)棉, (2)稻, (3)豆, (4)麥.....( )
  - 13 產材木最多的地方是： (1)外蒙古, (2)江蘇, (3)東三省, (4)新疆.....( )
  - 14 我國山脈大都由那一方作起點： (1)東, (2)南, (3)西, (4)北.....( )
  - 15 河南的省會是： (1)太原, (2)江寧, (3)開封, (4)長沙.....( )
  - 16 由北京乘京綏火車到綏遠必經過： (1)察哈爾, (2)河南, (3)甘肅, (4)安徽.....( )
  - 17 爲什麼廣東人民好出外營商?因爲： (1)近海, (2)物產少, (3)雨水多, (4)天氣不良.....( )
  - 18 山谷中的泥土爲什麼肥美?因爲： (1)天氣好, (2)山水多, (3)肥料多淤積於此, (4)樹林多.....( )
  - 19 那二種植物需用熱帶的天氣： (1)檳榔,樹膠, (2)麥,豆, (3)楊柳, (4)茶,棉.....( )
  - 20 有晝夜是因爲： (1)太陽動, (2)月動, (3)地球自動, (4)彗星動.....( )
  - 21 古時建築長城來抵禦： (1)黎人, (2)苗人, (3)胡人, (4)日本人.....( )
- 對.....錯.....

- 22 長江流域的省其中有三省是： (1)直隸,山東,河南, (2)廣東,雲南,貴州,  
(3)四川,江蘇,湖北, (4)奉天,吉林,黑龍江.....( )
- 23 春夏秋冬四季是因爲： (1)地球動, (2)日動, (3)月動, (4)行星動.....( )
- 24 我國與朝鮮相通的鐵路是： (1)京奉鐵路, (2)安奉鐵路, (3)京漢鐵路,  
(4)粵漢鐵路.....( )
- 25 兩山之間必有大川是因爲什麼？ (1)山嶺的水集合, (2)地勢低, (3)礦產多, (4)森林多.....( )
- 26 地球圍繞太陽轉是因爲： (1)電力, (2)熱力, (3)攝力, (4)光力.....( )
- 27 戈壁是一個： (1)大城, (2)大沙漠, (3)大港口, (4)大湖.....( )
- 28 庫倫成爲蒙古聖地的原故是因： (1)有活佛, (2)山景, (3)有沙漠, (4)人多.....( )
- 29 粵江的水系集那山間諸水而成： (1)天山, (2)崑崙山, (3)南嶺, (4)泰山.....( )
- 30 我國西北部爲什麼寒暑俱烈： (1)樹木多嗎, (2)山嶺多嗎, (3)得不着海風的調劑嗎,  
(4)地未開墾嗎.....( )
- 31 東三省日人所經營的鐵路有一條叫做： (1)南滿鐵路, (2)京奉鐵路,  
(3)京漢鐵路, (4)津浦鐵路.....( )
- 32 由漢口乘京漢火車到北京必經過： (1)陝西, (2)河南, (3)四川, (4)安徽.....( )
- 33 明朝古跡最多的地方是： (1)長沙, (2)寧波, (3)南京, (4)廣州.....( )
- 34 爲什麼沙漠居民甚少？因爲： (1)不能耕植, (2)樹木多 (3)大城少, (4)天氣熱.....( )
- 35 渤海沿岸的商埠是： (1)天津,秦皇島,營口, (2)威海衛,膠州灣,芝罘,  
(3)上海,吳淞,廈門, (4)寧波,汕頭,香港.....( )
- 36 我國東北方有那一國人居留最多： (1)日本, (2)俄國, (3)英國, (4)德國.....( )
- 37 你若開設織氈毯的工廠最好在那處： (1)河南, (2)福建, (3)直隸, (4)廣西.....( )
- 38 爲什麼我國南方的氣候比北方旱溼？因爲： (1)大湖多, (2)樹林多,  
(3)平原多, (4)近熱帶.....( )
- 39 爲什麼在冬天你身體的影兒比在夏天長呢？因爲： (1)天氣冷, (2)日光不甚猛烈,  
(3)地球位置變動, (4)你所穿的衣服多.....( )
- 40 有幾個大行星圍繞太陽轉： (1)十個, (2)八個, (3)五個, (4)七個.....( )

對.....錯.....

41. 那一種河流叫做“內陸流域”:  
 (1)流入海的, (2)停滯內地的,  
 (3)多支流的, (4)無支流的.....( )
- 42 從北京乘京奉火車經過: (1)潼關, (2)嘉谷關, (3)山海關, (4)武勝關.....( )
- 43 地球叫什麼星: (1)恆星, (2)衛星, (3)行星, (4)彗星.....( )
- 44 我國的山脈由葱嶺起首的分爲幾大系: (1)兩大系, (2)五大系, (3)六大系,  
 (4)四大系.....( )
- 45 那一個流域的地方產蠶最多: (1)遼河流域, (2)粵江流域,  
 (3)長江流域, (4)黃河流域.....( )
- 46 發光發熱的是那一種星: (1)行星, (2)衛星, (3)彗星, (4)恆星.....( )
- 47 那一個圍繞地球轉: (1)彗星, (2)別的行星, (3)衛星, (4)太陽.....( )
- 48 秦皇島海口爲什麼常年不凍呢?因爲: (1)樹林多, (2)四圍有山,  
 (3)洋海的溫流常流入, (4)近海邊.....( )
- 49 在長江流域米的輸出最多的地方是: (1)漢口, (2)江寧, (3)蕪湖, (4)懷寧.....( )
- 50 我國的山脈橫列的是在那一方: (1)東南, (2)西南, (3)東北, (4)西北.....( )
- 51 我國的海岸線長約 (1)15000里, (2)56000里, (3)4650里, (4)6700里.....( )
- 52 塔里木河和伊犁河在那一省: (1)青海, (2)西藏, (3)新疆, (4)蒙古.....( )

對.....錯.....

# 本國地理測驗

(甲量表第二類)

楊國基

我的姓名是.....我是(男或女).....學生  
我今年.....歲,在.....月.....日生的  
我在.....學校,第.....年級,第.....學期  
今天是中華民國.....年.....月.....日



## 例子:

- 1 產茶葉最多的省是: (1)奉天, (2)直隸, (3)四川, (4)福建.....( )
- 2 廣東的省會是: (1)江寧, (2)桂林, (3)梧州, (4)廣州.....( )
- 3 我國沿海的省有一叫做: (1)山西, (2)浙江, (3)廣西, (4)四川.....( )
- 4 我國最南的島是: (1)西沙島, (2)崇明島, (3)海南島, (4)舟山島.....( )
- 5 我國最大的鹹水湖是在: (1)青海, (2)四川, (3)西藏, (4)蒙古.....( )



(對.....) - (錯.....) =

## 本國地理測驗

- 1 我國的民族共有： (1)三種, (2)五種, (3)八種, (4)六種.....( )
- 2 產喀喇最多的地方是： (1)新疆,蒙古, (2)青海,西藏, (3)四川,貴州, (4)雲南,廣西.....( )
- 3 長城的東端有一關名叫： (1)潼關, (2)山海關, (3)仙霞關, (4)鎮南關.....( )
- 4 由上海乘船沿海來廣州要經過： (1)寧波,廈門,汕頭, (2)營口,北海,天津, (3)漢口,贛江,燕湖, (4)梧州,瓊州,惠州 .....( )
- 5 為什麼冬天日短夜長呢?因為： (1)離日遠, (2)日光少, (3)地球的地位變動, (4)日球的地步變動.....( )
- 6 我國各省的物產各有不同大概因為： (1)氣候和土地不同嗎, (2)河流多少嗎, (3)栽培法不同嗎, (4)居民多少嗎.....( )
- 7 一年是多少天： (1)455天, (2)320天, (3)650天, (4)365天.....( )
- 8 東三省的省名是： (1)山東,直隸,江蘇, (2)奉天,吉林,黑龍江, (3)廣東,廣西,湖南, (4)江西,浙江,福建.....( )
- 9 我國沿海的省是： (1)湖南,貴州,四川, (2)山東,江蘇,浙江, (3)江西,廣西,雲南, (4)新疆,河南,陝西 .....( )
- 10 我國南方冬天為什麼不下雪?因為： (1)近海, (2)大山多, (3)近赤道. (4)河流多.....( )
- 11 人類居住最適宜的地方是： (1)南寒帶, (2)熱帶, (3)溫帶, (4)北寒帶.....( )
- 12 你乘汽船沿粵江兩岸所見最多的植物是哪一種： (1)棉, (2)稻. (3)豆. (4)麥.....( )
- 13 產材木最多的地方是： (1)外蒙古, (2)江蘇, (3)東三省, (4)新疆 .....( )
- 14 我國山脈大都由那一方作起點： (1)東, (2)南, (3)西, (4)北.....( )
- 15 河南的省會是： (1)太原, (2)江寧, (3)開封, (4)長沙.....( )
- 16 由北京乘京綏火車到綏遠必經過： (1)察哈爾, (2)河南, (3)甘肅, (4)安徽.....( )
- 17 為什麼廣東人民好出外營商?因為： (1)近海, (2)物產少, (3)雨水多, (4)天氣不良.....( )
- 18 山谷中的泥土為什麼肥美?因為： (1)天氣好, (2)山水多, (3)肥料多淤積於此, (4)樹林多.....( )
- 19 那二種植物需用熱帶的天氣： (1)檳榔,樹膠, (2)麥,豆, (3)楊柳, (4)茶,棉.....( )
- 20 有晝夜是因為： (1)太陽動, (2)月動, (3)地球自動, (4)慧星動.....( )
- 21 古時建築長城來抵禦： (1)黎人, (2)苗人, (3)胡人, (4)日本人.....( )

對.....錯.....

- 22 長江流域的省其中有三省是： (1)直隸,山東,河南, (2)廣東,雲南,貴州,  
(3)四川,江蘇,湖北, (4)奉天,吉林,黑龍江.....( )
- 23 春夏秋冬四季是因爲： (1)地球動, (2)日動, (3)月動, (4)行星動.....( )
- 24 我國與朝鮮相通的鐵路是： (1)京奉鐵路, (2)安奉鐵路, (3)京漢鐵路,  
(4)粵漢鐵路.....( )
- 25 兩山之間必有大川是因爲什麼? (1)山嶺的水集合, (2)地勢低, (3)礦產多, (4)森林多.....( )
- 26 地球圍繞太陽轉是因爲： (1)電力, (2)熱力, (3)攝力, (4)光力.....( )
- 27 戈壁是一個： (1)大城, (2)大沙漠, (3)大港口, (4)大湖.....( )
- 28 庫倫成爲蒙古聖地的原故是因： (1)有活佛, (2)山景, (3)有沙漠, (4)人多.....( )
- 29 粵江的水系集那山開闢水而成： (1)天山, (2)崑崙山, (3)南嶺, (4)泰山.....( )
- 30 我國西北部爲什麼寒暑俱烈： (1)樹木多嗎, (2)山嶺多嗎, (3)得不著海風的調劑嗎,  
(4)地未開墾嗎.....( )
- 31 東三省日人所經營的鐵路有一條叫做： (1)南滿鐵路, (2)京奉鐵路,  
(3)京漢鐵路, (4)津浦鐵路.....( )
- 32 由漢口乘京漢火車到北京必經過： (1)陝西, (2)河南, (3)四川, (4)安徽.....( )
- 33 明朝古跡最多的地方是： (1)長沙, (2)寧波, (3)南京, (4)廣州.....( )
- 34 爲什麼沙漠居民甚少?因爲： (1)不能耕植, (2)樹木多, (3)大城少, (4)天氣熱.....( )
- 35 渤海沿岸的商埠是： (1)天津,秦皇島,營口, (2)威海衛,膠州灣,芝罘,  
(3)上海,吳淞,廈門, (4)寧波,汕頭,香港.....( )
- 36 我國東北方有那一國人居留最多： (1)日本, (2)俄國, (3)英國, (4)德國.....( )
- 37 你若開設織氈毯的工廠最好在那處： (1)河南, (2)福建, (3)直隸, (4)廣西.....( )
- 38 爲什麼我國南方的氣候比北方卑溼?因爲： (1)大湖多, (2)樹林多,  
(3)平原多, (4)近熱帶.....( )
- 39 爲什麼在冬天你身體的影兒比在夏天長呢?因爲： (1)天氣冷, (2)日光不甚猛烈,  
(3)地球位置變動, (4)你所穿的衣服多.....( )
- 40 有幾個大行星圍繞太陽轉： (1)十個, (2)八個, (3)五個, (4)七個.....( )
- 對.....錯.....

- 41 那一種河流叫做“內陸流域”： (1)流入海的, (2)停滯內地的,  
(3)多支流的, (4)無支流的.....( )
- 42 從北京乘京奉火車經過: (1)潼關, (2)嘉谷關, (3)山海關, (4)武勝關.....( )
- 43 地球叫什麼星: (1)恆星, (2)衛星, (3)行星, (4)慧星.....( )
- 44 我國的山脈由蔥嶺起首的分爲幾大系: (1)兩大系, (2)五大系, (3)六大系,  
(4)四大系.....( )
- 45 那一個流域的地方產鐵最多: (1)遼河流域, (2)粵江流域,  
(3)長江流域, (4)黃河流域.....( )
- 46 發光發熱的是那一種星: (1)行星, (2)衛星, (3)慧星, (4)恆星.....( )
- 47 那一個圍繞地球轉: (1)慧星, (2)別的行星, (3)衛星, (4)太陽.....( )
- 48 秦皇島海口爲什麼常年不凍呢?因爲: (1)樹林多, (2)四圍有山,  
(3)洋海的溫流常流入, (4)近海邊.....( )
- 49 在長江流域米的輸出最多的地方是: (1)漢口, (2)江寧, (3)蕪湖, (4)棧橋.....( )
- 50 我國的山脈橫列的是在那一方: (1)東南, (2)西南, (3)東北, (4)西北.....( )
- 51 我國的海岸線長約 (1)15000里, (2)56000里, (3)4650里, (4)6700里.....( )
- 52 塔里木河和伊犁河在那一省: (1)青海, (2)西藏, (3)新疆, (4)蒙古.....( )

對.....錯.....



# 本國地理測驗

(甲量表第二類)

楊國荃

我的姓名是.....我是(男或女).....學生  
我今年.....歲,在.....月.....日生的  
我在.....學校,第.....年級,第.....學期  
今天是中華民國.....年.....月.....日



## 例子:

- 1 產茶葉最多的省是: (1)奉天, (2)直隸, (3)四川, (4)福建.....( )
- 2 廣東的省會是: (1)江寧, (2)桂林, (3)梧州, (4)廣州.....( )
- 3 我國沿海的省有一叫做: (1)山西, (2)浙江, (3)廣西, (4)四川.....( )
- 4 我國最南的島是: (1)西沙島, (2)崇明島, (3)海南島, (4)舟山島.....( )
- 5 我國最大的鹹水湖是在: (1)青海, (2)四川, (3)西藏, (4)蒙古.....( )



(對.....) - (1/2 錯.....) =

## 本國地理測驗

- 1 我國的民族共有： (1)三種, (2)五種, (3)八種, (4)六種.....( )
- 2 產駱駝最多的地方是： (1)新疆,蒙古, (2)青海,西藏, (3)四川,貴州, (4)雲南,廣西.....( )
- 3 長城的東端有一關名叫： (1)潼關, (2)山海關, (3)仙霞關, (4)鎮南關.....( )
- 4 由上海乘船沿海來廣州要經過： (1)寧波,廈門,汕頭, (2)營口,北海,天津, (3)漢口,鎮江,蕪湖, (4)梧州,瓊州,惠州.....( )
- 5 為什麼冬天日短夜長呢?因為： (1)離日遠, (2)日光少, (3)地球的地位變動, (4)地球的地位變動.....( )
- 6 我國各省的物產各有不同大概因為： (1)氣候和土地不同嗎, (2)河流多少嗎, (3)栽培法不同嗎, (4)居民多少嗎.....( )
- 7 一年是多少天： (1)455天, (2)320天, (3)650天, (4)365天.....( )
- 8 東三省的省名是： (1)山東,直隸,江蘇, (2)奉天,吉林,黑龍江, (3)廣東,廣西,湖南, (4)江西,浙江,福建.....( )
- 9 我國沿海的省是： (1)湖南,貴州,四川, (2)山東,江蘇,浙江, (3)江西,廣西,雲南, (4)新疆,河南,陝西.....( )
- 10 我國南方冬天為什麼不下雪?因為： (1)近海, (2)大山多, (3)近赤道, (4)河流多.....( )
- 11 人類居住最適宜的地方是： (1)南寒帶, (2)熱帶, (3)溫帶, (4)北寒帶.....( )
- 12 你乘汽船沿粵江兩岸所見最多的植物是那一種： (1)棉, (2)稻, (3)豆, (4)麥.....( )
- 13 產材木最多的地方是： (1)外蒙古, (2)江蘇, (3)東三省, (4)新疆.....( )
- 14 我國山脈大部由那一方作起點： (1)東, (2)南, (3)西, (4)北.....( )
- 15 河南的省會是： (1)太原, (2)江寧, (3)開封, (4)長沙.....( )
- 16 由北京乘京綏火車到綏遠必經過： (1)察哈爾, (2)河南, (3)甘肅, (4)安徽.....( )
- 17 為什麼廣東人民好出外營商?因為： (1)近海, (2)物產少, (3)雨水多, (4)天氣不良.....( )
- 18 山谷中的泥土為什麼肥美?因為： (1)天氣好, (2)山水多, (3)肥料多淤積於此, (4)樹林多.....( )
- 19 那二種植物需用熱帶的天氣： (1)橡樹,樹膠, (2)麥,豆, (3)楊柳, (4)茶,棉.....( )
- 20 有晝夜是因爲： (1)太陽動, (2)月動, (3)地球自動, (4)慧星動.....( )
- 21 古時建築長城來抵禦： (1)黎人, (2)苗人, (3)胡人, (4)日本人.....( )

對.....錯.....

- 22 長江流域的省其中有三省是： (1)直隸,山東,河南, (2)廣東,雲南,貴州,  
(3)四川,江蘇,湖北, (4)奉天,吉林,黑龍江.....( )
- 23 春夏秋冬四季是因爲： (1)地球動, (2)日動, (3)月動, (4)行星動.....( )
- 24 我國與朝鮮相通的鐵路是： (1)京奉鐵路, (2)安奉鐵路, (3)京漢鐵路,  
(4)粵漢鐵路.....( )
- 25 兩山之間必有大川是因爲什麼? (1)山嶺的水集合, (2)地勢低, (3)礦產多, (4)森林多.....( )
- 26 地球圍繞太陽轉是因爲： (1)電力, (2)熱力, (3)攝力, (4)光力.....( )
- 27 戈壁是一個： (1)大城, (2)大沙漠, (3)大港口, (4)大湖.....( )
- 28 庫倫成爲蒙古聖地的原故是因： (1)有活佛, (2)山景, (3)有沙漠, (4)人多.....( )
- 29 粵江的水系集那山間諸水而成： (1)天山, (2)崑崙山, (3)南嶺, (4)秦山.....( )
- 30 我國西北部爲什麼寒暑俱烈： (1)樹木多嗎, (2)山嶺多嗎, (3)得不着海風的調劑嗎,  
(4)地未開墾嗎.....( )
- 31 東三省日人所經營的鐵路有一條叫做： (1)南滿鐵路, (2)京奉鐵路,  
(3)京漢鐵路, (4)津浦鐵路.....( )
- 32 由漢口乘京漢火車到北京必經過： (1)陝西, (2)河南, (3)四川, (4)安徽.....( )
- 33 明朝古跡最多的地方是： (1)長沙, (2)寧波, (3)南京, (4)廣州.....( )
- 34 爲什麼沙漠居民甚少?因爲： (1)不能耕植, (2)樹木多, (3)大城少, (4)天氣熱.....( )
- 35 渤海沿岸的商埠是： (1)天津,秦皇島,營口, (2)威海衛,膠州灣,芝罘,  
(3)上海,吳淞,廈門, (4)寧波,汕頭,香港.....( )
- 36 我國東北方有那一國人居留最多： (1)日本, (2)俄國, (3)英國, (4)德國.....( )
- 37 你若開設織氈毯的工廠最好在那處： (1)河南, (2)福建, (3)直隸, (4)廣西.....( )
- 38 爲什麼我國南方的氣候比北方卑溼?因爲： (1)大湖多, (2)樹林多,  
(3)平原多, (4)近熱帶.....( )
- 39 爲什麼在冬天你身體的影兒比在夏天長呢?因爲： (1)天氣冷, (2)日光不甚猛烈,  
(3)地球位置變動, (4)你所穿的衣服多.....( )
- 40 有幾個大行星圍繞太陽轉： (1)十個, (2)八個, (3)五個, (4)七個.....( )
- 對.....錯.....

- 41 那一種河流叫做“內陸流域”： (1)流入海的, (2)停滯內地的,  
(3)多支流的, (4)無支流的.....( )
- 42 從北京乘京奉火車經過: (1)瀘關, (2)嘉谷關, (3)山海關, (4)武勝關.....( )
- 43 地球叫什麼星: (1)恆星, (2)衛星, (3)行星, (4)慧星.....( )
- 44 我國的山脈由葱嶺起首的分為幾大系: (1)兩大系, (2)五大系, (3)六大系,  
(4)四大系.....( )
- 45 那一個流域的地方產糧最多: (1)遼河流域, (2)粵江流域,  
(3)長江流域, (4)黃河流域.....( )
- 46 發光發熱的是那一種星: (1)行星, (2)衛星, (3)慧星, (4)恆星.....( )
- 47 那一個圍繞地球轉: (1)慧星, (2)別的行星, (3)衛星, (4)太陽.....( )
- 48 秦皇島海口為什麼常年不凍呢?因為: (1)樹林多, (2)四圍有山,  
(3)洋海的溫流常流入, (4)近海邊.....( )
- 49 在長江流域米的輸出最多的地方是: (1)漢口, (2)江寧, (3)蕪湖, (4)懷寧.....( )
- 50 我國的山脈橫列的是在那一方: (1)東南, (2)西南, (3)東北, (4)西北.....( )
- 51 我國的海岸線長約 (1)15000里, (2)56000里, (3)4650里, (4)6700里.....( )
- 52 塔里木河和伊犁河在那一省: (1)青海, (2)西藏, (3)新疆, (4)蒙古.....( )

對.....錯.....

# 本國地理測驗

(甲量表第二類)

楊國荃

我的姓名是.....我是(男或女).....學生  
我今年.....歲,在.....月.....日生的  
我在.....學校,第.....年級,第.....學期  
今天是中華民國.....年.....月.....日



## 例子:

- 1 產茶葉最多的省是: (1)奉天, (2)直隸, (3)四川, (4)福建..... ( )
- 2 廣東的省會是: (1)江寧, (2)桂林, (3)梧州, (4)廣州..... ( )
- 3 我國沿海的省有一叫做: (1)山西, (2)浙江, (3)廣西, (4)四川..... ( )
- 4 我國最南的島是: (1)西沙島, (2)崇明島, (3)海南島, (4)舟山島..... ( )
- 5 我國最大的鹹水湖是在: (1)青海, (2)四川, (3)西藏, (4)蒙古..... ( )



(對.....) - (錯.....) =

## 本國地理測驗

- 1 我國的民族共有： (1)三種, (2)五種, (3)八種, (4)六種.....( )
- 2 產硝磺最多的地方是： (1)新疆,蒙古, (2)青海,西藏, (3)四川,貴州, (4)雲南,廣西.....( )
- 3 長城的東端有一關名叫： (1)潼關, (2)山海關, (3)仙霞關, (4)鎮南關.....( )
- 4 由上海乘船沿海來廣州要經過： (1)寧波,廈門,汕頭, (2)營口,北海,天津, (3)漢口,錢江,蕪湖, (4)梧州,瓊州,惠州.....( )
- 5 為什麼冬天日短夜長呢?因為： (1)離日遠, (2)日光少, (3)地球的地位變動, (4)日球的地步變動.....( )
- 6 我國各省的物產各有不同大概因為： (1)氣候和土地不同嗎, (2)河流多少嗎, (3)栽培法不同嗎, (4)居民多少嗎.....( )
- 7 一年是多少天： (1)455天, (2)320天, (3)650天, (4)365天.....( )
- 8 東三省的省名是： (1)山東,直隸,江蘇, (2)奉天,吉林,黑龍江, (3)廣東,廣西,湖南, (4)江西,浙江,福建.....( )
- 9 我國沿海的省是： (1)湖南,貴州,四川, (2)山東,江蘇,浙江, (3)江西,廣西,雲南, (4)新疆,河南,陝西.....( )
- 10 我國南方冬天為什麼不下雪?因為： (1)近海, (2)大山多, (3)近赤道, (4)河流多.....( )
- 11 人類居住最適宜的地方是： (1)南寒帶, (2)熱帶, (3)溫帶, (4)北寒帶.....( )
- 12 你乘汽船沿粵江兩岸所見最多的植物是那一種： (1)棉, (2)稻, (3)豆, (4)麥.....( )
- 13 產材木最多的地方是： (1)外蒙古, (2)江蘇, (3)東三省, (4)新疆.....( )
- 14 我國山脈大都由那一方作起點： (1)東, (2)南, (3)西, (4)北.....( )
- 15 河南的省會是： (1)太原, (2)江寧, (3)開封, (4)長沙.....( )
- 16 由北京乘京綏火車到綏遠必經過： (1)察哈爾, (2)河南, (3)甘肅, (4)安徽.....( )
- 17 為什麼廣東人民好出外營商?因為： (1)近海, (2)物產少, (3)雨水多, (4)天氣不良.....( )
- 18 山谷中的泥土為什麼肥美?因為： (1)天氣好, (2)山水多, (3)肥料多淤積於此, (4)樹林多.....( )
- 19 那二種植物需用熱帶的天氣： (1)檳榔,樹膠, (2)麥,豆, (3)楊柳, (4)茶,棉.....( )
- 20 有晝夜是因為： (1)太陽動, (2)月動, (3)地球自動, (4)彗星動.....( )
- 21 古時建築長城來抵禦： (1)黎人, (2)苗人, (3)胡人, (4)日本人.....( )

對.....錯.....

- 22 長江流域的省其中有三省是： (1)直隸,山東,河南, (2)廣東,雲南,貴州,  
(3)四川,江蘇,湖北, (4)奉天,吉林,黑龍江.....( )
- 23 春夏秋冬四季是因爲： (1)地球動, (2)日動, (3)月動, (4)行星動.....( )
- 24 我國與朝鮮相通的鐵路是： (1)京奉鐵路, (2)安奉鐵路, (3)京漢鐵路,  
(4)粵漢鐵路.....( )
- 25 兩山之間必有大川是因爲什麼? (1)山嶺的水集合, (2)地勢低, (3)礦產多, (4)森林多.....( )
- 26 地球圍繞太陽轉是因爲： (1)電力, (2)熱力, (3)攝力, (4)光力.....( )
- 27 戈壁是一個： (1)大城, (2)大沙漠, (3)大港口, (4)大湖.....( )
- 28 庫倫成爲蒙古聖地的原故是因： (1)有活佛, (2)山景, (3)有沙漠, (4)人多.....( )
- 29 粵江的水系集那山間諸水而成： (1)天山, (2)崑崙山, (3)南嶺, (4)泰山.....( )
- 30 我國西北部爲什麼寒暑俱烈： (1)樹木多嗎, (2)山嶺多嗎, (3)得不着海風的調劑嗎,  
(4)地未開墾嗎.....( )
- 31 東三省日人所經營的鐵路有一條叫做： (1)南滿鐵路, (2)京奉鐵路,  
(3)京漢鐵路, (4)津浦鐵路.....( )
- 32 由漢口乘京漢火車到北京必經過： (1)陝西, (2)河南, (3)四川, (4)安徽.....( )
- 33 明朝古跡最多的地方是： (1)長沙, (2)寧波, (3)南京, (4)廣州.....( )
- 34 爲什麼沙漠居民甚少?因爲： (1)不能耕植, (2)樹木多, (3)大城少, (4)天氣熱.....( )
- 35 渤海沿岸的商埠是： (1)天津,秦皇島,營口, (2)威海衛,膠州灣,芝罘,  
(3)上海,吳淞,廈門, (4)寧波,汕頭,香港.....( )
- 36 我國東北方有那一國人居留最多： (1)日本, (2)俄國, (3)英國, (4)德國.....( )
- 37 你若開設織氈毯的工廠最好在那處： (1)河南, (2)福建, (3)直隸, (4)廣西.....( )
- 38 爲什麼我國南方的氣候比北方卑溼?因爲： (1)大湖多, (2)樹林多,  
(3)平原多, (4)近熱帶.....( )
- 39 爲什麼在冬天你身體的影兒比在夏天長呢?因爲： (1)天氣冷, (2)日光不甚猛烈,  
(3)地球位置變動, (4)你所穿的衣服多.....( )
- 40 有幾個大行星圍繞太陽轉： (1)十個, (2)八個, (3)五個, (4)七個.....( )

對.....錯.....

- 41 那一種河流叫做“內陸流域”： (1)流入海的, (2)停滯內地的,  
(3)多支流的, (4)無支流的.....( )
- 42 從北京乘京奉火車經過: (1)瀘關, (2)嘉谷關, (3)山海關, (4)武勝關.....( )
- 43 地球叫什麼星: (1)恆星, (2)衛星, (3)行星, (4)慧星.....( )
- 44 我國的山脈由葱嶺起首的分爲幾大系: (1)兩大系, (2)五大系, (3)六大系,  
(4)四大系.....( )
- 45 那一個流域的地方產鐵最多: (1)遼河流域, (2)粵江流域,  
(3)長江流域, (4)黃河流域.....( )
- 46 發光發熱的是那一種星: (1)行星, (2)衛星, (3)慧星, (4)恆星.....( )
- 47 那一個圍繞地球轉: (1)慧星, (2)別的行星, (3)衛星, (4)太陽.....( )
- 48 秦皇島海口爲什麼常年不凍呢?因爲: (1)樹林多, (2)四圍有山,  
(3)洋海的溫流常流入, (4)近海邊.....( )
- 49 在長江流域米的輸出最多的地方是: (1)漢口, (2)江寧, (3)蕪湖, (4)懷寧.....( )
- 50 我國的山脈橫列的是在那一方: (1)東南, (2)西南, (3)東北, (4)西北.....( )
- 51 我國的海岸線長約 (1)15000里, (2)56000里, (3)4650里, (4)6700里.....( )
- 52 塔里木河和伊犁河在那一省: (1)青海, (2)西藏, (3)新疆, (4)蒙古.....( )

對.....錯.....

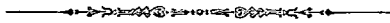


# 本國地理測驗

(甲量表第二類)

揚國荃

我的姓名是.....我是(男或女).....學生  
我今年.....歲,在.....月.....日生的  
我在.....學校,第.....年級,第.....學期  
今天是中華民國.....年.....月.....日



## 例子:

- 1 產茶最多的省是: (1)奉天, (2)直隸, (3)四川, (4)福建..... ( )
- 2 廣東的省會是: (1)江寧, (2)桂林, (3)梧州, (4)廣州..... ( )
- 3 我國沿海的省有一叫做: (1)山西, (2)浙江, (3)廣西, (4)四川..... ( )
- 4 我國最南的島是: (1)西沙島, (2)崇明島, (3)海南島, (4)舟山島..... ( )
- 5 我國最大的鹹水湖是在: (1)青海, (2)四川, (3)西藏, (4)蒙古..... ( )



(對.....) - (1/3 錯.....) =

## 本國地理測驗

- 1 我國的民族共有： (1)三種, (2)五種, (3)八種, (4)六種.....( )
- 2 產喀呢最多的地方是： (1)新疆,蒙古, (2)青海,西藏, (3)四川,貴州, (4)雲南,廣西.....( )
- 3 長城的東端有一關名叫： (1)潼關, (2)山海關, (3)仙霞關, (4)鎮南關.....( )
- 4 由上海乘船沿海來廣州要經過： (1)寧波,廈門,汕頭, (2)營口,北海,天津, (3)漢口,鎮江,蕪湖, (4)梧州,瓊州,惠州.....( )
- 5 為什麼冬天日短夜長呢?因為： (1)離日遠, (2)日光少, (3)地球的地位變動, (4)地球的地位變動.....( )
- 6 我國各省的物產各有不同大概因為： (1)氣候和土地不同嗎, (2)河流多少嗎, (3)栽培法不同嗎, (4)居民多少嗎.....( )
- 7 一年是多少天： (1)455天, (2)320天, (3)650天, (4)365天.....( )
- 8 東三省的省名是： (1)山東,直隸,江蘇, (2)奉天,吉林,黑龍江, (3)廣東,廣西,湖南, (4)江西,浙江,福建.....( )
- 9 我國沿海的省是： (1)湖南,貴州,四川, (2)山東,江蘇,浙江, (3)江西,廣西,雲南, (4)新疆,河南,陝西.....( )
- 10 我國南方冬天為什麼不下雪?因為： (1)近海, (2)大山多, (3)近赤道, (4)河流多.....( )
- 11 人類居住最適宜的地方是： (1)南寒帶, (2)熱帶, (3)溫帶, (4)北寒帶.....( )
- 12 你乘汽船沿粵江兩岸所見最多的植物是那一種： (1)棉, (2)稻, (3)豆, (4)麥.....( )
- 13 產材木最多的地方是： (1)外蒙古, (2)江蘇, (3)東三省, (4)新疆.....( )
- 14 我國山脈大都由那一方作起點： (1)東, (2)南, (3)西, (4)北.....( )
- 15 河南的省會是： (1)太原, (2)江寧, (3)開封, (4)長沙.....( )
- 16 由北京乘京綫火車到綏遠必經過： (1)察哈爾, (2)河南, (3)甘肅, (4)安徽.....( )
- 17 為什麼廣東人民好出外營商?因為： (1)近海, (2)物產少, (3)雨水多, (4)天氣不良.....( )
- 18 山谷中的泥土為什麼肥美?因為： (1)天氣好, (2)山水多, (3)肥料多淤積於此, (4)樹林多.....( )
- 19 那二種植物需用熱帶的天氣： (1)檳榔,樹膠, (2)麥,豆, (3)楊柳, (4)茶,棉.....( )
- 20 有晝夜是因為： (1)太陽動, (2)月動, (3)地球自動, (4)慧星動.....( )
- 21 古時建築長城來抵禦： (1)黎人, (2)苗人, (3)胡人, (4)日本人.....( )

對.....錯.....

- 22 長江流域的省其中有三省是： (1)直隸,山東,河南, (2)廣東,雲南,貴州,  
(3)四川,江蘇,湖北, (4)奉天,吉林,黑龍江.....( )
- 23 春夏秋冬四季是因爲： (1)地球動, (2)日動, (3)月動, (4)行星動.....( )
- 24 我國與朝鮮相通的鐵路是： (1)京奉鐵路, (2)安奉鐵路, (3)京漢鐵路,  
(4)粵漢鐵路.....( )
- 25 兩山之間必有大川是因爲什麼? (1)山嶺的水集合, (2)地勢低, (3)礦產多, (4)森林多.....( )
- 26 地球圍繞太陽轉是因爲： (1)電力, (2)熱力, (3)攝力, (4)光力.....( )
- 27 戈壁是一個： (1)大城, (2)大沙漠, (3)大港口, (4)大湖.....( )
- 28 庫倫成爲蒙古聖地的原故是因： (1)有活佛, (2)山景, (3)有沙漠, (4)人多.....( )
- 29 粵江的水系集那山間諸水而成： (1)天山, (2)崑崙山, (3)南嶺, (4)秦山.....( )
- 30 我國西北部爲什麼寒暑俱烈： (1)樹木多嗎, (2)山嶺多嗎, (3)得不着海風的調劑嗎,  
(4)地未開墾嗎.....( )
- 31 東三省日人所經營的鐵路有一條叫做： (1)南滿鐵路, (2)京奉鐵路,  
(3)京漢鐵路, (4)津浦鐵路.....( )
- 32 由漢口乘京漢火車到北京必經過： (1)陝西, (2)河南, (3)四川, (4)安徽.....( )
- 33 明朝古跡最多的地方是： (1)長沙, (2)寧波, (3)南京, (4)廣州.....( )
- 34 爲什麼沙漠居民甚少?因爲： (1)不能耕植, (2)樹木多, (3)大城少, (4)天氣熱.....( )
- 35 渤海沿岸的商埠是： (1)天津,秦皇島,營口, (2)威海衛,膠州灣,芝罘,  
(3)上海,吳淞,廈門, (4)寧波,汕頭,香港.....( )
- 36 我國東北方有那一國人居留最多： (1)日本, (2)俄國, (3)英國, (4)德國.....( )
- 37 你若開設織氈毯的工廠最好在那處： (1)河南, (2)福建, (3)直隸, (4)廣西.....( )
- 38 爲什麼我國南方的氣候比北方卑溼?因爲： (1)大湖多, (2)樹林多,  
(3)平原多, (4)近熱帶.....( )
- 39 爲什麼在冬天你身體的影兒比在夏天長呢?因爲： (1)天氣冷, (2)日光不甚猛烈,  
(3)地球位置變動, (4)你所穿的衣服多.....( )
- 40 有幾個大行星圍繞太陽轉： (1)十個, (2)八個, (3)五個, (4)七個.....( )
- 對.....錯.....

- 41 那一種河流叫做“內陸流域”： (1)流入海的, (2)停滯內地的,  
(3)多支流的, (4)無支流的.....( )
- 42 從北京乘京奉火車經過： (1)潼關, (2)嘉谷關, (3)山海關, (4)武勝關.....( )
- 43 地球叫什麼星： (1)恆星, (2)衛星, (3)行星, (4)慧星.....( )
- 44 我國的山脈由蔥嶺起首的分爲幾大系： (1)兩大系, (2)五大系, (3)六大系,  
(4)四大系.....( )
- 45 那一個流域的地方產鐵最多： (1)遼河流域, (2)粵江流域,  
(3)長江流域, (4)黃河流域.....( )
- 46 發光發熱的是那一種星： (1)行星, (2)衛星, (3)慧星, (4)恆星.....( )
- 47 那一個圍繞地球轉： (1)慧星, (2)別的行星, (3)衛星, (4)太陽.....( )
- 48 秦皇島海口爲什麼常年不凍呢?因爲： (1)樹林多, (2)四圍有山,  
(3)洋海的溫流常流入, (4)近海邊.....( )
- 49 在長江流域米的輸出最多的地方是： (1)漢口, (2)江寧, (3)蕪湖, (4)懷寧.....( )
- 50 我國的山脈橫列的是在那一方： (1)東南, (2)西南, (3)東北, (4)西北.....( )
- 51 我國的海岸線長約 (1)15000里, (2)56000里, (3)4650里, (4)6700里.....( )
- 52 塔里木河和伊犁河在那一省： (1)青海, (2)西藏, (3)新疆, (4)蒙古.....( )

對.....錯.....

# 本國地理測驗

(甲量表第二類)

楊國荃

我的姓名是.....我是(男或女).....學生  
我今年.....歲,在.....月.....日生的  
我在.....學校,第.....年級,第.....學期  
今天是中華民國.....年.....月.....日



## 例子:

- 1 產茶葉最多的省是: (1)奉天, (2)直隸, (3)四川, (4)福建..... ( )
- 2 廣東的省會是: (1)江寧, (2)桂林, (3)梧州, (4)廣州..... ( )
- 3 我國沿海的省有一叫做: (1)山西, (2)浙江, (3)廣西, (4)四川..... ( )
- 4 我國最南的島是: (1)西沙島, (2)崇明島, (3)海南島, (4)舟山島..... ( )
- 5 我國最大的鹹水湖是在: (1)青海, (2)四川, (3)西藏, (4)蒙古..... ( )



(對.....) - (錯.....) =

## 本國地理測驗

- 1 我國的民族共有： (1)三種, (2)五種, (3)八種, (4)六種.....( )
- 2 產鹽最多的地方是： (1)新疆,蒙古, (2)青海,西藏, (3)四川,貴州, (4)雲南,廣西.....( )
- 3 長城的東端有一關名叫： (1)潼關, (2)山海關, (3)仙霞關, (4)鎮南關.....( )
- 4 由上海乘船沿海來廣州要經過： (1)寧波,廈門,汕頭, (2)營口,北海,天津, (3)漢口,鎮江,燕湖, (4)梧州,瓊州,惠州.....( )
- 5 為什麼冬天日短夜長呢?因為： (1)離日遠, (2)日光少, (3)地球的地位變動, (4)日球的地步變動.....( )
- 6 我國各省的物產各有不同大概因為： (1)氣候和土地不同嗎, (2)河流多少嗎, (3)栽培法不同嗎, (4)居民多少嗎.....( )
- 7 一年是多少天： (1)455天, (2)320天, (3)650天, (4)365天.....( )
- 8 東三省的省名是： (1)山東,直隸,江蘇, (2)奉天,吉林,黑龍江, (3)廣東,廣西,湖南, (4)江西,浙江,福建.....( )
- 9 我國沿海的省是： (1)湖南,貴州,四川, (2)山東,江蘇,浙江, (3)江西,廣西,雲南, (4)新疆,河南,陝西.....( )
- 10 我國南方冬天為什麼不下雪?因為： (1)近海, (2)大山多, (3)近赤道, (4)河流多.....( )
- 11 人類居住最適宜的地方是： (1)南寒帶, (2)熱帶, (3)溫帶, (4)北寒帶.....( )
- 12 你乘汽船沿粵江兩岸所見最多的植物是哪一種： (1)棉, (2)稻, (3)豆, (4)麥.....( )
- 13 產材木最多的地方是： (1)外蒙古, (2)江蘇, (3)東三省, (4)新疆.....( )
- 14 我國山脈大都由那一方起點： (1)東, (2)南, (3)西, (4)北.....( )
- 15 河南的省會是： (1)太原, (2)江寧, (3)開封, (4)長沙.....( )
- 16 由北京乘京綏火車到綏遠必經過： (1)察哈爾, (2)河南, (3)甘肅, (4)安徽.....( )
- 17 為什麼廣東人民好出外營商?因為： (1)近海, (2)物產少, (3)雨水多, (4)天氣不良.....( )
- 18 山谷中的泥土為什麼肥美?因為： (1)天氣好, (2)山水多, (3)肥料多淤積於此, (4)樹林多.....( )
- 19 那兩種植物需用熱帶的天氣： (1)檳榔,樹膠, (2)麥,豆, (3)楊柳, (4)茶,棉.....( )
- 20 有晝夜是因為： (1)太陽動, (2)月動, (3)地球自動, (4)慧星動.....( )
- 21 古時建築長城來抵禦： (1)黎人, (2)苗人, (3)胡人, (4)日本人.....( )

對.....錯.....

- 22 長江流域的省其中有三省是： (1)直隸,山東,河南, (2)廣東,雲南,貴州,  
(3)四川,江蘇,湖北, (4)奉天,吉林,黑龍江.....( )
- 23 春夏秋冬四季是因爲： (1)地球動, (2)日動, (3)月動, (4)行星動.....( )
- 24 我國與朝鮮相通的鐵路是： (1)京奉鐵路, (2)安奉鐵路, (3)京漢鐵路,  
(4)粵漢鐵路.....( )
- 25 兩山之間必有大川是因爲什麼? (1)山嶺的水集合, (2)地勢低, (3)礦產多, (4)森林多.....( )
- 26 地球圍繞太陽轉是因爲： (1)電力, (2)熱力, (3)攝力, (4)光力.....( )
- 27 戈壁是一個： (1)大城, (2)大沙漠, (3)大港口, (4)大湖.....( )
- 28 庫倫成爲蒙古聖地的原故是因： (1)有活佛, (2)山景, (3)有沙漠, (4)人多.....( )
- 29 粵江的水系集那山間諸水而成： (1)天山, (2)崑崙山, (3)南嶺, (4)泰山.....( )
- 30 我國西北部爲什麼寒暑俱烈： (1)樹木多嗎, (2)山嶺多嗎, (3)得不着海風的調劑嗎,  
(4)地未開墾嗎.....( )
- 31 東三省日人所經營的鐵路有一條叫做： (1)南滿鐵路, (2)京奉鐵路,  
(3)京漢鐵路, (4)津浦鐵路.....( )
- 32 由漢口乘京漢火車到北京必經過： (1)陝西, (2)河南, (3)四川, (4)安徽.....( )
- 33 明朝古跡最多的地方是： (1)長沙, (2)寧波, (3)南京, (4)廣州.....( )
- 34 爲什麼沙漠居民甚少?因爲： (1)不能耕植, (2)樹木多, (3)大城少, (4)天氣熱.....( )
- 35 渤海沿岸的商埠是： (1)天津,秦皇島,營口, (2)威海衛,膠州灣,芝罘,  
(3)上海,吳淞,廈門, (4)寧波,汕頭,香港.....( )
- 36 我國東北方有那一國人居留最多： (1)日本, (2)俄國, (3)英國, (4)德國.....( )
- 37 你若開設織氈毯的工廠最好在那處： (1)河南, (2)福建, (3)直隸, (4)廣西.....( )
- 38 爲什麼我國南方的氣候比北方卑溼?因爲： (1)大湖多, (2)樹林多,  
(3)平原多, (4)近熱帶.....( )
- 39 爲什麼在冬天你身體的影兒比在夏天長呢?因爲： (1)天氣冷, (2)日光不甚猛烈,  
(3)地球位置變動, (4)你所穿的衣服多.....( )
- 40 有幾個大行星圍繞太陽轉： (1)十個, (2)八個, (3)五個, (4)七個.....( )
- 對.....錯.....

- 41 那一種河流叫做“內陸流域”： (1)流入海的, (2)停滯內地的,  
(3)多支流的, (4)無支流的.....( )
- 42 從北京乘京奉火車經過： (1)潼關, (2)嘉谷關, (3)山海關, (4)武勝關.....( )
- 43 地球叫什麼星： (1)恆星, (2)衛星, (3)行星, (4)慧星.....( )
- 44 我國的山脈由葱嶺起首的分爲幾大系： (1)兩大系, (2)五大系, (3)六大系,  
(4)四大系.....( )
- 45 那一個流域的地方產鐵最多： (1)遼河流域, (2)粵江流域,  
(3)長江流域, (4)黃河流域.....( )
- 46 發光發熱的是那一種星： (1)行星, (2)衛星, (3)慧星, (4)恆星.....( )
- 47 那一個圍繞地球轉： (1)慧星, (2)別的行星, (3)衛星, (4)太陽.....( )
- 48 秦皇島海口爲什麼常年不凍呢?因爲： (1)樹林多, (2)四圍有山,  
(3)洋海的溫流常流入, (4)近海邊.....( )
- 49 在長江流域米的輸出最多的地方是： (1)漢口, (2)江寧, (3)蕪湖, (4)懷寧.....( )
- 50 我國的山脈橫列的是在那一方： (1)東南, (2)西南, (3)東北, (4)西北.....( )
- 51 我國的海岸線長約 (1)15000里, (2)56000里, (3)4650里, (4)6700里.....( )
- 52 塔里木河和伊犁河在那一省： (1)青海, (2)西藏, (3)新疆, (4)蒙古.....( )

對.....錯.....

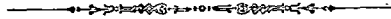


# 本國地理測驗

(甲量表第二類)

楊國荃

我的姓名是.....我是(男或女).....學生  
我今年.....歲,在.....月.....日生的  
我在.....學校,第.....年級,第.....學期  
今天是中華民國.....年.....月.....日



## 例子:

- 1 產茶葉最多的省是: (1)奉天, (2)直隸, (3)四川, (4)福建..... ( )
- 2 廣東的省會是: (1)江寧, (2)桂林, (3)梧州, (4)廣州..... ( )
- 3 我國沿海的省有一叫做: (1)山西, (2)浙江, (3)廣西, (4)四川..... ( )
- 4 我國最南的島是: (1)西沙島, (2)崇明島, (3)海南島, (4)舟山島..... ( )
- 5 我國最大的鹹水湖是在: (1)青海, (2)四川, (3)西藏, (4)蒙古..... ( )



(對.....) - (1/2 錯.....) =

# 本國地理測驗

- 1 我國的民族共有: (1)三種, (2)五種, (3)八種, (4)六種.....( )
- 2 產駱駝最多的地方是: (1)新疆,蒙古, (2)青海,西藏, (3)四川,貴州, (4)雲南,廣西.....( )
- 3 長城的東端有一關名叫: (1)潼關, (2)山海關, (3)仙霞關, (4)鎮南關.....( )
- 4 由上海乘船沿海來廣州要經過: (1)寧波,廈門,汕頭, (2)營口,北海,天津, (3)漢口,鎮江,蕪湖, (4)梧州,瓊州,惠州.....( )
- 5 為什麼冬天日短夜長呢?因為: (1)離日遠, (2)日光少, (3)地球的地位變動, (4)地球的地位變動.....( )
- 6 我國各省的物產各有不同大概因為: (1)氣候和土地不同嗎, (2)河流多少嗎, (3)栽培法不同嗎, (4)居民多少嗎.....( )
- 7 一年是多少天: (1)455天, (2)320天, (3)650天, (4)365天.....( )
- 8 東三省的省名是: (1)山東,直隸,江蘇, (2)奉天,吉林,黑龍江, (3)廣東,廣西,湖南, (4)江西,浙江,福建.....( )
- 9 我國沿海的省是: (1)湖南,貴州,四川, (2)山東,江蘇,浙江, (3)江西,廣西,雲南, (4)新疆,河南,陝西.....( )
- 10 我國南方冬天為什麼不下雪?因為: (1)近海, (2)大山多, (3)近赤道, (4)河流多.....( )
- 11 人類居住最適宜的地方是: (1)南寒帶, (2)熱帶, (3)溫帶, (4)北寒帶.....( )
- 12 你乘汽船沿粵江兩岸所見最多的植物是那一種: (1)棉, (2)稻, (3)豆, (4)麥.....( )
- 13 產材木最多的地方是: (1)外蒙古, (2)江蘇, (3)東三省, (4)新疆.....( )
- 14 我國山脈大都由那一方作起點: (1)東, (2)南, (3)西, (4)北.....( )
- 15 河南的省會是: (1)太原, (2)江寧, (3)開封, (4)長沙.....( )
- 16 由北京乘京綏火車到綏遠必經過: (1)察哈爾, (2)河南, (3)甘肅, (4)安徽.....( )
- 17 為什麼廣東人民好出外營商?因為: (1)近海, (2)物產少, (3)雨水多, (4)天氣不良.....( )
- 18 山谷中的泥土為什麼肥美?因為: (1)天氣好, (2)山水多, (3)肥料多淤積於此, (4)樹林多.....( )
- 19 那二種植物需用熱帶的天氣: (1)橡膠,樹膠, (2)麥,豆, (3)楊柳, (4)茶,棉.....( )
- 20 有晝夜是因為: (1)太陽動, (2)月動, (3)地球自動, (4)慧星動.....( )
- 21 古時建築長城來抵禦: (1)黎人, (2)苗人, (3)胡人, (4)日本人.....( )

對.....錯.....

- 22 長江流域的省其中有三省是： (1)直隸,山東,河南, (2)廣東,雲南,貴州,  
(3)四川,江蘇,湖北, (4)奉天,吉林,黑龍江.....( )
- 23 春夏秋冬四季是因爲： (1)地球動, (2)日動, (3)月動, (4)行星動.....( )
- 24 我國與朝鮮相通的鐵路是： (1)京奉鐵路, (2)安奉鐵路, (3)京漢鐵路,  
(4)粵漢鐵路.....( )
- 25 兩山之間必有大川是因爲什麼? (1)山嶺的水集合, (2)地勢低, (3)礦產多, (4)森林多.....( )
- 26 地球圍繞太陽轉是因爲： (1)電力, (2)熱力, (3)引力, (4)光力.....( )
- 27 戈壁是一個： (1)大城, (2)大沙漠, (3)大港口, (4)大湖.....( )
- 28 庫倫成爲蒙古聖地的原故是因： (1)有活佛, (2)山景, (3)有沙漠, (4)人多.....( )
- 29 粵江的水系集那山間諸水而成： (1)天山, (2)崑崙山, (3)南嶺, (4)泰山.....( )
- 30 我國西北部爲什麼寒暑俱烈： (1)樹木多嗎, (2)山嶺多嗎, (3)得不着海風的調劑嗎,  
(4)地未開墾嗎.....( )
- 31 東三省日人所經營的鐵路有一條叫做： (1)南浦鐵路, (2)京奉鐵路,  
(3)京漢鐵路, (4)津浦鐵路.....( )
- 32 由漢口乘京漢火車到北京必經過： (1)陝西, (2)河南, (3)四川, (4)安徽.....( )
- 33 明朝古跡最多的地方是： (1)長沙, (2)寧波, (3)南京, (4)廣州.....( )
- 34 爲什麼沙漠居民甚少?因爲： (1)不能耕植, (2)樹木多, (3)大城少, (4)天氣熱.....( )
- 35 渤海沿岸的商埠是： (1)天津,秦皇島,營口, (2)威海衛,膠州灣,芝罘,  
(3)上海,吳淞,廈門, (4)寧波,汕頭,香港.....( )
- 36 我國東北方有那一國人居留最多： (1)日本, (2)俄國, (3)英國, (4)德國.....( )
- 37 你若開設絨氈的工廠最好在那處： (1)河南, (2)福建, (3)直隸, (4)廣西.....( )
- 38 爲什麼我國南方的氣候比北方卑溼?因爲： (1)大湖多, (2)樹林多,  
(3)平原多, (4)近熱帶.....( )
- 39 爲什麼在冬天你身體的影兒比在夏天長呢?因爲： (1)天氣冷, (2)日光不甚猛烈,  
(3)地球位置變動, (4)你所穿的衣服多.....( )
- 40 有幾個大行星圍繞太陽轉： (1)十個, (2)八個, (3)五個, (4)七個.....( )

對.....錯.....

- 41 那一種河流叫做“內陸流域”： (1)流入海的， (2)停滯內地的，  
(3)多支流的， (4)無支流的.....( )
- 42 從北京乘京奉火車經過： (1)瀘關， (2)嘉谷關， (3)山海關， (4)武勝關.....( )
- 43 地球叫什麼星： (1)恆星， (2)衛星， (3)行星， (4)慧星.....( )
- 44 我國的山脈由葱嶺起首的分爲幾大系： (1)兩大系， (2)五大系， (3)六大系，  
(4)四大系.....( )
- 45 那一個流域的地方產量最多： (1)遼河流域， (2)粵江流域，  
(3)長江流域， (4)黃河流域.....( )
- 46 發光發熱的是那一種星： (1)行星， (2)衛星， (3)慧星， (4)恆星.....( )
- 47 那一個圍繞地球轉： (1)慧星， (2)別的行星， (3)衛星， (4)太陽.....( )
- 48 秦皇島海口爲什麼常年不凍呢？因爲： (1)樹林多， (2)四圍有山，  
(3)洋海的溫流常流入， (4)近海邊.....( )
- 49 在長江流域米的輸出最多的地方是： (1)漢口， (2)江寧， (3)蕪湖， (4)懷寧.....( )
- 50 我國的山脈橫列的是在那一方： (1)東南， (2)西南， (3)東北， (4)西北.....( )
- 51 我國的海岸線長約 (1)15000里， (2)56000里， (3)4650里， (4)6700里.....( )
- 52 塔里木河和伊犁河在那一省： (1)青海， (2)西藏， (3)新疆， (4)蒙古.....( )

對.....錯.....

# 本國地理測驗

(甲量表第二類)

揚國荃

我的姓名是.....我是(男或女).....學生  
我今年.....歲,在.....月.....日生的  
我在.....學校,第.....年級,第.....學期  
今天是中華民國.....年.....月.....日



## 例子:

- 1 產茶葉最多的省是: (1)奉天, (2)直隸, (3)四川, (4)福建..... ( )
- 2 廣東的省會是: (1)江寧, (2)桂林, (3)梧州, (4)廣州..... ( )
- 3 我國沿海的省有一叫做: (1)山西, (2)浙江, (3)廣西, (4)四川..... ( )
- 4 我國最南的島是: (1)西沙島, (2)崇明島, (3)海南島, (4)舟山島..... ( )
- 5 我國最大的鹹水湖是在: (1)青海, (2)四川, (3)西藏, (4)蒙古..... ( )



(對.....) - (錯.....) =

## 本國地理測驗

- 1 我國的民族共有： (1)三種, (2)五種, (3)八種, (4)六種.....( )
- 2 產骆驼最多的地方是： (1)新疆,蒙古, (2)青海,西藏, (3)四川,貴州, (4)雲南,廣西.....( )
- 3 長城的東端有一關名叫： (1)潼關, (2)山海關, (3)仙霞關, (4)鎮南關.....( )
- 4 由上海乘船沿海來廣州要經過： (1)寧波,廈門,汕頭, (2)營口,北海,天津, (3)漢口,鎮江,蕪湖, (4)梧州,瓊州,惠州.....( )
- 5 爲什麼冬天日短夜長呢?因爲： (1)離日遠, (2)日光少, (3)地球的地位變動, (4)日球的地位變動.....( )
- 6 我國各省的物產各有不同大概因爲： (1)氣候和土地不同嗎, (2)河流多少嗎, (3)栽培法不同嗎, (4)居民多少嗎.....( )
- 7 一年是多少天： (1)455天, (2)320天, (3)650天, (4)365天.....( )
- 8 東三省的省名是： (1)山東,直隸,江蘇, (2)奉天,吉林,黑龍江, (3)廣東,廣西,湖南, (4)江西,浙江,福建.....( )
- 9 我國沿海的省是： (1)湖南,貴州,四川, (2)山東,江蘇,浙江, (3)江西,廣西,雲南, (4)新疆,河南,陝西.....( )
- 10 我國南方冬天爲什麼不下雪?因爲： (1)近海, (2)大山多, (3)近赤道, (4)河流多.....( )
- 11 人類居住最適宜的地方是： (1)南寒帶, (2)熱帶, (3)溫帶, (4)北寒帶.....( )
- 12 你乘汽船沿粵江兩岸所見最多的植物是哪一種： (1)棉, (2)稻, (3)豆, (4)麥.....( )
- 13 產材木最多的地方是： (1)外蒙古, (2)江蘇, (3)東三省, (4)新疆.....( )
- 14 我國山脈大都由那一方作起點： (1)東, (2)南, (3)西, (4)北.....( )
- 15 河南的省會是： (1)太原, (2)江寧, (3)開封, (4)長沙.....( )
- 16 由北京乘京綏火車到綏遠必經過： (1)察哈爾, (2)河南, (3)甘肅, (4)安徽.....( )
- 17 爲什麼廣東人民好出外營商?因爲： (1)近海, (2)物產少, (3)雨水多, (4)天氣不良.....( )
- 18 山谷中的泥土爲什麼肥美?因爲： (1)天氣好, (2)山水多, (3)肥料多淤積於此, (4)樹林多.....( )
- 19 那二種植物需用熱帶的天氣： (1)檳榔,樹膠, (2)麥,豆, (3)楊柳, (4)茶,棉.....( )
- 20 有晝夜是因爲： (1)太陽動, (2)月動, (3)地球自動, (4)彗星動.....( )
- 21 古時建築長城來抵禦： (1)黎人, (2)苗人, (3)胡人, (4)日本人.....( )

對.....錯.....

- 22 長江流域的省其中有三省是： (1)直隸,山東,河南, (2)廣東,雲南,貴州,  
(3)四川,江蘇,湖北, (4)奉天,吉林,黑龍江.....( )
- 23 春夏秋冬四季是因爲： (1)地球動, (2)日動, (3)月動, (4)行星動.....( )
- 24 我國與朝鮮相通的鐵路是： (1)京奉鐵路, (2)安奉鐵路, (3)京漢鐵路,  
(4)粵漢鐵路.....( )
- 25 兩山之間必有大川是因爲什麼? (1)山嶺的水集合, (2)地勢低, (3)礦產多, (4)森林多.....( )
- 26 地球圍繞太陽轉是因爲： (1)電力, (2)熱力, (3)攝力, (4)光力.....( )
- 27 戈壁是一個： (1)大城, (2)大沙漠, (3)大港口, (4)大湖.....( )
- 28 庫倫成爲蒙古聖地的原故是因： (1)有活佛, (2)山景, (3)有沙漠, (4)人多.....( )
- 29 粵江的水系集那山間諸水而成： (1)天山, (2)崑崙山, (3)南嶺, (4)泰山.....( )
- 30 我國西北部爲什麼寒暑俱烈： (1)樹木多嗎, (2)山嶺多嗎, (3)得不着海風的調劑嗎,  
(4)地未開墾嗎.....( )
- 31 東三省日人所經營的鐵路有一條叫做： (1)南滿鐵路, (2)京奉鐵路,  
(3)京漢鐵路, (4)津浦鐵路.....( )
- 32 由漢口乘京漢火車到北京必經過： (1)陝西, (2)河南, (3)四川, (4)安徽.....( )
- 33 明朝古跡最多的地方是： (1)長沙, (2)寧波, (3)南京, (4)廣州.....( )
- 34 爲什麼沙漠居民甚少?因爲： (1)不能耕植, (2)樹木多, (3)大城少, (4)天氣熱.....( )
- 35 渤海沿岸的商埠是： (1)天津,秦皇島,營口, (2)威海衛,膠州灣,芝罘,  
(3)上海,吳淞,廈門, (4)寧波,汕頭,香港.....( )
- 36 我國東北方有那一國人居留最多： (1)日本, (2)俄國, (3)英國, (4)德國.....( )
- 37 你若開設織氈毯的工廠最好在那處： (1)河南, (2)福建, (3)直隸, (4)廣西.....( )
- 38 爲什麼我國南方的氣候比北方卑溼?因爲： (1)大湖多, (2)樹林多,  
(3)平原多, (4)近熱帶.....( )
- 39 爲什麼在冬天你身體的影兒比在夏天長呢?因爲： (1)天氣冷, (2)日光不甚猛烈,  
(3)地球位置變動, (4)你所穿的衣服多.....( )
- 40 有幾個大行星圍繞太陽轉： (1)十個, (2)八個, (3)五個, (4)七個.....( )
- 對.....錯.....

- 41 那一種河流叫做“內陸流域”： (1)流入海的, (2)停滯內地的,  
(3)多支流的, (4)無支流的.....( )
- 42 從北京乘京奉火車經過: (1)瀘關, (2)嘉谷關, (3)山海關, (4)武勝關.....( )
- 43 地球叫什麼星: (1)恆星, (2)衛星, (3)行星, (4)慧星.....( )
- 44 我國的山脈由葱嶺起首的分爲幾大系: (1)兩大系, (2)五大系, (3)六大系,  
(4)四大系.....( )
- 45 那一個流域的地方產煤最多: (1)遼河流域, (2)粵江流域,  
(3)長江流域, (4)黃河流域.....( )
- 46 發光發熱的是那一種星: (1)行星, (2)衛星, (3)慧星, (4)恆星.....( )
- 47 那一個圍繞地球轉: (1)慧星, (2)別的行星, (3)衛星, (4)太陽.....( )
- 48 秦皇島海口爲什麼常年不凍呢?因爲: (1)樹林多, (2)四圍有山,  
(3)洋海的溫流常流入, (4)近海邊.....( )
- 49 在長江流域米的輸出最多的地方是: (1)漢口, (2)江寧, (3)蕪湖, (4)懷寧.....( )
- 50 我國的山脈橫列的是在那一方: (1)東南, (2)西南, (3)東北, (4)西北.....( )
- 51 我國的海岸線長約 (1)15000里, (2)56000里, (3)4650里, (4)6700里.....( )
- 52 塔里木河和伊犁河在那一省: (1)青海, (2)西藏, (3)新疆, (4)蒙古.....( )

對.....錯.....



# 本國地理測驗

(甲班表第二類)

楊國荃

我的姓名是.....我是(男或女).....學生  
我今年.....歲,在.....月.....日生的  
我在.....學校,第.....年級,第.....學期  
今天是中華民國.....年.....月.....日

## 例子:

- 1 產茶葉最多的省是: (1)奉天, (2)直隸, (3)四川, (4)福建.....( )
- 2 廣東的省會是: (1)江寧, (2)桂林, (3)梧州, (4)廣州.....( )
- 3 我國沿海的省有一叫做: (1)山西, (2)浙江, (3)廣西, (4)四川.....( )
- 4 我國最南的島是: (1)西沙島, (2)崇明島, (3)海南島, (4)舟山島.....( )
- 5 我國最大的鹹水湖是在: (1)青海, (2)四川, (3)西藏, (4)蒙古.....( )

(對.....) - (錯.....) =

## 本國地理測驗

- 1 我國的民族共有： (1)三種, (2)五種, (3)八種, (4)六種.....( )
  - 2 產駱駝最多的地方是： (1)新疆,蒙古, (2)青海,西藏, (3)四川,貴州, (4)雲南,廣西.....( )
  - 3 長城的東端有一關名叫： (1)潼關, (2)山海關, (3)仙霞關, (4)鎮南關.....( )
  - 4 由上海乘船沿海來廣州要經過： (1)寧波,廈門,汕頭, (2)營口,北海,天津, (3)漢口,錢江,蕪湖, (4)梧州,瓊州,惠州.....( )
  - 5 爲什麼冬天日短夜長呢?因爲： (1)離日遠, (2)日光少, (3)地球的地位變動, (4)日球的地步變動.....( )
  - 6 我國各省的物產各有不同大概因爲： (1)氣候和土地不同嗎, (2)河流多少嗎, (3)栽培法不同嗎, (4)居民多少嗎.....( )
  - 7 一年是多少天： (1)455天, (2)320天, (3)650天, (4)365天.....( )
  - 8 東三省的省名是： (1)山東,直隸,江蘇, (2)奉天,吉林,黑龍江, (3)廣東,廣西,湖南, (4)江西,浙江,福建.....( )
  - 9 我國沿海的省是： (1)湖南,貴州,四川, (2)山東,江蘇,浙江, (3)江西,廣西,雲南, (4)新疆,河南,陝西.....( )
  - 10 我國南方冬天爲什麼不下雪?因爲： (1)近海, (2)大山多, (3)近赤道, (4)河流多.....( )
  - 11 人類居住最適宜的地方是： (1)南寒帶, (2)熱帶, (3)溫帶, (4)北寒帶.....( )
  - 12 你乘汽船沿粵江兩岸所見最多的植物是哪一種： (1)棉, (2)稻 (3)豆 (4)麥.....( )
  - 13 產材木最多的地方是： (1)外蒙古, (2)江蘇, (3)東三省, (4)新疆.....( )
  - 14 我國山脈大都由那一方向作起點： (1)東, (2)南, (3)西, (4)北.....( )
  - 15 河南的省會是： (1)太原, (2)江寧, (3)開封, (4)長沙.....( )
  - 16 由北京乘京綏火車到綏遠必經過： (1)察哈爾, (2)河南, (3)甘肅, (4)安徽.....( )
  - 17 爲什麼廣東人民好出外營商?因爲： (1)近海, (2)物產少, (3)雨水多, (4)天氣不良.....( )
  - 18 山谷中的泥土爲什麼肥美?因爲： (1)天氣好, (2)山水多, (3)肥料多淤積於此, (4)樹林多.....( )
  - 19 那二種植物需用熱帶的天氣： (1)檳榔,樹膠, (2)麥,豆, (3)楊柳, (4)茶,棉.....( )
  - 20 有晝夜是因爲： (1)太陽動, (2)月動, (3)地球自動, (4)彗星動.....( )
  - 21 古時建築長城來抵禦： (1)黎人, (2)苗人, (3)胡人, (4)日本人.....( )
- 對.....錯.....

- 22 長江流域的省其中有三省是： (1)直隸,山東,河南, (2)廣東,雲南,貴州,  
(3)四川,江蘇,湖北, (4)奉天,吉林,黑龍江.....( )
- 23 春夏秋冬四季是因為： (1)地球動, (2)日動, (3)月動, (4)行星動.....( )
- 24 我國與朝鮮相通的鐵路是： (1)京奉鐵路, (2)安奉鐵路, (3)京漢鐵路,  
(4)粵漢鐵路.....( )
- 25 兩山之間必有大川是因為什麼？ (1)山嶺的水集合, (2)地勢低, (3)礦產多, (4)森林多.....( )
- 26 地球圍繞太陽轉是因為： (1)電力, (2)熱力, (3)攝力, (4)光力.....( )
- 27 戈壁是一個： (1)大城, (2)大沙漠, (3)大港口, (4)大湖.....( )
- 28 庫倫成為蒙古聖地的原故是因： (1)有活佛, (2)山景, (3)有沙漠, (4)人多.....( )
- 29 粵江的水系集那山間諸水而成： (1)天山, (2)崑崙山, (3)南嶺, (4)泰山.....( )
- 30 我國西北部為什麼寒暑俱烈： (1)樹木多嗎, (2)山嶺多嗎, (3)得不着海風的調劑嗎,  
(4)地未開墾嗎.....( )
- 31 東三省日人所經營的鐵路有一條叫做： (1)南滿鐵路, (2)京奉鐵路,  
(3)京漢鐵路, (4)津浦鐵路.....( )
- 32 由漢口乘京漢火車到北京必經過： (1)陝西, (2)河南, (3)四川, (4)安徽.....( )
- 33 明朝古跡最多的地方是： (1)長沙, (2)寧波, (3)南京, (4)廣州.....( )
- 34 為什麼沙漠居民甚少？因為： (1)不能耕植, (2)樹木多, (3)大城少, (4)天氣熱.....( )
- 35 渤海沿岸的商埠是： (1)天津,秦皇島,營口, (2)威海衛,膠州灣,芝罘,  
(3)上海,吳淞,廈門, (4)寧波,汕頭,香港.....( )
- 36 我國東北方有那一國人居留最多： (1)日本, (2)俄國, (3)英國, (4)德國.....( )
- 37 你若開設絨氈毯的工廠最好在那處： (1)河南, (2)福建, (3)直隸, (4)廣西.....( )
- 38 為什麼我國南方的氣候比北方卑溼？因為： (1)大湖多, (2)樹林多,  
(3)平原多, (4)近熱帶.....( )
- 39 為什麼在冬天你身體的影兒比在夏天長呢？因為： (1)天氣冷, (2)日光不甚猛烈,  
(3)地球位置變動, (4)你所穿的衣服多.....( )
- 40 有幾個大行星圍繞太陽轉： (1)十個, (2)八個, (3)五個, (4)七個.....( )
- 對.....錯.....

- 41 那一種河流叫做“內陸流域”： (1)流入海的, (2)停滯內地的,  
(3)多支流的, (4)無支流的.....( )
- 42 從北京乘京奉火車經過： (1)潼關, (2)嘉谷關, (3)山海關, (4)武勝關.....( )
- 43 地球叫什麼星： (1)恆星, (2)衛星, (3)行星, (4)慧星.....( )
- 44 我國的山脈由蔥嶺起首的分爲幾大系： (1)兩大系, (2)五大系, (3)六大系,  
(4)四大系.....( )
- 45 那一個流域的地方產鐵最多： (1)遼河流域, (2)粵江流域,  
(3)長江流域, (4)黃河流域.....( )
- 46 發光發熱的是那一種星： (1)行星, (2)衛星, (3)慧星, (4)恆星.....( )
- 47 那一個圍繞地球轉： (1)慧星, (2)別的行星, (3)衛星, (4)太陽.....( )
- 48 秦皇島海口爲什麼常年不凍呢?因爲： (1)樹林多, (2)四圍有山,  
(3)洋海的溫流常流入, (4)近海邊.....( )
- 49 在長江流域米的輸出最多的地方是： (1)漢口, (2)江寧, (3)蕪湖, (4)鎮寧.....( )
- 50 我國的山脈橫列的是在那一方： (1)東南, (2)西南, (3)東北, (4)西北.....( )
- 51 我國的海岸線長約 (1)15000里, (2)56000里, (3)4650里, (4)6700里.....( )
- 52 塔里木河和伊犁河在那一省： (1)青海, (2)西藏, (3)新疆, (4)蒙古.....( )

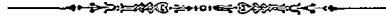
對.....錯.....

# 本國地理測驗

(甲量表第二類)

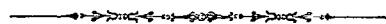
楊國荃

我的姓名是.....我是(男或女).....學生  
我今年.....歲,在.....月.....日生的  
我在.....學校,第.....年級,第.....學期  
今天是中華民國.....年.....月.....日



## 例子:

- 1 產茶葉最多的省是: (1)奉天, (2)直隸, (3)四川, (4)福建.....( )
- 2 廣東的省會是: (1)江寧, (2)桂林, (3)梧州, (4)廣州.....( )
- 3 我國沿海的省有一叫做: (1)山西, (2)浙江, (3)廣西, (4)四川.....( )
- 4 我國最南的島是: (1)西沙島, (2)崇明島, (3)海南島, (4)舟山島.....( )
- 5 我國最大的鹹水湖是在: (1)青海, (2)四川, (3)西藏, (4)蒙古.....( )



(對.....) - (1/2 錯.....) =

# 本國地理測驗

- 1 我國的民族共有： (1)三種, (2)五種, (3)八種, (4)六種.....( )
- 2 產喀喇最多的地方是： (1)新疆,蒙古, (2)青海,西藏, (3)四川,貴州, (4)雲南,廣西.....( )
- 3 長城的東端有一關名叫： (1)潼關, (2)山海關, (3)仙霞關, (4)鎮南關.....( )
- 4 由上海乘船沿海來廣州要經過： (1)寧波,廈門,汕頭, (2)營口,北海,天津, (3)漢口,贛江,蕪湖, (4)梧州,瓊州,惠州.....( )
- 5 為什麼冬天日短夜長呢?因為： (1)離日遠, (2)日光少, (3)地球的地位變動, (4)地球的地位變動.....( )
- 6 我國各省的物產各有不同大概因為： (1)氣候和土地不同嗎, (2)河流多少嗎, (3)栽培法不同嗎, (4)居民多少嗎.....( )
- 7 一年是多少天： (1)455天, (2)320天, (3)650天, (4)365天.....( )
- 8 東三省的省名是： (1)山東,直隸,江蘇, (2)奉天,吉林,黑龍江, (3)廣東,廣西,湖南, (4)江西,浙江,福建.....( )
- 9 我國沿海的省是： (1)湖南,貴州,四川, (2)山東,江蘇,浙江, (3)江西,廣西,雲南, (4)新疆,河南,陝西.....( )
- 10 我國南方冬天為什麼不下雪?因為： (1)近海, (2)大山多, (3)近赤道, (4)河流多.....( )
- 11 人類居住最適宜的地方是： (1)南寒帶, (2)熱帶, (3)溫帶, (4)北寒帶.....( )
- 12 你乘汽船沿粵江兩岸所見最多的植物是那一種： (1)棉, (2)稻, (3)豆, (4)麥.....( )
- 13 產材木最多的地方是： (1)外蒙古, (2)江蘇, (3)東三省, (4)新疆.....( )
- 14 我國山脈大都由那一方作起點： (1)東, (2)南, (3)西, (4)北.....( )
- 15 河南的省會是： (1)太原, (2)江寧, (3)開封, (4)長沙.....( )
- 16 由北京乘京綏火車到綏遠必經過： (1)察哈爾, (2)河南, (3)甘肅, (4)安徽.....( )
- 17 為什麼廣東人民好出外營商?因為： (1)近海, (2)物產少, (3)雨水多, (4)天氣不良.....( )
- 18 山谷中的泥土為什麼肥美?因為： (1)天氣好, (2)山水多, (3)肥料多淤積於此, (4)樹林多.....( )
- 19 那二種植物需用熱帶的天氣： (1)檳榔,樹膠, (2)麥,豆, (3)楊柳, (4)茶,棉.....( )
- 20 有晝夜是因為： (1)太陽動, (2)月動, (3)地球自動, (4)慧星動.....( )
- 21 古時建築長城來抵禦： (1)黎人, (2)苗人, (3)胡人, (4)日本人.....( )

對.....錯.....

- 22 長江流域的省其中有三省是： (1)直隸,山東,河南, (2)廣東,雲南,貴州,  
(3)四川,江蘇,湖北, (4)奉天,吉林,黑龍江.....( )
- 23 春夏秋冬四季是因爲： (1)地球動, (2)日動, (3)月動, (4)行星動.....( )
- 24 我國與朝鮮相通的鐵路是： (1)京奉鐵路, (2)安奉鐵路, (3)京漢鐵路,  
(4)粵漢鐵路.....( )
- 25 兩山之間必有大川是因爲什麼? (1)山嶺的水集合, (2)地勢低, (3)礦產多, (4)森林多.....( )
- 26 地球圍繞太陽轉是因爲： (1)電力, (2)熱力, (3)攝力, (4)光力.....( )
- 27 戈壁是一個： (1)大城, (2)大沙漠, (3)大港口, (4)大湖.....( )
- 28 庫倫成爲蒙古聖地的原故是因： (1)有活佛, (2)山景, (3)有沙漠, (4)人多.....( )
- 29 粵江的水系集那山間諸水而成： (1)天山, (2)崑崙山, (3)南嶺, (4)泰山.....( )
- 30 我國西北部爲什麼寒暑俱烈： (1)樹木多嗎, (2)山嶺多嗎, (3)得不着海風的調劑嗎,  
(4)地未開墾嗎.....( )
- 31 東三省日人所經營的鐵路有一條叫做： (1)南滿鐵路, (2)京奉鐵路,  
(3)京漢鐵路, (4)津浦鐵路.....( )
- 32 由漢口乘京漢火車到北京必經過： (1)陝西, (2)河南, (3)四川, (4)安徽.....( )
- 33 明朝古跡最多的地方是： (1)長沙, (2)寧波, (3)南京, (4)廣州.....( )
- 34 爲什麼沙漠居民甚少?因爲： (1)不能耕植, (2)樹木多, (3)大城少, (4)天氣熱.....( )
- 35 渤海沿岸的商埠是： (1)天津,秦皇島,營口, (2)威海衛,膠州灣,芝罘,  
(3)上海,吳淞,廈門, (4)寧波,汕頭,香港.....( )
- 36 我國東北方有那一國人居留最多： (1)日本, (2)俄國, (3)英國, (4)德國.....( )
- 37 你若開設織氈毯的工廠最好在那處： (1)河南, (2)福建, (3)直隸, (4)廣西.....( )
- 38 爲什麼我國南方的氣候比北方卑溼?因爲： (1)大湖多, (2)樹林多,  
(3)平原多, (4)近熱帶.....( )
- 39 爲什麼在冬天你身體的影兒比在夏天長呢?因爲： (1)天氣冷, (2)日光不甚猛烈,  
(3)地球位置變動, (4)你所穿的衣服多.....( )
- 40 有幾個大行星圍繞太陽轉： (1)十個, (2)八個, (3)五個, (4)七個.....( )
- 對.....錯.....

- 41 那一種河流叫做“內陸流域”：  
 (1)流入海的， (2)停滯內地的，  
 (3)多支流的， (4)無支流的……………( )
- 42 從北京乘京奉火車經過：  
 (1)潼關， (2)嘉谷關， (3)山海關， (4)武勝關……………( )
- 43 地球叫什麼星：  
 (1)恆星， (2)衛星， (3)行星， (4)彗星……………( )
- 44 我國的山脈由葱嶺起首的分爲幾大系：  
 (1)兩大系， (2)五大系， (3)六大系，  
 (4)四大系……………( )
- 45 那一個流域的地方產鐵最多：  
 (1)遼河流域， (2)粵江流域，  
 (3)長江流域， (4)黃河流域……………( )
- 46 發光發熱的是那一種星：  
 (1)行星， (2)衛星， (3)彗星， (4)恆星……………( )
- 47 那一個圍繞地球轉：  
 (1)彗星， (2)別的行星， (3)衛星， (4)太陽……………( )
- 48 秦皇島海口爲什麼常年不凍呢？因爲：  
 (1)樹林多， (2)四圍有山，  
 (3)洋海的溫流常流入， (4)近海邊……………( )
- 49 在長江流域米的輸出最多的地方是：  
 (1)漢口， (2)江寧， (3)蕪湖， (4)懷寧……………( )
- 50 我國的山脈橫列的是在那一方：  
 (1)東南， (2)西南， (3)東北， (4)西北……………( )
- 51 我國的海岸線長約  
 (1)15000里， (2)56000里， (3)4650里， (4)6700里……………( )
- 52 塔里木河和伊犁河在那一省：  
 (1)青海， (2)西藏， (3)新疆， (4)蒙古……………( )

對……………錯……………



# 本國地理測驗

(甲量表第二類)

楊國荃

我的姓名是.....我是(男或女).....學生  
我今年.....歲,在.....月.....日生的  
我在.....學校,第.....年級,第.....學期  
今天是中華民國.....年.....月.....日



## 例子:

- 1 產茶葉最多的省是: (1)奉天, (2)直隸, (3)四川, (4)福建..... ( )
- 2 廣東的省會是: (1)江寧, (2)桂林, (3)梧州, (4)廣州..... ( )
- 3 我國沿海的省有一叫做: (1)山西, (2)浙江, (3)廣西, (4)四川..... ( )
- 4 我國最南的島是: (1)西沙島, (2)崇明島, (3)海南島, (4)舟山島..... ( )
- 5 我國最大的鹹水湖是在: (1)青海, (2)四川, (3)西藏, (4)蒙古..... ( )



(對.....) - (1/3 錯.....) =

## 本國地理測驗

- 1 我國的民族共有： (1)三種, (2)五種, (3)八種, (4)六種.....( )
  - 2 產駱駝最多的地方是： (1)新疆,蒙古, (2)青海,西藏, (3)四川,貴州, (4)雲南,廣西.....( )
  - 3 長城的東端有一關名叫： (1)瀟關, (2)山海關, (3)仙霞關, (4)鎮南關.....( )
  - 4 由上海乘船沿海來廣州要經過： (1)寧波,廈門,汕頭, (2)營口,北海,天津, (3)漢口,鎮江,蕪湖, (4)梧州,瓊州,惠州.....( )
  - 5 為什麼冬天日短夜長呢?因為： (1)離日遠, (2)日光少, (3)地球的地位變動, (4)地球的地位變動.....( )
  - 6 我國各省的物產各有不同大概因為： (1)氣候和土地不同嗎, (2)河流多少嗎, (3)栽培法不同嗎, (4)居民多少嗎.....( )
  - 7 一年是多少天： (1)455天, (2)320天, (3)650天, (4)365天.....( )
  - 8 東三省的省名是： (1)山東,直隸,江蘇, (2)奉天,吉林,黑龍江, (3)廣東,廣西,湖南, (4)江西,浙江,福建.....( )
  - 9 我國沿海的省是： (1)湖南,貴州,四川, (2)山東,江蘇,浙江, (3)江西,廣西,雲南, (4)新疆,河南,陝西.....( )
  - 10 我國南方冬天為什麼不降雪?因為： (1)近海, (2)大山多, (3)近赤道, (4)河流多.....( )
  - 11 人類居住最適宜的地方是： (1)南寒帶, (2)熱帶, (3)溫帶, (4)北寒帶.....( )
  - 12 你乘汽船沿粵江南岸所見最多的植物是那一種： (1)棉, (2)稻, (3)豆, (4)麥.....( )
  - 13 產材木最多的地方是： (1)外蒙古, (2)江蘇, (3)東三省, (4)新疆.....( )
  - 14 我國山脈大都由那一方起點： (1)東, (2)南, (3)西, (4)北.....( )
  - 15 河南的省會是： (1)太原, (2)江寧, (3)開封, (4)長沙.....( )
  - 16 由北京乘京綏火車到綏遠必經過： (1)察哈爾, (2)河南, (3)甘肅, (4)安徽.....( )
  - 17 為什麼廣東人民好出外營商?因為： (1)近海, (2)物產少, (3)雨水多, (4)天氣不良.....( )
  - 18 山谷中的泥土為什麼肥美?因為： (1)天氣好, (2)山水多, (3)肥料多淤積於此, (4)樹林多.....( )
  - 19 那二種植物需用熱帶的天氣： (1)檳榔,樹膠, (2)麥,豆, (3)楊柳, (4)茶,棉.....( )
  - 20 有晝夜是因為： (1)太陽動, (2)月動, (3)地球自動, (4)彗星動.....( )
  - 21 古時建築長城來抵禦： (1)黎人, (2)苗人, (3)胡人, (4)日本人.....( )
- 對.....錯.....

- 22 長江流域的省其中有三省是： (1)直隸,山東,河南, (2)廣東,雲南,貴州,  
(3)四川,江蘇,湖北, (4)奉天,吉林,黑龍江.....( )
- 23 春夏秋冬四季是因爲： (1)地球動, (2)日動, (3)月動, (4)行星動.....( )
- 24 我國與朝鮮相通的鐵路是： (1)京奉鐵路, (2)安奉鐵路, (3)京漢鐵路,  
(4)粵漢鐵路.....( )
- 25 兩山之間必有大川是因爲什麼? (1)山嶺的水集合, (2)地勢低, (3)礦產多, (4)森林多.....( )
- 26 地球圍繞太陽轉是因爲： (1)電力, (2)熱力, (3)攝力, (4)光力.....( )
- 27 戈壁是一個： (1)大城, (2)大沙漠, (3)大港口, (4)大湖.....( )
- 28 庫倫成爲蒙古聖地的原故是因： (1)有活佛, (2)山景, (3)有沙漠, (4)人多.....( )
- 29 粵江的水系集那山間諸水而成： (1)天山, (2)崑崙山, (3)南嶺, (4)泰山.....( )
- 30 我國西北部爲什麼寒暑俱烈： (1)樹木多嗎, (2)山嶺多嗎, (3)得不着海風的調劑嗎,  
(4)地未開墾嗎.....( )
- 31 東三省日人所經營的鐵路有一條叫做： (1)南滿鐵路, (2)京奉鐵路,  
(3)京漢鐵路, (4)津浦鐵路.....( )
- 32 由漢口乘京漢火車到北京必經過： (1)陝西, (2)河南, (3)四川, (4)安徽.....( )
- 33 明朝古跡最多的地方是： (1)長沙, (2)寧波, (3)南京, (4)廣州.....( )
- 34 爲什麼沙漠居民甚少?因爲： (1)不能耕植, (2)樹木多, (3)大城少, (4)天氣熱.....( )
- 35 渤海沿岸的商埠是： (1)天津,秦皇島,營口, (2)威海衛,膠州灣,芝罘,  
(3)上海,吳淞,廈門, (4)寧波,汕頭,香港.....( )
- 36 我國東北方有那一國人居留最多： (1)日本, (2)俄國, (3)英國, (4)德國.....( )
- 37 你若開設織氈的工廠最好在那處： (1)河南, (2)福建, (3)直隸, (4)廣西.....( )
- 38 爲什麼我國南方的氣候比北方卑溼?因爲： (1)大湖多, (2)樹林多,  
(3)平原多, (4)近熱帶.....( )
- 39 爲什麼在冬天你身體的影兒比在夏天長呢?因爲： (1)天氣冷, (2)日光不甚猛烈,  
(3)地球位置變動, (4)你所穿的衣服多.....( )
- 40 有幾個大行星圍繞太陽轉： (1)十個, (2)八個, (3)五個, (4)七個.....( )
- 對.....錯.....

- 41 那一種河流叫做“內陸流域”： (1)流入海的, (2)停滯內地的,  
(3)多支流的, (4)無支流的.....( )
- 42 從北京乘京奉火車經過： (1)潼關, (2)嘉谷關, (3)山海關, (4)武勝關.....( )
- 43 地球叫什麼星： (1)恆星, (2)衛星, (3)行星, (4)慧星.....( )
- 44 我國的山脈由德嶺起首的分爲幾大系： (1)兩大系, (2)五大系, (3)六大系,  
(4)四大系.....( )
- 45 那一個流域的地方產鐵最多： (1)遼河流域, (2)粵江流域,  
(3)長江流域, (4)黃河流域.....( )
- 46 發光發熱的是那一種星： (1)行星, (2)衛星, (3)慧星, (4)恆星.....( )
- 47 那一個圍繞地球轉： (1)慧星, (2)別的行星, (3)衛星, (4)太陽.....( )
- 48 秦皇島海口爲什麼常年不凍呢?因爲： (1)樹林多, (2)四圍有山,  
(3)洋海的沿流常流入, (4)近海邊.....( )
- 49 在長江流域米的輸出最多的地方是： (1)漢口, (2)江寧, (3)蕪湖, (4)懷寧.....( )
- 50 我國的山脈橫列的是在那一方： (1)東南, (2)西南, (3)東北, (4)西北.....( )
- 51 我國的海岸線長約 (1)15000里, (2)56000里, (3)4650里, (4)6700里.....( )
- 52 塔里木河和伊犁河在那一省： (1)青海, (2)西藏, (3)新疆, (4)蒙古.....( )

對.....錯.....

# 本國地理測驗

(甲量表第二類)

楊國荃

我的姓名是.....我是(男或女).....學生  
我今年.....歲,在.....月.....日生的  
我在.....學校,第.....年級,第.....學期  
今天是中華民國.....年.....月.....日

## 例子:

- 1 產茶葉最多的省是: (1)奉天, (2)直隸, (3)四川, (4)福建.....( )
- 2 廣東的省會是: (1)江寧, (2)桂林, (3)梧州, (4)廣州.....( )
- 3 我國沿海的省有一叫做: (1)山西, (2)浙江, (3)廣西, (4)四川.....( )
- 4 我國最南的島是: (1)西沙島, (2)崇明島, (3)海南島, (4)舟山島.....( )
- 5 我國最大的鹹水湖是在: (1)青海, (2)四川, (3)西藏, (4)蒙古.....( )



(對.....) - (1/2 錯.....) =

## 本國地理測驗

- 1 我國的民族共有： (1)三種， (2)五種， (3)八種， (4)六種.....( )
- 2 產駱駝最多的地方是： (1)新疆,蒙古， (2)青海,西藏， (3)四川,貴州， (4)雲南,廣西.....( )
- 3 長城的東端有一關名叫： (1)潼關， (2)山海關， (3)仙霞關， (4)鎮南關.....( )
- 4 由上海乘船沿海來廣州要經過： (1)寧波,廈門,汕頭， (2)營口,北海,天津， (3)漢口,錢江,蕪湖， (4)梧州,瓊州,惠州.....( )
- 5 為什麼冬天日短夜長呢?因為： (1)離日遠， (2)日光少， (3)地球的地位變動， (4)日球的位置變動.....( )
- 6 我國各省的物產各有不同大概因為： (1)氣候和土地不同嗎， (2)河流多少嗎， (3)栽培法不同嗎， (4)居民多少嗎.....( )
- 7 一年是多少天： (1)455天， (2)320天， (3)650天， (4)365天.....( )
- 8 東三省的省名是： (1)山東,直隸,江蘇， (2)奉天,吉林,黑龍江， (3)廣東,廣西,湖南， (4)江西,浙江,福建.....( )
- 9 我國沿海的省是： (1)湖南,貴州,四川， (2)山東,江蘇,浙江， (3)江西,廣西,雲南， (4)新疆,河南,陝西.....( )
- 10 我國南方冬天為什麼不下雪?因為： (1)近海， (2)大山多， (3)近赤道， (4)河流多.....( )
- 11 人類居住最適宜的地方是： (1)南寒帶， (2)熱帶， (3)溫帶， (4)北寒帶.....( )
- 12 你乘汽船沿粵江兩岸所見最多的植物是那一種： (1)棉， (2)稻， (3)豆， (4)麥.....( )
- 13 產材木最多的地方是： (1)外蒙古， (2)江蘇， (3)東三省， (4)新疆.....( )
- 14 我國山脈大都由那一方作起點： (1)東， (2)南， (3)西， (4)北.....( )
- 15 河南的省會是： (1)太原， (2)江寧， (3)開封， (4)長沙.....( )
- 16 由北京乘京綏火車到綏遠必經過： (1)察哈爾， (2)河南， (3)甘肅， (4)安徽.....( )
- 17 為什麼廣東人民好出外營商?因為： (1)近海， (2)物產少， (3)雨水多， (4)天氣不良.....( )
- 18 山谷中的泥土為什麼肥美?因為： (1)天氣好， (2)山水多， (3)肥料多淤積於此， (4)樹林多.....( )
- 19 那二種植物需用熱帶的天氣： (1)檳榔,樹膠， (2)麥,豆， (3)楊柳， (4)茶,棉.....( )
- 20 有晝夜是因為： (1)太陽動， (2)月動， (3)地球自動， (4)彗星動.....( )
- 21 古時建築長城來抵禦： (1)黎人， (2)苗人， (3)胡人， (4)日本人.....( )

對.....錯.....

- 22 長江流域的省其中有三省是： (1)直隸,山東,河南, (2)廣東,雲南,貴州,  
(3)四川,江蘇,湖北, (4)奉天,吉林,黑龍江.....( )
- 23 春夏秋冬四季是因爲： (1)地球動, (2)日動, (3)月動, (4)行星動.....( )
- 24 我國與朝鮮相通的鐵路是： (1)京奉鐵路, (2)安奉鐵路, (3)京漢鐵路,  
(4)粵漢鐵路.....( )
- 25 兩山之間必有大川是因爲什麼? (1)山嶺的水集合, (2)地勢低, (3)積產多, (4)森林多.....( )
- 26 地球圍繞太陽轉是因爲： (1)電力, (2)熱力, (3)攝力, (4)光力.....( )
- 27 戈壁是一個： (1)大城, (2)大沙漠, (3)大港口, (4)大湖.....( )
- 28 庫倫成爲蒙古聖地的原故是因： (1)有活佛, (2)山景, (3)有沙漠, (4)人多.....( )
- 29 粵江的水系集那山間諸水而成： (1)天山, (2)崑崙山, (3)南嶺, (4)泰山.....( )
- 30 我國西北部爲什麼寒暑俱烈： (1)樹木多嗎, (2)山嶺多嗎, (3)得不着海風的調劑嗎,  
(4)地未開墾嗎.....( )
- 31 東三省日人所經營的鐵路有一條叫做： (1)南滿鐵路, (2)京奉鐵路,  
(3)京漢鐵路, (4)津浦鐵路.....( )
- 32 由漢口乘京漢火車到北京必經過： (1)陝西, (2)河南, (3)四川, (4)安徽.....( )
- 33 明朝古跡最多的地方是： (1)長沙, (2)寧波, (3)南京, (4)廣州.....( )
- 34 爲什麼沙漠居民甚少?因爲： (1)不能耕植, (2)樹木多 (3)大城少, (4)天氣熱.....( )
- 35 渤海沿岸的商埠是： (1)天津,秦皇島,營口, (2)威海衛,膠州灣,芝罘,  
(3)上海,吳淞,廈門, (4)寧波,汕頭,香港.....( )
- 36 我國東北方有那一國人居留最多： (1)日本, (2)俄國, (3)英國, (4)德國.....( )
- 37 你若開設織氈的工廠最好在那處： (1)河南, (2)福建, (3)直隸, (4)廣西.....( )
- 38 爲什麼我國南方的氣候比北方卑溼?因爲： (1)大湖多, (2)樹林多,  
(3)平原多, (4)近熱帶.....( )
- 39 爲什麼在冬天你身體的影兒比在夏天長呢?因爲： (1)天氣冷, (2)日光不甚猛烈,  
(3)地球位置變動, (4)你所穿的衣服多.....( )
- 40 有幾個大行星圍繞太陽轉： (1)十個, (2)八個, (3)五個, (4)七個.....( )
- 對.....錯.....

- 41 那一種河流叫做“內陸流域”：  
 (1) 流入海的， (2) 停滯內地的，  
 (3) 多支流的， (4) 無支流的……………( )
- 42 從北京乘京奉火車經過：  
 (1) 潼關， (2) 嘉谷關， (3) 山海關， (4) 武勝關……………( )
- 43 地球叫什麼星：  
 (1) 恆星， (2) 衛星， (3) 行星， (4) 慧星……………( )
- 44 我國的山脈由葱嶺起首的分爲幾大系：  
 (1) 兩大系， (2) 五大系， (3) 六大系，  
 (4) 四大系……………( )
- 45 那一個流域的地方產鐵最多：  
 (1) 遼河流域， (2) 粵江流域，  
 (3) 長江流域， (4) 黃河流域……………( )
- 46 發光發熱的是那一種星：  
 (1) 行星， (2) 衛星， (3) 慧星， (4) 恆星……………( )
- 47 那一個圍繞地球轉：  
 (1) 慧星， (2) 別的行星， (3) 衛星， (4) 太陽……………( )
- 48 秦皇島海口爲什麼常年不凍呢？因爲：  
 (1) 樹林多， (2) 四圍有山，  
 (3) 洋海的溫流常流入， (4) 近海邊……………( )
- 49 在長江流域米的輸出最多的地方是：  
 (1) 漢口， (2) 江寧， (3) 蕪湖， (4) 懷寧……………( )
- 50 我國的山脈橫列的是在那一方：  
 (1) 東南， (2) 西南， (3) 東北， (4) 西北……………( )
- 51 我國的海岸線長約  
 (1) 15000里， (2) 56000里， (3) 4650里， (4) 6700里……………( )
- 52 塔里木河和伊犁河在那一省：  
 (1) 青海， (2) 西藏， (3) 新疆， (4) 蒙古……………( )

對……………錯……………



6  
4692-64

W  
5624.7  
78

本國地理測驗  
第二類  
揚國荃著  
每卷二十五份  
另附  
標準答案  
上海商務印書館出版

定價四角  
本國地理測驗說明書  
每冊五分  
中華民國十三年十月初版  
著作權所有不准翻印



商務印書館出版

學校應用各種測驗

小學默讀測驗	小學常識測驗	小學 算用測驗	小學 社會自然測驗	小學 社會自然測驗	教育測驗	算術四則測驗	團體智力測驗	中學默讀測驗	初小默讀測驗	小學默字測驗	小學 算用測驗	小學常識測驗	小學默讀測驗	機械的智力測驗
測驗一至五類每類廿五份 答案標準一份成績表(信封附)一份	測驗一二類每類廿五份 答案標準一份成績表(信封附)一份	測驗一二類每類廿五份 成績表(信封附)一份	測驗一二類每類廿五份 成績表一份	測驗一二類每類廿五份 成績表一份	測驗一二類每類廿五份 成績表一份	測驗一二類每類廿五份 答案標準一份	測驗一二類每類廿五份 成績表一份	測驗一二類每類廿五份 答案標準一份成績表(信封附)一份	測驗一二類每類廿五份 答案標準一份成績表(信封附)一份	測驗一二類每類廿五份 答案標準一份	測驗一二類每類廿五份 成績表一份	測驗一二類每類廿五份 答案標準一份成績表(信封附)一份	測驗一二類每類廿五份 答案標準一份	測驗二十五份 標準一份
每類定價四角	每類定價四角	每類定價三角五分	每類定價四角	每類定價四角	每類定價五角	每類定價六角五分	每類定價六角五分	每類定價四角	每類定價五角	每類定價一角八分	每類定價三角五分	每類定價四角	每類定價四角	定價六角
說明書一冊另售定價五分 單附答案每廿五份定價一角	說明書一冊另售定價五分 單附答案每廿五份定價一角	說明書一冊另售定價五分	說明書一冊另售定價五分	說明書一冊另售定價五分	說明書一冊另售定價五分	說明書一冊另售定價五分	說明書一冊另售定價五分	說明書一冊另售定價五分 單附答案每廿五份定價一角	說明書一冊另售定價五分	說明書一冊另售定價五分	說明書一冊另售定價五分	說明書一冊另售定價五分	說明書一冊另售定價五分	說明書一冊另售定價五分