

東北政委會編審委員會

初小算術

第四冊

東北書店印行

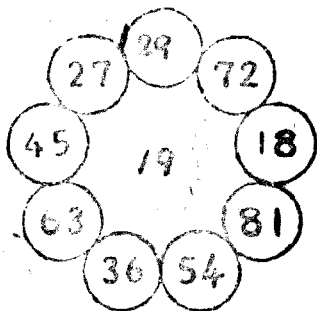
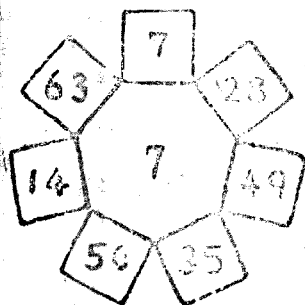
算術課本 第四冊

目 錄

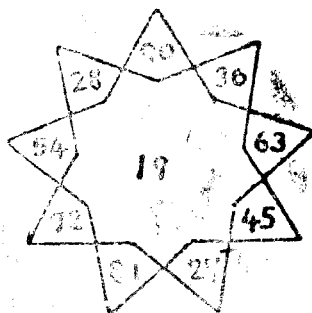
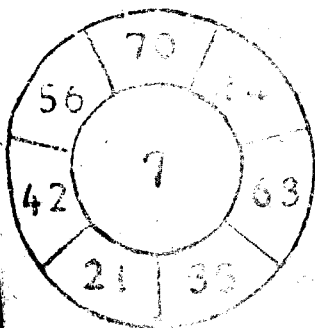
- | | |
|---------------------|----|
| 1. 複習 | 1 |
| 2. 乘數一位的進位乘法 | 6 |
| 3. 練習 | 12 |
| 4. 除數一位的退位除法 | 13 |
| 5. 練習 | 17 |
| 6. 乘除驗算法 | 18 |
| 7. 千以內的讀法
寫法和加減法 | 19 |
| 8. 乘除數一位的乘除法 | 26 |
| 9. 斤兩的認識與應用 | 25 |
| 10. 不盡的除法 | 27 |
| 11. 總複習 | 29 |

複習 1

用周圍的數，加當中的數做出橫式的加法



從周圍的數，減當中的數做出橫式的減法。



複習 2

- (1) 有貓3隻，狗3隻，鷄3隻，共是幾隻？
- (2) 姐姐吃糖5塊，哥哥吃糖5塊，妹妹吃糖5塊，弟弟吃糖5塊，共吃糖多少塊？
- (3) 有三個蘋果，每個切做四塊，一共可以切成多少塊？
- (4) 每人有洋柿子3個，幾個人的洋柿子合起來，才能有24個？
- (5) 幾頭牛有44隻腳？

$$4 \times () = 8 \quad 4 \times () = 36$$

$$0 \times 2 = ? \quad 3 \times 0 = ?$$


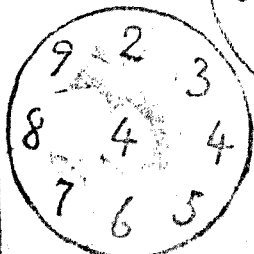
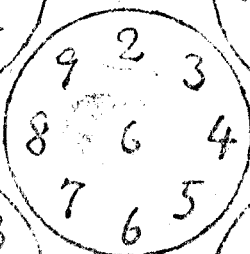
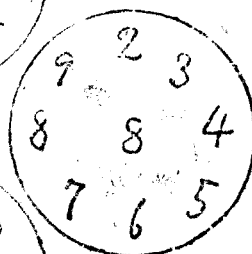
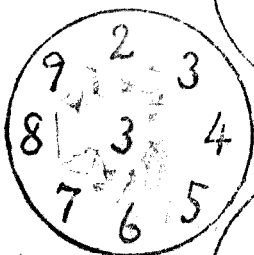
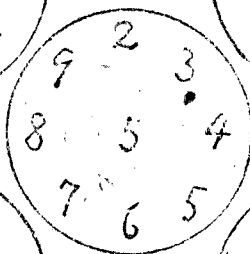
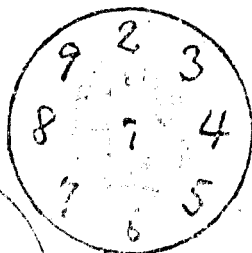
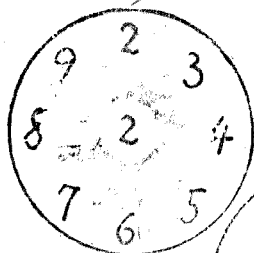
$$6 \text{ 朵} \times 4 = ? \quad 8 \text{ 粒} \times 4 = ?$$

幾個5是25？ 9個人有幾隻手？

$$27 = 9 \times () \quad 35 = 7 \times ()$$

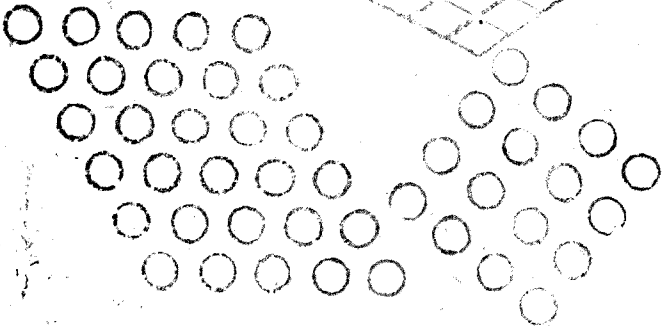
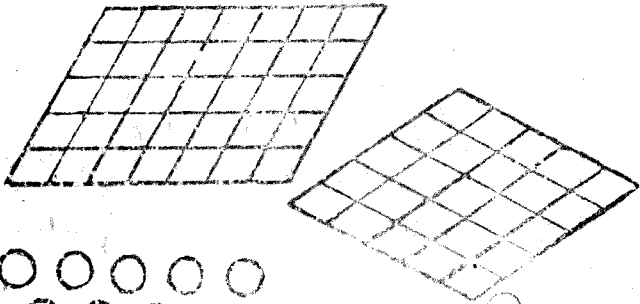
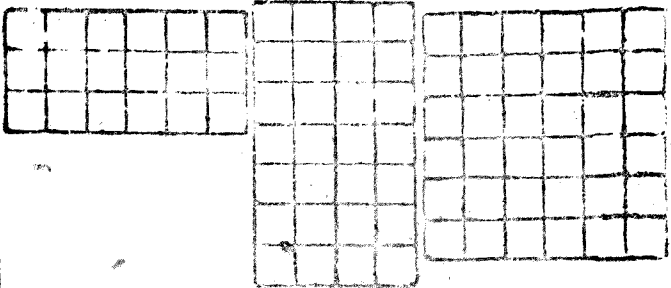
複習 3

用中央的數，乘周圍的數吧。



複習 4

小方格和圓圈，各有多少呢？



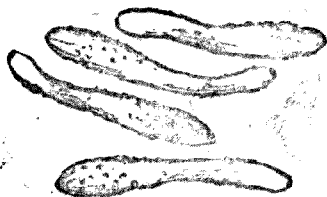
第一級小學校用

複習 5

- (1) 有40個學生，分兩組做拉繩的遊戲，那麼每組是多少人呢？



- (2) 有24個饅頭，要把它平均的裝在3個盤裏，問每個盤裏可以裝幾個呢？



- (3) 母親到菜市買了4條黃瓜，花了24元錢，問一條黃瓜值多少錢？

$$35 \div 5 = ?$$

$$32 \div 4 = ?$$

$$40 \div () = 5$$

$$45 \div () = 5$$

乘數一位的進位乘法

(例) 1條街兩邊栽着樹，每邊栽着
11棵，兩邊共栽多少棵？

$$11 \text{ 棵} \times 2 = 22 \text{ 棵}$$

答：兩邊共22棵

$$\begin{array}{r} 11 \text{ 棵} \\ \times 2 \\ \hline 22 \text{ 棵} \end{array}$$

$10 \times 2 = ? \quad 12 \times 2 = ? \quad 14 \times 1 = ?$

$16 \times 2 = ? \quad 18 \times 2 = ? \quad 20 \times 2 = ?$

$24 \times 2 = ? \quad 23 \times 2 = ? \quad 32 \times 2 = ?$

$36 \times 1 = ? \quad 40 \times 2 = ? \quad 50 \times 2 = ?$

$13 \times 2 = ? \quad 17 \times 2 = ? \quad 25 \times 2 = ?$

$29 \times 1 = ? \quad 33 \times 1 = ? \quad 37 \times 2 = ?$

$45 \times 2 = ? \quad 48 \times 2 = ? \quad 57 \times 2 = ?$

$49 \text{ 元} \times 2 = ? \quad 39 \text{ 斤} \times 1 = ?$

$47 \text{ 隻} \times 2 = ? \quad 26 \text{ 枝} \times 2 = ?$

$33 \text{ 棵} \times 2 = ? \quad 66 \text{ 冊} \times 2 = ?$

(例) 從門前走過3輛大車，每輛車上都載着10袋糧食，問共載多少袋？

$$10 \text{ 袋} \times 3 = 30 \text{ 袋}$$

答：共載30袋

$$\begin{array}{r} 10 \text{ 袋} \\ \times 3 \\ \hline 30 \text{ 袋} \end{array}$$

$$15 \times 3 = ?$$

$$17 \times 3 = ?$$

$$19 \times 3 = ?$$

$$21 \times 3 = ?$$

$$26 \times 3 = ?$$

$$29 \times 3 = ?$$

$$30 \times 3 = ?$$

$$32 \times 3 = ?$$


(1) 1斤是10兩，3斤是幾兩？

(2) 1個盒子可以裝24塊肥皂，2個盒子可裝多少？

(3) 1斤洋柿子賣20元錢，2斤賣多少錢？

(4) 10枝煙捲是一小盒，3小盒是多少枝？

20的四倍是多少呢？



試算下邊的乘法吧。

$$\begin{array}{r} 25 \\ \times 4 \\ \hline \end{array} \quad \begin{array}{r} 75 \\ \times 4 \\ \hline \end{array} \quad \begin{array}{r} 84 \\ \times 4 \\ \hline \end{array} \quad \begin{array}{r} 67 \\ \times 4 \\ \hline \end{array} \quad \begin{array}{r} 23 \\ \times 4 \\ \hline \end{array}$$

$$\begin{array}{r} 72 \\ \times 4 \\ \hline \end{array} \quad \begin{array}{r} 34 \\ \times 4 \\ \hline \end{array} \quad \begin{array}{r} 69 \\ \times 4 \\ \hline \end{array} \quad \begin{array}{r} 26 \\ \times 4 \\ \hline \end{array} \quad \begin{array}{r} 58 \\ \times 4 \\ \hline \end{array}$$

$$\begin{array}{r} 59 \\ \times 2 \\ \hline \end{array} \quad \begin{array}{r} 47 \\ \times 1 \\ \hline \end{array} \quad \begin{array}{r} 35 \\ \times 3 \\ \hline \end{array} \quad \begin{array}{r} 30 \\ \times 4 \\ \hline \end{array} \quad \begin{array}{r} 40 \\ \times 3 \\ \hline \end{array}$$

- (1) 鉛筆一打是12枝，4打是多少枝？
- (2) 有四列戰士在街上走着，每列都有17個人，問共有多少人？
- (3) 1畝地栽24棵茄秧，3畝地多少棵？

$17 \times 5 = ?$

$37 \times 5 = ?$

$37 \times 5 = ?$

$47 \times 5 = ?$

$32 \times 5 = ?$

$52 \times 5 = ?$

$43 \times 5 = ?$

$46 \times 5 = ?$

$50 \text{元} \times 5 = ?$

$48 \text{枝} \times 3 = ?$

$63 \text{斤} \times 2 = ?$

$70 \text{棵} \times 5 = ?$

$60 \text{分} \times 5 = ?$

$80 \text{尺} \times 4 = ?$

(1) 1張火車票是75元錢，買了5張
共多少錢？

(2) 雞蛋1個35元錢，5個多少錢？

(3) 20枝1小盒的煙購買了4小盒，
共多少枝？

(4) 星期日訂算草3冊，每冊32
頁，共多少頁？

$$\begin{array}{r} 21 \\ \times 6 \\ \hline 126 \end{array}$$

$$24$$

$$33$$

$$44$$

$$36$$

$$\begin{array}{r} 24 \\ \times 6 \\ \hline \end{array}$$

$$\begin{array}{r} 33 \\ \times 6 \\ \hline \end{array}$$

$$\begin{array}{r} 44 \\ \times 6 \\ \hline \end{array}$$

$$\begin{array}{r} 36 \\ \times 6 \\ \hline \end{array}$$

$$\begin{array}{r} 48 \\ \times 6 \\ \hline \end{array}$$

$$25$$

$$50$$

$$55$$

$$61$$

$$\begin{array}{r} 25 \\ \times 6 \\ \hline \end{array}$$

$$\begin{array}{r} 50 \\ \times 6 \\ \hline \end{array}$$

$$\begin{array}{r} 55 \\ \times 6 \\ \hline \end{array}$$

$$\begin{array}{r} 61 \\ \times 6 \\ \hline \end{array}$$

$$\begin{array}{r} 35 \text{ 尺} \\ \times 6 \\ \hline \end{array}$$

$$42 \text{ 塊}$$

$$56 \text{ 斤}$$

$$66 \text{ 隻}$$

$$\begin{array}{r} 42 \\ \times 5 \\ \hline \end{array}$$

$$\begin{array}{r} 56 \\ \times 4 \\ \hline \end{array}$$

$$\begin{array}{r} 66 \\ \times 6 \\ \hline \end{array}$$

$$35 \times 7 = ?$$

$$49 \times 7 = ?$$

$$24 \times 7 = ?$$

$$38 \times 7 = ?$$

$$50 \times 7 = ?$$

$$44 \times 7 = ?$$

(1) 1行25個字6行多少個字？

(2) 40根火柴裝一個盒，裝了7個盒是多少根火柴？

(1) 有 8 碗餃子，每碗裝着 20 個，
總共有多少個餃子？

(2) 白報紙 1 大張能裁 36 小張，那
麼 8 大張能裁多少小張？

$$27 \text{ 片} \times 8 = ? \quad 45 \text{ 件} \times 8 = ?$$

$$50 \text{ 匹} \times 6 = ? \quad 63 \text{ 粒} \times 7 = ?$$

$$\begin{array}{r} 16 \\ \times 9 \\ \hline \end{array} \quad \begin{array}{r} 22 \\ \times 9 \\ \hline \end{array} \quad \begin{array}{r} 19 \\ \times 9 \\ \hline \end{array} \quad \begin{array}{r} 32 \\ \times 9 \\ \hline \end{array} \quad \begin{array}{r} 29 \\ \times 9 \\ \hline \end{array}$$

$$\begin{array}{r} 33 \\ \times 9 \\ \hline \end{array} \quad \begin{array}{r} 40 \\ \times 9 \\ \hline \end{array} \quad \begin{array}{r} 48 \\ \times 9 \\ \hline \end{array} \quad \begin{array}{r} 50 \\ \times 9 \\ \hline \end{array} \quad \begin{array}{r} 55 \\ \times 9 \\ \hline \end{array}$$

(1) 水蘿蔔 1 扎 20 個，8 扎是多少
個？

(2) 買了 9 打汽水，是多少瓶呢？

(3) 1 車載 30 人，7 車載多少人？

練習

$18 \times 2 = ?$

$23 \times 2 = ?$

$22 \times 3 = ?$

$23 \times 3 = ?$

$14 \times 4 = ?$

$30 \times 4 = ?$

$20 \times 5 = ?$

$40 \times 5 = ?$

$30 \times 6 = ?$

$38 \times 6 = ?$

$43 \times 7 = ?$

$53 \times 7 = ?$

$32 \times 8 = ?$

$21 \times 8 = ?$

$27 \times 9 = ?$

$48 \times 9 = ?$

$$\begin{array}{r} 12 \text{ 斤} \\ \times 9 \\ \hline \end{array}$$

$$\begin{array}{r} 21 \text{ 塊} \\ \times 4 \\ \hline \end{array}$$

$$\begin{array}{r} 60 \text{ 分} \\ \times 2 \\ \hline \end{array}$$

$$\begin{array}{r} 42 \text{ 筐} \\ \times 3 \\ \hline \end{array}$$

$$\begin{array}{r} 19 \text{ 斗} \\ \times 5 \\ \hline \end{array}$$

$$\begin{array}{r} 50 \text{ 枝} \\ \times 6 \\ \hline \end{array}$$


$$\begin{array}{r} 55 \text{ 標} \\ \times 7 \\ \hline \end{array}$$

$$\begin{array}{r} 22 \text{ 袋} \\ \times 8 \\ \hline \end{array}$$

除數一位的退位除法

[例] 有36個桃，平均分給了哥哥和弟弟，問每人得多少？

$$36 \text{ 個} \div 2 = 18 \text{ 個}$$



$$\begin{array}{r} 18 \\ 2 \overline{) 36} \\ \underline{2} \\ 16 \\ \underline{16} \\ 0 \end{array}$$

答：每人18個

$24 \div 2 = ?$

$38 \div 2 = ?$

$44 \div 2 = ?$

$46 \div 2 = ?$

$52 \div 2 = ?$

$66 \div 2 = ?$

(1) 80里路，兩天走完，每天平均走多少里？

(2) 50斤白麵分2袋裝，每袋平均裝多少斤？

(3) 2輛大車平均分拉48袋公糧，每車拉多少？

[例] 36個兒童團員，分做3組，每組平均多少人？

$$36 \text{ 人} \div 3 = 12 \text{ 人}$$

$$\begin{array}{r} 12 \\ 3 \overline{) 36} \\ \underline{3} \\ 6 \\ \underline{6} \\ 0 \end{array}$$

答：每組12人

$$33 \div 3 = ?$$

$$39 \div 3 = ?$$

$$42 \div 3 = ?$$

$$54 \div 3 = ?$$

$$66 \div 3 = ?$$

$$72 \div 3 = ?$$

$$87 \text{ 斤} \div 3 = ?$$

$$99 \text{ 元} \div 3 = ?$$

(1) 92張標語3個人張貼，1個人平均貼多少張？

(2) 有81袋高粱，用3輛車運往市上，每輛車都裝一般多，問一車裝多少？

[例] 有44枝鉛筆，每人分4枝，問
有幾個人分得鉛筆？

$$44 \text{ 枝} \div 4 \text{ 枝} = 11$$

$$\begin{array}{r} 11 \\ 4 \overline{) 44} \\ \underline{4} \\ 4 \\ \underline{4} \\ 0 \end{array}$$

答：11個人分得鉛筆

註：名數 ÷ 無名數 = 名數

名數 ÷ 名數 = 無名數

無名數 ÷ 無名數 = 無名數

$$48 \div 4 = ?$$

$$64 \div 4 = ?$$

$$84 \div 4 = ?$$

$$88 \div 4 = ?$$

(1) 有76個碗，每4個擺1桌，問能擺幾桌？

(2) 買白報紙64小張，打算裝訂2冊筆記本，每冊平均用多少張呢？

$$\begin{array}{r} 12 \\ 5 \overline{) 60} \\ \underline{5} \\ 10 \\ \underline{10} \\ 0 \end{array}$$

$$5 \overline{) 65}$$

$$5 \overline{) 70}$$

$$5 \overline{) 85}$$

$$5 \overline{) 90}$$

$$5 \overline{) 80}$$

$$5 \overline{) 95}$$

$$6 \overline{) 72}$$

$$6 \overline{) 78}$$

$$6 \overline{) 84}$$

$$6 \overline{) 96}$$

$$6 \overline{) 96}$$

$$7 \overline{) 77}$$

$$8 \overline{) 88}$$

$$9 \overline{) 99}$$

(1) 有65斤菜，平均分做5天吃，
每天吃多少斤？

(2) 每人分3個燒餅，72個燒餅能
分給幾個人？

$$20 \div 2 = ? \quad 30 \div 3 = ? \quad 40 \div 4 = ?$$

$$50 \div 5 = ? \quad 60 \div 6 = ? \quad 70 \div 7 = ?$$

$$80 \div 8 = ? \quad 90 \div 9 = ? \quad 100 \div 1 = ?$$

練 習

$32 \div 2 = ? \quad 54 \div 3 = ? \quad 70 \div 5 = ?$

$68 \div 4 = ? \quad 78 \div 6 = ? \quad 90 \div 5 = ?$

$88 \div 5 = ? \quad 84 \div 7 = ? \quad 90 \div 6 = ?$

$96 \div 2 = ? \quad 91 \div 7 = ? \quad 99 \div 9 = ?$

$92 \text{天} \div 4 = ? \quad 78 \text{枚} \div 6 = ?$

$100 \text{元} \div 5 = ? \quad 57 \text{尺} \div 3 = ?$

$69 \text{斗} \div 3 = ? \quad 50 \text{里} \div 2 = ?$

- (1) 有95個水蘿蔔，1扎捆5個，能捆幾扎？
- (2) 52隻鷄，平均分到兩個鷄窩裏，1個鷄窩裏裝幾隻？
- (3) 有100粒子彈，平均分給4個戰士，每戰士得多少？
- (4) 有84個梨，每人吃6個，問有幾個人？
- (5) 每人平均分三畝，96畝地能分給幾個人？

乘除驗算法

王教員問：誰會填下面的題：

(1) () \times 2 = 20

(2) () \div 5 = 20

李光舉手說：我會。他在第一題中填上10，在第二題中填上100。教員叫他說理由。他說：第一題中，因為 $20 \div 2 = 10$ 所以填上10；第二題中，因為 $20 \times 5 = 100$ ，所以填上100。教員稱他是好學生。後來又出了十題讓大家做。

1. () \times 5 = 50 6. () \times 7 = 70

2. () \times 9 = 90 7. () \times 4 = 40

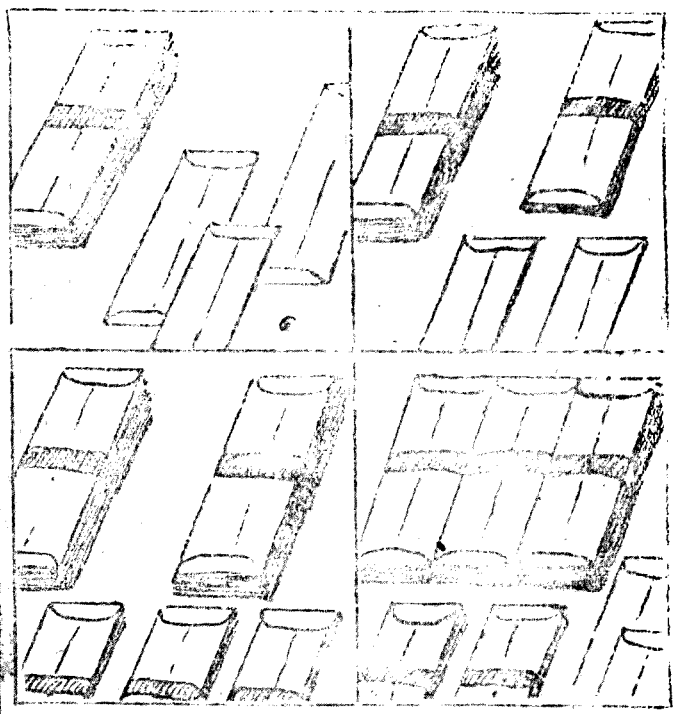
3. () \div 2 = 20 8. () \div 4 = 10


4. () \div 5 = 15 9. () \div 7 = 12

5. () \div 4 = 30 10. () \div 9 = 30

1000以內的讀法、寫法和加減法

下邊格內畫的信件，大扎每扎是100個，小扎是10個，那麼每格內各有多少個呢？





念念下邊的數吧。

106 200 380 462

750 803 919 1000

把下邊的數，用數字寫出來吧。

二百零八 四百 五百二十四

六百三十 七百零二 八百七十三

從684到710，順着數數吧。再從後面倒着數數吧。

299的後一個數是什麼數呢？

600的前一個數是什麼數呢？

300加上60是多少呢？

$$100 + 20 = ? \quad 71 + 900 = ?$$

$$400 + 8 = ? \quad 7 + 510 = ?$$

$$250 + 6 = ? \quad 28 + 600 = ?$$

$$308 + 50 = ? \quad 5 + 800 = ?$$

$$300 + 60 + 5 = ? \quad 7 + 90 + 500 = ?$$

算算下邊花的錢數吧。

東	西	付出錢數
鉛	筆 一 枝	200元
筆	記 本 二 冊	300元
橡	皮 一 塊	40元
鋼	筆 尖 一 個	8元
墨	水 一 瓶	60元
合	計	

從480裏減去80，還剩多少呢？

$$450 - 50 = ? \quad 929 - 909 = ?$$

$$303 - 3 = ? \quad 381 - 300 = ?$$

$$800 - 800 = ? \quad 647 - 40 = ?$$

$$567 - 67 = ? \quad 526 - 4 = ?$$

$$435 - 430 = ? \quad 640 - 41 = ?$$

牛兒拿1000元錢買了以下的東西，
還剩多少錢？

豆油一斤……250元

醬油半斤……120元

茶葉二兩……90元

西鹹半斤……100元

花椒1兩……9元

(1) 我家的母鷄，每年1隻能下120個蛋，那麼3隻母鷄1年能下多少個蛋？

(2) 1條麻袋裝土豆300斤，2條麻袋裝多少斤？

$$200 \times 3 = ? \quad 400 \times 2 = ?$$

$$500 \times 2 = ? \quad 200 \times 5 = ?$$

$$300 \times 3 = ? \quad 110 \times 8 = ?$$

$$220 \times 4 = ? \quad 230 \times 3 = ?$$

(3) 1個洋柿子2元錢，100個共值多少錢？

$$3 \times 100 = ? \quad 7 \times 100 = ?$$

$$4 \times 100 = ? \quad 9 \times 100 = ?$$

$$8 \times 100 = ? \quad 10 \times 100 = ?$$

年級	男(人)	女(人)	合計
一	67	62	
二	63	57	
三	58	56	
四	54	53	
合計			

各年級的男女生共有多少人呢？

全校共有多少個男生呢？

全校共有多少個女生呢？

全校共有多少個學生呢？

4	9	5	20	40	20
5	7	3	20	55	70
2	6	1	60	80	40
5	2	9	40	70	50
<u>+ 5</u>	<u>+ 8</u>	<u>+ 8</u>	<u>+ 20</u>	<u>+ 60</u>	<u>+ 90</u>

(1) 想要搬運 240 塊豆餅，若是找 3 個人搬，平均每個人得搬多少塊？

(2) 120 個蘋果，每盤裝 8 個，問共裝幾個盤子？

(3) 7 個人打了 210 捆柴，問每人打多少捆？

$$210 \div 3 = ?$$

$$350 \div 7 = ?$$

$$180 \div 2 = ?$$

$$160 \div 8 = ?$$

$$270 \div 9 = ?$$

$$240 \div 6 = ?$$

$$320 \div 4 = ?$$

$$300 \div 5 = ?$$

$$540 \div 9 = ?$$

$$490 \div 7 = ?$$

$$640 \div 8 = ?$$


$$480 \div 6 = ?$$

$$240 \div 3 = ?$$

$$280 \div 4 = ?$$

斤兩的認識與應用

得



白兔向金兔買菜，要用什麼東西去稱呢？

$$1\text{斤} = 10\text{兩} \quad 10\text{兩} = 1\text{斤}$$

$$5\text{兩} + 5\text{兩} = 10\text{兩} = (\quad)\text{斤}$$

- (1) 誰能從一兩數到半斤？
- (2) 誰能從一兩數到一斤？
- (3) 誰能從一兩數到二斤半？
- (4) 半斤棉花，五兩鐵，哪個重？
- (5) 一斤羊油，十兩豬油，哪個重？
- (6) 一斤半白菜，十五兩菜，哪個重？

$$\begin{array}{r} 9\text{兩} \\ + 9\text{兩} \\ \hline 18\text{兩} \end{array}$$

$$\begin{array}{r} 3\text{斤}2\text{兩} \\ + 5\text{斤}6\text{兩} \\ \hline 8\text{斤}8\text{兩} \end{array}$$

$$\begin{array}{r} 15\text{兩} \\ - 7\text{兩} \\ \hline 8\text{兩} \end{array}$$

$$\begin{array}{r} 4\text{斤}6\text{兩} \\ - 2\text{斤}4\text{兩} \\ \hline 2\text{斤}2\text{兩} \end{array}$$

算出下面的得數來：

$$\begin{array}{r} (1) \quad 1\text{斤}4\text{兩} \\ + 4\text{斤}1\text{兩} \\ \hline \end{array}$$

$$\begin{array}{r} (2) \quad 3\text{斤}3\text{兩} \\ + 6\text{斤}6\text{兩} \\ \hline \end{array}$$

$$\begin{array}{r} (3) \quad 10\text{兩} \\ + 6\text{兩} \\ \hline \end{array}$$

$$\begin{array}{r} (4) \quad 19\text{兩} \\ - 3\text{兩} \\ \hline \end{array}$$

$$\begin{array}{r} (5) \quad 9\text{斤}8\text{兩} \\ - 4\text{斤}3\text{兩} \\ \hline \end{array}$$

$$\begin{array}{r} (6) \quad 40\text{斤}7\text{兩} \\ - 3\text{斤}6\text{兩} \\ \hline \end{array}$$

(7) 左手提4斤2兩油，右手提四斤二兩油，共提多少油，那隻手油多？

(8) 1個小豬原來20斤4兩重，後來長了10斤，應是多少重？

(9) 1斤肉，除去3兩骨頭，還有幾兩？

(10) 金兔是50斤2兩重，白兔比他輕2斤，白兔是幾斤？

不盡的除法

在偽滿時某襪廠六個工人，每天織出八元的襪子，每人應得幾元？剩下的錢廠主賺去，廠主賺多少？

$$8 \div 6 = 1 \text{元} \cdots \cdots 2 \text{元}$$

答：每人得一元廠主得二
元

$$\begin{array}{r} 1 \\ 6 \overline{) 8} \\ \underline{6} \\ 2 \end{array}$$

$25 \div 4 = ?$

$25 \div 8 = ?$

$38 \div 9 = ?$

$32 \div 5 = ?$

$41 \div 5 = ?$

$58 \div 7 = ?$

$23 \div 3 = ?$

$65 \div 8 = ?$

$39 \div 6 = ?$

$44 \div 6 = ?$

$48 \div 9 = ?$

$85 \div 9 = ?$

(1) 十斤肉三家分，每家分多少？
餘多少？

(2) 二十四畝地，分給七個人種，
每人種多少，還剩多少？

(3) 九人吃三十根包米，每人吃幾
根？還有幾根？

- (1) 有十個學生，在每條凳上，各坐三個人的時候，結果怎麼樣呢？
- (2) 有十五個雞蛋，平均的分裝在兩個袋裡，結果怎麼樣呢？
- (3) 有二十塊玻璃，一扇窗戶上安三塊的時候，結果怎麼樣呢？
- (4) 有兩個人分七張畫片的時候，結果怎麼樣呢？
- (5) 有2尺長的絨繩一條，想把他都切成六寸長作一段，那麼能切成幾段呢？還剩幾寸呢？
- (6) 7被2除的時候，結果怎樣呢？
- (7) 7被3除的時候，結果怎樣呢？
- (8) 9被2除的時候，結果怎樣呢？
- (9) 9被4除的時候，結果怎樣呢？
- (10) 10被3除的時候，結果怎樣呢？
- (11) 15被2除的時候，結果怎樣呢？

總復習 1

$14 \times 2 = ?$

$22 \times 4 = ?$

$32 \times 3 = ?$

$18 \times 6 = ?$

$13 \times 5 = ?$

$10 \times 9 = ?$

$11 \times 8 = ?$

$22 \times 3 = ?$

$\begin{array}{r} 142 \\ \times \quad 3 \\ \hline \end{array}$	$\begin{array}{r} 161 \\ \times \quad 6 \\ \hline \end{array}$	$\begin{array}{r} 224 \\ \times \quad 4 \\ \hline \end{array}$	$\begin{array}{r} 179 \\ \times \quad 5 \\ \hline \end{array}$
--	--	--	--

$\begin{array}{r} 117 \\ \times \quad 7 \\ \hline \end{array}$	$\begin{array}{r} 114 \\ \times \quad 8 \\ \hline \end{array}$	$\begin{array}{r} 236 \\ \times \quad 3 \\ \hline \end{array}$	$\begin{array}{r} 229 \\ \times \quad 4 \\ \hline \end{array}$
--	--	--	--

(1) 1頁稿紙寫64字，8頁稿紙寫多少字？

(2) 1盒燈捲150元，買5盒該多少錢？

總 復 習 2

$$3 \overline{) 18} \quad 7 \overline{) 42} \quad 4 \overline{) 32} \quad 8 \overline{) 48}$$

$$6 \overline{) 846} \quad 2 \overline{) 506} \quad 8 \overline{) 992} \quad 4 \overline{) 1000}$$

- (1) 有 98 個山楂，7 個山楂穿一串，共穿多少串？
- (2) 鬥爭壞蛋地主，清算他的土地，每人分二畝，共有 514 畝，能分給幾人？
- (3) 有 9 個人，現在分下邊的東西，各種東西每人分多少？怎樣分好呢？

白布	45丈
被	10床
房	21間
馬	20匹
鋤	30把

總 複 習 3

把下邊的數加上6是多少。

9, 27, 98, 504, 708,

623, 475, 294, 897,

把下邊的數減去70是多少。

300, 406, 820, 730,

260, 680, 513, 927,

(1) 66兩是多少斤？

(2) 2斤 + 2斤 + 3斤是多少斤？共

折合多少兩？

$$\begin{array}{r}
 5 \text{ 斤 } 5 \text{ 兩} \\
 + 1 \quad 8 \\
 \hline
 \end{array}
 \qquad
 \begin{array}{r}
 7 \text{ 斤 } 1 \text{ 兩} \\
 + \quad 9 \\
 \hline
 \end{array}
 \qquad
 \begin{array}{r}
 50 \text{ 斤 } 6 \text{ 兩} \\
 - 30 \quad 2 \\
 \hline
 \end{array}$$

5斤 + 1斤6 + 5兩 + 50斤 = ?

誰知道秤都有什麼種類呢？

五
五
五
五
五
五
五
五
五
五
五



第一算術小初

1917年9月 佳。

定價：_____