

本國地理

普通進修科講義

校

函



12554

僑務委員會

僑民教育函授學校編印

普通
進修科

本國地理講義

僑民教育函授學校出版
李傑編撰

O. C. Education Correspondence
School, Republic of China

第一講 總論

第一節 疆土

世界第三

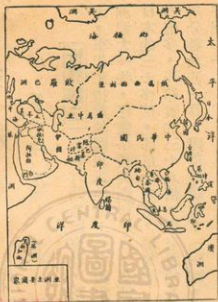
小華打開地圖來看，覺得中國疆土的面積，比亞洲任何一國都

大，李先生指着地圖告訴他說：「中國領土一千一百四十多萬方公里，比整個歐洲還大一些，僅僅小於英國和蘇俄，在世界上算是第三，在亞洲就算第一了。是日本的三十多倍，印尼的六倍，緬甸的十九倍，泰國的二十二倍多，越南的三十七倍多，菲律賓的三十八倍，馬來亞的八十四倍多。」小華是學過算術的，馬上用分數加法一算，證着眼睛道：「啊呀，這些國家合起來，總共還不到中國的一半呢！」

位置適宜

李先生接着說道：「是的，中國不但地面廣大，而且絕大部分

的土地，位於北溫帶，最適宜於農耕了。他不像南洋那樣濕熱，也不像西伯利亞



那樣寒冷，所以自古以來，中國的人力財力，也最雄厚，國家也就最強。你看那萬里長城和大運河，便是代表。」小華問道：「長城真的有一萬里嗎？」李先生說：「沒有。長城東起山海關，西到嘉峪關，也不過二千三百多公里；大運河北起通縣，南到杭州，全長也不過一千七百多公里。但這已經是世界任何一個地方，從來沒有第二個的偉大工程。這個一方面說

明中國地面太大，一方面說明中國富強。」小華說：「我知道了，不過通縣在什麼地方呢？」李先生啊了一聲道：「通縣在河北省，北平東北。——對了，我們應該再看行政區劃了。」

區劃分明

「全國行政單位，分省和縣兩級，省是行省的簡稱。中國自從



元代分全國為許多行省，經過明、清，一直到民國，大致沒有多大變更，因為各省的疆界，多半是依照高山大河劃分的，界限分明。到民國三十四年，又把全國分為三十五省、蒙古西藏兩地方、和一個特別行政區：海南島。我們先就地圖上看一遍吧！」

註：東北九省——遼寧、安東、遼北、吉林、松江、嫩江、合江、黑龍江、興安等九省，通常叫東北九省。過去是三省，所以叫東三省。是滿洲人的老家，也稱滿洲。

第二節 人口

世界第一 小華說：「中國人口

，聽說是世界第一，到底有多少呢？」李先生伸出一隻手說：「比這個還多些，你猜是多少。」小華說：「聽說有六億了，是真的嗎？」「五六億的人口大概是有的，因為滿清末年中國就有四億多的人口了。不過，這幾年來，中國大陸上死的人太多了，到底還剩多少，誰也說不出一個精確的數目來。」李先生很悲傷地回答着，然後舉起一個大姆指來：「無論如何，終究是世界第一，這是絕無問題的。」

東南稠密西北稀少

李先生說着，同時就翻出一幅中國人口分佈圖來，上面點着許多小黑點。只見江蘇浙江和廣東一帶，點子密密麻麻的，黑成了一片，越往西北去越稀，到了蒙古新疆一帶，偌大個地方，只稀稀的幾個小點。

僑民最多

李先生又問小華道：「你知道世界上居住外國的僑民，人數最多的是那一國？」



中國人口分佈圖

五五
代方
表人

809
「小華答道：『當然是中國了，因為海外有一千多萬的華僑呢。』」

第三節 地形

西高東低 小華把人口分佈圖看了一遍，覺得有點不明白，便問道：「奇怪，怎麼圖上那條線以東，人口特別稠密呢？」李先生翻出了中國地形圖，指給小華看：「你看，東部都是低平的平原，灌溉交通都便利。西部都是大高原，交通落後，氣候也乾燥，所以人口稀少。」

世界屋脊 「西方的帕米爾高原和西南方的青康藏高原，地勢最高，範圍最大，號稱世界屋脊。中國的山脈，在這一帶也都最高，由此向東，漸漸降低，到了大興安嶺、太行山、巫山一線以東，便只有平原和盆地了。」

第一高峯 小華問道「那世界第一的埃弗爾士峯在什麼地方呢？」「在世界第一高山——希馬拉雅山的中部。埃弗爾士峯是英國人起的名字，中國名字該是聖母峯。希馬拉雅山，也就是青康藏高原南邊的界限了。」

註：青康藏高原是祁連山以南、大雪山以西的地方，在青海、西康、西藏三區，地形上非常高。





第四節 河流

四條大河

在地圖上很顯明的看到四條最大的河流：黑龍江、黃河、長江、

珠江。李先生說：「黑龍江和黃河都有四千六百多公里長，黑龍江下流在俄國境內，中俄國界上的一段只有三千公里長；長江全長五千八百多公里，世界第五；就是粵江（珠江）也有二千一百公里長。這四條大河的下游都是平原，人烟稠密，所以最重要。」

內陸流域

小華點點頭，用手指着

小點子圈起來的地區問道：「什麼叫內陸流域呢？」李先生道：「就是這個範圍中的河，都不能流到海裡去。——因為中國的地面太大，這些地方離海太遠，雨量少



，河水很小。而且，這些地方大半是高原盆地，中央低，四周的山都很高。少量的河水，就被阻擋在裏邊，匯集成爲小鹽湖。不過，也有許多河是很長的，像塔里木河，就有兩千七百多公里長。」

第五節 氣候(一)——溫度

嶺南無冬塞北無夏

小華說：「聽說北方會下雪，非常冷，是嗎？」李先生說：「是的，不過不是常常下雪，只有冬天才下。」小華有點不了解地問着：「冬天？」李先生說道：「冬天是非常寒冷的，冷得一般樹木都落了葉，水都結成冰，人都穿上很厚的棉衣或毛衣。不過五嶺以南的廣東一帶，一年到頭炎熱，沒有冬天，也見不到雪。漸往北走，夏天漸漸短，冬天漸漸長，長江一帶冬天都會下雪的。出了長城，冬季就很長了。東北（滿洲）的北方，像黑龍江省一帶，冬就要長到七八個月，根本見不到夏天。」



中原一帶四季分明

小華指着圖問道：「什麼叫四季分明呢？」李先生道：「這是在長江以北、長城以南的黃淮平原一帶的地方，一年中春夏秋冬差不多各佔三個月，夏天吹南風，炎熱流汗；漸漸南風停了，天氣涼了，這就到了秋天，忽然一夜北風，樹上黃葉落得淨光，已是深秋；到了夜夜下霜，便是冬天了。冬天裡北風寒冷刺骨，滿地冰雪，人們都穿上棉衣服躲在房子裏烤火取暖；忽然一夜南風，冰雪溶解，草木發芽生葉，百花盛開，又到了美麗的春天了。——不過，大興安嶺以西的蒙古新疆，是沙漠氣候，冬天嚴寒，穿上皮衣也感覺幾乎忍受不了那樣的寒冷。夏季白天炎熱，沙漠裏可以把雞蛋蒸熟。但是晚上却又冷得很。至於大雪山以西、祁連山以南的青康藏高原，因為地勢太高，冬天極冷，夏天也不熱，倒是避暑的好地方！」

第六節 氣候(二)——雨量

季風氣候夏季多雨

因為小華對於忽然一夜北風，就能使天氣變得非常寒冷，覺得有點不大明白，李先生便又解釋道：「因為冬天太陽直射南半球，寒冷的西伯利亞氣流便經過蒙古一帶，往南吹，中國北方，首先遇到，特別寒冷。

到了五嶺以南，風已經變暖了。不過無分南北，冬季都是相當的乾燥，因為這種風是從大陸的內部向海洋吹送的，大陸中央，常是缺乏水分的。「那裏，夏天呢？」「夏天的南風，方向恰好相反，這種風叫做季候風。夏季因為從南半球來，經過赤道下面的南洋，所以不但溫暖，還從海上帶來大量水汽，所以夏天特別多雨。」

秦嶺淮河分界南北

「夏季的南風，首先吹到南方，所含濕氣，大部變成雨水降下來。所以長江以南到處是河渠、是池塘；到了秦嶺淮河一帶，水汽已經很少。所以秦嶺淮河以北的黃淮平原、松遼平原等地方，雖然也吹南風，但是雨下得很少，而且很遲；黃河南北，還常發生旱災呢。所以秦嶺淮河以北的地方，比起江南來，乾燥得多了。」

蒙新青藏雨量極少

「這種南風，吹到北方，風力已經很弱，很乾燥，吹不過去大興安嶺。所以大興安嶺以西的蒙古新疆，雨量極端稀少，地下的土，



因為缺少水分，不能粘在一起，都被風吹跑了。只剩下遍地沙石，這叫沙漠氣候。」「小華這才恍然大悟地說道：「啊！原來如此。那麼西藏呢？」李先生答道：「青康藏高原上，雖然季風也吹不到，雨量極少，但不是沙漠，這是因為地勢太高，終年寒冷，水分都結成冰雪，不易散掉的緣故。」

註 江南：是指長江以南的地方。就是湖北、湖南、安徽、江蘇、浙江等省長江以南的地方。

第七節 農 產

南方濕熱盛產稻米

中國南方因為又熱又濕，所以到處種植水稻，李先生告訴小華道：「假若我們坐飛機從香港往北飛，先看廣東，再看到江南，一直到秦嶺淮河的南方，到處都是種植稻米的水田。在嶺南（五嶺南方）還出產香蕉、鳳梨、荔枝、龍眼等水果，和南洋差不多。到了江南，春天常見遍地金黃的油菜花田。山坡地帶多半種着茶樹。」

北方乾旱小麥雜糧

「一過淮河，看到的風景就大不相同了，夏天裏看到的的是玉米、棉花、小米、花生、高粱等雜糧植物，高高低低的。不過冬天春天



農產分佈圖

，所看到的却盡都是小麥田。」小華突然插嘴道：「沒有好吃的菓物了？」李先生道：「有，多的很呢。春天有櫻桃、杏，夏天有李、杏、石榴、西瓜，秋天更多，葡萄、梨、棗、柿子、蘋果，一直可以吃到冬天。——不過，蒙古新疆太乾，青康藏太涼，所以無論是糧食或菓品，全都十分缺乏。在江南我們吃米飯，到北方就要吃麵、吃饅頭，到了蒙古新疆，就要天天吃抓羊肉了。」

第八節 漁 牧

蒙新西藏畜牧爲主

聽說吃抓

羊肉，小華感到很有趣，便問道：「他們都不吃飯嗎？」「是的。」李先生慢

慢地給他解釋：「不過也不全是這樣，除了新疆省偶然有些人家吃點抓飯。蒙古西藏地方，都只吃點炒麵作成奶茶，吃些牛羊肉。因為青康藏高原太冷，蒙古地方太乾，都不適宜農業，所以家家戶戶，都養着幾十匹的馬，幾百隻羊，幾十頭牛；馬用來代步，牛供給牛乳，羊就殺了來吃肉。蒙古地方用駱駝搬運東西，青康藏高原上就用羣牛騾馬馱東西了。」

內地家畜豬牛爲主

「到了大興安嶺以東和黃河流域的內地，牛羊馬一類的牲畜還是很普遍，北方城市，到處都能買到臘牛肉，到冬天還有羊肉可吃；一到江南，羊和馬少了，水牛多了，豬的飼養却非常的普遍，所以四川、湖南、廣東三省的臘肉香腸，雲南、浙江的火腿，都是很出名的。」

沿海和江南多魚蝦

「魚呢？」「很多很多，沿海一帶魚蝦很多的。江南因爲多水，成爲『魚米之鄉。』淮河以北，氣候乾燥，魚蝦也就少了。不過，



黃河鯉魚，松花江的黃魚也還是很著名的。」

第九節 交通

內地交通鐵路爲主

全國大概討論了一遍，小華的興趣，漸漸高起來，李先生就翻到中國鐵路圖，指着說道：「如果我們要去走一圈，那就可以坐火車去，先從九龍坐火車到廣州，從廣州順粵漢鐵路到武昌、漢口，再由平漢鐵路從漢口到北平；從北平有兩條路線可以到瀋陽。如果沿北寧鐵路回到天津，在天津就可坐津浦鐵路火車到南京。南京到上海有京滬鐵路。再往南，還可乘滬杭甬鐵路的火車到杭州。」

上海港口全國第一

「上海是世界四大海港之

一，出口進口的貨物，佔全國第一位。我們如果在這裏搭上船，向北可以到青島、大連，向南可以到基隆、高雄、廈門、香港、廣州。所以上海又是全國海港



的中心。」

長江航程世界第一 小華這時問道：「聽說在上海也可以坐船到南京漢口，是嗎？」「是的，在上海，我們可以不下船，坐着大海輪一直開到漢口，漢口離海有一千多公里了，竟然也是個海港，是世界其他地方見不到的。」「那麼是世界第一了？」「世界第一。在漢口，我們還可以改坐小江輪，通過三峽，到重慶，到宜賓，宜賓離海已經兩千八百公里了！」

第十節 工商都市

沿海海港工商繁盛 小華又問道：「我們沿途旅行，經過的大城市都和香港差不多嗎？」「差一點兒，因為香港是世界著名的大港，工商業都極發達，中國其他的大都市，交通沒有香港便利，自然就比較差些了。首先我們到廣州，看到廣州市區比香港廣闊平坦，只是建築稍差，城南城西，珠江水面停着許多船，這裡是絲、茶、米糧、洋貨的大市場。若是坐車到漢口，見到漢口江面的輪船更大，更多，漢口是長江中游的茶、米、桐油、土產和日用品的大市場，市上有很多的洋行，專做國外的買賣。」

「然後，我們坐輪船到了上海，上海太大了，人口要比香港多得多，這裏是紡織、化工、食品、機械等工業的大本營，南來北往，各地的商販都有。算是中國最大的工商都市了。」

「要是再坐船北上，還可看到青島、天津、大連，東南到基隆、高雄，全都是工商業很發達的港口。尤其是大連，東北的食糧、煤鐵等差不多全都由此出口，是個賺外國人錢的工業港。」

鞍山撫順重工業好

小華說：「聽說東北還有很大的工業城？」「是的，那便是鞍山了，鞍山一帶是中國最大的鋼鐵製造場，再北有撫順，是全國最大的煤礦區，所以撫順、瀋陽、鞍山、遼陽一帶，重工業非常發達，大量生產各種機器、火車、汽車、鋼軌、鋼材。」

【習題】

一、問答 六〇% (每題二十分)

1. 中國疆土(領土)有多大?有什麼特點?
2. 中國地形,有什麼特點?
3. 中國氣候上,什麼地方四季分明?

二、填充 二〇% (每題一〇分)

1. 秦嶺淮河以南地方濕熱,出產——很多,以北乾旱,出產——雜糧等。
2. 中國的四條大河是黑龍江、——、——和粵江(珠江)。

三、選擇 二〇% (每題一〇分)

1. 從漢口坐火車往北可到①廣州②北平③上海。……………()
2. 中國人口和海外華僑的人數都是世界①第一。②第二。③第三。……………()

普通
進修科

本國地理講義

僑民教育函授學校出版
李 傑 編撰
O. C. Education Correspondence
School, Republic of China

第二講 台灣省和金門、馬祖

第一節 地位重要

自由燈塔海上長城

臺灣既安全，又自由，便很放心地託咐李先生照顧一切，他們倆次日便搭上香港到臺灣來的船，在海上航行了兩夜一天，第三天早上便到了基隆。在人聲喧鬧之中，小華走上甲板，只見青山環抱，船桅林立，有點兒像香港。自己船上的人，紛紛提箱攬籠，往碼頭上走，李先生也叫了搬運夫來，正要搬下行李，忽聽人羣中砰砰一片鞭炮響，把大家嚇了一跳，經過詢問，才知道同船的有幾個是新從廣東逃出來的義士，許多民衆團體、學生代表，打着旗幟，拿着花圈，

前來迎接，還不住地高聲喊叫。小華看了，感動得流下淚來，李先生也激動地說：「大陸上多少人想逃而逃不出來，但臺灣好像燈塔一樣，使他們懷着無限的希望。美國人最愛自由了，所以他們才把第七艦隊調來幫助自由中國防守臺灣海峽，臺灣便像一道長城樣，替自由國家擔任防禦的工作。」

北接韓日南連菲越

小華問道：「爲什麼臺灣比其他地方都重要呢？」李先生道：「因爲北邊有琉球、韓國、日本，南邊有菲律賓、越南、泰國、馬來亞，臺灣恰在中央，可以把他們聯繫起來。因此自由中國不但在精神上領導自由世界。同時也因爲距離大陸最近，軍事上更顯得非常重要了。」



第二節 行政區域

一十六縣五市一局

在旅社的牆上，貼着一幅「臺灣省行政區域圖」，李先生指給小華看：「你看臺灣形狀，好像一片芭蕉葉，也像隻小香蕉。南北長四百公里，東西最寬處一百六十多公里，全省面積有三萬多平方公里，行政區域你可以自己數數看。」小華應了一聲好便很快地數了起來：「縣份有臺北、桃園、新竹、苗栗、臺中、彰化、雲林、嘉義、臺南、高雄、屏東、臺東、花蓮、宜蘭、南投和澎湖，一共十六個縣。另外有臺北市、臺中市、臺南市、基隆市、高雄市，一共五市！」李先生接到「還有一個陽明山管理局呢，管理局下面有北投和士林兩個鎮。位於臺北市的西北，直接屬於省政府管轄。」

金門馬祖緊鄰福建

小華急急地問道：「那非常出名的金門在什麼地方呢？」李先生笑着說：「金門是另外一個



縣，設在金門島上，島在廈門的海邊，馬祖是又一羣小島，位在閩江口外。這兩處現在都有國軍駐守着，是屬於福建省的，福建省政府現在設在臺北呢。」

第三節 地形複雜

山地廣大河流短小

李先生
生又指着



一幅臺灣地形圖對小華說道：「你看，臺灣被歐人稱做美麗之島，因為這裡終年由青水綠，山地和丘陵要占三分之二的面積。這些山嶺都是從南到北，平行排列成五條大山脈。」小華馬上由東向西數道：「海岸山脈、中央山脈、雪山山脈、玉山山脈，四條！」李先生接着道：「那雪山和玉山兩大山脈的西邊，是許許多多的丘陵，總稱為阿里山脈。——這許多山脈都非常高大，所以發源於山地的河，不但短小，而且水勢湍急，不能行船。比較長的是濁水溪、高屏溪、淡水河等，也都沒有超過兩百公里的。山高谷深，地形上便顯高低不齊，非常複雜了。」

西多平原東有縱谷

「因為山脈偏東，西部平地就比較廣大些，我們由基隆乘車南下，首先看到臺北附近是個盆地（註）。再走便見桃園、新竹、苗栗一帶都是丘陵，到了臺中，又是一個盆地。彰化以南，平原範圍越來越大，嘉義南去，在火車上便看不見高山了，平原一直延長到高雄、屏東。所以這一帶城市一個接一個，人煙最稠密。」

「東部呢？」

「東部因為中央山脈逼近海岸山脈，花蓮和臺東之間，形成一道狹窄的谷地，叫做臺東縱谷。地土不好，人口也稀。由於大山阻隔，和西部聯絡不太方便，也就比較偏僻了。」

（註）盆地是說四周有山，中央低平的地方，好像盆子一樣。

第四節 氣候多變

平原炎熱高山涼爽

小華一到基隆，就感覺相當熱，李先生說：「基隆、臺北、臺中，都因地形低窪，不大透風，比起香港來，並不怎樣涼快，有時是相當熱。嘉義以南，又熱又乾。有些印尼

臺灣省

第四圖



回國的同胞，都說屏東要比南洋一帶還熱呢。不過高處都很涼爽，像陽明山、日月潭、阿里山都成了消暑勝地。高山上便更涼了。」

夏季炎熱冬季溫涼

大家正談着，賣水棒的來了，小華買了兩枝，順便問他：「臺灣賣水棒的生意，一年到頭都很好了？」賣水棒的忙說：「那裡！若是在嘉義以南，高雄屏東一帶，冬季也很溫暖，生意也好。臺中以北，一到十月，便刮起東北風來，天氣非常涼，尤其臺北、基隆、宜蘭一帶，冬天常是淅淅瀝瀝，不住地下着細雨，元月二月裡更是冷得非穿毛線衣，呢外套不可，那裡還有人吃冰呢，所以有三四個月是沒有生意的就是夏天裡，有時颱風（註）來了，大雨傾盆，也常會一個半個禮拜很涼爽。」

冬有寒流春景最美

「那麼什麼時候天氣最好呢？」

「除了夏天三五次颱風，冬天三兩次寒流外，大半的時間都很舒服。寒流是由西伯利亞吹來的冷風，寒流來時是要穿大衣的，不過那只是在元月二月。二月三月一到，到處百花盛開，不熱不冷，是最美的季節了。」

（註）颱風是發源赤道北方，菲律賓東方海面的低氣壓中心，四周空氣，都向這低

壓中心流動，風力極強。這低氣壓中心經常向西北移動，到了大陸邊緣慢慢消失。

第五節 物產豐富

稻米甘蔗甘藷水菓

他們倆人因為急切的想把臺灣馬上遊覽一遍，所以決計先坐車南下，直到最南頭的恆春鵝鑾鼻，然後再一個一個地遊覽那些大城市，和著名的名勝古跡。第二天天氣很好，他搭上了南下的早車從基隆出發，漸漸平原出現了，李先生說車子已近臺北了，小華向窗外望去，只見兩旁漠漠無邊的，都是稻田，車子繼續南行，穿過許多的小河和丘岡，桃園、新竹、苗栗的丘陵地帶已經走盡，又是一片平原出現，「臺中盆地！」這時窗外的景物慢慢變了，圍繞田地四周的防風林不見了，山坡上出現一片一片的甘蔗園。十二點多，车子在彰化停了很久，小販們帶着各色的水菓、食品在外面叫賣，小華買了兩個「便當」（註）。

他把那薄如黃紙的木片盒子打開，只見熱氣騰騰的飯上，夾着香腸、肉片、滷蛋、魚鬆，小華不由地說道：「真是又便宜又方便，」李先生接道「稻米、蔗

糖、甘藷，是臺灣的三大農產，蔗糖是最重要的輸出品，其次就是水菓，臺灣不但出產香蕉、鳳梨、龍眼、柑橘等熱帶水菓，高山和丘陵上，氣候較溫涼，還產桃、李、葡萄、柿子等溫帶水菓，各色各樣的，一年到頭不會斷。物產富，物價自然便宜了。」車子經過臺南高雄，下午到了屏東，一路看到的大都是甘蔗園和稻田、菜圃菜園。

山多木材海多魚鹽

沿海還產鹽，因為加工製造技術好，銷路也大。」

(註)「便當」是臺灣一般出門作工或遠足的人，隨身攜帶的飯盒子，盒子普通都用鋁製成，外邊販賣的，則用薄(刨)木片摺成，內裝食品，非常簡便。

第六節 工商繁榮

製糖肥料規模龐大

到了屏東，那高聳的糖廠煙囪，引起了小華的興趣，李先生也以爲時間還早，便雇一輛出租汽車，直駛糖廠，總務課長聽說是海外歸僑，招待的格外親切，馬上引導他們去

參觀工廠，那隆隆的壓榨機，巨大的結晶鍋爐，使得小華感覺非常有趣味。總務課長一邊走一邊談：「臺灣的製糖工業，可說是工業中霸王，臺糖輸出國外，賺的錢常佔輸出總數的三分之二，現有工廠二十七處，有十七萬家農民靠種蔗生活——其他的國營工業能和糖廠比美的，要算臺灣肥料公司了……」

機械化工蒸蒸日上

「啊！真叫人興奮。其他的工業什麼樣呢？」
「自由中國這幾年進步的够快了，安定、繁榮、自由中國這幾年進步的够快了，安定、繁榮、油、紡織、麵粉、造紙等的生產量，都比以前日據時代（註一）增加了五倍到一兩百倍。另外像汽車、腳踏車、電風扇、人造絲棉、玻璃、橡膠等以前根本沒有，現在却大量生產，暢銷南洋。——這一半要歸功於政府的獎勵扶助，一半還得歸功於華僑的投資經營。」

進口出口日漸增多

「那麼回到祖國來開工廠是最賺錢的了？」
「就是臨時做批買賣也一樣很順利的，這幾年臺灣的對外貿易比以前增加了十倍以上。日本、韓國需要糖、米、水菜，菲、港、越、泰需要鹽、煤、布匹、水泥……如果進口橡膠、棉花、大豆、小麥，也

很賺錢！」他們一看時間已不早，便道了謝，回到市內去了。

（註一）「兩後春荷」是很多，很茂盛的意思。

（註二）「日據時代」是指日本佔領臺灣的時期。

第七節 教育、政治

小學中學大得驚人

從糖廠回到屏東車站，正遇到裡面湧出一大羣黃色制服的學生，肩上背着書包，唱着笑着，看起來健康活潑而又非常規矩的樣子。小華忽見兩個面孔黑黑的，正用馬來話邊走邊談，他便趕快招招手，兩人馬上走過來問他道：「你是從什麼地方來的呢？」

「南洋！」

「啊，我們也是南洋來的，去年才從印尼搬回來，住在附近，兩位請到我家來吧。」

小華和李先生經不住兩人再三相請，答應了。四人上了出租汽車，小華忍不住問道：「奇怪，你們出門怎麼都要帶那麼多的書呢？」

兩人哈哈大笑道：「我們是剛從高雄放學回來的，天天這樣。」

「那你們為什麼不在屏東讀呢？」

「還不因為高雄的比較好，升學比例高。——你知道臺灣現在在大學、中學，都是聯合招生，按分數分派，一次考不中，就要等下一年了！」

「為什麼要

聯合呢？」「因爲人太多了，避免重複、麻煩，每人只考一次也就可以了，你不知道，現在臺灣每年有三十多萬的小學畢業生，十多萬的中學畢業生。都市裡的小學中學，一排一排的高樓教室常常多到一百間兩百間！按人口比例，應是世界第一了。」

作官作事機會平等

「爲什麼不限制一下呢？」「誰願意落後呢，你知道現在縣長議員，都由人民選舉，不論在什麼地方作事，都靠自己的學問、技能、真實本領，自然誰也不願放棄受教育的機會……」

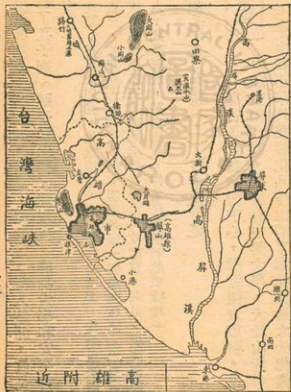
第八節 都市和名勝（一）高雄、台南

港市高雄古都臺南

次日遊罷墾丁植物園和鵝鑾鼻，李先生和小華搭上公路局金馬號快車，直奔高雄。寬廣的馬路，高聳的椰子樹，兩旁整齊的樓房，看起來氣象十分雄偉，車子從愛河橋上越過，進入市區中心，市政府和銀行的宮殿式的頂樓，非常美麗奪目。兩人改乘了往「西子灣浴場」的公共汽車，向西走了好久，才看到那寬廣的港面，停着各色

的船艦，港口在西北，一邊旗山，一邊壽山，夾立兩側，山上還有砲臺。李先生這時告訴小華說：「高雄是個工業港，你看壽山東方高大烟囱，便是水泥廠了，附近還有許多紡織、機械工廠。北邊左營，是個海軍基地，東邊鳳山，陸軍訓練中心。更北岡山，又是一個空軍基地。岡山鎮的東方有大岡山、小岡山是個風景區。再東有泥火山，地下不斷噴出瓦斯和泥漿來，還有鳳山北邊的大貝湖，也是個風景區。」

臺南市是個古城，延平郡王鄭成功（註）的舊都，小華和



第五圖

李先生一下車，便感覺這裡和高雄大不相同，只見古樹夾道，行人悠閒，真是一個文化城。他們先後參觀了孔子廟、延平郡王祠、赤崁樓、成功大學和安平古堡，在下午時候便北上臺中去了。

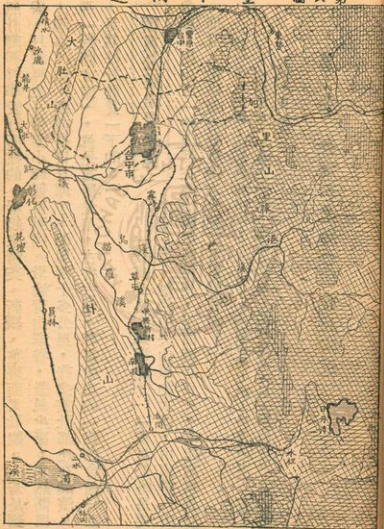
(註) 延平郡王鄭成功：是明末忠臣，初隨唐王，後唐被清兵所害，成功退據南澳（廣東汕頭東），招集勇士，等待恢復，明朝最後一個皇帝桂王（水曆帝）在廣西遙封成功為延平郡王，成功率兵占舟山，攻南京，兵敗。退而渡海來臺，遂荷蘭人，建臺南府，努力建設，作為反清復明的根據地。

第九節 都市和名勝（二）台中附近

交通中心文化名區

臺中是全省交通中心，附近糧食市場，也是中部文化大城，市南有中興大學，大肚山麓有東海大學。爲了節省時間，李先生和小華只在彰化八卦山看了那世界最大的佛像（註），再由臺中乘汽車到霧峰，在這裡參觀了省議會美麗堂皇的建築，也參觀了故宮博物院，那裡收藏的，盡都歷代的珠玉珍寶，金石名畫，真是個藝術寶庫。由霧峰再南行不久便到了中興新村，這裡完全是省政府的辦公室和宿舍，一切都

近附中臺 圖六第



是依照計劃和科學設計而建的，看起來精美、新穎、整齊而又壯觀。「若是到日月潭去，只須再坐一個多小時便可到達。沿途青山翠谷，微風生涼。忽然間四山環抱，湖水汪洋，那就是日月潭了，潭周圍十多公里，許多旅社都建在湖濱。尤其是那「教師會館」，真是富麗堂皇，古香古色，和臺中市的「教師會館」互相媲美，是該好好欣賞一下的。」

橫貫公路風景壯麗

「橫貫公路在那裡呢？」「橫貫公路是從臺中到花蓮，越過中央山脈的大道，由東勢入山，到太魯閣口出山，一路上都在高山斷崖間盤旋，下面深谷百丈，看起來風景壯麗極了。而且，沿途還有好幾個大發電所可以參觀呢？」

(註) 彰化大佛：位於彰化市東北八卦山下，基臺占地七畝，佛像高七十二尺，身長五尺六，手長十一尺，內部分六層，從佛像耳、口、眼的孔中，可以望見幾十里以外。

第十節 都市和名勝(三) 台北附近

行政中心文化園地

李先生和小華出了臺北車站，只見臨街的房屋非常整齊，坐上了出租汽車沿中正路往西開去。誰知車輛是那麼擁擠，前後相接，常常地停下來，車夫見他倆有點不耐煩，歎口氣說：「現在臺北車太多了，中央各機關，外國的使館、辦事處，各公司的經理部門等，加上一百多萬人口，車子自然很擠了。」正談着，車到中正路和中山北路交叉地方，一個圓形的噴水池中央，赫然立着總統的塑像。右邊監察院，左邊行政院，褐色的高樓在樹蔭裏顯得莊嚴幽靜，車行在中山北路，兩旁樓房樹木是那麼樣的精美整齊，那忠烈祠、圓山動物園和兒童樂園，使得小華感到很有趣。然後再回頭南行，在火車站前面，小華見到了白色綠頂的博物館。再往南，看到了許多銀行大樓，那廣場前面，紅色巍峨的高大建築，就是總統府了。再往南，在植物園內又看到許多中國宮殿式的建築，尤其是那多姿多采的科學館、歷史博物館，最爲新鮮別緻。

在最南邊的山下，小華看到了臺灣大學寬廣的校園，坦蕩的馬路，一排排雄偉的高樓，不由得歎了口氣：「就憑外表看，這已經算得世界第一流的學校了！」李先生接道：「其他的公私立大學和專科，在臺北一帶的還有十所，所以臺北

台北附近

第七圖



不僅是個行政中心，同時也是個文化園地。」

經濟重心工商基地

遊罷陽明山和新店碧潭，小華感到公共汽車、公用電話真是多而且方便，不住的讚美，李先生說：「因為臺北還是個經濟重心呢，這裡有銀行六家，汽車公司六十多家，大小紡織廠八十多家，進出口貿易行一千多家！」

第十一節 金門馬祖

反攻前哨鋼鐵堡壘

基隆的造船廠，中正公園，附近幾個海水浴場都玩過了，在一個晴朗的早晨，小華和李先生搭上開往金門的小艇，從基隆出發了。小華興高采烈，精神百倍，李先生拿出金門的地圖來，指給小華看：「金門靠近福建東南沿海的一個小島，離開廈門島只不過十公里。島的最長部份由東北到西南才二十公里，最寬處也只十二公里。全島面積才一百二十多平方公里，合上西邊的烈嶼（小金門）、大膽島、二擔島、三擔島，也不過一個臺南市那麼大，人口才四萬多。——可是就這一個小小的地方，却讓共匪傷透了腦筋。」

傍晚時候，船到了料羅灣，岸上早有人在迎接，大家客氣一番，便都先後上車，車子在那寬闊平坦的水泥馬路上飛也似的奔跑，小華放眼四望，只見起伏的山岡，紅紅的泥土，田裡高粱迎風搖擺，三三兩兩的農人很悠閒地在工作。公路穿過陳坑、瓊林，最後到了金門。小華一看那金門城雖然不大，市街店舖倒也都非常整齊，只是街後的房屋，還都留着斑斑的彈痕。在一個招待所裡，小華聽說「四十七年八月二十三，匪炮突然狂轟金門，在四十多天之內，發射了一百多萬發的炮彈，大膽島上，連水井都被打平了，可是沒有一個人叫苦害怕，連老百姓也都要誓死殺賊！當時有許多記者來看，都感動得落下淚來。現在，一切都不怕了，地下的隧道，可以通行大卡車，現在金門的防禦工事，金門的人心，已經像鋼鐵一樣，任憑匪徒發射一千萬發。也是無用。將來一旦反攻，這裡便是反攻的前哨！」



第八圖 金門島與廈門市附近

馬祖羣島扼守閩江

小華本來還要求上馬祖去，李先生告他說金門沒有去馬祖的船。同時給他介紹馬祖的情形：「馬祖是一羣小島，屬於連江縣，最大的南竿島上有個漁港：馬祖，馬祖東方五十多公里，還有個東引島（兩小島）

，一共八個島才二十七方公里的面積，一萬三千多人。可是由馬祖的封鎖，閩江、連江口上的城市都成了死港。由於戰士、居民一體努力，島上建設日益進步了。」



【習題】

一、問答60%：（每題二十分）

1. 臺灣有什麼重要性？
2. 臺灣的教育和政治，有什麼特點？
3. 金門和馬祖在什麼地方？有什麼重要性？

二、填充20%：（每題十分）

1. 臺灣工業除了新興的機械化工等，規模最大的 和 工業。

2. 臺灣南部的大都市是臺南市和 港，北部的行政文化中心是 市。

三、選擇20%：（每題十分）

1. 臺灣風景最好的地方是臺中東方的： ①橫貫公路，②日月潭。……………（ ）
2. 臺灣地形的特點是： ①山地廣大平原在西，②平原在東，河流很長。……………（ ）

普通
進修科

本國地理講義

僑民教育函授學校出版
李倬編撰
O. C. Education Correspondence
School, Republic of China

第三講 福建、廣東

第一節 閩江流域

全境多山平原狹小

在金門西北的古寧頭，小華也跟着別人，拿望遠鏡往大陸上瞭望，李先生歎了口氣說：「要過福建嗎，就請您介紹一下好了。」李先生於是拿出一本地圖來，翻到福建省，指給小華看道：「福建省在中國東南，和臺灣隔着一道海峽，我們如果從馬祖島上向西望，正好可以看到閩江口，這閩江有五六百公里長，流域面積占全省一半，是福建第一大河。我們如果坐小電船沿江上行，首先在江口看到羅星塔^㊸，接着便又看到很多的船艦，那便是海軍基地馬尾^㊹了。這裡江面忽然寬了，地勢也

就平了。再上行二三十公里，便見西北方高樓大廈，市區範圍相當大，這裡便是福州了。從福州上行，只見江水越來越急，兩旁的高山越來越近，山坡上的田地一層層地，像臺階一樣，這就是梯田了。田地背後，一派青山，一直望不到邊，船到南平，遠遠望見立陡的山坡上，房屋上下相接，好像幾十層的高樓，這是因為南平是建在山坡上的，平地越來越小，險灘越來越多，這一帶航行的木船，上水都要很多人拉着，叫做「拉絳」，有句俗話說：「一灘高一丈，邵武在天上。」到了邵武，已經接近武夷山了。山西便是江西省。——所以我們從沿海往武夷山方面走，越走山越大，平地越少。人口越稀，城市越小。

物產不豐交通困難

小華問道：「既然到處都是山，田地非常少，物產自然也不多了？」李先生說：「當然了，尤其其西北部，不但米糧不夠，而且由於山地阻隔，交通也很不便。所以我們最近在報紙上，常常可以看到這裡有反共游擊隊出現。」

武夷山區風景優美

「聽說武夷山風景很好？」「是的，武夷山脈是江西和福建的界山，他的主峰武夷山在北部崇安縣，那懸崖絕壁，巨石疊疊，崖壁上竹樹交織，流水瀑布，從崖上倒瀉下來

就是盛夏，也會感到十分涼爽。那溪水彎了彎，稱爲九曲，第五曲上流地方，有文公書院，宋朝朱熹，曾在這裡講學。山上因氣候溫和多雨，出產的武夷山茶，著名全國。」

【註】

①、閩江流域——是閩江和他的支流河川所流經過的地方。

②、羅星塔——在馬尾下游一公里多，附近有砲臺防守江面。

③、馬尾——在福州下游二十五公里，江水較深，大船都在此停泊。附近有造船廠。

第二節 閩南地方

漳州泉州華僑故鄉

小華常聽人講起漳州泉州，便問李先生這兩地在什麼地方。李先生指着地圖說道：「漳州是現在的龍溪縣，泉州是現在的晉江縣。漳泉二州都是唐代設置的，兩州的領域，包括全部現在的閩南地方。」

小華問道：「閩南是不是講閩南話的地方？」李先生道：「一點也不錯。這講閩南話的地方，包括晉江流域（晉江、同安、南安、惠安、安溪、永春、德化

、大田等縣）和漳江（九龍江）流域（龍溪、海澄、長泰、漳浦、平和、南靖、詔安、雲霄、華安、龍岩、漳平、寧洋等縣）。這裡氣候暖，物產富，人煙稠。加上上海交通便利，人們紛紛到南洋一帶去，菲律賓、馬來亞、印尼等地大部份的華僑，都是從閩南去的。」

漳州泉州古時大港

小華問道：「爲什麼這裡的海上交通特別便利呢？」李先生答道：「漳州泉州都是古時的大海港，好比現在的倫敦和紐約，阿拉伯的商人，從南洋到中國，都到漳州泉州停泊，那時的大海船，可載客商七八百人，船上有篙師六百人，兵勇四百人，設備完善。海船航行，遠到亞洲西部，於是阿拉伯、波斯等地的商人，成千上萬的來到中國，中國人也有很多移居到南洋的。」

「泉州（晉江）南臨晉江，北面二三百里有清源山，清源山又叫泉山，有三峰和三十六洞等名勝，城東有回教清淨寺。城東北二十里洛陽江上有洛陽橋，橋長三百六十丈，氣魄壯偉。現在的泉州港已經被河沙淤塞了，大船不能進港，商業一落千丈，可是那許多名勝古跡和龍眼麻布等土產，仍然非常著名。」「漳州呢？」

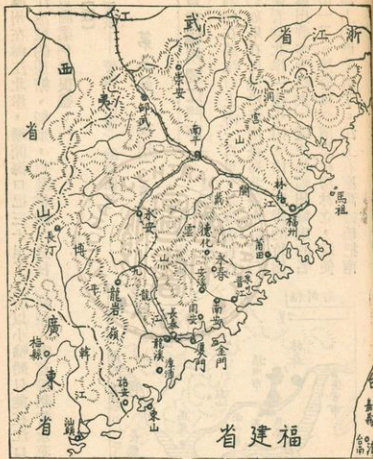


圖 一 第

「漳州在漳江北岸，離開海口已三十里了，所以小輪船只能在江口石碼停泊。但漳江流域的蔗糖、稻米，以及柑橘、荔枝、鳳梨、香蕉等熱帶水果，非常豐富，所以商業仍然很盛。」

【註】

①、領域——管領（治理）的範圍。

第三節 福州、廈門

省會福州閩江門戶

「福州和廈門呢？」

「福州在閩江口上游一百里，是福建省省

會，我們如果在馬尾沿着南臺島北邊水路航行，不久便看到北岸一座小山，山上青青的竹樹林中，露出許多寺院來，這便是福州城東的名勝「鼓山」了。接着見到南岸樓房林立，這便是南臺島上的商業區了。江上有座萬壽橋把南



圖二第

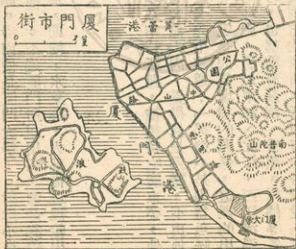
北兩岸的市街聯繫起來，江上停着許多木船、木筏，都是從西北部上游運下來的茶葉、竹紙、生漆等，福州便成了閩江流域的總集中地。再從這裡往北四五里，就到了福州城了，這裡因為都是住宅，是省政府所在，倒顯得十分清靜。城北有鎮海樓，城西北有小西湖，都是名勝地方。

海港廈門商業發達

「從

福州坐船

往南行，一天光景就可到達廈門了。廈門是在一個島的西南方，島在金門之西，漳江口東方。船還沒進港，就望見右邊高樓大廈，街市整齊，這便是臨港的鷺江道，許多輪船公司、銀行等都在這裡；然後我們上岸，沿着最繁華的中山路西行，路盡頭便是公園，公園南面是南普陀山，山南



圖三第

有南普陀寺，規模宏大，是廈門最大佛廟。寺南便是廈門大學了。對岸小島鼓浪嶼，山石嶙峋，樹木清幽，風景最爲美麗了。不過廈門所以出名，還是靠着他的港澗水深，貿易發達。閩南的茶葉、紙張、蔗糖、水菓等，大都從這裡輸出呢。

第四節 廣東省

嶺南府庫物產豐饒

小華在招待所裡，被招待吃廣東菜，他吃着那豐盛的大魚大肉，覺得真是過癮，不由地問李

先生道：「廣東菜爲什麼特別好吃呢？」李先生答道：「那還不是因爲魚呀肉呀，材料特別多。爲什麼廣東人特別喜歡吃，這是因爲環境的關係，這裡的出產太富了。五嶺以南，氣候熱、雨水足、土地肥，所以東江、北江、西江流過的地方，稻米非常豐富，丘岡不能灌溉的地方，也都種着荔枝、香蕉、柑橘等各色菜品，鷄鴨成羣，魚蝦滿江，到處都能找到吃的東西，所以有句俗語說『吃在廣州』，意思說要吃好的，請到廣州去。」

南方門戶革命基地

李先生繼續說道：「嶺南^①地方不但物產豐富，商業繁榮，而且還是交通孔道。」「爲什麼呢？」「因爲這裡出海近，港灣好，自古以來，雲南、貴州、湖南、江西的土產都從這裡向外運輸，中國派往南洋各國的使臣，也都從這裡南去。那些外國人，把香料、珍珠、象牙等運來中國，也從廣東入境。早在唐朝時候，這裡已經出現了一個世界港——廣州。中國人也都紛紛到南洋去，所以南洋一帶的華僑，廣東人也非常多。」

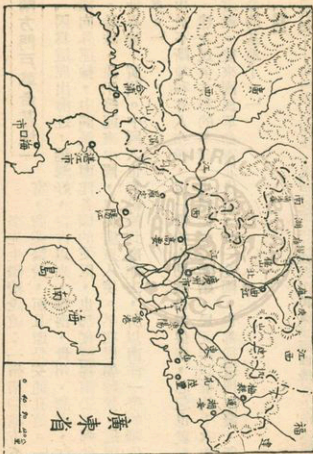
「由於不斷地和外人交通，這一帶的人見識也就很廣，思想也就最新，那推翻滿清、建立民主共和的革命，也都從這裡開始，民元年以前的十次起義，也都發生在這裡。後來國民革命軍北伐^②，統一全國，也都從這裡出發，所以說這裡真是革命的基地了。」

【註】

①、五嶺——也叫南嶺或嶺，是指分佈在江西湖南和廣東廣西邊界上的大庾、騎田（摺嶺）、萌渚、都龐、越城等五嶺。

②、嶺南——就是五嶺以南的地方，普通指廣東。

③、北伐——民國初年，軍閥割據一方，十四年革命黨在廣州成立國民政府，編建國民革命軍，十五年七月九日在廣州誓師北伐，十七年夏天，統一全國。



第四圖

第五節 廣州市和粵江三角洲

海陸商埠南方大港

小華：「我們坐船可以到廣州嗎？」李先生：「可以，不過廣州江面水淺，大輪船要在黃埔停下來。黃埔在廣州城東十五公里，不但以軍官學校出名，也是國父實業計劃中的南方大港。我們如果在這兒改乘小輪或汽船向西行，不久見南岸碼頭相連，船舶相擠，這便是河南商業區了。再看北岸，那廣州城市街連綿，足有七八公里長。背後山岡起伏，那便是白雲山了，著名的七十二烈士埋骨的黃花崗，就在城北白雲山下。光塔街有懷聖寺，寺內有光塔，是阿拉伯回教徒所建。市內北方有越秀山（觀音山），山下有中山紀念堂，是國父當年作護法大元帥時的辦公室，我們在市中心中山公園順着德宜路北望，一眼便見到那高大嶽峨的建築。往後沿着小路上山，在山上可看到南漢故宮、應元書院，和鎮海樓，鎮海樓高五層，登樓四望，廣州市景，盡收眼中，南望黃埔、珠江如帶。西望荔枝灣，江面船舶如蟻聚，大都是從西江運下來的貨物，那粵漢鐵路，從北來，到了荔枝灣便是終點，南下的貨車，則從市北繞過，由廣九鐵路直奔香港九龍。車來船往，一片

喧鬧。」

三角洲上物阜人稠

市附

近，就是粵江三角洲了。這是東江、北江和西江沖積而成的肥沃平原，三條江在這裡相合而成粵江（珠江），粵江三角洲一帶，千里平野，盡都是稻田蔗園，蠶絲菜品，也都出產豐富。所以這一帶人煙最密，出國到南洋的也就最多，其中以開平、恩平、鶴山、臺山、新會、順德、中山等縣，都是著名的僑鄉。」

國父故居風景優美

華問

小

道：「中山縣不是國父的故鄉嗎？」

小華：「廣州市以外呢？」李先生：「廣州



圖 五 第

「李先生：「是的，中山縣城設在石岐鎮，在新會東方，澳門之北。縣西有黃揚山，險峻異常，上有天池。山西南赤坎村，有宋朝忠臣張世傑墓。國父故里翠亨村就在縣城東南，背山面海，風光美麗。國父家裡的房舍，已經無人居住，遠近的遊客，都可以由澳門或順德坐汽車前來參觀。」

【註】

①、三角洲——河口的平原，往往成三角形，叫三角洲。

②、連綿——是相接不斷的意思。

③、蟻聚——是說好像螞蟻一樣，密密地擠在一起。

第六節 韓江流域

潮汕一帶華僑故鄉

李先生告訴小華說：「我們如果從金門坐船向南行，大約一天光景，便可到達汕頭了。汕頭和廈門差不多，前邊有個達濠島，屏蔽着鮑江口外的牛田洋。不過港水不深，所以我們看見港面上帆船、小輪船較多，見不到大海輪。不過，這裡已經是韓江流域的總門戶了，上游的貨物，都打這裡輸出。從汕頭港南望，只見對岸山陵巍

巍^①，景色秀麗，那便是潮陽城東的東山了。我們若是坐小汽船沿江北行，不久便見江東三峰高聳，狀如筆架，這便是潮安城東的韓山了。因為唐朝時候大文學家韓愈被貶到潮州（潮安）來作長官，韓江韓山便是後人紀念他而起的名字。金山在城北，西湖在城西北，都是名勝所在。潮州油頭一帶，平原上甘蔗、稻米和水菜，都和閩南一樣豐富，稠密的人口，也都紛紛向南洋遷移，尤其是在泰國曼谷，潮州話簡直成了最流行的官話了。所以這裡又是一個華僑故鄉呢。」

大埔梅縣客人聚居

「再往北呢？」「船繼續往北行，兩岸山嶺夾峙，已無平原，漸漸覺得水急灘多，到了三河壩，突然河道分成兩股，汀江從福建來，梅江從西南來，水量都小了許多。這裡已經是大埔縣界，四下丘岡起伏，一直綿延到西南梅縣。這大埔、梅縣、興寧、五華、蕉嶺一帶，居民盡都是從中原（河南）遷來的客家人。山田裡生產的蕃薯雜糧，不能養活很多的人口，所以這一帶的客家人也都順江南下，從油頭出境到南洋等地謀生去。現在這些地方也都成了反共游擊隊活躍的地方了。」

【註】

①、屏蔽——好像「屏風」一樣，遮蔽在前面。

①、據這——山陵高大的樣子。



第六圖

第七節 海南特色

氣候炎熱地利未闢

小華翻看地圖，見到我國東南沿海有兩個大島：臺灣和海南島。便問李先生道：「這兩個地方差不多吧？」「臺灣是一個省，海南島是個特別行政區。面積上說，兩個地方都是三萬多公里，海南島略微小些。但是海南島的人口，只有臺灣的三四分之一。」「爲什麼呢？」「因爲這裡氣候太熱了，西部北部，還顯得雨量缺乏，加以境內多山，離開河谷稍遠的地方，都沒法種稻，隨處都是甘蔗、花生，那些從海口市運出的土產，也大半都是這些東西。我們離開海岸稍往內地走走，便見荒草矮樹，未曾開闢，那些黎人、苗人，也都赤身露體，放牧着牛羊。」

黎苗倭伎生活落後

小華聽見有些奇怪的民族，便很好奇地叫了一聲：「啊，他們是什麼樣呢？」李先生見他很感興趣，便解釋道：「這些少數民族，都是古代華夏民族的一支，因爲遷居到偏僻的地方，年代久遠了，生活習慣便變得奇特了。大致說來，苗人伎和生黎^①都住深山，熟黎^②居住平地，已經和漢人沒有分別了。一般房屋都是茅屋，牆壁用

竹材作成。牀也用竹作，牀上睡人，牀下睡豬羊。男子們只穿短褲一條，腰掛佩刀。女子喜在臉上繪畫花紋。年輕男女，自由戀愛。人要害了病，便請神巫到家裡來祭鬼作法。病人不幸死了，有的用棺葬，有的便抬到山中，用火燒掉。」「他們人數很多了？」「不多，只有幾十萬人。」

【註】

○：生黎熟黎——住在平地，能講漢語，常和漢人來往的叫熟黎。住在山中，不和漢人來往的是生黎。

第八節 港九澳門

遠東大港工商繁榮

小華跟着李先生，趁船返回香港，黃昏時分，船打鯉魚門駛進了港口，只見北岸九龍，南岸香港，蜂房般的高樓，閃耀着萬家燈火，燈光照射到港面上，把那排在水上的大



第七圖

小船艦，映得好像畫圖一般；那維多利亞大道背後的山上，登山電車還在爬上爬下，一陣飛機的吼聲，劃破長空，李先生不由地歎了一聲，對小華說道：「香港真是英國王冠上的一顆明珠，每天有上百的船隻從各地開來，加上本地的紡織、水泥、造船等工業非常發達，使得香港比上海還要繁榮。不過，珠江口西邊的澳門，却因葡萄牙人不善經營，現在變成了個賭窟。」

大陸邊緣人口激增

大 家下船

回到家裡，小華馬上哭喪着臉抱怨起來了：「香港號稱最進步的都市，怎麼連洗澡的自來水都常常發生問題呢？」李



圖 八 第

先生忙給解釋道：「你不知道，香港本來只有兩百多萬人，最近幾年來突然激增，據說超過了五百萬了。不管怎樣，過去的一切設備，自然都不敷應用了。澳門也是一樣。」小華驚訝道：「啊，原來如此，爲什麼增加的那麼快呢？」「還不

是因爲靠近大陸邊上，內地的人，這幾年來不斷往外逃，雖然邊上架着鐵絲網，兩邊都設有衛兵，可是那些逃亡的人，仍然冒死的往外衝。有時被港警捉到了，硬要遣送回去，他們寧死不肯回去，哭哭啼啼，有些就跳水自殺了……」小華聽得很難過，含着眼淚說道：「這真是世界上最悲慘的事了。」

【習題】

一、問答60%：（每題20分）

1. 福建有什麼著名的風景區？
2. 廣東物產最豐富的地區在那裡？
3. 香港九龍，近幾年來爲什麼人口增加很多？

二、填充20%：（每題10分）

1. 閩南的_____和_____是古時的大海港，也是華僑故鄉。

2. 中國南方最大的海陸商埠是_____市。

三、選擇20%：（每題10分）

1. 客家人最多的地方是在①閩江流域，②韓江流域，③西江流域。……（ ）
2. 國父故鄉翠亨村是在①福建廈門，②廣東中山，③海南島海口。……（ ）

普通
進修科

本國地理講義

國民教育函授學校出版
李 傑 編撰
O. C. Education Correspondence
School, Republic of China

第四講 廣西、雲(南)、貴(州)、四川

第一節 西江流域(一)南部概況

河流如網交通孔道

在香港，小華聽說許多土產，都是從廣西來的，小華便問李先生如果想遊歷廣西省，怎樣走法。李先生便指着圖告訴他說：「廣西地方，也就是西江流域。因為廣西全省，地形上是個四周高山，中央低窪的盆地，全省的河流，最後匯集成一道西江，從梧州流到廣州入海。所以我們只需坐上小電船，沿着西江往西行駛，便可足不上岸，走遍廣西的大都市。」

我們一進廣西，首先到了梧州，從梧州往北（順着桂江），可到桂林。往西（若是繼續西航，一天多）可到達桂平，從這裡往北（沿着柳江），可以到柳州

。再往西走，兩天多可以到南寧。從南寧往西北可到百色，到雲南省，西南可以到龍州，到中越邊界。」

水上市街全區門戶

「聽說梧州地方，有許多人家住在水上？」

「是的，我們到了梧州，從船上北望，只見巍巍青山，聳立市後，風景是很美了，可是梧州市區却因此顯得地面狹窄，無處發展。那些從桂江、潯江（西江）運下來的山貨土產，堆滿了沿江的商號。有些人家，便乾脆把幾條船連在一起，在上面蓋起房屋樓閣來。其他各色船隻，擠滿江面，因為這裡是全區域的大門呀。」

南部大城農產中心

「從梧州往西，沿途都是青山翠崖，風光美好。到了南寧，忽然稻田蔗園，一眼望不到邊。

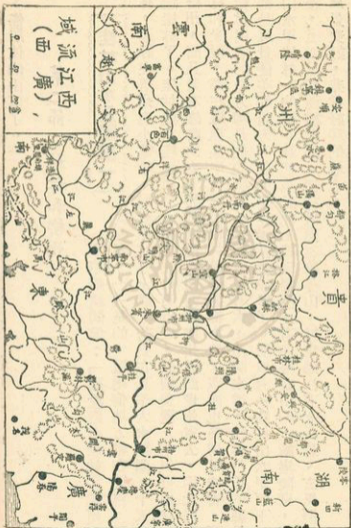
這裡是個大平原，就是龍眼、荔枝、香蕉等水果，也都四季不斷。四下的桐油藥材，也在這裡集中，有一個時期，廣西省會，便設在南寧。從南寧再往西走，小電船三、四天可以到百色。但是越走險灘越多，水勢越急，兩岸漸見山嶺陡峻，平地狹小。百色往西，行船困難，我們便捨舟登陸，一路上看到許多頭包藍巾，赤腳趕路的鄉下人，講的話大半無法聽懂，他們不是僮人，便是傣人，這裡已是

儻、僑居住的山區了。」

第二節 桂林和柳州

桂林山水全國第一

小華繼續問道：「聽說還有桂林和柳州，也很有名？」「是的，這兩個地方都在北邊。要到桂林，最好在梧州坐小電船，順着桂江往上航，若是在夏季大水期間，十天就可到達桂林了。桂林城在桂江西岸，城牆用白石砌成，壯觀美麗。不但可由桂江下航梧州，而且還有鐵路向東北通到湖南，向西經柳州通到貴州省去。因此桐油、藥材和米糧，都在這裡集中，因為桂林是個通都大邑，廣西也簡稱叫桂省。可是，桂林出名的地方却是他的風景。這裡有山有水，山明水秀，桂林附近的縣份，全都是風景優美的地方，就中要算陽朔縣最好了。所以有『桂林山水甲天下，陽朔山水甲桂林』的話。我們坐船北上經過陽朔，有名叫畫山的，峭崖陡壁，夾立江邊，上面呈現種種圖形。桂林城南有象鼻山，城東過江有七星岩、玄風洞，都是風景美好，非常好玩的地方。」



柳州木材天下知名

「由桂林再乘火車往西去，半天便到柳州了。我們從火車上望去，只見小小的柳州城，三面被柳江環繞，江上木筏一排挨一排，盡都是從北方苗山運下的巨樹。柳州城郊，也到處堆積着木材。所以又有『吃在廣州、死在柳州』的諺語。因為柳州木材好，棺材可以選上好的料子了！柳州是西江流域最大的工業城，這裡有機械、硫酸、水泥、桐油等工廠，成了貴州省日用品的供給地。從這裡乘車往貴州，地勢漸行漸高，山嶺越來越大，人煙越來越少。路旁常常看到一些岩洞，有些苗僑同胞，便住在洞裡。其實這一帶地下多的是礦產，要是開採起來，他們的生活馬上可以改善了。」

第三節 貴州高原（註一）

地勢多山天氣少晴

李先生繼續告訴小華說：「我們從柳州坐火車往貴州去，一路都是上坡。車到南丹縣以後，已經進入山區，以後漸漸高升，只見兩邊山峰起伏，越來越高，獨山附近，已經山峰立陡，谷深水急。車在山腰裡穿過許多溪澗，忽然間一大片平原出現在眼前

——車子到了都勻，我們已經登上貴州高原了。不過都勻西方，我們仍能看到那雄偉的高峰，那是苗嶺的主峰：雲霧山。我們若是登山四望，便見東面南面，點點山峰，從白雲裡顯露出來，往上看却是古樹參天，處處飛泉，風景的確是漂亮！」「是不這裡山嶺很多？」「是的，我們在貴州，不論到那裡，抬頭便可以看到山。山多交通就困難，山高就多雲霧，所以這裡有句俗話：『地無三里平、天無三日晴、人無三分銀。』」

貴陽最富花溪最美

「全省都是這樣的山地嗎？」「也不全是這樣，比較富庶平坦的地方，都在苗嶺以北的烏江（黔江）流域。貴陽附近，便是全省最富的壩子（註二）了。所以便成了省會所在地。本地的紙、布、牛皮，四川的食鹽、洋貨，都在這裡集中。城南有南明河，城東有扶風山，都是風景區。不過，風景最美的地方，要算城南四十里的花溪了，在那裡，南明河穿過山峽，匯成一個長湖，清澈的湖水，映着山石上的樹木亭臺，花開遍地，真是仙境一般。」

從貴陽往西，直到雲南邊境，仍是一塊大高原，不過山勢比較平緩些罷了。西部人煙更稀，人們也更窮。不過，貴州和廣西一樣，到處是銀、銅、煤、鐵，

應該趕快開採才是。」

(註一) 高原：一個地方，地勢很高，但上面却還相當平坦。

(註二) 壩子：貴州、雲南一帶的人，稱山間的小平原叫壩子。

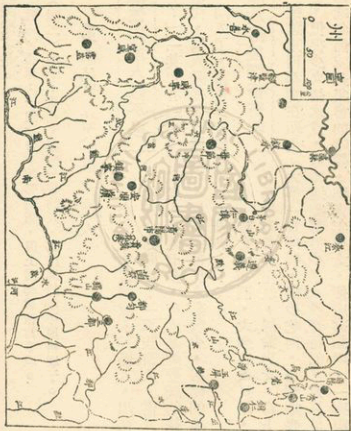
第四節 苗、僮、僮人

居住山地人數不多

小華方才聽到僮人、僮人，現在又聽到苗人，便好奇地問道：「那些苗人、僮人、僮人到底是什麼樣子？」「其實看起來面貌和漢人都差不多，苗人是神農氏的後代，僮人是盤古的後代，僮人是從北方遷來的，只不過他們人數較少，居住的地方又是偏僻山地，時間久了，語言習俗便都發生了差別……」

生活落後習俗奇特

「苗女僮婦們，大多短衣長裙，衣服和裙子上都染有各種花紋，無論男女，都上包頭巾，下面赤腳。搬運東西都頂在頭上。大都一日兩餐，很少吃肉，遇到婚喪或節日，也殺豬屠牛，但很少火烤水煮，有時連鹽都很少用。最奇特的，要算他們的婚姻風俗了。每逢年節或是集會的時候，那青年男女，便成羣結隊，一齊唱歌跳舞，或



一唱一答，遇到情投意合時，便互贈禮物，訂約結婚。那些「羅漢」（少男），遇到「藍兔」（少女），便可「搖馬郎」（談戀愛）；只是結婚以後，女的仍回娘家去「做後生」，任意談情說愛，直到生下孩子，才到丈夫家裡，正式同居起來。從此煮飯種田，擔任一切工作。苗人傜人，因為居住的地方都是交通不方便的，所以知識落後，迷信很深，害了病不去醫療，只憑巫師作法。所以死亡的很多，現在大都改善了。可是還有許多吃飯不用碗筷，只用手抓的。」

第五節 雲南（一）滇東高原

地勢較平氣候溫和

「貴州西部，已經是山勢平緩，往西走並不一樣艱難，只是高原地勢太高，氣候寒冷，無論

冬夏，家家戶戶都烤火。鄉下人因為天天烤火，以致大都薰出眼疾來。不過越過幾重大山，到了雲南境內，地勢便又平緩起來了。到了東北部的霑益、曲靖附近，便又看到一片平野漠漠的壩子出現在眼前。從這裡往西直到昆明，一路所見，只有那平坦的稻田，饅頭狀的丘陵，很少看到峻峭的大山，到了昆明附近，形成了雲南最大的壩子，也是最富的地區了。真是四野青翠，處處花開，稻麥瓜果，

終年不斷。」小華聽得怪有趣，便插嘴問道：「這裡沒有貴州西部冷吧！」李先生忙說：「那裡會冷呢，這裡因為北邊有四川的高山擋住蒙古的寒風，冬天一點也不冷。又因為地勢太高，夏天也不熱。真正是四季如春。所以這裡有句俗話說『四季無寒暑，一雨便成秋』，要是你在昆明住上一年，便覺得這句話一點也不誇大……」

花都昆明風光明媚

「昆明也很美了？」「當然啦，那昆明市城高路寬，市街整齊，我們若是登上南城樓四下瞭望，只見北邊象鼻嶺，獅子山坡陀起伏（註一），西邊西山翠峰巍峨（註二），

南邊滇池綠波萬頃，茫茫無邊，氣象真是壯麗極了。春秋時節，那茶花、杜鵑、牡丹、玫瑰，處處是五色繽紛（註三）的花木。所以昆明就有了『花都』的名號

。從前一到夏天，便有許多外國人，乘坐滇越鐵路的火車，來到昆明避暑、遊玩。（註四）「什麼是滇越鐵路呢？」「那是從越南海防到雲南昆明的鐵路。滇

就是雲南，因為古時在滇池附近，曾經建立過一個滇國呢。——我們若是順着滇越鐵路南往越南，路上所見到的都是峭壁斷崖，深溪急流，而且還要穿過一百多個山洞，風景也很壯美。」

(註一) 坡陀起伏：坡陀是小小的丘岡。許多小丘（小山）一高一低的，叫坡陀起伏。

(註二) 翠峨巖峩：是綠色的山峰，非常高大陡峻。

(註三) 五色繽紛：花花綠綠的，各種采色，參雜在一起，很美麗。

(註四) 昆明名勝：城內有孔廟、圓通山、翠湖（菜海子），內中有許多古寺和古物；城東北七八公里有鳴鳳山（鸚鵡山），上有太和宮，登高南望，左有金馬山，西見碧雞山；城西北十五公里有五老峰、黑龍潭、龍泉觀；小西門外有大觀樓，滇南昆明湖，南北長六十公里，汪洋無邊。湖西高峰聳立，便是西山的碧雞、太華、緜漢等峰。這裡懸崖古寺，到處是風景名勝。

第六節 雲南(二) 滇西谷地

山高谷深交通困難

從北往南、一排一排緊緊排在一起。情形好像和在地圖上，小華發現雲南西部有許多大山脈東邊不大一樣，於是便指着地圖問道：「這雲南全省，各處都差不多一樣，是個大高原嗎？」李先生答道：「不是，大高原只可說是在滇東，那元江（紅河）以西的滇西，都是由六七條高大的山脈，從北邊的西康一直排列到南邊緬甸境內。

兩山中間，就有一條大河。我們如果從昆明出發，往西經過洱海西邊的大理，再往西走經保山、騰衝，公路一直越過野人山，進入緬甸、印度。公路以北，那些高山都鑽到雲采裡，終年白雪滿山。山腳下却是炎熱難當，野花遍地。河水在百丈深谷裡奔騰怒吼（註一），有些地方河上架着竹索或是鐵索作成的索橋，人們走在上面，索橋搖搖擺擺，下面冷風颼颼（註二），走不慣的人，常嚇得心驚膽戰，不敢行動。」

土人落後寶藏遍地

「野人山上真的有野人嗎？」「這裡因為高山阻隔，土人的種類多到幾十族。野人山上，據說確切有不穿衣服、常吃生食的部落，有時他們還殺人吃肉呢。」「啊呀！真是可怕。」「不過這種土人很少。人數較多的是保僱和白夷了。他們都很安份的呢。你不要以為這些地方要不得，這裡實在是寶藏遍地，金、銀、寶石，各處都多，民國前兩年，英國就曾派兵佔領騰衝北方的片馬，經過很多的交涉才退了回去，那還不是因為滇西這裡礦產太富。」

（註一）奔騰怒吼：是說河水流得急，浪頭跳得高，撞在崖岸上，發出吼叫的聲

(註二) 冷風颼颼：橋下涼風吹得相當強烈，發出颼颼的聲音。

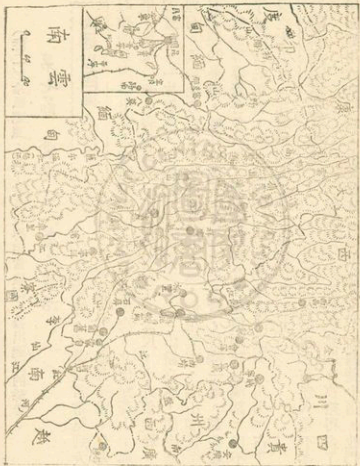
第七節 雲南(三) 夷人生活

大理以西夷人天下

以前在家裡，小華就常常見到大理石，所以談到大理，就特別感覺有興趣，李先生便告訴他大理石確切是因為出在大理而得名，大理東臨洱海，北依點蒼山；那洱海長四十五公里，風吹浪起，碧波萬頃。點蒼山高三千多公尺，十九個尖峰，八月以後就被冰雪封蓋，一片銀色，被稱為「玉帶鎖蒼山」。山嶺高處，便出產那各種花紋的大理石。大理地方沒有寒冷和炎熱的天氣，奇花異木，滿山滿谷；三月和八月，還有定期的集市，城外山坡，各色的土產洋貨，排滿一地，那些藏人、傣人、苗人、哈欽等穿着各色服裝，前來買賣物品，在這國語(漢話)已不大普通，夷語成了最流行的語言，因大理以西、以南的地區，擺夷(白夷)占了(當地人數)十分之七八。(在這裡夷人成了「多數民族」)。

農耕拜佛愛好和平

「夷人的生活也和苗傣人差不多吧？」「有點相似，不過他們悠閒、富裕得多了。一般的擺夷，房屋都用竹木搭成，上蓋茅草。樓上住人，下面飼養牛豬，他們居住的地方



都是平地，水足土肥，生產的稻米是吃不完的。生活優遊自在。那些青年女子，閒來無事，便到「緬寺」去燒香「瞻佛」。因為夷人都信奉佛教，青年男子，必須在結婚以前，到寺廟裡去作一兩年的和尚。所以大小村鎮，都有一所建築偉大的佛寺，這種情形，和南邊的緬甸差不多。人們因信了佛教，風俗非常善良而愛好和平。三月清明後，是佛曆元旦，全體出動「洗佛澆花」（註一），那些青年男女，便歌舞「拋球」（註二），他們戀愛結婚，自由極了。在過去，婚禮時男穿長袍，女穿花裙，向父母跪拜叩頭，儀式差不多都已「漢化」了。可是他們吃飯也是要用手抓的。

（註一）洗佛：元旦時居民採山花送到寺廟，婦女擔水為銅佛洗塵，然後把水澆花。

（註二）拋球：男女老少，互相潑水取樂。男女分成兩隊，女子先用彩球拋給男子，男子再拋回，一拋一接。

第八節 四川盆地（一）交通、物產

四條大河水運便利

小華問李先生說：「貴州雲南一帶的人，怎麼講話和四川人的口音差不多啊？」李先生說：「那是因為四川在雲貴高原（註一）的北面，過去到雲南貴州來經商作官的人，

大都是四川人……」「道路很方便了？」「貴州到四川去要翻過大婁山、比較困難，雲南到四川一路下坡，相當便利的。」「四川也是個大高原了！」「不，是個大盆地，而且境內還有四條大河：長江和他的支流岷江、沱江、嘉陵江。河大水深，水路交通要比廣西便利多了。我們如果從昆明坐車往東北，經過四川，再往北可到甘肅、陝西。車到長江邊上，首先看到商埠宜賓的輪船，大得多了！船上、岸上，貨物堆積如山，這裡太富了！」

天府之國物產豐饒

「啊！爲什麼呢？」「因爲這裡氣候溫和，土地肥沃。我們不論在那個城市裡遊逛，街上見到最多的店舖就是飲食店，店檯上米麵豬肉，堆得高高的，價錢真够便宜了！所以這裡自古以來，就有『天府之國』的稱號（註二）。」「那應該是全國最富的一省了？」「當然啦，那些稻米、油菜、甘藷和豬牛等，產量第一，就是桐油、茶葉、棉花、蔗糖也都產量很大，在這裡能够吃到柑橘、龍眼、桃梨、栗棗等各種熱帶溫帶的果品，在這裡能够看到許許多多的動物、植物！各色的藥材，各樣的礦產……——就是光拿人來說吧，這裡有七八千萬的人口，和日本、印尼差不多，等於越南、泰國、緬甸等國的三、四倍……」「啊呀……」

(註一) 雲貴高原：是貴州高原和滇東高原的總稱。
(註二) 天府之國：是說物產豐富，應有盡有。

第九節 四川盆地(二)地形、名勝

四周高山對外閉塞

「四川那麼多的人，怎麼不向外遷移呢？」
「這個很難說，我想第一個原因，是四川太富了，再一個原因，是四川盆地的四周，山嶺不但高大，而且非常寬、非常厚。那些公路鐵路，都是近世開闢的，古時對外的交通，是非常閉塞的。」
「方才前面不是說相當便利麼？」
「那只是說和雲南方面，交通還可以。貴州就困難多了，這是在南方！西邊是青康藏大高原，自古以來，都難以進入。北方呢，有許多高大的山嶺（巴山、秦嶺），古來在深谷峭壁上，都修築『棧道』（註一）通過，秦國要攻打蜀國，還編出金牛的故事（註二）來呢。至於東邊，也有高大的巫山山脈，長江雖在這裡穿過，可是驚險無比三峽，是非常著名的了！」
「對了，我們就談談三峽吧！」

三峽峨眉景緻壯麗

「我們索性（註三）談談四川的名勝好了！
先說三峽：那三峽是瞿塘峽、巫峽和西陵峽。瞿

塘峽在奉節縣東方白帝城下，兩岸峭壁，黑石如鐵，江中有大石橫立，就是「灘瀨堆」了，堆旁江水，奔流如箭，所以當地有「灘瀨大如馬，瞿塘不可下；灘瀨大如象，瞿塘不可上」的諺語。到了巫山縣東，那五六十公里長的巫峽，直接到湖北巴東縣。壁立的尖峰，高入雲霄。一百來公尺寬的江面，水能深到一百多公尺，江水奔流如飛，若是站在艤板上順流下行，只覺陰森幽暗的峽谷中，冷風呼呼，叫人汗毛直豎（註四）。下邊西陵峽也是灘多水急，一不小心，船便撞在石上碎了翻了。這是東邊。

「西邊呢，應該是峨嵋山了。山高三千多公尺，終年雲霧繚繞，忽雨忽晴，怪石突出，飛瀑懸空。登山西望，只見大雪山皎潔如銀，閃爍在雲霧之中。從前這峨嵋山區，上下佛廟不下一兩百所，又成了佛教聖地。

「另外像都江堰，自流井還多呢。我們下面再談吧。」

（註一）棧道：古時川北到陝西的道路，遇到懸崖絕壁，往往在崖壁上鑿洞栽樁，鋪上木板。這種道路叫棧道。

（註二）金牛故事：兩千年前（戰國時），秦國（在現在陝西省）想攻打蜀國（現在四川西部），因為道路難走，便作了五頭石牛，把黃金放在牛屁股後，派人告訴蜀王，秦國有五頭能產黃金的牛，要送給蜀國。蜀王命令五丁開

路運牛。路修好了，秦國便派兵把蜀國滅掉。現在四川劍關到陝西沔縣的道路，古時便叫「金牛道」。

(註三) 索性：「乾乾脆脆」的意思。

(註四) 汗毛直豎：因為太緊張害怕，皮膚起了許多疙瘩，汗毛就直立起來了。

第十節 四川盆地(三) 都市、古跡

霧都重慶長江大港

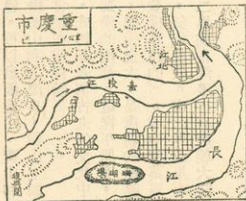
李先生問小華

說：「四川因為形

勢險要，我們對日抗戰八年，一直在這裡建都，那時的首都，你知道在那裡嗎？」小華馬上回答道：

「是在重慶！」「對了，這重慶是個院轄市(註一)

，夾在嘉陵江和長江中間，我們在江中船上北望，只見城中山坡上的房屋，一排比一排高。好像幾十層的樓房。從城頭下望江面，條條船舶，好像畫圖一般。江南江北都是高山，秋冬時節，常常發生大霧，因此被稱為「霧都」。大廈和碼頭，都在沿江

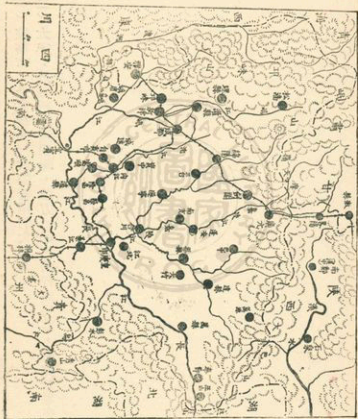


低處，四川貨物從這裡裝上輪船運出。坐船到大江南邊，可以參觀塗山、黃山和南溫泉。若是坐船順嘉陵江往北，在北碚縣還可以遊縉雲山和北溫泉，塗山上面有禹廟，縉雲山上有縉雲寺（宋朝明朝幾個大學者，曾經在這裡讀書）。

古都成都古跡最多

「重慶是個商港，成都却是個古老的文化中心，三國時代，曾是蜀漢的國都。這裡平原廣，河渠縱橫。城中市街整齊，處處花樹。城東有大慈寺，規模宏大，是唐朝的建築。東門外有望江樓、薛濤井（歷代名人，很多在這裡登樓吟詩的）。城南有萬里橋、武侯（孔明）廟、昭烈帝（劉備）墓，古柏參天，氣象莊嚴。南門外三里有青羊宮，三月時候這裡有花會，展覽各種花草。再南二里浣花溪邊，有唐朝大詩人杜甫的住宅。」

「那非常著名的灌溉工程『都江堰』，却在灌縣西南，灌縣在成都西北六十公里。秦朝時候，太守（註二）李冰叫他的兒子二郎把岷江分成兩股。一股由離堆（山）的寶瓶口流入成都平原，分成三十六條渠道。不但防止了水患，還使那五六千萬方公里的土地，盡成沃野。許多外國的水利工程學家來參觀，大家都認為中國人能在兩千多年以前，設計出如此完美的水利工程，真是偉大極了。」



(註一) 院轄市：是直接受行政院管轄的大都市。

(註二) 太守：是秦朝和漢朝時，地方(郡)的行政長官，相當於現在的省長。



【習題】

一、問答題：60%（每題二十分）

1. 廣西、雲南和四川，都有什麼風景名勝地方？

2. 四川被稱爲「天府之國」是什麼意思？

3. 四川有那四條大河？

二、填充題：20%（每題十分）

1. 廣西全省，屬於_____流域，著名木材市場是_____。

2. 四川的兩個大城市是戰時首都_____市和古城_____。

三、選擇題：20%（每題十分）

1. 滇西（雲南西部）①寶藏遍地，②「人無三分銀」……（ ）

2. 貴州地方的地形是①高原上有許多山嶺，②盆地裡有許多湖泊……（ ）

普通
進修科

本國地理講義

僑民教育函授學校出版
李 傑 編撰
O. C. Education Correspondence
School, Republic of China

第五講 蘇浙、皖南

第一節 上海市

世界巨港長江門戶

把地圖翻開來，只見三峽以東，沿江大大小小的都是湖泊，其中有兩個大湖：洞庭湖、鄱陽湖，看起來和四川盆地的地形差不多，小華便問道：「長江一帶的地方，都和四川一樣的富嗎？」李先生興高采烈地答道：「當然，這長江一帶，是中國最富的地方，四川往東，地面大小還不到美國的五分之一，可是却住了兩三億（註一）的人口，幾乎等於北美洲人口的兩倍！我們若是坐着飛機往下望，便見順江下行的，都是船：輪船、汽船、帆船、木筏！沿江一帶生產的食糧和土產

都順流下運，到了上海，一起集中起來！」「啊！怪不得上海是中國的第一大城。」「上海也是世界有名的大都市，它是世界四大海港之一呢。」

工商發達交通繁忙

「上海比香港還要繁華了？」「是的，我們如果從香港坐船去，一進黃浦江口，便看到那寬廣的江面上停着許多的船，掛着各色的旗幟。那黃浦江東，是工廠地區，一個個高大的煙囪，一排排雄壯的倉庫。江的西面呢，全是大公司、大商號一類，許多的大銀行，高高的矗立在黃浦江邊。許多的汽車、電車，從擁擠的人羣裡穿來穿去——我們在街上走，可以聽到各地方的語言：蘇州話、寧波話、廣東話、湖南話、四川話……也可以看到世界各國的人。這裡不但是全國最大的工商業都市，同時也有各種遊玩的場所。」

學校如林名勝衆多

「聽說上海學校特別多，名勝也不少？」「是的，以前大、中、小和補習學校，總計有一萬多所，學生幾十萬——我們如果從鬧市的『外灘』向北走，在江灣地方有新市區，那綠色屋頂的大廈，棋盤一樣的道路，使人感覺整齊、新鮮。這裡便有兩三所著名的大學。要是從外灘往西到徐家匯去，一路樹木蔭森，建築美麗，那徐家

匯天文臺，是我國規模最大、歷史最久的天文臺，和附近的交通大學、震旦大學等，一樣的有名。若是從南火車站往南，可到龍華鎮，鎮西有龍華古寺，是唐朝時候建築的。這一帶春天時候桃紅柳綠，『龍華觀桃』成了最熱鬧的事情了。其他的公園等，也有四五處好玩的呢。不過聽說自從人民公社實行以來，到處都鬧饑荒，人們從鄉下逃到大都市來，還得天天排隊買東西，那裡還有閒人去欣賞遊玩呢。」

(註一) 兩億：就是兩萬萬。長江流域有兩三萬萬的人口。

第二節 江南平原



太湖流域河渠如網

小華聽了李先生的話，又看看江蘇省的地圖，覺得這長江口上，和雲南貴州一帶，大不相同，根本見不到山嶺，便問李先生道：「上海往西，該是真正的平原了？」「上海往西，一直到鎮江附近才看到山丘，我們坐在京滬鐵路的火車上向外看，只見無邊的平野，盡都是綠色的稻田。田間溝渠縱橫，河渠裡時時划過一兩隻小船來，撐船的人還往往口裡哼着小調兒，那種自由自在的樣子，真是叫人羨慕。」「這些河道，都可以通到那個太湖裡似的。」「那個太湖叫太湖，是大平原上的水路中心。」

物產富饒景色如畫

「我想這一帶大平原，一定是很富足的地方了。」「這一帶夏天種稻，冬天種麥，河裡湖裡到處都是魚蝦，家家戶戶，都養蠶取絲，所以江南地方號稱是『魚米之鄉』，在以往，人們的生活是最安逸、最舒服的了。湖邊水畔也常看到一兩座小山，春天裡桃紅柳綠，夏天時荷花滿塘，秋冬時節，村旁田隴間，到處是紅葉白蘆，真是風景如畫！」

太湖煙波浩蕩無邊

「這些風景如畫的地方，最美的要算太湖了。那太湖周圍，有一千多公里大小，湖周有許多山丘，湖中還有東洞庭山、西洞庭山，山上果樹花草，四季蔥蘢（註一）；登山一望，那湖上波浪粼粼（註二），浩浩蕩蕩（註三），看不到邊涯，只有那片片的帆影，隨風飄泊。沿湖有五六個縣份，都有著名的風景。」

（註一）蔥蘢：樹木茂盛。

（註二）粼粼：水面波光起伏的樣子。

（註三）浩浩蕩蕩：水勢很大。

第三節 江北平原

水鄉澤國運河貫通

在地圖上看來，不但江南地方是一片平原，江北也沒有山嶺。江南江北，全都是一樣的到處是湖泊，到處是河道。李先生說：「我們如果坐着汽船，從揚州沿着運河裡往北行駛，經過了高郵、寶應，只見遍地是水塘、湖泊，鄉下人都坐着小船、木盆，在水渠裡蕩來蕩去，情形完全和江南一樣。繼續往北，漸漸地稻田少了，茅舍多

了。船到淮陰，見到的景色和江南完全不同了，田裡面種着高粱、豆、麥。偶然吹起一陣北風，地上便揚起一片塵土，路上行人都頭包白巾，身穿長袍，有時趕着牛車或驢子，那種情形又有點像華北黃河流域了。」

沿海低地出產鹽棉

小華問道：「那沿海的平原，怎麼好像城市特別少？」「那阜寧、鹽城以東的地方，過去都是海灘，現在雖然淤高了，可是土中含有鹽份，開墾以後只能種些棉花和豆類。我們若是從阜寧順着串場河坐船南來，還可以看到一隻隻的運鹽船，從東面划來，東面近海的地方，都是鹽場，連水都是鹹的，當然很少村落了。那些較高的地方，也都滿是蘆葦、野草，當地的人把草割了，就地搭起茅棚來取水煎鹽，所以這串場河、范公堤以東的地方，都是「灶地」(註一)，就是海岸地帶，也都沙平水淺，沒有良好的港灣可以停泊漁船，所以也不容易發展漁業的。」

(註一) 灶地：原來搭棚煎鹽的地方，慢慢開墾種成田了。

第四節 運河都市(一)

古代要道現在落後

小華曾經聽說隋煬帝大開運河，勞民傷財，弄得天下大亂，便問李先生道：「聽說運河是隋朝開的，他們爲什麼要在這一帶開河呢？」「你知道古代沒有飛機火車，這到處是水的大平原上，早在春秋戰國時代（註一），吳國、楚國，就修築了很長的運河，隋朝的煬帝不過開了幾條新河，把他們連接起來罷了。過去因爲運糧運兵的關係，沿着運河，出現了許多的通都大邑（註二），現在雖然運河淤塞了，可是那些大都市仍然是非常繁華。」「那麼我們就談談運河沿岸的都市吧！」

淮陰高郵都已衰落

「江北平原的最北頭，淮河的南面，有個大城：淮陰，這是漢朝的大將韓信的老家。我們站在運河的碼頭上往西看，只見街道兩旁矮矮的房屋，市面並不怎繁華。還有幾家麵粉工廠，這裡的風俗人情已經是北方的情調了。由淮陰再往南行（一百多公里），（在高郵湖的東南面）我們可以看到高郵城，那矮矮的城牆，看起來比運河的河隄還要低——這一帶都是地勢很低，常有水災的。市面都比以前蕭條（註三）得多了。」

古都揚州米鹽市場

「高郵往南五六十公里，便到了江北的第一大城：揚州。揚州是古代的大都會，現在叫江都縣。這裡是大運河入江的港口，隋代唐代時候，江南的米糧，都在這裡集中北運，各國的商人都在這裡轉道北上，真是萬商雲集，華華世界。現在城北梅花嶺上有明朝忠臣史可法祠，城西瘦西湖旁，還有煬帝陵，那些詩人文豪們集會歌詠的亭臺別墅，大都已經荒廢。不過揚州仍然是江北方面米、鹽的大市場。揚州對岸，長江邊上，便是江蘇省會鎮江了。」

(註一) 春秋戰國時代：是周朝以後到秦朝統一中國，這段時間中，中國分裂成許多小國，互相攻打。離現在有兩三千年。

(註二) 通都大邑：交通便利，四通八達的大都市。

(註三) 蕭條：荒涼、冷落的样子。

第五節 運河都市 (二)

鎮江無錫工商繁榮

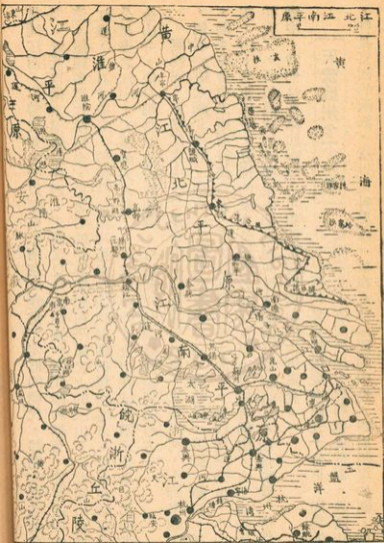
「鎮江是江蘇省城，古代叫作京口，京口因西邊丘陵蜿蜒，接連南京，北臨長江。南有運河

貫通江南，形勢重要，所以歷來在南京（建業）定都的朝代，都把大軍駐紮在這裡。近代自從京滬鐵路經過，工商又見發達起來，鎮江醋和綢布，便是這裡的名產。這裡名勝古跡很多，最著名的要算突起在平原之上的三山了：北固山在城北江邊，上有甘露寺，傳說是三國時蜀主劉備到東吳相親的地方。焦山在城東北四公里多之江中，岩洞參差（註一），花木深幽。金山在城西兩三公里，那著名的金山寺，便是那神話的白蛇傳裡，白蛇和許仙鬧戀愛悲局的地方。

無錫呢，在鎮江東南一百多公里，我們或坐火車，或由運河，不到半响工夫，便看到這太湖北岸的工商大城，城周圍煙囪林立，那紡織、造紙、麵粉、榨油、碾米等各項工廠有好幾百家，所以號稱為「小上海」。城西兩三公里，小山突起，山下有惠山寺，這裡的泉水是最出名的了。惠山東麓有錫山，山上的錫早已採完了，所以漢代把這裡定名為無錫。城西南還有鼇頭渚，小山像勝臂一樣伸入湖中，我們站在渚頭南望，可以飽覽碧波萬頃的太湖風光。」

天堂蘇州今不如昔

「蘇州又在無錫東南四五十公里，因為地在太湖東北，運河經過，形勢也很重要。戰國時代，曾是吳國的國都，所以又叫吳縣。城在水鄉澤國的中央，四周運渠如網，城中



原件缺頁



原件缺頁



兩條鐵路三座名城

「浙江有幾條鐵路呢？」「最重要的有兩條：滬杭甬鐵路從上海到杭州，過江經過蕭山、紹興、餘到達甬江口上的鄞縣。浙贛鐵路則是從杭州和杭甬路一道出發，過江到蕭山後，分道南行，經過金華、龍游，從江山縣進了江西省。這金華、紹興、鄞縣三個地方是最有名了：金華以出產火腿著名；鄞縣舊名寧波，自古以來都以商港出名的；紹興古時曾是越王勾踐的都城，城南還有夏禹王墓。不過現在却是以紹興酒著名了。」

第七節 浙東山地

山嶺重重交通不便

「那東南的山地交通該是更不方便了。」「相當不便。因為山嶺重重，只有沿江的地方才有公路。還是要常常地翻山過河，普通鄉下人出門都要靠步行了。所以這一帶到閩北，都是反共游擊隊特別活躍的地方。而河流，也只甌江和靈江，可以通行小船。」

溫州蜜柑遠近知名

「我們如果從浙贛鐵路的龍游站南行，翻過幾道山就到了甌江上游的遂昌，只見道路隨着溪谷彎轉，兩岸也都風景不錯，若在秋天，更有那滿山的紅葉：烏桕、楓樹、柿樹、漆樹，把山崖溪岸，點綴得好像畫圖一般。在麗水縣地方，我們可以坐木船下行到溫州（永嘉），沿途可以看到許多竹筏木筏，上面滿載着茶葉、牛皮、藥材等山產。溫州便成了這種山貨出口的小海港」。「溫州地方是不是很溫暖呢？」

「對了，那裡的氣候和臺灣北部差不多，因為很少下雪，所以出產的柑橘特別好吃。這一帶出產的溫州蜜柑，也就大批向外輸出了。」

海岸多灣風景壯麗

「從溫州往北，沿海地方有許多港灣，海上交通是很方便了。不過山嶺都逼近海岸，要往內地去仍然不方便，有幾處名山，風景壯麗，很值得遊玩的。首先，溫州灣北邊樂清灣頭有北雁蕩山，那裡懸崖高聳，岩洞深幽，三四百尺高的大龍湫瀑布，從山頂倒瀉下來，濛濛雨霧，在陽光下生出無數虹采。從樂清往北，由台州灣進入靈江，小船可以上航到臺州（天臺縣），縣北四十公里便是著名的天臺山了，山上有石梁瀑布、國清寺、萬年寺等勝景。天臺東邊便是三門灣和象山港。要是在天

乘坐車往北，一百多公里就到了奉化，縣西南有四明山，山頂岩石中空，四面透光。七十二峰，連綿不斷。其中以天童山、雪竇山景致最好。雪竇山下的溪口鎮，便是蔣總統的故里。從奉化順着甬江下航，經過寧波（鄞縣）、鎮海，便到了杭州灣外，只見島山羅列，那就是舟山羣島了。

第八節 舟山羣島

羣山羅列舟山最大

「舟山羣島，是不是海上許多的小山，我們從香港到上海去時，在浙江東方早就遇見的嗎？爲什麼叫舟山呢？」「正是那些島嶼，從浙東象山港外的六橫島算起，一山挨一山，一直排到長江口外，大大小小的孤山，足有兩百多座。其中最大的一個叫舟山，因爲那裏常有許多魚舟停泊。舟山從西北到東南有四十公里長，（十六公里寬），定海縣城，就在島的南面。」

海上要塞漁業基地

「舟山羣島可以駐泊軍艦，防護中國東部的海岸，所以軍事上很重要。那些大小島嶼，又都是漁民的樂園。每年都生產大量的海菜和魚蝦呢。」

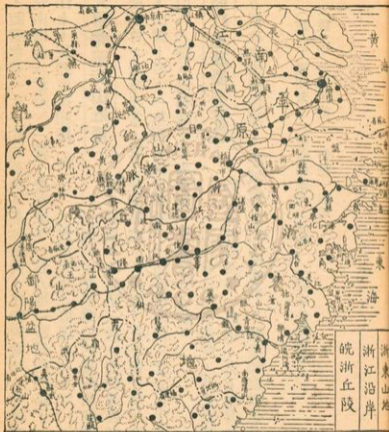
普陀洛伽佛教聖地

「那佛教聖地呢？」「佛教聖南海，就是普陀山，山在舟山的東面四公里。普陀是印度話普陀洛伽，意思是小白花，普陀山和東東的洛伽山都是出這種花。不要以為這些島嶼都是荒山，那峭崖石山的上面，往往綠野平疇，花樹葱蘢。普陀山更是氣候清涼而不寒冷，山上有普濟寺，法雨寺等一百多間寺廟。許多善男信女，都不遠千里而來，所以成了佛教聖地。」

第九節 皖浙丘陵

天目黃山茶園滿山

小華聽說杭州是中國的大茶市之一，那些茶商大多是徽州幫（註二）。便問李先生道：「徽州地方的人，為什麼這些地方的人，都要出來賣茶呢？」李先生笑着答道：「你想嘛，當然是這地方產茶最多了。」「為什麼都要種茶呢？」「其實那地方還出產桐油、紙張、絲綢、藥材呢，不過因過去有個時期種茶最有利，大家便搶着種。至於他們為什麼不種食糧穀物呢？那是因為浙江西北、青弋江東南這塊地方，全是黃山、天目山分佈的地方。丘陵起伏，平原狹小，不宜種稻。我們在路上抬



頭一看，隨處都是一片一片的茶園。茶葉販賣，在浙西嚴州（建德）、衢州（衢縣）和皖南徽州（歙縣）一帶，幾乎成了一般人惟一賺錢的門路了。茶葉一上市，新安江上，茶船前後相接（註二），順流而下，直運杭州。」

天目秀美黃山壯麗

「天目山是因為他的東西兩個峰上，都有水池，好像人的眼睛一樣。他的東邊還有莫干山，都是蒼松綠竹，清涼非常，成了避暑勝地。黃山呢，在皖南、徽州的北邊。三十六個峰，山腰下面，一年到頭雲霧繚繞，上面峰巒峭拔，挺立在半天空中，古松飛泉，引人入勝。天都峰下有九龍瀑、文殊院等名勝。」

祁紅屯綠徽墨宣紙

「這裡有什麼名產呢，首先要算祁門的紅茶和屯溪的綠茶了。其次，山上到處是松樹竹子，徽州地方便砍來燒烟作墨，宣城地方便用來造紙，徽墨和宣紙也同樣馳名全國呢。」

（註一）徽州幫：安徽南部徽州（歙縣）一帶在外經商的人。

（註二）前後相接：一個接一個地。

第十節 南京市

龍蟠虎踞形勢優越

李先生指着地圖和小華說：「我們要是離開徽州，不走老路回杭州，便可以搭上火車，向北經過宣城、蕪湖，最後便到了南京。火車最後在城北面的下關車站停了下來，我們看到那滾滾江水，從西南往東北流去。江面上大小船艦，往來如梭，模糊地可以看到隔江的浦口車站。這裡我們再南望南京城，東邊有鍾山巍巍高聳，西邊清涼山若隱若現（註一），那六十公里的大石城牆，隨着高低的地勢，起伏蜿蜒。真是「鍾山龍蟠、石頭虎踞」（註二）了，更遠的東南，就是江南平原西方的大茅山了——試想：那交通方面，又是多麼便利。兩千多公里的長江，我們上行可以航遍整個華中，下行可以打上海附近航到太平洋，東去的京滬鐵路，聯絡了富庶（註三）的江南平野，渡過江，更可由津浦鐵路和大運河，越過兩千公里的華北平原，直到長城腳下！國父說這裡有高山，有深水，有平原，形勢之美好，是世界上很少見的了。所以不但民國成立後建都在這裡，早在六朝時代已經是個古都有了。」

六朝舊都勝跡如林

「什麼六朝呢？」「那是三國的吳國，和以後的東晉、宋、齊、梁、陳等，和明朝初年，都

在這裡建都的。所以南京不知道經過了多少的變化和戰爭，也留下了無數的古跡。城北的玄武湖和南邊的秦淮河，曾經是畫船笙歌的地方，城南十多公里的牛首山，是南宋岳飛大戰金兵的戰場。玄武湖南城裡，有鷄鳴山，山上有鷄鳴寺、北極閣，有中國古老的天文臺。城東有明朝故宮遺址。城北十多公里幕府山下有燕子磯，危石臨江。東北二十餘公里有棲霞山、蒼松古柏，內中藏着棲霞寺，由此直上紗帽峰，峰下有千佛嶺，彫着無數石佛，盡都是千年以前古物。秋天裡滿山楓葉，姹紫嫣紅，和牛首山的茶花桃李一樣有名，所以有『春牛首、秋棲霞』的話。那南京城的東邊城外鍾山是遊人四季不斷的地方，這裡有明孝陵、靈谷寺、紫雲洞等名勝，最最要去看的，就是中山陵了。陵在明孝陵和靈谷寺中間，公路直達墓門，墓場全用巨石砌成鐘形，四周樹木青蔥，墓前有牌坊高十二公尺，上寫博愛二字。由這裡走上四百八十多公尺的墓道，到了陵門，登上二百九十級的臺階，便到祭堂，祭堂高二十九公尺，前有三個拱門，門首寫着民族、民權、民生！祭堂中央，供着 國父五公尺高的石像。再往裏面經過兩重銅門，便到了墓

室，圓形的大理石壙中，放着 國父靈柩。由南京城東行三十多公里可到湯山，湯山有溫泉。附近還可以打獵，附近的野味和江裡的鱊魚是人人喜愛的了。」

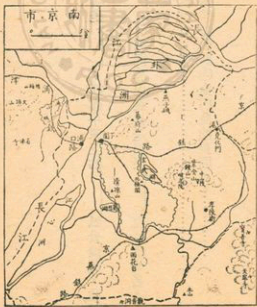
(註一) 若隱若現；模模糊糊的，好像被隱蔽起來的，又好像顯露了出來。

(註二) 鍾山龍蟠、石頭虎踞

：是說四圍形勢雄壯起來的龍。西邊清涼

二、龍蟠石，山下的石頭城，又像蹲着的老虎。

(註三) 富庶；物產豐富，人口衆多。



【習題】

一、問答60%（每題20分）

1. 江南北北的平原，有什麼特點？
2. 上海市的工商情況怎樣？
3. 南京市有那些水陸交通路線？

二、填充20%（每題10分）

1. 江北平原上第一大城，米鹽的大市場是——；江南平原上的——風景優美，被稱爲「天堂」。

三、選擇20%（每題10分）

1. 西湖是在①杭州②蘇州③廣州市的西面。……………（ ）
2. 佛教聖地普陀山（南海）在①舟山島②海南島③金門島的東面。……………（ ）

普通
進修科

本國地理講義

僑民教育函授學校出版
李倬綱撰
O. C. Education Correspondence
School, Republic of China

第六講 華中盆地

第一節 皖中盆地

大江南北湖泊遍佈

在前面談到江南、江北的平原上到處都是河渠，到處都可行船，小華感覺非常有趣，便問李先生從南京往上游去，是不是沿江地方，也到處都可划船捕魚呢？李先生忙打開地圖指給小華看：「當然啦，你看長江自從出了三峽，便在大平原中東流，江南江北，遍是大大小小的湖泊，所以不但長江上游的四川是盆地，長江中游也一樣是許多的盆地。」

巢蕪盆地米糧如山

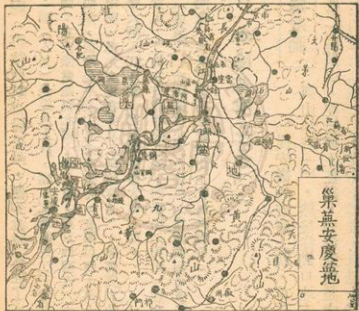
「那麼這些地方也都是『魚米之鄉』了？」
「一點也不錯，南京西南面一百公里的蕪湖，便

是全國第一大米市。我們如果從南京的下關碼頭坐上大輪船溯江（註一）南航，首先看到宋代虞允文大破金兵的采石磯（註二），然後經過夾江而立的東梁山和西梁山（註三），在下午時分，便可到達蕪湖了。蕪湖城位在長江之東，長江南岸，沿河十里長街，盡都是糧倉米店。河面江面，停滿了船舶，（據說每年賣去的米有幾百萬石）。因為這安徽省的中部（皖中）（註四）一帶的盆地裡，全是稻田，那江北巢湖一帶的米，也都運到蕪湖來。這裡真是米積如山了。」

安慶盆地範圍較小

「那廬山皖中地方，也就是這麼一個巢蕪盆地了？」「不，巢蕪盆地在東，西面還有一個安

慶盆地呢，不過範圍很小就是了。我們從蕪湖順着長江往西南航行四五十公里後，便見南岸丘陵起伏，不久就到了繁昌縣的荻港，從這裡直到銅陵縣的大通，沿江都是小山，這已是巢蕪、安慶兩個盆地的界限了。往西南再走一百公里，就到了安慶。首先，我們看見城東南一坐高塔，巍然聳立江邊，這便是安慶（懷寧）的迎江寺裡的萬佛塔了，再看那城南的江面上，停泊的船隻並不多，我們知道安慶港的商業，遠不如蕪湖，因為這裡運出的米、茶、桐油等並不多，不過一路的風景都很美。那江南的九華山，上面有很多寺廟，唐朝大詩人李白、明朝王陽明



都會在上面遊玩讀書呢。再往西航百餘公里，便到鄱陽盆地了。」

(註一) 溯江：溯(ム、メ)是逆水上航，溯江就是從長江下游往上游地方航。

(註二) 采石磯：在安徽當塗縣北面十多公里，南京西南五六十公里的地方。前面高崖臨江，後面是牛渚山。宋高宗時，金國以四十萬大軍，經巢湖盆地，攻打宋朝，虞允文正在勞軍(發給獎品)，遂將僅有的一萬多人，分成五隊，乘大船入江作戰，把金兵殺得大敗而逃。

(註三) 東西梁山：二山在安徽中部江邊，西梁山(梁山)在和縣北四十公里；東梁山(博望山)在蕪湖東北二十公里(當塗西南十五公里)，兩山夾江，江水湍急，又叫天門山。歷來山上都駐兵把守。

第二節 鄱陽盆地(江西)(一)

廬山秀美鄱陽壯闊

「從安徽的安慶上航，首先經過馬當山、小孤山(註一)，然後從湖口地方進入了鄱陽湖，

只見狹長的湖面矗立着一座孤山，在地圖上查對，知道這就是大孤山了。孤山的西面，便是以風景著名的廬山(註二)，從船上看去，只見山勢峻拔，白雲繚繞

在山腰。這山上面有許多的名勝古跡，登山四望，在望遠鏡裡，北邊可以見到那浩蕩的江水，南面可以看到那無邊的平原。尤其是那雄壯遼遠的鄱陽湖，一直伸展到東南的天邊。」「那麼這鄱陽湖是非常大了？」「是的，這是長江沿岸三大湖之一，汽船從最北邊的湖口，航到最南頭就需要一天的工夫！」

河道密佈水運便利

「爲什這個湖特別大呢？」「因爲長江中游的地勢，一概都低，這江西省四面都是高山丘陵，全區的水，匯成昌江、信江、撫水、贛江、修水五條大河，一起向鄱陽湖集中。那些河流也都因爲盆地內地勢平坦而水量很大，航運非常便利。所有的縣市，都可以通船！就中以贛江最爲便利。我們若是從湖口坐上汽船，在吳城鎮駛進了贛江，南行經過江西省會南昌，再南經過樟樹鎮，一直航到吉安，吉安到贛縣雖有『三百里灘江』，我們可以換乘民船，直航到大庾嶺下的大庾縣——這條路是古時從廣州北上，經過揚州的大運河到北方京城去的大道（註二），非常著名。」

「聽說大庾地方產錫很多？」

米茶山積瓷錫著名

「是的，江西南部（贛南）很多地方產錫（註三），大庾產的最多，錫和景德鎮（浮梁縣）

的瓷是最著名的兩樣出產。修水流域和昌江流域的茶葉、贛南的木材、各地的稻米、苧麻和油菜子等，紛紛順着水路外運。盆地裡因為溫和多雨，柑橘、甘蔗和各種熱帶水果，也都非常豐富。」

(註一) 馬當山：在安徽東流縣西南三十五公里，江西彭澤縣東北二十公里。山形如馬，突出江邊，旁邊水奔浪湧，船行困難，號稱江山之險。上面曾設有砲臺，稱為「馬當要塞」。

小孤山：在彭澤縣北面大江中央，和南岸的彭郎磯相對。

(註二) 廬山：在九江的南面，周圍一百五十公里，北面丘岡蜿蜒，稱為牯嶺，嶺上有許多避暑別墅。南面高峰挺拔，常年雲霧繚繞，忽雨忽晴，所以有「不識廬山真面目」之語。最高處五老峰高千餘公尺，山水下瀉為三疊泉瀑布，景色最美。山中處處流泉飛瀑，清淨無塵。那五老峰下的白鹿洞，是宋朝朱熹講學的地方；山南又有晉朝大詩人陶潛的故里。

(註三) 鎢：是一種耐高熱的金屬，用來作電燈泡裡面的鎢絲。中國產鎢，占世界一半。

第三節 鄱陽盆地（江西）（二）

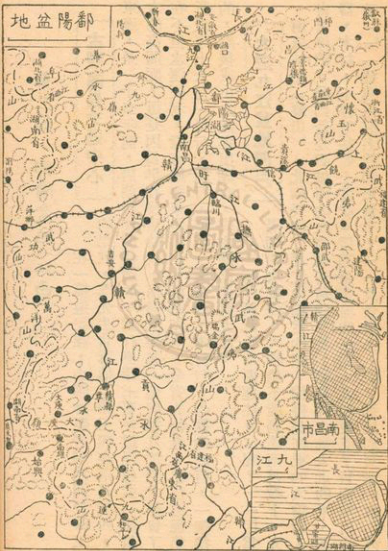
古城南昌交通中心

在一篇遊記裡，小華曾經看到過關於滕王閣的記載，李先生告訴他：滕王閣在南昌城西、贛江東邊，是一千多年前，唐朝時候所建造的，爲什麼滕王要在這裡建造一座氣派偉大的高閣呢？這是因爲早在漢唐時代，南昌已經是一個四通八達的大都會了。現在不但水運便利，還有鐵路東通浙江、西通湖南，全省的物產，都往這裡集中，所以市上米行、瓷行、紙行、煙行、麻布行、木材行，各樣的商行，一個挨一個的，然後或由水陸運出湖口，或由鐵路運到九江。

大港九江盆地門戶

「爲什麼貨物都要運往九江呢？」「因爲鄱陽湖的水較淺，大輪船不能到達南昌城下。九江呢，南依牯嶺（廬山），北臨長江，那江水相當的深，使得長江裡的大輪船，可以自由停泊。我們若是到城西的火車站去巡視一番，便見那大批大批的米、茶、瓷器、木材，不停地往船上裝載。這都是當地的土產，九江便成了貨物輸出的門戶了。」「這裡也有名勝和風景了？」「風景很多，除了那變幻莫測的廬山外，

鄱陽盆地



迎面是浩蕩壯闊的長江，城的西南有甘棠湖，湖上的煙水亭，據說是三國時代，周瑜坐觀訓練水軍的地方。火車站的北面有琵琶亭，據說那便是唐朝大詩人白居易招商婦彈琵琶的地方呢。」

浮梁磁器歷史千年

「還有那浮梁縣的磁器，真是光瑩潔白，像玉石一樣，是世界第一了。製磁的原料磁土，大都是從皖南的祁門，順着昌江運了下來。昌江南岸的浮梁縣裡幾萬的人家，牆上屋上，琳琅滿目的到處都是磁器。北宋真宗的景德年間（年號），特別設鎮製造，所以這裡才叫景德鎮。到現在已經有九百六十年的歷史了。」

第四節 兩湖盆地（一）——湖北平原

地勢低下湖泊遍地

小華打開地圖來看，只見九江的對岸，就是湖北省的地方了，然後順着長江往西看，只見大大小小的，又是遍地的湖泊，最後那長江的南面，出現一個最大的大湖：洞庭湖。李先生就告訴他說這是長江流域最大的湖泊，圍繞着洞庭湖的湖南湖北兩省，形成了一個大盆地：兩湖盆地。地勢非常低，又是個魚米之鄉了。

江流曲折常有水災

「是不是這裡水運仍舊很便利？」「是的，兩湖盆地的大城，也都是沿河的港口。但是我們坐船順着長江西航，僅僅在湖北平原裡走，那沿江的城市，有許多都可以碇泊大船。我們乘坐的大海輪，到了漢口停駛了。換了小點的江輪繼續西航，只見那江路愈來愈曲愈大。船在江中，一會兒向南，一會兒向北，方向不住地變換；那江邊上也常常出現一座兩座的小山，有時山崖臨江，露出紅紅的岩石來。」「那周瑜大敗曹操的赤壁也在這附近了？」「是的，正是這一帶，我們從武漢西南的嘉魚縣再西行三十公里，便到了石頭關，只見南北兩岸，小山夾峙江邊，江水向東奔流。那北邊的是烏林山，南邊的紅崖壁立就是赤壁山了！我們沿江西行，同時看到那北岸方面，一直有着連綿不斷的長隄，據說長江和漢水沿岸，隄防有幾千公里長，有些地方，隄防比平原要高出十來公尺，真是够得上偉大壯觀的了。」「爲什麼要修那麼多的隄防呢？」「還不是防禦夏天漲水，因爲這湖北平原上，以水和長江，漲水時都比兩岸要高呢！」

米茶棉鐵農礦豐富

「既然水災很多，這裡就不太好了？」「那裡，說水災也不是年年都有，而且，也只是在災

地方。平常我們在車上船上，抬眼一望，平地低地，盡都是稻田，較高的地方是棉田，山坡上是茶園，那豆麥絲麻、藥材桐油，全都非常豐富。就是礦產，煤銅石膏也都很多。尤其是鐵，大冶因出產鐵砂、漢陽因冶煉鋼鐵，都已非常出名了。

第五節 兩湖盆地(二)——武漢荆襄

古時重鎮今日大城

李先生又告訴小華說：那湖北平原上不但物產豐富，而且還產生許多自古以來都很重要的城市，武昌、漢口，這些城市到現在還是交通、軍事要地。「爲什麼呢？」「因爲這湖北平原是長江的中點、南北的過渡地帶。就拿三國事跡來說吧，北方的魏、西方的蜀、東南的吳，三個國家在這裡互相爭奪，表示這裡是天下的中心！」

武漢三鎮交通樞紐

「啊，怪不得武昌革命，全國響應呢！」
武昌、漢口、漢陽，不但是十月十日起義的紀念地，也是軍事、政治中心。我們在江中船上，便可望見武昌城內的蛇山，和漢陽

的龜山，遙遙相對，山上還都架有砲臺呢。那蛇山走到江邊，叫作黃鶴磯，磯上有黃鶴樓，歷史上有許多故事在這裡發生。登高一望，西岸漢陽城北大別山（龜山）下煙樹蒼茫，那著名的漢陽鐵廠，便在大別山的西北。環境優美的武漢大學，坐落在武昌城東，東湖旁邊的珞珈山上。「漢口呢？」「漢口在漢水口北，完全是個商業城，幾公里的碼頭邊，停滿了船舶，沿江十里洋街，行店裡盡堆着米糧、煙茶、棉絲、桐油等各種的土產和洋貨。這裡交通便利，水路上通四川，下達上海。平漢鐵路可以北上北平，粵漢鐵路可以南下廣州。」

襄陽荊州古代通衢

「漢口北運的貨物，在平漢鐵路未通時，是沿着漢水用船送到襄陽的，漢水上游的貨物土產，也都經過襄陽下運，襄陽和樊城，是古時向北經過南陽，進入黃淮平原的門戶。蒙古軍隊南下攻打南宋，曾經在襄陽打了七年。所以南陽、襄陽到荊州的一條路，是古代從北方到南方的一條大道。我們從荊州往南，便進入湖南的盆地了。」

第六節 兩湖盆地(三)——湖南盆地

四河一湖形如江西

李先生要小華打開地圖來，比比這湖南盆地和江西的鄱陽盆地有什麼相同的。小華一看，興奮地說道：「嘿，你看這裡也有四條河流：湘江、資水、沅江、澧水，四河都往北流，最後在長江南邊匯成一個大湖：洞庭湖。這和江西的昌、信、撫、贛、修五條河與鄱陽湖，完全相像。」

米茶林礦多於鄂贛

李先生連聲稱讚道：「不錯不錯，不但是樣子彼此相同，連氣候和物產，也都差不多一樣，不同的是本區米茶、木材、礦產等，產量都超過湖北(鄂)和江西(贛)，就以安化、平江的茶、常德的棉花、新化的錫、常寧的鉛、耒陽的煤，都非常有名。湖南(湘)是要比江西、湖北富庶多了。加以氣候溫暖，平地裡見不到霜雪，田間郊野，一年四季都草木青青。農家的房簷下，常是着那風乾的鹹魚、臘肉；江上浮着許多的木筏……只有那洞庭湖邊的地方，有時偶然有點兒水災，可是米糧是永遠吃不完的，所以有『兩湖熟、天下足』的話呢。」

地狹人稠民性堅強

「物產富，生活簡易，使得人口非常的密，我們如果在湖南旅行，便會感覺到處有『人滿』的情形。加以西邊接近貴州高原，南有五嶺，這些地方，古時都是蠻人苗人的天下，所以影響到本區的民性風習，非常樸實而堅強，富有冒險精神，自從清朝曾國藩、左宗棠等組織湘軍，平定太平天國之後，從軍成了風氣，每個部隊裡都有湖南人，所以有『無湘不成軍』的話。」「啊！」

第七節 兩湖盆地(四)——都市、名勝

大港岳陽扼守湖口

李先生告訴小華說：我們要是遊歷湖南的大城，照樣只坐船旅行就可以了。首先，我們坐大輪船從漢口西行，經過赤壁，可以直到岳陽城東北的城陵磯地方碇泊，或是停在大城西南的南津港。我們看到那浩浩蕩蕩的洞庭湖上，輪船、汽船、帆船、木筏，各色的船舶來來往往，也看到城西面聳立湖邊的岳陽樓，那對岸小山突起，便是君山(洞庭山)了，山上有湘君廟，祀奉着舜的太太娥皇和女英，因為傳說帝舜南遊，死在廣西滄梧，兩位太太追尋南來，痛哭流涕，那湖南出產的斑竹上，點

點黑斑，便是淚痕。後來二妃死在湖裡，就成了水神了。二妃的墓就在湘陰縣北，黃陵山下。再往東的汨羅江口，就是楚國的忠臣屈原，投水而死的地方——湘陰縣在大湖的南頭湘江口上，在船上可以望見那湖濱一片片土隄圍起的「垸田」，夏天漲水時，全都淹在湖裡，只露出湘陰城，好像水中的孤島。」

長沙衡陽交通中心

「我們還可以坐大輪船繼續南航嗎！」「不行了，我們必須在岳陽換乘小型輪船（江輪），

經過湘陰，順着湘江南航，六七十公里便到了長沙。那長沙城濱臨湘江東岸，粵漢鐵路從城東經過。湘贛鐵路向東通到江西。這裡自古以來，都是盆地裡的大都會。湘江一帶的米茶土產，都運集到這裡來，市面非常熱鬧。城內有瀛洲花園，（是五代時楚王馬殷遊宴之地），大西門內有漢朝賈誼的住宅，城南有天心閣、城南玉院等古跡。城西江心有水陸洲，可以聽那富有詩意的「瀟湘夜雨」，湘江西岸，便是岳麓山，山上有革命元勳黃興和蔡鐸兩人墳墓，山腰有岳麓書院（是宋朝朱熹講學的地方）。

「再往南走，衡山縣西有南嶽衡山，山上七十二峰，處處泉水。衡山之南，便是衡陽了，湘江打城東經過。從這裡順粵漢鐵路，向南可到廣州；順湘桂黔鐵

路西南去可到桂林，這是一個新興的工業城市呢。」

「聽說這湖南境內，還有什麼世外桃源呢？」「啊，那是在沅江下游的桃源縣，我們坐船到常德，再從常德走幾十公里就到了，那裡有桃源洞，就是傳說的世外桃源了。」

第八節 氣候與茶葉

沿江一帶四季分明

小華聽了關於華中地方的許多討論，感覺這些地方有兩樣現象很特別：第一個是到處都是湖泊，水運都很便利；第二個是到處都產茶葉。便不由的問李先生道：「奇怪，這是什麼原因呢？」「這和氣候有關，因為這一帶溫和濕潤一年到頭都有雨的。」

「啊，那我們就談談氣候吧。」

「在長江兩岸，是春夏秋冬四季分明的地方，夏天裡南風盛吹，常有大雨，蒸騰的水汽，使得這許多盆地裡酷熱難當，漢口南京等地有許多人常跑到廬山去避暑。等到八九月以後，田裡稻子豆子，都已黃熟；湖邊江邊上，一叢叢開花的蘆葦，映着遠處紅葉，好像圖畫一般。接着稻禾割盡了，紅葉落光了，秋天結束

了。一夜北風，吹得江上寒冷非常，一般出門的人，也都穿上了棉衣。這是冬天了，許多樹木，都落光了葉。有時寒風吹過，還下雪呢。不過田裡仍然一片鮮綠，不是小麥，便是油菜。舊曆年後，冬盡春來，接着麥苗吐穗，菜花金黃，和風細雨，桃紅柳綠，慢慢地天氣熱了，雨也不住地下，這是春末夏初的『黃梅雨』，滿地都是水，農人到處都在忙着翻土插秧了。

湘贛南部缺少冬天

「不過，湖南和江西的南部，氣候上是終年炎熱，見不到寒風冰雪，所以稻米一年可收三次。遍地都是熱帶的花草菓木；柑橘和甘蔗，產量都很多的。」

採茶有趣製茶麻煩

「不是說這一帶產茶很多嗎？」「是的，那些不能種稻和菓樹的地方，都開成了茶園，遠遠望去，只見高高低低的紅土丘岡上，滿是茶樹。最好的茶是春天清明節前後採的『明前』、『雨前』，這時候桃紅柳綠，正是『細雨霏霏不濕衣，山前山後鶯亂飛』。那些年輕的男女，穿上輕衫，揹着竹筐，成羣結隊地來到茶園。一面採茶，一面唱歌，歌聲笑聲，此起彼落，真是有趣極了，不過現在人民公社裡，人人痛苦，怕是再也見不到這種快樂的鏡頭了。採得的茶葉，或在家自製，或送給公

司，都要先經過精細的挑選分類，把各種不同的茶葉分開，然後上鍋用文火烘焙，加入香料，同時不住地用手捻搓，把茶葉都捲成細粒。製品種類繁多，但以紅茶綠茶最普通。製成以後裝包裝罐，或製成茶磚，運銷蒙古西藏或北非。茶磚要用機器壓製，九江、漢口等地，都有製磚的大公司呢。」



【習題】

一、問答題：六〇%（每題二〇分）

1. 鄱陽盆地有什麼著名出產？
2. 湖南盆地有什麼特色和江西一樣？
3. 華中地方的氣候怎樣，有什麼特產？

二、填充題：二〇%（每題一〇分）

1. 九江之南、鄱陽湖北，有——山風景美麗，景德鎮（浮梁）因出產——著名。
2. ——在南京西邊，是全國第一大米市。——三鎮是全國交通樞紐，十月十日的革命紀念地。

三、選擇題：二〇%（每題一〇分）

1. 兩湖盆地①常有水患，物產不多②米糧極多，富足無比。……………（ ）
2. 南嶽衡山在①江西鄱陽湖北、九江之南②湖南洞庭湖南、衡陽之北。……………（ ）

普通
進修科

本國地理講義

僑民教育函授學校出版
李傑編撰
O. C. Education Correspondence
School, Republic of China

第七講 西北黃土高原、河西

第一節 漢中盆地

秦嶺屏蔽氣候溫暖

華中地區的富庶繁華，那長江沿岸多姿多采、四季變化的景色，都使得小華深深地嚮往，等到李先生談完了，小華戀戀不捨地問道：「華中地方完了嗎？」「不，還有一區，漢水上游的漢中盆地還沒談，這是一個兼有南方和北方風光的地方，我們從這裡便可以進入西北的黃土高原！」「啊，我們如何走法呢？」「我們仍然可以坐船，沿漢水往上走，在船上只見那河身被兩道高大的隄防夾着，隄外一望無際的稻田，伴着那縱橫交織的港汊湖泊，顯得那樣地坦蕩、遼廓，隄內呢，那波浪滾滾的水面往往要比隄外的田地高出一丈多！」「啊呀，這樣不很危險嗎！」「是

的，這還在兩湖盆地裡面呀——直到過了襄陽，才見兩岸的山嶺，越來越近，河水越來越淺，大汽船已不能行駛，要換乘張帆的木船了。船到白河縣，已經進入陝西地界，離漢口八百五十多公里了。再往上行，只見夾岸的青山，連綿不絕，奔流的江水，左衝右撞；在石泉縣的上流，我們可以看到那湍急險惡的女王灘，這些都正是現代建設水庫的理想地方。洋縣以西經過南鄭（漢中）到沔縣的一兩百公里間，出現了一個十多公里寬的平原，這就是漢中盆地了。在這裡因為秦嶺可以擋住北邊的寒風，所以冬天裡氣候也很溫和，很少下雪的……」

兼包南北聯絡川陝

「那麼這裡和南京上海一帶差不多了？」
「冬天要比南京上海還要暖和些。這裡不但出產稻米絲茶桐油和熱帶的柑橘甘蔗，也出產溫帶的豆麥高粱和桃李杏棗等。就是當地居民的衣裝語言風俗等，也都兼帶四川和關中的色采，所以有『風物兼南北，語言雜蜀秦』的話。因為這裡在戰國時代，是關中（渭河平原）的秦國和南方的楚國爭奪的地方。三國時代四川地方的蜀國也常是占領這漢中盆地，作為根據地向北攻伐魏國，就是現代，四川往北的大道也是經過盆地西邊，越過秦嶺到關中的寶雞去……」

秦嶺高大散關險要

「那秦嶺是非常的高大了？」「非常高大，從山南到山北有兩三百公里路程。我們從漢中往西北到褒城已經入了秦嶺，只覺那山谷間的道路，上面是高入雲霄的峯巒，下面是百丈深澗，古時爲了行軍，遇到峭崖絕壁的地方，鑿洞架木，築成棧道。從留壩到鳳縣，我們登上了秦嶺高處，回頭下望，只見東南一帶，一排一排的尖峰，從雲海裡鑽出頭來。鳳縣往北七八十公里就到了大散關了。這裡是一道峽谷，東臨深澗，散關位於幾百公尺寬的缺中，真是「一夫當關，萬夫莫開」了。這裡已在秦嶺北麓，離渭河邊上的寶雞只二十公里了。」

第二節 渭河平原（涇渭平原）

渭河平原又稱關中

李先生繼續地說道：「這秦嶺以北，便是渭河平原了。我們站在散關附近的高處向北瞭望，便可望見那黃土的平原上，一條明亮的河水，向東流去。平原的北邊，好像還有一道平平的山嶺：那不是山，那是黃土大高原的邊緣。兩邊黃土坡上，草木稀疏，顯得枯黃乾燥。這渭河平原因爲北有高原，南有秦嶺，西有散關，東有潼關，

所以被稱為關中（註）」

氣候乾旱灌溉發達

「這渭河裡也有許多船舶了？」「沒有，很少看到小舟。因為這裡已是北方，氣候乾旱，河水也很小。一般的人出門去，不是徒步行走，便要騎馬或坐車了。在野外田間的黃土路上，到處都印着車轍和蹄痕，田裡也多半是種着棉花、高粱等旱田的農作物。不過那渭河、涇河和北洛水上，自古以來都開有渠道，灌溉工程是非常發達的——由於這裡物產富，形勢又好，有山有關，所以我國古時有許多朝代，都建都關中，而且國家都很強盛的。」

周秦漢唐歷史輝煌

「周朝在渭河南岸的鎬京（西安）建都，秦朝建都咸陽。漢高祖從漢中盆地打下關中，便把京城遷到長安（西安）來，唐朝的京城也在長安。這些朝代都因為有一個富庶鞏固的根據地，才能很快地統一全國的。關中在當時成了天下的中心，也給後來留下了許多的名勝古跡，引人憑弔。」

【註】

關中：指陝西的渭、涇、北洛各河沖積的涇渭平原。關中記：「東自函關，

二關之間，謂之關中。」也有認為東函谷關或潼關，南武關或藍關，西散（大散關），北蕭關。居四關之中，故叫關中。

第三節 關中都市、名勝

重鎮寶雞平原西陲

「有什麼名勝呢？」「我們先打西頭談起吧，下來大散關，渡過渭河，便到了關中西部的重鎮：寶雞。這裡往西有鐵路可到甘肅蘭州，往南可到四川成都，所以是平原西部的交通軍事重鎮。我們看那斜斜的寶雞城，一半建在黃土高原的斜坡上，那臨河的新市區裡，有許多紡織工廠和棧房，棧房裡堆滿了棉花和土產。城東有姜太公的釣魚臺。東南方渭河南面，便可看到那銀光閃閃的太白山，這是秦嶺最高處——四千公尺。一年到頭山上都滿是白雪呢。」

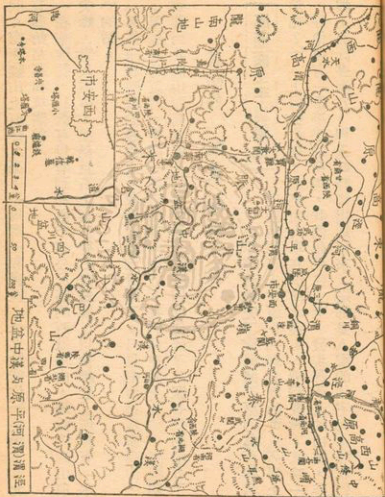
咸陽西安古跡如林

「寶雞往東，經過武功、興平到咸陽。那武功西南渭河南岸有諸葛亮屯兵的五丈原。興平西邊的馬嵬坡是楊貴妃自殺的地方。再往東走，在渭河北岸我們可以看到那秦代的京城咸陽，現在成了關中的農產集散市場，那鐵道兩邊高高的烟囪，便都是麵粉

紡織釀造一類的工廠，城東北的北原上，我們可以看到周朝的文王、武王、周公等的坟墓。城東有漢朝許多皇帝的陵墓。火車往南越過了渭河，走上十多公里，我們遠遠可以望見那彫樑畫棟的「長安車站」和那六七公里長，巍巍高聳的城牆，代表着西安城充滿了歷史古跡；現在是西北的第一工商大都市。試想隋唐時代的長安（西安）是如何的繁華，世界各地的商人學者都來到長安觀光，羨慕之餘，一切都竭力摹仿，日本的京都城，便是仿照唐朝的長安城建造的，可是那長安古城却在唐朝末年被燒燬了，只留下四周許多遺跡，讓人憑弔了。漢唐古城在現在西安城西北五六公里，許多古代宮殿遺跡都在附近。秦代阿房宮便在城西十九公里的皂河西岸，周代的鎬京，更在其南。城南四公里地方有慈恩寺，是唐代高僧玄奘法師等翻譯佛經的地方，寺裡有大雁塔，唐代考中進士的人都要在塔上題名留念的。再往南離城十公里處有杜曲，這是大詩人杜甫的故里，附近有杜公祠、牛頭寺，春來十里桃花，爛漫如錦。再往南三四十公里就可到終南山下了，這裡是秦嶺主峰，山上樹木蔥蘢，涼爽無比，夏天裡很多人來此避暑遊玩。

華山峻拔潼關險要

「從西安乘火車一路往東，過去灞河橋就到了臨潼，這裡有溫泉，那楊貴妃洗浴的華清池便



在其間。南面驪山上有烽火臺，是周幽王和褒姒「烽火戲諸侯」的地方。北面山麓還有秦始皇墓和坑儒谷。

「在華陰縣，我們可以看到那兩千多公尺高的西嶽華山，那峻拔的山頂上，三個尖峰，鑽入雲中，壘壘巨石上面往往釘着鐵鍊，以便攀登，所以有「華山天下險」的話。

「再往東在陝西的邊界上，我們就看到潼關了。只見南面是陡崖高山，北面脚下是滾滾的黃河。中間一線道路奔向東方。我們站在城上北望，隱隱約約可以看到黃河北面山西高原邊上的風陵渡！潼關因此便成了兵家必爭的地方了。」

第四節 隴東高原

高原面上平坦無比

小華等着談完了這渭河平原的都市和名勝，

便接着問李先生道：「那北面的黃土高原上是什

麼情形呢？」「上面很平坦，我們坐火車在渭河北邊走，看到寶雞、武功一帶的北邊，好像還有一帶平平的丘岡，我們如果往上走，發現那黃土的山坡，非常的陡，坡上有許多洞穴，裡邊時時冒出炊煙來，這都是人家的住宅呢。等我們到上

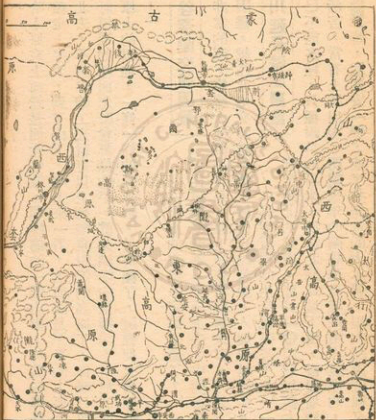
面一看，哈！原來上面還是個大平原，那模糊的一帶山影，仍然在那遙遠的北方，我們繼續走上半天，到了山下，爬上來一看，上面還是平平的——要是從咸陽坐汽車往西北去，不到半晌工夫就可以上到醴泉附近的高原了，你舉目四下觀望，馬上會驚訝這裡的地面怎麼會那樣的平，真是標準的飛機場！當地的人只叫它「原」，那原上的田地，一條一條的長方形，整齊極了，這裡便是周朝最初劃分井田的地方！」

河谷深陷交通困難

「原上的交通一定很方便了？」「其實不然，從這個原到那一個原上去，中間都隔着一條河谷，谷都非常的深，修築大道很不容易，原上儘管有騾馬大車，可是下得原去，却是非常困難，越往北走交通越不便，氣候也越乾燥，人烟也越稀少。」

銅川延長礦產豐富

「那麼這裡的生活也很苦了？」「是的，北部像陝北的延安、延長一帶因為氣候太乾燥，小麥、玉米已不能多種，只種耐旱的小米。再往北到長城下面，慢慢地變成沙漠了。因為生活苦，常有土匪出現，明朝末年的闖賊李自成使出在這裡的，第二次大戰（對日抗戰）時，這延安一帶，成了共產黨的大本營，現在聽說這裡又常常發生



反共的事件了。其實這延安、延長一帶到處都是石油，高原大部地方都產煤，銅川煤礦已開採很久了。」「真是應該趕快開發寶藏，改善生活才是！」

第五節 隴西高原

隴山以西更加乾燥

「那隴西地方什麼樣呢？」「隴西高原地勢更高，氣候不但乾燥，而且很涼——我們如果順着涇河往西走，翻過隴山就可以看到高原頂上的概況了。那陝甘的公路沿着涇河，到了平涼縣，已經感覺地勢很高了，從平涼西邊的化平開始登山，只見山石崢嶸，道路盤旋；滿山的松柏，顯得十分陰涼——這裡的山便是六盤山了。以前成吉思汗西征，曾在山上避暑，死在這裡。半晌工夫翻過山來，已經到了隆德縣了。平緩的山坡，顯得這裡的地勢仍然非常高寒。起伏的黃土原上，枯黃光禿，樹木很少，草也不多。靜靜的原野，行人稀少，只有三兩的羊羣，出沒在原邊：氣候乾旱，景色更加荒涼了。」

地居通衢居民複雜

「由於這裡氣候乾燥，種田的漢人都聚集在狹小的河谷裡，高原放牧的地方，成了回人羌人

蒙人的天下，因為這裡正是通衢大道的十字路口，青海地方的羌人順着黃河北來，長城外面的蒙古人南下牧馬，都要經過這裡，但是由於生活語言的混合，大家都沒什麼分別了。」

首府蘭州工商發達

「我們在定西縣可以遇到隴海鐵路，搭上火車一路下坡地直到蘭州。那蘭州城北臨黃河，南依皋蘭山，市外車來馬往，貨運繁盛，是一個軍事重鎮，也是這通衢地區的交通樞紐。黃河谷地有農產，黃土高原有皮毛藥材，加上附近的礦產也很豐富，於是蘭州就成了高原上第一個工商都市了；這裡的地毯和呢絨是早已出名的了；若是我們來到這裡市上，可以飽餐廉價的牛羊肉，也可以嚐到那味美色鮮的梨、棗、蘋果、石榴等瓜果……」

第六節 高原生活

牛羊價廉半買半送

一提到有許多好吃的東西，小華大大地感到興趣，便懷疑地問李先生道：「不是說這高原地區物產不豐富，很荒涼嗎？」「可是人口也少，吃的人就少了呀，那石榴、梨棗

等，在市上都一堆一堆的買賣，根本不上秤的。若是走進飯店叫碗牛肉膾餅，擺在桌上會把人嚇的一大跳。那碗就像小洗臉盆大小，飯量小的人也只有兩人才能合吃一碗了。要是在街上買牛羊肉，差不多都是買一斤送一斤的——這是在城裡，不過真正在高原頂上的人生生活却大都簡樸得很呢。」

食住簡單車馬代步

「會不會很清苦呢！」「可以說清苦了，因為高原上非常乾燥，米和蔬菜都不易得到，一般人家都吃高粱蕎麥等粗糧，佐餐的蔬菜也多半只有蔥蒜辣椒。水井都有幾丈十幾丈深，汲水困難，平常也都不能洗澡的。高原頂上的人家，住的也是普通的房子。在高原邊上或黃土山旁，才挖掘窯洞居住的。無論在房屋裡或是窯洞裡，床是很少用的，高原上木材少天氣涼，家家戶戶，都睡土坯作成的火炕。炕下有洞，晚上把柴草塞進去燒起火來，非常地暖，窮苦人家，也就可以省掉一條棉被了。要是出門，就坐車騎馬，不過高原地方騎馬的習慣，還沒河西普遍呢。」

第七節 河西地方

南北山間沙漠氣候

小華問道：「什麼是河西呢？」「那是甘肅省西北部、烏鞘嶺以西的地方。因為在黃河的西

面，所以叫它河西。我們如果從蘭州出發西去，只覺步步高升，最後在永登西北方越過了三千公尺的烏鞘嶺。舉目四望，只有荒草荊棘，生滿山谷。然後一路下坡到了武威，只見涓涓的小河灌溉着少數農田，離城十多公里外，便已是一片黃沙，那頹塌的長城外，已是大戈壁（沙漠）了。越往西走，氣候越乾燥。一年之間，難得遇到幾次下雨的時候，冬天也很少下雪。有時雨落在地上，馬上就乾了。

「那麼河裡的水都從什麼地方來的呢？」「從山上流下來的。這河西地方，南北兩面都是山，北山是馬鬃山、合黎山和龍首山，都很低，山上草木不生。那南山便是祁連山，山高氣寒，積滿了白雪。春來雪消，山脚下便出現了草地，成了牧場。河水流到平原，便成了水草田，這就是沙漠綠洲了。綠洲上人烟稠密，也出產稻米、豆麥、棉花和各種的瓜果菜蔬。」

四大綠洲交通孔道

「有很多的綠洲了？」「比較大的有四個：武威、張掖、酒泉、敦煌，叫河西四郡。這裡是中國內地通往新疆和中央亞細亞的交通孔道，所以被稱作河西走廊，那武威因為秋天早涼，稱為涼州，是河西的羊毛大市場。張掖因為城內有甘泉，稱為甘州，綠洲廣大，出產最富，所以有『金張掖，銀武威』的話。酒泉南臨雪山，北依長

廊走西河

0 40 80 里



城，因為地高天寒，稱為肅州。出城往西三十多公里，便是長城最西頭的嘉峪關了。關外黃沙枯草，景色荒涼，再走四百八十多公里可到敦煌（註）。因為四周沙積遍野，稱為沙州——其實河西也正和隴東一樣，寶藏遍地，金、煤、石油、石膏，開出來馬上就富足了！」

【註】

敦煌：城南五公里有鳴沙山，五色斑斕，風吹沙鳴，山旁有月牙泉、鳴山寺。千佛洞又名雷音寺，在城東南二十公里。崖壁上有洞穴近千，內藏魏晉隋唐之佛像彫塑，詩詞書畫，成爲藝術寶庫。

第八節 黃河與河套

皮筏帆船航行河套

小華在地圖上發現蘭州以下的黃河，非常的寬，沿河的城市也很多，便問李先生如果不坐火車而坐船，是不是可以順河下行呢？李先生告他說：「可以的，不過在蘭州或青海西寧一帶，都坐皮筏（註一），本地出產的糧食、羊毛、獸皮、藥材等，裝在皮筏上，一直順水下行經過河套，運到包頭」。「爲什麼要用皮筏呢？」「因爲蘭州往下，黃河奔流兩山之間，造成許多峽谷，桑園峽、黑山峽……那皮筏在湍

急的流水裡，跌跌撞撞，不會破碎。我們在景泰縣的米峽山北方，出了長城，到中衛進入了河套平原，從這裡一直到綏遠，山西交界地方，黃河順着山勢，繞了一個大灣。這裡地勢平坦、河渠如網，成了長城外面的樂園了。」

西套後套物阜民豐

「在寧夏賀蘭山下，我們看到水田漠漠，城鎮相望，這裡是號稱『塞外江南』（註二）的西套。我們在銀川市東的橫城港，可以看到河上聚集着滿載貨物的船舶。再往北走，黃河在磴口進入了綏遠地界，在狼山下彎了個大灣，臨河、五原各縣，灌溉的渠道密如蛛網，這是『黃河百害，惟富一套』的後套了。再往東到了包頭，已是東套地區了。」

包頭歸綏商業繁忙

「包頭地方已不是沙漠了，只見茫茫草原，牛羊成羣。一隊隊的駱駝隊商，把甘（肅）、青（海）、蒙（古）、新（疆）的羊毛皮、藥材菌菇都送進了『蒙古行』，然後裝上火車轉運到北平天津去，包頭附近因為出煤鐵，所以成了塞外的工商大都市。那東邊的歸綏市，却只是專門轉運蒙新貨物的商埠。歸綏包頭運出的毛皮，在平津地區稱為『西口貨』，是很貴重的了。歸綏市北依陰山，西接黃河，林木成

蔭，田園相望，已經不是西部荒涼的景色了。歸綏舊城（歸化城）裡有許多喇嘛廟，包頭隔河的黃河邊上有王昭君墳，東套南方，東勝縣之南有成吉思汗墓，都是值得遊覽的古蹟呢。」

【註】

(一)皮筏：青海、甘肅一帶，俗叫「湫脫」，小者用羊皮縫成革囊，打入空氣，數十囊捆在木桿上。大者用牛皮縫成，中裝羊毛，百餘囊聯結一起，可載重萬餘斤，由西寧、蘭州順水流到包頭。

(二)塞外江南：「塞」是長城，是說那種灌溉便利的程度，水田漠漠，簡直和江南毫無分別。

第九節 山西高原

山陵重重中有汾河

小華說：「還有山西高原，怎樣去呢？」我們不能順黃河走了，因為河裡有許多急灘和瀑布，而且高原要比河面高得多——我們可以搭平緩路的火車，從歸綏市東行，到集寧南來，在豐鎮的南方穿進長城，看到高原上的景色，和隴東相似，到處都是山，幸虧中間有汾河等河谷平原，在那裡才能見到肥美的田園，稠密的人烟。那鐵

路經過的地方，礦產也都開採了。」

大同太原工業興盛

「在北部我們看到軍事重鎮的大同，工業也很發達，因為附近又出鐵又出煤。大同西面十多公里有雲岡石窟，裡面有北魏時代彫刻的石佛，裡面佛像大的高五六丈，小的只幾寸，刻工精美，成為佛教藝術寶庫。南面有北嶽恒山和佛教四大名山之一的五臺山，山上泉流處處，草木蔥蘢——火車往南穿行在羣山之中，三百多公里到了太原，這裡是高原上的文化、交通、經濟中心，也是新興工業的大本營。古代這裡叫并州，『并州快剪』早已著名了，現在鍊鐵紡織工業都很盛呢。」

河東地方文化搖籃

「順着汾河再往南呢！」「再往就是『河東』地方了。那臨汾古代叫平陽，是帝堯的都城；永濟古代叫蒲阪，是帝舜的都城；安邑是夏禹的故都。可能是因為這裡氣候比較溫暖，自古農業發達，成了我國文化的搖籃。那西邊黃河上有龍門，南邊河上有砥柱山，都是名勝之地。」

壺口龍門水力豐富

「對了，請談談那著名的龍門吧！」「那黃河在山（西）陝（西）之間，被兩邊的山嶺夾住

，奔騰南下，在壺口地方，從二十公尺高處倒瀉下來，好像茶壺裡倒出來一樣，倒進那狹窄的深谷，白浪翻騰，水聲如雷，向下又五六公里，才從龍門口流出，俗傳江海裡的大魚，跳上龍門，就可變成龍了。不過現在聽說龍門和砥柱等幾十處地方都築了水壩，像砥柱（三門山）上游的平陸等，好幾個縣份都淹到水裡了。」「啊呀，那裡的人呢！」「全部遷到別處去！有的到新疆，有的到黑龍江……」「生活能習慣嗎！」「有些人路上就死了，有的到了指定的地方，凍死餓死了，成千上萬的。」「呀，真是太慘了！」「可憐的事情很多呢。」



【習題】

一、問答60%（每題二十分）

1. 周、秦、漢、唐，爲什麼都建都關中（渭河平原）？
2. 隴東、隴西的黃土高原上，地形和氣候有何特點？
3. 從蘭州（隴西）沿着黃河到歸綏（前套），不坐火車，怎樣走才好？

二、填充20%（每題十分）

1. 河西（走廊）地區有武威、張掖、 、 、 、 四大綠洲。
2. 山西高原上的兩大工業城市是 和 。

三、選擇20%（每題十分）

1. 漢中盆地北面有①巴山②秦嶺③恆山擋住冬季的寒風。……………（ ）
2. 河套（西套、後套、前套）地方都很①富足②貧困。……………（ ）

普通
進修科

本國地理講義

僑民教育函授學校出版
李 傑 編撰
O. C. Education Correspondence
School, Republic of China

第八講 華北平原

第一節 河南平原（一）地形、物產

西部山地形勢險要

李先生告訴小華說：「那砥柱山好像老虎一樣，臥在黃河涵湧東流的波濤之上；砥柱上游不遠，一山橫截河上，中間形成三個缺口，河水從缺口流過，這就是三門山了，三門山也叫三門峽，北邊的峽叫人門，中間神門，南邊鬼門，鬼門裡岩石嶙嶙，怒濤澎湃，船到裡邊十之八九要翻覆沈沒的，一般渡河的也都在三門上游，過河便是河南陝縣了。」「這裡該是平原了？」「還是山地！陝縣西邊還有那著名的函谷關呢。關北面是黃河，南面是崤山，崤山之南還有熊耳山、伏牛山。這河南西部，是個山嶺盤結的地區，只有崤山和黃河中間，比較容易通過，就成了兵家必

爭的險要地區了。我們若是坐火車由潼關東行，只見南北兩邊，都是禿平的山陵，到了洛陽，才看到一個小平原。再往東，鐵路穿過偃師、鞏縣的黃土谷地，在汜水縣西，看到那著名的虎牢關（註一），再往東去，平野千里，已經是黃淮（華北）大平原了。」

東部南部平原遼闊

「沒有山了？」「沒有山了。我們從鄭州坐隴海鐵路（註二）的火車東行，經過開封、蘭封、商邱等大站，一直到徐州，一天的行程，沿途都看不到一點小山，北邊有時看到起伏的沙丘邊，一叢叢的檉柳，那是黃河的堤邊，河沙堆積的荒地。往南看，一眼望不到邊涯，連綿不斷地盡都是村樹、農田，田裡高高低低的種着各種的旱糧。若是向南去，經過平漢鐵路（註三）的新鄭、許昌、鄭城等站，也是一天，直到信陽，才看到湖北、河南兩平原的分界嶺：大別山。這是河南平原——華北大平原的一部分。土地肥沃，農產物是非常豐富的。」

瓜果雜糧農產豐富

「物產也和渭河平原差不多了？」「差不多，冬天種麥，夏天是玉米、小米、甘藷、豆類、棉花。在隴海路一帶，到處是棗、瓜、柿子園。我們走進園裡吃瓜是不要付錢的

，那些瓜又大又甜。從鄆州往南，在新鄆一帶，我們看到滿是棗、梨等果樹，許昌以南田裡又都是菸葉。到了信陽，只見水田漠漠，大都種稻，這裡已經是淮河流域了。」

(註一) 虎牢關：在鞏縣之東，汜水縣城西一里，深陷的黃土溝谷，兩邊土崖壁立，成爲通往洛陽的孔道。

(註二) 隴海鐵路：是從甘肅(隴)蘭州到東海連雲港的鐵路，中間經過西安、洛陽、鄆州、開封、徐州等地。

(註三) 平漢鐵路：從北平到漢口，經過石門、新鄉、鄆州、許昌、信陽等地。

第二節 河南平原(二) 都市、名勝

天下中心史跡最多

李先生說：「四千年前夏禹的時候，把天下分成九州、中央的叫豫州，你知道豫州是現在什麼地方？」小華馬上答道：「一定是河南地方了！」「一點也不錯，這裡因爲在九州的中心，所以叫中州。這一帶地形上是個大平原，所以又叫中原。這裡是我們祖先開拓的地方。也就是我們中華民族的老家。伏羲氏都於陳，在現在淮陽縣

，城西北有「太昊伏羲氏之陵」。黃帝曾在有熊（新鄭縣）建都。安陽（在黃河北）地方還挖出許多商（殷）代的古物。這許多古城之中，要算洛陽和開封範圍最大，古蹟最多了。

洛陽曾是東周、東漢、西晉、北魏的都城，我們可以見到那狹長的洛河盆地，北面丘陵蜿蜒，那是邙山嶺，山裡有許多帝王陵墓。南面伊河出山的地方，是龍門口，兩岸青石崖壁上，雕着大大小小的佛像，是藝術珍品。洛陽在漢代稱為東都，當時真是車馬滿道，萬商雲集，同時也出了許多有才氣的文人：「東都才子」。

開封呢，是戰國時代魏國的首都大梁，五代和北宋也都在這裡建都，現在是河南最繁華的城市了。城的西北方，有宋代的龍庭，東北邊有鐵塔，高十三層，登高遠望，北邊可以看到黃河，南邊可以看到古吹臺（禹王臺）、農林試驗所，林木蒼鬱。不過，究竟都是平原，要看雄壯美麗的風景，還是得登上嵩山去！

嵩山巍峨黃河壯闊

「嵩山不就是中岳嗎！」「正是！山在登峰

室峰，西有少室峰。少室峰下有少林寺。太室峰下有中岳廟，由此上山，只見峰

迴路轉，林木茂密，雜花遍地。深谷中瀑布飄洒，冷風吹來陣花香，忽見石柱一條，橫架百丈深峽之上，那就是鐵樑峽了。過峽再上陡崖，登上最高處：峻極峰，只見東面南面，千里平野，望不到邊際。北面黃河，明亮如帶——其實，那黃河水色黃濁，我們若是站在河隄上，只見波浪滾滾，汪洋一片，三兩小船，樹葉一樣在水上飄蕩。因為開封附近的黃河，足有十多里寬的。」

鄭州新鄉工業發達

「黃河鐵橋也要十多里了？」「沒有，鄭州新鄉之間的平漢路橋，只有五六里長——鄭州新鄉由於交通便利，工商業非常發達。紡織、食糧……尤其是打蛋，是很有趣的。」

輝縣信陽風光美麗

「新鄉是在黃河北了？」「是的，河北邊還有個風景美好的地方：輝縣，縣西北接連太行山脈，有許多瀑布泉水，那平漢路南邊的信陽，已經在大別山下，四圍青山翠谷，茶樹、楓樹，已經是江南景色了。」

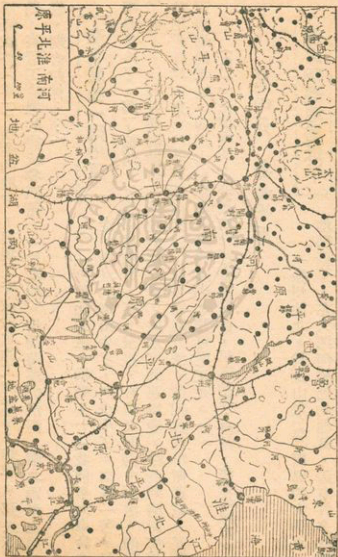
第三節 淮北平原

淮河兩岸略似江南

小華聽說淮河一帶的風光和江南差不多，便問道：「是不是這裡也溫和多雨呢？」「這淮河兩岸的地方，比起關中（渭河平原）和黃河南北的地方來，是溫暖得多了。我們從信陽往東走，只見淮河兩邊都是高高低低的丘陵，山上松杉、烏桕、楓樹，山坡一層層的水稻梯田，山腳下一個個的水塘湖泊。剛從黃河流域的乾燥環境中來到這裡，會感覺這裡山水風景，實在不錯，尤其是那山坡上的茶園，使我們想起長江兩岸的景色來。」

蚌埠阜陽工商發達

「那麼這裡水上交通也很便利了？」「是的，我們從信陽坐船東行，便見淮河上許多的小船、竹筏，運着米豆牛皮。船到正陽關，水勢更大，南邊運來了六安、霍山的茶葉，西北邊潁河，流下了河南的農產。潁河邊上的阜陽（潁州），便是個水陸交通的大站。正陽關往東，我們可以坐汽船。不久看到淝水之戰的古戰場（在鳳臺縣），北方苻堅的八十萬陸軍，被南方東晉幾萬的水兵打敗了。再往東，津浦、淮



南兩條鐵路（註一）相會的地方，出現了安徽最大的工商城市：蚌埠。那火車、汽船，夾着工廠裡的機械和汽笛，一片喧鬧。浩浩蕩蕩的淮河，南北兩岸上房舍巍巍、烟囱如林……」

淮北風物一同中原

「再往北去也一樣嗎？」「我們坐火車往北走，漸漸的稻田少了，河也小了。宿縣一帶，已經都是旱田了。到了徐州，又是車馬滿街，塵土飛揚，好像又回到中原地方的開封了呢——徐州有隴海鐵路和津浦鐵路交會，往東可到連雲港，往西到開封鄭州，往南到蚌埠南京，往北到濟南天津，真是四通八達。這裡古代叫做彭城，是楚霸王項羽的都城，四週山岡點點，有許多的名勝可遊玩呢。」

（註一）津浦鐵路：從天津到南京對岸的浦口，經過蚌埠、徐州、濟南等城市。

第四節 魯西平原

運河所經地勢低平

「徐州往北，就是山東（魯）西部的大平原，

地勢低平，在大運河經過的地區，還有許多的湖泊，夏秋多雨時，一片汪洋，湖邊滿是蘆葦雜草。可是這裡是華北大平原的一部

分，氣候乾燥，稻田很少。遼闊的平原上，盡是旱田，田裡種着高粱、玉米、花生、棉花，圍繞着村舍是棗樹，是梨園，風光和河南差不多。」

鄒魯之地誕生聖人

「聽說孔子的老家在這裡？」「是的，孔子是魯國人，魯國是現在的曲阜縣，孔子的故居「闕里」就是現在曲阜城內的聖廟，占了全城的一半。我們從曲阜南城門（仰聖門）進去，再進七八重的門，便看到孔子當年講學的「杏壇」，壇北是大成殿九間，祀奉着孔子和「四配」，十二哲人。孔林是孔子墓地，在曲阜城北二公里多，墓四周古樹參天，占地百餘頃（萬餘畝）。」「鄒是什麼呢！」「鄒是鄒縣，在曲阜南邊，是孟子故里。現在還有孟子墓、孟廟——由於孔孟的關係，這些地方成了誦詩講禮、教育最普及的地方了。」

古城濟南東嶽泰山

「在老殘遊記裡，你知道風景最美的是那個城市？」「濟南！」「對，那濟南城南離泰山五十公里，北去黃河九公里。城北有鵲山、華山，城南有千佛山，山水下注，成爲城中的噴泉和大明湖。真是「四面荷花三面柳，一城山色半城湖。」千佛山又叫歷山，濟南城古名歷下。帝舜曾經在這裡耕田。千佛岩上有隋代的佛像，千佛寺

是六朝的古寺。現在，這裡都是山東的政治經濟中心，便利的交通，使其成爲棉花、油類，工業製品的市場呢。

「泰山呢？」「泰山在濟南東南，泰安縣東北三公里。這是五嶽中的東嶽。以玉皇頂最高、丈人峰最著名，西、中、南三天門和東、西、中三溪是全山景緻最美之處。中天門以下，翠柏交織、水清石潔；中天門以上，山勢越來越陡，石磴越走越險，滿山盡是古松。步雲橋邊亂石磊磊，水花如雲，再上卽十八盤，黑石磴道，盤旋於雲霧間，遙見南天門紅牆一堵，矗立雲外，上面便是玉皇頂。遙望北面黃河如帶，東面山岡起伏，便是山東半島了。」

第五節 山東半島

半島突出港灣衆多

就地圖上看，那泰山山脈之東還有魯山，魯山東邊還有許多小山，連綿不絕地，一直沿着這到奇怪，便問道：「怎麼這半島上這麼多的港灣呢？」李先生道：「你不知道，這山東半島突出在海裡三百多公里，這是沈到海裡的一塊山地，鬆軟的泥土被水

冲走了，堅硬的山石，便圍成了海灣。可是，因為這裡腹地狹小，除了青島，其他的地方像龍口、登州（蓬萊）、煙臺等地，也只是些小商港或者漁港。」

果品豐富漁鹽發達

「那麼這裡漁業很發達了？」「沿海都是漁民，因為沿海水淺，捕獲的刀魚、黃魚、鱉魚等，非常的多，不但產魚，青島一帶還出產青鹽呢。不過就是因為多山，土地很壞，玉米、花生等食糧不足，一般農家都種植許多果樹，桃、李、柿子、葡萄、棗，真是到處都是——我們從濟南搭乘膠濟路的火車東來，起初見到兩邊都是光禿禿的石山，山脚下才是果園，到了東邊勞山一帶，只見滿山蒼翠，不是樹林、就是果園了。大批的果品，從煙臺和青島往外運銷。」

大港青島工業發達

「青島是北方最完善的大商港了，半島北邊的威海衛是個軍港，煙臺商業有限。只有青島，水深港闊，設備完善，膠濟鐵路源源不絕地運送大量的貨物，所以這裡不但商業好，各種的工業都發達。而且，市區依山面海，寬廣的馬路、整齊的建築、遍地的花草林木，點綴得優雅美麗。夏天裡海風送涼，許多的人來這裡避暑呢。」



第六節 河北平原

五河平原農產豐富

「河北平原的果品也多了？」「也都很多，不過河北出產最多的要算棉花了。我們如果沿着運河北上，秋天裡到處白茫茫的、一片片的棉田，高的是高粱玉米，低的是蕃薯花生。河岸湖濱，時而出現一大片水澤荒地，蘆葦茂密。那城寨高築，樹木成蔭的村鎮，都在較高的地方，因為這一帶夏天常有水災的。」

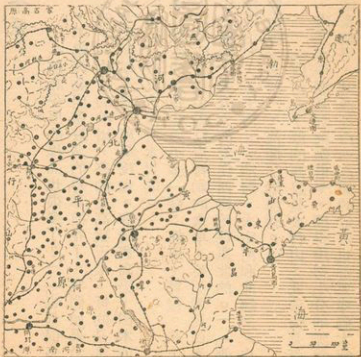
「我們如果順着平漢路北去，野外的景色也差不多一樣：棉田、雜糧。路上見不到那些蘆葦滋生的大水澤，却時時看見牛馬拉着轉動的水車，時而看見西邊有一兩座小山聳立，這是太行山的邊緣，那五大河都從西邊流往東北的。」「那五大河呢？」「那是：衛河（南運河）、子牙河、大清河、永定河和北運河（白河）。五條河在天津會合成一條海河（沽河），流進了渤海灣。」

太行燕山形勢險要

「這河北平原的西邊是太行山，北邊便是燕山了。平原是那麽樣低平，顯得山勢十分的陡峻難登，河流出山時大都形成了瀑布峽谷，那通往山西高原的道路也都要穿過太行

的險關：太行八陘。北邊的燕山，更是重要，爲防「胡人南下」，自古以來，山上都修有堅厚高大的長城。長城的山海關、居庸關和太行的井陘（娘子關），歷史上多少的戰爭，在這些地方發生！太行、燕山，不但軍事地位重要，山下還埋藏着豐富的煤鐵礦產，所以山麓的鐵路線上，出現了許多的工業城市，石門市（註一）和唐山市（註二）便是最大的兩個。

（註一）石門市：舊名石家莊、北臨



滹沱河，平漢、正太（正定到太原）、德石（山東德縣到石門）幾條鐵路交會於此。有紡織、玻璃等各項工業，又是棉花、煤、鐵、花生之大市場。是鐵路經過後興起的新都市。

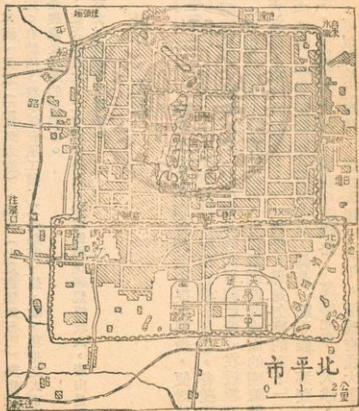
（註二）唐山市：在天津東北，北寧鐵路經過，附近開灤煤礦規模最大，唐山是個煤鐵、水泥、機械等工業城。

第七節 北平、天津

北依山險南控平原

李先生知道小華對於北平很感興趣，便對他說道：「北平所以好，好在它形形色色，各種東西、各等人物，在這種都能見到，無論什麼人都不容易感到單調厭倦。在這裡可以吃到各地口味的飲食，可以聽到各種腔調的語言，可以看到西藏高原的喇嘛僧，也可以碰到大隊從蒙古高原下來的駱駝客……」「啊呀，那是怎麼的呢？」「這是因為北平是個交通中心呀，常言說條條大道通北京，真是一點不假。那蒙古新疆，以至青海的土產，可以順着黃河，順着平綏鐵路，運到北平、天津，東北的人參貂皮高粱米，可以順着北寧路，運到天津、北平。這些交通大道，

都要越過燕山、穿過長城的山海關、古北口、居庸關等許多的關口，在以往，北平是個軍事重鎮，歷代都把大兵駐紮在這裡，兵馬糧餉，源源不絕地從南方的大平原上運來，尤其那兩千多公里的大運河，把江南的米，一直運到北平來；所以近世的遼、金、元、明、清，五朝有一千多年都建都在北平（北京）



的！」

千年古都文化寶庫

「一千多年！怪不得名勝古跡最多。」

正歷史，有三千多年了，戰國時候，這裡是燕國

的京城（燕京）。現在北平城東南的黃金臺，便是當年燕昭王招請賢才的地方。「金臺夕照」便是「燕京八景」之一。唐朝時這裡叫漁陽郡，駐紮了大批兵馬。遼朝時稱為南京。金朝稱中都。到了元朝，大事擴建，稱為大都。現在城西南永定河上的蘆溝橋，便是那時的建築。橋長三百四十公尺，寬八公尺，十一孔，兩邊各有白石欄杆，石柱一百四十三根，柱各雕一個小獅子。「蘆溝曉月」也是「八景」之一。明朝時稱做北平，燕王統率大軍，駐守這裡。就元代地基上，加以修建。後來燕王篡位稱帝，就把這裡改名北京。經過清朝到現在，沒有多大的變化。城牆的樣子內城成方形，（周圍二十三公里，高十一公尺多。）外城包在內城南方，（周圍十六公里，高六公尺多。）內城中央有皇城，（周圍十公里，）皇城中有紫禁城周圍五公里。我們從正南往正北走，首先進入外城的永定門，看見東邊是高聳半空的圓形屋頂天壇，西邊是先農壇，先農壇北就是天橋——各色的雜耍、唱戲、小吃、玩藝都能見到買到。然後順着筆直寬廣的前門大街行去，只見兩

邊商店琳琅滿目地，充滿了京洋百貨，行人車馬，潮水一般；然後走進內城的前門（正陽門），再進皇城的中華門和天安門，便見到右首是太廟，左首是中山公園，古木蔭森，從午門進入紫禁城，望見二丈高的石基上的太和殿，紅柱黃瓦，十一丈高。下面臺階三十九級，分作三層，每層都圍以白玉欄杆。這太和殿是以往皇帝朝見羣臣的地方。殿之東是文華殿，民國以來放置書畫珍品；西邊武英殿，放着歷代的瓷銅玉器。後面還有許多的宮殿，都一起改成了故宮博物院。那紫禁城西，便是北海公園了：南海、中海、北海，湖心湖邊，還有許許多多的美麗建築，夏天裡荷蕩蕩舟納涼，冬天裡冰厚二尺，男男女女、紅紅綠綠，大羣在湖面滑冰，真是最美的滑冰場了。不過，真真風景優美的地方還是在城西郊外呢。出得西直門十公里，經過高亮橋、海甸，便到了頤和園，真是輝皇富麗，舉世無雙！園址北依萬壽山，南臨昆明湖，危峰高閣、參差重叠，排雲殿尤其壯觀。殿後登上石階三四百，高處便是佛香閣了。回看山下，長廊蜿蜒，直達湖邊。頤和園再西二十公里便是西山了，有玉泉山、八大處等名勝，碧雲寺是以前國父靈柩停柩的地方。越往西山越陡，林越深，風景也越美。」

「聽說北平學校也很多？」「是呀，那裡不僅古跡名勝很多，而且是化學術

文化的寶庫。清華、北京、燕京、師範、輔仁、朝陽、協和等，都是著名的大學。這裡有全國最多的學生，有全國最多的文人、藝術家……就是圖書，也都數量龐大，內容珍貴。那些居民陶冶在這文明的氣氛裡，也人人見識廣博、彬彬有禮。連小販們的叫賣聲，都是辭句美妙，悅耳動聽的。」「啊呀，真是有意思，現在怕不是這樣了。」「當然，現人民憤怒，暗中反抗，天天有清算有鬭爭。大家都要往外逃呢。」

港市天津工商發達

「天津呢？」「天津完全是個新興的工商城市，在北方東南一百多公里。河北的五條大河，在這裡匯成海河，那北寧津浦兩鐵路和海河，日夜地



運送貨物，天津成了北方最大的羊毛、棉花市場，也是個紡織、製造的工業大港。」

第八節 北方生活

坦蕩平原華族老家

華北談完了，小華說道：「奇怪，華北地方，好像盡是平原？」「是呀，北起燕山，南到淮

河，那太行、伏牛以東，除了泰山和山東半島外，完全是個坦蕩無比的大平原。我們的祖先，從黃帝時候起，都在這裡南征北戰，游牧農耕，排除洪水，建立城廓。到了周武王統一天下，把自己的本家和功臣，以及以前帝王諸侯的後代，紛紛封爵，從此以後，中國人開始有了一定的姓氏。周朝的宗室（姓姬）封在蔡（河南上蔡）、管（管城，在河南鄭州）、鄭（河南新鄭）、許（河南許昌）、衛（河南汲縣）、魯（山東曲阜）、曹（山東曹縣）；伏羲氏的後代封在陳（河南淮陽）；黃帝後代封在祁（山西祁縣）、薛（山東滕縣）；商朝後代封在宋（河南商邱）……他們的後代，以後就姓了蔡、許、陳、宋等姓。所以這華北大平原，實在是我們中華民族的老家呢。」

乘車騎馬農耕食麥

「在這裡的生活情形什麼樣呢？」「和關中的渭河平原差不多。不過這華北平原裡地形平坦

，到處可以通行車馬，一般窮苦人家，出門或搬東西都坐牛車、騎小驢，再窮點就步行了。富有一些的人家，都乘高車，騎大馬。雖然現在火車、汽車很普遍，但我們出門，還是經常看見路上行人都騎着駿馬，頭戴小帽，身穿青衣，手中皮鞭在空中一揮，響起一串清脆的鞭聲，那馬匹四條腿像擂鼓一樣，只聽一陣「蹄聲特特」，馬後揚起一陣塵煙，看着看着，馬和人都消失在遠處的地平線下了。平原的田地裡，一眼望不到邊涯，盡是高高低低的莊稼，遠遠的樹木蒼鬱，雞鳴狗吠，便是一個村落或寨子了，寨子四周圍着黃土築成的高牆，人家的牆壁也是黃土築成的。天晚時若是走到一處鄉鎮小客店，便驛馬從大車門趕進去，客人自己去選擇炕位，清掃蓆子，因為住店是不要錢的，可是過了不久，店伙計便捧了兩大碗麵，口裡打招呼說：「住店不住店，先吃兩碗麵！」沒有到過華北的，看了會嚇一跳，碗大的和小臉盆一樣。客人拚命吃，也只能吃一碗麵……」「店家為什麼要這樣的呢？」「因為平原上的居民十之八九都是農家，這樣可以賣掉許多小麥呢。」

河常氾濫水旱災多

「還有一點，就是平原太平了，夏天又多雨，所以常氾濫。尤其是黃河比兩岸平原還高，一旦隄防崩潰，便發生淹沒幾十縣的大水災。有時缺雨，又生旱災。」

春耕夏耘秋收冬藏

「其實也不見得。要知道這裡也和長江一帶一樣，啊，那麼大平原上的生活也很單調了？」

，春夏秋冬，跟着時節的轉變，野外景色，四時不同：春天裡桃李花開，燕子歸來。細雨裡草木萌發，一片青蔥。夏天綠樹濃蔭，炎熱難當，桃李、葡萄、西瓜，都已成熟，春天播種的穀類，這時已長得很高，農人天天汗流浹背，忙着灌溉除草。秋天裡天高氣清，梨、棗、柿、栗，到處都是滿地金黃的禾穗，農人忙着收割。到了冬天，北風呼呼，捲起滿地塵土，樹葉盡落，路上行人稀少，都躲在家裡享受着一年的收穫，白菜蘿蔔，都已藏到地窖裡，栗棗柿子都已晒成了果乾，戶外雪花紛飛，人們在房子裡圍爐談心，什麼工作也不做了。」

【習題】

一、問答60%（每題二十分）

1. 簡述北方的生活情形。
2. 華北平原都有什麼農產、菓品？
3. 北平有什麼名勝古蹟？

二、填充20%（每題十分）

1. 孔子誕生的地方—— 、孟子誕生的地方鄒縣，和東嶽—— 山，都在山東半島之西，魯西平原的東邊。

2. 河北平原西有 山，北有 山，山上有許多關口，形勢險要。

三、選擇20%（每題十分）

1. 青島是在(1)海河口上，(2)山海關旁，(3)山東半島的大港。……………()
2. 北方的最大交通中心，平綏、北寧、平漢等鐵路交會的地方是(1)鄭州，(2)徐州，(3)北平，(4)天津。……………()

普通
進修科

本國地理講義

僑民教育函授學校出版
李倬編撰
O. C. Education Correspondence
School, Republic of China

第九講 東北地方

第一節 遼河平原

東北地方舊名滿洲

談到華北大平原上的生活，小華感覺在那平坦無比的田野間，乘車跑馬，真是有趣；尤其是對滑冰呀，圍爐談心吃涮羊肉呀一類的冬天活動，顯得十分地嚮往，便問李先生道：「只有華北是這樣嗎？」李先生答道：「還有東北地方呢，那裡的平原更大，冬天更冷，戶外的有趣活動更多！」「什麼是東北呢？」「那就是山海關外的地方，過去叫滿洲，又叫東三省（註一），因為位於我國東北部，所以又叫「東北」。那裡松花江和遼河流過的地方，是一片肥沃的大平原。南邊遼河下游一帶，和河北地方差不多呢。」

平原遼闊，土壤豐實



平原遼潤農產豐富

「從河北天津

一帶到東北去，怎樣走法呢？」「我們可以從天津坐船到大連再坐車北上，或是搭上北寧路的火車一直出了山海關到瀋陽。

——山海關是長城東邊盡頭，北依角山、南臨渤海，關門頂上題有「天下第一關」。過了錦州往東走，漸漸地看到那遼潤的平野，一眼望不到邊的，盡都是高粱、小米、大豆、棉花；遠處稀疏的村寨四周，滿是高大的白楊、榆、楸，風景看起來很像河北。隨後在新民的東方，我們看到那黃沙漫漫的河灘，河水並不大，三三五五

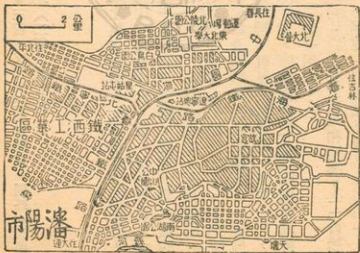
的帆船和汽艇，順水上下，這就是遼河。過了遼河五六十公里，火車終於在一個喧鬧繁華的大城裡停了下來，這就是關外第一大都市瀋陽了。」

東北第一工商發達

「瀋陽爲什麼

是東北第一個大都市呢？」「論人口，論工商業，這地方都超過關外其他的都市。那四通八達的鐵路，運來了各地的物產，貨棧裡的食糧、棉毛，堆積如山，「鐵西」工業區裡，有紡織、毛皮、釀酒、榨油、麵粉等各種的工廠；市區之東還有那著名的兵工廠，大量製造各色的鎗砲武器和車輛、飛機。在清朝，這裡叫盛京，現在還留有許多的名勝古跡，就是公園，全市也有七八處之多。真是個好玩的地方。」

(註一) 東北：清朝稱爲滿洲，後改奉天、吉林、黑龍江三省。
○ 奉天後來改名遼寧。



瀋陽市

因位於山海關之東，稱關東三省，又稱東三省或關東、關外。又因位於我國東北部，故名東北（三省後改九省）。

第二節 遼東半島

鞍山遼陽鋼鐵如山

「聽說東北地方鋼鐵，大部份都出在鞍山？」
「是的，鞍山有鐵都之稱，這一帶全都是大大小小的小工礦城市。我們從瀋陽坐車南下，一個小時便到了煙臺，這裡出產大量的煤。再往西南走便是遼陽，只見東南方丘陵起伏，差不多都是鐵山，所以遼陽、本溪一帶，各處都可以見到採礦煉鋼的，不過其中要算鞍山規模最大了。我們乘車經過的時候，有半小時的工夫，一直可以望見路邊鋼鐵廠高大的建築，一個個的煙囪。過去這一帶大小工廠有七八十所。在廠裡，軋軋的機器聲，響成一片，幾丈高的煉鋼爐，一個個不斷地流出紅紅的鐵汁來，庫房裡各色各樣的鋼材堆得像山一樣：鋼版、鋼條，有些鋼管，粗得可爬進去一個人！」

丘陵地帶遍地墓園

「所有這些丘陵地方都產鐵和煤嗎？」
「自然不是這樣，只不過這一帶鐵礦產量是遠東第一，

品質也最好罷了。我們從鞍山坐車南下，一直到大連、旅順，路旁一片一片的，盡都是菜園。這遼東半島是千山丘陵分佈的地方。春天裡山坡上一片花海，香氣撲鼻，桃、梨、葡萄，最多最好的還是蘋果。千山的東南面，山坡盡是矮矮的柞櫟，那是飼養柞蠶的，這些菜品和蠶絲，都要送到大連出口的。」

大連旅順港灣真好

聽說

大連和旅順，是我國最好的兩個港口，爲什麼呢？「因爲遼東半島上，全是石山，這兩個地方，不但港灣很大，而且泥沙少，水很深。我們如果站在大連灣北面的山上南望，只見南邊的大連港占去的還不到二十分之一的水面，可是纜鐘巨艦和那無數的漁



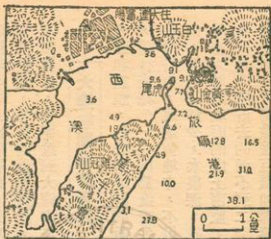


圖 港 順 旅

舟，出出進進，東北的輸出品：食糧、毛皮、煤鐵等，大量從這裡運出，這裡設備完善，碼頭上的候船所，可容上萬的旅客，堪稱遠東第一。我們在市區裡走，發現許多的工廠，連公園也都電氣化了：因為這裡靠近安東，鴨綠江上的電力，可以輸送到這裡來。」

第三節 長白山地

鴨綠江上水電木材

「鴨綠江一帶爲什

麼電力特別豐富呢？」「因爲這鴨綠江發源

於長白山的白頭峰下，水力充沛，沿江設有七八處的發電廠呢！」「我們如果要到這些地方去，怎樣走法呢？」「我們可以從大連港坐船到安東市，再沿江往東北走。首先看到十幾里寬的江口、許多小島，接着看到北面港裡停着許多船隻，

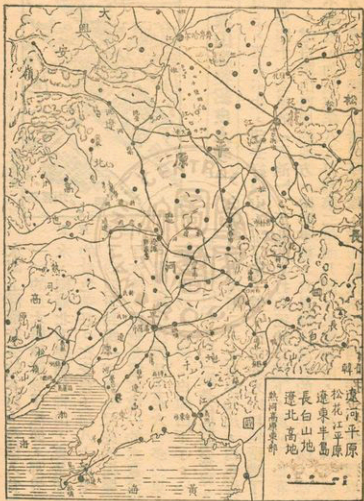


深山窩集貂皮人參

水面上浮着許多的木材，幾個人合抱（註一）的巨大樹幹蓋滿了江面，那碧綠的江水，襯着北面連綿的青山，更是顯得安東的景色美好。在安東上游八十公里的地方，我們看到那一百多公尺高的堤壩，截住了江流，這就是遠東第一的水豐發電所了。從這裡沿江再往上走六百多公里，便到長白山的最高處：白頭山下了。」

「那白頭山和長白山裡是什麼情形呢？」「那白頭山高出海面二千七百多公尺，白色浮石構成

的山頂上，草木不生，望去好似山上下了雪一般。山頂的火山口裡積滿了水，形成一個周圍十一公里的「天池」，天池的水打北邊缺口流下，就成了松花江（天上水）。這白頭山四周的地方，山勢平緩，只是滿山滿谷的千年古樹，遮得太陽都透不進來，加以每年八九月到第二年四月間，大雪封山，不見人跡，只有沿江的地方，春天時候開山者成羣結隊，進山砍伐木材，同時採金挖參，獵取貂皮。



所以有「吉林省，有三寶：人參、貂皮、烏拉草」的話，其實最多的寶藏，還是那山地兩側遍地的煤鐵等礦產。」

鐵路縱橫建設進步

「我想山地裡一定很落後了。」「也不是這樣，因為這長白山地相當平緩，所以凡是有富源的，方大都修有鐵路，沿路的城市，建設都很進步的，只是這裡的人煙太少，離開鐵路稍遠，便無人開拓，成了原始世界。我們若是在鴨綠江的輯安坐火車北行，穿過那林木茂密的山地，一兩個小時便到通化市了，這裡有規模宏大的煉鋼廠。再往北，磐石縣有採煉銅鉛的工廠。吉林市東南的小豐滿，是松花江出山的地方，這裡有東北第二的水電廠。從吉林往東南到延吉，從延吉往北到牡丹江市，沿途都是最現代化的工礦城市。牡丹江市和吉林市也是著名的木材市場。那鏡泊湖瀑布，不但發生大量電力，而且風景極美，湖中還出產珍珠呢！」

(註一) 幾人合抱：是好幾個人拉起手來，才能抱得住的大樹。

第四節 松花江平原

肥沃黑土東北穀倉

小華聽到長白山地許多的寶藏，竟然人煙極少，覺着實在可惜，便問李先生道：「怎麼不趕快開發呢？」「那廣大肥沃的平原地帶還沒開完呢。——你要在松花江流域旅行，才能知道東北是多麼的富足。沿江一望無際的平原，比河北平原的範圍還要大。肥沃的黑色泥土，稍微一耕，那玉米、大豆、小麥、水稻等便長得人一樣高。夏天裡麥豆玉米一齊登場，場上的莊稼，堆得像屋子一般高。大豆、高粱、小麥等都是商品，吉林、長春、哈爾濱三市，成了農產的集散和加工製造中心。城市附近還大量種植甜菜和煙草。——這是松花江沿岸，那西北部的嫩江平原，正在開發，東部佳木斯到烏蘇里江的低窪濕地，都是人煙稀少的地方。」

三大中心四通八達

「這松花江平原的特點，除了肥沃富庶以外，就是交通便利：三個農產集散中心，全都是四通八達的交通要站。吉林市位於平原的邊緣上，松花江打城南繞過，帶來了如山的木材，清朝曾經在這裡設廠造船，所以這裡舊名『船廠』，是松花江航運的起

點。

「西邊的長春市，正當平原的南頭，到處是那大豆、小麥、高粱、玉米等的堆棧，到處是釀酒、榨油、麵粉等的工廠。這裡是東北地方的中心點，長洮鐵路向西可到洮安，長圖鐵路自東經過吉林市、延吉市可到圖門，那中長路向南直到



圖市林吉



圖市濱爾哈

瀋陽、大連，向北便是哈爾濱！

「哈爾濱呢，在那茫茫的原野上，中長路南到長春、大連；西到齊齊哈爾（昂昂溪）、海拉爾市；東到牡丹江、綏芬河，更有那浩蕩的松花江，輪船可以經過黑龍江（混同江）直達太平洋。所以市街上高樓連雲，那食糧、木材、毛皮等的販賣製造，也就是東北第一了。」

第五節 黑龍江沿岸

第三大河航程最長

「哈爾濱以東的地方既然低濕泥濘，沿江一定不會有什麼大都市了！」「依蘭是在一個沿江的盆地裡，算是最富庶的縣份了，再往下航經過又一個大港佳木斯市，最後在同江縣境進入了黑龍江，沿途只見蘆葦野草，村鎮稀少，只有那江中上下的船舶，時而發出一兩聲汽笛，打破原野的靜寂。這黑龍江有四千多公里，是室韋以下有三千多公里都可以行船，航路之長，應算第一了。可惜的是每年有五六個月都凍結而不能通航。」

氣候寒冷人煙稀少

「怎麼會有那麼長的時間都結冰呢？」「因為這是我國最北的地帶，已經是寒帶氣候了，冬季裡滿地冰雪，江水從十月就結了凍，一直到來年四月方才溶解。所以許多開荒的人都『春來秋歸』，不在這裡過冬，現在聽說共產黨強迫移民，不分男女老少，大批大批的留住，因為禦寒的設備不全，食糧也不够，成千上萬的人，冬天都凍死了！」

邊防要地處處產金

「啊呀，這些地方都很重要嗎？」「是的，這些地方都相當肥沃，而且到處都產黃金呢！那些產金的大鎮現在都變成了縣城，其中以漠河縣出產最多了。這黑龍江以北的地方，本來也都是我國的，後來全被俄國強佔了。於是沿江的縣份，都成了國防重鎮了。」

第六節 俄日侵略

黑龍江北地面廣大

「俄國太可恨了，那些地方範圍很大了？」
「是的，本來那外興安嶺以南、庫頁島以西的地

方都是我們中國的。清朝咸豐年間國內大亂（註一），自顧不暇，俄國便乘機派兵，先強佔黑龍江北（阿母爾省），又強佔烏蘇里江以東（遠東省）。這兩處有一百多萬方公里，比現在的東北還要大（超過歐洲英法德三國面積的總和）。俄兵當時燒殺搶掠，我們中國人便集中到瑗瑀東邊的地方：「江東六十四屯」，後來光緒年間（註二），俄兵又殺了屯民，佔了六十四屯。前幾年，中共和蘇俄訂約，竟把江東六十四屯割讓給蘇俄了！

俄日侵略中國顯危

「後來俄國繼續向南部侵略，修築東清鐵路（中國長春鐵路），和日本爭奪我們的遼東半島、旅順大連，結果就發生『日俄之戰』，俄國戰敗，日本取而代之，發動『九一八』事變，佔據東北，成立『偽滿洲國』。最後掀起『蘆溝橋』事變。日本投降了以後，俄國又把東北佔去，幫助中共，最後把中國大陸弄得天翻地覆。這些事情的關鍵就在東北先被人把住了。」

寶藏遍地富國資本

「這是什麼緣故呢？」「因為俄國要出海洋，日本要上大陸，第一步都要先佔東北的。何況東北有着無盡的富源，怎不使得他們垂涎三尺（註三）呢：吃不完的大豆高粱。」

撫順、本溪、蛟河的煤，鞍山、遼陽、通化的鐵，埋藏量無比的豐富，我們只要把東北的礦產大量開發利用，也就是可以把國家建設好了。」

(註一) 咸豐八年：西元一八五八年，中國內有太平天國的戰爭，外有英法兩國，聯合攻陷天津北平；俄國便乘機派兵佔領了黑龍江以北地方，咸豐十年，又佔烏蘇里江以東地方。

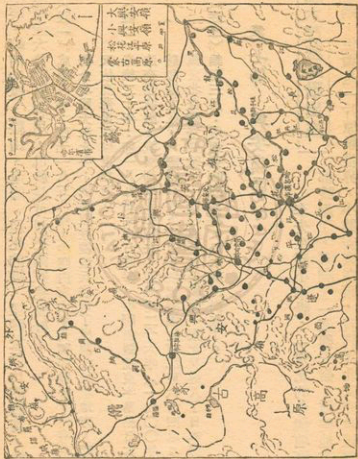
(註二) 光緒二十年：即一八九四年中日戰爭，中國割讓遼東半島給日本，後來被迫交還我國，俄國却來強把租去，到光緒二十六年（一九〇〇年）中國有義和團之亂，八國聯軍攻下北京。俄國乘機佔領江東六十四屯。並派兵佔領東北各鐵路要站。一九〇四年日俄戰後，東北又進入了日本勢力範圍。

(註三) 垂涎三尺：看到美味的食物，口水就流出來了。

第七節 興安嶺區

林木茂密野獸出沒

李先生同小華說：「東北的各個地區差不多都談過了，只剩了一區興安嶺，這些地方雖然也有鐵路穿過，但還是一片原始世界，小興安嶺在東，我們從北安或嫩城乘車往瑗



環，路上只見到無邊的原始森林，那白楊、樺木、榆、楸和松杉，都是幾人合抱。大興安嶺在西，山有二三百公里寬，從北邊的漠河一直延長到南邊的突泉、溫泉縣。我們從東邊乘車上山，看到那山勢非常的陡峻，及至到了山頂興安車站，才發現山上相當的寬廣平坦，一路緩緩下坡，海拉爾市已經進入蒙古高原的範圍了。山上見到的「窩集」，範圍更廣，人煙更稀，各種的獸類：獐子、黃羊、黑貂、水獺、鹿、狼、虎、豹；最有趣的是冬天在北風裡獵熊了。」

氣候嚴寒物產不多

「這裡比長白山區更荒涼原始了？」「是的，雖然山兩邊的土壤非常肥沃，可是水分不足，氣候極端寒冷，有些地方冬天夜裡氣溫能降到零下三四十度！只有夏天，才可種植一點的豌豆、大麥等。」

兩側山坡蒙人游牧

「我們無論在山東或山西，在山南頭廣大的高地上，只要在野外走走，隨時便能見到那身穿皮袍、頭戴氈帽的蒙胞，在牛羊羣中呼叱奔馳。因為山的西邊，已經是蒙古高原了。」

第八節 生活環境

坦蕩平野處處車馬

小華想到東北的環境物產，和華北平原相似，便問李先生道：「東北的松遼平原上，也都和華北黃淮平原一樣，到處可以乘車騎馬了？」「是的，東北的交通真是便利，除了火車汽車的便利外，馬車是最普遍了，就是山地丘陵，也隨處可見三五匹騾子拉着滿車的糧食往城裡運送，尤其入冬以後，地面和江上都凍得像石板一樣，那起早趕路的車馬，一輛接一輛，人和馬都噴着白氣，鞭聲蹄聲，雜着鱗鱗車聲，真是有趣。不過最有意思的還是「耙犂」了，這是雪橇，樣子好像個無輪的小馬車一樣，簡單的就像個木筐子，用馬拉着在江上滑行，叫江耙犂，有的在雪裡滑行的叫雪耙犂，有的用犬拉，叫狗耙犂。」

長冬嚴寒夏季短暫

「江上的水是非常堅硬了？」「當然，南部遼河一帶還比較暖些，北部的松花江一帶，冬天已經長到半年了，有時氣溫低到攝氏零下三四十度，江上的冰能結到兩公尺厚，四野一望，全是銀色世界。這寒冷的時間一直要繼續到五月，所以東北有句俗諺

「吃了端午糉，棉襖才不用。」雪消以後緊接着草木萌發，百花似錦；農人們一陣忙碌，「清明芒種麥，穀雨種大田」，先種大麥小麥，後種大豆高粱小米玉米。幾頭騾馬一陣犁耙，種子播下了，也不除草中耕，便坐待秋天的收穫。炎熱的夏天幾天就過去了，馬上草黃葉落，雪飛水凍，所以有「拆了涼棚砌火爐」的話。」

室內圍爐戶外打獵

「冬天大家都不出門了？」「普通的情形，家家戶戶都門窗緊閉，室內生起熊熊大火，家人親友，都圍坐火邊講故事，吃涮羊肉。因為各家都有幾十頭的羊，也有幾地窖的蘿蔔白菜。」「這樣不很悶氣麼？」「悶了就出外打獵。你要知東北多的是曠野森林，多的是野獸蟲鳥，多的是馬匹。可以騎上馬，跑到林邊草地裡，這時地下積雪很厚，只要看到雪面有個小洞，伸手一摸，便有一隻兔子或鶉鴉，這叫「掏雪窟窿」。小獐子兔子，陷在雪裡也沒法逃跑，一棒就能打倒。在江上，很多人把水鑿開，吊起一盞燈籠，那魚便從水裡跳出來。所以叫「棒打獐子瓢舀魚，野雞落到飯鍋裡。」

【習題】

一、問答：60%（每題二十分）

1. 東北地方有什麼大平原？出產什麼重要的農產？
2. 有那些國家，積極侵略東北地方？
3. 東北地方的生活，有些什麼特點？

二、填充：20%（每題十分）

1. 東北第一大城是_____。遼東半島上有_____和旅順兩重要港灣。

2. 東北有_____山、小興安嶺、_____嶺等大山，林木、礦產和野獸很多。

三、選擇：20%（每題十分）

1. 松花江平原農產物集散加工和交通中心是：① 瀋陽、撫順、四平，② 吉林、長春、哈爾濱。③ 鞍山、大連、旅順。……………（）
2. 黑龍江沿岸：① 人烟稀、黃金多。② 人烟多、食糧足。……………（）

普通
進修科

本國地理講義

李 僑民教育函授學校出版
O. C. Education Correspondence
School, Republic of China
倭編撰

第十講 蒙新青藏

第一節 蒙古高原（一）漢南內蒙

長城以北級級上升

小華對於東北地方冬天裡騎馬打獵的生活，感覺非常好玩，李先生便告訴他：「我們如果到

蒙古高原上，便可天天騎馬，天天打獵了。」「怎樣去呢？」「因為蒙古高原是在大興安嶺以西、長城以北的地方，所以我們若是在東北，可以騎馬翻過大興安嶺，差不多三個禮拜到庫倫；若是從北平坐火車或是汽車，出了長城到庫倫去，也只是三兩天的工夫。」「高原很高了？」「相當高，我們坐平綏路的火車北去，一路不斷的上坡翻山，好像登上了幾層的臺階一樣，首先在居庸關出了第一道長城。這裡一路上山崖壁立，深澗中流，兩個火車頭，一進一退的往上爬，在懸

崖絕壁無路可通的八達嶺下，火車穿過了一千多公尺的隧道下到康莊站。這一段艱巨的鐵路工程，便是我國名工程師詹天佑的傑作。從這裡半晌工夫便到了張家口，只見那張家口的北面，仍然是一派山崖，陡立半空中。那些載運羊毛皮革的汽車和駱駝，大隊的從上面下來。我們如果從張家口坐汽車往北，不到二十公里便到了漢諾壩，這地方亂石遍地，山徑陡峭，車子盤旋迂迴，還是爬不上去，常常要用騾馬來拉，這樣經過十公里的辛苦掙扎，便到了黃花坪，只見四周都是平坦的土丘，莽莽的草原，這時我們已經越過第二道長城，登上蒙古高原了。」

大漠以南稱為內蒙

是內蒙古。——我們沿着這張家口到庫倫的大路繼續北行，百十公里以後，兩旁農田漸漸地見不到了，房屋也沒有了，空曠無邊的原野上，到處都長着很高的草，時而看到一座兩座光禿禿的紅泥小山，時而望見身穿皮襖、騎着健馬、趕着牛羊的牧人，有時遇到個小窪地，裡邊聚着一潭水，或是堆着碎石砂礫。漸漸地沙地越來越廣大，水草越來越少。在張家口以北三百多公里的滂江和烏得一帶，我遇到那光裸的石板地，鬆散的沙丘，有時砂礫中還有寶石瑪瑙呢。我們已經進入了戈壁大沙漠的範圍了。從這裡往東一千多公里到

察哈爾、熱河邊界的大興安嶺，往西一千多公里經過綏遠北部，到寧夏西北，全都是內蒙地方，這裡住着許多漢人，開墾了許多農田，大部的蒙胞都會講國話，生活習俗也都和漢人沒有很大的差別了。」

野獸繁多寺廟龐大

「很單調了？」「正好可以打獵呢。那空曠遼闊的原野上，狐狼非常多，黃羊、野驢、野兔常是一大羣一大羣成百上千的，還有一種跳兔，前脚只有幾寸長，後腿長到一兩尺，能在沙地裡奔跳如飛。最奇怪的是有一種麻雀，住在土撥鼠的洞穴裡，因為這裡不但樹木少，連房屋也少見。要有，便是規模宏大的喇嘛廟！多倫縣的喇嘛廟能住喇嘛兩三千人，元朝的上都城就在北邊，附近有湖泊，水草豐美，每年六月這裡有盛大的廟會，察哈爾北部遠近都來這裡貿易。另一處是綏遠陰山北邊的百靈廟，地在歸綏西北一百多公里，在羣崗環抱中，有各式的喇嘛廟上千間。天天有許多牛車駝隊，來來去去。像這類的喇嘛廟，內蒙地方很多，都是蒙人漢人聚居的大市場。」

第二節 蒙古高原（二）漢北外蒙

三河流域農牧發達

「蒙古高原的北面，也都是這種大戈壁沙漠嗎？」「不，北邊的三河流域，是肥沃的草原。」

——張家口北邊五百多公里的烏得地方，是最低窪的戈壁中必，也是內外蒙古的界線。往北不遠就進入外蒙地界，地勢漸漸上升，可是汽車火車在這沙礫草地之間走，並不感覺是在上坡，感覺着真是「走不到的天邊，望不盡的平原」。三百多公里以後，漸漸地水草越來越多，地面都是泥土，在距離烏得將近四百公里的地方，老遠就看到一座小山，這裡樹木蔥蘢，花草滿地，山的西邊還有喇嘛廟和一些房屋，這是叨林，已經到了漠北的大草原地帶了。叨林往北又是一大段平坦的天然大道，然後翻過一道平平的山陵就到了外蒙的首府庫倫了。只見背後青山起伏，城南滾滾的土拉河水向西流去，土拉河流入了鄂爾渾河，鄂爾渾河流入了色楞格河，流入了貝加爾湖（註一）、北極海，由於那北極海吹來的風非常濕潤，所以這三條河流過的地方，滿山的樹林，遍地的牧草，成了外蒙的精華區。那色楞格河非常大（蒙古境內長九百三十公里），三河流域的面積比歐洲的英國還大。」

漠北城市庫倫最大

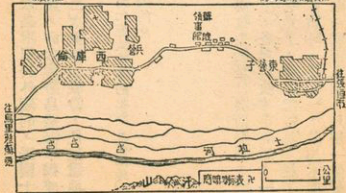
「這裡大城市好像很少？」「是的，因為蒙古同胞一年到頭都四下游牧，並不住在一個地方」

。不過外蒙的城市也有十幾個，其中以庫倫、恰克圖和烏里雅蘇臺三處最大了。

庫倫是蒙古話「城圈」的意思，因為市外最早有木柵作的圍牆。今改名烏蘭巴托，是蒙語「紅色英雄」的意思。有人口幾十萬，又有製革製粉等工廠，這裡是東亞最大的毛皮市場。城南汗山上古木參天，有喇嘛廟，過去每逢夏天，市內喇嘛成羣的到山上避暑，成了風景區。火車向北三百公里可到恰克圖，向南一千多公里可到綏遠的集寧和察哈爾的張家口。庫倫東邊肯特山以東，是當年成吉思汗的老家。庫倫往西一千公里，經過那草木繁茂的杭愛山（註二），可到烏里雅蘇臺，城在札布干河北岸，四山環抱，楊柳婆娑，河水清瑩，風光好，又是蒙古西邊的軍事重鎮。從這裡翻過山，向西到新疆迪化，向北到唐努

城番往

特烏圖烏城番往



庫倫圖

烏梁海地方。

唐努烏梁海被強佔

「唐努烏梁海本是附屬於外蒙的，民國十三年蘇俄教唆外蒙獨立，命令唐努烏梁海單獨成立一個共和國，不准和外蒙合併。到民國三十三年第二次世界大戰時，便把這地方強佔了。」

(註一) 貝加爾湖——在俄屬西伯利亞中部，就是漢代蘇武牧羊的北海。沿湖地方居住的都是蒙古人。是清朝時候被俄國佔去的。

(註二) 杭愛山一帶產金很多。

第三節 蒙胞生活

居住帳幕游牧生活

「蒙古同胞的游牧生活是什麼情形呢？」
「他們在公用的草原上，各自放牧牛羊駝馬，一家差不多有幾百頭羊，百來頭的牛馬駱駝。地上的草吃光了，便拔起帳幕，趕了牛羊尋找新的草地。那帳幕漢人叫他「蒙古包」，蒙古話叫「格耳」，是用木棍搭成圓形的架子，蓋上羊毛氈幕，上開天窗，門向東南。窮苦人家，只用一個蒙古

包，包內生火。靠內部放食糧袋，地上鋪了氈毯，席地而睡。普通一年要搬家四次，冬天居住背風向陽的山窪，夏天移住多水多草之平地。

衣食簡單習俗誠樸

「蒙胞衣服飲食簡單，平常男女都穿羊皮長袍、腰束帶子、頭戴氈帽、腳穿皮靴，早起先煮磚茶，摻放些牛羊乳、食鹽、炒麵，各飲一兩碗，開始工作，男子牧畜，女子製乳酪，午餐簡單，晚飯才飽餐乳肉餽餽等，米麵價格較貴，平常只吃點羊肉。夏天牛羊乳多時，便將製成奶油、奶酒、奶豆腐、乾酪。因為草原上並無房舍客店，所以一般商人遊客，一見到蒙古包便可進去，主人照例歡迎，留客飲食住宿，平常兩人見面或鞠躬或相抱，然後互相問「阿道塞白腦」（牛馬好）、「格爾斯門道」（家人好）、「言數克塔塔」（請吸煙）等話。主人捧出奶茶奶酒敬客，客人也可奉上「哈達」（布匹）、茶磚等禮品。若是貴客，主人馬上捕了肥羊，煮作「全羊席」，先割下羊臉肉用刀挑起敬客，客人也就必需大吃特吃。

一年之中有五個大的節日：元旦、五月端午、七月十五、八月十五、九月九。平常六月月圓的時候，還有「祭鄂博」的大會，男女老少，齊集曠野，賽馬角力，唱歌跳舞；人要死了，有土葬、火葬、天葬等葬法。天葬是把死屍丟到野外，



，野獸烏鴉把肉吃光了，便認爲升了天堂。這些習俗和新疆、青海各地的蒙胞大致一樣。現在蒙古在俄國的控制下，胡作亂爲，人民的生活非常困苦了。」

第四節 新疆（一）北疆

天山北路種族複雜

「新疆也都是蒙人嗎？」「幾百年以前很多。新疆省的面積此外蒙古還大，被天山分成南北兩部，南邊是塔里木盆地，叫做天山南路（南疆），北邊是天山北路（北疆），又叫準噶爾盆地，因爲這裡過去有很多的「準噶爾蒙古」人，後來又遷來許多的維吾爾人（回人）、哈薩克人、吉爾吉斯人、塔蘭奇人、和歐洲人（白俄），這些都是近幾十年來，從俄屬中央亞細亞逃亡出來的。另外還有些從內地來的漢人、滿人。那些哈薩克、吉爾吉斯人也都和蒙人一樣，過的是游牧生活。」

阿山多金伊犁產馬

「這樣說來，北疆的氣候物產，也和蒙古差不多？」「是的，四周山下是草原，中央有沙漠，可是這裡要比蒙古濕潤得多了，我們若是從烏里雅蘇臺西行，穿過蒙古西邊的科布多盆地，大約五六百公里的行程就到了阿爾泰山山頂，放眼一望，你會大

爲吃驚，這山西邊不但樹木繁茂，那山谷裡的草，有時比人還高。這「阿爾泰山」蒙語的意思就是金山，到處產金。承化（阿山）縣一帶出產最富了。從這裡沿着山麓往西南，一直到天山西頭的伊犁谷地，這千多公里之間，城市一個接一個，不像蒙古地方那樣空曠寂寞了。那伊犁河谷縱橫有四萬多公里，氣候上要比蒙古北疆暖多了。所以出產大量的麥類蘋果。尤其是出產的駿馬，自古有名。俄國也幾次的出兵，要強佔這裡。

全疆城市迪化第一

「從伊犁（伊寧）到迪化，公路有六七百公里，只見北邊是漠漠荒野，南邊是高聳的天山，沿途楊柳成蔭，迪化東西五百公里之間，農田相望，牛羊滿谷，還有許多湖南人在這一帶種植稻米呢（註一）。那迪化市便是全疆的牲畜、農產、礦產、毛皮、藥材的總市場，也是新疆的大工業區。市區在烏魯木齊河之東。那漢、回、蒙、哈各族，以及土耳其、印度、俄人等，五方雜處，號稱爲人種博覽會。城西有西湖（鑑湖），亭閣垂柳，是納涼勝地。附近白楊溝又有溫泉，也是避暑的風景區。」

（註一）清朝乾隆時平定回亂，便在伊犁駐兵屯田，經營農業。道光時林則徐提倡

水利，修築坎井。到光緒時，左宗棠率領湘軍平亂，後來便留兵開田築路，興辦學校。有詩讚美其事：「大將西征尙未還，湖湘子弟滿天山，新栽楊柳三千里，引得春風度玉關。」

第五節 新疆（二）南疆

乾旱中心沙漠廣大

「那南疆也有沙漠了？」「標準的沙漠！這天山南路的塔里木盆地，面積九十多萬方公里，地面一點水也沒有。盆地裡有條很長的塔里木河；兩千七百多公里，和歐洲第一長河多瑙河差不多。可是河水很小，在中游一帶，夏天水大的時候，還可以行船，到了下游就非常淺了。只有沿河幾十公里的地帶，雜草叢生，還長着些胡桐、檉柳一類的灌木。河的南面是塔克拉馬干沙漠。南北四五百公里寬，東西八九百公里長，裡邊全是流沙，隨風流動，起伏的沙丘，有時能高到八九十公尺，根本無法通過！這真是歐亞大陸上最乾燥的地方了。」

高山雪水灌溉綠洲

「爲什麼那麼樣的乾燥呢？」「這是因爲四邊距離海洋都太遠，周圍又有高山，海洋的濕風不能吹到這裡來。」「可是聽說南疆最富，人口城市最多，這是什麼原因呢？」「一點也不錯，正是因爲四周的山很高，很冷，上邊有很厚的冰雪。天熱時水水流下，山腰便有森林草地。山麓的綠洲也就出產很多的瓜果米麥、牛羊駝馬。由於氣候乾暖，那些葡萄、西瓜、桃李、蘋果、砂棗、石榴、胡桃等，到處都是，而且非常好吃。」

名城古都連綿山麓

新疆有句話：「吐魯番的葡萄、哈密의 瓜，庫車央格（少女）一枝花」，這些也都是歌頌南疆的好處的。那吐魯番在迪化東南兩百多公里，地勢低窪，氣候炎熱，古名火州。北邊有那高聳戴雪的博格多山，東北是火燄山。每當夏天，熱得人都躲進地窖裡。這裡是漢代的車師國。從這裡往東五百多公里到哈密，這就是古代的瓜州。是進入「西域」的門戶。

吐魯番往西經過焉耆、輪台等縣到庫車，路程八百多公里，山上森林蓊鬱，山麓杏桃蘋果園林無數，春來一片錦繡，花香瀰漫，維族男女，便在花間樹蔭，

歌舞作樂。庫車是漢代的龜茲國，後來佛教盛行，現在城西南還有大小佛洞四百處。庫車出產銅器刀劍和果乾非常有名的。再往西三四百公里就是阿克蘇，只見山前綠野遼闊，平地盡頭是一排低矮的紅山，紅山北面是一排排的高峰，白色的水雪，從山頂直垂到山腰，這是天山最高峰：漢騰格里山了。山下河水汹涌，田地最多。再往西南，疏勒一帶的絲織品，和闐一帶的皮貨、地毯和玉石都很著名。那和闐于闐的溪河中，經常看到很多的人在採玉。我們如果這樣在盆地邊上繞一圈，便有五千多公里路，需要三個月，和蒙古高原一樣的遼遠無邊！不過這裡所經過的都是兩千年前，漢代班超所平定的西域名城。」

第六節 新疆(三) 生活環境

回人最多回語流行

小華說道：「聽說新疆大都是回回人？」「全新十四族的人差不多十分之六七是回人，也就是當地所說的維吾兒人；他們大都住在天山南路；另外像天山北路的哈薩克人、吉爾吉斯人，和南疆的布魯特、塔吉克、烏茲貝克人等，過的是游牧生活，但却信回教，講回語。所以回語（維語）在新疆和國語、俄語是三種必需懂得的語言

。「那些回人也都和漢人沒有多大分別了！」「有一種漢回，是信仰回教的漢人。至於維吾兒人，却是高鼻淡目，是土耳其（突厥）人種。他們大都在南疆，男子耕田經商，女子養蠶織布，房屋都是平頂，衣服都穿尼木察（筒形長袍），男子都用布纏頭，所以叫纏頭回。窮人吃些玉米山芋或水菜，富人常吃抓飯，抓飯是把羊肉、瓜乾、杏乾、葡萄乾、胡桃仁和乾棗等，同米一起放入鍋中煮熟，倒在木盤內用手抓食。宗教信仰相當強烈，每週要入寺禮拜誦經，遇到節日青年們還要賽馬歌舞。但因為他們總是要和其他族的人保持一點界限，所以近幾十年來常被俄國人挑撥離間，造成許多事件。」

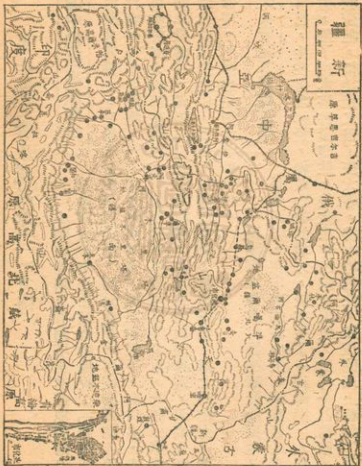
生活困苦日甚一日

新疆到處是金玉煤鐵，石油岩鹽，俄國因為想奪取新疆的農牧礦產，曾經幾次派兵佔領伊犁河谷和阿爾泰山地區，雖然我們嚴正抗議，俄國退了兵，但是他們野心不死，繼續陰謀鼓動，要想叫伊犁和阿山地區獨立，再製造幾個「唐努烏梁海」來。可是那時我們不害怕，因為不斷的有許多人，從俄國逃到中國境內來。可是現在不同了，新疆境內老百姓生活一天天的困苦，報紙上不是常常看到有許多人逃到俄國境內嗎？」「對了，好像是前些時報上還有新疆人民抗暴逃亡的消息呢。」

新疆

原年思圖本

比例尺 1:100,000



第七節 青康藏高原（一）青海

湟中地區高原門戶

小華在地圖上看到塔里木盆地的南邊，山脈非常高大，李先生就告訴他說：「新疆進入青康高原的道路非常難走，平常都是由河西走廊，回到蘭州，再從蘭州進入湟中地區。」「什麼是湟中地區呢？」「那是湟水河谷，這裡地勢平，農田多，青海的首府西寧市和許多大城都在這裡。」蘭州到西寧是兩百多公里，我們坐車穿過那崖陡水急的享堂峽谷，便馬上感到草嫩樹綠，見不到河西的黃塵，天氣也清涼了，接着看到四山環抱之中，那西寧市城池整齊，林木茂盛，南北的山上，還有許多的寺廟佛塔。西寧也是個大羊毛市場。」

大金瓦寺黃教聖地

「聽說這裡還有什麼喇嘛教的聖地？」「那是金瓦寺，在市南的塔山上。喇嘛教的黃衣教派始祖宗喀巴，生在這裡傳說，埋藏胞衣的地方，後來生了一棵神樹，人們爲要保護那棵樹，蓋了座木塔將樹圍住，後來宗喀巴創立黃教，流行全部高原，這裡就成了黃教聖地，信徒們又蓋了座大寺，將木塔包住。屋頂的瓦上都鍍了黃金，所

以叫大金瓦寺，因為裡面有個木塔，漢人叫他塔兒寺。藏蒙回漢各族的人，都來瞻拜，捐獻的珠玉金佛，不計其數，附近幾百公里內的土地，都是寺產。據說這是全國最富的寺廟了。高原上也到處產有黃金呢。

地勢高拔氣候寒冷

「在西寧的西南一兩百公里的地，我們翻過一座日月山，馬上冷風呼呼，從此往南走，只有那雄偉而平緩的石山，柔軟鮮綠的草地，農田也沒有了，漢人回人也不見影踪。偶爾見到一兩座簡陋的黑色帳幕，那是蒙人藏人游牧的地方。茫茫的曠野，寂靜得沒有一點聲息，時而冷風吹過，刮起漫天的愁雲。大約離開西寧五百多公里的地方，我們到了黃河沿，只見平衍的河岸，滿地小湖，芳草如茵，野花燦爛，清澈的河水有三十多公尺寬。過河經野馬灘、野牛溝等地方，那野馬、野驢、黃羊……千百成羣的跑來跑去。然後翻過那滿是冰雪的巴顏喀拉山，兩百多公里後到達了金沙江邊。那金沙江是長江上源，一丈多深的水，清澈見底。渡江便到玉樹，這裡氣候溫和，看到許多的農田碉樓。許多青海、四川、西藏的商人都在這裡貿易，我們已經到了青海高原的邊緣了。再往南去便是西康谷地的甘孜、道孚等縣了，這裡是康巴藏人居住的地方。」

第八節 青康藏高原(二) 西藏

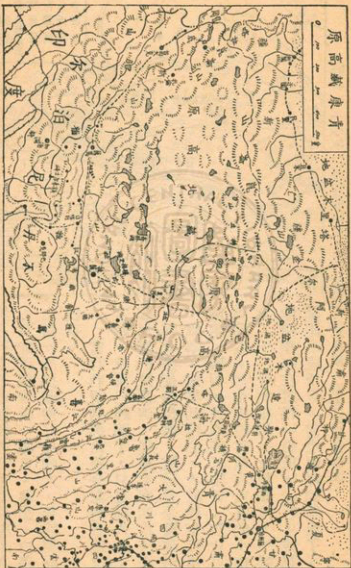
藏北高原遍地鹽湖

「我們怎樣從青海到西藏呢？」「我們可以順着黃河北岸往西走，也可以從柴達木盆地往南下水雪凍結，夏天化了顯得非常泥濘難行。在西藏東北的唐古拉山口，我們進入了藏北高原，平突突的山石間，礫石滿谷，窪地裡一潭潭的水，都變成了小鹽湖，湖邊結着一層白色的鹽，映着山石上白色的水雪，閃閃發光，耀得人眼睛都睜不開。地下草也極少。只有夏天時候，才有藏人來這裡獵取野羊、羚羊等。不過你不要說這些地方沒有用，地底下的寶藏多得很呢，應該趕快開採！」

精華所在藏南谷地

「那西藏的同胞都住在什麼地方呢？」「差不多全部住在南邊的雅魯藏布江谷地。我們若是從藏北高原上往南走，一路下坡，先是看到茂盛的草地，有許多美麗的野花，接着下面矮矮杜松、樺樹，更下面是松柏楊柳桃李，遙見南邊大大河兩岸綠蔭紅花，襯着遠處白色的冰峰，倒影在那澄碧河水之中，一點灰塵也沒有。彷彿身在仙

青藏高原



第九節 青康藏高原（三）生活情形

衣服簡單禮儀奇特

小華感覺這蒙、新、青、藏地區，地方太大，人煙太少，地下豐富的寶藏沒法開採，却讓那些外國去陰謀詭計地打主意，便問李先生道：「我們那麼多的人力，爲什不趕快來開發建設呢？」李先生道：「最主要的原因是這些地方氣候太壞，生活太苦；像蒙胞藏胞，他們的習慣和見解，都還和我們不太一樣。」「聽說西藏同胞的習俗很是奇特？」「那些禮俗，可以說代表高原上的生活，簡單樸樸：一般的人，平時衣服都是一筒羊皮長袍，也不洗換。一日三餐，早起吃點酥油茶，中午晚上吃些糌粑羊肉，住的是土石建成的碉樓。普通都兩三層，最下層住牲畜放柴草，中層住人煮飯，上層是經堂專門唸經供佛爺。樓頂上是平的，雞、狗、糧食、便所都在上面。客來便招待以酸奶餅（乾酪）、酥油茶。酥油茶是把磚茶砌碎，加鹽煮沸，倒入碗裡，再放些酥油（奶油）、糌粑（炒麵）。平常兩人見面，便伸舌、抓頭、表示敬意，互道：『喬！德卡列毛！（您！萬事吉祥！）』，走近了還有碰頭的，表示親熱。見了尊長要跪下叩頭，或奉獻哈達（綢布），見了喇嘛必需

五體投地（伏在地下叩頭）。固為全體都信喇嘛教，所以家中有弟兄兩三人的，便至少有一人要去作喇嘛（和尚）。偏僻地方還有一妻多夫的，人死了葬法有天葬、火葬、地葬、水葬。不過有些習俗，現在也慢慢改變，模仿漢人了。」

近年困苦常有戰事

「這幾年常常在報上看到有藏胞殺死共黨官兵，成羣的起來革命抗暴的消息，那是什麼緣故呢？」「這完全是藏胞被欺騙壓迫，弄得沒法生活的結果。中共在民國四十年『和平解放西藏』，先說信教自由，不久便強迫學習馬克斯理論，強迫『土地改革』（收沒），逼迫一步步加緊，藏胞的反抗也就越來越大。因為他們失掉了生活的自由，有些地方，人們積存了幾十年的糧食，全被收走，在人民公社的名義下，連金銀珠寶佛像，也被劫奪淨光。先是青康藏交界地方不斷地有戰事，四十八年三月間，拉薩爆發了大規模的武裝革命，結果被殺了九萬人；可是他們不屈服，一直到現在各地還不斷有戰事。」「可憐的西藏同胞，希望他們早日得到平安！」

【習題】

一、問答（每題二十分）

1. 蒙古同胞過的什麼生活？信仰什麼宗教？
2. 新疆都有那些種族？流行那幾種語言？
3. 西藏同胞近幾年來爲什麼常常武裝革命？

二、填充（每題十分）

1. 新疆被——山分成南疆（天山南路）和北疆（天山北路）。北疆的——山產金很多。

2. ——地區是青海的首府西寧所在地，青康藏高原的門戶。——是漢北最大的城市，蒙古的行政、經濟中心。

三、選擇（每題十分）

1. 漢北外蒙古的精華區在①三河流域②伊犁河谷③湟中地區。……………（ ）
2. 藏南谷地的唯一大都市是①迪化②拉薩③庫倫。……………（ ）

101300195



中華民國玖壹年 柒月拾日 贈送



12554

國家圖書館



002431120

