

53
中華民國十三年八月初版
金陵大學農林科農業叢刊（第七號）

農村調查表

上海图书馆藏书



A541 212 0020 5477B

農村調查表

金陵大學農林科農業經濟系徐澄譯

調查之目的

此種調查可謂爲一種地方之詳細分類紀錄。可供各地關懷本鄉事業之人士。得以短少之時間。以研究本地之情形。其對於初入社會服務而甫臨異鄉之人士如教員之類。亦有一種極有價值之輔助。蓋欲促社會之改良而爲有目的之工作。則不能不對當地之各種情形有充分透澈之了解。而此調查所包括者。固皆爲當地各方面之扼要問題也。其對於久居本地之人士。亦可有裨助。就其一已而言因採用此種有系統之觀察。有時可引起或發現其往昔從未注意之問題。就他人而言。則如有他處對於本地之農村。欲爲一種有系統之調查而向其諮詢時。則因已有此種經驗。自易駕輕就熟。而可予以圓滿之答復。此外以之供中學及大學學生研究社會學及經濟學之資料則尤爲適用。

調查表之用法

- (一) 須選擇一農業情形相同之區域爲調查範圍。此種範圍爲；
 - (甲) 一村及其周圍之田地
 - (乙) 一區或一鄉
 - (丙) 一縣
 - (丁) 不止一縣

(註) 如調查之範圍係一縣。而尙有他數縣其境內之情形與此相同者。請將此點註明。

- (二) 調查詢問時。非逐家挨次詢問。乃係訪得深悉本地情形之一二人。而向之詳細詢問。大概各處之能答覆且願答覆此等問題者。當不乏人。如在一調查區內。能向二人或二人以上作同樣之調查。俾得將各種同樣之問題互相比較按證。以定其準確之程度。則自較僅向一人調查詢問者爲優。如一人能在一份或數份之調查表中答復數種情形。而答案

簡短。可將對於同一問題之數個答案合填於一份調查表中時。亦可行之。如答案冗長。則以分填爲宜。

(三) 調查者請隨意用冊後之空紙以答復各種問種。如尙不足可再用另紙在答復。書寫時僅將問題之數目書於答復之前即可。不必再將題之全文寫出。

(四) 此類調查不必定欲求得極精準確之數目紀載始得謂之有價值也。蓋此種調查。意在使人對於當地之各種情形。有一種普通的了解。如本地農民有百分之五十或百分之六十爲佃戶。其間之差異無關重要。所重要者乃約有一半之農民皆爲佃戶之一種事實耳。

章目


第一章 導言

頁數

- 一 凡例.....六
- 二 調查資料之來源.....七
- 三 度量衡之標準.....七

第二章 農民經濟狀況

- 一 田產.....八
- 二 田莊之大小及其耕作之情形.....九
- 三 農工及畜工之過剩.....十一
- 四 田產權(佃戶及租田制).....十一
- 五 男工.....十三
- 六 農民信用及儲蓄.....十四
- 七 錢糧賦稅問題.....十五
- 八 農村市場及購買.....十五
- 九 貨物之輸出及輸入.....十六
- 十 農具及設備.....十六
- 十一 家庭工藝.....十七
- 十二 工廠.....十八
- 十三 燃料.....十九
- 十四 灌溉.....十九
- 十五 排水.....二十
- 十六 同工合作.....二十
- 十七 農村組織(經濟的與社會的).....二十一
- 十八 運輸與交通.....二十一



十九 經濟狀況之變遷……………二二二

第三章 農產

- 一 家畜……………二二二
- 二 蠶業……………二二三
- 三 肥料及綠肥……………二二四
- 四 五穀……………二二五
- 五 根作物……………二二六
- 六 纖維作物……………二二六
- 七 菓類……………二二六
- 八 特種作物……………二二七
- 九 著名之作物……………二二八
- 十 作物之分佈作物之變遷及重要之農作經營法……………二二八
- 十一 限制生產之重要成因……………二一九
- 十二 農產品及其他物品之價值……………二一九
- 十三 作物之輪種制……………二三三
- 十四 農作物種植與收穫之時期及作物用途……………三三四
- 十五 病虫害……………三三五

第四章 荒歉

- 一 在已過之二十五年中之荒年……………三三六
- 二 關於荒災之普通問題……………三三七

第五章 地勢

- 一 地圖……………三三九
- 二 熟地之面積……………四一四
- 三 未墾地之面積……………四一四
- 四 墳地……………四二二

五 氣候·····	四十二
六 礦產·····	四十二
七 其他關於地勢方面之各種情形·····	四十二

第六章 人口

一 人口之份佈·····	四十二
二 人口之分等·····	四十三
三 人口之變遷·····	四十四

第七章 康健及衛生

一 疾病及流行症·····	四十五
二 農民之膳品·····	四十五
三 住房·····	四十六
四 衛生·····	四十七

第八章 教育

一 學校·····	四十七
二 教育之結果·····	四十七
三 農諺及鄉村歌謠·····	四十八

第九章 普通情形

一 領袖·····	四十九
二 宗教與道德·····	四十九
三 娛樂遊戲·····	五十一
四 風俗·····	五十一
五 政府·····	五十三
六 治安·····	五十三
七 其他重要問題·····	五十四

第一章 導言

一 凡例

- (1) 如對於調查表中所有各問題不能全部答復時。切不可因之而中止調查。
- (2) 凡問題帶有×號者其問題多不易答復。故對於該種問題不能答復時。可竟置之。
- (3) 在答復問題時。如能利用問題中已有之字句。僅於其傍加以符號即足以表明答復該種情形時。請即用該法答復。以省時間。
- (4) 所有調查表中之各問題皆應就本章第二項第七或第八問中所填之調查範圍而答復。(即一縣或一區或一村等。)
- (5) 如有表中之各問題係得自傍人而非第二項第四問所指之人時。請將是種之每項問題後。註明該項調查資料係如何調查得者。
- (6) 如在一縣中各地情形不同。對一個問題必須有兩個或兩個以上之答復。於必要時。請分寫於各紙上。(不必定同在一紙上。)
- (7) 凡關於各種情形有變遷時。務請將其原因同時附述。
- (8) 如答復之字句甚多時。可寫於調查表末後之空紙上。惟在每條答復之首。請將該問題之數目(即第幾問)註明。
- (9) 凡有關於度量衡之處。務請將所用之單位註明。
- (10) 凡調查關於任一種事項之各部而其調查之數目有一個以上之百分率時。則其各部之百分率合計時。應約等於百分之一百。
- (11) 對於任何問題如不能得確實可靠之消息時。可暫置不答。蓋一問題之無答覆者。猶較優於有錯誤之答復也。切不可任意猜度而作答復。
- (12) 其中有許多之問題。皆須用估計法答復之。不定因此種辦法而減少原有之價值。估計之情形如與精確之數目相去不大時。則較無答復之爲愈也。
- (13) 農家之一名詞。乃來包括同居共食之人而言。(不必定係親族)

(14)『田場』係指一農人(即場主)所經營耕作之田地面積而言。此處所謂一人經營耕作。不論其為僅彼一人或有家中之人相助。或再加僱工。均謂一人經營。蓋指彼一人為經營之主腦也。如某地主有五佃戶分租種其地。則此所租種之地等於五個『田場』。

二 調查資料之來源

- (1) 調查之日期 民國十四年二月初十日
- (2) 調查者之姓名 劉昌齡
- (3) 通信址 寿光稻田街隆興東家
- (4) 告知者之姓名 陶子臻
- (5) 通信址 濰縣文華中學校
- (6) 省名 山東 縣名 寿光
- (7) 調查之範圍係一全縣乎(參看本張附註)
- (8) 調查之範圍係一區乎 請將區名出註(參看本章附註)
- (9) 調查之範圍係一村乎 一村 村名(參看附註) 黃家堯水
- (10) 調查之面積 東西六里 南北十里

(附註)如有數縣之情形相同時。請在表中述明地點。如一縣之中有數處情形不同時。請用數個表冊分別填寫。縣及區之漢文名及英文名請皆寫出。

三 度量衡之標準

(請將本地所用量地之器用一長條條寫於後)
此與已定長度相等之絲條准同調查表一併寄下

(甲) 田地之計算

- (一) 一斗種等於幾畝 畝 此問題僅用於有以此法計算田地之處
- (二) 一畝等於若干弓 弓 畝等於一英畝幾分之幾 $\frac{1}{3}$

(乙) 升斗

- (一) 一斗等於若干斤 所量穀類何種 糧食亦請註明 麥子 20 餘斤
- 一斗等等於若干英斗

(丙) 銀錢兌換

- (一) 銀洋一元可以換當十銅元若干枚 二百七十餘枚
- 可以換制錢若干

可以換小洋若干十角

(二)每一吊錢有制錢若干枚 250

(丁)重量

(一)稱糧食時所用之秤 每斤幾兩 16 兩

棉花及他種纖維作物 每斤幾兩 全上

燃料 每斤幾兩

肉類 每斤幾兩

活家畜(豬雞之類) 每斤幾兩

蔬菜 每斤幾兩

果品 每斤幾兩

第二章 農民經濟狀況

一 田產

(註)凡屬某一人之地皆為該人之田產。故有時一人之田產或有數個農家耕作其上，而分為數個田莊。

(甲)田產之類別

田產之各種情形	此種田產在所有之各種田產中面積佔百分之幾	此種田產在本地合計約有面積若干畝	此種田產平均每一田產可供給幾人生活
田產之各種情形 田產之大小(非田莊之大小)			
五畝以下	30/100		
五畝至十畝	40/100		
十一畝至二十五畝	20/100		
二十六畝至五十畝	10/100		
五十一畝至一百畝			
一百〇一畝至二百畝			
二百〇一畝至五百畝			
五百畝以上			

若有一千畝以上之田產者請說明田主爲何人並其管理方法

(乙) 田產之改變

(1) 在已過之二十五年中。田產方面有無改變。增加乎減少乎抑無改變乎。請述明。並言其故。

(2) 如係增加則購產者每係何等人。商人

(3) 在近五年內已墾田地之受變賣者佔全部墾地百分之幾。

(4) 在去年內受變賣者佔全部百分之幾。

購田者何人

售田者係何類農夫

二 田莊之大小及耕作之情形

(甲) 田莊之大小

(1) 將當地田莊分爲大中小三組。各組每田莊之平均面積爲若干畝。

每大田莊平均面積 七十 畝

每中田莊平均面積 三十 畝

每小田莊平均面積 十五 畝

(2) 各大田莊面積合計約佔所有田莊面積全部百分之幾。

各中田莊面積合計約佔所有田莊面積全部百分之幾。

各小田莊面積合計約佔所有田莊面積全部百分之幾。

(3) 在最近之十年中每田莊面積之大小有無增減。如有增或減。則請將其增減之多少與其原因及其增減者佔全部百分之幾分別述明。

(4) 每塊田地(即每塊地)平均約有幾畝。 三 畝

(5) 田地之形狀係不規則形或係長方形。

(6) (子) 如用菜園地供給一人之生活約需幾畝。 一畝

(丑) 如用普通莊稼地約需幾畝。 一畝半

(7) (子) 如用菜園地供給五口之家約需幾畝。 三畝

(丑) 如用普通莊稼地約需幾畝。 五畝

(乙) 耕作之情形

(1) 每農人大約耕種若干畝 (若農家之大小對於此點發生影響。請將大中小三種農家對此生之差異。分別述明。即大中小每種農家每人耕種之畝數。大畝 一畝)

(2) (甲) 曾經自己購買田地之農人佔全數農人百分之幾。 $\frac{10}{100}$

(乙) 承繼祖產田地之農人佔全數農人百分之幾。 $\frac{90}{100}$

(3) (甲) 農人之子弟每人中有幾人離田莊而他去者。此種趨向較昔為甚乎為減乎，抑相同乎。其所以有此情形之原因為何。 $\frac{5}{100}$
多因生計困難

(乙) 彼等離後係做何事乎 多為印屋多

(4) 農家婦女有百分之幾係在田莊做工者 $\frac{2}{100}$

婦女做工之人數較昔增多乎抑減少乎抑與昔相同。請言其故。

(5) 此處之農人與他縣之農人相比時。為貧苦乎，或為小康之家或為殷富乎。

(6) 現在種田之利息與十五年前之種田相較孰為有利。原因何在。此種變遷。始於何時。大約相同

(7) 當地之生活程度，較昔為高乎抑為低乎。請將其情形述之。

三 農工與畜工之過剩

暇閑部全於幾 (2)		間時暇閑分部一 (1)		(甲) 閒暇之時間		(乙) 工之種類		
				全部農民中 佔百分之幾	(丑) 何月 十二月	全部農民中 佔百分之幾	(子) 觀附註一 何月二月	男
十月	$\frac{90}{100}$	正月	$\frac{90}{100}$					
正月	$\frac{90}{100}$	正月	$\frac{90}{100}$	工	女	2		
正月	$\frac{95}{100}$	正月	$\frac{95}{100}$	童	孩	3		
十二月	$\frac{90}{100}$	十二月	$\frac{90}{100}$	工	畜	4		

(丙)(1) 農民如何用其閒暇之時間請縷述之

於農及柴草手執云

(二) 如有冬季工作。則以上所述之各種人工畜工。在冬季工作中做何事。多事較多 印作手執云

四 田產權

(甲) 佃戶問題

(1) 佃戶佔全部農人百分之幾 $\frac{9}{100}$

(2) 田主(看附註二)佔全部農人百分之幾 $\frac{90}{100}$

(3) 田主兼佃戶(看附註三)佔全部農人百分之幾 $\frac{9}{100}$

以上(1)(2)(3)(三)項共數之和須等於百分之一百

(4) 佃戶每次租田之年限爲時若干。若係不等。請將各種年限所佔之百分率註出。一年

(5) (子) 地主之與佃戶同住於鄉村中者佔本地地主中百分之幾 $\frac{100}{100}$ 9 1

(丑) 地主之不住鄉村中者，百分之幾 $\frac{9}{100}$ 9 1
地主待遇佃戶是否平允。如否，請將其情形詳述之。

(6) 地主以何法收田租。個人親自收租乎，抑由經手人或遣僕人爲之。住於鄉村中之地主以何法收租。住於城市中之地主以何法收租。

(7) 收租法中之優點及劣點，請均指出。

係定可每月限定量者若干者是經僕人爲之

(8) 佃戶租田制，對於田地之肥力，有無耗空之影響。是否尙有其他之壞影響請均詳言之。若租年限少則佃戶不多施肥若年限多則多施肥

(乙) 租田制

(1) 情形	(2) 種類	(子) 百分率	(丑) 除田地外地主尙供給何物	(丙) 地主所收入者
甲 糧食分租法		$\frac{45}{100}$	牛糞	$\frac{50}{100}$
乙 納租金法		$\frac{5}{100}$		
丙 納租穀法		$\frac{50}{100}$		
丁 僱工性質之佃戶 (附註四)		$\frac{5}{100}$		

(3) 以上各種之租田制。在最近之二十五年中。在採用者之多寡方面如有變遷。請述明其各法變遷之百分率。



在荒歉之年地主減收田租若干。

(附註一) 請註明所用者係陰歷或陽歷。

(附註二) 田主係指自耕自地之農人。無論其是否得有家人或僱工之輔助。皆謂之田主。

(附註三) 田主兼佃戶。乃係指農人之耕種其一己之田產而兼租耕他人之田地者而言。

(附註四) 僱工性質之佃戶乃指佃戶之僅供給人工者其他各種需要皆由地主供給之。

五 男工(如用農產品抵作工價者請註明)

(甲)工之種類	(1) 短工		(2) 長工
	(子)尋常時	(丑)農忙時	
(乙)工之價值			
(1) 工價	二十五枚	一百多枚	一百多吊
(2) 所備工人飯食之價值	每天 500 文	每天 二吊	每年 二百吊
(3) 所備其他各物之價值			十吊
(4) 共計			三百一十吊

(丙)其他情形

(1) 長工之待遇，是否與農夫之家中人相同。如否請將其如何不同之點書出。

(2) 在收穫時人工之供給充足乎，缺乏乎，抑極缺乏乎。

(3) 在其他農忙之時人工之供給充足乎，缺乏乎，抑極缺乏乎。

(4) 在尋常之時，人工之供給充足乎，缺乏乎，抑極缺乏乎。

(5) 在最近之二十年中，農工之供給較昔增加乎，減少乎，抑無增減乎，請言其故。增加 固有影響因之故

六 農民信用及儲蓄

- (1) 農民中有百分之幾係曾借錢者。 $\frac{20}{100}$
- (2) 曾行借貸之農民較昔增多乎，減少乎，抑與昔相同乎。請言其故。

農民借款之目的

(甲) 借貸之情形		因此種用途而借者佔百分之幾	利率 (月利)	債主係何等人一地主或以放利為業者或他人等。
(乙) 借款之目的	佔百分之幾			
(1) 經濟的用途 (如購買種子肥料農具田地等)	$\frac{25}{100}$	$\frac{25}{100}$	一分五	債主係房主
(2) 社會的用途 (如婚喪賭博等)	$\frac{5}{100}$	$\frac{5}{100}$	一分五	債主係房主

(丙) 其他關於借貸之狀況

- (1) 農人之用上賬法購物者佔當地農民百分之幾。 $\frac{30}{100}$
- (上賬法即購物時不付現款。僅上賬。俟後總結算付。)
- (2) 平均算計，每農人以此法所購物之價值，每年幾何。一百餘元
- (3) 除賬購物之價值，是否較現款購物之價值為高。(如係此種情形則約高百分之幾) 約高 $\frac{5}{100}$

- (4) 當出田地之農民，佔全數農民百分之幾 $\frac{3}{100}$
- (5) 典當之種類。(請將各種之名稱，) 辦法，及所佔之百分率等，分別寫出。

(6) (甲) 本縣中田地之受典當者，佔全地百分之幾。

$\frac{100}{100}$

(乙) 在最近之二十年中，田地之受典當者，較昔增多，減少，抑無增減乎。並言其故。因近年受典當者少。

(7) 農民以何法儲蓄餘款。並如何用其儲蓄。

放錢

生利

(8) 本縣有幾家當店。一坐

(9) 在當店中所當物件之種類及多少。請分別述之。衣服

(10) 去年所質當物品之總值若干。一萬五

(11) 當店月利之利率若干。一厘

(12) 當物後為期若干時，即將押品收沒。三年

(13) 去年一年在當店中之質典交易，約共有若干次。

(14) 當地若有為借貸而組織之各種會。請將其名稱及其內容辦法分別寫出

。(如係搖會，七星會，至公會則僅給其名即可。) 四季會

(15) 農民個人所負之債額。較昔增加乎，減少乎，抑無增乎。請言其故。

七 錢糧賦稅問題。(錢糧之數目請參觀第五章第五第六兩項下之「每

畝錢糧」一條) 約七錢

(1) 除田地之漕糧外農民尚須繳何種賦稅。保甲隊賦稅雜賦布匹

(2) 此種賦稅輕乎，重乎，抑苛斂乎。

(3) 最近十年中，在賦稅方面所增加者為何。草料

八 農村市場及購買

(1) 當地農產交易之中心爲何處。(請註明係鎮市或縣城。) 稻田街

(2) 與當地交易之外處大市場爲何處。田摸, 占, 王王,

(3) 交通之狀況。男女有定所 無指何所事 皆有定所

(甲) 當地市場交易以何法交通。以大車

(乙) 與外地市場交易以何法交通。以大車

(4) 本地土產在本地者銷售爲何。糧食

(5) 農民收穫後即出售其農產之一大部分者。有全部農民百分之幾。

(6) 農民收穫後即出售其農產之一部分者。有全部農民百分之幾。

(7) 農民將糧食運至集中售賣乎，抑在村中將糧售於居間商。然後由居間

商轉售於糧行或公司。

(8) 本地所用之各種交易方法。就農民之心理而言。以何者爲最有利。並

言其故。茶葉

(9) 當地有無何種情形或法律，係輔助或阻碍農民之交易者乎。如有請述

之。收地基錢及角家賦稅及佃約第稅

九 貨物之輸出及輸入

(1) 本地出產之運往他處者爲何物。(參看附註一) 豆, 麥

(如無出口。請將其原因述之。)





(2) 自他處運入本地之產品，皆爲何物。(參看附註一)

(如有糧食運入，請將其原因書出。)

豆, 麥, 油, 房, 戶, 所, 買, 又有棉花

(附註一) 產品之運往外國或自外國運來者。請皆註明。洋線多來自日本

十 農具及設備(如能供給照片或圖樣尤所歡迎)

說明	(一)農具之構造及其大小之說明	(二)農具之效率 (見附註)	(三)價目	(四)本地制者 抑外處運來者	(甲)農具之說明		(乙)重要農具之種類	
					1	2	3	4
			23千	本地	犁		1	
			20千	全上	樓		2	
			6千	全上	鋤		3	
			1千	全上	鐮		4	
							5	
							6	
							7	
							8	

(附註二)農具之效率包括使用每一農具時所需家畜之數目及一日所能做工之多少
 (丙)其他情形
 (1)在本地有無採用改良之農具或設備等事。如有則採用者係何種改良之農具或設備。

十一 家庭工藝(凡紡線織布做衣做鞋製造用具等皆包括在內)

8	7	6	5	4	3	2	1	(甲)家庭工業之種類		(乙)家庭工業之情形								
								織布	小商	(1)有此種工藝之農家共有幾家	(2)有此種工藝之農家佔全部百分之幾	(3)此種工藝之作者係男子或女子	(4)用一部分時間抑全部時間	(5)作工時在一年中之何月	(6)另外僱工若干之工價(每日)	(8)由工藝所得之家庭純利收入為數若干		
						二三家	十餘家	6/100	20/100	男子	男子	一部分	一部分	十二月	十二月		二十千	十四千

(丙)他種情形

(1)本地之家庭工藝方面。利用當地之農產品至何程度
 麥楷做伏

(2)此等工藝品銷之何處。多銷至何處

(3)此等工藝對於農工之供給有何影響。

能使家庭寬裕

(4)在最近之二十五年中，此等工藝之增多或減少至何程。或並無增減。

請述明之。如有增或減。並請將其變遷之原因述之。如前

十一 工廠(非家庭工藝)

廠之種類	(甲)工廠之狀況		(一)工廠之數目		(二)男工		(三)女工		(四)童工	
	工人數目	工價	工人數目	工價	工人數目	工價	工人數目	工價	工人數目	工價
1										
2										
3										
4										

(1)按左列之僱工法，請述各法之應用，當全部百分之幾。

(一)工廠直接僱來之工。有百分之幾。

(二)間接由經手人招致之工。有百分之幾。

(三)學徒。有百分之幾。

(2)此等工廠利用本地農產之何程度。

(3)此等工廠之製造品，多銷之何處。

(4)此等工業對於當地之農工供給上有何影響。

(5)工人家庭方面。除工人之工資外尚有他種進款乎。

- (6) 此額外之進款當全部百分之幾。
- (7) 最近之二十五年中，此等工廠之數目。較昔增多乎，減少乎，或無增減乎。請將其原因述之。

十三 燃料

(乙) 種類	(1) 來源	(2) 供給量 (豐富、數用、缺乏、輸入)	(3) 每百斤之價值	
			(丑) 往年之價值	最低之價值
1 槐樹之果實	樹	數用	每斤十枚	
2 枝子	地中	缺乏	每斤三十枚	
3 豆花葉	全上	數用	無交易	
4 煙炭	從外	數用	七十枚	
5 馬泥	池內	缺乏	無交易	

十四 灌溉

- (1) 水之來源(井、湖、溝、渠、河、雨水等) 井
- (2) 水之性質(鹹，鹼，等性) 甜
- (3) 灌溉時所用打水器之種類 水車
- (4) 熟田灌溉者之面積 $\frac{2}{100}$
- (1) 用井水灌溉之面積全部灌溉面積百分之幾。 $\frac{90}{100}$
- (2) 用溝渠灌溉之面積佔百分之幾。 $\frac{5}{100}$
- (3) 用河水者佔百分之幾。 $\frac{5}{100}$
- (4) 用塘水者佔百分之幾。 0
- (5) 受灌溉之作物之種類及其所佔之百分率，請分別述明。

作物名稱 菜	百分之幾 $\frac{2}{100}$
作物名稱	百分之幾
作物名稱	百分之幾

- (6) 灌溉之水如有危害之影響，如鹼性水等，請述明之。
- (7) 井之深度構造，及每井可澆田幾畝等，請均述明。
- (8) 受灌溉田地之面積，及所用之灌溉方法等，若有任何變遷皆請述之。

十五 排水

- (1) 熟田之受水災者有百分之幾。
- (2) 次數
- (3) 水災之原因，屬於下列之何種

(一) 當地降雨量過多 (二) 他處雨量過多因之河水泛濫，

(三) 他種原因

(4) 水災發現多在每年何時。

(5) 洪水落後田中有沉落之泥滓否。若然。此種泥滓對於田中肥力之維持究至何種程度。

(6) 當地之排水情形甚好乎，尙好乎，抑甚壞乎。

(7) 熟地之受人工排水者，面積有百分之幾。

(8) 本地所用之人工排水法爲何請述之。

十六 同工合作

(例如灌溉換用人工農具畜工等事在農民中常有彼此互助者)

	(甲) 合作之情形		(乙) 合作之目的
	(1) 實行合作之農民有百分之幾	(2) 所用之方法 (請詳細述明此種合作如何實行)	
5			
4			
3			
2			
1			

十七 農村組織經濟的與社會的 (如能將各種重要之不合法

組述出務請述之)

(乙)名稱	(甲)組織情形		(3)開會		(4)此種組織中所做之農業中之勢力
	(1)在當地此種組織之數目	(2)會員數 (一)會員數 (二)在社會中係何階級	(一)次數 (二)地點	(1)在當地	
1					
2					
3					
4					
5					
6					
7					

(丙)以上所述之各種組織法。請詳細述明。

十八 運輸與交通

(1)貨，之運輸。所用者係下列之何種：船，土車、驢、騾、馬車、太平車。

(2)人民之交通所用者係下列之何種：船、車、驢、騾、馬車，太平車。

(3)道路之種類(將路之闊度書於括弧內)全用石鋪之路 () 當中用石

鋪之路 ()，土路()。

(4)運河(人力所開之渠)多或少。在每年之何月船可通行。 0

(5)目下之交通與二十年前者相比。有何種情形較優於昔。 如 2/44

十九 經濟狀況之變遷

(1) 以現在之經濟狀況與三十年以前相比，較優乎。抑較劣乎。(如答案長時，可用冊後之空白紙答之。)

第三章 農產

一 家畜

13 其他	12 魚	11 綿羊	10 山羊	9 鵝	8 鴨	7 雞	6 豬	5 驢	4 騾	3 馬	2 水牛	1 黃牛	(甲) 狀況		(乙) 種類	
													(1) 農家之 有此種家畜 者佔百分之 幾	(2) 每農家 平均有若干 頭		(3) 每頭攤 合田地若干 畝
0	0	0	0	$\frac{1}{100}$	$\frac{2}{100}$	$\frac{98}{100}$	$\frac{5}{100}$	$\frac{40}{100}$	$\frac{30}{100}$	$\frac{20}{100}$		$\frac{50}{100}$				
				$\frac{3}{100}$	$\frac{1}{10}$	$\frac{8}{10}$	$\frac{2}{10}$	$\frac{5}{10}$	$\frac{4}{10}$	$\frac{3}{10}$		$\frac{5}{10}$				
				$\frac{3}{100}$	$\frac{4}{100}$	$\frac{5}{10}$	$\frac{5}{100}$	$\frac{3}{10}$	2	1		1				

(丙) 特殊情形

(1) 當地若有著名之家畜。請將其名稱及其狀態述之。

狗 形狀如狼

(2) 當地之家畜企業。若有可注意，或重要之點，請舉出之。特別對於此

類企業中有任何變遷之處。請皆舉述之。

- (3) 所養黃牛，有百分之幾係專供牛肉之用者。 $\frac{1}{100}$
有百分之幾係專為工作之用者。 $\frac{99}{100}$
有百分之幾係為工作而兼供牛肉者。 $\frac{0}{100}$

一一 蠶業

- (1) 養蠶之農家佔百分之幾。 $\frac{50}{100}$
(2) 每年出產量。有限
(甲) 每家產繭若干斤。約二三斤
(乙) 每家產生絲若干兩(中國兩)——五六兩
(3) 繭絲之售賣
(甲) 養蠶農家之售繭者，佔百分之幾。 $\frac{50}{100}$
(乙) 養蠶農家之售生絲者，佔百分之幾。 $\frac{0}{100}$

(4) 養蠶之利息虧本乎，無利乎，微利乎，有利乎，抑厚利乎。

(5) 每年養蠶幾次。二次

(6) 養夏蠶之農家在養蠶農家中佔百分之幾。 $\frac{30}{100}$

(7) 蠶之飼料係柞樹葉。抑桑葉或他種樹葉。

(8) 當地之桑共有幾種。請舉出之。並以△號指明何種為最佳。本地桑

(9) 當地之蠶共有幾種請舉出之。並以△號指明何種為最佳。二種
春，夏二種

(10) 農家中養蠶者係男子乎，抑女子乎。如係男子，則彼等除養蠶外，用於他種農業工作之時，約佔其全時間幾分之幾。女子

(11) 種桑之田地較昔增加或減少百分之幾。增加不多

五 根作物

(甲)種類	(乙)情形			(3)產量		
	(1)在生長季 中係第一次或 第二次抑第三 次之作物	(2)佔熟地面 積百分之幾	(1)每畝(或 每斗種)之平 均產量	(二)每畝(或 每斗種)之平 均產量	(三)計算產量 之單位	
1 甘薯						
2 胡蘿蔔	1次	1/100	3000斤	3680斤		
3 落花生	1次	1/100	1800斤	900斤		
4 山藥	1次	1/100	2300斤	400斤		
5 芋頭						

如本地每斤不等於二英磅。請將每斤等於若干磅之數目寫出。

六 纖維作物

(甲)狀況	(乙)種類			(3)產量		
	(1)在生長季 中係第一次或 第二次抑第三 次之作物	(2)佔熟地面 積百分之幾	(一)每畝(或 每斗種)之平均 產量	(二)每畝(或 每斗種)之最 高產量	(三)計算產量 之單位	
1 籽花棉						
2 青麻						
3						
4						
5						
6						

七 菓類

(1)於左列之各種菓類中有為當地所產者請加「」號於其傍以表明之。如係產量豐富者。請於該種算品加以括弧「()」以表明之。柿、桃、梨、杏、石榴、櫻桃、葡萄、李、蘋果、核桃、栗、橘、柚子、其他。

(2)其中有植於菓園中者。亦請註出。葡萄、杏、桃

(一) 本地水中之出產皆為何物。*青鱗、鱈魚*
對於斯類水產物每家如有十元以上之進款時亦請註明。

八 特種作物

	(甲) 狀況	(乙) 種類		(1) 在長牛季 中係第一次或 第二次抑第三 次之作物	(2) 佔熟地面 積百分之幾	(3) 產量		(三) 計算產量 之單位
		1 煙葉	2 茶			(一) 每畝(或 斗種)之平均 產量	(二) 每畝(或 每斗種)之最 高產量	
6								
5								
4 藕								
3 竹								
2 茶								

(1) 本地蔬菜之種類。請舉其名。(能兼予英文名則尤佳)其中之重要者，請於菜名傍註號以明之。*白菜、芥心、蒜、芹、芥、九菜、菠菜、*

(2) 本地花卉之種類，請舉其名(能兼予英文名則尤佳。)其中之重要者，請於花名傍註號以明之。*牡丹、芍藥、迎春、月香、海棠、海棠、月紅、*

(3) 本地對於作物爲害莠草之種類，請舉其名(能兼予英文名則尤佳。) *大草、草、打香子*

(4) 本地各種成材(可以造林)之樹類，遮蔭之樹，及野果樹，請皆舉其名。(能兼予以英文名，或科學之名稱則尤佳。)

生木、樹、松、楊

遮蔭樹、楊、柳、樹

(5) 本地如有鄉村林或普通森林之經營，而其辦理法係有一定之規則者。請將其辦法及森林所佔地之面積，詳解述之(用冊後之空紙)。

(6) 當地各村中之樹木甚多乎，尙多乎，甚少乎抑無樹。(每家平均有樹十株即可謂之多。) 每家所有六七株

(7) 村中各樹大小之百分比例爲何。請按左列之直徑答之。

(甲) 大樹(樹身之直徑在十寸以上者。) 佔全村之樹百分之幾。 $\frac{2}{100}$

(乙) 中材樹(樹身之直徑爲四寸至十寸。) 佔百分之幾。 $\frac{40}{100}$

(丙) 小樹(樹身直徑二寸至四寸。) 佔百分之幾。 $\frac{60}{100}$

九 著名之植物

(1) 當地著名之農作物。蔬菜。花卉，菓品，樹木，請舉其名。並述其形狀。 少三年以內

十 作物之分佈及作物之變遷與重要之農作經營法

(甲) 作物之分佈(每種作物所佔全部產物面積之百分率)

(1) 普通作物田地佔全部產物田地面積之百分之幾。 $\frac{80}{100}$

(2) 菓類，田地佔百分之幾。 $\frac{1}{100}$

(3) 堅果類(核桃等類)佔百分之幾。 $\frac{1}{100}$

(4) 桑樹佔百分之幾。 $\frac{5}{100}$

(5) 蔬菜佔百分之幾。 $\frac{10}{100}$

(6) 水塘(水產品所生長之地)佔百分之幾。 $\frac{1}{100}$

(7) 花卉佔百分之幾。 $\frac{3}{100}$

(乙) 作物之變遷

(1) 農作物之種類及其所種植之面積，在近世紀內有若何之變遷及其變遷之時期。請詳述之。 〇

(丙) 特別要重之農作經營法

(1) 當地特有之農作經營法及各種特別有價值或可注意之經營法請細述之

十一 限制生產量之重要成因

(乙) 久暫	(甲) 成因						
	(1) 每幾年有一次	(1) 蟲害	(2) 病害	(3) 水災	(4) 旱災	(5) 冰雹	(6) 風災
	二次	二次					一次

十二 農產及他種物品之價值

下列之表。不過欲指示如何採用此種表格。以調查物價。至實行詳細調查時。必須用更多之表格紙。如能將整買(或批發)之價值書出則尤佳。填寫價目時，請將該價註明係整買之價抑零售之價。每月記載所得之平均價目，極有價值。以十二除各月平均價目所加之總數，則得一年之平均價目。每月之平均價目，乃係由每日之價，或星期之價相加之總數，而以該月中所有之日數，或星期數目除之即得。在已往之百年或五十年中之每五年或每十年間之價目。在農事之經濟方面。有極重大之價值。雖其間每年之價目不可稽無害也。答復表中各項價目時。僅就當地普通常見之農產或物品答之。如當地尚有他種之重要農產而為表中所無者。則請一併書出。如一種農產有數種品質或等次而其價目亦因之不止一種時。則請用在當地該種農產出售最多者之等次之價值填入。表中所採用之等次。究居何等，亦請一併註出。農產價格有特別漲落時。請將其漲落之原因述之。

	(甲) 價格	(乙) 產品(度量衡之單位及產品之等次均請註出)			(1) (何十三年)			(2) (何十一年)		
		(一) 最低	(二) 最高	(三) 通常	(一) 最低	(二) 最高	(三) 通常			
家畜類										
1 黃牛每隻		七十斤	四百斤	二百斤						
2 水牛每隻										
3 騾 每隻		一百斤	一千斤	二百斤						
4 雞 每斤		四百文	一千五	一千						
5										
6										
畜產										
1 猪肉		五百文	一千五	八百文						
2 雞蛋		二十文	二百文	一百文						
3 魚		百文	一千	五百文						
4										
建築料										
1 磚		四十斤	四百斤	二百斤						
2 石灰		二千五百	一百三十斤	八十斤						
3 木料		一百斤	三百斤	二百斤						
4										
五穀										
1 小麥		每斗八斤	十二斤	十斤						
2 大米 (非糯米)										
3 高粱		每斗五斤九斤	九斤	七斤						
4 小米		每斗五斤九斤	九斤	六斤						

		(乙) 產品度量 衡之單位及產 品之等次均請註出			(甲) 價格		
		(一) 最高	(二) 最低	(三) 通常	(一) 最高	(二) 最低	(三) 通常
五穀類							
5	玉蜀黍	1	1				
6	黃豆	每斗	十三斗	十斗			
7							
8							
肥料							
1	豆餅	每小車 每斗 五斗					
2	菜子餅						
3							
4							
纖維作物							
1	皮衣棉花	二千	一千	千零五			
2							
3							
4							
菓類							
1							
2							
燃料類							
1							
2							

		(乙) 產 品度量衡之 單位及產品之 等次均請註出			(甲) 價格		
		(1) 最低	(2) 最高	(3) 通常	(1) 最低	(2) 最高	(3) 通常
農具類							
1	1 犁	十五吊	三十吊	二十五吊			
2	2 打水器	四千	十吊	六吊			
3	3 耙	二十吊	三十五吊	二十五吊			
雜項							
1	1 茶	二千	三千	二千五			
2	2 生絲 (每兩)	四百文	一千	六百文			
3	3 繭	三百文	七百文	四百文			
4	4						
5	5						
6	6 田地中等者每畝價						
7	7 油類 (附註) (一) 作燃燈 (二) 作烹調用者	二十文	四十文	二十五文			
製衣原料							
1	1 布 (附註三)	每尺三五文	五二文	四二文			
2	2 綢	每天一千	一千五	一千二五			
蔬菜類							
1	1						
2	2						
工價 (附註四)							
1	1 農工 (一) 短工 (二) 長工	每百文 每年廿五 二百吊	二吊	一百廿文			
2	2						
3	3						

銀洋市價。每年中銀洋一元能兌換制錢若干文或銅元若干枚或小洋若干請
一一註出 一元可兌銅元二百八十枚

(註一)舉兩種重要種類並其價值

(註二)舉其種類之名

(註三)度量衡之單位用中國量布尺、或中國兩、布之名與其等次及爲何等人所用均請註明

(註四)如供給飯則飯之價值亦須算入

十三 作物之輪種制

(註一)如有兩種，或兩種以上之作物同種於一處時。請將該數種作物之名皆寫于同一格內。如
因土地之不同或因其他原因而有不止一種之輪種法時，請將各法皆寫出。

(註二)表中之第一作物第二作物等係就各年中收穫時之先後次序而言非就作物種植時期之先後
言也，故第一作物乃是年最初收穫之作物如小麥雖其種植時期在去年秋季而其收穫乃在
此年之夏初故應列爲此年之第一作物其餘以此類推

輪種第一法

(甲)時季	(1)第一作物		(2)第二作物		(3)第三作物		(4)第四作物	
	稱物之名 (一)作	面積有幾 (二)此種作物所佔	稱物之名 (一)作	面積有幾 (二)此種作物所佔	稱物之名 (一)作	面積有幾 (二)此種作物所佔	稱物之名 (一)作	面積有幾 (二)此種作物所佔
(1)第一年								
(2)第二年								
(3)第三年								
(4)第四年								
(5)第五年								

輪種第二法

(甲)時季	(乙)作物之種類			
	(1)第一作物	(2)第二作物	(3)第三作物	(4)第四作物
稱物之名	稱物之名	稱物之名	稱物之名	
(二)作物所佔面積之幾	(二)作物所佔面積之幾	(二)作物所佔面積之幾	(二)作物所佔面積之幾	
1				
2				
3				
4				
5				

十四 農作物種植與收穫之時期及作物用途

(註)所有當地各種纖維植物之漢文名稱請皆註出

(乙)種類	(甲)狀況		
	(1)種	植	(2)收
(註一) (一)日期	種植法所用農具及整地等手續	(註二) (一)日期	(二)收穫方法及所用農具
(3)重要之用途 (貧人或富人，之溫食，牲畜之飼料，或輸出至他處，)			
1 大麥	春三月	掘樹，掘整地	五月 鐮割
2 蠶豆			
3 黃豆	二月	拔脚	九月 鐮割
4 蕎麥			
5 玉蜀黍			
6 玉蜀黍與黃豆			
7 高粱	三月	拔脚	八月 鐮割
8 小米(穀子)	三月	拔脚	六月 鐮割
9 油菜子			
10 稻			
11 芝麻			

12	小麥	八月	稈	五月	鏟
13	小麥及碗豆				
14					
15					
16					
17					
18					

(註一)表中日期。按中國節氣為準。可寫某節氣之前幾日或後幾日。節氣如清明穀雨之類是。

如用陽歷之幾月幾號亦可。

十五 病虫害

(註)如不能詳細全答。可就其情形較重而為害較甚者答之。

虫害

(註)將為害較重及發現次數較多者用弧括號

(包括以表明之。

	(乙)種類	(甲)情形		(3)虫害之多寡	(4)在一年中之何時最盛行	(5)作物受百分之幾	(6)治法
		(1)受害之植物	(2)受害之部分				
1	密虫子	高粱	葉子		六月初	40/100	不己人今年
2	豆虫	豆子	葉子		青末	20/100	人今年
3	丹虫	麥子	種上		三月末	10/100	無法
4	截虫	穀子	種上		四月	10/100	無法
5	地老鼠	全害	根	無時不有	全年	20/100	人今年
6	棉虫	高粱	穗子		七月時	30/100	人今年
7							
8							
9							
10							

病害

(註)將為害較重及發現次數較多者用弧括者

(包括以表之

一 關於荒災之普通問題

(註)此項下之答案如長時間請用另張之空紙

(1)因最近一次荒災(何年

)之影響。在本地之農作物種植一方

面。有無變更之處。如作物之種類，或播種與收穫之日期等，此類變更。無論係當時立即發生。或以後發生者皆包括之。

(2)如最近一次之荒災為水災請述明。

(甲)住房之被毀者有百分之幾。其被毀之主因為何。(風雨之打擊乎抑泛水之沖刷乎。)

(乙)貧民房屋之被毀者，是否較富人之被毀為多。並言其故。

(3)房屋之塌倒對於為將來食用糧食之貯積方面，有無損失。請解述之。

(4)當地對於荒年之預備，或減少荒災影響上，有何種計劃。

(5)對於備荒事業，何以不能有更多之預備。

(6)於歉收之年，將糧屯積於糧坊內，是否有被竊或被搶之虞。

(7)荒年時收買田地者，係何等人。本地之大地主乎抑外方人。

(8)各村中之樹木如增多時。是否可使本地人民於荒年時。減少其所受之災苦。若然則請將其所以能減少災苦之原因述之。

(9)在荒年當地所用之糧食燃料及牲畜之飼料等。如有與尋常時所用者有不同時請述其名。

(10)本地有何機關從事於改良地方各種狀況之工作。請將其目的組織及其中之人物與已成就之事業等一一述之。(答案如長。可用冊後之空紙)

(11) 請將當地末次之水災情形。按左列之各點分別答述。水災經過之時間。水之深度。田面所積沉澤之厚度。對於田地肥力之影響。水災之原因。水退之速度。及其他各種可注意之點。(答案長時。可用冊後之空紙。)

(12) 旱荒

(一) 當地抵抗乾旱之作物爲何。地瓜
(二) 當地農民用何法以減少亢旱之影響。如耕耘或灌溉等。其實際之效果，目下至何程度。新掘井 例掘井

(三) 當亢旱時，有何種虫害或病害，爲患甚烈。其所害者係何種作物
(13) 荒災對於左列各種問題有何影響。請分別答述。

(一) 小農之獨立問題。較前進步

(二) 被迫以售賣田地及他種產業者。甚少

(三) 負債層中

(四) 農民借貸之信用。較前進步

(五) 工商業。較前進步

(六) 移民問題。不少

(七) 自外地之親戚或城市之地主方面所得輔助之多少。少

(八) 荒年時農民種籽之來源，得自何處。富家及親族

(九)對於農民之強健，壽命，婚姻，及家庭(如家人離散之類，)有何影響。
女子多早婚

(十)道德、罪犯，土匪、命運思想、倚賴，迷信、殺嬰兒、販賣婦孺

(十一)富家之態度。
恐懼土匪亦多自大

(十二)投機事業與物品之市價。
增高

(十三)各種產品如布，柴，糧食，紙烟，酒等之消耗。

屋中

(十四)請詳細解釋荒災之如何限制生產量。或使食料之供給短缺。

第五章 地勢

一 地圖

(甲)請用左列表中之各種符號就調查範圍區域製一地圖。如當地有已製成之地圖其中已有表明表中所列之諸點者。則可將該數點畧去。僅就未述之各點填四該圖。

- 1 英尺
- 2 高度(海面以上若干英尺)
- 3 地下水平面之高度
- 4 有城牆之城
- 5 界限
- 6 鎮市
- 7 縣城
- 8 村
- 9 小村落
- 10 山嶺
- 11 山丘
- 12 河渠(不能行船之部分)
- 13 河渠(全年皆能行船之部分)
- 14 河渠(僅在一定時季中能行船之部分)
- 15 湖
- 16 沼澤
- 17 荒沙地
- 18 荒鹼地
- 19 大車路
- 20 土路(註明寬度)
- 21 石路(註明寬度)
- 22 大道(用 ∞ 或 ∞ 條下之符號以註明大道)
- 23 鐵路

一一 熟地面積

(註)填答此表時請先儘用表內所予之名詞。於不得已時再他用種名詞。

(乙)土地之情形		(甲)面積之分類	
1 地 勢	平原 丘陵起伏 山嶺 低谷	(1)上等地之有	
2 土壤之性質	顏色 粘土 砂土等	(2)中等地之有	
3 表土之深度	淺 深 適中	(3)下等地之有	
4 心土之性質	顏色 粘土 砂土等	情形者佔百分之幾	
5 土地之肥度	肥 瘠 中等	情形者佔百分之幾	
6 價 值	每斗種之地	情形者佔百分之幾	
7 每年漕糧	每畝地	情形者佔百分之幾	
8 政府或其機關所有之地佔百分之幾	每畝地	情形者佔百分之幾	
9 摘要	每斗種之地	情形者佔百分之幾	
	每斗種之地 三畝	98	100
	每斗種之地 一千五百千	60	100
	每畝地	40	100
	每畝地	10	100
	每畝地	40	100
	每畝地	10	100
	每畝地	40	100
	每畝地	10	100
	每畝地	40	100
	每畝地	10	100

10 在最近之十年中地之價格增高乎減低乎抑不動乎請言其故。
 因農民對於穀類之利率三折而

11 熟地佔全地面積百分之幾。 $\frac{90}{100}$

12 熟地之面積約有若干畝。 $\frac{1}{2}$ 畝

(附註) 如調查區內有數種甚分明之土壤面積。則請於製地圖時在圖中註明。

(註二) 表中甲項下(一)(二)(三)條之和于應等百分之一百。

三 未墾地之面積 (註一) 填答此表時請先儘用表內所予之名詞於不得已時再用他種名詞。

(甲) 未墾地全面積之百分率 (丙) 各種情形 第五(N)		(1) 丘陵起伏之地有百分之幾 (2) 山嶺地有百分之幾 (3) 別種地(鹼地窪地等有百分之幾)	
		(1) 作燃料之乾草 (2) 放青用者 (3) 森林 地有百分之幾	(1) 作燃料之乾草 (2) 放青用者 (3) 森林 地有百分之幾
1 地勢			
2 土壤之性質、顏色、深度、粘土、壤土砂、岩石等			
3 每畝價值			
4 每畝錢糧			
5 政府或公共機關所有者佔百分之幾			
6 摘要			

(7) 如調查區為一村則在本村人所耕種地之外邊是否尚有未墾之地多乎少乎。 $\frac{1}{2}$ 有

(8) 未墾地在全地面積中有百分之幾。 $\frac{1}{2}$

(註) 此條所答之百分率，與本章第五節(乙)項第11條中之百分率相加，應等於百分之一百

四 墳地

(1) 已墾地中有墳地百分之幾。

(2) 未墾地中有墳地百分之幾。

(3) 墳地以何法利用之；(指出係左列各用途中之何種。) 種地或種樹

- (子) 出產燃料(草或樹) *草*
- (丑) 種樹(如桑之類)
- (寅) 菓類()
- (卯) 堅果(如核桃之類)
- (辰) 其他

五 氣候

- (1) 本地之天氣係乾燥，濕潤抑潮濕。
- (2) 如能有氣象計載報告表則尤佳。

時季氣候表

1 乾燥或潮濕	(甲) 時季		(乙) 氣候	
	(1) 冬季	(2) 春季	(3) 夏季	(4) 秋季
2 季風之方向	北	北	南	不定
	中合	乾	潮濕	中合

(丙) 普通情形

- (1) 通常春季最晚之嚴霜約在何日。(註)日期係指在某節氣(如清明之類)之前或後若干日而言 *正月*
- (2) 通常在秋季最早之嚴霜約在何日。(註)日期係指在某節氣(如霜降之類)之前或後若干日而言 *八月底*

六 礦產

- (1) 本地有何種礦產。及其採用已至何程度。請述之。
無有

七 他種地勢情形

- (1) 靠近何大湖 相距幾何 *無有*
- (2) 本地之地勢氣候方面尙有何種重要可注意之情形請述之。
(於必需將請用冊後之空紙。)

第六章 人口

一 人口之分佈

(註)如有任何數目係得自他種之記載中者。請用括弧括之並註明係得自何處，

6 總計	5 散住之農家	4 小村落	3 村莊	2 集鎮	1 城市	(甲) 人口數目	
						(1) 城市集鎮等之數目	(2) 人口數目 (總數)
			村莊			(1) 人家數之目	(2) 人口之數目
			八十九家				
			七八五				

二 人口之分等

7 無業者	6 教員	5 商人	4 陸地之搬運夫	3 船戶	2 手藝人	1 農人	(甲) 人口在各 界之分佈	
							(1) 各界中人口之數	(2) 各 界中人口居當地全部人民百 分之幾
						六百餘		$\frac{60}{100}$
			五			十		$\frac{10}{100}$
			五					$\frac{1}{100}$
		三						$\frac{1}{100}$

(丙) 普通問題

- (1) 農人中有百分之幾係僱長工者。 $\frac{10}{100}$
- (2) 農工中(僱用在兩月，或兩月以上之工人)有百分之幾係全年皆被僱用者。 兩月 $\frac{30}{100}$ 全年 $\frac{5}{100}$

(3) 工人之祇能在春夏秋三季受僱者。除此三季外尙有其他何種工作可做。
木工 鐵工 拾柴者

(4) (甲) 請述明在最近之十年中。有何種職業之變遷。(如有變遷。請言變更職業之人居全部農人百分之幾。)

為商 $\frac{1}{100}$

(乙) 在最近之二十五年中。有何種職業之變遷。變遷者約有百分之幾。

為商 $\frac{2}{100}$

(附註一) 鎮市亦係一村。所以不同者。因其為附近各大小村莊農家交易之中心。

(附註二) 村莊指非鎮市而又非小村落之村莊而言。

(附註三) 小村落係指僅有自兩家至十家之村落而言。

三 人口之變遷

(1) (甲) 在最近之十年中。當地之人口係增加乎，減少乎。無增減乎。請言其故。

增加

(乙) 當地有無新建之住房或他種表示人口增加之現象。

新建之房較前為多

(2) 在最近之百年中，人口方面有何大變遷。增加乎

(3) 此等變遷之重要原因何在。死者少生者多

(4) 在前一代(三十年前)之農家。有百分之幾遷移他處。 $\frac{1}{100}$

(5) 彼等遷居他處係何原因。本地生活較其目的地為艱

(6) 當地居民中有百分之幾係本地人。 $\frac{95}{100}$

(7) 自他處遷居此地之人民，(指此代而言)佔當地人口百分之幾。

$\frac{5}{100}$

(8) 彼等來自何處。並因何故而遷居此地。張求在此地其故處為

優

(9) 當地人民之行事爲人方面，有何變遷(指明顯易見者)。
 加倍謹慎

(10) 家庭範圍之大小現今有何變遷。且因何故。相同

第七章 康健及衛生

一 疾病及流行症

(1) 在左列之各種流行病中。有何種曾在本地發現者。

(一) 吸血虫病(大便出血及肚腹脹大) (二) 瘧疾

(三) 鈎虫病(精神萎頓及皮膚發癢) (四) 腫腿病

(五) 臟脹病(在腹部左邊脾塊脹大) (六) 痢疾

(2) 在最近之十年中。有何種之傳染病發現。計發現幾次。居民中有百分之幾係因每一種病而死者。請分別述之。

痢疾 5/100

五

(3) 習西醫而出診之醫生在當地有幾人。一三人

二 農民之膳品

(註) 膳品中若有新鮮蔬菜如白菜菠菜之類請均註明。

	(1) 冬季	(2) 夏季	(3) 秋季	(4) 冬季
1 第一餐	粥、芝麻餅	醬黃瓜、白菜	小米	高粱
2 二	香芋	薯蕷	菠菜	白菜
3 三	白菜		蒜	
4 四				
5 五				

(丙)普通情形

(1) 農家之有菜園且足供給其一家所需之蔬菜者。佔全數農家百分之幾。

10/100

(2) 一成人或一家在一年中所食之食品之名稱及分量。請一一述明。(所指一家範圍之大小，亦請註明。)

任意

三 往房

(1) 款式 (甲) 牆： 磚或土牆或就山鑿牆而居者。磚土者多

(乙) 屋頂 瓦頂 或草頂 平頂抑陡頂 多草頂

(丙) 屋內之地： 土， 磚， 或地板。多土

(丁) 窗： 大者，或小者。多或少。屋中

(戊) 空氣流通：好或壞。好

(2) 每所住房平均有幾間 三間

(3) 每間之大小面積有若干平方尺。(英尺)或若干平方米矣。三十尺

(4) 每所住房平均有幾室 (註)每間係指壁柱所界之面積而言，每室係指四面牆板所圍格

之區而言，故有時一室可有數間而一間亦可分為數室也。

二室

(5) 在當地各種階級不同之人，所居住房之款式，有無不同之處。如有請述明之。

(6) 住房是否皆修理完善。 如否則因何故。

完全完善

(7) 窗上用玻璃通行至何程度。用之多乎。抑用之少乎。請就鎮市及鄉村

兩方面分別述明於左， 村間少

(甲)在鎮市

(乙)在鄉村

四 衛生

(1)當地之衛生情形。與他處相比較，優乎，相同乎，抑較劣乎。

相同

第八章 教育

一 學校

新式	(乙)種類	(甲)情形		(4)學費 (每年)	(5)學校之 預算 (每年)
		(1)名稱及 等級	(2)教員之 數目 男—女		
1		國民學校	1 男—女	20 男—女	八千
2					
3					
4					
5					
6					
	舊式	1			
		2			
		3			
		4			
		5			
		6			

二 教育之結果

(1)在學校課程以外之時間學校學生是否在田間工作。作

(2)如否則因何故。

(3) 當地受過初等小學教育者之職業何。曲辰

受高等小學教育者之職業爲何。高曲辰

受中學校教育者之職業爲何。教事

受舊式教育者之職業爲何。曲辰

(4) 當地學生大約受若干教育之後。卽有不屑工作之態度。

受中學教育

(5) 彼之家庭是否贊同共有此種態度。不

(6) 此種人，多閑散無事乎，抑本地常有需要是等教育之工作，以位置彼等乎。

(7) 如有則多係何種工作。

(8) 鄉間成年人之能識字者，有百分之幾。 $\frac{20}{100}$

(9) 能寫作俱佳之文人有百分之幾。 $\frac{5}{100}$

三 農諺及鄉村謠歌

(1) 本地通行關於農事重要之成諺。請皆以漢文書出。於必要時，並請加以解釋。(答案如長請用冊後空紙)

(2) 在當地之其他各種重要成諺亦請以漢文書出。於必要時請加以解釋。

(答案如長請用冊後之空紙)

(3) 請將本地之山歌童謠在冊後之空紙上書出(於必要時請加以解釋)

第九章 普通問題

一 領袖

- (1) 當地之領袖為何類人。 吋 主
- (甲) 職業 曲 辰
- (乙) 在社會中之地位 少 少 寸
- (丙) 官職
- (丁) 行爲 好
- (2) 有何種之公共集會。曾經當地人民之全體一齊參與者。

二 宗教與道德

- (1) 在本地盛行者多為何種宗教。 佛
- (2) 宗教上有何變遷之處。 漸 不 佳 後
- (3) 在宗教不同之人民間。其行爲有何不同處。 以 有 其 甚 磨 不 同
- (4) 賭博問題：成年男子之賭博者。有百分之幾。較昔增多乎，減少乎抑無增減。並言其故。 相 同 $\frac{10}{100}$

婦女之賭博者百分之幾。較增乎減乎，抑無增減，並言其故。

無

- (5) 貞淫問題(甲)男子之有淫行者約佔百分之幾。較昔增多乎，減少乎，抑無增減，並言其故。 ~~略~~ 有 增 多 $\frac{5}{100}$

(乙) 女子之有淫行者，佔百分之幾。較昔增多乎減少乎，抑無增減。並言其故。 $\frac{10}{100}$ 增 多

- (6) 當地之妓女多乎少乎。(如能將實際之數目註出尤佳。) 少
- 其數較昔增多乎，減少乎。抑與昔相同，並言其故。 增 多 因 人 漸 聰 明 而 道 德 云 云

(7) 當地之娶妾者多乎，少乎，或無有。娶妾之風較昔為盛乎。較昔為減乎。抑與昔相同。請言其故。相同

(8) 當地男子中有百分之幾係娶妾者。1/100

(9) 娶妾者多係何等人。富家子

(10) 飲酒過度者，(甲) 男子之飲酒過度者有百分之幾。其數較昔增多，或減少，抑與昔相同。請言其故。5/100 相同

(乙) 婦女之飲酒過度者有百分之幾。其數較昔多乎，少乎，抑與昔相同。請言其故。無有

(11) 吸煙問題(甲) 男子中有百分之幾係吸鴉片烟者。其數較昔增多乎，減少乎，抑無增減。請言其故。5/100 相同

(乙) 女子中有百分之幾，係吸食鴉片者。其數較昔增多乎，抑減少乎，抑無增減乎，請言其故。無有

(12) 敗壞道德之中心地為何。乙

(13) 最近五年中私生子女之數約計若干。0

(14) 當地人民在道德品行方面，有何種之變遷。道德漸落

(15) 人民中燒香者有百分之幾。較昔增多乎，減少乎，抑無增減。請言其故。30/100 減少

(16) 有何種社會習慣係浪耗金錢者。△

(17) 當地行搶親之家有百分之幾。○

(18) 蓄婢之家有百分之幾。較昔增多乎，減少乎，抑無增減。請言其故。

(19) 有童養媳之家佔百分之幾。家數較昔增多乎，減少乎，抑無增減。請言其改。○

(20) 售女於他家做婢女之人家有百分之幾。較昔增多乎，減少乎，抑與昔相同。請言其故。○

(21) 未出嫁女子中之纏足者，有百分之幾。較昔增多乎，減少乎，抑與昔相同。○ *qs 較少*

三 娛樂遊戲

(1) 本地鄉間之娛樂，多為何種遊戲。農人加入各種遊戲次數之多寡。亦請註明。打毽子 打板

(2) 對於兒童有益之遊戲。多為何種。

打毽子

(3) 當陰歷新年時。在鄉村社會中，有何種社會團體之事務舉行。○

(4) 在一年之中尚有其他之何種社會團體之事務舉行。○

四 風俗

(1) 本地通行之婚姻制為何。多父母之命 媒人合議

(2) 普通結婚之年歲：(甲) 男子十八 (乙) 女子廿

(3) 本地之婚姻制有無何種變遷。 無

(4) 本地有何種迷信之係阻止農業及鄉村生活進步者。 無

(5) 當地有何種影響，係促進社會及物質之進步者， 鐵路

(6) 在同一階級中之人民是否彼此融洽自如。抑互結黨派。 無

(7) 人民之階級以何為區別。其間彼此界限分明者。係何數種階級。構成此各種階級區別之成因為何。 無一階級

(8) 當地有無聚族械鬥之事。如有則多係何種原因。 無

(9) 對於各族間之械鬥，及各階級間之歧視。有何補救方法。 無

(10) 本地人民之理想，與一般普通之地方相較。係高尚乎，抑低下乎。 相同

(11) 對於左列之各種情形。請述明每種在當地社會中已發現之程度

依賴他人而生活者 無 犯法者 少

殘廢者 無 癡子 無

心志薄弱者 無 癡狂者 無

患癲癇病者 無

(12) 上述各種情形之原因何在。

(13) 是等人所受之保護如何。

(14)最近之五年中，本地之公共事業有何種改良。(如學校，建築，公園等) 改良學校

五 政府

(1)政府條例之阻滯，或促進農事或其他種之進步者，請述之。

(2)行政官之操守品行若何。好

(3)本地方行政之情形係有用抑無用。請詳細述之。有用

(4)本地之村鎮及縣之實際行政法(即如何行使職權)請用冊後之另紙詳述之。

(5)有何種之規則條例。係特別輔助或阻礙一般普通事業之進行者。

無

六 治安

(1)竊賊(甲)做賊者多乎少乎，抑無有。多有

(乙)做賊者較昔增多乎。減少乎，抑無增減。請言其故。

(2)盜匪(甲)盜匪多乎，少乎，抑無有。無有

(乙)盜匪之數較昔增多乎，減少乎，抑無增減。請言其故。

(3)拾麥禾者(即於作物收穫後拾人田中所遺之穀者)。(甲)爲數甚多乎，少乎，抑無有。有 $\frac{10}{100}$

(乙)較昔增多乎，減少乎，抑無增減。請言其故。減少

(4) 關於拾穀之事，有何種習慣上之規則乎。

若到到之穀在村內則他人不得進內

(5) 救火(甲)消防隊員(即救火隊員)人數多乎，少乎，抑無有。 無有

(6) 乞丐(甲)多乎，少乎，抑無有。 無有

(乙)較昔增多乎，減少乎，抑無增減。請言其故。

(7) 莠民(欺詐強霸之徒。)甲爲數多乎，少乎，抑無有。 無有

(乙)較昔增多乎。減少乎，抑無增減。請言其故。

七 其他重要問題

(1) 在本地之農業與經濟及社會之改良上。有何種顯著之需要。

(2) 欲於將來最近之兩年中成就上述之任何一種改良事業。按答者之意見。應如何進行。

上海图书馆藏书



A541 212 0020 5477B

每册大洋壹角郵費在內

3



100