

新撰地理初步

田寺兆編輯

全

特31

543

022007-000-7

特31-543

新撰地理初步

田寺 兆/編

M15

ADA-0281



田寺

兆編輯

新撰地理初歩

萬玉圃藏



新撰地理初歩

東京 田寺 兆編輯

第一

人家ノ在ル所ヲ町又ハ村ト云フ
 町ハ大抵商賈ノ住居スル所ニシテ家屋簷
 ヲ竝ヘテ相連ナルモノ多シ
 村ハ概子農家ノ散在スル所ニシテ間數十
 軒相連ナルモノアリ
 吾等ノ往來スル所ヲ道ト云フ其水流ノ上

特31
543

都及市場ノ圖



二架シタルモノヲ橋
ト云フ
町ノ多ク相集リテ繁
華ナル所ヲ都會ト云
フ又町少ナク村多ク
シテ都會ノ地ヲ距ル
一遠キ地方ヲ田舎ト
云フナリ
田舎又ハ都會ノ中ニ

テ最モ便利ナル地ヲ

擇ヒ衆人相集リテ貨

物ヲ賣買スル所ヲ市

場ト云フ

數十百ノ町村ヲ合セ


タルモノヲ郡又區ト

云ヒ數郡ヲ併セタル

ヲ國或ト云フ又國ハ

別ニ數十州ノ總稱ニ

田舎及橋ノ圖



用キルアリ

又別ニ府及ヒ縣ノ稱呼アリ府縣ハ全一州

ヲ管スルモノアリ又ハ一州ヲ二三分シ或

ハ二三州ヲ總轄スルモノアリテ各一樣ナ

ラス

○人家ノ在ル所ハ村ニ在リヤ

○町ニ在リヤ

○如何ノ所ヲ云フヤ

○如何ノ所ヲ云フヤ

○如何ノ所ヲ云フヤ

○如何ノ所ヲ云フヤ

○如何ノ所ヲ云フヤ

○如何ノ所ヲ云フヤ

○如何ノ所ヲ云フヤ

○如何ノ所ヲ云フヤ

○如何ノ所ヲ云フヤ

○如何ノ所ヲ云フヤ

○如何ノ所ヲ云フヤ

○如何ノ所ヲ云フヤ

○如何ノ所ヲ云フヤ

○如何ノ所ヲ云フヤ

○如何ノ所ヲ云フヤ

○如何ノ所ヲ云フヤ

○如何ノ所ヲ云フヤ

○如何ノ所ヲ云フヤ

○如何ノ所ヲ云フヤ

○如何ノ所ヲ云フヤ

○如何ノ所ヲ云フヤ

○如何ノ所ヲ云フヤ

○如何ノ所ヲ云フヤ

○如何ノ所ヲ云フヤ

第二

○如何ノ所ヲ云フヤ

○如何ノ所ヲ云フヤ

○如何ノ所ヲ云フヤ

○如何ノ所ヲ云フヤ

○如何ノ所ヲ云フヤ

○如何ノ所ヲ云フヤ

○如何ノ所ヲ云フヤ

○如何ノ所ヲ云フヤ

○如何ノ所ヲ云フヤ

○如何ノ所ヲ云フヤ

○如何ノ所ヲ云フヤ

○如何ノ所ヲ云フヤ

○如何ノ所ヲ云フヤ

○如何ノ所ヲ云フヤ

○如何ノ所ヲ云フヤ

○如何ノ所ヲ云フヤ


○如何ノ所ヲ云フヤ

陸地ノ平坦ナル所ヲ平地ト云ヒ其稍高キ

所ヲ岡或ト稱シ最モ高キヲ山ト呼フ

平地ニ草木ノ生ヒ茂リタルヲ林又ハ野ト

山及火山ノ図



云フ又其廣キヲ原ト
 名ツク但林ニハ木多
 クシテ野ニハ草多シ
 トス
 林野ヲ開拓シテ耕作
 ノ地トナシ稻麥野菜
 ノ類ヲ植ヘ其水アル
 ヲ田ト云ヒ水ナキヲ
 畑ト云フ

數多ノ山相連ナリタ

ルヲ山脈ト稱ス又兩

山或ハ二岡ノ間ヲ谷

ト呼フ

山ノ頭ヲ巔或ト名ツ

ケ其尾ヲ麓ト稱ス又

山巔ニ穴アリテ火烟

ヲ噴キ出スモノヲ火

山ト云フ火山ノ近傍

山脈ノ図




二ハ地震多シ

一 平地トハ如何
 リヤ又岡トハ如何
 得タリヤ野ニ近傍ノ高山ヲ目撃スルヲ
 ハ如何ヤ野ト平原ト如何見シハ及如何
 七 汝林ト耕作ノ地ハ如何シヤ其ノ及如何
 カハ如何八何ハ耕作ノ地ハ如何シヤ其ノ及如何
 續キタル田及畑各ノ如何ハ如何ハ如何ハ如何
 三 汝目撃シタル所ノヤ如何ハ如何ハ如何ハ如何
 何ハ如何何ハ如何何ハ如何何ハ如何何ハ如何
 八 汝目撃シタル所ノヤ如何ハ如何ハ如何ハ如何
 何ハ如何何ハ如何何ハ如何何ハ如何何ハ如何
 セリヤ試問フ地地震ハ何山別云ノハ如何ハ如何
 ルヤ試問フ地地震ハ何山別云ノハ如何ハ如何
 又何ト云フ別ハ如何臺ノ理由ハ如何ハ如何ハ如何
 岡ト云フ別ハ如何臺ノ理由ハ如何ハ如何ハ如何


第三

四方水ヲ以テ圍ミタル陸地ヲ嶋ト云フ又
 其一方大陸ニ續キタルヲ半嶋ト云フ
 嶋ノ多ク同所ニ相集リタルヲ羣嶋ト云ヒ
 其離レテ友ナキヲ孤嶋ト云フ

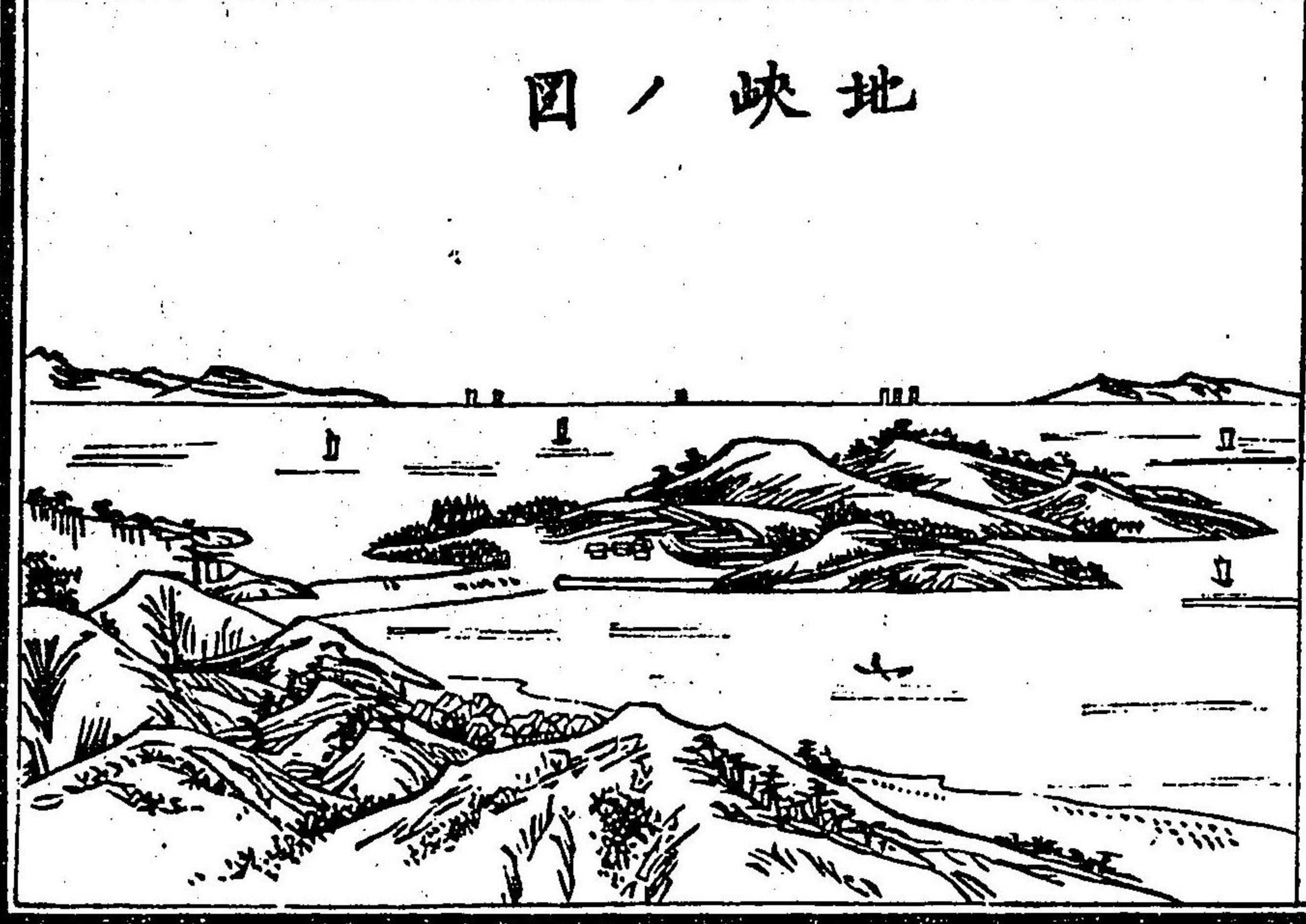
嶋ノ圖



半嶋ノ圖



地峽ノ圖



兩陸相連續シタル其中間ノ細クシテ且ツ

長キ地ヲ地峽或地ト云フ

陸地ノ一端尖狀ヲ成シテ海中ニ突出セル

所ヲ岬或岬ト名ツク

陸地ノ海ニ接スル所ヲ岸ト云ヒ其近傍ノ

地ヲ濱邊或海ト云フ


水際ノ平沙ヲ汀或渚ト云フ又汀ノ全ク陸地

ヲ離レテ水中ニ在リ恰モ平沙ノ嶋ニ似タ


ルモノヲ洲ト云フ

新撰地理考
卷之七

岬ノ圖



洲ノ圖



① 嶋トハ如何
 ② 半嶋トハ如何
 ③ 群嶋トハ如何
 ④ 近傍トハ如何
 ⑤ 如地トハ如何
 ⑥ 峽ハ如何
 ⑦ 地トハ如何
 ⑧ 傍トハ如何
 ⑨ 洲トハ如何
 ⑩ 別トハ如何
 ⑪ 別トハ如何
 ⑫ 別トハ如何
 ⑬ 別トハ如何
 ⑭ 別トハ如何
 ⑮ 別トハ如何
 ⑯ 別トハ如何
 ⑰ 別トハ如何
 ⑱ 別トハ如何
 ⑲ 別トハ如何
 ⑳ 別トハ如何
 ㉑ 別トハ如何
 ㉒ 別トハ如何
 ㉓ 別トハ如何
 ㉔ 別トハ如何
 ㉕ 別トハ如何
 ㉖ 別トハ如何
 ㉗ 別トハ如何
 ㉘ 別トハ如何
 ㉙ 別トハ如何
 ㉚ 別トハ如何
 ㉛ 別トハ如何
 ㉜ 別トハ如何
 ㉝ 別トハ如何
 ㉞ 別トハ如何
 ㉟ 別トハ如何
 ㊱ 別トハ如何
 ㊲ 別トハ如何
 ㊳ 別トハ如何
 ㊴ 別トハ如何
 ㊵ 別トハ如何
 ㊶ 別トハ如何
 ㊷ 別トハ如何
 ㊸ 別トハ如何
 ㊹ 別トハ如何
 ㊺ 別トハ如何
 ㊻ 別トハ如何
 ㊼ 別トハ如何
 ㊽ 別トハ如何
 ㊾ 別トハ如何
 ㊿ 別トハ如何

第四

潮水ノ廣大ナルモノヲ大洋ト云ヒ其稍小
 ナルヲ海ト云フ又最モ小ニシテ陸地ノ間
 ニ介マリタルモノヲ内海ト云フ

新撰地理考 卷之七

大 洋 之 圖



海ノ深ク陸地ニ曲リ
 入りタル所ヲ灣ト名
 ツケ其小ニシテ船ヲ
 泊スルニ便ナル所ヲ
 港ト云フ
 兩陸ノ間ニ在リテ相
 通スル海水ノ狭キ所
 ヲ海峽或海ト云フ又
 海中水面ニ近ク突起

セル岩石ヲ暗礁ト云フ

海 及 港 之 圖



川ノ図



湖ノ図



第五

陸地ノ間ヲ貫流スル淡水ヲ川河ト云フ其
 小ナルヲ小川トシ其大ナルヲ大河トス
 川ノ源ヲ泉ト云フ泉ハ時ヲ定メテ湧キ出


○潮水トハ何ト云フ
 ①何ト云フ
 ②何ト云フ
 ③何ト云フ
 ④何ト云フ
 ⑤何ト云フ
 ⑥何ト云フ
 ⑦何ト云フ
 ⑧何ト云フ
 ⑨何ト云フ
 ⑩何ト云フ
 ⑪何ト云フ
 ⑫何ト云フ
 ⑬何ト云フ
 ⑭何ト云フ
 ⑮何ト云フ
 ⑯何ト云フ
 ⑰何ト云フ
 ⑱何ト云フ
 ⑲何ト云フ
 ⑳何ト云フ
 ㉑何ト云フ
 ㉒何ト云フ
 ㉓何ト云フ
 ㉔何ト云フ
 ㉕何ト云フ
 ㉖何ト云フ
 ㉗何ト云フ
 ㉘何ト云フ
 ㉙何ト云フ
 ㉚何ト云フ
 ㉛何ト云フ
 ㉜何ト云フ
 ㉝何ト云フ
 ㉞何ト云フ
 ㉟何ト云フ
 ㊱何ト云フ
 ㊲何ト云フ
 ㊳何ト云フ
 ㊴何ト云フ
 ㊵何ト云フ
 ㊶何ト云フ
 ㊷何ト云フ
 ㊸何ト云フ
 ㊹何ト云フ
 ㊺何ト云フ
 ㊻何ト云フ
 ㊼何ト云フ
 ㊽何ト云フ
 ㊾何ト云フ
 ㊿何ト云フ

ルモノアリ又其時ヲ定メサルモノアリ皆
 ナ雨水ノ降テ岩石ノ間ニ溜リ漸ク溢レテ
 流レ出ルナリ
 四方皆ナ陸地ヲ以テ圍ミ流ル、能ハサル
 水ヲ池ト云フ池ノ廣大ナルモノヲ湖ト云
 フ間或ハ其一方ニロアリテ流レ出ルモノ
 アリ
 川ハ大抵其源ヲ深山ノ湖水或ハ岩石ノ間
 ヨリ發シ晝夜混々流レテ海ニ入ルナリ



滝ノ図

溝ノ図



水流ノ高所ヨリ俄ニ低地ニ落ケテ其勢灌

クカ如キモノヲ瀧或瀑ト云フ

人力ヲ以テ地ヲ掘リ引キ通シタル水流ヲ

溝或ト云フ

○淡トハ如何

大ノ別ア何ト云フヤハ如何

ノ區別如何

○因泉トハ如何

○汝カ常ニ何

處ニ流レ何海ニ入ルヤ發シ何處ヲ經テ何

湖ヲ問フ何池ト湖ト區別ハ如何

湖ハ總テ口ナキモノカト區別ハ如何

第六

人民住居スル所ノ世界ハ其形圓狀體ニシ

テ球ニ似タリ故ニ之ヲ地球ト名ツク

地球ノ表面ハ水ト陸トヲ以テ成レリ其水


ハ陸ヨリ大ナルヲ殆ト三倍餘ナリ

地球ヲ東西ニ分チ其東ニ在ルヲ東半球ト

云ヒ其西ニ在ルヲ西半球ト云フ

地球ニ四箇ノ方位アリ東西南北是レナリ

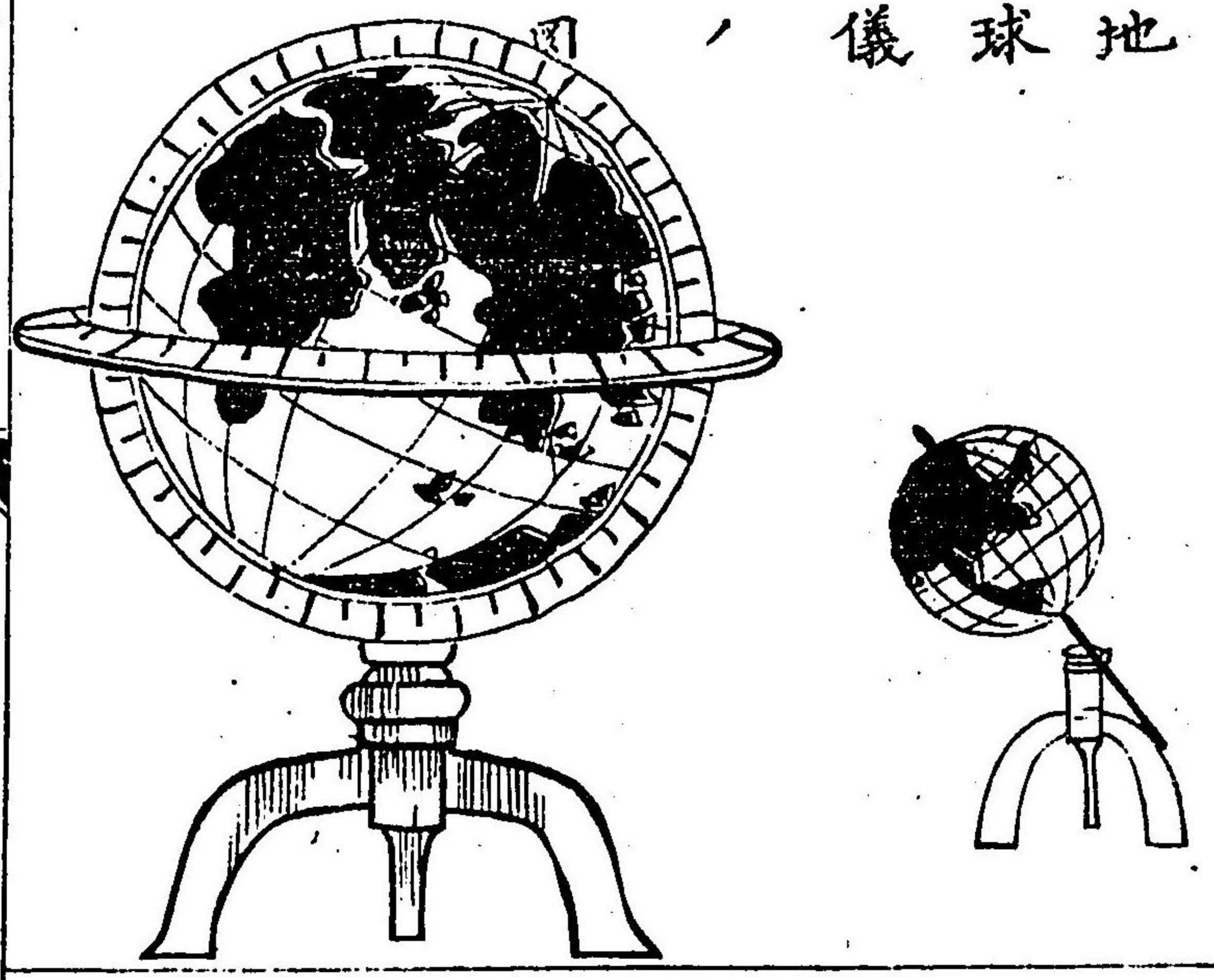
之ヲ地球ノ四方ト云フ



四方向ヲ知ル図

今日出ノ方ニ向ヒ右
 ト左ニ指ス片ハ左方
 ハ北ニシテ右方ハ南
 ナリ又其面ハ東方ニ
 シテ其背ハ西方ナリ
 ト知ルヘシ
 地球ヲ小ナル雛形ニ
 作りタルモノアリ之
 ヲ地球儀ト云フ

地球儀



地球表面ノ有様ヲ紙
 面ニ畫キテ示スモノ
 ヲ地圖ト云フ地圖ニ
 ハ全地球ヲ示スモノ
 アリ或ハ其半面ヲ示
 スモノアリ
 今左ニ東半球ノ圖及
 ヒ西半球ノ圖ヲ示サ
 ン

東半球ノ図



西半球ノ図



地圖及地球儀ノ中彩色ヲ施シタル部分

ハ陸ニシテ白キ所ハ水ナリ

地圖及地球儀ハ俱ニ地理ヲ學フニ用キ

ルモノニシテ之ヲ觀ルニハ其上部ヲ北方

ト知ルヘシ

○世界ハ又地球ト云フト名ツクルヤ表ニ何故

ニ世界ヲ成レリヤト云フヤ大分ハ陸ニ比ス何

レハ如何ヤ地球ノ四方ハ如何ヤ地球ノ半面

ト云フハ如何ヤ地球ノ四方ハ如何ヤ地球ノ半面

ヲ示ス地圖ニ種アリ各之ヲ何ト云フヤ地球ノ半面

⑤地圖及地球儀ノ中白キ所ハ何ソヤ又其
 彩色ヲ為シタル部分ハ如何地圖及地球儀ヲ觀ル
 球儀ノ用ヲ問フ東西南北ト知ル儀ヲ觀ル
 二ハ那方ヲ以テ東西南北ト知ル儀ヲ觀ル

第七

我大日本ハ東半球北部ノ東邊ニ位シ
 本州及ビ四國九州蝦夷ノ四大島並ニ佐渡
 隱岐壹岐對馬琉球八丈島小笠原嶋等許多
 ノ小嶋相集リテ國ヲ成セリ
 全國ノ形勢恰モ蜻蜓ノ斜ニ飛フカ如ク其
 幅狹クシテ且ツ長シ



新撰地理

西口九

新撰地理考
九

本州ヲ畿内及ヒ東海東山北陸山陽山陰ノ
五道ニ分チ八丈小笠原ノ諸嶋ヲ以テ東海
道ニ附シ佐渡ヲ北陸道ニ隱岐ヲ山陰道ニ
屬セリ
本州ノ南ニ在ルヲ四國トシ之ヲ南海道ト稱ス又本州
ノ西ニ在ルヲ九州トス之ヲ西海道ト稱シ
壹岐對馬及琉球諸嶋ヲ以テ之ニ附ス
蝦夷ハ本州ノ北ニ在リ之ヲ北海道ト稱シ千
嶋ヲ以テ之ニ屬ス

○日本ノ位地ヲ問フ
①地球儀ニテハ何處ニ就テ之ヲ
指セ
②地球儀ニテハ何處ニ就テ之ヲ
問フ
③地球儀ニテハ何處ニ就テ之ヲ
猶ホ多クノ小嶋アリヤレハ全
國ノ形勢ハ如何
及隱岐ハ何道ニ屬セリハ四國ハ如何
對馬琉球及千嶋ハ何道ニ屬セリヤ

第八

地球表面ノ陸地ヲ六大洲ニ分ツ亞細亞亞
弗利加歐羅巴澳太利亞北亞米利加南亞米
利加是レナリ
又其水ヲ五大洋ニ分ツ太平洋大西洋印度

新撰地理考

十五

洋北氷洋南氷洋是レナリ

世界六大洲ノ中最モ大ナルモノヲ亜細亞

トシ其最モ小ナルモノヲ澳大利亞トス

北亞米利加及ヒ南亞米利加ノ二大洲ハ俱

ニ西半球ニ在リ其他ノ四大洲ハ皆ナ東半

球ニ在リ

九ソ世界ノ萬國ハ皆ナ六大洲ノ中ニ在リ

其大小各同シカラス我日本ハ即チ亞細亞

洲中ノ一大國ナリ

①世界六大洲ヲ問フ

②五大洋ハ如何

③六大洲中最小及最大ナルモノヲ舉ケヨ

④東半球ノ大洲ハ如何

⑤西半球ノ大洲

⑥日本國ハ如何

⑦以上各問之ヲ指スルハ如何

⑧地球儀ニ

⑨地球儀ニ

⑩地球儀ニ

新撰地理初歩終

