


新學制小學教員用書


高級地理課本教學法

第二冊

上海世界書局出版



AG
G.P. 1. 1935



3 1764 4802 9

新學制小學教員用書 **高級地理課本教學法** 第二冊目次

一	滬寧之繁盛	一一一
二	浙省名勝	一一一
三	皖南皖北概況	一八
四	江西之風景與產業	二六
五	武漢之交通與形勢	三三
六	湖南之勝地與物產	四〇
七	蜀中之富庶	四七
八	川邊情形	五四
九	福建形勢	六一
一〇	廣東之商場與軍港	六九
一一	接近安南之廣西	七六
一二	毗連英法屬地之雲南	八三
高級地理課本教學法 第二冊 目次		一

高級地理課本教學法 第二册 目次

二

一三	苗民最多之貴州省	九一
一四	青海與青海人之生活	九七
一五	世界有名之高原西藏	一〇四
附錄一	總複習	一一三
附錄二	測驗	一一六

新學制小學
教員用書
高級地理課本教學法 第二冊

一 滬寧之繁盛
教材

自津浦鐵路南下，至浦口，渡長江，至下關，有滬寧鐵路通上海，有寧省鐵路通江寧（南京）城內。

江寧為江蘇之省會，民國成立，臨時政府即設於此。城東有鍾山，有明孝陵；城南有雨花臺，城外之要塞也；城內有清涼山，秦淮河，皆為名勝之地；城東南隅有明故宮，今已荒廢矣。

自下關乘滬寧車，經丹徒（鎮江）無錫，吳縣（蘇州）皆為沿路繁盛之都會，並有著名之勝景，故來往者頗衆，更東行即至上海。


上海當江海交通要衝，為全國第一大商埠，國

高級地理課本教學法 第二冊

內外貨物，多由此出入。城垣已拆毀，東西北三面有法租界與公共租界，政治、工程之權，皆操於外人之手。租界市肆繁華，租界以外之地近年亦漸興盛。自來水、電燈、電車、長途汽車各業，皆已興辦。西南高昌廟，有江南造船廠與製造局，今已停工，改組為商辦工廠。東渡黃浦江，可至浦東。北有滬鐵路通吳淞，南有滬杭甬鐵路通浙江，並與滬寧鐵路接軌，交通甚便。

【問題】江蘇之省會何名？下關有何鐵路？沿滬寧路有何繁盛之都會？上海最繁華之地為何處？

【釋要】浦口在長江北岸，屬江浦縣，津浦鐵路終於此，民國元年開為商埠。
長江發源青海，曲折東流，經滇、川、鄂、湘、贛、皖、蘇、浙七省入海，長九千九百餘里，我國第二大川也。



下關 當江寧城西北長江之濱。清光緒二十三年開為商埠。滬寧鐵路自上海至江寧，長一百九十三英里。

寧省鐵路 正街，長八英里。鍾山 一稱紫金山，上有天堡城。明孝陵 位於鍾山之陽，一稱皇陵，設有祿廡。

雨花臺 高約一百四十五尺，上設臺壘。清涼山 在江寧城西部，秦

淮河 自東行來，穿江寧城西南隅，入長江。丹徒 城在長江、運河交會

無錫 地近太湖，為米、蠶、鹽之大市鎮。吳縣 扼運河、滬寧鐵路之

東南。清光緒二十二年開城南甯陽地為商場。公共租界 英、美、法租界之總稱。黃浦

江 發源浙江，自松江東南，浦東 在黃浦江東岸，淞

北流經上海，入長江。滬鐵路 自吳淞至上海，吳淞 即吳淞口，沿岸有礮臺

清光緒二十四年，滬杭甬鐵路 自上海經杭州至鄞縣，中

有杭縣至曹娥江一段尚未告成。

教具

江蘇省全圖、江寧城圖、上海圖、江寧風景畫片、上海風景畫片、吳縣無錫丹徒等地風景畫片。

教學

【動機發生】

(1) 自發的 平日報章上上海、南京的通信、專電，以及畫片、書籍（如遊記、旅行指南）物產（如寧綬等）或曾經到過，或親友通信，或生當此地，都能使兒童自發學習本課的動機。

(2) 暗示的

1. 用實物的 如教室中懸掛滬寧等地風景畫片、地圖和江蘇省圖，或圖書館中新添關於滬寧的遊覽指南和地圖、博物館中新添滬寧一帶物產標本，都足以引起兒童學習本課的動機。
2. 用問題的 用問答法，引起兒童學習本課的動機：
 - 山東省的南面是甚麼省？
 - 江蘇省的省城叫甚麼？
 - 江寧有甚麼鐵路？
 - 滬寧鐵路從那裏起，到那裏止？

【決定目的】板書「滬寧之繁盛」五字，並使兒童知道本單元所研究的是江蘇省城江寧和我國最大商港上海等的大概情形。

【搜集資料】

(1) 調查或觀察 目的決定以後，就可使兒童細心觀察課文和插圖，或再參考其他書報雜誌；如有人到過上海或江寧的，兒童就可去訪問他，調查滬寧的情形；如江寧或上海人讀到這課書，就可實地去調查。

(2) 記疑 調查或觀察的時候，如有疑難不解的地方，就可一一摘出，預備質問教師；課本中難解的字句，也可一一摘出，預備去檢查字典。

(3) 注解 調查觀察記疑以後，就可揀難解的字句，檢查字典，一一加以注解。如果有查不到的，等考查時再質問教師，茲將兒童所視為難解的

字，擇要注解於下：

陵 音鈴。君主時代稱天子的葬處叫陵。 塞 音裝。地形險要之處，設防以制敵的。 甬 音永。簡器軌音突。車輪所過之道。

【考查】

(1) 演述 指名兒童，令將課本中的大意，演述一遍；倘有錯誤，師生共同訂正。如遇有中途遺忘，不能演述，可指名提醒，或令繼續演述。演述人數以三四人為度。

(2) 補正 演述時如有共同錯誤和脫略的地方，可由師生共同補正；至補正的方法，可由教師將錯誤的地方，提出質問其他兒童，如大家都不能答，就由教師告知兒童。

(3) 問答

1. 質問 令兒童將課本中難解字句，檢查不到注解的，向教師提出質問；教師就可指令能

解答的兒童代爲解答；如仍有錯誤，或有全體不能解答的，可由教師訂正，或逕行告知，並可令原質問的人複述一遍。

2. 指問 課文中如有實在不易明瞭的地方，而兒童沒有提出質問的，教師可在此時提出來質問兒童。

(4) 誦習 先指名逐段讀課文，隨時訂正他的謬誤；次指名通讀一二遍，也要訂正謬誤。

(5) 講解 令兒童講解一遍或二遍，考查他們對於本課的內容和字句的意義，是否完全明瞭。

【討論】

(1) 報告 在搜集資料時所得到的地理智識，令兒童逐一報告，（相同的不必重複演述）並隨時提清要點。

(2) 正誤 報告時如有錯誤，由師生共同訂正。

(3) 推究 兒童對於本課範圍以內的材料既然完全明瞭，教師就可和兒童共同提出討論要點，（教師可先令兒童提出問題，解決以後，再由教師提出問題）互相推究。

1. 江寧在江蘇省內所佔的形勢怎樣？
2. 津浦路和滬寧與江寧有甚麼關係？
3. 滬寧路何以很繁盛？
4. 上海何以能如此繁盛？
5. 黃浦江和上海有甚麼關係？
6. 租界治理權應當收回嗎？
7. 製造局爲甚麼要改組爲商辦工廠？
8. 滬寧、滬杭路接軌，和上海有甚麼關係？

〔注意〕其餘淺近問題，教師可以隨時插入。

【整理】

(1) 提要 令兒童將課本中要點，一一提出，並加以指正，令兒童自己標記在書眉上：——「江寧之交通」，「江寧之情形」，「滬寧路上繁盛」。

之都市「上海之情形」

(2) 作表

作用——江蘇省會

歷史——民國成立時設臨時政府於此

城東——鍾山

明孝陵

城南——雨花臺——城外要塞

寧——江寧

城內——清涼山
秦淮河——名勝

城東南隅——明故宮——今已荒廢

渡江至浦口——有津浦鐵路——經——丹徒

交通——下關——通上海——有滬寧鐵路——經——無錫

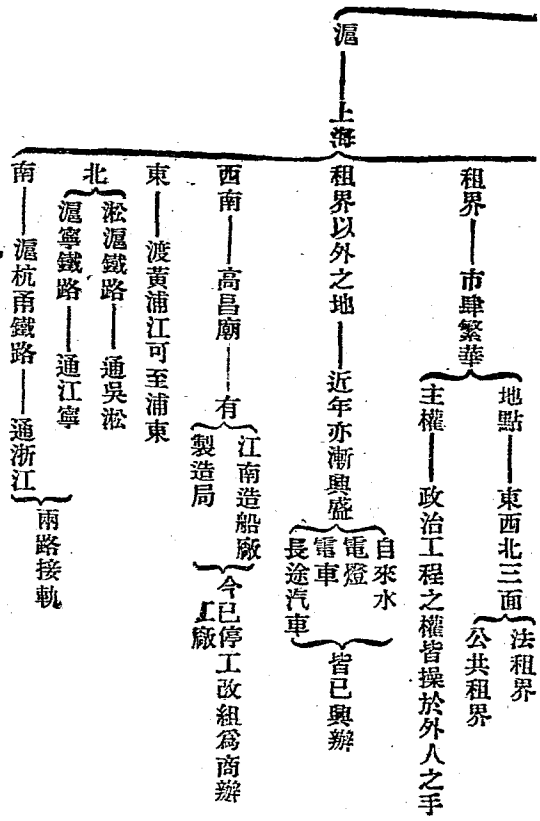
通城內——有寧省鐵路——吳縣

形勢——江海交通要衝

作用——全國第一大商埠

城垣——已拆毀

滬寧之繁盛



(3) 批評 在兒童說明提要和作表以後，教師可令兒童共同批評，如記在筆記簿上的，就可和別人交換批評，教師再從旁訂正。

【考查成績】
 (1) 調查筆記簿 在一單元完後，教師當調查兒童的筆記簿，如有誤點，即可加以訂正，公共誤

點，可在下次上課時提出，或令自己訂正。

(2) 描圖 就課文內所述各點，令兒童描繪一圖，如：

「滬寧形勢圖」「江寧城形勢圖」「上海形勢圖」

(3) 填圖 描圖時，可令兒童不必註字，留在這時默填，如已註好，可另印暗射圖發給兒童，令他們默填（或看書填，或看圖填均可，由教師酌定）

(4) 製特別成績 每一單元或數單元完後，可令兒童製一種圖表，或地態模型，陳列在圖書館和博物館內，或製一種教便物，做教師教授上的應用品。本課可以做特別成績的，除上述三圖外，還可以製「江寧城模型」。

(5) 測驗 每一單元或數單元完後，可以做一次測驗，問題須在二十個以上，時間以五分到十

高級地理課本教學法 第二冊

分鐘為限，愈短愈妙（例見附錄內）

〔注意〕上述教學方法，教師在教授的時候，可將各項過程，略行變通活用。以下各課仿此。

參攷

〔浦口〕在長江北岸，舊稱浦口子，屬江浦縣。是津浦鐵路的終點，有渡江汽船，以聯絡滬寧鐵路。民國元年開為商埠。

〔下關〕在江寧儀鳳門外，當長江南岸，滬寧路的終點。清光緒二十三年開為商埠，設有金陵稅關。

〔滬寧鐵路〕從上海到江寧，英銀公司借款建築，清光緒三十三年築成，長一九三英里。上海停車站，在公共租界北，接寶山縣境的閘北市；江寧停車站在下關。

〔上海〕屬滬海道，漢時是海鹽、婁二縣地，清

道光二十二年，中英南京條約開爲商埠，亦稱上海，又叫滬上、申江，簡稱滬、申。

【江寧】清江寧府治江寧上元二縣，三國吳建都在這裏，東晉元帝和南朝宋齊梁陳也先後都此，南唐李氏和明太祖建文二帝，又都於此，有金陵、建業、建康、昇州、集慶、應天府等名，永樂北遷，改稱這裏爲南京，所以到如今還有南京的名稱，城在長江南岸，周七十六里多，是我國第一個大城市，人口約二三十萬。

【江蘇】因江寧蘇州（今吳縣）兩地而得名，亦稱江南、江東，簡稱蘇省，三國時是吳的地方，所以又叫吳，分五道，轄六十縣。

【鍾山】在城東朝陽門外，三國時因避孫權祖上的諱，稱爲蔣山，現在又稱紫金山，上有天堡城，外瞰大江，內臨秦淮，設有礮臺，以資固守。

【雨花臺】在城南聚寶門外，高約一百四十五尺，是城外的要害，據此可以俯瞰全城，隋曾國荃破南京太平軍，辛亥民軍驅逐張勳，均藉此做根據地，上有礮臺。

【秦淮河】源出溧水縣西北，由城東南入城，向西出城，注於長江，相傳是秦開鑿的，所以有秦淮河的稱呼，沿河很繁盛。

【明故宮】在城東朝陽門內，宮城已完全傾圮，遍地瓦礫，近建古物陳列所於五龍橋北，內有方正學血蹟碑。

【丹徒】屬江寧道，清時是鎮江府治，古稱京口，唐時是丹陽郡地，城瀕長江，運河會口，滬寧路經過城西南隅，有寶蓋山，附近有金焦、北固和象山等名勝，清咸豐八年 天津條約開爲商埠，十一年實行，人口約十六萬。

【無錫】屬蘇常道。縣西有錫山以產錫名；後來錫完了，所以叫做無錫。城在運河西岸，是米和繭的大市鎮。民國十三年自開為商埠，人口約二十萬。

【吳縣】屬蘇常道。清時是蘇州府治。長州、吳元和三縣和太湖、靖湖二廳。春秋時叫做姑蘇，是吳的都城。城臨運河，近太湖。中日戰後，盤門、外青陽地開為商埠。鐵路經城北。閶門外最繁盛。城內有玄妙觀，城外有虎邱、鄧尉山、留園、寒山寺、靈巖寺、楓橋諸名勝。

【江海交通要衝】上海位於黃浦江和吳淞江會流處。北距吳淞口十三海里，長江也在吳淞口入海。所以是江海交通的要衝，設有江海關以稽查貨物的出入。

【國內外貨物】長江幹流和支河所經過的

地方，如蘇、浙、皖、贛、鄂、川、滇、陝、甘等省所產的物，大半從上海輸出。外洋進口各貨，也大半從上海輸入。據民國十一年統計：外國輸入額為二、三、九、〇、五、四、二、八、三、兩，本國輸入額為八、六、五、一、二、七、三、一、兩，輸出額為三、〇、六、四、二、三、〇、七、九、兩，而海關收入稅銀為二、一、九、二、三、八、〇、七、〇、三、七、兩。

【法租界】北到洋涇浜，南到城可浜，東到黃浦灘，西到白爾路，桂林山路，方和浜橋路為法租界；後來又擴充到霞飛路西的呂班路，善鐘路，福開森路，徐家匯路。

【公共租界】分三區：東到黃浦灘，西到泥城橋，南到洋涇浜，北到蘇州河（即吳淞江）為一區；此區又稱英租界；東到楊樹浦南口，西到西藏路，南到蘇州河，北到北四川路，又為一區；此區亦稱美租界；還有一區，東到泥城橋，西到靜安寺路，

北到蘇州河，南到福煦路。

【政治工程之權】租界中外人設工部局等，以執掌政治工程之權。近年雖有人屢次提議收回租界治理權，但未能實行。

【租界以外之地】如開北市、南市等處，近年已開闢馬路很多；南市的自來水、電燈、電車、長途汽車（通到閩行）各業，都由商人興辦。開北市沒有電車，長途汽車（通到瀏河）由商人興辦；自來水、電燈起先是官辦的，民國十三年改歸商辦。

【高昌廟】在縣址西南，當黃浦江濱，有製造局，清同治六年建設。南面還有江南造船廠。

【改組為商辦工廠】民國十三年江浙軍隊啓發，上海有戰事，戰後政府爲求上海永久和平計，決定上海永駐兵，並令製造局停工，由上

海總商會接收起來，改組爲商辦工廠。

【黃浦江】相傳古時爲東江，戰國時楚春申君黃歇會行開鑿，所以又叫春申江。（上海稱申江或申，也就是因此。）亦稱黃歇浦。上游從浙江入江蘇松江縣境，北流經上海，會吳淞江，流入東海。

【吳淞】即吳淞口，在上海東北四十五里，是由江入海必經的孔道。沿岸有砲臺；鴉片之役，曾被拆毀。清光緒六年允許外國船舶碇泊在這裏；二十四年又開這裏爲商埠，設有江海分關。

【滬杭甬鐵路】從上海到杭縣一段叫滬杭鐵路，從杭縣到鄞縣叫杭甬鐵路，總稱滬杭甬鐵路。現在杭甬一段，從鄞縣（即寧波）城、鎮、甬、江，故亦稱甬。到曹娥江邊已通車，曹娥江到杭縣一段，還未通車。全長二二四英里。民國紀元以後，南

自新龍華站起，中間經過徐家匯、曹家渡，在真茹東北與滬寧鐵路接軌。

二 浙省名勝

教材

太湖為江浙兩省所共有；但交通不便，故自蘇至浙多取道運河，或滬杭甬鐵路。

杭縣（杭州）扼滬杭甬鐵路中樞，浙江之省會也。城在錢塘江西岸，運河南端，以產綢緞與茶葉著名。城西有西湖，山秀水清，風景甲於東南。湖上有蘇隄、白隄、孤山諸名勝；附近有岳墳、岳廟與靈隱、天竺等佛教勝地。每年春秋佳日，遊人甚衆。城北二十餘里，有拱宸橋，滬杭甬鐵路分支線抵此。中日之役，與吳縣之青陽地，同時開為商埠。
錢塘江為浙江之下游，江口水勢湍急，波濤洶湧；每年陰曆八月十八日，午潮尤大，自昔傳為奇

高級地理課本教學法 第二冊

觀。

自杭縣渡錢塘江，東南行至紹興，為產酒名地。城南有會稽山，又有禹穴與蘭亭等古蹟，古所謂「山陰道上，應接不暇。」即指此也。更東至鄞縣，（寧波）為我國與外人通商最早之地。

浙江名勝，除杭縣、紹興外，東海中有普陀山，武康有莫干山，中部與南部更有天台、雁蕩諸山，飛泉瀑布，風景奇秀，亦頗有名。

【問題】太湖跨幾省？杭縣有何名產？拱宸橋與青陽地在何時開為商埠？古所謂「山陰道上」即今何地？

【釋要】運河 自直隸通縣起，經山東，入江蘇，穿長江，經丹徒、無錫、吳縣，而達浙江杭縣，長二千數百里，由人工開鑿而成，我國大工程之一也。
浙江 有甬海、錢港、三漚、東北流入。
蘇隄 宋蘇軾所築。隄旁栽桃柳，中杭州灣。
白隄 隋建六橋，分西湖為裏外二湖。
孤山 宋林逋隱居處，多梅。
唐以前稱白沙隄，誤傳為白居。
易所築。現為環湖馬路之一段。

岳墳宋岳飛之墳，在棲霞山麓，旁有岳廟。

靈隱山名，其山下之天竺寺必稱靈隱。

分上中下三天竺。青陽地之商場。會稽山在紹興縣南。

蘭亭晉王羲之修禊之處。鄞縣城鎮甬江南岸，交通風盛。永嘉年間，衛人先來互市；清咸豐十一年，甬江北岸為商埠。

東海自長江南口起，至蓬海海峽止。普陀山舟山羣島之一，大寺林立，多往禮拜，遊長者亦衆。

武康縣名，在莫干山二十七里，風景奇秀，氣候適宜。

天台山在天台縣北，有石橋長數十里，架兩巖間，相傳為飛仙所居。

雁蕩分南北二支：北雁蕩頂上有湖，廣可十里，水永不涸。雁之春歸者，皆留宿於此。

南雁蕩有龍藏飛瀑，最為著名。

教具

浙江省圖 錢塘江口形勢圖 西湖圖 浙江各地風景片

教學

【動機發生】

(1) 自發的 報章上杭縣專電以及浙省各處

通信和書籍、畫片、物產……等。

(2) 暗示的

1. 用實物的 懸掛浙江省等圖，和浙江各地風景片，以及陳列關於本課的書籍、地圖和實物……等等。

2. 用問題的

● 江浙兩省的交通以甚麼路最便？ ● 滬杭甬鐵路從那裏起到那裏止？ ● 杭縣有甚麼風景？ ● 浙江除了西湖外，還有甚麼名勝？

【決定目的】板書「浙省名勝」四字，並使兒童知道本單元所研究的，是浙江的大概情形。

【搜集資料】

(1) 調查或觀察 1. 觀察課文和插圖。 2. 參考書報雜誌。 3. 訪問和調查。

(2) 記疑 摘錄疑難不解的地方，和生僻的字

句。

解。

(3) 注解 把生僻的字，一一檢查字典，加以注

甲 千千的第一位，引竺音竹，天竺 拱宸 音聲辰，拱宸
申凡第一都叫甲，山名。 橋，地名。
濤 音桃。大淘湧的聲勢。水會稽 音塊雞，會 鄞 音銀。
波浪。 的聲勢。 山名。 鄞 縣名。
台 音胎。天合 蕩 音蕩。雁蕩 音蕩。自上下懸
山名。 山名。 雁蕩 音蕩。飛泉叫瀑布。

【考查】

(1) 演述 1. 指名演述課文大意。 2. 共同訂

(2) 補正 師生共同補正。

(3) 問答

1. 質問 ●兒童質問疑難字句。 ●共同

訂正。

2. 指問 教師將兒童未問的疑難字句，指

名令答。

(4) 誦習 1. 段讀課文。 2. 指名通讀。 3. 共
同訂正。

(5) 講解 指名講一二遍。

【討論】

(1) 報告 指名報告搜集所得的資料。

(2) 正誤 共同訂正。

(3) 推究 1. 江浙的交通怎樣？ 2. 浙東、浙西

的交通怎樣？ 3. 近年浙省綢業的情形怎樣？

4. 西湖和杭縣有甚麼關係？ 5. 拱宸橋的租界，

和浙省有甚麼關係？ 6. 浙江下游的交通怎樣？

7. 江潮為甚麼很大？ 8. 紹興和鄞縣今昔比

較怎樣？ 9. 天台雁蕩的交通比西湖莫干山怎

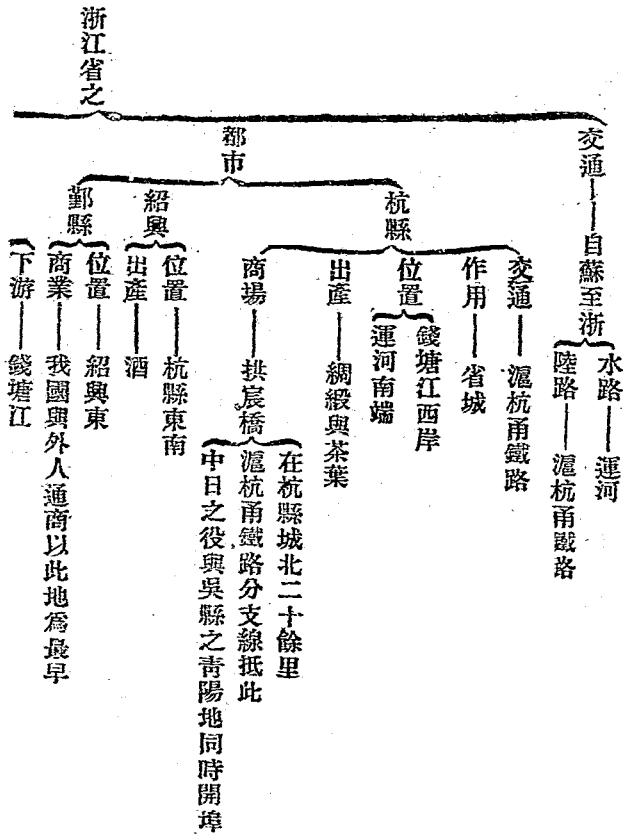
樣？

【整理】

(1) 提要 「江浙交通」「杭縣與西湖」

錢塘江 紹興與郵縣 浙省名勝

(2) 作表



浙江 水勢湍急波濤洶湧
江口 舊曆八月十八日午潮甚大

太湖 與江蘇共有
交通不便

杭縣城西——西湖 有蘇隄白隄孤山諸名勝
風景甲於東南
有岳墳岳廟等古蹟
有靈隱天竺等佛教勝地

名勝 會稽山
紹興城南禹穴 古所謂「山陰道上」即指此地
蘭亭

東海中——普陀山

武康——莫干山

中部與南部 天台山 飛泉瀑布風景奇秀
雁蕩山

(3)批評 1. 板演的共同訂正 2. 筆記的交換批評

高麗地理課本教學法 第二册

【考查成績】

(1) 調查筆記簿 訂正誤點。

(2) 描圖 「浙江形勢圖」 「錢塘江口形勢圖」 「西湖名勝圖」

(3) 填圖 1. 看填。 2. 默填。

(4) 製特別成績 同(2)或其他圖表、模型等。

(5) 測驗 至少二十個問題左右。

參攷

【太湖】古名震澤，又號具區。舊稱寬三萬六千頃，其實周有六百八十里。跨江浙兩省，與運河相聯絡。水量因時而不同。冬季水小，但比運河稍深。夏季水大，湖面洋洋如海。湖中產魚鼈，有島嶼極多。東西二洞庭山是最著的。島上盛行養蠶，又產枇杷、楊梅等。盜賊在湖上很多，所以設有太湖水警。

【杭縣】清杭州府治仁、錢塘兩縣。漢時叫做錢唐縣。五代時，吳越王錢鏐建都於此，名叫西府。南唐也建都於此，稱京師臨安府。城周三十五里，在錢塘江西岸，運河南端。風俗繁華，貿易很盛。人口約三十五萬。

【浙江】因斜灌境內的浙江而得名。簡稱浙省。古時是越國的地方，所以亦稱為越。分四道，轄七十五縣。

【錢塘江】是浙江的下游。按浙江有三個源：西源出安徽黃山，叫做徽港，亦稱新安江；南源合金溪、江山港、烏溪港而成，叫做衢港，亦稱信安江；東源出東陽縣東南大盆山，叫做婺港，亦稱東陽江。三源合流到杭縣，才叫錢塘江。錢塘江入錢塘灣，（一名杭州灣）江口有龕、赭二山，分列南北。龕子門陡峙中央，水勢為山所束，所以很湍急。

【綢緞】杭縣機織業很發達，以紡綢、紗、羅，和各種緞匹最著名。緞有杭緞之稱。近年發明用鐵機織法，頗能改良。

【茶葉】杭縣的茶葉很有名，就是龍井、茶、本省除杭縣外，如鄞縣、紹興、永嘉等處也都產茶葉。

【西湖】在杭縣湧金門外，古稱明聖湖。面積約八千九百餘畝，分外湖、裏湖、後湖、岳湖、小南湖五部。三面環山，風景天成。

【蘇隄白隄】蘇隄長四里六十九丈，互跨虹、東浦、壓隄、望山、鎖瀾、映波六橋。白隄起斷橋殘雪，到平湖秋月，長一里一百零七丈。湖上除這兩隄外，還有趙隄五十六丈。

【靈隱】靈隱山屬天目山脈，又稱武林山，與巨石、寶雲、屢泰諸山，總稱北山。山前的寺，叫靈隱寺，亦叫雲林寺。

【天竺】分上中下三天竺，和靈隱山相接的，爲下天竺，其南爲中天竺，再南爲上天竺，也是屬於天目山脈的。

【八月十八日】錢塘江潮水，在舊曆八月十八日最大，俗稱潮生日。

【紹興】屬會稽道。清時是紹興府治山陰，會稽二縣。春秋時，越都於此。漢時叫做山陰縣。南憑會稽山，北臨錢塘江，曹娥江在他的東北入海，人口約五十萬。

【會稽山】來自仙霞嶺，是括蒼山脈的分支。主峯在紹興城東南十三里，禹以前稱茅山。

【山陰道上】世說：「從山陰道上行，山川自相映發，使人應接不暇。」

【鄞縣】會稽道治。清時是寧波府治。漢時叫做鄞縣。城瀕甬江，商埠在城北，和縣城隔江相望。

有浮橋以便交通。此地和葡萄牙人通商最早，在明嘉靖元年，葡人已來互市。清鴉片戰爭後，和上海等處同開爲商埠，是五口通商之一。

【普陀山】在定海縣東一百五十里，亦叫落伽山，是舟山羣島之一。風景很好，有普濟、法雨兩大寺，遠近僧侶和迷信的士女，多往頂禮。氣候溫和，夏時遊人去避暑的亦多。

【武康】屬錢塘道。漢時叫永安縣。晉初改永康，後來又改名武康。位在杭縣的北面。

【莫干山】相傳是吳王鑄劍的地方，劍名莫邪，將所以叫莫干山。山在武康縣西北二十七里，屬天目山脈，風景很好，中西人士，常到這裏避暑。

【天台】山脈來自仙霞嶺和括蒼山脈分枝。主峯在天台縣北三里，高一萬八千丈，周八百里。

有石橋長數十丈，架兩嶺間，相傳是飛仙所住的地方。

【雁蕩】山脈來自楓嶺，分北雁蕩、南雁蕩，一在甌江北樂清縣境，一在平陽縣西南，是閩浙交界的分水嶺。北雁蕩頂上有湖，廣可十里，水永不涸，雁之春歸的都留宿在這裏。南雁蕩有十三峯，三洞，二巖。又有石門樓、石華表、釣磯、朝陽谷、石梁、竹坡、晴虹澗、杜鵑林諸勝，尤以龍湫飛瀑最爲著名。

三 皖南皖北概況

教材

自江寧沿江西上，入安徽省，經采石磯與東西梁山之險，而至蕪湖。蕪湖爲皖南要埠，當青弋江與長江會口，澗水甚深，便於停泊，故米市甚盛。自蕪湖沿江西上，經大通鎮，商業亦盛，長江輪

船帶下礙於此。東北有銅官山，爲著名產銅之地。自大通更沿江西上，卽至懷寧（安慶）安徽之省會也。城在長江北岸，東通江寧，西達武昌，爲沿江重鎮。

懷寧城西南，有皖水，故本省在長江流域者，曰皖南；在淮水流域者，曰皖北。皖南之黃山，風景甚佳，又爲著名產松烟墨之地。宣城（寧國）產紙甚有名。歙縣（徽州）產硯材，茶漆亦佳，暢銷各地。

皖北除淮水外，大小湖澤甚多。洪澤湖在東北，與江蘇共有，巢湖在中部，面積亦大。

鳳陽在淮水南，明太祖朱元璋之故鄉也。東有臨淮關，西有蚌埠，津浦鐵路經此，自昔稱爲皖北重地。西部更有正陽關，濉入淮之口，爲通河南之要道。自潁水而上，可經河南周家口而達開

封。近自開徐鐵路告成後，繁盛已遠不如前矣。

【問題】東西梁山爲何省之險要？銅官山產何物？皖南皖北指何地？歙縣有何名產？

【釋要】采石磯在當塗縣北，長江東岸，形勢險要，爲兵家必爭之地。東西梁山在江東當塗縣南，西梁山在江西和縣西，兩山夾江對峙，形勢極險，江防要地也。蕪湖，清光緒二十三年開埠。懷寧，形勢雖固。清光緒二十八年，開爲商埠。武昌，湖北省之省會。皖水合潁水東南流，至但未實行。宣城，在無湖東南，以產茶、漆及硯材著名。洪澤湖周約七百里，多魚蒲之類。巢湖周約四百餘里，東南有出口，通於長江。湖中有姥山、孤山、鞋山諸島。潁水源自河南登封縣西境，入淮水。

連天。宣城在無湖東南，以產茶、漆及硯材著名。洪澤湖周約七百里，多魚蒲之類。巢湖周約四百餘里，東南有出口，通於長江。湖中有姥山、孤山、鞋山諸島。潁水源自河南登封縣西境，入淮水。

連天。宣城在無湖東南，以產茶、漆及硯材著名。洪澤湖周約七百里，多魚蒲之類。巢湖周約四百餘里，東南有出口，通於長江。湖中有姥山、孤山、鞋山諸島。潁水源自河南登封縣西境，入淮水。

連天。宣城在無湖東南，以產茶、漆及硯材著名。洪澤湖周約七百里，多魚蒲之類。巢湖周約四百餘里，東南有出口，通於長江。湖中有姥山、孤山、鞋山諸島。潁水源自河南登封縣西境，入淮水。

安徽省圖 黃山風景片 硯 松烟墨

教學

【動機發生】

(1)自發的 報章上懷寧、蚌埠、蕪湖等處的專電、通信，以及畫片、遊記……等。

(2)暗示的

1. 用實物的 懸掛安徽省圖、黃山風景片，以及陳列關於本課的書籍、地圖和實物……等。

2. 用問題的

● 浙江的西面是甚麼省？
● 安徽省屬甚麼流域？
● 安徽省內有甚麼南流入江的水？
● 皖水在安徽省的地態上發生甚麼區別？

【決定目的】板書「皖南皖北概況」六字，並使兒童知道本單元所研究的，是安徽省的大概情形。

【搜集資料】

(1) 調查或觀察 1. 觀察課文和插圖 2. 參考書報雜誌 3. 訪問和調查

(2) 記疑 摘錄疑難不解的地方和生僻的字句。

(3) 注解 把生僻的字，一一檢查字典，加以注解。

磯 音基。水中石山。蕪音無。蕪湖。皖音緩。水名，又為弋磯，如采石磯。縣名。安徽省的簡稱。
音亦。青弋。泊音薄。船師。艇音庭。鑲舟石。今稱鐵鎖石。
江名。泊音薄。近岸叫泊。艇音庭。下艇，就是船下了。艇音庭。歙音吸。潁音影。潁水名。潁水名。

【考查】

(1) 演述 1. 指名演述課文大意 2. 共同訂正。

(2) 補正 師生共同補正。

(3) 問答

1. 質問 ● 兒童質問疑難字句 ● 共同

訂正。

2. 指問 教師將兒童未問的疑難字句，指名令答。

(4) 誦習 1. 段讀課文。 2. 指名通讀。 3. 共同訂正。

(5) 講解 指名講一二遍。

【討論】

(1) 報告 指名報告搜集所得的資料。

(2) 正誤 共同訂正。

(3) 推究 1. 蕪湖的形勢和江寧比較怎樣？

2. 皖南和皖北的商埠比較怎樣？ 3. 懷寧的形

位置——江蘇省西

區分 皖南——長江流域
皖北——淮水流域

【采石磯】沿江

因懷寧城西南之皖水而分

高級地理課本教學法 第二冊

勢怎樣？ 4. 安徽省的實業怎樣？ 5. 淮水和長

江在安徽的利害比較怎樣？ 6. 洪澤湖與巢湖

比較太湖怎樣？ 7. 蚌埠的形勢怎樣？ 8. 安徽

今昔的交通比較怎樣？

【整理】

(1) 提要 「蕪湖之形勢與商業」 「大通與

與懷寧」 「皖南皖北之區別與物產」 「安徽

之湖泊」 「鳳陽與蚌埠」 「安徽與河南之交

通」

(2) 作表

東西梁山

險要 臨淮關——在鳳陽東

正陽關

據潁潁入淮之口
通河南之要道

作用——皖南要埠——灣水甚深便於停泊

蕪湖

位置——青弋江與長江會口

商業——米市甚盛

位置——沿江

大通鎮

商業——甚盛

交通——長江輪船常下碇於此

作用——省城

懷寧

位置——長江北岸

形勢——東通江寧

西達武昌——沿江重鎮

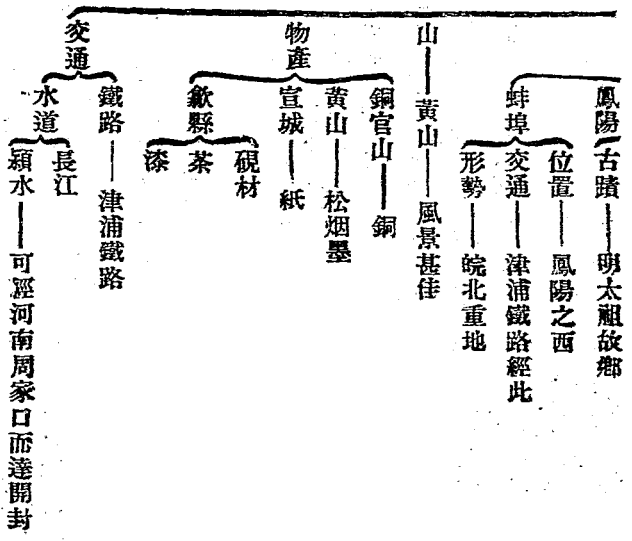
位置——淮水南

安徽省之

都市

(3) 批評
 1. 板演的共同訂正
 2. 筆記的交換批評

高級地理課本教學法 第二冊



【考查成績】

- (1) 調查筆記簿 訂正誤點。
- (2) 描圖 「安徽省形勢圖」
- (3) 填圖 1. 看填。 2. 默填。
- (4) 製特別成績 同(2)或其他圖表、模型等。
- (5) 測驗 至少二十個問題左右。

參攷

【安徽省】因安慶（今懷寧）徽州（今歙縣）兩地而得名。境內有皖水，又因安慶在春秋時是皖伯之國，所以亦稱皖省。分三道，轄六十縣。

【采石磯】一名牛渚，在當塗縣北二十里，江東岸，是古來南北戰爭要地，宋虞允文會打敗金主亮於此，隋韓擒虎，明常遇春也曾在這裏立戰功。

【東西梁山】東梁山在江東岸，當塗縣南，本

名博望山，西梁山在江西岸和縣西南，兩山對峙，江面驟形狹窄，山上築有礮臺，以資扼守。

【蕪湖】蕪湖道治，位在長江東岸，當青弋江和長江會口，清光緒二年中英烟臺條約開為商埠，二十三年實行米之輸往，南北洋和國外的，歲額很大，茶葉大都輸往漢口，將來蕪廣（蕪湖到廣德）鐵路告成，交通當更便利，人口約共十三萬餘。

【銅官山】在銅陵縣東南，大通鎮東北，向以產銅著名，近來由美國工程師往勘，說銅、鐵、鉛、煤等礦都有的，但這個礦山，在清季曾被英人麥奎強占，經皖人反對，交涉幾年，才以銀四十五萬元贖回，現在還沒有動工開採之期，不過派員保管着罷了。

【懷寧】清安慶府治，古時是皖伯國，漢時叫

做皖縣。晉時是懷寧縣地。城在長江北岸。江水三面環城。清光緒二十八年開做商埠，但未實行。人口約五萬。

【皖水】源出潛山縣西北的皖山；（一名潛山）右合潛水、長河；東南流，分數支流入長江。

【淮水】源出河南桐柏山；入安徽境，西北會潁水，南受溧水，東經蚌埠，入洪澤湖。其支流除潁水、溧水外，還有肥水、渦水、淠水等，都於航運有利。但淮水下流淤塞，常有泛濫之災。

【黃山】來自浙江的仙霞嶺。主峯在黟縣東北，歙縣西北，亦叫北駱山。峯如削成，煙靄無際。又多松樹，燃松而取他的煙，可製佳墨，所以有「黃山松煙」的名稱。

【宣城】屬蕪湖道。清時是寧國府治。漢時叫做宛陵縣。東晉和隋時，是宣城郡地。城瀕水陽江。

當蕪廣鐵路中樞。人口約四萬。善製紙，筆、紙更著名，就是世俗所稱的宣紙。

【歙縣】屬蕪湖道。清時是徽州府治。晉時是新安郡地。城瀕浙江上源的徽港。人口約三萬。硯材和茶、漆外，又產佳墨，就是世俗所稱的徽墨。

【洪澤湖】一名富陵湖。周約七百里。當江蘇的淮陰、泗陽與安徽的泗縣、盱眙之間。淮水是他的水源。出口有二：一流入運河，一流入高郵湖。湖中多魚蒲之利；從淮陰到正陽關的小汽船，經過這個湖。

【巢湖】一名淩湖。在巢縣的西面。周約四百五十里。湖水從東南吐出，入長江。湖中有姥山、孤山、鞋山等島嶼。從蕪湖到合肥的小汽船，經過這個湖。

【鳳陽】屬淮河道。清時是鳳陽府治。古時是

塗山氏國。春秋時是鍾離子國。漢時是鍾離縣地。城在淮水南二里。城北有皇覺寺。是明太祖幼時做僧的地方。又城北十二里有門台子。津浦鐵路經過那邊。

【臨淮關】在鳳陽縣東。設有稅關。以征往來於淮水中船舶的稅。

【蚌埠】在鳳陽縣西北。淮水南岸。津浦鐵路的鐵橋架在這裏。並且築有砲臺。

【正陽關】在壽縣西南。當淮河和潁水、潁水的會口。西北通河南周家口。東通江蘇省各地。舟車輻輳。商業很盛。

【潁】源出河南登封縣。西境潁谷。東南流入安徽。合沙河。西明河。到潁上縣與淮水相會。

【潁】源出本省霍山縣南的天柱山。北流經霍山、六安兩縣。到正陽關西。注於淮水。

教材

四 江西之風景與產業

二六

自懷寧沿江西上。至江西省。經小孤山、彭郎磯諸險。小孤山峯高勢峭。兀峙中流。上有小孤廟。風景甚佳。其東馬當山。亦為江防要地。

湖口當鄱陽湖口。有石鐘山環峙城北。水激山石。宛如鳴鐘。故有此名。

九江在長江南岸。鄱陽湖西岸。與湖口同為江西門戶。商埠在城西江畔。每年綠茶輸出最多。城南有廬山。溫泉瀑布。均甚有名。又以鄱陽湖中。水氣蒸發。凝成雲霧。時於山中幻出種種景色。故有「難見廬山真面目」之語。近年牯牛嶺一帶。西人建屋避暑。年多一年。

自九江取道南潯鐵路。至南昌。江西之省會也。城在贛江東岸。西門外有滕王閣。為贛江名勝。城

內有百花洲，亦為游覽勝地。其北之吳城鎮，當贛入湖之處，自上游運至之木材，皆於此重結大筏，由湖入江，其南之樟樹鎮，為藥材集散之中心地。

景德鎮，著名產瓷之地也，瓷窰連續至十餘里，業陶者數千戶，工人達萬餘。萍鄉為著名產煤之地，自萍株鐵路轉運入湘，暢銷各地。他如宜黃、萬載之夏布，沿江一帶，亦甚暢銷。

【問題】江西省北部有何險要？何處為江西省北部之門戶？江西省之省會何名？江西省有何鐵路？

【釋要】彭、碣當彭澤、湖口之間，與小孤山相對，形勢險要。鄱陽湖古稱彭蠡，長二百五十里，廣四五十里，至百里，中有大孤山等。廬山有名峯曰牯牛嶺，廬山風景最佳之處，土地平曠，如五老人，牯牛嶺，泉水甘美，近年避暑者日多，廬山而立。南萍鐵路自南昌至九江，長約六十英里。贛江自贛水入章水，已成市廛。

斜貫江西省中部，至滕王閣，在南昌東江門上，南昌北，入鄱陽湖。時顧，後重建於章江門外。百花洲在南昌城東南隅之東，萍株鐵路自萍湖中，風景甚佳。宜黃、萬載、高載、縣、屬、廬、陵、道。六十英里。

江西省圖 鄱陽湖形勢圖 廬山、小孤山、南昌等風景片 景德鎮瓷器

教學 教具

【動機發生】

(1) 自發的 報章上九江、南昌的專電和通信以及畫片、遊記……等

(2) 暗示的

1. 用實物的 懸掛江西省等圖和廬山等風景片，以及陳列關於本課的書籍、地圖和實物（如景德鎮瓷器）……等等。
2. 用問題的 ●安徽的西南面是甚麼省？

(1) 報告 指名報告搜集所得的資料。

(2) 正誤 共同訂正。

(3) 推究 1. 江西沿江有那幾處險要? 2. 九

江的形勢怎樣? 3. 廬山的風景和西湖比較怎

樣? 4. 鄱陽湖的水利和太湖比較怎樣? 5. 南

昌和九江那一處險要? 6. 江西的實業怎樣?

7. 景德鎮的瓷器還要改良嗎? 8. 江西的交通

怎樣?

【整理】

(1) 提要 「江西之險要」 「湖口」 「九江

與廬山」 「南昌與贛江沿岸之要埠」 「景德

鎮瓷器」 「江西之煤與夏布」

(2) 作表

位置——安徽西南

小孤山 形勢——峯高勢峭兀峙中流
風景——甚佳——有小孤廟

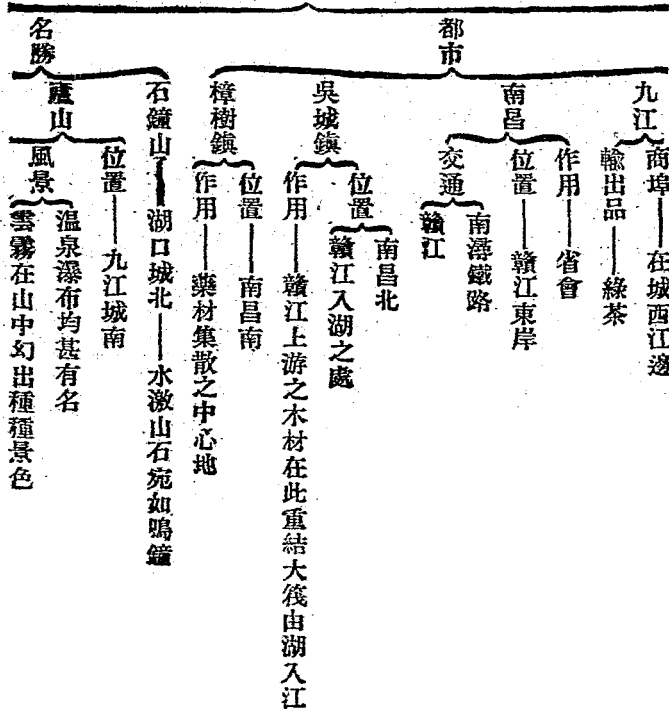
險要

彭郎磯
馬當山——小孤山東江防要地

湖口——鄱陽湖口

位置
長江南岸
鄱陽湖西岸
與湖口同為江西門戶

江西省之



〔牯牛嶺一帶——西人建屋避暑〕

滕王閣——南昌西門外

百花洲——南昌城內

瓷器——景德鎮

煤——萍鄉——自萍株鐵路轉運入湘

宜黃

黃載

木材——贛江上游

藥材——自樟樹鎮集散

物產

(3) 批評 1. 板演的共同訂正. 2. 筆記的交換批評.

〔考查成績〕

(1) 調查筆記簿 訂正誤點.

(2) 描圖 「江西省形勢圖」「鄱陽湖口形勢圖」

參攷

- (3) 填圖 1. 看填. 2. 默填.
- (4) 製特別成績 同(2)或其他圖表、模型等.
- (5) 測驗 至少二十個問題左右.

〔江西省〕本省在唐時是江南西道，所以元置行省，名爲江西，後來就沿用這個名稱。境內有

贛水縱貫著，所以亦稱贛省。分四道，轄八十一縣。

【小孤山彭郎磯】小孤山俗誤作小姑山，在彭澤縣北江中，彭郎磯在他的南面。兩地都是兵家所必爭。

【馬當山】在彭澤縣東北四十里。山形似馬，橫枕長江。山上有馬當廟，並且築有磯臺。

【湖口】縣名。屬潯陽道。漢時是彭澤縣。在九江對岸，扼鄱陽湖口，和九江同為全省咽喉。

【石鐘山】有二：在湖口城北的，叫下鐘山；還有上鐘山，在城南南面。高都有五六百尺，周十里許。兩山相向，下面多石穴，風水相激，聲如鳴鐘。宋時蘇軾有石鐘山記。

【九江】潯陽道治。清九江府治德化縣。漢時是柴桑，尋陽兩縣。隋時是江州地。城臨長江。清咸豐八年開為商埠，同治元年實行，設有九江關，並

有租界在城的西面。俄人設製茶廠多所，商業很盛。人口約五萬餘。

【鄱陽湖】古名彭蠡湖。周四百五十里。南部最深，中部狹窄，形狀好像葫蘆。中有大姑山與康郎山，形勢很好。湖上小汽船和帆船往來不絕；水漲時，淺水軍艦可以駛到南昌。

【廬山】在星子縣西北，九江縣南，亦稱匡廬。相傳周時匡俗兄弟，結廬於此山中，後來俗成仙而去，空留廬舍，因得此名。著名的山峯是五老峯，狀如五個老人，駢肩而立，山上烟霧迷離，難見山的真面目。宋蘇軾有詩說：「橫看成嶺側成峯，遠近高低各不同，不識廬山真面目，只緣身在此山中。」

【南昌】清南昌府治。隋唐時是豫章郡地。城在鄱陽湖西南，贛江東岸，商業很盛。

【滕王閣】舊址在新建縣（與南昌同是舊南昌府附郭首縣）西章江門上，是唐滕王元嬰所建，今閣在章江門外，是明朝重建。王勃（唐人）有滕王閣賦，極傳誦人口。

【吳城鎮】在新建縣北一百八十里，貿易很盛，竹紙和碧綠酒是這地方的名產。除贛江上游的木材在此結筏外，還有江北的棉花也屯集在這裏。

【樟樹鎮】在清江縣東北，贛江東岸，亦叫清江鎮，有城周十里。明王守仁討宸濠會兵於此。

【贛江】源出大庾嶺，初名章水，北流到贛縣，受了章水，才叫贛江，經南昌城西北，入鄱陽湖，長一千九百里。

【景德鎮】在昌江沿岸，今浮梁縣治已移到這裏，舊時是四大鎮（河南、朱仙鎮、湖北、漢口）鎮。

廣東佛山鎮、江西景德鎮）之一，宋真宗、景德中所置，陶業很盛，每年輸出額約三百萬兩左右。

【萍鄉】縣名，屬廬陵道，漢時是宜春縣地，縣東南十五里的安源山，產煤礦很多，清光緒二十四年設萍鄉礦務公司開採，日出二千噸，工人一萬五千，是我國一大礦廠，有萍株鐵路，自萍鄉經澄陵達湘潭，株洲鎮，長六十英里。

【宜黃】縣名，屬豫章道，所產夏布極精細。

【萬載】縣名，屬廬陵道，漢時是建成縣地，所出夏布，幅廣質細，堅緻耐用，和湖南的瀏陽夏布，齋名。

五 武漢之交通與形勢

【教材】湖北省在本部中央，為內地交通之中心點，而夏口尤為交通之中樞，水道有長江輪船，東達上

海；西達沙市，宜昌有小汽船自宜昌西通四川；經武昌南入湖南，又有漢水自陝西南鄭南下，經襄陽至此。舊時陝甘與西南各省貨物之出入，皆於此轉輸。陸路：北有京漢鐵路經河南至直隸，久已通行。南有粵漢鐵路經湖南至廣東，中段尙未完成。西有川漢鐵路，亦未完成。然就現在情形而論，夏口之交通，已可稱為四通八達矣。

武昌在夏口南，中隔長江，湖北省之省會也。江岸礮臺林立，為沿江重鎮。辛亥革命，民軍即於此起義。城內有蛇山，城西北沿江有黃鶴樓，皆為形勝之地。武昌對岸為漢陽，與夏口隔一漢水，成鼎足之勢。城外有龜山，上築礮臺，山麓有鐵廠與兵工廠，規模甚大。鐵之原料，自大冶運來；煤則取自城西之馬鞍山也。

【問題】湖北省有何鐵路？漢水發源於何處？

武昌城內有何山？漢陽有何工廠？

【釋要】沙市 在江陵縣南十五里，清光緒二十二年開為商埠，交通四達，貿易日盛。宜昌 當長江東岸，扼川鄂之衝。長江輪船以漢口、宜昌為終點。清光緒三年，開為商埠。

漢水 源出陝西北嶺家山麓，東流。襄陽 當漢水之北，北段自夏口至。川漢鐵路 自夏口至四川成都，株洲，業已通車。

蛇山 東西橫互，上設礮臺，形勢險要。黃鶴樓 昔費文禛登仙此鶴駕，漢陽 當江漢之交，龜山 即大別山，故名。大冶 在武昌東南，附近 馬鞍山 在漢陽城西三十里。

教具

湖北省圖 武漢交通圖 武漢形勢圖 武漢風景片

教學

【動機發生】

(1) 自發的 報章上武昌夏口的專電和通信

以及畫片、遊記……等。

(2) 暗示的

1. 用實物的 懸掛湖北省等圖和武漢風景片，以及陳列關於本課的書籍、地圖和實物……等。

2. 用問題的

● 江西的西北面是甚麼省？
● 湖北的省城叫甚麼？
● 武昌和那兩處成鼎足之勢？
● 武漢的交通怎樣？

【決定目的】板書「武漢之交通與形勢」八字，並使兒童知道本單元所研究的，是湖北的大概情形。

【搜集資料】

(1) 調查或觀察 1. 觀察課文和插圖。 2. 參考書報雜誌。 3. 訪問和調查。

(2) 記疑 摘錄疑難不解的地方，和生僻的字

句。

(3) 注解 把生僻的字，一一檢查字典，加以注解。

中樞 樞音書，中樞，鄭音政，南鄭，襄音箱，襄陽，粵音中央的機關。
● 就是廣麓 音六，冶音野，大冶音安，馬破
東省。 ● 麓 音六，冶音野，大冶音安，馬破
山足。 ● 冶 音野，縣名。 ● 鞍 音安，縣名。 ● 鞍山 山名。

【考查】

(1) 演述 1. 指名演述課文大意。 2. 共同訂正。

(2) 補正 師生共同補正。

(3) 問答

1. 質問 ● 兒童質問疑難字句。 ● 共同訂正。

2. 指問 教師將兒童未問的疑難字句，指名合答。

(4) 誦習 1. 段讀課文。 2. 指名通讀。 3. 共

同訂正。

(5) 講解 指名講一二遍。

【討論】

(1) 報告 指名報告搜集所得的資料。

(2) 正誤 共同訂正。

(3) 推究 1. 武漢的形勢怎樣？ 2. 武漢的交

通怎樣？ 3. 武漢的交通、水和陸比較怎樣？ 4.

粵漢、川漢兩路完成後，和武漢有怎樣的關係？

位置——本部中央

形勢——內地交通中心

夏口——交通中樞

水道

長江輪船 東——達上海
西——達沙市宜昌

小汽船 西——自宜昌通四川
南——經武昌入湖南

漢水——自陝西南鄭南下經襄陽至此

5. 武昌和夏口比較怎樣？ 6. 漢陽和夏口比較怎樣？ 7. 漢陽鐵廠應當製造那幾種鐵器，纔能使實業發展？ 8. 如今的兵工廠和國家有利益嗎？

【整理】

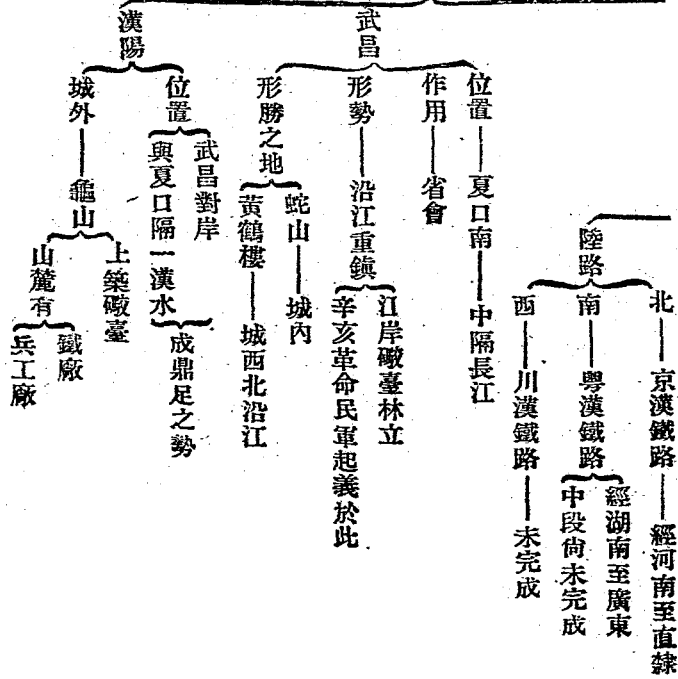
(1) 提要 「夏口之交通」「武昌之形勢」


「漢陽之形勢與實業」

(2) 作表

湖北省之

都市





- (3) 批評 1. 板演的共同訂正。 2. 筆記的交換批評。

【考查成績】

- (1) 調查筆記簿 訂正誤點。

- (2) 描圖 「湖北省形勢圖」「武漢交通圖」

【武漢形勢圖】

- (3) 填圖 1. 看填。 2. 默填。

- (4) 製特別成績 同(2)或其他圖表模型等。

- (5) 測驗 至少二十個問題左右。

參攷

【湖北省】本省因在洞庭湖北，所以叫做湖北。又因武昌古時是鄂國，所以亦稱鄂省。分四道，轄六十九縣。

【本部】我國向來稱黃河流域六省，長江流域七省，粵江流域五省叫本部。

【夏口】縣名。屬江漢道就是舊時四大鎮之一。

一、的漢口鎮。地據江漢之交，內地商埠中推為第一。每值茶市，各地茶商麇集在這裏。俄人設有茶廠，以製茶磚。輸入品多棉布、棉紗、砂糖、石油、石炭。輸出品多茶葉、豆、棉、麻、絲、桐油、漆、蠟、蛋、黃、蛋白等。在清咸豐八年開做商埠，舊有英、俄、法、德、日五國租界，在東北長江沿岸；現在俄、德租界已經收回。華人市街在西南漢水沿岸，辛亥之役，燬於兵火。至今尚未全行恢復。市內工廠林立，有火柴、玻璃、製茶、麵粉等廠。工業冠於全國。京漢鐵路到大智門止。人口約八十七萬。

【宜昌】屬荆宜道。清時是宜昌府治東湖縣。漢時叫做夷陵縣。城在長江東岸，扼川鄂的要隘。長江輪船以此為終點。清光緒二年烟臺條約開為商埠，翌年實行。人口約四萬餘。城北二十五里有西陵峽，江水流過這裏，才出險而到平地。

【四川】在湖北西，從巴縣到湖北宜昌間，有小汽船定期來往。

【武昌】清武昌府治江夏縣。漢時叫沙羨縣。孫吳時是江夏郡。晉時屬武昌郡。元時是武昌路。湖廣省治。城在江漢會流點的南岸，形勢雄壯。城北十里長江沿岸，在清光緒二十六年定為外人居留地。人口約五十萬。

【湖南】在湖北南，有小汽船從湖北夏口到本省岳陽。長江輪船從夏口往宜昌，中間經過岳陽，也暫時停泊的。

【漢水】亦叫襄河。源出陝西南鄭西面的北嶺。山麓東流入湖北省，折而南，經襄陽，到夏口入江，中間會秦、蜀、楚、豫間羣川。由夏口上溯到襄陽西北的光化（老河口）。計程八百九十餘里。可行小汽船。水漲時，帆船可直達陝西南鄭，自襄陽到南鄭，計程約又八百九十里。

【辛亥革命】辛亥即清宣統三年，民國紀元前一年。民軍起義，在那年舊曆八月十九日，陽曆十月十日，起義時，推黎元洪為都督，全國響應。

【漢陽】屬江漢道。清時是漢陽府治。漢時叫做沙羨縣。唐時叫做沔州。東望武昌，隔一長江。北望夏口，隔一漢水。是古今用武必爭的地方。人口約四十萬。

【鐵廠】清光緒十七年鄂督張之洞創辦。廠址占地二百數十畝，專製鋼板、鋼軌、鋼條等，每日

可出生鐵五百噸，鐵由大冶運來，是我國第一煉鐵廠。

【兵工廠】分兩部：一部製鎗礮，每天可造鎗五十枝，退管礮一尊。一部製彈藥，每天可出子彈二萬餘，規模比已經停工改組的江南製造局大。

【大冶】屬江漢道，在武昌東南，長江西岸，縣城西北有鐵山、獅子山，築有輕便鐵路通江濱的黃石港，全長十八英里，專供運鐵之用。

六 湖南之勝地與物產

教材

自武昌至湖南，陸路可取道粵漢鐵路，水道可由長江入洞庭湖，皆甚便利。

洞庭湖為湖南之大湖，周約八百餘里，但湖底甚淺，每至冬季水涸時，沿岸宛如平野，至夏秋之間，衆水奔注，始成爲一片汪洋之大湖。湖中有君

山，周約七里，山路曲折，自昔稱爲勝地。入湖之水，有湘、資、沅、澧四大水，其中湘江最大，航行上亦甚重要。其支流有名汨羅江者，爲戰國時屈原貶放之地。屈原於陰曆五月五日，懷石投江而死。今逢端午日，有競渡之舉，卽其時憑弔屈原之遺風也。

洞庭湖與長江會口有岳陽（岳州），湖南之門戶也。城西有岳陽樓，遠望湖山，風景甚佳。

雖洞庭湖南下，入湘江，卽至長沙，爲湖南省之省會。南依衡山，北控洞庭，商埠在城西，湘江沿岸，粵漢鐵路經過之。

衡山在衡陽縣北，風景甚佳，盤繞八百餘里，有七十二峯，石壁玲瓏奇峭，難以形容，其最高者曰祝融峯。

本省之物產：農產首推茶、米，礦產首推煤、鐵；而醴陵之瓷器，亦甚著名。

【問題】洞庭湖周若千里？流入洞庭湖者有何水？湖南省之省會何名？湖南省何地產瓷器？

【釋要】**湘江** 源出廣西陽海山麓，東北流經湖南全省，長二千餘里。**資**

江上游有二源，會於資寧縣西。**沅江** 發源貴州，東北流經湖南，長二千餘里。**澧水** 有南北二源，橫貫湖南省，西北流，長一千餘里。**汨羅江** 經

於湖南，**岳陽** 亦稱巴陵，湖水三面環城。**岳陽** 樓在岳陽城西門上，下臨洞庭，風景絕勝。

積三十年開。**衡陽** 縣當湖、蒸二水匯流之處，為湖南通桂粵二省水陸孔道。

祝融 在衡陽縣北，當蒸水之曲。**醴陵** 扼萍株鐵路中樞，盛產陶器，所產瓷器，勝於江西景德鎮出品。

教員

湖南省圖、衡山、洞庭湖、岳陽樓等風景片。

教學

高級地理課本教學法 第二冊

【動機發生】

(1) 自發的 報章上長沙的專電、通信、以及畫片遊記……等。

(2) 暗示的

1. 用實物的 懸掛湖南省圖、衡山等風景片，以及陳列關於本課的書籍、地圖和實物……等等。

2. 用問題的 ● 湖北的南面是甚麼省？

● 湖南有甚麼大湖？ ● 洞庭湖中有甚麼著名的山？ ● 除了君山外，湖南還有甚麼名山？ ● 湖南省有那幾種物產？

【決定目的】板書「湖南之勝地與物產」八字，並使兒童知道本單元所研究的是湖南的大概情形。

【搜集資料】

(1) 調查或觀察 1. 觀察課文和插圖。 2. 參考書報雜誌。 3. 訪問和調查。

(2) 記疑 摘錄疑難不解的地方和生僻的字句。

(3) 注解 把生僻的字，一一檢查字典，加以注解。

涸 音 斃 水乾 音 直 向 音 廣 大 音 元 澧 音 水 名 音 澧 水名 音 李 汨 音 竟 汨羅 音 羅 官 音 屈 調 音 淮 藏 音 對 目的 音 遺 跡，感傷 音 衡 風相傳下來 音 恆 玲瓏 音 令 龍 音 醴 醴 音 縣 名 音 醴

【考查】

(1) 演述 1. 指名演述課文大意。 2. 共同訂正。

(2) 補正 師生共同補正。

(3) 問答

訂正。 1. 質問 ● 兒童質問疑難字句。 ● 共同

2. 指問 教師將兒童未問的疑難字句，指名令答。

(4) 誦習 1. 段讀課文。 2. 指名通讀。 3. 共同訂正。

(5) 講解 指名講一二遍。

【討論】

(1) 報告 指名報告搜集所得的資料。

(2) 正誤 共同訂正。

(3) 推究 1. 兩湖的交通怎樣？ 2. 洞庭湖有其歷史益？

3. 湖資沉澱四水比較怎樣？ 4. 湖南省南北兩部的交通怎樣？

5. 岳陽的形勢怎樣？ 6. 長沙的形勢和交通怎樣？

7. 衡山的風景怎樣？ 8. 湖南的礦工業怎樣？

景怎樣？

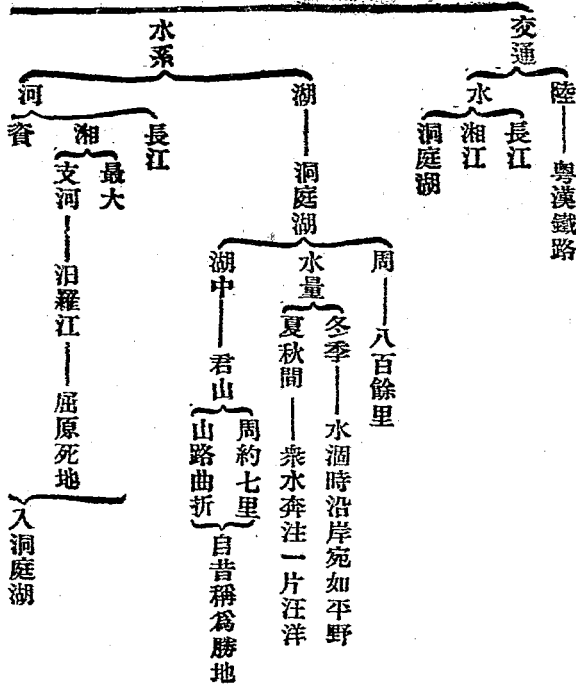
【整理】

(1) 提要

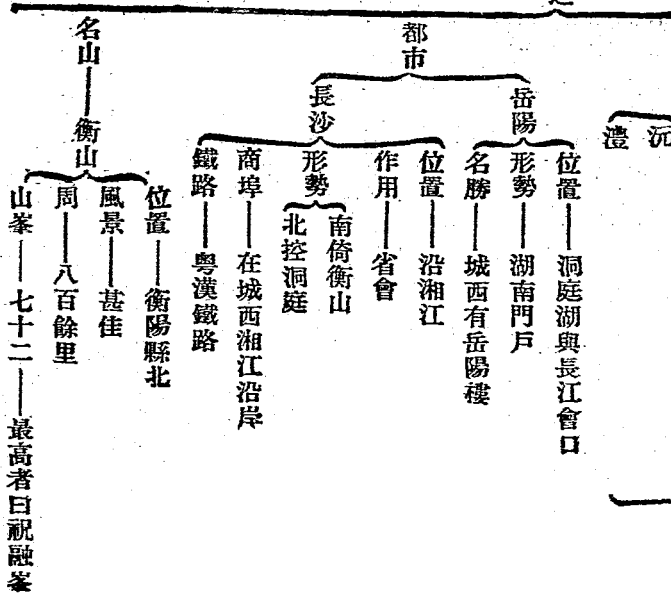
「兩湖之交通」 「洞庭湖」 「岳

陽」 「長沙」 「衡山」 「湖南之產業」


(2) 作表



湖南省之



沉
澧



(3) 批評 1. 板演的共同訂正 2. 筆記的交換批評

【考查成績】

- (1) 調查筆記簿 訂正誤點。
- (2) 描圖 「湖南形勢圖」 「岳陽形勢圖」
- (3) 填圖 1. 看填。 2. 默填。
- (4) 製特別成績 同(2)或其他圖表、模型等。
- (5) 測驗 至少二十個問題左右。

參攷

【湖南】本省因在洞庭湖南，所以叫做湖南。又因位於湘江流域，亦稱湘省，分三道，轄七十五縣。

【洞庭湖】是我國內部第一大湖。水漲時，長約二百里，廣約一百十里。湖底多沙泥，很是低淺。冬季水涸，宛如平野；夏季水漲，浩瀚汪洋，水天一色。受湘資、沅澧四水，北通長江，於長江有宣洩作用。

【君山】洞庭湖中最著名的島，正對岳陽城西門外的岳陽樓，相傳是祭堯二女之處。

【湘】上源出廣西興安縣南的陽海山（一名陽湖山），麓和灘水（即桂江）同源。東北入湖南，經零陵縣會瀟水，經衡陽縣會蒸水，再北經湘潭、長沙，由湘陰縣西入洞庭湖，長約二千餘里。水漲時，汽船可由長江達湘潭，民船可到廣西省。

水落時，在湘陰以下，可行入水三尺半的民船，在湘陰至湘潭間可行入水二尺半的民船。

【資】西源出省中武岡縣西唐糾山麓，南源叫夫夷水，出黃西越城嶺，合而北流，經寶慶，新化，再折而東北，經安化，益陽，沅江，入洞庭湖。長約二千里。小船可以上駛到寶慶縣。

【沅】有二源，均出貴州的苗嶺山脈，東流入省，經芷江，沅陵，到常德城南入洞庭湖。長約二千三百里。小船可以直到廣西省。

【澧】有二源：北源出湖北，叫做澧水；南源出本省西部，合流後，東經澧縣城南，入洞庭湖。長約一千一百餘里。下流有水運之利。

【汨羅江】是汨羅兩水在屈原潭合流而成。到湘陰縣北入湘江。

【岳陽】屬湘江道。清時是岳州府治巴陵縣。

漢時是下雋縣地。劉宋時在這裏置巴陵郡。湖水三面繞城，風景很好。城西有岳陽樓遺址，是省中勝境。西北十五里有城陵磯，控江帶湖，是本省的管鑰。凡省中出納貨物，必經此地。清光緒二十四年開放為商埠。人口約二萬。

【長沙】清長沙府治長沙，善化兩縣。漢時叫做臨湘縣。五代楚建國於此。城在瀏渭水入湘之交，形勢雄壯。清光緒三十年開為商埠，設有長沙關。商業很盛，占全省貿易額三分之一。人口約五十萬。

【衡山】屬南嶺山脈，由越城嶺分出。在衡陽縣有廻雁、陶嶺諸峯；在衡山縣有祝融、天柱、芙蓉諸峯。共有峯七十二，又有十五巖、十洞、二十五溪、九池、九潭、六源、八橋、九井、三十八泉諸勝。古時曾為南嶽。

【衡陽】屬衡陽道。清衡州府治衡陽。清泉二縣。漢時叫做酃縣。隋時是衡山郡地。城在蒸水入湘之交。人口約二萬。

【農產】岳陽爲茶市，長沙爲米市。米的產額很富，所以從前有『湖廣熟天下足』的俗語。茶以安化爲最佳。其餘如棉、烟草，也是出品的大宗。瀏陽的麻，織成夏布，更是極著名的。

【礦產】以煤爲最多。如湘江流域和澧水下流，都有廣大煤層。無烟煤輸出外省，有湖南煤的名稱。此外金、銀、銅、鐵、鉛、鋅、錒等所產也不少。

【醴陵】屬湘江道。城在澧水北岸，扼萍株路的中樞。盛產陶土和硅沙，是製磁器的原料。所產磁器，勝於江西景德鎮出品。近且設磁業學校，以求改良。

七 蜀中之富庶

高級地理課本教學法 第二冊

教材

四川在中部之極西，爲古巴蜀地，故又稱蜀省。境內多山，有岷山、巴山與峨眉、劍門諸山。水有岷江、沱江、嘉陵江諸大川，皆南流入長江。

四川中央地勢較低，出產極富。嘉陵江、岷江南流域，地尤肥沃。農產豐饒，除穀類外，有茶、菸、葉、木棉、藥用植物有大黃、川連、貝母等。礦產亦多，惜未開採。鹽井隨地皆有，產鹽甚富。運銷雲、貴、兩湖等處。又有火井，在鹽井附近，井中所出氣質，可供燃燒，用以煮鹽，甚覺便利。巴山一帶，多松柏等木材，足供全省之用。南部居民，多養蠶蠶製蠶，應用亦廣。此外工業品，有蜀錦、綾羅等，與成都之竹器，開江（新寧）之陶器，邛崃（邛州）之竹杖，均甚著名。故四川一省，自古稱爲天府之國也。

自湖北至四川省，雖有小汽船往來宜昌、巴縣

(重慶)間，然必經三峽之險，非俟川漢鐵路告成，終難免『蜀道難』之歎。

省會曰成都，土地平坦，風景秀美，為蜀中之大都。巴縣在本省東部，商業甚盛，各地船舶雲集於此；將來川漢鐵路告成，其商業當益發達也。

【問題】四川省古為何地？火井有何用？

自宜昌至巴縣經何險？四川之省會何名？

【釋要】岷山盤結於甘、川界上，巴山自陝

隴入，綿延岷山亦作峨嶂，為峨

於川、陝界上。劍門山

東南行之。岷江源出岷山南行支脈。

支脈也。岷江長一千七百里。東南流入沱江發源於

北方，初與岷江聯絡。嘉陵江即西漢水，發源於甘

經資中南行入江。成都據全省中央，原野平坦，開江

四川，至巴。成為蜀道，富於古蹟。

在東川。邛崃在岷江西岸，巴縣當嘉陵江入江之

市肆殷繁，川東之大都會也。

清光緒十七年開為商埠。三峽即瞿塘峽、巫峽、

白蠟。

四川省圖 四川風景片 三峽險要圖 黃

教學

白蠟

【動機發生】

(1)自發的 報章上成都的專電和通信以及

書片遊記……等

(2)暗示的

1. 用實物的 懸掛四川省圖、四川省風景

片，以及陳列關於本課的書籍、地圖和實物……

等等。

2. 用問題的 ①湖北的西面是甚麼省？

②四川簡稱叫甚麼？ ③蜀中有甚麼物產？

④四川省的富力怎樣？

【決定目的】板書『蜀中之富庶』五字，并

使兒童知道本單元所研究的是四川省的大概

教具

情形。

【搜集資料】

- (1) 調查或觀察 1. 觀察課文和插圖。 2. 參考書報雜誌。 3. 訪問和調查。

- (2) 記疑 摘錄疑難不解的地方和生僻的字句。

- (3) 注解 把生僻的字，一一檢查字典，加以注解。

岷音民山名。峨音峨嶺音嶺。岷音民江名。綾音陵江名。綫音陵江名。似音似耶音耶。天音天府音府之區。土地肥沃，形勢險要。雲集音雲，雲集音雲，甚多。

【考查】

- (1) 演述 1. 指名演述課文大意。 2. 共同訂正。

- (2) 補正 師生共同補正。

高級地理課本教學法 第二册

(3) 問答

1. 質問 ①兒童質問疑難字句。 ②共同

訂正。

2. 指問 教師將兒童未問的疑難字句，指名令答。

名令答。

- (4) 誦習 1. 段讀課文。 2. 指名通讀。 3. 共同訂正。

同訂正。

- (5) 講解 指名講一二遍。

【討論】

- (1) 報告 指名報告搜集所得的資料。

- (2) 正誤 共同訂正。

- (3) 推究 1. 四川為甚麼又稱蜀省？ 2. 四川肥沃的地方在那裏？ 3. 四川的出產以那幾種為最重要？ 4. 從湖北到四川要經甚麼險要？ 5. 要免過三峽之險當怎樣？ 6. 四川現在的交通

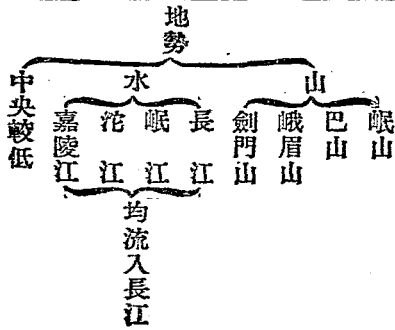
四九

通情形怎樣？
 7. 成都的地勢怎樣？
 8. 四川果
 真可以稱做『天府之區』嗎？
 9. 應當再如何
 發展？

【整理】

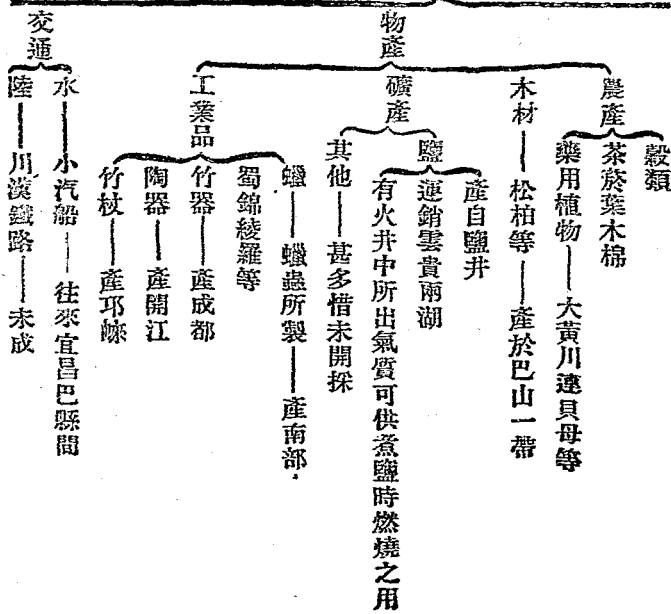
位置——中部之極西

別名——蜀省——因古為巴蜀地



- (1) 提要 『四川之山水』 『四川之產業』
 『川鄂之交通』 『成都』
- (2) 作表

四川省之





- (3) 批評 1. 板演的共同訂正. 2. 筆記的交換批評.

【考查成績】

- (1) 調查筆記簿 訂正誤點.
 (2) 描圖 『四川形勢圖』 『三峽險要圖』
 (3) 填圖 1. 看填. 2. 默填.
 (4) 製特別成績 同(2)或其他圖表、模型等.
 (5) 測驗 至少二十個問題左右.

參攷

【四川】因宋時是益、梓、利、夔四路，總稱四川路而得名；也有說是因境內的四大川而得名。簡稱川省。又因秦時是巴、蜀兩郡地，所以亦稱蜀省。分五道，轄一百四十六縣。

【岷山】屬崑崙山支的北嶺山脈，盤結於隴蜀界上。

【巴山】也屬北嶺山脈，自陝西的驢家山延

入，綿互於四川陝西界上，平均高度約一萬二千尺。

【峨眉】亦作峨，峨山分出的邛崃山脈南走到建昌道峨眉縣，就叫峨眉山，高一萬一千五百尺，山上寺宇很多。

【劍門】峨山東南走的支脈，在涪江，嘉陵江間，劍閣的天險，就由這山脈而成。

【岷江沱江】岷江古時視為長江的本源，出松潘縣北岷山麓，南行到成都，支渠縱橫，分做兩派，南流的是正派，到宜賓入江，東南流的就叫涪江，到瀘縣入江，岷江長約一千七百里，成都以下，可通小船，涪江在簡陽縣以下有航運之利。

【嘉陵江】即西漢水，源出甘肅東南，從陝西入省，合涇江涪江，到巴縣入江，長約一千七百里，在廣元縣以上，祇能通小船；到合川縣以下，航運

很便。

【中央地勢較低】成都一帶，在四川的中央，就地勢說，是一大盆地，古時本是湖澤，後來漸漸的乾涸，就成盆地了。

【礦產】除鹽以外，如金、銀、銅、鉛、亞鉛、硝石、硫黃、石炭、石油等，都很豐富。

【鹽井】四川的鹽井，如富順縣、榮縣、犍為縣的五通橋等地，都很著名，全省約四十縣以上產鹽，產額約六億斤，鹽粒潔白，俗稱「川鹽」。

【火井】大概是在鹽井附近，用以煮鹽，熱力勝於他火，偶有距離鹽井稍遠的，可用多數的竹管聯綴起來，從鹽井以達於火井，他的熱力也不會減少。

【蠟蟲】如西昌、樂山一帶，居民都養蠟蟲，按蠟蟲寄生在蠟樹上，常分泌蠟於樹枝上，厚約二

分左右。如折枝浸入沸水中，蠟就浮在水面，是做蠟燭的原料，有黃白兩種。現在樂山縣，設有製蠟公司。

【蜀錦綾羅】四川省中如成都、樂山、閬中、南充等縣，都產蜀錦、綾羅等絲織品。光澤次於江浙所產的，堅韌却過於江浙的出品。

【成都】清成都府治。蜀漢建都於此。唐玄宗因安史之亂，逃到這裏，稱為南京。五代時王建、孟知祥也建都於此。城瀕岷江的支流，地勢平坦，風景清麗。人口約五十萬。古蹟有蜀漢昭烈帝的惠陵，諸葛武侯的祠宇等。絲業工場極盛。竹器也著名。

【開江】屬東川道。清時叫做新寧縣。地在長江之北，以產陶器著名。

【邛崃】屬建昌道。清時是邛州治。漢時叫做

臨邛縣。城在岷江西岸，邛水北岸。有邛崃山在西北境。以產竹杖著名。

【蜀道難】唐李白蜀道難詩中說：『蜀道難，難於上青天！』

【巴縣】東川道治。清時是重慶府治。秦漢時是巴郡地。城在長江嘉陵江會口。人口約六十二萬。清光緒二年芝罘條約開為商埠，十七年實行

八 川邊情形

教材

自成都向西，渡大金川，即至康定。（打箭爐）川藏之咽喉也。番人雲集，為川茶番貨互市之地。今川邊鎮守使駐焉。其東大金川，上有鐵索橋，為通四川雅安（雅州）之要口。鐵索橋建於清康熙時，以巨索九縛於兩岸大鐵柱上，橋長約三十丈，寬約九尺餘，上架木板，旁有大索，以便攀扶。

1. 用實物的 懸掛川邊形勢圖、番民圖、鐵索橋圖，以及陳列關於本課的書籍、地圖和實物……等等。

2. 用問題的 ④四川的西面是甚麼地方？

①川邊的地方本是屬甚麼省的？ ②川邊除了四川省一部分；還有一部分，原是甚麼地方所管轄？ ③川邊是省呢不是省？ ⑤川邊不是省是甚麼？

【決定目的】板書『川邊情形』四字，並使兒童知道本單元所研究的是川邊的大概情形。

【搜集資料】

(1) 調查或觀察 1. 觀察課文和插圖。 2. 參考書報雜誌。 3. 訪問和調查。

(2) 記疑 摘錄疑難不解的地方，和生僻的字句。

(3) 注解 把生僻的字，一一檢查字典，加以注解。

番音翻。種互市互相交易。縛伏約切。攀扶音潘扶。伸音伸。從旁持。怒濤噴薄。湖勢洶湧。好像戰慄。音栗。保馨音保馨。標切音標切。籌計音籌計。改土歸流官治。

【考查】

(1) 演述 1. 指名演述課文大意。 2. 共同訂正。

正。

(2) 補正 師生共同補正。

(3) 問答

1. 質問 ①兒童質問疑難字句。 ②共同訂正。

訂正。

2. 指問 教師將兒童未問的疑難字句，指名令答。

名令答。

(4) 誦習 1. 段讀課文。 2. 指名通讀。 3. 共

同訂正。

(5) 講解 指名講一二遍。

【討論】

(1) 報告 指名報告搜集所得的資料。

(2) 正誤 共同訂正。

(3) 推究

1. 川邊的形勢怎樣？

2. 川邊的交通怎樣？

3. 鐵索橋可以改建甚麼橋？

4. 開發

川邊的交通當從陸路抑水道入手？

5. 番民的

生活情形怎樣？

6. 如何可使番人和漢人同化？

甚麼關係？

【整理】

(1) 提要 「康定與鐵索橋」「川藏要道與

番民」「番民職業與開導之方法」

(2) 作表

位置——大金川西

形勢——川藏咽喉

人口——番人雲集

川茶番貨互市地

川邊鎮守使駐在地

康定

地點——大金川上

作用——通四川雅安

都市

建築——鐵索橋

建築時代——清康熙時

以巨索九縛於兩岸大鐵柱上

造法——巨索上架木板

旁有大索以便攀扶

長——三十一丈

寬——九尺餘

理化——鴨驛江西

巴安——理化西

昌都——金沙江西

太昭——昌都西

川藏交通之要道

川邊之

穴居士中

居——壘石爲屋

樁木爲屋

言語風俗——與漢人不同

信奉之宗教——喇嘛教

酋長——土司——管理番兵番民

開化者 改土歸流

與漢人同化

土人——番民 現有土司——三百六十以上

職業 大都以耕織爲業

亦有畜牧漁獵的

野蠻者——專事擄劫凶暴不堪

添漢官

開導方法 與教育

籌善法以撫育之

異日可大有望

(3) 批評 1. 板演的共同訂正. 2. 筆記的交換批評.

【考查成績】

(1) 調查筆記簿 訂正誤點.

(2) 描圖 【川邊形勢圖】

參攷

【川邊】清末曾設川滇邊務大臣, 治理川邊

- (3) 填圖 1. 看填. 2. 默填.
- (4) 製特別成績 同(2)或其他圖表、模型等.
- (5) 測驗 至少二十個問題左右.

的地方。民國三年，劃自雅安以西，太昭以東地，

即舊屬四川的邊東，邊西兩道，以及舊屬西藏的喀木全部和衛地東面小半部。——爲川邊特別區域。川邊鎮守使駐康定，轄三十三縣。

【大金川】源出四川松潘縣附近山中，合梭磨河，南流入川邊界，合小金川後，有大渡河的名稱。經過瀘定縣西，折而東，又入四川界，注於岷江。水中多岩石，且多險灘，所以水勢很激，沒有航運之利。

【康定】清康定府治。相傳三國時諸葛武侯打箭於此，所以舊叫打箭爐。地當大渡河西，大雪山東，高出海面八千七百餘尺。人口約二萬，或稱三萬。輸出於西藏的，是茶和布疋，從西藏輸入的，有麝香、羊毛、犛牛尾、金藥品等。

【鐵索橋】一名瀘定橋。在清康熙四十年建。

築。

【雅安】四川建昌道治。清時是雅州府治。漢時叫做嚴道縣。隋時是雅州地。位在成都西南三百三十里。左岷江而右大渡，扼西川的咽喉。當由成都到西藏的驛路必經地。貿易很盛。人口約三萬，或稱五萬。

【鴉礮江】上游叫做瑪楚河。源出青海巴顏喀喇山東南流，入川邊境內，才叫鴉礮江。到雅安縣南，又叫打沖河。入四川建昌道，注於金沙江。因爲貫流高地，水勢湍急，沒有航運之利。

【理化】清四川理化廳。番名叫做裏塘。華番雜處。人口約一萬。有喇嘛教大寺。

【巴安】清四川巴安府治。番名叫做巴塘。氣候溫和，水泉環繞，有巴塘八景。境內農業也盛。喇嘛寺宇很多。

【昌都】舊時是西藏喀木州的首邑。番名叫做察木多。位在瀾滄江上游左岸。貿易很盛。人口約一萬二千。喇嘛僧占四分之一。

【太昭】舊名江達，是西藏的市邑。民國置太昭府，後來又改縣。清時曾置糧臺於此。

【壘石樁木爲屋】番民依山建屋，叫做「碉房」，也有張黑色的幕，以代房屋的。

【言語】番民言語，使用西藏語中的一種方言。俊秀的，能通西藏語的書典；又能譯漢語，讀漢文。

【標劫】生番不受華官節制，屢和漢人衝突；野蠻的更要出來標劫，叫做「夾場」。

九 福建形勢

教材

浙江之南，爲福建省。東南隔臺灣海峽與臺灣

島相對。臺灣本爲我國土地，中日之役，我國戰敗，即以臺灣割讓；福建門戶，自此失矣！

福建之海岸綫，長而屈曲，約共千二百餘里。福州灣爲全省門戶，三沙、廈門二灣分列左右，形勢天成。

【閩侯（福州）】在福州灣內，當閩江北岸，福建之省會也。商埠在城外南臺島上，有各國領事館；下游三十餘里，又有島曰羅星塔，爲汽船停泊之所。其北爲馬尾，有船政局。清季法艦入閩毀之；後雖重行建設，規模迥不如前矣。

廈門島周三十六里，地當九龍江口外，沿海要埠也。未通商前，歐人已至此互市，輸出品以糖爲大宗。其西鼓浪嶼上，各國領事館在焉。

福建爲我國海軍之發源地，船廠與海軍學校，皆創始於此。沿海居民，皆習航海，工商諸業，惟內

地人民僻處山中，交通不便，然物產繁盛，如武夷之茶，浦城之煙，以及榕樹、樟腦、果品等，皆甚著名也。

【問題】福建東南海中有何島？
福建之海岸綫長若干？
福建之船政局在何處？
廈門島周若干里？

【釋要】臺灣海峽，臺灣島與福建省間稱臺灣海峽，東海、南海以此為界。

臺灣島長二百英里，廣自六十至七十英里，土地肥沃，煤礦甚多，又產蔗糖頗著。

閩江口外之三沙灣，在閩浦寧縣南，中有三都澳，故又稱三都澳。

江有南浦溪、富屯溪、沙溪三源，東南流，經閩侯入海。

南臺島，距閩侯約十里，清咸豐十一年開為租界。

羅星塔，島名，因島上有塔故名。

馬尾，為閩省外港，上游有九鵬溪、雁石溪二源，合而東南流，入廈門灣。

鼓浪嶼，周武夷山名，在福建省西北部，所產之茶名烏龍，為紅茶中最佳一種。

浦城，在福建省北境，為入浙要道。

教具

福建省圖、閩侯形勢圖、臺灣形勢圖、福建各地風景片。

教學

【動機發生】

(1) 自發的 報章上閩侯專電，以及廈門等處的信，或圖片、遊記……等。

(2) 暗示的

1. 用實物的 懸掛福建省等圖或風景畫片，以及陳列關於本課的書籍、地圖和實物……等等。

2. 用問題的 ① 浙江的南面是甚麼地方？

② 福建省東面靠甚麼？

③ 海中有甚麼大島？

④ 這個島現在屬那國？

⑤ 那處現在福建的形勢怎樣？

【決定目的】板書「福建形勢」四字，並使

兒童知道本單元所研究的是福建的大概情形。

【搜集資料】

- (1) 調查或觀察 1. 觀察課文和插圖。 2. 參考書報雜誌。 3. 訪問和調查。

- (2) 記疑 摘錄疑難不解的地方和生僻的字句。

- (3) 注解 把生僻的字，一一檢查字典，加以注解。

閩音民。迥讀如屬上聲。榕音容。福建。迥遠的意思。榕木名。

【考查】

- (1) 演述 1. 指名演述課文大意。 2. 共同訂正。

- (2) 補正 師生共同補正。

- (3) 問答

- 1. 質問 ●兒童質問疑難字句。 ●共同

高級地理課本教學法 第二冊

訂正。

- 2. 指問 教師將兒童未問的疑難字句，指名令答。

- (4) 誦習 1. 段讀課文。 2. 指名通讀。 3. 共同訂正。

- (5) 講解 指名講一二遍。

【討論】

- (1) 報告 指名報告搜集所得的資料。

- (2) 正誤 共同訂正。

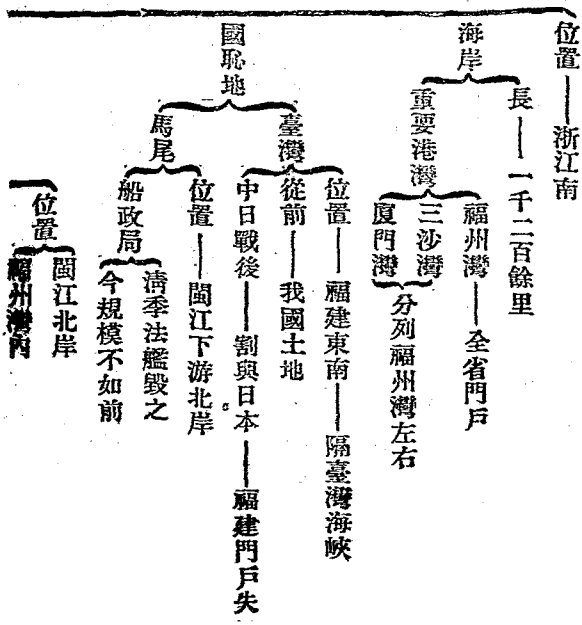
- (3) 推究 1. 福建和臺灣的形勢怎樣？ 2. 臺灣失了，和福建有甚麼關係？ 3. 福建的海灣有多少？

- 4. 閩侯的形勢怎樣？ 5. 閩江口和錢塘江口比較怎樣？ 6. 廈門的形勢怎樣？ 7. 福建的實業怎樣？ 8. 福建省有那幾種優點？

【整理】

(1) 提要 「福建與臺灣」「福建之港灣」「閩侯」「廈門」「福建之沿海與內地」

(2) 作表



福建省之

省會——閩侯

商埠——南臺島上

位置在城外
有各國領事館

周——三十六里

廈門

位置——九龍江口外

商業——未通商前歐人已至此互市

輸出品——糖為大宗

島嶼

鼓浪嶼

位置——在廈門西

機關——有各國領事館

羅星塔

位置——閩江下游

作用——汽船停泊之所

沿海

為我國海軍發源地

船廠


創始於此

海軍學校

人民——習航海工商諸業

人民——僻處山中交通不便

〔茶——武夷〕



(3) 批評 1. 板演的共同訂正. 2. 筆記的交換批評.

【考查成績】

(1) 調查筆記簿 訂正誤點.

(2) 描圖 「福建形勢圖」 「閩侯形勢圖」

【臺灣形勢圖】

(3) 填圖 1. 看填. 2. 默填.

(4) 製特別成績 同(2)或其他圖表、模型等.

(5) 測驗 至少二十個問題左右.

參攷

【福建省】本省因福州（今閩侯）建寧（

今建甌）兩地而得名。古時是七閩地，所以亦稱閩省。分四道，轄六十三縣。

【臺灣島】明末，鄭成功逐荷蘭人，據臺灣以抗清。康熙時，平定其地。初屬福建，後置臺灣省。島長二百英里，闊自六十到七十英里。土地肥沃，煤礦極多，又為著名的蔗糖產地。光緒廿年中日戰爭，我國海軍大敗，後來馬關條約割臺灣給日本。

【福州灣】是閩江入海口的灣，有五虎島在江口，島北的長門、金牌門，是第一重門戶。島西的閩安關，是第二重門戶。島南因有沙洲，不能航行。【三沙灣】在霞浦縣南，中有三都島，所以又

叫三都澳。灣口叫做東沖口。水深波平，是安全的良港。三都島周三十三里。清光緒二十四年自開爲商埠。

【廈門灣】是九龍江入海口的灣，有金門、廈門二島。水深風靜，利於碇泊。

【閩侯】清福州府治。閩侯官兩縣。漢時是閩越國。晉時是晉安郡地。城中多榕樹，所以亦叫榕城。清道光二十二年南京條約開爲商埠。咸豐十一年實行。人口約六十餘萬。

【閩江】有三源：北源、南浦溪（即建溪）出浦城縣北，西北源富屯溪出光澤縣南，西南源沙溪，出寧化縣。三溪合流，在南平城南，水勢很大。折向東南，會尤溪、古田溪，才有閩江的名稱。到閩侯縣城西，分做兩派：北叫南臺江，南叫陶江。到羅星塔，又合流，注入福州灣。全長——從江口到建溪

的上源——約九百八十里，水量四季不同。

【南臺島】是閩侯的商埠，在閩侯城南十里，有兩石橋，和城內交通。一叫江南橋，一叫萬壽橋，都很壯大。

【羅星塔】因島上有塔，故名，亦稱羅星山。在此島以上，水淺多沙，大輪不能航行，所以海洋輪船，都停在這裏。

【馬尾】在省會東南四十里的江濱，因馬頭江而得名的。水深可泊軍艦，是我國軍港之一。清同治六年，左宗棠在此設船廠，規模極大。光緒九年，法艦入閩江，毀船廠。

【廈門島】在金門島西，清置廈門廳。民國改思明縣。鴉片之役開爲商埠，同治元年實行。人口約十一萬餘。

【九龍江】有二源：北源叫做九鵬溪，南源叫

做雁石溪，出龍巖縣，合而南流，到海澄縣，注於廈門灣。因為水量淺，險灘多，除下流外，沒有航運之利。

【鼓浪嶼】在廈門西三里，嶼周十二里，產花崗岩，從廈門望之，形如圓石。清光緒二十八年開為租界，有外人住宅和各國領事館。我國人在這裏開設店鋪的也很多。

【沿海居民】福建沿海居民，嫻航海術，和工商業，而儉約過於廣東。每年移住外國的，數達幾萬。在南洋羣島的勢力最為鞏固。

【內地人民】內地住民強悍而愚蠢，械鬥的風氣，到如今還有。

【交通不便】福建交通，祇有沿海發達。內地交通，都不便利。鐵路祇有廈漳一線告成，就是從廈門對岸到龍溪縣——舊漳州府——的長三

十一英里。

【武夷】山名，在崇安縣南，當本省西北部。高出平野約一千尺。由片岩、沙岩、花崗岩等組成，種茶最宜。

【浦城】屬建安道，是本省最北的一個縣。以產煙草著名。

【榕樹】桑科的常綠喬木，產在暖地。高約四五丈。莖上生氣根很多，下垂到地面，就成新植物。葉橢圓形，質厚而堅。花和果實，都像無花果。木材可作器具。

【樟腦】是從樟樹的木質中蒸溜出來，有特異的香氣，可以做興奮、防腐的藥劑。福建產樟樹，所以樟腦的出品，也很著名。

【果品】福建的果品，有橘、柑、柚、橄欖、荔枝、龍眼等。

一〇 廣東之商場與軍港

教材

自廈門乘海輪南行，可至廣東之汕頭與香港；更自香港乘海輪，可至番禺（廣州）。

番禺為廣東省之省會，城在粵江北岸，土地肥沃，街市繁華，南海沿岸之大商埠也。昔日外洋貨物，皆先運此，更分銷各地。城南沙面（沙基）有英法租界，輪船雲集，輸入品多棉布、米穀與金屬，輸出品多絲、茶、藥材、蔗糖等類。

居民皆敏捷勤勉，善經商，不論國內國外，皆有其足跡焉。俗稱「廣東幫」。

番禺地濱江海，交通四達，有廣九鐵路達九龍，渡海即至香港，今此島割與英國，闢為自由商港矣。有粵漢鐵路北通湖北，惜今猶未告成，否則可轉京漢鐵路，直達北京也。水道如由西江向西，可

高級地理課本教學法 第二册

達廣西省之蒼梧（梧州）由東江而東可至惠陽（惠州）乘海輪由粵江出海，經澳門西，可至廣州灣。

澳門為葡人居留地，境內市政腐敗，賭博盛行，廣東治安之大害也。廣州灣在雷州半島東岸，頗占形勢；清季租與法人，為彼軍事上之根據地。總計廣東一省，海岸綫共長四千二百餘里，而形勢重要之處，皆為外人所據。今惟海南島（瓊州島）南端之榆林港，可為南海方面之海軍根據地，異日欲與各國競爭於海上，不可不早為注意也。

【問題】廣東之省會何名？沙面有何國租界？香港屬何國？澳門為何國人之居留地？

【釋要】汕頭前臨滄海，後負懸崖，清咸豐十年，開為商埠。香港常粵江東口，面積三百餘方里，清道光二十二年，鴉片之役，割與英國。粵江一稱珠江，即東江、北江、西江；東江發源江西；北江有二源，出於大庾、騎田山麓；西江來自廣西，其源有三，桂

江、魁江、
黔江是也。
南海自臺灣海峽起，
沙面地臨粵江
領事署在焉。
廣九鐵路自番禺至九龍，長
九

龍 寬安縣東南之半島也，隔海與香港相對。清咸豐十年
拓租界，租期 查梧 當西江北岸，爲桂、粵交通要道
九十九年。清光緒二十三年，陞爲商埠。

惠陽 在東江南岸，清光緒二
澳門 三面臨海，北接

牙人租其地。清光緒十
海南島 周二千里，我國第一大
多高山大林。北端環山縣，
清光緒二年，開爲商埠。

檳榔嶼 位於海南島南端
口寬廣，口外有大玳瑁
洲，爲天然之屏障。

教具

廣東省圖 粵江口形勢圖 廣州海圖 香

港九龍圖 澳門圖

教學

【動機發生】

(1) 自發的 報章上番禺、香港的專電和通信，
以及圖片、遊記……等。

(2) 暗示的

1. 用實物的 懸掛廣東省圖和香港、九龍、
澳門、廣州灣等圖，以及陳列關於本課的書籍、地
圖和實物……等等。

2. 用問題的 福建的西南面是甚麼省？

● 廣東省的省城叫甚麼？ ● 番禺是不是商

埠？ ● 廣東省除番禺外，還有那幾處商埠？ ●

廣東省有那幾處軍港？

【決定目的】板書「廣東之商場與軍港」
八字，並使兒童知道本單元所研究的是廣東省
的大概情形。

【搜集資料】

(1) 調查或觀察 1. 觀察課文和插圖 2. 參
考書報雜誌 3. 訪問和調查。

(2) 記疑 摘錄疑難不解的地方和生僻的字

句。

解。

(3) 注解 把生僻的字，一一檢查字典，加以注

汕 音屬。汕頭 番禺 音蠻魚。粵 音曰。江名。敏捷

音調節。靈敏 幫音榜。同 廢敗 廢茶不振，係 漢音奧。

疾速的意思。幫音幫。同 廢敗 廢茶不振，係 漢音奧。

地名 瓊音窮。瓊州 地名 瓊音窮。瓊州

【考查】 (1) 演述 1. 指名演述課文大意。 2. 共同訂

正。

(2) 補正 師生共同補正。

(3) 問答

1. 質問 ●兒童質問疑難字句。 ●共同

訂正。

2. 指問 教師將兒童未問的疑難字句，指

名令答。

同訂正。

(5) 講解 指名講一二遍。

【討論】

(1) 報告 指名報告搜集所得的資料。

(2) 正誤 共同訂正。

(3) 推究 1. 福建與廣東的交通怎樣？ 2. 番

禺的形勢怎樣？ 3. 番禺今昔的商況怎樣？ 4.

番禺的水陸交通怎樣？ 5. 廣東人的經商怎樣？

6. 廣東的割讓地有幾處？ 7. 廣東的租借地

有幾處？ 8. 廣東省的海權怎樣？ 9. 海南島的

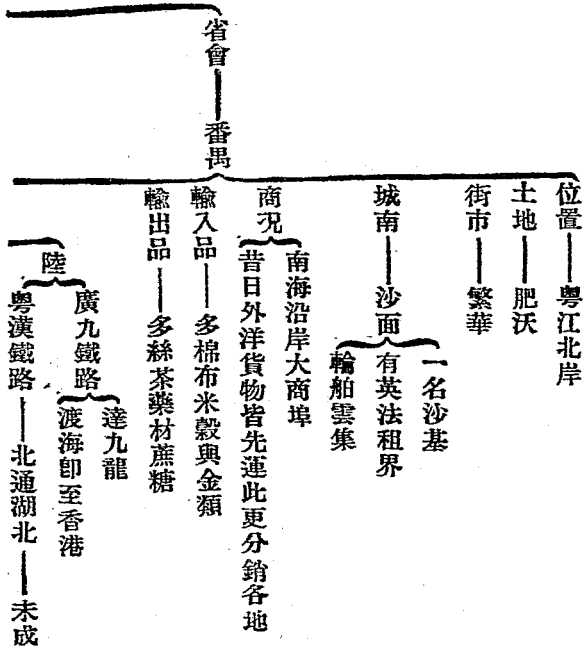
形勢怎樣？ 10. 我國要在南海上發展，應當注重

那幾點？

【整理】

(1) 提要 「福建廣東間之交通」 「番禺之

商况
「番禺之交通」
「廣東沿海之形勢」
(2) 作表



廣東省之

交通

西——由西江達廣西蒼梧
水東——由東江至惠陽

南——由粵江出海經澳門西可至廣州灣

居民

敏捷勤勉
善經商

不論國內國外皆有其足跡——俗稱廣東幫

海岸綫——長四千二百餘里

商港——汕頭

香港——割與英國為自由商港

葡人居留地

割讓地

澳門

市政腐敗
賭博盛行
廣東治安之大害

九龍——南端一小部割與英國

廣州灣
在雷州半島東岸頗占形勢

清季租與法人為彼軍事上之根據地

租借地
九龍——一小部租與英國

現海形勢

現在可為我國海軍根據之地——榆林港——海南島南端

(3) 批評 1. 板演的共同訂正 2. 筆記的交換批評。

【考查成績】

(1) 調查筆記簿 訂正誤點。

(2) 描圖 「廣東省圖」「粵江口形勢圖」

「番禺商路圖」「廣東割讓地與租借地圖」

(3) 填圖 1. 看填。 2. 默填。

(4) 製特別成績 同(2)或其他圖表、模型等。

(5) 測驗 至少二十個問題左右。

參攷

【廣東】本省在宋時是廣東南路，所以元時置道，就叫廣東道，明以後置省，就叫廣東省。古時是百粵地，所以亦稱粵省；又因要別於廣西，稱為粵東，分六道，轄九十四縣。民國十年，各道都裁撤。

【汕頭】屬澄海縣，在汕頭港口北岸。清咸豐十年開為商埠，有潮汕鐵路，從潮安到汕頭，長二六·五英里，人口約六萬。

【香港】在粵江東口，九龍的南面，島長三十六里，闊約六里至十五里。清道光二十二年鴉片之役，割給英國，英設總督於維多利亞城，且為東洋艦隊根據地。市街繁華，道路沿山坡而上，分上中下三環。

【番禺】清廣州府治。漢時趙佗佔據這裏，叫做南越國。五代時，南漢劉隱建都在這裏，叫做興王府。城瀕粵江北岸，三面都是沖積地，土壤膏腴，甲於全省。市街繁華，列肆櫛比，城西更繁盛。鴉片之役開做商埠，咸豐九年實行，商業在鴉片之役以後，反不及從前，因香港割讓，一部分商業，為香

港所奪了；但現在還是南區第一商埠。人口約一百六十萬。

【粵江】一名珠江。上源有三：西江、東江、詳後。【西江】、【東江】條。北江又有兩源。東源出大庾嶺南麓，名叫湏水，西南流到曲江縣，會西源武水（出騎田嶺）折而南流，到三水縣城西，和西江合。又東經番禺縣城東，和東江合。

【沙面】在番禺城西，和番禺隔一小河，架橋以便行人。這裏本是江中的沙洲，在番禺開埠後，英法人共同築此沙洲，以為租界。外國的商舖和領事署都在這裏。

【居民】廣東居民多敏捷奮勉，士崇學術，商擅居奇，但習於豪奢，流於放誕，積弊也很大。

【廣九鐵路】從番禺到九龍，長一百二十英里，和廣九相接的，還有廣三鐵路，從番禺到三水。

縣，長二十英里。

【西江】上源叫盤江，出雲南、貴州界上，入廣西省會柳江，叫做黔江。合鬱江、桂江，才稱西江。入廣東，到高要縣東北，分爲二派：一派南入崖門灣；一派會北江、東江，入廣東灣。航路從江口起，到廣西蒼梧一段，可航大汽船。從蒼梧到桂平，汽船也可通行，再上到邕寧，在水大時可通汽船。其餘支流祇可通帆船。

【東江】源出江西定南縣的九連山脈，入廣東，西南流經惠陽，到番禺南合。西北兩江入海，航運從江口到惠陽，可通小汽船；再上祇可通帆船。

【惠陽】清惠州府治歸善縣。漢時叫做博羅縣。梁置梁化郡。隋時是循州地。城在東江南岸。清光緒二十八年開爲商埠。人口約三萬。

【澳門】在粵江口三角洲南端。明嘉靖三十

六年葡萄牙人向我國租借這地方，歲納銀五百兩，到清道光二十八年，忽然不納租銀，並且常常私運鴉片到我國內地。光緒十三年，我國和葡人訂立條約，把澳門永讓於葡，而教葡國替我們嚴防私煙。後來因為界址不明，又屢起交涉。葡總督允許賭博公開，從而徵收賭博稅，以助政費，並且有設豬仔館，以誘賣人口的。

【廣州灣】在雷州半島的東面，灣口有碣洲、東海兩島，灣內長五十四里至六十六里，闊十八里至二十一里，深三尋至十一尋。清光緒二十五年，法人強訂租約，以九十九年為期，直轄於安南總督，設砲臺兵營，布置周密。

【雷州半島】是高雷道南端伸入海中的半島，東有廣州灣，西是東京灣，南與海南島相對，半島中部有海康縣，就是清雷州府治。

【海南島】亦叫瓊州島，在雷州半島南，周二千里，面積約十二萬六千方里。地在熱帶圈內，多高山大林，有黎母山、五峯屹立，亦叫五指山。商埠在瓊山縣北海口，清咸豐八年訂約開放，光緒二年實行。

一一 接近安南之廣西

教材

自廣州乘汽船，沿西江而上，至廣西省之蒼梧，地居西江北岸，當潯、桂兩江會口，兩粵之咽喉，亦本省貿易之要區也。

潯、桂江而上，可至桂林，昔為廣西之省會，北由湘江，可至湖南；南自桂江，可達廣東。地極險要，但偏居邊界，有不易顧及全省之缺點。

自潯、桂江，西行，轉入鬱江，可至邕寧（南寧），今廣西省會，即移於此。航路東達蒼梧，西通龍州，為

……等等。

2. 用問題的

●廣東的西面是甚麼省？

●廣西的南部一隅接甚麼地方？ ●安南如今

屬甚麼國？ ●廣西邊界上的形勢怎樣？

【決定目的】板書「接近安南之廣西」七字，並使兒童知道本單元所研究的是廣西的大概情形。

【搜集資料】

(1) 調查或觀察 1. 觀察課文和插圖。 2. 參考書報雜誌。 3. 訪問和調查。

(2) 記疑 摘錄疑難不解的地方，和生僻的字句。

(3) 注解 把生僻的字，一一檢查字典，加以注解。

沂音業·同瀕·遼江名·水名 濤音導·鬱音欲·鬱江名·縣名 流音容·也聲 而上叫沂。

觀音計魚·非獠音通·種 分的希習·族名。

【考查】

(1) 演述 1. 指名演述課文大意。 2. 共同訂

正。

(2) 補正 師生共同補正。

(3) 問答

1. 質問 ●兒童質問疑難字句。 ●共同

訂正。

2. 指問 教師將兒童未問的疑難字句，指

名令答。

(4) 誦習 1. 段讀課文。 2. 指名通讀。 3. 共

同訂正。

(5) 講解 指名講一二遍。

【討論】

(1) 報告 指名報告搜集所得的資料。

(2) 正誤 共同訂正。

(3) 推究 1. 兩粵的交通怎樣? 2. 廣西的省

城爲甚麼要遷移? 3. 龍州的形勢怎樣? 4. 法

人在廣西邊界上怎樣的侵佔? 5. 鎮南關在廣

西省怎樣重要? 6. 鎮南關的形勢比龍州怎樣?

7. 廣西的實業怎樣? 8. 廣西的居民怎樣?

【整理】

(1) 提要 「蒼梧」「桂林」「邕寧」「龍

州」「鎮南關」「廣西之物產與居民」

(2) 附表

位置——西江北岸潯桂二江會口

蒼梧 形勢——兩粵咽喉

作用——本省貿易之要區

交通 南——自桂江可通蒼梧達廣東

北——由湘江可至湖南

桂林 作用——昔爲省會

形勢——極險要

缺點——偏居邊界不易顧及全省


作用——省會

都市

邕寧

交通——航路

東達蒼梧
西通龍州



(3) 批評 1. 板演的共同訂正。 2. 筆記的交換批評。

【考查成績】

- (1) 調查筆記簿 訂正誤點。
- (2) 描圖 【廣西省圖】、【廣西邊界形勢圖】
- (3) 填圖 1. 看填。 2. 默填。
- (4) 製特別成績 同(2)或其他圖表、模型等。
- (5) 測驗 至少二十個問題左右。

參攷

【廣西省】本省在宋時是廣南西路，所以元置行省，就叫廣西。古時是百粵地，所以亦稱粵西。又因秦時置桂林郡，簡稱桂省。分六道，轄八十六

縣。

【蒼梧】蒼梧道治，清梧州府治。漢時是蒼梧郡治的廣信縣和猛陵縣。隋時是封州地。城在桂兩江會口的東北岸。人口約六萬餘。清光緒二十三年開做商埠。貿易冠於全省。洋土貨的出入直接香港。

【桂江】桂江上源叫灑水，出興安縣南的海陽山，和湘江同源。南流，經桂林城東，才叫桂江。東南流，到蒼梧城西，入潯江。雖然偶有險灘，但是全部可以航行。

【桂林】桂林道治，清桂林府治，臨桂縣。漢時叫做固始縣。城在桂江西岸。是唐李靖所築。地勢

很高。附近山水之勝，甲於東南。人口約八萬。廣西省會本在這裏；民國初年因本縣偏居省之東北，難於統馭全省，西南邊界的地方，更不易顧到，所以把省會遷到邕寧。

【鬱江】上源有二：北源出雲南廣南縣，叫做西洋江；（右江）南源出鎮南關外，叫做麗江。（左江）到邕寧西，兩源相會，就叫鬱江。船舶在北源可通到百色，在南源可通到龍州以上。

【邕寧】清南寧府治宣化縣。漢時叫做領方縣。唐時是邕州地。城在鬱江北岸。水運便利，貿易很盛。清光緒三十三年自開為商埠。民國初年又移省治於此。人口約五六萬。

【龍州】鎮南道治。清時是龍州廳。城據鬱江上源的左江北岸。清光緒十二年，與法人訂約開做商埠。十五年實行邊防。上有鎮南平南，水口三

關，而鎮南關尤其扼要。人口約二萬。

【鎮南關】在龍州西南一百二十里，距離安南的首府河內約三百里。

【安南】本我國屬地。清光緒七年，法人侵安南，劉永福破之。十年，法和清兵在諒山開戰，馮子材等又敗之。法不得逞，但此時中法和議已成，馮子材乃棄諒山還安南。從此為法屬地。

【法人……築有鐵路】清光緒二十二年，法人要求築龍州鐵路，起龍州，到鎮南關，長一百二十里，和安南海防至諒山的鐵路接軌。

【諒山】在鎮南關外。本是我國土地。安南之役，我國曾敗法兵於此。後來割歸法屬。法人在附近的土山上，建築瞭望臺，以窺我國關內的舉動。

【山多田少】廣西境內山脈盤結，大概都是屬於南嶺的，句漏山脈的主峯，就在容縣西北。全

省比較肥沃的土地，只有潯、梧一帶，所以農產物如米、小麥、玉蜀黍、稷、蕎麥等，雖然都有，但並不豐盛。

【礦產】貴縣的銀、灌陽的鐵、河池的錫、賀縣的煤、上思的鉛，都已開採。

【苗獠雜處】本省人口，蠻民占多數，漢人多集中都會的地方，蠻民就是苗、獠等，都住在山洞裏，常和漢人衝突。明時王守仁曾擊破本省大藤峽的獠族。

一一 毗連英法屬地之雲南教材

廣西之西，爲雲南省，省之南，卽法屬安南，省之西，卽英屬緬甸也。強鄰環伺，形勢殘破，已無險可守矣！

省會曰昆明，南有滇池，（昆明湖）周約三百

餘里，沿湖土地肥美，滇中之大盆地也。附近山川清幽，商業亦盛。法人所築之滇越鐵路，卽以此爲起點。

自滇越鐵路南下，至蒙自，地當鐵路之衝，與法貿易甚盛，輸出品以錫爲大宗，次爲鹿茸與普洱茶。更南至河口，與安南老開相望，亦商業與軍事上之要地也。近年法人在沿邊一帶，建築砲臺，增添守兵；又在滇越鐵路附近，隨處建設砲樓，布置周密，並欲延長滇越支綫，通至思茅，誠可懼也！

昆明之西爲大理，以產大理石名，更西爲騰衝，（騰越）滇緬之衝途也。今英人方築滇緬鐵路，與法人相抗，滇西門戶，亦甚殆矣！

怒江西高黎共山中，有地曰片馬，亦滇西之要害也。清季爲英人所據，民國政府屢與交涉，至今尙爲懸案。

總計雲南一省，以歷次劃界為法人所佔者有彌滄江東之江洪一帶；為英所佔者，有怒江東西之科干木邦，與野人山一帶；此皆我國人不研究邊界，以致有此損失也。

【問題】雲南之南與西為何地？雲南之省會何名？何處為滇越鐵路之要衝？片馬在何處？

【釋要】緬甸 本我國藩屬，清光緒十二年為英所滅。滇越鐵路

自昆明至安南海防，在雲南境內者，長二百九十六英里。

五年，開普洱即今寧洱縣，為商埠。

思茅在寧洱縣南，清光緒二十三年開為商埠，英法互市於此。

騰衝高山環抱，清光緒二十三年開埠，二十八年實行。

緬甸邊境，怒江發源西藏，東流循怒山而南，經實尚未告成。

法於印高黎共山在怒江西，為橫斷山脈，怒江西之一支。

片馬為登壇境。瀾滄江發源西藏，東南流斜灌雲南，經騰越、廣西、安南，經暹羅、緬甸，匯入印度洋。

江洪為舊普洱府轄猛烏、烏得兩土司地，今劃與法國。

科干木邦在騰越西南，孟良土司地，面積七百五十方英里；

野人山在騰越西北，今為緬甸之省，故名。地長千餘里，清光緒時，為英所佔。

教具

雲南省圖。雲南沿邊形勢圖，或印度支那半島圖。片馬形勢圖。

教學

【動機發生】

(1) 自發的 報章上雲南的專電和通信，以及圖片、遊記……等。

(2) 暗示的

1. 用實物的 懸掛雲南省圖和雲南沿邊形勢等圖，以及陳列關於本課的書籍、地圖和實物……等等。

2. 用問題的 ●廣西的西面是甚麼省？

●雲南的東南面接甚麼地方？ ●雲南的西南面接甚麼地方？ ●安南、緬甸屬甚麼國？

【決定目的】板書『毗連英法屬地之雲南』九字，並使兒童知道本單元所研究的是雲南的大概情形。

【搜集資料】

- (1) 調查或觀察 1. 觀察課文和插圖。 2. 參考書報雜誌。 3. 訪問和調查。

(2) 記疑 摘錄疑難不解的地方和生僻的字句。

(3) 注解 把生僻的字，一一檢查字典，加以注解。

插甸 音勉電，甸音次，暗察 演 音顯，漢池 盆地 四元
地名。甸的意思。演，湖名。盆地，高原中間低窪的地方。茸 音戎，鹿茸，初生的鹿角 耳 音耳，普耳，
可以用於滋補的藥品。耳 音耳，普耳，
寧耳 音風，騰音藤，騰衝 懸案 未了的案件。
礪石室 縣名。 騰 音騰，騰衝 懸案 未了的案件。

【考查】

(1) 演述 1. 指名演述課文大意。 2. 共同訂正。

(2) 補正 師生共同補正。

(3) 問答

- 1. 質問 ●兒童質問疑難字句。 ●共同訂正。

2. 指問 教師將兒童未問的疑難字句，指名令答。

(4) 誦習 1. 段讀課文。 2. 指名通讀。 3. 共同訂正。

(5) 講解 指名講一二遍。

【討論】

(1) 報告 指名報告搜集所得的資料。

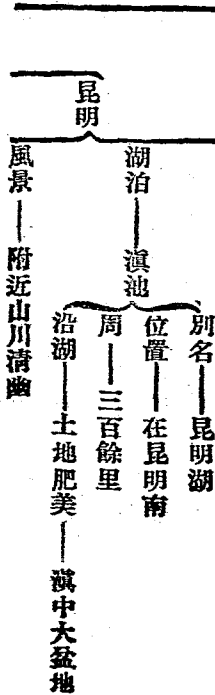
(2) 正誤 共同訂正。

- (3) 推究
1. 雲南和那兩國接界?
 2. 英國對於雲南如何侵佔?
 3. 法國對於雲南如何侵佔?
 4. 片馬的交涉怎樣?
 5. 我國爲甚麼要被英法兩國侵佔土地?
 6. 今後可有方法補救?
 7. 騰
 8. 蒙自的形勢怎樣?
 9. 騰
 10. 雲南的實業怎樣?

位置——廣西之西

與他國接界
南——法屬安南
西——英屬緬甸

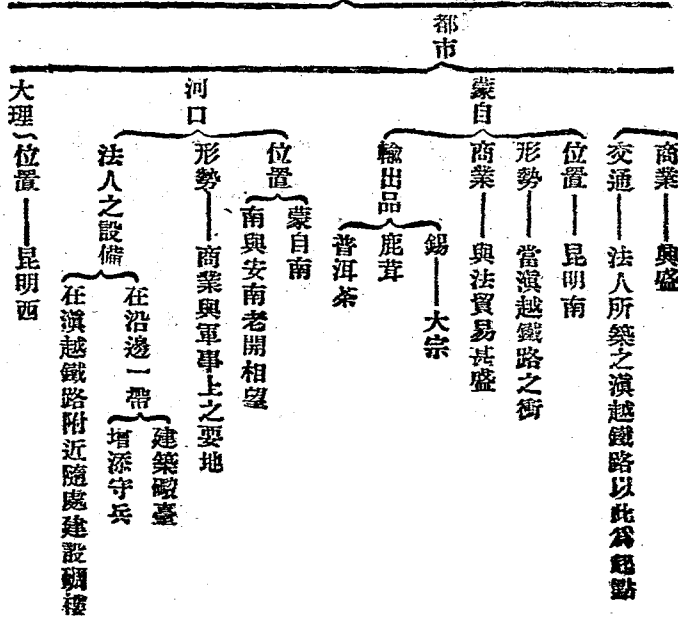
作用——省會



【整理】

- (1) 提要 「雲南之邊界」「昆明」「蒙自與河口」「大理與騰衝」「片馬交涉」「雲南歷年之失地」
- (2) 作表

雲南省之



〔出產——大理石

位置——大理西

騰衝

形勢

滇緬衝途
英人方築滇緬鐵路與法人相抗

位置

怒江西

高黎共山中

片馬

形勢

滇西要害

交涉

清季為英人所據

民國政府屢與英人交涉至今尚為懸案

法所佔者

瀾滄江東江洪一帶

失地

英所佔者

野人山一帶

怒江東西之科干木邦

(3) 批評

1. 板演的共同訂正.

2. 筆記的交

換批評.

【考查成績】

(1) 調查筆記簿 訂正誤點.

(2) 描圖

「雲南省圖」
「片馬形勢圖」

「雲南邊界圖」

(3) 填圖 1. 看填. 2. 默填.

(4) 製特別成績 同(2)或其他圖表、模型等。

(5) 測驗 至少二十個問題左右。

參攷

【雲南】本省地在雲嶺的南面，所以叫做雲南。漢時是滇國地，所以亦稱滇省。分四道，轄九十七縣。民國十年各道都裁撤。

【緬甸】本我國藩屬。清道光四年（西歷一八二四年）和英人開戰，戰敗，割地賠款以和。從此緬甸人深怨英人，常想報復。到咸豐二年（一八五二年）就又開戰，但結果仍是戰敗失地。後來在光緒十二年（一八八六年）為英所滅。

【昆明】清雲南府治。漢時是建伶昌穀兩縣。唐時是南詔善闡府。元時是中慶路地。城在滇池北岸。人口約四萬餘。清光緒十三年與法人訂約

開做商埠，二十四年實行。

【滇池】一名昆明湖。又叫滇南澤。周三百里。旁有金馬、碧雞二山夾峙。中有大臥納、小臥納兩島。池水澄清，風景很好。吐口在池的西面，叫普渡河，通金沙江。

【蒙自】漢益州郡地。在省的東南。除滇越幹綫經過城的東面外，還有支綫經過城的北面，通箇舊。人口約一萬餘。清光緒十三年與法人訂約開做商埠，十五年實行。

【普洱】清普洱府治。今改寧洱。城據普洱河源。所產茶葉，清香馥郁，最為著名。

【河口】鎮名。在馬關縣的西南境。滇越鐵路南行經過這裏，就是法屬安南。有富良江流過這裏，也到安南境。清光緒二十一年代蠻耗開做商埠。

【思茅】清思茅廳。在寧洱的南面，當緬甸與安南之交，所以是英法的競爭地。清光緒二十一年與法人訂約開做商埠，二十三年實行人口不到一萬，商業也不盛。

【大理】清大理府治太和縣。漢時叫做葉榆縣。唐時匡州南詔都此。城的西面枕點蒼山，東面環洱海。大理石就產在點蒼山，所以亦叫點蒼石。清光緒時曾患鼠疫，所以人口很少。最近（民國十四年）又遭地震之災。

【騰衝】清騰越廳。漢時是益州郡地。地當龍川江上游西岸，遙對緬甸的八莫。（本為我國土地，清光緒庚子勘界，誤以尖高山為界，這裏遂為英所有。）高山四繞，中為平原土地極肥。清光緒二十三年與英人訂約開做商埠，二十七年實行人口約一萬餘。

【怒江】一名瀾江。源出前藏拉薩北二百八十里，的布路池。初名喀喇烏蘇，東流經川邊，循怒山脈，到雲南，才叫潞江。入緬甸，又叫薩爾溫河。注入印度洋的馬達般海。

【片馬】在雲南西保山縣屬登壇土司的地方。地約百里。距保山縣治約二百八十里，分上片馬，下片馬兩部。高黎共山在他的東面。清宣統二年冬，英人帶兵到這裏，以高黎共山脈為界，凡怒夷、小江、茶山等地方，都被劃入緬甸境內，並設警察、築營房、開道路、辦學校，大有久居之勢。明年春，兵士死於瘴癘的很多，因退兵百餘里，入秋又至。清政府向英人交涉無效，民國時，提議勸界，英人屢次延宕，所以到如今還沒有解決。

【瀾滄江】原名麗滄，訛為瀾滄。上游有二源：一叫格爾吉河，出青海格爾吉山；一叫鄂穆楚河，

川邊與青海界上二源在川邊的昌都相會，東南流入雲南，經暹羅、安南間，叫湄公河，到柬埔寨、南海。

【江洪】在瀾滄江沿岸，就是清時洱府所轄的猛烏，烏得兩個土司，英人稱這裏叫做江基省，緬甸劃界時，曾有不得割讓他國的約，後來法國因代我國向日本索還遼東，把這裏取償以去，英國遂常有聞言。

【科干木邦】科干在騰越道西南邊境，是孟艮土司地，面積約七百五十方英里，木邦在科干西北，舊名孟那，一名孟那，元至正二年，立木邦路軍民總管府，明時置木邦軍民宣慰使司，現在屬緬甸，稱省，賦州。

教材

一三 苗民最多之貴州省

高級地理課本教學法 第二冊

貴州省在雲南之東，省中土人，皆為苗族；漢人移居於此，僅數百年，苗族種類甚雜，其著名者為白苗、黑苗、青苗、花苗等，皆由其服色而名。體軀短小，頭廣髮直，言語風俗，頗異漢人，蓋尚未完全開化也。

苗民中納貢歸化者曰熟苗，其首領各有官職，總稱土司，可以世襲，惟必聽漢官之調度，與漢人絕不相通，而又無土司管理者，曰生苗，彼等仍匿居深山野林中，食肉衣皮，宛如禽獸，有時出而擄劫，旅行者頗受其累。

貴陽為貴州之省會，城周六里，在各省省會中，此為最小，其東之鎮遠，為湘黔孔道，西之畢節，則滇黔、蜀三省之衝途也。

本省多高山峻嶺，苗嶺山脈橫互南境，婁山山脈蟠旋北部，因此可耕之地，甚不易得，若山上偶

有平地，農民即就其地墾種，自遠望之，宛如階梯，故有「梯田」之稱。礦產金、銀、銅、鐵、煤等皆有，而水銀尤為著名，惟全省不產食鹽。

【問題】貴州省之土著本為何種民族？苗民中最著名者為何數種？貴州之省會何名？何物為貴州所不產？

【釋要】貴陽，位於廣西省中央平野，扼滇、

依山傍水，形勢扼要，廣西東部關鍵也。畢節，廣西西部商業、

鎮遠

山脈，自雲南雲鎮延入，橫互廣西。婁山山脈，自雲南

延入，斜迤貴州北部，有大彝、荆竹諸秀峯。

教具

貴州省圖、苗民圖。

教學

【動機發生】

(1) 自發的 報章上貴州的專電和通信，以及

圖片、遊記……等。

(2) 暗示的

1. 用實物的 懸掛貴州省圖、苗民圖，以及

陳列關於本課的書籍、地圖和實物……等等。

2. 用問題的 雲南的東面是甚麼省？

貴州省內的住民有那幾種？苗民的生活情形怎樣？

【決定目的】

板書「苗民最多之貴州省」

八字，並使兒童知道本單元所研究的是貴州省

內的大概情形。

【搜集資料】

(1) 調查或觀察 1. 觀察課文和插圖 2. 參

考書報雜誌 3. 訪問和調查

(2) 記疑 摘錄疑難不解的地方，和生僻的字

句。

(3) 注解 把生僻的字，一一檢查字典，加以注

解。
納貢 獻方物 世襲 世世承襲爵位 調度 安排處置 匿音
納貢 納貢 世襲 世世承襲爵位 調度 安排處置 匿音
人知 不使對音錯 貴州 互音更 從此端 蟠旋 風曲 園環
盤音 蟠旋 風曲 園環 蟠旋 園環 蟠旋 園環 蟠旋 園環

【考查】

(1) 演述 1. 指名演述課文大意。 2. 共同訂

正。 (2) 補正 師生共同補正。

(3) 問答

1. 質問 ●兒童質問疑難字句。 ●共同

訂正。

2. 指問 教師將兒童未問的疑難字句，指

名令答。

(4) 誦習 1. 段讀課文。 2. 指名通讀。 3. 共

同訂正。

(5) 講解 指名講一二遍。

【討論】

(1) 報告 指名報告搜集所得的資料。

(2) 正誤 共同訂正。

(3) 推究 1. 貴州省本是那種人居住的地方

2. 漢人移居於貴州省的時間為甚麼很近？

3. 苗民中最著名的是那幾種？ 4. 生熟苗怎樣

區別？ 5. 苗民如何可以使他和漢人同化？ 6.

貴陽的形勢怎樣？ 7. 鎮遠和畢節的形勢怎樣？

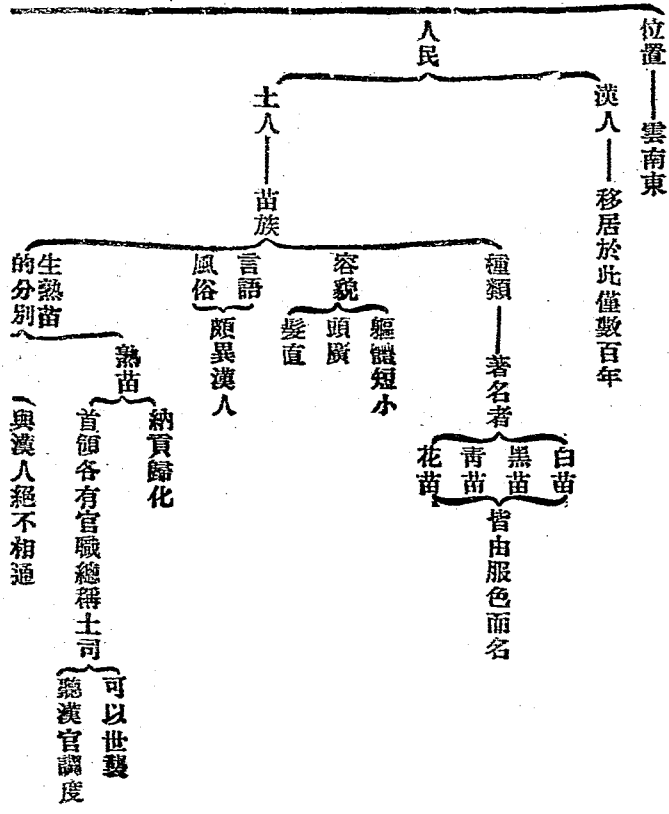
8. 貴州的地勢與他的實業有甚麼關係？

【整理】

(1) 提要 「貴州省之人民」「生熟苗」「

貴陽與鎮遠畢節」「貴州之地勢與產物」

(2) 作表



人民

位置——雲南東

漢人——移居於此僅數百年

土人——苗族

種類——著名者

白苗 黑苗 青苗 花苗

皆由服色而名

容貌——頭廣 軀體短小

髮直

言語——頗異漢人

納貢歸化

熟苗

首領各有官職總稱土司

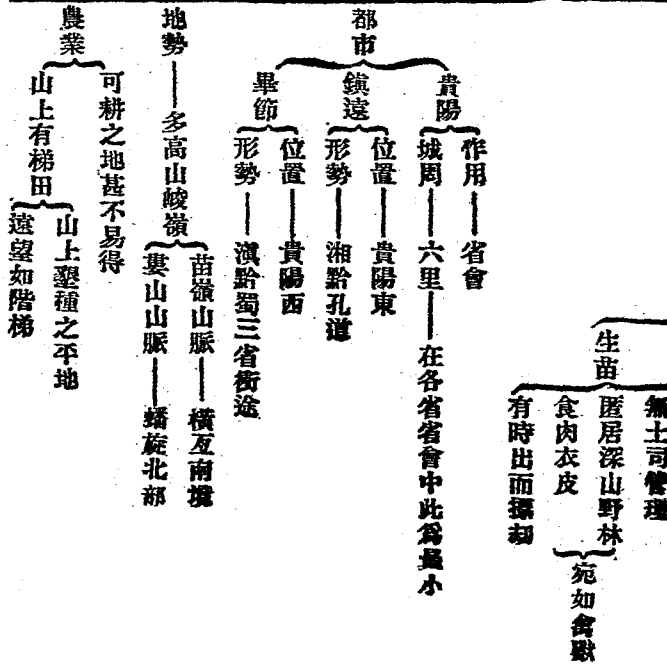
可以世襲

聽漢官調度

生熟苗的分別

與漢人絕不相通

貴州省之



金銀銅鐵煤等皆有

礦產 水銀尤為著名

不產食鹽

(3) 批評 1. 板演的共同訂正。 2. 筆記的交

換批評。

【考查成績】

(1) 調查筆記簿 訂正誤點。

(2) 描圖 【貴州省圖】

(3) 填圖 1. 看填。 2. 默填。

(4) 製特別成績 同(2)或其他圖表、模型等。

(5) 測驗 至少二十個問題左右。

參攷

【貴州省】本省因殷周時是鬼方地，貴與鬼音同，所以元時就其一部分設貴州宣慰使；明時改行省，就以貴州命名，又因戰國時是黔中的

一部，秦時隸黔中郡，所以亦稱黔省。分三道，轄八十一縣。

【苗族】古時苗族本是住在黃河流域的，後來為漢族所驅逐，遂到長江以南。現在雲南和湖南的西境，四川的南部，廣東的海南島等處，都有苗族；但在貴州省的為最多。種類有白苗、青苗、黑苗、花苗等五十餘族。清同治時，雲南回教徒作亂，頗想起來和漢人對抗，經席寶田痛剿，人口減少不少。

【漢人移居於此】貴州是內地最後開闢的一省，所以漢人移居於此，不過數百年。其中又分新舊兩族。新漢族多是近世由兩湖、桂、蜀等省移

去的；尤以蜀人移居於此的爲最多。

【貴陽】清貴陽府治。城在本省中央平野，但已高出海面三千餘尺。周圍僅六里餘，是各省省會之最小的。有棲霞山、黔靈山，是城東西兩名勝。南門外有甲秀樓，下臨深潭，更是省垣的佳境。人口約十萬。

【鎮遠】鎮遠道治。清時是鎮遠府治。城在鎮陽江——沅江上游——北岸。帆船或淺水汽船可從這裏達湖南的常德。貨物聚集很多，佔本省貿易三分之一。

【畢節】貴西道治。北通四川，西達雲南，所以是黔西的門戶。人口約二萬。所產布帛很著名。西南有七星關，懸崖絕壁，很爲險要。

【苗嶺山脈、婁山山脈】都屬於崑崙山南支的南嶺，從黃祈山脈東起。

【礦產】金、銀、銅、鐵等都有，尤以水銀爲最多。非金屬礦物，有煤、硫黃、硝石、大理石等。此外還有礦泉，在石阡縣的最著名，浴客很多。

【水銀尤爲著名】黔中道的白馬洞、貴西道的興義縣、鎮遠道的婺川縣東北，都是著名產水銀的地方。

【不產食鹽】貴州省不產食鹽，人民所用的鹽，都仰給於四川省。

一四 青海與青海人之生活

教材

青海爲長江、黃河之發源地，在甘肅之西。土地高亢，長江、黃河間，有巴顏喀喇山、崑崙山之正幹也。此外在北者有祁連山，在南者有唐古刺山。

湖泊最大者，曰青海。青海地方，即以此得名。周約五百五十餘里，我國大鹹湖也。四周水草豐美，

最宜畜牧。中有小島，島上有喇嘛寺，以湖中無船，故喇嘛出而購備糧食，須在湖水凍時。

青海之人民，為額魯特人與番族，皆從事畜牧，隨水草而遷居。故青海地方，頗難聚成都市。其地之官職，額魯特人有王公等名稱，番族有千百戶等名稱。人民信奉喇嘛教，故青海地方，喇嘛之寺院甚多。

青海之物產，農業品甚少。動物多良馬、犛牛；礦產有珠玉、寶石、金沙與食鹽；工業品以氈毯為著。其與漢人互市，皆聚於甘肅之西寧，而甘邊、寧海鎮守使即駐於此，故西寧不啻青海之都會也。

【問題】青海為何大川之發源地？青海周若于里？青海之人民分何數族？青海有何著名之工藝品？

【釋要】巴顏喀喇山自新疆延入，遼東斜互青海中部，為長江、黃河之

分水。崑崙山，蔥嶺南出東行之山系，分布本部全境。

塔格山延入，遼東橫障青海。唐古刺山，自新疆、西藏北境，為崑崙山脈之北支。

海南境東行，為崑。額魯特人，蒙古古西寧古西羌地；河

溫帶，山嶽迂迴，水草肥，適牲畜繁。地當青海入甘肅之道。

教具

青海圖。青海人民居住情形圖。（如天幕等圖）

教學

【動機發生】

(1) 自發的 報章上青海的通信和畫片、遊記……等。

(2) 暗示的。

1. 用寶物的 懸掛青海圖和青海人民生活情形圖，以及陳列關於本課的書籍、地圖和寶物……等等。

2. 用問題的。
 ●甘肅省西寧的西面是甚麼地方？
 ●青海是省嗎？
 ●青海有重要都會嗎？
 ●青海人民的生活怎樣呢？

【決定目的】板書「青海與青海人之生活」九字，並使兒童知道本單元所研究的是青海的大概情形。

【搜集資料】

(1) 調查或觀察 1. 觀察課文和插圖 2. 參考書報雜誌 3. 訪問和調查。

(2) 記疑 摘錄疑難不解的地方，和生僻的字句。

(3) 注解 把生僻的字，一一檢查字典，加以注解。

亢音抗，高昂。喀音客，巴顏喀喇音拉，唐古不啻就是的意思。
 喇，山名。刺音刺，山名。不啻就是，又有無異的意思。
 恩音恩。

【考查】

(1) 演述 1. 指名演述課文大意 2. 共同訂正。

(2) 補正 師生共同補正。

(3) 問答

1. 質問 ●兒童質問疑難字句。 ●共同訂正。

訂正。

2. 指問 教師將兒童未問的疑難字句，指名令答。

名令答。

(4) 誦習 1. 段讀課文。 2. 指名通讀。 3. 共同訂正。

同訂正。

(5) 講解 指名講一二遍。

【討論】

(1) 報告 指名報告搜集所得的資料。

(2) 正誤 共同訂正。

(3) 推究 1. 青海和內地各省的關係怎樣?

2. 巴顏喀喇山和長江、黃河有甚麼關係?

3. 祁連山、唐古刺山是不是屬於崑崙山脈?

4. 爲甚麼叫青海?

5. 住在青海島上的喇嘛怎樣生活的物產怎樣?

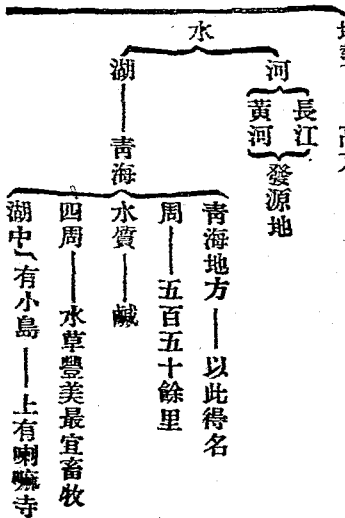
6. 青海人的生活情形和內地同嗎?

7. 青海的物產怎樣?

8. 要開發青海，有那幾種方法?

9. 青海爲甚麼很難聚成都市?

10. 西寧可算青海的發源地嗎?



海的都會嗎?

【整理】

(1) 提要 「青海之地勢」、「青海(湖)」、「

青海人之生活」、「青海之物產」、「青海之長

官駐在地」

(2) 作表

〔沒有船隻——島上喇嘛在湖水凍時出而購備糧食

在黃河長江間

巴顏喀喇山

崑崙山正幹

山

祁連山——在北

唐古刺山——在南

青海之

人民

額魯特人
番族

職業

畜牧——隨水草遷居頗難聚成都市

官職

額魯特人——王公
番族——千戶百戶

宗教

喇嘛教——喇嘛寺甚多

農產品——甚少

物產

動物——多良馬羴牛

礦產——珠玉寶石金沙食鹽

工業品——氈毯

【與漢人互市之地】

甘邊寧海鎮守使駐在地

甘肅西寧

不啻青海之都會

- (3) 批評 1. 板演的共同訂正。 2. 筆記的交換批評。

【考查成績】

- (1) 調查筆記簿 訂正誤點。
 (2) 描圖 【青海圖】
 (3) 填圖 1. 看填。 2. 默填。
 (4) 製特別成績 同(2)或其他圖表、模型等。
 (5) 測驗 至少二十個問題左右。

參攷

【青海】古西羌地。因大鹹湖青海得名。全境分五部二十九旗。又有四十土司。都歸甘邊寧海鎮守使管轄。

【長江黃河之發源地】長江有二源：南源出

勒斜爾烏蘭達布遜山，與巴薩通拉木山，叫托克托乃烏蘭木倫河與喀齊烏蘭木倫河；北源出巴顏喀喇山，叫那木齊烏蘭木倫河。二源相會，叫木魯烏蘇河。東南流入川邊。黃河源出喀達素齊老峯，流到星宿海，百脈並湧，看起來好像列星。東流過札陵、鄂陵兩泊，繞積石，西傾兩山間，入甘肅省。

【巴顏喀喇山】此山脈起於新疆的托古茲達坂，迤東到青海界上，才叫巴顏喀喇山。長江北源發於這裏。自此東南，有喀達素齊老峯，是黃河導源之地。再東有巴顏哈喇山，有鄂洛山，連於岷山。此外東北迤的一支，有積石山等。

【祁連山】此山脈起於新疆的阿斯騰塔格山，自西迤東，有黎頭山、阿木尼厄庫山，再東就

等處，都有厚鹽層；哈拉池南面，還有鹵井二十處之多。

【工業品】青海工業幼稚，祇有製氈皮，是土人所擅長的。

【與漢人互市】輸出品多羊毛、犛牛毛、牲畜、大黃、紅白礮砂、猓獺、西狐、氈毯等；輸入品多棉布、毛織品、茶葉、穀類等。

【甘邊寧海鎮守使】就清青海辦事長官改，因青海沒有都會，駐在甘肅的西寧。

一五 世界有名之高原西藏

教材

自川邊特別區域之昌都向西行，經太昭，即至西藏。西藏為世界第一高原，南有喜馬拉雅山脈，與英屬印度分界；領非爾士，其最高之峯也。北有崑崙山脈，蜿蜒於新疆、青海界上，河流最大者，曰

雅魯藏布江，下游至印度，湖泊以騰格里池為最大，周約四百餘里，水質含鹽，易結為冰，藏人視為聖地。

西藏氣候寒冷，不適耕種，僅在雅魯藏布江一帶，略產豆、麥，與胡桃、葡萄等類，家畜多驢、馬，而犛、羊、犛、牛、狐、豹等動物亦多，礦產多金、銀、寶石，貨幣多流行印度幣；我國之貨幣，反不通行，此則與內地交通不便之故也。

西藏分前藏、後藏及阿里三部，由達賴、班禪兩喇嘛統治，拉薩為前藏之首城，城周三十里，街市甚盛，氣候亦佳；城北有布達拉寺，依山築樓十三層，甚為壯麗，達賴喇嘛即坐牀於此，日喀則為後藏之首城，有札什倫布寺，班禪喇嘛坐牀之地也。噶、大克為阿里之首城，與後藏之亞東、江孜，皆已開為商埠。

藏人深信喇嘛教，男子以作僧侶爲榮。凡建築耕牧之事，皆由女子擔任，因此女權亦甚發達。藏人排外之心甚深，加以交通阻滯，礦產未開，故有「世界秘密國」之稱。

【問題】西藏南界何地？西藏最大之湖泊何名？西藏分幾部？西藏之女權如何？

【釋要】喜馬拉雅山起於葱嶺南麓，東南迤至雅魯藏布江止。中多高峯，最著之額非爾士峯，高於海面二萬九千餘尺。今爲英國。印度西歐以南之大半島，亦亞洲古國，佛教起於此。雅魯藏布江源出阿底斯山東谷，循喜馬拉雅山之陰東流，至川邊界上，南折經印度。達賴班禪俱爲宗喀巴弟子：達賴爲大弟子，班禪爲二弟子。世以呼畢勒罕（化身之意）稱之。日喀則或稱札 札什倫布寺在日喀則城西南，周約三里，殿宇之壯麗，亞於布達。噶大克一稱加爾波，當印度河上游，爲阿里一城，亦藏西之重鎮也。清光緒三十一年開爲商埠。亞東據藏地南境突出之一角，介於不丹與錫金間，當印藏交通之衝，爲藏南重要門戶。清光緒三十一年開爲商埠。江孜在日喀則東南，距拉薩四百餘里。清光緒三十一年開爲商埠。

教具

西藏圖、藏人圖、西藏風景片。

教學

【動機發生】

(1) 自發的 報章上西藏的通信，以及圖畫、遊記……等。

(2) 暗示的

1. 用實物的 懸掛西藏圖、西藏風景片和藏人圖，以及陳列關於本課的書籍、地圖和實物……等等。

2. 用問題的 ●川邊的西面是甚麼地方？

●西藏的地勢怎樣？ ●西藏地勢爲甚麼很高？

●西藏的高原，世界上有可以和他比的嗎？

●【決定目的】板書「世界有名之高原西藏」

●九字，並使兒童知道本單元所研究的是西藏

的情形。

【搜集資料】

- (1) 調查或觀察 1. 觀察課文和插圖。 2. 參

考書報雜誌。 3. 訪問和調查。

- (2) 記疑 摘錄疑難不解的地方和生僻的字

句。

- (3) 注解 把生僻的字，一一檢查字典，加以注

解。

蜿蜒音盤延，盤音令，羚音令，羚音羊，禪音禪，班音班，薩音撒，地音地，坐音坐，牀音牀，佛音佛，家音家，靜音靜，坐音坐，習音習，禪音禪，盤音盤，膝音膝，噶音噶，克音克，地音地，名音名，致音致，江音江，名音名，地音地。

【考查】

- (1) 演述 1. 指名演述課文大意。 2. 共同訂

正。

- (2) 補正 師生共同補正。

(3) 問答

- 1. 質問 ●兒童質問疑難字句。 ●共同

訂正。

- 2. 指問 教師將兒童未問的疑難字句，指

名令答。

- (4) 誦習 1. 段讀課文。 2. 指名連讀。 3. 共

同訂正。

- (5) 講解 指名講一二遍。

【討論】

- (1) 報告 指名報告搜集所得的資料。

- (2) 正誤 共同訂正。

- (3) 推究 1. 西藏和川邊有甚麼關係？ 2. 額

非爾士山峯有多少高？ 3. 騰格里池和青海比

較怎樣？ 4. 西藏的物產怎樣？ 5. 西藏的政教

權怎樣？ 6. 西藏那幾處是商埠？ 7. 西藏人的

風俗怎樣？
 9. 西藏開發要注意那幾點？

【整理】

8. 西藏爲甚麼有「世界秘密國」

(1) 提要 「西藏之山水」「西藏之產業」

「西藏之都會」「藏人之風俗」

(2) 作表

位置——川邊西

地勢——世界第一高原

山
 南——喜馬拉雅山脈
 作用——與英屬印度分界
 最高峯——類非爾士

北——崑崙山脈——蜿蜒於新疆青海界上

河——雅魯藏布江——下游至印度

水
 湖——騰格里池
 周——四百餘里
 含鹽
 水質——易結爲冰
 藏人視爲聖地

氣候——寒冷——不適耕種

農產——豆麥胡桃葡萄等——產雅魯藏布江一帶

物產——動物——家畜——驢馬

高級地理課本教學法 第二冊

西藏之

貨幣

流行印度幣
本國貨幣反不通行
與內地交通不便之故

礦產——金銀寶石

——羚羊、羆、牛、狐、豹等

分區

前藏——首邑——拉薩

城周——三十里

街市——甚盛

氣候——佳

大寺院——布達拉寺

達賴喇嘛坐牀地

依山築樓十三層——甚為壯麗

在城北

後藏

首邑——日喀則——有札什倫布寺——班禪喇嘛坐牀地

商埠——亞東

商埠——江孜

阿里

首邑——噶大克

商埠

信教——喇嘛教

由達賴班禪兩喇嘛統治

人民
風俗
男子——以作僧侶爲榮

女子——任建築耕牧之事——女權發達

世界秘密國名稱之由來

排外之心甚深
交通阻滯
礦產未開

(3) 批評 1. 板演的共同訂正。 2. 筆記的交換批評。

【考查成績】

- (1) 調查筆記簿 訂正誤點。
- (2) 描圖 【西藏圖】
- (3) 填圖 1. 看填。 2. 默填。
- (4) 製特別成績 同(2)或其他圖表、模型等。
- (5) 測驗 至少二十個問題左右。

參攷

【西藏】因位在內地之西，原分區域有藏的

高級地理課本教學法 第二册

一部而得名。藏人自稱爲伯特也爾，伯特是部族名，(圖伯特族)也爾是國家的意思。

【世界第一高原】西藏大概都是高燥的臺地，高約一萬三千到一萬六千三百尺，山峯更聳其上，二萬尺以上的高峯很多。

【喜馬拉雅山脈】起於慈嶺南麓的喀喇闊魯穆嶺，(即喀喇崑崙)從南到北，再折向東行，直到雅魯藏布江西岸止。南北縱行的，叫岡底斯山；東西橫行的，就是喜馬拉雅的幹脈。平均高度自二萬至二萬五千尺，四季積雪不消，藏語叫雪

爲喜馬拉雅，故名。

【類非爾士】是喜馬拉雅山第一高峯，高二萬九千餘尺，向稱世界的山王；近來有人測知太平洋巴布亞島上的黑爾姑爾斯山，高度有三萬餘尺，此山遂退居第二。

【崑崙山脈】蜿蜒於新疆、青海界上，在青海界上的，就是崑崙山。南支的唐古刺山脈，有巴薩通拉木山、拜都嶺、當拉嶺等。

【雅魯藏布江】源出岡底斯山東谷，循喜馬拉雅山之陰，由後藏，入前藏，再折而入印度，與恆河相會，注於孟加拉灣，全長約四千四十里。

【騰格里池】在拉薩西北二百餘里，位於出海面一萬五千尺的高原，蒙人稱天叫騰格里，而此湖水色如天，所以叫騰格里池。藏人稱爲納木錯，也是天湖的意思，面積約六千三百方里，冬日

結冰，要到來年五月才消。

【氣候寒冷】西藏北部和西部，土地高峻，空氣乾燥，乏雨雪，寒氣極烈。東部和南部氣候稍溫和，雨雪也不少。極南喜馬拉雅峽谷中常發生一種流行熱，通常叫做「喜馬拉雅熱」。

【動物】西藏是世界多動物地方之一。家畜有驢、馬等；野驢、野馬亦多。此外如羚羊、麝、鹿，每千百成羣，棲息山野間；犛牛、狐、豹、熊、犀、獐、獬等，也不少。有的可以供役使，有的可以取皮毛骨角，都有功用。湖中魚類亦多，但藏人不喜吃的。

【礦產】實在尙未調查明白，大概西部和東部產金最多，河流中又往往產金沙。鹽處處皆有，有白紅紫三種。銀、銅、鐵、水銀、礪砂、瑪瑙、琥珀、硃砂等，也分布各地。

【三部】西藏原分康、衛藏、阿里四部。民國三

年把康的全部和衛的東面一小部劃入川邊特別區域。所餘的，就分前藏、後藏和阿里三部。

【拉薩】是唐吐番舊都，南臨雅魯藏布江，北倚布達拉山，街市清潔，人口稠密，是藏中最殷實的地方。

【布達拉寺】建在拉薩城北五里的邱嶺上。砌石成樓，樓共十三層，高三百七十七尺。相傳是唐文成公主所建。西殿有喇嘛祖宗喀巴手印的印，日久不化。各殿中陳設列代珍寶器皿很多。

【日喀則】距拉薩五百三十里。北臨雅魯藏布江，附近沃野相連，人口稠密，是後藏殷富之區。

【札什倫布寺】在日喀則城西二里的都布山前，共有樓房三千餘間，壯麗亞於布達拉寺。相傳是明永樂時宗喀巴大弟子根敦敦珠巴（即一世班禪喇嘛）所創。

【噶大克】一作加托克，又作加爾渡。在阿里部中央，印度河上游。清光緒三十一年開做商埠，夏季與印度貿易很盛。

【亞東】一作茅屯，介於不丹和錫金（哲孟雄）的中間，南距印度的大吉嶺二百四十餘里，是印藏的通途。後藏的要會。清光緒二十年開為商埠。因山設險，築有靖西關。輸出品多羊毛，輸入品多茶磚和棉布。

【江孜】一作季陽則，在日喀則的東南，拉薩的西南，亞東的東北，都有大道相通。清光緒三十一年開為商埠。在雅魯藏布江支流年楚河畔的巖壁上，築有礮臺。

【深信喇嘛教】藏人賤操作而以僧侶為榮，且酷信神權，僧侶的勢力極大。人民一百五十萬，做僧侶的有三十萬人。

【女權】西藏女子大都勤於操作，男子惟僧侶是事，所以女權極盛，但有一妻多夫的陋習。

【交通阻滯】藏地道路都很險惡，河上架橋的很少，大河祇設索橋，或用犛牛皮造船以渡。近年英人已通鐵路到大吉嶺，我國雖有川藏鐵路的計劃，但至今沒有建築。

【礦產未開】藏人迷信很甚，各地礦產，往往因惑於風水之說，聽他蘊藏於地中，不加開採，對於金礦，並且有大塊的金，是金的母，採取後，就不能再生金之說。

附錄

一 總複習

總複習分二種：(一)圖，(二)表。茲擇要舉例於下。教師臨時可再行增刪，因勢利導，不必完全根據下面的幾個例子。

(一)圖

1. 長江流域形勢圖
2. 粵江流域形勢圖
3. 川邊、西藏、青海形勢圖
4. 長江流域重要都市圖
5. 粵江流域重要都市圖
6. 長江流域重要物產圖 (輪廓圖上用顏色分別註字)
7. 粵江流域重要物產圖

(二)表

1. 長江流域重要都市表
2. 粵江流域重要都市表

附表式

省	別	都	會	重	要	縣	城	或	市	鎮	市

3. 長江流域物產表

4. 粵江流域物產表

附表式

省 別		植 物	動 物	礦 物	工 業	產 品

5. 長江流域交通表

6. 粵江流域交通表

附表式

省 別		鐵 路	水 路	交 通

二 測驗

測驗方法，今舉比喻、選擇、填充三種於下。教者編造時，對於各種方法的例子，儘可增減，不必拘泥於下面之所舉的，就是方法，也不妨變換。（普通測驗，有百分之六十是正的，就算及格。）

(一) 比喻法

下面括弧中間三項，揀選一個最確當的，在他旁邊劃一綫。

- | | |
|--------------|---------------------|
| 1. 江蘇——江寧 | 浙江——（杭縣、鄞縣、紹興縣） |
| 2. 天津——紫竹林 | 吳縣——（拱宸橋、青陽地、下關） |
| 3. 滬杭甬鐵路——鄞縣 | 津浦鐵路——（下關、南京、浦口） |
| 4. 歷城——山東省 | 懷寧——（湖北省、江西省、安徽省） |
| 5. 江西——萍鄉 | 安徽——（黃山、梁山、銅官山） |
| 6. 湘江——洞庭湖 | 贛江——（太湖、巢湖、鄱陽湖） |
| 7. 泰山——日觀峰 | 衡山——（赤峯、祝融峰、類非爾士山峰） |
| 8. 武康——莫干山 | 九江——（小孤山、廬山、銅官山） |
| 9. 武昌——黃鶴樓 | 南昌——（岳陽樓、滕王閣、百花洲） |
| 10. 熱河——承德 | 川邊——（昌都、太昭、康定） |

- 【附答案】1. (杭縣鄞縣紹興縣) 2. (拱宸橋青陽地下關) 3. (下關南京浦口) 4. (湖北省江西省安徽省) 5. (黃山梁山銅官山) 6. (太湖巢湖鄱陽湖) 7. (赤峯祝融峯額非爾士山峯) 8. (小孤山廬山銅官山) 9. (岳陽樓滕王閣百花洲) 10. (昌都太昭康定)

(二) 選擇法

下面虛綫後的三項，那一項是對的，你便在對的一項旁邊劃一條綫。

1. 福建的省城叫.....閩侯、思明、馬尾。
2. 福建全省的門戶是.....廈門灣、三沙灣、福州灣。
3. 福建船政局在.....羅星塔、海壇、馬尾。
4. 廣東最初的割讓地是.....香港、九龍、澳門。
5. 廣東南部最大的島叫.....香港海南島、九龍。
6. 廣州灣是.....法國租借地、英國租借地、葡萄牙租借地。
7. 廣西的省城叫.....桂林、邕寧、蒼梧。
8. 廣西的西南面是.....安南、緬甸、暹羅。
9. 鎮南關在.....廣西省、廣東省、雲南省。
10. 昆明的南面有.....滇池、巢湖、羅布泊。

11. 英人想占據雲南的……江洪、片馬、間島。
 12. 老開在……雲南、廣西、安南。
 13. 四川省最富的礦物是……煤、鐵、鹽。
 14. 各省省城最小的是……四川的成都、貴州的貴陽、雲南的昆明。
 15. 滇黔蜀三省的衝途是……畢節、貴陽、鎮遠。
 16. 貴州省不產……食鹽、水銀、米穀。
 17. 廣西山洞中多……苗、獠、額魯特人、回人。
 18. 現在廣東可以做軍港的是……沙面、榆林港、厝門灣。
 19. 臺灣和福建隔一……臺灣海峽、福州灣、廣州灣。
 20. 苗民最多的省是……廣西、貴州、雲南。
- 【附答案】1. 閩侯、思明、馬尾。2. 廈門灣、三沙灣、福州灣。3. 羅星塔、海壇、馬尾。4. 香港、九龍、澳門。5. 香港、海南島、九龍。6. 法國租借地、英國租借地、葡萄牙租借地。7. 桂林、寧粵、蒼梧。8. 安南、緬甸、暹羅。9. 廣西省、廣東省、雲南省。10. 滇池、巢湖、羅布泊。11. 江洪、片馬、間島。12. 雲南、廣西、安南。13. 煤、鐵、鹽。14. 四川的成都、貴州的貴陽、雲南的昆明。15. 畢節、貴陽、鎮遠。16. 食鹽、水銀、米穀。17. 苗、獠、額魯特人、回人。18. 沙面、榆林港、厝門灣。19. 臺灣海峽、福州灣、廣州灣。20. 廣西、貴州、雲南。

(三) 填充法

下面不完全的句子，你揀最適當的字填入，把他完成一句有意思而正確的句子。

1. 川邊鎮守使駐在
2. 鐵索橋在
3. 番人信奉的教叫
4. 番人的酋長叫
5. 川邊最西的縣是
6. 巴顏喀喇山是長江黃河的
7. 青海人民有二種叫
8. 青海有大湖叫
9. 青海地勢
10. 青海的工業品有
11. 青海人民信奉的教是
12. 青海的辦事長官駐在
13. 青海地方很難

14. 西藏南面的山脈叫
 15. 雅魯藏布江下流入
 16. 騰格里池藏人看做
 17. 西藏流行的貨幣是
 18. 前藏的首城叫
 19. 後藏的首城叫
 20. 西藏的商埠叫
- 【附答案】1. 康定 2. 大金川上 3. 喇嘛教 4. 土司 5. 太昭 6. 分水嶺 7. 額魯特人 番族 8. 青海 9. 很高 10. 氈毯 11. 喇嘛教 12. 甘肅西寧 13. 聚成都市 14. 喜馬拉雅山 15. 印度 16. 聖地 17. 印度幣 18. 拉薩 19. 日喀則 20. 噶大克 亞東 江孜

6-20-10
2017/12

7
2

