

廣州
博雅


廣州市屬西學會
升學指導委員會編

廣州升學概覽目錄

1. 幾句說在前頭的話
2. 梧穗旅途經驗談
3. 廣州市住的一般概況
4. 廣州市中上學校概況
5. 廣州市中上學校廿四年度入學試題
6. 廣州市學旅一覽表
7. 升學廣州問答
8. 升學委員會會議錄

附 載

1. 升學指導委員會啓事
2. 群言第十三卷第二期出版「暑期生活」特輯徵稿啓事



3 0530 0189 1

527.13
664幾句說在前頭的話

幾句說在前頭的話

本刊的編印，其意義不外幫助省內青年解決升學廣州的一部份問題——廣州市各中上學校近況如何？從省內到廣州的途程如何？廣州的食宿怎樣？等等。自然這些問題並不一定等著本刊的出現才能解決，如各省內青年中有親友在廣州的，可以通信詢查，或者有親友最近從廣州回來的，那就可直接請他充當顧問，此外書報上的報告，也可供多少參攷。然而問題並不就這樣解決：一則想來廣州升學青年不是個個都有親友在廣州，二則假如有的話，那他們對此問題未必知悉得十分詳細，至於書報的報告，則大都是一些零碎的材料和散漫的記載，不及整本的完備，本刊雖因編輯時間的短少，材料搜集的困難，夠不上說完備和豐富，可是對上列幾個問題的大概，總算有相當的演述了，敢獻給來廣州升學的青年作個顧問。

說到本刊編纂的經過，也有下面幾點值得提及，本刊的資料雖說許多是根據本會廿三年夏出版的「廣州升學專號」，可是短短的二年時光，却給予不少的改變，就學校概況方面說，新立的新立，改變的改變，其中值得我們提及的，就有好幾個，如培英中學的創立，中大附中的改隸，市立中學的變制，等等，都是我們很欲知的事實，至由梧州到廣



1111

— 1 —

廣州升學概覽

州的途程和在廣州的食宿方面，也有很多新發生的事跡，如省樞航綫，現已無輪船行走，而食宿方面有許多旅舍的增加等。這些都是要增添的材料，其次，關於試驗方面，則所有材料都是從新搜集的，雖則這方面一則因考試期近，我們不能抽多些時間跑到各學校去索取（通函徵求多是無結果的）。二則我們認為最值得索取的各校中，竟有幾校沒存有上年度的入學試題（其理由多說是因入學試是由入學考試委員會主持的，現在該會已停止工作，故無從索取云云），故收得的結果，不能算為滿意，最後，內容方面，我覺得「專號」裡學校概況一欄，其編排格式太過板硬，往往許多寶貴的材料，因不合格式的緣故，不能編入，更補救此弊，本最好在升學問答裡把要添加的添加上去，可是「專號」的「升學穗垣問答」裡則又限於只有問才有答，故仍不能算為完善。本刊現增輯一篇「升學廣州問答」，除把許多函問的問題在這裡發表外，並就我們見聞所及而不為各文中所包括的零雜材料，也一並列成問答式編入，這樣，這方面的缺憾，算是盡其補救的努力了。

梧穗旅途經驗談

永淳永

離開了鄉梓，辭別了父兄，而跑到別的一個地方去，這在未慣管飄泊異地滋味的人，在踏上征途的時候，往往會覺得很悵惘

梧州旅途經驗談

！恐懼，和疑慮。尤其是，我們決定要到的目的地是陌生的，那麼許多的事情，需要特殊留意與檢點。因在萬惡的社會裏，種種色色的人是包圍着我們，欺騙，奸詐，如稍不小心便常會上它的大當。那麼在不熟悉的旅途上，過來人一點經驗的提供，恐怕對於非過來人會有多少裨益。這次廣州升學概覽將要出版，我不揣冒昧特地說些關於由梧州到廣州旅途所得的經驗，貢獻與那初次來廣州升學的同鄉。

我們由故鄉動身來廣州，拿梧州算是出發的起點，從梧州到廣州，以前是有省梧輪船來往的，如果搭這種輪船，約經兩晝夜的時間，便很安穩的達到目的地了；可是世界不景，也影响到航業方面，因此近年來省梧輪船便支持困難而停航了。拖渡便起而代之，拖渡所收的水脚是以等級的高下定價格的，上等的艙位是二元八角，及三元貳角兩種，大艙位是一元六角，每餐伙食每位伍角，航行所須的時日與輪船不相上下；拖渡抵廣州泊在西濠口附近。

捨搭拖渡直達廣州外，也可搭港梧輪船抵三水轉乘廣三鐵路的火車到廣州，約下午一時左右，在梧州搭港梧輪船東下，午夜抵三水，翌晨轉乘火車，約於上午十時許便可抵達廣州，比搭省梧拖渡，較為快捷，但是為要取得安全的話，還是以搭拖渡為善。因為當港梧輪船到三水時，正是午夜的時候，而廣三車却在翌

廣州升學概覽

晨六時始開，必須雇小艇住宿以俟黎明時搭車，這樣便很麻煩而危險，在從前往往有不良艇家乘機行劫，因為在這黑暗的海面，你是不能分辨方向，那麼他便可隨意把你掉到僻靜的地方去，實行劫掠，銀錢行李的損失還是小事，生命犧牲那是太不值得呢？雖近幾年來治安漸趨良好，旅行稍有保障，意外的遭遇也較少，但初次來廣州的，對於三水那地方的情形沒有認識清楚，還是不要從這條路來廣州，以免可虞的危險。和轉折的麻煩。

由梧州航行來廣州，沿途經過的市埠很多，每逢經一個市埠，輪船停泊些少時候，以便搭客的上落，貨物的起卸；在這時船上必有一番騷動，那你須小心，因為同船的搭客忙於上岸會把你的物件携搶去，或者那些抓手會乘機拿走，最好把自己的行李安置在近身的地方，使易於看管，同時不要過於貪尋好夢，要機警與留神一點為好！

倘若到了目的地——廣州——，有知熟的人可以用電話通知，以便到來照顧一切。如果沒有的話，那又先到一個旅館安頓，然後通知廣西學會說是初到廣州的，那自然有廣西學會負責人前去你的居住的地方盡力幫忙與招待。

以個人由梧州來廣州旅途的經驗簡畧地寫出來，對於應要知道的各方面，遺漏的地方必很多，可是「雞關自遇智人開」，如果諸君能夠步步留神，小心在意，則又何往而不利！

廣州市的一般概況 住

上面我們已經由梧州到廣州沿途的情形說了一個大概，這裡跟着發生的便是住居的問題。因為當你離了船一踏上長堤的碼頭時，你便決定你的去向，究竟找朋友？住酒店呢？還是住學旅呢？這些問題非即刻解決不可。

第一。旅店——當你的船將近船碼頭的時候，廣州各大旅店都有招待客人的伙計出任招待。假如你喜歡住在甲旅店的話，你可將行李交給甲旅店的招待人打理，但你仍要留心看看你自己的行李，以免有意外的損失。這些旅店，大都在長堤一帶或離長堤不遠的地方。這些旅店因為設備與地位不同，所以價錢也各異。西濠口一帶，有所謂新華酒店白宮酒店新亞酒店中山酒店……這些都是天下第一號的旅店，價錢特別貴，住一晚非兩三元不可（吃飯另計）每餐四毫六毫或壹元都有。在海珠公園左右的，有所謂泰安棧廣泰來……等旅店，這些都是次一等的，價錢稍便宜，但住一晚也非一元至二元不可。此外，不在西堤及西濠口一帶的旅店還很多，我們覺得沒有在這兒多多的寫出的必要，因為初來廣州的人，當以接近碼頭的為適宜，假如你不以為價錢過昂的話。

第二。學旅——學旅與上面所說的旅店不同，因為學旅所招

廣州升學概覽

待的祇限于學生界。廣州的學旅特別多，幾乎每一條馬路和每一條街都有。每一個月的膳宿費在十六元與二十元左右。當你交膳宿費的時候，你最好先問問老板膳宿費一起交。還是分別交。因為這樣祇有有益而無害；但總以先交半個月為妥當，因為如果考進學校之後，或須要變更地址要搬出的時候，恐怕學旅不肯退錢，打起交涉來便麻煩了！在學旅住，對於洗衣服也不見得麻煩，有些學旅內部設有人洗衣服的，過了相當時候才作一次總結賬；假如學旅沒有人洗衣服的話，也可拿到洗衣舖去洗；不過比較上來總是貴一些。學旅內的雜役，往往不及大旅店的好；假如他有什麼對你不佳或你用他不聽的事體發生的時候，你大可以把事實告訴老板，事情是很容易辦的。學旅裡面大都沒有洗澡室的，可以到泡水館去洗澡，每次約半毫，也有包洗一個月的，每月約一元。這類泡水館在廣州也幾乎每一條街都有。

第三。租屋——廣州學旅如此多，一部分原因也是因為租屋住的困難。在上海租房子住，沒有什麼手續的，祇要每月交足錢；即許在租界以外的地方住，也不過是填一張表交給房東去報警察局而已，在廣州租房子住有兩種：一種是同居分賃，因為租了一層樓住不得那麼多，另租一兩個房給別人住；另一種是由我們邀幾位相好的共同租一層樓住。但是不論同居分賃與否，都要舖頭担保，報告公安局領取入火證，按月繳納房租費電燈費自

廣州市的一般概況

來水費……○所以初來的人一則難邀得朋友同租；二則又難找開舖保；三則更感覺到繳納各種費用的麻煩。假如能租房子住，須得請一個婆媽（婆媽可由別人介紹，或自己去薦頭館去選擇僱用○）婆媽月工的多少，與他的年齡和我們的同住的人的多少有關係；如果同住的人多，工錢也貴，大概同住的有四五人，工錢大概爲六元左右。如果婆媽是青年的，工錢也比年老的來得多一點○

比較起來，租屋住較住學旅來得便宜，比如住學旅每月要十七元，租屋住最多也是十七元；并且洗澡洗衣不如住學旅要自己出錢，因爲這些工夫已由婆媽包辦。租房子住現時也比較便宜了，普通兩房一廳的一層樓，大概每月的屋租是二十五元；不過，上面曾經說過，初到廣州的人是不容易租屋住的○

第四，女性住的地方——本來女性也可以住旅店，住學旅，共同租屋住；不過住旅店太貴，住學旅（一般男性住的學旅）不方便，共同租屋住不但初到者辦不到，并且女性找伴比男性還困難，所以女性住的地方也成問題。女性中也有不少在學旅住，如芳草街的芳草學旅，舊倉巷的華安學旅……不過祇可說是在不方便中求其有得住罷了。現在專爲女性而設的旅舍也有不少，我們所知道的有法政路尾錫福巷的南國女子旅店，文明路文德路交叉路口處的陶陶別墅，小馬站的潔苑女生宿舍，都是專爲女性而

廣州升學概覽

設的。每月的膳宿費與學旅差不多一樣。此外還有一家嶺南酒店（廣衛路）四樓也附設有學生宿舍；女性也有住；越秀北路（越秀山脚）的越秀別墅二樓住男子，樓下住女子，不過比一般學旅較貴。

第五，住學校——考進學校後，如果學校有宿舍的，還是搬進學校為宜，在裡面，對於學問的進取，身心的修養；朋友的交際，以及經濟的支配，都比在學校外為好。不過，廣州的學校也有許多沒有學生寄宿舍的，或有而不敷居住的，那又不得不住學旅或租屋了。

上面我們所告的祇是幾種不同的居住地方，現在我們再告訴一些關於住的應注意的事體：

第一，要住近學校的地方，尤其是近你所想投考的學校的地方——因為住在這些地方有許多好處：（A）最少你可多知道一些你想投考的學校的情形；（B）可以在學校圖書館或閱報室裡看看書報，省掉了買報紙的錢；

在這裡，我們還可以簡單的告訴幾間學旅，也許讀者是很喜歡知道的。近省立中山中學的有大同，適餘，芳草，（草芳街）秉政，中洲（秉政街）……等學旅；近國立法科學院的有淨慧街的淨慧學旅和西齋學旅倉前街的榕影學旅……近勸勤大學教育學院和女中的有觀蓮路的觀蓮旅店，教育路的超然旅店……

廣州市的一般概況

還有許多的學校和學旅，在這裡寫也不得這麼多；假如時間允許我們調查的話。很想把廣州市各學校各學旅的位置表列出來。

第二，詢問本會董事——初來的廣西同學有朋友在廣州的，當然很可以找到朋友商量一切；假如是沒有朋友的。或者沒有朋友又不曾說廣州話的，上岸的時候，可以先進比較便宜的旅店住一晚，次日找旅店的伙計送信給我們，或者自己或找伙計打電話給我們，我們自然會馬上找到你們的，那時候，一切問題都可解決了。這種義務的責任，我們是十二萬分願意負起的。

廣州市中上學校概況目錄

I。大學及學院之部

A. 公立

1. 國立中山大學

附研究院

2. 國立廣東法科學院

3 廣東省立勤勤大學

B. 私立

1. 嶺南大學

廣州升學概覽

2. 國民大學
3. 廣州大學
4. 夏葛醫學院
5. 光華醫科學院

II。中學及師範之部

A. 公立

1. 廣東省立中山中學
2. 廣東省立勸業大學附中
3. 廣東省立廣雅中學
4. 廣東省立女子師範學校
5. 廣東省立廣州女子中學
6. 廣州市立第一中學
7. 廣州市立第二中學
8. 廣州市立第三中學
9. 南海縣立南海中學

B. 私立

1. 嶺南大學附設中學
2. 培桂中學
3. 培英中學
4. 培正中學

廣州市中上學校概況目錄

5. 教忠中學
6. 知用中學
7. 南武中學
8. 金陵中學
9. 大中中學
10. 中德中學
11. 執信女子中學校
12. 培道女子中學校
13. 真光女子中學校
14. 潔芳女子中學校
15. 明德女子中學校
16. 和平女子中學校
17. 坤維女子中學校
18. 協和女子師範學校

Ⅳ. 特種學校之部

A. 公立

1. 廣東省立第一職業學校
2. 廣東省立體育專門學校
3. 廣州市立第一職業學校
4. 廣州市立第二職業學校

廣州升學概覽

5. 廣州市立第三職業學校

6. 廣州市立美術專門學校

B. 私立

1. 仲愷農工學校

2. 嶺南大學附屬商科職業學校

3. 中華女子職業學校

4. 廣東體育專門學校

5. 廣州會計學校

6. 圖強產科學校

7. 廣東救護調劑學校

8. 廣州工程學校

9. 廣漢無線電學校

廣州市中上學校概況

I. 大學之部

A. 公立

1. 國立中山大學

校址：廣州石牌

史略：該校始名爲國立廣東大學，乃 國父孫中山先生所躬親策劃，民國拾三年二月，命令校長鄒魯將國立廣東高等師範

廣州市中上學校概況

學校，廣東公立法科大學，廣東省立農業專門學校合併改組而成。旋又接收廣東公立醫科大學以爲醫科。民國十四年八月由鄒校長呈請中央執行委員會改爲國立中山大學，以垂昭永久之紀念。廿三年石牌新校建築落成，法工農三學院遷入新校，廿四年九月文理兩學院以次遷進新校。現任校長鄒魯氏。

訓：該校分：文，法，理，工，農，醫六學院。文，法，理，農四學院，採用年級及學分混合制，定四年畢業；工，醫兩學院採用年級制，工學院定四年修業並一年之工廠實習；醫學院定五年修業，並一年之醫院實習，始得畢業。計各院分若干系：文學院設：中國語言文學系，英國語言文學系，史學系，哲學系，教育學系，社會學系，第一第二外國語組；法學院設：法律，政治，經濟三系；理學院設：數學天文學系，物理學系，化學系，生物學系，地質學系，地理學系；工學院設：土木工程學系，化學工程學系，機械工程學系，電氣工程學系；農學院設：農學系，林學系，農林化學系，蠶學系；醫學院不分系。民國二十四年五月。奉教育部核准該校成立研究院；內分文科，教育，農科三研究所，每所暫設二部，文學研究所設中國語言文學部，歷史學部；教育研究所設教育學部，教育心理學

廣州升學概覽

部；農學研究所設農林植物學部，土壤學部。

投考資格：1. 在其他國立大學附設高中畢業者。2. 經立案之大學附設高中畢業者。3. 經立案之高級中學畢業者。4. 經立案之高中師範科畢業曾經服務一年者。

報名及考試日期：1. 報名日期：各學院由七月一日起至三十日止。2. 考試日期：各學院由八月十五日開始至八月廿二日考完。

考試科目：甲。文法兩學院：初試：總理遺教（建國方略，建國大綱，三民主義及第一次全國代表大會宣言）國文（作文，古文之白話解釋，白話文之譯成文言文。）英文（作文，文法，中英文對譯）覆試：數學（進級代數，解釋幾何，或論理學。於報名時可自由選擇一種。）地理（人文地理，地文地理）歷史（中外歷史，包含文化史）理，工，農，醫四學院初試：總理遺教（全上）國文（作文言）外國文（攷理工農學院者，須攷英文；攷醫學院者，則考德文）。數學（全上）覆試：物理，化學，生物學。地理。

費用：一次過保證金拾元，每學年宿費拾元，學費貳拾元，圖書費叁元，體育費叁元，雜費捌元，制服費伍元。

研究院下年度招生簡章：

1. 報名日期自七月一日起至廿日止。

廣州市中上學校概況

2. 考試日期定八月十日。
3. 考試地址定廣州，北平，上海。
4. 取錄人數定十二人，由三研究所平均分配，即文科研究所歷史學部二人，中國語言文學部二人，教育研究所教育學部二人，教育心理學部二人，農科研究所農林植物學部二人，土壤學部二人。
5. 招生委員會由本院秘書與三研究所部主任決定組織，辦理一切進行。

2. 國立廣東法科學院

校址：廣州光孝路

史略：該院以前爲法官學校，自民國十九年奉教育部令改爲今名。
○現任校長曾如栢氏。

體制：該院設法律，政治兩系。

投考資格：(1)在經立案之大學預科畢業者，2.在經立案之高中畢業者。

報名及考試日期：報名日期自 月 日起至 月 日止。

考試日期：初試八月 日至八月 日止。覆試八月 日起至八月 日止。

考試科目：初試體格檢閱，：國文，英文，黨義。覆試：數學，

廣州升學概覽

中外史地。

費用：每學期學費講義費共三十五元，宿費十二元，圖書費一元，體育費一元，制服費由庶務另定費額代收。

3·廣東省立勤勤大學

校址：(甲)工學院：廣州增步(乙)教育學院：廣州永漢北路粵秀書院街(丙)商學院：廣州光孝路。〔查該校前在廣州河南石榴岡建築新校舍，目下工程已大致完竣，各學院將於下年度全數遷入云〕。

史畧：民二十年廣東省政府爲紀念古勤勤先生起見，特設立勤勤大學，除商學院爲從新組織者外，將前省立工業專科學校改爲工學院，將前市立師範學校改爲教育學院，遂成現制。○現任校長林雲陔氏。

編制：該校設有工，商，教育，等三學院。A.工學院內分設：化學工程，建築工程，機械工程，土木工程共四學系並附設：土木工程，陶瓷工程專科。B.商學院內分設：銀行，經濟，會計，工商管理共四學系。C.教育學院內分設：文史，數理化，博物地理教育共四學系。修業年限，除各專科爲二年外，其餘概爲四年。

投考資格：(1.)公立或已立案之私立高級中學畢業者；(2.)公立

州廣市中上學校概況

或已立案之私立師範學校高中師範科畢業曾經服務一年，或得有主管教育行政機關核准升學者；(3.)公立或已立案之私立大學預科畢業者；(4.)與高級中學同等之公立或已立案之私立中等學校畢業者；(5.)在國外之完全高級中學畢業經本大學審查認為與前項資格相當者。

報名及考試日期：七月一日起至八月六日止為報名時間，八月九、十兩日舉行考試。

考試科目甲。初試課目：

國文——作文（語體文或文言文）標點及繙譯（由文言譯語體）

英文——文法，繙譯，作文。

數學——算術，代數，平面幾何，三角。

乙。複試課目：

1. 志願習教育學院教育系者考中外歷史，生物學，教育常識。
2. 志願習文史系者考作文，國文法，國學常識，中外歷史。
3. 志願習工學院各系或專修科及教育學院之數理化系者考高級代數，解析幾何，化學，物理。
4. 志願習地系者考生物學，中外地理，地理常識，化學物理。

廣州升學概覽

5. 志願習商學院各系者考生物學，中外歷史，中外地理。

(各系覆試及格生一律舉行口試及體格檢查)

每期費用：

新生須繳各費：

A. 新生入學一律收保證金二十元畢業發還

B. 本年入學新生不論何系每年一律收學費二十八元體育費

四元分兩期繳納

C. 工學院化學工程學系學生每年並收化學實習費五元

D. 講義費圖書費醫藥費本年入學新生概免徵收

E. 制服由學生依照本校指定布樣自行定製

B 私立

1. 嶺南大學

校址：廣州河南康樂

史畧：清光緒十四年，美人哈巴氏(Rev. A. P. Happer)創設格致書院於廣州沙基金利埠。廿六年遷澳門，更名嶺南學堂。嗣於廣州市河南康樂購地二百畝，創建校舍。三十年由澳門遷回，是為今校成立之始。民國五年，文理科大學完成。十年成立農科大學，請准廣東省政府撥款補助，收用大學附近四週山地為校地及農場。十二年獲潮安農場地二萬畝

廣州市中上學校概況

千畝，十六年，成立私立嶺南大學校董會，主持其事，全年由國人完全接收自辦，推鍾榮光為校長，改文，理大學為文理學院，農科大學為農學院；十七年增設商學院；十九年增設工學院。同年教育部批准立案。

編制：該校分設：文理學院，農學院，工學院；商學院四學院。文理學院分設中國語言文學，西洋語言文學，哲學，社會科學，教育學，家政學，美術，生物學，物理學，化學，數學等十一系。農學院設農藝，園藝，畜牧，植物病理，蠶絲五學系。工學院設，土木工程一科，對於測量，三合土建築及鐵路等科目倍加注意。商學院設：(未詳)

投考資格：1. 曾在國立省立，或已立案之私立高級中學畢業者；
2. 曾參加劍橋大學，牛津大學，或香港大學之初級試，高級試，或入學試驗合格者；3. 香港，台灣，及外國中學畢業生。

投試報名日期：七八月間。

入學試驗科目

×須考該科
無×者免考

擬習科目	須考科目						
	國文	英文	歷史	數學		物理學	
				中級代數	立體幾何	平面三角	

廣州升學概覽

文 科	×	×	×				
經濟學	×	×	×				
家政學	×	×		×			×
醫預科	×	×		×	×	×	×
理 科	×	×		×	×	×	×
商 科	×	×	×	×	註(×)	註(×)	
農 科	×	×		×	註(×)	註(×)	×
工 科	×	×		×	×	×	×
程 度	會習國文約十二年	對於英文造句，作文，與吳文法，須合葛理佩著『英文津逮』卷四，或相當程度	曾習本國普通歷史及下列西洋史 英國史(一) 現代史至六七十 美國史(二) 上古及中古 史(三) 泰西各國專史如				
備 考	註	農科者任攷 擬入商科或	者之一 平面三角二 立體幾何及				

廣州市中上學校概況

年費用：學費以學點(分)計，每學點四元五角，每期的修十八學點，該費八十一元。堂舍費三十元，保證金二十元，制服費廿四元，膳費四十元其他費用約廿元如計入書籍費，服務費及其他一切用費，每年最低限度須大洋五百元。

2. 國民大學

地址：西關荔枝灣，分校惠福西路。

創設：該校創立於民國十四年間，同年十月即奉國民政府批准立案；復於廿年六月奉教育部批准立案。原設文科。十五年冬增辦法科。十九年增設工學院。現任校長吳鼎新氏。

編制：該校分設：文學院，法學院，工學院，三學院。文學院設教育系，中國文學系；法學院設：法律系，政治系，經濟系；工學院設土木工程學系。並設夜班，專供一般公務人員進修。該校採用學年制，除工學院外，兼採用選科制，分學科為必修選修兩種。定四年畢業。

招收資格：1. 公立或已立案之私立高級中學畢業者，2. 公立或已立案之私立大學附設高中畢業者，3. 與上述同等公立或已立案之私立學校畢業者。

報名考試日期：七月上旬開始招生，八月初間舉行入學考試。

考試科目：國文，數學，英文，黨義，中外史地，物理，化學等。

廣州升學概覽

每期繳費：一次過繳納按金十元，學生會基金一元，制服費八元
○ 每期繳納學費十四元，堂費十元，學生會費五角，講義費每科目一元，體育費二元，圖書費二元，醫藥費二元。

3. 廣州大學

校址：廣州永漢路東橫街

史略：該校產生於民國十六年，爲金曾澄，馬洪煥，馮祝萬，鍾榮光等所舉辦。當時未得相當校址，乃暫租番禺師範（即今禺山中學）爲臨時校舍，祇開辦夜班，其後多方籌劃始覓得永漢路東橫街，舊屋數座，及合併前廣州女子中學，始略具規模，同時廣東省政府以該校創辦以來，頗具成績准由省庫年撥補助費六千元，以助長該校發展。現在白雲山麓購地六十餘畝，籌建新校舍。現任校長金曾澄。

編制：該校設：文，理，法三學院。文學院設：教育學，中國文學系；法學院設：法律系，政治系，經濟系；理學院設：數學系，數理學系。並招收選科生，凡不欲領畢業證書及學位者得修之。

投考資格：公立或已立案之私立高中畢業者。

報名及試日期：七月上旬開始報名；八月上旬舉行放試。考試科目：黨義，國文，英文，數學，物理，化學，中外史地等科。

廣州市中上學校概況

每期繳費：學費四十五元，堂費五元，圖書費貳元，體育費二元，基金十元，代收學生會基金一元，常費一元一次過保證金十元。數理系一年級生免收學費，但其餘各費仍照徵收。

4. 夏葛醫科學院

校址：廣州西關逢源路中約

史略：該院創立於民國前十三年，前身爲廣東女子醫學校，爲北美長老會馬利醫生所手創。初附設於西關第一長老會內，迨一九〇五年，美慈善家夏葛氏，慨助該院巨款建築校舍，遂將夏葛名該學院以爲紀念。民國十九年，美長老會爲尊重我國教育權起見，將該院移交國人辦理，廿二年奉教育部准予立案。現任院長王懷樂氏。

編制：設本科六年畢業，修業五年，實習一年。期滿考查及格，方准畢業。授以醫士學位。

投考資格：高中畢業

報名及考試日期：八月上旬至九月中旬

考試科目：德文，三民主義，國文

每期繳費：約國幣六百元

5. 光華醫科學院

校址：廣州泰康路

廣州升學概覽

史略：該院創自前清宣統末年，初為專門學校，至民國十八年，提高入學資格，改為獨立學院。最近籌款擬在東門外和甫崗建築新校舍。廿二年奉准西南政務委員會立案；旋由老育部追認。現任院長陳衍芬氏。

編制：該院悉照現行大學組織法，專招本科生，五年修業，實習一年；方准畢業，授以醫士學位。

投考資格：各公立或立案之私立學校高中畢業生或香港之公私立高中畢業生報名及考試日期：每年於八月間舉行

考試科目：國文，英文（或德文）數理化生物地理等科目

每期繳費：每年約需國幣六百元

五.中學之部

A. 公立

1. 廣東省立中山中學

校址：廣州文明路

史略：該校高中前為國立中山大學預科改組而來，原分甲乙兩部：甲部升文，法本科之預備；乙部升理，工，農本科之預備。本年三月重新改組，脫離中山大學，改為廣東省立中山中學；現任校長陳濟棠氏。

編制：該校分高中，初中，均三年畢業，各中學中，辦理最稱完

廣州市中上學校概況

善者。

投考資格：公立或已立案之私立初中畢業者可投考高中，小學畢業者可投考初中。

招生報名日期：七八月之間

投試科目：未詳

每年繳費：未詳

2. 廣東省立勤勤大學附屬中學

校址：廣州永漢北路粵秀書院街

史略：該校前身爲市立師範，創自民國十年十月。初辦本科專科三班，十二年九月奉命改校長爲委員制，並將本科改爲高中師範科，十六年增設初中班，廿一年二月復改爲校長制，至廿二年八月改爲今名。

編制：高中分高中師範科，圖工系體藝；高中師範科，男生二班，女生一班。高中圖工樂體班，只招女生，均三年畢業。初中一年級，男女兼收。

投考資格：高中部：初中畢業或同等學力者。初中部：小學畢業或有同等學力者。

報名投考日期：七八月間。

每期繳費：高中師範科，每期只收雜費四元八角，圖工樂體班，

廣州升學概覽

收八元八角，初中收費雜費十三元八角。

3. 廣東省立廣雅中學（原稱廣東省立第一中學校）

校址：西村

史略：該校成立於光緒廿四年，初爲廣雅書院，民國初年，改爲廣東省立第一中學，爲省立中學中歷史悠久者；去年改稱爲省立廣雅中學。現任校長喬廣河氏。

編制：分初中及高中普通科。

報名致試時間：七八月間

投致資格：投致初中以高小畢業及程度相當者爲合格；投致高中者以初中畢業及程度相當者爲合格。

每期繳費：高中一年級新生共繳學膳，制服，雜各費共一百零二元三角初中一年級新生則共繳一百〇一元三角。

4. 省立女子師範學校

校址：廣州蓮塘路

史略：該校創辦於清光緒三十三年，初名官立女子師範學堂，幾經改易，至民國十二年間，改爲今名，現任校長李雪英女士。

編制：高中師範科，初級中學。

廣州市中上學校概況

報名及試日期：七月初旬開始報名；八月十一日左右及試。

投考資格：投考高中師範科一年級者，須初中畢業或同等學力。

投考初中一年級者，須高小學畢業或同等學力。

每期繳費：高初中新生繳費均共十九元七角。（有宿舍寄宿）

5. 廣東省省立廣州女子中學

（原稱省立第一女子中學）

校址：廣州小北外

史略：民國十七年七月，教育廳接收私立廣東女子體育學校，改充省立第一女子中學校舍，委溫仲良黃希聲等為籌備委員，不一月已開始招生，改建校舍。校舍原在仰忠街天馬巷。前年於小北外建築新校，現已遷入。現任校長林寶權女士。

編制：該校設高中普通科及初中採中學三三制。

報名考試日期：八月初旬舉行

投考資格：願入高中一年級者，年齡須在十九歲以下十五歲以上，且具有初中畢業或與初中畢業程度相當而尚未結婚者均可應考；持高小畢業證書或程度相當者，則可投考初中一年級。

每期繳費：高中每期交學雜膳宿各費共八十一元四角。初中每期

廣州升學概覽

交學雜膳宿制服各費共九十元零四角。

考試科目：(甲)初試科目：(1.)初中：黨義或公民，國文（作文，譯文，常識）(2.)高中：黨義或公民，國文（作文，譯文，常識），英文（短寫，翻譯，文法）算學（算術，代數，幾何，三角）

(乙)覆試科目：(1.)初中：史地，自然，口試，體格檢查。(2.)高中：史地，理化，博物，口試體格檢查

6.廣州市立第一中學

校址：觀音山麓

史略：該校創設於民國十七年秋，市教育局委司徒優辦理，當時未覓得相當校舍，只暫租石室前祥樛十餘間作臨時校舍，翌年因班數擴充，地方不敷，乃蓋搭葵棚於粵秀山麓以爲容納，後於校舍之東建築新樓，經已落成。現任校長劉憲朋氏。

編制：分高初中兩級，高中又分普通科與商科。又該校只招男生，報名及投攷日期：約於八月中旬

投攷資格：投攷高中普通科及商科學生，應具初中畢業或與初中畢業程度相當者。投攷初中一年級應具初級小學畢業或同

廣州市中上學校概況

等學力者。

期繳費：高中新生共二十九元一角；初中新生共二十八元一角。

7. 廣州市立第二中學校

址：廣州恩寧路連慶街尾

界：民國十九年秋間，市教育局委徐甘棠籌辦。現任校長陳功甫氏。

制：分高中初中兩級。只招收女生。

考資格：初中畢業投考高中；高小畢業投考初中

名考試日期：

期繳費：新生入學交學雜費四十八元六角

8. 廣州市立第三中學校

址：廣州東沙路

界：原名市立實驗中學，廿二年秋始改為今名。

制：現只辦初中，三年畢業。只招收男生

考資格：高級小學畢業，或具相當程度。

名考試日期：

期繳費：學費，圖書費，體育費，及其他雜費共二十元；新生須另加制服費等約十餘元。

廣州升學概覽

9. 南海縣立南海中學

校址：廣州第三甫蘆荻巷

史畧：該校創立於光緒三十三年，由簡易師範科改組而成。各
設備，頗稱完善；為縣立中學中最優者，現任校長曾鏡
氏。

編制：分高級與初級中學均三年畢業，十九年奉派政府命添辦
村師範科，二年畢業。

投考資格：投考高中須初中畢業，投考初中以高小畢業為合格

報名考試日期：七八月間

每期繳費：未詳

B. 私立

1. 嶺南大學附設中學

校址：廣州河南康樂

史畧：見前(大學部)

編制：附屬大學部，分高中初中兩級，初級中學施行普通教育
預備入高中；高級中學只設普通科，預備訓練升進本校
學部。

投考資格：凡在公立或已立案之私立小學畢業，或具有同等力
，均得投考初中一年級。凡在公立或已立案之私立中學

廣州市中上學校概況

中畢業，或具有同等學力者，均得投考高中一年級。凡在公立或已立案之私立中學各年級肄業一學期以上，各科成績完全者，得投考初中一以上銜接之學級（即轉學也）

名考試日期：

期費用：高初中各年級上學期費用，約共一百七十餘元；下學期約共二百十餘元，新生另交制服費保證金共三十五元，均以大洋為本位。

2. 培桂中學

址：廣州東山百子路

器：該校成立於民廿三年秋，主其事者為廣州廣西會館，校址初在越華路新豐街廣州廣西學會內，至去年因擴充班級，人數增多，乃遷現址，至該校經費來源，概由廣西會館及廣西省政府補助，故所收費用，比之市內各私立學校較為低廉，此於本省留學是地者，頗稱利便。既任校長馬君武氏。

制：該校分設高中普通科及初中。

及資格：（甲）投考高中一年級者，須經初中畢業，或有同等程度者；（乙）投考初中一年級者，須經後期小學畢業，或有同等程度者。

廣州升學概覽

報名期及考試期：未詳

考試科目：(甲)高中一年級：黨義，國文，數學，英文，史地，理化博物。(乙)初中一年級：黨義，國文，數學，史地及自然。

每期繳費：(甲)高中：學費廿五元，堂費五元，校舍建築費三元，其他雜費六元四角，共三十九元四角(乙)初中：除學費爲二十元及軍費爲一元外其他皆同。

膳宿：該校設有宿舍，且由學校供給蠶床，蚊帳，床布，椅桌等物，宿生毋需自帶，每期宿費收二十元。至膳食亦由學校設備每月收費八元。

3. 培英中學

校址：廣州花地

史畧：該校創立於清光緒八年，前由美國長老會主理一切，遞民國八年，思贛大學校組織以廣育人才，爰加入同賓公理兩會，協合襄辦；同時且有移交華人辦理之議；自此議發生後；因而中華基督教育會，及該校校友會，亦相繼加入，迨學前政府頒布私立學校立案規程，遂根本改組。由外國教會完全移交中華基督教會辦理，當經選舉董事，填具表冊，呈奉教育所批准立案。現在教育權責純在華人；校長

廣州市中上學校概況

爲譚沃心氏。

編制：該校分高級初級中學。十七年秋，以來學日衆；校舍不敷，特設分校於西關多寶路，辦初中一二年級，十九年春，

又增設分校於台山縣城。暫辦小學各級及初中。

投考資格：凡在初中畢業或有同等學力者，可投考高中。高小畢業，或有同等學力者。可投考初中。

報名考試日期：七月間開始報名；八月上旬考試。

每期繳費：（每年約需大洋五百元）

4. 培正中學

校址：廣州東山

史畧：該校創立於清光緒十五年，初名培正書院，光緒卅年，諭令興學改稱學堂。其後購現校地於東山，力求擴充，寒暑交替者凡四十餘年。民國十七年，奉教育廳批准立案，現任校長黃啓明氏。

編制：該校分設高級初級中學，此外附設男子及女子高級初級小學。

投考資格：投考高中以初中畢業，投考初中以小學畢業爲合格。

報名考試日期：七八月間。

廣州升學概覽

每期繳費：高中一年級新生須繳納學，堂，宿，膳，書籍，按金，制服及其他雜費共一百七十四元，初中一年級則共須繳一百五十五元貳角。

5. 教忠中學

校址：廣州市文德路

史畧：該校於清光緒二十八年，由監督丁仁長會同粵紳籌款設立，經粵督陶模奏准咨部立案。民國三年復由校長汪兆銘呈請前巡按使李，報部核准立案，確定私立性質，原辦初級師範。至十二年八月起，續繼改辦初中，十七年八月添招高中師範科，並分設女子中學部，是年十月復奉准立案。現任校長沈伯宏氏。

編制：該校分高初中男子部，及女子部。高中設師範科。

投考資格：投考高中以初級中學畢業為合格；投考初中以小學畢業或具相當程度者。

報名考試日期：（七月上旬開始報名，八月中旬考試。）

每期繳費：（校內設有宿舍分甲乙兩種：甲種每期十二元。乙種每期十元）

學雜各費未詳。

6. 知用中學

廣州市中上學校概況

校址：惠愛西路倉前街

史畧：該校創立於民十一年秋，由知用學社創辦，初只辦初中，後推學至高中部，女子部，附小，其中辦學者，熱心教育，銳意改良，現為本市私立中學之表表者。該校已奉准立案多年。現任校長張瑞權氏。

編制：高中辦師範科，每年級一班。普通科每年級兩班。

投考資格：初中畢業，可投考高中。高級小學畢業或具同等學力者，可投考初中。

報名考試日期：七月中旬開始報名；約八月中旬考試。

每期繳費：

7. 南武中學

校址：廣州河南海幢寺側

史畧：該校為南武公學會所立，創辦迄今已有二十餘年。現任校長郭照棠氏

編制：該校分高中初中二部

每學期繳費：共約四十元

投考須知：考試科目與其他中學無異，分初試，覆試，考驗，考期在八月中旬。

8. 金陵中學(原稱南京中學)

廣州升學概覽

校址：廣州桂香街

史畧：該校由南京美術學校改組而成，民國十一年夏，李佩鳴擇地於珠江之南，租賃校舍，教授美術專科，其後改辦中學，遷校廣州市之南關仰忠街。十七年春新建校舍於本市桂香街；十八年春，教育廳以是校設備頗稱完善，核准立案。去年更改為今名，現任校長李佩鳴女士。

編制：該校分設高中初中；高中分普通科與師範科。

投考資格：投考初中以高小畢業和程度相當者為合格；投考高中以初中畢業為合格。

報名及考試日期：七月初始報名，八月間考試。

每期繳費：（有寄宿舍）

9. 大中中學

校址：廣州市小北外

史畧：該校創辦於民國十八年下學期，為區萃崙等十餘人所組織。於開辦之第一年，已奉教育廳核准立案。現任校長溫展鵬氏。

編制：該校分設高中初中，各三年畢業。

投考資格：投考高中：初級中學畢業，或與初中畢業程度相當者。投考初中：高級小學畢業，或與高小畢業程度相當者。

廣州市中上學校概況

報名考試日期：

每期繳費：高中學費三十六元，堂費及圖書儀器費十三元五角。

初中學費二十四元，堂費及圖書儀器費十三元五角。

10. 中德中學

校址：廣州西關多寶路

史畧：該校創辦歷三十餘年，經於民國三年奉准立案。初由德國政府創立，嗣歐戰發生，德國駐華僑民，返國服務，不能兼顧。繼由德國巴陵會接理。近數年來，巴陵會更在本國徵集熱心教育人事，共同負責，故成爲中德合辦。

編制：該校分初級中學，高級中學。另附設德文專修科；該科專爲有志投考國內外大學以德文爲主要科，而先習德文者。及曾在其他中學修業，而補習德文升入該校而設。德文爲該校第一外國語，畢業後升入德國各大學，及上海國立同濟大學，均無程度隔閡之弊。且該校在德國柏林大學立案，該校高中畢業者，得免考升入德國柏林大學本科肄業。

○現任校長潘尹氏。

投考資格：初中畢業投考高中，高小畢業投考初中。

報名及考試日期：

每期費用：

廣州升學概覽

11. 執信女中學校

校址：廣州東沙路：分校西關寶華中約。

史畧：該校創自民國十年，係紀念朱執信先生而設。久已立案。

前數年設分校於西關寶華路中約，現任校長楊道儀女士。

編制：該校採用三三制，分高中初中。高中分普通科，師範科。

投考資格：初中畢業，或程度相當者。

報名及考試日期：七月廿日開始報名，八月中旬考試。

考試科目：國文，英文，數學，地理，歷史，黨義等科。

每期繳費：高中學費二十四元，堂費六元，宿費六元，膳費三十七元五角，洗衣費八元，學生自治會費一元，體育費一元，醫金一元；一次過保證金十元，合計九十四元五角；初中合計十八元五角。

12. 培道女中學校

校址：東山

史畧：該校創立已有四十餘年歷史，初由美靈浸信會容懿女士創辦。民國紀元前四年，購買東山民地建築今校舍。現任校長陳元素女士。

編制：分高中初中；附屬小學。

廣州市中上學校概況

投資格：投考高中以初中畢業爲合格；投考初中以高小畢業或程度相當者爲合格。

報名考試日期：七月間開始報名，八月中旬考試。

期繳費：高中在校寄宿則全期各費共繳一百七十六元一角。通學生則繳一百一十五元六角(膳費在內)。初中寄宿生共繳一百五拾一元一角，通學生則繳九十元六角(膳費在內)

13. 眞光女子中學

址：廣州白鶴洞

略：該校已有六十餘年歷史，美國那夏管女士來粵時，以我國女子教育不振，籌劃開設。從前校內一切概由美國老差會主理，迨教育部頒佈學校立案規程，遂根本改組。於民國十九年，由美國長老差會完全移交華人辦理，於是選舉校董，擬訂章程，呈請教育廳批准立案。現任校長麥廷錦氏。

制：該學採用三三學制，前三年爲初級中學；後三年爲高級中學。均採用普通科。

考資格及手續：曾在新制小學畢業或與新制小學畢業程度相當者，得應初中一考試。至投考高中，除以新制初中畢業爲標準外，凡與初中畢業程度相當者，亦得應考，但取錄名

廣州升學概覽

額佔十分之二。報名時交相片二張，掛號費三元。

每期繳費：新生入學費用：高中生第一學期交膳，宿，學，雜費共一百四十四元；第二學期一百二十六元。至初中第一學期交學膳雜各費共一百四十一元，第二學期交一百式一元。均以大洋計算。

14. 潔芳女子中學

校址：廣州惠福西路

史畧：該校成立已歷廿八載于民國十五年奉准立案命名為潔芳女子師範學校至民國廿二年奉教廳批准改辦完全女子中學歷年均有附設完全小學及幼稚園，現任校長何子銓氏。

編制：該校採三三制，高中普通科，及初級中學。

投考資格：凡身體健全，品行端正，無精神病或傳染病之未婚女子均可按照章程及其程度投考各級

報名考試日期：

每期繳費：

級別	項目	全期應收學費	堂費	體育費	書報費	醫藥費	實習費	講義費	學治費	學生會費	自費	保證金	統計	
													新生	舊生
高中級		三十元	十元	一元	二元	六角	五角	二元	五角	新生一元六角	舊生六角	十元	六元二角	一十五元七角
初中級		廿一元	八元	二元	六角	六角	一元	一元	同	同上	同上	五元	三元九角	三十三元

廣州市中上學校概況

宿生加繳：宿費十六元，洗衣費十元，醫藥費貳元，另加保證金五元。

15. 明德女子中學校

校址：廣州一德路石室前

沿革：該校創立於民國二十年秋，至二十三年秋，奉准教廳立案。
○現任校長陳榮軒女士。

編制：該校辦高中師範科，及初級中學。

考資格

報名投考日期：

每期繳費：

16. 和平女子中學

校址：校址原在梯雲西路，至廿一年秋遷往拱日西路一百三十四號

沿革：該校開辦於民國十九年秋現任校長鄧不奴。

編制：該校暫辦初級中學

考資格：高級小學畢業，或同等學力。

報名考試日期：七月間開始報名，八月中旬考試。

學費繳費：未詳。

17. 坤維女子中學

廣州升學概覽

校址：廣州西關多寶路尾

史畧：該校創立於光緒卅二年，有廿八年歷史矣。廿二年奉准

廳立案。現任校長馬勵芸氏

編制：該校只辦初級中學。

投考資格：高級小學畢業或具同等學歷者。

報名考試日期：七月間開始報名；八月上旬考試。

每期繳費：

18. 協和女子師範學校

校址：廣州西村

史畧：該校創立於一九一一年，由碧盧夫人得美國長老會之協助

。成立之初，學生僅十二人；數月後，得畢女士及各職員

之助力在西關購得校址一所；至一九一六年，又得四教會

之同情，協助進行，校務日見發達。並改今名。後又在西

村購得荒岡四十畝，建築校舍。經已呈奉教廳立案。現任

校長廖奉靈女士。

編制：設高中師範科內分設：小學系，及幼稚系。

投考資格：初級中學畢業生。

報名考試日期：

每期繳費：

IV. 特種學校之部

公立

1. 廣東省立第一職業學校

校址：廣州市北郊外三元里

史畧：該校於民國二十二年六月奉廣東省政府第六屆委員會第壹百次會議議決，由是年七月十日起開辦，先招高級土木科一班，初級機械科一班，印刷製版科及農產製造科各一班，於是年九月十四日開始上課，現任校長黃巽氏

編制：現有：高級部土木工程科壹年級一班。初級部機械工程科，印刷製版科，農產製造科各一年級一班。

考資格：初級部：高級小學畢業，高級部：初中畢業。

報名考試日期：七月開始八月中旬考試。

每期繳費：學費免收，其餘圖書體育等費每學期的二元。

學生寄宿舍：有學生寄宿舍

2. 廣東省立體育專科學校

校址：大東路東較場

史畧：該校於去年經省務會會議議決，初設立為時甚暫，無可足紀，現任校長許民輝氏

編製：該校設專科班，師範班，訓練班三級。專科修業年限一年

廣州升學概覽

，師範科修業年限三年，訓練班修業年限一年。每班學額定五十名。

投考資格：(1.)專科應具左列資格之一：(甲)曾在高中或體育師範科畢業者。(乙)具有高中畢業或相當程度者。

(2.)師範科：曾在高級中學，簡易師範，及鄉村師範畢業者。

(3.)訓練班：(甲)曾在體育師範科畢業，及曾任中等學校教員一年以上者。(乙)曾在中等學校任體育教員三年以上成績昭著者。(丙)曾在小學或體育團體任體育教員五年以上者。

考試科目：(1.)專科：(甲)初試：黨義，國文，英文，數學，史地，理化。(乙)覆試：體育常識，運動技術

(2.)師範科：(甲)初試：黨義，國文，史地，理化，數學。(乙)覆試：運動技術，英文。

(3)訓練班：(甲)初試：黨義，國文，體育常識，生理衛生，(乙)覆試：運動技術，體育原理。

費用：不收學費，惟取錄各生，應於開學註冊時，繳納左列各費：保證金十元，體育費六元，寄宿費五元，學生會費一元，另代收膳費四十元制服費廿五元，洗衣費八元，軍訓書籍費二元(保證金及制服費抵於第一學期入校時收。)

3. 廣州市立第一職業學校

校址：教育路

史畧：民國十年二月開辦，現任校長唐允恭女士。

編制：共分公牘，圖書管理，配制，縫紉，刺繡，排印，商業七
 種科。

費用：免收學費

考試科目：入學考試科目：國文，黨義，算術，英文。

4. 廣州市立第二職業學校

校址：西門外高崗。

史畧：民國十七年創立，原名市立職工學校，前年改爲今名，現
 任校長劉百疇氏。

編制：土木工程，程度與高中相當，另有汽車駕駛班，則六個月
 畢業。

費用：每學期約共十餘元。

投考須知：考試科目：國文，黨義，教學，英文，考試日期約在
 七月間。

5. 廣州市立第三職業學校

廣州升學概覽

校址：河南鳳凰崗。

史畧：於去年創立。

編制：設電器，化學等科。

費用：新生每期繳納費用約廿餘元。

投考須知：考試科目：國文，黨義，數學，英文等科。

6. 廣州市立美術專門學校

校址：惠愛西路。

史畧：該校成立於民國十一年，校址設中央公園內。由許崇清先生任校長，嗣遷越秀山麓，去年始遷現址。由胡根天，司徒槐，李居端等先後繼任校長。

編制：中畫系，西畫系，圖案畫系

本年招生時間：八月內。

投考資格：以初中畢業為合格。

每期繳費：雜費約八元。

B. 私立

1. 仲愷農工學校

校址：廣州河南石滘口。（即士敏土廠東側）

史畧：民國十四年十月，中國國民黨中央執行委員會會議，決議

廣州市中上學校概況

設立農工學校，以仲愷為名，蓋紀念寥先烈也，廿年六月呈准教育廳立案。現任校長何品良氏。

體制：該校分設：高級及初級農藝科，高級及初級蠶桑科共四學級修業年限皆為三年。

投考資格：高級者須有初中畢業或同等程度，入初級者須有小學畢業或同等程度。

報名考試日期：

考試科目：(甲)高級：國文，英文，算學(算術，代學，幾何)
自然，口試，體格檢查。

(乙)初級：國文，算術，自然，口試，體格檢查。

費用：如左表

(甲)應繳校核收之款

	初 入 校 時	入 學 後 每 期	備 考
學 費	十五元	十五元	本屆初級蠶桑科學生免繳學費
堂 費	二元	二 元	
準 備 金	五元	無	此款專備平時及實習時毀損器物扣抵賠償之用畢業時發還但每學期入校時查明前學期如有扣除并須繳款補足又毀壞貴價物品不足扣抵時並應隨時繳款償足又此項準備金不准學生團體移用

廣州升學概覽

男生服裝費	十元	無 (但第三學年入校時再繳一次)	此係國貨校服二套帽一件風紀帶一條及腳絨一對之約價由本校發給券交學生自往指定商店量製由本校定其價外餘款於開課後發還女牛服裝由本校定質料款式自製備用
高級男生軍訓練用具費	四元	無 (但第二學年入校時再繳五元)	此係水壺乾類袋被單等之約價由本校代購其價外餘款於開課後發還
學生會基金	四毫	無	代學生會經收
學生會常費	四毫	四毫	代學生會經收
共計	高級男生三十六元八毫	十七元四毫	
	高級女生二元二八毫	十七元四毫	
	初級農作科男生卅二元八毫	十七元四毫	
	初級農作科女生廿二元八毫	十七元四毫	
	初級蠶桑科男生十七元八毫	二元四毫	
	初級蠶桑科女生七元八毫	二元四毫	
寄宿生另繳宿費每學期三元			
(乙)其他費用預算			
書籍費每學期約四元			此指必要之教科書而言參考書多少任便本校另發講義免費
文具費每學期約四元			筆墨練習簿及必要文具等
實驗器具費約十五元			此係三年所需之共數臨時陸續分支

廣州市中上學校概況

膳費每月七元五毫	寄宿生在校廚搭膳者每月膳費七元五毫得將五個月膳費三十七元五毫交會計股存儲代支或將膳費分期交來會計股存儲由該生陸續取用否則自向校廚支理但本校爲防止學生與校廚發生除欠隱禍起見不准校廚除飯菜與學生
藥費每次半毫至二毫	如需用較貴之藥時仍按代購實價核收

2. 嶺南大學附屬商科職業學校

校址：廣州市越華路九十六號

史畧：未詳

編制：設商科職業班，依照新學制實行職業教育，六年畢業，分高初兩級，各三年學程。第一二三爲初級，行單科制；第四五六爲高級，兼行選科制。

投考資格：初級招高小畢業生，高中招初中畢業生。

報名考試日期：七八月間

每期繳費：高級各班上學期收學費六十元，堂費十元，宿費二十元，膳費四十五元，其他雜費共廿五元，下學期學費減爲四十元，其他費用與上期同。至初級應繳納之費用除學費上學期爲五十元及下學期爲三十元外，其他大致相同。

3. 中華女子職業學校

廣州升學概覽

校址：廣州豪賢路

史畧：該校係由廣東女界聯合會所設立，開辦於民國十六年；經
奉准教廳立案。校長楊道儀女士。

編制：分設商科及縫紉科。商科修業三年；縫紉修業二年。

投考格資：商科招收小學畢業生，或程度相當者。縫紉科招收小
學修業四年，或程度相當者。

4. 廣東體育學校

校址：廣州大沙頭

史畧：該校創立於民國十七年秋，校址本在西關連元街陳家祠。
去年始遷於大沙頭。

編制：(附修業期限)(甲)本科(修業期限三年)；(乙)圖工樂體師
範講習科(修業期二年)。

投考資格：(甲)本科：初中畢業者；(乙)師範科：高小畢業者。

考試科目：(甲)初試：(1)本科：黨義，國文，英文，數學，體
育；(2)師範科：黨義，國文，算術，手工，音樂，體
育。

(乙)覆試：檢驗體格，口試

費用：(甲)本科：學雜各費七十元六角，宿費二十五元；(乙)師
範科：學雜各費六十五元六角，宿費二十元。

5. 廣州統計學校

校址：史略廣州文德路教忠師範學內

沿革：民十六由統計學會設立，原定名爲國立，因全國尚無統計學校也。後以費用移於北伐，改辦專門夜校。

編制：分甲乙兩級；乙級取錄中學畢業生者，一年卒業；甲級取錄小學畢業生者，三年卒業。現任校長溫仲良氏

招收資格：乙級中學畢業；甲級小學畢業。

費用：甲級第一學年不收學費，第二學年每期收十二元，第三學年定每期收十八元。堂費六元，講義每科一元，圖書費一元，保證金三元，校章三角。乙級學費二十四元，圖書費二元，保證金五元，餘與甲級同。

6. 圖強助產學校

校址：廣州倉邊路，舊倉巷

創始：該校設立于民國十七年，由前國會議員伍漢持烈士所創辦，數年來，畢業生已達四十五屆共約六千人。

編制：該校不分科。

本年招生名額：一百二十名。

本年招生時間：九月一日以前。

廣州升學概覽

投考資格：初中畢業及程度相當者，如係轉學生須有已立案之助產學校轉學證書。

每期繳費：每年繳交：學費五十元，宿費十元，實驗費十元，寄宿費四十元，膳費七十元，洗衣費十四元，講義費四元，校服費四元，圖書體育學生會費各一元，校章四角。

學生寄宿舍：有寄宿舍三座可容學生三百名

7. 廣東救護調劑學校

校地：廣州廣大路

史畧：該校由廣東醫藥界聯合會同人創辦，成立於民國十四年，初名廣東救護調劑專科講習所，呈教育廳存案，民十九年擴充為校，再呈准立案。

編制：分本科及速成科，并分日夜班。

招生時間：八月至九月間。

投考資格：小學畢業者免試入學，同等學力者放試及格亦可入學。

每期繳費：全期四十六元，分二次繳交，入學時交一半，三月後交清。

寄宿舍：有男女寄宿舍。

8. 廣州工程學校

廣州市中上學校概況

址：廣州市廣衛路。

畧：初設立時係以廣州工程特種學校呈請立案。至民國二十年遵照部頒章程，組織校董會，改用廣州工程學校名稱核准立案。

制：內分：土木工程科，機械工程科，電氣工程科。

年招生名額：一年級各科一班。

年招生時間：由八月十五日起。

放資格：初中畢業或程度相當者。

期繳費：每學期八十五元。

9. 廣漢無線電學校

址：廣州文明路門牌一一八至二百號

畧：未詳

制：該校不分科，所習課目為：無線電學，磁電學，無線電收發學，英文，數學，中文文件，黨義。

考試報名時間：八月中旬

放資格：初中畢業或程度相當者。

期繳費：學費三十八元。雜費十一元。

學生宿舍：有學生宿舍。

廣州升學概覽

廣州市中上學校廿四年度入學試 題

國立中山大學廿四年度新生入學試題：

正 初試：（除理，工，農，醫四學院加試數學及醫學院以德文代英文外，其他國文，總理遺教英文三科之試題六學院皆同）

1. 國文題目：

能治其國家誰敢侮之論

總理遺教試題：

- 1 說明革命民權的意義。
- 2 總理對於交通計劃最注重者何事？
- 3 三權憲法與五權憲法之比較。
- 4 中央與地方之權限當如何劃分？
- 5 實業計劃有四原則必須注意者，試列舉之。

以上五題須全作

2. 英文試題

Sunyatsen University Entrance Examination

English

廣州市中上學級廿四年度入學試題

I. Write a composition on one of the following subjects:

1. Mass-Education in South China.
2. Relief-works of the Government for the Sufferers in the Flooded Districts.
3. Do the girl Employees of Canton constitute a menace to the male-workers and a blessing to the women?
4. How I am affected by the ruin of the Kwangtung farm-houses.

II. 1. Give the Past tense and past participle of the following words:

Present tense Past tense Past participle

lie (tell a lie)

lie (intransitive)

lay (transitive)

2. Correct the following sentences:

- (1) The dog laid down at once.
- (2) Let the books lay where they are.
- (3) They were laying on the floor.
- (4) I quite approve of you going.
- (5) I expected to have found him better.

廣州升學概覽

(6) I meant to have written to you.

(7) "The sun has rose and gone to bed".

(8) I do not care whom he is.

(9) The tallest of the two men returned back yesterday.

(10) Avid those kind of things

(11) This here pen does not belong to me.

(12) Flowers were planted on either side.

3. Re-write the following sentences correctly:

(1) It was unkind of him to have gone without saying farewell.

(2) Her eyes are so painful, she cannot see to sew.

(3) He is one of the wisest that has ever lived.

(4) Neither John or James are going to Mr. Smith's party.

4. Give the correct answers to the following questions (employing shall and will.)

(1) Shall you be at home to-morrow?

(2) Will you do it?

Justify and explain the using of between and among in

廣州市中上學校廿四年度入學試題

the following sentences:

(1) The work was divided between the two men.

(2) She distributed the sweets among the six children.

5. Supply all capitals and punctuation for the following:

(1) Socrates recommend to one of his disciples this prayer o jupiter give us those things etc.

(2) The leading questions on which you must decide are those two first whether you ought to concede and secondly what your concession ought to be.

(3) A clause is either independent or dependent independent if it forms an assertion by itself dependent if it enters into some clause with the value of a part of speech.

將此段中文譯成英文

不知道出城該走左首，進城該走右首，方不礙路，他一味橫着子亂竄，恰好有一箇鄉裏人在城裏賣完了柴出來，肩頭上橫挑一根尖扁擔，對面一頭撞將去，將他的高帽子橫挑在扁擔尖上，鄉裏人低著頭走，也不知道，搗着去了，他喫了一驚，摸摸頭，不見了帽子，望見在那人扁擔上，他就把手亂招，口裏喊道「那是我的帽子」鄉裏人走的快，又聽不見，他本來不會走城裏

廣州升學概覽

的路，這時着了急，七手八腳的亂跑，眼睛又不看前面，跑了箭多路，一頭撞到一頂轎子上，把轎子裏的官撞了跌下來。

德文試題：(醫學院)

Deutsche Prarungsaufgaben.

I. Bilde Satze mit Anwendung der Genannten Konjunktiv-
ionen:

a/ Die Eltern mache es vor; die Kinder machen es oft
nach (wie-so.)

b/ Die Arbeit ist schwer; die Freude über den Erfolg
ist gross (je-desto.)

II. Bilde Imperfekt und Perfekt von folgenden Satzen:

a/ Mein Onkel zieht ein Los.

b/ Ein Bienchen fällt in einen Bach.

c/ Der Hund beisst das Kind.

d/ Der Techniker erfindet ein neuss Flugzeug.

III. Benutze in folgenden Satzen 『wer』 oder 『was』:

a/ Wenn einer nicht hoiien will, muss er funlen.

b/ Das Neue ist nicht immer gut.

廣州市中上學校廿四年度入學試題

IV. verwandle die direkte Rede in die indirekte Rede:

a/ Mein Freund schrieb mir:『Ich werde bald kommen.』

b/ Der Schuler sagte zu dem Lehrer: 『Ich war beim Arzt.』

V. Benutze 『ohne zu』 oder 『anstatt zu』 in folgenden Sätzen:

a/ Er ging voruber und grusste mich nicht.

b/ Er arbeitete nicht, sondern verschwendete sein Geld

VI. Schreibe einen kurzen Aufsatz:

Meine Vaterstadt.

交卷時間：上午八時至十一時止

數學試題

1) 試定 λ 之值，俾下列方程式能成立。

$$-6x + y + 7z = \lambda x$$

$$x + 4y + 3z = \lambda y$$

$$7x + 3y - 4z = \lambda z$$

2) 試將分數 $\frac{1}{x^3 + 4x^2 - 10x - 6}$ 析為最簡單之分數 (Partial

fractions)

廣州升學概覽

(3) 橢圓 $x^2 + y^2 = 25$ 之某弦以 (1, 2) 爲中點，試求此弦之方程式。

(4) 試究函數 $y = \frac{x^2 + x - 1}{x^2 + x - 6}$ 之變值，并用圖以明之。

II. 覆試：(附在上海放試試題)

(甲) 在廣州覆試試題

文法科邏輯試題

- (1) 名詞 Terms 之分類凡幾種？試舉例以明之。
- (2) 命題 Propositions 凡分幾種？試舉例說明其分類之標準。
- (3) 三段論式 Syllogism 之構成如何？試舉例詳言之。

文法科數學試題：

(1) 試求下二方程式之正整數解：

$$x + y + z = 50, \quad 10x + 2y + z = 250$$

(2) 設 $\frac{1}{a} + \frac{1}{c} + \frac{1}{a-b} + \frac{1}{c-b} = 0$ ，而 $b \neq a+c$ 。試証 a, b, c 成調和數。

廣州市中上學校廿四年度入學試題

3) 已與平行四邊形ABCD 令E爲AB邊之中點，F爲對角線AC之三等分點，試用解析幾何証爲E,F與頂點D同在一直線上。

(4) 設位標軸 ox, oy 正交，求下列雙曲線之四交點，并顯知其任一對交點之聯線必與其他一對交點之聯線相正交：

$$y^2 - x^2 + 2xy + \frac{6}{2}x - 1 = 0,$$

$$(2y - x + 2)(y + 2x - 1) = 0,$$

[注意] 邏輯數學，任取一種。

文法科歷史試題：

(甲) 論文題

論明亡之原因

(乙) 測驗題

(一) 試舉明末清初之代表學者四人及其重要著作

(二) 試舉第一次世界大戰(一九一四至一九一八年)各交戰國之國名。

文法理工農醫科地理試題

(1) 試述我國氣候之大概。

(2) 我國米麥生產及集散地之分布若何？米麥仍須由外國輸

廣州升學概覽

入，其故何在？

(3) 在太平洋上有勢力之競爭者有幾國？其爭點有幾處？

(4) 阿比西尼亞(Abyssinia)之位置若何？其疆土形勢若何？
何故與意大利發生衝突？

理工農醫科物理試題：

(1) 以物理學立場，解釋下列二句的意義：

a. 飛鳥之景未嘗動也。 b. 金能生水。

(2) 試述光之反射定律。

今設有一物置於一平面鏡之前，則吾人當見其像生於鏡後。光線之進行已合乎反射定律，則其路程為最短，試證明之。
(即是證明從光源至鏡反至至眼，按反射定律所引之光線比其餘任何方法所引者均較短之意)。

(3) 欲使一物體在平衡狀態 (in equilibrium) 其條件應如何？一水平均勻 (Uniform) 橫樑 5 千克 (Kg) 重，5 呎 (m) 長，一端架于垂直牆上，他端以一繩挽之，繩與樑成 30° 角；試計算此繩子之張力以及牆之垂直與水平之兩壓力。

(4) 甲、試證明容積膨脹係數 (Coefficient of Cubical expansion) 為長度膨脹係數 (Coefficient of linear expansion) 之三倍。

廣州市中上學校廿四年廣入學試題

乙、設有兩來登瓶(Leyden jar)其電容量各為 C_1C_2 求將兩瓶
(a)串聯(in series或稱行結)及(b)並聯(in parallel或稱列結)
)時之總容量各若干。

理工農醫科化學試題：

(1)解說下列諸術語，並各舉一例表明之。

- (a)平衡 (Equilibrium)
- (b)接觸劑 (Catalyst)
- (c)氧化 (Oxidation)
- (d)克分子體積 (Grsm Molecular Weight)

(2)用方程式表明下列各變化：

- (a)由石灰及氯製造漂白粉
- (b)用碳酸鈉使永久硬水軟化
- (c)由石灰及碳酸鈉製造氫氧化鈉
- (d)由硝酸鈉製造硝酸

(3)於一溶有二氧化硫與氯化鉍之水溶液中，傾入100CC之溶有氯之水溶液，整個之氯皆加入於反應，結果得1克之硫磺鉍，問：(1)其化學反應為如何？(2)此100CC之水溶液含有若干量之氯？(以容積計之)(3)其反應所造成之鹽酸量為若干？(以重量計之)

廣州升學概覽

氯之原子量35.5

硫之原子量32

氧之原子量16

鎂之原子量137

(4) 碳酸鈉之製法及其化學性質暨用途。

理工農醫科生物學試題：

- (1) 動物之營養料有幾種？並追索其產生之來源！
- (2) 動物有溫血動物與涼血動物之別，原因何在？
- (3) 試述根瘤細菌與豆科植物之關係！
- (4) 試以圖解說明子房內胚珠與胚囊之各部分！

(乙) 在上海考試題

(一次考完不分試覆試文法科及理工農醫科所考科目與在廣州考試科目同)

總理遺教(任選五題)

- (一) 歐美的民主主義與三民主義之民權主義有異，所以成爲一階級的民主主義，虛偽的民主主義，試述其故。
- (二) 要解決生產與分配兩問題，據根 總理遺教當採何法？
- (三) 三權分立與五權分立，其利害得失如何，試分述之。
- (四) 社會進化根本的動因是民生抑是唯物？
- (五) 根據 總理遺囑，廢除不平等條約，當以何種方法爲宜？
- (六) 國民黨土地政策的理論，試申述之。
- (七) 四種政權當如何運用？

廣州市中上學校廿四年度入學試題

- 八) 國民黨對外政策，試申述其大意。
- 九) 三民主義經濟政策之建設有二個步驟，試分述之。
- 十) 心理建設與物質建設，孰爲先後？孰爲緩急？

國文試題：

暴之國事之彌煩侵人愈甚說

(見荀子富國篇末段)

英文試題：

1. Correct or justify the use of the words underlined in the following sentences:
- (a) There was noboby but him.
 - (b) I hate those sort of people
 - (c) Each though of others rather than themselves
2. Rewrite the following sentences correctly, giving a reason for any change made:
- (a) I have rang the bell three times.
 - (b) His coat is quite wore out.
 - (c) Neither the boy nor the girl were in sight.
 - (d) He is one of the cleverest boys that has passed

廣州升學概覽

through the school.

(e) Why you in such a hurry?

3. Write a sentence (of not less than 12 words) with each of these words:

- (a) Although (b) already (c) graduate (d) suggest (e) compare (f) however (g) furniture (plural meaning) (h) fruit (plural meaning.)

4. The following sentences are wrong in prepositions. Supply the correct ones:

- (a) I differ wholly with the orator on that point.
(b) That is a different book altogether to the one I possess
(c) He prefers reading poetry than prose.
(d) Mecauly's prose style is characterised with eloquence.

5. Insert marks of punctuation in the following:

- (a) We live in deeds not years in thoughts not breathe in feelings not in figures on a dial.
(b) Histories make men wise poets witty the mathematics subtle natural philosophy deep moral grave

廣州市中上學校廿四年度入學試題

logic and rhetoric able to contend.

6. Translate the following paragraphs into Chinese:

I feel myself honoured by the invitation to say a few words at this meeting. I am further gratified that such a conference as this should be held, since it evidences not only the serious interest of the American people with their relations to my own people but their desire to be intelligently informed concerning the facts which condition these relations. It has been my chief reason throughout all the years I have been in the service of my country to promote, to the extent of my power and opportunity, those feelings of good will and those understandings upon which cordial relations between sovereign Powers must be based if they are to exist in any true and permanent form.

It is my belief that there are no facts or forces inherent in international society, which prevent the Powers of the world from bringing their several national interests, and therefore their national policies, into substantial harmony, and thus being of advantage to one another without sacrificing any of the rights properly attaching to the sovereignty

廣州升學概覽

and independence of each, or insisting upon that sacrifice by any one of them. I am aware that this is the belief also of you who are here this evening, and that it is because of this belief you are in attendance at this conference,

Due to disturbed domestic conditions which, in large measure, have been the outcome of her attempt to establish and operate a government republican in form, China, is, at the present time, in a state of political transition; and, while working out the best course to pursue, she is watching with especial solicitude the policies of the other and stronger Powers with regard to herself;

論理學試題：

- 一、名詞 Terms 之分類有幾？試畧述之。
- 二、何謂命題之對當 Opposition of propositions 試畧述其大概
- 三、三段論式 Syllogism 之構成如何？試詳述之。

上擇答二題爲完卷

數學試題：

- (1) 設有甲乙二袋，甲袋有銅幣九枚及銀幣一枚，乙袋僅有銅幣十枚。若於甲袋任取幣九枚置之乙袋中，然後再由乙袋任

廣州市中上學校廿四年度入學試題

幣九枚還置於甲袋，則銀幣在甲袋之機會多乎抑在乙袋之機會多乎，換言之，銀幣在甲乙二袋之概率 Probablity 爲如何？

(2) 令 α, β, γ 爲方程式 $x^3 + 4x + 3 = 0$ 之根，試計算

$$-\frac{1}{\alpha} + \frac{1}{\beta} + \frac{1}{\gamma} \text{ 及 } \frac{1}{\alpha^2} + \frac{1}{\beta^2} + \frac{1}{\gamma^2} \text{ 之值。}$$

(3) 設 x, y 爲正交軸之點位標，從圓 $x^2 + y^2 - \sqrt{a^2 + b^2} = 0$

上任一點引橢圓 $\frac{x^2}{a^2} + \frac{y^2}{b^2} - 1 = 0$ 之二切線必正交，

試顯明之。

(4) 有平面(P)包含兩平面 $3x + 2y - z + 4 = 0$ ； $x - y + 1 = 0$ 之交線，且經過 $(1, 2, 4)$ 點，試求(P)之式程方。

地理試題：

1. 我國最近五十年來國內外移民之狀況如何？其原因何在？
2. 我國近年來陸上交通事業之發展，其影響於國計民生者何若？
3. 試述棉絲毛三種衣服原料，在世界經濟上之地位。
4. 多瑙河流域諸國，常爲世界重大政治經濟紛糾之策源地，能從地理觀點上而說明其原由否？

歷史問題：

(一) 論文試題

廣州升學概覽

歐洲文藝復興與中國樸學運動之比較研究

(二)測驗問題

(A)試舉下列各代建都之所在地：

(1)秦(2)東漢(3)東晉(4)北宋(5)隋(6)明

(B)試舉歐戰後新興國之各國名。

德文試題：

Deutsche Prüfungsaufgaben.

I. Verwandle folgende Sätze ins Passiv:

a/ Das Kind wirft den Stein.

b/ Mein Onkel erhielt den Brief.

c/ Hat er dich geschlagen?

d/ Ich werde das Buch kaufen.

II. Bilde das Imperfekt und Perfekt von folgenden Sätzen:

a/ Ich treffe einen Bekannten auf der Strasse.

b/ Siehst du den Flieger?

c/ Die Uhr schlägt zehn.

d/ Der Hund beißt das Kind.

III. Bilde Subjektsätze mit „wer“ und „was“

IV. Verbessere:

廣州市中上學校廿四年廣入學試題

a/ Hast du den ganzen Tag zu Hause geblieben?

b/ Das Fenster wird von mir aufmachen.

c/ Wir denken noch oft an dir.

d/ Hast du wieder erkaltet?

V. Verbinde folgende Sätze durch „wenn“ oder „als“:

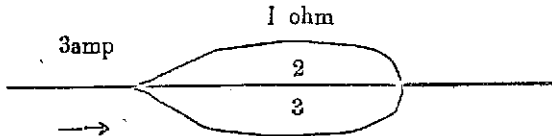
a/ Ich verließ gestern das Haus; ich traf vor der
Tur einen Landsmann.

b/ Mein Freund besteht die Prüfung; er wird die
Hochschule besuchen.

VI Schreibe einen kurzen Aufsatz über „Meine Vaterstadt“

物理試題：

- (1) 設有導線三條，其各條之電阻 (Resistance) 爲 1, 2, 3 歐姆 (ohm)，今並聯之 (in parallel)，使 3 安培 (ampere) 之電流通過其中，求各導線內之電流幾何。



- (2) 何謂表面張力 (Surface tension)？試舉例說明之。

廣州升學概覽

- (3) 有一焦點距離 20 釐之凸鏡，欲由其得一較實物爲五倍長之實像 (real image)，問須置實物 (object) 於何處。
- (4) 欲拋一物體使達 555 呎 (foot) 高，須以何速度擲上，由指出以至復落於地，共需時若干。
- (c) 何謂 (a) 光之臨界角 (Critical angle)
(b) 比熱 (Specific heat)

生物學試題：

1. 動物與植物究有區別否？
2. 維管束分爲若干部？每部由何種主要分子組合而成？
3. 子房內之胚珠及胚囊構造如何？
4. 動物胚胎之發育普通可分爲若干時期？並述每期之大概情形
(以四題爲完卷)

化學試題：

- (1) 試解說下列諸術語，並各舉一例以表明之。
- (a) 電離 (Ionization)
 - (b) 加水分解 (Hydrolysis)
 - (c) 可逆反應 (Reversible Reaction)
 - (d) 還原 (Reduction)
 - (e) 當量 (Equiva Weight)

廣州市中上學校廿四年度入學試題

2)(A) 試以方程式樣表示下列各化學反應

- (a) 食鹽與硝酸銀
- (b) 硫酸鈉與氯化銀
- (c) 鉻酸鉀與硝酸鉛
- (d) 三氯化鋁與氫氧化鈣
- (e) 三氯化鐵與黃血鹽

(B) 以上各反應，在分析術上，為何能檢出 (a) 氯離子
(b) 硫酸離子 (c) 鉻酸離子 (d) 鉛離子及 (e) 鐵
離子。

(3) 試畧述從硫鐵礦製造硫酸之方法(一種方法即可)

(4) 有石灰石 100 公斤(Kilograms)，含 CaCO_3 98%，加熱分解
為生石灰及二氧化碳，問：

- (a) 可得生石灰 (CaO) 若干公斤？
- (b) 在壓力 740mm. 及溫度 500°C ，其所生之 CO_2 體積若
干？
- (c) 須加水若干公斤，始能將所產之 CaO 變為熟石灰 $\text{Ca}(\text{O} \text{H})_2$ ？

原子量：Ca=40, C=12, O=16, H=1

廣東省立勳勤大學廿四年度入學試驗題

廣州升學概覽

1. 初試

A. 黨義題

- (一) 試述民主集權制與迪克推多制之區別？
- (二) 爲甚麼要民族主義實行後才可以講世界主義？
- (三) 民生主義生產與資本主義生產其區別何在？
- (四) 總理對於開發中國南部富源有何計劃試畧述之。

b. 試驗國文題(單號)

(一) 作文

孫總理謂「青年宜立志做大事，不宜立志做大官」。試申論之！

(二) 試將下文翻爲語體，並就原題紙加新式標點。

祀爲屯田都尉犯法當死文姬詣曹操請之時公卿名士及遠方便驛坐者滿堂操謂賓客曰蔡伯喈女在外今爲諸君見之及文姬進蓬首徒行叩頭請罪音辭清辯旨甚酸哀衆皆爲改容操曰誠實相矜然文狀已去奈何文姬曰明公廐馬萬匹虎士成林何惜疾足一騎而不濟垂死之命乎操感其言乃追原祀罪時且塞賜以頭巾履襪操因問曰聞夫子家先多墳籍猶能憶識之不文姬曰昔亡父賜書四千許卷流離塗炭罔有存者今所謂憶我四百餘篇耳操曰今當使十吏就夫人寫之

(雙 號)

(一) 作文

廣州市中上學校廿四年度入學試題

總理謂『青年宜立志做大事，不宜立志做大官』。試申論之！

(二)試將下文翻爲語體，並就原題紙加新式標點。

寧二年遂大誅黨人詔下急捕滂等督郵吳導至縣抱詔書閉傳舍伏而泣滂聞之曰必爲我也卽自詣獄縣令郭揖大驚出解印綬引與俱曰天下大矣子何爲在此滂曰滂死則禍塞何敢以罪累君又令老母離乎其母就與之訣滂白母曰仲博孝敬足以供養滂從龍舒君歸黃泉存亡各得其所惟大人割不可忍之恩勿增感戚母曰汝今得與李杜名死亦何恨既有令名復求壽汝可兼得乎滂跪受教再拜而辭顯謂其子曰吾欲使汝爲惡則惡不可爲使汝爲善則我不爲惡行路聞之莫不流涕

d. 英文題

Correct the grammatical errors and fill in all the blanks in the following passage:—

Accordingly, plans was made.....

Olivia and Sophia.....go to town as companions to the high-born visitors. The plan went wrong. Excuses came to.....effect that the fashionable ladies has find something undesirable.....the two girls' character. And then as if to crown the disaster, Burchell's pocket book has found, with a letter.....it to.....fashionable ladiss, seemingly

廣州升學概覽

implying.....Misses Olivia and Sophia Primrose were of imperfect virtues. At that discovery, the wrath of the doctor and his wife flamed out. Burchell was forbidden the house.

II. Translate either A or B into Chinese:--

- A. "Toward all other nations, large and small, our attitude must be one of cordial and sincere friendship. We must show not only in our words but in our deeds that we are earnestly desirous of securing their good will by acting toward them in a spirit of just and generous recognition of all their rights. But justice and generosity in a nation, as, in an individual, count most when shown not by the weak but by the strong. While ever careful to refrain from wronging others, we must be no less insistent that we are not wronged ourselves. We wish peace; but we wish the peace of justice, the peace of righteousness."
- B. "Dr. Sun Yat-sen replied to his Japanese friends, 'Being peoples of the same race, colour and civilization, the Chinese and Japanese are like brothers. China being older in civilization is similar to an elder brother. Because

廣州市中上學校廿四年度入學試題

of this racial and cultural relationship there should be a natural tendency toward friendliness and cooperation on the part of the two peoples. The position as regards the Chinese and Europeans or Americans is like mere friends. If a friend treats us with insolence we may bear it with tolerance, but if a younger brother shows not only disrespect but oppression there cannot but be the strongest of reactions.”

- I. Write a composition of approximately 250 words on any one of the following title subjects:—
- How I Spent My Summer Holidays.
 - My School Life Up-to-date.
 - University Education and My Future.
 - A First Impression of Canton City.
 - 數學題
- 1) 甲每小時行 5 里，乙每小時行 3 里。甲乙二人同時起身赴某地，甲行一小時後因事獨返原地，甫至，又即啓行，問幾小時後甲追及乙？
- 2) 等差級數之初項爲 5，公差爲 3，問第幾項之值爲 320。
- 3) 解下列方程式：

廣州升學概覽

$$\frac{7}{9-x^2} + \frac{4+x}{x+3} = \frac{4-x}{3-x} \circ$$

- (4) 由三角形 ABC 之三頂點至對邊作垂綫 AD, BE, CF, 其垂心爲 H
。試證 AH, DH = BH, EH = CH, FH.
- (5) 兩相似旋轉圓錐之高爲 16 吋, 32 吋。求其全面積之比。
- (6) 一樹被大風吹折爲兩段, 與地面成一直角三角形, 樹之上段與地面所成之角爲 30° , 樹頂在地面上與樹身之距離爲 50 尺, 求全樹之長。

2. 覆試

A. 國學常識試題

- (1) 試舉三禮三傳之名。
- (2) 何謂四家詩?
- (3) 何謂漢學與宋學?
- (4) 爾雅爲何種性質之書?
- (5) 試舉三通之名及其作者。
- (6) 我國歷史之體例可分幾種?
- (7) 資治通鑑, 通鑑紀事本末, 各爲何人所著?
- (8) 我國有史評乎?
- (9) 何謂六家九流?

廣州市中上學校廿四年度入學試題

- (10)楊雄法言，太玄模倣何書而作。
- (11)何謂濂洛關閩？
- (12)宋元學案，明儒學案，清儒學案小識，各爲何人所著？
- (13)顏李學派之顏李爲誰？其根本精神如何？
- (14)何謂双聲？疊韻？並舉例明之。
- (15)說文解字何人所作？有何詳審之注本？
- (16)何謂四聲？并舉例明之。
- (17)試舉中國文學批評書數種，并言其作者。
- (18)桐城文派起自何人？其代表人物爲誰？
- (19)建安七子何名？
- (20)牡丹亭，燕子箋，桃花扇，作者爲誰？
- (21)何謂元白體？
- (22)陽春集，珠玉詞，六一詞，漱玉詞，飲水詞，各爲何人所作？
- (23)書目答問爲何人所編？
- (24)章炳麟，王國維爲何時人？長於何種學問？
- (25)試舉出下列各書的作者：漢學師承記，清代學術概論，人境廬詩集，日知錄，東塾讀書記。

國文法試題

試分析下列各句詞性(能作圖解更佳)

廣州升學概覽

- (1) 項羽乃悉引兵渡河，皆沈船，破釜，燒廬舍，持三日糧。
- (2) 宋襄公贈之以馬二十乘。
- (3) 可使制挺秦楚之堅甲利兵矣。
- (4) 梓匠輪輿，其志將以求食也。

b. 中外歷史試題

- (一) 秦漢間匈奴與中國對抗，在文化上之相互影響，試概述之。
- (二) 王安石新政策之內容試評述之。
- (三) 試比較古代希臘與羅馬之文化。
- (四) 試畧舉歐戰前後，本民族自決主義所建設之國家。

c. 中外地理試題

- (一) 試本我國山川地形之大勢，畧言我國自然區域之分布。
- (二) 「東北」淪陷，我國損失至鉅，試本土地，人民，產業，交通及國防諸點列論之。
- (三) 歐戰後世界新興國有幾？試列舉其名稱，民族，地方，及戰前所屬之國家。
- (四) 試舉述英，美，日三國太平洋上勢力之分布。

地理常識試題

- (一) 地球之地軸，以六十六半之角度傾側於軌道面，環行太陽之四週，試問對於氣候帶與季節之區分，有何關係？
- (二) 太陽曆有閏年，太陰曆有閏月，何故？

廣州市中上學校廿四年度入學試題

三)何謂大陸性氣候與海洋性氣候？

四)生物分布與地理環境有何關係？試舉我國生物爲例畧述之。

d.物理學試題

1. 比重7,體積10立方公分之金屬塊,沉於比重0.9之液體中秤之,其重量當爲幾克？
2. 何謂比熱,飽和蒸氣,沸點,反射,折射,與連續光譜？
3. 質量20.6克之鎗彈,以每秒760公尺之初速,自質量3.6磅之鎗射出。試求發射際鎗之後退速度。
4. 在某凸透鏡前12公分處置燭火,可於其他側生5倍大之實像。問該透鏡之焦距爲若干公分？
5. 有適用於電壓100伏特而通過0.4安培電流之電燈泡。試計算其燈絲之電阻爲幾歐姆？

e.化學試題

I。解釋下列化學名詞,并各舉出一例：

- (1)溶媒(Solvent)
- (2)觸媒(Catalyser)
- (3)電離(Ionization)
- (4)電解(Electrolysis)
- (5)氧化(Oxidation)
- (6)還原(Reduction)

廣州升學概覽

(7) 中和(Neutralization)

(8) 鹼化(Saponification)

(9) 遊子(Ions)

(10) 電子(Electrons)

II。寫出下列各物貨的分子式：

(1) 大理石

(2) 石灰

(3) 精鹽

(4) 石膏

(5) 明礬

(6) 苛性鈉

(7) 氫

(8) 磷酸鈣

(9) 硫酸鋁

(10) 醋酸

(11) 酒精

(12) 甘油

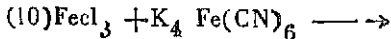
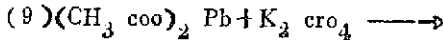
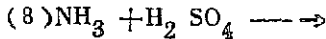
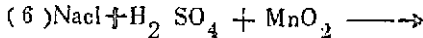
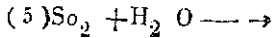
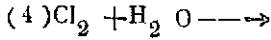
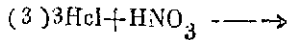
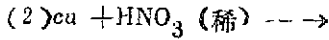
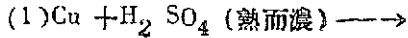
III。試繪一畧圖表示用 Shrivag 氏法製造碳酸鈉的步驟。寫出其反應方程并舉出碳酸鈉之重要用途。

IV。有碳酸鈣 100 克以過量之稀鹽酸相作用，問可得二氧化碳若

廣州市中上學校廿四年度入學試題

于公升(在標準狀態) ?

7. 完成下列各化學反應方程 :



f. 生物學試題

一。孟德爾氏遺傳法則之要點如何試詳述之(註: mendel's law 或 摩曼兌爾律)

廣州升學概覽

二。下列諸動物名試各註明其屬何綱何目

- (一)鼠 (二)紡織娘 (三)海馬 (四)壁虎 (五)裸蛇
(六)海狗魚 (七)藤壺 (八)海盤車

三。試繪一細胞之模式圖註明其各部分之名稱并說明此各部分對於整個細胞有何作用

四。下列八種植物爲廣州市內所習見者試分別說明其形性并其隸屬之科名

- (一)木棉 (二)梅 (三)木槿 (四)木蘭 (五)木瓜 (六)有加利 (七)莢竹桃 (八)荔枝

嶺南大學入學試題

(各科應考之科目，請參看該校概況中試驗科目項)

一。國文試題 時間三小時

(甲) 作文 (四題任作其一，白話文言均可)

論二十年來之學風

論新文學與舊文學

論法治與人治

嶺南大學入學試題

論利用天然

(乙) 常識 (以下各題答案) 各填於該題之()內

- 1) 「江」字於六書爲()
- 2) 「子」字於四聲爲()聲
- 3) 「流」字與()字爲雙聲
- 4) 「光」字與()字爲疊韻
- 5) 作說文解字一書之人爲()
- 6) 始製文字者爲()
- 7) 作大篆之人爲()
- 8) 作小篆之人爲()
- 9) 作隸書之人爲() 盛行於()代
- 10) 今之楷書始於()代
- 11) 編古文辭類纂者爲()
- 12) ()子言性善 ()子言性惡
- 13) 大道之行也天下爲公一段出禮記()篇
- 4) 墨子法儀云莫若法()
- 5) 荀子論天云孰與()天命而用之
- 6) 韓非子顯學云世之顯學()()也
- 7) 莊子天下篇論墨子曰其生也勤其死也薄其道也()
- 8) 淮南子要畧云墨子學()之業受()之術

廣州升學概覽

(19) 史記論六家中之道家曰聖人不朽() (是守

(20) 學記云教也者()而()其()也

(丙)標點

下關最下中關高倍之八達嶺之俛南口也如窺井形然故曰疑若可
然自入南口城堦有天竺字蒙古字上關之北門大書曰居庸關景泰二
年脩八達嶺之北門大書曰北門鎖鑰景泰三年建自入南口流水齧
馬蹠涉之蹠然鳴弄之則忽涌忽湫而盡態遊之則至乎八達嶺而窮
達嶺者古隰餘水之源也

閒牕漏永月冷霜華墜悄悄下簾幙殘燈火再三思往事離魂亂愁腸
無語沈吟坐好天好景未省展眉則個從前早是多成破何況經歲月
拋擲假使重相見還得似當初麼悔恨無計那迢迢良夜自家只恁摧

二。英文試題舉例

The ENGLISH ENTRANCE EXAMINATION is three hours
in length. It consists of seven parts as follows:

- 1 Vocabulary
- 2 Sentence Correction
- 3 Sentence Structure
- 4 Grammar

廣州升學概覽

2 perilous (1) precious (2) to seek (3) to invest
(4) dangerous.....(4)

II SENTENCE CORRECTION.

This test includes 25 sentences of very easy construction, each of which contains a language error of a type frequently made by Chinese students of English. Examples of the sentences used, together with the directions given for correcting the errors in them, are offered below.

The following sentences contain common expressions which are wrongly worded. Correct each sentence by crossing out, inserting, or substituting one or more words as necessary, being sure not to change the meaning of the sentence. Do not touch the underlined words; do not make unnecessary changes; do not rewrite any sentence.

- 1 He is not very easy to do what you ask.
- 2 They aquainted each other.
- 3 When will you return Canton?

III SENTENCE STRUCTURE.

嶺南大學入學試題

This test attempts to measure the candidate's knowledge of correct sentence structure by requiring him to discover and mark the one sentence in each group of sentences which is faulty in structure. Knowledge of the following defects in sentence structure, among other, is tested: incomplete verb, absence of a main clause, incorrect pronoun reference, dangling participle, the run-on sentence, the use of a finite verb instead of an infinitive, wrong use of connectives, errors in interrogative sentence forms. The test is of the following pattern:

In each of the groups of four statements below, there is one statement which includes something that does not make a good sentence. Find this one bad sentence in each group, and mark a cross (X) on the dotted line in front of the statement to show that it is wrong. If you are not sure which sentence is poor, mark the one which seems to you least satisfactory. Be sure to mark one, and only one, statement in every group.

廣州升學概覽

- 1What he said very few could understand.
...X...Hongkong University one of the leading institutions of higher learning in South China.
.....He is unquestionably one of the finest men I have ever met.
.....Warfare is savage, but I doubt whether it can ever be permanently abolished.
- 2I am not certain which of the two men came this morning.
.....Please take whichever you like.
...X...The candy was in a paper box which we ate.
.....He is not reliable, which explains why I have never trusted him with the work.

IV GRAMMAR

Simple sentences illustrating various types of common grammatical errors are presented with other sentences which are correct in every respect. The student is asked to indicate by different marks the faulty sentences and the correct ones. Fifty sentences are included in this test, of which the directions and several sample

嶺南大學入學試題

items are given below.

Of the sentences below, some have grammatical errors and others have not. On the dotted line before each sentence write a plus sign (+) if you think the sentence is grammatically correct, and a zero (0) if you think it is not.

...0...1 Wong, together with his brother, are here.

...0...2 Who are you looking for?

...+...3 That doesn't seem fair.

V VERBS.

This is a test of ability to use verbs correctly in easy sentences. The test consists of 25 items presented in the following manner:

Fill in the blank space in each of the following sentences with the correct form of the verb given in the column at the left. Be careful of tense, voice, mood, person, number; be careful, in fact, of everything which has to do with the correct use of verbs in sentences.

1 be My friend had been secretary of his class

廣州升學概覽

before he was chosen president.

2 read If your eyes are tired, I advise you to stop reading.

VI PARAGRAPH READING.

This test consists of several short passages of material graded to matriculation standard each passage being accompanied by a series of questions in multiple-choice form to be answered. A sample passage, with examples of the type of questions asked, is given below.

After each of the following paragraphs there are a number of statements, each with five alternatives. For each statement select the one alternative which makes the statement correct, and put its number in the parentheses at the right.

“The remarkable growth of Socialism attested the existence of a large body of urban workingmen in Sweden as certainly as the imposition of a protective tariff in 1888 witnessed to the growing influence of landlord and business men. Sweden, more than any other Scandinavian country, was entering into competition with great industrial nations.

嶺南大學入學試題

In Sweden, as in other European countries, the government did good deal to promote social legislation. In 1901 the Riksdag accepted a bill for state insurance of workmen against accidents and for the limitation of working hours of women and children. Both Norway and Denmark secured similar legislation, but with them, as with Sweden, the social reforms only increased the numbers and radical demands of the Socialists. Some index to the need of economic betterment was afforded by the large emigration of Scandinavians to the United States: Sweden, the worst sufferer in this respect, lost in the second half of the nineteenth century a million citizens nearly all of whom settled permanently in America."

- 1 The most highly industrialized nation among the Scandinavian countries was (1) Sweden (2) Norway (3) Riksdag (4) Denmark (5) Scandinavia.....(1)
- 2 That the landlords and business men possessed much influence was shown by (1) the growth of Socialism (2) the competition with industrial nations (3) the social legislation (4) the large body of workingmen

廣州升學概覽

- (5) the establishment of a protective tariff.....(5)
- 3 That economic conditions in the Scandinavian countries were unsatisfactory was indicated by (1) the social reforms (2) the radical demands of the socialists (3) the large emigration to the United States (4) the state insurance of workingmen (5) the limitation of working hours of women and children.....(3)
- 5 Riksdag is the name of (1) a bill (2) a country (3) a man (4) a law-making body (5) a government..... (4)
- 5 At this period, laws for improving social conditions were being adopted (1) by no country (2) only in Sweden (3) only in the Scandinavian countries (4) in the European countries generally (5) in Norway and Denmark only.....(4)
- 6 The social reforms that were introduced in the Scandinavian countries (1) made conditions entirely satisfactory (2) only increased the demands of the socialists (3) made conditions economically better (4) resulted in large emigration (5) caused great

suffering among the people (2)

VII WRITTEN COMPOSITION.

This exercise is designed to test briefly, the candidate's ability to express in simple English prose his ideas on a topic of general interest. The subject of the composition is announced at the time of the examination.

The primary purpose of the ENGLISH ENTRANCE EXAMINATION is not to measure the student's accumulation of subject matter, but to test his possession such a practical control of the English language as every standard middle school English course ought to provide. Obviously, therefore no amount of last-minute preparation will enable the inadequately trained student to pass the examination, while on the other hand, in the case of the student whose middle school English work has been well done, no special preparation for it is either necessary or desirable. As a source of concrete suggestions for those who nevertheless desire to "brush up" prior to taking the examination, however, the mimeographed booklet "Corrective and Suggestive Material in English Grammar and Idiom" issued by the Department

廣州升學概覽

of Western Languages and Literature of this University will prove helpful. Parts 2, 3, 4, and 5 of the ENGLISH ENTRANCE EXAMINATION are based on considerable measure upon the materials in this booklet.

三。歷史及地理試題 時間共三小時

1 時事試題〔十題任答七題，須用中文。每題計二分。〕

1. 福建人民革命政府之成立，以何種主張作號召？試評述其失敗之原因。
2. 在黨治下國民政府主席應由何法團選舉之？現在國府主席之權與初定都南京時之國府主席職權有何分別？最近被舉爲國府主席者爲誰？
3. 偽滿洲國之政制於最近將如何變更？變更後於我國有何大影響？
4. 內蒙於最近數月有何問題發生？并述中央應付之方策？
6. 試評宋子文任財長時之主張及其重要工作。宋辭職後誰人繼爲財長？
6. 廣東近來之建設事業如何？試述所知者以對？
7. 廣西於近數年來政治建設各種事業有何進展？
8. 政府最近舉行徵抽洋米入口稅其目的安在？

嶺南大學入學試題

9. 數月前廣東金融界有何變動？其原因為何？
10. 中國共產黨最近數年有何活動？受害最烈者以何省為甚？其勢力之所以難於撲滅者原因何在？

Time for Examination (including Part I): 3 hours.

(Part I on Chinese History and Current Events is to be written in Chinese. Each of the 10 questions in Part I counts 2. Part. II and all other parts are to be answered in English only. Each of the questions in Part II counts 3 (there are sections to each Part). The remaining questions of the examination count 2 each. Answer as many questions so you can in Parts II, III, IV, and answer the questions of either Part V or Part VI (but not both V and VI.) The answers should be very brief; few will need more than four lines at the most.)

II World Geography

1. a. To what race do most of the people of Africa belong?
b. the people of Northern India? c. the people of Tibet?
2. Name 2 great canals and say what country manages each.
Does the Great Wall of China form the northern boundary of the Republic of China? In what country is Mon-

廣州升學概覽

treal and on what river is it located?

3. In what countries or regions has much gold been found?
From where does the world's supply of rubber and tin come? Does China import or export now?
4. Name 3 cities of Japan. On what 2 or 3 great rivers of the world is there much navigation? Where in the world are there mountain ranges very hard to cross?
5. What language is spoken in Holland, and what language in Mexico? In the summer are the days longer, that is are there more hours of sunlight, in North China or in South China? How many are there in the year according to the Western calendar and how often is there a leap year?
6. Which is the widest ocean in the world and about how long does it take to cross it? What are volcanoes? Name 2 places where earthquakes are specially frequent.
7. What foreign country has much influence in Mongolia? Has this country treated China as an equal recently? Name the 3 countries having the largest trade with China.

III Ancient and Mediaeval History

1. Name the river valleys in Southwestern Asia where civilization developed very early. What people probably began the spreading of the earliest alphabet from which the European alphabets grew?
2. Where was a calendar first developed based on the revolution of the earth around the sun (the solar calendar)? What great river brought and still brings fertility to the fields which it overflows annually (in an otherwise desert country)?
3. What kind of government had ancient Persia? What was the outcome of the struggle between Persia and the European Greeks? Was it a good or a bad thing for the world?
4. Name 3 city-states of the ancient Greeks. For what were any of them famous? What especially has the modern world received from the Greeks?
5. Who was the greatest Macedonian conqueror and what peoples did he bring under his rule?
6. What kind of government did the early Romans have

廣州升學概覽

and what was the type of government developed by the family of the Caesars?

7. Name 2 great Romans and say one thing that each did.
8. What countries of Europe received most influence from the Romans?
9. Describe in a few words the condition of Western Europe after the break up of the Roman Empire as to education, peace and order, communications and commerce.
10. What great services or work was done by the Roman church in the Middle Ages? Were the Crusades worthwhile?

IV Modern European History

1. About when did "modern times" begin? Give 2 or 3 new ideas or discoveries about that time that stirred Western Europe to new life.
2. What did Vasco da Gama do? What did Magellan do? What was the first European national flag seen on a fleet of ships in Chinese waters?
3. Name 2 or 3 Italian cities which lost their greatness after the commercial revolution. What countries took their place

as leaders in oversea commerce?

For what is the year 1215 famous? Name 2 far-seeing or wise kings (or queens) of England.

England, France and Spain all started representative institutions about the same time. Which country persisted in developing this form of constitution, and which of them was least successful in maintaining a strong government in modern times?

How did Louis XIV try to make his country famous for its grandeur? Name the country of course. Was he altogether successful?

Of what country was Peter the Great the ruler? What did he try to do?

Name a famous king of Prussia. This state belonged to what empire or loose confederation? What other state was generally the leader of the confederation?

Did the American or the French Revolution come first? What ideas of the British constitution did the French revolutionists copy? Mention any bad features of the French Revolution.

廣州升學概覽

10. What principles did Napoleon stand for? Did he bring any benefits to Europe?
11. What were some of the failures of Napoleon III?
12. When Italy was united in the third quarter of the 19th century did it choose a republican government, a limited monarchy or an absolute monarchy? Was one centralized state or did it become a federal union of more or less independent states (like Germany)?

V English and American History

1. After the withdrawal of the Roman troops from England several different people dominated the country in succession as follows: Normans, Britons, Anglo-Saxons These are not named in the right order. Put them in the right order. Also say what happened in 1066.
2. For what was King Richard I famous?
3. What island near England was conquered by her and how was it governed?
4. With which king did the English parliament have a struggle which lasted many years and ended in the execution of the king? Give date if possible.

嶺南大學入學試題

5. What really happened in the English (bloodless) Revolution of 1688-9?
6. With what 2 other colonizing Powers did the English have several wars? Lower Canada was taken by them from whom?
7. Name 4 Presidents of the United States and tell what made 2 of them famous.
8. What is meant by the Monroe Doctrine? or by the Emancipation Proclamation?

VI Sociology and Civics

1. How many chambers do the representative bodies of modern governments usually have? Mention 2 or 3 different ways of choosing members of these chambers in different countries.
2. Name 3 countries in which women vote and 3 in which they do not.
3. Is it necessary to have diplomatic representatives in foreign countries? What for?
4. What are the real reasons why slavery should be condemned? (Bear in mind that there is much slavery in China still.)
5. Mention a few things that governments have done to protect

廣州升學概覽

- the working class from the evils of the factory system.
6. What is the difference between the position of the Prime Minister in England and the President in the United States?
 7. Give the names of several departments of state in modern governments.
 8. If Kwangtung province should try to develop an electoral system what do you think should be the things required to qualify a person for the possession of the right to vote?

四。物理學試題舉例 時間二小時

，答題可用中文或英文。

凡投考本大學一年級者，必須曾習中學物理一年。每週授課四小時，另實驗一次。每次實驗，以能獨自實習而非與全班學生共同實習一試驗者為佳。

Applicants for admission to any one of the colleges of the University should had a middle school course in Physics. It should extend over one year, with four class-room exercises each week, and with one laboratory exercise each week in which the student performs an experiment individually and not in a group.

嶺南大學入學試題

中學物理教材，須包括力學，熱學，聲學，光學，電滋學等，而根據標準課本教授者。課本舉例如下：

The subject-matter of the middle school Physics course should include all of the main branches of Physics: Mechanics, Heat, Sound, Light, Magnetism and Electricity. The course should be based upon the study of a standard text-book, such as the following:

Black & Davis: "New Practical Physics," published by Macmillan Company, or Millikan & Gale & Pyle: "Practical Physics", published by Ginn & Company, or

朱志滌 盧希仲 共著 高中物理學
許瀆陽 黃巽

中山大學物理系印行

This Chinese text book is recommended for schools which do not use an English or an American text.

凡不用英文課本之學校可採用上列之中文本。

物理入學試驗共分為兩部份。考試二小時。第一部份約有題目三十餘條，用以測驗物理學中之各部份智識。每題有三個答案，其中一答案為合，兩答案為錯。投考生須將正確之答案之字母寫在問題後之括弧格內。 例如：——

廣州升學概覽

The entrance examination in Physics lasts for two hours and consists of two parts. The first part is made up of about thirty (30) statements on subjects in all of the main branches of Physics. Each statement is written with several endings, only one of which is correct, and the student is expected to supply the correct ending by writing the correct letter a, b or c in the parentheses () to the right of the statement.

試題第一部舉例 Examples of Part I

1. “厄”是(a)能，(b)力，(c)質量，之單位。 (a)

The “erg” is the unit of (a) energy, (b) force, (c) mass.

2. 熱在空氣傳播，其最易之方法為 (a)輻射，(b)傳導，
(c)對流。 (c)

Heat can be transferred through air most readily by (a) radiation, (b) conduction, (c) convection.

3. 如將琴絃之張力四倍之，則其每秒震動之次數為 (a)四
倍，(b)二倍，(c)一半 (b)

If the tension in the string of a musical instrument is quadrupled, the frequency of vibration of the string is (a) quadrupled, (b) doubled, (c) halved.

試題第二部份，約有習題十五條。投考生可計算其中十二條。舉例如下：

The second part of the examination consists of about fifteen (15) problems, and twelve of which the student is expected to solve, on subjects taken from all of the main branches of Physics.

Examples of Part II

1. 舉1000磅上昇20呎，爲時10分。如上昇之速率爲均速，問需馬力幾何？

What horse-power is needed to raise a weight of 1000 pounds at a uniform speed through a vertical distance of 20 feet in 10 minutes?

2. 一童子高3呎，離照相機15呎而立。如照相機之透鏡焦點距離爲15吋，問(a)照片應離鏡幾何方能得清晰之像？(b)其像長幾何？

In order to take a photograph of a child 3 feet in height, he stands 15 feet in front of a camera, the lens of which has a focal length of 15 inches. (a) At what distance from the lens must the photographic plate be placed? (b) What

廣州升學概覽

is the size of the photograph of the child?

3. 設用電一瓩時需費2角6分，問用25瓦之電燈泡從晚上七時至下午十時，共需費若干？

How much does one have to pay for burning a 25-watt electric lamp from 7 a.m. to 10 p.m., if the cost is 25 cents per kilowatt-hour?

四。數學試題

第一部 中等代數 Part I. Intermediate Algebra

1. 求下式之值：Find the value of $\frac{\log^2 4^2 - \log_3 9 \log_1 1}{X}$
 $+ (\log_a \frac{1}{2}) (\log \frac{1}{2} a) \quad \log_{10} 100$

答案 Answer:.....

2. 求 X. Solve for x: $4^2x - 3(4x) + 2 = 0.$

答案 Answer:.....

3. 求下式之第五項：Find the fifth term of $(\frac{3}{1}a^{2/3}b^{-1} - \frac{2}{9}ba^{-1/3})^8$

答案 Answer:.....

4. 今有一人，每年附貯五百元於某銀行，每年複利五厘計算，問十年後之積蓄若干？

A man saves \$500.00 each year and deposits the money

嶺南大學入學試題

in a bank paying interest at 5% compounded annually.
Find the total of his savings just after the end of the
tenth year.

答案 Answer:

6. 解此聯立方程式： Find the solution of the system:

$$\begin{cases} 2x-3y-4z=6 \\ x+y-2z=10 \\ 4x+3y-5z=11 \end{cases}$$

答案 Answer:

第二部 立體幾何 Part II. Solid Geometry.

1. 凸多面角之諸面角之和，小於四直角。 The sum of the face angles of a convex polyhedral angle is less than a perigon (4 right angles.)
2. 今有甲乙兩球面三角形，設甲爲乙之極三角形，求証乙亦爲甲之極三角形。 Two spherical triangles are given, the first is polar of the second; prove that the second is also the polar of the first.
3. 求証：球之面積之公式。 Prove the formula for the area of a sphere.
4. 一正圓錐體之底之半徑爲六寸，其內切球之半徑爲

廣州升學概覽

$2\sqrt{3}$ 寸，求此正直圓錐體之體積。 Find the volume of a right cone whose base is a circle of 6 inches radius, if it circumscribes a sphere of radius $2\sqrt{3}$ inches

答案 Answer:

5. 試述多面角與球面多邊形之關係。 Discuss the relation between spherical polygons and polyhedral angles.

第三部 平面三角 Part III. Plane Trigonometry.

1. 引伸六個比率間之八種基本關係。 Derive the eight fundamental relations between the six ratios.
2. 求証：正弦之定律；公共比率之數值。 Prove the Law of Sines and the value of the common ratio.
3. 解此三角形： Solve the triangle $a=12345$, $b=1345^2$, $c=1643^2$,

答案 Answer:

4. 今有一人，高六尺，立於一英里外，求其對角。 Find the angle subtended by a man six feet tall at a distance of one mile.

答案 Answer:

5. 寫下列各公式： Write the formulas for the following:
(1) 以三角形之三邊表其面積。 The area of a triangle

廣州市立一中廿四年度新生入學試題

in terms of the sides.

(2) 以三角形之兩邊與夾角表其面積。 The area of a triangle in terms of two sides and the included angle.

(3) 餘弦之定律 The Law of Cosines,

(4) 正切之定律 The Law of Tangents.

(5) $\cos(a+b)$ 與 $\cos A + \cos B$.

廣州市立一中廿四年度新生
入學試題

英文試題 (單位)

Correct the following sentences:

1. Your case is different from my.
2. It is her who has been punished.
3. I do not remember who you suggest.
4. He is as wise as her.
5. One should do this duty.
6. The three students love each other.

廣州升學概覽

7. Tell me what is the reason.

8. Five years were a short time.

II. Translate the following sentences:

1. 不許去等到你做完功課後再去。

2. 鯨魚雖然大，並不凶猛。

3. 祇有他懂得這課書。

4. 這首詩幾乎個個人能背誦。

III. Diagram the following sentences:

When the sugar was all gone the ants' friend gave them some more; but this time he put it into a bottle which he hung by a string from the top of the window.

IV. Make 4 sentences with the following phrases:

(each for one sentence)

1. to give up. 2. a large number of.

3. in spite of. 4. to take place.

英文試題 (雙位)

I. Correct the following sentences:

1. The hero's death is different from the martyr.

2. It is him who has been discharged.

廣州市立一中廿四年度新生入學試題

3. Whom they were I really can not say.
4. He is as poor as me.
5. One should obey his parents.
6. The two neighbors hate one another.
7. Tell me where are the hays.
8. Fifteen minutes were soon gone.

II. Translate the following sentences:

1. 不許逗留，快去完成你的責任。
2. 蟻雖然是小，智力頗不弱。
3. 誰有他能明白這種情形。
4. 他幾乎從樓上跌下來。

III. Diagram the following sentences:

When the early settlers first came, they had such an abundance of wood and lumber, around them that they did not think of saving it or caring for it.

IV. Make 4 sentences with the following phrases

(each for one sentence)

- | | |
|-------------------|------------------------|
| 1. to long for. | 2. a great deal of |
| 3. On account of. | 4. to make up my mind. |

第二次英文試題 (單位)

廣州升學概覽

I. Correct the following sentences:

1. He is afraid of they.
2. of the three students, Philip was better.
3. Mathematics are the most difficult subject.
4. Whomever asks will be replied.
5. The moon, as well as the stars, are bright.
6. He came quick to our rescue.
7. Everyone should think for themselves.
8. Those flowers smell sweetly.

II. Translate the following sentences,

1. 他愈讀愈不明白，我愈讀愈清楚。
2. 你寫英文同你寫中文一樣好嗎？
3. 走到店門時我見一個老朋友。
4. 你不應該靠他的。

III. Diagram the following sentences,

Some of the men tried to climb the steep mountain side;
but there was no pathway, and they soon turned back,

IV. 1. Make one sentence containing a participle,

2. " " " " an infinitive,
3. " " " " a gerund,

第二次英文試題 (雙位)

Correct the following sentences:

1. He was very fond in swimming,
2. Of the two prisoners, John was treated most cruelly.
3. Physics are the most interesting subject.
4. I will reply whomever asks me,
5. The mother, as well as her sons, are kind.
6. We can do our work easy now.
7. His anyone finished their problems?
8. I slept good last night,

Translate the following sentences:

1. 不要說這本書好讀；就是那本書也不難。
2. 我覺得天氣太熱不宜於室外運動。
3. 你能坐在此地等我來嗎？
4. 我希望明年能同你同入這學校。

1. Diagram the following sentence

The men in the meadow ran toward him, but he spread his great wings and flew up, carrying the babe with him.

V. 1. Make one sentence containing a gerund,

廣州升學概覽

2. „ „ „ „ an infinitive.
3. „ „ „ „ a participle.

國文科：

雙位

1. 作文(下列兩題任擇一題)

好學力行爲立身之本論。

讀書貴能致用說。

2. 下列人名試於括弧內書其朝代：

晏平仲() 墨翟()

曹植() 魏徵()

3. 下列文句試譯爲語體：

水陸草木之花可愛者甚蕃晉陶淵明獨愛菊自李唐來世人甚愛牡丹余獨愛蓮之出淤泥而不染濯清漣而不妖中通外直不蔓不枝香遠益清亭亭淨直可遠觀而不可褻玩焉。

單位

1. 作文(下列兩題任擇一題)

讀書貴能致用說。

好學力行爲立身之本論。

2. 下列人名試於括弧內書其朝代：

廣州市立一中廿四年度新生入學試題

管仲() 左丘明()

東方朔() 張九齡()

3. 下列文句試譯爲語體：

詩有之高山仰止景行行止雖不能至然心嚮往之余讀孔氏書想見其爲人適魯觀孔子廟堂車服禮器諸生以時習禮其家余低徊留之不能去云。

算學科：

單位

1. 工人28名，工作35日，築成長1274尺，濶8尺，高2尺5寸之堤。問工人22名作工33日，築成濶5尺5寸高3尺之堤，其長幾何？
2. 有伯仲季兄弟三人，伯年之四倍適等於仲年三倍與季年十二倍之和，又仲年之六倍適等於伯年二倍與季年六倍之和，已知伯年之二倍，仲年之三倍，季年之四倍，其六十六歲問三人各幾歲？
3. 某數平方之 m 倍與原數 n 倍之和爲 P ，求原數。
4. 兩弦 AB, CD 相交於圓之一點 P ，求證 PAC, PDB 兩三角形相似。
5. 由半徑八寸之圓紙一張，剪去半徑二寸之圓紙十張，求剪餘之紙之面積。

單位

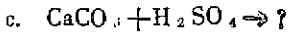
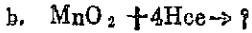
廣州升學概覽

1. 以21人，於25日，掘成長1815尺，濶5尺，深2尺6寸之溝。問以8人，於19日，掘成濶7尺，深2尺2寸之溝，其長幾何？
2. 橙二顆，柑三顆，桔四顆，共值六十六枚仙，已知橙四顆可換柑三顆及桔十二顆，又知柑六顆可換橙二顆及桔六顆，問橙，柑，桔每顆各值幾何？
3. 某數平方之p倍加S，等於原數之q倍，求原數。
4. 兩弦AB, CD之引長線相交於圓外之一點p，求証PAC, PDB 兩三角形相似。
5. 有兩同心圓，大圓半徑七寸，小圓半徑五寸，求介於大小兩圓周間之環形之面積。

理化博物試題：

1. 試舉出葉之生活作用。
2. 夏季在海濱上常覺晝間有海風吹來，夜間却有風從陸地吹向海面，試言其故。
3. 正在進行的電車上跳下，須面向車頭，不然，難免跌倒，其故安在？
4. 化學變化與物理變化有何區別？試各舉一例以證明之！
5. 試完成下列各反應式：
 - a. $\text{CaO} + \text{H}_2\text{O} \rightarrow ?$

廣州市立一中廿四年慶新生入學試題



公民黨義科：

應注意事項 { 1. 時間限一小時。
2. 公民黨義任答一科，每科五題全答。依次答題，不得倒置。

[甲]公民試題：

- (一) 公民與國民有何區別？
- (二) 何謂集權制，分權制及均權制？
- (三) 貨幣價值之變更，對於物價有何影響？
- (四) 說明「自然人」與「法人」之意義！
- (五) 解釋下列四個名詞：
a. 經濟行爲 b. 價格 c. 地租 d. 利潤

[乙]黨義試題：

- (一) 何謂「三民主義的連環性」？
- (二) 真平等與假平等有何區別？真平等的立足點為何？
- (三) 詳述平均地權之實施程序。
- (四) 實業計劃中有建築北方大港東方大港及南方大港計劃，此三大港位置安在？
- (五) 憲政告成以後，中央政府應如何改組？

廣州升學概覽

初中入學試題

國文科：

(雙位)

1. 作文(下列兩題任作一題)

說早起的好處。

試論普及教育之效益。

2. 譯文

試將下列文句譯成文言：

階前有兩個蟻穴，一個在東，一個在西，兩方面好像相對的，有一天將要下雨，那些螞蟻，個個都走出來，竟是一場大鬧。

(單位)

1. 作文(下列兩題任作一題)

說早起的好處。

試論普及教育之效益。

2. 譯文

試將下列文句譯成文言：

我讀書的那間房子，旁邊有一株桂樹。桂樹裏忽然有了鳴聲，好像是 的。我走過去一看，纔知到有兩隻小鳥，在那桂樹的枝幹上做巢，離地也不過五六尺。

廣州市立一中廿四年度新生入學試題

初中入學試題

算術科

(註 廿四年六月六日第一次招考)

雙位

注意：(一)時間限一時三十分。

$$.99999999 \div 123456789 + (1,484,75 \times 1.28) = ?$$

1. 某旅行隊按旅行人數分攤旅行費，每人科七圓，剩十二圓，每人科五圓，欠十六圓，問全隊幾人？共用幾圓？

2. 豬肉每斤價銀五角，羊肉每斤價銀六角，今買豬肉十二斤十四兩，羊肉四斤三兩，共用銀多少？

3. 有一平行四邊形，底 $13\frac{1}{3}$ 公尺，高 $10\frac{2}{3}$ 公尺，他的面積(1)是多少方公尺？(2)是多少方市尺？

4. 中央書局出版的國學叢書，每部成本七十五圓，定價超成本加4%，賣價照定價打八五折，問每部可賺銀幾圓？

單位

$$.88888888 \div 12345679 + (44 \times 3.5 \times .42 \times .125) = ?$$

1. 童子分柑，每人5枚，剩16枚；每人7枚，欠12枚，問童子幾人？柑幾枚？

2. 鷄每斤價銀七角，鴨每斤價銀三角，今買鷄三斤五兩，鴨五斤

廣州升學概覽

七兩，共用銀多少？

4. 有一長方形，長 $16\frac{2}{3}$ 公尺，闊 $\frac{1}{3}$ 公尺，他的面積(1)是多少方公尺？(2)是多少方市尺？
5. 香港書局出版的華英大字典，每部定價港銀7.6圓，買價照定價打八五折，港銀換省毫照加16%計算，問每部值省毫幾圓？

初中入學試題 廿四年八月十三(第二次)招考)

算術科：

雙位

1. $555555555 \div 12345679 + (31.484875 \times 2.56) = ?$
2. 雞：狗：共成九十九，三百隻腳隨地走，幾多雞？幾多狗？
3. 鴨每斤價銀五角，鵝每斤價銀九角，今買鴨二斤十三兩，共用銀多少？
4. 本金150元，年利率6釐(即3%)問四年的利息有幾元？
5. 有磚一堆，王兒獨自搬運，七小時能夠搬完，李兒獨自搬運，九小時能夠搬完，今二兒合力搬運，問幾小時能夠搬完？

單位

1. $666666666 \div 123456789 + (3.59375 \times 12.8) = ?$
2. 雞：狗：共成百零九，四百隻腳隨地走，幾多雞？幾多狗？
3. 羊肉每斤價銀九角，豬肉每斤價銀六角，今買羊肉四斤十四兩

廣州市立一中廿四年度新生入學試題

- 5 猪肉三斤三兩，共用銀多少？
4. 本金240元，年利率5釐(即5%)，問三年的利息有幾元？
3. 有一工程，甲獨造，七日能夠完全，乙獨造，九日能夠完成，今甲乙合造，問幾日能夠完成？

初中入學試題

史地科：

1. 漢唐兩代我國的版圖怎樣？
2. 清末時英法何以聯軍打我中國？
3. 上海何以能成爲中國最大的商埠？
4. 地球上有幾大洲幾大洋？

公民科：

- (一) 國家之要素有幾？
- (二) 人民何故要盡當兵與納稅之義務？
- (三) 四種政權之運用若何？
- (四) 孫中山先生提倡三民主義其理由何在？
- (五) 試述平均地權之方法。

初中入學試題

廣州升學概覽

自然科：

(雙位)

1. 比較食草獸與食肉獸的異點！
2. 種子分幾部分？試舉例以說明之！
3. 畧述製造石灰的原料和方法！
4. 解釋飛機能上昇的原理
5. 日蝕和月蝕的原因安在？

單位

1. 比較蝶與蛾的異點！
2. 果實分幾部分？試舉例以說明之！
3. 畧述製造士敏土的原料和方法！
4. 電燈何故能發光？
5. 月亮時圓時缺，原因安在？

仲愷農工學校廿四年度入學

試題

高級理化科入學試題

(一) 試述宇宙引力定律

仲愷農工學校廿四年度入學試題

(二)設有溫度 80°C 之水重100克(即公分)冷至 30°C 應放出熱力若干卡? (Calorie)

(三)設有電池，其電勢差爲二弗打，(Volt)電阻爲半歐姆 (Ohm) 電流強度應爲若干安培? (Ampere)

(四)平面鏡所成之像若何? 試繪圖証明之

(五)試以化學方程式表示下列物質之製法：

(甲)鹽酸 (乙)氫氧化鈉

(六)試將下列化學方程式完成之：

(甲) $\text{H}_2\text{O} + \text{Cl}_2 \longrightarrow$

(乙) $\text{Ca}(\text{OH})_2 + \text{CO}_2 \longrightarrow$

(七)欲製36.032克之水應用氫氧各若干克?

(八)試畧述分子量之測定法

高級英語入學試題

(1)舉出下列各字之相對字(例如：Man.....Woman, Fast..... Slow)

1. Top 2. Careless 3. Remember 4. Author
5. Bachelor

(2)用適當英字填寫下列各句之空格：

1. Some years ago we lived in shanghai.

廣州升學概覽

2. you or I must remain.
3. The fox but escape.
4. The commander as well as the soldiers,
leaving.
5. She appeared than I had expected.

(3) 將下列各句譯成中文：

1. I will see you at the barber's
2. A good name is rather to be chosen than great riches.
3. Social position, friends, reputation, life itself, had no longer attraction for him.
4. I judge by actions, not mere words.
5. Like a flash came to me a vivid memory of my mother's death.

高級算學入學試題

算術題：

(1) 小孩分餅乾，每人7塊剩18塊，每人9塊不足12塊，問小孩子與餅乾各有若干

(2) 試求277729之平方根

代數題：

仲愷農工學校廿四年度入學試題

(1) 慢車每小時行32里，開後3小時，快車隨之，每小時行48里

問須歷若干小時快車方可趕及慢車。

(2) 求 $\frac{3}{x} + \frac{1}{x+9} = \frac{1}{20}$ 之根

幾何題：

(1) 相似形，等積形，全等形有何分別？

(2) 自圓外一點至此圓周所引之二切線等長，試証用之。

高級班動植物入學試題

(一) 試述根之作用

(二) 植物之呼吸作用與光合作用(同化作用)有何異點？

(三) 構成花之部分有幾？并繪圖說明之

(四) 鯉之外部形態，要點，製圖註說以明之

(五) 問完全變態與不完全變態

(六) 脊椎動物與無脊椎動物之異點如何，試舉要說明之

高級公民科入學試題

(一) 試列述公民對於國家應盡之職務

(二) 直接民權有幾，試列舉其名稱

(三) 試述自由獨立國家應具之條件

高級國文科入學試題

廣州升學概覽

(一)作文題：

欲求國裕民足須先求生產增加若欲生產增加首宜改良生產方法說

(二)譯文題：

將下列文言譯為語體譯文須加標點：

吾本家寒世以清白相承吾性不喜華靡自爲乳兒長者加以金銀華美之服輒羞赧棄去之二十忝科名聞喜宴獨不戴花同年曰君賜不可違也乃簪一花平生衣取蔽寒食取充腹亦不敢服垢敝以矯俗干名但順吾性而已

(注意) (一)兩題全作 (二)譯文不抄題 (三)得在題紙起稿 (四)題紙須填券號姓名連卷同繳

初級公民科入學試題

(一)你們知道人民對於國家應盡些甚麼義務

(二)真快樂是從那裏得來的

(注意：須抄題)

初級國文科入學試題

(一)少年時代是最宜求學的時候說

(二)記今晨赴仲愷農工學校投考途中的所見

仲愷農工學校廿四年度入學試題

注意：(1)兩題全作，(2)須抄題，(3)得在題紙包稿，(4)題紙須填寫券號姓名連卷同繳

廿四年度第二次入學試題

注意)1.卷面須填券號姓名。2.不抄題，但抄題目號數，并須順次作答。3.題紙亦須填券號姓名，連同試卷繳交。

券 號	
姓 名	

高級英文科試題

1. 用適當英字填寫下列各句之空格：

- a. The buses go on _____.
- b. Their good deeds will never _____ forgotten.
- c. This is the animal _____ the hunter had caught.
- d. I had already finished my work _____ he came in.
- e. The robber _____ over the fence.

2 試改正下列各錯句：

- a. The bride has go to the church.
- b. Each lady buy a handkerchief.

廣州升學概覽

- c. Jane can sing better than me.
- d. Neither he nor his wife are at home.
- e. Every man must earn their living.

3. 將下列各句譯為中文：

- a. Life is short, therefore time is precious.
- b. Men work that they may earn a living.
- c. A parent is anxious about his child's welfare.
- d. He ate his meals with a good appetite.
- e. Work comes before pleasure.

廿四年度第二次入學試題

(注意) 1. 卷面須填券號姓名。2. 不抄題，但抄題目號數，并須順次作答。3. 題紙亦須填券號姓名，連同試卷繳交。

券 號	
姓 名	

初級自然科題

- (一) 肥皂怎樣能洗去油垢呢？
- (二) 腳踏車行走時為什麼能夠直立不倒呢？
- (三) 花為什麼須要美麗的色和香氣？

仲愷農工學校廿四年度入學試題

(四)蛙和蛇冬季蟄伏土中爲什麼也能夠生活？

廿四年度第二次入學試題

(注意)1.卷面須填券號，姓名。2.不抄題，但抄題目號數，并須
順次作答。3.題紙亦須填券號，姓名，連同試卷繳交。

券 號	
姓 名	

高級數學科試題

1. $(258 - 125 \div 5 \times 6) \div (729 \div 81)$
2. 有銀200元，分與甲乙丙三人甲得爲丙之二倍多45元，乙得比丙少245元，問各得若干？
3. 圓內接六邊形隔次各角之和爲四直角，試証明之。

廿四年度第二次入學試題

(注意)1.卷面須填券號，姓名。2.須抄題，3.得在題紙起稿。
4.題紙亦須填券號姓名，連同試卷繳交。

券 號	
姓 名	

廣州升學概覽

高級國文科試題

論民衆教育之重要

初級自然試題 廿四年度入學試

(注意：(一)不抄題，但抄題目號數；(二)須依題目號數順次作答；(三)題紙連卷同繳。)

- (一)我們怎麼知道植物也須呼吸？
- (二)什麼鳥類有益於植物？又什麼鳥類有害於植物？
- (三)剪刀的構造是怎樣的？
- (四)電怎樣發生的？
- (五)使水純潔有什麼方法？
- (六)什麼叫做空氣？我們怎樣知道他存在？

初級算學試題 (廿四年度入學試)

1. 有一工程，用工人十二名二十四天就可完工，現在添用工人六名，問早幾天完工？
2. 有銀1000元，分給工人七十四名，男工每人15元女工每人11元，問男女工各有幾人？
3. $41\text{擔}35\text{斤}8\text{兩}7\text{錢} \times 28 = ?$

$$1. \quad 2\frac{7}{16} + \frac{1}{12} \div \frac{1}{4} - 1\frac{3}{5} = ?$$

(注意：(1) 不抄題，但抄題目號數。(2) 題紙須填券號姓名，連卷同繳)

券 號	
姓 名	

省立廣雅中學校廿四年秋季

招生初覆試各科試題

高中國文

(一) 作文

奢則不孫儉則固與其不孫也甯固說

(二) 試將下段文字譯成白話并解釋其中邊有旁圈者

孟子曰知者無不知也當務之爲急仁者無不愛也急親賢之爲務堯舜之知而不徧物急先務也堯舜之仁不徧愛人急親賢也不能三年之喪而總小功之察放飯流歆而問無齒決是之謂不知務

廣州升學概覽

高中公民

(一)何謂親權？

(二)試說明選舉要普遍，被選舉要限制的理由。

(三)價格和價值有何區別？

(四)馬克司盈餘價值說有何不當試詳言之。

(五)信用工具普通分爲幾種？

高中英文

I. Correct the following sentences:

1. He said it was me.
2. He don't seem to recognize me.
3. Either he or I are here.
4. He is going to church every Sunday.
5. If I should buy the book, I read it.

II. Fill the right words in the following blanks:-

1. I was born.....1918
2. The teacher made him study.....
3. He goes.....the bell rings.
4. The man ran.....just.....the tree fell.....

III. Answer the following questions:

省立廣雅中學校廿四年秋季招生初覆試各科試題

1. Which do you like to be a rich man or an honest man?
Why?
2. What sort of a life do you like to have?
3. What is the duty of a student?
4. Which subject do you like best?
- V. Translate the following from Chinese to English:-
 1. 你喜歡什麼，我也喜歡什麼。
 2. 他雖盡力工作，仍不能維持生活。
 3. 勇敢，勿怕死！
 4. 人民，富的及貧的，皆可入公園。
- V. Make sentences with:-
 1. in order to, 2. as well as,
 3. immediately after,
 4. in the long run, 5. for the sake of.

高中數學

(算術題)

- 1) 某人存銀若干元，用去五分之二後，加入 210 元，又用去現有金三分之一，尚存 720 元，問原有銀若干。

(代數題)

廣州升學概覽

(2) 已知二根爲 $1 + \sqrt{3}$ 及 $1 - \sqrt{3}$ ，求作方程式。

(幾何題)

(3) 二圓外切，則其外公切線之長，等於兩圓直徑之比例中項。

(4) 由三角形 ABC 三頂點至其對面作直線 AD, BE, CF，各經過形內一定點 P，求證

$$\frac{P \cdot D}{A \cdot D} + \frac{P \cdot E}{B \cdot E} + \frac{P \cdot F}{C \cdot F} = 1$$

(三角題)

(5) 屋頂豎竿，人自地平面上某點，測得竿底之仰角 45° ，竿頂之仰角 60° ，若屋高 15 尺，求竿長。

高中史地

1. 試舉出下列條約中，我國喪失之土地：

南京條約。

愛璦條約。

中俄北京條約。

馬關條約。

2. 試述各國租借我國下列港灣之經過：

膠州。

旅順，大連。

威海衛。

省立廣雅中學校廿四年秋季招生初覆試各科試題

九龍半島。

廣州灣。

1. 試畧述歐人探求新航線之動機及其成就。
2. 大戰後之新興國有幾？試列舉其名。
3. 英美日三國在太平洋上各佔有何重要島嶼？試列舉其名。

高中理化

1. 寫出下列各物之分子式：——
 - a. 氯酸鉀
 - b. 硝石
 - c. 食鹽
 - d. 生石灰
 - e. 胆礬
2. 何謂王水？何謂硬水？王水之作用如何？硬水之軟化法奚若？試分述之。
3. 何謂酸，鹽基，及鹽？
4. 試完成下列方程式並註明各分子式所表的物質是什麼？
$$2 \text{NaCl} + \text{H}_2 \text{SO}_4 \longrightarrow$$
$$\text{Zn} + 2 \text{HCl} \longrightarrow$$
5. 試述苛性鈉之製法性質與用途。

廣州升學概覽

6. 試述，比熱，比重，密度，共鳴，及原色之定義。
7. 測固體比重的方法若何；試詳述之。
8. 兩導體之串聯與並聯，其總電阻之區別如何？試分述之。
9. 乾燥小鐵針，可浮於水面，此是何種作用？
10. 壓力與氣體的體積有何關係？

高中生物

1. 雙子葉植物與單子葉植物，其根，莖，葉，花，各有何特點？
2. 試說明葉之作用。
3. 試比較鷄，鴨，鷹，喙木鳥之腳與嘴，有何不同及用處。
4. 昆蟲與人生之關係如何？
5. 試述眼球之構造。

初中國文

(一) 作文

孝爲德本說

(二) 試將下段文字譯成白話並將旁邊有圈者逐一解釋

晏子使楚晏子短楚人爲小門於大門之側而延晏子晏子不入曰
使至狗國者從狗門入今臣使楚不當從此門①入者更從大門入見
楚王②③

初中公民

- 一) 完全自治的縣人民有甚麼權？
- 二) 儲蓄的好處怎樣？
- 三) 試分別繪圖說明不平等，假平等和真平等的區別？
- 四) 增加農業生產的方法有幾？試言之
- 五) 大家庭制度和小家庭制度的利弊怎樣？

初中算術

- 1) 某宿舍寄宿生45人，貯米若干，足供15日之食，至3日後，有5人出舍，問所餘之米，可供餘人若干日之食。
- 2) 化簡 $2\frac{1}{3} + \frac{1}{2 + \frac{1}{3 + \frac{1}{4}}}$
- 3) 竿長5尺，直立於樹旁，太陽斜照時，測得竿影長6尺3寸，樹影長1丈4尺7寸，求樹高。
- 4) 白米糙白，其價之比為9：8，現將糙米15袋每袋6斗，換得每白米2袋，問每袋若干斗。
- 5) 大小兩數，小數為大數之 $\frac{2}{3}$ ，若兩數各加10，則小數為大數之 $\frac{9}{11}$ ，求各數。

廣州升學概覽

初中史地

1. 日本提出廿一條件有何藉口，條件的要點若何？
2. 我國與外國所訂不平等條約，其最損害國權者有幾？試列舉之。
3. 馬關條約，我國失去何地？試言之。
4. 下列各地，位在何洲，分屬何國？
 - a. 新嘉坡
 - b. 亞比西尼亞
 - c. 巴拿馬運河
 - d. 直布羅陀
 - e. 夏威夷群島
5. 廣東省有何租借地及割讓地？並指出其租與何國，或割與何國。

初中自然

1. 細菌是什麼，和人生的關係若何？
2. 魚和潛水艇，在水中何以會浮沉？
3. 老人骨較小兒骨易斷，是何原故？
4. 金屬礦物和非金屬礦物，有何分別？
5. 雷鳴時，何以有時先見閃光，後聞雷聲？

廣州學旅一覽表

——這裡所開列的學旅，祇是限於招待學界的；而且這些學旅不是全部的，祇是部分的。我們開列這些學旅的條件：第一，是近於各學校的；第二，多是在城內的，因為住學旅的人，多是在城內。

(學旅名稱)	(地址)
榕蔭學旅	倉前街(寶富巷內)
西齋學旅	惠愛西路淨慧街
淨慧學旅	同上
大同學旅	惠愛中路
適餘學旅	同上
中洲學旅	惠愛東路秉政街
常賢學旅	惠愛東路長興里
永漢旅舍	越華路
正南學旅	正南路
越秀別墅	越秀北路
長安學旅	德政北路
少年旅舍	廣大路
芳草學旅	惠愛東路芳草街

廣州升學概覽

文緣旅舍	倉邊路
華安學旅	惠愛東路舊倉巷湊甯里
林園學旅	全上
嶺南酒店	廣大路(四樓附設有學旅)
芳園學旅	法政路
鴻材學旅	德政路担干巷
秉政學旅	惠愛東路秉政街
桂香旅館	惠愛中路桂香街
香洲旅館	惠愛中路桂香街
英洲旅店	德政路担杆巷
英漢旅店	德政路担杆巷
漱山學旅	惠愛東路大塘街
東方學旅	惠愛東路大塘街
紅棉旅店	文德路
東華旅店	東華路
觀蓮旅舍	教育路
南國女子旅舍	法政路尾錫福巷
績華寄宿舍	地祉維新路
潔苑女宿舍	惠愛中路小馬站
樂慈會	法政路德政路口

升學廣州問答

『本會——廣州市廣西學會升學指導委員會——選承省內同學函詢許多關於升學廣州的問題，其中許多是一般升學穗垣所欲知道的，因此，除了直接函復外，還選擇一些在這裡發表，而且我們見聞所及為本刊各部所不詳盡的材料亦頗不少，也一並編成問答式附入這裡，所以本文在系統上不甚劃一，希讀者諸君參照上面的各文，庶不致誤』

1. 問：在廣州公立或私立高中肄業，每年須粵法幣幾何？

答：每年最低限度費用，如在有寄宿之公立高中，如省立一中，省女師等校，約需三百元；無寄宿者約四百元，至若私立之高中，則收學費較貴，每年約需五百元，每寄宿者，約加一百元上下方可敷支用。

2. 問：粵省本年度各中學新生入學試，是否由教育廳定期舉行會考？

答：往年由教育廳舉行聯合入學試，惟自前年起已由各校自行定期招生。

3. 問：由省內赴粵垣投考，最遲何時動程？

答：查往年穗垣各中上學校入學試，多在七月中旬至八月下旬舉行，故最好能在六月底到粵為佳，最遲亦不可過七月中

廣州升學概覽

旬。

4. 問：我欲先期赴粵入暑期學校補習，未知何校爲佳？佳用幾時？何時開始？

答：粵垣各暑期學校，大都乘時而起，過時而滅，少能繼續在者，故很難下優劣的判斷，不過往年在各公立中上學校的暑期學校，如中山大學（惟本年該校已遷入石牌新校，離廣州市過遠，未知尚能繼續辦否）勤勤大學，市一中，省一中，省女師等校的暑期學校，還算過得去，其他趨於逐利者，多不可靠，以不入爲宜，費用大概在式十元間，至開學時期，約在七月初，亦有遲至七月中者。

5. 問：在穗垣的式間公立大學——中大，勤大，及國立法科學院肄業，每年最少要粵幣幾何。方足敷支？

答：各校所收的學雜費，可參看「廣州市中上學校概況」一欄，至每年生活費所需儉儉樸樸，大約要四百元左右便足。

6. 問：廣州有那幾間辦理優良的女子中學校？

答：在廣州的女子中學中，辦理得比較優良的，要算：省立廣州女子中學，市立第二中學，私立潔芳女子中學，私立培道女子中學和私立真光女子中學等幾間，不過後兩間是教會所主持，不免帶有多少宗教彩色，而且費用亦較公立者爲多。

升學廣州問答

7.問：中山大學，勸勤大學，國立法科學院及嶺南大學附設有專修科或專修班否？

答：(1)中山大學往年本附設有農業專科，三年畢業，但去年已不招生；現祇農學院蠶桑學系附設有蠶桑講習班，招收高小畢業女生。

(2)勸勤大學工學院附設有土木工及陶瓷二專科，三年畢業，現並有政府委辦的電信專修班一班，教育學院附設有幼稚師範班，惟只收女子；商學院附設有商業專修科。

(3)國立廣東法科學院附設有新聞學專修科，以有高中或有同等學歷者，始應報名應考，二年畢業。

(4)嶺南大學附設有農事職業科及商科職業學校一所，農事職業科三年畢業，但無升進該校農學院之準備，凡有志以農為職業，而曾在初級中學畢業，或有相當之程度者，均可投考，惟年齡須在十七歲以上，招生日期，第一次在六七月間，第二次在八月杪或九月初，試驗科目為三民主義，國文，英文，數學，歷史，地理，理科，每期繳費為學費三十元，堂費十元，膳費四十六元七角，其他雜費廿元。至商科職業學校詳學校概況欄。

8.問：中山大學招收轉學生或旁聽生否？

答：該校自廿二年度招收新生過多後，教育部即限令不准招收

廣州升學概覽

轉學生，去年度亦未見招收該項學生；下年度則尚未知，至旁聽生則去秋尚有招收。

9. 問：中山大學附屬中學自去年改歸廣東省政府辦後，其現狀若何？

答：該校自改隸後，其編制概如普通中學，惟其對學生管理方面，則較以前為嚴格。

10. 問：廣州現有統計學校或會計學校幾間？以何校為較佳？肄業年限若干？學費若干？各校均設有膳宿否？

答：廣州現有之統計學校，有在文德路之廣州統計學校（參見本期特種學校之部）；至會計學校則有：（甲）廣州會計學校——校址在永漢北路李白巷。（乙）廣大會計職業學校——校址在文明路。（丙）民生會計職業學校——校址在文明路。（丁）新中會計職業學校——校址在永漢北路。諸校中以廣大會計職業學校較為可靠，至廣州統計學校，辦理尚佳。各校肄業年限：（甲）廣州統計學校——甲級三年畢業，乙級一年畢業。（乙）廣州會計學校——高級班兩年畢業，專科班一年畢業。（丙）廣大會計職業學校——高級本科三年畢業，速成科一年畢業。（丁）新中會計職業學校——一分有一年二年畢業。（戊）民生會計職業學校——未詳。各校學費：（甲）廣州統計學校——可參考本期特種學校之

升 學 廣 州 問 答

部。(乙)廣州會計學校——每期收費雜費共四十餘元。(丙)廣大會計職業學校——高級本科每期收學雜各費共四十九元，速成科每期收學雜各費共三十四元。(丁)新中會計職業學校——收學雜費共九元餘。(戊)民生會計職業學校——未詳。至膳宿方面，則只有廣大會計職業學校及新中會計職業學校設有。

11問：粵中有否招收同等學力學生之大學？

答：今年教育部有絕對不准各大學及學院招收同等學力學生之通令，故粵中無招收此等學生之大學。

12問：穗中有產科學校否？

答：有。如圖強助產學校及婦孺產科學校是。此外如中大醫院，光華醫院等，均附設有產科。

13問：穗垣有良好之國醫學校否？

答：有。以廣東省立國醫學院為最佳。

14問：去年國立中山大學招收新生，報名投考者若干？初試取錄若干？正式取錄若干？各院各系考生人數比較如何？

答：報名投考新生共計一千五百二十三人，其各院各系之比較如后：

學院	學系	合計
文	中文系	81

廣州升學概覽

文	英文系	23
文	教育系	211
文	社會系	38
文	史學系	35
	合計	308
法	法律系	140
法	政治系	64
法	經濟系	92
	合計	296
理	數天系	27
理	化學系	42
理	生物系	37
理	物理系	38
理	地質系	26
理	地理系	18
	合計	188
工	土工系	95
工	化工系	55
工	機工系	118
工	電工系	67

升 學 廣 州 問 答

合計		335
農	農學系	167
農	林學系	51
農	農林化學系	44
農	蠶桑系	12
合計		274
醫	不分系	42
總計		1523

各學院招考新生初試時間表(二十四年度)

文、法、學院初試時間表		
月 日	時 間	時 間
	上午八時至十一時	下午一時至三時
八月十五日	國 文	總 理 遺 教
八月十六日	英 文	

理工、農、醫、學院初試時間表		
月 日	時 間	時 間
	上午八時至十一時	下午一時至三時
八月十五日	國 文	總 理 遺 教
八月十六日	外 國 文	下午一時至四時 數 學

廣州升學概覽

初試取錄共八百八十四人，各院各系人數分配如后：

學院	學系	合計
文	中文	60
文	史學	26
文	教育	123
文	英文	19
文	社會	13
	合計	249
法	法律	84
法	政治	38
法	經濟	66
	合計	188
工	土工	61
工	化工	31
工	電工	45
工	機工	78
	合計	214
醫	不分系	37
理	數天	15
理	物理	25

升 學 廣 州 問 答

理	化學	19
理	生物	17
理	地質	11
理	地理	9
	合計	96
農	農學	59
農	林學	21
農	農化	20
農	蠶學	5
	合計	105

各學院招考新生覆試時間表（二十四年度）

文、法、學院覆試時間表		
月 日	時 間	備 註
八月廿二日	上午八時至十一時	下午一時至四時
數 學 或 邏 輯		地 理 、 歷 史

理工、農、醫、學院覆試時間表		
月 日	時 間	備 註
八月廿二日	上午八時至十一時	下午一時至四時
化 學 、 生 物 學		地 理 、 物 理

取錄新生共三百三十二名，各院各系所佔人數如后：

廣州升學概覽

學院	學系	合計
文	中文	20
文	史學	16
文	教育	31
文	英文	8
文	社會	11
	合計	86
法	法律	19
法	政治	10
法	經濟	19
	合計	48
理	數天	7
理	物理	8
理	化學	8
理	地質	3
理	地理	3
理	生物	7
	合計	37
工	土木	11
工	化工	13

升學指導委員會會議錄

工	電工	30
工	機工	25
	合計	79
農	農學	27
農	林學	14
農	農化	14
農	蠶學	5
	合計	60
醫	不分系	18

註：本校高中直升，及在上海北平所招新生，不入此數。

升學指導委員會會議錄

第一次會議

日期：二十五年三月廿九日

地點：學會會所

出席者：古材堃 鄒肅廉 梁崇輔 楊瑞貞 呂善泮

主席：梁崇輔

紀錄：古材堃

討論事項

1. 關於各部負責人選應如何決定案。

廣州升學概覽

〔議決〕：互選，結果如下：

專務部一人：梁崇輔

通訊部二人：楊瑞貞 呂善恍

編輯部三人：鄒肅廉 古材莖 黃朝瑄

2. 關於升學專號應決定何日出版案。

〔議決〕：五月底以前。

3. 關於本市中上學校去年入學試題應如何搜集案。

〔議決〕：由本會去函請各學校徵集（交由專務部負責）

4. 閉會。

第二次會議

時 間：二十五年五月三日下午一時。

地 點：學會會所。

出席者：古材莖 鄒肅廉 楊瑞貞 黃朝瑄

主 席：古材莖

紀 錄：鄒肅廉

I. 報告事項

1. 主席報告升學概覽編輯經過。
2. 關於去年各校入學試題經已去函徵集。

II. 討論事項

1. 關於本會出版指導升學之刊物，應如何定名案。
〔議決〕：定名為「廣州升學概覽」；
2. 關於廣州升學概覽封面應由何人負責設計案。
〔議決〕：由古委員材莖負責設計。
3. 散會

附 載

升學指導委員會啓事

1. 本會爲便利省內有志來穗升學青年起見，特設有問答部，如蒙函詢關於升學廣州市各方問題，務請書明姓名地址，並隨函附來郵資五分，當即奉復。
2. 本部編刊之廣州升學概覽，如蒙函索，務請書明姓名地址，並隨函附來郵資二分，當即奉寄。

群言第十三卷第二期出版「暑期生活」

特輯徵稿啓事

一年容易，我們所熟望的「暑假」又快要到來了。兩個學期的功課忙，到此告了一個大段落，而大可爽爽快快的「休息」其兩三個月尤其是離鄉別井，負笈是邦的我們，暑假不啻是給我們回家團聚的機會，那麼在這個正是寫意的期間裡，本部那敢向諸君囉嗦，要求一些甚麼呢？不過，我們以爲諸君的思想和工作並不會跟着「休息」而休息的，反入，在這個時候，既無功課的麻煩，又

577,13

廣州升學概覽

無學校的束縛，正是諸君自自由由，自己思想自己的，自己工作自己的絕好時間，所以我們趁着這個機會，徵求諸君在這時間內所想到的，所見到的，所經歷的，所努力的結果，寫好寄來給我們，好得把它在群言上發表。這個請求，想爲諸君所樂於接受的吧，我們謹以最大的熱誠希望着，下面是我們預擬的幾個範圍：

1. 穗省途上。
2. 隔別了多年的家鄉。
3. 埋頭建設下的廣西——政治，經濟，文化，社會。
4. 暑假生活談描。

自然這祇是我們的私見，諸君暑期生活的時範並不一定，就祇包括這些；譬如諸君中有些逗留在廣州渡暑假的，其生活必然的較與返鄉的不同了，那不要緊，無論哪一方面，在此範圍內或出此範圍外，如個人在暑期內閱讀的心得，個人在暑期完成的詩歌，小說，小品及其他各方面的記述等，都是我們所歡迎的，並訂簡約如下：

1. 來稿請於廿五年八月卅日以前寄來。
2. 來稿如經揭載，每千字謹酬現金五角以上二元以下。
3. 來稿不限於本會會員，非本會會員來稿亦所歡迎。
4. 來稿請逕寄廣州市越華路新豐街本會

廣州市廣西學會出版部謹



廣州升學概覽

每冊定價法幣一角

中華民國二十五年六月一日出版

編輯者：廣州廣西學會
升學指導委員會

發行者：廣州市廣西學會

通訊處：廣州越華路新豐街

廣州市：惠愛中路桂香街門牌卅六號

印刷者：東成印務局

電話：一七五一五

第五年八月廿八日
直接贈送

