

(14)

第二冊 小學校初級用

新學制算術教科書

商務印書館出版



商務印書館 新學制初級小學各科教科書都是按照新學制最新編成的

新學制國語教科書 教科書 八册 每册一角
初級小學 教授書 八册 每册三角

編輯者 吳研因 莊適沈 王輔塵
校訂者 朱經農 高夢旦 唐鉞

這部書是以教育學者心理學者實地教育者和富有編輯經驗者之協作用科學的方法編輯而成其體例新穎為向來得未曾有教育部審定批詞有『這書選擇教材恰合兒童心理文字注重反覆練習往往將相類的句法編製成文分量也比該館向來出版同程度的國語教科書增加了好些可認為小學初級國語教科適用之本』等語。

新學制社會教科書 教科書 八册 每册八角
初級小學 教授書 八册 每册二角

編輯者 丁曉先 常道直
校訂者 王輔塵 朱經農

本科包括公民衛生歷史人生地理四項和舊制修身科大不相同教授書詳載教學方法和程序並插入種種極有與味的故事和工作意味格外深長。

新學制自然教科書 教科書 八册 每册八角
初級小學 教授書 八册 每册二角

編輯者 凌昌儀 杜亞泉
校訂者 王輔塵

本書分做三個階級由淺入深於課文插圖外另有觀察實驗實習聯絡比較數項體裁極為新穎取材均與兒童興趣及環境適合。

新學制算術教科書 教科書 八册 每册八角
初級小學 教授書 八册 每册二角

編輯者 駱師曾 段青華
校訂者 王輔塵

本書前幾册都用有趣的圖畫插入游戲故事從直觀引起數量的基本觀念從欣賞引起兒童的習算動機使兒童於不知不覺中得着算學的智識在同類的教科書中可算是別開生面。

新學制常識教科書 教科書 八册 每册一角
初級小學 教授書 八册 每册三角

編輯者 范雲六 任鴻偉
校訂者 王輔塵

這書係將初級小學社會自然兩科合併編輯有融會貫通的效果而無缺漏偏頗的弊病鄉村小學校為減省書籍起見採用此書去代替社會自然兩種教科書最為合宜。

MOT
C1624.56
98


零

零

0

零

零就是沒有



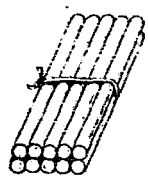
樹上二隻鳥，
飛去了，
下0隻鳥。

新學制算術教科書

第二冊

一
商務印書館出版

比九多一是十；
 十寫做10。




一	1	六	6
二	2	七	7
三	3	八	8
四	4	九	9
五	5	十	10

1隻烏鴉， 9隻白鵝。
共幾隻？



4隻白鵝和 5隻白鵝，
共幾隻白鵝？

8 個人攬著手，
2 個人在外面走，
共幾個人？



3 個人和 5 個人，
共幾個人？


這邊 3 隻猴子，
那邊 7 隻猴子，
共幾隻猴子？



左手 3 個果子，
右手 4 個果子，
共幾個果子？




6隻羊， 4隻牛；
共幾隻牛羊？



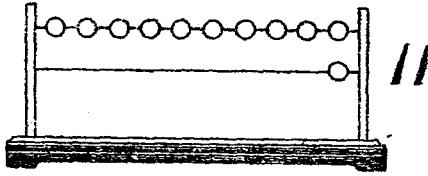
2個人耕田，
2個人剪羊毛；
共幾個人？

左手 5 指，
右手 5 指；
共有幾指？



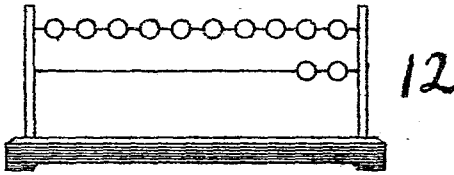
2 個女生，
3 個男生；
共幾個學生？

十一



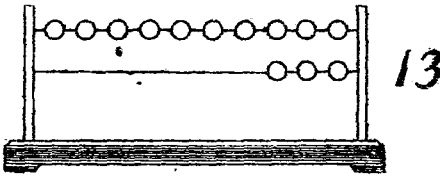
十和一是一一。

十二



十和二是十二。

十三



十和三是十三。



10 個人跑路；
1 個人在前，
幾個人落後？




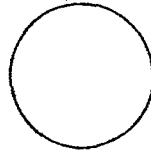
蟹有 10 隻脚；
2 隻是大脚，
還有幾隻是小脚？



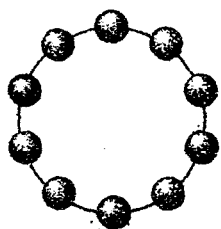
買蟹 5 隻；
還要買幾隻，
才有 8 隻？



方



圓



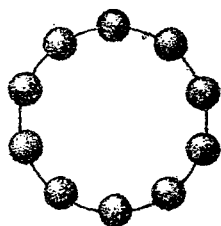
十四

14


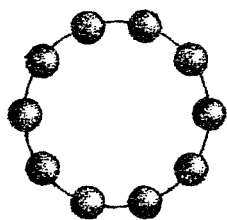
十和四是十四。

十五

15




十和五是十五。




十六

16

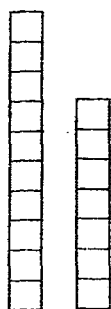
十和六是十六



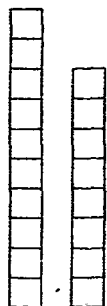
10 根 火 柴，
拿 去 3 根，
還 剩 幾 根？



十和七是十七。



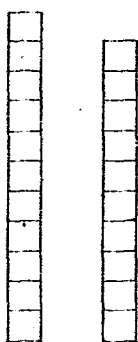
十七
17



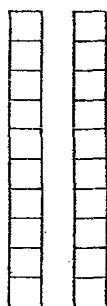
十八
18

十和八是十八。

十和九是十九。




十九
19



二十
20

十和十是二十。

木棒 10 根，
打倒 4 根，
還剩幾根沒有倒？



6 根比 4 根多幾根？

兩隻船，
共有 10 個人；
這船有 5 個人，
那船有幾個人？
這船有 5 個人；
搖船的 1 個人，
坐船的幾個人？
那船有 5 個人；
坐船的 3 個人，
搖船的幾個人？



倍



弟弟有 1 本書，
姐姐有 2 本書；
2 本書是 1 本書的 2 倍。

1 的 2 倍是 2。

1個人有2隻腳，
2個人有幾隻腳？


2的2倍是多少？



1隻椅子坐3個人，
2隻椅子坐幾個人？

3的2倍是多少？


1隻馬有4隻腳，
2隻馬有幾隻腳？
4的2倍是多少？



1輛車坐5人，
2輛車坐幾人？

5的2倍是多少？

長 短




繩長，人短。

1個人有2隻手，
3個人有幾隻手？



2的3倍是多少？




1排有3個人，
3排有幾個人？



3的3倍是多少？

1隻豬有2隻耳，
4隻豬有幾隻耳？

2的4倍是多少？

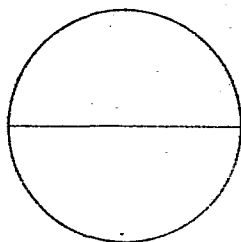
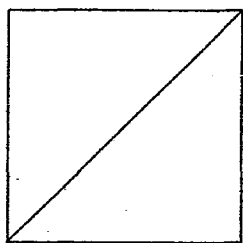


1隻羊有2隻角，
5隻羊有幾隻角？

2的5倍是多少？


半

一個方，
分做同樣的兩塊，
每塊是方的一半。



一個圓，
分做同樣的兩塊，
每塊是圓的一半。

輕 重



上面輕，

下面重。




4的一半是多少?




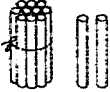
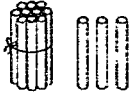
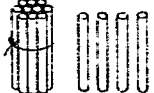
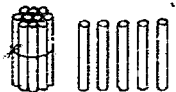

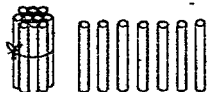


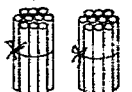
6的一半是多少?

8的一半是多少?



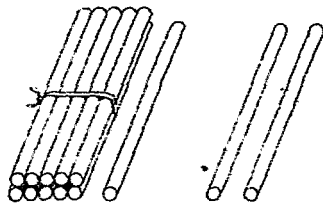
10的一半是多少?



十一	11	
十二	12	
十三	13	
十四	14	
十五	15	
十六	16	
十七	17	
十八	18	
十九	19	
二十	20	

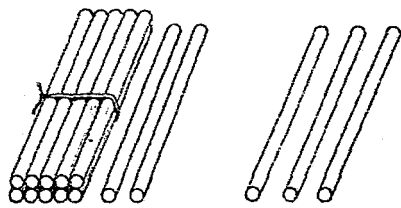
1 和 2 共多少？


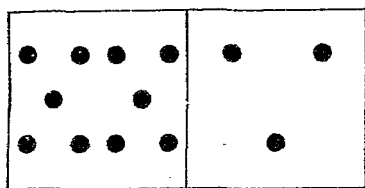
11 和 2 共多少？



2 和 3 共多少？



12 和 3 共多少？





3和4共多少?

13和4共多少?

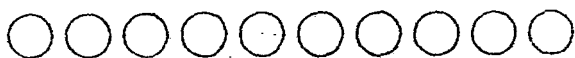


5和5共多少?

15和5共多少?

比 4 少 2 是多少？

比 14 少 2 是多少？



比 5 少 3 是多少？

比 15 少 3 是多少？



比 8 少 4 是多少?

比 18 少 4 是多少?




比 10 少 6 是多少?

比 20 少 6 是多少?



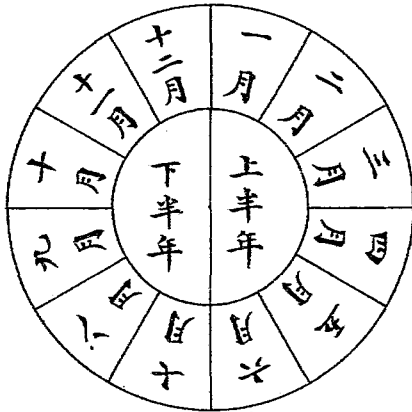
直 曲



直的路短，

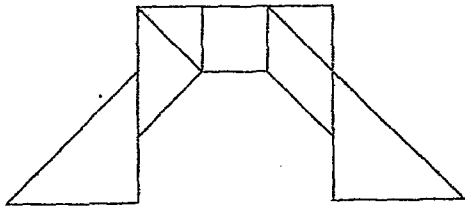
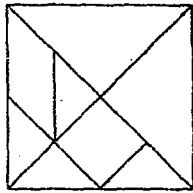
曲的路長。

上半年有幾個月？
下半年有幾個月？
一年共有幾個月？



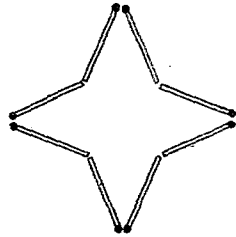
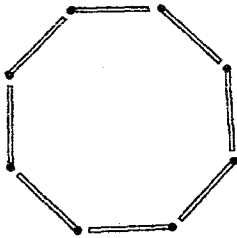
6 的 2 倍 是 多 少？
12 的 一 半 是 多 少？

一副七巧板有 7 塊，
二副七巧板有幾塊？




7 的 2 倍是多少？
14 的一半是多少？

左圖有火柴 8 根，
右圖也有火柴 8 根，
共有火柴幾根？



8 的 2 倍 是 多 少？
16 的 一 半 是 多 少？

一副九連環有 9 個圈，
二副九連環有幾個圈？



9 的 2 倍是多少？
18 的一半是多少？

國民學校用新法教科書

這一套教科書是本館特聘國內新教育家切合本國教育新趨勢而編輯的全書用新方法新標點採納新教材除國文一種偏重文體外其餘統用語體編纂精神面目煥然一新曾經教育部審定洵為初期小學最好的教科書

新法修身教科書	春季	八	冊
新法國語教科書	秋季	八	冊
新法國語教科書	秋季	八	冊
新法國文教科書	秋季	八	冊
新法算術教科書	秋季	八	冊
新法自然研究	秋季	八	冊
新法公民故事讀本	秋季	二	冊
以上各書均有教授書			
新法國語唱歌集	甲乙丙編	四	冊
新法會話讀本	甲乙丙編	四	冊
新法故事讀本	甲乙丙編	四	冊
新法事物發明史	甲乙丙編	四	冊
新法兒童世界遊記	甲乙丙編	四	冊

元 1339)

New System Series
Arithmetic
For Lower Primary Schools
Commercial Press, Limited
All rights reserved

中華民國十二年六月初版

(小學校初級用)
(新學制算術教科書八册)

(第二册定價大洋捌分實售七折)
(外埠酌加運費匯費)

編纂者 駱 師 會

校訂者 王 岫 華

發行者 商務印書館

印刷所 商務印書館

總發行所 商務印書館

分售處 商務印書館

★此書有著作權翻印必究★

北京天津保定奉天吉林龍江
濟南太原開封鄭州西安南京
杭州蘭安慶蕪湖南昌漢口
福州廣州香港梧州雲南
長沙常德衡州成都重慶瀘縣
貴陽 張家口 新加坡

夏5

