

- (2) 警察練習所の浴槽に水を充すに大管のみ用ふれば三時間かゝり大小二管を用ふれば二時間にて充す小管のみ用ふる時は幾時間を要するや。
- (3) 父の年は子の年齢の三倍にして父子の年齢の差は三十二歳なりと謂ふ各々年齢如何。
- (4) 金參拾六圓にて反物八反を買入れ二割の利を得て賣らんとす一反の賣價如何。
- (5) 元金九〇〇圓年利一割二分七ヶ月の利子何にほどなりや。

◇三重縣 (昭和八年六月九日施行)

算術 (一時間)

- (1) 甲乙兩人が共に働きて八日間に仕上げ得る仕事あり。二日間は甲乙共に働きて其後は甲のみ九日間働きて仕上たりと云ふ乙一人にて仕上るには幾日又甲一人にて仕上ぐるには幾日を要するか。
- (2) 財布の中に金若干圓あり、其半額を消費したる後三圓六拾八錢を入れ更に現在額の半分と一圓二十七錢とを費消したる後尙ほ三圓残りりと云ふ最初財布の中に幾何金あつたか。

- (2) 甲乙二數あり其和は四拾八にして其差は二十四なりと云ふ甲乙の數各何程。
- (4) 或書物の代價四十八錢郵税八錢とを郵便切手にて支拂はんに所持の三錢切手と二錢切手と合せて二十一枚にして一錢餘りあり然らば切手各幾枚なるか。

作文 (二時間)

- 一、常識涵養ノ必要ヲ論ズ(論文)
- 二、友ノ怠惰ヲ戒ムル文(候文)

國語 (一時間)

- 一、左の文中片假名の部分を漢字に改めよ。  
 朕は汝等軍人のダイゲンヌイなるぞ。  
 されば朕は汝等をココウと頼み、汝等は朕をトウシユとアフきてぞ其の親は特に深かるべき。  
 汝等皆其職を守り朕と一心になりて力を國家の保護にツクさば我國のサウセイは永く太平の福祉を受け我國のキレツは大にセカイのクワウクワともなりぬべし。
- 二、左の語句に讀假名をつけて解釋せよ。  
 1 税關 2 鰥寡 3 御者 4 濟民 5 堯階三尺  
 6 憎惡 7 文盲 8 衆生 9 風情 10 古稀 11 濫觴  
 12 松明 13 嬰兒 14 打擲 15 鵲蚌之爭

歴史 (二時間)

- 一、明治年間ニ於ケル著名ナル事蹟ヲ述ベヨ。
- 二、左ノ事項ヲ簡單ニ記セ。  
 イ 徳 政 ロ 五箇條ノ御誓文 ハ 伊勢大廟  
 ニ 參勤交代

地理 (一時間)

- 一、本邦ニ於テ海ニ沿ハザル縣名ヲ舉ゲ縣廳所在地ヲ記セ。
- 二、左ノ事項ヲ記セ。  
 イ、我國ノ師團ノ數及ビ各所在地ヲ記セ。  
 ロ、我國ノ人口ハ凡ソ何程カ又ドンナ人民種族ガ住デ居ルカ。

◇新潟縣 (昭和八年九月一日施行)

作文 (一時間)

- 文題 青年の價值
- 地理 (四十分)
- 第一問 新潟縣に於ける左記各號に答へよ。  
 イ、市 ロ、郡 ハ、人口 ニ、主なる産物五つ  
 (以上を順位に記せ) ホ、衛戍地

- 第二問 左記所在府縣又は島名と且つ其の他に就き知る所を記せ。  
 イ、天龍川 ロ、ヤツブ島 ハ、熱海 ニ、春日山 ホ、吳市

算術 (二時間)

- 一、ノート拾貳冊を買はんとて五十五錢を持ち行きたるに貳冊の代金と尙五錢不足せり、ノート一冊の代金如何。
- 二、大小二數あり其の和は三千八百〇一にして又大數一倍と小數十倍の和は五千八百九十一なりと云ふ各數如何。

歴史 (四十分)

- 第一問 明治初年に於ける新政の概要竝に五ヶ條の御誓文を記せ。
- 第二問 左の事蹟に付き關係せる人を知るだけ記せ。  
 イ、大化の改新 ロ、殉死の禁 ハ、建武中興  
 ニ、大政奉還 ホ、版籍奉還

國語 (五十分)

- 第一問 五十字位の平易なる書取。
- 第二問 左記の熟語に讀み假名を附せ。

遊説 和尚 救恤 行脚 小人の過は又る  
第三問 左記の語の意味を問ふ。

啓蒙 ナンバー 燈火管制 かけまくも忝なし

◇愛知縣 (昭和九年一月八日施行)

國語

一、左の假名を漢字に直せ(口述筆記)

- 一、イツカダラン 二、パツテキ 三、コクセイのスウキにサンヨス 四、コックベンレイ 五、イジンケツシ 六、チジヨク 七、ハンニンゴサウ 八、ユウエイ 九、シユミ 十、不明

二、左の漢字に読み方を附し解釋をせよ。(十五分間)

- 一、無味乾燥 二、頑冥 三、醉生夢死 四、翻譯 五、天賦の才 六、恩賜 七、生 簀 八、膝下 九、大音聲 十、隣邦

地理及歴史(十五分)

- 一、中部地方に於ける史上に名高き古戰場を列記せよ。
- 二、左記の所在道府縣廳を記し地歴上知れる所を記せ。
  - 一、碧蹄館 二、大泊 三、大屯山 四、三石 五、館林

作文 (三十分)

一、友人の入營を祝す(候文) 一、梅花(自由文)

算術 (三十分)

- 1、男五人と女六人との一日の賃金の合計は二十七圓にして女一人一日の賃金は男一人の $\frac{2}{3}$ なりとすれば男女各一人一日の賃金は何程か。

- 2、或金額を甲乙二人に分配するに甲は全額の $\frac{1}{2}$ より六圓多く乙は全額の $\frac{2}{3}$ より四圓多く取りたりと甲乙各所得は何程か。

◇千葉縣 (昭和八年九月六日施行)

國語

一、書取 國家の隆昌は 以下二百餘字(二回朗讀)

二、解釋 清見灣頭の今宵は雨しめやかに(以下長文)

三、讀方解釋 (イ)河清を俟つ (ロ)外地貿易 (ハ)フ

ラツバ (ニ)レボ

地理

我が國師團司令部の所在地を記せ。

歴史

徳川末期に於ける尊王論の發生を記せ。

算術 (一時間)

- 1、甲乙二人が同時に同所を發して同じ方向に行く時は一週間に乙は甲より一〇里半だけ後るべく、又同時に同所より反對の方向に行く時は三日間に五十八里半だけ隔たるべしと言ふ各毎日何里を行くか。

- 2、 $\frac{1}{2} + \frac{1}{3} + \frac{1}{4} + \frac{1}{5} + \frac{1}{6} + \frac{1}{7} + \frac{1}{8} + \frac{1}{9} + \frac{1}{10}$  を簡單にせよ。

- 3、甲乙二つの水車あり甲は四時間に米四石八斗、乙は三時間に四石二斗をつく。米千五百六十石を此の水車にてなるべく早くつき上げるには各水車に何程宛分配すべきか。

- 4、年一割二分にて四年六ヶ月間に三百二十四圓の利息を得たり元金幾何か。

歴史 (一時間)

一、弘安の役に付き知る所を記せ。

二、左記につき知る處を記せ。

- 1、維新の三傑 2、北畠親房 3、菅原道真

國語 (一時間)

一、左の文を解説せよ。

同じ苦難の中にありてもよく樂地を見る者は身撓んで

算術

- 1、 $\frac{2}{7} + \frac{3}{14} - \frac{1}{15} + \frac{1}{15}$

- 2、蜜柑四八〇個を二五個入と四〇個入と箱二種造りしに箱數合せて一五箱なりしといふ各幾箱か。

- 3、甲乙丙の三數あり甲と乙との和は六十二にして、乙と丙との和は四十五にして甲と丙との和は五十三なりと云ふ各幾何か。

- 4、額面高五〇圓の株券を八十五圓にて買ひしに一割七分の配當ありと言ふ利廻は何程か。

注意 以上各問題は式運算答並びに各問題は明細に説明をふすべし。

口答試問

出生地 現住所 年齢 戸主との關係 職業 飯酒するか 巡査志願の理由。

◇秋田縣 (昭和八年度第二回施行)

作文 (一時間)

一、現下非常時に於ける國民の自覺

二、先輩の斡旋によつて就職したる禮狀(候文、夏季)

心撓まず力衰へて勇衰へず。

二、片假名の部分を漢字に書き改めよ。

官吏は國家に對して特別なミブクランケイがある  
ので官吏たるためには特別なシカクを必要とする。其  
のニンヨウには試験によるかケイレキによるか又は特  
別のガクジュツギゲイあるかをセンコウする等の方法  
によることになつてゐる官吏は國家に對して其のシヨ  
クムにチユウジツであり、フクジユウ、ヒミツを守り  
品位を保つ義務を有する官吏にして往々トクシヨクの  
罪を犯す者あるは國家として憂ふべき事である。

三、解釋せよ。

還曆 懲愆 義捐金 猖獗 揮毫 意匠 軋轢 會釋  
素人 能率増進

地理 (一時間)

一、本縣に於ける主要物産五ツを挙げ其の主なる集散地  
を述べよ。

二、左の地は何れの廳府縣にありや。

- 1 葉山 2 野田 3 眞岡 4 清津
- 5 太刀洗 6 親不知 7 清水トンネル
- 8 衣川柵趾 9 高野山 10 尾島古戰場

◇兵庫縣 (昭和八年五月十六日施行)

國語

一、左の語の意義を問ふ。  
名を竹帛にたる、騎虎の勢 挑戰的態度 懸河の辨  
口約履行 警告を發す、實踐躬行。

二、假名を漢字に直せ。

ゼヒゼンアク ジウオウムジン イシンシツツイ マ  
ウドウフクワケウランシユギ カイキユウイシキ

作文

一、敬神崇祖。

地理歴史

一、左ニ付キ地歴上知ル所ヲ記セ。

松島 秩父 大洗 聚樂園 大村益次郎

算術

一、ペンと鉛筆あり各一本宛の價合せて二十三錢にして  
ペン五本を鉛筆七本の代價は合せて一圓三十一錢なり  
と各如何。

二、或る人若干圓にして買ひし地所を九百五十圓にて賣  
り買價の十六分の三を利せりと此の買價を求む。

三、父の年齢は子の年齢より二十七年多し而して今より  
五年前には父の年は子の年の四倍なりしと現在各如  
何。

口述試問

一、警察官志願の目的 現在吾が國と露國との關係、法  
定利率、世界經濟會議我が代表及場所期日、國民の三  
大義務、普選法、兵庫縣行政區劃、思想、兵役關係。

◇長野縣 (昭和八年十一月二十二日施行)

國語 (一時間半)

一、次の全文を解釋し、次に線を施せる語に假名を施  
せ。

宜く教育の淵源を崇ひて知識の並進を努め綱紀を肅正  
し風俗を匡勵し浮華放縱を斥けて質實剛健に趨き輕佻  
詭激を矯めて醇厚中正に歸し。

二、次の片假名を漢字に直せ。

イ、友人のアツセンにて職につく ロ、常にアツレキ  
が絶えず ハ、彼をもつてコウシとす ニ、彼の行動  
をケンセイす ホ、コウタイの反對は否定なり ヘ、  
サテツを來す ト、ダンガイ演説 チ、彼のなすこと

はズサンなり リ、テキガイ心。

作文 (一時間半)

一、克己(文體隨意)

二、友人に巡查志願を勸誘する文(候文)

算術 (一時間半)

1、上下二卷よりなれる書物あり初版に於ては其枚數合  
せて七百枚あり、然るに再版に於ては初版に於ける下  
卷の枚數を五十枚増し上卷の枚數を其の三分の一減せ  
しめたる爲め上下二卷の枚數相等しくなれりと云ふ初  
版に於ける上下二卷の枚數各幾何なるか。

2、職工百三十人十六日間の食料として米若干石を買入  
れたり若し朝食はパンを以て充つるとせばこの米にて  
何日間支へ得るか但し一日三食米は同量宛とする。

3、或河を船にて「三千米」上るに二十分、それだけ下る  
に十二分を要すと此の河の流れの速き河程か(注意答  
と理由を明記すべし)

4、職工あり一日の給料は二圓五十錢にて若し休めば給  
料を貰へぬ許りでなく一圓五十錢を食費として拂ふ規  
則にて二十四日間に四十四圓を拂へりと言ふ職工の休  
みし日數如何。

- 5、下女に一圓を渡しして三錢切手若干枚と二錢切手若干枚を買はせるに十錢餘る然るに下女は其の枚數を取違へて買ひし爲め猶ほ十錢を餘せりと云ふ初の枚數如何
- 地理及歴史 (一時間半)
- 一、本州沿岸に於ける主要海灣十を選び之にのぞめる代表的の港市一つづつを挙げ之の所屬縣名を記せ。
  - 二、本縣警察署名を挙げよ。
  - 三、大化の改新の要點を挙げよ。
  - 四、版籍奉還の顛末を記せ。

◆北海道廳 (昭和八年十月十八日施行)

巡查部長試験問題

警察法則 (一時間半)

- 一、少年保護の目的を概説すべし。
- 二、次の行爲に出でたる者ある時警察上如何に取扱ふべきや根據を示して簡単に説明すべし。
- イ、日本共産黨の機關紙を配布閱讀せしめたり。
- ロ、籬間に咲きたる梅花を折り採りたり。
- ハ、芥箱内に爆發物在るを發見したるが其の儘放任したり。

ニ、娠妊百日に及びたる死胎を私かに埋葬したり。

刑法 (一時間半)

- 一、實例に即き正當防衛を説明せよ。
- 二、内亂罪につき知る所を述べよ。

刑事訴訟法 (一時間半)

- 一、公訴權消滅原因を説明せよ。
- 二、左を簡単に説明せよ。
- イ、確定判決 ロ、告訴の制限 ハ、變死人
- ニ、檢證 ホ、抗告

憲法 (一時間半)

- 一、國務大臣の地位及責任を論ぜよ。
- 二、左の事項を説明すべし。

行政法 (一時間半)

- 一、不法行爲に因り國家に損害を加へたる場合に於ける官吏の責任を問ふ。
- 二、左の意義を問ふ。
- 一、官吏 二、補職 三、公共組合
- 四、行政處分 五、行政監督

◆北海道廳 (昭和八年十月施行)

國語 (一時間)

- 一、左の文を解釋すべし。
- つら／＼天地の自からなる景色を見よ、山あり川あり雨露風月のけはひいづれか哀れとは見ぬ清風明月一錢の買ふことを用ひずと、さる詩仙も歌ひき、求むればとこしなへに失なふことなし、すべて云へば一年にして分てば四つなり四つが一つに千年の風趣を顯はして近く見れば一日の朝夕にあり。
- 二、左の文中の片假名を漢字に直せ。
  - 1、ハンザイをケンキヨシシヨウコをシユウシユウナ
  - 2、ケンヂユウをギしてニクハクナ
  - 3、シヨクムをクワウケツナ
  - 4、ミカンのナヘギをサイシヨクナ
  - 5、其後ラクチヨウ加はり、エンカハセはモロクもサシラクした。
- 三、次の語句に讀假名を附し且意義を解け。
  - イ、意馬心猿 ロ、黜陟 ハ、日就月將
  - ニ、六親 ホ、覆轍の愚

◆山梨縣 (昭和八年度施行)

國語 (一時間)

- 一、左の文を解釋せよ。
- 嗚呼興亡盛衰の相移る何ぞ其れ速かなる一たび世界に覇を稱せる英傑の跡今は皆空し、豪華に驕れる古帝京何れかは廢墟とはならざる唯だ此の君の知ろしめす吾が國のみ移らず替らず常に新に常に榮えて世の盛衰興亡の外に立つ人々共に思へば何が故に移らず替らざる力に依らず富に依らず唯だ此の君の在するに依る「國を肇むること宏遠に徳を樹つる事深厚」と示し給へる所を忘れず君に仕へ國を護りいつも正義の上に立たば吾等は長へに榮へゆかん。
- 二、左の語の意味を記せ。但し漢字には假名をつけよ。
  - 1 偷安 2 付度 3 濫觴 4 掣肘
  - 5 國手 6 アヂ 7 テロ 8 デモ
  - 9 デマ 10 シンバ
- 三、左の片假名を漢字に直せ。
  - 1、ハンブンジョクレイ 2、カククワサウヤウ
  - 3、ケンドヂユウライ 4、ケンキヤウフカイ

5、イチマウダジン

歴史 (一時間)

一、織田信長、豊臣秀吉、徳川家康につきて知るところを記せ。

二、五箇條の御誓文とは何ぞ。

地理 (一時間)

一、我が國の主要輸入品中四種を列挙しかつその主要取引國を記せ。

二、我が國にて海に面せざる縣名とその縣廳所在地を記せ。

作文 (一時間)

一、現在の要求する人物(論文)

二、滿洲出征兵士の家族を慰むる文(往復文)

算術

1、分數の加減乘法の問題

2、某警察署員三十四名が二人宛當直をなし日曜日當直をなせし二人が再び當直の日曜日は幾日目なるか。

3、或る工場の職工男女合せて七十一人にして男工は日給二圓三十五錢女工は一圓二十五錢にして十五日間の賃金二円二百五十五圓二十五錢支拂へりと男工女工

各幾人なるか。

熊本縣 (昭和八年七月五日施行)

國語

一、意釋 イ、横死 ロ、脚本 ハ、合流

ニ、美人局 ホ、自首

二、次の假名を漢字に直せ。

(イ) アンギヤ (ロ) ロボ (ハ) エウゼイ

(ニ) スイタウ (ホ) ワギ

作文

文題 戦争

地理

一、我國六大都市名を挙げ其の縣名を記せ。

二、日本に於ける軍港と其の所在地を問ふ。

三、日本三公園と其の所在地を記せ。

歴史

一、維新の三傑 二、尼將軍 三、埴輪 四、戊申詔書

算術

1、 $(0.075 + 7\frac{1}{2} \times \frac{1}{5}) \div 0.5 - \frac{1}{4}$  計算せよ。

2、或金高を四等分したるものより十六圓多しと言ふ其

の金高を問ふ。(以上式及運算答)

口述試問

一、現在迄の經歷、何故巡查を志願したか、五・一五事件、井上日召

岐阜縣 (昭和八年六月一日施行)

國語

一、左の語句の讀方及解釋

イ、遲疑逡巡 ロ、首鼠兩端

ニ、揣摩臆測 ホ、朝令暮改 ハ、責任轉嫁

二、左の假名を漢字にて記せ。

1、アイマイにして信ずるに足らず 2、カットウの後和解す 3、彼の手段はアクラツなり 4、カイコ

ウ實に十年目 5、秀才なるもエウセツせり 6、インニン自重せり 7、海岸をシヨウエウす 8、彼の行動をケンセイすべし 9、コウテイの反對は否定なり 10、悪人のパッコを制す

作文

一、警察官志願の目的と覺悟

二、不品行なる友を戒る文

地理及歴史

一、本邦陸海軍飛行場八つを挙げ、其の所在地を明にせよ。

二、左の事項を説明せよ。

1、大寶律令 2、檢非違使 3、五人組

算術

1、財布の中に金若干圓あり其半額を消費したる後三圓六拾錢を入れ更に現在箱の半分と一圓二十七錢とを消費したる後尙三圓残りりと云ふ最初財布の中に何程ありしか。

2、五錢白銅貨と二錢銅貨合せて三十二枚ありて一圓三十錢の支拂には二錢不足す何枚なるか。

3、鉛筆を數人に分つに三本宛與ふれば八本餘り五本宛分てば二本不足すると云ふ人數及鉛筆の數如何か。

筆跡

進取の氣象 (楷行一體)

神奈川縣 (昭和八年七月十一日施行)

國語

一、讀方及解釋

切瑳琢磨、河海は細流を擇ばず故に其の深きをなす、東奔西走、小人閑居して不善を成す、九仞の功を一簣にかく。

二、書取

ロウバイ、フンジウ、ヒシヨ、レンマ、シユウゼン、ジウモン、ネンリヨウ、ザンゲ、ポウエキ、ホンソウ。

作文

文題 我が國の青年

常識

インフレ景氣、闇の花、桃色争議、デ杯戦、内閣員の氏名、籠拔、高等遊民、アジビラ、インチキ、井中の蛙。

地理及歴史

一、明治十五年以來我國領土及び勢力範圍となりたる所を順に列記せよ。

二、唐律、敦賀、錦帯橋、畝傍山、伊香保、淡路島

算術

$$1、\left\{\frac{5}{144} \times \frac{12}{125} + \frac{33}{100}\right\} + \frac{1}{3} - \frac{44}{49} + \frac{8}{6} = 1$$

2、逡巡の昇給をするに四圓宛昇給すれば二百圓餘り五圓宛昇給すれば二百五十圓不足する豫算人員如何。

3、或商人原價の六分の一増の定價を附したるに定價の

十四分の一を引ききて賣るに四十錢の利益有りと云ふ原價如何。

4、甲地より乙地に向ふ車あり行きは一時間三分の二里の割歸りは74里。甲乙地の距離如何。

◆山梨縣 (昭和八年五月施行)

國語

一、全文を解釋すべし(省略)

二、左の假名を漢字に直せ。

ジダイサクゴ、タイシヤウ、カンバツ、ジキヨクキヨウキユウ、ワシンキヨウチヨウ。

三、左の讀方及意味を問ふ。

妥當、私淑、捏造、傀儡、戒飭

作文

一、現代の國情に處して吾人の覺悟

二、友の病氣を見舞ふ文

地理

一、我が國近海の海流につき記せ。

二、左記につき知れる事項を記せ。

三原山、宇品、馬公、敦賀、釜山

歴史

一、我が國の國際聯盟脱退の理由を述べよ。

二、左記に就き知れる事項を記せ。

元寇の役 三國干渉、桶狭間の戦

算術

1、果實店の店頭に梨と林檎合せて三二〇個あり林檎は梨の三倍半より五個多し各々何程か。

2、或殺人犯人あり一時間十二キロの速力にて逃走せり七時間後刑事が毎時四十キロの速力にて後を追跡せり何時間の後逮捕するか。

3、反物百反を39儲けて賣りしに總計千五百六拾圓を得たり一反の原價を問ふ。

4、整数の加減乗除 (問題略省)

◆愛知縣 (昭和八年五月二十三日施行)

國語

一、書取 質實剛健、國運隆昌、交通整理

危険防止 一夜に焦土と化す、罹災者、油斷大敵、團扇、麥稈帽子、實踐躬行

二、讀方及解釋

和す 勅勅 和す 勅勅

作文

一、忠孝を論ず。

二、都會に憧るゝ友人を戒むる文。

地理及歴史

一、中部地方の府縣名並に府縣廳所在地を擧げ管轄を記せ。

二、左に就き地歴上知る所を記せ。

法隆寺 夕張 九頭龍川 小豆島 五陵廓

算術

1、或人甲地より乙地に行くに初めに全道程の五分の三行きたるに都合に依り二十四里引返したるにより全道程の十一分の六残りと言ふ然らば全道何里なりや。

2、兄は廿九歳弟は十三歳なり今より何年後に弟の年齢は兄の年齢の五分の四となるか。

口述試問

一、原籍地、戸主との關係及軍籍。志願動機及適當と認むる職か、各大臣の氏名、日本三景の所在地、三公園とは、松島の生じたる成因、首相出生地、名古屋城に

就て 熱田神社 鹽釜神社

◇鳥取縣 (昭和七年七月六日施行)

國語

- 一、左記の語にフリガナ及意義を書け。  
イ、偷安    ロ、逆旅    ハ、私淑  
ニ、濫觴    ホ、象徴
- 二、左記の假名を漢字に直せ。

- イ、イツシドウジン    ロ、ケンニンフバツ
- ハ、シソウゼンダウ    ニ、ユウオウマイシン
- ホ、ギシンアンキ

作文

- (一)警察官トナリシ後ノ理想(論文)
- (二)銷夏に友を誘ふ文(書簡文)

地理及歴史

- 一、我國に於ける重要貿易港及其の輸出品に付知る處を記せ。
- 二、左記につき知る處を記せ。  
イ、西郷    ロ、太刀洗    ハ、澎湖島  
ニ、小樽    ホ、甲府

三、北條泰時の事蹟を問ふ。

四、寛政の改革とは何か。

算術

- 1、金百二十圓を甲乙丙三人に分配するには乙は甲の三倍を取り丙は甲乙の和の二分の三より十圓多く取ると云ふ各人の取得如何。

$$2、\frac{3+}{5-} \frac{7}{1}$$

$$3、\frac{6+}{3}$$

- 3、職工あり百五十人が毎日八時間宛働きて十二週間に落成する工事を着手後七週間を経て以後二十四日間に仕上ぐる必要起り毎日十時間宛働けば職工幾人を増すべきか。

◇秋田縣 (昭和七年四月八日施行)

國語

- 一、左ノ文中片假名ヲ漢字ニ改メヨ。  
乃木大將學習院長となるや密に上流社會のカクシンを以て老後の事業となす、而してセイレンケツにしてキンペンシツソなる大將の性格は遂に能くクワチユウ

の俗を一洗してケンニンの風をなせり。

二、左ノ文中括弧内ノ漢字ニ讀假名ヲ附セ。

千秋公園は元佐竹氏の居城にして(雄視)三百年の據而して春は(爛漫)たる櫻花の盛夏は(馥郁)蓮香の優、秋は(錦繡)紅葉の美、冬は老松(白姿)の壯四時何れとして佳ならざるなし。

三、左ノ語ニ讀假名ヲ附シ簡單ニ解釋ヲ施セ。

- イ、巧言令色    ロ、暴逆の友    ハ、懸河の辯
- ニ、回縁の災    ホ、無辜の民

作文

- (一)克己心ノ必要ヲ論ズ。
- (二)巡查採用ナリタルヲ遠地ノ兄ニ報ズル文 (平假名交リ文)

地理

- (一)秋田縣ノ警察署ヲ郡市別ニ記セ。
- (二)六大都市ヲ人口順ニ記セ。
- (三)奥羽地方ノ産物ヲ擧ゲ且ツ其ノ中心地ヲ記セ。
- (四)秋田市を發し福島市を經、東京市を經て下關に至る鐵道線名を記セ。

歴史

- 一、明治維新ノ主ナル功臣五名ヲ記セ。
- 二、左ノ言葉ニ付キ思ヒ出シタル人一人宛ヲ記セ。  
イ、美濃ノ關ケ原    ロ、宇佐八幡    ハ、大日本史  
ニ、湊川神社    ホ、吉野
- 三、寛政ノ三奇人ヲ擧ゲ其ノ事蹟ヲ記セ。

算術

- 1、今年父ハ三十九歳長子ハ十二歳次子ハ五歳ナリ兩子ノ年齢ノ和ガ幾年後ニ父ノ年齢ニ等シクナルヤ。
- 2、一分間二百二十米走ル盜賊逃ゲテヨリ十五分ノ後一分間二百七十米ノ速度ノ自轉車ニテ追フ時ハ盜賊逃ゲテヨリ幾分後ニ追ヒ付クヤ。
- 3、鶏ト兎トアリ其ノ足數合セテ百十六本ニシテ兎ハ鶏ヨリ五匹多イ各々幾何ナルカ。

口答試問

- (但し學科試験に合格したる者のみに付行はる)
- 一、どう云ふわけで巡查を志願したか。
- 一、火事とはどう云ふものを云ふか。
- 一、どんなものを山と稱するか。
- 一、役場とはどんな所か、何をなすか。
- 一、着物は何の爲に着るか。

◇三 重 縣 (昭和七年三月十四日施行)

國 語

- 一、次の假名を漢字に直せ。  
(イ)ガイセン (ロ)ゾウシ (ハ)アンネイチツジョ  
(ニ)レンメイ

二、次の語に讀假名を附し意義を解け。

- (イ)揣摩臆測 (ロ)葛藤 (ハ)一舉兩得  
(ニ)實踐躬行 (ホ)勤儉貯蓄

三、次の漢字に假名をつけ全文を解釋せよ。

債權者に對する債務者が約束の期限に至るも其の債務を果さざる場合は之を法律に訴へ財産差押の處分を請求する權利を與へ居れり。然れども道德上より論ずれば少しも債務者の事情を察せず法律の與へし權利なりと言ひ素に之を行使するが如きは人情に悖るものとし甚しく擯斥せらるべし。さればたとひ法律は之を許すも道德は必ずしも之を許さざる事あり。

作 文

- 一、現在の國情を論ず(論文)
- 二、出征兵士を祝する文(候文)

地 理

- 一、師團司令部の所在地を記せ。
- 二、本縣に接せる府縣名及縣廳所在地を記せ。
- 三、左の地に就き知る所を記せ。

- イ、宇治山田市 (ロ)嚴島神社 (ハ)利根川
- ニ、飯盛山 (ホ)十和田湖

歴 史

- 左の事項につき知れるだけ書け。
- イ、建武中興 (ロ)戰國時代 (ハ)西南の役
- ニ、維新の三傑 (ホ)院 政 (ヘ)關ヶ原の戰

◇福 井 縣 (昭和七年三月二十日施行)

國 語

左の文を讀んで次の問に答へよ。

ぼたり：ぼたり：青葉の色がそのまま露となつて落ちてくるやうだ。あたりは大分明るい太陽の出るまでにはまだ間がある。農夫が一人霧のかゝつたうす暗い樹々の間を通つて行く。ぼたり：ぼたりと露が落ちる。すると突然メーメーと調子外れの高い聲が一聲二聲聞えたが後はまた靜かになつた。

(1)ココハドンナ所デスカ、アタリノ景色ヲヨクワカル

ヤウニ書ケ。

(2)時刻ハイツ頃カ。

(3)農夫ハ多分ドコヘ行クノデセウカ。

(4)調子外レト言フノハドンナコトデスカ。

作 文

文題 規則的生活ノ必要

地 理

福井縣の略圖を畫き郡名並に主なる市町名を記入せよ。

歴 史

次ノ人物ハ何ヲシタ事ニヨツテ有名ナ人カ。

イ、左 甚五郎 (ロ)松尾芭蕉 (ハ)紫 式部

ニ、楠 正成 (ホ)福澤諭吉

算 術

1、五町三段五畝ハ何坪カ。

◇栃 木 縣 (昭和七年四月施行)

國 語

次ノ語ニ讀假名ヲツケ解釋ヲ附セ。

イ、杜 撰 (ロ)出藍の譽 (ハ)妥 當

ニ、彈 効 (ホ)生 憎

作 文

文題 時間の勵行に就いて

地 理

1、福岡縣 2、關東平野

歴 史

1、櫻田ノ變 2、博愛社トハ何ゾ

算 術

(一)白米一圓ニ付二升五合ノモノガ一圓ニ付四升トナレリト云フ幾割下落セルコトニナルカ。

(二)725-640-(321+138)ニテ計算セヨ。

(三)或人金九圓ヲ所持シテ市場ニ出テ雞卵百八十箇ヲ買ヒシニソノ雞卵三箇分ト他ニ二錢七厘不足セリト云フ總代價如何。

(四)甲ト乙トノ値段ハ相等シク今甲ガ九圓騰貴シ乙ガ七圓下落シタルニ甲ノ値段ガ乙ノ値段ノ三倍トナレリト云フ甲乙現在ノ價格何程。

◇福 島 縣 (昭和八年四月四日施行)



國語

左ノ文ニ振假名ヲ附シ解釋セヨ。

- 1、虛心坦懐 2、一葉落ちて天下の秋を知る
- 3、誰か鳥の雌雄を知らんや 4、四面楚歌の聲
- 5、配所の月 6、風聲鶴唳

作文 (文體隨意)

- 一、余は何故に警察官たらんとするか。
- 二、警察官志願の手續其の他を友人たる現職警察官に問合す文。

地理及歴史

(一)左ノ地ノ所在府縣名縣廳所在地ヲ記シ歴史的ニ知ル處ヲ記セヨ。

- 1、島原 2、平泉 3、五陵廓
- 4、比叡山 5、靈山

(二)左ノ人ニ付キ知レル所ヲ記セ。

- 1、中臣鎌足 2、井伊直弼

(三)福島縣ノ略圖ヲ畫キ市郡名ヲ記入セヨ。

算術

- 1、甲乙二人アリ各所持金併せて三四七五圓ナリ然ルニ乙ハ甲ノ所持金ヨリ一九七圓少キト各所持金ヲ問フ。

- 2、甲ハ毎日拾五里乙ハ毎日拾貳里ヲ歩行スルト云フ今乙ハ甲ヨリ三日前ニ某地ヲ出發セリト云フ甲ハ幾日ノ後ニ乙ニ追ヒ付クカ。
- 3、大中小ノ三數アリ大中ノ和ハ八十大小四十五中小四十一ナリト各數如何。
- 4、童子若干アリ今桃若干個ヲ三個宛與フレバ三十二個餘リ五個宛與フレバ拾四個不足スト云フ人數並ニ桃ノ數如何。
- 5、三錢切手五錢切手併せて三十六枚アリ然ルニ金額一圓四十六錢ナリ三錢切手五錢切手ノ枚數各如何。

口答試問

- 1、日本三公國トハ 2、各大臣ノ氏名
- 3、滿洲新國家ノ國稱及其ノ元首名

◇富山縣 (昭和七年四月四日施行)

國語

- 一、書取 左ノ文章中棒線ヲ施シタル片假名ヲ適當ナル漢字ニ直セ。

滿洲事件略々鎮定するや續いて上海事件ポツパツシジ  
ンチユウホウコクの念に燃ゆる皇軍は惡戰苦闘能くバ

クマンブレイなる支那兵をサウタクシ國威を世界にハ

ツヤウシ多數のザイリユウミンと巨億の財産保護の安  
全を期したりと雖も尙停戰條約をテイケツするに至ら  
ず何時日支關係再びケツレツするやキユウキウシ難き  
ものあり帝國臣民たるもの東洋の平和とフクシの爲に  
奮然外敵に當らざるべからず。

二、左記字句ヲ解釋セヨ。

- イ、搦 摩 ロ、祝 融 ハ、鵝蚌の爭

- ニ、南船北馬 ホ、アナウンサー

三、左記ノ讀方及解釋ヲ施セ。

- イ、困 憊 ロ、輸 贏 ハ、鼓 居

- ニ、襁 樓 ホ、愆 愆 ヘ、容 喙

作文

一、上海附近ニ出征中ノ友人ヲ慰問スル文 (通信文)

二、忠孝ヲ論ス (文章體)

地理及歴史

一、日本ニ於ケル著名ナル工業地區四ヲ擧ゲ及ビ其ノ主  
要工業品ヲ列擧セヨ。

二、左記事項ニ就キ記セ。

- (イ)長春 (ロ)佐世保 (ハ)旭川 (ニ)ジユネーブ

(ホ)富山市ヲ中心トセル私設鐵道及軌道終着地名

三、尊王論ハ如何ニシテ興リタルカ如何ナル人達ガソノ  
勃興ニ盡シタルカ又コノ思想ハ如何ナル結果ヲ齎シタ  
ルカ。

四、左記事項ニ就キ知ル所ヲ記セ。

- (イ)島原ノ亂 (ロ)本居宣長 (ハ)大日本史

(ニ)ワシントン條約

算術

$$1、(11\frac{2}{3} + 5\frac{1}{4}) + \frac{1}{2} - (4\frac{1}{5} \times 1\frac{4}{11} + 3\frac{2}{3}) =$$

2、子供若干人ニ桃三個宛與フレバ三十二個餘リ五個宛  
與フレバ十四個不足ストイフ子供及桃ノ數如何。

3、長サ七十五間アル道ノ兩端ニ等距離ニ櫻一株宛植エ  
タルニ兩端共總ベテ六十二株要シタリト樹ト樹トノ距  
離ヲ求ム。

4、靴一足ノ價ハ帽子一個ノ價ノ三倍ヨリ貳拾錢高ク帽  
子一個ノ價ト靴一足トノ價ノ和ハ六圓ナリト言フ各々  
ノ價ヲ求ム。

◇島根縣 (昭和七年四月十一日施行)

國語

一、左ノ文ヲ解釋セヨ。

嗚呼興亡盛衰の相移る何ぞ其れ速かなる一度世界に覇を稱せる英傑の跡今は皆空し、豪華に驕れる古帝京、何れかは廢墟とならざる。唯だ此の君の知ろしめす、吾が此の國のみ移らず替らず。常に新に常に榮えて、世の盛衰興亡の外に立つ、人々共に想へ、何が故に移らず替らず、力に依らず富に依らず。唯だ此の君の在すに依る。

「國ヲ肇ムルコト宏遠ニ徳ヲ樹ツルコト深厚」と示し給へる所を忘れず、君に仕へ國を護りいつも正義の上

二、左ノ語ノ意義ヲ問フ(漢字ニハ讀假名ヲモツケヨ)

- (イ)倫 安 (ロ)付 度 (ハ)濫 鵜

三、左ノ假名ヲ漢字ニナラセ。

- (1)ハンブシヂヨクレイ (2)ケンドヂユウライ (3)ケンキヤウフクワイ (4)イチマウダジン

作文

- 一、現代社會ハ如何ナル人物ヲ要求スルカ (論文)
- 二、出征兵士ノ家族ヲ慰ムル文

地理

一、我が國ニ於ケル主要輸入品四ツヲアゲ各取引國ヲ示セ。

二、我が國ノ海ニ面セザル縣名及縣廳所在地

歴史

一、(イ)織田信長 (ロ)豊臣秀吉

(ハ)徳川家康ニ付知ル所ヲ書ケ

二、五箇條ノ御誓文トハ如何。

算術

(1)  $(\frac{2}{41} + \frac{3}{2}) \times \frac{11}{20} + (\frac{5}{8} + 3.5 + \frac{2}{3}) =$

(2) 或ル警察署員三十四人アリ每晚二名宛當直セリ然ラバ日曜日ノ當直ニ當ル者ガ再ビ日曜日ニ當ルハ何日目ナルカ。

(3) 職工七十一人男工ノ日給二圓三十五錢、女工ノ日給一圓二十五錢ナル工場ニ於テ十五日間ノ勘定ニ總計二千二百五十五圓二十五錢ノ賃金ヲ支拂ヘリト男工及ビ女工幾人ナルカ。

◇長野縣(昭和七年四月十五日施行)

國語

一、左ニ讀方ヲツケ解釋ヲ施セ。

- イ、井 蛙 ロ、誦 諫 ハ、餘 殃
- ニ、惠 澤 ホ、木 鐸 ヘ、羊 腸
- ト、清 廉 チ、追 徵

二、左ノ文ノカナヲ漢字ニ直シ全文ノ解釋ヲナセ。

大日本帝國はキコウオンワにドヂヨウヒヨクにしてブツサン ホウジヨウにサンスイもマタ シユウレイナリ。

ケンコクライ二千五百有餘年 コウトウイツケイキミジンにシンチュウにしてコクタイのビなることウダイにクワンゼツセリ。

作文

一、規律

二、花見に友を誘ふ文

地理及歴史

- (一)左記都市ノ所在縣名ヲ問フ。
  - 1、所澤町
  - 2、桐生市
  - 3、仙臺市
  - 4、下ノ關市
  - 5、吳市

(二)中部地方ノ主ナル山脈ヲ問フ。

(三)大化ノ改新ト明治維新ノ類似ノ點ヲ述ベヨ。

(四)左ノ各項ヲ略記セヨ。

- 1、太宰府
- 2、ポーツマス
- 3、御朱印船
- 4、徳政
- 5、維新ノ三傑
- 6、倭寇

算術

1、甲乙二頭ノ馬アリ周圍一哩ノ競馬場ヲ廻ルニ同時ニ同所ヲ出發シテ同一方面ニ走ル時ハ一時間ニシテ一所ニナリ、反對ノ方向ニ走ル時ハ四分ノ後相會スルト云フ兩馬毎時ノ速度何程カ。

2、或ル數ヲ七デ除シ其ノ商ニ四ヲ乘ジ其ノ積カラ十ヲ減ジタルモノヲ二デ除シ之ヲ八倍シタルモノガ四十ナル或ル數ヲ問フ。

3、巡查採用試験ニ於テ合格者ハ受験者ノ八分ノ一ヨリ二十五人多ク不合格者ハ受験者ノ五分ノ四ヨリ三十五人多イト云フ受験者ノ總數ヲ問フ。

4、消防用貯水池アリ大小二種ノポンプヲ据付吸水セシムルニ大ポンプ二臺小ポンプ三臺ナレバ十分ニシテ貯水池ノ水ハ盡ルト云フ大ポンプ二臺小ポンプ一臺ナレバ十五分ニシテ盡ルト云フ今大ポンプ五臺小ポンプ三臺ヲ用ヒテ吸水シタナレバ貯水池ノ水ハ何分デ盡ルカ。

◇埼玉縣 (昭和七年四月十五日)

國語

一、次ノ縦線ヲ施シタル部分ヲ解釋セヨ。  
 貝原益軒曾て湊川を過ぎ楠公の昔を追憶して低徊去ること能はず、終に碑石の建立を企て自ら碑文を撰み兵庫の商人某に工事を託して歸りしが間もなく使を遣はして其の稿を取りかへし、かば某は文章の改削にもやとて直に其の使に渡し、に又使して吾等思ふに楠公の動功日月にも比すべきに予が如き淺學の筆もて記し、は如何にも烏滯がましきわざなりけれ、世の誹謗人の嘲笑もろしめたくて建碑のこと今は思ひ止りぬ。私主に粗忽の約束したる罪は云ひ解かむすべもなければと平にゆるし給ひねと云ひやりければ某もいたく本意なきことに思ひけり。

二、次の文中漢字に振假名を附し且つ全文を解釋せよ。  
 海舟人となり雋異卓拔其の爛々たる眼識はよく時局を大觀し機略縱横死生の境を行くなど平地の如く終に幕府をして恭順の實を遂げしめ生民をして塗炭の苦を免れしむ。

一、社會(文體隨意)

地理

一、全國ニ於ケル海ニ面セザル府縣名ヲ舉ゲヨ。  
 二、左ニツキ知レル處ヲ記セ。  
 イ、室蘭      ロ、寒霞溪      ハ、白頭山  
 ニ、馬公      ホ、占守島

一、院政ニツキテ述ベヨ。  
 二、左ノ事項ニ付キ知ル所ヲ記セ。  
 イ、倭寇      ロ、函館戦争  
 ハ、ベルサイユ平和條約

算術

(1)  $100 \times \left( \frac{1}{5} - \frac{3}{5} \right) + \frac{1}{5} =$

(2) 七十七を割れば五残り百を割れば四残り百二十三を割れば三残りやうな數の中で一番大きい數如何。

(3) 年一割二分で四ヶ年の利息が百五十六圓となる元金何程か。

(4) 或る水夫が河を漕下るときは一時間に一里拾町漕上る時は二十四町進むこの水夫の漕ぐ速さは一時間に何

程か。  
 (5) 商人が米麥合せて百五十俵仕入れ、米は一俵につき八十錢を利し麥は一俵につき四十五錢を利して賣りに利益金九十七圓六十錢を得たりと云ふ仕入各俵數幾何か。

◇山形縣 (昭和七年五月施行)

國語

一、左の語に振假名及解釋を附せよ。  
 イ、濫觴      ロ、他山の石      ハ、遜色  
 ニ、朝令暮改      ホ、星霜

二、左の語を漢字に直せ。  
 イ、アンネイチツジヨ      ロ、ジュンブウビゾク  
 ハ、ニンシキフソク      ニ、コクサイレンメイ  
 ホ、ハンニンタイホ

作文

一、巡查志願の動機(文體隨意)

地理

一、左ノ海峡ノ位置ヲ問フ。  
 イ、鳴門      ロ、對馬      ハ、宗谷

ニ、豐豫      ホ、津輕

一、奥羽地方及ビ中國地方ノ府縣名及ビ府縣廳所在地ヲ舉ゲヨ。  
 一、班田收授      ロ、戰國時代      ハ、下關條約

算術

(1) 牛若干頭ト其ノ二倍ノ頭數ノ羊トアリ牛ハ一頭ニ付八十五圓ニ羊ハ一頭ニ付十五圓ニ賣リテ金三千四百五十圓ヲ得タリ。  
 牛及ビ羊幾頭ヲ賣リシカ。

(2) 東倉ヨリ西倉ヘ米ヲ運ブニ日數ヲ豫定シテ毎日五十俵宛運ビシニ拾五日多ク費セリ若シ一日ニ百俵宛運ビタランニハ二日早ク終リシナラント云フ。  
 東倉ニアリシ俵數幾何ナルカ。

◇静岡縣 (昭和七年五月二日施行)

國語

一、次の漢字の讀方及意義を問ふ。  
 イ、鹵簿      ロ、須叟      ハ、假設

- ニ、關 明 ホ、彌 縫 ヘ、鳥合の衆
- ト、出藍の譽 チ、莫逆の友 リ、蠶婦の急
- ヌ、犬馬の勞

二、次の片假名を漢字に直せ。

志す所は「コウエン」にして行ふ所は「チヤクジツ」に空想に「アコガレ」す「ギョウコウ」を「ネガワ」ず困難に「ソオグウ」するも「ヒヤクセツ」「タユマ」ず「センザ」屈せず「ユウオウマイシン」あらゆる障礙を「ダハ」して自己の進路を「カイタク」するは男子の本領なり。

作文

- 一 現代の思想と吾人の覺悟
- 二 新築落成式を祝ふ文

地理

- 一、本縣ノ市及郡名ヲ舉ゲヨ。
- 二、本縣隣接縣名と國名

歴史

- 1、聖徳太子につきて知る所を記せ。
- 2、明治維新とは

算術

- 一、甲乙所持金ノ和ハ百五十圓ナリト、甲ハ乙ノ五倍ナ

リ、甲幾何、乙幾何ナルカ。

- 二、四斗俵と四斗五升俵トアリ合セテ百三十俵、米ハ六十石ナリト云フ、四斗俵幾何、四斗五升俵幾何。
- 三、甲地ヲ出發ナシ、一時間十八町行ケバ三時間オクレ一時間二十四町行ケバ二時間進ム、其ノ豫定時間ハ

口答試験

- 1、古物商及質屋ハ何故警察ノ許可ヲ必要トスルヤ。
- 2、總理大臣及内務大臣ノ氏名ハ
- 3、告訴ト告發ノ差違ハ
- 4、警官志願ノ目的

三 重 縣 (昭和七年三月十四日施行)

國語

(一)左の片假名を漢字に改めよ。

キユウライのロウシユウ カンコのコエ ガイセン  
セキヘイダハ ジゴウジトク、ヤユ タンデキ トクシ  
ユケンエキヨウゴ フヘンフトウ ユウオウマイシン

(二)左の語に讀假名と意味を附せ。

- 1、民に怨嗟の聲あり 2 揣摩臆測 3、濫觴
- 4、蒙 塵 5、經濟封鎖 6、雲煙過眼

- 7、有爲轉變 8、牽強附會 9、鷄口牛後
- 10、樛風沐雨

作文

- 一、現下ノ國情ニ就テ(論文)
- 二、友ノ出征ヲ祝フ文(候文)

大阪府 (昭和七年五月十六日施行)

國語

左ノ語ニ振假名及簡單ナル解釋ヲ附セヨ。

- 1、御稜威 2、儀 表 3、呻 吟
- 4、荒蕪地 5、不夜城 6、批准交換
- 7、金匱無缺 8、最惠國條款 9、從價稅
- 10、雄 圖

地理

左ノ各地(又ハ其ノ附近)ニ存在スル最モ著名ナルモノ及ビ其ノ所在地府縣名ヲ記セ。

- 1、横須賀 2、伊香保 3、成 田
- 4、釜 石 5、弘 前 6、輪 島
- 7、江田島 8、岩 國 9、島原半島
- 10、大牟田

歴史

左の事項につき知るところを記せ。

- 1、國分寺の建立
- 2、大阪冬の陣
- 3、七卿落

算術

(一)或ル工事ヲナスニ甲一人ナラバ十日ヲ要シ乙一人ナラバ十六日ヲ要ス今コノ工事ヲ甲乙二人協同シテ從事セシニ甲ハ中途ニテ休業セシヲ以テ完成迄ニ八日ヲ費セリト云フ甲ガ從事セシ日數如何。

(二)水ノ深サ四尺ナル水中ニ竿ヲ立テタルニ泥中ニハ全長ノ三分ノ一ヲ没シ水面上ニハ其ノ残りノ五分ノ一ダケ現ハレテ居タト云フコノ竿ノ長サハ何程カ。

北海道廳 (昭和七年五月二十三日施行)

國語

(一)左ノ假名ヲ漢字ニ直セ。

イ、テイセンケウテイ ロ、チウリツチタイのセツテ  
イをカクリツす ハ、クワンケンにホバクさる ニ、  
チアンイヂ ホ、シヤクワイのケンソウから遠ざかり

コドクにてチンシする

(二)左の漢字に假名を附し且つ意義を説明せよ。

- イ、皓潔至誠    ロ、意匠    ハ、曖昧
- ニ、斬新    ホ、萎靡凶循    ヘ、悠長
- ト、謳歌    チ、天竺    リ、撩亂
- ヌ、人材登庸

(三)左ノ文ヲ解釋セヨ。

梅に取るべきは其の香、奇古なる其の幹、花の色は白きを尙ぶ、赤きは俗なり、一園内に行儀正しく列植するは折角の梅花を俗了す、竹外籬畔、臥龍の影を清淺の水に横へ、黄昏一片の月を添へて、暗香四野に浮動す、これ既に林和靖に言ひつくされたれど、梅花此の境を得て始めて奇をあらはし、此の境梅花を得て始めて俗氣を脱す。

作文

(一)現代我國の要求する人物

(二)犧牲

地理

一、日本ノ石炭ノ産地

二、日本ノ氣候

三、次ノ都市ニツキ知ル所ヲ記セ。

イ、旅順    ロ、落石    ハ、米原

歴史

一、建武中興

二、佛教傳來

三、左ノ人ニツキ知レルコトヲ記セ。

イ、聖德太子    ロ、北畠親房    ハ、溥儀

算術

- 1、今年父ハ四十三歳子ハ十三歳デアル、今カラ何年後ニ父ノ年ハ子ノ年ノ三倍トナルカ。
- 2、六千圓デ家ヲ建テコレニ五千五百圓ノ火災保險ヲ附ケテ置キ毎年一分二厘ノ保險料ヲ支拂ツテ居タ其後三年目ニ火災ニ罹リ家ハ全ク焼失シタコノ損失金幾圓カ。
- 3、大工十八人植木職七人ヲ十二日間雇ツテ賃銀合セテ八百七十四圓八十錢拂ツタ一人一日ノ賃銀植木職ハ大工ノ十分ノ九デアルトスレバ各一人一日ノ賃銀如何。

和歌山縣 (昭和八年度施行)

算術 (一時間)

1、甲乙二數あり甲の五倍と乙の三倍との和は六十にして乙の五倍と甲の三倍との和は六十二なりと云ふ甲乙各幾何か。

2、父子あり父の現年齢五十一歳なり六年前に於て子の年齢は父の年齢の九分の一なりと言ふ子供の現年齢如何。

3、或仕事をなすに甲一人にては八日乙一人にては六日にて完成す此の割合にて甲乙共力して作らば何日にて完成するか。

4、室内に敷物を敷詰めるに幅四尺長さ若干尺の絨氈を用ひし時は三十六枚を要す、幅六尺長さ前と等しきものを要ふれば何枚を要するか。

5、巡査採用試験の受験者三四五名あり其内體格検査に不合格者一三八人なる時受験者に對する歩合及合格者に對する歩合を求む。

國語

一、書取

- 一、ガウもウマザ    二、ボウゼンとタタツむ
- 三、ギヨシヤダイにノる    四、コウツウシヤダン
- 五、カンリトウヨウ    六、シヨメイナツイン

七、ヒコクジンモン    八、ウエをシノぐ

九、シヨホウハイカイ

地理

一、我國に於ける絹織物の主要産縣五つをあげよ。

二、次の所在縣名及び有名なる理由を書け。

- 1、屋島    2、船上山    3、太宰府
- 4、撫養    5、徳山

習字

圓滿なる常識は處世の指針なり。

口述試問

- 1、靖國神社は何を祭つて居るか
- 2、今年ハ皇紀何年か
- 3、スパイ
- 4、保護税
- 5、本縣の縣會議員數
- 6、志願の動機

歴史

- 一、三種の神器の由來を述べよ。
- 二、左に付き知る所を記せ。
- イ、守護地頭    ロ、下關條約

山口縣 (昭和九年二月一日施行)

一、書取

ピンセウでキチに富み、時に臨みへんに應じ宜しく處しユウワウマイシンして勝を一舉にセイするは其の最もトクキとする所である。併しながらタイキユウヂチヨウのコンキ之を事業をケイエイするにしても一度つまづけばイキソウして又起つことが出来ない風がある。

二、假名付及び意義

豚鯨 鯨斷 抛擲 水魚の交 自繩自縛

一、山口縣廣島縣福岡縣の市制施行の地名を擧げよ。  
二、日本アルプス、習志野、宇和島。

歴史

一、日清戦争の原因結果を記せ。  
二、新田義貞 親藩 蒲毛君平

作文

文題 協力一致を論ず。

算術

1、三ツの時計を或日の正午に合せおき翌日甲が正午を

示す時乙は五分おくれ乙が正午を示す時丙は三分おくれたり丙が正午を示す時甲は何分なりや。

2、三ヶ月後に支拂ふべき三千圓を今支拂へば何程の損なりや年利五分として計算せよ。

3、甲乙丙三人に二千七百圓を分配するに乙は甲の三分の二丙は甲の四分の三なりと各如何か。

◇長野縣 (昭和七年四月十五日施行)

國語

一、讀方及意義を問ふ。

- 1、易 簣 2、嬰 鏢 3、汗牛充棟
- 4、曲學阿世 5、首鼠兩端 6、桑 梓
- 7、祝 融 8、從容自若 9、耽 溺
- 10、國體觀念の發揚

二、線を漢字にあらためよ。

パンキン、ガクジュツ、マスマス、ヒラケ、ジンチ、ヒにススむ、シカレド、フクワハウシヨウのナラヒ、ヤウヤク、キザシ、ケイチャウ、キゲキのふうもマタシヨウずのまにおよびジヘイをあらためずんばあるひは、センシヨウを、シツツイせんことをオソる。

作文

一、汗 (文體隨意)

二、友人に巡查志願を勸むる文 (候文)

算術

$$1、 \left( \frac{12}{20} + \frac{36}{10} \right) \times \left( \frac{43}{10} - \frac{6}{12} \right)$$

2、巡查採用試験に於て合格者は受験者の $\frac{1}{8}$ より二十五人多く不合格者は受験者の $\frac{4}{5}$ より三五人多しと云ふ受験者何人か。

3、甲乙二數あり其の和は四八にして其の差は二四なりと云ふ甲乙各數を求む。

4、或人桶に其の $\frac{5}{6}$ だけ水を入れ其の中の一斗五升を汲み出したるに水桶の $\frac{2}{3}$ よりも五升多かりしと云ふ水桶には何程の水を入れ得るか。

5、甲乙二人にて或仕事をなせば二〇日間に成就し之を甲一人にては三〇日かかると云ふ。若し之を乙一人にてなせば幾日を要するか。

地理

一、左の縣の縣廳所在地を問ふ。  
1、埼玉 2、栃木 3、茨城 4、宮城 5、石川  
6、滋賀 7、三重 8、島根 9、愛媛 10、香川

二、左の國は何縣にありや。

- 1、播磨 2、壹岐 3、安房 4、因幡 5、羽前
- 6、長門 7、日向 8、大隅 9、岩代 10、近江

左に答へよ。

一、帝國憲法發布年月日 二、五ヶ條の御誓文發布年月日 三、本年は紀元何年なりや 四、今上陛下は何代目なりや 五、乃木大將は何時なくなつたか 六、韓國の併合年月日 七、千島と樺太との交換年月日 八、教育勅語及成申詔書の年月日 九、佛教傳來は紀元何年か今より何年前か 十、湖南事件とは何か

◇沖繩縣 (昭和七年度施行)

算術 (二時間)

1、男女合せて二五人が風害義捐金六十五圓を據出したる其の出金高は男一人に付參圓宛女一人に付貳圓宛なりしと言ふ男女の數如何。

2、某數の五倍に二十七を加ふれば恰度其の數の八倍になると言ふ某數如何。

3、或る距離を毎時參里宛走る自動車にて行くよりも毎

時五里宛走る自動車にて行つた方が四時間早しと言ふ此の距離何里なるか。

4、或大の月の三日が日曜にあたる時は此の月に日曜日が幾度あるか。

國語 (一時間)

一、左の文中片假名の箇所を漢字に直せ。

今日の帝國臣民は宜しく世界の大勢に鑑み帝國の現状を究め遠く將來を慮りて新に國力の(ハツテン)を期する決心を固うすべきなり徒らに事を當路者のみに委ね成を當局のみに責むるなく國民各自其の責務を果す(カクゴ)なかるべからず(ハツラツ)たる活氣を以て勉事に當り冗用を省き(イウダ)を戒め(ハウマン)を制し(トウアンコソク)の弊風を一掃して(ユウワウマイシン)の氣を(コスイ)し忠實に各自其の本分を守り義務職責を重んじ全力を(ケイチユウ)して國勢の進運を(ヨクサン)すべきなり。

二、左の語句に讀假名を附し解釋せよ。

- イ、處女航海
- ロ、無辜の民
- ハ、焦眉の急
- ニ、社會の木鐸
- ホ、鹿を逐ふ者山を見ず
- ヘ、嶄然として頭角を見はず
- ト、背水の陣

チ、立毛差押

地理 (一時間)

一、海岸線を有せざる縣名及其の縣廳の所在地名を記せ

- 二、左記に付知る所を記せ。
- イ、平壤
- ロ、各務ヶ原
- ハ、馬公
- ニ、身延山
- ホ、別府
- ヘ、綾部
- ト、唐津
- チ、日月潭

歴史

一、朝鮮が我國の保護國となり遂に合併せらるゝの經過に付て述べよ。

二、左記に付知る所を記せ。

- イ、維新の三傑
- ロ、板垣退助
- ハ、五ヶ條ノ御誓文(列記に止む)
- ニ、島原の亂

作文 (一時間)

一、舊師に自己の志望と現状を報す(文體隨意)

◆岐阜縣 (昭和七年度施行)

算術 (一時間)

- 1、 $5 \times 0.5 \times 0.05 + (1 - 0.99975)$
- 2、或る商人初め其の資本金の十五分の七を損し次に三

十圓を損したるに依り百五十圓となりたり初めの資本金何程なるか。

3、三十歳の親に六歳と三歳と一歳の三人の子あり此の三子の年齢の和が親の年齢と等しくなるのは今より何年後なりや。

4、五分利附公債額面百圓のものを若干枚持ち年四百圓の利子を見たる人が此の公債額百圓に付八十四圓の割で全部賣拂ひ其の金で一株五十圓の某株を時價六十四圓で買ひ入れたるため年百二十五圓の増收となりたりと此の株の配當率は何程なりや。

讀書 (一時間)

一、左の文中片假各を漢字に直せ。

(イ)社會のチツジヨをイジす (ロ)シツジツゴウケン  
の氣風 (ハ)トクシヨクのケンギにシヨウカンさる  
(ニ)サスガは日本人なり (ホ)正義のヨウゴシヤたる  
カクゴなかるべからず。

二、左の讀方と意義を記せ。

- イ、吳越同舟
- ロ、五十歩百歩
- ハ、刎頸の友
- ニ、莫大小
- ホ、暴虎馮河
- ヘ、現地保護
- 三、左の語句の缺字を入れよ。

イ、面從□背

ロ、利□得失

ハ、因□應報

ニ、圓轉□脫

ホ、異□同音

地 理 (一時間半)

一、縣廳所在地と其の名を異にする凡ての縣を挙げ其の縣廳所在地名を記せ。

二、左記に就き知る所を記せ。

- イ、佐世保
- ロ、成田
- ハ、釜山
- ニ、新京
- ホ、霧島山

歴史 (一時間半)

一、我が國と滿洲とは如何なる歴史的關係ありや。

二、左の各項を略述せよ。

- イ、阪本龍馬
- ロ、班田收授の法
- ハ、謝介石
- ニ、三國干涉

作文 (一時間)

一、現在の世相と吾人の覺悟

◆熊本縣 (昭和七年五月施行)

國語

一、讀方 左ノ語ニ讀ミテ附シ解説セヨ。

- 1、會釋
- 2、模倣
- 3、蹉跌
- 4、執着
- 5、杜撰

(二)書 取

- 1、事毎のセイチユウを受けて機宜のツチを失す。
- 2、互に相テイケイして紛糾セル時局のシウシフに努むべし。

- 3、事實をキョクカイし徒らにキベンを弄す。
- 4、時弊をタダシ人心のカクセイを促す。
- 5、之をシンギするに當り飽くまでシンチョウの態度を持す。

地理及歴史

- 一、中部地方の平野とをなる物と其の特色を述べよ。
- 二、明治二十八年の三國干渉と其の経過を述べ及現今の滿蒙に關して三國干渉について簡単に述べよ。

作文

- 一、入營を賀する文(候文)
- 二、人格修養を論ず

算術

- 1、ある數あり其の二數の積は百〇二なり其の小なる數は六なり大なる數は幾何か又二數の和は如何か。
- 2、墨筆と合せて三十六錢也墨は筆の三倍より四錢高い墨筆一本各如何か。

筆 蹟

- 1、人權尊重(楷行二體)

◇高知縣(昭和七年二月九日施行)

算 術

- 1、或る大の月の三日が日曜日なればこの月の日曜日は幾度あるか。
- 2、陶器五十個を運搬するに一個に付六錢の運賃を拂ひ破損したる時は賃金を與へず一個の賃金の三倍を罰收すと、最後に六〇錢與へたり破損數何程か。
- 3、甲は四〇〇圓乙は二五〇圓丙は二三〇圓を以て商業を營しめしに其の後二六四圓の利益金を得たり如何に分配せばよきや。
- 4、下の分數を小數に小數を分數になほせ。  
 $(1) \frac{3}{10}, (2) \frac{25}{100}, (3) \frac{2}{3}, (4) \frac{1}{16}$
- 5、最小公倍數とは如何なる數か。

國 語 (十五分)

書取 勤儉貯蓄と言ふ事は口に言ひ易く行ひ難い川で水を借み山で木を借しむと言ふ持主でない之が實行が出来ない、金の有無によつて貧富の別は決せらるゝと

いふが富者の中には往々にして貧者を蔑視する者の考ふべき事なるも蔑視さるゝもの豪も恥づなき事ではないが假に天下の勢、金を尊ぶ可き今日の社會に於てこの勢は決して侮るべからず、福澤諭吉翁は語つてゐる熟考せざるべきを得ない。

作文 (一時間半)

- 一、國民の本分 (文體隨意)
- 一、感冒見舞 (候文)

國 語 (一時間)

- 一、左の漢字に假名を附け意義を問ふ。
- 一、駟も舌に及ばず 二、南船北馬 三、五里霧中
- 四、尖锐化す 五、疑獄事件 六、騎虎の勢
- 七、殷鑑遠からず

二、左の語の意義を問ふ。

- 一、三度肱を折り良醫となる 二、日暮れて道尚遠し
- 三、郷に入りては郷にしたがひ 四、毛を吹いて疵を求む 五、大義親を減す 六、賣家と唐様で書く三代目 七、親思ふ心にまさる親心今日のおとづれなんと

三、左の文中假名の所を漢字に直せ。

一、警察精神とはジンアイをコンテイとして正義をヘウジユンとしユウカンの心を信條としフミンフキウ以てチアンイヂの任に當るの意義を云ふのである。

歴 史

- 一、三種の神器に就き知る處を書け。
- 二、徳川時代に於ける尊王論について記せ。
- 三、大正年代に於ける著名の事件をあげよ。
- 四、四國の略圖を書き縣廳所在地及び主要なる港津を記入せよ。
- 五、我國の主なる輸出入品を記せ。

◇北海道廳(昭和九年二月十五日施行)

作 文

國際聯盟脱退に關する所感。

國 語

- 一、左の文を解釋すべし。
- 足ることを知るといふは、もろこし人の常にいみじきわざにすめる事なるを、これまことにいとよき事にてしか思ひとらばほどほどにつけて誰も誰も心はいとやすかりぬべきわざにぞありける。



足ること、いみじき、わざ、なるを、いと、ほどほどにつけてありける。(以上の解釋を求む)

二、左の文中片假名を漢字に改めよ。

コクサイレンメイをダツタイしてより帝國のイツキヨイチドウはレツコクチウシのシヨウテンとなりコクサイクワンケイにおいてセントオホイにコウリヨすべきものあると共にコクナイにおけるジキヨクのシウシフはヤウヤク其のチヨにツキたりといへどもイマだ十分其のカウをアぐるにイタらず。

三、左に讀假名を付し且つ其の意義を解け。

イ、綸言汗ノ如シ。ロ、佞屈整牙。ハ、九牛ノ一毛。ニ、恒産ナキ者ハ恒心ナシ。ホ、法樂。

算術

1、或ル博覽會ノ入場料大人ハ十五錢小人ハ八錢ナリ、今或ル日ノ入場者九千人ニシテ入場料千二百圓九十錢アリシト云フ大人、小人各何人宛入場セシカ。

2、甲乙丙ノ三船ガ或ル島ノ周圍ヲ廻ルニ甲ハ十二分、乙ハ十五分丙ハ十八分ニシテ一週スト云フ、三船同時ニ同所ヲ發シテヨリ再ビ出發點ニ於テ三船一處ニナル迄ノ時及ビ其時迄ニ各船ノ週廻スル度數如何。

3、次ノ分數ヲ簡單ニセヨ。

$\frac{1}{10} + \frac{1}{20}$

4、職工若干人 $\frac{1}{3}$ 日ニテ或ル仕事ヲ完成セリ、人員7 $\frac{1}{2}$ ヲ減ジ毎日働ク時間1 $\frac{1}{5}$ ヲ増シテ此ノ仕事ヲ完成セシメンニハ幾日ヲ要スルカ。

地理

一、我國ノ近海ヲ流ル、海流ニ付テ知ル處ヲ記セ。

二、次ノ各島ノ管轄府縣名ヲ記セ。  
小笠原島、壹岐、隱岐、佐渡、淡路

歴史

一、三國干渉ニ付キ知ル所ヲ記セ

二、左ニ答ヘヨ。  
イ、尼將軍。ロ、切支丹宗。

◇愛知縣 (昭和九年二月二十六日施行)

書取 (五分間)

1 ヒツセイのチカラ 2 ケイヒのボウチヨウ 3 ホウシヨクダンイ 4 カンナンシンク 5 キヨホウヘン 6 ト

クチヨウ 7 シットシン。

算術 (三〇分間)

1、或ル距離ヲ走ルニ甲ハ四分、乙ハ四分一〇秒ヲ要ス八〇〇米ノ地上ヲ走レバ甲ハ乙ヨリ何米勝ツカ。

2、或ル人、初メニ所持金ノ三分ノ一ヲ使ヒ次ニ四分ノ三ヲ使ヒシニ殘金二圓殘レリト、初メニ使ヒシ金高次ニ使ヒシ金高各々イクラカ。

地理及歴史 (三〇分間)

一、中部地方ニ於ケル古戰場ヲ列記セヨ。

イ、古戰場名 ロ縣國名 ハ戰役概略

二、左ニ付地歴上知ル所ヲ記セ

1 院の庄 2 登鳥賊 3 串本 4 齋州島 5 總武線

讀方解釋 (三〇分間)

1 涼々 2 宇内 3 肺然 4 羊腸 5 和殿 6 附加稅 7 恰當 8 節度 9 烏兔匆々 10 鏡は一物も貯へず

作文 (三〇分間)

一論文 義勇奉公

二候文 卒業試験を受験せんとする甥を勵ます文

身體検査 學科試験合格者十名ニ就テ施行

口述試問

學科試験身體検査合格者ノミ五名

1 志願動機 2 趣味嗜好 3 特技 4 家族ノ同意アリヤ 5 兵役職業 6 〇〇市長名及略歴 7 〇〇市人口産業 8 伊良湖岬ニ就テ 9 〇〇市國防上必要ナル件 10 將來ノ希望等

### (三) 朝鮮總督府巡查採用試驗問題

◇朝鮮總督府 (昭和八年四月十六日施行)

#### 書 取

一、軍事に關する新聞論說記事約三百字餘

#### 作 文

文題 春

#### 地 理

一、我が南洋委任統治沿革並に其の區域及産業に付き記せ。

二、朝鮮の行政區劃に付き記せ。

#### 歴 史

一、佛教の傳來に付き知る所を記せ。

二、天津條約に付き知る處を記せ。

#### 算 術

一、長さ一一Mの反物で兄弟二人の着物を仕立てたるに兄の分は弟の分より一六〇cmよけいに使った、各幾何宛なるか。

二、壹圓八十錢に賣ると一割の損がある品を二割儲けて賣るには賣價を幾らにすればよいか。

三、甲の所持金は乙の所持金の三倍で兩人の所持金の差は三圓である兩人の所持金如何。

四、或る人一三四〇〇圓で土地を買ひ之を登記するに登録税として収入印紙四四二圓二〇錢を貼用した登録税率何程か。

$$\text{五、 } 7\frac{1}{5} + 0.25 - 7\frac{2}{3} =$$

$$3 \times \frac{5}{12} \div \frac{9}{14} \times 1\frac{2}{7} - \frac{5}{8} \div 1\frac{1}{4} =$$

◇朝鮮總督府 (昭和八年度施行)

#### 書 取

一、經濟界ノ世界的變調ニ伴フ影響深刻ナルモノアリ國內ノ一部ニ於テハ景氣轉換ノ曙光見エタリトハ言ヘ民衆生活上ノ不安ト窮乏トハ容易ニ除去セラレザル現狀ナリ而シテ思想方面ニ於テハ各位ノ改々タル努力ニ依

五、次ノ式ヲ計算セヨ。

$$\text{イ、 } 7\frac{1}{4} + 0.25 - 7\frac{2}{3}$$

$$\text{ロ、 } 3 \times \frac{5}{12} \div \frac{9}{14} \times 1\frac{2}{7} - \frac{5}{8} \div 1\frac{1}{4}$$

#### 地 理

一、我が南洋委任統治地ノ沿革並ニ其ノ區域及産業ニ付キ記せ。

二、朝鮮ノ行政區劃ニ付キ記せ。

#### 歴 史

一、佛教ノ傳來ニ付キ知る所ヲ記せ。

二、天津條約ノ次第ヲ述ベヨ。

◇朝鮮總督府 (昭和八年二月十九日施行)

#### 書 取

一、我が大日本帝國は(以下約三百字餘)

#### 作 文

一、我が國體

#### 地 理

一、我が國の貿易に附きて記せ。

二、左記産出縣名を記せ。

輪島塗、有田燒、清水燒、泡盛。

リ將又滿洲事變以來忠勇ナル皇軍ノ活動ニ刺戟セラレ漸ク純正ニ歸セントシツ、アリトハ言ヘ未ダ我國體ト相容レザル思想ヲ抱ケル者或ハ反動的暴力的直接行動ニ出デントスル者等其ノ跡ヲ絶タズ。

二、(イ)聖慮宏遠 (ロ)親和提携 (ハ)關稅障壁

(ニ)劃功周到 (ホ)委任統治 (ヘ)取捨選擇

(ト)寛宏ノ襟度 (チ)堅忍持久

#### 作 文

文題 春

#### 算 術

一、長さ一一Mノ反物で兄弟二人ノ着物ヲ仕立テタ兄ノ分ハ弟ノ分ヨリモ一六〇cmヨケイイツタ各幾mツ、イツタカ。

二、一圓八十錢ニ賣ルト一割ノ損ガアル品ヲ二割儲ケテ賣ルニハ賣價ヲ幾ラニスレバヨイカ。

三、甲ノ所有金ハ乙ノ所有金ノ三倍デ兩人ノ所有金ノ差ハ三圓デアル各ノ所有金ハ何程カ。

四、或人一三四〇〇圓デ土地ヲ買ヒ之ヲ登記スルニ登録税トシテ收入印紙四四二圓二〇錢ヲ貼用シタ登録税率ハ何程カ。

歴史

- 一、京都に都を定めし理由。
- 二、菅原道真の事蹟及經歷。

算術

- 一、一回廻ると四七一cm進む車ありこの車の直徑は幾らか。
- 二、或る仕事をするに甲にては四時間か、り乙にては五時間か、ると云ふ今甲乙二人にては一時間に何程の仕事が出来るか。
- 三、甲乙二人あり等額に出金して土地を求めたり而して甲は四一〇〇坪を取り乙は二五〇坪を取りたるを以つて甲は乙に金二千圓を渡したりと之の土地一坪の價如何。
- 四、年利一割三分にて三年間に元利合計五百九十七圓七十錢になりたりと云ふ元金及利息如何。
- 五、次の式を計算せよ。  
 $7.65 + 1.73 \times 9 - 18 =$   
 $6 \times [(6.1 - 3)] \div 7 =$

朝鮮總督府 (昭和八年四月廣島縣施行)

作文 (三十分)

地理

- 一、左記に就き知る所を記せ。  
利根川、敦賀、新義州、桃山、別府。

歴史

- 一、四道將軍に就て記せ。
- 二、教育勅語は何時發布されしか。
- 三、日韓併合はいつか。

算術

- 一、工夫あり或る仕事の7/15を二十八日にて完成せり然らば残りの仕事を完成するには何日を要するか。
- 二、彈藥五千發あり、今毎日六百發を發射し、毎日三百五十發の補給を受くるとせば此の彈藥は何日にして盡るか。
- 三、或る人毎日十二里宛歩み百十五里の地域に至らんとす、所要日數及最後の日には何里を歩むべきか。
- 四、或道の内地警察官四百二十人と鮮人警察官四百八人あり、内地人警察官の鮮人警察官に對する比例を求めよ。

書取

『他人の成功利達を見て不快を感じるを嫉妬と言ふ無能なる弱者の有する感情なり此感情強き者は人に排斥せられ人と事を共にすること能はず。若し吾が心に此感情の萌芽を認むるあらば速に之を根絶するに勉むべし』

次の熟語と讀方との解釋。

(1) 金融機關 (2) 容貌醜惡

地理及歴史

- (一) 日韓併合に付いて書け。
- (二) 熱海、羅南、浦和、開城に就て知れることを書け。

朝鮮總督府 (昭和七年十月十六日施行)

書取

- 一、市街には各種の教育機關や娛樂機關、圖書館、博物館有り又公園劇場等諸處に散在す。
- 二、我が國輸出品の主なるものは生絲、綿絲、綿織物、羽二重、陶磁器等にして輸出先は米國支那印度等である。
- 三、見渡す限り田園良く開けて毛氈を敷けるが如く白壁の民家其の間に點在す。(二十分)

朝鮮總督府 (昭和八年十月十六日施行)

國語

- 一、アドレスとは何か。
- 二、アナクロニズムとは何か。
- 三、左の讀方及び意義を問ふ。

イ、貪婪邪智    ロ、稀    有    ハ、三舍ヲ避ク

作文

- 一、巡查就職につき將來の覺悟を友に知らす文。

地理

- 一、九州地方の地圖を畫き主なる河川と山系とを記入せよ。
- 二、朝鮮十三道名と各道廳の所在地を記せ。
- 三、朝鮮の面積と總人口を問ふ。
- 四、朝鮮の主要産物を記せ。
- 五、朝鮮から他地方への輸出につきて記せ。

歴史

- 一、三種の神器を記せ。
- 二、聖武天皇の事蹟を記せ。
- 三、大寶律令とはなにか。

- 四、憲法の發布の年月日を記せ。  
五、今上天皇は第何代か。

◇朝鮮總督府（昭和八年十月十一日施行）

作文  
我が國旗

地理及歴史

一、左記につき知る所を記せ。

イ、金剛山    ロ、足尾    ハ、旭川    ニ、基隆

ホ、善通寺

二、左の各々について簡単に記せ。

イ、三國干涉    ロ、日本外史    ハ、倭寇

ニ、平重盛    ホ、伊藤博文

算術

1、 $1 \cdot 3 + 4 \times 7 + 8 =$

2、 $1\frac{2}{3} + 3\frac{1}{4} \times \frac{4}{31} =$

3、白米一圓ニツキ五キログラムナラバ三圓六十五錢ニテハ何程ノ白米ヲ求メ得ルカ。

3、甲乙二人アリ其ノ所持金ヲ合セテ四百八十六圓ナリ而シテ甲ノ所持金ヨリ二十六圓多シト云フ各々ノ所持

金如何。

4、警察官若干人ヲ十二隊ニ分ツ時ハ之ヲ十五隊ニ分ツ時ヨリ一隊ノ數ニ於テ五人増ストイフ警察官ノ數幾人ナルカ。

◇朝鮮總督府（昭和七年一月十二日施行）

國語

一、左ノ文ヲ解釋セヨ。

模倣は創造の過程である、我々は何時か此の模倣域を脱し獨創力を充分に發揮し世界の文明に伴ひ大いに貢獻すべし。

二、左ニ讀假名ヲ附シ解釋セヨ。

(イ)版圖    (ロ)操縦    (ハ)操觚業    (ニ)跋扈

(ホ)冤罪    (ヘ)洒落    (ト)流石    (チ)彌縫

(リ)簞笥    (ヌ)寵愛

作文

文題 時局に鑑み青年の覺悟を論ず。

地理及歴史

一、我が國の輸出入品の主なるものを擧げ、いづれの國へ輸出し又何れの國より輸入されるかその主要貿易國


を答解せよ。

二、滿洲事件に於ける原因を問ふ。

算術

(一)塔の上から綱を落すに初め一分間は四・九m二回目の三分間は其の三倍三回目五分間は其の五倍四回目の一分間は初めの七倍と云ふこの塔の長さ如何。

(二)次の圖の如く甲は一分間に三〇m乙は一分間に五〇m歩くといふに甲はアの所からイの所まで乙はウの所からイの所まで歩くにはどちらがどうなるか。



◇朝鮮總督府（昭和七年二月二十二日施行）

國語

一、左ノ漢字ニ假名ヲ附ケ解釋セヨ。

イ、新陳代謝    ロ、職權濫用    ハ、素封家

ニ、現狀維持    ホ、生存競争

二、左ノ片假名ヲ漢字ニ直セ。

イ、コクサイレンメイ    ロ、テイキアツ

ハ、ハクアイ    ニ、サベツテツバイ

ホ、ムセンデンワ

作文

(一)師に報ずる寒中見舞文

(二)吾ハ何故ニ巡查タラントスルカ。

地理

一、會寧ヨリ釜山マデノ鐵道ニ沿ヒタル道名ヲ順序ニ記セ。

二、平安北道ニ於ケル主ナル産物ヲ四ツ記セ。

歴史

一、日獨戰爭ニツキ説明セヨ。

二、(イ)李成桂    (ロ)伊藤博文

算術

一、某數ヲ二十デ除シ十五ヲ乗ジ百三十五ヲ加ヘルト百五十ト成ル某數トハ幾何。

二、二時間ニ五里ヲ歩ク人ハ一分間ニ幾尺歩クカ。

◇朝鮮總督府（昭和七年二月十七日施行）

國語

- 一、左ニ片假名ヲ附シ解釋セヨ。  
イ、有頂天    ロ、綱紀肅正    ハ、僥倖
- ニ、反省    ホ、邂逅

- 二、左ノ片假名ヲ漢字ニ直セ。  
イ、ザイセイセイリ    ロ、アンネイチツジョ
- ハ、シヤカイシンボ    ニ、フンレイドリヨク
- ホ、ミヅホノクニ

書取 (試験官ノ口唱ヲ書キ取ル)

イ、マンモウのジキヨクもザンジアンテイせんとしつ、ありモトよりザイマンドウボウは一パンミンシウのハシモイコウフクはキシテマツベキなり。  
ロ、ニンゲンはチトクをミがくにツイてはシのクントウオヨビハ、のきよういくホウユウのチウコクをマモリキンベンリツコウしてコウジヨウするヨウにクフウセねばならぬ。

作文

- 一、朋友ノ試験合格ヲ祝スル文
- 二、巡查ヲ志願セシ理由

地理

左ノ地ハ何レノ道縣ニアリヤ。

- 1、札幌    2、仙臺    3、金澤    4、太田
- 5、慶州    6、會寧    7、横須賀    8、兼二浦
- 9、春川    10、博多

歴史

- (イ)日韓合併ノ由來ヲ問フ。
- (ロ)左ニ付知ル所ヲ記セ。
- 1、乃木希典    2、明治維新

算術

- (一)或ル人が金三百圓ヲ以テ三十六圓ノ利益ヲ得タリト云フ利益ノ歩合幾何ナルカ。
- (二)獵犬アリ兎ハ五間走り犬ハ七間走ル今百三十間前ニアル兎ニ追ヒ付クニハ兎ハ何間走りタル後捕ヘラルカ

朝鮮總督府 (昭和七年三月十五日施行)

國語

- 一、左ノ文中傍線ノ施シアル部分ヲ漢字ニ改メ且ツ全文ヲ解釋セヨ。

凡そ人は其のココロザす處に従つてクワンセイのキキに達する事を努めなければならぬ。ダイクは、イチリ

ウのダイク、セイヂカはイチリウのセイヂカたる事に努めなければならぬ。斯様にして初めてシンのセイカウが出来得るのである。それでダイクがキをケヅルにもイウにゲツケイクワンをイタダカさす値打のものだとソクラテースは言つたのである。

- 二、左ノ語句ニ假名ヲ附シ解釋セヨ。  
イ、莫逆の友    ロ、妥協    ハ、囹圄
- ニ、徒食    ホ、五月雨

作文

文題 警察官たる覺悟を友人に報ずる文

地理

- 1、慶尙北道に隣接セル道名ヲ記セ。
  - 2、慶尙北道ニ於ケル港ノ名ヲ記セ。
  - 3、鐵道山陽線ノ起點ト終點ヲ記セ。
  - 4、左ノ地方ノ所屬道府縣名ヲ記セ。  
イ、清津府    ロ、八幡    ハ、下ノ關
  - ニ、別府    ホ、平壤
- 歴史
- 一、明治天皇ノ御事蹟ヲ記セ。
  - 二、遼東半島還附ニツキ知レルトコロヲ記セ。

算術

- 1、或る仕事を八人では十四日かゝる今これを七人にてなせば幾日かゝるか。
- 2、百四十四里の道を相向つて甲は毎日十里乙は毎日八里の速さで行くと出發後幾日に相會するか。
- 3、 $345 \times 345 + 345 \times 2922 + 72985 =$
- 4、 $(\frac{2}{3} + \frac{4}{5}) \times (\frac{1}{3} - \frac{11}{11}) + \frac{4}{5} =$
- 5、或る仕事をなすに十五人が毎日九時間宛働いて三十日で仕上げる仕事を毎日二十一人で六時間づつ働けば幾日で仕上げるや。

朝鮮總督府 (昭和八年三月十五日施行)

書取

- (試験官の口唱ヲ書キ取ル)
- イ、イフクチヨウド
- ロ、ドウメイヒコウ
- ハ、ゼイタクヒン
- ニ、ムジンザウのトミ
- ホ、ソセイランゾウ

作文 友の凱旋を祝する文

地理

左ノ所在縣名及知ル處ヲ記セ。

- 1、水戸
- 2、琵琶湖
- 3、嚴島
- 4、善通寺
- 5、太宰府

歴史

一、ワシントン會議について記セ。

二、本能寺の變につき記セ。

三、次ニ付キ知ル處ヲ記セ。

イ、山陵誌

算術

1、商人が元金の七分の三だけ儲けて元金と儲けで千四百圓となつた元金幾何か。

2、十二で割つても十五で割つても二十一で割つても五が餘るやうな最少の數は幾何か。

$$3、\left(\frac{2}{5} + \frac{2}{5}\right) + \frac{3}{4} =$$

$$4、\frac{5}{8} + \left(\frac{7}{12} + \frac{1}{9}\right) =$$

5、一株の拂込金額二十五圓の某株式會社の株五〇株の

株主は配當年八分の時半期決算期に得る配當金は何程か。

口述試問

1、朝鮮巡查を志願せし理由。

2、朝鮮巡查は何が最も必要か。

3、イ、八百長

ロ、蔚山

ハ、李成桂

ニ、金輸出禁止

ホ、白色テロ

### (四) 臺灣總督府巡查採用試驗問題

◆臺灣總督府 (昭和八年五月十二日施行)

國語

一、書取

一、滿洲事變を契機として無産陣營内にも右傾思想が澎湃として捲き起つた。

二、國際間の協調的折衝も忽然として雲散霧消した。

三、私利私慾の爲に道義を無視し良俗美風を蹂躪し恬然として愧ぢざる者がある。

四、豪放の裡に又細心の注意が肝腎である。

五、警察では死體隠匿場所を發見する爲め緻密なる搜查を行つた。

二、讀書(解釋)

一、グワシンシヤウタン

二、キキウソンパウ

三、クワンシヨウウチタイ

四、ジダイサクゴ

五、リウゲンヒゴ

地理及歴史 (一時間)

一、滿洲事變の顛末を問ふ。

二、左記に付き知る處を記セ。

1、盟神探湯

2、踏

3、新井白石

4、野見宿彌

5、山田長政

三、我が國に於ける主要輸出入品各三種を擧げ其の取引國を記セ。

四、我が國に於て人口十萬以上を有する縣廳所在地十ヶ所を擧げよ。

算術

1、或數の四倍に一三を加へたるものは元の數の七倍より五六引きたるものに等しと云ふ元の數如何。

2、甲乙丙の三人の所持金合せて五二圓八〇錢にして甲は丙の二五倍乙は丙の二倍を有すと云ふ三人の所持金各々幾何なるか。

3、甲乙二人同所を發足し同方向に行く時は二五分間に

乙は甲より二町五間後れ又反對の方向に行く時は一二分間に一七町隔つべしと云ふ兩人一分間の速さ如何。  
 4、兵士八〇〇人の一隊あり各人の間隔二尺五寸の四列縦隊を作りて毎分五〇間の速さを以て進行し來り長さに幾何の時間を要したるか。  
 一五〇間の橋を渡れり此の隊が渡り始めて渡り終る迄に幾何の時間を要したるか。

5、或學生自宅を午前七時二五分に出發し毎分五〇間の早さにて行くときは始業前七分に登校するを得、然れども毎分三五間の速さにて行く時は始業二五分後れると云ふ始業時刻及び學校迄の距離如何。

文題 非常時、國民の覺悟、文體隨意。

◆臺灣總督府 (昭和八年四月二十三日施行)

國語

- 一、書取 卑怯未練な振舞、喜怒哀樂、徒らに躊躇逡巡する事なく大和魂を發揮せよ。東支鐵道紛争事件に對する露國側の魂膽はその責任を日本側に轉嫁せんとするものにして我が國は斷乎一蹴するに決した。
- 二、書取及解釋

何事ぞ花見る人の長刀、牛耳を執る、羊頭を掲げて狗肉を賣る、身體髮膚これを父母に享く敢て毀傷せざるは孝の初めなり。

作文

文題 吾が郷里

算術

一、イ  $(17\frac{1}{2} - 3\frac{1}{4}) \times 1\frac{1}{25} - 223.3 + 1\frac{1}{2} =$

ロ  $8\frac{1}{4} - 1\frac{1}{2} \times 2\frac{1}{3} + 3\frac{1}{4} + 2\frac{1}{3} =$

二、東倉と西倉に同じ俵數の米を入れ置きたるに其の後東倉より西倉へ一五〇俵移したるにより現在の俵數は西倉は東倉の二倍半となれりと、最初兩倉へ幾俵宛入れ置きたるか。

三、三十五人の生徒が一緒に寫眞を撮らんとす然るに此の寫眞は初めの壹組(三枚)は金五圓にして焼増しは四十錢なりと云ふ各人が壹枚宛買はんには各一人の出金高は如何。

四、弟は兄より三歳若く姉より五歳若し然して兄の歳は姉の年の十分の九に當ると云ふ三人の年齢如何。

五、四列に並べる一隊の兵士が橋を渡るを視るに其の先頭が渡り初めてより隊尾が渡り終るまでに五分間を要

したり然して其の行進の早さは一分間に百二十歩にして一步は二尺、又列と列との間は三尺にして橋の長さ六十間なる時此の一隊の人数如何。

◆臺灣總督府 (昭和七年七月廿六日施行)

國語

- 一、左の語の意義を書け。  
權衡、彌縫策、妥當、内債、破廉恥。
- 二、書取

濃厚篤實なる知識經驗に富める紳士も往々にして過失がある、況や吾人凡人に於ておや。平素に於ける注意力の涵養は極めて肝要なり。  
 地震、疫癘、洪水が一時に襲來して悲惨なる光景を呈した。

婦女を誘拐した曲者が逮捕監禁された。  
 勞資協調を排し不穩文書を頒布した左傾團體が因果應報天罰競面である。

作文

- 一、現代の世相に對する所感。

算術

- 一、舟にて九里河を漕ぎ上るに二三時間を要せり同じ様

に漕いで下るに九時間を要した毎時の漕力及び流速を求む。

二、鶴龜合せて八十頭あり其の足數二百二十本なりと各幾頭なるか。

三、二數あり其の和は五千六百七拾八にして其の差は五十を加へ二で割りたる數は百二十五なり各數何程なるか。

四、甲倉に米五百四俵乙倉庫に三百九十六俵あり毎日甲倉より八俵乙倉より十二俵運び出したる時幾日にして甲倉の俵數が乙倉の二倍となるか。

◆臺灣總督府 (昭和八年度施行)

千葉教習所施行

國語

書取、心身鍛鍊、品性陶冶、質素儉約、喜怒哀樂、誘惑、煽動、卑怯未練の振舞、妥協政策を排す、毀譽褒貶、固陋頑迷。

作文

文題 忠孝を論ず (論文)

算術

- (1)、柿若干個を子供若干人に分與するに一人に十四個宛とすれば二〇個餘り一六個宛とすれば一〇個不足すると言ふ子供及柿の數何程か。
- (2)、甲乙丙の三數あり其の和は二百五十にして甲に三を加へ乙より三を引き丙を三にて除する時は其値相等しと言ふ各數何程なりや。
- (3)、若干個の基石を正方形に並べんとするに十二個餘れり因つて今一つづつ多く並べて正方形にせんには十七個不足せり基石の數を問ふ。
- (4)、甲酒八本は乙酒九本に十一錢を添へて交換すべく甲酒十二本は乙酒十四本に六錢を添へて交換すべし兩種各一本の價を問ふ。
- (5)、三斗五升入の米若干俵あり今之を四斗入の俵に入れ替ふる時は俵數四俵を減じて外に端米二斗五升ありと言ふ此の米の石數を問ふ。

茨城練習所施行

國語

書取、泥酔して醜態を演ず、質實剛健、民權擴張運動、

廉恥を重んず、論旨徹底、傲慢不遜の態度、人の指彈を招く、熱情の籠りたる態度、訊問、調書、矛盾、撞着、機密を漏洩す、詐欺恐喝

文題 修養を論ず (論文)

算術

- (1)、父子あり父は四十四歳子は八歳なり今より幾年の後父の年は子の四倍となるか。
- (2)、三人の所有地あり之を分割するに一人は他の各より九十坪多く取りたる爲二人に各々二四〇圓宛支拂ひたり一坪の見積高何程か。
- (3)、甲は毎日十三里乙は毎日九里宛歩みて同所より同時に出發し、某地に向ひて行きしに甲は八里行きたる後用事起り出立地に戻り又直ちに先に向ひしに乙と同時に先地に着せりと云ふ兩地間の距離を問ふ。
- (4)、金六十圓を甲乙丙三人に分つに甲は乙の二倍より十圓少なく丙は甲乙の和より十圓少なく取りたりと言ふ各取前は何程か。
- (5)、上米なれば四斗五升下米なれば五斗五升を買ひ得る金高にて上下兩米を等量だけ求むるには何程宛求むべきか。

臺北練習所施行

國語

書取 一、生物界の生存競争は (以下二百字)  
二、質素は人の美德にして (百五十字餘アリ)  
書取解釋

- 一、輿論は滿洲國即時承認に傾けり
- 二、輕佻浮薄を戒む
- 三、廻る水車に苦つかず
- 四、針小棒大の言

作文

文題 人生は如何にして生くべきか (文體自由)

算術

- 1、百二十圓を甲乙丙に分配するに甲は乙より五圓多く乙は丙より十圓多しと各人の取前如何。
- 2、日數を豫定して工事をなすにその半分より一日分丈多くしたる後暴風雨の爲め三日分丈破損せり故に六日後に完成せりと豫定日數を問ふ。
- 3、甲の四時間徒歩後乙は自轉車にて追付けり而して甲は毎時一・五里乙は三・五里行くものとす何時間にて何里の所にて追付くや。

- 4、陶器を運ぶに一個につき六錢をあたへ若し破損せる時は一個に付拾錢を辨賞さす約束にて百個を運び五圓五十二錢を得たりと破損個數を求む。
- 5、漕力毎時二十四町の水夫あり或川をのぼるに十時間を要し百八十町の地點に達せりと下りには幾時間を要するか。

口述試問

年齢、兵役、職業、巡查志願の理由、渡臺理由等につきて質問さる。

臺灣總督府 (昭和七年度施行)

福岡縣警察署施行

國語

- 左ノ片假名ヲ漢字ニ直セ。
- イ、シユウシヨウロウバイ
- ロ、ウンエンカガン
- ハ、ムジュンドウチャク
- ニ、ジジヨウジバク
- ホ、シヨクムタイマン
- ヘ、ハンセイジユクリヨ
- ト、ゾウジテンバイ
- チ、ヒンシユクすべきコウイ
- リ、カイキユウトウソウ
- ヌ、タミにエンサのコエあり



文題 苦樂 (文體隨意)

算術

- 1、十八錢の煙草を毎日一個宛二十五年間飲み其の内ウ  
ルウ年六回あり總金額如何。
- 2、一日五合宛にて三百五十人を四十日養ふ食料あり。  
四百人をこの米にて四十日間養ふときは一日幾合要す  
るか。
- 3、一日に四十八錢よりも四十三錢費ふ方が五日間永く  
あると云ふ其の所持金を問ふ。
- 4、一時間に四十軒の汽船が三百九十六軒を上るに十一  
時間を要せり今この川を下るには幾時間を要するか。

山口縣警察署施行

國語

左ノ片假名ヲ漢字ニ直セ。

- 1、ガンゾウクワヘイ
- 2、ガイセンシヨウグン
- 3、フンコツサイシン
- 4、ネイカンヂヤチ
- 5、タイドヒヨウヘン
- 6、バクギヤクノトモ
- 7、テンモウクワイノソにしてモラさず
- 8、ヨウボウクワイ
- 9、バリチヨウシヨウ

文題 人生の行路 (論説文)

算術

- 1、一袋十五錢ノ朝日ヲ三日間ニ四袋ツツ十九年間吸ヒ  
續ケタル代金幾何、但シ十九年間ニ四年四回アリシト  
云フ。
- 2、同一書籍十部ヲ定價ノ五分引デ買ヒ拾圓札ヲ渡シ剩  
錢八十八錢ヲ受ケ取レリ書籍一部ノ定價幾何。
- 3、靴五足ト帽子九個ノ價等シク靴一足ノ價ハ帽子一ケ  
ノ價ヨリ二圓八十錢高シト云フ帽子一ケノ代金幾何。
- 4、其ノ數ノ十三倍ニ十三ヲ加ヘタルモノハ其ノ數ノ十  
七倍ヨリ三十九ヲ引キタルモノニ等シト云フ、其ノ數  
幾何。

臺灣總督府 (昭和七年二月三日德島縣施行)

國語

書取 (試験官ノ口唱スルヲ書ク)

- 1、ケンエキヨウゴ
- 2、ネイカンヂヤチ
- 3、テンモウクワイノソにしてモラさず
- 4、ウカツセンパン
- 5、シツブウジンライ
- 6、フンコツサイシン
- 7、チアンイヂ

得たと、然らば働かざる日は何日か。

臺灣總督府 (昭和七年七月四日千葉縣施行)

書取

(試験官ノ口唱スルヲ書キ取ル)

- 1、シンシンタンレン
- 2、キヨホウヘン
- 3、カンタンメイリヤウ
- 4、ヒキヤウミレンのフルマイ
- 5、グワンメイコロウ
- 6、エイコセイスイ
- 7、シヤクワイセイサク
- 8、シツソキンケン
- 9、ダキヨウセイサクをハイす
- 10、ヒンセイトウヤ

文題 忠孝の道 (文體隨意)

算術

- 1、柿若干アリ子供二十四個宛與フレバ二十四個餘リ十  
六個宛與フレバ十個不足ス人数及個數ヲ求ム。
- 2、甲酒八本乙酒九本ト十一錢ヲ以テ交換スベク甲酒十  
二本ハ乙酒十四本ト六錢ヲ以テ交換ス甲乙各酒ノ一本  
ノ値段幾何。
- 3、碁石若干ヲ正方形ニ並ベルニ十二個アマル今一列ヲ  
増シテ正方形トナスニ十七個不足ス石數ヲ求ム。

- 8、ハレンチザイ
- 9、ヒンブケンカク
- 10、ミダリにタのヨウカイをユルサす

滿洲出動の將士を想ふて (文體隨意)

臺灣總督府 (昭和七年六月八日三重縣施行)

國語

書取 (試験官ノ口唱ヲ書キ取ル)

- 1、ニンシキフジュウブン
- 2、シンケイカピン
- 3、ジュウソクバク
- 4、トリアツカイソロウ
- 5、シンボウエンリヨ
- 6、ジダイサクゴ
- 7、タイゼンジヤク
- 8、セキヘイダハ
- 9、ジンシンシユウラン
- 10、ヒンシユクすべきコウイ

算術

- 1、服二着と靴七足の代は等しといふ。服一着は靴一足  
よりも十七圓五十錢高しと、靴一足はいくらか。
- 2、職工十二人で四十五日かゝる仕事を十二人で九日間  
なし残り十八日間になすには何人増すべきか。
- 3、女工働く日には三十八錢と食をもらひ働かざる日には  
三十五錢を返すと、今二十九日間に八圓八十三錢を

- 4、甲乙丙ノ和ハ二百五十令甲ニ三ヲ加ヘ乙ヨリ三ヲ減ジ丙ヲ三ニテ除スレバ各數等シ甲乙丙各數如何。
- 5、三斗五升入ノ米若干俵アリコレヲ四斗俵ニ直スニ俵數四俵ヲ減ジ端米二斗五升アリ石數如何。

◆臺灣總督府 (昭和七年七月七日水戸施行)

書 取

試験官ノ口唱スルヲ書キ取ル

- 1、ハレンチ
- 2、ムジユンドウチャク
- 3、デイスイしてシユウタイをエンズ
- 4、カンタンメイリヨウ
- 5、キミツのロウエイ
- 6、ヒトのシタンをマネク
- 7、ネツジョウのコモリシタイド
- 8、ゴウマンフソンのタイド
- 9、ジンモンチャウシヨ
- 10、サギキヨウカツ
- 11、ユウワクセンドウ
- 12、シツヂツゴウケン

作 文

文題 修養ニ就イテ (論説文)

- 1、父は四十四歳子は八歳、今より幾年後に父の年は子の四倍となるか。

- 2、或る共有地を甲乙丙三人にて分配するに甲は九十坪多く取りし爲金二百二十五圓宛を乙丙に渡したり一坪の價如何。

- 3、甲は一日十三里乙は一日に九里の割合なり。今甲乙同時に出發して八十八里を往きし時、甲は用事ありて出發地に戻りし後、乙の後を追ひ同時に着せりと道程何里か。

- 4、金六十圓を甲乙丙三人に分つに乙は甲の二倍よりも十圓少く甲と乙との和より十圓引きしは丙の所得なりと各如何。

◆臺灣總督府 (昭和七年七月十一日仙臺施行)

作 文

文題 海外ニ在ル友人ニ自己ノ町(村)ノ狀況ヲ

報ズル文 (普通文)

算 術

- 1、甲乙二人ノ所持金合せて百七十圓ニシテ、甲ノ分ハ乙ノ分ノ十二倍ヨリ四十圓少シト云フ、各人ノ所持金如何。
- 2、子供若干人ニ果物ヲ等分セントスルニ一人ニ付三個ヅツトスレバ五個餘リ四個ヅツトスレバ二個不足スト

云フ子供及果物ノ數如何。

- 3、或人若干圓ヲ所持シ其ノ五分ノ二ヲ費シタル後二百四十圓ヲ得次ニ其ノ三分ノ一ヲ費シタルニ殘金七百二十圓アリシト云フ最初ノ所持金ヲ問フ。
- 4、米麥合せて百石買ヒ米一石ニ付五十錢ヲ利シ、麥ハ一石ニ付三十錢ヲ利シテ賣リテ總利益金四十二圓アリシトイフ、米麥各何石ヲ買ヒシカ。

口 述 試 問

本籍地ハ何處カ。  
職業ハ何カ。

如何ナル書物ニ對シテ趣味ヲ持ツカ。  
巡查ノ勤務ニ耐ヘ得ルカ之ニ對スル希望。

◆臺灣總督府 (昭和七年七月二十日長野施行)

國 語

一、解釋と讀方

- イ、鎖 夏 ロ、配 偶 ハ、褥 禮  
ニ、税 政 ホ、内 証
- 二、書取 (試験官ノ口唱スルヲ書キ取ル)  
(イ)プライカンガドウシをキユウゴウしてタガヒにキヤウキをモツテケンクワをしてイたのでタイホにムカツ

たケイカンもチヨットチウチヨした。

- (ロ)一、キンケンチヨク 二、フウコウメイビ  
三、トウアンコソク 四、レイセイなるヒバン  
五、スグれたトクフウ

作 文

文題 都會ト田舎

算 術

- 1、筆一本ノ價ト墨一挺ノ價ハ合せて十八錢ニシテ、墨二挺ノ價ハ筆八本ノ價ヨリモ六錢高シト云フ、各單價如何。
- 2、上下二冊一部ノ價ハ一圓二十五錢、上四冊ト下三冊ヲ買ヒテ四圓五十錢ヲ支拂ヘリ、上下各一冊ノ價何程ヅツカ。
- 3、七時間以内ニ自轉車遠乗ヲ爲サンニ往路ハ毎時二里宛徐行シ復路ニハ毎時五里宛急行スル時ハ幾里遠キニ達シ得ルカ。
- 4、或ル流レヲ上下スルニ水平ノ時ニ流レニ順ヘバ一時間五里宛流レニ逆ヘバ三里宛進ムト云フ、今大雨ノ後水流急激トナリ流レニ逆ヘバ一時間ニ僅ニ二里宛進ムトキニ流レニ順ヘバ一時間ニ幾里宛進ムベキカ。

5、或人夫アリ日給ハ四十錢ニシテ雨天働カザル日ハ食費二十錢ヲ收ム、三十一日間ニ八圓二十錢得タリトスレバ休ミタル日ハ何日カ。

◇臺灣總督府（昭和八年五月一日施行）

書 取

イ、一杯の御飯も農夫の粒々辛苦の結果と思へば粗末には出来ぬ。

ロ、彼の叔父は波瀾曲折の生涯を不遇の中に送つた。

ハ、滿洲上海事變の英靈を招魂合祀した靖國神社祭に戰場は異なるも、同じ日支紛争に孤軍奮闘自主外交の第一頁を飾つて凱旋した松岡全權を迎へたことは奇しき縁である。

書取及解釋

一、能ある鷹は爪を隠す。二、彼は名門に生れたが蒲柳の質であつた。三、君子の水魚の交り。四、君子は言訥にして行に敏なり。五、他山の石以つて玉を磨くべし。

作 文

一、臺灣巡查志願を友に報ずる文

算 術

一、大小二數あり。大の三倍と小の二倍との和は三十一にして、大の四倍と小の五倍の和は五十三なりと各數如何。

二、午前七時に毎時一里半の速さにて出發せし人あり午前十時三十分に毎時五里走る自轉車が其の地を出發せば先に出發せし人に追付くは何時か。

三、或る工事大人一人と子供二人なれば二十四日を要し大人三人子供一人にてなせば十二日を要すると大人五人なれば幾日を要するか。

四、基石若干個あり之を眞四角に並べたるに六個残り更に縦横に一個宛増し並べたるに九個不足すると基石の數如何。

五、(イ)  $7.208 - 0.03 \times 2.54 + 0.4 + 6.09 + 0.3 =$

(ロ)  $\frac{5}{14} + \left\{ \frac{3}{4} - \left( \frac{9}{10} - \frac{4}{5} \right) \right\} + \frac{2}{3} \times \frac{3}{7} =$

◇臺灣總督府（昭和九年四月二日内地施行）

國 語

一、書取(三回朗讀)

歐洲大戰の時我國も戦争に参加したが戦禍を蒙る事無く却つて戦時輸出増加の爲好景氣を呈し國民の間に奢侈

輕佻の風を生じた上關東地方は未曾有の大震災に遭遇し人心の安定を缺くに至つたので畏れ多くも聖慮を惱まし奉つて遂に國民精神作興に關する詔書を下し給ふた。

二、書取及解釋(三回朗讀十分間)

1、天に二日なし 2、四面楚歌 3、人身攻撃 4、名詮自性

作 文 (三十分)

一、今日の受験感想に就いて(文體隨意)

地理及歴史 (三十分)

一、朝鮮の五大都市を人口順に記せ。

二、五ヶ條の御誓文に就き知る處を述べよ。

算 術 (三十分)

一、一袋十八錢の敷島を毎日一個づつ、二十八年間吸ひ續けた現金幾何但し二十八年間に閏年は七回である。

二、靴六足と帽子四個の價の和五十三圓で靴一足と帽子一個の價の和十圓である。靴、帽子の價幾千か。

三、若干俵の米を一俵に付き十圓四十錢に賣れば三十圓の利益となるのを一俵に付き九圓八十錢に賣つたので十五圓の損となつた、米の俵數を求む。

四、一時間二百四十軒の速力で午前八時に先發した飛行

機に後發の飛行機が午前八時二十分に出發して午前十時に先發機に追ひ付くには一時間に何程の速力を出すべきか。

口 述 試 問

經歷、職業、家庭の狀況。

# (五) 樺太廳 巡査採用試験問題

◇樺太廳 (昭和八年四月二十三日施行)

作文

一、理想と空想 (文體隨意)

地理

- 一、紀伊半島の森林多き理由如何。
- 二、富士箱根山を例として火山を説明せよ。

歴史

- 一、徳川初期の交通に就きて記せ。
- 二、ワシントン會議の主なる決議事項に就きて記せ。
- 三、左記の事項に付き知る所を記せ。  
手末調、部民の制

算術

- 一、八百人の工夫を役使して百日間に成就し得べき工事あり、これに着手してより三十五日を経て一旦工事を中止し爾後二十五日を経再び着手したり、若し此の場

合最初の豫定日限に完工せんには工夫幾人を増すべきか。

二、百米を二十三歩にて行き且つ一分間に百六十五歩を行く時は一里を行くには幾時間を要するか。

三、登山をなすに一時間に上りは二軒下りは六軒の割にて往復に八時間を要したり。麓より頂上までの距離を求む。

四、甲乙丙三人にて商業を營み甲は四百圓を八ヶ月乙は二百圓を三ヶ月丙は二百五十圓を四ヶ月間出資し其の利益金八千五百圓を得たり此の利益を如何に分配すべきか。

$$5. \quad 3 + \frac{17}{5 - \frac{1}{3}} = \text{(以上各四十分)}$$

口述試験

一、現在の職業。運動は何をなすか。妻はあるか。巡査試験を受験した事ありや。兵役關係。

◇樺太廳 (昭和七年四月二十八日施行)

作文

文題 空閑少佐ノ遺族ヲ慰問スル文

地理

- 一、琵琶湖ガ其ノ周圍ノ地ニ及ボス利益ヲ問フ。
- 二、北海道ノ産業ヲ記セ。

歴史

- 一、上古ノ日韓關係ヲ記セ。
- 二、我が國ニ於ケル政治上ノ三大變革ヲ記セ。

算術

- 1.  $1\frac{1}{4} + \frac{27}{27} + \frac{5}{33} - 3 \times \frac{4}{33}$  ヲ計算セヨ。
- 2.  $\frac{4}{33} \div \frac{175}{105} \times \frac{105}{8}$  何レヲ除スルモ整数ノ商ヲ得ル數ノ中最低ナルモノヲ求メヨ。

3、河アリ河岸ノ水ノ速サハ一時間ニ四軒ニシテ中流ノ速サハ八軒ナリト云フ今水夫ガ其ノ河岸ヲ十二時間ニ漕ギノボリ歸リハ幾時間ニテ下リシカ。

4、樽アリ甲ハ三十分ニテ水ヲ滿シ乙ハ五十分ニテ滿ス丙ハコレヲ四十分ニテ排水ナスト云フコレヲ今三人ニテ滿タサントスルニハ幾分ヲ要スルカ。

5、甲ハ二百米乙ハ二百二十米ノ速サニテ走ル今兩人同時ニ同所ヲ發シ同方向ニ向ツテ圓周六百米ノ圓形ヲ走ラバ幾分後ニ同所ニ達スルカ。

◇樺太廳 (昭和七年於新潟縣施行)

作文

一、讀書論 (論文)

二、巡査志願ニツキ舊師ニ相談スル文 (候文)

地理

左ノ所在地ヲ記シ何ヲ以テ著名ナルカヲ記セ。

- |       |       |       |
|-------|-------|-------|
| 1、秩父  | 2、興津  | 3、身延山 |
| 4、立木洞 | 5、有田  | 6、寺泊  |
| 7、海豹島 | 8、能褒野 | 9、金瓜石 |
| 10、撫養 |       |       |

歴史

- 左ニツキ知ルトコロヲ記セ。
- |         |        |        |
|---------|--------|--------|
| 1、在原業平  | 2、一向一揆 | 3、笠置山  |
| 4、河村瑞軒  | 5、吉備真備 | 6、檢非違使 |
| 7、高向玄理  | 8、風土記  | 9、萬葉集  |
| 10、山田長政 |        |        |

常識試問

新潟縣知事ノ氏名。地球ノ圓キハ何ヲ以テ證スルカ。北極ハ何故寒イカ。平凡。今年ハ西曆何年カ。モダン。三十一年型。ナンセンス。日本ノ總面積。不景氣。

口述試問

現住所及本籍地、戸主トノ關係、家庭ノ事情、現職ニ就テ、妻帯ノ有無、何故樺太廳巡查ヲ志願セシヤ、時事問題等。

◇樺太廳(昭和七年度水戸施行)

作文

文題 思想問題にて收監されしもの、父に送る文

地理

一、朝鮮ノ商業ニ附キ記セ。

二、阪神地方商工業發達ノ理由ヲ説明スベシ。

歴史

一、徳川幕府ノ鎖國政策ノ利害。

二、室町時代ノ文化ニ就キテ記セ。

算術

$$1. \frac{1}{8} + \frac{2}{5} + \frac{1}{7} + \frac{3}{2} - \frac{1}{6} =$$

2、甲管ハ三十分乙管ハ五十分ニテ空樽ヲ充タシ丙管ハ四十分ニテ排出ス今コノ各管同時ニ開ケバ何分ニテ充ツルカ。

3、 $\frac{4}{35} \frac{6}{175} \frac{8}{105}$  ノ何レニテモ除シ得ル整数ノ最少ナルモノヲ求メヨ。

4、齒車アリ大ノ數ハ三十二、小ノ數ハ二十四ナリ大ハ二十分間ニ六十四回轉スル、小ハ三十分間ニ何回轉スルカ。

(六) 關東廳滿洲巡查採用試驗問題

◇關東廳(昭和八年五月十五日於福岡縣施行)

國語

一、齒獲、處女地、國是、インフレーション。

作文

一、我が國の思想を論ぜよ。

地理及歴史

一、滿洲國成立に就て

二、統監府、鞍山、委任統治。

算術

$$1. \left( \frac{5}{2} + \frac{2}{4} + 10 \frac{1}{3} \times 2 \frac{3}{7} + 10 \frac{13}{14} + 6.5 \right) =$$

◇關東廳滿洲(昭和八年五月十八日於門司施行)

國語

一、片隣を覗く、テロ、自給自足、人物月旦

作文

一、滿洲國の將來と吾人の覺悟。

地理及歴史

一、我が國の輸出入品中主なるもの五ツを擧げよ。

二、左に就き知る所を記せ。

徳政、新京、羅津。

算術

一、工夫二十四人で九日間仕上げの豫定で或る仕事を始め五日間に四人他に轉じたら始めてから幾日にて完成するか。

◇關東廳(昭和七年六月二十二日施行)

國語

一、左の語の意義及び讀方を記せ。

杜撰、胡馬北風に嘶く、風樹の嘆、宋襄の仁。

作文

一、現代世相に對する青年の覺悟を論じ滿蒙問題に及べ

地理

一、我が國府縣道中縣及び師團の併置ある所を記せ。

二、左に就き知れる所を記せ。  
銚子、豊原、岩見澤、大邸。

歴史

一、明治大帝の御治蹟を記せ。  
二、左に就き知る所を記せ。  
應仁の亂、踏繪、白虎隊。

算術

一、或る試験場に於て試験をなすに總受験者の三割が筆記試験に合格し、其の中體格検査に不合格者七十二名あり合格者は筆記試験合格者の五分の四に相當すと云ふ受験總人數及合格者は如何。  
二、上下二冊の書籍合せて五圓五十錢にして上六冊、下五冊の價は相等しと上下各冊の價如何。

◆滿洲巡查（昭和七年三月施行）

算術

繁分數の計算二題、流水算、時計算、歩合、比例の問題各一題宛。

書取

これは試験官が朗讀されるのを書取るので滿洲事變の

原因と權益擁護に關する文語體文であつた。日常新聞などに目を通して時事問題などに通鏡して置くことを必要と考へる。

地理

一、東京より長春に至る鐵道名を記し且つ沿線主要都市を二十以上挙げよ。

二、左に付知れる處を記せ。

錦州、柳條溝、普蘭店、本溪湖、長春、ハルビン、鐵嶺、安東、吉林、鞍山。

歴史

一、明治大帝の御事績を謹記せよ。  
二、左につき知れる處を述べよ。

參勤交代、徳川吉宗、大寶律令、院政。莊園。

口述試問

志願の動機、滿洲事變に對する觀察、共產黨、西曆何年か、ナンセンス、ジレンマ、バザー、家庭の事情。

◆關東廳（昭和七年三月八日福岡縣施行）

國語

左ニ讀假名ヲ付ケ意義ヲ施セ。

イ、賄 略 ロ、羊頭狗肉 ハ、有爲轉變

ニ、建國宣言 ホ、拓 殖

作文

文題 日本人ノ特質ヲ論ズ。

地理及歴史

一、六大都市ノ縣廳所在地ヲ記セ。  
二、寛政ノ三奇人ニツキ知ル所ヲ記セ。

算術

1、七圓〇五錢ノ品ヲ二割引ニ買ヘバ元價ノ二割ニ相當スル利アリ元價何程カ。

$$2、7.5 - 3.6 \times \frac{2}{10} = \frac{3.3}{10} = 33\%$$

口答試問

父母の年齢・どうして關東廳巡查を思ひ付いたか。滿洲の今の狀況はどうであるか。

◆關東廳（昭和七年三月十日山口縣施行）

國語

左ノ文ヲ漢字ニ直シ意義ヲ附セ。

イ、トクシユケンエキ ロ、ニンシキフソク

ハ、グンシユウシンリ ニ、クワイトウランマ

ホ、カジンハクメイ

作文

文題 我が國ノ現状ト國民ノ覺悟ヲ論ズ。

地理及歴史

一、左ニツキ知ル所ヲ記セ。

イ、奉 天 ロ、安 東 ハ、撫 順

ニ、錦 州 ホ、長 春

二、三國干涉ニツキ記セ。

算術

1、或ル仕事ヲナスニ十五人ニテ四日ノ賃金六百四十八圓ナリコノ割ニテ十五人十五日ノ賃金如何。

$$2、10 \frac{1}{2} - 4 \times \frac{3}{4} = 10 \frac{1}{2} - 3 = 7 \frac{1}{2}$$

口答試問

受験數・本籍・現住所・等

◆關東廳（昭和七年六月福島縣施行）

國語

左ノ字句並ニ解釋ヲ問フ。

イ、青天霹靂 ロ、虚心坦懷 ハ、妥 當

ニ、饒舌家 ホ、自業自得 ヘ、參 酌

ト、大義名聞

作文

文題 警察官ヲ志望シテ (論文體)

地理及歴史

- 一、瓦房店
- 二、我國本洲ノ代表的灣五ツヲ書ケ。
- 三、尊王論ノ起リシタメニ及ボシタ結果ヲ問フ。
- 四、徳政

算術

- 1、密柑四千七百個アリ今二百五十個人レ及ビ四百個人レノ箱合セテ十五箱ニ詰メントセシニ五十個アマレリト云フ各箱ノ數如何。
- 2、或ル數ノ三乗ヲ八分スベキヲ誤リテ三倍シテ八分シタルヲ以テ商二十七ヲ得タリ正シキ答ヲ求メヨ。

◇關東廳 (昭和七年六月長野縣施行)

國語

左ノ熟語ヲ漢字ニ直シ解釋ヲ附セ。

- (イ) シヤカイホウシ (ロ) ギムリコウ
- (ハ) ジユクリヨダンコウ (ニ) ニンシキフソク

作文

文題 犧牲的精神ノ必要ヲ論ズ。

地理及歴史

- 一、長野より下ノ關に至る迄の府縣名を順次に記せ (東海道線經由)
- 二、本居宣長 伊能忠敬

算術

- 1、元金五百圓ヲ甲乙丙丁ニ分配スルニ甲ニハ五分ノ二其ノ殘リヲ乙ハ六丙ハ五丁ハ四ノ割合ニ分配セントス各ノ取得額ヲ問フ。
- 2、職工アリ日給壹圓八拾錢ニテ十五日間働キ報酬金廿五圓ト白米一斗ヲ得タリ白米一石ノ價ヲ問フ。

◇關東廳 (昭和七年六月茨城縣施行)

國語

左ノ讀方及ビ意義ヲ問フ。

- イ、嬌 激 ロ、瑕 瑾 ハ、倫 安
- ニ、啓 蒙

作文

文題 質實剛健ニ付キ論述セヨ。

地理及歴史

- 一、東京ヨリ東海道山陽線ヲ經テ下ノ關ニ至ル間ニアル府縣名ヲ記シ師團所在地ニハ○ヲ附スベシ。
- 二、天津條約ニツキ知ル所ヲ記セ。

算術

- 1、四斗二升入米若干俵アリ之ヲ四斗入ニ改俵シタルニ俵數一俵ヲ増シ、他ニ端木一斗アリタリト、元ノ俵數如何。
- 2、或ル數ノ五倍ヨリ十二ヲ減ジタルモノハ其ノ二倍ニ九ヲ加ヘタルモノニ同ジト或ル數如何。

◇關東廳 (昭和七年七月帝國軍人會施行)

國語

左ノ讀方ト解釋ヲ附セ。

- イ、杜 撰 ロ、鑛 金 ハ、割 切
- ニ、軒 輕

作文

文題 品性ノ陶冶ニツキ論述セヨ。

地理

- イ、徳 山 ロ、打 狗 ハ、撫 養

ニ、長 春

歴史

- イ、大岡忠相 ロ、頼山陽

算術

- 1、五十個ノ梨ヲ前ニ一個六錢ニ賣リ後ニ一個四錢ニ賣リシニ賣上金高相等シト云フ各前後ノ梨ノ數如何。
- 2、或ル數ニ一ト三分ノ一ト或ル數ノ七分ノ二トノ和ニ十五ヲ加ヘタル數ガ六十七デアル或ル數如何。

◇滿洲巡查 (昭和七年三月岡山縣施行)

國語

左ノ片假名ヲ漢字ニ直シ解釋セヨ。

- イ、ロウシキヨウチヨウ ロ、シゲンカイハツ
- ハ、テクロクジヨウリ ニ、チヨウハツテキ
- ホ、カイキユウセイド

作文

昭和の青年の覺悟

地理及歴史

- (イ)九州地方ノ縣名及其ノ縣廳所在地ヲ問フ。

(ロ)五個條ノ御誓文ニ就テ知ルコトヲ記セ。

算術

(イ)彈丸五千發アリ今毎日ノ發射彈丸ヲ六百發トナシ又毎日製造スルモノ三百五十發ナリトセバ此ノ彈丸何日ニシテ發射シ盡スカ。

(ロ)  $(\frac{1}{4} + \frac{2}{5}) + (\frac{3}{7} - \frac{1}{2}) =$

◇滿洲國 (昭和七年三月二十五日長春施行)

國語

左ニ假名ヲツケ解釋セヨ。

イ、一視同仁    ロ、隆    替    ハ、倫    安

作文

文題 滿洲事變ニ對シ國民ノ覺悟ヲ論ズ。

地理

東京ヲ出發シテ朝鮮經由長春ニ至ル間ノ鐵道線名及著名ナル都市ヲ記セ。

歴史

明治天皇ノ御治績ヲ問フ。

算術

三十二圓ヲ甲乙丙三人ニ分配スルニ甲ハ乙ヨリ五圓多

ク乙ハ丙ヨリ三圓多イ。各々ワケ前如何。

口答試問

陸軍大臣ノ氏名ヲ問フ。  
關東長官ノ氏名ヲ問フ。

◇滿洲國 (昭和七年五月旅順施行)

國語

左ノ語ニ振假名又ハ漢字ヲ附シ意義ヲ記セ。

(イ)肝膽相照    (ロ)朝令暮改    (ハ)キントウ

(ニ)フウセイカクレイ

作文

文題 滿蒙ニ對スル所感ヲ論ズ。

地理及歴史

左ニツキ知ル所ヲ記セ。

一、イ、新京    ロ、長篠    ハ、唐津

二、イ、ワシントン會議

算術

ロ、五ヶ條ノ御誓文 (軍人ニ賜リタルモノニ非ズ)  
1、甲ハ七枚寫スニ二時間要シ、乙ハ十枚寫スニ三時間要ストイフ。コノ兩人ガ共ニ六時間デハ合計幾枚ヲ寫

スカ。

2、次ノ式ヲ計算セヨ。

$$\frac{6 + \frac{2}{3}}{\frac{1}{2} + \frac{1}{3}}$$
$$\frac{\frac{2}{3} \times \frac{1}{2}}{\frac{1}{2} \times \frac{3}{2}}$$

◇關東廳巡查採用試験問題

岡山縣警察練習所施行

國語

一、左ノ讀方及意義を記セ。

國手、彈劾、荏苒、苦肉の計、肯綮。

作文

文題 現下青年の覺悟

地理及歴史

一、左の所に付き地歴上知る處を記せ。

太宰府、湊川、嚴島、極狭間、衣川の柵跡。

算術

1、切手あり三錢と五厘と合せて總數四二錢五厘なりと云ふ各幾枚宛なるか。

島根縣警察練習所施行

國語

一、左ノ讀方及意義を記セ。

軒輊、嚆矢、糊塗、私淑、雷同。

作文

一、我等の進むべき道

地理及歴史

一、左に付いて知る所を記せ。

釜石、別子、大湊、撫順、水師營。

算術

二、明治の新政に付いて記せ。  
1、或繩を九尺切り取りたるに残りは全長の四分の三よりも三尺短しと云ふ繩の長さを問ふ。

青森縣警察練習所施行

作文

文題 警察官を志望して (論文)

地理及歴史

一、縣名縣廳所在地の異なる所を挙げよ。

二、鎖國政策の由來と其の廢棄につきて述べよ。



三、本地垂跡説 普蘭店

算術

- 1、果物を兒童に分配するに其の中の一人に十二個二人に十個其他に九個宛與へ又は其の中の一人に十五個三人に十二個宛其他に七個宛與ふると共に過不足なしと兒童及果物の數如何。
- 2、某數あり其の十三倍は二十二倍より一三五小なり某數如何。

高知縣警察練習所施行

國語

- 一、左の語の讀方及意義を記せ。  
苛斂誅求、肩摩穀擊、帷幄上奏、假疵。

作文

文題 共存共榮

地理

- 一、我國礦物分布に就きて記せ。
- 二、左につき知る所を述べよ。  
平、安東、パラオ諸島、米原。

歴史

- 一、關ヶ原の役に就いて知る所を述べよ。
- 二、左に就きて記せ。  
乃木大將、徳政。

算術

- 1、或工場の男女工合せて八百三十人あり其の内男工八分の一減じ女工の七分の一を増せば八百二十人になる男女工各如何。
- 2、父母の年の和は八十七歳にして子の年は十五歳なり親の年が子の年の五倍になるは何年後か。

口述試問

- 一、第三インターナショナル、國際聯盟。  
滿洲事變の原因、四頭政治。

新潟縣警察練習所施行

作文

- 一、警察官を志願して

地理及歴史

- 一、本島の半島五個を記せ。
- 二、五ヶ條の御誓文につきて記せ。

三、左につき知る所を記せ。

防人、鞍山、滿洲

算術

- 1、若干人の大工が三十日で落成する仕事を起行後十日にして六人病氣にかゝりて其の爲め豫定より三日間多くかゝりしと言ふ大工の人數を求む。
- 2、若干の蜜柑を三子に分配するに其の半數より二個多く與へ其の残りの半數より四個多く次子に與へたり末子に六個残りたりと言ふ蜜柑數を問ふ。

香川縣警察練習所施行

國語

- 一、左の語の意味及讀方を記せ。  
杜撰、胡馬北風に嘶く、風樹の嘆、宋襄の仁。

作文

- 一、現在世相に對する青年の覺悟を論じ滿蒙問題に及ぶ。

地理

- 一、我が國府縣道中縣及師團の併置ある所を記せ。
- 二、左につき知る所を記せ。

銚子、豊原、岩見澤、大邱。

歴史

- 一、明治大帝の御治績を記せ。
- 二、左につき知る所を記せ。  
應仁の亂、踏繪、白虎隊。

算術

- 1、或試験場に於て試験をなすに總受験者の三割が筆記試験に合格なし其の中體格検査に不合格者七十二名あり合格者は筆記合格者の五分の四に相當すると云ふ受験總數人員及合格者は如何。
- 2、上下二冊の書物合せて五圓五十錢にして上六冊下五冊の價は相等しいと上下各冊の價幾何なりや。

岐阜縣警察練習所施行

作文 (全部二時間)

- 現在の世相と青年の覺悟を論ぜよ。

地理及歴史

- 左の各項の管轄府縣名及其の史蹟を問ふ。
- イ、湊 川 口、殿 島 八、太宰府
- ニ、樋狭間

國語

1、左の各項の讀方及意義を記せ。

- イ、國手
- ロ、彈劾
- ハ、荏苒

算術

- 1、或數に四を加へて六倍し十五を引けば二十七残る或數如何。
- 2、兄弟の年齢の和の二倍は五十八なり兄は弟より五歳上なり兄弟の年齢各如何。

# (七) 外務省巡查採用試験問題

## ◇外務省巡查 (昭和八年七月施行)

書取

- 一、安逸と享樂を追ふ現代の雰圍氣に超越して敢然として君國の爲心血を傾注する者果して幾許ぞ。
- 二、迅速機敏を要する現代の警察は最新の科學を活用することに依つて能率と威力を發揮すること勿論なれど各機關との協調連絡を無視する事は出来ない。
- 三、中華民國陝西省旱魃の爲め農作物の收穫絶望を豫想し穀物類の高騰に頭を悩ましてゐる。
- 四、精勵恪勤と規律嚴守とは邦人として造次頓沛にも忘却してはならぬ。

作文

文題 私の理想

地理

- 一、青森より下關に至る日本海方面の鐵道に沿ふ都市名
- 二、大治、金州、香港、重慶、滿洲里につき知れる所を

記せ。

歴史

- 一、北清事變の顛末。
- 二、渡邊華山、尊國藩。以上二人につき知れるところを記せ。

算術

- 一、池の深さを知らんとするに繩を二つ折りにして測りしに九米餘り三つ折にすると二米餘るといふ池の深さを問ふ。
- 二、參錢切手、二錢切手取交せて二十枚あり、其の金額合計四十八錢なり各々幾枚なるか。
- 三、柿、林檎、梨取交せて總數四百八十六箇あり、柿は總數の六分の一、林檎は柿の三分の一なりと各々幾個なりや。
- 四、五百五十圓を日歩二錢で預けると、月利八厘で預けると一ヶ年に何れが利益なるか但し平年。

◇外務省巡査（昭和八年六月十七、八日施行）

書 取

- 一、絶好の日和に恵まれて我一流選手を網羅し接戦火花を散らし榮ある月桂冠たる旭日旗を竿頭高く懸すことを期待す。
- 二、酒類、醬油、味噌の醸造販賣並に貨物自動車運輸等を營む。
- 三、萬腔の熱誠を以て拍手した。
- 四、民心を刺戟す。
- 五、國民の購買力は全く枯渴す。
- 六、時局に鑑み慎重に研究す。
- 七、石鹼、名所史蹟、窒息、火藥爆發。

作 文

一、私の理想

地 理

- 一、東京より鹿兒島迄の鐵道沿線の府縣名。
- 二、ハルビン、新京、漢口、上海、北京につき知れる所を記せ。

歴 史

- 一、明治三十七、八年戰爭の結果、日支間に如何なる影響を及ぼせしか。

響を及ぼせしか。  
二、間宮林藏、李鴻章に付き知れる所を記せ。

算 術

- 一、三十分毎と、四十分毎に鳴る鈴あり。今同時に鳴り次回に鳴るは何程の後か。
- 二、二錢と三錢の切手總數二十枚あり、其の金額五十三錢なり各々幾枚なるか。
- 三、五十五圓の品物を二割四分儲けて賣れば、其の利益如何。
- 四、三角形あり。其の高さは三米、底邊六米なり。面積を問ふ。

口 述 試 問

日本の人口、國旗の寸法、紀元何年か、檢事、告訴中華民國の首府及び總帥、外務省巡査は誰の指導で何をなすか。特殊技能の有無、質屋に警察は如何なる處置をとるか、在郷軍人會長氏名、飲酒の有無等

◇外 務 省（昭和七年於間島施行）

作 文

間島在勤外務省巡査志願の目的を兩親に知らせる文

地 理 及 歴 史

- 一、滿洲事件ノ發端ニ付キ知ル處ヲ記セ。
- 二、圖們江及鴨綠江ニ付キ知ル處ヲ記セ。
- 三、左ニ付知ル處ヲ記セ。
- イ、吉會鐵道   ロ、南   京   ハ、國際聯盟
- ニ、不戰條約

算 術

- 1、或ル金高ノ2.5ハ1.3ヨリ二圓多シト云フ其ノ金高如何。
- 2、某數ノ九倍ニ十二ヲ加ヘコレヨリ五十九ヲ減ジ二倍スレバ五百トナル某數何程ナルカ。
- 3、貧民三十二名アリ之ニ救濟米ヲ分配セントシ一名ニ三升宛分配シタルニ六升残り、三升五合宛分配スルニ一斗不足シタリト救濟米何程カ。
- 4、月俸若干圓ヲ受クル官吏アリ始メ五ヶ月ハ毎月六十四圓宛消費シタルニ若干圓ノ負債ヲ生ジタルヲ以テ其ノ後月四十圓トシタル爲七ヶ月ニテ丁度前ノ負債ヲ償却シタリト云フ月俸何程ナルヤ。

刑 事 法 令

- 一、窃盜罪ト詐欺ト異ナル點ヲ述ベヨ。

二、正當防衛ニ付キ例ヲ擧ゲテ説明セヨ。

三、左ノ内三問ヲ選ビ簡單ニ説明セヨ。

- (イ)治安維持法   (ロ)遺失物   (ハ)傷害
- (ニ)贓   物   (ホ)漂流物

◇外 務 省（昭和七年二月廣島縣施行）

作 文

智育、德育、體育ヲ論ズ。

地 理 及 歴 史

- 一、(イ)山岡鐵太郎   (ロ)福澤諭吉
- 二、支那革命ニツキ簡單ニ記セ。
- 三、左ノ所在地ヲ問フ。
- 橫須賀   佐世保   吳   舞鶴
- 四、第一師團ヨリ第六師團迄ノ所在地

算 術

- 1、毎時三里ヲ行ク自轉車ヨリ五里行ク自動車デ行ケバ四時間早ク着クトイフ其ノ里數ハ何程カ。
- 2、反物ヲ七百二十圓ニテ買入レ七百七十四圓ニ賣レリ利益ノ歩合如何。
- 3、水夫アリ一時間ニ上リハ千四百間下リハ三千四百間

漕グトイフ水夫ノ漕グ力及水ノ流レノ速サ如何。  
4、 $2\frac{3}{4} \times 3\frac{1}{4} =$

◇外務省 (昭和七年六月六日施行)

作文

間島出動將士ニ對スル慰問文

地理及歴史

- 一、圖們江日滿陸接國境貿易狀況ヲ説明スベシ。
- 二、滿洲國ノ領域ヲ説明スベシ。
- 三、左記都市ノ位置ヲ説明スベシ。  
イ、寧古塔   ロ、ボクラニチナヤ  
ハ、山海關   ニ、滿洲里   ホ、哈爾濱  
ヘ、營口   ト、大連   チ、上海  
リ、仁川
- 四、韓國ヲ帝國ニ併合シタル詔書ノ趣旨ヲ説明スベシ。

算術

- 1、甲乙兩人ノ所持金合セテ八百七十圓アリシトコロ其ノ後甲ハ三百圓乙ハ四百五十圓ヲ得タル爲メ兩人ノ所持金ハ同額トナリタリト云フ兩人最初ノ所持金各幾何ナルカ。

- 2、甲ハ二百六十五圓乙ハ二百四十三圓ヲ所持ス。乙ヨリ甲ニ幾圓ヲ與フレバ甲ノ所持金ガ乙ノ所持金ノ三倍ニナルカ。

- 3、甲ノ速サハ毎分八十八米乙ノ速サハ九十五米ナリ。今甲ガ出發シテヨリ三分三十秒ノ後乙ガ甲ヲ追フトキハ幾分後ニ追ヒツクカ。
- 4、金五百圓ヲ甲乙丙三人ニ分タンニ甲ハ乙ヨリ二十圓多ク丙ヨリ四十圓少シト各何程ヲ得ルカ。
- 5、大小二數アリ其ノ和ハ百五十二ニシテ其ノ差ハ三十ナリト二數如何。

口述試問

- 一、外務省巡查ノ任務如何。
- 二、告訴とは如何なるものなるや。
- 三、外務省巡查志願ノ動機。
- 四、滿洲國は幾省より成立せるや。

◇外務省 (昭和七年七月青森縣施行)

書取

試験官ノ口唱ヲ書キ取ル。

- (一)コクサイレンメイ、テウサダン、トニチノシンモク

テキハ、マンシウコクニカンスル、ニホンセイフノ、

イコウヲサグリ、カツ、ドウコクシヨウニシテ、ソシ  
セントセシニアリ、ソノヒレツナルコウドウハテウヤ  
トモファンガイシテキル。

(一)ゴクシヨノキセツにムカヒフリヨウインシヨクブツ  
ハンバイギヨウシヤバツコするのでアオモリケイサツ  
シヨではテツテイテキニトリシマるコトとなつた。

(二)セツカクテウテイアツセンのロウをトツたガセンボ  
ウのアイマヒなるコウファンガカへつてファンキヨウする  
にイタつた。

(三)トウチのブツサンは、リンゴ、バレイシヨ、カマボ  
コ、ロウソク、ホシウドントウである。

作文

文題 私の理想

地理

- 一、青森出發東京經由最も近くハルビンに行く道順を書け。
- 二、茨城・神奈川・兵庫・愛媛・沖縄各縣の縣廳所在地を書け。
- 三、左の地に就き知ることを書け。

(イ)撫順 (ロ)羅南 (ハ)新京

(ニ)山海關 (ホ)馬公

歴史

- 一、日露戰役ノ原因。
- 二、福澤諭吉ニツキ知ルトコロヲ記セ。
- 三、左ノ日時ヲ書ケ。  
(イ)教育勅語下賜 (ロ)帝國憲法發布式

算術

- 1、二十一分毎ニ鳴ル鈴ト三十五分毎ニ鳴ル鈴ガアル。今コノ鈴ガ同時ニ鳴ツテヨリ幾分後ニ兩方同時ニ鳴ルカ。
- 2、三錢切手ト二錢切手合セテ二十枚買ヒ代金五十三錢ヲ支拂ヘリト各々何枚ナリヤ。
- 3、或ル品ヲ五十五圓ニ買ヒ二割四分ノ利益ヲ得テ賣リタリト利益如何。
- 4、三角形アリ底六米、高サ三米ナリ。コノ總面積ヲ求ム。

口述試問

- 1、兵役關係
- 2、職業
- 3、警察の種類
- 4、支那の首都

◀ 短 期 合 格 ・ 就 職 本 位 ・ 巡 査 講 義 最 高 峯 ▶

・ 實 確 格 合 で 備 準 の 月 々 四 三 十 僅 ・ で 義 講 本 は 備 準 の 目 科 學 ・

義 講 驗 受 査 巡 地 民 殖 ・ 地 内 官 察 警 ・ 外 海

講 義 見 本 附 き

巡 査 立 身 案 内

御 申 込 次 第 呈 代 進 呈

**立身成功の捷路茲にあり!**  
 聰明な頭脳と燃ゆるが如き青雲の志を抱く諸君は先づ巡査に就職せられよ、巡査こそ成功への捷徑である。今や巡査の待遇は改善せられ身分保證の法律案は議會を通過せんとしつつある。過去十數年間、三大受験雜誌を發行して全國幾十萬の青年諸君を指導して來た弊社は敢然立つて本講義録を企圖し、此處に短期の準備で容易に合格出来る唯一の巡査講義録を發行するものである。諸君よ速かに巡査就職の準備につけ!

**理想的本講義の六大特色**  
 ①短期試験合格が第一眼目 ②講義が平易で解り易い ③最新式教授法で講義が系統的 ④各府縣施行最近試験問題排列 ⑤内容清新指導完全 ⑥會費低廉・卒業早し

**◆今が御入會の絶好期です◆**  
 思ひ立つたが吉日、今直ぐハガキ一枚を投じて立身案内付内容見本を請求せられよ。見本だけでも諸君を利する事莫大なものがある。

**◆入會者には多數特典あり◆**

圖書目錄 無代進呈

東京市神田區小川町三ノ廿二  
 電話 神田 二三二九番  
 振替口座 東京四七七八番

發行所 大明堂書店

不 許 複 製  
 64  
 東京市神田區小川町三ノ廿二  
 發行 者 神 戸 文 三 郎  
 印刷 者 西 脇 勝 太

編 者 大明堂編輯部

定 價 金 壹 圓

巡査試験問題集と受験法

昭和九年六月四日印 刷  
 昭和九年六月七日發 行

(日 本 郵 政 特 許 印 刷 局 認 可)

- 5、支那に輸出する物
- 6、告訴とは
- 7、日本紀元・西曆紀元・告發とは
- 8、明治神宮宮司は誰なるや
- 9、帝國在郷軍人分會長氏名
- 10、警察官志願の動機・理由

◇外 務 省 (昭和七年七月十九日施行)

書 取

試験官ノ口唱スルヲ書キ取ル。



- 一、キドアイラクをロコツにアラハサヒトはヤヤもする  
 とシヤクシジヨウギにヘンシジブツのハンダンがコウ  
 ケイにアタらないからツトめてヒンセイのトウヤをヨ  
 ウす。
- 二、ジヨウソウキヤウイクをトウカンにフすることはニ  
 チジヤウセイクワツはムミカンソウとなりリソウのセ  
 カイをカイタクすることシナンである。
- 三、ソモソモテキガイシンはシンリヤクにオいてザウセ  
 イされマタはシゲキさる。ワガクニはキゲンイライの  
 デントウテキブンカシソウメイヨをユウしてをるから  
 コクカとしてキタイにヒンしたことはナクムシロキヨ

ウコのドをマサのみである。  
 四、ダイウチウのホウヨウゴするシンラバンシヨウはコ  
 トゴトクビのヘウチヨウである。

算 術

- 1、井戸ノ深サヲ測ルニ繩ヲ二ツ折ニスレバ九米餘リ三  
 ツ折ニスレバ二米餘ル井戸ノ深サヲ出セ。
- 2、三錢切手ニ一錢五厘切手ト取り交ゼ二十枚アリ全額  
 ハ四十八錢ナリ各枚數ヲ求ム。
- 3、柿ト林檎ト梨ト合セテ四百八十六個アリ柿ハ總數ノ  
 1/6 林檎ハ柿ノ1/3 ナリ各數ヲ求ム。
- 4、五百五十圓ヲ日歩二錢デ預ルノト月八厘デ預ルノト  
 ドチラガ利益デアルカ。





東京大明堂發行