


3
新課程標準適用
小學珠算課本

初級第一冊

編者 宋若愚

校者 張鵬飛



上海中華書局印行

MG
G624.2
13

新課程標準適用

小學初級珠算課本

編輯大意

1. 本書遵照民國二十一年十月教育部頒布的小學算術科課程標準編輯。
2. 本書共分兩冊，每學期用一冊，適供初級小學一學年之用。
3. 本書與初小算術課本相輔而行，以便於教學時與筆算充分聯絡。
4. 本書取材，以關於衣、食、住、行和學校作業、家庭經濟等為範圍，尤注重於買賣找錢、折扣、兌換等常識。
5. 本書對於口訣，都用連環式的算盤圖，詳細說明運珠方法，助長兒童



3 1774 6858 8

的理解。

6. 本書逐位運珠的盤式，用白珠、黑珠表示前後的變化，使兒童對於運珠方法，一目了然。
7. 兒童學習珠算，往往借助於心算。本書每說明一種口訣後，都有填口訣的練習，務使兒童熟練口訣的應用。
8. 學習珠算的目的，固在於迅速，而應用亦不可少，本書對於應用問題，特別加多，使兒童對於計算技能，練習得十分純熟，隨時可以解決日常生活中的數量問題。
9. 本書另編教學法，詳述教學方法和習題答案，以備教師參考之用。

新課程標準適用

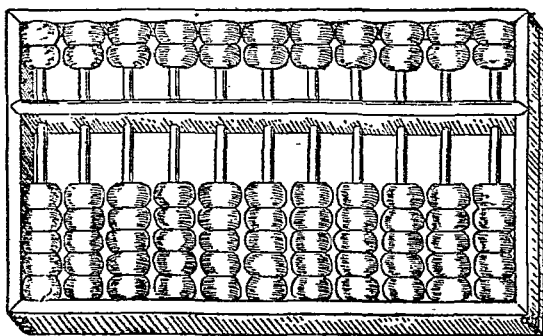
小學初級珠算課本

第一冊目次

(頁)

1. 算盤的認識	1
2. 撥珠的指法	2—4
3. 記帳用的數字和數碼	5—6
4. 一位數和二位數的記法	7—8
5. 加法口訣(加一)	9—10
6. 加法口訣(加二、加三)	11—12
7. 加法口訣(加四、加五)	13—14
8. 復習加法(一、二、三、四、五)	15—18
9. 加法口訣(加六、加七)	19—20
10. 加法口訣(加八、加九)	21—22
11. 復習加法(六、七、八、九)	23—26
12. 三位數的記法	27
13. 減法口訣(減一)	28—29
14. 減法口訣(減二、減三)	30—31
15. 減法口訣(減四、減五)	32—33
16. 復習減法(一、二、三、四、五)	34—36
17. 帳簿的認識和計算(一)	37—40
18. 減法口訣(減六、減七)	41—42
19. 減法口訣(減八、減九)	43—44
20. 復習減法(六、七、八、九)	45—47
21. 帳簿的認識和計算(二)	48—51
22. 加減總復習	52—56

算盤的認識



這是算盤。

算盤四周的木條叫做邊。

像珠一樣的圓木叫做算珠。

穿算珠的直柱叫做檔。

穿檔的一條橫木叫做梁。

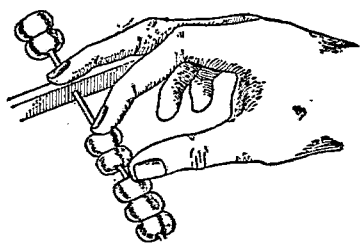
算珠分上珠、下珠兩種：兩顆上珠在梁上，五顆下珠在梁下。

練習：

用自己的算盤說出各部名稱來。

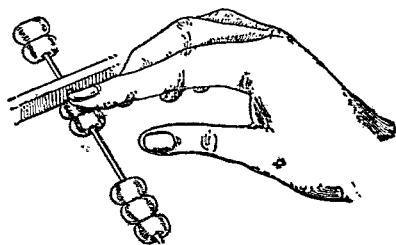
撥珠的指法

撥動算珠,要照下面的指法。



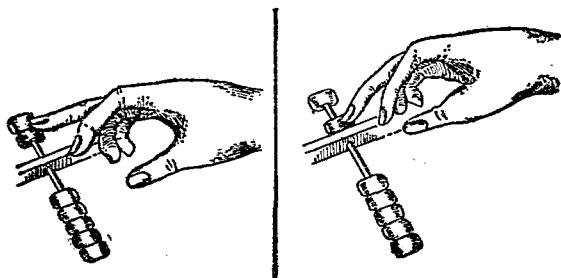
這是把下珠撥上靠梁的指法。

撥下珠靠梁,用拇指。

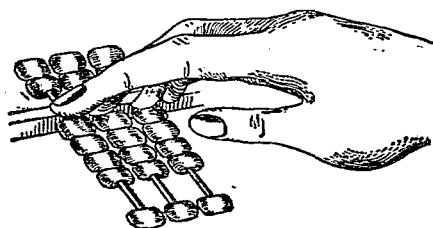


這是把下珠撥下靠邊的指法。

撥下珠靠邊,用食指。



這是撥動上珠靠梁和靠邊的指法。
撥動上珠靠梁和靠邊,用中指。



這是撥動各檔上、下珠同時離梁靠
邊的指法。


撥動各檔上、下珠同時離梁靠邊,用
食指、中指、無名指和小指。

看下面的盤珠式。


這是底盤式。



右邊第一檔撥上一珠,用拇指。



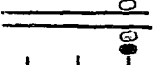
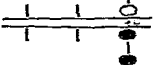
再撥上二珠,用拇指。



撥下上珠,去二下珠;先中指,後食指。



去上、下珠,左檔進一下珠;先中指,食指,後拇指。



練習:

照上面撥珠的次數和方法,大家來練習,看誰的指法最好!

記帳用的數字和數碼

記帳用的數字,有下面兩種:

大寫數字	零壹貳叁肆伍陸柒捌玖拾伯仟
小寫數字	另 一 二 三 四 五 六 七 八 九 十 百 千

重要的數目用大寫,普通的用小寫.
寫法從上到下,順次排列,中間遇着某位無數,用零或另補足.例如下:

大 寫	小 寫	大 寫	小 寫
拾肆圓	十四元	貳拾圓	二十元
		念圓	廿元

1. 用小寫數字記下列各店資本:
裕隆:伍伯陸拾圓,源茂:柒伯玖拾圓,
裕豐:肆伯叁拾圓,利華:玖伯陸拾圓.
2. 用大寫數字記下列各村人口:
大同村:四百五十人,自由村:五百人,
平等村:五百三十人,博愛村:一千人.

記帳如要簡便些,可用阿拉伯數字及本國數碼,寫法如下:

阿拉伯數字	0 1 2 3 4 5 6 7 8 9
本國數碼	0 X 8 I 丄 𠂇 𠂇 十 ㄅ

數碼在商業上用得最多,寫法從左到右,遇着某位無數,要補記 0.惟 |,||,||三個數碼連寫時,要一直一橫交錯的寫,如:

12 寫做 |𠂇, 321 寫做 ||𠂇|.

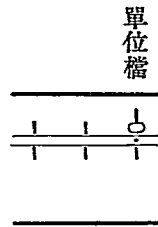
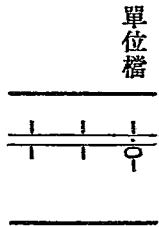
- 讀出下列各數:
||, 丄, |X, 𠂇, ||𠂇, X0𠂇.
- 用數碼改記下面的數目:
三十四, 二十七, 六十, 九十七, 一百零一, 二百八十, 七百五十二, 九百.
- 用大寫數字寫出下面的數碼:
||, X8, 𠂇, 𠂇, 𠂇,
|𠂇, X10, X0𠂇, |X𠂇, 𠂇||.

一位數和二位數的記法

記單位數,要認定一檔做單位,這檔的下珠,每顆當做一,上珠每顆當做五。

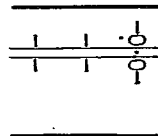
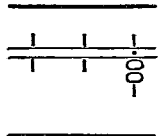
這是一:

這是五:



二記做:

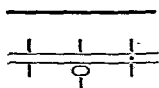
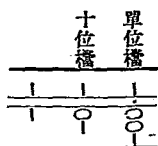
六記做:



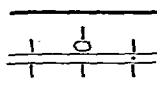
1. 用算盤記出三、七、八、九四個數來。
2. 一顆上珠,二顆下珠並記的,是甚麼數?
3. 一顆上珠,四顆下珠並記的,是甚麼數?
4. 梁上記一珠,和梁下記一珠,數目同嗎?

這是兩位數的記法。

右一檔叫單位檔，左一檔叫十位檔，記十位數用的。十位檔的下珠，每顆當做十，上珠每顆當做五十。



這是十。



這是五十。

1. 十和三併成甚麼數?
2. 當十的銅元三個，合錢幾文?用算珠記出來。
3. 把下列各數記在算盤上：

13,	25,	18,	34,
19,	42,	67,	21.
4. 銅元四枚，錢八文，合錢多少?用算珠記出來。

加法口訣(加一)

口訣要讀熟,讀得愈熟愈好.

一	上	一
一	下	五去四
一	去	九進一

撥一下珠靠梁,叫上一.

撥一上珠靠梁作五,叫下五.

撥動下珠離梁,叫去.

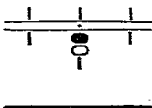
左檔撥一下珠靠梁,叫進一.

$1 + 1 = 2.$

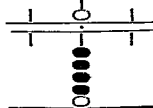
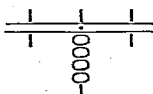
$4 + 1 = 5.$

$9 + 1 = 10.$

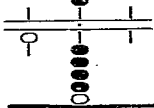

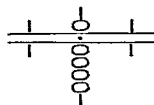
記 1



記 4



記 9



1. 把要用的口訣,寫在空格裏:

被加數	加數	口 訣	被加數	加數	口 訣
一	一		六	一	
二	一		七	一	
三	一		八	一	
四	一		九	一	
五	一		十	一	

2. 算出答數來:

二十三加一 是多少?

五十九加一 是多少?

九十四加一 是多少?

八十八加一 是多少?

3. 梨十四隻,加一隻,是多少?

4. 如再加一隻,共幾隻?

5. 栗子二十九顆,加一顆,共有幾顆?

6. 如再加一顆,共有幾顆?

7. 柿子三十三隻,加一隻,是幾隻?

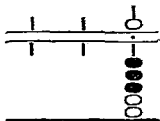
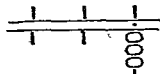
8. 如再加一隻,共有幾隻?

加法口訣(加二、加三)

加二口訣	加三口訣
二 上二	三 上三
二 下五去三	三 下五去二
二 去八進一	三 去七進一

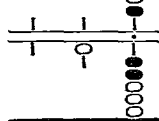

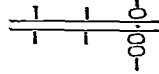
$$3 + 2 = 5.$$

記 3



$$7 + 3 = 10.$$

記 7



1. 把要用的口訣,寫在空格裏:

被加數	加數	口 訣	被加數	加數	口 訣
一	二		一	三	
二	二		二	三	
三	二		三	三	
四	二		四	三	
五	二		五	三	
六	二		六	三	
七	二		七	三	
八	二		八	三	
九	二		九	三	

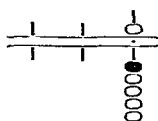

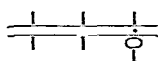
2. 算出下列各題的答數來：
十二加二是多少？
二十四加二是多少？
三十三加三是多少？
四十九加三是多少？
五十二加二，再加三是多少？
六十七加三，再加二是多少？
七十八加二，再加三是多少？
八十四加三，再加二是多少？
3. 胡桃糖十四粒，再買三粒是幾粒？
4. 如再買二粒，共幾粒？
5. 橘子糖三十八粒，再買二粒是幾粒？
6. 如再買三粒，共幾粒？
7. 可可糖四十九粒，再買二粒是幾粒？
8. 華生新買蛋糕一盒，共計十八塊，連前剩的三塊，一共有幾塊？
9. 紅糖每斤銅元四十七枚，白糖每斤比紅糖貴三枚，問白糖每斤價多少？

加 法 口 訣(加 四,加 五)

加四口訣	加五口訣
四 上四	五 下五
四 下五去一	五 去五進一
四 去六進一	

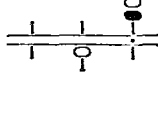

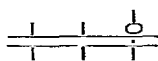
$$1 + 4 = 5.$$

記 1



$$5 + 5 = 10.$$

記 5



1. 把要用的口訣,寫在空格裏:

被加數	加數	口 訣	被加數	加數	口 訣
一	四		一	五	
二	四		二	五	
三	四		三	五	
四	四		四	五	
五	四		五	五	
六	四		六	五	
七	四		七	五	
八	四		八	五	
九	四		九	五	

2. 算出下列各題的答數：
十一加四是多少？
二十二加五是多少？
三十六加四是多少？
四十五加五是多少？
五十加五，再加四是多少？
六十六加四，再加五是多少？
七十八加五，再加四是多少？
八十四加四，再加四是多少？
3. 弟弟有銅元三十六個，哥哥比弟弟多四個，哥哥有銅元幾個？
4. 二哥比弟弟多五個，二哥有銅元幾個？
5. 大姊比我多四個，我有銅元二十七個，大姊有銅元幾個？
6. 妹妹比我多五個，妹妹有銅元幾個？
7. 大哥和二哥共有銅元幾個？
8. 姐姐和妹妹共有銅元幾個？

復習加法(一、二、三、四、五)

在每個空格裏,填出一句適用的口訣來:

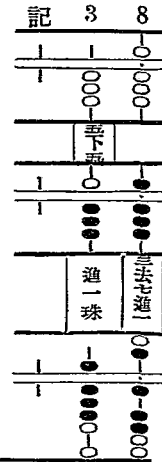
被加數 加數	零	一	二	三	四	五	六	七	八	九
一	一上一									
二										
三			去二 三下五							
四						進四 一去六				
五										

例一: $38 + 53 = ?$

先加十位檔 5.

再加單位檔 3.

答: 九十一.



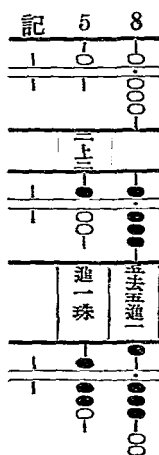
例二：哥哥有銅元五十八枚，弟弟有銅元二十五枚，兩人共有銅元幾枚？

求兩人共有的錢數，
要用加。

先加十位檔二。

再加單位檔五。

答兩人共有銅元——枚。



算出下列各題的答數：

$39 + 41 = \underline{\quad}$

$56 + 24 = \underline{\quad}$

$72 + 15 = \underline{\quad}$

$23 + 22 = \underline{\quad}$

$46 + 44 = \underline{\quad}$

$68 + 25 = \underline{\quad}$

$19元 + 41元 = \underline{\quad}$

$82元 + 14元 = \underline{\quad}$

$42元 + 25元 = \underline{\quad}$

$65元 + 25元 = \underline{\quad}$

1. 自強買鉛筆用去銅元六十八枚,買橡皮用去二十三枚,共用去銅元幾枚?
2. 自強買石板一塊,用去銅元六十五枚,買石筆一枝,用去五枚,共用銅元幾枚?
3. 自強到筆店裏買毛筆一枝,用去銅元四十二枚,買墨一錠,用去二十四枚,共用去銅元多少?
4. 練習簿每本值銅元三十六枚,筆記簿每本值二十四枚,各買一本,共該銅元多少?
5. 每本值銅元三十四枚,和每本值三十二枚的圖畫簿,各買一本,要銅元幾枚?
6. 自強買書用去銅元六十五枚,買筆墨用去三十四枚,共用去多少?
7. 買蠟筆一盒,用去銅元二十四枚,買顏料一盒,用去銅元比買蠟筆多五枚,顏料每盒價錢多少?

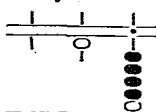
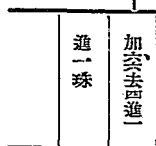
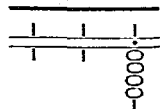
8. 馬頭牌顏料比蠟筆貴五十二枚,馬頭牌顏料每盒價錢多少?
9. 自強昨天用去銅元四十六枚,今天比昨天多用四十四枚,今天用去多少?
10. 自強前天用去的比今天多四枚,前天用去銅元多少?
11. 自奮進校去,繳學費八元,雜費二元,運動費一元,共繳銀幾元?
12. 倘使他在校中寄宿,須繳膳宿費二十五元,連學,雜費,共該銀幾元?
13. 學費,膳費,雜費,運動費,共該幾元?
14. 自奮進校時,父親給他零用費洋八元,母親給他七元,共幾元?
15. 自奮拿銀十二元存入儲蓄銀行,連前月所存的十八元,一共有幾元?
16. 儲蓄銀行上星期共收小洋42角,本星期共收32角,兩星期共收多少?

加法口訣(加六,加七)

加 六 口 訣	加 七 口 訣
六 上六	七 上七
六 去四進一	七 去三進一
六 上一去五進一	七 上二去五進一

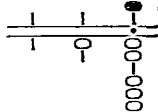

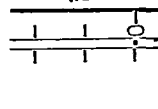
$$4 + 6 = 10.$$

記 4



$$5 + 7 = 12.$$

記 5



1. 把要用的口訣寫在空格裏:

被加數	加數	口 訣	被加數	加數	口 訣
一	六		一	七	
二	六		二	七	
三	六		三	七	
四	六		四	七	
五	六		五	七	
六	六		六	七	
七	六		七	七	
八	六		八	七	
九	六		九	七	

2. 算出下列各題的答數:

十二加六是多少?

二十四加七是多少?

$$39 + 26 = \underline{\quad\quad}. \quad 12 + 7 + 6 = \underline{\quad\quad}.$$

$$45 + 17 = \underline{\quad\quad}. \quad 28 + 16 + 17 = \underline{\quad\quad}.$$

$$27 + 27 = \underline{\quad\quad}. \quad 37 + 27 + 36 = \underline{\quad\quad}.$$

$$44 + 26 = \underline{\quad\quad}. \quad 29 + 36 + 27 = \underline{\quad\quad}.$$

3. 星期日,振華盤查合作小商店存貨,計紅鉛筆四十八枝,黑鉛筆二十六枝,共有幾枝?

4. 計練習簿六十二本,筆記簿二十七本,共有幾本?

5. 計大字筆三十六枝,小字筆四十六枝,共有幾枝?

6. 計大號橡皮二十八塊,中號橡皮六十七塊,共有幾塊?

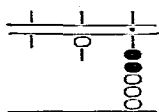
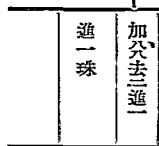
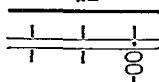
7. 合作小商店門市:第一日收進洋三元四角,第二日三元,第三日二元七角;三日共收進洋幾元?

加法口訣(加八,加九)

加 八 口 訣	加 九 口 訣
八 上八	九 上九
八 去二進一	九 去一進一
八 上三去五進一	九 上四去五進一

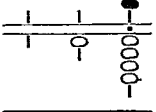


$$2 + 8 = 10.$$

記 2



$$5 + 9 = 14.$$

記 5



1. 把要用的口訣寫在空格裏:

被加數	加數	口 訣	被加數	加數	口 訣
一	八		一	九	
二	八		二	九	
三	八		三	九	
四	八		四	九	
五	八		五	九	
六	八		六	九	
七	八		七	九	
八	八		八	九	
九	八		九	九	

2. 算出下列各題的答數：
三十六加八是多少？
三十五加九是多少？
銅元三十九枚加八枚是幾枚？
 $32 + 28 = \underline{\quad}$. $51 + 8 + 9 = \underline{\quad}$.
 $25 + 29 = \underline{\quad}$. $34 + 29 + 18 = \underline{\quad}$.
 $11 + 48 = \underline{\quad}$. $46 + 28 + 19 = \underline{\quad}$.
 $50 + 29 = \underline{\quad}$. $58 + 18 + 29 = \underline{\quad}$.
3. 合作小商店辦到中華書局新出的國語課本六十二本，算術課本十八本，共幾本？
4. 社會課本三十二本，自然課本二十九本，共幾本？
5. 衛生課本比社會多八本，是幾本？
6. 衛生課本和社會課本共有幾本？
7. 美術課本四十四本，音樂課本三十九本，共幾本？

復習加法(六,七,八,九)

在每個空格裏,填出一句適用的口訣來:

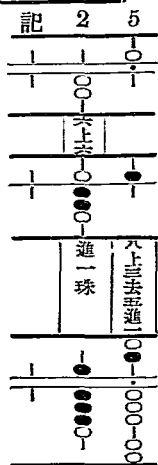
被加數 加數	零	一	二	三	四	五	六	七	八	九
六	六上六									
七			進七去三							
八						進八去二				
九										

例一: $25 + 68 = ?$

先加十位檔 6.

次加單位檔 8.

答: _____.



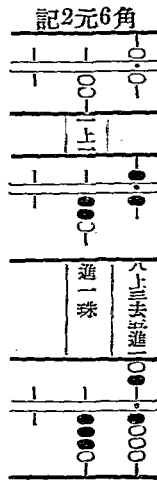
例二：自強買大球一個，用去銀二元六角，小球一個，用去一元八角，共用去銀元多少？

求用銀的總數，
要用加：

先加元位檔一。

再加角位檔八。

答共用銀_____。



算出下列各題的答數：

$42 + 36 = \underline{\hspace{2cm}}$ $55 + 28 = \underline{\hspace{2cm}}$

$54 + 27 = \underline{\hspace{2cm}}$ $20 + 39 = \underline{\hspace{2cm}}$

$42 + 47 = \underline{\hspace{2cm}}$ $56 + 26 = \underline{\hspace{2cm}}$

$37 + 29 = \underline{\hspace{2cm}}$ $62 + 28 = \underline{\hspace{2cm}}$

$72 + 17 = \underline{\hspace{2cm}}$ $25 + 39 = \underline{\hspace{2cm}}$

$46 + 37 = \underline{\hspace{2cm}}$ $35 + 28 = \underline{\hspace{2cm}}$

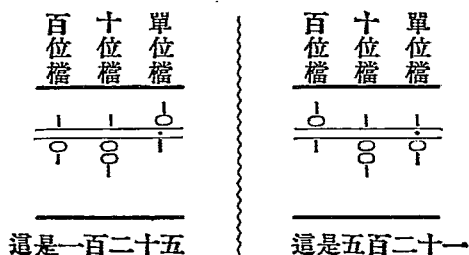
1. 做運動衣用布四尺五寸,做運動褲用布四尺六寸,共用布多少?
2. 媽媽替自強做長衫,用去八尺五寸布,還餘布八寸,這塊布長多少?
3. 買汗衫兩件,價二元八角,球鞋一雙,價一元八角,共該洋多少?
4. 中國國貨商場舉行大廉價,爸爸替我買襪子兩雙,用去洋五角五分,買手巾二塊,用去洋三角六分,共用洋多少?
5. 爸爸替自強買書桌一張,價五元五角,椅子一張,價二元四角,共用洋多少?
6. 自強到市上去買菜,用去銅元四十五枚,還餘七枚,自強共帶銅元幾枚?
7. 鉛筆每枝價銅元三十七枚,毛筆比鉛筆貴六枚,問毛筆每枝價多少?
8. 鉛筆,毛筆各買一枝,共該銅元多少?
9. 自強自奮各做衣一件,自強需布六尺四寸,自奮需布三尺六寸,兩人共需布多少?

10. 自強做襯衫一件,需布五尺二寸,做褲一條,需布四尺三寸,共需布多少?
11. 買自由布一疋,價五元三角,愛國布一疋,價三元四角,共價多少?
12. 買被單一幅,價三元二角,透涼羅帳一項,價五元七角,共價多少?
13. 輕白毛巾每打價二元八角,五彩花巾每打價三元,各買一打,需洋多少?
14. 自強的姐姐向三友實業社買自由布二丈三尺,買士林布一丈六尺,共買布多少?
15. 布一段,做短衫用去四尺三寸,做褲用去三尺五寸,尚餘布一尺八寸,這段布共長多少?
16. 做夾袍一件,面子需布一丈三尺,夾裏需布一丈二尺,共需布多少?

三位數的記法

三位數是由單位檔、十位檔、百位檔三檔記成的。

百位檔的下珠，每顆作一百，上珠每顆作五百。



1. 用算盤記出下列五個數：
三百六十四 七百零四， 八百五十， 三百四十九， 七百六十五。
2. 用 1、2、3、三個數字，在算盤上記出幾個不同的數。
3. 把下面數碼記的數，改記在算盤上。
I=III, XLX, IXX, IIX, IIII, XLI.

減法口訣(減一)

口訣要讀熟,讀得愈熟愈好.

- | | |
|---|------|
| 一 | 去一 |
| 一 | 上四去五 |
| 一 | 退一還九 |

退是退位的減,退一就是從左檔減一珠的說法.

還是退位後還原的加,還九就是在本檔加上九珠的說法.

$2 - 1 = 1.$	$5 - 1 = 4.$	$10 - 1 = 9.$
記 2	記 5	記 1 0

1. 把適用的口訣,寫在空格裏:

被減數	減數	口 訣	被減數	減數	口 訣
一	一		六	一	
二	二		七	一	
三	一		八	一	
四	二		九	一	
五	二		十	一	

2. 算出下列各題的答數:

十一減一 是多少?

二十減一 是多少?

二十五減一 是多少?

三十六減一,再減一, 是多少?

3. 一家雜貨店,星期日賣去貨物如下:

火柴八十九包,賣去十一包,還有幾包?

手巾二十五打,賣去十一打,還剩幾打?

洋襪三十打,賣去十一打,還剩幾打?

牙刷五十五支,賣去十一支,還剩幾支?

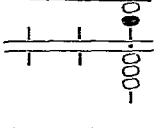

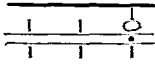
牙粉六十包,賣去十一包,還剩幾包?

減法口訣(減二減三)

減二口訣		減三口訣	
二	去二	三	去三
二	上三去五	三	上二去五
二	退一還八	三	退一還七

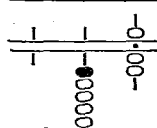

$$5 - 2 = 3.$$

記 5



$$10 - 3 = 7.$$

記 1 0



1. 把適用的口訣,寫在空格裏:

被減數	減數	口 訣	被減數	減數	口 訣
二	二		三	三	
三	二		四	三	
四	二		五	三	
五	二		六	三	
六	二		七	三	
七	二		八	三	
八	二		九	三	
九	二		十	三	
十	二		十一	三	
十一	二		十二	三	



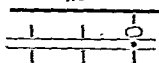
2. 算出下列各題的答數：
十減二,是多少?
十一減二,是多少?
二十五減三,是多少?
三十六減三,是多少?
四十八減二,再減三,是多少?
五十六減三,再減二,是多少?
3. 自強帶銅元八十二枚,到街上去,買紙用去三十二枚,還剩多少?
4. 後來又買橡皮一塊,用去二十三枚,還剩多少?
5. 自強又把餘剩的銅元買鉛筆,用去十三枚,還剩多少?
6. 自強的哥哥買一本書,價錢比自強所帶的銅元少二十三枚,這書的價錢是多少?
7. 自強的弟弟也買一本書,價錢比自強所帶的少十二枚,這書價錢多少?

減法口訣(減四,減五)

減四口訣	減五口訣
四 去四	五 去五
四 上一去五	五 退一還五
四 退一還六	

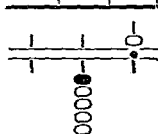

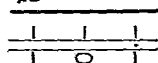
$$5 - 4 = 1.$$

記 5



$$10 - 5 = 5.$$

記 1 0



1. 把適用的口訣寫在空格裏:

被減數	減數	口 訣	被減數	減數	口 訣
四	四		五	五	
五	四		六	五	
六	四		七	五	
七	四		八	五	
八	四		九	五	
九	四		十	五	
十	四		十一	五	
十一	四		十二	五	
十二	四		十三	五	
十三	四		十四	五	

2. 算出下列各題的答數：
十四減四是多少？
二十五減五是多少？
三十六減四，再減五，是多少？
四十八減四，再減五，是多少？
五十二減五，再減四，是多少？
六十減五，再減四，是多少？
3. 自強帶銅元八十二枚，到中華書局去買檯球板，用去四十五枚，還剩幾枚？
4. 後又買檯球一個，用去銅元二十四枚，還剩幾枚？
5. 檯球板比檯球貴幾枚？
6. 國語課本每冊定價一角四分，算術課本每冊定價一角二分，國語比算術貴多少？
7. 國語課本五十冊，算術課本四十四冊，國語比算術多幾冊？
8. 社會課本有三十五冊，算術比社會多幾冊？

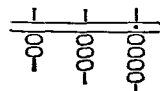
復習減法(一、二、三、四、五)

在每個空格裏，寫出要用的口訣來：

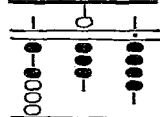
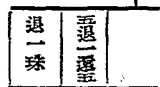
被減數 減數	五	六	七	八	九	一〇	一一	一二	一三	一四
一			一去二							
二	去三 上三									
三										
四						退六 四退二				
五										

例一： $234 - 55 = ?$

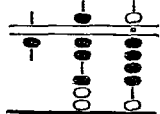

記 2 3 4



先減十位檔五。



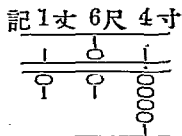
再減個位檔五。



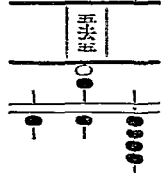
答：一百七十九。

例二：一丈六尺四寸的自由布，做衣服剪去五尺五寸，還剩布多少？

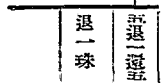
求餘剩的自由布有多少，要用減。



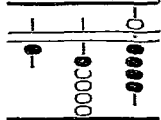
先減尺位檔五。



後減寸位檔五。



答一丈零九寸。



算出下列各題的答數：

$120 - 12 = \underline{\quad}$ $250 - 41 = \underline{\quad}$

$362 - 43 = \underline{\quad}$ $472 - 54 = \underline{\quad}$

$565 - 123 = \underline{\quad}$ $632 - 243 = \underline{\quad}$

$624 - 345 = \underline{\quad}$ $720 - 455 = \underline{\quad}$

$421 - 235 = \underline{\quad}$ $972 - 542 = \underline{\quad}$


1. 媽媽到小菜場去買小菜,買豬肉一斤,洋二角八分,鯽魚一尾,洋二角六分,共用洋多少?
2. 媽媽付出大洋一元,找回大洋多少?
3. 大伯家裏,也買一斤豬肉,價錢和我家買的一樣,又買四斤青菜,用去大洋八分六釐,問一共用去洋多少?
4. 姑母來家,媽媽買菜請客:雞一隻,用去大洋八角五分,魚一尾,用洋三角二分,豬肉二斤,用洋半元,共用洋多少?
5. 雞的價錢比魚的價錢貴多少?
6. 肉的價錢比雞的價錢賤多少?
7. 爸爸買菜回來,叫我計算用掉的錢一共有多少?

銀魚	半斤	洋五角六分
豬肉	一斤	洋三角二分
豆芽菜	四斤	洋五分
雞蛋	六個	洋二角四分

帳簿的認識和計算(一)

帳簿分直寫的和橫寫的兩種：
直寫的記載每日收付的簿子，叫
流水簿。

記法：上面記收入銀錢數，下面
記付出銀錢數。
流水簿面式：



流水簿記帳式：

										收爸爸銅元捌拾枚	收媽媽銅元壹佰枚	民國二十三年
	二日	結存銅元	共收銅元壹佰捌拾枚							付鉛筆一枝銅筆五枚	付毛筆一枝銅筆四枚	二月
付贈筆一盒銅元廿五枚		叁拾枚	共付銅元壹佰伍拾枚	付筆花簿本銅元廿枚	付作文簿本銅元廿枚	付練習簿本銅元拾枚	付橡皮一塊銅元六枚	付墨一錠銅元八枚				吉辛

1. 計算下面的伙食帳：

									四月一日
	二日	茶用洋							
付豆芽菜肆角捌分		元 角 分 厘	付醬油洋壹角肆分	付青菜洋肆角捌分	付魚洋貳角捌分	付豬肉洋貳角肆分	付藍洋肆角捌分	付菜油洋壹元貳角伍分	付柴洋貳元正
									付白米洋貳元伍角

2. 計算下面的雜用帳：

									十二月十三日
		茶用洋							
		角 元 角 分 厘	付雜用洋拾陸角	付顏料洋捌角	付紙張洋貳角肆分捌厘	付化妝品洋貳拾角	付印刷品洋貳元陸角	付裝置費洋陸元	收學生會撥款洋肆拾角
									收學校津貼費洋拾元正

3. 把自強四月六日的零用帳,記做流水簿帳式:

收前日結存洋貳元八角六分

收父親給洋二元正

付國語課本一冊洋一角四分

付算術課本一冊洋一角二分

付社會課本一冊洋一角

付自然課本一冊洋一角二分

付字典一本洋三角六分

4. 把自奮四月十二日的雜用帳,記做流水簿帳式:

收昨日結存銅元二百二十八枚

收祖父給銅元五十枚

付畫紙六張銅元十八枚

付小楷筆一枝銅元二十四枚

付信紙廿張銅元二十枚

付信封二個銅元六枚

付郵票五分銅元十五枚

5. 把下面的帳,記做流水簿帳式,並算出結存數來:

五月一日: 收前月存洋貳拾肆元,小洋拾伍角,銅元七十五枚.

二日: 收房租洋拾貳元.

六日: 付伙食洋拾元,小洋陸角,銅元四十八枚.

七日: 付汗衫二件洋一元

九日: 付皮鞋一雙洋七元半,草帽一頂洋一元二角.

十二日: 付剪髮小洋二角,糕餅一盒小洋二角,茶葉一包小洋四角.

十八日: 付洋傘一柄洋一元八角,紗襪二雙洋四角八分.

廿四日: 付信紙十張銅元二十枚,信封五個銅元十枚.

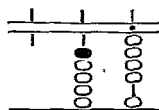

廿九日: 付賀禮洋一元,手巾半打洋四角八分.

減法口訣(減六減七)

減六口訣		減七口訣	
六	去六	七	去七
六	退一還四	七	退一還三
六	退一還五去一	七	退一還五去二

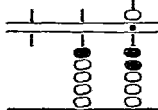

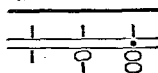
$$10 - 6 = 4$$

記 1 0



$$12 - 7 = 5$$

記 1 2



1. 把要用的口訣,寫在空格裏:

被減數	減數	口 訣	被減數	減數	口 訣
六	六		七	七	
七	六		八	七	
八	六		九	七	
九	六		十	七	
十	六		十一	七	
十一	六		十二	七	
十二	六		十三	七	
十三	六		十四	七	
十四	六		十五	七	
十五	六		十六	七	

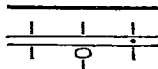
2. 算出下列各題的答數：
十四減六是多少？
二十五減七是多少？
三十六減七，再減五，是多少？
四十八減七，再減六，是多少？
七十二減六，減七，再減四，是多少？
八十五減三，減七，再減六，是多少？
3. 自強帶銅元百枚，到小菜場去買菜，買魚用去三十七枚，買青菜用去二十四枚，還餘銅元幾枚？
4. 魚價比青菜價貴多少？
5. 肉每斤價二角五分，魚每斤價一角六分，肉價比魚價貴多少？
6. 倘付出大洋一元，買魚、肉各一斤，應找回洋多少？
7. 買蘿蔔用銅元二十四枚，買青菜用銅元十六枚，付出小洋貳角，應找回銅元幾枚？（小洋二角值銅元48枚）

減法口訣(減八、減九)

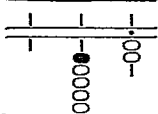
減 八 口 訣	減 九 口 訣
八 去八	九 去九
八 退一還二	九 退一還一
八 退一還五去三	九 退一還五去四

$$10 - 8 = 2.$$

記 1 0

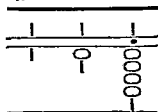


	退一 珠	減八 退二 還三
--	---------	----------------

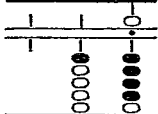


$$14 - 9 = 5.$$

記 1 4



	退一 珠	減九 退一 還五 去四
--	---------	----------------------



1. 把要用的口訣,寫在空格裏:

被減數	減數	口 訣	被減數	減數	口 訣
八	八		九	九	
九	八		十	九	
十	八		十一	九	
十一	八		十二	九	
十二	八		十三	九	
十三	八		十四	九	
十四	八		十五	九	
十五	八		十六	九	
十六	八		十七	九	
十七	八		十八	九	

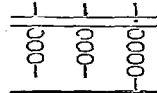
2. 算出下列各題的答數：
十六減八是多少？
廿七減九是多少？
三十八減九，再減八，是多少？
四十二減八，再減九，是多少？
五十四減六，減八，再減九，是多少？
六十五減七，減八，再減九，是多少？
3. 自強有洋二元四角，自奮有洋一元八角，自強比自奮多洋多少？
4. 自強隔了兩天，爸爸給他洋九角，共有洋多少？
5. 自奮隔了兩天，買學業用品，用去洋九角，還餘洋多少？
6. 自強帶洋一元，到中華書局去，買小學生日記一本，價銀三角二分，應找回洋多少？
7. 倘再買兒童故事一本，用去一角八分，問還餘多少？

復習減法(六,七,八,九)


被減數 減數	一	二	三	四	五	六	七	八	九	〇
六	五去一退一									
七										
八						還八退二				
九										還九退一

例一: $334 - 58 = ?$

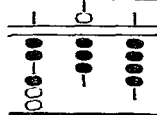
記 3 3 4



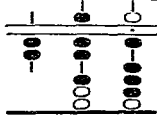

先減十位檔五。



後減單位檔八。

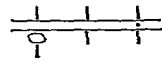


答:276.

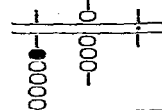



例二： 母親帶十元鈔票一張，出外買物，回家一算，計買皮鞋一雙，洋二元八角，還餘洋多少？

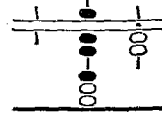
記元記角



先減元位檔二。



後減角位檔八。



答：_____

算出下列各題的答數：

$724 - 366 = \underline{\hspace{2cm}}$ $552 - 245 = \underline{\hspace{2cm}}$

$424 - 137 = \underline{\hspace{2cm}}$ $444 - 235 = \underline{\hspace{2cm}}$

$852 - 478 = \underline{\hspace{2cm}}$ $863 - 448 = \underline{\hspace{2cm}}$

$5丈4尺2寸 - 3丈9尺4寸 = \underline{\hspace{2cm}}$

$7元3角2分 - 3元4角7分 = \underline{\hspace{2cm}}$

1. 自強的媽媽,買布一丈六尺五寸,替自強做衣服,用去一丈二尺四寸,餘布做書包一個,書包用布多少?
2. 鐘一隻,價五元二角五分;買錶一隻,價比鐘少一元三角六分,錶價值多少?
3. 鐘和錶的共價多少?
4. 倫付出大洋拾元,應找還多少?
5. 某農夫去年收得稻七石三斗五升,還田主租米三石五斗,尙餘多少?
6. 後又賣去二石一斗五升,還餘多少?
7. 又吃掉一石零三升,還餘多少?
8. 有賣油翁挑五十六斤豆油到市上,賣去十九斤後,被馬車撞倒一籃,潑去二十七斤,問尙餘豆油多少?
9. 撥去的比賣去的多幾斤?
10. 菜子一百斤,搾得菜油六十五斤,問渣滓有多少?

帳簿的認識和計算(二)

橫寫的帳簿格式如下：

23年		撮要	收 入			付 出		
月	日		大洋	銀角	銅元	大洋	銀角	銅元
5	1	上月存	12	24	136			
”	”	本月膳費				9		
”	5	字典一本				1	4	
”	”	字帖一本					2	
”	12	草帽一頂				1		
”	14	父親給	4	8				
”	18	紗襪二雙					4	
”	”	汗衫二件				1		
”	24	剪髮					2	
”	29	糖果一包						42
		共 計	16	32	136	12	12	42
			-12	-12	-42			
		本月結存	4	20	94			

1. 下列各項是自強五月份的收支總登,求他的總結數.

23年		操 要	收 入						支 出										
月	日		大 洋	銀 角	銅 元		大 洋	銀 角	銅 元										
			百	十	單	百	十	單	百	十	單								
5	1	上月結存	1	2		8	1	4	0										
"	3	顏料一盒																	4
"	"	小楷筆一枝																	3
"	"	鉛筆二枝																	2
"	7	祖父給			2				6			4		0					
"	15	練習簿四本																	2
"	18	母親給							6										
"	25	剪髮																	2
"	28	筆記簿二本																	3
"	29	洗澡																	2
"	31	下月膳費																	8
		總結																	

2. 把自奮五月份的零用帳記入下面表格裏：

五月一日：收上月結存洋七元二角三分二釐。

四日：付兒童應用文一本洋二角四分。

七日：收爸爸給洋二元。

全日：付牙膏一瓶洋二角。
付毛巾一塊洋三角二分。

十二日：付給小朋友的信一本洋二角七分。

十八日：付洗澡洋一角六分。

廿二日：收舅舅給洋一元。

廿五日：付日記簿一本洋四分八釐。

廿八日：付鉛筆一枝洋八分。

卅一日：付剪髮洋一角六分。

加減總復習

減數 加數	789	減數 加數	987
12		123	
23		234	
34		345	
45		456	
56		567	
67		678	
78		789	
89		890	
90		901	
101		192	

1. 振華前月存入銀行裏小洋 365 角,本月又存入 286 角,共存入小洋幾角?
2. 後因買圖書用品,取出小洋 178 角,振華還有小洋幾角存在銀行裏?

3. 振華的弟弟愛華前月也有小洋325角,存入銀行裏,本月又存入308角,愛華共有小洋幾角?
4. 振華和愛華存的小洋那個多?多幾角?
5. 愛華要買參考書,向銀行取出212角,還有小洋幾角存在銀行裏?
6. 王先生領高級部學生到南京謁中山陵,計用去火車費十五元四角,膳食費二十元七角,雜費十四元三角,總計用費多少?
7. 在南京二我軒照相館拍全體照一張,洋四元八角,併入雜費內,雜費共計多少?
8. 謁中山陵墓時,大家都坐人力車去,共用洋十二元四角,回來又坐人力車,用洋八元六角,共用洋多少?
9. 光夏新邨的合作商店,有資本274元,農民銀行有資本537元,兩處資本相差多少?

10. 合作商店拿出 158 元修築道路,
合作商店還有資本多少?
11. 合作商店到年底結帳,計賺得384
元,合作商店的資本現有多少?
12. 農民銀行借出 475 元給農民買
肥料,問銀行裏還剩資本多少?
13. 振華向中華書局買兒童文學叢
書四冊,計洋二角八分,付出大洋一
元,應找回洋多少?
14. 下列書帳,大家算算共計洋多少?
新式學生字典一本 洋三角
六分
小朋友 一年 洋二元
五角
全世界的小孩子六本 洋五角
四分
中華衛國男兒一本 洋一角
八分
15. 付出五元鈔票一張,要找回多少?

加法口訣總表

口訣要熟讀,讀得愈熟愈好.

加一	一上一	一下五去四	一去九進一
加二	二上二	二下五去三	二去八進一
加三	三上三	三下五去二	三去七進一
加四	四上四	四下五去一	四去六進一
加五	五下五		五去五進一
加六	六上六	六去四進一	六上一去五進一
加七	七上七	七去三進一	七上二去五進一
加八	八上八	八去二進一	八上三去五進一
加九	九上九	九去一進一	九上四去五進一

上一、上二、…… 上九是撥上一珠、二珠、…… 九珠靠梁。

下五,是撥下一上珠靠梁做五。

去一、去二、…… 去九是撥去一珠、二珠、…… 九珠離梁。

進一 是本位滿十的數,進到上位。

減法口訣總表

口訣要熟讀,讀得愈熟愈好。

減一	一去一	一上四去五	一退一還九
減二	二去二	二上三去五	二退一還八
減三	三去三	三上二去五	三退一還七
減四	四去四	四上一去五	四退一還六
減五	五去五		五退一還五
減六	六去六	六退一還四	六退一還五去一
減七	七去七	七退一還三	七退一還五去二
減八	八去八	八退一還二	八退一還五去三
減九	九去九	九退一還一	九退一還五去四

退一是從左檔退去一珠(下珠去一)。

還一、還二、……還九是在本位加一、加二、……加九。

1811

民國廿三年十一月初發行

有 不 著 准 作 翻 權 印

新課程標準適用
小學珠算課本(初級用)

第一冊定價銀一角二分

編者 宋 若 愚

校者 張 鵬 飛

發行者 中華書局有限公司
代表人 陸費達

印刷者 中華書局印刷所

總發行所 中華書局總店

分發行所 各埠中華書局

標商冊註

