




توانا بود هر که دانا بود

وزارت فرهنگ

کتاب دوم ابتدائی



بنگاه مطبوعاتی سعادت

۱۳۲۵

---

چاپ مطبوعات

بِسْمِ اللّٰهِ الرَّحْمٰنِ الرَّحِیْمِ

## تختین روز درس

حداز اشکر کہ ہمہ ما بکلاس دؤم آمدہ ایم . در کلاس اول خواند  
و نوشتن و کمی حساب یاد گرفتیم .

امسال کہ بکلاس دؤم آمدہ ایم خواہیم توانست بہتر بخوانیم

و بہتر بنویسیم و ہنرهای تازه یاد بگیریم

در این راہ انقدر کوشش خواہیم کرد تا آموزگار و مدر و مادر از خود خوشدلیتم

- اے کلاس اول چہ یاد گرفتید؟ - در کلاس دؤم چہ یاد خواہید گرفت؟ - کہ ایک از شما بتواند این درس را  
راہ دہند بخواند؟ - کی متواند سرود بخواند؟

۲- صفحه اول را شماره و بلند بخوانید.

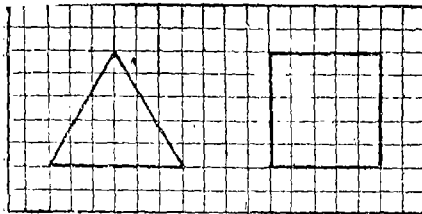
۳- این کلمه را پنج بار در دفتر خود بنویسید: خداراشکر - خواندن - نوشتن

خواهیم توانست بهتر بنویسیم - بهتر بخوانیم - حساب کردن - هنرهای

تازه یاد بگیریم - آموزگار - پدر - مادر - خشود

۴- از روی این سطره بار در دفتر خود بنویسید.

خداراشکر که ما بکلاس دوم آمدیم




۵- این شکلها را بکشید.

گندم - آرد - نان

در فصل پاییز زمین را شخم میکنند و گندم میکارند.


نان خوب از گندم است.

(۱) - آموزگاران این کلمات را با خط درست و خوب روی تخته سیاه خواهند نوشت.



بزرگان گندم میکارند  
 تا آن مردم فراهم  
 شود. بزرگان  
 را دوست میداریم  
 آیا میتوانی بگوئی

گندم در چه فصل میرسد و آزاد رو میکنند؟



دروگر گندم  
 رسیده را با داس  
 درو میکنند.  
 و همان<sup>(۱)</sup> گندم

درو شده را خرمن میکنند و میکوبند. پس از کوبیدن دانه های گندم

(۱) بزرگان

## از گاه جدا میسازند .

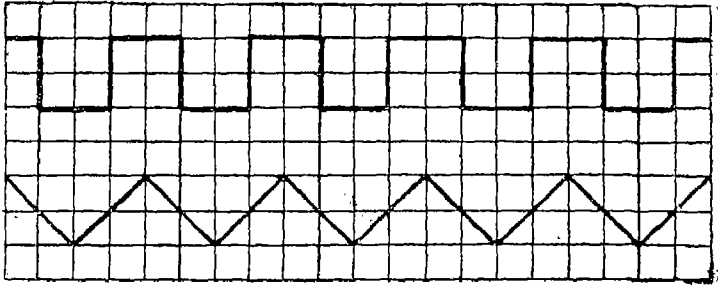
- سؤال ۱- در تصویر اول این درس چه می بینید؟ ۲- نام دو حیوان بزرگ که در این شکل است چیست؟ ۳- دنبال آنها کیست و در دشتهای او چیست؟ ۴- مرد دیگر که در سمت راست شکل دیده میشود چه میکند؟ ۵- در شکل یک خانه بهم هست و در دو طرف خانه چیست؟ ۶- چرا زمین زیر پای مردی که تخم میپاشد ناصاف است؟ ۷- چند گاو می بینید؟ ۸- بالای کوهها چه دیده میشود؟ ۹- سنگهای اول و دوم این درس هر دو مال یک مزرعه میباشند یا نه؟ گوئید چه فرق باهم دارند؟ ۱۰- در شکل اول زمین را تخم نمیکند و تخم میپاشند؛ در شکل دوم چه دیده میشود؟ ۱۱- آیا چیزی مانند داس در آسمان دیده اید؟
- تکلیف : از روی این کلمه پانچ بار در دفتر خود با خط خوب بنویسید (\*).

فصل پانزدهم تخم میکنند گندم بزرگ دهبقان  
سکارو دروگر خرمن میکوبند


(\* آموزگاران این کلمات را قبلاً با خط درشت خوب روی تخته سیاه بنویسند .

(۶)

رسم : از روی این شکل‌ها روی کاغذ شطرنجی بکشید



## درس حساب



۱- باین شکل نگاه کنید - میزناهار خوری را اینطور باید دید - روی

میزچند بُشّاب است؟ چند گیلّاس آنجوری است؟ چند کارو؟  
 چند چکال؟ چند قاشق؟ دور میز چند صندلی است؟ - بر روی هم  
 روی میز چند کارو و قاشق و چکال است؟ همه را روی یک  
 برگ کاغذ زیر هم بنویسید اینطور:

بشّاب  
 ۱۲  
 چکال  
 ::  
 ::

۲- پرویز در دبستان کاغذی بنویسند نشان داد که رویش نوشته بود

۱۲      ۲۱      ۳۳      ۴۷      ۶۹      ۷۸

و گفت بخوان - منوچهر خواند: دوازده . بیت و یک .

چهل و هفت . نود و شش . هفتاد و هشت در خواندن چه

اشتباهی کرد؟

گندم - آرو - نان (بقیّه)




شهدی حسن آسیابان

دهه ما است .

او کند همای مردا

را در آسیای خود آرد

می کند .



شهدی حسن با آنکه پیر است کار می کند . او زحمت می کشد و آرد خود

تهیه<sup>(۱)</sup> می کند تا مان ما خوب باشد . ما هم او را دوست میداریم و با او


گوتاک می کنیم .

جلو خانه احمد یک دکان نانوائی است . در دکان نانوائی

آرد را خمیر می کنند و در تنور می پزند .

پهلوی دبستان ما هم یک دکان نانوائی هست . این دکان

(۱) - تهیه کردن نان و پختن آن در تنور



چار کارگردارد :  
یکی خمیر میکند ، یکی  
تنور را گرم میکند ،

یکی نان میسزد . چهارمی هم نان را میفروشد .

حالا میتوانید بگوئید چه کسانی کار میکنند تا نانی که ما میخوریم فراهم شود؟

سوال :


- ۱- در تصویر اول این درس چه می بینید؟ ۲- در پائین تصویر چند الاغ می بینید؟ ۳- گندم را کجا آرد میکند؟ ۴- آن آدم ریش سفید که جلوی در آسیا ایستاده است کی است؟ ۵- آب جوی آب در آن شکل می بینید؟ ۶- آب این جوی کجا میریزد؟ لابد میدانید که این آب برای چرخاندن سنگ آسیاب کار میرود و با چرخیدن سنگ آسیاب گندم آرد میشود .
- ۷- در سمت راست شکل دوم این درس چند کارگر کار میکنند؟ هر یک از آنها چه میکند؟ ۸- سمت چپ شکل چه قیمت از دوکان نانوائی است؟ ۹- این دهنه که برای خریدن نان بدان مکان نانوائی میروید یعنی آن دوکان چند کارگردارد؟

گلگلیف : از روی این جمله پنج بار در دفتر خود خوب بنویسید (\*)

(\*) آموزگاران این جمله را با خط درشت و خوب روی تخته سیاه بنویسند .

گندم را آرد میکنند . آرد را خمیر میکنند . تنور را گرم میکنند .  
خمیر را پهن میکنند و در تنور میسوزند . نان میشود . نان را میفروشند

## درس حساب



۱- در این شکل چند مهره است؟ - چند مهره سیاه و چند مهره سفید

است؟ - می بینید که میان هر دو مهره سیاه یک مهره سفید است

پس میان هر دو مهره سفید چه مهره ای خواهد بود؟

مهره های سفید و سیاه را یک در میان گذاشته ایم .

۲- در کلاس درس شما میز و نیکته را یک در میان گذاشته اند .

۳- از روی دفتر کلاس اسم شاگردان را یک در میان بخوانید .

۴- روزهای هفته از شنبه تا پنجشنبه را یک در میان نام ببرید .

۵- عدد های از ۴۳ تا ۴۲ را بنویسید و آنها را یک در میان بنویسید

۶- عدد های از ۱۱ تا ۲۷ را یک در میان بنویسید .

۷- عدد های هر یک از این دو سطر بطور نوشته شده است ؛

۱۰	۱۲	۱۴	۱۶	۱۸	۲۰	۲۲
۲۳	۲۵	۲۷	۲۹	۳۱	۳۳	۳۵

## فریدون

فریدون مهربان است	غریز کوه دکان است
بزمی میزند حرف	همیشه خوش زبان است
بهر جا کوه کاتند	فریدون در میان است
همیشه گرم و خوشروست	دانش خنده دان اسند
فریدون نیست ترسو	خودش یک پهلوان است
نمکگوید مگر راست	که خشنور در بمان است

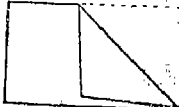
از روی این سرشک ده سطر بنویسید:

نمیکویم مگر راست



کاردستی: یک صفحه کاغذ را که باین شکل باشد

و بعد دو قسمت رو بهم افتاده را



اینطور تا کنید



باقی از قسمت دیگر جدا کنید و تارا باز کنید این شکل

بدست خواهد آمد که از مربع نمیکویند.

برای خنده

روزی مادر حسن او را برای خریدن شیر به بازار فرستاد. حسن

طرف کوچکی برداشت و بمغازه شیرفروشی رفت و از شیرفروش

یک کیلو شیر گا و خواست.

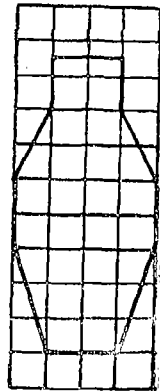
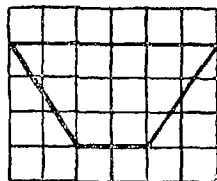

شیرفروش گفت این ظرف که آورده ای کوچک است و یک کیلو

شیر گا و نمیکرد.

حسن گفت پس یک کیلو شیر کوفته بدهید .!

- ۱- سوال : ماد حسن او را برای چه بازار فرستاد؟ حسن چه با خود برد؟ شیر فروش با چه گفت؟ حسن چه فکر کرد گفت بجای شیر کاه شیر کوفته بدهید؟ آیا فکر او درست بود؟
- ۲- وقتی که میخواهید از بازار شیر بخردید نباید طرف دهن گشاد مثل کاسه دو بادیه بریزد زیرا شیر مانند حرکت از کاسه بیرون میریزد؛ برای بردن شیر و خیزهای آنگی طرف دهن تنگ مثل شبرون دسبوا باید کار برد.

۳- از روی این شکلها روی کاغذ شطرنجی کشید



درس حساب

- ۱- دست راست و پای چپ خود را بلند کنید .
- ۲- برای نوشتن قلم را بگیرد ام دست خود میگیرید .
- ۳- در وقت راه رفتن دست چپ شما پای راست حرکت

میکند و دست راست شما با پای چپ . راه بروید و ببینید آیا اینطوری

است ؟

۴- روی نیکتی که نشسته اید چند نفر طرف راست و چند نفر طرف

چپ شما نشسته اند ؟

۵- روی تخته و روی کاغذ خط فارسی را از طرف راست

بطرف چپ بنویسیم و حساب را از چپ بر راست - حالا بگوئید وقتی

روی تخته میایستید طرف راست تخته مقابل کدام دست شما میشود ؟

۶- این نقشه ایران است


همدان در چپ این نقشه است

یا در طرف راست آن ؟

بیرجند در کجای نقشه

است ؟





## گاو پر فایده است

پرویز - پدر جان! من از این گاو میترسم. شاخهای بلندش  
نگاه کن! چشمهایش را ببین! الآن میخواهد با شاخ بزند!  
پدر - پرویز جان نترس گاو حیوان نجیب و خوبی است، برای  
ما بسیار فایده دارد.

پرویز - پدر جان گاو چه فایده لائی دارد؟



پدر - فایده های گاو بسیار است مثلاً گاو ناده شیر میدهد ، ناز  
 شیرش گره میگیریم و ماست و پنیر و کشک هم درست میکنیم . او  
 پوست گاو چرم میازیم و از چرم کفش درست میکنیم . گوشت  
 گاو را هم مردم میخورند . گاو نر هم برای شخم کردن زمین بکار  
 میرود .

## پرسش و تکلیف

۱- پرویز پدرش چه گفت ؟ گاو برای ما چه فایده دارد ؟ در شکل اول کتاب گاو چه میکنند ؟ گاو  
 ناده ما چه میدهد ؟

۲- روی شکل این درس نگاه کنید و آنچه می بینید تعریف کنید .

۳- این کلمه ها در جمله های آری بکار روی تخته سیاه و پنج بار دفتر خود بنویسید : (\*)

کشک ، گره ، ماست ، پنیر ، روغن ، شیر ، شیر و خامه ، از شیر میگیرند  
 ۴- از روی این سرشن ده بار بنویسید :

گاو ، ن و خران ، بار بردار ، به زاد میان مردم آزار

(\*) آموزگاران کلمات را قبلاً با خط درشت خوب روی تخته سیاه بنویسند .

## درس حساب

۱- چیت متری ۱۳ ریال گرانتر است یا چیت متری ۱۵ ریال؟

۲- ۳۷ بزرگتر است یا ۷۲؟ - ۹۱ کوچکتر است یا ۸۷؟

۳- کدام کوچکتر است؟ | کدام بزرگتر است؟

۱۲	یا	۲۵	؟
۴۰	یا	۳۶	؟
۷۹	یا	۸۳	؟
۴۹	یا	۶۰	؟
۴۹	یا	۷۵	؟
۲۱	یا	۱۷	؟
۵۰	یا	۳۹	؟
۹۱	یا	۸۹	؟

۴- کلاس اول دبستانی ۳۲ شاگرد دارد و کلاس دوم آن ۴۱ شاگرد

و کلاس سومش ۲۹ شاگرد کدام کلاس از همه بیشتر و کدام از همه کمتر شاگرد دارد؟

۵- سهراب وزیر اهریک یک دفترچه ۴۰ برگی دارد سهراب ۲۵ صفحه

از دفترچه خود را نوشته است و وزیر ۱۹ صفحه که بیشتر نوشته است؟ دفترچه کدام بیشتر

صفحه سفید دارد؟

۶- حسن و تقی هر یک ۱۲ مشق نوشته بودند حسن ۲ مشق دیگر یعنی ۵ مشق دیگر نوشت حال آنکه حسن بیشتر نوشت؟

## حیوانات زانباہد ازار کرد<sup>(۱۸)</sup>

ابوالقاسم بچہ ای بازگوش بود . و حیوانات ر آزار میکرد .  
ہر چہ پدر و مادر و ہمسایگان اور از این کار باز میداشتند و نصحت  
نیکردند گوش نمیداد .

روزی ابوالقاسم آہستہ از عقب سگ ہمسایہ آمد و دم  
اور اکتید . سگ ناگہان پرید و پامی ابوالقاسم را دندان  
گرفت و شدت زخم کرد . از این پیش آمد ابوالقاسم بیمار شد  
و مدتی در رختخواب خوابید تا بہبود یافت . از آن پس توبہ کرد  
کہ دیگر حیوانات آزار نرساند .

۱- ابوالقاسم چطور بچہ ای بود؟ مردم با ابوالقاسم چہ می گفتند؟ او با سگ چہ کرد؟

سگ با او چہ کرد؟

۲- این حکایت را بزبان سادہ خودتان بگوئید .

۳- این کلمہ بارہم پنج بار در دفتر خود بنویسید : ابوالحسن - عبداللہ - عبدالحکیم .

عبدالرحیم - اسدالله - فضل الله - عبدالعلی - عبدالرضا  
 ابوالقاسم آزار میکرد (حالاً نمیکند) گوش بنصحت  
 میداد (حالاً میدهد) دُم سگ را گرفت (حالاً نمیکرد)  
 ایس رومی خاکستر

مودی دانشمند در اطاق خود مشغول کتاب خواندن بود.  
 شنید در میزنند؛ رفت در را باز کرد؛ دختر همسایه وارد شد و  
 خواست. مرد گفت بیایر آنا آزاد چه خواهی ریخت؟  
 فسبر کن طرفی بیاورم. دختر گفت راضی بر خمت شما نیستم؛  
 میدانم چگونه ببرم.

دانشمند با کمال تعجب گفت بیستم چطور میری؟  
 دختر قدری خاکستر بر د کف دست خود ریخت و چند گل  
 مودی خاکستر گذاشت و با ادب گفت: اینطور! و بار مودی

خدا ان خدا حافظی کرد و رفت .

۱- این کلمه را دوبار در دفتر خودتان بنویسید :


مرد دانشمند مشغول صبر کردن تعجب خدا حافظی نظر

۲- سرشقی از روی این سرشقی دو بار با دعا بنویسید :

راضی بر رحمت شما نیستم

درس حساب

۱- در این شکل چند مضمومی بینید ؟



آنها را دو تا دو تا بشمارید و بانوک مداد نشان بدهید و بگوئید :

۳ : ۴ ، ۶ ، ۱۰ ، یک دفعه هم آنها را سه تا سه تا بشمارید .

۲- از ۱۹ بشمارید تا به ۱ برسید - از ۳۳ بشمارید تا به ۱۰ برسید

از ۴۵ بشمارید تا ۱۰ . از ۲۶ بشمارید تا ۳۴

۲- صفحہ های کتاب خودتانرا تا صفحہ ۴۰ دو تادو تا بشمارید

۳- منوچہر ۲۵ بادام داشت پس از آنکہ ۷ بادام راداد

دانه شکر دباتی رادو تادو تا شکر د- میتوانید شاہم مثل او بشمارید؟

۵- بسنید از ۱۱ تا ۳۹ را یک در میان درست نوشته ایم؟

۱۱ ۱۳ ۱۵ ۱۹ ۲۱ ۲۵ ۲۷ ۳۰ ۳۳ ۳۴

## دہان


ما با دہان خود غذا بخوریم و حرف میزنیم شیرینی و ترشی

و شوری غذا مارا با دہان

و زبان حس میکنیم

غذا را باید در دہان

خوب بجوید .



بچه‌هایی که غذا را با آرامی می‌جویند کمتر مریض می‌شوند.

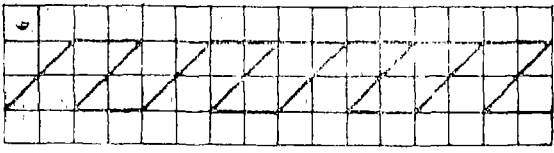
فتح‌الله نادت داشت که غذا را تند بخورد و همین سبب همیشه  
لاغر و رنجور بود. یک روز دلش سخت درد گرفت مادرش  
او را پیش طبیب برد طبیب با او داد و گفت چون فتح‌الله  
تند غذا می‌خورد و هر چه می‌خورد خوب نمی‌جوید اینطور مریض می‌شود.  
حالا باید چند روز این دوا را بخورد تا خوب شود.

فتح‌الله وقتی حالش خوب شد عهد کرد که دیگر غذا را نجوید  
فرو برد و در خوردن غذا شتاب نکند.

در موقع غذا خوردن دمان بچه‌هایی با تربیت صد انگیختند و  
غذا می‌جویند دمان خود را می‌بندند و پس از غذا خوردن دمان  
و دندانهای خود را می‌شویند.


۱۱- با دمان چه کار میکنیم؟  
مژه غذا را با چه حس میکنیم؟

- ۲- غذا را چگونه باید جوید ؟ اگر غذا را نجویم چه میشود ؟
- ۳- فتح الله چه عادت بدی داشت ؟ چه طور غذا میخورد ؟
- چرا او را پیش طبیب بردند ؟ طبیب چه گفت ؟ با خود چه عهد کرد ؟
- ۴- راست بایستد . شمرده حکایت فتح الله را با زبان ساده بگویند .
- ۵- کلمه های زیر را پنج بار با صدای بنویسید . روی خط بنویسید . دندان ها را بشوید و بعد همانطور بگذارید . نقطه ها را سر جای خودشان بگذارید :
- فتح الله . شیرین . ترش . شور . حس میکنیم . طبیب .
- پزشک . مریض . نمی شود . غذا خوردن
- ۶- دوبار درس را با خط خوب بنویسید . نقطه ها و دندان ها و سر کشها را درست سر جایان بگذارید .
- ۷- رسم : از روی این شکل روی کاغذ منظره‌ای بکشید .



۸- سرگرمی : شب با سایه دست خود شکل گزگشت روی دیوار درست کنید :





## درس حساب

- ۱- منوچهر ۷ مداد دارد و پرویز ۵ مداد کدام بیشتر دارند؟
- ۲- احمد ۱۰ ریال در فلک خود داشت ، امروز ۳ ریال دیگر در فلک خود ریخت ، حالا چند ریال در فلک اوست ؟
- ۳- ۱۳ ریال یعنی ۱۰ ریال و چند ریال ؟ ۱۰ با دام چند با دام میشود ۱۸ با دام ؟
- ۴- ۱۷ کرد و بیشتر است یا ۲۱ کرد ؟
- ۵- احمد ۱۰ ریال داشت ۱۰ ریال دیگر هم پدرش با داد و حالا چند ریال دارد ؟

۶- ۳۰ ریال چند ریال بیشتر از ۲۰ ریال است؟ ۵۰ و ۱۰

می‌و چند؟ ۳۰ چند تا ۱۰ است؟ ۱۴ یعنی ۱۰ و چند؟

۴۱ یعنی ۱ و چند؟

۷- ۱۰ تا ۱۰۰ تا بشمارید تا ۱۰۰

## دندان

فریدن پسری باهوش است. یک روز از پدر خود که

دندان‌ساز بود پرسید چطور دندان بعضی از بچه‌ها درد می‌گیرد؟

آیا دندان‌نشان را کرم می‌خورد؟ پدرش خندید و گفت در دهان

کرم نیست و کرم دندان را نمی‌خورد اما بعضی از بچه‌ها خیال

می‌کنند که با دندان کار قند شکن و چکش می‌شود کرد. این بچه‌ها با

دندان خود با دام و پسته و چیزهای سخت را می‌شکنند و دندان‌شان

ترک بر می‌دارد و کلم کلم فاسد و سیاه می‌شود و درد می‌گیرد؛ می‌گویند


که دندان کرم خورده است ؛  
 اگر با غذای گرم آب بسیار سرد بنوشیم باز هم دندان فاسد شود  
 و درد میگیرد .

- سؤال : ۱- چرا دندان بعضی بچه ها درد میگیرد ؟  
 ۲- آیا جای داغ و آب سرد باعث سردی میشود ؟ اگر بنوشید چه ضرر دارد ؟  
 ۳- با دام و پسته و فندق را با چه میکنند ؟  
 از روی این سرشق دوبار بنویسید :

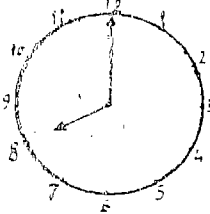
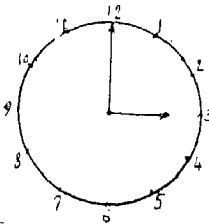
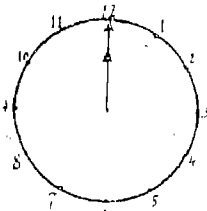
من پس از غذا دندانهایم را مسواک میکنم

### درس حساب

- ۱- در خانه منوچهر یک ساعت  
 بزرگ بدیوار آویخته است  
 یک روز منوچهر از مادرش پرسید  
 ساعت چه فایده دارد ؟



مادرش جواب داد از روی ساعت وقت را معلوم میکنیم  
 مثلاً پدرت باید ساعت ۸ بسری کار خود برود؛ تو هم باید ساعت  
 ۸ در دبستان باشی؛ من باید برای ساعت ۱۲ که ظهر میشود  
 غذا حاضر کنم؛ هر کس باید وقت کار خود را بداند. سوچهر  
 پرسید؛ چطور از روی ساعت وقت را می فهمند؟ مادرش  
 جواب داد؛ این دو عقربه را که می بینی یکی بلند تر و یکی کوتاه  
 تر است؛ هر وقت عقربه بلند روی عدد ۱۲ باشد اگر عقربه کوتاه  
 روی عدد ۱ باشد ساعت ۱ است و اگر عقربه کوتاه روی ۲ باشد  
 ساعت ۲ است و اگر عقربه کوتاه روی ۱۲ باشد ساعت ۱۲ است

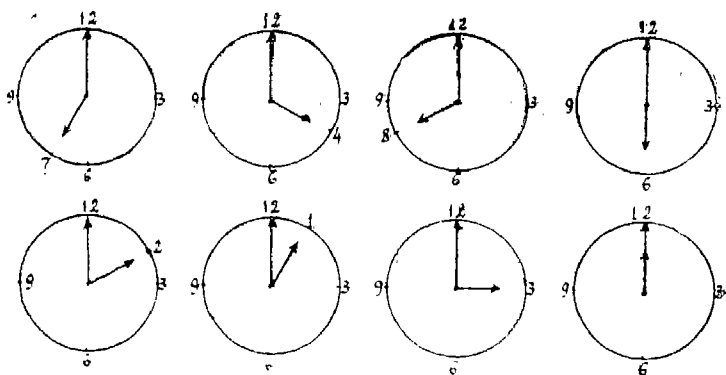


منوچهر گفت من در اینجا ۳ و ۱ و ۱۲ نمی بینم.  
 مادرش گفت پسر عزیزم اینها هم که روی صفحه ساعت نوشته شده  
 عدد است اما چون ساعت را در ایران نساخته اند عدد های  
 آنرا بفارسی ننوشتند حالا من بشمایم میدهم هر که ام چه عدد است  
 در اینجا زیر هر یک از عدد های ساعت فارسی آن نوشته شده است  
 خوب نگاه کن و بشناس :

1 2 3 4 5 6 7 8 9 10

۱ ۲ ۳ ۴ ۵ ۶ ۷ ۸ ۹ ۱۰

۲- حالا اگر خوب عدد های ساعت را  
 شناخته اید بگوئید هر یک از این ساعتها چه وقتی  
 را نشان میدهد :



۳- حالا ساعت ۱ است چند ساعت بظرف یعنی ۱۲ مانده است؟

۴- حالا ساعت ۵ است چند ساعت با ساعت ۱۰ مانده است؟

۵- شمار و بستان بیشتر درس میخوانید یا بیشتر تفریح میکنید؟

۶- ۲ ساعت بعد از ظهر زمان کلاس را میزنند و ۴ بعد از ظهر

زمان تعطیل را بعد از ظهر با چند ساعت در بستان کار دارید؟

تعمان هر دو ساود

تعمان حکیم بسیار دانا بود. روزی از شهر خارج شد در شخصی  
را دید که در سایه درختی در کنار چشمه ای نشسته بود. آن شخص از تعمان

پرسید کی بشهر میرسم؟ لقمان گفت راه برو. نمره گفت مگر نشنیدی؛ پرسیدم چند ساعت دیگر بشهر خواهیم رسید. باز لقمان جواب داد راه برو. آن شخص با خود اندیشید که این مرد یقین دیوانه است دیگر فحشی نگفت و براه افتاد چند قدم که دور شد لقمان با او گفت دو ساعت دیگر خواهی رسید. آن شخص برگشت و پرسید پس چرا اول جواب ندادی؟

لقمان گفت چون راه رفتن تو را ندیده بودم نمیدانستم آتی  
 میروی یا نماند حالا که دیدم حساب کردم و دانستم تا دو ساعت  
 دیگر خواهی رسید.

- ۱- سؤال: آن شخص از لقمان چه پرسید؟ لقمان چه جواب داد؟ آن شخص باز چه پرسید؟  
 لقمان باز چه جواب داد؟ آن شخص چه اندیشید یعنی چه فکر کرد؟ دیگر صبر نمی کرد؟ پس چه کرد؟  
 لقمان از عقب او چه گفت؟ چرا لقمان پس از رفتن او با او جواب داد؟
- ۲- حالا کتاب را می‌نویسد و حکایت را از زبان سادو بگوید.

۲- ابن کلدان پنج بار در قفس خود بنویسد  
حکیم . اندیشید ( فکر کرد ) . یقین . حساب کردم . عت

۴- از روی این سرشناسیت بنویسد :  
مرد و اما حساب نگرده حرف نمیزند .

### درس حساب

۱- اگر در اظفار ۲ غلط داشت نمره ۱۸ گرفت فریدون

یح غلط نداشت نمره ۲۰ گرفت نمره دیکته جمشید ۱۵ و نمره

دیکته کاوس ۱۷ است هر یک چند غلط نوشته اند ؟

پر دین ۷ غلط دارد چه نمره ای خواهد گرفت ؟

۲- ۵۳ بزرگتر است یا ۳۹ یا ۶۰ ؟ کدام کوچکتر است ؟

۳- عدد های هر سطر را از کوچک بزرگ مرتب بگوئید :

۱۸      ۲۷      ۹      ۱۱

۵۱      ۸۰      ۱۳      ۴۵

۷۱      ۱۵      ۳۵      ۷      ۴۹