

考試必備

最新

中外史地問答

1947

上海惠民書局印行

考試必備

勝利版

中外史地問答

1947

上海惠民書局印行

中國歷史常識問答

第一章 上古之部（太古至戰國）

(1) 問 構成中國歷史上民族有幾？

答 中國民族，由六大族合併而成，分述於後

(1) 漢族 相傳從帕米爾高原來，後在黃河流域漸次蕃衍；人口在六族中最多數

文化

(2) 蒙族 大部分住在蒙古青海兩地，性好勇善戰，在元時勢力最強盛。

(3) 滿族 大部分住在東三省，古代東胡鮮卑，後代契丹女真遼金清，均係此族。

(4) 回族 多在蒙古新疆兩地，古代獯鬻匈奴，後代突厥回紇，均係此族。

(5) 藏族 多在青海西藏兩地，漢代月氏，唐代吐蕃，宋代西夏，均係此族。

(6) 苗族 相傳為中土土人，後多與漢族同化。

中國民族，雖分以上六種，但經過數千年來歷史上種種變遷，早已互相融合，成為中國整個民族，不必再分彼此矣。


(2) 問 三皇五帝何名？

答 三皇五帝有兩傳說：白虎通以伏羲神農燧人為三皇，黃帝顛須帝嚳帝舜為五帝；尚書序以伏羲神農黃帝為三皇，少昊顛須帝嚳帝舜為五帝。

(3) 問 燧人伏羲神農黃帝各有何種發明

答 據古史傳說，燧人伏羲神農黃帝 各有重要發明 分述如下：

(1) 燧人 鑽木取火、教民熟食。



(2) 伏羲 作網罟爲佃漁之始，畫八卦爲書契之始，制嫁娶爲家族制度之始。

(3) 神農 作耒耜爲耕種之始，嘗百草爲醫藥之始，立市廛爲商業之始。

(4) 黃帝 創製衣服，建造宮室，鑄造貨幣，發明指南針；黃帝之妃嫫祖又發明育蠶製

絲。

(4) 問 黃帝時有何種戰爭？

答 相傳黃帝時，有炎帝不聽命，黃帝與之戰於阪泉之野，三戰而後勝之；後又有苗族酋長蚩尤作亂，黃帝與之戰於涿鹿之野，擒而殺之。於是諸侯咸尊黃帝爲天子；黃帝又將北方獯鬻逐去，中國始太平。

(5) 問 堯舜禪讓夏禹傳子情形如何？

答 相傳堯求賢得舜。試之以政，結果舜有賢德，受人民之愛戴，因此堯以位傳舜。堯死之後，舜讓堯子丹朱爲天子，但當時諸侯與人民不擁戴丹朱而擁戴舜，舜因此卽天子之位。後舜亦以位傳禹，情形大略相同。禹本以位傳益，但禹死以後，其子啓有賢德，受諸侯與人民之擁戴，因此卽位爲天子；從此以後，傳賢局面，變而爲傳子矣。

(6) 問 禹貢九州何名？當今何地？

答 禹貢九州如下：(1) 冀州，卽今河北山西等地；(2) 兗州，卽今山東西部之地；(3) 青州，卽今山東東部之地；(4) 徐州，卽今江蘇安徽北部之地；(5) 揚州，卽今江蘇南部及浙江福建江西等地；(6) 荊州，卽今湖北湖南等地；(7) 豫州，卽今河南之地；(8) 梁州，卽今四川等地；(9) 雍州，卽今陝西甘肅等地。

(7) 問 鯀治水不成，禹治水成功，原因安在？

答 相傳堯時有洪水之患，堯命鯀治水，鯀不悟水性，用隄岸逼束洪水，結結費九年功夫，

仍不成功。後舜代堯爲天子，用鯀子禹治水，禹知用隄防水爲不可能；因此將黃河濟水淮水長江等河流之道路，一律鑿通，使洪水盡流注於海，水患因此平息。

(8) 問 「湯武革命」之事如何？

答 夏王桀暴虐無道，好女色，興土木，殺忠臣，百姓怨恨不堪，當時湯有賢德，諸侯及百姓均歸之，湯因此率領諸侯討夏，將夏王桀放於南巢，自己卽位爲天子，國號曰商。商傳至紂王，暴虐無道與夏桀同，當時周武王有德政，受百姓之愛戴，乃起師伐紂，滅之，自己卽位爲天子。以上兩事，後世稱爲「湯武革命。」

(9) 問 「周召共和」，其事如何？

答 周傳至厲王，暴虐無道，當時百姓均抱怨望，毀謗者日多，厲王命衛巫監察人民，禁止毀謗；三但年以後，百姓不能再忍，羣起逐之，厲王乃奔彘，隱居十四年，不能再回朝廷；此十四年中，召虎與周定公兩人，相與協和共理國事，名曰「周召共和」；後厲王死，其子宣王卽位，共和之制遂廢。

(10) 問 周室爲何東遷？

答 周本以鎬（卽今陝西長安）爲都城，後傳至幽王，（宣王之子）寵妾褒姒，廢姜后，姜后之父申侯，引外族犬戎之兵，入攻幽王，殺之，諸侯共立幽王子平王爲天子，平王因畏犬戎，乃遷都洛邑，（卽今河南洛陽），此其東遷之原因。

(11) 問 何謂「春秋時代」？當時著名諸侯有幾？

答 周平王四十九年（卽魯隱公元年）起至周敬王四十一年（卽孔子卒之一年）止，中間凡二百四十二年，謂之「春秋時代」。此時強大諸侯，有齊晉秦楚吳越等六國，較小諸侯，有魯衛鄭許曹宋陳蔡等八國。

(12) 問 何謂「五霸」？

答 周室東遷以後，政權旁落，禮樂征伐，天子無力顧問，均在諸侯之手。此時強有力之諸侯，托名尊王，糾合弱小諸侯，廣植自己勢力，在會盟上為盟長，名曰「霸主」，所謂以力假仁者霸」，卽此意也。當時先後稱霸者共有五人，卽齊桓公、晉文公、秦穆公、楚莊王、宋襄公，故名曰「五霸」；其中以齊桓公、晉文公為最強，宋襄公為最弱。

(13) 問 吳王夫差與越王勾踐之雪恥事情如何？

答 吳越相爭，吳王闔閭為越王勾踐戰損而死，其子夫差卽位，蓄意圖謀報復，不數年與師伐越，越兵大敗，幾為所滅；但越王勾踐，用范蠡文種之計，卑躬屈節，向吳王夫差求和，願為臣妾，一方則臥薪嘗膽，陰謀報復。吳王不聽伍子胥之忠諫，允之，於是越王十年生聚，十年教訓，預備既足，興師伐吳，一舉滅之，此卽吳王夫差與越王勾踐互相雪恥之大概形也。

(14) 問 何謂「戰國時代」？當時強國有幾？

答 「春秋時代」未，直至秦始皇統一天下，其中共二百五十八年，名曰「戰國時代」；此時代共有七強國，卽齊、楚、韓、趙、魏、秦、燕，一名「戰國七雄」。

(15) 問 何謂「合縱連橫」？

答 戰國時代，秦最富強，有併吞六國之勢，當時蘇秦遊說六國，教六國互相連結，合力攻秦，名曰「合縱」。秦國方面，設法恐喝諸侯，命其割地事秦，名曰「連橫」。主其事者為張儀。

(16) 問 秦富強之原因安在？

答 秦所以日臻富強，併吞六國，其原因可分為三：

(1) 春秋晚年，各國諸侯，合盟爭伐，紛紛擾擾，以致國力日衰，但秦自穆公至孝公，二百餘年，不與諸侯戰事，專以休養生息爲本務。

(2) 秦之根據地，當今陝西，地勢險固，出可以戰，退可以守，六國常爲所制。

(3) 秦歷代君主，均廣收人才以爲己用，故國力日強。

17) 問 商鞅變法之內容如何？

答 商鞅變法，其大略凡六：(1) 令民爲什伍，定其舉連坐法；(2) 賞告姦者，匿姦者罰；(3) 家有二男以上不分居者倍其賦；(4) 獎軍功，罰私鬥；(5) 勤於耕織者獎，怠者沒爲奴；(6) 宗室無軍功者不得爲屬籍。

此外又廢井田：開阡陌，更賦稅，行之十年，國內大治，國勢日強。

18) 問 中國文字起源如何？

答 相傳黃帝史官蒼頡，創造字體，共分六類，卽象形、形聲、指事、會意、轉註、假借，名曰「六書」。至周宣王時，又有太史籀作「大篆」，秦始皇時，李斯將史籀「大篆」改作「小篆」，當時又有程邈創作「隸書」，中國文字，從此粲然大備，且益趨簡易矣。

19) 問 周代封建制度如何？何時廢除？

答 周初封建制度，有一「爵」一與「祿」兩種分別：爵有五等，卽公侯伯子男；祿卽所受之田，共分三等，公侯方百重，伯七十里，子男五十里，又有不及五十里者名曰附庸。洎乎後世，諸侯互相併吞，此種規定，早已不存在；至秦始皇滅六國，統一天下，分天下爲三十六郡，遂將封建制度，完全廢除。

20) 問 夏商周三代農業制度如何？

答 夏代農業制度，每人授田伍十畝，取其什一爲賦稅，名曰「貢」。商代制度，用井田制

，即將田地劃成「井」字，每一井田，共有六百三十畝，分作九區，每區七十畝，外面八區均爲私田，每人授田一區，（卽七十畝）中間一區爲公田，須八家共同耕種，不再稅其私田，此方法名曰「助」。周代制度，亦用井田制，惟每區改作百畝，其賦稅方法，兼用兩種，鄉遂地方用貢法，都鄙地方用助法，名曰「徹」。

（21）問 井田制度廢除之原因安在？

答 井田制度行至周末，發生三種弊病：（1）井田舊法已漸漸失墜，疆界亦錯亂，賦稅因此不平；（2）人口漸多，土地不敷分配；（3）社會經濟發達，限田之法，足以阻止競進心。有此三種原因，故井田制度不能支持，逐漸衰敗，至秦商鞅變法，遂完全廢除井田，改用阡陌。

（22）問 三代教育情形如何？

答 三代教育均有大學小學之分；夏代大學爲東序，小學爲西序；商代大學爲右學，小學爲左學；周代大學爲東膠，小學爲虞庠。周代又定八歲至十四歲爲小學年限，十歲至二十歲爲大學年限，大學教禮樂詩書；小學教長幼之次序及灑掃應對之儀節。

23 問 春秋戰國時代學術派別有幾？

答 春秋戰國時代，思想極自由，學術派別極多，所謂「百家爭鳴」，卽在此時，其中最主要之學術，可分以下四派：（1）儒家 此派以孔子爲主，孟軻荀卿均傳其學說，其學說之要點卽爲仁義忠恕。（2）道家 此派以老子（名李耳）爲主，莊周傳其學說，其主張之要點爲無爲主義。（3）墨家 此派以墨翟爲主，主張兼愛及實用。（4）法家 此派最著名者爲韓非申不害等人，主張法治主義。

（24）問 春秋戰國時代刺客之風尚如何？

答 春秋戰國時代，刺客之風極盛，此種刺客，或爲個人所利用，或因公忿而激起，其中最著名者，如曹沫劫齊桓公，聶政刺韓傀，專諸刺吳王僚，豫讓刺趙襄子，荊軻刺秦始皇等皆是。

第二章 中古之部（秦至唐）

(1) 問 秦始皇之虐政如何？

答 秦始皇爲帝後，施行虐政甚多，列舉如下：

(1) 將君權竭力抬高，實行專制政策。

(2) 禁止人民置有兵器，將民間所置兵器，一律搜集銷毀，實行弱民政策。

(3) 燒毀詩書百家語，當時有四百六十儒生，亦一律坑死，實行愚民政策。

(4) 大興土木，以求一己之逸樂，實行勞民政策。

(5) 濫用刑法，實行虐民政策。

(2) 問 秦如何滅亡？

答 秦始皇統一中國後，一方廢封建，立郡縣，集權中央，一方用種種虐政，防止人民反抗，以爲如何，可以保守子孫帝皇萬世之業。不料始皇死後，其子胡亥即位不久，戍卒陳勝吳廣二人斬木爲兵，揭竿爲旗，突然興起平民革命軍，於是當時一般豪俊，及從前六國後代，羣起響應，秦之天下，頓成四分五裂。後胡亥爲宦官趙高所弑，改立子嬰，當時劉邦軍隊，已攻入咸陽，子嬰無力抵抗，乃出降劉邦，秦遂滅亡。總計秦有天下，傳代不過三世，爲時不過十六年。

(3) 問 萬里長城如何造成？

答 當戰國時，各國因防禦外患，故建築長城，互相守禦，至秦始皇統一天下，恐北方匈奴南下侵略，遂將戰國時原有長城，大加修葺，從臨洮起至遼東止，共計五千餘里，名曰萬里長城，此即萬里長城造成之原因也。

(4) 問 楚漢戰爭，楚失敗的原因何在？

答 秦末楚（項羽）漢（劉邦）共同起兵，當時項羽百戰百勝，劉邦無力抵抗，幾為所滅，但結果項羽反敗，其原因如下：

(1) 項羽性情鹵莽，不能用賢，有一范增，亦用不終局；劉邦性情豁達，能任用賢才，如蕭和韓信張良等三傑，均在其部下。

(2) 項羽作事暴虐，不能收拾民心，在未入關前，即坑秦卒三十萬；劉邦能收拾民心，在入關時，與秦父老約法三章，廢除秦苛法。

(3) 項羽弑義帝，故失名義；劉邦利用義帝名義，為義帝發喪討楚，因此得天下之同情。

(4) 項羽戰勝而驕，終至失敗；劉邦戰敗之後，固守滎陽成皋之間，百折不回，竟能成功。

(5) 項羽都彭城，劉邦都關中，以地理形勢論，關中比彭城易守。

(6) 問 漢初有何種外戚之禍？

答 漢高帝死，惠帝即位，呂太后臨朝稱制，呂后欲奪劉氏天下，歸之呂氏，故一方封呂氏為王，一方殺戮劉氏宗室，此即所謂「諸呂之亂」。後漢宗室朱虛侯章及大臣周勃等與兵討伐呂氏，呂氏戰敗，羣臣迎文帝即位，禍亂遂平。

問 漢初封建制度如何？其後發生何種禍亂？

答 漢高祖即位以後，以為秦之失敗，由於孤立無助，因此大封宗室王為侯，用以補助王室，一方仍採用郡縣制，以收互相控制之效，但此種王侯，日漸強大，至景帝時，大臣晁錯建

議削諸侯土地，諸侯聞之。大爲不安，於是吳楚趙膠東膠西濟南淄川七國，以誅晁錯爲名，舉兵謀反。景帝一方斬晁錯，一方派周亞夫率師討削，結果七國戰敗，宗室之禍始平，此即所謂「七國之亂」。從此以後，漢朝封建制度，名存而實亡。

7) 問 漢武帝有何種武功？

答 漢武帝時，爲漢朝勢力極盛時代，因漢武帝專事遠略，對於各國交涉，均占勝利，故當時漢朝疆域擴張，國威遠播。現將武帝各種武功，分述於下：

(1) 伐匈奴 匈奴在秦漢之際，勢力漸盛，文帝景帝時代，北方一帶，常被匈奴擾亂。至武帝卽位，採用征伐政策，先後遣衛青霍去病等北伐，衛青攻取河南地，置朔方郡。霍去病亦屢立戰功，將匈奴逐至沙漠以外，匈奴遂不敢南下。

(2) 通西域 當匈奴與漢交涉時，西域諸國，咸受匈奴約束。武帝因此派張騫通西域。張騫至西域後，約大月氏與漢夾擊匈奴，後雖未曾訂成盟約，但漢與西域，從此互相交通。此後漢屢次擊敗匈奴，西域諸國，如大宛烏孫等國，遂服屬於漢，受漢之保護。

(3) 平朝鮮 朝鮮相傳爲箕子所建，後箕子爲衛滿所滅，傳至右渠。恰與武帝同時。右渠自恃險固，不服中國。武帝大發海陸軍征之，右渠爲人所殺。朝鮮遂服屬中國。

(4) 征伐南方諸國 當時南方諸國，大者有二，一爲南越，係趙佗之後，一爲閩越，係越王勾踐之後，此兩國均爲武帝所平，因此漢朝疆域，擴至南方。

(5) 臣服西南夷 西南夷卽今四川雲南貴州等地，向來不與中國同化，武帝派唐蒙通南夷，司馬相如通西夷，郭昌等平西南夷。於是西南疆土，盡入漢朝版圖。

(8) 問 漢武帝如何提倡儒學？

答 漢武帝一面勸遠略，一面則建立太學，置五經博士，竭力提倡儒術。當時武帝下詔求賢

良方正之士，親身策問。結果董仲舒對答最佳，拔爲第一，後依董仲舒之言，以儒學爲正宗，罷黜百家，從此儒家在學術界成爲獨尊之局面，中國人思想，受極大之束縛。

(9) 問 王莽爲何失敗？

答 王莽爲帝以後，力求政治改革，廢除漢制，恢復古制；但王莽迷信古制太深，不合當時情形，性又躁急，朝令暮改，以致國內糾紛不清，國外匈奴西域等國，又均背叛，結果賦稅增重，徭役繁多，人民怨恨不堪，及其末年，羣雄並起，王莽因此滅亡。

(10) 問 光武帝如何中興？

答 王莽末年，羣雄並起，互相爭奪，漢宗室劉秀，亦乘機起兵，在昆陽戰勝王莽四十餘萬兵，聲威大振；秀又以復興漢室爲號召，逐漸平定赤眉彭寵隗囂竇融公孫述，卽位爲帝，後世稱爲光武帝。光武中興後，歷史上稱曰後漢，一稱東漢。

(11) 問 略述後漢班超平定西域之經過。

答 王莽時西域背叛，投降匈奴，至後漢明帝，始派班超赴西域；超至鄯善，鄯善王以禮待之，後忽疏懈，超料知匈奴有使前來，乃直奔虜營；斬匈奴使以示鄯善王，鄯善王大驚，遂服從漢室。後西域五十餘國，均爲班超平定，漢置西域都護以治之，超亦被封爲定遠侯。

(12) 問 佛教與道教如何入中國？

答 佛教起於印度，祖師名釋迦牟尼，自漢與西域交通後，已傳入中國，至後漢明帝，派蔡愔往西域，愔與梵僧二人，用白馬負經及佛像同歸，在洛陽建白馬寺以藏之，又將佛經譯成中文，此卽佛教正式傳入中國之始。至於道教，亦在後漢時創始，創教者名張道陵，自稱得道，因以召號人民，且將教義附會於老子，人稱之曰天師，從此以後，代代相傳，道教遂成立。

(13) 問 略述兩漢經學及文學。

答 兩漢經學及文學，均極發達，分述於下：

(1) 經學 自漢武帝尊崇六經以來，研究經學者日多，惟經書經秦始皇焚毀之後，殘缺不全，學者皆從先生口授傳述，此種經學，用漢通用之隸書寫成，名曰古文，後發現原本古籍，用篆以前所通行之大篆或古文寫成，名曰古文，於是經學分古文今文兩派。

(2) 文學 漢代文學，散文方面，如司馬遷史記，班固漢書，劉歆新序說苑，均極著名；詔文方面，如司馬相如揚雄班固之賦，李陵蘇武之詩，亦甚有名。

(14) 問 後漢宦官與外戚之禍如何？

答 後漢和帝時，外戚竇憲秉政，為外戚擅權之始，後和帝漸長，與宦官鄧舉、謀誅竇憲，外戚之禍雖暫滅，但宦官之禍又開始，此後外戚與宦官，迭相秉政，例如安帝用江京李膺、誅鄧騭，順帝用孫程誅閹顯，桓帝用單超等誅梁冀，靈帝用曹節等誅竇武，皆為宦官與外戚之爭奪。最後何進引董卓入誅宦官，外戚宦官兩者，皆為董卓所滅，但漢朝國勢亦從此衰亡。

(15) 問 後漢黨錮之禍如何？

答 後漢至桓帝靈帝時，政治廢弛，宦官專權，無惡不作，當時名士，如陳蕃李膺范滂等，乘有風骨，力持止議，與當時太學生賈彪郭泰等，連台攻擊宦官。桓帝聽宦官之言，逮捕名士，禁錮終身，名曰「黨錮」；結果名士均被宦官所殺，漢期元氣，亦因此大傷，不久即亡。

(16) 問 三國興亡情形大略如何？

答 三國興亡情形大略如下：

(1) 魏 漢末曹操起兵，破滅袁紹呂布，統一北方，後操死，子曹丕嗣位，逼漢獻帝禪位

，國號曰，魏是爲魏之始；但不久魏之政權，漸爲司馬氏所奪，至魏元帝時，終被司馬炎所篡，魏遂滅亡。

(2) 吳 與曹操共同起兵者，有孫堅及其子孫策孫權，竊據江東一帶，後堅策相繼死，權卽位，自稱帝，國號曰吳，是爲吳之始；傳至孫皓，爲司馬炎所滅，吳遂亡。

(3) 蜀 劉備爲漢室之後，欲光復漢業，乘天下紛亂之際，設法取得巴蜀等地，自稱爲帝，是爲蜀之始；傳至後主，卽魏爲所滅。

(17) 問 晉代八王倡亂之因果如何？

答 晉有天下，鑑於魏之疏忌宗室而亡，故大封子弟爲王，以保帝業；但所封諸王，多驕恣不學，擁兵自大，此卽「八王之亂」之所由起。所謂八王，卽汝南王亮，楚王瑋，趙王倫，齊王冏，成都王穎，長沙王又，河間王顥，東海王越。八王亂後，州郡空虛，盜賊四起，外族遂乘機而入，晉室幾乎覆滅。

(18) 問 試述自周至晉封建與郡縣兩種制度沿革情形，并說明其因果。

答 自周至晉，封建與郡縣制度之沿革及其因果如下：

(1) 周 周有天下，封建宗室功臣，欲以屏藩王室，然結果諸侯攘奪兼併，戰爭甚烈，周室因此滅亡。

(2) 秦 秦懲周封建之禍，改設郡縣；然結果平民發難，孤立無助，率以覆滅。

(3) 漢 漢鑑周與秦之弊，一方封宗室功臣爲諸侯，一方又用郡縣制；然其後七國起變，爲患甚烈。

(4) 晉 晉鑑魏之滅亡，無宗室輔助，於是大封宗室爲王；然結果八王倡亂，晉室因此衰頹。

(19) 問 五胡亂華對於中國民族有何影響？

答 中國自古以來，漢族據有中原，與他族接觸甚少，自五胡亂華後，外族入據中原，漢族與他族文化，始互相融合；故五胡之亂，一方固係破壞，一方實促進異族同化，而使之另生一新文化也。(五胡即匈奴、鮮卑、羯、氐、羌；五胡亂華時，前後割據共十六國，即前趙、成漢、後趙、前涼、前燕、後燕、前秦、後秦、後涼、南燕、西涼、南涼、北涼、北燕、大夏、北燕、)。

(20) 問 晉代思想界有何種解放？

答 自漢代提倡儒學以來，學者思想，不出儒家範圍以外，其中惟東漢王充，排斥儒家之虛妄，提倡道家之自然主義，乃儒家思想反動之開始；至漢末時，如孔融、禰衡等，亦有此種反動傾向；後曹氏篡漢，司馬氏篡魏，均假借堯舜禪讓之美名，儒家學說，完全為其利用，所以一派自由思想家，不滿此種虛妄之禮教，變為放浪自恣，反對一切禮教之束縛，主張「曠達」，所謂「清談」，即從此而起。代表此種思想者，如何晏、王弼、嵇康、阮籍等皆是。此種思想，以自然為骨幹，推翻向來儒教，可說思想界之一大解放。

(21) 問 淝水之戰與赤壁之戰，比較如何？

答 赤壁之役，曹操大軍敗於孫權；淝水之役，苻堅大軍敗於謝玄，此兩者皆為北方敗，南方勝，而且皆以少雖衆。至於戰敗之原因，雖均不免於「驕」，但戰勝方面，亦均保「微幸」所致。再從結果說，曹操敗後，尚可保守北方；苻堅敗後，北方完全分裂。

(22) 問 南北朝風尚與文藝之比較如何？

答 南北朝風尚與文藝，頗有不同，可比較如下：

(1) 風尚方面，南朝重情，所以重別離，務華飾，善言談，捨武事；北朝重禮，所以輕離

別，貴秩序，拙詞令，重武藝。

(2) 文藝方面 南朝思想多解放，且慣於娛樂，所以多兒女纏綿之文字，北朝不脫豪武習慣，所以多英雄慷慨之作品。

(23) 問 南北朝興亡大略情形如何？

答 南北朝興亡大略情形如下：

(一) 南朝

(1) 宋 劉裕受晉禪，國號宋，是為宋武帝；傳至順帝，被蕭道成篡位。

(2) 齊 蕭道成自立為帝，即齊高帝；傳至和帝，為同族蕭衍所篡。

(3) 梁 蕭衍即位，是為梁武帝；傳至敬帝，為陳霸先所篡。

(4) 陳 陳霸先即位，是為陳武帝；傳至後主，為隋所滅。

(二) 北朝 北朝由後魏道武帝開國，武功頗盛；後因內亂，分為東魏與西魏；東魏為高洋所篡，是為北齊，西魏為宇文覺所篡，是為北周；後北齊為北周所滅，北周又為隋所篡。

(24) 問 隋煬帝亡國之原因若何？

答 隋煬帝亡國原因，可從兩方面說：第一，煬帝性好奢侈，耽逸樂。因此大興土木，如營東京，造行宮，建晉陽宮，開運河，築長城等事，皆為勞民傷財之事，以致民心大怨；第二，煬帝除興土木之外，又好用兵，國用不足，乃聚歛無度，初時外交方面，雖稍得勝利，但以後征伐高麗，反為所取，因此民窮財盡，國內騷動，羣雄遂乘機而起，煬帝為人所殺，隋室不久亦亡。

(25) 問 運河與長城之比較如何？

答 運河與長城，可以比較於後：

(1) 運河與長城，均爲中國歷史上極大工程。

(2) 長城爲秦始皇所築，運河爲隋煬帝所鑿，兩者皆由暴虐之君所造成。

(3) 秦始皇築長城，目的在防禦外患；隋煬帝鑿運河，目的在巡遊逸樂。

(4) 運河在海運未通以前，爲中國南北交通之要道，對於農商業及南北文化之灌輸，有極大利益，故其功用，比長城大。

(26) 問 唐代盛時武功如何？

問 唐代開國，武威極盛，四方各國，多被征服，分述於下：

(1) 高麗 唐高宗時，命李勣討滅高麗，於是新羅以外朝鮮地方，俱入唐版圖。

(2) 突厥 當時突厥分東西兩部，唐太宗命李勣李靖滅東突厥，高宗又命蘇定方平突西厥。

(3) 西域各國 西域各國，爲隋煬帝所征服，故臣屬中國；唐初藏族吐蕃強盛，與高昌吐谷渾入寇，阻礙西域朝貢，唐均先後討平之，於是西域諸國，仍服屬於唐。

(4) 日本 百濟與高麗給合反唐，唐高宗伐之，日本派兵來援，爲唐戰敗於白江口，於是日本不敢反抗，遣使修好於唐，并派學生至中學留學。

(27) 問 唐代與外國交通情形如何？

答 唐代盛時，國威遠播，中外交通，亦因此發達，現將水陸兩路交通情形分述於下：

(1) 陸路 唐代東西陸路之互市甚盛，中央亞細亞及天山以南道路，皆通行無阻，西域諸國人民至東方者甚衆，華商至中亞及波斯印度等地亦加多。

(2) 水路 水路路程，或從錫蘭沿西印度海岸進波斯灣，或從阿拉伯海岸至紅海灣，此兩路之東西互市，均極發達，後阿拉伯興盛，其商人由海道與中國互市者，比前更多。

(28) 問 略述唐代「武韋之亂」。

答 唐高宗時，武后專權，廢太子忠，殺太子弘，又廢太子賢；後高宗死，中宗即位，又被武后廢爲廬陵王，改立睿宗。後武后又廢睿宗而自立，大殺唐宗室，改國號曰周，自稱神聖皇帝；幸當時大臣張柬之等，合力將中宗復位，武氏之亂始平。不料中宗即位後，其後韋氏又專政，中宗被弑，幸有睿宗子玄宗起兵討平韋氏，始將睿宗復位。以上兩事，稱爲「武韋之亂」。

(29) 問 略述唐代「安史之亂」。

答 唐玄宗寵愛楊貴妃，以其兄楊國忠爲相，權力甚大，當時平盧范陽河東三鎮節度使安祿山，與楊國忠有隙，使率節部將史思明，舉兵叛，攻破國都，玄宗逃至成都，楊國忠被兵所殺，貴妃亦在馬嵬坡縊死。後玄宗子肅宗，用郭子儀李光弼爲將，始將亂事平定，唐室復得中興。此卽所謂「安史之亂」。

(30) 問 略述唐代藩鎮之禍。

答 唐玄宗時，於邊境置十節度使，以禦外侮，後逐漸強盛，擁兵作亂，卽成爲藩鎮之禍。安史之亂，乃藩鎮禍亂之開始，後雖平定，但肅宗代宗時，藩鎮依舊跋扈。至德宗時，因奸相盧杞專政，當時節度使如李滔田悅李希烈朱泚李懷光等，先後謀反，幸而平定。兩傳至憲宗，又有鎮海李勣淮西吳元濟謀叛，亦幸而討平，但唐朝元氣，因此大喪。至昭宗時，黃巢降將朱溫，卒以四鎮節度使之資格，篡唐自立。

(31) 問 略述唐代宦官之禍。

答 唐代宦官之禍，從玄宗起，直至唐室滅亡止，幾乎每代均有。最初玄宗以楊思勳爲大將軍，使高力士參政，是爲宦官干政之始，後肅宗以李輔國典禁兵，代宗以程元振爲大將軍，

魚朝恩爲觀軍容使，宦官遂漸得勢。至憲宗時，陳宏志進毒弑帝，王守澄等定策立穆宗，爲宦官廢立皇帝之始。厥後宦官勢力愈大，敬宗時劉克明弑帝，文宗時因謀誅仇士良等而讓成甘露之變，甚至武宗懿宗僖宗昭宗，皆爲宦官所立。最後昭宗欲誅宦官韓全誨等，召朱溫入，卒被朱溫所篡，宦官雖去，唐室亦亡。

(32) 問 問科舉制度如何開始？

答 兩漢時代之郡國薦舉，魏晉以後之九品中正，皆爲政府用人標準，已有按時登選之意義。至隋煬帝，因中正制有流弊，始創進士科，於是科舉萌芽遂見。唐初，此項制度，更形發達，當時科目，多至數十種，最著者有秀才、明經、進士、俊士、明法、明字、明算等稱謂；應考者先至州縣投考，考取後申送京城尚書省禮部應試，考試及第，即可作官，於是科舉制度遂確立。此種制度，使人人用心於帖括，棄學術而不講，故對於學術思想之發達，極有妨害。

(33) 問 唐代有何種文藝？

答 唐代文藝甚盛，人才亦極多，簡言之，詩詞方面，以李白杜甫白居易等故爲著名；散文方面，韓愈柳宗元兩人，爲古文之創始者；書畫方面，如顏真卿柳公權之畫，王維之畫，亦甚著名；此外玄宗時有霓裳羽衣曲，李白有清平調，亦可見當時音樂之發達。

(34) 問 唐代有何種宗教傳入？

答 唐代宗教傳入，共有兩種：一回教，穆罕默德所創，由大食傳入；二景教，卽耶穌教之別派，由波斯傳入；此外尚有祆教及摩尼教傳入，但不久卽衰，故對於社會無影響，至於佛教，在漢時雖已傳入，但至唐時，僧玄奘親至印度，將佛經六百五十部携歸中國，佛教因此更盛。

(35) 問 唐代稅法如何？

答 唐初賦稅，分租，庸，調三種；租即授人民以田，每歲稅其所出，輸粟二石；庸即用人之力，每歲二十日，閏加二日，不役者輸絹三尺代之；調即隨鄉所出，輸絹，綾，絕，麻等物；後經安史之亂，改用「兩稅法」，定夏秋兩季輸納。

第三章 近代之部（五代至明）

(1) 問、五代十國何名？

答 五代即梁（始祖朱全忠）唐（始祖李存勳）晉（始祖石敬瑭）漢（始祖劉知遠）周（始祖郭威）。當五代時，各地先後割據之羣雄，共有十國，即吳（始祖楊行密）前蜀（始祖王建）楚（始祖馬殷）閩（始祖王審知）吳越（始祖錢鏐）南漢（始祖劉隱）南唐（始祖李昇）後蜀（始祖孟知祥）荆南（始祖高季興），北漢（始祖劉崇）。

(2) 問 石敬瑭割地於契丹，其因果如何？

答 石敬瑭因欲篡奪後漢天下，將燕雲十六州割於契丹，受契丹之援而為帝，以後又向契丹奉表稱臣，歲贈金帛三十萬，但只傳一代，仍被契丹所滅，可知依藉外人之方而為帝，乃不可能之事也。

(3) 問 略述我國印刷術之進步情形？

答 中國印刷術，當隋文帝時，已有雕板之發明，唐時益州又有墨板，至五代後唐，馮道刻五經，由是印刷術大行。後來宋朝畢昇又創活字版，於是印刷書籍，較前之石刻，便利許多。

(4) 問 宋太祖釋兵權對於後來影響如何？

答 宋太祖統一中國，鑒於唐代以藩鎮跋扈而亡，因此定計將當時石守信等兵權以及諸功臣節鎮，一齊罷免，所以政權財權兵權，均集中中央，唐時藩鎮之禍，因此盡去，帝王權力，亦因此增加。但精銳之兵，既集中於中央，諸州之兵，均老弱不堪戰，且以文武知州事，又不能治兵，因此種種，遂致國防極不鞏固，一有外患，即無抵抗能力。後來宋代益受遼金西夏蒙古之欺陵，率以亡國，最大原因，即在於此。

(5) 問 略述澶州之盟經過情形？

答 宋初契丹勢力漸盛，後改國號曰遼，得石敬瑭割與之燕雲十六州，國土益大，至宋真宗時，遼主隆緒，大學南下，宋人大驚，幸當時宰相寇準，決定親征之計，真宗聽之，遂親率大軍至澶州，宋軍見真宗御蓋，軍勢爲之一壯，遼人因此奪氣，遣使請盟，寇準本欲乘勢擊遼，真宗不許，遂定和議，歲贈遼絹二十萬匹，銀十萬兩，遼認宋爲兄，宋認遼爲弟，各交誓約而還，此次交涉，宋尚能不辱威信。

(6) 問 略述宋與西夏之交涉？

答 宋代東北有遼，西北有西夏，均爲當時勁敵。西夏本後魏拓跋氏之後，宋初賜姓趙，傳至趙元昊，國勢日強，遂果兵入宋，自稱夏帝，宋與之戰，常被擊敗，後宋命大臣韓琦范仲淹，率大兵竭力抵禦，始稍稍遏住其鋒；但元昊雖得勝，死亡亦甚多，遂與宋議和。後元昊死，宋又出師攻夏，但仍不能勝，結果兩方又講和了事。

(7) 問 宋神宗爲何變法？其結果如何？

答 宋開國以來，屢受外國欺陵，以致民窮財盡，國勢日弱，及神宗卽位，銳意圖治，起用王安石，以求自強。王安石立意改革內政，遂下全變法，先從財政軍政兩方入手。財政方面有農田，水利，方田，青苗，募役，均輸，市易，等新法；軍政方面，有保甲，保馬，等

新法。此種新法，皆爲有計劃之措置，依此而行，本可有爲，但結果終歸失敗，其原因有二：(一)王安石施行新法後，當時一派守舊人，竭力反對，以致新舊兩派，互相侵軋，新法因此不能實行；(二)王安石新法雖善，但此引用者多有宵小在內，故新法未見實效。

(8) 問 略述宋代新舊兩黨衝突情形？

答 宋代新舊兩黨互相鬪鬥，大略情形如下：

(1) 神宗用王安石施行新法，被舊臣韓琦司馬光歐陽修等反對，因此有新舊派之分，當時新黨當政，舊黨貶斥。

(2) 哲宗立後，太皇太后高氏聽政，用舊黨首領司馬光爲相，罷黜新黨，廢除新法；後司馬光死，舊黨又分爲洛黨蜀黨朔黨三派。

(3) 太后去世，新黨復用，名曰「紹述」；至徽宗卽位，雖欲參用新舊兩黨，但舊黨終歸失敗，新黨蔡京當國，立一黨人，碑刻司馬等百二十人之姓名，名曰姦黨。

(9) 問 宋晉兩代局勢，比較如何？

答 宋晉兩代，均係國勢積弱，受外敵之侵陵，因而南遷。晉懷愍二帝，爲敵國前趙所擄，宋徽欽二帝，亦爲敵國金所擄；東晉元帝，在建康卽位，僅能保有半壁江山，無力恢復中原；宋高宗南渡，遷都臨安，亦祇能保守江南一帶，不克復振；此兩代衰弱之局勢，頗屬相同。

(10) 問 略述南宋與金講和之失策。

答 當宋室南渡時，李綱宗澤岳飛韓世忠等名將，皆竭力主戰，屢挫金軍，倘宋高宗能始終信用其計，不難恢復中原，直搗金之巢穴；惜高宗反聽秦檜之言，必欲主和，一日之間，以十二金牌召還岳飛，且下獄殺之，一方割地與金，訂定和議，從此南宋局居一隅，無恢復中

原之望。

(11) 問宋初約金滅遼，後復約元滅金，結果如何？

答：宋屢受遼之欺陵，不堪其苦，會金強盛，與遼爲難，宋乃與金訂約，共同滅遼；但遼雖滅，金知宋不足畏，藉口宋受金之叛將，舉兵南下，直逼宋都，結果徽欽二帝被擄，宋室南遷，北方之地盡失。後蒙古（卽元）勃興，宋又欲借其力，報復金之仇恨，便與元訂約，夾攻金人，結束金滅亡後，宋欲恢復洛陽等地，元責宋背盟，遂引兵直下，戰爭數年，卒爲元所滅。

(12) 問宋代理學發達情形及其派別如何？

答：理學由釋道兩教思想與儒教思想融合而成，此種思想之起源反發達，俱在宋代，實爲宋代學術之特色。最初提倡理學者爲邵雍周敦頤兩人，然其成立，係程顥程頤張載三人之力。論其學說，可分兩大方面：一主敬方面，注重在靜坐存養；一致知方面，注重在格物窮理。但主敬爲向內功夫，格物爲向外功夫，至南宋時，北兩者便分爲兩大學派。陸九淵一派，偏重向內功夫，注重「尊德性」，故曰：「萬物皆備於我」；「學苟知道，則六經皆我注腳。」朱熹一派，偏重致知方面，注重「道學問」，故曰：「吾心之明，莫不有知，而天下之物，莫不有理……故當卽凡天下之物，莫不因其已知之理而窮盡之，以求致乎其極。」

(13) 問蒙古勃興之原因安在？

答：蒙古自鐵木真興起以後，不滿二十年，建立極大武功。他跨歐亞兩洲，國威震動全世界，其中原因，可有五端：

(1) 蒙古大汗，須經王族諸將諸部酋長及諸國君王推戴，故大汗皆負全國之重望，有統轄全國之能力。

(2) 蒙古人自幼馳獵，練慣騎射，故騎兵極精。

(3) 蒙古兵之體格，強健耐勞，飢時食馬乳，渴時食馬血，能支持不倦，故用兵神速。

(4) 蒙古軍隊之編制，紀律甚嚴，無論何人，不敢違命，故指揮極便。

(5) 蒙古以畜牧爲生，此種畜牧，婦孺亦能勝任，故軍士雖在外出征，家屬仍照常納稅，國用不愁缺乏。

(14) 問 略述元世祖時元代之版圖。

答 元世祖時，爲元之極盛時代，當時元既入主中國，定都燕京，中國本部滿洲蒙古青海西藏及中亞細亞，皆爲其領土。此外又建四汗國：一·伊兒汗國，阿母河外西亞一帶之地皆是；二·欽察汗國，東自吉利吉思荒原，西至歐洲匈牙利國境及高加索以北地皆是；三·察合台汗國，錫爾河外西亞一帶之地皆是；四·窩闊台汗國，河爾泰山附近一帶之地皆是。此後又降緬甸，攻占城，破爪哇，臣服南洋諸國，其版圖之大及聲威之盛，冠絕古今。

(15) 問 略述元代東西交通情形。

答 元代盛時，版圖既大，東西交通，亦因之而盛。茲分通商傳教兩方面，述之於下：

(1) 通商方面，當時西亞及歐洲商人之往來，陸路自中亞經天山南路，或自西伯利亞南部經天山北路，直達燕京，海路則波斯印度及中國商途，亦漸次開闢，泉州福州等港，卽爲當時之最大商場。

(2) 傳教方面，當時歐洲諸國，方與十字軍與回教國戰，蒙古亦圖併吞回教國，於是蒙古遂與歐洲耶教國，互相引重，信使往來不絕；至元世祖時，并許耶穌教徒在燕京設立教會，爲中國耶穌教會之始。

除以上通商及傳教外，當時歐人之來仕元朝者亦甚多，如意大利人馬可波羅歷官至江南副使

及歸。著東方見聞錄一書示人，極稱中國之富盛，實啓後此歐人開闢新航路之動機。

(16) 問 蒙古帝國分裂之原因安在？

答 蒙古勃興，建此空前之大帝國，乃不百年而瓦解，其原因如下：

(1) 蒙古長於戰爭，短於組織力，故其所至之處，多摧殘而少建設。

(2) 蒙古無固有文字，凡所征服之國，即用其國之文字，故缺少團結精神。

(3) 蒙古無一定之信仰，亦足阻礙其精神上之聯絡。

(4) 蒙古戰勝文化國後，習於逸樂，失其向來尚武之風，故被屈服之民族，一旦反動，不

能復維持。

(17) 問 略述元代民族間之階級。

答 元之統一中國，人民多有反抗，因而嚴防漢人及南人，分國民爲蒙古、色目、(凡畏吾兒入西域人歐州人，皆得與蒙古人並用，卽所謂色目人)漢人、(遼金等之遺民)南人(宋之遺民)，四階級，其看輕南人，由此可見。又分人民爲一官、二吏、三僧、四道、五醫、六工、七匠、八娼、九儒、十丐十級，亦與中國人習俗不合，因此民族間生出許多惡感，不及百年，卽起而革命矣。

(18) 問 略述明太祖興起之情形。

答 元順帝時，賦稅繁重，政治廢弛，因此民心怨恨，羣雄乘機而起。當時有朱元璋者，起兵從郭子興，後別爲一軍，進據集慶，依次滅陳友諒張瑄，方國珍，又命徐達常遇春北上，逐元於塞外，統一中國本部，定都於應天府，(卽今南京)國號曰明，是爲明太祖。

(19) 問 明太祖與漢高祖比較如何？

答 明太祖與漢高祖，皆出身平民而爲天子，此其相同者一；皆能任用賢才以成帝業，（高祖任用張良韓信蕭何等，太祖任用劉基徐達常遇春等。）此其相同者二；得天下以後，皆殺戮功臣，（高祖殺韓信彭越等，太祖殺藍玉傅友德馮勝等。）此其相同者三。

(20) 問 賚述「靖難之禍」之原委。

答 明太祖封諸子爲王，及太祖死，孫惠帝卽位，慮諸藩跋扈，用齊秦黃子澄之計，欲削諸藩，當時燕王棣兵力最強，遂以誅齊秦黃子澄爲名，舉兵叛，號其師曰靖難；結果惠帝戰敗，燕王攻入京城，宮中火起，惠帝不知所終，燕王遂卽位，遷都順天府，（卽今北平）是爲成祖，大戮惠帝諸臣，誅連甚多，謂之瓜蔓抄；是卽所謂「靖難之禍」。

(21) 問 賚述土木之變之原委。

答 明英宗時，北方瓦剌強盛，其主也先入寇，英宗聽宦官王振言，率師親征，出居庸關，進至大同，後用鎮守太監郭敬言班師，也先追襲，至土木，爲也先所圍，英宗被擄，京師大震，幸大臣于謙，建議立英宗弟郕王爲帝，也先迫京師，謙督師破之，也先不得逞，乃請和，英宗回；是卽所謂「土木之變」。

(22) 問 鄭和出使南洋，其經過情形如何？

答 明成祖欲揚威海外，乃使鄭和出使南洋，宣示中國威德，和造大船六十二，率士卒萬人，由蘇州劉家港泛海，至福建占城，以次遍歷南洋諸國，總計先後出使凡七次，自永樂三年至宣宗宣德八年，凡三十年之久；結果南洋諸國，如爪哇占城東西竺馬六甲蘇門答刺錫蘭天方等國，咸慕明之威德，相繼入貢。

(23) 問 賚述明代之黨爭。

答 明神宗末年，吏治廢弛，綱紀不飭，時吏部員外郎顧憲成以直言被斥，遂歸而與高攀龍

等講學於東林書院，往往諷議朝政，品衡人才，其後鄒元標趙南星相繼而屈，力斥政府之失，是爲東林黨議之始。當時廷臣中又有宣岷齊楚浙諸派，與東林黨反對，是爲非東林黨。後熹宗卽位，宦官魏忠賢當權，非東林黨與之結合，誅戮東林黨，極爲慘酷；至思宗立，始誅忠賢，昭雪被冤黨人，然賢人死亡已盡，明之元氣，因此大傷矣。

(24) 問 明末流寇之禍如何？

答 明思宗時，陝西大饑，米脂李自成延安張獻忠，起兵作亂，肆擾凡十餘年，殺戮至慘。至崇禎十七年，獻忠入據四川，自成自陝西席捲東下，直抵都城，宦官曹化淳門門納降，京城遂陷，思宗自縊於煤山。後明臣吳三桂引清兵入關，自成獻忠始相繼敗死；但流寇雖滅，明室亦亡。

(25) 問 略述明亡時與清兵抵抗之經過

答 明思宗死，史可法等在南京立福王爲帝，清兵南下，無力抵抗，可法殉難，福王亦被執；後張國維等復立魯至於紹興，黃道周等復立唐王於福州，然亦俱爲清軍所滅。魯王逃至台灣，唐王被執。此後翟式耜等又立桂王於肇慶，清軍進攻，不能支，遁入緬甸，緬人執之以獻，明室遂亡。

(26) 問 明代西學及耶教傳入情形如何？

答 明中華後，葡萄牙人發見印度航路，於是歐人東來者日衆，中西國際之關係，頓開一新局面，西學及耶教，亦因而盡量輸入。其中最著者，如神宗時意大利人利瑪竇，傳天主教入中國，并攜其天文，地理，算學，及火器以至。思宗時德意志人湯若望，亦以傳教來中國，當時明廷因歷法多乖謬，遂命徐光啓李之藻李天經，與湯若望等修改歷本，成歷書數十卷。此外尚有熊三拔陽瑪諾龍華民等，亦均以傳教來中國，同時有歐洲天文等學携入。此即明代

歐洲學術及宗教輸入之大略情形也。

(27) 問 略述元明之理學。

答 元代理學，如姚樞許衡吳澄等，皆推衍朱熹之說。明初理學，亦多受程朱學說之支配；及王守仁出，擴充陸九淵之論學，以發展個性爲主，創「致良知」之說，以爲物理盡具於吾心，不必外求，故主知行合一，因此明代理學，遂開一新局面。

第四章 近世之部(清)

(1) 問 清初三藩之亂如何？

答 清初封吳三桂尚可喜耿繼茂爲三藩，其中以三桂爲最強，清聖祖欲除之，適尚可喜請歸老遼東，聖祖遂令撤平南藩。三桂及耿繼茂子精忠聞之，亦請撤藩以觀朝意，而朝廷竟許之，三桂遂反，耿尙二藩與陝西將王輔臣亦響應，聲勢頗大；但後王輔臣爲清擊敗，耿精忠以與台灣鄭經構兵，爲清所乘，遂降清，尚可喜之子之信以苦三桂徵餉，亦降清，於是三桂勢蹙，乃稱帝衡州以維人心，旋卒，孫世璠襲，爲清所滅。

(2) 問 略述清代盛時經營領土及藩屬之經過

答 清初國威極盛，經營領土及藩屬甚多，茲列舉如下：

(1) 台灣 初明將鄭成功不降清，率兵入台灣，驅逐荷蘭人，占爲己有，清廷無可如何；後傳至其孫克塽，懦弱無能，又有內亂，爲清水帥提督施琅所破，於是台灣遂平。

(2) 蒙回藏 清太宗時，滅察哈爾，降科爾沁，淹有漠南蒙古之地；高宗時又滅準噶爾，遂兼併伊犁外蒙古一帶土地，嗣後又平回部及西藏之亂，於是天山南路及西藏之地，亦入清版圖。

(3) 朝鮮 明清戰爭時，朝鮮出兵助明，後明無力援助，朝鮮遂屬服於清。

(4) 西南各省及大小金川 清世宗時，西南各省，有苗族之患，清用招撫之法平定之；高宗時又有大小金川之叛，亦為清所征服，於是雲南貴川廣西三省及四川邊境之地俱平定。

(5) 緬甸安南暹羅 緬甸常為邊患，後被清軍所破，遂乞和入貢；安南因內亂，恐清兵入征，亦乞降入貢，受清冊封；同時暹羅亦遣使通貢於清，於是三國均為清之藩屬。除上所述外，如尼泊爾琉球等小國，當時亦皆入貢於清，受清保護。

(3) 問 略述清代之文字獄

答 清康熙雍正乾隆三朝，為清室極盛時代，但當時帝王之專制，亦達極點，人民言論及出版自由權，完全禁止，往往因一字之疑，穿鑿附會，以致殺身之禍，此即文字獄之所由起。其中最著名者，如康熙朝有莊廷鑑明史獄，戴名世南山集獄；雍正朝有查嗣廷試題獄，陸生梅論史獄，呂留良文評獄；乾隆朝有胡中藻詩鈔獄，王錫侯字鶴獄等等皆是。

(4) 問 中俄尼布楚楚恰克圖兩條約內所定界約如何？

答 (1) 尼布楚條約內所定中俄界約有二：(1) 自黑龍江支流格爾必齊河沿外興安嶺以至於海，凡嶺南諸川，注入黑龍江者屬中國，嶺北屬俄；(2) 西以額爾古納河為界，河南屬中國，河北屬俄。

(2) 中俄恰克圖條約內所定界約有二：(1) 以恰克圖為兩國通商之地，西起沙爾奈嶺(葉尼塞河西)東至額爾古納河岸(黑龍江省西岸)以山之陽為中國，山之陰為俄國，各立界標誌之；(2) 以烏特河(在貝加爾湖東南)地方為兩國中立地，彼此不得侵佔。

(5) 問 略述中俄界約之變更及中國所失之地。

答 清中葉後，與俄國改訂界約，失地甚多，分述如下：

(1) 中俄愛渾條約 清咸豐時，奕山承政府的命，與俄木喇福岳福會於愛渾訂約，以黑龍江北岸地悉讓於俄，比以前尼布楚條約內所訂界約，失地極多。

(2) 中俄北京條約 英法同盟軍陷北京時，俄以調人自居，事後索厚報，續訂界約，是為北京條約，將烏蘇里江以東地，悉讓於俄。

(6) 問 中英江甯條約之重要內容及其影響如何？

答 (一) 內容 中英鴉片戰爭後，訂立江甯條約，其重要之內容為：(1) 清國政府向英政府償軍費一千二百萬元，商欠三百萬元，鴉片賠償六百萬元，共二千一百萬元，限西歷一千八百四十五年（道光二十五年）歲末付清；(2) 開廣州廈門福州甯波上海五港，許英人通商及居住；(3) 以香港之主權讓與英政府；(4) 秉公議定關稅則例。

(二) 影響 江甯條約，實為中外不平等條約之起源，其後種種條約，均以此為基礎，其中影響最大者有三點：(1) 秉公議定關稅則例，即為關稅權喪失之始；(2) 領事裁判權，在江甯條約雖未顯明規定，但以後美法兩國援例所訂之中美中法兩條約則有之；(3) 江甯條約中訂定外人在通商之五口，可以自由居住貿易，為外人在內地居留地之起源。

(7) 問 中英中法天津條約之重要內容及其影響如何？

答 (一) 內容 英法聯軍之役，中國與英法訂天津條約，其重要內容為：(1) 允許教士入內地傳教，商船得航行內地，英法人民得領執照往內地遊歷；(2) 於舊有五口通商外，增開營口登州台灣潮州瓊州等處為商埠；(3) 英法兩國人民訟案，不論人產，皆歸兩國自行辦理；(4) 償金四百萬兩與英，二百萬兩與法。

(二) 影響 天津條約，比江甯條約更為不平等，其中影響最大者有二：(1) 領事裁判權在此條約內始詳細規定；(2) 開外國商船航行內河之端，以後更進一步，即外國軍艦

亦與商船享同等權利，可以自由出入。

(8) 問 太平天國失敗原因何在？

答 太平天國失敗之原因如下：

(1) 太平天國自得南京後，各領袖因均欲爲帝，自相殘殺，遂使清兵得反敗國勝，此實爲太平天國失敗之最大原因。

(2) 太平軍得南京後，遣林鳳祥等北伐，爲清所敗，不得一鼓作氣，直搗北京。

(3) 曾國藩之湘軍，爲太平天國之勁敵。

(4) 太平天國部下多違法殃民，於是人民失望。

(9) 問 中日訂馬關條約，日本所得權利如何？

答 中日馬關條約，爲最不平等條約之一，其中日本在中國所得權利甚多，略舉如下：

(1) 領土 日本取得台灣澎湖及遼東半島；(遼東半島後因俄德法三國干涉退還) 并使中國拋棄朝鮮保護權。

(2) 賠款 日本向中政府得賠款二萬萬兩。

(3) 其他權利 日本在華取得片面領事裁判權及關稅特權，又取得內河航行權及口岸製造權。

(4) 通商 開沙市重慶蘇州杭州長沙爲商埠。

(10) 問 略述清瀋屬各國喪失之經過。

答 清中葉後 瀋屬各國盡失，分列於下：

(1) 安南 中法戰爭後，清與法訂約，承認安南爲法保護國。

(2) 朝鮮 中日戰爭後，中國認朝鮮爲獨爲立國；及日俄戰爭後，日本遂併吞朝鮮。

(3) 琉球 琉球本為清之屬國，後為日本所滅；中國爭之不能勝。

(4) 緬甸 英得印度後，常與緬甸開釁，清廷因國內多事，不暇顧及；後緬甸為英所滅，清廷始與之抗爭，英允代緬甸入貢，緬甸遂屬英。

(5) 暹羅 暹羅本亦入貢於清，後因清國勢日弱，遂變法自立。

(11) 問 各國租借我國港灣有幾？現狀如何？

答 各國租借我國之港灣如下：

(1) 膠州灣 光緒二十四年租與德國，期限九十九年；歐洲大戰時，為日本所據，後我國在華盛頓會議中力爭收回，現已交還。

(2) 旅順及大連灣 光緒二十四年租與俄國，期限二十五年，日俄戰後，轉租與日；民國四年，日本以廿一條條件，強迫我國展期九十九年，但我國未承認，現尚在日人手中。

(3) 威海衛 光緒二十四年，租與英國，以二十五年為期，現已期滿，尚未完全收回。

(4) 九龍 光緒二十四年，租與英國，以九十九年為期，現尚在英人手中。

(4) 廣州灣 光緒二十五年，租與法國，以九十九年為期，華盛頓會議時雖有交還之聲明，但現未實行。

(12) 問 略述戊戌變法之經過。

答 清德宗時，內憂外患交迫，國勢日危，粵人康有為上書，勸革新政治，德宗心動，遂於

光緒二十四年戊戌，下詔變法，其中有廢八股，開學堂，改兵制，立商會，汰冗員，廣言路等等維新制度；但當時親貴大臣，皆不悅康之所為，因讒之孝欽太后，太后亦深惡變法，遂蜜拿康有為等，康與其弟子梁啟超，豫得警告逃走，其同黨楊銳劉光弟林旭譚嗣同楊深秀及有為之弟康廣仁等被捕而死；於是孝欽復垂簾聽政，禁德宗於瀛台，前所下革新諸詔，一切

作罷；此卽戊戌政變之大略情形。

(13) 問 略述八國聯軍之役之因果。

答 戊戌政變後，康有爲逃英香港，梁啓超逃日本，政府索之，英日以其爲國事犯，不肯交出，政府因而深恨外人，此爲政府排外之因；又各國教士，挾其國勢以傳教，無賴之徒，往往鬧身教籍，欺壓平民，故人民多有仇教者，此爲人民排外之因。有此二因，孝欽后及大臣徐桐剛毅等，遂慫恿義和團起事，所至焚教堂，殺教民，并攻各國使館，日本使館書記及德國公使亦被殺；於是英法美德俄日奧意八國聯軍，齊集大沽口，連陷天津北京及保定。清廷大懼，與之講和，翌年訂定辛丑和約，除治禍首，毀砲台，允許使館駐兵，遣使謝罪等等外，又賠款四億五千萬兩，分期至西元一九四〇年償清，是卽所謂八國聯軍之役，一名庚子之役。

(14) 問 略述日俄戰事之因果。

答 中日訂立馬關條約後，俄忌日本在東三省勢力之擴充，遂聯德法二國，強迫日本交還我國遼東半島，日本因此極爲怨恨；後八國聯軍之役，俄乘亂佔據我國東三省，且欲佔朝鮮北部權利，日人大憤，兩國爲遂開戰；結果俄國大敗，經美國調停，結樸資木斯條約，其要點如下：(1) 俄將旅順大連灣轉租與日；(2) 俄任日本經營朝鮮，不加干涉；(3) 俄割庫頁島南半與日；(4) 俄將東三省東清鐵路南部之權利，讓與日本。

(15) 問 略述中俄之伊犁交涉。

答 伊犁本爲中國領土，後因中國有回亂，俄人乘機占據，光緒五年，清遣崇厚與俄交涉，崇厚許償還俄國五百萬盧布，并許割伊犁南部天噶許河上流兩岸之地，朝議大譁，左宗棠力持不可。清廷別令曾紀澤赴俄，與之力爭，乃締新約於俄都，償俄九百萬盧布而收回伊犁。

(16) 問 略述中英之片馬交涉。

答 自英滅緬甸後，中英滇緬分界問題遂起，交涉久不決；光緒三十二年，英國突遣兵佔領片馬，聲言高黎貢山以西之地爲其領土，此問題至今猶懸而未決。

(17) 問 略述中英之西藏交涉。

答 清之季世，英人佔領哲孟雄，又進兵西藏，遂達賴，由班禪與之議和，西藏歸英保護，後經清政府與之力爭，僅收回宗主權。民國成立後，西藏達賴，自稱皇帝，又誘川邊諸番舉兵入內，爲官軍擊退。達賴有求和意，英政府亦重提西藏問題，政府乃遣使與英藏代表會議於西摩拉，英主分西藏爲內中外部，內藏歸中國，外藏中藏准其獨立，我代表不允，會歐戰起，議遂中輟，至今猶未解決。

(18) 問 略述清之預備立憲。

答 清之末葉，國勢既弱，革命之風日盛，清政府尙欲保持其威福，故假預備立憲之名，敷衍人民，遣載澤等五人游歷各國，考察憲政，後擬下詔實行立憲，年限以九年爲期，此卽清廷預備立憲之情形。

(19) 問 略述清代科學之發展。

答 中國科學，素不發達，自清代與西洋各國交通以來，歐美科學，始漸漸輸入。舉其要者，如醫學中國素用中醫，清中葉後，始有西醫輸入；歷算中國亦素不精確，清初西法輸入，遂以西法作時憲書，當時有梅文鼎者，融合中西，成一歷算大家；地理學則有胡林翼之大清一統輿圖，邵代鈞之中外輿地全圖，楊守敬之歷代疆域沿革圖，均極著名；此外各種自然科學及社會科學，如理化博物法律政治等等，亦盡行輸入。

(20) 問 略述中國國內交通發展之情形。

答 中國國內交通，受外國物質文明輸入之影響而漸次發展，茲分三項述之：

(1) 陸路 民國前三年，開平礦務局築唐胥鐵路，是為中國有鐵路之始。

(2) 水路 民國前四十年，設招商局，以上海為中樞，與天津廣州皆有汽船往來，沿長江而入內地，可達四川之重慶，是為中國汽船航行業之始。

(3) 郵遞 民國前一六年，中國始有郵局之設，電報則民國前三三年始試行於天津大沽之間。

第五章 現代之部（中華民國）

(1) 問 略述武昌起義及清帝退位之經過情形。

答 革命黨人自廣州謀事失敗後，雖蒙重大損失，然革命之氣焰反日高，乃轉而謀諸武漢。時武昌新軍久已傾向革命，遂與革命黨人聯絡，於辛亥八月十九日，（即陽曆十月十日，）舉事。熊秉坤首先發難，其餘相繼而起，清鄂督瑞澂棄城逃，革命軍隊佔領武漢，推黎元洪為鄂督，各省紛紛響應。清廷大懼，派兵赴鄂與革命軍戰，革命軍雖因衆寡不敵，暫退出漢口，未幾南京，亦為革命軍所得。時孫中山先生方回國，各省代表遂在南京組織臨時政府，舉中山先生為臨時大總統，黎元洪為副總統，清廷知大勢已去，乃於翌年二月十二日退位。此武昌起義及清帝退位之大略情形。

(2) 問 略述國民黨成立至今之沿革情形。

答 國民黨自最初創立以至今日，其沿革情形，可依其經過之事實，分為七期，即：(1) 興中會時期，(2) 同盟會時期，(3) 民元組織之政黨國民黨時期，(4) 中華革命黨時期，(5) 護法非常國會時期，(9) 十三年一月改組之國民黨時期，(7) 排共時期。

(3) 問 民國成立後有兩度帝制之發現，其情形如何？

答 民國成立後兩帝制之發現情形如下：

(1) 洪憲帝制 民國四年，袁世凱欲為帝，使楊度等發起籌安會以鼓吹之。旋即下令自詔為帝，改明年為洪憲元年；然不久即有蔡鈞等在雲南起師討袁，號護國軍。後貴州廣西等省相繼響應，袁氏大恐，乃於五年三月下令取消帝制，然仍欲為總統，各省不許，相繼獨立，袁憂憤而卒，乃由黎元洪繼任為大總統。

(2) 復辟之役 民國六年，黎總統免段琪瑞職，各省督軍多宣告獨立，黎召張勳入京調停，張入京後，逼黎解散國會，與康有為等擁宣統帝復辟，幸各省均與師討罰，張敗，逃入荷蘭使館，復辟之事乃平。

(4) 問 略述皖直戰爭之經過情形。

答 北洋派分皖（段祺瑞徐樹錚為首領）直（曹錕吳佩孚為首領）兩系，積不相能，後曹吳等要求免徐樹錚職，解散安福部，段大怒，兩軍遂開戰，結果皖敗，段下野，奉軍亦加入助直，北方政權，為奉直兩系所得。

(5) 問 略述奉直戰爭之經過情形。

答 奉直戰爭，共有兩次。當皖直戰後，吳佩孚勢力強大，為奉張作霖所忌，後張擁梁士詒組閣，吳反對，兩軍遂開戰，結果奉敗，北方政權，全歸直系，是為奉直第一次戰爭。第一次戰爭後，張欲報戰敗之恥，吳欲奪關外之地，各圖一逞，翌年，遂復開戰，結果直敗，曹錕吳佩孚下野，段祺瑞復出而執政，是為奉直第二次戰爭。

(6) 問 略述五九國協之原委。

答 民國三年，日本藉口對德宣戰，侵佔我國膠州灣一帶土地，又欲施其侵略中國之野心，

遂於四年一月十八日，由駐京日本公使日置益，向我國政府提出廿一條條件，極為苛刻，并強迫中國當局嚴守秘密，至五日七日，日本又下最後通牒，當時袁世凱爲總統，不敢反抗日人，竟於五月九日，覆電贊同，吾國國民，遂定是日爲國恥紀念日。

(7) 問 略述五四運動之經過情形。

答 民國八年五月四日，北京學生三千餘人，爲爭回青島拒絕巴黎和會簽字，以請願爲名，舉行示威運動，並請能免曹汝霖章宗祥陸宗輿三親日派；後全國學生影響，商界工界亦繼之，一致聲討賣國賊及排斥日貨，北京政府乃下令免曹章陸之職，釋放被捕學生，此卽五四運動之經過情形。

(8) 問 略述五卅慘案之經過情形。

答 民國十四年五月卅日，上海學生以紗廠工人顧正紅被日人慘殺，分隊講演，以引起市民注意，租界當局 遂大捕學生，學生結隊要求釋放，英巡捕頭愛伏生，遮下令開鎗 學生及市民，被擊殺者十餘人，受傷者不計其數，是卽五卅慘案之經過情形。

(9) 問 巴黎和會與中國之關係如何？

答 民國七年十一月，歐戰告終，開和平會議於巴黎，中國亦以協約國之一與會。中國代表所提出於和會之要點爲：(1) 收回德國在山東之一切權利及膠州灣，並取消被迫承認之二十一條要求；(2) 希望各國對於中國種種不平等權利，如領事裁判權，關稅協定，外國駐兵，外國郵局等，皆據公理撤消。但開會時，日本不允將一山東權利交還中國一語加入對德和約中，我國國民大憤，羣請代表拒絕簽字於德約，於是陸徵祥等乃單簽奧約而歸。

(10) 問 華盛頓會議與中國之關係如何？

答 華盛頓會議，由美國發起，中國亦被邀請。會議結果，與中國有直接之關係者，大要如

下：(1)關稅增加及客郵無線電撤去皆通過，作為議決案，領事裁判權及駐華軍警雖決議，然須俟各國派員來華調查再定；(2)山東問題，在會外議決，青島中德人之所有，無條件交還，日本所增修者，估價收回，膠濟鐵路亦估價購回，膠州全部由中國自開商埠；(3)二十一條問題，除山東問題四條已另案解決外，日代表祇允放棄第二項關於南滿東蒙之投資優先權者三條，及第五項關於全國者七條，餘均未解決。

(11) 問 略述國民黨改組之經過。

答：自中華革命黨解散後，孫中山先生即有改組中國國民黨之意，十二年一月，發表中國國民黨宣言，為改組之先聲。至三月一月，中山先生遂召集全國及海外國民黨同志代表，在廣州開第一次全國代表大會，實行改組；大會中並議決宣言、政綱、及總章，國民黨之組織，乃告完備。

(12) 問 略述國民政府成立之經過。

答：自兩廣統一以後，代理大元帥胡漢民，即發表改組國民政府之宣言；至十四年七月一日，國民政府乃正式成立，採用委員制，以胡漢民汪精衛等十六人為委員，主持政務；迨北伐勝利，國民政府乃由廣州移至武漢，又由武漢移至南京。

(13) 問 九一八事變？

答：民國二十年三月，日本首先向東省當局，提出無理的鐵路交涉。接着四月又有萬寶山慘案發生，六月更有中村事件突如其來，未等交涉，日本就以此藉口，決定以武力侵佔東北，九月十日關東軍司令官本莊繁首先出動佈置滿鐵沿線，十七日占肥原也由日本悄悄跑來，十八日夜十一時十五分，便開始放砲，我東北從此就淪陷了。

(14) 問 蘇聯出賣東省鐵路？

答 自從日本由俄國手裏奪取東省鐵路長春以南的一段，日俄兩國在東北就自然的造成了平分春色的局勢。經過三次的協定，就更具體的表示出來兩方公開分割的野心，但到一九一七年，俄國鬧革命，日本便想一口獨吞了，因而用種種手段，千方百計的搗亂，在一九三五年，逼得蘇聯以偽滿幣一億七千萬九（內三千元爲東鐵職員退職金）爲代價將東鐵出賣給偽滿，三月二十三日正式簽字。

(15) 問 七七事變？

答 民國二十六年七月七日夜間，日本軍在蘆溝橋的宋哲元軍附近演習，強誣宋軍對其開槍射擊，遂侵入北平殺戮軍民，就引起我國偉大的抗戰。

(16) 問 一二八事件？

答 民國二十一年一月二十八日，日軍圍窺上海，集合海軍發動軍事行動，經蔣光鼐將軍率十九路軍，把日軍擊退，以後由國聯調停，在五月五日成立停戰協議。

(17) 問 八一三事件？

答 民國二十六年七月七日，蘆溝橋事變勃發後，日軍於八月十三日，在上海施其慣技，以虹口橋飛機場事件發動戰事，由孫先良將軍率部隊抵抗三月之久，完成了長期作戰的準備。

(18) 問 「九九九」和「一十十」是兩個什麼日子？

答 民國三十四年，我國在八年抗戰之後，獲得最後勝利，九月九日九時，日寇在南京正式向我國投降。十月十日十時北平的日寇正式向我國十一戰區長官投降。

(19) 問 抗戰期間日寇製造了幾個重要偽政權？

答 (1) 偽華北政委會，(2) 偽南京國民政府，(3) 偽蒙疆政府。

(20) 問 東北偽政權的原委怎樣？

答 九一八事變的第二年，日本就製造了偽滿洲國，以滿清廢帝爲傀儡皇帝。抗戰勝利後，淪陷了十四年的東北光復，溥儀被蘇聯俘去，至今尚未引渡給我國。

(21) 問 我國同胞分佈在何處？有何功績？

答 南洋最多，澳洲，美洲，和蘇聯也很多，在抗戰時期，他們將賤的錢匯回國內，供獻政府，作建國抗戰的補助，並切還直接參加了戰爭，這次的勝利，他們的功蹟也很大。

中國地理常識問答

第一章 總論之部

(1) 問 我國之位置如何？

答 我國地占亞洲之中部及東部。南起北緯十五度四十六分，(西沙羣島之特里屯島南端)北迄北緯五十三度五十分，(阿爾太山脈之薩陽嶺山脊)西起本初子午線(即以格林威治天文台爲起點)東經七十三度，(葱嶺之烏赤別里山口)東迄東經一百三十五度。(烏蘇里江口三角洲之耶字界碑)

(2) 問 試述我國面積之大小？

答 我國廣袤東西約九千里，南北七千八百里，面積約四千二百四十萬方里，占亞洲四分之一，全世界十二分之一。土地之廣，亞於英俄法三國，稱世界第四大國，然俄土荒寒，英法破碎不完其土壤肥沃，氣候溫和，而又連成整塊者厥惟我國。

(3) 問 我國之國界如何？

答 我國之國界可分海陸二部：

(甲) 海界，東以黃海東海對朝鮮，日本，琉球；台灣海峽對台灣，皆日屬地也。東南以黃

海對美屬菲律賓及英屬婆羅洲。

(乙)陸界(一)以鴨綠江，長白山，圖門江，與日屬朝鮮爲界。(二)以烏蘇里江，黑龍江，額爾古納河，阿爾泰山諸脈，與俄屬西伯利亞，中亞細亞爲界。(三)以喀喇崑崙山脈，喜馬拉雅山脈，與英屬印度緬甸及不丹尼泊尔二國爲界。其中片馬一帶及南卡河一帶，爲中緬未定之界。(四)西南以邊陲與法屬安南爲界。

(5)問 我國之政治區劃如何？

答 我國政治區劃分三十五行省及二自治區，試列表如下：

(甲)內地十八省：江蘇，浙江，安徽，江西，湖北，湖南，四川，福建，廣東，廣西，雲南，貴州，山東，山西，河北，河南，陝西，甘肅。

(乙)黑龍江流域九省：遼寧，吉林，黑龍江，安東，遼北，松江，合江，嫩江，興安。

(丙)西域一省：新疆。

(丁)新設六省：熱河，綏遠，察哈爾，寧夏，青海，西康。

(戊)自治區二：外蒙古，西藏。

(5)問 試述各省及自治區簡名及省會？

答 今將各行省及自治區之簡稱列表如下：

| 省名 | 簡稱 | 省會 | 省名 | 簡稱 | 省會 | 省名 | 簡稱 | 省會 |
|----|----|----|----|----|----|----|----|----|
| 江蘇 | 蘇 | 鎮江 | 安徽 | 皖 | 安慶 | 浙江 | 浙 | 杭州 |
| 江西 | 贛 | 南昌 | 湖北 | 鄂 | 武昌 | 湖南 | 湘 | 長沙 |

| | | | | | | | | |
|----|---|----|-----|---|----|-----|---|----|
| 四川 | 蜀 | 成都 | 福建 | 閩 | 閩侯 | 廣東 | 粵 | 番禺 |
| 廣西 | 桂 | 邕寧 | 雲南 | 滇 | 昆明 | 貴州 | 黔 | 貴陽 |
| 河北 | 燕 | 北平 | 山東 | 魯 | 歷城 | 山西 | 晉 | 陽曲 |
| 陝西 | 秦 | 長安 | 甘肅 | 隴 | 皋蘭 | 河南 | 豫 | 開封 |
| 遼寧 | 遼 | 瀋陽 | 吉林 | 吉 | 吉林 | 黑龍江 | 黑 | 江龍 |
| 新疆 | 新 | 迪化 | 熱河 | 熱 | 承德 | 察哈爾 | 察 | 萬全 |
| 綏遠 | 綏 | 歸綏 | 寧夏 | 寧 | 寧夏 | 青海 | 羌 | 西寧 |
| 西康 | 康 | 康定 | 外蒙古 | 蒙 | 庫倫 | 西藏 | 藏 | 拉薩 |


(6) 問 試述我國山脈之大概？

答 我國山脈源出帕米爾，東出而分爲四大山系，曰：崑崙山系，曰：天山山系，曰：阿爾泰山系，曰：喜馬拉雅山系，而以崑崙山系分，爲最廣。


(7) 問 試述崑崙山系之大概？

答 崑崙山脈自葱嶺向東分布青海本部，內蒙，及東九省；幾及全國面積三分之一，茲列一簡表如下：


崑崙山脈—西崑崙



中崑崙



東崑崙



長白山脈

(8) 問 試述五嶺之大概？

答 五嶺爲南嶺山脈主脈，爲長江粵江之分水嶺，其主要之嶺凡五：其在湖南廣西間者，爲越城，都龐二嶺。東至湖南廣東之界，爲萌渚，騎田二嶺。迤東入江西廣東二省之界者，爲大庾嶺。

(9) 問 試述天山系之大概？

答 天山系自葱嶺向東，經中俄界上爲廓克沙勒山；又東折入新疆境，自西向東，達新疆東境，越天山主脈。西部最高峯曰：汗騰格里 譯言天山王。東部最高峯曰：博克達山。

(10) 問 試述阿爾泰山系之大概？

答 阿爾泰山譯言金山，其山系自葱嶺東北走，至新疆北部分爲三支：北支，爲蔭彥嶺。南支，爲阿爾泰本脈。中支爲唐努山脈，又東走入外蒙境爲杭愛山，肯特山，而入西伯利亞境。

(11) 問 試述喜馬拉雅山系之大概？

答 喜馬拉雅山譯言雪山，其由系由葱嶺東南行，經西藏與印度不丹及尼泊爾界上，高峯綿亘，多達雪線以上，最高者曰：額非爾士峯，高29,000呎，禁世界第一高山。另有支線

在本脈之北，蜿蜒於雅魯藏布河北岸，名曰，外喜馬拉雅山脈。

(12) 問 試述我國河流之大概？

答 我們河流甚多，試以其委歸而言之：(甲)沿海流域有黃河，長江，粵江三大川，及遼河，溇河，白河，淮河，浙江，閩江，韓江諸小川。(乙)沿邊流域有黑龍江，色楞格河，伊犁河，雖魯藏江，怒江，瀾滄江，富良江等川。(丙)內陸流域有塔里木河，柴達木河等小川。總之，諸水之最長者，首推長江黃河，黑龍江粵江等次之；是為我國四大川。怒江，瀾滄江亦頗長，然祇有上流，在我國境內而已。

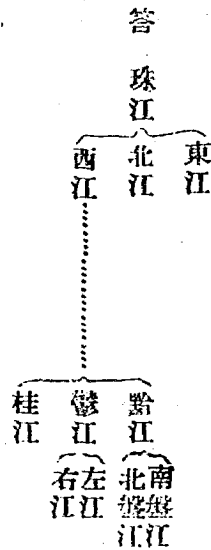
(13) 問 試述長江之大概？

答 長江一名揚子江，簡稱曰江。原出青海巴顏刺刺山南麓，名木魯烏蘇河，南流經西康入雲南境，名金沙江；折而東北流入四川境，始名長江；會岷江，嘉陵江，烏江諸水。穿三峽入湖北湖南境，會洞庭湖及漢水，又東流入江西境，會鄱陽湖，入東北流入安徽境會巢湖，水又東流入江蘇境，穿運河至崇明島入東海；全長九千餘里，經流九省，支流達十三省，稱我國第一大水。三分之二可行輪船，全國人口三分之二居於兩岸，物產豐富，為全國精華。

(14) 問 試述黃河之大概？

答 黃河簡稱河。源出青海巴顏刺刺山麓，穿孔陵鄂陵兩海，東南流名曰瑪曲，繞積石山東北流始名黃河。穿甘肅境，出長城，入寧夏境，復折而東入綏遠境，更折而南構或一大灣曲，是為河套；復入長城，為陝西山西兩省之界，受汾水，謂水至秦晉豫三省之交會焉；會渭水後東流入河南境，受沁洛諸水；又東北流穿河北境，由山東境注入渤海。全長八千八百餘里，為我國第二大川，下流多潰決之患，為河套一帶擅航行灌溉之利，故有黃河百害，惟富一套之譽。

(15) 問 試作表以表示粵江支幹之大概？



(16) 問 試述龍龍江主要之支流？

答 黑龍江本名黑水（薩哈連烏拉），為中俄之界水。下流在俄境。其在中國境內之支流主要者，如下：（甲）額爾古納河上流曰海拉爾河，東北流為中俄界水；與什勒喀河會而為黑龍江。（乙）松花江源出長白山，北源與嫩江會，東北流經黑龍江與吉林間，入黑龍江。（丙）烏蘇里江上流出與凱湖，東北流經吉林與俄屬東海濱省間，入黑龍江。

(17) 問 試述黃河為害之原因？

答 黃河有中國禍患之稱，其為害之原因不外三種：（甲）上流行高原及山峽，中至潼關附近，忽落平原，故奔放而不可駕御。（乙）河流經黃土層，故河水混濁，易於淤塞。（丙）自古以來，歷代治河以築堤為事，至於河身高於兩岸，水行墻頭。（丁）兩岸無湖泊以調節水量。

(18) 問 試述長江險要？

答 吳松口扼長江南口，對崇明島，為長江第一重門戶。狼山，福山相對，江面甚寬，而有白茅沙之險，航路曲折，為長江第二重門戶。江陰江面狹窄，闊僅三里，為長江三重門戶。

再上則有鎮江之團山，及對岸太平洲，為第四重門戶。焦山，象山為第五重門戶。再上為南京之烏龍山，蕪湖之西梁山，安慶上流，馬當山，湖口。湖北之田家鎮，皆為江防要害。

19 問 試述長江與黃河之異點何在？

答 今試將長江黃河之異點，列表如下：

長江

黃河

自江口上溯三千六百里可通輪船

河水淤淺無航運之利

支流甚多又多調劑湖

支流甚少無湖泊

灌溉便利土壤肥沃

多水患土地味瘠薄

人口繁多文化發達

古代文化甚發達今則凋落

沿岸多商港

沿岸無一商港

(20) 問 試舉我國流入太平洋印度洋北冰洋諸水之最著者一二？

答 中國流入太平洋最著之水：有長江，黃河，粵江，黑龍江，白河，淮河等。

流入印度洋最著之水：有印度河，雅魯藏布江，瀾滄江，怒江等。

流入北冰洋最著之水：有大克穆河，色楞格河，額爾齊斯河等。

(21) 問 試述運河之重要？

答 運河起於浙江之杭州，入江蘇至鎮江，穿長江，經揚州清江浦入山東，經濟寧，穿黃河，經臨清入河北境，至天津穿白河而至通州為止。長凡三千五百里，我國河流皆東西流，獨

運河南北，為昔日南北交通之要津，及溝通南北文化之大動脈。

(22) 問 試舉出中國之大淡水湖及大鹹水湖並各述其地點之所在？

答 (甲) 淡水湖：洞庭湖，(湖南) 鄱陽湖，(江西) 巢湖。(安徽) 太湖，(江蘇浙江

間) 洪澤湖(江蘇安徽間)。(乙) 鹹水湖：青海，(青海) 羅布泊，(新疆) 騰格里海，(西藏) 吉蘭泰鹽池，(寧夏) 博斯騰湖(新疆)。青海稱中國第二大湖，而洞庭湖則為淡水湖中之最巨者。

(23) 問 試述我國海岸之大概？

答 我國沿海之行省七：曰遼寧，河北，山東，江蘇，浙江，福建，廣東。分爲四海：遼東半島與山東半島內抱渤海、遼寧、河北，山東三省瀕之。自鴨綠江口南迄長江口是爲黃海，遼寧，山東，江蘇三省瀕之。自長江口至台灣海峽是爲東海，江蘇浙江福建三省瀕之。台灣海峽以南爲南海，福建廣東二省瀕之。全岸地勢，大約自錢塘灣以北多沙土岸，錢塘灣以南多岩石岸。

(24) 問 試述中國沿海著名之島嶼及半島並述其所在？

答 (甲) 島嶼：廟島羣島，(渤海峽)。海洋島 長興島(遼寧)。崇明島，(長江口) 舟山列島，南田島，玉環島，(浙江) 海壇島 廈門島，金門島，銅山島(福建)。南澳島，香港島，海南島，西沙羣島，(廣東)。(乙) 半島：遼東半島，(遼寧)。山東半島，(山東)。雷州半島，(廣東)。

(25) 問 試述沿海優良之港灣並其所屬之海？

答 茲將中國沿海要港，列表如下：

渤海：連山灣 金州灣 秦皇島，大沽口，萊州灣，龍口灣
黃海：大東溝，大連灣 旅順口，煙台港，威海衛，榮成灣 膠州灣，臨洪口。
東海：錢塘灣 鎮海口 象山港，三門灣，台州灣，溫州灣，沙埕港，三都澳，興化灣，泉州港。

南海；廈門港，汕頭港，大鵬灣，廣東灣，北海灣，榆林港。

(26) 問 中國之地勢有幾種試列舉之？

答 中國之地勢，可分四類：(甲)高原地，有西藏高原，青海高原，蒙古高原。(乙)沙漠地，有新疆之塔里木沙漠，及白龍堆。內外蒙古間之大戈壁。(丙)平原地，有黃河、長江、珠江，黑龍江沿岸諸平原，及新疆之塔里木盆地。(丁)山地，有秦晉山地，雲貴山地，閩浙山地。

(27) 問 中國之氣候若何？

答 中國大部分在溫帶，因地域遼闊，地勢高低相差甚巨，故氣候各地不同，大略言之：珠江流域氣候近於熱帶，終年不見冰雪。長江一帶氣候溫和。黃河一帶較長江為寒。蒙古，東三省氣候甚寒。新疆，西藏因地勢高而距海遠，為大陸性氣候，寒暑之差甚烈。

(28) 問 我國人口共有幾何？以何省為最密？何省最疏？

答 我國人口，說者不一，或謂三萬萬三千萬人，或謂五萬萬人，普通之說謂四萬萬五千萬人。最密之省為江蘇省，平均一方里約得百人。最疏為外蒙古，平均三方里為一人。

(29) 問 試述我國之民族，及其居住地？

答 (甲)漢族：占全國人口十分之九，居本部十八省，東三省，及內蒙各省。(乙)西藏族：居西藏，青海及西康。(丙)蒙古族：大部分居外蒙古，其餘居新疆，青海，內蒙古。(丁)滿洲族：大部分與漢族同化，尚有小部分居吉林黑龍江。(戊)回族：居新疆，(己)苗蠻族：居于廣東廣西雲南貴州之山地。

(30) 問 我國人之居于海外者幾何？以何地為多？

答 我國之僑居海外者，約一千萬人。以閩粵及山東人為多。華僑最多之地，首推南洋羣島

，而伯利亞及美洲次之。

(31) 問 外國人居留我國者其數幾何？以何國人為多？

答 外國人之居留我國者，共計約有五十餘萬，以日本人為最多，約有二十四萬人。

(32) 問 苗蠻族之種類有幾試舉其著者？

答 苗蠻民族，種類繁多，筆不勝述，茲舉其最著者：(1) 苗族，居雲貴二省。黎族，居廣西，湖南及廣東。獨個，居雲南東北及西康及四川。西番，亦居雲南西北及西康。藏夷，居廣西之大部。黎人，居海南島。畲族，居閩浙交界處。

(33) 問 試述漢族語言之派別？

答 漢族語言之派別，試列表如下：

北方官話 (黃河流域)

官話 南方官話 (長江中流及下流)

西方官話 (四川雲南貴州)

漢族之語言

南方官話

- 吳語 (太湖流域)
- 溫州話
- 福州話
- 漳州話
- 潮州話
- 客家話 (韓江上流)
- 廣州話
- 廣西話
- 海南話

(34) 問 試述中國民族之優點何在？

答 中國民族之優點有四：勤儉，耐勞，和平，誠實。

(35) 問 試述我國宗教之大概？

答 我國之宗教有五大派：即儒教，道教，佛教，基督教，回教。(1) 儒教，尊孔孟，中流以上人信之；無宗教之儀式，而有宗教之精神。(2) 道教，尊老子，流行全國而勢力甚弱。(3) 佛教，自印度輸入，流行全國，勢力甚巨，其別派曰喇嘛教，流行西藏，外蒙古。(4) 基督教，自歐洲傳入，分新舊二大派，散布全國，除外蒙古，西藏及內蒙外，各地皆有之。(5) 回教，回族奉行之，而漢族亦有信之者，以陝甘兩省為盛。(6) 其他苗蠻等族有信拜物教者。

(36) 問 試述我國宗教之聖地？

答 儒教之聖地，為山東曲阜之孔林。道教之聖地，為江西貴溪之龍虎山。佛教之聖地，甚多，而以山西之五台山，浙江之普陀山，四川之峨嵋山，稱為三大佛地。喇嘛教之聖地，為西藏之拉薩。

(37) 問 試述我國產業之大概？

答 我國之產業，以農產物為最富；如北部之豆，麥，南部之米，絲，茶，棉，均極豐富。蒙古，新疆，青海，西藏之牧業；沿海之漁鹽業，亦極發達。礦物以黃河流域儲藏最富，尤以煤，鐵為主。其他金，銀，錫，鉛，煤油，亦產之。

(38) 問 試述我國各河流域之農產物？

答 黃河流域：產粟，麥，大豆，及漆，藥材如桃，棗，蘋果，葡萄，之類亦甚多。長江流域：有稻，麥，棉，茶，及桑，漆，樟，桐等木材。

粵江流域：有稻，級各種粟類：如甘蔗，荔枝，植，橘，香蕉，等品。
黑龍江流域：產大豆，麥，高粱，麻，人參，甜菜等。

29 問 試述我國主要之礦產？

答 我國著名之礦產：有湖北大冶之鐵，陝西延長及新疆天山北路之煤油，雲南東川之銅，湖南新化之錫等。煤之分布最廣，以山西藏最富。已開掘者，以河北之開灤，山西之萍鄉，爲最著。金則產於蒙古新疆及東北九省。

40 問 試述我國產鹽之地？

答 我國鹽之產地有四處：(1) 海鹽產于沿海七省。(2) 井鹽產於四川，雲南之鹽井。(3) 池鹽產於山西，陝西，察哈爾，蒙古，西藏，新疆，青海諸鹽池，及鹹水湖。(4) 岩鹽產于新疆。

41 問 試述我國已開採煤礦？

答 我國已開採之煤礦：有遼寧之撫順，及本溪湖。河北之開灤，唐山，江西之萍鄉。山東之淄川，博山。河南之開化（今博愛縣）六河溝等地。

42 問 試述我國工業之大概？

答 我國工業甚幼稚，舊工業只有手工業不足道，其著稱於世界者，僅在江西景德之磁器，與江蘇宜興之紫砂器，江浙之絲，綢，福建廣東之漆器而已。新工業有製絲，紡績，製鐵，造糖等，而未發達，且大半操於外人之手。

43 問 試述我國主要之輸出入品及輸出入類？

答 重要之輸出品：爲生絲，豆油，豆餅，棉花，茶等物。重要之輸入品：爲布匹，米，機械，金屬，魚類，煤，煤油，等。輸出額每年平均九萬萬，輸入七萬萬，入超二萬萬。

44) 問 試舉我國沿海重要之商埠？

答 我國沿海重要之商埠列舉如下：安東，大連灣，營口，（遼寧）。秦皇島，天津，（河北）。龍口，烟台，青島，（山東）。上海，吳淞，（江蘇）。寧波，溫州，（浙江）。三都澳，福州，廈門，（福建）。汕頭，廣州，澳門，北海，海口，（廣東）。

45) 問 試舉我國長江之要埠？

答 我國沿江之要埠列下：上海，鎮江，南京，（江蘇）。蕪湖，（安徽）。九江，（江西）。漢口，沙市，宜昌，（湖北）。岳州，（湖南）。萬縣，重慶，（四川）。

46) 問 試舉東北九省之重要商埠？

答 營口，大連灣，安東，（遼寧）。長春（寬城子），琿春，哈爾濱，三姓，綏芬河，龍井村，（吉林）。龍江，滿州里，大黑河（黑龍江）。

47) 問 孫中山先生擬開沿海三大港在何地？

答 孫中山先生擬于沿海開三大港：（1）北方大港在濰河口。（2）東方大港在杭州灣之乍浦。（3）南方大港在廣州。附近之黃埔。

48) 問 試舉我國國有鐵道及其起訖？

答 北寧，（北平至瀋陽）。平漢，（北平至漢口）。津浦，（天津至浦口）。滬甯，（上海至南京）。滬杭甬，（上海經杭州至甯波）。膠濟，（青島至濟南）。甌海，（東段自徐州至海州西段自徐州至潼關）。平綏，（北平至包頭）。正太，（正定至太原）。粵漢，（漢口至廣州。中間未成）。

49) 問 試舉東北九省重要之鐵道及其主權所屬？

答 北齊，（北平至瀋陽屬中日）。南滿，（長春至大連），安奉，（安東至瀋陽），四洮

，（四平街至洮南），通遼，（遼源至通遼），打通，（打虎山至通遼），洮昂，（洮南至昂昂溪）以上屬日本。中東，（滿洲里至綏芬河哈爾濱至長春（屬中俄））。

(50) 問 試述黃河之三大鐵橋？

答 黃河之鐵橋有三：一、津浦鐵路鐵橋。二、平漢鐵路鐵橋。三、蘭州鐵橋。

(51) 問 試述我國主要之航線？

答 我國之航線，以上海為中心，可分四線：一、長江線，由上海溯長江至漢口。二、北洋線，由上海北航至青島、煙台、天津、營口、大連等埠。三、南洋線，由上海南航至宿波、溫州、福州、廈門、汕頭、香港諸埠。四、外洋線，自上海東至日本，美國；西至亞洲南部，以迄歐洲；南至南洋羣島，以迄澳洲。

(52) 問 試述長江航路之大概？

答 長江航路，自上海至漢口可通大輪船；自漢口至宜昌，可通中等輪船；自宜昌至重慶，可通淺水輪船；自重慶至叙州，可通民船；其支流如岷江，漢水，洞庭湖，鄱陽湖，諸水，皆通輪船及民船；交通之便稱全國第一。

(53) 問 試述我國航業之近况？

答 我國長江及南北洋航業，有英商之太古洋行，怡和洋行；日本之日清公司。我國僅有招商局及寧紹公司而已。外洋航路，完全握於外商之手，僅南洋與閩粵間，有華僑經營之不定期輪船，航行其間而已。

(54) 問 何謂四水鎮？

答 我國之四水鎮：為湖北之漢口，江西之景德，河南之朱仙，廣東之佛山。

(55) 問 或謂我國行政區劃不當試申言其理？

答 我國行政區域，分割不當，其主要者有二點：（1）面積太大，世界各國之行政區劃，未有大於我者；如美國面積小於我國而分爲四十九邦；若日本，法國面積較我更小，而行政區域皆多於我。（2）行政區劃，不依自然地理，如黃河之三角洲，本一自然區劃，而分屬于蘇、皖、魯、豫四省；江蘇之江南、江北，自然地理迥異，而強合爲一省。因此二故，統治不易，施政爲難，且易啓武人割據之現象。

第二章 長江流域諸省

（1）問 首都之形勢如何？

答 我國首都，俗稱南京，雄據長江右岸，距江口六百里，城周七十六里；幕府，烏龍諸山屏列于外，北枕獅子山，南控雨花台，龍蟠虎踞，夙爲東南重鎮；市街偏於城南，商埠曰下關，在城外江岸，有江甯鐵道通城內。

（2）問 首都之交通如何？

答 首都瀕江，長江航路東通上海，西通漢口；陸路有滬甯鐵路通上海；由下關渡江爲浦口，有津浦鐵路通天津；最近築有汽車道直達杭州。

（3）問 首都之名勝若何？

答 首都名勝甚多，舉其著者：夫子廟、頌秦淮河，畫舫密集，遊人如雲。明故宮爲明代宮殿，他如清涼山、鷄鳴寺、雨花台，玄武湖、莫愁湖，均以風景擅名。鍾山之麓，有明孝陵及總理墓。距城六十里有湯山溫泉，爲養病佳境。

（4）問 江蘇省之地勢如何？

答 江蘇省境爲長江及淮河之沖積地，地勢平坦，絕少高山峻嶺，間有邱陵，不過如孤阜而

十萬，有外人居留地二千，一半公共租界，一分中北東西四岸，中法租界與英租界。中日法租界。商業繁華之區，皆在英租界，全市繁華為全國第一。工業金融亦為全國之中心。實為外人侵略中國之大本營也。

(10) 問：無錫在何處？其地實業情形如何？

答：無錫地近太湖，扼滬寧鐵路之中樞，附近為米、棉、蠶、桑之出產地，又水運便利，故工業極發達，絲廠、紗廠、麵粉廠等林立，計其有烟突者凡六十餘處，全國罕有與其相伯仲者。

(11) 問：南通有模範縣之稱，試言其情形。

答：南通在長江北岸，市政之繁，工業之發達，堪稱全國模範。工廠如紗廠、織廠等，規模甚巨。沿海灘地多至六百餘處，四鄉汽車路四通，有華商設立之大達輪船公司與上海往來。學校有大學、中學，師範學校，以至盲啞學校。文化建設如公園、博物院、圖書館、夫妻會、農林試驗場等，應有盡有。

(12) 問：徐州在何處其形勢如何？

答：徐州在江蘇省西北，為江蘇、安徽、山東、河南四省之要衝，商業繁盛，形勢雄偉，浦津、臨海二路交會于此，為兵家必爭之地。

(13) 問：試舉江蘇之商埠名。

答：沿江者有南京、浦口、鎮江、沿海者有上海、吳淞、海州。陸路有徐州、無錫、蘇州。

(14) 問：試舉江蘇重要之都會即其位置。

答：江蘇重要之都會：南京、鎮江、南通，（以上沿長江）。上海，（長江口）。蘇州，無錫，常州，（沿滬寧鐵路）。揚州，青江浦，（江北運河沿岸）。徐州，（津浦臨海之交會

點)。

(15) 問 海州在何處？其形勢如何？

答 海州在江蘇東北部，爲甯海鐵路之終點，其外港曰新浦鎮，瀕臨洪口；城東有雲台山，昔爲海島，今已上陸；雲台山東北有小島曰西連島，今擬築港于此。

(16) 問 試述錢塘江之原委？

答 錢塘江一名浙江，上源有三：曰婺江，會衢港于蘭谿，東北流至建德，徽江自安徽東流來會，又東北流經桐廬，名曰桐江，又東北經杭縣，始名錢塘江，又東北流入杭州灣。全流經行山地，多曲折，江口有沙橫亘，航船不能出海，沿江亦不能航行，大輪自杭州至桐廬亦僅通小輪船而已。

(17) 問 錢塘江之潮汐如何？

答 錢塘江口有尖山者，橫絕江口，潮水被阻，激成高浪，因成大潮，高達三丈左右。八月十八日海潮觀潮，爲中國第一偉觀。

(18) 問 試述浙江山脈河流之概要？

答 浙江最大，水曰錢塘江，橫貫西北境，東北流入東海。其餘諸水：有甬江，靈江，甌江，皆與錢塘江平行，亦東流入海。山脈以仙霞嶺爲主脈，由閩浙界上向東南走，經甌江之南爲楓嶺山脈，東北走經甌江與靈江間者爲雁蕩山脈，經甬江與靈江間者爲天台山脈，自仙霞嶺東北走經浙皖界上爲懷玉山脈，又北走入安徽境爲黃山脈，又東北走經浙皖界上爲天目山脈。

(19) 問 浙江省城何名？其因何著名？

答 浙江之省會曰杭縣，在錢塘江岸，以綢緞出產之精美，及西湖風景之優麗，著稱全國。

(20) 問 西湖之風景如何？

答 西湖在杭州城西，周約三十里，中貫蘇堤，白堤，分湖為三區，清漪澄碧，風景極佳，三面環山，秀峯三竺，點綴泉林，尤為西湖生色；湖周名剎別墅環繞，雕樑畫棟，綺麗萬狀，誠中國第一名勝之區也。

(21) 問 吳興在何處以何著名？

答 吳興近太湖南岸，蠶桑之富，稱中國第一。

(22) 問 前波在何處其商業如何？

答 前波在浙江乍浦，自通商後，商業乃為所奪，為不失為浙江第一巨港也。

(23) 問 象山港在何處其商業如何？

答 象山港在甯波甯海，港道水深，外蔽舟山羣島，港岸環以高山，為我國惟一軍港。三門灣在象山港南，島嶼羅列，港道複雜，數年前政府有招致華僑開墾開埠之計劃。

(24) 問 舟山羣島情形如何？

答 舟山羣島散處福州海外，自為小四百餘島，以舟山為最大，有定海縣在焉，羣島之間，漁業甚盛。

(25) 問 溫州在何處其商業如何？

答 溫州在甌山，為通商港，與溫嶺各埠有鐵路往來。

(26) 問 試舉浙江重要各都會與其地位。

答 杭州，建德，蘭溪，德縣，錢塘江岸。嘉興，（運河岸）。湖州，（近太湖南岸）。寧波，（沿甬江）。台州，（沿靈江）。温州，處州，（沿甌江）。

(27) 問 試舉浙江沿海之商埠？

答 已開闢商埠者為寧波、溫州；他如石浦、海門，雖非商埠，然貿易甚盛。澈浦、乍浦，昔日商業甚盛，今則衰零矣。孫總理擬開為東方大港。

(28) 問 浙江之物產如何？

答 浙江之物產，以米、蠶、絲、茶葉，與海產為大宗。蠶絲產於浙西一帶，茶產於紹興，杭州及長興一帶。海產產於沿海。而紹興之酒，金華之火腿，尤為特產。

(29) 問 浙江有何名山？

答 浙江之名山，如雁蕩、天台，四明，會稽等以風景幽麗著名。普陀山以佛教名地稱。莫干以避暑名地稱。

(30) 問 浙江有何特殊之民族？

答 浙江特殊之民族，有錢波紹與一帶之隋民，相傳為蒙古軍之後裔；閩浙交界之畬族，或謂係苗族之一支，此二族與漢皆輕視之，不與通婚姻。

(31) 問 試述安徽省山脈河流之大概？

答 安徽之河流，南有長江，注入長江之大水；有青戈江，及巢湖等水；北有淮河，其支流有淝水、西澗河，北澗河、類水等。山脈有二系：在江南者為黃山脈，在淮南江北者為天柱山脈，一種皖山脈。

(32) 問 安徽之省城何名？其地勢如何？

答 安徽之省城名安慶。(懷遠)在長江北岸，偏于省之西部，故地位不甚適當。

(33) 問 安徽之自然疆劃如何？

答 安徽之自然地理分為皖南，皖北二區：長江以南曰皖南，長江以北曰皖北。

(34) 問 安徽之第一商埠在何處？

答 安徽之第一商埠曰蕪。在長江右岸，青弋江口，距南京極近。

(35) 問 蚌埠在何處？其商業如何？

答 蚌埠踞淮河，當津浦鐵路衝途，爲皖北第一巨埠，淮河流域貨物之大集散點也。

(36) 問 屯溪在何處？其商業如何？

答 蕪徽港上流，爲皖南一大茶市。

(37) 問 正陽關在何處？其商業如何？

答 正陽關在淮河上流，爲淮河小輪船航路之終點，故商業亦盛。

(38) 問 大通在何處？其商業如何？

答 大通沿長江，江輪寄泊于此，爲沿江巨埠。

(39) 問 試舉安徽之都會名及其位置？

答 安慶，蕪湖，（沿長江）宣城，（青弋江）廬州，（近巢湖）。蚌埠，（淮河）。阜陽

(40) 問 安徽之物產如何？

答 安徽之物產，以米茶爲大宗；礦產有煤鐵銅等；工產品有徽州之墨，宣城之紙，馳名

全國。

(41) 問 安徽有何名山？

答 安徽之名山：有黃山，九華山，天柱山等；而黃山風景最盛，九華山有地藏王菩薩相，

每年七月朝拜者最多。

(42) 問 江西省之主要河流何名？

答 江西省之主要河流何名？

答 江西之主川曰贛江，上源有二：西曰章，東曰貢，於贛縣會合後始名贛江。北流經鄱陽湖，入長江。

(43) 問 江西省城何名其位置何在？

答 江西之省城名南昌，瀕贛江下流，有百花洲，滕王閣諸勝蹟。

(44) 問 九江在何處其商業如何？

答 九江在長江南岸，凡江西出入貨物，皆集散于此，爲江西門戶。

(45) 問 廬山在何處其風景如何？

答 廬山在九江西南四十五里，高四千尺，周二百里，最高之峯曰含鄱嶺；又有五老峯，香爐峯，三疊泉，玉淵等名勝。白鹿洞，在五老峯下，爲朱子講學處，牯牛嶺在山之西北，現爲中外人仕避暑之地，市政甚佳。

(46) 問 景德在何處以何著名？

答 景德鎮在鄱江上流之昌江南岸，爲中國最良瓷器生產地。

(47) 問 贛江小輪船之航路如何？

答 贛江之航路：由江口之吳城鎮，可上達樟樹鎮；水大時可達贛州。

(48) 問 湖口在何處？有何名勝？

答 湖口鄱陽湖之口，內湖外江，有石鐘山之勝。

(49) 問 江西有何著名之產煤地？

答 安源在萍鄉附近，爲江西產煤最盛之地；有鐵路通湖南株州。

(50) 問 南潯鐵路起訖於何處？

答 南潯鐵路，自九江至南昌。

(51) 問 江西有何特產？

答 江西之特產：有萬載宣黃之夏布，河口之紙，景德之瓷器。

(52) 問 龍虎山在何處？於宗教上有何價值？

答 龍虎山在貴溪縣。樓道陵後裔世居其地，以左道惑人，世稱張天師，最近政府始取締之。

(53) 問 何謂武陽夏？其位置如何？

答 武陽夏：即武昌，漢陽，漢口，（漢口）三地。鼎足而立，亦有武漢三鎮之稱。

(54) 問 漢口商業如何？

答 漢口當江漢之口，扼長江流域之中心，平漢，粵漢二路以此為交點；貿易範圍，包括九省，為長江流域第一巨埠；繁盛亞于上海，有英，法，俄，德，日五國租界，今德，俄，英租界皆收回矣。

(55) 問 武昌之形勢如何？

答 武昌為湖北省城，在長江右岸，有蛇山磯台與漢陽之龜山相對，形勢雄偉，稱軍事重鎮。

(56) 問 漢陽以何馳名？

答 漢陽有鐵廠，稱全國第一工廠；與大冶鐵礦，萍鄉煤礦，合稱漢冶萍公司。

(57) 問 湖北沿江商埠除漢口外尚有何地？

答 沿江商埠除漢口外，尚有沙市，宜昌。

(58) 問 湖北漢水沿岸有何商場？

答 漢水沿岸之商場：有仙桃鎮，襄陽，老河口等。

(59) 問 湖北之交通如何？

答 湖北交通以漢口爲中心。長江有航線三條：一東達上海，二西達宜昌，三由洞庭湖達湖南。漢水航路，小輪船可達仙桃鎮，民船可達漢中。鐵路有二線：一平漢，由漢口到北平；二粵漢，由武昌達湖南之漢口。其餘尚有汽車路數條。

(60) 問 湖北之物產如何？

答 湖北之物產，以米穀爲大宗。米之產量甚多，有「湖廣熟天下足」之諺。礦產以大冶之鐵，漢陽之煤。興應城之石膏著名。

(61) 問 試述湖南山川之大概？

答 湖南之大有四：曰湘，沅，資，澧，皆注入洞庭湖。山脈有五：在湘江以東者曰羅霄山脈，湘江之間者曰衡山脈，資沅之間者曰雪峰山脈，沅澧之間者曰武陵山脈，橫枕省南者曰五嶺山脈，羅霄山，衡山，雪峰山之脈均發軔於此。

(62) 問 湖南省會何名？位置何在？

答 湖南之省曰長沙，在湘江之右岸。

(63) 問 湖南有何商埠？位置何在？

答 湖南之商埠：岳陽，在洞庭湖口；常德，在沅江下流；長沙湘潭，在湘江沿岸。

(64) 問 衡山在何處？其形勢如何？

答 衡山在衡陽之北，凡七十二峯，以祝融峯爲最高，周數百里，鬱積磅礴，奇峯怪石，不可名狀，稱中國之南嶽。

(65) 問 岳陽在何處？商業如何？

答 岳陽在洞庭湖口右岸，爲湖南全省之門戶，自開商埠在其東北之城陵磯。爲湖南茶葉，

商業甚盛。

(66) 問 洪江在何處？其商業如何？

答 洪江在沅水上流，爲貴州之門戶，自湘入黔者多在此舍舟登陸，而附近之桐油，黔中木材均由此輸出，故雖爲一鎮而商業旺盛。

(67) 問 湖南礦產以何者爲著名？

答 湖南之錳礦 占全國百分之八十七，爲世所著稱。

(68) 問 湖南之米茶產於地何？

答 湖南之米，多產於湘江流域，洞庭湖附近；茶則產於安化，平江等縣。

(69) 問 湖南有何特產？

答 湖南之特產，有長沙之湘繭，醴陵之瓷器，瀏陽之夏布，洪江之桐油等。

(70) 問 四川省得名於四大水試舉其名？

答 四大水者：卽岷、滬、雅、巴、四川；卽今岷江，沱江，嘉陵江，大金川是也。

(71) 問 四川省會何名其富力如何？

答 四川省會爲成都，在岷江中流，其附近城各成都溢地，水利繁興，農產豐盛，爲全蜀之冠。

(72) 問 四川省長江沿岸有何重要城市？

答 長江沿岸之夔州，萬縣，重慶，瀘州，叙州等城市，均甚重要。

(73) 問 試述三峽及棧道之險要？

答 自湖北之宜昌，至四川之夔州，中有西陵，巫峽，瞿塘三大峽；重岩壁立，連峯蔽天，懸瀑湍急，險阻難行。棧道在川陝間，萬山重疊，森林幽鬱，道路多依山緣壁，擊孔山腰，

支木橫石覆板以過，險阻難行，爲陸道之冠。

(74) 問 試述四川之重要物產？

答 四川古稱天府，米、麥之產，足以自給；絲產亞於江浙，夏布與湖南齊名，桐油白蠟藥材，出產之盛，爲全國之冠；煤礦隨處可見，而鹽井火井尤爲利藪。

第三章 粵江流域諸省

(1) 問 閩江之水勢如何？

答 閩江爲福建主要之河流，上流有三源：北曰東溪，西曰西溪，南曰沙溪；皆水流湍急，且多灘險。自水口以下，始通小輪，至羅星塔，則水勢大盛，海船通行無阻。

(2) 問 武夷山在何處以何著名？

答 武夷山，在閩贛邊界上；周百餘里，有三十六峯，七十二岩之勝；而武夷之茶，尤馳名全國。

(3) 問 福建沿海有何要港？

答 福建沿海之要港：有沙埕港，三都澳，閩江口，興化灣，湄州灣，泉港，廈門港，銅山灣等地。

(4) 問 福建省城何名？其形勢如何？

答 福建省城曰福州，在閩江北岸。商埠曰南台，在福州城南，閩江中流，南台島上，有橋與北岸相通。

(5) 問 馬尾在何處？有何建設？

答 馬尾在福州東南，閩江北，密邇岸江口，有船政局及海軍學校，爲我國海軍發軔之地；

江中有羅星塔，海船自閩江上溯，寄碇於此。

(6) 問 三都澳在何處？其商業如何？

答 三都澳，在三沙灣中一小島上，以茶之貿易著名。

(7) 問 廈門在何處？其商業如何？

答 廈門在廈門島西南岸，爲福建第一大商埠，與南洋貿易甚盛。

(8) 問 泉州在何處？在歷史上有何價值？

答 泉州，在晉江口，自唐以來與外國通商，歷宋，元，明三朝，皆稱巨港。

(9) 問 鼓浪嶼在何處？

答 鼓浪嶼，在廈門對面，爲一小島。

(10) 問 福建省之唯一鐵路何名？

答 福建省之唯一鐵路，名漳廈鐵路；自廈門對岸之嵩嶼至漳州。

(11) 問 福建省之農產物若何？

答 福建之農產物，穀類不豐，有茶、甘蔗及各種果類，如橘、柚、龍眼、香蕉等。

(12) 問 福建有何特產？

答 福建之特產物，有武夷之茶，長汀，浦城之菸，泉州之水仙，福州之漆器，德化之陶器

等。

(13) 問 廣東之省城何名？其交通如何？

答 廣東之省會曰番禺，在粵江（一名珠江）北岸，爲南部一大都會；陸路交通有粵漢鐵路通韶州，廣三鐵路通三水，廣九鐵路通九龍。水路有輪船南通香港，澳門；西沿西江至梧州。

(14) 問 澳門在何處？試言其喪失之歷史？

答 澳門，在粵江三角州南端，宛如一小島，明嘉靖十三年租於葡萄牙，年納銀五百兩，至清光緒十三年立永讓之約，遂爲葡有。

(15) 問 香港九龍在何處？其主權如何？

答 香港，爲粵江口東一小島，鴉片之役，割於英國；九龍半島，在香港對岸，係清光緒二十五年租於英國者，其南端之九龍司地，則咸豐十年割讓與英者也。

(16) 問 香港市之商業如何？

答 香港市，英人名之曰維多利亞市，在香港島北端，本係荒村，自英人竭力經營，開山爲市，開爲自由港，今儼然爲亞東巨埠矣。

(17) 問 廣州灣在何處？其主權如何？

答 廣州灣，在雷州半島之東岸，清光緒二十五年租於法國，約期九十九年。

(18) 問 汕頭在何處？其商業如何？

答 汕頭，在韓江口，有潮汕鐵路通潮州，地爲韓江流域之門戶，與南海貿易頗盛。

(19) 問 海南島在何處？其形勢如何？

答 海南島，在雷州半島之南，面積十六萬方里，爲中國第一大島；內部有黎山，一名五指山，爲黎人窟宅；北岸江海口所商埠，南岸有榆林港。

(20) 問 東沙島及西沙羣島在何處？有何特產？

答 東沙島，在汕頭東南；西沙羣島，在海南島之東南；特產磷礦石，又漁業之利亦敷。

(21) 問 廣東有何商埠試舉其名？

答 廣東之商埠：有廣州（卽番禺縣，租界在沙面），江門，三水，惠陽，九龍，澳門，北

海，海口，汕頭等地。

(22) 問 北海在何處？其商業如何？

答 北海，在東京灣沿岸，為我國沿海最西之商埠；昔為漢桂貨物衝途，自蒼梧及甯靈蒙自等處開商埠後，輸運改道，故商業較昔日大衰矣。

(23) 問 廣東之語言分為幾類？

答 廣東之語言，甚為複雜，大別之分為四種：一廣府，指廣州附近。二海南，海南島及雷州半島一帶。三潮州，潮州汕頭一帶。四客家，梅縣附近。

(24) 問 廣東之農產如何？

答 廣東之農業甚豐，以米，麥，菸草，甘蔗為主；果類甚多。

(25) 問 梧州在何處？其交通如何？

答 梧州，當西江與桂江之會口，為廣西之門戶；自此向東，有輪船通廣州，西湖鬱江至南寧，北溯桂江至桂林；西北逆柳江至柳州，皆通煤油船（俗呼電船）。

(26) 問 廣西省城本在桂林何以移治南甯？

答 桂林，在桂江上流，僻居本省東北隅，交通不便；南甯瀕鬱江，東至梧州，南至龍州，至百色，皆通電船及帆船，外控遐荒，內撫溪峒，故移全省政治中心於此，實因地勢之宜也。

(27) 問 鎮南關在何處？其形勢如何？

答 鎮南關，在越南邊界，法屬地之鐵路直達關外之那本，故其地，為中法間軍事及商業之要道。

(28) 問 廣西之氣候如何？

答 廣西之氣候，四季無何改變，一日之間，早溫，晝熱，夜冷；幾備四時之氣候。

(29) 問 廣西之礦產如何？

答 廣西之礦產：以金，銀，銅，鐵，水銀，煤爲最富。

(30) 問 貴州山川之大概如何？

答 苗嶺橫貫中部，自西向東，其著名之山峯：有雲霧峯；苗嶺之北有烏江，北入四川，注長江；山南之水有北盤江，柳江，沅江，七流皆在貴州境，最大之湖，是草海，係烏江之源。

(31) 問 貴州省城何名其位置如何？

答 貴州之省城名貴陽，在全省之中央，對外交通專恃陸道。

(32) 問 鎮遠在何處？其商業何故繁盛？

答 鎮遠，在本省東境，瀕沅江岸；黔省貨物之往來長江流域者，靡不取道於此，故商務繁盛。

(33) 問 畢節在何處？其形勢如何？

答 畢節，在本省西部，北通四川，西通雲南，東通貴陽，爲黔滇川三省要衝，故形勢扼要。

(34) 問 貴州之居民以何種爲最多？

答 貴州居民，四分之一爲漢人，皆由兩湖及四川移往；四分之三爲苗族，其種種複雜，不勝枚舉。

(35) 問 貴州之礦產如何？

答 貴州礦產甚多，而以水銀與鎔爲最著名。

(36) 問 貴州南部何以有大無三日晴之謠？

答 貴州南部 因山多樹密，溼氣蒸發，雲霧濃洳，雨澤極多，故有大無三日晴之謠。

(37) 問 何謂橫斷山脈？

答 南嶺之脈，自西康入雲南，南北走分爲數支；曰高黎貢山，怒山，雲嶺等脈。與其他山脈東西走者不同，故曰橫斷山脈。

(38) 問 雲南境內有何大河及巨泊？

答 雲南境內之大河；有金沙江，怒江，瀾滄江，元江；大湖有滇池洱海。

(39) 問 雲南之省城何名？其名勝如何？

答 雲南之省城名昆明，地近滇池，有五華山，金馬山，及滇池之勝；湖光山色，風景宜人。

(40) 問 思茅在何處？其商業如何？

答 思茅 在本省西南，地多瘴癘，交通不便，故商業不盛。

(41) 問 騰越在何處？其商業如何？

答 騰越，在本省西南，龍川江上流，陸路與緬甸之新街（一名八莫）相通，爲滇緬門戶，故商業甚盛。

(42) 問 由蒙自輸出之物品以何爲大宗？

答 由蒙自輸出之物品，以普洱之茶，箇舊之錫爲大宗。

(43) 問 大理在何處？其地有何特產？

答 大理，在洱海附近，名產有大理石。

(44) 問 雲南有何特殊之礦產？

答 雲南特殊之礦產，有東川之銅，大理之石，箇舊之錫，及鹽興等處之鹽。

(45) 問 河口在何處？其交通如何？

答 河口，瀕南溪河，與安南之老街相對，滇越鐵路，由此北通昆明，南通海幢。

(46) 問 江心坡在何處？其主權屬何？

答 江心坡，在省西，恩梅開江與邁立開江間；本為我土司地，因中緬勘界時，以北緯二十三度三十五分以北為未定界，江心坡當未定界之地，遂為英國所佔。

(47) 問 片馬在何地？其交涉如何？

答 片馬，在江心坡之東，亦為我地，自清末為英人強佔，交涉至今未決。

第四章 黃河流域諸省

(1) 問 北平之建築如何？

答 北平、自金、元、明、清以來，久為國都，故建築宏壯；有內外二城，內城居北周四十里，外城南環；周二十八里，內城之內為皇城，皇城之內有宮城。宮城內之宮殿及內城之官署，皆極壯麗。

(2) 問 北平之名勝如何？

答 北平之名勝甚多，舉其著者：宮城內之三海，內城之十刹海，外城之陶然亭，皆其著名。頤和園去城三十里，有萬壽山，昆明湖之勝；西山在頤和園西，中多元明古剎。

(3) 問 河北有何河流？

答 河北河流之著者，有滌河與沽河，沽河乃白河，永定河，滹沱河，子牙河，諸水會流而成；運河由通縣向南，穿沽河南入山東境。

(4) 問 天津商業繁盛其故何在？

答 天津，當五大河會流處，而北甯，津浦二鐵路復交叉於此，水陸交通，十分便利；故商業之繁盛，冠於華北。

(5) 問 天津有何租界？

答 天津之租界：舊有奧，意，比，俄，日，英，法，德八國租界。今俄，德，奧三國租界已收回，比國亦有自行放棄之說。

(6) 問 大沽口在何處？其形勢如何？

答 大沽口，在沽河入海口，為津平門戶；舊有礮臺，庚子之役被毀，不得復建。

(7) 問 秦皇島之商業冬季最盛其故何在？

答 秦皇島為河北省唯一不凍港，當沽河冰凍後，海上交通，由天津移此，故冬季貿易甚盛。

(8) 問 天下第一關在何地？

答 天下第一關即山海關，在臨榆縣東門，北甯鐵路經此。

(9) 問 北戴河在何處？以何著名？

答 北戴河，在秦皇島西南，濱海，以避暑地著名。

(10) 問 保定在何處？其今昔形勢如何？

答 保定，沿平漢鐵路，昔為河北省會；自通商以後，交通形勢大變，政治中心，遂漸移集於天津矣。

(11) 問 河北有何著名之煤礦？

答 開灤煤礦，為河北最著名之煤礦；係合灤縣，開平二煤礦而成。由中與合辦。

(12) 問 山東之省會何名？其交通如何？

答 山東之省城曰濟南，近黃河南岸，爲津浦、膠濟二鐵路之交點，商埠在西關外，有大明湖諸勝，風景甚佳，所謂濟南瀟灑似江南者也。

(13) 問 青島在何處？其商業如何？

答 青島，在山東半島之東，膠州灣東口，爲膠濟鐵路之終點，爲山東第一出口港，昔日曾爲德，日所租借，近年始收回。

(14) 問 煙臺在何處？其商業如何？

答 煙臺，在山東半島之東北，因與內地交通不便，故自青島開商埠後，商業遂爲所奪矣。

(15) 問 威海衛在何處？其主權如何？

答 威海衛，在煙臺東，爲我國舊日北洋軍港，光緒二十四年與劉公島同租於英，民國十二年滿期，英國拒不交還。

(16) 問 山東省渤海沿岸有何市場？

答 山東省渤海沿岸有龍口，羊角溝，虎頭岩諸市，皆通輪船。

(17) 問 膠濟鐵路沿線有何商場？

答 膠濟沿線之商場：有濟南，周村，濰縣。

(18) 問 濟甯在何處？其交通如何？

答 濟甯，瀕運河，津浦鐵路有支線自兗州至此，商業自昔甚盛。

(19) 問 孔孟故里在今何處？

答 曲阜，爲孔子故里，鄒縣，爲孟子故里，皆在津浦鐵路沿線。

(20) 問 山東有何名山？

答 山東之名山曰泰山，在泰安縣，所謂五嶽之一也；周六百餘里，高五千餘尺。勞山在膠

州，與泰山齊名。

(21) 問 山東有何礦產？

答 山東之礦產甚多，其著名者有棗莊、濰縣坊子之煤，益都金嶺鎮之鐵，博山之玻璃，沿海之鹽等。

(22) 問 山東之輸品以何者為最著？

答 山東著名之輸出品：有草帽、鞭、野蠶絲、繭綢等。

(23) 問 山西之城何名？其交通如何？

答 山西之省城曰太原，近汾水；有正太鐵路通河北正定，有長途汽車分達省內各要地。

(24) 問 大同在何處？其商業如何？

答 大同，在省北部，當平綏鐵路之衝，與口外貿易甚盛。

(25) 問 五臺山在何處？有何著名？

答 五臺山，在五臺縣；周廻四五百里，五峯聳峙若臺，大小寺院以百計，僧侶數千人，中以清凉寺為最；為中國三大佛教地之一。每當秋高馬肥，藏人之來頂禮布施者，絡繹不絕。

(26) 問 山西之礦產以何者為最富？

答 山西煤礦之富，甲於世界，德國地質學家李希霍芬所謂，可供世界三千年之用是也。

(27) 問 山西有何著名之物產？

答 山西著名之物產：有平定之瓷器，臨汾之酒，解縣之池鹽等。

(28) 問 山西黃河有何險要？

答 山西境內之黃河，有壺口，龍門，砥柱等險；均為峽谷急流，比之長江之三峽尤為險惡云。

(92) 問 河南之省城何名？有何古蹟？

答 河南之省城爲開封，近黃河，爲我國古都之一。有宮殿，（宋之大內）龍亭，鐵塔等古蹟，又城內有挑筋教徒，爲猶太人後裔。

(30) 問 鄭州在何處？其交通如何？

答 鄭州，在全省之中心，平漢、隴海二鐵路以此爲交點，商業甚盛。

(31) 問 洛陽在何處？有何名勝？

答 洛陽，在隴海沿線，瀕洛水，城東有白馬寺，創於漢明帝，爲佛教東流之嚆矢，城東南有龍門千佛岩，南北朝，唐佛像。城北北邙山中，多東漢以來名人古墓。

(32) 問 朱仙鎮在何處？以何著名？

答 朱仙鎮，在開封西南，四十五里，爲岳飛大破金人之處，本爲中國四大鎮之一。

(33) 問 周家口在何處？其商業如何？

答 周家口，在潁水上流，在京漢鐵路未通行前，爲淮河水流之大鎮，今因輸道更變，大非昔比矣。

(34) 問 河南湖北交界處有何要隘？

答 武勝、平靖、九里等關，均爲河南湖北交界處之要隘；而武勝關爲平漢鐵路所經，尤爲險要。

(35) 問 嵩山在何處？有何名勝？

答 嵩山，在登封縣境，古稱中嶽，有太室、少室二山。太室在登封北，少室在登封西，中多古刹。

(36) 問 道清鐵路起迄於何地？沿路有何礦山？

答 道清鐵路自清化至道口。沿路之焦作有英國之福公司與華商之中州公司煤礦，今合併爲福中公司。

(37) 問 陝西之省會何名？有何古蹟？

答 陝西之省會名長安，爲我國古都之一；附近古蹟甚多，舉其著者 城內有碑林，城南有雁塔，城西有未央宮，及阿房宮故址，城東有爛橋等。

(38) 問 瀘關在何處？其形勢如何？

答 瀘關，爲陝西之門戶，常秦、豫、晉三省往來孔道，城雄踞山巔，背負峭壁，俯瞰黃河，實爲天險，今瀘海鐵路抵此。

(39) 問 華山在何處有何名勝？

答 華山在華陰縣，古稱西嶽，一名太華山；五峯矗立，高出雲表，發瀑下懸，如正襟垂空。其西有少華山。

(40) 問 秦嶺在何處？與陝西地理上有何關係？

答 秦嶺卽終南山，縱貫陝西境，分全省爲二部，秦嶺以北有渭水入黃河，其風景物產，完全屬黃河流域；嶺南有漢水入湖北境，其風景物產，完全屬長江流域。

(41) 問 陝西有何特殊之礦產？

答 陝西特殊之礦產，爲延長之煤油，其油田面積廣袤達三萬方里，惜未開採。

(42) 問 甘肅之省會何名？有何名勝？

答 甘肅之省會曰蘭州，瀕黃河南岸，黃河上有鎮遠橋，城南有皋蘭山，城北有北塔山之勝。

(43) 問 甘肅有何著名之關隘？

答 甘肅有嘉峪關，當長城之極西端，玉門關在其西，卽古人所謂生入玉門是也。

(44) 問 六盤山在何處？以何著名？

答 六盤山，在省東境，山路險阻，盤旋而上，成吉思汗征西夏，崩於此山。

(45) 問 敦煌在何處？以何著名？

答 敦煌在省西境，有千佛山，一名敢煌山；石室中藏有唐宋人所寫之經。

(46) 問 甘肅有何重要之物產？

答 甘肅之出口貨，以羊毛，羊皮爲大宗，而蘭州之燠，敦煌之瓜，名聞全國。

(47) 問 甘肅居民之信仰如何？

答 甘肅居民半信回教，卽所謂甘回是也；故人民有回漢之分，時起紛爭。

第五章 黑龍江流域諸省

(1) 問 遼甯有何著名山水？

答 遼甯之山脉有長白山，摩天嶺，千山；醫巫闕山；水道以遼河爲主，此外有鴨綠江，大凌河，洮河等。

(2) 問 遼甯之省會何名？其交通如何？

答 遼甯之省會名瀋陽，當北甯，安奉兩鐵路之交通點。

(3) 問 關東州在何處？其主權如何？

答 關東州卽旅順大連租借地，日人名之曰關東州。光緒二十五年爲俄國所強租，約期二十五年，日俄之役，轉租於日，民國十二年期滿，日本以二十一條爲口實，強借不還，至今交涉未決。

(4) 問 旅順口之形勢如何？

答 旅順口，在遼東半島之南端，稱亞東第一良港；港口有黃金山，餓頭山對抱，僅容一艦出口；港之對面有白玉山砲臺，港內分東西二港，海水平靜，島嶼環繞，形勢極佳。

(5) 問 營口在何處？其商業如何？

答 營口一名牛莊，在遼河之口，有鐵路通北甯及南滿兩路，為遼甯最早之商埠，為大豆之輸出港。

(6) 問 安東及大東溝在何處？其商業如何？

答 安東，瀕鴨綠江，與朝鮮之新義州相對，安奉鐵路自此渡江，有鐵橋相通，大東溝，在鴨綠江口，為其外港，兩地之木材貿易甚盛。

(7) 問 葫蘆島在何處？有何價值？

答 葫蘆島為一半島，在遼東灣東岸，島南有連山灣，為不凍良港，北甯鐵路有支線通此，我國擬闢為商埠，並築軍港焉。

(8) 問 大連商業獨於營口之上，試言其故？

答 大連在旅順之東北，為南滿鐵路之終點，港水甚深，入冬不凍，碼頭之設備甚周，故商業獨於營口之上，與上海，廣州相埒。

(9) 問 通江口在何處？其商業如何？

答 通江口，在遼河上流，為大豆雜糧之市場，當遼河開凍之際，商港往來甚盛。

(10) 問 洮南在何處？其交通如何？

答 洮南，在洮河之南，有四洮鐵路通四平街，與南滿鐵路相連。有洮昂鐵路通昂昂溪，與中東鐵路相連。

(11) 問 遼甯省有何商埠試舉其名？

答 遼甯之商埠，試列表如下：

沿海商埠——大東溝，大連 營口，葫蘆島。

沿安奉線——瀋陽，鳳凰城 安東。

沿北甯線——新民，錦縣。

沿南滿線——遼陽，鐵嶺。

沿四洮線——遼陽，洮南。

內地——法庫，通江口。

(12) 問 遼甯有何著名之礦山？

答 遼甯著名之礦山有本溪湖之煤鐵礦，旅順之煤礦，烟臺之煤礦，鞍山之鐵礦等。

(13) 問 吉林省與何國交界？

答 吉林省東南，以圖們江界日屬朝鮮，東以興凱湖，烏蘇里江界俄屬東海濱省，北以黑龍

江界俄屬阿穆爾省。

(14) 問 南北滿以何地為分界？

答 日俄之役，兩國定約以長春之南為南滿，為日本之勢力範圍；長春以北為北滿，屬俄國

之勢力範圍。

(15) 問 吉林之省會何名？其交通如何？

答 吉林之省會名永吉，瀕松花江上流，有吉長鐵路通長春，吉會鐵路通會甯。(尚未接軌)

(16) 問 濱江在何處？其商業如何？

答 濱江一名哈爾濱，在松花江濱，地當中東鐵路之衝，又扼松花江航路之中樞，故貿易甚

發送，爲東三省陸路第一商埠。

(17) 問 琿春在何處？其商業如何？

答 琿春地名局子街，在圖門江北，當中俄日三國邊界之要地，故商業甚盛，有航路通海參崴，天圖鐵路通日屬朝鮮北部。

(18) 問 松花江之航權屬於何國？

答 松花江在中國境內航權，自當屬我；惟中俄條約許俄國航行，以致濱濱奪主；俄國革命後，我國收買俄國航船，設立戊通公司，航權始克收回。

(19) 問 間島在何處？其交涉如何？

答 圖門江北岸，延吉一帶地，土壤肥沃，且饒礦產，久爲日人所垂涎，各之曰間島。圖謀侵佔，屢經交涉，方承認爲中國領土；然訂約許朝鮮人開墾，闢延吉，汪清，頭道溝龍井村爲商埠，近年又建天圖鐵路，自圖門江岸至天寶山，爲侵略間島之大道。

(20) 問 吉林省有何商埠試舉其名？

答 吉林省之商埠，列表如下：

沿鐵道者——吉林，長春，濱江，甯古塔，綏芬河。

沿松花江者——三姓。

在間島者——延吉，龍井村，頭道溝，汪清，琿春。

(21) 問 吉林三寶爲何物？

答 謠云：吉林三寶，人參，貂皮，烏拉草是也。

(22) 問 黑龍江省有何著名山水？

答 黑龍江省之水有黑龍江，流入黑龍江之大水，有額爾古納河，松花江；又松花江上流有

嫩江。大山有大興安嶺，小興安嶺，爲嫩江與黑龍江之分水嶺。

(23) 問 黑龍江省會何名？其交通如何？

答 黑龍江之省會曰龍江，一名齊齊哈爾。嫩江，有齊昂鐵路至昂昂溪，與中東鐵路相連。

(24) 問 黑龍江境內有何商埠？

答 黑龍江之商埠，在中東路者：有呼倫、臚濱；在嫩江沿岸者：有龍江。在黑龍江岸者，有愛琿。

(25) 問 臚濱在何處？其形勢如何？

答 臚濱，一名滿洲里，在中俄邊界。當中東鐵路銜途。

(26) 問 壽甯寺在何處以何著名？

答 壽甯寺，在呼倫貝爾東南，俗呼趕集廟，每年八月舉行太祭日，方圍數千里內之蒙人來頂禮膜拜者，不絕於道，張幕貿易，盛極一時。

(27) 問 黑龍江有何著名礦產？

答 黑龍江以金礦爲最富，其著名之金礦：有漠河，呼瑪河，吉拉林，觀音山等處，而以漠河出產爲最盛。

(28) 問 江東六十四屯何在？其主權如何？

答 黑龍江舊壤，本沿外興安嶺，東達海濱。咸豐八年，愛琿條約割江東北岸與俄；惟聲明江東岸精奇里河南六十四旗屯仍歸我有，卽所謂江東六十四屯是也。庚子之役，爲俄人強佔至今未還。

第六章 最新設置之六省

(1) 問 古長城在何處？

答 今之所謂長城，西起嘉峪關，東至山海關者，實爲明代邊牆；秦長城，實在陰山之北，大戈壁之南，土名二道邊。

(2) 問 熱河省之首府何名？有何名勝？

答 熱河之首府曰承德，一名熱河，灤河支流；有避暑山莊，爲清代行宮，周十六里有奇，繞宮殿園林之勝。

(3) 問 赤峯在何處？其商業如何？

答 赤峯，在熱河省北部，灤遼河上流，與遼省之錦州等地多商業往來。

(4) 問 張家口在何地？其商業如何？

答 張家口，爲長城之一口，平綏鐵路經此，口外之皮毛口外之牲畜；以及我國出口之磚茶，皆以此爲集散場。

(5) 問 多倫在何處？其商業如何？

答 多倫，灤上郡河，爲馬之大市場，有馬市之稱。

(6) 問 綏遠之省會何名？其形勢如何？

答 綏遠之省會名歸綏，有綏遠、歸化二城，故名；當平綏鐵路之要衝。

(7) 問 包頭在何處？其商業如何？

答 包頭，灤黃河，爲平綏鐵路之終點，沿黃河上溯，可航達甯夏，爲中國皮毛業之一大重心。

(8) 問 河套在何處？其水利如何？

答 河套卽五原臨河二縣境；地蓄黃河，與其泚江之間，土曠肥沃，近年開墾，鑿縱橫溝渠

若干道，水利之盛，爲塞外第一。諺云「黃河千害，只利一套。」卽指此也。

(9) 問 熱察綏三省之居民如何？
答 熱察綏三省，本爲蒙古人居住，依遊牧爲生，近年漢人移殖者日盛，從事農業，故有反客爲主之勢。

(10) 問 甯夏之區域如何？
答 甯夏爲新設之省，其區域含有舊甘肅之甯夏道，與甘邊甯夏鎮守使轄地（一名西套蒙古）而成。

(11) 問 甯夏之首府何名？其位置如何？
答 甯夏之首府曰甯夏，地近黃河，溝渠縱橫，米麥豐饒，有塞上天府之稱。

(12) 問 甯夏有何物產？
答 甯夏出產，農產有米。麥，牧畜業甚盛，皮毛出產甚多。又多鹽湖，產鹽甚豐，以吉蘭泰鹽池爲最有名，所產之鹽名曰吉鹽。

(13) 問 青海省之區域如何？
答 青海爲新設之者，由舊甘肅省之西甯道，與甘邊甯海鎮守使轄地，（一名青海）而成。

(14) 問 青海之山川如何？
答 青海多高山，其著者西有勒科爾山脈，北有祁連山脈，南有唐古剌山脈（一名崑崙嶺），中有巴顏哈喇山脈。黃河源流出巴顏哈喇山之北，長江源出巴顏哈喇山之南。大湖有青海

，稱中國第一巨湖；其次有達布遜湖爾，柴達木河注之。

(15) 問 青海之首府何名？其商業如何？
答 青海之首府曰西甯，湟黃河之支流湟水，爲漢番互市之所。

(16) 問 青海之居民如何？

答 青海之人民大部分爲西番族，屬西藏種。北部略有蒙古族。東部略有漢族。

(17) 問 西康有何山川？其特點何在？

答 西康之山脈：有大雪山，沙魯里山，甯靜山，他念他翁山，雪山等脈，皆由北至南，屬橫斷山脈。大川：有鴨綠江，金沙江，瀾滄江，怒江，亦皆由北向南，因水行山谷中，故水勢湍急，不利舟楫。其山川皆南北走，故交通大道，則自東向西，渡河或用皮船，或用繩橋及鐵索橋。

(18) 問 西康之省會何名？其商業如何？

答 西康之省會曰康定，俗名打箭爐；近大金川，爲川茶夷貨之集散地，商業甚盛。

(19) 問 昌都在何處？其商業如何？

答 昌都一名察木多，瀕瀾滄江，北通青海，南通雲南，貿易頗盛。

(20) 問 西康有何重要城市？

答 西康當川藏銜途，要城皆沿大路，其著者有康定（打箭爐），雅江（河口），理化（東塘），巴安（巴塘），昌都（察木多），領督（領霞多），太昭（江達）。

(21) 問 康藏之交界在何處？

答 康藏之界線，爲中英未決之問題，現在兩地之交界，暫以太昭爲界。

第七章 西藏新疆及外蒙古？

(1) 問 西藏有何山川？

答 西藏之山，北有崑崙山脈，南有喜馬拉雅山脈，西有岡底斯山脈。與雅魯藏布江平行者

有外喜馬拉雅山。河流有印度河上流，及雅魯藏布江。湖泊甚多，其巨者有天湖，（騰格里海）牙木魯克湖，伊克湖等。

(2) 問 西藏之高度如何？

答 西藏界二大山脈間，高度平均一萬五千尺，稱世界第一高原。

(3) 問 西藏之政治現狀如何？

答 西藏爲宗教國，信喇嘛教，喇嘛教主即政治領袖，分前後兩藏，前藏歸達賴喇嘛管轄，後藏歸班禪喇嘛管轄。清代西藏爲中國藩屬，有駐藏大臣駐拉薩，自民國以來，受英人德意，脫離中央，交涉至今未決。

(4) 問 西藏人口稀少其故何在？

答 西藏人口稀少，有三因：(1) 信喇嘛教，出家者多。(2) 一妻多夫。(3) 氣候嚴寒，物產稀少。

(5) 問 西藏之省城何名，有何名寺？

答 前藏首府曰拉薩，有布達拉寺；後藏首府曰日喀則，有扎什倫布寺；達賴，班禪二喇嘛，分駐二地。

(6) 問 西藏有何商埠？位置何在？

答 西藏之商場有亞東（在藏印界上），江孜，瀕雅魯藏布江支流，噶大克（濱印度河上流）。

(7) 問 西藏最高之山何名？

答 西藏最高之山，爲喜馬拉雅山脈中之額非爾士峯，高二萬九千尺，稱世界第一高山。

(8) 問 西藏有何特產？

答 西藏之特產，有牦牛，羚羊，山羊，麝鹿，藏香，藥材等。

(9) 問 自內地至藏有何大道？

答 自內地至藏之大道有二：一自四川經西康，至拉薩。一自西甯經青海，至拉薩。二路交通，皆不甚便，若由上海或香港乘海輪至印度之加爾各答，再乘火車至大吉嶺，再取陸道至亞東，則甚便捷。

(10) 問 新疆有何山川？

答 新疆有阿爾泰山在其北，崑崙山在其南，天山橫梗中央，分爲天山南北二路，北路有額爾齊斯河，烏倫古河，伊犁河，南路有塔里木河，注入羅布泊。

(11) 問 新疆之省會何名？

答 新疆之省會曰迪化，土名烏魯木齊，在天山北路。

(12) 問 哈密在何處？其形勢如何？

答 哈密在迪化東南，據西域出入之要衝。

(13) 問 伊犁在何處？其商業如何？

答 伊犁，瀕伊犁河，爲畜牧之中心，與俄國往來，貿易甚盛，亦邊境一重鎮也。

(14) 問 塔城在何處其商業如何？

答 塔城土名塔爾巴哈台，在伊犁之北，爲新俄交通之要衝。

(15) 問 疏勒在何處其商業如何？

答 疏勒，一名喀什噶爾，濱喀什噶爾河，爲天山南路第一大城；新疆及中亞之各色人種，廣集於此，以營貿易，清時道署設有九種語言之譯員。

(16) 問 和闐在何處？以何著名？

答 和闐，瀕和闐河上流，以產玉著名。

(17) 問 承化寺在何處？有何重要？

答 承化寺在阿爾泰山南麓，額爾齊斯河上流。民國初年，曾設阿爾泰特別區，其辦事長官駐此；民國八年併入新疆省。

(18) 問 吐魯番在何處？以何著名？

答 吐魯番在天南麓，所產葡萄，著名全國。

(19) 問 新疆之人種如何？

答 新疆之人種，大別爲三：一纏頭回，奉回教，大部居天山南路，佔全人口十分之七。二哈薩克人，屬蒙古族，從事遊牧，居天山北路，亦信回教。三漢人，分居全省，則爲移居民。

(20) 問 自內地至新疆其取道如何？

答 自內地至新疆有三道：(一)自陝甘循舊關道入新，至哈密。(二)自包頭經漢南草地入新，至鎮西。(三)經西伯利亞鐵路之阿爾泰支線，至斜米，陸行至塔城。三路以後路入新疆爲最便利。

(21) 問 新疆有何物產？

答 新疆之物產，礦物：金，煤，煤油，玉石，岩鹽等。農產，有瓜，葡萄，棉花，蠶，桑等。工產品，有各種毛織品，及絲綢等。

(22) 問 外蒙古有何著名之山川？

答 蒙重要之山脈，有阿爾泰山，薩陽嶺，杭愛山，肯特山等脈。重要之河流，有色楞格河，克魯倫河，烏魯克穆河等。

(23) 問 外蒙之政治區劃如何？

答 外蒙之政治區劃，列表如下：

喀爾喀部

車臣汗

土謝圖汗

三音諾顏汗

扎薩克圖汗

唐努烏梁海

額魯特蒙古

科布多

(24) 問 外蒙古之政治如何？

答 外蒙本我屬土，民國成立後，受俄煽惑，脫離中央，自稱獨立國。繼改由中俄交涉，改為自治區域。自俄國革命後，又取消自治，乃服從中央。惟近年受共產黨影響，組織蘇維埃政府，我國治權名存而實亡矣。

(25) 問 蒙古之民族生活如何？

答 蒙古民族，依遊牧為生，自有文字，語言，迷信喇嘛教，長於騎射。

(26) 問 內地與外蒙之交通以何路為最便捷？

答 自內地至外蒙，其捷徑，有張庫汽車路，自張家口至庫倫，汽車四日可達。

(27) 問 外蒙之首府何名？其形勢如何？

答 外蒙之首府曰庫倫，藍色楞格河支流土拉河，有汗山及喇嘛宮之勝。內地商人及俄商，居此者甚多。

(28) 問 買賣城在何處？其商業如何？

答 買賣城在庫倫北，中俄接界處，與俄國之恰克圖相對，為中俄互市之場。

(29) 問 外蒙有何都會？

答 外蒙城市甚少，其較著者：有庫倫，買賣城，烏里雅蘇台，科布多等。

(30) 問 外蒙之特產如何？

答 外蒙爲世界三大牧場之一，牛、馬、羊、駱駝等飼育甚多，農產物甚稀，礦產以金著名。

(31) 問 外蒙之氣候如何？

答 外蒙爲一高原，四周環山，中包大漠，氣候純爲大陸性，一日之間，常午時酷暑如焚，而入夜重裘不暖。

(32) 問 外蒙西藏何以因英俄煽惑，而遂背叛中央？

答 蒙藏易受英俄煽惑之原因有三：(一) 未施教化：有清一代 專用懷柔放策，不用漢族語言文字教化其民，致感情隔閡，易受他人挑撥。(二) 人民沉湎宗教：活佛、喇嘛、蠢然無知，且妄自尊大，任其攬握政權，故挑撥者易施其伎。(三) 交通不便：由俄屬地至外蒙，英屬地至西藏，均有朝發夕至之勢，互相勾結，信使頻通，而我尙茫然未知，故蒙藏受英俄之愚亦勢之所必然也。

世界歷史常識問答

第一章 政治

(1) 問 述巴比倫社會之組織與其政體？

答 巴比倫之社會以貴族，僧侶、商、工、農、漁、六級組織而成，行君主獨裁政體。

(2) 問 亞敘何時獨立？

答 亞敘本巴比倫之屬國，前一千三百年脫離巴比倫獨立，前七二九年合併巴比倫，定都底格里斯河之尼尼微 (Nineveh)

(3) 問 亞敘滅亡之原因為何？

答 亞敘因懲討武功，國內之農、工、商業，均甚衰落，政府只知征伐，各部屬地，不能忍受壓迫，羣起反抗，亞敘因以滅亡。

(4) 問 亞敘滅亡後之情形若何？

答 亞敘滅後，巴比倫、馬米亞、埃及、呂底亞四國對立，中以巴比倫為最強，有席捲其餘三國之勢，後波斯興起，均為所滅。

(5) 問 波斯對於被征服之各小邦用何法以處治之？

答 波斯所征服之各小邦，為不同性質，不同風俗習慣之人民，若何處治，實為一困難問題，當時波斯君主大運斯分全國為二十行省，各省置總督一人，直隸中央，處治各邦之政事，而確定集權政策。

(6) 問 波斯帝國之集權政策？

答 波斯帝國對宗教則取信教自由之態度，對政治則用壓制政策，後希臘殖民不服，起而叛亂，遂引起希臘波斯之戰爭。

(7) 問 希臘帝國政治何以城邦為單位？

答 希臘帝國之封疆為江河和山嶽，造成無數地理上之單位，因此政治上不易統一，此上古希臘政治之所以以城邦為單位。

(8) 問 希臘之兩大城邦為何？

答 問 希臘城邦中之最強大者，爲東北之雅典，與西南之斯巴達。

(9) 問 希臘衰落之原因爲何？

答 伯羅邦內辛戰爭後，希臘之內亂，更有增無已，因斯巴達雖代雅典爲希臘之盟主，但其武力政策，極易激起各小邦之反抗，而波斯人乃得舉足左右於其間，此爲希臘衰落之原因。

(10) 問 亞力山大帝國分裂爲幾？

答 亞力山大死後，其遺業爲部將瓜分爲三國，而亞力山大之弟與子，反在被遺之列，第一，爲波斯及其他在亞洲之地土，承受者爲部將蘇魯克(Selucus)第二爲非洲埃及，承受者爲部將多洛梅(Ptolemy)第三爲歐洲希臘之北部，承受者爲其部將之孫安梯果尼(Antiochus)

(11) 問 羅馬帝國何以能統一？

答 羅馬帝國領土既廣，人種又雜，各人種之文明程度各不相同，而羅馬帝國竟能統一而維持之者，其故約有數端：一、政治組織，異常完備。二、人民尊崇皇帝，幾同神聖。三、法律通行全國無阻。四、交通便利，幣制劃一。五、政府常遣教師，並建設駐防地於國之四境。此羅馬之思想與文化，得以瀾漫全國而收統一之效也。

(12) 問 略述羅馬帝國之領土？

答 羅馬帝國之領土，包有歐洲之西南部，亞洲之西部，與非洲之北部。

(13) 問 羅馬帝國衰亡之原因爲何？

答 羅馬帝國衰亡之原因，約有四端：一、稅制不良，民力日疲。二、奴制風行，工人無業。三、人口減少，國力衰微。四、蠻族入居境內，伏他日西部帝國瓦解之基。

(14) 問 封建制度從何發生？

答 羅馬地稅極重，地主之貧弱者，爲逃避重稅及獲得保護計，每願將其田產讓諸強有力之

地主，惟大地主須充其終身耕種其土地而保護之。至其子孫則流為自由之佃奴，而為他日封建制度之起源。

(15) 問 羅馬為何種政體？

答 羅馬初為王政，國王由元老院選舉，第七代王以苛暴被逐，遂改為共和政體。

(16) 問 王政時代羅馬政治之情形若何？

答 王政時代之羅馬政治：一、國王一人，由元老院選舉。二、元老院有選舉國王及批准貴族會決議之權。三、貴族會有評議國事之權。四、兵員會有議軍事及監督司法之權。

(17) 問 共和時代羅馬政治之情形若何？

答 共和時代之羅馬政治：一、執政官二人，由兵員會選舉，平時總理國務，并充元老院議長，戰時總督軍隊。二、總指揮官，非常職，國家有事，由元老院臨時選出，有無限權力，惟任期不得過六月。三、財政監督官，監督國庫出納與軍隊會計。四、護民官，初為二人，後增至十人，其職權容納人民之要求，制止政府不正行為，並得廢止元老院之命令。五、平民議會，與元老院職權相等。

(18) 問 述羅馬貴族平民衝突之原因與結果？

答 羅馬貴族與平民，在政治上，軍事上，社會上，均不平等，然貴族須賴平民之助力，以禦外侮，於是平民漸漸不服此貴族專制之共和政體，而開始衝突。第一次結果，為解放奴隸並設護民官以保護平民利益。第二次結果，為前四五年公佈十二銅板法典，承認平民議會為政治機關。第三次結果為前三六七年實行護民官里西尼亞 (Licinio Sextius) 所提出之保護平民法案，至是貴族與平民之權利始平等。

(19) 問 地中海東方之五國與羅馬有何關係？

答 地中海東部之重要國家凡五：第十蘇魯克帝國，第二埃及，第三馬其頓，此三國均爲亞力山大所創帝國之故土，第四爲黑海南岸希臘化之坡加曼 (Pergamum) 第五爲衰弱之希臘。此五國均先後臣屬於羅馬。

(20) 問 吸蝕羅馬精華之勢力爲何？

答 吸蝕羅馬精華之種種勢力，均爲戰爭之結果，第一人民選舉賄賂公行，舉行慘無人道之娛樂，以求捐脫人民，如鬥獸之類，莫不風行。第二羅馬以農立國，農民爲國家之命脈，戰爭時農夫爲兵，田土成墟，戰罷歸來，田墟屋毀，欲耕無地，於是游民日增。第三暴富之貴人，搶買小農田地，而此大宗田地，必須大宗奴工，此類奴隸之生活，比家奴倍加痛苦，凡此種種均爲吸蝕羅馬精華之勢力。

(21) 問 述羅馬第二次貴族平民衝突之原因與結果？

答 羅馬八有主張將新得土地，分給無業農民，以救濟當時貧富懸絕之危險，惟此類新得之土地，大半歸入貴族手中，代表貴族之元老院，當然不肯贊成，於是第二次貴族平民之爭開始。此時貴族已成爲守舊之代表，故此大貴族平民之爭，已變爲守舊與維新之爭矣。

(22) 問 述羅馬兩次三雄同盟？

答 羅馬平民領袖之三雄同盟前後共有兩次，第一次之三雄盟爲龐培 (Pompey) 體撒 (Julius Caesar) 革拉蘇 (Crassus) 三人，得勝者爲體撒。第二次之三雄同盟爲屋大維 (Octavian) 安敦 (Antonius) 雷比達 (Lepidus) 三人，得勝者爲屋大維。

(23) 問 體撒有何事業？

答 體撒不特爲一武人，且爲一大政治家，一方對外則將羅馬之版圖擴張至地中海各岸與歐洲西部。且將羅馬文化輸入高盧與不列顛，爲西歐各國下文化之種子，另一方對內亦有許多

建設之事業，如羅馬城之改良，公共建築與修改道路，引用太陽歷等，而移植無業人民於海外，以求減少國內貧富之爭，尤爲其政治方面之重要事業。

(24) 問 愷撒被刺之原因安在？

答 勃羅托(Brutus)與卡維司(Cassius)之刺死愷撒並無私意，因彼等爲熱心擁護羅馬共和之志士，深信愷撒爲共和之罪人，以爲愷撒死後，羅馬之共和即可有復活之望。

(25) 問 羅馬共和破壞之原因爲何？

答 愷撒非破壞羅馬共和之真正罪人，而羅馬共和破壞之原因，則爲羅馬本身之武功，與武功所產生之結果，在擴張期內，羅馬政權之重心，已集中大將身上，遂成尾大不掉之勢，而得勝將軍，大權在握，卽元老院亦不得不仰望其鼻息，此爲共和破壞之原因。

(26) 問 屋大維有何種成績？

答 屋大維之成績，第一爲消滅內亂，立羅馬二百年和平之基，而文學美術得漸發芽開展。第二爲改良羅馬政治，外省總督任期，不以一年爲限，使其得以專心治理，又財政出入有一定之標準，第三爲改造羅馬城。

(27) 問 造成羅馬昇平之兩大偉人爲誰？

答 造成羅馬昇平之局者，前後共有兩大偉人，前爲屋大維，後爲阜司巴新。(Augustus)

(28) 問 羅馬人用何法對待日耳曼人之侵略？

答 羅馬人對待日耳曼人侵略之方法共有三種：一，用武力戰勝之。二，用金錢貨幣賂賄之。三，使日耳曼人在羅馬帝國邊疆居住，成爲土著。

(29) 問 述東西羅馬帝國之分裂？

答 羅馬帝國之重心，久已移至東方，而君士坦丁皇帝又在東方建造君士坦丁堡，東西羅馬

之分裂，更爲確定。至第四紀末年，狄多西 (Theodosius) 皇帝重新統一羅馬，惟帝臨終時，以國土分與二子，希臘以東，長子亞加都 (Arcadius) 領之。稱東羅馬帝國。意大利以西，次子賀羅留 (Honorius) 領之。稱西羅馬帝國，羅馬遂永分東西，不復統一。

(30) 問 查理曼何以能承受羅馬皇位？

答 查理曼當時撒力之大，爲西羅馬亡後之第一人，教皇既心感其德，教會中之各領袖，亦倚之如長城，此時東羅馬適爲女皇當政，教皇與教主，遂借此而加皇冠於查理曼，封爲羅馬皇帝。

(31) 問 查理曼有何文治成績？

答 查理曼第一之文治成績，爲管理此大而複雜之帝國，第二之文治成績，爲到處建立寺院，附設學校使僧侶以拉丁教授教會官吏，使一般人民，結束三百年來之黑暗時代，使其漸現光明。

(32) 問 何謂凡爾登條約 (Treaty of Verdun)？

答 查理曼死後，幼子路易繼位。路易死後帝國分裂，第二子 Louis of German 領有帝國東部，幼子 Charles the Bald 領有帝國西部。長子 Lothaire 領有兩弟領土之中部與意大利，並襲皇帝稱號。此爲凡爾登條約。

(33) 問 何謂墨森條約？

答 八百七十年 Louis 與 Charles 乘其兄之新死，瓜分 Lothaire 中部屬地，訂立墨森條約 (Treaty of Meerssen) 惟意大利地及皇冠仍給其兄之子。

(34) 問 德法意三國之雛形始於何時？

答 自凡爾登條約成立後，德法兩國之雛形已成，墨森條約成立後，意大利之形勢亦確定，

惟墨森條約所瓜分之中部屬地，永爲德法兩國爭奪之焦點，至今猶成爲西歐之大問題。

(35) 問 十一世紀末年之歐洲何以漸有光明之希望？

答 第一，回教徒勢力日盛，教皇成立十字軍，致內亂爲對外之侵略。第二，英國與法國之皇權漸漸強大。第三，工業商務，已漸發達。

(26) 問 述十四紀初年英法兩國之趨勢？

答 十四紀初年，當法國正尙專制國家方向發展，而英國則成立憲國之雛形，同時兩國平民代表，均尙參加議會之機會，而社會之中心，從此由諸侯之宮堡與基督教堂院移入新起之城市中央。

(37) 問 歐洲中古之勢力何以能打破？

答 教皇制度與封建制度爲中古歷史之中心點，而打破此中古勢力之力量有三：第一，因列國之成立，打破教皇政治上之統一。第二，因大學之建立，解放中古智識界之束縛。第三，因城市之興起，封建勢力日益衰落，而諸侯之佃奴，得以解放。

(38) 問 中古與近世兩時期之政治中心有何變遷？

答 中古政治中心，最先在教皇與神聖羅馬皇帝之手，有統一歐洲之勢力，後封建制度興起，互相殺戮而成分裂歐洲之勢力，代此兩勢力而興者，則爲近世列國之成立，一方因列國政教各權分開，對教會與神聖羅馬皇帝爲一分力，另一方列國是聚集若干侯邦而成爲獨立國家，故對封建制度反爲合力，此中古與近世政治中心之變遷。

(39) 問 近世列國成立之原因爲何？

答 列國成立之原因：第一，因君權伸張，能打倒諸侯之勢力，而剝奪其領土與政權。第二，中等階級希求秩序與和平，列國成立，足以消滅產生戰亂之封建制度，而滿足新生之中等階

級之需要。第三，方言爲國家要素之一，故方言文學之興起，亦爲列國成立之一原因。

(40) 問 歐洲國際競爭加劇之影響何如？

答 因國際競爭加劇，歐洲各國武備擴充，人民負擔加重。在君權根基不強，人民已有憲法保障之國家，列強武競爭之結果，便爲人民之反叛。在君權強盛，人民無力抵抗之國家，君主則以專制手段，強迫人民担负重稅，而君主專制成功。

(41) 問 彼得大帝生平有何重要目的？

答 俄國彼得大帝生平之目的有二：一爲歐化俄羅斯，即用法蘭西式之文化以代替俄國舊有之文化；一爲替俄國覓一向海之出口，因當時俄國無海岸之故。

(42) 問 阻碍俄國向海發展之國家有幾？

答 阻碍俄國向海發展之國家凡三：而東方中國尚不在內，卽瑞典，波蘭與土耳其。尤以瑞典爲最烈，然瑞典與土耳其皆爲俄所敗，而波蘭則爲俄、普、奧，三國所瓜分。

(43) 問 維廉第卅內政與外交之方針若何？

答 普魯士之第十名君爲忽烈特維廉第卅 (Friedrich Wilhelm) 其內政方針爲中央集權，自己爲一切政治之領袖。而外交方針則爲擴張軍隊，侵略鄰邦。

(44) 問 述土耳其之盛衰？

答 問土耳其自十五世紀占據君士坦丁堡後，成爲東歐強國，其土地包有匈牙利等中歐之地。至一六八三年進窺奧都維也納，此爲土耳其極盛時代。然因此而促成奧地利，波蘭，羅馬教皇及威尼司之結合，以共同抵抗土耳其，因此土耳其之勢力大衰。後俄羅斯興起，更爲土耳其之徑敵，從此土耳其之勢力不振。

(45) 問 波蘭有何缺點？

波蘭最大之缺點。在於其政治制度。第一爲選舉君主之制度。自十七世紀後，波蘭君主大都爲外國人，故波蘭成爲外人勢力下之物品。而無獨立精神。第二，波蘭憲法規定，凡法律中任何條有貴族中一人反對者，即不能實行。結果波蘭內政，成爲無政府狀態。而外國植勢之機，更爲成熟。

(46) 問：責任內閣制在何國何時開始？

答：責任內閣制在英國佐治第一時開始，因此時英王不諳英國人情風俗，故政權落於議會之手。而內閣對於議會負責也。

(47) 問：法英兩國上級民對於政府之態度何以不同？

答：法國因僧侶與貴族免稅，其負擔較英人薄弱，而普通人民之直接負擔較重，此法國上級民之所以與政府聯結，而英國上級人民則與政府爲敵也。

(48) 問：拿破崙生於何地死於何地？

答：拿破崙生於法國南岸科西嘉 (Corsica) 海島，死於非洲外聖赫倫那島上。(St. Helena)

(49) 問：何謂三韓？

答：三韓者馬韓，辰韓，弁韓是也。在朝鮮半島南部。

(50) 問：東晉後朝鮮分爲幾國？

答：東晉後朝鮮分爲高句麗，新羅，百濟三國。

(51) 問：五代時何人統一朝鮮？

答：五代時王建受新羅王之禪讓，統一朝鮮全部，國號高麗。

(52) 問：何時何人國號朝鮮？

答：李成桂於元末明初，代王氏而統一半島國號朝鮮。

(53) 問 何謂明治維新？

答 當中國鴉片戰後，美艦強迫日本開港通商，與德川氏訂約，日人大憤。推倒德川氏，請明治天皇親政，模仿歐美各國，施行新法，稱爲明治維新。

(54) 問 拿破崙法典之影響何如？

答 拿破崙對內建設事業，以拿破崙法典影響最大，此法典之匯集，雖始於國民大會。綜其大成者，則爲拿破崙。法典之精神，建築於人類平等原理之基礎上，故不特爲法國法制之統一，且成爲普、荷、意、此各國近代法律之模型。

(55) 問 法國憲法之內容何如？

答 二月命新議會，制定法國憲法，以自由平等友愛三大主義爲宗旨，以保護人民生命，宗教，財產及其勞動爲職，且許人民集會請願出版之自由，禁止買賣奴隸，及印刷之檢查。明定行政立法兩部之權限，大總統爲行政部之首領，任期四年，凡在二十一歲上之法國人民均有選舉權，議會爲立法機關，任期亦爲四年，行一院制。

(56) 問 路易拿破崙頒布何種憲法？

答 路易拿破崙下解教議會之令頒布新憲法，使國民投票選舉，其要點爲：一、大總統任期十年。二、國務總理對於大總統負責任。三、議會由元老院及立法院組織而成，以外更設顯問院，此與拿破崙帝之政府無異。

(57) 問 促進德意兩國統一者爲何人？

答 促進意大利統一者，爲宰相喀富爾 (Camillo Benso di Cavour) 促進德意志統一者，爲宰相俾士麥 (Bismark)

(58) 問 遠英國採用自由貿易之原因與影響？

答 初英之入，貨取稅甚重，商人裹足，以致百物昂貴，貧民生活困難，及亞當斯密之原富出，盛倡自由貿易之善，英人益覺恍然。惟大地主恐穀物賤值，甚惡此意，而工人貧民，則提倡極力，一八四六年以廢穀物會提出議院，幸得通過，從此外貨入口，民難稍蘇，自今英國殖民地及本土貿易繁盛者，孰是之由也。

(89) 問 格蘭斯敦執政有何重要革新之事？

答 格蘭斯敦 *Peleton* 為英國十九世紀之大政治家，在位六年，其重要革新之事約有四：一、行國民教育，使全國人民有受普通知識之機會。二、使奧克斯福 *Oxford* 及岡布里治 *Gambidge* 諸大學，均乘新舊約全書。三、統一全國法庭。四、改革愛爾蘭地租律，略蘇農民困苦。

(90) 問 何謂英國帝國會議？

答 英國屬地四散，必須鞏固而聯合之，遂於一九〇七年之會議，立一規條，每經四年開殖民地聯合會議一次，名曰帝國會議。

(61) 問 法國政治之進步始於何時？

答 法國政治之進步，實自一八九八年阿爾得克盧梭 *Maldock-Rousseau* 內閣成立時始。

(62) 問 俄皇亞歷山大第二有何重大之改革？

答 俄皇亞歷山大第二在位，有極大之改革。一、四千六百萬之奴隸，被其釋放而許以自由。二、審判制則改循新法。三、各省均建設議會與人民以自治之權。

(63) 問 德國施行關稅保護政策之宗旨為何？

答 一八七九年德相俾士麥施行關稅保護政策，其宗旨欲使農業與工商業同時發達，既獎勵國內之製造，又維持農業之利也。

(64) 問 何謂新經濟政策？

答 新經濟政策者，乃俄國政府承認農民和工人，自由交換農產物與製造品，對外設定租借地讓與權以吸收外資之政策也。

第二章 軍事與外交

(1) 問 試述土著游牧兩民族之關係？

答 游牧民族挾其武力與野心，侵略土著民族，常能戰勝土著而征服之，然結果往往為土著民族文化所戰勝，發生合併同化之作用，而成爲一新土著與新文化，此新土著可將與外來之新游牧相戰爭，再起征服同化之作用。

(2) 問 波斯與希臘戰爭之原因爲何？

答 波斯與希臘戰爭之原因約有數端：一、兩國國民性差異。波斯尚服從，希臘喜自由平等。二、利益之衝突。波斯欲保持呂底亞，腓尼基之利益，希臘欲維護殖民之權利。三、感情上之衝突。四國對立時代，希臘人多爲傭兵於四國，四國既滅希臘人遂恨波斯。四、波斯報希臘援助殖民地反抗波斯之仇恨。

(3) 問 波斯與希臘共戰幾次結果如何？

答 波斯人共侵犯希臘三次，結果均失敗。第一次在紀元前四九二年，結果波斯艦隊自己覆滅。第二次在紀元前四九〇年結果希臘全國一心在陸地上戰敗波斯軍。波人退回亞洲。第三次在紀元前四八〇年，結果波斯陸軍得勝，終被希臘之艦隊趕回，而希臘殖民地亦靠雅典艦隊之力，恢復其原來之自由。

(4) 問 在波斯戰爭中給與希臘人有何種影響？

答 在波斯戰爭中，給與希臘人最大之影響，即使希臘原來分散之各城邦，得作暫時之團結。

(5) 答 何謂伯羅邦內辛戰爭並述其原因與結果？

答 雅典與斯巴達之戰爭，稱爲伯羅邦內辛戰爭 (The Peloponnesian War) 其原因：一、雅典，斯巴達兩國國民性格，及其政治思想均相反。二、列國見雅典之隆盛，各懷嫉妒怨恨之心。三、古林多 (Corinth) 與其殖民地扣基拉 (Corcyra) 相爭。雅典援扣基拉，斯巴達援古林多，大戰遂起，幾次戰爭之總結果，爲雅典之衰弱與巴斯達之代興。

(6) 問 述亞力山大之東征？

答 亞力山大初平希臘諸州，繼滅波斯，腓尼基，又定敘利亞，屠推羅，降猶大滅埃及復東征至印度河畔而還？

(7) 問 羅馬之勢力若何擴張？

答 常羅馬趕走易端斯康君主時，羅馬之勢力，只限於一城。其敵人南有希臘人和加太基人 (Carthaginians) 北有易端斯康人和高盧人，而羅馬同族，散處於他方之意大利諸部落，亦與羅馬爲難。本此等敵人互相仇殺，而最後勝利，仍屬羅馬，於是羅馬先做拉丁全部之主人，後成爲意大利諸部落之主人，至紀元前二百七十五年，則爲意大利半島全部之主人矣。

(8) 問 何謂布匿戰爭其衝突之原因安在？

答 加太基以商立國，當羅馬未強盛時，其勢力已瀰漫於非洲北岸。西班牙南部與西地中海各島，羅馬統一意大利後，其眼光轉向地中海之西部，而重要動機。在於經濟方面，羅馬商人擬奪加太基人之西西里島爲其經商之根據地，於是衝突之事發生，此即所謂布匿戰爭也 (The Punic Wars)

(9) 問 布匿戰爭三次之經過？

答 布匿戰爭延長至一百二十年之久，其間大戰只有三次，第一次大戰之結果，羅馬人獲得西西里島與大宗賠款。第二次大戰因加太基人漢尼保 (Hannibal) 在西班牙培植勢力，以爲欲救加太基，當先侵竄羅馬。過阿爾卑斯山而敗羅馬軍。羅馬將軍西平 (Scipio) 轉兵攻加太基城於是漢尼保回救而敗於西平，從此加太基之艦隊歸羅馬所管；非得羅馬允許不能與任何國開戰。第三次大戰因加太基人遣兵防禦外侮，羅馬責其違約，大興問罪之師，相拒三年，而加太基亡。

(10) 問 東羅馬帝國亡於何人？

答 日耳曼族入居羅馬帝國，雖始於東部，然西部瓦解之後，東部諸帝尚能守護其領土至千年之久，他日帝國東部，不亡於日耳曼種人，實亡於土耳其人。

(11) 問 日耳曼人侵入羅馬帝國之原因安在？

答 當中國漢時竇憲伐北匈奴，破之於金微山，北匈奴西走入歐洲，橫掃居於 Danubio 河流域日耳曼族之俄特人 (Goths) 俄特人之一部分遂渡河而南入居羅馬帝國，不久與帝國官吏衝突，大敗羅馬軍。

(12) 問 匈奴人侵入歐洲有何影響？

答 匈奴人侵入歐洲，歐人甚爲惶懼，匈奴王 Attila，羅馬人稱之爲「上帝之鞭」。一率其同族，西向而進，羅馬人與日耳曼種人合力禦之，四五年敗之於 Châlons 匈奴人乃轉而南入意大利，擬攻羅馬城，教皇馳往勸阻，不期年 Attila 死，匈奴不振。

(13) 問 述三種人之重要及其略地之方法？

答 上古蠻族無一能建設永久王國者，而三種人開其始，其原因在於略地方法與上古蠻

族不同耳。其他諸蠻族多深入羅馬國境，遠離故土，而Frank種人則以故土爲根據，先服從其附近之地，領土雖廣，終不遠離其故居，故方新之氣，源源而來，不受羅馬衰頹之影響。

(14) 問 回教徒何時侵入歐洲？

答 回教徒曾屢欲由亞洲侵入東部歐洲，然均無成，至穆罕穆德死後八百餘年，土耳其人入侵歐洲始陷落Constantinople，而土耳其王遂爲回教教主。然阿刺伯人之佔西班牙，則在土耳其人入歐洲之前。

(15) 問 中古時之西班牙在何人之手？

答 中古時之西班牙，完全屬於回教徒，但查理曼及其子孫，曾占西班牙北方之小部，而爲他日驅逐回教徒統一西班牙之伏根。

(16) 問 何謂十字軍其目的與原因何在？

答 耶路撒冷爲基督教徒朝拜耶穌之聖地，第七世紀爲阿刺伯回教徒所征服，但對基督教徒，毫無虐待，十一世紀聖地爲回教突厥人所占，此種人對待基督教徒之手段，極爲野蠻，因此教皇召集歐洲之武士及信徒組織軍隊與東方之回教徒戰，其目的在於奪回耶穌之聖地，而從軍者各佩一十字架於身上，去時佩於胸前，回時佩於背上，故此種軍隊名之曰十字軍。

(17) 問 十字軍有何成績與影響？

答 第一次十字軍，因得有能方諸侯之率領，將耶路撒冷奪回，建立耶路撒冷王國，同時在小亞細亞建立三個拉丁公國，後成爲西歐人之殖民地。此爲十字軍之大成績。但耶路撒冷終被回教徒奪回，在十字軍本身之目的，可謂失敗，然在另一方面，則發生重要之影響。第一、歐洲青年，借此機會得受東方之教育。第二、意大利城邦勢力驟增。第三、歐洲社會上之不良分子減少，漸有恢復秩序之望。

(18) 問 十四世紀以後英國有何戰爭？

答 十四世紀以後英國捲起發生兩次大戰爭，即百年戰爭與薔薇戰爭是也。

(19) 問 何謂百年戰爭？

答 百年戰爭即英法兩國之衝突也，當十四世紀初年，歐洲最先成立之國家，爲英法兩國在政治上兩國之趨勢不同，英國採立憲式，法國採君主專制，此兩國政治上之關係，異常密切複雜。故結果不免衝突，一三四六年戰爭開始，英王進攻法國，兩方各有勝負，所約立和，均隨立隨解，無永久價值，至一三七七年戰爭暫時中止，是謂百年戰爭。

(20) 問 百年戰爭之原因何在？

答 百年戰爭之原因有二，第一，英法兩大國不能相容，而兩國與其他小國間關係之仇視，爲戰爭之遠因。第二，法國王位之爭執，爲戰爭之導火線。

(21) 問 百年戰事有何重大影響？

答 百年戰爭本身雖未有重要結果，然其影響英法兩國與全歐之政治甚大。第一，英國上下兩院制，於是時成立，議會權力擴大。第二，法王由三級會議獲得組織常備軍之特權與任意征收軍稅權。法國王權伸張。第三，因戰爭而作工人數減少，正當英國工業發達之時。至一三八一發生農民叛亂，英國佃奴制度消滅。第四，英國盡失法國之屬地成爲一純粹島國，反促成專心內務之趨勢。第五，列國間陰詐之外交，從此開始。

(22) 問 何謂薔薇戰爭？

答 英國至百年戰爭告終後，不二年而發生內亂，即亨利第六與約克(三)兩人爭執王位，亨利軍隊之徽章用紅薔薇，約克軍隊之徽章用白薔薇，故稱爲薔薇戰爭，結果爲英國諸侯勢力之消滅。

(23) 問 何謂三十年戰爭與威斯非立和約？

答 日耳曼內部因宗教上之信仰不同，與政治上之衝突，發生戰爭，此次宗教戰爭在日耳曼之地上，猶戰約三十年，稱為三十年戰爭。一六四八年各方停戰，立和約於日耳曼之威斯非立地方，稱為威斯非立和約。(Peace of Westphalia)

(24) 問 三十年戰爭之原因何在？

答 三十年戰爭之伏根，因日耳曼諸侯間，對宗教方面，成立兩個同盟，一為新教同盟，一為舊教同盟，戰爭之開始則發端於波希米亞，此地政治上，早有獨立之頃，此時又成爲新教之大本營，因向日耳曼皇帝要求種種特權，皇帝不許，反焚燒新教教堂，於是波希米亞叛，加與舊兩同盟開始作戰。

(25) 問 加入三十年戰爭之份子有幾？

答 加入三十年戰爭之份子，可分兩方面，北方挪威、瑞典、丹麥三國，均爲新教國，乘日耳曼內亂，先後南下，借保護同教之名，擴充勢力，南部法國乘勢與世仇西班牙作戰，而西班牙亦與日耳曼皇帝一戰，此三十年戰爭之所以混亂複雜也。

(29) 問 威斯非立和約之影響何如？

答 威斯非立和約之影響，在宗教方面，開後來信教自由之始，在政治方面，第一、各邦君主獨立權規定，日耳曼更形分裂，第二、瑞典與法蘭西有干涉日耳曼內政之機，爲瑞法兩國，惟斯北歐與西歐之伏因，第三、瑞士與荷蘭二國之獨立，爲政治革命開一大道。

(27) 問 述三十年戰爭之真結果？

答 三十年戰爭之真結果，可注意者約有數點：第一、歐洲統一機會之消滅，因新教興起，與日耳曼各邦獨立，教會與神聖羅馬皇帝，均無統一歐洲之力量。第二、日耳曼在政治上分

裂。在社會上人民痛苦與喪失增加。被戰禍加增。故日耳曼有整個墜落之趨勢。第三、因戰爭慘酷，有訂立共同遵守之戰時條約以保護人民之必要，為國際公法之起點。

(28) 問：何謂第二次百年戰爭？

答：第二次百年戰爭從一六八八年起，至一七六三年止，為英法兩國在歐洲及東西兩半球上繼續作長期之戰爭，而戰爭之原由，則為政治上經濟上與殖民地競爭之衝突而已。

(29) 問：自威爾斯非立和約至法國大革命間歐洲歷史上有何重要事績？

答：自威爾斯非立和約至法國大革命間歐洲歷史上之重要事績有二：一為歐洲各國在海外殖民地競爭，結果英國成為海外殖民地霸主，二為歐洲本土列國對於政權及土地之爭奪，促成列強戰爭之新形勢。

(30) 問：路易十四一生之目的與事業如何？

答：路易十四之外交政策，在於恢復天然界限，因此東侵日耳曼，南侵西班牙，北侵荷蘭與尼得蘭，侵寇鄰邦，成為路易十四一生之目的與事業。且有際即國家之觀念，為法國專制之代表人物。

(31) 問：何謂西班牙繼位之職？

答：一千七百零年西班牙王去世無嗣，繼承人應歸路易十四與日耳曼皇帝，西班牙王遣命路易之孫承受王位，時英王為法敵荷蘭王維廉。因此引起英國與日耳曼之異志，遂聯合而與法戰，是謂西班牙繼位之職。

(32) 問：何謂安得勒克條約有何影響？

答：西班牙繼位戰爭之結果，成立其重要之國際條約，是謂安得勒克條約 (Treaty of Utrecht)，其影響約有數方面：一、法，西班牙戰爭，財力告竭，土地損失，國勢大衰，他日

法國革命之機，豫伏於此。二、英國勃興。三、勃蘭得堡選侯與薩服公國，成爲王國，爲普意二國獨立之起源。

(33) 問 俄國與土耳其戰爭之結果若何？

答 俄國與土耳其戰爭之結果，爲俄國從土耳其手中得到黑海北岸與土屬航行之自由權及俄國保護土境希臘教徒之特權；從此俄國在地中海得一門戶。

(34) 問 何謂奧地利繼位之戰？

答 一七四〇年奧王死而無嗣，破例命其女梅麗德利嫻(Maria Theresa)繼承王位，於是普、法兩國結合，趁此時機，思欲瓜分奧地利，但梅麗德利嫻除去西利西亞外，卒能保其疆土，是謂奧地利繼位之戰。

(35) 問 加入七年戰爭者有幾國？

答 七年戰爭爲奧地利與普魯士兩國之對敵，加入此次戰爭而助奧地利者，有荷蘭、法蘭西、撒克森、俄羅斯等國。助普魯士者則爲英吉利。英國之所以助普而不助奧者，則因其仇敵法國助奧故也。

(36) 問 述七年戰爭之結果？

答 七年戰爭之結果有二：其一、英國在海外成爲北美與印度之主人翁，爲他日雄視世界之基礎。其二、普魯士打倒奧地利在日耳曼之勢力，爲普國統一日耳曼與稱霸歐洲之基礎。

(37) 問 何謂坎坡福米奧條約有何重要性質？

答 坎坡福米奧條約者(Treaty of Campo Formio)卽拿破崙征意戰敗奧地利與薩的尼亞之聯軍，迫其割地與法國之條約也。其重要性質有二：第一、爲諸大國可以任意分割或揉合弱小國家，以求合於自己之政治計畫。第二、爲法國革命精神，隨拿破崙之武力而普及於歐

洲。

(38) 問 拿破崙征埃及之用意何在？

答 拿破崙征埃及之用意有二：一，作為大征印度之準備；二，可以離開國內政治漩渦。

(39) 問 何人統一日本有何武功？

答 豐臣秀吉平定內亂統一日本，又欲假道朝鮮侵略中國，趁朝鮮無備而侵寇之，明兵來援，互有勝負，後秀吉病死，日兵始退。

(40) 問 述拿破崙重開戰端之原因與其結果？

答 拿破崙對外想統一歐洲，對內知非借武力，不足維持其威信與地位，故重開戰端為其唯一之目的。戰爭之結果，約有數端：第一，因拿破崙戰勝後版圖之變更，而神聖羅馬帝國廢止。第二，日耳曼人因失敗而覺悟，伏日耳曼統一之根。第三，法蘭西帝國成立，拿破崙正式為皇帝。第四，拿破崙武力所及之地，亦即法國革命精神傳入之區。

(41) 問 拿破崙失敗之原因為何？

答 拿破崙失敗之原因：第一，窮兵黷武，專制氣燄日強，人民對其信仰心大減。第二，外敵日強，尤以英國為最，拿破崙對英，實行大陸封鎖政策，但商業受損失者，不止英國一國，遂引起各國之仇視。第三，拿破崙任意分割各國領土，違背國家觀念。

(42) 問 何謂大陸封鎖政策？

答 拿破崙因英國海軍強大，不能戰勝英國，以達統一半歐之目的，於是便在其勢力之下歐洲各國，與英人斷絕商務上之交通，想以此經濟政策而致死英人，然結果反促本身之滅亡，此即所謂大陸封鎖政策。

(43) 問 何謂利比瑟國民之戰？

答 拿破崙征俄失敗，狼狽歸巴黎，歐洲各國乘之，遂起最終之大同盟，俄，普，奧，三國同盟軍，會於利比瑟 (Lützen) 以三十萬大軍，戰敗拿破崙，是謂利比瑟國民之戰。

(44) 問 第一次巴黎講和會議俄國示恩拉法之用意在？

答 第一次巴黎講和會議時，俄帝西歷山大第一 (Alexander) 欲示恩於法，以作將來併吞土耳其之準備，因俄若實行併土政策，勢不得不與英為敵，欲借法人之力以制英，故不得不示恩於法而扶植之。

(45) 問 四國同盟有何利害衝突？

答 當巴黎條約告終，維也納會議未開之際，歐洲各國存亡之大權，實握於英，俄，普，奧四國同盟之手，惟四國利害不同，故其衝突之點，甚為明顯。英國擴張商業，獨霸海權，對於俄，法二國，極謀所以抵制，因法國商業，足以抗英，而俄則覬覦君士坦丁，時欲奪其東方之利益。各國中與英同利害者，則為奧國，蓋奧患俄南下，畏法東侵。俄國利害與英，奧二國立於相反地位，其舉動當判若霄壤，而當時之普國，因國小力微，不足拒奧，遂引俄為援，以為他日排奧計，此當時四國利害衝突之大略。

(46) 問 何謂百日帝？

答 當維也納會議時，拿破崙自厄爾巴島逃回，各國分兵進攻，戰敗拿破崙於滑鐵盧，而流之於聖海倫孤島，計自厄爾巴逃出，至流時僅百日，故稱之為百日帝云。

(47) 問 維也納會議之影響何如？

答 維也納會議之目的，在於各強國以各自利害分派拿破崙所建之帝國，其中最無理者，第一，波蘭既已建國，而以俄帝兼王，於是俄人對土耳其之野心日甚，日後之克里米戰爭，俄土戰爭，與此次歐戰，俄國加入之原因，均為維也納會議所造成。第二，比利時既脫奧獨

立，而又歸併於一宗教，血統，政治，言論均不相同之荷蘭，此比利時之所以不久而發生革命。他如蔑視小國之國權，反對德意志之統一，均爲日後紛爭之由，而爲維也納會議所種之結果。

(48) 問：俄人救助希臘獨立之原因安在？

答：俄人救助希臘獨立之原因，蓋在於滅殺土耳其之勢，而貫徹其彼得大帝以來之主張，以求得一出海口之門戶。

(49) 問：英俄兩國何故干涉土耳其？

答：當希臘獨立軍戰敗時，俄人對土政策甚激烈，按神聖同盟干涉各國之例，謂鎮定巴爾幹半島，爲俄國之責任。英雖處於歐洲西北，然因俄之經營土耳其。實出於海上政策。俄荷得志，則地中海歸其掌握，印度領土與波斯諸地及東方商業，均將大受影響，故英人對於土耳其，其因利關係，不能袖手，而讓俄人之得意，此英、俄兩國對於土耳其之事，均加以干涉。

(50) 問：述克里米戰爭之發生及俄國開釁之原因？

答：初耶路撒冷聖地，希臘羅馬兩教屢爭割據，一七四〇年，結定條約，土耳其皇帝得土境以內，羅馬教會保護權，俄得希臘教會保護權。適拿破崙第三欲奪拿破崙第一敗於俄國之恥，而思挑釁，強請土耳其承認法蘭西對耶路撒冷之羅馬教徒有保護權，於是俄、土、法三國反目益甚，然俄人態度強硬，此次必欲開釁者。約有數因：一，俄以爲拿破崙第三，初即帝位，無暇顧及土耳其。二，英以拿破崙無信，必貌合神離。三，普、俄有親誼，不致阻俄南下。四，俄曾助奧平匈亂，不致反抗。五，俄兵若至土境，希臘教徒，必有應者。此俄之所以敢於宣戰，而克里米戰爭之所以暴發。

(51) 問：何謂維也納通知書？

答 當俄土戰爭時，英、法以撥土為辭，對俄宣戰，進攻克里米半島，惟守禦甚嚴，聯軍大蒙損失，撒丁王忽加入英、法聯軍，勢力大振，俄帝以愛憤死，奧欲乘機調停，會於維也納，英、法、土、奧、俄各遣委員列席，結果決議四條，是謂維也納通知書。

(52) 問 一八五六年巴黎會議給與歐洲有若何影響？

答 一八五六年之巴黎會議，較前之維也納會議，後之柏林會議均覺和平，其最大影有三：一，巴黎會議以後，歐洲外交指導之實權，移於法蘭西；二，維也納會議，對於各小國均取併吞主義，巴黎會議，則取扶持主義；三，撒丁小國，因加入聯軍關係，得列席會議，自是歐洲知有撒國，而撒國之所以能統一意大利者，亦自此始。

(53) 問 何謂七週戰爭？

答 普、奧兩國相持，形勢甚為險惡，然其開戰之原因，則由於右勒蘇益格與好斯敦兩洲，此次普、奧戰爭，實為歷史上最短之戰爭，即所謂七週戰爭。

(54) 問 南北美戰之原因為何？

答 南北美戰爭發動之原因有三：一，政治上之原因。合衆國之政覺有二：一，為共和黨，主張保護貿易，注重中央政府，勢力全在北部；二，為民主黨，主張自由貿易，各洲自治，勢力全在南方，南北對峙，仇怨遂結。二，經濟及社會上之原因。北部工商業發達，通過保護關稅案於國會，且無役奴之必要。南部以農業為本，其工業品多仰給於人，故對於保護關稅案，甚不滿意。且專事農業，必須奴隸。三，主張廢止奴隸之共和黨，首領林肯 (Abraham Lincoln) 當選為大總統，於是南部諸州宣言獨立，而戰爭起矣。

(55) 問 南北美戰爭中兩軍各有何優點？

答 南北美戰爭中北軍之優點於四：一，人口較多；二，富於財力；三，糧餉充足；四，兵

艦及造船所甚多。南方優點有三：一，平日從事耕耘，體格強健；二，有忍耐性，勤於勞動；三，火器操縱自如，長於馬上戰爭。

(56) 問 林肯被弑後何人經營戰後事宜？

答 南北美戰爭之結果，北部卒獲勝利，然大總統林肯竟被弑於華盛頓劇場，副總統約翰孫 (Johnson) 繼承其後，經營戰後事宜宣布三條：一，南部諸州人民，仍為合衆國民，恢復一切權利；二，對於判亂，無論直接間接有關係者，均從寬赦免其罪；三，苟欲歸順者，必遵合衆國之憲法。於是南部諸州，依次取消獨立，一八七〇年宣告統一。

(57) 問 薩多瓦戰爭給與歐洲之影響何如？

答 滑鐵盧戰役之後，奧相梅特涅用其手腕，移歐洲政治中心於維也納。薩多瓦戰役之後，普相俾士麥以四旬之力，而移諸柏林。故薩多瓦之役，表面雖為普奧戰爭。但給與歐洲各國之影響甚大。

(58) 問 何謂日內瓦公會？

答 日內瓦 Geneva 公會之大旨，謂救護人員，救護場所，如戰地病院等，均為中立；兩軍互尊之，不得侵害；並以白地赤十字為救護人員及救護所之標識，而議定關於處理戰地傷兵及戰地醫院之條文十則，即今赤十字條約是也。

(59) 問 何謂聖彼得堡宣言？

答 俄皇以軍士受戰爭之苦，均係武器為害，思對武器加以限制，兩度開會於俄都聖彼得堡。議決發射物而有爆發性或裝置燃燒性物質，重量當四百克爾姆，十四翁士以下，則戰時不許使用。此原則後即成爲戰時國際法之一部。各國批准公布後，發表宣言，是即所謂聖彼得堡宣言。

(60) 問 盧森堡何以成永久中立國？

答 盧森堡與法 德境界相接 雖爲獨立公國，而荷蘭兼攝其位。普魯士得駐兵其地，法擬收歸法領，而爲俾士麥所拒，普法兩國，幾至破裂，後開列國會議於倫敦，協議此事，議決盧森堡爲永久中立國，列強爲之擔保。

(61) 問 述普法戰爭發生之原因與其導火線？

答 普法戰爭之原因，醞釀已久，雙方久存一戰之心。在法之原因有二：一，普，奧戰後，普忽勃興，南部德意志四國，至是絕法而親普，他如來因河左岸之地 盧森堡問題，均爲普人所阻，故法之朝野，均仇視普人。二，拿破崙外交失敗，急思樹立偉勳，恢復威信，而期與普人一戰。在普之原因亦有二：一，普敗奧後，圖合南德四國，以謀統一之大成，然非與法國開戰，再樹奇功，不足以取四國之信仰。二，北德諸國，雖組織聯邦，然基礎未固，惟宣戰可鼓其同仇敵愾之心，以望德意志統一之基。雙方既抱此仇視態度，則戰爭在所不免，故因西班牙王位繼承問題爲導火線，而普法之戰發生。

(62) 問 普法戰爭之影響何如？

答 普法戰爭以後 德意志以是統一，意大利以是完成；黑海禁閉，東方問題又起。而遺禍最烈者，則爲割讓亞，洛兩州，深種法人仇德之心。故此後德國外交，唯以孤法之援爲目的。

(63) 問 何謂不魯捨拉宣言 Déclaration de Bruxelles de 1874？

答 不魯捨拉宣言者即開列國公會於此利時，議論關於俘虜待遇之事項。卒未得各國政府批准者，則有二因。一，因東歐事件發生於明年，歐洲列強均無意及此。二，因英，美兩國不與同意，美國主張匪特中立國民私產不在捕拿之列，即敵國臣民私產，亦應保護，列國不與

同意。故美國關於一般戰律之改良，均不同意，英國向爲海王，對於海軍不願受此戰律束縛。

(64) 問 何謂三帝同盟？

答 三帝同盟者，卽奧帝法蘭西斯約瑟，俄帝亞歷山大與德帝威廉第一所結之同盟條約。此同盟之目的，在德國爲欲使法之外交孤立，在奧，俄兩國則爲預防內憂外患之策。

(65) 問 巴爾幹半島與各國之關係如何？

答 東方問題關係於歐洲外交者甚巨，故巴爾幹半島一旦有變，列強必盡入漩渦，與巴爾幹半島最有關係者爲俄，英兩國，俄國缺乏良港，欲求軍艦出路，屢占領君士坦丁。英則東洋領地最多，由本國達領地，海陸兩路，均須經地中海，若俄取土以扼地中海東部，則英之東洋交通大受障礙。次有關係者爲奧國，因奧與巴爾幹半島土地相接，苟土耳其爲他國所得，則遺害非小。至德，法兩國對巴爾幹雖無直接關係，然德則欲利用俄，英，奧三國，以防法之復仇；法亦欲利用俄，英，奧三國，以復善仇，故俄若一旦有事於巴爾幹，英，奧勢難袖手，德，法亦必隨之，且基督教徒與回教徒之衝突，及土政府施政之失當，尤爲促成巴爾幹戰爭之原因。

(66) 問 何謂安得拉西公文？

答 黑塞哥維那 Herzegovina 與波斯尼亞 Bosnia 二州，因殘凶而叛土耳其，屢破土，軍，奧國主張干涉，俄德贊同其議，三國協商作一通知書，經英法兩國贊成，送交土耳其政府，卽所謂安得拉西公文 Andriass note 其內容爲：一，唯人民信教自由。二，廢租權貸出制。三，黑，波二州所收之直接稅，唯供二州之用。四，改良農制，賣官有土地於人民，以促進農業之發達。五，基回兩教徒，各出議員若干人，組織聯合委員會，以監督實行。

(67) 問 何以謂柏林會議？

答 德欲乘伊奧英奧構釁，而奪取荷蘭王國，且擁精兵以作強定構和條約之準備，然英則不願舉荷蘭以賣德意志之中立，奧則不欲德再擴大版圖，俄亦恐德乘其失敗，得以恣其所欲，故英俄兩國先事協商，結果而開柏林會議。

(68) 問 柏林會議之影響何如？

答 柏林會議對於國界之分割，全不因民族自然之勢，其條約之最無理由者，則爲以波、黑兩州統治權委諸奧國。蓋此會之用意，一以摧殘諸國發達之萌芽，一以使其增強相互之猜忌。此近東問題之所以發生，巴爾幹兩次戰爭之所由起，而此次歐洲大戰，亦受其餘波所影響也。

(69) 問 何謂三國同盟？

答 三國同盟者，德意志，奧地利亞，及意大利三國之攻守同盟也。此同盟之成立，爲近世外交史上之一大轉機。

(70) 問 述三帝同盟破裂之原因？

答 當俄、土戰爭前，德、俄、奧三國因利害關係，而結三帝同盟，柏林會議，本三帝同盟之宗旨，德應助俄，奧而抑英土。然德終因對法外交之政策，卒助英而抑俄，而以波、黑二州之統治權與奧，蓋英與奧親，欲提攜以防俄之南下，今德示恩於奧，即間接示恩於英，英奧兩國恩德，則可避其與法同盟，而法孤立之策以成。此德之所以不買俄之歡心，而三帝同盟之所以破裂。

(71) 問 德奧同盟之精神何在？

答 奧之所患者爲俄，德之所患者爲法，俄攻奧，德助之，則奧人安，法苦以孤立攻德，德

獨力可觀之，但希奧之中立，俄若助法以攻德，則德腹背受敵，或將不果。故求奧援以牽制之，此德奧兩國同盟之精神。

(72) 問 意大利何以離法而與德奧同盟？

答 意大利之所以離法而與德奧同盟者，蓋由於內部之黨派及德相俾士麥之手腕也。因意大利政府爲自由黨所組織，而自由黨分排奧排法兩派，故意政府之外交政策，但依此兩派競爭之勝負爲轉移，此三國同盟之所以能成立。大約意、德之約，爲兩國無論何國受攻於法，則相爲援應。奧意之約，則謂法與意戰，俄與奧戰，奧、意各守善意之中立。

(73) 問 保加利亞獨立與俄國之關係何如？

答 保加利亞獨立，對於俄國之巴爾幹政策，大有阻碍，蓋保加利亞立於巴爾幹山下，有防遏俄國干涉土耳其之勢，此俄人之所以反對保加利亞獨立，然卒因英之贊助而得列國之同意。

(74) 問 德蘇彝士運河之由來及其航行奈何？

答 一八五四年法人雷塞布 Ferdinand de Lesseps 獻計於埃及總督，開蘇彝士運河於地中海與紅海之間。一八五八年始創開鑿公司，法人與埃及共有其股，着手進行。一八七五年，英政府悉買埃及之股，運河實力之半。遂爲所有，後英征埃及以兵力占領運河，止通航二十四小時，於是列國委員會於土都，定運河條約，其要者爲：一，不問何時，萬國船舶，皆得通行。二，不可於運河內開戰。三，交戰國艦停泊於運河內，不得過二十四小時，四，交戰國軍艦不得增派兵員水兵於運河內。故蘇彝士運河爲永久中立地。

(75) 問 俄國經營中央亞細亞之原因爲何發生何種影響？

答 俄自柏林條約後，知近東發展易受障礙，因變計而爲中央亞細亞經營之策略，以備將來

出兵印度之便道，然此計劃與英人之勢力。大相衝突，英以中亞與俄若有戰事，自本國輸送軍隊，不能應急，而思集兵印度以爲守備阿富汗國境之計。

(76) 問 述俄法同盟之原因？

答 俄法同盟之原因，可分爲五：一，爲外交上之提攜，因德助奧而俄孤立，故有聯法之必要。二，經濟上之提攜，以免俄國經濟受德意志之壟斷。三，軍械之提攜，法以秘密之連發速射槍法傳俄。四，懲治盧無黨之關係。五，經營遠東之關係，俄因近東經營失敗而思覓不凍港於遠東，又不免與英人競爭，故非聯絡次海軍之法蘭西不可。

(77) 問 俄法同盟成立後對於歐洲有何影響？

答 法人之所患者爲德，俄人之所患者爲奧，德，奧，意三國同盟成，於歐洲外交爲一團體，俄法同盟成，於外交又爲另一團體，兩相對峙，得使歐洲政局暫保平衡態度。

(78) 問 英德兩國疏隔之原因爲何？

答 德皇威廉第二，因仰法，俄而欲與英接近，然此提攜之局面，卒不能久，其原因有三：一，英國不易爲德所利用，對於德之進取，持冷靜態度。二，德因親英舍保護貿易而取自由，外國農物多以廉價輸入，結果普之北部有力地主咸抱不平。三，德之經濟發達迅速，易與英人衝突，故英甚不欲與德提攜。

(79) 問 中日戰後之遼東事件對於歐洲外交發生何種影響？

答 德之接近俄，法政策，因法意二國不和而受阻碍，適中日戰後，因遼東半島問題，俄，德，法三國干涉日本退還中國，因此德與俄近，而法亦緩和，故遼東事件，對於歐洲之外交，甚有影響。

(80) 問 德土日親之原因何在？

答 德國當柏林會議時，以公平態度破壞俄土之聖士提反條約，爲土人恢復一部分之權利，歐洲各國均因柏林條約而有所獲，德人獨不染指，土人漸覺德人爲可交之友，此德土之所以日親也。

(81) 問 巴格達鐵道之敷設發生何種關係？

答 巴格達鐵道起於北海沿岸之漢堡，經君士坦丁直達波斯灣，縱貫歐亞兩大陸，因新延長之路線自哥尼亞達巴格達以出波斯灣，故總名爲巴格達鐵道。一八九九年土政府與德亞拿德里公司定約，此路權遂全歸德手。此路成則俄人將失其歐亞陸上交通媒介之地位，英人恃蘇彝士運河，以制歐亞商業之形勢，亦將驟減，而英俄兩國在波斯則有反主爲客之勢，此英俄兩國之所以必欲挫德也。

(82) 問 何謂海牙和平會議？

答 海牙和平會議共開兩次，召集者均爲俄皇尼古拉第二。一八九九年五月十八日開第一次和平會議於荷都海牙，參與者二十六國。一九〇七年六月十五日復開第二次萬國和平會議於海牙，與會者四十四國。其目的蓋在限制各國軍備減輕國民擔負，與對於中立國之權利義務，及海上私有財產之保護也。

(83) 問 英法兩國協商之原因何在？

答 英法兩國皆因非洲殖民地之擴張兩相衝突，然英法協商之原因，則爲德意志霸國所保成。在英因德海軍之擴張，覺悟非聯法不足以抗德，在法則聯俄僅足自保，欲圖進取，非聯英不可，此英法外交之所以日親，而成協商條約也。

(84) 問 述英日同盟之由來與其結果？

答 英國外交，恆以名譽孤立自詡，然時勢亦變遷，英之霸業動搖，因謀與法接近，同時又

倡英日同盟，德意志亦甚為撮合，蓋恐日俄協商成，俄將從事歐洲，有碍德之霸業也。英日同盟之初旨，英人本欲利用日本維持其遠東權利，然結果反為日人利用。日俄戰爭，日人恃此同盟敢於一戰，一也。歐戰時日人借口同盟，遂占青島，以為其大陸政策併吞中國之根據，二也。故日人之所以能稱霸亞東者，此同盟之力為多。

(85) 問 土耳其革命成功後，外交上有何重和案件？

答 當土耳其革命成功後，外交上忽生二重大案件：其一為保加利亞宣言，其二，為奧國合併波黑、兩洲。

(86) 問 巴爾幹戰爭共幾次，其原因為何？

答 巴爾幹戰爭前後共兩次，其原因則為基督教民與回教民根本利害信仰不同。第一次為土耳其與希臘諸邦開戰，第二次則為得勝之巴爾幹各邦，因分贓難均而互相爭執也。

(87) 問 巴爾幹戰爭有何影響？

答 巴爾幹戰爭影響及於此次歐洲大戰者有二：第一，戰後塞爾維亞幅員驟增，奧所經營之桑基耶克鐵道，所經重要地點，皆隸於塞，而終點之塞羅尼加港，又歸其宿敵希臘，奧人經此戰後，損失甚大，極思破壞此現狀。第二，塞人因求海之故，乃出於戰。結果占有亞得里亞海沿岸一帶要地，惟以奧，意之阻撓，以建亞爾巴尼亞國，俄人雖不滿意，然亦無可如何。

(88) 問 歐戰前德法俄三國陸軍與英德兩國海軍之競爭若何？

答 巴爾幹第二次戰後，塞爾維亞勢力大張，德人東進之途塞，欲以武力遂其願，一九一三年六月提出新陸軍法案，增加平時人員為八十六萬，戰時為五百四十萬，法人聞之，於同年七年改現役三年為二年，徵兵年齡，自二十一歲低至二十歲，俄亦於七月通過新陸軍預算案

，縮減現役年限，此戰前德、法、俄三國陸軍之競爭。德威廉第二，欲爲德意志大海軍之創
造者。一九〇〇年發布海軍案，建造戰鬥艦三十八隻，大巡洋艦二十隻，小巡洋艦三十八隻
，水雷艇百四十四隻，期以一九二〇年完成。一九一二年德人又提出新艦隊法案，期於六年
內，每年投資一千萬磅製造軍艦。英國亦可決臨時海軍費一千萬磅，一九一三年，英人對德
提議停止新艦製造，德不應，英海軍預算又增加五十萬磅，此戰前英、德兩國海軍之競爭。

(89) 問 何謂大塞爾維亞主義？

答 塞爾維亞所計劃之大政策有二：其一謀兼併波、黑二州。其二謀兼併土屬之馬其頓州全
部，或沿海一帶，此即所謂大塞爾維亞主義。

(90) 問 述俄與兩國發展之趨勢？

答 俄國對外政策，有一不易之主張，即求得出海港是也。其發展之途有四：一越瑞典挪威
以出北大西洋。二，越巴爾幹取君士坦丁以支配海峽。三，越波斯阿富汗以出波斯灣。四，
越西伯利亞略滿洲以出中國海。第一途危及瑞挪兩國，破壞歐洲均勢，事實絕不可行，其餘
三途，以第二途最合理想。地勢接近，利一；土耳其衰弱，利二；巴爾幹半島之斯拉夫族，
受土耳其之虐待，南下巴爾幹，實合大斯拉夫主義，利三。此俄之所以侵逼土耳其。干涉巴
爾幹，致發生克里米與俄土兩戰爭。當十九世紀前半期，奧之發展方面有三：向北爲德意志
，向西爲意大利，向南爲巴爾幹。一八六六年普奧戰後，西北兩面，均無希望，所可發展者
，巴爾幹方面而已，奧初經營此地，無往不與俄衝突，後得領波、黑二州之統治權，俄之勢
力爲奧所驅，日俄戰後，奧實行合併波、黑二州，固定南下基礎，然塞爾維亞則爲其當前之
障礙物。

(91) 問 歐洲大戰發生之導火線爲何？

答 歐洲大戰發生之導火線 爲奧國太子法地那德夫婦，被刺於波斯尼亞首都薩拉斐佛城內，主謀者爲塞爾維亞。於是奧對塞宣戰，俄爲斯拉夫族之首領，對此戰爭，勢必投入。此奧塞之戰之所以變爲奧俄之奧，德國與奧同盟，不能袖手，而英法隨之加入攻德，故巴爾幹之局部戰爭，一變而爲歐洲大戰。

(92) 問 述德人破壞比國中立之原因與其影響？

答 德人曾有討論與俄法交戰之計劃者，謂必假道於比利時或瑞士二國，不然敵將先入德境。故德人破壞比之中立，非猝然爲之，而爲先發制人。然德因攻比之關係，英人遂加入戰團。

(93) 問 德人經營之目的安在？

答 德人經營之目的，有三大廣曠：一爲中國，二爲南美，三爲小亞細亞。然中國已爲英俄日諸國勢力所侵占。南美又因美人大倡孟祿主義，進取不能無碍。故德以全力注於小亞細亞，欲製造亞洲之德意志帝國，而以聯土爲下手之方法。

(94) 問 日人侵略之政策何如？

答 日人侵略之政策，大別爲二，其一爲南進主義，着眼於南方菲力賓及其他南洋羣島，然受制於英、美。其二爲北進主義，着眼於北方東亞大陸，卽所謂大陸政策，將以朝鮮南滿爲根據地，進窺我國北部各行省，以建立一大陸帝國。

(95) 問 日人加入大戰之原因爲何？

答 日人加入此次歐洲大戰，表面之理由有二：一爲履行英日同盟條約，一爲報復德人干涉遼東半島之仇。然其實在原因，則欲占據青島以貫徹其大陸政策之主張。

(96) 問 歐戰初起時意大利何以宣言中立？

答 意大利雖爲三國同盟之一，然與奧之利害衝突甚大，當歐戰初起時，意國約分三派：一

為主戰派，蓋意欲得利，非奧失敗不可。奧敗又非意加入不能速成。二爲中立派，主張意以武裝中立。三爲投機派，此乃政府之投機政策，當開戰時，德之軍威方盛，奧之形勢未可知，不能不有所待，此意大利在歐戰初開時之所以宣言中立。

(97) 問 北美合衆國參加歐戰之原因爲何？

答 美政府之所以參加歐戰者，蓋因德政府實行新濬艇封鎖政策，對於中立國船舶之航行於封鎖區域以內者，爲無警告之攻擊。美人認爲蔑視公法，違反人道，遂決意與德宣戰。

(98) 問 何謂單獨媾和宣言？

答 英，法，俄，日，意，五國發表單獨媾和宣言，謂五國政府相約，在此次戰爭繼續中，不單獨媾和。當媾和時，提出要求條件之先，須預得他同盟國之同意。俄國革命後，勞農政府與德單獨媾和，其他四國，仍繼續有效，直至休戰。

(99) 問 威爾遜和平十四條之要點爲何？

答 威爾遜和平十四條之要點有四：一，軍備限制。二，國際聯盟。三，海洋自由。四，民族自決。

(100) 問 述戰後和平會議之性質與其不平之組織？

答 和平會議之性質，蓋一方欲收拾歐戰殘局，締結和約，一方欲借此大會，樹世界永久和平之基。然此會議之組織，有兩大不平點：第一爲各國代表列席人數不平，弱國居於不利之地位。第二爲議事祕密之原則，仍不能脫祕密外交。

(101) 問 歐戰後太平洋各島之主權有何改變？

答 歐戰後，德屬太平洋之各島，在赤道以北者歸於日本；在赤道以南者，歸於英屬之澳大利亞與新西蘭。

(102) 問 法國對於和會之大計爲何？

答 法國對於和會之大計有二：其一爲建設強固之波蘭，使德不能逞志於東，其二，爲剷除德國在萊因河兩岸之勢力，使德不能越河而西。

(103) 問 何謂海洋自由？

答 美人之所謂海軍自由者，蓋有二義：一，不論敵人與中立人，苟其所爲不涉於國家，則戰時通商權利，可以推行無阻。二，戰時海上法規，由一二海軍強國擅自規定，殊爲美所不能平。

(104) 問 何謂國際聯盟？

答 國際聯盟者，蓋本諸國際互助之義，一面打破帝國主義，同時補救民族主義之偏弊，而使國際間消除一切意見與不平也。

(105) 問 何謂凡爾塞條約？

答 對德條約，又名凡爾塞條約，因和約訂於巴黎附近，法王路易十四故宮凡爾塞故也。

(106) 問 中國拒絕簽字和約之原因爲何？

答 戰後德國在我國之權利，應無條件直接歸還，而和會反承認德國在我山東之一切權利，讓諸日本，此我國之所以拒絕簽字和約。

(107) 問 華盛頓會議之原因爲何？

答 華盛頓會議之原因，約有三點：一，美，日因太平洋及遠東問題，雙方盡力擴張海軍，英欲維持太平洋固有地位，亦竭力充實，爲防第二次大戰之發生，故有五。五，三海軍限制之提議。二，美忌英日結盟，英欲維持日，美交誼，結三國協定，以代英日同盟。三，美國對華，與日本持反對態度，主張召集會議，解決中日懸案，確定門戶開放，以遂其經濟之侵

略。此會議之結果，因太平洋及遠東問題得相當之解決。帝國主義者間之衝突，暫時和緩。然今後各國衝突之心中，將集中於太平洋矣。

第三章 革命

(1) 問 英國大憲章成立於何時有何影響？

答 一二一五年六月十五日英國諸侯以武力爲後盾，強迫英王約翰簽字於大憲章。而大憲章重要條文，均爲民治之骨髓，故大憲章之成立，實能使英國成爲民治主義之先進國。

(2) 問 述大憲章之重要條文？

答 大憲章之重要條文爲：一 國王不能妄用威權，妨害其臣屬之自由與習慣，臣屬對於人民亦應守同樣之限制。二，政府不能因細故，擄奪商人之貨品與農人之耕具。三，除明言之收入外，未得國民代表同意，國王不能任意加稅。四，人民在受陪審官之審判前，其產業不許妄動，亦不能任意拘獲或囚禁。

(3) 問 何謂三級會議？

答 一三〇二年法王腓力布第四召集三級會議，其中人物除僧侶貴族、二級外，尚有代表城市之平民，此爲歐洲政治史上一件重大之事。

(4) 問 英國平民何以能加入會議？

答 一二六五年西門孟福爾(Simon de Montfort)率領諸侯與平民聯合之團體，向國王爭得平民加入會議之大勝利，從此英國會議，不但有代表貴族之僧侶與諸侯，且有代表各地之平民，貴族代表成爲上院，平民代表成爲下院，此英國議會之兩院制。

(5) 問 宗教革命時農民有何舉動？

答 宗教革命時，日耳曼之貧苦農民，因久受教會剝削，羣起反叛，要求廢止佃奴，減輕租稅，與城市工人及野蠻武士等任意焚燒教堂，殺戮教士，結果為諸侯所征服，日耳曼農民生活，更不如前矣。

(6) 問 述法國專制之成立與其衰弱之伏根？

答 百年戰爭後，法王有統治軍隊及征收軍稅特權，而三級會議，無關輕重，君主專制之力量擴大，法王為求軟化諸侯起見，以免稅及種種特權錫予諸侯，而所免之稅，則加重於人民身上，此種情形之結果，遂伏法國衰弱之根。亦即法國革命之所由起也。

(7) 問 英國國會有何特點？

答 英國國會之特點有二：一，即英國國會有一種民權宣言書為後盾，與英國國會有當選之各郡騎士及當選之市民也。

(8) 問 英國立憲之阻力為何？

答 英國立憲大成功之阻力有二：一，十七世紀為歐洲專制大盛之時，又值英國專制政治之後，此時英國立憲運動，實為遠反時勢之舉。二，此時英王為新從蘇格蘭來者，與英國人民既無好感，且不知籠絡人心，而空言君權神聖，故英國立憲之大成功，不得不出於革命一途。

(9) 問 一六二八年英國會議有何種權利請願？

答 一六二八年英國會議，因反對當時君主查理之種種不法行為，而有權利請願之舉 (The petition of Rights)。其重要條文為：一，不得議會同意，國王不能擅徵租稅或要求買贖。二，除按照大憲章所規定之條文外，不得刑罰或拘捕自由人民。三，平初時不得使用軍法。四，不得任意令兵士占據民房，此請願在憲法上之地位與大憲章幾有相同之價值。

(10) 問 查理第一與議會發生何種事件？

答 初 英國會議，對查理第一有權利請願之舉，而查理第一亦因下院拒絕加稅而解散議會。一六四〇年查理因干涉蘇格蘭人信奉新教，而釀成蘇格蘭之反叛，為征收軍費事，不得不重行召集議會，但不久又為查理所解散，是謂短期議會。從此查理與議會終處對立之地位。

(11) 問 何謂長期議會有何重要舉動？

答 在英國短期議會被解散後，查理又因事而召集議會，共延長至十年之久，稱為長期議會，自行規定每三年集會一次，不問國王召集與否，曾殺去查理心腹大臣二人，並宣佈查理罪狀，廢除不法稅則和法律，而為英國革命之先聲。

(12) 問 國王第一次被人民裁判而處死刑者為何人？

答 英國國王查理第一被人民審判為暴君。一六四九年處死於斷頭臺上，是為國王第一次受人民裁判而處死刑者。

(13) 問 英國第二次革命之因果？

答 英國厭惡詹姆士第二而擁戴其女婿荷蘭王威廉為英王，詹姆士逃往法國，議會遂立威廉夫婦為英王，威廉承認議會擬定之權利宣言。(Declaration of Rights) 並允為人民保障大憲章與權利請願所得之權利，而服從兩憲章對於君權之限制。此為英國第二次革命，從此英國立憲之基礎固定。

(14) 問 舊制度下法國社會上人民之情形若何？

答 舊制度下法國社會上之人民，大抵可分為有特權階級與無特權階級兩方面，有特權階級者，不納租稅，坐享膏腴，且可任意剝削人民；無特權階級者，又可分為三種：一為下級僧

侶，二為中等社會，三為貧苦農工，此均為反對舊制度者。而以中等社會為最有力。

(15) 問 法國革命何故以中等社會為中心？

答 舊制度下之法國最苦者莫過於平民生活。當時法國農民之收入，以五分之四作為王家教會及當地諸侯之租稅，而工人又多失業無食者，惟農民則貧窮愚闇，工人又只知暴動而無腦力與實力，以作正當之反抗，故此時法國革命之領袖，不得不歸之於中等社會，此中等社會之所以為法國革命之中心也。

(16) 問 何謂預備立憲時代其第一步為何？

答 法國革命之第一期為預備立憲時代，因當時法國人民之要求，為一和平之改革，而仿照英國探行君主立憲制度，故革命最初三年，稱為預備立憲時代，而預備立憲之第一步則為召集三級會議。

(17) 問 革命思想之前趨者為何人？

答 法國革命思想家之影響最大者，有二：第一為孟德斯鳩，第二為盧梭。孟德斯鳩之政治學說，主張立法行政司法三權獨立，為一醉心英國政治之思想家，釀成十九世紀立憲政治之風行。盧梭學說之中心，為一返於自然一語，其於教育，政治經濟，社會各方面，均一律主張返於自然，故有人權天賦之說，而釀成法國之大革命。

(18) 問 何謂網球場之誓言？

答 當路易十六召集三級會議，原希望此會議解決法國立憲問題，然此三級會議之第一爭端，則為投票方法，因會議投票之舊法，以級為單位，勢必至貴族僧侶兩特權階級占優勝，故爭執結果，為中等社會，脫離大會，自由聚集，自稱國民會議，曾至網球場宣誓，非制定法國之憲法，不能分散，此即所謂網球場之誓言。

(19) 問 打破巴士的獄之原因何在有何影響？

答 因三級會議分裂後，路易十六之壓迫，引起巴黎羣衆之暴動，而巴士的獄，不特爲國王與貴族壓制人民之器具，且藏有多量軍火，故巴士的獄爲羣衆暴動時之第一目的物，然巴士的獄之打破，爲法國革命之開始，從此法國入於革命中之暴民政治時代。

(20) 問 法國國民會議有何成績？

答 法國國民會議之重要成績有三：第一，爲廢除貴族僧侶歷來所享之特權。尤以佃奴制與各種稅之廢止爲最重要。第二，爲人權宣言之草成，此宣言之精神，在於人類一體平等與自由。第三，爲憲法之制定，行政元首，雖爲君主，然立法權則獨立，稱爲立法議會。

(21) 問 促成法國第二次革命之原因何在？

答 促成法國第二次革命之原因，約有數端：第一，因憲法制定後，仍不能解決大多數人民之生活問題，不免失望。第二，因路易十六與貴族，時刻想恢復其已濟失去之特權。第三，因列國反對法國革命結果，以武力干涉，而法國革命遂成爲國際問題。

(22) 問 巴黎游民第二次之大勝利爲何？

答 路易十六一方對革命表同情，另一方又依從王后之言，擬以武力破壞革命，於是巴黎游民擁至凡塞爾王宮，將路易與其后帶至巴黎，謂爲捉到麵包師，不愁無麵包吃矣。此爲打破巴士的獄後巴黎游民第二次之大勝利。

(23) 問 歐洲經四十五十六世紀叛亂後之農民變爲平和服從之原因安在？

答 歐洲十六世紀後之農民變爲平和服從之原因，甚爲複雜，而其主因有二：其一，因新大陸之發見，貧民在生活上得到發展之新機會，其二，因宗教戰爭之後，摧殘自由思想與平民領袖也。

(24) 問 法國革命給與歐洲社會以何等影響？

答 十八世紀下半期歐洲貧民問題復活，而法國革命含有社會革命之意義，且以自由平等博愛相號召。此種精神傳入歐洲各國，遂引起被壓迫平民之歡迎，與列國君主一致之反對也。

(25) 問 何謂匹爾尼次通告(Declaration of Pillnitz)？

答 一七九一年八月奧皇與普王出一通告，謂其願蓋聯絡歐洲列國君主，以維持法王權力與法國幸福。雖因此而用武力，亦所不惜，此為匹爾尼次之通告？

(26) 問 何謂九月殘殺？

答 當法國君主立憲推倒，合法之國民大會尚未成立時，法國政權歸於巴黎市政府，其中心人物，則激烈分子之但登(Danton)馬拉(Marat)與洛白斯比(Lodispierre)三人，凡有王黨嫌疑之人，均不經法律手續，處以死刑，三日之內被殺者有二千以上，稱之為九月殘殺，而為恐怖時代之先鋒。

(27) 問 法國國民大會有何重要事績？

答 自一七九二年九月至一七九五年十月止，此三年中之法國政權，均在國民大會之掌握中，其重要事績。第一為法國政體改為共和。第二為宣布路易之死刑。第三為法國與英國宣戰。第四實行恐怖政策，凡為反對革命之嫌疑人均處死刑。第五為內亂之遏止。第六為重製平允之憲法，規定兩院制之立法院，即所謂共和紀元三年之憲法。

(28) 問 法人第一次之反抗與英美兩國之革命是否相同？

答 法人第一次反抗，與英美之往事相類似，非反抗君主及其外交政策，實因個人生活發生種種不便及負擔起而反抗耳。

(29) 問 何謂共和紀元第八年之憲法？

答 拿破崙遠征埃及時，英、奧、俄三國聯合，與法作戰，法政府屢次失敗，國勢甚危。拿破崙趁此時期，與同志暗商，驅散立法院中之異己者，重行集會，以行政大權，奉之於三額政。(Bonaparte)首席領政爲拿破崙，於是拿破崙與議員重製憲法，一切大權均操之於首席領政之手，此卽所謂共和紀元第八年之憲法也。

(30) 問 法國革命獲得何種成績？

答 法國革命獲得之成績爲：一，佃奴制與特權制之廢止。二，根據人權主義之憲法成立。三，法制之統一和改良。四，言論、出版、信教諸自由之獲得。凡此種種，均爲自由平等實現於法國社會之表徵。

(31) 問 法國革命之利益屬於何等社會？

答 法國革命之實際利益，不屬於苦工與農民而屬於有產有勢之中等社會。故法國革命爲中等社會，對貴族階級之革命。

(32) 問 十九世紀時革命方向有何轉變？

答 法國革命性質爲中等社會對於貴族之革命，至十九世紀下半期，革命之性質改變，其革命中心人物，非中等社會，而爲貧苦之下等社會，革命之對象卽新興之中等社會也。

(33) 問 十八十九兩世紀中之兩大人物爲誰？

答 法國之拿破崙與奧國之梅特涅，爲十八十九兩世紀中之兩大人物。拿破崙所代表者，爲革命之正面，法國革命勢力，因拿破崙傳播全歐。梅特涅所代表者，爲革命之反面，以撲滅法國革命勢力，爲唯一之政策與目的。

(34) 問 述西班牙革命之原因與其結果？

答 因維也納會議之決議，法地那德第七復西班牙王位，復位後，以根據法國民主精神所出

，均爲擾亂之物爲理由，而廢憲法，軍民大憤，舉兵叛，後列國會議，借神聖同盟之名，使法蘭西侵入西班牙，撲滅自由政府，復王位，專制益甚，國民屈伏。

(35) 問 何謂七月革命？

答 法王查理第十卽位，宣言朕惟權力是求，決不爲英吉利王。而力圖專制，禁止出版自由，解散未開國會，又行繼續商工稅，蔑視憲法，卒引起民衆之反抗。結果查理第十逃於英吉利，迎舉路易腓力爲王。腓力卽位，自稱平民國王，大得人民歡心，而七月革命告一結束。

(36) 問 法國屢次革命成功甚易之原因爲何？

答 法國屢次革命，成功甚易之原因有四：一，巴黎兵備不足，器械不精。二，巴黎街市極隘，革命軍易築壘柵。三，官軍與國民感情甚好，不欲對之宣戰。四，革命黨對於三色國旗，極端尊敬。

(37) 問 七月革命給與各國之影響若何？

答 七月革命給與各國之影響甚大：第一，比利時脫離荷蘭獨立，第二，波蘭謀脫離俄國獨立，結果失敗。第三，德意志聯邦亦受影響。第四，意大利燒炭黨之運動從而又烈。第五，英吉利憲法進步，宣布地方自治制，立憲政治益行完美。

(38) 問 二月革命發生之原因爲何？

答 二月革命發生之原因，可分兩端：
甲、內政上之不平；

一、施政上之不平。初路易以自由政策自期，屢受政黨反對，迭更內閣，後改變初旨，漸圖專制，束縛出版自由，益行保守主義。

二、政黨之反抗。當時國中共分四黨：爲立憲黨、波旁黨、共和黨、拿破崙黨，四黨中除

波旁黨外。其餘三黨，對於國王，均持反對態度。

三、社會黨之反對。社會主義，勢力日強，大持反抗國王政策之論。

乙、外交上之失敗：

一、歐洲各國之起革命，均受法國七月革命影響，革命黨甚盼法國援助，而主持和平，概不出兵，各國惡王之狡滑。

二、埃及叛土耳其，本期法國援助，而法不出兵，率爲普，俄，奧，英，四國所屈服，法之威信大損。

三、國王欲伸勢力於西班牙，而與西班牙王聯姻，致傷英之感情，實業界受莫大損失。

四、瑞士國內，自由保守兩黨衝突，舊致七州結防禦同盟，法國輸送子彈助之，英人反對甚力，謂瑞士爲中立國，他國軍器不得入其境界，法國理屈。

(39) 問 法國二月革命與七月革命之性質有何不同點？

答 七月革命之結果，路易腓力登法國王位，爲法國中等社會得勝時代，二月革命之性質爲勞工運動，在法國之表示，而推翻代表中等社會之路易腓力政府也。

(40) 問 述英國選舉法之改進？

答 一八三二年英選舉法之推廣，僅及於中等社會，下等工人皆憤慨不平，復請變通選舉法。一，全國人皆有選舉權。二，公舉用投票法。三，上下議院每歲須開一次。四，選舉人之數，人地大多少寡，宜均平分配。五，選舉人不論家產資格。六，議員宜分別給俸。下上議院沸騰，幾激變。後卒見用於政府。下至農民亦有初選權。

(41) 問 述俄羅斯大革命之遠因？

答 俄羅斯大革命之遠因，可從數方面觀察。第一，爲地理方面之原因，地土廣大，種族複

雖，內訌時起，信仰各異，教院專橫。第二，為社會方面之原因。一、工場待遇極苛，勞動者異常痛苦，二，農奴制雖解放，然村會制度又興，農奴昔日耕地，概歸村會，農民之窮迫如故。三，革命思想發達，社會運動之團體勃興。第三，為政府方面之原因。俄政府一方收買學者，發為種種專制之言論，以壓民權，一方解散國會，慘殺黨人，集此各方原因，此俄羅斯大革命之所以終會爆發之一日。

(42) 問 俄羅斯大革命何以能爆發？

答 俄羅斯大革命爆發之原因，約有數端：第一政府下禁酒令，而不知積極提倡正當之娛樂，致人民恨惡政府。第二各地方會議，組織特別委員會，隨處供給食用及他種軍需，以救參戰士兵之饑寒，深得軍隊之信仰。第三當俄參戰時，政府借口國中緊急，各事難遵常軌，因於民食等物，妨其流通，人民不滿甚苦，此為促成大革命爆發之最大原因。

(43) 問 俄法兩國革命之比較？

答 法國革命與俄國革命之不同點有三：第一法國為中等社會革命，在求權利分配之平等。俄國為無產階級革命，在求經濟機會之平等。第二法國革命為謀民權之自由平等，屬於國家之範圍。俄國革命為解放弱小民族，打倒帝國主義，推廣及於全世界。第三法國建設民主共和政體，俄國則為無產階級專政。

第四章 文化

(1) 問 歐洲文化之來源？

答 上古歐洲文化之來源有三：一為埃及之尼羅河，一為亞洲西部之阿付臘底斯河與底格里斯河，兩地文化，均由愛琴海而傳入歐洲。

(2) 問 何謂愛琴文化？

答 希臘南端之克利地海島，處於埃及、亞洲西部與歐洲之間，成爲埃及與亞洲西部兩文化輸入歐洲之大橋梁，因克利地海島爲愛琴海之中心點，故稱爲愛琴文化。

(3) 問 河流與文化之關係？

答 文化之發源地，均在大河流域，因大河流域之兩岸，土地肥美，適宜耕種，農業發達甚早，人民生活安定，得有餘暇以思想；且水道交通便利則河域內貨物及智識之交換，當較他處發達，故大河流域爲文化之發源地。

(4) 問 埃及文化與其地勢有何關係？

答 埃及文化，與其地勢之關係極大。第一埃及有定期泛濫之尼羅河，河水挾肥美之泥沙，淹沒兩岸，而灌溉法發明甚早。第二埃及東北臨海，西界沙漠，南方爲未開化之黑人，有此天然屏障，得免外族之侵擾，而發展其文化也。

(5) 問 埃及在學術上地位何如？

答 埃及人對於學術之貢獻約有數端：一，因河水定期泛濫，發明太陽歷。二，因劃分河水泛濫土地之界限，發明幾何學。三，因治病及製木乃伊而開醫學解剖學之端緒。四，初爲象形文字，後漸有假借會意之類。五，有麻布，紙，陶器，玻璃器及青銅，金銀等細工品。

(6) 問 埃及有何重要美術？

答 埃及之重要美術，爲建築雕刻之發達，有宏大之金字塔，方尖碑，獅身人面像，螺旋堂等重大工程。

(7) 問 何謂木乃伊 (Mummy)？

答 埃及人深信靈魂不死，而重視靈魂所附之內臟，用香料浸殮屍體，使其得以永久不腐。

世稱木乃伊保屍法，五千年前埃及君王之面貌至今尚得見之。

(8) 問 何謂兩河流域文化與肥腴月灣？

答 亞洲西部之阿什臘底斯與底格里斯兩流域，為文化最早之發源地，稱為兩河流域文化。兩流域與沿地中海東岸狹長之巴勒斯坦相連接，成一新月形，均在阿刺伯沙漠之北，因其異常肥饒，故有肥腴月灣之稱。

(9) 問 兩河流域文化中心之變遷？

答 兩河流域文化中心之變遷，約分為三大期：第一期文化中心點在兩河下流之巴比倫尼亞 (Babylonia) 稱為巴比倫時代。第二期文化中心點，由河上溯至亞叙利亞 (Assyria) 稱為亞叙時代。第三期文化中心點，又回兩河下流之巴比倫尼亞，而其主人為加堤人 (The Chaldeans) 稱為加堤時代。

(10) 問 試比較埃及與兩河流域之文明？

答 埃及與兩河流域同為文化之發源地，同受大河流域之影，兩地文化發生之情形與時間雖相類似，然有一最大之不同點在，古時埃及靠天然之險無強鄰之侵寇，其文化能得按次發育開展。兩河流域之地勢則四面受敵，幾成一部土著與游牧人民之戰爭史，故其文化則時進時退，而性質亦異常複雜。

(11) 問 腓尼基人對於文化有何關係？

答 腓尼基人對於文化之關係，約有兩端：第一腓尼基人來往於埃及，亞洲西部及希臘之間，對於埃及和西亞文化之輸入歐洲有極大功勞。第二腓尼基人根據埃及之象形文字和蘇末 (Sumerians) 之楔形文字另發明一種拼音字母，為歐洲各國文字之遠祖，印度文字之模型。

(12) 問 述巴比倫文化發生之原因？

答 巴比倫文化發生之原因有二：一，居美索不達米亞肥沃之平原。二，因氣候溫和。

(13) 問 巴比倫思想與中國思想有何相類似處？

答 中國古代多神教與巴比倫思想，甚為相近，均是崇拜天體，相信宇宙精靈思想，而星象學，算學，亦均發達甚早。

(14) 問 正確之天文學始於何時？

答 古時只有星象學而無天文學，至加提人始有正確之天文學，因其對於天象之智識，頗為正確，現今吾人所沿用之黃道十三宮，赤道分三百六十度，金木水火土五大行星之名，均為加提人所遺留，而日蝕之預測，亦為其所發明。

(15) 問 希臘文化之來源？

答 希臘文化之來源有二：其一為得勝之希臘人，與土著之愛琴人結婚，而產生創造優美希臘文化之真正希臘人。其二為希臘人學會腓尼基之字母，而加以幾個母音，成為後來歐洲各種文字之祖。

(16) 問 希臘有何工商業？

答 紀元前六百年希臘之磁器，銅器等各種工藝品 均已脫離東方之影響而獨立。同時希臘在海外之商務日益發達，推銷其工藝至東方各處，與腓尼基之商人競爭。

(17) 問 希臘之三大哲學家？

答 希臘之三大哲學家：一，蘇格拉底 *Socrates* 雅典人，唯智哲學之鼻祖，主張知識為一切道德之基礎。二，柏拉圖 *Plato* 雅典人，蘇格拉底弟子，本其師說而益發揚光大。三，亞里士多德 *Aristotle* 馬其頓人，柏拉圖弟子，集希臘哲學之大成，為繼往開來之大哲。

(18) 問 亞力山大東征對於文化有何影響？

答 亞力山大東征之影響：一，希臘文化傳播於其所征服之地，後人稱爲希臘世界。二，希臘文化輸入印度。三，希臘文化輸入中國。

(19) 問 希臘有何重要之科學家？

答 希臘之科學家有亞奇米得 (Archimedes) 發明比重與軸輻之作用。亞利司太克 (Aristarchus) 發見地球繞日而行。依洛陶德 (Eratosthenes) 用日影以計算地球之大小，與用科學方法以測繪地圖。而經緯度應用於地圖亦爲其所發明。

(20) 問 羅馬法律有何可貴之處？

答 羅馬帝國之法律，爲古代各種法典所不及，人道精神，始終貫徹於其間，凡爲妻爲母爲子者，無不受法律之保護，不若昔日受家長之壓制，又謂人類非此強彼界各族分居之謂，乃屬於一國及一法之人民之謂也。

(21) 問 希臘與羅馬對於文化有何供獻？

答 希臘文化爲歐洲本土最古之文化，其特別供獻爲文學、美術、和哲學科學，繼希臘而起者爲羅馬文化，其特別供獻則爲法律和政制。

(22) 問 基督教何以能傳入羅馬給與人民以何種新希望？

答 當一二兩世紀時，羅馬人之宗教熱誠，忽現中興之象，其時哲學家已不信多神之說，漸有崇拜一神之趨向，爲他日基督教傳入之先驅。自基督教傳入後，人民得自新之機，罪過有懺悔之望，凡爲善者，死後必居樂土，羅馬人得此轉機，莫不喜形於色，以爲此玉雖苦，來世或有快樂之一日。

(23) 問 希臘羅馬對神之信仰有何不同？

答 希臘人對神以愛爲主，視神爲保護人類之真、美、善，人和神異常相視。羅馬人對神以

畏爲生，以爲若不敬神，神將降罰於人。

(24) 問 羅馬歷史有何特異之點？

答 羅馬歷史之特異點有二：第一，羅馬人爲一注重實行之民族，其想像力雖遠不如希臘人豐富，然其頭腦則冷靜鎮定，最富於普通智識。第二，羅馬爲亞力山大以後希臘文化之繼承人，故亦爲東方文化之繼承人，且羅馬又爲歐洲文化之大宗師。

(25) 問 屋大維死後羅馬有何重要事件？

答 屋大維死後，羅馬之重要事件：一，羅馬征服不列顛海島，爲英國下一文化之種子。二，基督教傳入羅馬，皇帝尼洛(Nero)慘殺基督教徒。三，羅馬皇位成爲世襲，而人民禮拜皇帝，與禮拜神道相同。

(26) 問 歐洲與中國直接交通之第一次在何時？

答 羅馬與中國頗有商務上之往來，當時中國不知有羅馬，稱爲大秦國，是爲歐洲與中國直接交通之第一次。

(27) 問 羅馬在文化史上有何地位？

答 羅馬在文化史上之地位，一方爲保存與消化及東方希臘之文化；一方將此消化過之文化傳給歐洲西北各部。

(28) 問 日耳曼人有何特異之審判法？

答 日耳曼人之法律，無審判之規定，其審判方法：一，訴訟者先宣誓其言之真確，並請同階級中人宣誓以證訴訟者之所言，人數多寡由法庭定，是謂宣誓保證法。二，訴訟者雙方或請人代表，舉行格鬥，視其勝負以定曲直，是謂賭方法。三，訴訟者以手浸於沸水，或提熱鐵以走，爲三日後無傷痕則爲直，吾則曲，是謂神訴法，此種審判方法，足以證明當時日耳

曼人文化程度之低下。

(29) 問 中古文化元素有幾？

答 中古文化含有四大元素：一，爲羅馬文化，代表上古各種文化；二，爲基督教；三，爲回教；四，爲日耳曼人原有之文化。

(30) 問 中古史與上古史有何不同之處？

答 中古史與上古史不同之點，約有數端：第一，上古史之中心爲地中海；中古史之中心爲歐洲西部。第二，上古史佔時約有四千五百年；中古史僅有一千年，不過等於上古史中之一部份。第三，上古史之各國，須分述，其間關係爲國際的，中古史則爲整個的，只有無數小城，而無列國。第四，上古史之重大成績爲創造文化，中古史之重大成績，則爲融化和各種不同性質，不同程度之文化，使其成爲近代歐洲之文化。

(31) 問 黑暗時代中有何產物？

答 黑暗時代中之重大事件有三：其一，爲教皇制度之興起。其二，爲法蘭克王國之成立，此兩種爲歐洲之產物。其三，爲回教之興起與歐洲所發生之關係，此爲亞洲之產物。

(32) 問 養蠶法何時輸入歐洲？

答 紀元五五〇年，奈施脫利派僧侶及波斯商人，自中國携蠶種至東羅馬，五五五年試養於希臘，後遂普及於意大利，法蘭西諸國。

(33) 問 述阿剌伯人之商業？

答 阿剌伯人之商業，甚爲發達，一，商人組織陸路商隊，東達印度，北至黑海沿岸，西至非洲。二，中國指南針輸入，航海術發達，東經紅海度印至中國，西至非洲北岸。

(34) 問 阿剌伯之興起對於歐洲有何影響？

答 阿剌伯人對於歐洲之影響：一，法蘭克挫敗阿剌伯人後，歐洲封建制度爲之一新，二，由十字軍之媒介，阿剌伯之文化輸入歐洲，促進歐洲文化之發展。三，阿剌伯人嘲笑基督教會之拜像，啓基督教會之分裂。

(35) 問 回教興起後之東羅馬？

答 回教徒趁東羅馬帝國衰亂，奪取其亞洲屬地，時東羅馬帝國之領土，只存希臘和小亞細亞，然在文化方面，已經希臘化，上古各種文明，賴以保護，後十字軍將此貴重之上古遺產移至西歐，伏文藝復興之種子。

(36) 問 中古文化之骨髓爲何？

答 基督教會 教皇制度，與神聖羅馬帝國爲中古文化之骨髓。

(37) 問 黑暗時代之上古文藝是否絕跡？

答 上古文藝在中古時代之埋藏地有三：一爲歐洲各地地基督教寺院。二 爲東羅馬帝國。三，爲西班牙之回教國。

(38) 問 何謂文藝復興？

答 文藝復興爲希臘羅馬之古文藝與人生觀之復活，亦即歐洲近古文化之先鋒，爲一種新文化之生產也。

(39) 問 文藝復興之原因何在？

答 文藝復興爲中古文化之一反動，其原因有二：第一，個性之發展，因中古基督教會之文化，束縛當時人民之理智與感情。第二，爲社會制度之變遷，因十字軍之結果，促成封建制度之消滅，

(40) 問 文藝復興何以產生於意大利？

答 文藝復興產於意大利之原因，大約有三：第一爲歷史上之關係，意大利爲上古文化之發源地，羅馬帝國雖亡於日耳曼人之手，然人民對於上古之文化，未嘗忘懷。第二，爲政治上之關係，意大利之政治，不易統一，故結果爲城邦政治，因此競爭劇烈，思想自由，促進人民天才之發展，而產生新文藝。第三，爲地理上之關係，當西歐捲浪之時，意大利北部各城邦，與東方之交通和商務未嘗中斷，因此意大利城邦，感受異種人之刺激，其思想不致終被教會所束縛，加之人民天性愛好文藝，故意大利爲歐洲文藝復興之中心。

(41) 問 述文藝復興之重要事件？

答 文藝復興之重要事件：一，古學之復興。二，方言文學之產生。三，藝術之復活與興盛。四，科學之興起。五，智識工具之改良。

(42) 問 上古文化與中古文化有何不同點？

答 上古文化以人爲中心，中古文化以神爲中心，此爲兩者之不同點。

(43) 問 人文主義之代表爲何人有何供獻？

答 人文主義最好之代表爲意大利佛羅羅可城之彼脫拉克。其對於文化之供獻：第一，爲其爲古學而研究古學之精神。第二，爲其收集和整理古文殘稿。第三，爲其舍棄膚淺之創作而從事復古運動，使意大利文藝復興成爲一長久而有價植之事業，故對於彼脫拉克有一「人文主義之父」之稱。

(44) 問 東羅馬之滅亡與古學復興有何關係？

答 東羅馬帝國因土耳其人之入侵，遣使至意大利求助，使者對希臘古學大都均有相當之研究，於是被意大利人聘爲希臘教師，後東羅馬爲土耳其人所滅，於是希臘學者西徙日多，而古希臘文化之精神，更發揚而光大焉。

(45) 問 歐洲方言文學第一成功者爲何人？

答 歐洲方言文學第一成功者爲十四世紀意大利詩人但丁神曲。

(46) 問 希臘以後第一大雕刻家爲誰？

答 希臘以後第一大雕刻家爲米開蘭基羅 (Michelangelo) 其雕像上有極深刻情緒，以表示其生命之奮鬥。

(47) 問 文藝復興時之圖畫有何改進？

答 文藝復興時對於圖畫之改進，約有三點：一，爲技術之改良，使藝術與人生相近。二，爲範圍之擴充，中古畫家之範圍以聖經爲限，後經復古潮流，希臘神話及日常生活情形均成爲畫家資料。三，爲審美傾向，此爲復古與人生觀改變之結果。

(48) 問 近世科學之先鋒爲誰？

答 十三世紀之培根 (Robert Bacon) 爲近世科學家之先鋒。時僧院學派勢談方盛，以亞里斯多德爲護符，培根以攻詰此學派爲最有力，謂真理之尋求，應從觀察物象，與實驗物質下手，爲近世科學之第一提倡者。

(49) 問 宇宙中心說之改變有若何影響？

答 古天文學家多洛梅 (Ptolemy) 創地球爲宇宙中心說，後千數百年來，未生疑問直至哥白尼 (Copernicus) 出，始主張太陽爲宇宙之中心，此宇宙中心說之改變，不僅爲天文學上之一大革命，亦爲人生哲學上之一大革命，因基督教聖經解釋人類爲宇宙之中心，上帝之驕子，其所居地球，當然爲日月星辰所拱抱，今改變舊說，則人類之尊嚴墜落，對基督教之信仰動搖矣。

(50) 問 活版印刷術何時發明？

答 荷蘭人加斯脫(Costin)爲第一個完成活版印刷術者，德人哥登堡(Gutenberg)爲第一個應用活版印刷者，而一四五四年出版之聖經，則爲第一本用活版印出之重要書籍。

第五章 民族

(1) 問 腓尼基人之特性爲何？

答 腓尼基人爲一頭腦冷靜，去華務實之工商民族。

(2) 問 波斯屬於何族，起於何地？

答 波斯與馬太同屬亞利安族，起於馬太之南伊蘭山中，本爲馬太屬國，後滅之而獨立。

(3) 問 斯巴達與雅典之比較？

答 斯巴達爲一貴族專制之國，其人民有生以來，卽服從於嚴苛軍法之下，而受軍事教育。視耕種與工商，爲奴隸之事，市民唯一之職業，在於打仗，其土地十分貧苦，養成其服從儉樸耐苦之特性。雅典以工商立國，故產生一富庶之中等社會，代表人民，以與貴族爭取政權，其政體初爲王政，後改民主，雅典因政體改革，內闕既已，遂盡力文化，既無專制政治之束縛，且有秀美山川，自然之感化，故其文學哲學美術俱甚發達。

(4) 問 馬其頓何以勃興？

答 馬其頓爲希臘北方之一國，文化極低，至紀元前第四紀中葉，馬其頓王非力布Philip，當希臘多事之秋，征服希臘北部，後又征服其南部之大部分，而爲希臘之盟主。

(5) 問 羅馬何以有貧富不均之現象？

答 當時人民以土地多寡爲貧富之標準，無廣大田地者，卽無充當縉紳官吏之希望，國內土地漸入少數富人之手，中人之家田漸消滅，因此羅馬有貧富不均現象之原因。

(6) 問 奴隸制度對於自由民之影響若何？

答 羅馬地主，各種工作，皆任奴隸爲之，自由民遂不多願作工者，以爲此乃奴隸之責任，國內市場亦爲奴隸所壟斷。因蓄奴之主，不特本身之日用品，由奴隸供給，且往往使奴隸出爲人傭，於是自由民工作之機會剝削殆盡。

(7) 問 試比較羅馬與希臘之地勢？

答 意大利與希臘同爲地中海之半島，惟意大利半島之面西向，不若希臘有如橋一般之羣島，以引誘居民，出外經商，故羅馬成爲農業國，而希臘則以商立國，但意大利半島之內部，交通甚便，故羅馬政治上結合，較希臘爲易，此希臘之所以爲城邦制，而羅馬則爲統一之帝國也。

(8) 問 羅馬市之住民爲何族？

答 羅馬市之住民由拉丁，薩賓 (Sabines) 哀脫拉斯支 (Tuscan's) 三族混合而成。

(9) 問 羅馬人有何特性？

答 羅馬人之性質，尚武，重實行，質樸而有忍耐力，對外人強硬，喜侵略，頗似斯巴達人，故學者思想家少，而政治軍事人材多。

(10) 問 Frank 王國之內亂何故不影響民族之發展？

答 Frank 王 Clovis 卒後，四子分據其領土，內亂有百年之久，然民族之發達，未嘗中止，其所以因四鄰無強國入寇之虞，其另一則國因 Frank 種人領土中，頗能維持一統之局。

(11) 問 Frank 王國分裂爲幾部？

答 Clovis 死後五十年 Frank 王國，分裂爲三：在西部者爲 Neustria，以巴黎爲中心。居民多受昔日羅馬文化之陶鑄，在東部者爲 Austrasia 居民純屬日耳曼種，此二國卽他日法德兩國之雛形，在其中者卽昔日之 Burgundian 王國也。

(12) 問 日耳曼族之影響何如？

答 日耳曼族之影響：一、西羅馬滅亡。二、英吉利建國。三、法蘭西建國。後分裂為德意志、法蘭西兩部。四、破壞希臘羅馬之文化。五、因日耳曼族陸續改奉基督教，基督教得以廣布。六、拉丁民族形成。

(13) 問 阿剌伯帝國與中國有何關係？

答 唐高宗永徽二年，哈里發(Caliph)鄂斯曼遣使修好。獻良方物，尋賂唐葱嶺以西昭武九姓之地。唐睿宗時，阿剌伯勇將庫退拔(Kutayba)踰葱嶺，陷唐之于闐，以乏水草引歸，安史之亂，回紇入援，回教遂傳入中國。

(14) 問 印度爲何種民族來至何處？

答 印度爲亞利安族，從中亞細亞入居印度，戰敗原有土人。

(15) 問 印度民族者何進展？

答 印度民族最先佔有西北之印度河，後進展至恆河流域，成爲東方之文明國。

(16) 問 印度有何種階級？

答 印度之階級有四：第一爲聖族，第二爲武族，第三爲平民，第四爲奴隸，前三級均爲亞利安人，後一級則爲印度土人。

(17) 問 諾曼底人征服英吉利何以爲歷史上的一件重要之事跡？

答 人類上古之歷史，均爲野蠻游牧之民族，征服文明之土著人，而諾曼底人之征服英吉利則爲例外，其征服者之文明程度，遠高於被征服者之野蠻人。

(18) 問 諾曼底人入主英國之結果何如？

答 諾曼底人入主英國之結果：第一，爲封建制度之輸入，第二，爲貴族平民之劃分。第三

，爲兩種人民語言文字之混合。第四，爲社會風俗及政治組織之改變。從此在社會上及政治上英吉利均與歐洲大陸發生極大之關係。

(19) 問 何謂漢撒同盟？

答 漢撒同盟爲日耳曼北部七十餘城聯合之團體，在政治上與軍事上不受他人干涉，能自由對外宣戰，無異一獨立之聯邦政府。

(20) 問 何謂瑞士聯盟？

答 十三世紀時在日耳曼南部呂森湖畔之三森林城，爲防止鄰邦之侵寇，互相團結，此即瑞士聯盟之胚胎，近世瑞士聯邦，即此聯盟擴大而成。

(21) 問 大不列顛王國何時成立？

答 一七〇七年英女王安娜在位時蘇格蘭正式合併於英吉利，從此英吉利愛爾蘭蘇格蘭三國統一於同一政府之下，而大不列顛王國成立。

(22) 問 美國奴制與古代奴制有何不同？

答 奴隸問題在古代不過爲同族中個人身分高下之問題。今在美國，則變爲人種上極端相反而文野迥異兩民族間之關係。

(23) 問 何謂孟祿主義？

答 當西班牙殖民地，既已獨立，神聖同盟諸國，欲以干涉歐洲各國之手段，施之新大陸，其時北美合衆國大總統孟祿 (Monroe) 發表反對宣言，謂合衆國對於歐洲戰爭，從未干涉，將來亦不過問；但美洲諸國亦不願他人過問，如有擾害和平安全，即以兵戎相見。此即所謂孟祿主義，不特拯救當時美洲諸國，實亦防止神聖同盟之波及於新大陸。

第六章 殖民與深險

一四六

(1) 問 述希臘貴族發生之原因與其影響？

答 希臘本為自由人民，後有少數人用欺詐或強迫以侵占他人之田地而造成貴族，並奪得君主之實權，以剝削壓迫農民之自由，是時農民唯一之出路，即向國外逃避，到處均有同鄉之商站，以便留住，於是希臘商場一變而為希臘之殖民地，國中貴族壓力愈大，農民離國愈多，而希臘之殖民地，亦因此滿布於小亞細亞西南黑海地中海各岸矣。

(2) 問 十四世紀後歐人新土地之開拓有何特異性質？

答 十四世紀後，歐人新土地之開拓，其特異性質有二：第一歐人此次開拓之目的，除政治與經濟外，兼有甚強之宗教分子。第二，歐人從前開拓之範圍，以地中海沿岸為限，此次開拓則遍及東西兩半球。

(3) 問 發現海洋祕密之三大偉人？

答 渡過大西洋首先發現美洲者，為意大利人之哥倫布。繞過非洲南端好望角渡印度洋以達印度西岸者，為葡萄牙人之伽馬。繞過南美洲之麥哲倫海峽發現太平洋之祕密者為葡萄牙人之麥哲倫。

(4) 問 葡萄牙人繞道非洲以求亞洲航路之目的何在？

答 中古末年之重要商務，為由南洋各島運入歐洲之各種香料，時東向之商路，為意大利所霸佔，於是繞道非洲直達印度之觀念，成為葡萄牙人唯一之希望。

(5) 問 述荷蘭殖民之原因與其結果？

答 荷蘭殖民之目的，純粹屬於經濟方面，因西班牙王封鎖荷蘭商業，激起荷蘭殖民之事業

使荷蘭勢力遍佈於南洋羣島，戰勝西葡兩國，而爲南洋羣島之主人翁。

(6) 問 英人殖民新大陸與殖民印度之目的是否相同？

答 英人殖民印度爲一單純經濟之目的；殖民美洲，則含有捨棄不自由之祖國而求自由於新大陸之動機，因新大陸地廣人稀，爲移民良好之地；印度則爲一古文明國，人民繁庶，商業興盛，最好之商場也。

(7) 問 新土地之發見與各國殖民之結果何如？

答 新土地之發見與各國殖民之結果：第一，爲交通與商務中心之轉移，從以地中海爲中心之交通與商務，移轉於大西洋，第二因土地之開拓，激起人種之詩情與新希望，爲歐洲新文藝之一大源泉。第三，國際間猜忌和競爭愈趨激烈，爲帝國主義之伏根。第四，歐洲之文化，因殖民地之開拓被及於全世界。

(8) 問 殖民地競爭之起落？

答 在東半球方面，繼葡萄牙而起，遂鹿於南洋羣島與印度者，凡三國：即荷蘭、法蘭西、英吉利是也。荷蘭在南洋羣島占勝利，而印度則成爲英法兩國競爭之場所，在西半球方面，西班牙在北美洲之勢力，日漸衰落，荷蘭在北美洲之殖民地，亦陸續歸入英國，故北美亦爲英法二國之戰場，然最後勝利，雙方均認英吉利。

(9) 問 述英法在印度之競爭？

答 法人殖民之特點，在於能結欲土人；而英人之自治能力與商務天才，遠在法人之上，故在荷、葡、法，英等東印度公司中，英人之公司最旺，加之英政府能以海軍爲公司之後盾，後英人克來武出，卒在印度戰勝法國，根本動搖其勢力，而英國統治印度之基礎，日益堅牢。

(10) 問 海外殖民競爭之結果何如？

答 十八世紀下半期，英國在東西兩半球殖民地之大勝利，及其領土之飛增，為歐洲列國對於殖民地競爭之大結束，美洲合衆國對英獨立，而歐洲政治學說一變從前干涉政策，擴張放任，故列國對於殖民地趨於放任一途，任其自由設施，殆十九世紀工業革命後，各國對殖民地之政策又一變。

(11) 問 歐洲列強外交上之競爭引起殖民地何種觀念？

答 歐洲各國君主之爭權奪利，至十八世紀釀成外交上更為複雜狡猾之強國戰爭，而詐僞之外交手段，愈見進步。因此加重民衆之租稅，各殖民地對於歐洲之陰謀與衝突，既未嘗參與，且無何種重大利害關係，故對此種因外交政策而引起之租稅不能負擔，因此殖民地之主要觀念，即此納稅而無代表，實屬苛政之一語也。

(12) 問 十三洲殖民地南北生活有何不同？

答 十三洲殖民地之北部，主僕并肩而作，日久平等，社會無極貧極富之人，南部則有大地主，與依賴奴隸為生之監督與專門職業之人，故北部無奴隸制度而南部社會制度與經濟制度之中心，實為奴工，此十三洲殖民地南北生活之不同者。

(13) 問 十三洲殖民地有何公敵？

答 十三洲殖民地人之起源與習慣雖複雜不同，然其共同之公敵有三，第一，共同反對紅印夷安人。第二，同懼當時法人之戰勝與管轄。第三，共同反對英王之要求，與操縱英國國會，壟斷英國政事之豪族政治。

(14) 問 英國政府如何壓迫美洲殖民地？

答 美洲殖民地所受英國政府壓迫之疾苦，可分為三大類：第一，欲為英政府取得殖民地利

統之各種計劃。第二，使美洲殖民地之外國貿易，盡歸諸英人之手，且僅許美人使用英貨。
第三，藉口英國國會係帝國最高課稅之權力，欲向移民課稅，美洲殖民有此三種疾苦，遂起
迫而為政治上之反抗。

(15) 問 何謂大陸會議？

答 一七七四年英國國會決定封鎖波士頓，以懲美人抵制東印度公司運茶之舉動，美洲殖民地亦從事反抗。在菲列得爾菲亞開第一次大陸會議，出席者十二洲結果發表人權宣言。一七七五年召集第二次大陸會議，派華盛頓為美軍總司令。一七七六年，大陸會議採取宣言分立之策，發表獨立宣言，於是美洲殖民地遂脫離英國而獨立。

(16) 問 英國承認美國獨立草約在何時何地？

答 英國承認美國獨立草約，於一七八二年冬，在巴黎簽字，次年四月十九日宣告停戰。

(17) 問 英人何時滅印度？

答 一八五七年印度土兵叛英，英人以兩年之力平之，廢蒙古帝，而由英王自兼。

(18) 問 澳大地亞何時為何國之殖民地？

答 十一世紀末期澳大利亞為英國之殖民地。

(19) 問 印度支那半島之國家有幾國勢何如？

答 印度支那半島之國家凡三：在東者為安南，在西者為緬甸，中部為暹羅，均為我國之藩屬。現安南屬法，緬甸屬英，而暹羅屬於兩大均勢之間，得以獨立。

(20) 問 英人佔領印度後對於中國發生何種影響？

答 英人佔領印度後，於恆河流域廣種鴉片，行銷我國，卒至對我發生鴉片戰爭，為外人侵略我國之端。

(21) 問 殖民政策與德法兩國之提攜有何關係？

答 德、奧、意三國同盟成立後，俄、法兩國，德人對之念念不忘，俄皇雖持親德主義，然其銳進黨人終倡聯法，故德人另謀一策，使法蘭西注意於殖民政策，以移其復仇觀念也。

(22) 問 朝鮮東學黨作亂有何影響？

答 朝鮮因東學黨作亂，請求中國派兵平亂，日本亦借此出兵，亂定後日人處處逼人，卒至發生中日之戰。

(23) 問 朝鮮與中俄日三國之關係何如？

答 朝鮮與我國之關係甚深，自古即為我國屬國。中自戰後朝鮮脫我有獨立。國號大韓，是時俄人東侵之野心極雄。其勢力滿佈於滿洲與朝鮮，日人畏而忌之，卒至發生日俄之戰。戰退俄人之勢力，從此朝鮮則處於日人卵覆之下矣。

(24) 問 日本何時合併朝鮮？

答，一九一〇年日本以韓人安重根刺殺統監伊藤博文一事為借口合併朝鮮。

第七章 宗教

(1) 問 希伯來人宗教思想何以發達？

答 希伯來人因備受死亡流離之痛苦，欲求一自慰自解之道路而成為一強烈之宗教民族。

(2) 問 猶太教之十誡何來？

答 當希伯來人脫離埃及回國時，途經西奈山(Sinai Mt.)酋長摩西(Moses)登山授十誡，是為猶太教確立之始。

(3) 問 波斯有何種宗教？

答 波斯崇拜二神教，謂世界有善惡二神，善神是光明的，爲庇護人類創造萬物之神。惡神是黑暗的，爲損害人類毀壞萬物之神，但善神常得最後之勝利，而以太陽同火爲善神之代表，故又有拜火教之稱。

(4) 問 波斯之宗教與中國有何關係？

答 波斯之二神教，唐初傳入中國，稱爲祆教，今山西省之太陽教，卽其遺派。

(5) 問 印度有何宗教？

答 印度最先有婆羅門教，重階級；後釋迦創造佛教，重慈悲平等，爲婆羅門教之一大革命。

(6) 問 基督教未定爲羅馬國教前之教會爲何種情形？

答 基督教未定爲羅馬國教以前之教會，已顯分界域，教會中之官吏，爲教士，普通人民爲俗人，教士負管理教務及教訓教徒之責，羅馬國內每城有主教一人，每鄉有牧師一人，再下有助祭副助祭等等，凡牧師皆受主教之節制，而大城中之主教勢力尤大，漸改稱爲大教主，有召集各城主教開教會大會議決要事之權。

(7) 問 召集第一次基督教大會者爲何人在何地？

答 皇帝 (Constantine) 爲第一個信奉基督教之羅馬皇帝三二五年，召集第一次基督教大會於 Nicaea 地方。

(8) 問 Clovis 何故改信羅馬正教，有何影響？

答 Frank 王 Clovis 雖爲異端，而其後已改信羅馬正宗之基督教，當 Clovis 與 Alenanni 族戰時，忽見前敵兵士，勢不能支，乃求祐於基督，並謂如能克敵，定受浸禮而爲基督教徒，戰後乃與其兵士三千人同受浸禮，彼之改信基督教在歐洲史上有極大關係，因其所信奉者

，爲羅馬正宗，羅馬主教，頗與之周旋，不以異族視之，反以 *Co-sec.* 爲上帝所命之人，擴張基督教之武器。

(9) 問 造成中世紀基督教會盛大威權之原因爲何？

答 當日耳曼人侵擾羅馬，官吏逃走一空，於是人民任其魚肉，文化任其破壞。此時基督教中之教士，一方代替羅馬官吏保護人民，維持秩序，一方靠其舊教育保存上古不絕如縷之文學美術，又利用其超出政治以外之資格，感化入寇之蠻族，而造成教會盛大之威權。

(10) 問 說基督教之發生與其宏布？

答 因猶大人感亡國之痛苦，傳言上帝將派救世主以救猶太族。耶穌基督 (*Jesus Christ*) 遂乘勢起而創立基督教。耶穌死後，其弟子布教於小亞細亞，馬其頓，希臘，羅馬各地，羅馬歷代皇帝多視基督教爲邪教而嚴罰之，然其教義較高於當時之多种教，而教徒自信力極強，不肯改變意志，反因政府之嚴罰而信者益衆。

(11) 問 基督教會何以分裂？

答 因東方教會，禁止崇拜偶像，西方教會不從，基督教會遂分裂爲二，在東方者以君士坦丁堡主教爲領袖，稱爲希臘教，其大主教對於東羅馬皇帝仍處於臣屬地位，在西方者以羅馬教皇爲領袖，稱爲羅馬教，教皇地位獨立。

(12) 問 教皇制度之產生有何背景？

答 教皇制度產生之背景，約有數端：第一，當時意大利之政治，無負責之主入。第二，社會擾亂，被征服者受盡死亡流離之慘痛，對於人生興趣已經消滅，適宜於宗教之傳播。第三，日耳曼人生性野蠻，頭腦簡單，爲用宗教感化，可以減少其好殺獸性，最爲適宜。第四，基督教會，受羅馬政治組織之影響，進爲一有系統有階級之組織，凡有羅馬官吏之處，均有

一同等之基督教官吏，大城則有一教主，極大之城則有一大教主；此即教皇之前身。

(13) 問 異端與基督教之觀念有何不同？

答 基督教本主靈魂不滅，死後賞罰之說；當時人民，莫不聞而生畏，古代異端，視宗教為今生之業，興來生無歸，崇拜神明，無非求今生之快樂。

(14) 問 回教之內容若何？創教者為何人？在何地？

答 阿刺伯人穆罕穆德 (Mohammed) 在 Mecca 地方始創回教。因穆罕穆德在阿刺伯常遇基督教及猶太人，因得基督教新舊約全書中之觀念，而創立待奉一神之新宗教。

(15) 問 回教發生之原因為何？

答 回教發生之原因有二：一，阿刺伯半島為許多市府及部落，無統一之政府。二，宗教信仰不一，北部信基督教，中部信猶太教者不少，多數住民，則信拔爾教，故有產生統一宗教之必要。

(16) 問 回教有何特異精神？

答 回教之精神與其他宗教有特異之處。一，諸宗教講出世，回教宗旨在出世入世之間。二，諸教教主多道德家，回教教主為大英雄。三，諸教尚仁慈，回教尚武力。四，諸教主博愛，回教主排外。

(17) 問 五權神授之觀念從何而起？

答 自 Pippin 遵古代猶太之舊習，使羅馬教皇參預加冕，日耳曼種之酋長，遂一變而為神命之君王，他日王權神授之觀念，實端倪於此。

(18) 問 回教與基督教之異同點？

答 回教與基督教相同一傳說，信奉同一上帝，惟基督教以耶穌為救主，而回教則以穆罕

穆德爲教主，而以耶穌爲救主出世以前之先知，此爲兩教之不同點。

(19) 問 查理曼用何法以征服撒克遜邦？

答 撒克遜爲游牧民族，既無道路，又無城市，平時騷擾法蘭克邊境，及法蘭克兵至，則遷避森林之中，無法征服，因是法蘭克王查理曼利用宗教勢力以助之，每勝一地必令人民立誓，永遠尊敬教會，凡逃匿不受洗禮，處以死刑，於是教會成爲一地之中心，確立城市之基礎，而教主則爲領袖，從此撒克遜爲其征服。

(20) 問 回教佈教用何種方法？

答 回教專以武力佈教，常強迫征服地之人民，信奉可蘭經(Koran)否則納租稅，不從則加以兵力。

(21) 問 何謂神聖羅馬皇帝？

答 神聖爲教會之分子，帝國爲武力之代表，羅馬則兩方之公有物，故此名辭，爲基督教，日耳曼人，與羅馬文化三重要元素混合而成。

(22) 問 教皇與皇帝衝突之導火線何在？

答 教皇與皇帝同爲上帝之代表，教皇管理人類靈魂，皇帝則管理俗務，似可各不相犯，然一地之主教，往往兼爲皇帝之地方官，其對於皇帝與教皇均處於臣屬之地位。於是選擇主教一事，成爲教皇與皇帝長期衝突之導火線。

(23) 問 何謂上帝停戰條約？

答 基督教會中人，尤能致力於恢復和平之運動，主教中嘗有上帝停戰條約之頒發，規定自禮拜四至禮拜一早晨及其他齋戒之日均應停戰，迫令諸侯宣誓遵從，否則逐之教會之外，爭鬥之風爲之稍減。

(24) 問 格雷哥第七如何改良教會？

答 格雷哥第七 (Gregory VII) 爲教皇後第一件大事，卽爲改良教會內政，與禁止教士婚娶。第二件大事，卽將選擇教士之權，從皇帝手中收回，俾不道德之貴族不致爲基督教之主教。

(25) 問 神聖羅馬帝國衰弱之關係？

答 神聖羅馬帝國之失敗，卽宗教與武力之失敗。亦卽近古列國之分力戰勝中古之合力也。

(26) 問 基督教會衰之原因何在？

答 基督教會衰敗之原因有二：其一，在於基督教之政治化。教皇成爲政客，而爲束縛人民思想和自由之專制魔王。其二，在於教士和教會本身之腐敗。各地主教大都貴族，其驕奢淫逸之風，滿布於基督教會內，此基督教會之所以衰敗，而引起劇烈之反動。

(27) 問 述改革教會之兩派？

答 改革教會之人，大抵可分兩派：其一，爲仍舊盡忠於教會者，其改革手續，從教士及僧侶個人生活下手，此等人能捨棄富貴，粗衣惡食而度其行乞和修道的生活。稱爲「乞食之兄弟」(Mendicantfratians)。其二，爲反對現在教會之教條和主權，而目的不在改良教會，在於改良基督教，視當時之教會爲其基督教之仇敵，因此教會中人視此等人爲邪教徒，(Hereses) 而用火刑焚之。

(28) 問 中古基督教會對於人民之利弊若何？

答 中古因日耳曼人入寇，社會秩序異常混亂，人心彷徨。在此等環境中，基督教會能給人民以精神上之安慰，且成爲政治上與智識界之領袖，此基督教會所給與中古時代之利益。惟在此教會獨尊威權之下，中古人民，不但無信教自由，思想自由，且無生活自由，故中古教

士之威權，轉成爲當時人民精神之械鎗矣。

(29) 問 人民公然反抗教皇之第一次爲何事？

答 常路德抗議贖罪券，教皇欲以壓制手段對之，先召路德至羅馬，路德拒召不去，教皇大怒，驅逐路德出教，路德並不驚慌，反當衆焚毀教皇命令，是爲人民公然反抗教皇之第一次。

(30) 問 發生宗教革命之原因爲何？

答 宗教革命爲歐洲中古歷史上之特產品，其發生之原因：約有數方面：第一，當時人民對於宗教觀念之復活，代表宗教復活之潮流者有兩大派，即改革派與革命派。第二，教會內部腐敗，日益顯著，賣官贖罪，人民信仰喪失殆盡。第三，希臘古學復興，批評和求真理之精神，侵入歐洲之思想界，中古教會，不足以束縛人民之思想。第四，列國興起。教會與國君對於政權，發生爭執，加一反抗教會之強有力者。第五，中古教會，不但爲獨立之地主，且可不納國家租稅，自己反能任意剝削農民，總上數因，其發生宗教革命爲當然之趨勢。

(31) 問 文藝復興以意大利爲中心宗教革命以北爲中心其故安在？

答 文藝復興以意大利爲中心之原因，蓋因意大利爲上古文化發源地，而交通便利，思想自由。宗教革命以北歐爲中心之原因：第一，因北歐對於人生之觀念十分莊嚴，所欲研究者，爲生死問題。故文藝復興給與北歐之影響，則爲宗教革命。第二，北歐印刷術盛行，聖經流入民間，爲中古教會之致命傷。第三，北歐人不及南歐人之富於保守性質。此文藝復興之所以意大利爲中心，而宗教革命則以北歐爲中心也。

(32) 問 宗教革命給與各國之影響若何？

答 英吉利，西班牙，法蘭西三國，同被捲入宗教革命潮流之中，惟英國以維新自命，西班牙

牙以挽回狂瀾之責自任，法國處於兩者之間，視政治上之利害，以決定其宗教之態度。

(33) 問 南歐諸國何以信奉舊教？

答 新教側重理智，舊教側重情感，南歐諸國之國民性重情感，且與舊教之淵源較深，故依舊信奉舊教。

(34) 問 宗教改革運動中有何重要分子？

答 宗教改革運動中之份子，大別為三種人：一為個人，一為教皇及教士，一為列國之君王。個人運動改良教會，中古已有其成績，不在一時之勝利，而在給與後來人心之影響。教皇與教士，因異教勢力之蔓延，為自救計而痛改前非，列國君主對宗教之態度有忠於教皇者，有反叛教皇者，然彼等之目的，均在政治而不在宗教耳。

(35) 問 伊拉斯莫與路德兩人思想有何不同？

答 伊拉斯莫(Erasmus)深信人類之理智，能導人入天國，為一主張性善說者。路德以唯有靠至誠之心，無條件的降服上帝，人類始有得救之希望，為一主張性惡說者。

(36) 問 何謂神聖同盟其目的何在？

答 俄帝亞歷山大第一欲保持歐洲永久勢力，與奧普同盟，謂三國君主對於內政外交，一本基督教旨，以正義、仁愛，和平為主義，是即所謂神聖同盟。然其真目的，純為各國專制君主，堅相結納，而謀壓制自由平等而厲行專制主義也。

世界地理常識問答

第一章 總論之部

(1) 問 說者謂世界有五大洲，然亦有分六大洲，或分爲七大洲，試舉其名？

答 白亞細亞洲 Asia, 歐羅巴洲 Europe, 阿非利亞洲 Africa, 海洋洲 Oceania, 阿美利亞洲 America, 是謂五大洲。或分阿美利亞洲爲南北二洲，是爲六大洲。更有列南極大地爲一洲，名曰南冰洲，Antarctic。則爲七大洲矣。

(2) 問 何謂東西半球，南北半球，及水陸半球？

答 研究地理者，每劃地球爲東西二部，亞歐非及海洋洲是爲東半球，南北美洲是爲西半球。或分地球爲南北二部，赤道以北者曰北半球，赤道以南者曰南半球。或分地球爲二部，一部陸多水少，名曰陸半球，以英格蘭爲中心，一部水多陸少，曰水半球，以紐絲倫爲中心。

(3) 問 何謂五大洋？

答 五大洋：曰太平洋 Pacific Ocean 介亞澳與美洲間，曰大西洋 Atlantic Ocean 介歐非與美洲間，曰印度洋 Indian Ocean 在亞洲之南，曰北冰洋 Arctic Ocean 在北極四周，曰南冰洋 Antarctic Ocean 在南極四周。

(4) 問 世世最長之河，及最大之流域何名？

答 世界最長之河爲北美之密士失必河，*Mississippi* 長四千五百哩。世界最大之流域，爲南美之亞馬孫河，*Amazon* 流域面積凡二百五十萬方里。

(5) 問 世界最大之淡水湖鹹水湖及最深之湖何名？並在哪處？

答 世界最大之淡水湖，爲北美洲之蘇必厘爾湖，譯意曰上湖 Superior，面積凡三萬二千方里。世界最大之鹹水湖，爲歐亞間之裏海，Caspian Sea，面積凡十九萬方里。最深之湖爲西伯利亞之貝加爾湖，Baikal，深四十五百方尺。

(6) 問 世界最深之海在何處？

答 世界最深之海，在太平洋中菲律賓羣島東，深三萬五千尺。

(7) 問 世界最高之山何名？

答 世界最高之山，爲亞洲喜馬拉雅山脈中之額非爾士峯，Everest mt. 高出海面二萬九千餘尺。或謂巴布亞島之黑爾姑斯山尤高過額非爾士三千尺。然地理學家不承認其說也。

(8) 問 世界最高之高原，及最大之曠野，在何處？

答 世界最高之高原，爲西藏高原。最大之曠野，爲西伯利亞曠野。均在亞洲。

(9) 問 世界最大之沙漠何名？

答 世界最大之沙漠，爲非洲之撒哈拉，Sahara，面積幾得歐洲三分之二。

(10) 問 試舉世界最大之三島，及其所屬？

答 世界最大之三島，一曰格林蘭，屬丹麥。二曰巴布亞，屬英荷。三曰婆羅洲，屬英荷。

(11) 問 世界最熱地最寒地、雨量最多地、及最大無雨區域，各在何處？

答 世界最熱之地爲阿剌伯半島，最寒之地爲西伯利亞之雅拿河口，Yana R.，雨量最多之地爲印度之恒河流域。最大無雨區域，即中央亞細亞。

(12) 問 世界三大漁場，在何處？

答 世界大漁場，一日本之北海道，二那威沿河，三北美之紐芬蘭島 Newfoundland。

(13) 問 試舉世界著名之產煤油地，及產金地？

答 世界著名石油產地爲美國賓夕法尼亞省，俄屬之高加索。金之著名產地 爲美國加里福尼亞省，南非之德蘭士瓦，澳洲之維多利亞。

(14) 問 世界之產米地，及甘蔗橡皮產額最多之地，各在何處？

答 世界產米地爲印度 印度支那 中國 日本。甘蔗產額最多之地，爲古巴及東印度。橡皮之產地，爲巴西及馬來西亞。

(51) 問 試舉世界三大海軍國及其噸位之比較？

答 世界三大海軍國，即英美日三國是也。太平洋會議限爲五五三之比例，即英美各五十二萬五千噸，日本三十一萬五千噸是也。

(16) 問 何謂世界三大牧場？

答 世界之三大牧場，即澳洲，阿根廷，與蒙古是也。

(17) 問 試述世界之三大都會及其人口？

答 世界三大都會爲英之倫敦（人口七百五十萬），法之巴黎（人口四百四十萬）。美之紐約（人口五百六十萬）。

(18) 問 世界之人種有幾？其分布如何？

答 世界之人種，極爲繁多，普通之說分爲四大種，曰黃色人種，居住亞洲之大部分。曰白色人種，居住地中海周圍。曰黑色人種，居住印度洋之東西。曰紅色人種，居住新大陸。

(19) 問 世界之人口共有幾何？各種之人數若干？

答 全世界之人口約十九萬萬，其中黃色人種約七萬二千萬，白色人種約九萬七千萬，黑色人種約一萬七千萬，紅色人種約三千二百萬。

(20) 問 世界最風行之語言爲何？

答：世界最風行之語言，(1)英語，風行英美及其屬地。(2)法語，為世界外交用之語言。(3)德語，為世界科學之語言。(4)西班牙語，行於墨西哥及南美洲諸國。(5)俄語，印度語，中國語，多行於本國。

(21)問 世界最著名之宗教有幾，其流行之地域為何？

答 世界之大宗教有三，(一)基督教，傳布殆遍全球。(二)佛教，傳布於緬甸暹羅中國日本。(三)回教，傳布於中國土耳其馬來羣島及非洲各國。

(22)問 世界之獨立國家共有幾何？

答 據一九二八年之統計，全世界之稱為獨立國者，共六十四國。

(23)問 試述世界最大之國與最小之國。

答 世界最大之國為英國，面積九百十萬方哩，屬地遍全球。最小之國為摩納哥，*Monaco*，介法蘭西與義大利之間，面積僅八方哩。

第二章 亞細亞洲之部

(1)問 亞洲之主要山脈有幾，其分布如何？

答 亞洲之主要山脈皆自帕米爾 *Pamirs* 發軔，四向分歧，為五大系。

(一)東北走者為天山山系，連阿爾泰山系，外與安嶺，斯塔諾尼嶺，至亞洲之東北角止。
(二)東走者為崑崙山系，蜿蜒於黃河長江湄公江怒江諸水間，為陰山北嶺南嶺及印度支那諸山脈。

(三)東南走者為喜馬拉雅山系，為中印之天然界限。

(四)南走者為蘇利曼山系，走印度西北。

(五) 西走者與爲都庫什山系，連厄爾布士山，而終於小亞細亞半島。

(2) 問 試將亞洲入太平洋印度洋北冰洋及內陸河流之著者，列舉之？

答 黑龍江，黃河，長江，湄公河入太平洋。

薩爾溫江，恆河，印度河流入印度洋，

鄂畢海，葉尼塞河，勒拿河流入北冰洋。

阿姆河，錫爾河，塔里木河爲內陸河。

(3) 問 試舉亞洲南部之三大半島並言其歷史上之關係？

答 印度支那半島，印度半島，及阿剌伯半島，即亞洲南部之三大半島也。至言其歷史，則

阿剌伯爲回教祖摩罕默德發祥地，印度爲古文明國之一，印度支那半島爲英法遠東之逐鹿場。

(4) 問 試言亞洲水陸交通之概略？

答 亞洲之交通，試分言別之：(1) 鐵道以印度與日本爲密，而俄之西伯利亞大鐵道爲歐

亞交通捷徑。中亞一帶，陸路交通專恃牲畜。(2) 船路可分爲東西二大道，東由上海經橫

濱檀香山至北美，西由上海經香港新加坡哥倫坡亞丁蘇夷士而至歐洲。

(5) 問 試言亞洲地文人文之特點？

答 亞洲稱世界第一大洲，其地文人文上之特點甚多。以言地文，有世界第一曠野，(西伯

利亞)第一高原(西藏)第一高山，(喜馬拉雅山)第一大鹹水湖，(裏海)第一抵地。(死海)入

文則有世界最大之運河(中國之大運河)最長之(西伯利亞)鐵道，世界文明之發源地(中

國印度美索不達米)世界之三大宗教，(耶佛回)皆發源地於本洲。

(6) 問 試舉亞洲獨立之國家？

答 亞洲之完全獨立國如下：中國。（共和國）日本（君主國）暹羅（君主國）阿富汗（君主國）波斯（王國）土耳其（共和國）。

(7) 問 試述亞洲之人種？

答 亞洲之民族分爲三大種：(1) 亞細亞種，漢族蒙古族西藏族日本族印度支那族土耳其族屬之，居亞洲之中部東部北部。(2) 歐羅巴種，阿利安族阿刺伯族閃族 Semite 屬之，居印度半島伊蘭高原及阿刺伯半島，另有斯拉夫族，居住於沿西伯利亞鐵道一帶。(3) 馬來種，居馬來半島及馬來羣島。

(8) 問 試述日本帝國主義之疆域？

答 日本帝國主義分爲二部，(1) 內地即日本本部，由本洲四國九州北海道本島千島羣島琉球羣島組合而成。(2) 殖民地，爲朝鮮台灣樺太島南部及南洋諸島。

(9) 問 試舉日本主要之都曾？

答 (1) 東京爲日本首都，瀕東京灣。(2) 橫濱爲東京外港。(3) 西京爲日本舊都。

(4) 大阪在西京西南，爲日本經濟之中心。(5) 神戶在大阪灣北岸，爲大阪之門戶。(6) 長崎在九州島西岸，距我國最近。(7) 函館在北海道之南端。

(10) 問 試述日本地勢之特點？

答 日本爲島國，海岸線極長，山脈橫貫兩側，故河流短小，最長之河有石狩川、信濃川等。火山甚多，有千島霧島富士等火山脈，故多地震之患。最高之山曰富士山，高一萬三千尺。

(11) 問 試述日本產業之概略？

答 日本產業：農產物，有米絲茶等，而以蠶絲爲大宗，占世界產額三分之一。漁業甚發達

，北海道附近，稱世界三大漁場之一。礦產有硫磺煤銅煤油等，以煤為主要，以銅之產額為多。各種工業亦甚發達，工產出品多銷我國。

(12) 問 下關在何處，以何著名？

答 下關一名馬關，在本州島西南隅，與九州之門司僅隔一海峽。中日之役，中國向日本乞和於此，所謂馬關條約是也。

(13) 問 試舉朝鮮之山川？

答 朝鮮之大河，有鴨綠、圖們、大同、洛東、漢江、錦江，所謂六大江是也。山脈由我國長白山向南，有妙香山脈，大白山脈，小白山脈等。

(14) 問 試述朝鮮之都會？

答 (1) 漢城瀕漢江，為朝鮮首都。(2) 仁川在漢城西，為一商港。(3) 平壤在大同江沿岸，為箕子之故都。(4) 新義洲瀕鴨綠江，與我國安東相對。(5) 釜山在洛東江口瀕對馬海峽。(6) 元山在半島東岸，瀕元山灣。

(15) 問 試舉朝鮮之鐵鐵？

答 朝鮮主要之鐵路有四線，(1) 京義本線，自新義州至漢城。(2) 京釜本線，自漢城至釜山。(3) 京元線自漢城至元山。(4) 湖南線，至大由至木浦。

(19) 試述台灣之四大物產？

答 台灣之樟腦米茶砂糖，稱為四大物產。故有日本寶庫之稱，說者謂日本之有台灣，猶英國之有印度也。

(17) 試述台灣最高之山？

答 台灣之內部山嶺高聳，最高者曰新高山，高一萬四千尺，本名玉山，因隸日後，日人列

爲全國第一高山，故更名新高山。

(18) 試述台灣之民族？

答 台灣居民三百九十萬，中有十分之八爲我國人，日人名之曰台灣人，其語言風習雖屬華人，而國籍則日本也。內部有番人二十三萬，爲馬來族，因文化之高低，有生番熟番之分。

(19) 問 日本佔領我國之地凡幾，試舉列之？

答 (1) 樺太，即庫頁島，本我國吉林屬島，清初爲日本竊佔。(2) 朝鮮，本我國屬國一八九五年中日之役，中國承認其獨立，一九一〇日本夷之爲屬國。(3) 台灣本我國行省，中日之役，割歸日本。(4) 琉球本我屬國，一八七九年爲日本所滅。(5) 旅順及大連灣，爲日本所強租，而名之曰關東州。

(20) 問 試述南洋之範圍？

答 南洋者，以其在我國之南，而遠隔重洋也。其範圍不能確指，說者謂有廣義狹義之說：狹義之說，專指印度支那半島及馬來羣島，廣義之說更遠括海洋州全部。普通之所謂南洋大抵以狹義爲標準。

(21) 問 試述印度支那半島之地勢？

答 印度支那半島，爲亞洲南部三大半島之最東者。更向南延長，爲馬來半島。其山脈由我國崑崙山脈南迤，名曰印度支那山系。大水有五：曰紅河、湄公河、(上流曰瀾滄江)湄南河、薩爾溫江、(上流名怒江)伊洛瓦底江，皆由北南流入海。

(22) 問 試述印度支那半島之政治區劃？

答 印度支那半島除暹羅獨立國外，餘則爲英法二國屬地。英屬地爲緬甸及馬來半島，法屬

地爲越南，一稱法屬印度支那，又名法屬安南。

(23) 問 試述印度支那半島之物產？

答 印度支那之物產，有米產於越南暹羅緬甸三地。柚木產於暹羅緬甸。煤由寶石產於緬甸北部。橡皮及錫產於英屬馬來半島。

(24) 問 法屬印度支那分幾部，試分述之？

答 法屬印度支那，分爲五部，曰東京、安南、東蒲寨、老撾 爲法之保護國，又交趾，爲法之殖民地。

(25) 問 試述法屬印度支那之要城？

答 (1) 河內在東京，瀨紅河，爲法屬印度支那首府。(2) 海防，爲河內海口，與我國交通頻繁。(3) 順化，在安南，爲舊越南王國首都。(4) 西貢，在交趾，瀨南公江口，爲法屬印度支那第一巨埠。

(29) 問 中越之交通若何？

答 中越之交通有二大道，一由海防乘滇越鐵道，經河內河口至雲南省城。(2) 龍州鐵道，由河內至廣西鎮南關外之那岑。

(27) 問 暹羅之國勢現狀如何？

答 暹羅介英法之間，因均勢而幸存。前王拉馬第五，發憤維新，效法歐洲，國勢漸盛。歐戰時加入協約國，列席巴黎和會，國際地位蒸蒸日上，列強在暹之不等條約及領事裁判權皆已撤消。

(28) 問 暹羅之京城何名？其位置何在？

答 暹羅之京城名盤谷，瀨湄南河，人民多浮水爲家，有東方之威尼斯之稱。

(29) 問 試述緬甸重要之城市？

答 (1) 仰光，在伊洛瓦底江口，爲緬甸首府。(2) 瓦城，一名曼德來，在伊洛瓦底江中流，爲緬甸王國舊京。(3) 八莫(一名新街)在伊洛瓦底江上流，與我國雲南陸路交通甚便。

(30) 問 暹羅緬甸之宗教如何？

答 暹羅緬甸可稱世界二大佛教國，人民十之八九信佛教，無論何人，必須一度爲僧。佛寺浮屠，到處皆是，而以仰光之塔爲最著名。

(31) 問 試述印度支那諸國與我國之關係？

答 暹越緬三國，昔皆爲我朝貢國。自一八八五年，中法之役中國承認越南爲法之保護國。又一八八六年，英滅緬甸，并入印度爲一省。同時暹羅亦離中國而獨立。

(32) 問 試述印度支那之華僑？

答 印度支那半島之華僑，以暹羅爲最多，凡二百五十萬，英屬馬來半島次之，共一百餘萬。越南有三十六萬，緬甸有二三十萬，在經濟及勞動上甚占勢力。

(33) 問 試述英屬馬來半島之政治區劃？

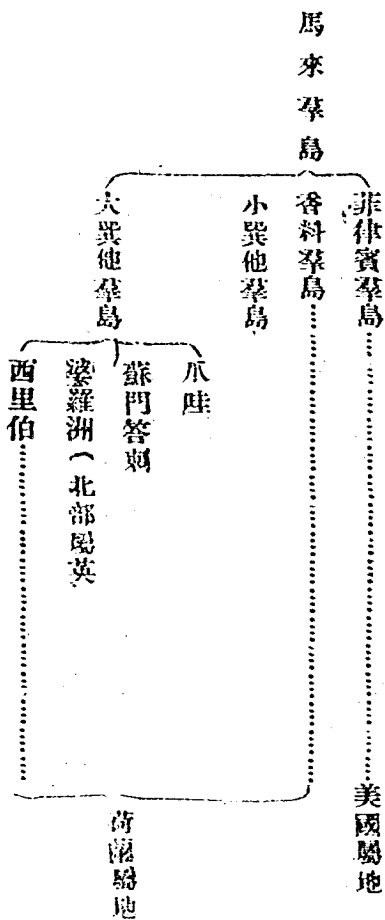
答 英屬馬來半島行政上分爲三部，(1) 海峽殖民地，爲英國之直轄殖民地。(2) 馬來聯邦，爲馬來土人國四邦，聯合爲一，受英國保護。(3) 非聯邦之馬來土人國凡五。

(34) 問 新加坡在何處其位置如何？

答 新加坡爲馬來半島南端一小島，隔馬六甲海峽，爲歐亞交通之要衝，今英人擬闢爲遠東軍港。

(35) 問 試述馬來羣島之概要？

答 馬來羣島我國通稱南洋羣島，為英荷美之殖民地。試列表如下：



(36) 問 菲律賓之主要島嶼何名，有何重要物產？

答 菲律賓之主島為呂宋島，棉蘭老島，及維塞亞羣島。其主要之物產，為馬尼刺藤，煙草，砂糖等。

(37) 問 菲律賓之首府何名，與我國有何關係？

答 菲律賓之首府曰馬尼刺，華僑稱之曰吸埠。在呂宋島西岸，與我國閩粵相距甚近，華僑居此者甚多。

(38) 問 何謂荷屬東印度，有何重要物產？

答 荷屬馬來羣島，通稱荷屬東印度。其主要物產，有砂糖咖啡（爪哇）煙草（蘇門答刺）

煤油（蘇門答刺及婆羅洲）錫（邦加島及勿里洞島）是為東印度五大產物。

〔39〕問 試述東印度中國領事所在地？

答（1）巴達維亞，簡稱巴城，在爪哇島西端，為東印度首府。（2）三寶壟，在爪哇中部。（3）泗水，一名蘇拉巴亞，在爪哇東部。（4）棉蘭在蘇門答刺島東岸。（5）巴東，在蘇門答刺島西岸。

〔40〕問 英屬婆羅洲之政治區劃如何？

答 英屬婆羅洲政治上分為三部 東曰英屬北婆羅，歸英國北婆羅公司管轄。西曰沙勞越，（一名薩拉瓦克）中曰萊汶，一名婆羅乃，均為英國保護國。

〔41〕問 何謂瓦來斯線？

答 瓦來斯線，為英國生物學家瓦來斯所定。自小巽他之峇厘龍目二島間之龍目海峽，北經婆羅洲與西里伯間之望加錫海峽，而出太平洋。瓦氏之說，此線以東，生物類澳洲，海水甚深，以西之生物類亞洲，而海底甚淺。地理學者多據此線為亞澳二洲之分界線焉。

〔42〕問 試舉印度之山脈及河流名？

答 印度之山脈有（1）喜瑪拉雅山脈，（2）蘇里曼山脈，（3）東高止山脈，（4）西高止山脈。河流（1）布拉馬普得刺河（2）恒河，（3）印度河。

〔43〕問 試述印度重要之物產交通？

答 印度為農業國 其重要農產有米麥茶麻棉花甘蔗鴉片等物。牛馬象之飼育亦盛。礦物有鐵煤金等。鐵道延長六萬紆，為亞洲第一。恒河印度河等，皆通航路。

〔44〕問 印度之階級制度如何？

答 印度入大部份奉印度教，印度教分四大階級，一曰僧族，二為貴族，三為平民，四為奴

線，自古以來，分別甚嚴。此四大階級又分二千小階級，其最下階級，至於無與上階級談話之權利。

(45) 問 試述印度之種族？

答 印度人口三萬五千萬，種族極為複雜。大別之爲蒙古族印度族達羅維荼族三大族，細別之有八十餘種。言語亦有多種，百萬以上之行使者凡二十種，其外有五十八種云。

(46) 問 印度衰亡之原因何在，試就地理之立場上言之？

答 印度衰亡之原因，就自然上言之：(1) 氣候炎熱，故人民發育早，壽命不永，腦力遲鈍。(2) 有偉大之山川，特殊之氣候，鬱鬱之植物，養成人民迷信心及空想心。(3) 富於天惠，謀生容易，故嗜逸樂而乏進取之心。就人事上言之：(1) 種族語言雜難，故民族不易統一。(2) 階級制度森嚴，故社會不統一。(3) 宗教思想太發達，故發生各種惡俗，而人民無向上布望。

(47) 問 印度之首府何名，其位置何在？

答 印度之首府曰德列，在恒河之上流，爲古莫臥兒帝國之京都，印度總督居此，惟夏季則遷往西姆拉。

(48) 問 試舉印度重要之商港？

答 (1) 加爾各答，在恆河口，爲印度帝國之舊首府。(2) 孟買，在印度島之東岸。(3) 麻打拉斯，在印度半島之西岸。(4) 喀拉基，在印度河口。

(49) 問 大吉嶺與西姆拉在何處？與我國有何關係？

答 大吉嶺與西姆拉，皆在喜馬拉雅山麓，大吉嶺爲由印入西藏要道。西姆拉爲民國二年中英藏會議之處。

(50) 問 不丹及尼帕爾之政治狀況如何？

答 不丹與尼帕爾，爲印藏間兩小國。不丹爲英國之保護國，尼帕爾爲酋長國。

(51) 問 錫蘭島之政治若何，其首府何名？

答 錫蘭島爲英國之直接殖民地，與印度無關，首府曰哥倫坡，在島西岸，爲東西交通要道。

(52) 問 何謂伊蘭地方，其人民如何？

答 伊蘭地方，由英國屬地俾路芝，阿富汗國王，及波斯王國組合而成。人民皆回教徒，依游牧及農業爲生。

(53) 問 俾路芝之政治如何？

答 俾路芝爲印度之一部，分直轄部與藩屬三部。

(54) 問 阿富汗之政治如何，首府何名？

答 阿富汗爲專制王國，在英國勢力之下，首府曰喀布爾。

(55) 問 波斯有何重要物產？

答 波斯之重要物產，有羊、駱駝、棗、皮革、煤油、絨氈等。

(56) 問 波斯之首府何名？並有何重要之城市？

答 波斯之首府名德黑蘭，在厄爾布士山麓。要城有大不里士，爲全國陸路商業之中心，布什爾，爲波斯灣之商港。

(57) 問 試述小亞細亞及阿剌伯半島之國家？

答 小亞細亞及阿剌伯半島諸國如下：(1) 阿丁英國屬地，(2) 阿曼英屬，(3) 也門回教王國，(4) 內惹德王國，(5) 伊拉克英國委任統治，(6) 外約旦同上，(7) 巴

勒斯坦同上，(8) 敘利亞法國委任統治，(9) 土耳其共和國。

(58) 問 阿刺伯半島之地勢如何？

答 阿刺伯爲亞洲最大之半島，大部分爲無雨之沙漠，沙漠田及沿海之草原，便於畜牧。

(59) 問 麥加及麥地那在何處，因何著名？

答 麥加及麥地那在阿刺伯之西部，麥加爲摩罕默德生地，麥地那爲摩罕默德墓地，稱爲回教聖地，世界之回教徒來此朝拜者，不絕於道。

(60) 問 耶路撒冷在何處因何著名？

答 耶路撒冷爲巴勒斯坦首府，在死東海岸，有基督之墓地，稱基督教聖地，遠近信徒來朝拜者甚多。

(61) 問 伊拉克王國在歷史上有何價值？

答 伊拉克一名米索不達米亞，在底格里斯及幼發來斯二河流域，古代爲巴比倫王國，稱世界文明之發源地。

(62) 問 土耳其之國勢現狀如何？

答 土耳其舊壤跨歐亞兩洲，其後國勢陵夷領土漸失。歐戰以後，幾被驅出歐洲，國幾不國。幸凱末爾起而革命，戰敗希臘，改爲共和國家，解除歐洲列強不平等待遇，有中興之勢焉。

(63) 問 土耳其之京城何名，其位置如何？

土耳其之舊京城，爲君士坦丁（今名斯大木堡）。自革命後，遷都有昂哥拉 在小亞細亞內地，附近產羊毛。

(64) 問 土耳其之要港何名？

答 土耳其之要港，名士麥拿，在小亞細亞西岸，居民多希臘人。

(65) 問 試述俄屬亞洲之區分？

答 俄屬亞洲分爲三大部，(1) 西伯利亞，在亞洲北部。(2) 俄屬中亞細亞，在亞洲中部。(3) 外高加索，介裏海黑海之間。

(66) 問 西伯利亞及中亞細亞之地勢，分爲幾帶？

答 西伯利亞之地勢，分爲四帶；(1) 高地帶，在最南部，有阿爾泰山外興安嶺諸脈。(2) 草原帶，在中亞細亞，牧畜盛行，出產小麥。(3) 森林帶，在山地及草野帶之北，多森林及皮毛獸。(4) 凍土帶，在北冰洋岸，寒氣酷烈，僅生蘚苔，及馴鹿白熊遊行其間而已。

(67) 問 西伯利亞之種族若何？

答 西伯利亞本爲俄國放逐罪人之地，以後自由移民次第增加，鐵道開通，遂漸臻繁盛。外來移民，以俄人占多數，土人有東胡族蒙古族土耳其族，以遊牧狩獵爲生。

(68) 問 西伯利亞之地域何部爲我國舊壤？

答 西伯利亞之東部二省(黑龍江省東海濱省)，本爲我國東三省舊壤，一八五八年俄國割黑龍江北岸地，一八六〇年又割烏蘇里河東岸地。

(69) 問 海參崴在何地，其形勢如何？

答 海參崴在東海濱省，沿大彼得灣，爲西伯利亞之極東點，爲俄國東方之門戶，及遼東之軍港。

(70) 問 試舉黑龍江沿岸之要城？

答 (1) 伯力一名哈巴羅甫斯克，在烏蘇里與黑龍江之會口。(2) 廟街一名尼港，在黑龍江口。(3) 海蘭泡瀕黑龍江與我國黑河屯相對。

(71) 問 試舉沿西伯利亞鐵路之城市？

答 (1) 鄂不斯克，為西部西伯利亞第一都會。(2) 托木斯克，為西部西伯利亞政治實業之中心，有西伯利亞唯一之大學。(3) 伊爾庫次克在貝加爾湖西岸，茶及毛皮之大集教場。(4) 亦塔在貝加爾湖之東，為俄遠東共和國京城。

(72) 問 試述西伯利亞之華僑情形？

答 西伯利亞之華僑凡三四十萬，大部分居東部，沿西伯利亞鐵道線次之，多山東及北部各省人，經商者少，從事勞工者多，富力迥不及南洋華僑。

(73) 問 試述中亞細亞之富源？

答 中亞之草原，牧畜盛行，河流灌溉之區，盛產果類。又古來盛行養蠶，近年栽培棉花，為一大宗富源。

(74) 問 試述中亞之鐵道及重要之城市？

答 中亞重要之鐵道線二，一外裏海鐵道，二中亞細亞鐵道。沿鐵道之城市，於塔什干，撒爾馬干，(為帖木兒之故都) 謀夫，安集延等城市。

(75) 問 高加索以何著名？

答 高加索以出產煤油著名，又其婦女容貌之美麗，稱世界之冠。

(76) 問 試述高加索之都會？

答 巴庫在裏海西岸，為世界有名之煤抽產地。巴統在黑海沿岸，有鐵路通巴庫，為煤油輸出之要埠。

第三章 海洋洲之部

(1) 問 試述海洋洲之分區？

答 地理學家分海洋洲為五大區：(1) 澳斯大利亞，即澳洲區，含有澳洲大陸，及紐絲倫。 (2) 美拉尼西亞，一名黑人區，在赤道以北，一百八十度以西。 (3) 玻里內西亞，一名多島區，在一百八十度以東。 (4) 密克羅尼西亞，一名小島區，在赤道以北一百八十度以西。 (5) 馬來尼西亞，一名馬來區，即馬來羣島。據最近學者之研究，根據地質學及生物學，馬來區應劃歸亞洲云。

(2) 問 海洋洲之政治狀況如何？

答 海洋洲自十六世紀以來，始為歐人所發現，因土人智識之低下，遂為帝國主義所宰割，至今全洲無一獨立國，為英、美、法、日、荷五國所平分。

(3) 問 澳洲地文有類非洲試言之。

答 澳大利亞簡稱澳洲，為世界最小之陸地。其他文之特點：(1) 海岸線簡單，(2) 海岸高於內地，(3) 內地多沙漠，與北非洲酷似。

(4) 問 試述澳洲重要之山川？

答 澳洲地形簡單，故山川亦單調。主要山脈，在東岸名澳洲阿爾卑士山。大河有墨來河，出東方山地，會其支流大林河，南入澳大利亞海灣。內地多鹹水湖，而以伊爾湖為最大。

(5) 問 澳洲有何特產之生物？

答 澳洲與其他大陸隔絕，故所產生物多有他洲所絕滅者，如動物中之袋鼠、鴨嘴獸、澳洲駝鳥、(3) 袋火雞等，植物中之郁加樹，高達五百呎，均為本洲之特產。

(6) 問 試述澳洲聯邦之組織？

答 澳洲大陸，及塔斯馬尼亞島，共分六洲一地方，自一九〇一年起，合為聯邦，茲將各洲列表如下：

洲名

新南威爾士

維多利亞

昆斯蘭

南澳大利亞

西澳大利亞

北部地方

塔斯馬尼亞

首府

雪梨

美利賓 (一譯墨爾本)

布里斯本

阿德列德

伯斯

哈巴特

(7) 問 試述澳洲之富源?

答 澳洲之農產家畜，最初由歐洲移入，現極發達。東南部為世界三大牧場之一，羊毛之出產為世界第一，牛肉羊肉皮革輸出者甚多。鑛產有金及煤等，以東南部及西部之金礦為最發達，故東南澳洲，我國人有新金山之稱。

(8) 問 澳洲聯邦之首府何名其位置何在?

答 聯邦之新首府名坎倍拉 (Canberra) 在雪梨之西南。

(9) 問 試舉澳洲重要之城市?

答 (1) 雪梨，在東海岸羊毛輸出甚盛，為澳洲海軍之根據地。(2) 美利賓 (或謂新金山誤) 在東南岸，為維多利亞之首府。(3) 阿德來德，南澳大利亞灣，南澳之首府，大陸交通之中心。(4) 達爾文港，在大陸北岸，為大陸之北門。(5) 伯斯，在大陸西岸，為西澳之首府，與歐非之貿易甚盛。

(10) 問 澳洲之瑞士何在，其意義若何?

答 塔斯馬尼亞島，氣候溫和，地味肥沃，風光明媚，故有澳洲之瑞士之稱，為澳洲白人之樂土。

(11) 問 試述紐絲倫之自然地勢？

答 紐絲倫一作新西蘭，分南北兩島，中隔科克海峽。全島多火山及間歇泉。南島南阿爾卑斯山脉中之科克山，高達一萬三千尺。

(12) 問 紐絲倫之土人何名？

答 紐絲倫之土人名摩理人 (Maori) 為波里內西亞族，從事農業，多奉基督教。昔有十餘萬，今僅存五萬，有畫而文身之俗。

(13) 問 紐絲倫之首府何名，其位置何在？

答 紐絲倫之首府名威靈敦，在北島之東南岸，瀕科克海峽。

(14) 問 澳洲及新西蘭政治之特點何在？

答 澳洲與新西蘭為英國之自治殖民地。

(15) 問 試述澳洲及紐絲倫之華僑？

答 澳洲有華僑二萬餘人，紐絲倫有三千餘人，多從事農礦業。英人抱白澳白紐政策，禁止東方人入境，故華僑甚受排斥。

(16) 問 試舉美拉尼西亞重要之島嶼，及其所屬？

答 (1) 紐幾尼亞 (英荷) 新喀里多尼亞 (法) 菲濟羣島 (英) 俾士麥羣島，沙羅蒙羣島。(2) 澳洲委任統治。

(17) 問 試述紐幾尼亞之概要？

答 紐幾尼亞一名巴布亞，為世界第二大島。內部森林叢密，地理至今未明。土人性質野蠻。

，有殺人破骨之風。政治上舊分三部，西部屬荷屬東印度，東南屬英，東北部及俾士麥羣島屬德，戰後改歸澳洲委任統治。

(18) 問 試舉波里內西亞重要之島嶼及其所屬？

答 夏威夷羣島(美) 芬羅島(英) 三毛亞羣島(英法美)。社會羣島(法)。
東加羣島(英)

(19) 問 試述檀香山概況？

答 夏威夷羣島我國通稱檀香山，在太平洋之中心，有夏威夷及阿湖諸島等八大島，皆火山島，為美國之屬地。

(20) 問 試述檀香山之首府及軍港？

答 檀香山之首府曰和諾魯魯，在阿湖島 當亞美航路之要衝。真珠港在和諾魯魯西，為美國在太平洋中之軍港。

(21) 問 太平洋之樂園在何處？

答 法屬社會羣島之大赫的島，氣候良好，有太平洋樂園之稱。

(22) 問 試述密克羅尼西亞重要之島嶼，及其物產？

答 密克羅尼西亞，有馬利亞納羣島，帛琉羣島，加羅林羣島，麻紹爾羣島，吉爾伯特等羣島，凡三千餘島，總面積不過二五〇方哩。物產有椰子珠貝磷礦等。

(23) 問 試述密克羅尼西亞統治之情形？

答 密克羅尼西亞、除馬里亞納之關島屬美，餘皆為日本委任統治地，(戰前本屬德)今日本設立之南洋廳。

(24) 問 何謂關島與雅浦島問題

答 阿島爲密克羅西尼亞一之美國屬島，爲美國太平洋電線自馬尼刺至舊金山之中繼所。雅浦島在加羅林羣島內，爲德人經營海底電線之中心點，日美兩國，曾以此發生衝突。其結果（1）阿島與雅浦島間電線讓與美國，（2）雅浦島與西里伯間海線讓歸荷蘭，（3）雅浦島與上海間一線，爲日本所有。

第四章 歐洲之部

（1）問 試述歐亞之關係？

答 歐洲面積狹小，雖爲一洲，就地理上觀之，不啻爲亞洲之一半島，故歐亞兩洲合稱歐亞大陸 Eurasia。

（2）問 歐洲之山脈及其分布若何？

答 歐洲重要之山脈：（1）阿爾卑士山，發脈於瑞士，分爲三支，一支走東南經亞於巴爾幹半島，一支由奧地利亞沿捷克之邊界折東爲巴爾幹山脈。一支南行縱貫義大利半島。（2）比利牛斯山，在伊比利安半島之北，自東蜿蜒而西。（3）斯堪的納維安山脈，縱貫斯干的納維安半島，自北而南。（4）烏拉山脈，爲歐亞之界線。

（3）問 歐洲有何重要之河流并注入何地？

答 歐洲重要之河流列表如下：

| | | | |
|-------|--------|-------|-------|
| 都納河， | 維斯杜拉河， | 阿得河， | 波羅的海 |
| 易北河 | 萊因河， | | 北海 |
| 塞納河， | | | 英吉利海峽 |
| 羅亞爾河， | 格羅內河， | | 比斯開灣 |

大西洋斜面

地中海及 波河，羅尼河，……地中海
黑海斜面 多瑙河，尼裏河，頓河，……黑海

內陸流域（烏拉河，窩瓦河，……裏海

0

4) 問 何謂歐洲三大河

答 歐洲之三大河，曰窩瓦河，為本洲第一長流，支流凡七十，為俄羅斯之巨流。曰多瑙河及萊因河，貫串諸國，歐洲文化之發達，受其益不少。

2

5) 問 試述歐洲河流之特點？

答 歐洲河流之特點有三：(1) 多行平原間，富於灌溉及輸運之利。(2) 分水界低，各河川皆有連河聯絡，全湖宛如一河系。(3) 河口為三角洲，多良港。

0

6) 問 歐洲半島有幾能述其名稱方位否？

答 歐洲之半島有五，其名稱方位如下：(1) 斯堪的納維安半島在歐洲之西北。(2) 伊比利安半島，在歐洲之西南。(3) 義大利半島在歐洲之南。(4) 巴爾幹半島在歐洲之南。

(5) 人德蘭半島在歐洲之西北。

(7)

問 試述歐洲之三大民族？

答 歐洲之三大民族：(1) 拉丁族，居法蘭西義大利及西班牙等地。(2) 條頓族居德意志英吉利等地。(3) 斯拉夫族，居俄羅斯捷克及南斯拉夫等地。

(8)

問 歐洲有何黃種之國家？

答 歐洲黃種之國家，有芬蘭，匈牙利，及土耳其等國。

(9)

問 歐洲氣候擾良其故何在？

答：歐洲氣候優良，其故有三，(1)西南面海，受墨西哥暖流之影響。(2)位北溫帶，海灣深入，距海六百哩以上之地甚鮮。(3)山脈多自東而西，由西南來之海風及水蒸氣，得以深入內地。

(10)問：試歷舉歐洲之邦國及其國體？
答：歐洲之國家大小凡二十六邦，列表如下：

君主國

王國

瑞典 挪威 丹麥 荷蘭 比利時 英吉利 西班牙 義大利
南斯拉夫 匈牙利 保加利亞 羅馬尼亞 阿爾巴尼亞

大公國 盧森堡

公國 利支敦士敦 摩納哥

聯邦制 俄羅斯 德意志 瑞士

共和國

單一制

芬蘭 愛沙尼亞 亞萊多尼亞 立陶宛 波蘭 捷克斯拉夫
奧地利 法蘭西 葡萄牙 希臘 土耳其 安道爾 聖馬立諾

自由市 坦澤

(11)問：試舉歐戰後國家之變更？

答：歐戰後新興國如下：

(1)芬蘭 (2)愛沙尼亞 (3)萊多尼亞 (4)立陶宛 (5)波蘭 (6)捷克 (7)坦澤

自由市
歐戰後變更國體者及分離者：

(1) 俄國 (2) 德國 (3) 匈牙利 (4) 奧地利
歐戰後消滅之國：

(1) 匈奧帝國瓦解 (2) 塞爾維亞門的內哥羅合併為南斯拉夫。

(12) 問 試述歐洲之宗教？

答 歐洲主要之宗教 為基督教，分為三派：(1) 新教，條頓族信仰之。(2) 舊教，即天主教，拉丁族信仰之。(3) 希臘教，希臘族及斯拉夫族信仰之。此外尚有猶太教各地之猶太人信仰之。回教，俄國及巴爾幹一部分信仰之。

(13) 問 試述俄國之地勢？

答 俄國為一大平原地，其河流有土味拿河（入北海）烏拉河，窩瓦河（注裏海）頓河，尼察河。（注黑海）山脈祇有烏拉山為歐亞之界，境內有瓦爾帶坳，為各大河之發源地，不過高三百餘米突而已。

(14) 問 試述俄羅斯河流之利害？

答 俄國河流之優點：(1) 河流長而曲折。(2) 流水平穩，上流亦可通航。(3) 支流甚多分水界低，各河皆有連河相聯絡。其缺點：(1) 夏季乾涸，冬季結冰。(2) 水量少難行大船。(3) 諸水注入北冰洋及裏海者，與世界航路隔離。(4) 北部河流因下流先結冰故多洪水之災。

(15) 問 歐洲之倉庫何解？

答 俄國南部地方有黑土層，異常肥沃，盛產小麥，有歐洲倉庫之稱。

(16) 問 俄國主要之礦產為何？

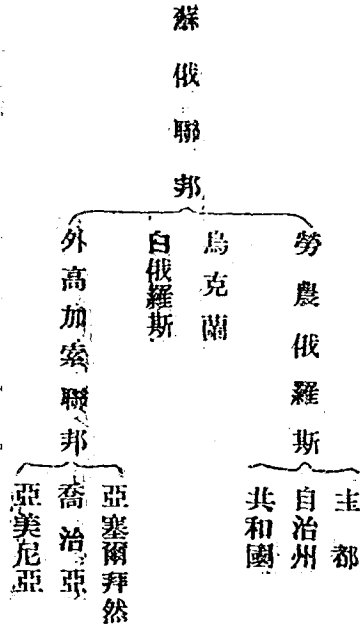
答 俄國主要之礦產，為烏拉山之白金，稱世界第一。其他則有鐵礦寶石等。

(17) 問 試舉俄國主要之民族？

答 俄國之民族，(1) 大俄人居東部之大平。(2) 小俄人居西南部。(3) 白俄人居西部。小俄及白俄人為純粹之斯拉夫人，大俄人為斯拉夫人與亞洲人之合種。此外東部及北部有土耳其人及芬蘭人。西南部有猶太人。

(18) 問 蘇俄聯邦之組織如何？

答 蘇俄聯邦，稱蘇維埃俄羅斯社會主義勞農共和國聯邦，其聯邦如下：



(19) 問 蘇俄之首府何名其地位何在？

答 蘇俄之首府為莫斯科，在國之中央偏西，為鐵道交通之中心。

(20) 問 列寧格勒在何處，有何重要？

答 列寧格勒本名彼得格勒，為蘇俄舊都，瀕芬蘭灣，為俄國西部門戶。

(21) 問 試舉蘇俄重要之城市？

答 (1) 下諾甫哥羅，在莫斯科東北，每年夏季有大市集，歐亞商人聚集於此。(2) 伊特塞林堡，為烏拉山礦業之中心。(3) 阿斯特拉罕，在窩瓦河口，為煤油及鱈魚之大集散場。(4) 阿歷山大羅甫斯克，為北冰洋岸之不凍港。(5) 基輔，在屈魯水中流，為俄國最古之都會，烏克蘭之首府。(6) 敖得薩為黑海岸第一商港。

(22) 問 試述芬蘭之概況？

答 芬蘭瀕芬蘭灣，地勢低平，多河湖，氣候嚴寒。居民為蘭人及拉勃人。產業以森林畜牧為大宗。國體共和，首都曰蓋爾仲爾。

(23) 問 試述波羅的海沿岸之新興國及其首都？

答 波羅的海沿岸之新興國列下：

| | |
|------|-----|
| 國名 | 首府 |
| 愛沙尼亞 | 勒佛爾 |
| 萊多尼亞 | 里加 |
| 立陶宛 | 維里納 |

(24) 問 何謂斯堪的納維安三國？

答 斯堪的納維安三國：(1) 瑞典 (2) 挪威，在斯堪的納維安半島。(3) 丹麥，在人德蘭半島。

(25) 問 試述斯堪的納維安半島之地勢？

答 斯堪的納維安半島之脊中有基阿連山脈。其東斜面為瑞典，地勢較陡，多河湖。西斜面而為挪威，地勢較狹，海岸曲折，出入如鋸齒，山脈逼海，絕壁千仞，成為峽江。Fjord

(26) 問 那威瑞典有何著名之物產？

答 那威之羅福定羣島附近，為世界三大漁場之一，產鯊鯨魚等，所造之鯊魚肝油及鯨油，馳名世界，瑞典則產紙及火柴為最有名。

(27) 問 瑞典那威之政治如何？

答 兩國本共戴一君主，一九〇五年分離，那威迎丹麥太子為王，政體為君主立憲。

(28) 問 瑞典之京城何名，其位置何在？

答 瑞典之京城名斯德哥爾摩，在半島東南，城據諸小島之上，風光明媚，有北方之威尼斯之稱。

(29) 問 那威之首都何名，其位置何在？

答 那威之首都名俄包羅，(本名基利斯的納亞)在那威之東南。

(30) 問 卑爾仁在何地，以何馳名？

答 卑爾仁在那威沿岸，稱世界第一漁港。

(31) 問 大陸最北之都曾何名？

答 那威之亨墨菲斯，稱大陸最北之都曾。

(32) 問 丹麥之地勢如何，其首都何名？

答 丹麥由人德蘭半島與西蘭等島組合而成，地勢低平，首都曰哥平哈經，在西蘭島之東岸，扼波羅地海之門戶。

(33) 問 冰島在何處？其主權何屬？

答 冰島為北大西洋孤立之火山島，本為丹麥屬地，近年獨立為主國，其國王由丹麥王兼任。

(34) 問 試述德意志之地勢？

答 德國地勢，南方高北方低，山脈在南部。阿得河易北河威悉河及萊茵河，由南向北。注波羅的海及北海。以來因易北河為巨，德人有父來因母多惱之稱。

(35) 問 試述德國重要之產業？

答 德國從事農業者占全國三分之一，出產有麥類甜菜馬鈴薯葡萄等。礦產有鐵煤岩鹽等。化學工業之發達，為世界之冠。

(36) 問 德意志民族之優點何在？

答 德人之優點，(1) 勤勉儉約，(2) 萬事努力，意志鞏固。(3) 公共心旺盛。故軍事教育、學術、工業，皆為他國所不及。

(37) 問 試述戰後德國損失之疆土？

答 戰後德國損失之疆土如下：(1) 石勒斯威格。(丹麥) 馬爾美地由坪。(比利時) 亞爾薩斯羅林。(法) 沙爾煤區。(國際共管) 波森上西利西亞。(波蘭) 坦澤。(自由市)

(38) 問 德國之首都何名，其形勢如何？

答 德國之首都曰柏林，在阿得河之支流，為全國商工業交通之中心，又以學術之都著名，稱歐洲第三大都會。

(39) 問 漢堡在何處，其商業如何？

答 漢堡在易北河下流，距海口一百二浬，為德國第一商港。

(40) 問 基爾運河之功用若何？

答 塞爾運河，自易北河口至基爾，橫貫德蘭半島之項部，溝通北海及波羅的海，與德國商業及軍事之裨益不少。戰後開放為國際共用。

(41) 問 試舉德國重要之都市？

答 (1) 不來梅，在威悉河口。(2) 威廉港，為北海岸之良港。(3) 盧卑格，波羅地海之良港。(4) 斯得丁，在阿得河口。(5) 馬德堡，在柏林之西，為農產之中心。(6) 埃森，在萊因河支流，機械工業之中心。(7) 哥羅，瀕萊因河，以產香水著名。(8) 利比瑟，在柏林西南，為印刷業之中心。

(42) 問 試述波蘭之概況？

答 波蘭在維斯杜拉河流域，為歐戰後新興之國家，人民為波蘭人，農業有麥類馬鈴薯甜菜麻等，礦物有煤鐵煤油岩鹽等。

(43) 問 試舉波蘭之首府及其都會？

答 (1) 華沙為波蘭首都，在維斯杜拉河沿岸，有波蘭之巴黎之稱。(2) 羅德斯，在華沙西南，紡織業甚發達，有波蘭之曼徹斯特之稱。(3) 波森，在西境，為農產物之算散場。

(44) 問 坦澤自由市之性質如何？

答 坦澤自由市，在維斯杜拉河口，巴黎和會，訂為國際聯盟管理，而關稅則由波蘭處理，蓋其作用，即完全為波蘭一出海口也。

(45) 問 試述捷克之概況？

答 捷克為舊奧帝國之一部，戰後之新興國。為一內陸國，居民有捷克人，斯拉夫人，及日耳曼人，農礦之業皆盛。首府曰布拉加，在易北河上流。西境之喀爾斯彼德，稱世界第一溫泉地。

(46) 問 試述匈奧帝國疆域之變遷？

答 匈奧帝國在多腦河兩岸，戰前稱中歐大國，歐戰後匈奧兩國分離，疆域縮小。其東北境新奧捷克王國，東南部讓與羅馬尼亞，南部讓與南斯拉夫，西部小部分讓與義大利。

(47) 問 奧地利之首府何名，其形勢如何？

答 奧地利之首府曰維也納，在多腦河，繁盛與巴黎相並稱。

(48) 問 匈牙利之首府何名，其形勢如何？

答 匈牙利之首府曰布達佩斯，跨多腦河上，為商業交通之中心。

(49) 問 匈牙利之人民與我國有何關係？

答 匈牙利之居民曰馬加人，為匈奴之後裔，千餘年前由烏拉山地移至中歐。因與歐人雜婚之結果，體格容貌與白人略似，信奉舊教。然風俗語言，猶有東洋之餘風焉。

(50) 問 世界之公園在歐洲何地？

答 瑞士地處阿爾卑斯山脈中，到處山水秀麗，氣候涼爽，世界各國來遊覽避暑者，爭集於此。各地之山上旅館，上山鐵道，設備甚週。有世界公園之稱。每年吸收旅客之費，凡一億元以上，為國家收入一大來源。

(51) 問 世界最長之隧道在何處？

答 瑞士與義大利間之新普倫隧道，長十二哩，稱世界最長之隧道。

(52) 問 瑞士人民之特點何在？

答 瑞士之民族北為德意志人，西南為法蘭西人，東南為義大利人，各用其本族語言文字，故瑞士無國文國語。

(53) 問 試述瑞士之湖泊？

答 瑞士有君士坦湖，蘇黎文湖等，皆係山間湖，富於風景。

(54) 問 試舉瑞士之都會？

答 (1) 伯爾尼在中央偏西，為瑞士國都。(2) 日內瓦在西南部，國際聯盟會設焉。(3) 洛桑在日內瓦東北，近東會議開議於此。(4) 蘇黎支在蘇黎支湖北岸。

(54) 問 荷蘭何以稱為海面下之國？

答 荷蘭地勢低平，國內四分之一在水面之下。海岸有天然之沙邱或人工之築堤，以禦海水，故荷蘭治水工事，稱世界第一。和蘭之國名曰 *Lowland* 者，窪地之意，*Waterland* 者，低地之意也。

(56) 問 荷蘭之交通如何？

答 荷蘭河流四通，運河如織，有世界第一運河國之稱。又鐵道亦甚發達，海運事業亦甚發

(57) 問 試舉荷蘭之首府及要港？

答 (1) 海牙在北海岸，為荷蘭首府。(2) 阿姆斯特丹瀕南海，以金剛石之磨琢著名。(3) 鹿特丹在來因河口，為外洋航路之起點。

(58) 問 比利時之人口如何？

答 比利時人口七百五十萬，其密度稱世界第一。

(59) 問 試舉比利時之首府及重要之城市？

答 (1) 不魯捨拉在國之中央為比利時首府。(2) 滑鐵盧在不魯捨拉之南方，以拿破崙戰敗於此著名。(3) 魯凡爾斯為比國唯一大商港之(4) 列日一譯里愛互，為比國工業之中心。

(60) 問 試述英吉利之地勢及政治區劃？

答 英吉何由不列顛與愛爾蘭二大島組合而成。政治區劃可分四部，在不列顛之中部南部者曰英格蘭，在不列顛之北部者曰蘇格蘭，在不列顛之西部者曰威爾士。阿爾蘭分為土部，北愛爾蘭，二愛爾蘭自由國。

(61) 問 英吉利之氣候如何？
答 英國在北緯五十度至六十度間，然受墨西哥灣流與西南風之影響，夏涼冬暖，氣候良好，惟多霧，晴期之日甚少。

(62) 問 試述英國主要之礦產與工業？
答 英國主要之礦產為煤，次於美國，與德國相等。次為鐵，占世界之第四位，居民十分之七集中都會，從事商工業，如棉織物毛織物機器製造船等，皆占世界第一。

(63) 問 英國在世界之勢力如何？
答 英國屬地偏五洲，有太陽偏照英國國旗之說。世界陸地五份之一，皆在其統治之下。商業交通之勢力遍及全球，英語為世界最通行之語言，使用者凡三萬萬人。

(64) 問 倫敦在何處？其繁盛如何？
答 倫敦為英國首都，地跨泰晤士河兩岸，人口四百五十萬，合近效計之，凡七百五十萬，為世界第一都會，世界第一商港，稱世界交通貿易金融之中心云。

(65) 問 試舉英格蘭重要城市？
答 (1) 朴次毛斯，源英吉利海峽，為英國第一軍港。(2) 格林威治，在倫敦東南隅，有天文台為本初子午線之基點。(3) 伯明翰在英格蘭西部中央，為世界鋼鐵業之中心。(4) 利物浦，在泰爾西河口，與北美交通頻繁，稱英國第二商港。(5) 曼徹斯得在利物浦東，為世界棉織業之中心。(6) 里子在恒比爾河上流，為世界毛織業之中心。(7) 赫爾

東，為世界棉織業之中心。(6) 里子在恒比爾河上流，為世界毛織業之中心。(7) 赫爾

，在恒比爾河口，與歐洲大陸交通頻繁。（8）紐喀斯爾！一譯新堡，在英格蘭東北岸，爲煤之輸出口，造船業亦甚盛。

（69）問 試述蘇格蘭之首府及其要城。

答 愛丁堡爲蘇格蘭之首府，在佛斯灣海岸，風光明媚，出版業甚盛。格拉斯哥跨克列得河兩岸，爲蘇格蘭第一商港。

（67）問 愛爾蘭自由邦之首府何名，其位置何在？

答 愛爾蘭自由邦之首府，曰都柏林，在愛爾蘭島東岸。

（68）問 試述法蘭西重要之山川？

答 法蘭西重要之山脈，（1）比里牛斯山 爲法國及西班牙之界。（2）阿爾卑斯山，在法意交界處，最高峯曰白山，高四八一〇米，稱歐洲第一高峯。法蘭西重要之水凡四：（1）塞納河？（注英吉利海峽）（2）羅亞爾河，（3）日倫大河，（注比斯開灣）（4）羅尼河。（注地中海）

（69）問 試述法蘭西重要之農產？

答 法蘭西耕地占全國十分之六，農產頗盛，出產有小麥玉蜀黍馬鈴薯甜菜等。葡萄到處皆是，所產之葡萄酒，產額品質，均爲世界冠。地中海沿岸有無花果柑橘及地果類。羅尼河流域養蠶盛行，產生絲甚著名。

（70）問 試述法國之民族性？

答 法蘭西之國民性；（1）愛好美術文藝。（2）長於社交。（3）感情熱烈，容易激動。（4）勇敢而好動。（5）喜享樂。（6）勤儉而好儲蓄。

（71）問 巴黎在何處，其繁盛若何？

答 巴黎跨塞納河中流，為世界第三都會，建築優麗，繁華為世界之冠，故有花都之稱焉。

(72) 問 凡爾賽在何地，因何著名？

答 凡爾賽在巴黎西南十六軒，為古王宮所在地，歐戰後各國開和平會議於此，即所謂凡爾賽會議是也。

(73) 問 試舉法國重要之都市？

答 (1) 里昂在羅尼河中流，為法國蠶絲之中心。(2) 馬賽為地中海沿岸商港。(3) 土倫在馬賽東為法國地中海軍港。(4) 波爾多在日倫大河口為一商港，以葡萄酒輸出著名。(5) 查爾堡瀕英吉利海峽，為一軍港。(6) 勒哈佛爾，在塞納河口，為巴黎外港。(7) 列黎在巴黎東北比利時邊界，為煤礦及紡織業之中心。

(74) 問 試述伊比利安半島之地勢？

答 伊比利安半島，即西班牙與葡萄牙二國。地勢為一高原，其山脈大抵東西走，可分二大系。(1) 比利牛斯山脈，在西法交界處，西延為坎塔布連山脈。(2) 塞瓦達山脈，自非洲之阿特拉斯山渡直布羅陀海峽，山脈東至地中海，為巴里亞利斯羣島。大水凡四，(1) 斗羅河，(2) 德人河，(3) 瓜達亞納河，(4) 瓜達基維爾河，皆入大西洋。(5) 厄波羅河，注地中海。

(75) 問 試述西班牙之特殊林產？

答 西班牙厄波羅河流域，產科克木，Cork oak 為製造軟木塞之原料。

(76) 問 試述西班牙之礦產？

答 西班牙為歐洲著名之礦產地，鋼鐵煤水銀鉛等埋藏甚富，因交通不便未充分開採。

(77) 問 試述西班牙人及葡萄牙人之風習？

答 西葡人屬拉丁族，奉舊教，教育不普及，人民好安逸，乏進取心，殘酷而好鬥，其鬥牛之俗，為世界各國所無。

(78) 問 試舉西班牙之首都及其要城？

答 (1) 馬德里在中央高原上，為西班牙之首都。(2) 加拿拉，在國之南部，為古薩拉遜帝國之故都。(3) 加的斯沿大西洋為西班牙最古之商港。(4) 馬拉牙臨地中海之商港。(5) 巴爾塞羅亞，位於東北部地中海岸，為西班牙第一商港。

(79) 問 葡萄牙首府何名，位置何在？

答 葡萄牙之首府名里斯本，在德入河口，風光明媚，氣候溫和，為歐洲著名之休養地。

(80) 問 直布陀羅在何處，其形勢如何？

答 直布陀羅為西班牙南一小半島，地屬英國，面積不過二方哩，南對非洲，中隔直羅陀海峽，為地中海之咽喉。

(81) 問 試述義大利半島之地勢？

答 義大利半島形如長靴，附屬有西西里撒丁二島。山脈有二大系，(1) 阿爾卑斯山脈，在北境接瑞士邊界。(2) 亞平寧山系，由北向南，為半島之脊。大河北部有波河，西岸有第表爾河。

(82) 問 試述義大利之物產？

答 義大利西西里島之硫磺，產額為世界冠。又大理石品質之佳為世界第一。農產物有小麥及果類等，養蠶亦頗盛行。工產物有布絲葡萄酒及各種美術品。

(83) 問 試述義大利之教皇？

答 義大利行基督舊教，羅馬有教皇 Pope，雖無昔日之政權，然尚受各國君主之優遇，與

各舊教國交換使節。

(84) 問 羅馬在何處，有何名勝

答 羅馬瀕第表爾河，為義大利之首府。羅馬帝國曾建都如此，歷史上之遺跡甚多。

(85) 問 試述維蘇威火山景况？

答 維蘇威火山為歐洲著名之火山，紀元七十九年大破裂，有旁卑城，為火山熔岩所埋沒。

一七四八年後逐漸掘出，為考古者所珍視。古羅馬之建築風俗，猶可考焉。

(86) 問 試舉義大利之要城？

答 (1) 那不勒斯近維蘇威火山，為本國第一都會。(2) 比沙在阿若河口，以斜塔知名

於世。(3) 熱那亞瀕熱那亞灣，為哥倫布之生地。(4) 米蘭在波河流域，為絲業之中心

。(5) 威尼斯在阿德里亞海西北隅，城建於羣小島上有水都之稱。馬哥波羅之生地。(6)

(阜姆為昔日匈牙利之海口，歐戰後為義所占。

(87) 問 馬爾他島在何處，其形勢如何？

答 馬爾他島，在西西里島南，當地中海中心，為英國海軍之根據地。

(88) 問 試舉巴爾幹半島之國家，及其與戰前之比較。

答 巴爾幹之國家凡六茲列表如下：

南斯拉夫一名由哥斯拉夫——塞爾維亞與門的內哥羅合併之新國

羅馬尼亞——面積倍於戰前

保加利亞——與戰前無大差異

希臘——擴張於多島海周圍

阿爾巴尼亞——與戰前無大差異

土耳其——僅存君士坦丁一角。

(89) 問 試述巴爾幹半島之民族？

答 巴爾幹之民族甚複雜，茲列表如下：

南斯拉夫族（保加尼亞人 塞爾維亞人……………中部及西北部

拉丁族——羅馬尼亞人……………東北部

歐羅巴系 希臘族……………南部

阿爾巴尼亞人……………西南部

猶太人……………各地

亞細亞系（土耳其族……………東南部

(90) 問 試述巴爾幹各國之首府名？

答 南斯拉夫首府曰伯爾格來得

保加利亞首府曰所菲

希臘首府曰雅典

羅馬尼亞首府曰不加勒斯多

亞爾巴尼亞首府曰都拉索

土耳其首府曰昂哥拉（在亞洲）

(91) 問 試述斯大木堡（君士坦丁）之形勢？

答 斯大木堡（君士坦丁）為土耳其舊都，瀕波斯破魯斯海峽，為黑海之咽喉。市街有亞洲

風，回教寺甚多，市東北之金角港，為無比之良港。

(92) 問 試述雅典之名勝？

答 雅典在希臘之東南部，為歐洲之文明發源地，其古蹟甚多。

(93) 問 試舉歐洲諸小國？

答 (1) 盧森堡，在比德間。(2) 利支敦士敦在瑞士奧地利間。(3) 安道爾在法蘭西及西班牙間。(4) 聖馬立諾，在義大利境內。(5) 摩納哥，在法義間，為世界最小之國。

(94) 問 世界之賭國何在試語明之？

答 摩納哥國，界法義間，面積僅八方哩，面臨地中海，風景甚佳，其國公開賭博，倚賭捐為國料，故有賭國稱。

第五章 非洲之部

(1) 問 試述非洲主要之山川？

答 非洲之山脈多沿海岸而走。其著者：(1) 阿特拉斯山在西北岸。(2) 得拉肯山脈，在南海岸。(3) 月山山脈，在東海岸，最高峯曰乞力馬扎羅山，高六千密達。為本洲第一高山。本洲之大水有三：(1) 尼羅河，長四千一百哩，為東半球第一巨流，注地中海。(2) 剛果河，注入大西洋。(3) 尼日爾河，注入幾內亞灣。湖泊多在中部，有維多利亞湖，坦噶尼喀湖，乍德湖等。

(2) 問 試述撒哈刺沙漠之情形？

答 「撒哈刺」阿刺伯語沙地之意。在非洲北部，占全洲面積五分之一，為世界最大之沙漠。氣候晝間酷暑，夜間寒冷，雨量極少。大部分不生艸木，旅行甚艱。惟沙漠中間有沙漠田，可以植椰子小麥等并畜牧山羊駝略之類。

(3) 問 試舉非洲之生物？

答 非洲氣候炎熱，故生物多偉大，動物有獅子象犀斑馬麒麟駝鳥河馬駝鱷魚猩猩等，植物有拜阿拜樹 Baobab 棗椰子旅人木棉甘蔗阿爾發艸 Añia 科克木等。

(4) 問 試述非洲之民族？

答 非人之民族分爲三系：(1) 阿非利加入種，居撒哈刺沙漠之南，占全非人口三分之二，皮膚暗黑色，一稱黑人。(2) 歐非民族，有含族及閃族，居地中海沿岸。歐洲各國人分居各地。(3) 海岸島嶼人種，居馬達加斯加島。

(5) 問 黑暗大陸名稱之由來？

答 非洲較之各大陸最不開發，故有黑暗大陸之稱。其主要原因：(1) 海岸單不曲折，缺乏良港。(2) 地勢爲高原，少平地。(3) 河川之下流多瀑布，不利航行。(4) 氣候酷暑，他洲人民不易生存。(5) 南北有廣大之沙漠，內部情形不易明瞭。

(6) 問 試述非洲探險之略史？

答 自十五世紀之末，葡萄牙人發見好望角，繼而葡王遣人繞好望角至印度。歐人始漸殖民於海岸。自十九世紀以後，英人李溫斯敦、史丹利、探險非洲內部，而非洲之情形，始大明。各國乃競占土地，殖民全境，以成今日之情勢。

(7) 問 非洲之獨立國有幾，其政體如何？

答 非洲之獨立國有三：(1) 埃及，在非洲北部，本爲土耳其朝貢國，歐戰之時爲英國之保護國，一九二二年爲獨立王國。(2) 阿爾西尼亞，在尼羅河上流，爲專制王國。(3) 利比里亞，在非洲西海岸，爲美國釋放之黑奴所建之國，國體共和。

(8) 問 試舉非洲之英國屬地？

答 英屬非洲之地甚多：有埃及蘇丹、基尼亞殖民地、烏干大、羅得西亞、貝專納、南非聯邦、東非洲、西南非洲、尼日尼亞、黃金海岸、塞拉勒窩內、岡比亞、索謀里蘭等地。

(9) 問 試舉非洲之法領地？

答 非洲之法領地有：摩洛哥、阿爾日尼亞、突尼斯、蘇丹、塞拉勒窩內、法屬幾內亞、象牙海岸、達荷美、喀麥隆、剛果、馬達加斯加、索謀里蘭。

(10) 問 試舉非洲義葡比西等國之屬地？

答 義大利屬地有的黎波里、以里特尼亞、索謀里蘭。葡屬地有東非洲、西非洲、幾內亞。比屬地有剛果。西屬地有里俄特俄羅斯等地。

(11) 問 舊德屬非洲分屬何國？

答 舊德屬非洲各地戰後皆為委託英法國等管理地，其支配如下：

德屬東非洲

英國 西南非洲——南非聯邦

喀麥隆之西部多哥蘭之西半

喀麥隆之東部

法國 坦噶尼喀之一部——比利時

多哥蘭之東半

(12) 問 試述尼羅河與埃及之關係？

答 尼羅河貫埃及入地中海，其水源地在阿比西尼亞，夏秋之時為雨季，十月水量增至極點，氾濫兩岸，灌溉地畝。冬季從事耕種，故說者謂埃及文明出自尼羅河，信不誣也。

(13) 問 埃及之首都何名有何古蹟？

答 埃及之首都曰開羅，瀕尼羅河右岸，有金字塔石刻象諸古蹟，皆四五千年之遺物也。

(14) 問 試述蘇夷士運河之概況？

答 蘇夷士運河自地中海至紅海，長一百六十杼，為法人利賽所築，一八六九年成功。運河

之股券，大部現在分落於英人之手。每年通過之輪船約二千萬噸。

(15) 問 試述巴巴利四國之國名及首府名？

答 巴巴利四國面地中海岸：(1) 的黎波里，首府同名，屬義大利。(2) 突尼斯，首府同名，為法國之保護國。(3) 阿爾日尼亞，首府同名，為法國之屬地。(4) 摩洛哥，首府拉拔特，大部分為法國之保護地，北部之里夫受西班牙之保護。

(16) 問 南非聯邦之組織如何？

答 南非聯邦於一九一〇年成立，其國分為四部：一好望角殖民地，二納塔爾，三橘河殖民地，四德蘭士瓦，其性質與加拿大及澳洲相同。

(17) 問 南非有兩種礦產最有名試略述之？

答 南非好望角殖民地之肯勃來之金剛石礦，稱世界第一。德蘭士瓦之金與澳洲及北美齊名。

(18) 問 好望角之形勢如何？

答 好望角為非洲之南端，當蘇夷士運河未開前，由歐洲東航者，必取道於此。其北有開普敦，亦作角市。南非聯邦之議會設於此。

(19) 問 試述馬達加斯加之概況？

答 馬達加斯加在非洲東南，為世界第四大島，屬法國，氣候不良，白人不能永遠居住，生物有狐猿及旅人木等特產。

(20) 問 森赫勒拿島在何處，以何著名？

答 森赫勒拿島為非洲大西洋中之小島，以拿破崙第一晚年放逐於此而聞名於世。

第六章 亞美利加洲之部

(1) 問 試述北美洲之地勢？

答 北美地勢分爲三部，東西高地，中央爲平原。(1) 太平洋高地；西部有科地里拉山系，沿太平洋岸，由北向南，東與密機山脈平行，二脈之間爲大盆地。(2) 大西洋高地，有阿巴拉既俺山脈。(3) 中央平原，有密士失必河，由北南流，注墨西哥灣。

(2) 問 試舉北美中部五大湖名？

答 北美之五大湖：(1) 蘇必厘爾湖，(2) 密執安湖，(3) 休命湖，(4) 伊利湖，(5) 安大略湖。伊利湖與安大略湖間有尼阿瓦拉瀑布，稱世界第一瀑布。

(3) 問 試述密士失必河之源委？

答 密士失必河上源曰密蘇厘爾河，出黃石公園，至聖路易會密士失必河，南流注墨西哥灣，長四千五百哩，稱世界第一長流。

(4) 問 試述北美之居民？

答 北美之居民有二者：(1) 原住民爲阿美利亞人種，亦稱紅種，因受白人之壓迫，漸次減少。又北冰洋岸有衣斯基莫人，屬黃種。(2) 移民，有白種人，爲英法及西班牙人之子孫。黑種人，專爲非洲輸入之黑奴。黃種人爲新自亞洲移來之中國人及日本人。

(5) 問 試舉本洲之獨立國？

答 本洲之獨立國，有美洲合衆國、加拿大、墨西哥、中美六國，(危地馬拉、薩爾瓦多、宏都拉斯、尼加拉瓜、哥斯德黎加，巴拿馬) 西印皮三國(古巴、海地、聖多明各)。

(6) 問 美國之政治組織如何？

答 美國之地方行政，分四十八州，一區二地方。聯合而為聯邦，其中央政治之權能，為結訂條約、陸海軍、郵政、電信等政務，餘皆各州自治，不聽中央命令。

(7) 問 試述美國重要之礦產？

答 美國之礦產，為世界各國冠。鐵、銅、煤、石油皆為世界第一。煤產於中部及阿巴拉契亞山脈地方，煤田之廣，占全國六分之一。銅鐵產於蘇必厘爾湖海岸。煤油產於賓夕法尼亞州，占世界全額十分之六，其餘如金、銀則產於西部諸州。

(8) 問 試述美國及加拿大重要之鐵道？

答 加拿大之加拿大太平洋鐵道、美國之大北鐵道、太平洋聯合鐵道、南太平洋鐵道等，皆自太平洋岸而至大西洋岸，為交通要道。

(9) 問 試述美國發達之原因？

答 美國發達之原因：(1) 位置優良，氣候溫和。(2) 土地肥沃。(3) 海岸線曲折。(4) 富於農產礦產。(5) 人民富於企業心。(6) 交通機關完備。(7) 社會組織完善。(8) 教育優良。(9) 資本雄厚。

(10) 問 美國首都何名，其地點何在？

答 美國之首都曰華盛頓，在東部，為政治之中心。

(11) 問 紐約工商業發達之原因何在？

答 紐約工商業發達之原因：(1) 港灣優良。(2) 西部有著名之農場。(3) 四周均為工商業繁盛之區。(4) 水陸交通設備甚周。

(12) 問 美國水陸交通之中心在何處？

答 芝加哥，在密執安湖南岸，為美國水陸交通之中心。

(13) 問 三藩市在何處，與我國關係如何？

答 三藩市一稱舊金山，在太平洋岸，與我國交通頻繁，華僑居此者甚多。

(14) 問 試舉美國重要之城市？

答 (1) 紐約在大西洋岸，美國第一商港。(2) 波士頓，在紐約東北，為學術之中心。

(3) 費城(費拉特爾費亞)，在紐約西南，為美國獨立發難之地。(4) 華盛頓，美國首都。(5) 芝加哥，在密執安湖之南，為美國水陸交通之中心。(6) 聖路易，在密士失必河中流。(7) 紐奧連，在密士失必河口。(8) 三藩市，在太平洋岸。(9) 西雅圖在三藩市北，有航路通我國。

(15) 問 世界第一公園在何處？

答 美國之黃石公園，在落磯山中，面積三千三百方哩，稱世界第一大公園。

(16) 問 阿拉斯加之情形如何？

答 阿拉斯加為一大半島，屬美國，人口稀少，氣候寒冷，富金礦及漁產。

(17) 問 加拿大之首府何名，其位置如何？

答 加拿大首府曰鄂太瓦，在聖羅稜斯河上流。

(18) 問 試舉加拿大重要之城市？

答 (1) 蒙特利爾，在聖羅稜斯河中流島上，為加拿大第一商港。(2) 魁卜克，在蒙得利爾之東，為加拿大之古都會，法人甚多。(3) 哈勒法，在新蘇格蘭半島，與歐洲航路甚近。(4) 溫哥華，在西部太平洋岸，與我國有航路往來，多華僑。

(19) 問 紐芬蘭在何處，以何著名？

答 紐芬蘭島，在加拿大東岸，為英國之直轄殖民地，世界三大漁場之一。

(20) 問 試述格林蘭之情形？

答 格林蘭，一稱綠洲，為世界第一大島，大部分為冰雪所封。惟西南岸略有居民，屬丹麥。

(21) 問 我國銀元一稱墨元何故？

答 我國最初之銀元，自墨西哥輸入，故名墨元，俗稱鷹洋。

(22) 問 墨西哥著名之礦產為何物？

答 墨西哥著名之礦產有銀、銅、煤油、金、鉛等。

(23) 問 試舉中美洲諸國名？

答 中美洲有獨立國六：即巴拿馬、哥斯德黎加、尼加拉瓜、薩爾瓦多、宏都拉斯、及危地馬拉。屬地一，即英屬地宏都拉斯。

(24) 試述巴拿馬運河之概況？

答 巴拿馬運河，橫斷巴拿馬地峽，長七十三哩，為開門式運河，主權屬於美國，每年通行之船凡九百萬噸。

(25) 問 試述西印度羣島之區分及其主權？

答 西印度羣島之區分及主權列表如下：

巴哈麻羣島.....

英屬地

古巴.....

古巴國

西印度羣島

大安的斯利羣島

海地.....

海地國及聖多明各國

波多黎各.....

美屬地

牙買加.....

英屬地

小安的斯利羣島.....

分屬英美法荷

(26) 問 古巴有何著名之物產？

答 古巴島著名之物產有甘蔗烟艸，而甘蔗糖之產額，稱世界第一。

(27) 問 試述南美洲之地勢？

答 南美洲之地勢與北美洲相同，分爲三部：(1) 太平洋高地，有安達斯山脈；沿太平洋南北走，多火山，最高峯曰阿康加瓜山，七〇四〇米。(2) 大西洋高地，北部有阿路山脈，南部有巴西山脈，(3) 中央大平原，有亞馬遜河、拉巴拉他河、鄂勒諾哥河，分流入海。

(28) 問 試述亞馬遜河之概況？

答 亞馬遜河流出安達斯山，東流入大西洋。與赤道平行，長四千哩，爲世界第三大河。支流極多，流域之廣，幾等歐洲三分之二。河口附近闊二百哩，有南美地中海之稱。航路可深達內地，惟氣候炎熱，至今尙未開發。

(92) 問 試述南美洲之生物。

答 南美洲之動物有美洲虎、食蟻獸、樹獺、鱷魚、大鷲、巨蟒、駱馬 *Llama*、羊駝 *Mpaca* 等。植物有橡皮、可可、椰子、金鷄納、桃花心木、玉蓮等。

(30) 問 南美之獨立國有幾試述之？

答 南美之獨立國九十，列之如下：(1) 委內瑞辣，(首府略喇加) (2) 巴西，(首府里約熱內盧) (3) 哥倫比亞，(首府波哥大) (4) 厄瓜多爾一名赤道國，(首府基多) (5) 玻利維亞，(首府蘇克里) 巴拉圭，(首府亞森松) (7) 烏路圭，(首府蒙得維多) (8) 阿根廷，(首府伯諾亞勒) (9) 智利，(首府散的牙哥) (10) 秘魯(首府利馬)。

(31) 問 試舉南美重要之都會？

答 (1) 喀喇加，委內瑞辣之首府，爲南美北部之商港。(2) 裏愛基，尼瓜多爾之商港。(3) 散的牙哥，智利首府，太平洋岸第一都會。(4) 法爾巴拉索，散的也哥之外港，太平洋岸第一商港。(5) 伯諾亞勒，阿根廷首府，工業皆發達，爲南半球最大之都會。(6) 里約熱內盧，巴西之首府。(7) 巴拉在亞馬遜河口，爲橡皮之輸出港。(8) 伯爾能不各，在巴西東部岸，與歐洲航路最近。

(32) 問 試述巴西之二大產業？

答 橡皮咖啡爲巴西二大產業，野生橡皮稱世界第一，由巴拉輸出，有巴拉橡皮之稱，咖啡產於東南高地，產額占世界十分之八。

(33) 問 智利秘魯有何特產之礦物？

答 秘魯之烏糞層 (Guano) 智利之硝石，爲世界有名之肥料。

(34) 問 阿根廷之畜牧業如何？

答 阿根廷爲世界三大牧場之一，羊之頭數占世界第二，若以人口與家畜比列，稱世界第一。凍肉羊毛輸出甚多。

(35) 問 南美洲有歐美洲殖民地否？

答 南美之圭亞那爲歐洲之殖民地，東部屬法，中部屬荷，西部屬英。

(36) 問 試述南美不開發之原因？

答 南美不開發之原因 (1) 氣候不良，(2) 海岸簡單，(3) 地勢不佳，(4) 森林叢密，交通爲艱 (5) 與歐洲相距太遠 (6) 加產不富。

(37) 問 何謂拉丁美洲？

答 自墨西哥以下除巴西爲葡萄牙人所開關外，餘皆爲西班牙人所開關。西葡人同屬拉丁族

故有拉丁美洲之稱。

(38) 問 麥哲倫海峽在何處？

答 麥哲倫海峽在南美大陸南端，與火地島間，為麥哲倫所發現，故名。當巴拿馬運河未開時為航路衝途。

第七章 兩極之部

(1) 問 達到兩極者為何人何時？

答 一九一一年，挪威之亞姆遜初抵南極。一九〇九年，美國之彼利，初抵北極。

(2) 問 試述南冰洲之情形？

答 南冰洲在南極圈內，為一冰原，有火山。氣溫甚低，無居民，無植物生長，動物僅有企鵝及腥膻獸鯨等而已。

(3) 問 何謂極光？

答 自南北兩磁極上發現，有赤黃綠白等色彩，極為壯觀。

第八章 地理通論之部

(1) 問 何謂太陽系？

答 太陽系者，太陽，八大行星，若干小行星，慧星，與二十一衛星所組成一大星羣之總稱。

(2) 問 試述八大行星之名，並試就其距日之遠近大小列之？

答 八大行星依距日之遠近列之：(1) 水星 (2) 金星 (3) 地球 (4) 火星 (5) 木曜

(6) 土星 (7) 天王星 (8) 海王星。依其體積列之：(1) 木星 (2) 土星 (3) 海王星 (4) 天王星 (5) 地球 (6) 金星 (7) 火星 (8) 水星。

(3) 問 試述太陽地球與月球之關係？

答 太陽爲恆星，地球爲行星，月球爲衛星。地球繞日，月繞地球。

(4) 問 地球之運動如何？

答 地球有二種運動：一自轉，系繞地軸自行轉動。二公轉，系地球繞日之運行。自轉二十四小時爲一週。名曰一日。公轉一周爲三百六十五餘日，謂之一年。

(5) 問 地球形圓有何法以證明之？

答 地球爲圓形之證明有六，(1) 登高望遠，視力所及之處爲圓形。(2) 海岸視來舟，先見船桅，後見船身，去舟反是。(3) 航行大洋，不變方向，可返原處。(4) 入向南行，見北方之星漸次低下，向北則反是。(5) 月蝕之時月面所映地球之影爲圓形。(6) 向日爲晝，背日爲夜，東西兩半球之晝夜相反。

(6) 問 四季之成因如何？

答 地軸與軌道垂線成二十三度二十七分之角，故太陽光射於地面，有斜正之分。太陽光線直射於赤道上，赤道南北寒暑平均，是爲春分。太陽光線北移至北回歸線，北半球晝長爲夏。此後太陽光線又返至赤道，兩半球晝夜均還春分時之狀態，是爲秋分。此後太陽光線復南移，射於南回歸線上，此時北半球晝最短，是爲冬至。

(7) 問 日蝕月蝕之成因如何？

答 月繞地球，地球繞日，循環不息。若月行至地球太陽之間，三者成一直線，日光爲月所阻，不能達於地面，則爲日蝕。若一地球在月與太陽之間，成一直線時，日之光線爲地所阻

，不能射於月面，則爲月蝕。

(8) 問 日月與潮汐之起因有何關係？

答 潮汐之起因，由於日月之吸引。月距地近，吸力較大，日距地遠，吸力較小。在上弦下弦時，日月之吸引力適成直角，兩相銷滅，成小潮汐。朔望之時，日月之吸引力同在一直線上，兩相互助，而成大潮。

(9) 問 何謂赤道，回歸線，與兩極圈？

答 截地球之中衡，而畫一大圈，謂之赤道，距赤道南北各二十三度二十七分之緯線。曰回歸線。又距兩極南北之二十三度二十七分之緯線，謂之兩極圈。

(10) 問 何謂經緯線，以何處爲起點？

答 通過南北極與赤道成正交之圓線，謂之經線，國際共認，以英京格林威治天文台爲起點。與赤道平行之線，謂之緯線，以赤道爲起點。

(11) 問 何謂地方時與標準時？

答 太陽經過某地之經度時，卽爲某地之正午。但各地之經度不同，所以正午之時刻亦異。今謀交通之便利。取某地之時刻，作爲一區域內之標準，名曰標準時。

(12) 問 五帶之氣候有何不同？

答 熱帶地方，終年炎，熱無四季之分，祇有乾濕二季，南溫帶與北溫帶地方，氣候適中，有四季之分。南寒帶與北寒帶地方，則氣候沍寒。

(13) 問 試述風之種類？

答 風之有定向者曰信風，一名貿易風。一年之中，時向赤道，時向南北二極。更迭而吹者，曰季風。在季風之外，分向兩極吹者曰極風。地面某處忽在低氣壓，水蒸氣凝結成雨，濶

熱放散，致氣流驟改而前進者，曰颶風。一地方氣壓驟低，四面空氣向中流動，彼此相觸作螺旋狀而上者，曰旋風。

(14) 問 試述山之成因？

答 山之成因，可分爲四種：(1) 褶曲山：地殼凝結時受橫壓力作用，隆起而成者。(2) 斷層山：地殼變動，一部陷落，一部隆起，此隆起部分即成斷層山。(3) 水蝕山：雨水之侵蝕，造成最深之谿谷，其間隆起部分，遂成水熔山。(4) 火成山，火山作用噴出之熔岩，冷凝而成。

(15) 問 試述火山之成因？

答 地中熔岩熱力甚大，若水沿地罅浸入，一觸熱熔岩，即成水蒸氣而膨漲，因破地殼而出，地中熔岩亦隨之噴出地面，是爲火山。

(16) 問 火山之種類有幾？

答 火山就其現狀可分爲三種：(1) 活火山不絕噴火。(2) 眠火山不時爆發。(3) 死火山昔日噴火，今已停止。

(17) 問 地震之原因若何？

答 地震之原因有三：(1) 地層之斷裂，乃地殼之水平移動。(2) 地層之陷落，乃地殼之上下移動。(3) 火山之爆發。

(18) 問 湖泊之成因若何？

答 湖泊之成因有三：(1) 地面升降變動，造成一盆地之陷穴。(2) 侵蝕作用之結果，造成多孔的地面。(3) 河流所滯下之泥土，淤塞河流，或海灣之出口。

(19) 問 海洋之功用若何？

答 海洋之功用有三：(1) 調和氣候。(2) 關於航海。(3) 利於漁鹽之業。

(20) 問 島嶼之成因若何？

答 島嶼之成因可分為五：(1) 由海底火山噴出而成。(2) 太古大陸所沈降而遺留。(3) 珊瑚遺骸推積而成。(4) 由河流沖積而成。(5) 海水之侵蝕。

(21) 問 大陸島與海洋島之區別若何？

答 附近大陸，島土地勢山脈及動植物多與大陸相同者，曰大陸島，崛起於大洋之中，與大陸全無關係者，與海洋島。

(22) 問 岩石之種類有幾，其成岩若何？

答 岩石可分三種：(1) 火成岩，由地中岩漿噴出地面或藏於地中，凝固而成者。(2) 水成岩，由於水有融解物質之能力，此被融解物質隨水流至某處，次第堆積，經多年與高壓而成。(3) 變形岩，由原始岩石，受某種動力而變化其性質所成。



中華民國三十六年五月五日出版

| | |
|--------|--------|
| 版 權 | 所 有 |
|--------|--------|

最新

中外史地問答

全一冊

定價國幣

元整

編著者 潘 之 庚

出版者 上海惠民書局

發行所 上海惠民書局

代售處全國各大書局

7
321630