



高級小學適用
 臨時課本

地理

第一冊

上海聯合出版
 社出版
 贈版

請
 交
 換

請
 批
 評

上海聯合出版社印行



新編 高小地理第一冊目次

- 一 中華民國
- 二 河北省
- 三 北平和天津
- 四 山西省
- 五 山東省
- 六 河南省
- 七 東北六省
- 八 東北的富源
- 九 東北的交通工商業和大城市
- 十 察哈爾綏遠和寧夏(上)
- 十一 察哈爾綏遠和寧夏(下)
- 十二 陝西省
- 十三 甘肅省
- 十四 青海省
- 十五 新疆省



3 1646 4926 5

一 中華民國

中華民國簡稱中國，是世界上的文明古國。位置在亞洲的東南部。面積約九百九十餘萬方公里，當亞洲總面積的四分之一，是亞洲第一大國。人口約四萬萬七千五百萬，佔世界總人口的五分之一，是世界上人口最多的國家。

我國的地勢西北高，東南低。高原、山地、平原、盆地，各種地形都齊備。有豐富的農產，廣大的森林，無盡的礦藏，氣候又溫和〔註一〕，很適於人類居住。

我國人民是熱愛勞動，勇於反抗的。幾千年來，他們一直和壓迫者、剝削者鬥爭。抗日戰爭中他們在中國共產黨領導之下，在華北、華中和華南開闢了廣大的解放區，建立了新民主政權。抗戰以後，擊敗了國民黨反動派的進攻。現在人民解放軍的力量已經深入長江以南，距離全國解放的時期已經不遠了。



我國舊有的行政區劃有三十五省〔註二〕、十二個直轄市〔註三〕、西藏地方〔註四〕。

我國是個多民族的國家，除漢人外，還有蒙人、回人、藏人、滿人〔註五〕、苗人、僑人、夷人等，其中漢族人口最多。從前漢族中代表大地主、大資產階級的統治者提倡「大漢族主義」，壓迫蒙、回、藏、苗、僑等少數民族。今後在共產黨和人民政府的領導之下，國內各民族都可以享受真正的自由平等的權利了。

問題：一、我國在亞洲的什麼地方？面積多大？人口有多少？

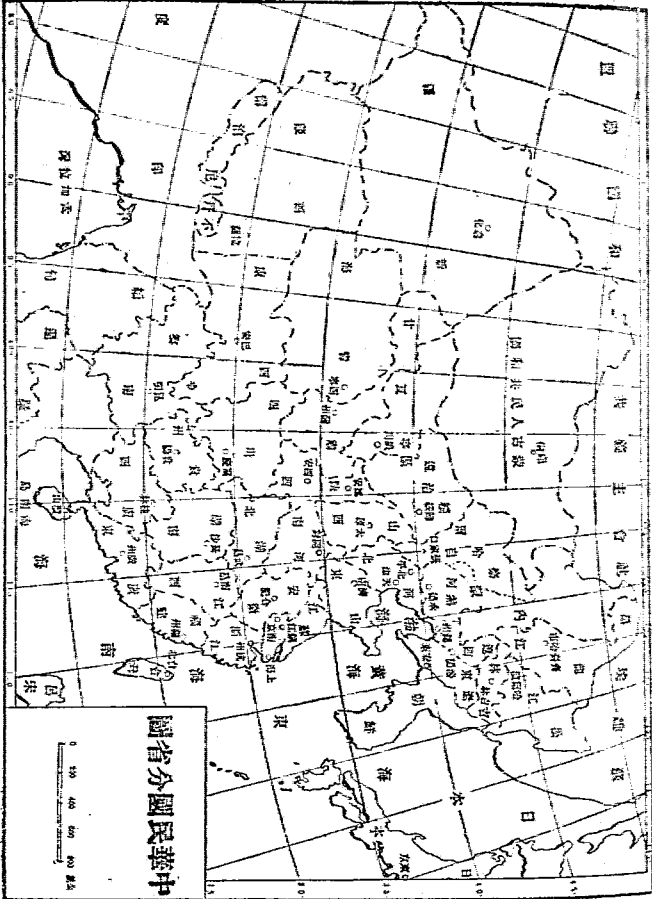
二、我國的地理環境怎樣？

三、我國向來共分多少省區？有哪幾個民族？

作業：畫一幅中國行政區劃全圖。

註解：一、我國大部處在北溫帶，黑龍江省和興安省北部接近寒帶，臺灣和廣東南部在熱帶中。

二、我國舊分三十五省，華北區有河北、察哈爾、熱河、山西、山東、河



南，東北區有安東、遼寧、遼北、吉林、松江、嫩江、合江、黑龍江、興安，西北區有綏遠、寧夏、甘肅、陝西、青海、新疆，華中區有江蘇、浙江、安徽、湖北、湖南、江西，華南區有福建、臺灣、廣東、廣西，西南區有雲南、貴州、四川、西康。其中東北區，東北行政委員會爲適應新的經濟建設，於民國三十八年四月決定把熱河也包括在內，重新劃爲遼東、遼西、吉林、松江、黑龍江、熱河六省，瀋陽、撫順、鞍山、本溪四個直轄市。

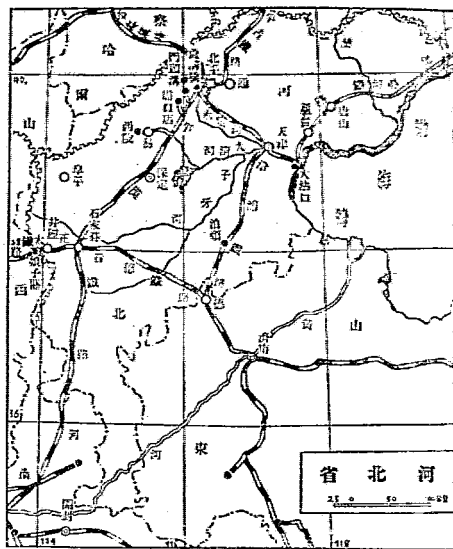
三、十二個直轄市是上海、南京、廣州、北平、天津、青島、重慶、漢口、西安、大連、哈爾濱、瀋陽。

四、西藏原是藏人的家鄉，清初劃入我國。清朝和民國成立以來的統治者不承認藏人的自治權利，因而引起藏人不斷的反抗。英帝國主義利用這個空隙，就和西藏的統治者勾結起來，向西藏進行侵略。

五、滿族人數很少，現在生活習慣已經完全和漢人相同了。

二 河北省(冀)

河北省因爲位置在黃河以北得名，面積約十四萬方公里，人口約二千八



百萬。全省除西部的太行山脈和北部的燕山脈分布地區以外，都是平原，是華北平原的一部分。有白河（北運河）、永定河、大清河、子牙河、南運河等五大河，在天津附近匯合，總稱海河（沽河），經大沽口流入渤海。

河北省住民除漢族外，有少數回人。回人多經營商業，在抗日戰爭和解放戰爭中，他們進行了許多英勇的反抗鬥爭。

交通方面：有平漢、平綏、北寧、津浦、正太、石德、平承七條鐵路。公路很多，主要幹線有平大（大名）、津保（保定）、滄（滄縣）石（石家

莊)等路。海運和河運都以天津爲中心。

農產以麥、豆、高粱、落花生、棉花爲大宗，棉花產量居全國第一位。礦產以煤爲最重要，開灤煤礦產量最多。沿海盛產魚、鹽。

河北省的重要城市有保定、石家莊、唐山等。石家莊和唐山都是工業都市。

問題：一、河北省有什麼大山、大河和重要鐵路？

二、河北省有什麼重要物產？

作業：畫一幅河北省交通圖，把北平、天津、保定、石家莊、唐山等地名都填上。

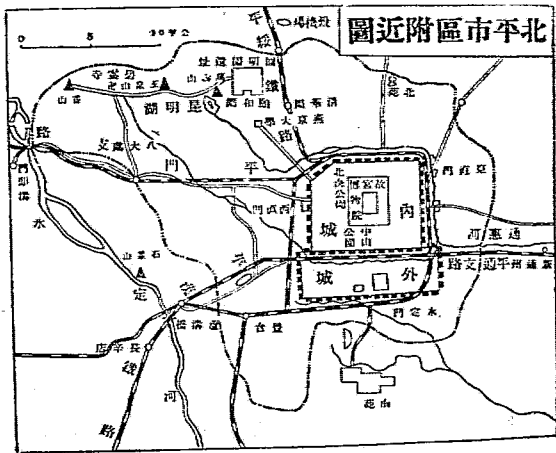
三 北平和天津

北平舊稱北京，是我國五大古都之一〔註一〕，遼、金、元、明、清和民國初年都在這裏建都。民國三十八年一月三十一日解放。現在是中國共產黨中央黨部和其他各民主黨派首腦機關所在地。華北人民政府也設在這裏。人口

一百八十多萬。城牆周圍有三十公里，分外城和內城。內城中又有皇城。皇城裏設着故宮博物院，有前朝封建帝王的宮殿，紅牆黃瓦，光彩奪目。

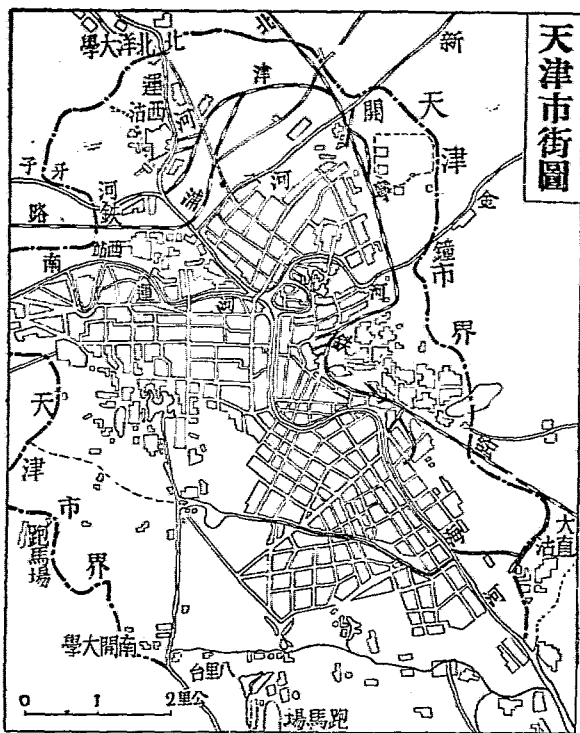
北平在北寧、平漢、平綏和平承四條鐵路的連結點上，距離海口又不遠，交通很便利。前門大街和王府井大街是商業的中心。北海、中南海、中山公園是風景區。城西有頤和園〔註〕，有山有水，景致極好。

北平向來有我國「文化城」的稱號，有北京大學、清華大學、燕京大學等著名學府，有規模宏大的博物院和圖書館。青年學生多富有革命鬥爭的傳



統，現代史上著名的「五四」運動和「一二九」運動，都在這裏爆發。

天津市街圖



天津在河北

五大河的匯流處，距離海口很近，北寧和津浦兩鐵路又在這裏相接。人口一百七十多萬。是華北最大的工商業都市。出口以棉花、皮毛、藥材為大宗；入口以紗、布、糖、石

油爲大宗，工業有紡織、麵粉、精鹽、製革、火柴等業。

問題：一、北平是哪幾代的國都？

二、北平有哪些文化機關？有什麼青年運動在這裏爆發？

三、天津的交通怎樣？工商業怎樣？

作業：畫一幅北平和天津市區和近郊圖。

註解：一、我國的五大古都：北平、南京、開封、洛陽、西安。

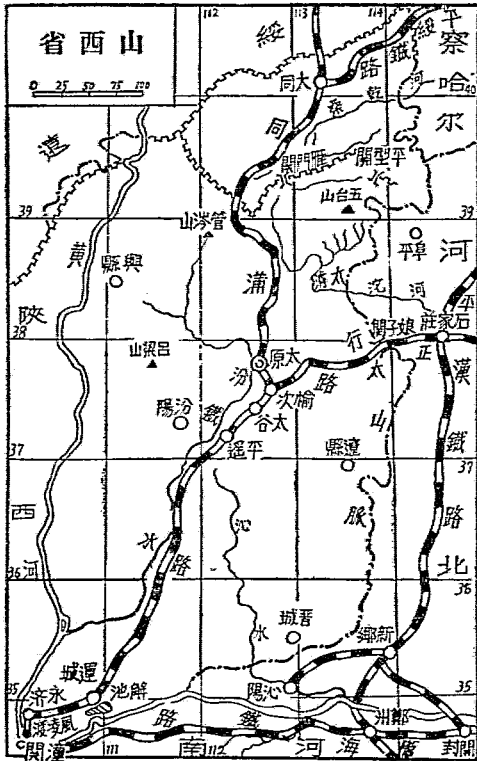
二、頤和園是滿清末年那拉氏（慈禧太后）移用建設海軍的錢建築的，專供帝王貴族遊息。

四 山西省（晉）

一、山西在河北省的西面，面積約十五萬六千公里，人口約一千五百萬。地勢較高，是西北黃土高原的一部分。四周羣山環繞，東部有太行山，北部有管涔山，西部有呂梁山，南部有中條山，對外交通不很方便。中部太原盆地和汾水中下游一帶地勢較低，土質也比較肥沃。黃河流經西面和西南邊境。

汾水是省內最大的河流，發源管涔山，流經太原西面，往西南，到河津流入黃河。

汾水下游一帶是重要農業區，農產有小麥、小米、棉花等。北部有羊、牛等出產。煤的藏量約佔全國的一半，煤田多分布在大同、陽泉一帶，向來因為運輸困難，開採不很旺盛。運城的解池出產食鹽，除自



用外，還銷售到河南、陝西等省去。舊工業著名的是鐵器和汾酒。新興工業有鍊鋼廠、兵工廠、織呢廠、洋灰廠等，大都集中在太原。

境內有同蒲、正太、平綏三條鐵路。同蒲路縱貫南北，最爲重要。公路以太原爲中心。航運的利益不大。

省會太原，在汾河東岸，是同蒲、正太兩條鐵路的連接點。新工業相當發達。三十多年來統治着山西人民的封建軍閥閻錫山，便以太原爲政治經濟的中心。直到民國三十八年五月纔被人民解放軍解放。大同在雁門關外，是平綏、同蒲兩鐵路的交會點。附近有雲崗石窟，石壁上雕刻的佛像是北魏的遺蹟，在藝術上很有價值。

抗日戰爭中，八路軍首先在本省東北境平型關〔註〕聚殲敵人，後來又在境內建立起抗日民主政權。興縣、阜平和遼縣都是當時的中心根據地。

問題：一、山西省的地形怎樣？有哪些大山和大河？

二、山西省有什麼出產？

三、抗日戰爭中八路軍在山西省建立了哪些抗日根據地？
四、山西省有哪個重要都市？

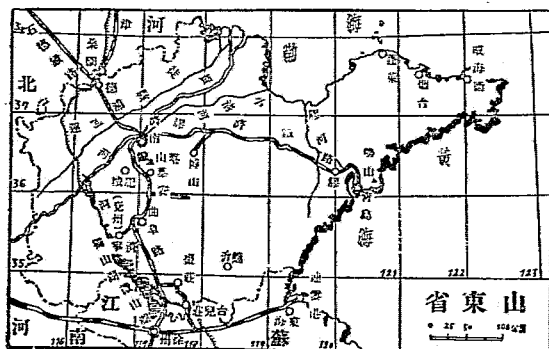
作業：畫一幅山西省略圖，把阜平、興縣和遼縣

都註上。

註解：平型關在繁峙縣境內，八路軍曾在這裏殲滅幾千日軍，是抗戰史上第一次大勝利。

五 山東省(魯)

山東在河北的南面。面積約一百四十六萬方公里，人口約三千九百萬，人口的密度較高。本省東部突出在黃河和渤海間，是一個半島，隔着渤海海峽和東北的遼東半島相對，中部泰山脈分布區域和東部嶗山脈分布區域〔註一〕地勢較高，其他都是平原。



河流：黃河從河北流入省境，斜經本省北部注入渤海。此外還有大運河、南北膠河〔註二〕、徒駭河、小清河等。南部有獨山湖、微山湖等湖泊。海岸：黃河口附近是沙岸，其餘都是岩岸，有膠州灣、威海衛、煙台等良港。氣候：東部濕潤溫和，是華北氣候最好的地區，西部較爲乾燥，溫差漸大。

交通：有津浦、膠濟和石德三條鐵路。公路發達。小清河和大運河都可通行民船。

本省農產以小麥、小米、高粱、落花生、棉和煙草爲主。山東半島上出產梨、葡萄、蘋果、桃、棗等果品。礦產以博山和嶧山的煤，金嶺鎮的鐵爲最著名。沿海盛產魚、鹽〔註三〕。漁產有黃魚、帶魚、海參、牡蠣等。工業品有博山的玻璃、陶瓷，周村，濰縣一帶的繭綢等。

濟南是本省省會，當津浦和膠濟兩鐵路的交點。人口七十多萬。商業興盛。有大明湖、趵突泉、千佛山等名勝。市北濼口鎮，是津浦鐵路黃河鐵橋

的所在地。曲阜在濟南以南，是古代孔子的故鄉。城北的孔林，是孔子的葬地。

青島是直轄市，在膠州灣東側，膠濟鐵路的起點。本省商貨多從這裏出入。市街建築整齊。紡織工業發達。

問題：一、山東的地形怎樣？交通怎樣？

二、山東省有哪些重要城市？

三、山東省有哪些重要物產？

作業：畫一幅山東略圖。

註解：一、泰山主峯在濟南以南，高一千六百公尺，古時稱做「東嶽」。登到山頂

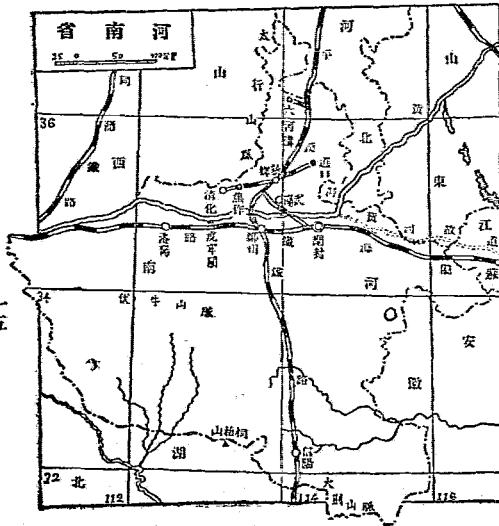
上，可以早看到太陽兩小時。嶗山在半島東部，主峯高一千二百公尺。

二、南北膠河都發源於百脈湖（今已乾涸），分流南北。如果把百脈湖挖深，兩河相連接，便成爲溝通渤海與黃海的運河，可以把航程縮短。

三、山東是我國的一個大產鹽區。約有二十場，遍佈沿海一帶。只膠州灣區域就有鹽戶兩萬。

六 河南省 (豫)

河南在山東的西面，面積約十六萬五千方公里，人口約三千萬。地形大致分成兩部，平漢鐵路以東是大部分是山地，平漢鐵路以東是大平原。山脈：北部有太行山，西部有伏牛山，南部邊境上有大別山和桐柏山。大河流有黃河。淮水上游各支流也多在本省發源。黃河經黃土高原東流，出虎牢關，驟然落入平原，水流漸緩，沉澱大增，河底淤淺，所以歷史上黃河的災患，大都發生在河南和山



東境內。

氣候：除伏牛山以南地區略帶海洋性外，其他地方和河北沒有多大差異，只是氣溫比較高一些。

境內有隴海、平漢、道清、汴新〔註〕四條鐵路。公路發達。

本省農產以小麥、棉、菸葉、芝麻、花生爲主，南陽一帶出稻米。礦產以煤爲主，六河溝、焦作是重要的產煤區。西南部伏牛山旁一帶，種植櫟樹、漆，織成的綢通稱「河南綢」。

省會開封在隴海、汴新兩路的連絡點上，人口約有四五十萬。這裏是北宋的都城。洛陽在西部，東周和東漢都在這裏建都，古蹟名勝很多。鄭州在隴海、平漢兩鐵路的交會點上，是本省北部交通中心。此外北部的新鄉，南部的信陽，都是本省重要城市。

問題：一、河南有什麼大山和大河？

二、河南有什麼重要物產？有哪些鐵路和城市？

作業：畫一幅河南省簡圖。

註解：汴新鐵路是「七七」事變後日寇修築的，從開封經陽武縣到平漢路上新鄉的小冀鎮。

七 東北六省

東北在「九一八」以前，原分遼寧、吉林、黑龍江三省，抗日戰爭勝利後劃爲九省。現在東北行政委員會把熱河也包括在內，改劃爲遼東、遼西、吉林、松江、黑龍江、熱河六省，和瀋陽、撫順、本溪、鞍山四個直轄市。面積一百二十五萬方公里，約當全國總面積百分之十二強。人口四千萬，人口密度不高。

本區北部和西部與安嶺分布區域和東南部長白山分布區域地勢較高，中部松花江、嫩江流域和東南部遼河流域是一片大平原，通稱松遼平原。西南部突出在渤海和黃海間，就是遼東半島，與山東半島相對。河流有黑龍江、

烏蘇里江、鴨綠江、圖們江、松花江、遼河等，除松花江和遼河外，都是國際河流。湖泊有興凱湖、鏡泊湖等。

本區除東南沿海一帶以外，多屬大陸性氣候。中部和北部氣溫較低，一年中有五六個月的冰凍期。北部黑龍江沿岸冬季常在零下二十度以下，滿地冰雪，河水結冰七八尺厚。松遼平原中夏季多風雨，雨多下在七八月間，適於農業。

東北住民以漢人爲主，大多數是清朝末年以來由山東、河北等省遷移來的。其次是蒙古人。滿人數目不多。此外還有少數文化落後的小民族。

自從「九一八」事變以後，因爲國民黨抱不抵抗政策，東北人民過了十年的奴隸牛馬似的生活。抗日戰爭勝利以後，南部各地又受到國民黨反動派的蹂躪，痛苦不堪。但是東北人民並沒有屈服，他們在中國共產黨領導之下，不斷奮鬥，終於戰勝了敵人，到民國三十七年冬季獲得了完全解放。

問題：一、東北六省的地勢怎樣？有哪些山脈河流？氣候怎樣？

二、東北六省有哪幾種民族？他們怎樣從日本和國民黨反動派的奴役下解放出來？

八 東北的富源

東北是我國的寶庫，農、林、礦產都很豐富。

廣大的松遼平原上，土質肥美，雨水充足，是東北最主要的農產區。大豆、小麥、高粱並稱為東北三大農產。高粱和大豆是東北人民的主要糧食。大豆可以榨豆油、製豆餅，產量佔全國十分之七，在全世界佔第一位，是東北主要的輸出品。

礦產以撫順的煤礦為最重要，藏量有五萬萬噸，年產六百多萬噸，居我國第一位，也是世界上著名煤礦之一。撫順一帶產油頁岩，可以鍊製石油，在抗戰前，產量曾佔全國十分之八以上。近年在阜新縣境又發現了大油脈。鞍山、本溪產鐵。鞍山區的藏量達六萬萬噸，那裏有我國最大的鍊鋼廠，所

以有「鋼都」的稱號。黑龍江北部漠河、黑河一帶是金礦分布的中心地區，金的產量居全國第一。熱河也有金礦。沿海盛產鹽。

在興安嶺和長白山脈一帶，都有茂密的森林，木材儲量佔全國第一位。長白山區開採已很旺盛。

東北水力很豐富，小豐滿水電廠的電力可以供給南部各大都市的需要。東北的富源在「九一八」之後，完全被日本帝國主義者攫奪過去。抗戰勝利之後，工業設備很多遭到國民黨反動派的破壞。現在東北民主政府已在積極的整理和發展。富饒的東北是建設新中國的一個重要基地。

問題：一、東北包括哪些省區？

二、東北有哪些富源？

三、在新中國的建設中，東北所佔的地位怎樣？

四、怎樣才能開發東北的富源？

九 東北的交通工商業和大城市

東北是我國鐵路網和公路網分布最密的地方。鐵路以中長路〔註一〕和北寧路爲骨幹，此外有長圖、濱黑、圖佳、平齊、安瀋、錦承〔註二〕等路。全長一萬二千多公里，約當全國鐵路總長的一半。

東北公路總長六萬公里（據一九四五年的統計）。

東北是我國最重要的工業區，發展重工業的條件頂完備。鞍山的鋼鐵工業和瀋陽的軍火工業，都已有很好的基礎。瀋陽兵工廠規模之大，居東亞第一位。輕工業以哈爾濱的榨油和麵粉工業爲最重要。此外如造紙、木材、紡織、製革等業都相當發達。

瀋陽是遼東的省會，人口約一百二十萬，是東北第一大城，工商業都很發達。哈爾濱是東北北部的工商業中心，人口約八十五萬，是東北的第二大城市。長春人口約八十萬，過去做過偽滿首都，是東北第三大城市。安東

也是個小工業城市，長白山區採下來的木材都從這裏出口，人口三十萬。大連在遼東半島上，七七抗戰以前，輸出入貿易總額僅次於上海，居中國第二位，人口五十多萬，與瀋陽、哈爾濱、長春、安東合稱東北五大都市，現在是自由港。旅順在遼東半島尖端上，是我國北部最優良的軍港，依據民國三十四年中蘇友好條約，在三十年內，由中蘇兩國共同使用。

問題：一、東北有哪些鐵路？

二、東北哪些工業最發達？哪些地方是工商業的中心？

三、東北有哪幾個大城市？

註解：

一、中長鐵路是過去中東路和南滿路的總稱。中東路從滿洲里通到綏芬河，南滿路從昂昂溪通到大連。

二、長圖鐵路從長春經吉林通到圖們，濱黑路從濱江通到大黑河，圖佳路從圖們通到佳木斯，平齊路從四平街通到齊齊哈爾，安瀋路從安東通到瀋陽，打通路從打虎山通到通遼，錦承路從錦縣通到承德。

十 察哈爾(察)綏遠(綏)和寧夏(寧)「上」

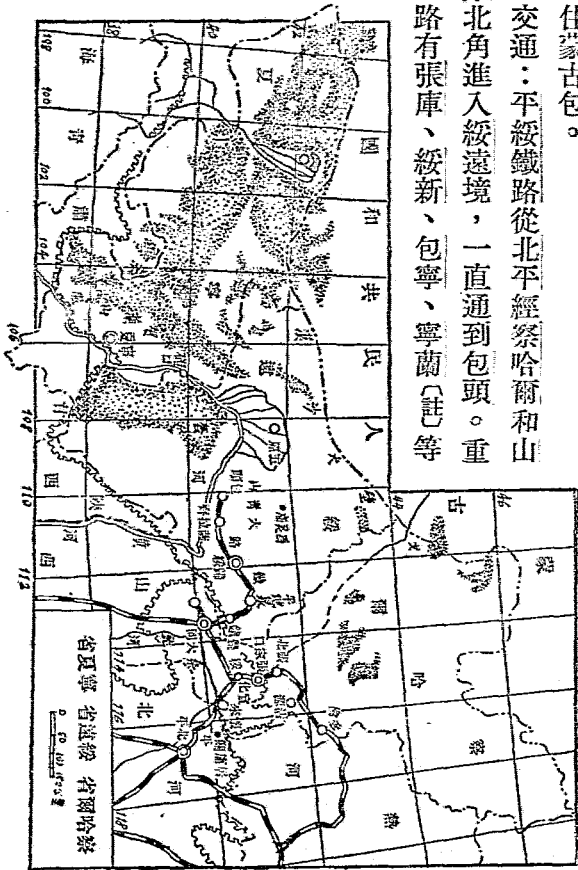
察哈爾、綏遠和寧夏三省，北部與蒙古人民共和國接界，南部與華北區的河北、山西、陝西、甘肅四省相連。面積約八十四萬六千公里，人口約五百十八萬。本區大部分在蒙古高原中，平均高度在一千二百公尺以上。山脈都屬陰山脈，綏遠境內的大青山，寧夏境內的賀蘭山，比較高大。北部和西部已入蒙古戈壁大沙漠地帶。察哈爾南部桑乾河流域是一個小盆地，農業盛行。綏遠、寧夏境沿黃河河套一帶是一片肥美的沖積平原，富有灌溉的利盆，宜於農耕，向來有「黃河百害，惟富一套」的話。

河流除黃河水系外，大都是內陸河。多鹽水湖，寧夏的吉藍泰鹽池和居延海最著名。氣候屬大陸性，多風少雨。冬季長，夏季短，一年中只五月到八月這四個月間不見霜雪。

住民漢人較多。蒙人多分布在北部。寧夏省有回人。蒙人多信奉喇嘛。

教，住蒙古包。

交通：平綏鐵路從北平經察哈爾和山西東北角進入綏遠境，一直通到包頭。重要公路有張庫、綏新、包寧、寧蘭〔註〕等線。



問題：一、察哈爾、綏遠、寧夏的地形和氣候怎樣？

二、「黃河百害，惟富一套」這話是怎樣來的？

註解：張庫線從張家口通到外蒙古首都烏蘭巴圖（庫倫）。綏新線從綏遠通到新疆。包寧線從包頭通到寧夏銀川。寧蘭線從銀川通到蘭州。

十一 察哈爾（察）綏遠（綏）寧夏（寧）〔下〕

農業盛行於察省南境、綏遠境內歸綏到五原一帶和寧夏東部黃河沿岸一帶。後兩個地區裏，人工開鑿的溝渠很多，對農業的發展大有幫助。農產物有小麥、燕麥（莜麥）、高粱、玉蜀黍等。又出產甘草、大黃、麥冬等藥材。北部盛行畜牧，羊、牛、馬、驢、駱駝等都有出產。察北產馬，可以供軍用，產額居全國第一位。礦藏有煤、鐵、石棉等，察哈爾省開採較盛。此外自然鹼和池鹽產量都不少。

張家口是察哈爾的省會，在省境南部，是河北和內外蒙古間的交通要地，平綏鐵路從北平經過這裏往綏遠，是內蒙各省最大的工商業城市。歸綏

是綏遠的省會，皮毛業很發達。銅川是寧夏的省會，所產皮毛，光澤潔白，俗稱「西口皮」。

熱、察、綏、寧四省以及東北西境一部分，大都是蒙古遊牧部落分布的地區，地位在蒙古戈壁大沙漠的南面。向來總稱「內蒙古」。那裏的蒙人，兩百多年來受中國封建統治階級和日本帝國主義的欺蒙和壓迫，生活困苦，文化落後。近五六十年來屢次發生自治運動，一直沒有成功。抗日戰爭中，中國共產黨的勢力發展到這個地區以後，根據民族自決的原則幫助內蒙人民，發展民族運動，蒙古人民已於民國三十六年五月，成立了一「內蒙古自治政府」，從此內蒙人民就走上了進步的道路了。

問題：一、察、綏、寧三省的產業怎樣？有哪些大都市？

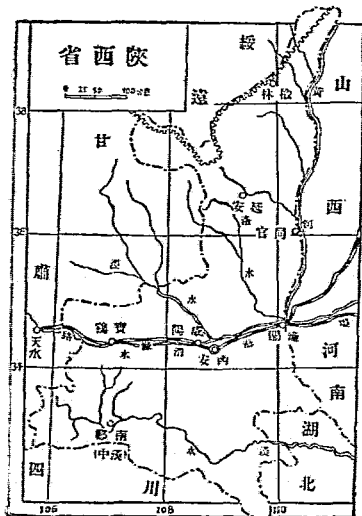
二、「內蒙古自治政府」成立的經過怎樣？

作業：畫一幅察、綏、寧三省的簡圖。

十二 陝西省 (陝)

陝西省在綏遠的南面。面積約十八萬七千方公里，人口約有一千萬，是西北各省裏人口密度較高的一省。住民有漢人、回人和少數蒙人。回人約有三四百萬。地形大致分爲三部。陝北是黃土高原。中部是關中平原，由渭、洛、涇等水沖積而成。秦嶺以南漢水上游稱漢中盆地。黃河流經東部邊境。氣候可以秦嶺分界，嶺北純是大陸性氣候，乾冷多風；嶺南屬帶海洋性，溫和多雨。

農產：北部以小麥、小米爲主，南部產稻米、菸草。關中平原產棉，也是我國主要的棉產區。礦



產豐富。煤藏量僅次於山西，居全國第二。石油以延長一帶爲中心，開採不旺。

交通：隴海鐵路橫穿中部，東通江蘇連雲港，西達甘肅天水，有咸同、渭白兩條支線。〔註〕公路以西安爲中心，有西北、成寶、西榆三線通塔城、成都、榆林等地。涇、渭、漢三水的一部分可以通行民船。

西安是本省省會，地當關中平原的中點，扼西北與中原交通的要衝，周、秦、漢、唐都在這裏建都，古蹟很多。延安是陝北的名城。這裏附近一帶原是很貧瘠的地區。民國二十四年中國共產黨工農紅軍從江西長征來到這裏，民國二十六年成立陝甘寧邊區政府，在抗日戰爭中領導華北人民堅持抗戰，努力生產。經過了七八年的時間，這一帶竟成爲豐衣足食的地區，文化教育程度也大大提高了。從民國二十六年起到三十六年三月國民黨反動派侵佔延安止，延安一直是中國共產黨的領導中心所在地，名聞全世界，被稱爲「中國民主聖地」。

問題：一、陝西的地形怎樣？

二、陝西的物產怎樣？

三、延安爲什麼被稱爲「中國民主聖地」？

作業：畫一幅陝西省路圖。

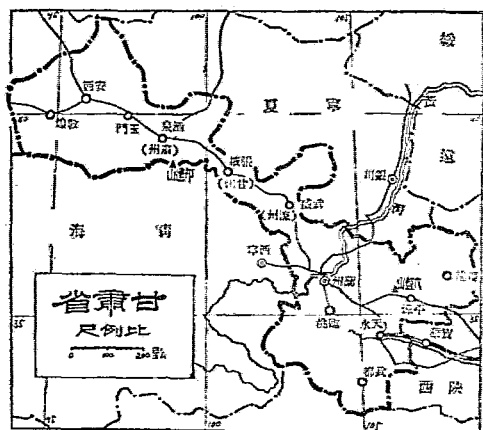
註解：咸同支路從咸陽經三原通到同官。渭白支路從渭南通到白水。

十三 甘肅省(廿)

甘肅在陝西的西面，面積約三十九萬方公里，人口約七百萬。東西狹長，兩端闊大。全境是高原，平均在二千公尺以上。東部有六盤山，西南有祁連山。西北部有沙漠。河流以黃河爲最主要。氣候純屬大陸性，溫差極大。雨水稀少，北風特多。

全省住民，漢人較多，大都從四川移來，回人約佔三分之一。此外還有少數蒙古人和藏人。

甘肅在古代曾是歐亞兩洲陸路往來的大道，現在的西北交通線甘新公路也斜穿過省境。抗戰中蘇聯對中國的接濟，就是經過甘新公路運輸來的，隨



宗。北門外有鎮遠鐵橋，是黃河三大鐵橋之一。安西在省境西部，是本省與新疆交通的要道。縣境西南敦煌附近有莫高窟，洞中有北魏、唐、宋的壁畫，名聞中外。

海鐵路已從寶雞修築到天水。航運不發達，黃河中多用皮筏做交通工具。甘肅氣候乾寒，農業不很發達。東部出產小麥、小米、青稞、棉花、菸葉等。此外出產藥材。西部畜牧盛行，畜產以羊為最多。羊毛是本省重要輸出品。礦產還沒有詳細的調查，玉門附近的石油開採已見成效。

蘭州是本省省會，在黃河南岸。商業發達，輸出以水煙、毛皮、藥材為大

問題：一、甘肅的地形怎樣？有什麼河流和山脈？

二、甘肅的住民怎樣？

三、甘肅有什麼物產？

作業：畫一幅甘肅省簡圖。

註解：皮筏用牛皮或羊皮縫製而成，在急流中不怕碰撞，但只能順水下行。

十四 青海省(青)

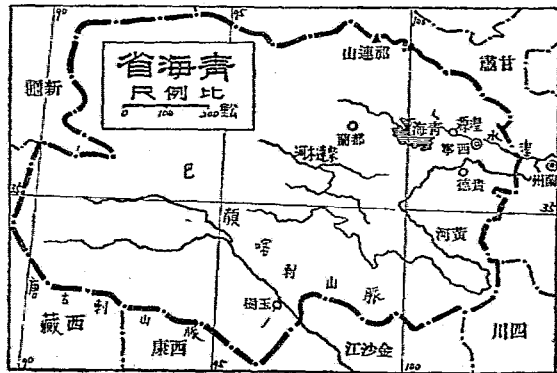
青海在甘肅的南面。面積約六十六萬七千方公里，是中國第二個大省，可是人口大約只有一百三十萬(平均一方公里還不到兩個人)，而且大都分布在西寧附近一帶。住民有蒙人、漢人、藏人、回人。蒙人、藏人多住於西部和南部，以畜牧爲生。回人、漢人多從陝甘等省移來，分布在東部，大都從事農業。

本省是個高原，大部分高出海平面三千公尺以上。山脈：北面有祁連山，南面有唐古拉大山，中部有巴顏喀拉山。巴顏喀拉山是黃河長江的分水

嶺，黃河發源在山北，長江發源在山南。柴達木河是內陸河流。湖泊很多，以東部的青海為最大〔註〕。青海及柴達木河流域一帶地勢較為低平。

全省氣候比較乾寒。西寧和青海四周比較溫和，草地豐美，農業較盛，近幾十年來已逐漸向青海以西發展。農產有小麥、青稞、豌豆等。畜牧盛行，羊是最主要的畜產。羊毛是主要輸出品。礦產有金、煤、玉等，藏量還沒有調查過，開採不盛。鹽井、鹽池很多。

省會西寧在黃河支流湟水的南岸，有公路通蘭州，是全省政治、經濟、文化的中心。



問題：一、青海有多少人口？有哪些民族？

二、青海的地形和氣候怎樣？

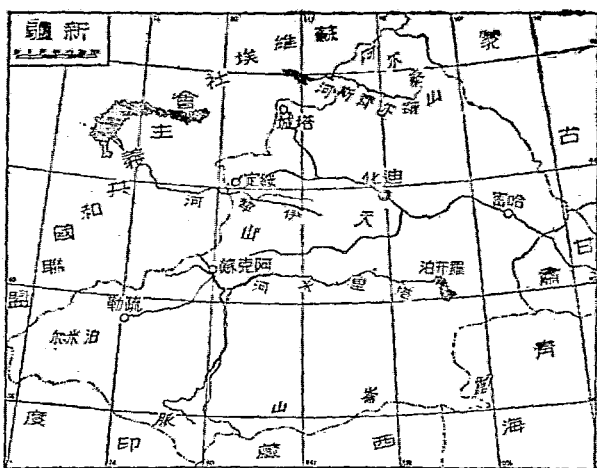
作業：畫一幅青海省略圖。

註解：青海是我國第一大鹽水湖，面積隨季節而變化，周圍約三百八十公里，以產「青鹽」著名。海中有兩個小島，住有喇嘛僧及番人共約二萬。漢人、回人到那裏去的很少。

十五 新疆省（新）

新疆是我國西北角的邊疆，西面和蘇聯的中亞細亞接境，西南和印度交界，面積約有一百七十萬方公里，有浙江省的十七倍那麼大。人口大約四百萬，還不及上海一個城市的多。

新疆住民包括許多民族，有維吾爾（纏回）、漢回〔哈薩克、漢人、蒙人、藏人等。維吾爾族人數最多。西部各都市中還有中亞細亞各族和印度族來經商的僑民。〕



本省交通全靠公路。以迪化爲中心，往東經哈密通甘肅、綏遠，往西通伊犁河等河流。

新疆四周多山，北部有阿爾泰山脈，南部有崑崙山脈，西部是帕米爾高原區。天山橫亘在中央，把全境分成南北兩部，天山以北通稱天山北路，天山以南通稱天山南路。北部準噶爾盆地是一塊乾冷的草原，林牧發達。迪化到西部綏定一帶有一些耕地。南部塔里木盆地大部分是沙漠。盆地的四周有雪水灌溉，是農業地區。塔里木河是我國最大的內陸河流，由四周許多條支流匯合而成，注入羅布泊。北部有額爾齊斯河和伊犁河等河流。

塔城、綏定，往南沿天山南麓通疏勒。水路只有伊犁河在綏定以下一段和塔里木河下游可通小船。

本省農產有小麥、高粱等。南部盛產棉花，吐魯番和莎車是兩個棉產中心地。畜牧是本省的主業，羊、牛、馬、騾、驢等產量都很多。天山北麓有天然林，產松、杉、樺等木材。礦產有石油、金、銀、銅等，開採不盛。

迪化是本省省會，在天山北麓，是全省政治、經濟、文化的中心。綏定和塔城都在西北部邊境上，與蘇聯貿易很盛。南部重要都市有阿克蘇、疏勒等。

本省民族的種類很多，各民族的語言、宗教、生活習慣多不相同。向來的中國政府統治新疆，不能顧到各民族人民的利益，所以各民族人民不斷的發生民族運動，近年來已經在西部成立了自治政府。

問題：一、新疆省住民包括哪些民族？


二、新疆省的自然環境怎樣？

三、新疆的產業怎樣？有哪些大都市？

四、怎樣才能把新疆各民族團結起來？

作業：畫一幅新疆省簡圖。

註解：漢回也是回族人，因為在中國的年代太久遠了，他們的語言、服飾、生活習慣等很多已與漢族相同，所以有這名稱。西北區陝、甘兩省和其他各省的回人，絕大多數是漢回。維吾爾族還保持着原來的生活情形，因為頭上都纏着白布，所以稱做纏回。



FEB. 23 1950

MEMO

高級小學適用臨時課本

地理 (第一冊)

書號 二〇一七

修訂者

華北人民政府教育委員會

出版者

華北聯合出版社

印刷者及

上海聯合出版社

地址：四川中路二七〇號

電話：一八八五

出版期

一九四

版

上海版：194

基本定價 1.20