

MG  
G624.56  
92

小學分年補充課本  
二年級 藝術科

# 做買賣

(下)

馬靜軒編



3 1760 7741 4

商務印書館發行

新年裏，

明華有許多水果，

姐姐有許多糖果，


弟弟有許多玩具；

各人預備開店做買賣。

妹妹跟媽媽出去玩耍，

不知道這回事。





$$8\text{銅元} + 9\text{銅元} = (17\text{銅元})$$

明華用品店。

姐姐來買一枝鉛筆，


付八個銅元；

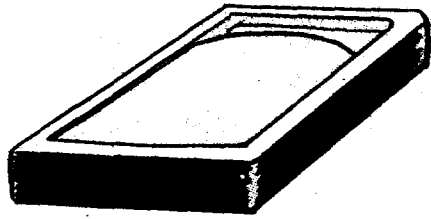

買一枝毛筆，

付九個銅元。

請你算：

共付幾個銅元？





$$12\text{銅元} + 16\text{銅元} = (28\text{銅元})$$

黑墨十二个銅元  
 一塊，砚台十六  
 个銅元一塊。弟  
 弟買一塊黑墨，  
 一塊砚台。請你  
 算：共幾個銅元？





$$32\text{銅元} - 30\text{銅元} = (2\text{銅元})$$

妹妹拿了三十

二个銅元，

來買一塊石板，

用去三十个銅元。

請你示：

还剩幾個銅元？



$$17\text{銅元} + 28\text{銅元} + 30\text{銅元} = (75\text{銅元})$$

明華用品店：

第一次賣了十七個銅元，


第二次賣了二十八個銅元，

第三次賣了三十個銅元。

請你示：

三次共賣幾個銅元？





$$1\text{元}2\text{角} - 4\text{角} = (8\text{角})$$

姐姐開書店：

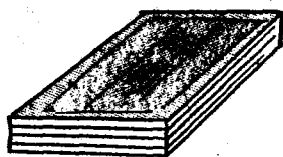

弟弟拿了一元二角，  
來買五本兒童畫報，

用去四角。

請你祢：

還剩幾角？





$$1\text{元}5\text{角}+6\text{角}=(2\text{元}1\text{角})$$

妹妹買故事書，

用去一元五角；

買術書，

用去六角。

請你算：

共用幾元幾角？







$$1\text{元} - 5\text{角} = (5\text{角})$$

明華只有五角，  
他想買一元的書。

請你示：

還要添多少，  
才能買呢？



$$4\text{角} + 2\text{元}1\text{角} + 1\text{元} = (3\text{元}5\text{角})$$

姐姐開書店：

第一次賣了四角，

第二次賣了二元一角，

第三次賣了一元。

請你算：

三次共賣了幾元幾角？





4元6角 - 1元3角 = ( )

妹妹開衣店。

弟弟拿了四元六角，


來買一套學生裝，

用去一元三角。

請你算：

還剩幾元幾角？





$$5\text{元} - 2\text{元}7\text{角} = (2\text{元}3\text{角})$$

明華拿了五元，

來買一套中山裝，

用去二元七角。

請你算：

還剩幾元幾角？



$$4元5角 - 2元9角 = (1元6角)$$



姐姐拿了四元五角，  
來買一件長衫，  
還剩二元九角。  
請你示：  
這件長衫，  
值幾元幾角？



$$1\text{元}3\text{角} + 2\text{元}7\text{角} + 1\text{元}6\text{角} = (3\text{元}6\text{角})$$

妹妹開衣店：

第一次賣了一元三角，

第二次賣了二元七角，

第三次賣了一元六角。

請你算：

三次共賣了幾元幾角？





$$72\text{銅元} - 66\text{銅元} = (6\text{銅元})$$

弟弟開點心店。

明華拿了七十二


個銅元，


來買一盒餅乾，

用去六十六個銅元。

請你祢：

還剩幾個銅元？





$$34\text{銅元} + 28\text{銅元} = ( \quad )$$

姐姐買一包雞蛋糕，

付三十四個銅元；

買一包雞蛋捲，

付二十八個銅元。

請你算：

共付幾個銅元？







$$56\text{銅元} - 18\text{銅元} = (38\text{銅元})$$

妹妹拿了五十六

個銅元，

來買一包芝麻餅，

用去十八個銅元。

請你祢：

還剩幾個銅元？



$$66\text{銅元} + 62\text{銅元} + 18\text{銅元} = (\text{??})$$

弟弟開點心店：

第一次賣了六十六個銅元，

第二次賣了六十二個銅元，

第三次賣了十八個銅元。

請你算：

三次共賣了幾個銅元？



明華和姐姐弟弟，

做過買賣，

媽媽和妹妹回來了。

大家先吃糖果和

水果，

再拿玩具玩耍，

很是快樂。





編者 徐應宗  
 主編 沈佩英  
 編者 呂英、金源、趙景、孫充  
 小學分年補充讀本  
 二年級算術科  
 (32645B)

做 買 賣  
 二 冊  
 版權所有 印刷必究

中華民國二十四年十一月初版

下冊定價國幣壹角貳分

外埠酌加運費匯費

編著者 馬靜軒

發行人 王雲五  
 上海河南路

印刷所 商務印書館  
 上海河南路

發行所 商務印書館  
 上海及各埠

