

#6

464623

高小各科複習叢書

# 高小地理複習

主編者 潘 仁  
編 著 者 李 伯 棠



正中書局印行

## 編輯例言

- 一 本複習書根據現行小學課程標準，及部編小學各科課本編輯。
- 二 本複習書供小學高級學生課外補充，假期作業，及升學複習之用。
- 三 本複習叢書暫編國語、算術、公民、歷史、地理、自然六種。
- 四 本複習書用表解、綱要、問題、測驗等方式編製，以增進兒童學習興趣。
- 五 本複習書於每一單元之後，列舉習題，以便練習，並於卷末附以答案，便於核對。

三十四年十一月十五日潘仁。

## 目 次

第一	我國的疆域地勢山川和氣候	1
第二	我國重要的江河湖泊島嶼和港灣	7
第三	我國的行政區域和人口分布	25
第四	我國的重要都市	59
第五	我國的名勝古迹	77
第六	我國的重要產業	84
第七	我國的交通事業	107
第八	我國的國防要地	112
第九	我們急待收復的失地和租借地	118
第十	僑胞經營的南洋羣島	129
第十一	世界重要國家地理大概	131
第十二	世界的水陸分布和交通	150
	附問題答案	154

( 1 )

67942

# 第一 我國的疆域地勢山川和氣候

## 一 我國的疆域

### 1. 領土

(一) 位置 — 亞洲東南部(大部分在北溫帶上),  
— 太平洋西岸。


(二) 地形 — 像秋海棠葉。

(三) 疆域 — 東——到烏蘇里江和黑龍江合流的地方。  
— 西——到柏米爾的噴赤河。  
— 南——到南沙羣島。  
— 北——到薩彥山脊。

(四) 面積 — 一千一百餘萬方公里。  
— 約占亞洲面積的四分之一(是亞洲第一大國),  
— 當全世界陸地的十二分之一(次於英、蘇、法是世界第四大國)。

— 東 —— 日本、琉球。  
— 東南 —— 菲列賓羣島。  
— 南 —— 越南和緬甸。

(1)



- (五)四鄰——西南——不丹、尼泊爾和印度，  
 ——西——阿富汗和中亞細亞，  
 ——北——西北利亞，  
 ——東北——朝鮮。

- (六)完整系統——我國的疆域完全以民族生存所要求為界限。  
 ——我國的疆域是不可割裂、不可隔離的。

## 2. 領海

- (一)起訖——北起鴨綠江口，  
 ——南到東京灣。

- (二)區分——渤海——在遼東、山東二半島環抱內，最小最淺。  
 ——黃海——自鴨綠江口起，至長江口止，多沙灘。  
 ——東海——自長江口以南至臺灣海峽，多島嶼港灣。  
 ——南海——自臺灣海峽以南到東京灣止，面積最大。

- (三)海岸線——全長約一萬一千餘公里。

- (四)沿海省分——遼寧、河北、山東、江蘇、浙江、福建和廣東。

## 3. 領空

- (一)指我國領土、領海上面十公里以上內的空間而說的。

- (二)在領空以內，任何其他國的飛機不得侵入。

## 二 我國的地勢和山川

1. 地勢——西部多山，東部靠海，地勢略由西北向東南傾斜。
2. 山脈

(一)起點——西南面稱‘世界屋脊’的帕米爾高原。

- (二)五大山系
- 喜馬拉雅山系——西藏邊境為中印的界山。
  - 岡底斯山系——西藏的中南部。
  - 崑崙山系——西藏新疆間——
    - 陰山山脈。
    - 秦嶺山脈。
    - 南嶺山脈。
    - 橫斷山脈。
  - 天山系——新疆中部。
  - 阿爾泰山系——西北邊境，支脈薩彥山是中蘇的界山。

### 3. 河流

(一)流向——大部分循山勢自西向東流入海。

- 黑龍江——東北，流入蘇俄，我國第三大水。
- 興綠江——北部，為遼寧省與朝鮮的界河。
- 遼河——北部，發源於熱河，東流入海。
- 海河——合南北運河、永定河、大清河、子牙河而成。
- 黃河——北部，我國第二大河。

## (二) 主要河流

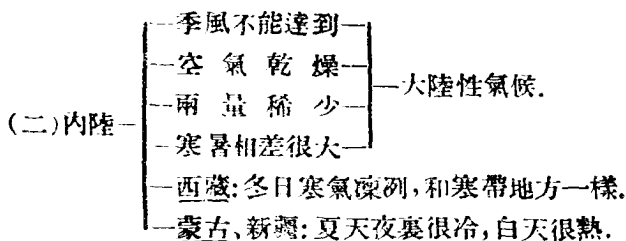
- 淮 河 —— 中部，發源於河南，經安徽注入洪澤湖。
- 長 江 —— 中部，我國第一大水。
- 錢塘江 —— 中部，浙江的大水。
- 閩 江 —— 南部，福建的大水。
- 粵 江 —— 南部，我國第四大水。
- 運 河 —— 為我國南北縱貫之唯一水道。
- 塔里木河 —— 內陸河流，發源於高地，下流瀦為湖泊。
- 伊 犁 河 —— 為湖泊。

## 三 我國的氣候

1. 地位的關係
- 長城以北 —— 亞寒帶，氣候寒冷。
  - 長城以南，南嶺以北 —— 溫帶，氣候溫和。
  - 南嶺以南 —— 亞熱帶，氣候炎熱。

## 2. 地勢的關係

- (一) 近海
- 有季風調劑
  - 寒暑適中
  - 空氣潤溼
  - 雨量充斥
- 海洋性氣候。
- 東三省寒暑變化極劇。
  - 哈爾濱是全國最冷的地方。



### 練習問題 一

#### 一、是非法

- (1) 我國的地形像秋海棠葉…………… ( )
- (2) 我國的東南面是朝鮮…………… ( )
- (3) 我國的領空以內准許別國的飛機隨便飛行… ( )
- (4) 我國的地勢略由東南向西北傾斜…………… ( )
- (5) 長江是我國的第一大水…………… ( )
- (6) 阿爾泰山系在新疆省的中部…………… ( )
- (7) 浙江中部的大水是錢塘江…………… ( )
- (8) 發源於河南, 經安徽注入洪澤湖的河流叫淮河 ( )
- (9) 哈爾濱是我國最冷的地方…………… ( )
- (10) 長城以北至亞熱帶, 氣候炎熱…………… ( )

#### 二、選擇法

- (1) 我國領土面積約占亞洲面積的: ① 二分之一②



- 三分之一③四分之一④五分之一……………( )
- (2) 我國領海面積最大的是：①渤海②黃海③東海  
④南海……………( )
- (3) 中印的界山是：①喜馬拉雅山②崑崙山③天山  
④阿爾泰山……………( )
- (4) 黃河是我國的：①第一大水②第二大水③第三  
大水④第四大水……………( )
- (5) 西藏新疆間的大山叫：①天山②崑崙山③阿爾  
泰山④岡底斯山……………( )
- (6) 遼寧省與朝鮮的界河叫：①黑龍江②鴨綠江③  
遼河④塔里木河……………( )
- (7) 我國南北縱貫的唯一水道是：①遼河②黃河③  
海河④運河……………( )
- (8) 薩彥山是：①中印②中韓③中蘇④中朝的界山( )
- (9) 我國最小最淺的海是：①東海②黃海③南海④  
渤海……………( )
- (10) 我國寒暑變化最劇的是：①江蘇省②四川省③  
東三省④新疆省……………( )

### 三、填充法

- (1) 我國的領土，次於\_\_\_\_\_，是世界第\_\_\_\_\_大國。
- (2) 我國的東面是\_\_\_\_\_，南面是\_\_\_\_\_，北面

是\_\_\_\_\_。

- (3) \_\_\_\_\_ 稱為世界屋脊。
- (4) 我國的第一大水是 \_\_\_\_\_，第二大水是 \_\_\_\_\_，第三大水是 \_\_\_\_\_ 第四大水是 \_\_\_\_\_。
- (5) 福建南部的大水叫 \_\_\_\_\_，浙江中部的大水叫 \_\_\_\_\_。
- (6) 我國的領海北起 \_\_\_\_\_，南到 \_\_\_\_\_。
- (7) \_\_\_\_\_ 和 \_\_\_\_\_ 是我國的內陸河流。
- (8) 南嶺以南是 \_\_\_\_\_ 帶，氣候 \_\_\_\_\_。
- (9) 近海地方寒暑 \_\_\_\_\_，空氣 \_\_\_\_\_，雨量 \_\_\_\_\_。
- (10) 內陸地方寒暑 \_\_\_\_\_，空氣 \_\_\_\_\_，雨量 \_\_\_\_\_。

## 第二 我國重要的江河湖泊島嶼和港灣

### 一 長 江

1. 發源——青海的巴顏喀喇山。
2. 流經省區——青海、西康、雲南、四川、湖北、湖南、江西、安徽、江蘇。
3. 流向——向東流入東海。
4. 長度——約五千五百餘公里——

}	是我國第一大水。
	是 <u>亞洲</u> 最長的河流。

5. 分段 ————
- 上游——四川宜賓以上。
  - 中游——宜賓到湖北的宜昌。
  - 下游——宜昌以下。
6. 沿岸的商埠 —— 重慶、萬縣、宜昌、沙市、漢口、九江、蕪湖等。
7. 水利 ————
- 航行——下游可駛大輪船，中游可駛小輪船，上游灘多水急不便航行。
  - 灌溉——每年兩岸出產的農產物非常豐富。
8. 國父 整治 長江 的計畫 ————
- 方法 ————
    - 上段——設閘堰水，除去灘石。
    - 下段——導濁疏淤，建築堤岸。
  - 利益 ————
    - 可免水災。
    - 交通灌溉更便利。

## 二 黃 河

1. 名稱由來——以水色黃濁，故名。
2. 發源——青海巴顏喀喇山北麓。
3. 流向——自西向東。
4. 經過——青海、甘肅、寧夏、綏遠、陝西、山西、河南、河北、山東等省。
5. 注入 —— 渤海。
6. 長度 —— 四千四百餘公里（我國第二大河）。

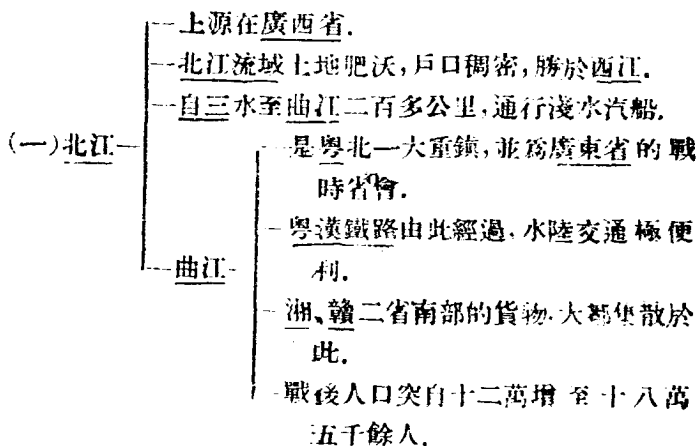
7. 區分 — 上游 — 蘭州以上, 灘多水急。  
— 中游 — 蘭州鄭縣之間, 水深流穩。  
— 下游 — 鄭縣以下, 河道淤淺隆起。
8. 支流 — 第一大支流 — 渭水。  
— 第二大支流 — 汾水。  
— 其他支流 — 洮河大通河黑河無定河延水洛水伊水沁水等。
9. 河套 — 區分 — 前套 — 綏境黃河以南一帶。  
— 後套 — 綏境黃河以北一帶。  
— 水利 — 灌溉航運均便利。
10. 航運 — 寧夏、包頭間可行汽輪。  
— 循化 寧夏間多行皮筏。  
— 河津、陝縣間 — 可通帆船。  
— 孟津以下 —
11. 水患 — 下游泥沙淤塞, 常氾濫成災。
12. 國父治黃計畫 — 淤深出口 — 使泥沙衝入海中。  
— 兩岸築長堤 — 使河幅盡一, 河流等速。  
— 隄岸傾斜處植森林 — 防土壤漂卸。  
— 設置堰閘 — 以防泥沙流入河中。
13. 沿岸名城 — 蘭州、寧夏、包頭、潼關、鄭縣、開封、濟南等。

### 三 粵江(珠江)

1. 地位 — 在我國南部。

2. 長度——約二千餘公里（我國的第四大水，南部的第一大水）。

3. 上源：



(二) 東江 —

- 流域只在粵省。
- 自石龍至老隆二百多公里，通行淺水汽船。

(三) 西江 —

- 上源在雲南、貴州，大部分在廣西。
- 源流較北、東二江為長，水利也最大。

4. 幹流——自廣州以下，

5. 粵江三角洲上

- 廣州——廣東省會：南方第一大商埠。
- 黃埔——海軍根據地；革命發源地。
- 順德——附近是全省絲織業中心。
- 佛山——我國四大鎮之一（四大鎮一為

佛山鎮，一爲河南朱仙鎮，一爲江西景德鎮，一爲湖北漢口鎮。

6. 最大功能 ————
- 在廣東——促進工商業發達。
  - 在廣西——使米產豐富。
7. 缺點——各幹流多有淤塞處。
8. 國父的整治計畫——擬將粵江全部整治，使各江都能通行吃水十英尺的汽船，並使永無氾濫之害。

#### 四 黑龍江

1. 發源 ————
- 出肯特山
  - 爲敖嫩河
  - 出蘇聯境
  - 爲因果達河
- 二源東流，爲石格勒河再東流合額爾古納河，始名黑龍江。
2. 經流——中俄界上。
3. 入海處——韃靼海峽。
4. 長度——四千多公里。
5. 航權——與俄國共有。
6. 支流——松花江、烏蘇里江。

#### 五 淮 河

1. 發源——河南桐柏山。

2. 流向——由西至東，經過安徽北部，流入洪澤湖。
3. 本流域農作物——
 

{	—河以北——小麥雜糧主要產區。
	—河以南——米的主要產區。
4. 大支流——潁水、汝水、澗河等。
5. 水利——
 

{	— <u>正陽關</u> 、 <u>臨陽關</u> 間——水量浩大，運輸方便，為 <u>皖北</u> 轉運要道。
	—下游——河床雖闊，常淤淺，氾濫成災。

## 六 運 河

1. 起訖——自河北通縣至浙江杭州。
2. 經過——河北、山東、江蘇、浙江四省。
3. 長度——一千七百多公里。
4. 開鑿——隋、唐、元、明，代有興修，至康熙時方完成。
5. 價值——
 

{	—聯絡 <u>江</u> 、 <u>淮</u> 、 <u>黃</u> 、 <u>海</u> （ <u>沾河</u> ）四大流域。
	—過去以漕運為主，軍運次之。
	—現在為我國南北縱貫之唯一水道。
6. 現狀——中央一段淤塞不能通航。
7. 國父計畫——
 

{	—由首至尾全體整理。
	—溝通 <u>長江</u> 北方間的內地航運。

## 七 太 湖

1. 位置——跨江蘇浙江兩省。

2. 面積——約三千六百萬方公里，是我國第三淡水湖。
3. 發生調節作用的河流 ————
  - 茅山和天目山的水，從西而流入湖中。
  - 黃浦江、吳淞江和婁江供它洩水。
4. 流域 ————
  - 土壤肥沃，氣候溫和，灌溉便利。
  - 物產為：米、蠶絲、杭紡、湖縐及魚蝦、大蟹等。
5. 附近的城市

(一)吳縣(蘇州)

- (1)位置——在太湖東岸，當京滬、蘇嘉二鐵路和運河交會之點，水陸交通均極便利。
- (2)重要性——為太湖流域經濟及文化的中心。
- (3)名勝——有天平、虎邱、鄧尉、寒山寺、留園等。

(二)無錫

- (1)位置——在太湖北岸，運河由此經過，適當京滬鐵路的中心，交通極便。
- (2)重要性——為江蘇省工業區，有紡織、繅絲、麵粉、碾米等工廠六、七十家，有“小上海”之稱。
- (3)名勝——有惠山、梅園、蠶園、漁莊、鼈頭渚等。

(三)吳興(湖州)

- (1)位置——北濱太湖，和嘉興、杭州兩地的位置成三角形，京杭公路由此經過。



(2) 重要性——為我國東南蠶絲區，品質精良，以湖縐著名。

(3) 縣屬南潯鎮——產絲精良，富冠全縣。

#### (四) 杭州

(1) 位置——位於錢塘江下游，運河的南端，有滬杭甬鐵路和浙贛鐵路，交通極便利。

(2) 重要性——浙江的省會，浙江茶和絲的集散地。

(5) 名勝——以西湖馳名全國。

## 八 洞庭湖

1. 位置——湖南省的東北部。

2. 匯水——湘江、資水、沅江、澧水。

3. 面積——約五千二百餘方公里，是我國第一淡水湖。

4. 沿湖農產——米。

5. 水利

{	—調劑 <u>長江</u> 的水量。
	— <u>春夏</u> 水漲，交通便利。
	—灌溉農田。

6. 現狀

{	湖濱淤田日增	} 有疏濬的必要。
	湖澗日狹	
	泥沙淤積，水量少易釀水患	

## 九 鄱陽湖

1. 位置——江西省北部。
2. 匯水——贛江、修水、信江、昌江等。
3. 面積——約四千六百萬方公里，是我國第二淡水湖。
4. 沿湖農產——米，豆類，棉花等。
5. 水利——
  - 湖周土地肥沃。
  - 灌溉農田。
  - 水運便利。
  - 調劑長江水量。

## 十 洪澤湖

1. 位置——跨江蘇安徽兩省。
2. 面積——約二千方公里。
3. 水患——淮河水道淤塞，夏秋水大時，沿湖一帶常發生水災。
4. 整治計畫——先導淮使水流入海，再治湖，使洪澤湖有調節水量作用。

## 十一 海南島

1. 位置——瓊州海峽以南；南海和東京灣的中間，全屬熱帶區。
2. 地勢——
  - 中部高而周圍低。
  - 五指山屹立中部。

3. 面積——三萬三千餘方公里，僅次於臺灣。
4. 交通——
- |       |                                  |
|-------|----------------------------------|
| —水路—  | —外海——海輪通 <u>香港</u> 、 <u>海防</u> 。 |
|       | —環島——環島航線，有民船往來。                 |
| —陸路—— | 有環島公路。                           |
5. 氣候——很熱，全年平均在攝氏二十度以上。
6. 物產——有穀類、椰子、檳榔、樹膠、香料、糖等，米可一年三熟，所產尤多。
7. 都市——以瓊山為最大。
8. 海港——
- |         |                       |
|---------|-----------------------|
| —北有商港—— | <u>海口</u> ，將來擬修濬為三等港。 |
|         | —港有軍港—— <u>榆林港</u> 。  |
9. 居民——約二百二十萬人，七人為黎人，住五指山中。
10. 附近島嶼——東沙島、西沙羣島、南沙羣島。

## 十二 象山 鄞縣 永嘉

### 1. 象山港

(一)位置——在舟山羣島的西南面。

(二)形勢——	—形勢狹長——	——是我國最優良的軍港之一。
	—港內水深，河泊巨艦——	
	—港外有六橫島成爲天然的屏障——	

(三)將來的發展——將為我國東海艦隊的根據地。

### 2. 鄞縣(寧波)

- (一)位置——在姚江和甬江合流處。
- (二)闢爲商埠——由於訂立南京條約 (1842年)。
- (三)交通——
  - 水路——
    - 大汽船直駛上海。
    - 小汽船通奉化、餘姚等。
  - 陸路——有滬杭甬鐵路。
- (四)商業——

輸出以棉花、茶 葉和魚類爲大宗 有我國第一大漁 市之稱	}	是 <u>浙江省</u> 的優良商港。

### 3. 永嘉(温州)

- (一)位置——在甌江下游。
- (二)闢爲商埠——由於訂立煙台條約 (1876年)。
- (三)交通——和上海福州都有大汽船往來。
- (四)商業——甌江上游所產的木材、皮革、草席、煙草、竹、茶磚等都在此集散。
- (五)將來的發展——遵照 國父計畫闢爲三等港。

## 十三 青島 威海衛

### 1. 青島市

- (一)位置——在山東半島的南岸，膠州灣口之東。
- (二)形勢——西推膠州灣，兩峽環抱，港水深闊，爲天然良港。

- (三)沿革——
- 原為漁村。
  - 光緒二十四年租於德。
  - 第一次世界大戰時為日所占。
  - 民國十一年收回。
  - 民國十八年改置青島特別市。
  - 民國十九年改稱青島市。

(四)價值——我國北部沿海最重要的軍港、商港，山東全省貨物之大吞吐口。

(五)工業——製絲、紡紗、蛋粉、麵粉、印刷、火柴等工廠均備。

- (六)出入口商品——
- 輸出——花生油、花生、豆油、牛皮、雞蛋、煤等為大宗。
  - 輸入——棉織品、棉紗、木材、紙、糖、機械等為大宗。

- (七)繁盛原因——
- 港灣優良——
  - 冬不結冰——
  - 碼頭設備完善——
  - 膠濟鐵路直達——對內交通便捷。
  - 市街佳處——
  - 氣候和煦——
- 船艦便於停泊。
- 中外人士競集。

## 2. 威海衛行政區

(一)位置——在山東半島北岸的東端。

(二)形勢——

前	臨	深	海	北洋第二大				
					後	依	羣	山
					港	灣	深	闊
					港外有 <u>劉公島</u> 爲天然屏障			

軍港。

(三)租借——

光緒二十四年租於英，以二十五年爲期。

(四)隸屬——直屬於行政院。

(六)工商業落後的原因——

距內地遙遠。	
	無鐵路直達。
	介 <u>青島</u> 、 <u>煙台</u> 間。

(七)將來的發展——將爲我國黃海艦隊重要根據地。

## 十四 國父計畫開闢的三大商港

### 1. 北方大港

(一)位置——

渤海灣內。	
	灤河口的西南，
	<u>青河口</u> 的東北。
	<u>秦皇島</u> <u>大沽河</u> 的中間海岸岬角上。

(二)優點——

渤海灣中最近深水點。	
	冬季可免結冰，形成一不凍港。
	地居產鹽區中心。
	接近 <u>開灤</u> 煤礦。

西北鐵路系統也在此出發。

- (三) 築成後的利益
- 黃河流域和蒙古、新疆各地物產，可由本港吸取。
  - 和西伯利亞鐵路銜接，歐亞交通必從此進出。
  - 移民於塞北蒙古天山一帶，以此為最近的門戶。

## 2. 東方大港

### (一) 改良上海港

- (1) 現成的東方大港  
(上海)的缺點
- 泥沙填塞通路；
  - 大汽船不能進出。

- (2) 改良辦法
- 開一新黃浦江；
  - 填塞舊黃浦江；
  - 築大船塢。

### (二) 另建新港

- (1) 位置——在杭州灣中乍浦和澉浦的中間。

- (2) 辦法
- 築鐵道和長江以南大都市聯絡。
  - 改良附近和蕪湖間的水道。

- (3) 新港優點
- 沒有泥沙阻塞。
  - 大汽船可自由出入。
  - 和江南各大都市的交通比上海近便。
  - 和長江上流的水道交通比上海近便。
  - 可以代上海為中國東部貿易中心。

### 3. 南方大港

(一)位置——在廣東、粵江口的廣州。

(二)缺點——  
—水道日見淤淺，海輪不能直達。  
—商業經濟完全為香港所操縱。

(三)改良方法——  
收回香港  
—整治河道—  
在黃埔附近築—  
—深水港—  
—發展工業和商業—  
——使成為南方大港。

(四)築成後的優點——造成我國南部各省與世界交通的樞紐。

## 練習問題 二

### 一、是非法

- (1) 長江發源於青海的巴顏喀喇山…………… ( )
- (2) 黃河的流向是自東向西的…………… ( )
- (3) 黃河長約四千四百餘公里…………… ( )
- (4) 淮河發源於河南桐柏山…………… ( )
- (5) 淮河南以南是小麥雜糧的主要產區…………… ( )
- (6) 洞庭湖沿湖的主要農產是麥、大豆、高粱…………… ( )
- (7) 洪澤湖跨江西湖南兩省…………… ( )
- (8) 海南島的面積比臺灣大…………… ( )



- (9) 海南島南面有個軍港叫榆林港……………( )
- (10) 象山港是我國最優良的軍港之一……………( )
- (11) 鄞縣的關為商埠是由於訂立煙台條約……………( )
- (12) 青島市是山東全省貨物的大吞吐口……………( )
- (13) 東方大港計畫築在杭州灣中乍浦岬和澉浦岬  
的中間……………( )
- (14) 廣州就是計畫中的北方大港……………( )
- (15) 現成的東方大港就是黃浦江……………( )
- (16) 南方大港築成後造成我國南部各省與世界交  
通的樞紐……………( )

## 二、選擇法

- (1) 長江長約：①四千四百餘公里②五千五百餘公  
里③六千六百餘公里④七千七百餘公里……………( )
- (2) 黃河注入：①黃海②東海③渤海④南海……………( )
- (3) 我國南部的第一大水是：①長江②粵江③閩江  
④怒江……………( )
- (4) 曲江是：①江西省②廣西省③廣東省④雲南省  
的戰時省會……………( )
- (5) 黑龍江長約：①三千多公里②四千多公里③五  
千多公里④六千多公里……………( )
- (6) 太湖流域經濟及文化的中心是：①吳縣②吳興

- ③ 杭州④無錫……………( )
- (7) 被稱爲“小上海”的是：①吳縣②吳興③杭州  
④無錫……………( )
- (8) 洞庭湖是我國：①第一②第二③第三④第四淡  
水湖……………( )
- (9) 洞庭湖有調節：①長江②黃河③粵江④閩江水  
量的功能……………( )
- (10) 鄱陽湖在：①江蘇省②安徽省③湖南省④江西  
省的北部……………( )
- (11) 象山港在舟山羣島的：①東南②東北③西北④  
西南……………( )
- (12) 象山港將爲我國：①東海②南海③渤海④黃海  
艦隊的根據地……………( )
- (13) 我國北部沿海最重要的軍港商港是：①威海衛  
②濟南③天津④青島市……………( )
- (14) 改良南方大港及收回：①台灣②香港③琉球④  
朝鮮……………( )
- (15) 改良上海港要築：①大軍艦②大鐵路③大船塢  
④大船廠……………( )

三、填充法

- (1) 長江下游可駛\_\_\_\_\_，中游可駛\_\_\_\_\_，下游\_\_\_\_\_。

- (2) 黃河的第一支流是\_\_\_\_\_，第二支流是\_\_\_\_\_。
- (3) 河套在綏境黃河以南一帶，叫\_\_\_\_\_，黃河以北一帶，叫\_\_\_\_\_。
- (4) 粵江的上源分\_\_\_\_\_、\_\_\_\_\_、\_\_\_\_\_三江。
- (5) 廣州是\_\_\_\_\_省的省會，\_\_\_\_\_方的第\_\_\_\_\_大商埠。
- (6) 黃埔是我國\_\_\_\_\_根據地，又是\_\_\_\_\_發源地。
- (7) 黑龍江的航權我國與\_\_\_\_\_國共有。
- (8) 運河自\_\_\_\_\_通縣起至\_\_\_\_\_。
- (9) 太湖是我國第\_\_\_\_\_淡水湖。
- (10) 浙江吳興的\_\_\_\_\_產絲精良冠於全國。
- (11) 我國第一淡水湖是\_\_\_\_\_，第二淡水湖是\_\_\_\_\_，第三淡水湖是\_\_\_\_\_。
- (12) 鄱陽湖沿湖農產有\_\_\_\_\_等。
- (13) 海南島在\_\_\_\_\_海峽以南，\_\_\_\_\_和\_\_\_\_\_的中間。
- (14) 鄆縣有我國第一大\_\_\_\_\_之稱。
- (15) 國父計畫永嘉將闢為\_\_\_\_\_。

#### 四、問答法

- (1) 長江流經那些省分？
- (2) 黃河流經那些省分？
- (3) 我國的四大鎮是指的那幾個鎮？

- (4) 粵江在廣東有些什麼功能？
- (5) 黑龍江有那些支流？
- (6) 運河經過那些省分？
- (7) 太湖流域有那些物產？
- (8) 海南島有那許多物產？
- (9) 青島的位置怎樣？
- (10) 威海衛將來的發展怎樣？
- (11) 北方大港計畫建築在那裏？
- (12) 南方大港有什麼缺點？

### 第三 我國的行政區域和人口分布

#### 一 行政區域

##### 1. 二十八省：

江蘇(蘇) 浙江(浙) 安徽(皖) 江西(贛) 湖北(鄂)  
湖南(湘) 四川(川) 廣東(粵) 廣西(桂) 福建(閩)  
雲南(滇) 貴州(黔) 河北(冀) 山東(魯) 河南(豫)  
山西(晉) 陝西(陝) 甘肅(甘) 遼寧(遼) 吉林(吉)  
黑龍江(黑) 熱河(熱) 察哈爾(察) 綏遠(綏) 寧夏(寧)  
青海(青) 新疆(新) 西康(康)

##### 2. 二行政區：威海衛、東省

七直轄市：南京、上海、北平、天津、青島、西京、重慶

4. 二地方：蒙古、西藏

## 二 長江流域各省

### 1. 江蘇省

(一) 位置 ————

——	長江下游
——	東—— <u>黃海</u> 、 <u>東海</u> ；
——	南—— <u>浙江</u> ；
——	西—— <u>安徽</u> ；
——	北—— <u>山東</u> 。

(二) 面積——108,926 方公里。

(三) 人口——約 36,469,321 人。

(四) 省會——鎮江。

(五) 交通 ————

——	鐵路—— <u>京滬</u> 、 <u>滬杭甬</u> 、 <u>蘇嘉</u> 、 <u>津浦</u> 、 <u>臨海</u> 、 <u>京湘</u> 等六線。
——	公路——長五千餘公里，密如蛛網，遍通各地。
——	水路—— <u>江</u> 、 <u>海</u> 、 <u>內河</u> 及 <u>湖泊</u> ，水運頗便。

(六) 物產——棉產全國第一，絲產次於浙江，鹽產亦富。

(七) 重要城鎮——鎮江、無錫、吳縣、南通、江都、淮陰、銅山等地。

### 2. 浙江省

- (一)位置
- 在東海岸；
  - 東——東海；
  - 南——福建；
  - 西——江西安徽；
  - 北——江蘇。

(二)面積——104,037(在各省中爲最小)。

(三)人口——21,779,045人。

(四)省會——杭州。

- (五)交通
- 鐵路——滬杭甬、浙贛、蘇嘉三線。
  - 公路——長三千餘公里，與蘇皖贛諸鄰省均有幹路可通。
  - 水路——有海輪往來上海、福州間，內河航運亦暢通。

(六)物產——有絲茶之利，富庶與江蘇並稱。

(七)重要城鎮——杭州市、嘉興、吳興、金華、鄞縣、永嘉、紹興、乍浦等地。

(八)名勝——西湖、雁蕩山、普陀山、莫干山、錢塘江的大潮。

### 3. 安徽省

- (一)位置
- 長江下游；
  - 東北——江蘇；
  - 東南——浙江；

- 西南——湖北江西；
- 西北——河南。

(二)面積——140,687 方公里。

(三)人口——22,704,538 人。

(四)省會——懷寧。

- (五)交通——
- 鐵路——津浦、京湘、淮南、合葉四線。
  - 公路——長五千餘公里，與蘇、浙、贛、鄂、豫諸省相通達。
  - 水路——南部以長江爲主，北部以淮河爲幹。

(六)物產——農產豐富，紅綠茶很有名，歙縣的松煙墨、宣城的宣紙，頗著名。

(七)重要城鎮——懷寧、蕪湖、合肥、鳳陽、蚌埠、宣城、歙縣、阜陽、屯溪等。

#### 4. 江西省

- (一)位置——
- 在長江中部的南岸；
  - 東——浙江、福建；
  - 南——廣東；
  - 西——湖南；
  - 北——安徽湖北。

(二)面積——140,687 方公里。

(三)人口——22,704,138 人。

四、省會——南昌。

- (五)交通——
- 鐵路——浙贛、南潯二線。
  - 公路——長六千餘公里，縱橫如網與浙、閩、粵、湘、鄂、皖諸省相通達。
  - 水路——省北之長江，鄱陽湖、贛江等。

(六)物產——米爲最主要之產物，木材產量甚鉅，萍鄉之煤，景德鎮之瓷器名聞世界，萬載夏布亦有名。

(七)重要城鎮——南昌、九江、臨川、吉安、贛縣、上饒、萍鄉、湖口等。

(八)名勝——廬山、牯牛嶺等。

5. 湖南省

- (一)位置——
- 在洞庭湖之南；
  - 東——江西；
  - 南——廣東、廣西；
  - 西——貴州；
  - 北——湖北；
  - 西北——四川。

(二)面積——205,591 方公里。

(三)人口——28,345,111 人。

(四)省會——長沙。

- (五)交通——
- 鐵路——粵漢、贛湘、湘桂、湘黔四線。
  - 公路——長三千餘公里，重要的有湘桂、湘



鄂、湘粵、湘黔、湘贛線。

—水路——水運便利。

(六)物產——米最富、洞庭湖魚產亦多，新化東北的錫占全國總產量十分之八，潯陽夏布、醴陵瓷器、湘繭等頗著名。

(七)重要城鎮——長沙、岳陽、湘潭、常德、衡陽、沅陵、邵陽等。

(八)名勝古蹟——嶽麓山 (雲麓宮、西碑亭、萬壽寺、白鶴寺、望江亭等)。

## 6. 湖北省

(一)位置 — 長江中游，洞庭湖之北、  
— 東——安徽；  
— 東南——江西；  
— 南——湖南；  
— 西——四川；  
— 西北——陝西；  
— 北——河南。

(二)面積——186,364 方公里。

(三)人口——24,658,988 人。

(四)省會——武昌。

(五)交通 — 鐵路——平漢、粵漢二線。  
— 公路——長四千餘公里，通江西、河南、安徽、

湖南、四川等省。

—水路——水運以漢口爲中心。

(六)物產——農產頗豐，以米、棉最多，礦產以大冶之鐵爲最著。

(七)重要城鎮——武昌、漢口、漢陽、宜昌、襄陽、黃岡等地。

(八)名勝古蹟——武昌蛇山的黃鶴樓。

## 7. 四川省

(一)位置——

- 長江上游；
- 東——湖南、湖北；
- 南——貴州、雲南；
- 北——陝西、甘肅；
- 西——西康；
- 西北——青海。

(二)地勢——

- 周圍多高山——
- 中央低平——

—盆地。

(三)面積——374,939 方公里。

(四)人口——46,463,033 人。

(五)省會——成都。

(六)交通——

- 鐵路——將成的有成渝線，計畫中的有川黔、寶成、川漢、重廣、欽渝、渝柳諸線。
- 公路——長四千餘公里，有川陝、成渝、川康、川黔、川滇諸路。

1—水路——河流縱橫水運極便。

(七)物產——穀類、菸、麻、蔗、蠶絲、藥材、非常豐富，特產有白臘與井鹽。

(八)要地——成都、重慶、萬縣、奉節、劍閣、宜賓、瀘縣、樂山等地。

## 8. 雲南省

(一)位置

- 我國西南部、長江、粵江的上游；
- 東——貴州、廣西；
- 北——四川、西康；
- 西——英屬印度、緬甸；
- 南——法屬安南。

(二)地勢——境內有橫斷山脈很高峻。

(三)面積——4 3,630 方公里。

(四)人口——10,853,359 人。

(五)省會——昆明。

(六)交通

- 鐵路——滇越鐵路(法人所築)，簡碧石鐵路，和滇緬、滇黔、敘昆諸線。
- 公路——長三千餘公里，國際路線有滇緬、滇越二線。
- 水路——除滇池，洱海尚可通航外，其餘各大河流水勢湍急，無水運可言。

(七)物產——特產有會澤的銅、箇舊的錫、中部一帶的井鹽。

大理縣的大理石、普洱的茶。

9. 西康省

- (一)位置 —
- 東——四川；
  - 南——雲南、英屬緬甸；
  - 西——西藏；
  - 北——青海。

(二)地勢——山脈南北縱列總稱橫斷山脈，高峻。

(三)面積——427,670 方公里。

(四)人口——2,003,587 人。

(五)省會——康定(打箭爐)。

- (六)交通 —
- 鐵路——無。
  - 公路——僅五百餘公里，全國最短，路線有川康、康藏、康滇諸線。
  - 水路——不便。

(七)物產——礦產蘊藏極多，金沙石油儲量為最，農產不豐，  
畜牧業極發達。

(八)要地——巴安、康定、瀘定、雅江、昌都等地。

- (九)人民生活 —
- 衣——皮及毛織品。
  - 食——糌粑、肉。
  - 住——石造的高屋。
  - 行——用烏拉人護送。
  - 民性——剛強。

## 10. 青海省

- (一) 位置
- 東——甘肅；
  - 東南——四川；
  - 南——西康；
  - 西——西藏；
  - 西南——新疆。
- (二) 地勢
- 很高。
  - 巴顏喀喇山
    - 橫在中部；
    - 長江發源於山南；
    - 黃河發源於山北。
  - 鹽湖很多。
- (三) 面積——699,194 方公里。
- (四) 人口——1,512,823 人。
- (五) 省會——西寧
- (六) 交通
- 鐵路——無。
  - 公路——長一千餘公里。
  - 水路——無航利可言。
- (七) 物產——青鹽、牲畜。
- (八) 人民
- 人口——稀少。
  - 職業——大半從事畜牧。
  - 生活
    - 吃——獸肉、酥油。
    - 住——幕帳，逐水草而居。
  - 信仰——喇嘛教。

- (九) 湖泊——青海——
- 周圍——四百多公里。
  - 水色——青綠。
  - 水量——
    - 冬天不乾。
    - 夏天不溢。
  - 沿湖多鹽池鹽礦。

### 三 粵江流域各省

#### 1. 廣東省

- (一) 位置
- 粵江的下流；
  - 東——福建；
  - 北——江西、湖南；
  - 西——廣西；
  - 西南——法屬安南；
  - 南——南海。

(二) 面積——221,307 方公里。

(三) 人口——52,538,795 人。

(四) 省會——廣州。

- (五) 交通
- 鐵路——有粵漢、廣九、廣三、潮汕等線。
  - 公路——長一萬二千餘公里，全國最長。
  - 水路——外海航行以香港為焦點；內河航行以廣州為中心，水運最便。

(六) 物產——農產豐富，一年三熟；海產為沿海各省冠，果品為全國第一。

(七)要地——廣州市、中山縣、香港、汕頭市、惠陽、潮安、曲江等地。

## 2. 廣西省

(一)位置——

- 我國西南部；
- 東、東南——廣東；
- 東北——湖南；
- 西南——法屬安南；
- 西——雲南；
- 北——貴州。

(二)面積——218,924 方公里。

(三)人口——14,886,058 人。

(四)省會——桂林。

(五)交通——

- 鐵路——湘桂與桂越二線。
- 公路——長四千餘公里，通粵、滇、湘、黔及安南。
- 水路——以蒼梧為總匯，大輪船下達廣州香港，民船可通滇、黔、湘等省。

(六)物產——農產以東南部較為發達，以米為大宗，果品出產亦富，礦產蘊藏量極多。

(七)要地——桂林、邕寧、蒼梧、龍津、桂平、平樂、宜山、百色等地。

## 3. 貴州省

- (一)位置
- 我國西南部;
  - 東——湖南;
  - 南——廣西;
  - 西——雲南;
  - 北——四川。

(二)地勢——山嶺重疊平原很少。

(三)面積——179,478 方公里。

(四)人口——10,779,752 人。

(五)氣候——溼潤、多雲霧，少晴朗天氣。

(六)省會——貴陽市。

- (七)交通
- 鐵路——黔桂線(通車至都勻)。
  - 公路——長一千餘公里，以貴陽市為中心，通川、湘、桂、滇等省。
  - 水路——烏江、沅江等水勢湍急，不便行舟。

(八)物產——礦產很多，如水銀礦、銅礦蘊藏均富。

(九)要地——貴陽、修文、貴定、鎮遠、遵義、安順、銅仁、施秉、思南等。

#### 4. 福建(閩江流域)

- (一)位置
- 我國東南部;
  - 東北——浙江;
  - 西北——江西;
  - 西南——廣東;



1—東南——東海、南海。

(二)面積——1:8,758 方公里。

(三)人口——11,990,441 人。

(四)省會——閩侯。

(五)交通——

- 鐵路——已成漳廈線，擬築者有贛閩、浙閩、閩粵、寧福諸路線。
- 公路——長四千餘公里。
- 水路——以閩侯廈門為樞紐，通永嘉、上海、汕頭、香港、臺灣、日本、內河航運亦便。

(六)物產——豐產不多，武夷茶、福建皮絲烟、福州橘子、興化桂元、廈門文旦以及漆器均有名。

(七)要地——閩侯、馬尾、廈門、南平、建甌、晉江、莆田等地。

## 四 黃河流域各省

### 1. 山東省

(一)位置——

- 我國東部，黃河下游；
- 東南、東北——黃海。
- 南——江蘇。
- 西南——河南。

- 西北——河北。
- 北——渤海。
- (二)地勢——
  - 中部和東部——高。
  - 西部及北部與河北毗連的——是一大平原。
- (三)面積——146,074 方公里。
- (四)人口——38,099,741 人。
- (五)省會——濟南市。
- (六)交通——
  - 鐵路——津浦與膠濟二線。
  - 公路——長六千餘公里，縱橫交錯，密如蛛網。
  - 水路——海航以青島、烟台為中心，內河以小清河最便，黃河淤淺湍急，不便航行。
- (七)物產——農產以麥、棉、落花生為主，落花生產額為全國第一，柞蠶絲亦冠於全國，水果以萊陽梨、肥城桃聞名，礦產以煤鐵最富。
- (八)要地——濟南、泰安、烟台、濟寧、曲阜、濰縣、聊城等地。
- (九)名勝古迹——泰山、孔廟、孔林。

## 2. 河北省

- (一)位置——
  - 黃河下游；
  - 東——渤海；
  - 東南——山東；
  - 西南——河南；

- 西——山西；
- 北——熱河察哈爾；
- 東北一隅——遼寧。

(二)面積——140,258 方公里。

(三)人口——28,644,437 人。

(四)省會——清苑縣。

- (六)交通
- 鐵路——平漢、北寧、平綏、津浦、正太、平熱等線。
  - 公路——長約三千餘公里。
  - 水路——海航以天津為樞紐，可通秦皇島營口、煙台、青島、上海各埠。內河航運頗稱便利。

(七)物產——東南境盛產麥、豆、高粱等農產，棉為主要產品，產量可與江蘇相比，果品以天津梨，良鄉梨為最有名。礦產以開灤煤礦為有名。

(八)要地——清苑、正定、大名、滄縣、唐山、大沽口、天津等地。

### 8. 河南省

- (一)位置
- 黃河中游，
  - 東——江蘇、安徽；
  - 南——湖北；
  - 西——陝西；

- 西北——山西
- 東北——河北、山東。
- (二)地勢
  - 西部——高陵。
  - 東部——平原。
- (三)面積——162,390方公里。
- (四)人口——31,805,621人。
- (五)省會——開封。
- (六)交通
  - 鐵路——平漢、隴海、道清三線。
  - 公路——六千餘公里。
  - 水路——以淮河最富航利，次為衛河、唐河、白河、丹江、黃河僅潼關至陝縣間可通航。
- (七)物產——農產品多麥、棉、果品多棗、柿、梨等。礦產以博愛、焦作、安陽、六河溝等之煤礦為著名。
- (八)要地——開封、鄭縣、洛陽、信陽、南陽、許昌、商邱、安陽等地。

#### 4. 山西省

- (一)位置
  - 黃河中游，太行山之西；
  - 東——河北；
  - 南——河南；
  - 西——陝西 黃河為界)。
  - 北——綏遠 (跨長城)。

1--東北一隅——察哈爾

(二)面積——156,420 方公里。

(三)人口——11,601,626 人。

(四)省會——陽曲縣。

(五)交通——

——鐵路——平綏、正太、同蒲三線。

——公路——長二千餘公里。

——水路——僅汾水有一段可通舟楫。

(六)物產——農產不豐，礦產多煤、鐵、鹽，煤估計有六十萬萬(億)噸，占全國總儲量百分之五十一。

(七)要地——陽曲、太原、太谷、長治、汾陽、臨汾、大同、平定等地。

## 5. 陝西省

(一)位置——

——黃河上游、河套之南；——東——山西、河南；——南——四川；——西——甘肅；——西北——寧夏；——北——綏遠。

(二)面積——157,409 方公里。

(三)人口——9,799,607 人。

(四)省會——長安 (西京市、陪都)。——鐵路——隴海路，未成的有寶成路。

(五)交通——公路——長約三千餘公里。  
——水路——以漢、渭二水最便利，黃河航利甚微。

(六)物產——中部盛產棉麥粟，果品亦富。煤礦次於山西，石油儲量為全國之冠。

(七)要地——長安、咸陽、潼關、渭南、南鄭、臨潼、虜施、安康等地。

## 6. 綏遠省

(一)位置——  
——東北——察哈爾；  
——東南——山西；  
——南——陝西；  
——西、西南——寧夏；  
——北、西北——蒙古。

(二)面積——347,529方公里。

(三)人口——2,183,693人。

(四)省會——歸綏。

(五)交通——  
——鐵路——平綏路達本省之包頭。  
——公路——長約三千餘公里，張庫路通過省北，蘭包路通蘭州。  
——水路——黃河水運暢通。

(六)物產——河套一帶農產甚豐，畜產甚多，羊毛尤有名，礦產有煤與鹽。

(七)要地——歸綏、包頭、豐鎮、集寧、涼城、五原等地。

(八)盟旗——

(八)盟旗——	{	— <u>烏蘭察布</u> 盟下領六旗。	}	— <u>歸綏</u> 治。
		— <u>伊克昭</u> 盟下領七旗。		
		— <u>察哈爾</u> 部右翼四旗——		
		— <u>歸化土默特</u> 部二旗——		

## 7. 寧夏省

(一)位置——

(一)位置——	{	—我國西北部；	}
		—東—— <u>綏遠</u> ；	
		—東南——隅—— <u>陝西</u> ；	
		—西——	
		—南——	

| 甘肅；

—北——蒙古。

(二)面積——274,910 方公里。

(三)人口——755,763 人。

(四)省會——寧夏縣。

(五)交通——

(五)交通——	{	—鐵路——無。	}
		—公路——長約二千餘公里，有 <u>包寧</u> 、 <u>寧蘭</u> 、 <u>寧固</u> 、 <u>綏新</u> 四線。	
		—水路—— <u>黃河</u> 最富航利，省境一段，均可通航。	

(六)物產——東南部農產頗豐，富庶過於河套。西北部全為遊牧區，羊的品種最好。

(七)要地——寧夏、平羅、中衛、靈武等地。

## 8. 甘肅省

- (一)位置
- 我國中部;
  - 東——陝西;
  - 南——四川;
  - 西南——青海;
  - 西——新疆;
  - 北——寧夏。

(二)面積——391,506 方公里。

(三)人口——6,255,517 人。

(四)省會——蘭州。

- (五)交通
- 鐵路——隴海線。
  - 公路——長約三千餘公里，中蘇公路之段橫貫省境。
  - 水路——流急水淺，水運不便。

- (六)水利
- 甘肅以東崇溝渠溝田，所以天旱缺水。
  - 甘涼以西，利用雪水灌田所以天冷缺水。

(七)物產——農產不豐，不產棉花。羊毛產量很多，蘭州水煙名馳全國。

(八)要地——蘭州市、定西、天水、臨洮、武威、嘉峪關等地。

## 五 東北和西北各省

### 1. 遼寧省



- (一)位置——
- 我國東北部；
  - 東北——吉林；
  - 東南——朝鮮；
  - 南——渤海、黃海；
  - 西——熱河；
  - 西南一隅——河北；
  - 西北一隅——察哈爾；
  - 北——黑龍江。

(二)面積——321,824 方公里。

(三)人口——15,255,694 人。

(四)省會——瀋陽。

- (五)交通——
- 鐵路——有北寧、瀋海、四洮、洮昂、大通、鄭通、錦朝、洮索諸線。
  - 公路——長約三千餘公里。
  - 水路——海航以大連營口為中心通天津、煙台、上海、日本、朝鮮等地。

(六)物產——農產頗豐，尤以大豆馳名中外。森林茂盛數百里不見天日。煤鐵產量居全國第一。

(七)要地——瀋陽、遼陽、錦縣等地。

## 2. 吉林省

- 我國東北部；
- 東——蘇聯屬地沿海省；

(一)位置 ————

— 東南 —	— 朝鮮；
— 西南 —	— 遼寧；
— 北 —	— 黑龍江。
— 西北 —	

(二)面積——283,380 方公里。

(三)人口——7,354,459 人。

(四)省會——永吉。

(五)交通 ————

— 鐵路 —	— 有中東、南滿、吉長、吉海、吉敦、天 圖諸線。
— 公路 —	— 長約二千餘公里。
— 水路 —	— 松花江、烏蘇里江、牡丹江、伊通河 均可通航。

(六)物產 ————

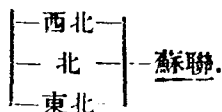
— 農產 —	— 大豆、小麥、高粱為大宗。
— 林產 —	— 甲於全國，礦產亦豐。
— 貂皮、東珠、烏拉草 —	— 為吉林三寶。
— 藥材 —	— 中以人參為最珍貴。

(七)要地——永吉、長春、濱江等地。

### 3. 黑龍江

(一)位置 ————

— 我國東北部；	
— 東 —	— 吉林；
— 東南 —	
— 南 —	— 遼寧；
— 西南 —	— 蒙古、察哈爾；



(二)面積——449,623 方公里。

(三)人口——3,749,367 人。

(四)省會——龍江縣。

(五)交通

[	鐵路	——	<u>中東</u> 、 <u>洮昂</u> 、 <u>齊克</u> 、 <u>呼哈</u> 四線。
	公路	——	長約二千餘公里。
	水路	——	<u>黑龍江</u> 、 <u>松花江</u> 、 <u>嫩江</u> 諸江，均可通航。

(六)物產——農產富大豆、小麥、高粱等。礦產以金礦為最著名。黑河一帶，年產金五千多公斤。

(七)要地——龍江、嫩江、贛濱、瑗瑯等地。

#### 4. 熱河省

(一)位置

[	我國東北部：			
	東	]	—	遼寧；
	東北			
	南	——	河北；	
	西	]	—	察哈爾；
	西北			

(二)面積——278,957 方公里。

(三)人口——2,635,957 人。

(四)省會——承德。

(五)交通——  
—鐵路——錦朝線。  
—公路——長約二千餘公里。  
—水路——航利很少。

(六)物產——農產爲漠南最盛區域。銀礦多在承德朝陽圍場一帶，產量居全國第一。

(七)要地——承德、赤峯、平泉、凌縣、朝陽等地。

#### 5. 察哈爾省

(一)位置——  
—我國北部；  
—東——遼寧、熱河；  
—南——河北；  
—西南——山西；  
—西——綏遠；  
—北——蒙古。

(二)面積——278,957 方公里。

(三)人口——2,055,957 人。

(四)省會——萬全縣。

(五)交通——  
—鐵路——平綏線。  
—公路——長二千餘公里。  
—水路——無舟楫之利。

(六)物產——  
—牧業頗盛，馬精悍善馳有良駒之稱。  
—礦產以煤鐵最富。

1—林木不多，魚類亦少。

(七)要地——萬全、宣化、多倫、居庸關、蔚縣等地。

## 6. 新疆省

(一)位置——

- 我國西北部；
- 東——甘肅、青海；
- 南——西藏；
- 東北——蒙古；
- 西——
- 西北——俄屬中亞細亞；
- 西南——阿富汗王國；
- 英屬印度。

(二)面積——1,828,418 方公里(我國行省中爲最大)。

(三)人口——4,360,020 人。

(四)省會——迪化縣。

(五)山脈——四面都有高山，中部橫貫天山山脈。

(六)河流——

- 北路——額爾齊斯河、伊犁河。
- 南路——塔里木河。

(七)氣候——

- 氣溫——大陸性。
- 雨量——周圍山地比較多

(八)交通——

- 鐵路——無。
- 公路——長約三千餘公里，中蘇公路橫貫疆境。

——水路——水量缺乏，河道少航利。

(九)富源——  
——農牧——小麥、玉蜀黍、棉花、羊毛。  
——礦產——煤、石油、銅、鐵、金、玉、石鹽。

(十)貿易——  
——蘇聯為最；  
——英國次之。

(十一)國際關係——  
——蘇聯築土西鐵路——關係我國  
——印度開關新疆鐵路——西北邊防。

(十二)充實國防——  
——發展交通；  
——移民實邊；  
——屯墾荒地。

(十三)要地——迪化、哈密、吐魯番、塔城。

## 六 蒙古和西藏

### 1. 蒙古

(一)位置——  
——我國的北部；  
——東——黑龍江；  
——東南——察哈爾；  
——南——綏遠、寧夏、甘肅；  
——西——新疆；  
——北——蘇聯之西伯利亞。

(二)面積——1,621,201 方公里(次於新疆)。

(三)人口——2,077,269 人。

(四) 地勢——爲一千公尺以上的高原，南互沙漠，北峙羣山。

(五) 山脈——阿爾泰山系。

(六) 河流——克魯倫河、鄂嫩河爲黑龍江上源。  
色楞格河、烏魯克穆河爲葉尼塞河上源。  
帖斯河、匝盆河、科布多河爲內陸河。

(七) 沙漠——名稱——蒙名戈壁，漢名瀚海。  
 廣闊——東西二千餘公里，南北三百公里至五百公里。次於非洲之撒哈拉，爲世界第二大沙漠。  
 交通工具——駱駝。

(八) 氣候——寒暑均酷，雨水稀少，多暴風。

(九) 物產——畜類爲最大富源，其次爲礦產（金、銀、鐵、銅、鹽）

(十) 首邑——庫倫，區畫西庫倫（市況繁盛），東庫倫（漸趨荒廢）

(十一) 要地——庫倫、恰克圖、烏里雅蘇台、科布多。

## 2. 西藏

(一) 位置——我國西南部：  
 東——西康；  
 東北——青海；  
 北——新疆；

—西南——印度、不丹、尼泊爾等地。

(二)面積——1,215,788 方公里。

(三)人口——3,722,011 人。

(四)地勢——爲世界第一大高原(多在雪線以上)。

(五)山脈——崑崙山脈——在北部界上。  
—岡底斯山脈——橫貫南部。  
—喜馬拉雅山脈——在中、印界上,其最高峯愛佛勒斯峯爲世界第一高峯。

(六)河流——雅魯藏布江——爲藏境最大河流。  
—印度河——在西南部,中游下游均在印度。

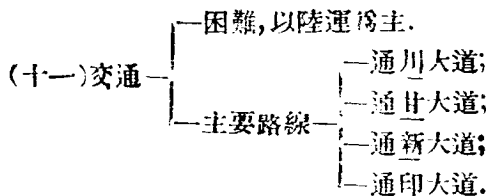
(七)湖泊——甚多,騰格里海最大。

(八)住民——藏人(土著)——遊牧生活,信喇嘛教。  
—蒙人——散居南部。  
—回人——散居西部。  
—漢人——多住都市,經營商業。

(九)政治——與宗教相合——前藏政教領袖爲達賴。  
—後藏政教領袖爲班禪。

(十)物產——農產——青稞爲大宗。  
—畜產——犏牛、羊、馬。  
—藥材——犀角、羚羊角、麝香、鹿茸。  
—礦產——金、池鹽。  
—工藝品——佛像、藏香。



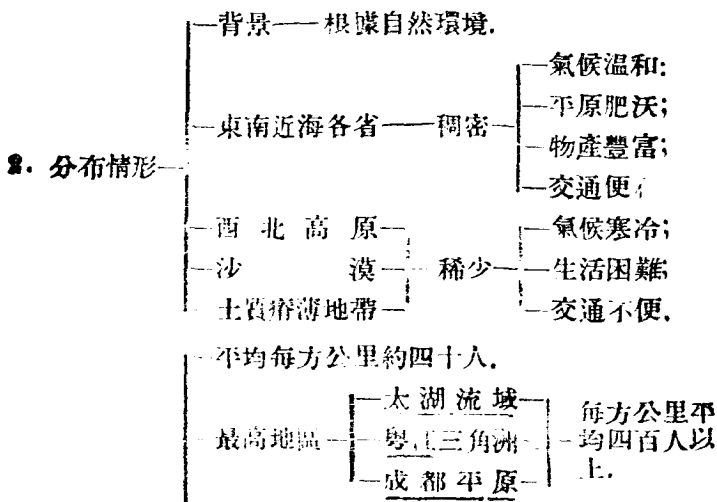


(十二)首邑——拉薩.

(十三)要地——拉薩、日喀則、江孜、亞東等地.

## 七 我國的人口分布

1. 總數——四億七千萬約當世界總人口的四分之一（全世界人口總數為二十億）。



3. 人口密度 — 黃河下流平原 — 每方公里三百人左右。  
— 長江中流平原 —  
— 四川盆地 —  
— 西北和其他各省 — 更少。  
— 新疆 每方公里僅二人。  
— 蒙古 每方公里還不到一人。
4. 移民 — 原因 — 人口過密，生活所迫。  
— 工作 — 墾殖荒地，從事農耕。  
— 情形 — 山東、河北人民 — 移殖東三省的很多。  
— 河北、山西、山東、河南人民 — 移殖漠南、熱、察、綏、寧等省的也不少。  
— 政府獎勵移民西北 — 成績很好。
5. 華僑 — 寄居國外的人叫華僑。  
— 原因 — 人口過密，謀生不易。  
— 總數 — 千萬人以上。  
— 原籍 — 福建、廣東兩省人最多。  
— 移殖地 — 南洋羣島 — 占總數百分之八十。  
— 臺灣、暹羅、緬甸。  
— 美、澳、南非。  
— 工作 — 經營農、工、商業。

### 練習問題 三

#### 一、是非法

- (1) 江蘇省的棉產居全國第一 …………… ( )
- (2) 浙江省的面積在各省中要算最小 …………… ( )
- (3) 蕪湖是安徽省的省會 …………… ( )
- (4) 江西省簡稱爲皖 …………… ( )
- (5) 長沙是湖南省的省會 …………… ( )
- (6) 湖北大冶出產的鐵最著名 …………… ( )
- (7) 簡舊的錫會澤的銅是雲南的特產 …………… ( )
- (8) 康定是西康省的省會又叫打箭爐 …………… ( )
- (9) 西康省的公路是全國最長的 …………… ( )
- (10) 巴顏喀喇山在西康省 …………… ( )
- (11) 青海省的省會叫西寧 …………… ( )
- (12) 廣東省的鹽產冠於沿海各省 …………… ( )
- (13) 廈門是福建省的省會 …………… ( )
- (14) 開封是河南省的省會 …………… ( )
- (15) 陝西省石油儲量冠於全國 …………… ( )
- (16) 寧夏省家畜中以牛的品種爲最好 …………… ( )
- (17) 甘肅省的省會設在天水 …………… ( )
- (18) 察哈爾所產的馬，精悍善馳，有良駒之稱 …………… ( )
- (19) 我國行省中面積最大的是察哈爾省 …………… ( )
- (20) 黑龍江礦產以鐵礦爲最著名 …………… ( )

### E、選擇法

- (1) 江蘇省的省會是：①無錫②南通③揚州④鎮江( )
- (2) 江蘇省的南面是：①浙江②安徽③山東④南海( )
- (3) 浙江省的省會是：①杭州②嘉興③吳興④金華( )
- (4) 安徽宣城出產著名的是：①紅茶②松煙墨③宣  
紙④蠶絲…… ( )
- (5) 江西省的省會是：①九江②南昌③贛縣④吉安( )
- (6) 江西萍鄉出產著名的是①絲②米③茶④煤 ( )
- (7) 湖南新化東盛產：①鐵②錫③銻④鉛……( )
- (8) 湖北省的省會是：①漢口②武昌③漢陽④宜昌( )
- (9) 四川省的省會是：①重慶②萬縣③宜賓④成都( )
- (10) 雲南省的省會是：①昆明②大理③普洱④下關( )
- (11) 全國公路最長的是：①廣西②廣東③四川④西  
康…… ( )
- (12) 廣西省的省會是：①柳州②河池③宜山④桂林( )
- (13) 福建有名的工藝品是：①銅器②瓷器③漆器④  
雕刻…… ( )
- (14) 落花生產額占全國第一的是：①江蘇省②安徽  
省③山東省④河北省…… ( )
- (15) 山西省煤的儲量占全國總儲量：①  $\frac{41}{100}$  ②  $\frac{51}{100}$   
③  $\frac{61}{100}$  ④  $\frac{71}{100}$ …… ( )

## 五、填充法

- (1) 填出下列各省簡稱：  
 安徽( ) 江西( ) 湖北( ) 湖南( ) 福建( )  
 山東( ) 河南( ) 山西( ) 河北( ) 雲南( )
- (2) 二行政區是\_\_\_\_\_和\_\_\_\_\_。
- (3) 七直轄市是\_\_\_\_\_、\_\_\_\_\_、\_\_\_\_\_、\_\_\_\_\_、\_\_\_\_\_、\_\_\_\_\_、\_\_\_\_\_。
- (4) 浙江省鐵路有三線①\_\_\_\_\_ ②\_\_\_\_\_ ③\_\_\_\_\_。
- (5) 安徽省東北面是\_\_\_\_\_ 東南面是\_\_\_\_\_ 西南面是\_\_\_\_\_ 西北面是\_\_\_\_\_。
- (6) 江西省的名勝有\_\_\_\_\_、\_\_\_\_\_等處。
- (7) 湖南在\_\_\_\_\_ 所以叫湖南。
- (8) 四川省周圍多\_\_\_\_\_ 中央\_\_\_\_\_ 所以叫\_\_\_\_\_。
- (9) 四川省的特產有\_\_\_\_\_和\_\_\_\_\_。
- (10) 河北省的位置，東\_\_\_\_\_ 東南\_\_\_\_\_ 西南\_\_\_\_\_ 西\_\_\_\_\_ 北\_\_\_\_\_。
- (11) 河南省的地勢西部\_\_\_\_\_ 東部\_\_\_\_\_。
- (12) 陝西省的省會叫\_\_\_\_\_ 現在改為\_\_\_\_\_市。
- (13) 綏遠省簡稱為\_\_\_\_\_，省會設在\_\_\_\_\_。
- (14) \_\_\_\_\_是遼寧省的省會出產以\_\_\_\_\_馳名中外。
- (15) 吉林三寶一是\_\_\_\_\_ 二是\_\_\_\_\_ 三是\_\_\_\_\_。

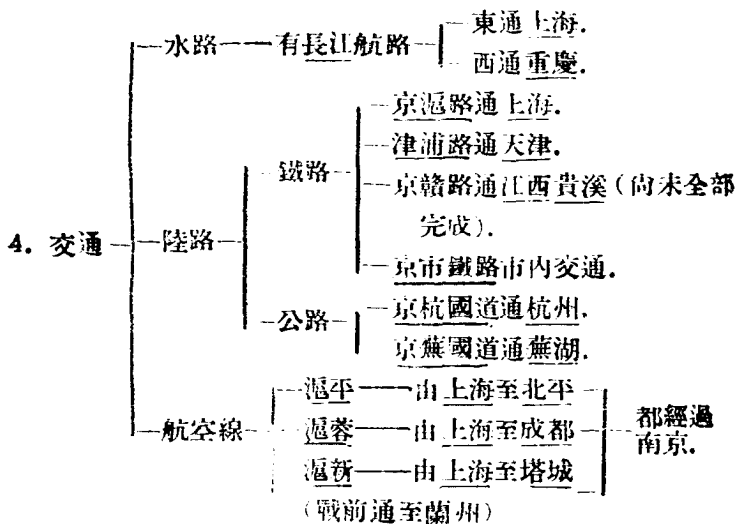
- (16) 熱河的 \_\_\_\_\_ 礦居全國第一。
- (17) 新疆省的省會設在\_\_\_\_\_。
- (18) 新疆省的貿易 \_\_\_\_\_ 為最，\_\_\_\_\_ 次之。
- (19) 蒙古的沙漠，蒙名叫 \_\_\_\_\_ 是世界第 \_\_\_\_\_ 大沙漠。
- (20) 西藏的地勢多在 \_\_\_\_\_ 以上為世界第 \_\_\_\_\_ 高原。
- (21) 西藏前藏的政教領袖叫 \_\_\_\_\_ 後藏的政教領袖叫 \_\_\_\_\_。
- (22) 我國人口總數，約當世界總人口的 \_\_\_\_\_，人口密度平均每方公里約 \_\_\_\_\_ 人。
- (23) 我國人口分布情形東南近海各省 \_\_\_\_\_，西北高原 \_\_\_\_\_。
- (24) 華僑總數約 \_\_\_\_\_ 人以上，籍貫以 \_\_\_\_\_ 兩省人最多。

## 第四 我國的重要都市

### 一 南京市(首都)

1. 位置——長江下流。
2. 奠都時期——民國十六年五月五日。
3. 形勢——雄壯
 

{	長江襟帶於西。
{	幕府諸山綿互於北。
{	鍾山雄峙於東。
{	雨花臺屏障於南。



5. 商埠所在地——下關。

6. 工業出品——綢緞。

7. 名勝古迹——中山陵、明孝陵、玄武湖、莫愁湖、秦淮河、雨花臺、北極閣、雞鳴寺等。

8. 國父改造南京的計畫 —

- 把浦口改做新市。
- 聯絡長江的南北鐵路。
- 闢船塢以容巨艦。
- 在江底鑿一隧道，使南京和浦口成雙聯市。

9. 抗戰發生後
- |   |                                |   |             |
|---|--------------------------------|---|-------------|
| — | 國府於二十六年十一月二十日移遷 <u>重慶</u>      | — | 奠定了持久抗戰的基礎。 |
|   | 守軍於同年十二月二十日由 <u>南京</u> 作有計畫的撤退 |   |             |

## 二 重慶市(陪都)

1. 位置——長江和嘉陵江之交。
2. 沿革 ————

—	國都遷渝——民國二十六年十一月二十日。
	公布為直轄市——民國二十八年五月五日。
	定為陪都——民國二十九年。
3. 區畫 ————

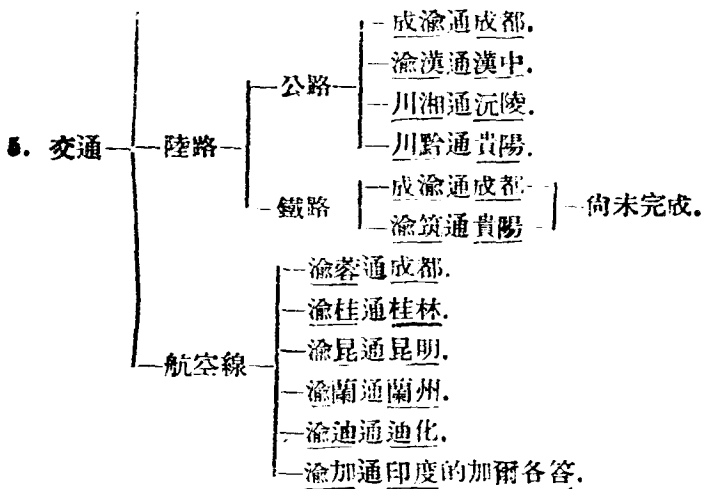
—	行政區。
	工業區。
	商業區。
	文化區。
	住宅區。
	風景區。
4. 形勢 ————

—	三面臨水，一面靠陸，形如半島	—	形勢雄壯。
	前帶兩江之水，後依復興之固		

—	水路——有 <u>川江</u> 航路	—	西通 <u>宜賓</u> 、 <u>樂山</u> 。
			北通 <u>合川</u> 。
			東通 <u>萬縣</u> 、 <u>宜昌</u> 、 <u>武昌</u> 、 <u>漢口</u> 、 <u>南京</u> 等。





6. 重要建築物——復興關、防空洞、大隧道。

7. 名勝——中央公園、黃山、汪山、真武山和南溫泉、北溫泉等。

8. 抗戰後的地位——  
 —全國政治、軍事、經濟的中心。  
 —國際政治的重心。

### 三 西京市(陪都)

1. 位置——北臨渭水，南望終南。

2. 形勢——關山險固。

- 3. 沿革
  - 歷史上的古都——周、秦、漢、隋、唐均建都於此。
  - 今爲陝西省會。
  - 民國二十二年設西京市，直隸行政院，爲我國的陪都。
  
- 4. 交通
  - 鐵路
    - 隴海路於此經過。
    - 同成路與隴海路於此交叉。
  - 公路
    - 西蘭路。
    - 西榆路。
    - 西津路。
    - 西荊路。
  - 航空線——荊蓉線通成都。
  
- 5. 重要
  - 軍事上——地當到西北去的門戶。
  - 經濟上
    - 西北之藥材、皮毛、棉花
    - 東南之綢緞、洋貨、茶葉及日用品

— 集散地。

#### 四 上海市(我國第一大商埠)

- 1. 位置
  - 位於黃浦江和吳淞江的合流處；
  - 距長江入海處很近；
  - 適當我國海岸線的中點。
  
- 水路
  - 出長江口可到沿海各埠及日本、歐、美各地。

2. 交通
- 湖長江西上可至蕪湖、九江、漢口、宜昌、重慶等地。
  - 陸路 —
    - 鐵路 — 有京滬、滬杭甬等線。
    - 公路 — 有滬杭、滬錫、滬太等路。
  - 航空線 —
    - 滬平滬粵滬蓉線 — 由中國航空公司經營。
    - 滬新線 — 由歐亞航空公司經營。

3. 工業 — 工廠林立，為全國工業中心，尤以楊樹浦一帶為最盛。

4. 商業
- 為全國商業中心、國內外的貨物都從此進出
  - 貿易總額——一年達八億元占全國貿易額百分之四十以上
  - 出口貨——以棉花、生絲、茶葉、雜糧為大宗。
  - 進口貨——以棉毛織物及機械為大宗。
  - 發達的原因——位置良好，交通便利，物產富庶，貿易範圍廣大等。
- 抗戰發生後大不如前。

5. 開闢商埠
- 時期——1842年。
  - 原因——鴉片戰爭後我國被迫訂了南京條約。

- 政治區畫——為直轄市，直隸行政院。
- 市區——包括閘北、南市、浦東、龍華、江灣、吳淞等。

3. 市區情形
- 特區 —
    - 法租界 — 我國已自動收回。
    - 公共租界 — 英、美已交還我國。
  - 市政府所在地 — 在江灣附近的市中心區。
  - 全市面積 — 893 方公里。
  - 人口 — 戰前除僑民外共有三百七十多萬。
  - 街市 — 街道寬闊，層樓高聳，車輛絡繹，熱鬧異常。
7. 建設大上海的計畫
- 關為東方大港
  - 建設市區，收回租界。

## 五 廣州市(我國南部第一大商埠)

1. 位置 — 在西、北、東三江的合流處。

2. 形勢

- 北依白雲山 —
- 南臨粵江口 —
- 虎門為其門戶 —

— 形勢險要。

3. 交通

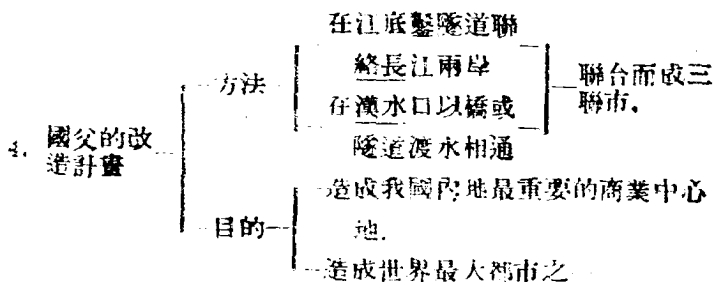
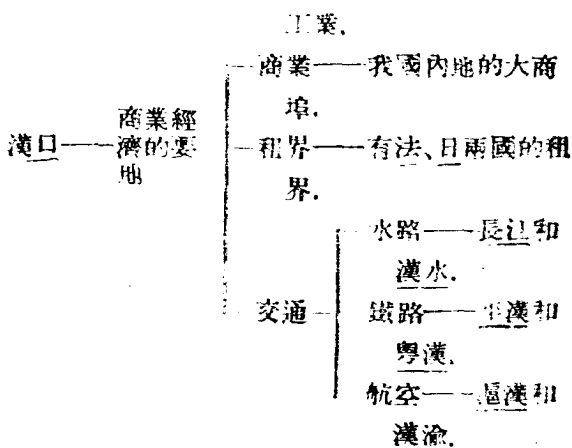
- 水路 —
  - 西江 —
  - 東江 —
  - 北江 —
 — 握外洋內河交通的樞紐。
- 陸路 —
  - 廣九鐵路通九龍 —
  - 粵漢鐵路通武昌 —
  - 廣三鐵路通三水 —
 — 現已接軌通車。
- 航空 — 有滬粵平粵等線。

4. 貿易 — 滇、黔、粵、桂、湘、贛南部的貨物都以此為集散地。

5. 開闢商埠——1842年(訂立南京條約後)。
6. 租界——原有英、法兩國租界在沙面島上現已收回。
7. 革命紀念地——白雲山麓, 黃花崗七十二烈士墓。
8. 近年來的——大工程——海陸鐵路, 橫跨粵江之上, 聯絡廣州和海南島的交通。

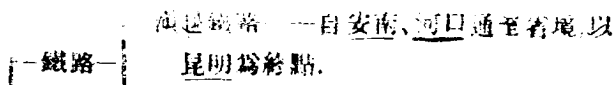
## 六 武漢(國慶紀念地)

1. 位置 — {
  - 在湖北省。
  - 長江中流兩岸。
  
2. 形勢 — {
  - 武昌 —— 在長江東岸
  - 漢陽 — {
    - 在長江西岸
    - 在漢水南岸
  - 漢口 — {
    - 隔江與武昌相對
    - 隔漢水與漢陽相對
 } 成三足鼎立之勢。
  
3. 關係 — {
  - 武昌 —— 軍事政治的要地
    - 湖北省會。
    - 我國的革命紀念地
      - 辛亥革命在此起義。
      - 國民革命軍北伐攻破此城聲勢大盛。
    - 有黃鶴樓名勝及大工廠。
  - 漢陽 —— 軍事工業的要地
    - 城北有大別山, 形勢扼要。
    - 有兵工廠及大鐵廠等軍事



### 七 昆明市(西南國際交通的要衝)

2. 位置——在滇池之北。



2. 交通 ————
- 般昆鐵路——正在趕建中。
  - 公路——有滇黔、川滇、滇緬等路。
  - 航空——除渝昆線外，近又新闢南通印度的航空線。
3. 氣候——冬不嚴寒，夏不酷暑，因有“四季無寒暑，一雨便成冬”的美談。
4. 工業——抗戰以來，區戰區工廠內遷，工商業日益發達。
5. 風景——有五華山、西山、黑龍潭、金殿等。

## 八 北平市(故都)

1. 位置——在北部平原西北端，北運河和永定河之間。
2. 面積——七百零七方公里。
3. 人口——一百五十餘萬人，為我國第二大都市。
4. 政治 ————
- 昔——遼、金、元、明、清及民初均為首都。
  - 今——畫為院轄市。
5. 城垣 ————
- 外城——在南部——
  - 內城——在北部——
  - 皇城——在內城中，內有舊總統府。
  - 宮城——在皇城中，為清帝故居。
6. 形勢 ————
- 北依山險——
  - 南控沃野——
  - 據鐵路之會——
  - 當海陸之衝——
- 形為當字。
- 甚為雄勝

7. 交通
- 水運——距北運河、永定河均不遠。
  - 鐵路——有北寧、平漢、平綏、平熱四大鐵路。
  - 公路——有平津、平保、平榆三公路。
  - 空運——爲滬平線終點。

8. 勝迹
- 太液池——一稱三海，在宮城外西苑內。
  - 中山公園——在太液池之東。
  - 十利海——在太液池之北。
  - 陶然亭——在外城。
  - 景山——在宮城北，內有明莊烈帝殉國遺迹。
  - 圓明園——毀於英、法聯軍之役。
  - 頤和園——樓閣宏壯邱壑天成。
  - 萬牲園——內多珍禽異獸。

## 九 天津市(北方最大商埠)

1. 位置——在河北五河合流處。
2. 城垣——毀於庚子之役，今於其上築馬路通電車。
3. 租界——

<u>英、法、德、日</u> 在 <u>海河</u> 右岸	目前均不在了
<u>奧、意、俄、比</u> 在 <u>海河</u> 左岸	
4. 商業——

範圍——包括 <u>冀、晉、魯、豫、陝、甘、寧、熱、察、綏、青、蒙、新</u> 等省區。
地位——我國 <u>第三大商港</u> ， <u>第一皮毛出口港</u> 及 <u>北部大棉市場</u> 。



- |           |  |                      |                                   |
|-----------|--|----------------------|-----------------------------------|
|           |  | 入口貨——                | 棉紡織品、煤油、機械、糖等。                    |
|           |  | 出口貨——                | 皮毛、棉花等。                           |
|           |  |                      | 水運——內河外海均便。                       |
|           |  | 交通便利——               | 陸運——有 <u>北平、津浦</u> 二鐵路。           |
|           |  |                      | 空運—— <u>滬平線</u> 經此。               |
| 5. 繁盛原因—— |  | 腹地廣大——               | 為 <u>北部</u> 地方及 <u>蒙、新</u> 地帶之門戶。 |
|           |  | 密邇 <u>北平</u> ——      | <u>北平</u> 為一大消費市場。                |
| 6. 發展障礙—— |  | <u>海河</u> 淤淺，巨輪不能直達。 |                                   |
|           |  | 河水冬季結冰，航運有時斷絕。       |                                   |
| 7. 補救辦法—— |  | 另闢 <u>北方大港</u> 。     |                                   |

## 十一 廈門市和汕頭市

### 1. 廈門市

- (一)重要——是閩南海上貿易的樞紐。
- (二)位置——在漳江口外廈門島上的西南岸。
- |         |  |                    |  |       |
|---------|--|--------------------|--|-------|
| (三)貿易—— |  | 輸出以茶、紙、砂糖、菸葉為大宗    |  | 入超甚鉅。 |
|         |  | 輸入以棉紗、棉布、煤油、糧食為大宗。 |  |       |
- (四)對岸的鼓浪嶼——過去有公共租界，現已收回。是避暑勝地。
- (五)開闢商埠——在1842年訂立南京條約後。

### 汕頭市

- (一) 重要——是粵東一大市場。
- (二) 位置——在韓江口，港灣深廣。
- (三) 交通——有鐵路通潮安。
- (四) 貿易——所有韓江流域的貨物都由此出口。  
貿易比廈門更盛，輸出以糖為大宗。
- (五) 開闢商埠——1858年（訂立天津條約後）。

## 十一 蘭州市（西北國際交通的要衝）

- 1. 位置——黃河上流北岸。
- 2. 形勢——
  - 南依五泉山；
  - 北接黃河岸，
  - 西倚華林山。
- 3. 地位——當全國中心。
- 4. 設市——民國十八年設市，今為甘肅省會。
- 5. 交通——
  - 公路——西蘭、甘寧、甘新、甘青諸線均以此為中心，中蘇公路以此為衝途。
  - 鐵路——隴海路終點，擬修建蘭新路。
  - 航空線——中蘇航運亦與此為衝途。
- 6. 物產——
  - 煙草——製成水菸，銷行全國；
  - 羊毛——很多，有成為羊毛業中心的希望。

7. 黃河鎖遠鐵橋——城北黃河上為黃河三大鐵橋之一。
8. 名勝——城北之白塔山——可以俯視黃河。  
 ——城南之五泉山——為蘭州市風景區。

## 十二 瀋陽長春和濱江(東北的三大都市)

### 1. 瀋陽

(一)政治關係——為遼寧省會。

(二)位置——在遼寧大平原中央當瀋水(渾河)北岸。

(三)交通——

—	北寧鐵路可達 <u>平、津</u>	—	東北南部 鐵路中心。
	南滿鐵路可通 <u>大連</u>		
	瀋海鐵路可至 <u>海通</u> 和 <u>永吉</u>		
	安瀋鐵路可至 <u>安東</u> 並通 <u>朝鮮</u>		

(四)城垣——內城——方形是行政區。  
 ——外城——圓形是住宅區。

(五)商埠——在西城外。

(六)工商業——極發達。

(七)附近名礦——鞍山鐵礦——撫順煤礦——產量均冠全國

(八)國恥——民國二十年九月十八日，日本藉口中村事件  
 攻陷全城並及東北全境。

### 2. 長春

- (一)位置 — 在吉林省之西南邊境；  
— 依通河右岸；  
— 介松花江遼河兩流域之間。
- (二)交通 — 

—	<u>吉長路</u> <u>東通永吉</u>	—	東北中部鐵路中心 <u>遼</u> 、 <u>吉</u> 、 <u>黑</u> 三省交通樞紐。
—	<u>中東路北達濱江</u>		
—	<u>南滿路南至大連</u>		
- (三)商業 —— 發達，是吉林省第一商埠。
- (四)國恥 —— 民國二十年日本在長春北二十里之萬寶山地方，槍殺我同胞釀成慘案。

濱江

- (一)政治關係 —— 東省特別行政區長官所在地。
- (二)位置 —— 在松花江中游南岸。
- (三)交通 — 

(三)交通 —	—	<u>松花江水運中樞</u>	—	東北北部鐵路中心。
	—	<u>中東鐵路東南達海參崴</u> 、 <u>西</u>		
	—	<u>南至長春</u> 、 <u>西北通西伯利亞</u>		
	—	<u>拉濱鐵路通吉敦路之拉法</u>		
	—	<u>呼海鐵路北經海倫可至瑯璁</u>		
- (四)商業 —— 爲東北北部貿易總匯，商圍遼及西伯利亞及歐、蘇。
- (五)市街 — 

(五)市街 —	—	道外 —— 我國人住所，縣治所在
	—	道裏 —— 舊 <u>俄</u> 租界， <u>歐</u> 戰後收回，歸 <u>東省特區</u>

管轄，市街設施，俄國色彩甚濃厚。

## 練習問題 四

### 一、是非法

- (1) 我國國民政府於民國二十六年十一月二十日遷都重慶……………( )
- (2) 西京市的重要在軍事上說是到西南去的門戶 ( )
- (3) 廣州是我國南部的第一大商埠……………( )
- (4) 武昌在長江東岸，漢陽在長江西岸……………( )
- (5) “四季無寒暑，一雨便成冬”是指桂林的氣候而說的……………( )
- (6) 廈門市是浙南海上貿易的樞紐……………( )
- (7) 汕頭市是閩東的——大市場……………( )
- (8) 蘭州市的地位，當全國的中心……………( )
- (9) 蘭州出產的水煙很著名……………( )
- (10) 長春是東西南部鐵路中心……………( )
- (11) 瀋陽是民國二十一年九月十八日被日本強占的……………( )
- (12) 瀋陽是東北中部鐵路中心遼吉黑三省交通樞紐……………( )
- (13) 長春是吉林省第一商埠……………( )

- (14) 濱江是東省特別行政區長官所在地……………( )
- (15) 濱江是東北北部鐵路中心……………( )
- (16) 長春是東北北部貿易總匯……………( )

二、選擇法

- (1) 重慶定爲陪都時間是在：①二十六年②二十七年  
年③二十八年④二十九年……………( )
- (2) 我國第一大商埠是：①上海②天津③重慶④西  
京……………( )
- (3) 我國的工業中心地是：①上海②天津③重慶④  
無錫……………( )
- (4) 上海市的開闢商埠是由於訂立：①天津條約②  
煙台條約③南京條約④璦琿條約……………( )
- (5) 我國內地的大商埠是：①重慶②武昌③漢口④  
漢陽……………( )
- (6) 西南國際交通的要衝是：①重慶②桂林③貴陽  
④昆明……………( )
- (7) 我國第二大都市是：①上海②北平③昆明④西  
京……………( )
- (8) 北方最大的商埠是：①北平②天津③西京④濟  
南……………( )
- (9) 廈門市的開闢商埠是由於訂立：①南京條約②

環璦條約③天津條約④煙台條約……………( )

(10) 西北國際交通的要衝是：①天津②蘭州③西京

④太原……………( )

### 三、填充法

(1) 南京的水路交通有\_\_ 航路東通\_\_ 西通\_\_。

(2) 南京的形勢，東西是\_\_ 南面是\_\_ 西面是\_\_  
北面是\_\_。

(3) 重慶的位置在\_\_ 和\_\_ 之交。

(4) 戰後重慶是全國\_\_ 的中心，國際\_\_ 的中心。

(5) 廣州是\_\_ 南部貨物的集散地

(6) 武昌是\_\_ 的要地，漢口是\_\_ 的要地，漢陽是\_\_ 的要地。

(7) 北平的交通，鐵路有\_\_ 四大鐵路。

(8) 天津在商業上的地是我國第\_\_ 大商港第\_\_ 皮毛出口港，北部的大\_\_ 市場。

(9) 汕頭市的關為商埠是由於訂立\_\_。

(10) 東北的三大都市①\_\_ ②\_\_ ③\_\_。

## 第五 我國的名勝古迹

### 一 國父陵園

1. 地點——南京。
2. 位置——在鍾山的南麓。
3. 面積——四十三方公里。
4. 國父陵墓所在地。
5. 建築——莊嚴宏大。
6. 影響——表示我國現代民族文化的特點。

### 二 西 湖

1. 位置——杭州城西。
2. 面積——周約二十公里。
3. 點綴 ————
  - 中心——孤山;
  - 孤山前——外湖;
  - 孤山後——後湖;
  - 蘇堤以內——裏湖。
4. 遊湖方法——坐遊艇。
5. 風景——山光水色，明媚可愛。
6. 古迹——岳王墓為民族英雄紀念地。



### 三 桂林的山水

1. 桂山——桂林北門外，勝迹著名的有桂臺、疊彩巖、北甯洞。
2. 獨秀峯——桂林城內，勝迹有讀書巖、雪洞。
3. 伏波山——還珠洞。
4. 華景山——華景洞。
5. 七星山——七星巖、元風洞。

### 四 開封 洛陽 西京的古迹

#### 1. 開封的古迹。

- (一) 大相國寺——在開封城中，寺建於公元555年，建築宏壯，商販雲集。
- (二) 鐵塔——在開封城東北甘露寺旁，宋朝所建，高十三級，約四十公尺，登塔北望，遙見黃河。

#### 2. 洛陽的古迹

- (一) 龍門山——洛陽城南，兩山（香山、龍門）相夾，伊水出於其間。

- |                |      |                               |
|----------------|------|-------------------------------|
|                | —地點— | — <u>洛陽</u> 城南 <u>龍門山</u> 。   |
|                | —佛龕— | — <u>三大佛龕</u> ——高二十公尺在懸崖石壁上面。 |
| (二) <u>千佛巖</u> | —佛龕— | —大的——數丈；                      |

——小佛龕——小的——數千；  
式樣——各不相同。  
——年代——是1400年前的古物，現成爲世界  
最古最偉大的美術寶庫。

(三)白馬寺——漢明帝(公元67年)時所建。

### 3. 西京的古迹

(一)雁塔——西京南門外，公元629年所建，高六十公尺。

(二)曲江池——西京城東南，唐開元中疏鑿。

(三)壩橋——西京城東門外，又名消魂橋，橋長三百多公尺，  
環七十二洞，清乾隆時重修。

(四)未央宮——西京城西漢高帝七年(公元200年)營此，  
建築窮極壯麗。

(五)碑林——舊西安府儒學內，所藏古來碑碣甚多。

## 五 孔林和泰山

### 1. 孔林(至聖林)

(一)位置——在山東省曲阜縣城北門外。

(二)周圍——二十多公里。

(三)外——環長牆。

(四)內——古木參天，碑碣夾道。

### 2. 孔廟

(一)位置——曲阜城內。

(二)規模——宏大。

(三)內——藏古碑、古器。

### 3. 泰山

(一)位置——泰安縣境。

(二)高度——一千五百多公尺。

(三)奇景——登山頂的日觀峯和玉皇頂可以看東海的日出。

## 六 長 城

1. 起訖——東起山海關，西至嘉峪關。

2. 經過——冀、熱、察、晉、綏、陝、寧，廿八省。

3. 工程	┌	長——二千三百公里	┐	堅固偉大。
		高——三丈		
		廣——十五至二十尺		
		烽火台——每隔三十六丈一座		

4. 建築——秦長城——北負陰山，燕、秦、趙、魏各有修築，秦連接之。

——現在長城——環燕、秦、晉、隴，皆明代邊牆。

——位置——在河北省臨榆縣。

——山海關——形勢——背山面海，形勢險要，稱“天

- 嘉峪關 —
  - 位置 — 在甘肅省酒泉縣西北七十里。
  - 形勢 — 據高憑險，稱“天下第一雄關。”
- 喜峯口 —
  - 位置 — 在河北省遵化縣東北。
  - 形勢 — 山海關以西長城之第一要口。
- 6. 關隘 — 古北口 —
  - 位置 — 在河北省密雲縣北。
  - 形勢 — 當北平通熱河之咽喉。
- 張家口 —
  - 位置 — 在察哈爾省南境，省會所在地。
  - 形勢 — 

北蔽 <u>長城</u>	— 險要。
南環 <u>洋河</u>	
東西高山屹峙	
  - 交通 — 當平綏張多兩鐵路及張庫公路交會處。
  - 商業 — 為內地與蒙古貿易之大埠。
- 居庸關 —
  - 位置 — 在河北省昌平縣西北。
  - 形勢 — 險要易守，為河北平原與塞外交通之第一重門戶。

“天下第一關。”

交通——北寧鐵路由此通過，為去東北之孔道。

雁門關——位置——在山西省代  
 雁門關——形勢——爲晉北內長城之險隘。

## 練習問題 五

### 一、是非法

- (1) 西湖在浙江杭州城西……………( )
- (2) “桂林山水甲天下”是稱頌桂林風景的好……( )
- (3) 開封的千佛巖可稱爲世界最古最偉大的美術  
寶庫……………( )
- (4) 孔林在山東省曲阜縣城北門外……………( )
- (5) 孔廟在山東省曲阜縣城東門外……………( )
- (6) 登泰山日觀峯可以看南海的日出……………( )
- (7) 喜峯口是山海關以西長城之第一要口……………( )
- (8) 張家口是北平通熱河之咽喉……………( )
- (9) 長城的工程堅固偉大……………( )
- (10) 喜峯口是內地與蒙古貿易的大埠……………( )

### 二、選擇法

- (1) 國父陵園在南京的：①幕府山 ②獅子山 ③鍾山  
④棲霞山……………( )
- (2) 西湖的古迹有：①明孝陵 ②千佛巖 ③白馬寺 ④  
岳王墓……………( )

- (3) 桂林城內的名勝有：①桂山②獨秀峯③華景山  
④七星山 …………… ( )
- (4) 雁塔未央宮碑林是：①南京②重慶③西京④開  
封的古迹 …………… ( )
- (5) 泰山在：①山東省②河北省③山西省④陝西省 ( )
- (6) 泰山高度有：①一百五十多公尺②一千五百多  
公尺③一萬五千多公尺④十萬五千多公尺 … ( )
- (7) 稱“天下第一關”的是：①山海關②嘉峪關③居  
庸關④雁門關 …………… ( )
- (8) 去東北的要道是：①山海關②嘉峪關③居庸關  
④雁門關 …………… ( )
- (9) 塞外交通之第一重門戶是：①喜峯口②張家口  
③古北口④居庸關 …………… ( )
- (10) 長城長約：①一千三百公里②二千三百公里③  
三千三百公里④四千三百公里 …………… ( )

三、填充法

- (1) 開封的古迹有 \_\_\_\_\_ 和 \_\_\_\_\_。
- (2) 洛陽的古迹有 \_\_\_\_\_ 和 \_\_\_\_\_。
- (3) 長城東起 \_\_\_\_\_ 西至 \_\_\_\_\_。
- (4) 長城經過 \_\_\_\_\_  
\_\_\_\_\_ 八省。

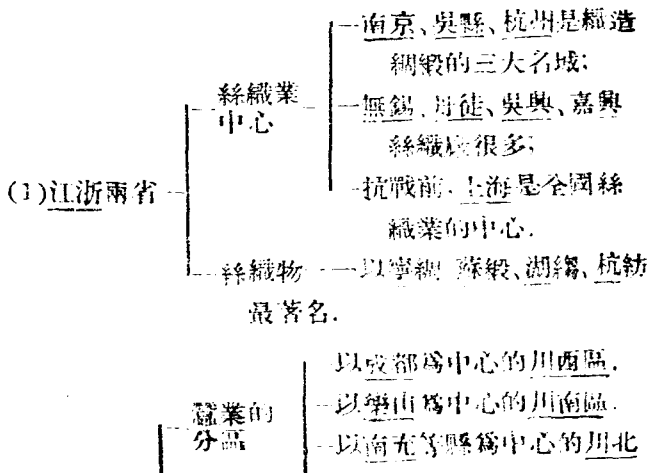
- (b) 長城的關隘有 \_\_\_\_\_  
\_\_\_\_\_ 等處。

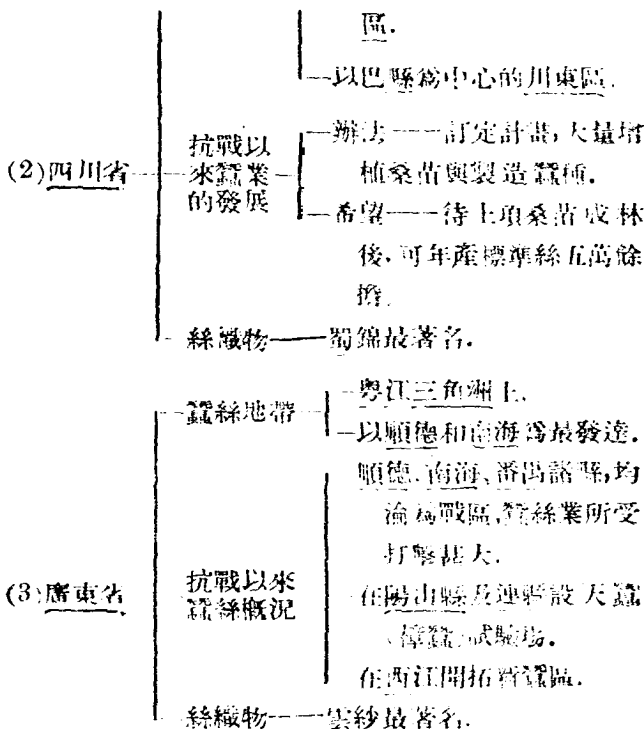
## 第六 我國的重要產業

### 一 農 業

#### 1. 絲

- (一) 我國為絲的發明——迄今已有四千多年的歷史。  
 (二) 傳入歐洲——當在南北朝時(距今約一千四百年)。  
 (三) 最發達的地方——太湖流域。  
 (四) 產地





(4) 河南山東遼寧諸省——柞蠶絲（亦稱野蠶絲）。  
 八絲綢、府綢。

(五) 絲綢輸出——以民國十八年為最多，總值二萬五千餘萬元，占出口貨中第二位。

## 2. 茶



(一)世界產茶最早的國家——我國。

(二)外傳 ————  
 —傳至日本——南宋時。  
 —傳至歐洲——十六世紀末葉。

(三)產茶地帶——長江的中、下游和福建的山地。

(四)產茶最多的地方——歙縣附近，占全國總產額的四分之一。

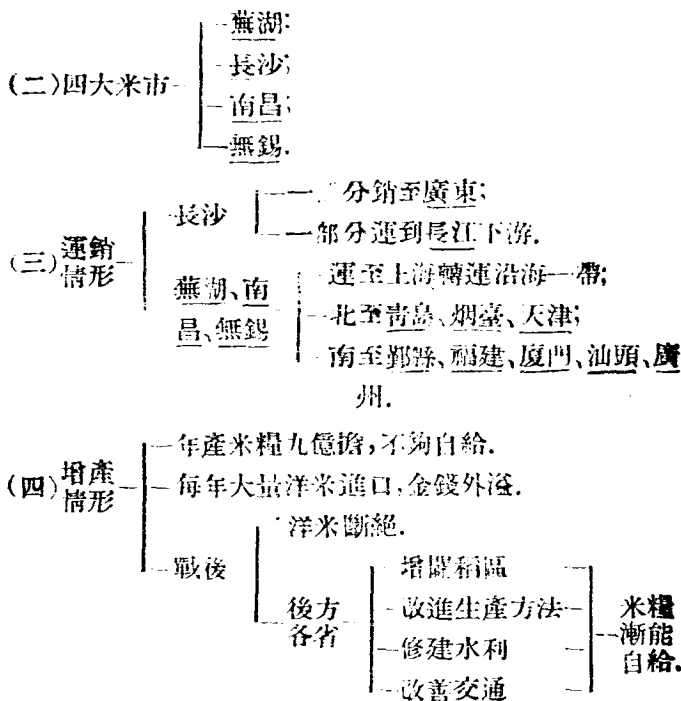
(五)品類 ————  
 —歙縣和祁門的紅茶——  
 —歙縣和婺源的綠茶——  
 —杭州西湖的龍井茶——  
 —紹興的平水茶——  
 —福建武夷山的紅茶——  
 —安徽六安的毛尖茶——  
 —雲南的普洱茶——  
 —四川的邊茶——  
 —品質最優。  
 —也很有名。

(六)四大茶市——漢口、九江、上海、福州。

(七)輸出 ————  
 —曾和絲同稱霸於世界。  
 —全年約值二千二百萬元。  
 —自錫蘭茶和印度茶興起後，銷路就不及以前。

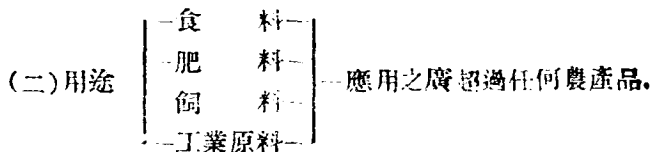
### 3. 米

(一)主要產區 ————  
 —長江流域——湘、蘇、浙、川、贛、鄂、皖七省。  
 —粵江流域——粵、桂二省。



#### 4. 大豆

(一)分布——以東北為最多，魯、蘇、豫、皖、冀等省次之。



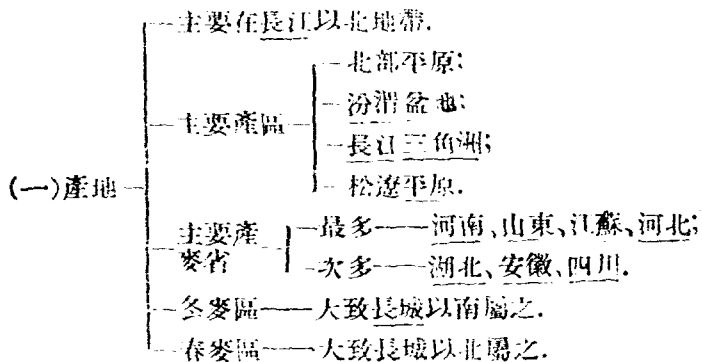
- (三) 東北主產區 ———— 遼寧東北區;  
                                   — 長春附近區 —— 最富;  
                                   — 濱江附近區.
- (四) 產量 ———— 全國 —— 17,883,425 噸 (百  
                                   分之百)  
                                   東北 —— 6,349,000 噸 (百  
                                   分之三十五) ———— 民國二十年統計.
- (五) 輸出 ———— 全國 —— 4,372,631 擔 (百  
                                   分之百)  
                                   東北 —— 3,778,736 擔 (百  
                                   分之八十六) ———— 民國二十一年統計.

## 5. 棉

- (一) 產地 ———— 長江三角洲;  
                                   — 江漢平原;  
                                   — 四川中部;  
                                   — 北部平原;  
                                   — 汾渭盆地.  
                                   —— 主要產棉省 —— 蘇、鄂、冀、魯、豫、陝.
- (二) 產量 —— 約一千六百六十萬市擔, 居世界第三位. (次於  
                                   美、印 占全世界產量百分之十.)
- (三) 供求 ———— 過去不足需要,  
                                   —— 近經增產漸能自足供給.
- (四) 四大棉市 —— 上海、漢口、天津、鄭州.

(五)紡織中心——上海、天津、青島、武漢。

6. 麥



(二)產量——平均每年約四萬二千六百萬市擔，居世界第二位（僅次於蘇聯）占全世界產量百分之十五。

(三)供求——不足自給——每年仍有大量小麥及麵粉輸入。

(四)麵粉業中心——上海、濱江、無錫、青島、漢口。

7. 雜糧

(一)種類——玉蜀黍、高粱、小米、大麥、燕麥、蕎麥、馬鈴薯。

(二)高粱產地——遼寧、山東、河北、吉林、河南、黑龍江、山西等省最多，為產地貧民食糧。

(三)小米產地——山東、河北、河南、山西最多，為產地普通

食糧。

- (四)玉蜀黍產地——四川、河北、遼寧、湖北、河南、山東、山西等省最多，居世界第三位，占全世界產量百分之六，食用兼飼料。

## 二 工 業

### 1. 糖業

- (一)原料
- 主要的——甘蔗；
  - 次要的——甜菜。
- (二)主要產地
- 廣東韓江流域的汕頭、潮安及九龍、廣州等地。
  - 四川沱江流域的內江、資中、資陽、簡陽等地。
  - 福建南部的晉江、龍溪、莆田等地。
- (三)產量
- 每年由汕、廈兩市輸出的糖約一百餘萬擔；
  - 近年來四川力謀推廣，增產尤多。
- (四)過去的概況
- 唐貞觀年間（第七世紀上半葉）我國派人到印度學得煉糖方法後，由我國傳至朝鮮及日本。
  - 1870年我國為世界第五產糖國家，僅次於印度、爪哇、菲律賓與古巴。
  - 1885年以前每年輸出的糖值銀三百萬兩。

以上。

- 自臺灣被占後我國反成爲糖的輸入國了。
- 民國二十一年洋糖的輸入共爲八千五百多萬金本位。

(五)今後的補救

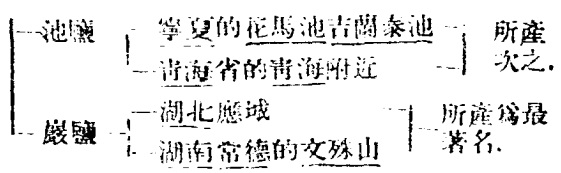
- 收回以產糖著名的臺灣。
- 改良種植甘蔗和製糖的方法。
- 在黃河下游各省種植甜菜，增產糖量。

## 2. 鹽業

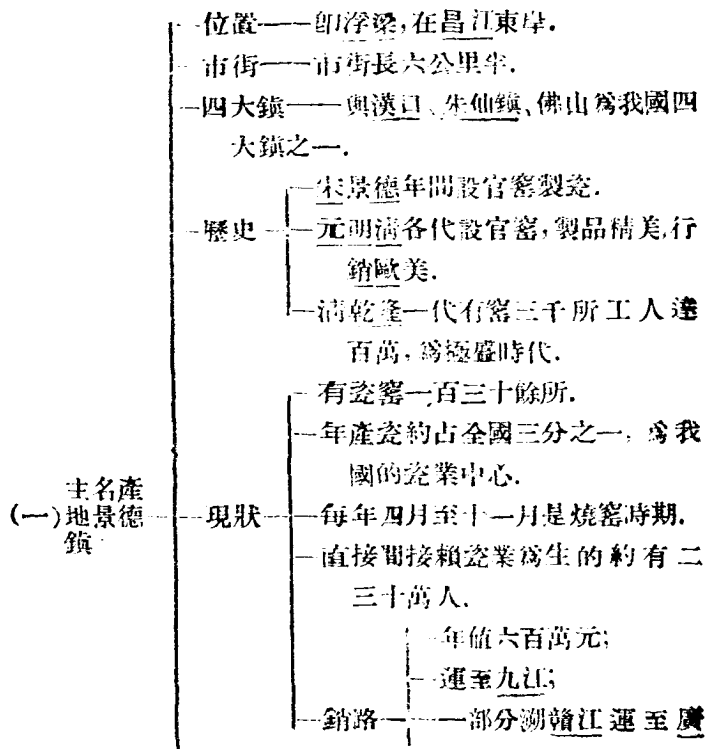
(一)類別——海鹽、井鹽、池鹽和巖鹽等四種。

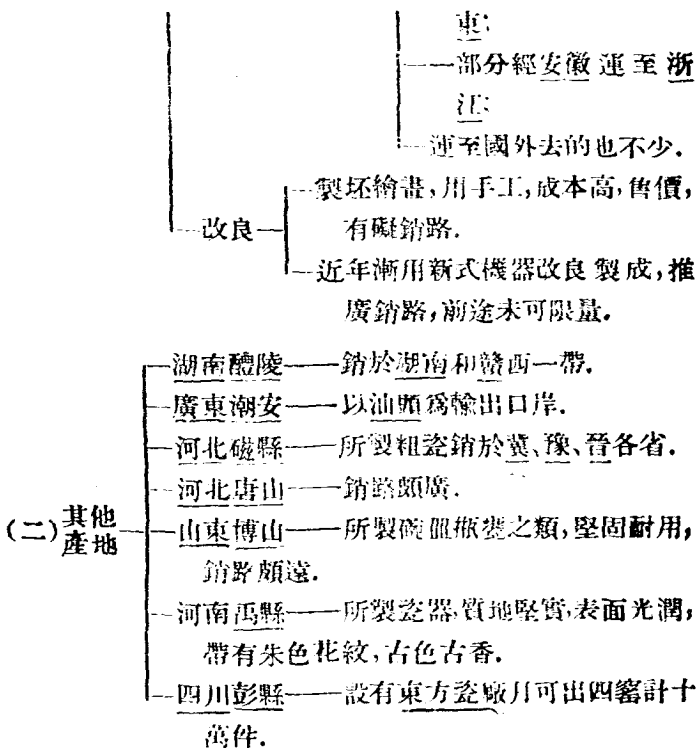
(二)產額——最多時(民國二十四年)全年達五千二百萬市擔，其中海鹽最多，約占百分之八十五。

- |       |    |   |
|-------|----|---|
| (三)產地 | 海鹽 | — <u>遼東</u> 鹽區；   |
|       |    | — <u>長蘆</u> 鹽區；   |
|       |    | — <u>山東</u> 鹽區；   |
|       |    | — <u>兩淮</u> 鹽區；   |
|       |    | — <u>兩浙</u> 鹽區；   |
|       |    | — <u>兩廣</u> 鹽區。   |
|       | 井鹽 | —以 <u>四川</u> <u>富榮</u> 鹽區的 <u>自流井</u> 及 <u>貢市</u> 爲最著名；抗戰以來，增產甚大。 |
|       |    | —次爲 <u>四川</u> 的 <u>樂山</u> 與 <u>雲南</u> 的 <u>鹽興</u> 、 <u>鹽豐</u> 等。  |
|       |    | —以 <u>山西</u> <u>解池</u> (在 <u>安邑</u> <u>解縣</u> 間)所產爲最著名。           |
|       |    |   |



### 8. 瓷業

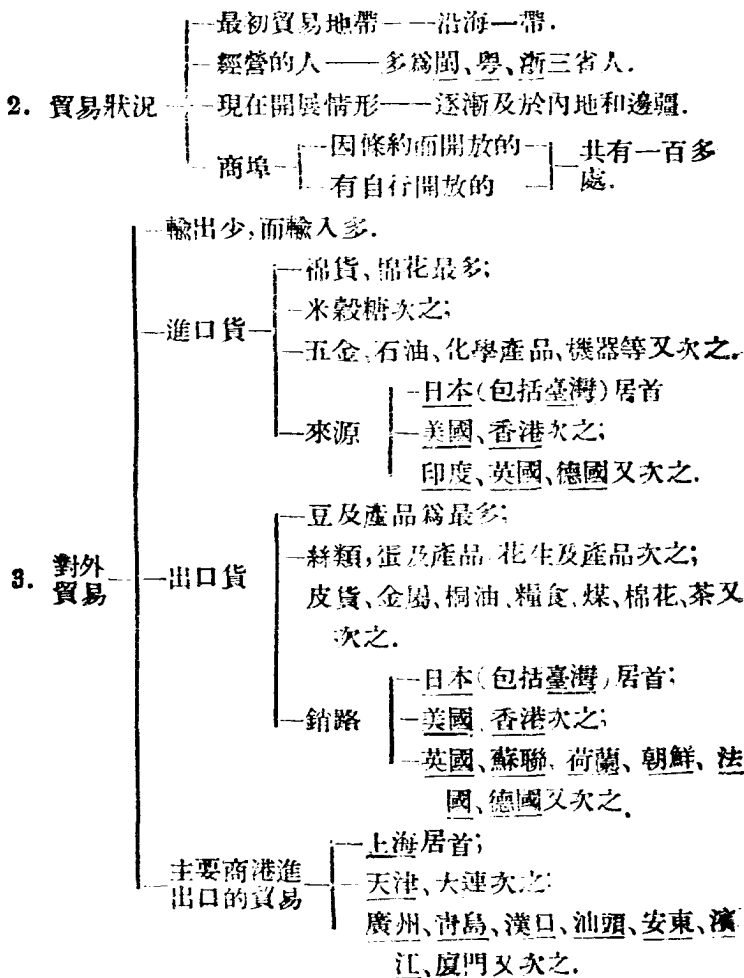




### 三 商 業

- 開朝中葉，葡萄牙人租澳門與我國互市。
- 1. 與外人通商——由國家的性質，變為世界的性質。
- 鴉片戰爭後外人要求開港通商。





## 四 礦 業

### 1. 金屬礦產

- (一) 金
  - 金礦種類——山金、砂金。
  - 主要產地
    - 黑龍江為我國第一產金地。
    - 四川、西康兩省次之。
    - 吉林、蒙古、新疆、甘肅、青海、西藏又次之。
    - (南非占世界產額三分之一，加拿大及美國合占四分之一)。
  
- (二) 銀
  - 我國產銀甚少。
  - 熱河、湖南稍有出產。
  - 雲南、江西次之。
  - (墨西哥為世界第一產銀地，其次美國，兩國合計占世界產量四分之三)。
  
- (三) 銅
  - 儲量不多。
  - 最重要的產地是雲南的會澤。
  - 其次為四川、湖北、山西等省。
  - (世界主要產銅國為美國、智利、加拿大、蘇聯、日本、德國、西班牙等，美國所產占世界百分之二十)。

- (四) 錫
- 我國是世界產錫國之一。
  - 主要產地
    - 最著名——雲南  
箇舊
      - 年產八千噸；
      - 占全國總產量百分之九十五。
    - 其次——廣西、湖南。
  - 用途——可作洋鐵罐、白鐵片和錫箔的原料。  
(世界產錫地以英屬馬來為最富)。
- (五) 鎊
- 我國儲量很豐。
  - 產量約占世界產額百分之四十，居世界第一位。
  - 用途——可作炸彈，印刷上之活字及其他合金顏料等用。
  - 產地
    - 湖南新化的錫礦山為我國最大的鎊礦產地。
    - 其次湖南的益陽、安化、邵陽等縣。
    - 此外廣西的河池、貴州的銅仁。
- (六) 鎢
- 我國鎢產量占世界產額百分之四十，居世界第一位。
  - 可以做鍊鋼及電燈絲等用途。
  - 產地
    - 江西大庾的西華山產量最多。
    - 廣東、湖南等省也有出產。
- (七) 錳
- 為鍊鋼必需品。
  - 產地
    - 湖南湘潭為最著名，安仁、耒陽也有。
    - 其次廣東江西也有出產。
  - 產量——年產七、八萬噸。

## 2. 鐵

(一) 總儲量——約十四萬噸，占世界  $\frac{0.5}{100}$ 。

(二) 產地——

- 遼寧最豐占總儲量之二分之一以上。
- 察哈爾省次之。
- 河北、湖北、福建等省又次之。
- 西康、四川近年亦發現新礦區，儲量也不少。

### (三) 鍊鐵情形

(1) 大冶之鐵

大冶鐵礦	為漢冶萍公司所辦	大部分售給日本，殊為可惜！
	年產鐵五十萬噸	
象鼻山鐵礦	為湖北省官礦局所開採	
	年產鐵二十萬噸	

(2) 漢冶萍公司

- 組織——
  - 漢陽鐵廠——
  - 大冶鐵礦——
  - 萍鄉煤礦——
 合組而成。
- 漢陽、大冶二地鍊鐵產量為我國第一。
- 組織不善，借用外債，大權旁落，不得自主發展，戰後應重加整頓。

(3) 最有希望的鍊鐵廠——

- 為遼寧的鞍山製鐵廠；
- 為本溪湖煤鐵公司。

—出產鐵最多，惜為敵人奪去利用。

### 3. 石油

(一) 主要儲藏地——新疆、甘肅、陝西、四川和遼寧。

(二) 總儲量——約四十餘萬萬桶(未經勘察的地方很多)。

(三) 年產量——僅七十萬桶(世界第一產油國美國年產十萬萬桶，蘇聯年產一萬七千桶)。

### 4. 煤

(一) 總儲量 ————

- 約二千五百億(萬萬噸)；
- 約占全世界儲量百分之六；
- 次於美國與加拿大居世界第三位。

(二) 儲量最多的 ————

- 首推山西；
- 次為陝西、四川、河南、河北等。

(三) 年產量 ————

- 僅產三千四百餘萬噸。
- 東北四省約占三分之一；
- 其次河北、山東、河南、山西等省；
- 戰後後方各省產量增加不少。

## 五 漁 業

—漁場的所在——大多在適合魚類生存與繁殖的淺海地帶，估計至少有七十萬方公里。

1. 沿海漁業

- 我國五大漁場
- 浙江的鄞縣和舟山羣島；
  - 江蘇的吳淞；
  - 山東的蓬萊；
  - 福建的晉江和龍溪；
  - 廣東的海南島和澳門。

捕獲魚類的數量——在漁業設備完成以後，每年可捕魚三百萬噸，可以壓倒日本及美國。

沿海各省現在海產的總值——每年約二億（萬萬）元。

今後保護漁業的必要措施——武裝查緝日輪偷捕。

2. 內河漁業以長江、黃河、松花江、淮水為最盛。

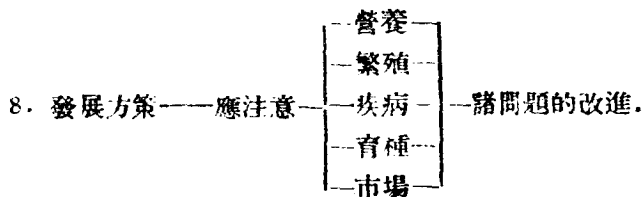
## 六 畜 牧

1. 分布
- 塞外草原
  - 蒙古高原
  - 青、康、藏高原
  - 其他各省區——畜牧為農民副業。
- 為天然牧場。

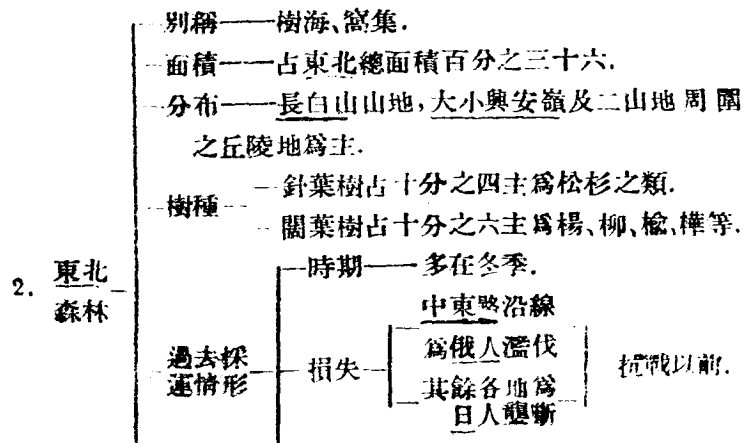
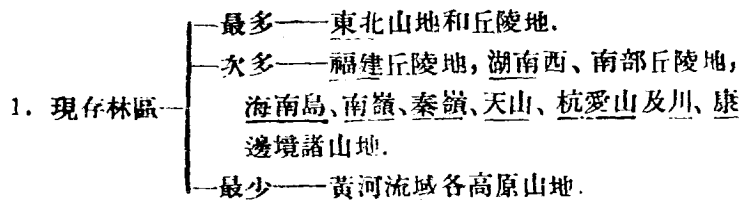
2. 主要種類——牛、馬、牛、驢、騾、豬、雞、鴨、鵝、鴿等。

——種類——山羊、綿羊、羚羊。

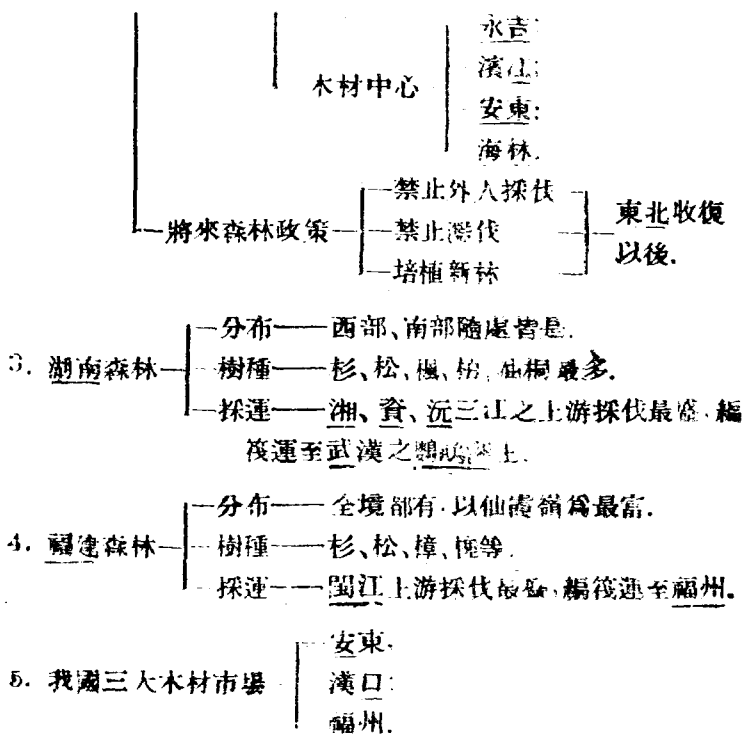
3. 羊
- 主產地 — 寧夏、青海最多，其皮毛叫西口貨。
  - 主產地 — 蒙古及察綏次之，其皮毛叫北口貨。
  - 皮毛市場 — 萬全（張家口）、西寧、包頭。
  - 皮毛輸出港 — 天津。
4. 牛
- 分布 — 長江以北多黃牛；
  - 分布 — 長江以南多水牛；
  - 分布 — 康藏高原多犂牛。
  - 功用 — 供勞役；
  - 功用 — 作食用；
  - 功用 — 皮革及骨可製器物。
5. 馬
- 分布 — 塞外及蒙古所產的叫口馬；
  - 分布 — 察哈爾產馬居全國第一；
  - 分布 — 四川所產的叫川馬。
  - 功用 — 馱運、乘騎、軍用。
  - 大馬市 — 多倫、甘珠寺。
6. 駱駝
- 分布 — 西北一帶；
  - 特性 — 性馴良、能耐渴。
  - 功用 — 為沙漠地帶唯一力獸。
  - 功用 — 毛可製絨。
7. 豬、雞、鴨
- 分布 — 豬雞在全國各地農業區中均有飼養，鴨多分布於長江以南水田區域。
  - 功用 — 主為食用。
  - 功用 — 豬鬃及蛋每年有大宗輸出。



### 七 林 業







## 八 國父開發產業計畫概要

1. 農業方面——
- 利用機器耕種。
  - 移民到東三省、蒙古、新疆、青海、西藏等地從事墾牧。

- 興辦水利。
- 在內地造林。
- 2. 礦業方面—
  - 注重大規模開採煤、鐵、石油及其他礦產；
  - 製造礦業機械；
  - 設立冶鐵廠。
- 3. 工業方面—
  - 主張設立製鐵鍊鋼廠；
  - 設立大水泥廠；
  - 發展糧食、衣服、居室、行動、印刷五大工業。

### 練習問題 六

#### 一、是非法

- (1) 我國蠶絲的發明迄今已有四千多年的歷史 … ( )
- (2) 東北大豆主產區中，以長春附近區最富 … ( )
- (3) 我國麥的產量占世界第一位 … ( )
- (4) 我國玉蜀黍產量占世界第三位 … ( )
- (5) 井鹽以四川富榮鹽區的自流井及貢市為最著名 … ( )
- (6) 我國的鹽產井鹽最多海鹽次之 … ( )
- (7) 景德鎮年產瓷約占全國三分之一 … ( )
- (8) 我國瓷業中心是湖南的醴陵 … ( )
- (9) 我國對外貿易，輸出多而輸入少 … ( )

- (10) 我國錫的產量占世界第三位……………( )
- (11) 我國煤的總儲量約占全世界總儲量的百分之六十……………( )
- (12) 寧夏青海產羊最多其毛皮叫西口貨……………( )

## 二、選擇法

- (1) 我國蠶絲最發達的地方：①閩江流域②贛江流域③太湖流域④洞庭湖流域……………( )
- (2) 戰前全國絲織業的中心是：①上海②無錫③吳縣④南京……………( )
- (3) 四川有名的絲織物叫：①寧綢②蘇緞③湖縐④蜀錦……………( )
- (4) 廣東有名的絲織物叫：①杭紡②蜀錦③雲紗④湘縐……………( )
- (5) 我國絲繭的輸出最多的是民國：①八年②十八年③二十八年④三十年……………( )
- (6) 世界產茶最早的國家是：①日本②印度③中國④美國……………( )
- (7) 全國產茶最多的地方是：①歙縣②紹興③武夷山④普洱……………( )
- (8) 杭州西湖產的茶叫：①祁紅茶②龍井茶③毛尖茶④普洱茶……………( )

- (9) 我國棉產量居世界：①第一位②第二位③第三位④第四位……………( )
- (10) 絲的產量我國占世界：①第一位②第二位③第三位④第四位……………( )

### 三、填充法

- (1) 織造綢緞的三大名城是\_\_\_\_\_、\_\_\_\_\_和\_\_\_\_\_。
- (2) 寧綢是指\_\_\_\_\_織的綢，蘇緞是指\_\_\_\_\_織的緞，湖縐是指\_\_\_\_\_織的縐，杭紡是指\_\_\_\_\_織的紡綢。
- (3) 河南山東遼寧諸省產的\_\_\_\_\_絲，絲織物有\_\_\_\_\_和\_\_\_\_\_。
- (4) 品質最優良的茶要算是\_\_\_\_\_和\_\_\_\_\_的紅茶，\_\_\_\_\_和\_\_\_\_\_的綠茶。
- (5) 我國的四大茶市是\_\_\_\_\_、\_\_\_\_\_、\_\_\_\_\_和\_\_\_\_\_。
- (6) 我國的四大米市是\_\_\_\_\_、\_\_\_\_\_、\_\_\_\_\_、\_\_\_\_\_。
- (7) 我國米的主要產區長江流域有\_\_\_\_\_、\_\_\_\_\_、\_\_\_\_\_、\_\_\_\_\_、\_\_\_\_\_、\_\_\_\_\_、\_\_\_\_\_等七省。
- (8) 我國大豆的分布以\_\_\_\_\_為最多，\_\_\_\_\_、\_\_\_\_\_、\_\_\_\_\_、\_\_\_\_\_等省次之。
- (9) 我國主要棉產省是\_\_\_\_\_、\_\_\_\_\_、\_\_\_\_\_、\_\_\_\_\_、\_\_\_\_\_、\_\_\_\_\_。
- (10) 我國的四大棉市是\_\_\_\_\_、\_\_\_\_\_、\_\_\_\_\_、\_\_\_\_\_。

- (11) 我國的紡織中心是\_\_\_\_\_、\_\_\_\_\_和\_\_\_\_\_。
- (12) 我國產麥最多的省分是\_\_\_\_\_、\_\_\_\_\_和\_\_\_\_\_。
- (13) 我國麵粉業中心是\_\_\_\_\_和\_\_\_\_\_。
- (14) 我國糖的主要產地有\_\_\_\_\_珠江流域、\_\_\_\_\_沱江流域和\_\_\_\_\_的南部。
- (15) 我國對外貿易進口貨以\_\_\_\_\_為最多，出口貨以\_\_\_\_\_為最多。
- (16) \_\_\_\_\_為我國第一產金地，\_\_\_\_\_、\_\_\_\_\_兩省次之。
- (17) 雲南的會澤產\_\_\_\_\_ 箇舊產\_\_\_\_\_ 湖南新化的錫礦山產\_\_\_\_\_ 江西大庾的西華山產\_\_\_\_\_。
- (18) 我國產鐵最多是\_\_\_\_\_省，\_\_\_\_\_省次之。
- (19) 我國煤的儲量\_\_\_\_\_最多，\_\_\_\_\_次之。
- (20) 我國的五大漁場(1) \_\_\_\_\_ (2) \_\_\_\_\_ (3) \_\_\_\_\_ (4) \_\_\_\_\_ (5) \_\_\_\_\_。
- (21) \_\_\_\_\_產馬居全國第一。
- (22) 東北森林占東北總面積百分之\_\_\_\_\_。
- (23) 我國三大林市場(1) \_\_\_\_\_ (2) \_\_\_\_\_ (3) \_\_\_\_\_。
- (24) 國父主張移民到\_\_\_\_\_等地去從事墾牧。

# 第七 我國的交通事業

## 一 陸 運

主要的鐵路 —

- 隴海;
- 平漢;
- 粵漢;
- 津浦;
- 北寧;
- 中東;
- 京滬;
- 浙贛;

1. 鐵路 — 總長——約一萬五千餘公里 東北占三分之一，其餘分布於東部近海諸省。

— 戰後築成的鐵路 —

- 湘桂;
- 黔桂;

— 公路交通近年發展很快。

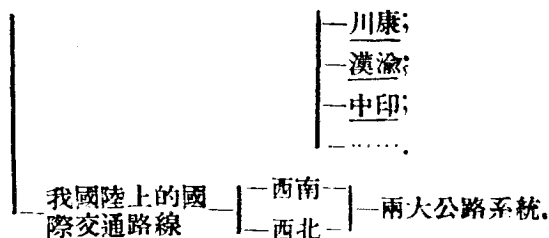
— 總長——在十一萬公里以上。

— 分布——大部分布在近海各省。

2. 公路

— 戰後完成的重要路線 —

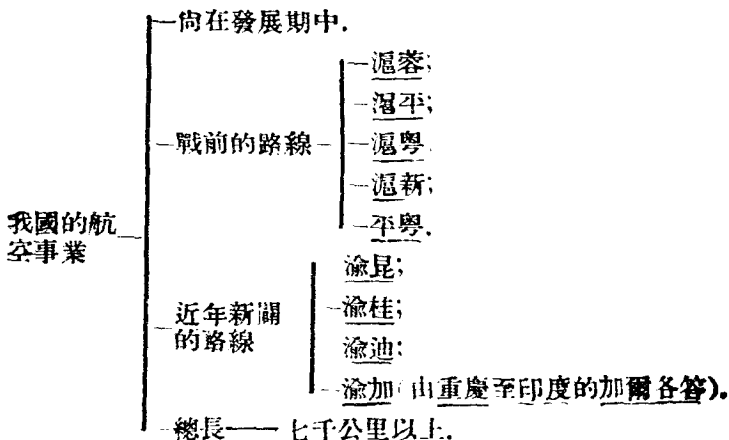
- 川陝;
- 川黔;
- 川滇;
- 滇緬;



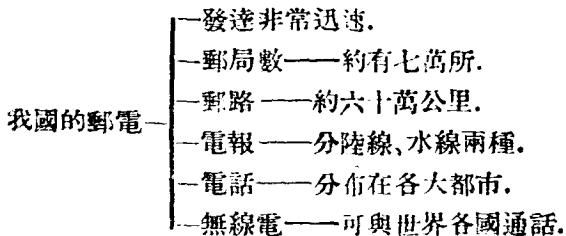
## 二 水 運

- 內河航路—長江為最重要;  
—粵江、黑龍江等次之。
- 沿海航路—以上海為中心;  
—分南洋、北洋兩線。
- 遠洋航線—以上海為中心。  
—分三線—
  - 東行線——向東經日本到美洲。
  - 南行線——向南經南洋羣島通到澳洲。
  - 西行線——南經香港和印度洋而達歐洲。
- 我國航業的過去與未來—向來不很發達。  
—過去航利，大部為外人所把持。  
—現在不平等條約業已取消，戰後航權收回，  
要努力發展航業。

### 三 空 運



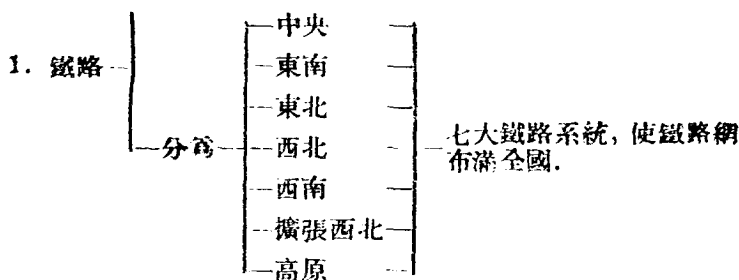
### 四 郵 電



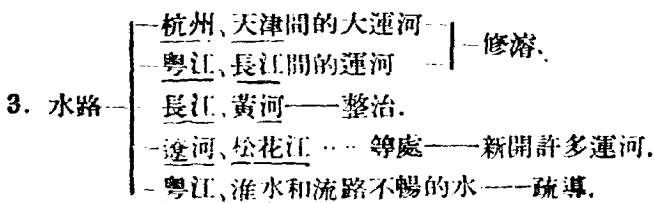
### 五 國父的交通計畫概要

— 建築十六萬公里。





2. 公路——完成一百六十萬公里，以便運輸。



## 練習問題 七

### 一、是非法

- (1) 湘桂與黔桂二鐵路是戰後築成的…………… ( )
- (2) 我國的公路大部分分布內地各省…………… ( )
- (3) 西北西南兩大公路系統是我國陸上的國際交通路線…………… ( )
- (4) 津浦路是天津到浦口的公路…………… ( )
- (5) 遠洋航線向南經南洋羣島通到美洲…………… ( )

- (6) 我國航業過去航利大部爲外人把持 …………… ( )
- (7) 國父的交通計畫擬建築十六萬公里的鐵路 …………… ( )
- (8) 國父的交通計畫擬完成公路十六萬公里 …………… ( )

## 二、選擇法

- (1) 我國鐵路東北占全國總長的: ①  $\frac{1}{2}$  ②  $\frac{1}{3}$  ③  $\frac{2}{3}$  ④  $\frac{1}{4}$  …………… ( )
- (2) 我國鐵路總長是: ①一千五百餘 ②一萬五千餘 ③十萬五千餘 ④百萬餘公里 …………… ( )
- (3) 我國公路總長是: ①一萬 ②十萬 ③十一萬 ④百萬公里以上 …………… ( )
- (4) 內河航路最重要的是: ①長江 ②黑龍江 ③粵江 ④黃河 …………… ( )
- (5) 沿海航路的中心地點是: ①天津 ②上海 ③廈門 ④廣州 …………… ( )
- (6) 遠洋航線的中心地點是: ①廣州 ②天津 ③廈門 ④上海 …………… ( )
- (7) 遠洋航線向南經香港和印度洋而達: ①日本 ②澳洲 ③美洲 ④歐洲 …………… ( )
- (8) 我國的郵路約 ①六萬公里 ②十六萬公里 ③六十萬公里 ④六百萬公里 …………… ( )

## 三、填充法

- (1) 京滬鐵路是由\_\_\_\_\_到\_\_\_\_\_的一條鐵路線
- (2) 遠洋航線中東行線向東經\_\_\_\_\_到\_\_\_\_\_。
- (3) 我國空運中的渝加路線是由\_\_\_\_\_到\_\_\_\_\_的\_\_\_\_\_。
- (4) 國父的交通計畫鐵路擬分為\_\_\_\_\_、\_\_\_\_\_、\_\_\_\_\_、\_\_\_\_\_、\_\_\_\_\_、\_\_\_\_\_、\_\_\_\_\_等七大鐵路系統。

## 第八 我國的國防要地

## 一 江防要塞

## 1. 長江下游的要塞

- |     |                                  |   |   |
|-----|----------------------------------|---|---|
| (一) | 第一道門戶<br><u>吳淞口</u>              | } | <u>黃浦江</u> 和 <u>長江</u> 會口的西岸；<br>離 <u>長江</u> 口約八十公里；<br>沿江原築有砲臺，“一二八”戰爭時為敵所毀。 |
| (二) | 第二道門戶<br><u>江陰</u> 與 <u>靖江</u> 間 | } | 江面突狹，僅二公里寬；<br><u>江陰</u> 城北之 <u>黃山</u> ，陡立江岸形勢險峻，便於設防固守。                      |
| (三) | 第三道門戶<br><u>焦山</u> 和 <u>象山</u>   | } | <u>象山</u> 和 <u>北固山</u><br>在 <u>鎮江</u> 城東<br><u>焦山</u> 挺峙於江<br>中<br>隔水相對，形勢天成。 |

—與江北岸之都天廟遙相呼應，其形成江防之咽喉。

(四) 第四道門戶——烏龍山和獅子山

- 烏龍山與幕府山在南京城東江岸；
- 獅子山在南京城北；
- 密臨江濱，建築礮臺，便於軍事上之防守。

(五) 第五道門戶——東西梁山

- 東梁山在安徽當塗縣的西南；
- 西梁山在安徽和縣；
- 夾江對峙狀如門限為南京蕪湖間之第一險隘。

(六) 第六道門戶——馬當

- 在江西彭澤縣東北；
- 馬當山橫枕大江，與北江中之磨盤洲及西面的小孤山，形成犄角之勢，形勢天成。
- 為湖口、九江間之屏蔽。

## 2. 長江中游和上游的要塞

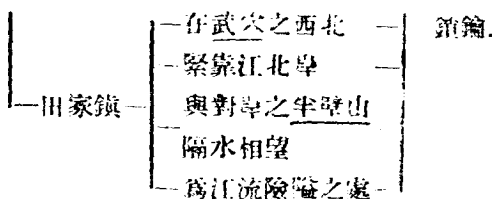
(一) 湖口——是江西全省的門戶。

(二) 武穴  
田家鎮

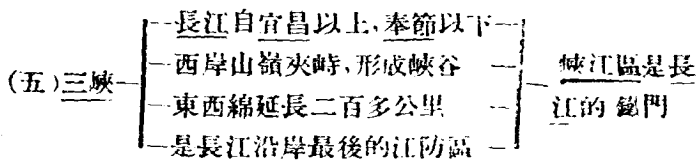
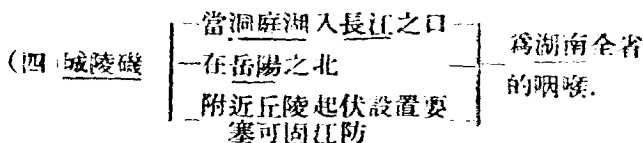
武穴

- 在鄂贛交界的北岸
- 北倚羣湖
- 南臨大江
- 為鄂省東部之咽喉

可算是長江的



(三) 武漢三鎮的龜山、蛇山——也是江防要塞。



## 二 西南的邊防要地

- |              |   |
|--------------|---|
| 1. <u>騰衝</u> | 位置——在 <u>雲南</u> 西部， <u>怒江</u> 之西。                             |
|              | 形勢——西出 <u>虎跳關</u> 便入 <u>緬甸</u> ，是 <u>中緬</u> 國界附近的 <u>重鎮</u> 。 |
|              | 被侵——抗戰發生後曾一度為 <u>日寇</u> 侵占，現已收復。                              |
- |              |  |
|--------------|--|
| 2. <u>河口</u> | 位置——在 <u>雲南</u> 南部邊界上。                           |
|              | 形勢——和 <u>越南</u> 的 <u>勞</u> 開隔河相望，形勢險要。有 <u>滇</u> |

越錫路通至昆明。

- 3. 鎮南關
  - 位置——在廣西憑祥縣南七公里。
  - 形勢——關的西側羣山環境，一線中通，至為險要。

- 4. 片馬
  - 位置——在怒江上游之西岸。
  - 形勢——地當川、滇、康、藏交通之衝，為滇西重地。
  - 被侵
    - 時期——民國前二年。
    - 情形——英人突然率兵占領，逼降附近各寨。我國與英人交涉多次，仍未解決。

- 5. 江心坡
  - 位置——在恩梅開江和邁立開江的中間。
  - 形勢——北通西藏，東接片馬，形勢重要。
  - 被侵
    - 時期——民國十五年。
    - 情形——與片馬同。

### 三 西北的邊防要地

- 1. 塔城
  - 位置——在新疆省的西北角。
  - 重要——是新疆通蘇聯必經的要站。

- 2. 伊犁河下游塔城以西地帶
  - 原來——是我國的領土。
  - 被侵
    - 因為滿清昏庸。
    - 割給俄國。

3. 帕米爾高原 — 全部是我國的疆土。  
 — 英、俄兩國曾私自瓜分一部分，致令邊境尙未畫定。
4. 喀什噶爾 — 位置——新疆省的西部。  
 — 名稱——疏附與疏勒的合稱。  
 — 重要——我國疆土極西的門戶，是我國西面的邊疆重鎮。

#### 四 東北的邊防要地

1. 安東 — 位置——在鴨綠江下游北岸。  
 — 形勢 — 隔江與朝鮮義州對峙。  
 — 當中韓交通之通衢。  
 — 重要性 — 遼寧省南部第一門戶。  
 — 鴨綠江流域木材市場。
2. 琿春 — 位置——在圖們江曲，琿春河右岸。  
 — 重要性——與蘇、韓毗連，為邊防重鎮。
3. 綏芬河 — 位置——在綏芬河上游，屬吉林東寧縣。  
 — 重要性——為吉林東境門戶。
4. 瑯瑯 — 位置——在黑龍江西岸。  
 — 形勢——前臨黑龍江，背負興安嶺形勢天成。  
 — 重要性——為黑龍江省東部門戶。  
 — 國恥——江東六十四屯，向為我有，庚子之役，被

俄強占，迄未歸還。

5. 黑河屯 — 位置——在瑯環北三十餘公里處。  
 — 重要性——隔江與俄國海蘭泡相對，為邊疆重鎮。

6. 臚濱 — 土名——滿州里。  
 — 形勢——密邇蘇聯，形勢扼要。  
 — 重要性——黑龍江省西部門戶。

### 練習問題 八

#### 一、是非法

- (1) 江陰和靖江間是長江下游要塞的第一道門戶 ( )  
 (2) 馬當是湖口九江間的屏蔽 ( )  
 (3) 武穴田家鎮是長江的鎖鑰 ( )  
 (4) 峽江區是長江的鐵門 ( )  
 (5) 河口是中緬國界附近的重鎮 ( )  
 (6) 瑯環是遼寧省南部第一門戶 ( )  
 (7) 臚濱土名叫滿州里 ( )  
 (8) 帕米爾高原不是我國的疆土 ( )

#### 二、選擇法

- (1) 長江下游要塞的第一門戶是：①吳淞口 ②江陰  
 ③焦山 ④馬當 ( )



- (2) 南京無湖間的第一險隘是：① 焦山 ② 烏龍山 ③ 東西梁山 ④ 馬當 …………… ( )
- (3) 湖口是：① 江蘇 ② 安徽 ③ 江西 ④ 湖北全省的門戶 …………… ( )
- (4) 武穴是：① 江蘇 ② 安徽 ③ 江西 ④ 湖北省的咽喉 ( )
- (5) 城陵磯是：① 安徽 ② 湖北 ③ 四川 ④ 湖南全省的咽喉 …………… ( )
- (6) 長江沿岸最後的江防區是：① 湖口 ② 武漢 ③ 城陵磯 ④ 三峽 …………… ( )
- (7) 新疆通蘇聯必經的要站是：① 片馬 ② 塔城 ③ 江心坡 ④ 騰衝 …………… ( )
- (8) 中韓交通要衝是：① 安東 ② 琿春 ③ 琿瑯 ④ 腦濱 ( )

### 三、填充法

- (1) 鎮南關在 \_\_\_\_\_ 憑祥縣南。
- (2) \_\_\_\_\_ 是川、滇、康、藏交通要衝，滇西重地。
- (3) 伊犁河下游，塔城以西地帶，因為 \_\_\_\_\_ 昏庸割給 \_\_\_\_\_。
- (4) 琿春與 \_\_\_\_\_ 毗連，是邊防重鎮。

## 第九 我們急待收復的失地和租借地

### 一 香港 澳門

—地形—是一個小島。

1. 香港

- 位置——在粵江口東部，與九龍一水相隔。
- 交通——當東、西洋航路之要衝。
- 形勢——是粵江口的門戶。
- 港灣——港闊水深，可泊巨艦，英人開為自由貿易港，並作英國遠東艦隊之根據地。
- 近狀——太平洋戰爭發生後，為日寇所強占，我國準備於戰後收回。

2. 澳門

- 地形——是一個小半島。
- 位置——在粵江口西面。
  - 北端和國父故鄉香山縣接壤。
- 形勢——與香港對峙，亦為粵江口的門戶。
- 交通——與香港僅兩小時航程的距離，來往甚便。
- 貿易——不甚發達。
- 歷史——1557年（明嘉靖三十六年）准許葡人居住。
  - 1887年（清光緒十三年）永租與葡人。
- 近狀——抗戰前我曾提議收回，葡人延宕。
  - 我國準備於戰後收回。

## 二 九龍 廣州灣

1. 九龍

- 地形——是一個小半島。
- 位置——與香港隔海對峙。
- 形勢——與香港唇齒相依，形勢險要。

- 歷史 —
  - 南端八方公里是割讓給英國的；
  - 北部是租借給英國的。
- 近狀 — 同香港。

## 2. 廣州灣

- 面積 — 長二十餘公里，寬十二公里，是廣東沿海一大海灣。
- 位置 — 在雷州半島的東面。
- 形勢 — 形勢天成，為廣東沿海一良港。
- 交通 — 與內地交通不甚便利。
- 歷史 —
  - 1898年（清光緒二十四年）租給法國。
  - 1922年（民國十一年）法允歸還，後竟食言。
- 概況 —
  - 法人不善經營，迄今仍極荒涼。
  - 抗戰發生後，法人允許日寇侵占，我已宣布收回。

## 三 越南 緬甸

### 1. 越南

- 在泰國東，一稱安南。
- 本我藩屬，今屬於法。
- 首都河內。
- 西貢為世界三大米市之一（泰國之曼谷，緬甸之仰光）。
- 滇越鐵路直達我雲南省有支線通我廣西邊境。

- 印度支那半島的西部。
- 2. 緬甸 — 本我藩屬，今屬於英。
  - 首都仰光，爲世界三大米市之一。
  - 有滇緬鐵路通我雲南邊境。

## 四 朝鮮 琉球 臺灣

### 1. 朝鮮

- (一) 位置 —
- 東臨日本海；
  - 西與南環黃海；
  - 北以鴨綠江、圖門江與我遼、吉爲界；
  - 東北隅與蘇聯接壤。

(二) 面積 — 約二十萬方公里，略小於冀、魯二省。

(三) 人口 — 約一千八百萬不及我山東人數二分之一。

- (四) 與我國關係 —
- 政治 —
    - 周初卽隸我版圖；
    - 漢時設置郡縣；
    - 唐、宋、元、明、清諸朝爲我藩屬。
  - 軍事 —
    - 原爲我東北屏障；
    - 被日併吞後，日本以此爲侵略我東北之根據地。
  - 文化 — 風俗、文化、典章、制度皆取法我國。

- (五) 滅亡略史——
- 光緒二年日本與朝鮮作戰議和，清政府皆置不問，開日本窺伺之端。
  - 光緒十二年與日訂約，規定嗣後兩國出兵互相通知，朝鮮形同兩國屬地。
  - 甲午戰後，我承認朝鮮為獨立國。
  - 日俄戰後淪為日本保護國。
  - 宣統二年被日併吞。

- (六) 抗日運動——
- 1907年向海牙和會請願獨立。
  - 1918年設臨時政府於上海。
  - 1919年漢城發生大規模獨立運動。
  - 現在在我國組織光復軍，參加抗日戰爭。

- (七) 將來展望——民國三十二年中，美、英三大盟國開羅會議聲明在相當時期使朝鮮自由獨立。

- (八) 地勢——
- 概況——多山嶺，少平原。
  - 山脈——北部有長白、妙音等脈，南部有大白、小白等脈。
  - 河流——
    - 黃海斜面有鴨綠江、大同江、漢江、鏡江。
    - 日本海斜面有圖們江。
    - 朝鮮海峽斜面有洛東江。
  - 海岸——
    - 日本海沿岸平直。
    - 黃海沿岸曲折。

- (九) 氣候
  - 北部——與我黃河流域相似。
  - 南部——與我長江流域相似。
  
- (十) 物產
  - 農產——米、麥、豆為大宗，棉花、人參、菸草次之。
  - 果實——蘋果、梨。
  - 畜類——牛、馬、豬。
  - 水產——魚鹽均富。
  - 礦產——金、銅、煤、鐵。
  
- (十一) 都市
  - 平壤——在大同江北岸為箕子故都，朝鮮第二大城。
  - 漢城
    - 別稱——京城、漢陽。
    - 形勢——在漢水北岸當鐵路之會，負山面水，形勢雄壯。
    - 政治關係——昔為國都，今為日本總督駐此。
  - 仁川——濱江華灣為漢城外港。

## 2. 琉球

- 琉球羣島
  - 位置——散布在臺灣島和日本羣島之間。
  - 與我關係
    - 政治——明朝以來為我臣屬。
    - 軍事——為我東海屏障。
  - 滅亡——光緒五年為日本併吞。
  - 都市——那霸在沖繩島西南隅，為政治中心兼商港。

## 8. 臺灣

- (一)位置——隔臺灣海峽和福建相對。
- (二)地勢——  
 東部山脈高大。  
 西部平原寬廣。
- (三)面積——三萬六千餘方公里，為我國第一大島。
- (四)交通——  
 陸路——以基隆至高雄之鐵道線為島上交通之大動脈。  
 水路——島上諸大河流均僅下游一段通航。  
 海運——有開往我國日本及南洋諸航線。
- (五)都市——以臺北為最大。
- (六)港灣——以基隆為一良港。
- (七)居民——約五百五十萬，內中百分之九十以上為我國人。
- (八)物產——豐富。米、糖、木材、樟腦為臺灣四大輸出品。

## 五 旅順口 大連灣

1. 旅順口——
- 位置——在遼東半島之尖端。
- 形勢——  
 高山環抱——  
 港口極狹——北洋第一大軍港為渤海之鎖鑰。  
 港內深闊——  
 冬不結冰——
- 過去情形——日本駐有艦隊控黃、渤二海。
- 將來發展——收回後可作為我北部沿海海軍根據地。

據地。

2. 大連
- 位置——在遼東半島南端之大連灣中。
  - 形勢——依山面海，港闊水深，形勢天成。
  - 商業——為東三省貨物吞吐口。
  - 發達原因——
    - 自然的——港水深，無冰期，腹地富。
    - 人爲的——碼頭建築完善，有南滿鐵路相通，屬為自由港。
  - 歷史——
    - 甲午戰後以遼東半島割讓日本；
    - 俄、德、法三國干涉我國備款贖回；
    - 俄人強租旅順、大連訂期二十五年；
    - 日、俄戰後轉租日本；
    - 民國四年日人迫我展期九十九年，舉國否認；
    - 民國十二年期滿屢索未還；
    - 此次戰後，無疑收回。

## 六 西南邊境的失地

1. 片馬——見前“西南的邊防要地”項。
2. 江心坡——見前“西南的邊防要地”項。

## 七 西北邊境的失地

1. 伊犁河下塔城以西地帶——見前“西北的邊防要地”項。



2. 帕米爾高原——見前“西北的邊防要地”項。

## 八 東北邊境的失地

1. 黑龍江以北地
- 範圍——包括黑龍江和外興安嶺之間。
  - 面積——一百四十餘萬方里。
  - 開拓——元、明皆隸版圖。  
—清初分屬吉、黑二省，康熙二十八年  
中，俄尼布楚條約且明畫外興安嶺  
界。
  - 喪失——咸豐八年中，俄訂璦琿條約割與俄。
2. 烏蘇里江以東地
- 範圍——包括烏蘇里江以東，日本海以西之  
地。
  - 面積——一百三十餘萬方里。
  - 開拓——與黑龍江以北地同。
  - 喪失——咸豐十年中，俄北京條約割與俄。
3. 庫頁島
- 位置——在黑龍江口外。
  - 面積——三十萬方里。
  - 開拓——滿清未入關前已入我版圖。  
—乾隆初年，俄輸囚徒於北部，日侵占其  
南部。
  - 喪失——光緒八年，完全屬俄。  
—日、俄戰後，北緯五十度以北屬俄，以  
南屬日。

## 練習問題 九

### 一、是非法

- (1) 香港和澳門我國準備於戰後收回 …………… ( )
- (2) 澳門最初是准許葡人居住，後來永租與葡人 …………… ( )
- (3) 越南就是泰國今屬於英 …………… ( )
- (4) 朝鮮是在宣統三年被日併吞的 …………… ( )
- (5) 開羅會議聲明不使朝鮮自由獨立 …………… ( )
- (6) 光緒五年琉球羣島被俄併吞 …………… ( )
- (7) 臺灣隔臺灣海峽和浙江相對 …………… ( )
- (8) 臺北為臺灣的最大都市 …………… ( )
- (9) 旅順口收回後可作為我國北部沿海海軍根據地 …………… ( )
- (10) 大連最初租與日本，後來轉租俄國 …………… ( )

### 二、選擇法

- (1) 粵江的門戶是：①香港 ②廣州 ③九龍 ④廣州灣 ( )
- (2) 廣州灣是租給：①英人的 ②法人的 ③葡人的 ④日人的 …………… ( )
- (3) 緬甸今屬於：①法 ②英 ③荷 ④日 …………… ( )
- (4) 琉球羣島是我：①南海 ②黃海 ③東海 ④渤海屏障 …………… ( )

- (6) 我國第一大島是：①琉球②香港③海南島④臺灣……………( )
- (7) 北洋第一軍港渤海的鎖鑰是：①旅順口②大連灣③大沽④青島……………( )
- (8) 東三省貨物的吞吐口是：①濱江②旅順③瀋陽④大連……………( )
- (9) 黑龍江以北地割與俄是根據的：①天津條約②煙臺條約③璦琿條約④南京條約……………( )
- (10) 烏蘇里江以東地割與俄是根據的：①璦琿條約②北京條約③天津條約④尼布楚條約……………( )
- (11) 庫頁島的喪失是在：①中日戰後②日俄戰後③鴉片戰爭後④中法戰後……………( )

### 三、填充法

- (1) 英人開香港為\_\_\_\_\_港，並作\_\_\_\_\_的根據地。
- (2) 香港是一個\_\_\_\_\_島，澳門是一個\_\_\_\_\_島，九龍是一個\_\_\_\_\_島。
- (3) 世界三大米市：①\_\_\_\_\_②\_\_\_\_\_③\_\_\_\_\_。
- (4) 朝鮮被日併吞後，日本以此為\_\_\_\_\_的根據地。
- (5) 滇越鐵路從\_\_\_\_\_直達我\_\_\_\_\_省。滇緬鐵路從\_\_\_\_\_直達我\_\_\_\_\_省。
- (6) 臺灣的四大輸出品是\_\_\_\_\_和\_\_\_\_\_。

## 第十 僑胞經營的南洋羣島

- 一、南洋羣島包括
- 非列賓羣島；
  - 馬來半島；
  - 荷屬東印度羣島；
  - 中南半島（廣義的說）。

二、氣候——炎熱多雨，四季皆夏。

- 三、物產
- 米爲主要的農作物，各地都有出產。
  - 南洋的五大產物
    - 爪哇的糖；
    - 婆羅洲的石油；
    - 蘇門答臘的錫和椰子；
    - 馬來亞的樹膠。
  - 此外菲律賓的煙草，爪哇的奎寧和茶，摩鹿加的香料，都很著名。

- 四、人民
- 土著馬來人——性情懶惰，文化最低。
  - 僑胞
    - 移殖最早。
    - 總數約六百餘萬人。
    - 經濟上占著極重要的地位。
  - 還有英、美、荷、葡、日等國人民。

- 五、勢力
- 全被英、美、荷、葡所分占；
  - 荷蘭領區最大；
  - 英、美次之；

—葡萄牙僅占帝汶島的一部分。

—近來日本積極獎勵移業，勢力一天天膨大。

—位置——是馬來半島尖端的一個小島。

—重要——位於太平、印度兩洋航路之衝南洋各地的產品以此為集散中心。

—商業——繁盛為南洋第一。和菲列濱的馬尼刺，爪哇的巴達維亞稱為南洋的三大經濟中心。

—英人的建設——設軍港，作為東亞海軍的根據地。

## 六、新加坡

### 練習問題 十

#### 一、是非法

- (1) 南洋主要的農作物是豆和麥 …………… ( )
- (2) 南洋的土著馬來人性情懶惰文化很低 …………… ( )
- (3) 南洋的勢力全被日本所占去 …………… ( )
- (4) 新加坡是馬來半島尖端的一個小島 …………… ( )
- (5) 新加坡商業不振 …………… ( )
- (6) 南洋各地的產品以新加坡為集散中心 …………… ( )

#### 二、選擇法

- (1) 爪哇出產最有名的是：①鹽 ②糖 ③樹膠 ④椰子
- (2) 南洋石油的產地是：①爪哇 ②蘇門答臘 ③婆羅

洲①馬來亞…………… )

(3) 僑胞在南洋總數約有: ①六萬人 ②六十萬人 ③  
六百萬人 ④六千萬人…………… )

(4) 南洋勢力最大的是: ①中國 ②葡萄牙 ③荷蘭 ④  
日本…………… )

### 三、填充法

(1) 南洋羣島包括 \_\_\_\_\_ 和 \_\_\_\_\_.

(2) 南洋的五大產物是: ① \_\_\_\_\_ ② \_\_\_\_\_ ③ \_\_\_\_\_  
④ \_\_\_\_\_ ⑤ \_\_\_\_\_.

(3) 南洋的三大經濟中心是在 \_\_\_\_\_ ② \_\_\_\_\_ ③ \_\_\_\_\_.

## 第十一 世界重要國家地理大概

### 一 日 本

1. 位置——亞洲東部邊緣的海中。

2. 本島——

本州 九州 四國 蝦夷(北海道) 許多小島	合組而成。
-----------------------------------	-------

3. 面積——三十八萬餘方公里, 和我國四川省一樣大小。

4. 地勢 —
- 地狹多山；
  - 地勢複雜；
  - 平原很少；
  - 海岸線曲折，優良港灣很多。
5. 地質 —— 多火山，常患地震。
6. 物產 —
- 農產 —
    - 以米、茶、絲為主；
    - 米不夠自給；
    - 絲茶出產豐富；
    - 絲產量已超過我國。
  - 魚產 —— 北海道一帶極富是世界三大漁場之一。
  - 礦產 —— 煤鐵石油很缺乏。
7. 工業 —
- 很發達。
  - 棉織業最盛；
  - 造船製紙製糖等次之。
8. 都會 —
- 東京 —
    - 首都。
    - 是全國交通中心。
    - 人口有五百萬是世界第三大都市。
  - 橫濱 —
    - 東京的外港。
    - 其南有第一海軍港橫須賀。
  - 神戶 —
    - 大版的外港。
    - 是日本的第一大商埠。
  - 大阪 —
    - 是日本的第一工業地。
    - 紡織業最盛。

9. 人民
- 大部分爲大和族。北部有少數蝦夷族。
  - 人口約七千餘萬。
  - 民族性善模仿，度量偏狹。
10. 政體
- 是一系相傳的君主立憲。
  - 掌握政權的是軍人和財閥。
  - 近年一意侵略實行獨裁，人民反戰空氣很濃。

## 二 印 度

1. 位置地勢
- 在印度半島上。
  - 北——喜馬拉雅山和我國爲界；
  - 南部——三角形的半島是高原；
  - 中部——是恆河和印度河流域的廣大平原。
2. 面積——比英國大十九倍。
3. 物產——米、麥、棉花、黃麻出產很多，有“世界穀倉”的稱呼。
4. 都會
- 德里——首都。
  - 加爾各答——印度的第一大都市，第一大商港。
  - 在大陸邊緣的孟買島上：
  - 印度的第二大都市；
  - 世界三大棉市之一；
  - 亞洲紡織業的中心。



- |        |  |                                  |
|--------|--|----------------------------------|
| 民族獨立運動 |  | —十九世紀中葉就被 <u>英人</u> 征服。          |
|        |  | —近年 <u>印度</u> 民族覺醒，不甘受人壓迫。       |
|        |  | — <u>甘地</u> 和 <u>尼赫魯</u> 領導獨立運動。 |

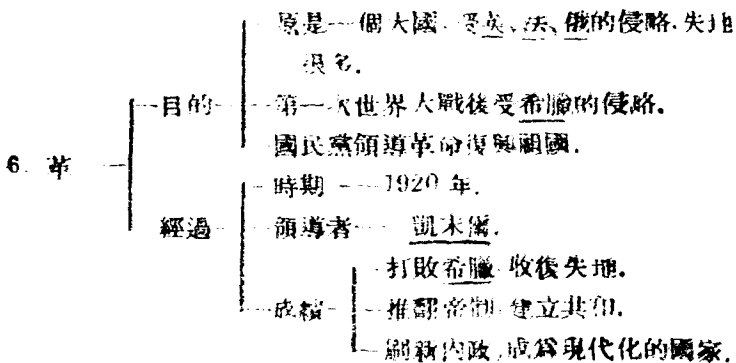
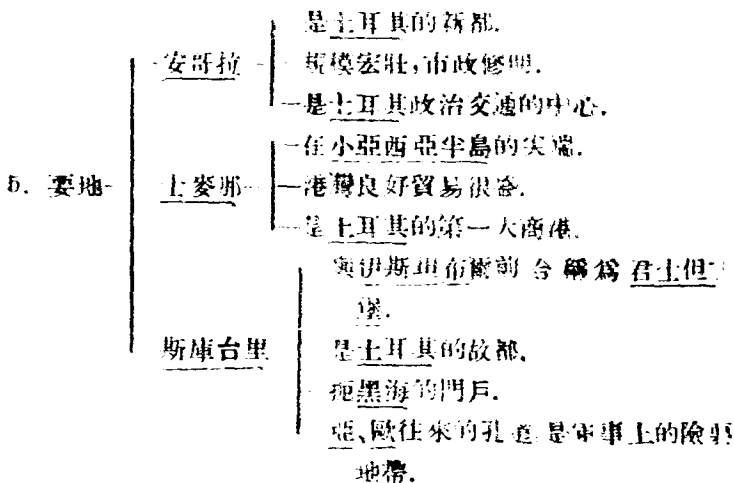
### 三 泰 國

- |    |  |  |
|----|--|--|
| 泰國 |  | —昔稱 <u>暹羅</u> 。  |
|    |  | —是 <u>中南半島</u> 的獨立王國，(尚有 <u>緬甸</u> 和 <u>越南</u> )                         |
|    |  | —首都 <u>曼谷</u> ，與 <u>緬甸</u> 之 <u>仰光</u> 、 <u>越南</u> 之 <u>西貢</u> ，稱世界三大米市。 |
|    |  | —華僑多營米業和漁業。  |

### 四 土 耳 其

- |       |  |  |
|-------|--|--|
| 1. 位置 |  | —是個半島。                                     |
|       |  | —介於 <u>黑海</u> 和 <u>地中海</u> 之間。             |
|       |  | —連接 <u>亞洲</u> 、 <u>歐洲</u> ，靠近 <u>非洲</u> 。  |
|       |  | —是 <u>亞</u> 、 <u>歐</u> 、 <u>非</u> 三洲交通的橋梁。 |
| 2. 地勢 |  | —沿海有狹小平原；                                  |
|       |  | —其餘全是高原。                                   |
| 3. 氣候 |  | —夏季——乾燥。                                   |
|       |  | —冬季——溫和多雨。                                 |
| 4. 物產 |  | —平原——以小麥、果品、菸草、棉花為主。                       |
|       |  | —高原——以畜牧為主， <u>安哥拉</u> 的山羊毛細長而潔            |

自，最有名。



## 五 蘇 聯

1. 沿革——由俄羅斯帝國改爲共和國。
2. 政體——社會主義共和國。
3. 政治組織——由十六個蘇維埃共和國合組而成，其中以俄羅斯共和國最重要。
4. 面積
 

{	—地跨 <u>歐亞</u> 兩洲。
	—面積占全世界陸地七分之一。
	—大部分是平原。
5. 人口——約一萬六千餘萬。
6. 首都莫斯科

{	—蘇聯政治的中心。
	—蘇聯經濟的中心。
	—蘇聯交通的中心(全國鐵路集中點)。
7. 烏克蘭

{	—在南部。	有“歐洲穀倉”的稱呼。
	—平原廣大	
	—土地肥沃	
	—物產豐富	
— <u>基輔</u> —— <u>烏克蘭</u> 共和國的首府，工商業的中心。		
8. 敖德薩

{	—出 <u>黑海</u> 的海口。
	—是蘇聯南部的一大商港。

9. 最近建設 —
- 生產事業收歸國有，分配權也操之國家。
  - 三次“五年計畫”已順利完成。
  - 人民刻苦耐勞，各種事業大有可觀。

## 六 德意志

1. 位置 — 歐洲的中部。

2. 地勢 —
- 南部為高地。
  - 北部是平原。
  - 萊茵、多瑙、威悉、易北、荷得五河流貫其間。

3. 產業 —
- 農產 — 豐富，以黑麥、燕麥、甜菜、馬鈴薯等為大宗。
  - 林業 —
  - 礦業 — 都發達。
  - 牧業 —
  - 工業 —
    - 鋼鐵 —
    - 化學 —
    - 製糖 — 著名世界。
    - 釀造 —
    - 造紙 —

4. 首都柏林 —
- 位於北德平原的中央。
  - 交通四通八達。
  - 是德國政治文化經濟的中心。

- |       |  |   |  |
|-------|--|---|--|
|       |  | <ul style="list-style-type: none"> <li>  —人口四百萬。</li> <li>  —世界第四都市。</li> </ul> |  |
| 5. 都會 |  | 漢堡——貿易額占全國之半是世界貿易港之一。   |  |
|       |  | 馬德堡——德國的產糖中心。   |  |
|       |  | 萊比錫——印刷業中心。   |  |
|       |  | 不來梅——德國第二大貿易港。  |  |
|       |  | 萊茵河區的埃森 科隆——工業區是德國侵略他國的根據地。   |  |
| 6. 人民 |  | —日耳曼族。  |  |
|       |  | 剛毅有爲。   |  |
|       |  | —富於研究心——時有科學上的發明  |  |
|       |  | —本是稱霸歐洲大陸的大帝國。  |  |
| 7. 國勢 |  | 第一次世界大戰後  | <ul style="list-style-type: none"> <li>  割地賠款。</li> <li>  —交通軍備都受限制。</li> </ul>                                    |
|       |  | 國社黨領袖希特勒掌握政權後   | <ul style="list-style-type: none"> <li>  野心勃勃蓄意侵略。</li> <li>  撕毀凡爾賽和約。</li> <li>  1939年發動侵略戰爭造成第二次世界大戰。</li> </ul> |
|       |  |   | 侵略者遭英、美、蘇聯合打擊，不久可失敗。   |
|       |  |   |  |

## 七 法蘭西

- |       |  |                 |
|-------|--|-----------------|
| 1. 地勢 |  | 東南和中部是高原。       |
|       |  | 北部、西部和南部大部分是平原。 |

—有塞納、羅尼、羅亞爾、加隆等河流流貫全境。

2. 面積——和我國的黑龍江省相等。

3. 產業——

- 農產——小麥、甜菜、燕麥能自給自足，葡萄最著名。
- 礦產——鐵最多；煤較少。
- 工業——美術；奢侈品。

4. 首都——巴黎——

- 位於塞納河兩岸。
- 市街建築華麗號稱“花都”
- 人民生活奢侈是世界最繁華的都市。

5. 都會——

- 里昂——絲織品著名世界。
- 馬賽——法國第一貿易港。

6. 名勝——凡爾賽宮為第一次世界大戰和約簽字處。

7. 人民——

- 拉丁族：
- 愛自由，重享樂——
- 長於美術文藝——
- 風俗浮華。

## 八 荷 蘭

1. 位置——在歐洲大平原最西最低的地方。

2. 地勢——大部分在海平面以下，號稱“低國”。

3. 治水 — 政府設水務部。  
           — 學校設水利科。  
           — 方法 — 築隄防；  
                       — 開運河；  
                       — 利用風車及蒸汽機排水。
4. 造陸——把須德海的水排去一部分已造成陸地。
5. 首都——海牙萬國和平會即設於此，又是國際法庭的所在地。

## 九 比利時

1. 疆域——狹小，當我國江蘇省的三分之一。
2. 人口——密度居世界第一。
3. 產業 — 農產豐富。  
           — 煤鐵十分充足，工業發達。
4. 首都——布魯塞爾。
5. 商港——安特衛普 — 位於些耳得河下流。  
                                   — 世界第四大商港。

## 十 義大利

1. 地形——像一隻長靴。

2. 地勢 — 北部有高大的阿爾卑斯山。  
 — 亞平寧山脈綿亙整個的半島上。  
 — 平原少，北部的倫巴德平原為最大。
3. 氣候 — 夏季乾熱；  
 — 冬季溫雨。
4. 物產 — 農產尚豐，米、麥、蠶絲。  
 — 礦產——盛產硫磺，煤鐵極貧
5. 都會 — 首都——羅馬——勝迹很多。  
 — 商埠 — 熱內亞——是義大利北部的一大商港。  
           — 威尼斯——水都，古時歐、亞貿易中心。  
 — 工業中心——米蘭。  
 — 第一大城 — 那不勒斯。  
 — 第一商港 —
6. 國勢 — 經濟基礎不穩，發動幾次侵略戰爭，更顯得外強中乾。  
 — 二次世界大戰後和德、日結合，對英法宣戰，中途投降。

## 十一 英吉利

1. 疆域 — 是個海島國家。  
 — 本土 — 大不列顛島 — 面積約等於我國綏遠省大。  
           — 北愛爾蘭 —



- 一 土地——遍世界各大洲，自誇為“日不沒國”。  
 一 本土及屬地面積合計，約占世界陸地面積約四分之一。
2. 人口——總人口略多於我國。
3. 首都倫敦——
- 一 位於泰晤士河下流的兩岸。
  - 一 位置良好，工業發達，交通便利。
  - 一 人口七百餘萬。
  - 一 是英國政治、經濟的中心。
  - 一 是世界第二大都市。
  - 一 終年溫和多霧，向有“霧都”之稱。
4. 工業——
- 一 英國是產業革命的發源地。
  - 一 種類——
    - 一 紡織業——曼徹斯特（棉花貿易為世界第一世界紡織業的中心）。
    - 一 製鐵——北明翰（有“黑鄉”之稱）。
    - 一 造船——格拉斯哥。
  - 一 原料——
    - 一 大半由屬地供給；
    - 一 運輸——商船；
    - 一 保護——海軍。
5. 利物浦——是英國的第二商港世界三大棉市之一（尚有美國的紐約、印度的孟買）。
6. 人民——
- 一 民族——條頓族。
  - 一 堅忍穩健；

- 民性—
  - 保守性很強；
  - 善於航海經商。
- 7. 國勢—
  - 本土雖小，却握有世界經濟的霸權。
  - 海軍強大，向為“海上王國”。
  - 不能和殖民地互助合作，發生離心的傾向。
  - 二次世界大戰後情勢危急幸賴美國援助，轉危為安。

## 十二 美利堅

- 1. 位置—
  - 北美洲的中部。
  - 介於太平洋、大西洋的中間。
- 2. 地勢—
  - 西部多高山（落磯山脈）；
  - 東部是高地；
  - 中部是大平原——世界第一大河流密西塞比河從北向南穿過平原。
- 3. 產業—
  - 農產——小麥、棉花、玉米、煙草產額都占世界第一
  - 礦產——煤、鐵、銅、石油產額都占世界第一。
  - 工業——發達，貿易興盛成為世界上最富強的國家。
  - 軍火生產——二次世界戰爭後軍火生產激增，自認為“民主國家的兵工廠”。

4. 交通 — { 鐵路——三條橫斷大陸的幹線(北太平洋鐵路、中太平洋鐵路、南太平洋鐵路)。  
公路——密布全國。
5. 民族——都有獨立自治的能力，平民政治極發達。
6. 國體——合衆國。
7. 首都——華盛頓 — { 美國政治的中心。  
國際政治的中心。
8. 紐約 — { 世界最大的城市；  
世界第一貿易港。
9. 芝加哥——美國的第二大城。
10. 舊金山——美國太平洋沿岸第一要港。
11. 檀香山——美國太平洋海軍根據地。

### 十三 非 洲

1. 地位——跨熱帶。
2. 氣候——炎熱。
3. 地勢 — { 沿海多高山；  
— 河流又湍急；  
— 中部橫亙大沙漠；  
— 海岸線不大屈曲——少港灣和島嶼。

4. 產業 — 北部 — 尼羅河流域 — 農業比較發達。  
                   — 地中海沿岸 —  
                   — 南部 — 略有農牧礦諸業。  
                   — 中部 — 有熱帶大森林。

5. 殖民諸國 — 英、法、  
                   — 義大利、西班牙、葡萄牙、比利時。

6. 土人 — 黑人。

7. 獨立國 — 埃及 — 阿拉伯人及埃及人所建之古國。  
                   — 尼羅河三角洲農產豐。  
                   — 首都開羅 — 非洲第一大都會。  
                   — 阿比西尼亞 — 在本洲東部 — 非洲  
                                   — 山嶺重疊 — 的  
                                   — 氣候適宜 — 瑞士  
                   — 里比尼亞 — 在本洲西部。  
                                   — 沿岸稱“穀物海岸”  
                                   — 黑人所建立的國家。

### 十四 大洋洲

1. 位置 — 在東半球的東南。  
 2. 組合 — 合澳大利亞和太平洋中無數小島而成。  
 3. 面積 — 在各洲中為最小。

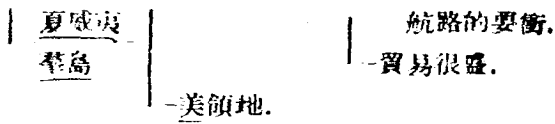
— 位置 — 在印度洋東岸。

4. 主要大陸  
澳大利亞

- 都會
  - 康培拉 — 為澳大利亞聯邦政府所在地。
  - 一切建築都是最新式。
  - 在康培拉東北。
  - 商業稱澳洲第一。
  - 山水明媚有“南方女”之名。
- 政治 — 行聯邦自治制。
- 產業 — 畜牧業最盛，羊毛產額占世界第一。
- 華僑 — 從前人數很多。
- 自澳政策實行後，逐年減少。

5. 重要的  
島嶼

- 新西蘭 — 在澳大利亞東南
- 英國的自治領土；
- 首府惠靈頓商業很盛。
- 新幾內亞 — 世界第二大島；
- 分屬荷、英兩國。
- 菲律賓 — 舊屬德；
- 現歸日本代管。
- 關島 — 美領地。
- 檀香山 — 太平洋中第一都會。
- (火奴魯魯) — 港灣深廣，當亞歐



### 練習問題 十一

#### 一、是非法

- (1) 日本絲的產量近來已超過我國…………… ( )
- (2) 領導印度獨立運動的領袖是凱末爾…………… ( )
- (3) 泰國昔稱暹羅…………… ( )
- (4) 安哥拉是土耳其的新都…………… ( )
- (5) 烏克蘭物產豐富有“歐洲穀倉”的稱呼…………… ( )
- (6) 撕毀凡爾賽和約發動侵略戰爭的罪魁是德國  
國社黨領袖希特勒…………… ( )
- (7) 柏林市街建築華麗，號稱“花都”…………… ( )
- (8) 比利時地勢大部分在海平面以下，號稱“低國”…………… ( )
- (9) 人口密度居世界第一的是義大利…………… ( )
- (10) 英國海軍強大向為“海上王國”…………… ( )

#### 二、選擇法

- (1) 日本面積大小相等於我國的：①江蘇②浙江③  
四川④湖南…………… ( )
- (2) 日本東京是世界的：①第一大都市②第二大都

- 市③第三大都市④第四大都市 …………… ( )
- (3) 印度的面積比英國大: ①九倍②十倍③十九倍  
④九十倍 …………… ( )
- (4) 有“世界穀倉”稱呼的是: ①中國②印度③日  
本④緬甸 …………… ( )
- (5) 亞歐非三洲交通的橋梁是: ①土耳其②印度③  
緬甸④泰國 …………… ( )
- (6) 土耳其的安哥拉出產最著名的是: ①牛②馬③  
豬④山羊 …………… ( )
- (7) 土耳其國民黨領袖叫: ①甘地②尼赫魯③孫中  
山④凱末爾 …………… ( )
- (8) 地跨歐亞兩洲的國家是: ①土耳其②印度③德  
意志④蘇聯 …………… ( )
- (9) 世界第四大都市是: ①柏林②東京③倫敦④紐  
約 …………… ( )
- (10) 國土的地形像一隻長靴的是: ①比利時②義大  
利③荷蘭④法國 …………… ( )

### 五、填充法

- (1) 日本本土由 \_\_\_\_\_ 和許多小島  
合組而成。
- (2) 東京是日本全國 \_\_\_\_\_ 中心神戶是 \_\_\_\_\_ 大阪是 \_\_\_\_\_。

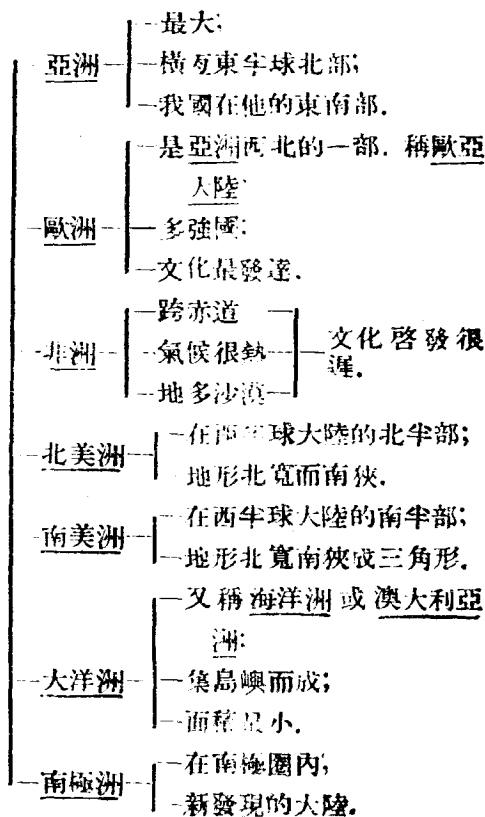
- (3) 孟買是世界三大 \_\_\_\_\_ 之一，是亞洲 \_\_\_\_\_ 業的中心。
- (4) 蘇聯的首都是 \_\_\_\_\_ 是全蘇 \_\_\_\_\_ 的  
中心。
- (5) 德國的 \_\_\_\_\_ 等工業著  
名世界。
- (6) \_\_\_\_\_ 的國地偏世界各大洲自稱為 \_\_\_\_\_ 國。
- (7) 倫敦是英國 \_\_\_\_\_ 的中心，是世界第 \_\_\_\_\_ 大  
都市，向有 \_\_\_\_\_ 都之稱。
- (8) 世界三大棉市是 \_\_\_\_\_。
- (9) 英國工業中心地：紡織業在 \_\_\_\_\_，製鐵業在 \_\_\_\_\_，  
造船業在 \_\_\_\_\_。
- (10) 美國農產中的 \_\_\_\_\_、\_\_\_\_\_、\_\_\_\_\_ 產額均  
占世界第一。
- (11) 美國礦產中的 \_\_\_\_\_、\_\_\_\_\_、\_\_\_\_\_ 產額均  
占世界第一。
- (12) 美國的首都是 \_\_\_\_\_，太平洋沿岸第一要港是 \_\_\_\_\_，  
太平洋海軍根據地是 \_\_\_\_\_。
- (13) 非洲第一大都會是埃及的 \_\_\_\_\_，號稱“非州的瑞士”  
是 \_\_\_\_\_。
- (14) 澳大利亞 \_\_\_\_\_ 的產額占世界第一。



## 第十二 世界的水陸分布和交通

### 一 世界水陸的分布

I. 大陸——  
陸占全  
球四分  
之一北  
半球陸  
多



2. 大洋——
- 水占全球四分之三，南半球多。
- 大西洋——在歐、非、南美、北美四洲之間。
  - 太平洋——在南美、北美、亞、澳四洲之間。
  - 印度洋——亞、非、澳三洲所包圍。

## 二 世界的交通

1. 水上交通——
- 發達最早。
  - 輪船最重要，帆船次之。
  - 大西洋的航路最發達，地中海和太平洋的航路次之。
  - 蘇彝士和巴拿馬兩運河的開通，縮短亞歐間和大西洋與太平洋間的航程。
  - 輪船噸數：英國第一，美國第二，日本第三，次為挪威、德國、法國、義大利。
2. 陸上交通——
- 鐵路最重要，公路次之。
  - 鐵路長度：美國第一，蘇聯第二，加拿大第三，其次為印度、法國、德國、澳洲、英國。
  - 以國上面積和鐵路密度比例：比利時第一。
  - 以人口密度和鐵路長度比較：澳洲第一。
  - 公路長度：美國第一，英、法、德、蘇聯次之。
3. 航空事業——
- 近年發展很快。
  - 各國大城市間都有航空網連接着，戰時供作

4. 郵電事業
- 軍用外，搭客運貨極便。
  - 美國最發達，英、德、蘇聯等國次之。
  - 進步最快。
  - 郵件數——美國最多，英、德、法等國次之。
  - 電報電話——美、英、德、蘇等國都很發達。
  - 近年發明——無線電傳真，可以照片和手迹片刻之間直接傳達世界各國。

## 練習問題 十二

### 一、是非法

- (1) 爲亞非澳三洲所包圍的洋叫印度洋 …………… ( )
- (2) 世界上以太平洋的航路最發達 …………… ( )
- (3) 以國土面積和鐵路密度比例是比利時第一 …………… ( )
- (4) 航空事業美國最發達 …………… ( )
- (5) 全世界郵件數最多的是日本 …………… ( )
- (6) 電報電話我國很發達 …………… ( )

### 二、選擇法

- (1) 地球上陸地占：①  $\frac{1}{4}$  ②  $\frac{2}{4}$  ③  $\frac{3}{4}$  ④  $\frac{4}{6}$  …………… ( )
- (2) 七大洲中面積最大的是：① 亞洲 ② 歐洲 ③ 大洋洲 ④ 南極洲 …………… ( )
- (3) 七大洲中面積最小的是：① 南美洲 ② 北美洲 ③

- 大洋洲(南極洲) ..... ( )
- (4) 在歐非南美北美亞洲之間的洋叫: ①大西洋②  
太平洋③印度洋 ..... ( )
- (5) 集島嶼而成的洲是: ①南極洲②大洋洲③南美  
洲④北美洲 ..... ( )

### 三、填充法

- (1) 七大洲 \_\_\_\_\_
- \_\_\_\_\_.
- (2) 三大洋: \_\_\_\_\_.
- (3) 世界輪船噸數 \_\_\_\_\_ 國第一, \_\_\_\_\_ 國第二, \_\_\_\_\_  
第三.
- (4) 鐵路的長度 \_\_\_\_\_ 國第一, \_\_\_\_\_ 第二, \_\_\_\_\_ 第三.
- (5) 公路最長的國家第一 \_\_\_\_\_, \_\_\_\_\_  
\_\_\_\_\_ 次之.

## 問題答案

### 練習問題一

#### 一、是非法

- (1) + (2) - (3) - (4) - (5) + (6) -  
(7) + (8) + (9) + (10) -

#### 二、選擇法

- (1) 3 (2) 4 (3) 1 (4) 2 (5) 2 (6) 2 (7) 4  
(8) 3 (9) 4 (10) 3

#### 三、填充法

- (1) 英 蘇 法 四  
(2) 日本琉球 越南緬甸 西北利亞  
(3) 帕米爾高原 (4) 長江 黃河 黑龍江 粵江  
(5) 閩江 錢塘江 (6) 鴨綠江口 東京灣  
(7) 塔里木河 伊犁河 (8) 亞熱 炎熱  
(9) 適中 潤溼 充足 (10) 相差很大 乾燥 稀少

### 練習問題二

#### 一、是非法

$$(1) + (2) - (3) + (4) + (5) - (6) - \\ (7) - (8) - (9) + (10) + (11) - (12) + \\ (13) + (14) - (15) - (16) +$$

## 二、選擇法

- (1) 2 (2) 3 (3) 2 (4) 3 (5) 2 (6) 1 (7) 4  
 (8) 1 (9) 1 (10) 4 (11) 4 (12) 1 (13) 4 (14) 2  
 (15) 3

## 三、填充法

- (1) 大輪船 小輪船 不便航行  
 (2) 渭水 汾水 (3) 前套 後套  
 (4) 北江 東江 西江 (5) 廣東 南  
 (6) 海軍 革命 (7) 俄  
 (8) 河北 浙江 杭州 (9) 二  
 (10) 南澤鎮 (11) 洞庭湖 鄱陽湖 太湖  
 (12) 米 豆類 棉花 (13) 瓊州 南海 東京灣  
 (14) 漁市 (15) 三等港

## 四、問答法

- (1) 青海 西康 雲南 四川 湖北 湖南 江西 安徽 江蘇  
 (2) 青海 甘肅 寧夏 綏遠 陝西 山西 河南 河北 山東  
 (3) 佛山鎮 朱仙鎮 景德鎮 漢口鎮  
 (4) 促進工商業發達 (5) 松花江 烏蘇里江

- (6) 河北 山東 江蘇 浙江 四省  
 (7) 米 蠶絲 杭紡 湖縐及魚蝦大蟹等  
 (8) 穀類 椰子 檳榔 樹膠 香料 糖等 \*一年可三熟。  
 (9) 在山東半島的南岸 膠州灣口之東  
 (10) 黃海艦隊重要根據地

### 練習問題三

#### 一、是非法

- (1) + (2) + (3) - (4) - (5) + (6) +  
 (7) + (8) + (9) - 10 - (11) + (12) -  
 (13) - (14) + (15) + (16) - (17) - (18) +  
 (19) - 20) -

#### 二、選擇法

- (1) 4 (2) 1 (3) 1 (4) 3 (5) 2 (6) 4 (7) 3 (8) 2  
 (9) 4 (10) 1 (11) 2 (12) 4 (13) 3 (14) 2 (15) 2

#### 三、填充法

- (1) 皖、贛、鄂、湘、閩、魯、豫、晉、冀、滬。  
 (2) 威海衛行政區 東省行政區  
 (3) 南京市、上海市、北平市、天津市、青島市、西安市、重慶市。  
 (4) 滬杭甬 浙贛 蘇嘉

- (5) 江蘇 浙江 湖北 江西 河南  
 (6) 廬山 牯牛嶺 (7) 洞庭湖之南  
 (8) 高山 低平 盆地 (9) 白蠟 牛膽  
 (10) 渤海 山東 河南 山西 熱河 察哈爾  
 (11) 高峻 平原 (12) 長安 西京  
 (13) 綏 歸綏 (14) 瀋陽 大豆  
 (15) 貂皮 東珠 烏拉草 (16) 銀  
 (17) 迪化 (18) 蘇聯 英國  
 (19) 戈壁 二 (20) 雪線 一  
 (21) 達賴 班禪 (22) 四分之一 四十  
 (23) 稠密 稀少 (24) 一千萬 福建 廣東

### 練習問題四

#### 一、是非法

- (1) + (2) - (3) + (4) + (5) - (6) -  
 (7) - (8) + (9) + (10) - (11) - (12) -  
 (13) + (14) + (15) + (16) -

#### 二、選擇法

- (1) 4 (2) 1 (3) 1 (4) 3 (5) 2 (6) 4 (7) 2  
 (8) 2 (9) 1 (10) 2

#### 三、填充法



- (1) 長江 上海 重慶  
 (2) 鍾山 雨花台 長江 幕府山  
 (3) 長江 嘉陵江 (4) 政治 軍事 經濟 政治  
 (5) 滇 黔 粵 桂 湘 贛  
 (6) 軍事政治 商業經濟 軍事工業  
 (7) 北寧 平漢 平綏 平熱 (8) 三 一 棉  
 (9) 天津條約 (10) 瀋陽 長春 濱江

### 練習問題五

#### 一、是非法

- (1) + (2) + (3) - (4) + (5) - (6) -  
 (7) + (8) - (9) + (10) -

#### 二、選擇法

- (1) 3 (2) 4 (3) 2 (4) 3 (5) 1 (6) 2 (7) 1  
 (8) 1 (9) 4 (10) 2

#### 三、填充法

- (1) 大相國寺 鐵塔 (2) 龍門山 千佛巖 白馬寺  
 (3) 山海關 嘉峪關  
 (4) 冀 熱 察 晉 綏 陝 寧 甘  
 (5) 山海關 嘉峪關 喜峯口 古北口 張家口 居庸關 雁  
 門關

## 練習問題六

### 一、是非法

(1) + (2) + 3. - (4) + (5) + (6) -  
(7) + (8) - (9) - (10) - (11) - (12) +

### 二、選擇法

(1) 3 (2) 1 (3) 4 (4) 3 (5) 2 (6) 3 (7) 1  
(8) 2 (9) 3 (10) 1

### 三、填充法

- (1) 南京 吳縣 杭州
- (2) 南京 蘇州(吳縣) 湖州 吳興) 杭州
- (3) 榨蠶 八絲綢 府綢 (4) 歙縣 祁門 歙縣 婺源
- (5) 漢口 九江 上海 福州 (6) 蕪湖 長沙 南昌 無錫
- (7) 湘 蘇 浙 川 贛 鄂 皖
- (8) 東北 魯 蘇 豫 皖 冀 (9) 蘇 鄂 冀 魯 豫 陝
- (10) 上海 漢口 天津 鄭州(11) 上海 天津 青島 武漢
- (12) 河南 山東 江蘇 河北
- (13) 上海 濱江 無錫 青島 漢口
- (14) 廣東 四川 福建 (15) 棉花 棉布 豆及產品
- (16) 重慶 四川 西康 (17) 銅 錫 鎢 鎳
- (18) 遼寧 察哈爾

- (19) 山西 陝西 四川 河南 河北  
 (20) ①浙江鄞縣和舟山羣島 ②江蘇吳淞 ③山東濰縣 ④  
 福建晉江和龍溪 ⑤廣東海南島和澳門  
 (21) 察哈爾 22) 最多 三十六  
 (23) 安東 漢口 福州  
 (24) 東三省 蒙古 新疆 青海 西康

### 練習問題七

#### 一、是非法

- (1) + (2) - (3) + (4) - (5) - (6) +  
 (7) + (8) -

#### 二、選擇法

- (1) 2 (2) 2 (3) 3 (4) 1 (5) 2 (6) 4 (7) 4  
 (8) 3

#### 三、填充法

- (1) 南京 上海 (2) 日本 美洲  
 (3) 重慶 印度 加爾各答  
 (4) 中央 東南 東北 西北 西南 熱帶西北 高原

### 練習問題八

#### 一、是非法

- (1) - (2) + (3) + (4) + (5) - (6) -  
(7) + (8) -

二、選擇法

- (1) 1 (2) 3 (3) 3 (4) 4 (5) 4 (6) 4 (7) 2  
(8) 1

三、填充法

- (1) 廣西 (2) 片馬 (3) 滿清 俄國 (4) 蘇韓

### 練習問題九

一、是非法

- (1) + (2) + (3) - (4) + (5) - (6) -  
(7) - (8) + (9) + (10) -

二、選擇法

- (1) 1 (2) 2 (3) 2 (4) 3 (5) 4 (6) 1 (7) 4  
(8) 3 (9) 2 (10) 2

三、填充法

- (1) 自由貿易港 英國遠東艦隊  
(2) 小 小半 小半  
(3) 泰國的曼谷 緬甸的仰光 越南的西貢  
(4) 侵略我東北 (5) 越南 雲南 緬甸 雲南  
(6) 米 糖 木材 樟腦

## 練習問題十

## 一、是非法

(1) - (2) + (3) - (4) + (5) - (6) +

## 二、選擇法

(1) 2 (2) 3 (3) 3 (4) 3

## 三、填充法

(1) 菲列濱羣島、馬來半島、荷屬東印度羣島、中南半島

(2) ①爪哇的糖、②婆羅洲的石油、③④蘇門答臘的錫和椰子、⑤馬來亞的樹膠

(3) ①新加坡 ②馬尼刺 ③巴達維亞

## 練習問題十一

## 一、是非法

(1) + (2) - (3) - (4) + (5) + (6) +

(7) - (8) - (9) - (10) +

## 二、選擇法

(1) 3 (2) 3 (3) 3 (4) 2 (5) 1 (6) 4 (7) 4

(8) 4 (9) 2 (10) 2

## 三、填充法

(1) 本州 九州 四國 蝦夷(北海道)

- (2) 交通 第一大商埠 第一工業地  
(3) 棉市 紡織 (4) 莫斯科 政治 經濟 交通  
(5) 鑛鐵 化學 製糖 釀造 造紙  
(6) 英國 日不沒 (7) 政治經濟 二 霧  
(8) 美之紐約 印度之孟買 英之利物浦  
(9) 曼徹斯特 北明翰 格拉斯哥  
(10) 小麥 棉花 玉米 煙草  
(11) 煤 鐵 銅 石油 (12) 華盛頓 舊金山 檀香山  
(13) 開羅 阿比西尼亞 (14) 羊毛

## 練習問題十二

### 一、是非法

(1) + (2) - (3) + (4) + (5) - (6) -

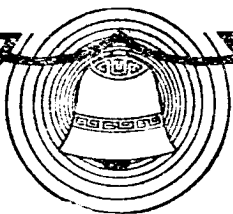
### 二、選擇法

(1) 1 (2) 1 (3) 3 (4) 1 (5) 2

### 三、填充法

- (1) 亞洲、歐洲、非洲、北美洲、南美洲、大洋洲、南極洲  
(2) 大西洋 太平洋 印度洋  
(3) 英 美 日本 (4) 美 蘇聯 加拿大  
(5) 美國 英 法 德 蘇聯





版權所有  
翻印必究

中華民國三十四年十二月渝初版  
中華民國三十六年六月滬八版

高小各科複習叢書

高小地理複習


全一冊 定價國幣二元九角

(外埠酌加運費匯費)

主	編	者	潘			仁
編	著	者	李	伯		棠
發	行	人	吳	秉		常
印	刷	所	正	中	書	局
發	行	所	正	中	書	局

(2019)





2.00