

UNIVERSITY OF TORONTO



3 1761 01181887 9

QC

23

S818

1885

जड़ विज्ञान तत्व

अर्थात्

Jara Vigñāna Tatva

बल्फूर सूअर्ट साहिब की
फिज़िक्स प्रिमेर का अनुवाद
जिसको

श्रीमान डाक्टर लार्ड टनर साहिब
बहादुर एल एन डि, डि, ओ, एल
रजिस्ट्रार पंजाब यूनी वर्सिटी
की आज्ञानुसार

श्रीयुतयण्डत हरिकृष्णादास साहिब

एम.ए. असिस्टेंट प्रोफेसर ओरियंटल कालेज
ने हिन्दी भाषा में उल्या किया

पंजाब यूनी वर्सिटी के निमित्त

सन १९८५ में

लाहोर के

यंत्रालय अंजुमन पंजाब में छपा



Qc

23

5878

1885

भूमिका

इस छोटे से ग्रंथ में जड़विज्ञान के बड़े बड़े सिद्धांत बड़ी सुगम रीति से वर्णन किये गये हैं। इस पुस्तक का मुख्य उद्देश्य यह है कि विद्यार्थियों में इस बात की परिपाटी पड़ जाय कि वह लोग स्वतंत्र आलोकन द्वारा प्राकृत पदार्थों के विषय में विज्ञान लाभ करें, और केवल पुस्तकों पर ही निर्भर न रहें ।

यह पुस्तक पंजाब यूनीवर्सिटी की प्रवेशिका परीक्षा के लिये नियत हो चुका है, परंतु इस का हिन्दी अनुवाद अभी तक न हुआ था। इस लिये मैंने प्रीयुत डाक्टर लार्ड्स साहिब बहादुर की आज्ञा से इस पुस्तक को हिन्दी भाषा में अनुवाद किया है। मैंने इस बात में विशेष यत्न किया कि इस की भाषा सुन्दर और सुगम हो और विद्यार्थी को उसके समझने में किसी प्रकार का यत्न न करना पड़े ।

लाहौर,

पं. हरिकृष्णादास।

२७ मार्च १८८५।

कविता

दिक सांख्यी ईह कि कि सांख्यी हन में प्रष्ट लं हवि ७५
सांख्यी क कल ५५ । ई कि कि सांख्यी हन में प्रष्ट लं हवि ७५
वृष विप्रसिद्ध कि सांख्यी हन में प्रष्ट लं हवि ७५
कि कि सांख्यी हन में प्रष्ट लं हवि ७५
कि कि सांख्यी हन में प्रष्ट लं हवि ७५

कविता कविता कि कि सांख्यी हन में प्रष्ट लं हवि ७५
कि कि सांख्यी हन में प्रष्ट लं हवि ७५
कि कि सांख्यी हन में प्रष्ट लं हवि ७५
कि कि सांख्यी हन में प्रष्ट लं हवि ७५
कि कि सांख्यी हन में प्रष्ट लं हवि ७५
कि कि सांख्यी हन में प्रष्ट लं हवि ७५
कि कि सांख्यी हन में प्रष्ट लं हवि ७५
कि कि सांख्यी हन में प्रष्ट लं हवि ७५

विश्वनाथजीक-प

प्रकाश

१९३० ईसा ०५

सूचीपत्रम्

प्रवेशिका

जड़विज्ञान का लक्षण १

गति का लक्षण २

बल का लक्षण ४

प्रकृति के प्रधान बल

गुरुत्व बल का लक्षण ८

आग्नेय बल का लक्षण ९

रासायनिक आकर्षण का लक्षण १०

इन बलों के फल ११

गुरुत्वबल का व्यापार

गुरुत्व केन्द्र १२

तला वा तराजू १४

भौतिक पदार्थों की तीन अवस्थाओं का वर्णन

सामान्य वर्णन १५

कठिन पदार्थों का लक्षण १७

मास का लक्षण १८

कठिन पदार्थों के गुण

आश्लेष बल का सामान्य वर्णन	१८
जुकाओ का वर्णन	२१
पदार्थों की दृढ़ता का वर्णन	२२
रगड़ का वर्णन	२३

द्रव पदार्थों के गुण

द्रव पदार्थों का परिमाण नहिंबदलता	२४
द्रव पदार्थों के एक परमाणुका दबाओ	
हमारे परमाणुओं पर चलाजाता है	२४
ब्रामा प्रेश	२६
द्रव पदार्थों की दृष्ट समानरहती है	२७
वाटर लेवल और स्प्रिट लेवल	२८
गहरे पानीके दबाओ का वर्णन	२९
पानी की तारक शक्ति	३१
पानी में तैरने का वर्णन	३३
आपेटिक बनन वा विशेष गुरुत्व	३४
अवशिष्ट द्रव पदार्थों की तारक शक्ति	३६
सूक्ष्म नलियों की आकर्षण शक्ति	३६

गैसों के गुण

वायुका दबाओ	३७
वायु का गुरुत्व	३९
वायुमापक अर्थात् बैरोमीटर	४३
वायुमापक के फल	४४
वायुनिस्सारक यंत्र	४५

जलोत्सारक यंत्र

४७

सार्इफन अर्थात् बकनल

५०

गतिवाले पदार्थ

प्रयत्न

५१

कर्म का लक्षणा

५२

कर्म जो गतिवाले पदार्थ करते हैं

५४

स्थिति की अवस्था में प्रयत्न

५५

थरथराने वाले पदार्थ

शब्द

५७

शोर और राग

५८

वायु कर्म भी कर सकता है

६०

शब्द के पङ्चाने के लिये वायु अवश्य होना चाहिये

६०

शब्द के वायु में चलने की रीति

६१

शब्द की गति का परिमाण

६३

गूञ्ज वा प्रतिध्वनि

६४

एक सेकण्डमें स्वरों के प्रहारों की गिनती

६६

उष्ण पदार्थ

उष्णता का सभाव

६९

उष्ण होने से पदार्थों का फैलना

७२

चर्ममायक का वर्णन

७३

इस यंत्र के बनाने की विधि

७५

कठिन पदार्थों का फैलाओ

७८

द्रव पदार्थों का फैलाओ

७९

वायवीय पदार्थों का फैलाओ

८१

फैलाओ का विशेष वर्णन	८०
विशेष उष्णता	८१
श्रवण का बदलना	८२
पानी की गुण उष्णता	८५
भाप की गुण उष्णता	८६
उबलना और बुखार बनना	८८
उबाल का स्थान दबाओ के आश्रय है	९०
उष्णता के अन्य गुण	९३
अति शीतल मिश्र	९४
उष्णता का फैलना	९६
उष्णता का संचार	९८
उष्णता का प्रसार	१००
प्रकाशक उष्णता और प्रकाश	१०२
प्रकाश की गति	१०३
प्रकाश का प्रतिबिम्बित होना	१०६
प्रकाश का वक्री भाव	११०
दर्पण और उन से उत्पन्न ऊर्ध्व मूर्तियों	११२
दृग्दर्शक शीशे	११५
भिन्न प्रकार के प्रकाश भिन्न प्रकार से लुकाते हैं	११६
पृथ्वी का संक्षिप्त वर्णन	११५
उष्णता का स्वभाव	१२०
उद्भूत विद्युत पदार्थ	
संचारक तथा असंचारक	१२३
दो प्रकार की विद्युत	१२५

जब तक पदार्थ रगड़े न जावे तब तक उन में दोना प्रकार विद्युते मिली जली रहती हैं	१२७
रगड़े हुए पदार्थों का न रगड़े हुए पदार्थों पर असर	१२८
वैद्युत स्थिति	१३०
विविध परीक्षा — विद्युद्दर्शक	१३०
नोको का असर	१३२
विद्युद्यंत्र	१३४
लेडन का मर्तदान	१३६
उद्धृत विद्युत् पदार्थों का प्रयत्न	१३८
विद्युत् का प्रवाह	१३९
ग्राव साहिब का मोरचा	१४२
वैद्युत प्रवाह के गुण	१४३
वैद्युत तार	१४७
निगमन	१४७
घाट रखने की बातें	१५०
यंत्रों के विषय में	१५२
प्रश्नावलि :	१५५

... ..

... ..

... ..

... ..

... ..

... ..

... ..

... ..

... ..

... ..

... ..

... ..

... ..

... ..

... ..

... ..

... ..

... ..

... ..

... ..

... ..

... ..

... ..

जड़विज्ञानतत्त्व

(१) जड़विज्ञान का लक्षण— रसायन विद्या की प्रथम पुस्तक में कहा गया है कि हमारे आस पास किस प्रकार की वस्तु हैं, और रसायनी क्या किया करता है, और वह क्यों कर उन वस्तुओं को तोलता और उनका परिमाण मा-लूम करता है, और किस प्रकारसे जानलेता है कि कई वस्तु मिश्र हैं, और उनका दो वा अधिक मूलपदार्थों में विच्छेद हो सकता है; और कई वस्तु मूल पदार्थ हैं जिनका इस प्रकार विच्छेद नहीं होसकता ।

और उसी प्रकार इस संसार की विविध वस्तुओं का वर्णन हो चुका है; परन्तु उनकी अवस्थाओं के विषय में अभी तमने वद्वत कुल्ल नहीं सीखा । तमहारी अवस्था में भी परिणाम हो-तारहता है, अर्थात् कभी तम हंसते और कभी रोते और कभी माया सिकोड़ लेते हो, कभी चुल्ल चालाक, कभी उदास और आलसी होजाते हो ।

सो यदि अब विचार करके देखो तो मालूम होगा कि जो वस्तु तमहारे चारों ओर दिखाई देती हैं उन सब की कोई अव-स्था होती है। यथा आजआकाशनिर्मल और सन्दर दिखाई देता है, कल वर्षा होरही है और बादल गर्जता है, और आंधी के कारण

समुद्र में बड़ी हल चली पड़ रही है । अथवा कल्पना करो कि एक लोहे का गोला पृथ्वी पर पड़ा है, जब उसे छूते हैं तो टंडा तथा भारी मालूम होता है, परन्तु जब आग पर रखें और थोड़ी देर पीछे उसे हाथ लगायें तो यद्यपि वह पहिली वस्तु है परन्तु अब अंगुलियें जलने लगती हैं । अथवा यदि उसको आग पर न रखें किन्तु तोपमें भर कर चलायें तो बड़े वेग से छूटेगा, और जिस किसी पदार्थ से छू जायगा उसे तत्काल चूरा कर देगा ।

तो इससे तम ने जानलिया कि तोप के टंडे गोले और तपे हुए गोलेमें बड़ा भेद है; तथा तोप के स्थिरगोले और गतिवाले गोले में बड़ा भेद है ।

जब हम तमको रोते और शोकांतर, आलसी और निदाल देखते हैं, तो हम जानना चाहते हैं कि इस का कारण क्या है, और सदा देखते हैं, कि उसका कोई न कोई कारण होता है । इसी प्रकार जब जड़ पदार्थों में भी अवस्था और गुणों का परिवर्तन देखते हैं तो हम इसका कारण जानना चाहते हैं, और सदा देखते हैं कि उसका कोई न कोई कारण होता है। सो इसी प्रकार की जिज्ञासा इस पुस्तक में होगी । तमको बड़ा ध्यान धर के पढ़ना चाहिये । तमको पहिले बताया गया है कि प्रकृति को इस प्रकार प्रश्न करने का नाम परीक्षा है ।

(२) गति का लक्षण— पहिले गति का अर्थ अच्छी तरह समझना चाहिये । गति स्थान परिवर्तन वा जगह बदलने को कहते हैं । प्रायः लोगों ने सोना होगा कि यह पृथ्वी जिस पर हम रहते हैं वस्तुतः बड़े वेग से सूर्य के गिर्द

चूमरही है; परन्तु अभी इस बात को तम अपने हृदय से हूर रखो, क्योंकि यद्यपि पृथ्वी में बड़ा बेग है फिर भी हम को अपने साथ लिये फिरती है, और प्रत्येक वस्तु उस पर स्थिर प्रतीत होती है ।

तो यदि मैं अपने कमरे में चौकी पर बैठा हूँ तो मैं स्थित हूँ; यदि उसमें उधर उधर फिरता हूँ तो गतिवाला हूँ । अब गति को यथावत समझने के लिये गति की दिशा और उसका परिमाण अर्थात् वेग मालूम होना चाहिये । अब वेग शब्द का ठीक अर्थ समझने में यत्न करना चाहिये; इस लिये कल्पना करो कि हम एक सीधे मार्ग पर दो वा तीन घंटे तक बराबर चाल से चलें, और चलने के स्थान से एक घंटे में ४ मील, दोमें ८ और तीन घंटों में १२ मील चलें, तो हमारी गति का परिमाण वा वेग प्रति घंटा ४ मील होगा ।

परन्तु यदि गति समान नहो, जैसी रेलगाड़ी स्टेशन के पास चली आती है, जो पहिले प्रति घंटा ४० मील के हिसाब से चल रही थी, परन्तु अब जूँजूँ वह पास आती जाती है उसका वेग घटता जाता है, यहाँ तक कि स्टेशन पर पड़ने तक रुक जाती है, तो इस अवस्था में उसकी गति के विषय में यह कहेंगे कि वह अपनी गति के शिथिल होने से पहिले प्रति घंटा ४० मील के हिसाब से चल रही थी, और यदि उसी प्रकार चली जाती तो घंटे भर में ४० मील चल लेती, और यदि स्टेशन पर न रुकती और उसी तरह चली जाती तो अगले घंटे में और भी ४० मील निकल जाती ।

वेगको हम कई प्रकार से माप सकते हैं; कभी तो प्रति

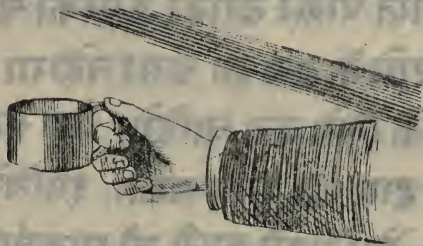
घंटा जितने मील चले उसके हिसाब से मापते हैं जैसा कि ऊपर वर्णन हो चुका है, और कभी प्रति सेकण्ड जितने फुट चले उसके हिसाब से गिनते हैं। यथा यदि किसी रूप में एक पत्थर गिरावे तो पहिले सेकण्ड में १६ फुट नीचे गिरेगा। तब सब जानते हो कि ६० सेकण्ड का एक मिनिट और ६० मिनिट का एक घंटा होता है। इस छोटे पुस्तक में जब हम वेग का वर्णन करेंगे तो मील और घंटे के स्थान फुट और सेकण्ड अधिक वर्तेंगे, और इस प्रकार से कहेंगे कि अमुक पदार्थ दस बीस वा तीस फुट प्रति सेकण्ड के वेग से चलता है।

(३) बल का लक्षण — अब देखना चाहिये कि वह कौन सी वस्तु है जो स्थित पदार्थ को गति देती है; और गति वाले पदार्थ को स्थित कर देती है; इस वस्तु का नाम बल है। बल ही किसी पदार्थ में गति उत्पन्न करता है; और बल ही (यदि प्रतिकूल दिशामें लगाया जावे तो) पदार्थ को स्थित करता है। केवल इतना ही नहीं किन्तु यदि किसी पदार्थ में गति उत्पन्न करने के लिये अधिक बल लगाना पड़े तो उसके स्थित करने में भी अधिक बल लगेगा। तब अपने हाथ के प्रहार से गेंद को गति दे सकते हो और एक ही प्रहार से स्थित भी कर सकते हो, परंतु रेल गाड़ी से भारी पदार्थ को चलाने के लिये भी बड़त बल चाहिये और रुकाने के लिये भी बड़त बल चाहिये। जो थोड़े यत्न से चल पड़े थोड़े ही यत्न से ठहर जाता है; और जिसका चलाना कठिन हो उसका रुकाना भी कठिन होता है। अब तबने देख लिया है कि बल के बल

बलाने में ही नहीं किन्तु ठहराने में भी उपयोगी है। बुझतः जो बल किसी पदार्थ की अवस्था को बदलती है उसे बल कहते हैं, चाहे वह अवस्था गति की हो वा स्थिति की।

परीक्षा १— इस बात के सिद्ध करने के लिये एक चीन का वर्तन लेकर उसमें कुछ मटर के दाने डालो, और उस वर्तन को अपने दहने हाथ में लो। फिर वर्तन समेत अपने हाथ को इस प्रकार बेगसे उठाओ कि यह हाथ एकबार ही उस दगड़े से जो थोड़ी दूर ऊपर लग गया है टकराकर ठहर जाय। अब तमने मटर समेत वर्तन को बेग से ऊपर को उठाया और फिर एकबार ही ठहरालिया। पहिले तम ने अपने हाथ

चित्र १



के बल से वर्तन को ऊपर की ओर गति दी, और वह वर्तन मटर के दानों को अपने साथ ले उठा, क्योंकि वह पीछे नहीं रह सकते थे। फिर जब तमने हाथ वर्तन को पकड़े ऊपर जा रहा था तो तमने उसे लकड़ी के दगड़े से एकबार ही ठहरा लिया, अर्थात् लकड़ी के दगड़े ने तमने हाथ को ठहराया, और तमने हाथ के साथ वह वर्तन भी ठहर गया जिसे तम-

ने पकड़ रखा था । परन्तु इस ठहराने वाले बल से उन दानों पर कुछ भी असर न हुआ, क्योंकि वह वर्तन में खुले पड़े थे; इसलिये वह वर्तन के ठहर जाने के पीछे भी ऊपर को जाते रहेंगे और वज्रतेरे उल्लूक गिर पड़ेंगे ।

परीक्षा २— अब पहिले दाने तो गिर पड़े; फिर उसी वर्तन में कुछ और दाने डालो; परन्तु अब वेग से नीचे को ले जाओ । यहां तम्हारे हाथ के बल से वह वर्तन वेग से नीचे की ओर गति करेगा, परन्तु दानों पर कुछ असर न हिं होगा, क्योंकि वह खुले पड़े हैं । इसका यह फल होगा कि मटर तम्हारे हाथ के साथ, नीचे नहिं जावेंगे किन्तु पीछे रहकर पृथ्वी पर गिर पड़ेंगे ।

अब देखना चाहिये कि इन दो परीक्षाओं से क्या सिद्ध हुआ । पहिली परीक्षा से हमने यह सीखा है कि मटर के दाने एकवार गति पाकर बराबर ऊपरको चलते रहेंगे क्योंकि उसपर दण्ड के बल का असर न होगा । उन्हें ऊपर जाने से रोकने के लिये बल चाहिये, और यह बल हम लकड़ी के दण्ड द्वारा नहिं लगा सकते, इसलिये दाने ऊपरको चलते रहेंगे, और अंतमें पृथ्वी की आकर्षणशक्ति उन्हें नीचे को खिंच लायगी। इससे इस प्रकार विदित हुआ कि चलती वस्तुको ठहराने के लिये बलकी आवश्यकता है ।

फिर दूसरी परीक्षा में हम वर्तन को नीचे की ओर गति देते हैं, परंतु हमारे हाथ का बल जो इस गति का कारण है दानों पर कुछ असर नहिं करता, क्योंकि वह खुले पड़े हैं । इस लिये वह दाने अपनी स्थिति की अवस्था में र-

रहे हैं, और वासन से पीछे रहकर अंतको पृथ्वी के बल से नीचे गिर पड़ते हैं। इस लिये सिद्ध हुआ कि स्थित पदार्थ को गति देनेके लिये भी बल की आवश्यकता है।

इस लिये बल दो काम कर सकता है, अर्थात् स्थित पदार्थ को चला सकता है और चलते पदार्थ को स्थिर कर सकता है। परंतु कभी ऐसा भी होता है कि यद्यपि बल विद्यमान हो फिर भी उसका कार्य प्रतीत नहीं होता। इसका क्या कारण है; हम यह उत्तर देते हैं कि एक समान बल उसकी प्रतिकूल दिशामें लग कर उसके कार्य को रोकता है। जैसे मेरे हाथ में एक भारी बोझ है, यदि मैं उसे छोड़ूँ तो पृथ्वी के बल से ऊट नीचे आपड़ेगा, परंतु जबतक मैं इसे अपने हाथ पर रहने हूँ तबतक इस बल का कार्य रुकावट है। अथवा कल्पना करो कि वही बोझ एक मेज पर रखा हुआ है, सो यदि वह मेज नहोती तो नीचे गिर पड़ता; परंतु पृथ्वी का बल जो उसे गिराना चाहता है मेज की रुकावट के कारण अपना असर नहीं कर सकता। बोझ मेज पर दबाओ डालता है, परंतु मेज इस दबाओ को रोकती है। सो यहां दोबल एक दूसरे को रोकते हैं, एक बोझ है और दूसरा मेज की रुकावट।

इस सारे कथन से हमने यह सीखा कि बल वह वस्तु है जो किसी पदार्थ की स्थिति वा गति की अवस्था को बदले, परंतु कई बार जब समान और प्रतिकूल बल रोकता हो तो वह कुछ भी असर नहीं करता, अर्थात् इसका कोई स्फुट कार्य प्रतीत नहीं होता।

प्रकृति के प्रधान बल

(४) गुरुत्व बल कालक्षण — मैं तुम को बता चुका हूँ कि बल शब्द का क्या अर्थ है: अब हम यह देखेंगे कि हमारे आस पास प्रकृति के प्रधान बल कौन से हैं, और वह क्या काम करते और क्या फल देते हैं। उन सब में विद्यमान पृथ्वी का आकर्षण बल है। यदि हम अपने हाथ से एक भारी पदार्थ छोड़ दें, तो हम सब जानते हैं कि वह कहां पड़ेगा — ऊपर को नहीं जायगा, इधर उधर नहीं, किन्तु धरती पर पड़ेगा। हम कहते हैं कि नीचे जायगा; और ऊपर और नीचे शब्द केवल पृथ्वी के बल के आश्रय हैं, और यदि पृथ्वी में बल न होता तो यह शब्द कभी न बोले जाते। ऊपर शब्द द्योतक है एक क्लिष्ट गति का आकर्षण बल की प्रतिकूल दिशा में; और नीचे शब्द द्योतक है एक सुगम गति का आकर्षण बल की सहायता से। पहाड़ी पर चढ़ना क्लिष्ट किन्तु उतरना सुगम होता है।

अब जो हम कहते हैं कि पृथ्वी पदार्थों को खींच लेती है इससे यह न समझना चाहिये कि जो पदार्थ हम देखते हैं वह सब पृथ्वी की ओर चल रहे हैं। तुम और हम गिर नहीं रहे और न हम पेसी भय रायक अवस्था में होना चाहते हैं। हम गिरते क्यों नहीं? क्योंकि हम छत पर खड़े हैं। और जो नीचे सहारा न होता तो गिर कर पृथ्वी की ओर जाते; परन्तु छत टूट और हमारा बोक सहारने के योग्य होनी चाहिये, नहीं तो टूट जायगी और हम नीचे जा पड़ेंगे। कई बार लकड़ी का छत वा चबूतरा वद्वत लोगों के भार से

तूर गया और लोग गिरपड़े, कई मर गये और कईयों को चोटें लगीं ।

सो तम देखते हो कि पृथ्वी प्रत्येक पदार्थ को खेंचती है, परंतु फिर भी बहुत सी वस्तु जो हमारे चारों ओर देखने में आती हैं पृथ्वी की ओर जानहिं रहीं, क्योंकि वह किसी और वस्तु के सहारे खड़ी हैं, जो उनके भारको धाम सकती है । वस्तुतः पदार्थों का वह गुण जिसे हम भार वा गुरुत्व कहते हैं, पृथ्वी के आकर्षण बल का कार्य है ।

पृथ्वी के इस बल का नाम गुरुत्व बल है ।

(५) **आश्लेष बल का लक्षण**— परंतु पृथ्वी के बल को छोड़ और भी बल हैं । यदि हम किसी रस्सी वा तार के टुकड़े को लेकर तोड़ना चाहें तो बल वा रुकावट प्रतीत होती है, और जबतक इस बल वा रुकावट से हमारा बल अधिक न हो जाय जबतक हम उस रस्सी वा तार को तोड़ नहिं सकेंगे । वस्तुतः रस्सी वा तार के अवयव एक बल द्वारा परस्पर ऐसे संनद्ध हैं कि अलग करने के यत्न को रोकते हैं, और इसी तरह काठ, पत्थर, धातु आदि सारे कठिन पदार्थों के अवयव इसी प्रकार जुड़े हुए होते हैं । बहुत सी वस्तु ऐसी होती हैं कि उनका तोड़ना छुड़ाना, वा पीसना, अथवा किसी और प्रकारसे आकार वा स्वरूप बदलना बहुत कठिन होता है। सो वह बल जो पदार्थों के परमाणुओं को परस्पर जुड़े रखता है आश्लेष बल कहलाता है । अब तम गुरुत्व बल और आश्लेष बल का भेद जानागये, गुरुत्व बल वह जिसके द्वारा पृथ्वी सब पदार्थों को अपनी ओर खेंचने का यत्न कर

ती है, और यह बल हर तक प्रवृत्त होता है, जैसे चान्द जो पृथ्वी से दो लाख चालीस हजार मील दूर है उसको पृथ्वी खिंचती है। परन्तु आश्लेष बल वह है जो वस्तुओं के निकटवर्ति अवयवों को जुड़े रखने का यत्न करता है; पर यह बल प्रवृत्त नहीं होता जब तक कि परमाणु एक दूसरे के अति समीप न हों, क्योंकि यदि किसी वस्तु को तोड़ें वा पीस लें तो फिर उस के अवयव आसानी से जुड़ नहीं सकते।

(६) रसायनिक आकर्षण का लक्षण —

इन दो बलों को छोड़ एक तीसरा भी बल है जिसको रसायनिक आकर्षण कहते हैं। रसायन विद्या की प्रथम पुस्तक के (४) में कहा गया है कि कोइला और आक्सीजन के रसायनिक मिलाप से कार्बनिक एसिड गैस बनती है। कोइला और आक्सीजन गैस एक बल द्वारा एक दूसरे को ऐसा खिंचते हैं कि जैसा पृथ्वी पत्थर को खिंच लेती है। इस बल की शक्ति से वह वेग के साथ एक दूसरे के पास जाकर मिल जाते हैं, और एक ऐसी वस्तु उत्पन्न होती है जो दोनों से भिन्न है। इसी बलको रसायनिक आकर्षण कहते हैं। इसमें यह विशेष है कि यह बल केवल भिन्न पदार्थों में प्रवृत्त होता है, क्योंकि रसायन विद्या में केवल भिन्न प्रकार की वस्तु इस भाँति आपस में मिलती हैं।

(७) इन बलों के फल — प्रकृति के प्रधान बलों का वर्णन रूपर हो चुका, अब यह देखना चाहिये कि उन से क्या लाभ होता है, और वह संसार में किस प्रयोजन से उत्पन्न हुए। शीघ्र ही प्रतीत हो जायगा कि यदि यह बल

न होते तो कठिनता बनती । पहिले कल्पना करो कि संसार में गुरुत्व बल नहीं है और पृथ्वी किसी पदार्थ को नहीं खेंचती । कभी रजो हम किसी विखड़ी पहाड़ी पर चढ़ते हैं तो हमारे हृदय में विचार आती है कि यदि चढ़ाई भी उतराई की भांति सुगम होती तो क्या प्रसन्नता होती । उस समय हम कैसा चाहते हैं कि गुरुत्वबल नहोता । परन्तु यदि कोई देवता हमारी इस प्रार्थना को पूरा करते तो बड़ी विपदा पड़े । गुरुत्वबल के न होने से पदार्थों का बोज तो न रहे और पहाड़ी पर भी बिनायत्न के चढ़ सकें, परन्तु यदि हम ऊपर उछलें तो वहीं रह जायें, और संभव है कि इस पृथ्वी को भी सर्वथा छोड़ सकें । हमारे चर की चीजें कुछ धरती पर और कुछ छत पर और कुछ इधर उधर उड़ती फिरें, और हम छत के अंदर की तल पर उसी प्रकार चलते फिरते जैसा कि धरती पर । और चांद भी पृथ्वी के साथ संबन्ध न रहने के कारण हमें छोड़ भागता, और कभी लौटकर न आता; और इसी प्रकार पृथ्वी भी सूर्य के साथ संबन्ध न रखने के कारण उसको छोड़ तारों में निकल जाती ।

इतना तो गुरुत्वबल का वृत्तान्त है । अब हम देखते हैं कि यदि आश्लेषबल नहोता तो क्या होता । यदि यह बल नहोता तो कठिन पदार्थों के परमाणु परस्पर जुड़े नरहते किन्तु चूर्णाहो गिर पड़ते । हमारे चरों की मेज़ चौकी चूर्णाहो जाती, और हमारे चरों की भी यही दशा होती; इस प्रकार नहमारा चर रहता और न कोई चर का पदार्थ । हमारी अघनी भी यही दशा होती, निदान सब वस्तु मट्टी का ढेर होजा

तीं ।

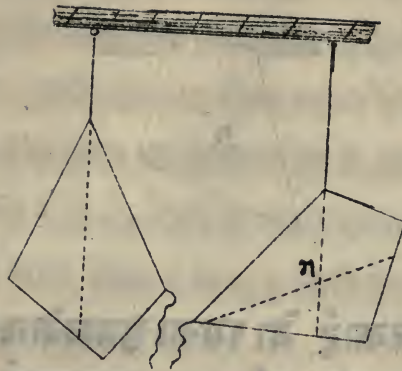
अब हम देखते हैं कि यदि रसायनिक आकर्षण न होता तो संसार की क्या रक्षा होती । पहिले तो आग न जलती, क्योंकि कोइलों का कार्बन वायु के आक्सीजन से कभी न मिलता ।

और न कोई दो मूलपदार्थ मिलने से मिश्रपदार्थ उत्पन्न होता, किन्तु लगभग ६० मूलपदार्थों के, जिनमें वज्रत से धातु और थोड़े से गैस हैं, रहजाते । संसार में भांत भांत की वस्तु नहोतीं, और जीना भी कठिनहोता, क्योंकि हमारे शरीर भी मिश्रहैं, और यदि रसायनिक संयोग न-पृहो जाय तो उनका एक अंश वायुमें उड़जाय, और दूसरा अंश जो वज्रत से कार्बन, थोड़े फास्फोरस और एक दो धातुओं से बना है, पृथ्वी पर गिरपड़े और इस प्रकार हमारा अंत होजाय ।

गुरुत्वबल का व्यापार

(८) गुरुत्वकेन्द्र — पृथ्वी १ — अब हम जानना चाहते हैं कि गुरुत्व बल किस प्रकार का बल है, और इस बातके लिये हम इस लोहे की चादर को एक धागे से लटकते हैं । तब देखतेहो कि यह एक निराले ढंग से लटकती है, और चादर पर जो एक रेखा रंगसे विचिह्न है वह धागे के साथ एक ही सीधमें है । फिर हम उसी चादर को किसी और विन्दु से लटकतेहैं, यहां फिर एक और रेखा धागे की सीधमें है, और तब यह भी देखतेहो कि यह दोनो रेखा एकविन्दु 'ग' पर एक दूसरी को काटती हैं ।

चित्र २



अब इस चादर को किनारे पर के किसी अन्य बिन्दु से लटकाओ। पहिले की तरह अब भी एक रेखा तागे की सीध में है। अब तम ऊट जान लोगे कि यह तीनों रेखा 'ग' बिन्दु पर एक दूसरी को काटती हैं; और यदि तम इस चादर को किसी बिन्दु से तागे के द्वारा लटकाओ, और तागे की सीध में एकरेखा खेंचो तो इस प्रकार की सारी रेखा उसी 'ग' बिन्दु पर एक दूसरी को काटेंगी। सो जिस बिन्दु से चादर को लटकाओ ठीक उसी के नीचे 'ग' बिन्दु भी होगा, और यदि तम चादर को हिलाओ तो फिर अपने पहिले स्थान पर आजायगी। अब देखना चाहिये कि यह अद्भुत बिन्दु कैसा है ? इस बात को जानने के लिये, मैं 'ग' के साथ एक तागा बांधता हूँ, और उस तागे से लोहे की चादर को लटकाता हूँ; तम देखते हो कि वह इस बिन्दु के गिर्द सब ओर से ऐसी ठीक और बराबर तलगाई है कि मानो उसका सारा बोझ इसी 'ग' बिन्दु पर इकट्ठा हो गया है। इस 'ग' बिन्दु को हम चादर का युरुज्व केन्द्र कहते हैं। और यदि मैं इस लोहे की चादर को

चित्र ३



रस्सी द्वारा लटकाऊं तो इसका गुरुत्वकेन्द्र 'ग' नीचे से नीचे रहेगा, और यदि रस्सी द्वारा नलटकाऊं किन्तु एक कील पर इस प्रकार लटकाऊं कि उसके गिरा विना रोक टोक के घूम सके, तो फिर भी 'ग' बिन्दु नीचे से नीचे रहेगा और इस प्रकार नहीगा जैसे चित्र ३ में दिखाया गया है।

(९) तूला वा तराजू — प्रत्येक वस्तु में एक इसी प्रकार का बिन्दु होता है, और हम उसको गुरुत्वकेन्द्र कहते हैं। तूला अर्थात् तराजू में भी (चित्र ९) और वस्तुओं की भाँत यह बिन्दु होता है जिसको उसका गुरुत्वकेन्द्र कहते हैं। यह भी लोहे की चादर समान इस बिन्दु को नीचे से नीचा रखने का यत्न करती है।

जब दोनो पलड़ों में बराबर तोल के बट्टे हों, तो यह 'ग' बिन्दु उस बिन्दु के ठीक नीचे होगा जिसपर तराजू टिकी हुई है, सो यदि हम एक पलड़े को ऊँचा कर-
 छोड़ दें तो अंत में वह अपने पहिले स्थान पर आजा-
 यगा। अर्थात् जब दोनो पलड़ों में बराबर बट्टे होंगे,
 तो सदा इसी साम्या वस्था में रहेगी और काण्टा ठीक

मध्य में रहेगा । सो जब हम किसी वस्तु को तोलते हैं, तो उसको एक पलड़े में, और वहाँ को दूसरे पलड़े में रख देते हैं । यदि काण्टा ठीक मध्य में हो तो निश्चय हो जाता है कि उस वस्तु का तोल वहाँ के बराबर है । परंतु यदि वह वस्तु वहाँ के तोल से भारी होगी तो उंड़ी को अपनी ओर जुकालेगी, और यदि वह भारी होंगे तो वह उंड़ी को दूसरी ओर जुकालेंगे ।

परीक्षा ४ — कल्पना करो कि तराजू के एक पलड़े में किसी धातु का टुकड़ा रखा गया है, और दूसरे पलड़े में १५० ग्रैन का एक बट्टा है, और धातु वाला पलड़ा नीचे को जुक गया है, तो जान लेना चाहिये कि वह धातु का टुकड़ा १५० ग्रैन से भारी है । फिर तम उसी टुकड़े को २५० ग्रैन के बट्टे से तोल कर देखा, जो इस टुकड़े से भारी प्रतीत होता है, अब बट्टे वाला पलड़ा जुक जायगा । सो इस से जान लो कि उस धातु के टुकड़े का तोल १५० और २५० ग्रैन के बीच में है । फिर उसको २०० ग्रैन के बट्टे से तोल देखा तो अब कांटा ठीक मध्य में आ जायगा, और उंड़ी भी बराबर रहेगी, जिससे मालूम हुआ कि धातु का टुकड़ा ठीक २०० ग्रैन के बराबर है ।

भौतिक पदार्थों की तीन अवस्थाओं का वर्णन ।

(१) तम पहिले देख चुके हो कि प्रकृति के बलों के बिना हमारा निर्वाह नहीं हो सकता, और यदि भौतिक पदार्थों का एक अवयव दूसरे अवयव को न खिंचता तो स-

सार का होना भी असंभव था । और यह भी वर्णन हो चुका है कि यदि आश्लेष बल न होता तो सब वस्तु परमाणु रूप होजाती । अब यह दिखाया जाता है कि यदि प्रत्येक वस्तु में बड़तही बड़ा आश्लेष बल होता, तो वैसी ही कठिनता बनती; क्योंकि उस अवस्था में न तो द्रव पदार्थ होते और न कोई ग्वास; न जल होता न वायु।

लोहे वॉफोलाद के परमाणुओं में इतनी आश्लेष शक्ति है कि उनको अलग करना बड़त कठिन है । जल और पारे में प्रत्यक्ष प्रकारसे कुछ भी आश्लेष शक्ति नहीं, क्योंकि थोड़ासा भी छूने से उनके अवयव सब और फैल जाते हैं, परंतु इन दोनों द्रव पदार्थों में कुछ न कुछ आश्लेष होता है जिसका ज्ञान तबमें इस परीक्षासे होगा ।

परीक्षा ५ — थोड़ा सा पारा एक शीशे की तल पर रखो, और उस को अंगुली से दबाओ, तो वह छोटी र गोल बूंदों में विभक्त हो जायगा; सो इस का गोल बूंदों में विभक्त होजाना इस बात को जतलाता है कि उस के परमाणुओं में आश्लेष है, क्योंकि यदि उन बूंदोंको एक दूसरे शीशे की तल से दबाओ तो वह चपटी होजायेंगी, और जब उसे उठालो तो फिर वह पारा अपनी असली अवस्था में आजायगा ।

परीक्षा ६ — अब यदि थोड़ी सी पानी की बूंदें किसी ऐसी तल पर छिड़को जो किसी तेल के चुप-उने से चिकनीहो, तो यह बूंदें भी पारे की बूंदों की

तरह गोलाकार होजायेगी; जिस से साफ प्रतीत हुआ कि उन बून्डों के परमाणुओं में भी आस्येध है, तर्हि तो परस्पर जुड़े न रहते ।

परंतु गैस के परमाणु जो वायु में विद्यमान हैं एक दूसरे से जुड़े नहिं रहते किन्तु एक दूसरे से परे दृष्टा चाहते हैं, और वस्तुतः यदि किसी बल द्वारा जुड़े न रहे तो वह सब अलगअलगहो जावे ।

सो जाना गया कि भौतिक पदार्थों की तीन भिन्न अवस्था हैं, अर्थात् कठिन, द्रव, और गैस (वायवीय); और यह तीनों अपने अपने भिन्न गुण रखती हैं, जिस कारण उन में परस्पर भेद है,

(११) कठिन पदार्थों का लक्षण —

लोहे का टुकड़ा वा लकड़ी आदि प्रत्येक कठिन पदार्थ अपना आकार वा परिमाण नहिं बदलता, और सदा अपना असली आकार और परिमाण रखता है जबतक किसी और बल द्वारा तोड़ा नजाय ।

(१२) द्रवपदार्थों का लक्षण — प्रत्येक द्रव पदार्थ जल के समान होता है, बोतल वा किसी और बर्तन में रखने से सदा ऐसा फैलता है कि उसके समान आकार बना लेता है, और उसकी दृष्ट कहीं ऊंची नीची नहिं होती, परंतु उसका परिमाण कभी नहिं बदलता, यथा बड़ी बोतल को पानी से भर कर किसी छोटी बोतल में उलट दें तो बड़ी बोतल का सारा पानी छोटी में कभी नहिं समा सकता; क्योंकि चाहे उसका आकार कैसाही हो-

जाय परंतु उसका परिमाण वही रहेगा ।

(१२) ग्रास का लक्षण— ग्रास की तलवा पृष्ठ नहीं होती, क्योंकि यदि किसी प्रकार की थोड़ी ग्रास एक खाली वर्तन में बंद की जाय तो वह सारे वर्तन में फैल जायगी और उसको भर देगी । ग्रास द्रव वस्तुओं की तरह एक नियत स्थान के रोकने का यत्न नहीं करती; इसलिये बड़ी बोतल में भरी हुई ग्रास बल द्वारा छोटी वर्तन में दबाई जा सकती है, और यदि अधिक बल लगायें तो उस को और भी थोड़ी जगह में दबा सकते हैं । इस से सिद्ध हुआ कि ग्रास वज्रत थोड़ी जगह में भी दबाई जा सकती है, परन्तु द्रव पदार्थों को ऐसा नहीं कर सकते ।

कठिन पदार्थों के गुण

(१४) कठिन पदार्थ की यह निशानी है कि उसका नियत परिमाण वा आकार आसानी से नहीं बदल सकता ।

परीक्षा ७— चौथे चित्र में दो वासन भिन्न भिन्न आकार के हैं, परंतु उनका परिमाण एक ही है । एक को पानी से भर दो, फिर वह पानी दूसरे में उलो तो वह भी भर जायगा ।

और उसी चित्र में दो लकड़ी के टुकड़े हैं जिनका आकार एक जैसा है, परन्तु एक बड़ा है और दूसरा छोटा, अर्थात् उन दोनों का परिमाण भिन्न है ।



तम परिमाण और आकार शब्दों का अर्थ तो अच्छी प्रकार समझ गये। अब तम एक कठिन पदार्थ जिसका आकार बोतल कासा है उसको लेकर पियाले की शकल में बदल नहीं सकते, यद्यपि दोनोका माप वा परिमाण एक ही हो। इसी प्रकार एक कठिन वस्तु जो परिमाण में पहिले लकड़ी के टुकड़े के बराबर है उसको दबाकर दूसरे टुकड़े के बराबर नहीं कर सकते, यद्यपि आकार दोनो का समान है। सो जो वस्तु पूर्ण प्रकार से कठिन होगी वह अपना आकार और परिमाण भी स्थिर रखेगी।

परंतु इस बात का ध्यान रखना चाहिये कि जब कहते हैं कि यह बात नहीं हो सकती, तो इसका यह अभिप्राय होता है कि वह बिना बद्धत से यत्न के नहीं हो सकती; और होभी जाय तो पूरी नहीं किन्तु थोड़ी होती है। हमारा असली अभिप्राय नीचे लिखी हुई परीक्षाओं द्वारा खुल जायगा।

परीक्षा ८ — यह लोहे का उंडा है; पहिले में

इसे हाथ के प्रहार से तोड़ना चाहता हूँ, परंतु यह नहीं
तूटता ।

फिर मैं उसे एक सिरे से लटका दूसरे सिरे पर भारी
बोझ लगा कर बड़ाना चाहता हूँ, परंतु वह नहीं
बढ़ता ।

अब मैं उसके सिरे पर के छिद्रों में लोहे के उंडे ल-
चित्र ५



गाकर मरोड़ने का यत्न करता हूँ पर वह मरोड़ा नहीं
जाता ।

अब मैं उसको मेज़ पर खड़ा करके उस के ऊपर भारी
बोझ रख के दबाने का यत्न करता हूँ पर वह नहीं
दबता ।

निदान दोनों सिरे पर रस्सी बांध लटका देता हूँ, और
उसके मध्य में भार बांध कर देवता हूँ तो जुकता भी
नहीं ।

सो यह लोहे का डण्डा जिस को हम प्रहार से तोड़
नहीं सकते और न बढ़ा सकते हैं और न मरोड़ और न
दबा सकते हैं, और न जुका सकते हैं, कठिन वदार्थ का-

अच्छा उदाहरण है। परंतु यदि हम वृद्धत बल लगाते तो उसे बढ़ा, मरोड़, दबा और कुका सकते। और ऊपर की परीक्षाओं में मैंने उसे वृद्धत: बढ़ा, मरोड़, दबा और कुका दियाथा, परंतु इतना नहि कि प्रतीत हो सकता। असल में उस डंडे के बढ़ने वा मरोड़ा जाने, वा दबने वा कुकने का परिमाण उस बल के परिमाण के अनुसार होताहै जो मैं लगाताहूँ। जड़विज्ञान में इस बल और उसके कार्य के परस्पर संबन्ध में जिज्ञासा होतीहै। मैं इस विषय का पूरा पूरा वर्णन नहिं कर सकूंगा क्यों कि इसमें वृद्धत काल लगताहै; यहां मैं केवल कुकाओ का वर्णन करूंगा।

(१५) कुकाओ का वर्णन — परीक्षा ९

इस काम के वास्ते एक लकड़ी की कड़ी को दोनो सिरों के नीचे किसी टेकन से सहारा देकर हरिज तलके समानान्तर रखो, और एक भारी बोझ उसके मध्य में लटका कर एक माप लेकर देखो कि कड़ी का मध्य बोझ के कारण कितना कुक गया है। अब इस बोझ को उगुणा करदो, और फिर माप कर देखो तो मालूम होगा कि कड़ी का मध्य पहिले से उगुणो के लगभग कुक गयाहै। इससे यह सिद्ध हुआ कि कुकाओ की मूनाधिकता प्रायः बोझ के अनुसार होतीहै।

परीक्षा १० — अब उसी कड़ी को मुटाई के बल

चित्र ६



पहिली प्रकार सहारा देकर रोता और उसी बोकको उस के मध्य से लटका दे, तो इस अवस्था में वह कड़ी पहिले से बङ्गत थोड़ा जुकेगी ।

(१६) पदार्थों की दृढ़ता का वर्णन —

यदि कोई राज वा इंजिनियर किसी मकान के उभारने में लकड़ी के बड़े बड़े शहतीर बरते, तो दृढ़ता के निमित्त चाहिये कि वह उनको मुठार के बल रोव । क्यों कि इस प्रकार रखने से वह शहतीर छूत आदि के बोकसे थोड़ा जुकेगे ।

तो उसको चाहिये कि वह सब वस्तुओं की दृढ़ता का ज्ञान रखताहो, और छोटी से छोटी वस्तु द्वारा बड़ी से बड़ी दृढ़ता संपादन करनी जानताहो, अर्थात् जहां तक हो सके अपनी लकड़ी और लोहे को अच्छी तरह और नीति पूर्वक वर्तना जानताहो । उसको एक और बात का भी ध्यान रखना चाहिये । वह बात यह है कि जब किसी मकान वा पुलको बनानाहो तो उसको इतना दृढ़ बनाये कि उस पर अधिक से अधिक जितना बोक पड़ने का संभव हो उससे चार वा पांच गुणा बोक उठासके, क्यों कि कई बार मकान की छूत भारी बोकको सहार तो सकतीहै, पर ऐसी जुक जाती है कि उसबोक के उठा लेने से पीछे भी अपनी असली अवस्था पर फिरनहिं आती । इसी प्रकार पुल गाड़ियों की लम्बी कतार को सहार तो सकताहै, परंतु फिर इतना जुक जाताहै कि गाड़ियों के चला जाने

के पीछे भी अपनी असली अवस्था पर नहिं असकता । इस लिये छत और पुल प्रत्येक वार बोज के रखने और गाड़ियों के बद्धत वार आने जाने से धीरे धीरे अधिक जुक जायेंगे, यहां तक कि अंत में गिर पड़ेंगे । इस लिये राज को इसबात का ध्यान रखना चाहिये कि उसकी उसारी इतनी न जुक जाय कि भिर अपनी असली अवस्था पर न आ सके ।

(१७) रगड़ का वर्गान — कठिन पदार्थों का विषय छोड़ने से पहिले हम रगड़ का भी थोड़ा सा वर्गान करते हैं । यदि काठ की मेज़ पर कोई भारी बोज रखदिया जाय, तो उस को मेज़ पर सरकाने के लिये बद्धत बल चाहिये, परंतु यदि मेज़ संग मर्मर की हो तो उस बोज को थोड़े बल सेही सरका सकते हैं, और यदि वही बोज एक बर्फ की तल पर होता तो उसे और भी थोड़े बल से सरका सकते । इस लिये वह बल जिसके कारण भारी वस्तु का सरकाना कठिन होता है, रगड़ कहलाता है ।

यदि पदार्थों में रगड़ नहोती तो बैसी ही कठिनता बनती जैसी कि और तलों के न होने से, अर्थात् चलते फिरते ऐसा मालूम होता कि मानो बर्फ पर चल रहे हैं, और जहां थोड़ी सी भी ऊंची नीची वा तिरछी जगह होती वहां कोई पदार्थ न ठहर सकता किंतु सब वस्तु फिसल कर नीचे आ पड़तीं ।

इस पदार्थों के गुण

(१८) द्रव पदार्थों का परिमाण नहिं बदलता—सब द्रव पदार्थों के अणु बड़ी आसानी से अलग हो सकते हैं; परंतु हम उन के परिमाण को किसी प्रकार घटा नहिं सकते । बड़ी बोतल का पानी छोटी बोतल में नहिं समा सकता ।

परीक्षा ११— हम इस बात के सिद्ध करने के लिये एक परीक्षा करते हैं । एक टुकड़ा नली में, जो नीचे से बंद हो, कुछ जल भरदो, और उस में एक ऐसी डाट लगा दो कि उसको नीचे दबाने से पानी बाहिर न निकल सके । फिर इस डाट को बल वा बोक के द्वारा नीचे उतारने और पानी को दबा कर उस का परिमाण घटाने का यत्न करो, तो तब देखोगे कि पानी का परिमाण कुछ भी नहिं घटता ।

(१९) द्रव पदार्थों के एक परमाणु का दबाओ दूसरे परमाणुओं पर चला जाता है— **परीक्षा १२**— अब हम थोड़ासा पानी लेकर उसे दो डाटों द्वारा बंद कर देते हैं । यदि हम एक डाट को नीचे दबावें तो दूसरा

चित्र ७



ऊपर उठता है । फिर यदि एक डाट पर धरें और द-

सरी पर भी उतनाहि बोज़ रखें तो एक डाट दूसरी के साथ बराबर तली रहेगी, और कोई भी अपने स्थान से न हटेगी ।

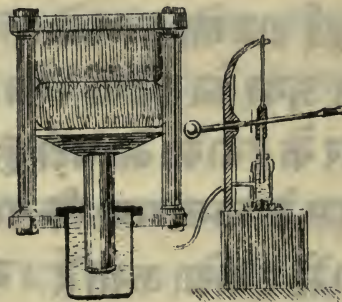
परीक्षा १३ — पिछली परीक्षा में दोनो डाटें खड़ी थीं (देखा चित्र) । अब ऐसी वक्र नली लो जिसमें एक डाट खड़ी और दूसरी पड़ी हुई हो । इस पड़ी हुई डाट पर ५ सेर के बराबर बल लगाओ । अब यदि हम खड़ी डाट पर ५ सेर बोज़ रखें तब वह दूसरी डाट से बराबर तली रहेगी; परन्तु यदि खड़ी डाट पर ६ सेर बोज़ रखें तो दूसरी डाट आगे सरकने लगेगी; और इसी प्रकार यदि पड़ी हुई डाट को ६ सेर के बराबर बल से दबावें तो खड़ी डाट ऊपर को उठेगी । सो पानी द्वारा हम खड़ी डाट पर ५ सेर के दबाओ को पड़ी हुई डाट पर पड़ंचा सकते हैं । इस से जाना गया कि पानी आदि द्रव पदार्थ प्रत्येक दिशा में दबाओ करते हैं । यह बात पहिले पहिल पास्कल ने मालूम की थी ।

परीक्षा १४ — इस परीक्षा में दोनो डाटें खड़ी हैं परन्तु एक का सिरा दूसरी से दुगुणा है । अब यदि हम छोटी डाट पर ५ सेर बोज़ रखें तो बड़ी डाट पर ५ सेर रखने से थामी नहिं रहेगी, किन्तु उसे थामने के लिये बड़ी डाट पर १० सेर बोज़ रखना पड़ेगा । इसी प्रकार यदि बड़ी डाट का सिद्ध फल छोटी से तिगुणा हो, तो छोटी डाट पर ५ सेर बोज़ बड़ी डाट पर १५ सेर को थाम सकेगा । इस लिये केवल उतनाहि नहिं कि एक डाट पर नीचे को दबा-

आ डालने से दूसरी पर ऊपर को दबाओ उत्पन्न होता है, किन्तु सारा दबाओ डाट के सिद्ध फल के अनुसार न्यून वा अधिक होता है, अर्थात् जब एक डाट का सिद्ध फल दूसरी के सिद्ध फल से तिगुणा हो तो दबाओ भी तिगुणा उत्पन्न होगा ।

(२०) ब्रामा प्रेस— पानी का उक्त गुण व्यवहारिक कार्यों में बहुत फलदायक है । एक बड़े बल वाले यन्त्र में, जिसको पहिले निर्माता के नाम से ब्रामा प्रेस कहते हैं, यह गुण बरता जाता है और इसका स्वरूप

चित्र ८



आटवें चित्र में दिखलाया गया है । इस यंत्र में दो बोरे ऊन के रवे हुए हैं । हम उनको दबा कर बहुत छोटा करना चाहते हैं, कि यदि उनको किसी अल्प देश में ले जाना हो तो जहाज़ वा गाड़ी में बहुत स्थान न रोकें । इस काम के लिये उस में पानी से भरी हुई दो नलियों, एक बड़ी और एक छोटी, इस प्रकार लगी हुई हैं कि एक का पानी दूसरी में आजा सकता है, और बड़ी नली का मुंह छोटी से सौगुणा अधिक होता है । इस लिये जब


छोटी नली की डाट पर एक मन बोज रखें तो बराबर तुलने के लिये बड़ी नली की डाट पर १०० मन बोज रखना पड़ेगा; अर्थात् बड़ी नली की डाट १०० मन के बल से ऊपर उठेगी, और उतना ही दबाओ बोरों पर होगा, इसलिये वह दब कर छोटे हो जायेंगे । परन्तु ऐसे यन्त्र का प्रत्येक भाग टूट्ट और बंद होना चाहिये, नहीं तो पानी किसी न किसी छिद्र वा निर्बल स्थान से छूट निकलेगा ।

(२१) द्रव पदार्थों की दृष्टि समान रहती है — द्रव पदार्थों का दूसरा गुण यह है कि उन की दृष्टि बराबर रहती है, और कभी तिरछी नहीं रह सकती, क्योंकि उन के ऊंचे भाग रगड़ वा सहारा न होने के कारण नीचे को ढल आते हैं । इस में ज्या मिति जानने वाले का यह प्रमाण है कि यदि पानी की तल पर सूत्र लटका कर देखें तो वह उसपर लम्ब की तरह गिरेगा और कहीं तल की ओर कुकाओ नहोगा । हम इस बात को एक बद्धत सगम परीक्षा द्वारा सिद्ध करते हैं ।

परीक्षा १५ — इस बोतल का सारा पारा लो, और उसे एक चपटे बर्तन में डाल दो, यहां तक कि उस के तले को सारा छांप दे । अब उस बर्तन पर एक सूत्र लटकाओ, तो वह सूत्र और उस का प्रतिबिम्ब दोनों एक ही सीध में होंगे । इससे जाना गया कि सूत्र पारे की ओर नहीं कुकता । यदि कुकता तो सूत्र और उसका प्रतिबिम्ब एक रेखा न बनाते, किन्तु दो रेखाओं की तरह एक दूसरे की ओर ऊके ऊये दिखाई देते ।

परीक्षा २६ — जब वक्र नलियों में पानी आदि कोई द्रव पदार्थ डाला जावे तो यद्यपि नलियों का कैसा ही आकार हो, पानी की दृष्टि सब में एक ही ऊंचाई पर होगी । इस बात की प्रतीति कराने के लिये एवं चित्र

चित्र ६




की नलियों को केवल पानी से भरना पड़ेगा, और तब देखलोगे कि सब नलियों में पानी एक ही ऊंचाई पर होगा ।

(२२) वाटर लेवल (हरिज तल दर्शक यंत्र)—

अब मैं वाटर लेवल का वर्णन करता हूँ । यदि हम अपनी आंख इस यंत्र की नली के दोनों सिरों में पानी की दृष्टि की सीध में लगा कर देखें तो मालूम होगा कि हम एक सरल रेखा की सीध में देख रहे हैं, और हमारे आस पास के सब बिन्दु, जिन को हम इस रेखा की सीध में देख सकते हैं, ठीक एक ही तल में हैं, अर्थात् यदि पानी चढ़ आवे तो इन सब बिन्दुओं पर एक ही समय पड़ेंगेगा । इस बात का जानना बहुत काम आता है कि कौनसे बिन्दु एक ही तल में हैं । नहर वगैरे की सड़क बनाने वाले को यह बात अवश्य जाननी चाहिये । इसलिये उसको अवश्य

किसी न किसी प्रकार का लेवल अर्थात् हरिज दर्शक वर्तना पड़ेगा । एक प्रकार का लेवल जो अधिक बरता जाता है, उसका नाम स्पिरिट् लेवल है, परंतु जिसका य-

चित्र १०



हों पर वर्णन किया गया है उसको वाटर् लेवल अर्थात् जलीय हरिज दर्शक कहते हैं ।


(२३) गहरे पानी के दबाओका वर्णन —

अब एक गहरे वर्तन को पानी से भरलो । तब ऊट देख लोगे कि नीचे की तहों पर ऊपर की तहों का दबाओ होता है, इसलिये जितनी गहराई पर नीचे की तहें होंगी उतना ही उन पर दबाओ अधिक होगा; अर्थात् जो तहें पानी की पृष्ठ से एक फुट गहरी हैं उन की अपेक्षा से दो फुट गहरी तहों पर उगुणा दबाओ होगा अथवा यों कहो कि दबाओ सदा पानी की गहराई के अनु सार होता है ।

परीक्षा २७ — यह दबाओ सब दिशाओं में अर्थात् ऊपर, नीचे और चारों ओर होता है । इस बात के सिद्ध करने के लिये किसी वर्तन को पानी से भर दो और एक ओरसे ऊपर के निकट की डाट निकाल दो, तो पानी ऊपर के दबाओ के कारण बाहिर निकलेगा, परंतु

कुछ विशेष वेग के साथ नहीं निकलेगा । फिर तले के पास की डार निकाल दो, अब पानी का बोज अधिक होने के कारण दबाओ भी अधिक है, और पानी बड़े वेगसे निकलता है । अभी तक तो पानी के दबाओ का वर्णन था; अब मैं इस बात के सिद्ध करने का यत्न करूँगा कि ऊपर की और भी दबाओ होता है । काच का एक चौड़ा नल लो, जो दोनों सिरे से खुला हो । उसके निचले सिरे पर एक टीन का पेंदा लगाओ जो ठीक उसके मुँह को ढाँप ले; और उसके बीच में एक रस्सी बाँधो और नल के बीच में से लेजाकर बाहिर निकालो । फिर रस्सी के सिरे को पकड़ कर इस नल को पानी से भरे हुए किसी काच के गहरे बर्तन में पानी की पृष्ठ से बहुत नीचे डुबो कर रस्सी को छोड़ दो, पेंदा न गिरेगा, क्योंकि पानी का नीचे से ऊपर को दबाओ है ।

चित्र ११



अब नल के अंदर थोड़ा सा नीला पानी डाल दो, तो फिर भी वह पेंदा नल के साथ लगा रहेगा, और केवल उसी समय गिरेगा जब नीला पानी दूसरे पानी की पृष्ठ के पास आजायगा । क्योंकि उस समय खले पेंदे पर बाहिर का दबाओ अंदर के दबाओ के बराबर हो जायगा ।

यदि तम किसी नाव में बैठे हो तो तम शीघ्र ही मालूम कर सकोगे कि गहरे स्थान में पानी का दबाओ बढ़त हो-ता है। एक बोतल में तीन चौथाई पानी भर कर उसमें डार लगा दो; फिर उस बोतल के साथ लम्बी रस्सी बांधो, और गहरे पानी में जहां तक जाय जाने दो। जिस समय वह ठीक दूरी पर पड़च जायगी तो गहरे पानी का दबाओ इतना बल करेगा कि डार बोतल के भीतर चली जायगी। और जब तम उस बोतल को बाहिर खेंच लोगे तो वह पानी से भरी होगी, और डार उसके अंदर होगी।

(१४) पीनी की तारक शक्ति — अब हम पानी की तारकशक्ति को यथार्थ प्रकार से जानना चाहते हैं; और इस अभिप्राय से हम एक वादा परीक्षा करेंगे।

परीक्षा १२ — तम एक तराजू में (जिसका ऊपर बर्तान हो चुका है) उस पदार्थ को तोलो और कल्पना करो



कि उसका तोल १००० ग्रैन है। फिर उसी पदार्थ को तराजू के पलड़े के नीचे लगाकर पानी में तोलो, तो अब उस वस्तु का तोल कुछ भी प्रतीत न होगा, और तोल बराबर करने के लिये उस वस्तु वाले पलड़े में १००० ग्रैन का वार

चढ़ाना पड़ेगा ।

परीक्षा १९ — इस परीक्षा से यह न समझना चाहिये कि वह वस्तु पानी में प्रवेश करते ही तेल रहित हो जाती है किन्तु उसका तेल वैसा ही रहता है । इस बात के सिद्ध करने के लिये किसी वर्तन में कुछ पानी भर कर एक पलड़े में रखो और दूसरे में वाटरबव कर तोलो अब वह वस्तु जिसका तेल १००० ग्रेन है पानी में डाल दो । अब पानी वाला पलड़ा वज्रत भारी प्रतीत होगा और तेल बराबर करने के लिये दूसरे पलड़े में १००० ग्रेन का वाटरडालना पड़ेगा । परंतु उस वस्तु का तेल भी ठीक १००० ग्रेन है । इस से जाना गया कि असलमें उस वस्तु का तेल कम नहीं हुआ; अर्थात् वर्तन और उस वस्तु दोनों का तेल केवल वर्तन के तेल से १००० ग्रेन अधिक है; परंतु पानी की तारक शक्ति के कारण प्रतीत होता है कि उस का तेल घट गया है ।

परीक्षा २० — यहां हमारे पास एक पीतल का टुकड़ा है (चित्र १२) जो अपने सांचे में टिका हुआ है । अब हम उसको सांचे से निकाल कर तराजू के दहिने पलड़े में डक द्वारा दोनों को एक दूसरे के नीचे लगाते हैं; और दूसरे पलड़े में वाटरडाल कर तेल पूरा करते हैं (देखो चित्र) । फिर हम उस टुकड़े को पानी से भरे हुए वर्तन में डुबो कर तोलते हैं । अब दहने हाथ का पलड़ा हलका हो गया है । असल में पानी में तोलने से पीतल के टुकड़े का तेल कुछ कम हो गया है । अब यह देखना

चाहिये कि उसका तेल कितना छूट गया है । सो इस बात के जानने के लिये सांचे को जो उस टुकड़े के ऊपर बर्तन से बाहिर लटक रहा है पानी से भर दो । अब तराजू के पलड़े फिर बराबर तल जायेंगे । परंतु पीतल का टुकड़ा सांचे में घूरा आजाता है; इस लिये तेल बराबर करने को जितना पानी उस में डाला गया है उसका परिमाण टुकड़े के परिमाण के बराबर है । सो जाना गया कि जब कोई वस्तु पानी में जोली जाय तो उस का तेल उस पानी के तेल के बराबर छूट जाता है जिसका परिमाण उस वस्तु के परिमाण के बराबर है ।

(२५) पानी में तैरने का वर्णन — ऊपर के वर्णन से स्पष्ट हो गया है कि जब कोई ऐसी वस्तु पानी में डुबोई जाय जो उस पीतल के टुकड़े के समान अपने बराबर परिमाण के पानी से भारी हो तो वह तेल में उतनी छूट जायगी जितना कि उसके परिमाण वाले पानी का तेल हो, परंतु उस का सारा तेल नष्ट नहीं हो जाता, क्योंकि वह अपने बराबर परिमाण के पानी से भारी है । इस लिये वह पानी में बैर जायगी ।

परीक्षा २१ — यदि कोई वस्तु अपने बराबर परिमाण वाले पानी के साथ तेल में बराबर हो (जैसे कि ८ वीं परीक्षा में) तो उस को पानी में डालने से ऐसा प्रतीत होगा कि उस का सारा तेल जाता रहा है, और वह न पानी के ऊपर तैरेगी और न नीचे बैठेगी किन्तु उसके बीच में उथर उथर ऐसी फिरेगी कि मानो उस का कुछ भी

तेल नहीं है ।

अब यदि वह वस्तु अपने बराबर परिमाण वाले पानी से हलकी होती तो क्या होता ? तम पूछ सकते हो कि उसके अपने तेल से अधिक क्यों कर छूट सकता है ? हम परीक्षा द्वारा जानना चाहते हैं कि ऐसी अवस्था में क्या होगा ।

परीक्षा २१ — यहाँ मेरे पास एक लकड़ी का टुकड़ा है जो तेल में अपने बराबर परिमाण वाले जलसे हलका है, और मैं उसको दबाकर पानी के बीच रख देता हूँ; परंतु पानी की तारक शक्ति के कारण ऊपर की ओर पानी का दबाओ लकड़ी के बोझ से अधिक है; इस लिये वह ऊपर को उठ कर पानी पर तैरने लगेगा ।

इन सब परीक्षाओं से यह फल सिद्ध हुए, प्रथम यह कि जब कोई वस्तु पानी में डुबोई जाय तो ज्ञात होता है कि उसका तेल उसके बराबर परिमाण वाले पानी के तेल के बराबर छूट गया है; दूसरा, इसी कारण जो वस्तु अपने बराबर परिमाण वाले पानी के तेल से भारी होगी वह पानी के नीचे बैठ जायगी, जो तेल में बराबर होगी वह न तो पानी में बैठेगी और न उस पर तैरेगी; और जो हलकी होगी वह उस पर तैरने लगेगी ।

(२६) **आपेक्षिक घनत्व** — अब मैं तम को दिखाना चाहता हूँ कि ऊपर लिखे हुए फलों से एक ऐसी रीति मालूम होती है जिसके द्वारा हम बता सकते हैं कि प्रत्येक वस्तु अपने समान परिमाण के पानी से कितनी

भारी है ।

परीक्षा २३ — कल्पना करो कि वायु में एक स्वर्ण के टुकड़े का तोल १९ रती है । जब उसे पानी में तोलें तो उसका तोल केवल १८ रती प्रतीत होता है, अर्थात् उसमें एक रती की न्यूनता प्रतीत होती है, और यह उसके समान परिमाण वाले पानी के तोल के बराबर है । सिद्ध यह हुआ कि सोने के टुकड़े का असली तोल उसके बराबर परिमाण वाले पानी के तोल से १९ गुणा अधिक है ।

दो हजार बरस से अधिक काल हुआ है कि आर्केमिडीज़ नामी एक विद्वान् ने पदार्थों के विशेष गुरुत्व मालूम करने की रीति मालूम की थी । उसका ह्मना यह है कि सिराक्यूज़ के राजा हेरोने किसी स्नानर से स्वर्ण का मुकुट बनवाया । जब वह मुकुट बन चुका तो उस राजा के मन में यह शंका उपजी कि न जाने स्नानर ने मुकुट में कुछ चांदी मिला दी हो, परंतु इस बात को निर्णय करने की कोई रीति उसे न सूजी । इसलिये उसने आर्केमिडीज़ को बुलाया । उस दिन तो यह विद्वान् कुछ न बता सका, परंतु दूसरे दिन जब वह अपने हमाम में नहा रहा था तो अकस्मात् नंगा ही भाग निकला, और "यूरेका यूरेका" (अर्थात् जान लिया जान लिया) उकारता हुआ चला गया । घबरे पड़कर उसने कुछ स्वर्ण का एक टुकड़ा पानी में तोला; प्रतीत हुआ कि वह अपने असली तोल से १९ वां भाग घट गया है । इस लिये उसने जान लिया कि कुछ स्वर्ण का असली तोल उसके बराबर परिमाण वाले पानी के तोल से १९

गुणा अधिक होता है। तब उसने राजा के मुकुटकी भी इसी रीति से परीक्षा की, और जब उसे पानी में तोल कर देखा तो मालूम हुआ कि वह अपने असली तोल के ९ वें भाग से अधिक घट गया है। इस से जाना गया कि वह मुकुट शुद्ध स्वर्ण का नहीं। इस प्रकार सनार की चोरी सिद्ध होगी।

(२०) अवशिष्ट द्रव पदार्थों की तारक शक्ति का वर्णन — पानी के समान और द्रव पदार्थों में भी तारक शक्ति होती है, परंतु प्रत्येक द्रव वस्तु में यह शक्ति न्यूनाधिक होती है। अलकोहल आदि लघु पदार्थों में यह शक्ति वद्धत थोड़ी और पारे आदि भारी पदार्थों में यह शक्ति वद्धत होती है। इस बात के सिद्ध करने के लिये एक पियाले में पारा भर दो, और लोहे का एक टुकड़ा पारे की शृष्ट पर रख दो, तो वह लोहे का टुकड़ा पारे पर तैरने लगेगा। इससे सिद्ध हुआ कि लोहा अपने बराबर परिमाण वाले पारे से हलका है। परंतु सोना पारे से भारी होता है। वस्तुतः पारा अपने बराबर परिमाण वाले पानी से १३ गुणा और सोना ९ गुणा भारी होता है।

मीठे पानी से खारी पानी भारी होता है। पलिस्टार्न देश में एक जील है जिसको जील मुर्दार कहते हैं। इसका पानी वद्धत खारी और इसलिये इतना भारी है कि उसमें मनुष्य का डूब जाना सर्वथा असम्भव है।

(२१) सूक्ष्म नलियों की आकर्षण शक्ति

द्रव पदार्थों का विषय पूरा करने से पहिले, हम इस बात का वर्णन करते हैं, कि पानी अपनी पृष्ठ से ऊपर भी चढ़ आता है ।

परीक्षा २४ — यदि हम खोंड के उले को इस प्रकार पानी पर रखें कि केवल उसका निचला सिरा पानी के साथ लगा रहे तो थोड़े ही काल में वह सारा उला पानी से तर हो जायगा । इसी प्रकार यदि हम ज्वा टिंग पे पर के डुकेड़े वा सूई की बत्ती के सिरे को पानी में डुबोयें तो इनके द्वारा भी पानी अपनी पृष्ठ से ऊपर चढ़ आता है ।

परंतु यदि खोंड के उले वा सूई की बत्ती को पारे के ऊपर रखें तो वह कभी अपनी पृष्ठ से ऊपर नहीं चढ़ता । इससे जाना गया कि यह दोनो द्रव पदार्थ अर्थात् पानी और पारा इस बात में एक दूसरे से भिन्न हैं । पहिले हम ने देखा है कि पानी खोंड के उले और बत्ती में केवल चढ़ा ही नहीं किन्तु उन पर ठहरा भी रहा; परंतु पारा न तो उन में चढ़ा और न उनको तर किया । इससे सिद्ध हुआ कि पारे और इन वस्तुओं में इतनी आकर्षण शक्ति नहीं कि पारा उन में चढ़ जाय, परंतु वह सोने और चांदी के साथ चिपट सकता है क्योंकि पारे और इन धातुओं में परस्पर आकर्षण शक्ति बहुत है ।

ग्वासों के गुण

(२५) वायु का दबाओ — ग्वास और द्रव पदार्थ कई बातों में तो समान हैं परंतु बहुत सी बातों में वे एक दूसरे से भिन्न हैं ।

यथा द्रव पदार्थ की पृष्ठ होती है, इसलिये तम किसी द्रव पदार्थ को बोतल में आधा भर सकते हो, और उसको बोतल में हिला सकते हो । परन्तु ग्वास को इस प्रकार न हिं कर सकते । यदि तम थोड़ी सी ग्वास किसी बोतल में डालो तो वह सारी बोतल में फैल जायगी, किसी एक भाग में न रहेगी, क्योंकि उसमें यह गुण है कि यदि उसे शून्य बर्तन में डालें तो उसे तत्काल भरलेती है ।

परीक्षा २५ — मैं इस बात को एक आसान परीक्षा द्वारा सिद्ध कर सकता हूँ । यहां मेरे पास एक यंत्र पर पंप अर्थात् वायुनिःसारक यन्त्र है । इस यंत्र का आगे चल कर एरार वर्णन करेंगे । यहां पर केवल इतना ही कहना चाहिये कि इस यंत्र द्वारा किसी बर्तन से वायु निकाल सकते हैं । एक रबर के गोले को जिसमें वायु हो इस यंत्र पर रख कर काच के बर्तन से ढाँप दो, फिर इसमें से वायु निकाल दो, और देखो कि का फल होता है । रबर के गोले में वायु है, परंतु उसके आस पास वायु नहीं रहा, इसलिये गोले का वायु शून्य स्थान को भर देने का यत्न करता है, और तम देखते हो जूँ-जूँ वायु बर्तन से निकलता जाता है गोला फूलता जाता है । और यदि वायु को फिर उस बर्तन में आने दें तो गोला सकड़ कर अपनी असली अवस्था पर आ जायगा ।

परीक्षा २६ — उक्त परीक्षा को इस प्रकार भी कर सकते हैं कि उस यंत्र पर एक काच का मर्तदान रख दो, और उसके मुँह को रबर के टुकड़े से बांध दो, फिर म-

चित्र १३



तबान से वायु निकाल दो, तो बाहिर का वायु मूल्य बर्तन में प्रवेश करने के लिये रबर पर दबाओ उभर करेगा, और यहां तक दबायेगा कि वह परीदा के पूरा होने से पहिले फट भी जायेगा ।

(३०) वायु का गुरुत्व— ऊपर की दोनो परी-
दाओं से स्पष्ट प्रतीत हो जाता है कि वायु मूल्य स्थान में
प्रवेश करने का बड़ा यत्न करता है; और यद्यपि किसी
बर्तन से सारा वायु निकाल देना तो अति कठिन है, तथा-
पि बड़तसा भाग निकाल सकते हैं । यथा १४ वें चित्र
में एक काच का बर्तन ऐसा

चित्र १४

बना हुआ है कि य पर पंप अ-
र्थात् वायुनिःसारक द्वारा उ-
समें से प्रायः सारा वायु नि-
काल सकते हैं । सो तोलने
से मालूम हो जायगा कि वा-
यु से भरा हुआ बर्तन मूल्य व-
र्तन से भारी होता है इस से जाना गया कि वायु में गुरुत्व है।



परीक्षा २० — अब एक हलकी डिबिया तराजू की उंडी से लटका कर उसका गुरुत्व मात्म करो तो इस में डिबिया के गुरुत्व के साथ वायु का गुरुत्व भी होगा ।

परीक्षा २८ — फिर उसी डिबिया में एक भारी ग्वास जिसका नाम कार्बानिक एसिड ग्वास है, और जिस के बनाने की विधि रसायन तत्व के (३३) में लिखी है, भर दो । कार्बानिक एसिड ग्वास भारी होने के कारण वायु को डिबिया से निकाल आये उसमें रह जायगी । अब इस डिबिया का तौल पहिले से अधिक होगा । इस से जाना गया कि कई ग्वासों से भारी होती हैं ।

परीक्षा २९ — हाईड्रोजन सब ग्वासों से हलका है; इस लिये अब डिबिया को औंधा करके लटका दो, और उसे हाईड्रोजन से भर दो, इस ग्वास के बनाने की विधि रसायन तत्व के (७) में वर्णन हो चुकी है । हाईड्रोजन वायु से हलका होने के कारण वायु को निकाल कर आप डिबिया में प्रवेश कर जायगा; और वह डिबिया पहिले से हलकी प्रतीत होगी । परंतु ऐसी नहीं कि मानो शून्य है । इस से जाना गया कि यद्यपि ग्वास के परमाणु सदा एक दूसरे से अलग होना और वर्तन में फैलना चाहते हैं तथा पृथ्वी की आकर्षण शक्ति के कारण उनमें गुरुत्व होता है । इसी लिये वायु पृथ्वी के बश में है और उसे छोड़ कहीं नहीं जा सकता, किंतु उस के चारों ओर समुद्र की भांति फैला हुआ है, और इस वायवीय

समुद्र के नीचे हम सब चलते फिरते हैं ।

वायवीय समुद्र और जल का समुद्र दबाओ और गुरुत्व की अपेक्षा से सदृश हैं, और हम पृथ्वी में कह आये हैं कि पानी का दबाओ किसी वर्तन के पेंडे पर उसके गहराओ के अनुसार होता है, इस लिये बड़े गहरे पानी में दबाओ भी बड़त होता है, और परीक्षा १४ में हम देख चुके हैं कि यह दबाओ सब दिशाओं में असर करता है ।

अब यदि तम को यह कहा जाय कि तम पर वायु का वड़त दबाओ रहता है, तो तम अवश्य यह प्रश्न करोगे कि यह दबाओ हम को क्यों नहिं प्रतीत होता ? इस का उत्तर यह है कि वायु के दबाओ का असर भी सब दिशा में अर्थात् ऊपर, नीचे, और चारों ओर होता है । यथा इस कागज़ के टुकड़े पर वायु का दबाओ केवल उसके ऊपर को ही नहिं, किन्तु नीचे को भी असर करता है, इसको ऐसी आसानी से उधर उधर लेजा सकते हैं कि मानो इस पर वायवीय समुद्र का कुछ भी दबाओ नहिं; और इसी कारण हम लोगों को भी उसका दबाओ प्रतीत नहिं होता । यह वायु का दबाओ अगली परीक्षा से अच्छी प्रकार प्रतीत होजायगा ।

परीक्षा ३— यहां दो अर्धगोल हैं जो एक दूसरे के साथ ढीक जम जाते हैं । अब इन को एक दूसरे के साथ लगाकर नीचे के पेच को मरोड़ दो तो वह खिंचने से अलग होजायेंगे । अब तम पूछ सकते हो कि वायु के दबाओ से यह अर्ध गोल जुड़े क्यों नहिं रहते ?




इसका यह कारण है कि उन के अंदर भी वायु भरा हुआ है और वह बाहिर के वायु के बराबर और प्रति कूल दबाओ उत्पन्न करता है । अब इन दोनो अर्थ गोले को वायु निःसारक यंत्र पर लगा कर उनमें से वायु निकाल लो और फिर पेच मरोड़ कर यंत्र से अलग करलो । अब उन को खेंच कर अलग करना बहुत कठिन होगा, क्योंकि बाहिर का वायु उनपर दबाओ करता है परंतु उनके अंदर वायु नहीं जो इस दबाओ को रोके ।

अब वायु एक द्रव पदार्थ है, और उस में गुरुत्व भी है, इस लिये तारक शक्ति भी उस में कुछ होती है; परंतु पानी जितनी नहीं होती । सो यदि एक रेशम के बड़े थैले में कोइले की गास वा हार्ईटो जन भर दें तो वह अपने बराबर परिमाण वाले वायु से हलका होने के कारण ऊपर को चड़ेगा । ऐसे थैले को बैलून वा ओमयान कह

तेहें, और यदि बद्धत बढ़ा हो तो उस के साथ एक छोटी सी नाश्रो बांध देते हैं और इसमें बद्धत से लोग बैठ कर बोमयान के साथ ऊपर चढ़ जाते हैं ।

(३१) वायु मापक अर्थात् बैरो मीटर — यरी-
दा ३१ — अब एक काच की नली लो जो ३६ इंच ल-
म्बी और एक सिरे से बंद और दूसरे से खुली हो । इसके
पारे से भरे दो । अब एक अंगुली उसके मुह पर रख कर
पारे से भरे हुए बर्तन में उसे उलटा कर दो, और जब तक
कि नली का मुंह पारे की पृष्ठ के नीचे न डूब जाय, तब-
तक अंगुली को वहां से न हटाओ । फिर अपनी अंगुली
निकाल लो, तो पारा नली में ६ इंच नीचे उतर आवेगा,
जैसा कि १६ वें चित्र में दिखाया गया है । यहां शायद
कोई यह समझे गा कि वायु नली में चढ़ गया है, परंतु
असल में वहां कुछ नहीं । अबतम यह पूछ सकते
हो कि वायु जो सब और दबाओ करता है और इस पारे
की पृष्ठ पर भी दबाओ उत्पन्न करता है, पारे को दबा कर
इस शून्य स्थान में क्यों नहीं चढ़ा देता ? इस का यह उत्तर है
कि वायु का दबाओ केवल ३० इंच पारे के बोझ को सह-
र सकता है, इस से अधिक नहीं । पारे का बोझ जो नी-
चे को दबाओ करता है वायु के दबाओ के बराबर है ;
इस लिये नीचे पारा अपने दबाओ से नीचे उतर सकता
है और न वायु के दबाओ से ऊपर चढ़ सकता है ; और
नली के ऊपर कुछ स्थान शून्य रहेगा । इस नली को
बैरोमीटर अर्थात् वायुमापक कहते हैं । उल्लिखित प-

चित्र १६




रीला को पहिले पहिल इटली देश के विद्वान टारीचि-ली ने कियाथा; इसी कारण नली के ऊपर के भाग में जो शून्य स्थान रहता है उस को टारि चैलिक शून्य कहते हैं । ऐसे यंत्रों में इंचों का एक पैमाना लगा रहता है, और उसके द्वारा नली में पारे की ऊंचाई बर्तन के पारे की दृष्ट से ठीक मालूम हो सकती है ।

(३२) वायुमापक के फल — इस यंत्र से ब-झत से फल सिद्ध होते हैं । पहाड़ों की ऊंचाई इस यंत्र द्वारा मालूम हो सकती है । (३३) में वर्णान होचुका है कि यदि किसी गहरे बर्तन में पानी भरा हो तो -

उसके पेंदे पर बड़त दबाओ होताहै परंतु पानी की दृष्ट के पास दबाओ थोड़ा होताहै । वायु में भी यही बात पायी जाती है, अर्थात् पृथ्वी के पास वायु का दबाओ अधिक होता है और जोंजों ऊपर जायें यह दबाओ कम होता जाता है । यदि किसी ऊंचे पहाड़ के श्रेण पर चढ़ें तो वायुका दबाओ थोड़ा रहजाताहै; इस लिये वहां वायु मापक का पारा पहाड़ की ऊंचाई के अनुसार ३० इंच के स्थान केवल २० वा २५ इंच नली में रहजाताहै; और जोंजों इस यंत्र को ऊपर लेते जायेंगे उतना ही नली में पारा नीचे उतरता जायगा; और फिर गणित द्वारा पहाड़ की ऊंचाई मात्तूम होसकतीहै; इस यंत्र द्वारा आंधी वा वर्षा आदिकाभी कुछ ज्ञान होसकता है । जब पारा नली में नीचे उतर आवे, और विशेष करके जब बड़त शीघ्र नीचे उतरने लगे तो आंधी वा वर्षा आदि की आशा रखनी चाहिये । परंतु जब पारा नली में ठहरा रहे वा ऊपर चढ़ता जाय तो बादल नहिं आते ।

(३३) एयर पंप वा वायु निस्सारक यंत्र—पीछे कहा गया है कि हम इस यंत्र के द्वारा किसी बर्तन में से वायु निकाल सकते हैं । ९० वां चित्र देखने से इस यंत्र का कर्म और बर्तने की रीति अच्छी प्रकार मात्तूम होजायगी । इस चित्र में बाँईं और एक काच का बर्तन ऊपर से बन्द एक पीतल के साफ तखते पर मोम वा चर्बी से जमाया गया है; और तखते के मध्य से पीतल की नली जिसका मुँह बर्तन के अंदर खुला-

चित्र २०



है एक पीतल के चौड़े नलसे दहने हाथ पर मिली ऊई है; और उस के मुंह पर इस नल के अंदर एक छकना लगा हुआ है जो केवल ऊपर को खुलता है। चौड़े नल में एक दस्तो वाली डाट लगी ऊई है, और इसमें एक छिद्र है, जिसका छकना उसी प्रकार ऊपर को खुलता है। सो जब डाट ऊपर को खेंची जायगी तो चौड़े नल में शून्यता उत्पन्न होगी। परंतु (२१) में वर्णन हो चुका है कि वायु सब ओर से शून्य स्थान में प्रवेश करने का यत्न करता है। इस लिये बाहिर के वायु के दबाओ से डाट का छकना बंद रहेगा; और बर्तन का वायु हंसरे छकने को ऊपर उठा कर चौड़े नल में आजायगा, क्यो कि वह नल वायु शून्य है। फिर जब वह डाट ऊपर से नीचे को दबाई जावेगी तो चौड़े नल के वायु पर दबाओ उत्पन्न होगा, और इस दबाओ से नीचे का छिद्र बंद रहेगा, और डाट का छिद्र खुल जायगा और उसमें से नल का सारा वायु बाहिर निकल जायेगा। इसी रीति से बर्तन का प्रायः सारा वायु निकाल सकते हैं। इस यंत्र द्वारा यथार्थ सिद्धित-

भी होसकती है जब कि डाट बड़े नल में कसकर आती है; नहीं तो बाहिर का वायु अंदर घुस जायगा; और इस प्रकार भीतर का वायु निकालना असंभव होजायगा। और यद्यपि इस यंत्र के स्वरूप भिन्न होते हैं परंतु सब का कर्म एक ही प्रकार का होता है।

(३४) वाटर पंप अर्थात् जलोत्सारक यंत्र —

वायु मापक के वर्णन में कहा गया है कि वायु केवल ३-इंच पारे को उठा सकता है। परंतु पानी अपने बराबर परिमाण के पारे से बड़त हलका होता है, इस लिये वायु पानी के बड़त से ऊंचे दाग को उठा सकता है। वस्तुतः वह पानीको ३० फुट की ऊंचाई तक उठा सकता है।

इससे हम वाटर पंप की चाल और क्रिया को अच्छी प्रकार समझ जाओगे। इस यंत्रका तराश १८वें चित्र में बना हुआ है। इसके नीचे एक जलाशय है जिस का पानी हमने ऊपर चढ़ाना है। इस यंत्रके बड़े नल के साथ एक छोटी नली लगी हुई है। उसके मुख पर एक छकना ऊपर को खुलता है; और उस नल में एक डाट लगी हुई है। इस डाट में एक छिद्र है, जिस का छकना ऊपर को खुलता है। इस जलोत्सारक यंत्र के नल में वैसी ही घटना है जैसी कि वायुनिस्सारक के बड़े नल में थी। इस लिये जब डाट ऊपर को खेंचें तो जलोत्सारक यंत्रके नल में शून्यता उत्पन्न होगी, और बाहिर के वायुके दबाओ से डाट का छिद्र अच्छी प्रकार बंद

चित्र १८



रहे गा, और निचले नल का वायु निचले छिद्र का एक-
 ना खोल कर उस शून्य स्थान में प्रवेश करेगा । जब हम
 डार को नीचे दबावेंगे तो निचला छिद्र बंद होजायगा,
 और डार का छिद्र खुल जायगा और इसमें से वायु बा-
 हिर निकल जायगा, असल में हम बड़े और छोटे नल
 में से वायु निकालते हैं । परंतु देखना चाहिये कि ज-
 लाशय के पानी का क्या हाल है ! पानी पर बाहिर के
 वायु का दबाओ तदवस्थ है, परंतु ज्योंज्यों नल का वायु
 बाहिर निकलता जाता है ज्यों अंदर दबाओ के कम हो-
 जाने के कारण बाहिर का वायु पानी को नलीमें ऊपर
 चढ़ाता जाता है; यहां तक कि जबसारा वायु निकल
 जायगा तो सारी नली पानी से भर जायगी । फिर य-
 ह पानी निचले छिद्र द्वारा बड़े नलमें प्रवेश करेगा।
 परंतु यदि निचला छिद्र पानी की पृष्ठ से ३० फीट से

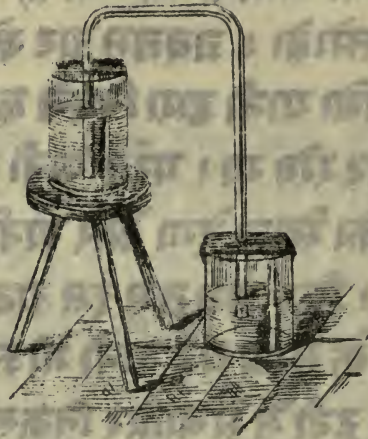
अधिक ऊंचा हो तो ऐसा नहीं होगा, क्योंकि हम अभी बता चुके हैं कि वायु का दबाओ ३० फीट ऊंचे पानी के दाब को उठासकता है, इस से अधिक नहीं। तो यदि नल से पानी की गृष्ट ३१ फीट से अधिक दूर हो तो पानी बड़े नल में कभी प्रवेश न कर सके गा। परंतु यदि हरी २६ वा २० फीट से अधिक नहो तो यह यंत्र अच्छे प्रकार चलेगा, और पानी नल में घुस आयगा। कल्पनाकरो कि नल पानी से भर गया है, और तम डाट को नीचे दबाने लगे हो। जब तम डाट को नीचे दबाओगे तो यह दबाओ पानी द्वारा निचले छकने तक पहुंच कर उसको बंद रहे गा। परंतु पानी का दबाओ ऊपर के छकने को खाल देगा और पानी डाट के ऊपर चढ़ जायगा। फिर जब तम इस डाट को ऊपर उठाओगे तो उस के साथ यह पानी भी ऊपर उठ आवेगा यहां तक कि टूटी में से बाहिर निकल जायगा।

परीक्षा ३२ — यदि इस यंत्र का नल काच का होता तो तम उसका व्यापार अपनी आंख से देख सकते। जब डाट को ऊपर वा नीचे करते तो छकने खुलते और बंद होते दिखाई देते और पानी ऊपर चढ़ता ऊआ दिखाई देता। परंतु डाट छीली नहीं होनी चाहिये नहीं तो बाहिर का वायु जलोत्सारक की नली में प्रवेश कर जायगा, और उस के व्यापार को रोके गा। आयः जब यह कुछ काल वर्ता जाने के बिना पड़ा रहता है, तो डाट के गिर्द का चमड़ा सूख जा-

ता है। इसलिये डाट छीली और यंत्र निकसा हो जा-
ता है। ऐसी अवस्थाओं में डाट आदि पर पानी डाल-
ना चाहिये; तब वह भीगकर ढीक होजाता है।

(३५) साईफन अर्थात् बकनल — इस वि-
षय को पूरा करने से पहिले एक और यंत्र का भी व-
र्णन किया जाता है। इस यंत्र का नाम साईफन वा ब-

चित्र १९



क नल है, और इस का कर्म और व्यापार जलोत्सा-
रक यंत्र की तरह वायु के दबाओ के आश्रय होता है।
इस प्रकार के नल द्वारा जल आदि वस्तु को किसी ऊं-
चे बर्तन वा स्थान से किसी नीचे बर्तन वा स्थान में
लेजाते हैं। पहिले इस नल के दोनो सिरे ऊपर को
करके और छोटी भुजा के मुंह पर अंगुली रख कर उ-
से पानी से भर दो; फिर इसी अवस्था में ओंथा करके
उसकी छोटी भुजा के मुंह को ऊंचे बर्तन के जल की

दृष्ट से नीचे डुबो दे, फिर अंगुली हटा लो; तो उसवर्तन का पानी धार बांधकर नीचे के वर्तन में चला आयेगा, और नल की छोटी भुजा ऊपर वाले वर्तन के पेंदे तक पहुँच जाय तो सारा पानी निकल आयेगा ।

गति वाले पदार्थ

(३६) प्रयत्न — इस पुस्तक के आरंभ में वस्तुओं की अवस्था और स्वभावों का वर्णन हो चुका है और यह भी लिखा गया है कि तोप के गतिवाले गोले और स्थित गोले, तथा उष्ण और शीत गोले में बहुत भेद है । इस पुस्तक का एक बड़ा उद्देश्य यह है कि जड़ पदार्थों की इन अवस्थाओं और स्वभावों के परिणामों का भी कुछ ज्ञान हो । इस पुस्तक के आरंभ में इस बात का वर्णन करना युक्त नथा क्योंकि पहिले उन वस्तुओं के तत्व का ज्ञान अवश्य होना चाहिये । परंतु अब तम कठिन, द्रव और वायवीय पदार्थों को अच्छी प्रकार समझ लिये जायेंगे । इस लिये अब वस्तुओं की अवस्था और स्वभाव के परिवर्तन का वर्णन करना योग्य है । पहिले हम कह आये हैं कि कभी पदार्थों में बड़ा प्रयत्न होता है जैसाकि तोप के गतिवाले गोले में, और कभी वह सर्वथा प्रयत्न शून्य होते हैं जैसे तोप का स्थित गोला अब हम उन अवस्थाओं का वर्णन करेंगे जिन में वस्तु प्रयत्न से पूर्ण होते हैं । पदार्थ उस समय प्रयत्न से पूर्ण होता है जब वह घनत्व गति वाला हो वा थर थरता हो वा उष्ण हो वा उद्भूत विद्युत् हो ।

इस लिये हम सारे प्रयत्न वाले पदार्थों को इनही चार प्रकारों में विभक्त करेंगे । सब से पहिले हम उन वस्तुओं का वर्णन करेंगे जो प्रत्यक्ष गतिवाले हैं; और उसी प्रकरण में इस बात का भी वर्णन किया जायगा कि उक्त वस्तु किस प्रकारसे व्यापार करते हैं । इस के पीछे ऐसे वस्तुओं का वर्णन किया जायगा जो धर धराने वाले हैं यथा मृदङ्ग, और छंटा आदि; और इसी प्रकरण में शब्द के विषय में भी कुछ कहा जायगा । इस के अनंतर उष्णपदार्थों का वर्णन किया जायगा और उसी

प्रकरण में तेज के विषय में भी कुछ कहा जायगा, और अंत में जब उद्भूतविद्युत् पदार्थों का प्रसङ्ग चलेगा तो तब उस गुण और आश्चर्य पदार्थ के विषय में कुछ सुनेगे जिस को विद्युत् कहते हैं । हम इस छोटे से पुस्तक में वस्तुओं की भिन्न भिन्न अवस्थाओं और विविध प्रकार के प्रयत्नों का जो कभी २ उन में प्रकट होते हैं पूरा पूरा वर्णन नहीं कर सकते, परंतु इन का संक्षेप से वर्णन किया जायगा, और तब को यह भी बताया जायगा कि यह विषय बड़ा फलदायक है ।

(३०) कर्म का लक्षण — जब हम कहते हैं कि यह पुरुष प्रयत्न से पूर्ण है, तो हमारा यह अभिप्राय होता है कि वह पुरुष कर्म करने की शक्ति से पूर्ण है; और जब हम कहते हैं कि यह वस्तु प्रयत्न से पूर्ण है तो तब भी हमारा यही अभिप्राय होता है कि यह वस्तु कर्म करने की शक्ति से पूर्ण है । इस लिये

किसी वस्तुके प्रयत्न का परिमाण उस कर्म द्वारा होता है जो उक्त वस्तु प्रयत्न के समाप्त होने तक करसकती है । अब यदि हम एक पौण्ड बोज को एक फुट ऊंचा उठाये, तो हम कुछ कर्म करते हैं, परंतु यदि हम उसे छठ ऊंचा उठाये तो कर्म उस से दुगुणा होता है, और तीन फुट उठाये तो तिगुणा इत्यादि । इस लिये यदि हम उस कर्म को जिस के द्वारा एक पौण्ड बोज को एक फुट ऊंचा उठा सकते हैं एक कहें, तो उस बोज को ३ फुट ऊंचा उठाने के कर्म को ३ कहेंगे ।

तथा किसी ऊंचाई पर दो पौण्ड उठाने का कर्म उसी ऊंचाई तक एक पौण्ड बोज उठाने के कर्म से दुगुणा है; और इसी प्रकार दो पौण्ड बोज को ३ फुट ऊंचा उठाने का कर्म ६ होगा । यह सिद्ध हुआ कि पौण्डों को फुटों की संज्ञा से गुणा दो, लब्ध फल कर्म होगा ।

अब कल्पना करो कि हम एक तोप का मुंह ठीक ऊपर को करके १०० पौण्ड का गोला चलायें और उसका वेग इतना हो कि उसे ठीक १००० फुट की ऊंचाई तक ले जा सके । अब हम ऊट कह सकते हैं कि तोप चलाने के समय गोले में कितना प्रयत्न था । उसमें इतना प्रयत्न था जिसके द्वारा १०० पौण्ड बोज १००० फुट की ऊंचाई तक जासकता है, अर्थात् इतना प्रयत्न था कि जिसके द्वारा 100×1000 वा १००,००० के बराबर कर्म हो सकता है । अब यदि हम उस तोप में कुछ अधिक बाहुर डाल दें तो गोला अधिक वेग से वा

द्विः निकले गा । कल्पना करो कि अब वह गोला लौ-
टनेसे पहिले १५,०० फुट ऊपर चढ़ सकता है, इस लिये
उसमें इतना प्रयत्न है कि जिस के द्वारा वह $१०० \times$
 $१५०० = १५०,०००$ के बराबर कर्म कर सकता है ।
तुम देखते हो कि जितने वेग से गोला चलेगा उतना
हि अधिक ऊंचा जायगा और उतनाहि अधिक कर्म
करेगा, और इस लिये उतनाहि उसमें प्रयत्न भी अ-
धिक होगा ।

(३८) कर्म जो गति वाले पदार्थ करते हैं —
इस पुलक में मैं इस विषय का पूरा पूरा वर्णन नहीं
कर सकता, परंतु मैं तुम को बताऊंगा कि यदि कोई
वस्तु दुगुणे वेग से ऊपर फेंकी जाय तो दुगुणी ऊंचा
ई तकहि नहीं किन्तु चौगुणी ऊंचाई तक चड़ेगी—
और तिगुणे वेग वाली वस्तु तिगुणी नहीं किन्तु नौ-
गुणी ऊंचाई तक जायेगी— इत्यादि ।

अब तुम जान गये हो कि दुगुणे वेग वाला तोय
का गोला चौगुणा कर्म करेगा । गोला कितनी दूर
आकाश में जाता है केवल इतनी बात को देख कर क-
र्म का परिमाण नहीं मालूम होता, किंतु और और
रीतियों से भी मालूम होसकता है । यथा वज्र से
लकड़ी के तखतों को एक दूसरे के पीछे लगाकर उ-
न पर गोला मारो, तो देखोगे कि दुगुणे वेग वाला
गोला चौगुणे तखतों को और तिगुणे वेग वाला गो-
ला नौगुणा तखतों को बीच कर पार निकल जायगा;

अर्थात् दुगुणो वेग वाला गोला एक गुणो वेग वाले गोले की अपेक्षा से चौगुणी विनाशक शक्ति रखता है; और चाहे जिस प्रकार से उस के प्रयत्न का परिमाण करे उस का प्रयत्न दुगुणादि सिद्ध होगा ।

(३५) स्थिति की अवस्था में प्रयत्न — यह स्पष्ट प्रतीत होता है कि जिस वस्तु में वृद्ध गति होती है उसमें कर्म करने की शक्ति भी अधिक होती है, परंतु कई बार स्थिति की अवस्था में भी प्रयत्न होता है; कोई पुरुष निकम्मा बैठा है, परंतु जब वह कर्म करने लगे तो वृद्ध कुछ कर सकता है, कल्पना करो कि दो बराबर बल वाले मनुष्य पत्थरों से लड़ते हैं, और दोनों के पास पत्थरों का एक एक ढेर है, परंतु एक अपने ढेर समेत कोठे पर खड़ा है और दूसरा अपने ढेर समेत नीचे है । अब यदि तुम से यह पूछा जाय कि कौन जीते गा तो तुम ऊट कह दोगे कि कोठे वाला । अब मैं पूछता हूँ कि उसमें क्या अधिक है ! उसमें दूसरे की अपेक्षा से बल वा प्रयत्न अधिक नहीं — तो उसके पत्थरों में कुछ विशेष है । और यह बात स्पष्ट प्रतीत होती है, क्योंकि उसका ढेर ऊंची जगह है । नीचे के मनुष्य की अपेक्षा से उसमें कुछ अधिक प्रयत्न नहीं; परंतु उसके पत्थरों के ढेर में नीचे के ढेरसे अधिक प्रयत्न है । अब तुम देखते हो कि ऊंचे स्थान पर होने के कारण पत्थरों में प्रयत्न हो गया है, वस्तुतः वह कर्म करने के समर्थ हैं चाहे व-

हकर्म कुछ सिद्ध करे वा बिगाड़े । अब कल्पना करो कि दो पनचक्रीयें हैं, और एक का जलाधार उससे ऊंचे स्थान पर है, और दूसरी का नीचे स्थान पर । अब कौन सी चक्की चल सकेगी ? तुम ऊट कह दोगे कि जिसका जलाधार ऊंचे स्थान पर है, क्योंकि पानी के गिरने से चक्र फिरता है । इससे मालूम हुआ कि ऊंचे स्थान पर का जलाशय बड़न कर्म करता है, यथा अन्न का पीसना, लकड़ी का चीरना और खगद उतारना आदि । परंतु जो जलाधार नीचे स्थान पर है उससे कोई कर्म नहीं हो सकता ।

अब एक पनचक्की को जो पानी से चलती है एक पौनचक्की से जो वायु से चलती है मिला कर देखो । वायु पूर्वोक्त तोप के गाले के समान है, यद्यपि उतनी शीघ्र गति उसमें नहीं है; उसका प्रयत्न भी एक गति वाले पदार्थ जैसा है । वस्तुतः वायु पौनचक्की की भुजा और पदों के साथ लगकर उन को घुमाता है । यदि हम तीव्र वायु में एक पंख फेंक दें तो वह उड़ जायगा । पनचक्की में एक गुण अधिक है, क्योंकि पौनचक्की के लिये वायु की प्रतीला करनी पड़ती है, परंतु पनचक्की में यह बात है कि यदि जलाशय बड़ा हो तो जब हम चाहें इस चक्की को चला सकते हैं । हम अपने प्रयत्न के खजाने को अकट्टा कर रखते हैं, और जब चाहें उसे वर्त सकते हैं । वस्तुतः गतिवाले पदार्थ का प्रयत्न नकद रूपैये की तरह है जिसको हम अब खर्च कर रहे हैं, परन्तु ऊंचे स्थान पर के पानी

का प्रयत्न ऐसे रूपों की तरह है जो बंक में रखा है; जब चाहें उसे लेकर बर्त सकते हैं ।

थरथरानेवाले पदार्थ ।

(४०) शब्द— जो वस्तु अपना स्थान बदल रही हो वह गति की अवस्था में है परंतु इससे यह न समझना चाहिये कि प्रत्येक वस्तु जो गति की अवस्था में हो सारी की सारी अपना स्थान बदलती है । जैसे लारू जो बड़े वेग से घूमता हो, गति वाला तो होता है परंतु एक ही स्थान पर रहता है ।

परीक्षा ३३— यह एक लोहे की तार है जिसका एक सिरा कार के डुकाड़े से लगा हुआ है; अब दूसरे सिरे को अंगुली से छेड़ो तो वह बहुत वेग से आगे पीछे हो कर हिलने लगेगी परंतु सारी की सारी अपने स्थान को न बदलेगी । सो जब किसी

चित्र २०



तार के परमाणु इस प्रकार आगे पीछे गति करते हैं तो उसको थरथराना कहते हैं । इसी प्रकार जब कोई घंटावा ढोल बजाया जावे अथवा किसी बीणा की तार को छेड़ें तो उस के परमाणु भी थरथराने ल

गते हैं, जो पदार्थ एक जगह से दूसरी जगह गति करता है, उस में तो कर्म करने की शक्ति होती है, परंतु धरधराने वाले पदार्थ में भी यह शक्ति होती है; सो ऐसे पदार्थों के परमाणु भी एक ओर से दूसरी ओर गति करते हैं, और यदि तुम इन्हें छहराना चाहे तो उन से अवश्य तुम को थक्का लगेगा। यदि कोई वस्तु उनके पथ में हो तो उस को भी थक्का लगेगा—वायु उन के पथ में है, और उस को थक्का लगता है। जितनी बार इस तार का सिरा फिर कर आता है, उतनी बार ही वायु को थक्का वा प्रहार लगता है। वस्तुतः धरधराने वाली वस्तु थोड़े से काल में वायु को बड़त से प्रहार लगाती है। जब वायु पर प्रहार होता है तो वायु इस प्रहार को चुपचाप नहीं सहारता, किंतु वह भी अपने आस पास के वायु पर उसी तरह प्रहार करता है, और फिर यह वायु अपने पास के वायु पर, यूँही पड़चते पड़चते वह प्रहार जो वायु पर हुआ था बड़त हर तक चला जाता है। अंत को यह प्रहार हमारे तमहारे कानों तक पड़चता है। यह प्रहार हमारे कान के परदे पर इतने वेग से नहीं लगता कि हम नीचे गिर पड़ें, और इसी लिये हम इसको प्रहार नहीं बोलते किंतु यह कहते हैं कि हमारे कानों में शब्द आया है— अर्थात् हम शब्द सुनते हैं।

(४१) शोर और राग— जब कोई वस्तु वायु को एक ही प्रहार करे (जैसा तोप का गोला) तो वा-

यु इस प्रहार को हमारे कानों तक लाता है, और हम कहते हैं कि हमें शोर सुनाई देता है। परंतु यदि वायु को लगने वाला पदार्थ थरथरता हो, और एक सेकण्ड में बहुत से छोटे छोटे प्रहार करे तो वायु इन को हमारे कानों तक पहुंचाता है, और हमारे कान पर भी एक सेकण्ड में उतने ही प्रहार लगते हैं, और हम कहते हैं कि शोर सुनाई देता है। अब तम जान गये हों कि हमारे कान को यदि एक प्रहार लगे तो उस को हम शोर कहते हैं, परंतु जब बहुत से छोटे छोटे प्रहार बराबर अंतर पर हमारे कानों को लगें तो शोर सुनाई देता है। तथा थरथराने वाला पदार्थ जो वायु के काम्पने का कारण है, एक सेकण्ड में वायु को थोड़े ही प्रहार पहुंचाये, तो वायु भी एक सेकण्ड में कानों पर उतने ही प्रहार करेगा, तो इस अवस्था में एक नीचा स्वर सुनाई देगा। परंतु यदि थरथराने वाली वस्तु जल्दी कांप कर एक सेकण्ड में वायु को बहुत से प्रहार लगाये तो वायु भी उतने ही प्रहार हमारे कानों तक पहुंचायेगा, तो इस अवस्था में हम ऊंचा स्वर कहेंगे। इस से जाना गया कि यदि एक सेकण्ड में थोड़े से प्रहार कानों तक पहुंचें तो गम्भीर नीचा स्वर, और यदि उतने ही काल में बहुत से प्रहार पहुंचें तो ऊंचा स्वर सुनाई देगा। ऊंचे से ऊंचा स्वर एक सेकण्ड में २० हजार प्रहार से, और नीचे से नीचा स्वर उतने ही काल में ५० प्रहारों से उत्पन्न होता है।

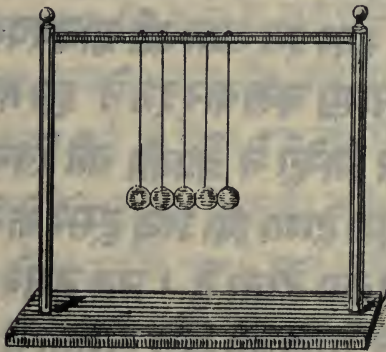
(४२) वायु कर्म भी कर सकता है — राग की स्वर मीठी परंतु शोर अर्थात् एक ही प्रकार कटु होता है, और यदि बहुत ही बड़ा हो तो श्रवण इन्द्रिय को भी बहुत दुःख देता है। यथा यदि कोई बड़ी तोप हमारे पास चलाई जाय तो कानों पर ऐसा प्रहार होता है कि उस से श्रवण इन्द्रिय के नाश हो जाने का भी सम्भव होता है; और यदि शब्द किसी कवाड़ के शीशे से लगे तो शीशे के टूट जाने का भी खटकता होता है; और कभी जो बारूद की मेखजीन में आग लग जाय तो पड़ोस की सारी खिड़कियाँ चूर चूर हो जाती हैं। इस से जाना गया कि शोर में प्रयत्न होता है, और शोर कर्म भी करता है — प्रायः यह कर्म विनाशक ही होता है।

(४३) शब्द के पड़ने के लिये वायु अवश्य होना चाहिये — परीक्षा ३४ — किसी काच के बड़े वर्तन से वायु निकाल कर उस में घंटा बजाओ। अब वायु के न होने के कारण घंटे के गतिवाले अवयव किसी वस्तु को प्रहार नहीं कर सकेंगे; इस लिये हमारे कानों में कोई शब्द नहीं पड़ेगा। वस्तुतः जब कोई घंटा खजता है वा कोई थरथराने वाला पदार्थ कंपता है तो उस में प्रयत्न होता है। उस प्रयत्न का कुछ भाग वायु में चला जाता है, और उस का कुछ भाग हमारे कानों में आता है। परंतु यदि वायु नहो तो थरथराने वाली वस्तु के प्रयत्न को हमारे

कानों तक लाने के लिये कोई वस्तु न रहेगी ।

(५४) शब्द के वायु में चलने की रीति— अब हम कुछ उस वस्तु के तत्व को देखेंगे जिसको शब्द कहते हैं और जो कि थरथराने वाले पदार्थों से वायु में जाता है, और जिसको फिर वायु बहुत दूर तक ले जाता है । पहिले जब मील वा दो मील की दूरी पर कोई तोप चलायी जाय तो यह न समझता चाहिये कि वही परमाणु तोपसे तुम्हारे कानों तक चले आते हैं । तोप के पास के परमाणु अपने पास के परमाणुओं को प्रहार करके दूर जायेंगे, और जिन परमाणुओं को प्रहार हुआ है वह भी अपने पास के परमाणु पर प्रहार पड़ने पर दूर जायेंगे, और इसी प्रकार होता रहेगा यहाँ तक कि वह प्रहार तुम्हारे कानों तक पड़चेगा । इस परीक्षा से तब यह बात अच्छी तरह समझ लोगे ।

चित्र २१



परीक्षा ३५— कुछ लचक दार गोले लो; उन को भिन्न भिन्न दूरीयों से एक श्रेणी में इस प्रकार लटकाओ कि वह एक दूसरे से केवल स्पर्श मात्र करें। अब पहिले गोले को उसी सीध में कुछ दूर पीछे हटाकर छोड़ दो कि दूसरे गोले को प्रहार करे। अब क्या होगा? पहिला गोला दूसरे को प्रहार करके ठहर जायगा। दूसरा बड़त शीघ्र तीसरे को प्रहार पड़चा कर उसी तरह ठहर जायेगा, तीसरा भी इसी प्रकार करेगा, यहां तक कि वह प्रहार सबसे पिछले गोले तक पड़चेगा। इसके पारे और कोई गोला नहिं, इस लिये यह गति करेगा। अब पहिला गोला वायु के उन परमाणुओं के सदृश है जो तोप के निरंतर पास हैं, और सब से पिछला गोला वायु के उन परमाणुओं के सदृश है जो तम्हारे कानके निरंतर पास हैं। अब तम जान गये हो कि जो प्रहार तोप के पास वायु पर हुआ था वह कान के पास के वायु तक किस प्रकार पड़च गया, और इस बात की आवश्यकता नहिं कि एक हि परमाणु चल कर इतने दूर तक आवे।

तम में से जिन्होंने ने क्रोकी की खेल खेली होगी उन को मालूम होगा कि जब दूसरे के गोले को प्रहार करते हैं तो क्या होता है। जब दूसरे खिलारी का गोला तम्हारे गोले को छूने लगता है तो तम अपने गोले को पाशों के नीचे खूब दबाये रखते हो; फिर तम मेगरी से अपने गोले को प्रहार करते हो, परंत

वह नहिं हिलता, तो भी हमारे खिलारी के गोले को इतने बल से प्रहार करता है कि वह बड़त हर चला जाता है। सो यहां भी वहि बात सिद्ध हुई जो पिछले गोलों की परीक्षा में सिद्ध हुई थी।

(४५) शब्द की गति का परिमाण— जिस प्रहार को हम शब्द कहते हैं उस के तोप से चल कर हमारे कान तक पहुंचने में कुछ काल लगता है। इस में कुछ संदेह नहिं कि वह बंदूक की गोली के समान बड़त शीघ्र चलता है, फिर भी तोप से लेकर हमारे कान तक पहुंचने में कुछ काल अवश्य लगता है।

हम ने देखा होगा कि जब कोई तोप बड़त हर चलाई जाती है, तो पहिले उस का प्रकाश और धुआं दृष्टि में आता है, फिर कई सेकण्ड पीछे उसका शब्द सुनाई देता है। यह सेकण्ड शब्द के तोप से लेकर हमारे कानों तक पहुंचने में लगे, अर्थात् प्रकाश के देखने और शब्द सुनने के बीच का काल जाना जाय तो मालूम होजायगा कि शब्द के पहुंचने में कितना काल लगा। यथा कल्पना करो कि एक तोप १०० फुट की दूरी पर चलाई गई है और उस का प्रकाश देखने से लेकर शब्द सुनने तक १० सेकण्ड लगे तो मालूम हुआ कि शब्द १० सेकण्ड में १०० फुट वायु में से चलता है, अर्थात् उसकी गति प्रति सेकण्ड १०० फुट हुई। वस्तुतः शब्द की गति भी प्रति सेकण्ड इतनीहि है।

शब्द वायु की अपेक्षा से जल में बड़त जलदी चलता

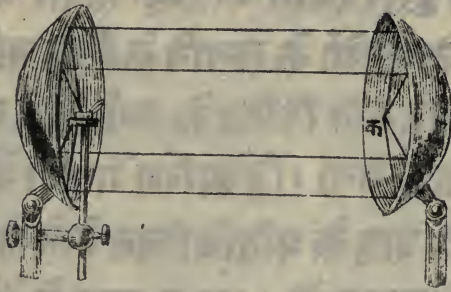
है, और जो परीक्षा जील जनीवा के तट पर की गयी थीं उन से मालूम हुआ है कि शब्द की गति वायु की अपेक्षा पानीमें चौगुणी होती है, और लोहे और लकड़ी में और भी अधिक हो जाती है। वायु की अपेक्षा लकड़ी में से १० और कभी १६ गुणा अधिक शीघ्र चलता है। तो इस हिसाब से वह एक सेकण्ड में २ मील से अधिक लकड़ियों में से जो एक दूसरे के साथ मिलाकर लम्बी रखी हों, पार चला जायेगा।

(४६) गूँज वा प्रतिध्वनि— कल्पना करो कि मैं एक छाटी के मध्य में खड़ा हूँ और चारों ओर पत्थर और चटान हैं। यदि यहाँ से मैं बंदूक चलाऊँ तो शब्द वा प्रहार बंदूक से लेकर पत्थरों तक पहुँचेगा और उन को जा लगेगा। परंतु इसके पीछे कुछ और भी होगा। जब शब्द चटानों के साथ लगने के अनंतर आगे न बढ़ सकेगा, तो वहाँ से उलटा फिरेगा, और इस अवस्था में उसी सरल रेखा में उलटा फिरेगा जिस में कि वह पहिले गया था, और उस का वेग बराबर ११०० फुट प्रति सेकण्ड रहेगा। फल यह होगा कि बंदूक चलाने के पीछे मैं एक और शब्द सुनूँगा और ऐसा प्रतीत होगा कि एक और बंदूक चली है। इस शब्द को गूँज वा प्रतिध्वनि कहते हैं।

इस प्रकार प्रतीत हुआ कि गूँज उस समय सुनाई देती है जब कि शब्द वा प्रहार किसी रुकावट को लगा कर उलटा फिर कर आवे। परंतु जिस सीध में शब्द

जाता है, सदा उसी सीध में वापिस नहीं आता। जिस तल पर शब्द लगता है उसके फलान के अनुसार गंज की सीध होती है। २२ वें चित्र की परीक्षा की आश्चर्य है।

चित्र २२



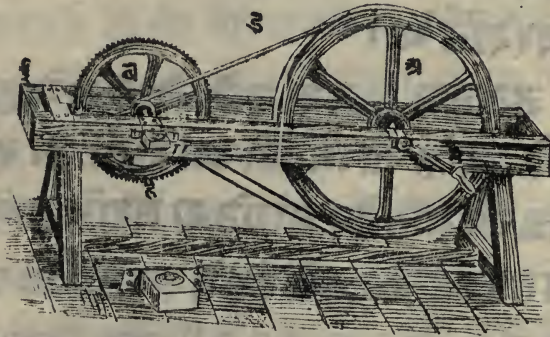
दो खाली अर्धगोल एक दूसरे से कुछ दूरी पर रखो, और एक अर्ध गोल के उस बिन्दु पर जिस को फोकस अर्थात् अक्षकेन्द्र कहते हैं एक बड़ी रख दो, और दूसरे के अक्षकेन्द्र में अपना कान रखो, तो तब उस बड़ी के चलने का शब्द ऐसा स्पष्ट सुनो गे कि मानो वह बड़ी तुम्हारे कान के पास है। इस का कारण यह है कि बड़ी के चलने से जो प्रसार वायु पर लगते हैं बायें हाथ के अर्ध गोल पर पड़ते हैं। और वहां से प्रति-हत हो कर दूसरे अर्ध गोल पर पड़ते हैं, और वहां से प्रतिहत होकर सब के सब कान में पड़ते हैं। यह सब बात चित्र से साफ प्रतीत होती है। शब्द के इस गुण के कारण एक बड़ी सुन्दर परीक्षा होती है, परंतु व्यवहार में कई बार यह बात अच्छी नहीं होती। कहते हैं कि सिसिली देश के जर्जेटाई नामगिर्जे में

थोड़ा सा शब्द भी पश्चिम के बड़े द्वार से ऊंची वेदी के पीछे कंगनी तक पहुँच जाता था; और बड़ा द्वार "कन्फेशन" अर्थात् अपने पाप पादरी के आगे चुपकेसे प्रकट करने के लिये नियत था। इस का फल यह हुआ कि कोई मनुष्य दूसरे स्थान पर खड़ा होकर ऐसी बातें सुन सकता था जो लोगों के सुनाने के लिये नहीं कही जाती थी। पीछे यह बात विदित हो गयी और एक अन्य स्थान नियत किया गया। द्वि स्परिंग गेलरी में जो बात देखी जाती है, शब्द के प्रतिबिम्बित होने से उस का भी समाधान हो सकता है। लंडन नगर के सेंट पाल नामक गिरजे में गुंबजकी एक और यदि थोड़ा सा भी शब्द किया जावे तो दूसरी ओर बड़त हूरी पर पहुँच जाता है।

(४०) एक सेकण्ड में स्वरो के प्रहारों की गिनती— मैं पहिले कह चुका हूँ कि जब कोई धर धराने वाला पदार्थ एक सेकण्ड में वायु पर थोड़े प्रहार करता है तो नीचा स्वर सुनाई देता है, और जब उतने ही काल में बड़त से प्रहार करता है तो ऊँचा स्वर सुनाई देता है; इस लिये स्वर का ऊँचा वा नीचा होना उन प्रहारों की गिनती के अनुसार होता है जो वायु पर पहुँचते हैं। २३ वें चित्र के यंत्र से परीक्षा द्वारा मालूम हो सकता है कि कोई स्वर एक सेकण्ड में कितने प्रहार वायु पर पहुँचाता है। तब देखते हो कि दायाँ ओर एक बड़ा चक्र है; उस को एक रस्से से जु-

मा सकते हैं। इसकी नेमि और दूसरे चक्र व की धुर पर एक चमड़े का तसमा ट कसा हुआ है। अब अचक्र के एक फेर में व चक्र की धुर अपने चक्र समेत कई

चित्र २३



बार फिर जायेगी। और चक्र व पर छोटे छोटे दंदाने हैं। ई पर एक टीन का टुकड़ा ऐसा लगा हुआ है कि चक्र व को फेरने से उसके दंदाने उस टुकड़े से लगते हैं।

प्रत्येक बार जब उस टुकड़े पर प्रहार होगा तो शब्द सुनाई देगा, क्योंकि वह टुकड़ा वायु पर प्रहार करता है। यदि चक्र व में १०० दंदाने हों तो व के एक बार फिरने में वायु पर १०० प्रहार होंगे। यदि एक सेकण्ड में व एक बार घूम जाय तो वायु पर १०० प्रहार होंगे और इस लिये एक सेकण्ड में १०० शब्द कान में पड़ेंगे। हम प्रत्येक शब्द में भेद नहीं कर सकेंगे। केवल एक गम्भीर लम्बा स्वर सुनाई देगा। दस्त को बहुत शीघ्र बुझाने से मैं व को एक सेकण्ड में १०० वा-

र जुमा सकता हूँ, और प्रत्येक फेर में उसटीन के टुकड़े पर १०० प्रहार होंगे, अर्थात् एक सेकण्ड में $100 \times 100 = 10,000$ प्रहार होंगे। अब एक सेकण्ड में १०,००० छोटे छोटे स्वर कान में पड़ेंगे और हम ऊँचा और लम्बा स्वर सनेंगे।

साँजब तम जानना चाहो कि एक सेकण्ड में किसी स्वर के प्रहारों की गिनती क्या होगी, तो दस्त के द्वारा चक्र की गति को बढ़ाते या घटाते जाओ। जब तक कि उस डकड़े को चक्र के दंडाने लगने से उस प्रकार का स्वर उत्पन्न न हो जिस का तम परिभाषा किया चाहते हो। फिर एक बाँदो मिनट तक उसी गति से चक्र को घुमाते जाओ।

चक्र व के साथ एक यंत्र घड़ी के डायल सा लगा हुआ है (उसका बड़ा खाका चित्र के नीचे दिया हुआ है)। उस से प्रतीत होजायगा कि जब से तम घुमाने लगे उससे पीछे कितनी बार प्रहार हो चुका है। इस लिये जब तम आप दस्ता फेर रहे हो तो तमें चाहिये कि किसी और मनुष्य को कहो कि वह ध्यान से देखे कि मिनट के आदि से अंत तक डायल की सूई किस स्थान से कहाँ तक गयी है। कल्पना करो कि डायल से मालूम हुआ कि एक मिनट में ६०,००० प्रहार हुए हैं, तो इस से जाना गया कि एक सेकण्ड में १००० प्रहार हुए। इस से तम हिसाब कर सकते हो कि यह स्वर ऐसा था जो एक सेकण्ड में १००० प्रहार होने से

उत्पन्न होती है ।

उष्ण पदार्थ ।

(४८) उष्णता का स्वभाव— तुम पीछे देख आये हो कि गति वाले और वैसाहि थरथराने वाले पदार्थों में कर्म करने की शक्ति होती है । और तुम यह भी देख आये हो कि थरथराने वाला पदार्थ एक स्थान से दूसरे स्थान पर नहीं जाता, किन्तु उसके अवयव आगे पीछे होते रहते हैं ।

अब उष्णपदार्थों का वर्णन होगा । पहिले यह जानना चाहिये कि उष्णता क्या वस्तु है ? इस प्रश्न का उत्तर देने के लिये इस प्रकार करो । एक लोहे का गोला लेकर आग में डालो, और जब उष्ण होकर अंगार हो जाय तो उसको निकाल लो, और तराजू के एक पलड़े में रख दो, दूसरे पलड़े में बाट रखकर तोल बराबर करो । अब उसे ठंडा होने दो । अब यदि उष्णता कोई ऐसी वस्तु हो जो गोले के भीतर घुस गयी हो, तो हमें आशा रखनी चाहिये कि जों गोला ठंडा होता जायगा, गोले वाला पलड़ा ऊपर चढ़ता जायगा । यदि यथार्थ प्रकार से यह परीक्षा की जाय तो मालूम होगा कि ठंडा होने से गोले का तोल नहीं घटता । इस लिये चाहे उष्णता कुछ हि वस्तु हो उस से गोले का तोल एक रती भर भी नहीं बढ़ता ।

अब कल्पना करो कि मैं एक बड़े ठीक तराजूके पलड़े में बैठा हूँ । दूसरे पलड़े में बाट डाल कर तोल

बराबर करो; फिर कुछ पानी मेरे कान में जाने दो। अब मैं अधिक भारी हो जाऊंगा। कल्पना करो कि मेरे कान में शब्द आया। क्या शब्द से मैं कुछ भारी हो जाऊंगा? कभी नहीं। वह मेरे कान के ढोल पर लग कर उसमें थरथराहट उत्पन्न करेगा। मैं शब्द तो सुनूंगा परंतु शब्द के कान में आने से भारी कुछ भी नहीं हूंगा। वस्तुतः पानी का प्रवेश तो भौतिक पदार्थ का प्रवेश है, और उस से मैं भारी हो जाता हूँ; परंतु शब्द का प्रवेश केवल थरथराने वाली गति का प्रवेश है और उस से मेरा भार नहीं बढ़ता। अब क्या उष्ण पदार्थों में इस प्रकार की कोई बात नहीं होती? क्या उष्णता के प्रवेश से यह अभिप्राय नहीं कि एक प्रकार की थरथराने वाली गति का प्रवेश हुआ है, और जिससे वस्तु के तौल में कुछ अधिकता नहीं होती?

इस बात के लिये दृढ़ प्रमाण हैं कि वस्तुतः उष्णता थरथराने वाली गति है, अर्थात् जब किसी पदार्थ को उष्णता पड़चता है तो उसका प्रत्येक अणु या आगे पीछे हटता है या घूमता है, परंतु यह अणु ऐसे सूक्ष्म और इनकी गति इतनी शीघ्र होती है कि आंखों से दिखाई नहीं देती।

आयत तब यह शक्योगे कि यदि उष्ण पदार्थ के अणु शीघ्र गति की अवस्था में होते हैं तो शब्द क्यों नहीं उत्पन्न होता? अन्य थरथराने वाले पदार्थों की

तरह उष्ण पदार्थ अपने पास के वायु पर छोटे छोटे प्रहार कों नहिं करता ? हम यह उम्तर देंगे कि आस पास के वायु पर उष्ण पदार्थ प्रहार तो करता है; परंतु वह ऐसे नहिं कि हमारे कानों पर कुछ असर कर सकें; परंतु वह सां खों पर असर करते हैं और हम को प्रकाश का अनुभव होता है। अब तम जान गये हो कि छंदे की नई शब्दाय मान वस्तु और लोहे के तपे हुए गोले में कितना बड़ा सादृश्य है। दोनो वस्तुओं के अणु शीघ्र गति की अवस्था में होते हैं। छंदे के अणु तो पास के वायु पर प्रहार करते हैं और वायु इन प्रहारों को कान तक लाता है; और उष्ण गोले के परमाणु भी अपने आस पास के मध्यवर्ती पदार्थ पर बद्धत से प्रहार करते हैं, और यह मध्यवर्ती वस्तु उन प्रहारों को हमारी आंख तक पहुंचाए है। इस लिये जब हमने थरथराने वाले पदार्थों के विषय में परीक्षा कीथी तो हमने कानों से काम लिया था, और जब हम बद्धत उष्ण पदार्थों के विषय में परीक्षा करते हैं तो हम आंखों से काम लेते हैं। प्रत्येक अवस्था में विषय के दो विभाग हो सकते हैं, कोंकि थरथराने वाले पदार्थों में पहिले हमें वस्तुओं की जिज्ञासा करनी पड़ती है, और यह देखना पड़ता है कि कितने शीघ्र और किस प्रकार वह थरथराने हैं इत्यादि; और दूसरा हमें यह देखना पड़ता है कि जो शब्द उन से उत्प-


त्र होता है वह वायु में किस गति से चलता है । इसी प्रकार उष्ण पदार्थों में भी पहिले हमें वस्तुओं की जिज्ञासा करनी पड़ती है, और दूसरा यह जानना पड़ता है कि उनमें से जो प्रकाश और उष्णता की किरणों निकलती हैं वह वायु में किस वेग से चलती हैं ।

(४९) उष्ण होने से पदार्थों का फैलना —

जब किसी पदार्थ को उष्ण करें तो प्रायः सदा फैलता है, अर्थात् सब और बड़ा हो जाता है । इस बात को तम एक कठिन, द्रव और वायवीय पदार्थ को उष्ण करके देख सकते हो ।

परीक्षा ३६ — अ एक धातु का डंडा है वह एक सिरे पर पेच ब के द्वारा कसा हुआ है, और उसका दूसरा सिरा बिना रोक के बड़ा सकता है ।

चित्र २४



जों वह बड़ेगा एक कांटे क को दबाये गा, इस लिये वह कांटा ऊपर उड़ेगा । सो यदि डंडा थोड़ा सा भी फैले तो उसका फैलाव अच्छी तरह से देखा जायगा; क्योंकि इस से कांटा अपना स्थान छोड़कर ऊपर को उड़ेगा । अब इस डंडे के नीचे दो तीन

दीपक रख कर इस को उष्ण करो तो हम देखेंगे कि वह बढ़ता जायगा, और कांटे को दबाकर ऊंचा कर देगा। यदि इन दीपकों को उठालें तो उंडा टंडा हो जायगा और थोड़े ही काल में कांटा अपने पहिले स्थान पर आजायगा।

परीक्षा ३७ — यहां काच की छोटी सी कुलिया है जिस के मुंह पर काच की एक पतली नली लगी हुई है। यदि इस कुलिया में पानी भर कर उष्ण करो, तो पानी उस नली में चढ़ने लगेगा। इस अवस्था में नली और कुलिया दोनों फैलती हैं, परंतु पानी काच से अधिक फैलता है, इस लिये वह नली में चढ़ जाता है, और वस्तुतः इतने बल से फैलता है कि यदि उस को नली में चढ़ने का अवकाश न होता तो कुलिया को तोड़ कर निकल जाता।

परीक्षा ३८ — अब एक भुकना लो जिस की दो तिहाई वायु सभरी हो। इस को आग पर उष्ण करो और फेरते जाओ कि जल न जाये। थोड़े से काल में वायु इतना फैल जावेगा कि भुकना भरा हुआ दिखाई देगा।

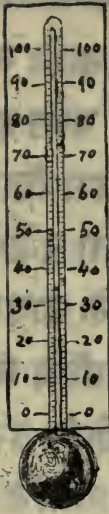
(५०) थर्मामीटर वा चर्म मापक — इन परीक्षाओं द्वारा हमने जान लिया है कि उष्णता पदार्थों को फैला देती है, चाहे वह पदार्थ, कठिन, द्रव वा वायवीय हों। अब एक काच की कुलिया में जिसपर एक काच की नली लगी हुई हो पारा भर कर परीक्षा करो, तो उष्णता पड़ने से पारा भी पानी की तरह फैल कर नली में चढ़ जायेगा। यहां भी वस्तुतः दोनों चीजें फैलती हैं। एक तो कुलिया फैलती है। सो यदि हम पहिले ठंडी कुलिया को मापो,

और फिर उष्ण करके मापे तो मालूम होगा कि कुलिया कुछ बढ़ गयी है । परंतु कुलिया पारे जितना नहीं फैलती, इस लिये पारा अपनी पहिली जगह में नहीं समा सकता — उसके बाले अधिक स्थान चाहिये; इस लिये यह ऊपर उठता है, और नली के बड़ा तंग होने के कारण थोड़ा सा फैलने से भी पारा नली में बड़त हर तक चढ़ जाता है, इस लिये आंखों से अच्छी तरह देखा जा सकता है । हमारे हाथ की उष्णता से भी पारा बड़त शीघ्र नली में ऊपर चढ़ जाता है, और थोड़ा सा ठंडा वायु लगने से नीचे उतर आता है । इस लिये इस प्रकार के यंत्र से बड़ा लाभ होता है । इस से प्रतीत हो जाता है कि कौन सी वस्तु ठंडी और कौन सी उष्ण है, और त्वक इंद्रिय द्वारा यह बात ऐसी ठीक नहीं प्रतीत हो सकती । कल्पना करो कि हम इस यंत्र की कुलिया को पानी के बर्तन में डाल कर कुछ काल तक वहीं रखते हैं, तो नली में पारा एक नियत स्थान तक चढ़ा रहेगा । इस स्थान पर एक चिह्न कर दो । अब इस यंत्र को पानी से निकाल लो, और दूसरे पानी वाले बर्तन में डाल दो । यदि यह पानी पहिले पानी से अधिक उष्ण होगा तो पारा इस चिह्न से ऊपर चढ़ जायगा, परंतु यदि यह पानी अधिक ठंडा होगा तो पारा उस चिह्न से नीचे उतर आवेगा । इस प्रकार नली में पारे की ऊंचाई देखकर हम तत्काल बता सकते हैं कि दूसरे बर्तन का पानी इस से उष्ण है वा शीत ।

इस प्रकार के यंत्र को थर्मामीटर वा थर्म मापक कहते हैं ।

(५१) इस यंत्र के बनाने की विधि — तम एक बारीक छिद्र वाली काच की नली लो जिस के एक सिरे पर एक गोलाकार हो और दूसरा सिरा खुला हो । फिर उस गोलाकार को आग पर उष्ण करो, तो जैसा भुकने में उष्ण करने से वायु फैल गया था उसी प्रकार इस में भी फैलेगा; परंतु दूसरा सिरा खुला होने के कारण फैला हुआ वायु उस छिद्र द्वारा बाहिर निकल जायगा । फिर अभी वायु ठंडा न होने पाया हो कि नली का खुला सिरा एक पारे वाले बासन में पारे की एष्ट से नीचे डुबो दो । याद रखना चाहिये कि अब उस गोलाकार में पहिले से थोड़ा वायु है, क्योंकि उस का कुछ अंश उष्णता के कारण बाहिर निकल गया है । जब वायु ठंडा हो जायगा तो थोड़े स्थान में समा जायगा, और बाहिर से वायु के दबाओ के कारण पारा उसी प्रकार ऊपर चढ़ाया गा जैसा जलोत्सारक यंत्र में पानी चढ़ाया जाता है । इस पारेका कुछ अंश गोलाकार में भी चला जायेगा । अब गोलाकार में थोड़ा सा पारा आगया; फिर गोलाकार को पारेसमेत एक दीपक की लाट पर उष्ण करो — गोलाकार, नली सब कुछ । प्रीव्र ही पारा उबलने लगेगा और उसकी भाप वायु को बाहिर निकाल देगी, यहां तक कि गोलाकार और नली दोनो पारे की भाप से भर जायेंगे, अब फिर एक बार खुले सिरे को पारे की बर्तन में डुबो दो । अब गोलाकार और नली में कुछ भी वायु नहिं केवल पारे की भाप ही है, इस लिये उस के ठंडा होने से थोड़ी सी शून्यता उत्पन्न होगी, और बर्तन का पारा बाहिर के वायु के दबाओ से ऊपर चढ़

चित्र २५



जायेगा, और नली और गोलाकार दोनो भर जायेंगे । इस प्रकार हम ने नली और गोलाकार दोनो को पारे से भर लिया, और अब उस के ठंडा होने से पहिले हम खुले सिरे को काच ग्ला कर बंद कर देते हैं, इस प्रकार बाहिर का वायु अंदर नहिं घुसने पायेगा । इतना काम तो पूरा हो चुका ।

अब छर्म मापक की नली को लो, और जब अच्छी ठंडी होजाय तो उसे पिसी ऊई बर्फ में जब वह गल रही हो डुबो दो; पारा नली में सकड़ कर थोड़ी जगह में समा जायगा, क्योंकि बर्फ बड़त ठंडी है (तुम को बताया गया है कि जब गोलाकार को किसी ठंडी वस्तु में डालें तो पारा नीचे उतरता है) । जब पारा नीचे उतरने से रह जाय तो जहां पर पारे की छूट हो वहां रेती से एक चिह्न कर दो । जब इस यंत्र को गलती बर्फ वा किसी उतनी ही ठंडी वस्तु में डालें, तो नली में पारे की छूट इसी चिह्न पर होगी । फिर छर्ममापक को लेकर सारे का सारा उबलते पानी में डुबो दो, और वैसे ही जहां पारे की छूट हो वहां नली पर एक चिह्न लगा दो । इस अवस्था में पारा बड़त ऊंचा चढ़ा हुआ होगा क्योंकि उष्ण पानी के कारण पारा बड़त फैल जाता है । अब नली पर दो चिह्न हो गये — एक तो उस स्थान पर है जहां तक कि गलती बर्फ में छर्ममापक रखने से

पात्र चढ़ता है, और दूसरा जहां तक कि उबलते पानी में इस यंत्र को रखने से पात्र चढ़ता है। तब आगे चल कर देखेंगे कि उबलते हुए पानी की उष्णता सदा एक सी नहीं होती, परंतु अभी यही समझ लेना कि उस की उष्णता सदा एक जैसी रहती है।

दो चिह्न तो हम ने इस यंत्र की नली पर रेतीसे लगा लिये, और यह दो चिह्न यथा क्रम पानी के जम जाने और उबलने के स्थान द्योतन करते हैं। अब इन दो चिह्नों के बीच के भाग को १०० बराबर भागों में बांटना रहा। यह इस प्रकार किया जाता है कि सारी नली पर मोम लिपट दो, और एक सूई की नोक से ठीक ठीक हरी पर मोम में चिह्न कर दो। फिर यदि हम सारी नली को चुले हुए हाई ड्रॉक्लोरिक एसिड में डुबो दें तो मोम पर कुछ असर नहीं होगा, परंतु जहां जहां से सूई द्वारा मोम खुरची गयी है वहां काच पर निशान लग जायेंगे। इस लिये जब नली को बाहिर निकालेंगे तो देखेंगे कि जितनी रेखा हमने सूई की नोक से बनाई थीं वह सब की सब उत्कृष्ट ज्ञात की सहायता से काच पर खुद गयी हैं। इन रेखाओं से एक ऐसा पैमाना बन गया जिस को देख कर हम जमाने वाली सरदी से लेकर उबालने वाली उष्णता तक १०० अंश की न्यूनाधिकता जांच सकते हैं।

सब से निचले चिह्न का नाम ० (शून्य) अंश लेना, और सबसे ऊपर वाले का नाम १०० अंश, और इन दोनों के बीच में दस दस अंश पर अंक लगा दो। अब हमारा घ-

ममापक ठीक बन गया है ।

इस प्रकार के यंत्र को सेंटी ग्रेड थर्मामीटर अर्थात् १०० अंश वाला थर्म मापक कहते हैं; और क्योंकि अंशों के चिह्न करने की यह सुगम रीति है, इस लिये हम सदा इसी को बरतेंगे ।

यदि कोई वस्तु इतनी उष्ण हो कि जब उसमें थर्ममापक को रखें तो पारा १०, वा २०, वा ३०, अंश तक चढ़ जाय तो हम कहते हैं कि उस वस्तु की उष्णता १०, २०, वा ३०, अंश है । इस लिये गलाती बर्फ की उष्णता सेंटी ग्रेड पर ० अंश होती है (लिखने में ० आता है), और उबलते हुए पानी की १०० अंश (लिखने में १०० आता है) । ग्रीष्म ऋतु की अच्छी उष्णता लगभग ३५ के होती है । वस्तुतः इस प्रकार के यंत्र से उष्णता बहुत ठीक ठीक मापी जासकती है ।

(५२) कठिन पदार्थों का फैलाओ — इसी रीति से हमने मालूम कर लिया है कि काच वा धातु आदि के दंडे ० से १०० तक कितना फैलते हैं । नीचे लिखे आदर्श में यह बात दिखाई गयी है ।

१००,००० इंच लम्बे दंडे का ० और १०० के बीच में फैलाओ ।

काच	-----	८५	इंच
ताम्बा	-----	१०१	”
पीतल	-----	१८८	”
कोमल लोहा	-----	१२०	”
छालवां लोहा	-----	१०५	”
रुलाई	-----	११४	”
सीसा	-----	२८२	”
दीन (रंग)	-----	१५६	”
चादी	-----	१५२	”

		१००,००० इंच लम्बे टंके का ०° और
		१०० के बीच में फैलाओ ।
सोना -----	१४४	इंच
प्लाटिनम -----	८७	”
जस्ता -----	२५८	”

(५३) द्रव पदार्थों का फैलाओ — द्रव पदार्थ उष्णता पड़ने से कठिन पदार्थों से अधिक फैलते हैं, परंतु तम द्रव टंके पर परीक्षा नहीं कर सकते क्योंकि द्रव पदार्थ का टंका नहीं बन सकता । इस लिये इन का कुछ परिमाण यथा एक बोतल लो, और देखो कि यदि कोई द्रव पदार्थ ०° पर १००,००० बोतल भर सकता हो, तो वह १००° पर कितनी जगह रोके गा ।

अब यदि पारे की १००,००० बोतल ०° से १००° तक उष्ण की जायें, तो १,८ १५ बोतल के बराबर पारा बढ़ जाय गा ।

इस प्रकार की परीक्षाओं से मालूम हुआ है कि यदि द्रव और कठिन पदार्थों को बराबर उष्णता पड़ना चाही जावे तो द्रव पदार्थ अधिक फैलते हैं, और द्रव पदार्थ थोड़ी उष्णता से इतना शीघ्र नहीं फैलते जितना अधिक उष्णता से फैलते हैं ।

(५४) वायवीय पदार्थों का फैलाओ — उष्णता से ग्लास अर्थात् वायवीय पदार्थ बड़त फैलते हैं, परंतु यहां हमें याद रखना चाहिये कि उष्णता छोड़ और कई तरह से ग्लास फैलते हैं । तम को याद होगा कि रबर का गोला काच के फान्स में रखा गया था, और जब फान्स में से वायु निकाला गया तो फूलने लगा (देखो

परीक्षा ५५)। इस लिये जब यह जानना हो कि उष्णता के कारण गैस कितना फैलता है, तो हमें इस बात का ध्यान रखना चाहिये कि उसके चारों ओर के वायु के दबाओ में कुछ भेद न हो जाये; अथवा एक भुकना लो जिस में कुछ वायु भी हो, और उसे बराबर दबाओ वाले वायु में रख कर ०° से १०० तक उष्ण करो और देखो कि वह उष्णता बढ़ाने से कितना फूलता है ।

इस प्रकार परीक्षा करने से मालूम होगा यदि एक भुकना जिस में कुछ वायु हो ०° पर १,००० मुकस्स २ इंच हो तो १००° पर उस का परिमाण १,३६० मुकस्स २ इंच हो जायेगा । यथा, यदि किसी बर्तन में बड़त सा बर्फ जैसा ठंडा पानी भर कर उसमें उस भुकने को डुबो दें, तो पानी चढ़कर आगेसे १,००० मुकस्स २ इंच अधिक स्थान रोके गा; और यह ०° पर भुकने का परिमाण है । फिर यदि उसी बर्तन में उतना ही उबलता पानी भर कर भुकने को उसी प्रकार डुबो दें तो यह उबलता पानी १,३६० मुकस्स २ इंच अधिक स्थान रोके गा; और यह १००° पर भुकने का परिमाण होगा।

(५५) फैलाओ का विशेष वर्णन — द्रव और कठिन पदार्थ बड़े बल से फैलते हैं । यदि तम एक लोहे का गोला सारा पानी से भर दो, और षेच कस कर बंद कर दो, और फिर गोले को उष्ण करो तो, फैलाओ का बल इतना होगा कि गोला फूट जायगा ।

लोहे के बड़े बड़े पुल बनाने के समय लोहे के फैलाओ का ध्यान रख लेना चाहिये, क्योंकि पुल गर्मियों में कुछ

बढ़ जाता है; और यदि उस के बढ़ने के लिये कुछ स्थान न रखा जाय तो फैलाओ के बल से उस को नुकसान पहुँचता है। मीनाई के नलदार पुल में ठीक व्यवस्था रखी गयी है।

हम कई प्रकार से फैलाओ और संकोच के बल से लाभ उठाते हैं; जैसा गाड़ी का पहिया बनाने में लोहे के वृत्त को उष्ण करके लाल कर डालते हैं; इस प्रकार वह पहिये पर खुला आजाता है; फिर वह शीघ्र ठंडा हो जाता है, और ज्यों ज्यों ठंडा होता जाता है सिकड़ कर पहिये को पकड़ करता जाता है, और अंत को खूब कस कर लग जाता है।

(५६) विशेष उष्णता (सेसि फिक हीट) —

एक अंश उष्णता बढ़ाने के लिये कई वस्तुओं को ओं की अपेक्षा अधिक गर्म करना पड़ता है। जितनी उष्णता किसी पदार्थ के पौण्ड भर तेल को एक अंश अधिक उष्ण कर सके उस को उस पदार्थ की सेसिफिक हीट वा विशेष उष्णता कहते हैं। पानी की विशेष उष्णता बहुत बड़ी है; अर्थात् अन्य सब पदार्थों की अपेक्षा से पौण्ड भर पानी को एक अंश चढ़ाने के लिये अधिक उष्णता चाहिये। जितनी उष्णता से एक पौण्ड पानी एक अंश अधिक उष्ण होता है, उतनी ही उष्णता से ४ पौण्ड लोहे, ९ पौण्ड जल, और ३० पौण्ड पारे वा सोने की उष्णता एक अंश चढ़ सकती है।

परीक्षा ३४ — इस बात के सिद्ध करने के लिये

कि पानी की विशेष उष्णता बढ़त होती है, दो पौराउ पारा लेकर १००° तक उष्ण करो । यह पानी के उबलने का स्थान है । फिर इस को साधारण उष्णता वाले १ पौराउ पानी में मिला दो । यदि तम पारा मिलाने से पहिले और पीछे उस पानी में घर्म मापक रख कर देखो तो मालूम होगा कि उष्ण पारे के मिलाने से पानी ५ अंश से अधिक नहीं चढ़ा ।

(५७) अवस्था का बदलना — पहिले तम देख आये हो कि भौतिक पदार्थों की तीन अवस्था होती है— कठिन, द्रव और वायवीय (गैस) । अब मैं बताऊंगा कि जब पदार्थों को उष्ण किया जाय तो पहिले उनकी कठिनता का नाश होकर द्रवत्व उत्पन्न होता है, और यदि इस से भी अधिक उष्ण करें तो द्रवत्व का भी नाश होकर वायवीय अवस्था उत्पन्न होती है । प्रवेशिका पुस्तक में तम को बताया गया था कि पानी और भापका संवापि कारण एकही बस्तु है, और यदि बर्फ को उष्ण किया जाय तो पानी होजाता है, और यदि फिर भी उष्णता पड़चाते रहें तो भाप बन जाती है । यदि और पदार्थों के साथ भी इसी प्रकार किया जाय तो उनमें भी इसी प्रकार का परिणाम होगा । यथा जस्त नामक धातु का एक टुकड़ा लो, और उसको उष्ण करो । थोड़े काल के पीछे वह पिगल जायगा, और यदि फिर भी उष्ण करते रहें तो अंत में भाप बन कर उड़ जायगा । लोहे और फौलार जैसे टुकड़े और कठिन पदार्थ भी पिगल सकते हैं,

और भाप बन कर उड़ भी सकते हैं; और विद्युत् शक्ति द्वारा, जिस का विशेष वर्णन आगे आयागा, शायद हम सब पदार्थों को भाप बना कर उड़ा सकते हैं ।

परंतु हम सब पदार्थों को इतना ठंडा नहीं कर सकते कि वह कठिन बन जायें, अथवा कठिन नहीं तो द्रव ही बन जायें । यथा अभी तक किसी ने शराब के सत को ठंडा करके कठिन नहीं बनाया; परंतु इतना तो दृढ़ निश्चय है कि शराब के सत को जमाने के लिये केवल वद्धत सा शीत चाहिये । इसी प्रकार हम वायु को इतना ठंडा कभी नहीं कर सकते कि द्रव हो जाय, परंतु इतना तो हम जानते हैं कि इस बात के लिये केवल शीत अधिक चाहिये । मेरी इस बात से यह न समझ लेना चाहिये कि शीत उष्णता के अभाव से कुछ अलग वस्तु है । शीत पदार्थ वह होता है जिस में उष्णता थोड़ी हो, और उस से भी अधिक शीत पदार्थ वह है जिस में उस से भी थोड़ी उष्णता हो; परंतु ठंडे से ठंडे पदार्थ में भी कुछ न कुछ उष्णता अवश्य रहती है, इस बात में त्वक् इंद्रिय को नियामक मत मानो । ऐसा हो सकता है कि घर्म मापक के अनुसार दो वस्तुओं में बराबर उष्णता हो, और फिर भी एक तम को दूसरी से वद्धत ठंडी लगे । यदि तम कुछ काल तक एक हाथ वद्धत ठंडे पानी में रखे और दूसरा हाथ वद्धत उष्ण पानी में, और फिर दोनों हाथ निकाल कर साधारण उष्णता वाले पानी में डाल दो, तो यह पानी एक हाथ को उष्ण और दूसरे हा-

थ को ठंडा प्रतीत होगा । इस लिये चूर्म मापक के तिनानि-
सी और पर भरोसा न करो, और न यह समजो कि शीत
उष्णता के अभाव से कोई भिन्न पदार्थ है ।

अब प्रसंग पर आते हैं । प्रायः सब पदार्थ, यदि हम
उन को यथाभिमत ठंडा कर सकें, अर्थात् यथाभिमत उन-
की उष्णता कम कर सकें — तो कठिन होजायेंगे; और
यदि फिर काफी उष्ण किया जाय तो द्रव होजायेंगे, यहां
तक कि यदि फिर भी उष्ण करते जायें तो भाप बन कर उ-
ड़ जायेंगे । कई पदार्थों के लिये तो थोड़ा और कईयों के
लिये बहुत यत्न करना पड़ता है । बर्फ उष्णता पंद्रहाने
से शीघ्र ही पिगल जाती है, टीन वा सीसे के गलाने को २००
वा ३०० अंश उष्णता चाहिये; और लोहे को गलाना इससे
भी कठिन है; और जैटिनम को गलाना लोहे से भी कठिन
है । जिस वस्तु को गलाना कठिन हो उसको दुःसाध्य क-
हते हैं ।

नीचे के नकशे से मालूम होगा कि कई एक गुण दा-
यक पदार्थ कितनी उष्णता से पिगलने लगते हैं; —

बर्फ	०° पर पिगलती है
फासफोरस	४४° "
सोर्मेसिटार्ई	४५° "
पोटासियम	५३° "
सोडियम	९०° "
टीन (संग)	२३५° "
सीसा	३२५° "
चांदी	१,०००° "
सोना	१,२५०° "
लोहा	१,५००° "

झाड़िनम को गलाना इतना कठिन है कि हम यह नहीं कह सकते कि वह कितने अंश की उष्णता से गलती है । और कार्बन को गलाना उस से भी कठिन है — उष्ण से उष्ण आगमें भी कार्बन अर्थात् कोइला सदा कठिन रहता है, और किसी ने नहीं सुना कि कोइले पिगल कर चूल्हे से बाहिर बहते हों ।

इस प्रकार हम देखते हैं कि उष्णता से सब पदार्थों में एक ही प्रकार का परिणाम होता है; अर्थात् यदि हम उष्णता को बहुत कम कर सकें तो सब पदार्थ जमकर बर्फ की तरह कठिन हो जायें; और यदि उष्णता को बहुत बढ़ा सकें तो सब वस्तु भाप की तरह वायवीय बन जायें, परिणाम एक ही प्रकार का होता है । अष्ट यह होगा कि पानी को और सब पदार्थों का नमूना मान कर देखा जावे कि उष्णता के कारण पानी में क्या क्या परिणाम होते हैं । पहिले इसको कठिन अवस्था में लो जबकि यह बर्फ की सूरत में होता है ।

(५८) पानी की शुद्ध उष्णता — थोड़ी सी बहुत ठंडी बर्फ लो; उसे पीस कर छोटे छोटे टुकड़े कर लो; और इस पिसी हुई बर्फ में चर्म मापक रख दो । कल्पना करो कि इस यंत्र को देख कर हमें मालूम हुआ कि उस का पारा ०° से २०° नीचे उतरा हुआ है । अब बर्फ को उष्ण करो; जब तक उस की उष्णता ०° तक न पहुँच जाय तब तक उस की उष्णता और कठिन पदार्थों की तरह बढ़ती रहेगी; परंतु यहां आकर ठहर जायेगी, और

जब तक बर्फ बाकी रहेगी तब तक आगे नहिं बढ़ेगी । यदि उष्णता बर्फ की उष्णता को अधिक नहिं करती तो और क्या करती है ? हमारा उत्तर है कि बर्फ को गलाती है; पहिले सारी उष्णता बर्फ की उष्णता बढ़ाने में खर्च होती थी, परंतु जब बर्फ की उष्णता ० तक पहुँच गयी तो उष्णता कुछ और ही काम करने लगी; अब उसकी सारी शक्ति बर्फ को गलाने पर खर्च होती है; और सारी बर्फ गलजाने के पीछे भी पानी केवल ० उष्ण होता है, अर्थात् यह पानी बर्फ से कुछ अधिक उष्ण नहिं होता । वस्तुतः ० परका पानी बराबर है ० की बर्फ और उस उष्णता के जिसको हम गुह्य उष्णता कहते हैं । यह नाम इस लिये रखा गया है कि इस उष्णता का चर्म-मापक पर कुछ असर नहिं होता ।

परीक्षा ४० — इस बात को सिद्ध करने के लिये कुछ बर्फ पीस कर टीन के बर्तन में डालो, और उस को एक दीपक पर उष्ण करो यहां तक कि थोड़ी सी बर्फ रह जाय । फिर यदि तम इस गली हुई बर्फ में चर्म-मापक डुबो दो, तो तम देखोगे कि उष्णता ० से बढ़ कर नहिं; अथवा यों कहो कि गली हुई बर्फ उतनी ही ठंडी होगी जितनी कि गलने से पहिले थी ।

(५६) भाप की गुह्य उष्णता — अब हमारी बर्फ गल कर पानी हो गयी है, और यदि हम इस पानी को उष्ण करते जायें तो इसकी उष्णता और यदार्थी की तरह साधारण प्रकार से बढ़ेगी यहां तक कि

उबलने के स्थान वा १०० तक पहुँच जायेगी । फिर इस की उष्णता बढ़नी बंद हो जायेगी, और यदि हम पानी को और भी उष्ण करते जायें तो केवल भाप बनती जायेगी, और उस की उष्णता १०० से अधिक नहीं होगी । वस्तुतः जैसे कि० की उष्णता वाली बर्फ को उतनी ही उष्णता वाला पानी बनाने में बड़त सी उष्णता खर्च हुई थी उसी प्रकार १०० की उष्णता वाले पानी को उतनी ही उष्णता वाली भाप बनाने में भी वड़त सी उष्णता खर्च होती है । इस लिये हमें यह बात कहने का अधिकार है कि — १०० की भाप बराबर है १०० के पानी और बड़त सी उष्णता के जिस को हम गुह्य उष्णता कहते हैं; और इस को गुह्य इस लिये कहते हैं कि उस का चर्ममापक पर कुछ असर नहीं होता ।

परीक्षा ४२ — इस बात को तम इस प्रकार सिद्ध कर सकते हो । एक बर्तन में थोड़ा सा पानी उबालो; और पहिले उबलते पानी में और फिर भाप में चर्ममापक डालो, तो मालूम होगा कि दोनों में बराबर उष्णता है, अथवा भाप उबलते पानी से कुछ अधिक उष्ण नहीं ।

इस प्रकार तमने देख लिया है कि बर्फ को पानी बनाने के लिये उष्णता चाहिये, और फिर पानी को भाप बनाने के लिये भी उष्णता चाहिये । हम माप सकते हैं कि० वाली पौण्ड भर बर्फ को उसी उष्णता वाला पौण्ड भर पानी बनाने में कितनी उष्णता चाहिये और मालूम हुआ है कि इस के वास्तु उतनी ही उष्णता चा-

दिये जितनी ७५ पौण्ड पानी को १° चढ़ाने के लिये दर-
कार होती है। जब हम कहते हैं कि पानी की गुहा उष्मा-
ता ७५ है तो हमारा यही अभिप्राय होता है। इसी प्रकार
मालूम हो चुका है कि भाप की गुहा उष्माता ५३७ है,
अर्थात् १००° के पानी को उसी उष्माता वाली भाप बनाने में
उतनी ही उष्माता चाहिये जितनी कि ५३७ पौण्ड पानी
को एक अंश अधिक उष्मा करने में लगती है।

इस प्रकार बर्फ को गलाने के लिये बड़त सी उष्माता
चाहिये, और इस लिये बड़त सा काल भी लगेगा। यह
ह बड़त अच्छी बात है, क्योंकि यदि गलती बर्फ थोड़ी
सी उष्माता से एक बार ही पानी हो जाती तो ईश्वर जाने
क्या होता? धरती का बड़त सा भाग बसने के योग्य न
रहता, क्योंकि बसंत ऋतु के किसी दिन धूप लगने से
सारी बर्फ पानी हो जाती, और पानी के प्रवाह इतने उ-
ल्लस कर आते कि जो कुछ आगे आता वहा ले जाते,
और धरती के बड़त से निम्न प्रदेश पानी में डूब जाते।
इसी प्रकार हमारे लिये बड़त अच्छा है कि उबलते
पानी को भाप बनाने में बड़त सी उष्माता खर्च होती
है, क्योंकि यदि उबलता पानी थोड़ी सी उष्माता से भा-
प बन जाता, तो सब हांडियों और इंजनों के बायलर
फूट जाते, और स्टीम इंजन कभी न बन सकते।

तुम को पहिले बताया गया है कि भाप वायु की
तरह एक गैस है, और तुम ने प्रवेशिका पुरस्क में
पढ़ा है कि यथार्थ भाप को तुम देख नहीं सकते।

तम ने देखा होगा कि जब कोई हांड़ी वेग से उबल रही हो तो हांड़ी के मुंह के पास कुछ भी दिखाई नहीं देता परंतु आध एक इंच परे एक बादल सा दिखाई देता है। अथवा जब इंजन से भाप निकलती है तो उस के फनल के पास कुछ दिखाई नहीं देता परंतु उससे कुछ दूर ऊपर एक बादल सा देख पड़ता है। यह अदृश्य वस्तु जो बाहिर निकलती है भाप कहलाती है, परंतु बादल सा जो नजर आता है उस में तो केवल पानी के छोटे छोटे किनके होते हैं जो भाप के टंडा होने से बनते हैं। इस लिये वह भाप यहीं, केवल पानी हैं। असली भाप वायु वा अन्य गैसों की तरह अदृश्य होती है।

(६०) उबलना और बुखार बनना — मैं तम को भाप के विषय में कुछ बताना चुका हूँ। यह भाप पानी के उबलने से बाहिर निकलती है। परंतु मेरा यह अभिप्राय नहीं कि उबलने से पहिले भाप सर्वथा नहीं निकलती; क्योंकि ऐसा कहना अतुल्य के विरुद्ध है। तमने देखा होगा कि यदि पानी की एक कड़ाही आग पर रखी जाय तो उबलने से बड़न पहिले भाप निकलने लग जाती है। तम ने अवश्य देखा होगा कि भीगी हुई वस्तु आग के पास रखने से सूख जाती है — अर्थात् उस का पानी भाप बन कर उड़ जाता है। जब भाप वा बुखार (क्योंकि इन दोनों शब्दों का एकहि अर्थ है) ऐसे पानी से निकलें जो उबलना न हो तो हम कहते हैं कि बुखार बन रहे हैं; परंतु

जब पानी उबलता है तो हम कहते हैं कि उबाल आ रहा है। भेद केवल इतना है। जब तम पानी को आग पर रखा, तो उष्णता दो काम करेगी— एक तो पानी को उष्ण करेगी और फिर पानी को बुरवार बनायेगी; परंतु जब पानी की उष्णता १००° तक पहुंच जाय तो पानी इस से अधिक उष्ण नहीं हो सकता; फिर आग का सारा बल पानी को भाप बनाने पर लगता है; और यह भाप केवल पानी के ऊपर से ही नहीं किंतु नीचे से भी निकलती है; इस लिये जों जों भाप के बुलबुले पानी से बाहिर निकलते हैं हम एक शब्द सुनते हैं, जिसको हम उबलना कहते हैं।

(६१) उबाल का स्थान दबाओ के आश्रय है— अब मैं ने तुम को यह बताना है कि गलती बर्फ की उष्णता की तरह पानी के उबालने की उष्णता नियत नहीं है; किंतु वायु के दबाओ के आश्रय है। यदि वायु का दबाओ घटाया जावे तो पानी १००° से नीचे ही उबलने लगे गा। तुम को याद होगा कि वायु का दबाओ पहाड़ों की चोटियों पर नीचे से अधिक होता है, क्योंकि चोटियों पर तुम्हारे ऊपर के वायु की ऊंचाई थोड़ी होती है, और इसी कारण उसका बोज वा दबाओ भी थोड़ा होता है। स्विट्जरलैंड देश के ब्लैंक पर्वत की चोटी पर जो तीन मील ऊंची है, पानी ८५° पर उबलने लगे गा। और यदि कोई मुसाफिर ब्लैंक पर्वत की चोटी पर कड़ाही में अंडा उबालने लगे

तो चाहे वृद्धों तक उबालता रहे अंडा सखत नहीं होगा, क्योंकि 25° इतने नहीं कि अण्डे की सफेदी को सखत कर सकें ।

यदि हम किसी बड़ी गहरी कान में पानी उबालें तो उबलने का अंश 100° से बड़त ऊपर होगा ।

परीक्षा ४२ — इस सुगम परीक्षा से तम को मालूम हो जायगा कि उबालने वाले अंश की उष्णता उस वायु वा गैस के दबाओ के आश्रय है जो पानी की पृष्ठ पर है । एक काच की बड़ी बोतल लो; उसे आधा पानी से भर दो, फिर कुछ काल तक पानी को उबालते रहो यहां तक कि भाप वर्तन से सास वायु निकाल दे । इस प्रकार उस बोतल में केवल पानी और पानी की भाप ही रह जायगी । अब उस के मुंह को डाट से खूब बंद करदो; और दीपक से परे हटा कर आंधा करदो, जैसा कि २६ वें चित्रमें दिखाया गया है । जब उबलना बंद होजाय, स्पंज से उसपर कुछ ठंडा पानी डालो; तो उसके भीतर का पानी फिर उबलने लगे गा । इस का कारण यह है कि ठंडा पानी डालने से पहिले उस वर्तन के पानी पर भाप का बड़त दबाओ था, और यह दबाओ उस को उबलने नहीं देताथा । परंतु ठंडा पानी डालने से भाप पानी हो गयी, और इस लिये दबाओ भी चूट गया; और क्योंकि पानी थोड़े दबाओ में बड़त आसानी से उबलता है, इस लिये उस वर्तन का पानी उबलने लगा था ।

चित्र २८



इस विषय के इस भाग को छोड़ने से पहिले तुम को बताना चाहिये कि गलने के समय, (अर्थात् जब कठिन अवस्था से द्रव अवस्था में परिणाम होता हो), कई वस्तु तो फैल जाती हैं और कई सिकड़ जाती हैं

परीक्षा ४१ — यहाँ कुछ बर्फ है; यह पानी से ढलकी जाती है, क्योंकि तुम देखते हो कि यह तुम्हारे सामने पानी पर तैरती है। इस लिये बर्फ से पानी बनने में बहुत सा संबोध होता है, और पानी से बर्फ बनने — अर्थात् जमने के व्यापार में बहुत सा फैलाव होता है। और यदि एक लोहे के मोटे बर्तन को पानी से भर दें, और ऊपर से खूब बंद कर दें तो पानी को जमाने से बर्तन के टूट जाने का संभव है। फौलाद और शायद छालवाँ लोहा भी गलने से सिकड़ जाता है; अथवा यों कहो कि जमने वा कठिन होने से पानी की तरह फैल जाता है। इस प्रकार फौलाद का टुकड़ा जो अंगारे की

तरह सलगता हो गली हुई फेंलाद पर तैर सकता है, और प्रायः फालवे लोहे का सलगता हुआ टुकड़ा गले हुए फालवे लोहे पर तैरने लगे। परंतु सोना चांदी और तांबा पिगलने से फैलते हैं, और कठिन होनेसे स-कड़ते हैं; इस लिये वह सांचे के छिद्रों में नहीं जासकते। इस लिये इन धातुओं के सिक्के सांचे में नहीं फल सकते, किन्तु उन को उष्ण लगाना पड़ता है।

परंतु गैस बनने से सब पदार्थ बहुत फैलते हैं, और एक मुकस्तर इंच उबलते पानी की भांति १,००० मुकस्तर इंच जगह रोकती है।

(६२) उष्णता के अन्य गुण — अभी हमने देखा है कि उष्णता से पदार्थ फैलते अर्थात् बड़े होजाते हैं, और उन की अवस्था बदल जाती है, अर्थात् कठिन से द्रवहो जाती है, और यदि फिर भी उष्ण करते जायें तो वायवीय होजाती है। हमने देखा है उष्णता कितना बलवाला पदार्थ है, इस से लोहे का कठिन से कठिन और टूट से टूट दाड़ा सफेद और मोम सा छीला होजाता है, और यदि अधिक उष्ण करें तो गैस बन कर उड़ जाता है।

उष्णता और कई तरह पदार्थों पर असर करती है, और विशेष करके रसायनिक बल के व्यापार को अधिक कर देती है। यथा थोड़ी उष्णता से कोइला वायु के आक्सीजन के साथ नहीं मिलेगा, और हम जब तक चाहें अपने कोइले रख सकते हैं। परंतु

जब उष्णता पड़चार्ई जावे तो मिलाप होता है, और इस मिलाप से भी उष्णता उत्पन्न होती है, इसी प्रकार मिलाप होता रहता है और हम कहते हैं कि कोइला जलता है ।

इसी प्रकार उस परीक्षा में जहां गंधक और तांबा मिलते हैं (रसायन तत्व (६) मिलाप करने के लिये पहिले उष्णता पड़चार्ई जाती है, परंतु जब मिलाप होने लगेतो उष्णता अपने आप उत्पन्न होती जाती है, और फिर दीपक से उष्णता पड़ चाने की आवश्यकता नहीं रहती, और सारा व्यापार अपने आप होता रहता है ।

(६३) अति शीतल मिश्र — हम को बताया गया है (रसा. त. ७) कि रसायनिक संयोग से उष्णता उत्पन्न होती है, और यह बात सदा देखी जाती है; परंतु कई पदार्थ जो एक दूसरे में लीन हो जाते हैं, उन के मिलाप से शीत उत्पन्न होता है । जैसे लून बर्फ में लीन हो जाता है, और उसके मिलाने से बड़त शीत उत्पन्न होता है, अथवायों कहो कि बड़त सी उष्णता रेंबी जाती है ।

परीक्षा ४४ — इस बात के सिद्ध करने के लिये गलती बर्फ में ऊट थोड़ा सा लून मिला दो; और इस मिश्र में तूर्म मापक रख कर देखो । नली का पारा ऊट ०° से नीचे उतर आयेगा । इस से जाना गया कि यह मिश्र गलती बर्फ से अधिक ठंडा है ।

प्रब देखना चाहिये कि इस का क्या कारण है ? उन दो वस्तुओं के मिलाने से एक द्रव पदार्थ बन गया है — वस्तुतः एक खारी पानी बन गया है । तम को बताया गया है कि जब कोई वस्तु कठिन से द्रव बनती है तो उस की उष्माता गुण्य हो जाती है — जैसे जब बर्फ पिगल कर पानी बनती है । यह खारी पानी द्रव पदार्थ होने के कारण बर्फ और लून की उष्माता का कुछ ग्रंश खा जाता है, अर्थात् गुण्य कर देता है; इस का फल यह होता है कि दोनों कठिन पदार्थों के मिलापसे एक बद्धत ठंडा द्रव पदार्थ उत्पन्न होता है । सो जब दो कठिन पदार्थ एक दूसरे में लीन हो जाते है, तो प्रायः उष्माता घट जाती है क्यों कि द्रव पदार्थ कुछ उष्माता को गुण्य कर लेता है । ऐसे पदार्थों के मिलाप से शीतल मिश्र उत्पन्न होते हैं ।

इसी प्रकार जो द्रव पदार्थ बद्धत जलदी बुखार बन कर उड़ जाय, वह बद्धत ठंडा हो जाता है, क्योंकि बुखार बनने के लिये उसे बद्धत सी उष्माता चाहिये, और जहां से यह उष्माता मिल सके वहां से निकाल लेता है; यथा यदि तम अपने हाथ पर कुछ ईंधर् उलो, तो बद्धत ठंडा लगता है, और फट बुखार बन कर उड़ जाता है; वस्तुतः बुखार बनने के लिये उसने बद्धत सी उष्माता तन्हारे हाथ से ली है । कई बार द्रव पदार्थों को बद्धत जलदी बुखार बनाकर उड़ाने से बद्धत शीत उत्पन्न होता है ।

परीक्षा ४५ — इस बात के सिद्ध करने के लिये किसी पेटले बर्तन में कुछ पानी डालो; एक दूसरे बर्तन में सल्फूरिक एसिड अर्थात् गंधक का तेजाब डालकर दोनो बर्तनों को वायु निःसारक यंत्र के रिसीवर में रख कर वायु निकाल लो । जितना जितना वायु का दबाओ छूटता जायगा यानी उतना ही शीघ्र बुखार बनेगा; और अपने में से इतनी उष्माता निकाल लेगा कि वह जम कर बर्फ हो जायगा ।

(६४) उष्माता का फैलना — अब हम इस विषय के दूसरे भाग की ओर जाते हैं, और इस बात का वर्णन करते हैं कि उष्माता में फैलने की उपयोगिता होती है ।

उष्मा पदार्थ सदा उष्मा नहीं रहेगा, किंतु आस पास के ठंडे पदार्थों में उस उष्माता का परित्याग करेगा । सदा ऐसा ही होगा, परंतु भिन्न भिन्न अवस्था के अनुसार भिन्न भिन्न प्रकार से होगा ।

परीक्षा ४६ — एक लोहे की सीख को आग में रखो; आग की कुछ उष्माता सीख के उस भाग में चली जायगी जो आग में है; और यह उष्माता सीख में आगे आगे फैलती जायगी, यहां तक कि आग से बाहिर वाला सिरा भी उष्मा हो जायगा, और तब उसको हाथ न लगा सकोगे । उष्माता के इस प्रकार सीख में फैलने को संचार कहते हैं ।

परीक्षा ४७ — फिर एक बड़ी बोतल लेकर

उस की दो तिहाई पानी से भर दो। फिर उसे आग पर रख दो। जब पानी के निचले परमाणु उष्ण होते हैं तो वह फैल कर हलके हो जाते हैं; फिर वह पानी के ऊपर चढ़ आते हैं जैसे कार्क का टुकड़ा पानी पर चढ़ आता है, और उन के स्थान में अधिक ठंडे और इस लिये, अधिक भारी परमाणु ऊपर से चले जाते हैं। इस लिये प्रतिक्षण नये नये परमाणु उष्ण होते जाते हैं; और थोड़ी देर पीछे सारा पानी उष्ण हो कर उबलने लगे गा। उष्णता के इस व्यापार का नाम कनवेकशन (अर्थात् प्रसार) है।

सूर्य से जो हमें उष्णता पड़चती है, उस का समाधान इन व्यापारों में से किसी के द्वारा नहीं होसकता। संचार और कनवेकशन इन दोनों व्यापारों में, कठिन वा द्रव पदार्थों के परमाणुओं द्वारा उष्णता पड़चती है; परंतु इस बात के लिये प्रमाण हैं कि हमारे और सूर्य के बीच में ऐसे कोई परमाणु नहीं हैं; और तिस पर यह भी जानते हैं कि सूर्य का प्रकाश और उष्णता ९ करोड़ मील से हमारे पास आठ मिनट से भी थोड़े काल में पड़च जाती है। इस से स्पष्ट प्रतीत होता है कि सूर्य की उष्णता जो हमारे पास आती है, बहुत ही गति से चलती है, और हमारे पास पड़चने में सूर्य और हमारे मध्यवर्ति परमाणुओं के उष्ण करने की अपेक्षा नहीं रखती। वस्तुतः बड़े शीत दिन में भी जब बहुत ठंडा वायु चलता हो, ऐसा होसकता है कि सूर्य की किरणों बड़ी तीव्रता हो। जिस व्या-

पार से सूर्य वा किसी और बड़े उष्ण पदार्थ की उष्णता हमारे पास आती है उस को किरणीकरण कहते हैं।

इस से मालूम हुआ कि तीन भिन्न प्रकारों से उष्ण पदार्थ की उष्णता ठंडे पदार्थ में पड़च सकती है; वह तीन यह हैं संचार, प्रसार और किरणीकरण। अब हम यथा क्रम इन सब का वर्णन करते हैं।

(१५) उष्णता का संचार— हम सीख को आग में रखने का वर्णन कर चुके हैं, और यह भी बता चुके हैं कि थोड़ी ही देर में सीख का दूसरा सिरा भी ऐसा उष्ण होजायगा कि उस को हाथ भी नहीं लगा सकेंगे। परंतु यदि धातु की सीख के स्थान में काच वा पत्थर की सीख का एक सिरा आग में डाला जावे तो दूसरा सिरा बहुत उष्ण कभी नहीं होगा, क्योंकि पत्थर में से उष्णता ऐसी अच्छी तरह संचार नहीं करती जैसा धातु में से करती है।


ऊन और पंख और भी अन्य संचारक हैं, और इसी लिये ईश्वर ने जीवों को इन्हीं दो वस्तुओं से ढांप रखा है; क्योंकि जीव की उष्णता प्रायः आस पास के पदार्थों से अधिक होती है, और यह उष्णता ऊन, पंख वा संबूर में से शीघ्र नहीं निकल सकती; और जीव इन्हीं वस्तुओं से आच्छादित होते हैं। इंजन के वायलर का भी यही हाल होता है; जब हम उष्णता को अंदर रखा चाहते हैं तो हम उस को ऐसी वस्तुओं से ढांप देते हैं जिन में से उष्णता बाहिर नहीं निकल सकती।

अल्पसंचारक द्रव्य दो काम देते हैं; एक तो उष्णता को बाहिर नहिं निकलने देते, दूसरा उसको भीतर भी नहिं जाने देते । यथा हम अपने शरीर की उष्णता अंदर रखने के लिये फलालैन पहनते हैं, अथ वा बर्फ के टुकड़े के गिर्द लपेटते हैं कि बाहिर की उष्णता उस को न पड़ सके । वस्तुतः फलालैन में से उष्णता जलदी संचार नहिं कर सकती, चाहे भीतर से बाहिर जाती हो चाहे बाहिर से भीतर ।

परीक्षा ४८ — इस बात का सिद्ध करना वज्रत आसान है कि भिन्न २ पदार्थों में उष्णता के संचार की शक्ति भी भिन्न २ होती है । तम चित्र में देखते हो कि दो दण्ड हैं, एक ताम्बे का और दूसरा लोहे का; उन के सिरे मिले हुए हैं, और वहांपर दीपक से उष्णता पड़चार्ई जाती है । जब दीपक को जलते कुछ काल हो चुके तो फासफोरस के दो छोटे छोटे टुकड़े लगे, और दीपक की लाट से हर ताम्बे के दण्ड पर एक टुकड़ा रखदो । उस को तत्काल आग लग जायगी । फिर दीपक से उतनी ही दूर लोहे के दण्ड पर दूसरा टुकड़ा रख दो; इस को आग नहिं लगेगी । इस से प्रतीत हुआ कि दीपक की उष्णता लोहे की अथेला तांवे में जलदी संचार कर गई ।

उष्णता के संचार से सर हम्फरी डेवी साहिब के बनाये सेफटी लैम्प अर्थात् रत्नादीपक का व्यापार अच्छी तरह समाधान होसकता है । इस दीपक का वर्णन


चित्र २०



पहिले रसायन तत्व में विलार से हो चुका है ।

(६६) उष्णता का प्रसार— यदि हम एक पानी से भरा झुआ बर्तन लेकर उस पर एक बर्तन उबलते तेल से भर कर तैरायें तो हम देखेंगे कि तेल की उष्णता वज्रत धीरे धीरे नीचे जायगी; वस्तुतः कुछ इंच नीचे उष्णता कुछ भी प्रतीत नहोमी । परंतु यदि पानी वाले बर्तन को ऊपर से उष्णता पड़ने के बदले नीचे से उष्णता पड़ना जावे, तो हम देखेंगे कि थोड़ेहि काल में पानी उष्ण हो कर उबलने लगेगा । हम पहिले कह चुके हैं कि जो परमाणु उष्ण होंगे

चित्र २१



वह हलके हो कर ऊपर चढ़ जायेंगे, और उन के स्थान में ठंडे और भारी परमाणु ऊपर से उतर आयेंगे । सो इसी प्रकार चढ़ेगा और उतार बराबर रहता है जैसा कि चित्र में शरों से दिखाया गया है । उष्ण पानी तो मध्य में से चढ़ेगा और ठंडा पानी किनारों के साथ साथ से नीचे उतरेगा ।

इस संसार में भी उष्णता के प्रसार के बड़त उदाहरण मिलते हैं, यथा सरोवरों का पानी जाड़ा पड़ने से ठंडा हो जाता है । ऊपर के परमाणु पहिले ठंडे होते हैं, और भारी होकर नीचे डूब जाते हैं, नीचे से उष्ण और हलके परमाणु उन के स्थान पर आजाते हैं । इस प्रकार थोड़े ही काल में साथ पानी ठंडा होकर लगभग ४° के रह जाता है । उस के पीछे जब और भी ठंडा किया जाय तो अन्य पदार्थों के विरुद्ध पानी सकुना छोड़ फैलने लगता है, और जब जम कर बर्फ हो जाता है, तो यह बर्फ पानी से हलकी होने के कारण उस पर तैरती रहती है ।

अब जो बर्फ पानी से भारी होती तो बनते ही डूब कर नीचे बैठ जाती, और ऊपर नया पानी आजाता, और थोड़ी ही देर में सारा सरोवर जम कर बर्फ हो जाता । परंतु जाड़ा बर्फ की केवल एक तरह में से गुज़र कर दूसरी तरह तक ही जमा सकता है, और यह व्यापार बड़त धीरे धीरे होता है, इस लिये किसी सरोवर के सदा जमा रहने का उर नहीं है ।

इसी प्रकार वायु में भी उष्णता के कारण प्रवाह उत्पन्न होते हैं, और इसी लिये चूल्हे का उष्ण वायु ऊपर चढ़ जाता है, और कमरे का ठंडा वायु उसके स्थान में आता रहता है; और वायुओं के प्रबन्ध में भी यही बात होती है; पृथ्वी के उस भाग पर जिस को हम मध्य रेखा कहते हैं, धूप बहुत पड़ती है, और वहां का वायु उष्ण हो कर ऊपर चढ़ जाता है। इस वायु के स्थान में पृथ्वी के ध्रुवों अर्थात् शीतल प्रदेशों से वायु के प्रवाह आते हैं। इस प्रकार मध्य रेखा के पास वायु के प्रवाह तो ऊपर उठते हैं, और उष्ण वायु को ऊपर ही ऊपर ध्रुवों की ओर लेजाते हैं, और दूसरे प्रवाह पृथ्वी के साथ लग कर चलते हैं, और शीत होने के पीछे फिर उस वायु को मध्य रेखा के पास लाते हैं। इन प्रवाहों को जो पृथ्वी के साथ लग कर रहते हैं, और जो ध्रुवों से मध्य रेखा की ओर आते हैं त्रेड विंड्स वा वाणिज्यमाहत् कहते हैं (क्योंकि वाणिज्य के लिये जहाजों के चलाने में इन से बड़ी सहायता मिलती है)।

(६०) प्रकाशक उष्णता और प्रकाश —

तीसरा प्रकार जिस से उष्ण पदार्थ अपनी उष्णता का परित्याग करते हैं किरणों द्वारा कहलाता है, और इसी के कारण सूर्य की उष्णता हम तक पहुंचती है। परंतु इस का उदाहरण छूँउने के लिये हम अपने चूल्हे से हार नहीं जायेंगे। यदि हम बड़ी आग के सामने खड़े हों तो हमारे मुँह और आंखों को उ-

घाता से दुःख पड़ने का । उबलते पानी की होड़ी से भी उष्णता की किरणें निकलती हैं, परंतु यह किरणें आग वा सूर्य की किरणों की तरह आंख में प्रवेश नहीं करती और उन से प्रकाश का अनुभव नहीं होता । यथा जब तम मट्टी के गोले को आग पर रखा, तो यह होगा कि गोला उष्ण होता जायगा, और इस लिये उसमें से उष्णता की किरणें निकलेंगी; परंतु यह किरणें काली होती हैं और आंखों पर इन का कुछ असर नहीं होता । जब और भी उष्णता पड़ने लगे तो उससे कुछ किरणें ऐसी भी निकलती हैं जो आंखों पर असर करती हैं, और वह गोला अंगार की तरह लाल हो जाता है, फिर इसका तेज पीला हो जाता है, और इसके पीछे सफेद, निदान वह गोला सूर्यके समान बड़े प्रकाश से चमकने लगता है । अब हम थोड़ा सा काल इन प्रकाशक किरणों के विषय में जिज्ञासा करेंगे ।

(६८) प्रकाश की गति— प्रकाश की गति पहिले पहिले डेनार्क देश के रोमर नामी एक ज्योतिषी ने मालूम की थी । इस बात के समझने के लिये हमें याद रखना चाहिये कि जब कोई बंदक दूर से चलाई जावे तो क्या होता है । हम प्रकाश देखते हैं, और फिर कई एक सेकण्ड के पीछे शब्द सुनाई देता है । इस लिये यह तो स्पष्ट प्रतीत हो गया कि जब बंदक चलती है तो शब्द तत्काल सुनाई नहीं देता, क्योंकि वह प्र-

काश से पीछे रह जाता है । परंतु क्या प्रकाश तत्काल पड़ने जाता है ? क्या ऐसा नहीं हो सकता कि शब्द और प्रकाश एक ही समय बंधक से चले हों, और दोनों को हि हम तक पड़ने में कुछ काल लगा हो, और प्रकाश आगे बढ़ कर हमारे पास पहिले पड़ने गया हो ? यह बात केवल आलोकन और परीक्षा द्वारा निर्णय हो सकती है; और आलोकन से ही रोमर ने भी इसे मालूम किया था । आकाश में एक बड़ा ग्रह है, उस का नाम वृहस्पति है । यह ग्रह कभी तो हम से बहुत दूर होता है और कभी हमारे समीप आजाता है । इस ग्रह के साथ बहुत से छोटे छोटे उपग्रह अर्थात् चंद्र हैं । इन में से एक उपग्रह नियत काल के पीछे इस ग्रह के विम्ब पर से होकर जाता है; सो यदि हम बड़ी शक्तिवाले दूरदर्शक (दूरबीन) से देखें तो ऐसा दृष्टि में आता है कि वह छोटा उपग्रह बड़े ग्रह के विम्ब पर से काले बिन्दु की तरह जा रहा है । अब रोमर ने मालूम किया कि जब वृहस्पति हम से बहुत दूर होता है तो देखा जाता है कि उस उपग्रह को वृहस्पति के विम्ब पर से गुजरने में जितना काल लगना चाहिये था उस से अधिक लगता है । उस ने यह समझा कि हम इस धरती के लोग इस उपग्रह का वृहस्पति के विम्ब पर से गुजरना उस समय नहीं देखते जब कि वह गुजर रहा हो, किन्तु प्रकाश को वृहस्पति से लेकर हमारी आंख तक पड़ने में भी उसी प्रकार काल लगता है जैसा कि श-

वृ को बंदक से चल कर हमारे कान तक पड़ने में ।

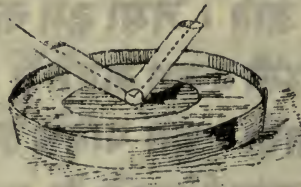
इस प्रकार तम देखते हो कि प्रकाश और शब्द दोनों को एक स्थान से दूसरे स्थान जाने में कुछ काल लगता है, केवल इतना विशेष है कि प्रकाश शब्द से बहुत शीघ्र चलता है — प्रकाश १८६,००० मील प्रति सेकण्ड के हिसाब से चलता है, और शब्द एक सेकण्ड में ११०० फुट चलता है । यद्यपि सूर्य हम से ९ करोड़ मील दूर है फिर भी प्रकाश वहां से चल कर केवल ८ मिनट में पृथ्वी पर आ पड़ता है, इस लिये यदि सूर्य बुझ जाय तो हम उसे ८ मिनट पीछे तक भी देख सकें।

परंतु यह न मान बैठना कि प्रकाश छोटे छोटे परमाणुओं का संघात है जो उष्ण पदार्थ से निकल कर एक सेकण्ड में १८६,००० मील उड़ जाते हैं । यदि ऐसा होता तो हम प्रकाश की एक किरण के लगने से टुकड़े टुकड़े हो जाते । जैसा हम कहते हैं कि शब्द कान में आया, उसी प्रकार कहते हैं कि प्रकाश की किरण आंख में आयी । हम पहिले कह आये हैं कि जब बंदक का शब्द सुनाई देता है तो यह न समजना चाहिये कि वायु के आणु सारी बाट चल कर तोप से हमारे कान तक पड़ते हैं । इसी प्रकार जब हम प्रकाश की किरण देखें तो इस से यह न समजना चाहिये कि प्रकाश वाले पदार्थ से निकल कर कुछ परमाणु हमारी आंख में घुस जाते हैं । दोनों अवस्थाओं में एक लहर वा तरंग हमारे और उस दूसरी वस्तु के मध्यव-

ति परावर्तन में से हो कर जाता है, और वह प्रहार एक परमाणु से दूसरे परमाणु तक उसी प्रकार यद्गुंचता है जैसा कि हम ने हाथी दांत के गोले की परीक्षा में दर्शा न किया था (४४) ।

(६९) प्रकाश का प्रतिबिम्बित होना — प्रकाश जब किसी धातु की साफ तल पर पड़ता है तो वहां से प्रति बिम्बित होता है । यदि तम शीशे के सामने जलती हुई मोमबत्ती लाओ, तो तम बत्तिका प्रति बिम्ब वा आकार शीशे में देखे जागे; अर्थात् बत्ती की किरणें शीशे पर पड़ती हैं, और वहां से प्रतिबिम्बित हो कर तम्हारी आंख में ऐसे यद्गुंचती हैं कि माने शीशे से ही आती हैं, और बत्ती से नहीं आती ।

चित्र २९



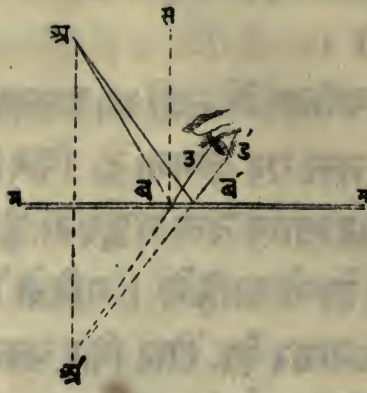
परीक्षा ४९ — प्रतिबिम्बित होने का व्यापार समझने के लिये एक घेतले बर्तन में कुछ पारा डालो, और जैसा २९ वें चित्र में दिखाया गया है पारे के ऊपर एक वक्र नली जो नीचे से खुली हो रहेवा, और नली के दहने सिरे से बत्ती का प्रकाश उस में जाने दो; अब यदि तम वायें सिरे पर अपनी आंख रहेवा, तो पारे

की तल से प्रति बिम्बित होकर आता हुआ बत्ती का प्रकाश देखोगे ।

सा इस परीक्षा में बत्ती का प्रकाश एक नली से होकर पारे की तल पर लगता है, फिर दूसरी नली द्वारा ऊपर चढ़ कर आंख तक पहुँचता है । परंतु इसमें दो बातें अवश्य होनी चाहियें । पहिले तो दोनो नलियों का छलान बराबर हो, और फिर एक नली दूसरी के ठीक सामने हो, अर्थात् यदि वह अकस्मात् नीचे गिर पड़े तो एक ही सीध में हों । इस लिये जब कोई प्रकाश की किरण किसी उजली तल से लगे तो प्रति बिम्बित किरण तल से उसी छलान पर उठती है, जिस पर कि असली किरण तल पर गिरती है; और यदि यह दोनो किरणों दबा कर उस तलके साथ लगाई जावें तो एक ही सीध में होंगी ।

ज्ञामिति के विना तुम प्रतिबिम्ब के नियमों को समझ नहीं सकते, परंतु ३० वें चित्र से शायद इस बात के समझने में कुछ सहायता मिले । इस चित्र में हम ने अ को एक प्रकाशक बिन्दु माना है, जिस से प्रकाश निकलता है, मर्मदर्पण है । कल्पना करो कि अ से दो किरणों अ-ब और अ-ब' आती हैं, और दर्पण को ब और ब' बिन्दुओं पर लगती हैं । फिर यह बड और बड' की सीध में देखने वाले की आंख तक चढ़ेंगी, और अब किरण के गिरने का छलान बड के उठने के छलान के बराबर है, और अब किरण के गिरने का छलान बड' किरण के उठने के छला-

चित्र ३०



न के बराबर है । अब यदि तम यह मान लो कि बउ और ब'उ' दोनो किरणों दर्पण के नीचे को बाढ़ाई गयी हैं; और वह अ' पर मिलती हैं, और यह बिन्दु दर्पण से उतना ही नीचे है जितना अ प्रकाशक बिंदु दर्पण से ऊपर है । इस लिये आंख को ऐसा प्रतीत होगा कि किरणों असल में अ' से आती हैं । इस लिये प्रतिबिम्बित मूर्ति अ' का प्रा-
तीतिक स्थान दर्पण के उतना दूर पीछे है, जितना दूर प्रकाशक बिंदु अ उस के सामने है ।

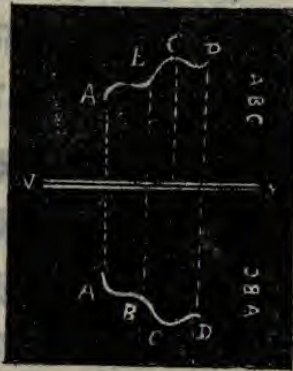
इस लिये जब तम किसी दर्पण के सामने खड़े हो, तो तम को दर्पण में अपनी मूर्ति उतनी दूर दर्पण के पी-
छे दिखाई देगी जितनी दूर तम दर्पण के सामने खड़े हो; यदि तम दर्पण के पास जाओ तो तम्हारा प्रतिबिंब भी पास आ जाता है, और यदि तम पीछे हट जाओ तो प्रति बिंब भी पीछे हट जाता है । परंतु तमको कुछ भेद भी प्रतीत होगा — अर्थात् तम्हारे रहने अंग मूर्ति में बा-
यें दिखाई देंगे परंतु और सब बातों में यह मूर्ति तम्हारा

धरा धरा उतार होगी ।

तुम ३१वें चित्र में देखते हो कि ऊपरले भाग की मूर्ति नीचे को है, और तुम यह भी देखते हो कि किस प्रकार अक्षर मूर्ति में दायें से बायें को जाते हैं, परंतु बायें से दायें को नहीं जाते ।

जब उजली प्रतिबिम्बक तल चपटी नहो तो कई बार उस पर अद्भुत मूर्तियाँ बन जाती हैं । यथा चर्ममापक के गोलाकार में पारे की उजली तल पर दृष्टि करो ।

चित्र ३१



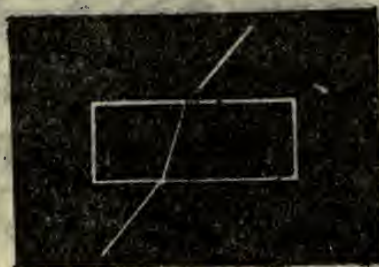
तुम उस में अपनी मूर्ति झाँटी और विकराल सी देखोगे, और सारे कमरे की मूर्ति इसी प्रकार की होगी, और कमरे के दूरवाले भाग बड़ज हिस्से दूरवाई देंगे ।

फिर हो उजले मध्यनिम्न दर्पण लो (जैसे कि ३१वें चित्र में लिये थे) । परंतु अब एक अक्षकेन्द्र में सलगता गोला और दूसरे में अपनी हाथ रखा, तो ऊट मालूम हो जायगा कि उष्णता के कारण वहाँ पर हाथ

जलने लगता है । वस्तुतः यदि इस प्रकार के दो बड़े प्रतिबिम्बक तम्हारे पास हों, और एक के अक्षकेन्द्र में आग जलती हो तो यद्यपि दोनों प्रतिबिम्बकों के बीच पचास फुट की दूरी हो तम दूसरे के अक्षकेन्द्र में कबाब पका सकते हो । इस का कारण यह है कि आग वाले अक्षकेन्द्र से उष्णता की किरणों उस के पास वाले दर्या पर लगती हैं और फिर ऐसी रेखाओं में प्रतिबिम्बित होती हैं कि दूसरे प्रतिबिम्बक के अक्षकेन्द्र में पड़ती हैं । इस प्रकार मानों एक अक्षकेन्द्र में तो आग जलती है और दूसरे में आग की मूर्ति होती है; और वह इतनी उष्ण होती है कि उस पर कबाब पक सकता है ।

(२०) प्रकाश का बर्ती भाव — यरीला पत्थर के बर्तन में एक छोटा और भारी पदार्थ रख दो, फिर पीछे हटते जाओ यहां तक कि वह पदार्थ बर्तन के किनारे से छिप जाय; फिर कोई और पुरुष उस में पानी डाले । अब वह छोटा पदार्थ फिर नजर आने लगे गा । इस का क्या कारण है ? क्योंकि प्रकाश की किरण उस पदार्थ से चल कर जब पानी से बाहिर आती

चित्र ३२



है तो और सीध में फिर जाती है, और यदि वह पदार्थ छोटी सी मछली होती तो वह भी तम को देख सकती।

इस प्रकार मालूम होता है कि यदि कोई किरण पानी पर तिरछी होकर पड़े तो इस प्रकार लुक जाती है कि पानी में प्रवेश करके थोड़ी तिरछी रह जाती है; तथा यदि कोई प्रकाश की किरण पानी से बाहिर निकले तो इस प्रकार लुक जाती है कि वायु में प्रवेश करके अधिक तिरछी हो जाती है। यदि पानी के स्थान किसी निर्मल शीशे में कोई प्रकाश की किरण प्रवेश करे तो भी वैसा ही होता है — अर्थात् तिरछी किरण शीशे में प्रवेश करके थोड़ी तिरछी रह जाती है। यदि हमारे पास एक चपटा और मोटा शीशे का टुकड़ा हो तो उसमें प्रकाश की किरण उस प्रकार प्रवेश करेगी जैसा कि ३२वें चित्र में दिखाया गया है। इस चित्र में हम देखते हैं कि उस किरण का पथ शीशे में प्रवेश करने से पहिले और उस का पथ शीशे में से निकलने के पीछे दोनों एक ही सीध में हैं (यद्यपि एक ही रेखा में नहीं); परंतु शीशे में से उस का पथ भिन्न है।

अब कल्पना करो कि वह शीशे का टुकड़ा चपटा नहीं किन्तु फ़ाने की तरह है, और खड़ा करके रखा हुआ है; और उसका पंदा ३२वें चित्र में दिखाया गया है; और जब खड़े हुए को देखें तो ३४वें चित्र की तरह दिखाई देता है। इस प्रकार के काच के टुकड़े को अंगरेजी में प्रिज़्म कहते हैं। आओ देखें कि प्रिज़्म में से गुजरते समय

चित्र ३३



प्रकाश की किरण किस प्रकार फिर जाती है। यह बात ३३वें चित्र में दिखाई गई है। उस से तम देख सकते हो कि किरण प्रिज़्म वा फ़ाने के मोटे भाग की ओर जुकी हुई है,

चित्र ३४ वस्तुतः किरण की सीध सर्वथा बदल गयी है।



इस से मालूम हुआ कि जब प्रकाश की कोई किरण फ़ाने के आकार वाले काच के टुकड़े में प्रवेश करे तो फाने के मोटे भाग की ओर जुक जाती है।

(५) लेन्स अर्थात् दर्पण और उन से उत्पन्न हुई मूर्तियों— अब शीशे के टुकड़े का इस तरह से आकार बदलाओ। कल्पना करो कि शीशे का टुकड़ा कुलचे की तरह गोल है; केवल मध्य में से बड़त मोटा और किनारे पर साफ और पतला है; वस्तुतः जब एक ओर से देखा जावे तो सर्वथा गोल प्रतीत होता है, और जब

चित्र ३५ किनारे की ओर से देखें तो ३५वें चित्र की तरह दिखाई देता है।



शीशे के ऐसे टुकड़े को लेन्स वा दर्पण बोलते

हैं। अब कल्पना करो कि बहुत सी किरणों कुछ दूरी से आकर इस दर्पण पर पड़ती हैं। तो क्या होगा? दर्पण गोल फ़ाने का काम करेगा, और यह असल में गोल फ़ाना ही तो है। मध्य में मोटा होने के कारण सारी किरणों दर्पण के मध्य की ओर जुड़ेंगी। प्रकाश की किरणों प्रायः एक बिन्दु पर आ मिलेंगी जैसा कि ३६वें चित्र से मालूम होगा।

चित्र ३६

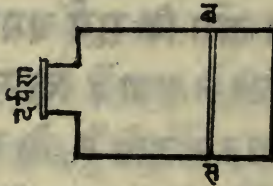


अब कल्पना करो कि सूर्य चमकता है, और तम ने दर्पण को इस प्रकार से रखा है कि सूर्य की किरणों उस की सारी पृष्ठ पर पड़ सकती हैं, तो यह किरणों दर्पण (लेन्स) की दूसरी ओर प्रायः एक बिन्दु पर अकट्टी हो जायेगी, और यदि तम इस बिन्दु पर कागज का टुकड़ा रखा तो तम सूर्य की एक प्रकाशवाली छोटी सी मूर्ति देखेगा, और वह इतनी उष्ण होगी कि कागज का टुकड़ा जल उड़ेगा; बल्कतः दर्पण आतशी शीशे का काम देगा।

परीक्षा ५२ — इस तरह के दर्पण से किसी पदार्थ की मूर्ति उत्पन्न हो सकती है। यहाँ मैंने एक ऐसा साधन बना रखा है जिस से एक मोमबत्ती की किरणों सारे दर्पण पर पड़ सकती है, और एक चिक-

ने कागज़ पर जो दर्पण के दूसरी ओर रखा है, भौमबत्नी की एक मूर्ति बन गयी है, केवल इतना विशेष है कि वह उलटी दिखाई देती है। और यदि तम कोई सा चमकीला पदार्थ दर्पण के कुछ दूर सामने रखे तो तम उस पदार्थ की एक छोटी सी मूर्ति बना सकते हो। यदि तम अपना मुंह दर्पण के सामने रखे, तो दर्पण के पीछे तम्हारे मुंह की एक छोटी सी मूर्ति बन जायगी। अब अकसी अर्थात् प्रतिबिंबित मूर्तियों बनाने वाला ठीक ऐसा हि करता है। उस के पास एक काला संदूक होता है, और उस के एक सिरे पर दर्पण लगा हुआ होता है जैसा

चित्र ३०



कि तम ३०वें चित्र में देखते हो। वह दर्पण को किसी चीज़ वा किसी मनुष्य की ओर लगा कर रखता है तो काले संदूक में उस चीज़ वा मनुष्य की मूर्ति बन जाती है; पहिले तो वह उस मूर्ति को एक ऐसे शीशे पर प-उने देता है जिसमें से बिना अंधेरे वा उजाले के और कुछ भी दिखाई नहिं देता; इस प्रकार वह देख कर जान सकता है कि वह मूर्ति ठीक है वा नहिं। फिर वह इस शीशे को निकाल लेता है, और उस के स्थान पर एक दूसरा शीशा रख देता है। इस दूसरे शीशे पर एक

ऐसी वस्तु लगी झर्र होती है जिस पर प्रकाश का असर हो सकता है। मंडूक के अंदर की मूर्ति ठीक इस रसायनिक पदार्थ पर पड़ती है, और उस मूर्ति के उजले भाग शीशे की छेद पर असर कर जाते हैं, परंतु काले भाग कुछ भी असर नहीं करते। इस प्रकार उस पदार्थ की मूर्ति अपना आकार जमा लेती है, परंतु इसमें उजले भाग काले और काले भाग उजले प्रतीत होते हैं, इस लिये इस मूर्ति को विपरीत बोलते हैं। इस विपरीत मूर्ति से यथावत् मूर्तियाँ उतर सकती हैं।

(७२) वृहदृशक शीशे — र्यगा सूक्ष्म पदार्थों को बड़ा दिखाने में भी काम आते हैं तब इनको वृहदृशक बोलते हैं। जिस वस्तु को तम बड़ी करके देखना चाहते हो शीशे को उस के बहुत निकट रखना पड़ता है; अर्थात् इस वृहदृशक द्वारा चांद वा ग्रह आदि किसी हर के पदार्थ को नहीं देख सकते, तम केवल निकट के पदार्थ को ही बड़ा करके देख सकते हो। यदि चांद वा किसी ग्रह को बड़ा करके देखना चाहो तो दो शीशे बर्तने पड़ेंगे; एक तो बड़ा शीशा होगा, जिस के द्वारा चांद वा किसी ग्रह की मूर्ति उसी प्रकार बन जायगी जैसा कि आतशी शीशे से सूर्य की छोटी सी मूर्ति बन गयी थी, और दूसरा वृहदृशक होगा जिस के द्वारा यह मूर्ति बड़ी हो जायगी।

सा जब किसी निकट वस्तु को बड़ा करके देखना हो तो वृहदृशक से काम लेंगे, परंतु यदि किसी हर की

वस्तु को बड़ा करना चाहे तो पहिले एक दर्पण द्वारा उस दूर के पदार्थ की अपने निकट एक मूर्ति बनाओ; फिर इस मूर्ति को असली वस्तु मान कर बृहद्दर्शक द्वारा बड़ा कर लो। इन दो शीशोंको, जिनमें से एक तो दूर के पदार्थ की मूर्ति बनाता है और दूसरा इस मूर्ति को बड़ा कर देता है, मिलाने से दूरदर्शक यंत्र बनता है। उर्ह में इसको दूरबीन बोलते हैं। यह शीशे नलियों में बंद किये रहते हैं कि श्वर उधर का प्रकाश उनपर न पड़ सके।

(७३) भिन्न भिन्न प्रकार के प्रकाश भिन्न २ प्रकार से चुकते हैं — मैं पीछे दिखा चुका हूँ कि प्रिज़्म अर्थात् शीशे के फ़ाने में से जाते समय प्रकाश की किरण चुक जाती है। अब मैं यह बताऊँगा कि सब प्रकार का प्रकाश एक ही तरह से नहीं चुकता। इधर चित्र में हम देखते हैं कि लाल प्रकाश की किरण प्रिज़्म वा शीशे के फ़ाने में से होकर किस प्रकार चुक जाती है। यदि किरण नारंजी रंग की होती तो कुछ अधिक चुकती, पीली होती तो इससे भी अधिक और यदि हरी होती तो पीली से भी अधिक, यदि नीली होती तो हरी से भी अधिक, और यदि गाढ़ी नीली होती तो नीली से भी अधिक, और यदि नील लोहित होती तो गाढ़ी नीली से भी अधिक चुकती। अब यदि इस किरण में लाल, नारंजी पीला, हरा, नीला, गाढ़ानीला और नील लोहित यह सातों रंग मिले हुए हों तो प्रत्येक रंग प्रिज़्म से निकलने के समय भिन्न २ प्रकार से चुके

और इस लिये श्रेणियों से अलग अलग प्रतीत हो। इस लिये यद्यपि प्रिज़्म में प्रवेश करते समय सब रंग मिले ऊपर से, परंतु उस से बाहिर निकल कर सब अलग अलग दिखाई देते हैं।

इस प्रकार प्रिज़्म प्रकाश की मिश्र किरण को तोड़ कर अलग अलग बना देता है, और इस प्रकार सारे रंग अलग अलग होजाते हैं।

शायद तब को यह बात आश्चर्य प्रतीत होगी कि सफ़ेद प्रकाश (जैसे सूर्य का प्रकाश) वस्तुतः लाल, नीला, पीला आदि पूर्बोक्त सब रंगों के मिलाप से बनता है, परंतु थोड़ा सा विचार करने के पीछे मालूम होजायगा कि यह बात ठीक है।

हम सब जानते हैं कि जब किसी मणि वा बिलौर वा श्लेष्म की बूंदों पर प्रकाश की किरणों पड़ें तो बड़े विचित्र रंग दिखाई देते हैं।

ऐसे पदार्थों में इन्द्रधनुष के सारे रंग ऊलकते हैं; इससे हमारे मन में यह बात उयजती है कि शायद इन्द्र धनुष के रंग भी उसी तरह दिखाई देने हों जैसा कि श्लेष्म की बूंदों में दिखाई देते थे। क्या इस के नाम मात्र से ही प्रकट नहीं होता कि आकाश में उसी प्रकार की अनगिनत बूंदें हैं जैसी कि घास पर हीरों की तरह चमकती हैं ? क्या इन सब आभासों का एक ही कारण नहीं ? यदि है तो वह क्या है ? यह कारण सर आर्इज़क न्यूटन साहिब ने मालूम किया था, और उसी ने पहिले पहिल सिद्ध किया था

कि सफेद प्रकाश वस्तुतः बहुत से विविध रंगों के मिलाप से बनता है, और वह किरणों विविध वस्तुओं में से गुजर कर एक दूसरी से अलग हो जाती हैं। हम पहिले कह चुके हैं कि मिश्र किरण को प्रिज़्म द्वारा विविध रंग की किरणों में विभक्त कर सकते हैं।

चित्र ३८



कल्पना करो कि किसी अंधेरे कमरे में कवाड़ के एक लंबे छिद्र में से धूप आती है (जैसे कि ३८ वें चित्र में दिखाया गया है)। अब यदि कोई प्रिज़्म न हो, और हम ३ से कवाड़ के छिद्र की ओर देखें तो हम प्रकाश के बिना और कुछ न देखेंगे। वस्तुतः हम छिद्र में से सूर्य को देख सकेंगे। अब प्रिज़्म रखा जैसा कि चित्र में दिखाया गया है; अब यदि ३ पर अपनी आंख रख कर देखें तो फिर वह छिद्र दिखाई नहीं देगा। परंतु यदि हम अपनी आंख को प्रिज़्म के मोटे भाग की ओर करें तो फिर हमें छिद्र का प्रकाश दिखाई देगा, पर अब उसका स्वरूप बहुत बदला हुआ होगा। अब पहिले की तरह पतली और उजली लकीर नहीं दिखाई देगी, परंतु विविध रंगों का चौड़ा पटका सा दिखाई देगा। एक शिरे पर लाल रंग होगा, और फिर यथाक्रम नारंगी, पीला, हरा,

नीला, गाढ़ानीला और नील लोहित रंग होंगे ।

यदि हम इस बात का ध्यान रखें कि सूर्य का स्फेद प्रकाश असल में बद्धत से रंगों का मिलाप है, तो जो हम पहिले कह चुके हैं उस से यह सब समाधान हो सकता है । इस लिये यह सिद्ध हुआ कि किरणों प्रिज़्म में से गुज़रते हुए केवल एक ही नहीं जाती, किन्तु ऊकाओ भी सब का बराबर नहीं होता, और इसी कारण हर एक तरह के प्रकाश के लिये प्रकाश की एक एक रेखा अपने अपने स्थान पर होगी; सो उस छिद्र की बद्धत सी स्थितियों एक दूसरे के पास बन जावेंगी; और प्रकाश का पटका सा बन जावेगा, एक सिरे पर लाल रंग होगा क्योंकि लाल किरणों थोड़ा मुकती हैं, और नील लोहित किरणों दूसरे सिरे पर होंगी, क्योंकि ऐसी किरणों बद्धत मुकती हैं । इस विचित्र रंगों वाले प्रकाश के पटके को स्पेक्ट्रम बोलते हैं, और यदि सूर्य के प्रकाश से बनाया जावे तो उसको सौर स्पेक्ट्रम बोलते हैं ।

(७४) पूर्वोक्त का संक्षिप्त वर्णन — प्रकाश और उष्णता के विषय में मैं तम को बद्धत कुछ बता चुका हूँ । पहिले तमने यह सीखा है कि जब तम पदार्थों को उष्ण करने लगे तो पहिले उनमें से काली किरणों निकलने लगती हैं, परंतु जब उष्णता बढ़ते जाओ तो किरणों प्रकाशक हो जायेंगी और आंखों पर असर करने लगेंगी । फिर तम को उजली तल से इन किरणों के प्रति बिंबित होने के विषय में कुछ बताया गया था । तम को यह भी बताया गया है कि जब वह पानी वा शीशे में से हो कर जायें, तो उन

का पथ बदल जाता है, और शीशे का प्रिज़्म किरणों को अपने मोटे भाग की ओर मुकाता है । फिर तम को यह बताया गया है कि लेन्स अर्थात् दर्पण चारों ओर से किरणों को अपने मध्य वा मोटे भाग की ओर मुकाता है, और यदि तम सूर्य का प्रकाश दर्पण पर पड़ने दो तो सूर्य की एक छोटी सी प्रकाशक मूर्ति बन जाती है, और इस मूर्ति से कागज के टुकड़े को आग लग जाती है, और यदि वहां पर हाथ रखें तो हाथ जलने लग जाता है ।

तम ने यह भी सीखा है कि दर्पण के द्वारा हम वाद और ग्रहों की मूर्ति बना सकते हैं, और यदि तम इस मूर्ति के पास आकर दृग्दर्शक शीशे से देखे तो बहुत बड़ा चन्द्र और बहुत बड़ा ग्रह देखेगा, और दो शीशों को इस प्रकार मिलाने से दूरदर्शक यंत्र बनता है । निदान यह भी बताया गया है कि भिन्न भिन्न रंगों की किरणों प्रिज़्म द्वारा भिन्न भिन्न प्रकार से मुक जाती हैं, और प्रिज़्म प्रकाश की किरण को विविध रंगों में विभक्त कर देता है ।

अब पूरा करने से पहिले हम उष्णता के स्वभाव के विषय में कुछ वर्णन करेंगे ।

(७५) उष्णता का स्वभाव— पहिले हम उष्णता को शब्द के साथ उपमा दे आये हैं, और तम को बताया आये हैं कि उष्ण पदार्थ में प्रयत्न होता है । अब हम फिर उसी उपमा को लेते हैं । शब्द में हम को दो बस्तुओं के विषय में जिज्ञासा करनी पड़ती है, पहिले तो शरणागने वाले पदार्थ के विषय में, और फिर उन प्रहारों के विषय

में जो इस पदार्थ से हमारे कान तक पड़चते हैं, और जिन के कारण हम शब्द सुनते हैं ।

तम को बताया गया था कि उष्ण पदार्थ के परमाणु बड़े वेग से थरथराते हैं, और जिस प्रकार थरथराने वाले पदार्थ से शब्द निकल कर कान में पड़चता है, उसी प्रकार उष्ण पदार्थ से प्रकाश निकल कर आंख तक पड़चता है । परंतु चंद्र अथवा फ्लेक आदि वस्तुओं में केंद्र कर थरथराहट उत्पन्न कर सकते हैं ; केवल उन पर प्रहार करना पड़ता है । तम चंदे पर भारी हथौड़ा वा मोंगरी लगाने हो, और वह थरथराने लगता है । चंदे के साथ लगाने से पहिले यह मोंगरी गति की अवस्था में होती है, इसी लिये इस में प्रयत्न भी होता है, और कर्म कर सकती है । चंदे को लगाने से पीछे उस का प्रयत्न कहां जाता है ? वस्तुतः इस का प्रयत्न चंदे में चला गया है, क्योंकि अब चंद्र थरथरा रहा है, और हम पहिले कह चुके हैं कि थरथराने वाले पदार्थ में प्रयत्न होता है । इस लिये उस प्रयत्न का नाश नहिं हुआ, वह केवल हथौड़े से चंदे में चला गया है । अब कल्पना करो कि एक लोहार सीसे के टुकड़े पर बड़े बल से हथौड़ा मारता है, उस से एक भद्दा सा शब्द निकलता है, परंतु चंदे की तरह कोई थरथराहट उत्पन्न नहिं होती । तो इस प्रहार का प्रयत्न कहां जाता है ? चंदे की तरह बदल कर थरथराहट तो नहिं होगया — तो फिर इस को क्या हो गया ? क्या यह नष्ट हो गया है ? हम स्मरण देते हैं कि यह बदल कर उष्णता हो गया है । इस

प्रहार से सीसा उषा होगया और उस के सारे परमाणु थरथराने लगे हैं, परंतु छंटे की तरह नहीं और यदि लोहार बहुत काल तक उस टुकड़े पर रह्योड़े मारता रहे तो में कह सकता हूं कि वह सीसा पिगल भी जाय ।

कई बालक पीतल के बटनों को लकड़ी के टुकड़े से धिसाते हैं । बटन को धिसाने में जो प्रयत्न खर्च होता है उस को क्या हो जाता है ? हम उत्तर देते हैं कि वह बदल कर उषाता बन जाता है; और उसी काल बटन को हथ लगा कर मालूम कर सकते हो ।

परीक्षा ५२— इस बात के सिद्ध करने के लिये कि प्रहार का प्रयत्न किस प्रकार उषाता में बदल जाता है, एक मोम की दियासलाई लो जिस के सिरे पर फासफोरस लगा हुआ हो । उस को पत्थर पर रख कर रह्योड़े वा पत्थर से प्रहार करो, तम देखो गे कि उषाता इतनी उत्पन्न होगी कि फासफोरस को आग लग उठेगी ।

इस प्रकार मालूम हुआ कि रगड़ से उषाता उत्पन्न होती है, और तम ने देखा होगा कि अंधेरी रातमें प्रतिबंधक चक्र से, जिस को अंगरेजी में ब्रेकहील कहते हैं, आग के चिंगारे निकलते हैं । ऐसी सब अवस्थाओं में विद्यमान दृश्य प्रयत्न उस प्रकार के प्रयत्न में बदल जाता है जिस को हम उषाता कहते हैं; भेद केवल इतना ही है कि दृश्य प्रयत्न से सारा पदार्थ गति करता है, और उस के सारे परमाणु एक ही दिशा में एकहि दिशा में गति करते हैं, परंतु उषाता में भिन्न भिन्न परमाणु बहुत सी-

जुता से आगे पीछे गति करते हैं, और सारे का सारा पदार्थ गति नहीं करता । इस प्रकार तमने देख लिया कि दृश्य प्रयत्न उष्णता में बदल सकता है, और मैं तम को यह भी बताऊंगा कि उष्णता फिर कुछ न कुछ दृश्य प्रयत्न में बदल सकती है । स्टीम इंजन में सारा काम कौन करता है ? क्या वाइलर का पानी अग्नि से उष्ण नहीं होता ? इस स्थान पर जलते कोइलों की उष्णता रूप प्रयत्न का एक भाग वस्तुतः उस दृश्य प्रयत्न में बदल जाता है जिस से जार ऊपर नीचे गति करती है, अथवा चक्र घूमता है ।

वस्तुतः स्टीम इंजन का सारा कर्म उष्णता से निकाला जाता है । इस प्रकार तम ने देख लिया है कि हम विद्यमान प्रयत्न को उष्णता में बदल सकते हैं; तथा स्टीम इंजन में हम उष्णता को फिर विद्यमान प्रयत्न में बदल सकते हैं,

उद्भूतविद्युत् पदार्थ ।

(२६) संचारक तथा असंचारक— दो हजार वर्ष से अधिक काल हुआ है कि लोग इस बात को जानते थे कि जब त्र्यामणि के टुकड़े को रेशमी कपड़े से रगड़ें तो वह हलके पदार्थों को खेंचने लगता है; और लग भग तीन सौ वर्ष के रूप में कि डाक्टर मिलबर्ट ने यह सिद्ध कर दिया था कि गंधक, लाव, और काच आदि वस्तु से पदार्थों में यह त्र्यामणि का सा गुण होता है ।

यहां से हमारी विद्युद्विद्या का थोड़ा बहुत प्रारंभ हुआ, यह विद्या पिछले थोड़े से वर्षों में इस उत्कर्ष को पंहुंची है कि हम यूरोप और अमेरीका के बीच एक सेकण्ड से भी थोड़े काल में संदेश भेज सकते हैं ।

परीक्षा ५३— एक धातु का दंड और एक काच का दंड लो । पहिले काच के दंडे और एक रेशमी कपड़े के टुकड़े को उषा करके काच को रेशमी कपड़े से रगड़ो, तो काच में कागज और सरकड़े के गुद्रे के छोटे छोटे टुकड़े खंचने का गुण उत्पन्न होगा, परंतु यह गुण उसी स्थान में उत्पन्न होगा जिस को तमने रेशमी कपड़े से रगड़ा था। रगड़ने से काच में एक नया गुण तो उत्पन्न हो गया, परंतु यह गुण सारे दण्डे में नहीं फैल सकता । यहाँ तक काच का वर्णान होलिया । अब धातु के दण्डे को लेकर चलते विद्युत् यंत्र से छू दो, तो हम देखेंगे कि धातु में भी वहि गुण उत्पन्न होजाय गा, अर्थात् यह भी कागज आदि हलके पदार्थों को खंचने लगे गा, परंतु इस में यह गुण सब जगह फैल जाय गा । इस से सिद्ध हुआ कि धातु पर विद्युत् का असर फैल सकता है, परंतु काच पर नहीं फैलता । इस लिये काच को असंचारक और धातु को संचारक बोलते हैं । काच पर न उषाता अच्छी तरह फैल सकती है न विद्युत्, परंतु धातु पर यह दोनों वस्तु फैल सकती हैं । कोइले, एसिड, पानी में लीन हो जाने वाले लवण, पानी, और जीवों के शरीर वस्तुसंचारक हैं, परंतु धातु के बराबर नहीं; तथा रबर,

सूखा वायु, रेशम, काच, मोम, गंधक कपूर, और लाव यह सब अल्प संचारक हैं ।

विद्युत् संबंधी परीक्षाओं में कृतार्थ होने के लिये इस बात का ध्यान रखना चाहिये कि जब एक बार विद्युत् प्राप्त हो तो उस को निकलने न दें । हमें चाहिये कि उस को असंचारक पदार्थों से ढांप दें । इस लिये शुद्ध वायु में परीक्षा करनी और जिस पदार्थ में विद्युत् हो उस को काच के सहारे पर रखना बहुत अच्छा है ।

(७७) दो प्रकार की विद्युत् — परीक्षा ५४—


अब मैं तुम्हें इस बात का निश्चय कराऊंगा कि विद्युत् दो प्रकार की होती है । इस बात को सिद्ध करने के लिये वह यंत्र बरतते जो ३५ वें चित्र में दिखाया गया है । इस में एक छोटी सी सरकंडे के गुद्दे की गोली रेशम के तागे द्वारा एक काच की उंडी से लटक रही है । यहिले तो एक शीशे का उंडा लेकर उसे रेशमी कपड़े से रगड़ो, और रगड़े हुए उंडे से गुद्दे की गोली को छू दो । इस से शीशे के उंडे से विद्युत् गुद्दे की गोली में चली जायगी, और बाहिर न निकल सकेगी, क्योंकि रेशम का तागा, काच का सहारा और मोम का खुशक वायु यह सब असंचारक हैं । अब यदि तुम ध्यान धर के देखो तो मालूम होगा कि जब शीशे का उंडा एक बार गुद्दे की गोली को छू चुके तो, फिर यह गोली शीशे की और खिंची नहीं आयगी, किंतु उस से धीरे धटने लगेगी । अब एक लाव की बत्ती उघाओ और खुशक फलालैन पर रगड़ो,

और इस बत्ती को गुट्टे की गोली के पास लाओ; तब देखेंगे कि वह गुट्टे की गोली जो रगड़े हुए शीशे से घरे भागती थी रगड़ी हुई लाख की ओर खेंची आयगी ।

इस प्रकार मालूम हुआ कि गुट्टे की गोली पहिले रगड़े हुए शीशे के साथ एक बार छूने से उस शीशे से घरे रहने लगेगी; परंतु रगड़ी हुई लाख उसे खेंच लेगी ।

अब यदि हम इसी क्रिया को उलटी रीति से करते और गुट्टे की गोली को पहिले रगड़ी हुई लाख से छूते, तो फिर गोली उस लाख से भागने लगती और रगड़े हुए शीशे की ओर खेंची आती ।

चित्र १६



इस से यह जाना गया कि विद्युत् दो प्रकार की होती है, अर्थात् एक तो वह जो रगड़े हुए शीशे से उत्पन्न होती है, और दूसरी जो रगड़ी हुई लाख से उत्पन्न होती है ।

वात यह है कि जब हमने पहिले गुट्टे की गोली को रगड़े हुए शीशे से छू दिया तो शीशे की विद्युत् का एक ग्रंथ गोली में चला गया । अब गोली रगड़े हुए शीशे से

परे भागने लगी । इस से सिद्ध हुआ कि जिन पदार्थों में एक प्रकार की विद्युत् भरी हो वह एक दूसरे को परे रहते हैं । परंतु यदि गुद्दे की गोली में रगड़े हुए शीशे की विद्युत् भरी हो, तो लाख उसे खेंच लेगी, और यदि रगड़ी हुई लाख की विद्युत् भरी हो तो रगड़ा हुआ शीशा उसे खेंच लेगा । इस से यह सिद्ध हुआ कि जिन पदार्थों में विपरीत प्रकार की विद्युतें भरी हों वह एक दूसरे को खेंच लेते हैं ।

(७८) जब तक पदार्थ रगड़े न जावें तब तक उन में दोनो प्रकार की विद्युत् मिली जली रहती है— हम कल्पना कर सकते हैं कि प्रत्येक पदार्थ में कुछ न कुछ विद्युत् दोनो प्रकार की मिली जली रहती है, और रगड़ने से हम केवल दोनो प्रकार की विद्युतों को अलग कर देते हैं । इस लिये जब हम लाख के टुकड़े को फलालैन से रगड़ें तो हम केवल दो प्रकार की विद्युतों को एक दूसरी से अलग कर देते हैं— एक प्रकार की विद्युत् तो लाख में ही रहती है, और दूसरे प्रकार की फलालैन में पीछे रह जाती है । इसी प्रकार जब हम शीशे को रेशमी कपड़े पर रगड़ते हैं तो हम केवल दो प्रकार की विद्युतों को अलग कर डालते हैं, एक तो शीशे में रह जाती है, और दूसरी रेशमी कपड़े में । जहां रगड़ने से विद्युत् उत्पन्न होती है, वहां यहि नात होती है; और यह नहिं हो सकता कि एक प्रकार की विद्युत् उत्पन्न करें और ठीक

उतनी ही दूसरे प्रकार की विद्युत् उत्पन्न नहो । निदान यह सिद्ध हुआ कि हम विद्युत् को उत्पन्न नहीं करते, केवल दो प्रकार की विद्युतों को एक दूसरी से अलग कर डालते हैं ।

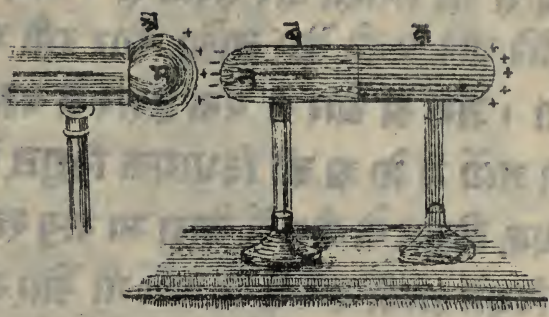
शीशे के डंडे को रेशम के साथ रगड़ने से जो विद्युत् प्रकट होती है उस को हम विधायक कहते हैं, और जो लाख में प्रकट होती है उस को हम निषेधक कहते हैं । यह दो प्रकार की विद्युत् में भेद करने के लिये शब्द मात्र हैं ।

(७९) रगड़े हुए पदार्थों का न रगड़े हुए पदार्थों पर असर— हम देख चुके हैं कि एक ही प्रकार की विद्युतें एक दूसरी को परे हटाती हैं, परंतु भिन्न प्रकार की विद्युतें एक दूसरी को खिंचती हैं । अब हम ने यह मालूम करना है कि निम्न लिखित अवस्था में क्या होगा कल्पना करो कि (४० वें चित्र में) अ एक पीतल का खाली गोला है, और उस के बायें हाथ का नल भी पीतल का है, और यह शीशे के ऊपर टिकाये हुए हैं कि अ में जो विद्युत् हो वह बाहिर न निकल सके ।

ब और क दो और पीतल के नल हैं, और इस तरह जुड़े हुए हैं कि केवल मध्य में से अलग हो सकते हैं, और वहां तुम देखते हो कि चित्र में एक लकीर सी बनी हुई है, ब और क दोनों काच के पायों पर टिके हुए हैं कि उन की विद्युत् बाहिर न निकल सके ।

अब कल्पना करो कि अ में विधायक विद्युत् भी है,

चित्र ४०



और ब और क में विद्युत् प्रकट नहीं है । अब ब और क को अ की ओर सरकाओ । ब और क में अभी विद्युत् प्रकट नहीं हुई, इस लिये उन की दोनों विद्युतें अभी तक मिली जुली हैं । परंतु जब तम उन को अ की ओर सरकाओगे, तो अ की विधायक विद्युत् ब की निषेधक विद्युत् को अपनी ओर खेंचेगी, और विधायक विद्युत् को क के दाहने सिरे पर हटा देगी (जैसा कि चित्र में दिखाया गया है) ।

अब यदि हम क को ब से अलग कर लें, और फिर ब को अ से, तो ब में कुछ निषेधक और क में कुछ विधायक विद्युत् होगी, परंतु अ की विद्युत् यों की तौर रहेगी ।

वस्तुतः हम ने अ की विद्युत् द्वारा ब और क की दो विद्युतों के एक भागको अलग कर लिया है, और अ से हम जितनी बार चाहें यह काम ले सकते हैं । अ की विद्युत् ने ब और क की विद्युतों को अलग करने में जो व्यापार किया उसको हम वैद्युत प्रतिष्ठापन बोलते हैं ।

(६०) वैद्युत स्फुलिंग — हम एक और प्रकार से भी परीक्षा कर सकते हैं। अब ब और क को धीरे धीरे अ की और लाओ, और इसी प्रकार करते जाओ। जब अ और ब एक दूसरे के बहुत ही समीप आ जायेंगे तो अ की विधायक विद्युत् और ब की निषेधक विद्युत् के बीच में थोड़ा सा वायु रह जायगा, निदान विद्युत् उतनी बलिष्ट हो जायेगी और वायु उतना थोड़ा रह जायगा कि दोनों विद्युत् दौड़ कर मिल जायेंगी, और एक स्फुलिंग निकलता हुआ दिखाई देगा। इससे अ की विधायक विद्युत् का कुछ भाग और ब की निषेधक विद्युत् सारी की सारी निकल जायगी। अब यदि हम ब और क को अलग कर लें, तो क में कुछ न कुछ विधायक विद्युत् बची रहेगी, वस्तुतः जितनी विधायक विद्युत् अ से निकल गयी है, उतनी ही क में आगयी है। सोचो समझना चाहिये कि मामों अ की विद्युत् का कुछ अंश क में चला गया है।

(६१) विविध परीक्षा — जो कुछ हमने विद्युत् के संचार के विषय में लिखा है, कई आसान और आश्चर्य परीक्षाओं द्वारा सिद्ध हो सकता है, पर यह याद रखना चाहिये कि इन परीक्षाओं में काच के यंत्र सर्वथा रुब-सक और उष्ण होने चाहिये।

परीक्षा ५५ — तम ४१ वें चित्र में देखते हो कि एक ऐसा यंत्र है जिसके द्वारा हम विद्युत् का होना मालूम कर सकते हैं। इसका नाम सवर्ण पत्र विद्युदर्श-

क है । तबसे इस का व्यापार दिखाने के लिये पहिले हम इस के सिरे पर के गोले में कुछ विधायक विद्युत् भर देते हैं । यह विद्युत् ऊट सोने के पत्रों में चली जायगी, क्योंकि इन में और गोले में वैद्युत् संबंध है । अब इन दोनों पत्रों

चित्र ४१



में एक ही प्रकार की विद्युत् भरी है, इस लिये वह एक दूसरे से परे हटेंगे (जैसा कि तम चित्र में देखते हो) ।

परीक्षा ५६— अब विद्युत्दर्शक में विधायक विद्युत् तो भर गई; आओ इस के गोले के पास शीशे की उंडी रगड़ कर लावें; यह लो सोने के पत्र एक दूसरे से और भी परे हट गये । इस का कारण यह है कि रगड़े हुए शीशे की विधायक विद्युत् गोले की मिश्रित विद्युत् को अलग अलग कर के नियेधक को तो अपनी ओर खेंच लेती है और विधायक को सोने के पत्रों की ओर हटा देती है । सो यदि पत्रों में कुछ विधायक विद्युत् पहिले से भरी हो तो वह एक दूसरे से और भी परे हट जायेंगे ।

परीक्षा ५७— यदि विद्युत्दर्शक में विधायक विद्युत् भरी हो और हम एक लाख की उंडी रगड़ कर उस के गोले के पास लावें तो सोने के पत्र परे नहीं हटेंगे, किंतु आपस में मिल जायेंगे । इस का कारण यह है कि रगड़ी हुई लाख की नियेधक विद्युत् गोले की मिश्रित

विद्युत् का विच्छेद कर देती है, और विधायक को अपनी और खेंच कर निषेधक को सोने के पत्रों की ओर हटा देती है। परंतु सोने के पत्रों में पहिले विधायक विद्युत् भरी थी। इस का एक अंश तो निषेधक विद्युत् के पड़ने से नष्ट होजायगा, इस लिये पत्र आयस में मिल जायेंगे।

परीक्षा ५८ — हमारे पास एक पीतल का खोखला गोला है, जो काच के पाए पर टिका हुआ है। अब इस को चलते विद्युत् यंत्र के पास लाओ तो एक छोटी सी चिंगारी निकलेगी। अब खाली गोले को उस भाग को, जो यंत्र से परे है, अंगुली से छू दो तो बड़ी चिंगारी निकलेगी।

इस परीक्षा से चिंगारी का कारण जो (८०) में वर्णन हो चुका है, अच्छी प्रकार समझ में आजाता है। यंत्र की विधायक विद्युत् गोले की निषेधक विद्युत् को अपनी ओर खेंचती है, और विधायक को यथासंभव हर हटा देती है। परंतु यह गोला काच के पाए पर रखा है, इस लिये विधायक विद्युत् बढ़त हर नहीं जाती, और न अच्छी तरह दोनो विद्युतें अलग हो सकती हैं; इस का फल यह होता है कि एक शिथिल सी चिंगारी निकलती है। परंतु जब तम पीतल के खाली गोले को छू दो तो उस की विधायक विद्युत् हमारे प्रायः में से हो कर धरती में चली जाती है, और इस तरह दोनो विद्युतें बढ़त हर अलग हो जाती है, इसी लिये बड़ी चिंगारी निकलती है।

(८२) नोकों का असर — पिछली परीक्षा में यदि तम पीतल के गोले को बराबर छूते रहो, और

विद्युद्यंत्र भी चलता हो तो बड़त सी चिंगारियों हमारे शरीर में से हो कर पृथ्वी में जायेंगी, और उन से हम को कुछ पीड़ा भी होगी । असल में विद्युद्यंत्र का स्फुलिंग और बिजली की चमक एक ही वस्तु है — केवल इतना भेद है कि बिजली की चमक एक बड़ा स्फुलिंग होता है । सो जिस प्रकार किसी मनुष्य पर बिजली गिरती है तो विद्युत् उसके शरीर में से हो कर पृथ्वी में जाती है, उसी प्रकार जब हम पिछली परीक्षा के गोले को छूते हैं तो विद्युत् हमारे शरीर में से होकर पृथ्वी में जाती है ।

परीक्षा २९ — अब उस गोले के साथ एक नोक लगा दो, और उस यंत्र के विद्युत्कोष के पास इस नोक को ले जाओ, और फिर गोले को अंगुली से छू दो । अब विद्युद्यंत्र से चिंगारियों निकलनी बंद हो जायेंगी, किंतु विद्युत् का एक प्रवाह बंध जायगा । वस्तुतः नोकदार चीजें विद्युत् को उत्पन्न होने ही प्रीति निकाल देती हैं और उसे अकन्ना होकर चिंगारी बनने का अवकाश नहीं देती । अब हम ने उन धातु के कंडुकों अर्थात् संचारकों का फल मालूम कर लिया है जो ऊंचे मंदिरों को बिजली से बचाने के लिये लगाये जाते हैं । यह नोकदार धातु के संचारक विद्युत् को उसी प्रकार चुपचाप पृथिवी में लेजाते हैं जैसे कि २९ की परीक्षा में गोली की नोक लगई थी; और जैसा उस परीक्षा में गोली की नोक के कारण मेरा हाथ चिंगारी से बचा रहा था, उ-


सी प्रकार संचारक लगाने से बड़े २ मंदिर विजली से ब-
चे रहते हैं ।

फ्रेंसिस नामी एक अमेरीका देश के विद्वान् ने
पहिले पहिल मालूम किया था कि विजली और विद्युत्
शक्ति एक ही पदार्थ हैं— भेद केवल इतना है कि वि-
जली का स्फुलिंग कई मील लंबा होता है, और विद्युत्
का स्फुलिंग एक दो इंच होता है ।

(८३) विद्युद्यंत्र— अब तम विद्युद्यंत्र की ब-
नावट को समझ सकते हो । इस यंत्र के दो भाग होते हैं—
एक से तो विद्युत् उत्पन्न होती है और दूसरे में अकृषी
होती जाती है ।

सब से विख्यात वह यंत्र है जिस में एक बड़ा शी-
शे का चक्र घूमने से विद्युत् उत्पन्न होती है (देखो चित्र ४१) ।
जब इस चक्र को फेरते हैं तो वह दो जोड़ी गदियों से र-
गड़ता हुआ जाता है । इन में से एक जोड़ी नीचे और दू-
सरी ऊपर लगी हुई होती है । यह गदियें प्रायः चमड़े

चित्र ४२



की होती है, और इन में चौड़े के बाल भरे होते हैं कि शीशे के चक्र को अच्छी तरह दबाती रहें। इन गदियों के चमड़े पर एक मुलायम धातु लगा होता है। यह धातु इस प्रकार बनाया जाता है कि एक अंश जस्त, एक अंश रंग और दो अंश पारे को मिला कर पिगलाते हैं। एक धातु का संगल भी होता है जो दोनो गदियों के नीचे से होकर पृथिवी तक पहुँचता है। जब शीशे के चक्र को फिराये तो विधायक विद्युत् शीशे में उत्पन्न होती है, और निषेधक गदियों में। गदियों की निषेधक विद्युत् संगल द्वारा पृथ्वी में चली जाती है, और उस में फैल कर लुप्त होजाती है। अब निषेधक विद्युत् तो निकल गयी, केवल विधायक शीशे के चक्र पर बाकी रह गयी। शीशे के गिर्द दो पीतल के उँडे हैं, और यह एक धातु के बड़े नल से जिस को विद्युत्कोष कहते हैं लगे हुए होते हैं (देखाचित्र)। यह विद्युत्कोष शीशे के पायों पर टिका हुआ होता है कि जितनी विद्युत् इस में आवे बाहिर न निकलने पावे। शीशे के पास वाले दोनो उँडों में धातु की नोकें लगी हुई होती हैं। तम को बताया गया है कि यह नोकें विद्युत् को बद्धत खेंचती हैं। इस का यह फल होता है कि यह नोकें शीशे की विधायक विद्युत् को खेंच कर विद्युत्कोष में ले जाती हैं। यहाँ यह विद्युत् ठैरी रहती हैं क्योंकि विद्युत्कोष शीशे के पायों पर टिका है। जो शीशे के चक्र को बद्धत देर तक फेरते रहें तो विद्युत्कोष में बद्धत

विद्युत् जमा हो जाती है ।

परीक्षा ६० — जब विद्युद्यंत्र के कोष में विद्युत् भरी हो, और मैं अपनी अंगुली उस के पास ले जाऊँ, तो अंगुली और विद्युत्कोष के बीच में एक चिंगारी निकलती हुई दिखाई देती है । इस का कारण यह है कि मेरी अंगुली में दोनो प्रकार की विद्युत् मिली जुली थी, अब विद्युत्कोष की विधायक विद्युत् उन को अलग कर देती है, और विधायक को मेरे पाओं द्वारा पृथ्वी में हटा कर निषेधक को अपनी ओर खिंचती है ।

फिर दोनो विद्युत् — अर्थात् विद्युत्कोष की विधायक विद्युत् और अंगुली की निषेधक विद्युत् — वायु में से हो कर एकट मिल जाती हैं और एक चिंगारी उत्पन्न होती है ।

(८४) लेउन का मर्तबान — परीक्षा ६१ — जब तम अपनी अंगुली विद्युद्यंत्र के पास लाते हो तो चिंगारी निकलती है और ऐसा मालूम होता है कि तमहारी अंगुली में कुछ चुभ गया, परंतु कोई बड़ा थक्का नहीं लगता । जो यह चाहे कि तमें थक्का लगे तो लेउन के मर्त-

चित्र ४३



बान से काम लेना चाहिये । इसका आकार ४३वें चित्र में दिया है । यह काच का मर्तबान होता है; इस के अंदर और बाहिर गर्दन से नीचे गोंग की पन्नी मंछी हुई होती है । ए-

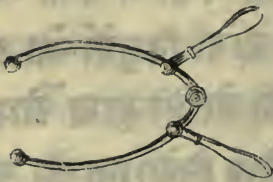
क पीतल की डंडी जिस के सिरे पर एक गोली होती है,

काक में से जाकर अंदर पत्नी से लगी होती है । इस प्रकार मर्तबान पर दो पत्नियों हुईं, एक अंदर और दूसरी बाहिर, और यह एक दूसरी से सर्वथा अलग हैं, क्योंकि शीशे में से विद्युत् का संचार नहीं हो सकता । अब यदि मर्तबान को बाहिर की पत्नी से हाथ में पकड़ कर, उस की गोली को चलते विद्युद्यंत्र के विद्युत्कोष के पास लाऊं तो उस में से विधायक विद्युत् अंदर की पत्नी में चली जायगी । फिर यह बाहिर की पत्नी की दोनो विद्युत्ओं को अलग कर देगी, अर्थात् विधायक को तो मेरे हाथ और शरीर द्वारा पृथिवी में धकेल देगी, और निषेधक को अपनी और खेचेगी । इस प्रकार अंदर की पत्नी में विधायक विद्युत् की भोज और बाहिर की पत्नी में निषेधक विद्युत् की भोज दोनो एक दूसरी से भिड़ना चाहेंगी, परंतु बीच में शीशा है, वह यह बात नहीं होने देता । यह दोनो भोजें एक दूसरी की ताक में ऐसी लगी हैं, कि वह सावधानता से अपने अपने स्थान खड़ी रहेंगी । अब हम थोड़ी सी और विधायक विद्युत् डालते हैं, जैसे पहिले हुआ था अब भी वैसा ही होगा, अर्थात् बाहिर की पत्नी में जो दो प्रकार की विद्युत् मिली जली हैं, वह अलग अलग हो जायेंगी, विधायक तो मेरे शरीर में से हो कर पृथिवी में चली जायगी, और निषेधक बाहिर की पत्नी में विधायक विद्युत् की उस भोज के सामने रहेगी, जो अब अंदर भेजी गयी है । अब दो भोजें अंदर और दो बाहिर एक दूसरी के सामने खड़ी हैं । इसी प्रकार करने

से हम मर्तबान की दोनो पन्त्रियों में प्रतिकूल विद्युतों की बद्धत सी फ़ौजे अकट्टी कर सकते हैं ।

अब यदि हम मर्तबान को विद्युतों से खाली करना चाहें तो विद्युत्त्रिस्सारक टाउ को काम में लाना चाहिये । इस का आकार चित्र में दिखाया गया है । इस को शीशे के दर्तों से पकड़ना चाहिये, और एक गोली को

चित्र ४४



बाहिर की पन्त्री से छूकर दूसरी गोलीको धीरे धीरे उस गोली के पास लाना चाहिये जो अंदर की पन्त्री के साथ लगी हुई है। जब दो गोलियों पास आयेंगी

तो एक बड़े प्रकाश वाला स्फुलिंग निकलेगा, और उस के साथ एक शब्द भी सुनाई देगा; और मर्तबान खाली हो जायगा । यदि हम अपने आप को थक्का पड़ाना चाहें तो एक हाथ से बाहिर की पन्त्री को पकड़ कर दूसरा हाथ उस गोली के पास लाना चाहिये जो अंदर की पन्त्री से संबंध रखती है । इस प्रकार विद्युत् हमारे शरीर में से हो कर निकलेगी, और मर्तबान खाली हो जायगा । यदि बद्धत से मनुष्य अपने आप को थक्का पड़ाना चाहें । तो सब एक दूसरे का हाथ पकड़े, और एक सिरे वाला बाहिर की पन्त्री को पकड़े और दूसरे सिरे वाला मर्तबान की गोली को छूए, तो सब के शरीरों को थक्का लगेगा ।

(८५) उद्भूतविद्युत् पदार्थों का प्रयत्न—

ऊपर के वर्णान से मालूम हो गया होगा कि विद्युत् में प्रयत्न होता है । तम ने देखा है कि मर्तबान की दो प्रतिकूल विद्युतें एक दूसरी की श्रार बल से आकर मिल जाती हैं, और उन के मिलने से एक स्फुलिंग और एक शट् उत्पन्न होता है । यह स्फुलिंग जब तक रहता है, बड़ा प्रकाशक होता है, और यद्यपि यह एक सेकण्ड के चौबीस हजार वें भाग से अधिक काल नहीं रहता फिर भी इस में बहुत सी उष्णता होती है, उष्णता से पाया जाता है कि उस में प्रयत्न भी है, और इसी लिये जब मर्तबान में से विद्युत् निकालते हैं तो वह प्रयत्न जिस को हम विद्युत् कहते हैं बदल कर एक अन्य प्रकार का प्रयत्न होजाती है जिस को हम उष्णता वा तेज कहते हैं ।

जब विद्युत् में प्रयत्न होता है तो उस के उत्पन्न करने को परिश्रम वा कर्म चाहिये; और इसी लिये यंत्र को चुमाना पड़ता है । परंतु विद्युत् के कारण इस यंत्र को चुमाना भी बड़े परिश्रम का काम है । इस प्रकार मालूम हुआ कि अभाव से कुछ नहीं उत्पन्न होता; अर्थात् यदि तम प्रयत्न उत्पन्न करना चाहे तो तम को कर्म करना पड़ेगा । परंतु जब दोनो विद्युतें मिल जाती हैं तो प्रयत्न का नाश नहीं हो जाता, केवल विद्युत् बदल कर उष्णता बन जाती है ।

(८६) विद्युत् का प्रवाह — तम देख चुके हो कि जब चलते विद्युत् यंत्र के पास किसी नोकदार संचारक द्रव्य को लाओ तो विद्युत् का अविच्छिन्न प्रवाह

उस नोक द्वारा तम्हारे शरीर में से होकर पृथ्वी में जाय
गा (८२) ।

परंतु विद्युत् के उग्र प्रवाह उत्पन्न करने का एक
और भी साधन है जो विद्युद्यंत्र से भी अच्छा है । हम इ-
स को पहिले पहिल वाल्टा नामी इटली देश के रहने

चित्र ४५



वाले ने निकाला था, इसी लिये इस को वाल्टा इक बै-
टरी अर्थात् वाल्टा का मोरचा कहते हैं । इस का स्वरूप
४५ वें चित्र में दिखाया गया है । तम देखते हो कि सब
से परे बायें हाथ को न एक तांबे का पत्र है । फिर एक
जस्त का पत्र है जिस पर ज का चिह्न है; यह एक तार से
जड़ा हुआ है । यह तार अगले वर्तन में तांबे के पत्र से
लगी हुई है । दूसरे वर्तन में एक और भी जस्त का पत्र है,
और वह भी उसी तरह तीसरे वर्तन में तांबे के पत्र से ता-
र द्वारा मिला हुआ है । दहने हाथ को सबसे परे एक
जस्त का पत्र है । कल्पना करो कि सब वर्तनों में गंधक
का तेजाब पानी में मिला कर भरा है, और मोरचे के बा-
यें सिरे पर जो तांबे का पत्र है और दायें सिरे पर जो जस्त
का पत्र है दोनों में तारे लगा कर उन को मिला दिया है ।

(इन तारों को मोरचे की धावी तारें बोलते हैं)। अब देखिए कि विधायक विद्युत् का प्रवाह शरों की दिशा में चक्कर खाता फिरेगा। अब हम इस बात का घटा निकालेंगे कि वह किधर को हो कर जाता है। पहिले वह उस तार से आता है जो बायें हाथ को सब से परे ताम्बे के पत्र से लगी हुई है, फिर लंबी तारों में से होकर दायें सिरे पर जस्त के पत्र में आता है, फिर जुले हुए तेजाब में से हो कर ताम्बे के पत्र तक पहुंचता है, और वहां से तार के साथ साथ जस्त के दूसरे पत्र में जाता है, फिर मध्य वाले वर्तन के तेजाब से होकर ताम्बे के पत्र में प्रवेश करता है; और वहां से तार द्वारा बायें हाथ के वर्तन में जस्त के पत्र तक पहुंचता है, निदान तेजाब में से हो कर फिर उसी पत्र में पहुंचता है जहां से कि पहिले चलाया।

(८०) ग्रेव साहिब का विद्युत् का मोरचा —

जिस मोरचे का ऊपर वर्णन हुआ है उस को वाल्टा साहिब ने पहिले पहिल बनाया था, परंतु उस के समय से लेकर विद्युत् का प्रवाह उत्पन्न करने की रीतियों में बहुत कुछ सधार हुआ है।

वाल्टा की रीति से प्रवाह यद्यपि पहिले बहुत बलवान् होता है, परंतु शीघ्र ही निर्बल हो जाता है। अब एक ऐसी रीति मालूम होगई है जिस के द्वारा विद्युत् का प्रवाह पूरे बल में रह सकता है। इस प्रकार के मोरचों को स्थिर मोरचे कहते हैं, और इन में ग्रेव साहिब का मोरचा सब से अच्छा होता है; इस का आकार ४८वें चित्र

में बना हुआ है। इस में प्रत्येक वर्तन दोहरा होता है; बाहिर का वर्तन काच का होता है और अंदर वाला मट्टी का और मसामदार होता है। बाहिर वाले काच वा पत्थर के वर्तन में थोड़ा सा सल्फूरिक एसिड अर्थात् गंधक का तेजाब पानी से मिल कर भर देते हैं। इस तेजाब के अंदर एक जस्त का पत्र होता है जिस पर पारा चढ़ा हुआ होता है, फिर इस बाहिर वाले वर्तन के अंदर एक और मट्टी का मसामदार वर्तन होता है, इस में तीव्र नाईट्रिक एसिड अर्थात् शोरे का तेजाब जालते हैं, और इस तेजाब के अंदर स्ट्रॉन्टियम का एक पत्र होता है। वाल्टा साहिब के मोरचे में इस की जगह तांबे का पत्र होता है।

जब यह मोरचा चलता है तो गंधक के तेजाब में जस्त के घुलने से हार्ड्रोजन गैस निकलता है। परंतु यह गैस बुलबुले बन कर बाहिर नहीं निकलता, किंतु मसामों द्वारा शोरे के तेजाब में मिल जाता है। वहां शोरे के तेजाब का विच्छेद कर के उस का कुछ आक्सीजन ग्रहण साथ मिला कर पानी बन जाता है क्योंकि आक्सीजन और हार्ड्रोजन के मिलाप से पानी बनता है। इस से शोरे का तेजाब शिथिल होजाता है, और यह बात इस तरह प्रतीत होती है कि उस में से नारंगी रंग का धुंआं सा निकलने लगता है। इस प्रकार हार्ड्रोजन स्ट्रॉन्टियम के पत्र तक नहीं पहुँच सकता; और असल में यह सारा उपाय भी इसी लिये किया था कि हार्ड्रोजन

जन स्नाटिनम तक न पड़च सके, क्योंकि वाल्टा साहिब के मोरचे में यहि दोष था कि जस्त के लीन होने से जो हाईड्रोजन उत्पन्न होता था वह तांबे के पत्र से चिमट जाता था, और इसी कारण मोरचे का बल भी छूट जाता था।

यह तो ग्रेव साहिब के मोरचे के एक हि खाने का वर्णन है, परंतु इस प्रकार के मोरचों में पचास पचास और कभी सौ सौ भी खाना होता है — प्रत्येक खाने के स्नाटिनम में जो तार लगी हुई होती है वह दूसरे खाने के जस्त से ठीक उसी प्रकार मिली हुई होती है जैसा कि ४५वें चित्र में देखते हो, केवल इतना भेद है कि जहां उस में तांबे के पत्र थे, इस में स्नाटिनम के होते हैं; उस में इकहरे बर्तन थे, इस में दुहरे होते हैं। फिर जिस प्रकार वाल्टा के मोरचे में विषाद्यक विद्युत का प्रवाह जस्त के पत्र से द्रव वस्तु की राह होकर तांबे के पत्र में जाता था, ग्रेव के मोरचे में जस्त के पत्र से द्रव वस्तु की राह हो कर स्नाटिनम के पत्र में आता है।

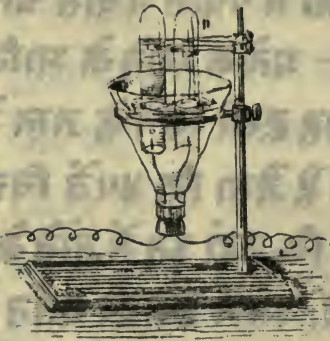
(१८) वैद्युत प्रवाह के गुण — अब देखना चाहिये कि वैद्युत प्रवाह क्या क्या काम दे सकता है। यह बात दो चार सज्जम परीक्षाओं द्वारा मालूम हो सकती है।

परीक्षा १२ — ग्रेव का मोरचा बना कर चलता करो, फिर उस की ध्रुवी तारों के बीच में स्नाटिनम की एक सूक्ष्म तार लगा दो; जब इस प्रकार ध्रुवी तारों में संबंध हो जाय गा, और वैद्युत प्रवाह चलने लगे गा तो

यह सूक्ष्म तार तय कर लाल होजाय गी ।

परीक्षा ६३ — ग्राव का मोरचा बना कर चलता करो, और पानी से भर कर औंधी की ऊई दो नलियों में उस की धुवी तारें लगा दो (देखो चित्र) । तब देखो गे

चित्र ४६



कि वैद्युत प्रवाह से पानी का विच्छेद होने लगे गा, और नलि में आक्सीजन और दूसरी में हाईड्रोजन अकट्टा होने लगेगा । जो धुवी तार स्टाटिनम के पत्र से मिली ऊई है, उस के सिरे पर आक्सीजन गैस, और

जो जल के पत्र से लगी है उस के सिरे से हाईड्रोजन गैस निकलने लगेगा । अब तब समझ गये होंगे कि इस मोरचे में इतनी शक्ति होती है कि उस से पानी का विच्छेद हो सकता है । इस के द्वारा और भी कई मिश्र द्रवों का विच्छेद कर सकते हैं ।

परीक्षा ६४ — देखो यह तांबे की तार है और इस पर तागा लपेट रखा है कि उस की विद्युत् बाहिर न निकल सके, और इस तार को एक नाल के स्वरूप वाले लोहे के मोटे टुकड़े पर लपेट रखा है; अब मोरचे की धुवी तारों को इस तांबे की तार के सिरे से मिला दो । यदि मोरचा चलता हो तो लोहे की नाल में और लोहे को खंचने की शक्ति हो जाय गी यहां तक कि यदि एक

लोहे की तखती को लगा कर उस के साथ बोज लटका दें, तो वह तखती बोज समेत लटकी रहेगी। परंतु जिस समय नाल और मारचे का संबंध जातारहेगा, तो नाल में यह शक्ति न रहेगी, और बोज कूट गिर पड़ेगा।

चित्र ४७



परीक्षा ६५ — पिछली प

रीक्षा की नाल में जब वैद्युत प्रवाह जा रहा हो तो सखत फूलाद की कोई वस्तु, अथवा मौजे बुनने की सूई लेकर लगा दो। इस सूई में कई ऐसे गुणा उत्पन्न हो जायेंगे जो कोमल लोहे की तरह वैद्युत प्रवाह के बंद होने से नष्ट नहीं हो जाते, किंतु सदा रहते हैं। जैसे यदि हम इस सूई के ठीक मध्य में रेशम का बारीक तागा बांध कर लटका दें, और उसे हरिज तल के समानान्तर रखें तो उसके सिरे सदा उत्तर और दक्षिण की ओर रहेंगे। वस्तुतः यह सूई ध्रुवदर्शक यंत्र की सूई बन जायगी, और उस की नोक सदा एक ही दिशा में रहेगी। समुद्र में जहां चारों ओर बिना पानी के और कुछ दिखाई नहीं देता, मलाह लोग इसी यंत्र की सहायता से ठीक मार्ग पर जहाज चला सकते हैं। जिस फूलाद के टुकड़े में यह गुणा हो उसको चुम्बक कहते हैं।

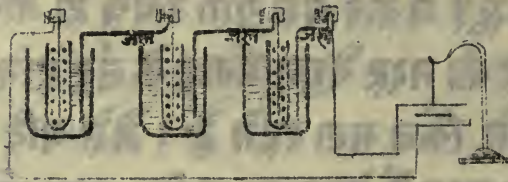
परीक्षा ६६ — चुम्बक सूई को एक खड़ी सूई पर इस प्रकार लगाओ कि हरिज तल में फिर सके।

इस के सिरे उत्तर और दक्षिण को होंगे । अब इस के पास एक पेंसी तार लाओ जिस में वैद्युत प्रवाह जा रहा हो । सूई इस प्रकार फिर जायगी कि इस तार के साथ सम कोण बनायेगी ।

यदि हम प्रवाह बंद कर दें तो फिर सूई अपनी यहिली दिशा में आजायगी ।

परीक्षा ६७ — अदतालीसवें चित्र में जिस यंत्र का आकार बना हुआ है उस की सहायता से पिछली परीक्षा का दृष्टान्त और भी खुल जायगा । कल्पना

चित्र ४८



करो कि हमारा मारचा कमरे के एक कोने में पड़ा है, और उसके ध्रुवों में लम्बी लम्बी तारें लगी हुई हैं, इन तारों पर तागा लिपटा हुआ है । इन तारों को कमरे के दूसरे कोने तक लेजाकर मिला दो । अब मारचा चलने लगेगा । जो कोना मारचे से वद्वत परे है उसमें एक चुम्बक सूई तार के पास लटक रही है । जब इस तार में से विद्युत का प्रवाह जायगा, तो यह सूई बड़े वेग से फिर जायगी । अब यदि कोई सामने के कोने में जाकर किसी तार को ध्रुव से अलग करदे तो ऊर विद्युत् का प्रवाह बंद होजायगा, और चुम्बक सूई अपने असली स्थान

न पर आ जायगी ।

(८५) वैद्युत तार — इस प्रकार मालूम हुआ कि जब कमरे के एक कोने में तार को मोरचे से अलग करते हैं, तो उसी समय दूसरे कोने की सूई हिल जाती है । यदि हम भुवों से लगी हुई तारों को १०० वा १००० मील पर ले जाकर जोड़ें तो भी यह होगा । यह तार जिसके अंदर विद्युत का प्रवाह जाता है चाहे मोरचे से १००० मील की दूरी पर क्यों न हो, जब विद्युत का प्रवाह तार में से होकर जायगा, तो चुम्बक सूई जो उस के पास लटक रही है अवश्य फिर जायगी । परंतु जिस समय तार का दूसरा सिरा, जो मोरचे से १००० मील दूर है मोरचे के भुव से अलग किया जावेगा तो उसी समय प्रवाह बंद हो जायगा, और चुम्बक सूई अपने असली स्थान पर आ जायगी । इससे हमने जान लिया कि हम मोरचे के भुवों से तार को मिला कर वा हटा कर हजार मील की दूरी पर चुम्बक सूई को किस प्रकार हिला सकते हैं ।

तार का भी यह मूल है । हम जानते हो दो चार सेकण्ड में तार द्वारा अमेरीका देश की खबरें हमारे पास पहुंच सकती हैं । मैं इस विषय का पूरा पूरा वर्णन नहीं कर सकता, परंतु इतना तो हम जानते हो कि १००० मील की दूरी पर भी चुम्बक सूई को हिला सकते हैं, और इन चिन्हों से, जो अक्षरों का काम देते हैं, खबरें पहुंच सकती हैं ।

(८६) निगमन — अब हमने सीख लिया है कि वैद्युत प्रवाह क्या कर सकता है । यहिले तो जिस पतली

तार में से होकर जाय उस को तपा देता है, और पानी और कई अन्य मिश्रों का विच्छेद कर देता है; तीसरा, कोमल लोहे को दण मात्र चुम्बक बना देता है; और चौथा सखत फ़ुलाद को चिरस्थायी चुम्बक बना देता है; और पांचवां भ्रुवदर्शक की सूई को अपने स्थान से घरे हटा देता है, और इसी गुण के कारण बड़े बड़े दर देशों में तार द्वारा संदेश पड़च सकते हैं ।

इस सन्दर विषय का हम पूरा पूरा वर्णन नहीं कर सकते; परंतु यहां पर मैं तम को यह जता देता हूं कि तम ने भौतिक पदार्थों की विविध अवस्थाओं का वृत्तान्त मालूम कर लिया है । पहिले हम ने गति वाले पदार्थों का वर्णन किया था, फिर यथाक्रम थरथराने वाले; उष्ण, और उद्भूत विद्युत् पदार्थों का, और सारे कथन में हमने इसी बात को सिद्ध करने का यत्न किया है कि वस्तुओं के प्रयत्न कभी नष्ट नहीं होते । एक वस्तु का प्रयत्न दूसरी में तो चला जाता है, और दृश्य प्रयत्न शब्द और उष्णता में भी परिणत हो जाता है, परंतु उस का नष्ट हो जाना ऐसा हि असंभव है जैसा कि भौतिक परमाणु का ।

वस्तुतः जिस प्रकार रसायन विद्या का बड़ा सिद्धांत यह है कि भौतिक पदार्थों का केवल स्वरूप बदल सकता है, परंतु उन के सत्त्व अवयवों का कभी विनाश नहीं होता इसी प्रकार जड़ विज्ञान का यह सिद्धांत है कि प्रयत्न अर्थात् कर्मशक्ति का भी केवल स्वरूप ही बदल सकता है, सर्वथा विनाश कभी नहीं हो सकता । परंतु इस सिद्धांत का पूरा विवरण ब-

डे बडे पुस्तकों में पढ़ेगे ॥

मिदं पुस्तकम् समाप्तम् ❖ ❖



मिदं किं किञ्चिद् वा

Faint, mostly illegible text in Devanagari script, likely bleed-through from the reverse side of the page. The text appears to be a continuation of a discussion or a list of items.

याद रावने की बातें

इंग्रेजी माप तोल में एक पौण्ड ७००० ग्रेन का होता है ।

यदि किसी ऊंचे स्थान पर खड़े होकर पत्थर को हाथ से छोड़ें तो वह पहिले सेकण्ड में १६ फुट नीचे गिरे गा ।

धातुओं में फ़्लाइड सब से दृढ़ होती है, परंतु कूटने से फैलजाने का गुण सोने में सब से अधिक है; क्योंकि सोने के एक मुकस्सर इंच को कूट कर इतना बड़ा बना सकते हैं कि ५० फुट लंबी और ४० फुट चौड़ी फरशा पर बिछ सके ।

हीरा सब वस्तुओं से कठिन होता है, इस से प्रत्येक वस्तु पर लकीर खोद सकते हैं, परंतु इस पर किसी औ-र वस्तु से लकीर नहीं खोद सकती ।

यानी के एक मुकस्सर इंच का तोल लग भग २५२ ग्रेन के होता है, इस लिये ४ मुकस्सर इंच का तोल लग भग १००० ग्रेन के होता है ।

वायु के १०० मुकस्सर इंच तोल में ३१ ग्रेन होते हैं ।

कार्बनिक एसिड के १०० मुकस्सर इंच तोल में ४० ग्रेन होते हैं ।

हाईड्रोजन के १०० मुकस्सर इंच का तोल केवल २ ग्रेन

होता है ।

वायु का दबाओ पाये के ३० इंच और यानी के ३० फुट ऊंचे दाण्ड को सहार सकता है ।

प्रायः वायु में लग भग १,१०० फुट प्रति सेकण्ड के हिसाब से चलता है

यदि किसी बाजे की तार एक सेकण्ड में ५० बार थरथराये तो उस से गम्भीर और नीचा स्वर निकलता है; यदि एक सेकण्ड में १०,००० बार थरथराये तो ऊंचा स्वर निकलता है

वर्क के एक पौरण्ड को पिगलाने में जितनी उष्णता खर्च होती है, उस से ७१ पौरण्ड यानी एक अंश उष्ण हो सकता है । एक पौरण्ड उबलते यानी को भाप बनाने में जितनी उष्णता खर्च होती है, उस से ५३७ पौरण्ड यानी एक अंश उष्ण हो सकता है ।

प्रकाश आकाश में लग भग ११०,००० मील प्रति सेकण्ड के हिसाब से चलता है ।

लेडन के मर्तबान से जो चिंगारी निकलती है, वह केवल एक सेकण्ड के चौबीस हजारवें भाग तक रहती है ।

यंत्रों के विषय में

जिन यंत्रों को काम में लाना हो उन को पाठ से पहिले मेज़ पर रख कर पाठक को इस बात का दृढ़ निश्चय कर लेना चाहिये कि मैं ह्यांत्रों के सामने परीक्षा कर सकूँगा । पाठ के पीछे यंत्रों को सावधानता से अपने स्थान पर रख देना चाहिये ।

वायुनिस्सारक यंत्र की डाट को चर्बी लगा देनी चाहिये कि उस में कस कर आजाय । इस बात का भी ध्यान रखना चाहिये कि रिसीवर अर्थात् फानूस तखते पर ठीक जम जाय, सो इस को भी खूब चर्बी लगा देनी चाहिये । इस से वह फानूस तखते पर सफाई से हिल सकेगा, और कुछ शह न होगा, परंतु यदि कुछ शह सनाई दे तो जान लेना चाहिये कि कोई छोटा सा कंकर रह गया होगा । इस अवस्था में फानूस को नीचे से साफ कर के फिर चर्बी लगानी चाहिये । अर्थगोलों (चित्र १५) में भी ऐसा ही करना चाहिये ।

२८वीं परीक्षा के संदूक को कार्बानिक एसिड गैस से भरने में जिस नली द्वारा कार्बानिक एसिड आता हो उस को संदूक के पेंदे से कुछ ऊपर रखना चाहिये, सर्बिया साथ ही न लगा देना चाहिये

जब परीक्षा २९ में उसी संदूक को हार्डिजोजन से भरना हो तो गैस वाली नली को संदूक के पेंदे के बहुत निकट तक चढ़ा देना चाहिये । इस परीक्षा में संदूक का पेंदा ऊपर को होगा ।

४५ वीं परीक्षा का प्रारंभ करने से पहिले सब सामग्री को कई घंटों तक किसी ठंडे कमरे में रखना चाहिये ।

फास फोरस को एकड़ने में बड़ी सावधानता चाहिये क्योंकि उस को ऊट आग लग उठती है । फासफोरस को पानी में रखना चाहिये, और छोटे २ टुकड़ों को बर्तने से पहिले झार्टिंग पेपर में रख के सखा लेना चाहिये ।

यदि पारे की चमक मध्यम पड़ जाय, तो कागज का एक टुकड़ा लेकर उस की पीक बनाओ, और उस के नीचे एक वद्धत बारीक छिद्र रहने दो । इस पीक में धीरे धीरे पारा डालते जाओ, और नीचे एक बर्तन रख कर उस में पड़ने दो; अब फिर उस की चमक ज्यों की त्यों होजायगी ।

पारे को और धातुओं के साथ मिलने नहीं देना चाहिये । मोरचे में लगाने के लिये थोड़ा सा अलग रखना चाहिये ।

विद्युद्यंत्र को बर्तने से पहिले शीशे के चक्र को अच्छी प्रकार से उष्ण कर देना चाहिये । इस लिये उस का सिरा आग की ओर करके कभी २ दफ्ते को फेरना चाहिये कि चक्र के सब भागों को उष्णता पड़ूँच जाय । यदि इस तरह न किया जाय तो शीशे के फूट जाने का संभव है ।

विद्युद्दर्शक में वद्धत सी बिजली न भरनी चाहिये, नहीं तो सोने के यत्र मर्तबान के साथ लग कर फट जायेंगे । विद्युद्दर्शक को इस प्रकार भरना चाहिये कि विद्युद्यंत्र से लेडन के मर्तबान में छोटी सी चिंगारी आने दो— फिर उस की

गोली के साथ विद्युद्दर्शक को छू दो ।

शीशे के पाये भी उष्ण और सूखे होने चाहिये ।

निदान लेउन का मर्तबान और शीशे की प्रत्येक वस्तु जिस के साथ कोई विद्युत् संबन्धी परीक्षा करनी हो, उष्ण और सूखी होनी चाहिये ।

ग्राव साहिब के मोरचे में जस्त पर अच्छी तरह पाव चढ़ा देना चाहिये (देखारसायनतत्व), और सब धातु जहां पर मोरचे से लगे हों वहां पर खूब उजले और चमकते होने चाहिये ।

बाहिर के खानों में जो द्रव वस्तु होता है वह तोल में एक अंश गंधक का तेजाब और आठ अंश पानी मिलाने से बनता है ।

ग्राव साहिब के मोरचे की मसामदार बर्तनों को बर्तने के पीछे पानी में भिगा देना चाहिये, और जस्त और स्फाटिनम के पत्रों को भी खूब साफ कर देना चाहिये ।

६६ वीं परीक्षा में पीतल के दो पियालों को, जिन में तारों के सिरे डुबे ऊपर, पारे से भर देना चाहिये ।

प्रश्नावलि:

प्रवेशिका

(१) जड़विज्ञान का लक्षणा— (१) दो भिन्न भिन्न प्रकार की वस्तुओं का एक उदाहरण दो ।

(२) एक ही वस्तु की दो भिन्न २ अवस्थाओं का उदाहरण दो ।

(२) गति का लक्षणा— (१) गति कानब ज्ञान हो सकता है जब उस के विषय में दो बातें मालूम हों । वह कौन सी हैं?

(२) एक मनुष्य एक हि चाल से चल कर सवा दो घंटों में ८ मील चलता है, दूसरा एक घंटे में ४ मील चलता है; बताओ कि कौन जल्दी चलता है ?

(३) एक मनुष्य $2\frac{1}{3}$ घंटों में १० मील चलता है; उस की गति का परिमाण बताओ । एक तोप का गोला $4\frac{1}{2}$ सेकण्ड में ६,६०० फुट चलता है । उस की गति का परिमाण बताओ ।

(३) बल का लक्षणा— (१) बल किस को कहते हैं ? एक ऐसी परीक्षा करो जिस से मालूम हो जाय कि जो वस्तु पहिले स्थित हो उस को बल माने से उल्लेख गति उत्पन्न हो सकती है ।

(३) एक ऐसी परीक्षा करो जिस से मालूम हो जाय कि बल द्वारा चलती वस्तु को रूक सकते हैं ।

(४) एक ऐसी परीक्षा करो जिस से मालूम हो कि एक ब-

लके व्यापार को हम दूसरे बल से रोक सकते हैं ।

प्रकृति के प्रधान बल ।

(१) गुरुत्व बल का लक्षण — (१) वस्तुओं के गुरुत्व का क्या कारण है ?

(२) कल्पना करो कि हमने पृथ्वी के भीतर से सब कुछ निकाल कर केवल एक तह (जिस पर हम खड़े हैं) रहने दी है । क्या सीसे के टुकड़े के ताल में कुछ भेद हो जायगा ?

(३) कल्पना करो कि हमारे नीचे धरती नहीं, और हमने हाथ में एक सीसे का टुकड़ा पकड़ रखा है; क्या उस का कुछ बोझ प्रतीत होगा ?

(२) आश्लेष बल का लक्षण — (१) आश्लेष बल का एक उदाहरण बताओ ।

(२) आश्लेष बल और गुरुत्व बल में बड़ा भेद क्या है ? उदाहरण देकर अपने उत्तर को बिशद करो ।

(३) रसायनिक आकर्षण का लक्षण — (१) रसायनिक आकर्षण का एक उदाहरण दो ।

(२) इस में क्या विशेष है ?

(४) इन बलों के फल — (१) यदि गुरुत्व बल न होता तो क्या होता ?

(२) यदि आश्लेष बल न होता तो क्या होता ?

(३) यदि रसायनिक आकर्षण न होता तो क्या होता ?

गुरुत्व बल का व्यापार

(१) गुरुत्व केन्द्र — (१) गुरुत्व केन्द्र किस को कहते हैं ?

(२) क्या सब वस्तुओं में गुरुत्वकेन्द्र होता है ?

(३) यदि कोई वस्तु खुली फिर सके तो उस का गुरुत्व केन्द्र कहाँ रहेगा ?

(४) किसी लोहे की चदर का गुरुत्व केन्द्र मालूम करने की विधि बताओ ।

(५) यदि यह चदर सारी एक ही तल में नहोती तो क्या पूर्वोक्त रीति अवहार में काम आसकती ? अपने उत्तर को युक्तिसिद्ध करो ।

(२) तराजू — (१) साधारण तराजू का वर्णन करो ।

(२) जिस बिन्दु पर तराजू लटका डूबा हो क्या उस का गुरुत्व केन्द्र उस बिन्दु से ऊपर हो सकता है ?

(३) जब तराजू की उँडी को हिला देते हैं तो फिर क्यों अपने असली स्थान पर आजाती है ?

भौतिक पदार्थों की तीन अवस्था

(१) भौतिक पदार्थों की तीन अवस्थाओं के नाम लिखो ।

(२) वह कौन सी अवस्था है जिस में भौतिक पदार्थों में ऊँचा भी आश्लेष बल नहीं होता ?

(३) एक ऐसी परीक्षा करो जिस से मालूम हो कि पारे में आश्लेष बल नहीं होता है ।

(४) एक ऐसी परीक्षा करो जिस से मालूम हो कि पानी में आश्लेष बल होता है ।

(५) कठिन पदार्थ का लक्षण कहो ।

(६) द्रव पदार्थ का लक्षण कहो ।

(७) वायवीय पदार्थ का लक्षण कहो ।

कठिन पदार्थों के गुण

- (१) क्या कठिन पदार्थ का आकार वा स्वरूप बदलना सर्वथा असंभव है ?
- (२) हम लोहे के उँडे का आकार बदलाने में कितने प्रकार से यत्न कर सकते हैं ?
- (३) एक ऐसी परीक्षा करो जिससे यह मालूम हो कि लकड़ी की कड़ी का कुकाओ उस बोक के अनुसार होता है जो उस के मध्य से लटकाया जाय ।
- (४) परीक्षा ४ में १० पौण्ड बोक लटकाने से कड़ी का मध्य १ इंच कुक जाता है । यदि २४ पौण्ड बोक लटकाया जावे तो कड़ी का मध्य कितना कुके गा ?
- (५) परीक्षा द्वारा सिद्ध करो कि यदि किसी कड़ी को मोटाई के बल रखा जावे तो वह थोड़ा कुकती है ।
- (६) किसी कठिन पदार्थ के पूर्णस्थितिस्थापक की सीमा से क्या अभिप्राय होता है ?
- (७) किन दो बातों का राज को अवश्य ध्यान रखना चाहिये ?
- (८) परीक्षा द्वारा रगड़ का लक्षण करो
- (९) यदि रगड़ न होती तो क्या होता ?

द्रव पदार्थों के गुण

- (१) परिमाण और आकार—(१) क्या द्रव पदार्थों का आकार बदलना कठिन है ?
- (२) क्या द्रव पदार्थों का परिमाण बदलना कठिन है ? अपने उत्तर को उदाहरण देकर विशद करो ।
- (३) द्रव पदार्थों में एक परिमाण का दबाओ ह

सरे परमाणुओं पर चला जाता है—(१) एक ऐसी परीक्षा का वर्णन करो जिस से यह मालूम हो कि द्रव पदार्थों में एक परमाणु का दबाओ दूसरे परमाणुओं पर चला जाता है

(२) एक ऐसी परीक्षा का वर्णन करो जिस से यह मालूम हो कि द्रव पदार्थों में दबाओ सब ओर फैल जाता है ।

(३) द्रव पदार्थों के इस गुण को पहिले पहिल किसने मालूम किया था ।

(४) एक ऐसी परीक्षा का वर्णन करो जिस से यह पाया जाय कि डाट पर द्रव पदार्थों का दबाओ उस के सिद्धफल के अनुसार होता है ।

(५) एक डाट का सिरा लम्बाई और चौड़ाई में दो २ इंच है और उस पर पानी का दबाओ ९ सेर है, तो बताओ कि जिस डाट का सिरा लम्बाई और चौड़ाई में तीन २ इंच हो उस पर क्या दबाओ होगा ?

(३) ब्रामा का प्रेस—(१) ब्रामा प्रेस का वर्णन करो और उस का एक खाका बनाओ ।

(२) ब्रामा प्रेस की बड़ी डाट का सिद्धफल छोटी से आठ गुणा है । छोटी पर ८ सेर का बल लगाया गया है । बड़ी डाट कितने बल से उठेगी ?

(३) क्या बड़ी डाट भी उतनी ही शीघ्र उठती है जितनी कि छोटी नीचे दबाई जावे ?

(४) द्रव पदार्थों की पृष्ठ समान रहती है—

(१) एक ऐसी परीक्षा का वर्णन करो जिस से मालूम हो कि गुरुत्व बल के व्यापार की सीध पारे वा अन्य द्रवों की दृष्ट पर लम्ब होती है ।

(२) जलीय हरिज दर्शक का स्वाका बनाओ, और उस का वर्णन भी करो ।

(५) गहरे पानी का दबाओ—(१) एक ऐसी परीक्षा वर्णन करो जिस से यह मालूम हो जाय कि द्रव यदार्थों का दबाओ गहराओ के अनुसार होता है, और सब दिशाओं में व्यापार करता है ।

(२) यदि पानी की दृष्ट से १० फुट नीचे किसी तल पर ६ सेर दबाओ हो तो पानी की दृष्ट से २५ फुट नीचे उसी तल पर कितना दबाओ होगा ?

(३) क्या एक हि गहराओ पर पानी का दबाओ सरोवर के बड़ावा छोया होने से बढ़ वा घट सकता है ?

(४) गहरे पानी में बोतल डुबो कर उस दबाओ का सझाव किस प्रकार मालूम कर सकते हैं ?

(६) पानी का तारक गुण—(१) किसी परीक्षा की सहायता से पानी के तारक गुण का लक्षण करो ।

(२) परीक्षा द्वारा सिद्ध करो कि यद्यपि पानी में तेलने से बलु हलकी प्रतीत होती हैं, परंतु असल में उनका तेल नहीं चरता ।

(३) परीक्षा द्वारा सिद्ध करो कि जब किसी वस्तु को पानी में तोले तो उस वस्तु का तोल अपने समान परिमाण वाले पानी के तोल के बराबर घट जाता है ।

(४) लोहे का टुकड़ा क्यों पानी में डूब जाता है ?

(५) काक पानी में क्यों तैरता है ?

(६) किस अवस्था में वस्तु न पानी में डूबती न तैरती है, किंतु जहां रखें वह वहीं ठेरी रहती है ?

(७) **आपेक्षिक घनत्व** — (१) किसी वस्तु का आपेक्षिक घनत्व अथवा विशेष गुरुत्व किस को कहते हैं ?

(२) शुद्ध सोने के एक टुकड़े का तोल वायु में ५० ग्रैन है और पानी में ५४ ग्रैन, उस का विशेष गुरुत्व मालूम करो ।

(३) वस्तुओं के विशेष गुरुत्व मालूम करने की रीति पहिले पहिल किसने निकाली थी, और किस तरह पर ?

(४) एक सोने का टुकड़ा, जिस को सनार शुद्ध बताता है, वायु में तोलने से ७६ ग्रैन और पानी में तोलने से ७० ग्रैन उतरा है । क्या यह सोना शुद्ध है ? अपने उत्तर को प्रमाण सिद्ध करो ।

(५) एक पत्थर का टुकड़ा वायु में २०० ग्रैन और पानी में १५० ग्रैन उतरा है, उसी पत्थर के एक और टुकड़े का तोल वायु में ५६० ग्रैन है, तो पानी में उस का तोल क्या होगा ?

(८) अवशिष्ट द्रव पदार्थों की तारक शक्ति—

- (१) भारी द्रवों में तारक शक्ति अधिक होती है वा हलकों में ?
- (२) किसी ऐसे द्रव पदार्थ का नाम लो जिस में लोहा भी तैर सके ।
- (३) मनुष्य मीठे पानी में अच्छी तरह तैर सकता है वा खारी में ?
- (४) किसी ऐसी जील का नाम बताओ जिस में मनुष्य आमानी से डूब नहीं सकता ।

(९) सूक्ष्म नलियों की आकर्षण शक्ति—

- (१) कभी पानी अपनी पृष्ठ से ऊपर भी चढ़ सकता है ?
- (२) परीक्षा द्वारा सिद्ध करो कि पानी का इस प्रकार चढ़ना उस आकर्षण शक्ति के अनुसार होता है जो पानी और दूसरे पदार्थ में होती है ।
- (३) किसी ऐसे पदार्थ का नाम लो जो इसी प्रकार पारे को आकर्षण कर सकता है ।

गमों के गुण

(१) वायु का दबाओ— (१) गम और द्रव पदार्थ में क्या भेद है ?

(२) क्या पृथिवी वायु को खेंचती है, वा परे हटाती है ? परीक्षा द्वारा अपने उत्तर को विशद करो ।

- (३) परीक्षा द्वारा सिद्ध करो कि कई गैस वायु से भारी होते हैं ।
- (४) परीक्षा द्वारा सिद्ध करो कि कई गैस वायु से हलके होते हैं ।
- (५) क्या वायवीय समुद्र जो हमारे ऊपर है पृथ्वी पर उसी प्रकार दबाओ उत्पन्न करता है जैसा कि पानी का समुद्र ?
- (६) क्या कारण है कि कागज़ का टुकड़ा वायु के दबाओ के हेतु मेज़ पर रखे जा-
ड़ा नहीं रहता ? अपने उत्तर को परीक्षा द्वारा विशद करो ।

(७) परीक्षा द्वारा सिद्ध करो कि वायु में भी ता-
रक शक्ति है ।

(२) वायु मापक और उस के फल— (१) वायु मापक का वर्णन करो ।

(२) पहिले पहिल किस ने इस यंत्र को नि-
काला ।

(३) वायु मापक में पारा प्रायः कितना चढ़ सकता है ?

(४) यदि इस यंत्र को किसी ऊंचे पहाड़ पर ले जायें तो क्या पारा ऊपर चढ़ेगा वा नीचे उतरे गा ?

(५) टारि चैलिक मूल्य किसे कहते हैं ?

(६) मौसम के बदलने से पारे की ऊंचाई में

किस प्रकार भेद होता है ?

(३) वायुनिःसारक यंत्र—(१) उाट और ढकना किन को कहते हैं ?

(२) वायु निस्सारक के व्यापार की रीति का वर्णन करो ।

(३) वायु निस्सारक का फानूस १० मुकस्सर इंच है और उसका नल ९ मुकस्सर इंच है तो उाट के एक बार दबाने से कौया भाग वायु का बाहिर निकल जायगा ?

(४) जलोत्सारक यंत्र और वक्रनल—(१) यदि वायु मापक में पारे के स्थान पानी भरता जाय, तो क्या उसका दराउ ऊंचा होगा वा छोटा ?

(२) वायु मापक में पानी का दराउ प्रायः कितना लंबा होगा ?

(३) साधारण जलोत्सारक यंत्र और उसके व्यापार की रीति का वर्णन करो ।

(४) यदि पानी की पृष्ट और निचले ढकने में ३० फुट से अधिक हरी हो तो यह यंत्र कौं नहिं चल सकता ?

(५) यदि इस यंत्र को किसी ऊंचे पहाड़ पर बरतना हो तो धर्य प्रश्न में कही हरी को कौं बदलना पडता है ?

(६) कई बार इस यंत्र को बर्तने से पहिले इस

की डाट पर कुछ पानी डालना पड़ता है । इस से क्या फल होता है ?

(७) वक्र नल का बर्णन करो और बताओ कि उस को किस प्रकार बरता जाता है ?

गति वाले पदार्थ

(१) प्रयत्न और कर्म — (१) प्रयत्न कोई वस्तु है वा वस्तु की श्रवस्था ?

(२) जब हम कहें कि प्रमुक्त वस्तु प्र ल से शर्मा है, तो इस से क्या समझना चाहिये ?

(३) कई प्रसिद्ध श्रवस्थाओं का नाम लो जिनमें कि वस्तु प्रयत्न से शर्मा होती है ।

(४) हम प्रयत्न को किस तरह माप सकते हैं ?

(५) हम किस इकाई द्वारा कर्मका परिमाण करते हैं ?

(६) $५\frac{1}{2}$ फीट बोक को $१०\frac{1}{2}$ फुट ऊपर उठाने में कितना कर्म होगा ?

(७) एक तोप का मुंह ठीक ऊपर को किया गया है, और उस से १०० फीट का गोला चलाया गया है । यह गोला लौटने से पहिले ८५० फुट ऊपर चढ़ा है, तो इस गोले का प्रयत्न कितना होगा ?

(२) कर्म जो गतिवाले पदार्थ करते हैं —

(१) एक पत्थर, जिसका तौल १ फीट है, ३२ फुट प्रतिसेकण्ड के वेग से ऊपर उछाला गया है, और १६ फुट ऊपर चढ़ा है । इस में कितना प्रयत्न होगा ?

(२) एक पत्थर जिस का तौल चार पौण्ड है ३२ फुट प्रति सेकण्ड के वेग से ऊपर फेंका गया है, तो बताओ कि वह कितना ऊपर चढ़ेगा और उस में कितना प्रयत्न होगा ?

(३) यदि कोई पत्थर जिस का तौल ३ पौण्ड है ६४ फुट प्रति सेकण्ड के वेग से ऊपर फेंका जाय तो वह कितना ऊपर जायगा और उस में प्रयत्न कितना होगा ?

(४) एक तोप का गोला जो १००० फुट प्रति सेकण्ड के हिसाब से चलता है, सीस के ६ तखतों को वींथ सकता है, तो बताओ कि यदि वह ३९ से डुगणे वेग से छूटता तो उसी तरह के कितने तखतों को वींथ सकता ?

(१) स्थिति की अवस्था में प्रयत्न—

(१) जब कोई शेर सोया वा चुप चाप बैठा हो तो क्या उस में प्रयत्न नहीं होता ? यदि होता है तो किस प्रकार का ?

(२) एक ऐसा उदाहरण दो जिस से यह मालूम हो कि पत्थरों के ढेर में ऊंचे स्थान के कारण भी प्रयत्न होता है ।

(३) पानी के ऊँउ में कब प्रयत्न होता है ?

(४) पौन चक्कि में किस प्रकार के प्रयत्न से काम लिया जाता है ?

(५) गति वाले पदार्थ के प्रयत्न की अपेक्षा स्थित

पदार्थ के प्रयत्न में क्या विशेष है ?

थरथराने वाले पदार्थ

(१) थरथराना— शब्द— (१) एक ऐसी वस्तु का उदाहरण दो जो सारी की सारी अयना स्थान नहीं बदलती ।

(२) इस प्रकार की गति का क्या नाम है ?

(३) क्या थरथराने वाली वस्तु अपने आस पास के वायु पर प्रहार करती है ?

(४) जब यह प्रहार हमारे कान में आता है तो हम को क्या अनुभव होता है ?

(२) शोर और राग— (१) किसी ऐसी वस्तु का उदाहरण दो जो वायु पर केवल एक ही प्रहार करती है ।

(२) किसी ऐसी वस्तु का उदाहरण दो जो वायु पर बड़त से प्रहार करती हो ।

(३) जब एक ही प्रहार कान में पड़चे तो उस शब्द को क्या कहते हैं ?

(४) जब बड़त से प्रहार कान में पड़चें तो उस शब्द को क्या कहते हैं ?

(५) गभीर नीचा स्वर किस प्रकार उगन्न होता है और ऊंचा किस प्रकार ?

(६) उदाहरण देकर सिद्ध करो कि शब्द एक प्रकार का प्रयत्न है, और कर्म भी कर सकता है ?

(३) शब्द का वायु में से चलना — (१) परीक्षा द्वा-

रा सिद्ध करो कि शब्द को कान तक पड़ने के लिये वायु चाहिये ।

(२) जब तोप से वायु पर प्रहार पड़ता है तो क्या जिन परमाणुओं पर प्रहार होता है वह उड़ कर सुनने वाले मनुष्य के कान तक पड़ते हैं ?

(३) यदि ऐसा नहीं होता तो गति कान में किस प्रकार पड़ती है ? अपने उत्तर को परीक्षा द्वारा विशद करो ।

(४) क्रोकी की खेल से इस का उदाहरण दो ।

(४) शब्द की गति का प्रमाण — (१) इस बात का कोई प्रमाण दो कि शब्द को तोप से चल कर हमारे कान तक पड़ने में कुछ काल लगता है ।

(२) शब्द वायु में कितनी गति से चलता है ?

(३) शब्द पानी में किस हिसाब से चलता है ?

(४) और लकड़ी में कितनी गति से चलता है ?

(५) एक मनुष्य ने दूर से खड़ा हो कर तोप छूटने का प्रकाश देखा और $4\frac{1}{2}$ सेकण्ड पीछे उस का शब्द सुना, तो बताओ कि वह तोप से कितनी दूर खड़ा है ?

(५) शब्द का प्रतिहत होता — (१) गूँज का क्या कारण है ?

(२) किसी परीक्षा द्वारा सिद्ध करो कि प्रकाश की तरह शब्द का भी अक्षरकेन्द्र हो सकता है।

(३) लंडन नगर के सेंट पाल नामी गिरजे का उच्चारण लेकर शब्दके इस गुण को सिद्ध करो।

(६) भिन्न २ स्वरोंके लिये कितने २ प्रहार होते हैं—

(७) उस यंत्र का वर्णन करो जिस से यह मालूम हो सकता है कि अनुक स्वर में प्रति सेकण्ड इतने प्रहार होते हैं ?

उष्ण पदार्थ

(१) उष्णता का स्वभाव—(१) क्या उष्ण पदार्थ ठंडे से भारी होता है ?

(२) क्या उष्ण वस्तु में ठंडी वस्तु से अधिक प्रयत्न होता है ?

(३) यदि उष्णता गति का एक प्रकार है तो उष्ण पदार्थ के परमाणु हिलते क्यों नहीं दिखाई देते ?

(४) थरथराने वाले पदार्थों के विषय में दो बातों की जिज्ञासा करनी पड़ती है; वह क्या हैं ?

(५) उष्ण पदार्थों के विषय में दो बातों की जिज्ञासा करनी पड़ती है; वह क्या हैं ?

(१) उष्ण होने से पदार्थों का फैलना—(१) परीक्षा द्वारा सिद्ध करो कि धातु का डंडा तपाने से बड़ जाता है।

(२) यदि हम काच की कुलिया को पानी से भर

कर तपावें तो क्या होगा ?

(१) यदि किसी भुकने को दो तिहार्द वायु से भर कर तपायें तो क्या होगा ?

(३) चर्ममापक और उस के बनाने की विधि—

(१) पारे वाले चर्म मापक और उस के व्यापार का वर्णन करो ।

(२) पारे वाले चर्म मापक को भरने और बंद करने की विधि लिखो ।

(३) सेटी ग्रेड चर्म मापक पर किस प्रकार अंशों के चिन्ह लगाये जाते हैं ?

(४) इस को सेटी ग्रेड क्यों कहते हैं ?

(५) सेटी ग्रेड पर मनुष्य के रुधिर की उष्णता का कौन सा अंश होता है ?

**(४) कठिन, द्रव और वायवीय पदार्थों का फैला-
ओ—**

(१) काच अधिक फैलता है वा सीसा ?

(२) स्लादिनम धातु अधिक फैलता है वा जस्त ?

(३) चर्म मापक द्वारा सिद्ध करो कि द्रव पदार्थ कठिन पदार्थों से अधिक फैलते हैं ।

(४) क्या द्रव वस्तु थोड़ी उष्णता में शीघ्र फैलती हैं वा अधिक में ?

(५) क्या द्रवों से गैस अधिक फैलते हैं ?

(६) क्या उष्णता छोड़ किसी और प्रकार भी गैस फैलते हैं ?

(७) यदि कोई भुकना जिस में कुछ वायु भरा

है ०° पर १००० मुकस्सर इंच हो, तो १००° पर उस का का परिमाण होगा ?

(८) परीक्षा द्वारा सिद्ध करो कि द्रव पदार्थ बड़े बल से फैलते हैं ।

(९) तम जानते हो कि ठंडा होने से पदार्थ सख्त जाते हैं । गाड़ी का पहिया बनाने में इस गुण से क्या सहायता मिलती है ?

(५) विशेष उष्णता— (१) किसी वस्तु की विशेष उष्णता से क्या अभिप्राय होता है ?

(२) किसी ऐसे पदार्थ का नाम लो जिस की विशेष उष्णता वज्रत हि बढ़ कर हो ।

(३) किसी ऐसे पदार्थ का नाम लो जिसकी विशेष उष्णता वज्रत हि थोड़ी हो ।

(४) प्रश्न (२) और (३) के उत्तर उदाहरणों से विशद करो ।

(६) अवस्था का बदलना— (१) उष्ण करने से पदार्थों की अवस्था बदलने का क्रम लिखो ।

(२) लोहे का एक टुकड़ा तो तप कर सफेद होगा है, और दूसरा गला पड़ा है; इनमें से कौन सा अधिक उष्ण है ?

(३) लोहे का एक टुकड़ा तो गलाया गया है, और दूसरा भाप बना कर उड़ाया गया है । बताओ कि किस को अधिक उष्णता पड़ चुकी गयी है ?

(४) किसी ऐसे द्रव पदार्थ का नाम लो जो कभी नहीं जमा ।

(५) किसी ऐसे ग्रास का नाम लो जिस को ठंडा कर के हम द्रव नहीं बना सके ।

(६) क्या उष्णता का परिमाण करने में हम त्वक इन्द्रिय को नियामक मान सकते हैं ?

(७) दुःसाध्यपदार्थ किस को कहते हैं ? किसी का नाम लो ।

(८) सौ अंश वाले चर्ममापक में बर्फ के गलने का अंश कौनसा होता है ? और पानी के उबाल का कौन सा अंश होता है ?

(९) पानी और भाप की गुह्य उष्णता — (१) किसी परीक्षा द्वारा पानी की गुह्य उष्णता का लक्षण करो ।

(२) यदि ० की बर्फ का एक पौण्ड १०० पर उबलने पानी के एक पौण्ड में मिलाया जावे तो क्या औसत उष्णता ५० से न्यून होगी वा अधिक ?

(३) किसी परीक्षा द्वारा भाप की गुह्य उष्णता का लक्षण करो ।

(४) यदि बर्फ जैसे ठंडे पानी का एक पौण्ड १०० पर की एक पौण्ड भाप में मिला दिया जाय तो औसत उष्णता ५० से कम होगी वा अधिक ?

(५) जब हम कहते हैं कि पानी की गुप्त उष्माता ७६ है, तो इस से हमारा क्या अभिप्राय होता है ?

(६) जब हम कहते हैं कि भाप की गुप्त उष्माता ५३७ है, तो इससे हमारा क्या अभिप्राय होता है ?

(७) यदि पानी की गुप्त उष्माता बद्धत थोड़ी हो, तो क्या हो ?

(८) यदि भाप की गुप्त उष्माता बद्धत थोड़ी हो, तो क्या हो ?

(९) किसी परीक्षा द्वारा सिद्ध करो कि असली भाप अदृश्य होती है ।

(८) उबलना और बुखार बनना—(१) उबलने और बुखार बनने में क्या भेद है ?

(२) पानी के उबाल का स्थान किस के आश्रय है ।

(३) किसी पहाड़ की चोटी पर उबाल का स्थान ऊंचा होगा वा नीचा ? क्यों ?

(४) और गहरी कानों में ऊंचा होगा वा नीचा ? क्यों ?

(५) एक ऐसी परीक्षा का वर्णन करो जिस से यह मालूम हो कि दबाओ के घटाने से उबाल के स्थान पर अंतर होता है ।

(६) क्या बर्फ पिगलने से फैलती है वा सिकड़ जा-

ती है ? अपने उत्तर को परीक्षा द्वारा
विशद करो

(७) किसी ऐसी वस्तु का नाम लो जो इस
से इस बात में विरुद्ध हो ।

(८) जब द्रव पदार्थों को तपा कर भाप बना-
या जावे तो वह फैलते हैं वा सिकड़ जा-
ते हैं ?

(९) एक मुकस्सर रंच उबलते पानी की भाप
कितना स्थान रोकती है ?

(५) उष्णता के अन्य गुण— अतिशीतलमिश्र—

(१) उदाहरण देकर समजाओ कि उष्णता
से रसायनिक व्यापार बढ़ता है ।

(२) क्या रसायनिक व्यापार से प्रायः उष्णा-
ता उत्पन्न होती है ?

(३) कोई ऐसा उदाहरण दो जिसमें दो व-
स्तुओं के मिलाप से वृद्ध शीत उत्पन्न
होता है । इस बात का समाधान भी
करो ।

(४) क्या कारण है कि जो द्रव पदार्थ शीघ्र
बुखार बन जाता है वह वृद्ध ठंडा हो-
ता है ?

(५) एक परीक्षा द्वारा सिद्ध करो कि अपने
आप बुखार बनने से भी पानी जम
जाता है ।

(९.) उष्णता का फैल जाना—(१) क्या उष्णता में सदा फैल जाने की उपयोगिता होती है ?

(२) उष्णता कितने प्रकार से फैलती है ?

(३) संचार, प्रसार, और किरणीकरण का एक उदाहरण दो ।

(१०) उष्णता का संचार और प्रसार—(१) परीक्षा द्वारा सिद्ध करो कि काच की श्रेष्ठा धातु में उष्णता अधिक संचार करती है ।

(२) ऊत और पंख अल्पसंचारक हैं वा बड़-संचारक ?

(३) यह पदार्थ उष्णता को कब बाहिर नहीं निकलने देते ?

(४) यह पदार्थ उष्णता को कब भीतर नहीं बुसने देते ?

(५) परीक्षा द्वारा सिद्ध करो कि तांबा लोहे से बड़संचारक है ।

(६) संचार और प्रसार में बड़ा भेद क्या है ?

(७) यदि किसी बर्तन में पानी भर कर तपावे तो उस के परमाणुओं में किस प्रकार की गति उत्पन्न होगी

(८) इस बात का समाधान करो कि प्रसार के कारण सारे का सारा सरोवर जम नहीं सकना ?

(९) वायु में प्रसार का उदाहरण दो ।

(५) वाणिज्य मारुत का क्या कारण है ?

प्रकाश जो उष्ण पदार्थों से निकलता है ।

(१) प्रकाशक उष्णता और प्रकाश—(१) किस व्यापार से सूर्य की उष्णता पृथिवी पर पड़चती है ?

(२) यदि हांडी में उष्ण पानी भरा हो तो क्या उस से प्रकाश निकलता है ?

(३) जब किसी वस्तु को उष्ण करते जावें तो उस में से जो किरणें निकलती हैं उन में किस प्रकार का परिवर्तन होता जाता है ?

(४) प्रकाश की गति पहिले पहिल किस ने मालूम की थी ?

(५) जिस रीति से उस ने प्रकाश की गति मालूम की थी, उसका संक्षेप से वर्णन करो ।

(६) प्रकाश प्रति सेकण्ड कितने मील चलता है ?

(७) यदि सूर्य बुज जाय तो हम को यह बात कितना चिर पीछे मालूम होगी ?

(८) क्या प्रकाश के परमाणु सूर्य से चल कर हमारी आंख में पड़चते हैं ? यदि नहीं तो प्रकाश क्या वस्तु है ?

(२) प्रकाश का प्रति विखित होना—(१) कि-

सी परीक्षा द्वारा सिद्ध करो कि प्रकाश प्रति-
बिम्बित होता है ।

(२) दो वाक्यों में प्रतिबिम्बित होने के नियम
लिखो ।

(३) वर्णमाला के दो तीन अक्षर लिख कर दि-
खाओ कि आदर्श में उन की कैसी मूर्ति ब-
नेगी ?

(४) चर्ममापक की उजली गोली में वायु पद-
ार्थों की कैसी मूर्तियाँ बनती हैं ?

(५) दो मध्य निम्न दर्पण लेकर कर एक परी-
क्षा करो ।

(३) प्रकाश का वक्राभाव—(१) परीक्षा द्वारा सिद्ध
करो कि प्रकाश मुक जाता है ।

(२) बताओ कि शीशे में प्रवेश करने से पहिले
और पीछे, और शीशे के अंदर प्रकाश का
मार्ग किस तरह होता है ?

(३) जब शीशे का आकार फाने की तरह हो तो
उस समय प्रकाश का मार्ग कैसा होगा ?

(४) क्या प्रकाश फाने के मोटे भाग की ओर मु-
कता है वा नहीं ?

(४) दर्पण— उन से उत्पन्न हुई मूर्तियों—(१) यदि
कोई दर्पण मज पर पड़ा हो तो ऊपर से
देखने से कसा मालूम होगा ?

(२) यदि उस को एक ओर से देखें तो कैसा मालूम

म होगा ?

(३) सिद्ध करो कि दर्पण और प्रिज्म असल में एक ही वस्तु हैं ।

(४) चित्र बना कर दिखाओ कि यदि किसी दर्पण पर बड़त सी किरणों पड़ें तो वह किस प्रकार कुके गी ?

(५) दर्पण को आतशी शीशे की तरह केंद्र कर बर्त सकते हैं ?

(६) बताओ कि अकसी अर्थात् प्रतिबिम्बित मूर्तियों बनाने वाला दर्पण से क्या काम लेता है ?

(७) बृहद्दर्शक शीशे— (१) बताओ कि दर्पण द्वारा सूक्ष्म पदार्थों को केंद्र कर बड़ा देख सकते हैं ?

(२) यदि वस्तु बड़त हर हो तो क्या एक दर्पण से काम निकल सके गा ?

(३) इस अवस्था में तम क्या उपाय करो गे ?

(८) भिन्न २ प्रकार के प्रकाश भिन्न २ प्रकार से कुकते हैं— (१) कल्पना करो कि कुछ नीली, हरी, और लाल किरणों अकट्टी प्रिज्म में गई

हैं, क्या वह अकट्टी हि निकलें गी ?

(२) यदि नहीं तो किस क्रम से कुकें गी ?

(३) श्वेत रंग किन रंगों के मिलने से बनता है ?

(४) चित्र बना कर दिखाओ कि प्रिज्म हा-

रा यह बात कैसे सिद्ध हो सकती है ।

(५) पहिले पहिल किसने मालूम किया था कि श्वेत रंग कई रंगों का मिलाप है ?

(६) सेकटरम किस को कहते हैं ? अपने उन्नर को परीक्षा द्वारा विशद करो ?

(७) उष्णता का स्वभाव — (१) यदि कोई लोहार सीसे के टुकड़े को हथौड़े से कूटे तो प्रहार का प्रयत्न कहाँ जाता है ?

(२) किसी बटन को लकड़ी से रगड़ने में जो प्रयत्न खर्च होता है वह कहाँ जाता है ?

(३) मोमी दिया सलाई द्वारा परीक्षा करके सिद्ध करो कि प्रहार का प्रयत्न उष्णता में परिणत हो जाता है ।

(४) जब रेल गाड़ी की गति शिथिल की जाती है तो उस के ब्रेकहिल अर्थात् प्रतिबंधक चक्र से आग के चिंगारे क्यों निकलते हैं ?

(५) एक ऐसा उदाहरण बताओ जिसमें उष्णता फिर दृश्य प्रयत्न में बदल जाती है।

उद्भूतविद्युत् पदार्थ

(१) संचारक तथा असंचारक — (१) विद्युत् के विषय में पहिले पहिल क्या मालूम हुआ था ?

(२) डाक्टर मिलवर्ट ने कौन सी नयी बात मालूम की थी ?

(३) परीक्षा द्वारा सिद्ध करो कि विद्युत् काच पर नहीं फैलती ।

(४) परीक्षा द्वारा सिद्ध करो कि विद्युत् धातु पर फैल जाती है ।

(५) इन गुरों के कारण शीशे और धातु के क्या नाम रखे गये हैं ?

(६) अल्प संचारक और बड़ संचारक पदार्थों की पहचान दो ।

(२) दो प्रकार की विद्युत्—(१) एक परीक्षा द्वारा सिद्ध करो कि विद्युत् दो प्रकार की होती है ।

(२) जब दो वस्तुओं में एक हि विद्युत् भरी हो तो क्या होता है ? जब विपरीत विद्युतें भरी हों तो क्या होता है ?

(३) एक ऐसी परीक्षा का वर्णन करो जिससे हम दो प्रकार की विद्युतों को अलग अलग कर सकते हैं ।

(४) यदि हम काच के उंडे को रेशमी कपड़े से रगड़ें तो इन दो वस्तुओं में किस किस प्रकार की विद्युत् प्रकट होती है ।

(५) यदि हम लाख को फलोलिन से रगड़ें तो इन दो वस्तुओं में किस किस

प्रकार की विद्युत् प्रकट होती है ?

(१) रगड़ी हुई और न रगड़ी हुई वस्तु—परीक्षा—

(१) परीक्षा द्वारा सिद्ध करो कि वैद्युत प्रतिष्ठापन का वस्तु है ।

(२) वैद्युत स्फुलिंग का वर्णन करो और उस का कारण बताओ ।

(३) सवर्णपत्रविद्युद्दर्शक और उस के व्यापार का वर्णन करो ।

(४) यदि विद्युद्दर्शक में विधायक विद्युत् भरी हो, और हम एक काच की उंडी रगड़ कर उस की गोली के पास लावे तो क्या होगा ?

(५) और लाख की वस्ती रगड़ कर लाने से क्या होगा ?

(६) यदि विद्युत्कोष के पास एक पीतल का गोला, जो काच के पायों पर टिका हुआ हो, लाओ तो एक छोटी सी चिंगारी निकलती है; यदि इस गोले का पृष्ठी के साथ वैद्युत संबन्ध हो तो बड़ा चिंगारा निकलता है । इस का क्या कारण है ?

(७) यदि इसी गोले के साथ एक नोक लगा दी जावे तो कोई चिंगारी नहीं निकलती । इस का क्या कारण है ?

(८) प्रेक्लिन ने कौन सी नयी बात मालूम कीथी ?

(४) विद्युयंत्र — लेडन का भर्तबान — (१) विद्यु-
यंत्र का एक खाका बनाओ और उस
के व्यापार का वर्णन करो ।

(२) लेडन के भर्तबान का एक खाका बना-
ओ और उस के व्यापार का वर्णन करो ।

(३) विद्युन्निस्सारक दण्ड का एक खाका ब-
नाओ, और बताओ कि इस से क्या का-
म लिया जाता है ?

(५) उद्भूत विद्युत् पदार्थों का प्रयत्न — (१) उस
बात का प्रमाण दो कि विद्युत् में प्रय-
त्न होता है ।

(२) जब बिजली चमकती है तो क्या त-
म विद्युत् देखते हो, यदि नहीं तो वह
क्या वह है ?

(३) विद्युयंत्र को घेरना क्यों कठिन है ?

(६) वैद्युत् प्रवाह — (१) बाल्य के मोरचे का खाका
बनाओ, और उस के व्यापार का वर्ण-
न करो ।

(२) मोरचे की धुंसी तारे किन को कहते हैं ?

(३) विधायक विद्युत् का प्रवाह किधर से
होकर जाता है ?

(४) घोव साहिन के मोरचे का खाका ब-
नाओ, और उस के व्यापार का वर्ण-
न करो ।

(७) वैद्युत प्रवाह के गुण—(१) वैद्युत प्रवाह द्वारा
 लाटिनम की तार को किस प्रकार उष्ण
 कर सकते हैं ?

(२) इस प्रकार के प्रवाह से पानी का विच्छेद
 क किस तरह कर सकते हैं ?

(३) यदि पानी का विच्छेद किया जावे तो
 आक्सीजन किस ध्रुव पर निकलेगा और
 हाईड्रोजन किस पर ?

(४) वैद्युत प्रवाह की सहायता से लोहे के टुकड़ों
 में और लोहा खिंचने की शक्ति किस प्रकार उत्पन्न कर सकते हैं ?

(५) प्रवाह के बंद होने के पीछे मृदु लोहे में
 यह शक्ति रहती है वा नहीं ?

(६) चुम्बक किस को कहते हैं ?

(७) वैद्युत प्रवाह से चुम्बक किस तरह फिर
 जाता है ?

(८) बताओ कि हम किस तरह तार की खबर
 भेज सकते हैं ?

QC
23
S818
1885

Stuart, Balfour
Jara vijnana tattva

P&A Sci.

PLEASE DO NOT REMOVE
CARDS OR SLIPS FROM THIS POCKET

UNIVERSITY OF TORONTO LIBRARY
