

特116

576

マスタア オプ アーツ 横川四十八編

高等精神検査法 甲種 E

學校第 學年

年 月 日

大正 12. 9 22 内交

大正 年 月 日 午前 午後 時 分 検査

検査の結果

種別	一	二	三	四	五	六	七	八	九	計	標準	智能指數
點數												
備考												



24116
596

第一 命令の實行

いろはにはへごちりぬるをわかよたれそつねならむうゐのおくや
まけふこえてあさきゆめみしゑひもせす

例 いろはの第五番目の文字を書きなさい。(ほ)

此處から始めなさい。

- 一、問題の下にある括弧くわくの中に書き入れる文字は皆はつきりした平假名にして下さい。お判りになりましたか。括弧の中にも
の字を書いて下さい。(一)
- 二、あなたは精神検査中は決して質問をしてはならぬ事を覚えて居られますか
それではなを書きなさい。(二)
- 三、あなたは精神検査の間に決して他人の紙を見てはならぬ事を
覚えて居られますか。それではみを書きなさい。(三)
- 四、あなたはひひ附けられるまでは此の試験用紙をまくつたり次
のページを見てはならぬ事を御承知ですか。それではまごな
を書き入れなさい。(四)
- 五、い の字を書きなさい。(五)
- 六、いろはの第七番目の文字を書きなさい。(六)
- 七、五の問題にあつたのこ全じ文字を書きなさい。(七)
- 八、いろはの第四番目の文字の次の文字を書きなさい。(八)
- 九、むの前にある文字を書きなさい。(九)
- 十、いろはの中でふがきの後にあるのならふご書きな
さい。さうでなければきご書きなさい。(十)
- 十一、いろはの中の總べての奇数の文字(即ち第一、第三、第
五、など)を消すなら消さずに残る第四番目の文字は何ですか。(十一)
- 十二、いろはのはの次に来る文字の次の文字を書きなさい。(十二)
- 十三、いろはの中で若しほごへが續いて居るならほご書
きなさい。併しわごぬごが相續いて居るならわご書きな
さい。(十三)

(1)

十四、わこれの中央にある文字から下の方へ三番目の文字を書きなさい。

() 十四

十五、若しいろはの文字をすべていはろと置き換へははに置きかへたら第十五番目の文字は何ですか。

() 十五

十六、いろはの中で甲の文字は乙の文字から下の方へ二番目の文字である。乙の文字はみの字から上の方は五番目である。

甲の文字は何ですか。

() 十六

十七、いろはの中で甲の文字は乙の文字から上の方に四番目である。乙の文字は丙丁二文字の丁度中間にある。今丙はよの

() 十七

すぐ下の文字で丁はなのすぐ上の文字なら甲は何ですか。

十八、若しすみれといふ語の假名がいろはの順序になつて居りほしといふ語も同様であるならどと書きなさい。併しごちらか一語のみの假名がいろはの順序になつて居たら其語のはじめの假名を書きなさい。

() 十八

十九、「うみゆかばみづくかばね」。といふ歌の中で一番早く二度繰りかへされて居る假名は何ですか。

() 十九

廿、「君のつくれるよき文」。この句の中の傍線にしてある假名をいろはの順序に置いて見て、その文字と文字との間の字数が原文の同じ文字の間の字數に等しいものがあつたらその初めの方の文字を書きなさい。

() 廿

第二 反對の發見

例 上……………(短 下 小 低 若)
 熱……………(温 氷 暗 寒 火)

右の例に示した様に左の各行の初めに書いてある漢字(又は熟字)の意味と反對の意味のものを括弧の中の五つの漢字(又は熟字)の中から捜し出して其の右側に短い線を引きなさい。

一、北……………(極)	南	西	東	赤道)	一
二、否……………(正)	確	然	皆無	多分)	二
三、麓……………(頂)	側	蓋	中程	越える)	三
四、後……………(早)	今	速	次	前)	四
五、易……………(長)	急	遲	難	通常)	五
六、敵……………(鬪)	隣	味方	他人	仇)	六
七、失敗……………(失敬)	試	善	成功	勝利)	七
八、強……………(男)	弱	小	短	薄)	八
九、美……………(善)	醜	惡	曲	綺麗)	九
十、服從……………(規律)	將校	命令	指導	兵卒)	十
十一、悲……………(病)	健	善	喜	慢)	十一
十二、縮……………(小)	少	伸	止	膨)	十二
十三、眞……………(謂)	否	虛言	愚	偽)	十三
十四、憎……………(敵)	恐	愛	友	喜)	十四
十五、受……………(請取)	奪	否	斥	費)	十五
十六、儉約……………(廉)	吝嗇	浪費	價	富)	十六
十七、死……………(抹)	變	續	生	改)	十七
十八、叛逆……………(友)	勇	智	怯	忠義)	十八
十九、譽……………(榮)	恥	怯	恐	敗)	十九
廿、恒……………(常)	不定	不變	牢	動)	廿

第三 不順序文

例 人は 働く ために 生活する……………(真) 偽)

山の 上へ 行く 川が 流れて……………(真) 偽)

左の各行にある文字を順序よく列べて意味のわかる文章にしてそれが事實を示すものになれば括弧の中の真といふ字の右傍に線を引き、若し事實を示す文章にならぬならば偽の字の右傍に線を引きなさい。

- 一、ひく 荷車を 馬は (真) 偽) 一
- 二、太陽は 夜 輝く (真) 偽) 二
- 三、大砲は 大きな する 音が (真) 偽) 三
- 四、あたたかいのは 一年中で 夏です 最も (真) 偽) 四
- 五、で コツプは 皆 ある 綿 こしらへて (真) 偽) 五
- 六、を 墨 筆を 書く 用ひる 字 を (真) 偽) 六
- 七、長い 蜜柑 細くて は (真) 偽) 七
- 八、木 食べ 石炭 られる は (真) 偽) 八
- 九、十二月 一年は ある で (真) 偽) 九
- 十、は 造る 椅子 木 通常 で (真) 偽) 十
- 十一、尾 ある が すべて 短い 甚だ 猿の類には (真) 偽) 十一
- 十二、人 多くの 菓子 好む は を (真) 偽) 十二
- 十三、こ 鳥から 蜂蜜 バン 取れる が (真) 偽) 十三
- 十四、降る 天 鹽は から (真) 偽) 十四
- 十五、地球 こ ある 太陽 大層 近くに は (真) 偽) 十五
- 十六、水 コルク に こ 木 は 浮ぶ (真) 偽) 十六
- 十七、安全 ある で あるこ 街燈が 夜 (真) 偽) 十七
- 十八、走る より 或 早く 子供 外の者 は (真) 偽) 十八
- 十九、靴 用ひられる 帽子は 食物に こ (真) 偽) 十九
- 廿、甚だ ある 路 雨後 の 乾いて は (真) 偽) 廿

第四 諺

左に列擧した諺の上にある括弧の中に其の諺の意味を書いた短文の番號を書き入れなさい。

- 一、() 朝起は三文の徳……………一
- 二、() 橋はそこへ来るまでは渡るに及ばぬ……………二
- 三、() 溢れた牛乳を見て泣いても仕様がな……………三
- 四、() 類を以て集る……………四
- 五、() 人は見かけによらぬ……………五
- 六、() 自分の舟は自分で漕げ……………六
- 七、() 待つて居るゝ湯はなかく沸かぬ……………七
- 八、() 藁千本あつても柱にならぬ……………八
- 九、() 空の桶はよく鳴る……………九
- 十、() 薊あざみは無花果は實らぬ……………十

以上の諺の意味

- 一 望みのない事を嘆いて居るのは愚なことである。
- 二 似たものは仲間になりたがる。
- 三 成功を望むなら勤勉でなければならぬ。
- 四 他人に便るな。
- 五 氣が急くと時間を長く思ふ。
- 六 取り越し苦勞をするな。
- 七 悪い種から善い實はならぬ。
- 八 時々愚なことをしない程賢い人はない。
- 九 聞くほどの事を皆信じてはならぬ。
- 十 外觀で欺かれる事がある。
- 十一 つまらぬ人物ほど多言である
- 十二 愚な人間が澤山あつてもすぐれた人の一人分の用をなさぬ事がある。

- 十一、() 火傷をした事のある子供は火を恐れる……………十一
- 十二、() 羅馬は一日で建てられたものでない……………十二

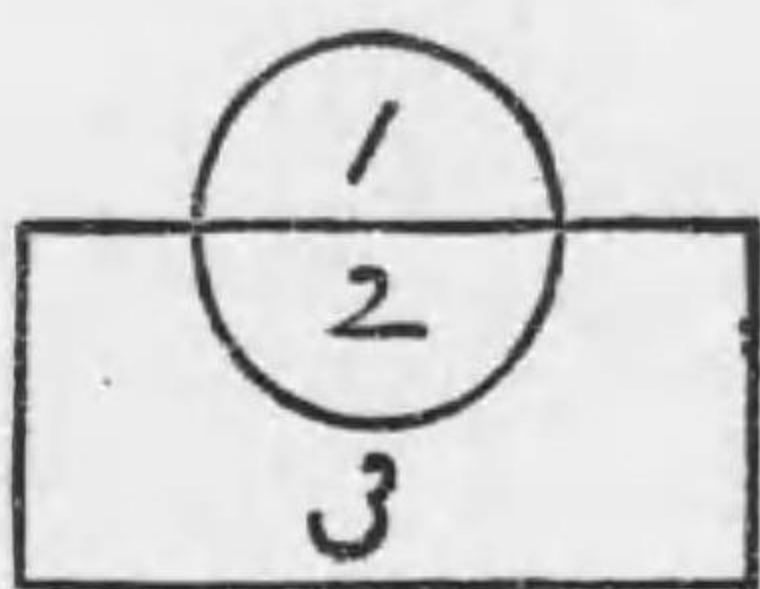
- 十三、() 泥^{どろ}薄^{うす}の中に居る者は他人をも其の中に引き込まうとする……十三
- 十四、() 度々植ゑかへた木には多く實がならない……十四
- 十五、() 大船は浅水に浮ばず……十五
- 十六、() 猫が居らぬと鼠が騒ぐ……十六
- 十七、() 半片^{はんぺん}のパンでも無いよりはましである……十七
- 十八、() 食べて見た上でなければ食物の味はわからぬ……十八
- 十九、() 水が流れ去つてしまつては水車は動かぬ……十九
- 廿、() ごの道にも悪い水溜りがある……廿

以上の諺の意味

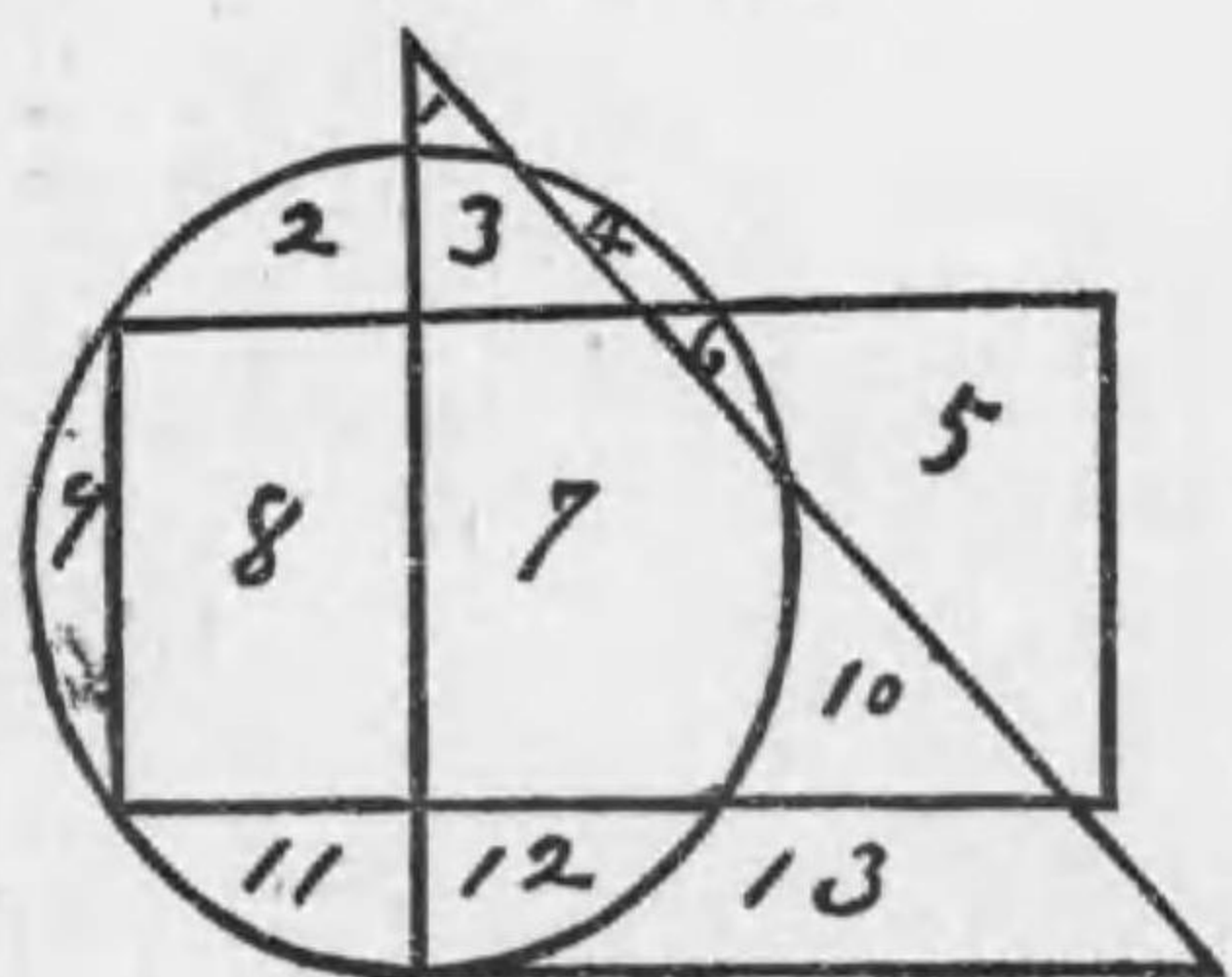
- 一 大事業をしようと思へば長い間の辛抱が要る。
- 二 度々計畫を變へれば失敗を招く。
- 三 欲しいと思ふ程を得られなければ得られるだけでも取つて置く
がよい。
- 四 不幸な経験をすれば注意深くなる。
- 五 好機は逸すべからず。
- 六 官憲が油断をすれば罪惡が蔓^{はげ}る。
- 七 自分の持つて居らぬ品は大層欲しい。
- 八 使つて見た後でなければ物の價値は判らぬ。
- 九 如何なる職業にでも愉快でない仕事がある。
- 十 恥づべき境遇に居るものは他人にも恥辱を與へたがる。
- 十一 一度経験した事は二度目には出来る。
- 十二 大事業は偉人でなければ仕遂げられぬ。

第五 幾何圖形

圖一第



圖二第



問題は一々数字で答へを括弧の中へ記しなさい。例第一圖を見なさい。圓の中で長方形の中でないところにある数字は何か。

(1)

- 一、第一圖の長方形の中であつて圓の中でない数字は何ですか。 () 一
- 二、第一圖の長方形の中であつて圓の中である数字は何ですか。 () 二
- 三、第二圖の長方形の中であつて圓の中でもない三角形の中でもない数字は何ですか。 () 三

(以下皆第二圖についてです)

- 四、長方形と三角形の中であつて圓の中でない数字は何ですか。 () 四
- 五、圓の中で、三角形の中で、長方形の中である数字は何ですか。 () 五
- 六、三角形の中で、圓の中でもない長方形の中でもない数字の中最も小さい数をあらはして居るのは何ですか。 () 六
- 七、圓の中であつて、長方形の中でもない三角形の中でもない数字の中で一番大きい数字は何ですか。 () 七
- 八、三角形の中であつて、圓の中であつて、長方形の中でない数字で圓の下の方にあるのは何ですか。 () 八
- 九、圓、三角形、長方形の中で一番仕切数の少ないものは何ですか其仕切られた数を書きなさい。 () 九
- 十、圓、三角形、長方形の三つに共通して居る仕切りは幾つありますか。 () 十
- 十一、圓、三角形、長方形の中どれか一つの中にもみある仕切りは幾つすべて幾つですか。 () 十一
- 十二、圓、三角形、長方形の中其二つの中にもみある仕切りは幾つ

ありますか。

(十二)

十三、12の仕切りご3の仕切りごは共に圓の中で同時に三角形の中にあつて長方形の中でないから似て居る仕切りご云へる。かくの如くごの仕切りでも同時に同一なる形の中にある仕切りは似て居るごいへる。今6の仕切りに似て居る仕切りの數字を書きなさい。

(十三)

十四、1の仕切りに似た仕切りの數字を書きなさい。

(十四)

十五、9の仕切りに似た仕切りは外に幾つありますか。

(十五)

十六、5の仕切りに似た仕切りは一つもないからかくの如き仕切りを單獨仕切りごいふ。

すべて單獨仕切りごは他に似た仕切りのない仕切りを云ふのである。

今8 9 10 11 12 13の仕切りを一つ一つ吟味して其の中の單獨仕切りの數字を書きなさい。

(十六)

十七、第二圖の中に單獨仕切りはいくつありますか。

(十七)

十八、圓、三角形、長方形の三つを重ね合せて作り得べき單獨仕切りの最大數は幾個ですか。(此の紙面の余白に圖を書いて見るとよろしい。)

(十八)

十九、圓、三角形、長方形の三圖形を重ね合せて單獨仕切りの數を最少にすれば幾つになりますか。

(十九)

廿、圓、三角形、長方形の三圖形を重ね合せて仕切りの數を最大にすれば幾つになりますか。

(廿)

第六 常識

例 第一、犬は好んで 草、豆、菓物、肉類を食べる。

第二、一年を日數にすれば二百十日、三百六十五日、三百五十日、三百八十五日です。

例に示した様に文章の意味を眞實にすべき文字に傍線を付けなさい。

- 一、日曜の前日は 水曜、木曜、金曜、土曜 です。
- 二、熟した苺の色は 黒、赤、緑、青 です。
- 三、蒲鉾は菓物、野菜、魚肉、米でこしらへたのです。
- 四、多くの蜘蛛は蛛網を張つて 鳥、魚、蠅、蛇 を捕へる
- 五、權は 車、舟、飛行機、自動車 を動かす道具です。
- 六、網を張つて クリツケツト フットボール、テニス、ゴルフ をする
- 七、七面鳥は 狐、カナリア、雞、猫 に似た 動物です。
- 八、紀元節は 三月、二月、一月、九月 にあります。
- 九、新聞記者出身の總理大臣は原敬、大隈重信、伊藤博文、黒田清隆氏です。
- 十、獨逸の味方になつて戦争をした國はギリシア、ルウマニア、トルコ、支那です。
- 十一、金剛石は 礫山、牡蠣、鯨、海、から採り出します。
- 十二、螫するご甚だしく痛みを起さする動物は 蟋蟀 大黃蜂、蝗、さん
せううを」です。
- 十三、山吹は薔薇、菊、萩、百合に類似した植物です。
- 十四、神戸市は東北方近畿、四國朝鮮にあります。
- 十五、樟腦が最も多く産出するのは北海道、カリオルニフ、臺灣、秋田です。
- 十六、一ヶ月は凡そ 二、四、六、八 週です。
- 十七、リンネルは 織物、人名、舞蹈、食物の類です。
- 十八、鱈は 雞卵、魚肉、魚のこ、牛肉でこしらへたのです。
- 十九、機關車を初めてこしらへ上げた人は、ゼンネル、スチイブンソン、
ナボレオン、伊能忠敬です。

廿、 年利五分五厘は日歩二錢五厘、二錢、一錢五厘、二錢、程になります。 廿
廿一、 軍備縮少は 世界平和、海軍擴張、師團増設、議員選舉の爲めに必
要です。 廿一
廿二、 塙保己一は 軍人、學者、發明家、政事家です。 廿二

第七 算 術

各の問題の下にある括弧の中に答の數字を書入れなさい。此の紙の餘白（ぐるりにあまつたところ）に運算をしてもよろしい。

- 一、一本三錢の鉛筆十二本でいくらになります。（ 一）
- 二、三十六錢で一本四錢の鉛筆幾本を買ふことが出来るか。（ 二）
- 三、或人廿五圓所持して居たが其の中十五圓を費したら幾何残るか。（ 三）
- 四、或子供が卅錢費して後四拾五錢儲けた此の子供の最初に持つて居たのより何程増したか。（ 四）
- 五、一時間卅哩走る汽車は六時間に幾哩走るか。（ 五）
- 六、或氷山が一年に二百尺の割合で流れて居る。此の氷山が二千尺流れるのには幾年を要するか。（ 六）
- 七、 $1\frac{1}{2}$ ヤール三十錢の金巾10ヤールの價何程。（ 七）
- 八、三本五錢のペンを五十錢で幾本買はれるか。（ 八）
- 九、或人其の住居より西へ八町歩みたる後同じ道を東へ三丁歩むなら其の人は自分の家から幾町離れて居るか。（ 九）
- 十、或子供が六尺走するのに $1\frac{1}{4}$ 秒を要する。此の子供は今此の割合（速力）で10秒間に幾尺を走ることが出来るか。（ 十）
- 十一、或所の荒地を開墾するのに十五人で四十日を要する。今此の荒地を三十人で開墾すると幾日を要するか。（ 十一）
- 十二、甲教室に机が八列竝べてあつて一列に八人分の席がある。乙教室には九列竝べてあつて一列に七人分の席がある。甲室は乙室より幾人多く入れる事ここが出来るか。（ 十二）
- 十三、林檎をつめた箱十個の目方は四十貫である。其の中で箱のみ目方は一個四百匁づゝである。林檎の目方總計何程。（ 十三）
- 十四、甲市街は乙市街の南十五里。乙市街は丙市街の南三十里のところにある。甲市街より丙市街までの距離を問ふ。（ 十四）
- 十五、廿四インチの羅紗を濕らすと廿二インチに縮む其の割で卅六

インチの羅紗を濕らすと幾インチに縮むか。

()十五

十六、太郎が自轉車で卅尺走る間に次郎は二十尺走る。今次郎が卅尺走る間に太郎は幾尺走るか。

()十六

十七、或ホテルでクリーム二、牛乳三の混合液を客に供する。今此の混合液一升五合を造るに要するクリームの量を問ふ。

()十七

十八、 $1\frac{1}{2}$ 尺の價九十錢のモスリン $2\frac{1}{2}$ 尺の價何程。

()十八

十九、20インチの針金を二ツに切るのに一方は他方の $\frac{2}{3}$ の長さにして切りたい。短い方の長さを問ふ。

()十九

廿、或書籍店で七圓の買物をなした者がある拾圓札で仕拂をする

其の店に折悪しく釣銭がなかつたので隣家で兩替して貰つて客に參圓の釣銭と品物を渡して仕舞つた。程經て其の拾圓札は價札なることが判り隣家へ拾圓を戻した。此の書籍店の損害何程

()廿

第八比論

指……………手……………足指……………足、膝、腕、靴、爪
 例衣服……………人……………毛皮……………上衣、獸、髮、皮、木綿
 高……………低……………肥……………男、廣、瘦、兒、重

第一例。指の手に對する關係は足指の何に對する關係に等しいか
 といふ意味であるから？印のあるところに書くべき文字を其の
 行の下にある文字の中から搜してそれに傍線をつけるのである。

- 一、足……………人……………蹄……………手、犬、馬、男、兒、靴
- 二、太郎……………男……………お梅……………清子、太吉、伴、女、男
- 三、書籍……………著者……………塑像……………彫刻師、大理石、モデル、雜誌、男
- 四、子供……………大人……………雞……………毛、雛、野羊、鶏舍、犬
- 五、木……………机……………小刀……………切る、椅子、フォーク、鋼鐵、手
- 六、肘……………腕……………脚……………足、膝、靴下、足指、踵
- 七、をち……………をば……………息子……………兄弟、娘、姉妹、父、女兒
- 八、時計……………時……………寒暖計……………磁石、暖、球、水銀、温度
- 九、電燈……………蠟燭……………自働車……………馬車、電氣、タイヤ、速力、光
- 十、急須……………茶……………花……………莖、葉、水、花瓶、根
- 十一、秩序……………混雜……………戰爭……………鐵砲、平和、彈藥、電、軍隊
- 十二、氷……………水……………水……………陸、蒸氣、寒、川、渴
- 十三、月……………地球……………地球……………火星、太陽、雲、恒星、宇宙
- 十四、食物……………身體……………發動機……………車輪、燃料、煙、運動、火
- 十五、電線……………電氣……………瓦斯……………焰、スパアク、熱、パイプ、ストーブ
- 十六、書籍……………知識……………金錢……………紙、金貨、銀行、著述、銀
- 十七、電話……………都市……………身體……………血管、神經、腕、衣服、骨骼
- 十八、帝國議會……………日本帝國……………市……………市長、參事會、市會、委員、市民
- 十九、畑……………七夕……………孔雀……………野、田、杓、竹、鶴
- 二十、ミシン(裁縫用)……………縫針……………タイプライター……………ピン、布、インキ、ペン、紙
- 廿一、綺麗……………姿……………旨い……………味、美、酸、醜、清潔

廿二、悲哀……………不幸……………喜悅……………失望、幸福、憎惡、成功、高慢	廿二
廿三、物理……………運動……………血液……………溫度、身體、靜脈、生理、地理	廿三
廿四、パリ……………國際聯盟……………ワシントン……………獨逸、軍備縮少、陸軍擴張、デモクラシイ	廿四

第九類 似 點


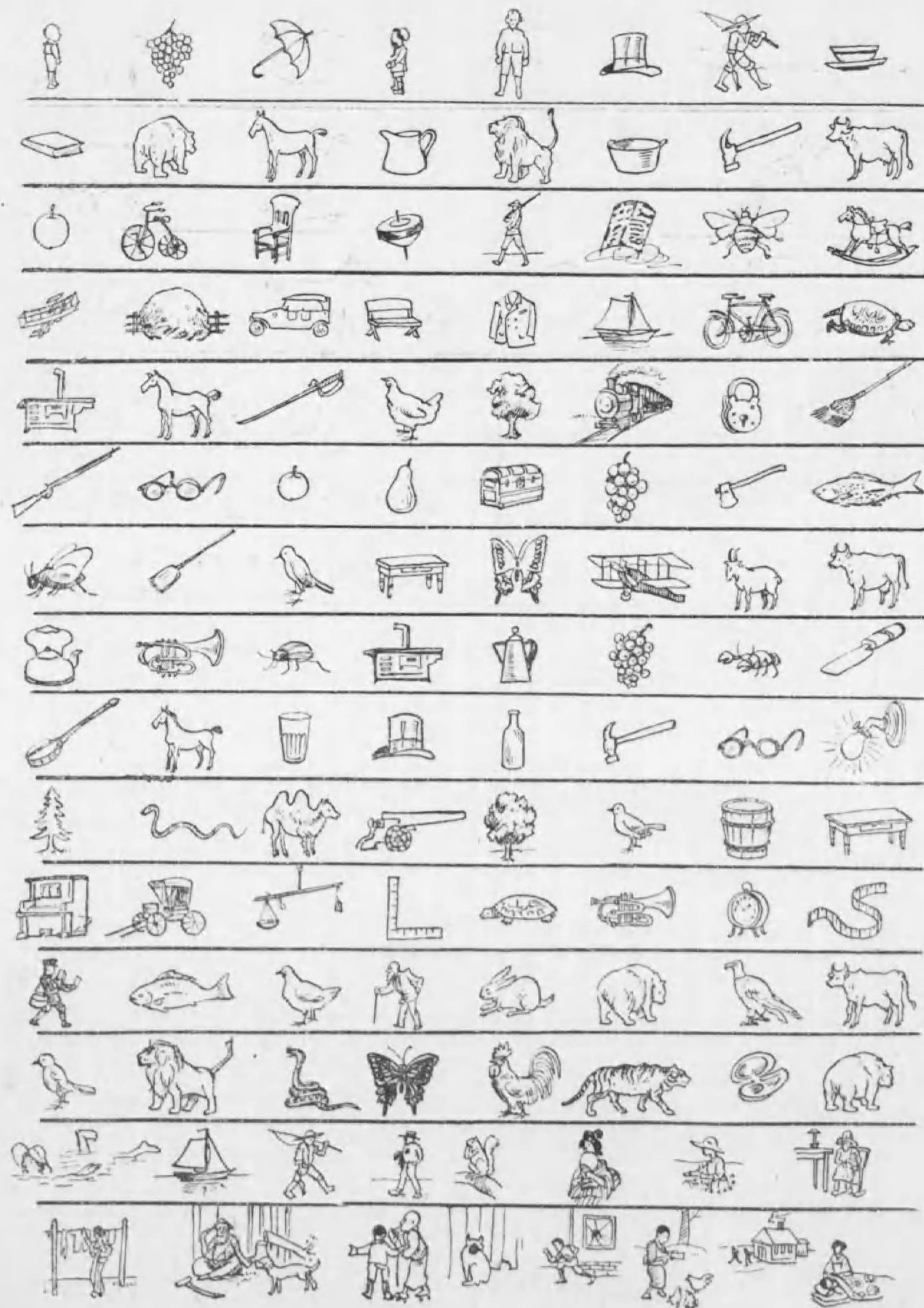
帽子、襟輪、手袋……………手、杖、首、靴、家。
 例 薔薇、蒲公英、堇……………赤、木、座蒲團、菊、叢。
 机、椅子、書棚……………書籍、テーブル、疊、筆、衣服。



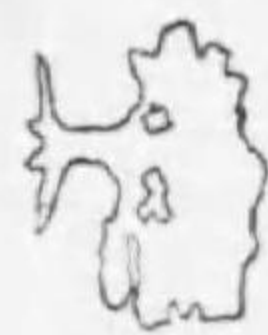

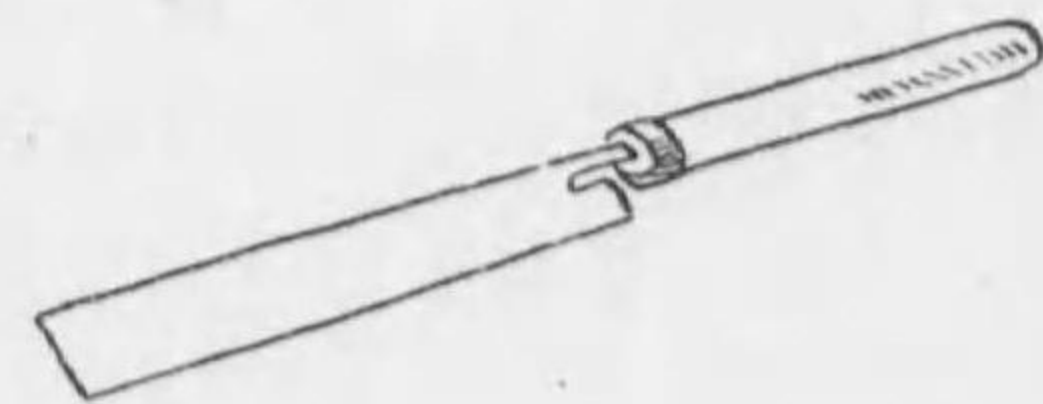

各行上部の三字(又は熟語)の意味に類似して居る意味の文字を下部の五文字(又は熟語)の中に索めて傍線を付けなさい。

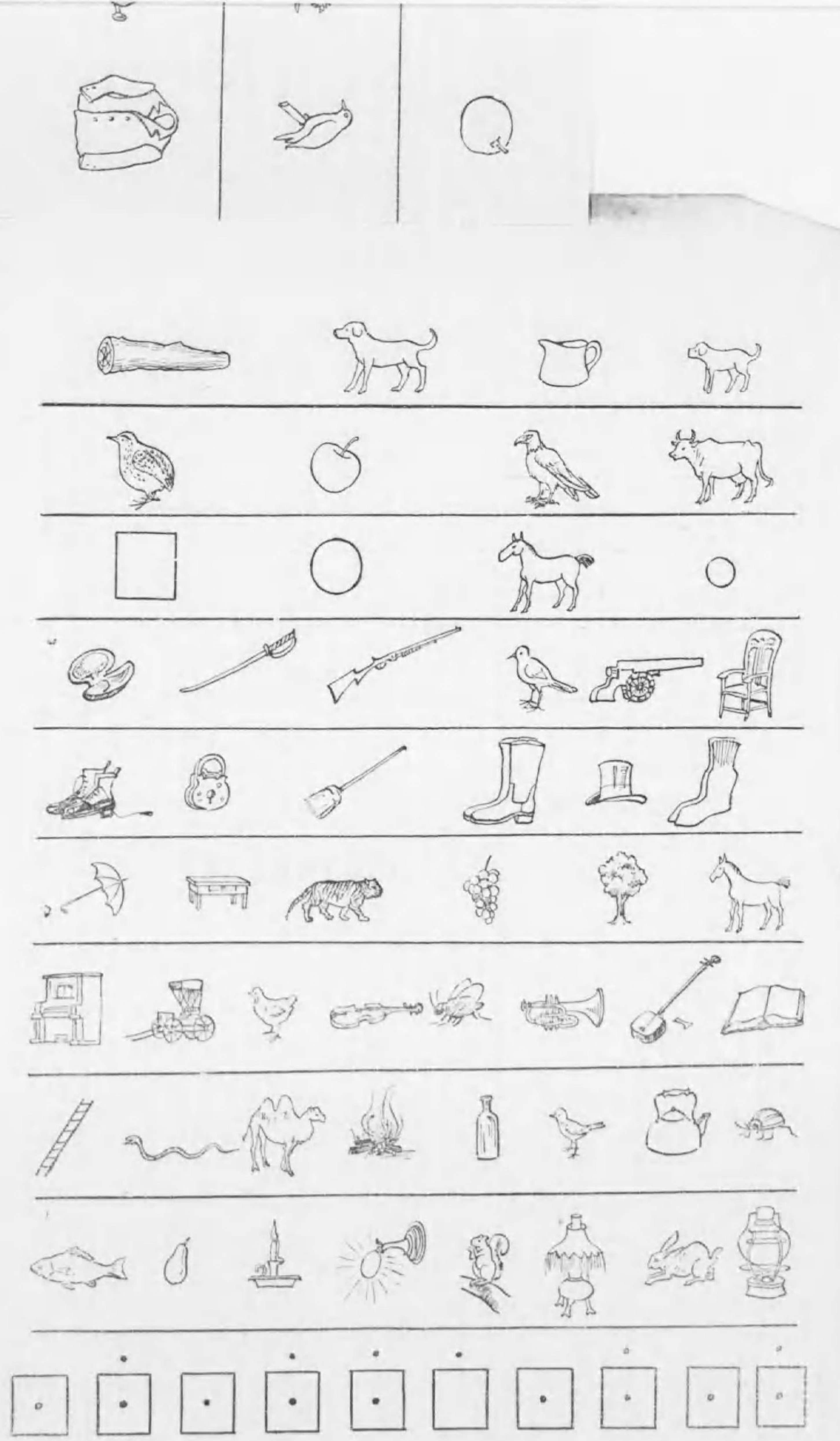

- 一、青、黄、黒……………天、赤、海、暗、花。 一
- 二、梅、杏、林檎……………木、種、桃、汁、熟。 二
- 三、茶碗、皿、コップ……………箸、膳、食、鉢、スプーン。 三
- 四、馬、鳩、蟋蟀……………廐、鞍、食、野羊、鳴。 四
- 五、舟、馬、列車……………帆、權、自轉車、動、軌。 五
- 六、降る、歩く、廻る……………下、立、町、周圍、乗る。 六
- 七、剃る、切る、削る……………剃刀、髭、小刀、刈る、材。 七
- 八、靴下、旗、帆……………靴、船、杖、手拭、洗。 八
- 九、圓、三角形、四角形……………廻る、描く、橢圓、立體、線。 九
- 十、吉藏、製造、愛憎……………名、心、女兒、人形、改造。 十
- 十一、話、使者、電話……………町、通信、送る、柱、悪。 十一
- 十二、密輸入、盜、賄賂……………賤、取、乞、欺、悪。 十二
- 十三、喜、恐、悲……………愛、記憶、生命、思想。 十三
- 十四、忠、勇、同情……………孝、富、智、強、好。 十四

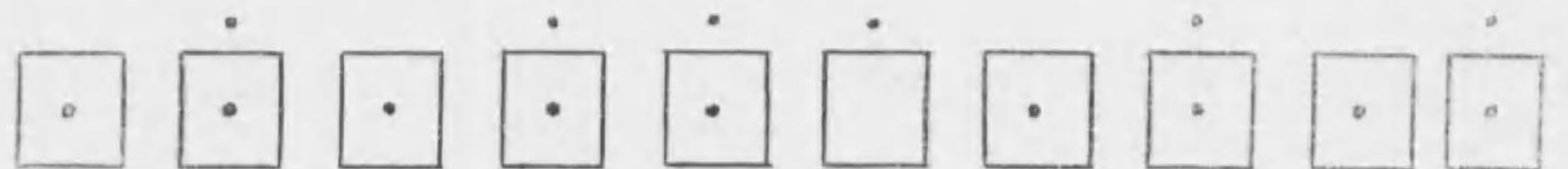

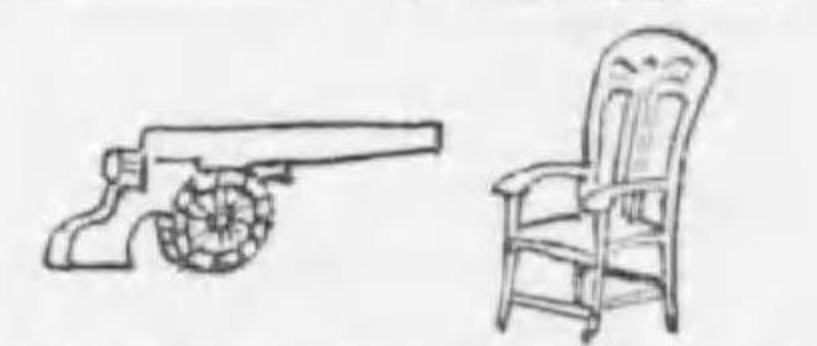

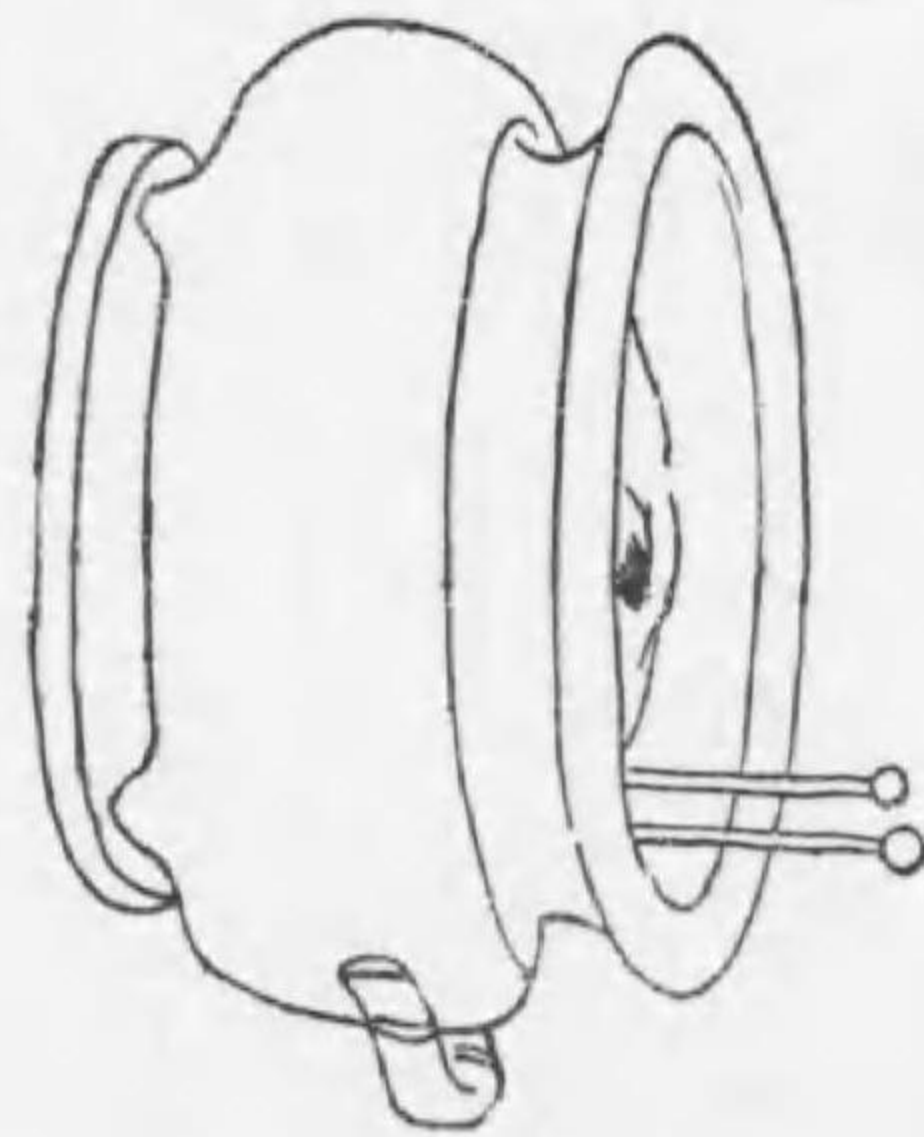


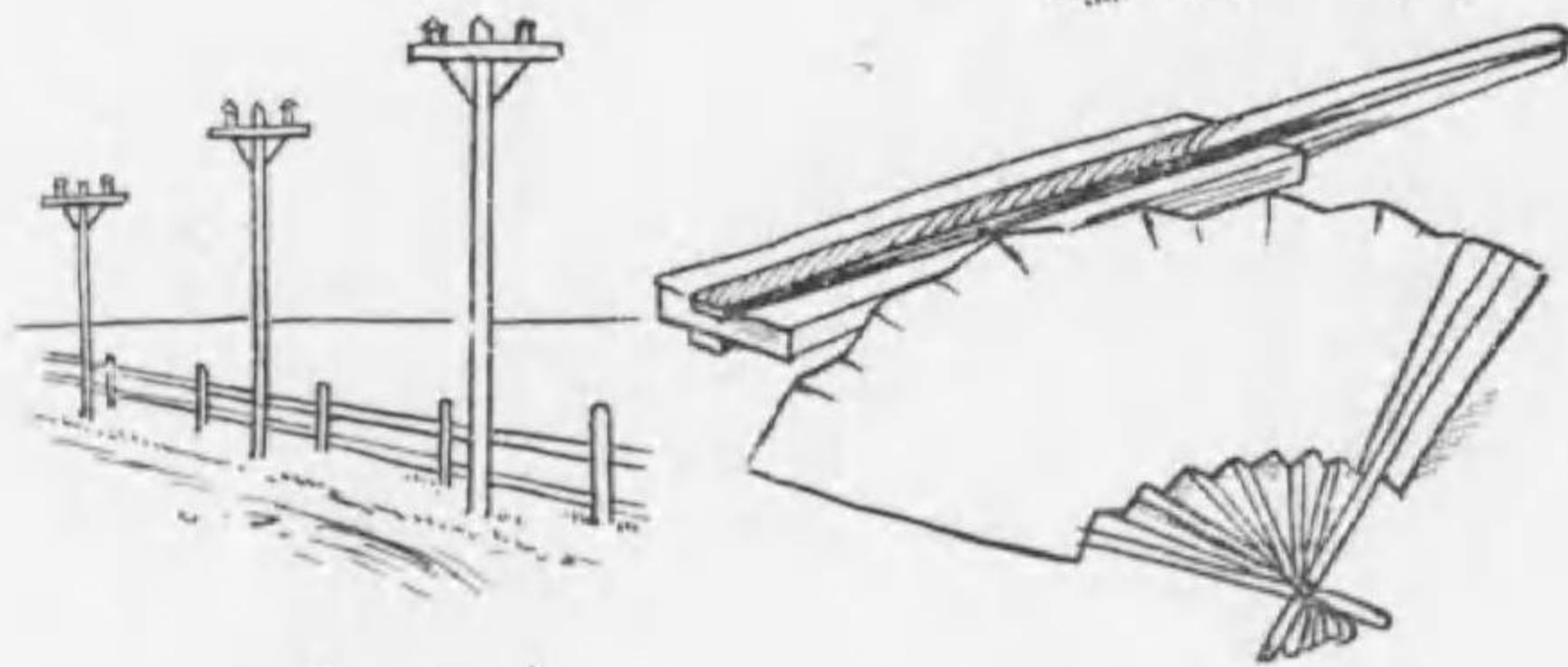
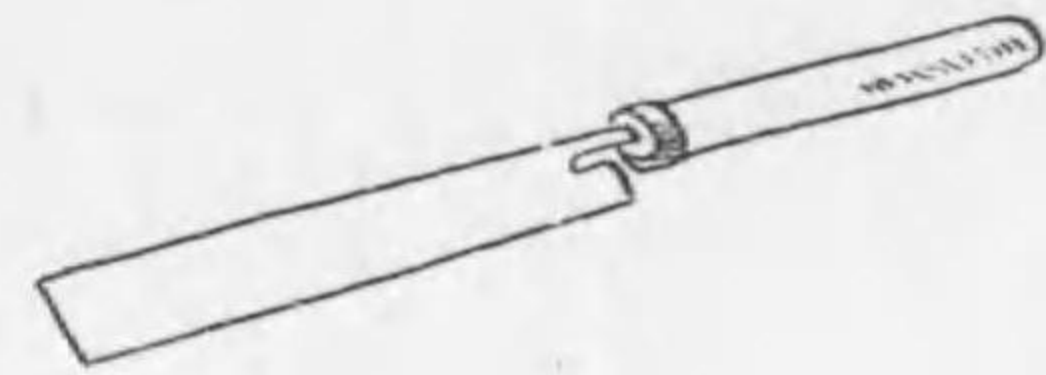


高等精神検査法用紙 乙種 E

氏名 _____ 年 月 日生 學校 _____ 學年 _____ 級 _____









287

435

大正十二年二月二十日印刷
大正十二年二月二十五日發行

〔定價 金參拾錢〕

(甲金貳拾錢 乙金拾錢)

編者 横川 四十八


發行者 大葉久吉

發行所 大葉久吉
印刷者 柏佐一郎

發行所

東京市日本橋區本石町二丁目
大阪市西區阿波堀通四丁目
神戶市元町五丁目

寶文館



終