

會考升學復習叢書

世界地理試題解答

高初中及師範適用

進步研究社印行

1937



3 1763 8778 9

世界地理部

I

世界地理部

1. 歐亞交界處有何天然之界限？

歐亞交界處有烏拉山烏拉河裏海，高加索山黑海地中海等天然之界限，

2. 亞洲海岸線一哩當陸地面積多少其長率遜於何洲？

亞洲海岸線一哩，當陸地面積四百九十方哩，長率遜於歐美，

3. 亞洲臨太平洋岸大海有幾？各爲什麼島嶼和半島環抱？

亞洲臨太平洋大海有五：東北隅楚克崙半島與北美之亞拉斯加隔三十六哩中間形成白令海峽稍南有堪察加半島南伸內抱鄂霍次克海，再南有樺太島及日本列島內抱日本海出朝鮮海峽爲黃海，南展爲中國海，外有琉球台灣以及斐呂濱諸

島環繞之。

4. 亞洲臨印度洋岸有何大半島？有何大海灣？

亞洲臨印度洋有三大半島在東者爲印度支那半島居中者

爲印度半島在西者爲亞拉伯半島至於大海灣有二，一爲孟加拉灣、一爲波斯灣，

5. 亞洲臨地中海岸有何大海及海峽？

亞洲臨地中海岸北有黑海南即地中海西爲愛琴海，至於海峽西北爲達達諾爾海峽，馬爾馬拉海波斯頤洛斯海峽，

6. 亞洲有何大雙子河？

亞洲大雙子河有四：如阿比之與葉尼塞黃河之與揚子江，雅魯藏布江之與恒河，底格里斯之與幼發拉底斯等皆是也。

7. 亞洲有何大鹹水湖？

亞洲之大鹹水湖有四：如裏海，阿拉爾海，巴爾喀什湖，死海等，

8. 北亞氣候因何特別寒冷？

北部亞細亞，因南控山脈，無以收受南來之暖氣，北方洞開，無以阻蔽北來之寒風，故氣候沍寒甚矣。

9. 東亞氣候因何特別適中？

東部亞細亞內地雖有一部大陸氣候，然沿海大部爲海洋氣候，且受季候風之影響海流之調和故雨量均勻氣候適中。

10. 朝鮮人分爲四階級各爲何名？

- 朝鮮人分四階級
1. 兩班 (即文武兩班爲最貴世掌文武大權)
 2. 中人得爲小官
 3. 常人不許入仕
 4. 賤人爲驛夫差役

11 韓人着衣有何說法？

韓人所着衣服中人以下皆服白棉布衣非兩班不得染色更不許着絲綢，

12 日本位於何地？其國內山脈有何主幹各位於何地？

位置——日本在我國東方海外洋側之貧強小國也其諸島自東北趨西南延袤約三千哩形如游龍

山脈(1)樺太山脈——由樺太島來在北海道爲北見山脈日高山脈入本州爲北上山與羽山越後山等，(2)崑崙山脈——由琉球群島來在九州爲九州山脈入本州爲中國山脈入四國島爲四國山脈入紀伊半島爲紀伊山脈(3)樺太崑崙兩山脈相接處爲飛驒山脈爲赤石山脈關東山脈木曾山脈等(4)火山脈(見課文)富士山爲日本第一名山世界極大之成層火山形如圓椎。

13 日本國內有何宗教各於何時傳入？

(1.)神道教——第一祀皇祖大日靈尊奉之爲日神其次即崇拜應神天皇之威武及藤清正之武勇，

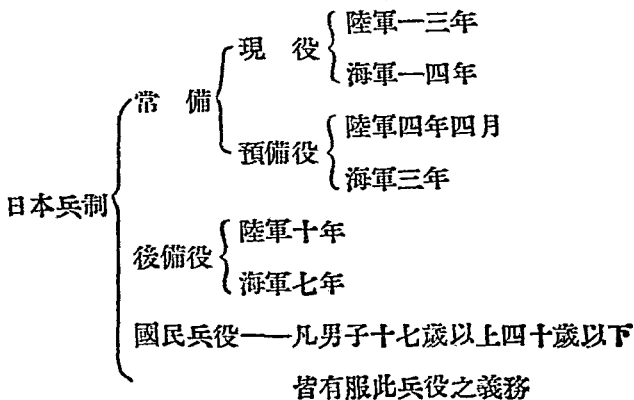
(2.)佛教——此教於欽明天皇時(當中國南朝時)由朝傳入，

(3.)基督教——此教於足利幕府末時由西洋傳入，

14日本三府係何都市？

日本三府：1.東京，2.京都，3.大阪，

15日本之兵制如何？



16日本海軍三大軍區各係何地？

海軍分三
大軍區

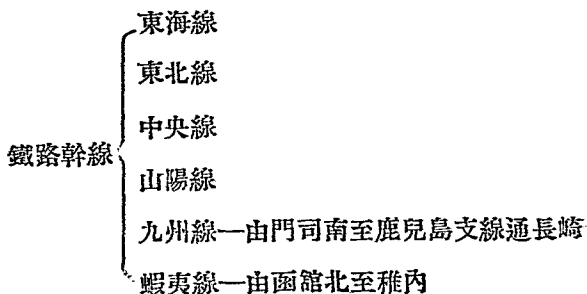
- 第一以橫須賀爲鎮守府駐在地大湊其要港也
- 第二以吳港爲鎮守府駐在地舞鶴其要港也，
- 第三以佐世保爲鎮守府駐在地竹敷鎮海其要港也

17 近年來日本之產業如何？

近年來日本之產業日促發達今按其農業林業漁業蠶業工業分述於下

- (1) 農業——以米爲大宗日本與我國及印度爲世界三大產米地
- (2) 蠶業——日本近年來求講求栽桑育蠶之法其產絲額數列世界第二位
(我國第一，日次意又次法居第四)
- (3) 森林——分供用林及保存林供用林所以供薪炭材木之需，保存林或以涵養水源或以防禦風潮或以及裝飾風景
- (4) 漁業——日本四面環海寒暖兩流又交會其左右故鱗介充斥種類繁多北海道附近爲世界三大漁場之一
- (5) 工業——日本工業最盛者爲紡織業故棉貨絲爲其輸出之大宗次爲製磁業再次爲製糖製紙造火柴等業，

18 日本國內鐵路幹線有幾？



19 東京發達之原因安在？

1. 建於關東平原為土沃物華之區
2. 臨東京灣跨隅田川為良好港灣對外交通便利之地
3. 鐵路四通對內交通亦極便利
4. 為日本政治中心
5. 為日本工商業之中心
6. 為日本學藝經濟中心

20 地震之種類有幾試一一述之，

地震有三種：一曰斷層震，由冷縮之橫壓力致地殼皺裂，而地層乃沿裂縫上下運動而生，二曰陷落地震，由地層陷落而生，三曰火山地震，由火山作用而起，

21 山岳之成因若何？

山岳之成因有五大類：

- (一)因強烈褶曲而成，
- (二)因拗摺而成，
- (三)因斷層陷落而斷岩聳立者，
- (四)因火山噴出物堆積而成，
- (五)因侵蝕作用而成，

22 南亞何地爲世界雨量最多之地？

南亞 印度一帶首當印度洋季候風之衝故雨量豐沛：孟加拉省爲世界雨量最多之地，

23 亞洲何處產茶桑著名？何處產烟草著名？

我國及日本產茶桑著名，斐律濱產烟草著名。

24 亞洲獨立國有幾？各係何名？

亞洲獨立國有五：1. 中國 2. 日本 3. 暹羅王國，波斯王國，土耳其共和國，

25 日本帝國共分爲幾部 其中那幾部 曾隸我國而被日本奪取？

日本帝國領土共分五部，1. 日本列島—本洲，四國九洲北海道 2. 朝鮮半島 3. 樺太島（庫頁島）南部 4. 千島列島 5. 台

灣及琉球羣島，在五部之內朝鮮半島樺太島台灣琉球三部曾隸屬我國後爲日本吞併矣，

26 日本主要火山幹脈有三試分述之。

日本主要火山脈有三，1.自堪察加半島南經千島北海道名千島火山脈；入本洲名那須火山脈2.起自中部樺太崑崙兩山脈相接處，橫斷本洲東南入海，與小笠原檀香山二羣島遙聯，是爲富士火山脈3.自九洲南走經琉球台灣而入南洋，是爲霧島火山脈日本因多火山脈，故時常發生火山爆裂與地震，

27 黑潮親潮兩海流，各由何處流向日本經日本何岸？與日本之氣候有何關係？

由赤道流來之暖流；日人謂之黑潮，經行其西南沿海及東岸，四國九洲及本洲等地之氣候，常溫和不變者，皆其影響也，由白令海峽流來之寒流日人謂之親潮分流於日本北部之東西兩岸，故本洲之東北及北海道一帶氣候寒略同我國滿洲。

28 日本礦產以何物爲多？缺乏何礦爲其弱點，

日本硫磺產額爲第二，銅產亦不少惟煤產額位東洋第一，惟煤質頗劣。缺乏鐵礦爲日本天產上之最大弱點，

29 日本人氣質有何優點？有何劣點？

日本人受其自然環境之影響氣量褊淺規模狹小，好小利不計大體乃其劣點也，然勤儉重禮，樸實任俠則其優點也，

30 日本行什麼政體？其國君與他國不同之點爲何？

日本行君主立憲政體，其國君與他國不同之點即天皇總攬樞機萬世一系。

31 日本行什麼兵制其陸軍共有多少師團？師團外還有什麼部隊？

日本行徵兵制，其常備兵全國共十九師團除師團外尚有憲兵隊，禁衛軍，守備隊等，今尤力加擴充，

32 日本海軍在世界列第幾位？昔分爲幾海軍區？現改爲幾區？其鎮守府駐何處其要港是何處？

日本海軍在世界列第三位，海軍區昔爲五區：1. 橫須賀，2. 佐世保，3. 吳港，4. 舞鶴，5. 鎮海，現在海軍分爲三區第一以橫須賀爲鎮守府駐在地大湊爲其要港，第二以吳港爲鎮守府駐在地舞鶴爲其要港，第三以佐世保爲鎮守府駐在地竹敷鎮海爲其要港也。

33 世界四大產絲地是何國？日本居第幾位？

世界四大產絲國：1. 中國，2. 日本，3. 義大利，4. 法國，日本居第二位，

34 日本工藝品以何物為最多輸入何國？

日本工藝品以織物與磁器為最多，磁器多輸歐美織物則銷行我國，

25 日本汽船三大公司各係何名？汽船往來以何處為中心？

日本汽船有三大公司

}	日本郵船會社	}	多航歐美遠洋
	東洋汽船公司		
	大阪商船會社—專航我國及朝鮮日本		

36 日本海底電綫由本洲通至何處？由長崎通至何處？

日本海底電綫起自本州有北達樺太者有西達朝鮮者南達台灣者，對外則由長崎北可達海參威，西可達上海此與大陸有密切之關係者也，

27 東京位於何處？人口約有多少為世界第幾大都會？

東京位東京灣之北岸跨隅田川人口二百四十七萬為世界第六大都會

38 日本國際貿易港有二是何名？各位何地？

日本國際貿易港有二：(一)橫濱位東京灣之西南岸為東京之外港，(二)神戶位於大阪灣之西北岸。

39 日本與我國文化關係在明治維新前如何？維新後如何？

在明治維新以前多仿效我國——秦漢吳人東渡，始將各種工業輸入，晉時百濟博士王仁傳入論語，日本始有文學之效，隋時佛教由朝鮮間接傳入日本始有宗教唐時遣僧人學子留學我國取我國文字偏旁作片假名平假名日本始有文字至維新後始採取歐化猶未能截然脫我國文化關係如其衣着尤存東晉南朝遺風其語言大半出於我國北方官話及南方吳音文字十分之八利用漢字，

40 中日之政治關係若何？

中日之政治關係有直接有間接的分別(一)間接—明治維新後日本對歐美發生之政治關係，什九由於日本侵略我國而起，日俄戰爭，英日同盟，藍辛石井條約，日德戰爭太平洋會

議後之四國條約其尤顯著者也。(二)直接的，以據琉球爲起點其後竊庫頁割台灣租旅大併朝鮮起間島交涉逼我接受二十一條劃滿蒙爲其勢力範圍屢出兵山東南滿今又佔我東北四省，故五十年來中日間之政治關係實爲一部日本侵略中國史耳，言之痛心。

41 新舊大陸地理之比較，

新舊大陸地理比較如下：

大舊陸

地 勢	多大沙漠而屬高原性質
地 形	南北狹而東西長，
山 脈	大山脈多自西而東
山脈特點	有世界第一之高山 <u>墨爾姑斯</u> ，
河流特點	有著名之 <u>雙子河</u> <u>黃河</u> <u>長江</u> 世界第一 <u>內陸河</u> ， 最大之 <u>內海</u> <u>地中海</u> 最低， <u>湖死海</u>

新大陸

地 勢	無大沙漠而屬平原性質
地 形	東西狹而南北長，
山 脈	大山脈自北往南，
山脈特點	有全球最長之大山脈，
河流特點	有世界最長之 <u>川密士失比</u> 河流域最大之 <u>河亞</u> <u>馬遜河</u> ，

42 日本與我國經濟關係如何？

中日之經濟關係有二：(一)供給原料，日本對於煤鐵二物須仰給我國尤其鐵鑛缺乏故竭力搜求我國之煤鐵今日本所用之鐵十分之三由我國供給又日本紡織原料棉物亦大半取自我國此外滿所產之豆餅幾全輸往日本為其農作重要肥料(二)推銷商品日本產業中除絲茶外無不以我國為最大銷集地，尤以紡織品在我國之銷路為最大其輸出我國之金額佔輸出十分之三故我國若與日本刻下絕交日則立告危機云。

43 我國居日華僑約四百四十六萬以居何地者為最多？何地次之在日本列島者多在什麼都市？

我國旅日華僑居台灣為最多，約三百四十萬人居朝鮮者次之約三萬四千餘人在日本列島者最少僅二萬二千人多居橫濱神戶大阪東京長崎名古屋函館諸都市

44 試述台灣喪失後台民抗日之情狀？

迨清光緒二十一年馬關條約將台灣割歸日本及日本派兵接收時，台民大駭乃奉台灣巡撫唐景崧以抗日軍及唐景崧敗走又有駐台南之劉永福軍繼續抗日與日本血戰半年殺日軍大將能久親王卒因力弱兵敗惜哉！

45 日本人如何抑制台灣人？及台民近來有何反動？

日本既得台灣對於番民則用強壓手段對於華僑則用同化方法或任其墮落(如放任辮髮纏足吸鴉片等)以達於自然消滅之境，可是台人不忘祖國三十年來革命運動不下十起如民元羅福星之役民四余清芳之役其最著者也。

46 澎湖列島位於何地其形勢若何？

澎湖列島位於台灣海峽之中，為東海南海間之孔道，昔為我國倚為東南之屏障，甲午之役割讓日本於是東南之形勢盡失，諸島中最大者曰馬公為日本海軍重鎮。形勢險要實於我國有重關也。

47 朝鮮有什麼鐵路縱貫南北為日本向大陸侵略之利器？沿路有什麼重要都市？

鐵路縱貫南北有京義京釜二路為日本向大陸進攻之利器沿路有漢城新義州開城平壤釜山等重要都市。

48 試述日併朝鮮之略史？及朝鮮之現狀？

朝鮮本為我國之屬國，光緒二年日本強於朝鮮結商約而我乃置之不理，遂開日本侵略朝鮮之端，以後光緒十二年朝鮮新舊黨紛爭日助新黨我助舊黨新黨敗走日使館被焚日遂與

我國訂約嗣後兩國出兵須互相通知至光緒二十年朝鮮東學黨作亂我派兵平之，日亦出兵事後日本不肯撤兵遂起日中戰役，我敗。承認朝獨立，號大韓國越九年日戰勝我國遂夷朝爲保護國宣統二年日本宣布日韓合併朝鮮遂亡矣日併朝鮮後待之如牛馬然愛國志士屢起復國運動民八漢城曾有大規模之獨立運動多徒手呼號乃敗，傷害者約數萬漢人然朝鮮人百折不撓因之而益烈今且設臨時政府於上海再接再厲。

49 台灣何以稱爲日本之寶庫？

台灣物產浩富，如米，茶，樟腦，糖四大產物爲最大之利源故稱之爲日本寶庫云

50 羅南位於何處？其與我國之關係若何？

羅南位於日本海之西北部有路通至中韓界上之會寧鐘城接天圖錢跌達我國延吉一帶爲我國與朝鮮往來之要道也。

51 試述中韓之關係。

朝鮮爲我數千年之屬國風俗文化典章制度莫不與我國同與我國關係至爲密切除日本侵略我以朝鮮爲根據地外朝鮮之絲綢昔仰給於我國而我國華僑在彼處營業者亦頗多。

52 解釋下列各名辭：

1. 冰河 (Glacier)
2. 貿易風 (Trade Wind)
3. 海流

(Ocean Current) 4. 亞熱帶, (Sub-tropic region) 5. 北回歸線 (Tropic of Caucer) 6. 赤道 (Equator)

答：1. 冰河 (Glocier) 冰在高山因自身的重量下落而呈流動的態狀而叫作冰河。

2. 貿易風 (Trade Wind) 自回歸線吹向赤道之風曰貿易風。

3. 海流 (Ocean Current) 海水由一定方向而成定常運動之流動曰海流。

4. 亞熱帶 (Sub tropic region) 回歸線至極圈間之區域曰亞熱帶。

5. 北回歸線 (Tropic of cancer) 赤道北二十三度半之緯線曰北回歸線。

6. 赤道 (Equator) 通過地心垂直地軸之表面與地表相切之大圓曰赤道。

53日俄侵略我國東北，皆以鐵路為其依據，其鐵路為何，並就其關係點說明之。

俄國侵略我國之東北，以東省鐵路為其根據，但現在俄已完全將此路賣於日本了；日本之侵略東北，以南滿鐵路為

其根據，鐵路所經之處則附近之警察權採鑛權，盡爲攘奪，一切實業之投資，市府及公用事業之經營，均以鐵路爲依歸，例如日本滿鐵社會之組織，儼然有國家之組織之概，侵略之意，溢於辭表，假護路之名，實行其軍事侵略。

54 試述中台之關係？

台瀕直接受中國治理者凡三百年人民十分之八爲華人自日後人民無時不懷念祖國三十年中革命屢起實爲日人腹心之患故日本不許我設館事於台灣恐爲虎輔翼或致助長其自決運動耳我國苟一旦富強收回台灣乃易事也即台灣人之日用品亦十分之八仰給我福建彼之貿易除對日本外乃對我爲最大矣故我國與台灣不但政治即經濟亦有密切關係云。

55 印度支那半島 在政治上 分爲三部 試說明之，

- A 東部——法領印度支那
- B 中部——暹羅王國
- C 西部——英領印度

56 安南何部地味肥沃農產富饒農產品以何物爲最大宗？

南安北部平原紅河流域，南部平原湄公河流域皆地味肥

沃物產富饒農產品以米爲大宗。

57 安南河內位於何處其與我國之關係如何？

河內位於紅河下流之三角洲上與我國之關係。

58 試述亞洲在人文上與地文上之特點？

亞洲在人文上與地文上之特點可列表於下：

(一) 亞洲地文上之特色。

- A 世界最廣之平原(西伯利亞)
- B 世界最高之高原(帕米爾)
- C 世界最深之湖水(貝加爾)
- D 世界最大之半島(阿拉伯)
- E 世界最大之鹽湖(裏海)
- F 世界最低之窪地(死海)
- G 世界最寒之地帶(勤納河流域)
- H 世界最熱之地帶(阿拉伯)
- I 世界最多雨之地(阿薩密)
- J 世界最少雨之地(中亞細亞)

(二) 亞洲人文上之特色，

- A 亞洲有文明最古之國(中國，印度)

- B 亞洲有人口最多之國(中國)
 C 亞洲爲各宗教之起源地(耶，佛，回，猶太)
 D 亞洲爲人種最多之地(黃，白，棕)
 E 亞洲爲人類起源之地(西部亞細亞)
 F 亞洲有世界最長的鐵路(西伯利亞)
 G 亞洲有最大之產米地(緬甸，印度，暹羅)

59 世界強國，歐洲最多，對於地文地理，人文地理，有何關係，試推論其原因？

屬於地文者：(a)位北溫帶，(b)山脈分布，且有天然之良川。(c)有優良之氣候，(d)有最良之海岸線(e)多良港灣。

屬於人文者：(a)陸路交通設備之周全(b)運河曲通內地。(c)海陸電線航運均極發達。(d)工商業之特別發展。

60 歐戰後德國之土地損失若何？

屬於本國者：亞爾撒斯，勞蘭割於法國。沙爾河流域由國際管理十五年。但澤港歸國際保護。默麥爾港歸國際管理。石勒，蘇益格割丹麥。波森全省，西里西亞省一部，割於波蘭。馬爾美的，摩里斯那，歐本，割於比利時。屬於領土者

，德領東非洲改屬於英。德領西南非洲——達馬拉，那馬瓜，改隸於英。德領西非洲——喀麥隆改爲英法共管。德領東非洲——烏隆的，魯安達，屬比，基尼加屬葡，其餘大部歸英代管，蜀各坦噶尼喀。太平洋中，德領諸島，赤道以南，改隸澳洲，赤道以北，改隸日本。

61 荷蘭水上工業爲世界冠，何故？

荷蘭全境地勢低窪，其面積之四分之一，概低於海面，湖沼繁多，概來因，麥斯兩河之沖積平原也。其民終年與水奮鬪，建隄防，開運河，更利用風車以排水；政府中特設水利部，學校中尤重水利課，此荷蘭水上工業之所以爲世界各國冠也。

62 世界三大米市爲何

世界三大米市(西貢，曼谷，加爾格他)

63 文明多發生於大流域，試舉例以証之，

例如埃及文明之發生於尼羅河畔，巴比倫文明發生於兩河流域。(阿付臘底斯，底格里斯 Euphrates and Tig ris) 印度文明發生於恒河流域，中國文明發生於黃河流域是也。

54 何處爲世界三大漁場？

1. 挪威西海岸北海中，

2. 日本庫頁島沿海一帶及北海道，

3. 北美洲之紐芬蘭，

65 東京河內與我國之關係若何？

東京河內與我國之關係——河內者為法屬東京之首府政治軍事之中心地自河內向西北過老開入我雲南向北過諒山入我廣西均有鐵路之便一旦中法有事法之兵馬可直入我境殊堪深慮為我國計宜在鎮南關河口駐紮重兵以固國防並趕築廣西雲南之鐵路以應援庶可法之侵掠並乘機可南下恢復舊領，

66 暹羅國內之產業如何？

- | | | |
|-----|---|-----------------------|
| 產 業 | { | 1. 農業以產米為大宗此外有烟草砂糖胡椒等 |
| | | 2. 林產有紫檀麻栗橡皮椰子等木材 |
| | | 3. 礦產以錫為最多 |
| | | 4. 動物多象農民飼之以作耕種運輸之用 |

67 西貢位於何處？法國在此如何經營？

西貢位於湄公河之三角洲上法國在此設副督及守備隊又有大規模之海軍港為法國遠東艦隊之根據地，

68 華僑居安南者約有多少？多在何地？

華僑居安南者約三十萬人多居於東京東埔樂南圻等地，

69 暹羅中部何以為精華薈萃之地。

因暹羅中部正當湄南河流域平曠繡野千里相望稱湄南河平野所以爲暹羅精華蒼萃之地，

70馬來羣島位於何處分爲幾組試述之？

馬來羣島位於亞洲與澳洲之間(1)，他巽他羣島——由蘇門答臘爪哇婆羅洲西里伯四大島合成，(2)，小巽他羣島——由巴里琅波克，桑巴哇桑巴佛羅，理斯提摩爾諸島合成(3)，摩爾加羣島一包有西拉木吉羅羅等小島，(4)斐律濱羣島——包有呂宋，敏達峨維薩亞巴刺灣蘇祿諸島

71馬來群島火山脈有二試述之，

(1) 由台灣經斐律濱西里布而抵摩爾加與新西蘭遙連者爲太平洋西岸之大火山脈之南段(2)，由摩爾加西向大小巽他羣島而入緬甸爲印度洋之東北岸之大火山脈，

72馬來羣島位於熱帶爲何他不像非洲沙漠之妨害人生？

因它受海洋氣候之影響，

73外人之僑居馬來羣島者爲何國人？爲何以華人爲最多？

外人之僑居馬來羣島以英法荷美諸國人因中國閩粵二省距之較近有明以降，往者接踵闢草萊披荆棘視爲固有，由來

已久所以華人爲最多。

74 荷領馬來羣島有華僑若干 多在什麼島
？什麼都市？

領馬來羣島約有華僑五十三萬七千餘人多在爪哇蘇門
答臘婆羅洲諸島上之巴達維亞諸都市，

75 世界著名之瀑布何名？位於何處？何
以著名？

尼亞瓦拉 (Niagara) 瀑布位加拿大及美國之間爲世界最
著名之大瀑布，自伊利 (Erie) 湖口至安大略 (Ontario) 湖
頭間，通一水道，因兩湖之地勢高低不同，水流激湍，震動
山嶽，澎湃狂奔，聲撼天地，如珠璣飛舞，燦爛極其可觀，
故能著名於世界也，

76 瑞典與挪威兩國，同在一半島而氣候
殊異爲何故？

兩國雖同在一半島，因中有基阿連山之隔挪威受墨西哥
暖流之影響，故氣候溫和不若瑞典之嚴寒，故挪威漁利亦遠
勝瑞典也，

77 述美國的富源，

美爲世界惟一首富，本憑天然之富源執世界經濟之牛耳

，就晨淪美中南部大平原爲世界之大農場，棉麥烟及其他農作物，其產額均居世界第一位，佔世界出產之大半，西部之牧場，亦稱富盛，芝加哥爲世界第一宰牲廠，木材盛產於西部及東北部均爲世界著名出產，礦物如鐵銅煤石油等均稱世界首位，金銀汞鉛出產亦多，其他富源均佔優越地位，實因美國之地位，適宜區域擴大之故，

78 荷蘭統治馬來羣島派有什麼大員駐在何地？

荷蘭統治馬來羣島置東印度總督以統率之駐在巴達維亞

。

79 蘇門答臘產何物最著其東北有何小島產錫最著？

蘇門答臘島上產煤油最著東北彭家小島上產錫最著名爲世界第二

80 世界產錫地以何處爲第一以何處爲第二？

世界產錫地以英屬馬來半島柔佛等五屬邦爲第一，蘇門答臘東北彭家小島爲第二。

81 爪哇島上產何物著名於世界？

爪哇島上產蔗糖為世界第一業蔗糖者多為華僑。

82 何謂瓦來斯線？

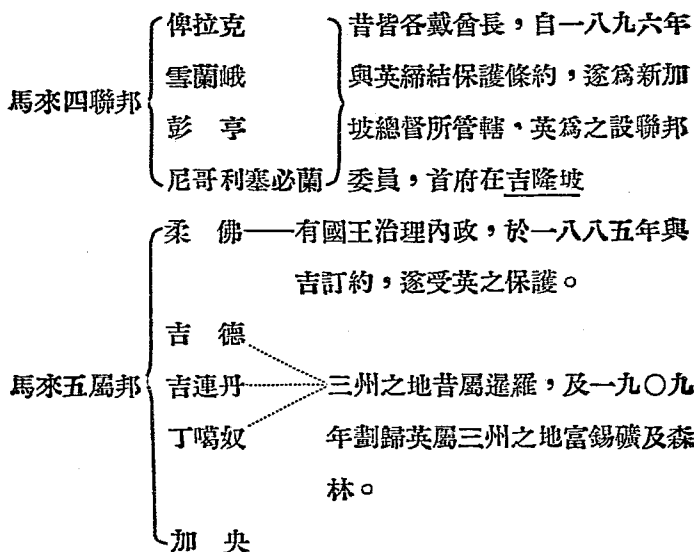
瓦來斯線歐亞二洲之界限為英博物學家哇雷斯氏根據小巽他諸島西部之巴里浪波克兩島間有深海峽曰浪波克海峽峽西生物屬歐洲峽東生物屬歐洲，特徵以定世稱謂之哇來斯線。

83 英領馬來半島之政治區劃若何？

英領馬來半島分為三區今分述於下：

英領馬來半島之政治區劃

- 海峽殖民地
- 新加坡——扼麻刺加海峽之咽喉，當歐亞通航之要道，為英之三S 政策之中樞，英駐總督於此，並置軍港，以雄視太平，印度兩洋。
 - 卑南——亦稱檳榔嶼，為馬來半島西岸之一小島與對岸之章爾雷斯同為英國直轄地。
 - 麻刺加——臨馬刺加海峽，為歐人初來時之根據地，商業頗盛，後為卑南新加坡所奪。



84 新加坡位於何地，形勢如何重要，英人如何經營之？

新加坡位於馬來半島南端之小島扼海峽之東口為太平洋印度兩洋往來之孔道，最近英人於此建設印度洋海軍重鎮形勢愈加重要云且為英國之自由商港，貿易繁盛商業發達。

85 華僑居馬來半島者約有多少？何處最多？
華僑居馬來半島者一百十七萬以新加坡為最多。

86 美領菲律賓羣島，以何島為最大以產何

物最多？

美領菲律賓羣島以呂宋敏達娥二島爲最大以產煙草砂糖石灰石油等爲最多。

87美領菲律賓首府何名？位於何地？

美領菲律賓首府曰馬尼刺，在呂宋島南端臨馬尼刺灣。

88美國橫斷太平洋電線起何地止。何地經過何地？

美國橫斷太平洋電線起馬尼刺經耶普島檀香山而達美洲之桑港。

89歐戰後菲律賓有何鼓蕩？

歐戰後菲律賓人受民族自決主義之鼓蕩有自治之運動。

90我華僑在菲律賓者多少人以何處爲最多？

我僑居菲律賓者約十六萬人以馬尼亞爲最多。

91印度三大河是何名，三大河對於印度之實業交通，民質文化有何關係？

印度三大河即恒河印度河雅魯蘇布江三河對於印度之產業發達，交通便利民質優秀，文化開發有重大之關係。

92印度東北部爲何爲世界雨量最多之地？

印度東部臨印度洋受季候風之影響，而北有喜馬拉亞山阻暖氣之吹入，水蒸氣越山而來則因受冷即變爲雨故此地日日下雨爲世界雨量最多之地。

93由印入藏，取道何路，經過什麼重鎮而至拉薩？

由印度入藏取道大吉嶺一路，經過亞東江孜而至拉薩。

94英屬印度之海底電線通歐洲者自何處經過何處？通東洋及南洋者由何處起經過何處？

英屬印度之海底電線通歐洲者有自孟買經過蘇彝士運河通東洋南洋者有自麻打拉薩經過新加坡。

95英帝國屬地遍全球試言(1)各地之名稱(2)在經濟上及軍事上之重要(3)在帝國組織中之政治地位。

(A)在亞洲者。

香港 英國遠東商業根據地直轄領地。

馬來諸邦，北婆羅洲，海峽殖民地烟草，橡皮業甚發達馬來半島之南端有新嘉坡爲太平，印度兩洋來往之孔道，並爲英國遠東海軍之根據地。

印度帝國，轄印度，緬甸，俾路支，錫蘭等地英王兼印度皇帝而派一總督治理之，產米，棉，茶甚多。

伊拉克王國 底格里斯與幼發拉底斯兩河流灌其間土地肥沃，農產發達，戰後由巴黎和會委任英國統治。

亞丁 位於亞刺伯半島之西南隅地當歐亞海上交通之要衝，英國海上重鎮，直轄於孟買總督。

(B) 在非洲者。

英領東非洲產動植物甚多英派總督治理。

英領南非聯邦 產駝鳥，金，金鋼石最多英之自治領地，聯邦之中央有小區曰 Basutoland 為英之保護地。

英領尼日利亞 位於尼日爾河下游地皆平沃物產豐富。

英領黃金海岸 英設總督治之。

西南非洲 戰前屬德國戰後委任南非聯邦統治。

此外尚有索保里蘭，貝納專蘭等地。

(C) 在美洲者。

坎拿大英之自治領地 產銅煤甚多，森林業極盛，車芹聖羅稜斯河口為世界三大漁場之一。

英領亞那 農業甚發達採金事業亦盛。

(D) 在澳洲者。

全洲盡爲澳領，英之自治領地羊毛產額佔世界第一，小麥，金產額亦多。

(E) 在歐洲者。

直布羅陀 位於伊布林豐島之西南端扼中海之門戶爲英大西洋海軍區鎮守府所在地。

96 印度難於統一之故何在？

印度難於統一之故——因印度人種不同宗教不同語言不同有階級制度有以上之不同點足使印度人感情不能融洽精神不能一致全國國民無統一之觀念故統一甚難，

97 南洋菲呂濱今獨立否？

現美已承認菲爲完全獨立國，

98 試述國際資本主義的競爭，集中於太平洋之理由與我國之關係，

國際資本主義的競爭，所以集中於太平洋，有下述二種原因：

- (1) 歷史上的關係 自工業革命以後，歐洲各國紛紛向外找求市場，歐人之踪跡，乃遍於世界。澳非美三洲，文化最低，遂首先爲歐人征服。西亞各地，亦相繼淪亡。惟東亞之老大中國。尙得保持

獨立。十八世紀以還，美國獨立，不久建立民主國，國富民強，勢力日張，遂思求逞於東亞，日本自經一度維新以後，一躍而爲五強之一亦擬囊括亞洲，雄飛世界。英國素持海洋獨霸主義，於商業之競爭，亦不甘落後，於是東亞遂成爲列強資本主義角逐之場，而以英美日三國競爭最烈。

(2) 地理上之關係 太平洋面積，佔全球三分之一，東爲亞洲，南盡澳洲，爲世界第一大洋。亞洲東南部，農產豐富，爲原料之最大供給地，加以人口衆多，工業落後，爲工業品之最大市場，迥非黑暗大陸之非洲，未開化之美洲所可比擬，故爲列強必爭之地。

列強之競爭，既集中於太平洋，於是處於東亞之中國，遂成爲衆矢之的。鴉片戰後，門戶洞開，加以不平等條約之束縛，武力之壓迫，遂陷爲各國銷貨投資之所，取給原料之場，每年漏卮，常在十二萬萬元以上，東亞大國，一變而爲列強之次殖民地，誠可惜也。

99 印度 住民以什麼民族爲主，分部於何地，其土著是什麼民族？

以印度族爲主分部於恒河流域其土著爲達羅維丁族分布於台坎高原，

100 印度宗教以信何教爲最多其次再次爲何？

婆羅門教回教爲最多，其次基督教再次爲佛教，

101 英滅印度以什麼團體什麼政策成功？
以商業團體東印度公司，經濟政策

102 印度帝國係由何部組成其皇帝係何人？

印度帝國係由東部緬甸西部俾路支總稱印度帝國英王兼爲印度皇帝

103 加爾各達位於何地？因何貿易繁盛爲英什麼政策之終點？

加爾各達位於恒河口之三角洲上當恒河平原之門戶故貿易繁盛爲英三C 政策之終點，

104 試述近來印度革命之情況，

歐戰後自美總統威爾遜但民族自決以來於是各備壓迫階級均思自求解放印度革命領袖甘地以不合作主義爲抵抗英國取得自治之法聲勢頗大印度之回教徒又以宗教團結力時常變

亂英人爲消滅無形計於一九一九年提出政府改革後許印度施行自治又於一九二二年成立諮詢院印民有選舉議員之權但選舉權限制甚嚴規模亦小故近來印度革命愈挫愈奮有不達目的不止之勢，

105 印度何處爲佛教發祥地？何處爲婆羅門教聖地？

巴德那爲佛教發祥地，班那勒斯爲婆羅門教聖地，

106 緬甸首邑爲何名？位何地？

曼德里爲上緬甸首邑位於伊洛瓦底江左岸

107 仰光位於何地？因何商業發達冠於全緬？

仰光位於伊勒瓦底江口爲下緬甸之首邑海上汽船可直抵於此英日以其便於貿易銳力經營，日臻繁盛有鐵路四達故繁華，

108 緬甸北部有什麼重鎮爲侵略我國之根據地？

緬甸北部之密支那爲侵略我國之片馬江心坡之根據地，

109 印藏間喜馬拉雅山南坡有什麼小國爲英之保護國？

有尼泊爾布丹兩小國

110 錫蘭島位於何處其首府爲何名英人爲何視爲重鎮？

位於印度半島之東南首府曰可倫波當印度航路之衝商業繁盛英人於此爲海軍重鎮，

111 阿富汗位於何處其首都何名？其人多信什麼教？

阿富汗爲伊蘭高原之北部首都曰凱布爾多信回教，

112 試述阿富汗之近況，

自一九〇六年英俄協定後阿富汗遂屬英國勢力範圍至一九二一年阿富汗宣告獨立首先承認者爲蘇俄繼則波斯土耳其法意等國皆與阿定平等條約近來英國已承認阿富汗爲完全獨立國，

113 波斯國位於何處其人爲什麼民族？信仰什麼教？

波斯位於伊蘭高原之西部其人多屬伊蘭族爲亞利施之一派，多信仰回教，

114 試述波斯近況，

波斯於近世來爲英俄交爭之地一九一九年英人乘俄不暇

東顧逼立英波條約於是內政外交遂受英人節制迄一九二九年李查漢被選爲王竭力聯絡回教國家與阿富汗土耳其均締結共同防禦之約以抵抗帝國主義之侵略故國勢大進已爲完全獨立國，

115 土耳其屬什麼民族 什麼苗裔 信教什麼教爲普遍？

人種爲土耳其族爲突厥之苗裔信仰回教最爲普遍。

116 試述新土耳其之振興略史。

一九一九年，國民軍領袖凱末爾組織新政府於安哥刺一九二二年驅逐希臘軍於大亞細亞外恢復斯麥拿附近地，一九二三年迫舊君蘇丹退位成立共和國凱末爾被選爲第一任大總統與列強締結洛桑條約廢除關稅協定及一切不平等條約近又努力於內政之建設有蒸蒸日上之勢。

117 巴格達鐵路起於何地橫貫何地止於何地前爲何國 所經營今 歸何國管理？

巴格達鐵路起於君士坦丁堡對岸之斯庫台里橫貫小亞細亞止於達巴格達前爲德人所管一九一九年爲英人佔領今歸土耳其收回本部之所有。

118 耶路撒冷位於何地，爲何教之聖地。

耶路撒冷位於死海之北西岸爲基督教與回教之聖地。

119 試舉英美日俄之主要軍港與商埠。

英之商港……………倫敦(London)布里斯托爾(Bristol)利物
浦(Liverpool)

英之軍港……………朴次茅斯(Ports mouth)朴里茅斯

美之商港……………紐約(New York)波士敦(Boston)舊金山
(San Francisco)紐鄂連斯(New Orleans)

美之軍港……………朴次茅斯 荷蘭港(Dutch Harbor)

日之商港……………橫濱，神戶，長崎，函館。

日之軍港……………橫須賀，吳市，佐世保，舞鶴鎮海

俄之商港……………阿特薩(Odessa)海參崴

俄之軍港……………克隆斯塔他(Kron Stadt)

阿斯達干拉(Astra Kham)

尼科來夫(Nikola Zav)

塞佛斯托波爾(Sevast Opol)

120 英吉利地理上有什麼缺點？

英吉利諸島，本與大陸毗接經地盤變動，而孤立海中，島中，地理上之缺點甚少，就氣候言之每多劇變，冬季多霧，就生產言之。農產不足供給全國之用，僅此二點而已。

121 試述印度人文地理之概略。

印度人文地理，撮其要點有四

1. 以地位熱帶，人民身體發育極早，壽命不永腦力遲鈍，而乏建設能力。
2. 人民謀生易，性嗜逸樂，而乏進取之心。
3. 人民尚文輕質，從事於實業者彌寡。
4. 爲婆羅門與佛教之發祥地。人民思想，多被此二教縛束。

有此四因，此印度所以被英支配也。

122 麥加美地拿位於何地？爲何教聖地？

麥加位於麥地那南爲回教聖地，美地拿位其北亦爲回教聖地。

123 拉丁位於何地，英人爲何視爲重鎮？

拉丁位於阿拉伯半島之西南隅一八三九年以來爲英佔領其地當東西兩洋交通之要衝商業發達爲英國海上重鎮並爲江海出入門戶故英爲重鎮。

124 巴庫位於何地？以產何物著名於世？

巴庫濱裏海以產石油著名於世。

125 外高加索共分三共和國各係何名？位

何地，合稱爲什麼國？

(1) 喬治亞位外高加索西部。(2) 亞賽貝真位於外高加索東部。(3) 亞爾美尼亞位於外高加索南部。合稱外高加索社會主義聯邦蘇維埃共和國。

126 北亞三大河流是何名？

北亞三大河流，(1)俄比河，(2)葉尼塞河，(3)勒那河。

127 說明荷蘭之地勢。

荷蘭地勢低平，四分之一在海面以上，平均高出海面三十尺左右，故稱爲低地，各地多池沼大河，有萊因河，且德境流入，合賣士河注北海河口，多三角洲運河甚多，北部尤密。

128 試述下列各河流域三個要城市。

- a. 萊因河(The Rhine) b. 多瑙河(The Danube) c. 密士失必河(The Mississippi)(交大)
- a. 萊因河流域，有哥羅尼(Coloyne) 烏德勒支(Utrecht) 鹿特丹(Rotterdam)諸城。
- b. 多瑙河流域有維也納(Vienna) 布達佩斯(Budapest) 伯爾格來得(Belgrade)諸城。
- c. 密士失必河流域有聖保爾(St. Paul) 聖路易(St. Louis)

紐俄連斯(New Orleans)諸城。

129 試略述馬來諸島所隸屬之國別。及其
主要物產。(武商大)

馬來諸島。現為英美荷葡四國之屬地。縷舉於左；

英屬馬來諸島 婆羅洲之北西部。及其附近海中小島名
拉布安者。

美屬馬來諸島 菲律賓諸島。暨蘇祿諸島。

荷屬馬來諸島 蘇門答臘，爪哇，西里伯 婆羅洲之南
部及摩鹿加羣島。

葡屬馬來諸島 底勿島之東半部。至其主要物產。有麻
，砂糖，煙草，乾椰子質等。

130 亞州第一大淡水湖是什麼名？

貝加爾湖是耶

131 西伯利亞之氣候因何特別寒冷？

本部南控高山不能收受南方之暖風，北方洞開無以遮蔽
北來之寒風故氣候嚴冷無可倫比。

132 西伯利亞與我國貿易以何處為中心
海上貿易以何處為中心？

與我國——恰克圖，海上——海參威。

133 北極洋海岸有什麼民族最耐寒，其陸上交通多用何物？

有薩摩依德人。依斯克摩人。性能耐寒交通多用橇。

134 西伯利亞大鐵路起止於何處共分爲五段各段起止何處？

(1) 亞伯利亞本線——起車里雅賓斯克止伊爾庫次克

(2) 外貝加爾線——起伊爾庫次克止^{斯特列田}
滿州里

(3) 黑龍江線——起斯特列田止伯力

(4) 烏蘇里線——起伯力止海參威

(5) 中東線——起滿州里止雙城子

亞伯利亞鐵路起車里雅賓斯克止海參威，

125 俄政府因何傾全力完全西伯利亞大鐵路？

舊俄政府因何傾全力以全成亞伯利亞鐵路此路因在遠東，商業上軍事上殖民上皆有重大之價值而對於東西兩洋之交通影響尤大，

136 海參威位於何處俄人因何重視？

海參威位於太平洋岸之大彼得灣頭爲西伯利亞鐵路終點

，又是西伯利亞第一良港俄人遠東艦隊以此爲根據地，置有鎮守府要塞

137 伯蘭峨維申，赤塔，哈巴羅甫斯克
伊爾庫次克各位於何地因何俄人視爲重鎮？

伯蘭峨維申位於黑龍江北岸與我國愛輝相對地當水陸交通之衝貿易頗爲繁盛，爲阿穆爾省首府赤達位尼布楚西貝加爾省首府，當鐵路交通之衝形勢足以控制東西不失爲西伯利亞政治中心，哈巴羅甫斯克位烏蘇里江與黑龍江之會口，交通便利，商業發達，伊爾庫次克位貝加爾湖西岸爲西伯利亞鐵路之中心俄人有事遠東恒以此爲樞紐故俄人都視爲重鎮

138 俄領中亞有何著名內陸流域之河流？

1. 伊里河西北流注巴爾克什湖 2. 阿母河 3. 西爾河皆注鹹海 4. 烏拉河南注裏海，諸河皆係白陸河，

139 土耳其斯坦鐵路，外裏海鐵路，西土鐵路阿爾泰鐵路各起止於何地？

土耳其斯坦鐵路起於阿林堡，止於塔什干，外裏海鐵路起於裏海東岸止於安的延 西土鐵路起於塔什干止於西伯利亞之諾弗尼烏拉弗斯克阿爾泰鐵路起於斜米止於西伯利亞本

線，

140 試述中國與俄之關係：

中俄壤地相接關係至為密切。西伯利亞方面，阿穆爾東海濱後貝加爾等地全為我國舊壤，黑龍江航權與我共有中東鐵路穿我滿洲而達海參威其路權亦為共管，更有海蘭泡雙城子伯利伊爾庫次克赤塔特羅巴廟街等處華僑衆多有我國總領事與領事駐焉。中亞細亞方面，巴爾喀什湖東一帶均直接取自我國布哈爾撒馬兒汗浩罕等地則簡接取自我國帕米爾一帶本我壤土現界限尚未盡定彼已與英人私分其地欲據有之矣凡我國民豈能承認之哉其餘塔什干安集延阿拉木圖，宰桑等地雖亦駐中國領事然與華僑毫無裨益，此外尚有蒙古方面俄人竭力使其赤化，新疆方面，蘇俄使俄籍纏回為媒勾結新疆赤化凡此二者實我國之大患也，

141 在亞洲黃人種分布於何處 白種分布於何處，馬來人種分布於何處？

黃人種——中國，日本，朝鮮印度支那中亞北亞土耳其各地，

白人種——印度伊蘭高原亞爾美尼亞高加索，

馬來人種——馬來半島東印度羣島，

142 世界有什麼大宗教？各教起源於何地？今日盛行於何地？

世界大宗教皆起於亞洲，佛教起於印度今日盛行於東亞印度支那及錫蘭島等地回教起於亞拉伯盛行於中亞，西亞印度馬來羣島等地婆羅門教起於印度盛行於印度，基督教起於西亞今尚有一部盛行然分布散漫遍於世界各地，

143 由我上海乘船往歐洲須經過什麼地方？

由上海乘船動身後須到香港新加坡，可倫波，沿蘇彝士運河達地中海而抵歐洲各地。

144 設由我國北平乘火車往歐洲經過什麼地方？

由北平乘北寧路車直達瀋陽，轉南滿路及中東支路達哈爾濱由此乘西伯利亞大鐵路經過赤塔伊爾庫次克各都而達車里雅賓斯克而到歐洲各地經過，

145 設由上海乘汽船往美洲，須經過什麼地方？

由上海達橫濱經檀香山而到美洲之桑港及巴拿馬，

146 歐洲海岸線一哩當陸地面積多少。其

比例之大在六大洲列第幾位？

一哩當陸地面積九十二方哩，其比列之大為六洲冠

147 世界第一大內海為何海？

地中海是耶，

148 歐洲南部有三大島各係何名。

(1)，意大利半島，(2)，巴爾幹半島(3)，伊伯林半

島

149 由黑海往來愛琴海經過什麼海峽？由

地中海往大西洋經過什麼海峽？

(1)由黑海至愛琴海過波斯頗魯斯海峽及達達諾爾海峽

(2)由地中海往大西洋經過直布羅陀海峽，

150 試列舉世界四大河與人生之關係如何

密士失比河亞馬遜河，尼羅河，長江各大河附近土地肥沃物產豐富，森林繁茂，交通便利，文化發達，

151 從英國經過地中海紅海到遠東一條航線上，英國管了那幾個重要處所？

蘇夷士，埃及英領索謀里蘭，亞丁，俾路支印度緬甸，英領馬來香港，

152 世界文字約可分若干種？

世界各國之文字，亦可分爲三種：

- (一)單音類……如中國，安南之文字
- (二)聯音類……如日本，朝鮮之文字
- (三)雙音類……如歐洲，印度，阿拉伯之文字，

153 加拿大以何類產業最著名

- (a)森林……極爲廣大，饒松，樅等之木材及木屑，
- (b)麥……盛產聖羅連士河上游
- (c)漁業……盛行於新蘇格蘭半島附近
- (d)鑛產……多金銀，銅，鎳及煤，特如鎳之產額佔世界之大半
- (e)工業製造以制麵粉爲最著，

154 波羅的海與北海間有什麼半島所隔
有什麼海峽相通？

有斯堪底那維亞半島所隔，有斯喀基爾拉克海峽相通。

155 試說明歐洲氣候較他洲良好之原因。

其原因有三(1.)海岸多曲折內海尤多調劑氣候之功甚大，(2.)沿岸無大山脈遮蔽大西洋之溫風，(3.)墨西哥灣大暖

流冲刷其西北岸影響尤甚故氣候遠爲他洲所比。

156 歐洲之自然狀況與其文明開發國家 富強之關係？

(1.)地勢狹小易於利用，如其山脈無高大絕嶺到處可以設鐵路以便交通如其河流分布均勻且易開鑿運河互相連絡於交通灌溉甚爲便利如其平野山地互相交錯風景既優礦產豐肥因之各種產業極易發達更有其地勢之天然區別可建多數之邦國故競爭激烈文明開發。

(2.)海岸線之長冠於六大洲故海外交通便利民智開發

(3.)氣候良好頗適人生因之人文事業發展特速

(4.)煤鐵豐富因之機器軍械完固致富求強頗易。

由上種種自然狀況之優越故歐洲各國國勢富強文明開發而爲他洲所不及。

157 大不列顛愛爾蘭聯合王國包有幾部？
包有大不列顛英格蘭，威爾士蘇格蘭四部。

158 按英國之緯度，在他洲已爲極寒冷之地而英反溫潤多雨何故？

因地當墨西哥暖流之衝遂成爲溫潤海洋氣候。

159 英國人口之密度列世界第幾次於何

國？

位世界第三次於比荷兩國。

160 美國屬何族？其氣質若何？

英民族大都為條頓族中之盎格魯薩克遜族，愛爾蘭屬於凱爾特族，英人氣質剛毅自重勤儉誠實饒忍耐不屈之志又富於條理思想及共同觀念故稱強於世。

161 英國工商發達之原因安在？

英國工商發達之原因有六：

- (1.) 英為海島國海岸線既長良港灣又多與大陸各國交通均極便利。
- (2.) 石炭鐵之產額豐富便於製造機械以利工業。
- (3.) 英國民性沈實有為企業心活潑，
- (4.) 英本國狹小不適耕耘故專致力於工商業。
- (5.) 英國殖民領土遍布五洲，原料有所出製造品亦易銷售。
- (6.) 英國國勢發展有極強之武備以保工商之安全故發達殊甚。

162 倫敦為世界第幾大 部會其發 達之原因安在？

倫敦爲世界第一大都會其發達之原因有五：

- A. 跨泰晤士河爲世界極好之良港且與各陸之交通均便利。
- B. 在英倫東南大平原位於農工商業發達之中心
- C. 爲自由貿易港。
- D. 爲英之政治中心
- E. 英國之廣大屬地與其貿易特盛。

163 英何地爲萬國本初子午線通過之點？

英倫敦東南有格林威契之著名天文台是也。

164 劍橋牛津各位何地因何著名？

劍橋位倫敦之北，牛津位倫敦之西北二市皆有著名之大學故頗著名。

165 伯名罕滿斯斯他·利物浦愛丁堡各位何地因何著名？

伯名罕一位英國之中部以造金屬爲最著名。

滿斯斯他一位伯名罕之北，因棉毛織發達爲世界第一。

利物浦一在滿斯斯他之西，濱愛爾利海爲英第一商埠。

愛丁堡一位佛斯海灣南岸，爲蘇格蘭首邑，形勢雄壯風景佳麗，爲英國學術淵藪。

格拉斯哥—跨克來得河爲造船業中心列歐洲第一。

166 愛爾蘭人屬什麼民族多信什麼教歐戰後因何常起革命？

愛爾蘭人屬凱爾特族新舊教並行因受有民族自決主義之衝動，而常起革命。

167 法國四大河流爲何名分注於何海？

注英吉利海峽者有塞因河注畢斯開灣者有羅爾河，喀龍河注地中海者爲羅尼河。

168 法國煤鐵產額歐戰後因何驟增？

歐戰後法得亞爾薩斯及勞林二州且獲得薩爾流域儲煤礦極富所以驟增。

169 法國人屬什麼族？民性如何？

法國大部爲拉丁族及少數之凱爾特族其人活潑都雅嗜好美術感情最盛而乏忍耐力榮辱關頭，往往輕生敗事蓋其特性也。

170 近來法人之生殖率有減無增之原因安在？

因法婦女熱交社交不欲多生育子女以減損顏色，避姪之風極盛，故其人口增殖率甚少，卽此故也。

171 巴黎位於何處？其發達之原因安在？

巴黎位法之北部塞因河上其發達之原因有六：

- (1.)居法國北部大平野地為鐵路交通之中心。
- (2.)跨塞因河兩岸水勢暢流便於進出海口與海外各國交通甚便。
- (3.)為歐洲氣候最佳之都會
- (4.)為法政治及商農工之中心
- (5.)街衢廣闊建築壯麗以及繪畫雕刻歌舞音樂莫不臻於極盛為世界之娛園
- (6.)有多數之大學及完備之圖書館博物館為世界文藝之都府。

172 何謂但澤問題？

但澤為東普魯士之良港，歐戰後，波蘭脫離德與俄三國而獨立，以無出海之自由海口，由法國之幫助；而規定但澤為自由市，將波蘭與但澤間一條狹長土地，割為波蘭領土，名曰『波蘭之走廊』遂使東普魯士與其母國裂為二，對於此項辦法德國全體人民及但澤自由市人民，均所反對，故至今不能認為定案，是謂但澤問題。

173 法蘭西因何得名？

法蘭西古爲高盧自五世紀時爲法蘭克族所征服遂稱法蘭西。

174 法國地勢分爲幾部各係何名？

法國地勢分爲五部(1.)北部大平原(2.)中央高地，(3.)亞爾伯山地，(4.)西南部平原(5.)西北邱陵地。

175 法國大軍港有幾？各係何名？

法國人口不增之原因(見圖說人文欄)

法國大軍港有五1.土倫，2.察爾堡3.布拉斯特4.羅捨福特5.羅林特

176 里昂波爾多馬賽各位何地？因何著名？

里昂位於羅尼河與索尼河之會口處，絲織品之盛爲世界第一故著名波爾多位於喀龍河下流貿易繁盛制葡萄酒著名馬賽臨地中海羅尼河口之東爲法國第二大會因當地當歐亞非三洲交通之衝故繁華署常輸出品多以織物葡萄酒果品等，我國人赴歐者，多由此登陸故著名。

177 英國之對外政策如何？大戰後英國之現狀如何？

英國之對外政策：於歐陸則以聯法制德，聯德制法，不

使歐陸有第二強國爲其傳統政策，自歐戰後美國資本主義勃興在在使英國受壓迫各地大有美代英之勢遠東方面之市場大抵爲日本掠奪加以國內勞動問題之緊張，愛爾蘭自治邦之分立印度獨立之呼聲日高故大戰後聯合王國之前途實有不堪設想者焉。

178 歐戰後法國如何防德人復興及芸意兩國如何與法爭霸？

歐戰後法人限制德人之軍隊及重大之賠款以使德水無復興之機更一方扶持波蘭使捷克斯拉夫南斯拉夫羅馬尼亞三小國，結成「小協約」互相提攜以防德一方與英比聯合共同駐重兵於萊因河右岸更與英締海軍協定使英承認其在萊因河之處理權以上總之皆爲法人防德之設施也然英人見於此乃一方面聯德制法助德之復興一方面聯意大利使之破壞法國在巴爾幹半島之勢力以分其在地中海上之霸權，夫意之連結巴爾幹半島諸國交歡波蘭，匈牙利西班牙諸邦無非欲牽制法國耳。

179 維爾塞宮位於何地，於國際有何關係？

維爾塞宮在巴黎西南十二哩，宮殿林泉美奐絕倫，歐戰

後協約國開和會於此，計是宮為國際媾和地者凡三次1.美國獨立2.普法戰爭3.即此也，故於國際上關係實所不小云。

180 俄國之大河大山及著名之物產為何？

河——窩瓦河，伯紹拉河，尼瓦河，特尼斯特爾河等。

山——烏拉山，高加索山，厄布魯山。

物產——(1.)農產裸麥，大麥，小麥，燕麥，黑麥，亞麻，大麻，番薯，甜菜，煙草等為著。

(2.)礦產煤鐵煤油金銀白金為著

(3.)工業棉織物為著砂糖次之

181 義大利之大河山及著名之物產為何？

河——波河，地伯爾河，阿地吉河。

山——亞平寧山，阿爾比斯山。

物產——(1.)農產為小麥，玉蜀黍，葡萄，橄欖，煙草及蒜為最著

(2.)礦——硫磺，亞鉛，錳，鐵，大理石，為最多

182 法蘭西之大河大山及著名之物產為何？

河——日倫大河，羅尼河，塞納河，羅亞爾河等。

山——卑爾牛斯山，西溫尼斯山。

物產——(1.)農產小麥穀類葡萄玉蜀黍

(2.)礦產煤鐵為主銅鎳石鹽次之

(3.)工業織物最著葡萄酒，糖次之

183 德意志之大河大山及著名之物產爲何？

河——萊因河，威悉河，易北河，多腦河，阿得河。

山——阿爾卑斯山，墨林山脈等。

物產——(1.)農產大麥小麥燕麥甜菜馬鈴薯

(2.)工業製鐵，糖，船，紡績爲著

184 美國之大河大山及著名之物產爲何？

河——密西西比河，格蘭得河，哥羅拉多河，哥倫比亞河。

山——亞利吉安山，高低利拉山。

物產——(1.)農產小麥，玉蜀黍，煙草，均佔世界第一

(2.)礦產煤鐵銀銅鉛石油鹽水銀皆爲世界第一

(3.)工業製鐵機機造船均甚發達

185 比利時鐵路之密布與人口之密度各居世界第幾位？

鐵路之密布人口之密度各居世界第一位。

186 比利時之都城何名？海口城何名？

比利時之都城爲布魯塞爾海口城爲盎維爾斯

187 荷蘭之低地由何而來，持何物以防海水。

北部之騷達息淺海，侵入內地成一大灣，西部沿海一帶地勢尤爲低下計全面四分之一，皆在海面之下全以堅固之堤防以防海水之侵入。

188 荷蘭城都何名？於國際上有何關係。

荷蘭城都名海牙於一八九九年和一九〇七年曾開萬國和平會於此，設有萬國和平事務所。

189 德意志位於何處？其地勢何處稱上日耳曼何處稱下日耳曼？

踞亞爾伯山系之北面斜坡，南帶因哈茲諸山之分布成崎嶇之台地稱上日耳曼，北部爲平原帶，稱下日耳曼。

190 德國有四大河流，各係何名又因何稱來因河爲國河？

其四大河流爲萊因河威塞爾河，易伯河，阿德河且萊因河中流全在本國境內運輸灌溉其利甚溥，而沿河田圃連阡，

風景如畫爲德人心神寄託之地故稱爲國河。

191 基爾運河起於何處止何處，於德之軍事上商業上有何關係？

基爾運河起自波羅的海止於易北河北，且聯絡波羅的海及北海艦隊，不致爲丹麥所阻，故交通便利於軍事上商業上關係很大，歐戰後亦定爲國際公河

192 德國之化學工業如何？

德國人士以化學工業相號召故近來德國化學工業之進步異常神速爲世界冠。

193 德國人屬什麼民族？其國民性如何？

國人屬日耳曼族其東部略有斯拉夫族。其國民性勤勉儉約，非他國所能比，萬事努力，自信力強，而意志堅固，無論作何事必達到目的而已，且公共心發達，誠國強之主因也。

194 南美洲何以文化遲滯？

南美洲文化遲滯之原因有七：

- (一)地勢不良
- (二)海岸簡單，港灣半島尤少，
- (三)熱帶氣候，不適人生，
- (四)雖有平野多爲林原而難於利用以致生產，

(五)遠歐洲之文化國，近非洲之黑暗大陸，

(六)礦業不富，不克使歐人移殖其地，

(七)拉丁民族之移居地，

195 德國之教育如何？

德國教育之發達實世界罕匹，國民程度咸有普通中學知識高等教育尤為發達全國大學校有二十一所，各種科學之術多標世界之明星，

196 歐戰前德人因何採用大日耳曼主義其結果如何？

德人受尼米哲學之影響自視為天之驕子世界為其一族之舞台，人類所以供其驅使大日耳曼主義，實為此種野心之表徵，卒以釀戰世界空前之歐戰及戰敗乞和舊勢瓦解，不能不屈服於維爾塞和約之下遂至賠款六百億，割地三萬方哩限制軍備，撤廢要塞，繳納軍艦拆毀堡壘國威掃地，一蹶不起，海上權利一蕩無餘頗足為抱帝國主義者之殷鑒！

197 德之發達原因？

德之發達原因可分四條：

1. 地勢之良好—德國地勢為平野，邱陵山地，相交錯，平野宜農，邱陵宜於牧畜，山地富鑛產特別是煤鐵尤多，故

德之經濟事業極發達而易於致富求強，

2. 教育之發達—德國普通教育，高等教育均發達，其教育宗旨以養成國民與國家同體戚之觀念為目的，故國民愛國心堅，至於研究科學應用學理以求實際之功效，尤為德國教育之密訣，

3. 國民之努力—德人無論作何事業均以己之勤勉特性不達目的不止，故德之凡百事業皆有登峯造極之概。

4. 國家之政策—德國對內政策注意產業之發達厲行保護貿易雖其官民之在外者亦必需用其國內之產物，對外政策則以外交手腕政策治之勢力以求國勢之發展產品之銷路

有以上數因故歐洲大戰前德國勢力之澎漲幾列世界第一，戰後雖失敗仍能逐漸恢復為各國所重視。

198 柏林位於何地？其發達之原因若何？

柏林位德國之中央跨易北河流史普里河上，其發達之原因有五：

(1.) 為全國鐵路之中心故德國十四小時內可使全國軍隊集中柏林。

(2.) 由史普里河通易北阿德兩河故柏林為兩流域交通之中心。

- (3.) 爲德國之政治中心。
- (4.) 爲世界學術之淵藪。
- (5.) 爲德國工商業發達之區。

199 德勒斯登漢堡不來梅可倫，各位於何處？因何著名？

德勒斯登—位易北河上流爲薩克遜王國之故都，風景美麗爲美術工業之中心所產陶器尤爲著名。

漢堡—位易北河下流爲德第二大都會，第一貿易港因其地當水陸交通之衝，爲北歐貨物出入之總匯，故著名。

不來梅—在威塞河下流，爲德第二貿易港，僅次於漢堡爲德國之自由市之一。

可倫—位萊因河中流左岸，爲萊因河航路中心又爲通比法鐵路之要驛，故著名。

200 試言歐洲交通之概況。

歐洲交通，極稱便利，鐵道密如蛛網，延長約當世界鐵道三分之一，亞爾伯比利牛斯諸山系，雖橫互於中部，亦各有大隧道敷設幹線，以連絡南北，更有西伯利亞大鐵道以達亞洲，至於航路，因多重要海港，故當海上交通之要衝，各國船舶，往來如織，其內地水利，有運河以連絡諸大河流紡

如一河直接簡接，可以互相連絡，其他郵政電信海底電線及無線電以及航空皆非常發達也。

201 試表列歐洲之政治，教育，工業，經濟，海運暨美術中心之各大都會及其所在國，

政治中心	倫敦	英
	巴黎	法
	柏林	德
	莫斯科	俄
	維也納	奧
經濟中心	倫敦	英
	巴黎	法
	柏林	德
工業中心	倫敦	英
	伯明翰	
	利物浦	
	柏林	德
	德得斯展	
	里昂	法
	列黎	
奈得		
	維也納	奧

教育 中心	<u>牛津</u>	}	英
	<u>劍橋</u>			
	<u>巴黎</u>	}	法
	<u>里昂</u>			
	<u>柏林</u>	德	
	<u>羅馬</u>	意	
<u>莫斯科</u>	俄		
海運 中心	<u>倫敦</u>	}	英
	<u>利物浦</u>			
	<u>漢堡</u>	}	德
	<u>不來梅</u>			
	<u>哈佛爾</u>	}	法
	<u>馬賽</u>			
	<u>熱那亞</u>	}	意
	<u>那不勒斯</u>			
<u>鹿特丹</u>	荷蘭		

美術 中心	}	<u>斯巴達</u>		<u>希臘</u>
		<u>雅典</u>		
	<u>羅馬</u>		<u>意</u>	
	}	<u>巴黎</u>		<u>法</u>
		<u>都爾</u>		
	<u>柏林</u>		<u>德</u>	
	<u>倫敦</u>		<u>英</u>	
	<u>莫斯科</u>		<u>俄</u>	

202 Sahara 雨量何以最少？

Sahara位非洲之北部跨北緯二十度與三十度之間，以非洲沿海多山，使大西洋與印度洋之水蒸汽，不能深入內地，且其地屬高原，不能為海洋氣候調劑，故酷熱而極乾燥，寒暑相差甚巨，以以降雨之稀，有數年未見一點者，

203 奧國在歐戰前世界之強國也戰後因何一蹶不振？

奧國自歐戰後全國主要生產地殆全喪失故物質竭蹶民生艱困因之實業失敗工商驟衰故一蹶不振實 奧國 前途之隱憂也，

204 維也納布達佩斯各位於何地？因何

著名？

維也納位多腦河右岸當水陸交通之衝爲世界著名之大都會，布達佩斯跨多腦河兩岸，由布達佩斯二市合成布達位於西岸有王宮官署等建築物佩斯位於東岸爲商業要地現爲匈牙利國都，

205 捷克斯拉瓦克由何民族結成？

捷克斯拉瓦克由兩種民族合成一曰捷克族居於西部爲最優秀民族，二曰斯拉瓦克族散布於東部喀標巴阡山南麓以上二族皆屬斯拉夫族，

206 捷克之經濟基礎因何穩固？近來其外交情形若何？

因波希米一州所產之煤占奧匈帝國百分之八十三，鐵占百分之六十，此外若石油岩鹽以及金銀諸礦皆極豐富，工業以製糖製革及玻璃器著名於世故捷克之經濟基礎穩固即在波希米一州，即其無窮之寶庫也

其外交亦頗順利，曾與羅馬尼亞南斯拉夫組織同盟，以防奧匈及保加利亞三國即世之所謂「小協約國」者是也

207 瑞士位於何處？因何堪稱世界之公園？

瑞士位於歐洲之中心界於德法奧意四國之間，其國內溪谷瀑布之奇湖水河冰之美及阿爾比斯山之重巒疊嶂，樹林陰翳自然美景，冠絕世界，故有世界公園之稱。

208 洛桑位於何地？因何著名？

洛桑位於日內瓦湖北岸，本遊覽佳地，大戰後兼為各國外交家折衝樽俎之場，一九二二年近東會議即集議於此故頗著名。

209 瑞士工藝品以何物著名於世？

瑞士工藝品以製鐘 彫磨寶石等著名於世。

210 巴爾幹半島因何為 世界之 危險區域 有「歐洲火藥庫」及「世界噴火口」之稱？

巴爾幹半島所成危險區域者實有數因：

1. 近東為歐洲交通要衝，軍事商業上均佔重要地位，土耳其不能保其地，遂起列國之爭逐。
2. 本島開化最早，人種複雜，宗教文化習慣之分歧，時起爭執。
3. 現在民族主義澎湃，土耳其帝國解放，其所屬之民族，均渴望獨立自由。

因以上三種情形近東一帶屢起戰爭，近二百年間之擾攘無有寧日，此次世界大戰即以此為導火線焉。

211 巨哥斯拉夫是什麼國家之擴大？其國都何名。

為塞爾維亞之擴大其國都為伯爾格來德。

212 羅馬尼亞國都何名保加利亞以產何物著名於世？

羅馬尼亞之國都為布加利斯保加利亞所產薔薇油著名於世。

213 巴爾幹半島十八世紀以前全為何國領土因何時露分裂之傾向？

十八世紀以前巴爾幹半島全部為土耳其領土惟人種宗教情勢複雜，又因土耳其國勢日弱，稅政橫行，加以俄國政策之慫恿，於是各被治民族相繼叛離故時露分裂之傾向。

214 君士坦丁堡位於何地因何重要？

君士坦丁堡位於波斯波魯斯海峽臨金角港因其地佔政治交通之樞紐商業發達為歐亞非三洲商業之中心故重要。

215 巴爾幹半島現有國家凡幾？何名？以何國國勢最強？

巴爾幹半島有國凡六：曰巨哥斯拉夫，羅馬尼亞布加利亞土耳其亞爾巴尼亞及希臘，中以巨哥斯拉夫羅馬尼亞國勢最強，為巴爾幹諸國之巨擘。

216 意大利有何著名之活火山？在那座火山近傍掘出什麼古城足為考古資料。

著名活火山有三：(1)維蘇威(2)愛的那(3)斯特隆波里，在維蘇威近傍有旁辟，赫克蘭尼二古城足為考古資料。

217 意大利海岸何部有何大灣？

意大利南部有塔倫多灣東部有溫尼斯灣，西北有熱那亞灣較為著名。

218 世界四大產絲國是何國意大利居第幾位？

中，日，意，法為世界四大產絲國，意居第三位。

219 意大利礦產何物著名？惟乏何礦？

意大利礦業硫磺最多(日次之)居世界首位惟乏煤鐵，故機器工業不易振興。

220 自意大利北通法瑞兩國經隧道有三名何名？

(1) 自土倫經西尼斯隧道，達法國里昂。

(2) 自米蘭經新普倫隧道達瑞士之蘇黎世。

(3) 自米蘭北經聖郭爾達隧道達瑞士之蘇黎世，

221 意大利屬何民族其國民性如何？

人種概屬拉丁族國民長於文學美術而失於浮華怠惰與法人相似，

222 羅馬位於何處？因何著名？

羅馬跨太白河上為古羅馬帝國都有地中海女王之稱現為意大利國都附近有聖彼德寺法提坎宮殿及哥里色姆為羅馬三大建築物故著名於世

223 Philippine Islands 及 Hawaiian Is. 隸於何國？及對於該國之關係若何？

(交大)

Philippine Islands 及 Hawaiian Is. 皆隸於美。Hawaiian Is. 位於太平洋之中心。土地肥沃。氣候頗佳。灣廣水深。可泊巨艦。當亞澳美三洲航路之樞紐。Philippine Islands 位亞洲之東方。扼太平洋印度洋交通之要衝。與 Hawaiian Is. 在太平洋中。彷彿成一直線。得此二地。得以管轄太平洋。雄峙新舊二大陸之間。故美以 Hawaiian Is. 為太平洋中之海軍根據地。Philippine Islands 遼翼南洋。一旦有事

，足以控制英日。其關係豈不巨哉。

224 非洲之天產爲何？

非洲之天產，植物有拜阿拜布樹，油椰子波斯棗，乳油棗，及其他貴重之木材最多，但中央大森林中所產之異木奇草，多爲植物家所未見，動物多勇猛珍奇之禽獸，如象，犀，河馬，麒麟，斑馬，獅子，球鴉，鸚鵡，駝鳥，鱷魚之類，礦物則有金銅與鋼石等，

225 試舉非洲各大河流之名稱。及其流入之海洋

非洲河流，大而且著名者有四：

(一)尼羅河(R. Nile)東半球之第一長流也，(全長一〇一六〇里，)流入地中海，

(二)剛果河(R. Congo)，非洲第二長流也，(全長七四八〇里)注入大西洋，

(三)尼日爾河(R. Niger)非洲第三大川也，(長約七三五〇里)流入幾內亞灣

(四)三比亞河(R. Sambesi) (長五二七〇里)入莫三鼻給峽，

226 試舉南美洲之主要都會：

南美洲之主要都會，述之於下：

- (1) 喀拉加(Carra) 委內瑞辣之首府也，距海甚邇，
為國內外貿易之中樞，
- (2) 瓜耶昆爾(Guazaquil) 厄瓜爾多之商埠，自桑港
以南太平洋岸有名之良港也，
- (3) 三查額(Santiago) 智利首府，為南美太平洋岸第
一之都會也，
- (4) 伯巴拉瑣(Valparaiso)，位三查額北西，為南美
太平洋岸最大之港次桑港之良泊也，
- (5) 伯諾亞勒(Buenos Aites) 阿根廷之首府，工商業
均極發達為南美大都世界有數之貿易港也，
- (6) 里約熱內盧(Rio De Janeiro) 巴西之首府，臨里
約熱內盧灣，灣內風景甚佳與澳洲之悉尼意大利
之拿破里稱為世界三景
- (7) 巴拉(Bara)近多干定河之良港，為巴西北部商業
之中心，
- (8) 泊爾能不各(Pernam Buco) 位巴西之東北海岸
，南美與歐洲航路最近之良港，

227 密士失比河流域，對於美國有何影

響？

密士失比河流域爲美之中央平原地帶沃野千里，美人利用機器施以大規模之耕作法，成爲世界有名之農場，農產額位世界第一者甚多，如小麥，燕麥，煙草等尤以棉花爲最多，產額佔世界四分之三但密士失比河源遠流長挾密蘇爾里，田納西，紅河諸水，縱橫流灌，水利甚大，對於交通氣候及農業上，均沾莫大之利益，美之所以富甲全球，實賴有此流域之賜也，

228 試述羅馬之三大建築物。

一，聖彼得寺 此寺爲羅馬教之大本山自一四五六年興工至一六二六年告成，長六百呎，寬二百八十呎，內有大理石雕刻之石像及歷代法王之肖像，爲有名之大建築物。

二，法提坎宮殿 爲羅馬法王之住宮世界最大之宮殿，飛閣雲棟與夕陽斷榭相輝映，實天下之絕觀內有四百五十二室現法王僅住其一部，餘作爲美術館圖書館以俾公衆閱覽，

三，哥里色姆 爲羅馬古代大劇場，樓高四層爲橢圓形短徑四百八十呎，長徑六百呎，牆高百四十六呎，內可容觀衆八萬人，地下有數多密室，爲羅馬盛時養獅虎豹等猛獸之所，今已殘廢，然猶可見其梗概實羅馬大建築物也。

229 試述米蘭大理石寺。

寺大不如聖彼得，然能容四萬人，自一三八六年開工至一四一八年竣工，其中央高塔有四百二十呎，周圍有百三十五尖塔全部悉以大理石爲之，爲世界七不可思議之一。

230 Seven Wonders of the World

1. The Coliseum. of Rome (羅馬大劇場)
2. The Catacombs of Alexandria (亞力山大地下廊)
3. The Great Wall of China (中國萬里長城)
4. Stonehenge (大理石寺)
5. The Leaning Tower of Pisa (比薩斜塔)
6. The Porcelain Tower of Nanking (南京磁塔)
7. The Mosque of St. Sophia at Constantinople (君士坦丁堡教堂)

231 阜姆原屬何國？現歸何國管理。

阜姆原屬奧匈帝國，現歸意大利管理。

232 馬爾他島位於何地？首府何名英日如何經營之。

馬爾他島在西西里南五十八哩，首府曰瓦里塔爲世界最良之港英人設兵工廠造船廠有鞏固無雙之堡塞爲英地中海艦

隊之根據地。

233 西班牙產何種礦物爲世界第一二位？

銅之產額位世界第二，次於美，水銀產額位世界第一。

234 試述西班牙國勢不振之原因？

其國勢不振之原因有五：1.海岸簡單，地勢不良，2.氣候惡劣，物產不豐，不足以應國人之需要。3.交通不便工商業不易振興，4.國民性懶惰，不足與文明民族競爭，5.國內政府腐敗對外政策失宜。

235 西葡兩國國都各係何名位於何地？

馬德里爲西班牙國都位國之中央。里斯本爲葡國都位於德郁河口。

236 直布羅陀位於何處形勢若何，英人如何重視之。

直布羅陀爲伊伯林半島南部一小半島，面積不過二方哩，抱地中海之門戶其距非洲最近之點，僅十三哩負山面海形勢天成，英人於此興築堡壘，經營不遺餘力，現爲英國大西洋海軍區鎮守府所在地。

237 丹麥與那，瑞，二國間有什麼海峽爲波羅的海與北海間往來之咽喉？

北隔斯喀給爾拉克。加脫牙德二海峽與那，瑞，二國相望然桑德海峽最爲重要二海出入門戶。

238 哥平哈根因何重要位於何地？

哥平哈根位於西蘭島之東岸，臨桑德海峽，爲波羅的海之門戶形勢頗爲重要。

239 那威北部之港灣已入寒帶因何冬季不結冰？

因受墨西哥暖流之影響故冬不結冰。

240 冰島位於何處其光景如何？

冰島位太平洋北部，島上多火山富溫泉，火山之最著者曰希克拉其附近有世界最大間噴泉，所噴出水柱之高達百五十呎光景之奇不可名狀。

241 瑞典那威以何產業著名其著名礦產各係何名？

林業漁業頗爲發達故木材之輸出爲二國最大富源漁業二國皆盛而那威尤甚，鑛產那威以銀著瑞典以鐵著。

242 南美與非洲地理之比。

南美與非洲地理之比較如左：

(甲)同點：

1. 海岸線皆大率單純。
2. 附近島嶼皆渺。
3. 地狀皆為直三角形。
4. 赤道南北，皆有大森林。
5. 南美之亞馬孫河與非洲之剛果河，同近赤道，一則東滙，一則西流。

(乙)異點：

1. 南美東西為高原，中央為平原，非洲則大部為高原。
2. 南美高山平行於西海岸，非洲則平行於西海岸。
3. 南美少湖沼，非洲則大而且多。
4. 南美大河多水利，非洲大河則少水利。
5. 南美略有沙漠，非洲則有世界絕倫之大沙漠。

243 瑞典那威兩國國都各係何名位何地？

瑞典國都為斯德哥爾摩東臨波羅的海，跨馬拉爾湖及多數小島上那威國都為峨斯羅位於克利斯田海灣之北端。

244 瑞那二國之政治行何制度有何異點？

現二國皆屬君主立憲制，惟瑞典多貴族形彩，那威多平民色彩。

245 哈茂菲斯位於何地因何遊人絡繹不絕？

哈茂菲斯位於北岬之西南為歐洲最北之都會，地近北極每年自五月至七月太陽常在地平線上，反之自十一月至翌年一月太陽常在地平線下，終夜呈昏黑之狀，夏季因有夜中太陽之奇景，故遊人絡繹不絕焉。

246 我中國因何稱俄羅斯為蘇俄與赤俄？

因俄國革命後蘇維埃政府成立故稱之曰蘇俄，又因蘇維埃政府組織紅色衛軍故我國又稱之曰赤俄。

247 蘇維埃聯邦共和國包有幾國試述之
包有六國；A.俄羅斯社會主義聯邦蘇維埃共和國

B.烏克蘭社會主義蘇維埃共和國

C.白俄社會主義蘇維埃共和國，

D.外高加索社會主義聯邦蘇維埃共和國

E.烏斯貝克社會主義聯邦蘇維埃共和國

F.土耳其曼社會主義聯邦蘇維埃共和國

248 俄國何處農業發達？何處森林茂密？
何處牧畜業發達？

西南墨土帶農業發達「有歐洲穀庫」之稱，

林業則盛於森林帶，牧業則大抵萃於東南草原帶，

249 俄國紡織業位歐洲第幾次於何國？

俄國紡織業之盛位世界第四次於英美德三國

250 試叙俄國河流之特點，其第一長流是何名？

俄國地勢平坦，水勢紆徐，而水道分佈之均勻河源之便於聯絡，皆俄羅斯河流之特點也，其中最長者為窩瓦一河

251 俄國為著名農業國其主要農產物有何？

俄國產大麥裸麥為世界第一，產小麥為世界第二產亞麻大麻亦為世界第一，

252 蘇維埃政府係何人創建？其政策何如？

為列寧所創建其政策取消土地私有權，否認資本財產私有制度否認國債之義務，數千年之社會經濟制完全推翻了。

253 紐約何以工商業均極發達？

紐約位呼得桑河口瀕紐約灣其所以發達者具左列條件，

1. 位最良港灣扼交通之門戶，
2. 腹地大而土地肥沃，

3. 四周控工業繁盛之區，
4. 水陸交通機關，設備甚周，
5. 交通之中心，

而文藝之興起，建築之雄偉，猶其餘事也，故能東控歐非，西制南美工商業之發達幾有駕倫敦而上之

254 試舉北美洲著名之半島，島嶼及海灣，

北美洲之半島，東有拉布斯達，東南有佛羅里達及於加敦，西南有加利佛尼亞西北有阿拉斯加

至於島嶼，東有紐芬蘭，南有古巴海地二島，北有格陵蘭及巴芬蘭等，

海灣，在大西洋岸，則有聖羅連士灣，墨西哥灣，在太平洋岸則有加利福尼亞灣在北冰洋，則有哈得遜灣，巴芬灣等。

255 試述美國著名之都會十個以上。

- (1) 華盛頓，(2) 紐約，(3) 芝加哥，(4) 舊金山，
- (5) 波士敦，(6) 布法羅，(7) 路斯維里，(8)
- St. Louis (9) Nem Orleans. (10) Philadelphia.

256 美利堅與我國面積略同，且位太平

洋東西兩岸。何以美最富強而中則衰弱，能申述其故歟？

美之富強，中之衰弱皆有數因，今比較說明於下：

- A 地勢：美國東西部皆瀕海，山脉河流多縱行，致成中央之大沃壤，中國僅東部濱海山脉河流多橫行且多沙漠，
- B. 海岸：美國海岸線殆為我國之三倍，尤富良港灣故交通便利，商業發達，中國海岸線遠不及美且有凍港，故商業瞠目其後。
- C. 物產：美之農林畜牧漁業，均有名於世，尤饒礦產，國民利用機器以啟富源，中國雖曰以農立國，不用使科學方法，以振興實業，故農林牧畜皆落人後礦產雖富，亦多未開採。
- D. 氣候，美國大部溫和，故國民安居樂業，得發展各種事業，中國唯海岸氣候溫和，愈向西北氣候愈亞，均有碍於事業之發展。
- E. 交通，美之鐵路密如蛛網，世界極無其匹，國內外航業及航空郵電均極發達，中國極無交通之可言，鐵路僅數千哩，航利大者僅有長江，且國內外航業皆操於外人之手，

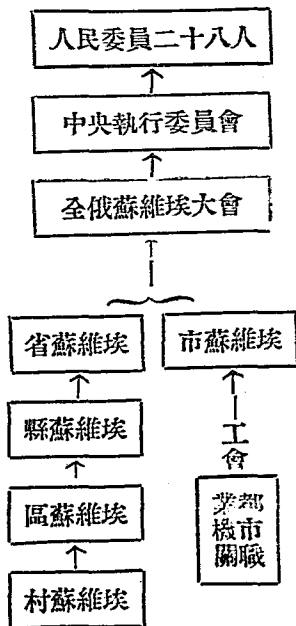
航空郵電均甚幼稚。

F.教育，美國教育制度完善而又普及中國因經費關係學校甚少不識字者甚多

G.政治，美之聯邦制度，三權鼎立井然不紊，中國雖由專制改爲民主然仍然是紛亂異常，今則上軌道。

綜上觀之，美國天下之和，得地之利，加以休養生息，數十年來，故國力雄厚，世莫敢匹，中國則內憂外患，失土喪權之恥相繼而來，東省失掉尤失去我國之最大富源，故美日促富強而我則日下蕭條矣。

257 蘇維埃政府組織如何？試繪圖明之



258 俄國黑海艦隊根據地爲何處？

俄國之黑海艦隊根據地，爲塞伐斯托波爾在克里來島之南端。

259 俄國波羅的海艦隊根據地在何處？

俄國之波羅的海艦隊根據地爲喀琅斯他得在列寧格勒之西。

260 蘇維埃之立法最高機關與最高行政機關各系何名如何產出？

蘇維埃政治以全俄蘇維埃聯邦會議爲最高立法機關與之平行者爲中央執行委員會管理全國政務。

261 莫斯科列寧格勒各位於何處？舊俄彼德大帝因何遷都列寧格勒蘇俄因何又定都莫斯科？

莫斯科位於國之中央跨窩瓦河支流沃咯河上，列寧格勒位芬蘭灣跨尼瓦河口彼德大帝欲灌輸歐西文明始遷都於列寧格勒後蘇維埃政府成立後以團結內部爲要乃又遷回於莫斯科。

262 烏克蘭位於何處？首府何名海口城何名？

烏克蘭位於國之南部首府曰基府海口城爲阿的薩。

263 白俄羅斯首府何名因何重要？

白俄羅斯首府曰敏斯克因地當黑土層，農業發達爲俄最富之區故重要。

264 蘇俄實行共產後，各資本帝國主義如何抵制之？又蘇俄曾宣言「打倒帝國主義，扶助弱小民族之獨立」各弱小民族因蘇俄扶助而革命成功者有何國？而革命失敗尙在奮鬥中者有何國？

自蘇俄共產後列強防禦之謀無時或釋英法之扶助波羅的海沿岸諸國獨立之割其比薩拉比亞之與羅馬尼亞無非利用此數小國爲防止共產主義之西侵，弱小民族受其扶助革命成功者有土耳其波斯阿富汗等有失敗後尙在奮鬥中者則有印度敘利亞，阿利伯，摩洛哥，朝鮮南洋等國。

265 波蘭之恢復邦國有何原因。

波蘭爲一僥倖產生之國家當歐戰將終之際協約國恐俄德接近單獨議和故宣布波蘭獨立，使之間隔俄德大戰既終之後法恐德復興竭力扶助之以消德勢英恐赤化西侵亦從而助長之以固防俄，波蘭遂上承英法之命而驟起復建國然。

266 波蘭大部是何人猶太人在波蘭之勢力如何？

波蘭大部為波蘭人即斯拉夫族之別支也，猶太人雖居少數而在政治上經濟上却佔重要位置。

267 瓦薩位於何地因何重要？

瓦薩位於波蘭中部當維斯杜拉河上游為波蘭國都因陸交通之便工商業均發達故重要。

268 丹澤市之政務由何處管理因何無異波蘭領地

丹澤市之政務由國際聯盟任命之委員掌管執行惟稅務則併於波蘭稅區交通機關由波人管理，並規定波蘭有代表該市之外交權故無異為波蘭之領地也。

269 波蘭的海四國之離俄獨立，得告成功有何原因維爾納問題因何有謂為將來歐戰之導火線？

四國之離俄獨立雖起源於民族自決實則為倖運而生蓋其實列強為防止公產主義西侵及阻止俄德之連絡故扶助其獨立，而蘇俄因內部紛擾恐列強來干涉，故亦許其獨立，藉為緩衝，故四國實有共同聯合防俄之使命唯英法之命是聽，然

立波因維爾納問題反目後立陶宛對於英法心懷怨望，轉而聯俄，實足使英法憂心故一有爭端東西則互相抵觸維爾納問題亦將為歐陸大戰導火線之一也。

270 希爾申福，阿蘭島各位何處因何著名？

希爾申福位芬蘭南端，芬蘭灣之北岸適扼灣口形勢頗為險要，有北方「直布羅陀」之稱故重要，

阿蘭島踞波羅的海之中權為此海惟一之不凍港故重要。

271 波蘭的海三國各系何名？各國首府是何名？

A. 立陶宛首府科佛奴，B. 萊脫維亞，首府里加，C. 愛沙尼亞首府勒佛爾。

272 歐洲之小國有幾？何名？位何處？

歐洲之小國有五：(1.) 盧森堡位於法比德三國相界處，(2.) 列支敦斯敦一位於奧地利與瑞士之間(3.) 摩納哥一位於法國東南濱地中海，(4.) 安多爾位於法西交界處之比里牛斯山中，(5.) 聖馬力諾位於意大利中部。

273 歐洲民族共分幾大派，各派分部於何處

共分四派：(1.)凱爾特族一分部於英之愛爾蘭，蘇格蘭及法之不列顛等地，(2.)拉丁族——稱羅馬族分佈於歐洲南部法意西葡希臘等國人屬之(3.)條頓族——又稱日耳曼族分佈於歐洲中部及西北部英德奧荷丹瑞那等國人屬之(4.)斯拉夫族一分部於歐洲之東北蘇俄，捷克巨哥等國人屬之。

274 紐約繁盛之原因：

1. 港灣良好——紐約位於呼德桑河口有浪島橫障其外足蔽風浪之險港內水最深闊足容多數之巨船之停泊港灣之良好為美洲大西洋岸之冠。
 2. 工商業中心地——美國大西洋岸諸州工商業極發達其商品之輸出大半由紐約。
 3. 控西方生產力最大之平原——美國密士失必河流域及大湖一帶之平原物產極富饒人煙最稠密其本地產及所需外物或由運河或由鐵路大半由紐約出入
 4. 為海陸交通之中心——紐約東通歐洲南通南美均有多數商船往來西通內地各埠又有鐵路運河之交通便利故紐約為海陸交通之樞紐新大陸出入之門戶也。
- 有以上諸因故紐約商業之盛甲於美洲而為世界第二大會。

275 歐洲各大民族之特點為何？

1. 拉丁民族——性優雅富審美性，文學美術最發達，政治時有變遷，製造多浮華品，風俗流於奢侈，所建之國，多有衰落之象。
2. 條頓民族——性剛毅，富忍耐力，長於數學哲學理化學等學科之研究，政治少變更，製造多人生必需品，風俗質素勤勉，所建國家蒸蒸日上，有支配世界之努力。
3. 斯拉夫民族——性沈毅勇敢，風俗質樸耐勞，有偉大精神，近來進展頗速，歐洲後起之雄者也。

276 歐洲鐵路之國際幹線有三，試述之。

- A. 北歐橫貫鐵路—自法之巴黎東北經德國柏林波蘭之瓦薩而達俄之莫斯科再東與西伯利亞鐵路相接。
- B. 南歐橫斷鐵路—自法之波爾多東經里昂，意大利之溫尼斯巨哥之伯爾格來得而終於黑海北岸之阿的薩
- C. 中歐縱貫鐵路—自德之漢堡，經柏林維也納布達佩斯伯爾格來得而達君士坦丁堡與巴吉達鐵路相接

277 歐洲亞洲二者之比較：

甲、同點：

- A. 二洲北部皆有大平原，如亞洲之西伯利亞平原，與

歐洲之俄羅斯平原，是也。

B. 位置皆大部在溫帶，北及寒帶，南入熱帶。

C. 二洲南部皆有三大半島突出，如亞洲南部之印度支那半島，印度半島亞拉伯半島，與歐洲之巴爾幹半島意大利半島，伊布林半島是也。

D. 大山脈皆偏於南部如亞洲之喜馬拉雅山及歐洲之亞洲卑斯山是也。

E. 二洲各有一島強國，如亞洲之日本，歐洲之英國，是也。

乙、異點：

A. 亞洲海岸線短，歐洲海岸線長。

B. 亞洲多高原而少低地，歐洲，多低地而少高原。

C. 亞洲多沙漠，及雙子河，歐洲無沙漠及雙子河。

D. 亞洲大部為大陸氣候，歐洲大部為海洋性氣候。

E. 亞洲為黃色人種根據地，歐洲為白色人種根據地。

F. 亞洲於人文地理上為諸大陸之冠，歐洲於人文地理上為諸大陸之冠。

278 試將六大洲之面積由大而小列表以明之。

A. 亞洲面積 17,048,936 方哩百分比為 8.69 B. 非洲面積 11,520,490 方哩百分比 5.84. C. 北美面積 9,419,238 方哩，百分比 4.62. D. 南美面積 6,881,760 方哩百分比 3.21 E. 歐洲面積 3,814,273. 方哩百分比 1.93. F. 澳洲面積 3,455,000 百分比 1.72.

279 英領南非洲聯邦有幾試列表明之。

- 英領南非洲聯邦 {
1. 南普殖民地又稱好望角殖民地
 2. 荷蘭日斯殖民地又稱橘河殖民地
 3. 脫蘭斯瓦
 4. 那特耳

280 英領南非屬地有幾試列表明之。

- 英領南非屬地 {
1. 蘇哇斯蘭
 2. 巴蘇特蘭
 3. 北貝專納(南北專納歸好望角殖民地管)
 4. 南北羅得比亞
 5. 尼亞薩蘭
 6. 西南非洲現歸南非聯邦統治

281 英之三 C 政策如何試詳述之。

英之三 C 政策——開普敦為英人非洲縱貫鐵路之終點亦

即英之三C 鐵路之起點由此往北擬築至開羅，再往東經西亞伊蘭高原至印度之加爾格達以成三角形之鐵路完成英在印度洋之國防所謂英之三C 政策是也現南段已修至羅得西亞北段已修喀士穆三C 政策行將實現但民族自決之潮流不可遏止北有埃及之獨立南有南非之獨立運動而黑人阿非利運動亦乘時而起然則英人之三C 政策完成恐難如願以償也。

282 杜蘭斯瓦產何鑛爲世界第一？其開採情形若何？

杜蘭斯瓦產黃金位世界第一產金中心爲約翰內斯堡其附近六十哩之地皆金鑛也據一九〇八年調查之產額達七百五十二萬一千六百七十翁士。（翁士約合我國庫稱八錢三分三厘三毫）役夫十八萬七千餘人鑛山公司有一百三十所其產金情形誠可謂世界冠。

283 太平洋交通之中心爲何地以其地理背景試述之。

（一）、斐濟——位太平洋之中部而偏南自澳洲布利斯伯尼至美洲溫哥華之海底電綫經過斐濟又自澳洲之悉得尼墨爾鉢恩及奧克蘭往美洲之溫哥華及舊金山有定期之航船均經過此地爲南太平洋交通之中心。

(二)檀香山——位太平洋中部而偏北由香港經斐律賓關島至美洲之舊金山有定期航船及由澳洲至美洲之海船無不由檀香山添煤換水故為北太平洋交通之中心。

284 世界人民生活，至為不同，約可分為工業地帶，農業地帶，畜牧地帶，原始地帶四種，試略舉其地理的分布，並說明其地理的原因。

世界人民生活至為不同，歐洲北部及北美洲東部，海岸屈曲而多良港，但土地較瘠，故其地人民擅工商業之長，故為工業地帶，歐洲南部及亞南部土地肥沃故其地人民多務農為農業帶。北美洲亦然。亞洲西部及北部澳洲全部其地氣候不適於人生，故人口稀少多牧畜為畜牧帶，至非洲及南美，以海岸狀態簡單，周圍環山，氣候不佳，故至今猶為原始地帶。

285 何謂近東與遠東，又近東問題與遠東問題何以常惹起國際間的糾紛？

近東指歐洲之東部巴爾幹半島及土耳其一帶而言。遠東指東方亞洲如中國日本印度而言。二者均為文化落後之民族，自質革命以後，歐人即視為最好之市場及原料供給地，帝國主義之間遂互相爭奪引起許多糾紛。

286 何謂三A.三B.三C.及三S.政策，又此種政策之用意何在？

三A 政策爲：亞美利加——阿拉斯加——亞細亞。

三B 政策爲：柏林——君士坦丁——報達。

三C 政策爲：開普敦——開羅——加爾加他。

三S 政策爲：蘇伊士——新加坡——上海。

此種政策之用意，均在以交通爲工具，而獲得勢力範圍，作其市場及原料之供給地。

版權所有
翻印必究

中華民國廿六年四月初版

世界地理試題解答 實價國幣貳角

編輯者 王 一 之

校訂者 劉 彥 卿

發行者 上海進步研究社

各省各大書店均有代售

