

新課程標準適用

小學社會課本

春季始業用 初級第六冊

編者 王章 志息 瑞予
校者 呂伯 依



上海中華書局印行

新課程
標準適用

小學社會課本

春季始業用
初級第六冊

目次

異地人生活

- 一 不同的氣候……………一
- 二 現代世界的漁獵人……………二—三
- 三 現代世界的遊牧人……………四—五
- 四 現代世界的農耕生活……………六—七

世界和本國

- 五 地球的形體……………八—九
- 六 大陸和大洋……………一〇—一一
- 七 各大洲的國家……………一二—一三
- 八 五大強國的現勢……………一四—一五
- 九 我國的地理位置……………一六—一七
- 十 我國的省和市……………一八—一九

我國的民族

- 十一 我國民族的派別……………二〇—二一
- 十二 我國的民族地位……………二二—二三
- 十三 民族主義大要……………二四—二五

民國成立和國民革命

- 十四 中華民國成立紀念……………二六—二七
- 十五 國民革命運動……………二八—二九

國民的信仰

- 十六 孔子……………三〇—三一
- 十七 我國的宗教……………三二

119
9624
70



3 2173 3641 5

一 不同的氣候

氣候

氣候是冷熱、燥濕、風向、雨量等的總稱，但冷熱最關重要。

五帶

全世界分熱帶、南、北溫帶、南、北寒帶等五帶。熱帶終年常

熱；寒帶終年常冷；溫帶冷熱適中，四季分明。

氣候和地文

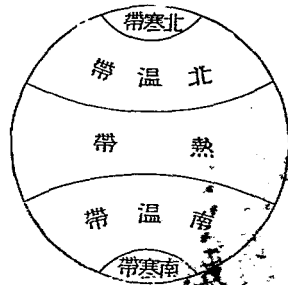
同一氣候帶上，高地偏冷，低地偏暖；內陸地方氣候多變化，近海地方很調和。

問題

世界上為甚麼分成五帶？同一帶上，氣候有甚麼區別？

作業

繼續前學期記載氣候的工作，研究改進的辦法。



地球五帶圖

二 現代世界的漁獵人

人類生活早已過了漁獵時代；但有一部分進步很慢的，直到現代還過着漁獵生活。

居地

現代世界上的漁獵人，大都住在熱帶和寒帶上，又大都住在深山、森林、荒島或大陸的極邊地方。

生活

漁獵人大都使用石器，又大都吃本地出產的動物和果實。熱帶的漁獵人，



熱地的漁獵人圖

冷 地 的 漁 獵 人 圖



住的是茅屋，石洞，大都不穿衣
服；寒帶的漁獵人，住的是冰屋，
穿的是獸皮。

漁獵人對自然奮鬥的力量

很薄弱，他們只順着本地氣候和物產的情形，
過着最簡單的生活。

問 題

現代的漁獵人和古代的
漁獵人有甚麼關係？現
代的漁獵人住在那裏？
生活情形大概怎樣？

作 業

課外讀現代漁獵人（如
哀斯基摩人、非洲小黑人
）的故事。

三 現代世界的遊牧人

遊牧

人類很早便發明了畜牧；現在世界

上還有許多人過着畜牧生活。他們不能住在一定的地方，所以叫做遊牧人。

居地

從蒙古、新疆、西藏起，

向西，再向西南，直到熱帶上黑人居住的地方，一路都是遊牧世界。這些地方，大概是高地、草



沙漠中的駝隊圖

原和沙漠，都是全世界不宜耕種的地方，因此便成爲遊牧人的活動場所。

生活

遊牧人的牲畜，大概是馬、牛、羊、駱駝等。他們常飲牛、羊的乳，騎馬和駱駝。他們不肯隨便宰殺牲畜，因此又大都打獵。他們大都知道交易，就把牲畜當做貨幣。

問 題

現代的遊牧人在那些地方活動？遊牧人的生活大概怎樣？遊牧人的生活和居地有甚麼關係？

作 業

課外讀遊牧人（如蒙古人、阿剌伯人）的故事。


四 現代世界的農耕生活

人類發明了種植以後，農耕生活漸漸發達；現在全世界的人，農人最多。

農業地方

農耕需要肥美的

土地，所以氣候溫暖，河流暢達的地方，農業發達很早。如中國的黃河流域，便是一例。現在世界上的農田，大都在熱帶、溫帶各大河的流域。農產物的種類，



荷蘭風車圖

因各地氣候、地土的關係，各各不同。

農業技術

農業的技術，世界各地也很有高下。技術最低的如紅人、黑人，他們只能用耙；他們的農產，只夠各個人自己吃用。技術高的如我們中國人，農人的物產可以有一部分賣給人家。至於西洋的機器農產，卻幾乎全是商品。

問 題

農業和人生的關係怎樣？
怎樣的地方才適宜於
農業的發達？全世界農
業技術高下的情形怎樣？

作 業

調查本地農業的地點、產
物、農業技術、農產物的用
處，記載下來。

五 地球的形體

地球的形狀

我們所住的大地，是一個圓形的球體，所以叫做地球。這圓球略帶扁形，表面上凹凸不平，好像一隻橘子。

地圖的證據

說明地是圓球，有三個有力的證據：（一）平地望遠山，只見山頂；海岸望來船，先見船桅。（二）向東或向西航海，都可以繞地一周，仍歸原處。（三）地面各處所見日出日沒的時間不同，我國日中時，美國正在夜半。

地球的構造

地球的中心，是一團滾熱的東西。火山爆發，就是這種滾熱的東西，由地殼薄弱處噴出的現象。地殼就是這種滾熱的東西凝成的岩石，和岩石化成的泥土。地面上分水陸兩部分，外面都裹着一層空氣。空氣緊附着地面，其實就是地球的最外層。

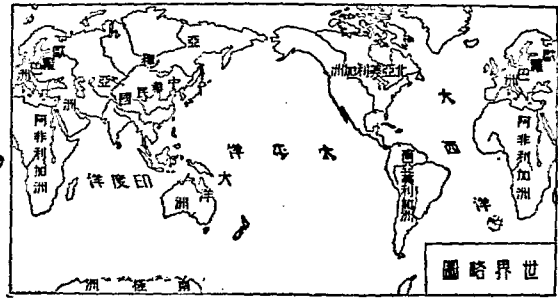
問 題

地球的形狀是怎樣的？
怎見得地是圓球？地球
的構造可以分為幾部分？
空氣和地球的關係怎
樣？

作 業

依據地球的構造，畫一個
想像圖。（大小不拘）

的大陸，因位置的不同，
可以分做七洲，各洲都



世界略圖

的場所。陸地的大部分是大陸，小
部分是島嶼。全世界

六 大陸和大洋
水和陸 全世界地面上，水面大
於陸地三倍。
大陸和島嶼 陸地是人類居住

世界大陸表

名	稱	簡稱	方位	氣候	帶
亞細亞洲	亞洲	中	熱、北溫、北寒		
歐羅巴洲	歐洲	西北	北溫、北寒		
阿非利加洲	非洲	西南	熱、北溫、南溫		
大洋洲	澳洲	東南	熱、南溫		
北亞美利加洲	北美洲	東	熱、北溫、北寒		
南亞美利加洲	南美洲	東南	熱、南溫		
南極洲	極南	極南	熱、南溫	南寒	

有附屬的島嶼。

洋和海

水面大的叫

做洋, 小的叫做海。海洋

是雨水的源泉, 交通的

要道, 全世界大洋互相接連, 因位置的不同, 分

做三大洋, 各海通於附近的大洋。

問 題

全世界水面和陸地的比較怎樣? 全世界有幾個大陸? 全世界有幾個大洋?

業 作

摹下本課的插圖, 把各種顏色區分各大陸。

世界大洋表

名稱	位置	氣候帶
大西洋	北美、南美的東方	南溫、南寒
印度洋	歐洲的南方、南極的北方 非洲的東方、澳洲的西方	熱、南溫、南寒
太平洋	北美、南美的西方 亞、澳的東方	南寒 熱、北溫、南溫、

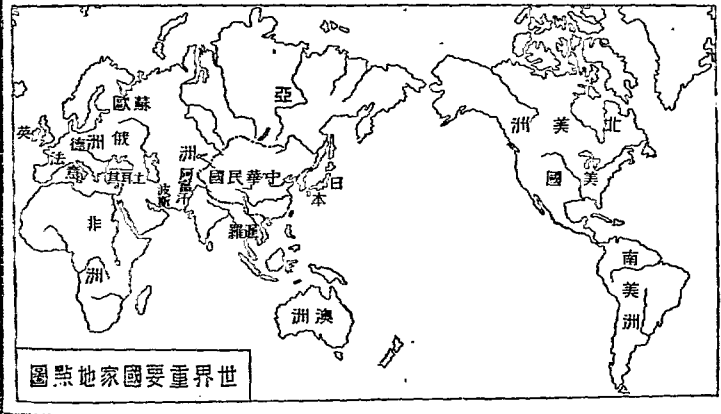
七 各大洲的國家

亞洲

亞洲面積最大，民族生活很複雜，強國的殖民地很多，獨立國有我國和日本、暹羅、土耳其、波斯、阿富汗。

歐洲

歐洲面積最小，但地勢、氣候，都很優良，獨立國最多，如英、法、德、意和蘇俄，都是極重要的國家。



非洲澳洲

非洲氣候惡劣，澳洲孤立大洋中，

民族生活都難進步。現在兩洲土地，除非洲有兩三小國以外，其餘都是歐洲強國的殖民地。

北美南美

南、北美洲曾為歐洲強國的殖民

地，百餘年來，殖民地人民先後自建國家。現在國數很多，其中以美國為最著名。

問題

那幾洲多獨立國？那幾洲多殖民地？多獨立國和殖民地的原因怎樣？南極大陸的情形怎樣？

作業

調查各洲的獨立國名，列成一表。

八 五大強國的現勢

現在號稱強國的有英、美、法、意和日本五國。各國都向外擴充勢力，因此容易互相衝突。

英國

英國機器工業發達最早，他靠着海軍的精良，獨霸世界幾十年，領土占世界陸地四分之一。但近來勢力已不及美國。

美國

美國是世界最富的國家，國土廣大，農工商業都很發達，金錢資本的勢力獨霸世界。南、北美洲的各國都由他支配。

法國和意國

法國農業、工業平均發達；意國農業發達，近來也振興工商業。這兩國國境鄰接，殖民地又大都在非洲大陸，因此都很注意地中海的霸權。

日本

日本振興工業不久，但國勢卻很強盛，現在他很希望獨霸太平洋的西岸。

問題

世界上有那五個強國？
這五國的國勢現狀怎樣？
這五國都要擴充勢力的時候便怎樣？

作業

摹畫世界地圖，把五國的本國地點畫出來。

九 我國的地理位置

大陸上的位置

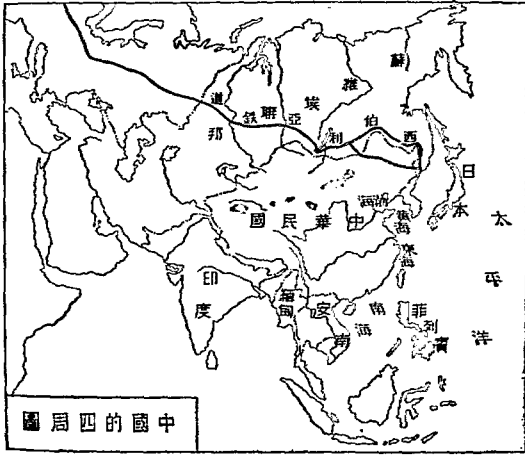
中國的地位在亞洲大陸的

東南部，國土占全亞洲的
 四分之一，全世界陸地的
 十四分之一。中國的東南，
 有渤海、黃海、東海和南海，
 這幾個海都通於太平洋。

氣候帶的位置

中國地

方，大部分都在北溫帶上；



中國的四個局圖

但西北部連接着亞洲中部的高地和沙漠，所以氣候遠不及東南。

鄰國和交通

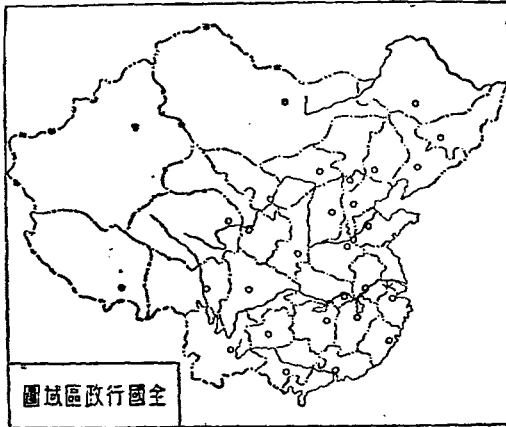
中國在陸地上，鄰接日本、蘇維埃聯邦、英屬印度、緬甸和法屬安南。隔海與日本及美屬菲律賓相對。中外的交通，只北方有西伯利亞鐵道，其餘大都取海道。

問 題

中國在大陸上的位置怎樣？
中國在氣候帶上的位置怎樣？
中國鄰接那些國家？
怎樣和國外交通？

作 業

摹下本課插圖，仍練習着色的工作。



全國行政區域圖

省區

十 我國的省和市

中國的疆土很大，省、市數很多；省設有省政府，直轄於中央政府；市分直隸市和普通市二種。

省數

全國分二十八省，大都偏在東南和東北；至於西方、北方，只有新疆和新設的六省。此外還有

東省、威海衛二行政區、蒙古、
西藏二地方。

大市

直隸市和省區同

等，像南京、上海、北平、西京和

青島等是。普通市屬於省政

府，像杭州、長沙等是。

問 題

中國爲甚麼要分省區？
全國有多少省？省名甚
麼？省會在那裏？全國
有幾個重要的市？

業 作

調查本省有多少縣，把各
縣名稱列成一表。

福	甘	陝	河	河	山	山	四	湖	湖	江	安	浙	江	省
建	肅	西	南	北	西	東	川	南	北	西	徽	江	蘇	區
閩	粵	長	開	保	陽	歷	成	長	武	南	安	杭	鎮	省
侯	蘭	安	封	定	曲	城	都	沙	昌	昌	慶	州	江	會
西	青	寧	綏	察	熱	新	黑	吉	遼	貴	雲	廣	廣	省
康	海	夏	遠	哈	爾	疆	龍	林	寧	州	南	西	東	區
巴	西	寧	歸	萬	承	迪	龍	永	瀋	貴	昆	南	廣	省
安	寧	夏	綏	全	德	化	江	吉	揚	陽	明	寧	州	會

十一 我國民族的派別

中華民族

我們中華民

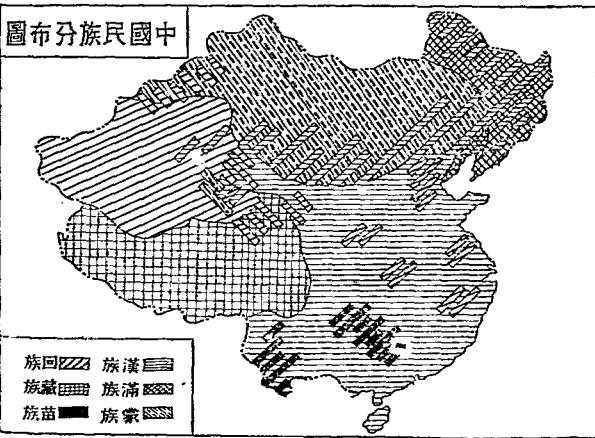
國的人民，包有漢、滿、蒙、回、藏、苗、獠、黎等族，統稱為中華民族。

主要的分子

中華民族

的主要分子是漢族，約占全國總人口十分之九，散布全國各省，東北與滿族

中國民族分布圖



人雜居，西北與回族人雜居，西南與苗、獠、黎等族人雜居。滿族人已完全與漢族同化，不易分別。回族及苗、獠、黎等族人，大部分已與漢族同化。此外蒙古有蒙族人，西藏有藏族人，他們的語言、風俗與漢族人不同，但居地接近省區的，也漸與漢族同化了。

問 題

中華民族包括那幾種分子？
那一族是主要分子？
各族的分佈怎樣？
各族的關係怎樣？

作 業

臨摹本課插圖，改用顏色代表各族。

十二 我國的民族地位

中國的人口

中國有廣大的土地，又有很多的人口，中國的人口數，占全世界的四分之一。

中國的工業

中國的天產很豐富，工業卻不很發達。當歐、美各強國機器工業發達的時候，我國還只盛行着手工業。

帝國主義和中國

機器工業發達的各強國，正需要天產豐富，工業落後的地方，做他們的殖民地；好供給他們廉價的原料，消納他們大批

的商品。這樣，他們便用帝國主義的手段，壓迫中國；中國雖沒有正式做成各強國的殖民地，卻因種種不平等條約，受列強束縛。

中國民族地位

中華民族和其他弱小民族，一樣在帝國主義者壓迫之下。因此，中國的民族地位，不能和歐、美各民族互相平等。

問題

- 中國的人口情形怎樣？
- 中國的工業情形怎樣？
- 帝國主義爲甚麼要壓迫中國？

作業

課外讀帝國主義侵略中國的故事。

十三 民族主義大要

民族主義的兩方面

孫中山先生的民族主義，有兩方面的意義：第一是中國民族自求解放；第二是中國境內各民族一律平等。

反對帝國主義

民族主義的目的，便是要求中國民族的自由獨立。帝國主義妨害中國民族的自由獨立，所以中國民族自求解放，必須反對帝國主義。

各民族一致奮鬥

中國境內各民族同在帝國

主義壓迫之下，所以各民族對於帝國主義應該一致奮鬥。各民族一律平等，便是一致奮鬥的先決條件。

恢復固有的道德

提倡民族主義，又必須恢復固有的道德。固有的道德，以忠孝、仁愛、信義和平為最重要。這便是中國民族的精神。

問 題

甚麼叫做民族主義？
中國民族自求解放的方法怎樣？
為甚麼要各民族一律平等？
為甚麼要恢復固有的道德？

作 業

課外閱讀忠孝、仁愛、信義和平的道德故事。

十四 中華民國成立紀念

紀念日期


一月一日

是中華民國的成立紀念日，我們慶賀新年，應該同時紀念這件事。

民國的成立

民國前

一年的十月十日，武昌起義後，各省代表集會商議，決定在南京設立



孫中山先生就臨時大總統圖

中華民國臨時政府；又選舉孫中山先生做中
 華民國臨時大總統。孫先生那時才從國外回
 來，便於第二年的一月一日，在南京就職，宣布
 改用陽曆，這一天便是民國元年的元旦。
 清帝退位 中華民國成立後，滿清皇帝因力
 量已經消失，便於二月十二日退位。

問 題

中華民國成立紀念日是
 那一天？ 民國成立的經
 過怎樣？ 民國成立後清
 帝的表示怎樣？

作 業


開一個新年娛樂會，在這
 個會裏，推定一人演講中
 華民國成立的故事。

十五 國民革命運動

革命的原因

中華民國成立前，列強利用滿

清政府為侵略的工具。滿清被推翻後，軍閥起來把持政權，列強就利用軍閥，擾亂中國，攫取利權。所以手創中華民國的孫中山先生，還要領導中國國民黨，繼續努力國民革命。



北伐誓師圖

國民政府的成立

民國十四年，孫先生逝世，遺囑同志繼續努力革命，同年七月，中國國民黨就在廣州組織國民政府。

北伐和統一

十五年，國民政府任命蔣中正為國民革命軍總司令，出師北伐。先後平定長江、黃河兩流域，到十七年底，全國就統一了。

問題

民國成立後，孫中山先生為甚麼還要努力國民革命？國民政府在甚麼時候成立？北伐的結果怎樣？

作業

搜集北伐的史料及戰事畫片。

十六 孔子

孔子的履歷

孔子名丘，字仲尼，周朝魯國人。曾任魯國司法長官，代理首相。後因魯國君主不認真辦政事，辭職周遊各國。各國君主也都不能用他，他就回到魯國，專心著書講學，有學生三千人。

孔子的主張和精神

孔子的政治主張，注重「名分」和「秩序」。他教人做事要「忠」，待人要「恕」。他一生努力學問，不怕困難。

孔子的被尊崇


孔子死後，他的學說在社會上很占勢力。漢武帝首先尊崇孔子，此後，歷朝皇帝也沒有不敬重他的。現在各地都有孔廟，沒有一個人不知道孔子了。

問題

孔子一生的經歷大概怎樣？他的學說大概怎樣？他怎樣的受人尊崇？

作業

遊覽本地的孔廟。閱讀孔子的傳記或故事。



孔廟圖

十七 我國的宗教

外來的宗教

我國在秦漢時候，印度的佛教開始傳入。唐時，又有阿剌伯的回教傳來。明朝末年，西洋人更傳入基督教。

自創的宗教

佛教傳入後，有人就民間固有的迷信，參用佛教的規模，自創道教。唐時，受皇帝的提創，傳布愈廣，便和佛教並行。

問題

我國有那幾種宗教？這些宗教的來源怎樣？

作業

調查本地的宗教情形，調查本地的寺院、教堂等，作一覽表。

民國廿三年十一月
月初版行

有 不 著 准 作 翻 權 印

新課程標準適用(春季始業用)
小學社會課本(初級用)

◎ 第六冊定價銀八分

編者 王志瑞

校者 呂伯攸

發行者 中華書局有限公司

印刷者 上海中華書局印刷所

總發行所 上海中華書局總店

分發行所 各埠中華書局

77C

標商册註

