

修正

高小地理教科書 第四冊



# 修正高小地理教科書 第四冊

## 編輯大意

- (一) 本書係由教育部編審會編纂者。
- (二) 本書全四冊，每冊二十課，供高級小學地理科教學之用。
- (三) 本書取材，分量上注重本國，內容上注重環境和人文現象的因果關係，藉以引起研究地理的興趣。
- (四) 本書編制，採用總合分析法，打破論理的排例，但無形中仍有區域的系統。
- (五) 本書課文前均列問題，提示研究綱領集中注意力。
- (六) 本書所附地圖及各地風景照片等，特別豐富，藉以幫助記憶及增進學習興趣。
- (七) 本書另編教學法一套，詳載各課教學方法及參考材料，供教師應用。

## 目次

二一	地球和太陽系
二二	水陸的分佈
二三	日本(一)
二四	日本(二)
二五	印度支那半島
二六	南洋羣島
二七	印度
二八	西亞細亞
二九	蘇維埃聯邦
三〇	北歐諸國
三一	德意志和中歐諸國
三二	不列顛帝國
三三	法蘭西和西歐諸國
三四	南歐的三大半島
三五	非洲
三六	美利堅
三七	中美和南美的形勢
三八	大洋洲
三九	太平洋上的形勢
四〇	南北極的探險
四一	世界人口和人種的分佈

MG  
33245  
59

地球的位



# 一 地球和太陽系

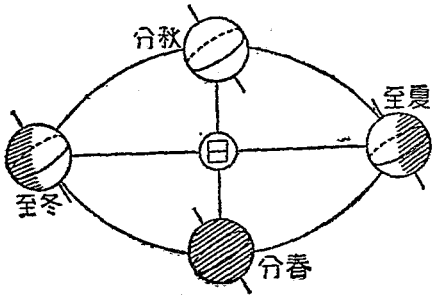
## 【問題】

地球的位置在那裏？「一日」「一年」是怎麼樣成現的？  
 上為什麼有「晝」「夜」「四季」的分別？  
 道？「怎麼叫「經線」「緯線」「五帶」的氣候怎麼樣？  
 怎麼叫「兩極」「赤道」

我們所居住的地球，形圓

如球，叫做「地球」，是「太陽系」中九大行星之一，在太空中不過是一個小小的星體。他繞着那太陽轉動，有「自轉」「公轉」的分別：自轉是自身從西向東旋轉，

四季圖



修正 高小地理教科書 第四冊

自轉晝成  
夜

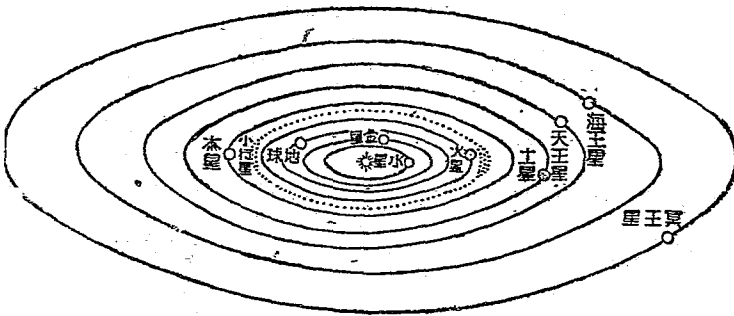
公轉成年

四季的原  
因

月球

每轉一次，就是「一日」；轉時向着太陽的地方為「晝」，背着太陽的地方為「夜」。公轉是循着繞日的軌道轉動，每轉一周，就是「一年」；又因距離太陽的偏正，氣候有「四季」的不同。繞着地球轉動的，又有一個「月球」。他本身所受到的日光，反射到地面上來，就成

太陽系圖



解類法望  
日蝕

月蝕

地軸

南極

北極

赤道

緯線

經線

爲「晦」「朔」「望」。我們看見的「日蝕」，就是因月球在地球的前面，遮蔽日光而成的。「月蝕」就是因月球在地球的後面，月球受不到日光而成的。

地球的自轉，假定他當中有軸，叫做「地軸」。地軸的兩端是兩極；南面的叫「南極」，北面的叫「北極」。距離兩極相等，圍繞地面的一圈叫「赤道」。和赤道平行的橫線叫「緯線」；從赤道向南或向北到兩極，各九十度。結連兩極而和赤道直交的豎線，叫做「經線」；把地球一周平均分做三百六十度。現在世界

起點

東經

西經

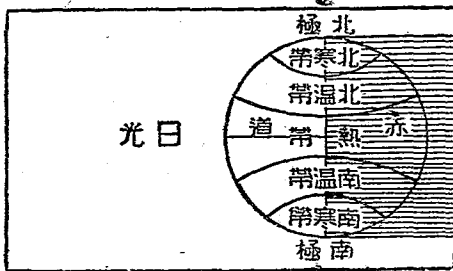
回歸線

極圈

各國，都把通過英國格林尼治天文臺的經線做起點；在他以東的叫「東經」，在他以西的叫「西經」，各一百八十度。以上這些名稱，都是地理學家為研究便利起見所假設；經線和緯線，是確定地點，計算距離的想像線。

赤道南北各二十三度半的緯線，叫「回歸線」；在南的叫「南回歸線」，在北的叫「北回歸線」，離兩極各二十三度的緯線叫「極圈」；在南的

五帶圖



叫「南極圈」；在北的叫「北極圈」。兩回歸線以內的地方，氣候極熱，叫做「熱帶」，兩極圈和兩回歸線中間的地方，氣候溫和，叫做「溫帶」；在南的叫「南溫帶」，在北的叫「北溫帶」。兩極圈以內的地方，氣候寒冷，叫做「寒帶」；在南的叫「南寒帶」；在北的叫「北寒帶」。

## 二 水陸的分佈

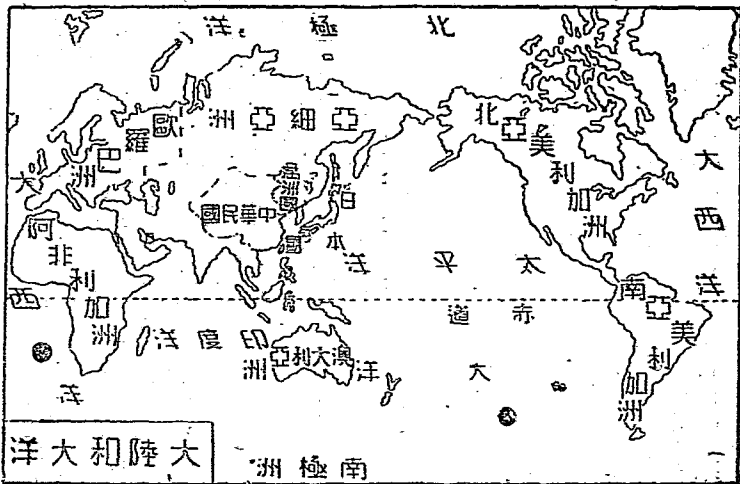
【問題】 地球的表面分那幾界？ 陸地對於人生的關係怎麼樣？ 陸地有

幾個大洲？ 水和人生的關係怎麼樣？ 大洋有那幾個？

地球的表面，可分為陸、水、氣三界。凝結成固體的，是「陸界」。形成液體，而匯聚

於陸界低處的，是「水  
界」。包圍於陸界水界  
外層的，是氣界。這  
三界中，除氣界到處  
包圍外，水陸的分佈，  
很不均勻。

地面有一大部分沒  
入於水中；露出於水  
面的，叫「陸地」，陸  
地大的叫「洲」，小的  
叫「島」，三面環海，





一面連大陸的叫「半島」。陸地的起伏，高低不一，形狀也不同。因此有平原、高原、山岳等的分別。

陸地在地球表面，僅佔四分之一，大部分是在赤道以北的「北半球」。全地球共有七大洲：就是亞細亞洲、歐羅巴洲、阿非利加洲、北亞美利加洲、南亞美利加洲、大洋洲、南極洲。

水是人類不可缺少的飲料，又為交通上所需要。水面的大的叫「洋」；導入陸地的叫「海」，小一些的叫「港灣」。兩陸間狹窄的海面叫「海峽」。

峽。

四大洋

水面佔地球表面的四分之三。大洋有四個：就是太平洋、大西洋、印度洋、北極洋。

### 三 日本 (一)

【問題】 日本與我們的關係怎樣？ 日本領土是那些地方？ 各部的形勢

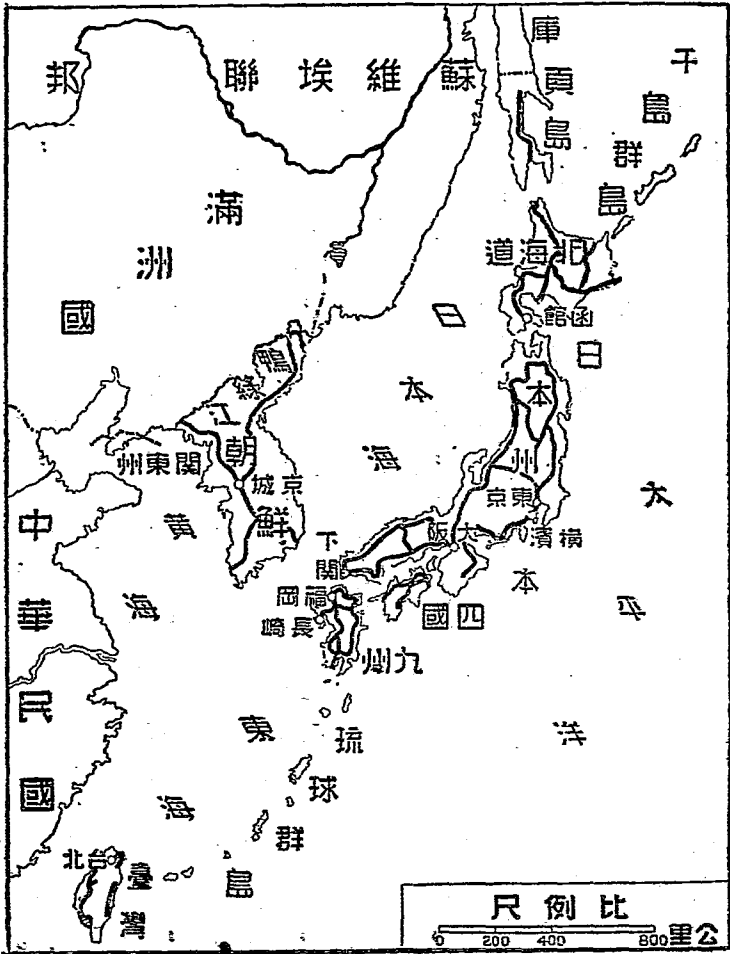
怎樣？ 日本是什麼政體？ 日本的民族性怎樣？

中日的關係

日本的領土

日本是我國的東鄰，他是亞洲東面海中有史以來巍然雄立的一個島國，與我唇齒相依。是始終不渝的。全國領土，由日本列島，台灣島，朝鮮半島及庫頁島，組織而成。此外還有關東州租借地，和舊德領太平洋諸島的

日本帝國全國圖



修正 高小地理教科書 第四冊

一部分，委任統治地，面積總計六十七萬多平方公里。

日本列島的形式

其本部諸島，東面太平洋，西臨日本海，地形狹長，從東北到西南，像一條游龍，包圍在亞洲東北，境內山脈盤亘，平原很少，且因火山脈所經時常地震。

臺灣的形式

臺灣島隔臺灣海峽，和我國福建省相對，全島地形，如一片桂花葉。

朝鮮半島的形式

朝鮮是亞洲東北的一大半島，突出於黃海和日本海的中間，東南隔海，西北以鴨綠江、圖們江為界，境內東海岸多高山，西海岸多

大河流。

日本在七十年前明治變法維新以後，軍事、政治、工業、科學都有長足的進步，已成世界五大強國之一。他的政體，為一系相傳的君主立憲國，人民稱大和民族，有進取的精神，近來國內人口很密，注意移民，到處有他們的足跡。

#### 四 日本 (二)

##### 【問題】

日本的產業情形怎麼樣？

樟腦和砂糖是產在日本什麼地方？

日本有那幾個大都市？

日本本部諸島的氣候溫和，土地宜於農業。

臺灣的特產

農產以米為大宗。朝鮮半島西部多大河流，各流域土壤肥美，米麥大豆為其三大特產。臺灣島，天氣很熱，土地很肥，農產亦頗豐富，樟腦產額，佔世界第一，砂糖出產，尤其著名。庫頁島氣候寒冷，人口稀少；物產以漁業、糖業、製紙業為最著。

全國絲茶和漁業

全國絲茶業，經政府提倡經營最力，絲的出產已佔世界第一。漁產品極多，尤以本國諸島的北海道一帶，稱為世界三大漁場之一。工業以紡織、造紙、製糖、製紙為最發達，是世界有名的工業國。

工業

日本的國都叫東京，在本州東部東京灣內，是全國政治、學術、經濟、工商的中心。橫濱在東京的南面，是全國第一商港。西部有大阪，是日本最大的工業地，推銷我國的貨物，大都是那邊來的。西北有下關又叫馬關，九州北部有福岡，西岸有長崎，和我國的上海、青島，有航線往來。以上都是日本諸島的大都市。京城舊名漢城，在朝鮮半島的漢江北岸，是朝鮮總督的駐在地。臺北是臺灣島的首邑，商業繁盛，為全臺第一都會。

## 五 印度支那半島

【問題】 印度支那半島在那裏？ 暹羅的國都在那裏？ 安南的重要都會

在那裏？ 新加坡的形勢怎麼樣？ 半島上有什麼著名物產？ 半

島上華僑的實力怎麼樣？

印度支那半島的位置

暹羅


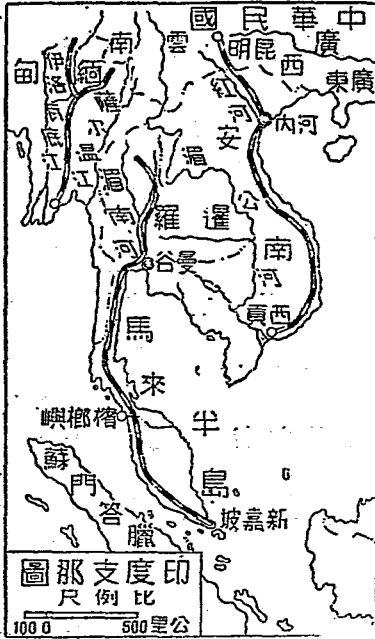
印度支那半島突出於亞洲的東南方，是亞洲南部三大半島之一。東北和我國的西藏、雲南、廣西等省相接。山脈河流，也大都從我國入境。各河下流的平野，溫暖多雨，農產豐富，尤以米為著名，稱為「世界的米倉」。

暹羅在半島的中部，是獨立王國。國都叫曼谷，跨湄南河兩岸。沿岸上溯，兩旁都是



安南

良田，產稻很盛，故出口以米為大宗。人民信仰佛教。近年因國政進步，國際地位增進。



河內火車站圖

現已改為君主立憲政體。

安南在暹羅東面，是法國的屬地。北部的

緬甸

世界三大米市

紅河和南部的湄公河下流，產米極盛。法國總督駐河內，沿紅河右岸，為全境政治經濟的中心。南部的西貢，是碾米業極盛的地方，又是法國東洋艦隊的根據地。

緬甸在半島的

西部，被英滅後，

已改做印度的一


省。境內的薩爾

溫江和伊洛瓦底

江下流，也是產

米的名地。三角

新加坡市街圖



馬來半島

新加坡的形勢

華僑的實力

洲上的仰光，是英國政廳所在地；輸出米極多，和西貢、曼谷稱為世界三大米市。

半島南面有一狹長地帶，叫馬來半島。所

產錫和樹膠椰子，都佔世界第一。政治直

接間接，都受英國的支配。最南端的新加坡，

地扼麻刺甲海峽，當太平洋和印度洋航路的

咽喉，形勢極好，為英國軍事上和商業上的

要地。西北的檳榔嶼，也是商業要地。

半島上的華僑，總計達數百萬，其中暹羅

就有三百萬，經營農工商的都市，把握經濟

上的實權。

## 六 南洋羣島

【問題】 南洋有那幾個重要島？ 南洋有那幾種出產？ 南洋的主權分屬

於那幾國？ 南洋的三大中心是那裏？ 南洋的華僑情形怎麼樣？

南洋的重  
要大島

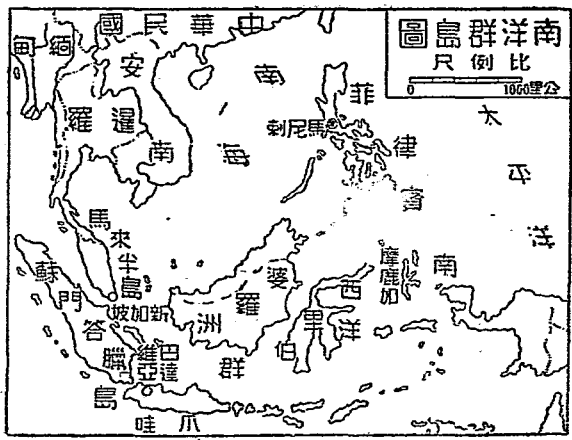
南洋的出  
產

南洋羣島因為在我們的南方得名，又因為是櫻種馬來人的家鄉，叫馬來半島；是散在亞洲東南無數羣島的總稱。菲律賓羣島居最北，婆羅洲在他的西南，再西南為蘇門答臘，南方為爪哇、西里伯、摩鹿加諸島。

南洋地方，全部在熱帶裏，高溫多雨，土地肥沃，出產非常豐富，尤其是爪哇和菲律賓是南洋的精華。其中像爪哇的糖，婆羅洲

的石油，蘇門答臘的椰子，和錫，各地的樹膠，稱為五大產物。此外如爪哇的茶米，菲律賓的菸草，摩鹿加的香料，也都著名。

南洋的主權，除菲律賓羣島和婆羅洲北部的英屬地外，都是荷蘭的屬地。菲律賓羣島，本屬美國，一九三四年已許其十年後完全獨立，今菲已選舉總統，



南洋的華僑情形

美國原設有

駐菲總督，

今改為高等

委員，均駐

馬尼刺；爪

哇島的巴達

維亞，是荷

蘭總督駐地；

三大中心。

南洋少女和他們的神祭品圖



以上兩地合新加坡，為南洋的

南洋本來是馬來人分佈的地方，但是他們文化過低，性情又懶惰，所以羣島的開發，

全靠華僑。我同胞在幾千年前，就有渡海到那邊的，忍勞耐苦，積數百年，纔有現在的成績。華僑在南洋的，凡銀行、製糖、輪船等大公司，以至鑛工、苦力，到處都有，握經濟的勢力。他們對於祖國，很熱心愛護。

## 七 印度

### 【問題】

印度的地勢怎麼樣？

印度有那些物產？

印度有那些重要都市？

印度人信什麼宗教？

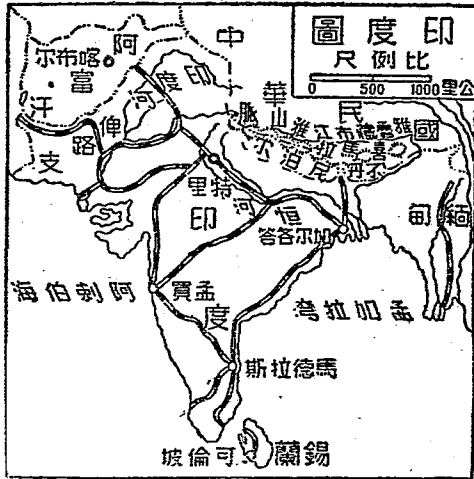
印度和我國的中間有那些小國？

印度是英國的領土，也是亞洲南部三大半島之一。地勢可分三部：北部為山地，以喜馬拉雅山脈和我國為界。中部是平原，恆河

印度氣候和物產

印度河流貫其間；土質很肥，農產最多，有一世界大穀倉一的名稱。南部是高原，成三角形的半島，對着印度洋，其土最宜種棉。南端有錫蘭島，歸英政府直接管轄。

印度的氣候，除北部山地外，都是熱帶性，雨量在西北隅的印度河附近很少，但大部分都很充足，所以農





產豐富：如恆河下流的米和錫蘭的茶，孟買附近的棉，印度河上流的小麥，都著名於世界。森林也很多，林中藏着猛獸和毒蛇，往往傷害人畜。

印度的首府叫特里，地當恆河上流，交通發達，商業繁盛，英國的印度總督駐此。沿海要港，東面的加爾各答，是第一貿易港；西面的孟買，紡織業冠於亞洲，為世界三大棉市之一。

印度在上古時，已有文化。婆羅門教最先發生，階級觀念很深。後來釋迦牟尼出來創

立佛敎，視衆生平等，打破階級制度；一時盛行於印度，并流行於亞洲各地。但是後來的印度人，仍舊信奉婆羅門敎和回敎，佛敎雖起源這裏，信仰的反少，惟在緬甸地方，流行很廣。

不丹和尼泊爾

印度和我國的中間，有兩個小國：東面的叫不丹，西面的叫尼泊爾；以前都朝貢我國，現在都在英國的勢力範圍內了。

## 八 西亞細亞

### 【問題】

伊朗高原有什麼重要物產？那是阿刺伯半島上最大的國？美

索不達米亞地方有什麼新國？耶、回兩敎爲什麼都認耶路撒冷

西亞細亞  
的範圍

伊朗高原

阿剌伯半  
島

是聖地。土耳其的國勢怎麼樣？回教徒的狀況怎麼樣？

西亞細亞是亞洲印度以西地方的總稱，範圍很廣。就自然的區域，可以分做伊朗高原、美索不達米亞、阿剌伯、地中海東岸地帶、

土耳其五區。

伊朗高原在印度西面，內分阿富汗、伊朗、

俾路芝三國。伊朗舊稱波斯。有蘊藏極富的

石油礦，已為英人所得。產棗、椰子，和毛

氈，也很有名。

阿剌伯半島在亞洲西南，是世界最大的半

島。多沙漠，產名馬。今以驛提阿剌伯王

國，領土最大；東到波斯灣，西到紅海，佔有阿刺伯的大部分。紅海岸的麥加，是回教

主穆罕默德的生

地；麥地那是他

的葬地，回教徒

奉為聖地，來朝

拜的很多。西南

角的亞丁，當紅

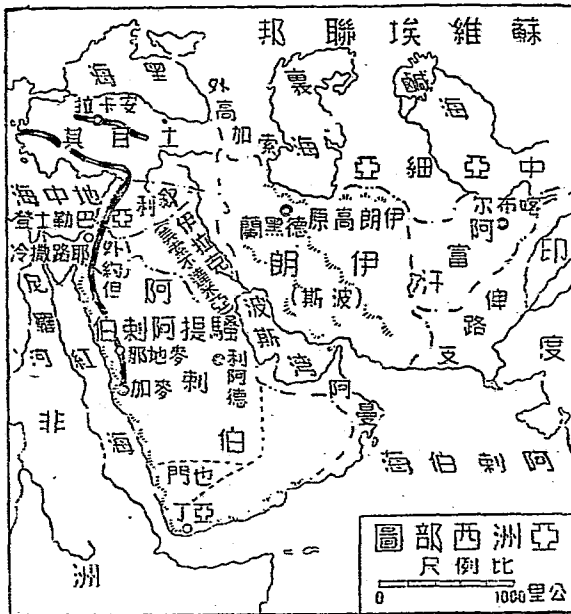
海口，是英國的

軍事重地。

阿刺伯和伊朗

回教的聖地

米亞 不達




的中間，有美索不達米亞平原，是西亞最肥沃的地方；歐戰後脫離土耳其而成立伊拉克王國，歸英國代管，後來正式獨立，加入國際聯盟。石油的蘊藏很富，多由英人投資開採。

伊拉克西面，地中海岸，南面叫巴勒斯坦，歸英國代管；北面叫敘利亞，歸法國代管。巴勒斯坦的耶路撒冷，有耶穌的墳墓，又是回教主的昇天處，耶回兩教徒，都認為聖地。

敘利亞北面是土耳其。他在歐戰後，土地

分裂，幾乎亡國。幸虧凱末爾將軍起來奮鬥，  
打敗希臘，排除歐人勢力，改建民主國家，  
建都安卡拉，國勢很有復振的氣象。



圖築建的代古朗伊



圖漠沙伯刺阿

回教民族的  
情形

西亞地方，氣候乾燥，重游牧，民性強悍。  
他們都奉回教，是世界回教民族的中心地。  
他們的語言、風俗、習慣雖不同，但都有堅

強的宗教信仰，互相團結的精神，所以能成  
特種的民族。

### 九 蘇維埃聯邦

【問題】 蘇聯的國土分那幾區？ 西伯利亞有什麼鐵路？ 中亞細亞的情

形怎麼樣？ 外高加索有什麼出產？ 蘇聯的歐洲地方有那些重

要物產？ 有那幾處重要都市？

蘇聯的名稱

蘇聯國土的區分

蘇維埃聯邦的完全名稱，叫蘇維埃社會主義

共和國聯邦，簡稱蘇聯；因他本為舊俄羅斯

的地域，所以又簡稱蘇俄。

蘇聯地跨亞歐兩洲。在亞洲有西伯利亞、

中亞細亞、外高加索。在歐洲分俄羅斯、烏

西伯利亞

中亞細亞

克蘭、白俄羅斯。

西伯利亞是世界最大的

平原，在我國的北面。從

北向南，可以分凍土、森

林、草地、山岳四帶。有

一條西伯利亞大鐵道，是

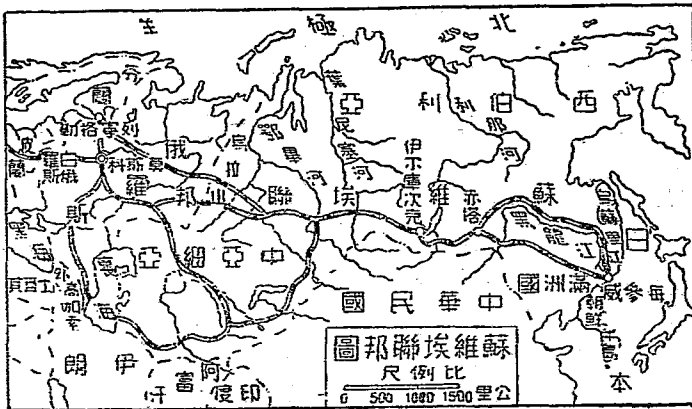
橫貫歐的捷徑，東端的

海參崴和中部的伊爾庫次

克，都是要地。

中亞細亞在我國的西

北，境內礦產很富，農牧





業也很發達。有鐵路分達西伯利亞和歐洲。  
外高加索在裏海西岸，有亞塞爾拜然、佐  
治亞、亞美尼亞三共和國，都採用蘇維埃制  
度，是蘇聯的一部分。境內裏海岸的良港巴庫，  
 是著名的石油產地。

蘇聯的歐洲地方很大，北到北極洋，南到  
黑海，東以烏拉山和亞洲分界，是一塊整個  
 的大平原。北部寒冷；中南部氣候溫和，地  
 土肥沃，麥類、麻類、甜菜、畜產等都很多。  
國都莫斯科，當全國中心，是全國政治和  
 交通的中心。從莫斯科趁車，可以向西到芬

蘭灣岸的列寧格勒，向南到黑海岸的敖得薩；這兩地都是蘇聯的要港。

## 十 北歐諸國

【問題】 北歐諸國可以分做那幾部？波羅的海東岸的新興國有那幾國？

瑞典的實業怎麼樣？挪威的氣候怎麼樣？丹麥在那裏？國內

生產些什麼？

### 四 北歐的範圍

歐洲北部沿波羅的海的許多國家，大體上可以分做三部：就是波羅的海東岸的新興國；斯干的那維亞半島；和朱特蘭半島。

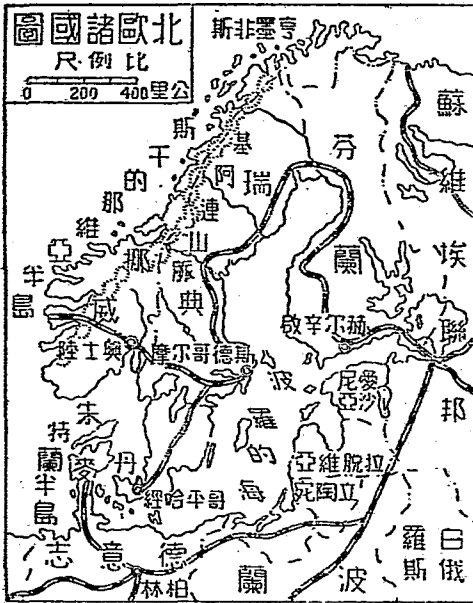
波羅的海東岸的新興國，從北向南，為芬蘭、愛沙尼亞、拉脫維亞、立陶宛。這四國

波羅的海東岸的新興國

都是歐戰後離俄獨立的新興國。就中芬蘭是黃種人所建立的國家。

斯干的那維亞半島，在波羅的海西岸，當

中有基阿連山做界線，山以東是瑞典，山以西是挪威。  
瑞典多平原，森林繁茂，鑛產豐富；鋸木、製紙、煉鐵、火柴



北歐諸國圖  
尺例比  
0 200 400里公

等工業，都很發達。國都斯德哥爾摩，在東海岸，電氣事業最盛。

挪威海岸屈曲，有很長的峽灣，風景極好，

沿海有暖流經過，所以地位

雖在北方，氣候還溫和。沿

海為世界三大漁場之一。極

北亨墨非斯的附近，地近北

極，為世界最北的都市，夏

季有夜半太陽的奇觀。國都

奧士陸，在南部，是挪威唯一的良港。

丹麥在朱特蘭半島上，和斯干的那維亞半

挪威威峽灣圖



島只隔一海峽，扼波羅的海門戶，形勢很重  
 要。全境由半島和數大島而成。地勢很低，  
 沿海築堅固的隄防。四時多霧，溼氣很重。  
 人民重農牧，輸出以肉類、雞蛋、乳酪爲大  
 宗。國都哥平哈經，在西蘭島上，扼波羅的  
 海的咽喉。北大西洋中有冰島，是丹麥的屬  
 地，近已宣布獨立，但仍戴丹麥王做國王。

## 十一 德意志和中歐諸國

### 【問題】

德意志的國勢怎麼樣？

德奧合併於何時？

匈牙利的情形怎麼

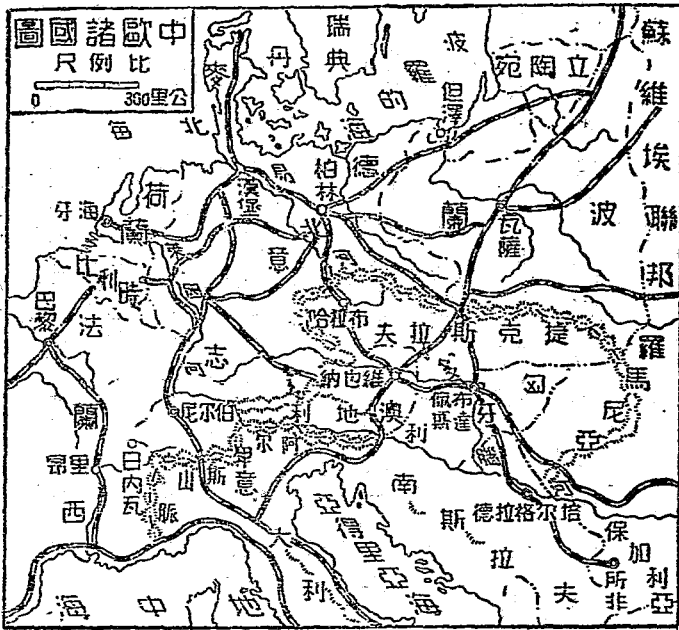
樣？波蘭的情形怎麼樣？

瑞士的地勢怎麼樣？

日內瓦的情形


怎麼樣？

中歐是指歐洲的中部，從前有兩個大帝國：北叫德意志，南叫奧匈帝國；在歐戰以前，都是強國。歐戰後，奧地利受了內憂外患的交迫，國勢日危，於




是倡言已久的德奧合併，今則終已實現。德意志實業發達；人民善於應用科學，製

維也納圖



糖、釀酒、造紙等業都很著名。化學用品和機械製造，更是擅長。大戰後，雖然

瑞士登山電車圖



割地賠款，大受打擊，但因德人努力奮闘，全力注重工商，國勢現已恢復，仍舊是中國

的重要國家。國都柏林當歐洲的交通中心；柏林大學，學生近萬人，是世界學術的源泉。但自德奧合併後，則又有奧都明序之議。易北河口的漢堡，是歐洲三大商港之一。

匈牙利  
捷克

匈牙利大戰前與奧地利合稱奧匈帝國，共戴奧帝做君主。自從帝室推翻，奧匈分裂，北面的領土，另成捷克斯拉夫共和國，民國二十八年為德意志所吞併，匈牙利失去了極好的肥沃土地，所以國勢一時難有發展希望。匈京布達佩斯，也是中歐南部的鐵道中心。



德國的東方，有波蘭共和國。他在歐戰以前，被俄、德、奧三國所瓜分；戰後纔得復國。國都瓦薩，和歐洲各大都會，都有鐵路相聯絡。

德國的南面，有一個瑞士

國。阿爾卑斯山盤互境內，

為歐洲各大河的發源地，有

高峰、大湖、冰河、瀑布諸

名勝，風景著名於世界，被

稱為「世界的樂園」。西南部的日內瓦，為鐘

表製造的中心，國際聯盟就設在此地；湖光

阿爾卑斯山圖



山色，風景非常美麗，外人到此遊覽避暑的很多，已成爲國際的都市。

## 十二 不列顛帝國

【問題】 不列顛帝國和大不列顛北愛爾蘭聯合王國是怎麼樣分別？爲

什麼又叫英國？英國在那裏？英國的工業爲什麼特別發達？

倫敦的情形怎麼樣？英國怎麼樣能得着廣大的屬地？英國前途的趨勢怎麼樣？

途的趨勢怎麼樣？

英國的名稱和位置

不列顛帝國是英國本部和各處屬地的總稱。他的本部包括大不列顛島和愛爾蘭島北部，就叫做大不列顛北愛爾蘭聯合王國。大不列顛島的南半叫英格蘭，所以國名又稱英吉利，




英國的大都市

英國的現狀

格拉斯哥的造船業，被稱為英國的三大工業。  
 國都倫敦，跨泰晤士河兩岸，河底有地道。  
 河上有大橋。工廠林立，勝  
 蹟很多，人口八百多萬，為  
 世界第一大都市。附近有格  
 林尼洽天文臺，是世界經度  
 的起算點。曼徹斯特的海口  
 叫利物浦，有運河和曼徹斯  
 特相聯絡，是英國第二商港，世  
 界三大棉市之一。

倫敦塔橋圖



英國本是海島小國，從海洋交通後，因此

位優越，加以實業革命最早，成爲先進國家；  
挾經濟上的勢力，殖民海外；探外交、軍事  
等手段，陸續獲得廣大的屬地。世界交通各  
重要的門戶，大半歸他掌握；又有軍艦和商  
船，聯絡各地。總計屬地面積，比本國大一  
百多倍，佔世界陸地的五分之一。  
英本國的西面，有愛爾蘭自由邦，本是英  
國的領土，因民族、宗教不同，現在已成自  
治邦了。

### 十三 法蘭西和西歐諸國

【問題】法國的國勢怎麼樣爲什麼說巴黎是「花都」比利時的國情怎

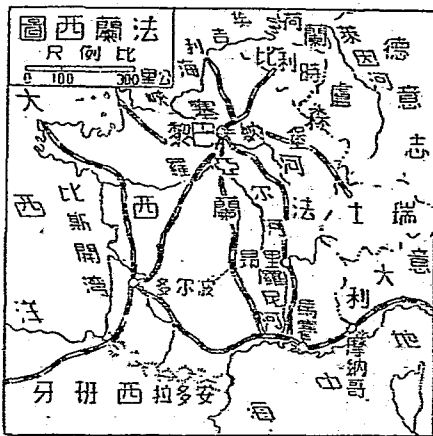
變樣荷蘭人最擅長的是什麼？

法國的位置和國勢

國都巴黎

法國西歐交通的要衝。境內土地肥沃，氣候良好，農業很盛。海外屬地的面積，佔本國的二十多倍。

國都巴黎，跨塞納河兩岸。市街的華麗，建築的雄壯，為世界第一。加以氣候清和，娛樂場所完備，奢華無比，有一「花都」的名稱。



法國以外  
西歐地

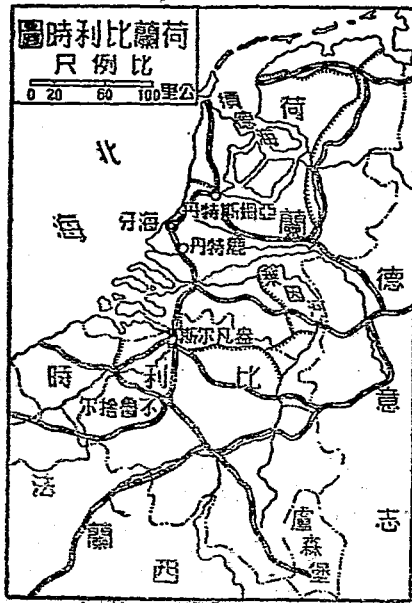
比利時

巴黎東南有里昂和馬賽兩大大都會。里昂是世界絲織業的著名地；馬賽是地中海岸的良港，對東洋和地中海

岸的貿易最盛；輸出織物和葡萄酒很多。

西歐地方，除法國外，還有比利時和荷蘭兩國，都在法國北方；比利時在南，荷蘭在北。

比利時地狹人稠，人口的密度，為世界第一



一。境內中部一帶平原，農產豐富；東南煤鐵區域，工業發達；人民又善於經商，所以風俗豪華。國都不魯捨爾，在全國中央，有一「小巴黎」之稱。北方的盎凡爾斯，是本國最大的貿易港。

荷蘭地勢很低，有許多地方在海平面以下，全靠築着隄防，和海水奮鬪。有時竟排去海水，把海灘變成陸地；水利工程，爲世界第一。境內開無數溝渠，灌溉田畝；所以農業發達，園藝很盛。人民勤懇耐勞，最愛清潔。國都海牙，在西海岸；國際法庭，就在這裏。



# 十四 南歐的三大半島

## 【問題】

南歐有那三個大半島？西、葡兩國的國勢怎麼樣？意大利的

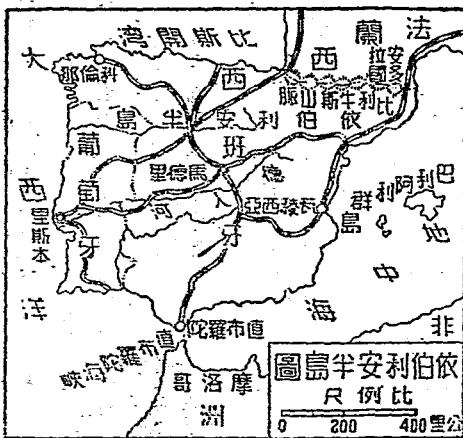
地勢怎麼樣？意大利有什麼著名於世界的東西？為什麼從前

說巴爾幹半島是「歐洲的火藥庫」

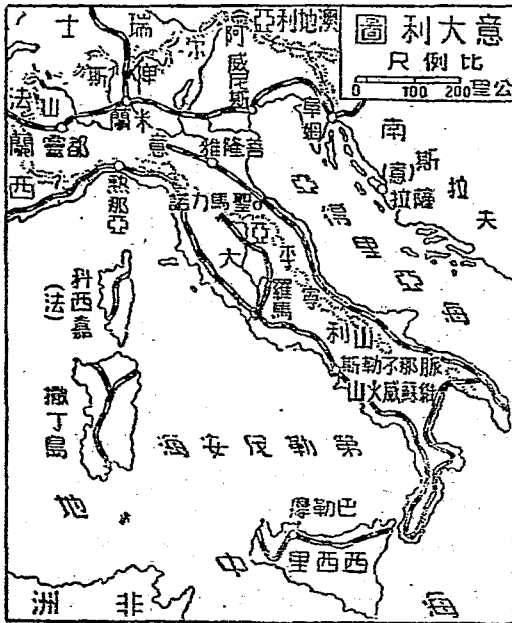
南歐三大半島

西班牙

歐洲的南部，有三大半島：西部的叫伊伯利安半島；當中的叫意大利半島；東面的叫巴爾幹半島。  
伊伯利安半島，在法國西南。西班牙佔其大



部。境內多山，不宜農業，人民多業畜牧。國都馬德里，在全國的中央。葡萄牙佔半島的西南部，面積較少，但農林各產卻很豐富。國都里斯本，是大西洋岸的良港，以輸出葡萄酒著名。這兩國從前曾在海外發見新地，殖民地極多，很為強盛；但是現在都很衰弱。



並已先後改爲共和國了。

意大利半島，像一隻長靴，伸入地中海，

意大利王國就建在這半島上面。半島當中，

縱貫着亞平

寧山脈，爲

半島骨幹，

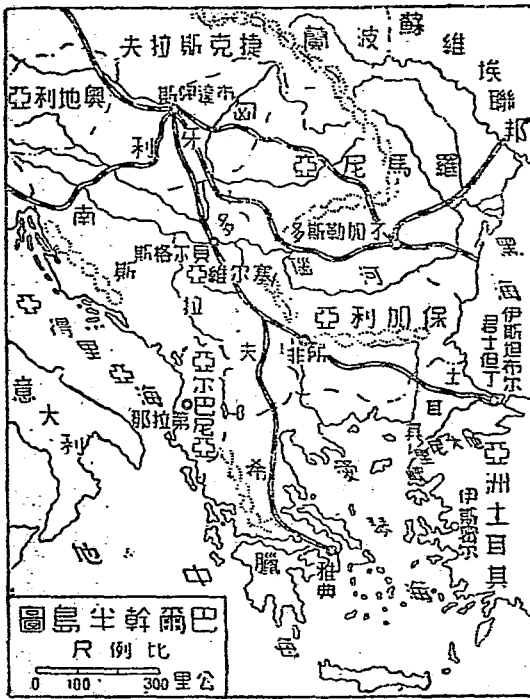
南部有著名

於世界的維

蘇威活火山。

人民多業農，

蠶絲最有名。



國都羅馬，為歐洲宗教的中心；因為他是古代羅馬帝國的京城，古蹟很多，有梵帝岡宮為教皇所居。

巴爾幹半島

巴爾幹半島，地當地中海和黑海的中間，扼歐亞兩洲的關鍵，地位極重要。境內人種宗教都很複雜，從前被稱為「歐洲的火藥庫」。世界大戰（即歐戰）即從此處發生。

巴爾幹半島上的國家

現在半島上靠黑海的，有羅馬尼亞、保加利亞和土耳其的領地；在地中海方面的有南斯拉夫、亞爾巴尼亞和希臘。就中南斯拉夫的國都貝爾格勒，形勢最扼要，稱為「巴爾幹

之鍵。希臘是歐洲最古的文明國，人民活潑，善於航海。歐戰後得地很多，但後來被土耳其打敗，內訌常起，政體屢變，國勢很不振。

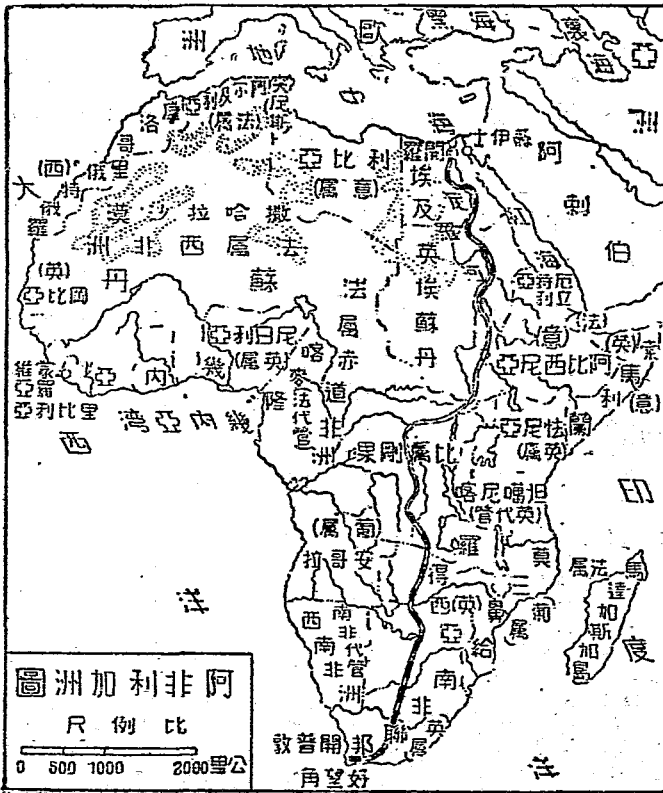
## 十五 非洲

### 【問題】

非洲的地勢怎麼樣？ 非洲的氣候怎麼樣？ 非洲有那些主要物產？ 非洲有那幾個獨立國？ 各獨立國的情形怎麼樣？ 分割非洲的歐人以那幾國勢力最大？

非洲在歐亞兩洲的西南，地形略成三角形。海岸平直，山脈又和海岸平行，交通極為不便。赤道橫亘中部，除南北兩端外，氣候炎熱；尤其是沙漠地方，日間酷熱，夜間卻很

產量的首  
 是佔世界  
 剛石，都  
 的金山和  
 油，南非  
 流域的棕  
 尼日爾河  
 岸的可可  
 幾內亞灣  
 物產，如  
 冷。主要



位；幾內亞灣岸的錳礦，地中海岸的葡萄橄欖等果品，產量都很大，其他未開發的富源還很多。本洲一切自然和人事的缺點，比他洲獨多，便成為世界的「黑暗大陸」。但近世歐洲各國競向世界殖民，紛來非洲割據，到現在，除埃及王國，和里比亞共和國外，已完全被歐人分據。就中埃及、法兩國的屬地最廣，比、葡、意、西諸國次之。

埃及在本洲東北，因有尼羅河的灌溉，為文明的古國，東北有蘇伊士運河，溝通紅海和地中海，是亞歐交通的捷徑。國都叫開羅。

阿比西尼亞

里比利亞

黑人的民族運動

，有金字塔，和獅身人面石像等古蹟。

阿比西尼亞在尼羅河上流，地勢高峻，交通不便，近國王出奔，已為意大利所吞併。

里比利亞在本洲西南，濱大西洋，是黑人所建的唯一共和國，國都叫蒙羅維亞。

非洲是黑人的家鄉。他們因為環境不良，

圖像石面人身獅和塔字金





知識幼稚，生產力薄弱，除一小部分外，都受到白人壓迫。從前竟有被白人販賣到美洲做奴隸的，後因美國廢除奴隸制度，得文化薰陶，已有相當的知識和能力。像里比利亞，就是美國釋放的奴隸，送回非洲所建的，歐戰時，也曾加入協約國。一般知識較高的黑人，已有一黑人的「非洲」運動，他們並有全世界黑人國際大會的組織，喊着「非洲是黑人的非洲」的口號。

## 十六 美利堅

【問題】

美洲土人的情形怎麼樣？

美國的富源怎麼樣？

紐約的情形怎

新大陸

美洲土人的情形

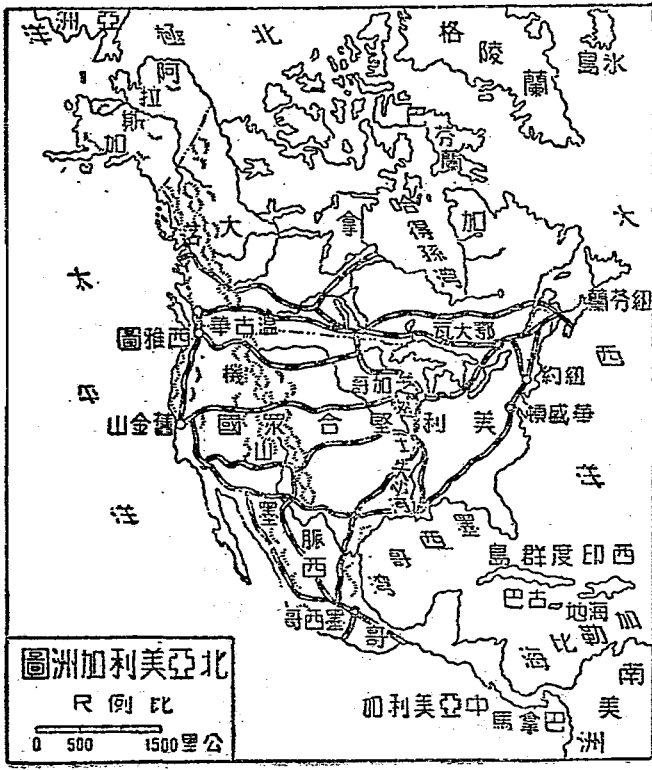
英國的富源

麼樣？加拿大的實業怎麼樣？墨西哥有什麼物產著名？

美洲是「西半球」的大陸，到一四九二年，纔被哥倫布發見，所以又稱「新大陸」。普通分南美洲和北美；土人本是紅種，文化很低，自白人移殖後，人口大減，有滅種的趨勢。還有一種哀斯基摩人，住北極洋岸格陵蘭一帶，文化更低。

美利堅合衆國，簡稱美國，是北美的大國，面積和我國彷彿。國內多大資本家，經濟的雄厚，爲世界第一。他的富源：一是農業，密士失必河流域，農產極豐，棉花、小

麥、玉蜀黍、菸草的產額，都為世界第一；  
 牧畜出產也很盛。二是鑛業，  
 煤、鐵、銅和石油，  
 也為世界第一。三是  
 是工商業，  
 東部工業的發達，



美國的大都會

超過歐洲，製鐵、機械、造船、紡織等，規模都很大。國外貿易，僅次於英國，居世界第二位。運輸交通，也極便利，鐵道的長和

汽車的多，都佔

世界第一，船舶

噸數，也僅次於

英國。


國都華盛頓，

近東海岸，風景

很優美。東北的紐約，稱為世界第二大會，

又為世界經濟的中心。市街華麗，房屋有高

紐約約高屋圖



到一百零二層的，稱為摩天閣。芝加哥為內地水陸交通中心，是全國第二大都市。舊金山為太平洋第一良港，和東隔舊金山灣的奧克蘭，有橋連接。橋長逾十三公里，為世界第一大橋，是一九三六年十月落成的。

美國北面的加拿大，為英國所屬的自治地；境內農林畜牧，都很發達。首府鄂大瓦在東南部，鋸木業最發達。紐芬蘭在加拿大的東岸，也是英國所屬的自治地。沿海為世界三大漁場之一。

美國的南面是墨西哥國，以產銀和石油著

名，銀產為世界之冠。

## 十七 中美和南美的形勢

### 【問題】

西印度羣島有什麼名產？怎麼說巴拿馬和蘇伊士兩運河是世界交通上的兩大改革？巴西有那幾種重要物產？阿根廷的形

怎麼樣？智利有那些重要物產？

西印度羣島

西印度羣島

墨西哥東南的海中，島嶼很多，總稱西印度羣島。

中以古巴島為最大，島上有古巴國，

產蔗糖著名，產額為世界第一。

墨西哥以南，叫中美洲，地勢狹長，好像

南北美中間的鎖鏈。上面有幾個小國，最南

的一國，叫做巴拿馬，美人在他的境內，開

中美洲

鑿一條運河；工程艱難，用款很多，費時九年纔成。巴拿馬運河開成後，縮短了太平洋和大西洋的航路，和蘇伊士運河縮短歐亞兩洲的航路，是世界交通上的兩大改革。

巴拿馬以南，便是南美洲。地形略成三角形，安第斯山脈沿西部太平洋岸南下，山脈的東面多大平







巴西

玻利維亞、巴西、巴拉圭、烏拉圭、阿根廷、智利和智利十共和國；其中巴西、阿根廷、智利被稱為南美三大國。

巴西在本洲東部，面積最大。亞馬遜河流灌西境，水量之大為世界第一。兩岸森林繁密，出產野生樹膠和木材很多。國都里約熱內盧，在東南海岸；附近出咖啡，產額佔世界十分之八。

阿根廷

阿根廷佔東南平原，畜牧發達。家畜頭數，比人口數約多十倍，羊毛都為出口大宗。國都布諾艾勒斯，為南半球第一大城，有橫

貫鐵道穿安第斯山通智利。

智利靠太平洋岸，為世界上最狹長的國家。

境內以產硝石和銅著名。沿海有鳥糞，堆積

成層，可做肥料，為輸出大宗。

### 十八 大洋洲

#### 【問題】

大洋洲的範圍怎麼樣？

澳大利亞有什麼重要物產？

太平洋上

的羣島被那幾國分佔？

夏威夷羣島的地位怎麼樣？

大洋洲發

展的經過情形怎麼樣？

大洋洲的範圍

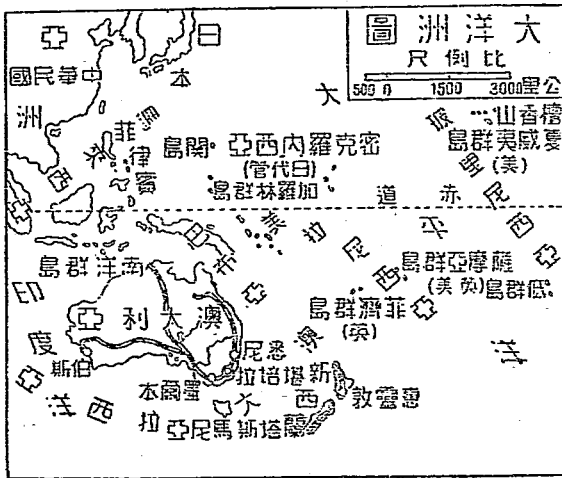
大洋洲在亞洲東南太平洋中，是澳大利亞

和太平洋中無數島嶼的總稱。面積在各洲中

最小，都是白人的殖民地，沒有一個獨立國

家。

澳大利亞是本洲最重要的部分，和南面的塔斯馬尼亞島組成澳大利亞聯邦，為英國的重要殖民地。境內中央為平原，畜牧最發達，羊的產額為世界第一；據說一隻羊繞地球三周半，羊毛的產額，自然也是世界。



界無比了。牧畜以外，還有金礦，是世界重要的產金地。

澳大利亞的東南，有新西蘭。全部分南北兩部，火山很多，也是英國的殖民地。

太平洋上的羣島

以外更有無數島嶼，散佈在太平洋面，叫做奧拉尼西亞、玻里內西亞、密克羅內西亞三組。赤道以北的從前屬德諸羣島，現在歸日本統治；赤道以南，多數屬英國，間有屬法、荷的，其中以英、荷兩國的巴布亞島最大；美國的夏威夷羣島，產糖很盛；又因位置當太平洋中心，為亞、美兩洲航行船隻必

夏威夷的地位

經之地，是交通、軍事上的重要所在。首府火奴魯魯；市街很繁盛。

大洋洲的英國殖民，不過百幾十年。到十五世紀中葉，澳大利亞的大金鑽發見，移民大增，纔繁盛起來，到現在南面的墨爾本（新金山），東方的悉尼（雪梨），都極繁盛，建築壯麗，和歐美的都市一樣。

本洲的土人，文化很低，已有滅種的趨勢。現在英人採「白澳主義」，嚴防別種人入境；在那邊的華僑，數目已日益減少了。

## 十九 太平洋上的形勢 南北極的探險

【問題】 太平洋的現勢怎麼樣？ 南北極的探險成績怎麼樣？ 南北極的

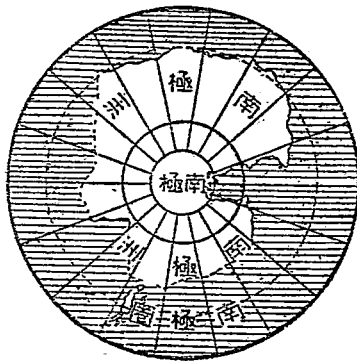
情形怎麼樣？

太平洋上的現勢

太平洋在亞、美和澳大利亞的中間，佔地球上水面的五分之一，爲世界第一大洋。從海洋交通發展後，地位逐漸重要。到蘇伊士運河、西伯利亞大鐵道、巴拿馬運河三大捷徑開通，更加重要。現在環太平洋的國家：我國、日本及滿洲國在其西，美國在其東，英屬澳大利亞在其西南，此外還有法、荷屬地和南美各國；就中日、英、美、三國的勢力爲最大。

歐戰後，日、英、美、  
 爲世界大海軍國。英國  
 修築新加坡軍港，又鼓  
 勵加拿大和澳大利亞建  
 設海軍。美國決定在關  
 島和夏威夷島築世界最  
 大的軍港，和舊金山聯  
 絡。日本自得到舊德屬  
 太平洋赤道以北的羣島，  
 頗能與英、美取三足鼎力  
 之勢。

圖 極 北                      圖 極 南



南北極的  
探險

南北兩極氣候寒冷，本是人跡不到的地方，近世探險事業發達，陸續去探險的很多。一九零九年英人丕理到北極，一九一一年挪威人阿孟森到南極；從此南北兩極，就漸被世人明白了。

南北極的  
情形

北極地方，四周是陸地，中央為北極洋。南極地方四周是大洋，中央是大陸，稱為南極洲；全部為冰雪所掩，尚未十分明瞭。兩極地方，都是半年長晝，半年長夜，晝夜的時間，兩極完全相反。南極不生植物，只有鯨和海豹以及少數鳥類；北極四周海岸，當



長晝時，有短草和蘚苔生長，並有人類居住；航空家還準備架設航空站，造成各洲主要都市間接近的航空線。

## 二十 世界人口和人種的分佈

【問題】

世界的人口總共有多少？那一洲的人口最多？世界的人種分

幾大種？黃種人怎麼樣？黑種人怎麼樣？櫻種人怎麼樣？紅

種人怎麼樣？人種的現勢怎麼樣？

世界的人口，總計約二十萬萬，其中亞洲人口最多，約佔總數二分之一；歐洲南北美洲次之；非洲、大洋洲又次之。以面積和人口的密度論，要算歐洲為最密。

世界的人種，普通以地理的分佈和膚色的差別，分爲黃、白、黑、櫻、紅五大種；黃種或稱爲蒙古種，大概由於黃種人中的蒙古族，在元代的時候，曾經威懾歐兩洲，便以一部分而代表全體；黃種人大部分在亞洲，其中文化最古人數最多的，當推我國；而科學進步，能夠和白種人分庭抗禮的要推日本；黃種人數共約七萬萬。白種或稱爲歐羅巴種，大部分居於歐洲，最近四五百年來，白種人向外發展得很快，南北美洲、非洲、大洋洲，多已成爲他們的殖民地；所以白種人數最多，

共約十萬萬。黑種或稱為內革羅種，是非洲和大洋洲的原住民，現在大部分居於撒哈拉沙漠以南；黑種人數約一萬數千萬。櫻種或稱為馬來種，是馬來半島、南洋羣島、印度的南部，和大洋洲等處的土人；人數共約一萬數千萬。紅種或稱為印第安種，即南北美洲的土人，現在南美洲最多，中美、墨西哥次之，美利堅、加拿大又次之；紅種人數最少，共約三千萬。

世界人種的現勢，淮黃、白二種，立於競爭的地位；其他黑、櫻、紅三種，幾乎

全被白種陵夷而有日就衰微的現象

中華民國二十八年十二月二十五日 印刷  
中華民國二十八年十二月三十日 發行

修正  
高小地理教科書 第四冊

定價 壹角壹分

著作兼  
發行者  
北京中南海懷仁堂西四所  
教育部編審會

印刷所  
北京阜成門外北禮士路  
新民印書館股份有限公司

發行所  
北京阜成門外北禮士路  
新民印書館股份有限公司

BC

24.45