

LA VERDADERA GEOGRAFÍA DE SMITH.



G

131

S 64

NUEVA YORK:

D. APPLETON Y COMPAÑÍA, LIBREROS-EDITORES,  
1, 3, Y 5 BOND STREET.

LIBRARY OF CONGRESS.

---

Chap. .... Copyright No. ....

Shelf G131  
.564

UNITED STATES OF AMERICA.

# PRIMER LIBRO DE GEOGRAFÍA DE SMITH

*DISPUESTO PARA LOS NIÑOS*

Y

ADORNADO CON MÁS DE 100 GRABADOS, 18 MAPAS  
Y UN CUADRO DE BANDERAS

POR ASA SMITH

TRADUCIDA DEL INGLÉS Y ADAPTADA AL USO DE LAS ESCUELAS DE  
LA AMÉRICA ESPAÑOLA EN GENERAL

POR TEMÍSTOCLES PAREDES

NOVÍSIMA EDICIÓN, ENTERAMENTE REFUNDIDA  
CON GRABADOS Y MAPAS NUEVOS

PUESTA AL NIVEL DE LOS CONOCIMIENTOS GEOGRÁFICOS DE LA ÉPOCA

POR VARIOS PROFESORES

NUEVA YORK  
D. APPLETON Y COMPAÑÍA  
1, 3 Y 5 BOND STREET  
1888

API 18 1888  
8781-7

La única edición de la verdadera y original Geografía de Smith, es la publicada por

D. APPLETON Y CÍA. DE NUEVA YORK

---

ENTERED, according to Act of Congress, in the year 1854,

BY ASA SMITH,

In the Clerk's Office of the District Court of the Southern District of New York.

---

COPYRIGHT, 1877, 1888,

BY D. APPLETON AND COMPANY.

---

G 131  
.564

*La propiedad en el Rio de la Plata está representada por el Agente General, Ángel Estrada y protegida en varios países, donde se perseguirá á los que la reproduzcan fraudulentamente.*

# SOBRE LA VERDADERA GEOGRAFÍA DE SMITH

---

“ *Amiguitos de los países españoles: He preparado esta pequeña Geografía expresamente para Vds.*”

ASA SMITH.

NUEVA YORK 1854.

HACE TREINTA Y CUATRO años que, por primera vez, dimos á luz la presente obra en español. Durante ese tiempo hemos ido introduciendo en sus numerosas ediciones, todas las reformas posibles para mantenerla de acuerdo con los adelantos en la materia; pero es esta la primera vez que, por decirlo así, se ha escrito la obra de nuevo y puesto enteramente al día.

Una obra que como la GEOGRAFÍA DE SMITH, ha logrado la aceptación general en todos los países hispanoamericanos, que ha enseñado los elementos de esta ciencia á varias generaciones, á muchos millones de personas, una obra semejante, naturalmente encontró, de tiempo en tiempo, un número considerable de *reformadores*, que introduciendo en ella cualquiera simpleza ó materia ajena al asunto, ó una ortografía caprichosa, personal ó local, aun á costa de falsear el método y el propósito del autor, han puesto sus nombres al pie del del Profesor Smith, más para satisfacer una vanidad personal que las necesidades de la enseñanza.

La ambición, por otra parte, indujo á algunos editores, poco escrupulosos, á publicar como cosa suya, reproducciones más ó menos semejantes de nuestra obra, hasta el grado de hacer que se confundiese la verdadera con la falsa.

Tanto los que deseen aprender por el método original de Smith,

como los que juiciosamente lo prefieren á los sistemas mixtos de las otras ediciones, han de tener presente que la nuestra es la única en que ese método no se ha alterado; la única VERDADERA GEOGRAFÍA DE SMITH, autorizada por el autor; y ¿por qué no decirlo? la única que, ajustándose á la ortografía de la Academia Española, reúne á su buen papel, esmerada impresión, inmejorables mapas y preciosos grabados; los progresos de la geografía y los cambios políticos últimamente realizados.

LOS EDITORES.

NUEVA YORK, *Enero de 1888.*

---

## EXTRACTO DEL INFORME

### DE LA JUNTA ENCARGADA DE LA INSPECCIÓN DE LAS ESCUELAS PÚBLICAS DE LA CIUDAD DE NUEVA YORK

Que ha examinado con mucho cuidado el Primer Libro de Geografía de Smith, y está satisfecha de que, de todas las obras sobre este ramo de la ciencia, esta es la mejor.

El autor, parece que ha querido formar un tratado sencillo, comprensivo y útil para los principiantes, y la Junta cree que ha alcanzado un éxito feliz.

Las preguntas están arregladas juiciosamente, y las respuestas dan las divisiones generales é importantes del Globo, la situación particular de todos los lugares más notables, el conocimiento del estado de la sociedad, y de los hábitos y costumbres de las diferentes razas de hombres.

La Junta presenta respetuosamente la siguiente resolución:

Que el "Primer Libro de Geografía" de Smith sea adoptado por esta Asociación, y que se recomiende su uso á todas nuestras escuelas.

SÉNECA DURAND

EDWD. M'ILROY

JOHN WALSH

*Miembros de la Junta.*

NUEVA YORK, *Enero, 1847.*




# BANDERAS DE LAS

## ANTIGUO CONTINENTE.



INGLATERRA.



FRANCIA.



ALEMANIA.



NORUEGA  
Y SUECIA.



DINAMARCA.




PAÍSES BAJOS.



BÉLGICA.



ESPAÑA



PORTUGAL.



ITALIA.



AUSTRIA.



SUIZA.



GRECIA.



TURQUÍA.




SERVIA.



RUSIA.




IMPERIO BIRMÁN.



CHINA.



COCHINCHINA.



JAPÓN.



PERSIA.



SIAM.



ARGELIA



EGIPTO.



LIBERIA.



REP. AFRICANA  
AUSTRAL.



MARRUECOS, TÚNEZ,  
Y TRIPOLI



ISLAS SANDWICH



# PRINCIPALES NACIONES.

## NUEVO CONTINENTE.



ESTADOS UNIDOS.



MÉJICO.



GUATEMALA.



EL SALVADOR.



HONDURAS.



NICARAGUA



COSTA RICA.



REP. DOMINICANA.



HAITÍ



COLOMBIA.



VENEZUELA.



ECUADOR.



PERÚ.



BOLIVIA.



CHILE.



REPÚBLICA  
ARGENTINA



URUGUAY.



PARAGUAY.



BRASIL.



# PRIMER LIBRO DE GEOGRAFÍA, DE SMITH.



## LECCIÓN I

*Pregunta.* ¿Qué es Geografía?

*Respuesta.* Geografía es la descripción de la superficie de la Tierra.

*¿Qué es la Tierra?*

La Tierra es una gran esfera, compuesta de tierra y agua.



*¿De qué tamaño es la Tierra?*

Su diámetro es de 12,800 kiló-

metros próximamente, y su circunferencia, de 40,000.

*¿Qué es lo que se llama superficie de la Tierra?*

La parte exterior de ella.

*¿Qué parte de la superficie del mundo se compone de tierra?*

Aproximadamente una cuarta parte.

*¿Qué parte de la superficie del mundo se compone de agua?*

Las tres cuartas partes.

## LECCIÓN II

### DIVISIONES DE LA TIERRA

*¿Cuáles son las divisiones naturales de la tierra?*

Continentes, islas, penínsulas, istmos, cabos y montañas.

¿Qué es continente?

Continente es la mayor división natural de la tierra.

¿Cuántos continentes hay?

Hay dos continentes: el Oriental y el Occidental.

¿Cuáles son las grandes divisiones del Continente Oriental?

Europa, Asia y África.


¿Cuáles son las grandes divisiones del Continente Occidental?

La América del Norte y la América del Sur.

### LECCIÓN III

¿Qué es isla?

Una porción de tierra enteramente rodeada de agua.



*Isla.*

¿Qué es península?


Una porción de tierra casi rodeada de agua.

¿Qué es istmo?

Una lengua de tierra que une dos porciones de tierra mayores.

¿Qué es cabo?

Una punta de tierra que se interna en el mar.



*Península é istmo.*

¿Qué nombre se da á los cabos altos y pedregosos?

Se llaman promontorios.

### LECCIÓN IV

¿Qué es montaña?

Una vasta elevación de tierra sobre el suelo de un país.

¿Qué es colina?

Una pequeña elevación de tierra.

¿Qué es volcán?

Generalmente una montaña que arroja fuego, humo, cenizas, piedras y rocas derretidas ó lava.

¿Qué es cráter de un volcán?


La boca ó abertura por donde arroja dichas sustancias.

¿Qué nombre se da á la salida de estas sustancias?

El de erupción.

¿De qué modo sale la lava en las erupciones?

En forma de chorros, ó torrentes de un líquido trasparente.



*Volcán en erupción.*

*¿Hasta qué elevación han subido estos chorros?*

Hasta diez mil pies, ó cerca de dos millas ó tres kilómetros.

*¿Son los volcanes muy destructores?*

Algunas veces destruyen ciudades y comarcas enteras.

*¿Por qué son útiles los volcanes?*

Porque dando salida á los gases ó vapores producidos en el interior por el calor de la Tierra, impiden los temblores.

*¿Qué es valle?*

La parte baja del suelo comprendida entre dos colinas ó montañas.

*¿Qué es llano?*

Un espacio de tierra plana.

Los llanos cubiertos de yerba solamente se llaman en la América del Norte sabanas ó praderas; en la América del Sur suelen llamarse pampas ó llanos; y en otros lugares del mundo toman diversos nombres.

*¿Qué es desierto?*

Una región de tierra estéril y deshabitada.

*¿Qué es oasis?*

En un desierto es el espacio en que hay agua dulce, vegetación, etc.

## LECCIÓN V

*¿Cuáles son las divisiones naturales del agua?*

Océanos, mares, golfos, bahías, estrechos, lagos y ríos.

*¿Qué es océano?*

La mayor división natural del agua.

*¿Cuántos océanos hay?*

Cinco: el Atlántico, el Pacífico, el Índico, el Ártico y el Antártico.

*¿Qué es mar?*

Una porción de agua salada, menos considerable que el océano.

Ciertos lagos de agua salada suelen llamarse mares; como el mar Aral y el mar Caspio en Asia.

*¿Qué nombre se da á un mar que contiene muchas islas?*

El de archipiélago.



¿ *Qué es golfo ó bahía ?*

Una porción de agua que se interna en la tierra. Se da el nombre de *seno* á ciertos golfos.

¿ *Qué es lago ?*

Una porción de agua dulce rodeada de tierra.

¿ *Cómo se llaman los lagos pequeños ?*

Lagunas.



*Vista de un río que entra en un lago y á su salida forma una cascada.*

## LECCIÓN VI

¿ *Cuál es el agua salada ?*

La de los océanos y mares; y la de la mayor parte de los golfos, de las bahías, de los estrechos y la de ciertos lagos.

¿ *Cuál es el agua dulce ?*

La de los ríos y la del mayor número de los lagos.

¿ *Qué es estrecho ?*

Un brazo de mar entre dos costas opuestas.

¿ *Qué es río ?*

Una gran corriente constante de agua.

¿ *Cómo se forman los ríos ?*

Por medio de pequeñas corrientes.

¿ *Cómo se llaman las pequeñas corrientes de agua.*

Arroyos y riachuelos.

¿ *Cuál es el nacimiento de un río ?*

El lugar donde empieza su curso.

¿ *Cuál es la boca ó desembocadura de un río ?*

El lugar donde desagua, sea en el mar, en un lago ó en otro río.

## LECCIÓN VII

¿ *Qué es lo que empieza á formar los ríos ?*


Los manantiales.

¿ *Qué es manantial ?*

Agua que brota de la tierra.

¿ *Cómo se forman los manantiales ?*

Los manantiales provienen de la lluvia, que penetrando en la tierra por lugares elevados, se filtra al través de ella y reaparece en la superficie de los más bajos.



*Manantial—Riachuelo.*

¿ *Qué es catarata, cascada ó salto?*

La caída más ó menos repentina de las aguas de un río.

¿ *Para qué se utilizan las cascadas ó cataratas?*

Se emplean en los molinos, como potencia motriz.

¿ *Qué es puerto?*


Una pequeña bahía, donde los buques pueden anclar y estar al abrigo de los vientos.

¿ *Qué es canal?*

Una cavidad prolongada hecha en la tierra y llena de agua, por donde pueden pasar las embarcaciones. También se da este nombre á los estrechos anchos.

¿ *Cómo se hacen andar las embarcaciones por los canales?*

Son tiradas ó remolcadas por pequeños vapores, mulas ó caballos.



*Bote de canal, tirado por bestias.*

## LECCIÓN VIII

### DIVISIONES POLÍTICAS

¿ *Cuáles son las divisiones políticas de la Tierra?*

Las distintas naciones ó estados en que, con los nombres de imperios, reinos, repúblicas, etc., se han constituido sus habitantes.

¿ *Qué es lo que diferencia á esas divisiones políticas?*

El gobierno, consecuencia de las leyes á que cada una se somete.

¿ *De cuántas maneras es en esencia el gobierno de las naciones?*

De dos: republicano y monárquico.

¿ *Cuál es el republicano?*

Aquél en que todos los ciudadanos gozan de iguales derechos, y la ley no reconoce jeralquías propias ó individuales; residiendo en absoluto, por consiguiente, la soberanía en el pueblo.

¿ *Cuál es el monárquico?*

Aquél en que los ciudadanos no tienen iguales derechos, pues la ley reconoce distintas jeralquías ó clases privilegiadas, que gozan más ó menos limitadamente de la soberanía que la ley da al Jefe de la nación.

¿ *Cómo se llama al jefe ó primer magistrado de una república?*

Presidente: que se deriva de la palabra *presidir*, lo que indica sus funciones.

¿ *Y cómo al de una monarquía?*

Rey; que viene de una palabra latina que significa regir ó mandar.

¿ *Qué es un imperio?*

Aquella monarquía cuyo jefe toma el nombre de emperador, que significa “el que impera ó domina”; lo que no modifica la forma de gobierno, siendo en realidad un título.

¿ *Qué es ciudad?*

Una gran reunión de casas y de habitantes.

En un sentido más exacto, ciudad es una porción colectiva de habitantes, incorpora-

dos y gobernados por autoridades particulares, como alcaldes ó regidores.


*¿Cómo se llama á la ciudad donde residen los legisladores y el jefe de una nación ó estado?*

Capital.

*¿Y cómo á la más grande de una nación?*  
Metrópoli.

## LECCIÓN IX

### GLOBOS Y MAPAS



[Para que el alumno pueda encontrar las direcciones exactas en los mapas, debe colocarse en frente de ellos, y así tendrá en la parte superior el *norte*; en la inferior el *sur*; en la parte de la derecha el *oriente*; y en la de la izquierda el *occidente*.]

*¿Cómo se representa á la Tierra?*

Por medio de globos y mapas ó cartas geográficas.

*¿Qué son los globos?*

Unas esferas ó bolas redondas en cuyas superficies están dibujados los continentes, islas, océanos, mares, ríos, etc.; en las mismas posiciones que ocupan sobre la Tierra.

*¿Qué es un hemisferio?*

Medio globo.

*¿Qué es mapa ó carta?*

Es la representación de la Tierra ó de una parte de ella, sobre una superficie plana, indicando la figura de los diferentes países, montañas, ríos, mares, etc., como también la

situación de las ciudades y otros puntos importantes.

*¿Cuáles son las direcciones en los mapas, es decir, cómo se orientan éstos?*

El norte se halla en la parte superior, el sur en la inferior, el este á la derecha y el oeste á la izquierda.

*¿Cómo se representa sobre una superficie plana, la superficie del globo?*

Por medio de dos mapas circulares, llamados hemisferio oriental y hemisferio occidental.

*¿Qué representa el hemisferio oriental?*  
El Continente Oriental.

*¿Qué representa el hemisferio occidental?*

El Continente Occidental.



**LECCIÓN X**

## MAPA DEL HEMISFERIO OCCIDENTAL.

Las respuestas á las siguientes preguntas, se ponen, para ayudar al alumno á encontrar las contestaciones en el mapa.

¿ Qué hemisferio es éste ?

El hemisferio occidental.

¿ Qué continente hay en el hemisferio occidental ?

El Continente Occidental, ó Nuevo Continente.

¿ Cómo está dividido el Nuevo Continente ?

En América Setentrional, ó del Norte, y América Meridional ó del Sur.

¿ Qué istmo une la América del Norte con la del Sur ?

El istmo de Panamá.

¿ Qué océano hay al oriente de la América ?

El océano Atlántico.

¿ Qué océano hay al occidente de la América ?

El océano Pacífico.

¿ Qué océano queda al norte de la América del Norte ?

El océano Ártico.

¿ Qué océano queda al Sur de la América del Sur ?

El océano Antártico.

¿ Qué cadena de montañas hay en la parte occidental de la América del Norte ?

Los Montes Roqueños.

¿ Qué cadena de montañas hay á lo largo de la costa occidental de la América del Sur ?

Los Andes.

¿ Qué gran bahía hay en la parte del norte de la América del Norte ?

La bahía de Hudson.

¿ Qué golfo se encuentra en la parte del Sur ?

El golfo de Méjico.

¿ Qué islas hay entre la América del Sur y la del Norte ?

Las Antillas ó Indias Occidentales.

**LECCIÓN XI**

¿ Qué gran río hay en la América del Sur ?

El río de las Amazonas.

¿ Qué gran río hay en la América del Norte ?

El río Misisipí.

¿ Qué estrecho se encuentra entre la América del Norte y Asia ?

El estrecho de Bering.

¿ Qué estrecho al Sur de la América del Sur ?

El estrecho de Magallanes.

¿ Qué país queda al nordeste de la América del Norte ?

Groenlandia.

¿ Qué bahía al occidente de Groenlandia ?

La bahía de Baffin.

¿Cuál es la ciudad más grande del continente occidental ?

Nueva York, en la América del Norte.

¿ Qué país queda al noroeste de la América del Norte ?

Asia.

¿ Qué cabo hay al sur de la América del Sur ?

El cabo de Hornos.

¿ Qué cabo se encuentra al oriente ?

El de San Roque.

¿Cuál se encuentra al occidente ?

El Cabo Blanco.

¿ Qué cabo hay al Sur de Groenlandia ?

El cabo Farewell.

¿ Qué islas quedan al nordeste de la América del Sur ?

Las islas del Cabo Verde.

¿ Qué gran río se halla hacia el norte de la América del Sur ?

El Orinoco.

¿ Qué gran río se halla hacia el sur de la América del Sur ?

El Río de la Plata.

## MAPA DEL HEMISFERIO OCCIDENTAL.



## Superficie y Población de la Tierra.

PAÍSES.	SUPERFICIE		Población.
	En kilómetros cuadrados.	En millas cuadradas.	
EUROPA .....	9,900,957	3,824,240	327,743,400
ASIA .....	42,773,904	16,521,400*	760,000,000
ÁFRICA .....	29,897,772	11,548,000	205,500,000
AMÉRICA DEL NORTE .....	23,042,100	8,900,000†	70,000,000
AMÉRICA DEL SUR .....	17,734,650	6,850,000	28,000,000
OCEANÍA .....	10,956,648	4,232,000	39,200,000
Totales .....	134,306,031	51,875,640	1,430,743,400

\* Sin las islas. Cálculase la superficie total de la Asia en 68,220,150 kilómetros cuadrados ó 26,350,000 millas cuadradas.

† Incluyendo la América Central, las Bahamas, y las Antillas.

# MAPA DEL HEMISFERIO ORIENTAL.



## Razas de Hombres.

RAZAS.	COLOR.	NÚMERO.
CAUCÁSICA.....	Blanco.....	600,000,000
MONGÓLICA.....	Amarillo.....	584,000,000
ETIÓPICA.....	Negro.....	180,743,400
MALAYA.....	Pardo oscuro.....	55,000,000
AMERICANA (Indios).....	Colorado ó cobrizo.....	11,000,000
<b>Total.....</b>		<b>1,430,743,400</b>

## LECCIÓN XII

## MAPA DEL HEMISFERIO ORIENTAL.

[Á estas preguntas no se ponen respuestas, sino la primera y última letra de estas, que ayudarán suficientemente al alumno para encontrar la contestación que corresponde.]

- ¿ Qué hemisferio es éste ? O-I.  
 ¿ Qué continente contiene ? O-I.  
 ¿ Cuáles son sus tres divisiones ?

E-a, A-a y Á-a.

- ¿Cuál es la mayor división? A-a.  
 ¿Cuál es la menor? E-a.

¿ Qué gran mar hay entre Europa y África? M-o.

¿ Qué es el Mediterráneo?

El mar más grande del mundo. Su superficie es de 2,253,300 kilómetros cuadrados ó 870,336 millas cuadradas.

- ¿ Qué separa éste de la Europa? Á-a.  
 ¿ Cuáles son los dos mares que hay entre Europa y Asia? O-o y N-o.

¿ Qué gran división hay al sur de Europa? Á-a.

¿ Qué gran división hay al oriente de Europa? A-a.

¿ Qué océano hay al norte de Europa? Ar-o.

¿Cuál al occidente? A-o.

¿ Qué estrecho une el mar Mediterráneo con el océano Atlántico? G-r.

## LECCIÓN XIII

¿ Qué país se encuentra hacia el sud de Asia? I-a

¿ Qué península se encuentra hacia el sudoeste de Asia? A-a.

¿ Qué islas hay al oriente de Asia? J-n y F-s.

¿ Qué mar hay entre Asia y África? R-o.

¿ Qué lado del Asia baña el océano Pacífico? Or-I.

¿ Qué gran isla, la mayor del mundo, queda al sudeste de Asia? A-a.

¿ Qué montañas hay al Norte de la India? H-a.

¿ Qué estrecho hay entre Australia y la tierra de Diemen? B-s.

¿ Qué istmo une el Asia con el África? S-z.

¿ Entre qué mares se encuentra el istmo de Suez? M-o y R-o.

## LECCIÓN XIV

¿ Qué océano hay al occidente de África? A-o.

¿ Y al oriente? I-o.

¿ Qué mar queda al norte de África? M-o.

¿ Qué puede observarse respecto del África?

Que su clima es excesivamente cálido, y es la región menos civilizada del mundo.

¿ Qué gran desierto hay en la parte septentrional de África? S-a ó G-n D-o.

¿ Qué cabo hay en la extremidad meridional de África? B-a E-a.

¿ Qué golfo se encuentra al occidente de África? G-a.

¿ Qué país queda al occidente de África? G-a.

¿ Qué gran isla hay al sudeste de África? M-r.

## LECCIÓN XV

¿ Qué océano hay entre América y Europa? A-o.

¿ Qué océano hay entre América y Asia? P-o,

¿ Qué mar hay entre la Arabia y la India? O-n.

¿ Qué golfo hay al sur de Asia? B-a.

¿ Qué isla queda al sur de Australia? D-n.

¿ Qué isla queda al norte de Australia? N-a G-a.

¿ Qué gran desierto se encuentra en Asia? G-i.

¿ Qué isla se halla al occidente de la parte Sur de África? S-a H-a.

¿ Qué islas hay al occidente de Europa? I-s B-s.

¿ Cuáles son las cuatro grandes islas que se encuentran al noroeste de Australia? B-o, C-s, J-a y S-a.

[Diganse los límites de los siguientes países. Ejemplo: La América del Sur está limitada al norte por el mar Caribe, al este por el océano Atlántico, al sur por el océano Antártico y al oeste por el océano Pacífico.]

La América del Sur?

La América del Norte?

Europa? Asia? África?

Australia? Groenlandia?

## LECCIÓN XVI

- ¿ Con qué país limita Méjico por el norte? E-s U-s.  
 ¿ Qué golfo hay al este? M-o.  
 ¿ Qué río hay entre Méjico y Téjas? R-o G-e del N-e ó B-o.  
 ¿ Qué país queda al sudeste de Méjico? A-a C-l.  
 ¿ Entre qué bahías está Yucatán? C-e y H-s.  
 ¿ En qué golfo se encuentra la bahía de Campeche? M-o.  
 ¿ En qué mar se encuentra la bahía de Honduras? C-e.  
 ¿ Qué gran golfo hay hacia la parte occidental de Méjico? C-a.  
 ¿ Qué península hay entre el golfo de California y el Pacífico? B-a C-a.  
 ¿ Qué península hay entre las bahías de Campeche y de Honduras? Y-n.  
 ¿ Qué cadena de montañas hay en Méjico? S-a M-e.  
 ¿ Qué dirección lleva esta cadena? N. O. á S-E.  
 ¿Cuál es la capital de Méjico? M-o.  
 ¿ Qué ciudad hay cerca de la boca del Río Bravo? M-s.  
 ¿ Qué ciudades hay en la costa del golfo de Méjico? T-o y V-z.

## LECCIÓN XVII

- ¿ Qué ciudad hay en la costa del Pacífico? A-o.  
 ¿ Qué ciudad hay al oeste de Matamoros? M-y.  
 ¿ Qué ciudad hay al oeste de Tampico? S-n L-s P-í.  
 ¿ Qué ciudad al sudoeste de Monterey? D-o.  
 ¿ Qué ciudad queda en el interior, un poco al noroeste de Veracruz? J-a.  
 ¿ Qué ciudad un poco al sudeste de Méjico? P-a.  
 ¿ Qué ciudad queda en el interior al noroeste de Matamoros? C-a.  
 ¿ Qué ríos desaguan en la extremidad norte del golfo de California? C-o y G-a.  
 ¿ Qué cabo hay en la extremidad sur de California? S-n L-s.

## LECCIÓN XVIII

## MAPA DE AMÉRICA CENTRAL

- ¿ Qué bahía hay al norte de América Central? H-s.  
 ¿ Qué mar al este? C-e.  
 ¿ Qué océano al sur y al oeste? P-o.  
 ¿ Qué istmo une la América Central á la América del Sur? P-á.  
 ¿ Qué península se encuentra al norte? Y-n.  
 ¿ Qué país al noroeste? M-o.  
 ¿ Qué ciudad hay al norte de Yucatán? M-a.  
 ¿ Qué lago hay en América Central? N-a.  
 ¿ Qué río forma su desagüe? S-n J-n.  
 ¿ Qué pueblo hay en la parte norte del istmo de Panamá? C-n.  
 ¿ Qué ciudad hay en la parte sur? P-á.  
 ¿ Qué ciudades hay cerca del Pacífico? S. S-r y N-a G-a.  
 ¿ Qué golfo hay al lado norte del istmo de Panamá? D-n.

## LECCIÓN XIX

## MAPA DE LAS ANTILLAS Ó INDIAS OCCIDENTALES

- ¿ Qué océano hay al norte y al este de las Antillas? A-o.  
 ¿ Qué mar queda al sur? C-e.  
 ¿ Qué golfo al oeste? M-o.  
 ¿Cuál es la isla más grande de las Antillas? C-a.  
 ¿Cuál le sigue en extensión? S-o D-o ó H-í.  
 ¿Cuál sigue á esta? J-a.  
 ¿ Después de Jamaica, cuál sigue en extensión? P-o R-o.  
 ¿ Qué nombre se da á estas cuatro islas juntas? Grandes Antillas.  
 ¿ Qué islas de menor consideración se encuentran al nordeste de Cuba? B-s.  
 ¿ Qué islas pequeñas al sudeste de Puerto Rico? C-s.  
 ¿Cuál es el nombre de cada una de las principales de estas islas? A-a, G-e, M-a, B-a, T-d.  
 ¿ Qué isla pequeña hay al sur de la parte oeste de Cuba? P-s.  
 ¿ Qué isla del grupo de las Bahamas fué la primera tierra que descubrió Colón? S-n S-r ó G-í.

# MAPA DE MÉJICO Y LAS ANTILLAS.



Long al Occ. 30 del Meridiano de Washington 10 Long Oriental 10

Long. 97 al Occ. del Meridiano de Greenwich

107 17 67

**LECCIÓN XX**

¿ Qué península hay en los Estados Unidos al norte de Cuba ? F-a.  
 ¿ Qué canal hay entre Cuba y Florida ? F-a.  
 ¿ Qué estrecho ó paso hay entre Cuba y Haití ó Santo Domingo ? B-o.  
 ¿Cuál entre esta isla y Pto. Rico ? M-a.  
 ¿ Qué cabo tiene Cuba al occidente ? S-n A-o.  
 ¿Cuál es la extensión longitudinal de Cuba ? 1126 kilómetros ó 700 millas.  
 ¿Cuál es la capital de Cuba ? H-a.  
 ¿ Qué ciudad hay al este de la Habana ? M-s.  
 ¿ Qué ciudad hay al sudeste de Matanzas ? P-e.  
 ¿ Qué ciudades hay en Haití ó Santo Domingo ? P-o P-e y S-o D-o.  
 ¿Cuál es la capital de Jamaica ? K-n.  
 ¿Cómo está situada Jamaica respecto de Cuba ? Al S-r.  
 ¿Cómo está situada la isla de Haití ó Santo Domingo respecto de Cuba ? Al S-e.  
 ¿ Y Puerto Rico respecto de la anterior ? Al E-e.  
 ¿ Qué cabo hay en la extremidad setentrional de Yucatán ? C-e.  
 ¿Cuál es la longitud del mar Caribe, de este á oeste ?  
 Unos 3,218 kilómetros, ó 2.000 millas.  
 ¿Cuáles la extensión del golfo de Méjico ?  
 Tiene 1,609 kilómetros ó 1,000 millas de E. á O., y 1,287 kilómetros ú 800 millas de N. á S.  
 ¿ Hacia qué punto queda Nueva Orleans respecto de la Habana ? Al N-e.

**LECCIÓN XXI**

(¿ D Ó N D E Q U E D A N ?)

*Ciudades y villas.*

Méjico ?	Tampico ?
Veracruz ?	Monterey ?
Acapulco ?	Matamoros ?
Guatemala ?	Matanzas ?
San Salvador ?	Habana ?
Kingston ?	San Luis Potosí ?

Puerto Príncipe ?  
 Santo Domingo ?

*Golfos y bahías.*

Méjico ?	California ?
Campeche ?	Honduras ?
Darién ?	Panamá ?

*Cabos.*

San Lúcas ?	Catoche ?
San Antonio ?	

*Islas.*

Cuba ?	Puerto Rico ?
	Santo Domingo ó Haití ?
Jamaica ?	Las Bahamas ?
Antigua ?	Barbada ?
Trinidad ?	San Salvador ?
Martinica ?	Guadalupe ?

**LECCIÓN XXII**

HISTORIA Y DESCRIPCIÓN DE MÉJICO



¿ Cuáles son los límites de los Estados Unidos de Méjico ?

Tienen al norte y nordeste los Estados Unidos de América, al este el golfo de Méjico, al sudeste Guatemala y Belice y al sud y al oeste el océano Pacífico.

¿Cuál es su superficie ?  
 1,820,675 kilómetros cuadrados ó 741,860 millas cuadradas.

¿ Qué habitantes se encontraron en Méjico, cuando la América fué descubierta ?  
 Indios bastante civilizados.

¿ En qué se diferenciaban estos indios de los de los Estados Unidos ?

En que los primeros estaban parcialmente civilizados, edificaban ciudades, fabricaban telas, y los segundos vivían casi en estado salvaje.

¿ Cómo estaban constituidos los mejicanos ?


Formaban un imperio poderoso, y sus leyes eran notables.

¿ De qué país eran los primeros individuos de la raza blanca que fueron á Méjico ?

De España.

¿ Quién fué su jefe ?

Hernán Cortés.



Hernán Cortés.

¿ De qué lugar salió Cortés para Méjico ?

De Cuba.

¿ Quién era entonces el emperador de los mejicanos ?

Moctezuma.

¿ Qué armas usaban los mejicanos y cuáles los españoles ?

Los primeros flechas y cachiporras ó garrotes; y los segundos fusiles y cañones.

¿ Qué hizo Cortés al llegar á la ciudad de Méjico ?


Se apoderó de ella y de la persona del emperador Moctezuma II.

¿Cuál fué la suerte de Moctezuma ?

Murió herido por una de las piedras que en un motín sus súbditos arrojaban á los españoles, mientras trataba de apaciguarlos.

### LECCIÓN XXIII

¿ Quién fué el sucesor de Moctezuma II ?  
Su hermano Cuauhtemozin.



Estatua de Cuauhtemozin en la ciudad de Méjico.

¿ Qué consiguió Cortés por fin ?

Conquistó aquel país y lo subordinó al gobierno de España.

¿ Cuánto tiempo perteneció á España ?

Trescientos años, poco más ó menos.

¿ Cuándo vino á hacerse independiente ?

En el año de 1821.



¿ *Cuál es el gobierno de Méjico?*  
Republicano federal.

¿ *Cuál es la religión predominante en el país?*

La Católica romana; pero se permiten todos los cultos.

¿ *Cuál es el aspecto físico del país?*

El terreno es bajo en la costa; pero en el interior es llano y elevado.

#### LECCIÓN XXIV

¿ *Cuál es el clima de Méjico?*

En las tierras bajas es cálido y, en lo general, insalubre; pero delicioso y sano en las altas.

¿ *Su suelo?*

Es fértil; produce dos ó tres cosechas de maíz al año.

¿ *Cuáles son sus producciones vegetales?*

Árboles de todas clases, maderas

dose con preferencia maíz, trigo, frijol, arroz, café, cacao, tabaco, añil, grana, vainilla, la viña, la caña, algodón, el maguey, etc.

¿ *Cuál es su principal producción mineral?*

La plata, cuyas minas, que son las más ricas del mundo, producen muchos millones de pesos al año.

¿ *Qué hay digno de observarse sobre el ganado?*

Que el vacuno y caballo se crían en gran escala.

¿ *Cómo se divide la república?*

En 27 Estados, 1 Distrito Federal, y 1 Territorio, que son: Chiapas, su capital, San Cristóbal de las Casas; Coahuila, cap. Saltillo; Hidalgo, cap. Pachuca de Guerrero; Jalisco, cap. Guadalajara; Méjico, cap. Toluca; Michoacán, cap. Morelia; Morelos, cap. Cuernavaca; Nuevo León, cap. Monterey; Sinaloa, cap. Culiacán; Sonora, cap. Ures; Tabasco, cap. San Juan Bautista; Tamaulipas, cap. Ciudad Victoria; Veracruz, cap. Jalapa; Guerrero, cap. Chilpancingo de los Bravos; y Yucatán, cap. Mérida; Aguascalientes, Campeche, Chihuahua, Colima, Durango, Guanajuato, Oajaca, Puebla, Querétaro, San Luis Potosí, Tlaxcala y Zacatecas, con sus capitales del



*Escena en el Norte de la República Mexicana.*

de construcción y ebanistería, tintes, granos, hortaliza y una gran abundancia de exquisitas frutas, cultiván-

lo es también de la república); y el mismo nombre respectivamente; el Distrito Federal, cap. Méjico (que lo es también de la república); y el

Territorio de la Baja California, cap. La Paz.

¿ *Qué cosa notable hay que decir de la ciudad de Méjico?*

Que es la capital de la república, y una de las ciudades más antiguas de América, y que fué la primera ciudad del Continente occidental en que se introdujo un prensa tipográfica.

### LECCIÓN XXV

¿ *Cómo está situada la ciudad de Méjico?*

En el valle de Méjico, en el centro del territorio comprendido entre el Golfo de Méjico y el océano Pacífico, y cerca del lago Texcoco.

¿ *Cuál es su elevación sobre el nivel del mar?*

Unos 8,000 pies.

¿ *Cuál es la forma de la ciudad?*

Un cuadro perfecto.

¿ *Qué dice Humboldt de Méjico?*

Que es una de las ciudades más bellas que han edificado los europeos en uno ú otro hemisferio.

¿ *Cuál es la población de dicha capital?*

Tiene como 250,000 habitantes.

¿ *Qué ciudad le sigue en población?*

León, con 100,000 habitantes.

¿ *Qué lugares son afamados por sus minas de plata?*

Guanajuato, Zacatecas y San Luis Potosí.

¿ *Qué cordillera hay en la república?*

La Sierra Madre que la atraviesa de sudeste á noroeste.

¿ *Tiene volcanes?*

Varios, siendo los más notables el Cofre de Perote; el Tuxtla; el Pico de Orizaba; el Popocatepetl, con



Los Volcanes Popocatepetl y Iztaccihuatl.

una elevación de 4,292 metros ó 17,809 pies sobre el nivel del mar; el Iztaccihuatl, el Jorullo, y el Colima.

*¿ Cuáles son los principales ríos ?*

El Bravo, el Pánuco, el Santiago, el Goatzacoalcos, el Grijalva, etc.

*¿ Cuáles son los lagos de Méjico ?*

Los principales son Texcoco, Xochimilco, Chalco, Xaltocán, Zumpango, y San Cristóbal, en el valle de Méjico; Chapala, entre Michoacán y Jalisco; y la laguna de Términos, en Campeche.

*¿ Qué pueblos y ciudades importantes hay en el interior ?*

Guadalajara, Guanajuato, Querétaro, Puebla, Durango, Oajaca y Orizaba.

*¿ Cuáles son los principales puertos de la república ?*

Manzanillo, Mazatlán y La Paz, en las costas occidentales.

*¿ Qué hace notable á Veracruz ?*

Su gran comercio, y el castillo de San Juan de Ulúa, uno de los más fuertes de América.

*¿ Qué restos de la antigüedad existen todavía en la república ?*

Los más notables son las pirámides de Cholula, Teotihuacán y Papantla; los palacios de Mitla, en Oajaca, y de Xotchicalco, á 6 leguas de Cuernavaca; ruinas de templos, en el Palenque, Estado de Chiapas, y en Chichen-Itzá, Uxmal, etc., Estado de Yucatán.

*¿Cuál es la población de la República Mejicana ?*

Unos 9,600,000 habitantes, de los cuales se calcula que una quinta parte es europea.

*¿ Hay ferrocarriles en la República ?*

La república está cruzada por numerosas vías, siendo las más importantes las cinco que la ponen en comunicación con los Estados Unidos y la que de Veracruz va á Méjico y se continuará hacia el Pacífico.

*¿ Cuáles son las principales indus-*

*trias de los habitantes ?*

Minería y agricultura; la fabricación de tejidos de algodón, de lana



*Acapulco.*

Matamoros, Tampico, Veracruz, Carmen, Campeche y el Progreso, en el golfo de Méjico; y Acapulco,

y de seda; la fabricación de papel, de porcelana, de obras de filigrana, de aguardiente y de azúcar; practicándose varias artes mecánicas, y habiendo numerosos molinos de trigo en distintos lugares de la República.

¿Cuál es el valor de la industria nacional?

Como 100 millones de pesos al año.

¿A cuánto asciende la exportación?  
A unos 32 millones de pesos.

¿En qué estado se halla la instrucción pública?

Hay en toda la república numerosas escuelas primarias y secundarias; colegios nacionales en varias ciudades; y en la capital, escuelas de medicina, minería, agricultura, comercio, militar, de bellas artes, etc., y un gran número de bibliotecas y museos.

## LECCIÓN XXVI

¿Qué territorio abraza la América Central?

El comprendido entre el istmo de Panamá y los estados mejicanos de Chiapas, Tabasco, Campeche y Yucatán.

¿Cuáles son las repúblicas que constituyen á la América Central?

Guatemala, Nicaragua, Honduras, El Salvador y Costa Rica.

¿Quiénes colonizaron estos estados?  
Los españoles.

¿Cuál es la configuración del terreno?

En el interior es elevado y llano, pero á medida que se acerca á la costa, es bajo.

¿Qué clase de clima tiene aquel país?



*El Conquistador Pedro de Alvarado.*

Suave y sano en el interior; pero en las costas es cálido é insalubre.

¿Hay volcanes en la América Central?

Muchos, siendo los más notables el de Fuego, el de Agua y el de Atitlán, en Guatemala; los de Izalco, San Miguel, San Salvador, San Vicente, etc., en El Salvador; y los de Cosigüina, Momotombo, Masaya y otros, en Nicaragua.

¿Qué ciudad fué destruida en tiempos pasados por el volcán de Agua?

Guatemala la Antigua.

¿Qué sucede respecto de los temblores en la América Central?

Que son muy frecuentes, y muchas veces causan daños considerables.

¿Cuáles son los principales ríos del país?

El Polochic y el Motagua, en Guatemala; el Ulua y el Choluteca, en Honduras; el Segovia en Nicaragua, y el San Juan entre Nicaragua y Costa Rica.

*Diga Vd. los lagos más notables?*

El de Petén en Guatemala; y los de Managua y de Nicaragua en la república de este último nombre.



*Guatemala la Antigua.*

¿ Cuáles son sus producciones vegetales ?  
Azúcar, algodón, café, cacao, arroz, añil, maíz, caoba, etc.

¿ Qué insecto se cultiva extensamente ?  
La cochinilla, pequeño insecto, que da un hermoso color rojo, empleado en la tintura.

¿ Cuáles son las producciones minerales ?

Oro, plata, cobre, hierro, plomo, y zinc.

¿ Qué colonia británica hay al sur de Yucatán y nordeste de Guatemala ?

Belice, colonia fundada por los ingleses.


¿ En qué se ocupan principalmente los habitantes de aquella colonia ?

En cortar caoba, palo de campeche, cedro, zarparrilla, etc.

#### GUATEMALA.

*Diga Vd. los límites de Guatemala ?*

Al Norte confina con Méjico, al Sur con El Salvador y el Pacífico, al Este con Belice, el Caribe y Hon-



*Teatro Nacional de Guatemala.*

duras y al Oeste con Méjico y el Pacífico.

¿Cuál es la superficie del país?

129,450 kilómetros cuadrados ó 50,000 millas cuadradas.

¿Qué población tiene?

1,200,000 habitantes.

¿Cuáles son las principales ciudades de la república?

Guatemala la Nueva, la capital, con unos 40,000 habitantes; la

¿Y sus puertos?

San José, Santo Tomás é Izabal.

#### HONDURAS.

¿Cuáles son los límites de Honduras?

Al Norte con el mar Caribe; al Este y Sur con Nicaragua, el Pacífico y El Salvador y al Oeste con Guatemala.

¿Qué superficie tiene?

103,560 kilómetros cuadrados ó 40,000 millas cuadradas.

¿Cuál es su población?

Unos 400,000 habitantes.

¿Y sus ciudades más notables cuáles son?

Tegucigalpa, la capital, con 12,000 habitantes, Yoro, Santa Rosa y Comayagua.

¿Qué puertos en la república son los principales?

Omoa, Trujillo y Puerto Cortés en el Atlántico; y Amapala en el Pacífico.

#### EL SALVADOR.

¿Cuáles son los límites de El Salvador?

Al Norte Honduras, al Este, Honduras y el Pacífico; este océa-

no por el Sur y al Oeste Guatemala.

¿Qué superficie tiene?

24,854 kilómetros cuadrados, ó



Iglesia Parroquial de Tegucigalpa.

Antigua Guatemala, Chiquimula, Zacapa, Amatitlán, La Verapaz, Quezaltenango, Sololá y Totonicapán.

9,600 millas cuadradas.

¿Cuál es la población de la república?

600,000 almas.

Nómbrense las principales ciudades?

San Salvador, la capital; Santa Ana, San Miguel, San Vicente y Cojutepeque.

¿Y sus principales puertos?

La Libertad, La Unión y Acajutla.

### NICARAGUA.

¿Cuáles son los límites de Nicaragua?

Tiene al Norte á Honduras; al Sur á Costa Rica; al Este al mar Caribe; y al Oeste á Honduras y al océano Pacífico.

¿Cuál es su superficie?


150,162 kilómetros cuadrados ó 58,000 millas cuadradas.

¿Cuántos habitantes tiene la república?

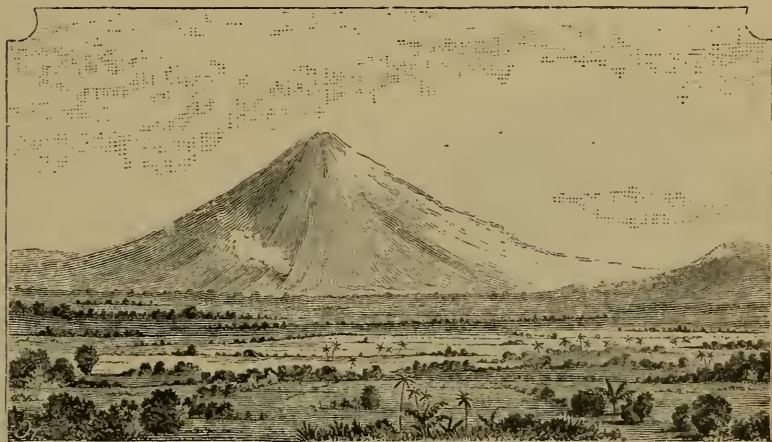
Unos 300,000.

¿Cuáles son sus ciudades más importantes?

Managua, la ca-




*Cortes de Caoba en el río Ulúa (Honduras).*




*Valle de Jiboa y volcán de San Vicente (República del Salvador).*




*Puerto de la Unión (República del Salvador).*



*Gran Lago de Nicaragua y Volcán de Ometepe.*



*Puerto de Corinto (República de Nicaragua).*



*Catedral de San José (República de Costa Rica).*

pital, con unos 10,000 habitantes; Granada, León, Chinandega y Rivas.

*¿ Y sus puertos principales?*

San Juan del Norte, en el Atlántico; y San Juan del Sur, Corinto, Nacascolo y Brito, en el Pacífico.

### **COSTA RICA.**

*¿ Cuáles son los límites de Costa Rica?*

Al Norte, Nicaragua; al Este el mar Caribe y la República de Colombia; y al Sur y el Oeste el océano Pacífico.

*¿ Qué superficie tiene?*

54,369 kilómetros cuadrados ó 21,000 millas cuadradas.

*¿Cuál es la población de la república?*


260,000 almas.

*¿ Cuáles son sus ciudades más importantes?*

San José, la capital, con 20,000 habitantes; Cartago, Heredia y Alajuela.

*¿ Y sus principales puertos?*





*Volcán de Orosi (Costa Rica).*

Puerto Limón en el Atlántico y Punta Arenas en el Pacífico. | tillas, las Antillas Menores, y las Bahamas.

### LECCIÓN XXVII

*¿Cuál fué el primer lugar del hemisferio occidental en que Colón desembarcó?*

La isla de San Salvador ó Guanahaní.



*Cristóbal Colón.*

*¿En qué año tuvo lugar el descubrimiento de América por Colón?*

En 1492.

*¿Por qué dió Colón el nombre de Indias á estas islas?*


Porque supuso que quedaban al este de Asia.

*¿Cómo se llamaron, cuando se averiguó que no quedaban al este de Asia?*

Se llamaron Indias Occidentales, para distinguirlas de las Indias Orientales.

*¿Cómo están divididas las islas de la India Occidental?*

En tres grupos: las Grandes An-



*Las 3 Naves de Colón: Santa María, Pinta y Niña.*

*¿Cuántas estaciones hay en estas comarcas?*

Hay dos solamente: la seca y la lluviosa.

### LECCIÓN XXVIII

*¿Cómo es su clima?*

De mayo á diciembre el clima es cálido y malsano para los extranjeros; pero de diciembre á mayo es el más bello que puede encontrarse en el mundo.

¿ *Qué pasa en el otoño?*

Ocurren furiosos huracanes.

¿ *Qué daños hacen estos huracanes?*

Muchas veces derriban casas, se llevan de raíz plantaciones enteras, y causan numerosos naufragios.

¿ *A qué gobierno están sometidas las islas de Cuba y Puerto Rico?*

Al de España.

### LECCIÓN XXIX

¿ *Qué es Cuba?*

La más extensa de las Grandes Antillas.

¿ *Cuál es la población de esta isla?*

1,466,000 habitantes.

¿ *Qué superficie tiene?*

Unos 121,683 kilómetros cuadrados ó 47,000 millas cuadradas.

¿ *Cuál es la capital de Cuba?*

La Habana, con 230,000 almas, la ciudad más grande y puerto más importante de las Indias Occidentales.

¿ *Cuáles son las producciones de la isla?*

Azúcar, tabaco, café y exquisitas frutas, en abundancia.



*La Habana.*

¿ *Qué otras ciudades hay, de importancia?*

Matanzas, Santiago, Puerto Príncipe, Cárdenas, Nuevitas, Trinidad, y Cienfuegos.

¿ *Qué superficie tiene Puerto Rico?*

Unos 7,677 kilómetros cuadrados ó 2,970 millas cuadradas.

¿ *Cuántos habitantes tiene?*


Unos 740,000 habitantes.

¿ *Cuál es la capital de esta isla?*

San Juan, con 30,000 habitantes.

¿ *Qué es Haití?*

El nombre antiguo de la isla que hoy ocupan las repúblicas de Haití y Dominicana.



*Escena en Puerto Rico.*

¿Qué parte ocupa la república de Haití?  
La occidental.

Puerto Príncipe, con 25,000 al  
mas.

¿A qué na-  
ciones perteneció  
la isla en varias  
épocas?

A Francia y  
á España.


¿Qué pobla-  
ción tiene Haití?

Como 708,-  
500 habitan-  
tes.

¿Y la Repú-  
blica Dominica-  
na?

Unos 300,-  
000 habitan-  
tes.

¿Cuál es la  
capital de Haití?



*Catedral de Santo Domingo.*

¿ Y la de la República Dominicana ?  
Santo Domingo, con 20,000 habitantes.

¿ Por qué es notable Santo Domingo ?  
Por ser la primera ciudad que los españoles fundaron en América.

¿ Á qué gobiernos pertenecen las demás islas ?

La mayoría de ellas á la Gran Bretaña, y las restantes á Francia, Holanda y Dinamarca.

¿ Entre las que pertenecen á la Gran Bretaña, cuál es la más importante ?  
Jamaica, al sur de la isla de Cuba, y sudoeste de Haití.

¿ Qué superficie tiene ?  
11,516 kilómetros cuadrados ó 3,894 millas cuadradas.

¿ Y cuántos habitantes ?  
506,150.

¿Cuál es la capital de la isla ?  
Kingston, con 35,000 almas.

### LECCIÓN XXX

MAPA DE LA AMÉRICA DEL SUR.

¿ Qué mar hay al norte de la América del Sur ? C-e.

¿ Qué océano al este ? Á-o.

¿Cuál al oeste ? P-o.

¿ Qué istmo une la América del Sur á la del Norte ? P-á.

¿ Qué cadena de montañas se extiende á lo largo de la costa occidental de la América del Sur ? A-s.

¿Cuál es el río más grande de la América del Sur y también del mundo ? A-s.

¿ En qué montañas tiene su nacimiento ? A-s.

¿ En qué dirección corre ? E-e.

¿ En qué océano desemboca ? Á-o.

¿ Qué curso tiene ?

Unos 6,436 kilómetros, ó 4,000 millas.

¿ Qué anchura tiene la boca del Amazonas ?

290 kilómetros ó 180 millas.

¿ Qué río caudaloso hay en la parte setentrional de la América del Sur ? O-o.  
¿ En qué dirección corre ? N-ste.

### LECCIÓN XXXI

¿Cuál es el río más grande que se encuentra al sur del Amazonas ? P-a.

¿ Qué ríos se unen para formar el de la Plata ? P-á y U-y.

¿ En qué dirección corren estos ríos ? S-r.

¿ Qué río grande corre al sur del cabo de San Roque ? S-n F-o.

¿ Qué montañas se extienden á lo largo de la costa oriental ? S-a del M-r.

¿ Cuáles son los principales ríos tributarios del Amazonas, por el Sur ?

M-a, T-s, T-ns.

¿Cuál es la nación más grande de la América del Sur ? B-l.

¿ Cuáles son los tres países que se encuentran en la parte setentrional ?

C-a, V-a y G-s.

¿ Cuáles se encuentran en la parte occidental ? E-r, P-á, B-a, y C-e.

¿ Cuáles ocupan el sur y el sudeste ?

R-a A-a, U-y y P-y.

### LECCIÓN XXXII

¿ Qué país se encuentra al sur de la República Argentina ? P-a.

¿ Qué república se encuentra toda ella entre los Andes y el Pacífico ? C-e.

¿ Qué puerto de mar notable hay en Chile ? V-o.

¿ En qué océano desembocan todos los grandes ríos de la América del Sur ?

Á-o.

¿ Qué isla grande hay al sur de Patagonia ? T-a del F-o.

¿ Qué estrecho la separa del continente ?

M-s.

¿ Qué islas hay al norte de la América del Sur ? A-s.

¿ Qué isla hay en la boca del Amazonas ? J-s.

¿ Qué islas hay al este de Patagonia ?

F-d.

¿ Qué islas hay al oeste de Chile ?

J-n F-z.



¿Cuál al oeste de Patagonia? C-é.  
 ¿Qué golfo hay al norte del istmo de Panamá? D-n.

### LECCIÓN XXXIII

¿Cuál es la capital del Brasil? R-o J-o.  
 ¿Qué cabo hay en la extremidad oriental del Brasil? S-n R-e.  
 ¿Cuál es el cabo que queda más al sur de la América Meridional? H-s.  
 ¿Cuál es el más occidental? B-o.  
 ¿Qué volcán notable hay en el Ecuador? C-o.  
 ¿Qué nevado, el más alto de América, hay en Bolivia? S-a ó I-u (25,250 pies.)  
 ¿En qué país queda el Aconcagua? C-e.  
 ¿Qué ríos hay al sur de la República Argentina? C-o y N-o.  
 ¿Qué ciudad se encuentra en la embocadura del río de la Plata? M-o.  
 ¿Qué gran lago hay entre Perú y Bolivia? T-a.  
 ¿Qué cabo hay al N. de la República de Colombia? G-s.  
 ¿Qué ciudad se encuentra cerca de la embocadura del Amazonas? P-á.  
 ¿Qué ciudad queda al S. del cabo de San Roque? P-o.

### LECCIÓN XXXIV

#### MAPAS DE LOS PAÍSES DE LA AMÉRICA DEL SUR.

¿Cuáles son los nombres de los países de la América del Sur?  
 C-a, V-a, G-s, E-r, P-ú, B-a, C-e, R-a A-a, P-y, U-y y B-l.

#### REPÚBLICA DE COLOMBIA.

¿Qué mar hay al N. de Colombia? C-e.  
 ¿Cuáles son los dos países que quedan al E.? V-a y B-l.  
 ¿Qué país queda al S.? E-r.  
 ¿Qué océano queda al O.? P-o.  
 ¿Qué cabo al N. G-s.  
 ¿Qué río caudaloso corre de S. á N., á desembocar en el mar Caribe ó de las Antillas? M-a.  
 ¿Entre qué ciudades queda la boca del Magdalena? C-a y S-a.

¿Qué río hay en la parte del S. que linda con el Ecuador? C-á.  
 ¿Qué río corre hacia el N. E. á desembocar en el Orinoco? M-a.  
 ¿Cuál es la capital de Colombia? B-á.  
 ¿A qué elevación está Bogotá sobre el nivel del mar? A 8,670 pies.  
 ¿Qué istmo une á Colombia á la América Central? P-á.  
 ¿Qué ciudad hay en el istmo, sobre el mar Caribe? C-n ó A-l.  
 ¿Qué ciudad hay hacia el S., en el mismo istmo, sobre el Pacífico? P-á.  
 ¿Qué bahía ó golfo hay al S. del istmo? P-á.  
 ¿Qué bahía hay en la costa occidental? B-a.  
 ¿Qué cordillera de montañas hay sobre la costa occidental? A-s.  
 ¿Qué ciudad en los Andes del S. O.? P-n.

### LECCIÓN XXXV

#### VENEZUELA.

¿Qué mar y qué océano quedan al N. de Venezuela? C-e y A-o.  
 ¿Qué país queda al E.? G-s.  
 ¿Cuál al S.? B-l.  
 ¿Cuál al O.? C-a.  
 ¿Cuál es la capital? C-s.  
 ¿A qué distancia de la costa queda Caracas? A 11 kilómetros ó 7 millas.  
 ¿Cuál es el puerto de mar más inmediato á Caracas? La G-a.  
 ¿Qué otras dos ciudades de importancia hay sobre la costa? C-á y P-o C-o.  
 ¿Qué gran río corre hacia el N. E. á desembocar en el Atlántico? O-o.  
 ¿Qué gran lago hay hacia el N. O.? M-o.  
 ¿Qué ciudad hay en la orilla occidental de este lago? M-o.  
 ¿Qué ciudad hay al S. O. de Caracas? V-a.  
 ¿Qué ciudad principal hay al S. del lago de Maracaibo? M-a.  
 ¿Qué sierra se encuentra hacia el S.? P-a.  
 ¿Qué islas principales hay al N. de Venezuela? C-o, T-o, M-a, G-a y T-d.  
 ¿Qué golfo al N. O. M-o.

# MAPA DE LOS PAÍSES DE LA AMÉRICA DEL SUR



## LECCIÓN XXXVI

## GUAYANAS.

- ¿ Qué océano hay al N. de las Guayanas? A-o.  
 ¿ Qué país queda al S.? B-l.  
 ¿ Cual al O.? V-a  
 ¿ Cuáles son los nombres de las tres divisiones que constituyen las Guayanas? I-a, H-a y F-a.  
 ¿Cuál es la capital de la Guayana Inglesa? G-n.  
 ¿Cuál la de la Guayana Holandesa? P-o.  
 ¿Cuál la de la Guayana Francesa? C-a.  
 ¿Cuál de las Guayanas queda más al oeste? I-a.  
 ¿Cómo se halla situada la Guayana Holandesa respecto de la Francesa? Al O-e.

## LECCIÓN XXXVII

## ECUADOR.

- ¿ Qué país queda al N. del Ecuador? C-a.  
 ¿ Qué país queda al E.? B-l.  
 ¿Cuál al S.? P-ú.  
 ¿ Qué océano al O.? P-o.  
 ¿ Qué río hay al N.? C-á.  
 ¿ Qué río corre al S. del Caquetá? P-o.  
 ¿ Dónde desembocan estos ríos? A-s.  
 ¿ Qué río corre al S. del Putumayo? N-o.  
 ¿Cuál es la capital del Ecuador? Q-o.  
 ¿ Sobre qué cadena de montañas está Quito? A-s.  
 ¿ A qué elevación sobre el nivel del mar está Quito? A 10,000 pies.  
 ¿ Qué ciudad hay al S. de Quito? R-a.  
 ¿ Qué ciudad hay en el golfo de Guayaquil? G-l.  
 ¿ Qué ciudad hay al S. del Ecuador? J-n.  
 ¿Cuál al N. de Jaén? C-a.  
 ¿ Qué golfo hay en la costa occidental? G-l.  
 ¿ Qué volcanes principales se encuentran en el interior del país á corta distancia de Quito? P-a, A-a y C-i.

## LECCIÓN XXXVIII

## PERÚ

- ¿ Qué país queda al N. del Perú? E-r.  
 ¿ Qué países quedan al E.? B-l y B-a.  
 ¿ Qué océano queda al O.? P-o.  
 ¿ Qué montañas sobre la costa occidental? A-s.  
 ¿ Qué río corre de S. á N. á desembocar en el Marañón? U-i.  
 ¿Cuál es la capital del Perú? L-a, á 7 millas del Pacífico.  
 ¿Cuál es el puerto inmediato á Lima? C-o.  
 ¿ Qué ciudades y villas principales hay sobre la costa, al N. del Callao? T-o, L-e y P-a.  
 ¿ Qué pueblos y ciudades hay en la costa, ó inmediatas á esta, al S. del Callao? P-o, I-a, y A-a.  
 ¿ Qué ciudades y villas hay en el interior al N. de Lima? C-a, H-o, H-z y P-o.  
 ¿ Qué ciudades hay al S. E. de Lima? H-a, A-o, C-o, A-a y P-o.  
 ¿Cuál al N. O. del lago Titicaca? C-o.  
 ¿ Qué lago hay al N. E. de Lima? Reyes, de 90 millas de circunferencia.  
 ¿ Qué lago hay entre el Perú y Bolivia? T-a.  
 ¿ Qué ciudad peruana hay en las márgenes del lago Titicaca? P-o.  
 ¿ Qué desierto se encuentra al S. del Perú? A-a.  
 ¿ Qué cabo hay en la costa, hacia el N. O.? B-o.  
 ¿Cuál es el principal puerto de la república peruana? C-o.

## LECCIÓN XXXIX

## BOLIVIA

- ¿ Qué país queda al N. y al E. de Bolivia? B-l.  
 ¿Cuál al S.? R-a A-a.  
 ¿ Qué países al O. y S. O.? P-ú y C-e.  
 ¿ Qué ríos riegan su territorio por el N.? B-í y M-é.  
 ¿ Qué río hay al N. E.? G-é.  
 ¿ Qué río hay al S.? P-o.  
 ¿ Qué cordillera hay al O. de esta república? A-s.



¿ Qué cima la más elevada de los Andes, hay en Bolivia? S-a (á 25,250 pies).

¿ Qué desierto hay al S. O.? A-a.

¿Cuál es la capital de Bolivia? S-e.

¿ Qué villa queda al N. O. de Sucre? O-o.

¿Cuál al N. E. de Oruro? C-a.

¿ Qué ciudad queda al S. O. de Sucre? P-i.

¿ Qué villa hacia las fuentes del río Bermejo? T-a.

¿ Y cuál cerca de la costa S. E. del lago Titicaca? La P-z.

¿ Qué lago separa á Bolivia del Perú? T-a.

¿Cuál es la longitud del lago Titicaca de N. O. á S. E.?

160 kilómetros ó 100 millas.

¿ Y su anchura de E. á O.?

56 kilómetros ó 35 millas.

¿ Qué nevados hay en la república de Bolivia? S-a, I-i y P-i.

## LECCIÓN XL

### CHILE

¿ Qué desierto hay al N. en Chile? A-a.

¿ Qué país queda al E.? R-a A-a.

¿Cuál es su límite por el S.? P-o.

¿ Qué océano queda al O.? P-o.

¿ Qué cordillera forma el límite oriental? A-s.

¿Cuál es la capital de Chile?

S-o, á 96 kilómetros, ó 60 millas de la costa.

¿Cuál es su puerto más inmediato?

V-o.

¿ Qué ciudad hay en la costa, al N. de Valparaíso? C-o.

¿ Qué otra ciudad más al N. en el interior? C-ó.

¿ Qué otras dos ciudades principales hay al S.? C-n y V-a.

¿ Qué islas hay en el Pacífico á 400 millas de Chile? J-n F-z.

¿ Qué isla hay cerca de la costa al S. de Valdivia? Ch-é.

¿ Qué golfo entre Chiloé y el continente? C-o.

¿ Qué población hay en Chiloé? A-d.

¿ Qué puerto al N. E. de Ancud? M-t.

## LECCIÓN XLI

### PREGUNTAS QUE SIRVEN DE REPASO.

#### CIUDADES

(¿ Dónde quedan y cómo están situadas? )

#### Colombia.

Bogotá? Panamá?

Cartagena? Popayán?

Colón ó Aspinwall?

#### Venezuela.

Caracas? La Guayra?

Coro? Cumaná?

Maracaibo? Trujillo?

Valencia? Mérida?

#### Guayanas.

Georgetown? N. Amsterdam?

Paramaribo? Cayena?

#### Ecuador.

Quito? Guayaquil?

Riobamba? Cuenca?

#### Perú.

Lima? Callao?

Trujillo? Pisco?

Arequipa? Arica?

Payta? Cajamarca?

Huánuco? Cerro Pasco?

Ayacucho? Cuzco?

Junín? Puno?

Huancavélica?

#### Bolivia.

Sucre? Oruro?

Potosí? Tarija?

La Paz? Cochabamba?

#### Chile.

Santiago? Valparaíso?

Coquimbo? Valdivia?

Copiapó. Concepción?

**LECCIÓN XLII****RÍOS**

(¿ *En qué países se encuentran, qué dirección llevan, y dónde desembocan?* )

Magdalena?	Caquetá?
Napo?	Mamoré?
Orinoco?	Marañón?
Putumayo?	Bení?
Ucayali?	Madera?
Meta?	Pilcomayo?

**MONTAÑAS.**

Andes?	Sierra Parima?
	Sierra del Mar?

**NEVADOS.**

Cotopaxi?	Chimborazo?
Sorata?	Illimani?

**LAGOS.**

Maracaibo?	Titicaca?
	Reyes?

**LECCIÓN XLIII****REPÚBLICA DE COLOMBIA.**

¿ *Cuáles son los límites de la República de Colombia?*

(Véase el mapa.)

¿ *Quién fué el descubridor de este país, llamado en otro tiempo Nueva Granada?*

Alonso de Ojeda; pero no hizo establecimiento alguno en él.

¿ *Cuál fué el primer europeo que desembarcó en el territorio de la República de Colombia?*

El español Rodrigo de Bastidas,

que con un armamento partió de Sevilla, y desembarcó, en 29 de Julio de 1525, en un puerto á que dió el nombre de Santa Marta.

¿ *Hizo Bastidas alguna conquista luégo que desembarcó en Santa Marta?*

Apenas había conseguido coger un rico botín de oro en sus primeros movimientos de conquista, cuando sus subalternos, queriendo disponer á su antojo del caudal, lo asesinaron.

¿ *Quién fué al fin el conquistador de aquella parte de la América?*

Gonzalo Jiménez de Quesada, hombre de ánimo, que con una expedición bastante numerosa desembarcó en el mismo puerto.

¿ *Qué hizo luégo que desembarcó allí?*

Siguió para Bogotá, donde residía la corte del zipa ó rey de aquellas comarcas.

¿ *Después de la conquista, cómo se gobernó el país?*

Como colonia española.

¿ *Hasta qué tiempo?*

Hasta el año de 1810, en que comenzó la revolución que efectuó la independencia de Colombia, en 1821.

¿ *Qué batallas decidieron el triunfo de las armas independientes?*

La batalla de Boyacá, dada en 1819, y la de Carabobo, en 1821. En ambas fué completamente derrotado el ejército español, y se vió obligado á evacuar los territorios colombiano y venezolano.

¿ *Cómo quedó constituido el país después de la independencia?*

En 9 de Mayo de 1821 se reunió un congreso general en el Rosario

de Cúcuta, que formó una constitución é incorporó en una república, bajo el nombre de Colombia, á



*Simón Bolívar.*


Nueva Granada, Venezuela y el país que hoy se llama Ecuador.

¿ Á quién nombró el congreso Presidente de la República ?

Al Libertador Simón Bolívar, quien por su constancia, talentos y valor, hizo triunfar la causa de la independencia.

¿ Cómo fué gobernado después el país ?

En 1831 poco después de que Bolívar dejara el mando supremo, formó con el nombre de Nueva Granada, una de las tres repúblicas independientes en que se dividió la primitiva república de Colombia. Organizada, en 1858, en 8 estados soberanos se llamó Confederación Granadina, cuyo nombre cambió más tarde por el de Estados Unidos de Colombia, y últimamente, en 1885 al reconstituirse bajo un gobierno central, por el de República de Colombia que lleva en la actualidad.



*Bogotá.*

**LECCIÓN XLIV**

¿Cuál es la extensión de la República de Colombia?

Su superficie es de 500,000 millas cuadradas (ó 1.294,500 kilómetros cuadrados), según datos oficiales publicados en 1874.

¿Qué población tiene?

4,000,000 habitantes.

¿Cuál es su capital?

Bogotá, residencia de los altos poderes, ciudad de 60,000 habitantes, á cerca de 2,643 metros, ó 8,670 pies sobre el nivel del mar, con buen caserío, una universidad, bibliotecas, buenos colegios públicos y privados, escuelas para la enseñanza primaria, varios establecimientos de beneficencia, un museo, un observatorio astronómico, ricas iglesias católicas, buenos paseos y hermosos edificios.

¿Qué gobierno es el de este país?

Republicano.

¿Cómo está dividida la República?

En un Distrito Federal, que es: Cundinamarca, cap. Bogotá; siete Estados que son: Antioquía, cap. Medellín; Bolívar, cap. Cartagena; Boyacá, cap. Tunja; Cauca, cap. Popayán; Magdalena, cap. Santa Marta; Santander, cap. Socorro; y Tolima, cap. Neiva: un Departamento Nacional, que es Panamá, cap. Panamá y tres Territorios que son: Casanare, cap. Nunchía; Nevada y Motilones, cap. Atanques; y La Goajira, cap. Soldado.

**LECCIÓN XLV**

¿Cómo están administrados los Estados?

Tienen su legislatura de elección

popular, un gobernador y tribunales, también elegidos por el pueblo. Los Estados están divididos en distritos, que tienen amplias libertades y facultades municipales.

¿Cuál es la religión de los colombianos?

La tolerancia de cultos se ha consagrado en las instituciones, como una medida indispensable para el progreso del país; el gobierno no reconoce ninguna religión, y protege el ejercicio de todos los cultos; pero casi todos los colombianos son católicos.

*Refiéranse algunas de las medidas de progreso que se han consagrado en las instituciones colombianas.*

Todos los monopolios se han abolido; la prensa ha quedado completamente libre; la esclavitud totalmente abolida; y la inviolabilidad de la vida humana es un derecho garantizado por la constitución.

*En punto á vías de comunicación ¿qué obras notables se han emprendido?*

Hay cuatro ferrocarriles: el de Panamá; el de Bolívar que pone en comunicación á Baranquilla con Sabanilla y los de la Dorada y el Cauca; los cuales, junto con los caminos carreteros, y el impulso que se ha dado á la navegación del río Magdalena, arteria principal del comercio de la República, harán de aquel país uno de los puntos principales de inmigración, á favor de la cual se han expedido también leyes muy sabias. El telégrafo eléctrico une la capital con alguna de las principales ciudades de la República.

¿Cuál es el aspecto del país?

Muy variado; siendo hacia el

centro y sudoeste sumamente elevado y montañoso.

*¿Cuál es su clima?*

Igualmente variado; pero constante en los respectivos lugares. En los valles, es por lo común caliente, y más ó menos frío en las cimas de las montañas. El clima es sano en lo general; pero hay localidades malsanas, principalmente en la costa.

### LECCIÓN XLVIII

*¿Cuáles son sus producciones vegetales?*

Estas son tan variadas como el clima. Abundan el trigo, maíz, arroz, plátanos, yucas, añil, quina, algodón, cera de laurel, tagua ó marfil vegetal, infinidad de plantas


tintóreas y medicinales, bálsamos diversos, caucho, cacao, café, tabaco, vainilla, una infinita variedad de frutas; caoba, diomate, é igual variedad de maderas preciosas y de tinte.

*¿Cuáles son sus principales producciones minerales?*

Oro, platina, plata, cobre, hierro, plomo, etc. En Muzo, Estado de Boyacá, se encuentran las únicas minas de esmeraldas finas que existen en el mundo. Hay también otras piedras preciosas.

### LECCIÓN XLIX

*¿Cuáles son los principales puertos de mar de la República de Colombia?*



*Puerto de Cartagena.*

Cartagena, Santa Marta, Riohacha, Sabanilla y Colón ó Aspinwall, sobre el Atlántico, y Panamá y Buenaventura sobre el Pacífico.

*¿Cuáles son sus principales ríos?*

El más importante es el Magdalena, de que son afluentes principales el Cauca y el Sogamozo.

*¿En qué dirección corre el Magdalena y dónde desemboca?*

Corre en la dirección de N. á S., y desemboca en el Atlántico, entre Cartagena y Santa Marta.

*¿Cuántas millas de este río son navegables?*

Cerca de 800 millas.

*¿Qué otros ríos notables hay?*

El San Juan y el Atrato, que han llamado por largo tiempo la atención, por las facilidades que prestan

para poner en comunicación los dos océanos Pacífico y Atlántico.

¿ *Dónde desagua el San Juan?*  
En el Pacífico.


¿ *Dónde desemboca el Atrato?*  
En el Atlántico, formando con el golfo de Panamá el arranque del istmo de Panamá.

¿ *Cuáles son las principales ciudades de la república?*

Bogotá, Tunja, Socorro, Pamplona, Colón, Cartagena, Panamá, Santa Marta, Barranquilla y Popayán.

¿ *Cuáles son los Estados donde más abunda el oro?*

En varios se encuentra este mineral, pero es abundantísimo en la provincia de Chocó, Estado del Cauca; y el Estado de Antioquía saca de sus minas cuatro ó cinco millones de pesos anuales.



*Panamá.*

¿ *Qué nevados principales se encuentran en aquel país?*

Cumbal, el volcán de Pasto, el páramo de Sotará, el de Puracé, el Tolima y el páramo de Ruiz.

¿ *Qué hay de notable en el Puracé?*

Que en la cima de la altura en que arde el volcán hay dos lagunas, una á cerca de 16,000 pies sobre el nivel del mar, y la otra á 17,000.

## LECCIÓN I

### ESTADOS UNIDOS DE VENEZUELA



*Diga Vd. los límites de Venezuela.*  
(Véase el mapa.)

¿ *Cuándo fué descubierta Venezuela?*  
Cristóbal Colón la descubrió en su tercer viaje, en 1498.

¿ *Cuál fué el primer pueblo fundado en el país por Alfinger?*  
Coro, que se fundó en 1534.

¿ *Cuál es la ciudad más antigua de la costa firme y una de las más antiguas del nuevo mundo?*

Cumaná, fundada en 1521, por Jacomé Castellón.

¿ *Á qué gobierno perteneció Venezuela desde el tiempo de la conquista hasta 1821?*

Á España.

¿ *Desde qué época comenzaron á hacer esfuerzos los venezolanos por independizarse de la madre patria?*

Desde el año de 1806.

¿ *Cuándo empezó verdaderamente la revolución?*

En 1810 que proclamaron su independencia varias provincias, que en 1811 formaron una república federativa.

¿ Cuánto tiempo duró esta república ?

Solo algunos meses ; pues en 1812 volvieron los españoles á destruir el nuevo orden establecido.

¿ Quién fué al fin el libertador de aquel país ?

Simón Bolívar, que con comisión y recursos dados por el congreso de

república, bajo el nombre de Colombia, Venezuela y los países que hoy se llaman República de Colombia y Ecuador, respectivamente. En 1831, Venezuela se organizó en república independiente, y actualmente se llama Estados Unidos de Venezuela.

¿Cuál es la extensión de Venezuela ?

Como 1.105,503 kilómetros cuadrados, ó 427,000 millas cuadradas.

¿Cuál es su población ?

Unos 2,000,000 de habitantes.

¿Cuál es su capital ?

Caracas, con 70,000 habitantes, una universidad, un seminario, una academia militar, academias de pintura y de música, varias escuelas públicas y colegios particulares, sociedades patrióticas de agricultura y de emigración, un teatro y otros establecimientos útiles.

¿ Qué acontecimiento notable ocurrió en Caracas en 1812 ?

Un terremoto que aruinó casi completamente la ciudad, y bajo cuyas ruinas perecieron más de



Animales de la América del Sur.

la Nueva Granada, sostuvo la guerra contra los españoles, hasta que alcanzó los triunfos de Boyacá y Carabobo, que dejaron definitivamente libres los dos países.

## LECCIÓN LI

¿ Cómo fué gobernado entonces el país ?

En 1821 se incorporaron en una

12,000 habitantes.

¿Cuál es el gobierno actual del país ?

Republicano federal.

¿Cuál es la religión ?

En Venezuela hay tolerancia de cultos ; pero casi toda la población es católica.

¿Cuál es el aspecto del país ?

Montañoso en las regiones de la

costa y la occidental, extendiéndose en dilatados llanos hacia el centro y el sur.

¿ *Cuál es el clima?*

Muy variado en la parte montañosa, y sumamente cálido en los grandes llanos de que se compone la mayor parte del país.

¿ *Cuántas estaciones hay allí?*

Dos, una lluviosa y otra seca, llamadas *invierno* y *verano*; pero en ellas no cambia la temperatura.

¿ *Cuáles son las principales producciones?*



*La Planta del Tabaco.*

Cacao, café, tabaco, algodón, azúcar, maíz, yucas, plátanos, cocos, y todas las frutas y legumbres de los países tropicales; se exportan, entre otras maderas, caoba, granadillo y cedro; palo de mora, el brasil y sangre de drago, para la tintura; quina, zarzaparrilla, y muchas gomas y resinas. Se encuentran además allí grandes dehesas de ganado vacuno.

¿ *Cuáles son las producciones minerales?*

Cobre, que es de una calidad superior; plomo, carbón, hierro y sal. El oro y la plata son poco abundantes.

## LECCIÓN LII

¿ *Cómo está dividida la república?*

La república se compone del Distrito Federal, cap. Caracas; 8 Estados Autonómicos, que son: Los Andes, cap. Mérida; Guzmán Blanco, cap. Villa de Cura; Carabobo, cap. Valencia; Falcón, cap. Maracaibo; Lara, cap. Barquisimeto; Zamora, cap. Barinas; Bolívar, cap. Ciudad Bolívar; y Bermúdez, cap. Cumaná; 8 Territorios, que son: Alto Orinoco, Amazonas, Turnari, Caura, Goajira, Colón, Armisticio y Delta; y 2 Colonias Agrícolas: Bolívar y Guzmán Blanco.

¿ *Cuáles son sus ciudades principales?*

Caracas, Maracaibo, Valencia, Cumaná y Barcelona.

¿ *Cuáles son los principales puertos y plazas de comercio?*

La Guayra, Puerto Cabello, Maracaibo, Cumaná y Ciudad Bolívar, en el Orinoco.

¿ *Cuáles son los principales ríos?*

El Orinoco, cuyos afluentes más notables son el Guaviare, el Meta, el Apure y el Caroní.

¿ *Qué curso tiene el Orinoco?*

Unos 2,413 kilómetros, ó 1,500 millas, de las cuales cerca de 800 son navegables.

¿ *Por dónde se comunica el Orinoco con el Amazonas?*

Por el caño de Caciquire, de 150 millas de largo, que entra en el Río Negro, afluente del Amazonas.



*Por cuántas bocas desagua el Orinoco en el Atlántico?*

Por diez y siete, sobre una extensión de 241 kilómetros ó 150 millas.

*¿Qué lagos notables tiene Venezuela?*

El de Maracaibo y el de Valencia.

*¿Cuántas islas tiene Venezuela?*

Setenta y una, y un sinnúmero de islotes que las rodean.

*¿Cuál es la principal?*

Margarita, que formaba el Estado de Nueva Esparta.

*¿Qué montañas principales hay en aquel país?*

La Sierra Nevada de Mérida, cuya elevación es de 4,600 metros ó 15,060 pies sobre el nivel del mar; la Silla de Caracas, el Picacho de Naiguatá, la Sierra de Parima, y alguna otra.

*¿Qué curiosidad natural se encuentra en la provincia de Cumaná?*

La célebre cueva del Guácharo, cuya abertura es de 80 pies de alto y 90 de ancho.

*¿Qué profundidad tiene esta cueva?*

Cerca de 4,000 pies.

*¿Qué ofrece de particular la cueva del Guácharo?*

Se cree que es la maravilla más estupenda de la naturaleza, entre las rocas calcáreas.

## LECCIÓN LIII

### ECUADOR



*¿Qué nombre tenía el Ecuador antes de ser conquistado por los españoles?*

Se le conocía con el nombre de Reino de Quito.

*¿Quién fué el conquistador del Ecuador?*

El español Francisco Pizarro.

*¿En qué año fué conquistado este país?*

En el año 1533.

*Después de la conquista, ¿cómo se organizó el Ecuador?*

Formó parte del vireinato del Perú hasta 1822.

*¿Cuánto tiempo formó parte integrante de la república de Colombia?*

Desde el 24 de junio de 1822 hasta el 13 de mayo de 1830, en que proclamó su independencia.

*¿Por qué se llama el país Ecuador?*

Porque la línea equinoccial, llamada *ecuador*, atraviesa la república cerca de la frontera colombiana, á unos cuantos minutos al norte de la ciudad de Quito.

*¿Cuándo fué conquistado por los Incas del Perú el país que hoy se llama Ecuador?*

Como 20 años antes de la invasión de los españoles.

*¿Qué Inca emprendió la toma del reino de Quito entonces?*

Huayna Capac.

*¿Cuál es la extensión del Ecuador?*

Tiene, con las islas Galápagos inclusive, unos 647,250 kilómetros cuadrados ó 250,000 millas cuadradas.

*¿Cuántos habitantes tiene?*

Algo más de 1.000,000.

*¿Cuál es su gobierno?*

Republicano democrático.

*¿Cuál es la religión del país?*

La católica romana.

*¿De qué modo está dividida la república?*

En 11 provincias que son las siguientes: Azuay, capital Cuenca; Chimborazo, cap. Riobamba; Esmeraldas, cap. del mismo nombre; Guayas, cap. Guayaquil; Imbabura, cap. Ibarra; León, cap. Tacunga; Loja, cap. del mismo nombre; Los Ríos, cap. Babahoyo; Manabí, cap. Montecristi; Pichincha, cap. Quito; y Tungurahua, cap. Ambato.

### LECCIÓN LIV

*Diganse los límites del Ecuador?*  
(Véase el mapa.)

*¿Cuál es la capital del Ecuador?*


Quito, con una buena universidad, escuela politécnica, conservatorio de música, varios colegios públicos y particulares, una buena biblioteca, un observatorio astronómico, un hospital, varios edificios públicos de regular arquitectura, muchos conventos, varias ricas iglesias, y 70,000 habitantes.

*¿A qué elevación está Quito sobre el nivel del mar?*

A unos 3,050 metros ó 10,000 pies.

*¿Qué otras ciudades de importancia tiene el Ecuador?*

Guayaquil, puerto principal, so-



*Catedral de Guayaquil.*

bre el río de su nombre, con 30,000 habitantes, un astillero muy afamado, varios colegios, un hospital y una escuela de navegación; y Cuenca, Loja, Ibarra y Riobamba son también ciudades de importancia.

*¿Cuál es la configuración del país?*

El Ecuador está atravesado de N. á S. por la cadena de los Andes, que hace presentar á su terreno faces muy diversas. Al E. abundan inmensas selvas, pantanos y ríos, y al

O. bosques y llanos, donde el clima es cálido é insalubre.

*¿ Por qué es notable el Ecuador ?*

Por hallarse en él las cimas y volcanes más elevados de la gran cadena de los Andes, después del

Aconcagua en Chile, el Nevado de Sorata y el Illimani, en Bolivia.

*¿ Cuáles son las cimas mas altas ?*

El Chimborazo, que se eleva á 6,530 metros, ó 21,422 pies sobre el nivel del mar, el Cayambé á más



*Paisaje y vista del Chimborazo.*

de 6,040 metros ó 19,813 pies, el Antisana y el Cotopaxi.

### LECCIÓN LV

*¿ Qué otros volcanes notables hay, fuera del Antisana y Cotopaxi ?*

Los de Llanganate, Tunguragua, Pichincha y otros.

*¿ Dónde quedan estos volcanes ?*

Casi todos á corta distancia de

Quito. El Pichincha hizo una erupción devastadora, que, con el terremoto que le acompañó, destruyó, en 1797, muchas poblaciones, é hizo perecer más de 40,000 almas.

*¿ Cuáles son los principales ríos del Ecuador ?*

El Amazonas, llamado también Marañón, el Yapurá, que desagua en el Amazonas por un delta de ocho brazos, después de recorrer un

espacio de 1,100 millas hasta su boca principal; el Putumayo, y el Napo, todos afluentes del Amazonas.

*¿ Hay algunos lagos notables en el Ecuador ?*

El único digno de mencionarse, por su celebridad histórica, es el de Yaguarcocha ó Lago de Sangre, en que Huayna Capac venció y degolló 30,000 indios Cañares, con cuya sangre se tiñeron sus aguas.

*¿ Cuáles son los puertos del Ecuador ?*

Los principales son Guayaquil y Esmeraldas.

*¿ Cuáles son las principales producciones vegetales ?*

Abundan los dilatados bosques del Ecuador en una variedad exquisita de maderas de construcción, como el guachapelí, roble, palo amarillo, y otras; el caucho, la cascari-lla ó quina son muy abundantes, y de allí viene la afamada quina de Loja. Se dan todos los frutos de las zonas tórrida y templada, y entre su gran diversidad de producciones animales se encuentra la preciosa cochinilla.

*¿ Cuáles son las producciones minerales ?*

Por casi toda la república abunda el oro; se encuentran minas de azogue, plata, cobre, azufre, hierro, esmeraldas, rubíes, y mármoles; habiendo también ricas minas de sal.

*¿ Por qué son notables los ecuatorianos ?*

Por tener mucha aptitud para las artes de toda especie. Hay en la república grabadores, escultores, pintores, excelentes médicos, y arquitectos; hallándose también no

poco adelantadas las artes mecánicas. Entre los artefactos de los ecuatorianos, son afamados sus galones y bordados de oro, sus paños y tejidos de algodón y de lana, su loza y sus sombreros de jipijapa.

*¿ Qué mejoras se han verificado en el Ecuador en estos últimos años ?*

Se han invertido grandes sumas en el fomento de todos los ramos de enseñanza, fundando escuelas, etc. en todas las poblaciones; edificios de beneficencia, y construyendo importantes vías de comunicación, que unen el interior con sus puertos principales.

## LECCIÓN LVI

### PERÚ



*¿ Quién civilizó el Perú en el siglo XVII ?*

El inca Manco Capac.

*¿ Qué pueblos habitaban aquel país antes del reinado de Manco Capac ?*

Unos pueblos salvajes y feroces.

*¿ En qué año se empezó á colonizar el Perú por los españoles ?*

En 1535 en que Pizarro, después de conquistarlo, fundó la ciudad de Lima.

*¿ Qué batalla memorable se registra en la historia de la conquista de aquel país ?*

La de Cajamarca, en que Pizarro derrotó completamente á los peruanos, y se apoderó del inca Atahualpa.

¿Cuál fué la suerte de Atahualpa?

Pizarro le hizo dar muerte en garrote.

¿Quién acompañó luego á Pizarro en las conquistas del Perú?



Manco Capac, fundador del imperio de los Incas.

Diego de Almagro.

¿Cómo murieron estos dos conquistadores?



Atahualpa.

Almagro fué degollado por orden de Pizarro, y este fué asesinado por el hijo y los amigos del primero.

¿Cómo fué gobernado el país después de la conquista?

Por vireyes nombrados por la corona de España, y de los cuales 40 se sucedieron en el mando.

¿Hasta qué tiempo continuaron los peruanos haciendo esfuerzos por recobrar su independencia?

Hasta 1784, en que Tupac Amaru, quien cuatro años antes había sido proclamado inca por los peruanos, fué hecho prisionero por los españoles y descuartizado.

¿Quién fué el último inca que hubo en el Perú?

Sairi Tupac, quien renunció sus derechos al imperio del Perú en la persona de Felipe II, rey de España.

## LECCIÓN LVII

¿Hubo después algún movimiento en favor de la independencia?

Sí; el Perú estuvo desde 1809 luchando por su libertad, hasta 1821, en cuyo año el valeroso general San Martín entró victorioso en Lima, después de haber arrojado de Chile las tropas españolas, y se realizó la independencia.

¿Qué fué lo que aseguró á los peruanos su independencia?

La batalla de Ayacucho dada por el ejército colombiano á las órdenes del general Sucre, la cual obligó á los españoles á retirarse del continente sur-americano.

¿Quién era entonces el jefe de las tropas de Colombia, Perú y Chile?

Bolívar, que fué nombrado Dictador del Perú.

¿Qué hizo Bolívar de Dictador?

Abdicó, instalando un congreso nacional.

¿ *Qué acontecimiento notable ocurrió en 1825?*

Un congreso, reunido en Chuquisaca, proclamó la independencia de Bolivia, que se llamaba Alto Perú; y la obstinación con que el congreso del Bajo Perú rehusó reconocer su desmembración, mantuvo en agitación aquellos países hasta 1836.

¿ *Qué sucedió entonces?*

El Perú formó con Bolivia una confederación, bajo el General San-tacruz, la cual luégo se disolvió.

¿ *Cuáles son los límites del Perú?*

(Véase el mapa.)

¿ *Cuál es la extensión de la república?*

Como 1.398,060 kilómetros cuadrados ó 540,000 millas cuadradas. (Según datos oficiales, tiene una superficie de 1.606,000 kilómetros cuadrados).

¿ *Cuál es la extensión de sus costas?*

Unos 2,500 kilómetros, ó 1,560 millas.

### LECCIÓN LVIII

¿ *Cuál es la población del país?*

La población del Perú es proximo-mente de 2,800,000 habitantes.

¿ *Qué gobierno tiene este país?*

Republicano democrático, repre-sentativo, basado en la unidad.

¿ *Qué religión es la de los peruanos?*

La católica. Antes de la con-quista, los indígenas adoraban al sol, del cual creían que descendían los Incas.

¿ *Cómo está dividida la república?*

En 18 departamentos y una pro-vincia constitucional.

¿ *Cuáles son?*

Piura, Lima, Ica, Arequipa, Mo-

quegua, Cajamarca, Huánuco, Aya-cucho, Cuzco, Puno y Huancavélica, con capitales del mismo nombre; Lambayeque, cap. Chiclayo; Liber-tad, cap. Trujillo; Ancachs, cap. Huaraz; Amazonas, cap. Chacha-poyas; Loreto, cap. Moyobamba; Junín, cap. Cerro de Pasco y Apu-rimac, cap. Abancay. La provincia constitucional es Callao, cap. Callao.

¿ *Cuál es la capital del Perú?*

Lima, situada á 516 pies sobre el nivel del mar y orillas del río Ri-



*Una calle de Lima.*

mac, con una población de 200,000 habitantes, una catedral bastante hermosa, 56 templos, casa de mone-da, varios establecimientos de bene-ficencia, una afamada universidad, muchos colegios y un gran número de escuelas, varias bibliotecas, un

teatro, una gran plaza de toros, y hermosos paseos.

¿ *Cuál es el clima de Lima?*

Delicioso; y es de notarse que en aquella localidad nunca llueve, reemplazando á la lluvia un abundante rocío llamado garúa.

¿ *Cuánto dista Lima del Pacífico?*

Seis millas, que se hacen hoy por un hermoso camino de hierro.

¿ *Qué aspecto presenta el país?*

La cordillera de los Andes, dividida en dos ramales paralelos, recorre al país, separándolo en tres regiones distintas.

¿ *Cuáles son estas?*

La *costa*, en general arenosa, pero cortada por feraces valles; la *sierra*, comprendida entre los dos ramales de la cordillera; y la *montaña*, al este de la cordillera, con bosques impenetrables regados por caudalosos ríos, y grandes llanuras habitadas principalmente por indios salvajes.

### LECCIÓN LIX

¿ *Qué especie de clima reina en el Perú?*

En la costa es cálido y seco; en la sierra, templado ó frío, pero muy sano; y en la montaña, bastante cálido, húmedo y malsano.

¿ *Cuáles son sus principales producciones vegetales?*

Se cultivan trigo, cebada, maíz, arroz, yuca, quina, vainilla, cacao, azúcar, tabaco, añil; se cosechan algodón y seda; se fabrican exquisitos vinos; y abundan la mayor parte de las frutas de los países cálidos y de los templados; como también maderas varias y plantas medicinales; y hay una gran cantidad de cocas, cuyas hojas proporcionan á los indígenas un alimento nutritivo.

¿ *Qué es lo que da al Perú la reputación de país rico?*

Sus muy abundantes minas de oro, plata, azogue, salitre, sal, y brea. Á principios del siglo pasado se beneficiaban como 80 minas de oro y cerca de 200 de plata.


¿ *Qué es lo que constituía la principal fuente de riqueza del Perú?*

El *huano* ó *guano* de que están cubiertas sus islas inmediatas; y el salitre que se halla abundante en Tarapacá: estas riquezas son muy explotadas.

### LECCIÓN LX

¿ *Qué islas notables hay cerca á las costas de este país, de las cuales se saca el huano?*

Las islas Lobos y las Chinchas.



*Islas Chinchas.*

¿ Cuáles son los principales artículos de exportación ?

Además de los ya mencionados, se exportan lanas de carnero, de alpaca y de vicuña, y goma elástica ó caucho.

Nombre Vd. los principales puertos de la república ?

El Caillao, Etén, Paita, Pisco, Mollendo, Islay, Arica; y los puertos interiores de Nauta, Sarayacú y algún otro, en las orillas de los grandes ríos de la montaña.

¿ Tiene ferrocarriles el Perú ?

Con las líneas actualmente en explotación y las proyectadas, tendrá dentro de pocos años un sistema de caminos de hierro que pondrá en mutua comunicación todas las ciudades importantes del interior con sus puertos del Pacífico.

¿ Hay líneas telegráficas ?

Existen ya varias líneas terrestres, y se proyecta un cable submarino para poner al puerto de Paita en comunicación con Panamá.

¿ Cuáles son los principales ríos del Perú ?

El Marañón ó Alto Amazonas; y el Huallaga, el Ucayali y el Purús, que llevan sus aguas al Amazonas.

¿ Qué lagos notables hay en el Perú ?

El Titicaca, con una superficie de 9,880 kilómetros cuadrados, según cálculos aproximados; el Quellhua, y el lago Junín ó Reyes.

¿ Por qué acontecimiento es célebre este último lago ?

Por el gran triunfo que obtuvo el ejército independiente sobre los

españoles, en las Pampas de Junín, el 6 de Agosto de 1824.

¿ Qué picos volcánicos y nevados se encuentran en el Perú ?

Los más notables son, el volcán del Mistí, con una altura de 6,660



Ciudad y Volcán de Arequipa ó Mistí.

metros ó 20,300 pies sobre el nivel del mar; el Sahama, el Tutupoca, el Omate y Ubinas; y los nevados de Sacsahuana y de la Viuda.

¿ Qué tiene de notable la mesa ó llanura en que se halla situado el lago Titicaca ?

Que es la más elevada del mundo, después de la del Tibet, quedando á más de 14,000 pies sobre el nivel del océano.

¿ Cuántas millas tiene la meseta en su mayor longitud ?

330 millas.

¿ Y cuál es su anchura ?

Varía de 50 á 116 millas.

¿ Qué otra particularidad presenta ?

Que sus lagos, el Titicaca y el Anllagas en Bolivia, no tienen comunicación con el mar.



## LECCIÓN LXI

## BOLIVIA



¿ De qué país formaba parte Bolivia antes de 1825 ?

Del Perú, y se llamaba Alto Perú.

¿ Qué sucedió en 1825 ?

Que el Congreso reunido en Chuquisaca, proclamó su independencia, para formar del Alto Perú la república de Bolivia.

¿Cuál es la extensión de Bolivia ?

1.300,000 kilómetros cuadrados ó 500,000 millas cuadradas.

¿Cuál es la población de la república ?

Como 2.300,000 habitantes.

¿Cuáles son los límites de Bolivia ?

(Véase el mapa.)

¿Cómo está dividido el país ?

En 8 departamentos, que son: Bení, cap. Trinidad; Chuquisaca, cap. Sucre; y Cochabamba, La Paz, Oruro, Potosí, Santa Cruz y Tarija, con sus capitales del mismo nombre respectivamente. El departamento de Atacama ha pasado á ser territorio chileno.

¿Cuáles son las principales ciudades ?

Chuquisaca ó Sucre, capital de la república, con 26,700 habitantes, una universidad, colegios, una biblioteca y algunos buenos templos; La Paz, con 40,000 habitantes, que es la más floreciente de la república; y Cochabamba, Oruro, Potosí, y

Santa Cruz, capitales de departamentos.

¿ Qué aspecto presenta el país ?

La cordillera de los Andes, separada en dos ramales, recorre de sur á norte el territorio, cuyo aspecto es de los más variados, ya se eleve en grandes alturas, ya se extienda en vastos y fértiles valles, ó densos bosques cortados por caudalosos ríos.

## LECCIÓN LXII

¿ Qué picos notables se encuentran allí ?

Los más elevados son el Sorata, con una altura de 7,000 metros ó 25,250 pies sobre el nivel del mar; el Illimani (6,950 metros ó 24,000 pies); el Cerro del Potosí y los volcanes de Tacora y Gualatieri.

Diga Vd. los principales ríos ?

El Bení, el Mamoré ó Grande y el Guaporé, afluentes del Amazonas, y el Pilcomayo, afluente del río Paraguay.

¿ Qué lagos hay ?

El de Titicaca y el de Aullagas.

¿ Qué desierto notable hay al S. O. de Bolivia ?

El desierto de Atacama, en la costa del océano Pacífico.

¿Cuáles son las producciones vegetales ?

Todas las de las zonas tórrida y templadas.


¿ Qué minerales se encuentran en la república ?

Oro, plata, cobre, azogue, plomo, estaño, hierro y otros.

¿Cuál es la mina más célebre de Bolivia ?

La mina de plata del Potosí.

¿ Qué ciudad se encuentra en el lugar en que están las minas ?



Vista del Lago de Titicaca.

Potosí, á 12,600 pies sobre el nivel del océano.

¿Qué gobierno tiene Bolivia?

Popular, representativo, democrático, bajo la forma de unidad.

¿Cuál es la religión de los bolivianos?

La católica, con exclusión de todos los demás cultos.

## LECCIÓN LXII

### CHILE.



¿Cuáles son los límites de la república de Chile?

(Véase el mapa.)

¿Qué es Chile?

Un país que pertenecía á los Incas del Perú, que luégo formó la Capitanía General de Chile, y se constituyó en Estado independiente.

¿Quién fué el primer europeo que invadió á Chile?

Diego de Almagro.

¿Hacia qué año?

En 1536.

¿Hizo Almagro allí algunas conquistas?

No; pues aunque él y 200 soldados que llevaba, fueron bien recibidos por los chilenos, el país no se les presentó tan rico como el Perú, por lo cual lo abandonaron, para volverse á éste.

Después de esta expedición, ¿no se dieron más pasos por los españoles para conquistar á Chile?

Sí: en 1540 Pizarro mandó desde el Perú á Pedro Valdivia con tropas españolas y peruanas; y este intrépido guerrero recorrió victorioso el país, á pesar de la tenaz resistencia de los naturales; y fundó las ciudades de Santiago, Serena, Concepción, Valdivia y otras.

¿ *Qué tribu se opuso tenazmente á las conquistas de los españoles?*

Los araucanos, que habitan la parte sur de Chile, y nunca se han sometido á los europeos.

#### LECCIÓN LXIV

¿ *Cuándo se hizo independiente Chile de España?*

En 1817.

¿ *Qué batallas se dieron en aquel año y el siguiente, que aseguraron su independencia?*

Las de Chacabuco y Maipo.

¿ *Cuál es la extensión de Chile?*

Como 436,500 kilómetros cuadrados ó 245,860 millas cuadradas.

¿ *Cuál es su población?*

Chile cuenta en la actualidad como 2.250,000 habitantes.

¿ *Qué gobierno hay allí?*

Republicano, popular representativo.

¿ *Qué religión?*

La católica, con exclusión de todas las demás.

¿ *Cómo está dividida la república?*

En 20 provincias y dos territorios, que son: Tarapacá, cap. Iquique; Antofagasta, cap. Antofagasta; Atacama, cap. Copiapó; Coquimbo, cap. La Serena; Aconcagua, cap. San Felipe; Valparaíso, cap. Valparaíso; Santiago, cap. Santiago; O'Higgins, cap. Rancagua; Colchagua, cap. San Fernando; Curicó, cap. Curicó; Talca, cap. Talca; Linares, cap. Linares; Maule, cap.



Vista de Valparaíso.

Cauquenes; Ñuble, cap. Chillán; Concepción, cap. Concepción; Biobío, cap. los Ángeles; Arauco, cap. Lebu; Valdivia, cap. Valdivia; Llanquihúe, cap. Melipulli; Chiloé, cap. Ancud; y los territorios de Angol, cap. Angol; y Magallanes, cap. Punta Arenas.

¿ Cuáles son sus principales ciudades ?

Santiago, cap. de la república, con 200,000 habitantes, una famosa catedral, casa de moneda, varios ricos templos y establecimientos de instrucción y beneficencia—Chillán, Concepción, la Serena, Valparaíso, Copiapó, Quillota y Talca.

¿ Cuáles son los puertos principales ?

Valparaíso, Caldera, Talcahuano, Coquimbo y Constitución.

¿ Qué ríos notables se encuentran en la república ?

El Maipo, el Maule, el Cautén, el Biobío y otros.

¿ Qué islas se encuentran en el Pacífico cerca de Chile ?

Las de Chiloé y de Chonos son las más notables.

¿ Cuáles son las producciones minerales del país ?

Cobre, de que hay infinidad de minas, plata, oro, azogue y plomo.

¿ Qué produce el país en el reino vegetal ?

Su fértil terreno da excelentes maderas de construcción y de tinte; uvas, trigo, maíz, arroz, algodón, azúcar, cáñamo, tabaco, y casi todos los frutos de las zonas tórridas y templadas.

¿ Qué aspecto presenta el país ?

Muy variado; sus valles son amenos y pintorescos, y la gran cordi-

llera de los Andes, que atraviesa el país de N. á S., presenta majestuosas escenas.

¿ Qué picos notables hay en Chile ?

El Aconcagua, con una altura de 7,838 metros ó 23,906 pies, siendo uno de los puntos más elevados del hemisferio occidental; el Tupungato, Descabezado, San José, el Maipo, el Villa Rica, el Corcovado, etc.

## LECCIÓN LXV

### REPÚBLICA ARGENTINA.



(SUCEOS HISTÓRICOS.)

¿ Quién descubrió el Río de la Plata ?

Juan Díaz de Solís, piloto mayor de España, descubrió el Río de la Plata, hacia fines del año 1515.

¿ Qué fin tuvo Solís ?

Habiendo bajado á tierra en la Banda Oriental, fué muerto á flechazos por los indios Charruas.

¿ Dónde tuvo lugar este suceso ?

A 50 kil. al E. de donde hoy se halla Montevideo, cerca de un arroyo que, por esto, se designa con el nombre de *arroyo de Solís*.

¿ Qué navegante vino al Río de la Plata después de Solís ?

En el año 1526, el Veneciano Sebastián Cabot, al servicio del Rey de España, vino al Río de la Plata; subió el Paraná, y fundó, en su confluencia con el río Carcarañá, el fuerte de Sancti Spiritus,

# MAPA DE CHILE Y DE LA REPÚBLICA ARGENTINA





*Sebastián Cabot.*

de donde fueron arrojados más tarde los españoles por los indios Timbúes.

### LECCIÓN LXVI

¿ Quién continuó la conquista ?

Don Pedro de Mendoza equipó á sus expensas 14 buques y 2,000 soldados, con que vino al Río de la Plata á principios del año 1535, en calidad de adelantado.

¿ Qué ciudad fundó ?

Habiendo desembarcado en la margen derecha del río, fundó á Buencs Aires.

¿ Qué sucedió con esta fundación ?

La ciudad fundada por Mendoza, que consistía en ranchos con techos de paja, fué incendiada por los indios Querandíes.

¿ Quién fundó la actual Buenos Aires ?

Don Juan de Garay fundó la actual Buenos Aires, el 1° de Junio de 1580, en el mismo sitio del caserío levantado por Mendoza cuarenta y cinco años antes, llamándola *Ciudad de la Santísima Trinidad, puerto de Santa María de Buenos Aires.*

### LECCIÓN LXVII

¿ Cuándo se constituyó el vireinato del Río de la Plata ?

Hasta el 8 de Agosto de 1776 dependieron estas comarcas del virey del Perú. Pero en esta fecha se erigieron en vireinato, por real cédula, siendo el primer virey el teniente general Don Pedro de Zaballo.

¿ Qué sucedió en 1806 ?

El 6 de Julio de 1806, siendo virey el marqués de Sobremonte, entró en el Río de la Plata una escuadra al mando de Sir Home Popham, y el 25 del mismo mes desembarcó en la playa del Quilmes un ejército de 1,600 hombres al mando de Sir Guillermo Beresford.

¿ Qué hizo este general ?

Beresford logró dispersar 700 hombres mal armados que salieron á su encuentro, y tomó el fuerte el día 27 de Julio.

¿ Y Sobremonte ?

Mientras tanto, el virey huyó á Córdoba.

¿ Qué aconteció después ?

El General Liniers efectuó el día 12 de Agosto la RECONQUISTA, obligando á Beresford á rendirse á discreción.

### LECCIÓN LXVIII

¿ Fué ésta la única expedición inglesa que trató de apoderarse del Río de la Plata ?

El gobierno inglés equipó una nueva fuerza al mando del General Whitelocke, la que tomó á Montevideo el 3 de Febrero de 1807.

¿ Qué hicieron los ingleses en seguida ?

Después de la toma de esa ciudad,

desembarcaron en la Ensenada donde fueron batidos completamente.

*¿ Quiénes fueron los héroes de esta victoria ?*

El General Liniers y el Alcalde Alzaga, al primero de los cuales nombró el pueblo virey.

*¿ Cuándo se independizó Buenos Aires ?*

El 25 de Mayo de 1810, se emancipó de la autoridad española.

*¿Cuál fué el fin de Liniers ?*

Liniers, quien con un pequeño

ejército formado en el interior del país, marchó contra Buenos Aires, fué preso y fusilado.

*¿ Entre tanto, qué hicieron los portugueses ?*

Aprovechando las revueltas que habían en el país se apoderaron de la Banda Oriental.

*¿ Cuándo se declaró legalmente independiente el país ?*

El 9 de Julio de 1816, un Congreso reunido en Tucumán proclamó la independencia de las *Provincias Unidas del Río de la Plata*.

*¿ Qué Estado independiente se formó por aquel tiempo ?*

El Paraguay, que, separándose del antiguo virreinato, se constituyó en nación independiente.

### LECCIÓN LXIX

*¿ Qué ocurrió á la ciudad de Buenos Aires en 1838 ?*

Esta ciudad fué bloqueada por una escuadra francesa.

*¿ Cuánto tiempo duró este bloqueo ?*

Unos tres años.

*¿ Fué este el único bloqueo que sufrió Buenos Aires ?*



*Casa en que se declaró la independencia de las Provincias Unidas del Río de la Plata, en Tucumán en 9 de julio de 1816.*

# REPÚBLICAS ARGENTINA, DEL PARAGUAY Y DE CHILE





No, Señor; en el año 1845 volvió á serlo por los franceses y los ingleses.

¿Qué suceso importante tuvo lugar en 1852?

La provincia de Buenos Aires se separó de la Confederación formando un Estado independiente.

¿Cuándo volvió Buenos Aires á incorporarse á la nación?

Poco tiempo más tarde, después de la batalla de Pavón entre las fuerzas de la Confederación Argentina y las de la citada provincia?

¿Después de este último acontecimiento cuál ha sido la suerte del país?

El país se ha gobernado tranquilamente con arreglo á sus leyes, sin que disturbio alguno haya venido á impedir el desenvolvimiento de sus riquezas y progreso.

## LECCIÓN LXX

### DESCRIPCIÓN FÍSICA Y POLÍTICA

¿Cuáles son los límites de la República Argentina?  
(Véase el mapa.)

¿Cuál es su superficie y cuál su población?

La República Argentina tiene unos 2,794,507 kilómetros cuadrados, ó sean 1,079,377 millas cuadradas de superficie. Su población pasa de 3,000,000 de habitantes.

¿Qué aspecto presenta el país?  
Su parte oriental es una llanura inmensa, algo quebrada hacia el N.;

y por el O. se levantan los Andes con sus ramificaciones.

¿Cuáles son las montañas más notables?

Además de la cordillera principal de los Andes, las sierras de Famatina, Alumbre, Ambato, Aconquija, la Rioja, Córdoba, Tandil y otras.

¿Hay volcanes en el país?

Los que se encuentran en la cordillera de los Andes y algunos otros ya extinguidos.

¿Cuál es el clima de la República Argentina?

Cálido en los llanos centrales, templado y húmedo en las orillas



Un paso de los Andes.

del Plata; y frío en las altas y en Patagonia.

¿Cuáles son sus producciones?

Azúcar, café, tabaco, algodón y arroz, en el N.; en el O., viñas y excelentes frutas; hacia el E., abun-

dantes y buenas maderas; y en el centro y S., cereales y pastos. Hay además minas de oro, plata, cobre y otros metales; pero la principal riqueza del país consiste en la cría de ganado vacuno.

*¿Cuál es el estado de su industria?*

Su industria comienza á florecer de un modo asombroso: cuenta hoy la República con numerosas fábricas de distintos efectos; pero la más importante del país consiste en la preparación de carnes para la exportación.

*¿Tiene el país vías férreas?*

Actualmente cuenta 5,900 kiló-

metros, que ponen en comunicación rápida las poblaciones más importantes de la República.

### LECCIÓN LXXI

*¿Cuál es el río más caudaloso de la República?*

El Río de la Plata, formado por la unión del Paraná y del Uruguay.

*¿Dónde nacen los dos ríos últimamente nombrados?*

En el Imperio del Brasil.

*¿Cuáles son los afluentes principales del Paraná?*

El Paraná recibe por su orilla derecha los siguientes: el Paraguay, el Salado del Norte y el Carcarañá.



*Paisaje en un río.*

*¿Y cuáles son los del Uruguay?*

El Uruguay no recibe río alguno de importancia por su orilla derecha; pero por la izquierda tiene, entre otros menos considerables, al Negro, que corre por la República del Uruguay.

*¿Qué ríos caudalosos desaguan en el río Paraguay?*

Este río recibe por su derecha, en el territorio argentino, al Pilcomayo, que viene de Bolivia; y al Rojo, que nace en el N. O. de la República.

*Además del Río de la Plata y sus afluentes ¿ hay otros que merezcan nombrarse?*

Sí, Señor; y son el Colorado, el Negro, el Chubut y otros.

## LECCIÓN LXXII

*¿ Cuáles son los lagos más importantes de la República?*

Las principales lagunas de la República Argentina son: las de los Porongos y Mar Chiquita del Norte, en el centro: las de Iberá, entre los ríos Uruguay y Paraná; las de Guanacache y Bebedero, al O.; y las de Nahuel-Huapí hacia las fuentes del río Negro.

*¿ Cuáles son los principales golfos de la República?*

Los principales golfos de la República Argentina son: el de San Matías, el Nuevo y el San Jorge; y las ensenadas de Barragán Samborombón.

*¿ Y cuáles sus bahías?*

Bahía Blanca, Bahía Falsa y otras.

*¿ Cuáles son los principales cabos y puntas?*

Los principales son: el cabo Santa María, punta Piedras, cabo San Antonio, cabo Raso, punta Tres Puntas, cabo Gallegos y el de Hornos.

*¿ Dónde se encuentra este último?*

En la extremidad meridional de la República?

*¿ Qué isla hay al S. de la República?*

La de la Tierra del Fuego que forma parte de su territorio, y está separada de ella por el estrecho de Magallanes.

## LECCIÓN LXXIII

*¿ De qué modo se divide el territorio de la República Argentina?*

El territorio de la República Argentina se divide en 14 provincias, 9 gobernaciones y 1 Distrito Federal.

*¿ Cuáles son las provincias?*

Las siguientes, que se clasifican como se ve á continuación: 4 litorales, á saber: Buenos Aires, Entre-Ríos, Corrientes y Santa Fe: 4 andinas, que son: Catamarca, Rioja, San Juan y Mendoza; 2 setentrionales; Jujuy y Salta: y 4 centrales, que se llaman: Tucumán, Santiago del Estero, Córdoba y San Luis. Estas provincias tienen por capitales poblaciones del mismo nombre, exceptuando Buenos Aires y Entre-Ríos, cuyas capitales son respectivamente La Plata y Paraná.

*¿ Dónde se encuentran y cómo se llaman las 9 gobernaciones?*

2 al N.: la de Formosa y la del Chaco; 1 al N. E.; la de Misiones; y las restantes: de la Pampa, del Neuquén, del Río Negro, del Chubut, de Santa Cruz y de la Tierra del Fuego, ocupan toda la parte meridional de la República.

*¿Cuál es el Distrito Federal?*

El que corresponde á la ciudad de Buenos Aires que es la capital de la República.

*¿ Qué puede decirse de esta ciudad?*

Que es la primera de la América del Sur, por su población, que llega á 403,500 almas, y por sus notables edificios, entre los cuales citaremos su hermosa Metropolitana, sus conventos, y sus templos protestantes:



*La Ciudad de Buenos Aires.*

posee un magnífico edificio para el Gobierno Nacional; bellos y espaciosos teatros y circos, varios bancos, un manicomio, asilos para mendigos, hospitales, entre los que merece especial mención el “Buenos Aires”; un museo, una cárcel penitenciaria, notables estaciones de ferrocarriles y preciosos paseos.

*¿Cómo se gobierna la ciudad?*

Esta ciudad, residencia del Gobierno General, tiene, además de su representación en el Congreso, gobierno municipal y tribunales de justicia común especiales.

*¿En dónde está situada la ciudad de Buenos Aires?*

La ciudad de Buenos Aires se encuentra en la orilla derecha del Río de la Plata, no muy distante de la confluencia de los ríos Paraná y Uruguay, y próximamente á una elevación de setenta y dos pies sobre el nivel del mar.


## LECCIÓN LXXIV

*¿Cuál es por su importancia la segunda ciudad de la República?*

La ciudad de Córdoba, capital de la provincia de su mismo nombre. Tiene 40,000 habitantes y posee hermosas iglesias, una Universidad, un Colegio Nacional y un observatorio astronómico.

*¿Qué ciudad sigue á Córdoba en importancia?*

La ciudad de La Plata, capital de la provincia de Buenos Aires.



*Palacio de Gobierno en la Plata.*

Esta ciudad, de fundación moderna cuenta ya unos 30,000 habitantes; y posee suntuosos edificios públicos, como la Estación de los Ferrocarriles Provinciales, Casa de Gobierno, Museo, Legislatura, varias iglesias, entre las cuales es notable la catedral y numerosos centros de enseñanza. Tiene además hermosas plazas y paseos y actualmente se construye su puerto.

*¿Cuál es la situación de la ciudad de La Plata?*

La Plata se encuentra al O. y no lejos, de la ciudad de Buenos Aires, en la Ensenada, á la orilla derecha del Río de la Plata.

*¿Qué otras ciudades de la República son dignas de mencionarse?*

Rosario, con 35,000 habitantes, situada en la orilla derecha del río Paraná. Es el puerto principal de

siguen: Tucumán, con 24,000 habitantes, Salta con 19,000, Paraná, Corrientes, Mendoza y Catamarca, con 12,000 cada una, y Santiago con 10,000.

*¿Qué suceso notable ocurrió en la ciudad de Santa Fe en 1853?*

Que en su cabildo se reunió el Congreso Constituyente, que promulgó en 1° de Mayo de dicho año la Constitución de la República Argentina.

*¿Qué ocurrió en Mendoza en el año 1861?*

Un terrible terremoto que destruyó completamente la ciudad, haciendo perecer bajo sus ruinas á más de 10,000 personas.

### LECCIÓN LXXV

*¿Dónde está situada la ciudad de Salta?*


Hacia el centro de su provincia, en el valle de Chicoma.

*¿Qué otra ciudad importante hay en la provincia de Salta?*

La de Orán, situada en la orilla derecha del río Bermejo Oriental.

*¿Por qué es notable la provincia de Jujuy?*

Por ser una de las provincias más montañosas de la República. Dicha



*Cabildo de Santa Fe, en el cual se reunió el Congreso Constituyente que promulgó, en 1° de mayo de 1853, la Constitución de la República Argentina.*

tránsito para el comercio del interior, y pertenece á la provincia de Santa Fe. Después de Rosario

provincia ocupa el extremo N. O. de la República y linda con Chile y Bolivia.

¿ *Qué se puede decir de la ciudad de Corrientes?*

Que esta ciudad, situada cerca de la confluencia de los ríos Paraguay y Paraná, es de grande importancia para la navegación de estos ríos y sus afluentes, y que tiene un magnífico puerto para buques de mucho calado.

¿ *Qué gobernación se encuentra al N. E. de la provincia de Corrientes?*

La de Misiones, cuya capital es Posadas.

¿ *En qué estado se hallaba ese territorio antes de 1776?*

Los misioneros Jesuítas, quienes se habían establecido allí, y dedicado con mucho celo á la conversión de los naturales, logrando sus propósitos, llegaron á reunirlos en treinta pueblos con 130,000 habitantes.

¿ *Qué sucedió á los Jesuítas en aquel año?*

Fueron expulsados de las Misiones.

### LECCIÓN LXXVI

¿ *Cuál es el aspecto de las gobernaciones del Chaco y Formosa?*

Estas gobernaciones ocupan una extensa llanura, cubierta de bosques, en que abundan las maderas de construcción. El terreno es sumamente fértil y se han establecido allí muchas colonias agrícolas.


¿ *Cuáles son el clima y aspecto de la Pampa?*

La Pampa es una gran llanura, cubierta en parte de plantas gramíneas y especialmente de la yerba que lleva su nombre. Está interrumpida por médanos y varias la-

gunas. Su clima es bastante cálido en verano, y muy frío en invierno.

¿ *Cuáles son las producciones de la Pampa?*

Pastos, Algarrobas y otras varias maderas. También se encuentra en ella sal en abundancia.




*Yerbas de las Pampas.*

¿ *Qué gobernaciones se han constituido en la Patagonia?*

Las de Río Negro, Chubut, Santa Cruz y Tierra del Fuego.

¿ *Cuál es el aspecto general de estas regiones?*

El suelo de estas regiones, que antes formaban el territorio llamado de Patagonia, es mucho más quebrado que el de la Pampa, y está surcado por grandes valles, cuya vigorosa vegetación contrasta en extremo con la desnudez de las eminencias que las rodean.



*Gauchos lazando en la Pampa.*

¿ Quiénes habitan en estas regiones ?

En las costas hay varias colonias

pobladas por europeos ; pero el interior está ocupado por los indios.

¿ Cuáles de estos indios son los más notables ?

Los patagones, que se dividen en pampas, descendientes de los antiguos querandíes de familia araucana, pethuenches, huilliches y ranqueles.

¿Cuál es el gobierno de la República Argentina ?

Republicano Federal.

¿ Y cuál la religión de sus habitantes ?

La católica es la principal, pero se toleran todos los demás cultos.



*Indio patagón.*

## LECCIÓN LXXVII

## REPÚBLICA ORIENTAL DEL URUGUAY



*¿Cuál es la República Oriental del Uruguay?*

La República Oriental del Uruguay es un Estado independiente, separado de la República Argentina por el Río de la Plata y el Uruguay.

*¿Cuáles son sus límites?*


Sus límites son: al Norte y Nordeste el Brasil; al Este el Atlántico; al Sud el Atlántico y el Río de la Plata, y al Oeste el Uruguay que, con el Río de la Plata, la separa de la República Argentina.

*¿Cuál es su superficie?*

Tiene una superficie de 63,324 millas cuadradas, ó sean 163,950 kilómetros cuadrados.

*¿Cuál es su población?*

La República Oriental del Uruguay tiene 700,000 habitantes.



*La Ciudad de Montevideo.*

*¿Cuál es su capital?*

Su capital es San Felipe de Montevideo, llamado generalmente Montevideo, con 80,000 habitantes; un gran puerto en la desembocadura del Río de la Plata; una hermosa Catedral; varias iglesias, conventos y teatros; una universidad y muchas escuelas y colegios de primer orden; una vasta asociación de particulares

para la difusión de la enseñanza común; casa de beneficencia, etc.

*¿Cómo está dividida?*

La República Oriental del Uruguay está dividida en 18 departamentos, que son: Montevideo, Canelones, San José, Florida, Colonia, Soriano, Durazno, Paysandú, Salto, Tacuarembó, Cerro Largo, Minas,





Maldonados, Treinta y tres, Rivera, Artigas, Río Negro y Rocha.

*¿Quién descubrió este país?*

La República Oriental del Uruguay fué descubierta por Juan Díaz de Solís, en 1615.

*¿Cuáles son sus pueblos principales?*

Sus principales pueblos son: Colonia, Nueva Palmira, las Víboras, Carmelo, Dolores, Soriano, Fray Bentos, Mercedes, Paysandú, Salto, San José, Santa Lucía, Canelones, Pando, Minas, Durazno, Tacuarembó, Maldonado y Rocha.

*¿Cuáles son sus ríos?*

Sus ríos principales son; Cuareim, Arapey, Daimán, Queguay y Río Negro, que desaguan en el Uruguay; el Yi y Tacuarembó que desaguan en el Río Negro; y el Yaguarón, Tacuarí, y otros arroyos que terminan en el Lago Merim.

*¿Cuál es el aspecto del país?*

El centro de la República Oriental del Uruguay está atravesado por cadenas de montañas poco elevadas y por ríos. El terreno de la costa es generalmente llano.

*¿Cuáles son los productos de esta República?*

La República Oriental del Uruguay produce cereales y todas las frutas de las zonas templadas; se cría allí mucho ganado y hay saladeros de gran importancia que exportan carne salada, extracto de carne, cueros, astas, sebo, crines y ceniza. Los bosques á orillas de los ríos dan excelentes maderas.

*¿Tiene ferrocarriles?*

La República Oriental del Uruguay tiene ya varios ferrocarriles en

explotación, así como una buena red telegráfica. Además hay muchos tranvías que de la capital van á la campiña que la rodea.

*¿Quiénes fundaron á Montevideo?*

En el año 1726 fué establecida en Montevideo una colonia de 120 familias de las islas Canarias.

*¿Hasta cuándo perteneció al vireinato de Buenos Aires?*

Perteneció al vireinato de Buenos Aires hasta 1821, año en que formó parte del Brasil con el nombre de Provincia Cisplatina.

*¿Cuándo fué erigida en Estado independiente?*

En el año 1828, por tratado de fecha 27 de Agosto, firmado en Río Janeiro; quedó erigida la República Oriental del Uruguay en Estado independiente.

*¿Quiénes fueron los 33?*

Los llamados *Treinta y tres* fueron 33 valientes orientales que dieron el grito de independencia y obtuvieron la victoria de Sarandí, en 12 de Octubre de 1825.

*¿Qué sitio sufrió Montevideo?*

Montevideo tuvo que sufrir un sitio de diez años contra las tropas de Oribe, que quería ser Presidente de la República y secundar al tirano Rosas. La caída de éste dió también fin á las pretensiones de aquel caudillo.

*¿Cuál es el clima de la República Oriental del Uruguay?*

El clima de la República Oriental del Uruguay es muy sano.

*¿Cuál es su religión?*

La Católica Romana, y su capital es el asiento del obispado.

**LECCIÓN LXXVIII**  
**REPÚBLICA DEL PARAGUAY**



¿ *Cuáles son los confines del Paraguay?*

Al Norte el imperio del B-l; al Este y al Sur el río P-á, que lo separan del B-l y de la R-a A-a; y al Oeste el río P-y y el Pilcomayo, que lo separan del mismo país.

¿ *Cuál es la capital de la República?*

La A-n, situada en el río P-y.

¿ *Cuáles son sus principales poblaciones?*

Itapua, Trinidad, Curupaiti, Nembuco, Villa Rica, Saltado, Curuguatí, Villa Real y Tevego.

¿ *Qué superficie tiene el Paraguay?*

237,280 kilómetros cuadrados ó 91,650 millas cuadradas.

¿ *Cuál es la población de la República?*  
 Como de unos 350,000 habitantes.

¿ *Qué río hay en el Norte del Paraguay?*

El A-a, que lo separa del B-l.

¿ *Qué río tiene su origen cerca de Villa Rica, y desagua en el Paraguay?*

El T-i.

¿ *Cuál hay entre Paraguay y Corrientes?*

El P-á.

¿ *Y entre Paraguay y la Gobernación de Formosa?*

El P-y.

**LECCIÓN LXXIX**

¿ *Qué clima tiene el Paraguay?*

Un clima suave y sano; y su suelo es sumamente fértil.



*La Ciudad de Asunción.*

¿Cuál es la población de su capital y cómo está situada?

La Asunción, en la orilla izquierda del río Paraguay, agua abajo de su confluencia con el Pilcomayo; tiene una población de 20,000 almas.

¿Cómo se divide el territorio de la República?

En 20 Departamentos.

¿Cuál es el aspecto del país?

Es montañoso al Norte y al Este; pero llano y á veces pantanoso en el Sur.

¿Cuáles son los principales ríos de la República?

(Véase el mapa.)

¿Tiene ferrocarriles?

Tiene una línea, que pone en comunicación á la capital con Villarrica.

¿Cuáles son los productos del país?

Cultívanse yerba mate en gran



Yerba Mate ó del Paraguay.

escala, algodón, caña de azúcar, arroz y cáñamo; y tiene preciosas

maderas y plantas medicinales; y se extraen tintes, resinas y cera.

¿Qué religión es la del país?

La católica; pero se toleran los demás cultos.

¿En qué estado se halla la educación?

Empieza á fomentarse eficazmente, multiplicando las escuelas y planteando un nuevo sistema de enseñanza.

## LECCIÓN LXXX

### BRASIL



¿Qué es el Brasil?

El único imperio que existe en la América.

¿Cuáles son sus límites?

(Véase el mapa.)

¿Quién fué el descubridor del Brasil?

Pedro Álvarez Cabral, quien tomó posesión del país, en 1500, á nombre del rey Manuel, de Portugal.

¿Á qué gobierno perteneció el Brasil después?

Á España, á consecuencia de haberse incorporado á aquel reino, Portugal con sus posesiones.

¿Cuándo se apoderaron los holandeses de casi todo el Brasil?

Durante el reinado de Felipe IV; pero luégo que Portugal recobró su independencia, volvió á apoderarse de la colonia.

# MAPA DEL BRASIL.



¿ Cuándo dejó de ser colonia ?

En 1807, año en el cual, habiendo invadido los franceses á Portugal, la familia real pasó con su corte á Río Janeiro.

¿ Quién fué el primer emperador del Brasil ?

Don Pedro I, quien se hizo proclamar como tal en 1822.

¿ En favor de quién abdicó Don Pedro I en 1831 ?

En favor de Don Pedro II, actual emperador, el cual tenía solamente seis años á la sazón.

### LECCIÓN LXXXI

¿Cuál es la extensión del Brasil ?

8,347,964 kilómetros cuadrados, ó 3,224,398 millas cuadradas.

¿ Cuántos habitantes cuenta el imperio ?  
Cerca de 12,000,000.

¿Cuál es la religión del país ?

La católica ; pero se toleran todos los cultos.

¿Cuál es el idioma común del imperio ?  
El portugués.

¿ Cómo está dividido el imperio ?

En 20 provincias, que son : Amazonas, Pará, Marañón, Piahuy, Ceará, Río Grande del Norte, Parahiba, Pernambuco, Alagoas, Sergipe, Bahía, Espíritu Santo, Río de Janeiro, San Pablo, Paraná, Santa Catalina, Río Grande del Sur, Minas Geraes, Goyaz, y Matto Grosso.

¿Cuál es la capital ?

Río Janeiro, una de las ciudades más bellas de la América, puerto de



Río Janeiro.

mar, con bellos edificios, varios colegios, bibliotecas y gabinetes de lectura; observatorio, jardín botánico, ricos templos, hospitales, varios teatros, y paseos deliciosos; y 350,000 habitantes.

¿ Por qué es notable Río Janeiro ?

Por ser, después de Buenos Aires, la ciudad más mercantil y populosa de la América del Sur.

¿ Qué otras ciudades de importancia hay en el Brasil ?

San Salvador ó Bahía, ciudad bien fortificada, capital de la provincia de Bahía, y antiguamente del país, con un hermosísimo puerto, buenos edificios, varios establecimientos científicos y literarios, un teatro, un hermoso paseo y 140,000 habitantes.—Recife ó Pernambuco, San Pablo, Pará, Maranhão, Santos y Porto Alegre, los que, con la capital, son los principales puertos del imperio.

¿ Hay algunos volcanes en el país ?

No se conoce ninguno, y hay muy pocas cimas elevadas.

### LECCIÓN LXXXII

¿Cuál es el aspecto del país y cuál su clima ?

Recorren la parte del este en casi toda su extensión de N. á S. algunas cadenas de montañas de poca elevación, siendo las más notables las sierras del Mar y del Espinazo, que dan al país, en su mayor parte cubierto de bosques, mucha variedad. Su suelo es muy fértil y rico en producciones minerales, y su clima muy variado y sano.

¿ Cuáles son las principales fuentes de riquezas del Brasil ?

En un país como aquel, donde se hallan casi todas las producciones de la tierra, hay muchas fuentes de industria y de comercio; pero en lo que más se emplean los habitantes, es en el cultivo del algodón, azúcar, café y tabaco, y en la explotación de sus muy ricas minas de oro, de diamantes, y de hulla ó carbón de piedra.

¿ Cuáles son los principales ríos del Brasil ?

El de las Amazonas, el más caudaloso del mundo, con sus inmensos afluentes (*véase el mapa*): el San Francisco, el Maranhão, el Paranahyba, el Paraguay, el Paraná y el Uruguay.

¿ Qué isla grande se encuentra en la desembocadura del Amazonas ?

La de Marajós ó Joannes.

¿ Qué lagos hay en el Brasil ?

Los más notables son el de los Patos y el de Merím.

¿ Qué gobierno tiene el Brasil ?

Es una monarquía constitucional hereditaria bajo el título de imperio.

### LECCIÓN LXXXIII

#### GUAYANAS

¿ A qué se da el nombre de Guayanas ?

Á una porción de territorio de la América del Sur comprendido entre el océano Atlántico, el Brasil y Venezuela.

¿ Quién descubrió aquel país ?

Cristóbal Colón en 1498; Amérgo Vespucci y luego Vicente Pinzón exploraron sus costas dos ó tres

años después; y la primería colonia se estableció allí, por el francés Laravardière en 1604.

¿ *A qué naciones pertenece aquel territorio?*

Está dividido entre la Gran Bretaña, Holanda y Francia.

¿ *Cómo están situados los territorios poseídos por estas naciones?*

Hállase el de la Guayana Francesa al este; el de la Inglesa al oeste, y el de la Holandesa entre los anteriores.

¿ *Qué clima es el de las Guayanas?*

En el interior es templado y sano; pero hacia las costas es cálido y poco saludable.

¿ *Qué producen las Guayanas?*

Arroz, trigo, maíz, algodón, tabaco, café, azúcar, cacao, clavo, plantas medicinales, tintes, maderas preciosas y otras producciones de los climas cálidos y templados.

¿ *Cuál es la población de la Guayana Francesa?*

30,000 habitantes; su capital es Cayena, con 5,000 almas.

¿ *Cuál es la población de la Guayana Inglesa?*

163,000 almas; su cap. es Georgetown, con 25,000.

¿ *Cuál es la población de la Guayana Holandesa?*

110,000 habitantes; y su capital, Paramaribo, tiene 20,000.

### LECCIÓN LXXXIV

PREGUNTAS SOBRE EL MAPA DE LA AMÉRICA DEL NORTE

(Véase el mapa.)

¿ *Qué océano hay al N. de la América del Norte?* A-o.

¿ *Cuál al E.?* A-o.  
 ¿ *Qué golfo hay al S.?* M-o.  
 ¿ *Qué océano hay al O.?* P-o.  
 ¿ *Qué país queda al N. O. de la América del Norte?* A-a.  
 ¿ *Qué país hay en el N.?* D-o del C-a.  
 ¿ *Cuál al N. E.?* G-a.  
 ¿ *Qué país se encuentra al S. del Dominio del Canadá?* E-s U-s.  
 ¿ *Entre qué océanos están situados los Estados Unidos?* A-o y P-o.  
 ¿ *Qué país hay al S. de los Estados Unidos?* M-o.  
 ¿ *Cuál al S. E. de Méjico?* A-a C-l.  
 ¿ *Qué istmo une á la América Central con la América del Sur?* P-a.  
 ¿ *Qué bahía hay entre el Dominio del Canadá y Groenlandia?* B-n.

### LECCIÓN LXXXV

¿ *Qué gran bahía hay en el Dominio del Canadá?* H-n.  
 ¿ *Qué gran golfo se encuentra al S. de los Estados Unidos?* M-o.  
 ¿ *Cuál al O. de Méjico?* C-a.  
 ¿ *Qué estrecho queda á la entrada de la bahía de Bafin?* D-s.  
 ¿ *Qué estrecho hay entre Asia y la América del Norte?* B-g.  
 ¿ *Qué gran río corre á desembocar en el golfo de Méjico?* M-i.  
 ¿ *Qué gran afluente tiene el Misisipi por el E.?* O-o.  
 ¿ *Cuáles por el O.?* M-i y A-s.  
 ¿ *Qué río caudaloso hay en Oregón?* C-a.  
 ¿ *Dónde desemboca?* P-o.  
 ¿ *Qué río desemboca en la bahía de Hudson?* N-n.  
 ¿ *Á qué lago sirve el río Nelson de desagüadero?* W-g.  
 ¿ *Cuáles son los 5 grandes lagos que se encuentran al N. de los Estados Unidos?* S-r, H-n, M-n, E-e y O-o.

### LECCIÓN LXXXVI

¿ *Qué lagos de consideración hay al N. O. de la bahía de Hudson?* E-o y O-o.  
 ¿ *Cuál es el más grande de todos los lagos de la América del Norte?* S-r.





- ¿ Qué cabo hay al S. de Groenlandia ? F-ll.  
 ¿ Qué cabo se encuentra en la extremidad meridional de California ? S-n-L-s.  
 ¿ Qué isla hay al E. de Groenlandia ? I-a.  
 ¿ Qué islas hay al E. del Dominio del Canadá ? T-a N-a.  
 ¿ Qué islas se encuentran al S. E. de los Estados Unidos ? B-s y A-s.  
 ¿ De estas islas, cuáles son las cuatro más grandes ? C-a, S-o D-o, J-a y P-o R-o.  
 ¿ Qué islas hay en el Atlántico al E. de los Estados Unidos ? B-s.  
 ¿ Qué isla se encuentra al N. O. de los Estados Unidos ? V-r.  
 ¿ Qué cordillera de montañas se encuentra en la parte occidental de la América del Norte ? M-s R-s.

### LECCIÓN LXXXVII

- ¿ Qué nombre toma esta misma cadena en Méjico ? S-a M-e.  
 ¿ Qué cordillera hay en la parte oriental de los Estados Unidos ? M-s A-i.  
 ¿ Qué monte elevado hay en Alaska ? S-n-E-s.  
 ¿Cuál es la metrópolis de los Estados Unidos y ciudad más grande de América ? N-a Y-k.  
 ¿Cuál es la capital de los Estados Unidos ? W-n.  
 ¿ Qué ciudad de consideración hay cerca de las bocas del Misisipí ? N-a O-s.  
 ¿ Qué gran isla se encuentra á la entrada del golfo de Méjico ? C-a.  
 ¿Cuál es la capital de Cuba ? H-a.  
 ¿ Qué península hay al N. de Cuba ? F-a.  
 ¿Cuál al S. O. de la misma isla ? Y-n.  
 ¿Cuál al O. de Méjico ? B-a C-a.  
 ¿ Qué bahía hay al N. de la América Central ? H-s.  
 ¿Cuál al O. de Yucatán ? C-e.  
 ¿ Qué isla hay al S. O. de Cuba ? J-a.

### LECCIÓN LXXXVIII

#### AMÉRICA DEL NORTE

- ¿Cuál es la extensión de la América del Norte ?

(Véase la página 12.)

¿Cuál es su población ?  
 (Véase la página 12.)

¿ Qué razas componen esta población ?  
 La blanca, la negra y la india.

¿ De dónde son originarios los blancos que hay en ella ?  
 De Europa ?

¿ Y los negros ?  
 Fueron traídos del África, y vendidos como esclavos ?

¿ Qué hay que decir sobre los indios ?  
 Que eran los habitantes de América cuando esta fué descubierta ?

¿ Quién descubrió la América ?  
 Cristóbal Colón, en 1492.

¿ Quién costó la expedición de Colón ?  
 Don Fernando y Doña Isabel, reyes de España.

¿ A dónde creía Colón dirigirse ?  
 Á la India en el Asia.

¿ Qué dirección seguían los europeos para ir á la India ?  
 La dirección E.

¿ Qué rumbo siguió Colón ?  
 El del O.

¿ Por qué se dirigió hacia el O. para ir á la India ?

Porque sabiendo que la tierra era redonda, creía poderle dar la vuelta.

### LECCIÓN LXXXIX

¿ Cuántas veces visitó Colón la América ?

Cuatro, y en el tercer viaje descubrió el continente de la América del Sur ?

¿ De quién tomó la América su nombre ?  
 De Américo Vespucci.

¿ Cuándo visitó Vespucci aquel continente ?

Siete años después de que Colón lo descubriera.

¿ Por qué se llamó América ?

Porque Américo Vespucci fué el primero que publicó una descripción del país, y descubrió que no formaba parte de Asia.

¿ Por qué llamó Colón á los habitantes de este país, Indios ?

Porque creía que el país que había descubierto era la India.

¿ Qué clase de gente eran los indios ?

Salvajes, que vivían de la caza y de la pesca.

¿ Cuáles son los indigenas del N. de la América del Norte ?

Los esquimales ?

¿ Cómo viven los esquimales ?

En chozas hechas de nieve y hielo.

¿ De qué se visten ?

De pieles.

¿ Qué vehículos usan para viajar ?

Trineos tirados por perros.

¿ Á qué país pertenece Groenlandia ?

Á Dinamarca.

¿ Qué animales hay en Groenlandia ?

Perros, osos blancos y rengíferos.

¿ Qué clima es el de Groenlandia ?

Es muy frío, por lo cual el país es en extremo estéril.

¿ De qué se alimentan los habitantes ?

De pescado, focas, etc.



Modo de viajar de los Esquimales.

**LECCIÓN XC**

**ESTADOS UNIDOS**

¿ Qué país queda al N. de los Estados Unidos ?

D-o del C-á.

¿ Qué océano queda al E. ?

A-o.

¿ Qué golfo al S. ?

M-o.

¿ Qué país al S. O. ?

M-o.

¿ Qué océano al O. ?

P-o.

¿ De cuantos estados se compone la República ?

De 38.

¿Cuál es el más grande ?

T-s.



- ¿Cuál es el más pequeño? R-e I-d.  
 ¿Cuál es el más poblado? El de N-a Y-k.  
 ¿Cuál es la capital de los Estados Unidos? W-n.  
 ¿Qué montañas hay en la parte oriental del país? M-s A-i.  
 ¿Qué cordillera se encuentra hacia el O.? M-s R-s.  
 ¿Qué cordillera hay en California? S-a N-a.  
 ¿Cuál en Nuevo Méjico? S-a M-e.  
 ¿Qué grandes lagos hay entre los Estados Unidos y el Canadá? S-r, H-n, E-e y O-o.  
 ¿Qué gran lago se encuentra al S. de los anteriores? M-n.  
 ¿Qué lago pequeño hay al N. O. del Superior? B-s.  
 ¿Qué río da salida á las aguas de estos lagos? S. L-o.  
 ¿Dónde desemboca el San Lorenzo? G-o de S. L-o.  
 ¿En qué dirección corre este río? N. E.  
 ¿Qué gran lago hay en el interior hacia el O.? S-o.  
 ¿Cuál es el río más grande de los Estados Unidos? M-i.  
 ¿En qué dirección corre? N. á S.

## LECCIÓN XCI

- ¿Dónde desemboca el Misisipi? G-o de M-o.  
 ¿Qué gran afluente tiene por el E.? O-o.  
 ¿Qué otros afluentes tiene por el O.? M-i, A-s y R-o.  
 ¿Qué río hay entre Tejas y Méjico? R-o B-o del N-e.  
 ¿Qué dos ríos se unen cerca de la extremidad setentrional del golfo de California? C-o y G-a.  
 ¿Qué gran río al N. O., desemboca en el Pacífico? C-a.  
 ¿Cuál es el Estado que queda más al N. E.? M-e.  
 ¿Cuál queda más al S. E.? F-a.  
 ¿Cuál es el Estado más occidental? C-a.  
 ¿Qué territorio hay al N. O.? W-n.  
 ¿Qué gran isla hay al N. O. del Terri-

- torio de Washington? V-r.  
 ¿Qué isla queda al S. E. de Nueva York y S. de Connecticut? L-g I-d.  
 ¿Qué islas hay al S. de Florida? C-s de F-a.  
 ¿Qué bahías hay en la costa del Atlántico? D-e y Ch-e.  
 ¿Qué Estados rodean á la primera? N-a J-y y D-e.  
 ¿Cuáles á la segunda? M-a y V-a.  
 ¿Qué cabo hay al S. de la bahía de Chesapeake? H-s.  
 ¿Cuál al S. de la Florida? S-e.  
 ¿En qué territorio está el gran lago Salado? U-h.  
 ¿Qué Estados baña el Pacífico, al O. de la República? O-n y C-a.  
 ¿En qué Estado nace el Misisipi? M-a.  
 ¿Qué Estados baña por su orilla izquierda? M-i, T-e, K-y, I-s y W-n.  
 ¿Cuáles por su orilla derecha? L-a, A-s, M-i, I-a y M-a.  
 ¿Por qué Estado desagua? L-a.

## LECCIÓN XCII

- ¿Cuáles son los Estados que tienen costas en el golfo de Méjico?  
 5: F-a, A-a, M-i, L-a y T-s  
 ¿En cuántos grupos se dividen los Estados de la República?  
 En 7: Estados de Nueva Inglaterra, Centrales del Atlántico, del Sur, del Centro, Centrales del Norte, del Pacífico y de los Montes Roqueños.  
 ¿Cuáles son los Estados de Nueva Inglaterra?  
 6: M-e, N-a H-e, V-t, M-s, R-e I-d y C-t.  
 ¿Cuántos los Centrales del Atlántico?  
 7: N-a Y-k, N-a J-y, P-a, D-e, M-a, V-a y V-a O-l.  
 ¿Cuántos los del Sur?  
 10: C-a del N-e, C-a del S-r, G-a, F-a, A-a, M-i, L-a, T-s, A-s y T-e.  
 ¿Cuáles son los del Centro?  
 3: K-y, M-i y K-s.  
 ¿Cuántos los Centrales del Norte?  
 8: O-o, I-a, I-s, M-n, W-n, I-a, M-a y N-a.  
 ¿Cuáles los del Pacífico?  
 3: O-n, C-a y N-a.

¿Qué Estado forma el de los Montes Roqueños? C-o.

¿Cuántos territorios hay?

8 organizados, que son: W-n, I-o, M-a, D-a, W-g, U-h, N-o M-o, y A-a; y 2 sin organizar, que son: T-o I-o y A-a, en el extremo N. O. de la América del Norte.

¿Qué Distrito Federal hay en la República?

1: D-o de C-a.

### LECCIÓN XCIII

#### ESTADOS DE NUEVA INGLATERRA

¿Cuál es la capital de

Maine?	A-a.
Nueva Hampshire?	C-d,
Vermont?	Montpelier.
Massachusetts?	B-n.
Rhode Island?	} Providence.
Connecticut?	Hartford.

#### ESTADOS CENTRALES DEL ATLÁNTICO

¿Cuál es la capital de

Nueva York?	A-y.
Nueva Jersey?	T-n.
Pensilvania?	H-g.
Delaware?	Dóver.
Marilandia?	Annápolis.
Virginia?	R-d.
Virginia Occidental?	W-g.

### LECCIÓN XCIV

#### ESTADOS DEL SUR

¿Cuál es la capital de

Carolina del Norte?	R-h.
Carolina del Sur?	C-a.
Georgia?	A a.
Florida?	T-e.
Alabama?	M-y.
Misisipí?	J-n.
Luisiana?	N-a O-s.
Tejas?	A-n.
Arkansas?	L-e R-k.
Tennessee?	N-e.

#### ESTADOS DEL CENTRO

¿Cuál es la capital de

Kentucky?	F-t.
-----------	------

Misuri?	J-n.
Kansas?	T-a.

### LECCIÓN XCV

#### ESTADOS CENTRALES DEL NORTE

¿Cuál es la capital de

Ohio?	C-s.
Indiana?	I-s.
Illinois?	S-d.
Michigan?	L-g.
Wisconsin?	M-n.
Iowa?	D-s M-s.
Minnesota?	St P-l.
Nebraska?	L-n.

#### ESTADOS DEL PACÍFICO

¿Cuál es la capital de

Oregón?	S-m.
California?	S-o.
Nevada?	C-n.

#### ESTADO DE LOS MONTES ROQUEÑOS

¿Cuál es la capital de

Colorado?	D-r.
-----------	------

#### TERRITORIOS

¿Cuál es la capital de

Dakota?	Y-n.
Montana?	H-a.
Idaho?	B-é.
Washington?	O-a.
Wyoming?	C-e.
Utah	C-d del L-o S-o.
Nuevo Méjico?	S-a Fe.
Arizona?	P-t.
Indio?	T-h.
Alaska?	S-a.

#### DISTRITO

¿Cuál es la capital del

Distrito de Columbia?	W-n.
-----------------------	------

¿Cuáles son las cinco ciudades principales de los Estados Unidos?

N-a Y-k, en el Estado de su nombre; F-a, en el de P-a; B-n, en el de N-a Y-k; C-o, en el de I-s; B-n, cap. del de M-ts.

## LECCIÓN XCVI



¿ Quiénes establecieron las primeras colonias en lo que hoy se llama los Estados Unidos?

Los españoles.

¿ En qué lugar se establecieron éstos?

En San Agustín, en Florida, en 1565.

¿Cuál fué el primer lugar que colonizaron los ingleses?

Jamestown, en Virginia, en 1607.

¿ Cuántos años pasaron desde la colonización de Jamestown, hasta la revolución de 1775?



168 años.

¿ A qué gobierno estaban sujetas la mayor parte de las colonias?

Al gobierno británico.

¿ Por qué vinieron las colonias á manifestarse descontentas con el gobierno británico?

Por las contribuciones opresivas que éste les impuso.

¿ Cuándo comenzó la revolución?

En 1775.

## LECCIÓN XCVII

¿ Dónde tuvieron lugar las primeras batallas?

En Lexington (Mayo, de 1775) y Bunker's Hill (Junio del mismo año), en Massachusetts.

¿ Cuándo fué que las colonias se declararon independientes?

El 4 de Julio de 1776.

¿ Cuánto duró la guerra?

Como 8 años.

¿ Quién fué nombrado " Comandante en Jefe " del ejército americano?

Jorge Washington, de Virginia.

¿Cuál fué el resultado de la guerra?

La independencia de los americanos, que se constituyeron en nación.

¿ Qué forma de gobierno establecieron entonces?

La republicana representativa.

¿ Quién fué el primer Presidente de los Estados Unidos ?

El General Jorge Washington.

¿ Qué título se da á este general en los Estados Unidos ?

El de Padre de su Patria.

¿ Cuántos años fué Washington Presidente ?

Ocho años, ó dos períodos.

¿ De cuántos Estados se componía entonces la Unión ?

De trece.

¿ Cuántos Estados se le han agregado de entonces acá ?

Veinte y cinco.

¿ Qué población tienen los Estados Unidos ?

Tienen actualmente como cincuenta millones y medio de habitantes.

¿ Cuál es la extensión de la república ?

Tiene una superficie de 9.209,096 kilómetros cuadrados ó 3.557,009 millas cuadradas.

¿Cuál es la mayor longitud del país ?

Unos 4,505 kilómetros ó 2,800 millas desde el Estado de Maine hasta la costa del Pacífico.

¿ Y su mayor anchura ?

Como 2,574 kilómetros ó 1,600 millas.

¿ Qué hay que decir sobre su comercio ?

Que excede al de toda otra nación del mundo, menos Inglaterra y Francia.

¿ Qué se puede decir de sus vapores y demás embarcaciones ?

Que son los buques más ligeros que se construyen en el mundo.

¿ Qué puede decirse de sus ferrocarriles ?

Que sus vías férreas suman ma-



Interior de la estación Central de los ferrocarriles de Nueva York.



por extensión que las de todos los otros países. Actualmente se explotan como 211,125 kilómetros ó 125,000 millas.

¿Cuál es la longitud de sus vías telegráficas?

212,734 kilómetros ó 126,000 millas.

¿Qué tiene de notable su industria?

Que se desarrolla de una manera colosal; siendo innumerables los productos que ofrece.

### LECCIÓN XCVIII

¿Cómo se llaman los estados que quedan al N. E. y E. de Nueva York?

Estados del Este, ó de Nueva Inglaterra.

¿Cuándo y por quién fué colonizada la Nueva Inglaterra?

En 1620, por los Puritanos, naturales de Inglaterra.

¿Por qué es notable el Estado de Maine?

Por sus maderas de construcción y sus astilleros.

¿Qué se dice de los puertos de este Estado?

Que son los mejores de los Estados Unidos.

¿Cuáles son las principales industrias de Massachusetts, Rhode Island y Connecticut?

Tiene grandes y numerosas fábricas de tejidos de lana y de algodón, y de toda clase de maquinaria.

¿Cuál es la capital de Massachusetts?

Boston, hermosa ciudad, con unas 362,839 almas, excelente puerto y gran comercio.

¿Qué puede decirse de los medios de educación en la Nueva Inglaterra?

Que las escuelas públicas y colegios son los mejores de la Unión.

¿Qué monumento notable hay cerca de Boston?



Monumento de Bunker Hill.

El de Bunker Hill, de 220 pies de alto, levantado sobre el campo en que se dió la primera batalla de la revolución.

¿Cuál es el pueblo más manufacturero de los Estados Unidos?

Lowell, en Massachusetts.

### LECCIÓN XCIX

¿Qué presentan de notable los Estados Centrales del Atlántico?

Son los más populosos, industriales y comerciales de la República.

¿Cuál de ellos es el principal?

El de Nueva York, el más rico y poblado de toda la Unión.

¿Cuál es la ciudad más importante de este Estado?

Nueva York, que es desde todos

los puntos de vista la primera ciudad de América.

¿Cuál es la población de la ciudad de Nueva York?

En 1880, tenía 1,206,299 habitantes.

¿Cómo se surte de agua la ciudad?

Por el Acueducto del Croton, que tiene 40½ millas de largo, y 9 pies de diámetro.

¿Cuál fué el costo de esta grande obra y sus dependencias?

No bajó de 14 millones de pesos.

¿Cómo se conduce el agua por la ciudad?



Puente suspendido del Río del Este, uniendo la ciudad de Nueva York con la de Brooklyn.

Por grandes cañerías de hierro, subterráneas, de donde se proveen las casas por medio de tubos de plomo. Actualmente se está construyendo un nuevo acueducto.

¿Hay algo que notarse sobre la educación pública en este Estado?

Sí: que todos los niños que quieren, pueden adquirir allí una buena educación, sin costo alguno.

## LECCIÓN C

¿Qué canal notable hay en el Estado de Nueva York?

El de Erie, de 365 millas de largo, que une el lago Erie con el río Hudson.

¿Qué gran catarata se encuentra en este Estado?

La del Niágara, entre el lago Erie y el Ontario.

¿Qué puede decirse de esta catarata?

Que es la más grande y más imponente del mundo.

¿A qué profundidad caen las aguas?

A 160 pies; y la masa de agua de los lagos, que se precipita, es tan considerable, que el ruido que causa se oye de 10 á 20 millas de distancia.

¿Cuáles son las producciones vegetales de los Estados Centrales del Atlántico?

Es muy abundante en ellos el trigo, maíz y otros granos, el tabaco, las frutas de la zona templada, etc.

¿Por qué es notable Pensilvania?

Por sus inagotables minas de carbón y de hierro.

¿De quién recibió Pensilvania su nombre?

De Guillermo Penn, cuácaro inglés.

¿Qué ciudad fundó Penn?

Filadelfia, ó ciudad de "amor fraternal."


## LECCIÓN CI

¿Cuáles son las principales producciones de los Estados del Sur?

Algodón, azúcar, arroz y tabaco.

¿Cuál es la ciudad más grande de los Estados del Sur?

Nueva Orleans, la tercera ciudad comercial de la Unión.



Estatua ecuestre de Jackson en Nueva Orleans.

¿Cuál es el aspecto del país?

Es bajo y llano por un espacio de 80 á 160 kilómetros contados desde la costa; pero gradualmente se eleva, hasta formar montañas hacia el interior.

¿Cuál es el clima de aquellos Estados?

Cálido é insalubre, en las costas y donde el terreno es bajo; pero generalmente templado y sano en las elevaciones.

¿Cuál es el más grande de los Estados del Sur?

El de Tejas.

¿A qué país pertenecía Tejas antiguamente?

Á Méjico.

¿Qué distingue al Tennessee de los demás Estados del Sur?

El ser uno de los más industriales y mineros. En sus montañas del E. abunda carbón, hierro, cobre y hermosas variedades de mármoles.

¿A qué país pertenecía Florida antes de hacer parte de la Unión?

A España.

¿Cuándo los Estados Unidos compraron la Florida?

En 1821.

### LECCIÓN VII

¿Qué es el Distrito de Columbia?

Un pequeño distrito situado á la orilla izquierda del río Potomac, en-


tre los Estados de Marilandia y Virginia.

¿Qué ciudad hay en el Distrito de Columbia?

Washington, capital de los Estados Unidos, con 150,000 habitantes.

¿Qué edificios públicos notables hay en Washington?

El Capitolio, lugar donde se reune el Congreso; la Casa Blanca, lugar donde vive el Presidente de la República; los departamentos de Guerra, Marina y Hacienda, la Administración Central de Correos y un museo muy rico en antigüedades americanas. Posee además la ciudad magníficas avenidas, hermosos



*El Capitolio de Washington.*

parques y paseos, y suntuosos edificios privados.

¿En qué consiste la principal riqueza de Georgia?

En sus minas de oro y hierro, en sus canteras de mármol y vastos pinares. Por su puerto de Savannah exporta mucho algodón y maderas.

**LECCIÓN CIII**

¿Cuál fué de los Estados Centrales del Norte el que primero se colonizó?

Michigan, que lo fué por los franceses, en 1670.

¿Cuáles son las producciones de estos Estados?

Maíz, trigo, centeno, ganado vacuno, de cerda, etc., en gran abundancia.

¿Cuál es de los Estados Centrales del Norte, el de más población?

Ohio.

¿Cuál es la ciudad más grande de estos Estados?

Chicago, con unas 500,000 almas, la ciudad más populosa y mercantil del Estado de Illinois.

¿Porqué es notable Cincinnati, ciudad principal de Ohio?

Por ser el primer mercado de cerdos, del mundo.

¿Qué gran cueva se encuentra en Kentucky?

La cueva de Mammoth.

¿Se ha explorado esta cueva?

Se han explorado de 16 á 24 kilómetros, sin hallarle término.

¿Cómo es que la exploran?

En botes; pues parece que es un río subterráneo, debajo de las montañas.

¿Qué especie particular de peces se encuentran en esta cueva?

Una especie de peces sin ojos, ni señal alguna donde debieran tenerlos.

**LECCIÓN CIV**

¿En qué Estados se encuentra plomo en gran abundancia?

En Misuri, Wisconsin y Iowa.

¿Dónde se encuentra mucho cobre?

En el Estado de Michigan, cerca del lago Superior.

¿Qué montaña notable hay en Misuri?

La Montaña de Hierro, que es casi una masa sólida del mineral que le da su nombre, de 5 kilómetros de largo, 1 de ancho y unos 100 metros de elevación.

¿Qué Estados producen grandes cantidades de oro?

California y Colorado.

¿Cuándo se descubrió oro en California?

En 1848.

¿Cuándo se admitió á California como Estado de la Unión?

En el año de 1850.

¿De qué país formaba parte antes de anexarse á los Estados Unidos?

De la República Mejicana.

¿Qué hay de notable acerca de los ríos de los Estados del Sur, Centro y Centrales del Norte?

Que muchos de ellos son caudalosos y navegables.

¿Cuál es el total de la longitud de estos ríos?

Más de 40,000 kilómetros.

¿Hay grandes praderas en los Estados del Oeste?

Sí; hay muchas.

¿Qué animales abundan en estas praderas?

Se crían inmensos rebaños de ganado vacuno y se encuentran ciervos, caballos salvajes y algunos bisontes.

¿Cuál es el río más grande de los Estados del Oeste?

El Misisipí, nombre indio que significa "El padre de los ríos."

¿Qué curso tienen el Misisipí y el Misuri juntos?

Más de 6,700 kilómetros.

### LECCIÓN CV

¿Cuánta población es necesario que tenga un territorio, para que pueda ser admitido como Estado?

60,000 habitantes.

¿Cómo están gobernados los territorios?

Cada uno de ellos, excepto el Indio y Alaska, tiene un Gobernador nombrado por el Presidente de los Estados Unidos, y una legislatura cuyos miembros son elegidos por el pueblo.

¿Qué es el Territorio Indio ó de los Indios?

Un territorio dado por los Estados Unidos á ciertas tribus de indios, que antes habitaban algunos de los Estados del Sur y del Oeste, para que vivan en él permanentemente.

¿Qué secta religiosa hay establecida en el Territorio de Utah?

Los Mormones?

¿Cerca de qué lago queda la colonia de los Mormones?

Inmediato al Gran Lago Salado.

¿Quién fué el primero que estableció casa de comercio en Oregon?

Juan Jacobo Astor, el hombre más rico de los Estados Unidos.

¿Qué se obtiene de los indios en aquel territorio?

Piel y vestidos de cuero de búfalo.

¿Qué árbol grande se da en Oregon?

El abeto, que tiene á veces una altura de 100 metros, y su tronco hasta 20 metros de circunferencia.

¿Qué montes se encuentran en la parte occidental?

Los montes de la Cascada, con picos que alcanzan á una elevación de 5,000 metros.

¿Qué es Alaska?

El extenso país, de clima excesivamente frío y suelo estéril, que ocupa la parte N. O. de la América del Norte.

¿A qué nación perteneció hasta 1867?

Á Rusia, con el nombre de América Rusa; pero en aquel año fué comprada por el gobierno de los Estados Unidos.

¿Por quién es habitado el país?

Principalmente por esquimales é indios.

¿Qué monte notable hay en Alaska?

El monte San Elías, que algunos tienen por el pico más elevado de la América del Norte.

### LECCIÓN CVI


¿A qué regiones se da el nombre de Dominio del Canadá?

Á todas las de la América del Norte que se hallan al Norte de los Estados Unidos, excepto Alaska y Groenlandia.

¿Cómo se divide el Dominio del Canadá?

En 7 provincias, que son: Columbia Británica, Manitoba, Ontario, Quebec, Nueva Brunswick, Nueva Escocia y la Isla del Príncipe Eduardo: el distrito de Keewatin, los territorios del N. E.; y los del N. O. que comprenden los distritos de Assiniboia, Saskatchewan, Alberto y Atalasca.

¿Cuál es la superficie del Dominio?  
 8.987,000 kilómetros cuadrados ó  
 3.470,392 millas cuadradas.



Catedral de Montreal.

¿Cuál es la capital del Dominio?  
 Ottawa, con 45,000 habitantes;  
 y las principales poblaciones son:  
 Toronto, Hamilton y Kingston, en  
 Ontario; y Montreal y Quebec, en  
 la provincia de este último nombre.

¿Por quién fué descubierto el Canadá?  
 Por Juan Cabot, según se dice,  
 pero fué explorado, en 1534, por los  
 franceses, quienes fundaron á Mon-  
 treal y á Quebec.

¿A quién pertenece este Dominio?  
 Á Inglaterra, que, en 1759, lo  
 conquistó de los franceses.

¿Qué ríos hay en el Dominio del Ca-  
 nadá?

Los principales son el San Lorenzo,  
 con sus tributarios, el Ottawa,  
 el San Mauricio y el Saguenay; el  
 Nelson y el Mackenzie.

¿Hay lagos?  
 Sí, muchos. (Véase el mapa de  
 la América del Norte.)

¿Qué lengua hablan los canadenses?  
 El inglés y el francés, siendo este  
 último el que predomina en la pro-  
 vincia de Quebec, cuyos habitan-  
 tes son principalmente de origen  
 francés.

¿Cómo está gobernado el país?  
 Por un gobernador general, nom-  
 brado por la corona británica; pero  
 cada una de las provincias tiene un  
 teniente gobernador.

## LECCIÓN CVII

### MAPA DEL OCÉANO ATLÁNTICO

¿Qué limita al Océano Atlántico por  
 el O.? A-a del N-e y A-a del S-r.

¿Qué por el E? E-a y A-a.

¿Qué océano se encuentra en el N?  
 Á-o.

¿Cuál en el S.? A-o.

¿Qué península hacia la parte seten-  
 trional? G-a.

¿Qué isla hay al E. de Groenlandia?  
 I-a.

¿Qué isla hay al E. del Canadá?  
 T-a.

¿Qué islas pequeñas se encuentran al  
 E. de los Estados Unidos? B-s.

¿Qué islas se encuentran al N. y E. del  
 mar Caribe? A-s.

¿Qué cabo hay en la extremidad orien-  
 tal de la América del Sur? S. R-e.

¿Cuál en la extremidad meridional?  
 H-s.

¿Qué islas hay al N. O. de Francia?  
 B-s.

¿Cuáles al O. de España? A-s.

¿Cuáles al S. O. de España? M-a.

# MAPA DEL OCEANO ATLANTICO.





- ¿ Cuáles al S. de las de Madera ? C-s.  
 ¿ Qué islas se encuentran al O. de África, y al E. del mar Caribe ? C-o V-e.  
 ¿ Qué cabo hay al S. de Liberia ? P-s.  
 ¿ Qué república, protegida por los Estados Unidos hay al O. de Guinéa ? L-a.  
 ¿ Qué islas hay al O. del África meridional ? A-n y S. H-a.  
 ¿ Qué cabo se encuentra en la extremidad meridional de África ? B-a E-a.  
 ¿ Qué colonia hay en este cabo ? C-o.

## LECCIÓN CVIII

¿Cuál es la extensión del océano Atlántico ?

12,800 kilómetros, ú 8,000 millas de N. á S., y unos 3,136 kilómetros ó 1,960 millas de anchura media.

¿Quién fué el primero que atravesó el océano Atlántico ?

Cristóbal Colón, en 1492.

¿Qué volcán notable hay en Islandia ?

El Hecla.

¿Á qué nación pertenece la Islandia ?

Á Dinamarca.

¿Á qué país pertenecen las islas Azores, de Madera y del Cabo Verde ?

Á Portugal.

¿Qué producen las dos primeras ?

Vinos, naranjas y limones.

¿Por qué son célebres las islas Canarias ?

Por sus canarios, vinos y frutas.

¿Á qué nación pertenecen estas islas ?

Á España.

¿Y á cuál las Bermudas, Ascención y Santa Helena ?

Á la Gran Bretaña.

¿Quién vivió desterrado en Santa Helena desde 1815 á 1821 ?

Napoleón Bonaparte, emperador de Francia.

¿Qué debemos observar respecto del Atlántico ?

Que este océano recibe casi en su totalidad los grandes ríos de América, Europa y África.

¿Qué se encuentra frecuentemente flotando en la parte N. del océano Atlántico ?

Grandes masas de hielo que se forman en el océano Ártico, y que las corrientes arrastran al Atlántico.

¿Causan estas masas naufragios ?

Los buques, cuando el tiempo está muy nebuloso, suelen estrellarse contra ellas y zozobrar.

## LECCIÓN CIX

## MAPA DE EUROPA

¿Cuál es la superficie de Europa ?  
(Véase página 12.)

¿Cuántos habitantes tiene ?  
(Véase página 12.)

¿Qué océano baña las costas N. de Europa ? A-o.

¿Cuál las del O. ? A-o.

¿Qué mar hay entre Europa y África ? M-o.

¿Y cuál al S., la separa del Asia ? N-o.

¿Qué pequeño mar une al Negro con el Mediterráneo ? M-a.

¿Qué mar hay al S. E. de Europa ? C-o.

¿Qué mares hay al O. de Europa ? B-o, del N-e, y de I-a.

¿Qué golfo ? G-a, que también se llama Bahía de Vizcaya.

¿Qué golfos forma el mar Báltico ? B-a y F-a.

¿Cuáles el Mediterráneo ? L-n y V-a, que también se llama mar Adriático.

¿Qué mar forma el océano Ártico en las costas del N. ? B-o.

¿Y cuál el mar Negro ? A-f.

¿Esceptuando el Blanco, á qué océano pertenecen todos estos mares ? A-o.



## LECCIÓN CX

- ¿ Qué países hay en el S. O. de Europa? E-a y P-l.  
 ¿ Qué país queda al N. de España? F-a.  
 ¿ Qué país pequeño al N. de Francia? B-a.  
 ¿ Qué isla queda al O. del mar del Norte? In-a y E-a.  
 ¿ Cuál al O. de Inglaterra? Ir-a.  
 ¿ Qué países hay en la parte N. O. de Europa? N-a y S-a.  
 ¿ Cuál es el país más grande de Europa? R-a.  
 ¿ Cuánta parte de la Europa ocupa la Rusia? Más de la mitad.  
 ¿ Qué imperio se encuentra al S. del mar Báltico? El I-o A-n.  
 ¿ Qué país queda entre Francia y Austria, que no tiene costa en ningún mar? S-a.  
 ¿ Qué nación hay al N. de Bélgica? H-a.  
 ¿ Cuál al E. del mar del Norte? D-a.  
 ¿ Qué estados se encuentran entre Austria y Turquía? E-s D-s.  
 ¿ Qué reino pequeño hay al S. de Turquía? G-a.  
 ¿ Qué país entre el mar Adriático, y el Mediterráneo? I-a.

## LECCIÓN CXI

- ¿ Qué forma tiene la Italia? Su forma es como la de una bota.  
 ¿ Qué isla hay al N. de Rusia? N-a Z-a.  
 ¿ Qué isla hay al O. de Noruega? I-a.  
 ¿ Qué islas hay al E. de España? B-s.  
 ¿ Qué islas quedan al O. de Italia? C-a y C-a.  
 ¿ Qué isla se encuentra al S. de Italia? S-a.  
 ¿ Qué isla al S. E. de Grecia? C-a.  
 ¿ Qué nombre se da á todas las islas que se encuentran al E. de Grecia? A-o.  
 ¿ Cuál en la parte oriental del mar Mediterráneo? Ch-e.  
 ¿ Qué río hay entre Rusia y Asia? U-l.  
 ¿ Qué ríos caudalosos desembocan en el mar Caspio? V-a y U-l.  
 ¿ Tienen las aguas del mar Caspio salida visible por alguna parte? No.

## LECCIÓN CXII

- ¿ Qué se hace, entonces, el agua que cae en este mar? Se evapora por el calor del sol.  
 ¿ Qué río desemboca en el mar de Azof? D-n.  
 ¿ Qué ríos caudalosos desembocan en el mar Negro? D-r y D-o.  
 ¿ Qué río desemboca en el golfo de Gascuña? L-a.  
 ¿ Cuál desemboca en el mar Blanco? D-a.  
 ¿ Qué montes hay entre Rusia y Siberia? U-s.  
 ¿ Qué cadena al S. E. de Rusia? C-o.  
 ¿ Qué cordillera entre Francia y España? P-s.  
 ¿ Cuál al N. de Italia? A-s.  
 ¿ Qué montes hay entre Noruega y Suecia? D-s.  
 ¿ Cuáles en Austria? C-s.  
 ¿ Qué mar y qué golfo hay al E. de Suecia? B-o y B-a.  
 ¿ Qué cabo hay al N. de Noruega? N-e.  
 ¿ Cuáles son las Islas Británicas? G-n B-a é I-a.  
 ¿ Qué otro nombre se da á las Islas Británicas? Reino Unido de la Gran Bretaña é Irlanda.

## LECCIÓN CXIII

- ¿ Qué mar hay al E. de la Gran Bretaña? N-e.  
 ¿ Cuál al O.? El de I-a.  
 ¿ Qué canal hay al S. de Inglaterra? El de la M-a.  
 ¿ Qué estrecho hay entre Inglaterra y Francia? El Paso de Calais.  
 ¿ Cuál es la anchura de este estrecho? 35 kilómetros.  
 ¿ Hacia qué parte de Inglaterra queda Londres? S. E.  
 ¿ Qué ciudad de Francia es la que queda más cerca de Inglaterra? Calais.  
 ¿ Cuál es la capital de Francia? P-s.  
 ¿ Qué golfo hay al N. de España y O. de Francia? G-a ó B-a de V-a.  
 ¿ Qué estrecho hay á la entrada del Mediterráneo? G-r.  
 ¿ Cuál es la anchura menor de este estrecho? 21 kilómetros.

¿ Qué país queda al O. de España? P-1.  
 ¿ Qué gran río riega á Portugal?  
 El Tajo.

### LECCIÓN CXIV

¿ Qué río caudaloso corre por Alemania,  
 Austria y Turquía? D-o.  
 ¿Cuál es el río más caudaloso de Eu-  
 ropa? V-a.  
 ¿ En qué país se encuentra este río?  
 R-a.  
 ¿Cuál es el río principal de Italia?  
 El Po.  
 ¿ En dónde desemboca el Po?  
 G-o de V-a.  
 ¿Cuál es la capital de Prusia? B-n.  
 ¿ Y la de Austria? V-a.  
 ¿ La de Rusia? S. P-o.

¿ Sobre qué golfo se halla San Peters-  
 burgo? F-a.  
 ¿ Qué volcán hay en Italia? V-o.  
 ¿Cuál en Sicilia? E-a.  
 ¿ Qué volcán hay en Islandia? H-a.  
 ¿Cuál es la capital de Italia? R-a.  
 ¿ La de Turquía? U-a.  
 ¿Cuál es la ciudad más grande de Eu-  
 ropa? Londres.  
 ¿Cuál es la población de Londres?  
 Más de 3,500,000.  
 ¿ Qué puerto de mar hay al N. de Ru-  
 sia? A-1.  
 ¿ En la boca de qué río está Arcángel?  
 En la del D-a.  
 ¿ Qué lago hay en Rusia, cerca de S.  
 Petersburgo? L-a.  
 ¿Cuál es la capital de España? M-d.  
 ¿ Y la de Portugal? L-a.

### LECCIÓN CXV

¿ Cuáles son las naciones de Europa?

Son las siguientes, con su población respectiva, sus capitales y la situación y pobla-  
 ción de estas últimas:

Países.	Población.	Capitales.	Situación.	Población.
Reino Unido de la G. Bretaña é Irlanda.	35,262,762	Londres . . . . .	Á orillas del Támesis . . . . .	3,814,571
Francia . . . . .	37,672,048	París . . . . .	Á orillas del Sena . . . . .	2,269,023
España . . . . .	17,000,000	Madrid . . . . .	Orilla izquierda del Manzanares.	384,636
Portugal . . . . .	4,500,000	Lisboa . . . . .	Orilla derecha del Tajo . . . . .	233,389
Imperio Alemán . . . . .	45,234,061	Berlín . . . . .	Á orillas del Spree . . . . .	1,122,330
Austria-Hungría . . . . .	37,869,954	Viena . . . . .	Á orillas del Danubio . . . . .	1,103,857
Dinamarca . . . . .	1,700,000	Copenhague . . . . .	En la isla de Zelândia . . . . .	235,254
Bélgica . . . . .	5,519,844	Brusclas . . . . .	Á orillas del Senne . . . . .	394,940
Holanda . . . . .	4,114,077	La Haya . . . . .	Cerca de la costa . . . . .	112,300
Suiza . . . . .	2,846,102	Berna . . . . .	Á orillas del Aar . . . . .	32,600
Italia . . . . .	28,459,451	Roma . . . . .	Á orillas del Tiber . . . . .	273,900
Suecia . . . . .	4,572,245	Estocolmo . . . . .	Á orillas del lago Melar . . . . .	176,745
Noruega . . . . .	1,806,900	Cristiania . . . . .	En la bahía de Cristianía . . . . .	76,876
Rusia . . . . .	83,385,000	S. Petersburgo . . . . .	Á orillas del Neva . . . . .	876,575
Turquía . . . . .	5,375,000	Constantinopla . . . . .	Á orillas del Bósforo . . . . .	650,000
Grecia . . . . .	1,979,423	Atenas . . . . .	Cerca del golfo Aegina . . . . .	63,374
Rumanía . . . . .	5,376,000	Bukarest . . . . .	Á orillas del Dimbovitza . . . . .	221,000
Servia . . . . .	1,760,000	Belgrado . . . . .	Á orillas del Danubio . . . . .	30,000
Bulgaria . . . . .	1,998,000	Sofia . . . . .	En el interior hacia los Balkanes.	30,000
Montenegro . . . . .	236,000	Cetina . . . . .	Cerca del Adriático . . . . .	1,500
Andorra . . . . .	18,000	Andorra . . . . .	En los Pirineos . . . . .	800
San Marino . . . . .	7,816	San Marino . . . . .	Cerca del Adriático . . . . .	6,000

## LECCIÓN CXVI

## RÍOS

*Qué países riegan, qué dirección llevan, y dónde desembocan*

El Duina ?	El Ródano ?
El Danubio ?	El Dniéper ?
El Don ?	El Volga ?
El Ural ?	El Loira ?
El Tajo ?	El Sena ?
	El Rin ?

## MARES, GOLFOS, BAHÍAS, CANALES Y ESTRECHOS

*Entre qué países están situados*

El Mar Mediterráneo ?	
El Golfo de Venecia ?	
El Archipiélago ?	El Mar Negro ?
El Mar de Mármara ?	
El Mar Caspio ?	El Mar de Azof ?
El Mar Blanco ?	El Mar Báltico ?
El Golfo de Botnia ?	
El Golfo de Finlandia ?	
El Mar del Norte ?	
El Canal de la Mancha ?	
El Golfo de Gascuña ?	
El Paso de Calais ?	
El Estrecho de Gibraltar ?	

## ISLAS

*Diga V. la situación de las islas siguientes:*

Inglaterra ?	Sicilia ?
Irlanda ?	Córcega ?
Islandia ?	Cerdeña ?
Candía ?	Chipre ?
Nueva Zembla ?	Las Baleares ?

## MONTAÑAS Y VOLCANES

*En qué países se encuentran*

Los Montes Dofrines ?	
El Cáucaso ?	Los Carpatos ?
Los Pirineos ?	El Hecla ?
Los Alpes ?	El Vesubio ?
Los Urales ?	El Etna ?

## HISTORIA Y DESCRIPCIÓN DE EUROPA

## LECCIÓN CXVII

*¿Qué parte de Europa fué la primera habitada ?*

Grecia, que lo fué hace 4,000 años.

*¿Fué Grecia habitada tan pronto como Asia y Africa ?*

No.

*¿Cómo vivían al principio los griegos ?*

En cuevas y árboles huecos ; y se mantenían de raíces, yerbas y bellotas.

*¿Quiénes fueron á Grecia mientras sus habitantes vivían así ?*

Los egipcios, los cuales enseñaron á los griegos á edificar casas, á cultivar la tierra, etc.

*¿Qué vinieron á ser luego los griegos ?*

Una nación grande y poderosa.

*¿Qué gran imperio se levantó después en Europa ?*

El Imperio Romano.

*¿Conquistaron los romanos á los griegos ?*

Sí, los conquistaron 146 años antes de Jesucristo.

*¿Quiénes fueron los primeros habitantes de Francia y de Inglaterra ?*

Algunas tribus guerreras.

*¿Quién conquistó á estas tribus ?*

Julio César, general romano, como 55 años antes de Jesucristo.

*¿Diga Vd. algunos de los países más poderosos que hay ahora en Europa ?*

Gran Bretaña, Francia, Rusia, el Imperio Alemán, Austria, Italia y España.

*¿Cuál de las naciones europeas es la más poderosa ?*

La Gran Bretaña.

## LECCIÓN CXVIII

¿Qué gran general francés vivió á principios de este siglo?

Napoleón Bonaparte?

¿Qué trató de hacer Napoleón, que lo hizo notable?

Emprendió la conquista de toda la Europa.

¿Qué tenía de notable su ejército?

Que era el más poderoso del mundo.

¿Contra qué lugar lo hizo marchar en 1812?

Contra Moscou en Rusia.

¿De cuántos hombres se componía su ejército?

De 500,000.

¿Qué hicieron los rusos cuando lo vieron acercarse á la ciudad?

Prendieron fuego á ésta y huyeron.

¿Para qué incendiaron los rusos á Moscou?

Para impedir que el ejército de Napoleón pasase allí el invierno.

¿Qué curiosidad se encuentra en Moscou?

Una gran campana de 67 pies de circunferencia, 19 pies de altura, y que pesa cerca de 976 kilogramos.

¿Á que se vieron precisadas las tropas conquistadoras?

Á retirarse.

De los 500,000 hombres ¿cuántos volvieron á Francia?

Sólo unos 30,000.

¿Qué hicieron entonces las otras naciones?

Unieron sus ejércitos para oponérselos á Napoleón.

## LECCIÓN CXIX

¿Dónde fué al fin derrotado ese general?

En la batalla de Waterloo, en Bélgica.

¿En qué año tuvo lugar la batalla de Waterloo?

En 1815.

¿Adónde fué desterrado luego Bonaparte?

Á Santa Helena, donde murió en 1821.

¿Cuál es el imperio más grande del mundo?

El Imperio Ruso.

¿Quién fundó á San Petersburgo?

Pedro el Grande, en 1703.



¿Qué nombre se da á Inglaterra, Escocia, Gales é Irlanda juntas?

Reino Unido de la Gran Bretaña é Irlanda.



¿Cuáles son los artículos que más se fabrican en Inglaterra?

Géneros de lana y algodón, y quincallería.

¿Cuál es el país más manufacturero del mundo?

La Gran Bretaña.

¿Qué tiene Londres de notable?

El ser la ciudad más grande del mundo.

¿Cuáles son las ciudades más importantes del Reino Unido?

Londres, Liverpool, Manchéster y Birmingham, en Inglaterra; Dublín, Cork y Belfast, en Irlanda; y Edimburgo y Glasgow, en Escocia.

¿ Cuántas millas cuadradas tiene la ciudad de Londres ?

Como 122 millas cuadradas, ó 316 kilómetros cuadrados.

¿ Qué hay, en Londres, debajo del río Támesis ?

Un túnel ó galería subterránea, por donde pueden pasar toda clase de carruajes, etc.

¿Cuál es la religión de la mayor parte de los habitantes de la Gran Bretaña ?

La protestante de la iglesia anglicana; pero se toleran todos los cultos.

¿ Dónde queda Laponia ?  
Al N. O. de Rusia.

¿ Qué hay que decir respecto del clima de Laponia ?

Que es muy frío en invierno, y cálido en verano.

¿Cuál es el carácter de los lapones ?

Son tímidos, celosos del honor, su estatura es baja, y muchos de ellos alcanzan á vivir hasta cien años.

¿ Qué constituye la riqueza de los lapones ?

El rengífero, que les suministra el alimento y el vestido.

### LECCIÓN CXX

¿ Cómo viajan los lapones ?

En trineos tirados por rengíferos.

¿ Qué es Francia ?

Una república.

¿ Cómo está dividida ?  
En 87 departamentos.

Nombre Vd. las ciudades más importantes de Francia ?

París, León ó Lyon, Marsella y Burdeos.

¿ Qué hace notable á Francia ?

Sus vinos y licores espirituosos, y sus sedas.

¿Cuál es el aspecto de España ?

Después de Suiza, es el país más



Patio de los Abencerrajes. Interior de la Alhambra en Granada.



montañoso de Europa.

¿Cuántas provincias tiene España?  
49.

Diga V. sus ciudades más importantes.

Madrid, Barcelona, Sevilla, Valencia, Málaga, Cádiz, Santander y Granada.

¿Qué hombre notable vivió en España?  
Cristóbal Colón, descubridor de América.

¿Qué animal particular se cría con abundancia en España?  
Los carneros merinos.

¿Qué promontorio notable hay al S. de España?  
Gibraltar, al N. del estrecho de este nombre.



Gibraltar.

¿A qué gobierno pertenece Gibraltar?  
A la Gran Bretaña, y es el punto mejor fortificado del mundo.

¿Qué es lo que más se exporta de España?  
Lana, vino y pasas.

¿A qué se da el nombre de Imperio Alemán?

A dos grandes grupos de estados, denominados Confederación Ger-

mánica del Norte y Estados del Sur.

¿Cuáles son los más importantes de aquellos Estados?

El reino de Prusia, con unos 36,000,000 habitantes, y los reinos de Sajonia, Baviera y Wurtemberg; los ducados Sajones, y las






tres ciudades anseáticas (ó libres), de Hamburgo, Brema y Lubeck.

¿Cuál es la capital de Prusia?

Berlín, que lo es también del Imperio Alemán.

¿Qué otras ciudades notables hay en dicho imperio?

Breslau, Danzic ó Danzique, Magdeburgo, Hannover, Cassel, Múnster y Frankfort, en Prusia; Dresde, la capital de Sajonia; y Carlshue, Stuttgart y Munich, las capitales de Baden, Wurtemberg y Baviera, respectivamente.



*El Palacio Real, Berlín.*

### LECCIÓN CXXI

¿Qué ley rige en Prusia respecto de la asistencia de los niños á la escuela?

Todos los niños están obligados á asistir á la escuela, mientras no se lo impida alguna enfermedad.

¿Qué tiene Suiza de notable?

Ser el país más montañoso del globo.

¿Qué se aglomera allí,

en la cima de las montañas?



Enormes montones de nieve y hielo, que se llaman ventisqueros.

¿Y qué sucede muchas veces con estas masas de nieve y hielo?

Que, rodando por la falda de las montañas, suelen sepultar poblaciones enteras.

¿Qué hombre célebre produjo la Suiza?

Guillermo Tell, que combatió valientemente contra los déspotas de su patria.

¿En qué artes son famosos los italianos?



En la pintura, la escultura y la música.

¿ Por cuánto tiempo fué Roma dominadora de la Europa ?

Por espacio de 1,000 años.

¿ Qué catedral célebre hay en Roma ?

Sau Pedro, que es la iglesia más grande del mundo.

¿ Quiénes habitan la Turquía ?

Los turcos.

¿ Qué nombre se da al emperador de Turquía ?

Se le llama *Sultán*.

¿Cuál es la religión de los turcos ?

La mahometana.



¿Cuál es la religión dominante de los franceses, españoles, portugueses, italianos, y austriacos ?

La católica; pero en la mayor parte de Europa se toleran todos los cultos.

### LECCIÓN CXXII

¿ Por qué se llaman los turcos mahometanos ?

Porque son discípulos de Mahoma; es decir, creen en sus doctrinas.

¿ Por qué es notable Polonia ?

Por sus minas de sal.

¿ Qué curiosidad natural hay en Irlanda ?

La calzada de los gigantes.



¿ Por qué es notable Grecia ?

Por sus ruinas de templos antiguos, etc.

¿ Por qué es notable la ciudad de Venecia ?

Por sus canales y puentes.

¿ Sobre qué está edificada la ciudad de Venecia ?

Sobre 80 pequeñas islas.

¿ Cuántos canales hay en la ciudad ?

149, que sirven de calles.

¿ Cómo transita la gente por la ciudad ?

En embarcaciones llamadas *gón-dolas*.

¿ Qué hay cerca de la costa de Noruega ?

Un terrible remolino, muy peligroso para las embarcaciones.

¿ Qué suceden á éstas cuando caen en aquel remolino ?

Son completamente despedazadas; otro tanto ocurre aún á las ballenas.

### LECCIÓN CXXIII

#### MAPA DE ASIA

¿Cuál es el mayor largo de Asia ?

10,320 kilómetros, ó 6,450 millas, desde los Dardanelos hasta el Japón.

¿ Y su mayor anchura ?

8,560 kilómetros, ó 5,350 millas, desde el cabo Nordeste hasta la punta Sur de Malaca.

¿ Qué superficie tiene este continente ?

(Véase la página 12.)

¿ Cuántos habitantes tiene ?

(Véase la página 12.)

¿ Qué océano hay al N. de Asia ?

Á-o.

¿Cuál al E. ?

P-o.

¿Cuál al S. ?

Í-o.

¿ Qué grandes divisiones se encuentran al O. y S. O. de Asia ?

E-a y Á-a.

¿ Qué país se encuentra al N. ?

S a.

¿ A quién pertenece Siberia ?

Al gobierno ruso.

¿ Qué imperio hay al S. de Siberia ?

C-o.

¿ Qué montañas hay entre Siberia y el Imperio Chino ?

Á-i.

¿ Qué país queda al O. de Siberia ?

F-a.

¿ Qué montes hay entre Siberia y Europa ?

U-s.

# MAPA DE ASIA



- ¿ Qué país queda al S. O. del Imperio Chino? I-n.  
 ¿ Qué montes entre el Indostán y el Imperio Chino? H-a.

## LECCIÓN CXXIV

- ¿ Qué país hay al O. de China? T-n.  
 ¿ Qué mar al O. de la Tartaria ó Turkestán? C-o.  
 ¿ Qué mar se encuentra al S. O. de Asia? O-n.  
 ¿ Cuál entre Arabia y África? R-o.  
 ¿ Qué país hay al N. de Arabia? T-a.  
 ¿ Qué istmo une el Asia con el África? S-z.  
 ¿ Qué mar se encuentra al N. de Turquía? N-o.  
 ¿ Qué país queda al E. de Arabia? P-a.  
 ¿ Qué golfo hay entre Arabia y Persia? P-o.  
 ¿ Qué países pequeños hay entre Persia é Indostán? A-n y B-n.  
 ¿ Cuáles al S. del Imperio Chino? B-n, S-m y A-m.  
 ¿ Qué mar hay al E. de Siberia? O-k.  
 ¿ Qué mar se encuentra al E. del Imperio Chino? A-o.  
 ¿ Cuál al S. de China? C-a.  
 ¿ Qué gran golfo hay al S. de Indostán? B-a.

## LECCIÓN CXXV

- ¿ Qué estrecho hay á la entrada del mar Rojo? B-b.  
 ¿ Qué estrecho hay entre Siberia y América? B-g.  
 ¿ Cuál es la anchura de este estrecho? 57 kilómetros.  
 ¿ Qué lago hay al S. de Siberia? B-l.  
 ¿ Cuáles son los tres grandes ríos de Siberia, que desembocan en el océano Artico? O-i, Y-i y L-a.  
 ¿ Qué río hay al N. E. del Imperio Chino? A-r.  
 ¿ Qué dos ríos de la China desembocan en el mar Amarillo? H-o ó Amarillo y Y-g-tse-k-g ó Azul.  
 ¿ Qué río hay entre Siam y Anam? C-a.  
 ¿ Cuál entre Europa y Turkestán? U-l.  
 ¿ Qué río de Turquía desemboca en el golfo Pérsico? É-s.

- ¿ Qué río del Indostán desemboca en el golfo de Bengala? G-s.

## LECCIÓN CXXVI

- ¿ Qué río se encuentra entre Indostán y Belutchistán? I-o.  
 ¿ Qué península se halla al E. de Siberia? K-a.  
 ¿ Cuál al E. del Imperio Chino? C-a.  
 ¿ Cuál al S. de Siam? M-a.  
 ¿ Qué desierto hay en el Imperio Chino? C-i.  
 ¿ Cuál en Arabia? Arábigo.  
 ¿ Qué montes hay en la costa occidental de Indostán? G-s.  
 ¿ Qué montes hay al N. de Turquía? C-s.  
 ¿ Qué monte muy elevado é histórico se encuentra en Turquía? A-t.  
 ¿ Qué imperio hay al E. de la China? J-n.  
 ¿ Qué islas pertenecen á este imperio? Y-o, N-n, K-ú y S-f.  
 ¿ Qué islas hay al S. E. de China? F-a y H-n.  
 ¿ Qué isla grande se encuentra al S. del mar de China? B-o.  
 ¿ Qué isla queda al E. de Borneo? C-s.  
 ¿ Cuál al S. de Malaca? S-a.

## LECCIÓN CXXVII

- ¿ Qué isla queda al S. E. de Sumatra? J-a.  
 ¿ Qué isla grande se encuentra al N. O. de Siberia? N-a Z-a.  
 ¿ Cuál al S. del Indostán? C-n.  
 ¿ Cuál es el cabo que queda al N. de Asia? N. E.  
 ¿ Cuál es la capital de Siberia? T-k es la capital de la Siberia Occidental, é I-k la de la Siberia Oriental.  
 ¿ Cuál es la capital del Imperio Chino? P-n.  
 ¿ Qué ciudad comercial hay al S. E. de China? C-n.  
 ¿ Qué ciudad hay en el interior del Tibet? L-a.  
 ¿ Cuáles en Anam? H-e y S-n.  
 ¿ Cuál es la capital de Siam? B-k.  
 ¿ Cuál la del Birmán? M-y.

- ¿ Cuál es la capital del Indostán ? C-a.  
 ¿ Qué ciudad hay al S. E. ? M-s.  
 ¿ Qué ciudad importante hay en el Turkestán ? B-a.  
 ¿ Cuál es la capital de Afganistán ? C-l.  
 ¿ Cuál es la capital de Persia ? T-n.  
 ¿ Qué ciudad importante hay al O. de Arabia ? M-a.  
 ¿ Que ciudad hay al S. E. de Arabia ? M-e.  
 ¿ Cuál es la capital de Turquía ? C-a (en Europa).  
 ¿ Qué ciudad hay en la isla de Nifón ? Y-o, la capital del Japón.  
 ¿ Qué mares se unen por el estrecho de Bab-el-Mandeb ? M-r R-o y O-o Í-o.  
 ¿ Y por el estrecho de Bering ? O-o Ár-o y O-o P-o.

**LECCIÓN CXXVIII**

PAÍSES

¿ Dónde están situados

- Siberia ? Imperio Chino ?  
 Indostán ? Arabia ?  
 Persia ? Turquía (asiática) ?  
 Belutchistán ? Afganistán ?  
 Imperio del Japón ?  
 Turkeistán, ó Tartaria Independiente ?  
 Indo-China { Birmán ?  
 Anam ?  
 Siam ?

CIUDADES PRINCIPALES

¿ En qué países se encuentran

- Tobolsk ? Mascate ?  
 Irkutsk ? Calcuta ?  
 Pekín ? Bombay ?  
 Cantón ? Madrás ?  
 Lasa ? Mandelay ?  
 Bokhara ? Bankok ?  
 Cabul ? Hué ?  
 Kelat ? Yedo ?  
 Teherán ? Meca ?

MARES, GOLFOS Y BAHÍAS

¿ Dónde quedan

- El Mar Rojo ?  
 El Mar Negro ?  
 El Mar Caspio ?  
 El Mar de Omán ?  
 El Mar Amarillo ?  
 El Golfo de Bengala ?  
 El Golfo Pérsico ?  
 El Mar de Okhotsk ?  
 El Mar de China ?

**LECCIÓN CXXIX**

MONTAÑAS

¿ En qué países quedan

- Los Montes Urales ?  
 Los Montes Altai ?  
 Los Montes Himalaya ?  
 Los Montes Gatas ?  
 Los Montes Cáucacos ? El Ararat ?

RÍOS

¿ Qué dirección llevan y dónde desembocan

- El Obí ? Huang-ho ? Yenisei ?  
 Lena ? Cambodia ? Ganges ?  
 Indo ? Éufrates ? Ural ?  
 Yang-tse-kiang ?

ISLAS

¿ Dónde quedan

- Borneo ? Nueva Zembla ?  
 Nifón ? Yeso ? Kiusiú ?  
 Sikok ? Formosa ? Hainán ?  
 Celebes ? Sumatra ? Java ?  
 Ceilán ?

PENÍNSULAS

¿ Dónde se encuentran

- Malaca ? Corea ?  
 Kamtchatka ? Arabia ?  
 Indostán ?

## HISTORIA Y DESCRIPCIÓN DEL ASIA.

## LECCIÓN CXXX

*¿Cuál es el aspecto del continente asiático?*

La región setentrional consiste en extensas llanuras, en gran parte pantanosas; las centrales y el interior del Indostán, en vastas altiplanicies atravesadas por grandes cordilleras; y hay numerosos llanos estériles y desiertos.

*¿Qué es el Himalaya?*

Una cadena de montañas las más elevadas del globo.

*¿Cuáles son los picos más notables del Himalaya?*

El monte Everest, que alcanza una altura de 8,842 metros, ó 29,002 pies sobre el nivel del mar, y es por consiguiente el punto más elevado de nuestro planeta; el Dhawalagiri (8,190 metros, ó 26,826 pies), y el Kanchinjinga (8,590 metros, ó 28,178 pies).

*¿Qué tiene de notable el continente de Asia?*

Que es el mayor de todos, pues comprende la tercera parte de la tierra conocida de nuestro globo.

*¿Por qué se considera también como el más interesante?*

Por haber sido la cuna de la raza humana, y el teatro de la mayor parte de los grandes acontecimientos de la antigüedad.

*¿Quiénes fueron los primeros que habitaron el Asia?*

Adan y Eva, que fueron colocados en el jardín del Edén.

*¿Dónde se cree que quedaba este jardín?*

En Armenia, hacia el centro de la Turquía.

*¿Cuántos años pasaron desde la creación de Adan y Eva hasta el diluvio?*

Como 1,700 años.

*¿Cuál fué la causa del diluvio?*

La corrupción que había cundido en la raza humana.

*¿Quién era Noé?*

Un hombre justo.

*¿Qué mandó Dios á Noé que hiciera antes del diluvio?*

Que construyese un arca, para salvarse él y su familia, con un par de cada una de las especies de animales que existían.

*¿Cuántos hijos tenía Noé, que se salvaron en el arca con él?*

Tres: Sem, Cam y Jafet.

*¿Qué les sucedió á todos los seres vivos?*

Perecieron todos, excepto los que entraron en el arca con Noé y su familia.

## LECCIÓN CXXXI

*¿Por cuánto tiempo duró la inundación de la Tierra?*

Por 140 días.

*¿Dónde se detuvo el arca después del diluvio?*

Sobre el monte Ararat, en Turquía?

*¿Cuántos años después del diluvio vivieron los descendientes de Noé en un solo lugar?*

Como 100 años.

*¿Qué hicieron éstos después de 100 años de vivir unidos?*

Los descendientes de los tres hijos de Noé, separándose, se establecieron en diferentes países.

¿Dónde se establecieron los descendientes de Sem?

En Asia.

¿Los de Cam?

En África.

¿Y los de Jafet?

En Europa.

¿Cuántos años después del diluvio, nació Jesucristo?

2,348.

¿Qué religión estableció Jesucristo sobre la Tierra?

El cristianismo.

¿Cuándo vivió Mahoma?

Como 600 años después de Jesucristo.

¿De dónde era Mahoma?

Mahoma era árabe?

¿Qué fundó éste?

Una religión llamada mahometismo.

¿Qué naciones profesan esta religión?

Los turcos, los persas, los tártaros ó turcomanos, los árabes, algunos pueblos del Indostán, etc., todos los cuales son, por tanto, mahometanos.

¿Qué ciudad notable hay en Siria?

La antigua ciudad de Jerusalén.

### LECCIÓN CXXXII

¿Qué magnífico edificio había en Jerusalén, en tiempo de Jesucristo?

El templo de Salomón.

¿Qué ciudad notable hay en Arabia?

Meca, donde nació Mahoma.

¿Qué monte célebre hay al N., cerca del mar Rojo?

El monte Sinaí, en la cima del cual recibió Moisés los “diez mandamientos.”

¿Qué animales hacen célebre la Arabia?

Sus caballos, que son los mejores del mundo.

¿Qué producción vegetal célebre se encuentra en Arabia?

El mejor café que existe.

¿Cómo se llaman los indígenas del Indostán?

Indios ó Indostanos.

¿Cuál es la religión de los indios?

El braçmanismo.

¿Qué gran procesión tienen los indios anualmente?

Una en que sacan el carro de Juggernaut, que contiene su principal diós.

¿Qué hacen á veces algunos indios durante la procesión?

Se echan en el suelo, para morir bajo las ruedas del carro, creyendo que este sacrificio los conducirá al Cielo.

### LECCIÓN CXXXIII

¿Qué árbol notable se da en el Indostán?

El baniano, que muchas veces tiene hasta 3,000 troncos.

¿Qué peculiaridad tienen las ciudades de China?

Casi todas ellas están rodeadas de una alta muralla.

¿Cuántas ciudades amuralladas hay en China?

4,402.

¿Qué muralla notable hay en aquel imperio?

La Gran Muralla, de 2,400 millas de largo, y unos 5 metros de elevación.

¿ Cuántos años hace que se edificó dicha muralla ?

Unos 2,000 años.

¿Cuál es el espesor de la muralla hacia la parte superior ?

ficie de 11,655,000 kilómetros cuadrados, ó 4,526,000 millas cuadradas.

¿Cuáles son las divisiones del imperio ?

La China (propriadamente dicha), la Manchuria, la Mongolia, el Turkestan (Chino) y Tibet.

¿Cuál es la ciudad principal del Imperio Chino ?

Pekín, que queda á unos 80 kilómetros al S. de la Gran Muralla.

¿ Cuántos habitantes tiene ?

Unos 2,000,000.



*Paisaje en China.*

Es tan ancha, que pueden andar sobre ella, de frente, seis hombres á caballo.

¿ Con qué objeto se edificó ?

Con el de impedir las invasiones de los tártaros.

¿ Qué planta es peculiar de China ?

El té.

¿ Qué fabrican los chinos ?

Tejidos de seda y porcelana.

¿Cuál es la población del Imperio Chino ?

Este vasto país, el más populoso del mundo, tiene como 434,000,000 de habitantes.

¿ Qué superficie tiene ?

Tiene próximamente una super-

¿ Qué costumbre singular hay en China ?

La de poner á las muchachas una especie de zapatos, que impide el que les crezcan los pies.

¿ Por qué son notables los chinos ?

Por su habilidad en las artes mecánicas y en la industria, la tenacidad con que por largo tiempo rehusaron dar entrada en su país á los extranjeros y el gran respeto y obediencia con que tratan á sus padres.

¿ Qué castigo tiene el hijo que usa de un lenguaje irrespetuoso para con sus padres, en China ?

Puede ser catigado con la muerte, pues semejante injuria se reputa, entre los chinos como uno de los delitos más graves que pueden cometerse.



**LECCIÓN CXXXIV**

¿Qué es lo que compone el Imperio del Japón?

Este imperio se forma de varias islas al E. de China?



Barco Chino de cabotaje.

¿Cuál es la capital del Japón?  
Yedo, en la isla de Nifón.

¿A qué nación pertenece la Siberia?  
A la Rusia.

¿Qué personas envía a Siberia el gobierno ruso?

Los presos políticos y criminales.

¿Cuál es el aspecto del país?

La Siberia es uno de los países más fríos, desiertos y estériles del Globo?

¿En invierno, cómo viajan en Siberia?

En trineos, tirados por perros ó por rengíferos.

¿Cuál es la superficie de Siberia?

14,467,740 kilómetros cuadrados,  
ó 6,250,000 millas cuadradas.

¿Cuántos habitantes tiene?

Sólo unos 19,000,000, siendo uno de los países relativamente menos populosos del globo.

**LECCIÓN CXXXV****MAPA DE ÁFRICA**

¿Qué mar hay al N. de Africa?  
M-o.

¿Cuál entre África y Asia? R-o.

¿Qué océano se encuentra al E. de Africa?  
Í-o.

¿Cuál al O.?  
A-o.

¿Qué golfo al O. de Africa? G-a.

¿Qué istmo une el Africa con el Asia?  
S-z.

¿Entre qué mares está el istmo de Suez?  
M-o y R-o.

¿Cómo se comunican estos mares?

Por medio de un canal abierto en 1869, por Mr. Lesseps, ingeniero francés.

¿Qué río caudaloso desemboca en el golfo de Guinea?  
N-r.

¿Qué río desemboca en el canal de Mozambique?  
Z-i.

¿Qué ríos hay al S. de la Guinea?  
U-o y N-s.

¿Dónde desemboca el Nilo?  
M-o.

¿Dónde el Niger?  
G-o de G-a.

**LECCIÓN CXXXVI**

¿Qué montes hay en la parte setentrional del Africa?  
A-s.

¿Cuáles en la parte occidental?  
K-g.

¿Qué Estados se encuentran al N.?  
Los de B-a.

¿Qué gran desierto hay al S. de la Berbería?  
G-n D-o.

¿Qué países se encuentran entre el Gran Desierto y el Mar Rojo?  
E-o y N-a.

¿Qué país grande se encuentra al S. del Gran Desierto?  
S-n.

¿Qué país hay al O. de Sudán?  
S-a.

¿Cuál al S. de Sudán?  
G-a.

¿Cuál en la parte meridional del Africa?  
C-a del C-o.

¿Qué países quedan en la costa del océano Índico?  
S-í, Z-r, M-e, S-á y C-a.

¿Qué estados en el centro?  
Los del C-o.

# MAPA DE ÁFRICA



- ¿ Qué pequeña república hay al O. de Guinea? L-a.  
 ¿ Qué colonia inglesa al N. O. de Liberia? S-a L-a.  
 ¿ Qué gran isla hay al S. E. de África? M-r.  
 ¿ Qué canal hay entre Africa y Madagascar? M-e.

**LECCIÓN CXXXVII**

- ¿ Qué islas hay al E. de Madagascar? M-o y B-n ó R-n.  
 ¿Cuál al S. del golfo de Guinea? A-n.  
 ¿Cuál al S. de Annobón? S-a H-a.  
 ¿ Cuáles al O. de Senegambia? C-o V-e.  
 ¿ Qué grupos de islas hay al N. O. de África? C-s y M-a.  
 ¿ Qué isla se encuentra al E. del cabo Guardafuí? S-a.  
 ¿ Qué grupos al N. E. de Madagascar? S-s y A-e.  
 ¿ Qué islas se encuentran en el canal de Mozambique? C-s.  
 ¿ Qué cabo hay al E.? G-í.  
 ¿Cuál al S.? B-a E-a.  
 ¿Cuál al O.? V-e.

**LECCIÓN CXXXVIII**

- ¿ Qué oasis notable hay en el Gran Desierto? F-n.  
 ¿ Qué otros oasis hay al S. de Fezán? B-a y J-n.  
 ¿ Qué lago hay en Sudán? T-d.  
 ¿ Cuáles al O. de Zanguebar? V-a N-a, A-o N-a y T-a.  
 ¿Cuál al O. de Mozambique? N-a.  
 ¿ Qué estrecho se encuentra entre África y España? G-r.  
 ¿Cuál á la entrada del Mar Rojo? B-b-el-M-b.  
 ¿ Qué río corre por Nubia y Egipto? N-o.  
 ¿ Qué ciudades hay en la Berbería, sobre el mar Mediterráneo? A-l, T-z y T-i.  
 ¿ Qué ciudades principales se encuentran en Egipto? C-o y A-a.  
 ¿ Qué ciudad hay cerca del cabo de Buena Esperanza? C-o.  
 ¿Cuál en la Berbería, cerca del Atlántico? M-s.

**LECCIÓN CXXXIX**

## PAÍSES, ETC.

- ¿ Dónde están situados  
 Egipto? Zanguebar?  
 Nubia? Abisinia?  
 El Gran Desierto?  
 Sudán? Guinea?  
 Etiopía? Senegambia?  
 Berbería, ó los Estados Berberiscos?  
 Mozambique? Fezán?  
 Liberia? Sierra Leona?  
 La Colonia del Cabo?  
 Somaulí? Gallas? Sofolá?  
 Cafrería? Darfur? Damara?  
 Angola? Loango?

## CIUDADES Y PUEBLOS

- ¿ En qué países y cómo están situados  
 El Cairo? Trípoli?  
 Marruecos? Monrovia?  
 Túnez? San Salvador?  
 Gondar? Mozambique?  
 El Cabo? Nueva Dongola?  
 Timbuctú? Benguela?  
 Alejandría? Khartum?  
 Argel? Freetown?

**LECCIÓN CXL**

## ISLAS Y CABOS

- ¿ Dónde quedan  
 Mauricio ó Isla de Francia?  
 Borbón? Madagascar?  
 Socotora? Comores?  
 Annobón? Santa Helena?  
 Cabo Verde? Canarias?  
 El cabo Guardafuí? El cabo Verde?  
 El cabo de Buena Esperanza?

## RÍOS

- ¿ En qué dirección corren y dónde desembocan  
 El Nilo? Níger? Congo?  
 Nourses? Zambesi? Yuba?

MONTAÑAS

¿ Dónde quedan

Los montes Atlas?  
Los montes Kong?

LECCION CXLI

¿Cuál es la superficie del África?  
(Véase la página 12.)

¿Y su población?  
(Véase la página 12.)

¿Cuál es su clima?

En lo general es más cálido que el de los demás países de la Tierra.

¿Qué raza del género humano es natural de África?

La etiópica ó africana.

¿Quiénes habitan el Gran Desierto?  
Tribus de árabes errantes.

¿ Cuáles son los animales más comunes en África?

El león, leopardo, elefante, rinoceronte, hipopótamo, antílopes, camello, girafa, zebra, y varias especies de monos.

¿ Qué país notable se encuentra al N. E. de África?

Egipto.

¿ Qué población tiene?

17,400,000 habitantes.

¿ Cómo está gobernado?

Por un virey, llamado *Khedive*, palabra árabe que significa rey.

¿ Qué países comprende el vireinato egipcio?

Egipto, Nubia y Kordofán.

¿Cuál es la capital de Egipto?

Cairo, con 350,000 almas.

¿ Qué era Egipto antiguamente?


Un gran imperio, y fué por muchos siglos la morada de las artes y las ciencias.

¿Cuál de sus ciudades antiguas alcanzó mayor importancia?

Alejandro, fundada por Alejandro el Grande, que fué famosa por sus monumentos, su biblioteca y otros edificios.

¿ Qué hay en Egipto que dé pruebas de su arte y de su antigüedad?

Pirámides, obeliscos, catacumbas, la esfinge, etc.



Animales de Africa.

¿Cuál es la extensión del Gran Desierto?

Tiene unos 4,800 kilómetros, ó 2,000 millas, de E. á O.; y 1,600



Una calle de Cairo.

**LECCIÓN CXLII**

¿Cuál es el tamaño de la pirámide de Cheops?

Su altura es 262 metros, ó 800 pies.

¿Cuántos años se emplearon en edificar esta pirámide?

20 años, trabajando en ella de 100 á 200,000 hombres.

¿Cuándo se supone que fueron levantadas estas pirámides?

Como 900 años antes de Jesucristo.

¿Quiénes las hicieron edificar?

Los Faraones, ó reyes de Egipto.

¿ Con qué objeto?

Para que sirviesen de tumbas á los reyes, y también, según se supone, de observatorios.

¿ Qué es la esfinge?

La estatua de un monstruo que representa una leona, con pechos, cuello y cabeza de mujer.

¿ Qué hay de notable en Egipto, respecto de las aguas?

Que en muchas regiones de aquel país jamás llueve.

¿ Cómo está regado el país?

Con fuertes rocíos, y con las inundaciones periódicas del Nilo.

¿ Qué es lo que causa estas inundaciones del Nilo?

Las abundantes lluvias que caen cerca de su nacimiento.


¿ Dónde nace este río?

En los lagos Nyanza, recién descubiertos. ( Véase el mapa.)

**LECCIÓN CXLIII**

¿ Qué viento reina algunas veces en Sahara, ó el Gran Desierto?

El Simún, viento ardiente y sofo-



*Las pirámides de Egipto.*

En camellos, y reunidos en grandes grupos, que llaman *caravanas*.

### LECCIÓN CXLIV

*¿Qué hay que decir sobre las regiones del centro y del Sur de África?*

Que, en vez de ser áridos desiertos, como antes se suponía, consisten en altiplanicies fértiles y populosas.

cante, que respirado, puede causar la muerte instantáneamente.

*¿ Quiénes fundaron la colonia del Cabo? Los holandeses, en 1652.*

*¿ Qué país hay al N. de la Colonia del Cabo?*

El país de los Hotentotes.

*¿Cuál es el carácter de los Hotentotes?*

Son desaseados, ignorantes, y una de las razas más degradadas del género humano.

*¿ Por quiénes fué colonizada Liberia?*

Por negros que habían sido esclavos en los Estados Unidos, y á quienes fué restituída la libertad.

*¿Cuál es la colonia de libertos fundada por los ingleses?*

Sierra Leona, un poco al noroeste de Liberia.

*¿ Qué hace notable á la Guinea?*

Su oro y su marfil.

*¿ De dónde se saca el marfil?*

De los colmillos de los elefantes.

*¿ Cómo trasportan los comerciantes sus efectos al través del Desierto?*

*¿ De qué país es capital Argel?*

De Argelia, colonia francesa desde 1830. Esta colonia tiene 3,000,000 de habitantes.

*¿Cuál es la población de Argel?*  
58,000 almas.

*¿ Qué gran ciudad existía antiguamente en Túnez?*

Cartago, rival de Roma.

*¿Cuál fué el fin de la ciudad de Cartago?*

Los romanos se apoderaron de ella, y la destruyeron completamente, 146 años antes de Jesucristo.

*¿Cuáles son los únicos lugares donde las caravanas que viajan por el Desierto, pueden obtener agua?*

Los oasis, que son territorios fértiles, que se encuentran en el Desierto.

*¿Cuál es el nombre de la ciudad más antigua de África?*

Tebas, en el Alto Egipto.

*¿ Cuántos kilómetros de circunferencia tenía Tebas?*



*Alto de una caravana en el Desierto.*

Como 37. Era ciudad amurallada.

*¿ Cuántas puertas tenía la ciudad ?*  
100, por cada una de las cuales salían á combatir mil guerreros.

*¿ Quién destruyó á Tebas ?*  
Los persas, más de 600 años antes de Jesucristo.

*¿ Qué monumentos notables existen entre sus ruinas ?*

Los templos de Luxor y de Carnac, el palacio de Memnón, estatuas colosales, y el sepulcro de los reyes.

*¿ De cuántos años atrás se tienen noticias históricas del África ?*

De más de 3,000 años.

*¿ Qué nación antigua estuvo en cautiverio en Egipto ?*

Los israelitas.

*¿ Á quién pertenecen las islas Canarias ?*  
A España.

*¿Cuál es la superficie del grupo ?*  
7,267 kilómetros cuadrados, ó 2,806 millas cuadradas; y su población, es de 234,000 habitantes.

*¿ Á quién pertenecen las islas de Madeira y del Cabo Verde ?*

A Portugal: cuentan con 116,000 habitantes las primeras, y con 17,000 las segundas.

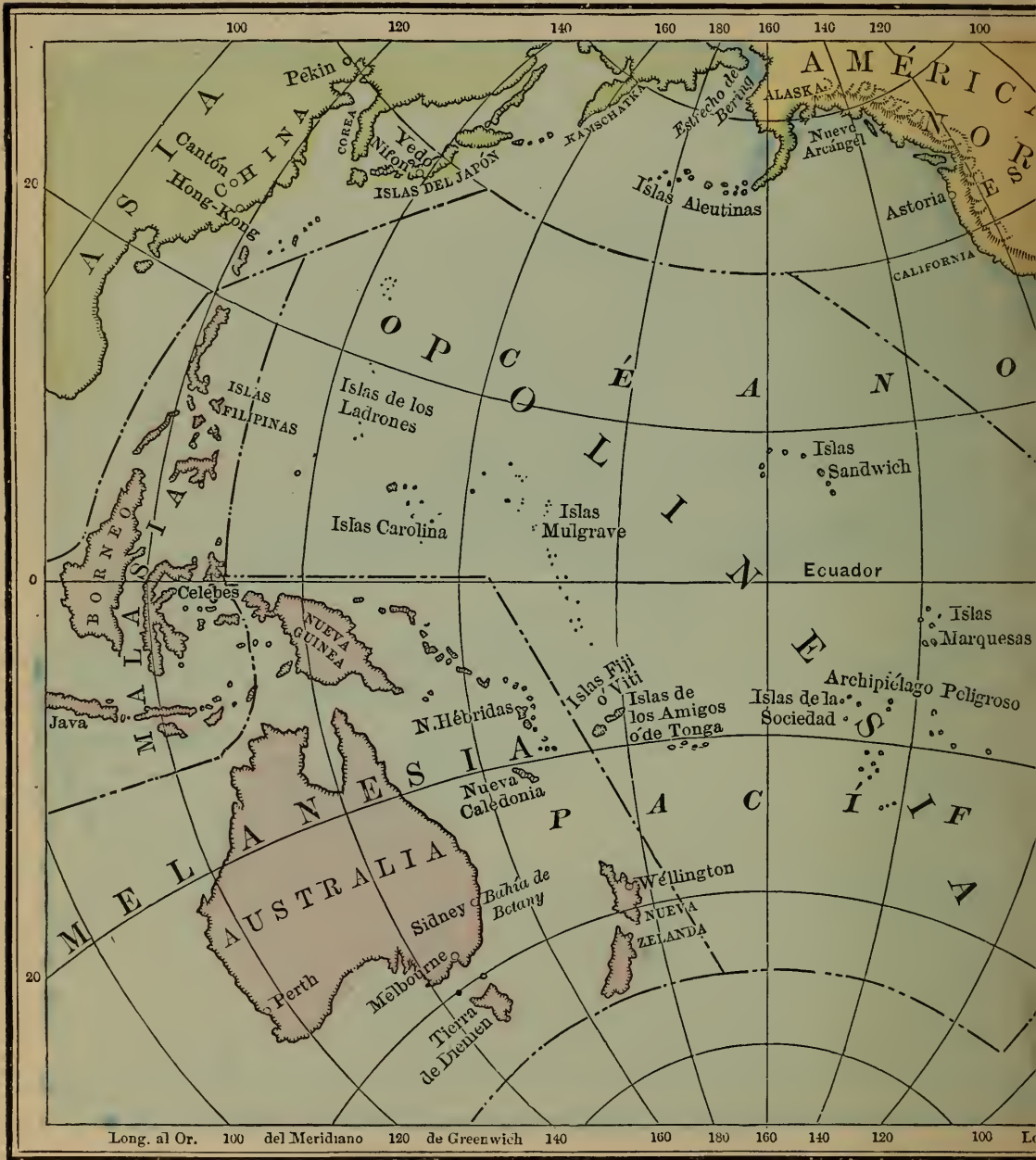
*¿ Cómo está gobernada la isla de Madagascar ?*

Por un rey: y tiene 5,000,000 de habitantes, algunos de los cuales se han cristianizado.

*¿ Á que naciones pertenecen Santa Helena y Borbón ?*

La primera, á Inglaterra; y la segunda, á Francia.

# MAPA DEL OCÉANO PACÍFICO, Y DE



## LECCIÓN CXLV

¿Cuál es la extensión del océano Pacífico, de E. á O.?

Por término medio, 10,507 kilómetros, ó 6,567 millas.

¿Cuál de N. á S.?

12,912 kilómetros, ó 8,070 millas.

¿Qué grandes divis

¿Qué gran división

¿Cuáles son las tres



OCEANÍA



quedan al E. ?  
 A-a del N. y A-a del S.  
 A-s-a.  
 ones de Oceanía ? M-a, Me-a y P-a.

- ¿Cuál es la superficie de Oceanía ?  
 (Véase la página 12.)
- ¿Y su población ?  
 (Véase la página 12.)
- De las tres divisiones mencionadas, ¿cuál es la más importante ?  
 Me-a.
- ¿Qué islas comprende la Melanesia ?  
 A-a, llamada también Continente de A-a; N-a G-a, N-a C-a, N-a Z-a, T-a de D-n, etc.
- ¿Y qué islas forman la Malasia ?  
 Las F-s, B-o, C-s, J-a, y otras al E. de Asia.
- ¿Y cuáles son las que componen la Polinesia ?  
 L-s, C-s, M-e, A-s, S-d, M-s, S-h y otras.
- ¿Cuál es la división del S. O. de Oceanía ?  
 Me-a.
- ¿Dónde queda la Malasia ?  
 Al N. O. de Me-a.
- ¿Qué estrecho separa la América del Asia ?  
 B-g.
- ¿Qué grupo de islas hay al N. O. de Oceanía ?  
 J-n.
- ¿Cuál al S. del estrecho de Bering ?  
 A-s ó de los Zorros.
- ¿Qué grupo de islas se encuentra al N. del ecuador y cerca del centro de Oceanía ?  
 S-h.
- ¿Cuál al S. O. de las islas Sandwich ?  
 M-e.
- ¿Qué grupos se encuentran en la parte occidental de Oceanía y N. de Nueva Guinea ?  
 L s y C-s.
- ¿Cuáles son otros tres grupos de la Oceanía, al S. del ecuador ?  
 M-s, S-d y A-os.
- ¿Qué archipiélago hay entre las dos primeras ?  
 P-o.
- ¿Qué grupo de islas hay sobre el ecuador, cerca de las costas de América.  
 G-s.
- ¿Qué grupo hay al S. E. de Oceanía y al O. de Valparaíso ?  
 J-n F-z.
- ¿Cuál es la isla más grande de Melanesia ?  
 A-a ó Nueva Holanda.
- ¿Qué puede decirse de Australia ó Nueva Holanda ?  
 Que es la isla más grande que se conoce.
- ¿Qué isla grande hay al N. de Australia ?  
 N-a G-a.
- ¿Qué isla hay al S. ?  
 T-a de D-n.
- ¿Qué islas quedan al S. E. ?  
 N-a Z-a.
- ¿Cuáles al E. de Australia ?  
 N-a C-a.
- ¿Cuál es la isla más grande de Malasia ?  
 B-o.
- ¿Qué isla hay al E. de Borneo ?  
 C-s.
- ¿Cuál al S. de Borneo ?  
 J-a.
- ¿Qué gran grupo al N. de Borneo ?  
 Las F-s.
- ¿Cuál es la más grande de las islas del Japón ?  
 N-n.
- ¿Cuál es la capital de las islas Japonesas ?  
 Y-o.
- ¿Qué ciudad hay al S. E. de Australia ?  
 S-y.
- ¿Qué ciudad hay al S. ?  
 M-e.
- ¿Y al S. O. ?  
 P-h.
- ¿En qué bahía queda Sidney ?  
 B-y.

**LECCIÓN CXLVI**

¿ *Á cuál de las divisiones de la Oceanía pertenece y cómo está situada?*

Borneo? Nueva Zelanda?  
 Marquesas? Tierra de Diemen?  
 Grupo de Sandwich?  
 Grupo de la Sociedad?  
 Archipiélago de Filipinas?  
 Nueva Calcedonia?

Grupo de los Amigos?

Grupo de Mulgrave?

Grupo de las Ladrones?

Nueva Guinea?

Celebes? Sumatra?

Java? Nuevas Hébridas?

¿ *Dónde se encuentran las ciudades de*

Melbourne? Wéllington?

Sidney? Perth?

**HISTORIA Y DESCRIPCIÓN DE LAS ISLAS DEL OCÉANO PACÍFICO**

*Descubrimiento del océano Pacífico por Balboa.*

**LECCIÓN CXLVII**

¿ *Quién descubrió el océano Pacífico?*  
 Vasco Núñez de Balboa.

¿ *Quién fué el primer navegante que atravesó el océano Pacífico?*

Francisco Magallanes, que salió de España con este objeto, al mando de varios buques, en 1519.

¿ *Cuándo entró este navegante en el océano Pacífico?*

En 1520, pasando por el estrecho que lleva su nombre.

¿ *En qué dirección siguió luego?*

Siguió hacia el N. O., deteniéndose en muchas de las islas.



*Francisco Magallanes.*

¿ *Qué le sucedió durante su viaje?*

Fué muerto por los habitantes de una de las islas Filipinas.

¿ *Qué dirección tomaron sus buques, para volver de las Filipinas á España?*

Se dirigieron hacia el S. O., y doblaron el cabo de Buena Esperanza.

**LECCIÓN CXLVIII**

¿ *Cuánto duró este viaje alrededor del mundo?*

Poco más de tres años.

¿ *Qué se hicieron sus buques?*

Todos se perdieron, excepto uno.

¿ Cuáles son las producciones de las islas que componen la *Malasia* ?

Oro, diamantes y ricas especias.

¿ Cuál es el color de los naturales de aquellas islas ?

Son de un color moreno.

¿ Cuál es la principal isla de *Malasia* ?

Borneo.

¿ Qué animal particular hay en Borneo ?

El orangután, que se parece mucho al hombre.

¿ Cuáles fueron los primeros hombres de la raza blanca enviados á *Australia* ?

Algunos reos ó presos de Inglaterra.



*El Kangarú.*

¿ Á qué punto llevaron á estos presos ?

Á la bahía de Bótany ó Botánica.

¿ Qué metal precioso se encuentra en *Australia* ?

Oro, en gran abundancia.

¿ Qué animal singular es originario de *Australia* ?

El kangarú.

¿ Cuál es el carácter de los naturales de muchas de las islas del Pacífico ?

Son salvajes, feroces, y muchos de ellos caníbales.

¿ Á quiénes se da el nombre de caníbales ?

Á los que comen carne humana.

### LECCIÓN CXLIX

¿ Á qué se da el nombre de *Oceanía* ?

Á tres grandes grupos de islas de los océanos Pacífico é Índico.

¿ Cuáles son las tres grandes divisiones de la *Oceanía* ?

*Malasia*, *Melanesia* y *Polinesia*.

Nombre *Vd. las islas de Malasia* ?

Las Filipinas, Molucas (ó islas de las especias), Celebes, Borneo, Sumatra, Java y otras. (*Véase el mapa de Asia.*)

¿ Á quién pertenecen las Filipinas ?

Á España.

¿ Cuál es la capital de las Filipinas ?

La ciudad de Manila, en la isla de Luzón, con 150,000 almas.

¿ Á quién pertenecen las demás islas de *Malasia* ?

Las más de ellas pertenecen enteramente, ó en parte, á Holanda.

¿ Qué islas comprende *Melanesia* ?

*Australia*, la Tierra de Diemen (llamada ahora Tasmania), Nueva Zelanda y la isla de Norfolk, que pertenecen á Inglaterra; *Papuasía* (ó Nueva Guinea), que pertenece en parte á Holanda; Nueva Caledonia, colonia francesa; y la Nueva Bretaña, Nueva Irlanda, las islas de Salomón, Santa Cruz y Nuevas Hébridas que son independientes.

¿ Qué superficie tiene *Australia* ?

7,695,350 kilómetros cuadrados,

ó 2,972,350 millas cuadradas, siendo la isla más grande del mundo.

¿Y cuántos habitantes?

2,300,000, de los cuales unos 200,000 son indígenas.

Diga Vd. las ciudades más importantes de Australia.

Melbourne, con 283,000 almas; Sidney, con 220,000; Adelaida, con 38,000; Brisbane, con 31,000; y Perth, con 7,000.



Manila.

¿Qué significa la palabra Polinesia?

Muchas islas.

¿Qué grupos de islas comprende la Polinesia?

(Véase el mapa.)

¿A qué gobierno pertenecen las islas Carolinas y las de las Ladrones?

Al de España.

¿Cuál es el grupo más importante de Polinesia?

El de las islas Sandwich.

¿Y la isla principal de este grupo?

Hawai.

¿Qué volcán notable hay en esta isla?


El Kilauea.

¿Quién descubrió las islas Sandwich?


El Capitán Cook, en 1778.

¿Cuál fué la suerte de aquel navegante?

Fué inhumanamente



Casa de correos en Melbourne.



Capitán Cook.

asesinado por los naturales de dichas islas, en 1779.

¿Qué cambio notable se ha verificado en las islas Sandwich, Fiji y de los Amigos? La mayor parte de los naturales se han civilizado y cristianizado.

¿A qué se debe este cambio?

A los esfuerzos de los misioneros ingleses y angloamericanos.

¿Cómo están gobernadas las islas Sandwich?

Por un rey constitucional hereditario.

¿De qué gobierno dependen las islas de los Amigos?


Del de Francia.

¿De qué manera se han formado las islas de Polinesia?

Algunas se han formado por medio de volcanes submarinos, y otras son de coral; como las del archipiélago de las Carolinas, por ejemplo.

¿Cuándo se da á las islas de coral el nombre de "atol"?

Las islas de coral se llaman "atoles," cuando tienen la forma de un anillo, roto por una pequeña parte de su circunferencia, para dar paso al mar que ocupa su centro.



Casa del Parlamento en Honolulu, capital de las islas Sandwich.


## CÍRCULOS DEL GLOBO

### LECCIÓN CL

¿Cuál es la forma de la Tierra?  
Redonda como una naranja.

¿Qué hace que los hombres, los buques, etc., se mantengan sobre la superficie de la Tierra?

La atracción de la Tierra.



¿ En cuántos grados se supone que está dividido todo círculo ?

En 360 grados.

¿ Cuántos grados tiene un cuarto de círculo ?

90 grados.

¿ Qué es el ecuador ?

Un círculo imaginario que rodea la Tierra de E. á O., y cuyos puntos todos están á igual distancia de los polos.

¿ Qué son los trópicos ?

Dos círculos paralelos, al N. y S. del ecuador, distantes cada uno  $23\frac{1}{2}$  grados de este.

¿Cuál es el círculo ártico ?

Un círculo alrededor del polo norte, á  $23\frac{1}{2}$  grados de dicho polo.

¿Cuál es el círculo antártico ?

Un círculo alrededor del polo sur, á  $23\frac{1}{2}$  grados de dicho polo.

¿ Qué son los meridianos ?

Círculos imaginarios que pasan por los polos de la Tierra, y cortan al ecuador en ángulos rectos.

¿ Qué son paralelos de latitud ?

Círculos paralelos al ecuador.



## LECCIÓN CLI

### ZONAS, CLIMAS, ETC.

¿ Qué son zonas ?

Las divisiones de la superficie de la Tierra, hechas por los trópicos y los círculos polares.

¿ Cuántas zonas hay ?

Cinco: una tórrida, dos templadas y dos frías.

¿Cuál es la zona tórrida ?

La que queda entre el trópico de Cáncer y el de Capricornio.

¿Cuál es la anchura de la zona tórrida ?

$5,222\frac{2}{3}$  kilómetros, ó  $3,245\frac{2}{3}$  millas de N. á S.

¿ Qué estaciones hay en la zona tórrida ?

Hay dos: la seca y la lluviosa.

¿Cuál es el clima de dicha zona ?

Es siempre cálido.

¿ Qué grandes fenómenos ocurren frecuentemente en la zona tórrida ?

Temblores y huracanes.

¿ Dónde está situada la zona templada del N. ?

Entre el trópico de Cáncer y el círculo ártico.

¿ Y la zona templada del S. ?

Entre el trópico de Capricornio y el círculo antártico.

¿Cuál es la anchura de cada una de las zonas templadas?

4,777 $\frac{2}{3}$  kilómetros, ó 2,974 $\frac{1}{8}$  millas de N. á S.

¿Cuántas estaciones hay en las zonas templadas?

Cuatro: primavera, verano, otoño é invierno.

### LECCIÓN CLII

¿Cuál es el clima de las zonas templadas?

Es variable: en el verano es cálido y en el invierno, frío.

¿Qué diferencia existe en las estaciones de las dos zonas templadas?

Que cuando en la una pasa el invierno, en la otra ocurre el verano.

¿Dónde queda la zona fría del N.?

Alrededor del polo norte.

¿Dónde queda la zona fría del S.?

Alrededor del polo sur.

¿Cuál es el diámetro de las zonas frías?

Cada una tiene 5,222 $\frac{2}{3}$  kilómetros, ó 3,245 $\frac{3}{8}$  millas de diámetro.

¿Por qué se llaman frías estas zonas?

Porque en ellas hace mucho frío.

¿De qué está cubierta la tierra en las zonas frías?

De nieve y hielo, durante la mayor parte del año.

¿Qué estaciones reinan allí durante el año?

Un invierno largo y frío, y un verano corto.

¿Qué produce la tierra en estas zonas?

Apenas se dan en ellas algunos arbustos, yerba y musgo.

¿Qué animales hay en las zonas frías?

Osos blancos, reníferos y otros.

¿Cómo está dividido el año en los polos?

La mitad del año es un día claro continuado, y la otra mitad es una continuada noche.

### LECCIÓN CLIII

#### PREGUNTAS SOBRE EL HEMISFERIO OCCIDENTAL

(Véase el mapa de la página siguiente)

Dígase en qué zonas quedan los siguientes países, océanos, etc.

El océano Ártico?

La parte setentrional de la bahía de Bafin? La mayor parte de Groenlandia?

¿La parte setentrional de la América del Norte?

La parte meridional de Groenlandia?

La bahía de Hudson?

La mayor parte de la América del Norte? Las Antillas?

La mayor parte de la América del Sur?

Las islas Sandwich?

Las islas de los Amigos y de la Sociedad?

La parte meridional de la América del Sur? Nueva Zelanda?

El istmo de Panamá?

El golfo de Méjico?

### LECCIÓN CLIV

MAPA DE LA AMÉRICA DEL NORTE.

Dígase en qué zona están:

Los Estados Unidos?

La parte meridional de la Baja California? El golfo de Méjico?

Cuba? Florida? América Central?

El mar Caribe? Nueva York? Méjico?

MAPA DE LA AMÉRICA DEL SUR

Dígase en qué zona están:

La República de Colombia?

Patagonia?

Venezuela?

Chile?

Ecuador?

## MAPA DEL HEMISFERIO OCCIDENTAL



República Argentina?      Paraguay?  
 Perú?      Uruguay?      Brasil?  
 La Tierra del Fuego?      Guayana?  
 La parte meridional del Brasil?

## MAPA DEL OCÉANO PACÍFICO

Dígase de qué lado del ecuador y  
 en qué zonas quedan:

Las islas Sandwich?  
 Nueva Zelanda?

Java?

Las islas Aleutinas?  
 Nueva Guinea?  
 Las islas del Japón?  
 Las islas Filipinas?  
 Las islas de los Amigos?  
 Las islas Fiji?  
 Las de la Sociedad?  
 Las de las Ladrones?  
 Australia?  
 ¿Qué islas grandes, y qué grupo de islas  
 están cortadas por el ecuador?



MAPA DEL HEMISFERIO ORIENTAL



LECCIÓN CLV

CUESTIONES SOBRE EL HEMISFERIO ORIENTAL

Dígase en qué zonas están los siguientes países, océanos, etc.

- Europa ?*
- El mar Mediterráneo ?*
- La parte setentrional de Africa ?*
- La parte central y más grande del África ?*
- La parte meridional de África ?*
- La parte setentrional de Asia ?*

- La mayor parte de Asia ?*
- El desierto de Gobi ?*
- El golfo de Bengala ?*
- El cabo de Buena Esperanza ?*
- Las islas del Japón ?*
- La isla de Madagascar ?*
- Borneo ?*
- Tasmania, ó la Tierra de Diemen ?*

## MAPA DE EUROPA

Dígase en qué zona está:

*Toda la Europa, á excepción de la parte setentrional de Noruega, Suecia y Rusia?*

## MAPA DE ASIA

Dígase en qué zona están:

*La parte setentrional de Siberia?*

*El Imperio Chino?*

*Tartaria?*

*Persia?*

*El estrecho de Bering?*

*La extremidad meridional del Indostán?*

*Arabia? India? Malaca?  
Ceilán? Pekín? Nueva Zembra?*

## LECCIÓN CLVI

## MAPA DE ÁFRICA

Dígase en qué zona están:

*La mayor parte de África?*

*Los Estados Berberiscos?*

*La Colonia del Cabo?*

*La parte meridional de Madagascar?*

*Las islas del Cabo Verde?*

*Las Canarias?*

*La parte setentrional del mar Rojo?*

## LECCIÓN CLVII

## RAZAS DE HOMBRES

¿ Cuántas razas de hombres hay sobre la tierra?

Cuatro: la caucásica, la mongó-

lica, la americana y la etiópica. Algunos forman una quinta de la mala-



*Tipos de la raza blanca ó caucásica.*

1. Afgano.  
2. Abisinia.

3. Hispanoamericano.  
4. Circasiana.

5. Indostano.  
6. Árabe.

¿En qué difieren más entre sí las razas?

En las facciones, el color, y la inteligencia.

¿Qué causas han producido una diferencia tan grande en el color, carácter y condición de las razas presentes?

La diferencia de clima, el alimento, el vestido, el modo de vivir, y otras causas que nos son casi desconocidas.

¿Cuál es la primera raza ó la más inteligente?

La raza blanca ó caucásica.

Describase la raza caucásica?

Los individuos de esta raza tienen la cara ovalada, facciones inteligentes y regulares, y el cutis más

ó menos blanco, según que vivan en climas fríos ó cálidos.

¿Qué individuos componen esta raza?

Todos los europeos, excepto los magyares de Hungría, y los descendientes de aquéllos, que se han diseminado por casi toda la superficie del globo.

¿Cuál es la segunda raza en carácter é inteligencia?

La raza amarilla ó mongólica.

Describala Vd.?

Los individuos de esta raza tienen un color amarillento, la cara ancha y achatada; la frente algo estrecha; los ojos pequeños y oblicuos, boca grande, labios gruesos, nariz algo remangada, pómulos abultados ó altos y barba escasa.



Tipos de la raza amarilla ó mongólica.

1. Lapón.  
2. Turco.

3. Soldado chino.  
4. Japonesa.

5. Esquimal.



*Tipos de la raza americana ó roja.*

1. Araucana.  
2. Jefe Sioux.

3. Indio de la Tierra del Fuego.  
4. Indio Blackfoot (pie negro).

5. Indio Varau.  
6. Comanche.

### LECCIÓN CLVIII

*¿ Qué países son poblados por esta raza ?*

El Japón, la China, la Mongolia, la Siberia, la Finlandia y la Laponia, perteneciendo también á esta raza los esquimales de América.

*¿ Qué tribus comprende esta raza ?*

Las indígenas de Malaca y Ceilán y de casi todas las islas de Melanesia y Polinesia.

*¿Cuál es la tercera raza ?*

La americana ó roja, cuyos individuos tienen el cutis colorado ó cobrizo, el pelo negro, lacio y fuerte, poca barba, los pómulos abultados, los ojos negros y sumidos, la frente inclinada hacia atrás, y la nariz grande.

*¿ Qué tribus comprende esta raza ?*

Todas las indígenas de América, menos los esquimales.



*Esquimales en una choza hecha de nieve.*



*Tipos de la raza etiópica ó negra.*

1. Hombre batoka.  
2. Dahomana.  
3. Mandingo.

4. Cafre.  
5. Ashira.  
6. Bosjesmana.

*¿Cuál es la cuarta raza?*

La etiópica ó negra, cuyos individuos tienen un color negro, la frente angosta é inclinada hacia atrás, los pómulos abultados, la nariz ancha y chata, los labios muy gruesos, el pelo lanoso y encrespado, y el pie sumamente largo. El grabado anterior ilustra seis de sus tipos principales.

*¿Qué países son poblados por esta raza?*

Casi todo el continente de África, menos Egipto, Abisinia y las regiones de la costa setentrional; y otras partes del mundo á donde se llevaron como esclavos, como en casi todos los países de América especialmente, el Brasil, las Antillas y

la América del Norte; pero hoy día está abolida la esclavitud en unas partes y en vía de abolirse completamente en otras.

*¿Qué puede decirse de la malaya?*

Que no es más que una variedad de la etiópica y la mongólica, aunque es considerada por muchos como una raza especial.

*¿Qué países son poblados por esta raza?*

La mayor parte de la Malasia y muchas de las islas de la Melanesia y Polinesia.

*¿Cuáles son las principales variedades de la raza malaya?*

Seis, cuyos tipos se pueden ver en el siguiente grabado.



*Tipos de la raza malaya.*

1. Mujer de Australia. 2. Natural de las islas Fidji. 3. Mujer de las islas Sandwich. 4. Natural de Nueva Zelanda. 5. Hova (Madagascar). 6. Natural de la Nueva Guinea.

## LECCIÓN CLIX

### RELIGIÓN

*¿Qué es religión?*

La creencia de que existe un Dios, y su veneración; ó la observancia de las doctrinas, obras y prácticas de devoción.

*¿Cuántas y cuáles son las principales religiones del mundo?*

Cuatro: la cristiana, la mahometana, la judía y la pagana ó idólatra.

*¿A quiénes se llama cristianos?*

A los que adoran al verdadero Dios, y creen en Jesucristo como está revelado en la Biblia.

*¿Cuáles son los mahometanos?*

Los discípulos de Mahoma.

*¿Cuándo floreció Mahoma?*

Seiscientos años después de Jesucristo.

*¿Cómo se llama el libro que contiene la ley de Mahoma?*

El Korán ó Alcorán.

*¿Cuáles son los judíos?*

Los que creen en Dios y aceptan el Viejo Testamento, pero no reconocen á Jesucristo y rechazan el Nuevo Testamento.

*¿Qué es lo que éstos esperan?*

Un salvador del mundo, que creen está por venir.

*¿Cuáles son los paganos ó idólatras?*

Los que adoran ídolos, animales, etc.










“LOS CIELOS Y LA TIERRA ESTÁN ¡OH DIO!  
TUS ADMIRABLES OBRAS.”

LIBRARY OF CONGRESS



0 021 650 975



J. BEARD