

সামুদ্রিক রেখাদি-বিচার

অর্থাৎ

সামুদ্রিক বিষয়ানুসারী বর্ণমালানুক্রমিক
কল-বিচার ।

[৪৮ খানি চিত্র সম্বিত ।]

রমণকৃষ্ণ চট্টোপাধ্যায়-প্রণীত ।

[সপ্তম সংস্করণ]

CALCUTTA.
GURUDAS CHATTERJEA & SONS.

203/1/1, CORNWALLIS STREET.

1936

ইংরাজী ১৮৪৭ সালের ২০ আইন অনুসারে
এই পুস্তক রেজেষ্টরী করা হইয়াছে।

CALCUTTA.

Published by R. C. Dey for Paul Brothers & Co.

Bani-pith—5/1 Vivekananda Road, Calcutta.

Printed by C. C. Santra, Lalit Press,

81. Simla Street, Calcutta.

The Right of Translation and Re-production is reserved

ভূমিকা ।

পরমকারুণিক পরমেশ্বরের অনন্তরূপায় সামুদ্রিকসংক্রান্ত ফলিতভবের সাধা-
রণে প্রচারার্থক এই “সামুদ্রিক-রেখাদি-বিচারের” প্রণয়ন ও প্রকাশ করা হইল।
যৎপ্রণীত “সামুদ্রিক-শিক্ষার” শেষাংশে যে “সামুদ্রিক-বিজ্ঞান” স্বল্প বলিয়া
বিজ্ঞাপন প্রকাশিত হইয়াছিল, তৎপূর্বে এই “সামুদ্রিক-রেখাদি-বিচারের” প্রণয়ন
ও প্রকাশ করিবার কারণ, সামুদ্রিক শাস্ত্রে বিশিষ্টরূপ প্রবেশলাভ না করিলে,
“সামুদ্রিক-বিজ্ঞানের” অধ্যয়ন ও অনুশীলন সুসাধ্য নহে। তাহাই প্রয়োজনবোধে
“সামুদ্রিক-বিজ্ঞানের”, প্রচারকার্যে আপাততঃ নিরস্ত থাকিয়া, “সামুদ্রিক-
রেখাদি-বিচার” প্রচারে কৃতোত্তম হইলাম এতদ্বিভাগশিক্ষার্থীদিগের পক্ষে
“সামুদ্রিক শিক্ষার” অধ্যয়নের অব্যবহিত পরেই “সামুদ্রিক-রেখাদি-বিচার”
যথেষ্ট উপকারসাধনে যে সমর্থ হইবে, ইহা স্থির। যাহারা “সামুদ্রিক-শিক্ষা”
অধ্যয়ন করিয়াছেন, তাহারা এই পুস্তকখানি পাঠ করিলে, সামুদ্রিক সম্বন্ধের
প্রায় সমস্ত তত্ত্বই অবগত হইতে পারিবেন। ইহা পাঠকদিগের অভীষ্টোপযোগী
করিবার জন্ত ফলানুসারে বর্ণমালানুক্রমে বিষয় সন্নিবেশ করিয়া গঠিত হইয়াছে ;
এবং “সামুদ্রিক-শিক্ষার” গ্রাম সহজবোধ্য করিবার জন্ত প্রস্তোত্তরচ্ছলেই লিখিত
হইয়াছে। অপিচ “সামুদ্রিক-শিক্ষায়” করতলের প্রাকৃতিক সংস্থানানুসারে যে
সকল ফলাফলের আভাস দেওয়া হইয়াছে, তাহারই ফলানুসারে ইহাতে বিকাশ
করা হইয়াছে। সুতরাং “সামুদ্রিক-শিক্ষা” স্বল্পে যে রূপ সাধারণের সহানুভূতি
আকর্ষণে সমর্থ হইয়াছে, ইহাও সেইরূপ সাধারণের নিকট আদৃত হইবে বলিয়াই
আশা হয়।

যদি কেহ “সামুদ্রিক-শিক্ষার” প্রবেশলাভ না করার করতলগত সর্বাঙ্গীন
বিচার করিবার জ্ঞানের অভাবে কেবল স্বজ্ঞানে নির্ভর করিয়া ফল মিলাইতে
অসমর্থ হন, তাহা হইলে তিনি যেন সামুদ্রিক-শাস্ত্রে অবিদ্বাস না করিয়া, আমার
নিকট আসিয়া তাঁহার সন্দেহের বিষয় বিদিত করেন; তাহা হইলে সাধ্যমত
তৎতদংশগত সমস্ত চিহ্নাদির ফল নিশ্চিতই মিলাইয়া ও বুঝাইয়া দিতে চেষ্টা
করিব। ইতি—

৯ই আশ্বিন
সন ১৩০২ সাল।

শ্রীরমণকৃষ্ণ চট্টোপাধ্যায়

নিবেদন ।

সুপ্রসিদ্ধ সামুদ্রিক-শাস্ত্রজ্ঞ জ্যোতির্বেতা রমণকৃষ্ণ চট্টোপাধ্যায় আর ইহলোকে নাই ; কিন্তু তাঁহার আজীবন অভিজ্ঞতা ও অমুসন্ধিৎসার ফল রত্নস্বরূপ “সামুদ্রিক শিক্ষা” “সামুদ্রিক রেখাদি বিচার” ও “সামুদ্রিক বিজ্ঞান” নামক তিনখানি অমূল্য গ্রন্থ আছে । পুস্তকগুলির প্রথম সংস্করণ বহুদিন নিঃশেষ হওয়ার অনেকেই অমুবিধা বোধ করিতেছিলেন । সেই অমুবিধা দূরীকরণার্থ আমরা উক্ত গ্রন্থত্রয়ের গ্রন্থস্বত্ব ক্রয় করিয়া দ্বিতীয় সংস্করণ বাহির করিলাম । এক্ষণে সাধারণের অমুগ্রহ প্রার্থনীয় ।

রমণবাবু লক্ষপ্রতিষ্ঠ খ্যাতনামা জ্যোতিষী ছিলেন । তিনি এই সামুদ্রিক শাস্ত্রের লুপ্তরত্নোদ্ধার করিতে অকুণ্ঠিতচিত্তে অজস্র অর্থব্যয় করিয়া বহুপরিশ্রম ও অধ্যবসায়ে সফলকাম হইয়াছিলেন । “গণনার জন্ম প্রত্যহ প্রাতে ও অপরাহ্নে তাঁহার গৃহে ধনী, নিধন, রাজা, জমিদার, হিন্দু, মুসলমান, ইংরেজ প্রভৃতি শত শত ব্যক্তি সমবেত হইতেন । এমন কি সূদূর বিলাতেও তাঁহার ষণঃরশ্মি বিকীর্ণ হইয়াছে ।

প্রকাশক ।

শিক্ষার্থীর প্রতি

প্রথম পাঠ্য—সামুদ্রিক শিক্ষা ।

দ্বিতীয় পাঠ্য—সামুদ্রিক রেখাদি বিচার ।

সামুদ্রিক শিক্ষার সহিত সামুদ্রিক রেখাদি বিচার পাঠ করিতে হইবে ; শিক্ষার সঙ্গে সঙ্গে রেখাদি বিচার করিতে শিক্ষা করা বিশেষ আবশ্যিক ; নতুবা অনেক স্থান পাঠকের কঠিন ও জটিল বোধ হইবে—এবং বিশেষ কোন ফললাভে সক্ষম হইবেন না ; কিন্তু কেহ যেন সামুদ্রিক শিক্ষা না পড়িয়া সামুদ্রিক রেখাদি বিচার আয়ত্তাধীন করিতে চেষ্টা না করেন, তাহাতে তাঁহার চেষ্টা সম্পূর্ণ ব্যর্থ হইবে । তিনি বিশুদ্ধ গণনার সক্ষম হইবেন না ।

তৃতীয় পাঠ্য—সামুদ্রিক বিজ্ঞান ।

সামুদ্রিক শিক্ষা ও সামুদ্রিক রেখাদি বিচার পাঠ না করিয়া ইহাতে নিব্বল হস্তক্ষেপ অনাবশ্যক ।

সূচিপত্র ।

—••••—

(অ)

| | | | |
|-------------------------------------------------------------------------------|-----|-----|----|
| অজীর্ণতা, অতীন্দ্রিয়দর্শন, অত্যাচার ... | ... | ... | ২ |
| অদৃষ্টবাদ, অধাশ্মিকত্ব, অধাবসায়—(মানসিক)—অনভিজ্ঞতা | ... | ... | ৩ |
| অনুভূতি—(আধিক্য) অস্তঃকরণ—(কাঠিন্য)—(দৌর্বল্য) | ... | ... | ৪ |
| অন্ধত্ব, অপমান, অপব্যয়, অভিমান, অন্নপিষ্ট | ... | ... | ৫ |
| অর্থকষ্ট—(অপরিচিত লোকহেতুক)—(আজীবনে স্বতই) | ... | ... | ৬ |
| অর্থকষ্ট—(আত্মীয়হেতুক)—(সাময়িক) | | | |
| —(স্ত্রীলোক হইতে অর্থনাশ)—(গৃহবিবাদে) | ... | ... | ৭ |
| অর্থনাশ—(হুচরিত্রতায়)—(হঠাৎ)—অর্থলাভ (বিবাহে) | | | |
| —(হঠাৎ) অর্থলোলুপত্ব ... | ... | ... | ৮ |
| অর্থলোলুপত্ব—(আতিশয্য) অর্থস্বচ্ছলতা | | | |
| —(বার্দ্ধক্যে) অর্থোন্নতি—(অস্থায়ী) | ... | ... | ৯ |
| অর্থোন্নতি—(আইনব্যবসায়)—(দৈবানুকূলে) | | | |
| —(নাট্যব্যবসায়)—(পরিশ্রমে)—(বাণিজ্যে) | ... | ... | ১০ |
| অর্থোন্নতি—(যাজনায়)—(যুদ্ধে)—(বস্তুতায়)—(বৃদ্ধাবস্থায়) | ... | ... | ১১ |
| অর্থোন্নতি—(সাহিত্যচর্চায়), অন্নবুদ্ধি, অন্নায়ুঃ, অবস্থার উন্নতি—(হঠাৎ) | | | ১২ |
| অবিবেকত্ব অবিবেচকত্ব, অবিশ্বাস, অশান্তি—(শেষদশায়) অসচ্চরিত্রতা | ... | ... | ১৩ |
| অসন্তোষ, অসত্যতা, অসহিষ্ণুতা, অস্বস্থ—(শেষদশায়) অহঙ্কার | ... | ... | ১৪ |
| অহঙ্কার—(অশুভকর)—(আতিশয্য)—(মহত্বযুক্ত) | ... | ... | ১৫ |

(আ)

| | | | |
|--------------------------------------------------|-----|-----|----|
| আত্মজিঘাংসা, আত্মনির্ভর, আত্মপ্রশংসা, আত্মবঞ্চনা | ... | ... | ১৬ |
| আত্মবিচারে বিশ্বাস, আত্মপ্রাণাঘা, আত্মসম্মম | ... | ... | ১৭ |
| আত্মহত্যা—(ক্রমমজ্জনে) আত্মাভিমান—(আতিশয্য) | ... | ... | ১৮ |
| আমোদপ্রিয়তা, আয়স্বচ্ছলতা, আলস্য, আবিষ্কার | ... | ... | ১৯ |

| | | |
|--------------------------------------------------------------------------------------------|--------|----|
| (ই) | | |
| ইচ্ছাশক্তি | | ২০ |
| (ঙ) | | |
| ঈর্ষা, ঈশ্বরনির্ভর, ঈশবে ভক্তি-স্থাপন | | ২০ |
| (উ) | | |
| উচ্চপদলাভ—(অধিকারিত্ব)—(প্রত্যাশা)—(সম্মান) | | ২১ |
| উত্তরাধিকার, উৎসাহ—(আতিশয্য)—(হীনত্ব) | | ২২ |
| উদরীরোগ, উদারতা, উদ্ভাবনীশক্তি, উদ্বাস—(ব্যর্থ)—(হীনতা) | | ২৩ |
| উপাধিলাভ, উপায় | | ২৪ |
| (ঋ) | | |
| ঋণ | | ২৪ |
| (এ) | | |
| একাগ্রতা,—(অভাব) | | ২৫ |
| (ঐ) | | |
| ঐন্দ্রজালিকত্ব | | ২৫ |
| (ক) | | |
| কপটাচার, কম্পজ্বর, কক্ষুঠ, কক্ষুঠৈনপুণ্য, কলহপ্রিয়তা | | ২৬ |
| কল্পনাশক্তি,—(অপূর্বত্ব) কষ্টকর বিবাহ, কামপ্রাবল্য, —কামুকত্ব—(পশ্চাচার), কারুকরত্ব | | ২৭ |
| কার্যতৎপরতা, কার্যে বিরতি, কারাবাস, কাল্পনিকত্ব, কাল্পনিকী চিন্তা | | ২৮ |
| কাল্পনিকী চিন্তা—(ভ্রমময়ী)—(বৈচিত্র্য), কীর্তি, কৃপা... | | ২৯ |
| কৃষিতৎপরতা, কোতুকপ্রিয়তা, ক্রমাশীলতা, ক্রয় | | ৩০ |
| (খ) | | |
| খেয়াল | | ৩১ |
| (গ) | | |
| গৃহবিভাগ—(বিপৎ)—(বিশারদ) | | ৩১ |
| গৃহবিভাগ—(অজ্ঞান), গৃহভাগ, গৃহশুদ্ধতা, গৌরব-খর্ব্বতা | | ৩২ |

| | | | |
|---------------------------------------------------------------|-----|-----|----|
| ଗୌରବ-ମାଳସାବୁଦ୍ଧି, ଗୌରବାକାଞ୍ଚାବର୍ଜନ ... | ... | ... | ୭୩ |
| (ଟ) | | | |
| ଚକ୍ରରୋଗ ... | ... | ... | ୭୩ |
| ଚମତା, ଚରିତ୍ରହୀନତା, ଚାକ୍ଷୁଷ, ଚାତୁର୍ଯ୍ୟ, ଚିକିତ୍ସକତ୍ୱ, | ... | ... | ୭୪ |
| ଚିନ୍ତାଚାକ୍ଷୁଷ, ଚିନ୍ତାଶୂନ୍ୟତା, ଚୌର୍ଯ୍ୟ | ... | ... | ୭୫ |
| (ଛ) | | | |
| ଛଳପ୍ରିୟତା, ଛିଦ୍ରାକ୍ଷେପଣ | ... | ... | ୭୬ |
| (ଜ) | | | |
| ଜଡ଼ତା ... | ... | ... | ୭୬ |
| ଜାଗତିକ,—କର୍ମସାଧନ,—(ପ୍ରତିବନ୍ଧକତା) | ... | ... | ୭୭ |
| ଜୀବନସାଧନ,—(ପରିଶ୍ରମେ)—(ସମ୍ପୂର୍ଣ୍ଣାକ୍ରିତ ସୌଭାଗ୍ୟ)—(ହତାଶେ) | | | |
| —ଜୀବନେ ଉନ୍ନତି—(ପରେର ସାହାଯ୍ୟ) | ... | ... | ୭୮ |
| ଜୀବନେ ଉନ୍ନତି—(ପରେର ସାହାଯ୍ୟ) | ... | ... | ୭୯ |
| ଜୀବନେ—(ଶ୍ରୀକର୍ତ୍ତୃତ୍ୱ) ଜୁୟାଚୋରୀ, ଜ୍ଞାନ, ... | ... | ... | ୮୦ |
| (ଡ) | | | |
| ଡାକ୍ତରୀ, ଡାକ୍ତରୀଦୃଷ୍ଟି, ଡାକ୍ତରୀବୁଦ୍ଧି | ... | ... | ୮୧ |
| ଡାକ୍ତରୀମୂଲ୍ୟାଂଶ,—(ଡାକ୍ତର) | ... | ... | ୮୨ |
| (ଡ) | | | |
| ଦକ୍ଷତା, ଦକ୍ଷରୋଗ, ଦୟା, | ... | ... | ୮୨ |
| ଦାମ୍ପତ୍ୟାନ୍ତର,—(ବିହୀନତା), ଦାର୍ଶନିକତ୍ୱ, ଦୀର୍ଘାୟୁ: | ... | ... | ୮୩ |
| ଦୂରଭିମତ୍ତପ୍ରିୟତା, ଦୂରଦୃଷ୍ଟି—(ଆକର୍ଷକ)—(ବାଣିଜ୍ୟ)—ଦୁର୍ବଳତା, | | | |
| —(ବଂଶାନୁକ୍ରମିକ) | ... | ... | ୮୪ |
| ଦୂରପ୍ରତିଜ୍ଞତ୍ୱ, ଦେହାନ୍ତରାଦ, ଦୋଷଦର୍ଶିତା, ଦୌର୍ଭାଗ୍ୟ | ... | ... | ୮୫ |
| ଦୌର୍ଭାଗ୍ୟ—(ଅପରିଚିତ ଲୋକହେତୁକ)—(ପିତାଜନିତ)—(ବାଲ୍ୟେ) | | | |
| —(ଶ୍ରୀଲୋକଜନ୍ମ) ଦୂରପ୍ରିୟତା | ... | ... | ୮୬ |
| (ଢ) | | | |
| ଧନପ୍ରାପ୍ତି—(ଉତ୍ତମ), ଧନଲିପ୍ତା | ... | ... | ୮୭ |
| ଧନଲିପ୍ତା—(ଅକ୍ଷୟ), ଧନବନ୍ତା | ... | ... | ୮୮ |

ধর্মপরিবর্তন.—(স্ত্রীমন্ত্রণায়), ধর্মভীরুতা, ধর্মশাস্ত্রেব সত্যানুসন্ধান,

—ধর্মানুরাগ ৪৯

ধর্মে অস্থিরমতিত্ব, ধর্মে দৃঢ়প্রতিজ্ঞতা. ধর্মে ভক্তি, ধর্মে ভ্রান্তবিশ্বাস, ... ৫০

ধর্মোন্মাদ, ধর্মোপাসনায় আসক্তি, ধীশক্তি, (অনুজ্ঞল) ... ৫১

ধীশক্তি—(দুর্বল)—(মপুবস্কাব) ধৈর্য্য ... ৫২

(ন)

নাট্যাভিজ্ঞতা, নাস্তিকত্ব. নিঃস্বার্থপরতা, নিজ্রালুতা. নিন্দনীয় মৃত্যু ... ৫৩

নির্দয়তা, নির্বোধত্ব, নির্ভৎসকত্ব, নিলজ্জতা ... ৫৪

নিষ্ঠুরতা, নীচতা. নীচপ্রকৃতিত্ব, নৈপুণ্য ... ৫৫

নৈপুণ্য—(অভাব), নৈয়ামিকত্ব, নৈঙ্গীকত্ব ব্রহ্মচর্যা—(কোমার্য্য)

—নৌমজ্জনে মৃত্যু ৫৬

ন্যায়সঙ্গত বিচার ৫৭

(প)

পক্ষাঘাত, পক্ষাঘাতে মৃত্যু ৫৭

পদ্মরচনা, পদ্মামোদিতা, পবব্রহ্মে আসক্তি, পবনিন্দা (অসাক্ষাতে)

—পরিণামदर्শিতা ৫৮

পবিপাটীপ্রিয়তা, পরিশ্রমপরায়ণত্ব, পরিশ্রমিতা, পশুপালনপ্রবৃত্তি,

—পাঠপ্রিয়তা ৫৯

পাণ্ডিত্য, পারদর্শিতা, পার্শ্বশূল, পিত্তাধিক্যরোগ পীড়া ... ৬০

পেটুকত্ব, পৈতৃকধনলাভ, পৌরোহিত্য, প্রকৃতিপ্রিয়তা ... ৬১

প্রগল্ভতা, প্রণয়ভঙ্গ, প্রতারণা, প্রতিভা, প্রতিহিংসাপরায়ণতা ... ৬২

প্রত্যাদেশ, প্রত্যাংপন্নমতিত্ব, প্রভূভক্তি প্রলাপ—(বিকারে) প্রবঞ্চকতা ... ৬৩

প্রসূত, প্রেম—(অপাত্রে)—(অবৈধ) ৬৪

প্রেম—(আত্মীয়সহ)—(একগুস্ত)—(কাল্পনিক)—(দৃঢ়)—(নিফল)... ৬৫

প্রেম—(পরদ্বীতে)—(পঞ্চাচারহেতুক) প্রেমাক্তত্ব—(আত্মসমর্পণ) ... ৬৬

প্রেমিকত্ব, প্রেমে—(অপ্রতিদান)—(অবিবাহ)—(আগ্রহ) ... ৬৭

প্রেমে—(জয়লাভ)—(প্রতিদান)—(প্রতিবন্ধক)—(বন্ধতা)—(ভান) ... ৬৮

প্রেমে—(যন্ত্রণাভোগ)—(বিচ্ছেদ)—(বিজ্ঞতা)—(ব্যবসায়) ... ৬৯

প্রেমে—(সুখ)—(হতাশ) ৭০

(ক)

ফকিরী—(অজ্ঞভাবে) ৭০

ফকিরী—(বুজরুকী) ফাঁসী ৭১

(ব)

বন্ধুত্ব (মহতের সহিত) ৭১

বহুভাষ্যযোগ, বহুভাষিত্ব, বাণিজ্য, বাণিজ্যপটুতা, বাণিজ্যে উন্নতি ৭২

বাণিজ্যে—(নষ্টসম্পত্তি) বালক্রসন, বুদ্ধিদৌর্বল্য, বুদ্ধিমত্তা ৭৩

বুভুৎসা ৭৪

(ড)

ভগবদর্চন, ভণ্ডামি, ভবিষ্যদ্বাণী ৭৪

ভাগ্যবত্তা, ভাগ্যহীনতা, ভাবুকত্ব, ভিন্নমতাবলম্বন—(অজ্ঞতাসহ) ৭৫

ভীকৃত্য, ভূমিনাশ—(অভিযোগ), ভূমিবন্ধক, ভূমিলাভ, ভ্রমণ ৭৬

ভ্রমণ—(জলপথে),—(তীর্থে),—(সৌভাগ্য),—(স্বীর অহুরোধে) ৭৭

(য)

মস্ততা—(সুরাপানে) মধুরপ্রকৃতিত্ব, মধ্যবিস্তৃতা, মনঃকষ্ট... .. ৭৮

মনঃকষ্ট—(জ্বীলোক হইতে) মমতাশূন্যতা, মস্তকাঘাত,—(সাংঘাতিক) মস্তিষ্কপীড়া ৭৯

মহত্ব, মাতৃপিতৃবিয়োগ—(বাল্যে), মানসিককষ্ট—(আত্মীয়মরণে) মানসিকদৌর্বল্য ৮০

মানসিকী দৃঢ়তা, মায়াবাদিত্ব—(সপ্রেম) মিতব্যয়িতা, মিথ্যাগল্পবাদিতা ৮১

মিথ্যাবাদিতা, মুখত্ব, মূর্ছাবায়ু ৮২

মৃত্যু—(অকালে)—(আকস্মিক)—(আত্মীয় বন্ধুর)—(জলমজ্জনে) ৮৩

মৃত্যু—(যুদ্ধে)—(হঠাৎ) ৮৪

(ষ)

যশোভাগ্য ৮৪

যশোলাভ—(দৈবাৎ) যশোলিপ্সা - (আধিক্য), যুদ্ধনৈপুণ্য ৮৫

(র)

রঙ্গপ্রিয়তা, রসায়নপ্রিয়তা, রাগরাহিত্য, রাজনীতিজ্ঞতা ৮৬

(ল)

লক্ষাশীলতা, লাম্পট্য ৮৭

(ব)

| | | | | |
|------------------------------------------------------------------------------------|-----|-----|-----|-----|
| বক্তৃতা | ... | ... | ... | ৮৭ |
| বক্তৃতা—(বিশিষ্টত্ব) বদান্ততা, বাগাড়ম্বর, বাচালতা | ... | ... | ... | ৮৮ |
| বাতুলতা—(কুকুরদংশনে)—বংশগত—(বিপজ্জনক) বিচক্ষণতা | ... | ... | ... | ৮৯ |
| বিচার—(উৎকৃষ্টরূপে)—(তৎপবতা) (সূক্ষ্মরূপে) | ... | ... | ... | ৯০ |
| বিচার—(হৃদগতভাবে) বিজ্ঞানশাস্ত্রে উন্নতি, বিজ্ঞানে, অর্থোন্নতি বিদূষকত্ব .. | ... | ... | ... | ৯১ |
| বিদ্যাপরিচয়ে স্থখী. বিদ্বেশ—(দাম্পত্য) বিদ্বেশপরতা, বিলাসিতা, বিবাহ | ... | ... | ... | ৯২ |
| বিবাহ—(অসুখকর)—(বণিক) বিবাহভঙ্গ—(মরণ) | ... | ... | ... | ৯৩ |
| বিবাহ—(বৃদ্ধসহ)—(শিল্পিসহ)—(সুখকর)—(মোকদ্দমা) বিস্ময়চরিত্রতা. | ... | ... | ... | ৯৪ |
| বিস্ময়স্বভাব | ... | ... | ... | ৯৫ |
| বিশ্বাসঘাতকতা, বিষাদ, বৈজ্ঞানিকত্ব (তार्কিকতা) | ... | ... | ... | ৯৬ |
| বৈধব্য | ... | ... | ... | ৯৭ |
| (শ) | | | | |
| শক্তিমত্তা, শক্তিহীনতা, শঠতা, | ... | ... | ... | ৯৮ |
| শত্রুতা, শত্রুতায় হনন. শারীরিক অস্বাস্থ্য—(বংশানুক্রমিক) | ... | ... | ... | ৯৯ |
| শারীরিক স্বাস্থ্য—(বিশিষ্টরূপ) শাসন—(অত্যাচাবসহ) শিল্পবিজ্ঞানবেত্তৃত্ব | ... | ... | ... | ১০০ |
| শিল্পবিদ্যাপ্রিয়তা, শিল্পবিদ্যাবেত্তৃত্ব, শিল্পে—(পারদর্শিতা)—ভ্রমানিষ্ট) | ... | ... | ... | ১০১ |
| শিষ্টাচার. শোক | ... | ... | ... | ১০২ |
| (ষ) | | | | |
| ষড়্ঘন—(প্রেমসম্বন্ধে) | ... | ... | ... | ১০৩ |
| ষড়্ঘন—(প্রেমসম্বন্ধে বিপৎ) | ... | ... | ... | ১০৪ |
| (স) | | | | |
| সংসার নির্বাহ—(সুশৃঙ্খল) সংসাবাকর্ষণ, সজাগপ্রদীক্ষিতত্ব... | ... | ... | ... | ১০৫ |
| সন্তমতা, সত্যপ্রিয়তা, সদাশ্রমসাধন, সদানন্দত্ব | ... | ... | ... | ১০৬ |
| সন্ধিগুচিত্ততা, সন্ধিগতবাত, সন্ধিকৌশল, সন্ন্যাস—(কৰ্মত্যাগ) সন্ন্যাস—(বৈরাগ্য) | ... | ... | ... | ১০৭ |
| সন্ন্যাসরোগ, সমুদ্রযাত্রা—(দূরব্যাপিনী) সম্মান—(পৌরোহিত্যে) | ... | ... | ... | ১০৮ |
| সম্মান—(যুদ্ধে)—(রাজনীতিতে)—(সান্তিশয়) সরলতা, সম্মান—(অর্থলাভ) | ... | ... | ... | ১০৯ |
| সহজজ্ঞান—(প্রমাণনিরপেক্ষ) সাংসারিক সুখস্বাচ্ছন্দ্য, সাংঘাতিক পীড়া—(শৈশবে) | ... | ... | ... | ১১০ |
| সাধনতৎপরতা, সাধারণ সরলজ্ঞান, সাধুতা, সাক্ষোদ্রতা | ... | ... | ... | ১১১ |
| সার্বৈকস্বাধনপরত্ব সাফল্য—(প্রতিবন্ধকতা) সাময়িক উন্নতি—(প্রতিবন্ধকতা) | ... | ... | ... | ১১২ |


| | |
|--------------------------------------------------------------------------------------|---------|
| সামাজিক বিধিপালন, সাহসিকতা—(অবিচলিত)—(অসম) সাহিত্যসমালোচকত্ব | ১০৯ |
| সুখাভিলাষ—(ইন্দ্রিয়গত) সুখাভিলাষিতা, সুখ্যাতি—(অসাধারণ) | ... ১১০ |
| সুন্দরতত্ত্বানুসন্ধান, সুন্দরধর্মতত্ত্বজ্ঞ, সুন্দরবিচার, সেবকত্ব—(আরাধনার) | ... ১১১ |
| সৈনিকত্ব—(খ্যাতি) | ... ১১১ |
| সৈনিকত্ব—(বিচক্ষণত্ব) সৌজন্য, সৌভাগ্য—(জলভ্রমণে)—(সৌভাগ্যবস্তা) | ... ১১২ |
| —(অন্ত সাহায্যে) | ... ১১২ |
| সৌভাগ্যশালিতা, সৌভাগ্যোদয়—(জীবনের শেষে হঠাৎ)—(সাতিশয়) | ... ১১৩ |
| —(সাতিশয় পরিশ্রমে) | ... ১১৩ |
| সৌভাগ্যোদয়—(হঠাৎ) সৌহৃদ—(ধার্মিকসহ) স্ত্রীপ্রপৌড়িতত্ব, স্ত্রীপ্রীতি | ... ১১৪ |
| —স্ত্রীপ্রেমে—(বিপৎ) | ... ১১৪ |
| স্ত্রীপ্রেমে—(ঐশ্বর্য) স্থায়ীপ্রেম, স্থিরপ্রতিজ্ঞত্ব, স্নায়ুরোগ, স্নেহবস্তা | ... ১১৫ |
| স্মরণশক্তিমত্তা, স্মৃতিশক্তিহীনতা, স্বপ্নে—(ঔষধলাভ) স্বভাবকার্কশ্য, স্বভাবকার্পণ্য | ... ১১৬ |
| স্বভাবরৌক্ষ্য, স্বাচ্ছন্দ্যপ্রিয়তা, স্বাধীনকর্মত্ব, স্বাধীনচিন্তত্ব, স্বাধীনতা | ... ১১৭ |
| স্বাভাবিকজ্ঞান—(দৌত্যে)—(নাট্যে)—(চিকিৎসায়) | ... ১১৮ |
| (রাজনীতিসংক্রান্ত) | ... ১১৮ |
| (হ) | |
| হঠাদ্রোগাক্রান্তি, হঠাদ্রোগে মৃত্যু, হঠাৎবিপৎ, হতভাগ্যতা, হননপ্রবৃত্তি | ... ১১৯ |
| হাঁপানী, হানি—(হিংসক পণ্ড হইতে) হিংসা, হৃদরোগ | ... ১২০ |
| ————— | |
| হস্তরেখানুশীলন | ... ১২১ |
| প্রথম হস্তপাঠ | ... ১২২ |
| দ্বিতীয় হস্তপাঠ | ... ১২৫ |
| তৃতীয় হস্তপাঠ | ... ১২৭ |
| উপসংহার | ... [১] |
| ————— | |

করতলস্থ চিহ্নের সংক্ষিপ্ত বিবরণ ।

[চিত্র--১]

- ১ প্রথমাস্ত্রলী বা তর্জনী ।
- ২ দ্বিতীয়াস্ত্রলী বা মধ্যমা ।
- ৩ তৃতীয়াস্ত্রলী বা অনামিকা ।
- ৪ চতুর্থাস্ত্রলী বা কনিষ্ঠা ।
- ৫ বৃদ্ধাস্ত্রলী বা অঙ্গুষ্ঠা ।
- ৬ বৃহস্পতির স্থান ।
- ৭ শনির স্থান ।
- ৮ রবির স্থান ।
- ৯ বুধের স্থান ।
- ১০ মঙ্গলের প্রথম স্থান ।
- ১১ মঙ্গলের দ্বিতীয় স্থান ।
- ১২ চন্দ্রের স্থান ।
- ১৩ শুক্রের স্থান ।
- ১৪—১৪ আয়ুরেখা ।
- ১৫—১৫ অঙ্গুগরেখা ।
- ১৬—১৬ শিরোরেখা ।
- ১৭—১৭ ভাগ্যরেখা বা শনিরেখা ।
- ১৮—১৮ রবিরেখা বা উন্নতিরেখা ।
- ১৯—১৯—১৯ করত্রিকোণ ।
- ২০—২০ স্বাস্থ্যরেখা ।
- ২১—২১ করচতুষ্কোণ ।
- ২২—২২—২২ মণিবন্ধস্থ বলয়ত্রয় ।
- ২৩—২৩ চন্দ্রবুধসংযোজিনী রেখা ।
- ২৪—২৪ শুক্রবন্ধনী ।
- ২৫—২৫ হৃদয়রেখা ।
- ২৬—২৬ প্রবৃত্তিরেখা বা স্বাস্থ্যরেখার অঙ্গুগরেখা ।

চিত্রস্থ রেখাদির নির্ঘণ্ট ।



এই পুস্তকে চিত্রগত রেখাদির ফল-সূচনাদির নির্ণয় সহজসাধ্য করিবার জন্য এই নির্ঘণ্ট-পত্র প্রদত্ত হইল। ইহার প্রথম অঙ্কগুলি চিত্রগত রেখা-জ্ঞাপক সংখ্যা এবং বন্ধনীর, অন্তর্গত প্রথম সংখ্যায় পুস্তকের পৃষ্ঠা ও তৎ পরবর্তী অঙ্কে উক্ত পৃষ্ঠাস্থ অনুবন্ধ নির্দেশ করিতেছে। এই নির্ঘণ্ট-পত্র পাঠকের সুবিধার জন্য, সবিশেষ যত্নে প্রস্তুত করা হইয়াছে। পুস্তকের কোন স্থলে অসামঞ্জস্য দৃষ্ট হইলে, এই নির্ঘণ্ট-পত্রের সাহায্যে তাহা নিরাকৃত হইবে।

| চিত্র—১। | চিত্র—৪। |
|--------------------------------------|--------------------------------|
| করতলস্থ চিত্রের সংক্ষিপ্ত বিবরণ...॥০ | |
| চিত্র—২। | |
| ১-১। (২ পৃষ্ঠা। ১ অনুবন্ধ) | ১। (১৭।৬৫) (৪১।১৫৮) (৫১।১২৭) |
| ২। (৩।৩) | (৬৬।২৬১) (৭৪।২২৩) (৯০।৩৫৫) |
| ৩-৩। (৩৪) (৬।২০) (৫৪।২০৬) | (৯২।৫৬২) (১১৮।৪৮২) |
| ৪। (৩।৬) | ২। (৬৬।২৬১) (৭৪।২২৩) (১১৮।৪৮২) |
| ৫। (৩।৬) | ৩। (৫।১৩) |
| ৬। (৩।৪) | ৪। (৫।১৩) |
| ৭। (৬।২০) (৫৯।২২৬) (৮৭।৩৪৪) | ৬। (৫।১৪) |
| ৮। (৫৪।২০৬) | ৭। (৫।১৩) |
| চিত্র—৩। | চিত্র—৫। |
| ১-১। (৩।৬) (২৮।১০৭) | ১। (২।২) |
| ২-২। (৩।৭) (১১৬।৪৭১) (৮১।৩২৫) | ২। (২।২) |
| ৩। (২৮।১০৭) | ৩। (২।২) |
| ৪। (২৮।১০৭) (৮১।৩২৫) | ৪। (৯।৩২) (৪৮।১৮৫) |
| ৫। (২৯।১১৩) | (৭৫।২৯৫) (১১২।৪৫২) |
| ৬। (২৯।১১৩) | ৫। (৯।৩২) |

| | | | |
|------|-----------------------------|--|------------------------|
| | ଚିତ୍ର-୬ । | | ୪ । (୪୨୧) (୪୫୩୭୭) |
| ୧ । | (୭୧୮) (୧୧୨୨୬) | | (୧୦୧୫୧୨) |
| ୨ । | (୭୧୮) | | ୨ । (୪୨୧) |
| ୩ । | (୭୧୮) | | ୧୦ । (୫୧୧୧୧) |
| ୪ । | (୭୧୮) (୧୨୦) (୧୧୨୨୬) | | ଚିତ୍ର-୧ । |
| ୫ । | (୭୧୮) | | ୧ । (୪୨୪) |
| ୬ । | (୭୧୮) (୧୧୨୨୬) | | ୨ । (୪୨୪) |
| ୭ । | (୭୧୮) | | ୩ । (୪୨୨) |
| ୮ । | (୭୧୮) | | ୪ । (୨୩୭) |
| ୯ । | (୭୧୮) (୧୨୦) | | ୫ । (୨୨୧୧୫) |
| ୧୦ । | (୭୧୮) | | ଚିତ୍ର-୧୦ । |
| | ଚିତ୍ର-୧ । | | ୧ । (୨୩୭) |
| ୧ । | (୭୧୨) | | ୨ । (୨୩୭) |
| ୨ । | (୭୨୦) (୭୧୧୫୫) (୭୨୧୫୦) | | ୩ । (୧୦୩୫) (୭୨୧୫୨) |
| | (୧୨୩୭୨) (୨୧,୭୪୪) | | ୪ । (୨୨୧୧୨) |
| ୩ । | (୭୨୦) (୧୨୩୭୨) | | ଚିତ୍ର-୧୧ । |
| ୪ । | (୭୨୦) | | ୧ । (୧୦୩୫) (୧୧୨୨୫) |
| ୫ । | (୧୨୧) | | (୧୧୨୧୫୨) |
| ୬ । | (୧୨୧) | | ୨ । (୧୦୩୬) |
| ୭ । | (୧୨୨) | | ୩ । (୧୧୧୧) |
| | ଚିତ୍ର-୮ । | | ୪ । (୧୧୧୧) |
| ୧ । | (୧୨୩) | | ୫ । (୧୧୧୨) |
| ୨ । | (୧୨୩) (୫୧୧୧୧) | | ୬ । (୧୧୧୦) |
| ୩ । | (୧୨୪) | | ୭ । (୧୨୧୩) (୫୧୧୩୧) |
| ୪ । | (୪୨୫) | | ଚିତ୍ର-୧୨ । |
| ୫ । | (୪୨୬) | | ୧ । (୧୧୧୨) (୭୧୧୧୨) |
| ୬ । | (୪୨୭) | | (୫୧୧୧୫) (୫୧୧୧୫) |
| ୭ । | (୪୨୮) | | (୫୧୧୧୫) (୫୧୧୧୫) |
| ୮ । | (୪୨୯) | | |

- ୨ । (୧୧|୭୮)
 ୩ । (୧୨|୮୩)
 ୪ । (୧୨|୮୩)
 ୫ । (୧୩|୯୧)
 ୬ । (୮|୨୫) (୬୬|୨୭୦)
 (୧୨|୨୮୨) (୮୧|୩୮୫)

ଚିତ୍ର—୧୩ ।

- ୧ । (୧୨|୮୮)
 ୨ । (୧୨|୮୮) (୧୧୬|୮୧୨)
 ୩ । (୧୧|୭୫)
 ୪ । (୨୪|୯୨) (୩୧|୧୮୩)
 ୫ । (୨୪|୯୨) (୩୧|୧୮୩)
 ୬ । (୨୧|୧୦୩)
 ୭ । (୨୧|୧୦୩) (୬୫|୨୫୫)
 ୮ । (୨୧|୧୦୩)
 ୯ । (୨୧|୧୦୫)
 ୧୦ । (୨୧|୧୦୫)
 ୧୧ । (୨୧|୧୦୫) (୯୨|୩୭୫)
 ୧୨ । (୨୧|୧୦୩)
 ୧୩ । (୨୧|୧୦୫) (୫୫|୧୧୫)

ଚିତ୍ର—୧୪ ।

- ୧ । (୧୩|୮୯)
 ୨ । (୧୨|୮୭) (୧୦୫|୮୧୯)
 ୩ । (୧୩|୮୯)
 ୪ । (୧୩|୮୯)
 ୫ । (୧୩|୮୯)
 ୬ । (୧୩|୯୧) (୩୯|୧୫୦)

- ୧ । (୧୩|୯୧) (୧୧|୭୫) (୧୧|୭୫)
 (୨୨|୮୫)

- ୮ । (୧୩|୮୯)

ଚିତ୍ର—୧୫ ।

- ୧ । (୧୪|୯୨)
 ୨ । (୧୪|୯୫)
 ୩ । (୧୪|୯୫)
 ୪ । (୧୪|୯୬) (୨୫|୯୫)
 (୩୬|୧୮୦) (୩୧|୧୮୮)
 (୧୩|୨୮୧)
 ୫ । (୧୪|୯୬) (୧୧|୭୫)
 ୬ । (୨୫|୯୬)
 ୭ । (୨୫|୯୫) (୯୫|୩୧୮)

ଚିତ୍ର—୧୬ ।

- ୧ । (୧୫|୯୮)
 ୨ । (୧୬|୧୦)
 ୩ । (୧୬|୧୦) (୨୩|୮୬)
 ୪ । (୧୬|୧୦)
 ୫ । (୧୬|୧୦)
 ୬ । (୨୨|୮୨)
 ୭ । (୨୨|୮୨)
 ୮ । (୨୨|୮୨)
 ୯ । (୨୨|୮୨)
 ୧୦ । (୧୬|୧୦)
 ୧୧ । (୧୬|୧୦)

ଚିତ୍ର—୧୭ ।

- ୧ । (୧୫|୯୭)
 ୨ । (୧୫|୯୧)

- ୩ । (୧୫୧୧)
 ୪ । (୧୮୩୧)
 ୫ । (୧୮୩୧) (୧୦୧୮୩୦)
 ୬ । (୧୮୩୧) (୧୦୧୮୩୦)
 ୭ । (୧୮୩୧) (୧୮୩୮) (୧୧୧୧୧)
 ୮ । (୧୮୩୮) (୧୧୧୧୧)
 ୯ । (୧୧୧୧୧)
 ୧୦ । (୧୫୧୧)
 ୧୧ । (୧୫୧୧)
 ୧୨ । (୧୮୩୧)
 ୧୩ । (୧୮୩୧)
 ୧୪ । (୩୦୧୧୧)
 ୧୫ । (୫୫୧୧୧)
 ୧୬ । (୫୫୧୧୧)
 ୧୭ । (୧୦୧୮୩୦)

ଚିତ୍ର-୧୮ ।

- ୧ । (୧୮୩୧) (୧୧୧୧୧) (୧୧୧୧୧)
 (୧୧୧୧୧)
 ୨ । (୧୮୩୧)
 ୩ । (୧୮୩୧) (୧୧୧୧୧) (୧୧୧୧୧)
 (୧୧୧୧୧)
 ୪ । (୧୮୩୧)
 ୫ । (୧୮୩୧) (୧୧୧୧୧)
 ୬ । (୧୧୧୧୧)
 ୭ । (୧୧୧୧୧)
 ୮ । (୧୧୧୧୧) (୧୧୧୧୧)
 ୯ । (୧୧୧୧୧)
 ୧୦ । (୧୧୧୧୧)

ଚିତ୍ର-୧୯ ।

- ୧ । (୧୧୧୧୧)
 ୨ । (୧୧୧୧୧)
 ୩ । (୧୧୧୧୧)
 ୪ । (୧୧୧୧୧)
 ୫ । (୧୧୧୧୧)
 ୬ । (୧୧୧୧୧)
 ୭ । (୧୧୧୧୧) (୧୧୧୧୧)
 ୮ । (୧୧୧୧୧)
 ୯ । (୧୧୧୧୧)
 ୧୦ । (୧୧୧୧୧)
 ୧୧ । (୫୫୧୧୧) (୫୫୧୧୧)
 ୧୨ । (୫୫୧୧୧) (୫୫୧୧୧)
 ୧୩ । (୫୫୧୧୧) (୫୫୧୧୧)
 ୧୪ । (୫୫୧୧୧)
 ୧୫ । (୫୫୧୧୧)

ଚିତ୍ର-୨୦ ।

- ୧ । (୫୫୧୧୧) (୫୫୧୧୧)
 (୫୫୧୧୧) (୫୫୧୧୧)
 ୨ । (୫୫୧୧୧)
 ୩ । (୫୫୧୧୧) (୫୫୧୧୧) (୫୫୧୧୧)
 ୪ । (୫୫୧୧୧) (୫୫୧୧୧)
 ୫ । (୫୫୧୧୧)
 ୬ । (୫୫୧୧୧)
 ୭ । (୫୫୧୧୧)
 ୮ । (୫୫୧୧୧)
 ୯ । (୫୫୧୧୧)
 ୧୦ । (୫୫୧୧୧)

୧୧ । (୫୦।୧୫୩) (୧୦୧।୫୦୧)

୧୨ । (୫୦।୧୫୩) (୧୦୧।୫୦୧)

ଚିତ୍ର—୨୧ ।

୧ । (୩୦।୧୧୧)

୨ । (୩୦।୧୧୧)

୩ । (୩୧।୧୨୩)

୪ । (୩୧।୧୨୨) (୩୧।୧୨୩)

୫ । (୩୧।୧୨୨)

୬ । (୩୧।୧୨୨)

୭ । (୩୧।୧୨୩)

୮ । (୫୦।୧୫୫)

୯ । (୩୧।୧୨୩)

୧୦ । (୧୩।୨୫୧)

୧୧ । (୫୫।୧୧୧) (୧୧୧।୫୫୫)

୧୨ । (୩୧।୧୨୩)

ଚିତ୍ର—୨୨ ।

୧ । (୩୧।୧୨୫)

୨ । (୩୧।୧୨୫)

୩ । (୩୧।୧୨୫) (୧୧।୧୧୧)

(୧୧୧।୧୧୧)

୪ । (୩୧।୧୨୫)

୫ । (୩୧।୧୨୫)

୬ । (୩୩।୧୨୧)

୭ । (୩୩।୧୨୧)

୮ । (୩୩।୧୨୧)

୯ । (୩୩।୧୨୧)

୧୦ । (୧୧।୧୧୧)

୧୧ । (୫୫।୧୫୫)

ଚିତ୍ର—୨୩ ।

୧ । (୩୫।୧୩୫) (୩୫।୧୩୫)

(୫୫.୨୫୦) (୫୫।୨୫୨) (୧୩୫।୩୫୫)

୨ । (୩୫।୧୩୫) (୫୫।୨୫୦)

୩ । (୩୫।୧୩୫) (୫୫।୨୫୦)

୪ । (୩୫।୧୩୫)

୫ । (୩୫।୧୩୦) (୧୩.୨୫୫)

୬ । (୩୩।୧୨୩)

୭ । (୩୩।୧୨୩)

୮ । (୩୫।୧୩୫) (୩୫।୧୩୫)

(୫୫।୨୫୧) (୨୫।୨୫୨)

୯ । (୧୩୫।୩୫୫) (୧୩୫।୩୫୫)

୧୦ । (୧୦।୨୧୦)

୧୧ । (୫୫।୨୫୨) (୧୦୨।୫୦୫)

(୧୦୫।୫୨୫)

୧୨ । (୫୫.୩୩୦)

ଚିତ୍ର—୨୪ ।

୧ । (୨୩।୫୧)

୨ । (୨୩।୫୧)

୩ । (୨୩।୫୧)

୪ । (୨୫।୫୫) (୩୫।୩୫)

୫ । (୩୫।୩୫)

୬ । (୩୫।୩୫)

୭ । (୩୫।୩୫)

୮ । (୩୫।୩୫)

୯ । (୫୦।୧୫୩) (୧୧୫।୫୫୫)

୧୦ । (୫୦।୧୫୩) (୧୧୫।୫୫୫)

୧୧ । (୫୦।୧୫୩)

୧୨ । (୫୦।୧୫୭)

୧୩ । (୭୮।୧୫୭)

୧୪ । (୧୧୫।୫୭୭)

ଚିତ୍ର—୨୫ ।

୧ । (୭୮।୧୫୮)

୨ । (୭୮।୧୫୮)

୩ । (୭୮।୧୫୮)

୪ । (୭୯।୧୫୮)

୫ । (୭୯।୧୫୯)

୬ । (୭୯।୧୫୯)

୭ । (୭୮।୧୫୫) (୫୯।୨୨୯)

(୧୨୭।୫୫୯)

୮ । (୫୦।୧୫୫)

୯ । (୫୫।୨୧୫) (୧୨।୨୮୭)

(୮୨।୭୨୧) (୮୮।୭୫୦)

୧୦ । (୧୧।୬୭)

୧୧ । (୧୧୦।୫୫୦)

୧୨ । (୯୮।୭୨୭)

ଚିତ୍ର—୨୬ ।

୧ । (୧୨।୫୫) (୭୮।୧୫୫)

(୧୫।୨୨୫)

୨ । (୫୦।୧୫୫)

୩ । (୫୭।୧୫୫)

୪ । (୫୭।୧୫୫)

୫ । (୫୫।୧୫୭)

୬ । (୫୫।୧୫୭) (୯୮।୭୨୭)

୭ । (୫୫।୧୫୫)

୮ । (୫୫।୧୫୭) (୯୮।୭୨୭)

୯ । (୭୮।୭)

୧୦ । (୮୫।୭୭୧)

୧୧ । (୮୫।୭୭୧)

୧୨ । (୯୮।୭୨୭)

୧୩ । (୮୯।୭୫୫)

ଚିତ୍ର—୨୭ ।

୧ । (୧୧୨।୫୫)

୨ । (୨୧।୧୦୫) (୧୨।୨୮୨)

(୮୧।୭୫୫)

୩ । (୧୫।୫୭) (୮୭।୭୭୦)

(୫୮।୭୫୫)

୪ । (୭୫।୧୭୫)

୫ । (୫୧।୧୫୮)

୬ । (୫୫।୧୬୨)

୭ । (୫୫।୧୬୨)

୮ । (୫୫।୧୬୦)

୯ । (୫୫।୧୬୧)

୧୦ । (୫୫।୧୬୮) (୧୧।୨୧୯)

୧୧ । (୫୫।୧୬୮)

୧୨ । (୭୧।୨୭୮)

୧୩ । (୭୧।୨୭୮)

୧୪ । (୭୫।୨୭୦) (୧୭।୨୮୯)

(୮୭।୭୭୦) (୯୨।୭୫୫) (୧୧୦।୫୫୦)

୧୫ । (୮୯।୭୫୫)

୧୬ । (୭୧।୧୫୭)

୧୭ । (୮୭।୭୭୦)

୧୮ । (୧୨।୨୮୨)

ଚିତ୍ର—୨୮ ।

- ୧ । (୫୧୧୨୭) (୫୧୧୨୭)
 (୫୭୧୨୮)
- ୨ । (୫୧୧୨୮) (୧୦୧୧୮୨୧)
- ୩ । (୫୧୧୨୮)
- ୪ । (୫୧୧୨୭) (୫୧୧୨୮)
- ୫ । (୫୧୧୨୭) (୧୦୧୧୮୨୧)
- ୬ । (୫୧୧୨୮)
- ୭ । (୫୧୧୨୮) (୫୧୧୨୭)
- ୮ । (୫୧୧୨୮) (୫୭୧୨୮)
 (୧୧୧୨୮)
- ୯ । (୫୧୧୨୮) (୫୭୧୨୮)
 (୫୧୧୨୭)
- ୧୦ । (୫୭୧୨୮)
- ୧୧ । (୫୭୧୨୮)
- ୧୨ । (୫୧୧୨୮) (୫୧୧୨୮)
 (୫୭୧୨୮) (୧୧୧୨୮)
- ୧୩ । (୫୭୧୨୮)
- ୧୪ । (୫୭୧୨୮)
- ୧୫ । (୫୭୧୨୮) (୧୦୧୨୮)
- ୧୬ । (୫୭୧୨୮)
- ୧୭ । (୫୭୧୨୮)
- ୧୮ । (୫୭୧୨୮) (୧୧୧୨୮)
- ୧୯ । (୧୧୧୨୮)
- ୨୦ । (୧୧୧୨୮)

ଚିତ୍ର—୨୯ ।

- ୧ ।
- ୨ । (୫୭୧୨୮)
- ୩ । (୫୭୧୨୮)

- ୪ । (୫୭୧୨୮)
- ୫ । (୫୭୧୨୮)
- ୬ । (୫୭୧୨୮)
- ୭ । (୫୭୧୨୮)
- ୮ । (୫୭୧୨୮) (୫୭୧୨୮)
- ୯ । (୫୭୧୨୮)
- ୧୦ । (୫୭୧୨୮)
- ୧୧ । (୫୭୧୨୮) (୫୭୧୨୮)
- ୧୨ । (୫୭୧୨୮)
- ୧୩ । (୫୭୧୨୮)
- ୧୪ । (୫୭୧୨୮)
- ୧୫ । (୫୭୧୨୮) (୫୭୧୨୮)
- ୧୬ । (୫୭୧୨୮)
- ୧୭ । (୫୭୧୨୮)
- ୧୮ । (୫୭୧୨୮)
- ୧୯ । (୫୭୧୨୮) (୫୭୧୨୮)
- ୨୦ । (୫୭୧୨୮)
- ୨୧ । (୫୭୧୨୮) (୫୭୧୨୮)

ଚିତ୍ର—୩୦

- ୧ । (୫୭୧୨୮)
- ୨ । (୫୭୧୨୮) (୫୭୧୨୮)
- ୩ । (୫୭୧୨୮)
- ୪ । (୫୭୧୨୮)
- ୫ । (୫୭୧୨୮)
- ୬ । (୫୭୧୨୮)
- ୭ । (୫୭୧୨୮)
- ୮ । (୫୭୧୨୮) (୫୭୧୨୮)
- ୯ । (୫୭୧୨୮)

- ୩ । (୧୧।୧୧୧)
 ୧୦ । (୧୧।୧୧୧) (୧୦।୩୧୧)
 ୧୧ । (୧୧।୧୧୧) (୧୦।୩୧୧)
 ୧୨ । (୧୨।୨୦୦) (୮୫।୩୧୬)
 ୧୩ । (୧୨।୧୧୮) (୧୫।୨୦୮)
 ୧୪ । (୧୨।୧୧୧) (୧୦।୨୮୧)
 ୧୫ । (୧୩।୨୦୦) (୧୮।୨୨୫)

ଚିତ୍ର-୩୧ ।

- ୧ । (୧୬।୨୧୧) (୧୧।୫।୫୧୨)
 ୨ । (୧୧।୨୧୧)
 ୩ । (୧୧।୨୧୧) (୧୧।୫।୫୧୨)
 ୪ । (୧୧।୨୧୧) (୧୧।୩୧୮)
 ୫ । (୧୧।୨୧୮) (୧୧।୩୦୧)
 ୬ । (୧୧।୨୧୮)
 ୭ । (୧୧।୨୧୮) (୮୩।୩୩)
 ୮ । (୧୧।୨୧୮)
 ୯ । (୧୮।୨୨୧)
 ୧୦ । (୩୧।୧୫୫)
 ୧୧ । (୧୧।୨୨୦) (୧୮।୨୨୧)
 ୧୨ । (୧୮।୨୨୧)
 ୧୩ । (୧୧।୨୧୮)
 ୧୪ ।
 ୧୫ । (୮୫।୩୧୨)

ଚିତ୍ର-୩୨ ।

- ୧ । (୧୬।୨୧୬) (୧୧।୨୧୧)
 ୨ । (୧୮।୨୨୩) (୧୧।୫।୫୧୧)
 ୩ । (୩୦।୨୩୫)

- ୫ । (୧୬।୨୧୧)
 ୬ । (୮୦।୩୧୧)
 ୭ । (୬୩।୨୫୬) (୧୧।୨୧୫)
 (୧୦।୫।୫୨୩)
 ୯ । (୬୩।୨୫୬) (୧୧।୨୧୫)
 (୮୩।୩୧୧) (୧୧।୫।୫୧୬)
 ୮ । (୬୨।୨୫୫)

- ୯ । (୬୨।୨୫୫)
 ୧୦ । (୬୧।୨୫୩) (୧୧।୫।୫୧୫)
 ୧୧ । (୬୧।୨୫୩)
 ୧୨ । (୧୩।୩୧୦)
 ୧୩ । (୬୧।୨୫୫)
 ୧୪ । (୧୧।୫।୫୧୫)
 ୧୫ । (୧୧।୫।୫୧୬)

ଚିତ୍ର-୩୩ ।

- ୧ । (୧୩।୨୦୧)
 ୨ । (୩୧।୧୫୫) (୮୫।୩୧୮)
 ୩ । (୩୧।୧୫୫) (୧୦।୫।୫୨୨)
 ୪ । (୩୧।୧୫୫)
 ୫ । (୩୧।୧୫୫)
 ୬ । (୩୧।୧୫୫)
 ୭ । (୩୧।୧୫୫)
 ୮ । (୧୦।୫।୫୧୫)
 ୯ । (୮୦।୩୧୧)
 ୧୦ । (୩୦।୨୩୫)
 ୧୧ । (୩୧।୨୧୩)
 ୧୨ । (୩୧।୨୧୩)

- ୧୭ । (୭୩|୨୧୭) (୧୧|୨୪୦)
- ୧୮ । (୭୨|୨୮୭)
- ୧୯ । (୭୨|୨୮୭)
- ୨୦ । (୧୪|୩୬୧)
- ୨୧ । (୭୫|୨୯୦) (୧୫|୨୯୭)
- ୨୨ । (୧୫|୨୯୭)
- ୨୩ । (୪୭|୩୭୧)
- ୨୪ । (୪୭|୩୭୧)
- ୨୫ । (୪୭|୩୭୩)
- ୨୬ । (୪୫|୩୭୪)

ଚିତ୍ର—୩୫ ।

- ୧ । (୭୧|୨୩୭)
- ୨ । (୭୧|୨୩୭) (୩୪|୩୪୩)
- ୩ । (୭୧|୨୩୭)
- ୪ । (୭୧|୨୩୭)
- ୫ । (୭୫|୨୯୧)
- ୬ । (୭୫|୨୯୧)
- ୭ । (୭୧|୨୩୫) (୭୪|୨୭୩)
- ୮ । (୭୨|୨୯୨) (୧୦|୨୧୧)
- ୯ । (୪୧|୩୭୪)
- ୧୦ । (୪୫|୩୭୪)
- ୧୧ । (୪୫|୩୭୪) (୧୦|୩୫୭)
- ୧୨ । (୪୫|୩୭୪) (୧୦|୩୫୭)
- ୧୩ । (୪୫|୩୭୪) (୧୧|୩୫୭)
- ୧୪ । (୧୩|୩୭୩)
- ୧୫ । (୧୩|୩୭୩)
- ୧୬ । (୪୭|୩୭୩)

- ୧୭ । (୧୧|୩୭୩)
- ୧୮ । (୧୧|୩୭୩)
- ୧୯ । (୧୧|୩୭୩)
- ୨୦ । (୧୩|୩୭୩)
- ୨୧ । (୧୩|୩୭୩)

ଚିତ୍ର—୩୬ ।

- ୧ । (୪୭|୩୭୩) (୪୭|୩୭୩)
- (୪୫|୩୭୩) (୪୫|୩୭୩)
- ୨ । (୪୦|୩୭୩) (୪୫|୩୭୩)
- ୩ । (୪୭|୩୭୩) (୪୭|୩୭୩)
- (୪୫|୩୭୩) (୪୫|୩୭୩)
- ୪ । (୪୫|୩୭୩)
- ୫ । (୪୫|୩୭୩)
- ୬ । (୧୩|୩୭୩) (୧୩|୩୭୩)
- ୭ । (୧୩|୩୭୩)
- ୮ । (୪୫|୩୭୩) (୧୩|୩୭୩)
- (୧୦|୩୭୩)
- ୯ । (୧୩|୩୭୩)
- ୧୦ । (୧୩|୩୭୩)
- ୧୧ । (୪୫|୩୭୩) (୪୫|୩୭୩) (୧୩|୩୭୩)
- (୧୩|୩୭୩) (୧୩|୩୭୩) (୧୩|୩୭୩)
- ୧୨ । (୪୫|୩୭୩) (୪୫|୩୭୩)
- (୧୦|୩୭୩)
- ୧୩ । (୪୫|୩୭୩)
- ୧୪ । (୧୦|୩୭୩) (୧୦|୩୭୩)
- (୧୩|୩୭୩)
- ୧୫ । (୪୫|୩୭୩) (୪୫|୩୭୩)
- ୧୬ । (୧୩|୩୭୩)

୧୨ । (୧୨୧୦୫) (୪୨୧୮୫)

୧୩ । (୧୩୩୩୩)

ଚିତ୍ର-୩୬ ।

୧ । (୧୧୩୩୩)

୨ । (୧୧୩୩୩)

୩ । (୩୩୩୩୩)

୪ । (୧୩୩୩୩) (୧୧୩୩୩୩)

୫ । (୧୩୩୩୩)

୬ । (୧୩୩୩୩)

୭ । (୧୩୩୩୩)

୮ । (୧୩୩୩୩)

୯ । (୧୩୩୩୩)

୧୦ । (୧୩୩୩୩) (୧୧୩୩୩୩)

୧୧ । (୧୩୩୩୩)

୧୨ । (୧୩୩୩୩) (୧୦୩୩୩୩)

୧୩ । (୧୩୩୩୩)

୧୪ । (୩୩୩୩୩) (୧୦୩୩୩୩)

(୧୧୩୩୩୩) (୧୧୩୩୩୩)

୧୫ । (୧୧୩୩୩୩)

୧୬ । (୧୩୩୩୩)

ଚିତ୍ର-୩୭ ।

୧ । (୦୩୩୩୩)

୨ । (୧୩୩୩୩)

୩ । (୩୩୩୩୩)

୪ । (୩୩୩୩୩) (୩୩୩୩୩)

୫ । (୩୩୩୩୩)

(୩୩୩୩୩)

୬ । (୩୩୩୩୩)

୭ । (୩୩୩୩୩)

୮ । (୩୩୩୩୩)

୧୦ । (୧୩୩୩୩)

୧୧ । (୧୩୩୩୩)

୧୨ । (୩୩୩୩୩)

୧୩ । (୩୩୩୩୩) (୩୩୩୩୩)

(୧୧୩୩୩୩)

୧୪ । (୩୩୩୩୩) (୧୧୩୩୩୩)

୧୫ । (୩୩୩୩୩)

ଚିତ୍ର-୩୮ ।

୧ । (୩୩୩୩୩)

୨ । (୩୩୩୩୩) (୧୧୩୩୩୩)

(୧୦୩୩୩୩) (୧୦୩୩୩୩)

୩ । (୩୩୩୩୩)

୪ । (୩୩୩୩୩) (୧୧୩୩୩୩)

୫ । (୩୩୩୩୩)

୬ । (୩୩୩୩୩)

୭ । (୩୩୩୩୩)

୮ । (୩୩୩୩୩)

୯ । (୩୩୩୩୩)

୧୦ । (୩୩୩୩୩)

୧୧ । (୧୦୩୩୩୩)

୧୨ । (୧୦୩୩୩୩)

୧୩ । (୧୦୩୩୩୩) (୧୧୩୩୩୩)

ଚିତ୍ର-୩୯ ।

୧ । (୩୩୩୩୩)

୨ । (୩୩୩୩୩)

- ୩ । (୧୫୧୨୯୪)
- ୪ । (୧୬୩୩୦୧)
- ୫ । (୧୭୩୩୦୮)
- ୬ । (୧୭୩୩୦୯) (୧୧୨୧୮୫୧)
- ୭ । (୧୭୩୨୯୮) (୧୧୨୧୨୦୫)
- ୮ । (୧୭୩୩୦୮)
- ୯ । (୧୭୩୩୦୮) (୧୦୭୩୮୧୦)
- ୧୦ । (୧୦୮୧୮୧୬)
- ୧୧ । (୧୮୩୩୦୯)
- ୧୨ । (୧୮୩୩୦୯)
- ୧୩ । (୧୮୩୩୦୯) (୧୦୧୨୧୬)
- ୧୪ । (୧୮୩୩୦୯)
- ୧୫ । (୧୮୩୩୦୯)
- ୧୬ । (୧୮୩୩୦୯) (୧୮୩୩୦୯)
- ୧୭ । (୧୮୩୩୦୯) (୧୧୧୮୧୮୧)
- ୧୮ । (୧୮୩୩୦୯)
- ୧୯ । (୧୮୩୩୦୯)
- ୨୦ । (୧୮୩୩୦୯)
- ୨୧ । (୧୮୩୩୦୯)
- ୨୨ । (୧୮୩୩୦୯)

ଚିତ୍ର—୪୦

- ୧ । (୧୯୩୩୦୯)
- ୨ । (୧୯୩୩୦୯)
- ୩ । (୧୯୩୩୦୯) (୧୯୩୩୦୯)
- (୧୯୩୩୦୯) (୧୯୩୩୦୯)
- ୪ । (୧୯୩୩୦୯) (୧୯୩୩୦୯)
- ୫ । (୧୯୩୩୦୯)
- ୬ । (୧୯୩୩୦୯)

- ୧ । (୧୯୩୩୦୯) (୧୯୩୩୦୯)
- ୨ । (୧୯୩୩୦୯) (୧୯୩୩୦୯)
- ୩ । (୧୯୩୩୦୯)
- ୪ । (୧୯୩୩୦୯)
- ୫ । (୧୯୩୩୦୯)
- ୬ । (୧୯୩୩୦୯) (୧୯୩୩୦୯)
- ୭ । (୧୯୩୩୦୯) (୧୯୩୩୦୯)
- ୮ । (୧୯୩୩୦୯)
- ୯ । (୧୯୩୩୦୯)
- ୧୦ । (୧୯୩୩୦୯)
- ୧୧ । (୧୯୩୩୦୯) (୧୯୩୩୦୯)
- ୧୨ । (୧୯୩୩୦୯) (୧୯୩୩୦୯)
- ୧୩ । (୧୯୩୩୦୯)
- ୧୪ । (୧୯୩୩୦୯)
- ୧୫ । (୧୯୩୩୦୯)
- ୧୬ । (୧୯୩୩୦୯)
- ୧୭ । (୧୯୩୩୦୯)
- ୧୮ । (୧୯୩୩୦୯)
- ୧୯ । (୧୯୩୩୦୯)
- ୨୦ । (୧୯୩୩୦୯)

ଚିତ୍ର—୪୧ ।

- ୧ । (୧୯୩୩୦୯) (୧୯୩୩୦୯)
- (୧୯୩୩୦୯)
- ୨ । (୧୯୩୩୦୯) (୧୯୩୩୦୯)
- (୧୯୩୩୦୯)
- ୩ । (୧୯୩୩୦୯) (୧୯୩୩୦୯)
- ୪ । (୧୯୩୩୦୯) (୧୯୩୩୦୯)
- ୫ । (୧୯୩୩୦୯)
- ୬ । (୧୯୩୩୦୯)
- ୭ । (୧୯୩୩୦୯) (୧୯୩୩୦୯)
- ୮ । (୧୯୩୩୦୯)
- ୯ । (୧୯୩୩୦୯) (୧୯୩୩୦୯)
- ୧୦ । (୧୯୩୩୦୯)
- ୧୧ । (୧୯୩୩୦୯)

୧୨ । (୧୧୫୮୫୦)
 ୧୩ । (୧୧୫୮୫୨)
 ୧୪ । (୧୧୬୮୫୩)
 ୧୫ । (୧୧୬୮୫୪)
 ୧୬ । (୧୧୬୮୫୫) (୧୧୬୮୫୬)
 ୧୭ । (୧୧୬୮୫୭)
 ୧୮ । (୧୧୬୮୫୮)
 ୧୯ । (୧୧୬୮୫୯)
 ୨୦ । (୧୧୬୮୬୦)

ଚିତ୍ର—୫୨ ।

୧ । (୧୦୭୮୨୫)
 ୨ । (୧୦୭୮୨୬)
 ୩ । (୧୦୭୮୨୭)
 ୪ । (୧୦୭୮୨୮)
 ୫ । (୧୦୭୮୨୯)
 ୬ । (୧୦୭୮୩୦)
 ୭ । (୧୦୭୮୩୧)
 ୮ । (୧୦୭୮୩୨)
 ୯ । (୧୦୭୮୩୩)
 ୧୦ । (୧୦୭୮୩୪)
 ୧୧ । (୧୦୭୮୩୫) (୧୦୭୮୩୬)
 ୧୨ । (୧୦୭୮୩୭)
 ୧୩ । (୧୦୭୮୩୮)
 ୧୪ । (୧୦୭୮୩୯)

ଚିତ୍ର—୫୩ ।

୧ । (୧୦୮୮୩୯)
 ୨ । (୧୦୮୮୪୦) (୧୦୮୮୪୧)

୩ । (୧୦୮୮୪୨)
 ୪ । (୧୦୮୮୪୩) (୧୦୮୮୪୪)
 ୫ । (୧୦୮୮୪୫) (୧୦୮୮୪୬)
 ୬ । (୧୦୮୮୪୭)
 ୭ । (୧୦୮୮୪୮)
 ୮ । (୧୦୮୮୪୯)
 ୯ । (୧୦୮୮୫୦)
 ୧୦ । (୧୦୮୮୫୧)

ଚିତ୍ର—୫୪ ।

୧ । (୧୦୯୮୫୫)
 ୨ । (୧୦୯୮୫୬)
 ୩ । (୧୦୯୮୫୭)
 ୪ । (୧୦୯୮୫୮)
 ୫ । (୧୦୯୮୫୯)
 ୬ । (୧୦୯୮୬୦)
 ୭ । (୧୦୯୮୬୧)
 ୮ । (୧୦୯୮୬୨)
 ୯ । (୧୦୯୮୬୩)
 ୧୦ । (୧୦୯୮୬୪)

ଚିତ୍ର—୫୫ ।

ବୟୋଜାପକ ଚିତ୍ର ୧୨୧

ଚିତ୍ର—୫୬ ।

ପ୍ରଥମ ହସ୍ତ ପାଠ ୧୨୨

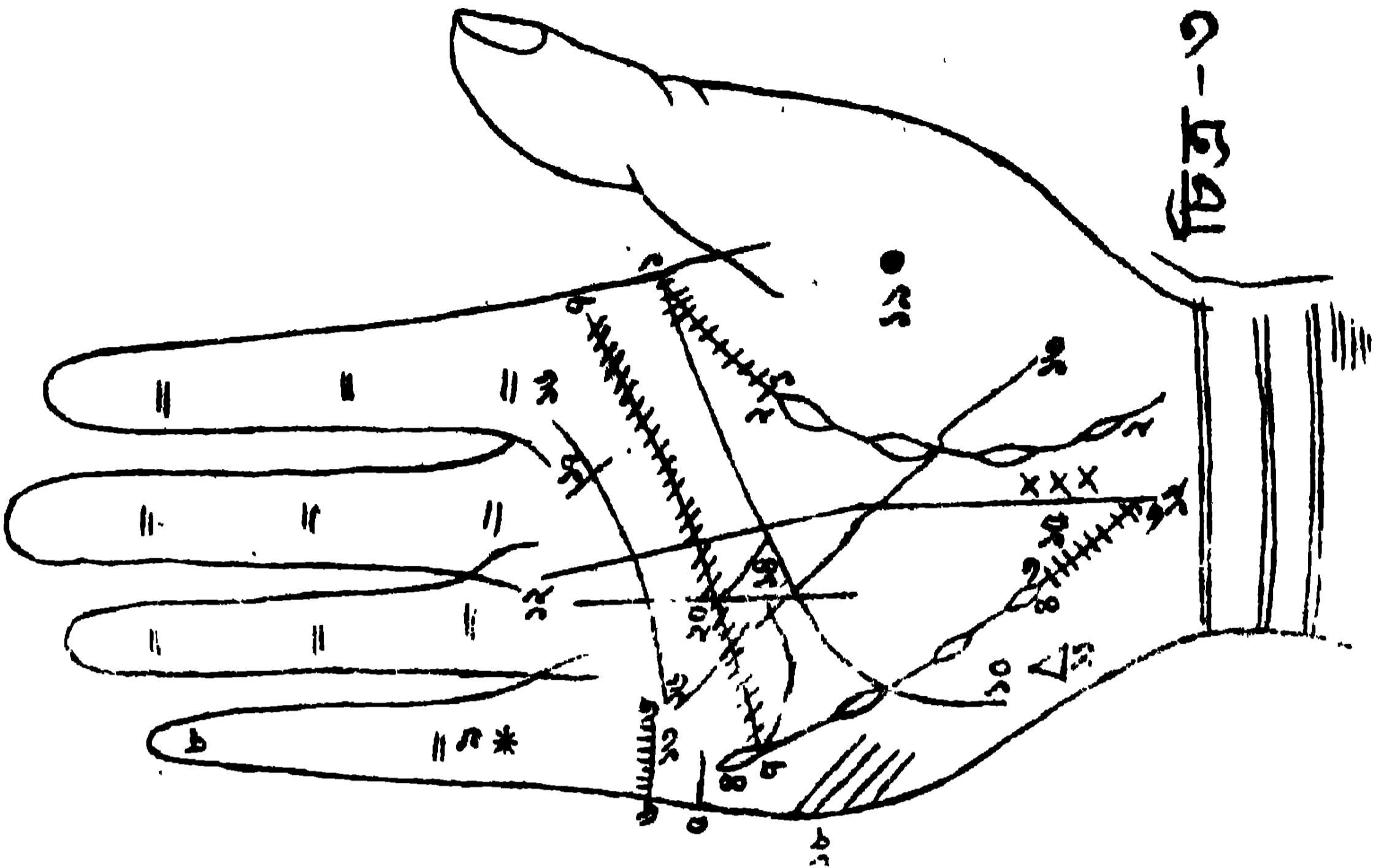
ଚିତ୍ର—୫୭ ।

ଦ୍ୱିତୀୟ ହସ୍ତ ପାଠ ୧୨୩

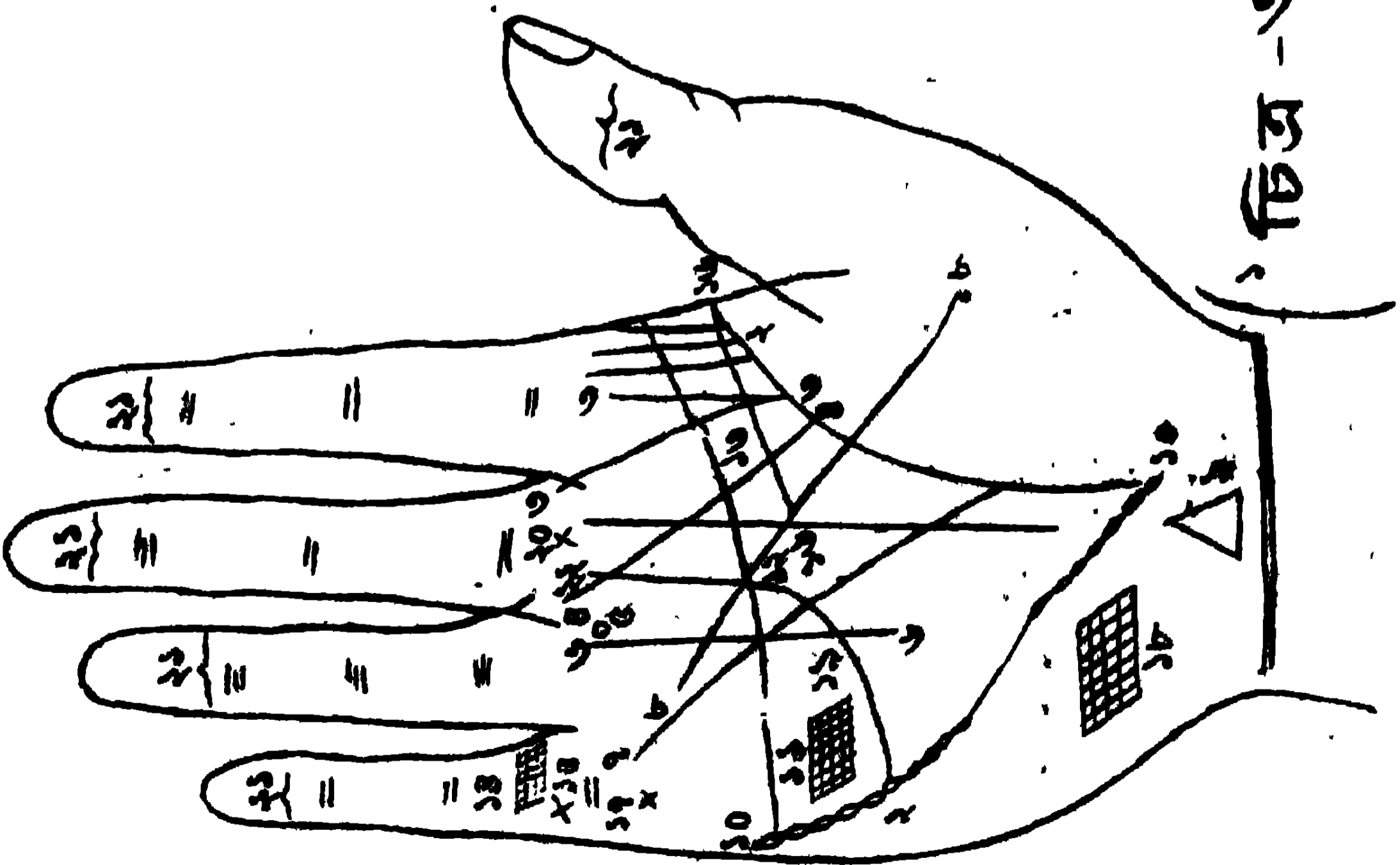
ଚିତ୍ର—୫୮ ।

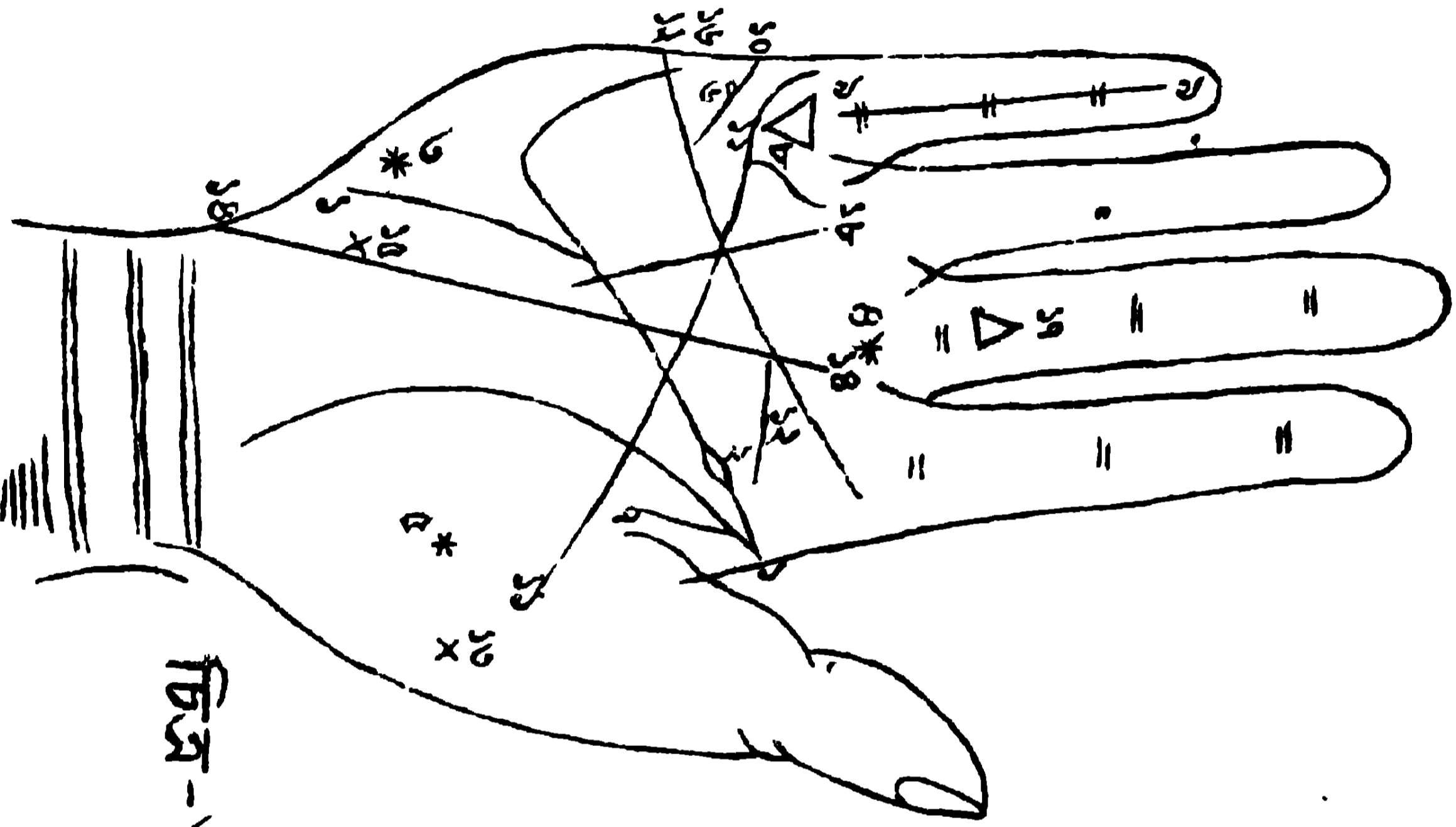
ତୃତୀୟ ହସ୍ତ ପାଠ ୧୨୪

চিত্র-১৪৪

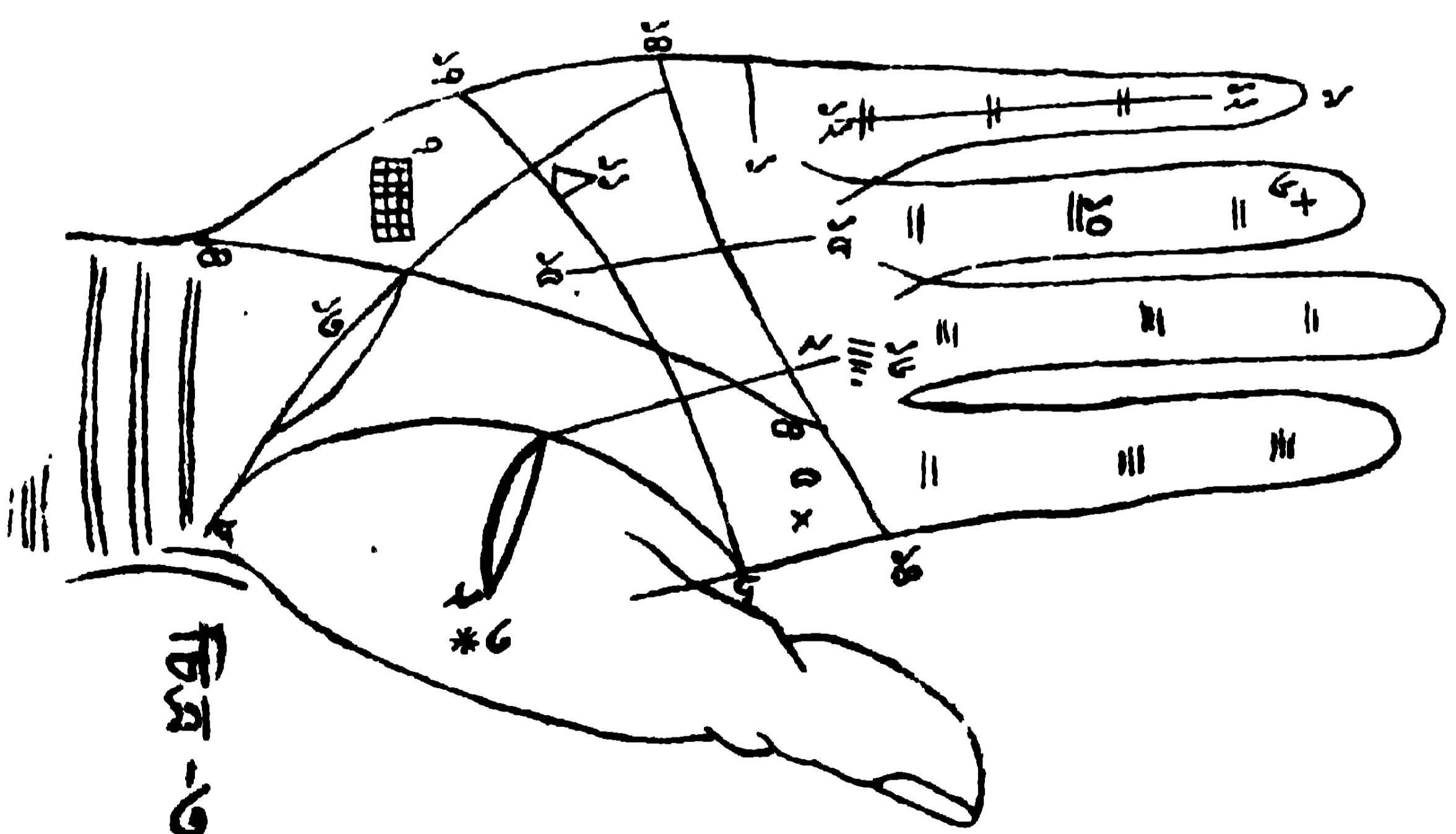


চিত্র-১৪৩



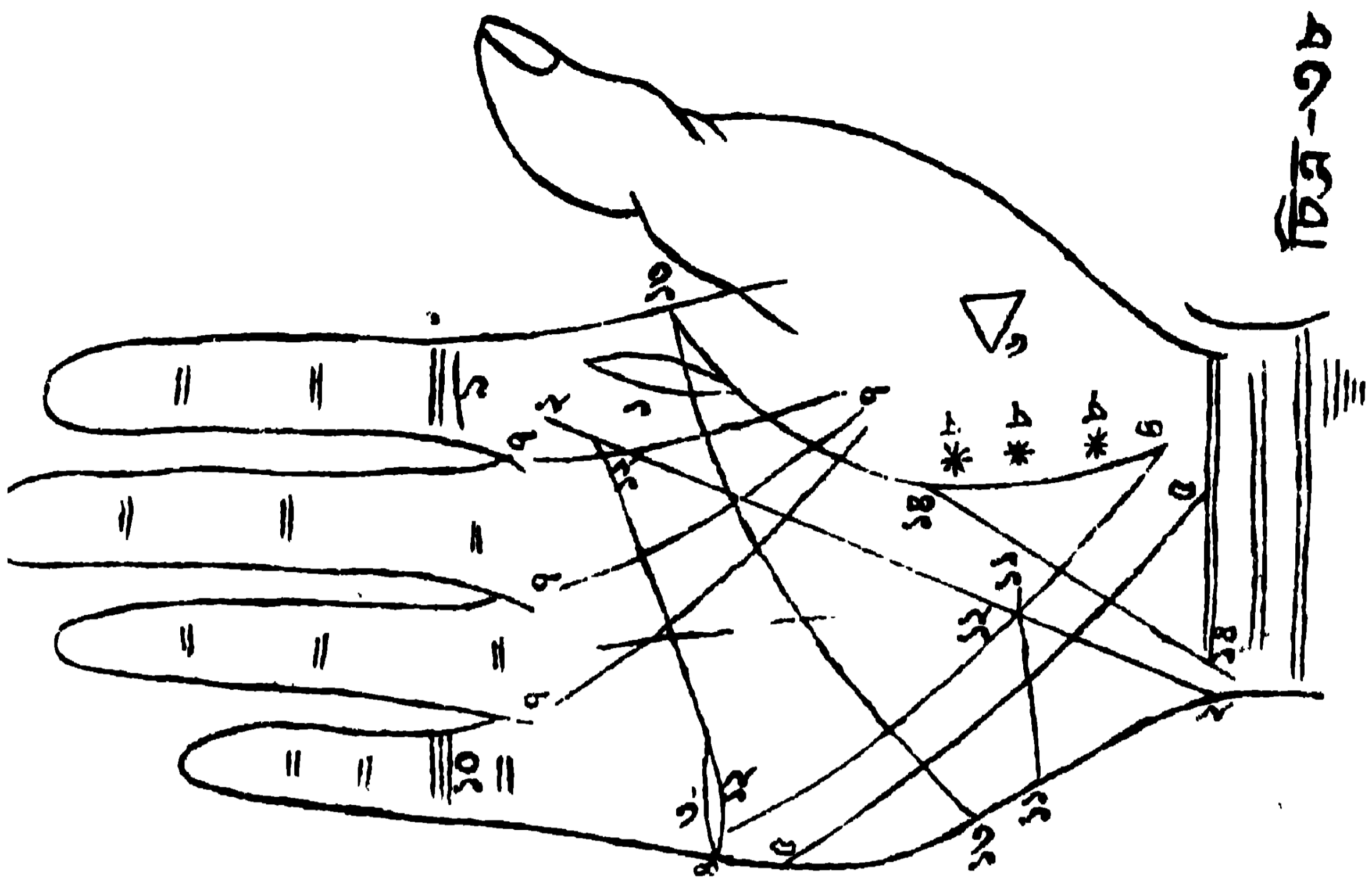


চিত্র-৩৩

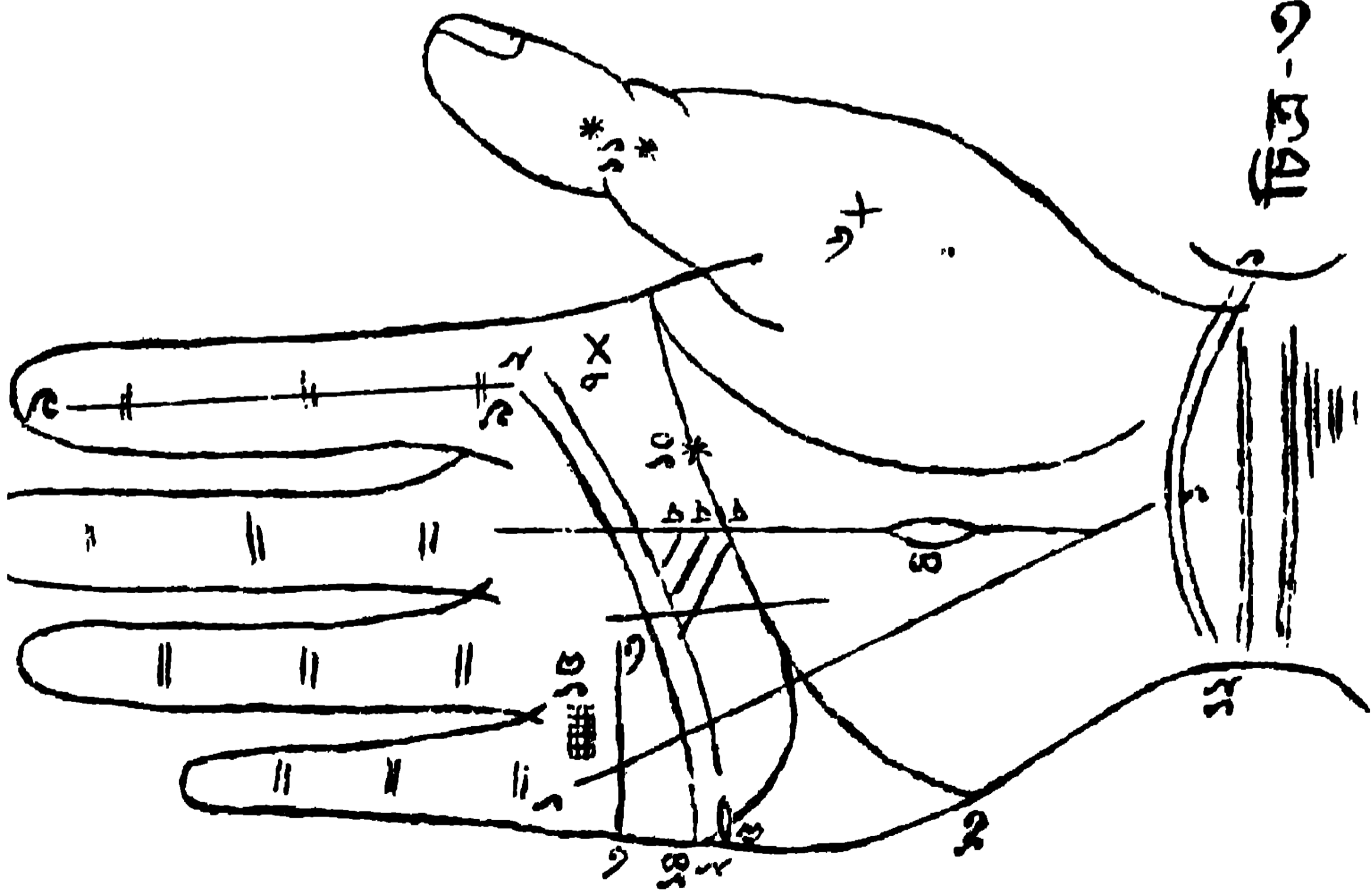


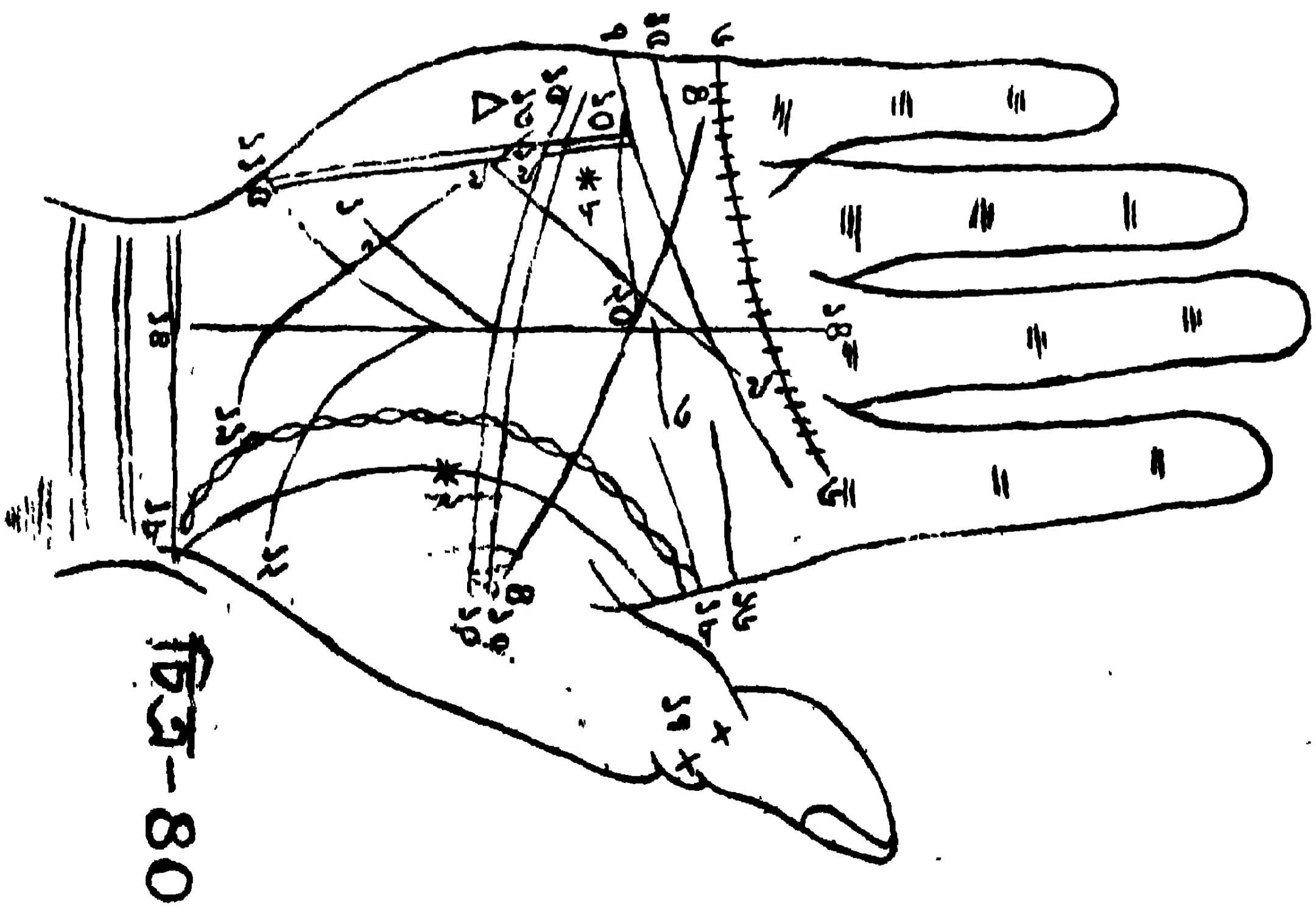
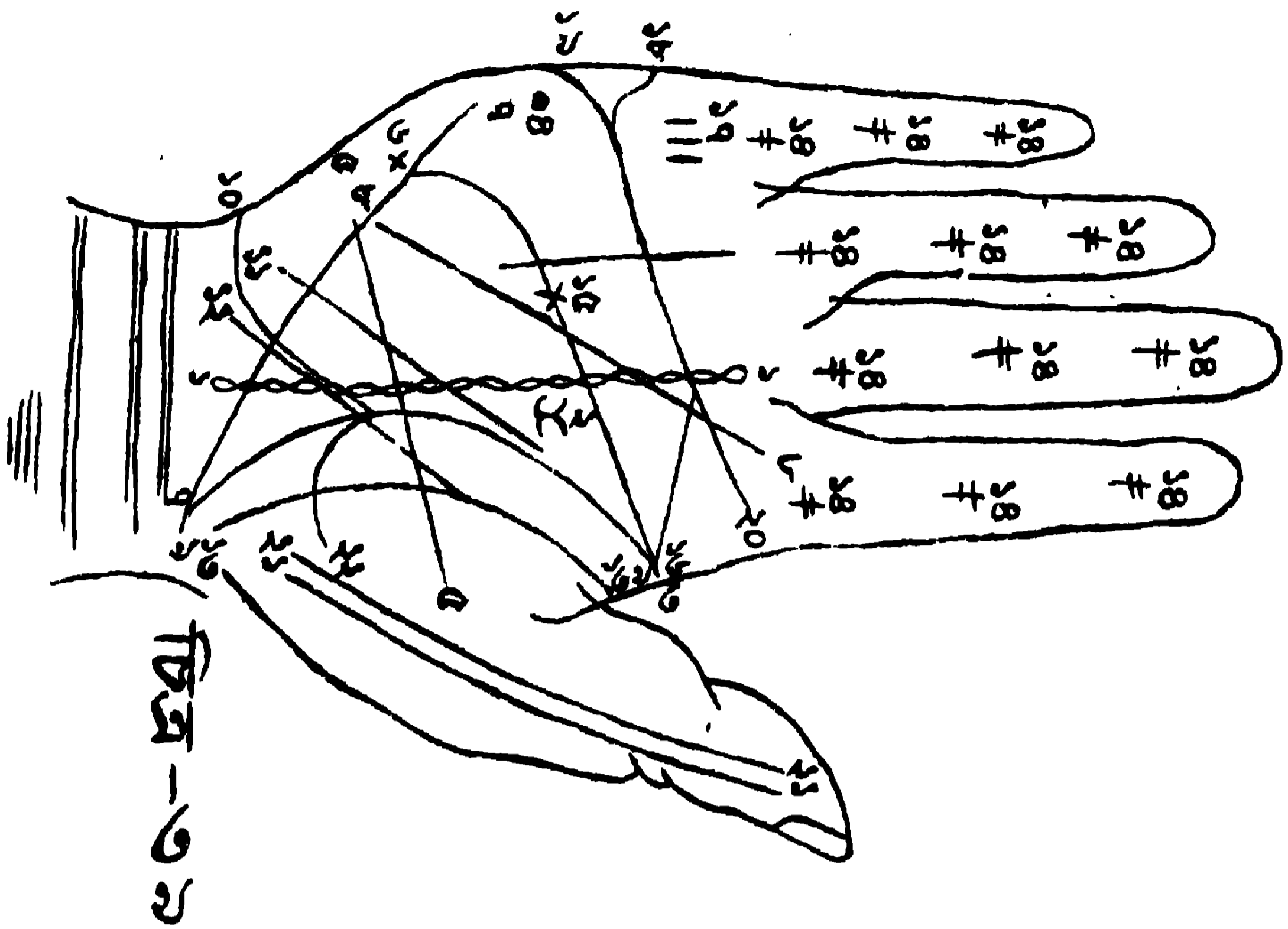
চিত্র-৩৬

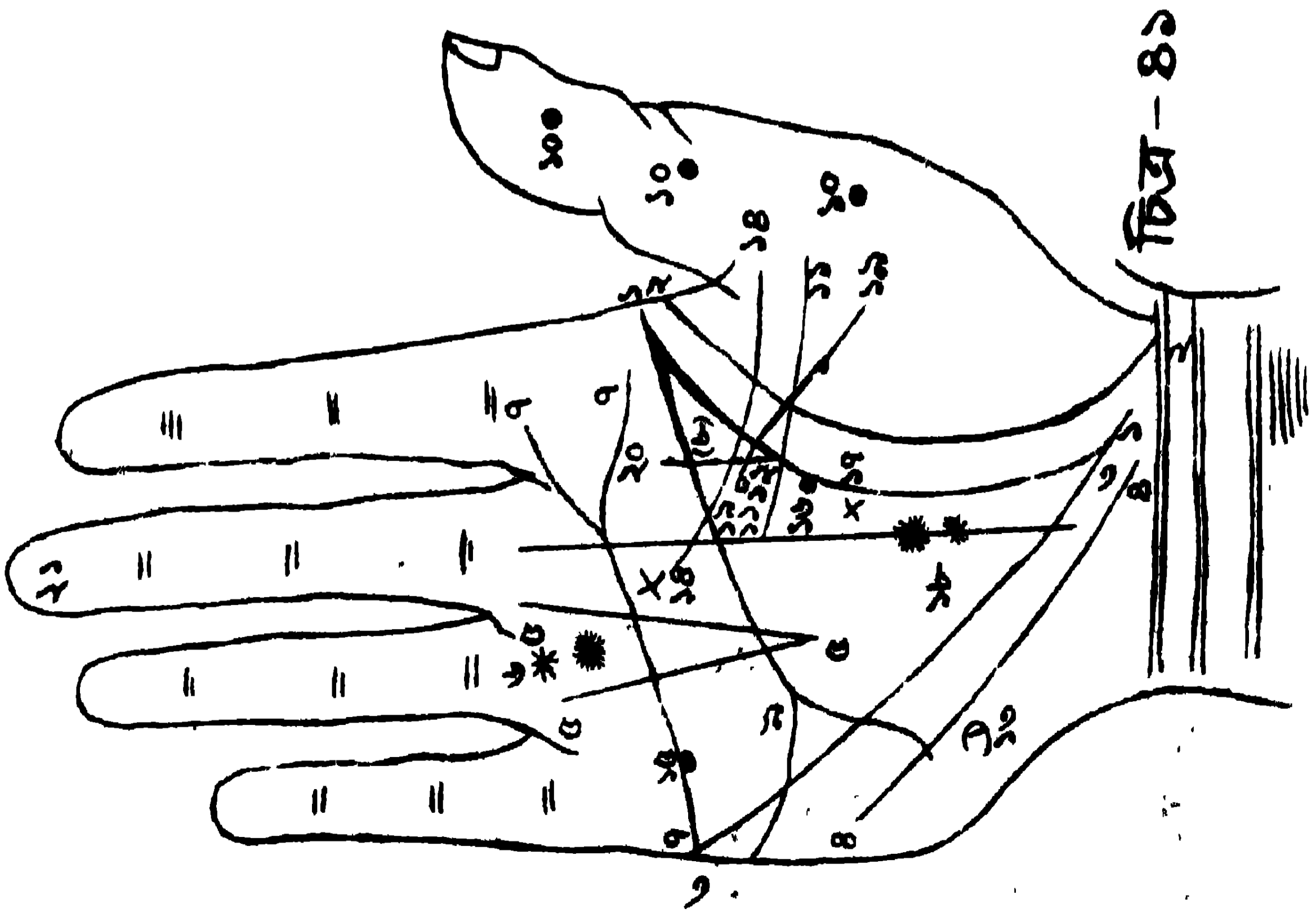
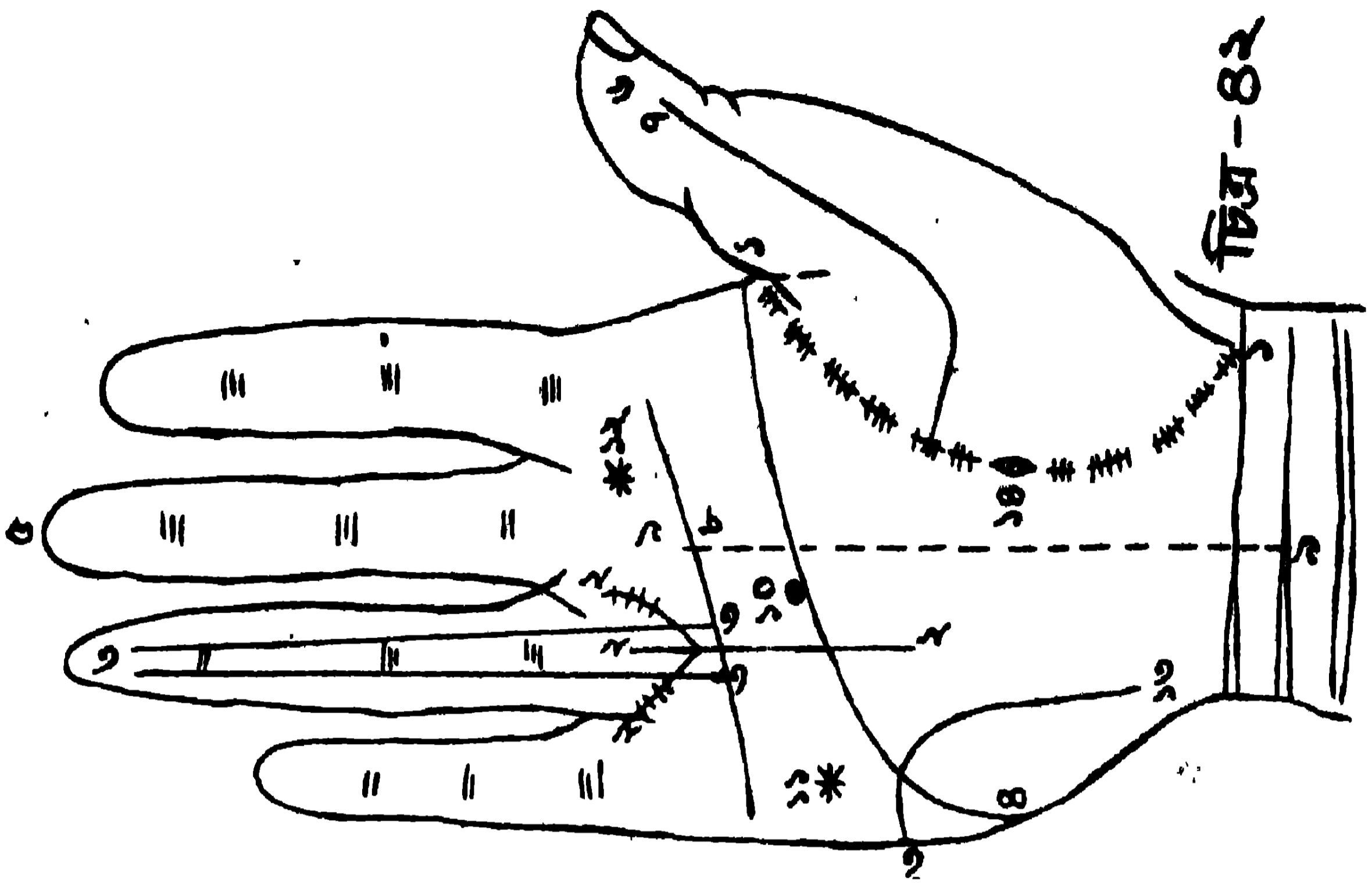
চিত্র-৩৮

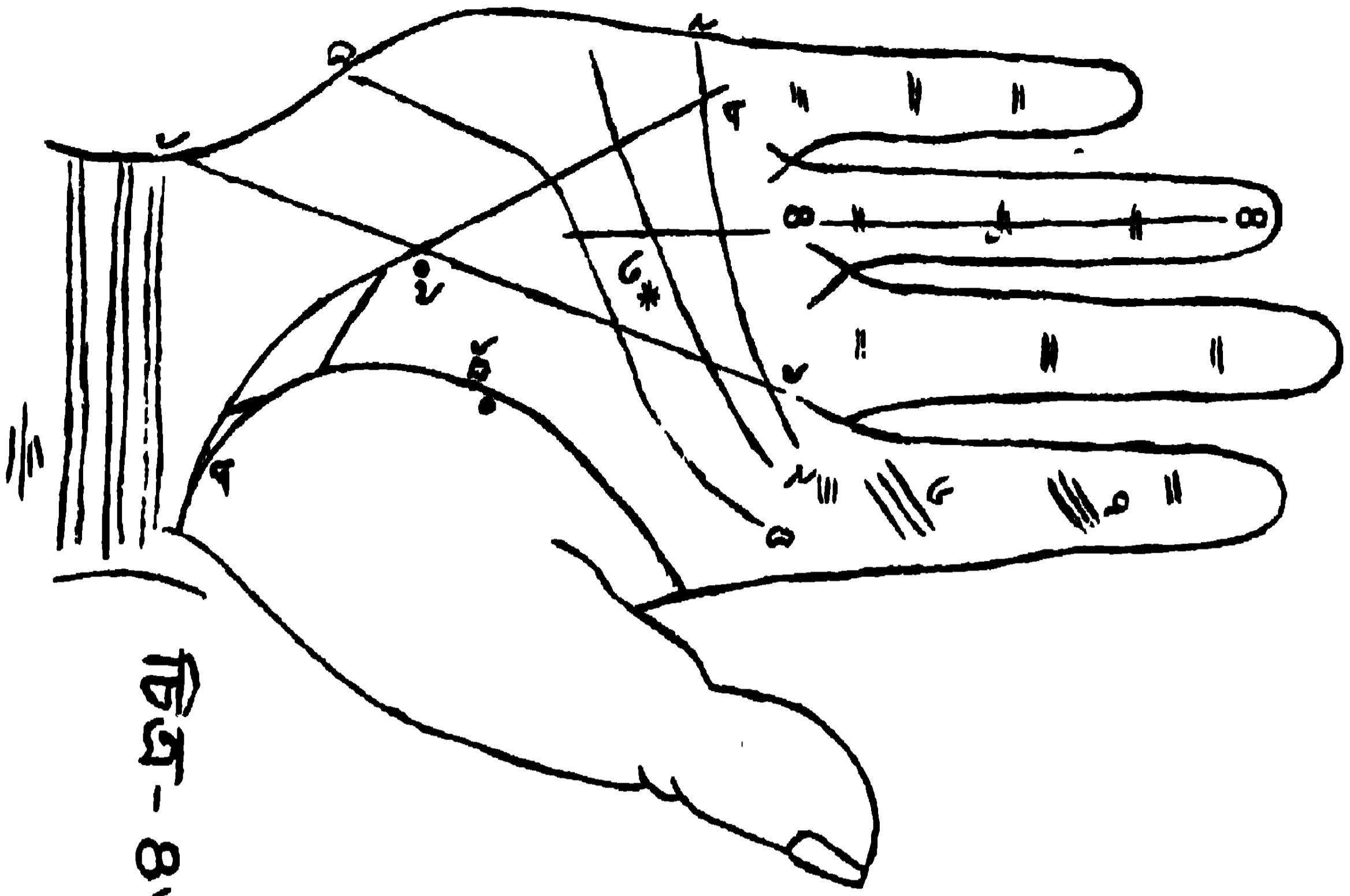


চিত্র-৩৯

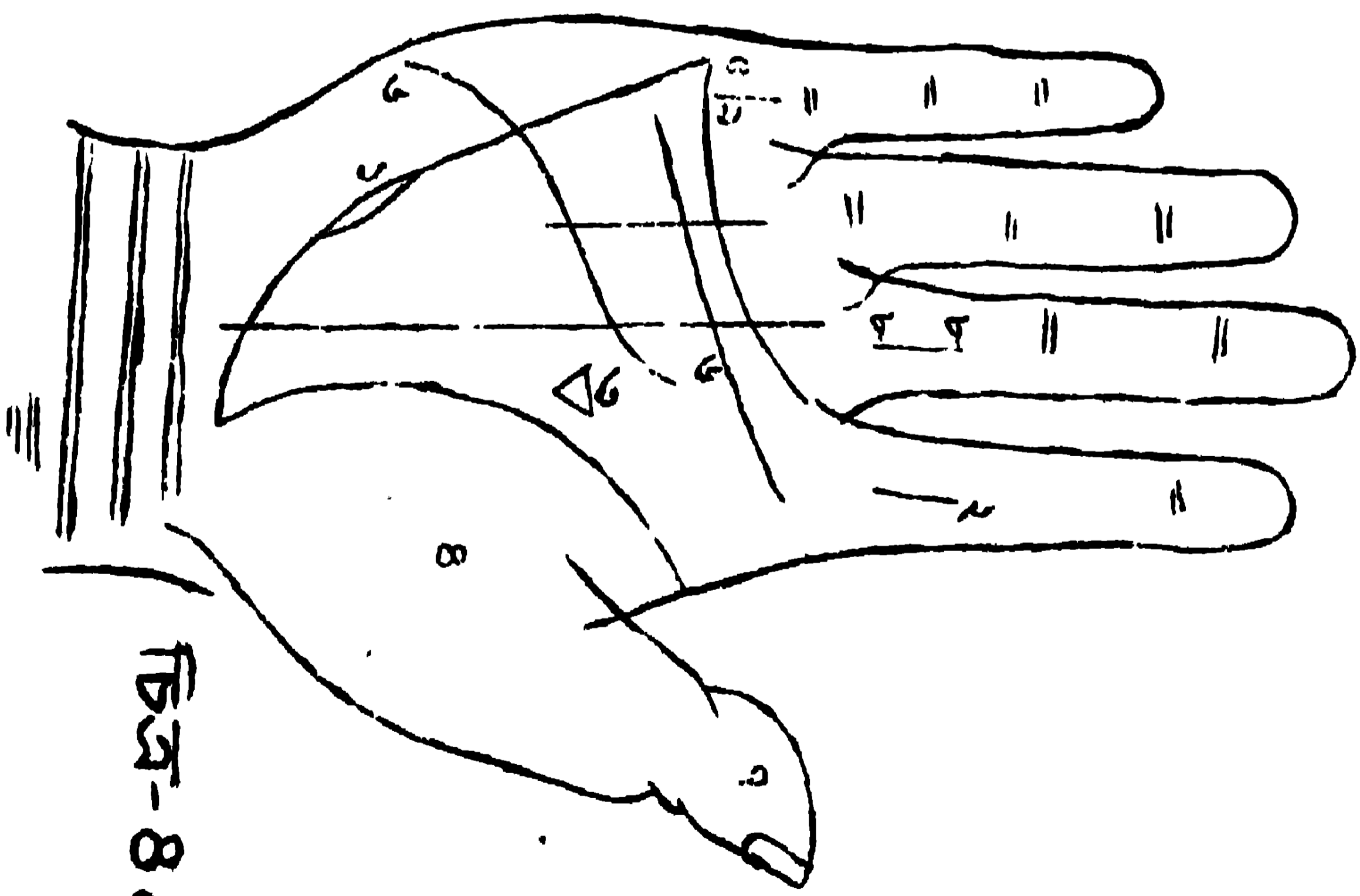









चित्र- 8७



चित्र- 88

সামুদ্রিক রেখাদি-বিচার ।



শিষ্য । গুরুদেব ! আপনার নিকট সামুদ্রিকশাস্ত্রের উপদেশলাভ করিয়া মনে করিয়াছিলাম যে, সামুদ্রিকশাস্ত্রে আমি যথেষ্ট জ্ঞানলাভ করিয়াছি ; কিন্তু প্রকৃতপক্ষে আমার চিন্তাচাক্ষুর হ্রাস হইল না, বরং চিন্তের অস্থিরতা দিন দিন পূৰ্ব্বাপেক্ষা আরও বৃদ্ধি পাইতে লাগিল । প্রভো, আমার বোধ হইতেছে, এতদিন পর্যন্ত কেবল সামুদ্রিকশাস্ত্রের স্থলবিষয়-সম্বন্ধেই উপদেশ-লাভ করিয়াছি ও সম্ভবতঃ সেইজন্যই আমার চিন্তা-চঞ্চলতা দূরীভূত হইতেছে না । আপনি এক্ষণে অনুগ্রহ করিয়া মনুষ্যজীবনের স্থল স্থল ঘটনাবলী-সংক্রান্ত—অর্থাৎ ভিন্ন ভিন্ন মনুষ্যের বিভিন্ন স্বভাববিষয়ক ও কৰ্ম্মগত পার্থক্য-সম্বন্ধে—কিঞ্চিৎ সামুদ্রিক উপদেশ দান করিয়া এ দাসকে কৃতার্থ করেন, ইহাই প্রার্থনীয় ।

গুরু । বৎস, তোমার অনুমান সত্যই বটে ; “সামুদ্রিক শিক্ষায়” সামুদ্রিক-শাস্ত্রের কেবল স্থল বিষয়েরই উপদেশ দেওয়া হইয়াছে । আমি সামুদ্রিক-শাস্ত্রের শিক্ষায় তোমার সবন্ধ-অধ্যবসায় দর্শন করিয়া তোমার প্রতি সান্তিশর প্রীত হইয়াছি ও সামুদ্রিকশাস্ত্রের যাবতীয় স্থল তত্ত্বের উপদেশ দিয়া জ্ঞান-যোগে তোমার সংশয় সন্দেহের নিরাকরণ করিতে প্রস্তুত রহিয়াছি । এক্ষণে তোমার মনে স্বতই যে প্রকার প্রশ্নের উদয় হয়, অবাধে জিজ্ঞাসা করিয়া তাহার উত্তরধারণ করিতে পার । আমি সাধ্যমতে তোমাকে বুঝাইতে চেষ্টা করিব ।

শিষ্য । গুরুদেব, আমার প্রতি আপনার দয়া অসীম ; এক্ষণে আপনার নিকট সামুদ্রিকশাস্ত্রবিষয়ক যাবতীয় স্থল তত্ত্বের উপদেশ পাইলে আমার চিন্তাচঞ্চলতা অপনীত হইবে ও তাহা হইলেই আমি শান্তি উপভোগে সমর্থ হইব ।

অতএব প্রভো, আপনার আদেশ অনুসারে আমি এক্ষণে আপনার নিকট ক্রমান্বয়ে প্রশ্ন জিজ্ঞাসা করিতেছি। আপনার শ্রীমুখ হইতে ঐ সকল প্রশ্নঘটিত তত্ত্বের উপদেশলাভ করিলে, স্থিরচিত্ত হইয়া আত্মপ্রসাদলাভে কৃতার্থ হই।

গুরু। ভাল বৎস, তোমার সন্দেহমূলক প্রশ্নের অবতারণা করিতে আরম্ভ কর ; সংশয়াপনয়ন করিতেছি।

(অ)

অজীর্ণতা।

১। শিষ্য। হস্তে কিরূপ চিহ্ন থাকিলে, জাতক অজীর্ণরোগাক্রান্ত হয় ?

গুরু। (১) স্বাস্থ্য-রেখার উপর একটি যবচিহ্ন বা (২) স্বাস্থ্য-রেখা অস্পষ্টভাবে অঙ্কিত থাকিলে জাতক অজীর্ণরোগগ্রস্ত হয়।

[চিত্র—২, চিহ্ন ১।

অতীন্দ্রিয়দর্শন।

২। শিষ্য। কিরূপ চিহ্ন থাকিলে জাতকের অপ্রত্যক্ষ বিষয়ে দর্শনশক্তির ক্ষমতা আছে, জানা যায় ?

গুরু। (১) চন্দ্র-বুধরেখার (চন্দ্র-বুধ-সংযোজিনী ধনুঃ-সদৃশী রেখার) প্রারম্ভে যবচিহ্ন থাকিলে, (২) শিরোরৈখা শাখাযুক্ত ও তাহার একটি শাখা চন্দ্রস্থান পর্য্যন্ত বিস্তৃত হইলে, কিংবা (৩) হৃদয়রেখা শাখাযুক্ত হইলে ও তাহার একটি শাখা বৃহস্পতির স্থানে বাইলে জাতকের অতীন্দ্রিয় পদার্থসম্বন্ধে— অপ্রত্যক্ষ বিষয়ে দর্শনশক্তি যে আছে, তাহা বুঝিতে পারা যায়।

[চিত্র—৫, চিহ্ন—১।২।৩।

অত্যাচার।

৩। শিষ্য। অত্যাচারীর হস্তে কিরূপ চিহ্ন তাহার স্বভাবের সূচনা করে ?

শুরু । (১) চক্রে স্থান নিম্ন ও মঙ্গলের স্থান পূর্বে ; (২) বৃহস্পতির স্থান সাতিশয় উচ্চ ও জাল-চিহ্নযুক্ত ; অথবা (৩) করতল দীর্ঘ, কঠিন প্রশস্ত ও অঙ্গুলীগুলি চতুষ্কোণ এবং আয়ুরেখা লোহিতবর্ণের হইলে জাতক অত্যাচারী হইয়া থাকে । [চিত্র—২, চিহ্ন—২ ।

অদৃষ্টবাদ ।

৪ । শিষ্য । কিরূপ চিহ্ন, জাতকের অদৃষ্টবাদে বিশ্বাসের সূচনা করে ?

শুরু । (১) ভাগ্যরেখা মণিবন্ধ হইতে উখিত হইয়া মধ্যমার তৃতীয় পর্ব পর্য্যন্ত বিস্তৃত ; বা (২) শনিস্থান পরিপূর্ণ এবং তদুপরি ক্রুশ-চিহ্ন থাকিলে জাতক অদৃষ্টবাদী হইয়া থাকে । [চিত্র—২, চিহ্ন—৩৬

অধার্মিকত্ব ।

৫ । শিষ্য । কিরূপ চিহ্ন থাকিলে জাতক অধার্মিক হইয়া থাকে ?

শুরু । বৃহস্পতির স্থান নিম্ন ও অঙ্গুলীসমূহের প্রথমপর্ব অপরিপূর্ণ হইলে জাতক অধার্মিক হইয়া থাকে ।

অধ্যবসায়—

৬ । শিষ্য । অধ্যবসায়ী ব্যক্তির হস্তে কিরূপ চিহ্ন থাকে ?

শুরু । (১) বৃহস্পতি ও মঙ্গলের স্থান উচ্চ, শিরোরেখা হস্তপার্শ্ব পর্য্যন্ত বিস্তৃত ও কনিষ্ঠাঙ্গুলী অনামিকার প্রথম পর্বের মধ্যস্থল পর্য্যন্ত উন্নত হইলে, বা (২) ভাগ্যরেখা মঙ্গলের ক্ষেত্র হইতে উখিত হইলে জাতক বিশিষ্টরূপ অধ্যবসায়ী হইয়া থাকে । [চিত্র—২, চিহ্ন—৪১৫ ; চিত্র -৩, চিহ্ন—১ ।

—(মানসিক)

৭ । শিষ্য । কিরূপ চিহ্ন থাকিলে জাতক মানসিক-অধ্যবসায়সম্পন্ন হয় ?

শুরু । অঙ্গুলীসকল সুলাগ্র ও গ্রহিণী, হস্ততল কোমল এবং দুই-একটা রেখা তর্জনির তৃতীয় পর্ব হইতে প্রথম পর্ব পর্য্যন্ত বাইলে জাতক মানসিক অধ্যবসায়ের অধিকারী হয় । [চিত্র—৩, চিহ্ন—২

অনভিজ্ঞতা ।

৮ । শিষ্য । কি চিহ্ন জাতকের অনভিজ্ঞতার সূচনা করে ?

শুক। (১) শিরোরৈখা ও আয়ুরৈখা মিলিত না হইলে, উভয় হস্তে শনিস্থান নিম্ন ও মঙ্গলস্থান উচ্চ হইলে, (২) হস্তাঙ্গুলী গ্রহিণ্য ও মূলাগ্র কিংবা (৩) মধ্যমা সূচ্যগ্র ও শনির স্থান উচ্চ হইলে জাতক অনভিজ্ঞ হয়।

৯। শিষ্য। অনুভব-শক্তির চিহ্ন কি ?

শুক। (১) অঙ্গুলীসকল সূচ্যগ্র গ্রহিযুক্ত ও বুধের স্থান উচ্চ, (২) অঙ্গুলীসকল মূলাগ্র, বৃদ্ধাঙ্গুলী (অঙ্গুষ্ঠ) ক্ষুদ্র ও দ্বিতীয় পর্ব পুষ্ট হইলে, প্রথমাঙ্গুলী (তর্জনী) সূচ্যগ্র, বা (৩) হস্ত কোমল এবং অঙ্গুলীগুলি পুষ্ট হইলে জাতকের পরভাবের অনুভবশক্তি আছে, জানা যায়।

—(আধিক্য)।

১০। শিষ্য। কিরূপ চিহ্ন থাকিলে জাতকের অনুভবশক্তির আধিক্যের বিষয় জানা যায় ?

শুক। চন্দ্র-বুধরৈখা স্পষ্টভাবে অঙ্কিত ও চন্দ্রস্থান সাতিশয় উন্নত হইলে জাতকের অনুমানবলে সর্জনগতভাবে অনুভবশক্তি অধিকতর প্রবল হইয়া থাকে।

অন্তঃকরণ—(কাঠিন্য)

১১। শিষ্য। কঠিন-অন্তঃকরণবিশিষ্ট ব্যক্তির হস্তে কিরূপ চিহ্ন দেখা যায় ?

শুক। (১) উভয় হস্তে রবির ও শুক্রের স্থান গভীর, এবং হৃদয়-রৈখা অস্পষ্ট ও শাখাবিহীন হইলে, বা (২) বৃহস্পতির ও শুক্রের স্থান নিম্ন, করতল হৃদয়রৈখাশূন্য, ও মঙ্গলের স্থান উচ্চ হইলে জাতক কঠিন-অন্তঃকরণবিশিষ্ট হয়।

—(দৌর্বল্য)

১২। শিষ্য। দুর্বল-অন্তঃকরণবিশিষ্ট ব্যক্তির হস্তে কিরূপ চিহ্ন থাকে ?

শুক। (১) স্বাস্থ্যরৈখা আয়ুরৈখা হইতে উর্ধ্বত, নখর সকল দীর্ঘ ও

প্রশস্ত এবং নীলবর্ণ হইলে, কিংবা (২) করতল হৃদয়রেখাশূন্য, শিরোরৈখা অধোমুখী হইয়া বক্রভাবে অঙ্কিত থাকিলে জাতকের অস্তঃকরণ দুর্বল হয় ।

অন্ধত্ব ।

১৩। শিষ্য। কি চিহ্ন থাকিলে জাতক অন্ধ হয় ?

গুরু। (১) স্বাস্থ্যরেখার নিকটবর্তী মঙ্গলের ক্ষেত্রে একটি তারকা-চিহ্ন, (২) আয়ুরেখা বা চন্দ্রস্থানের উপর দুইটি বৃত্ত-চিহ্ন, (৩) স্বাস্থ্যরেখায় একটি ক্রুশ (চেরা) চিহ্ন কিংবা (৪) রবির স্থানে তারকা-চিহ্ন থাকিলে জাতককে অন্ধ হইতে হয় ।

চিত্র—৪, চিহ্ন ৩।৪ ৫।৭।

অপমান ।

১৪। শিষ্য। কি চিহ্ন জাতকের মধ্যে মধ্যে অবমাননাসম্বটনের লক্ষণ প্রকাশ করে ?

গুরু। বুধের স্থানে তারকা-চিহ্ন থাকিলে এবং বৃহস্পতির স্থান নিম্ন হইলে জাতককে মধ্যে মধ্যে অপমানিত হইতে হয় ।

[চিত্র—৪, চিহ্ন—৬ ।

অপব্যয় ।

১৫। শিষ্য। কিরূপ চিহ্ন থাকিলে জাতককে অপব্যয় করিতে হয় ?

গুরু। হস্তাঙ্গুলীর নখযুক্ত পর্ক সকল পশ্চাত্তাগে ঈষৎভাবে বক্র থাকিলে জাতককে অপব্যয়ে রত হইতে হয় ।

অভিমান ।

১৬। শিষ্য। কি চিহ্ন থাকিলে জাতককে অভিমানী হইতে হয় ?

গুরু। করতল প্রশস্ত আর শিরোরৈখা ও আয়ুরেখার সংযোগস্থল এবং রবিরেখা উভয় হস্তে সুস্পষ্ট অঙ্কিত থাকিলে জাতক অভিমানী হইয়া থাকে ।

অন্নপিত্ত ।

১৭। শিষ্য। কিরূপ চিহ্ন থাকিলে জাতককে অন্নপিত্তরোগে ভুগিতে হয় ?

গুরু। চন্দ্রের স্থান অত্যন্ত উচ্চ হইলে জাতককে অন্নপিত্ত-রোগে ভুগিতে হয় ।

অর্থকষ্ট ।

১৮। শিষ্য। কিরূপ চিহ্ন থাকিলে জাতকের অর্থকষ্ট ঘটয়া থাকে ?

গুরু। (১) মণিবন্ধস্থ বলয়ত্রয় অম্পষ্টরূপে অঙ্কিত এবং ভগ্ন, (২) করত্রিকোণের মধ্যে বক্ররেখা দ্বারা একটি ক্রুশ-চিহ্ন গঠিত, (৩) শনিস্থানে একটি জাল-চিহ্ন ও একটি তারকা-চিহ্ন অঙ্কিত, (৪) ভাগ্যরেখা শৃঙ্খলায়িত, (৫) অন্যমিকার তৃতীয় পর্ব একটি অধিবৃত্ত চিহ্নযুক্ত, (৬) দুই-তিনটি রেখা মণিবন্ধ হইতে বহির্গত হইয়া, চন্দ্রস্থান কর্তন করিয়া স্বাস্থ্যরেখায় মিলিত, (৭) একটি সরলরেখা শিরোরোপা হইতে উখিত হইয়া বৃহস্পতির স্থানে ক্রুশ-চিহ্নের সহিত যুক্ত, (৮) বুধের স্থান সাতিশয় নিম্ন ও আয়ুরেখার শেষাংশ ক্রুশচিহ্নযুক্ত, (৯) একটি সরল রেখা শুক্রের স্থান হইতে উখিত হইয়া আয়ুরেখা কর্তন করিয়া, শিরোরোপা স্পর্শ করিয়া অবস্থিত, কিংবা (১০) ক্ষুদ্র ক্ষুদ্র শাখারেখা অধোমুখী হইয়া আয়ুরেখা হইতে নির্গত হইলে জাতককে অর্থকষ্ট পাইতে হয় ।

[চিত্র—৬, চিহ্ন—১।২।৩।৪।৫।৬।৭।৮।৯।১০ ।

—(অপরিচিতলোকহেতুক)

১৯। শিষ্য। কি চিহ্ন দ্বারা অপরিচিতলোকহেতুক অর্থকষ্ট বুঝিতে পারা যায় ?

গুরু। মঙ্গলের স্থানে একটি ক্রুশ-চিহ্ন থাকিলে, জাতক অপরিচিত লোক হইতে জীবনে অর্থকষ্ট পাইয়া থাকে । [চিত্র—৭, চিহ্ন—১ ।

—(আজীবনে—স্বতই)

২০। শিষ্য। কিরূপ চিহ্ন জাতকের আজীবন অর্থকষ্টের সূচনা করে ?

গুরু। (১) ভাগ্যরেখা শৃঙ্খলবৎ ও কতিপয় ক্ষুদ্র ক্ষুদ্র রেখা আয়ুরেখা ভাগ্যরেখা কর্তন করিয়া অবস্থিত, (২) ভাগ্যরেখা প্রথম হইতে শেষ পর্য্যন্ত ভগ্ন বা বক্র এবং কতিপয় সরল রেখা হৃদয়-রেখা ও ভাগ্য-রেখাকে কণ্ঠিত করিয়া প্রবাহিত, (৩) ভাগ্যরেখা মণিবন্ধের নিম্ন স্থান হইতে উখিত হইয়া, শনির স্থান কর্তন করিয়া মধ্যমার তৃতীয়পর্ব পর্য্যন্ত বিস্তৃত অথবা (৪) করত্রিকোণের প্রথম কোণ নিম্ন ও মঙ্গলের ক্ষেত্রের নিকটবর্তী

হইলে জাতক আজীবন অর্থকষ্টভোগ করিতে থাকে। [চিত্র--৬, চিহ্ন—৪।২ ;
চিত্র--২, চিহ্ন—৩।৭ ; চিত্র - ৭, চিহ্ন—১।২।৩।৪।

—(আত্মীয়হেতুক)

২১। শিষ্য। কিরূপ চিহ্ন আত্মীয় হইতে অর্থকষ্টের সূচনা করিয়া থাকে ?
গুরু। শুক্রস্থানে ক্রুশ (চেরা) বা তারকা-চিহ্ন থাকিলে জাতক আত্মীয়ের জন্য অর্থকষ্ট পাইয়া থাকে, আবার ক্রুশ-চিহ্নের কোন একটা শাখা যদি আয়ুরেখা স্পর্শ করে, তাহা হইলে কথিতানুরূপ কারণে জাতকের সাতিশয় কষ্টভোগ অবশ্যস্বাভাবী। [চিত্র—৭, চিহ্ন—৫।৬।

—(সাময়িক)

২২। শিষ্য। জীবনে সাময়িক অর্থকষ্টের চিহ্ন কি ?
গুরু। মণিবক্রস্থ বলয়ত্রয় অপরিষ্কৃতরূপে অঙ্কিত ও অনেক স্থলে ভগ্ন হইলে জাতককে জীবনকালের মধ্যে মধ্যে সাময়িক অর্থকষ্ট ভোগ করিতে হয়। [চিত্র—৭, চিহ্ন—৭।

--(স্ত্রীলোক হইতে)

২৩। শিষ্য। কি চিহ্ন স্ত্রীলোক হইতে জাতকের অর্থকষ্টের সূচনা করিয়া থাকে ?
গুরু। (১) একটা সরল রেখা শুক্রস্থান হইতে উখিত হইয়া আয়ুরেখা ও ভাগ্যরেখা এই উভয় রেখা কর্তন করিলে, অথবা (২) মঙ্গলক্ষেত্রে বৃত্তচিহ্ন অঙ্কিত থাকিলে জাতক স্ত্রীলোক হইতে অর্থকষ্ট পাইয়া থাকে। [চিত্র—৮, চিহ্ন—১।৩।

অর্থনাশ —(গৃহবিবাদে)

২৪। শিষ্য। কি চিহ্ন থাকিলে গৃহবিবাদজনিত মামলা-মোকদ্দমার জাতকের অর্থনষ্ট হয় ?
গুরু। সূক্ষ্ম সূক্ষ্ম রেখা শুক্রস্থান হইতে উখিত হইয়া আয়ুরেখা কর্তন করিয়া মঙ্গলের ক্ষেত্রগত হইলে, জাতকের গৃহবিবাদজনিত অভিযোগ (মোকদ্দমা) উপস্থিত হইয়া অর্থনাশ ঘটাইয়া থাকে। [চিত্র—৮, চিহ্ন—৩।

—(দুশ্চরিত্রতায়)

২৫। শিষ্য। নিজের দুশ্চরিত্রতার জন্য অর্থনাশের সূচক চিহ্ন কি ?

গুরু। শুক্রস্থানে জালচিহ্ন থাকিলে ও (১) হৃদয়রেখা অস্পষ্টভাবে অঙ্কিত ও শিরোরৈখা শনির নিম্ন হইতে উখিত হইয়া মঙ্গলের স্থানেই উপস্থিত অথবা (২) ভাগ্যরেখা চন্দ্রের স্থান হইতে উখিত হইয়া, শিরোরৈখার নিকটবর্তী হইলে জাতকের চরিত্রদোষের নিমিত্ত অর্থনাশ হইয়া থাকে।

[চিত্র—৮, চিহ্ন—৬৭।

—(হঠাৎ)

২৬। শিষ্য। কি চিহ্ন জাতকের হঠাৎ অর্থনাশের সূচনা করে ?

গুরু। (১) বুধের স্থানে ক্রুশ-চিহ্ন থাকিলে, এবং উক্ত চিহ্নের একটা শাখা হৃদয়রেখার সহিত মিলিত হইলে কিংবা (২) কুম্ভবর্ণ তিল চিহ্ন থাকিলে জাতকের হঠাৎ অর্থ নষ্ট হইয়া থাকে।

[চিত্র—৮, চিহ্ন—৪৫।

অর্থলাভ—(বিবাহে)

২৭। শিষ্য। হস্তে কি চিহ্ন থাকিলে, জাতক বিবাহ করিয়া অর্থলাভ করিতে সমর্থ হয় ?

গুরু। বৃহস্পতির স্থানে একটা ক্রুশ বা তারকা-চিহ্ন থাকিলে জাতকের বিবাহসূত্রে অর্থলাভ হইয়া থাকে।

[চিত্র—৮, চিহ্ন—৮৯।

—(হঠাৎ)

২৮। শিষ্য। কি চিহ্ন জাতকের হঠাৎ অর্থলাভের সূচনা করে ?

গুরু। (১) শনির নিম্নে শিরোরৈখার উপরে শ্বেতবর্ণের বিন্দু-চিহ্ন অথবা (২) মণিবন্ধের বলয়ত্রয়ের কোন বলয়ের উপর ক্রুশ-চিহ্ন থাকিলে কিংবা (৩) ভাগ্যরেখা হইতে একটা সরলরেখা উখিত হইয়া রবির স্থানে যাইলে জাতক হঠাৎ অর্থলাভ করিয়া থাকে।

[চিত্র—৯, চিহ্ন—১২।

অর্থলোলুপত্ব।

২৯। শিষ্য। হস্তে কি চিহ্ন থাকিলে জাতক অর্থলোলুপ হয় ?

গুরু। (১) শিরোরৈখা সরল হইয়া হস্তপার্শ্ব পর্য্যন্ত বিস্তৃত, (২) অনামিকা চতুষ্কোণ ও শিরোরৈখা অপেক্ষাকৃত স্পষ্টভাবে অঙ্কিত, (৩) মধ্যমা

ও অনামিকার দ্বিতীয় পর্ব অন্ত্য পর্কোপেক্ষা দীর্ঘ এবং করচতুর্কোণ অপ্রশস্ত, অথবা (০৪) রবির স্থান উচ্চ ও বৃদ্ধাস্থলী ভিতরের দিকে বক্র হইলে জাতক অর্থলোলুপ হয়। [চিত্র—৯, চিহ্ন—৩।

—আতিশয়্য।

৩০। শিষ্য। কিরূপ চিহ্ন থাকিলে জাতক অত্যন্ত অর্থলোলুপ হয় ?

গুরু। (১) করতল হৃদয়রেখাশূন্য, কিম্বা (২) বুধের স্থান সাতিশয় উচ্চ হইলে জাতক অত্যন্ত অর্থলোলুপ হইয়া থাকে।

অর্থস্বচ্ছলতা—(বার্কাকো)

৩১। শিষ্য। কি চিহ্ন থাকিলে জাতকের বৃদ্ধাবস্থায় অর্থের স্বচ্ছলতা ঘটে ?

গুরু। আয়ুরেখা হইতে একটা শাখা বহির্গত হইয়া, মঙ্গলের ক্ষেত্র ভেদ করিয়া, রবিস্থান পর্য্যন্ত বিস্তৃত হইলে জাতকের বৃদ্ধাবস্থায় অর্থের স্বচ্ছলতা ঘটিয়া থাকে। [চিত্র—১০, চিহ্ন—১।

অর্থোন্নতি—

৩২। শিষ্য। জাতকের অর্থোন্নতিসূচক চিহ্ন কি প্রকার ?

গুরু। (১) উভয় হস্তে রবিরেখা স্পষ্ট অঙ্কিত, (২) উভয় হস্তের রবির স্থান বৃদ্ধ-চিহ্ন-সমন্বিত, অথবা (৩) রবিরেখা শুক্রস্থান হইতে উখিত হইয়া রবির স্থান পর্য্যন্ত বিস্তৃত হইলে জাতকের অর্থোন্নতি হইয়া থাকে।

[চিত্র— ৫, চিহ্ন—৪।

—(অস্থায়ী)

৩৩। শিষ্য। কিরূপ চিহ্ন জাতকের অস্থায়ী অর্থোপার্জনের সূচনা করে ?

গুরু। আয়ুরেখা হইতে ক্ষুদ্র ক্ষুদ্র রেখা উখিত হইয়া শিরোরেখা কর্তন করিলে জাতকের অর্থোপার্জন অস্থায়ী হইয়া থাকে।

[চিত্র—৯, চিহ্ন—৪

—(আইনব্যবসায়)

৩৪। শিষ্য। কিরূপ চিহ্ন থাকিলে জাতক আইনব্যবসায় সমর্থ হয় ?

গুরু। ভাগ্যরেখা মণিবন্ধ হইতে উখিত হইয়া, হৃদয়রেখা ও শিরোরেখা উভয় রেখা কর্তন করিয়া বৃহস্পতির স্থানে উপনীত হইলে, জাতক ব্যবহারাজীব বা আইনব্যবসায়ী হইয়া অর্থোপার্জনে সমর্থ হয়।

[চিত্র—১০ চিহ্ন—৩ ।

—(দৈবানুকূলে)

৩৫। শিষ্য। কি চিহ্ন থাকিলে জাতক দৈবানুকূলে হঠাৎ অর্থলাভ করিয়া থাকে ?

গুরু। একটা সরলরেখা শিরোরেখা হইতে উখিত হইয়া, বৃহস্পতি স্থানে বাইয়া তারকাসংযুক্ত হইলে, জাতক দৈবানুকূলে হঠাৎ অর্থলাভ করিয়া থাকে।

[চিত্র—১১, চিহ্ন—১ ।

—(নাট্যব্যবসায়)

৩৬। শিষ্য। কি চিহ্ন থাকিলে জাতক নাট্যব্যবসায় অর্থোপার্জন করিয়া থাকে ?

গুরু। ভাগ্যরেখা হইতে উখিত একটা শাখা বুধের স্থানে বাইলে জাতক নাট্যব্যবসায় দ্বারা অর্থোপার্জন করিয়া থাকে।

[চিত্র—১১, চিহ্ন—১ ।

—(পরিশ্রমে)

৩৭। শিষ্য। হস্তে কি চিহ্ন থাকিলে জাতককে পরিশ্রম করিয়া অর্থোপার্জন করিতে হয় ?

গুরু। মণিবন্ধ শৃঙ্খলাকার, সরল এবং ছিন্ন না হইলে জাতক পরিশ্রমদ্বারা অর্থোপার্জন করে।

—(বাণিজ্যে)

৩৮। শিষ্য। কি চিহ্ন থাকিলে বাণিজ্য-ব্যবসায় দ্বারা অর্থোপার্জনের সূচনা করে ?

শুক । (১) উভয় হস্তে বুধের স্থান উচ্চ (২) শিরোরৈখার শেষাংশ হইতে একটি শাখারৈখা বুধস্থানগত, কিংবা (৩) ভাগ্যরৈখার একটি শাখা বুধের স্থানে উপস্থিত হইলে জাতক বাণিজ্য-ব্যবসায় অর্থোপার্জন করিতে সমর্থ হইয়া থাকে
[চিত্র—১২, চিহ্ন—২ ; চিত্র—১১, চিহ্ন—২০ ।

—(যাজনায়)

৩৯ । শিষ্য । যাজকের স্বকর্মসূচক চিহ্ন কি ?

শুক । ভাগ্যরৈখা চক্রস্থান হইতে উখিত হইয়া, শিরোরৈখা ও হৃদয়রৈখা উভয় রৈখা ভেদ করিয়া বৃহস্পতির ও শনির মধ্যস্থলে বাইলে ও রবিরৈখা প্রবল হইলে যাজনাদি-দ্বারা জাতককে অর্থোপার্জন করিতে হয় ।

[চিত্র—১১, চিহ্ন—৫ ।

—(যুদ্ধে)

৪০ । শিষ্য । কি চিহ্ন থাকিলে জাতক যুদ্ধ-কর্মদ্বারা অর্থোপার্জন করিয়া থাকে ?

শুক । বুধের নিম্নস্থ মঙ্গলের স্থানে একটি ত্রিকোণ-চিহ্ন থাকিলে জাতক যুদ্ধ কর্ম দ্বারা অর্থোপার্জন করিয়া থাকে ।
[চিত্র—১১, চিহ্ন—৬ ।

—(বক্তৃতায়)

৪১ । শিষ্য । হস্তে কি চিহ্ন থাকিলে, জাতক বক্তৃতা করিয়া অর্থোপার্জনে সমর্থ হয় ?

শুক । (১) বুধের স্থানে একটি ত্রিকোণ-চিহ্ন অথবা (২) আয়ুরৈখা হইতে একটি রেখা উখিত হইয়া, বুধের স্থানে উপস্থিত হইলে জাতক বক্তৃতা দ্বারা অর্থোপার্জন করিয়া থাকে ।
[চিত্র—১১, চিহ্ন—৩।৪ ।

—(বৃদ্ধাবস্থায়)

৪২ । শিষ্য । কি চিহ্ন বৃদ্ধাবস্থায় অর্থোপার্জনের সূচনা করে ?

শুক । উভয় হস্তে শিরোরৈখা হইতে ভাগ্যরৈখা পরিকৃতরূপে উখিত হইয়া, অপর কোন রেখা-দ্বারা কণ্ঠিত না হইলে জাতক বৃদ্ধাবস্থায় অর্থোপার্জন করিয়া থাকে ।
[চিত্র—১২, চিহ্ন—১ ।

—(সাহিত্যচর্চায়)

৪৩। শিষ্য। কিরূপ চিহ্ন থাকিলে জাতক সাহিত্য-চর্চা দ্বারা অর্থো-পার্জন করিতে পারে ?

গুরু। (১) তর্জনীর প্রথম গ্রহের নিকট ক্রুশ-চিহ্ন, (২) রবির স্থান উচ্চ ও রবিরেখা উভয় হস্তে স্পষ্টরূপে অঙ্কিত, (৩) শুক্রবহনীর স্পষ্টরূপে অঙ্কিত, অথবা (৪) রবির স্থানে একটা তারকা-চিহ্ন ও রবির নিম্নস্থ শিরোরৈখার উপর কতকগুলি শ্বেত-বিন্দু-চিহ্ন থাকিলে জাতক সাহিত্য-চর্চা দ্বারা অর্থোপার্জন করিয়া থাকে ।

[চিত্র—১২, চিহ্ন—৩৪ ; চিত্র—১১, চিহ্ন— ৭ ।

অন্নবুদ্ধি ।

৪৪। শিষ্য। কিরূপ চিহ্ন থাকিলে জাতক অন্নবুদ্ধি হয় ?

গুরু। (১) মধ্যমাসুলীর প্রথম পর্ব হইতে একটি রেখা উখিত হইয়া তৃতীয় পর্ব পর্য্যন্ত বিস্তৃত, (২) শিরোরৈখা মলিন ও প্রশস্ত অথবা (৩) করত্রিকোণের দ্বিতীয় কোণ প্রশস্ত হইলে জাতক অন্নবুদ্ধি হইয়া থাকে ।

[চিত্র—১৩, চিহ্ন—১১২ ।

অন্নায়ুঃ ।

৪৫। শিষ্য। কি চিহ্ন জাতকের অন্নায়ুর সূচনা করে ?

গুরু। উভয় হস্তে শিরোরৈখা ভাগ্যরেখা কর্তন না করিয়া শনির স্থানে সাক্ষ হইলে জাতক অন্নায়ুঃ হইয়া থাকে ।

[চিত্র—২৭, চিহ্ন ১ ।

অবস্থার উন্নতি—(হঠাৎ)

৪৬। শিষ্য। কি চিহ্ন থাকিলে জাতকের অবস্থার হঠাৎ উন্নতি হইয়া থাকে ?

গুরু। (১.) তর্জনীর প্রথম পর্বে একটি তারকা-চিহ্ন থাকিলে (২) ভাগ্যরেখা মণিবন্ধ হইতে উখিত হইয়া, মধ্যমার তৃতীয় ও দ্বিতীয় পর্ব অতিক্রম করিয়া, প্রথম গ্রহি পর্য্যন্ত সরলভাবে বিস্তৃত হইলে জাতকের অবস্থার হঠাৎ উন্নতি হইয়া থাকে ।

[চিত্র—১৪, চিহ্ন—২ ; চিত্র—২৬, চিহ্ন—১ ।

অবিবেকত্ব।

৪৭। শিষ্য। অবিবেকী ব্যক্তির হস্তে কিরূপ চিহ্ন থাকে ?

গুরু। মধ্যমা সূচ্যাগ্র ও শনিস্থান সমতল হইলে জাতক অবিবেক হইয়া থাকে

অবিবেচকত্ব।

৪৮। শিষ্য। কিরূপ চিহ্ন থাকিলে জাতক অবিবেচক হয় ?

গুরু। উভয় হস্তে রবি, শুক্র ও চন্দ্রের স্থান নিম্ন এবং করত্রিকোণ অপ্রশস্ত ও অস্পষ্টরূপে অঙ্কিত, কিংবা (২) হৃদয়রেখা স্থূল ও ক্ষুদ্র এবং করতল কঠিন হইলে জাতক অবিবেচক হয়।

অবিশ্বাস।

৪৯। শিষ্য। কিরূপ চিহ্ন থাকিলে জাতক অবিশ্বাসী হয় ?

গুরু। (১) করত্রিকোণের মধ্যে অর্ধচন্দ্রাকৃতি-চিহ্ন ও তৃতীয় কোণ অত্যন্ত স্থূল কিংবা (২) বৃদ্ধাঙ্গুলীর প্রথম পর্ব অত্যন্ত ক্ষুদ্র হইলে জাতক অবিশ্বাসী হয়। [চিত্র—১৪, চিহ্ন—২।৩।৪।৫।

অশান্তি—(শেষদশায়)

৫০। শিষ্য। কিরূপ চিহ্ন থাকিলে জাতককে জীবনের শেষাংশে অশান্তি-ভোগ করিতে হয় ?

গুরু। উভয় হস্তে ভাগ্যরেখার শেষাংশ ঢেউখেলান হইলে জাতক জীবনের শেষাংশে অশান্তিভোগ করে। [চিত্র—১৪, চিহ্ন—৬।

অসচ্ছিত্রতা।

৫১। শিষ্য। অসচ্ছিত্র ব্যক্তির কিরূপ চিহ্ন থাকে ?

গুরু। (১) করচতুর্কোণ অপ্রশস্ত এবং মঙ্গল ও বুধের স্থান অত্যন্ত উচ্চ, (২) হৃদয়রেখা শৃঙ্খলাকার অথবা (৩) উক্ত রেখার উপর মব-চিহ্ন অঙ্কিত হইয়া থাকিলে জাতককে স্বতই অসচ্ছিত্র হইতে হয়।

[চিত্র—১৪, চিহ্ন—৭ ; চিত্র—১২ চিহ্ন—৫।

অসন্তোষ ।

৫২। শিষ্য। কিরূপ চিহ্ন জাতকের অসন্তোষবিধান করে ?

গুরু। (১) চন্ড্রের স্থান সাতিশয় পরিপুষ্ট, অঙ্গুলী সকল দীর্ঘ ও চতুর্কোণ কিংবা (২) চন্দ্রস্থানে কতকগুলি রেখা সরলভাবে অবস্থিত হইলে জাতককে অসন্তুষ্ট হইতে হয় । [চিত্র—১৫, চিহ্ন—১।

অসভ্যতা ।

৫৩। শিষ্য। জাতকের হস্তে অসভ্যতাসূচক চিহ্ন কিরূপ ?

গুরু। (১) উভয় হস্তে আয়ুরেখা গভীর ও রক্তবর্ণ এবং শিরোরেখা আয়ুরেখা হইতে পৃথক্, কিংবা (২) বুধের নিম্নস্থ মঙ্গলের স্থান উচ্চ ও শুক্রের স্থান নিম্ন হইলে জাতক অসভ্য হইয়া থাকে । [চিত্র—২৭, চিহ্ন—৩।

অসহিষ্ণুতা ।

৫৪। শিষ্য। অসহিষ্ণুতার চিহ্ন কি ?

গুরু। মঙ্গলের স্থান বহুরেখাযুক্ত এবং মঙ্গল ও বুধের স্থান উচ্চ হইলে জাতক অসহিষ্ণু হয় । [চিত্র—২৪, চিহ্ন—৪।

অমুস্থ—(শেষদশায়)

৫৫। শিষ্য। কিরূপ চিহ্ন থাকিলে জাতক জীবনের শেষভাগে অমুস্থ হইবেন ?

গুরু। আয়ুরেখার শেষভাগে কতকগুলি ক্রুণ (ঢেরা) চিহ্ন থাকিলে, ও স্বাস্থ্যরেখা উচ্চ স্থানে মিলিত হইলে জাতক বৃদ্ধবয়সে অমুস্থ হইয়া থাকে ।

[চিত্র—১৫, চিহ্ন—২।৩।

অহংকার ।

৫৬। শিষ্য। কিরূপ চিহ্ন জাতকের অহংকারের সূচনা করে ?

গুরু। (১) রবির স্থানে কতকগুলি সূক্ষ্মরেখা অঙ্কিত ও শুক্রের স্থান সাতিশয় পুষ্ট, (২) অনামিকার তৃতীয় পর্ব দীর্ঘ ও রবির স্থান কতকগুলি সরলরেখা দ্বারা কর্তিত, (৩) রবিস্থান জালচিহ্নযুক্ত ও আয়ুরেখার প্রারম্ভ শাখাযুক্ত, (৪) বৃহস্পতির স্থান সাতিশয় পরিপুষ্ট ও তদুপরি জালচিহ্ন বিরাজিত

অথবা (৫) শিরোরৈখা হইতে একটি সরল রেখা উখিত হইয়া বৃহস্পতির স্থান একটি তারকা-চিহ্নের সমীপবর্তী হইলে জাতক অহঙ্কারী হয়।

[চিত্র—১৫, চিহ্ন—৪৫ ; চিত্র—১১, চিহ্ন—১।

—(অশুভফল)

৫৭। শিষ্য। কিরূপ চিহ্ন থাকিলে জাতকের অহঙ্কার জন্য অশুভফল ঘটিয়া থাকে ?

গুরু। (১) শনির স্থান তারকা-চিহ্ন-যুক্ত কিংবা (২) আয়ুরৈখা হইতে একটি সরলরেখা বা শিরোরৈখা হইতে একটি শাখা উখিত হইয়া বৃহস্পতির স্থানে অপর একটি তারকা-চিহ্নের সহিত মিলিত ও শিরোরৈখা ক্ষুদ্র হইলে জাতকের অহঙ্কার জন্য অশুভফল অবশ্যস্বাবী। [চিত্র—১৭, চিহ্ন—২।৩

—(আতিশয়)

৫৮। শিষ্য। হস্তে কিরূপ চিহ্ন থাকিলে জাতক সাতিশয় অহঙ্কারী হয় ?

গুরু। শিরোরৈখা হইতে একটি শাখা উখিত হইয়া, বৃহস্পতির স্থান কর্তন করিয়া তর্জনির নিম্ন স্থান স্পর্শ করিলে জাতক সাতিশয় অহঙ্কারী হইয়া থাকে। [চিত্র—১৬, চিহ্ন—১।

—(মহত্বযুক্ত)

৫৯। শিষ্য। মহত্বযুক্ত অহঙ্কারীর কিরূপ চিহ্ন থাকায় তিনি স্বীয় সাধু অনুষ্ঠানের জন্য অহঙ্কার করেন ?

গুরু। তর্জনী ও উহার তৃতীয় পর্ব দীর্ঘ এবং বুধের নিম্নস্থ মঙ্গলের স্থান পুষ্ট হইলে, জাতক স্বীয় সাধু কর্মের গুণপণার উল্লেখ করিয়া পুনঃ পুনঃ অহঙ্কার করিয়া থাকে। [চিত্র—১৭, চিহ্ন—১০। ১১।

(আ)

আত্মজিঘাংসা।

৬০। শিষ্য। কিরূপ চিহ্ন হস্তে থাকিলে জাতকের আত্মহত্যা করিবার প্রবৃত্তি বলবতী হয় ?

গুরু। (১) ভাগ্যরেখার শেষ ভাগে একটি ও চন্দ্রের স্থানে অপর একটি তারকা-চিহ্ন অবস্থিত, (২) বুধের নিম্নস্থ মঙ্গল স্থানের উপর কতকগুলি বক্র ক্রুশ (ঢেরা) চিহ্ন অঙ্কিত এবং মধ্যমার প্রথম পর্ব দীর্ঘ ও চতুষ্কোণ বা (৩) শনির স্থান সাতিশয় উচ্চ, আয়ুরেখা অনেকগুলি রেখাধারা কর্তিত ও ভাগ্যরেখা মলিন হইলে এবং শিরোরেখা স্বাস্থ্যরেখার সহিত মিলিত হইলে জাতকের আত্মহত্যা করিবার প্রবৃত্তি সাতিশয় বলবতী হয়।

[চিত্র— ১৬, চিহ্ন—২।৩।৪।৫।১০।১১।

আত্মনির্ভর।

৬১। শিষ্য। হস্তে কি চিহ্ন থাকিলে জাতক নিজেই নিজের উপর নির্ভর করিতে পারে ?

গুরু। তর্জ্জনী ও মধ্যমার এবং অনামিকা ও কনিষ্ঠার মধ্যস্থলে প্রশস্ত স্থান থাকিলে জাতক আত্মনির্ভরে—অর্থাৎ আপনার উপর আপনি নির্ভর করিতে সমর্থ হয়।

আত্মপ্রশংসা।

৬২। শিষ্য। কিরূপ চিহ্ন থাকিলে জাতক আত্মপ্রশংসা করিতে ভালবাসে ?

গুরু। উভয় হস্তে চন্দ্র ও শুক্রের স্থান সমতল ; মঙ্গল, রবি ও বুধের স্থান উচ্চ এবং বৃহস্পতির স্থান সাতিশয় উচ্চ হইলে জাতকের আত্মপ্রশংসায় আত্মাদর বাড়াইবার প্রবৃত্তি দেখা যায়।

আত্মবঞ্চনা।

৬৩। শিষ্য। আপনাকে আপনি ঠকাইবার চিহ্ন কি ?

শুক । (১) চক্রস্থানে একটি ক্রুশ-চিহ্ন থাকিলে ও অঙ্গুলী সকল পশ্চাত্তানে নমনীয় হইলে কিংবা (২) হৃদয়রেখা শাখায়ুক্ত হইয়া একটি শাখা শনিস্থানগত ও অপরটি শিরোরেখার নিকটবর্তী হইলে জাতক আত্মবক্ষণ করিতে অর্থাৎ আপনাকে আপনি ঠকাইতে সচেষ্ট হইয়া থাকে ।

[চিত্র—১২, চিহ্ন—১।২।৩।

আত্মবিচারে বিশ্বাস ।

৬৪। শিষ্য । কি চিহ্ন হস্তে থাকিলে জাতক স্ববোধকৃত বিচারে দৃঢ় বিশ্বাসার্পণ করিতে সমর্থ হয় ?

শুক । হৃদয়রেখা শিরোরেখার নিকটবর্তী হইলে জাতক স্ববোধে স্থিরীকৃত বিচারে বিশ্বাস স্থির রাখিতে পারে । [চিত্র—১৪, চিহ্ন—৭।

আত্মপ্লাঘা ।

৬৫। শিষ্য । হস্তে কিরূপ চিহ্ন থাকিলে জাতককে আত্মপ্লাঘা করিতে হয় ?

শুক । (১) বৃহস্পতি ও রবির স্থান সাতিশয় উচ্চ, (২) শিরোরেখা আয়ুরেখার সহিত পৃথক্, (৩) শিরোরেখার শেষভাগ শাখাবিশিষ্ট ও তাহার একটি শাখা বৃহস্পতিস্থানে উপনীত, (৪) করতল হৃদয়রেখাশূন্য, (৫) বৃহস্পতির স্থান সাতিশয় উচ্চ, (৬) বৃহস্পতিস্থান জাল-চিহ্ন-যুক্ত, (৭) করচতুর্কোণ অপ্রশস্ত, করত্রিকোণ অস্পষ্টভাবে অঙ্কিত এবং রবিস্থান সাতিশয় উচ্চ, (৮) অঙ্গুলী সমূহের তৃতীয়পর্ক সাতিশয় পুষ্ট বা (১০) শুক্রস্থান সমতল ও হৃদয়রেখা অস্পষ্টভাবে অঙ্কিত হইলে জাতক আত্মপ্লাঘা করিয়া থাকে ।

[চিত্র—১৩, চিহ্ন—৩ ; চিত্র—৪, চিহ্ন—৪ ; চিত্র—১৫, চিহ্ন—৫ ; চিত্র—১৪, চিহ্ন—৭ ।

আত্মসম্ভ্রম ।

৬৬। শিষ্য । কি চিহ্ন থাকিলে জাতক আত্মসম্ভ্রমের উপলক্ষি করিতে প্রয়াস পায় ?

শুক । উভয় হস্তের স্বক্ স্থূল হইলে, জাতক আত্মসম্ভ্রমের বিধান করিতে চেষ্টা করিয়া থাকে ।

আত্মহত্যা।

৬৭। শিষ্য। কি চিহ্ন হস্তে থাকিলে জাতক আত্মহত্যা করিতে বাধ্য হয় ?

গুরু। (১) ভাগ্যরেখার প্রারম্ভে দুইটি তারকা-চিহ্ন বা (২) চন্দ্রের স্থানে একটা তারকা-চিহ্ন, (৩) বুধের নিম্নস্থ মঙ্গলের স্থানে একটা ক্রুশ-চিহ্ন কিংবা জাল-চিহ্ন এবং মধ্যমার প্রথম পর্ব চতুষ্কোণ কিংবা (৪) মঙ্গলের স্থানে ক্রুশ-চিহ্ন ও জাল-চিহ্ন এবং রচতুষ্কোণ অপ্রশস্ত হইলে জাতক আত্মহত্যা করিয়া থাকে। [চিত্র—১৭, চিহ্ন—৪।৫ ৬।৭.২ ১৩।

—(জলমজ্জনে)

৬৮। শিষ্য। কিরূপ চিহ্ন থাকিলে, জাতক জলে মগ্ন হইয়া আত্মহত্যা করিয়া থাকে ?

গুরু। শিরোরেখা চন্দ্রের স্থান পর্য্যন্ত বিস্তৃত ও উহার শেষাংশে একটা তারকা-চিহ্ন থাকিলে জাতক জলমজ্জনে আত্মহত্যা করিতে বাধ্য হয়।

[চিত্র—১৭. চিহ্ন—৭।৮।

আত্মাভিমান।

৬৯। শিষ্য। কি চিহ্ন জাতকের আত্মাভিমান বৃদ্ধি করে ?

গুরু। (১) উভয় হস্তে আয়ুরেখা ও শিরোরেখা বিভিন্ন এবং শনি ও মঙ্গলের স্থান সাতিশয় উচ্চ, (২) বৃহস্পতির স্থান সাতিশয় উচ্চ ও উহার উপর ক্ষুদ্র ক্ষুদ্র রেখা অঙ্কিত, (৩) করচতুষ্কোণ অপ্রশস্ত, করত্রিকোণ অস্পষ্টভাবে অঙ্কিত, রবির স্থান অত্যন্ত উচ্চ বা (৪) অঙ্গুলী সকলের তৃতীয় পর্ব স্থল ও করতল শিরোরেখাশূন্য হইলে জাতকের আত্মাভিমান বৃদ্ধি পাইয়া থাকে। [চিত্র—৮, চিহ্ন—১।২।৩।৪।

—(আতিশয্য)

৭০। শিষ্য। কিরূপ চিহ্ন থাকিলে জাতক সাতিশয় আত্মাভিমानी হয় ?

গুরু। (১) শুক্রস্থান সমতল ও তদুপরি জাল-চিহ্ন অঙ্কিত, (২) শিরোরেখা

ক্ষুদ্র, গ্রহ সকলের স্থান অত্যন্ত উচ্চ ও অক্ষুণ্ণী সকল স্থলাগ্র হইলে জাতক
সাতিশয় আত্মাভিমानी হয় । [চিত্র— ১৮, চিহ্ন— ৫ ।

আমোদপ্রিয়তা ।

৭১। শিষ্য । 'কিরূপ চিহ্ন থাকিলে জাতক আমোদপ্রিয় হয় ?

গুরু । বৃহস্পতির, শুক্রের ও বুধের স্থান সাতিশয় প্রবল হইলে জাতক
আমোদপ্রিয় হয় ।

আয়স্বচ্ছলতা ।

৭২। শিষ্য । কিরূপ চিহ্ন জাতকের আয়ের স্বচ্ছলতার প্রকাশ করে ?

গুরু । শনির নিম্ন স্থানের শিরোরৈখার উপর খেতবর্ণের বিন্দু-চিহ্ন থাকিলে
জাতকের আয়ের সম্বন্ধে স্বচ্ছলতা ঘটয়া থাকে ।

আলস্য ।

৭৩। শিষ্য । কি চিহ্ন জাতককে অলস্য করে ?

গুরু । (১) শিরোরৈখা ক্ষুদ্র, বৃহস্পতির স্থান নিম্ন এবং শুক্রের ও চন্দ্রের
স্থান অত্যন্ত উচ্চ কিংবা (২) বৃহস্পতির ও মঙ্গলের স্থান সমতল ও করতল
কোমল হইলে জাতককে অলস্য করে ।

আবিষ্কার ।

৭৪। শিষ্য । আবিষ্কারকের হস্তে কি চিহ্ন তাহার গুণের সূচনা করে ?

গুরু । (১) রবির ও বুধের স্থান পরিপুষ্ট হইলে অথবা (২) শিরোরৈখার
উপর খেতবর্ণের বিন্দু-চিহ্ন থাকিলে জাতক নূতন নূতন তত্ত্বাদির উদ্ভাবন ও
তদবলম্বনে নানাবিধ ব্যাপারের আবিষ্কার করিতে পারে ।

(ই)

ইচ্ছাশক্তি ।

৭৫। শিষ্য। কিরূপ চিহ্ন থাকিলে জাতকের ইচ্ছাশক্তি প্রবল হয় ?

শুরু। (১) বৃদ্ধাঙ্গুলীর প্রথম পর্ক পুটে বা (২) কনিষ্ঠা দীর্ঘাকার হইলে জাতকের ইচ্ছাশক্তি প্রবল হয়।

(ঙ)

ঈর্ষা ।

৭৬। শিষ্য। কি চিহ্ন জাতককে ঈর্ষাপন্ন করে ?

শুরু। (১) অনেকগুলি বক্র (টেঁচা) রেখা তর্জনির দ্বিতীয় ও তৃতীয় পর্কে স্পষ্টভাবে অঙ্কিত, (২) বৃহস্পতির ও রবির স্থান উচ্চ ও তাহাতে কতকগুলি পার্শ্ববিস্তৃত (এডো) রেখা অবস্থিত বা (৩) রবির স্থান অত্যুচ্চ ও তাহাতে একটি সর্কচক্রাকার রেখা অঙ্কিত থাকিলে জাতক ঈর্ষাপন্ন হয়।

[চিত্র—১৯, চিহ্ন—৪ ৫।৬।৭।৮।

ঈশ্বরনির্ভর ।

৭৭। শিষ্য। কিরূপ চিহ্ন থাকিলে জাতক ঈশ্বরনির্ভরে সমর্থ হয় ?

শুরু। চন্দ্রের ও মঙ্গলের স্থান পরিপূর্ণ ও অপর কোন রেখা দ্বারা কণ্ঠিত না হইলে, জাতক সমস্ত বিষয়ে ঈশ্বরের উপর নির্ভর করিয়া থাকে।

ঈশ্বরে ভক্তি স্থাপন ।

৭৮। শিষ্য। কি চিহ্ন থাকিলে জাতক স্বভাব দেখিয়া ঈশ্বরে ভক্তিস্থাপনে সমর্থ হয় ?

শুরু। চন্দ্রস্থান সমতল, শিরোরেখা সরলভাবে হস্তের এক পার্শ্ব হইতে অপর পার্শ্ব পর্য্যন্ত বিস্তৃত ও পরিষ্কৃতরূপে অঙ্কিত এবং অনামিকা চতুষ্কোণ হইলে, জাতক স্বভাবের শোভা দেখিয়া ঈশ্বরে ভক্তিস্থাপন করিতে সমর্থ হয়।

—

(উ)

উচ্চপদলাভ—(অধিকারিত্ব)

৭৯। শিষ্য। হস্তে কিরূপ চিহ্ন থাকিলে জাতক বিশিষ্টরূপ উচ্চপদস্থ হইতে পারে ?

শুরু। (১) একটি সরলরেখা অনামিকার তৃতীয় পর্ব হইতে উখিত হইয়া প্রথম পর্ব পর্য্যন্ত যাইলে, জাতক বিশিষ্টরূপ উচ্চপদস্থ হইতে সমর্থ হয়। [চিত্র—১৯, চিহ্ন—৯।

—(প্রত্যাশা)

৮০। শিষ্য। কিরূপ চিহ্ন থাকিলে জাতক উচ্চপদস্থ হইবার ইচ্ছা করে ?

শুরু। এক-একটি সরলরেখা প্রত্যেক অঙ্গুলীর প্রথম পর্ব হইতে তৃতীয় পর্ব পর্য্যন্ত বিস্তৃত ও গভীররূপে অঙ্কিত হইলে জাতকের উচ্চপদস্থ হইবার অভিলাষ হইয়া থাকে। [চিত্র—১৮, চিহ্ন—৬, ৭, ১১, ১২।

—(সম্মান)

৮১। শিষ্য। কিরূপ চিহ্ন থাকিলে জাতক উচ্চপদস্থ ও সম্মানার্থ হয় ?

শুরু। (১) অনেকগুলি সরলরেখা মণিবন্ধ হইতে উখিত হইয়া হস্ততল পর্য্যন্ত প্রসৃত কিংবা (২) একটি সরলরেখা মণিবন্ধ হইতে উখিত হইয়া, মঙ্গলের ক্ষেত্র ভেদ করিয়া, রবির স্থানে উপনীত হইলে জাতকের পদোন্নতি ও সম্মানবৃদ্ধি হইয়া থাকে। [চিত্র—১৯, চিহ্ন—১০।

উত্তরাধিকার ।

৮২। শিষ্য। কিরূপ চিহ্ন থাকিলে জাতক উত্তরাধিকারসূত্রে বিষয় সম্পত্তিলাভ করিয়া থাকে ?

গুরু। (১) মণিবন্ধের উপর একটা কোণাকৃতি চিহ্ন, (২) করত্রিকোণের কোন কোণের ক্রুণ বা ভারকা-চিহ্ন, (৩) মধ্যমার তৃতীয় পর্কে অনেকগুলি টেঁচারেখা ও দ্বিতীয় গ্রহি অপরিপুষ্ট এবং অনুগরেখা শিরোরেরখার অনুবর্তী কিংবা (৪) রবিরেখা প্রবল ও রবিস্থান উচ্চ হইলে জাতক উত্তরাধিকারসূত্রে বিষয়-সম্পত্তি লাভ করিয়া থাকে ।

[চিত্র—১৬, চিহ্ন—৬।৭।৮।৯ ।

উৎসাহ ।

৮৩। শিষ্য। কিরূপ চিহ্ন জাতককে উৎসাহী করে ?

গুরু। হস্তানুলী সকল দীর্ঘ, গ্রহি (গাঁইট) সকল পরিপুষ্ট, করতল প্রশস্ত ও বৃদ্ধানুলী (অক্ষুণ্ণ) ক্ষুদ্র হইলে জাতক উৎসাহী হয় ।

—(আতিশয্য)

৮৪। শিষ্য। কিরূপ চিহ্ন থাকিলে জাতক অত্যন্ত উৎসাহী হয় ?

গুরু। করচতুর্কোণ অপ্রশস্ত এবং শিরোরেরখা আয়ুরেখার প্রারম্ভে মিলিত না হইলে জাতক অত্যন্ত উৎসাহী হয় । [চিত্র - ১৮, চিহ্ন - ১।৩ ।

—(হীনত্ব)

৮৫। শিষ্য। উৎসাহশূন্য ব্যক্তির হস্তে কিরূপ চিহ্ন নিকৃৎসাহতার প্রকাশ করে ?

গুরু। (১) শুক্রস্থান নিম্ন ও উহার উপরি বহুরেখা বা জাল-চিহ্ন থাকিলে কিংবা (২) শিরোরেরখা অপ্রশস্ত ও অলিন এবং হৃদয়রেখা শৃঙ্খলাকার হইলে জাতক উৎসাহশূন্য হইয়া থাকে ।

[চিত্র—১৮, চিহ্ন—৫ ; চিত্র—১৪,—চিহ্ন ৭ ।

উদরী রোগ ।

৮৬। শিষ্য । কিরূপ চিহ্ন উদরীরোগের সূচক ?

গুরু । চন্দ্রস্থানের উপর তারকা-চিহ্ন থাকিলে জাতক উদরীরোগাক্রান্ত হয় । [চিত্র—১৬, চিহ্ন—৩ ।

উদারতা ।

৮৭। শিষ্য । কিরূপ চিহ্নে জাতককে উদারচেতা বলিয়া বুঝিতে পারা যায় ?

গুরু । (১) করচতুষ্কোণ প্রশস্ত, শিরোরেখা পরিষ্কৃত ও অঙ্গুষ্ঠের দ্বিতীয় পর্ব্ব স্থল হইলে কিংবা (২) একটা বা দুইটা সরলরেখা অনামিকার তৃতীয় পর্ব্ব হইতে উৎখিত হইয়া দ্বিতীয় পর্ব্ব পর্য্যন্ত যাইলে, করচতুষ্কোণ বিস্তৃত এবং করত্রিকোণ পরিষ্কৃতরূপে অঙ্কিত হইলে জাতক উদারচরিত হয় এবং তাহার চিত্তের উদারতা স্বতই প্রকাশ পায় ।

[চিত্র—২৪, চিহ্ন—১।১৩।

উদ্ভাবনীশক্তি ।

৮৮। শিষ্য । জাতকের উদ্ভাবনীশক্তি কিরূপ চিহ্ন দ্বারা জানিতে পারা যায় ?

গুরু । বুধের স্থান উচ্চ, অঙ্গুলীসকল চতুষ্কোণ ও অঙ্গুষ্ঠের দ্বিতীয় পর্ব্ব স্থল হইলে জাতকের উদ্ভাবনীশক্তির অস্তিত্ব বুঝিতে পারা যায় ।

উদ্যম—(ব্যর্থ)

৮৯। শিষ্য । কিরূপ চিহ্ন থাকিলে জাতকের উদ্যম বিফল হয় ?

গুরু । (১) আয়ুরেখার শেষভাগে একটা ক্রুশ-চিহ্ন এবং ভাগ্যরেখা অস্পষ্ট ভাবে অঙ্কিত বা (২) রবির স্থান ক্ষুদ্র ক্ষুদ্র রেখা দ্বারা কণ্ঠিত হইলে জাতকের উদ্যম বিফল হয় । [চিত্র—২০, চিহ্ন—২।৩

—(হীনতা)

৯০। শিষ্য । কিরূপ চিহ্ন জাতককে উদ্যমরহিত করে ?

গুরু । হস্তাঙ্গুলীসমূহ প্রকৃষ্টরূপে চতুষ্কোণ হইলে জাতককে উদ্যম রহিত করে ।

উপাধিলাভ ।

৯১। শিষ্য। কিরূপ চিহ্ন থাকিলে জাতক তর্কালঙ্কার, বিদ্যাভূষণ, কবিচক্ৰ, শ্রায়রত্ন বা আধুনিক এম, এ, বি, এ, এল, এল, ডি প্রভৃতি বিদ্যাগত উপাধি দ্বারা স্বনাম ভূষিত করিতে সমর্থ হয় ?

গুরু। বৃহস্পতি, রবি ও বুধের স্থান উচ্চ এবং আয়ুরেখা হইতে সরল রেখা উথিত হইয়া, বৃহস্পতির স্থানগত হইলে জাতক বিদ্যাগত উপাধি দ্বারা স্বনাম ভূষিত করিতে সমর্থ হয় এবং সঙ্গে সঙ্গে অর্থলাভাদিও ঘটায় ; স্বতই সুখসম্ভোগে সমর্থ হয় । [চিত্র—২০, চিহ্ন—৪ ।

উপায় ।

৯২। শিষ্য। কিরূপ চিহ্ন থাকিলে জাতক উপায়ের উত্তম সুযোগলাভে সমর্থ হয় ?

গুরু। (১) রবিরেখা উভয় হস্তে স্পষ্টরূপে অঙ্কিত, (২) রবিস্থানে একটি বৃহচিহ্ন অঙ্কিত বা (৩) রবিরেখা শুক্রস্থান হইতে উথিত হইয়া, রবিস্থানে গিয়া মাজ হইলে জাতকের উপায় করিবার উত্তম সুযোগ ঘটয়া থাকে ।

[চিত্র—১৩, চিহ্ন—৪।৫

(ঝ)

ঋণ

৯৩। শিষ্য। কিরূপ চিহ্ন জাতকের ঋণের সূচনা করে ?

গুরু। ভাগ্যরেখার পার্শ্বস্থ মঙ্গলক্ষেত্র অপেক্ষাকৃত নিম্ন হইলে জাতকে ঋণগ্রস্ত হইতে হয় ।

(এ)

একাগ্রতা ।

২৪ । শিষ্য । কি চিহ্ন জাতকের একাগ্রতার সূচনা করে ?

গুরু । শিরোরৈখা পরিষ্কৃত এবং বৃহস্পতির ও রবির স্থান পুষ্ট হইলে জাতকের একাগ্রতা সূচিত হয় ।

—(অভাব)

২৫ । শিষ্য । কি চিহ্ন জাতকের একাগ্রতার অভাবের সূচনা করে ?

গুরু । (১) রবির স্থানে দুই তিনটি অব্যবস্থিত রেখা অঙ্কিত ও বুধের স্থান উচ্চ কিংবা (২) শিরোরৈখা শৃঙ্খলাকার এবং অপরিষ্কৃত হইলে জাতকের একাগ্রতার অভাব প্রকাশ করিয়া দেয় । [চিত্র—১৫, চিহ্ন—৪।৭ ।

(ঐ)

ঐন্দ্রজালিকত্ব ।

২৬ । শিষ্য । কিরূপ চিহ্ন থাকিলে জাতক ঐন্দ্রজালিক হয় ?

গুরু । শনির স্থানের উপর ত্রিকোণ-চিহ্ন এবং উভয় হস্তে শনির স্থান উচ্চ হইলে জাতক ঐন্দ্রজালিক হইয়া থাকে । [চিত্র—১৫, চিহ্ন—৬ ।

(ক)

কপটাচার ।

৯৭। শিষ্য। হস্তে কি চিহ্ন থাকিলে জাতক কপটাচারী হয় ?

গুরু। করচতুষ্কোণ ক্ষুদ্র এবং চন্দের স্থান উচ্চ হইলে, জাতক কপটাচারী হইয়া থাকে। [চিত্র—১৮, চিহ্ন—৩১।

কম্পজ্বর ।

৯৮। শিষ্য। কম্পজ্বরের সূচক চিহ্ন কিরূপ ?

গুরু। মধ্যমার কিংবা অনামিকার পার্শ্বদেশে কুমণ্ডল তিল-চিহ্ন থাকিলে জাতকের কম্পজ্বর হইয়া থাকে।

কর্ম্যঠ ।

৯৯। শিষ্য। কিরূপ চিহ্ন থাকিলে জাতক কর্ম্যঠ হয় ?

গুরু। অঙ্গুলী সকল চতুষ্কোণ, করতলের সমান দীর্ঘ এবং শনির স্থান উচ্চ হইলে, জাতক কর্ম্যঠ হইয়া থাকে।

কর্ম্মনৈপুণ্য ।

১০০। শিষ্য। কি চিহ্ন থাকিলে জাতক কর্ম্মে বিশিষ্ট নিপুণ হয় ?

গুরু। বুধের স্থান উচ্চ, অঙ্গুলী সকল চতুষ্কোণবিশিষ্ট ও বৃদ্ধাঙ্গুলী অপরিপুষ্ট হইলে জাতক কর্ম্মে সবিশেষ নিপুণতা দেখাইতে সমর্থ হয়।

কলহপ্রিয়তা ।

১০১। শিষ্য। কিরূপ চিহ্ন থাকিলে জাতক কলহপ্রিয় হয় ?

গুরু। (১) মঙ্গলের স্থান সাতিশয় উচ্চ, নখরসকল ক্ষুদ্র ও প্রশস্ত হইলে কিংবা (২) মঙ্গলের ক্ষেত্র পরিপুষ্ট হইলে অথবা (৩) করত্রিকোণ পরিষ্কৃতরূপে অঙ্কিত হইলে জাতক কলহপ্রিয় হইয়া থাকে।

কল্পনাশক্তি—(অপূর্বত্ব)

১০২। শিষ্য । কি চিহ্ন জাতকের অপূর্ব কল্পনাশক্তির সূচনা করে ?

গুরু । বুধের স্থান সাতিশয় উচ্চ, শিরোরেখা দীর্ঘ ও অপ্রশস্ত হইলে জাতক অপূর্ব কল্পনাশক্তিবিশিষ্ট হয় ।

কষ্টকর বিবাহ ।

১০৩। শিষ্য । কি চিহ্ন জাতকের বিবাহজনিত কষ্টের সূচনা করে ?

গুরু । (১) বুধের স্থানে বিবাহরেখা কতকগুলি সমান সরলরেখা দ্বারা কঙ্কিত কিংবা চন্দ্রস্থানে একটি গভীর সরলরেখা ও শুক্রস্থানে একটি তারকা-চিহ্ন অঙ্কিত হইলে বা (২) বিবাহরেখায় একটি যব-চিহ্ন থাকিলে জাতকের বিবাহে কষ্টভোগ ঘটয়া থাকে । [চিত্র—১৩, চিহ্ন—৬।৭।৮।১২ ।

কামপ্রাবল্য ।

১০৪। শিষ্য । কি চিহ্ন থাকিলে জাতকের কামপ্রবল হয় ?

গুরু । শুক্রস্থান সাতিশয় উচ্চ হইলে, জাতকের কামপ্রবৃত্তি সাতিশয় প্রবল হইয়া থাকে ।

কামুকত্ব—(পশ্চাচার)

১০৫। শিষ্য । কামুক ব্যক্তির হস্তে কিরূপ চিহ্ন তাহার স্বভাবের সূচনা করে ?

গুরু । (১) হৃদয়রেখা মলিন ও অপ্রশস্ত, (২) বৃদ্ধাজুলীর নখরসংযুক্তপর্কে তারকাচিহ্ন অঙ্কিত, (৩) শুক্রস্থানে দীর্ঘ সরলরেখা দ্বারা অঙ্কিত জালচিহ্ন অবস্থিত, (৪) তর্জনির তৃতীয় পর্কে তারকাচিহ্ন-চিত্রিত, (৫) মধ্যমার তৃতীয় পর্কে ত্রিকোণচিহ্ন অঙ্কিত হইলে জাতক কামুক হয় ।

[চিত্র—১৩, চিহ্ন—২।১০।১১।১৩ ।

কারকরত্ন ।

১০৬। শিষ্য । বিচক্ষণ কারিকরের হস্তে কিরূপ চিহ্ন তাহার নৈপুণ্যের প্রকাশ করিয়া থাকে ?

গুরু । কনিষ্ঠাঙ্গুলী সূলাগ্র এবং উহার প্রথম পর্ব অন্ত্যান্ত পর্বাপেক্ষা দীর্ঘ হইলে জাতক বিচক্ষণ কারকর হয় ।

কাৰ্য্যতৎপরতা ।

১০৭। শিষ্য । কিৰূপ চিহ্ন থাকিলে জাতক কাৰ্য্যতৎপর হয় ?

গুরু । (১) হস্ততল স্বাস্থ্যরেখাবিহীন ও কঠিন এবং অঙ্গুলীসমূহ সূচ্যগ্র হইলে, (২) মঙ্গলের, বুধের ও বৃহস্পতির স্থান উচ্চ হইলে, (৩) ভাগ্যরেখা মঙ্গলের ক্ষেত্র হইতে উথিত হইলে, (৪) হস্ততলের অন্ত্যন্ত রেখাসকল গভীররূপে অঙ্কিত ও হস্ততল কঠিন হইলে, (৫) অঙ্গুলীসমূহ সূচ্যগ্র ও গ্রন্থিযুক্ত হইলে অথবা (৬) আয়ুরেখা শিরোরেখার সহিত সংযুক্ত না হইলে জাতক কাৰ্য্যতৎপরতা দেখাইয়া থাকে ।

চিত্র—৩, চিহ্ন—১।৩।৪ ।

কাৰ্য্যে বিরতি ।

১০৮। শিষ্য । কিৰূপ চিহ্ন থাকিলে জাতক কাৰ্য্যনিৰ্ব্বাহ বিষয়ে প্রায়ই উপেক্ষা করিয়া থাকে ?

গুরু । বৃহস্পতির, শনির, রবির ও বুধের স্থান অপরিপুষ্ট হইলে, অঙ্গুলীসমূহ গ্রন্থিশূন্য, ক্রমশঃ সূক্ষ্ম হইলে জাতক নিজের কাৰ্য্যনিৰ্ব্বাহবিষয়ে প্রায়ই অবহেলা করিয়া বিরত থাকে ।

কারাবাস ।

১০৯। শিষ্য । কি চিত্র জাতকের কারাবাসের সূচনা করে ?

গুরু । শুক্রের ও মঙ্গলের স্থানে চতুষ্কোণ-চিহ্ন থাকিলে জাতককে কারারুদ্ধ হইতে হয় ।

[চিত্র—২০, চিহ্ন—৫।৬ ।

কাল্ননিকত্ব ।

১১০। শিষ্য । কি চিহ্ন জাতককে কাল্ননিক করে ?

গুরু । (১) চন্দ্ৰের স্থান অত্যন্ত উচ্চ, অঙ্গুলী সকল করতল অপেক্ষা দীর্ঘ এবং ক্রমশঃ সূক্ষ্ম, (২) অঙ্গুলী সকল বছরেখাযুক্ত ও করতল অপেক্ষা দীর্ঘ, বৃদ্ধাঙ্গুলী পুষ্ট ও পশ্চাত্তাগে নমনীয় অথবা (৩) মধ্যমা বছরেখাযুক্ত হইলে জাতককে কাল্ননিক হইতে হয় ।

কাল্ননিকী চিন্তা ।

১১১। শিষ্য । কি চিহ্ন থাকিলে কাল্ননিকী চিন্তা জাতকের পক্ষে অনিবার্য্য হইয়া থাকে ?

শুক্ৰ । (১) চন্দ্রস্থানে একটা তারকা-চিহ্ন থাকিলে ও শিরোরৈখা চন্দ্রস্থানে উপনীত হইলে কিংবা (২) একটা সরলরেখা চন্দ্রস্থান হইতে উখিত হইয়া, ভাগ্যরেখা কর্ত্তন করিলে, জাতককে অনিবার্য কাল্পনিক চিত্তায় মগ্ন হইতে হয় । [চিত্র— ১৭, চিহ্ন— ৭৮৯।

—(ভ্রমময়ী) •

১১২ । শিষ্য । কিরূপ চিহ্ন থাকিলে জাতকের কাল্পনিক চিত্তায় ভ্রম ঘটিয়া থাকে ?

শুক্ৰ । শিরোরৈখা শাখাবিশিষ্ট হইয়া চন্দ্রের স্থানে কিংবা মণিবন্ধে আসিয়া সম্পূর্ণ হইলে, জাতকের কাল্পনিক চিত্তা ভ্রমময়ী (ভুল) হইয়া থাকে ।

[চিত্র— ১০, চিহ্ন— ৪ ।

—(বৈচিত্র্য)

১১৩ । শিষ্য । কিরূপ চিহ্ন থাকিলে কাল্পনিক চিত্তা বিচিত্রভাবে জাতকের হৃদয় অধিকার করে ?

শুক্ৰ । (১) চন্দ্রের স্থানে কতকগুলি সরলরেখা থাকিলে ও মঙ্গলের স্থান চন্দ্রের স্থানাভিমুখীন হইলে অথবা (২) চন্দ্রের স্থানে স্বাস্থ্যরেখা ও শিরোরৈখা একত্র মিলিয়া পরস্পর কর্ত্তিত হইয়া ক্রুশ-চিহ্নের আয় হইলে, জাতকের মনে কাল্পনিক চিত্তা বিচিত্রভাবে উদয় হইয়া থাকে ।

[চিত্র ৩, চিহ্ন— ৫।৬ ।

কীর্ত্তি ।

১ ৪ শিষ্য । কিরূপ চিহ্ন থাকিলে জাতক কীর্ত্তিসম্পন্ন হইতে পারে ?

শুক্ৰ । ভাগ্যরেখা দুইটা শাখাবিশিষ্ট ও তাহার একটা শাখা শনিস্থানগত হইলে জাতকের কীর্ত্তিরক্ষা করিবার শক্তি থাকে । [চিত্র— ৯, চিহ্ন— ৫ ।

রূপা ।

১১৫ । শিষ্য । কি চিহ্ন জাতকের হৃদয়গত রূপার অস্তিত্ব প্রকাশ করে ?

শুক্ৰ । রবি, শুক্র ও চন্দ্র—এই তিন গ্রহের স্থান উচ্চ হইলে জাতক রূপালু হইয়া থাকে ।

কৃষিতৎপরতা ।

১১৬। শিষ্য। কিরূপ চিহ্ন থাকিলে জাতক কৃষিকার্য্যামুশীলনে তৎপর হয় ?

গুরু। উভয় হস্তের অঙ্গুলী সকল চতুষ্কোণ ও স্থূলাগ্র এবং মধ্যমার দ্বিতীয় পর্ক অপরাপর পর্কোপেক্ষা দীর্ঘ হইলে জাতক কৃষিকার্য্যামুশীলনে সাগ্রহে ব্যাপ্ত থাকে । [চিত্র—২০, চিহ্ন—১০ ।

কৌতুকপ্রিয়তা ।

১১৭। শিষ্য। কৌতুকপ্রিয় লোকের হস্তে কি বিশিষ্ট চিহ্ন দেখিতে পাওয়া যায় ?

গুরু। ১) বুধের স্থান পৃষ্ট ও করত্রিকোণের প্রথম কোণ পরিস্কৃতরূপে অঙ্কিত অথবা (২) শুক্রবক্রনী স্পষ্টরূপে অঙ্কিত হইলে জাতক কৌতুকপ্রিয় হইয়া থাকে । [চিত্র—২১ চিহ্ন—১২ ।

ক্ষমাশীলতা ।

১১৮। শিষ্য। হস্তে কি চিহ্ন থাকিলে জাতক ক্ষমাশীল হইয়া থাকে ?

গুরু। অঙ্গুলীসমূহের নখরগুলি বাদামের ন্যায় আকৃতিবিশিষ্ট হইলে জাতক ক্ষমাশীল হইয়া থাকে ।

ক্ষয় ।

১১৯। শিষ্য। কি চিহ্ন জাতকের রাজ-যক্ষ্মা বা ক্ষয়ের সূচনা করে ?

গুরু। নখর সকল প্রশস্ত ও উহার উপরিভাগ ঈষৎ বক্র হইলে এবং স্বাস্থ্যরেখার উপর ক্ষুদ্র ক্ষুদ্র ঘব-চিহ্ন থাকিলে, জাতকের রাজযক্ষ্মা প্রভৃতি ক্ষয়-রোগের ভোগ অবশ্যস্তু্যবী । [চিত্র—১৭, চিহ্ন—১৪ ।

(খ)

খেয়াল ।

১২০ । শিষ্য । কি চিহ্ন থাকিলে জাতক খেয়াল মিটাইতে পারে ?

গুরু । অঙ্গুলীগণকল সূচ্যগ্র ও করতল অপেক্ষা ক্ষুদ্র হইলে জাতকের খেয়াল মিটাইবার শক্তি থাকে ।

— — —

(গ)

গুহ্যবিদ্যায়—(বিপৎ)

১২১ । শিষ্য । কিরূপ চিহ্ন থাকিলে গুহ্যবিদ্যার চর্চা করিতে গিয়া জাতককে বিপদগ্রস্ত হইতে হয় ?

গুরু । উভয় হস্তে তর্জনী সূচ্যগ্র এবং শনির স্থানে একটা ক্রুশ-চিহ্ন থাকিলে, জাতক গুহ্যবিদ্যার চর্চা করিতে গিয়া বিপদগ্রস্ত হয় ।

[চিত্র— ১৭, চিহ্ন—৩ ।

—(বিশারদ)

১২২ । শিষ্য । কিরূপ চিহ্ন থাকিলে জাতক গুহ্যবিদ্যা-বিশারদ হয় ?

গুরু । (১) অনামিকা সূচ্যগ্র ও চন্দ্রের স্থানে একটা ত্রিকোণ-চিহ্ন অঙ্কিত কিংবা (২) শনির স্থানের নিম্নে ও করচতুর্কোণের মধ্যে একটা ক্রুশ-চিহ্ন অঙ্কিত ও একটা ধনুঃসদৃশী বক্র-রেখা চন্দ্রস্থান হইতে বৃহস্থান পর্য্যন্ত বিস্তৃত হইয়া থাকিলে জাতক গুহ্যবিদ্যা-বিশারদ হয় ।

[চিত্র— ২১, চিহ্ন— ৪/৫।৬ ।

—(স্বজ্ঞান)

১২৩। শিষ্য। গৃহবিদ্যায় স্বাভাবিকজ্ঞানযুক্ত লোকের হস্তচিহ্ন কি ?

গুরু। (১) চন্দ্রের স্থানে একটি ত্রিকোণ-চিহ্ন থাকিলে, (২) হৃদয়রেখার একটি শাখা বৃহস্পতির স্থান আবেষ্টন করিলে, (৩) উভয়হস্তে স্বাস্থ্যরেখা শিরোরৈখার সহিত মিলিত হইয়া একটি ক্রুশ-চিহ্নের আয় হইলে, (৪) শনির স্থানে একটি ক্রুশ-চিহ্ন অঙ্কিত থাকিলে অথবা (৫) শিরোরৈখা চন্দ্রস্থান পর্য্যন্ত বিস্তৃত ও তর্জনির দ্বিতীয় পর্ব্ব বহুরেখাযুক্ত হইলে জাতক গৃহবিদ্যায় স্বাভাবিক জ্ঞানযুক্ত হয়। [চিত্র—২১, চিহ্ন—৩।৪।৭।৯।১২।১৩।

গৃহত্যাগ।

১২৪। শিষ্য। কিরূপ চিহ্ন জাতককে গৃহত্যাগী করে ?

গুরু। শুক্রের স্থানে একটি চতুষ্কোণ চিহ্ন অঙ্কিত, বৃহস্পতির ও চন্দ্রের স্থান প্রবল ও শনির স্থান উচ্চ হইলে জাতককে গৃহত্যাগী হইতে হয়।

[চিত্র—২২, চিহ্ন—১।

গৃহশূন্যতা।

১২৫। শিষ্য। কি চিহ্ন জাতককে গৃহশূন্য করে ?

গুরু। (১) স্বাস্থ্যরেখার উপর তারকা-চিহ্ন অঙ্কিত কিংবা (২) মধ্যমার তৃতীয় পর্ব্বের তারকা-চিহ্ন ও হৃদয়রেখার শেষভাগ শূন্যলবৎ হইয়া অঙ্কিত থাকিলে! জাতকের সংসারস্থ পরিবারবর্গের সকলেরই মৃত্যু ঘটয়া জাতককে গৃহশূন্য হইতে হয়। [চিত্র—২২, চিহ্ন—২।৩।৪।

গৌরবখর্ব্বতা।

১২৬। শিষ্য। কিরূপ চিহ্ন থাকিলে গৌরবাকাজ্ঞী জাতকের গৌরবলাভ সম্পূর্ণরূপ হয় না ?

গুরু। একটি সরলরেখা উভয় হস্তে তর্জনির তৃতীয় পর্ব্ব হইতে প্রথম পর্ব্ব পর্য্যন্ত গভীররূপে অঙ্কিত থাকিলে জাতকের গৌরবলাভ সম্পূর্ণরূপ ঘটয়া উঠে না। [চিত্র—২২, চিহ্ন—৫।

গৌরব-লালসা—(বৃদ্ধি)

১২৭। শিষ্ট । কিরূপ চিহ্ন থাকিলে জাতকের গৌরব-লালসা বৃদ্ধি পাইতে থাকে ?

শুক্র । (১) বৃহস্পতির স্থান অভ্যুচ্চ, ভাগ্যরেখা ও রবিরেখা পরিস্কৃতরূপে অঙ্কিত, (২) তর্জনী মধ্যমার স্তায় দীর্ঘ ও ইহার দ্বিতীয় পর্ক্ অপর পর্ক্গুলি অপেক্ষা দীর্ঘতম, (৩) শিরোরৈখা হইতে একটি শাখা উখিত হইয়া বৃহস্পতিস্থানে উপনীত কিংবা (৪) বৃহস্পতির স্থানে একটি কুশ-চিহ্ন অঙ্কিত থাকিলে জাতকের গৌরব-লালসা বৃদ্ধি পাইতে থাকে ।

[চিত্র—২২, চিহ্ন - ৬।৭।৮।৯ ।

গৌরবাকাজ্জাবর্জ্জন ।

১২৮। শিষ্ট । কিরূপ চিহ্ন থাকিলে জাতকের নাম গৌরবের আকাজ্জা মনে স্থান পায় না ?

শুক্র । বৃহস্পতির স্থান উচ্চ এবং করত্রিকোণ অস্পষ্টরূপে অঙ্কিত হইলে জাতকের অন্তঃকরণে গৌরবাকাজ্জা স্থান পায় না ।

(৮)

চক্ররোগ ।

১২৯। শিষ্ট । জাতকের হস্তে কি চিহ্ন চক্ররোগের সূচনা করে ?

শুক্র । (১) রবির স্থানে নীল চিহ্ন বা (২) অনামিকার প্রথম পর্ক্ তারকা-চিহ্ন থাকিলে জাতকের চক্ররোগ হইয়া থাকে ।

[চিত্র—২৩, চিহ্ন - ৬ ।

চপলতা ।

১৩০। শিষ্য। কি চিহ্ন চপলতার সূচনা করে ?

গুরু। (১) রবির স্থান সাতিশয় উচ্চ ও তদুপরি জাল-চিহ্ন বিরাজিত, (২) অনামিকা সূচ্যগ্র এবং অপর অঙ্গুলীগুলি সূচ্যগ্র 'বা' চতুষ্কোণ, (৩) শিরোরেখা সূক্ষ্ম ও দুর্বল কিংবা (৪) অঙ্গুলীসকলের প্রথম পর্ব অগ্ন্যন্ত পর্ব অপেক্ষা ক্ষুদ্র এবং বুধের স্থান সাতিশয় উচ্চ হইলে জাতক চপল-স্বভাব-বিশিষ্ট হয়। [চিত্র—২৭, চিহ্ন—৫ ।

চরিত্রহীনতা ।

১৩১। শিষ্য। কিরূপ চিহ্ন থাকিলে জাতক চরিত্রহীন হয় ?

গুরু। হৃদয়রেখা শিরোরেখার নিকটবর্তী হওয়ায়, করচতুষ্কোণ অপ্রশস্ত, বৃহস্পতির, শুক্রের ও রবির স্থান দুর্বল এবং হৃদয়রেখা মলিন হইলে জাতক হীনচরিত্র হইয়া থাকে। [চিত্র—২৩, চিহ্ন—১৮ ।

চাঞ্চল্য ।

১৩২। শিষ্য। হস্তে কিরূপ চিহ্ন থাকিলে জাতক চঞ্চল হইয়া থাকে ?

গুরু। (১) শিরোরেখা হৃদয়রেখার নিকটবর্তী কিংবা (২) শিরোরেখা প্রশস্ত, মলিন ও করতলের অর্ধপরিমিত বিস্তৃত হইলে জাতক চঞ্চলপ্রকৃতি হইয়া থাকে।

চাতুর্য্য ।

১৩৩। শিষ্য। চতুর ব্যক্তির হস্তে কিরূপ বিশিষ্ট চিহ্ন থাকে ?

গুরু। (১) করচতুষ্কোণ অপ্রশস্ত ও কনিষ্ঠাঙ্গুলীর তৃতীয় পর্ব দীর্ঘ, (২) শিরোরেখার শেষ হইতে বহির্গত একটা শাখা চন্দ্রস্থানে উপনীত, (৩) বুধের স্থান উচ্চ, (৪) বুধের স্থানে জাল-চিহ্ন, (৫) কনিষ্ঠাঙ্গুলী বক্র হইলে জাতক চতুর হয়। [চিত্র—২৩, চিহ্ন—১৮।২।৩।৪ ।

চিকিৎসকত্ব ।

১৩৪। শিষ্য। কি চিহ্ন হস্তে থাকিলে জাতক বিচক্ষণ চিকিৎসক হয় ?

গুরু। বুধের স্থান উচ্চ ও উহার উপর দুই-তিনটা সরলরেখা অঙ্কিত থাকিলে জাতক বিচক্ষণ চিকিৎসক হইয়া থাকে। [চিত্র—২৭, চিহ্ন—৪ ।

চিত্তচাক্ষুণ্য ।

১৩৫। শিষ্য । জাতকের চিত্তচাক্ষুণ্যের স্বচক চিহ্ন কি ?

গুরু । (১) করতল প্রশস্ত ও কঠিন এবং মঙ্গলের স্থান বহুরেখাযুক্ত কিংবা (৩) করতল অপেক্ষা মধ্যমাস্থলী দীর্ঘ ও অনামিকা স্ক্রাণ্ড হইলে জাতকে চক্ৰচিত্ত হইতে হয় । [চিত্র—২৪, চিহ্ন—৪ ।

চিত্তস্বৈর্য্য ।

১৩৬। শিষ্য । কিরূপ চিহ্ন থাকিলে জাতক আত্মসংযম সাধিতে সমর্থ হয় ?

গুরু । বুধের নিম্নস্থ মঙ্গলের স্থান সাত্তিশয় উচ্চ, বৃদ্ধাস্থলীর প্রথম পর্ব্ব প্রশস্ত ও পশ্চাৎগে কথঞ্চিৎ নমনীয় হইলে জাতক আত্মসংযম সাধিতে সমর্থ হয় ।

চিন্তা ।

১৩৭। শিষ্য । কি চিহ্ন থাকিলে জাতকে চিন্তাযুক্ত হইতে হয় ?

গুরু । (১) অস্থলীসমূহের দ্বিতীয় পর্ব্ব অত্র পর্ব্বাপেক্ষা দীর্ঘতম অথবা (২) তর্জনী অপেক্ষাকৃত দীর্ঘ শুণ্ডাকৃতি ও অপর অস্থলীগুলি চতুষ্কোণ এবং শিরোরৈখা পরিষ্কৃতরূপে অঙ্কিত ও করচতুষ্কোণ প্রশস্ত হইলে জাতক চিন্তাযুক্ত হইয়া থাকে । [চিত্র—১, চিহ্ন—১৬-১৬।২১-২১ ।

চিন্তাশূন্যতা ।

১৩৮। শিষ্য । কি চিহ্ন জাতকে চিন্তাশূন্য বলিয়া জানাইয়া দেয় ?

গুরু । উভয় হস্তে প্রথমাস্থলীর পর্ব্ব সকল অত্রা অস্থলীর পর্ব্বাপেক্ষা ক্ষুদ্র ও বৃহস্পতির স্থান নিম্ন হইলে জাতক চিন্তাশূন্য হইয়া থাকে ।

চৌধ্য ।

১৩৯। শিষ্য । কিরূপ চিহ্ন থাকিলে জাতক চোর হয় ?

গুরু । (১) কনিষ্ঠাস্থলীর তৃতীয় পর্ব্বের কতকগুলি বিশৃঙ্খল রেখা, (২) কনিষ্ঠার তৃতীয় পর্ব্বের একটা ক্রুশ, (৩) বুধের স্থানে একটা তারকা-চিহ্ন

অঙ্কিত হইলে অথবা (৪) উভয় হস্তে কনিষ্ঠাঙ্গুলী সূলাগ্র কিংবা (৫) বুধের স্থান উচ্চ হইলে জাতক চৌর হইয়া থাকে । [চিত্র- ২৪, চিহ্ন-৫।৩।৭ ।

(ছ)

ছলপ্রিয়তা ।

১৪০। শিষ্য । কিরূপ চিহ্ন থাকিলে জাতক ছলপ্রিয় হয় ?

শুক্র । রবির স্থান অত্যাচ্চ ও বহুরেখাযুক্ত হইলে জাতক ছলপ্রিয় হইয়া থাকে । [চিত্র-১৫, চিহ্ন-৪ ।

ছিদ্রাশ্বেষণ ।

১৪১। শিষ্য । হস্তে কিরূপ চিহ্ন থাকিলে জাতক ছিদ্রাশ্বেষণ করিতে ভালবাসে ?

শুক্র । করতল দীর্ঘ, অঙ্গুলীগম্বুহ সূলাগ্র ও গ্রহি সকল পরিপুষ্ট হইলে জাতক ছিদ্রাশ্বেষী হইয়া থাকে ।

(জ)

জড়তা ।

১৪২। শিষ্য । জাতকের হস্তে জড়তার সূচক চিহ্ন কিরূপ ?

শুক্র । (১) করতল কঠিন, শিরোরৈখা পাণ্ডুবর্ণ ও প্রশস্ত এবং রবির স্থান সাতিশয় নিয়, (২) একটি সরলরেখা মধ্যমার তৃতীয় পর্ক হইতে উখিত হইয়া প্রথম পর্ক পর্যন্ত বিস্তৃত, ভাগ্যরেখা শিরোরৈখা হইতে উখিত হইয়া

শনির স্থান পর্যন্ত ব্যাপ্ত এবং বৃহস্পতি রবি ও বুধ- এই তিনটি গ্রহের স্থান সাতিশর-নির কিংবা (৩) শিরোরৈখা অস্পষ্টরূপে অঙ্কিত ও বৃদ্ধাঙ্গুলী ক্ষুদ্র হইলে জাতক জড়প্রকৃতি হইয়া থাকে।

[চিত্র—২৪, চিহ্ন—৮ ; চিত্র—১২, চিহ্ন—১।

জাগতিক—কর্মসাধন।

১৪৩। শিষ্য। কিরূপ চিহ্ন থাকিলে জাতক জীবনে জাগতিক-কর্মে সফলতাল্লাভে সমর্থ হয় ?

শুক। (১) রবিরেখা উভয় হস্তে স্পষ্ট অঙ্কিত, রবিস্থান পুষ্টি ও তাহার উপর একটা বৃহচ্ছ অঙ্কিত থাকিলে জাতক জীবনে সফলকর্মা হইতে পারে। (২) আয়ুরেখা হইতে একটা সরলরেখা উখিত হইয়া বৃহস্পতির স্থানে বাইলে ও বৃহস্পতির স্থান পুষ্টি হইলে জাতক পরীক্ষায় উত্তীর্ণ হইতে, রাজধানীতে বা রাজসরকারে কর্ম পাইতে, বিশেষতঃ বৃহস্পতির স্থান অভ্যন্ত হইলে স্বর্ণব্যবসায় উন্নতিলাভ করিতে পারে। (৩) আয়ুরেখা হইতে উখিত রেখা শনির স্থানে বাইলে লৌহ কয়লা প্রভৃতি খনিজদ্রব্যের, পাট, কাষ্ঠ, তৃণ প্রভৃতির বাণিজ্য বা বিদেশে চাকরীতে অর্থোপার্জন করিতে পারে। (৪) উক্ত রেখা রবির স্থানে বাইলে হঠাৎ অর্থলাভ বা ধনাঢ্যের সাহায্যে উন্নত হইতে পারে। (৫) বুধস্থানগত হইলে বাণিজ্যব্যবসায় অর্থোপার্জন করিতে সমর্থ হয়।

[চিত্র—১৩, চিহ্ন—৩৫ ; চিত্র—৩৬, চিহ্ন—২৩৪।৫।৬।৭।

(প্রতিবন্ধকতা)

১৪৪। শিষ্য : জীবনে জাগতিক কর্মসাধনে প্রতিবন্ধকতার চিহ্ন কি ?

শুক। (১) আয়ুরেখা ক্ষুদ্র ক্ষুদ্র রেখাধারা কর্তিত এবং ভাগ্যরেখা অস্পষ্টভাবে অঙ্কিত, (২) রবিস্থান ক্ষুদ্র ক্ষুদ্র রেখাধারা কর্তিত কিংবা (৩) রবিস্থানে রবিরেখা তিন চারিটা অঙ্কিত হইলে জাতকের জীবনকালের মধ্যে জাগতিক কর্মসাধনে বা উন্নতিলাভে অনেক প্রতিবন্ধক ঘটয়া থাকে।

[চিত্র—৭, চিহ্ন—২, চিত্র—১১, চিহ্ন—৪ ; চিত্র—৩১, চিহ্ন—১০।

জীবনযাপন—(পরিশ্রমে)

১৪৫। শিষ্য। কিরূপ চিহ্ন থাকিলে জাতক আজীবন পরিশ্রমদ্বারা জীবনযাপন করিতে বাধ্য হয় ?

গুরু। (১) মণিবক্রস্থ বলয়ত্রয় শৃঙ্খলাকার বা (২) ভাগ্যরেখা শিরোরেখা হইতে উখিত হইয়া শনির স্থানে উপস্থিত হইলে জাতককে আজীবন পরিশ্রমদ্বারা জীবনযাপন করিতে হয় ।

[চিত্র—২৫, চিহ্ন—৭ ; চিত্র—১২, চিহ্ন—১-১ ।

—(স্বগুণার্জিত সৌভাগ্যে)

১৪৬। শিষ্য। কিরূপ চিহ্ন থাকিলে জাতক স্বগুণে সৌভাগ্যলাভ করিয়া জীবনযাপন করিতে পারে ?

গুরু। একহস্তে ভাগ্যরেখা মণিবক্র হইতে উখিত হইয়া, মধ্যমার দ্বিতীয় পক্ষ পর্য্যন্ত যাইলে, জাতক নিজগুণে সৌভাগ্যসম্পন্ন হইয়া জীবনযাপন করে ; কিন্তু উক্ত চিহ্ন উত্তর হস্তে থাকিলে বিপরীত ফল ফলিয়া থাকে ।

[চিত্র—৬, চিহ্ন—১ ।

—(হতাশে)

১৪৭। শিষ্য। কিরূপ চিহ্ন থাকিলে জাতক হতাশে জীবনযাপন করিয়া থাকে ?

গুরু। ক্ষুদ্র ক্ষুদ্র রেখা আয়ুরেখা হইতে বহির্গত হইয়া, মণিবক্রাভিমুখীন হইলে, জাতককে প্রায়ই হতাশ হইয়া সমস্ত জীবনযাপন করিতে হয় ।

[চিত্র—২৪, চিহ্ন—১৩ ।

জীবনে উন্নতি—(পরের সাহায্যে)

১৪৮। শিষ্য। কি চিহ্ন থাকিলে জাতক পরের সাহায্যে জীবনে উন্নতিলাভে সমর্থ হয় ?

গুরু। (১) ভাগ্যরেখা মণিবক্র হইতে উখিত হইয়া শিরোরেখায় বা হৃদয়রেখায় স্পর্শ করিলে, (২) ভাগ্যরেখার অমুগরেখা তাহার অমুগত হইলে, (৩) শিরোরেখা হইতে একটা রেখা উখিত হইয়া হৃদয়রেখার নিকট-

বর্তী হইয়াও স্পর্শ না করিলে, (৪) করচতুর্কোণস্থ ক্রুশ-চিহ্ন পরিষ্কৃতরূপে অঙ্কিত হইয়া ভাগ্যরেখার বা রবিরেখার ভেদ বা কর্তন না করিলে জাতক অন্য লোকের সাহায্যলাভে বিশিষ্টরূপ উন্নত হইতে পারে।

[চিত্র—২৫, চিহ্ন—১১২।৩।৪।

—(প্রতিবন্ধকতা)

১৪৯। শিষ্য : জীবনে উন্নতির প্রতিবন্ধক চিহ্ন কি ?

গুরু। ভাগ্যরেখা ভয় ও মঙ্গলের ক্ষেত্রে গিয়া সম্পূর্ণ হইলে জাতকের জীবনে উন্নতির অনেক প্রতিবন্ধক ঘটয়া থাকে।

[:চিত্র—২৩, চিহ্ন— ৭।

জীবনে— ক্লেশ।

১৫০। শিষ্য। জীবনে ক্লেশ পাইবার সূচক চিহ্ন কিরূপ ?

গুরু। ভাগ্যরেখা চেউখেলান হইলে এবং আয়ুরেখা মাতিশয় ক্ষুদ্র ক্ষুদ্র রেখাধারা কর্তিত হইলে, জাতক জীবনের শেষভাগে নানাবিধ ক্লেশ পাইয়া থাকে। [চিত্র— ৭, চিহ্ন— ২।২ ; চিত্র— ১৪, চিহ্ন ৬।৬।

—(নিরাশ)

১৫১। শিষ্য। কি চিহ্ন থাকিলে জাতককে জীবনে নিরাশ হইতে হয় ?

গুরু। মধ্যমাসুলীর পর্ব সকলে চেউখেলান রেখা ও শনির স্থানে একটা ক্রুশ-চিহ্ন থাকিলে জাতককে জীবনে নিরাশ হইতে হয়।

[চিত্র— ১৫, চিহ্ন— ৫৩।

—(শান্তি)

১৫২। শিষ্য। কি চিহ্ন শান্তিময় জীবনের সূচনা করে ?

গুরু। ভাগ্যরেখা স্পষ্টরূপে উখিত হইয়া ও কোনরূপ প্রতিবন্ধক না পাইয়া, বৃহস্পতির ও শনির মধ্যস্থলে গিয়া সম্পূর্ণ হইলে জাতক সমস্ত জীবনে শান্তিভোগ করিতে সমর্থ হয়। [চিত্র—১১, চিহ্ন—৩-৩।

জীবনে--(স্ট্রীকভূত)

১৫৩। শিষ্য। কি চিহ্ন থাকিলে জাতককে জীবনে নারীকর্ক পরিচালিত হইতে হয় ?

গুরু। (১) হৃদয়রেখা হইতে একটি শাখা শিরোরৈখার নিকটবর্তী এবং হৃদয়রেখা শিরোরৈখার সহিত অসংযুক্ত কিংবা (২) শুক্রস্থান হইতে একটি শাখা উখিত হইয়া, মঙ্গলের ক্ষেত্র অতিক্রম করিয়া, করচতুষ্কোণে গিয়া, তারকাচিহ্ন যুক্ত হইলে জাতক স্ত্রীদ্বারা পরিচালিত হইয়া থাকে ; কিন্তু শুক্রস্থানে একটি তারকা-চিহ্ন থাকিলে পূর্ষকথিতানুরূপ নারীর সহিত বিবাদ হয় এবং ভাগ্যরেখা দুই ভাগে বিভক্ত হইয়া, একটি শাখা শুক্রের স্থানে এবং অপরটি মঙ্গলের স্থানে যাইলে উক্ত বিবাদ হইতে বিপৎ উপস্থিত হয়।

[চিত্র—২৪, চিহ্ন—৯, ১০, ১১, ১২ ; চিত্র— ২০, চিহ্ন—১১, ১২।

জুয়াচোরী

১৫৪। শিষ্য। জুয়াচোরের হস্তে কি বিশিষ্ট চিহ্ন থাকে ?

গুরু। একটি বক্ররেখা কনিষ্ঠার তৃতীয় পর্ক হইতে উখিত হইয়া, দ্বিতীয় পর্ক পর্যন্ত বিস্তৃত হইলে জাতক জুয়াচোর হইয়া থাকে।

[চিত্র—২৫, চিহ্ন—৮।

জ্ঞান।

১৫৫। শিষ্য। জ্ঞানী ব্যক্তির হস্তে জ্ঞানসূচক চিহ্ন কি প্রকার ?

গুরু। একটি সরলরেখা কনিষ্ঠাঙ্গুলীর তৃতীয় পর্ক হইতে উখিত হইয়া, বুধের স্থান পর্যন্ত আসিলে জাতক জ্ঞানী হইয়া থাকে।

[চিত্র—২৬, চিহ্ন—২।

(৩)

তार्কিকত্ব।

১৫৬। শিষ্য। হস্তে কিরূপ চিহ্ন থাকিলে জাতক তार्কিক হয়?

গুরু। (১) সমস্ত অঙ্গুলীর—বিশেষতঃ অনামিকার দ্বিতীয় পর্ব দীর্ঘ হইলে; কিংবা (২) নখর সকলের দৈর্ঘ্য অপেক্ষা প্রসারের পরিমাণ অধিক হইলে জাতক তार्কিক হইয়া থাকে।

তীক্ষ্ণদৃষ্টি।

১৫৭। শিষ্য। জাতকের হস্তে তীক্ষ্ণদৃষ্টির সূচক চিহ্ন কিরূপ?

গুরু। কনিষ্ঠার তৃতীয় পর্ব হইতে দুই বা তিনটা সরলরেখা প্রথম পর্ব পর্যন্ত বিস্তৃত ও অঙ্গুলী সকল সূচ্যগ্র এবং শিরোরৈখার শেষভাগ শাখাবিশিষ্ট হইলে জাতক তীক্ষ্ণদৃষ্টি হইয়া থাকে।

তীক্ষ্ণবুদ্ধি।

১৫৮। শিষ্য। কি চিহ্ন জাতকের তীক্ষ্ণবুদ্ধির সূচনা করিয়া দেয়?

গুরু। (১) বুধ ও রবির স্থান পরিপূর্ণ, আঁয়ুরৈখার শেষাংশে একটা ক্রুশ-চিহ্ন অঙ্কিত, (২) করত্রিকোণের তৃতীয় কোণ প্রশস্ত ও পরিষ্কৃতরূপে অঙ্কিত এবং অঙ্গুলী সকলের দ্বিতীয় পর্ব অগ্রাণ্ড পর্বাপেক্ষা দীর্ঘতম ও পুষ্টতম, (৩) করত্রিকোণ প্রশস্ত, পরিষ্কৃত ও গোলাপী-বর্ণবিশিষ্ট, (৪) কনিষ্ঠার দ্বিতীয় ও তৃতীয় পর্বের কতকগুলি সরলরেখা স্পষ্টভাবে অঙ্কিত কিংবা (৫) কনিষ্ঠা অপেক্ষাকৃত দীর্ঘ ও শিরোরৈখার একটা শাখা বুধের স্থানগত হইলে জাতক তীক্ষ্ণবুদ্ধি হয়।

[চিত্র—২০, চিহ্ন—৩; চিত্র—২৭, চিহ্ন—৫; চিত্র—৪, চিহ্ন—১।

তীর্থমৃত্যুযোগ ।

১৫৯। শিষ্য। কি চিহ্ন জাতকের তীর্থমৃত্যুর সূচনা করে ?

গুরু। করচতুষ্কোণ অপ্রশস্ত এবং বৃহস্পতির ও চন্দ্রের স্থান উচ্চ হইলে জাতকের তীর্থস্থানে মৃত্যু ঘটিয়া থাকে ।

—(ভঙ্গ)

১৬০। শিষ্য। জাতকের তীর্থমৃত্যুযোগভঙ্গের চিহ্ন কি প্রকার ?

গুরু। করচতুষ্কোণ অপ্রশস্ত হইলেও যদি বৃহস্পতির ও চন্দ্রের স্থান নিম্ন হয়, তাহা হইলে জাতকের তীর্থমৃত্যুযোগভঙ্গ সূচিত হয় ।

(দ)

দক্ষতা ।

১৬১। শিষ্য। হস্তে কি চিহ্ন থাকিলে জাতক সর্ব কর্মে দক্ষ হইতে পারে ?

গুরু। অঙ্গুলী সকল মিশ্র ও নমনীয় হইলে জাতক সর্ব কর্মে দক্ষতা দেখাইতে সমর্থ হয় ।

দন্তরোগ ।

১৬২। শিষ্য। কি চিহ্ন জাতকের দন্তরোগের সূচনা করে ?

গুরু। ভাগ্যরেখা ও স্বাস্থ্যরেখা দীর্ঘ ও বক্র এবং অঙ্গুলীসমূহের দ্বিতীয় পর্ব অস্তান্ত পর্বাপেক্ষা দীর্ঘ হইলে জাতক দন্তরোগে ভুগিয়া থাকে ।

দয়া ।

১৬৩। শিষ্য। কিরূপ চিহ্নে জাতক দয়ালুতাব হয় ?

গুরু । (১) অনামিকার তৃতীয় পর্ব হইতে একটা কিংবা দুইটা সরল রেখা দ্বিতীয় পর্ব পর্য্যন্ত বিস্তৃত, করচতুর্কোণ প্রশস্ত এবং করত্রিকোণ স্পষ্টভাবে অঙ্কিত থাকিলে কিংবা (২) রবি, চন্দ্রের ও শুক্রের স্থান পুটে হইলে জাতক স্বভাবতই দয়ালু হইয়া থাকে ।
[চিত্র—২২, চিহ্ন—১১ ।

দাম্পত্যসুখ ।

১৬৪ । শিষ্য । কিরূপ চিহ্ন জাতকের দাম্পত্যসুখের বিধান করিয়া থাকে ?

গুরু । বৃহস্পতির স্থান স্বাভাবিক পুটে ও তাহার উপর একটা কুণ-চিহ্ন অঙ্কিত থাকিলে জাতকের পত্নীর সহিত দাম্পত্য প্রেম অবিচলিত থাকে ।
[চিত্র—২৬, চিহ্ন—৭ ।

—(বিহীনতা)

১৬৫ । শিষ্য । কিরূপ চিহ্ন থাকিলে জাতক দাম্পত্যসুখবিহীন হয় ?

গুরু । (১) শুক্রস্থান হইতে একটা রেখা আয়ুরেখা ও শিরোরেখা— উভয়রেখা কর্তন করিয়া, হৃদয়রেখার সহিত মিলিত হইলে এবং উক্তরেখার প্রারম্ভে যবচিহ্ন থাকিলে, (২) উক্ত রেখার শেষভাগ শাখাবিশিষ্ট হইলে কিংবা (৩) বুধের স্থানে স্থিত বিবাহরেখা শাখাবিশিষ্ট বা যবচিহ্নযুক্ত হইলে জাতক দাম্পত্যসুখবিহীন হয় ।
[চিত্র—২৬, চিহ্ন—৩৪ ।

দার্শনিকত্ব ।

১৬৬ । শিষ্য । দার্শনিকের হস্তে কি কি বিশিষ্ট চিহ্ন দেখিতে পাওয়া যায় ?

গুরু । করতল মধ্যমাকৃতি, অঙ্গুলীসকল চতুর্কোণ ও গ্রহিবিশিষ্ট এবং বৃদ্ধাঙ্গুলী দীর্ঘ ও অঙ্গুলীর পর্ব সকল সমদীর্ঘ হইলে জাতক দার্শনিক হইয়া থাকে ।

দীর্ঘায়া: ।

১৬৭ । শিষ্য । জাতকের দীর্ঘায়া:সূচক চিহ্ন কিরূপ ?

গুরু । (১) মণিবন্ধের তিনটা রেখা পরিস্কৃতরূপে অঙ্কিত ও স্বাহ্যরেখা আয়ুরেখার সহিত অস্পষ্ট বা পৃথক্, (২) করত্রিকোণ পরিস্কৃতরূপে অঙ্কিত,

(৩) আয়ুরেখা গোলাপী বর্ণে প্রকাশিত ও শুক্রস্থান সম্পূর্ণরূপে বেষ্টন করিয়া অবস্থিত কিংবা (৪) করত্রিকোণের তৃতীয় কোণ দীর্ঘ ও সুস্পষ্টরূপে অঙ্কিত এবং বাহ্যরেখা বুধের স্থান পর্যন্ত বিস্তৃত হইলে জাতক দীর্ঘায়ুঃ হয় ।

[চিত্র—২৬, চিহ্ন—৫।৬।

দুরভিসন্ধিপ্রিয়তা ।

১৬৮। শিষ্য। হস্তে কিরূপ চিহ্ন থাকিলে জাতক দুরভিসন্ধিপ্রিয় হয় ?

শুক্র। শনির স্থানে ত্রিকোণ-চিহ্ন ও মধ্যমার প্রথম পর্বে তারকা-চিহ্ন অঙ্কিত থাকিলে জাতক মঙ্গ-তঙ্গ প্রয়োগ দ্বারা অন্যের অনিষ্টাদি করিবার জন্য দুরভিসন্ধি-প্রিয় হয় ।

[চিত্র—২৭, চিহ্ন—১০।১১ ।

দুর্ঘটনা—(আকস্মিক)

১৬৯। শিষ্য। কিরূপ চিহ্ন জাতকের আকস্মিক দুর্ঘটনার সূচনা করে ?

শুক্র। (১) হৃদয়রেখা শিরোরেখার সহিত শনির নিম্নস্থানে মিলিত হইলে কিংবা (২) মধ্যমার প্রথম পর্বে তারকা-চিহ্ন থাকিলে জাতকের অকস্মাৎ দুর্ঘটনা সংঘটন অবশ্যস্তাবী ।

[চিত্র—১৭, চিহ্ন—১৫।১৬ ।

—(বাণিজ্য)

১৭০। শিষ্য। কি চিহ্ন থাকিলে জাতকের বাণিজ্যে দুর্ঘটনা ঘটয়া থাকে ?

শুক্র। ভাগ্যরেখা মণিবন্ধ হইতে উত্থিত হইয়া শিরোরেখার নিকটে সম্পূর্ণ হইলে জাতকের বাণিজ্যে দুর্ঘটনা ঘটয়া থাকে ।

[চিত্র—২১, চিহ্ন—১০ ।

দুর্বলতা ।

১৭১। শিষ্য। কি চিহ্নে জাতক দুর্বল হয় ?

শুক্র। সর্দীর্ণনখবিশিষ্ট অঙ্গুলীসমূহের প্রথম পর্বে ক্ষুদ্র ক্ষুদ্র রেখা থাকিলে জাতক দুর্বল হইয়া থাকে ।

[চিত্র—২১, চিহ্ন—১১ ।

—(বংশানুক্রমিক)

১৭২। শিষ্য। কি চিহ্ন থাকিলে জাতক বংশানুক্রমিক দুর্বলতার অনুভব করিতে থাকে ?

শুক । উভয় হস্তে আয়ুরেখার উপর ক্ষুদ্র ক্ষুদ্র বস্টি থাকিলে জাতক বংশানুক্রমে দুৰ্দ্ধল হইয়া থাকে । [চিত্র—২৭, চিহ্ন—৬ ।

দৃঢ়প্রতিজ্ঞত্ব ।

১৭৩ । শিষ্য । কিরূপ চিহ্ন থাকিলে জাতক দৃঢ়প্রতিজ্ঞ হইতে পারে ?

শুক । (১) তর্জনির তৃতীয় পর্কে তারকা-চিহ্ন, করত্রিকোণ পুষ্টি ও করতল প্রশস্ত এবং বৃদ্ধাঙ্গুলীর প্রথম পর্ক ক্ষুদ্র ও পুষ্ট ও তৎসঙ্গে শুক্রস্থান অভ্যুচ্চ হইলে, (২) বৃহস্পতির ও রবির স্থান পুষ্ট এবং বৃদ্ধাঙ্গুলীর প্রথম পর্ক দীর্ঘ ও বিস্তৃত অথবা (৩) হৃদয়রেখা বৃহস্পতির স্থানে শাখাবিশিষ্ট হইলে জাতক স্বভাবতঃ দৃঢ়প্রতিজ্ঞ হয় । [চিত্র—২৮, চিহ্ন—৪।৫।১ ।

দেহাত্মবাদ ।

১৭৪ । শিষ্য । দেহাত্মবাদের হস্তে কিরূপ বিশিষ্ট চিহ্ন দেখিতে পাওয়া যায় ?

শুক । (১) তর্জনির তৃতীয় পর্কে তারকা-চিহ্ন বা (২) করত্রিকোণ সাতিশর মলিন, করতল দীর্ঘ ও প্রশস্ত, বৃদ্ধাঙ্গুলী ক্ষুদ্র ও শুক্রের স্থান সাতিশর প্রশস্ত হইলে জাতক দেহাত্মবাদী হয় । [চিত্র—২৮, চিহ্ন—৪ ।

দোষদর্শিতা ।

১৭৫ । শিষ্য । হস্তে কি চিহ্ন থাকিলে জাতক দোষদর্শী হয় ?

শুক । (১) চন্দ্রের স্থান সাতিশর উচ্চ ও মঙ্গলের ক্ষেত্রে একটা বৃহৎচিহ্ন কিংবা (২) বৃদ্ধাঙ্গুলীর প্রথম পর্কে দুইটা তারকা-চিহ্ন, বুধের ও চন্দ্রের স্থান উচ্চ এবং স্বাস্থ্যরেখা চন্দ্রস্থান পর্য্যন্ত বিস্তৃত হইলে জাতক দোষদর্শী হয় ।

[চিত্র—৮, চিহ্ন—২।১০; চিত্র—১৩, চিহ্ন—১৩ ।

দৌৰ্ভাগ্য ।

১৭৬ । শিষ্য । কি চিহ্ন জাতককে দুৰ্ভাগ্য করিয়া থাকে ?

শুক । আয়ুরেখার ও শিরোরেখার সহিত হৃদয়রেখার মিলন হইলে জাতকের দুৰ্ভাগ্য উপস্থিত হয় । [চিত্র—২৮, চিহ্ন—১ ।

—(অপরিচিত লোকহেতুক)

১৭৭। শিষ্য। কি চিহ্ন থাকিলে জাতকের অপরিচিত ব্যক্তি হইতে দৌর্ভাগ্য সংঘটিত হয় ?

শুক্র। মঙ্গলের ক্ষেত্রে একটি ক্রুশ-চিহ্ন থাকিলে অপরিচিত ব্যক্তি হইতে জাতকের দৌর্ভাগ্যসংঘটন হইয়া থাকে । [চিত্র—২৭, চিহ্ন—৯ ।

—(পীড়াজনিত)

১৭৮। শিষ্য। কি চিহ্ন থাকিলে জাতকের পীড়াজনিত দৌর্ভাগ্য উপস্থিত হয় ?

শুক্র। আয়ুরেখা ও শিরোরেক্ষার সহিত হৃদয়রেখার মিলন হইলে জাতকের পীড়াজনিত দৌর্ভাগ্য উপস্থিত হইয়া থাকে । উক্ত চিহ্ন এক হস্তে থাকিলে জাতক উৎকট পীড়ায় ভুগিয়া থাকেন ; কিন্তু উভয় হস্তে থাকিলে জাতকের সেই পীড়ায় মৃত্যু ঘটয়া থাকে । [চিত্র—১৮, চিহ্ন—১ ।

—(বাল্যে)

১৭৯। শিষ্য। কি চিহ্ন থাকিলে বাল্যকালেই জাতককে দৌর্ভাগ্য হইতে হয় ?

শুক্র। কতকগুলি ক্ষুদ্র ক্ষুদ্র ক্রুশ-চিহ্ন আয়ুরেখা ও ভাগ্যরেখা—উভয়েরই প্রারম্ভে থাকিলে জাতককে বাল্যকালেই দৌর্ভাগ্য হইতে হয় ।

[চিত্র—২৭, চিহ্ন—৭ ।

—(স্ত্রীলোক জন্ম)

১৮০। শিষ্য। কি চিহ্ন জাতকের স্ত্রীলোক জন্ম দৌর্ভাগ্য সংঘটন করাইয়া দেয় ?

শুক্র। শুক্রস্থানে বা বৃহস্পতির দ্বিতীয় পর্বের নিম্নে একটি তারকা-চিহ্ন থাকিলে স্ত্রীলোকের জন্ম জাতককে দৌর্ভাগ্য হইতে হয় ।

[চিত্র—২৭, চিহ্ন—৮

দ্যুতপ্রিয়তা ।

১৮১। শিষ্য। কি চিহ্ন থাকিলে জাতক দ্যুতক্রীড়ায় আসক্ত হয় ?

শুরু । শিরোরৈখা দীর্ঘ, সূক্ষ্ম ও গড়ানে এবং মধ্যমা ও অনামিকা সমানাকৃতি হইলে ও উভয় হস্তে রবিরেখা স্পষ্টরূপে অঙ্কিত থাকিলে জাতক দ্বায় রত হয় ।

[চিত্র—২৮, চিহ্ন—২।৩।১২ ; চিত্র—১, চিহ্ন—১৮ ।

(ধ)

ধনপ্রাপ্তি—(উইলে)

১৮২ । শিষ্য । হস্তে কি চিহ্ন থাকিলে জাতক মৃত ব্যক্তির উইল দ্বারা ধনলাভ করিতে সমর্থ হয় ?

শুরু । (১) মধ্যমাস্থলীর তৃতীয় পর্কে কতকগুলি রেখা সরলভাবে উখিত, (২) মণিবন্ধের বলয়ত্রয়ের একটির উপর একটি সূক্ষ্মকোণ চিহ্ন বা (৩) মণিবন্ধস্থ কোন একটা বলয়ের উপর একটি ক্রুশ চিহ্ন থাকিলে কিংবা (৪) শিরোরৈখার অমুগরেখা তাহার অমুবর্তী হইলে অথবা (৫) রবিস্থানে একটি রেখা গভীররূপে অঙ্কিত থাকিলে জাতক মৃত ব্যক্তির উইলদ্বারা ধনলাভ করিতে সমর্থ হয় ।

[চিত্র—২৮, চিহ্ন—৬।৭।৮।৯।১২।

ধনলিপ্সা ।

১৮৩ । শিষ্য । কিরূপ চিহ্ন থাকিলে জাতকের ধনলিপ্সা বলবতী হয় ?

শুরু । (১) শিরোরৈখা করতলের এক পার্শ্ব হইতে অপর পার্শ্ব পর্য্যন্ত বিস্তৃত হইলে, (২) অনামিকা চতুর্কোণ ও শিরোরৈখা ও হৃদয়রেখা অপেক্ষা স্পষ্টভাবে অঙ্কিত থাকিলে, (৩) মধ্যমার ও অনামিকার তৃতীয় পর্ক অস্ত্রান্ত পর্কোপেক্ষা দীর্ঘতম, চতুর্কোণ ও অগ্রশস্ত হইলে কিংবা (৪) বৃদ্ধাস্থলী করতলাভিমুখে বক্র ও রবির স্থান সাতিশর উচ্চ হইলে জাতকের ধনলিপ্সা বলবতী হয় ।

[চিত্র—৩০, চিহ্ন—১।২।৩।৪।৫।৬ ।

—(অশেষ)

১৮৪। শিষ্য। হস্তে কি চিহ্ন থাকিলে জাতকের হৃদয়ে অসীম ধনলিঙ্গা অক্ষুণ্ণই জাগ্রিতে থাকে ?

শুক্র। (১) করতল হৃদয়রেখাশূন্য হইলে কিংবা (২) বুধের স্থান উচ্চ ও হৃদয়রেখা হইতে একটি শাখা উখিত হইয়া বুধের স্থানে উপনীত হইলে জাতকের ধনলিঙ্গার কখনই শেষ হয় না।

[চিত্র—২০, চিহ্ন—১ ; চিত্র—২১, চিহ্ন—৫।

ধনবত্তা।

১৮৫। শিষ্য। কিরূপ চিহ্ন থাকিলে জাতক ধনবান্ হইতে পারে ?

শুক্র। (১) একটি সরলরেখা আয়ুরেখা হইতে উখিত হইয়া রবিস্থানে উপস্থিত, (২) রবিস্থানে বহু সরলরেখা তারকাচিহ্নের সহিত অঙ্কিত, (৩) শিরোরেখার অনুগরেখা তদনুবর্তী, (৪) রবিরেখা উভয় হস্তে পরিষ্কৃত ও বৃদ্ধাঙ্গুলীর প্রথম পর্বের পার্শ্বদেশে এড়ারেখা বিস্তৃত, (৫) একটি সরলরেখা মণিবন্ধ হইতে উখিত হইয়া, স্বাস্থ্যরেখা কর্তন করিয়া রবির স্থানে উপনীত, (৬) তর্জনির তৃতীয় পর্ব কতিপয় তির্থাক্ (টেচা) রেখাবৃক্ক ও উভয় হস্তে অনুগরেখা আয়ুরেখার অনুবর্তীত, (৭) উভয় হস্তে রবিরেখা অপ্রশস্ত, গভীর ও সরল এবং অল্প কোন রেখা দ্বারা অকর্ষিত, (৮) শনি কিংবা বুধের স্থানে বহু সরলরেখা পরিষ্কৃতরূপে অঙ্কিত, করত্রিকোণমধ্যে তারকাচিহ্ন বিরাজিত, (৯) মণিবন্ধের প্রথম বলয়ের উপর একটি ত্রিকোণ কিংবা ক্রুশচিহ্ন অবস্থিত এবং একটি সরলরেখা শিরোরেখা হইতে উখিত হইয়া বৃহস্পতিস্থানগত কিংবা (১০) একটি অথবা কতকগুলি রেখা আয়ুরেখা হইতে উখিত হইয়া, শিরোরেখা ও হৃদয়রেখা কর্তন করিয়া বৃহস্পতির অথবা রবির স্থান পর্য্যন্ত প্রসৃত হইলে জাতক ধনবান্ হইয়া থাকে।

[চিত্র—৫, চিহ্ন—৪ ; চিত্র—২৮, চিহ্ন—৮। ১০। ১১। ১২। ১৩। ১৪। ১৫। ১৬। ১৭ ;

চিত্র—২৯, চিহ্ন—২। ৩। ৪।

ধর্মপরিবর্তন ।

১৮৩। শিষ্য । হস্তে কিরূপ চিহ্ন থাকিলে জাতক ধর্মপরিবর্তন করিতে বাধ্য হয় ?

গুরু । ভাগ্যরেখা হইতে কতকগুলি শাখা মণিবন্ধাভিমুখে আসিলে, রবিস্থান স্পষ্ট বা জুশচিহ্ন থাকিলে জাতক যতই ধর্মপরিবর্তন করিতে বাধ্য হইয়া থাকে । [চিত্র—২৯, চিহ্ন—৩।৭।৮ ।

—(জ্ঞানমন্ত্রণায়)

১৮৭। শিষ্য । কি চিহ্ন থাকিলে, জাতক জ্ঞানলোকের মন্ত্রণায় মুক্ত হইয়া ধর্মপরিবর্তন করিয়া থাকে ?

গুরু । (১) কতকগুলি রেখা অনামিকার তৃতীয় পর্ব হইতে উৎখিত হইয়া প্রথম পর্ব পর্য্যন্ত বিস্তৃত হইলে কিংবা (২) শুক্রবক্রনী পরিকৃতভাবে অঙ্কিত ও একটি রেখা দ্বারা রবিস্থানের নিম্নে কণ্ঠিত হইলে জাতক জ্ঞানলোকের মন্ত্রণায় ধর্ম পরিবর্তন করিয়া থাকে ।

[চিত্র—২৯, চিহ্ন—২।১০।১১ ।

ধর্মভীরুতা ।

১৮৮। শিষ্য । হস্তে কিরূপ চিহ্ন থাকিলে জাতক ধর্মভীরু হয় ?

গুরু । বৃহস্পতির প্রথম ও দ্বিতীয় পর্ব স্পষ্ট এবং বৃহস্পতিস্থান বধাধুরূপ উচ্চ হইলে জাতক ধর্মভীরু হইয়া থাকে ।

ধর্মশাস্ত্রের সত্যানুসন্ধান ।

১৮৯। শিষ্য । হস্তে কি চিহ্ন থাকিলে জাতক ধর্মশাস্ত্রের সত্যানুসন্ধানের যত থাকে ?

গুরু । অঙ্গুলীসকল স্থলাগ্র এবং বৃহস্পতি পুট হইলে জাতক ধর্মশাস্ত্রের সত্যানুসন্ধানী হয় ।

ধর্মানুরাগ ।

১৯০। শিষ্য । কি চিহ্ন জাতকের ধর্মানুরাগের সূচনা করে ?

গুরু । (১) বৃহস্পতির স্থান সাতিশয় পুট ও তর্জনীর প্রথম পর্ব অস্তিত

পক্ষাপেক্ষা দীর্ঘ কিংবা (২) করচতুষ্কোণের মধ্যে ক্রুশ-চিহ্ন অঙ্কিত হইয়া থাকিলে জাতকের ধর্মাসুরাগ প্রবল হইয়া থাকে ।

[চিত্র—২২, চিহ্ন—১২।১৩।

ধর্মের অস্থিরমতিত্ব ।

১২১। শিষ্য। কি চিহ্নে জাতক ধর্মের অস্থিরমতি হয় ?

গুরু। (১) করতল বিস্তৃত ও কঠিন এবং মঙ্গলের ক্ষেত্রে কতকগুলি রেখা অঙ্কিত কিংবা (২) হস্তাস্থলী করতল অপেক্ষা দীর্ঘতম এবং উভয় হস্তের তৃতীয়াস্থলী স্থলাগ্র হইলে জাতকের ধর্মের মানসিক অস্থিরতা জন্মাইয়া থাকে ।

[চিত্র—৩০, চিহ্ন—৭।

ধর্মের দৃঢ় প্রতিজ্ঞতা ।

১২২। শিষ্য। কিরূপ চিহ্ন থাকিলে জাতক ধর্মের দৃঢ় প্রতিজ্ঞ হয় ?

গুরু। বৃহস্পতির নিম্নস্থ মঙ্গলের স্থান উচ্চ ও বৃদ্ধাস্থলী পরিপুষ্ট হইলে, জাতক ধর্মের রক্ষাসম্বন্ধে দৃঢ় প্রতিজ্ঞ হইয়া থাকে ।

ধর্মের ভক্তি ।

১২৩। শিষ্য। কিরূপ চিহ্ন থাকিলে জাতক সকল ধর্মের ভক্তি প্রদর্শন করিতে সমর্থ হয় ?

গুরু। বৃহস্পতি, শনি, রবি, বুধ, মঙ্গল, চন্দ্র ও শুক্র—এই সকল গ্রহের স্থান উচ্চ, তর্জুনী চতুষ্কোণ বিশিষ্ট ও করচতুষ্কোণ বিস্তৃত হইলে জাতক সকল ধর্মের বিভিন্নভাবে উপেক্ষা না করিয়া সমজ্ঞানে নির্বিশ্বাসে ভক্তিসাম্য রাখিতে সমর্থ হয় ।

[চিত্র—২২, চিহ্ন—১৬।

ধর্মের ভ্রান্তবিশ্বাস ।

১২৪। শিষ্য। কি চিহ্ন থাকিলে জাতকের কুসংস্কারবশে ধর্মের ভ্রান্ত-বিশ্বাস জন্মিয়া থাকে ?

গুরু। (১) বৃহস্পতির স্থান সাতিশয় উচ্চ ও ক্রুশচিহ্ন সমন্বিত, (২) শনির নিম্নস্থ করচতুষ্কোণে ক্রুশ ও শনির স্থানে ত্রিকোণ-চিহ্ন অঙ্কিত, (৩) উভয় হস্তে মধ্যমা স্থলাগ্র ও প্রথম পর্ব পরিপুষ্ট অথবা (৪) করতল সাতিশয়

কঠিন কিংবা কোমল, চন্ডের স্থান পরিপুষ্ট, অঙ্গুলীসমূহ কৃশ (সর) ও বৃদ্ধা-
ঙ্গুলী ক্ষুদ্র হইলে জাতক কুসংস্কারবশে আস্থাবিধাসে ধর্ম্যসাধনে রত হয় ।

[চিত্র—২০, চিত্র—৭।৭।৯ ।

ধর্ম্যোন্মাদ ।

১২৫। শিষ্য । হস্তে কি চিহ্ন থাকিলে জাতক ধর্ম্যোন্মাদ হইয়া থাকে ?

শুরু । (১) শিরোরেখার আরম্ভস্থল হইতে একটি রেখা উখিত হইয়া,
বৃহস্পতির স্থান বেষ্টন করিয়া, শনির স্থানে আসিয়া সম্পূর্ণ হইলে কিংবা
(২) করতল কোমল ও বৃহস্পতির স্থান সাতিশয় উচ্চ হইলে [জাতককে
ধর্ম্যোন্মাদ হইতে হয় ।

[চিত্র—২৯, চিত্র—১৭ ।

ধর্ম্যোপাসনায় আসক্তি ।

১২৬। শিষ্য । হস্তে কি চিহ্ন থাকিলে জাতক ধর্ম্যোপাসনায় আত্মোৎ-
সর্গ করিতে রত হয় ?

শুরু । হৃদয়রেখা অনুগরেখার সহচরী এবং বৃদ্ধাঙ্গুলী বৃহৎ ও শুক্রস্থান
উচ্চ হইলে জাতক ধর্ম্যের উপাসনাদি বিষয়ে স্বতই আত্মোৎসর্গ করিতে
রত হয় ।

[চিত্র—২৯, চিত্র—১৪ ।

ধীশক্তি ।

১২৭। শিষ্য । কি চিহ্ন জাতকের ধীশক্তির সূচনা করে ?

শুরু । (১) রবির স্থান পরিপুষ্ট ও বুধের স্থান উচ্চ, (২) আয়ুরেখার
শেষভাগ ক্রুণচিহ্নযুক্ত, (৩) করত্রিকোণের তৃতীয় কোণ প্রশস্ত ও সুস্পষ্ট,
(৪) সকল অঙ্গুলীরই দ্বিতীয় পর্ক পুষ্ট, (৫) করত্রিকোণ সুস্পষ্টভাবে অঙ্কিত
রেখার দ্বারা পরিবদ্ধ, (৬) কনিষ্ঠার দ্বিতীয় ও তৃতীয় পর্কে জাতকগুলি সরল
রেখা অঙ্কিত কিংবা (৭) কনিষ্ঠা অপেক্ষাকৃত দীর্ঘ ও শিরোরেখার একটি শাখা
বুধস্থানগত হইলে জাতক বিশিষ্ট ধীশক্তিসম্পন্ন হইয়া থাকে ।

[চিত্র—৩০, চিত্র—৮।২।১০।১১ ; চিত্র—৪, চিত্র—১ ।

(অনুচ্ছল)

১২৮। শিষ্য । কি চিহ্ন জাতকের ধীশক্তির অনুচ্ছলতার প্রকাশ
করিয়া দেয় ?

শুক্র। (১) মধ্যমার তৃতীয় পর্ব হইতে একটি সরল রেখা প্রথম পর্ব পর্য্যন্ত বিস্তৃত, (২) শিরোরৈখা বিবর্ণ ও স্থূল কিংবা (৩) ভাগ্যরেখা শিরোরৈখা হইতে উখিত, উহার সহিত বৃহস্পতির, রবির ও বুধের স্থান নিম্ন হইলে প্রায়ই জাতকের ধীশক্তির অল্পত্ব প্রকাশ পাইয়া থাকে।

[চিত্র—৩০, চিহ্ন—১৩ ; চিত্র—১২, চিহ্ন—১।

—(দুর্বল)

১৯৯। শিষ্য। কি চিহ্ন জাতকের ধীশক্তির দৌর্বল্যের সূচনা করে ?

শুক্র। (১) রবির, শুক্রের ও চন্দ্রের স্থান উভয় হস্তে নিম্ন, শিরোরৈখা ক্ষুদ্র ও স্থূল এবং করতল সাতিশয় কঠিন কিংবা (২) করতল দীর্ঘ, অঙ্গুলীগুলি ক্ষুদ্র ও করচতুর্কোণের মধ্যস্থল বহুরৈখাযুক্ত হইলে জাতকের ধীশক্তি দুর্বল হইয়া থাকে।

[চিত্র—৩০, চিহ্ন—১৪ ; চিত্র—২৯, চিহ্ন—১৮।

—(সপুরস্কার)

২০০। শিষ্য। কি চিহ্ন থাকিলে জাতক স্বীয় ধীশক্তির অল্প পুরস্কার পাইয়া থাকে ?

শুক্র। উভয় হস্তে রবিরৈখা স্পষ্টরূপে অঙ্কিত থাকিলে জাতক তাহার অসাধারণ ধীশক্তির অল্প অর্থাৎ নব নব উন্মেষশালিনী প্রজ্ঞা বা প্রতিভার অল্প উপযুক্ত পুরস্কারলাভে সমর্থ হয়।

[চিত্র . ৩০, চিহ্ন—১২।

ধৈর্য্য।

২০১। শিষ্য। কিরূপ চিহ্ন থাকিলে জাতক ধীরস্বভাবসম্পন্ন হয় ?

শুক্র। বুধের নিম্নস্থ মঙ্গলের স্থান সাতিশয় পুষ্ট হইলে জাতক ধীর হয় এবং তাহার স্বাভাবিক ধৈর্য্যের পরিচয় প্রায়ই পাওয়া গিয়া থাকে।

(ন)

নাট্যাভিজ্ঞতা।

২০২। শিষ্য। নাট্যকারের হস্তে কি চিহ্ন থাকিলে তাহার স্বকর্মের অভিজ্ঞতা সূচিত হয় ?

গুরু। অনামিকা সূলাগ্রা ও রবির স্থান উচ্চ হইলে, জাতক উত্তম নাট্যকার হইয়া স্বীয় অভিজ্ঞতা দেখাইতে পারে।

নাস্তিকত্ব।

২০৩। শিষ্য। কিরূপ চিহ্ন জাতকে নাস্তিক করে ?

গুরু। (১) উভয় হস্তে বৃহস্পতির স্থান নিম্ন ও অশুভী সকলের প্রথম পর্ব অষ্টাদশ পর্ব অপেক্ষা ক্ষুদ্র কিংবা (২) শনির নিম্নস্থ মঙ্গলের ক্ষেত্রে একটি ক্রুশচিহ্ন, অশুভীসকল দীর্ঘ ও দ্বিতীয় পর্ব পুষ্ট হইলে জাতক নাস্তিক হইয়া থাকে। [চিত্র—৩০, চিহ্ন—১৫।

নিঃস্বার্থপরতা।

২০৪। শিষ্য। কি চিহ্ন জাতকের নিঃস্বার্থপরতার সূচনা করে ?

গুরু। কনিষ্ঠাশুভী ক্ষুদ্র ও হৃদয়রেখা স্পষ্টরূপে অঙ্কিত ও শাখা বিশিষ্ট হইলে জাতক নিঃস্বার্থভাবে কর্মানুষ্ঠানে রত হইতে পারে।

নিদ্রালুতা।

২০৫। শিষ্য। কিরূপ চিহ্ন থাকিলে জাতক স্বভাবতঃ নিদ্রালু হয় ?

গুরু। (১) করত্রিকোণ নিম্ন, অস্পষ্টভাবে অঙ্কিত ও চন্দ্রস্থান উন্নত কিংবা (২) মণিবন্ধে কেবল একটি বলয় স্পষ্ট অঙ্কিত হইয়া থাকিলে জাতক নিদ্রালু হয়।

বিশ্বনীর মৃত্যু।

২০৬। শিষ্য। কি চিহ্ন জাতকের বিশ্বনীর মৃত্যুর সূচনা করে ?

শুরু । (১) কনিষ্ঠার তৃতীয় পর্কে দুইটি তারকা-চিহ্ন অঙ্কিত থাকিলে কিংবা (২) ভাগ্যরেখা রক্তবর্ণ এবং মধ্যমাঙ্গুলীর তৃতীয় পর্ক পর্যন্ত বিস্তৃত হইলে জাতকের নিম্ননীর মৃত্যু অবশ্যস্তাবী । [চিত্র—২, চিহ্ন—৩৮ ।

নির্দয়তা ।

২০৭ । শিষ্য । কি চিহ্ন থাকিলে জাতক স্বাভাবিক নির্দয় হয় ?

শুরু । করত্রিকোণের দ্বিতীয় কোণ সাতিশয় প্রশস্ত, হৃদয়রেখা অস্পষ্ট, ও করচতুর্কোণ সঙ্কীর্ণ হইলে জাতক স্বভাবতঃ নির্দয় হইয়া থাকে ।

নির্কোষত্ব ।

২০৮ । শিষ্য । নির্কোষ ব্যক্তির হস্তে কি বিশিষ্ট চিহ্ন তাহার স্বভাবের সূচনা করে ?

শুরু । (১) শিরোরৈখা প্রশস্ত এবং বিবর্ণ, করতল কঠিন ও রবির স্থান নিম্ন, (২) একটি গভীর সরলরেখা মধ্যমার তৃতীয় পর্ক হইতে প্রথম পর্ক পর্যন্ত বিস্তৃত কিংবা (৩) ভাগ্যরেখা শিরোরৈখা হইতে উখিত হইয়া শনি-স্থানগত এবং বৃহস্পতির রবির ও বুধের স্থান নিম্ন হইলে জাতক নির্কোষ হইয়া থাকে । [চিত্র—৩০, চিহ্ন—১৩ ; চিত্র—১২, চিহ্ন—১ ।

নির্ভৎসকত্ব ।

২০৯ । শিষ্য । কি চিহ্নে জাতককে নির্ভৎসক হইতে হয় ?

শুরু । চন্ডের স্থান নিম্ন ও শনির স্থান সাতিশয় উচ্চ হইলে জাতক অত্যন্ত ভৎসনাশ্রিয় হয় ; অর্থাৎ সর্বদা ও সর্বথা অন্যের দোষ ত্রুটি দেখিয়া তজ্জন্ম-ভৎসনা করিতে, খিট্ খিট্ করিয়া তাহার প্রতি বধেষ্ট তিরস্কার করিতে রত থাকে ।

নির্লজ্জতা ।

২১০ । শিষ্য । কিরূপ চিহ্ন থাকিলে জাতককে নিলজ্জ হইতে হয় ?

শুরু । শুক্র ও বুধের স্থান সাতিশয় উচ্চ হইলে জাতক লজ্জাহীন হইয়া থাকে ।

নিষ্করতা।

২১১। শিষ্য। হস্তে কিরূপ চিহ্ন থাকিলে জাতক নিষ্কর হইয়া থাকে ?

শুক্র। (১) করতল হৃদয়রেখাশূন্য এবং আয়ুরেখা ও শিরোরেখা লোহিত বর্ণের আর উক্ত দুই রেখার মধ্যে ব্যবধান অধিক হইলে, (২) করচতুর্কোণ অপ্রশস্ত ও লোহিত বর্ণের রেখা দ্বারা নিবন্ধ এবং হৃদয়রেখা ক্ষুদ্র ও মঙ্গলের স্থান সাতিশয় উচ্চ হইলে কিংবা (৩) হস্তস্থ নখরসমূহে খেতবর্ণের দাগ থাকিলে জাতক নিষ্কর হইয়া থাকে।

[চিত্র—২০, চিহ্ন—১; চিত্র—৩১, চিহ্ন—২।৩৪।

নীচতা।

২১২। শিষ্য। হস্তে কি চিহ্ন থাকিলে জাতকের প্রবৃত্তি নীচভাবাপন্ন হয় ?

শুক্র। (১) করচতুর্কোণ অত্যন্ত অপ্রশস্ত কিংবা (২) বৃহস্পতির, রবির ও শুক্রের স্থান অত্যন্ত নিম্ন এবং হৃদয়রেখা অস্পষ্টভাবে অঙ্কিত হইলে জাতকের প্রবৃত্তি অত্যন্ত নীচভাবাপন্ন হয়।

নীচপ্রকৃতিত্ব।

২১৩। শিষ্য। কি চিহ্ন থাকিলে জাতক নীচ প্রকৃতির হয়।

শুক্র। শিরোরেখা ও হৃদয়রেখার মধ্যস্থিত স্থান অত্যন্ত সঙ্কীর্ণ ও বৃহস্পতির রবির ও শুক্রের স্থান সমতল ও হৃদয়রেখা মলিন হইলে জাতকের প্রকৃতি নীচভাবাপন্ন হইয়া থাকে।

নৈপুণ্য।

১১৪। শিষ্য। কি চিহ্ন থাকিলে জাতক সর্ব কর্মে নিপুণ হইতে পারে ?

শুক্র। (১) হস্ততল দীর্ঘ, অনুলীসকল শুণ্ডাকার এবং প্রথম পর্ব সকল পুষ্ট, (২) হৃদয়রেখা ও শিরোরেখা স্পষ্টরূপে অঙ্কিত এবং আয়ুরেখার শেষভাগে একটি ত্রিকোণ-চিহ্ন অবস্থিত, (৩) করতল হৃদয়রেখাশূন্য এবং

বৃহস্পতির দ্বিতীয় পক্ষ পুষ্টি কিংবা (৪) কনিষ্ঠাঙ্গুলী অপেক্ষাকৃত দীর্ঘ ও শুভাকৃতি হইলে জাতক সমস্ত কর্মে নৈপুণ্য দেখাইতে সমর্থ হয় ।

[চিত্র—২৫, চিহ্ন—৯ ; চিত্র—২০, চিহ্ন— ১ ।

—(অভাব)

২১৫। শিষ্য। কি চিহ্নে জাতক নৈপুণ্যশূন্য হয় ?

গুরু। (১) আয়ুরেখা শিরোরেক্সার সহিত মিলিত না হইলে ও অঙ্গুলী-সকল স্থলাগ্র ও করতল কোমল হইলে কিংবা (২) শিরোরেক্সা সরলভাবে অঙ্কিত, কনিষ্ঠা ক্ষুদ্র এবং গ্রহসকল পুষ্টি হইলে জাতক কখনই কোন ব্যাপারেই নিপুণতা দেখাইতে পারে না।

[চিত্র—৩১, চিহ্ন—১ :

নৈয়ায়িকত্ব ।

২১৬। শিষ্য। কি চিহ্নে জাতক নৈয়ায়িক হইতে সমর্থ হয় ?

গুরু। (১) চন্দ্রস্থানে ত্রিকোণ-চিহ্ন এবং বৃহস্পতির দ্বিতীয় পক্ষ দীর্ঘ ও প্রশস্ত হইলে কিংবা (২) হস্ত কোমল ও অঙ্গুলীসমূহ চতুর্কোণ হইলে জাতক জায়শান্ত্রে বিশিষ্ট অধিকার লাভ করিয়া নৈয়ায়িক হইতে সমর্থ হয় ।

[চিত্র—৩২, চিহ্ন—১ ।

নৈষ্ঠিকত্ব-ব্রহ্মচর্য্য—(কৌমার্য্য)

২১৭। শিষ্য। কি চিহ্ন থাকিলে স্ব স্ব পাত্রত্ব অনুসারে নৈষ্ঠিক ব্রহ্মচারী হইতে বা চিরকুমার থাকিয়া বিপুলভাবে জীবন অতিবাহিত করিতে সমর্থ হয় ?

গুরু। কনিষ্ঠাঙ্গুলীর প্রথমপর্কে একটি জুশ-চিহ্ন থাকিলে, ও বৃহস্পতি, শনি, রবি, মঙ্গল, শুক্র—এই সকল গ্রহের স্থান উচ্চ—বিশেষতঃ বৃহস্পতির স্থান ষষ্ঠে উন্নত হইলে, জাতক বিবাহ না করিয়া বিপুলভাবে নৈষ্ঠিক-ব্রহ্মচারী হইতে সমর্থ হয় অথবা স্বীয় পাত্রত্ব অনুসারে কৌমার্য্য রক্ষা করিতে পারে ।

[চিত্র—৩২, চিহ্ন—৪ ।

নৌমজনে মৃত্যু ।

২১৮। শিষ্য। কিরূপ চিহ্ন থাকিলে নৌকাযোগে জলপথে বাইতে বাইতে নৌকাতলে জলমগ্ন ও মৃত্যুগ্রস্ত হইতে হয় ?

শুক। (১) শিরোরৈখার চন্দ্রাভিমুখী শাখার উপর তারকা-চিহ্ন বা একটি স্তম্ভকোণ-চিহ্ন অঙ্কিত কিংবা (২) কোন সরলরেখা মণিবন্ধ হইতে উৎখিত হইয়া চন্দ্রের স্থানগত এবং উহার উপর তারকা-চিহ্ন অঙ্কিত হইয়া থাকিলে, নৌকা ভগ্ন হওয়ার, জাতককে অলম্বন হইয়া মৃত্যুমুখে পতিত হইতে হয়।

[চিত্র—৩১, চিহ্ন—১।৩।৫।৬।৭।৮।

ন্যায়সঙ্গতবিচার।

২১৯। শিষ্য। কি চিহ্ন থাকিলে জাতক ন্যায়সঙ্গত বিচারে স্বীয় বিবেক-শক্তির পরিচয় দিতে পারে ?

শুক। (১) অঙ্গুলী সকল চতুর্কোণ, ক্ষুদ্র ও গ্রহিষুক্ত, বিশেষতঃ দ্বিতীয় গ্রহি পুষ্ট ; (২) করতল অঙ্গুলীর সহিত সমদীর্ঘ এবং সকল অঙ্গুলীরই দ্বিতীয় পর্ব দীর্ঘ কিংবা (৩) চন্দ্রের স্থানে একটা ত্রিকোণ-চিহ্ন ও বৃদ্ধাঙ্গুলীর দ্বিতীয় পর্ব পুষ্ট ও দীর্ঘ হইলে, জাতক ন্যায়সঙ্গত বিচারে স্বীয় বিবেকশক্তির পরিচয় দিতে সমর্থ হয়।

[চিত্র—৩২, চিহ্ন—১।

(প)

পক্ষাঘাত।

২২০। শিষ্য। কিরূপ চিহ্ন থাকিলে জাতক পক্ষাঘাত রোগাক্রান্ত হয় ?

শুক। উভয় হস্তে শনিস্থানে তারকা-চিহ্ন থাকিলে, জাতককে পক্ষাঘাত রোগে আক্রান্ত হইতে হয়।

[চিত্র—৩১, চিহ্ন—১১।

পক্ষাঘাতে মৃত্যু।

২২১। শিষ্য। কিরূপ চিহ্ন থাকিলে জাতকের পক্ষাঘাত রোগে মৃত্যু ঘটয়া থাকে ?

রে—৮

শুক । উভয় হস্তেই আয়ুরেখার শেষভাগে একটি তারকা-চিহ্ন ও ভাগ্যরেখার শেষভাগে অপর একটি তারকা-চিহ্ন থাকিলে, জাতকের পক্ষাঘাত-মৃত্যু ঘটয়া থাকে । [চিত্র—৩১, চিহ্ন—১১।১২ ।

পদ্যরচনা ।

২২২ । শিষ্য । কি চিহ্ন থাকিলে জাতক পদ্যরচনা করিতে সমর্থ হয় ?

শুক । অঙ্গুলীসমূহ গ্রহিশূন্য, বৃদ্ধাঙ্গুলী ক্ষুদ্র এবং চন্দ্রস্থান পুঙ্খ হইলে জাতকের পদ্যরচনার শক্তি আছে, বুদ্ধিতে পারা যায় ।

পদ্যামোদিতা ।

২২৩ । শিষ্য । কি চিহ্ন থাকিলে জাতক পদ্যামোদী হয় ?

শুক । চন্দ্রস্থান উচ্চ, শিরোরৈখা দীর্ঘ ও গড়ানে এবং অঙ্গুলীসমূহ শুণ্ডাকার হইলে জাতক পদ্যপাঠে সান্তিশয় আমোদানুভব করিয়া থাকে ।

[চিত্র—৩২, চিহ্ন—২

পরধর্ম্মে আসক্তি ।

২২৪ । শিষ্য । কিরূপ চিহ্ন থাকিলে জাতক পরধর্ম্মে আসক্তি প্রকাশ করিয়া থাকে ?

শুক । শনির নিম্নস্থ মঙ্গলের ক্ষেত্রে একটি ক্রুশ-চিহ্ন থাকিলে, জাতক পরধর্ম্মে আসক্তি প্রকাশ করিয়া থাকে । [চিত্র—৩০, চিহ্ন—১৫ ।

পরনিন্দা—(অসাক্ষাতে)

২২৫ । শিষ্য । কি চিহ্ন থাকিলে জাতক অসাক্ষাতে পরনিন্দা করিয়া থাকে ?

শুক । রবিস্থানে অর্ধচন্দ্রাকৃতি চিহ্ন থাকিলে, জাতক অসাক্ষাতে পরনিন্দা করিয়া থাকে । [চিত্র—৩১, চিহ্ন—২ ।

পরিণামদর্শিতা ।

২২৬ । শিষ্য । পরিণামদর্শী ব্যক্তির হস্তে কিরূপ বিশিষ্ট চিহ্ন দেখিতে পাওয়া যায় ?

শুক । (১) মধ্যমা চতুষ্কোণ, বৃদ্ধাঙ্গুলী বৃহৎ এবং উহার দ্বিতীয় পর্ব্ব পুঙ্খ ; (২) শনির স্থান স্পষ্ট অথবা (৩) হুলাগ্র বা শুণ্ডাকৃতি অঙ্গুলীর গ্রহিণী

পুট হইলে এবং আয়ুরেখার ও শিরোরেখার সংযোগে একটি কোণ স্পষ্টরূপে
অঙ্কিত হইলে জাতক পরিণামদর্শী হইয়া থাকে । [চিত্র—২, চিহ্ন—৭ ।

পারিপাট্যপ্রিয়তা ।

২২৭ । শিষ্য । কি চিহ্ন থাকিলে জাতক পরিণাটী ভালবাসে ?

গুরু । অঙ্গুলীসমূহের প্রথম গ্রহিণী পুট ও প্রথম পর্ব চতুর্কোণ হইলে,
জাতক পরিণাটী ভালবাসিয়া থাকে । [চিত্র—১৯, চিহ্ন—১৩।১৪ ।

পরিশ্রমপরায়ণত্ব ।

২২৮ । শিষ্য । কি চিহ্ন থাকিলে জাতক পরিশ্রম করিতে ইচ্ছুক হয় ?

গুরু । (১) বুধের ও মঙ্গলের স্থান উচ্চ হইলে, (২) অঙ্গুলীসমূহ সূলাগ্র,
হস্ততল কঠিন ও কনিষ্ঠার দ্বিতীয় পর্ব অন্ত্য পর্বাপেক্ষা দীর্ঘতম হইলে, জাতক
পরিশ্রম করিতে ভালবাসে ।

পরিশ্রমিতা ।

২২৯ । শিষ্য । কি চিহ্নে জাতককে পরিশ্রমী বলিয়া জানা যায় ?

গুরু । কনিষ্ঠার দ্বিতীয় পর্ব অপেক্ষাকৃত দীর্ঘ, বৃহস্পতির ও মঙ্গলের স্থান
উচ্চ হইলে, জাতক পরিশ্রমী হইয়া থাকে । ইহার সহিত মণিবন্ধন বলয়ত্রয়
শৃঙ্খলাকার ; কিন্তু সরল ও অবিচ্ছিন্ন হইলে জাতকের পরিশ্রমাত্মরূপ অর্থলাভ
হইয়া থাকে । ১০ পৃষ্ঠায় ৩৭ অনুবন্ধ । [চিত্র ২৫, চিহ্ন—৭ ।

পশুপালন-প্রবৃত্তি ।

২৩০ । কি চিহ্ন জাতকের পশুপালন-প্রবৃত্তির সূচনা করে ?

গুরু । অঙ্গুলীর প্রথম পর্ব অপর সকল পর্বাপেক্ষা ক্ষুদ্র ও মধ্যমার অগ্র-
ভাগ চতুর্কোণ হইলে, জাতকের পশুপালনে প্রবৃত্তি জন্মিয়া থাকে ।

পাঠপ্রিয়তা ।

২৩১ । শিষ্য । হস্তে কি চিহ্ন থাকিলে জাতক পাঠপ্রিয় হয় ?

গুরু । তর্জনী দীর্ঘ ও শুণ্ডাকারবিশিষ্ট, শনির ও রবির স্থান উচ্চ এবং
শিরোরেখা স্পষ্টরূপে অঙ্কিত থাকিলে, জাতক পাঠ করিতে ভালবাসে ।

পাণ্ডিত্য ।

২৩২ । কি চিহ্ন জাতকের পাণ্ডিত্যের সূচনা করে ?

গুরু । (১) শনির ও রবির স্থান উচ্চ হইলে, (২) একটি সরলরেখা অনামিকার তৃতীয় পর্ব হইতে উখিত হইয়া প্রথম পর্ব পর্য্যন্ত বিস্তৃত থাকিলে অথবা (৩) একটি বা দুইটি সরলরেখা মধ্যমার তৃতীয় পর্ব হইতে উখিত হইয়া, দ্বিতীয় পর্ব পর্য্যন্ত বাইলে জাতক পণ্ডিত হইয়া থাকে ।

[চিত্র—২৯, চিহ্ন—১১।১৯ ।

পারদর্শিতা ।

২৩৩ । শিষ্য । কি চিহ্ন জাতকের সমস্ত কর্মের পারদর্শিতার সূচনা করে ?

গুরু । (১) কনিষ্ঠাঙ্গুলী শুণ্ডাকার ও বহুরেখাযুক্ত, (২) শিরোরেখা শাখা-বিশিষ্ট এবং রবিরেখা সুস্পষ্ট অঙ্কিত হইলে, জাতক সমস্ত কর্মে পারদর্শিতা দেখাইয়া থাকে । [চিত্র—১৯, চিহ্ন ১১।১২ ; চিত্র—১৬, চিহ্ন—১২ ।

পার্শ্বশূল ।

২৩৪ । শিষ্য । কিরূপ চিহ্ন থাকিলে জাতকের গুরিসি বা পার্শ্বশূল রোগ হইয়া থাকে ?

গুরু । একটি উর্দ্ধমুখী রেখা আয়ুরেখা হইতে উখিত হইয়া, বৃহস্পতিস্থানে গিয়া, একটি ষব-চিহ্নযুক্ত হইলে জাতকের পার্শ্বশূলরোগ জন্মিয়া থাকে ।

[চিত্র—৩২, চিহ্ন—৩ ।

পিত্তাধিক্যরোগ ।

২৩৫ । শিষ্য । কি চিহ্ন থাকিলে জাতকের পিত্তাধিক্যজনিতরোগ অবশ্যস্বাবী ?

গুরু । স্বাস্থ্যরেখা শৃঙ্খলবৎ হইলে জাতকের পিত্তাধিক্যরোগ জন্মাইয়া থাকে । [চিত্র—৩৩, চিহ্ন—১০ ।

পীড়া ।

২৩৬ । শিষ্য । কিরূপ চিহ্ন থাকিলে জাতক সাতিশয় পীড়ায় ভুগিয়া থাকে ?

শুক্র । (১) আয়ুরেখা কতিপয় ক্ষুদ্র ক্ষুদ্র রেখাধারা কঙ্কিত বা ক্ষুদ্র ক্ষুদ্র ষব-চিহ্নযুক্ত কিংবা (২) স্বাস্থ্যরেখা কয়েকটি ক্ষুদ্র ক্ষুদ্র রেখাধারা কঙ্কিত বা ষব-চিহ্নযুক্ত হইলে, জাতককে মধ্যে মধ্যে পীড়ায় সাতিশয় কষ্ট পাইতে হয় ।

[চিত্র—৩৪, চিহ্ন— ১২।৩৪ ।

পেটুকতা ।

২৩৭ । শিষ্য । পেটুক ব্যক্তির দস্তে কিরূপ বিশিষ্ট চিহ্ন দেখিতে পাওয়া যায় ?

শুক্র । বুধের ও রবির স্থান উচ্চ, চন্দ্রের স্থান সমতল ও অঙ্গুলী সকলের তৃতীয় পর্ক দীর্ঘ ও পুষ্ট হইলে জাতক পেটুক হইয়া থাকে ।

পৈতৃকধনলাভ ।

২৩৮ । শিষ্য । উত্তরাধিকার সূত্রে পৈতৃক ধনলাভ করিবার চিহ্ন কিরূপ ?

শুক্র । (১) মণিবন্ধের উপর একটি কোণাকৃতি চিহ্ন, ক্রুশ-চিহ্ন কিংবা তারকাচিহ্ন চিত্রিত, (২) মধ্যমার তৃতীয় পর্কের কতকগুলি এড়ো রেখা অঙ্কিত অথবা (৩) শিরোরেখার অনুগরেখা তাহার অনুবর্তী হইলে জাতক উত্তরাধিকার সূত্রে ধনলাভ করিতে সমর্থ হয় ।

[চিত্র—২৭, চিহ্ন—১২।১৩ ; চিত্র- ২৮, চিহ্ন—৭।৮।৯ ।

পৌরোহিত্য ।

২৩৯ । শিষ্য । কি চিহ্ন জাতককে পুরোহিত করিয়া থাকে ?

শুক্র । তর্জনির মধ্যমার প্রথম ও দ্বিতীয় পর্ক পুষ্ট ও গ্রন্থিবৃক্ষ এবং চন্দ্রের ও বৃহস্পতির স্থান যথেষ্ট উচ্চ হইলে জাতককে পৌরোহিত্য করিতে বাধ্য হইতে হয় ।

প্রকৃতিপ্রিয়তা ।

২৪০ । শিষ্য । কিরূপ চিহ্ন থাকিলে জাতক প্রকৃতির শোভা দেখিতে ভালবাসে ?

শুক্র । অঙ্গুলীসমূহ গুণ্ডাকৃতি, ফুলাগ্র কিংবা চতুর্কোণ হইলে, জাতক প্রকৃতির শোভা দেখিতে ভালবাসিয়া থাকে ।

প্রগল্ভতা ।

২৪১। শিষ্য । কিরূপ চিহ্ন থাকিলে জাতক প্রগল্ভ হইয়া থাকে ?

গুরু । (১) করত্রিকোণ দীর্ঘ, প্রশস্ত ও মঙ্গলের স্থান উচ্চ কিংবা (২) বুধের স্থান উচ্চ ও অঙ্গুলী সকল গ্রহিশূণ্য ও চতুষ্কোণ বা সূলাগ্রী হইলে জাতক প্রগল্ভ হয় ; অর্থাৎ উক্তভাবে অনধিকারচর্চা করিতে গিয়া আপনার নির্লজ্জতার পরিচয় দেয় ।

প্রণয়ভঙ্গ ।

২৪২। শিষ্য । কিরূপ চিহ্ন থাকিলে জাতকের প্রণয়ভঙ্গ হইয়া থাকে ?

গুরু । (১) শনির স্থানের নিম্নস্থ হৃদয়রেখা ভগ্ন হইলে, কোন অভাবনীয় দুর্ঘটনা জন্ম, (২) উক্ত ভগ্ন-চিহ্ন রবির স্থানের নিম্নস্থ হইলে, অহংকারহেতুক অথবা (৩) কথিতরূপ ভগ্ন-চিহ্ন বুধের নিম্নস্থ হইলে, অর্থ লালসা জন্য জাতকের প্রণয়ভঙ্গ হইয়া থাকে এবং উক্ত চিহ্ন প্রণয়ীদিগের মধ্যে বাহার হস্তে থাকে, সে-ই প্রণয়ভঙ্গের কারণ হয় । [চিত্র—৩৩, চিহ্ন—১১।১২।১৩ ।

প্রতারণা ।

২৪৩। শিষ্য । কি চিহ্ন থাকিলে জাতককে প্রতারণক হইতে হয় ?

গুরু । কনিষ্ঠাঙ্গুলীর তৃতীয় পর্কের জাল-চিহ্ন কিংবা কুশ-চিহ্ন থাকিলে, জাতককে প্রতারণক হইতে হয় । [চিত্র—৩৩, চিহ্ন—১৪।১৫ ।

প্রতিভা ।

২৪৪। শিষ্য । কি চিহ্ন থাকিলে জাতক প্রতিভার উপযুক্ত ফল পাইতে পারে না ?

গুরু । রবির স্থানে দুইটি চেউখেলান রেখা ও রবিরেখা প্রবলরূপে অঙ্কিত হইলে জাতকের প্রতিভার উপযুক্ত ফল ফলে না, এমন কি কার্যকালে প্রতিভা নষ্ট হইয়া যায় । [চিত্র—৩২, চিহ্ন—৮।৯

প্রতিহিংসাপরায়ণতা ।

২৪৫। শিষ্য । কি চিহ্ন জাতকের প্রতিহিংসাপরায়ণতার সূচনা করে ?

গুরু । করচতুষ্কোণ অপ্রশস্ত, শিরোরোহণ দীর্ঘ ও হৃদয়রেখা অস্পষ্ট

ভাবে অঙ্কিত এবং মঙ্গলের ও বৃহস্পতির স্থান সাতিশয় উচ্চ হইলে জাতক প্রতিহিংসাপরায়ণ হয়।

প্রত্যাদেশ।

২৪৬। শিষ্য। প্রত্যাদেশপ্রাপ্তির চিহ্ন কি ?

গুরু। চন্দ্রের স্থান উচ্চ, বহুরেখাযুক্ত ও একটি সরল রেখা অর্ধচন্দ্রাকৃতি হইয়া, বুধের স্থানে উপনীত হইলে জাতক প্রত্যাদেশ পাইয়া থাকে।

[চিত্র ৩২, চিহ্ন—৬।৭।

প্রত্যাৎপন্নমতিত্ব।

২৪৭। শিষ্য। কি চিহ্নে জাতকের প্রত্যাৎপন্নমতিত্ব সূচিত হয় ?

গুরু। বৃহস্পতির নিম্নস্থ মঙ্গলের স্থান সাতিশয় পুষ্টি ও শিরোরেখা পরিষ্কৃত-রূপে অঙ্কিত হইয়া, মঙ্গলের স্থানে সম্পূর্ণ হইলে, জাতক উপস্থিতবুদ্ধি দ্বারা কার্য সম্পন্ন করিয়া প্রত্যাৎপন্নমতিত্বের পরিচয় দিতে সমর্থ হয়।

[চিত্র—২৩, চিহ্ন—৮-৮।

প্রভুভক্তি।

২৪৮। শিষ্য। কিরূপ চিহ্ন থাকিলে জাতক প্রভুভক্ত হয় ?

গুরু। অঙ্গুলীসমূহ চতুষ্কোণ ও গ্রহিশূন্য হইলে, জাতক প্রভুভক্ত হইয়া থাকে।

প্রলাপ—(বিকারে)

২৪৯। শিষ্য। কিরূপ চিহ্ন থাকিলে জাতক বিকারগ্রস্ত হইয়া প্রলাপ বকিয়া থাকে ?

গুরু। একটি সরলরেখা আঙ্গুরেখা হইতে নিঃসৃত হইয়া, চন্দ্রস্থানে তারকা-চিহ্নযুক্ত ও শিরোরেখার উপর একটি কাল তিল-চিহ্ন বা ক্ষুদ্র ক্ষুদ্র বব-চিহ্ন কিংবা কৃষ্ণবর্ণ বিন্দু-চিহ্ন অঙ্কিত হইলে, জাতক বিকারগ্রস্ত হইয়া প্রলাপ বকিতে থাকে।

[চিত্র—৯, চিহ্ন—২০।২১।

প্রবন্ধকতা।

২৫০। শিষ্য। কি চিহ্ন থাকিলে জাতক প্রবন্ধক হইয়া থাকে ?

শুক। (১) করচতুষ্কোণ অপ্রশস্ত ও কনিষ্ঠাঙ্গুলীর তৃতীয় পর্ব অপেক্ষাকৃত দীর্ঘ, (২) শিরোরৈখার শেষভাগ শাখাবিশিষ্ট হইয়া, চন্দ্রস্থানাভিমুখীন বা চন্দ্রস্থান-প্রবেশোন্মুখ, (৩) অঙ্গুলীসমূহের তৃতীয় পর্ব ক্ষীণ, (৪) বুধের স্থান সাতিশর পরিপূর্ণ ও কনিষ্ঠা সূচ্যাগ্র অথবা (৫) বুধের স্থানে কুশ (চেরা) চিহ্ন অঙ্কিত হইয়া থাকিলে জাতক প্রবঞ্চক হয়।

[চিত্র—২৩, চিহ্ন—১২১৩ ; চিত্র—৩৩, চিহ্ন—১৭।

প্রসূত।

২৫১। শিষ্য। কিরূপ চিহ্ন দেখিয়া জাতকের প্রসূত- (পুত্র বা কন্যা) সংখ্যানির্ণয় করিতে পারা যায় ?

শুক। কনিষ্ঠাঙ্গুলীর নিম্ন স্থান হইতে ষতগুলি ক্ষুদ্র ক্ষুদ্র রেখা অধোগামী হইয়া বিবাহ রেখা স্পর্শ করে, জাতকের ততগুলি সন্তান জন্মায় ; তন্মধ্যে পুত্র রেখাগুলি হইতে পুত্রের ও ক্ষীণ রেখাগুলি হইতে কন্যার জন্মসংখ্যা বুঝা যায় ; এবং উক্তরেখা ভগ্ন হইলে, পুত্র কন্যার মৃত্যু বুঝায়।

[চিত্র— ৩৪, চিহ্ন— ৫৬।

প্রেম—(অপাত্রে)

২৫২। শিষ্য। অপাত্রে প্রেমার্পণজনিত অর্থকষ্টের চিহ্ন কি ?

শুক। (১) ভাগ্যরেখা হইতে কতকগুলি সরলরেখা অধোমুখী হইয়া মণিবন্ধে মিলিত হইলে, (২) শুক্রস্থানে একটি তারকা-চিহ্ন থাকিলে, (৩) শিরোরৈখা [হৃদয়রেখার নিকটবর্তী হইয়া আয়ুরেখার সহিত মিলিত হইলে কিংবা (৪) ভাগ্যরেখা চন্দ্রস্থান হইতে উখিত হইয়া, হৃদয়রেখার নিকট উপনীত হইয়া সম্পূর্ণ হইলে, জাতক অপাত্রে প্রেমার্পণ করিয়া অর্থকষ্ট পাইয়া থাকে।

[চিত্র—২৯, চিহ্ন—৮, চিত্র—৩৬, চিহ্ন—৩,

[চিত্র—২৩, চিহ্ন—১৮১১ ; চিত্র—৩৮, চিহ্ন—২।

—(অবৈধ)

২৫৩। শিষ্য। অবৈধপ্রেমের সূচক চিহ্ন কি ?

শুক। (১) একটি ষব-চিহ্ন শুক্রের স্থানের উপরিভাগ হইতে বৃহস্পতির স্থান পর্য্যন্ত বিস্তৃত কিংবা (২) হৃদয়রেখার উপর ষব-চিহ্ন অবস্থিত হইলে জাতক অবৈধপ্রেমে রত হয়।

[চিত্র—৩৮, চিহ্ন—১৩।

—(আত্মীয়সহ)

২৫৪। শিষ্য। কিরূপ চিহ্ন থাকিলে, জাতক নিকট-আত্মীয়ের প্রেমে আত্মোৎসর্গ করিতে রত হয় ?

গুরু। বুধের স্থানে যে বিবাহ-রেখা থাকে, তাহাতে বব-চিহ্ন থাকিলে, জাতক নিকট-আত্মীয়ের প্রেমার্পণ করিতে প্রবৃত্ত হয়।

[চিত্র—১৩, চিহ্ন—৭।

—(একমুগ্ধ)

২৫৫। শিষ্য। এক ভিন্ন দ্বিতীয়ে ভালবাসিতে সামর্থ্যহীনতার চিহ্ন কি ?

গুরু। (১) হৃদয়রেখা স্পষ্টরূপে অঙ্কিত হইয়া বৃহস্পতির স্থানে বাইলে, এবং শুক্রস্থান উচ্চ ও উহার উপরে কুশ-চিহ্ন থাকিলে কিংবা (২) ভাগ্যরেখা মণিবন্ধ হইতে উদ্ভিত, শনির নিম্নে হৃদয়রেখার সহিত মিলিত ও ঐ মিলিত স্থান হইতে একটি শাখা উদ্ভিত ও বৃহস্পতির স্থানে উপনীত হইলে জাতক এক-বই-দ্বিতীয়ে ভালবাসিতে অসমর্থ হয়।

[চিত্র—৩৫, চিহ্ন—১২।১৩ ; চিত্র—৩২, চিহ্ন—১৪।

—(কামনিক)

২৫৬। শিষ্য। কামনিক প্রেমের সূচক চিহ্ন কিরূপ ?

গুরু। হৃদয়রেখা পরিষ্কৃত ও বুধের স্থান হইতে উদ্ভিত হইয়া বৃহস্পতি স্থান ভেদ করিলে, জাতক কামনিক প্রেমের পরিচয় দিয়া থাকে।

[চিত্র—৩৬, চিহ্ন—১৪।

—(দৃঢ়)

২৫৭। শিষ্য। কিরূপ চিহ্ন থাকিলে জাতকের প্রেমসূত্র দৃঢ় হয় ?

গুরু। করপার্শ্বে হৃদয়রেখা ও কনিষ্ঠার মধ্যে একটি বক্ররেখা থাকিলে, জাতকের প্রেমসূত্রের দৃঢ়তা প্রকাশ পাইয়া থাকে। [চিত্র—৩৭, চিহ্ন—৩।

—(নিষ্ফল)

২৫৮। শিষ্য। কি চিহ্ন জাতকের নিষ্ফল প্রেমের সূচনা করে ?

শুক্র । ভাগ্যরেখার ও হৃদয়রেখার যব-চিহ্ন থাকিলে, জাতকের প্রেমার্পণ সম্বন্ধে কার্যতঃ কোনরূপ ফলই ফলিতে পারে না; কেবল ইন্দ্রিয়সুখেরই চরিতার্থতা লাভ হইয়া থাকে । [চিত্র - ৩৭, চিহ্ন - ৪।৫ ।

—(পরস্ত্রীতে)

২৫৯ । শিষ্য । কিরূপ চিহ্ন থাকিলে, জাতক পরস্ত্রীতে প্রেমার্পণ করিয়া থাকে ?

শুক্র । উভয় হস্তে ভাগ্যরেখার উপর যব-চিহ্ন থাকিলে জাতক পরস্ত্রীর প্রেমে বদ্ধ হয় । [চিত্র - ৩৭, চিহ্ন - ৪ ।

—(পশ্চাচারহেতুক)

২৬০ । শিষ্য । কি চিহ্ন থাকিলে, জাতক পাশববৃত্তি চরিতার্থ করিবার জন্য প্রেমের পরিচয় দিয়া থাকে ?

শুক্র । হৃদয়রেখা বুধের স্থান হইতে উখিত হইয়া শনির স্থানে উপনীত ও শুক্রস্থান সাতিশয় উচ্চ এবং তদুপরি জাল-চিহ্ন অঙ্কিত হইয়া থাকিলে, জাতক পশুপ্রবৃত্তির বশে প্রেমের পরিচয় দিতে প্রস্তুত হইয়া থাকে ।

[চিত্র - ২৭, চিহ্ন - ১৪ ; চিত্র - ১২, চিহ্ন - ৬ ।

প্রেমাকঙ্ক ।

২৬১ । শিষ্য । কিরূপ চিহ্ন থাকিলে, জাতক অঙ্ক-ভালবাসায় আকৃষ্ট হয় ?

শুক্র । শিরোরৈখার শেষাংশ শাখাবিশিষ্ট ও তাহার একটা শাখা বুধের স্থানের শেষভাগে আসিয়া হৃদয়রেখার সহিত মিলিত হইলে জাতক অঙ্ক-ভালবাসায় আকৃষ্ট হয় ; এবং আর একটা শাখা চন্দ্রস্থান স্পর্শ করিলে, জাতক অঙ্ক ভালবাসায় আকৃষ্ট হইয়া ফলে হতবুদ্ধি হইয়া যায় ।

[চিত্র - ৪, চিহ্ন ১.২ ।

—(আত্ম-সমর্পণ)

২৬২ । শিষ্য । প্রেমপরিচয়ের নিমিত্ত বাহারা অঙ্ক-বিখ্যাসে আত্ম-সমর্পণ করেন, তাঁহাদিগের হস্তে কিরূপ চিহ্ন উক্ত ঘটনার প্রকাশ করে ?

শুক্র। হৃদয়রেখা রক্তবর্ণ ও করতলের এক পার্শ্ব হইতে অপর পার্শ্ব পর্যন্ত বিস্তৃত থাকিলে, জাতক প্রেমে আত্মোৎসর্গ করিতে প্রস্তুত—এইরূপ ভাবের পরিচয় দিয়া থাকে। [চিত্র—১৮, চিহ্ন—৩।

প্রেমিকত্ব।

২১৩। শিষ্য। কিরূপ চিহ্ন থাকিলে জাতক প্রেমী হইয়া থাকে ?

শুক্র। (১) অঙ্গুলীসমূহ সূচ্যগ্র ও গ্রহবিহীন, (২) বৃদ্ধাঙ্গুলীর তৃতীয় পার্শ্ব বা শুক্রস্থান পুষ্ট, বৃহস্পতির স্থান উচ্চ কিংবা শুক্রস্থানে অনেকগুলি উর্দ্ধরেখা অঙ্কিত হইয়া থাকিলে, এই সকল চিহ্ন সম্বন্ধে জাতকের হৃদয়রেখা দীর্ঘ ও বিস্তৃত থাকিলে, জাতক বখার্ধ্য প্রেমী হইয়া থাকে।

[চিত্র—৩২, চিহ্ন—১০।১১।

প্রেম—(অপ্রতিদান)

৬৪। শিষ্য। কি চিহ্ন থাকিলে জাতক প্রেমের প্রতিদান পাইতে পারে না ?

শুক্র। কুদ্র কুদ্র লোহিত বর্ণের রেখা হৃদয়রেখা কর্তন করিলে, জাতকের প্রেমের প্রতিদান পাওয়া একান্ত অসম্ভব হইয়া উঠে।

[চিত্র—৩৪, চিহ্ন—৭।

—(অবিবাহ)

২৬৫। শিষ্য। প্রেমসম্বন্ধে বিবাহ না হইবার চিহ্ন কি ?

শুক্র। কুদ্র কুদ্র সরলরেখা ভাগ্যরেখা হইতে উখিত হইয়া, হৃদয়রেখা স্পর্শ করিলে জাতকের প্রেমসম্বন্ধে বিবাহ হয় না।

[চিত্র—৩৭, চিহ্ন—৮।

—(আগ্রহ)

২৬৬। শিষ্য। কিরূপ চিহ্ন থাকিলে জাতক প্রেমে আগ্রহ প্রদর্শন করিয়া থাকে ?

শুক্র। (১) স্বাস্থ্যরেখার অনুগরেখা অনুগমন করিলে কিংবা (২) হৃদয়রেখা গোলাপী বর্ণবিশিষ্ট ও দীর্ঘ এবং মঙ্গলের স্থান উচ্চ হইলে জাতক প্রেমে আগ্রহ দেখাইয়া থাকে। [চিত্র—৩৮, চিহ্ন—৪।৫।

—(অয়লাভ)

২৬৭। শিষ্য। প্রেমে অয়লাভের সূচক চিহ্ন কি ?

গুরু। হৃদয়রেখা পরিষ্কৃতরূপে অঙ্কিত ও উহার উপর বেডবর্ণের বিন্দুচিহ্ন থাকিলে, জাতক প্রেমে অয়লাভ করিয়া থাকে ।

—(প্রতিদান)

২৬৮। শিষ্য। কিরূপ চিহ্ন থাকিলে, জাতক প্রেমের প্রতিদান পাইয়া সুখী হয় ?

গুরু। (১) শুক্রস্থান হইতে একটি সরলরেখা উখিত হইয়া, বুধের স্থানে বাইলে কিংবা (২) হৃদয়রেখার শেষভাগ শাখাবিশিষ্ট ও তাহার একটি শাখা বৃহস্পতির স্থানে উপনীত হইলে, জাতক প্রেমের প্রতিদান পাইয়া সুখী হয় ।

[চিত্র—৩৫, চিহ্ন—১১।১২ ।

—(প্রতিবন্ধক)

২৬৯। শিষ্য। কিরূপ চিহ্ন প্রেমে প্রতিবন্ধক ঘটায় ?

গুরু। হৃদয়রেখা ক্ষুদ্র ক্ষুদ্র রেখাধারা কর্তিত হইলে, জাতকের প্রেমে প্রতিবন্ধক ঘটয়া থাকে ।

[চিত্র—৩৫, চিহ্ন—৭ ।

—(বন্ধতা)

২৭০। শিষ্য। কি চিহ্ন থাকিলে জাতক প্রেমে বন্ধ হয় ?

গুরু। (১) বৃহস্পতির ও শুক্রের স্থানের উপর কুঙ্গ-চিহ্ন থাকিলে, (২) অনেকগুলি সরলরেখা শুক্রস্থান হইতে উখিত হইয়া আয়ুরেখা শিরোরেখা ও হৃদয়রেখা—এই রেখাত্রয় কর্তন করিলে কিংবা (৩) আয়ুরেখার নিম্নে তিনটি তারকা-চিহ্ন থাকিলে জাতক প্রেমে বন্ধ হইয়া থাকে ।

[চিত্র—৩৭, চিহ্ন—৬।৭ ; চিত্র—৩৮, চিহ্ন—৭।৮ ।

—(ভাগ)

২৭১। শিষ্য। কিরূপ চিহ্ন থাকিলে জাতক প্রেমের ভাগ করিয়া

থাকে ?

শুক । শুক্রস্থান সাতিশর উচ্চ এবং হৃদয়রেখা শৃঙ্খলাকৃতি হইলে জাতক বা জাতিকা অলীক প্রেমে দৃঢ়তার জ্ঞান করিয়া থাকে ।

[চিত্র—৩০, চিত্র—২ ।

—(যজ্ঞগাভোগ)

২৭২ । শিষ্য । কি চিত্র জাতকের প্রেমে যজ্ঞগাভোগের সূচনা করে ?

শুক । (১) জাগ্যরেখা শৃঙ্খলাকৃতি হইয়া, হৃদয়রেখার নিরে আসিয়া সম্পূর্ণ হইলে, (২) করতলে বা বঙ্গলের ক্ষেত্রে একটা তারকাচিত্র থাকিলে, কিংবা (৩) হৃদয়রেখা ক্ষুদ্র ক্ষুদ্র রেখা দ্বারা কণ্ঠিত হইলে জাতক প্রেমের জন্ত যজ্ঞগাভোগ করিতে বাধ্য হয় ।

[চিত্র—৩৪, চিত্র—৭ ; চিত্র—৩৯, চিত্র—১২ ।

—(বিচ্ছেদ)

২৭৩ । শিষ্য । কিরূপ চিত্র থাকিলে জাতকের প্রেমে বিচ্ছেদ ঘটে ?

শুক । (১) হৃদয়রেখা শনির স্থানে ভগ্ন হইলে, জুর্ভাগ্যবশতঃ (২) উক্ত রেখা রবির স্থানে ভগ্ন হইলে, অহঙ্কারবশতঃ ও (৩) বুধের স্থানে ভগ্ন হইলে, অর্ধলালসার নিমিত্ত জাতকের প্রেমে বিচ্ছেদ ঘটয়া থাকে ।

[চিত্র—৩৩, চিত্র—১১/১২/১৩ ।

—(বিজ্ঞতা)

২৭৪ । শিষ্য । কি চিত্র থাকিলে জাতক প্রেমে বিজ্ঞতাগাত করিতে সমর্থ হয় ?

শুক । শুক্রস্থানে একটা ত্রিকোণ-চিত্র অঙ্কিত ও বৃহস্পতির দ্বিতীয় পর্ব পুষ্ট হইলে জাতক প্রেম সম্বন্ধে বিজ্ঞতাগাত করিয়া থাকে ।

[চিত্র—৩৮, চিত্র—৬ ।

—(ব্যবসায়)

২৭৫ । শিষ্য । কি চিত্র হইলে জাতক প্রেমব্যবসায়ী হয় ?

শুক । একটা সরলরেখা শুক্রস্থান হইতে উখিত হইয়া, বুধের স্থানে আসিয়া সম্পূর্ণ হইলে, এবং বৃহস্পতির ও চন্দ্রের স্থান নির হইলে, জাতক প্রেমব্যবসা করিয়া থাকে ।

[চিত্র—৩৫, চিত্র—১১ ।

—(স্থ)

২৭৬। শিষ্য। কিরূপ চিহ্ন থাকিলে জাতক ভালবাসিয়া স্থা হইতে পারে ?

শুক্র। (১) আয়ুরেখার অঙ্গুরেখা ত্রীলোকের হস্তে থাকিলে, (২) বৃহস্পতির স্থানে তারকা-চিহ্ন অঙ্কিত হইলে, (৩) ভাগারেখা চন্দ্রস্থান হইতে উখিত হইয়া, শনির স্থানে উপনীত হইয়া, মধ্যমার মূল স্পর্শ না করিলে জাতক ও জাতিকা ভালবাসিয়া সুখলাভে সমর্থ হইতে পারে।

[চিত্র—২৮, চিহ্ন—১৫ ; চিত্র—২৩, চিহ্ন—১০ ; চিত্র—৩৫, চিহ্ন—১৪ ।

—(হতাশ)

২৭৭। শিষ্য। কিরূপ চিহ্ন থাকিলে জাতককে প্রেমে হতাশ হইতে হয় ?

শুক্র। হৃদয়রেখা ক্ষুদ্র ক্ষুদ্র রেখাধারা কর্তিত হইলে জাতক প্রেমে হতাশ হইয়া থাকে। [চিত্র—৩৪, চিহ্ন—৭ ।

(ফ)

ফকিরী—(অজ্ঞভাবে)

২৭৮। শিষ্য। হস্তে কিরূপ চিহ্ন থাকিলে, জাতক ফকিরী গ্রহণ করিয়া বেড়াইতে প্রয়াস পায় ?

শুক্র। উত্তর হস্তে করচতুর্কোণ অপ্রশস্ত হইলে, এবং শনির ও বৃহস্পতির স্থান সাতিশর উন্নত, চন্দ্রের স্থান পরিপুষ্ট ও শুক্রস্থান সমতল হইলে, জাতক ফকিরী লইয়া বেড়াইতে ভাসবাসে।

—(বুজরুকী)।

২৭৯। শিষ্য। কি চিহ্ন জাতককে ফকিরী লইয়া বুজরুকী দেখাইতে সমর্থ করে ?

শুক্র। ফকিরী গ্রহণের সাধারণ চিহ্ন সশ্বেত, উন্নত শনির ক্ষেত্রে যদি একটি ত্রিকোণ-চিহ্ন অঙ্কিত থাকে, তাহা হইলে জাতক ফকিরী লইয়া সর্বদা বুজরুকী দেখাইয়া লোকমুগ্ধ করিতে সমর্থ হয় ; এবং ইহার সঙ্গে মধ্যমার তৃতীয় পর্বে একটি তারকা-চিহ্ন থাকিলে, জাতক ভাণ করিয়া অসহুপারের অবলম্বনে ব্যগ্র হয় । [চিত্র—২৭, চিহ্ন—১৭ ; চিত্র—২২, চিহ্ন—৩ ।

ফাঁসী !

২৮০। শিষ্য। জাতকের হস্তে কি চিহ্ন ফাঁসীর সূচনা করে ?

শুক্র। (১) শনির স্থানে ও মধ্যমার তৃতীয় পর্বে দুইটি তারকা-চিহ্ন থাকিলে অথবা (২) উভয় হস্তে শিরোরৈখা শনির স্থানে ভগ্ন হইলে, জাতকের ফাঁসী হইয়া থাকে । [চিত্র—২২, চিহ্ন—১০ ; চিত্র—৩৩, চিহ্ন—১৩ ।

—

(ব)

বন্ধুত্ব—(মহত্তের সহিত)

২৮১। শিষ্য। কি চিহ্ন থাকিলে মহত্তসম্পন্ন লোকের সহিত জাতকের বন্ধুত্বসংঘটন হয় ?

শুক্র। (১) তর্জনীর দ্বিতীয় পর্বে একটি কিংবা দুইটি ক্রুশ-চিহ্ন থাকিলে, (২) একটি সরল রেখা করচতুর্কোণ হইতে উদ্ভিত হইয়া বুধের স্থানে বাইলে, কিংবা রবিরেখা উভয় হস্তে স্পষ্টরূপে অঙ্কিত ও বৃহস্পতির স্থান উচ্চ হইলে জাতক মহত্তসম্পন্ন লোকের বন্ধুত্বলাভে সমর্থ হয় ।

[চিত্র—২৮, চিহ্ন—১৩।১৩।২০

বহুভাষ্যযোগ ।

২৮২। শিষ্য। কি চিহ্ন জাতকের বহুবিবাহযোগের সূচনা করে ?

গুরু। গুরুস্থানে একটি জাল-চিহ্ন অবস্থিত ও তর্জনীর তৃতীয় পর্কে তারকা-চিহ্ন অঙ্কিত থাকিলে কিংবা বুধের স্থানে হস্তপার্শ্বে হৃদয়রেখার সমান্তর ক্ষুদ্র ক্ষুদ্র অনেকগুলি রেখা থাকিলে, জাতকের বহুবিবাহের বিষয় বুঝিতে পারা যায় । [চিত্র—১২, চিহ্ন—৬ ; চিত্র—২৭, চিহ্ন—২.১৮ ।

বহুভাষিক ।

২৮৩। শিষ্য। কিরূপ চিহ্ন থাকিলে জাতক বহুকথা কহিতে ভাল-বাসে ?

গুরু। শিরোরেখা ও হৃদয়রেখা অস্পষ্টরূপে ব্যবস্থিত ও আয়ুরেখার শেষভাগে একটি ত্রিকোণ-চিহ্ন অঙ্কিত এবং বুধের স্থান সাতিশয় উচ্চ হইলে, জাতক স্বভাবতঃ বাবদুক বা বহু কথাপ্রিয় হইয়া থাকে ।

[চিত্র—২৫, চিহ্ন—৯ ।

বাণিজ্য ।

২৮৪। শিষ্য। কিরূপ চিহ্ন থাকিলে জাতককে বাণিজ্যে রত হইতে হয় ?

গুরু। (১) উভয় হস্তে অনামিকা চতুর্কোণাকৃতি অথবা (২) কনিষ্ঠার দ্বিতীয় পর্ক অন্তর পর্ক অপেক্ষা দীর্ঘ ও পরিপুষ্ট হইলে, জাতক বাণিজ্য ব্যবসারে রত থাকিতে সমর্থ হয় ।

বাণিজ্যপটুতা)

২৮৫। শিষ্য। বাণিজ্যপটুতার চিহ্ন কিরূপ ?

গুরু। (১) বুধের স্থান সাতিশয় উচ্চ হইয়া, রবিস্থানের অভিমুখে হেলিয়া পড়িলে কিংবা (২) অঙ্গুলী মঙ্গল চতুর্কোণ ও কনিষ্ঠার প্রথম পর্ক অন্তরপর্ক অপেক্ষা দীর্ঘ হইলে জাতক ব্যবসায় পটু হয় ।

বাণিজ্যে—(উন্নতি)

২৮৬। শিষ্য। কি চিহ্ন থাকিলে জাতক বাণিজ্যে উন্নতিলাভ করিতে সমর্থ হয় ?

শুক্র । (১) একটা সরলরেখা মণিবন্ধ হইতে উখিত হইয়া শিরোরৈখা ও হৃদয়রেখা উভয়রেখা কর্তন করিয়া বুধস্থানে উপনীত কিংবা (২) শিরোরৈখা শাখাবিশিষ্ট ও তাহার একটা শাখা বুধস্থানগত হইলে, জাতক বাণিজ্যে কৃতকার্য হইয়া উন্নতিলাভ করিতে পারে ।

[চিত্র—৩৭, চিহ্ন—১ ; চিত্র— ৩৫, চিহ্ন— ১৩ ।

—(নষ্টসম্পত্তি)

২৮৭ । শিষ্য । কি চিহ্ন জাতকের ব্যবসারে সম্পত্তিনাশ (দেউলিয়া) সংঘটনের সূচনা করে ?

শুক্র । (১) মণিবন্ধ হইতে ভাগ্যরেখা উখিত হইয়া শিরোরৈখা পর্য্যন্ত বিস্তৃত, (২) স্বাস্থ্যরেখার উপর বৃহৎ ষব-চিহ্ন বা (৩) রবির স্থান অনেক রেখাধারা কর্তিত হইলে জাতক ব্যবসারে নষ্টসম্পত্তি বা দেউলিয়া হয় ।

[চিত্র—২১, চিহ্ন—১০ ; চিত্র—৩৬, চিহ্ন—১৩ ; চিত্র—১৫, চিহ্ন—৪ ।

বালক্রমণ ।

২৮৮ । শিষ্য । কি চিহ্ন থাকিলে, জাতক বালকদিগকে ভয় দেখাইয়া আয়োদানুভব করে ?

শুক্র । হস্তাঙ্গুলী সূলাগ্র বা চতুষ্কোণ, রবির স্থান পুষ্টি ও উষ্ণ স্থানে জালচিহ্ন অঙ্কিত থাকিলে, জাতক বালকদিগকে ভয় প্রদর্শন করাইয়া আয়োদানুভব করে ।

[চিত্র—২৩, চিহ্ন—৫ ।

বুদ্ধিদৌর্বল্য ।

২৮৯ । শিষ্য । কি চিহ্নে জাতকের বুদ্ধিসম্বন্ধে দৌর্বল্য ঘটে ?

শুক্র । (১) উভয় হস্তে রবি, শুক্র ও চন্দ্র—এই গ্রহত্রয়ের স্থান নিম্ন, করত্রিকোণ অপ্রশস্ত ও অস্পষ্টভাবে অঙ্কিত, (২) হৃদয়রেখা ক্ষুদ্র সূল, করতল কর্টিন ও অঙ্গুলীসমূহ শুণ্ডাকৃতি কিংবা (৩) করতল দীর্ঘ, অঙ্গুলী সকল ক্ষুদ্র ও করচতুষ্কোণ বহুরেখাযুক্ত হইয়া থাকিলে জাতকের বুদ্ধিসম্বন্ধে দৌর্বল্য প্রকাশ পায় ।

[চিত্র ২৭, চিহ্ন—১৪ ; চিত্র—৩০, চিহ্ন—১৪ ।

বুদ্ধিমত্তা ।

২৯০ । শিষ্য । কি চিহ্ন থাকিলে জাতক বুদ্ধিমান্ হয় ?

রে—১০

শুক । শিরোরৈখা পরিষ্কৃতরূপে অঙ্কিত, রবিস্থান প্রবল ও বৃদ্ধাঙ্গুলী দীর্ঘ হইলে জাতক বুদ্ধিমান হয় ।

বুদ্ধুৎসা ।

২৯১ । শিষ্য । কি চিহ্ন থাকিলে জাতককে বুদ্ধুৎসু হইতে হয় ?

শুক । অঙ্গুলী সকল দীর্ঘ, ক্রমশঃ সূক্ষ্ম ও ক্ষুদ্র নথবৃদ্ধ হইলে জাতক বুদ্ধুৎসাবশে সমস্ত বিষয়ের সূক্ষ্ম কারণ বুদ্ধিতে ইচ্ছা করিয়া থাকে ।

(ভ)

ভগবদর্চন ।

২৯২ । শিষ্য । হস্তে কিরূপ চিহ্ন থাকিলে জাতকের ভগবদারাধনার প্রবৃত্তি জন্মিয়া থাকে ?

শুক । (১) অঙ্গুরৈখা হৃদয়রেখার অনুবর্তী কিংবা (২) বৃদ্ধাঙ্গুলী দীর্ঘ, প্রথম ও তৃতীয় পর্ব পুষ্ট এবং করতল কঠিন হইলে জাতকের ভগবদারাধনার প্রবৃত্তি জন্মিয়া থাকে । [চিত্র—৩৭, চিহ্ন—২ ।

ভণ্ডামি ।

২৯৩ । শিষ্য । ভণ্ডামির চিহ্ন কি ?

শুক । (১) বুধের ও চন্দ্রের স্থান সাতিশয় উচ্চ ও তাহার উপর ক্রুশ বা জালচিহ্ন অঙ্কিত, (২) কনিষ্ঠাঙ্গুলীর তৃতীয় পর্ব দীর্ঘ ও পুষ্ট, (৩) শিরোরৈখা শাখাবিশিষ্ট ও তাহার একটা শাখা চন্দ্রস্থানে, অপর শাখা বুধের স্থানে উপস্থিত হইলে জাতক ভণ্ড হইয়া থাকে ।

[চিত্র—৩৩, চিহ্ন—১৭।১৮ ; চিত্র ৪, চিহ্ন—১।২

ভবিষ্যদৃষ্টি ।

২৯৪ । শিষ্য । কি চিহ্ন জাতকের ভবিষ্যদৃষ্টির সূচনা করে ?

শুক। (১) চন্দ্রস্থান সাতিশর ক্ষুদ্র ক্ষুদ্র রেখাধারা কর্তিত ও সাতিশর পুট, (২) চন্দ্রবুধরেখা স্পষ্ট অঙ্কিত হইলে, জাতকের ভবিষ্যৎ বিষয়ে দর্শনশক্তি আছে, জানিতে পারা যায়। [চিত্র--৩২, চিহ্ন—৭/৩।

ভাগ্যবত্তা।

২৯৫। শিষ্য। ঠকিরূপ চিহ্ন থাকিলে জাতক ভাগ্যবান্ হয় ?

শুক। (১) রবিরেখা আয়ুরেখা হইতে উখিত, (২) শিরোরেখা হইতে একটা সরলরেখা উখিত হইয়া বৃহস্পতিস্থানগত ও উক্ত রেখার শেষাংশ তারকাচিহ্ন যুক্ত কিংবা (৩) শনিরেখা মণিবন্ধ হইতে সরলভাবে উখিত ও মধ্যমাজুলীর দ্বিতীয় পর্কে উপনীত হইলে জাতক ভাগ্যবান্ হয়।

[চিত্র—৫, চিহ্ন—৪ ; চিত্র—১১, চিহ্ন—১ ; চিত্র—২৬, চিহ্ন—১।

ভাগ্যহীনতা।

২৯৬। শিষ্য। অভাগ্য লোকের হস্তে কিরূপ চিহ্ন থাকে ?

শুক। (১) শনির স্থানের নিরে একটা তারকা-চিহ্ন অঙ্কিত, (২) ভাগ্য-রেখা চেউখেলান ও শৃঙ্খলবৎ, (৩) অনামিকার তৃতীয় পর্ক অর্ধচন্দ্রাকৃতি চিহ্নযুক্ত কিংবা ৪) দুই বা তিনটা সরলরেখা মণিবন্ধ হইতে উখিত হইয়া, চন্দ্রের স্থান কর্তন করিয়া, স্বাস্থ্যরেখার নিকটবর্তী হইলে জাতককে অভাগ্য হইতে হয়।

[চিত্র—৬, চিহ্ন—১।৪।৫।৬।

ভাবুকত্ব।

২৯৭। শিষ্য। হস্তে কি চিহ্ন জাতকের বিশিষ্টরূপ ভাবুকত্বের সূচনা করে ?

শুক। চন্দ্রস্থান সাতিশর উচ্চ হইলে জাতক স্বেতই ভাবুকত্বের বিশিষ্টরূপ পরিচয় দিয়া থাকে।

ভিন্নমতাবলম্বন—অজ্ঞতাসহ।

২৯৮। শিষ্য। কি চিহ্ন থাকিলে জাতক অজ্ঞভাবে ভিন্নমতাবলম্বী হয় ?

শুক। অঙ্গুলীগুলি চতুষ্কোণ, শিরোরেখা আয়ুরেখার প্রায়স্তে যুক্ত হইলে, জাতক না বুঝিয়া ভিন্নমতাবলম্বী হয়। [চিত্র—৫৯, চিহ্ন—৩।

ভীকতা ।

২৯৯ । শিষ্য । কিরূপ চিহ্ন থাকিলে জাতক ভীকস্বভাব হইয়া থাকে ?

গুরু । মঙ্গলের স্থান নিম্ন, অঙ্গুলী সকলের তৃতীয় পক্ষ দুর্বল হইলে জাতক ভীক হইয়া থাকে ।

ভূমিনাশ ।

৩০০ । শিষ্য । কিরূপ চিহ্ন থাকিলে জাতকের ভূমিসম্পত্তি নষ্ট হয় ?

গুরু । উভয় হস্তে বুধের নিম্নস্থ মঙ্গলের স্থান নিম্ন হইলে জাতকের ভূমিসম্পত্তি নষ্ট হইয়া যায় ।

—(অভিযোগে)

৩০১ । শিষ্য । কি চিহ্নে মামলা-মোকদ্দমায় ভূমিসম্পত্তি নষ্ট হয় ?

গুরু । উভয় হস্তে বুধের নিম্নে মঙ্গলের স্থানে কাল তিল-চিহ্ন থাকিলে জাতকের অভিযোগ জন্ম (মামলা-মোকদ্দমা হইতে) ভূমিসম্পত্তি নষ্ট হয় ।

[চিত্র—৩৯, চিহ্ন—৪ ।

ভূমিবন্ধক ।

৩০২ । শিষ্য । কি চিহ্ন থাকিলে জাতকের ভূমিসম্পত্তি বন্ধক থাকে ?

গুরু । বুধের নিম্নস্থ মঙ্গলের স্থান এক হস্তে উচ্চ ও অপর হস্তে নিম্ন হইলে জাতকের ভূমিসম্পত্তি বন্ধক থাকে, জানা যায় ।

ভূমিলাভ ।

৩০৩ । শিষ্য । ভূমিসম্পত্তিলাভের সূচক চিহ্ন কি ?

গুরু । উভয় হস্তে বুধের নিম্নস্থ মঙ্গলের স্থান উচ্চ হইলে, জাতক ভূমিসম্পত্তি-লাভ করিতে সমর্থ হয় ।

ব্রমণ

৩০৪ । শিষ্য । কিরূপ চিহ্ন জাতকের ব্রমণের সূচনা করে ?

শুক । (১) বাহ্যরেখা হইতে একটি শাখা উখিত হইয়া বৃহস্পতি স্থানে উপস্থিত, (২) আয়ুরেখার শেষাংশ শাখাবিশিষ্ট এবং একটি শাখা চন্দ্রস্থানে ও অপরটি শুক্রস্থানে উপনীত কিংবা (৩) আয়ুরেখা অধঃশাখায়ুক্ত হইলে জাতকের ভ্রমণ ঘটে ।

[চিত্র—৩৯, চিহ্ন—৮।২২।১০ ; চিত্র—৩৮, চিহ্ন—১৪ ।

—(জলপথে)

৩০৫ । শিষ্য । কি চিহ্নে জাতককে জলপথে ভ্রমণ করিতে হয় ?

শুক । (১) একটি শাখা মণিবন্ধ হইতে উখিত হইয়া, শুক্রস্থান ভেদ করিয়া চন্দ্রস্থানে যাইলে কিংবা (২) ভাগ্যরেখা চন্দ্রস্থান হইতে উখিত হইলে জাতকের জলপথে ভ্রমণ হইয়া থাকে ।

[চিত্র ৩১, চিহ্ন—৫ ; চিত্র— ৩৮, চিহ্ন—২ ।

—(তীর্থে)

৩০৬ । শিষ্য । কিরূপ চিহ্নে জাতকের তীর্থভ্রমণের সূচনা করে ?

শুক । ভ্রমণের সাধারণ চিহ্নের ফল-পরিণতির কালে বৃহস্পতির স্থান পুট হইলে জাতকের তীর্থভ্রমণ ঘটয়া থাকে ।

—(সৌভাগ্য)

৩০৭ । শিষ্য । জাতকের ভ্রমণে সৌভাগ্যলাভের সূচক চিহ্ন কি ?

শুক । করত্রিকোণ ও চন্দ্রস্থানের মধ্যে একটি কুশ-চিহ্ন থাকিলে জাতকের ভ্রমণে সৌভাগ্যোদয় হয় । [চিত্র—৩৯, চিহ্ন—৬ ।

—(স্ত্রীর অনুরোধে)

৩০৮ । শিষ্য । স্ত্রীর অনুরোধে স্বামীর ভ্রমণ ইচ্ছার সূচক চিহ্ন কি ?

শুক । একটি সরলরেখা চন্দ্রের স্থান হইতে উখিত হইয়া, শুক্রের স্থানে যাইলে জাতক স্ত্রীর অনুরোধে ভ্রমণ করিয়া থাকে । [চিত্র—৩৯, চিহ্ন—৫ ।

(ম)

মত্ততা—(সুরাপানে)

৩০৯। শিষ্য। হস্তে কি চিহ্ন থাকিলে জাতককে সুরাপানে উন্নত হইতে হয় ?

গুরু। (১) একটা রেখা আয়ুরেখা হইতে নিঃসৃত হইয়া চন্দ্রহানগত অথবা (২) অপর একটা রেখা আয়ুরেখার অঙ্গুরেখা হইতে উৎপিত হইয়া, চন্দ্রহানাভিমুখী হইলে জাতককে সুরাপারী উন্নত হইতে হয় ।

[চিত্র—৩৯, চিহ্ন—১১।১২ ।

মধুরপ্রকৃতিত্ব ।

৩১০। শিষ্য। কিরূপ চিহ্ন থাকিলে জাতকের স্বভাব মধুর, হৃদয়-গ্রাহী হয় ?

গুরু। (১) শুক্রের ও বৃহস্পতির স্থান সমভাবে পুষ্ট বা (২) বৃদ্ধাঙ্গুলীর দ্বিতীয় পর্কে একটা বা দুইটা তারকা চিহ্ন অঙ্কিত হইয়া থাকিলে জাতকের স্বভাব গাতিশয় রমণীয় ও হৃদয়গ্রাহী হইয়া থাকে ।

[চিত্র—৩৭, চিহ্ন—১১ ।

মধ্যবিকৃততা ।

৩১১। শিষ্য। কি চিহ্ন থাকিলে জাতককে মধ্যবিকৃত হইতে হয় ?

গুরু। শিরোরেখা করতলের মধ্য পর্য্যন্ত বিস্তৃত, বৃদ্ধাঙ্গুলী ক্ষুদ্র এবং বৃহস্পতির, রবির ও বুধের স্থান নির হইলে জাতক অস্বাভাবিক পরিমাণে অর্থ উপার্জন করিয়া মধ্যবিকৃতভাবে জীবনযাপন করিতে থাকে ।

[চিত্র—৩৩, চিহ্ন—১৬ ।

মনঃকষ্ট ।

৩১২। শিষ্য। কি চিহ্ন থাকিলে জাতক মনঃকষ্ট পাইয়া থাকে ?

শুক । ভাগ্যরেখা ও আয়ুরেখা ক্ষুদ্র ক্ষুদ্র রেখাধারা কর্তিত হইলে জাতক মনঃকষ্ট পাইয়া থাকে । [চিত্র—৭, চিত্র—২।৩ ।

—(জ্ঞীলোক হইতে)

৩১৩ । শিষ্য । কি চিত্র জাতকের জ্ঞীলোকজাত মনঃকষ্টের সূচনা করে ?

শুক । (১) ভাগ্যরেখা হইতে একটা শাখা চন্দ্রস্থান পর্যন্ত বাইলে কিংবা (২) আয়ুরেখার অনুগরেখার উপরে একটা তারকা-চিত্র থাকিলে, জাতক জ্ঞীলোক হইতে মনঃকষ্ট পাইয়া থাকে । [চিত্র—৪০, চিত্র—১।২ ।

মমতাশূন্যতা ।

৩১৪ । শিষ্য । মমতাশূন্য ব্যক্তির হস্তে কি বিশিষ্ট চিত্র দেখিতে পাওয়া যায় ?

শুক । আয়ুরেখা ও হৃদয়রেখা অতিদূর্বর্তী ও শাখাশূন্য হইলে জাতক মমতাশূন্য হয় ।

মস্তকাত্যাত ।

৩১৫ । শিষ্য । কি চিত্র থাকিলে জাতকের মস্তকে আঘাত লাগিয়া থাকে ?

শুক । এক হস্তে শিরোরেখার একটি তারকা-চিত্র অঙ্কিত কিংবা শনির নিম্নে উত্তরেখা ভগ্ন হইলে জাতক মস্তকে আঘাত পাইয়া থাকে ।

(চিত্র—৩৭, চিত্র—১০ ; চিত্র— ৪০, চিত্র—৩ ।

—(সাংঘাতিক)

৩১৬ । শিষ্য । কি চিত্র মস্তকে সাংঘাতিক আঘাতপ্রাপ্তির সূচনা করে ?

শুক । উত্তর হস্তে শিরোরেখা শনির স্থানের নিম্নে ভগ্ন বা ছিন্ন হইলে, জাতকের মস্তকে সাংঘাতিক আঘাত লাগিয়া থাকে ।

[চিত্র—৪৫, চিত্র—৩ ।

মস্তিকপীড়া ।

৩১৭ । শিষ্য । কি চিত্র জাতকের মস্তিকপীড়ার সূচনা করে ?

শুক। (১) শিরোরেরা শৃঙ্খলবৎ হইয়া স্বাস্থ্যরেখা অতিক্রম করিলে, ও শিরোরেরার উপর যব-চিহ্ন থাকিলে কিংবা (২) শিরোরেরা মলিন, বিস্তৃত ও উহার উপরে ক্ষুদ্র ক্ষুদ্র কাল বিন্দু-চিহ্ন থাকিলে জাতক মস্তিষ্করোগে আক্রান্ত হয়।

[চিত্র—১৫, চিহ্ন—৭; চিত্র—৩৫, চিহ্ন—২, চিত্র—২৯, চিহ্ন—২১।

মহত্ব।

৩১৮। শিষ্য। কি চিহ্ন জাতকের মহত্বের সূচনা করে ?

শুক। (১) তর্জনির তৃতীয় পর্ব হইতে একটা সরলরেখা উখিত হইয়া প্রথম পর্ব পর্য্যন্ত বিস্তৃত হইলে কিংবা (২) করত্রিকোণ প্রশস্ত হইলে জাতক স্বতই মহৎগুণসম্পন্ন হইয়া থাকে। [চিত্র—৩৭, চিহ্ন—৯।

মাতৃপিতৃবিয়োগ—(বাল্যকালে)

৩১৯। শিষ্য। বাল্যকালে মাতৃপিতৃবিয়োগের চিহ্ন কি ?

শুক। একটা ছোট যব কিংবা ত্রিকোণ-চিহ্ন ভাগ্যরেখার প্রথমমাংশে অঙ্কিত থাকিলে জাতকের বাল্যকালে মাতৃপিতৃবিয়োগ হইয়া থাকে।

[চিত্র—৩৩, চিহ্ন—৯; চিত্র—৩২, চিহ্ন—৫।

মানসিক কষ্ট—(আত্মীয়-মরণে)

৩২০। শিষ্য। কি চিহ্ন থাকিলে জাতক আত্মীয়ের মরণ হইতে মনঃকষ্ট পাইয়া থাকে ?

শুক। শুক্রস্থান হইতে একটা সরলরেখা উখিত হইয়া, আয়ুরেখা, শিরোরেরা ও হৃদয়রেখা - এই তিনটা রেখা কর্তন করিলে, জাতক আত্মীয়ের মৃত্যুজন্য মানসিক কষ্টভোগ করিয়া থাকে। [চিত্র ৪০, চিহ্ন—৪।

মানসিক দৌর্বল্য।

৩২১। শিষ্য। কি চিহ্নে জাতকের মানসিক দৌর্বল্য সূচিত হয় ?

শুক। শিরোরেরা ক্ষুদ্র, বৃদ্ধানুলী প্রথম পর্ব ক্ষুদ্র, দুর্বল হইলে, জাতক মানসিক দুর্বল হইয়া থাকে। [চিত্র—২৯, চিহ্ন—১৮।

মানসিকী দৃঢ়তা ।

৩২২। শিষ্য : কি চিহ্নে জাতক মানসিকদৃঢ়তা লাভ করিতে সমর্থ হয় ?

শুক্র । (১) বৃদ্ধাঙ্গুলীর প্রথম পর্ব সাতিশয় পুষ্ট, বিশেষতঃ অনামিকার ও কনিষ্ঠার প্রথম পর্বের গ্রহিসমূহ সাতিশয় পুষ্ট অথবা (২) শিরোরেখা পরিষ্কৃত-রূপে অঙ্কিত এবং বৃহস্পতির ও মঙ্গলের স্থান উচ্চ হইলে, জাতক মানসিক দৃঢ়তা লাভ করিতে বা রক্ষা করিতে সমর্থ হয় ।

মায়াবাদিত্ব ।

৩২৩। শিষ্য । কি চিহ্নে জাতকের মায়াবাদিত্বের সূচনা করে ?

শুক্র । (১) মণিবন্ধের প্রথম বলয় ধনুঃসদৃশ ও শিরোরেখা চন্দ্রস্থান পর্য্যন্ত বিস্তৃত কিংবা (২) করতল ক্ষুদ্র, অঙ্গুলীসকল গ্রহিশূন্য ও তৃতীয় পর্ব সকল অপরিপুষ্ট এবং প্রথম পর্ব ক্রমশঃ সূক্ষ্ম ও বৃদ্ধাঙ্গুলীর প্রথম পর্ব ক্ষুদ্র হইলে জাতক মায়াবাদী হইয়া থাকে ।

[চিত্র—৩৭, চিহ্ন—১২।১৩।

—(সপ্রেম)

৩২৪। শিষ্য । প্রেমের সহিত মায়াবাদিত্বের সূচক চিহ্ন কিরূপ ?

শুক্র । হৃদয়রেখা শাখাবিশিষ্ট হইয়া বৃহস্থান হইতে উৎখিত ও বৃহস্পতির স্থানে বাইরা পুনরায় শাখাবিশিষ্ট হইলে জাতক ভালবাসিয়া মায়াবাদী হয় ।

চিত্র—৩৯, চিহ্ন—১৮।১৯।২০।১৬।

মিতব্যয়িতা ।

৩২৫। শিষ্য । কি চিহ্নে জাতক মিতব্যয়ী হয় ?

শুক্র । শিরোরেখা সরল, দীর্ঘ ও হৃদয়রেখা পরিষ্কৃতরূপে অঙ্কিত এবং তর্জনী অন্তান্ত অঙ্গুলী অপেক্ষা দীর্ঘ হইলে জাতক মিতব্যয়ী হইয়া থাকে ।

[চিত্র—৩, চিহ্ন—২।৪।

মিথ্যাগল্পবাদিতা ।

৩২৬। শিষ্য । কি চিহ্নে থাকিলে জাতক মিথ্যাগল্প বলিতে ভালবাসে ?

শুক । চন্দ্রের ও শুক্রের স্থান সাতিশয় উচ্চ, হৃদয়রেখা সম্পূর্ণ অঙ্কিত হইলে, জাতক মিথ্যাগন্ন বলিতে ভালবাসিয়া থাকে ।

মিথ্যাবাদিতা ।

৩২৭ । শিষ্য । মিথ্যাবাদীর হস্তে কি চিহ্ন তাহার স্বভাবের সূচন করে ?

শুক । (১) চন্দ্রস্থানে ক্রুশ-চিহ্ন অঙ্কিত, উভয় হস্তে কনিষ্ঠাঙ্গুলীর তৃতীয় পর্ব দীর্ঘ ও শিরোরৈখা শাখায়ুক্ত, (২) চন্দ্রের স্থান উচ্চ, অঙ্গুলী সকল দীর্ঘ ও বৃহদাঙ্গুলী ক্ষুদ্র, (৩) বুধের স্থান সাতিশয় উচ্চ ও জাল-চিহ্নযুক্ত এবং রবির স্থান উচ্চ, (৪) শিরোরৈখা শাখায়ুক্ত ও তাহার একটি শাখা চন্দ্রস্থানগত, (৫) উভয় হস্তে করচতুর্কোণ অত্যন্ত অপ্রশস্ত ও বুধের স্থান উচ্চ, (৬) কনিষ্ঠার ও তর্জনির দ্বিতীয় পর্বে পার্শ্ববিস্তৃত (এড়ো) রেখা অঙ্কিত কিংবা (৭) শিরোরৈখা ও হৃদয়রেখা সম্পূর্ণরূপে অঙ্কিত ও আয়ু-রেখার শেষভাগে ত্রিকোণ-চিহ্ন চিত্রিত থাকিলে, জাতক মিথ্যাবাদী হইয়া থাকে ।

[চিত্র—৩৫, চিহ্ন—১৫ ; চিত্র—৩৭, চিহ্ন—১৩।১৪ ১৫ ;

চিত্র—৩৮, চিহ্ন—২।১০, চিত্র—২৫, চিহ্ন—২ ।

মূর্ছিত্ব ।

৩২৮ । শিষ্য । কি চিহ্ন থাকিলে জাতক মূর্ছ হয় ?

শুক । (১) শিরোরৈখা রবির ও বুধের নিম্নস্থানে বক্র ও হৃদয়রেখার নিকটবর্তী, (২) একটি সরলরেখা মধ্যমাঙ্গুলীর তৃতীয় পর্ব হইতে উখিত হইয়া প্রথম পর্ব পর্য্যন্ত বিস্তৃত, (৩) শিরোরৈখা মলিন ও অপ্রশস্ত এবং করত্রিকোণের প্রথম ও দ্বিতীয় কোণ স্থূল কিংবা (৪) ভাগ্যরেখা শিরোরৈখা হইতে উখিত এবং বৃহস্পতির, রবির ও বুধের স্থান নিম্ন হইলে জাতক মূর্ছ হইয়া থাকে ।

[চিত্র—১৮, চিহ্ন—১।৩।৮ ; চিত্র—১২, চিহ্ন—১ ।

মূর্ছাবায়ু ।

৩২৯ । শিষ্য । কি চিহ্ন থাকিলে জাতক মূর্ছাবায়ুরোগগ্রস্ত হয় ?

শুক । শুক্রের ও চন্ড্রের স্থান উচ্চ এবং শুক্রবন্ধনী বহুরেখাঘারা কর্তিত হইলে জাতকে মূৰ্ছাবায়ুরোগগ্রস্ত হইতে হয় ।

[চিত্র—৪০, চিহ্ন—৬ ।

মৃত্যু—(অকালে)

৩৩০ । শিষ্য । কিরূপ চিহ্ন থাকিলে জাতকের অকাল-মৃত্যু ঘটয়া থাকে ?

শুক । (১) শিরোরেখার মধ্যস্থলে কুশ-চিহ্ন অঙ্কিত এবং শিরোরেখা কিংবা হৃদয়রেখা ভাগ্যরেখার নিকট সম্পূর্ণ, (২) উভয় হস্তে আয়ুরেখা ভগ্ন ও ক্ষুদ্র অথবা (৩) শিরোরেখা ও হৃদয়রেখা বুধের নিম্নে বক্রভাবে মিলিত হইলে জাতকের অকালমৃত্যু ঘটয়া থাকে ।

[চিত্র—২৭, চিহ্ন—৩১৪।১৭ ; চিত্র—২৩, চিহ্ন—১২ ; চিত্র—৪০, চিহ্ন—৭ ।

—(আকস্মিক)

৩৩১ । শিষ্য । কি চিহ্ন জাতকের আকস্মিক মৃত্যুর সূচনা করে ?

শুক । (১) ভাগ্যরেখার শেষভাগে কুশ ও মঙ্গলের স্থানে জাল-চিহ্ন কিংবা (২) শিরোরেখা মণিবন্ধের অভিমুখী হইয়া, একটা কুশ-চিহ্ন বা তারকা-চিহ্নের নিকট সম্পূর্ণ হইলে, জাতকের আকস্মিক মৃত্যু ঘটয়া থাকে ।

[চিত্র—৩৩, চিহ্ন—১২।২০ ; চিত্র—৩৫, চিহ্ন—১৩।১৫ ।

—(আত্মীয় বন্ধুর)

৩৩২ । শিষ্য । ঘনিষ্ঠ আত্মীয় বা বন্ধুর মৃত্যুসূচক চিহ্ন কিরূপ ?

শুক । ভাগ্যরেখার নিকট কয়েকটা ক্ষুদ্র কুশ-চিহ্ন থাকিলে জাতকের বন্ধু বা ঘনিষ্ঠ আত্মীয়ের মৃত্যু ঘটয়া থাকে ।

[চিত্র—৩৫, চিহ্ন—১৫ ।

—(জলমজ্জনে)

৩৩৩ । শিষ্য । কিরূপ চিহ্ন থাকিলে জাতক জলমগ্ন হইয়া মৃত্যুসুখে পতিত হয় ?

শুক । (১) চন্ড্রের স্থানে কোণাকৃতি চিহ্ন বা (২) প্রত্যেক অঙ্গুলীর প্রথম পর্কে চেউখেলান রেখা থাকিলে কিংবা (৩) শিরোরেখা চন্ড্রস্থানাভি-

মুখী হইয়া একটি তারকা-চিহ্নযুক্ত হইলে, জাতক জলমগ্ন হইয়া মৃত্যুমুখে পতিত হয়।

[চিত্র—৩১, চিহ্ন—৭ ; চিত্র—৩৩, চিহ্ন—২১ ; চিত্র—৩৫, চিহ্ন—১৩।

—(যুদ্ধে)

৩৩৪। শিষ্য। কি চিহ্ন যুদ্ধে মৃত্যুর সূচনা করে ?

গুরু। মঙ্গলের স্থানে তারকা-চিহ্ন থাকিলে কিংবা মঙ্গলের স্থান হইতে একটি সরলরেখা উখিত হইয়া, শনিস্থান পর্য্যন্ত যাইলে জাতকের যুদ্ধে মৃত্যু ঘটিয়া থাকে।

[চিত্র—৪০, চিহ্ন—৮৯।

—(হঠাৎ)

৩৩৫। শিষ্য। কিরূপ চিহ্ন থাকিলে জাতকের হঠাৎ মৃত্যু ঘটিয়া থাকে ?

গুরু। (১) অঙ্গুলী সমূহের গ্রন্থি সকলে একটি করিয়া ক্ষুদ্র রেখা থাকিলে অথবা (২) শিরোরৈখা এবং হৃদয়রেখা আয়ুরৈখা বৃহস্পতির স্থানে মিলিত ও শিরোরৈখার মধ্যস্থলে ক্রুশ-চিহ্ন অঙ্কিত থাকিলে জাতকের হঠাৎ মৃত্যু ঘটিয়া থাকে।

[চিত্র—৩৯, চিহ্ন—১৪।১৫।১৬।

(য)

বশোভাগ্য

৩৩৬। শিষ্য। হস্তে কি-চিহ্ন থাকিলে জাতকের বশোভাগ্যের সূচনা করে ?

গুরু। (১) রবিরেখা উভয় হস্তে পরিষ্কৃতরূপে অঙ্কিত ও অপর কোন রেখাকর্তৃক অকর্ষিত হইলে কিংবা (২) বৃহস্পতি-স্থানে তারকা-চিহ্ন থাকিলে জাতকের বশোভাগ্য সূচিত হয়।

[চিত্র—৩০, চিহ্ন—১২ ; চিত্র—২৬, চিহ্ন—৭।

যশোলাভ—(দৈবাৎ)

৩৩৭ । শিষ্য । দৈবাৎ যশোলাভের সূচক চিহ্ন কি ?

গুরু । (১) ভাগ্যরেখা স্পষ্টরূপে অঙ্কিত ও রবির স্থানে একটা তারকা-চিহ্ন চিত্রিত অথবা (২) উভয় হস্তে রবিস্থানে দুইটা সমান্তর রেখা স্পষ্টরূপে অঙ্কিত ও অল্প কোণ রেখাধারা অকর্ষিত হইয়া থাকিলে, জাতকের দৈবাৎ যশোলাভ হইয়া থাকে ।

[চিত্র—১১, চিহ্ন—৭ ; চিত্র - ২৬, চিহ্ন—১০ ১১ ।

যশোলিপ্সা—(আধিক্য)

৩৩৮ । শিষ্য । হস্তে কিরূপ চিহ্ন থাকিলে জাতকের যশোলিপ্সা অধিক হয় ?

গুরু । (১) উভয় হস্তে আয়ুরেখা হইতে উখিত একটা রেখা স্পষ্টরূপে অঙ্কিত, অপর কোন রেখাধারা অকর্ষিত ও বৃহস্পতির স্থান পর্য্যন্ত বিস্তৃত হইলে অথবা (২) বুধের নিম্নস্থ মঙ্গলের স্থান হইতে একটা রেখা উখিত হইয়া, রবির স্থানে যাইলে জাতকের যশোলিপ্সা অধিক হয় ; কিন্তু শেষোক্ত চিহ্নসম্পন্ন জাতক যশোলাভের চেষ্টা-চরিতও যথেষ্ট করিয়া থাকে ।

[চিত্র— ৩০, চিহ্ন—২।২২ ।

যুদ্ধনৈপুণ্য ।

৩৩৯ । শিষ্য । কিরূপ চিহ্ন থাকিলে জাতক যুদ্ধক্ষেত্রে নিপুণতা দেখাইতে সমর্থ হয় ?

গুরু । মঙ্গলের স্থানে একটা তারকা-চিহ্ন থাকিলে ও মঙ্গলস্থান যথেষ্ট পুষ্ট হইলে, জাতক যুদ্ধে নৈপুণ্য দেখাইতে সমর্থ হয় ।

[চিত্র—৪০, চিহ্ন—৮ ।

(র)

রঙ্গপ্রিয়তা।

৩৪০। শিষ্য। হস্তে কি চিহ্ন থাকিলে জাতক রঙ্গরস ভালবাসে ?

শুরু। (১) করতল স্বাস্থ্যরেখাশূন্য, বুধের স্থান উচ্চ কিংবা (২) অঙ্গুলী সকল নমনীয় ও অঙ্গুলীর গ্রন্থিসমূহ পুষ্ট হইলে, জাতক রঙ্গরসের বিষয়ে বিশিষ্টরূপ আসক্ত হয়।

রসায়নপ্রিয়তা।

৩৪১। শিষ্য। কি চিহ্ন থাকিলে জাতক রসায়ন-বিদ্যাপ্রিয় হয় ?

শুরু। ক্ষুদ্র ক্ষুদ্র ছই-তিনটি সরলরেখা বুধের স্থানে বা হস্তপার্শ্বদেশে থাকিলে জাতক রসায়ন-বিদ্যাপ্রিয় হয়।

[চিত্র—৩২, চিহ্ন—১৭।

রাগরাহিত্য।

৩৪২। শিষ্য। জাতকের রাগরাহিত্যের সূচক চিহ্ন কি ?

শুরু। (১) শুক্রের স্থান অপরিপুষ্ট এবং বহুরেখাযুক্ত হইলে কিংবা (২) শিরোরেখা প্রশস্ত, মলিন ও হৃদয়রেখা অপরিপুষ্ট হইলে, জাতকের পার্শ্ব কোন বিষয়েই আর রাগ থাকে না।

[চিত্র—৩১, চিহ্ন—১৫।

রাজনীতিজ্ঞতা।

৩৪৩। শিষ্য। রাজনীতিজ্ঞ ব্যক্তির হস্তে কি বিশিষ্ট চিহ্ন তাঁহার অভিজ্ঞতা প্রকাশ করে ?

শুরু। বুধের স্থানে একটা ত্রিকোণ-চিহ্ন থাকিলে জাতক বিচক্ষণ রাজনীতিজ্ঞ হয়।

[চিত্র—৩৫, চিহ্ন—৮।

(ল)

লজ্জাশীলতা ।

৩৪৪ । শিষ্য । হস্তে কি চিহ্ন থাকিলে জাতক স্বভাৱে লজ্জাশীল হইয়া থাকে ?

গুরু । শিরোরেখা আয়ুৰেখার সহিত মিলিত হইলে জাতক লজ্জাশীল হইয়া থাকে । [চিত্র—২, চিহ্ন—৭ ।

লাম্পাট্য ।

৩৪৫ । শিষ্য । লাম্পাটের হস্তে কি বিশিষ্ট চিহ্ন তাহার স্বভাব প্রকাশ করিয়া দেয় ?

গুরু । (১) গুরুস্থানে কতকগুলি সরলরেখা অপর কতকগুলি সরলরেখা দ্বারা কৰ্ণিত হইলে ; (২) তর্জনির তৃতীয় পর্কে তারকা-চিহ্ন থাকিলে অথবা (৩) মধ্যমার তৃতীয় পর্কে ত্রিকোণ-চিহ্ন অঙ্কিত থাকিলে, জাতক লাম্পাট হইয়া থাকে ।

[চিত্র—১২, চিহ্ন—৬ ; চিত্র—৮, চিহ্ন—৮ ;
চিত্র—৩৫, চিহ্ন—১৭ ।

(ব)

বস্তুতা ।

৩৪৬ । শিষ্য । হস্তে কিরূপ চিহ্ন থাকিলে জাতক বস্তুতা করিতে সমর্থ হয় ?

গুরু । (১) কনিষ্ঠাঙ্গুলী সূচ্যগ্র, দৈর্ঘ্যে অনামিকার সমানাকৃতি ও ইহার প্রথম পর্ক অস্তান্ত পর্কানেকা দীর্ঘতম (২) বুধের স্থান পরিপূট ও কনিষ্ঠাঙ্গুলীর

তৃতীয় পর্কে তারকা-চিহ্ন অঙ্কিত, (৩) শিরোরেখা চন্দ্রস্থানে উপনীত এবং বৃহস্পতির স্থান পরিপূর্ণ কিংবা (৪) শিরোরেখার শেষভাগে ত্রিকোণ-চিহ্ন অঙ্কিত থাকিলে জাতকের বক্তৃতা করিবার ক্ষমতা থাকে ।

[চিত্র—৩৪, চিহ্ন—৮২।১০।১১]

৫

—(বিশিষ্টত্ব)

৩৫৭। শিষ্য। কিরূপ চিহ্ন থাকিলে জাতকের বক্তৃতা করিবার বিশিষ্টরূপ ক্ষমতা আছে. জানা যায় ?

গুরু। বক্তৃতাসূচক সাধারণ চিহ্নের কোন একটি চিহ্ন করতলে থাকিলে এবং ভাগ্যরেখা রবিস্থানে বাইলে, জাতকের বক্তৃতা করিবার ক্ষমতা বিশিষ্টরূপই থাকে ।

[চিত্র - ৩৪, চিহ্ন - :২ ।]

বদান্যতা ।

৩৪৮। শিষ্য। কি চিহ্ন জাতকের বদান্যতার সূচনা করে ?

গুরু। (১) বৃহস্পতি ও শুক্রের স্থান উচ্চ এবং হৃদয়রেখা স্পষ্টরূপে অঙ্কিত ও করচতুষ্কোণ প্রশস্ত ও স্পষ্ট চিত্রিত হইলে, জাতক বদান্যতার পরিচয় দিয়া থাকে ; অর্থাৎ স্বতঃপ্রবৃত্ত হইয়া, দানে রত থাকিয়া দানশীলতার পরিচয় দেয় ।

চিত্র—২৮, চিহ্ন—১৮ ।

বাগাড়ম্বর ।

৩৪৯। শিষ্য। কিরূপ চিহ্ন থাকিলে জাতক বাগাড়ম্বর করিয়া থাকে ?

গুরু। (১) উভয় হস্তে তর্জনী সূনাগ্র হইলে কিংবা (২) অঙ্গুলী সকল গ্রহিশূন্য ও শুণ্ডাকার হইলে জাতক বাগাড়ম্বরপ্রিয় হইয়া থাকে ।

বাচালতা ।

৩৫০। শিষ্য। কিরূপ চিহ্ন থাকিলে জাতক বাচাল হইয়া থাকে ?

গুরু। শিরোরেখা ও হৃদয়রেখা স্পষ্টরূপে অঙ্কিত এবং আয়ুরেখার শেষ ভাগে একটি ত্রিকোণ-চিহ্ন অবস্থিত ও বুধের স্থান সাতিশয় উন্নত হইলে জাতককে বাচাল হইতে হয় ।

[চিত্র—২৫, চিহ্ন—২ ।]

বাতুলতা ।

৩৫১ । শিষ্য । কি চিহ্ন জাতকের বাতুলতার সূচনা করে ?

গুরু । (১) শিরোরেখা চন্দ্রস্থান পর্যন্ত গড়াইয়া যাইলে, (২) চন্দ্রস্থানে বহুরেখা থাকিলে ও শিরোরেখা মণিবন্ধাভিমুখী হইয়া একটা তারকা-চিহ্নের সহিত সংযুক্ত হইলে অথবা (৩) উভয় হস্তে শিরোরেখার উপর যব-চিহ্ন থাকিলে জাতক বাতুল হইয়া থাকে ।

[চিত্র—৩২, চিহ্ন— ৭ ;

[চিত্র—৩৫, চিহ্ন—১২।৩ ।

—(কুকুরদংশনে)

৩৫২ । শিষ্য । হস্তে কিরূপ চিহ্ন থাকিলে, জাতককে কুকুরদষ্ট হইয়া পাগল হইতে হয় ?

গুরু । উভয় হস্তে চন্দ্রস্থানে তারকা-চিহ্ন থাকিলে, জাতক কুকুরকর্জুক দষ্ট হইয়া বাতুল হইয়া যায় ।

[চিত্র—২৭, চিহ্ন—১৫ ।

—(বংশগত)

৩৫৩ । শিষ্য । বংশগত বাতুলতার চিহ্ন কিরূপ ?

গুরু । শিরোরেখা চন্দ্রস্থান স্পর্শ করিয়া, একটা তারকা-চিহ্নের সহিত যুক্ত হইলে হৃদয়রেখা অস্পষ্টরূপে অঙ্কিত এবং শুক্রের ও শনির স্থানে তারকা-চিহ্ন বিরাজিত হইয়া থাকিলে, জাতক তাহার পূর্বপুরুষগণের নিকট হইতে বাতুলতা পাইয়া থাকে ।

[চিত্র— ৩৫, চিহ্ন—১।৩।৪।৫ ।

—(বিপজ্জনক)

৩৫৪ । শিষ্য । কিরূপ চিহ্নে জাতক বাতুল হইয়া বিপদে পতিত হয় ?

গুরু । (১) শিরোরেখা শনির স্থানে ভগ্ন ও চন্দ্রের স্থান অত্যন্ত উচ্চ কিংবা (২) গড়ানে শিরোরেখা ভগ্ন হইলে, জাতক বাতুল হইয়া বিপদে পতিত হইয়া থাকে ।

[চিত্র—৪০, চিহ্ন—৩ ; চিত্র—২৬, চিহ্ন—১৩ ।

বিচক্ষণতা

৩৫৫ । শিষ্য । বিচক্ষণ ব্যক্তির হস্তে কিরূপ চিহ্ন দেখিতে পাওয়া যায় ?

শুরু । (১) বুধের ও রবির স্থান উচ্চ এবং আয়ুরেখার শেষাংশে ক্রুশ-চিহ্ন অঙ্কিত, (২) করত্রিকোণের তৃতীয় কোণ (অর্থাৎ যে স্থানে স্বাস্থ্যরেখা আয়ুরেখা স্পর্শ করে) প্রশস্ত, (৩) করত্রিকোণ পরিষ্কৃতরূপে অঙ্কিত ও গোলাপী বর্ণে বিকশিত, (৪) কনিষ্ঠার দ্বিতীয় ও তৃতীয় পর্কে দুইটি বা তিনটি সরলরেখা স্পষ্টভাবে অঙ্কিত কিংবা (৫) কনিষ্ঠাস্থলী অপেক্ষাকৃত দীর্ঘ ও আর একটি সরলরেখা শিরোরেখা হইতে উখিত হইয়া বুধের স্থানে উপনীত হইলে জাতক বিচক্ষণ হয় ।

[চিত্র—৩০, চিহ্ন—৮:০ ১১ ; চিত্র—২৬, চিহ্ন—১৪ ;

[চিত্র—৪, চিহ্ন—১ ।

বিচার—(উৎকর্ষরূপে)

৩৫৬ । শিষ্য । কিরূপ চিহ্ন থাকিলে জাতক উত্তমরূপে সুবিচার করিতে সমর্থ হয় ?

শুরু । (১) অস্থলীগুলি ক্ষুদ্র নখরবিশিষ্ট ও গ্রহিবৃক্ষ এবং অস্থলী ও করতল সমদীর্ঘ, বৃদ্ধাস্থলীর দ্বিতীয় পর্ক পুষ্ট ও মধ্যমা রেখাশূন্য কিংবা (২) চন্দ্রস্থান ত্রিকোণ-চিহ্নযুক্ত এবং সকল অস্থলীরই দ্বিতীয় পর্ক অন্তান্ত পর্ক অপেক্ষা দীর্ঘ হইলে জাতক উত্তম যুক্তিধারা বিচার করিতে সমর্থ হয় ।

[চিত্র— ৩৪, চিহ্ন—১১ ।

—(তৎপরতা)

৩৫৭ । শিষ্য । কিরূপ চিহ্ন থাকিলে জাতক বিচার-তৎপর হইতে সমর্থ হয় ?

শুরু . . অস্থলীসকল চতুর্কোণ, গ্রহিশূন্য ও করতলের সহিত সমদীর্ঘ হইলে জাতক বিশিষ্টরূপে বিচার-তৎপর হইতে পারে ।

—(সূক্ষ্মরূপে)

৩৫৮ । শিষ্য । কিরূপ চিহ্ন থাকিলে জাতক সূক্ষ্মরূপে বিচার করিতে সমর্থ হয় ?

শুরু । (১) করচতুর্কোণ স্পষ্টরূপে অঙ্কিত এবং হস্তপার্শ্ব পর্যন্ত প্রসৃত কিংবা (২) অঙ্গুলী সকল গ্রহিযুক্ত ও চতুর্কোণ হইলে জাতক সকল বিচারই স্বল্পরূপে সম্পন্ন করিতে সমর্থ হয় ।

—(হৃদয়গতভাবে)

৩৫৯ । শিষ্য । কিরূপ চিহ্ন থাকিলে জাতক হৃদয়ের গতি অনুসারে বিচার করিয়া থাকে ?

শুরু । (১) শিরোরৈখার শেষাংশ হইতে একটা শাখা উখিত হইয়া হৃদয়রেখা স্পর্শ করিলে অথবা (২) ক্ষুদ্র শাখা শিরোরৈখা হইতে নির্গত হইয়া গুরুস্থানে বাইলে, জাতক হৃদয়গত ভাবের অনুসারে বিচার করিয়া থাকে । [চিত্র—৩৫, চিহ্ন—৩৭ ।

বিজ্ঞানশাস্ত্রে উন্নতি ।

৩৬০ । শিষ্য । কিরূপ চিহ্ন থাকিলে জাতক বিজ্ঞানে উন্নতি করিতে সমর্থ হয় ?

শুরু । (১) বুধের স্থানে ত্রিকোণ-চিহ্ন ও শিরোরৈখার উপর খেতবর্ষ বিন্দু-চিহ্ন অঙ্কিত কিংবা (২) কনিষ্ঠার তৃতীয় পর্ক হইতে উখিত একটা সরলরেখা প্রথম পর্ক পর্যন্ত বিস্তৃত থাকিলে জাতক বিজ্ঞানশাস্ত্রচর্চার উন্নতি সাধন করিতে সমর্থ হয় । [চিত্র—৩৫, চিহ্ন—৮১৯ ।

বিজ্ঞানে অর্ধোন্নতি ।

৩৬১ । শিষ্য । হস্তে কি চিহ্ন থাকিলে বিজ্ঞানের সাহায্যে জাতকের অর্ধাগম হইয়া থাকে ?

শুরু । (১) একটা ত্রিকোণ চিহ্ন বা খেতবিন্দুচিহ্ন বুধের স্থানের নিম্নে শিরোরৈখার উপর অঙ্কিত, (২) একটা সরল রেখা কনিষ্ঠার তৃতীয় পর্ক হইতে প্রথম পর্ক পর্যন্ত বিস্তৃত হইলে জাতকের বিজ্ঞানব্যবসারে অর্ধাগম হইয়া থাকে । [চিত্র—৩৬, চিহ্ন—১১১২ ।

বিদূষকল্প ।

৩৬২ । শিষ্য । কি চিহ্ন থাকিলে জাতক বিদূষক হয় ?

শুক । শিরোরৈখা বক্রভাবে বুধস্থানে উপনীত এবং বুধস্থান উন্নত হইলে জাতক একজন নিপুণ বিদ্যুৎক হইতে সমর্থ হয় ।

[চিত্র—৪, চিহ্ন—১ ।

বিদ্যা পরিচয়ে সুখী ।

৩৬৩ । শিষ্য । কিরূপ চিহ্ন থাকিলে জাতক বিদ্যাগত পরিচয় দ্বারা সুখী হইতে পারে ?

শুক । আয়ুরৈখা হইতে উখিত ভাগ্যরৈখা অপর কোন রৈখা দ্বারা কণ্ঠিত না হইয়া, শনিস্থান পর্য্যন্ত বিস্তৃত হইলে, জাতক স্ববিজ্ঞান পরিচয় দিয়া সুখী হইতে সমর্থ হয় ।

[চিত্র—২৮, চিহ্ন—১৮ ।

বিদ্বেষ—(দাম্পত্য)

৩৬৪ । শিষ্য । কিরূপ চিহ্ন দাম্পত্যবিদ্বেষের সূচনা করে ?

শুক । (১) হৃদয়রৈখা শৃঙ্খলাকার হইয়া বুধের স্থান হইতে উখিত ও শনির স্থান পর্য্যন্ত বিস্তৃত কিংবা (২) অঙ্গুলীসকলের প্রথম পর্ব্ব সূত্র ও বুধের স্থান সাতিশয় উচ্চ হইলে, জাতক বা জাতিকার বধাক্রমে স্ত্রী বা পুরুষের প্রতি ঘৃণা জন্মিয়া থাকে ।

[চিত্র—২৭, চিহ্ন—১৪ ।

বিদ্বেষপরতা

৩৬৫ । শিষ্য । কিরূপ চিহ্ন থাকিলে জাতক বিদ্বেষপর হয় ?

শুক । শুক্রের স্থানে জাল-চিহ্ন থাকিলে জাতক বিদ্বেষপর হয় ।

[চিত্র—১৩, চিহ্ন—১১ ।

বিলাসিতা ।

৩৬৬ । শিষ্য । বিলাসিতার সূচক চিহ্ন কি ?

শুক । (১) অঙ্গুলী সকল সূত্রাক্রম কিংবা চতুর্ভুজ ও গ্রহিণ্য এবং শুক্রের ও শুক্রের স্থান পুট হইলে জাতক বিলাসী হয় ।

বিবাহ ।

৩৬৭ । শিষ্য । কি রৈখা জাতকের বিবাহের সূচনা করে ?

শুক । বুধের স্থানে হস্তপার্শ্বের উপর গভীর রৈখা অঙ্কিত কিংবা

(২) শুক্রস্থান হইতে স্তম্বরেখা উখিত হইয়া আয়ুরেখা, শিরোরেখা ও হৃদয়রেখা অতিক্রম করিয়া অবস্থিত থাকিলে জাতকের বিবাহ বুঝায় ।

[চিত্র—৩৬, চিহ্ন—১ ; চিত্র—৩৫, চিহ্ন—১১ ।

—(অস্থকর)

৩৬৮ । শিষ্য । কিরূপ চিহ্ন থাকিলে, জাতককে বিবাহ করিয়া অস্থখী হইতে হয় ?

গুরু । (১) একটা সরলরেখা শুক্রের স্থানে বব-চিহ্নযুক্ত হইয়া শনির স্থানে বাইলে অথবা (২) শনির স্থানে ক্ষুদ্র ক্ষুদ্র রেখা পরস্পর কণ্ঠিত ও বিবাহরেখার উপর ববচিহ্ন চিত্রিত হইয়া থাকিলে, জাতক বিবাহ করিয়া অস্থখী হইয়া থাকে ; অর্থাৎ পতি বা পত্নী রোগাক্রান্ত বা উন্নত হওয়ার একে অন্তের কষ্টের কারণ হয় । [চিত্র—৩৬, চিহ্ন—২।৬

—(বণিক্‌সহ)

৩৬৯ । শিষ্য । কি চিহ্ন বণিকের সহিত বিবাহের সূচনা করে ?

গুরু । একটা রেখা শুক্রস্থান হইতে উখিত হইয়া শিরোরেখা, হৃদয়রেখা—উভয় রেখা ভেদ করিয়া বুধের স্থানে বাইলে জাতিকার বাণিজ্য-ব্যবসায়ী ব্যক্তির সহিত বিবাহ হয় । [চিত্র—৩৫, চিহ্ন—১১ ।

বিবাহভঙ্গ ।

৩৭০ । শিষ্য । বিবাহভঙ্গ-সূচক চিহ্ন কিরূপ ?

গুরু । একটা সরলরেখা শুক্রস্থান হইতে বব-চিহ্নযুক্ত হইয়া উঠিয়া, শিরো-রেখা ভেদ করিয়া হৃদয়রেখা স্পর্শ করিলে ও উহার শেষভাগ শাখাবিশিষ্ট হইলে জাতকের বিবাহভঙ্গ হইয়া থাকে । [চিত্র—৩২, চিহ্ন—১২ ।

—(মরণে)

৩৭১ । শিষ্য । কি চিহ্ন থাকিলে বিবাহ সময়ে মৃত্যু ঘটায়, জাতকের বিবাহভঙ্গের সূচনা করে ?

গুরু । বিবাহরেখা মধ্যে ভঙ্গ হইলে বিবাহকালীন মৃত্যু ঘটায়, জাতকের বিবাহভঙ্গ হয় । [চিত্র—৩৪, চিহ্ন—১৩ ।

—(বৃদ্ধসহ)

৩১২। শিষ্য। কি চিহ্ন বৃদ্ধের সহিত বিবাহের সূচনা করে ?

শুরু। একটি সরলরেখা শুক্রস্থান হইতে উখিত হইয়া শনিস্থানগত হইলে
জাতিকার বৃদ্ধের সহিত বিবাহ হইয়া থাকে। [চিত্র—৩৬, চিহ্ন—২।

—(শিল্পীসহ)

৩১৩। শিষ্য। কি চিহ্ন শিল্পীর সহিত বিবাহের সূচনা করে ?

শুরু। একটি শাখা বিবাহরেখা হইতে উখিত হইয়া বুধের স্থানে, অপরটি
রবির স্থানে বাইলে, জাতিকার শিল্পীর সহিত বিবাহ হইয়া থাকে।

[চিত্র—৩৫, চিহ্ন—১১।১৮।

—(সুখকর)

৩১৪। শিষ্য। কিরূপ চিহ্ন থাকিলে জাতক বিবাহ করিয়া সুখভোগ

করিতে সমর্থ হয় ?

শুরু। (১) ভাগ্যরেখা শুক্রস্থান হইতে উখিত হইয়া, হৃদয়রেখা স্পর্শ করিলে
অথবা (২) বৃহস্পতির স্থানে ক্রুশ চিহ্ন থাকিলে, জাতক বিবাহ করিয়া সুখভোগ
করিতে পারে। [চিত্র—৩৬, চিহ্ন—৪।৫।

—(মকদ্দমা)

৩১৫। শিষ্য। কি চিহ্ন বিবাহে মকদ্দমা ঘটাইয়া থাকে ?

শুরু। একটি গভীর সরলরেখা হৃদয়রেখা হইতে উখিত হইয়া বিবাহরেখা
স্পর্শ করিলে বিবাহে অভিযোগ (যামলা-মকদ্দমা) ঘটয়া থাকে।

[চিত্র—৩৪, চিহ্ন—১৪।

বিগতবৃত্তাচারিত্রতা।

৩১৬। শিষ্য। কি চিহ্ন থাকিলে জাতক বিগতবৃত্তাচারিত্র হয় ?

শুরু। অনামিকার প্রথম পর্কে একটি ক্রুশ-চিহ্ন ও বৃহস্পতির স্থান উচ্চ
হইলে জাতক বিগতবৃত্তাচারিত্র বা স্থিরচেতা হইতে সমর্থ হয়।

[চিত্র—৩৬, চিহ্ন—৬।

বিবাহভঙ্গবৃত্তাব।

৩১৭। শিষ্য। কি চিহ্ন থাকিলে জাতকের চরিত্র বিগত হয় ?

শুক্র । অঙ্গুলীসমূহ সূচ্যগ্র এবং গ্রহিসমূহ পরিপুষ্ট হইলে, জাতক বিশুদ্ধতাব হইয়া থাকে ।

বিশ্বাসঘাতকতা ।

৩৭৮ । শিষ্য । জাতকের হস্তে কি চিহ্ন বিশ্বাসঘাতকতার সূচনা করে ?

শুক্র । বুধের স্থান সাতিশয় পুর, শিরোরৈখা দীর্ঘ, সূক্ষ্ম, শৃঙ্খলবৎ ও অস্পষ্ট-ভাবে অঙ্কিত এবং করচতুষ্কোণ অপ্রশস্ত হইলে, জাতক বিশ্বাসঘাতক হয় ।

[চিত্র—১৫, চিহ্ন—৭, চিত্র—৩১, চিহ্ন—৪ ।

বিষাদ ।

৩৭৯ । শিষ্য । বিষন্ন ব্যক্তির হস্তে কিরূপ চিহ্ন তাহার জন্মত বিষাদের সূচনা করে ?

শুক্র । (১) মধ্যমা সাতিশয় চতুষ্কোণাকৃতি এবং প্রথম পর্ব দীর্ঘ ও প্রশস্ত, (২) চন্দ্রস্থান অত্যন্ত উচ্চ ও জাল-চিহ্নযুক্ত এবং আয়ুরৈখা সূক্ষ্ম, দীর্ঘ কিংবা (৩) শনির স্থান অত্রান্ত স্থানাপেক্ষা সাতিশয় উচ্চ হইলে, জাতকে দুর্বলতার জন্ত বিষন্ন হইতে হয় । [চিত্র—৩৬, চিহ্ন—৭৮ ।

বৈজ্ঞানিকত্ব ।

৩৮০ । শিষ্য । কিরূপ চিহ্ন থাকিলে জাতক বৈজ্ঞানিক তত্ত্বানুসন্ধানে রত থাকে ?

শুক্র । অঙ্গুলী সকল চতুষ্কোণ, দীর্ঘ ও অপেক্ষাকৃত সূক্ষ্ম এবং কনিষ্ঠাঙ্গুলী অনামিকার সহিত সমাকৃতি ও বুধের স্থান উচ্চ, অনামিকার দ্বিতীয় পর্ব দীর্ঘ এবং সকল অঙ্গুলীরই দ্বিতীয় গ্রহি পুষ্ট হইলে, জাতক বৈজ্ঞানিক তত্ত্বানুসন্ধানে রত হইয়া থাকে । [চিত্র—৩৬, চিহ্ন—২১০ ।

—(তার্কিকতা)

৩৮১ । শিষ্য । বৈজ্ঞানিক ব্যক্তির হস্তে কিরূপ বিশিষ্ট চিহ্ন থাকিলে, তৎসম্বন্ধের তর্কাদিতে পটুতা দেখাইতে পারে ?

শুক্র । উত্তর হস্তে কনিষ্ঠা চতুষ্কোণ হইলে, জাতক বৈজ্ঞানিক তার্কিক হইয়া থাকে ।

বৈধব্য।

৩৮২। শিষ্য। কি চিহ্ন বৈধব্যের সূচনা করে ?

গুরু। (১) বুধক্ষেত্রগঃ বিবাহরেখা—নিম্নাভিমুখী (চালু) হইয়া জন্মরেখা স্পর্শ করিলে, (২) একটা সরলরেখা শুক্রের স্থান হইতে উত্থিত হইয়া আয়ুরেখা, শিরোরেখা ও জন্মরেখা এই রেখাত্রয় কর্তন করিয়া বুধের স্থান স্পর্শ করিলে কিংবা (৩) বুধের স্থানের বিবাহরেখার উপর কাল তিল-চিহ্ন থাকিলে, জাতিকাকে বিধবা হইতে হয়। [চিত্র—৩৫, চিহ্ন—১০১১১৬।

(শ)

শক্তিমত্তা।

৩৮৩। শিষ্য। কিরূপ চিহ্ন থাকিলে জাতক শক্তিসম্পন্ন হয় ?

গুরু। যদি এক বা দুইটা সরলরেখা অনামিকার তৃতীয় পর্ব হইতে দ্বিতীয় পর্ব পর্য্যন্ত বিস্তৃত হয় এবং আয়ুরেখার শেষাংশে একটা কুশ-চিহ্ন অঙ্কিত থাকে, তাহা হইলে জাতক শক্তিসম্পন্ন হইতে পারে।

[চিত্র—৩০, চিহ্ন—৮ ; চিত্র—২৪, চিহ্ন ১।

শক্তিহীনতা।

৩৮৪। শিষ্য। কিরূপ চিহ্ন থাকিলে জাতক শক্তিহীন হইয়া থাকে ?

গুরু। শিরোরেখা হস্ততলের মধ্যস্থান পর্য্যন্ত অঙ্কিত থাকিলে এবং বৃহস্পতির ও রবির স্থান নিম্ন হইলে জাতক শক্তিবিহীন বা কর্মানন্দ হইয়া থাকে।

[চিত্র—২৭, চিহ্ন—৩।

শঠতা।

৩৮৫। শিষ্য। হস্তে কিরূপ চিহ্ন থাকিলে জাতক শঠ হইয়া থাকে ?

গুরু। কনিষ্ঠাঙ্গুলী বক্র অথবা শিরোরেখা শাখাবুক্ত হইলে ও তাহার একটা শাখা চন্দ্রের স্থানে বাইলে জাতক শঠ হইয়া থাকে।

[চিত্র—৪০, চিহ্ন—৫।

শক্তি।

৩৮৬। শিষ্য। কিরূপ চিহ্ন জাতকের বিরুদ্ধে অস্ত্রের শক্ততাচরণ সূচিত করিয়া দেয় ?

গুরু। (১) বুধের নিম্নস্থ মঙ্গলের স্থানে হস্তপার্শ্বে তির্ধ্যাক্ (টেষ্ঠা) ভাবে কোন রেখা অঙ্কিত থাকিলে, জাতকের বিরুদ্ধে কোন পুরুষ এবং (২) শুক্রের স্থানে কৃষ্ণবর্ণ তিল-চিহ্ন থাকিলে জাতকের বিরুদ্ধে কোন স্ত্রীলোক শক্ততাচরণ করিতেছে, জানা যায়। [চিত্র—৩৪, চিহ্ন—১৮।১৯।

শক্ততার হ্রাস।

৩৮৭। শিষ্য। কিরূপ চিহ্ন থাকিলে জাতক গোপনে শত্রুকর্তৃক হত হইবে বলিয়া বুঝিতে পারা যায় ?

গুরু। মধ্যমার তৃতীয় পর্বে তারকা-চিহ্ন অঙ্কিত এবং শনির স্থানের নিম্ন হইতে একটি সরলরেখা উদ্ভিত হইয়া, শুক্রবক্রনীকে কর্তন করিয়া অবস্থিত থাকিলে জাতক যে, শত্রুকর্তৃক গুপ্তভাবে হত হইবে, তাহা বুঝিতে পারা যায়।

[চিত্র—২২, চিহ্ন—৩ ; চিত্র—৩৪, চিহ্ন—১৬।১৭।

শারীরিক অস্বাস্থ্য।

৩৮৮। শিষ্য। কিরূপ চিহ্ন থাকিলে জাতকের শরীর প্রায়ই অসুস্থ হইয়া থাকে ?

গুরু। (১) আয়ুরেখা মলিন এবং স্থানে স্থানে সূক্ষ্ম অথবা স্থূল অথচ সূত্র সূত্র রেখাধারা কর্তিত বা বিন্দু-চিহ্নযুক্ত হইলে, (২) আয়ুরেখার শেষাংশে একটি ক্রুশ-চিহ্ন এবং শিরোরেখা ও স্বাস্থ্যরেখা অস্পষ্টরূপে অঙ্কিত হইলে কিংবা (৩) সকল অঙ্গুলীর প্রথম পর্বের উপর বহু ঋজুরেখা থাকিলে জাতকের শরীর অসুস্থ হয় ; কিন্তু শেষোক্ত চিহ্ন স্বাস্থ্যদৌর্ভাগ্যজনিত অস্বাস্থ্যের সূচনা করে।

[চিত্র - ৭, চিহ্ন—২ ; চিত্র—২০, চিহ্ন—৩ ; চিত্র—২১, চিহ্ন—১১।

শারীরিক অস্বাস্থ্য—(বংশানুক্রমিক)

৩৮৯। শিষ্য। কি চিহ্নে জাতকের শরীর সম্বন্ধে বংশানুক্রমিক স্বাস্থ্যহানি সূচিত হয় ?

রে—১৩

শুক। আয়ুরেখা বব-চিহ্নযুক্ত হইলে, জাতকের শরীর বংশাভুক্তমিক অস্থ্য হইয়া দুর্বল হইয়া থাকে। [চিত্র—৩৪, চিহ্ন—২।

শারীরিক স্বাস্থ্য।

৩২০। শিষ্য। কি চিহ্ন থাকিলে জাতকের শারীরিক স্বাস্থ্য অস্থ্য থাকে ?

শুক। (১) মণিবন্ধের তিনটা রেখা পরিষ্কৃতরূপে অঙ্কিত, (২) করতল স্বাস্থ্যরেখাশূন্য, (৩) আয়ুরেখা ঈষৎ গোলাপী ও অপ্রশস্ত এবং সম্পূর্ণরূপে শুক্র-স্থান বেটন করিয়া অবস্থিত কিংবা (৪) করত্রিকোণের দ্বিতীয় কোণ (অর্থাৎ স্বাস্থ্যরেখা ও শিরোরেখার মিলনোৎপন্ন কোণ) পরিষ্কৃত ও প্রশস্ত হইলে, জাতকের স্বাস্থ্য প্রায়ই অব্যাহত থাকে।

[চিত্র—২৬, চিহ্ন - ৮।৩।১২।

—(বিশিষ্টরূপ)

৩২১। শিষ্য। কিরূপ চিহ্ন থাকিলে জাতক বিশিষ্টরূপ শারীরিক স্বাস্থ্য-রক্ষায় সমর্থ হয় ?

শুক। উভয় হস্তে আয়ুরেখার, অমুগরেখা এবং স্বাস্থ্যরেখা ও তাহার অমুগ-রেখা বা প্রবৃত্তিরেখা সুস্পষ্ট অঙ্কিত থাকিলে, জাতকের শরীর সাতিশয় স্থ্য হইয়া থাকে। [চিত্র—৪১, চিহ্ন—১।২।৩।৪।

শাসন—(অত্যাচারসহ)

৩২২। শিষ্য। কিরূপ চিহ্ন থাকিলে জাতক অত্যাচারপূর্বক অধীনদিগের শাসন করিতে রত হয় ?

শুক। তর্জনের তৃতীয় পর্ব অস্ত্রান্ত পর্বাপেক্ষা দীর্ঘতম এবং বৃদ্ধাঙ্গুলীর প্রথম পর্ব পরিপুষ্ট হইলে, জাতক অত্যাচারপূর্বক অধীনবর্গের শাসন করিতে অভিলাষী হয়।

শিল্পবিজ্ঞানবেত্ত্ব।

৩২৩। শিষ্য। কিরূপ চিহ্ন থাকিলে জাতক শিল্পবিজ্ঞানবিৎ হয় ?

শুক। রবিস্থানে ত্রিকোণ-চিহ্ন থাকিলে, জাতক শিল্পবিজ্ঞানবিৎ হয়।

[চিত্র—২৫, চিহ্ন—১৩।

শিল্পবিদ্যাশ্রিয়তা ।

৩২৪। শিষ্য । শিল্পবিদ্যাশ্রিয় ব্যক্তির হস্তে কি চিহ্ন তাহার সাধ্য বিচার বিশিষ্ট অনুরাগের সূচনা করে ?

গুরু । (১) রবির স্থান সাত্তিশর উচ্চ, (২) মধ্যমার প্রথম পর্ব দীর্ঘ ও সূচ্যগ্র, বৃদ্ধাসুলী সূত্রাকৃতি এবং দুইটি সরলরেখা রবিস্থান হইতে উখিত হইয়া, অনামিকার তৃতীয় ও দ্বিতীয় পর্ব অতিক্রম করিয়া প্রথম পর্ব পর্যন্ত বিস্তৃত ও শিরোরৈখ্য গড়াইয়া চন্দ্রস্থানে উপনীত হইলে, জাতক শিল্পশ্রিয় হয় ।

[চিত্র—৪২, চিহ্ন—৩।৪।৫.৬ ।

শিল্পবিদ্যাভেদুৎ ।

৩২৫। শিষ্য । কিরূপ চিহ্ন থাকিলে জাতক শিল্পবিদ্যাভিৎ হয় ?

গুরু । (১) ভাগ্যরেখা মণিবন্ধ হইতে উখিত হইয়া রবির স্থানে বাইলে কিংবা (২) শিরোরৈখ্য হইতে একটা রেখা স্পষ্টভাবে উখিত হইয়া রবির স্থানগত হইলে, জাতক শিল্পবিদ্যাভিৎ হইতে সমর্থ হয় ।

[চিত্র—৩৪, চিহ্ন—১২।২০ ।

শিল্পে—(পারদর্শিতা)

৩২৬। শিষ্য । কি চিহ্ন থাকিলে জাতক শিল্পবিদ্যার যথেষ্ট পারদর্শিতা-লাভে সমর্থ হয় ?

গুরু । অনামিকার দ্বিতীয় পর্ব অন্তান্ত পর্বাপেক্ষা দীর্ঘ হইলে জাতক সতর্কভাবে উত্তমরূপে শিল্পের চর্চা করিয়া পারদর্শিতালাভ করিতে সমর্থ হইয়া থাকে ।

—(ভ্রম্যানিষ্ট)

৩২৭। শিষ্য । কি চিহ্ন থাকিলে জাতকের শিল্পকার্যে ভ্রমবশতঃ অনিষ্ট ঘটয়া থাকে ?

গুরু । রবিস্থান তারকা-চিহ্নযুক্ত ও রবিরেখা হইতে দুইটি শাখা বক্রভাবে উখিত এবং অন্ত রেখাঘারা কর্তিত কিংবা রবিরেখা দ্বিধা-বিভক্ত হইয়া

‘V’ র জায় আকৃতিবিশিষ্ট হইলে, জাতকের সতর্কতার অভাবে ভ্রমবশতঃ শির-
কার্যে অনিষ্ট ঘটিয়া থাকে ।

[চিত্র—১৪, চিহ্ন—৫১৬ ; চিত্র—৪২, চিহ্ন—২ ।

শিষ্টাচার ।

৩৯৮। শিষ্য । কি চিহ্ন জাতকে শিষ্টাচারী করে ?

গুরু । চন্দ্রের ও শুক্রের স্থান সাতিশয় উচ্চ এবং অঙ্গুলীসমূহ গ্রহিৎসু ও
সূচ্যগ্র হইলে জাতক শিষ্টাচারী হইয়া থাকে ।

শোক ।

৩৯৯। শিষ্য । কি চিহ্ন জাতকের শোকের সূচনা করে ?

গুরু । শুক্রস্থান হইতে একটি সরলরেখা উখিত হইয়া আয়ুরেখা, শিরোরেখা,
হৃদয়রেখা—এই তিনটি রেখা কর্তন করিলে, জাতকের প্রিয়বিয়োগ ও অপ্রিয়-
সংযোগ হইতে শোকসংঘটন হইয়া থাকে ।

চিত্র—২০, চিহ্ন—৪ ।

(ষ)

ষড়্ যন্ত্র—(প্রেমসম্বন্ধে)

৪০০। শিষ্য । হস্তে কি চিহ্ন থাকিলে জাতক পার্থিব অলৌক প্রেমসম্বন্ধে
ষড়্ যন্ত্র করিয়া থাকে ?

গুরু । দুইটি সরলরেখা শুক্রস্থান হইতে উখিত হইয়া মঙ্গলের স্থানে বাইলে
জাতক প্রেমসাধনে এক্ষণে ষড়্ যন্ত্রকারী হয় যে, একাধিক লোকের সহিত
মিলিত থাকিয়াও, পরস্পরকে কিছুই জানিতে দেয় না ।

[চিত্র—৪০, চিহ্ন—১০ ।

—(প্রেমসম্বন্ধে বিপৎ)

৪০১। শিষ্য। হস্তে কি চিহ্ন থাকিলে জাতককে প্রেমবশে ষড়্বদ্ব করিয়া বিপদগ্রস্ত হইতে হয় ?

গুরু। দুইটি রেখা একটি গুরুস্থান ও অপরটি চন্দ্রস্থান হইতে উৎপত্ত হইয়া ভাগ্যরেখা স্পর্শ করিলে, জাতক নিভৃত প্রেমসাধন সম্বন্ধে ষড়্বদ্ব করিয়া বিপদগ্রস্ত হয় । [চিত্র—২০, চিহ্ন— ১১।১২ ।

(স)

সংসার-নির্বাহ—(সূশৃঙ্খল)

৪০২। শিষ্য। হস্তে কি চিহ্ন থাকিলে জাতক সূশৃঙ্খলরূপে সংসার পরিচালন করিতে সমর্থ হয় ?

গুরু। হৃদয়রেখা ও শিরোরেখা দীর্ঘ ও পরিষ্কৃতরূপে অঙ্কিত হইলে এবং অনামিকার পর্ব সকল অপর সকল পর্ব অপেক্ষা দীর্ঘতম হইলে, জাতক সূশৃঙ্খল-রূপে সংসারযাত্রা নির্বাহ করে । [চিত্র - ৩৬, চিহ্ন - ১৪।১৭ ।

সংসারাকর্ষণ ।

৪০৩। শিষ্য। কি চিহ্ন থাকিলে জাতক সংসারে বিশিষ্টরূপে আকৃষ্ট হয় ?

গুরু। করতল অঙ্গুলীসমূহের সমদীর্ঘ ও বৃহস্পতির স্থান উচ্চ হইলে, জাতক সংসারে সাতিশয় আকৃষ্ট হয় ।

সজ্জাগ্রদীন্দ্রিয়ত্ব ।

৪০৪। শিষ্য। কি চিহ্ন থাকিলে যন্মের স্মৃতিস্বাক্ষরকারী জাতকের নিদ্রিতাবস্থায় কতকগুলি ইন্দ্রিয় আগ্রত থাকে ?

শুক। স্বাস্থ্যরেখার উপর যব-চিহ্ন থাকিলে, স্নানধর্মতত্ত্বসূত্রায়ী জাতকের নিদ্রিতাবস্থায় কতকগুলি হৈন্দ্রিয় জাগ্রত থাকে।

[চিত্র—৩৪, চিহ্ন—১।

সত্তমতা।

৪০৫। শিষ্য। হস্তে কি চিহ্ন থাকিলে জাতক সত্তম (সাধুরত) হইতে পারে ?

শুক। (১) শুক্রস্থান হইতে দুই তিনটি উর্ধ্বমুখী সরলরেখা উখিত, বৃহস্পতির অভিমুখী ও অপর কোন রেখাধারা অকর্তিত, (২) শুক্রস্থান সমভাবে উচ্চ ও শিরোরৈখা দীর্ঘ এবং অপ্রশস্ত কিংবা (৩) হৃদয়রেখা স্পষ্টরূপে অঙ্কিত ও বৃহস্পতির স্থানের নিম্নদেশে শাখাযুক্ত হইয়া থাকিলে, জাতক মাহাত্ম্যে সত্তম হইয়া থাকে।

[চিত্র - ৩৯, চিহ্ন—২১ ; চিত্র - ২৩, চিহ্ন—১১।

সত্যপ্রিয়তা।

৪০৬। শিষ্য। কিরূপ চিহ্ন থাকিলে জাতক সত্যপ্রিয় হয় ?

শুক। (১) অনামিকা ও তর্জনী চতুর্কোণাকৃতি কিংবা (২) অঙ্গুলীগুলি গ্রন্থিযুক্ত, চতুর্কোণ ও শুণ্ডাকার হইলে, জাতক সত্যপ্রিয় হয়।

সদাত্মসাধন।

৪০৭। শিষ্য। কি চিহ্ন থাকিলে জাতক সদাত্মসাধন বা আধ্যাত্মিক জ্ঞানার্জন করিতে পারে ?

শুক। অঙ্গুলীসকল শুণ্ডাকার, প্রথম পর্ক দীর্ঘ এবং বৃহস্পতির স্থান শনির দিকে অভিনমিত (হেলান) হইলে, জাতক সদাত্মসাধনপর বা আধ্যাত্মিক-জ্ঞানরত হইতে সমর্থ হয়।

সদানন্দত্ব।

৪০৮। শিষ্য। কি চিহ্ন থাকিলে জাতক সদানন্দ হইতে সমর্থ হয় ?

শুক। (১) কনিষ্ঠার প্রথম পর্ক দীর্ঘ এবং বৃহস্পতির ও বুধের স্থান উচ্চ, অথবা (২) করতল কঠিন, শুক্রস্থান উচ্চ ও শনির স্থান নিম্ন হইলে জাতক সদানন্দ হয়।

সন্দ্বিচ্ছচিত্ততা ।

৪০৯। শিষ্য । কি চিহ্নে জাতক জ্রীস্বক্কে সন্দ্বিচ্ছচিত্ত হয় ?

গুরু । (১) শুক্রস্থান উচ্চ, জন্মরেখা হস্তপার্শ্ব পর্য্যন্ত বিস্তৃত, (২) জন্মরেখা দীর্ঘ, চন্দ্রস্থান পূষ্ট ও বহুরেখাযুক্ত এবং শুক্রবক্রনী অঙ্কিত কিংবা (৩) জন্মরেখা বুধের স্থান হইতে উর্ধ্বিত হইয়া বৃহস্পতি স্থান অতিক্রম করিলে, জাতক কি স্বকীয়, কি পরকীয় সকল জ্রীর সম্বন্ধেই সন্দেহ করিয়া থাকে ।

[চিত্র—৩৬, চিহ্ন—১৪; চিত্র—৪৩, চিহ্ন—২ ।

সন্ধিগত বাত ।

৪১০। শিষ্য । কি চিহ্ন থাকিলে জাতক সন্ধিগতবাত আক্রান্ত হয় ?

গুরু । আয়ুরেখার শেষাংশ শাখাবিশিষ্ট হইয়া একটা শাখা চন্দ্রস্থানে বাইলে, জাতক সন্ধিগত বাত রোগে আক্রান্ত হয় । [চিত্র—৩৯, চিহ্ন—১০ ।

সন্ধিকৌশল ।

৪১১। শিষ্য । কি চিহ্ন থাকিলে জাতক স্বভাবতঃ সন্ধিকৌশল হইতে পারে ?

গুরু । কনিষ্ঠা সূচ্যগ্র ও বুধের স্থানে ত্রিকোণ-চিহ্ন থাকিলে, জাতক স্বভাবতঃ সাধারণ সন্ধিস্থাপন করিতে সমর্থ হয় । [চিত্র—৩৫, চিহ্ন—৮ ।

সন্ন্যাস—(কৰ্ম্মত্যাগ)

৪১২। শিষ্য । কিরূপ চিহ্ন থাকিলে জাতক উদাসীন হয় ?

গুরু । বৃহস্পতি বুধ ও শুক্রের স্থান উচ্চ এবং উত্তর হস্তে শিরোরেখা জন্মরেখার সহিত মিলিত হইলে, জাতক কৰ্ম্মসন্ন্যাসে উদাসীন হয় ।

[চিত্র—২০, চিহ্ন—১১ ।

সন্ন্যাস—(বৈরাগ্য)

৪১৩। শিষ্য । কিরূপ চিহ্ন থাকিলে জাতক সন্ন্যাসী বা সংসারবিরাগী হয় ?

গুরু । (১) বৃহস্পতিস্থান পরিপূষ্ট ও রেখাশূন্য (২) জন্ম-রেখার শেষভাগ শাখাবিশিষ্ট ও একটা শাখা তজ্জননী ও মধ্যমার মধ্যস্থান পর্য্যন্ত বিস্তৃত কিংবা

—(যুদ্ধে)

৪১৬। শিষ্য। কি চিহ্ন থাকিলে জাতক যুদ্ধসম্বন্ধে সম্মানলাভ করিতে পারে ?

গুরু। একটা ত্রিকোণ-চিহ্ন বা তারকা-চিহ্ন মঙ্গলের স্থানে থাকিলে জাতক যুদ্ধকার্য হইতে সম্মানলাভ করিয়া থাকে । [চিত্র—৪০, চিহ্ন—৮।১৩।

—(রাজনীতিতে)

৪১৯। শিষ্য। কি চিহ্ন থাকিলে জাতক রাজনীতিক কর্মে সম্মানলাভ করিতে সমর্থ হয় ?

গুরু। তর্জনীর প্রথম পর্কে কিংবা বৃহস্পতির স্থানে তারকা-চিহ্ন থাকিলে, জাতক রাজনীতি সম্বন্ধে সম্মানলাভ করিতে সমর্থ হয় ।

[চিত্র—৮, চিহ্ন—৮ ; চিত্র—১৪, চিহ্ন—২।

—(সাতিশয়)

৪২০। শিষ্য। কি চিহ্ন থাকিলে জাতকের স্তমহান্ সম্মান ঘটয়া থাকে ?

গুরু। করচতুষ্কোণ তারকা-চিহ্নযুক্ত, অনামিকার মূল হইতে উখিত একটা রেখা প্রথম পর্ক পর্য্যন্ত বিস্তৃত হইলে জাতক মহান্ জনের ন্যায় কর্মে সাতিশয় সম্মানলাভ করিতে সমর্থ হয় ।

[চিত্র—৪৩, চিহ্ন—৩।৪।

—(সরলতা)

৪২১। শিষ্য। কিরূপ চিহ্ন থাকিলে জাতক সরল-প্রকৃতি হয় ?

গুরু। অঙ্গুলীসকল শুণ্ডাকার ও বৃহস্পতী ক্ষুদ্র হইলে, জাতক সরল-প্রকৃতি হইয়া থাকে ।

সম্মান অর্থলাভ ।

৪২২। শিষ্য। কি চিহ্ন বিশিষ্ট সম্মান ও অর্থপ্রাপ্তির সূচনা করে ?

গুরু। আয়ুরেখা হইতে একটি সরলরেখা উখিত হইয়া শিরোরেখা ও জ্বররেখা—উভয় রেখা কর্তন করিয়া শনি কিংবা বৃহস্পতির স্থানে যাইলে জাতক সম্মানসহ অর্থ লাভ করে ।

[চিত্র—৩৩, চিহ্ন—৫।

সহজজ্ঞান—(প্রমাণনিরপেক্ষ)

৪২৩ । শিষ্য । কি চিহ্নে জাতকের প্রমাণনিরপেক্ষ স্বাভাবিক বা সহজ জ্ঞানের অস্তিত্ব সূচিত হয় ?

শুক । (১) হৃদয়রেখা হইতে একটি শাখা উখিত হইয়া বৃহস্পতিস্থানগত, (২) ভাগ্যরেখা চন্দ্রস্থান হইতে উখিত, তর্জনী ও অনামিকা দীর্ঘ এবং ক্রমশঃ সূক্ষ্ম, (৩) চন্দ্রস্থানে ত্রিকোণ-চিহ্ন অঙ্কিত, (৪) একটি রেখা চন্দ্রস্থান হইতে উখিত হইয়া, ধনুঃসদৃশ বক্রাকারে বুধের স্থানে উপনীত কিংবা (৫) হৃদয়রেখার, ভাগ্যরেখার ও স্বাস্থ্যরেখার যোগে করত্রিকোণ স্পষ্টভাবে অঙ্কিত হইয়া থাকিলে জাতক সহজ-জ্ঞানেই স্বতঃসিদ্ধ ও প্রমাণনিরপেক্ষভাবে তত্ত্ব বুঝিতে সমর্থ হয় ।

[চিত্র—২৫, চিহ্ন - ১২।১৪ ; চিত্র—৩৪, চিহ্ন—১১ ;

চিত্র—৩২, চিহ্ন—৬, চিত্র - ৩৮, চিহ্ন—১২ ।

সাংসারিক সুখস্বাচ্ছন্দ্য ।

৪২৪ । শিষ্য । কি চিহ্নে জাতকের সাংসারিক সুখস্বাচ্ছন্দ্যের সূচনা করে ?

শুক । মণিবন্ধ হইতে ভাগ্যরেখা উখিত হইয়া স্পষ্টভাবে বৃহস্পতিস্থানের মধ্যে সম্পূর্ণ হইলে, জাতক সাংসারিক সুখস্বাচ্ছন্দ্য লাভ করিয়া থাকে ।

[চিত্র - ৩৮, চিহ্ন—২ ।

সাজ্জাতিক পীড়া ।

৪২৫ । শিষ্য । কিরূপ চিহ্ন থাকিলে জাতকের সাজ্জাতিক পীড়া হয় ?

শুক । (১) আয়ুরেখা ভগ্ন ও উক্ত স্থান হইতে একটি রেখা উখিত হইয়া শুক্রস্থানের মধ্য দিয়া বৃহস্পতি পর্য্যন্ত বিস্তৃত অথবা (২) হৃদয়রেখা শনির নিম্নে ভগ্ন ও উক্ত ভগ্নরেখা দুইটি উপযুগ্মপরি অবস্থিত হইলে, জাতকের সাজ্জাতিক পীড়া হইয়া থাকে ।

[চিত্র - ৪২, চিহ্ন—১।৭।৮ ।

—(শৈশবে)

৪২৬ । শিষ্য । কি চিহ্নে জাতকের শৈশবে সাজ্জাতিক পীড়া সূচিত হয় ?

শুক । শিরোরেখা, হৃদয়রেখা ও আয়ুরেখা বৃহস্পতির নিম্নে মিলিত হইলে, জাতকের বাল্যে সাজ্জাতিক পীড়া হইয়া থাকে এবং উভয় হস্তে থাকিলে মৃত্যু হইয়া থাকে ।

[চিত্র ২৩, চিহ্ন—১১ ।

সাধনতৎপরতা ।

৪২৩। শিষ্য । কি চিহ্ন থাকিলে জাতক স্বকর্মসাধনতৎপর বা অধ্যবসায়ী হয় ?

শুক্র । (১) বৃহস্পতির স্থান পুট, হৃদয়রেখা স্পষ্টরূপে অঙ্কিত, শিরোর-
রেখা হস্তের একপার্শ্ব হইতে অপর পার্শ্ব পর্য্যন্ত বিস্তৃত এবং বৃদ্ধাঙ্গুলী দীর্ঘ,
(২) কনিষ্ঠা আপেক্ষিক পরিমাণে সাতিশয় দীর্ঘ ও উহার তৃতীয় পর্ব্ব অপেক্ষা-
কৃত দীর্ঘতম কিংবা (৩) হস্ততল (যদিবক হইতে সমগ্র অঙ্গুলী পর্য্যন্ত) মধ্যমাকৃতি,
গ্রহিসকল পুট ও অঙ্গুলীসমূহ চতুর্কোণাকৃতি হইলে জাতক সর্বদা স্বকর্মসাধনে
তৎপর হইয়া থাকে ।

[চিত্র—২৮, চিহ্ন—৫২।

সাধারণ সরলজ্ঞান ।

৪২৮। শিষ্য । কি চিহ্ন জাতকের সাধারণ সরলজ্ঞানের সূচনা করে ?

শুক্র । (১) বৃদ্ধাঙ্গুলীর প্রথম ও দ্বিতীয় পর্ব্ব সমভাবে দীর্ঘ, (২) শিরোর-
সরল ও স্পষ্টরূপে অঙ্কিত কিংবা (৩) কনিষ্ঠার দ্বিতীয় পর্ব্ব সাতিশয় দীর্ঘ হইলে
জাতক সাধারণ সরলবুদ্ধিবিশিষ্ট হয় ।

[চিত্র—৩০, চিহ্ন—১৩।

সাধুতা ।

৪২৯। শিষ্য । কিরূপ চিহ্ন থাকিলে জাতক সাধুপ্রকৃতি হয় ?

শুক্র । একটি গভীর সরলরেখা কনিষ্ঠার তৃতীয় পর্ব্ব হইতে প্রথম পর্ব্ব পর্য্যন্ত
বিস্তৃত হইয়া থাকিলে, জাতক সাধুস্বভাবসম্পন্ন হয় ।

[চিত্র—৩৬, চিহ্ন—১২।

সান্দ্রোগ্রতা ।

৪৩০। শিষ্য । কি চিহ্ন থাকিলে জাতককে সততই উগ্রস্বভাব হইতে
হয় ?

শুক্র । (১) নখরসকল প্রশস্ত ও চতুর্কোণ, করতল কঠিন এবং কর-
ত্রিকোণ কুণ-চিহ্নযুক্ত কিংবা (২) মঙ্গলের স্থান সাতিশয় উচ্চ ও উক্ত স্থানে আল
বা কুণ-চিহ্ন অঙ্কিত হইয়া থাকিলে, জাতক সততই স্বীয় উগ্রস্বভাবের
পরিচয় দিয়া থাকে ।

[চিত্র—১৭, চিহ্ন—১৭।

সাত্ত্বিকসাধনপরম ।

৪৩১। শিষ্য। কি চিহ্ন থাকিলে জাতকের স্বভাব একগুণে (নাছোড়বান্দা) হয় ?

গুরু। (১) শিরোরেখা শনির স্থান হইতে উর্ধ্বিত হইয়া চন্দ্রস্থানগত, হৃদয়রেখা অস্পষ্টরূপে অঙ্কিত এবং নখরসমূহের দৈর্ঘ্যাপেক্ষা বিস্তার অধিক, (২) বৃদ্ধাজুলীর প্রথম পর্ব্ব খর্ব্ব ও প্রশস্ত, হৃদয়রেখা অস্পষ্টভাবে অঙ্কিত ও শিরোরেখা বৃহস্পতির নিম্ন হইতে উর্ধ্বিত হইয়া চন্দ্রের স্থানে আসিয়া সম্পূর্ণ কিংবা (৩) বৃদ্ধাজুলীর প্রথম পর্ব্ব খর্ব্ব ও প্রশস্ত এবং করতল কঠিন হইলে জাতক একগুণে হয় ; আত্মাভিমানও করিয়া থাকে । [১৮—পৃষ্ঠা, ৬২ অমুবন্ধ । [চিত্র—১৮, চিহ্ন—১০ । [চিত্র—৪৩, চিহ্ন—৫ ; চিত্র—৪৪, চিহ্ন—৬।৭ । সাফল্য ।

৪৩২। শিষ্য। কি চিহ্ন থাকিলে জাতক স্বকর্ম্মসাধনে সফলমনোরথ হইতে সমর্থ হয় ?

গুরু। আয়ুরেখা হইতে উর্ধ্বিত উর্দ্ধগামী শাখারেখা অন্তরেখাধারা কণ্ঠিত না হইলে, জাতক স্বকর্ম্মসাধনে সফলমনোরথ হইতে পারে ।

[চিত্র—২০, চিহ্ন—৪ ।

—(প্রতিবন্ধকতা)

৪৩৩। শিষ্য। কি চিহ্ন থাকিলে জাতক কর্ম্মসাধনে সফলমনোরথ হইতে গিয়া প্রতিবন্ধকতা পায় ?

গুরু। আয়ুরেখা উর্দ্ধমুখী, শাখারেখা বা ভাগ্যরেখা শুক্রস্থানস্থ কোন রেখাধারা কণ্ঠিত হইলে, জাতকের সাধ্যসাধনে অন্তরায়ের বা কোন অপরিহার্য্য প্রতিবন্ধকতার নিশ্চিতই সম্ভব হইয়া থাকে । [চিত্র—৪১, চিহ্ন—১২।২০ ।

সাময়িক উন্নতি—(প্রতিবন্ধকতা)

৪৩৪। শিষ্য। কি চিহ্ন থাকিলে জাতকের সাময়িক উন্নতির প্রতিবন্ধকতার সম্ভব হইয়া থাকে ?

গুরু। কোন একটা তিথ্যক্ (টেজ) সরলরেখা শুক্রস্থান হইতে খণ্ডিত হইয়া, আয়ুরেখা ভেদ করিয়া উন্নতিসূচক রেখার শেষভাগ কর্তন করিলে,

জাতক স্বকর্মে সাময়িক উন্নতিসাধন সম্বন্ধে বধেই প্রতিবন্ধকতা বা বাধা-বিয়
পাইয়া থাকে। [চিত্র—৩৩, চিত্র- ৮৮।

সামাজিকবিধিপালন।

৪৩৫। শিষ্য। সামাজিক আচার-ব্যবহার পালনের চিত্র কি ?

গুরু। আয়ুরেখার ও শিরোরেখার মিলনস্থান দীর্ঘ এবং জলররেখা ও
শিরোরেখা পরস্পর নিকটবর্তী হইলে, জাতক সামাজিক আচার-ব্যবহার পালন
করিয়া থাকে।

চিত্র - ৪১, চিত্র- ৮।

সাহসিকতা।

৪৩৬। শিষ্য। কি চিত্রে জাতক সাহসিকতার পরিচয় দিতে সমর্থ হয় ?

গুরু। (১) উভয় করতলে করত্রিকোণ পরিষ্কৃতরূপে অঙ্কিত, মঙ্গলের
স্থান উচ্চ ও রেখাশূন্য এবং মঙ্গলের ক্ষেত্র পরিপূর্ণ হইলে কিংবা (২) অঙ্গুলী-
সকল সরল ও তাহাদের তৃতীয়পর্কগুলি উন্নত হইলে জাতক সাহসী হয়।

—(অবিচলিত)

৪৩৭। শিষ্য। কি চিত্রে জাতকের অবিচলিত সাহসিকতার সূচনা
করে ?

গুরু। বুধের স্থানের নিম্নস্থ মঙ্গলের স্থান উচ্চ, করতল কঠিন ও অঙ্গুলী-
সকল চতুষ্কোণ হইলে, জাতকের সাহস অবিচলিত থাকে।

—(অসম)

৪৩৮। শিষ্য। কি চিত্রে থাকিলে জাতক অসমসাহসিকতার পরিচয়
দেয় ?

গুরু। বুধের নিম্নস্থ মঙ্গলের স্থান উচ্চ, অঙ্গুলীসকল সূলাগ্র ও করতল
কঠিন হইলে জাতক অসমসাহসিকতার পরিচয় দিতে পারে।

সাহিত্যসমালোচকত্ব।

৪৩৯। শিষ্য। কিরূপ চিত্রে থাকিলে জাতক সাহিত্যসমালোচক হইয়া
থাকে।

শুরু। বৃহস্পতির বুধের ও চন্দ্রের স্থান উচ্চ, অঙ্গুলীসমূহ চতুষ্কোণ কিংবা সূলাগ্র, অঙ্গুলীর দ্বিতীয় গ্রহসমূহ পুটে ও নখরসমূহ ক্ষুদ্র ও শুক্রবক্রনৌ অঙ্কিত থাকিলে, জাতক সাহিত্যসমালোচক হইয়া থাকে।

[চিত্র—৪০, চিহ্ন—২।

সুখাভিলাষ—(ইন্দ্রিয়গত)

৪৪০। শিষ্য। কি চিহ্ন থাকিলে জাতক ইন্দ্রিয়গত সুখাভিলাষে রত থাকে ?

শুরু। (১) শুক্রবক্রনৌ বৃহস্পতি পর্য্যন্ত বিস্তৃত এবং শুক্রের স্থান উচ্চ কিংবা (২) হৃদয়রেখা শনির স্থানে আসিয়া সম্পূর্ণ এবং অঙ্গুলীসকল সূলাগ্র কিংবা চতুষ্কোণ, তৃতীয় পক্ষ অন্ত্য পক্ষাপেক্ষা ক্ষুদ্র হইলে জাতক ইন্দ্রিয়গত সুখের উপভোগে প্রবৃত্ত থাকে।

[চিত্র—২৫, চিহ্ন—১২ ; চিত্র—২৭, চিহ্ন—১৪।

সুখাভিলাষিতা।

৪৪১। শিষ্য। কি চিহ্ন জাতককে সুখাভিলাষী করে ?

শুরু। অঙ্গুলীসকল গ্রহশূণ্য, চতুষ্কোণ বা সূলাগ্র ও পুটে হইলে এবং শুক্রের ও চন্দ্রের স্থান উচ্চ হইলে, জাতক সুখাভিলাষী হইয়া থাকে।

সুখ্যাতি।

৪৪২। শিষ্য। জাতকের সুখ্যাতির সূচক চিহ্ন কি ?

শুরু। (১) রবিরেখা উভয় হস্তে স্পষ্টরূপে অঙ্কিত ও অপর কোন রেখা দ্বারা অকর্ষিত কিংবা (২) বৃহস্পতির স্থানে তারকা-চিহ্ন অঙ্কিত হইয়া থাকিলে জাতক সাধারণ্যে সুখ্যাতিলাভ করিয়া থাকে।

[চিত্র—৩৬, চিহ্ন—১৫ ; চিত্র—১৩, চিহ্ন—৯।

—(অসাধারণ)

৪৪৩। শিষ্য। কি চিহ্ন থাকিলে জাতক অসাধারণ সুখ্যাতিলাভে সমর্থ হয় ?

শুরু। অনামিকার তৃতীয় পক্ষ হইতে একটা সরলরেখা উদ্ভিত হইয়া প্রথম পক্ষ পর্য্যন্ত বিস্তৃত থাকিলে জাতক অসাধারণ সুখ্যাতি অর্জন করিতে সমর্থ হয়।

[চিত্র—৪৩, চিহ্ন—৪

সূক্ষ্মতত্ত্বানুসন্ধান ।

৪৪৪। শিষ্য । কিরূপ চিহ্ন থাকিলে জাতকের সমস্ত বিষয়ের সূক্ষ্মতত্ত্বানুসন্ধানের কৌতূহল জন্মিয়া থাকে ?

গুরু । রক্তির স্থান উচ্চ, হস্তাঙ্গুলীসমূহ পুষ্ট, কোমল, কমনীয় এবং নখর সকল ক্ষুদ্র হইলে, জাতকের সূক্ষ্মতত্ত্বানুসন্ধানের জন্য কৌতূহল জন্মিয়া থাকে ।

সূক্ষ্মধর্ম্মতত্ত্বজ্ঞ ।

৪৪৫। শিষ্য । সূক্ষ্মধর্ম্মতত্ত্বজ্ঞ মহাত্মার হস্তে কিরূপ চিহ্ন দেখিতে পাওয়া যায় ?

গুরু । শুক্রস্থান রেখাবিহীন ও বৃহস্পতি, শনি, রবি, বুধ, মঙ্গল, চন্দ্র, শুক্র—এই সকল গ্রহেরই স্থান পরিপুষ্ট হইলে, জাতক স্থিরচেতাঃ বিশুদ্ধ-প্রকৃতি হইয়া নির্জনবাসে ঈশ্বরপ্রেমে সূক্ষ্মধর্ম্মের তত্ত্ব বুঝিবার জন্য জীবনযাপন করিয়া থাকে ।

[চিত্র—৪৪, চিহ্ন—৪ ।

সূক্ষ্মবিচার ।

৪৪৬। শিষ্য । কি চিহ্ন জাতকের সূক্ষ্মবিচারশক্তির সূচনা করে ?

গুরু । (১) হস্ততল ক্ষুদ্র, অঙ্গুলীসকল গ্রহিণ্ড, (২) অঙ্গুলীসকল হস্ততলের সমান দীর্ঘ ও চতুর্কোণ এবং অঙ্গুলীসকলের দ্বিতীয় পর্ব্ব অপেক্ষাকৃত দীর্ঘ হইলে জাতকের সমস্ত বিষয়ে উত্তমরূপ বিচার করিবার ক্ষমতা আছে, জানা যায় ।

সেবকতত্ত্ব—(আরাধনায়)

৪৪৭। শিষ্য । কি চিহ্ন জাতককে দেবসেবার রত করে ?

গুরু । বুধের নিরস্ব মঙ্গলের স্থান উচ্চ, হৃদয়রেখা স্পষ্টরূপে অঙ্কিত, বৃহস্পতির ও শুক্রের স্থান উন্নত হইলে, জাতক দেবদেবীর আরাধনা উপাসনায় রত হইতে সক্ষম হয় ।

সৈনিকতত্ত্ব—(খ্যাতি)

৪৪৮। শিষ্য । বিখ্যাত সৈনিকপুরুষের হস্তে কি চিহ্ন তাঁহার খ্যাতি প্রতিপত্তির সূচক ?

শুক্র । আয়ুরেখার ও ভাগ্যরেখার মধ্যস্থ মঙ্গলের ক্ষেত্রে একটি ত্রিকোণ-
চিহ্ন থাকিলে জাতক বিখ্যাত সৈনিক পুরুষ হইতে পারে ।

[চিত্র—৪৪, চিহ্ন—৩ ।

সৈনিকত্ব—(বিচক্ষণতা)

৪৪২ । শিষ্য । কি চিহ্ন থাকিলে জাতক বিচক্ষণ সৈনিক হইতে পারে ?

শুক্র । মধ্যমার তৃতীয় পর্কে একটি গভীররেখা অঙ্কিত এবং মঙ্গলের ক্ষেত্র
উচ্চ হইলে জাতক সৈনিক হইয়া কার্যে বিচক্ষণতার পরিচয় দিতে সমর্থ হয় ।

[চিত্র—৪৪, চিহ্ন—৮ ।

সৌজন্য ।

৪৫০ । শিষ্য । কি চিহ্ন জাতকের সৌজন্যের সূচনা করে ?

শুক্র । অঙ্গুলীসমূহের প্রথম পর্ক পুষ্ট এবং বৃহস্পতির রবির ও শুক্রের স্থান
পুষ্ট হইলে, জাতক সৌজন্য দেখাইতে সমর্থ হয় ।

সৌভাগ্য—(জলভ্রমণে)

৪৫১ । শিষ্য । জাতকের জলভ্রমণে সৌভাগ্যসূচক চিহ্ন কি ?

শুক্র । চন্দ্রস্থানে করত্রিকোণের সন্নিকটে একটি ক্রুশ-চিহ্ন থাকিলে জাতক
জলভ্রমণে সৌভাগ্যলাভে সমর্থ হয় ।

[চিত্র—৩২, চিহ্ন—৬ ।

সৌভাগ্যবত্তা ।

৪৫২ । শিষ্য । কি চিহ্নে জাতক সৌভাগ্যবান্ হইতে সমর্থ হয় ?

শুক্র । (১) ভাগ্যরেখা মণিবন্ধ হইতে উদ্ভিত হইয়া মধ্যমাঙ্গুলীর তৃতীয়
পর্ক পর্যন্ত বাইলে, (২) একটি সরলরেখা শিরোরৈখা হইতে উদ্ভিত হইয়া বৃহ-
স্পতির স্থানে তারকা-চিহ্নের সহিত মিলিত হইলে কিংবা রবিরেখা আয়ুরেখা
হইতে উদ্ভিত হইয়া রবিস্থান পর্যন্ত বাইলে, জাতক সৌভাগ্যবান্ হইয়া
থাকে ।

[চিত্র—৪০, চিহ্ন—১৪ ; চিত্র—১১, চিহ্ন—১ ; চিত্র—৫, চিহ্ন—৪ ।

—(অনাসাহায্যে)

৪৫৩ । শিষ্য । কিরূপ চিহ্ন থাকিলে জাতক অন্তের সাহায্যে সৌভাগ্যবান্
হয় ?

শুক । ভাগ্যরেখা চ স্থান হইতে সরলভাবে উখিত হইয়া শনির স্থান পর্যন্ত বাইলে, জাতক অর্থাৎ সাহায্য পাইয়া সৌভাগ্যবান্ হইতে সমর্থ হয় ।

[চিত্র—৩৫, চিহ্ন—১৪ ।

সৌভাগ্যশালীতা ৬

৪৫৪ । শিষ্য । সৌভাগ্যশালী ব্যক্তির হস্তে কি বিশিষ্ট চিহ্ন দেখিতে পাওয়া যায় ?

শুক । (১) শিরোরেখা ও হৃদয়রেখা শাখায়ুক্ত, (২) একটা সরলরেখা স্ত্রকস্থান হইতে উখিত হইয়া বৃহস্থান পর্যন্ত বিস্তৃত কিংবা (৩) বৃধের অথবা বৃহস্পতির স্থানে একটা গভীর রেখা অঙ্কিত হইয়া থাকিলে জাতক সৌভাগ্যশালী হইতে সমর্থ হয় ।

[চিত্র—৪১, চিহ্ন—৭১২ ; চিত্র—৪০, চিহ্ন—৪১৫।১৬ ।

সৌভাগ্যোদয় (জীবনের শেষে হঠাৎ)

৪৫৫ । শিষ্য । কি চিহ্ন থাকিলে জাতকের জীবনের শেষাংশে হঠাৎ সৌভাগ্যোদয় হয় ?

শুক । মণিবন্ধস্থ বলয়ত্রয়ের কোন একটীর উপর ক্রুশ-চিহ্ন থাকিলে জাতকের জীবনের শেষাংশে হঠাৎ সৌভাগ্যোদয় হয় ।

[চিত্র—২৮, চিহ্ন—৮ ।

—(সাত্তিশয়)

৪৫৬ । শিষ্য । জাতকের সাত্তিশয় সৌভাগ্যোদয়ের চিহ্ন কি ?

শুক । অঙ্গুরেখা, আয়ুরেখা ও প্রবৃত্তিরেখা বাহ্যরেখার পার্শ্বে থাকিলে জাতক সাত্তিশয় সৌভাগ্যবান্ হয় ।

[চিত্র—৪১, চিহ্ন—১২।৩।৪ ।

—(সাত্তিশয় পরিশ্রমে)

৪৫৭ । শিষ্য । কি চিহ্ন জাতকের সাত্তিশয় পরিশ্রমে সৌভাগ্যোদয়ের সূচনা করে ?

শুক । মণিবন্ধ শৃঙ্খলাকার ও সরল, কিন্তু অবিচ্ছিন্ন হইলে জাতক সাত্তিশয় পরিশ্রমে সৌভাগ্যলাভ করিতে সমর্থ হয় ।

[চিত্র—২৫, চিহ্ন—৭ ।

—(হঠাৎ)

৪৫৮। শিষ্য। কি চিহ্ন থাকিলে জাতকের হঠাৎ সৌভাগ্যোদয় হয় ?

গুরু। ভাগ্যরেখা চন্দ্রস্থান হইতে উখিত হইয়া হৃদয়রেখা পর্যন্ত বাইলে এবং হৃদয়রেখা বৃহস্পতির স্থান পর্যন্ত বিস্তৃত হইলে জাতকের হঠাৎ সৌভাগ্যোদয় হয়। [চিত্র ৩৬, চিহ্ন—৪।১৪।

সৌহৃদ্য—(ধার্মিকসহ)

৪৫৯। শিষ্য। কি চিহ্ন থাকিলে জাতক মহান্ ধার্মিকের সহিত সৌহার্দ্য-স্থাপনে সমর্থ হয় ?

গুরু। কনিষ্ঠার মূল হইতে একটা রেখা উখিত হইয়া বৃহস্থানগত হইলে জাতক মহান্ ধার্মিকজনের সহিত সৌহৃদ্য রক্ষা করিতে সমর্থ হয়।

[চিত্র—৪৭, চিহ্ন—৯।

স্বীপ্রপীড়িতত্ব।

৪৬০। শিষ্য। কি চিহ্ন থাকিলে জাতক স্বীজাতি দ্বারা প্রপীড়িত হইয়া থাকে ?

গুরু। (১) বৃহস্পতির প্রথম, দ্বিতীয় কিংবা তৃতীয় পর্কে কৃষ্ণবর্ণ তিল-চিহ্ন থাকিলে, (২) একটা সরলরেখা শুক্রস্থান হইতে উখিত হইয়া ভাগ্যরেখা কর্তন করিলে কিংবা (৩) মঙ্গলের ক্ষেত্রে একটা বৃত্তচিহ্ন অঙ্কিত হইয়া থাকিলে জাতক স্বীজাতিকত্বক প্রপীড়িত হয়।

[চিত্র—৪, চিহ্ন—১০।১১ ১২।

স্বীপ্ৰীতি।

৪৬১। শিষ্য। কি চিহ্ন থাকিলে স্বীজাতি পুরুষের প্রতি সাতিশয় অনুরক্তা হয় ?

গুরু। স্বীজাতির হস্তে আয়ুরেখার পার্শ্বে একটা অনুরেখা থাকিলে, জাতিকা পুরুষকে সাতিশয় ভালবাসিয়া তাহাতে অনুরক্তা থাকে।

[চিত্র—৪১, চিহ্ন—১।২।

স্বীপ্রেমে—(বিপৎ)

৪৬২। শিষ্য। কি চিহ্ন থাকিলে জাতক স্বীলোককে ভালবাসিয়া বিন্দে পতিত হয় ?

শুক । চন্দ্রস্থানে অর্ধচন্দ্রাকৃতি চিহ্ন থাকিলে জাতক জীলোককে ভালবাসিয়া বিপদে পতিত হয় । [চিত্র—৪১, চিহ্ন—১৩ ।

—(জৈশ্ব)

৪৬৩ । শিষ্য । কি চিহ্ন জাতককে জৈশ্ব করে ?

শুক । (১) হৃদয়রেখা হইতে একটি রেখা অধোমুখী হইয়া শিরোরেখার নিকটবর্তী, (২) একটি সরলরেখা শুক্রস্থান হইতে উৎখিত হইয়া, মঙ্গলের ক্ষেত্রে গিয়া তারকা-চিহ্নযুক্ত কিংবা (৩) শুক্রস্থানে একটি তারকা-চিহ্ন অঙ্কিত হইয়া থাকিলে, জাতক জৈশ্ব হইয়া থাকে ।

[চিত্র—২৪, চিহ্ন—২।১০।১৪ ।

স্থায়িপ্রেম ।

৪৬৪ । শিষ্য । কি চিহ্ন জাতকের স্থায়িপ্রেমের সূচনা করে ?

শুক । শুক্রস্থানে কতকগুলি রেখা অপর কোন রেখাধারা কর্তিত না হইয়া সরলভাবে থাকিলে, জাতকের প্রেম স্থায়িত্বে চিরকাল স্থির থাকে ।

[চিত্র—৩২, চিহ্ন—১০ ।

স্থিরপ্রতিজ্ঞ

৪৬৫ । শিষ্য । কি চিহ্ন জাতক স্থিরপ্রতিজ্ঞ হইতে সমর্থ হয় ?

শুক । (১) হৃদয়রেখা শাখাবিশিষ্ট হইয়া বৃহস্পতিস্থানে উপনীত কিংবা (২) মঙ্গলের স্থান উচ্চ, শিরোরেখা দীর্ঘ ও স্থন্ন হইলে, জাতক স্থিরপ্রতিজ্ঞ অর্থাৎ স্বীয় অঙ্গীকার স্থির রাখিতে সমর্থ হয় ।

[চিত্র—৩২, চিহ্ন—১৫।২ ।

স্নায়ুরোগ ।

৪৬৬ । শিষ্য । কি চিহ্ন স্নায়ুগত রোগের সূচনা করে ?

শুক । (১) আয়ুরেখার উপর বিন্দুচিহ্ন থাকিলে কিংবা (২) চন্দ্রস্থান পরিপূর্ণ ও বহুরেখাযুক্ত হইলে জাতকের স্নায়ুগত রোগ জন্মিয়া থাকে ।

[চিত্র—৩২, চিহ্ন—৭।১৬ ।

স্নেহবতা ।

৪৬৭ । শিষ্য । কি চিহ্ন জাতককে স্নেহবান্ করে ?

শুরু । (১) হৃদয়রেখা দীর্ঘ, স্পষ্ট ও সূক্ষ্ম এবং শুক্রস্থান পরিপুষ্ট হইলে, জাতক সাতিশয় মেহশীল হইয়া থাকে । [চিত্র -- ২৬, চিহ্ন—১৪ ।

স্বরগশক্তিমত্তা ।

৪৬৮ । শিষ্য । কি চিহ্ন থাকিলে জাতক উত্তম স্বরগশক্তিসম্পন্ন হইতে পারে ?

শুরু । শিরোরেখা হস্তের একপার্শ্ব হইতে অন্যপার্শ্ব পর্যন্ত বিস্তৃত ও স্বাস্থ্যরেখা দীর্ঘ সূক্ষ্ম ও পরিষ্কৃতরূপে অঙ্কিত হইলে জাতক উৎকৃষ্ট স্মৃতিশক্তি-সম্পন্ন হয় । [চিত্র—৩৮, চিহ্ন—৪।১৩ ।

স্মৃতিশক্তিহীনতা ।

৪৬৯ । শিষ্য । কি চিহ্ন থাকিলে জাতক স্বরগশক্তিহীন হয় ?

শুরু । শিরোরেখা অনেক স্থলে ভগ্ন হইলে জাতকের স্বরগশক্তির অভাব ঘটে । [চিত্র—৪০, চিহ্ন—৩।২০ ।

স্বপ্নে—(ঔষধলাভ)

৪৭০ । শিষ্য । কি চিহ্ন জাতকের স্বপ্নযোগে ঔষধ প্রাপ্তির সূচনা করে ?

শুরু । (১) স্বাস্থ্যরেখার উপর একটা যবচিহ্ন চিত্রিত কিংবা (২) শুক্রবন্ধনী স্পষ্টরূপে অঙ্কিত হইয়া থাকিলে জাতক স্বপ্নযোগে ঔষধলাভে সমর্থ হয় ।

[চিত্র—৪৪, চিহ্ন—১।৫ ।

স্বভাবকার্ণ্য ।

৪৭১ । শিষ্য । কিরূপ চিহ্ন থাকিলে জাতক কর্ণস্বভাব হয় ?

শুরু । (১) উভয় হস্তে রবির ও শুক্রের স্থান সমতল, হৃদয়রেখা শাখাহীন ; কিন্তু সূক্ষ্মরূপে অঙ্কিত এবং অনুলীসকল লোহিতবর্ণ ও চতুর্কোণ হইলে জাতক কর্ণস্বভাব হইয়া থাকে । [চিত্র—৩, চিহ্ন—২

স্বভাবকার্ণ্য ।

৪৭২ । শিষ্য । কি চিহ্ন জাতকের স্বভাবকার্ণ্যের সূচনা করে ?

শুরু । করত্রিকোণের দ্বিতীয় কোণ প্রশস্ত, হৃদয়রেখা ক্ষুদ্র ও শিরোরেখা সূদীর্ঘ এবং করচতুর্কোণ অপ্রশস্ত হইলে জাতক কর্ণ হইয়া থাকে ।

[চিত্র—১৩, চিহ্ন—২ ; চিত্র—৩১, চিহ্ন—১।৩ ।

স্বভাবরোক্ষ্য ।

৪৭৩। শিষ্য। কিরূপ চিহ্ন থাকিলে জাতক রক্ষস্বভাব হয় ?

গুরু। (১) বৃহস্পতির প্রথম গ্রহের পার্শ্বদেশে দুইটি ক্রম-চিহ্ন অঙ্কিত, বুধের নিম্নস্থ মঙ্গলের স্থান অপরিপুষ্ট এবং বৃহস্পতির নিম্নস্থ মঙ্গলের স্থান পুষ্ট কিংবা (২) আয়ুরেখা শৃঙ্খলাকার এবং করত্রিকোণের তৃতীয় কোণে ব্যবচ্ছিন্ন ও করতল বহুরেখাযুক্ত হইলে, জাতক রক্ষস্বভাববিশিষ্ট বা খিটখিটে হইয়া থাকে ।

[চিহ্ন—৪০, চিহ্ন—১৭।১৮।১৯ ।

স্বাচ্ছন্দ্যপ্রিয়তা ।

৪৭৪। শিষ্য। স্বাচ্ছন্দ্যপ্রিয় ব্যক্তির হস্তে কিরূপ চিহ্ন থাকে ?

গুরু। অঙ্গুলী ও করতল উভয়ই সমদীর্ঘ এবং অঙ্গুলীসমূহ চতুর্কোণ ও সমস্ত অঙ্গুলীর তৃতীয় পর্ব অন্য পর্বসকল অপেক্ষা পুষ্টতম হইলে, জাতক স্বচ্ছন্দে থাকিবার জন্য ব্যবহারোপযোগী দ্রব্যের সমাহার বা সংস্থান করিতে ভালবাসে ।

স্বাধীনকর্মত্ব ।

৪৭৫। শিষ্য। কিরূপ চিহ্নদ্বারা জাতক স্বাধীনভাবে কর্ম করিতে সমর্থ হয় ?

গুরু। অঙ্গুলীসমূহ পুষ্ট এবং অনামিকা ও মধ্যমার মধ্যস্থল বিস্তৃত হইলে, জাতক স্বাধীনভাবে কর্ম সম্পন্ন করিতে সমর্থ হইয়া থাকে ।

স্বাধীনচিন্তিত্ব ।

৪৭৬। শিষ্য। কি চিহ্ন জাতকের স্বাধীন চিন্তার সূচনা করে ?

গুরু। তর্জনী ও মধ্যমার সংযোগস্থল সাতিশয় বিস্তৃত এবং অঙ্গুলীসকল পুষ্ট হইলে, জাতকের স্বাধীন চিন্তা করিবার ক্ষমতা আছে, জানা যায় ।

স্বাধীনতা ।

৪৭৭। শিষ্য। কি চিহ্ন জাতকের স্বাধীনতার সূচনা করে ?

গুরু। অঙ্গুলীসকল শুণ্ডাকার এবং প্রথম দ্বিতীয় গ্রহি পুষ্ট এবং বৃহস্পতি দীর্ঘ ও পুষ্ট হইলে, জাতক স্বাধীনভাবে কর্মসাধনে রত হইতে পারে ।

স্বাভাবিকজ্ঞান ।

৪৭৮। শিষ্য। কি চিহ্ন থাকিলে জাতক স্থল স্বাভাবিক জ্ঞানের অধিকারী হইতে পারে ?

গুরু। বৃহাস্পতী অপেক্ষাকৃত ক্ষুদ্র ও পুষ্টি এবং অশ্বিনীসমূহের তৃতীয় পর্ব পুষ্টি, আর করত্রিকোণ অস্পষ্টরূপে অঙ্কিত হইলে, জাতকের স্থল স্বাভাবিক জ্ঞান আছে, জানা যায় ।

—(দৌত্য)

৪৭৯। শিষ্য। কি চিহ্ন জাতকের দৌত্যকর্মে স্বাভাবিক জ্ঞানের সূচনা করে ?

গুরু। শিরোরেখার শেষভাগ শাখাবৃক্ষ ও তাহার একটা শাখা চন্দ্রস্থানে ও অপরটা বুধস্থানে বাইলে এবং বুধস্থান পরিপুষ্ট হইলে, জাতকের দৌত্যকর্মে স্বাভাবিক জ্ঞান থাকে । [চিত্র—৩৭, চিহ্ন—১৩১৪ ।

—(নাট্য)

৪৮০। শিষ্য। কি চিহ্ন থাকিলে জাতকের নাটক লিখিবার স্বাভাবিক জ্ঞান থাকে ?

গুরু। উত্তর হস্তের অনামিকা সূলাগ্র হইলে, জাতকের নাটক লিখিবার স্বাভাবিক জ্ঞান আছে জানা যায় ।

—(চিকিৎসায়)

৪৮১। শিষ্য। কিরূপ চিহ্ন থাকিলে জাতকের চিকিৎসা-বিষয়ে স্বাভাবিক জ্ঞান জন্মিয়া থাকে ?

গুরু। উত্তর বুধস্থানে তিনটা সরলরেখা থাকিলে, জাতকের চিকিৎসা-শাস্ত্রে স্বাভাবিক জ্ঞানের পরিচয় পাওয়া যায় । [চিত্র—৩৯, চিহ্ন—১৭ ।

—(রাজনীতিসংক্রান্ত)

৪৮২। শিষ্য। কি চিহ্ন স্বাভাবিক রাজনীতিজ্ঞানের সূচনা করে ?

গুরু। শিরোরেখা দুইটা শাখাবিশিষ্ট হইয়া একটা শাখা বুধের স্থান অপরটা চন্দ্রের স্থানে বাইলে, জাতকের রাজনীতিবিষয়ে স্বাভাবিক জ্ঞান থাকে । [চিত্র—৪, চিহ্ন—১২ ।

(হ)

হঠাৎ রোগাক্রান্তি ।

৪৮৩। শিষ্য। হস্তে কি চিহ্ন থাকিলে জাতক হঠাৎ রোগাক্রান্ত হয় ?

শুরু। শুক্রস্থান হইতে একটা সরলরেখা উখিত হইয়া, হৃদয়রেখার কোন কুশ-চিহ্নের সহিত মিলিত হইলে এবং আয়ুরেখার ও হৃদয়রেখার উপর কৃষ্ণবর্ণ দাগ কিংবা বিন্দু-চিহ্ন অঙ্কিত থাকিলে, জাতককে হঠাৎ রোগাক্রান্ত হইতে হয় । [চিত্র—৪১, চিহ্ন—১৪।১৫।১৬।

হঠাৎ রোগে মৃত্যু ।

৪৮৪। শিষ্য। কি চিহ্ন থাকিলে জাতক হঠাৎ রোগাক্রান্ত হইয়া মৃত্যুমুখে পতিত হয় ?

শুরু। উভয় হস্তে একই স্থলে হৃদয়রেখার ও আয়ুরেখার উপর এক-একটা কাল তিল-চিহ্ন অঙ্কিত থাকিলে, জাতক হঠাৎ রোগাক্রান্ত হইয়া মৃত্যুমুখে পতিত হয়; কিন্তু উক্ত চিহ্ন এক হস্তে থাকিলে, মৃত্যু না ঘটয়া কেবল রোগবজ্রণার ভোগই হইয়া থাকে । [চিত্র—৪১, চিহ্ন—১৬।

হঠাৎ বিপৎ ।

৪৮৫। শিষ্য। কি চিহ্ন থাকিলে জাতক হঠাৎ বিপদগ্রস্ত হয় ?

শুরু। উভয় হস্তের ভাগ্যরেখার উপর একটা বা দুইটা তারকা-চিহ্ন অঙ্কিত অথবা উভয় হস্তের আয়ুরেখার উপর কুশ-চিহ্ন চিত্রিত হইয়া থাকিলে, জাতক অকস্মাৎ বিপদে পতিত হইয়া থাকে । [চিত্র—৪১, চিহ্ন—১৭।১৮।

হতভাগ্যতা ।

৪৮৬। শিষ্য। কি চিহ্ন জাতককে হতভাগ্য করিয়া থাকে ?

শুরু। (১) ভাগ্যরেখা মণিবন্ধের নিম্ন হইতে উখিত হইয়া অনেক স্থানে ভঙ্গ হইলে, জাতক হতভাগ্য হইয়া থাকে । [চিত্র—৪২, চিহ্ন ২।

হননপ্রবৃত্তি ।

৪৮৭। শিষ্য। কি চিহ্ন জাতকের হৃদয় হননপ্রবৃত্তি প্রকাশ করে ?

শুক। (১) মঙ্গলের স্থানে তারকা-চিহ্ন থাকিলে, (২) শনিস্থানের নিম্নে শিরোধেখার উপর নীলবর্ণের রেখা থাকিলে, জাতকের আশ্বেতরু জীবের হননপ্রবৃত্তির উদ্রেক হইয়া থাকে । [চিত্র—৪২, চিহ্ন—১০।১১ ।

ইঁপানি ।

৪৮৮। শিষ্য। কি চিহ্ন জাতকের ইঁপানি কাসরোগের সূচনা করে ?

শুক। করচতুর্কোণ অপ্রশস্ত ও স্বাস্থ্যরেখা অস্পষ্টরূপে অঙ্কিত থাকিলে, জাতকের ইঁপানি কাসরোগ জন্মিয়া থাকে ।

হানি—(হিংস্রপশু হইতে)

৪৮৯। শিষ্য। কিরূপ চিহ্ন থাকিলে জাতক হিংস্রপশুদ্বারা আহত হয় ?

শুক। (১) শনি ও মঙ্গলের স্থানে তারকা চিহ্ন এবং চন্দ্রস্থান হইতে একটা রেখা উৎপত্ত হইয়া হস্তপার্শ্ব পর্য্যন্ত যাইলে কিংবা (২) আয়ুরেখা হইলে কোন যব চিহ্নের মধ্যে ক্ষুদ্র ক্ষুদ্র বিন্দু-চিহ্ন থাকিলে, জাতককে হিংস্র পশুদ্বারা আক্রান্ত হইতে হয় ।

হিংসা ।

৪৯০। শিষ্য। জাতকের হিংস্রবৃত্তির সূচক চিহ্ন কি ?

শুক। (১) তর্জনীর দ্বিতীয় ও তৃতীয় পর্ব, কতকগুলি ত্রিধ্যক (টেষ্ঠা) রেখাদ্বারা কঙ্কিত, বৃহস্পতির ও রবির স্থান উচ্চ কিংবা (২) রবিস্থান উচ্চ এবং উহার উপরে পার্শ্ববিস্তৃত বা শারিতরেখা থাকিলে জাতক হিংস্র হইয়া থাকে । [চিত্র—৪৩, চিহ্ন—৬।৭ ; চিত্র—১২, চিহ্ন— ৭ ।

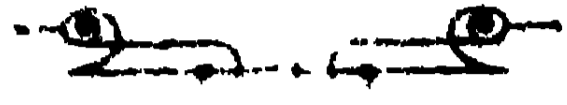
হৃদরোগ ।

৪৯১। শিষ্য। কিরূপ চিহ্ন থাকিলে জাতক হৃদরোগে আক্রান্ত হয় ?

শুক। (১) হৃদয়রেখা মলিন, বিস্তৃত ও শনিস্থানের নিকট অত্যন্ত প্রশস্ত কিংবা (২) আয়ুরেখা ও স্বাস্থ্যরেখা অত্যন্ত সরিকৃষ্ট হইয়া মিলিত এবং নীল কিংবা লাল বিন্দুচিহ্নযুক্ত হইলে, জাতকের হৃদরোগ জন্মিয়া থাকে ।

[চিত্র—৪৩, চিহ্ন—৮।৯।১০ ।

হস্তরেখানুশীলন।



শুরু । বৎস, আমি অদ্য তোমার সহজবুদ্ধিসম্বৃত সকল প্রকার সম্মেহেরই নিরাকরণহেতুক তৎসম্বন্ধে অনেক সুন্দর তত্ত্বেরই যথাসম্ভব উপদেশ প্রদান করিলাম, এক্ষণে তৎসম্বন্ধে যে কিরূপ জ্ঞানলাভ করিলে, এই কয়েকটি হস্তপাঠে তাহার পরিচয় দিয়া আমার সন্তুষ্ট কর ।

শিষ্য । প্রভো, ভবদনুগ্রহে আপনার মুখে অনেক তত্ত্বেরই উপদেশ প্রকাশ পাওয়াতে, এ মুহূর্তের কথক্ৰিৎ জ্ঞান বিকাশ পাইয়াছে, তাহার পরীক্ষা এই কয়েকটি হস্তপাঠে দিতেছি । আপনি পূর্বে সামুদ্রিক শিক্ষার আবিস্কিচার সম্বন্ধে যে উপদেশ করিয়াছেন, তাহাতে ঘটনাবলী মিলাইবার জন্য সময়নিক্রম একান্ত প্রয়োজনীয় ; এক্ষণে আমার তদ্বিবরক জ্ঞানের পরিচয় দিয়া, তাহার পর হস্তরেখা পাঠ করিয়া স্বজ্ঞানের প্রকাশ করাই সম্ভব । আয়ুরেখার সময়নির্দেশের প্রথম উপায়, বৃহস্পতির নিরে আয়ুরেখার যে অংশটুকু আছে, তাহাই ৩০ বৎসর । সেই ৩০ বৎসর পরিমিত আয়ুরেখা সমান ৩০ ভাগে বিভক্ত করিলে, তাহাই এক এক বৎসরের পরিমাণ । শেষভাগে এইরূপ সঙ্কোচ স্থান জীবনের শেষের ৩০ বৎসরকাল সূচক । মধ্যের প্রশস্ত অংশই ৪০ ভাগে বিভক্ত করিলে, এক এক বৎসরের পরিমাণ সূচনা করিয়া থাকে । ভাগ্যরেখার বয়োবিভাগের প্রারম্ভ হইতে শিরোরেখার কঙ্কিত স্থান পর্য্যন্ত ৩৫ বৎসর । এই অংশকে সমান ৩৫ ভাগে বিভক্ত করিলে এক এক ভাগ এক এক বর্ষকালসূচক ; পরে শিরোরেখা ও জন্মরেখার মধ্যস্থ অংশ ৩৫ হইতে ৫৫ বর্ষ—মধ্যের ২০ বৎসরের সূচনা করে ; এই সুন্দর অংশকে সমান ২০ ভাগে বিভক্ত করিলে তাহার এক এক ভাগ এক এক বর্ষের সূচনা করে । তদতিরিক্ত অবশিষ্ট অংশ ৫৫ বর্ষ হইতে শততম বর্ষ পর্য্যন্ত—শেষের ৪৫ বৎসরের ; আর এই অংশকে সম ৪৫ ভাগে বিভক্ত করিলে, তাহার এক এক ভাগ এক এক বর্ষের সূচনা করিয়া থাকে । এই ভাগ্যরেখার ও আয়ুরেখার অনুপাতে অপরূপ রেখারও কালনির্দেশ করিতে হয় ।

[চিত্র—৪৫ ।

শিষ্য । প্রভো, ভ্রূহুপদিষ্ট বিষয়েরই একমাত্র স্বরণ হইতেছে ; এক্ষণে যদি আমার এই কথিত বিষয়টা অত্রান্ত হয়, তাহা হইলে আমি হস্তপাঠ করিতে ব্রতী হইতে পারি ।

গুরু । তোমার স্মৃতিশক্তি আমার উপদেশ ধারণ করিতে সম্পূর্ণ সমর্থ বলিয়াই, তোমাকে সকল ভবেরই উপদেশ প্রদান করিতে আমি অমুগ্ধ প্রস্তুত । এক্ষণে বোধ হয়, তুমি এই কয়টা লোকের হস্তরেখা পাঠ করিয়া তাহার সমস্ত ফলাফল বধায়ুক্ত বলিতে পারিবে । এক্ষণে দেখা যাউক, প্রকৃতপক্ষে আমার উপদিষ্টবিষয়ে তোমার কিরূপ জ্ঞানলাভ হইয়াছে ।

শিষ্য । প্রভো, যখন আপনার জায় সদগুরু শ্রীমুখ হইতে অব্যর্থকল-উপদেশ পাইতে সমর্থ হইয়াছি, তখন আপনার কৃপাবলবনে এই কয়টা হস্ত-পাঠে যে সমর্থ হইব, তাহাতে সন্দেহ নাই ।

—:~::~:~:—

প্রথম হস্ত—৪৬ চিত্র ।

ইহার অঙ্গুলীর দৈর্ঘ্য অপেক্ষা করতলের দৈর্ঘ্য অধিক এবং গুরুস্থান সান্তিশয় প্রশস্ত ও করত্রিকোণ মলিন হওয়ায়, ইনি দেহাঙ্গবাদী ।

[পৃষ্ঠা ৪৫, অমুবন্ধ—১৭৪ ।

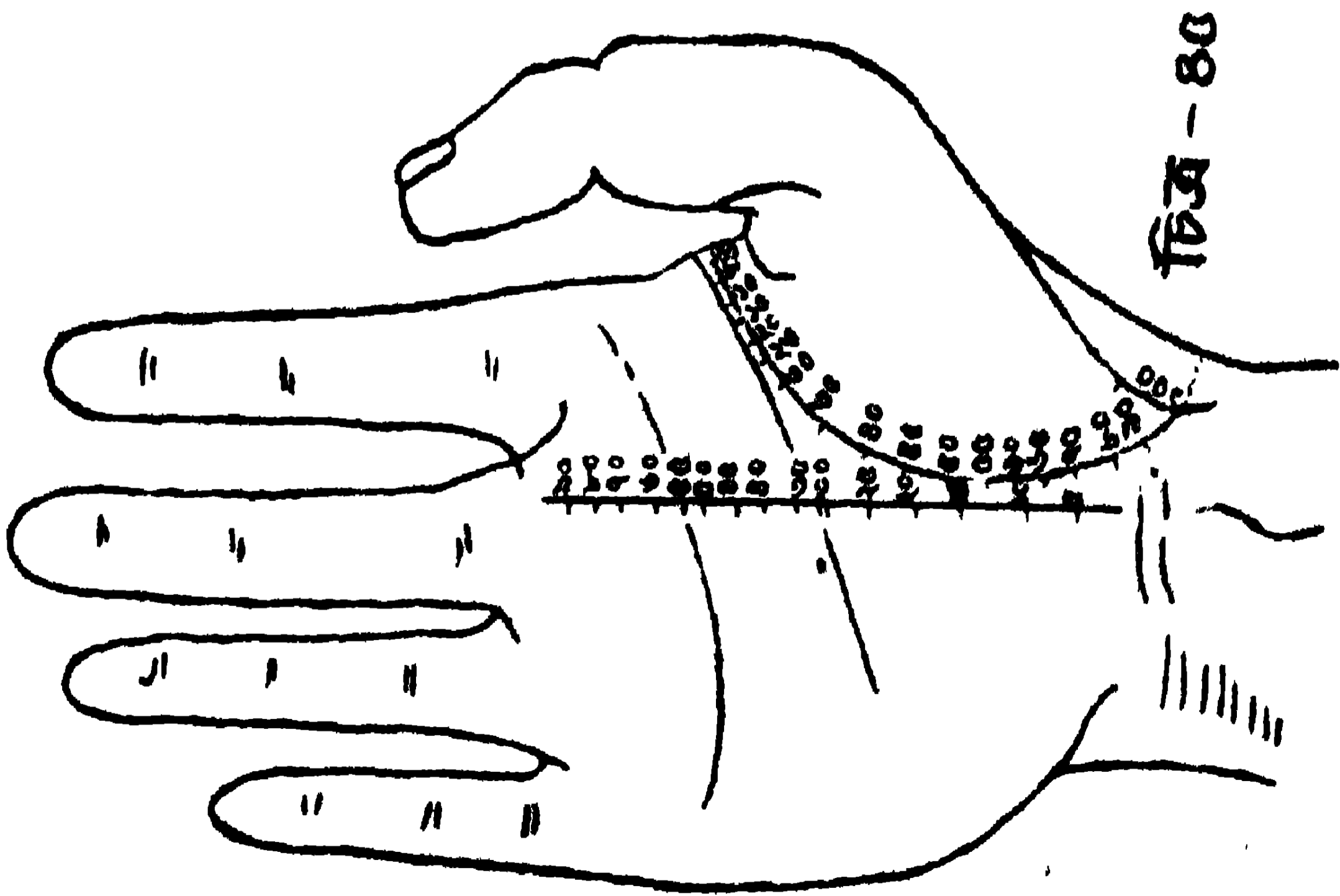
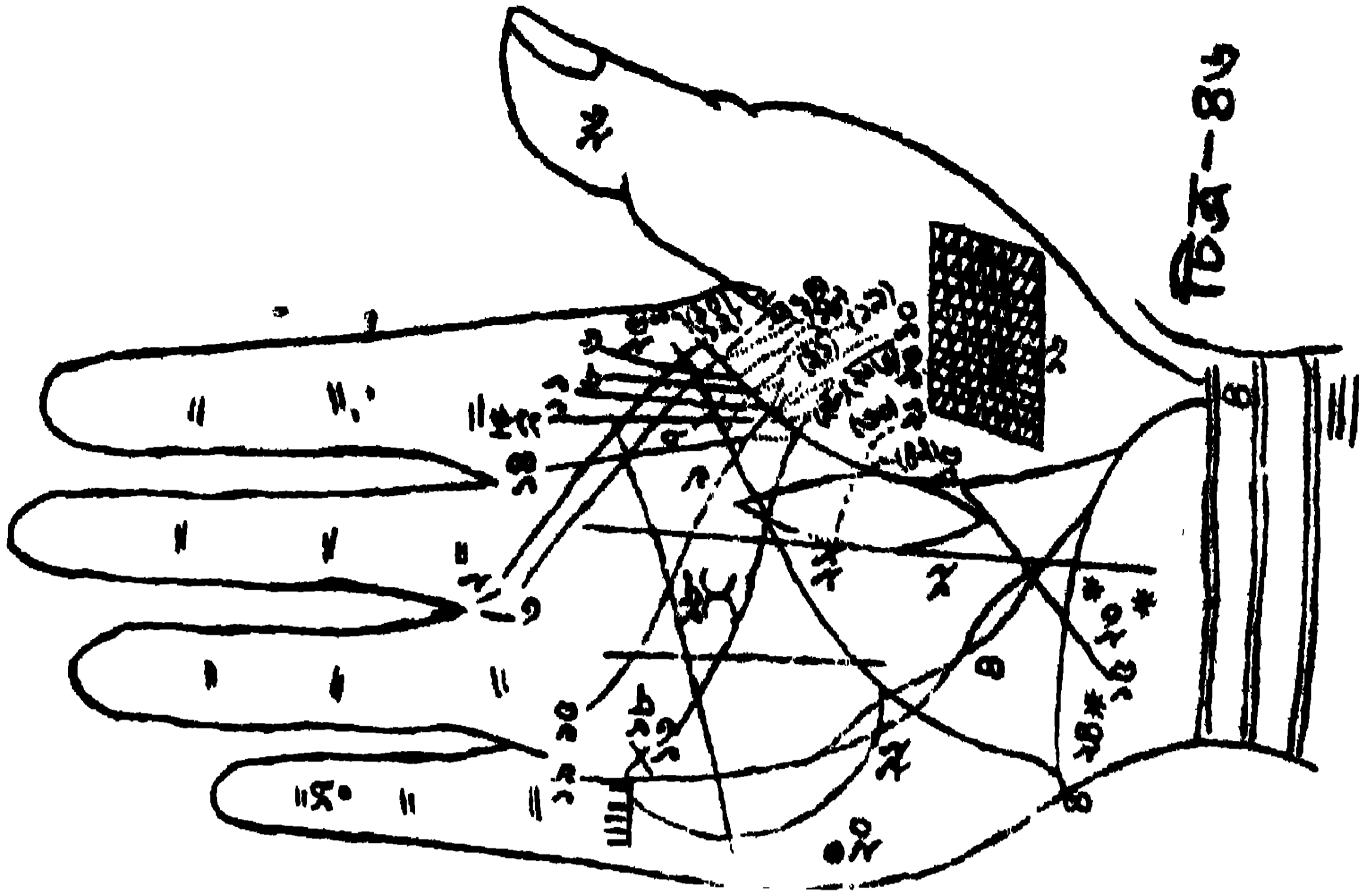
১। আয়ুরেখার ১০ বৎসর সময় নির্দেশক স্থানে একটা কৃষ্ণবর্ণ তিল-চিহ্ন থাকায়, ইহার ঐ সময়ে শারীরিক বিকারে স্নায়ুদৌৰ্জল্য প্রভৃতি অস্বাস্থ্য ঘটিয়াছে ।

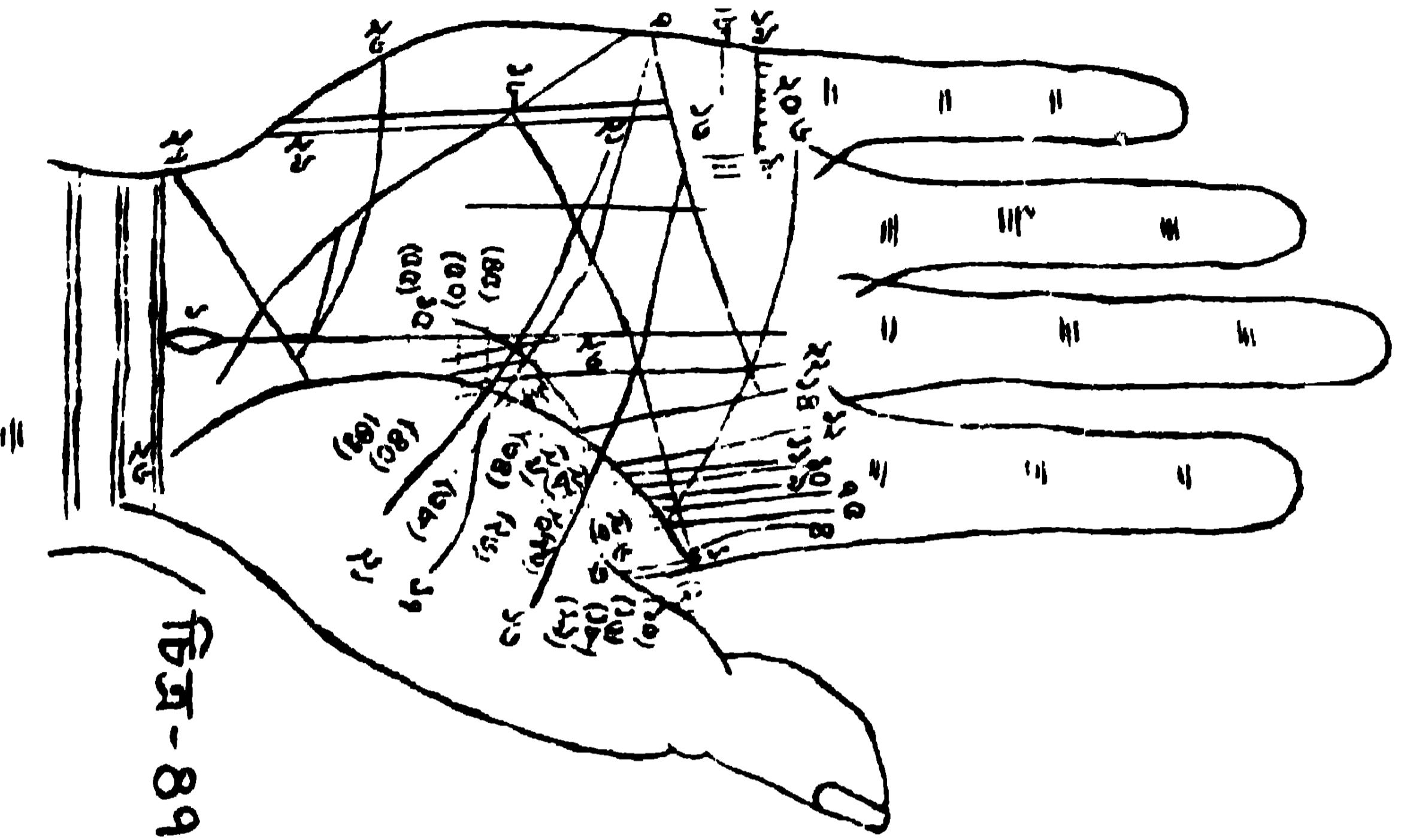
[পৃষ্ঠা—২৭, অমুবন্ধ—৩৮৮ ; পৃষ্ঠা—১১৫, অমুবন্ধ—৪৬৬ ।

২। গুরুস্থান হইতে একটা রেখা উৎখিত হইয়া আয়ুরেখার ১২ বৎসর-জ্ঞাপক স্থান এবং শিরোরেখা ও হৃদয়রেখা—এই তিন রেখা কর্তন করিয়া যাওয়ায়, ১২ বৎসরের সময় ইহার মাতৃবিয়োগ হইয়াছে ।

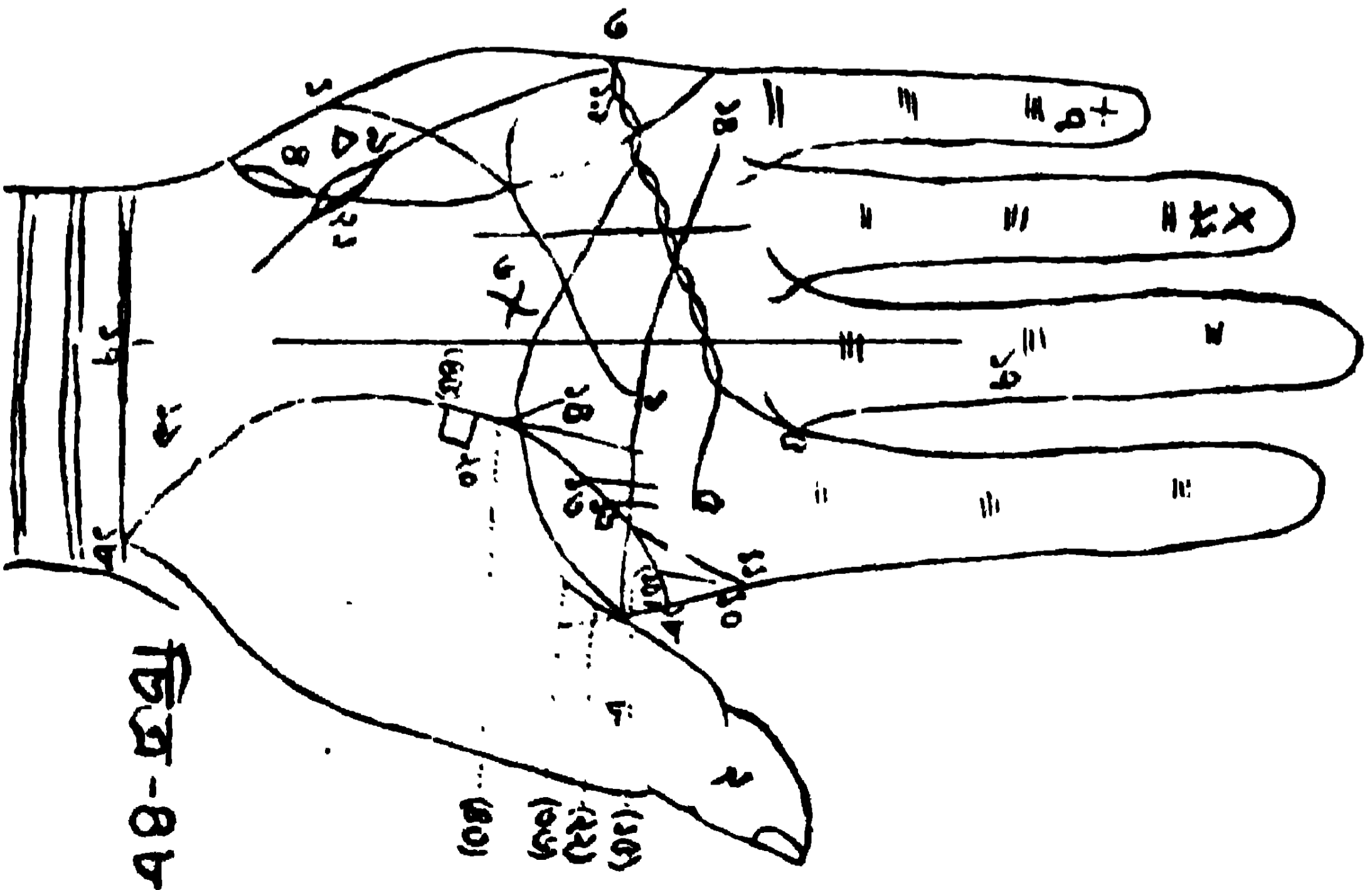
[পৃষ্ঠা—৮০, অমুবন্ধ ৩২০ ।

৩। ঐরূপ গুরুস্থানোখিত একটা রেখা আয়ুরেখার ১৪ বৎসর সূচক স্থান কর্তন করিয়া, শিরোরেখা ও হৃদয়রেখা ভেদ করিয়া যাওয়ায়, ১৪ বৎসরে ইহার একটি ভগিনীর মৃত্যুজনিত শোক ঘটিয়াছে ।





चित्र-89



चित्र-88

৪। মণিবন্ধ হইতে একটি রেখা উখিত হইয়া, শুক্রস্থান ভেদ ও চন্দ্রস্থান অতিক্রম করিয়া, হস্তপার্শ্ব পর্যন্ত বিস্তৃত থাকায় ইহার পিতার সহিত পিতৃ-কর্মস্থানে রেঙ্গুণে বাইতে সমুদ্রযাত্রা করিতে হইয়াছিল।

[পৃষ্ঠা—৭৭, অমুবন্ধ—৩০৫।

৫। স্বাস্থ্যরেখার উপর একটি বব-চিহ্ন থাকায়, ১৫ বৎসর বয়সের শেষে রেঙ্গুণেই অজীর্ণ রোগ হইয়াছিল।

[পৃষ্ঠা ২, অমুবন্ধ—১।

৬। আয়ুরেখার ১৮ বৎসর সূচক স্থান হইতে একটি রেখা উখিত হইয়া, বৃহস্পতিস্থানে উপনীত এবং ইহার মূলদেশে অপর একটি টেঁচা রেখা দ্বারা কণ্ঠিত হওয়ার, জাতক ১৮ বৎসরে এণ্টেন্স পরীক্ষায় উত্তীর্ণ হইতে না পারিয়া মনঃকষ্ট পান।

[পৃষ্ঠা—১০৮, অমুবন্ধ—৪৩৩।

৭। আয়ুরেখার ১৯ বৎসরের সময়-সূচক স্থান হইতে একটি রেখা উখিত ও অপর একটি টেঁচা রেখা দ্বারা কণ্ঠিত হওয়ার, ১৯ বৎসরে পুনর্বার এণ্টেন্স পরীক্ষায় অকৃতকার্য হন।

১০। একটি সূক্ষ্মরেখা শুক্রস্থান হইতে উখিত হইয়া, আয়ুরেখার ২১ বৎসর-সূচক স্থান ভেদ ও শিরোরেখা কর্তন করিয়া, হৃদয়রেখা স্পর্শ করায়, ২১ বৎসরের সময় ইহার বিবাহ হয়।

[পৃষ্ঠা—২২, অমুবন্ধ—৩৬৭।

১১। আয়ুরেখার ২২ বৎসরের শেষভাগের নিরূপক স্থান হইতে একটি উর্দ্ধমুখী রেখা বৃহস্পতিস্থানে বাওয়ার, জাতক প্রথম কর্ণে নিযুক্ত হন।

[পৃষ্ঠা—৩৭, অমুবন্ধ—১৭৩।

১১। (ক) আয়ুরেখার ২৪ বৎসর বয়োজ্ঞাপক স্থানে আর একটি উর্দ্ধমুখী রেখা থাকায়, জাতকের কর্মস্থানে উন্নতিলাভ হইয়াছে।

১২। ভাগ্যরেখার ২৮ বৎসর বয়োজ্ঞাপক স্থান হইতে আরম্ভ করিয়া, করচতুর্কোণের মধ্যস্থল প্রায় ৪২ বৎসর পর্যন্ত একটি লম্বা বব-চিহ্ন থাকায়, ঐ সময় জাতককে একটি স্ত্রীলোকের প্রলোভনে পড়িতে হইয়াছিল।

[পৃষ্ঠা—৬৬, অমুবন্ধ—২৫৯।

১৩। শুক্রস্থানোখিত একটি রেখা আয়ুরেখার ০২ বৎসরের শেষ বয়ঃসূচক স্থান ভেদ করিয়া, শিরোরেখা ও হৃদয়রেখা কর্তন করিয়া গিয়াছে বলিয়াই, ঐ বয়সে ইহার পিতৃবিয়োগ ঘটিয়াছে।

পৃষ্ঠা—৮০, অমুবন্ধ—৩২০।

১৪। আয়ুরেখার ৩৩ বৎসরের প্রারম্ভ হইতে একটি রেখা উর্দ্ধমুখী হইয়া শনিস্থানগত হওয়ার, ঐ সময় ইহার বৈদেশিক চাকরিতে আর্থিক উন্নতি হয়। [পৃষ্ঠা—৩৭, অনুবন্ধ—১৪৩।

১৫।১৬। হস্তপার্শ্ব হইতে একটি রেখা উখিত হইয়া আয়ুরেখা পর্যন্ত বিস্তৃত এবং শুক্রস্থানে একটি জালচিহ্ন অঙ্কিত হইয়া থাকায়, ইনি সুরাপারী ও লম্পট হইয়াছিলেন।

[পৃষ্ঠা—৮৭, অনুবন্ধ—৩৪৪ ; পৃষ্ঠা—৭৮, অনুবন্ধ—৩০২।

১৭।১৮। বুধের স্থানের দ্বিতীয় পর্কে একটি কৃষ্ণবর্ণ তিল-চিহ্ন অঙ্কিত এবং মঙ্গলের স্থানে একটি ক্রুণ-চিহ্ন অঙ্কিত থাকায়, ৩৬ বৎসর বয়ঃক্রমে ইহার ১০০০ টাকা অপহৃত হইয়াছে। [পৃষ্ঠা - ৬, অনুবন্ধ—১২।

১৯। ইহার হস্তে বুধের স্থানের নিম্নে সরলভাবে ৭টি রেখা অঙ্কিত আছে, উহার ৪টি সূক্ষ্মরূপে অঙ্কিত থাকায়, ৪টি পুত্র, আর দুইটি রেখা অপেক্ষাকৃত সূক্ষ্ম হওয়ার, ২টি কন্যা; একটি ভগ্ন থাকায় গর্ভস্রাবে ক্রণ নষ্ট হইয়াছে। [পৃষ্ঠা—৬৪, অনুবন্ধ—২৫১।

২০।২১। মঙ্গলের স্থানে একটি কৃষ্ণবর্ণ তিল-চিহ্ন অঙ্কিত থাকায়, এবং শুক্রস্থানোখিত একটি রেখা আয়ুরেখা কষ্টন করিয়া ভাগ্যরেখা ভেদ করায়, ইহার ৩৮ বৎসর বয়সে মামলা-মোকদ্দমায় ভূমিসম্পত্তি নষ্ট হইয়াছে।

[পৃষ্ঠা—৭৬, অনুবন্ধ—৩০১।

২২। স্বাস্থ্যরেখায় একটি বড় ষড়-চিহ্ন থাকায় ইনি ৪২ বৎসর বয়সে ব্যবসারে নষ্টসম্পত্তি হইয়া দেউলিয়া হইবেন।

[পৃষ্ঠা—৭৩, অনুবন্ধ—৬৭।

২৩।২৪। ভাগ্যরেখার প্রারম্ভে দুইটি তারকা-চিহ্ন এবং চন্দ্রস্থানে অপর একটি তারকা-চিহ্ন অঙ্কিত থাকায়, এবং আয়ুরেখা ৪৪ বৎসরের স্থানে বিরত হওয়ার, ইহাকে বিষপ্রয়োগে আত্মহত্যা করিতে হইবে।

[পৃষ্ঠা—১৮, অনুবন্ধ—৬৭।

২৫।২৬। ইহার হস্তে শিরোরেখা বৃহস্পতির নিম্নে আয়ুরেখা হইতে পৃথক হইয়া থাকায়, ও বৃদ্ধানুলীর প্রথম পর্ক ক্ষুদ্র ও পুট হওয়ার, ইনি এক গুণে স্বভাবসম্পন্ন। [পৃষ্ঠা—১০৮, অনুবন্ধ—৪৩১।

দ্বিতীয় হস্ত—৪৭ চিত্রে ।

১। ভাগ্যরেখার প্রারম্ভে একটি বব-চিহ্ন থাকায়, অতি শৈশবে ইহার শিক্ণবিরোগ হইয়াছে । [পৃষ্ঠা - ৮০, অনুবন্ধ—৩১৯ ।

২। আয়ুরেখার সহিত শিরোরেখার মিলনে একটি কোণ স্পষ্ট অঙ্কিত থাকায়, ইনি পরিণামতঃ; আবার এই উভয় রেখার প্রারম্ভে ১ বৎসর সূচক স্থানে একটি কৃষ্ণবর্ণ বিন্দুচিহ্ন থাকায়, ঐ সময়ে স্বাস্থ্যবিকারে স্বাস্থ্যদৌৰ্ভাগ্য ও মাধাব্যথা প্রকৃতিতে কষ্ট পাইয়াছেন ।

[পৃষ্ঠা—২৭, অনুবন্ধ—৫৮৮ ; পৃষ্ঠা—১১৫, অনুবন্ধ—৫৬৬ ।

৩। একটি টেষ্ঠারেখা আয়ুরেখার ১০ বৎসর বয়ঃক্রমসূচক স্থল ভেদ করিয়া চলিয়া যাওয়ার, ঐ সময়ে ইহার একটি ত্রাক্ণবিরোগ হইয়াছে ।

[পৃষ্ঠা - ৮০, অনুবন্ধ—৩২০ ।

৪। আয়ুরেখার ১৩ বৎসর বয়ঃক্রমসূচক স্থান হইতে একটি শাখা উখিত হইয়া বৃহস্পতিস্থানে যাওয়ার, ঐ সময়ে ইনি ছাত্রবৃত্তি পরীক্ষায় উত্তীর্ণ হইয়াছেন । [পৃষ্ঠা—২৪, অনুবন্ধ ৯১ ।

৫। আয়ুরেখার ১৮ বৎসর বয়ঃক্রমসূচক স্থলে ঐরূপ একটি উচ্চমুখী শাখা থাকায়, ঐ বয়সে ইনি এণ্টেন্স পাশ করিয়াছেন ।

[পৃষ্ঠা—২৯, অনুবন্ধ—২১ ।

৬। একটি স্পন্দরেখা শুক্রস্থান হইতে উখিত হইয়া আয়ুরেখার ১৯ বৎসর সূচক স্থল ভেদ ও শিরোরেখা কস্তন করিয়া, হৃদয়রেখা অতিক্রম করিয়া চলিয়া গিয়াছে, ইহাতে ইহার ১৯ বৎসর বয়সে বিবাহ হইয়াছে ।

[পৃষ্ঠা—২২, অনুবন্ধ—৩৬৭ ।

৭। আয়ুরেখার ২০ বৎসর বয়ঃক্রমসূচক স্থান হইতে একটি রেখা উখিত হইয়া বৃহস্পতিস্থানে যাওয়ার, ঐ সময়ে ইনি এক, এ, পাশ করেন ।

[পৃষ্ঠা—২৪, অনুবন্ধ—৯১ ।

৮। তৎপরে ইহার বুকের স্থান উন্নত ও উহার উপর তিনটি রেখা দণ্ডায়মান থাকায়, ইনি রসায়ন ও চিকিৎসা শাস্ত্রের অধ্যয়নী এবং তৎকালেই মেডিকেল কলেজে চিকিৎসাশাস্ত্র অধ্যয়ন করিতে প্রবৃত্ত হন ।

[পৃষ্ঠা—৩৪, অনুবন্ধ—১৩৪ ; পৃষ্ঠা- ৮৬, অনুবন্ধ—৩৪১ ।

৯। আয়ুরেখার ২৩ বৎসরবয়সোক্তাপক স্থান হইতে একটি রেখা উখিত হইয়া বৃহস্পতির স্থানাভিমুখী হওয়ার, ইনি ঐ সময় প্রথম এল, এম, এস, পরীক্ষার উত্তীর্ণ হন। [পৃষ্ঠা—২৪, অনুবন্ধ—২১।

১০। ঐরূপ আর একটি রেখা আয়ুরেখার ২৫ বৎসরের স্থান হইতে উখিত হওয়ার, ইনি দ্বিতীয় এল. এম, এস, পরীক্ষার উত্তীর্ণ হন।

১১। ঐরূপ আর একটি রেখা আয়ুরেখার ২৬ বৎসর বয়ঃসূচক স্থান হইতে উখিত হইয়া, বৃহস্পতির স্থানাভিমুখী হওয়ার, ইনি রাজকীয় কর্মে নিযুক্ত হইয়া উপার্জন করিতে আরম্ভ করেন। [পৃষ্ঠা—৩৭, অনুবন্ধ—২৪৩।

১২। আয়ুরেখার ২৮ বৎসর বয়ঃসূচকস্থলে ঐরূপ আর একটি রেখা থাকায়, ঐ সময় ইহার কর্মে উন্নতি ও বেতন বৃদ্ধি হইয়াছিল।

[পৃষ্ঠা—৫৭, অনুবন্ধ—১১৩।

১৩। শুক্রস্থান হইতে একটি রেখা উখিত হইয়া আয়ুরেখার ২৯ বৎসর সূচক স্থল ভেদ করিয়া শিরোরেখা ও হৃদয়রেখা—উভয়রেখা কর্তন করিয়া যাওয়ার, ঐ সময়ে ইহার মাতৃবিয়োগজনিত শোক হইয়াছে।

[পৃষ্ঠা—১০০, অনুবন্ধ—৩২২।

১৪। আয়ুরেখার ৩৪ বৎসর বয়ঃনির্দেশক স্থল হইতে একটি রেখা উখিত হইয়া, শনির স্থানে যাওয়ার ইহার চিকিৎসাব্যবসারে বিশিষ্টরূপ অর্থাগম হওয়ার ইনি ধনবান্ হইয়াছিলেন। [পৃষ্ঠা—৪৮, অনুবন্ধ—১৮৫।

১৫। আয়ুরেখার ৩৬ বৎসর বয়ঃসূচক স্থল হইতে একটি ক্ষুদ্র শাখারেখা অধোমুখী হইয়া থাকায়, ঐ সময় ইহার দেশভ্রমণ ঘটয়াছিল।

[পৃষ্ঠা—৭৬, অনুবন্ধ—৩০৪।

১৬। আয়ুরেখার ৩৮ বৎসর বয়ঃনির্দেশক স্থলের উপরে একটি কৃষ্ণবর্ণ বিন্দু থাকায়, ৩৮ বৎসর বয়ঃক্রম কালে ইনি বায়ুদৌর্বল্যজনিত পীড়ার ভুগিয়াছেন। [পৃষ্ঠা—৯৭, অনুবন্ধ—৩৮৮।

১৭। শুক্রস্থান হইতে একটি টেঁচারেখা উখিত হইয়া আয়ুরেখার ৪০ বৎসর বয়ঃসূচক স্থল কর্তন করিয়া, শিরোরেখা ও হৃদয়রেখা—উভয়রেখা ভেদ করিয়া যাওয়ার, এই ৪০ বৎসরের সময় ইহার স্ত্রীবিয়োগ ঘটায়, ইহাকে শোকভোগ করিতে হইয়াছে। [পৃষ্ঠা—১০০, অনুবন্ধ—৩২২।

১৮।১৯। বুধের স্থানে ক্রুররেখার সমান্তর ক্ষুদ্র দুইটি রেখা-হস্তপার্শ্বে অঙ্কিত থাকায়, ইহার দ্বিভাষ্যযোগ আছে। [পৃষ্ঠা—৭২, অমুবন্ধ—২৮২।

২০। ইহার বুধস্থানে বিবাহরেখার সংলগ্ন আটটি রেখা অঙ্কিত থাকায়, ইহার আটটি স্বস্তানসুস্ততি হইবে। [পৃষ্ঠা—৬৪, অমুবন্ধ—৩৫১।

২১। শুক্রস্থান হইতে একটি ক্ষুদ্ররেখা উখিত হইয়া, আয়ুরেখার ৪১ বৎসর বয়ঃসূচক স্থান কর্তন করিয়া যাওয়ার, ইহার ৪১ বৎসরে পুনশ্চ বিবাহ হইবে।

[পৃষ্ঠা—২২, অমুবন্ধ—৩৬৭।

২২।২৩।২৪। আয়ুরেখার ক্রমশঃ ৪৫, ৫০, ৫৫ বৎসর বয়োজ্ঞাপক স্থলে উর্দ্ধমুখী রেখা থাকায়, ঐ ঐ সময়ে ইহার আধিক উন্নতি হইবে।

[পৃষ্ঠা—৩৭, অমুবন্ধ—১৪৩।

২৫। মণিবন্ধ বহিতে উখিত একটি রেখা শুক্রস্থান ও চন্দ্রস্থান অতিক্রম করিয়া, হস্তপার্শ্বপর্ষ্যন্ত বিস্তৃত থাকায়, ইহার ৪২ বৎসর বয়সে জলক্রমণ হইবে। [পৃষ্ঠা—৭৭, অমুবন্ধ—৩০৫।

২৬।২৭।২৮। আয়ুরেখার ৭১ বৎসর বয়ঃসূচক স্থলে একটি অধোমুখী রেখা চন্দ্রস্থান পর্য্যন্ত প্রসৃত থাকায় এবং স্বাস্থ্যরেখার ও শিরোরেখার মিলনস্থল রক্তবর্ণ ও ক্ষয়রেখা হইতে দুইটি রেখা নিঃসৃত হইয়া চন্দ্রস্থানাভিমুখী হওয়ার, ইহার ৭১ বৎসরে সন্ন্যাসরোগে মৃত্যু অবশ্যস্তাবী।

[পৃষ্ঠা—১০৪, অমুবন্ধ—৪১৪।

তৃতীয় হস্ত—৪৮ চিত্রে।

ইহার অঙ্গুলীসমূহ সূচ্যগ্র এবং গ্রহিসমূহ পরিপুষ্ট হওয়ার, ইনি স্বভাবগত বিগুহতা রক্ষা করিতে সমর্থ। [পৃষ্ঠা—৯৪, অমুবন্ধ—৩৭৭।

১২। ইহার শিরোরেখা শনির নিঃস্থান হইতে উখিত হইয়া চন্দ্রস্থান পর্য্যন্ত প্রসৃত এবং বৃহস্পতির প্রথম পর্ক ক্ষুদ্র অথচ সাত্তিশর পুষ্ট হওয়ার, ইনি একজন স্বমতপ্রবণ সাত্তিকসাধনপর অর্থাৎ এক গুরে স্বভাবসম্পন্ন।

[পৃষ্ঠা—১০৮, অমুবন্ধ—৪৩১।

৩। ইহার ক্রুররেখা শৃঙ্খলাকার হইয়া, একটি শাখা শনিস্থানগত হওয়ার ইনি দ্বীবিধেবী। [পৃষ্ঠা—২২, অমুবন্ধ—৩৬৪।

৪৫। চন্দ্রবুধরেখার প্রান্তে বহু-চিহ্ন থাকায়, শিরোরৈখা শাখাবুক্ত ও তাহার একটি শাখা শনির স্থানে অপরটি বৃহস্পতির স্থানে যাওয়ার, ইহার অপ্রত্যক্ষ অতীন্দ্রিয় পদার্থসম্বন্ধে দর্শনশক্তি আছে। [পৃষ্ঠা—২, অনুবন্ধ—২৮।

৬। করত্রিকোণের মধ্যে বক্ররেখাধারা একটি কুশ-চিহ্ন গঠিত থাকায়, ইনি সাংসারিক জীবনে অর্থ কষ্ট পাইয়াছেন। [পৃষ্ঠা—৬, অনুবন্ধ—১৮।

৭। কনিষ্ঠাঙ্গুলীর প্রথম পক্ষে একটি কুশ-চিহ্ন থাকায় ও বৃহস্পতি, শনি, রবি, বুধ, মঙ্গল, চন্দ্র, ও শুক্র এই গ্রহসকলের স্থান উচ্চ--বিশেষতঃ বৃহস্পতির স্থান বধে উন্নত হওয়ার, জাতক বিবাহ না করিয়া, বিবাহভাবে বালব্রহ্মচর্যা হইতে নৈষ্ঠিকব্রহ্মচর্যা অবলম্বন করিয়া, ধর্ম-কর্ম সাধন করিতে সমর্থ হইবেন। [পৃষ্ঠা—৫৭, অনুবন্ধ—২১৭।

৯। চন্দ্রস্থানে একটি ত্রিকোণ-চিহ্ন ও বৃদ্ধাঙ্গুলীর দ্বিতীয় পক্ষে দীর্ঘ হওয়ার, ইনি জ্ঞানসম্পন্ন বিচারে স্বীয় বিবেকশক্তির পরিচয় দিতে সমর্থ হন। [পৃষ্ঠা—৫৭, অনুবন্ধ—২১২।

১০। ইহার আয়ুরেখার ১০ বৎসর বয়ঃসূচক স্থলে, একটি উর্দ্ধমুখী রেখা থাকায়, এই সময়ে ইনি বিজ্ঞানসম্বন্ধে কিঞ্চিৎ উন্নতিলাভ করিতে সমর্থ হইয়াছেন। [পৃষ্ঠা—২৪, অনুবন্ধ—২১।

১১। ঐরূপ আয়ুরেখার ১৫ বৎসর বয়ঃসূচক স্থলে অপর একটি উর্দ্ধমুখী রেখা থাকায়, ইনি ঐ সময়ে বিজ্ঞানসাধনে কৃতকার্য হইয়াছেন।

১২। ১৩। ১৪। আয়ুরেখার ২২, ৩৬, ৪০ বৎসর বয়ঃসূচক স্থলে ঐরূপ উর্দ্ধমুখী রেখা থাকায় ঐ ঐ সময় ইনি মনোভীষ্ট কর্মের সাধনে সমর্থ হইয়াছিলেন। [পৃষ্ঠা—৩৭, অনুবন্ধ—১৪৩।

১৫। শুক্রস্থান হইতে একটি রেখা উখিত হইয়া আয়ুরেখার ২৫ বৎসর বয়ঃসূচক স্থল কর্তন করিয়া শিরোরৈখা ও হৃদয়রেখা ভেদ করিয়া যাওয়ার, ঐ সময়ে ইহাকে পিতৃবিয়োগজনিত মনঃকষ্ট ভোগ করিতে হয়।

[পৃষ্ঠা—৮০, অনুবন্ধ—৩২০।

১৬। ঐরূপ আর একটি টেঁচারেখা শুক্রস্থান হইতে উঠিয়া, আয়ুরেখার ৩৭ বৎসরসূচক স্থল কর্তন করিয়া শিরোরৈখা ও হৃদয়রেখা ভেদ করিতে ঐ সময় ইহার মাতৃবিয়োগ হয়। [পৃষ্ঠা—৮০, অনুবন্ধ—৩২০।

১৭। ইহার উত্তর হস্তে ভাগ্যরেখা যণিবদ্ধ হইতে উখিত হইয়া মধ্যমাজুলীর প্রথম পর্ব পর্য্যন্ত বাওয়ার, ইনি স্বপ্নে পার্থিব সৌভাগ্যলাভ করিতে সমর্থ হন নাই । [পৃষ্ঠা—৩৮, অক্ষুবদ্ধ—১৪৬ ।

১৮। ইহার যণিবদ্ধস্থ বলয়ত্রয় স্পষ্টভাবে অঙ্কিত, করত্রিকোণও পরিষ্কৃতরূপে প্রকাশিত এবং আয়ুরেখা শুক্রস্থান বেঠন করিয়া অবস্থিত ও করতলস্থ রেখা সকল গোলাপীর্ণরঞ্জিত হওয়ার, জাতক দীর্ঘায়ুঃ বা শতায়ুঃ হইবেন । [পৃষ্ঠা—৪৩, অক্ষুবদ্ধ—১৬৭ ।

১৯।২০। ইহার স্বাস্থ্যরেখার উপর একটা ক্ষুদ্র স্ব-চিহ্ন থাকায়, ইনি সদাস্থ্য সাহায্যে স্বপ্নে অনেক উপদেশ পাইয়া থাকেন এবং ঔষধাদিসম্বন্ধেও জ্ঞানলাভে সমর্থ হন । [পৃষ্ঠা—১১৬, অক্ষুবদ্ধ—৪৭০ ।

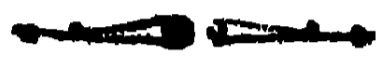
২১। ইহার ৪৫ বৎসর বয়ঃক্রমস্থচক হলে আয়ুরেখার উপর চতুর্কোণচিহ্ন থাকায় এবং বৃহস্পতির স্থান যথেষ্ট পুষ্ট এবং শুক্রস্থান পরিপুষ্ট ও রেখাশূণ্য হওয়ার, ইনি ধর্ম্মানুশীলনার্থক গৃহত্যাগ করিয়া, শেষে স্থিরচিত্তে ধর্ম্মসাধন করিতে সমর্থ হইবেন । [পৃষ্ঠা—৩২, অক্ষুবদ্ধ—১২৪ ।

২২। অনামিকার প্রথম পর্কে একটা ক্রুশ-চিহ্ন অঙ্কিত ও বৃহস্পতিরস্থান পরিপুষ্ট হওয়ার, ইনি বিশ্বকচরিত্র ও স্থিরচেতাঃ বলিয়া বুঝিতে পারা যাইতেছে । [পৃষ্ঠা—২৪, অক্ষুবদ্ধ—৩৭৬ ।

শুক । তোমার হৃদয়ে এতদ্বিষয়ক উপদেশ বিকাশলাভ করিয়াছে দেখিয়া আমি পরম পরিতোষলাভ করিলাম ।



উপসংহার ।



শিখ । প্রভো, ভগবানের নিয়মানুসারে গ্রহপরিচালনের বশে সকলকেই বিবিধ কর্মেরই সাধন করিতে হইতেছে । আর এক জগৎ প্রস্তুত নিয়মের বশে কার্য্য করিয়াও বিবিধ ব্যাপারের সমাধান করিতে হয় কেন, এবং তাহার ফল পার্থক্য আছে কি না, মনে উদয় হয় সত্য ; আবার কারণের ঐক্যহেতুক ফল পার্থক্য কখনই যে থাকিতে পারে না, তাহাও অস্বীকৃত হয় বটে ; কিন্তু ইহার সম্বন্ধ করিতে বাইলে, মন স্থির করিতে পারি না । একপে কোন কার্য্যের সহিত তাহার প্রতীপ কার্য্যের পরিণামে ফলাফলের বিপর্য্য ঘটতে পারে কি না, তাহাই আপনার নিকট জিজ্ঞাস্য ।

শুক । পরমপিতা পরমেশ্বরের এক নিত্য নিয়মে যে প্রত্যেক লোকেরই প্রথম হইতে শেষ পর্য্যন্ত আচরিত সকল কর্মেরই ফলসাম্য রক্ষিত হইতেছে, জাগতিক কার্য্যে তাহার যথেষ্ট প্রমাণই পাওয়া যায় । দৃষ্টান্তরূপে একটা ব্যাপার তোয়ার গোচর করিলেই সকল সংশয় অপনীত হইবে ।

যেমন একটা ক্ষেত্রে যথাবিহিত কর্ষণাদি করা হইলে পর যথাকালে তাহাতে যথেষ্ট পরিমাণে সর্ষপ বপন করিলে, সমস্ত সর্ষপই অঙ্কুরিত হয় না । যে সর্ষপ ভূমিনিহিত হইয়া সাতিশর জলশৈতে পড়িয়া আতপের অভাব ভোগ করিতেছিল, সেইগুলিই পচিয়া গিয়া ভূমির মৃত্তিকা সহিত মিশ্রিত হইয়া, তাহার উর্ধ্বরতা বৃদ্ধি করিতে লাগিল ; আর যে সর্ষপবীজ যথেষ্ট পরিমাণে শীতাতপ পাইতে লাগিল, সেইগুলি অঙ্কুরিত হইতে লাগিল । আর যে বীজ পচিয়া, মৃত্তিকায় পরিণত হইয়া, তাহার উর্ধ্বরতা বৃদ্ধি করিতেছিল, তাহাও সাররূপে মৃত্তিকামিশ্রিত অবস্থা হইতে বীজে সংক্রামিত হইতে লাগিল এবং তাহারই ফলে বীজাঙ্কুর ক্রমশঃ বলিষ্ঠ হইতে হইতে শেষে বলবতী ওষধিতে পরিণত হইয়া, শত শত ফলপ্রসবে সমর্থ হয় । এতৎসম্বন্ধে একটু হিরচিত্তে বিবেচনা করিলে, স্পষ্টই উপলব্ধি হইবে যে, পুরোক্তরূপ মৃত্তিকায় পরিণত নষ্ট বীজও অঙ্কুরিত নস্যে

অনুপ্রবিষ্ট হইয়া, তাহার অসংখ্য ফল ধারণের সহায়তা করিতেছে। তদুপ
এই জাগতিকী ক্রিয়ার রত থাকায়, বাহারা নষ্ট বলিয়া প্রতিভাত বা সামাজিক
বিধিতে নিন্দনীয় হইতেছে, তাহার প্রকৃত পক্ষে নিজে নষ্ট হইয়া সমাজবিধ্বংসী
বা সমাজসংহারক নহে ;—সুতরাং প্রকৃত পক্ষে নষ্ট বা নিন্দনীয় হইতেই পারে না।

আবার এই জাগতিক ব্যাপারে ভাল মন্দ আছে বলিয়াই হুলতাবে বিচার
বিপর্যয় চলিতেছে ; যেমন দুর্গন্ধ আছে বলিয়াই লোকের সুগন্ধে অনুরাগ—
অপষণ আছে বলিয়াই সুষণে আশা—অন্ধকার আছে বলিয়াই আলোকে
আসক্তি—দুঃখ আছে বলিয়াই সুখে প্রবৃত্তি। কিন্তু এ সকল কিছুই নহে ;
কেন না, অলীক ভেদজ্ঞানের সহিত ইহার সম্বন্ধ—ভেদজ্ঞানের অভাব ঘটিলে,
নিত্য অভেদজ্ঞানের আবির্ভাব হইলে উক্ত বস্তুজ্ঞানেরও বিলয় হয় ; তখন উহা
নব্বর স্থল জগতের অবস্থা বিপর্যয়মাত্র, ইহা স্বতই উপলব্ধি হয়।

পরমকারণিক পরমেশ্বরের যেমন শৈত্যাদিক্য বীজের পচন ও শৈত্যোক্ততার
সাম্যে তাহার ফলোৎপাদন বিধিবদ্ধ করিয়া, উভয়েরই উপযোগিতানুসারে মহত্ব
দেখাইতেছেন, সেইরূপ তাঁহারই নিয়মে সামাজিক ব্যাপারে উভয় শ্রেণীরই পক্ষে
ফলসাম্য সুরক্ষিত হইয়াছে।

OPINIONS OF THE PRESS.

SAMUDRIK SIKSHA

Lessons on Palmistry (in Bengali)—By Babu Roman Kristo Chatterjee. Babu Roman Kristo, who may not be unknown to many of our readers in Calcutta and the neighbourhood as an expert palmist, seems to have taken great pains in the preparation of this book which if we mistake not, is the first attempt at a scientific exposition of the subject in Bengali. The book is written in the dialogue form in very simple language with a view to popularise this intricate subject. Those who have any desire to learn the mystery of palmistry, which claims to tell fortunes of a man by the lines on the palm of his hand, will do well in giving the book a trial. The price of the book is Rs. 2. AMRITA BAZAR PATRIKA, February 25, 1895.

সামুদ্রিক শিক্ষা—Or a treatise on Palmistry, is the most systematic and elaborate treatise on the subject that has been yet published in Bengali. The author, Babu Roman Krishna Chatterjee tells us in the preface that the work embodies the results of a study carried on assiduously for over 20 years. We do not claim to be experts in the subject, and shall not attempt a criticism which can not but be superficial. The exposition is in the form of a dialogue between teacher and pupil, illustrated by numerous well cut diagrams. The work has all the appearance of being thorough and can be safely recommended to enquirers. The system taught is western, not eastern. THE INDIAN NATIONAL, April, 15th, 1895.

Samudrika Siksha—This is a Bengali work on Palmistry and we congratulate Babu Roman Kristo Chatterjee, the author, on the creditable manner in which he has performed the task. The author has himself acquired much skill and reputation as a palmist and in these days when Palmistry and Astrology are attracting and increasing share of public attention the publication of this work must be considered peculiarly opportune. The get up of the book leaves nothing to be desired and it is embellished with several diagrams. The student of Palmistry may be safely recommended Babu Roman Krishna's book and we are sure the author's labours will not go altogether unrewarded. HINDU PATRIOT, May 14, 1895.

Samudrik Siksha—From the preface to the book before us, it appears that till some of the events of his life were correctly predicted by means of Astrology, the writer was not only a passive unbeliever, but also a positive scoffer of the science. He then studied the science, and successfully applied it in the case of self and friends but the death of the friend who used to help him "with mathematical calculations put to a stop to a further cultivation of the science on the part of the writer. As an easy substitute, he took to the study of Palmistry as it is known to Europeans and latterly he was fortunate enough to enlist the good will of a Hindu adept, through whose instruction he enriched his knowledge of the subject, the benefit of which he gives to the public in the shape of the publication under notice. The book is in the form of a catechism, dealing in a number of chapters, with all points connected with Palmistry. The writer says that not a word is to be found in it, the truth of which has not been established. In the appendix, a number of "exercises" are given with a view to test the learner's knowledge. The diagrams which embellish the pages, will be found of great use in understanding the text. To those who believe in the mysterious lines on the hands of a man containing the Key to his fortunes, the results of Babu Roman Kristo Chatterjee's experience and study, as embodied in his book, will prove of immense value. THE INDIAN MIRROR, July, 30, 1895.

Handbook of Palmistry.—Babu Roman Krishna Chatterjee has written an entertaining little *brochure* upon the art of fortune telling by the palm of the hand. The book is entitled '*Samudrik Siksha*.' and in addition to pleasantly written letter press, contains a number of carefully prepared illustrations of the hand. THE STATESMAN, September 5th, 1895.

Samudrik Siksha, or the method of ascertaining the present, past, and future of men and women from an examination of the lines and marks on the palm, by Roman Krishna Chatterjee. Published by the author; 19, Mathur Sen's Garden Lane, Calcutta, 1301.

This is a work on Palmistry. Whether Palmistry be a real or false science, like astrology, phrenology, and many others, is difficult to determine. Men like Kant, about whose intelligence there can be no question, believed in astrology. There was nothing unsound in the understanding of the author of phrenology. Men of

even vigorous intellects have been known to be believers in astrology as in phrenology. Palmistry too numbers many votaries. India perhaps is the home of palmistry as of astrology. There are many works extant in Sanskrit on palmistry. True or false, no body can question that, like faces, the palms of different men present different marks. If a Science can be sought to be constructed from the lines in caligraphy, if a thumb print be a true index to the man, it is the next step to study the lines and marks on the palm to learn not only the character but also the antecedents and the fortune of the man. Without vouching therefore, for the truth of palmistry or endeavouring to demonstrate it is a superstition worthy only of weak understandings, we may observe that the book before us contains a mass of curious information or, rather, generalisations based upon the formation of the fingers and the lines and marks on the palm. We believe the present work is the first regular contribution, in Bengali, to the study of palmistry. Those desirous of verifying the generalisations may easily do so by examining not only their own palms but also those of friends and relatives. Several diagrams are given with full explanations of the marks of them. The subject has been treated in a systematic way. There are altogether 12 chapters. The entire matter is cast in the form of questions and answers. The style is easy. Still one cannot hope to become a master of palmistry without close study and repeated experiments. It is necessary to bear in mind a large number of explanations or axiomatic statements. One must study the literature of palmistry thoroughly before one can hope to apply its rules for the study of character. REIS AND RAYET, December 21, 1895.

সামুদ্রিক-শিক্ষা।—বে শাস্ত্র, শরীর-চিহ্ন অবলম্বন করিয়া মনুষ্যের ভূত, ভবিষ্যৎ ও বর্তমান ঘটনাবলী ও তাহাদের শুভাশুভ ফল জানাইয়া দেয়, তাহাকে সামুদ্রিক শাস্ত্র বলে। এই শাস্ত্রে মনুষ্যের করতল, অঙ্গুলী, অঙ্গুলীপর্ব ও শরীরস্থ অপরাপর চিহ্ন দ্বারা মনুষ্যের ত্রিকালের বাবতীয় শুভাশুভ ঘটনাবলী অর্থাৎ মনুষ্যের পরমায়ু প্রভৃতি বিষয় জ্ঞান, গুরুজন ও আত্মীয়বর্গের সহিত ব্যবহার, বিদ্যাশুশীলন, অর্থনাশ প্রভৃতি জীবন-বটিক ব্যাপার উন্নত করিয়া দেখাইয়া দেয়।

হস্তচিত্র ঐরূপ রেখাদি দেখিয়া মনুষ্যের ত্রিকালের ফল বলা বার কি না, এ বিষয়ে অনেকের মতভেদ আছে। কেহ কেহ বিশেষতঃ আধুনিককালকার নব্য শিক্ষিতেরা এ কথা একেবারেই কিছু নয় (Humbug) বলিয়া উড়াইয়া দেন। তাঁহারা যে ঐরূপ মনে করেন, তাহার কারণ, তাঁহারা নিজে এ বিষয়ে

কখনও কোনও প্রত্যক্ষ কল রেখামুখারী মিলিতে দেখেন নাই। পক্ষান্তরে বাহারা ঐরূপ কল অনেকবার মিলিতে দেখিয়াছেন, তাঁহারা আর কোন-রূপ অবিশ্বাস করিতে পারেন না। প্রত্যক্ষ প্রমাণের নিকট কোন যুক্তিই কার্যকরী হয় না।

বাহারা সামুদ্রিক শাস্ত্রে বিশ্বাস করেন না, আমরা তাঁহাদিগকে একবার পরীক্ষা করিয়া দেখিতে অনুরোধ করি। বাহার-তাহার নিকটে পরীক্ষা করিলে হইবে না; কারণ বাহারা এ সম্বন্ধে কিছুই জানেন না, এরূপ অনেক ব্যক্তিও সামুদ্রিক শাস্ত্রজ্ঞ বলিয়া পরিচয় দিয়া থাকেন। এই সকল ব্যক্তি যমুস্যের মনে সামুদ্রিক শাস্ত্রে অবিশ্বাস জন্মাইয়া দিবার প্রধান কারণ। বাহারা প্রকৃত শাস্ত্রে পণ্ডিত, তাঁহাদের নিকটে বাইলে, অত্যন্ত অবিশ্বাসীও বিশ্বাস উদয় হইবে। আমরা পরীক্ষার নিমিত্ত একটা প্রকৃত সামুদ্রিক শাস্ত্রজ্ঞ মহাশয়ের নামোল্লেখ করিতে পারি। তাঁহার নাম শ্রীযুক্ত রমণকৃষ্ণ চট্টোপাধ্যায়, ১৯ নং মথুর সেনের গার্ডেন লেনে থাকেন, তিনি অনুরোধ করিয়া সকলকেই বিনা মূল্যে হস্ত দেখিয়া ফলাফল বলিয়া দেন। এই কার্যে তাঁহার ব্যবসায় নয়। প্রত্যহ শত শত ব্যক্তি তাঁহার নিকটে উপস্থিত হইয়া হস্ত দেখাইয়া, ফলাফল জানিয়া বাইতেছেন।

ইনি সম্প্রতি “সামুদ্রিক-শিক্ষা” নামক একখানি অতি সুন্দর সামুদ্রিক শাস্ত্রবিষয়ক গ্রন্থ প্রকাশ করিয়াছেন। বাহাতে সকলে বুঝিতে পারে, সে বিষয়ে বিশেষ লক্ষ্য করিয়াছেন; ভাষা যতদূর সম্ভব সহজও করিয়াছেন। *** বর্তমান গ্রন্থে লেখক অদৃষ্টবাদের কোন রূপ বৈজ্ঞানিক তত্ত্বের ব্যাখ্যায় প্রবৃত্ত হন নাই। এই কঠিন তত্ত্ব তাহার “সামুদ্রিক বিজ্ঞান” নামক দ্বিতীয় পুস্তকে প্রকাশিত করিবেন, বলিতেছেন; এই গ্রন্থ প্রকাশিত হইলে অদৃষ্টবাদ ও যমুস্যের স্বাধীনতা সম্বন্ধে যে একটি উৎকৃষ্ট গ্রন্থ হইবে, সে বিষয়ে কোনও সন্দেহ নাই।

বাহারা এ বিষয়ে তত্ত্ব-জিজ্ঞাসু, আমরা তাঁহাদিগকে এই দুইখানি পুস্তক পাঠ করিতে অনুরোধ করি। সোমপ্রকাশ, ১৫ই মাঘ, ১৩০১।

শ্রীযুক্ত রমণকৃষ্ণ চট্টোপাধ্যায় ইংরাজী সামুদ্রিক বিদ্যা বহু বৎসর শিক্ষা করিয়াছেন। শিক্ষা শুধু পুস্তকগত নয়—ফলিত ও গুরূপদেশে মার্জিত। বিশ বৎসর বাবৎ করকোষ্ঠী দেখিয়া চট্টোপাধ্যায় মহাশয় যে অভিজ্ঞতা লাভ করিয়াছেন, তাহার ফলস্বরূপ “সামুদ্রিক-শিক্ষা” নামক একখানি পুস্তক তিনি প্রচারিত করিয়াছেন। পুস্তকে করতলগত রেখা দেখিয়া কিরূপে মানবের স্তম্ভাঙ্কিত হির করিতে হয়, তাহাযে গুরুশিষ্যের প্রশ্নোত্তরচ্ছলে লিখিত হইয়াছে এবং রেখা চিনিবার জন্য অনেকগুলি চিত্রও তাহাতে সন্নিবিষ্ট আছে। চিত্রগুলি এদেশে সচরাচর যেমন হইয়া থাকে, তেমনই হইয়াছে। এই সামুদ্রিক বিজ্ঞান বাহাদের আস্থা আছে, পুস্তকপাঠে তাঁহারা ভুট্ট হইবেন। পুস্তকের কাগজ ও ছাপা পরিষ্কার। মূল্য দুই টাকা। বঙ্গবাসী, ২৭শে মাঘ, ১৩০১।

সামুদ্রিক-শিক্ষা অর্থাৎ করতলস্থ রেখা ও চিহ্ন দেখিয়া লোকের ভূত ভবিষ্যৎ বর্তমান শুভাশুভ জানিবার উপায়। শ্রীযুক্ত রমণকৃষ্ণ চট্টোপাধ্যায় কর্তৃক লিখিত। মূল্য ৩ টাকা, প্যাকিং ও ডাকের খরচ স্বতন্ত্র ১০ আনা ; ছাপা উত্তম, কাগজ উত্তম, উত্তম কাপড়ে বাঁধা—সচিত্র। গ্রন্থকার নিজেই বলিতেছেন, ফলিত জ্যোতিষ শাস্ত্র হুসুহ গণিতের সাহায্য সাপেক্ষ হওয়ায়, সামুদ্রিক শাস্ত্রের আশ্রয় লইয়াছেন ; কিন্তু সংস্কৃত ভাষায় প্রত্যক্ষ ফলাবধারণ করিবার উপযোগী কোন গ্রন্থ না পাইয়া বহুল ইংরেজী গ্রন্থের সাহায্য লইলেন। এই সকল পুস্তকেও তিনি ফল ও কাল সম্বন্ধে কোনরূপ সূক্ষ্ম বিচার করিতে সমর্থ হইলেন না, অবশেষে একটি উপযুক্ত গুরু পাইয়া সামুদ্রিক সম্বন্ধীয় নিগূঢ় তত্ত্বের উপদেশ লইলেন। এখন তিনি বহু সংখ্যক হস্তের আলোচনা করিয়া শুভাশুভ ফলবিচার করিতেছেন। আর শুনিয়াছি, ফলনির্ণয়েও অধিকারী হইয়াছেন। চট্টোপাধ্যায় মহাশয় উচ্চপদস্থ কর্মচারী। শুদ্ধ অমুরাগবশেই সামুদ্রিক শাস্ত্রের আলোচনা করিয়া থাকেন। *** আলোচ্য গ্রন্থে লোকের যথেষ্ট উপকার হইবে, করকোষ্ঠী দেখিয়া ভাগ্য নির্ণয় করিবার পক্ষে অনেক সুবিধা হইবে। পাশ্চাত্যেরা বলিয়া থাকেন যে, জ্যোতিঃশাস্ত্রের সাহায্যে লোকে গগনস্থ নক্ষত্রাদির গতিবিধির রীতি প্রকৃত্যাদি পর্য্যালোচনা করিয়া চন্দ্রসূর্য্যাদির গ্রহনির্ণয় করিয়াছে, রাশিচক্রের গতিফলাদি নির্ণয় করিয়াছে, অসংখ্য জ্যোতিষ্কের প্রকৃতি পর্য্যবেক্ষণ করিয়াছে, নিত্য নিত্য নব নব তত্ত্বের আবিষ্কার করিতেছে, ভাগ্যজ্ঞাপক তারাগণিত (Astrology) তাহার আদিম কুসংস্কার সমষ্টিমাত্র : কিন্তু হিন্দু পাঠক বুঝিতে পারিতেছেন, শুদ্ধ অনভিজ্ঞতাই এতদ্রূপ উস্তির প্রণোদিকা। আমাদের জ্যোতিষশাস্ত্র অভ্যস্ত। সম্যক জ্যোতিষীর গণিতফলে ব্যতিক্রম হয় না ; উপযুক্ত লোকের প্রণীত কোষ্ঠী বা জন্মপত্রিকার কখনই ফলের তারতম্য হয় না। ভবিষ্যদ্বিজ্ঞাপক জ্যোতিষের চিরকালট আদর থাকিবে। ইউরোপেও তা দেখিতে পাওয়া যায়, এলিজাবেথের “নেটিভিটি” নেপোলিয়নের “বুক অব ফেট” প্রভৃতি জ্যোতিষগ্রন্থের সর্বত্রই সমাদর। বিলাতের একটি জ্যোতিষী জ্যাড-কিল নামে আত্মপরিচয় দিয়া বৎসর বৎসর বাত্যা, বস্তা, ভূমিকম্প, ভূতীক, মহামারী, যুদ্ধ, বিগ্রহ, পোক্তব্যসন প্রভৃতির ঘটনার গণনা করিয়া মোহিত করিতেছেন। আর দেখিতে পাওয়া যায়, ইহার অনেক গণনা সফলও হইতেছে। অধুনা অত্র বঙ্গেও আৰ্য্য জ্যোতিষের সমাদর হইতেছে। চট্টোপাধ্যায় মহাশয় অর্থাভাষ্যকার সামুদ্রিক শিক্ষা করেন নাই ; সামুদ্রিক প্রচারও অর্থাভাষ্যকার ফল নহে। তিনি চাহেন, লোকের জ্ঞানবর্ধন করিতে ; কিন্তু ৩ টাকা দিয়া আমাদের দেশে একখানি গ্রন্থ লইতে পারে, করজন ? শুনিয়াছি, যোগ্যপাত্রে দান আছে ; কিন্তু গ্রন্থের মূল্যও কমান উচিত। আমাদের বিশ্বাস, ১১০ টাকা হইলেই ঠিক হইবে। অর্ধং ত্যজতি পণ্ডিতঃ। দৈনিক সমাচার-চন্দ্রিকা, ২৯শে মার্চ, ১৩০২।

সামুদ্রিক-শিক্ষা। আমরা শ্রীযুক্ত বাবু রমণকৃষ্ণ চট্টোপাধ্যায় প্রণীত

“সামুদ্রিক-শিক্ষা” নামক পুস্তক প্রাপ্ত হইয়াছি। আমরা পুস্তকখানি আঙো-পান্ত পাঠ করিয়া ইহার ভাষার প্রাজ্ঞলতা দেখিয়া অতিশয় আনন্দিত হইলাম। এই পুস্তক পাঠ করিলে মনুষ্যের করতল দেখিয়া ভূত ভবিষ্যৎ ও বর্তমান ঘটনাবলী তাহাদের শুভাশুভ ফলসমূহ এবং গুরুজন ও আত্মীয়বর্গের সহিত ব্যবহার, বিদ্যানুশীলন অর্থাগম প্রভৃতি জীবনযুগে লম্বা বাপার অনাগ্রাসে জানা যায়। রমণ বাবু বিংশতি বৎসর পরিপ্রম করিয়া তাহার ফল স্বরূপ আজ যে পুস্তক লিখিয়াছেন, তাহাতে তিনি প্রত্যেক বঙ্গবাসীর ধন্যবাদের পাত্র, সে বিষয়ে সন্দেহ নাই। সামুদ্রিক-শাস্ত্র বিষয়ক এ প্রকার সহজ বোধগম্য পুস্তক পূর্বে আর কখন বাহির হয় নাই। লেখক এই পুস্তকের ভূমিকার এক স্থানে লিখিয়াছেন, “বঙ্গভাষায় সামান্য জ্ঞানবিশিষ্ট লোক এমন কি অল্পশিক্ষিতা মহিলাকুলও বাহাতে অনাগ্রাসে এই গ্রন্থ পাঠ করিয়া অদৃষ্ট জ্ঞানিতে পারেন, সেইজন্ত ইহা অতি সরল ভাষায় পল্লোত্তরচ্ছলে লিখিত হইয়াছে। ভাষার সরলতা রক্ষা করিবার জন্ত গ্রাম্যদোষপরিহারেও প্রয়াসী হই নাই।” এই ভূমিকার অপরাংশে লিখিয়াছেন যে, “যদি পুস্তকপাঠে কেহ করতলস্থ রেখা বা চিহ্নাদির ফল নির্ণয় করিতে অক্ষম হন, তবে অনুগ্রহ করিয়া তাঁহার নিকটে যাইলে মিলাইয়া এবং বুঝাইয়া দিতে চেষ্টা করিবেন।” লেখক যথার্থই এই পুস্তকের ভাষার প্রাজ্ঞলতারকাবিষয়ে সম্পূর্ণ কৃতকার্য হইয়াছেন। গ্রন্থকার উপসংহারে তাঁহার আধ্যাত্মিক ভাবের যথেষ্ট পরিচয় দিয়াছেন, এবং ঐ অংশটি অতিশয় হৃদয়গ্রাহী হইয়াছে। লেখক এ পুস্তকে অদৃষ্টবাদবিষয়ক বিশেষ কোন প্রকার তর্ক তুলেন নাই, তাঁহার “সামুদ্রিক-বিজ্ঞান” নামক দ্বিতীয় পুস্তকে উক্ত বিষয় বৈজ্ঞানিক তত্ত্ব দ্বারা সাধারণকে বুঝাইয়া দিবেন, লিখিয়াছেন। আমরা তাঁহার এই বিষয়ে সফলকাম প্রার্থনা করি। পুস্তকখানির ছাপা ও কাগজ উত্তম। এই পুস্তকের হস্তচিত্রসমূহ অতি পরিষ্কার হইয়াছে, দেশী হইলেও বিলাতী অপেক্ষা কোন অংশ নূন নহে। লেখক যদিও ইহার ২ টাকা মূল্য করিয়াছেন, কিন্তু পুস্তকের গুণানুসারে ইহা তত অধিক বলিয়া মনে হয় না। মূলত দৈনিক, ১৫ই ফাল্গুন, ১৩০১।

সামুদ্রিক-শিক্ষা। শ্রীরমণকৃষ্ণ চট্টোপাধ্যায় প্রণীত। গ্রন্থকার বহুকাল-বধি সামুদ্রিক শাস্ত্রের আলোচনা করিয়া যে জ্ঞান উপার্জন করিয়াছেন, তাহাই এই গ্রন্থে বিবৃত হইয়াছে। গ্রন্থকার বলিতেছেন, “বাহারা প্রত্যক্ষ ফল দর্শনে প্রীত হইবেন, তাঁহাদিগের নিকট যে ইহা আদৃত হইবে, তাহার কিছুমাত্র আশা আছে। বাহারা অদৃষ্টবাদী, তাঁহারা ইহার দ্বারা ভবিষ্যৎ ফল মিলাইয়া সম্ভাব লাভ করিতে সমর্থ হইবেন, এবং ভবিষ্যৎ ঘটনাবলীর জন্ত পূর্ব হইতেই প্রস্তুত থাকিতে পারিবেন; আর বাহারা পুরুষকারেই বিশ্বাস করেন, তাহাদিগের নিকট সর্বদা নিবেদন যে, তাঁহারা ক্রীড়াচ্ছলেও ইহার ফলগুলি মিলাইতে যত্নবান হইলে আপনাদিগের পৌরুষ বা পুরুষকারের ফল কিরূপ, বুঝিতে পারিবেন।” গণনাবিদ্যার বিশ্বাস অনেককাল হইতে চলিয়া আসিতেছে,

অনেকে আবার ইহাকে প্রভাষণ ও মূর্খতার সমষ্টি বিবেচনা করেন।
হুই শ্রেণীর লোকের নিকটেই এই গ্রন্থের আলোচনা হইতে পারে। হিতবাদী,
২১শে বৈশাখ, ১৩০২।

সামুদ্রিক-শিক্ষা। শ্রীরমণকৃষ্ণ চট্টোপাধ্যায় প্রণীত। কররেখা দ্বারা নর-
নারীর ভাগ্য পরীক্ষা এদেশে বহুকাল হইতে চলিত আছে ॥ * * * রমণ
বাবু বহুদিন শিক্ষা ও পরীক্ষা দ্বারা যে অভিজ্ঞতালাভ করিয়াছেন, তাহা সরল
ভাবে সর্বসাধারণের গোচর করিয়াছেন বিষয় অনুসন্ধানযোগ্য। গ্রন্থকার
সুন্দর চিত্রাদি দ্বারা গ্রন্থখানি সুবোধ্য করিয়াছেন। বামাবোধিনী, জ্যৈষ্ঠ
১৩০২ সাল ৩৬৫ সংখ্যা।

সামুদ্রিক-শিক্ষা। শ্রীযুক্ত রমণকৃষ্ণ চট্টোপাধ্যায় প্রণীত। চট্টোপাধ্যায়
মহাশয় বহু পরিশ্রম, বহু অনুশীলন ও অর্থব্যয়ে এই জ্যোতিষ গ্রন্থ প্রণয়ন
করিয়াছেন। তিনি দীর্ঘকাল ধাবৎ গুরু নিকটে এই শাস্ত্র অধ্যয়ন করিয়া
ইংরাজী মতে ইহার প্রকাশ করিয়াছেন। ইহাতে জ্ঞাতব্য বিষয় অনেক আছে।
আমরা সর্বাস্তঃকরণে ইহার সাফল্য কামনা করি। জগদ্বাসী, আশ্বিন, ১৩০২।

সামুদ্রিক-শিক্ষা। অর্থাৎ করতলস্থ রেখা ও চিহ্নাদির দ্বারা নরনারীর ভূত
ভবিষ্যৎ বর্তমান শুভাশুভ জানিবার উপায়। শ্রীরমণকৃষ্ণ চট্টোপাধ্যায় প্রণীত।
মূল্য ৩ টাকা। পুরুষের ভাগ্য দেবতারাত জানে না, এ কথা কে না
জানে? কিন্তু জ্যোতিঃশাস্ত্র পুরুষের সেই ভাগ্যলিপি মনুষ্য লিখনবৎ প্রতিপন্ন
করিয়াছেন। লোক-চরিত্র জীবভাগ্য অতীত অনাগত নৈসর্গিক ব্যাপার, এ
সকলই সাধারণ মনুষ্য বুদ্ধির অগম্য; কেবল জ্যোতিঃশাস্ত্রই ঐ সকল বিষয়
প্রত্যক্ষদৃষ্টবৎ প্রতীয়মান করিতেছে, সুতরাং জ্যোতিঃশাস্ত্র সর্বশ্রেষ্ঠ শাস্ত্র
এবং জ্যোতির্বিজ্ঞা সর্বপ্রধান বিজ্ঞারূপে পূজিত। 'সামুদ্রিক' এই জ্যোতিষ
শাস্ত্রের একাংশ; রমণ বাবু বহুদিন ধরিয়া এই বিজ্ঞা আলোচনা করিতেছেন,
নিত্য নিত্য বহুব্যক্তির কররেখা বিচার করিতেছেন, ফলাফল মিলাইয়া
দেখিতেছেন, সুতরাং সামুদ্রিক-শাস্ত্রে তাঁহার প্রভূত অধিকার। সমালোচ্য
গ্রন্থ সেই বহু-দর্শনের ফল। পৃথক পৃথক করতলের প্রতিকৃতি দিয়া এবং বস্তু
দূর সম্ভব সহজ ভাষায় রমণ বাবু এই সামুদ্রিক-শাস্ত্র বুঝাইয়াছেন, সেজন্য
বখেট শ্রমও করিয়াছেন। * * * * বাহারা লোকের হাত দেখিয়া গ্রন্থ লিখিত
ফলাফল মিলাইয়া দেখিবার অবকাশ পাইবেন, তাঁহারা এ গ্রন্থে প্রচুর
উপকার পাইবেন। আর এক কথা, সামুদ্রিক-শিক্ষার মূল্য অবধারণ করিলে
এদেশে ক্রেতা মিলিবে না, সুতরাং ভবিষ্যতে বরং অপেক্ষাকৃত কম দামের
কাগজাদি দিয়া মূল্য হ্রাস করিলে সামুদ্রিক শিক্ষার্থীর উপকার এবং তৎসহ
রমণ বাবুর উদ্দেশ্য সিদ্ধ হইবে। বঙ্গবাসী, ১ই কার্তিক, ১৩০১।

পণ্ডিত-প্রবর রাজ-জ্যোতিষী
শ্রীযুক্ত কৈলাসচন্দ্র জ্যোতিষার্ণব-সঙ্কলিত

(ইনি ভারতেশ্বর পঞ্চম জর্জের কোম্পানী বিচারে রাজ-সম্মানিত হন)

জ্যোতিষ-প্রভাকর

বর্তমানকালে শিক্ষিত সম্প্রদায়ের অনেকেই জ্যোতিষশাস্ত্রে অসুরাগী হইয়াছেন; গৃহস্থ মাত্রেই যে অস্বাভাবিক জ্যোতিষ শিক্ষা প্রয়োজন, ইহা এখন অনেকেই বুঝিয়াছেন; সেইজন্তু যাহাতে সকলে খুব সহজে, এমন কি এক মাসের মধ্যে জ্যোতিষ শিখিতে পারেন, এরূপ সরল ভাবে ইহা লিখিত হইল; অর্থাৎ একবার বইখানি বুঝিয়া পড়িলেই হইল। ইহাতে জ্ঞাতব্য সমুদয় বিষয় ত আছেই, তা ছাড়া ইহাতে আর এক অভাবনীয়, অভিনব বিষয়ের অবতারণা করা হইয়াছে।

ইহাতে বিস্তৃত লগ্ননির্ণয়, লগ্নক্ষুটখণ্ড, আয়ুর্গণনা ভাববিচার, মারক ও রিষ্ট্যাদি বিচার, নারীজাতক ও নারী-লক্ষণ, বিবাহের ষোটক বিচার, অষ্টোত্তরী ও বিংশোত্তরী দশা-ফল বিচার, অষ্টবর্গ যোগফল-বিচার, ত্রিতাপ ও যন্ত্রাড়ীচক্র, ষাণ্ঠ্য ভাব প্রভৃতি শত শত বিষয়, যাহা কিছু আবশ্যিক, সকলই ইহাতে আছে এবং এই পুস্তকের সাহায্যে সকলেই নিজের কোম্পানী ও ফল বিচার করিতে পারিবেন।

জ্যোতিষের বিচার প্রণালী না জানা হেতু কেহ কেহ ঠিক ফল বলিতে না পারায় অপদস্থ ও ঋষিবাক্যে সন্দেহযুক্ত হন; সেইজন্তু আমরা বহু অবতার, সাধক, মহাপুরুষ, রাজা, মহারাজা, বিচারপতি, কবি, শিল্পী, চিকিৎসকও দেশ-মাগু প্রসিদ্ধ ব্যক্তিবর্গের জন্ম-পত্রিকাসমূহ বহু চেষ্টায় ও বহুকষ্টে সংগ্রহ করিয়া এই গ্রন্থে সন্নিবেশিত করিয়াছি। যথা;—শ্রীরামচন্দ্র, কৃষ্ণ, শ্রীচৈতন্য, শঙ্করাচার্য্য, রামকৃষ্ণ পরমহংস, মহায়া গান্ধী, কেশব সেন, কৃষ্ণানন্দ স্বামী, ভিক্টোরিয়া, নেপোলিয়ান, যতীন্দ্রমোহন ঠাকুর, যশোজনাথ নন্দী, রমেশচন্দ্র মিত্র, চন্দ্রনাথব ঘোষ, মহেশচন্দ্র জ্ঞানরত্ন, জৈধরচন্দ্র বিজ্ঞানাগর, চন্দ্রকান্ত তর্কালঙ্কার, শশধর তর্ক-চূড়ামণি, বঙ্কিম চট্টো, নবীন সেন, রবীন্দ্র ঠাকুর, জৈধর গুপ্ত, গিরিশ ঘোষ, মতিরায়, মহেন্দ্র সরকার, ডি গুপ্ত, ভগবান্ ক্রজ, গজাধর রায়, গঙ্গাপ্রসাদ সেন, শ্রামাদাস বাচস্পতি, হারকানাথ সেন প্রভৃতি অসংখ্য কত নাম করিব। স্থানান্তর : শুধু কি তাহাই? সেই সঙ্গে তাঁহাদিগের জীবনী ও বিস্তৃত ফল-বিচার লিখিত হইয়াছে।

ইহাতে এক সঙ্গে নানা কোম্পানীর সম্মিলন ও কোম্পানীর ফল কিরূপ অব্যর্থ, তাহা দেখিয়া চমৎকৃত হইবেন—জ্যোতিষ শাস্ত্রে বিশ্বাস বাড়িবে, এবং বিচারে বহুবিধ যোগের অবতারণা দেখিয়া এতৎ শাস্ত্রে কৃতবিদ্য হইবেন। ছাপা কাগজ অত্যধ উৎকৃষ্ট, সুদৃঢ় বাধান, মূল্য ৫ পাঁচ টাকা মাত্র।

পাল ব্রাদার্স এণ্ড কোং ।

বানীপীঠ—৫১২ বিবেকানন্দ রোড, কলিকাতা ।

